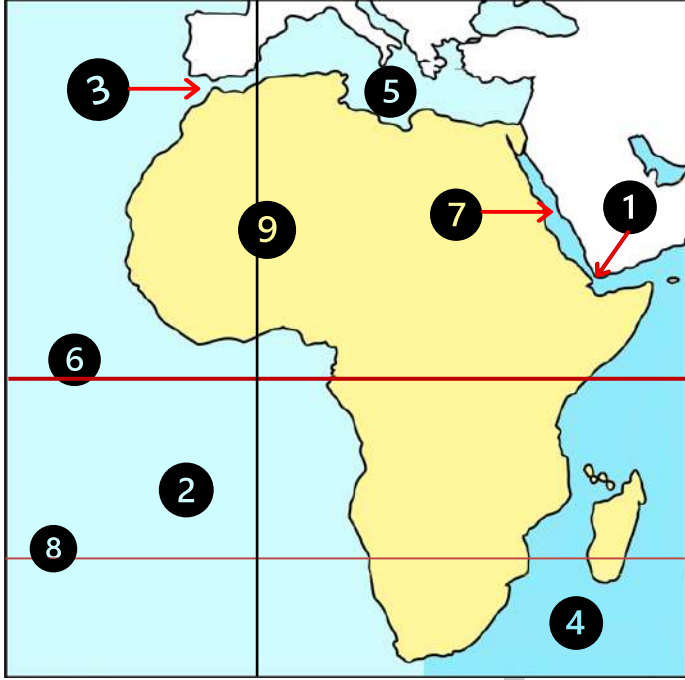


1 أمامك خريطة لقارة إفريقيا اكتب مدلول الأرقام الموقعة عليها



- (1) مضيق
- (2) المحيط
- (3) مضيق
- (4) المحيط
- (5) البحر
- (6) دائرة
- (7) البحر
- (8) مدار
- (9) خط

2 اختر الإجابة الصحيحة مما بين القوسين

- (1) تعد قارة إفريقيا ثاني قارات العالم مساحة بعد قارة
(أمريكا الشمالية - أمريكا الجنوبية - آسيا - أوروبا)
- (2) يفصل قارة إفريقيا عن قارة أوروبا
(البحر الأحمر - البحر المتوسط - المحيط الهندي - المحيط الأطلسي)
- (3) تقع قارة إفريقيا إلى الجنوب من
(البحر الأحمر - المحيط الهندي - البحر المتوسط - المحيط الأطلسي)
- (4) تقترب قارة إفريقيا من قارة أوروبا عند
(مضيق جبل طارق - مضيق باب المندب - مضيق هرمز - قناة السويس)
- (5) يقترب يابس قارة إفريقيا مع يابس أصغر قارات العالم القديم من حيث المساحة
(مضيق جبل طارق - مضيق باب المندب - مضيق هرمز - قناة السويس)
- (6) من المسطحات المائية التي تحد قارة إفريقيا من جهة الشرق
(البحر الأحمر - البحر المتوسط - المحيط الأطلسي - خليج غينيا)

- (7) يحده المحيط الأطلنطي قارة إفريقيا من جهة
- (الشمال - الجنوب - الشرق - الغرب)
- (8) يمر في قارة إفريقيا نحو دوائر عرض رئيسية
- (ثلاث - أربع - خمس - ست)
- (9) دولة إفريقية تقع في الركن الشمالي الشرقي هي
- (مصر - ليبيا - الجزائر - تونس)
- (10) القارة الوحيدة التي تتصل بقارة إفريقيا برها هي
- (آسيا - أوروبا - أمريكا الشمالية - أمريكا الجنوبية)
- (11) تتصل قارة إفريقيا بقارة آسيا برها عن طريق
- (مضيق باب المندب - مضيق جبل طارق - شبه جزيرة سيناء - قناة السويس)
- (12) انتقلت الحضارات (مثل الحضارة الإسلامية) من قارة آسيا إلى قارة إفريقيا عبر
- (الصحراء الغربية - الصحراء الشرقية - شبه جزيرة سيناء - نهر النيل)
- (13) بدأت رحلة الدوران حول قارة إفريقيا في عهد الملك نخاو ابتداء من
- (البحر المتوسط - البحر الأحمر - المحيط الهندي - المحيط الهادي)
- (14) عادت رحلة الدوران حول قارة إفريقيا إلى مصر في عهد الملك نخاو عبر
- (مضيق جبل طارق - مضيق باب المندب - قناة السويس - مضيق موزمبيق)
- (15) نشأت حضارة قرطاج في
- (السودان - تونس - مصر - إثيوبيا)
- (16) نشأت حضارة كوش في
- (السودان - إثيوبيا - تونس - مصر)
- (17) في عهد محمد علي تم رسم خريطة للنيل حتى جنوب
- (السودان - الصومال - النيجر - إثيوبيا)
- (18) استطاع بن بطوطة ان يخترق الصحراء الكبرى حتى وصل إلى
- (مالي - نيجيريا - جزر القمر - إنجولا)
- (19) من الدول العربية الإفريقية دولة
- (جيبوتي - نيجيريا - موزمبيق - تشاد)
- (20) تعرضت شعوب القارة الإفريقية للاستعمار من قبل دول قارة
- (آسيا - أستراليا - أمريكا الشمالية - أوروبا)
- (21) أصغر جزء من اليابس الإفريقي يوجد في نصف الكرة الأرضية
- (الشرقي - الغربي - الشمالي - الجنوبي)
- (22) أقصى اتساع لدولة مصر في القارة الإفريقية كان في عهد حاكمها
- (محمد علي باشا - الخديو إسماعيل - سعيد باشا - إبراهيم باشا)
- (23) كان نهر النيل عاملا مشتركا لظهور حضارتي
- (مصر وقرطاج - أكسوم وقرطاج - كوش مالي - كوش وأكسوم)

3 ضع علامة (✓) أمام العبارات الصحيحة وعلامة (X) أمام العبارات غير الصحيحة

- () (1) تعد قارة إفريقيا إحدى قارات العالم الجديد
- () (2) تقع قارة إفريقيا وسط قارات العالم
- () (3) تعد قارة إفريقيا أولى قارات العالم من حيث المساحة
- () (4) تمثل قارة إفريقيا ٢٠٪ من مساحة قارت العالم
- () (5) يفصل المحيط الهادي قارة إفريقيا عن الأمريكتين
- () (6) يفصل البحر المتوسط والمحيط الهندي قارة إفريقيا عن آسيا
- () (7) يفصل البحر الأحمر بين قارة إفريقيا وقارة أوروبا
- () (8) يقع نحو ثلث مساحة قارة إفريقيا في النصف الشمالي من الكرة الأرضية
- () (9) يمر خط جرينتش بأكبر الدول العربية الإفريقية من حيث المساحة
- () (10) تقع مصر في الركن الشمالي الغربي من قارة إفريقيا
- () (11) تنقسم قارة إفريقيا إلى دول متساوية في المساحة
- () (12) المسعودي من أوائل الرحالة العرب الذين زاروا قارة إفريقيا
- () (13) وصل المصريون القدماء إلى السودان والقرن الإفريقي
- () (14) تم الدوران حول قارة إفريقيا لأول مرة خلال عصر المصريين القدماء
- () (15) بدأت محاولات الإنجليز لاكتشاف قارة إفريقيا في القرن ١٥ م خلال عهد الأمير هنري الملاح
- () (16) تعمل مصر على تدعيم علاقتها مع دول وشعوب القارة الإفريقية
- () (17) تم انتخاب دولة المغرب عام ٢٠١٩ لرئاسة الاتحاد الإفريقي
- () (18) تشرف قارة إفريقيا على ممرات مائية طبيعية وبشرية
- () (19) جميع الدول التي يمر بها مدار السرطان بقارة إفريقيا دول بحرية

4 اكتب ما تشير إليه العبارات التالية

- (1) دائرة عرض رئيسية تمر في وسط القارة الإفريقية تقريباً
- (2) دولة إفريقية تم انتخابها لرئاسة الاتحاد الإفريقي لعام ٢٠١٩
- (3) طريق اكتشفه البرتغاليون للدوران حول إفريقيا
- (4) دول قامت بتقسيم إفريقيا لدول مختلفة في المساحة
- (5) مضيق يصل بين البحر المتوسط والمحيط الأطلسي
- (6) منطقة ذات أهمية استراتيجية تصل بين أكبر قارتين في العالم
- (7) حضارة قامت في إريتريا وإثيوبيا
- (8) حضارة قامت في السودان
- (9) كان لهم دور في اكتشاف منابع النيل في نهاية القرن ١٨ م وخلال القرن ١٩

5 لمن تنسب الأعمال الآتية

- (1) رحالة مصري قام بأربع رحلات نحو الجنوب في إفريقيا في عصر المصريين القدماء
- (2) ملك مصري قديم أرسل رحلة للدوران حول قارة إفريقيا
- (3) حاكم مصر وصلت الرحلات الاستكشافية في عهده إلى اكتشاف النيل الأبيض
- (4) حاكم مصري وصل حكمه إلى جنوب دائرة الاستواء
- (5) وصلت في عهده الدولة المصرية لأقصى اتساع من جهة الجنوب في العصر الحديث
- (6) رحالة عربي قام برحلات مهمة في شمال إفريقيا ووصل إلى مالي
- (7) أوائل الرحالة العرب الذين زاروا إفريقيا وكتبوا عنها
- (8) بدأ البرتغاليون في عهده محاولاتهم لاكتشاف إفريقيا

6 بم تفسر

- (1) الأهمية الاستراتيجية لموقع قارة إفريقيا ؟
- (2) الأهمية الاقتصادية لموقع قارة إفريقيا ؟
- (3) الأهمية الحضارية لقارة إفريقيا ؟
- (4) تحكم إفريقيا في طرق الملاحة العالمية ؟
- (5) أسس البرتغاليون الموانئ والمراكز التجارية على طول طريق رأس الرجاء الصالح ؟
- (6) اهتمام أوروبا بالكشوف الجغرافية لقارة إفريقيا ؟
- (7) تنقسم قارة إفريقيا إلى عدد كبير من الدول مختلفة المساحة ؟

7 ما النتائج المترتبة على

- (1) الموقع الجغرافي لقارة إفريقيا ؟
- (2) الموقع الفلكي لقارة إفريقيا ؟
- (3) إرسال محمد على رحلات لاكتشاف منابع النيل عام ١٨٣٩ م ؟
- (4) محاولات البرتغاليون لاكتشاف قارة إفريقيا أواخر القرن ١٥ م ؟
- (5) قيام الدول الاستعمارية بتقسيم إفريقيا ونهب خيراتها ؟
- (6) انتخاب مصر لرئاسة الاتحاد الإفريقي عام ٢٠١٩ ؟

8 ما العلاقة بين ؟

(1) شبة جزيرة سيناء والأمن القومي المصري والإفريقي ؟

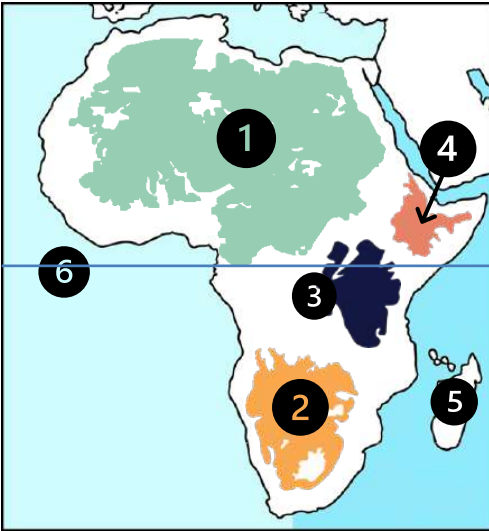
(2) محمد على ومنابع النيل ؟

(3) العرب والبرتغاليون في الكشوف الجغرافية لقارة إفريقيا ؟

9 ما المقصود بالحضارة

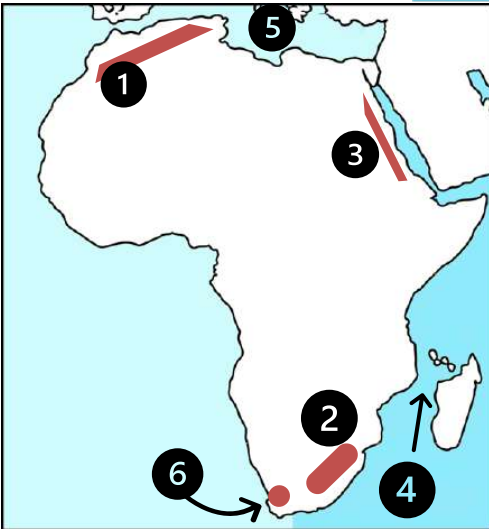
مستتر/عطا زكي شحتو

1 أمامك خريطة لقارة إفريقيا اكتب مدلول الأرقام الموقعة عليها



- (1) هضبة
- (2) الهضبة
- (3) هضبة
- (4) هضبة
- (5) جزيرة
- (6) دائرة

2 أمامك خريطة لقارة إفريقيا اكتب مدلول الأرقام الموقعة عليها



- (1) جبال
- (2) جبال
- (3) جبال
- (4) مضيق
- (5) البحر
- (6) جبال

3 اختر الاجابة الصحيحة مما بين القوسين

- (1) تسقط الأمطار على هضبة الحبشة في فصل
(الشتاء - الربيع - الخريف - الصيف)
- (2) أكبر الجزر الإفريقية وتقع شرق إفريقيا.....
- (3) تعد هضبة المنبع الموسمي لنهر النيل
(الشطوط - البحيرات الاستوائية - إفريقيا الشمالية - الحبشة)

- (4) تعد هضبة المنيع الدائم لنهر النيل
(الشطوط - البحيرات الاستوائية - إفريقيا الشمالية - الحبشة)
- (5) تقع واحة في ليبيا
(سيوة - القطارة - الجوف - عين صالح)
- (6) تقع واحة..... في مصر
(سيوة - القطارة - الجوف - عين صالح)
- (7) يفصل مضيق جزيرة مدغشقر عن الساحل الشرقي لقارة إفريقيا
(جبل طارق - موزمبيق - باب المندب - هرمز)
- (8) أكبر الظواهر التضاريسية امتدادا في أراضي الدولة العربية الإفريقية
(جبال اطلس - جبال البحر الأحمر - هضبة شمال إفريقيا - هضبة الشطوط)
- (9) أي من الدول التالية لا تمتد فيها جبال البحر الأحمر
(مصر - السودان - إريتريا - ليبيا)
- (10) ساعدت الطفوح البركانية في هضبة الحبشة على قيام حرفة
(التجارة - الصناعة - الزراعة - الرعي)
- (11) ترجع خصوبة سهول نهر النيل إلى الطمي الذي نقله نهر النيل من
(هضبة الحبشة - هضبة شمال إفريقيا - الهضبة الجنوبية - هضبة الشطوط)
- (12) أي من سهول إفريقيا الساحلية تتميز بحقولها الزراعية الغنية ؟ سهول
(البحر الأحمر - المحيط الهندي - المحيط الأطلنطي - البحر العربي)
- (13) أعلى قمة بسلاسل جبال البحر الأحمر جبل في مصر
(العوينات - شيباب البنات - الكاب - توبقال)
- (14) أعلى قمة بسلاسل جبال أطلس جبل في المغرب
(العوينات - شيباب البنات - الكاب - توبقال)
- (15) أعلى قمة جبلية في قارة إفريقيا جبل ويقع بدولة تنزانيا
(كينيا - شيباب البنات - كلمنجارو - توبقال)
- (16) تقع هضبة الشطوط بين سلاسل جبال
(البحر الأحمر - دراكنزبرج - الكاب - أطلس)
- (17) تقع هضبة الشطوط بقارة إفريقيا في جهتها
(الشمالية الغربية - الجنوبية الشرقية - الشمالية الشرقية - الجنوبية الغربية)
- (18) تقع جبال دراكنزبرج بقارة إفريقيا في جهة
(الشمال - الغرب - الجنوب - الشرق)
- (19) من الجبال البركانية في جنوب قارة إفريقيا جبال
(أطلس - البحر الأحمر - دراكنزبرج - الكاب)
- (20) من الجبال الالتوائية في جنوب قارة إفريقيا
(جبال أطلس - جبل كينيا - جبال الكاب - جبال البحر الأحمر)

- (21) تظهر الجبال الانكسارية بقارة إفريقيا في جزئها (الشمالي - الجنوبي - الشرقي - الغربي)
- (22) يمتد في شمال غرب قارة إفريقيا (جبل كينيا - جبال أطلس - جبال الكاب - جبال البحر الأحمر)
- (23) أي من مظاهر السطح التالية تعد جزءا من الأخدود الإفريقي العظيم؟ (جبال البحر الأحمر - جبال أطلس - جبال الكاب - جبال دراكنزبرج)
- (24) أي من الهضاب الإفريقية التالية يمر بها مدار الجدي (هضبة شمال إفريقيا - هضبة الحبشة - هضبة الشطوط - الهضبة الجنوبية)
- (25) إذا أردت أن تقيم مصنع للصناعات التعدينية في قارة إفريقيا فأأي الأماكن التالية ستختار (شرق القارة - غرب القارة - وسط القارة - شمال القارة)

4 ضع علامة (✓) أمام العبارات الصحيحة وعلامة (X) أمام العبارات غير الصحيحة

- () (1) تتميز قارة إفريقيا بمظاهر سطح متنوعة وغنية بالموارد والثروات الطبيعية
- () (2) يغلب على سطح قارة إفريقيا المظهر الهضبي
- () (3) يقع الأخدود الإفريقي العظيم في الجزء الغربي من الهضبة الجنوبية
- () (4) هضبة شمال إفريقيا تعاني من فقر في مظاهر السطح عليها
- () (5) تنحدر هضبة إفريقيا الشمالية تدريجيا نحو الشرق
- () (6) تسقط الأمطار طوال العام على هضبة الحبشة
- () (7) يعد جبل شايب البنات أعلى قمة جبلية في سلسلة جبال أطلس
- () (8) يوجد جبل كلمنجارو (أعلى قمة جبلية في إفريقيا) في دولة تنزانيا
- () (9) تعلو القمم الجبلية البركانية هضبة البحيرات الاستوائية
- () (10) تعرف السهول التي كونتها الأنهار باسم السهول الساحلية
- () (11) تعد جبال دراكنزبرج من الجبال الانكسارية
- () (12) تختلف سهول المحيط الهندي من مكان لآخر من حيث الاتساع
- () (13) تتميز سهول البحر الأحمر بأنها غنية بالثروات المعدنية ومصادر الطاقة
- () (14) تعتمد الزراعة في السهول الساحلية شمال إفريقيا على الأمطار الصيفية
- () (15) يوجد جبل شايب البنات في دولة السودان
- () (16) يعد البحر المتوسط جزءا من الأخدود الإفريقي العظيم

5 اكتب ما تشير إليه العبارات التالية

- (1) جبال تكونت نتيجة الثورات البركانية
- (2) مجموعة انكسارات طولية تتجه من الجنوب إلى الشمال شرق إفريقيا
- (3) سهول ساحلية واسعة وغنية بالحقول الزراعية
- (4) استثمار الموارد المائية بشكل مستمر لتحقيق التنمية المستدامة والقضاء على الفقر

- (5) هضبة عظيمة الاتساع وقليلة الارتفاع تنحدر نحو الشمال حتى سواحل البحر المتوسط
- (6) تعد أعلى هضاب قارة إفريقيا
- (7) الهضبة التي تمتد نهر النيل بالمياه الموسمية والتربة الخصبة
- (8) هضبة تقع في جنوب إفريقيا وتنحدر بشدة نحو السواحل الشرقية
- (9) الهضبة التي تعد المنبع الدائم لنهر النيل
- (10) جبال تقع من جنوب المغرب حتى تونس
- (11) دولة عربية تقع شمال غرب جزيرة مدغشقر

6 بم تفسر

- (1) تتميز هضبة الحبشة بخصوبة تربتها ؟
- (2) تعد هضبة الحبشة المنبع الموسمي لنهر النيل ؟
- (3) تعد هضبة البحيرات الاستوائية المنبع الدائم لنهر النيل ؟
- (4) تكون الجليد فوق قمة جبل كلمنجارو ؟
- (5) خصوبة تربة وادي النيل في مصر والسودان ؟
- (6) الأهمية الاقتصادية لجبال قارة إفريقيا بالنسبة للسياحة ؟
- (7) الأهمية الاقتصادية لجبال قارة إفريقيا بالنسبة للصناعة ؟
- (8) يختلف اتساع السهول الساحلية في إفريقيا من منطقة لأخرى ؟
- (9) ضيق سهول البحر المتوسط في بلاد المغرب العربي ؟
- (10) ضيق سهول البحر الأحمر في مصر والسودان ؟
- (11) الأهمية الاقتصادية لسهول البحر الأحمر ؟

7 ما النتائج المترتبة على

- (1) حدوث طفوح بركانية بهضبة الحبشة ؟
- (2) خصوبة التربة في هضبة الحبشة ؟
- (3) امتداد العديد من الأنهار بقارة إفريقيا ؟

- (4) اقتراب جبال أطلس من ساحل البحر المتوسط ؟
- (5) اقتراب الجبال من الساحل الشرقي في كلا من مصر والسودان وإريتريا ؟
- (6) الارتفاع الشاهق لجبل كلمنجارو ؟
- (7) سقوط الأمطار الشتوية على السهول الساحلية للبحر المتوسط ؟

8 ما العلاقة بين ؟

- (1) هضبة البحيرات الاستوائية ونهر النيل ؟
- (2) هضبة الحبشة ونهر النيل ؟
- (3) هضبة الحبشة والتربة في مصر ؟
- (4) الجبال في قارة إفريقيا والتعدين ؟

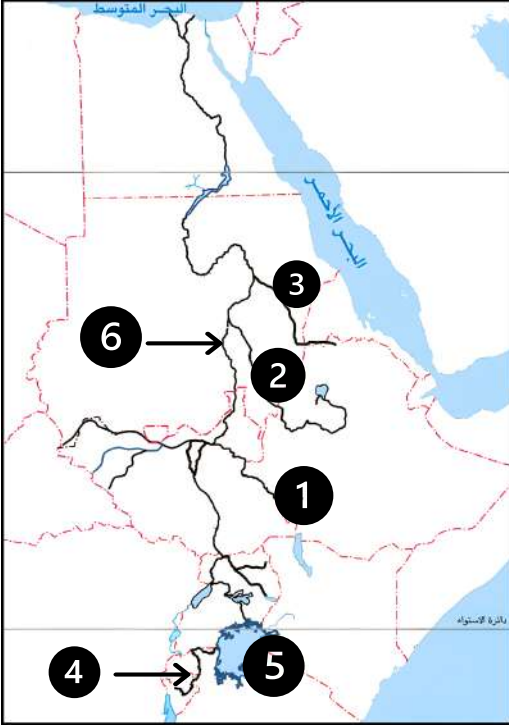
9 اجب عن الأسئلة التالية

(1) ماذا يحدث إذا:- كانت هضبة البحيرات الاستوائية تنحدر نحو الجنوب

(2) استبعد المظهر التضاريسي الذي لا ينتمي للمجموعة مع ذكر السبب:-

كينيا - كلمنجارو - أطلس - دراكنزبرج

1 أمامك خريطة صماء لحوض نهر النيل اكتب مدلول الأرقام الموقعة عليها



- (1) نهر
- (2) النيل
- (3) نهر
- (4) نهر
- (5) بحيرة
- (6) خزان

2 أكمل العبارات الآتية بما يناسبها

- (1) يعد نهر النيل نهرا
- (2) أشار العالم الجغرافي جمال حمدان إلى أن نهر النيل المنبع
- (3) قامت مصر بإنشاء خزان على النيل الأزرق
- (4) قامت مصر بدفع تكاليف إنشاء خزان في السودان لتوليد الطاقة الكهربائية
- (5) تقع المنابع الموسمية لنهر النيل في هضبة
- (6) تمركزت حضارة كوش في بدايتها في مدينة ثم انتقلت إلى
- (7) يرجع الفضل في تأسيس مدينة قرطاج إلى

3 اختر الاجابة الصحيحة مما بين القوسين

- (1) قامت حضارة فى تونس حالياً
(كوش - قرطاج - أكسوم - النوبة)
- (2) تقع منابع النيل الاستوائية فى إفريقيا
(شمال - جنوب - وسط - غرب)
- (3) يعد من أهم مصادر مياه بحيرة فيكتوريا نهر
(كاجيرا - السوبات - عطبرة - بحر الجبل)

- (4) يصب نهر كاجيرا في بحيرة فيكتوريا من جهة
- (الشرق - الغرب - الشمال - الجنوب)
- (5) يطلق على دول حوض النيل اسم الأندوجو ويعنى
- (المحبة - الصدق - الإخاء - العهد)
- (6) من الجهود التي قامت بها مصر بدول حوض النيل حفر عشرات الآبار في
- (رواندا - إريتريا - بروندي - كينيا)
- (7) نشأت حضارة قرطاج على ساحل
- (البحر الأحمر - البحر المتوسط - المحيط الهندي - المحيط الأطلنطي)
- (8) تقع المنابع الموسمية لنهر النيل بقارة إفريقيا في جهتها
- (الشمالية - الجنوبية - الغربية - الشرقية)
- (9) يبدأ النيل الأزرق من بحيرة
- (فيكتوريا - تانا - ألبرت - كيوجا)
- (10) أقام الكوشيون علاقات تجارية من جهة الشرق مع
- (مصر - قرطاج - أكسوم - اليونان)
- (11) تم إنشاء سد أوين بدولة
- (السودان - جمهورية الكونغو الديمقراطية - تنزانيا - أوغندا)
- (12) ظهرت حضارة أكسوم بالمنطقة التي توجد بها حاليا دولتي إثيوبيا و
- (أوغندا - إريتريا - تونس - كينيا)
- (13) تتشابه المنابع الاستوائية مع المنابع الحبشية في
- (موسم المطر - الموقع الجغرافي - دوائر العرض الرئيسية المارة بها - المظهر الهضبي)
- (14) أي من الأنهار الآتية ينتمي إلى المنابع الدائمة لنهر النيل
- (نهر السوبات - النيل الأزرق - نهر كاجيرا - نهر عطبرة)
- (15) جميع الدول التالية تشرف على ثاني أكبر بحيرة عذبة في العالم ويخرج عن ذلك
- (كينيا - أوغندا - تنزانيا - رواندا)

4 ضع علامة (✓) أمام العبارات الصحيحة وعلامة (✗) أمام العبارات غير الصحيحة

- () (1) قامت مصر بإنشاء خزان جبل الأولياء في أوغندا لتوليد الكهرباء
- () (2) كانت مصر صاحبة فكرة إنشاء تجمع الأندوجو
- () (3) يسترد النيل قوته بعد التقاء نهر السوبات ببحر الجبل
- () (4) ظهرت حضارة أكسوم في غرب إفريقيا
- () (5) ظهرت حضارة أكسوم في إريتريا وإثيوبيا (حاليا)
- () (6) يعتبر نهر السوبات آخر روافد نهر النيل

- () (7) كان لنهر النيل دور مهم في قيام حضارة قرطاج
- () (8) يمتد نهر النيل وروافده داخل إحدى عشر دولة إفريقية
- () (9) تضم دول حوض النيل ثلاث دول عربية
- () (10) يقع الجزء الأكبر من حوض النيل في نصف الكرة الأرضية الشمالي
- () (11) تشابهت حضارة قرطاج مع حضارة أكسوم في التواصل التجاري مع الدول المجاورة

5 اكتب ما تشير إليه العبارات التالية

- (1) المساحة التي يجري فيها النهر وروافده
- (2) دولة ساهمت في دفع تكاليف إنشاء خزان جبل الأولياء في السودان
- (3) إحدى مشروعات الري أقيم بالقرب من نقطة التقاء النيل الأزرق بالنيل الأبيض
- (4) اتفاقية نصت على التزام دول حوض النيل بعدم القيام بأي مشروعات بغير اتفاق مسبق مع مصر
- (5) إحدى الاتفاقيات التي نصت على عدالة استخدام مياه نهر النيل
- (6) منظمة دولية قامت بوضع اتفاقية قانون تنظيم استخدام المجاري في الأغراض غير الملاحية
- (7) تجمع شكلته دول حوض النيل عام ١٩٨٣ ويعنى الإخاء باللغة السواحلية

6 بم تفسر

- (1) يعد نهر النيل نهرا دوليا ؟
- (2) استدامة جريان نهر النيل ووصوله إلى مصر
- (3) مساهمة مصر في إنشاء خزان جبل الأولياء في السودان
- (4) قلة مساهمة المنابع الدائمة في مياه نهر النيل ؟
- (5) قيام الفينيقيين بتأسيس مدينة قرطاج على البحر المتوسط
- (6) ظهور العديد من الحضارات القديمة في إفريقيا ؟
- (7) إنشاء تجمع الأندوجو عام ١٩٨٣ ؟

7 ما النتائج المترتبة على

- (1) الموقع الجغرافى لحضارة أكسوم ؟
- (2) الموقع الجغرافى لحضارة قرطاج ؟

8 ما العلاقة بين ؟

- (1) الفينيقيين وحضارة قرطاج ؟
- (2) نهر النيل والحضارة المصرية القديمة ؟

9 اجب عن الأسئلة التالية

- (1) ماذا يحدث إذا:- اقتصرت منابع نهر النيل على هضبة البحيرات الاستوائية
- (2) ماذا يحدث إذا:- سقطت الأمطار طوال العام على هضبة الحبشة بالنسبة لمائة نهر النيل في مصر
- (3) دلل // اهتمت مصر بزيادة مائية بحيرة فيكتوريا وبحيرة كيوجا
- (4) دلل// كان لنهر النيل دورا رئيسيا في نشأة الحضارة المصرية القديمة
- (5) ما المقصود بالنهر الدولي :-

(6) ما أوجه الشبه بين الاقتصاد الأزرق والاقتصاد الأخضر

(7) ما الدول المشتركة في اتفاقية ٢٠١٥ بشأن تنظيم وإدارة مياه نهر النيل

عصر بناء الأهرام

1

الدرس الأول

1 أكمل العبارات التالية بكلمات مناسبة

- ① يشمل العصر العتيق الأسرتين و
- ② يعد العصر هو عصر التأسيس والبناء عند المصريين القدماء
- ③ سمى عصر الدولة القديمة بعصر
- ④ يبدأ عصر الدولة القديمة بالأسرة
- ⑤ يعد أول بناء حجري ضخيم فى التاريخ
- ⑥ أمر الملك بنحت تماثيل أبو الهول
- ⑦ استطاع المصري القديم استخدام أصلب أنواع الحجر فى نحت التماثيل مثل حجر
- ⑧ يعد الملك مؤسس الأسرة الخامسة
- ⑨ ظهرت متون الأهرام فى عهد الملك
- ⑩ انتشرت الفوضى فى نهاية عصر الدولة القديمة خاصة فى عهد الملك
- ⑪ نجحت الأسرة فى إعادة توحيد البلاد مرة أخرى بعد عصر الاضمحلال الأول

2 اختر الاجابة الصحيحة مما بين القوسين

- ① كانت مقبرة الملك نعرمر عبارة عن
- ② (هرم مدرج - ست مصاطب - هرم كامل - مصطبة واحدة)
- ③ تأسست مدينة (من - نفر) لتكون عاصمة للبلاد على يد الملك
- ④ (نعرمر - زوسر - أوسر كاف - أوناس)
- ⑤ تأسست الأسرة الثالثة على يد الملك
- ⑥ (سنفرو - زوسر - نعرمر - أوسركاف)
- ⑦ أول ملوك مصر فى عصر بناء الأهرام هو الملك
- ⑧ (خفرع - زوسر - أوسركاف - أوناس)
- ⑨ أقام الملك زوسر هرمه المدرج فى
- ⑩ (منف - بوتو - نخب - سقارة)
- ⑪ يرجع الفضل فى بناء إلى الوزير إيمحوتب
- ⑫ (الهرم المدرج - هرم خوفو - معابد الشمس - هرم خفرع)

- 7 أي من ملوك الدولة القديمة أطلق عليه الملك المحسن المحبوب
- (زوسر - سنفرو - خوفو - خفرع)
- 8 أرسل الملك سنفرو أسطولا لجلب خشب الأرز من بلاد
- (بونت - العراق - فينيقيا - النوبة)
- 9 اهتم المصريون القدماء ببناء الأهرامات بداية من الأسرة
- (الثالثة - الرابعة - الخامسة - السادسة)
- 10 بلغ بناء المقابر الملكية قمة تطورها في عصر الدولة القديمة على يد الملك
- (أوناس - زوسر - سنفرو - خوفو)
- 11 صاحب الهرم الأوسط ووصل فن النحت في عصره إلى قمته
- (سنفرو - خوفو - خفرع - أوسر كاف)
- 12 ازداد نفوذ كهنة الإله..... في نهاية الأسرة الرابعة الفرعونية
- (رع - آمون - أوزوريس - إيزيس)
- 13 سيطر رجال الدين بشكل كامل على مقاليد الحكم خلال عصر الدولة القديمة في عهد الأسرة
- (الرابعة - الخامسة - السادسة - السابعة)
- 14 بنيت معابد الشمس المكشوفة في أبي صير في عهد الأسرة
- (الثانية - الثالثة - الرابعة - الخامسة)
- 15 آخر ملوك الأسرة الخامسة وأول من كتب نصوص الأهرام الملك
- (زوسر - سنفرو - أوناس - أوسر كاف)
- 16 تدهورت أحوال مصر الاقتصادية والاجتماعية والسياسية في نهاية عصر الأسرة
- (الرابعة - الخامسة - السادسة - الحادية عشرة)
- 17 انتهى عصر بناء الأهرام بسقوط الأسرة
- (الثالثة - الرابعة - الخامسة - السادسة)
- 18 انتشرت الآلات الموسيقية المصرية القديمة في إفريقيا
- (شرق - غرب - شمال - جنوب)
- 19 تشيد ملوك العصر العتيق للحصون يدل على اهتمامهم بالجانب
- (الاجتماعي - البيئي - الديني - العسكري)
- 20 يستدل من المسمى الذي أطلق على عصر الدولة القديمة أن هذا العصر يتميز ب.....
- (الازدهار المعماري - النشاط العسكري - التطور الديني - الازهار التجاري)
- 21 اتسمت المقابر في عصر الدولة القديمة بسمة
- (التواصل - التطور - التدني - الانعزال)
- 22 أول مقبرة ملكية على شكل هرم كامل كانت ل.....
- (مؤسس الأسرة الأولي - مؤسس الأسرة الثالثة - ثاني ملوك الأسرة الرابعة - أول ملوك الأسرة الخامسة)
- 23 تشابه العصر العتيق مع عصر الدولة القديمة فى
- (انتشار متون الأهرام - شكل المقابر - الاضطرابات الداخلية - الاهتمام بالتجارة)

ضع علامة (✓) أمام العبارات الصحيحة وعلامة (✗) أمام العبارات غير الصحيحة

- () 1 قام الملك نعرمر (مينا) بتوحيد مملكتي الشمال والجنوب
- () 2 يشمل العصر العتيق الأستين الثانية والثالثة
- () 3 يعد عصر الدولة القديمة هو عصر البناء والتأسيس
- () 4 يعد الملك خوفو صاحب الهرم المدرج بسقارة
- () 5 يعد الملك زوسر مؤسس الأسرة الرابعة
- () 6 يعتبر الهرم الأكبر أول بناء حجري ضخم في التاريخ
- () 7 ازدهرت مصر في عهد الملك سنفروا اجتماعيا وتجاريا وفنيا وعمرانيا
- () 8 ارسل الملك سنفروا أربعين سفينة إلى بلاد النوبة
- () 9 ازدهرت التجارة الخارجية لمصر في عهد الملك خوفو
- () 10 نعمت مصر بالاستقرار منذ عصر الأسرة الثالثة حتى الأسرة السادسة
- () 11 تمثل المرحلة الأكثر تطورا للمقابر خلال عصر الدولة القديمة فى بناء الهرم المدرج
- () 12 يعد الملك بيبي الثاني أول من كتب نصوص الأهرام
- () 13 تعد نصوص الأهرام من الأدب الديني
- () 14 خلا هرم زوسر المدرج من وجود متون الأهرام على جدرانه
- () 15 يعرف تمثال النبيل (كاعبر) حاليا بتمثال شيخ البلد
- () 16 تم تشيد معابد الشمس المكشوفة أثناء حكم الأسرة الخامسة
- () 17 يعد نحت تمثال أبو الهول بجسم أسد دليلا على الحكمة
- () 18 بدأ عصر الدولة الوسطى بظهور الأسرة الحادية عشرة
- () 19 اخذ ملوك وأمراء الكونغو في إفريقيا عن المصريين القدماء تحنيط جثثهم

4 من أكوون.....؟

- () 1 قمت بتوحيد مملكتي الشمال والجنوب وعصري هو عصر بداية الأسرات
- () 2 أنا مؤسس الأسرة الثالثة الفرعونية
- () 3 أنا صاحب أول بناء حجري ضخم في التاريخ
- () 4 أشرفت على تشييد هرم الملك زوسر بسقارة

- 5 أنا صاحب الهرم الأكبر وثاني ملوك الأسرة الرابعة
- 6 أمرت بنحت تماثيل يظهر بجسم أسد ورأس إنسان
- 7 أنا مؤسس الأسرة الخامسة
- 8 أنا أول من شيد معابد الشمس المكشوفة في أبي صير
- 9 أنا آخر ملوك الأسرة الخامسة
- 10 أنا أول ملك دونت النصوص الدينية على جدران الأهرام
- 11 أنا رحالة مصري قمت بعدة كشوف جغرافية لإفريقيا في عصر الدولة القديمة
- 12 أنا ملك من ملوك الأسرة السادسة ضعف في عهدي سلطة الحكومة المركزية

5 بم تفسر.....؟

- 1 سمي عصر الدولة القديمة بعصر بناء الأهرام ؟
- 2 يعد العصر العتيق عصر البناء والتأسيس؟
- 3 قيام المصريين القدماء بنحت التماثيل الملكية؟
- 4 عرف هرم سقارة بالهرم المدرج ؟
- 5 لقب الملك سنفرو بالملك المحسن المحبوب؟
- 6 إرسال الملك سنفرو أسطولا بحريا لفينيقيا ؟
- 7 سقوط الأسرة الرابعة في عصر الدولة القديمة ؟
- 8 أهمية نصوص الأهرام؟
- 9 ضعف وسقوط الدولة القديمة؟

6 ما النتائج المترتبة على.....؟

- ① اهتمام ملوك العصر العتيق بتأمين حدود مصر وبناء الحصون؟
- ② زيادة نفوذ كهنة الإله رع في أواخر الأسرة الرابعة ؟
- ③ ضعف سلطة الملك بيبي الثاني أواخر عصر الدولة القديمة ؟
- ④ تعرض مصر لعصر الاضمحلال الأول ؟
- ⑤ ظهور الأسرة الحادية عشر في مصر القديمة

7 دلل.....؟

- ① دلل / وصل فن النحت في عهد الملك خفرع إلى قمته؟
- ② دلل / اهتمام ملوك عصر الدولة القديمة باكتشاف قارة إفريقيا؟
- ③ دلل / ساهم الملك أوناس في الحفاظ على التراث الديني للمصريين القدماء؟
- ④ دلل / كان للأسرة الحادية عشرة دورا مشابها لأعمال الملك نعرمر في مصر من الناحية السياسية؟

ما المقصود بكلا من ؟

(8) نصوص الأهرام (متون الأهرام)

(9) عصر الاضمحلال

1 أكمل العبارات التالية بكلمات مناسبة

- ① سُمي عصر الدولة الوسطى بعصر
- ② استطاع الملك أن يسيطر على الوجه البحري والقبلي بعد عصر الدولة القديمة
- ③ نجح الملك منتوحب الثاني في الانتصار على ملوك في الشمال
- ④ كانت مدينة عاصمة مصر في فترة حكم الملك منتوحب الثاني
- ⑤ يعتبر الملك أمنمحات الأول مؤسس الأسرة
- ⑥ نقل الملك أمنمحات الأول عاصمة البلاد من إلى
- ⑦ أنشأ الملك سنوسرت الثالث حصونا في جنوب مصر عند
- ⑧ من مظاهر اهتمام الملك أمنمحات الثالث بالزراعة إقامة سد
- ⑨ أقام الملك أمنمحات الثالث سد اللاهون عند مدخل بحيرة
- ⑩ تولت الملكة سبك نفرو حكم مصر عقب وفاة الملك
- ⑪ بدأت رحلة الكفاح ضد الهكسوس من مدينة
- ⑫ تم طرد الهكسوس من مصر على يد الملك

2 اختر الاجابة الصحيحة مما بين القوسين

- ① تأسس عصر الرخاء الاقتصادي على يد حكام مدينة
(طيبة - أواريس - إثيت تاوي - من نفر)
- ② وجه التشابه بين أعمال الملك مينا والملك منتوحب الثاني هو
(توحيد البلاد - إنشاء عاصمة جديدة - مقاومة المحتل - تحصين البلاد)
- ③ اتسعت رقعة الدولة المصرية في عهد الملك منتوحب الثاني جهة
(الشمال - الجنوب - الشرق - الغرب)
- ④ كانت عاصمة مصر في الأسرة الثانية عشر مدينة
(طيبة - أواريس - إثيت تاوي - من نفر)
- ⑤ استطاع الملك أمنمحات الأول حماية مصر من الغارات الليبية القادمة من جهة
(الشرق - الشمال - الغرب - الجنوب)
- ⑥ استطاع الملك أمنمحات الأول طرد القبائل الآسيوية التي جاءت من جهة
(الجنوب - الغرب - الشمال - الشرق)

- 7 أي من ملوك مصر الدولة الوسطي استطاع ربط البحر الأحمر بالبحر المتوسط بطريقة غير مباشرة
(سنوسرت الثالث - منتوحتب الثاني - أمنمحات الأول - أمنمحات الثالث)
- 8 أي من ملوك الدولة الوسطي ساهمت إحدى أعماله في زيادة حركة التجارة بين مصر وجيرانها
(منتوحتب الثاني - سنوسرت الثالث - أمنمحات الثالث - أمنمحات الأول)
- 9 ارتبط حدود مصر الجنوبية أيام الدولة الوسطي بظاهرة جغرافية موجودة فى
(نهر النيل - الدلتا - الصحراء الشرقية - شبه جزيرة سيناء)
- 10 أكثر الأماكن المصرية الحالية مساهمة في تحقيق الأمن الغذائي لمصر أيام الملك أمنمحات الثالث
(الفيوم - الصحراء الشرقية - الصحراء الغربية - شبه جزيرة سيناء)
- 11 استكملت الملكة سبك نفرو بناء هرم والده في منطقة
(هواره - دهشور - سقارة - أبي صير)
- 12 استولى الهكسوس على مدينة
(من نفر - طيبة - أواريس - نبتة)
- 13 اتخذ الهكسوس من مدينة عاصمة لهم
(طيبة - أواريس - إثيت تاوي - من نفر)
- 14 تم تحرير جزء كبير من مصر الوسطى من يد الهكسوس على يد
(أمنمحات الأول - سقنن رع - كامس - أحمس الأول)

3 ضع علامة (✓) أمام العبارات الصحيحة وعلامة (✗) أمام العبارات غير الصحيحة

- 1 يعد الملك منتوحتب الثاني مؤسس الأسرة الثانية عشرة ()
- 2 أنشأ الملك منتوحتب الثاني عاصمة جديدة للبلاد سميت (إثيت تاوي) ()
- 3 كان بداية النضال الحقيقي ضد الهكسوس على يد سقنن رع الثاني ()
- 4 كانت بلاد بونت ترسل الإمدادات للهكسوس في مصر ()
- 5 استطاع أحمس أن يحرر مصر من الهكسوس ()
- 6 تولت الملكة سبك نفرو بعد وفاة أمنمحات الثالث ()
- 7 وصلت حدود مصر في عهد الملك أمنمحات الأول حتى الجندل الثاني ()
- 8 يعد الملك أمنمحات الرابع آخر ملوك الأسرة الثانية عشر ()
- 9 تعد الملكة سبك نفرو أول حاكمة يتم تسميتها على اسم الإله سبك ()
- 10 اهتم الملك أمنمحات الأول بتجميل طيبة وإنشاء المعابد بها ()
- 11 أرسل الملك منتوحتب الثاني بعثة إلى بلاد بونت عن طريق البحر الأحمر ()
- 12 للمرأة المصرية قديما دور عسكري مشرف مثل إياح حتب ()

4 اكتب ما تشير إليه كل عبارة مما يأتي

- ① نجح فى الانتصار على ملوك إهناسيا وسيطر على الوجهين القبلي والبحري
- ② قناة مائية ربطت بين البحر الأحمر والبحر المتوسط عن طريق نهر النيل
- ③ نقل عاصمة الدولة الوسطي من مدينة طيبة إلى إثيت تاوي
- ④ أخضع حكام الأقاليم له بمنحهم الألقاب الرفيعة وتقريبهم منه
- ⑤ شيد حصني سمنا وقمنة عند الجندل الثاني
- ⑥ أقام مقاييس لمراقبة منسوب مياه النيل عند الجندل الثاني في عصر الدولة الوسطي
- ⑦ أجبر أمير كوش على قطع الإمدادات التي كانت تصل للهكسوس عن طريق النيل

5 بم تفسر؟

- ① يطلق على عصر الدولة الوسطى عصر الرخاء الاقتصادي ؟
- ② يعد عهد الملك منتوحتب الثاني بداية لمجد الأسرة الحادية عشرة ؟
- ③ اتخذ الملك أمنمحات الأول إثيت تاوي عاصمة جديدة للبلاد ؟
- ④ أقام الملك أمنمحات الأول سلسلة حصون على الحدود الغربية للدلتا ؟
- ⑤ أقام الملك أمنمحات الثالث سد اللاهون
- ⑥ إقامة مقاييس للنيل في عهد الملك أمنمحات الثالث
- ⑦ قيام الملك كامس بحملة مفاجئة على أرض كوش ؟
- ⑧ إنشاء المحطات التجارية بمحاذاة نهر النيل فى عصر الدولة الوسطي؟
- ⑨ ضعف وسقوط الدولة الوسطي ؟

6 ما النتائج المترتبة على.....؟

- ① حفر قناة سيزوستريس ؟
- ② ضعف ملوك الدولة الوسطي بعد أمنمحات الثالث ؟

7 دلل؟

- ① دلل / نجح الملك سنوسرت الثالث فى تأمين حدود مصر؟
- ② دلل / اهتمام الملك أمنمحات الثالث باستثمار موارد مصر؟
- ③ دلل / اهتمام الملك أمنمحات الثالث بالنشاط الزراعي؟
- ④ دلل / لم يحترم الهكسوس الديانة المصرية القديمة؟
- ⑤ دلل / كان للملكة إياح حتب دوراً في تحرير البلاد من الهكسوس ؟

ما المقصود بكلا من ؟

الهكسوس

1 أكمل العبارات التالية بكلمات مناسبة

- ① سُمى عصر الدولة الحديثة بعصر و.....
- ② مؤسس الدولة الحديثة في مصر القديمة الملك
- ③ كانت فترة حكم الملك هو بداية لعصر الدولة الحديثة
- ④ اتخذ الملك أحمس الأول من مدينة عاصمة لمصر
- ⑤ بسط الملك أحمس الأول نفوذه على السواحل الشرقية للبحر المتوسط باستيلائه على
- ⑥ قامت أول ثورة دينية في مصر القديمة على يد
- ⑦ دعا الملك أمنحتب الرابع إلى عبادة إله واحد هو
- ⑧ وصلت حدود مصر إلى نهر الفرات في عهد الملك
- ⑨ أطلق على الموظف الذي يحكم الوحدة من نبتة إلى شمال إدفو لقب
- ⑩ وصلت الإمبراطورية المصرية لأقصى اتساع جنوباً في عصر الدولة الحديثة في عهد الملك
- ⑪ كان معبد هو المعبد الرئيسي لمدينة طيبة خلال حكم الملك تحتمس الأول
- ⑫ تم تصوير رحلة حتشبسوت إلى بلاد بونت على جدران معبد
- ⑬ شيد الملك توت عنخ آمون معابد في مصر و
- ⑭ سُمى عصر الملك رمسيس الثاني بعصر
- ⑮ يعتبر الملك المؤسس الحقيقي للأسرة العشرين
- ⑯ تصدى رمسيس الثالث ل الذين هاجموا مصر من جهة الغرب
- ⑰ انتهى العصر المتأخر بدخول إلى مصر

2 اختر الاجابة الصحيحة مما بين القوسين

- ① تكونت أول إمبراطورية مصرية في عصر
- (الدولة القديمة - الدولة الوسطى - الدولة الحديثة - الازمحلل الأول)
- ② الملك الذى يعتبر حلقة وصل بين عصر الازمحلل الثانى وعصر الدولة الحديثة هو
- (كامس - تحتمس الأول - أحمس الأول - تحتمس الثالث)
- ③ اختار المهندس إينى وادى الملوك ليُدفن فيه الملك
- (تحتمس الأول - توت عنخ آمون - رمسيس الثانى - رمسيس الثالث)

- ④ أول التوسعات الخارجية للملك تحتمس الأول كانت جهة
(الشمال - الجنوب - الغرب - الشرق)
- ⑤ أمر الملك رمسيس الثاني بنحت معبدين في منطقة
(أبو سمبل - الأقصر - نبتة - منف)
- ⑥ أمر رمسيس الثاني بنحت معبدا لزوجته
(حتشبسوت - نفرتاري - إياح حتب - سبك نفرو)
- ⑦ الحد الشمالي الشرقي للإمبراطورية المصرية في الدولة الحديثة هو
(البحر الأحمر - البحر المتوسط - نهر الفرات - الجندل الرابع)
- ⑧ استعادت مصر سيادتها على بلاد الشام وبعض جزر البحر المتوسط في عهد
(أحمس الأول - حتشبسوت - رمسيس الثاني - توت عنخ آمون)
- ⑨ الملك الذي وضع حجر الأساس لمعبد أبيدوس
(توت عنخ آمون - تحتمس الثالث - رمسيس الثالث - سيتي الأول)
- ⑩ أعاد الملك عبادة الإله آمون
(أحمس - توت عنخ آمون - تحتمس الثالث - حتشبسوت)
- ⑪ تم اكتشاف مقبرة الملك توت عنخ آمون عام ١٩٢٢ في وادي الملوك بالبر الغربي لمدينة
(الأقصر - اللشت - دهشور - نبتة)
- ⑫ مع ضعف نفوذ ملوك الدولة الحديثة بدأ كهنة الإله في التدخل في شئون الحكم
(آمون - آتون - رع - سبك)
- ⑬ أسقط حكام بلاد الأسرة ٢٤ وسيطروا على معظم أرض مصر
(كوش - بونت - قادش - فينيقيا)

3 ضع علامة (✓) أمام العبارات الصحيحة وعلامة (✗) أمام العبارات غير الصحيحة

- ① سمي عصر الدولة الحديثة بعصر الرخاء الاقتصادي ()
- ② اقتضرت حدود الإمبراطورية المصرية في عصر الدولة الحديثة على الجانب الإفريقي ()
- ③ وصل نفوذ مصر في عهد الملك تحتمس الأول إلى نهر الفرات بقارة آسيا ()
- ④ أظهرت معركة قادش براعة الملك تحتمس الثالث في التخطيط الحربي ()
- ⑤ أقام الملك تحتمس الثالث إمبراطورية عظيمة إلى ما وراء الجندل الثالث ()
- ⑥ تولى الملك توت عنخ آمون مصر خلفا للملك تحتمس الأول ()
- ⑦ انتهى عصر المجد الحربي بسقوط الأسرة العشرين ()
- ⑧ دعا الملك أمنحتب الرابع إلى عبادة الإله آمون ()

- () 9 اختلف الملك تحتمس الأول عن ساقية من الملوك في بناء المقابر الملكية
- () 10 أعاد الملك توت عنخ آمون الأهمية السياسية والدينية لمدينة طيبة
- () 11 فقدت مصر السيطرة على بعض المناطق الإفريقية في عصر الأسرة الحادية والعشرون

4 اكتب ما تشير إليه كل عبارة مما يأتي

- 1 قام بستة عشر حملة في آسيا لتوطيد النفوذ المصري بها
- 2 قاد معركة مجدو ضد أمراء آسيا
- 3 قاد أمراء آسيا في معركة مجدو
- 4 جعل المنطقة من نبتة إلى شمال إدفو وحدة إدارية واحدة
- 5 اختار مكان دفن الملك تحتمس الأول
- 6 بدأ في بناء معبد أبيدوس في عصر الدولة الحديثة
- 7 أكمل بناء معبد أبيدوس الذي بدأه والده
- 8 قاد معركة قادش ضد الحيثيين
- 9 أبرم أول معاهدة سلام دولية مسجلة في التاريخ
- 10 هزم شعوب البحر المتوسط وتصدى لليبيين في عصر الدولة الحديثة

5 بم تفسر؟

- 1 تسمية عصر الدولة الحديثة عصر بناء الإمبراطورية ؟
- 2 وجود جيش قوى في عصر الدولة الحديثة ؟
- 3 قيام الملك أحمس الأول بإرسال حملة إلى جنوب مصر ؟
- 4 تعتبر الملكة حتشبسوت من أشهر ملكات مصر القديمة ؟
- 5 تطوير الملك تحتمس الأول لمعبد الكرنك ؟
- 6 قيام معركة مجدو ؟

- 7 احضار الملك تحتمس الثالث لأبناء الأمراء الآسيويين إلى مصر بعد معركة مجدو؟
- 8 شهرة الملك توت عنخ آمون؟
- 9 قيام معركة قادش؟
- 10 سمي عصر الملك رمسيس الثاني بعصر الإمبراطورية الثانية؟
- 11 يعتبر الملك رمسيس الثالث المؤسس الحقيقي للأسرة العشرين؟
- 12 ضعف ونهاية الدولة الحديثة؟

6 ما النتائج المترتبة على.....؟

- 1 تحالف ملك الحيثيين مع أمراء المدن السورية ضد الملك رمسيس الثاني ؟
- 2 ضعف الملوك بعد الملك رمسيس الثالث
- 3 الصراع بين ملك كوش والمصريين أثناء عصر الأسرة الـ 24؟
- 4 غزو الإسكندر الأكبر لمصر ؟

7 دلل.....؟

- 1 دلل / تكونت إمبراطورية عظيمة خلال عصر الدولة الحديثة ؟
- 2 دلل / يعتبر الملك تحتمس الثالث من أعظم ملوك مصر في مجال الحرب؟

③ ددل / لم يكن عهد الملك أحمس الأول كفاحا مسلحا فقط؟

④ ددل / عبرت مقبرة الملك توت عنخ آمون عن تقدم الفنون في مصر القديمة؟

⑤ ددل / شهد عصر الدولة الحديثة ثورة دينية ؟

ما المقصود بكلا من ؟

إمبراطورية:-

مستتر/عطا زكي شحتو

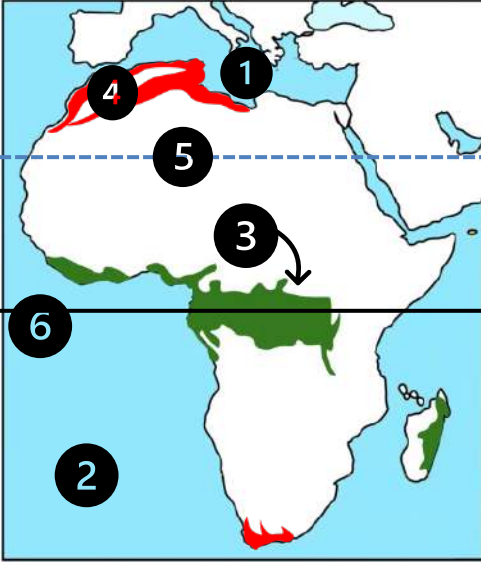
نظم الغابات فى إفريقيا

الغابات المدارية المطيرة وغابات البحر المتوسط

الوحدة الثالثة

1 الدرس الأول

1 أمامك خريطة لقارة إفريقيا اكتب مدلول الأرقام التى عليها



- ① مسطح مائي
- ② المحيط
- ③ نظام غابات
- ④ نظام غابات
- ⑤ مدار
- ⑥ دائرة

2 أكمل العبارات الآتية بكلمات مناسبة

- ① يتكون النظام البيئي من مكونات و
- ② تنقسم النظم البيئية إلى النظم الأرضية و و
- ③ تتميز تربة الغابات المدارية المطيرة باللون
- ④ تعتبر الأغنام من الحيوانات التي تعيش في نظام غابات
- ⑤ تسقط الأمطار على غابات البحر المتوسط في فصل
- ⑥ تنمو غابات البحر المتوسط في جنوب غرب إفريقيا بمنطقة

3 اختر الإجابة الصحيحة مما بين القوسين

- ① يتكون النظام البيئي من مكونات حية مثل
- (المياه - المعادن - التربة - النباتات)
- ② أحد الأسباب الطبيعية لحدوث اختلال في التوازن البيئي
- (الثورانات البركانية - الرعى الجائر - التوسع العمراني - الحروب الحديثة)
- ③ من أشجار الغابات المدارية المطيرة
- (الزيتون - المطاط - الموالح - العنب)
- ④ من الحيوانات التي تعيش بالغابات المدارية المطيرة
- (الثعالب - الذئاب - الأغنام - النمر)

- 5) توجد الغابات المدارية المطيرة بساحل غرب القارة
(غانا - موريتانيا - مالي - الصومال)
- 6) يخلو الجزء الشرقي من جزيرة مدغشقر من أشجار
(الموز - الكاكاو - المطاط - الأرز)
- 7) يمتد نظام غابات البحر المتوسط في العالم على الجانب للقارات
(الشرقي - الغربي - الشمالي - الجنوبي)
- 8) تعد نظم غابات البحر المتوسط صالحة لحرفة
(الصناعة - الزراعة - التجارة - التعدين)
- 9) يوجد نظم الغابات المدارية المطيرة في شمال
(نهر الكونغو - نهر النيجر - نهر الزمبيزي - نهر النيل)
- 10) لنظم الغابات المدارية المطيرة أهمية في حرفتي
(الرعي والصناعة - الزراعة والتعدين - الصناعة والسياحة - السياحة والرعي)
- 11) التربة الغنية بالمواد العضوية المتحللة يكون لونها
(سواداء - حمراء - بنية - خضراء)
- 12) التربة البيضاء هي التي ترتفع بها نسبة
(أكسيد الحديد - المواد الجيرية - المواد المتحللة - المواد العضوية)
- 13) من الحيوانات التي تعيش بنظام غابات البحر المتوسط
(النمر - التماسيح - الماعز - القردة)
- 14) يخلو أقصى جنوب غرب قارة إفريقيا من نمو أشجار
(الصنوبر - البلوط الفليني - الأرز - الأبنوس)
- 15) يتشابه الساحل الشرقي لجزيرة مدغشقر مع الساحل الشمالي لخليج غينيا في جود أشجار
(الأرز - الصنوبر - الماهوجني - البلوط الفليني)
- 16) الأشجار التي يندم وجودها في حوض نهر الكونغو
(الماهوجني - المطاط - الأبنوس - الصنوبر)

4 ضع علامة (✓) أمام العبارات الصحيحة وعلامة (✗) أمام العبارات غير الصحيحة

- 1) يتفاوت حجم النظم البيئية في العالم ()
- 2) يعد نظام الغابات المدارية المطيرة من أكثر النظم البيئية تنوعا ()
- 3) يرتفع المدى الحراري السنوي في نظام الغابات المدارية المطيرة ()
- 4) تنتشر غابات البحر المتوسط في جزيرة مدغشقر ()
- 5) تعد غابات البحر المتوسط نوعا من الأنظمة البيئية الأرضية ()
- 6) أشجار غابات البحر المتوسط أكثر طولاً من أشجار الغابات المدارية المطيرة ()

- () 7 يعد فصل الصيف هو فصل النمو الحقيقي لأشجار غابات البحر المتوسط
- () 8 تخلو جميع الدول العربية من وجود نظام الغابات المدارية المطيرة
- () 9 يقتصر وجود نظام غابات البحر المتوسط بقارة إفريقيا على الدول المطلة على البحر المتوسط
- () 10 لغابات البحر المتوسط أهمية بيئية لإنتاجها النباتات العطرية
- () 11 تسجل قارة إفريقيا أعلى معدل خسارة في مساحة الغابات على مستوى العالم
- () 12 تعد قارة إفريقيا أكثر قارات العالم عرضة لتأثير التغير المناخي

5 اكتب ما تشير إليه العبارات التالية

- ① منطقة جغرافية متكاملة تتكون من مكونات حية ومكونات غير حية تتفاعل مع بعضها
- ② أكبر النظم البيئية في العالم
- ③ حالة من الاستقرار التي تحدث داخل النظم البيئية مما يمنع حدوث تغيرات جذرية
- ④ مساحة من الأرض تزيد عن خمسة آلاف متر مربع بها أشجار لا تقل عن خمسة أمتار
- ⑤ الفرق بين متوسط درجة الحرارة بالنسبة لأعلى شهور السنة وأدنى شهور السنة حرارة
- ⑥ نسبة كمية بخار الماء الموجودة في الهواء بالنسبة إلى كمية بخار الماء التي يستطيع الهواء أن يحملها
- ⑦ تعد مصدرا رئيسيا للنباتات العطرية والطبية
- ⑧ غابات تمتص نسبة كبيرة جدا من انبعاثات الكربون في العالم
- ⑨ غابات توجد في منطقة الكاب أقصى جنوب غرب القارة الإفريقية
- ⑩ نظام الغابات الذي يرتفع بها نسبة الرطوبة

6 بم تفسر

- ① نظام الغابات المدارية المطيرة من أكثر النظم البيئية تنوعا ؟
- ② تتميز تربة الغابات المدارية المطيرة باللون الأحمر؟
- ③ تتسم تربة غابات البحر المتوسط بتعدد ألوانها؟
- ④ انخفاض المدى الحراري السنوي بنظام الغابات المدارية المطيرة ؟
- ⑤ انخفاض الضغط الجوي في نظام الغابات المدارية المطيرة في إفريقيا؟

- 6 كثرة النباتات المتسلقة الطفيلية في نظام الغابات المدارية المطيرة ؟
- 7 ندرة وجود الحيوانات الضخمة آكلة العشب في نظام الغابات الاستوائية ؟
- 8 نمو النباتات والأشجار الكثيفة في الغابات المدارية المطيرة؟
- 9 نمو النباتات في غابات البحر المتوسط في فصل الشتاء ؟
- 10 أشجار غابات البحر المتوسط دائمة الخضرة طوال العام؟
- 11 تعرض غابات البحر المتوسط بقارة إفريقيا لخطر الجفاف؟
- 12 إزالة الغابات في قارة إفريقيا ؟
- 13 تعرض الكثير من الحيوانات بغابات إفريقيا لخطر الانقراض؟
- 14 ارتفاع الرطوبة النسبية في نظام الغابات المدارية المطيرة ؟

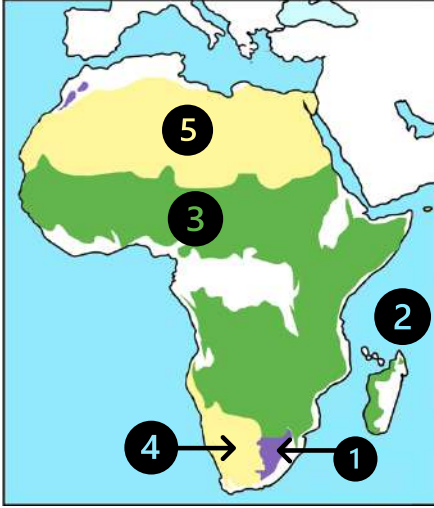
7 ما النتائج المترتبة على

- 1 كثافة أشجار الغابات المدارية المطيرة ؟
- 2 تعرض نظام غابات البحر المتوسط لقلة سقوط الأمطار في بعض السنوات
- 3 تعرض قارة إفريقيا للتغيرات المناخية ؟

8 قارن بين كلا من

غابات البحر المتوسط	الغابات المدارية المطيرة	الأهمية الاقتصادية

1 أمامك خريطة لقارة إفريقيا اكتب مدلول الأرقام التي عليها



① حشائش

② المحيط

③ نظام حشائش

④ صحراء

⑤ الصحراء

2 أكمل العبارات الآتية بكلمات مناسبة

① يطلق على نظام الحشائش الحارة اسم

② يطلق على نظام الحشائش المعتدلة اسم

③ تزداد كثافة الحشائش الحارة كلما اقتربنا من

④ تقع حشائش السافانا في بيئة انتقالية بين و

⑤ تنقسم النظم الصحراوية في العالم إلى صحاري حارة و و

⑥ يقتصر وجود التربة الخصبة في الصحراء الكبرى على بعض الأراضي داخل

⑦ يتعرض طائر لخطر الانقراض بالصحراء الكبرى

3 اختر الإجابة الصحيحة مما بين القوسين

① تقل الحيوانات بوضوح في نظام

(الحشائش البستانية - الحشائش الحارة - الحشائش المعتدلة - الصحاري الحارة)

② من الدول الإفريقية التي تعتمد في تربية الحيوانات على حشائش الإستبس

(مصر - السودان - جنوب إفريقيا - ناميبيا)

③ أي من الحيوانات التالية تتحمل الظروف الصحراوية القاسية ؟

(الأبقار - الإبل - الجاموس - العقارب)

④ تسقط الأمطار في حشائش السافانا في فصل

(الصيف - الشتاء - الربيع - الخريف)

- 5 تسقط الأمطار في حشائش الإستبس في فصل
- (الصيف - الشتاء - الربيع - الخريف)
- 6 تتسم تربة كل من الإستبس والسافانا بغناها بـ
- (المواد الكيميائية - المواد العضوية - التكوينات الصخرية - التكوينات البركانية)
- 7 تشغل حشائش الإستبس مساحة صغيرة في إقليم الفلد بدولتي جنوب إفريقيا و
- (تنزانيا - ليسوتو - أنجولا - النيجر)
- 8 من النباتات الصحراوية التي لها قدرة على تحمل شدة الحرارة والجفاف
- (الماهوجني - السنط - المطاط - السيل)
- 9 توجد حشائش السافانا البستانية بالقرب من الغابات المدارية المطيرة وتخللها أشجار
- (الأكسيا - السنط - الصنوبر - الأرز)
- 10 يواجه نظام حشائش السافانا العديد من الأخطار البشرية يخرج عنها
- (الرعى الجائر - الصيد الجائر - الأنشطة التعدينية - الفيضانات)

4 ضع علامة (✓) أمام العبارات الصحيحة وعلامة (✗) أمام العبارات غير الصحيحة

- 1 يقع نظام الحشائش الحارة في بيئة انتقالية ()
- 2 تعد حشائش الاستبس حديقة حيوان طبيعية ()
- 3 تحتوي الصحاري الإفريقية على كثير من الثروات المعدنية ()
- 4 تتعرض الكثير من حيوانات الصحاري الحارة للانقراض مثل الغزال المصري ()
- 5 تتسم نظام حشائش الإستبس بغناها بالمواد العضوية والمعدنية ()
- 6 تتسم التربة في نظام حشائش السافانا باللون الأحمر ()
- 7 تعتبر الزرافات من الحيوانات التي تعيش في نظام الصحاري الحارة ()
- 8 تتسم النظم الصحراوية في العالم بالجفاف وقلة الأمطار ()
- 9 ينتشر نظام حشائش الإستبس غرب جزيرة مدغشقر ()
- 10 تأتي قارة إفريقيا في المرتبة الأولى بين أكثر المناطق تعرض للفيضانات في العالم ()

5 اكتب ما تشير إليه العبارات التالية

- 1 منطقة تتسم بنقص أو ندرة في الأمطار والنبات الطبيعي والحيوان والإنسان وفقر التربة
- 2 غطاء نباتي كثيف من الحشائش تتداخل معها أشجار متنوعة تزداد كثافتها كلما اقتربنا من الغابات المدارية المطيرة

6 بم تفسر

- ① ترتفع درجة الحرارة صيفا في نظام حشائش السافانا مقارنة نظم الغابات المدارية المطيرة
- ② تدرج حشائش السافانا في الطول من مكان لآخر
- ③ يطلق على نظم حشائش السافانا حديقة حيوان طبيعية
- ④ تتميز التربة في نظام حشائش الاستبس باللون الأسود
- ⑤ قيام النشاط الزراعي في منطقة نظام الحشائش المعتدلة
- ⑥ تنشر حرفة الصيد بحشائش الإستبس
- ⑦ تتعرض بعض المناطق في نظام حشائش الإستبس للحرائق الطبيعية
- ⑧ تندر النباتات الطبيعية في نظام الصحاري الحارة بقارة إفريقيا ؟
- ⑨ تعد الصحاري الحارة بإفريقيا مناطق جذب سياحي
- ⑩ تعتبر الصحاري الإفريقية بيئة مثالية لتوليد الطاقة الشمسية
- ⑪ أهمية حشائش الأستبس
- ⑫ الأهمية الاقتصادية للحشائش الحارة

7 ما النتائج المترتبة على

- ① تفاوت كمية المطر من مكان إلى آخر في نظام الحشائش المعتدلة

② تحول مساحات كبيرة من حشائش الإستبس إلى ارض زراعية

③ سقوط الأمطار على هيئة سيول في نظام الصحاري الحارة

④ حدة موجات الجفاف التي تتعرض لها نظام الحصري الحارة بإفريقيا

⑤ غنى تربة الإستبس بالمواد العضوية والمعدنية

⑥ وجود معالم تاريخية وأثرية في الصحاري الإفريقية ؟

دلل // تستطيع النباتات الصحراوية التكيف مع شدة الجفاف والحرارة

دلل // يختلف نوع السافانا باختلاف كمية المطر وفترة سقوطه

دلل // تشترك النظم الصحراوية في العالم في عدة سمات رغم اختلافها في درجة الحرارة

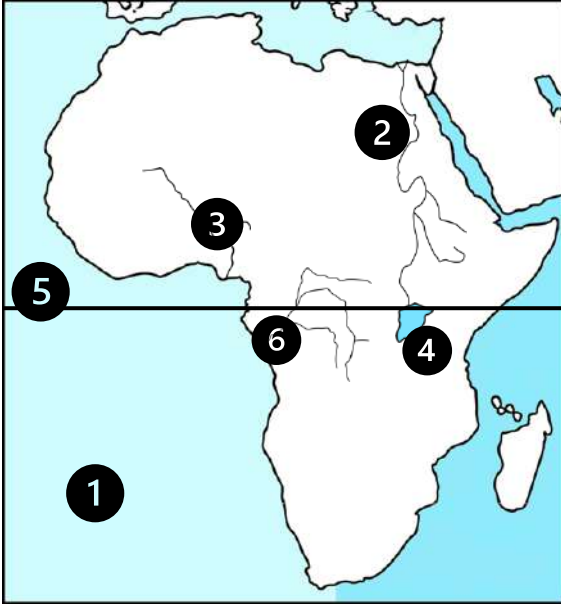
ما العلاقة بين

نظام الصحاري الحارة وإنتاج الطاقة المتجددة؟

النظم البيئية

المائية فى إفريقيا

1 أمامك خريطة لقارة إفريقيا اكتب مدلول الأرقام التى عليها



- ① مسطح مائي
- ② نهر
- ③ نهر
- ④ بحيرة
- ⑤ دائرة عرض
- ⑥ نهر

2 أكمل العبارات الآتية بكلمات مناسبة

- ① تنقسم النظم المائية تبعاً لنسبة
- ② البحيرة العذبة التي شهدت أكبر انقراض جماعي للفقاريات في العصر الحديث بحيرة
- ③ تقع مستنقعات الغابات في إفريقيا داخل نظم الغابات
- ④ يقع نهر الأمازون في قارة
- ⑤ من أهمية أشجار المانجروف أنها تنقي الهواء من
- ⑥ من المدن الصديقة للبيئة التي أنشأتها مصر مدينة و

3 اختر الإجابة الصحيحة مما بين القوسين

- ① من العوامل المشتركة التي تمثل تهديد على كل من أشجار المانجروف والشعاب المرجانية
(التغيرات المناخية - استخدام المتفجرات - الرعى الجائر - نقص الأمطار)
- ② من العوامل الطبيعية التي تؤثر بالسلب على أشجار المانجروف
(الرعى الجائر - التوسع الزراعي - التنمية السياحية - التغيرات المناخية)
- ③ محمية تراث عالمي تشتمل على شعاب مرجانية ومانجروف
(الزرائيق - رأس محمد - البردويل - أركين)
- ④ تقع محمية رأس محمد في دولة
(مصر - المغرب - تونس - الجزائر)

- 5 تشتهر مصر بوجود الشعاب المرجانية خاصة في مدينة
(مطروح - الإسكندرية - الغردقة - السويس)
- 6 أكبر خلل بيئي في العصر الحديث في إفريقيا حدث في بحيرة
(ناصر - المنزلة - تشاد - فيكتوريا)
- 7 يأتي في المرتبة الأولى في التنوع البيولوجي من حيث الكائنات الحية به
(النيل - الكونغو - الأمازون - النيجر)
- 8 أحد الأنظمة البيئية العذبة التي تمر بها دائرة الاستواء
(تانا - تنجانيقا - تشاد - فيكتوريا)
- 9 من أمثلة النظم البيئية للمياه العذبة بقارة إفريقيا بحيرة
(تنجانيقا - المنزلة - البردويل - البرلس)
- 10 من أمثلة النظم البيئية للمياه المالحة بقارة إفريقيا بحيرة
(تشاد - تنجانيقا - المنزلة - فيكتوريا)
- 11 توجد الشعاب المرجانية في معظم السواحل الإفريقية
(الشمالية - الغربية - الجنوبية - الشرقية)
- 12 تقع محمية آركين في دولة
(غانا - موريتانيا - مالي - الصومال)
- 13 توجد المحمية الوطنية لحوض آركين في دولة تطل على
(البحر المتوسط - المحيط الأطلسي - البحر الأحمر - المحيط الهندي)
- 14 من المخاطر الطبيعية التي تواجه نظام الشعاب المرجانية
(ارتفاع درجات الحرارة - الصيد - عمليات الردم - التلوث)
- 15 تأتي قارة إفريقيا في المرتبة الثانية عالميا في مساحة المانجروف بعد قارة
(آسيا - أوروبا - أمريكا الشمالية - أمريكا الجنوبية)

4 ضع علامة (✓) أمام العبارات الصحيحة وعلامة (✗) أمام العبارات غير الصحيحة

- 1 تنقسم النظم البيئية المائية لنوعين رئيسيين ()
- 2 حدث انقراض جماعي للفقاريات في بحيرة فيكتوريا ()
- 3 تحتوي النظم البيئية المائية على العديد من مصادر الطاقة الحفورية ()
- 4 يعد نهر النيل أول أنهار العالم من حيث التنوع البيولوجي ()
- 5 تنمو أشجار المانجروف في المناطق الساحلية المعتدلة ()
- 6 تنتشر أشجار المانجروف في السواحل الشرقية لإفريقيا بشكل أكبر من السواحل الغربية ()

- () 7) تقع مستنقعات نبات البردي في شرق ووسط وشمال قارة إفريقيا
- () 8) تبلغ مساحة المانجروف في مصر نحو 5 كم 2
- () 9) تتسم النظم البيئية للمياه العذبة بتنوع حيوي أكبر من النظم البيئية للمياه المالحة
- () 10) توجد الشعاب المرجانية على سواحل البحر المتوسط في مصر
- () 11) تنتشر نظم الشعاب المرجانية على معظم السواحل الشرقية لقارة إفريقيا
- () 12) صنفت منظمة الفاو منطقة حوض آرकिन كأحد مناطق التراث العالمي
- () 13) تمثل نظم الأراضي الرطبة المالحة مأوى للعديد من الطيور المستوطنة والمهاجرة
- () 14) قامت مصر بتنفيذ مشروع تطهير وتطوير بحيرات الساحل الشمالي

5 اكتب ما تشير إليه العبارات التالية

- ① إفرزات لكائنات بحرية دقيقة أهمها حيوان المرجان
- ② مسطحات ملحية فوق تكوينات من الصلصال والطين وتغطي غالبا بقشور ملحية

6 بم تفسر

- ① أهمية النظم البيئية المائية في قارة إفريقيا
- ② أهمية الطحالب التي تستخرج من النظم البيئية المائية
- ③ تعرض أنواع عديدة من الأسماك في بحيرة فيكتوريا لخطر الانقراض
- ④ تعرف نظم الأراضي الرطبة العذبة بالنظم البرمائية ؟
- ⑤ تنتشر أشجار المانجروف على السواحل الغربية لإفريقيا بشكر كبير ؟
- ⑥ تأسيس الصندوق الإفريقي عام 2014 ؟
- ⑦ إطلاق الأمم المتحدة البرنامج الإنمائي لمبادرة الشبكة الشمسية الصغيرة بقارة أفريقيا

8 أهمية نظم الأراضي الرطبة العذبة

9 تعرض نظام المانجروف للتدهور؟

10 تنمو الشعاب المرجانية في معظم السواحل الشرقية لقارة إفريقيا

7 ما النتائج المترتبة على

1 تعرض النظم البحرية العذبة بإفريقيا للتدهور

2 تعرض الأراضي الرطبة العذبة للتجفيف وإزالة النباتات والتوسع الزراعي

3 تعرض الشواطئ لعمليات الرد

4 نمو أعشاب بحرية في نظم الأراضي الرطبة المالحة؟

دلل على صحة العبارة التالية:-

(1) لأشجار المانجروف أهمية كبيرة

(2) تتميز النظم البحرية العذبة بالتنوع البيولوجي

(3) وجود العديد من المحميات الطبيعية في نظم الأراضي الرطبة المالحة

ما مدي مصداقية العبارات التالية

(4) قامت مصر بتنفيذ العديد من المشروعات لمواجهة التغيرات المناخية