

اللهم المستعان



# أسئلة الوزارة

الدراسات الاجتماعية  
للسف السادس الابتدائي



مفصاة  
مفاهيم  
أسناة

مقدمة من  
صفحة وجروب عاشق لغة الضاد  
مستر-رضا نصار

أسألكم الدعاء نوالدي ووالدي بالرحمة والمغفرة..  
اللهم أسكنهما الفردوس الأعلى مع الأنبياء والمرسلين وجميع موتى المسلمين..  
اللهم آمين يا رب العالمين

## اختبر نفسك

### السؤال الاول: اختر الاجابة الصحيحة مما بين القوسين :

- 1- تقع دولة ..... بأكملها في المحيط الهندي.
- 2- قامت حضارة ..... في شمال شرق الوطن العربي ( البحرين - عمان - جيبوتي - جزر القمر )
- 3- اعطي الازهر الشريف لمصر أهمية..... ( ليبيا - العراق القديم - مصر القديمة - بلاد المغرب )
- 4- يحد الوطن العربي شمالا ..... ( جبال طوروس - البحر الاحمر - خليج العربي - البحر العربي )
- 5- يرجع ترابط الوطن العربي لعوامل متعددة منها ..... ( الدين - اللغة - التاريخ - كل ما سبق )
- 6- من اهم الممرات المالحية في اقصي شرق الوطن العربي ..... ( مضيق باب المندب - مضيق جبل طارق - قناة السويس - مضيق هرمز )
- 7- حلقة الوصل بين دول الوطن العربي هي دولة..... ( سوريا - عمان - فلسطين - مصر )
- 8- اقرب ممر مائي لدولة المغرب هو..... (قناة السويس - مضيق جبل طارق - باب المندب - مضيق هرمز )
- 9- اذا كنت من سكان المغرب و اردت السفر لدولة موريتانيا سوف تتجه..... ( شمالا - شرقا - غربا - جنوبا )
- 10- تطل دولة ..... علي البحر العربي ( ليبيا - الاردن - العراق - عمان )
- 11- تقع معظم دول الوطن العربي في ..... الكرة الارضية ( شمال غرب - جنوب - غرب - شرق )
- 12- تتحكم دولة ..... علي قناة السويس ( لبنان - الاردن - مصر - ليبيا و مصر )
- 13- من دول الوطن العربي في قارة افريقيا ..... ( السعودية - الجزائر - لبنان - الكويت )
- 14- اصغر الدول العربية هي ..... ( السعودية - الجزائر - البحرين - العراق )

### السؤال الثاني : اكمل العبارات الاتية :

- 1- يقع الوطن العربي في وسط قارات العالم .....
- 2- يحد الوطن العربي من جهة الشرق جبال .....
- 3- من الاماكن المقدسة في الوطن العربي داخل دولة مصر .....
- 4- يقسم الوطن العربي الي ..... دولة
- 5- من دول الجناح العربي الافريقي ..... و ..... و .....
- 6- من دول الجناح العربي الاسيوي ..... و ..... و .....
- 7- يحد الوطن العربي من جهة الشمال ..... و .....

### السؤال الثالث : اكتب كلمة ( صواب ) أو كلمة ( خطأ ) أمام العبارات الاتية :

- 1- يمتد الوطن العربي على مساحة 13 مليون كم بقارتي آسيا و أوروبا ( )
- 2- يتحكم الوطن العربي في أربع ممرات مائية ( )
- 3- تعتبر دولة اليمن من دول الجناح الأفريقي ( )
- 4- توجد دولة جزر القمر بالمحيط الهندي ( )

السؤال الرابع : أجب عما يلي :

أذكر سببا واحدا لكل من :

1- الأهمية الاقتصادية لموقع الوطن العربي

.....

2- الأهمية الحضارية للوطن العربي

.....

أذكر نتيجة واحدة لكل من :

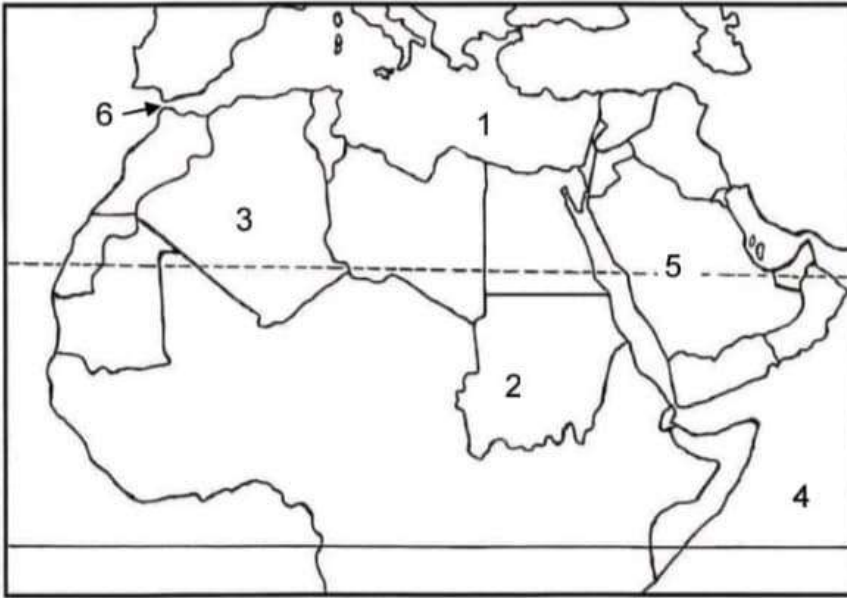
3- وجود أماكن مقدسة في الوطن العربي

.....

4- الوطن العربي مهد الديانات السماوية

.....

السؤال الخامس وضح مدلول الأرقام على خريطة الوطن العربي الآتية :



1- البحر : .....

2- دولة : .....

3- دولة : .....

4- المحيط : .....

5- دولة : .....

6- مضيق : .....

عاشق لغتنا  
رضانصار

صفحة وجروب عاشق لغة الضاد مستر-رضا نصار

## صفحة وجروب عاشق لغة الضاد مستر-رضا نصار اخبر نفسك

### السؤال الأول : أكمل العبارات الآتية

1. نزل الوحي على الرسول (ص) وهو في سن ..... وكان يتعبد في غار .....
2. بعد ثلاث سنوات من الدعوة بدأت دعوة الرسول (ص) .....
3. واجهت الدعوة الإسلامية معارضة شديدة من قبيلة .....
4. أول من أسلم من النساء ..... بينما ..... أول من أسلم من الرجال
5. أول من أسلم من الصبية .....
6. كان الرسول يخرج إلى غار ..... ليتعبد فيه
7. استغرقت المرحلة السرية ..... سنوات
8. كانت أول هجرة للمسلمين إلى .....
9. كان لأهل مكة رحلتان تجاريتان هما ..... و.....
10. من العادات السيئة للعرب قبل الإسلام ..... من العادات الحسنة للعرب قبل الإسلام .....

### ضع علامة ( √ ) أو علامة ( x ) أمام العبارات الآتية :

1. كانت قبيلة قريش من أشد المرحبين بالدعوة الإسلامية ( )
2. هجرة المسلمين إلى يثرب كانت قبل هجرتهم إلى الحبشة ( )
3. استمرت الدعوة سرية خمس سنوات ( )
4. اثر الاسلام بالايجاب على الجزيرة العربية ( )

### صوب الكلمات التي تحتها خط :

- 1- ظل الرسول (ص) يتعبد في غار ثور حتى بلغ الأربعين من عمره (.....)
- 2- أشار الرسول (ص) على أصحابه بالهجرة إلى اليمن (.....)
- 3- استمرت المرحلة السرية للدعوة لفترة سبع سنوات (.....)
- 4- أمر الرسول أصحابه بالهجرة إلى اليمن لأن بها ملك عادل (.....)
- 5- كفل الرسول بعد وفاته والدته وعمه أبو طالب (.....)
- 6- أول من أسلم من الصبية زيد بن حارثة (.....)

### من هو :

- 1- تولى تربية الرسول (ص) بعد موت أمه السيدة آمنه بنت وهب (.....)
- 2- تزوجت من الرسول (صلى الله عليه وسلم) وأنجبت منه البنين والبنات (.....)
- 3- ملك الحبشة الذي رحب بالمسلمين عند هجرتهم إلى بلاده (.....)

عاشق لغة الضاد  
رضا نصار

## صفحة وجروب عاشق لغة الضاد مستر-رضا نصار

**أجب عما يأتي :**

**أذكر سببا واحدا لكلام من :**

1- خروج الرسول صلى الله عليه وسلم لحرفة الرعي

2- خرج الرسول صلى الله عليه وسلم لغار حراء

3- كان النظام القبلي هو النظام السائد بالجزيرة العربية

4- رفض قريش للدعوة الإسلامية

5- اختار الرسول صلى الله عليه وسلم الحبشة لهجرة المسلمين

**أذكر نتيجة واحدة :**

6- النبي (صلى الله عليه وسلم) في الدعوه للدين الاسلامي ؟

## اختبر نفسك

### السؤال الأول: اكتب كلمة (صواب) أو كلمة (خطأ) أمام كل عبارة

1. حاولت قريش منع المسلمين من الهجرة إلى المدينة ( )
2. انتصر المسلمون على كفار قريش في غزوة أحد ( )
3. عاقب الرسول لا أهل مكة بعد فتحها سنة 8 هـ. ( )
4. اعترض بعض الصحابة على الهدنة في صلح الحديبية ( )
5. كانت الهجرة إلى المدينة نقطة تحول في التاريخ الإسلامي. ( )
6. أول عمل قام به الرسول بعد الهجرة هو بناء المسجد. ( )
7. بعد صلح الحديبية أكمل الرسول طريقه ليؤدي العمرة ( )

### السؤال الثاني: ضع خطاً تحت الإجابة الصحيحة

- 1-اجتمع زعماء قريش في دار ..... وقرروا قتل الرسول لكنهم فشلوا.  
( الحكمة - العلوم - الندوة - الشعب )
- 2- حدثت غزوة (بدر) في العام ..... من الهجرة.  
( الأول - الثاني - الثالث - الرابع )
- 3-انهزم المسلمون في غزوة ..... بسبب مخالفة الرماة لأوامر الرسول (ﷺ)  
( بدر - أحد - الخندق - فتح مكة )
- 4- كانت مدة الهدنة في صلح الحديبية ..... سنوات.  
( سبع - ثمان - تسع - عشر )
- 5- توفي الرسول (ﷺ) في سنة ..... من الهجرة.  
( 10 - 11 - 12 - 13 )
- 6- كان هو صديق الرسول (ﷺ) في الهجرة إلى المدينة.....  
( أبوبكر الصديق - علي بن أبي طالب - عمر بن الخطاب - عثمان بن عفان )

### السؤال الثالث: أكمل الجمل الآتية بكلمات مناسبة :

1. خطط الرسول (ﷺ) للهجرة فقرر الهجرة في ..... تامة ليلاً.
2. آخى الرسول (ﷺ) بين المهاجرين و ..... لإقامة مجتمع متماسك.
3. في غزوة أحد تحول النصر إلى هزيمة بسبب مخالفة ..... لأوامر الرسول
4. أشار سلمان الفارسي على النبي (ﷺ) بحفر ..... حول المدينة لحمايتها.

### السؤال الرابع: أجب عما يأتي :

اذكر سبباً واحداً :

- 1- كانت الهجرة إلى المدينة نقطة تحول في التاريخ الإسلامي.

- 2- الرسول (ﷺ) بين المهاجرين والأنصار.

علاقة لغتنا بلغتنا  
فيها نصها

## اختر نفسك

### السؤال الاول : اكمل العبارات الاتية :

1. اعلي قمة جبلية في الوطن العربي هي قمة جبل .....
2. تكونت جبال اطلس نتيجة الحركات .....
3. مرتفعات اليمن تكونت نتيجة .....
4. تقع هضبة حضر موت في الجناح .....
5. تعتبر جبال عسير من امثلة الجبال .....
6. يمتد بحر الرمال العظيم بين مصر و .....
7. تعد سهول دجلة و الفرات من السهول .....

### السؤال الثاني : اكتب كلمة ( صواب ) او ( خطأ ) امام العبارات الاتية :

1. ادني نقطة في سطح الوطن العربي هي بحر قزوين ( )
2. تشكلت جبال زاغروس نتيجة حركات التوائية ( )
3. تقوم الزراعة في الواحات اعتمادا علي المياه الجوفية ( )
4. نشأ وادي الجرير بفعل التعرية المائية ( )
5. ساعد تنوع مظاهر السطح علي تنوع الانشطة الاقتصادية ( )
6. الكثبان الرملية تكونت بفعل التعرية الهوائية ( )

### السؤال الثالث : اجب عما يلي :

أذكر سببا واحدا :

1- نشأة جبال اطلس ؟

.....

2- تكون سهول وادي النيل

.....

3- يعيش بعض السكان في الواحات

.....

4- اهمية الاودية الجافة

.....

5- نشأة جبال البحر الاحمر ؟

.....

أذكر نتيجة واحدة :

1- حدوث الحركات الالتوائية ؟

.....

2- وجود المياه الجوفية في الواحات

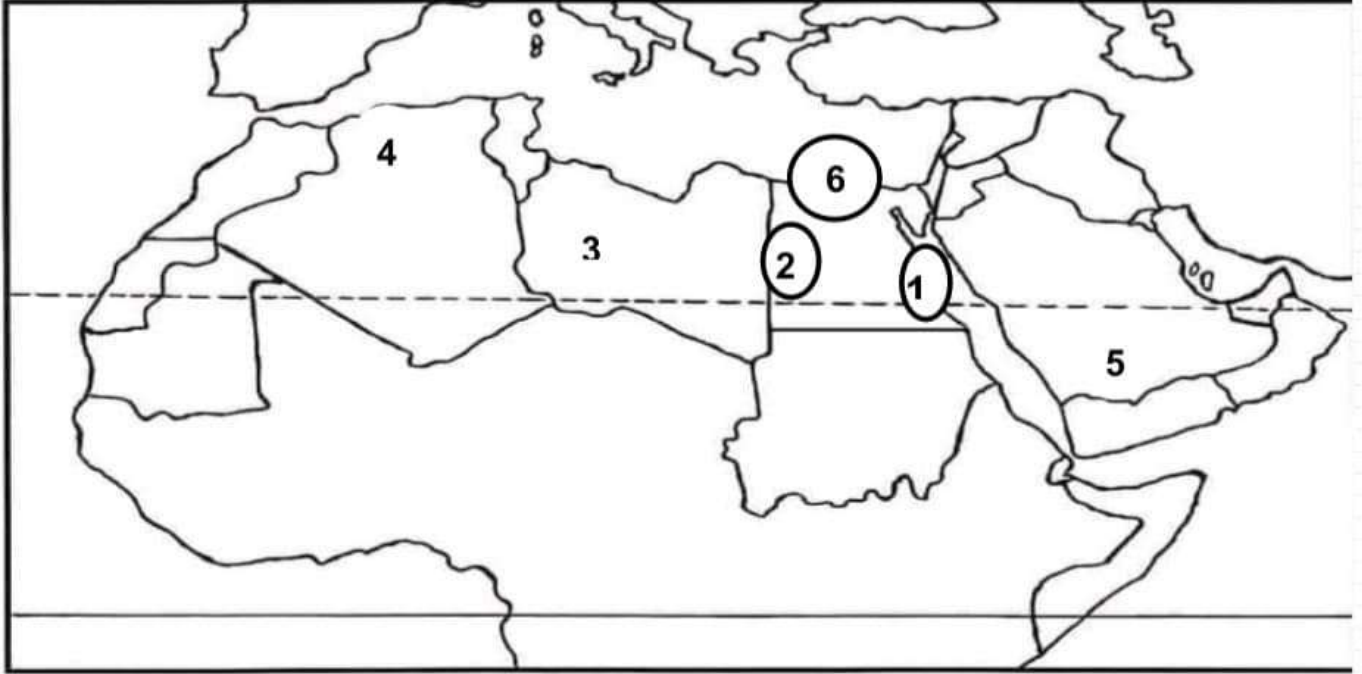
.....

عاشق لغتي لعناد  
ضياء نصار

**السؤال الرابع : أذكر دليلا لكل من :**  
1- تتنوع السهول في الوطن العربي

2- اثر الحركات الانكسارية علي مظاهر سطح الوطن العربي

**السؤال الخامس : وضع مدلول الارقام علي خريطة الوطن العربي :**



- 1- جبال .....
- 2- بحر .....
- 3- هضبة ..... أكبر المظاهر التضاريسية
- 4- جبال .....
- 5- هضبة .....
- 6- سهل فيضي بمصر .....

عاشق لغتي لعناد  
ضياء نصار

عاشق لغز الصناد  
ضمانها -

## اخبر نفسك

### السؤال الأول: اختر الاجابة الصحيحة مما بين الاقواس

- 1- أي من العوامل الآتية لا يؤثر على مناخ الوطن العربي .....  
( الموقع الفلكي - المسطحات المائية - المرتفعات - السهول )
- 2- دائرة عرض تمر جنوب الوطن العربي .....  
( جرينتش - السرطان - الجدى - الاستواء )
- 3- تتعامد الشمس في فصل الصيف على مدار .....  
( جرينتش - السرطان - الجدى - الاستواء )

### السؤال الثاني: أجب عما يأتي :

أكتب نتيجة واحدة لـ :

- 1- هبوب التيارات البحرية الباردة على الوطن العربي.

2- أكتب نتيجة واحدة لـ : تعامد الشمس على مدار الجدى شتاء في الوطن العربي.

3- تأثر الوطن العربي بحدوث تغيرات مناخية ؟

أذكر سببا واحدا لـ :

- 1- يسود المناخ الحار معظم أجزاء الوطن العربي.

2- تتميز مدينة الإسكندرية بمناخ معتدل عن مدينة الرياض بالسعودية

3- تغطي الثلوج قمة جبل توبقال في المغرب

4- تنخفض درجات الحرارة شتاء في الوطن العربي

### السؤال الثالث: اكتب كلمة صواب أمام العبارة الصحيحة و كلمة خطأ امام العبارة غير

الصحيحة

- 1- المناطق الداخلية من الوطن العربي تكون أكثر اعتدالا من المناطق الساحلية ( )
- 2- مناخ الوطن العربي شديد الحرارة صيفا ومعتدل البرودة شتاء ( )
- 3- سوء الأحوال الجوية يؤدي إلى تأجيل الرحلات الجوية. ( )
- 4- يؤثر الموقع الفلكي للوطن العربي علي مناخه ( )
- 5- تمر دائرة الاستواء في شمال الوطن العربي ( )
- 6- تسقط الامطار صيفا علي الاطراف الشمالية للوطن العربي ( )

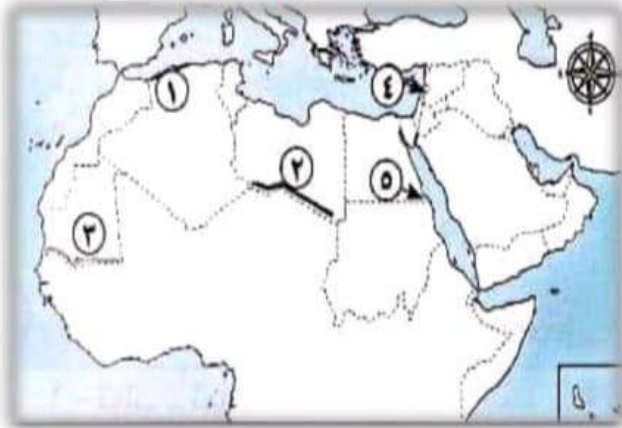
### السؤال الرابع: اكمل العبارات الآتية بما يناسبها من كلمات :

- 1- من العوامل المؤثرة في المناخ ..... و ..... و .....
- 2- تمر دائرة عرض ..... جنوب الوطن العربي
- 3- يقل تأثير المسطحات المائية في الوطن العربي بسبب ..... و .....
- 4- تنخفض الحرارة كلما ارتفعنا مسافة ..... متر فوق سطح البحر واحد درجة مئوية

عاشق لغز الجغرافيا  
- ضياء نصار

## اخبر نفسك

السؤال الأول: لاحظ الخريطة ثم أجب :



- 1- إقليم مناخ.....
- 2- إقليم مناخ.....
- 3- إقليم مناخ.....
- 4- دولة.....
- 5- محمية جبل.....

السؤال الثاني: أكمل العبارات الآتية:

- 1- يتميز إقليم البحر المتوسط بتساقط الأمطار في فصل.....
- 2- تربي الماعز و الأغنام في إقليم مناخ.....
- 3- يسود معظم مساحة الوطن العربي إقليم مناخ.....
- 4- تنمو بالأقليم المداري في الوطن العربي حشائش.....
- 5- من الحيوانات البرية التي توجد في الإقليم الصحراوي.....و.....
- 6- من الأشجار التي تنمو في إقليم البحر المتوسط..... و..... و.....
- 7- يوجد إقليم البحر المتوسط في دولة.....و.....
- 8- يوجد الإقليم المداري في جنوب دولة.....وجنوب دولة.....
- 9- من أمثلة المحميات الطبيعية في لبنان.....و الأردن محمية.....

السؤال الثالث: اكتب كلمة (صح) أمام العبارات الصحيحة و كلمة (خطأ) أمام العبارات

الخاطئة:

- 1-تنوع الأقاليم المناخية في الوطن العربي أدى إلى تنوع النبات الطبيعي. ( )
- 2-يمتد إقليم البحر المتوسط بين دائرتي عرض 15:30 شمالاً بالوطن العربي. ( )
- 3-تقع مدينة أسوان في إقليم البحر المتوسط. ( )
- 4-ينتشر نبات الصبار و النخيل بإقليم البحر المتوسط. ( )
- 5-تنمو حشائش السافانا في الإقليم المداري بالوطن العربي. ( )
- 6-تنتشر حشائش الإستبس في الإقليم الصحراوي الحار. ( )
- 7-تساعد المحميات الطبيعية في الحفاظ على الحياة البرية بالوطن العربي. ( )

عاشق لغتي  
ضياء زهار

### السؤال الرابع : حدد المختلف فيما يلي مع ذكر السبب:

- 1-ثعلب - ثعبان - سحلية - زرافة.
- 2-أشجار الصنوبر - أشجار الزيتون - نبات الصبار - أشجار الأرز.

### السؤال الخامس: اختر الإجابة الصحيحة مما بين القوسين:

- 1- تنمو أشجار الأرز في إقليم مناخ.....  
(البحر المتوسط - الاستوائي - الصحراوي - المداري )
- 2- دولة عربية تقع بالكامل داخل الإقليم الصحراوي الحار.....  
(الجزائر - الكويت - السودان - لبنان )
- 3- تقع محمية ضانا في دولة.....  
(سوريا - لبنان - فلسطين - الأردن )
- 4- إحدى الدول العربية التي تقع أجزاءها الشمالية في إقليم مناخ البحر المتوسط.....  
(موريتانيا - السودان - ليبيا - اليمن )

### السؤال السادس: صنف النباتات الآتية حسب الإقليم المناخي الذي توجد فيه:

- 1-حشائش السافانا.....
- 2-أشجار الزيتون.....
- 3-الصبار.....
- 4-حشائش الإستبس.....

### السؤال السابع: أجب عما يلي :

أذكر سببا واحدا :

- 1- أهمية حشائش الإستبس بالنسبة للثروة الحيوانية؟

.....

- 2- تنوع الأقاليم المناخية في وطننا العربي؟

.....

- 3- أهمية المحميات الطبيعية؟

.....

- 4- سقوط الأمطار صيفاً على جنوب غرب شبه الجزيرة العربية؟

.....

### السؤال السابع: قارن بين:

وجه المقارنة	إقليم مناخ البحر المتوسط	إقليم مناخ الصحراوي الحار
الخصائص المناخية	..... ..... .....	..... ..... .....
الخصائص النباتية و الحيوانات البرية.	..... ..... .....	..... ..... .....

### السؤال الثامن: أذكر

- 1- أشهر المحميات الطبيعية في الوطن العربي؟

.....

.....

## اختر نفسك

السؤال الاول: اكتب كلمة (صح) امام العبارات الصحيحة وكلمة (خطأ) امام العبارات غير الصحيحة

- 1- الجفاف هو نقص كمية الامطار ليومين ( )
- 2- يؤثر التغير المناخي على درجة الحرارة وكمية المطر ( )
- 3- انشئت المدن الذكية بهدف تقليل انبعاثات الغازات الدفينة ( )
- 4- التوسع المستمر فى الزراعة يؤدي الى ندرة المياه العذبة ( )

السؤال الثانى : اختر الاجابة الصحيحة مما بين القوسين

- 1- يعانى نحو ثلثى مساحة الوطن العربى من مشكلة .....  
( الجفاف - التصحر - ندرة المياه العذبة - قلة المراعى الطبيعية )
- 2- اكثر الدول العربية التى تتعرض لخطر الجفاف .....  
( الصومال - المغرب - العراق - البحرين )
- 3- تدهور الارض وتناقص القدرة على الانتاج تشير الي ....  
( الجفاف - الفيضانات - التصحر - السيول )
- 4- اعلن عن انشاء مدينة نيوم الخضراء بدولة .....  
( المغرب - مصر - السعودية - الجزائر )

السؤال الثالث : اجب عما يأتى :

أذكر سببا واحدا لكل من

1- حدوث الجفاف فى بعض الدول العربية

2- إنشاء المدن الذكية

3- حدوث مشكلة التصحر

أذكر نتيجة واحدة

1- الرعى الجائر للحيوانات فى الوطن العربى؟

السؤال الرابع : أكمل العبارات الاتية بما يناسبها من كلمات

1- نقص كمية الامطار فى بعض السنوات بما لا يسمح بالزراعة او نمو الحشائش يسمى .....

2- من أسباب التصحر ..... و ..... و .....

3- تزايد معدلات استهلاك المياه بالوطن العربى بسبب ..... و .....

عاشق لغتي لغتنا  
ضمانها -

## قيم نفسك على الوحدة الثانية

### السؤال الاول : اكمل العبارات الاتية :

1. اعلي قمة جبلية في الوطن العربي هي قمة جبل .....
2. تكونت جبال اطلس نتيجة الحركات .....
3. مرتفعات اليمن تكونت نتيجة .....
4. تقع هضبة حضر موت في الجناح .....
5. تعتبر جبال عسير من امثلة الجبال .....
6. يمتد بحر الرمال العظيم بين مصر و .....
7. تعد سهول دجلة و الفرات من السهول .....
8. من العوامل المؤثرة في المناخ ..... و ..... و .....
9. تمر دائرة عرض ..... جنوب الوطن العربي
10. يقل تأثير المسطحات المائية في الوطن العربي بسبب ..... و .....
11. تنخفض الحرارة كلما ارتفعنا مسافة ..... متر فوق سطح البحر واحد درجة مئوية
12. يتميز إقليم البحر المتوسط بتساقط الأمطار في فصل .....
13. تربي الماعز و الأغنام في إقليم مناخ .....
14. يسود معظم مساحة الوطن العربي إقليم مناخ .....
15. تنمو بالأقليم المداري في الوطن العربي حشائش .....
16. من الحيوانات البرية التي توجد في الإقليم الصحراوي ..... و .....
17. من الأشجار التي تنمو في إقليم البحر المتوسط ..... و ..... و .....
18. يوجد إقليم البحر المتوسط في دولة ..... و .....
19. يوجد الإقليم المداري في جنوب دولة ..... و جنوب دولة .....
20. من أمثلة المحميات الطبيعية في لبنان ..... و الأردن محمية .....
21. نقص كمية الامطار في بعض السنوات بما لا يسمح بالزراعة او نمو الحشائش يسمى .....
22. من أسباب التصحر ..... و ..... و .....
23. تزايد معدلات استهلاك المياه بالوطن العربي بسبب ..... و .....

### السؤال الثاني : اكتب كلمة ( صواب ) او ( خطأ ) امام العبارات الاتية :

1. ادني نقطة في سطح الوطن العربي هي بحر قزوين ( )
2. تشكلت جبال زاغروس نتيجة حركات التوائية ( )
3. تقوم الزراعة في الواحات اعتمادا علي المياه الجوفية ( )
4. نشأ وادي الجريز بفعل التعرية المائية ( )
5. ساعد تنوع مظاهر السطح علي تنوع الانشطة الاقتصادية ( )
6. الكثبان الرملية تكونت بفعل التعرية الهوائية ( )
7. المناطق الداخلية من الوطن العربي تكون أكثر اعتدالا من المناطق الساحلية ( )
8. مناخ الوطن العربي شديد الحرارة صيفا ومعتدل البرودة شتاء ( )
9. سوء الأحوال الجوية يؤدي إلى تأجيل الرحلات الجوية. ( )
10. يؤثر الموقع الفلكي للوطن العربي علي مناخه ( )
11. تمر دائرة الاستواء في شمال الوطن العربي ( )
12. تسقط الامطار صيفا علي الاطراف الشمالية للوطن العربي ( )
13. تنوع الأقاليم المناخية في الوطن العربي أدى إلى تنوع النبات الطبيعي. ( )

14. يمتد إقليم البحر المتوسط بين دائرتي عرض 15:30 شمالاً بالوطن العربي. ( )
15. تقع مدينة أسوان في إقليم البحر المتوسط. ( )
16. ينتشر نبات الصبار و النخيل بإقليم البحر المتوسط. ( )
17. تنمو حشائش السافانا في الإقليم المداري بالوطن العربي. ( )
18. تنتشر حشائش الإستبس في الإقليم الصحراوي الحار. ( )
19. تساعد المحميات الطبيعية في الحفاظ على الحياة البرية بالوطن العربي. ( )
20. الجفاف هو نقص كمية الامطار ليومين ( )
21. يؤثر التغير المناخي على درجة الحرارة وكمية المطر ( )
22. انشنت المدن الذكية بهدف تقليل انبعاثات الغازات الدفينة ( )
23. التوسع المستمر في الزراعة يؤدي الى ندرة المياه العذبة ( )

### السؤال الثالث: اختر الاجابة الصحيحة مما بين الاقواس

- 1- أي من العوامل الآتية لا يؤثر على مناخ الوطن العربي .....  
( الموقع الفلكي - المسطحات المائية - المرتفعات - السهول )
- 2- دائرة عرض تمر جنوب الوطن العربي .....  
( جرينتش - السرطان - الجدى - الاستواء )
- 3- تتعامد الشمس في فصل الصيف على مدار.....  
( جرينتش - السرطان - الجدى - الاستواء )
- 3- تنمو أشجار الأرز في إقليم مناخ.....  
( البحر المتوسط - الاستوائي - الصحراوي - المداري )
- 4- دولة عربية تقع بالكامل داخل الإقليم الصحراوي الحار.....  
( الجزائر - الكويت - السودان - لبنان )
- 5- تقع محمية ضانا في دولة.....  
( سوريا - لبنان - فلسطين - الأردن )
- 6- إحدى الدول العربية التي تقع أجزاءها الشمالية في إقليم مناخ البحر المتوسط.....  
( موريتانيا - السودان - ليبيا - اليمن )
- 7- يعاني نحو ثلثي مساحة الوطن العربي من مشكلة .....  
( الجفاف - التصحر - ندرة المياه العذبة - قلة المراعى الطبيعية )
- 8- أكثر الدول العربية التي تتعرض لخطر الجفاف .....  
( الصومال - المغرب - العراق - البحرين )
- 9- تدهور الارض وتناقص القدرة على الانتاج تشير الي ....  
( الجفاف - الفيضانات - التصحر - السيول )
- 10- اعلن عن انشاء مدينة نيوم الخضراء بدولة .....  
( المغرب - مصر - السعودية - الجزائر )

عاشق لغز لغزنا  
- ضاها ضاها -

عاشق لغتي لعمري  
- ضياء زاهر -

## السؤال الرابع : أجب عما يلي :

أذكر سبباً واحداً :

1- نشأة جبال اطلس ؟

2- تكون سهول وادي النيل

3- يعيش بعض السكان في الواحات

4- أهمية الاودية الجافة

5- نشأة جبال البحر الاحمر ؟

6- يسود المناخ الحار معظم أجزاء الوطن العربي.

7- تتميز مدينة الإسكندرية بمناخ معتدل عن مدينة الرياض بالسعودية

8- تغطي الثلوج قمة جبل توبقال في المغرب

9- تنخفض درجات الحرارة شتاءاً في الوطن العربي

10- أهمية حشائش الإستبس بالنسبة للثروة الحيوانية؟

11- تنوع الأقاليم المناخية في وطننا العربي؟

12- أهمية المحميات الطبيعية؟

13- سقوط الأمطار صيفاً على جنوب غرب شبه الجزيرة العربية؟

14- حدوث الجفاف في بعض الدول العربية

15- إنشاء المدن الذكية

16- حدوث مشكلة التصحر

أذكر نتيجة واحدة :

1- حدوث الحركات الالتوائية ؟

2- وجود المياه الجوفية في الواحات

3- هبوب التيارات البحرية الباردة على الوطن العربي.

4- أكتب نتيجة واحدة لـ : تعامد الشمس على مدار الجدى شتاء في الوطن العربي.

5- تأثر الوطن العربي بحدوث تغيرات مناخية ؟

6- الرعى الجائر للحيوانات في الوطن العربي؟

عاشق لغتي  
عاشق لغتي  
عاشق لغتي  
عاشق لغتي  
عاشق لغتي

**السؤال الخامس : أذكر دليلا لكل من :**

3- تتنوع السهول في الوطن العربي

4- اثر الحركات الانكسارية علي مظاهر سطح الوطن العربي

**السؤال السادس : حدد المختلف فيما يلي مع ذكر السبب:**

1- ثعلب - ثعبان - سحلية - زرافة.

2- أشجار السنوبر - أشجار الزيتون - نبات الصبار - أشجار الأرز.

**السؤال السابع: صنف النباتات الآتية حسب الإقليم المناخي الذي توجد فيه:**

1- حشائش السافانا.....

2- أشجار الزيتون.....

3- الصبار.....

4- حشائش الإستبس.....

**السؤال الثامن: قارن بين:**

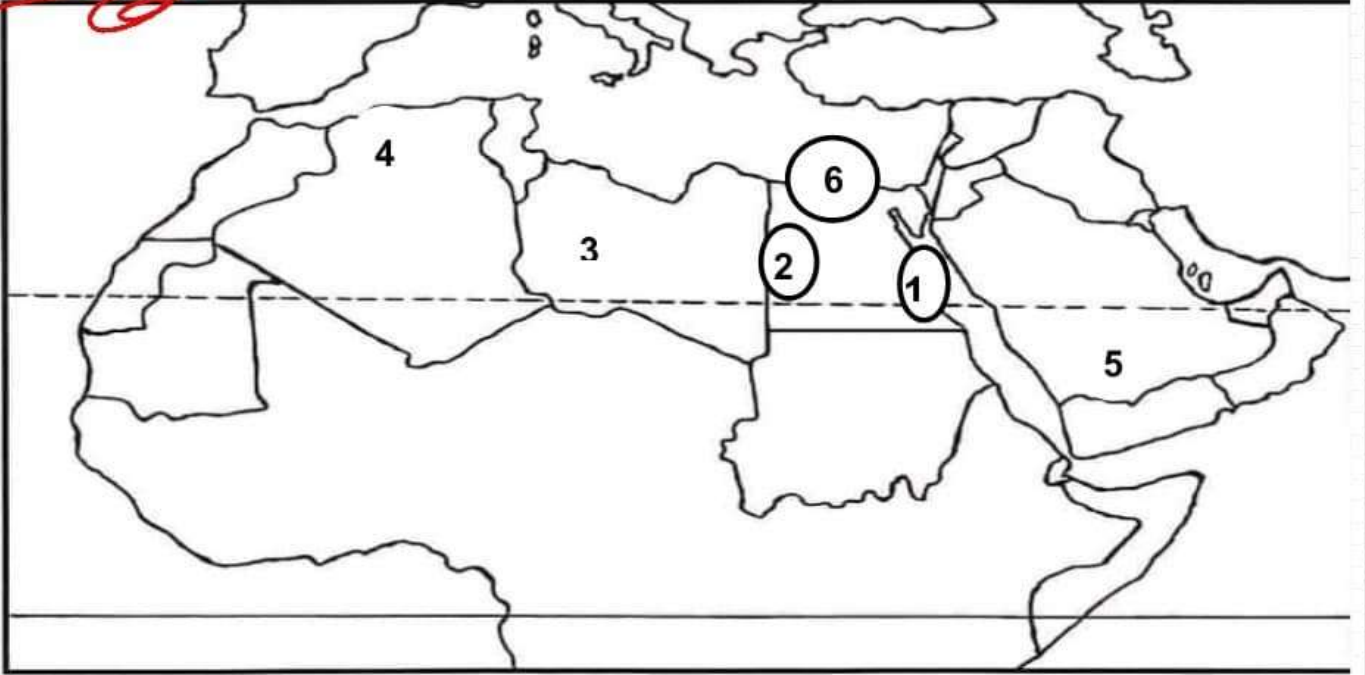
وجه المقارنة	إقليم مناخ البحر المتوسط	إقليم مناخ الصحراوي الحار	إقليم مداري
الخصائص المناخية	.....	.....	.....
الخصائص النباتية والحيوانات البرية.	.....	.....	.....

**السؤال التاسع: أذكر**

1- أشهر المحميات الطبيعية في الوطن العربي؟

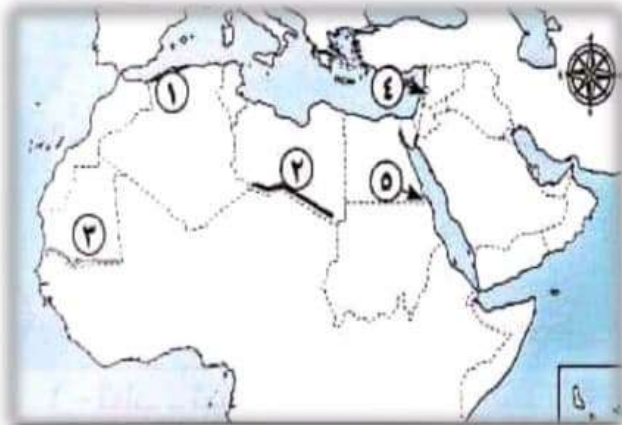
السؤال العاشر: وضع مدلول الارقام علي خريطة الوطن العربي :

عاشق لغز الجهاد  
- ضياء زهاير -



- 1- جبال .....
- 2- بحر .....
- 3- هضبة ..... أكبر المظاهر التضاريسية
- 4- جبال .....
- 5- هضبة .....
- 6- سهل فيضي بمصر .....

لاحظ الخريطة ثم أجب :



- 1- إقليم مناخ .....
- 2- إقليم مناخ .....
- 3- إقليم مناخ .....
- 4- دولة .....
- 5- محمية جبل .....

عاشق لغز الجهاد  
- ضياء زهاير -

## اختبر نفسك

### السؤال الأول. أكمل العبارات الآتية بما يناسبها من كلمات :

- 1- تنقسم مقومات الزراعة إلى مقومات ..... و.....
- 2- القمح والأرز من المحاصيل .....
- 3- تتميز واحة سيوه في مصر بزراعة أنواع جيدة من .....
- 4- تتركز زراعة البن في دولة .....
- 5- تتنوع مناخ الوطن العربي أدي إلى تنوع .....
- 6- تحتل مصر المركز الأول في إنتاج كل من ..... و .....
- 7- الحبوب الغذائية ، مثل : ..... و ..... و .....
- 8- المحاصيل السكرية ، مثل : ..... و .....

### السؤال الثاني : حدد سببًا واحدًا لكلًا من :

- 1- قيام الزراعة في الواحات: .....
- 2- أهمية رأس المال في النشاط الزراعي : .....
- 3- تنوع المحاصيل الزراعية في الوطن العربي : .....
- 4- أهمية وسائل النقل في الزراعة : .....

### السؤال الثالث: حدد العنصر المختلف مع ذكر السبب :

- 1- المياه الجوفية – مياه الأمطار – التربة الخصبة – رأس المال .....
- 2- الذرة – الأرز – القمح – الزيتون .....
- 3- الموالح – الأرز – التين – الموز .....
- 4- وسائل النقل -تنوع المناخ – السوق – الأيدي العاملة .....

### السؤال الرابع : اكتب كلمة (صواب) امام العبارة الصحيحة وكلمة (خطأ) امام العبارة غير صحيحة :

- 1- تعتمد الزراعة في اليمن على الأنهار. ( )
- 2- رأس المال مهم لشراء البذور . ( )
- 3- توجد التربة الخصبة على جانبي الأنهار. ( )
- 4- يمتلك الوطن العربي ثروة من الأيدي العاملة المدربة. ( )

## اختبر نفسك

**السؤال الأول : اكتب كلمة (صواب) امام العبارة الصحيحة وكلمة (خطأ) امام العبارة غير صحيحة :**

- ١- تنتشر تربية الجاموس في الصحاري المصرية ( )
- ٢- تعد السعودية أولى دول الوطن العربي في تربية الجاموس . ( )
- ٣- تحتل السودان المركز الأول في تربية الأغنام والماعز والخيول والإبل . ( )
- ٤- يكفي انتاج اللحوم استهلاك السكان في الوطن العربي . ( )
- ٥- أولى دول الوطن العربي إنتاجاً للأسماك من المصايد مصر بينما أولى دول الوطن العربي إنتاجاً للأسماك من المزارع السمكية المغرب . ( )
- ٦- تهتم دول الوطن العربي بتربية الدواجن والثروة السمكية لسد العجز من اللحوم الحمراء ( )
- ٧- أولى دول الوطن العربي إنتاجاً للأسماك من المزارع السمكية والمصايد السمكية معاً مصر . ( )
- ٨- أطلقت منظمة الأغذية والزراعة (الفاو) بالأمم المتحدة مبادرة لتنمية الثروة الحيوانية ( )
- ٩- تؤثر التغيرات المناخية سلباً على الثروة الحيوانية والثروة السمكية في الوطن العربي ( )

**السؤال الثاني : أكمل العبارات التالية بما يناسبها من كلمات :**

- ١- أكثر الحيوانات انتشاراً في الوطن العربي .....
- ٢- أقل الحيوانات انتشاراً في الوطن العربي .....
- ٣- من المشروعات المصرية لتنمية الثروة الحيوانية مشروع المليون رأس ماشية غرب النوبارية في محافظة .....
- ٤- أولى دول الوطن العربي في تربية الإبل دولة .....
- ٥- تعد دولة ..... أولى الدول العربية لإنتاج الأسماك من المزارع السمكية بينما دول ..... أولى دول الوطن العربي في إنتاج الأسماك من المصايد .

**السؤال الثالث : حدد سبباً واحداً لكلاً من :**

- ١- أهمية الثروة الحيوانية بالوطن العربي .
- ٢- مصر أولى دول الوطن العربي في تربية الجاموس .
- ٣- المغرب أولى دول الوطن العربي في إنتاج الأسماك من المصايد .
- ٤- الجاموس أقل الحيوانات انتشاراً في الوطن العربي .
- ٥- وجود مشكلات تواجه الثروة السمكية في الوطن العربي .

شكراً لكم  
على جهودكم  
صالح الصالح

**السؤال الرابع : اكتب دليلاً على صحة العبارة التالية :**

تواجه الثروة الحيوانية مشكلات عديدة بالوطن العربي

علاقة لغز الحفاد  
- ضا زصار

### اختبر نفسك

#### السؤال الاول اكمل العبارات الاتية بما يناسبها من كلمات:

- 1- أولي الدول العربية إنتاجًا لمعدن الذهب .....
- 2- تنقسم الصناعة الي صناعة ..... وصناعة .....
- 3- يدخل الفوسفات في صناعة ..... و .....
- 4- أولي الدول العربية إنتاجًا للأسمنت .....
- 5- يدخل معدن ..... في صناعة المنشآت والكباري >

#### السؤال الثاني : حدد سببًا واحدًا لكلًا من :

- 1- أهمية الذهب :

- 2- أهمية الفوسفات :

- 3- أهمية الصناعة في الوطن العربي :

#### السؤال الثالث : اجب عما يلي

- 1- اكتب دليلًا واحدًا : يمتلك الوطن العربي ثروات معدنية متنوعة :

- 2- ما العلاقة بين : الفوسفات - الاراضي الزراعية :

- 3- اعط مثالين للصناعات التحويلية :

#### السؤال الرابع : ما المقصود بالمصطلح التالي :

- 1- التعدين :

## اختبر نفسك

**السؤال الأول: اكتب كلمة (صواب) امام العبارة الصحيحة وكلمة (خطأ) امام العبارة الخاطئة**  
**صحيحة:**

- ١- تنوع المناطق السياحية والتراثية من مقومات السياحة فى الوطن العربى. ( )
- ٢- تطور الفنادق والقرى السياحية يساعد فى جذب السياح. ( )
- ٣- يعانى الوطن العربى من قلة جودة شبكة النقل والمواصلات. ( )
- ٤- تسهم السياحة فى زيادة نسبة البطالة فى الوطن العربى. ( )
- ٥- زيارة المراكز التجارية فى دبی تُعد سياحة تسوق. ( )
- ٦- المناخ المعتدل يُعد من المقومات البشرية للسياحة فى الوطن العربى. ( )
- ٧- زيارتك لآثار مدينة تدمر بسوريا من السياحة الثقافية. ( )
- ٨- الذهاب لمعرض القاهرة الدولى للكتاب يُعد سياحة ترفيهية. ( )

**السؤال الثانى: اختر الإجابة الصحيحة مما بين القوسين:**

- ١- زيارة مصر لمشاهدة كأس الأمم الإفريقية لكرة اليد تُعد سياحة.....  
( علاجية - ترفيهية - ثقافية - رياضية )
- ٢- مدينة مصرية تم اختيارها أول عاصمة للسياحة العربية.....  
( الإسكندرية - شرم الشيخ - الغردقة - مرسى مطروح )
- ٣- زيارة شواطئ لبنان تعتبر سياحة.....  
( ثقافية - بيئية - علاجية - ترفيهية )
- ٤- أحد أماكن السياحة الدينية فى فلسطين.....  
( دير سانت كاترين - كنيسة القيامة - الكعبة المشرفة - الجامع الأزهر الشريف )

**السؤال الثالث: أكمل العبارات الآتية بكلمات مناسبة:**

- ١- زيارة عيون موسى بمصر أحد أشكال السياحة.....
- ٢- إحدى مناطق السياحة الثقافية مدينة بابل فى.....
- ٣- تقع عين ماعين فى دولة.....
- ٤- قيامك برحلة نيلية فى أسوان تعتبر سياحة.....

**السؤال الرابع: حدد سببًا واحدًا لكلًا من :**

- ١- ازدهار السياحة فى الوطن العربى.

- ٢- تُعد السياحة من أهم الأنشطة الاقتصادية فى الوطن العربى.

- ٣- تتعدد مزارات السياحة الدينية فى وطننا العربى.

٤- ازدهار السياحة الثقافية فى الوطن العربى.

جامعة  
العلم  
للتقانة  
ضماننا  
ضماننا

### السؤال الخامس: أجب عما يلى:

١- ما النتائج المترتبة على : وجود العديد من الأماكن المقدسة فى وطننا العربى؟

٢- قارن بين السياحة العلاجية والسياحة الرياضية من حيث التعريف والأمثلة

السياحة الرياضية	السياحة العلاجية	وجه المقارنة
..... ..... .....	..... ..... .....	التعريف
..... ..... .....	..... ..... .....	الأمثلة

جامعة  
العلم  
للتقانة  
ضماننا  
ضماننا

## اختبر نفسك

السؤال الاول : اكتب كلمة (صواب) امام العبارة الصحيحة وكلمة (خطأ) امام العبارة غير صحيحة :

١. بدا انتشار التجارة فى شبة الجزيرة العربية بعد ظهور الاسلام ( )
٢. من الواردات العربية المحاصيل الزراعية ( )
٣. من مساوى التجارة العربية انتشار البطالة ( )
٤. اسهمت التجارة فى نشر الاسلام فى ارجاء العالم ( )

السؤال الثانى : اختر الاجابة الصحيحة مما بين الاقواس

- ١) اى من الدول التالية تشترك فى منطقة التجارة الحرة .....  
( جيبوتى - الصومال - السودان - موريتانيا )
- ٢) يُعد اختراق خصوصية العميل وسرقة البيانات فى التجارة الالكترونية من .....  
( ايجابياتها - سلبياتها - اهميتها - اسبابها )
- ٣- اى من التجمعات التالية انضمت لليبيا اليها .....  
( اتحاد دول المغرب العربى - مجلس التعاون لدول الخليج - دول الاتحاد الاوربى - دول اتحاد الكوميسا )

السؤال الثالث : بم تفسر

١. اهمية التجارة بالنسبة للدولة الاسلامية قديما ؟

.....  
.....

٢. ظهور التجارة الالكترونية ؟

.....  
.....

٣. انشاء العديد من التجمعات العربية ؟

.....  
.....

السؤال الرابع :

1- اقترح طرقاً جديدة لتنشيط التجارة البينية بين الدول العربية ؟

.....  
.....

عاشق لغز  
مؤلفها  
مؤلفها

عاشق لغتنا  
ضامننا

### قيم نفسك على الوحدة الثالثة

#### السؤال الأول. أكمل العبارات الآتية بما يناسبها من كلمات :

- 1- تنقسم مقومات الزراعة إلى مقومات ..... و.....
- 2- القمح والأرز من المحاصيل .....
- 3- تتميز واحة سيوه بمصر بزراعة أنواع جيدة من .....
- 4- تتركز زراعة البن في دولة .....
- 5- تتنوع مناخ الوطن العربي أدى إلى تنوع .....
- 6- تحتل مصر المركز الأول في إنتاج كل من ..... و .....
- 7- الحبوب الغذائية ، مثل : ..... و ..... و.....
- 8- المحاصيل السكرية ، مثل : ..... و.....
- 9- أكثر الحيوانات انتشارًا في الوطن العربي .....
- 10- أقل الحيوانات انتشارًا في الوطن العربي .....
- 11- من المشروعات المصرية لتنمية الثروة الحيوانية مشروع المليون رأس ماشية غرب النوبارية في محافظة .....
- 12- أولى دول الوطن العربي في تربية الإبل دولة .....
- 13- تُعد دولة ..... أولى الدول العربية لإنتاج الأسماك من المزارع السمكية بينما دول ..... أولى دول الوطن العربي في إنتاج الأسماك من المصايد .
- 14- اول الدول العربية إنتاجًا للذهب .....
- 15- تنقسم الصناعة الي صناعة ..... و صناعة .....
- 16- يدخل الفوسفات في صناعة ..... و.....
- 17- أولى الدول العربية إنتاجًا للأسمنت .....
- 18- يدخل معدن ..... في صناعة المنشآت والكباري
- 19- زيارة عيون موسى بمصر أحد أشكال السياحة.....
- 20- إحدى مناطق السياحة الثقافية مدينة بابل في .....
- 21- تقع عين ماعين في دولة.....
- 22- قيامك برحلة نيلية في أسوان تعتبر سياحة.....

#### السؤال الثاني : اكتب كلمة (صواب) امام العبارة الصحيحة وكلمة (خطأ) امام العبارة

#### غير صحيحة :

- 1- تعتمد الزراعة في دولة اليمن على الأنهار ( )
- 2- يُعد رأس المال مهم لشراء البذور ( )
- 3- توجد التربة الخصبة على جانبي الأنهار ( )
- 4- يمتلك الوطن العربي ثروة من الأيدي العاملة المدربة ( )
- 5- تنتشر تربية الجاموس في الصحاري المصرية ( )
- 6- تُعد السعودية أولى دول الوطن العربي في تربية الجاموس . ( )

- 7- تحتل السودان المركز الأول فى تربية الأغنام والماعز والخيول والإبل ( )
- 8- يكفى إنتاج اللحوم استهلاك السكان فى الوطن العربى . ( )
- 9- أولى دول الوطن العربى إنتاجا للأسماك من المصايد مصر بينما أولى دول الوطن العربى إنتاجا للأسماك من المزارع السمكية المغرب . ( )
- 10- تهتم دول الوطن العربى بتربية الدواجن والثروة السمكية لسد العجز من اللحوم الحمراء ( )
- 11- أولى دول الوطن العربى إنتاجا للأسماك من المزارع السمكية والمصايد السمكية مع مصر ( )
- 12- أطلقت منظمة الأغذية والزراعة ( الفاو ) بالأمم المتحدة مبادرة لتنمية الثروة الحيوانية ( )
- 13- تؤثر التغيرات المناخية سلبا على الثروة الحيوانية والثروة السمكية فى الوطن العربى ( )
- 14- تنوع المناطق السياحية والتراثية من مقومات السياحة فى الوطن العربى ( )
- 15- تطور الفنادق والقرى السياحية يساعد فى جذب السياح. ( )
- 16- يعانى الوطن العربى من قلة جودة شبكة النقل والمواصلات. ( )
- 17- تسهم السياحة فى زيادة نسبة البطالة فى الوطن العربى. ( )
- 18- زيارة المراكز التجارية فى دبی تُعد سياحة تسوق. ( )
- 19- المناخ المعتدل يُعد من المقومات البشرية للسياحة فى الوطن العربى ( )
- 20- زيارتك لآثار مدينة تدمر بسوريا من السياحة الثقافية. ( )
- 21- الذهاب لمعرض القاهرة الدولى للكتاب يُعد سياحة ترفيهية. ( )
- 22- بدا انتشار التجارة فى شبة الجزيرة العربية بعد ظهور الاسلام ( )
- 23- من الواردات العربية المحاصيل الزراعية ( )
- 24- من مساوى التجارة العربية انتشار البطالة ( )
- 25- اسهمت التجارة فى نشر الاسلام فى ارجاء العالم ( )

عاشق لغز  
مفاتيحها -

### السؤال الثالث : اختر الإجابة الصحيحة مما بين القوسين:

- 1- زيارة مصر لمشاهدة كأس الأمم الإفريقية لكرة اليد تُعد سياحة.....  
( علاجية - ترفيهية - ثقافية - رياضية )
- 2- مدينة مصرية تم اختيارها أول عاصمة للسياحة العربية.....  
( الإسكندرية - شرم الشيخ - الغردقة - مرسى مطروح )
- 3- زيارة شواطئ لبنان تعتبر سياحة.....  
(ثقافية - بيئية - علاجية - ترفيهية )
- 4- أحد أماكن السياحة الدينية فى فلسطين.....  
(دير سانت كاترين - كنيسة القيامة - الكعبة المشرفة - الجامع الأزهر الشريف)

- ٥- أى من الدول التالية تشترك فى منطقة التجارة الحرة .....
- ( جيبوتى - الصومال - السودان - موريتانيا )
- ٦- بعد اختراق خصوصية العميل وسرقة البيانات فى التجارة الالكترونية من ....
- ( ايجابياتها - سلبياتها - اهميتها - اسبابها )
- ٧- أى من التجمعات التالية انضمت لليبيا اليها .....
- ( اتحاد دول المغرب العربى - مجلس التعاون لدول الخليج - دول الاتحاد الاوربى - دول اتحاد الكوميسا )

### السؤال الرابع : حدد سببًا واحدًا لكلًا من :

1- قيام الزراعة فى الواحات

2- أهمية رأس المال فى النشاط الزراعى

3- تنوع المحاصيل الزراعية فى الوطن العربى

4- أهمية وسائل النقل فى الزراعة

5- أهمية الثروة الحيوانية بالوطن العربى .

6- مصر أولى دول الوطن العربى فى تربية الجاموس .

7- المغرب أولى دول الوطن العربى فى إنتاج الأسماك من المصيد .

8- الجاموس أقل الحيوانات انتشارا فى الوطن العربى .

عاشق لغتي  
عاشق لغتي  
عاشق لغتي  
عاشق لغتي

9- وجود مشكلات تواجه الثروة السمكية في الوطن العربي .

10- الأهمية الاقتصادية لمعدن الذهب

11- الأهمية الاقتصادية لمعدن الفوسفات

12- أهمية الصناعة في الوطن العربي

13- ازدهار السياحة في الوطن العربي.

14- تُعد السياحة من أهم الأنشطة الاقتصادية في الوطن العربي.

15- تتعدد مزارات السياحة الدينية في وطننا العربي.

16- ازدهار السياحة الثقافية في الوطن العربي.

17- أهمية التجارة بالنسبة للدولة الإسلامية قديما ؟

18- ظهور التجارة الإلكترونية ؟

19- انشاء العديد من التجمعات العربية ؟

### السؤال الخامس : اجب عما يلي

1- ما العلاقة بين الفوسفات - الاراضي الزراعية

2- اعط مثالين للصناعات التحويلية

3- أذكر نتيجة واحدة : وجود العديد من الأماكن المقدسة في وطننا العربي؟

4- اقترح : طرقاً لتنشيط التجارة بين الدول العربية ؟

### السؤال السادس : أكتب دليلاً على صحة العبارة التالية :

1- تواجه الثروة الحيوانية مشكلات عديدة بالوطن العربي

2- يمتلك الوطن العربي ثروات معدنية متنوعة

### السؤال السابع: حدد العنصر المختلف مع ذكر السبب

1- المياه الجوفية - مياه الأمطار - التربة الخصبة - رأس المال

2- الذرة - الأرز - القمح - الزيتون

3- الموالح - الأرز - التين - الموز

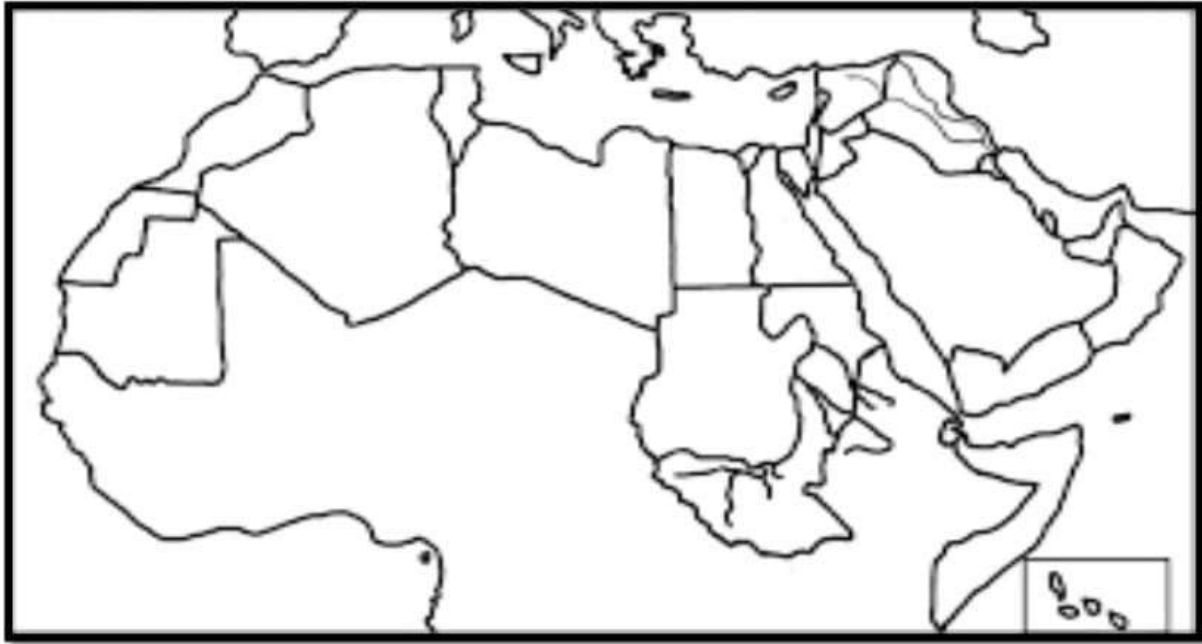
4- وسائل النقل - تنوع المناخ - السوق - الأيدي العاملة

علاقة لغزنا  
ضماننا  
Mozkrty.com

السؤال الثامن : قارن بين السياحة العلاجية والسياحة الرياضية من حيث : **موقعها - لغتها - موانئها**

وجه المقارنة	السياحة العلاجية	السياحة الرياضية
التعريف	.....	.....
الأمثلة	.....	.....

السؤال التاسع : أمامك خريطة صماء للوطن العربي اكتب مدلول الأرقام عليها



- ١- أولى الدول في إنتاج التمر .....
- ٢- أولى الدول في تربية الأبقار .....
- ٣- أولى الدول في تربية الإبل .....
- ٤- أولى الدول في إنتاج الأسماك من المصايد السمكية .....
- ٥- أولى الدول العربية في إنتاج البترول .....
- ٦- أولى الدول العربية في إنتاج الحديد .....

عاشق لغتنا  
مها نصار