

اللهم المستعان



أسئلة الوزارة نموذج إجابة

الدراسات الاجتماعية
للسف السادس الابتدائي



مفصلات
مفاهيم
أسئلة

مقدمة من
صفحة وجروب عاشق لغة الضاد
مستتر-رضا نصار

أسئلكم الدعاء، نوالدي ووالدتي بالرحمة والمغفرة..
اللهم اسكنهما الفردوس الأعلى مع الأنبياء والمرسلين وجميع مؤمنى المسلمين..
اللهم آمين يا رب العالمين

صفحة وحروب عاشق لغة الضاد مستر-رضا نصار

١

اختبر نفسك

السؤال الاول: اختر الاجابة الصحيحة مما بين القوسين :

- 1- تقع دولة .. جزيرة القمر باكملها في المحيط الهندي.
(البحرين - عمان - جيبوتي - جزر القمر)
- 2- قامت حضارة في شمال شرق الوطن العربي
(ليبيا - العراق القديم - مصر القديمة - بلاد المغرب)
- 3- اعطى الازهر الشريف لمصر أهمية .. دينية
(سياسية - اقتصادية - دينية - تجارية)
- 4- يحدها الوطن العربي شمالا ... جبال طوروس ..
(جبال طوروس - البحر الاحمر - خليج العربي - البحر العربي)
- 5- يرجع ترابط الوطن العربي لعوامل متعددة منها .. كل ما سبق ..
(الدين - اللغة - التاريخ - كل ما سبق)
- 6- من اهم الممرات المالحية في اقصى شرق الوطن العربي
(مضيق باب المندب - مضيق جبل طارق - قناة السويس - مضيق هرمز)
- 7- حلقة الوصل بين دول الوطن العربي هي دولة .. مصر ..
(سوريا - عمان - فلسطين - مصر)
- 8- اقرب ممر مائي لدولة المغرب هو مضيق جبل طارق
(قناة السويس - مضيق جبل طارق - باب المندب - مضيق هرمز)
- 9- اذا كنت من سكان المغرب و اردت السفر لدولة موريتانيا سوف تتجه ..
(شمالا - شرقا - غربا - جنوبا)
- 10- تطل دولة على البحر العربي (ليبيا - الاردن - العراق - عمان)
- 11- تقع معظم دول الوطن العربي في الكرة الارضية
(شمال غرب - جنوب غرب - شرق - غرب)
- 12- تتحكم دولة .. مصر .. على قناة السويس
(لبنان - الاردن - مصر - ليبيا و مصر)
- 13- من دول الوطن العربي في قارة افريقيا الجزائر
(السعودية - الجزائر - لبنان - الكويت)
- 14- اصغر الدول العربية هي ... المغرب ..
(السعودية - الجزائر - البحرين - العراق)

السؤال الثاني : اكمل العبارات الآتية :

- 1- يقع الوطن العربي في وسط قارات العالم القديم
- 2- يحدها من جهة الشرق جبال .. البحر الأحمر .. و جبل عمان
- 3- من الاماكن المقدسة في الوطن العربي داخل دولة مصر .. الديرة ..
- 4- يقسم الوطن العربي الى ... ٣ ... دولة
- 5- من دول الجناح العربي الافريقي مصر .. و ليبيا .. و تونس ..
- 6- من دول الجناح العربي الاسيوي البحرين .. و البحرين .. و فلسطين ..
- 7- يحدها من جهة الشمال .. جبال طوروس .. و البحر المتوسط ..

السؤال الثالث : اكتب كلمة (صواب) أو كلمة (خطأ) أمام العبارات الآتية :

- 1- يمتد الوطن العربي على مساحة 13 مليون كم بقارتي آسيا و أوروبا (خطأ)
- 2- يتحكم الوطن العربي في أربع ممرات مائية (صواب)
- 3- تعتبر دولة اليمن من دول الجناح الأفريقي (خطأ)
- 4- توجد دولة جزر القمر بالمحيط الهندي (صواب)

تمت الإجابة بواسطة / صفحته وحروب عاشق لغة الضاد
مستر رضا نصار

(c)

السؤال الرابع : أحب عما يلي :

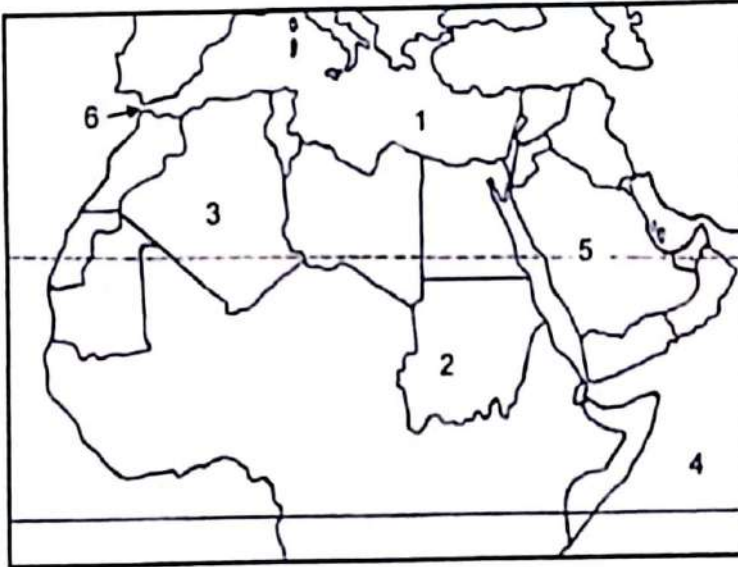
أذكر سببا واحدا لكل من :

- 1- الأهمية الاقتصادية لموقع الوطن العربي
... يعلم من أربعة ممرات عالمية (جهد هرمز - باب المندب - جبل طارق)
... قناة السويس ... أدى ذلك لتكافح من أهم الطرق التجارية العالمية
- 2- الأهمية الحضارية للوطن العربي
... قامت على أرضه أقدم الحضارات : (الحضارة المصرية - حضارة بلاد
العراق القديمة)

أذكر نتيجة واحدة لكل من :

- 3- وجود أماكن مقدسة في الوطن العربي
... جعل له أهمية دينية
- 4- الوطن العربي مهد الديانات السماوية
... جعلت له أهمية دينية - انتشرت منه المذاهب لجميع أنحاء العالم

السؤال الخامس وضح مدلول الأرقام على خريطة الوطن العربي الآتية :



- 1- البحر : البحر الأحمر المتوسط
- 2- دولة : الأردن
- 3- دولة : الجزائر
- 4- المحيط : المتوسطي
- 5- دولة : اليمن
- 6- مضيق : جبل طارق

عمّة الراجلة بواطة
صفحة وجروب عاشق لغة الضاد مستر رضا نصار
عاشق لغة الضاد
رضا نصار

صفحة وجروب عاشق لغة الضاد مستر رضا نصار

صفحة وجروب عاشق لفة الضاد مستر-رضا نصار

(٢)

اختر نفسك

السؤال الأول : أكمل العبارات الآتية

1. نزل الوحي على الرسول (ص) وهو في سن الأربعين وكان يتعبد في غار حراء...
2. بعد ثلاث سنوات من الدعوة بدأت دعوة الرسول (ص) ... الجهريه...
3. واجهت الدعوة الإسلامية معارضة شديدة من قبيلة ... قريش.....
4. أول من أسلم من النساء السيدة خديجة بينما أبو بكر الصديق أول من أسلم من الرجال
5. أول من أسلم من الصبية علي بن أبي طالب
6. كان الرسول يخرج إلى غار ... جسرا ليتعبد فيه
7. استغرقت المرحلة السرية ... ثلاث سنوات
8. كانت أول هجرة للمسلمين إلى ... الحيثية.....
9. كان لأهل مكة رحلتان تجاريتان هما البشام و اليمن (ربما)
10. من العادات السيئة للعرب قبل الإسلام شرب الخمر من العادات الحسنة للعرب قبل الإسلام الجماعة

ضع علامة (✓) أو علامة (x) أمام العبارات الآتية :

1. كانت قبيلة قريش من أشد المرحبين بالدعوة الإسلامية (X)
2. هجرة المسلمين إلى يثرب كانت قبل هجرتهم إلى الحبشة (X)
3. استمرت الدعوة سرية خمس سنوات (X)
4. اثر الاسلام بالايجاب على الجزيرة العربية (✓)

صوب الكلمات التي تحتها خط :

- 1- ظل الرسول (ص) يتعبد في غار ثور حتى بلغ الأربعين من عمره (غار حراء)
- 2- أشار الرسول (ص) على أصحابه بالهجرة إلى اليمن (الحيثية)
- 3- استمرت المرحلة السرية للدعوة لفترة سبع سنوات (ثلاث)
- 4- أمر الرسول أصحابه بالهجرة إلى اليمن لأن بها ملك عادل (الحيثية)
- 5- كفل الرسول بعد وفاته والدته عمه أبو طالب (جده)
- 6- أول من أسلم من الصبية زيد بن حارثة (علي بن أبي طالب)

من هو :

- 1- تولى تربية الرسول (ص) بعد موت أمه السيدة آمنه بنت وهب (عبد المطلب)
- 2- تزوجت من الرسول (صلى الله عليه وسلم) وأنجبت منه البنين والبنات (السيدة خديجة)
- 3- ملك الحبشة الذي رحب بالمسلمين عند هجرتهم إلى بلاده (المنجاشي)

عمّة الراحية بواطمه / مستر رضا نصار

صفحة وجروب عاشق لفة الضاد

نور المنير - روضه كفن الخ لبيت

عاشق لفة الضاد
رضا نصار

٢٠٢٤/١١/١٦

⑤

اختبر نفسك

السؤال الأول: اكتب كلمة (صواب) أو كلمة (خطأ) أمام كل عبارة

1. حاولت قريش منع المسلمين من الهجرة إلى المدينة (صواب)
2. انتصر المسلمون على كفار قريش في غزوة أحد (خطأ)
3. عاقب الرسول لا أهل مكة بعد فتحها سنة 8 هـ. (خطأ)
4. اعترض بعض الصحابة على الهدنة في صلح الحديبية (صواب)
5. كانت الهجرة إلى المدينة نقطة تحول في التاريخ الإسلامي. (صواب)
6. أول عمل قام به الرسول بعد الهجرة هو بناء المسجد. (صواب)
7. بعد صلح الحديبية أكمل الرسول طريقه ليؤدي العمرة (خطأ)

السؤال الثاني: ضع خطاً تحت الإجابة الصحيحة

- 1- اجتمع زعماء قريش في دار الندوة. وقرروا قتل الرسول لكنهم فشلوا. (الحكمة - العلوم - الندوة - الشعب)
- 2- حدثت غزوة (بدر) في العام ... الثاني. من الهجرة. (الأول - الثاني - الثالث - الرابع)
- 3- انهزم المسلمون في غزوة ... (أحد) بسبب مخالفة الرماة لأوامر الرسول (ﷺ) (بدر - أحد - الخندق - فتح مكة)
- 4- كانت مدة الهدنة في صلح الحديبية ... سنوات. (سبع - ثمان - تسع - عشر)
- 5- توفي الرسول (ﷺ) في سنة ... من الهجرة. (10 - 11 - 12 - 13)
- 6- كان هو صديق الرسول (ﷺ) في الهجرة إلى المدينة ... (أبو بكر الصديق) (أبو بكر الصديق - علي بن أبي طالب - عمر بن الخطاب - عثمان بن عفان)

السؤال الثالث: اكمل الجمل الآتية بكلمات مناسبة :

1. خطط الرسول (ﷺ) للهجرة فقرر الهجرة في ... تامة ليلاً.
2. أخى الرسول (ﷺ) بين المهاجرين و الأنبياء لإقامة مجتمع متماسك.
3. في غزوة أحد تحول النصر إلى هزيمة بسبب مخالفة ... لأوامر الرسول
4. أشار سلمان الفارسي على النبي (ﷺ) بحفر ... حول المدينة لحمايتها.

السؤال الرابع: أجب عما يأتي :

اذكر سبباً واحداً :

- 1- كانت الهجرة إلى المدينة نقطة تحول في التاريخ الإسلامي. ...
- 2- الرسول (ﷺ) بين المهاجرين والأنصار. ...

صفحة وجروب عاشق لغة الضاد مستر رضا نصار

علاوة على هذا
مهاصبا
①

اختبر نفسك

السؤال الاول : اكمل العبارات الاتية :

1. اعلى قمة جبلية في الوطن العربي هي قمة جبل تبوتال.
2. تكونت جبال اطلس نتيجة الحركات .. البرلمانية
3. مرتفعات اليمن تكونت نتيجة .. الحركات لانكسارية
4. تقع هضبة حضر موت في الجناح .. البرلمانية
5. تعتبر جبال عسير من امثلة الجبال .. البرلمانية
6. يمتد بحر الرمال العظيم بين مصر و .. ليبيا
7. تعد سهول دجلة و الفرات من السهول .. الفيضية

السؤال الثاني : اكتب كلمة (صواب) او (خطأ) امام العبارات الاتية :

1. ادنى نقطة في سطح الوطن العربي هي بحر قزوين (خطأ)
2. تشكلت جبال زاغروس نتيجة حركات التوائية (صواب)
3. تقوم الزراعة في الواحات اعتمادا على المياه الجوفية (صواب)
4. نشأ وادي الجريز بفعل التعرية المائية (صواب)
5. ساعد تنوع مظاهر السطح على تنوع الانشطة الاقتصادية (صواب)
6. الكثبان الرملية تكونت بفعل التعرية الهوائية (خطأ)

السؤال الثالث : اجب عما يلي :

انكر سببا واحدا :

- 1- نشأة جبال اطلس ؟
نتيجة الحركات البرلمانية بعرضت لها الأرض (الالوتوائية)
 - 2- تكون سهول وادي النيل
نتيجة لتسبب المزارب العالقة من المياه
 - 3- يعيش بعض السكان في الواحات
لعدم اعتماد الزراعة على المياه الجوفية
 - 4- اهمية الودية الجافة
تتم كطرق للتواصل مثل وادي الحرير من السعودية
 - 5- نشأة جبال البحر الاحمر ؟
نتيجة لحروب لانكسارية فيما قيسرة الأرض (الحركات لانكسارية)
- انكر نتيجة واحدة :

- 1- حدوث الحركات الالوتوائية ؟
بكونت الجبال البرلمانية مثل (جبال اطلس ، زاغروس)
- 2- وجود المياه الجوفية في الواحات
اعتمادا على الزراعة عليها ، وعلى بعض السطوح

صنعت هروب على حو لفته الضار .. صر ارضها لصار

عاشق لغز لغز
فيها نصار

اخبر نفسك

السؤال الأول: اختر الاجابة الصحيحة مما بين الاقواس

- 1- أي من العوامل الآتية لا يؤثر على مناخ الوطن العربي
(الموقع الفلكي - المسطحات المائية - المرتفعات - السهول)
- 2- دائرة عرض تمر جنوب الوطن العربي
(جرينتش - السرطان - الجدى - الاستواء)
- 3- تتعامد الشمس في فصل الصيف على مدار
(جرينتش - السرطان - الجدى - الاستواء)

السؤال الثاني: أجب عما يأتي :

اكتب نتيجة واحدة لـ :

- 1- هبوب التيارات البحرية الباردة على الوطن العربي.
أدت لـ
2- اكتب نتيجة واحدة لـ : تعامد الشمس على مدار الجدى شتاء في الوطن العربي.
3- تأثر الوطن العربي بحدوث تغيرات مناخية ؟
ارتفاع درجات الحرارة - نقص كمية المطر - الجفاف - التصحر - ندرة المياه العذبة .
أنكر سببا واحدا لـ :

1- يسود المناخ الحار معظم أجزاء الوطن العربي.

سبب موجعه القليل

- 2- تتميز مدينة الإسكندرية بمناخ معتدل عن مدينة الرياض بالسعودية
لأنها تبعد عن الجبل وتبعد عن البحر على الارتفاع
3- تغطي الثلوج قمة جبل توبقال في المغرب
لأنها تبعد عن البحر وتبعد عن الجبل وتبعد عن البحر
4- تنخفض درجات الحرارة شتاء في الوطن العربي ولأنه أعلى منه هبلة من الوطن العربي
سبب بقا الشمس على مدار الجدى هبوب رياح شمالية الغربية جسم امرر لأمأ

السؤال الثالث: اكتب كلمة صواب أمام العبارة الصحيحة و كلمة خطأ أمام العبارة غير

الصحيحة

- 1- المناطق الداخلية من الوطن العربي تكون أكثر اعتدالا من المناطق الساحلية (خطأ)
- 2- مناخ الوطن العربي شديد الحرارة صيفا ومعتدل البرودة شتاء (صواب)
- 3- سوء الأحوال الجوية يؤدي إلى تأجيل الرحلات الجوية. (صواب)
- 4- يؤثر الموقع الفلكي للوطن العربي علي مناخه (صواب)
- 5- تمر دائرة الاستواء في شمال الوطن العربي (خطأ)
- 6- تسقط الامطار صيفا علي الاطراف الشمالية للوطن العربي (خطأ)

السؤال الرابع: اكمل العبارات الآتية بما يناسبها من كلمات

- 1- من العوامل المؤثرة في المناخ .. الجوع .. البهلي .. و ملاح ..
2- تمر دائرة عرض جنوب الوطن العربي
3- يقل تأثير المسطحات المائية في الوطن العربي بسبب ..
4- تنخفض الحرارة كلما ارتفعنا مسافة متر فوق سطح البحر واحد درجة مئوية

عاشق لغز لغز
فيها نصار

اخبر نفسك

٩٥

عاشقة لغز لغز
رضانا رضانا

السؤال الأول: لاحظ الخريطة ثم اجب :



- 1- إقليم مناخ البحر المتوسط
- 2- إقليم مناخ صحراوي حار
- 3- إقليم مناخ الجبلية
- 4- دولة... لبيانات
- 5- محمية جبل... عليه...

السؤال الثاني: أكمل العبارات الآتية:

- 1- يتميز إقليم البحر المتوسط بتساقط الأمطار في فصل... الشتاء...
- 2- تربي الماعز و الأغنام في إقليم مناخ... البحر المتوسط
- 3- يسود معظم مساحة الوطن العربي إقليم مناخ... الصحراوي الجار
- 4- تنمو بالأقليم المداري في الوطن العربي حشائش... السافانا
- 5- من الحيوانات البرية التي توجد في الإقليم الصحراوي... الجمال و... الزواحف
- 6- من الأشجار التي تنمو في إقليم البحر المتوسط... الزيتون و... اللوز و... الصنوبر
- 7- يوجد إقليم البحر المتوسط في دولة... لبيانات... و... أخرى...
- 8- يوجد الإقليم المداري في جنوب دولة... لبيانات... و جنوب دولة... الصومال...
- 9- من أمثلة المحميات الطبيعية في لبنان... الجوف و الأردن محمية... رضانا...

السؤال الثالث: اكتب كلمة (صح) أمام العبارات الصحيحة و كلمة (خطأ) أمام العبارات

الخطئة:

- 1-تنوع الأقاليم المناخية في الوطن العربي أدى إلى تنوع النبات الطبيعي. (صواب)
- 2-يمتد إقليم البحر المتوسط بين دائرتي عرض 15:30 شمالاً بالوطن العربي. (خطأ)
- 3-تقع مدينة أسوان في إقليم البحر المتوسط. (خطأ)
- 4-ينتشر نبات الصبار و النخيل بإقليم البحر المتوسط. (خطأ)
- 5-تنمو حشائش السافانا في الإقليم المداري بالوطن العربي. (صواب)
- 6-تنتشر حشائش الإستبس في الإقليم الصحراوي الحار. (خطأ)
- 7-تساعد المحميات الطبيعية في الحفاظ على الحياة البرية بالوطن العربي. (صواب)

عمّة الدجاية بولسم / ممر رضانا رضانا
بصحة و جروبنا ممر لغزنا رضانا

١١

اخبر نفسك

السؤال الاول: اكتب كلمة (صح) امام العبارات الصحيحة وكلمة (خطأ) امام العبارات غير الصحيحة

- 1- الجفاف هو نقص كمية الامطار ليومين (خطأ)
- 2- يؤثر التغير المناخي على درجة الحرارة وكمية المطر (صواب)
- 3- انشنت المدن الذكية بهدف تقليل انبعاثات الغازات الدفينة (صواب)
- 4- التوسع المستمر في الزراعة يؤدي الى ندرة المياه العذبة (صواب)

السؤال الثاني: اختر الاجابة الصحيحة مما بين القوسين

- 1- يعاني نحو ثلثي مساحة الوطن العربي من مشكلة
(الجفاف - التصحر - ندرة المياه العذبة - قلة المراعي الطبيعية)
- 2- اكثر الدول العربية التي تتعرض لخطر الجفاف
(الصومال - المغرب - العراق - البحرين)
- 3- تدهور الارض وتناقص القدرة على الانتاج تشير الي
(الجفاف - الفيضانات - التصحر - السيول)
- 4- اعلن عن انشاء مدينة نيوم الخضراء بدولة
(المغرب - مصر - السعودية - الجزائر)

السؤال الثالث: اجب عما ياتي:

انكر سببا واحدا لكلا من

علافة الضاد
علافة الضاد
علافة الضاد

- 1- حدوث الجفاف في بعض الدول العربية
بفعل كمنه
بفعل كمنه
بفعل كمنه
- 2- انشاء المدن الذكية
بفعل كمنه
بفعل كمنه
- 3- حدوث مشكلة التصحر
بفعل كمنه
بفعل كمنه

انكر نتيجة واحدة

- 1- الرعي الجائر للحيوانات في الوطن العربي؟
أدري لظهور مشكلة التصحر

السؤال الرابع: اكمل العبارات الاتية بما يناسبها من كلمات

- 1- نقص كمية الامطار في بعض السنوات بما لا يسمح بالزراعة او نمو الحشائش
يسمى
يسمى
يسمى

- 2- من اسباب التصحر
من اسباب التصحر
من اسباب التصحر
- 3- تزايد معدلات استهلاك المياه بالوطن العربي بسبب
تزايد معدلات استهلاك المياه بالوطن العربي بسبب
تزايد معدلات استهلاك المياه بالوطن العربي بسبب

صفتة وميورب علافة الضاد / مترضا لصار

قيم نفسك على الوحدة الثانية

السؤال الاول : اكمل العبارات الاتية :

١٢
عاشق لغز لغز
ضاحك ضاحك

عاشق الدجاجة نوا مطر
موتور زورق عا أولف الف
سكرا ارض ارضار

ويعبر بحر ارض ارض ارض

1. اعلى قمة جبلية في الوطن العربي هي قمة جبل تيسر بعمالي
2. تكونت جبال اطلس نتيجة الحركات البلدية
3. مرتفعات اليمن تكونت نتيجة الحركة الانكسارية
4. تقع هضبة حضر موت في الجناح الشمالية عوي
5. تعتبر جبال عسير من امثلة الجبال الدينيكسارية
6. يمتد بحر الرمال العظيم بين مصر و ليبيا
7. تعد سهول دجلة و الفرات من السهول الضخيمية
8. من العوامل المؤثرة في المناخ البحري و المسطحات المائية و الصحراوية
9. تمر دائرة عرض البحرية جنوب الوطن العربي
10. يقل تأثير المسطحات المائية في الوطن العربي بسبب ضيقها
11. تنخفض الحرارة كلما ارتفعنا مسافة ١٠٠ متر فوق سطح البحر واحد درجة مئوية
12. يتميز إقليم البحر المتوسط بتساقط الامطار في فصل الشتاء
13. تربي الماعز و الأغنام في إقليم مناخ البحري الجاف
14. يسود معظم مساحة الوطن العربي إقليم مناخ البحري الجاف
15. تنمو بالأقليم المداري في الوطن العربي حشائش الساخنة
16. من الحيوانات البرية التي توجد في الإقليم الصحراوي الصحراوي و الزرافة
17. من الأشجار التي تنمو في إقليم البحر المتوسط البلوط و الصنوبر
18. يوجد إقليم البحر المتوسط في دولة تونس و المغرب
19. يوجد الإقليم المداري في جنوب دولة البحرية و جنوب دولة مصر
20. من أمثلة المحميات الطبيعية في لبنان البحرية و الأردن محمية صقل
21. نقص كمية الامطار في بعض السنوات بما لا يسمح بالزراعة او نمو الحشائش يسمى الجفاف
22. من أسباب التصحر الري الجائر و زيادة تكثيف الرعي و طرق الري التقليدية
23. تزايد معدلات استهلاك المياه بالوطن العربي بسبب زيادة تكثيف الري و التمسك من الزراعة

السؤال الثاني : اكتب كلمة (صواب) او (خطأ) امام العبارات الاتية :

1. ادني نقطة في سطح الوطن العربي هي بحر قزوين
2. تشكلت جبال زاغروس نتيجة حركات التوائية
3. تقوم الزراعة في الواحات اعتمادا علي المياه الجوفية
4. نشأ وادي الجدير بفعل التعرية المانية
5. ساعد تنوع مظاهر السطح علي تنوع الانشطة الاقتصادية
6. الكثبان الرملية تكونت بفعل التعرية الهوائية
7. المناطق الداخلية من الوطن العربي تكون أكثر اعتدالا من المناطق الساحلية
8. مناخ الوطن العربي شديد الحرارة صيفا ومعتدل البرودة شتاء
9. سوء الأحوال الجوية يؤدي إلى تأجيل الرحلات الجوية.
10. يؤثر الموقع الفلكي للوطن العربي علي مناخه
11. تمر دائرة الاستواء في شمال الوطن العربي
12. تسقط الامطار صيفا علي الاطراف الشمالية للوطن العربي
13. تنوع الأقاليم المناخية في الوطن العربي أدى إلى تنوع النبات الطبيعي.

(خطأ)
(صواب)
(صواب)
(صواب)
(صواب)
(صواب)
(خطأ)
(صواب)
(صواب)
(خطأ)
(خطأ)
(خطأ)
(صواب)

14. يمتد إقليم البحر المتوسط بين دائرتي عرض 15:30 شمالاً بالوطن العربي. (خطأ)
15. تقع مدينة أسوان في إقليم البحر المتوسط. (خطأ)
16. ينتشر نبات الصبار و النخيل بإقليم البحر المتوسط. (خطأ)
17. تنمو حشائش السافانا في الإقليم المداري بالوطن العربي. (صواب)
18. تنتشر حشائش الإستبس في الإقليم الصحراوي الحار. (خطأ)
19. تساعد المحميات الطبيعية في الحفاظ على الحياة البرية بالوطن العربي. (صواب)
20. الجفاف هو نقص كمية الامطار ليومين (خطأ)
21. يؤثر التغير المناخي على درجة الحرارة وكمية المطر (صواب)
22. انشئت المدن الذكية بهدف تقليل انبعاثات الغازات الدفينة (صواب)
23. التوسع المستمر في الزراعة يؤدي الى ندرة المياه العذبة (صواب)

السؤال الثالث: اختر الاجابة الصحيحة مما بين الاقواس

- 1- أي من العوامل الآتية لا يؤثر على مناخ الوطن العربي... الصحراوي.....
(الموقع الفلكي - المسطحات المائية - المرتفعات - السهول)
- 2- دائرة عرض تمر جنوب الوطن العربي... البحر المتوسط.....
(جرينتش - السرطان - الجدى - الاستواء)
- 3- تتعامد الشمس في فصل الصيف على مدار السرطان.....
(جرينتش - السرطان - الجدى - الاستواء)
- 3- تنمو أشجار الأرز في إقليم مناخ البحر المتوسط.....
(البحر المتوسط - الاستوائي - الصحراوي - المداري)
- 4- دولة عربية تقع بالكامل داخل الإقليم الصحراوي الحار... الكويت
(الجزائر - الكويت - السودان - لبنان)
- 5- تقع محمية ضانا في دولة الليبيريا
(سوريا - لبنان - فلسطين - الأردن)
- 6- إحدى الدول العربية التي تقع أجزاءها الشمالية في إقليم مناخ البحر المتوسط... ليبيا
(موريتانيا - السودان - ليبيا - اليمن)
- 7- يعاني نحو ثلثي مساحة الوطن العربي من مشكلة الصحرا
(الجفاف - التصحر - ندرة المياه العذبة - قلة المراعى الطبيعية)
- 8- أكثر الدول العربية التي تتعرض لخطر الجفاف البحر المتوسط
(الصومال - المغرب - العراق - البحرين)
- 9- تدهور الارض وتناقص القدرة على الانتاج تشير الى التصحرا
(الجفاف - الفيضانات - التصحر - السيول)
- 10- اعلن عن انشاء مدينة نيوم الخضراء بدولة البحرين
(المغرب - مصر - السعودية - الجزائر)

تم بواسطة ←
عاشق لفرحنا
ضانا ضانا

- 3- هبوب التيارات البحرية المبردة على الوطن العربي.
 بحرية السواحل التي تسبب عليها - لتلعب درجات الحرارة
 4- أكتب نتيجة واحدة ل: تعامد الشمس على مدار الجدى شتاء في الوطن العربي.
 أديري للتحقق من درجات الحرارة على بعض أنحاء الوطن العربي
 5- تآثر الوطن العربي بحدوث تغيرات مناخية؟
 ارتفاع درجات الحرارة وتغير كمية الأمطار - الصحراء الجفاف
 6- الرعى الجائر للحيوانات في الوطن العربي؟
 جبروت كلمة الصحراء
السؤال الخامس : اذكر دليلا لكل من :

عاشق لغيره لطفها
 - هناك لها -

- 3- تتنوع السهول في الوطن العربي
 جيبها بجيب سهل شيبية (روادي النيل - رحله ريفان)
 سهل سهل بها عليه له العرا الصحراوية الجبلية سطحا
 4- اثر الحركات الانكسارية علي مظاهر سطح الوطن العربي
 الجبال المنكسرة مثل سلسلة جبال العرا الصحراوية الشام

السؤال السادس : حدد المختلف فيما يلي مع ذكر السبب:

- 1- ثعلب - ثعبان - سحلية - زرافة - عارمي - صواص
 2- أشجار الصنوبر - أشجار الزيتون - نبات الصبار - أشجار الأرز.

سحلية
 ثعلب
 سحلية

السؤال السابع: صنف النباتات الآتية حسب الإقليم المناخي الذي توجد فيه:

- 1- حشائش السافانا
 2- أشجار الزيتون
 3- الصبار
 4- حشائش الإستبس

السؤال الثامن: قارن بين:

وجه المقارنة	إقليم مناخ البحر المتوسط	إقليم مناخ الصحراوي الحار	إقليم مداري
الخصائص المناخية جفاف صيفا..... رطب وحر شتاء..... جفاف شديد صيفا..... رطب شديد شتاء..... بالليل بار غمر مطر صيفا..... معتدل شتاء.....
الخصائص النباتية والحيوانات البرية. الماعز..... الخنازير..... نبات الصبار..... الثعلب..... نباتات الطيفيات..... الزراف.....

السؤال التاسع: اذكر

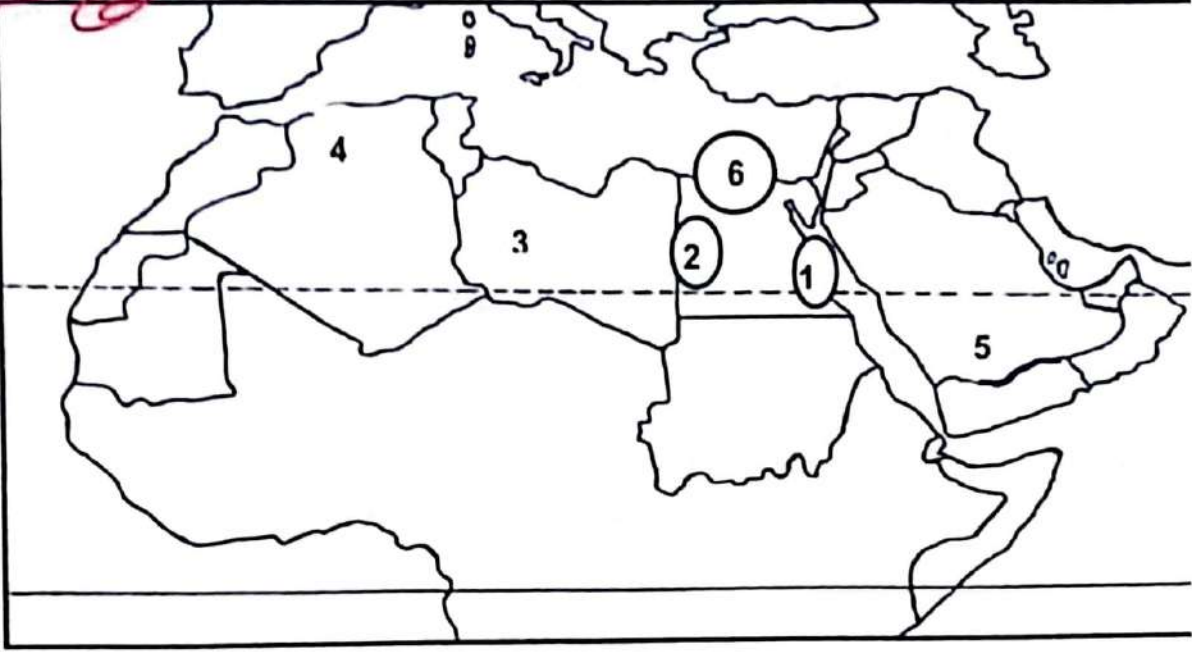
- 1- أشهر المحميات الطبيعية في الوطن العربي؟
 حماة (الأمردية) حماة (الأمردية) رزق الشوف (البحران)

حمة الاجابة بواطة / منظره وروعا متولفة الضاد / مستر رضا صا

السؤال العاشر: وضع مدلول الأرقام على خريطة الوطن العربي:

١٦

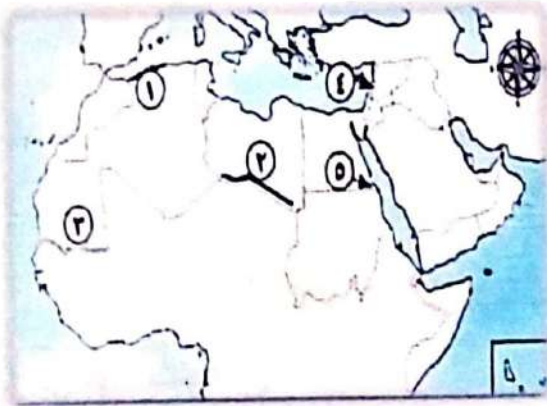
عاشق لغز لفضاء
ضمان لفضاء



- 1- جبال إبيروس الحجر
- 2- بحر الريال العظيم
- 3- هضبة أزيبيال الشمالية أكبر المظاهر التضاريسية
- 4- جبال ..أ.ط.س.
- 5- هضبة ... ج.م.م.
- 6- سهل فيضي بمصر ..م.د.م.البيهل

عمت الأجزاء بواسطة
صفتهم وهم يربطهم أهم لغز الفضاء
مسرًا أرضًا فضاء

لاحظ الخريطة ثم اجب:



- 1- إقليم مناخ البحر المتوسط
- 2- إقليم مناخ جيجلوي حار
- 3- إقليم مناخ ..للعدس
- 4- دولة ..ليمان
- 5- محمية جبل ...علمية...

عاشق لغز لفضاء
ضمان لفضاء

اختبر نفسك

السؤال الأول. أكمل العبارات الآتية بما يناسبها من كلمات :

- 1- تنقسم مقومات الزراعة إلى مقومات طبيعية..... و..... بشرية.
- 2- القمح والأرز من المحاصيل... الغنائية.
- 3- تتميز واحة سيوه في مصر بزراعة أنواع جيدة من الخيل.
- 4- تتركز زراعة البن في دولة... اليمن.
- 5- تنوع مناخ الوطن العربي أدى إلى تنوع المحاصيل الزراعية (النباتات الطبيعية).
- 6- تحتل مصر المركز الأول في إنتاج كل من الحبوب الغنائية و المحاصيل السكرية.
- 7- الحبوب الغذائية ، مثل : العج و الأرز و الذرة.
- 8- المحاصيل السكرية ، مثل : سكر و البنجر.

السؤال الثاني : حدد سببا واحدا لكل من :

1- قيام الزراعة في الواحات : بسبب وجود المياه الجوفية .

2- أهمية رأس المال في النشاط الزراعي :

شراء البذور والبذر بالسمدة - اقامة المشرعات الزراعية

3- تنوع المحاصيل الزراعية في الوطن العربي :

بسبب تنوع المناخ

4- أهمية وسائل النقل في الزراعة :

نقل المنتجات إلى مناطق الاستهلاك

السؤال الثالث: حدد العنصر المختلف مع ذكر السبب :

1- المياه الجوفية - مياه الأمطار - التربة الخصبة - رأس المال

رأس المال (بشري) و المياه عوامل (طبيعية).

2- الذرة - الأرز - القمح - الزيتون

المجموع هي حبوب غنائية ماعدا الزيتون

3- الموالح - الأرز - التين - الموز

لأنه من الحبوب الغنائية

4- وسائل النقل تنوع المناخ - السوق - الأيدي العاملة

بين العوامل الطبيعية - المياه عوامل بشرية

السؤال الرابع : اكتب كلمة (صواب) امام العبارة الصحيحة وكلمة (خطا) امام العبارة غير

صحيحة :

- 1- تعتمد الزراعة في اليمن على الأنهار. (خطأ)
- 2- رأس المال مهم لشراء البذور . (صواب)
- 3- توجد التربة الخصبة على جانبي الأنهار. (صواب)
- 4- يمتلك الوطن العربي ثروة من الأيدي العاملة المدربة. (صواب)

اختبر نفسك

السؤال الأول : اكتب كلمة (صواب) امام العبارة الصحيحة وكلمة (خطأ) امام العبارة غير صحيحة :

- ١- تنتشر تربية الجاموس في الصحاري المصرية (خطأ)
- ٢- تعد السعودية أولى دول الوطن العربي في تربية الجاموس . (خطأ)
- ٣- تحتل السودان المركز الأول في تربية الأغنام والماعز والخيول والإبل . (خطأ)
- ٤- يكفي انتاج اللحوم استهلاك السكان في الوطن العربي . (خطأ)
- ٥- أولى دول الوطن العربي إنتاجاً للأسماك من المصايد مصر بينما أولى دول الوطن العربي إنتاجاً للأسماك من المزارع السمكية المغرب . (خطأ) **(العكس)**
- ٦- تهتم دول الوطن العربي بتربية الدواجن والثروة السمكية لسد العجز من اللحوم الحمراء (صواب)
- ٧- أولى دول الوطن العربي إنتاجاً للأسماك من المزارع السمكية والمصايد السمكية معاً مصر . (خطأ)
- ٨- أطلقت منظمة الأغذية والزراعة (الفاو) بالأمم المتحدة مبادرة لتنمية الثروة الحيوانية (صواب)
- ٩- تؤثر التغيرات المناخية سلباً على الثروة الحيوانية والثروة السمكية في الوطن العربي (صواب)

السؤال الثاني : أكمل العبارات التالية بما يناسبها من كلمات :

- ١- أكثر الحيوانات انتشاراً في الوطن العربي .. **الأغنام والماعز**
- ٢- أقل الحيوانات انتشاراً في الوطن العربي .. **الجاموس**
- ٣- من المشروعات المصرية لتنمية الثروة الحيوانية مشروع المليون رأس ماشية غرب النوبارية في محافظة **البحيرة**
- ٤- أولى دول الوطن العربي في تربية الإبل دولة **الصومال**
- ٥- تعد دولة **مصر** أولى الدول العربية لإنتاج الأسماك من المزارع السمكية بينما دول **المغرب** ... أولى دول الوطن العربي في إنتاج الأسماك من المصايد .

السؤال الثالث : حدد سبباً واحداً لكل من :

- ١- أهمية الثروة الحيوانية بالوطن العربي .
مصدر للغذاء الرئيسي
- ٢- مصر أولى دول الوطن العربي في تربية الجاموس .
لمجرد البيئة الفيضية الزراعية
- ٣- المغرب أولى دول الوطن العربي في إنتاج الأسماك من المصايد .
لطول سواحلها على البحر المتوسط والمحيط الأطلسي
- ٤- الجاموس أقل الحيوانات انتشاراً في الوطن العربي .
لأنه لا ينزلي إلا على البيئة الفيضية ولا يتحمل الجفاف
- ٥- وجود مشكلات تواجه الثروة السمكية في الوطن العربي .
التغيرات المناخية - تلوث المياه - الصيد الجائر

السؤال الرابع : اكتب دليلاً على صحة العبارة التالية :

تواجه الثروة الحيوانية مشكلات عديدة بالوطن العربي
فحص الجرامين - ارتفاع أسعار الأعلاف - التغيرات المناخية

عاشقة لغيره
فها نصار

١٩

اختبر نفسك

السؤال الاول اكمل العبارات الاتية بما يناسبها من كلمات:

- 1- اولى الدول العربية انتاجا لمعدن الذهب اليونان
- 2- تنقسم الصناعة الى صناعة استخراجية وصناعة تحويلية
- 3- يدخل الفوسفات في صناعة الاسمدة و المبيدات الحشرية
- 4- اولى الدول العربية انتاجا للاسمنت العجوة
- 5- يدخل معدن الجبش في صناعة المنشآت والكباري >

السؤال الثاني : حدد سببا واحدا لكل من :

1- أهمية الذهب :
صناعة الحلبي - معالجة بعض الأمراض

2- أهمية الفوسفات :
يدخل في صناعة الاسمدة والمبيدات الحشرية

3- أهمية الصناعة في الوطن العربي :
تعتبر من مصادر الدخل القومي

السؤال الثالث : اجب عما يلي

1- اكتب دليلا واحدا : يمتلك الوطن العربي ثروات معدنية متنوعة :
ميت : الذهب ، الفوسفات ، الجبس

تعمل خام الفوسفات $\frac{1}{4}$ الانتاج العالمي

2- ما العلاقة بين : الفوسفات - الاراضي الزراعية :
يستخدم الفوسفات في صناعة الاسمدة التي تستخدم في تسميد الاراضي الزراعية

3- اعط مثالين للصناعات التحويلية :
السيارات - الحديد والصلب

السؤال الرابع : ما المقصود بالمصطلح التالي :

1- التعدين :
عملية استخراج المعادن ومصادر الطاقة من باطن الأرض

حمة الرجاء بواطم / منحة ورو بها حمة لغت الضار
صرا / رضا نصار

اختبر نفسك

السؤال الأول: اكتب كلمة (صواب) امام العبارة الصحيحة وكلمة (خطا) امام العبارة الخاطئة

صحيحة :

- ١- تنوع المناطق السياحية والتراثية من مقومات السياحة في الوطن العربي.
- ٢- تطور الفنادق والقرى السياحية يساعد في جذب السياح.
- ٣- يعاني الوطن العربي من قلة جودة شبكة النقل والمواصلات.
- ٤- تسهم السياحة في زيادة نسبة البطالة في الوطن العربي.
- ٥- زيارة المراكز التجارية في دبي تُعد سياحة تسوق.
- ٦- المناخ المعتدل يغد من المقومات البشرية للسياحة في الوطن العربي.
- ٧- زيارتك لاثار مدينة تدمر بسوريا من السياحة الثقافية.
- ٨- الذهاب لمعرض القاهرة الدولي للكتاب يُعد سياحة ترفيهية.

(صواب)
(صواب)
(خطا)
(خطا)
(صواب)
(خطا)
(صواب)
(خطا)

السؤال الثاني: اختر الإجابة الصحيحة مما بين القوسين:

- ١- زيارة مصر لمشاهدة كأس الأمم الإفريقية لكرة اليد تُعد سياحة... (علاجية - ترفيهية - ثقافية - رياضية)
- ٢- مدينة مصرية تم اختيارها اول عاصمة للسياحة العربية... (الإسكندرية - شرم الشيخ - الغردقة - مرسى مطروح)
- ٣- زيارة شواطئ لبنان تعتبر سياحة... (ثقافية - بينية - علاجية - ترفيهية)
- ٤- أحد أماكن السياحة الدينية في فلسطين... (دير سانت كاترين - كنيسة القيامة - الكعبة المشرفة - الجامع الأزهر الشريف)

السؤال الثالث: أكمل العبارات الآتية بكلمات مناسبة:

- ١- زيارة عيون موسى بمصر أحد أشكال السياحة... (العلاجية)
- ٢- إحدى مناطق السياحة الثقافية مدينة بابل في... (العراق)
- ٣- تقع عين ماعين في دولة... (الأردن)
- ٤- قيامك برحلة نيلية في أسوان تعتبر سياحة... (ترفيهية)

السؤال الرابع: حدد سببا واحدا لكل من :

١- ازدهار السياحة في الوطن العربي. (الموقع المتميز - تنوع المناطق الساحلية - الأثرية)

٢- تُعد السياحة من أهم الأنشطة الاقتصادية في الوطن العربي لأنها توفر العمالة الأجنبية - توفر فرص العمل

٣- تتعدد مزارات السياحة الدينية في وطننا العربي. (المسجد الحرام بالمكة - المسجد النبوي - كنيسة القيامة - فلسطين) ، (البحر الميت - كاترين - حيفا - العائلة المقدسة - بصرى)

عامة الغم البصا
رضانصار

٥١

٤- ازدهار السياحة الثقافية في الوطن العربي.
لوجود العديد من الأماكن الأثرية والتراثية مثل
(الدمشق - مصر) ... (بابل - العراق) ... (دمر - سوريا) ... (العمارة - تونس)

السؤال الخامس: اجب عما يلي:

١- ما النتائج المترتبة على: وجود العديد من الأماكن المقدسة في وطننا العربي؟
ازدهار السياحة الدينية ... اعطى الوطن العربي أهمية دينية

٢- قارن بين السياحة العلاجية والسياحة الرياضية من حيث التعريف والأمثلة

وجه المقارنة	السياحة العلاجية	السياحة الرياضية
التعريف	تتمثل في زيارة بعض الأماكن بهدف الدراسة والعلاج	تتمثل في حضور المسابقات الرياضية المتنوعة
الأمثلة	العيون الكبرى (سوريا - مصر) مقبرة صومس (مصر) عمارة ما عفن (المؤردان)	كأس العالم (قطر) ٢٠٢٢ كأس العالم لكرة اليد (مصر) ٢٠٢٤

تمت الازهاية بوايطر / مسر .. رضانصار

صفحة خروج عا شولقة الضار شهر المنه لسيا ١٦/١٠٤٤

عامة الغم البصا
رضانصار

(٢٢)

اختبر نفسك

السؤال الاول : اكتب كلمة (صواب) امام العبارة الصحيحة وكلمة (خطا) امام العبارة غير صحيحة :

١. بدا انتشار التجارة في شبة الجزيرة العربية بعد ظهور الاسلام (خطا)
٢. من الواردات العربية المحاصيل الزراعية (صواب)
٣. من مساوئ التجارة العربية انتشار البطالة (خطا)
٤. اسهمت التجارة في نشر الاسلام في ارجاء العالم (صواب)

السؤال الثاني : اختر الاجابة الصحيحة مما بين الاقواس

- ١) اي من الدول التالية تشترك في منطقة التجارة الحرة... البيوريان
(جيبوتي - الصومال - السودان - موريتانيا)
- ٢) يُعد اختراق خصوصية العميل وسرقة البيانات في التجارة الالكترونية من سلبياتها
(ايجابياتها - سلبياتها - اهميتها - اسبابها)
- ٣- اي من التجمعات التالية انضمت ليبيا اليها . ا. بحار دول المغرب العربي
(اتحاد دول المغرب العربي - مجلس التعاون لدول الخليج - دول الاتحاد الاوربي - دول اتحاد الكوميسا)

السؤال الثالث : بم تفسر

١. اهمية التجارة بالنسبة للدولة الاسلامية قديما ؟
ساهمت في نشر الاسلام . اسهمت في بناء الدولة الاسلامية
٢. ظهور التجارة الالكترونية ؟
بسبب التقدم التكنولوجي والمعلوماتي .
٣. انشاء العديد من التجمعات العربية ؟
بهدف تنسيق والنهوض بالتجارة العربية المعنية
وتبنيها . التجارة والصادرات بين الدول العربية - تلبية الحاجات

السؤال الرابع :

- 1- اقترح طرقاً جديدة لتنشيط التجارة البينية بين الدول العربية ؟
تفعيل الحمارك بين الدول العربية . تفعيل اتفاقيات التجارة العربية
تنويع الصادرات وتنويع المنتجات . اقامة المعارض المائمه والسوق

عاشقكم لفضاد
رضانصار

عنة الالهية بواجبكم / مسر رضانصار
صفحة مبروربعا تعرفه الضاد



علاوة على هذا
فيها أيضا

(٢٣)

قيم نفسك على الوحدة الثالثة

السؤال الأول. أكمل العبارات الآتية بما يناسبها من كلمات :

- 1- تنقسم مقومات الزراعة إلى مقومات طبيعية..... وبشرية.....
- 2- القمح والأرز من المحاصيل العذائية.....
- 3- تتميز واحة سيوه بمصر بزراعة أنواع جيدة من النخيل.....
- 4- تتركز زراعة البن في دولة اليمن.....
- 5- تنوع مناخ الوطن العربي أدى إلى تنوع المحاصيل الزراعية (النباتات الطبيعية).....
- 6- تحتل مصر المركز الأول في إنتاج كل من الحبوب الغذائية والمحاصيل السكرية.....
- 7- الحبوب الغذائية ، مثل : القمح... والذرة... والقمح...
المحاصيل السكرية ، مثل : قصب السكر... البنجر.....
- 8- أكثر الحيوانات انتشارا في الوطن العربي الدجاج... والماعز.....
- 9- أقل الحيوانات انتشارا في الوطن العربي الجمال.....
- 10- من المشروعات المصرية لتنمية الثروة الحيوانية مشروع المليون رأس ماشية غرب النوبارية في محافظة البحيرة.....
- 11- أولى دول الوطن العربي في تربية الإبل دولة الصومال.....
- 12- تُعد دولة ليبيا... أولى الدول العربية لإنتاج الأسماك من المزارع السمكية بينما دول المغرب... أولى دول الوطن العربي في إنتاج الأسماك من المصايد.....
- 13- أول الدول العربية إنتاجا للذهب السودان.....
- 14- تنقسم الصناعة إلى صناعة إقليمية وصناعة عالمية.....
- 15- يدخل الفوسفات في صناعة الأسمدة... والمبيدات الحشرية.....
- 16- أولى الدول العربية إنتاجا للأسمدة الجزائرية.....
- 17- يدخل معدن الحديد في صناعة المنشآت والكباري.....
- 18- زيارة عيون موسى بمصر أحد أشكال السياحة الجبلية.....
- 19- إحدى مناطق السياحة الثقافية مدينة بابل في العراق.....
- 20- تقع عين ماعين في دولة السودان.....
- 21- قيامك برحلة نيلية في أسوان تعتبر سياحة... صحراوية.....

السؤال الثاني : اكتب كلمة (صواب) امام العبارة الصحيحة وكلمة (خطأ) امام العبارة

غير صحيحة :

- 1- تعتمد الزراعة في دولة اليمن على الأنهار (خطأ)
- 2- يُعد رأس المال مهم لشراء البذور (صواب)
- 3- توجد التربة الخصبة على جانبي الأنهار (صواب)
- 4- يمتلك الوطن العربي ثروة من الأيدي العاملة المدربة (صواب)
- 5- تنتشر تربية الجاموس في الصحاري المصرية (خطأ)
- 6- تُعد السعودية أولى دول الوطن العربي في تربية الجاموس . (خطأ)

٥٥

٥- أي من الدول التالية تشترك في منطقة التجارة الحرة... السودان.....

(جيبوتي - الصومال - السودان - موريتانيا)

٦- بعد اختراق خصوصية العميل وسرقة البيانات في التجارة الإلكترونية من قبلها

(إيجابياتها - سلبياتها - أهميتها - أسبابها)

٧- أي من التجمعات التالية انضمت ليبيا إليها. اتحاد دول المغرب العربي

(اتحاد دول المغرب العربي - مجلس التعاون لدول الخليج - دول الاتحاد

الأوروبي - دول اتحاد الكوميسا)

السؤال الرابع : حدد سببا واحدا لكل من :

١- قيام الزراعة في الواحات

لمعجم الجبال الجوفية

باعتبارها
منطقة
مناخية
مختلفة

٢- أهمية رأس المال في النشاط الزراعي

لشراء الآلات والمعدات والمزور والمقايير والآسدة

٣- تنوع المحاصيل الزراعية في الوطن العربي

بسبب تنوع المناخ -

٤- أهمية وسائل النقل في الزراعة

لنقل المنتجات من مزارع الزراعة إلى مناطق الاستهلاك

٥- أهمية الثروة الحيوانية بالوطن العربي

المصدر الأول للبروتين الحيواني - يوفر بعض الموارد الخام اللازمة للصناعة

٦- مصر أولى دول الوطن العربي في تربية الجاموس

لوجود البيئة المفضية المناسبة لبيئته

٧- المغرب أولى دول الوطن العربي في إنتاج الأسماك من المصايد

لطول سواحلها على البحر المتوسط والمحيط الأطلسي

٨- الجاموس أقل الحيوانات انتشارا في الوطن العربي

لأنها لا تتحمل البرد المفضية المفضية، وتعتبر من بين

الحيوانات البرية السريعة الحرارة المبرقة

تمت الإجابة بوالعلم/ مستر ضانصا - منته جروبنا معتم لغة الصار

٢٦

عاصمة لغزة
عاصمة غزة
عاصمة غزة

9- وجود مشكلات تواجه الثروة السمكية في الوطن العربي .

بسبب التغيرات المناخية التي تؤدي إلى موت كثر من
الطيئات البحرية - الصيد الجائر - تلوث المياه

10- الأهمية الاقتصادية لمعدن الذهب

يستخدم في صناعة الجواهر - يدخل في علاج بعض الأمراض

11- الأهمية الاقتصادية لمعدن الفوسفات

يستخدم في صناعة البسمة والمبيدات الحشرية

12- أهمية الصناعة في الوطن العربي

تؤثر على العمل - أساس التنمية الاقتصادية - تساهم في الدخل
في الوطن العربي

13- ازدهار السياحة في الوطن العربي

لغرض مقومات جذب السياح في الوطن العربي ومنها (الموقع الجغرافي
المميز - الطبيعة الخلابة - انتشار المآثر السياحية الرائعة)

14- تعد السياحة من أهم الأنشطة الاقتصادية في الوطن العربي

لذا المصدر الأول للعملة الأجنبية - تساهم في الصادرات القفائية
تؤثر على العمل

15- تتعدد مزارات السياحة الدينية في وطننا العربي

لمعجزة العديد من الشعائر المقدسة من الوطن العربي

(سنت كاترين مصر) - المسجد الأقصى (فلسطين) - المسجد الحرام - الكعبة (السعودية)

16- ازدهار السياحة الثقافية في الوطن العربي

لوجود العديد من المواقع الأثرية والتراثية مثل (مدينة بصرى السورية)
بابل (العراق) - الأهرامات (مصر) - تدمر

17- أهمية التجارة بالنسبة للدولة الإسلامية قديما؟

ساهمت في بناء الدولة الإسلامية

ساهمت في نشر الإسلام على يد التجار المسلمين

18- ظهور التجارة الإلكترونية؟

بسبب التطور التكنولوجي

19- انشاء العديد من التجمعات العربية؟

لتنمية التجارة البينية بين الدول العربية ، ترويج الصادرات ، تقليص
المخاطر

حمة الالهية بواطمه مسر رضا فاضل - صفته هروب مما توع لغزة الفناد

السؤال الخامس : اجب عما يلي

1- ما العلاقة بين الفوسفات - الاراضي الزراعية
يستخدم الفوسفات في صناعة السماد كخصب للأرض الزراعية **لغة لفظ**

2- اعط مثالين للصناعات التحويلية

الحديد والصلب - السيارات - الاسمنت

3- اذكر نتيجة واحدة : وجود العديد من الأماكن المقدسة في وطننا العربي؟
أكبرها أهمية دينية - اذ دهرت الساحة الدينية من الوطن العربي

4- اقترح : طرقاً لتنشيط التجارة بين الدول العربية؟

تعمل على الحمايل بين الدول العربية بتوقيع الصادرات العربية
بمكين المنعقات العربية - تفعيل اتفاقيات التعاون العربية المشتركة

السؤال السادس : اكتب دليلاً على صحة العبارة التالية :

1- تواجه الثروة الحيوانية مشكلات عديدة بالوطن العربي
ارتفاع أسعار الأعلاف - البخرات المائية - انتشار الأمراض
نقص المراعي في الوطن العربي

2- يمتلك الوطن العربي ثروات معدنية متنوعة
حيث يمتلكه العربي من الثروات المعدنية التي تساهم في تقدم الصناعة
مثل (الذهب - الحديد - النحاس - الفوسفات)

السؤال السابع: حدد العنصر المختلف مع ذكر السبب

1- المياه الجوفية - مياه الأمطار - التربة الخصبة - رأس المال
رأس المال في جميع العوامل بشرية لعنصر الزراعة الجاهل في عوامل طبيعية

2- الذرة - الأرز - القمح - الزيتون
الزيتون في ليس من الحبوب الغذائية (أجبار سمرة)

3- الموالح - الأرز - التين - الموز
الذرة في جميعها غذائي الجاهل في فوائده وأشجار سمرة

4- وسائل النقل - تنوع المناخ - السوق - الأيدي العاملة
تنوع مناخ في عوامل طبيعية الجاهل في عوامل بشرية

تمت الإجابة بواسطة
متر - رضا نصار
صفحة هروب عما هو لفة الصاد - رضا نصار

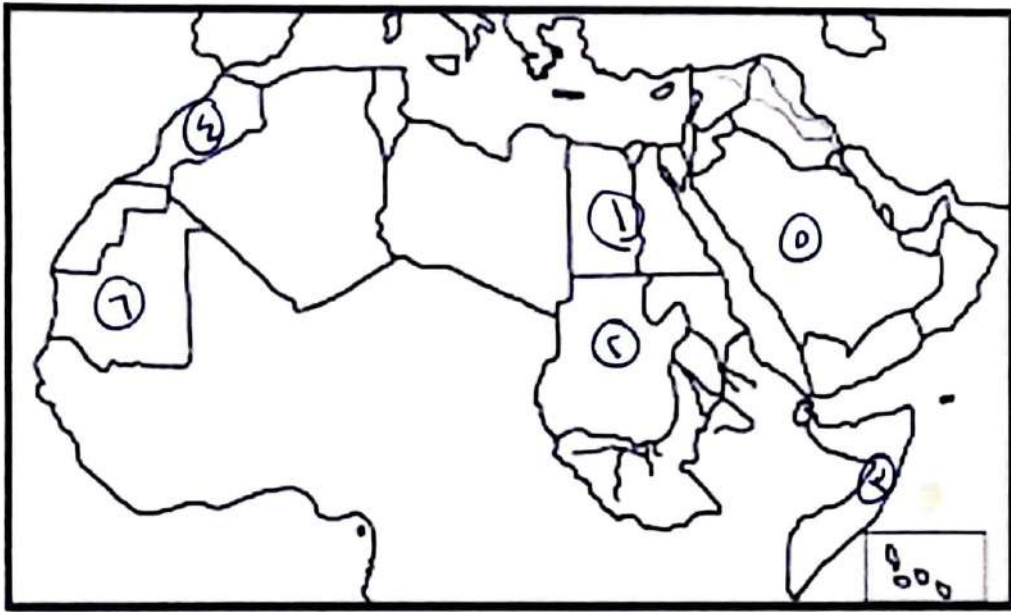
مكتبة

٢٥
 جمعها -
 جمعها -

السؤال الثامن : قارن بين السياحة العلاجية والسياحة الرياضية من حيث:

وجه المقارنة	السياحة العلاجية	السياحة الرياضية
التعريف	تتمثل بزيارة بعض الأماكن بهدف الاستفادة من العلاج	تتمثل في حضور المسابقات الرياضية المتعلقة
الأمثلة	العلاج الكبريتي (سوسة - مصر) عسبريس / عسبريس (الاردن)	كأس العالم لكرة اليد (مصر) كأس العالم (قطر) ٢٠٢٢م

السؤال التاسع : امامك خريطة صماء للوطن العربي اكتب مدلول الأرقام عليها



- ١- أولى الدول في إنتاج التمر مصر
- ٢- أولى الدول في تربية الأبقار السودان
- ٣- أولى الدول في تربية الإبل الصومال
- ٤- أولى الدول في إنتاج الأسماك من المصايد السمكية المغرب
- ٥- أولى الدول العربية في إنتاج البترول السعودية
- ٦- أولى الدول العربية في إنتاج الحديد ليبيا

بسم الله الرحمن الرحيم / مستر رضا نصار

مفتحة وجيوب عاتق لثقة الضار

شهر المنية - موسم كنف النخ
 السبت ٢٥/١/٢٠٢٤م

عاشق لثقة الضار
 رضا نصار

Handwritten signature

السؤال الخامس : لمن تنسب الأعمال التالية

سيدنا محمد صلى الله عليه وسلم	لقب بالصادق الأمين
السيدة خديجة	أول من آمن من النساء
أبو بكر الصديق	أول من آمن من الرجال
علي بن أبي طالب	أول من آمن من الصبية
إبرهه الحبشي	حاول هدم الكعبة
النجاشي	ملك عادل أمر الرسول المسلمين بالهجرة لبلاد الحبشة
الرسول صلى الله عليه وسلم	أصدر صحيفة المدينة
الرسول صلى الله عليه وسلم	أمر ببناء المسجد بالمدينة
الرسول صلى الله عليه وسلم	أطلق على يثرب أسم المدينة المنورة
أبو بكر الصديق	رافق الرسول في الهجرة من مكة ليثرب
الرسول صلى الله عليه وسلم	أخى بين المهاجرين و الأنصار
المهاجرين	أهل مكة وهاجروا من مكة ليثرب
الأنصار	سكان يثرب و ناصروا الرسول
سلمان الفارسي	أشار على الرسول بحفر خندق حول المدينة
الرسول صلى الله عليه وسلم	عفا عن أهل مكة و قال لهم " أذهبوا فأنتم الطلقاء "
أبو بكر الصديق	أنابة الرسول في أمانة الصلاة أثناء مرضه
أبو بكر الصديق	أول الخلفاء الراشدين
زيد بن ثابت	قام بجمع القرآن الكريم بأمر أبو بكر الصديق
مسيلمة الكذاب	أدعى النبوة
أبو بكر الصديق	أمر بمحاربة المرتدين
أسامة بن زيد	قاد جيش المسلمين لبلاد الشام لمحاربة الروم
أبو بكر الصديق	ارسل الجيوش العربية خارج شبه الجزيرة العربية
الرسول صلى الله عليه وسلم	كان قد جهز جيش أسامة بن زيد قبل وفاته
أبو بكر الصديق	أمر بإرسال جيش أسامة بن زيد
سيدنا عمر بن الخطاب	وضع التقويم الهجري
سيدنا عمر بن الخطاب	أنشأ عدد من الدواوين
سيدنا عثمان بن عفان	قام بتوسيع المسجد النبوي
عمر بن الخطاب	ثاني الخلفاء الراشدين
سيدنا عثمان بن عفان	أشترى بئر رومه و جعله وقفًا للمسلمين
سيدنا عثمان بن عفان	أمر بكتابة القرآن و نوزيعة على البلاد المفتوحة للتوحد قرانته
سيدنا عمر بن الخطاب	استكمل الفتوحات الاسلامية في العراق و الشام و مصر
سيدنا علي بن أبي طالب	نقل مقر الخلافة من المدينة للكوفة
سيدنا عثمان بن عفان	ثالث الخلفاء الراشدين

صفحة ١٠٧
مستتر رضا نصار

صفحة ١٠٧
مستتر رضا نصار

تمت الإجابة بواسطة .. صفحة وجروب عاشق الضاد.. مستر-رضا نصار

السؤال الرابع : قارن بين :

أهم أعمال الخليفة عمر بن الخطاب رضي الله عنه - والخليفة علي بن أبي طالب رضي الله عنه

وجه المقارنة	الخليفة عمر بن الخطاب	الخليفة علي بن أبي طالب
أهم الأعمال	وضع التقويم الهجري - إنشاء الدواوين - استكمال الفتوحات الإسلامية	تنظيم الشرطة نقل مقر الخلافة

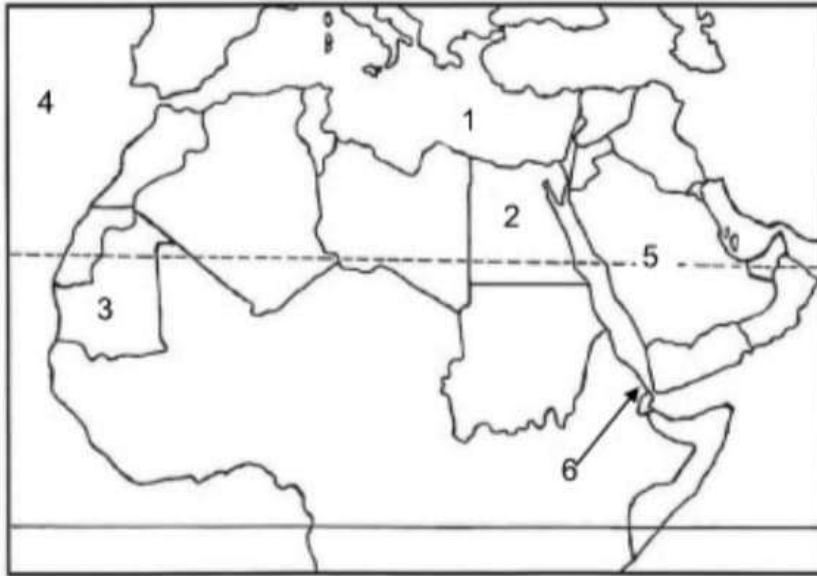
أهم أعماله الخليفة أبو بكر الصديق رضي الله عنه - الخليفة عثمان بن عفان رضي الله عنه

وجه المقارنة	الخليفة أبو بكر الصديق	الخليفة عثمان بن عفان
أهم الأعمال	مخاربة المرتدين جمع القرآن الكريم الفتوحات الإسلامية	كتابة القرآن في مصحف واحد إنشاء الأسطول البحري الإسلامي استكمال الفتوحات الإسلامية

تمت الإجابة بواسطة
صفحة وجروب عاشق لغة الضاد
مستر-رضا نصار

سيدنا علي بن أبي طالب	أمر بتنظيم الشرطة
صاحب الشرطة	اسم يطلق على رئيس الشرطة
سيدنا علي بن أبي طالب	رابع الخلفاء الراشدين
سيدنا علي بن أبي طالب	خصص يوم لنظر مظالم الناس لتطبيق العدل

السؤال السادس: وضع مطول الأرقام على خريطة الوطن العربي اللية :



- 1-البحر : الأبيض المتوسط
- 2-دولة : مصر
- 3-دولة : موريتانيا
- 4-المحيط : الأطلسي
- 5-دولة : السعودية
- 6-مضيق : باب المندب

تمت الإجابة بواسطة

صفحة وجروب عاشق لغة الضاد

مستر-رضا نصار