



الصف الرابع الابتدائي

# موقع يلا نذاكر



ملفات  
مفاهيم  
أسئلة

## رسالة وزير التربية والتعليم

أبنائى الطلاب كل عام وأنتم بخير بمناسبة قرب حلول العام الدراسى الجديد ٢٠٢٣/٢٠٢٤ داعين الله عز وجل أن يجعله عام خير ورخاء على مصرنا الحبيبة والأمة العربية وعلى العالم أجمع. فى ظل بناء الجمهورية الجديدة التى تحقق آمال وطموحات الشعب المصرى الأصيل.

وفى هذا الصدد فإن مرحلة البناء تعتمد بشكل أساسى على سواعد أبنائها وخاصةً فئة الشباب ولذا فإننا نعمل جاهدين على بناء جيل جديد يمتلك مهارات الحياة التى تمكنه من أدوات القرن الحادى والعشرين ولا شك أن دور التعليم يعد دورًا محوريًا لتحقيق هذا الهدف، ومن هذا المنطلق فإننا نعمل على تطوير المنظومة التعليمية بكافة أدواتها من أجل تمكين أبنائنا من تعليم ذى جودة عالية.

وفى هذا السياق يسعدنى أن أقدم لأبنائى الطلاب الخدمات التعليمية التى تسهم فى ذلك إلى جانب الكتاب المدرسى من مواد تعليمية تتضمن المفاهيم الرئيسة بشكل مبسط يسهم فى تأصيل الفهم العميق وييسر لهم عمليات التحصيل والتعليم فضلًا عن تدريبهم على مفردات ونوعيات من الأسئلة تكون بمثابة أداة للتعلم، وتحقيق نواتج التعلم بكافة مستوياتها المعرفية من تذكر وفهم بسيط وفهم عميق كما أننا لا نغيب عن خواطرننا دائمًا رفع العبء عن كاهل الأسر المصرية من خلال تقديم حزمة مميزة من المواد التعليمية من نسخ إلكترونية مبسطة وقنوات تعليمية تقدم شرحًا متميزًا للمناهج الدراسية بالإضافة إلى منصات الوزارة التى تبث المواد التعليمية بطرق متفردة وتراعى الفروق الفردية بين الطلاب واختلاف رغباتهم.

وسوف نعمل دائمًا من أجل تحقيق مستقبل متميز لأبنائنا الطلاب لبناء مستقبل مشرق لبلدنا العزيز.

وزير التربية والتعليم والتعليم الفنى

أ.د / رضا حجازى

2



1



3



## المنصات التعليمية للوزارة

4



5



تحت رعاية معالي وزير التربية والتعليم أ.د/ رضا حجازي

## الوحدة الأولى

### بلدنا ورموزه الوطنية

مراجعة

خير مكتب مستشار الدراسات الاجتماعية  
د/ وليد سيد - أ/ هند عبدالغني

إعداد

موجه الدراسات الاجتماعية  
د/ محمد أحمد محمد صالح

تحت إشراف

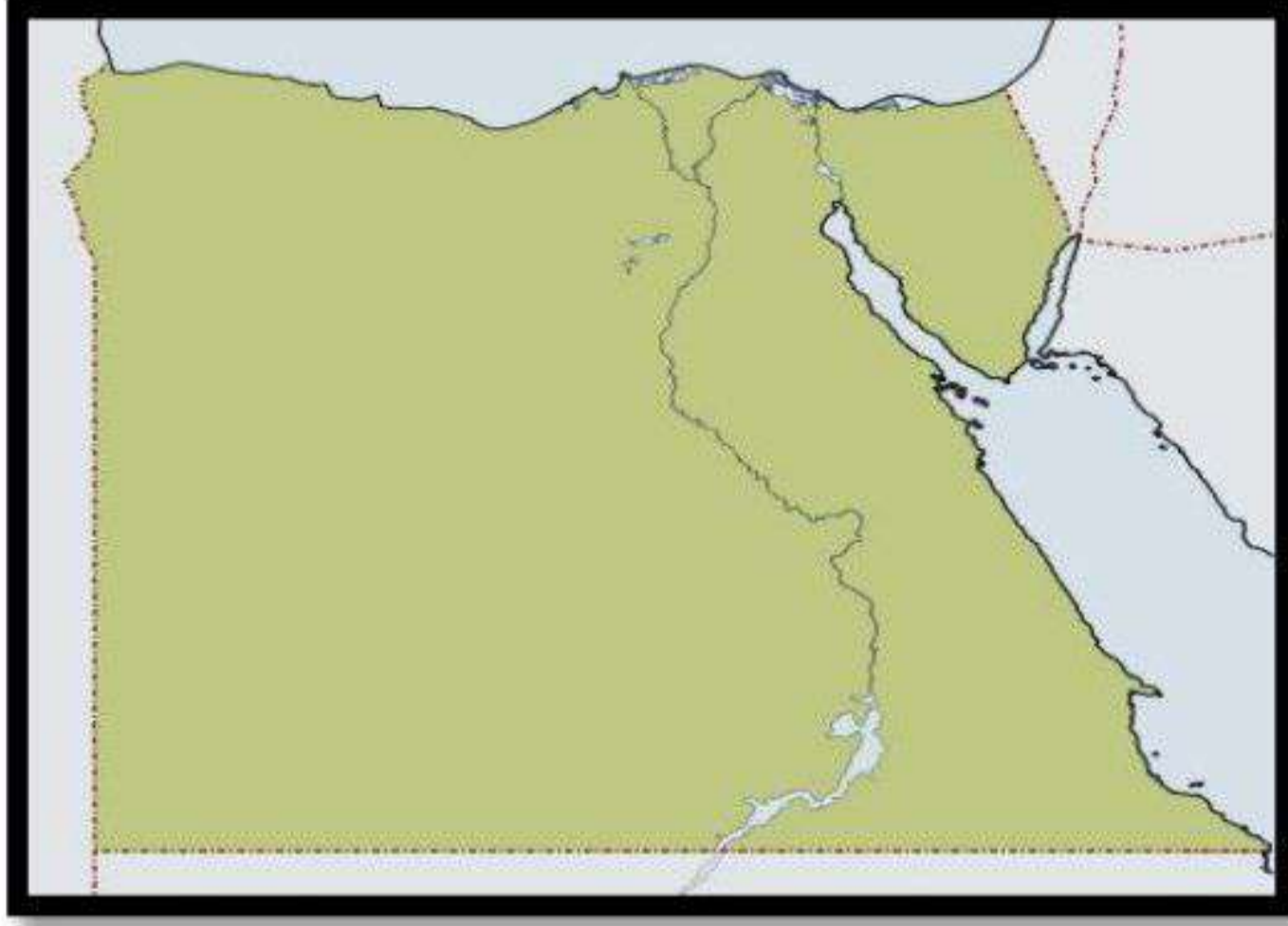
مستشار مادة الدراسات الاجتماعية  
أشرف عبد المنعم سيد



مدير إدارة المركزي لتطوير المناهج  
د/ أكرم حسن

# موقع يلا نذاكر

## الدرس الأول أدوات تحديد المواقع

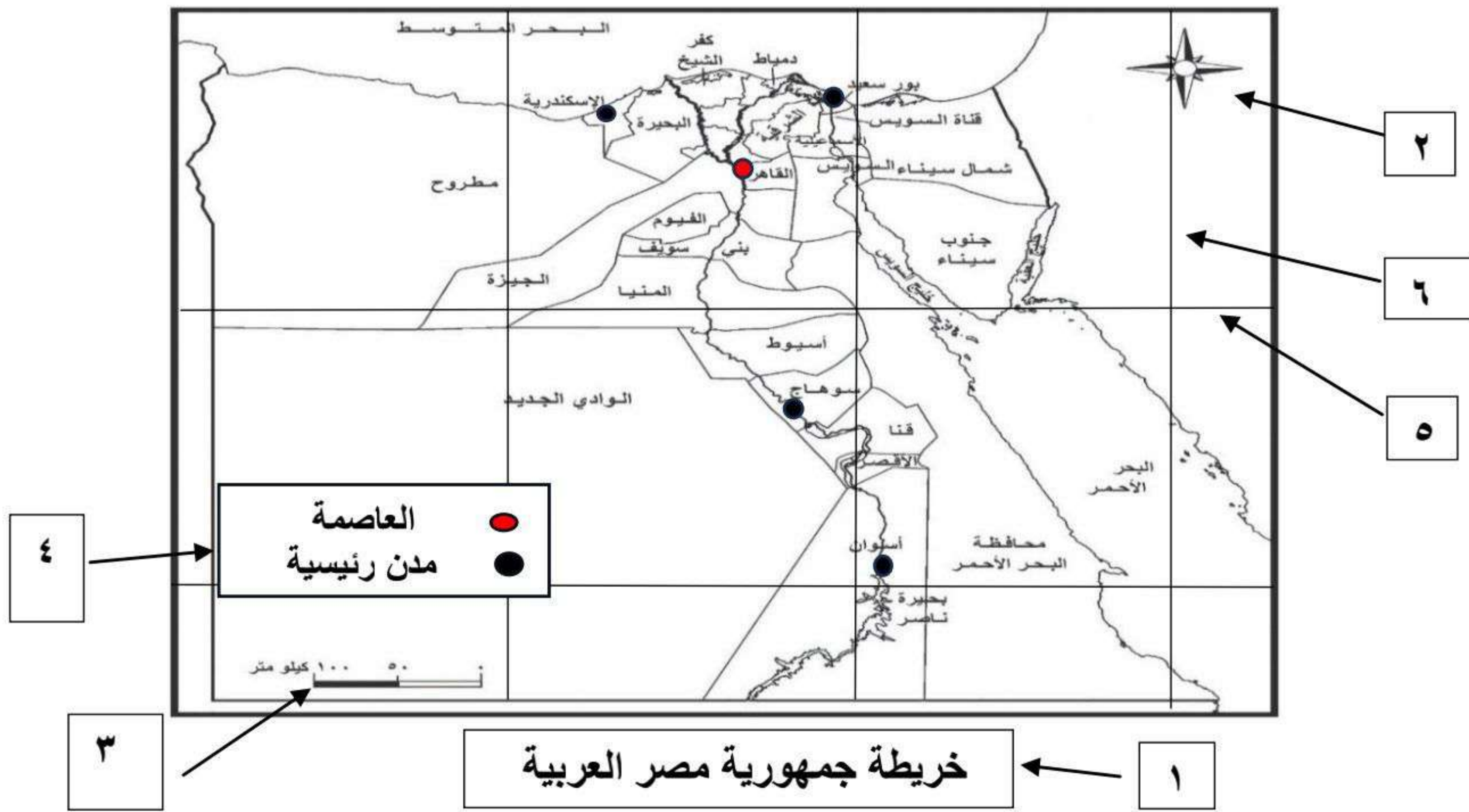


هل تعلم عزيزي التلميذ ،  
ما هو الشكل المقابل الذي أمامك ؟  
- نعم إنها خريطة جمهورية مصر العربية  
وتعتبر أحد أهم أدوات تحديد المواقع .

**ويقصد بها :** رسم توضيحي لسطح الأرض أو جزء منه باستخدام

- الرموز \* ○ ▲
- الألوان ■ ■ ■
- مقياس رسم محدد

والآن هيا بنا نتعرف على العناصر الأساسية للخريطة  
لاحظ الأرقام في الشكل التالي وتعرف على تعريفها وأهميتها



١- عنوان الخريطة : يشير إلى المعلومات الواردة على الخريطة

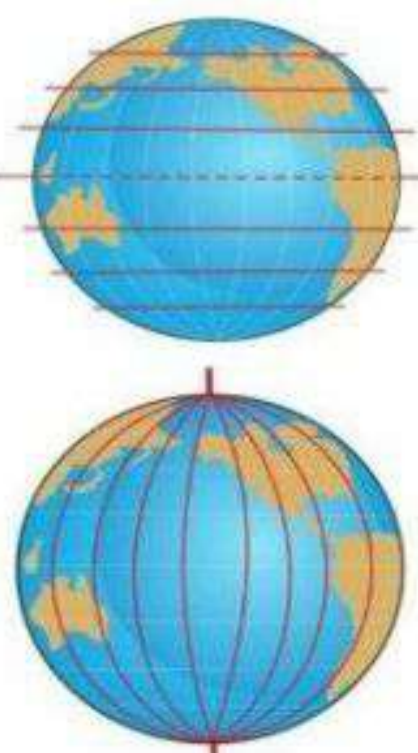
٢- وردة البوصلة : توضح الاتجاهات الأصلية والفرعية وتساعد في تحديد موقع معين بالنسبة للمواقع الأخرى

٣- مقياس الرسم : هو النسبة بين المسافة على الخريطة وما يقابلها على الطبيعة

٤- مفتاح الخريطة : يوضح مدلول ومعنى الألوان ، الرموز الموجودة على الخريطة .

٥- دوائر العرض ( شبكة الاحداثيات ) : تتخذ شكل أفقي شمال وجنوب دائرة الاستواء .

٦- خطوط الطول ( شبكة الاحداثيات ) : تتخذ شكل رأسي شرق وغرب خط جرننتش .





### الفرق بين الصور الجوية والصور الفضائية



الصور الفضائية يتم التقاطها باستخدام الأقمار الصناعية  
تستطيع التقاط عدد أكبر من المواقع أكثر من الصورة الجوية

الصورة الجوية يتم التقاطها باستخدام الطائرات  
وتعطينا صورة حقيقية لسطح الأرض  
وتساعد في رسم خرائط أكثر تفصيلاً


موقع يلا نذاكر

## أختبر نفسك

### اختر الإجابة الصحيحة مما بين الأقواس

- 1- لمعرفة مدلول الألوان والرموز الموجودة على الخريطة فإننا ننظر إلى.....  
(عنوان الخريطة - مقياس رسم الخريطة- مفتاح الخريطة - وردة البوصلة )
- 2- إذا أردت حساب المسافة بين محافظتي القاهرة والجيزة في الطبيعة فإنك تحتاج إلى معرفة.....  
(عنوان الخريطة - مقياس رسم الخريطة- مفتاح الخريطة - وردة البوصلة )
- 3- عند التقاط صورة حقيقية تفصيلية لجزء من سطح الأرض فإننا نستخدم.....  
(الطائرة - القمر الصناعي- الصاروخ - سفينة فضاء )
- 4- الجهة التي تقع بين الشمال والشرق هي.....  
( الشمال الغربي - الشمال الشرقي - الجنوب الشرقي - الجنوب الغربي )
- 5- يستخدم..... الخريطة في تحديد ملكية الأراضي الزراعية .  
( التلميذ - السائح - الفلاح - الطيار )

### ضع علامة (√) أمام العبارة الصحيحة ، وعلامة (x) أمام العبارة الخاطئة

- 1- يستخدم مقياس الرسم في تحديد الاتجاهات على الخريطة . ( )
- 2- يساعد ذلك الرمز  على الخريطة في حساب المسافة الحقيقية بين مدينتي السويس وبورسعيد ( )
- 3- خطوط الطول ترسم بشكل أفقي على الخريطة . ( )
- 4- يمكن الاعتماد على الصور الجوية لرسم خريطة تفصيلية لجزء من سطح الأرض . ( )
- 5- يقابل جهة الشرق جهة الجنوب . ( )

### صوب ما تحته خط

- 1- يعتبر خط الاستواء خط الطول الرئيسي . (.....)
- 2- تلتقط الصور الفضائية باستخدام الطائرات . (.....)
- 3- يشير مقياس الرسم إلى المعلومات على الخريطة . (.....)
- 4- يستخدم التلميذ الخريطة في الوصول للأماكن السياحية . (.....)

### أجب عما يلي

- 1- حدد سبب واحد لأهمية استخدام وردة البوصلة .
  - 2- اذكر أهمية الخريطة بالنسبة للجيش .
- أسئلة للمتميزين " بمراجعة خريطة جمهورية مصر العربية السابقة العرض في الدرس"
- 1- تخيل أنك في محافظة بورسعيد وتريد السفر إلى مدينة مرسى مطروح فإنك تتجه نحو.....
  - 2- تقع بحيرة ناصر ..... بالنسبة لمحافظة القاهرة
  - 3- يرمز لمحافظة القاهرة باللون ..... طبقاً للخريطة السابقة العرض .

## الدرس الثاني

### المصادر الأولية والمصادر الثانوية

" تُعد قناة السويس أهم ممر ملاحى عالمى يربط بين البحر الأحمر والبحر المتوسط ، وبفضل القناة أصبحت مصر مركز رئيسى فى التجارة الدولية ، وقد مرت فكرة حفر القناة بعدة تطورات منذ عهد سنوسرت الثالث حيث سميت بقناة سيزوستريس إلى إعادة حفرها بأيدي مصرية وافتتاحها تحت إشراف فرنسي عام ١٨٦٩ ، إلى إدخال تطويرات جديدة على القناة عام ٢٠١٥".

والان اذا رغبتا في التأكد من صحة المعلومات الواردة في الفقرة السابقة ،

علينا البحث عنها في

#### المصادر الثانوية

هي كل ما تم تدوينه بعد مرور زمن طويل منذ وقوع الحدث ، وغالباً ما يستند للمصادر الأولية

وتشمل




الكتب



المقالات



الأبحاث


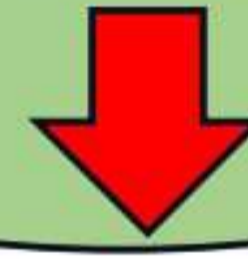


الموسوعات

#### المصادر الأولية

هي كل ما تم نقشه أو تدوينه سواء من قبل أشخاص عاصروا الحدث او شاركوا فيه ، ويرتبط بزمن وقوع الحدث

وتشمل



الصور



الأفلام التسجيلية



المخاطبات والوثائق الرسمية



النقوش على القطع الأثرية



البرديات

## الفرق بين الحقيقة والرأى

عندما تبحث في مصادر المعلومات الأولية والثانوية لابد ان تميز بين الحقائق والآراء التي يتضمنها المصدر .

### الرأى

هو تعبير عما يشعر به أو يفكر فيه شخص ما تجاه موضوع معين ، وقد يكون صحيحاً أو خطأ

### الحقيقة

هي معلومات او احداث ثم إثبات صحتها والتأكد من دقتها ، سواء من خلال البحث او التجريب وتتسم بالدقة والموضوعية

## **كما عليك عزيزي التلميذ أن تقيم مصدر المعلومة من خلال معرفة**

- أسم المؤلف وتخصصه ومكانته العلمية ، ومعرفة اذا كان شارك او عاصر الحدث وقت حدوثه .
- غرض المؤلف من النص هل يريد التزويد بالمعلومات ام محاولة إقناعك بفكرة ما .
- القيام بمقارنة المعلومات الواردة في المصدر بمصادر أخرى تؤكد صحة المعلومة .

## أختبر نفسك

### أكتب ما تشير إليه العبارات الآتية :

- ١- كل ما تم تدوينه سواء من قبل أشخاص عاصروا الحدث أو شاركوا فيه ، ويرتبط بزمن وقوع الحدث.  
(.....)
- ٢- تعبير عما يشعر به أو يفكر فيه شخص ما تجاه موضوع معين ، وقد يكون صحيحاً أو خطأ .  
(.....)
- ٣- كل ما تم تدوينه بعد مرور زمن طويل منذ وقوع الحدث.  
(.....)
- ٤- معلومات أو أحداث تم إثبات صحتها والتأكد من دقتها ، سواء من خلال البحث أو التجريب .  
(.....)

### ضع علامة (√) أمام العبارة الصحيحة ، وعلامة (x) أمام العبارة الخاطئة

- ١- المخاطبات الرسمية والنقوش على جدران المعابد من المصادر الأولية ( )
- ٢- "ساعد موقع مصر على قيام الحضارة المصرية القديمة " هذه العبارة تُعبّر عن وجهة نظر ( )
- ٣- للتأكد من صحة المعلومات الواردة عن الهرم نستخدم المصادر الأولية والثانوية ( )
- ٤- الكتب والموسوعات والمقالات من المصادر الأولية ( )
- ٥- "تطل مصر على البحرين المتوسط والاحمر" تعد العبارة السابقة حقيقة ( )

### اختر الإجابة الصحيحة مما بين الأقواس

- ١- المعلومات التي تم التأكد من صحتها هي .....  
(حقائق - آراء - وجهات نظر - معتقدات).
- ٢- عند كتابتك لبحث عن أهمية موقع مصر تستخدم أحد المصادر الثانوية.....  
(المخاطبات الرسمية - البرديات - الوثائق الرسمية - الكتب).
- ٣- إذا أردت أن تستخدم مصدرًا أوليًا لإجراء بحث عن قناة السويس فإنك تستخدم.....  
(موسوعة عن القناة - وثائق رسمية عن القناة - مقال عن القناة عام ٢٠٠٠ - كتاب عن القناة عام ٢٠١٤)
- ٤- "يبلغ عدد سكان مصر ٩٤ مليون نسمة عام ٢٠١٧م" تعبر هذه العبارة عن.....  
(رأي - خيال - حقيقة - وجهة نظر)

### أجب عما يلي

- ١- اذكر نتيجة واحدة لحفر قناة السويس .
- ٢- اذكر اختلاف واحد بين المصدر الأولي والمصدر الثانوي .
- ٣- اذكر طريقة واحدة لتقييم مصدر المعلومة .

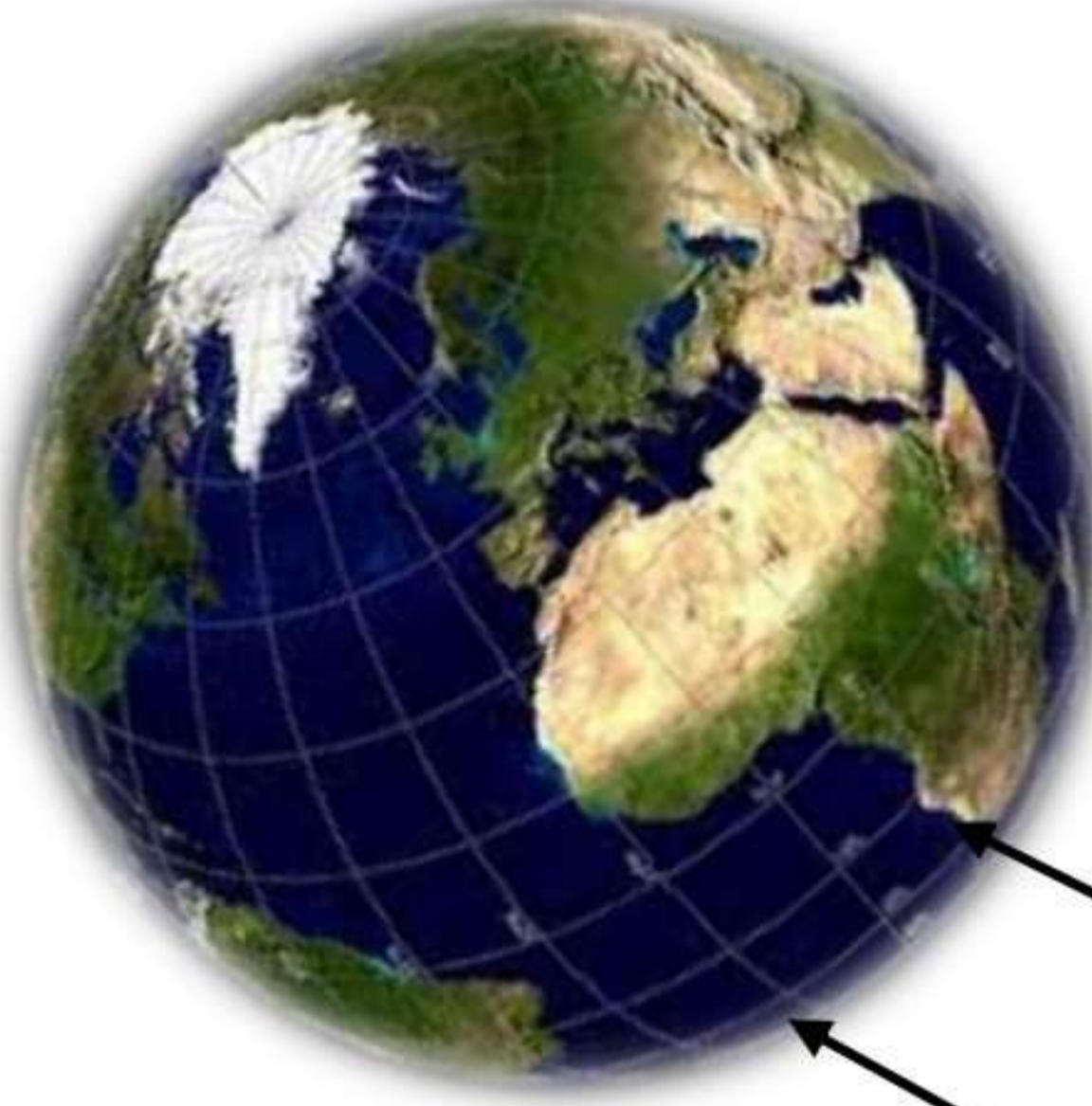
### أسئلة للمتميزين: صنف العبارات التالية طبقاً للجدول الذي أمامك

(كتاب عن قناة السويس عام ٢٠٠٠ - فيلم تسجيلي اثناء حفر قناة السويس - صورة مرسومة لقناة السويس - مخطط أصلي لتصميم قناة السويس)

مصدر ثانوي	مصدر أولي
.....	.....
.....	.....

## الدرس الثالث

### موقع مصر بالنسبة إلى العالم



قارات  
محيطات

هل سألت نفسك يوماً مما تتكون الأرض ؟

- تأمل الشكل الذي أمامك ، ستجد أن الأرض تتكون من :

- **قارات** : هي مساحة واسعة من اليابس تضم عدداً من الدول .
- **محيطات** : هي مساحة واسعة من الماء المالح ذات أعماق كبيرة .

والجدير بالذكر

أن الموقع الجغرافي : يقصد به

- موقع المكان بالنسبة لليابس والماء .



من خلال النظر للخريطة السابقة ، نجد ان الأرض تتضمن

#### خمس محيطات

- المحيط الهادي
- المحيط الأطلنطي
- المحيط الهندي
- المحيط المتجمد الجنوبي
- المحيط المتجمد الشمالي

#### سبع قارات تقسم إلى

قارات العالم القديم	قارات العالم الجديد
آسيا	أمريكا الشمالية
إفريقيا	أمريكا الجنوبية
أوروبا	أستراليا
	أنتاركتيكا



## موقع مصر الجغرافي

تقع مصر في الركن الشمالي الشرقي من قارة إفريقيا ، وهي بذلك تقع في قلب العالم القديم .

- يحدها البحر المتوسط شمالا
- يحدها البحر الأحمر شرقا
- يحدها ليبيا غربا
- يحدها السودان جنوبا

## أهمية موقع مصر الجغرافي

أشاد الكثير بأهمية موقع مصر ومنهم الجغرافي **جمال حمدان** ، فقد كانت مصر قديماً مركزاً تجارياً بين الشرق " آسيا " والغرب " أوروبا وأمريكا "



وقد زادت أهمية موقع مصر بعد حفر كانت السويس التي وفرت الوقت والجهد والمال مقارنة بالطريق القديم الذي كانت تقطعه السفن بالدوران حول قارة إفريقيا " طريق رأس الرجاء الصالح "

وساهمت قناة السويس الجديدة عام ٢٠١٥ في

- تقليل زمن مرور السفن في القناة من ٢٠ ساعة إلى ١١ ساعة .
- والسماح بمرور السفن في الاتجاهين .
- واستيعاب سفن أكبر حجماً .

كما كان لنهر النيل دور كبير لموقع مصر حيث عاش المصريون على ضفتيه ، وقاموا بأعمال الزراعة واستخدموه للتجارة بين شمال مصر وجنوبها ، وكذلك بين مصر ودول وسط إفريقيا ، مما ساعد على قيام الحضارة المصرية القديمة وازدهار الاقتصاد المصري .

## أختبر نفسك

**ضع علامة (√) أمام العبارة الصحيحة ، وعلامة (x) أمام العبارة الخاطئة**

- ١- تمر السفن في الاتجاهين بقناة السويس بعد حفر قناة السويس الجديدة ( )
- ٢- تقع مصر شمال شرق قارة آسيا. ( )
- ٣- ساعد نهر النيل قديماً على زيادة التجارة بين مصر ودول وسط إفريقيا ( )
- ٤- المحيط يمثل مساحة شاسعة من الماء المالح قليلة العمق ( )
- ٥- يتنوع الموقع الجغرافي لمصر بين اليابس والماء ( )

**اختر الإجابة الصحيحة مما بين الأقواس**

- ١- تعتبر ..... مساحة شاسعة من اليابس تضم عدة دول .  
(محافظة- دولة- قارة- جزيرة)
- ٢- يمكننا الرجوع لكتابات جمال حمدان عند كتابة بحث عن.....  
(موقع مصر- تطور علم مصر- التعليم في مصر- تطور الموسيقى في مصر)
- ٣- ساعد نهر النيل على زيادة التجارة بين مصر ودول ..... إفريقيا .  
( جنوب - وسط - غرب - شمال )
- ٤- تطل مصر على البحر الأحمر من جهة .....  
( الغرب - الشمال - الجنوب - الشرق )
- ٥- تعتبر قارة ..... ضمن قارات العالم القديم .  
( استراليا - أمريكا الشمالية - أوروبا - أمريكا الجنوبية )

**أجب عما يلي**

- ١- اذكر نتيجة واحدة لقناة السويس الجديدة .
- ٢- ماذا يحدث إذا لم يتم حفر قناة السويس .
- ٣- اذكر دليلاً واحداً على أن مصر دولة بحرية .

**حدد المختلف في عناصر كل مجموعة**

- إفريقيا - أوروبا - أستراليا - آسيا (.....)
- المحيط الهادي - نهر النيل - المحيط الهندي - المحيط الأطلنطي (.....)
- أمريكا الشمالية - أمريكا الجنوبية - أنتاركتيكا - آسيا (.....)

**أسئلة للمتميزين**

**أمامك خريطة صماء لقارات العالم القديم**

- ١- حدد موقع مصر على الخريطة باللون البني
- ٢- لون قارة آسيا باللون الأخضر
- ٣- لون البحر المتوسط والبحر الأحمر باللون الأزرق
- ٤- ارسهم باللون الأسود توضح طريق رأس رجاء الصالح



## الدرس الرابع محافظات مصر

- نظراً لاتساع مساحة مصر ، تم تقسيمها إلى عدة محافظات ، لذا تضم مصر عدداً من المحافظات .
- ويمكن تعريف **المقصود بالمحافظة** على أنها :
  - مساحة من الأرض تضم مجموعة من المراكز أو الأحياء .
  - ولكل محافظة **حدود إدارية** تفصلها عن المحافظات المجاورة .
- من خلال قراءة مفتاح الخريطة التي أمامك . يمكن تقسيم محافظات مصر على النحو التالي :



### محافظات الوجه البحري :

القاهرة - القليوبية - الدقهلية - البحيرة - الشرقية - كفر الشيخ - دمياط  
الغربية - الاسكندرية - المنوفية - السويس - الاسماعلية - بور سعيد

### محافظات الوجه القبلي :

الجيزة - الفيوم - بني سويف - المنيا - أسيوط - سوهاج - قنا -  
الأقصر - أسوان

### محافظات الحدود الصحراوية :

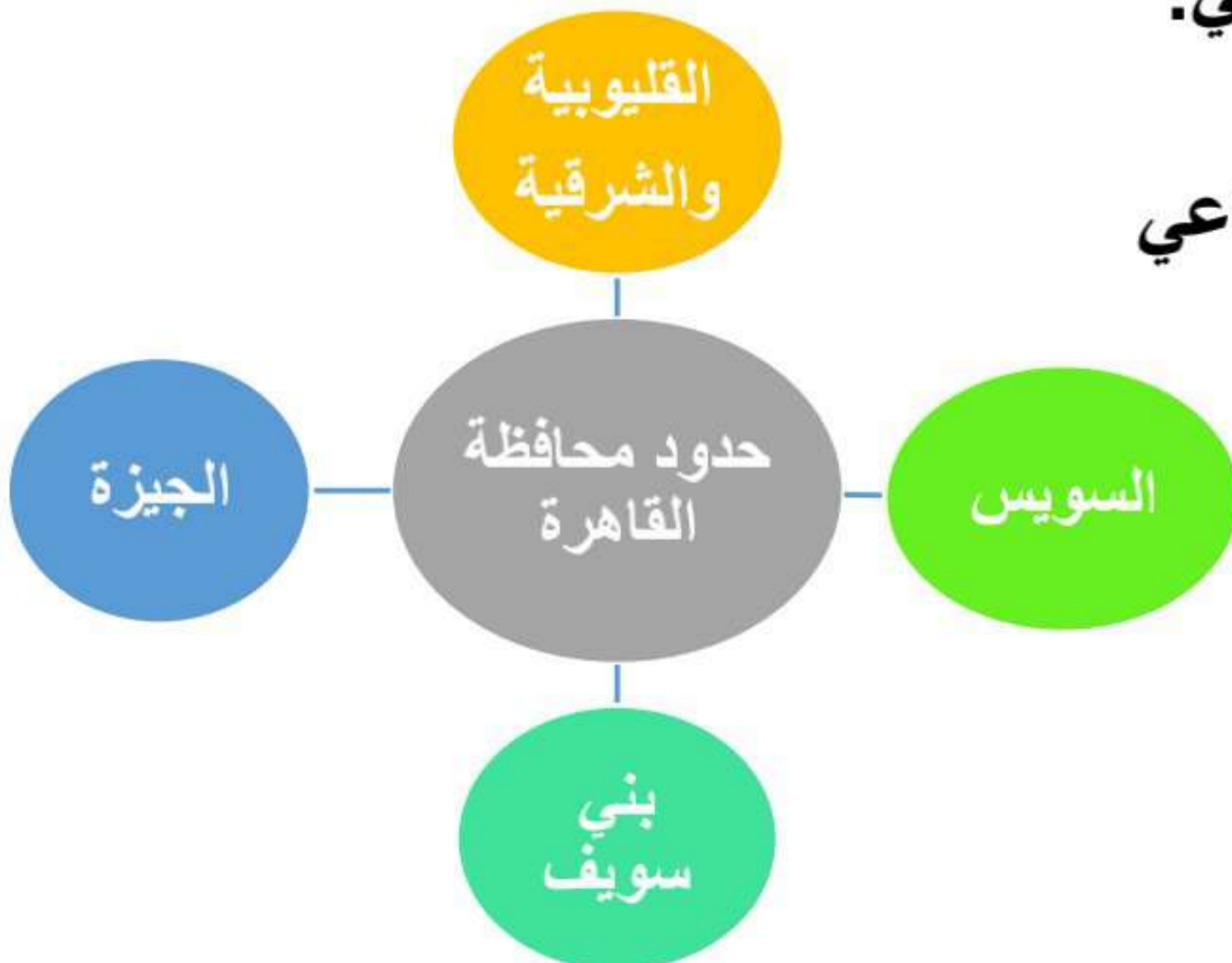
هي المحافظات التي تشترك في حدودها مع الدول المجاورة لمصر ، وهي  
شمال سيناء - جنوب سيناء - البحر الأحمر - مطروح - الوادي الجديد

### عاصمة جمهورية مصر العربية

محافظه القاهرة هي عاصمة جمهورية مصر العربية ، وقد تم اختيارها عاصمة للبلاد لفترات طويلة على مر التاريخ لموقعها المتميز بين الوجه البحري والوجه القبلي.

وتضم القاهرة معظم الوزارات ، كما تعد مركز تجاري وصناعي وثقافي ، ويوجد فيها العديد من المعالم الأثرية مثل :

- مسجد عمرو بن العاص
- قلعة صلاح الدين الأيوبي
- الكنيسة المعلقة



وتهتم الدولة بتطوير القاهرة من خلال عدد من المشروعات ، مثل :

- حي الأسمرات .
- تطوير حي السيدة زينب.
- محور روض الفرج .
- إنشاء العاصمة الإدارية لتخفيف الضغط السكاني .



### نظام تحديد المواقع العالمي (GPS) Global Positioning System

هو اختصار لمصطلح نظام تحديد المواقع العالمي ، يتيح لك تحديد مواقع الأماكن عن طريق :

- إدخال اسم المكان او العنوان في النظام
- تحصل على موقع هذا المكان او العنوان وذلك بفضل الأقمار الصناعية التي تغطي سطح الأرض ، مما يساعد على تحديد اتجاهات السير للوصول إلى المكان المحدد .

## أختبر نفسك

### اختر الإجابة الصحيحة مما بين الأقواس

- ١- إذا أردت الذهاب لعاصمة مصر فعليك بالتوجه إلى محافظة .....  
(القاهرة- الإسكندرية- الجيزة- أسوان)
- ٢- إذا أردت الذهاب إلى العاصمة الإدارية الجديدة لأول مرة فيمكنك الوصول إليها باستخدام.....  
(صورة جوية - صورة فضائية - صورة فوتوغرافية- نظام تحديد المواقع "GPS")
- ٣- مساحة من اليابس تضم مجموعة من المراكز أو الأحياء هي .....  
(القارة - المحافظة - البحيرة - الجزيرة)
- ٤- الحدود التي تفصل بين المحافظات هي الحدود .....  
(السياسية - البحرية - الدولية - الإدارية)
- ٥- محافظة جنوب سيناء ومحافظة الوادي الجديد يتشابهان في أنهما محافظتان .....  
(الوجه القبلي - الحدود الصحراوية - الوجه البحري - الحدود الساحلية)

### ضع علامة (✓) أمام العبارة الصحيحة ، وعلامة (x) أمام العبارة الخاطئة

- ١- تعد محافظة البحر الأحمر من محافظات الوجه البحري . ( )
- ٢- محور روض الفرج إحدى مشروعات الدولة لتطوير محافظة القاهرة . ( )
- ٣- تعتبر القاهرة مركز تجاري وثقافي. ( )
- ٤- ساعدت الأقمار الصناعية نظام تحديد المواقع GPS على تحديد مواقع الأماكن بدقة. ( )
- ٥- عدد محافظات الحدود في مصر ثلاث محافظات . ( )

### أجب عما يلي

- ١- اكتب تفسيراً واحداً لتقسيم بعض الدول إلى محافظات
- ٢- حدد سبباً واحداً لإنشاء الدولة للعاصمة الإدارية الجديدة
- ٣- اكتب دليلاً واحداً على اهتمام الدولة بتطوير القاهرة عاصمة البلاد

### أسئلة للمتميزين

#### أكمل ما يلي مستعيناً بالخريطة التي أمامك

- ١- تعتبر محافظة ..... أكبر محافظات مصر مساحة .
- ٢- تحد محافظة الإسكندرية من جهة الغرب محافظة .....
- ٣- تحد محافظة السويس محافظة القاهرة من جهة .....
- ٤- محافظة من محافظات الحدود الصحراوية وتقع بين خليجي السويس والعقبة هي محافظة .....



## الدرس الخامس

### رموز بلدي

في كل صباح في فناء المدرسة نقوم بتحية العلم ، لان العلم يرمز لتاريخ البلد وتراثه ، ولكل جزء فيه معنى خاص .

**يتميز علم مصر بشكله المستطيل ، وانه يتكون من ٣ ألوان :**

**- فاللون الأحمر :**

يرمز إلى مرحلة النضال ودماء الشهداء من أجل الحرية .

**- واللون الأبيض :**

يرمز إلى السلام ، ويتوسطه نسر ذهبي مأخوذ عن نسر صلاح الدين الأيوبي ويرمز إلى قوة مصر وعراقة تاريخها.

**- واللون الأسود :**

يرمز للظلم الذي تعرضت له مصر أثناء فترات الاستعمار .



### أماكن وجود العلم

الوزارات والهيئات  
والمؤسسات الحكومية

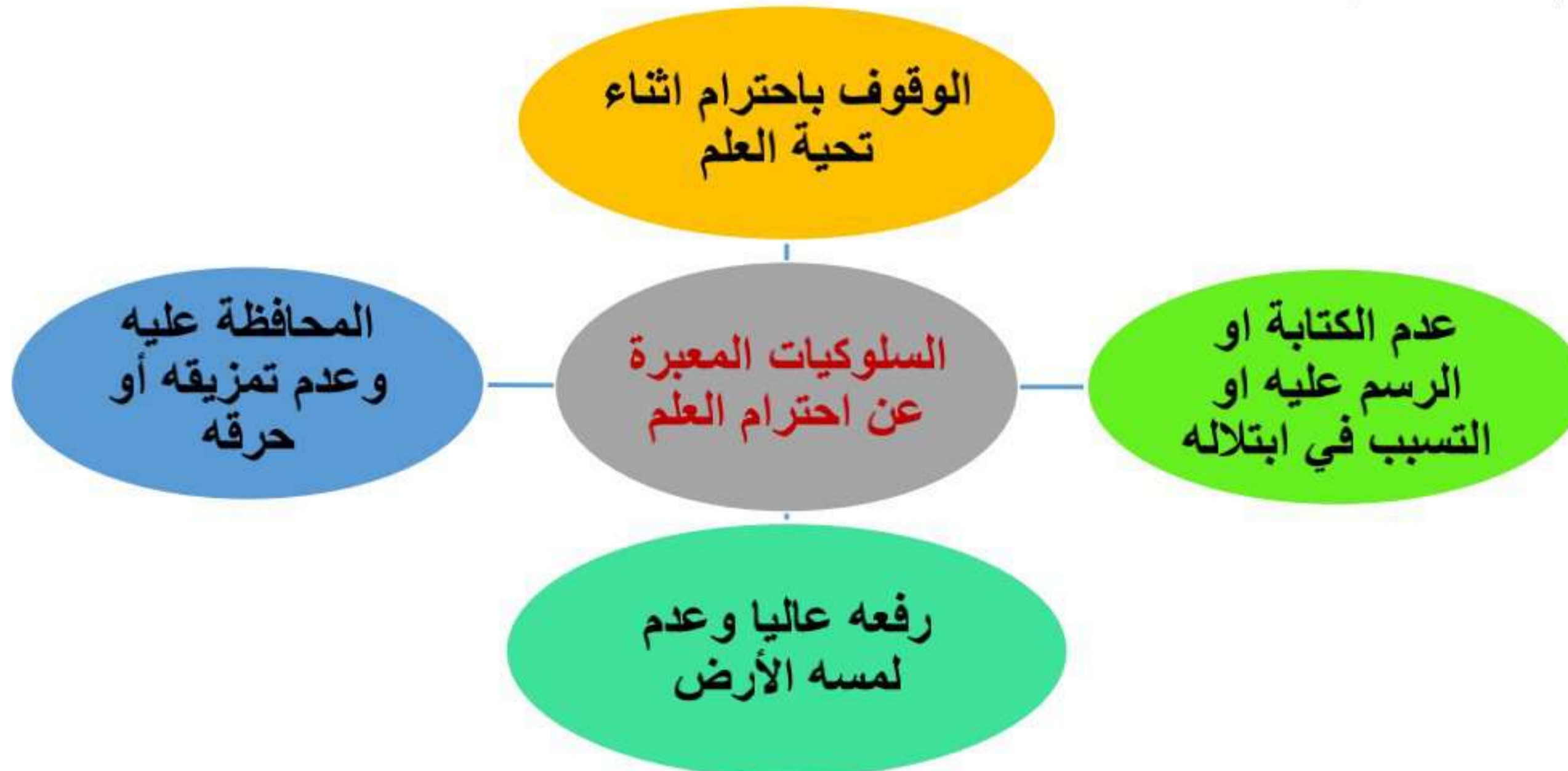
وسائل النقل الدولية  
مثل الطائرات

المواقع السياحية  
والمؤتمرات  
والمناسبات الرسمية



### مظاهر احترام العلم

يُعد احترام العلم واجب وطني ، لانه يرمز للدولة ، وقد أكدت المادو ٢٢٣ من الدستور المصري لعام ٢٠١٤ أن إهانة العلم المصري جريمة يعاقب عليها القانون .





سيد درويش



محمد يونس القاضي

ويصاحب تحية العلم النشيد الوطني " بلادي بلادي "

- قام بتأليف كلامته الشاعر محمد يونس القاضي

- وقام بتلحين النشيد الوطني سيد درويش

هذا ولكل محافظة من محافظات مصر شعار خاص بها ، وهو عبارة عن " راية تتخذها المحافظة رمزاً لها ، ليعبر عن نشاط سكانها او جزء من تاريخها " .

### شعار محافظة القاهرة

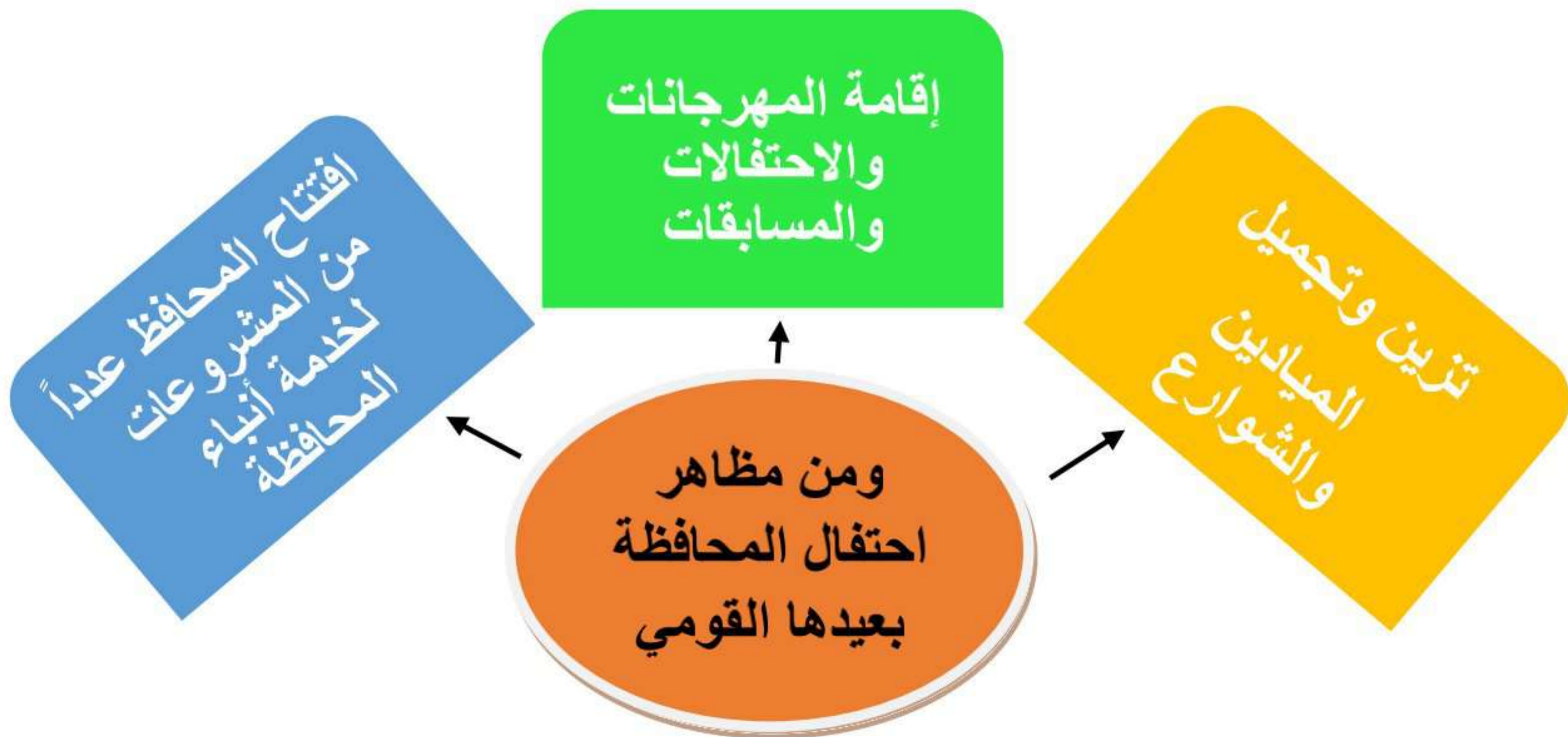


تتخذ محافظة القاهرة من جامع الأزهر الشريف شعاراً لها ، وخلفه تظهر شمس ساطعة لتدل على أن جامع الأزهر هو منارة الإسلام في العالم . ويرفع شعار المحافظة على مبنى المحافظة وفي عيدها القومي الخاص بها .

### العيد القومي للمحافظة

لكل محافظة من محافظات مصر عيد قومي خاص بها ، ويرتبط بحدث تاريخي أو ذكرى مهمة مرت بها المحافظة .

تحتفل محافظة القاهرة بعيدها القومي في السادس من يوليو من كل عام ، وهو اليوم الذي قام فيه القائد جوهر الصقلي حجر الأساس لبناء مدينة القاهرة عام ٩٦٩م .



## أختبر نفسك

### أكمل العبارات التالية :

- ١- يتخذ علم مصر شكل .....
  - ٢- يرمز نسر صلاح الدين في العلم المصري إلى .....
  - ٣- تحتفل محافظة ..... في السادس من يوليو من كل عام بعيدها القومي .
  - ٤- قام بتأليف نشيد "بلادي بلادي" الشاعر .....
  - ٥- وضع حجر الأساس لمدينة القاهرة عام ٩٦٩م القائد .....
- ضع علامة (✓) أمام العبارة الصحيحة ، وعلامة (x) أمام العبارة الخاطئة**

- ١- يعبر اللون الأسود في علم مصر عن الظلم في فترات الاستعمار . ( )
- ٢- الرسم على العلم من السلوكيات الإيجابية المعبرة عن احترامه . ( )
- ٣- تحتفل جميع محافظات مصر بعيد قومي واحد . ( )
- ٤- يمكن أن يُعبّر شعار المحافظة عن نشاط سكانها . ( )
- ٥- يرتبط شعار محافظة القاهرة بذكرى تاريخية . ( )

### اكتب ما تشير إليه العبارات التالية

- ١- راية تتخذها المحافظة رمزاً لها ، ليعبر عن نشاط سكانها او جزء من تاريخها . (.....)
- ٢- ينسب له النسر الذهبي في العلم المصري . (.....)
- ٣- قام بتلحين النشيد الوطني المصري "بلادي بلادي". (.....)
- ٤- بناء أتخذته محافظة القاهرة شعاراً لها . (.....)

### أجب عما يلي

- ١- اكتب تفسيراً لرسم الشمس في شعار محافظة القاهرة.
- ٢- اذكر اثنين من سلوكيات احترام العلم
- ٣- اذكر ثلاث أماكن نرى علم مصر يرفرف عليها .

### أسئلة للمتميزين

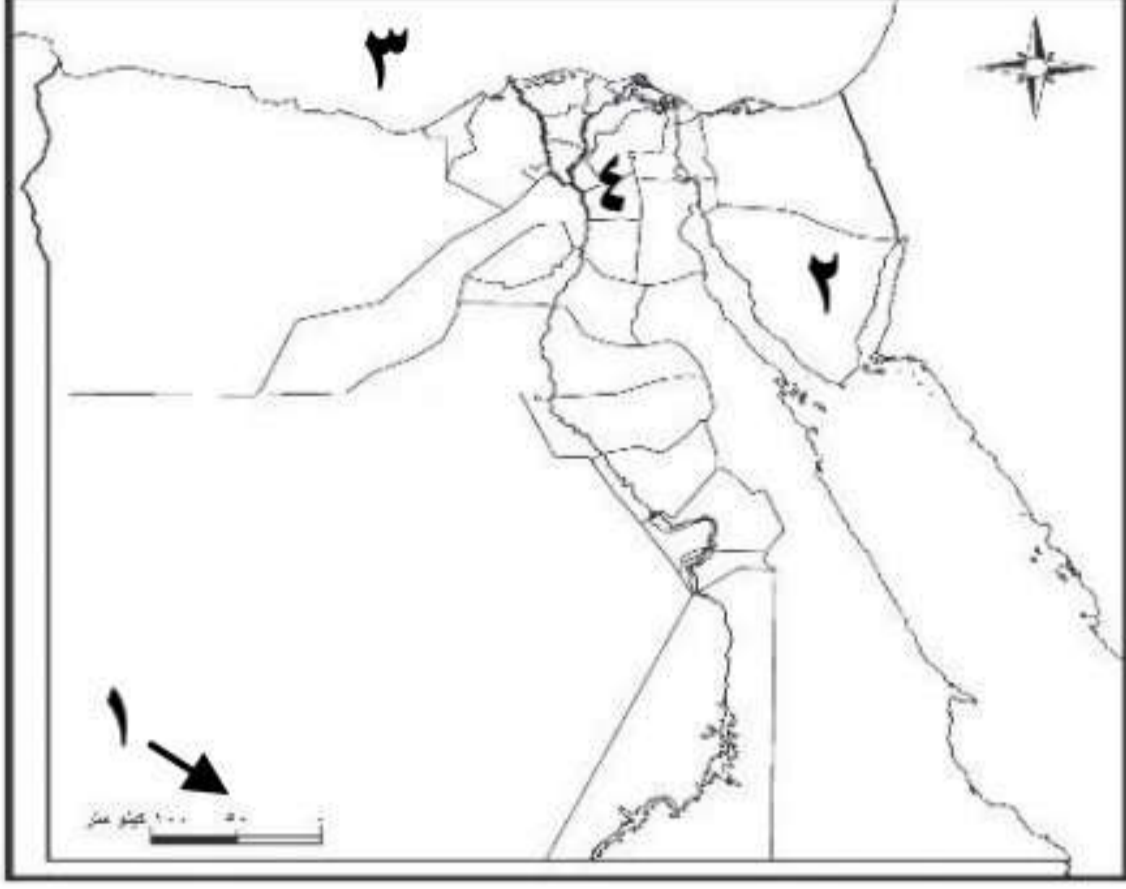
- حدد أوجه التشابه والاختلاف في الصورتين التاليتين



- أوجه التشابه : .....
- أوجه الاختلاف : .....

## اختبار عام على الوحدة الأولى

**السؤال الأول :** أمامك خريطة صماء لجمهورية مصر العربية ، أكتب مدلول الأرقام عليها



- ١- أحد عناصر الرئيسية للخريطة هو .....
- ٢- محافظة بين خليجي السويس والعقبة هي .....
- ٣- يشير إلى البحر .....
- ٤- عاصمة مصر .....

**السؤال الثاني :** اختر الإجابة الصحيحة مما بين القوسين

- ١- مساحة من اليابس تضم مجموعة من المراكز أو الأحياء هي .....  
(القارة - المحافظة - البحيرة - الجزيرة)
- ٢- تعتبر قارة ..... ضمن قارات العالم القديم .  
( استراليا - أمريكا الشمالية - أوروبا - أمريكا الجنوبية )
- ٣- عند كتابتك لبحث عن أهمية موقع مصر تستخدم أحد المصادر الثانوية.....  
(المخاطبات الرسمية - البرديات - الوثائق الرسمية - الكتب).
- ٤- عند التقاط صورة حقيقية تفصيلية لجزء من سطح الأرض فإننا نستخدم .....  
(الطائرة - القمر الصناعي- الصاروخ - سفينة فضاء)

**السؤال الثالث :** ضع علامة (√) أمام العبارة الصحيحة ، وعلامة (x) أمام العبارة الخاطئة

- ١- تعد محافظة البحر الأحمر من محافظات الوجه البحري . ( )
- ٢- يرتبط شعار محافظة القاهرة بذكرى تاريخية . ( )
- ٣- ساعد نهر النيل على زيادة التجارة بين مصر ودول غرب إفريقيا . ( )
- ٤- "تطل مصر على البحرين المتوسط والاحمر" تعد العبارة السابقة حقيقة ( )

**السؤال الرابع :** حدد المختلف عن عناصر كل مجموعة

- إفريقيا - أوروبا - أنتاركتيكا - آسيا (.....)
- مطروح - الوادي الجديد - الإسكندرية - البحر الأحمر (.....)
- البرديات - الكتب - الوثائق الرسمية - الأفلام التسجيلية (.....)

**السؤال الخامس :** أجب عما يلي

١- حدد سببًا واحدًا لإنشاء الدولة للعاصمة الإدارية الجديدة.

.....  
٢- اذكر اثنين من سلوكيات احترام العلم.

.....  
٣- اذكر أهمية الخريطة بالنسبة للفلاح.

.....