

أولاً : الجغرافيا

- ١- موقع المكان سواء دولة أو قارة أو غيرها بالنسبة للأماكن الأخرى من بحار ومحيطات ودول مجاورة (الموقع الجغرافي)
- ٢- أكبر بحر مغلق في العالم ويقع في اسيا (بحر قزوين)
- ٣- هي الدول التي تتكون من جزيرة أو أكثر أو قد تكون جزء من جزيرة (الدول الجزرية)
- ٤- محيط يقع بين الأمريكتين من جهة وإفريقيا وأوروبا من الجهة الأخرى (المحيط الأطلنطي)
- ٥- محيط يقع شمال كل من اسيا وأوروبا وأمريكا الشمالية (المحيط القطبي الشمالي)
- ٦- خليج يقع في جنوب شرق أمريكا الشمالية (خليج المكسيك)
- ٧- قارة تبدو أقرب لشكل المثلث (أمريكا الجنوبية)
- ٨- قارة تتكون من مجموعة من الجزر (أستراليا)
- ٩- بحر يفصل بين أستراليا وجزر إندونيسيا (بحر أرافورا)
- ١٠- قارة متجمدة وغير مأهولة بالسكان في أقصى جنوب الكرة الأرضية (أنتاركتيكا أو القطبية الجنوبية)
- ١١- محيط يحيط بقارة أنتاركتيكا من جميع الجهات (المحيط القطبي الجنوبي)
- ١٢- قارة تظهر فيها السلاسل الجبلية الضخمة (آسيا)
- ١٣- أعلى جبال في العالم (جبال الهيمالايا)
- ١٤- أعلى قمة جبلية في العالم (قمة إفرست)
- ١٥- أعلى هضاب العالم وتعرف بسقف العالم (هضبة التبت)
- ١٦- هضبة توجد في وسط الهند (هضبة الدكن)
- ١٧- سهول تمتد على طول سواحل البحار والمحيطات التي تحيط بالقارات (السهول الساحلية)
- ١٨- سهول فيضية تجري فيها أنهار أوب وينسي ولينا (سهول سيبيريا)
- ١٩- سهول يجري فيها نهر اليانغتسي (سهول شرق الصين)
- ٢٠- نهر يصب في المحيط الهندي (نهر السند)
- ٢١- قارة يسود فيها المظهر الهضبي (أفريقيا)
- ٢٢- هضبة محصورة بين جبال أطلس (هضبة الشطوط)
- ٢٣- جبال تقع في شمال غرب أفريقيا (جبال أطلس)
- ٢٤- جبال تقع شرق أفريقيا (جبال كينيا وكلمنجارو)
- ٢٥- جبال في أقصى الجنوب الشرقي من أفريقيا (دراكنزبرج)

٢٦- هضاب تعتبر منابع روافد نهر النيل (هضبة البحيرات الاستوائية وهضبة الحبشة)

٢٧- هضبة يجري بها نهرا الاورانج واللمبوبو (هضبة جنوب أفريقيا)

٢٨- سهل صحراوي يوجد في دولة ليبيا (سهل كلنثو)

٢٩- سهول صحراوية في جنوب قارة أفريقيا (صحراء كلهاري)

٣٠- سلاسل جبلية تمتد في وسط قارة أوروبا (سلاسل جبال الألب)

٣١- هضبة تشغل معظم دولة اسبانيا (هضبة الميزيتا)

٣٢- سهل فيضي يمتد من المحيط الأطلنطي حتى جبال الأورال في أوروبا وتوجد به المدن الأوروبية الرئيسية (السهل الأوروبي العظيم)

٣٣- أطول نهر في أوروبا (نهر الفولجا)

٣٤- أعلى سلسلة جبال في أمريكا الشمالية (جبال روكي)

٣٥- سهول في جنوب أمريكا الشمالية حيث الأراضي الزراعية (سهول نهر المسيسيبي)

٣٦- سلاسل جبلية مرتفعة في غرب أمريكا الجنوبية (جبال الإنديز)

٣٧- أكبر الهضاب وأكثرها ارتفاعاً في أمريكا الجنوبية (هضبة البرازيل)

٣٨- أصغر هضاب أمريكا الجنوبية (هضبة بتاجونيا)

٣٩- أوسع سهول فيضية في العالم (سهول حوض نهر الأمازون)

٤٠- جبال تقع شرق استراليا وتعرف بجبال الألب الأسترالية و لها شكل قوس (جبال الحاجز الكبير)

٤١- قارتين يتشابهان في التضاريس (أفريقيا وأستراليا)

٤٢- هضبة تشغل نصف مساحة استراليا (الهضبة الغربية)

٤٣- خليج يصب فيه نهرا مري ودارلنج (الخليج الأسترالي الكبير)

٤٤- منطقة محددة على سطح الأرض لها خصائصها المناخية من حيث الحرارة والرياح والمطر (الإقليم المناخي)

٤٥- إقليم مناخي يتميز بارتفاع الحرارة وسقوط الأمطار طوال العام (الإقليم الاستوائي وشبه الاستوائي)

٤٦- حشائش تتميز بالتدرج بالطول من الجنوب للشمال وتعتبر حديقة حيوان طبيعية (حشائش السافانا)

٤٧- إقليمان مناخيان يتشابهان في صيف غزير الأمطار وشتاء جاف (الإقليم المداري والإقليم الموسمي)

٤٨- إقليم يمتد على سواحل المغرب العربي والشام (إقليم مناخ البحر المتوسط)

٤٩- عواصف مدارية تهب على الإقليم الصيني (التيفون)

٥٠- غابات تنفض أوراقها شتاءً من شدة البرودة (الغابات النفضية)

٥١- غابات توجد في الإقليم اللورانسى ومن أشجارها الصنوبر والشربين (الغابات المخروطية)

- ٥٢- إقليم مناخي يسود في المناطق القطبية المتجمدة مثل أنتاركتيكا (إقليم التندرا)
- ٥٣- إقليم مناخي يشغل القمم والمنحدرات العليا للمناطق الجبلية في العالم (إقليم مناخ الجبلي)
- ٥٤- مجموعة بشرية تتشابه في صفاتها الجسمية الخارجية (السلالة)
- ٥٥- فترة تاريخية انتشر فيها الإنسان في قارات العالم المختلفة (أواخر عصر البلايستوسين)
- ٥٦- سلالة بشرية تبلغ حوالي ١٠٪ من سكان العالم (السلالة الزنجية)
- ٥٧- قارة يتركز فيها ٧٥٪ من زواج العالم (أفريقيا)
- ٥٨- قارة أصبح الزوج يمثلون نسبة كبيرة من سكانها وحصلوا على جنسيات دولها (أوروبا)
- ٥٩- سلالة بشرية تزيد عن ٤٠٪ من سكان العالم (السلالة المغولية)
- ٦٠- قارة تتركز فيها السلالة المغولية خاصة في الشرق (آسيا)
- ٦١- قسم من السلالة المغولية يعيشون في شمال كندا والاسكا (الإسكيمو)
- ٦٢- هم السكان الأصليون للأمريكتين (الهنود الحمر)
- ٦٣- قسم من السلالة المغولية يعيشوا في سيبيريا (جماعة التنجوس)
- ٦٤- السلالة التي تحتوي على حوالي نصف سكان العالم (السلالة القوقازية)
- ٦٥- سلالة ينتمي لها سكان حوض البحر المتوسط من العرب وأوروبا (السلالة القوقازية)
- ٦٦- هم سكان غرب ووسط أوروبا وينتموا للسلالة القوقازية (المجموعة الألبية)
- ٦٧- هم سكان دول شمال أوروبا وينتموا للسلالة القوقازية (المجموعة النوردية الشمالية)
- ٦٨- إجراء دوري يتم فيه إحصاء السكان كل خمس أو عشر سنوات (التعداد السكاني)
- ٦٩- أكبر قارات العالم سكاناً ويسكنها ٦٠٪ من سكان العالم (آسيا)
- ٧٠- قارة خالية من السكان (أنتاركتيكا)
- ٧١- منطقة ذات تربة جيدة وهي أكثر منطقة في العالم إزدحاماً بالسكان (جزيرة جاوة)
- ٧٢- الهجرة التي تتم من خلال وسائل غير قانونية (الهجرات غير الشرعية)
- ٧٣- أكبر دولة سكانية في قارة أمريكا الشمالية (الولايات المتحدة الأمريكية)
- ٧٤- هضبة يقل فيها السكان في جنوب أمريكا الجنوبية (هضبة بتاجونيا)
- ٧٥- أكبر دولة سكاناً في قارة أمريكا الجنوبية (البرازيل)
- ٧٦- دولة تمثل ٦٠٪ من سكان قارة استراليا (دولة استراليا)
- ٧٧- علم دراسة السكان ونمو وتوزيع وتركيب السكان (الديموجرافيا)
- ٧٨- هي القارة الأعلى في معدل المواليد (أفريقيا)
- ٧٩- هي القارة الأقل في معدل المواليد و الأعلى في معدل الوفيات (أوروبا)

٨٠- هي القارة الأقل في معدل الوفيات (أمريكا الجنوبية)

٨١- قارة معدل الزيادة الطبيعية فيها صفر (أوروبا)

٨٢- هو نتاج الفرق بين معدلات المواليد والوفيات (معدل الزيادة الطبيعية)

٨٣- هو دراسة عدد ونسبة كل مجموعة من سكان المنطقة وفقاً لفئات عمرية محددة (التركيب العمري)

٨٤- القارة الأعلى في دخل الفرد (أستراليا)

٨٥- القارة الأقل في دخل الفرد (أفريقيا)

٨٦- عدد الأفراد في سن العمل والقادرين على العمل والذين يعملون فعلياً أو يبحثون عن عمل (قوة العمل)

### ثانياً : التاريخ

١- دولة سيطرت على مصر والشام والحجاز وتعرضت لأزمات سياسية واقتصادية أواخر القرن الـ ١٥م (المماليك)

٢- معركة تحطم فيها الأسطول المملوكي عام ١٥٠٩م (معركة ديو البحرية)

٣- طريق يمر حول أفريقيا اكتشفه البرتغاليين ١٤٩٨م أثر على تدهور دولة المماليك اقتصادياً (طريق رأس الرجاء الصالح)

٤- دولة مركزها إيران حالياً ذات مذهب شيعي اصطدم معها سليم الأول في غزواته نحو الشرق وانتصر عليها (الدولة الصفوية)

٥- إمارة مملوكية استولى عليها سليم الأول في بداية احتكاكه بالدولة المملوكية (إمارة ذي القادر)

٦- معركة سيطر بها العثمانيين على بلاد الشام ١٥١٦م (معركة مرج دابق)

٧- معركة حاسمة أدت إلى نهاية دولة المماليك وأصبحت مصر بعدها ولاية عثمانية ١٥١٧م (معركة الريدانية)

٨- نظام كانت فيه الأرض ملكاً للسلطان العثماني وتم زراعتها عن طريق تكليف الفلاحين بذلك دون أن يكون لهم حق التصرف فيها (حق الانتفاع)

٩- نظام تم تطبيقه مع ضعف الدولة العثمانية في منتصف القرن الـ ١٧م (نظام الالتزام)

١٠- ميناء خرجت منه الحملة الفرنسية نحو مصر سراً (ميناء طولون)

١١- أول المدن المصرية التي وصلت لها الحملة الفرنسية (مدينة الإسكندرية)

١٢- معركة بحرية تحطم فيها الأسطول الفرنسي على يد الأسطول الإنجليزي ١٧٩٨م (معركة أبو قير البحرية)

١٣- رفض الشعوب للاحتلال ومظاهرة، والدفاع عن البلاد بكل الوسائل (مقاومة)

١٤- ثورة تم فيها قتل حاكم القاهرة الفرنسي (ثورة القاهرة الأولى)

١٥- تحالفت معهما الدولة العثمانية لإخراج الفرنسيين من مصر (انجلترا وروسيا)

١٦- مذبحة قام بها نابليون أثناء حملته على الشام أعدم فيها جميع أفراد حاميتها (مذبحة يافا البشرية)

١٧- معركة انتصر فيها نابليون على قوات الأسطول العثماني (معركة أبي قير البرية)

١٨- اتفاقية عقدها كليبر مع الدولة العثمانية ١٨٠٠م (اتفاقية العريش)

١٩- دولة رفضت اتفاقية العريش وطلبت باستسلام الجيش الفرنسي (انجلترا)

٢٠- المنطقة التي اشتعلت فيها ثورة القاهرة الثانية (حي بولاق)

٢١- رحيل قوات الاحتلال عن البلد المحتل (جلاء)

٢٢- مكان اجتمع فيه زعماء الشعب من العلماء ونقباء الطوائف وقرروا عزل خورشيد باشا وتعيين محمد علي بدلاً منه (دار المحكمة أو بيت القاضي)

٢٣- دولة كانت وراء محاولة نقل محمد علي من مصر ١٨٠٦م (انجلترا)

٢٤- منطقة كان السلطان العثماني سينقل محمد علي والياً عليها بدلاً من مصر ١٨٠٦م (سالونيك بمقدونيا)

٢٥- حملة ارسلتها إنجلترا لخلع محمد علي وتثبيت تابعها محمد بك الألفي (حملة فريزر)

٢٦- مناطق هُزمت حملة فريزر فيها بمصر (رشيد والحماد)

٢٧- أدرك محمد علي قوتهم والقيود التي فرضوها عليه عند توليه الحكم (الزعامة الشعبية)

٢٨- رأى محمد علي أنهم مصدر للقلق والفوضى وتخلص منهم في مذبحة القلعة ١٨١١م (المماليك)

٢٩- مذبحة قام فيها محمد علي بالتخلص من المماليك ١٨١١م (مذبحة القلعة)

٣٠- نظام تقوم فيه الحكومة ممثلة في محمد علي بتحديد نوع الغلات التي تزرع ونوع المصنوعات التي تنتج وتحديد أثمان شرائها وأثمان بيعها في السوق (الاختكار)

٣١- نظام زراعي ظالم من عهد العثمانيين، قام محمد علي بإلغائه (نظام الالتزام)

٣٢- طبقة ظهرت كقوة اجتماعية مستقرة في عهد محمد علي (البدو)

٣٣- طبقة تدهورت نتيجة سياسة محمد علي الاقتصادية (طبقة التجار)

٣٤- قوة سياسية انتهت نفوذها كهينة حاكمة في عهد محمد علي (المماليك)

٣٥- حروب كانت بناءً على طلب السلطان العثماني (الجزيرة العربية واليونان)

٣٦- حروب كانت بناءً على رغبة محمد علي (السودان والشام)

٣٧- موقعة تحطم فيها الاسطول المصري ١٨٢٧م (موقعة نفاارين)

٣٨- جزيرة ضمها محمد علي لمصر في أعقاب حروب اليونان (جزيرة كريت)

٣٩- حروب تواجه فيها محمد علي مع الدولة العثمانية (حروب الشام الأولى والثانية)

٤٠- معاهدة بين الدول الأوروبية والسلطان العثماني قضت على أحلام محمد علي وتوسعاته (معاهدة لندن الدولية)

٤١- لائحة أصدرها سعيد باشا بموجبها أصبح للفلاح حق توريث الأرض الزراعية (اللائحة السعيدية)

٤٢- مشروع كانت شروط امتيازته مجحفة لمصر ولصالح الشركة الفرنسية (مشروع حفر قناة السويس)

٤٣- يعد بداية تاريخ المؤسسات النيابية في مصر الحديثة (مجلس شورى النواب)

٤٤- أول دستور في مصر أنشأه الخديو اسماعيل بهدف إقامة حياة دستورية سليمة (اللائحة الأساسية)

- ٤٥- محاكم تنظر في الجرائم التي يرتكبها الرعايا الأجانب ضد المصريين والحكومة المصرية (المحاكم القنصلية)
- ٤٦- محاكم أنشأها الخديو اسماعيل للحد من مساوئ المحاكم القنصلية وللفضل في المنازعات المدنية والعقارية بين المصريين والأجانب وكان قضائها من المصريين والأجانب ويرأسها أجنبي (المحاكم المختلطة)
- ٤٧- كان بمثابة خزانة فرعية للخزانة المصرية تتولى تسليم المبالغ المخصصة للديون من المصالح المختلفة، يتولى إدارته مندوبون أجانب (صندوق الدين)
- ٤٨- مراقبين اجنبيين على المالية المصرية أحدهما بريطاني للإيرادات، والثاني فرنسي للمصروفات (المراقبة الثانية)
- ٤٩- طالبت بتنازل الخديو عن سلطته المطلقة لوزارة مسنولة والتنازل عن أطيانه وأطيان عائلته تحت المراقبة الدولية (لجنة التحقيق العليا الأوروبية)
- ٥٠- أصدرها الخديو اسماعيل ورأسها نوبار باشا وكان بها وزيران اجنبيان (الوزارة المختلطة)
- ٥١- مظاهرة قام بها عرابي وزملانه والوطنيين في ساحة عابدين ونتج عنها إقالة وزارة رياض باشا وتعيين شريف باشا مكانه (مظاهرة عابدين)
- ٥٢- أبدت فيها بريطانيا وفرنسا رغبتهما في حل مجلس النواب وتأييد الخديو توفيق ضد الحركة الوطنية (المذكرة المشتركة الأولى)
- ٥٣- لقب يطلق على الوزارة التي شكلها محمود سامي البارودي وأسند فيها وزارتا الجهادية والبحرية لأحمد عرابي (وزارة الثورة)
- ٥٤- طالبت فيها بريطانيا وفرنسا بإقالة البارودي وإبعاد عرابي وزملانه خارج البلاد (المذكرة المشتركة الثانية)
- ٥٥- الاستيلاء على أرض الغير بالقوة (الاحتلال)
- ٥٦- مؤتمر قرر أعضائه أن ترسل تركيا قوة لإعادة الأمن والنظام في مصر وعدم تدخل الدول الأجنبية منفردة في مصر (مؤتمر الآستانة)
- ٥٧- معركة دارت بين الجيش البريطاني والقوات المصرية واستطاع العرابيون صد هجمات الإنجليز فيها (معركة كفر الدوار)
- ٥٨- مدينة اتخذها الإنجليز قاعدة لتقدمهم داخل البلاد (الإسماعيلية)
- ٥٩- اتفاق حدث عام ١٩٠٤م بين إنجلترا وفرنسا نص على انفراد إنجلترا بحكم مصر مقابل انفراد فرنسا بحكم مراكش (الاتفاق الودي)
- ٦٠- حادثة استغلها مصطفى كامل للتنديد بالاحتلال البريطاني وأدت لاستقالة اللورد كرومر (حادثة دنشواي)
- ٦١- رفضت طلب الشركة الفرنسية بمد امتياز قناة السويس ٤٠ سنة إضافية نتيجة إجبار محمد فريد والرأي العام المصري لهم لذلك (الحكومة المصرية)
- ٦٢- المكان الذي تم نفي سعد زغلول وزملاءه لأول مرة في ١٩١٩م (جزيرة مالطة)
- ٦٣- مؤتمر اعترفت الدول فيه بالحماية البريطانية على مصر (مؤتمر الصلح بباريس)
- ٦٤- خضوع مصر المطلق للاحتلال البريطاني (الحماية البريطانية)
- ٦٥- أرسلتها إنجلترا إلى مصر لإقناع الشعب المصري بقبول الحماية البريطانية (لجنة ملنر)

٦٦- مكان النفي الثاني لسعد زغلول (جزيرة سيشل)

٦٧- تصريح اعترفت فيه إنجلترا بأن مصر دولة مستقلة وانتهاء حمايتها على البلاد وألغت الأحكام العرفية مع تحفظات أربعة (تصريح ٢٨ فبراير ١٩٢٢م)

٦٨- كان خطوة في تقرير مبدأ ان الأمة مصدر السلطات ووضع نهاية الحكم المطلق (دستور ١٩ أبريل ١٩٢٣م)

٦٩- لقب يطلق على الوزارة التي شكلها سعد زغلول ١٩٢٤م (وزارة الشعب)

٧٠- دستور أعطى للملك مزيد من السلطات، وأهدر سلطة الأمة وحقوقها وثار الشعب لإلغائه (دستور ١٩٣٠م)

٧١- ترتب عليها انتهاء احتلال مصر عسكرياً وانضمام مصر لعصبة الأمم (معاهدة ١٩٣٦م)

٧٢- مؤتمر تم فيه إلغاء الامتيازات الأجنبية ١٩٣٧م (مؤتمر مونترال)

٧٣- اليوم الذي حاصرت فيه الدبابات البريطانية قصر عابدين وهددت بخلع الملك فاروق إذا لم يشكل حكومة جديدة برئاسة مصطفى النحاس باشا (حدث ٤ فبراير ١٩٤٢م)

٧٤- اليوم الذي استشهد فيه الكثير من جنود الشرطة المصريين لرفضهم تسليم أسلحتهم لقوات الاحتلال الإنجليزي (٢٥ يناير ١٩٥٢م)

٧٥- كان إيذاناً بنهاية النظام الملكي وقيام ثورة يوليو ١٩٥٢م (حريق القاهرة)

### السؤال الثاني : اكمل

#### أولاً : الجغرافيا

- ١- تعتبر آسيا وأوروبا وأفريقيا قارات العالم القديم
- ٢- تعتبر أمريكا الشمالية والجنوبية وأستراليا وAntarctica قارات العالم الجديد
- ٣- أكبر قارات العالم هي آسيا وأكبر المحيطات هو المحيط الهادي
- ٤- تخترق دائرة الاستواء قارة آسيا في جهة الجنوب
- ٥- تفصل جبال الأورال آسيا عن أوروبا
- ٦- يفصل قارة آسيا عن أفريقيا شبه جزيرة سيناء والبحر الأحمر ومضيق باب المندب
- ٧- يفصل البحر المتوسط قارة أفريقيا عن قارة أوروبا
- ٨- يحد قارة أفريقيا من الشرق البحر الأحمر والمحيط الهندي ، ومن الغرب المحيط الأطلنطي
- ٩- تمر في قارة أمريكا الشمالية دائرتين عرض رئيسيتين هما الدائرة القطبية الشمالية ومدار السرطان
- ١٠- تقترب قارة أمريكا الشمالية من قارة آسيا عند مضيق بيرنج
- ١١- يحد أستراليا من الغرب والجنوب المحيط الهندي
- ١٢- تقع جبال زاجروس في العراق وإيران
- ١٣- جبال اليابان هي الجبال التي في شرق آسيا
- ١٤- من السهول الساحلية في آسيا سهول بحر قزوين

- ١٥- تجري أنهار اوب وينسي ولينا في سهول سيبيريا
- ١٦- من السهول التي في شرق اسيا سهول شرق الصين وسهول منشوريا
- ١٧- يصب نهر الكونغو في المحيط الأطلنطي
- ١٨- يصب نهر النيجر في خليج غينيا
- ١٩- يعتبر نهر النيل أطول أنهار العالم ويصب في البحر المتوسط
- ٢٠- يصب نهر نلسن في خليج هدسن
- ٢١- يصب نهر سانت لورانس في خليج سانت لورانس
- ٢٢- تتركز الهضاب في قارة أمريكا الجنوبية في جهة الشرق
- ٢٣- أنهار بارانا وباراجواي ولاپلاتا والأمزون والأورينكو جميعهم يصبوا في المحيط الأطلنطي
- ٢٤- يصبان نهر مري ودارلنج في الخليج الأسترالي الكبير
- ٢٥- توجد السهول الصحراوية بأستراليا في الداخل والغرب
- ٢٦- العوامل المؤثرة في مناخ العالم هي الموقع الفلكي و الموقع الجغرافي و التضاريس
- ٢٧- تكثر الزواحف والطيور والحيوانات المتسلقة في إقليم مناخ الاستوائي
- ٢٨- تنتمي الهند وجزيرة مدغشقر وهضبة اثيوبيا لإقليم مناخ الموسمي
- ٢٩- تعرف حشائش الاستبس في أمريكا الشمالية بحشائش البراري
- ٣٠- تزيد الأمطار في إقليم مناخ غرب أوروبا في فصلي الشتاء و الخريف
- ٣١- من أهم أشجار الغابات النفضية هي أشجار الزان
- ٣٢- تنمو الطحالب في إقليم مناخ التندرا
- ٣٣- تنقسم السلالات البشرية إلى السلالة القوقازية و المغولية و الزنجية
- ٣٤- تتميز السلالة الزنجية بالبشرة الداكنة والأنف العريض والشعر المجعد والشفاه الغليظة
- ٣٥- تتركز السلالة الزنجية في قارة أفريقيا خاصة قرب دائرة الاستواء بجانب بعض الأماكن الأخرى من العالم مثل أستراليا و جنوب شرق الهند
- ٣٦- من أقسام السلالة الزنجية الأقزام و البانتو و البوشمن و الهوتوتو و الزنج السودانيون و النيليون الحاميون
- ٣٧- تتميز السلالة المغولية بالبشرة الصفراء والعيون المنحرفة والشعر المسترسل
- ٣٨- من أقسام السلالة المغولية الإسكيمو و الهنود الحمر و جماعة التنجوس
- ٣٩- تتميز السلالة القوقازية بالبشرة البيضاء الوردية والشعر المتموج والشفاه الرفيعة
- ٤٠- تنتشر السلالة القوقازية في كل قارات العالم ومنها شمال الصحراء الكبرى من قارة أفريقيا
- ٤١- تم تقسيم السلالات البشرية على أسس ظاهريّة
- ٤٢- يتركز السكان بآسيا في السهول الفيضية مثل سهول نهر الياتجسي في الصين و الجاتج في الهند
- ٤٣- من المناطق الصحراوية قليلة السكان في آسيا شبه الجزيرة العربية
- ٤٤- يوجد في آسيا أكبر دولتين في العالم من حيث السكان وهما الصين و الهند

- ٤٥- من مناطق تركيز السكان في افريقيا السهول الفيضية الخصبة مثل سهول وادي النيل في مصر والسودان
- ٤٦- من السهول الساحلية التي يتركز فيها السكان في أفريقيا سواحل البحر المتوسط وسواحل جنوب أفريقيا
- ٤٧- يقل السكان في المناطق الصحراوية في أفريقيا مثل الصحراء الكبرى وصحراء كلهاري
- ٤٨- يتركز سكان أوروبا بدول غرب ووسط أوروبا وبالمدن الصناعية الضخمة مثل لندن وباريس
- ٤٩- من مناطق تركيز السكان في أوروبا السهول الزراعية الخصبة مثل السهل الأوروبي العظيم
- ٥٠- يتركز سكان كندا في المدن الكبرى مثل مونتريال ويتركز سكان المكسيك في العاصمة مكسيكو سيتي
- ٥١- يقل سكان أمريكا الشمالية في دول البرزخ مثل هندوراس وكوستاريكا
- ٥٢- سهول لابلاتا تعرف في الأرجنتين بسهول البياس
- ٥٣- تقل في الدول المتقدمة معدلات المواليد والوفيات وبالتالي تقل معدلات الزيادة الطبيعية
- ٥٤- معدل الزيادة الطبيعية في مصر مرتفع ٥٥- السكان في فئة صغار السن غير منتجين
- ٥٦- السكان في الفئة المتوسطة "البالغون" أعلى نسب لهم دول غرب أوروبا وأقل نسب في أفريقيا
- ٥٧- من مناطق الدول المتقدمة في نسبة المتعلمين أمريكا الشمالية وأوروبا وأستراليا واليابان وروسيا
- ٥٨- معظم دول أوروبا وروسيا وأمريكا الشمالية دول ذات رعاية طبية فائقة
- ٥٩- تعتبر مصر من الدول ذات الرعاية الطبية المرتفعة
- ٦٠- معظم دول أفريقيا دول ذات رعاية طبية منخفضة
- ٦١- الدول الصناعية مثل غرب أوروبا وأمريكا الشمالية دول ذات دخل اقتصادي مرتفع
- ٦٢- تعتمد الدول ذات الدخل فوق المتوسط على الأنشطة التقليدية والتصنيع النامي مثل تركيا وجنوب أفريقيا
- ٦٣- تعتبر مصر و الصين من الدول ذات المستوى الاقتصادي الأقل من المتوسط
- ٦٤- الدول المعتمدة على الزراعة ذات مستوى اقتصادي منخفض مثل معظم دول أفريقيا
- ٦٥- تزيد نسبة قوة العمل في مجال الزراعة في الدول النامية في أفريقيا مثل اثيوبيا وآسيا مثل الهند
- ٦٦- تقل نسبة قوة العمل في مجال الزراعة في الدول المتقدمة
- ٦٧- تزيد نسبة العاملين في الصناعة والخدمات المرتبطة بها في الدول المتقدمة عكس الدول الفقيرة يعمل سكانها في الزراعة والصيد والرعي

### ثانياً : التاريخ

- ١- مع بداية القرن السادس عشر الميلادي اتجه السلطان سليم الأول في غزواته نحو الشرق
- ٢- كانت الدولة الصفوية في إيران بينما الدولة المملوكية في الشام ومصر والحجاز
- ٣- دخل سليم الأول عاصمة الصفويين تبريز بعد انتصاره عليهم في معركة جالديران ١٥١٤م
- ٤- بادر السلطان العثماني سليم الأول بالاستيلاء على إمارة ذي القادر المملوكية في بداية احتكاكه بدولة المماليك

٥- استولى العثمانيين على بلاد الشام بعد معركة مرج دابق ١٥١٦م

٦- انتهت دولة المماليك وأصبحت مصر ولاية عثمانية بعد معركة الريدانية ١٥١٧م

٧- خضعت مصر للحكم العثماني نحو أربعة قرون متتالية

٨- استطاع محمد بك ابو الذهب نائب علي بك الكبير غزو الشام ودخول دمشق لكنه انحاز للسلطان العثماني

٩- بعد فشل حركة علي بك الكبير عادت مصر ولاية عثمانية تحت حكم شيخ البلد محمد بك ابو الذهب

١٠- تركزت فئة الحكام في العصر العثماني في مصر من الأتراك والمماليك

١١- الطبقة الوسطى في فئة المحكومين في عهد العثمانيين هي المشايخ وعلماء الأزهر ورجال الدين وكبار التجار

١٢- كان أكثرية الشعب المصري في الطبقة الدنيا مثل الفلاحين وصغار الحرفيين وعانوا الفقر وتفشي الأمراض

١٣- تعد الحملة الفرنسية على مصر والشام جزءاً من التنافس الاستعماري بين انجلترا و فرنسا على المستعمرات

١٤- أبحرت الحملة من ميناء طولون سراً

١٥- من أسباب الحملة الفرنسية قطع الطريق بين انجلترا ومستعمراتها في الهند

١٦- هُزمت قوات المماليك من الحملة الفرنسية في شبراخيت وامبابه

١٧- دخل نابليون القاهرة بعد أن أمن العلماء والمشايخ على الأرواح والأموال

١٨- اغرق الأسطول الاتجليزي بقيادة نلسون الأسطول الفرنسي في معركة أبو قير البحرية

١٩- توقفت حركة التجارة الخارجية بالنسبة لمصر نتيجة معركة أبو قير البحرية

٢٠- إتبع أهالي الصعيد حرب المناوشات والمعارك المتفرقة ضد الحملة الفرنسية

٢١- كان الأزهر الشريف مقر ثورة القاهرة الأولى أكتوبر ١٧٩٨م

٢٢- ترك نابليون قيادة الحملة الفرنسية لنائبه كلبير أثناء معركة أبي قير البرية

٢٣- كانت ثورة القاهرة الثانية بقيادة السيد عمر مكرم نقيب الأشراف

٢٤- اشتعلت ثورة القاهرة الثانية في حي بولاق

٢٥- عقب رحيل الحملة الفرنسية عن مصر تصارع المماليك و العثمانيين و انجلترا على السيطرة على مصر

٢٦- بعد تنازع المماليك والعثمانيين وانجلترا على الاستئثار بحكم مصر استمرت مصر ولاية تابعة للدولة العثمانية

٢٧- أراد محمد علي بعد التخلص من العقبات التي واجهته أن يجعل مصر على مصاف الدول الأوروبية الحديثة

٢٨- أراد محمد علي بناء دولة حديثة على الطراز الغربي

٢٩- نظم محمد علي الاقتصاد المصري في الزراعة والصناعة والتجارة على أساس الاحتكار

٣٠- أنشأ محمد علي مشاريع زراعية مثل القناطر الخيرية و ترعة المحمودية

٣١- قام محمد علي بتطهير البحر الأحمر من القرصنة

٣٢- أنشأ محمد علي المطابع الأميرية في بولاق و أصدر صحيفة الوقائع المصرية

٣٣- أسس محمد علي ترسانة لصناعة السفن في بولاق ثم الإسكندرية

٣٤- أنشأ محمد علي ترسانة لتصنيع الأسلحة في القلعة

٣٥- قسم محمد علي مصر إلى سبع مديريات

٣٦- أنشأ محمد علي الديوان العالي و مجلس المشورة

٣٧- عرفت حروب محمد علي بالجزيرة العربية باسم الحروب الوهابية

٣٨- وصل النفوذ المصري إلى بلاد الشام وأهالي الفرات في حروب الشام الأولى والثانية

٣٩- صدر فرمان من السلطان العثماني عام ١٨٤١م بولاية "محمد علي" على السودان

٤٠- تولى سعيد باشا الحكم عقب وفاة عباس باشا الأول

٤١- مع قناة السويس تم حفر ترعة للمياه العذبة هي ترعة الإسماعيلية

٤٢- اشترطت الشركة الفرنسية لصحة الامتياز الخاص بقناة السويس أن يصدق عليه السلطان العثماني

٤٣- حفر الخديو اسماعيل العديد من الترعة مثل الترعة الإبراهيمية

٤٤- توسع الخديو اسماعيل في إنشاء مصانع السكر بالوجه القبلي

٤٥- كانت وزارة نوبار باشا بها وزيران اجنبيين أحدهما بريطاني للمالية والآخر فرنسي للأشغال

٤٦- اضطر شريف باشا للاستقالة لإصرار مجلس النواب على مناقشة الميزانية

٤٧- تأمر الضباط الشراكسة لاغتيال عرابي والضباط الوطنيين للإطاحة بوزارة الثورة

٤٨- قرر العرابيون الانسحاب من مدينة الإسكندرية إلى كفر الدوار لمواجهة زحف الجيش البريطاني

٤٩- تم نفي العرابيين إلى جزيرة سيلان بالهند ٥٠- استمر الاحتلال الإنجليزي لأكثر من سبعين عاماً

٥١- ظهرت طبقة من كبار الملاك والأعيان استفادت من السياسة الاقتصادية للاحتلال البريطاني

٥٢- أسس مصطفى كامل جريدة اللواء و الحزب الوطني

٥٣- دعا مصطفى كامل لرفض اتفاقية الحكم الثنائي في السودان

٥٤- تولى محمد فريد رئاسة الحزب الوطني بعد وفاة مصطفى كامل و دعا لجعل التعليم إلزامياً وبالمجان

٥٥- امتدت ثورة ١٩١٩م من القاهرة إلى كافة المدن والأقاليم

٥٦- تفاوض منير وزير المستعمرات البريطاني مع الوفد المصري وانتهى بمشروع معاهدة رفضها المصريين

٥٧- كيرزون هو وزير خارجية بريطانيا الذي تفاوض مع عدي يكن رئيس وزراء مصر حول وضع دستور

يحقق آماني المصريين وفشلت المفاوضات بينهم

٥٨- حصل حزب الوفد على الأغلبية في الانتخابات التي أجريت طبقاً لدستور ١٩٢٣م وشكل سعد زغلول أول

وزارة برلمانية عرفت بوزارة الشعب

السؤال الثالث : الى من تنسب الأعمال الآتية

- ١- اتجه بغزواته نحو الشرق في بداية القرن السادس عشر (السلطان سليم الأول)
- ٢- تمكن من هزيمة الصفويين في موقعة جالديران ١٥١٤م ودخوله العاصمة تبريز (السلطان سليم الأول)
- ٣- سلطان مملوكي واجه العثمانيين في موقعة مرج دابق ١٥١٦م (قنصوة الغوري)
- ٤- سلطان مملوكي واجه العثمانيين في موقعة الريدانية ١٥١٧م (طومان باي)
- ٥- أعلن أنه الحامي الوحيد للحرمين الشريفين عقب انتصاراته على المماليك ودخول مصر (السلطان سليم الأول)
- ٦- صار الحاكم الفعلي لمصر عام ١٧٦٨م وأخضع الحجاز لنفوذه وتمرد على الدولة العثمانية (علي بك الكبير)
- ٧- حاكم جنوب الشام الذي تحالف مع علي بك الكبير (الشيخ ظاهر العمر)
- ٨- نائب علي بك الكبير الذي خاته وانحاز للسلطان العثماني (محمد بك أبو الذهب)
- ٩- وجه تقارير تفيد بسوء الأوضاع في مصر وحث حكومة الثورة الفرنسية على إرسال حملة عسكرية على مصر (القنصل الفرنسي في مصر)
- ١٠- هو قائد الحملة الفرنسية على مصر ١٧٩٨م (نابليون بونابرت)
- ١١- حاكم الإسكندرية الذي واجه الحملة الفرنسية وأعدم رمياً بالرصاص (السيد "محمد كريم")
- ١٢- واجهوا الحملة الفرنسية في شبراخيت وامبابة (المماليك)
- ١٣- فر إلى الصعيد بعد معركة إمبابة (مراد بك)
- ١٤- هرب إلى بلاد الشام بصحبة الوالي العثماني بعد معركة إمبابة (ابراهيم بك)
- ١٥- قائد الاسطول الانجليزي في معركة أبو قير البحرية ١٧٩٨م (نلسون)
- ١٦- نجحوا في مقاومة الحملة الفرنسية وانهاكها وانسحاب الحملة دون اخضاعهم (أهالي الصعيد)
- ١٧- قاد الحملة الفرنسية على الشام ١٧٩٩م (نابليون بونابرت)
- ١٨- قاد عكا لمقاومة الحملة الفرنسية واضطروهم للتراجع لمصر (أحمد باشا الجزائر)
- ١٩- تولى قيادة الحملة الفرنسية بعد رحيل نابليون لفرنسا و كان من أنصار الجلاء عن مصر (كليبير)
- ٢٠- قاد ثورة القاهرة الثانية ضد الحملة الفرنسية (السيد عمر مكرم)
- ٢١- أحد طلاب الأزهر الذي قام بقتل كليبير (سليمان الحلبي)
- ٢٢- قائد فرنسي كان ينوي البقاء في مصر وتحويلها إلى مستعمرة فرنسية كبرى (مينو)
- ٢٣- أنشأ الديوان العام ودواوين الأقاليم وديوان القاهرة (نابليون بونابرت)
- ٢٤- اقترح تعيين خورشيد باشا والياً على مصر (محمد علي)
- ٢٥- اجتمع زعماء الشعب في دار المحكمة من أجل عزله (خورشيد باشا)

- ٢٦- أصدر فرماتاً يتضمن عزل خورشيد باشا وتعيين محمد علي والياً على مصر ١٨٠٥م (السلطان العثماني)
- ٢٧- مملوكي سعت بريطانيا لتوليها مصر بدلاً من محمد علي (محمد بك الألفي)
- ٢٨- ارسل إسطولاً يحمل فرماتاً بنقل محمد علي إلي ولاية سالونيك في مقدونيا (السلطان العثماني)
- ٢٩- قام محمد علي بخلعه من نقابة الأشراف ونفيه إلي دمياط (السيد عمر مكرم)
- ٣٠- طبق نظام الاحتكار في كافة المجالات و ألغى نظام الالتزام ووزع الأراضي على الفلاحين (محمد علي)
- ٣١- أحد ضباط جيش نابليون، وكان ممن استقدمهم محمد علي للعمل في المدارس العسكرية (الكولونيل سيف)
- ٣٢- أثبتوا كفاءتهم في التدريب وإطاعة الأوامر العسكرية وفي ميادين القتال (الجنود المصريين)
- ٣٣- من أبرز أعضاء البعثات العلمية التي أرسلها محمد علي لأوروبا وأسهما بعد عودتهم في استمرار النهضة التعليمية (رفاعة رافع الطهطاوي وعلي باشا مبارك)
- ٣٤- أصدر فرماتين ١٨٤١م لوراثة مصر لأبناؤه محمد علي الذكور وولاية "محمد علي" على السودان (السلطان العثماني)
- ٣٥- توقفت في عهده حركة النهضة التي قام بها محمد علي (عباس باشا الاول)
- ٣٦- بدأ إنشاء أول خط حديدي القاهرة والإسكندرية وأصلح الطريق البري بين القاهرة والسويس (عباس باشا الاول)
- ٣٧- أصدر اللانحة السعيدية التي أصلحت أحوال الفلاحين (سعيد باشا)
- ٣٨- أتم الخط الحديدي بين القاهرة والإسكندرية، وأنشأ خط بين القاهرة والسويس (سعيد باشا)
- ٣٩- مد الخطوط التلغرافية على الطريقة الحديثة بين القاهرة والإسكندرية والسويس (سعيد باشا)
- ٤٠- جعل مدة الخدمة العسكرية سنة واحدة إجبارية للجميع واعتنى بالترسانة الحربية وفتح باب الترقى أمام الضباط المصريين (سعيد باشا)
- ٤١- حاكم ألغى ديوان المدارس وشجع البعثات الأجنبية في مصر على فتح مدارس لها (سعيد باشا)
- ٤٢- حاكم على مصر شهد عهده بدايات التدخل الاجنبي في شئون مصر وبدايات الأزمة المالية (سعيد باشا)
- ٤٣- منحه سعيد باشا عقد امتياز قناة السويس (فرديناند ديليسبس)
- ٤٤- يمثل عهده فترة من ازهى الفترات وأكثرها تقدماً في تاريخ مصر الحديث كما تعرضت البلاد في عهده لتدخل أجنبي بسبب أخطائه في الأمور المالية (الخدوي اسماعيل)
- ٤٥- أعاد فتح ديوان المدارس وأنشأ دار الكتب ودار الرصد بالعباسية ومصلحة الإحصاء والمساحة والجمعية الجغرافية ومصلحة البريد (الخدوي اسماعيل)
- ٤٦- أنشأ دار الأوبرا وقصر عابدين ومد الخطوط التلغرافية بين مختلف محافظات مصر (الخدوي اسماعيل)
- ٤٧- أنشأ مجلس شورى النواب والوزارة المسنولة واللائحة الأساسية (الخدوي اسماعيل)
- ٤٨- وجه حملات حربية إلى الاقاليم الاستوائية في افريقيا لمنع تجارة الرقيق والتوسع (الخدوي اسماعيل)

٤٩- دولة منحت رعايا الدول الأوروبية العديد من الامتيازات الأجنبية تشجيعاً لهم على الإقامة والتجارة مع تعهدها بالمحافظة على أموالهم وأرواحهم (الدولة العثمانية)

٥٠- أنشأ المحاكم المختلطة وصندوق الدين والمراقبة الثنائية والوزارة المختلطة (الخدوي اسماعيل)

٥١- رئيس الوزارة المسنولة أو المختلطة التي عينها الخديو اسماعيل وكان بها وزراء أجنبية (نوبار باشا)

٥٢- أصدر فرمان بخلع الخديو اسماعيل وتولية ابنه توفيق على مصر (السلطان العثماني)

٥٣- أعاد نظام المراقبة الثنائية ورفض اللائحة الأساسية لمجلس النواب ووضع نفسه تحت حماية إنجلترا وفرنسا (الخدوي توفيق)

٥٤- ناظر جهادية كان يضطهد الضباط المصريين ويعطل ترقيتهم وتم عزله بعد حادثة قصر النيل (عثمان رفقي باشا)

٥٥- رئيس الوزراء الذي تم إقالته بناءً على مظاهرة عابدين لسوء الأحوال الاقتصادية في عهده (رياض باشا)

٥٦- عرض اللائحة الأساسية على مجلس النواب ولم تتضمن حق المجلس في مناقشة الميزانية لتجنب الاصطدام بالدول الأوروبية (شريف باشا)

٥٧- كلفه الخديو توفيق بتأليف وزارة جديدة يونه ١٨٨٢م بعد أن ظلت البلاد بدون وزارة مدة أسبوعين (راغب باشا)

٥٨- أمر بعزل عرابي من وزارة الحربية وحذر المصريين من الانضمام له (الخدوي توفيق)

٥٩- عقد مجلس عسكري واجمع على ضرورة تعطيل الملاحة في قناة السويس وفقاً للاتفاقات الدولية (أحمد عرابي)

٦٠- أكد لعرابي حيادية القناة وتواطى مع الإنجليز ضد عرابي (ديليسييس)

٦١- أقتعه الإنجليز بإصدار منشوراً بإعلان عصيان عرابي (السلطان العثماني)

٦٢- استشهد هو ومعظم رجاله على يد القوات البريطانية في معركة القل الكبير بعد قتال شديد (الضابط محمد عبيد)

٦٣- خطيب الثورة الذي لم تستطع الحكومة أن تصل إليه عند اعتقال زعماء الثورة العربية (عبد الله النديم)

٦٤- أصبحت السلطة الفعلية في مصر في يديه وانحصرت سلطة الخديو في التصديق على قرارات سلطات الاحتلال (المعتمد البريطاني)

٦٥- قاد الحركة الوطنية في أواخر القرن ١٩ ويعتبر باعث الحركة الوطنية (مصطفى كامل)

٦٦- أسس جريدة اللواء والحزب الوطني وطالب بإنشاء الجامعة المصرية والدستور (مصطفى كامل)

٦٧- معتمد بريطاني استقال عقب تنديد مصطفى كامل بحادثة دنشواي (اللورد كرومر)

٦٨- تحول عن موازنة الحركة الوطنية إلى موالة الاحتلال (الخدوي عباس حلمي الثاني)

٦٩- طالب بإنشاء مجلس نيابي ونقابات عمالية ومدارس الشعب الليلية (محمد فريد)

٧٠- نجح في إجبار الحكومة على دعوة مجلس شوري القوانين والجمعية العمومية لمناقشة طلب شركة قناة السويس بعد امتياز قناة السويس ٤٠ سنة إضافية (محمد فريد)

٧١- ذهب على رأس وفد مصري لعرض مطالب الأمة على المندوب السامي البريطاني عقب الحرب العالمية الأولى (**سعد زغلول**)

٧٢- اعترض على الصفة التي يتحدث بها سعد زغلول وزملاءه وعدم احقيتهم التحدث باسم الأمة (**السير ونجت**)

٧٣- أعلن ١٤ مبدأ من أهمها حق الشعوب في تقرير مصيرها (**الرئيس الامريكى ولسن**)

٧٤- تم تعيينه مندوباً سامياً في مصر عقب ثورة ١٩١٩م (**الجنرال النبي**)

٧٥- تولى رئاسة وزراء مصر وكان يرجو أن يوفق في الاتفاق مع البريطانيين على وضع دستور يحقق آماني المصريين، لكن مفاوضاته مع كيرزون فشلت واستقال (**عدلى يكن**)

٧٦- شكل أول وزارة برلمانية عرفت بوزارة الشعب وافتتح أول برلمان مصري (**سعد زغلول**)

٧٧- القائد العام للجيش المصري والحاكم العام للسودان الذي أُغتيل في ١٩٢٤م (**السير لي ستاك**)

٧٨- قدم انذار للحكومة المصرية عقب مقتل السير لي ستاك وطلب سحب الجيش المصري من السودان (**اللورد النبي**)

٧٩- استقالت بعد انذار اللورد النبي لها عقب مقتل السير لي ستاك (**وزارة سعد زغلول**)

٨٠- وافق على المطالب البريطانية التي جاءت في الإنذار و سحب الجيش المصري من السودان (**زيور باشا**)

٨١- ألغى دستور ١٩٢٣م ووضع دستور ١٩٣٠م الذي أعطى الملك مزيد من السلطات وأهدر سلطة الأمة (**اسماعيل صدقي باشا**)

٨٢- حاكم اضطر إلى الرضوخ لمطالب الأمة وأعاد دستور ١٩٢٣م (**الملك فؤاد**)

٨٣- وقع مع بريطانيا معاهدة ١٩٣٦م ثم عاد وألغاه عام ١٩٥١م (**مصطفى النحاس باشا**)

٨٤- حاصرت قصره الدبابات البريطانية لإجباره على تشكيل وزارة برئاسة مصطفى النحاس باشا (**الملك فاروق**)

### السؤال الرابع : بم تفسر

#### أولاً : الجغرافيا

١- تعتبر أسيا شبه جزيرة ؟

- لأنها محاطة بالمياه من ثلاث جهات ، المحيط القطبي الشمالي من الشمال ، المحيط الهادي من الشرق ، المحيط الهندي من الجنوب

٢- وجود مراكز بحثية مقسمة لعدة دول في قارة أنتاركتيكا ؟

- لأن لهذه الدول مصالح بها مثل الولايات المتحدة وروسيا وانجلترا وفرنسا

٣- تعرف هضبة التبت بسقف العالم ؟ \* لارتفاعها عن قمم الجبال

٤- قلة أهمية أنهار اوب وينسي ولينا ؟ \* لأنها تتجمد في الشتاء

٥- تتميز السهول الساحلية في قارة أفريقيا بالضيق عموماً ؟ \* لاقترب حافات الجبال والهضاب من السواحل

٦- أهمية سهول أنهار النيل والكونغو والنيجر ؟

\* لأنها تتميز جميعها بجودة التربة وصلاحيتها للزراعة

٧- تتعدد مسميات سلاسل جبال الألب في أوروبا ؟

\* تعرف بجبال البرانس في اسبانيا وجبال الألب الدينارية في شبه جزيرة البلقان

٨- ضيق السهول الساحلية في غرب امريكا الجنوبية ؟ \* لاقتراب جبال الإنديز من سواحل المحيط الهادي

٩- تشبه تضاريس استراليا تضاريس أفريقيا ؟

\* حيث يسود المظهر الهضبي فيهما وتشغل الهضبة الغربية في استراليا نصف مساحتها

١٠- توجد كثير من المدن الهامة في سهول نهرا مري ودارلنج ؟ \* لأنها سهول زراعية ذات تربة خصبة

١١- تضيق السهول الساحلية في شرق استراليا ؟ \* لاقتراب جبال الحاجز الكبير من المحيط الهادي

١٢- اختلاف المناخ داخل القارات من منطقة لأخرى ؟

\* بسبب الموقع الفلكي والموقع الجغرافي والتضاريس الخاصة بكل منطقة

١٣- يتميز إقليم مناخ الاستوائي بشدة الحرارة طوال العام ؟ \* لوقوعه في نطاق دائرة الاستواء

١٤- تدرج حشائش السافانا في الطول ؟ \* حسب كمية المطر

١٥- تعتبر حشائش السافانا حديقة حيوان طبيعية ؟ \* حيث تعيش بها الحيوانات آكلة العشب وآكله اللحوم

١٦- أهمية حشائش الاستبس ؟ \* تستغل كمراعي طبيعية

١٧- تسمية الغابات النفضية بهذا الاسم ؟ \* لأنها تنفض أوراقها في فصل الشتاء بسبب شدة البرودة

١٨- تتنوع الحياة النباتية في إقليم مناخ الجبلي ؟ \* طبقاً لارتفاع السطح وكمية المطر

١٩- تعرض عدد كبير من زنوج افريقيا للهجرات الإجبارية على يد الأوروبيين إلى الأمريكتين ؟

\* للعمل في مزارع القطن وقصب السكر والتبغ التي أنشأها الأوروبيون في الأمريكتين

٢٠- تزيد نسبة السلالة المغولية عن ٤٠٪ من سكان العالم ؟

\* لأن النسبة الأكبر من سكان الصين ودول شرق وجنوب شرق آسيا (أكثر دول العالم سكاناً) ينتمون للسلالة المغولية

٢١- في الوقت الحاضر لا يوجد في العالم سلالات نقية إلا في بعض المجتمعات البدائية ؟

\* بسبب انصهار السلالات واختلاط الصفات الطبيعية التي تميز كل سلالة عن الأخرى

٢٢- تم تقسيم السلالات البشرية على أسس ظاهرية وليست جوهريّة ؟

\* حيث لا توجد سلالة أكثر ذكاء من سلالة أخرى أو أكثر منها قدرة على العمل والإبداع

٢٣- تركز سكان العالم في مناطق السهول الفيضية ؟ \* لوفرة المياه وخصوبة التربة

٢٤- تركز سكان العالم في مناطق السهول الساحلية ؟ \* للمناخ المعتدل والنشاط السياحي

٢٥- تركز السكان في العالم في المدن الكبرى ؟ \* لتوفر فرص العمل والخدمات والمناطق الصناعية

٢٦- يقل السكان في المناطق الشمالية في سيبيريا بقارة آسيا ؟ \* بسبب برودة الجو

٢٧- يقل السكان في وسط قارة آسيا ؟

\* لوجود مناطق جبلية وهضبية مثل الهيمالايا والتبت حيث وعورة السطح

٢٨- يتركز السكان بالمناطق مرتفعة السطح في الدول الإستوائية في أفريقيا ؟

\* حيث يعدل المناخ بسبب إرتفاع السطح مثل كينيا وأوغندا

٢٩- قلة السكان في المناطق الاستوائية بأفريقيا ؟

\* بسبب الغابات الكثيفة والبيئة الطبيعية القاسية وانتشار الأمراض

٣٠- يقل السكان بأفريقيا بالمناطق الجبلية مثل جبال البحر الأحمر ؟ \* لوعورة السطح

٣١- يقل سكان دول شرق أوروبا نسبياً عن الغرب والوسط ؟

\* لأنها أقل في درجة تقدمها عن غرب ووسط أوروبا

٣٢- قلة السكان في المناطق الشمالية بأوروبا ؟ \* بسبب شدة البرودة مثل فنلندا والنرويج

٣٣- تركز السكان في شمال شرق الولايات المتحدة ؟

\* بسبب وجود المدن الكبرى والموارد الاقتصادية الضخمة ومن أكبرها مدينة نيويورك

٣٤- تركز السكان في الولايات المتحدة في ولايات الوسط ؟

\* حيث تتركز الزراعة في سهول نهر المسيسيبي

٣٥- قلة السكان في سهول الأمزون ؟ \* بسبب انتشار الغابات الاستوائية

٣٦- قلة السكان على قمم جبال الإنديز ؟ \* بسبب وعورة السطح وشدة الارتفاع والبرودة

٣٧- تركز السكان في استراليا على السواحل الشرقية ؟

\* حيث المدن الكبرى مثل سيدني والمناطق الصناعية الكبرى

٣٨- تركز السكان في الجنوب الشرقي لأستراليا ؟

\* لوجود سهول نهري مري ودارلنج والأراضي الزراعية الخصبة

٣٩- يقل سكان استراليا في الداخل والغرب ؟ \* بسبب الظروف الصحراوية السائدة في تلك المناطق

٤٠- يقل سكان استراليا في الشمال ؟ \* حيث مناطق حشائش السافانا والغابات الموسمية

٤١- ارتفاع معدلات المواليد في قارة أفريقيا ؟

\* بسبب انتشار الأمية والفقر في معظم دولها \* الاعتماد على الزراعة البدائية والرعي

\* انتشار بعض العادات والتقاليد السلبية مثل الرغبة في إنجاب أكبر عدد من الأبناء، والزواج المبكر للإناث

٤٢- ارتفاع نسبة معدل الوفيات في أوروبا رغم التقدم الصحي ؟ \* يرجع ذلك إلى زيادة عدد كبار السن بها

٤٣- انخفاض معدل الوفيات في مصر في الآونة الأخيرة ؟

\* يرجع ذلك إلى الرعاية الصحية والإهتمام بصحة الاطفال

- ٤٤- ارتفاع نسبة فئة كبار السن في الدول المتقدمة ؟ \* بسبب التقدم في مجالات الخدمات الصحية والتعليمية
- ٤٥- اختلاف الخصائص الاقتصادية لسكان العالم ؟
- \* وفقاً إلى تنوع الأنشطة التي يقوم بها السكان في كل دولة و دخل السكان
- ٤٦- تعتبر دول الخليج العربي من الدول ذات الدخل الاقتصادي المرتفع ؟
- \* لأنها تعتمد على استخراج البترول وتصديره إلى الخارج وتصنيع مشتقاته

### ثانياً : التاريخ

١- تعرض دولة المماليك أواخر القرن الـ ١٥ الميلادي لأزمات مالية وتدهور اقتصادي ؟

\* بسبب اكتشاف البرتغاليين لطريق رأس الرجاء الصالح ١٤٩٨ م

\* تحطم الأسطول المملوكي في معركة ديو البحرية

٢- تعرض دولة المماليك لأزمات سياسية في أواخر القرن الـ ١٥ الميلادي ؟

\* بسبب اضطراب الأمن \* الصراع المستمر بين المماليك

\* كثرة الفتن والثورات الداخلية مما أدى إلى إضعاف قوتهم العسكرية

٣- أسباب اتجاه العثمانيين إلى الشام ومصر ؟

\* رغبة سليم الأول في توسيع ممتلكاته في الشرق عن طريق الاستيلاء على مصر التي تمثل قلب العالم الإسلامي

\* ادراك السلطان سليم الأول أن الصدام مع الدول الأوروبية في ذلك الوقت محفوف بالمخاطر لتفوقها حضارياً وعسكرياً على العثمانيين

٤- أسباب هزيمة الجيوش المملوكية في حروبها مع العثمانيين ؟

\* التفوق العسكري للجيش العثماني

\* استخدام العثمانيين أساليب القتال الحديثة والأسلحة المتطورة عكس المماليك كانوا بأسلحة تقليدية

\* نزاع المماليك المستمر على السلطة وعدم الاستقرار الداخلي

٥- حمل نظام الحكم العثماني في ثنياه عوامل ضعفه ؟

\* قصر مدة حكم الوالي التي تتراوح ما بين سنة وثلاث سنوات \* زيادة سلطة الديوان والحامية العثمانية

٦- فشل حركة علي بك الكبير ؟

\* بسبب انحياز نائبه محمد بك أبو الذهب للسلطان العثماني واتفاقه معه ضد علي بك الكبير

٧- تدهور الزراعة في عهد العثمانيين ؟

\* بسبب معاناة الفلاح في الضرائب المفروضة على الأراضي الزراعية

\* شدة تصف و ظلم المنتزعين في جمع الضرائب

\* عدم اهتمام الطبقة الحاكمة بتنظيم الري أو إقامة السدود وحفر الترعة

٨- تأخر الصناعة في العصر العثماني في مصر ؟

\* بسبب تدهور الزراعة وانتقال الحرفيين والصناع المهرة إلى **الأسنانة** عاصمة الدولة العثمانية فأصبحت الصناعات يدوية بسيطة وكانت رديئة

٩- كساد التجارة الداخلية إبان العصر العثماني ؟

\* بسبب تدهور الزراعة والصناعة \* افتقاد الأمن

\* عدم الاهتمام بالطرق البرية \* الإغارات المتلاحقة لبدو الصحراء

١٠- تدهور التجارة الخارجية في عهد العثمانيين ؟

\* بسبب تحول الطريق التجاري بين الشرق والغرب إلى طريق رأس الرجاء الصالح

\* منح الدولة العثمانية الامتيازات الأجنبية للدول الأوروبية

١١- اتسمت الحياة الفكرية والثقافية خلال فترة الحكم العثماني بالجمود والتخلف ؟

\* بسبب العزلة التي فرضها العثمانيين على البلاد

١٢- أسباب الحملة الفرنسية على مصر ؟

\* تعويض فرنسا عن فقدان مستعمراتها

\* قطع الطريق بين إنجلترا ومستعمراتها في الهند

\* إنشاء مستعمرة فرنسية تكون قاعدتها مصر

١٣- اصطحاب نابليون لمجموعة من العلماء في مختلف العلوم والفنون ؟

\* لدراسة أحوال مصر من جميع النواحي،،وكيفية استغلال مواردها

١٤- حمل نابليون في حملته على مصر مطبعة عربية وأخرى فرنسية ؟

\* لطباعة المنشورات للأهالي

١٥- الانتصارات المتتالية للحملة الفرنسية على المماليك في شبراخيت وامبابية ؟

\* بسبب اعتماد المماليك على الفروسية والأساليب التقليدية بينما استخدم الفرنسيون المدافع والمعدات الحديثة

١٦- إخفاق الحملة الفرنسية في إخضاع أهالي الصعيد ؟

\* لأن أهالي الصعيد أتبعوا حرب المناوشات والمعارك المتفرقة التي أنهكت الحملة الفرنسية

\* و لطول الوادي وبعده عن القاهرة

١٧- أسباب ثورة القاهرة الأولى أكتوبر ١٧٩٨م ؟

\* بسبب فرض نابليون للضرائب الباهظة \* تفتيش البيوت بحثاً عن الأموال

\* هدم أبواب الحوارات لمطاردة عناصر المقاومة

\* هدم كثير من الآثار والمساجد بحجة تحصين القاهرة

- \* بسبب تحالف الدولة العثمانية مع إنجلترا وروسيا على إخراج الفرنسيين من مصر بالقوة العسكرية
- \* وإطلاق العثمانيين حملتين إحداهما بحرية في رودس نحو مصر والأخرى برية من الشام لتحقيق هذا الهدف
- \* ليقضي نابليون على الجيش العثماني قبل وصوله لمصر
- ١٩- سفر نابليون سراً إلى فرنسا أثناء معركة أبي قير البرية ؟
- \* بسبب تحالف دول أوروبا ضد فرنسا
- ٢٠- كان كليبر من أنصار الجلاء عن مصر ؟
- \* لأن الأخطار تهدد الحملة الفرنسية من كل جانب
- \* تناقص عدد الجيش الفرنسي بسبب المعارك والحروب الداخلية والخارجية
- \* إرسال العثمانيين حملة أخرى للعريش ودمياط وعودة المماليك للمقاومة وتجدد ثورات المصريين ضد الحملة
- ٢١- إرسال إنجلترا أسطول بحري إلى أبي قير فبراير ١٨٠١ م وانضمام الجيش العثماني له ؟
- \* لإخراج الفرنسيين من مصر
- ٢٢- توجيه الدول الأوروبية وخاصة إنجلترا أنظارهم إلى مصر ؟
- \* بسبب إدراكهم أهمية موقع مصر الجغرافي والاستراتيجي
- ٢٣- إنشاء نابليون الديوان العام ودواوين الأقاليم وديوان القاهرة ؟
- \* بهدف تدريب الأعيان والعلماء المصريين على نظام مجالس الشورى من حيث الاستشارة وتلقى الآراء فيما يعود على الأهالي بالنفع العام
- ٢٤- قيام الشعب المصري بالعديد من الثورات ضد الولاة العثمانيين وزعماء المماليك ؟
- \* بسبب فرض الضرائب والإتاوات على الأهالي
- ٢٥- اجتماع زعماء الشعب من العلماء ونقباء الطوائف في دار المحكمة ١٨٠٥ م ؟
- \* لعزل خورشيد باشا وتعيين محمد علي بدلاً منه والياً على مصر ، وأخذوا عليه العهود والمواثيق أن يحكم بالعدل وألا يبرم أمراً إلا بمشورتهم
- ٢٦- الأهمية التاريخية اجتماع زعماء الشعب في دار المحكمة ١٨٠٥ م ؟
- \* كانت هذه أول مرة في تاريخ مصر الحديث التي يعزل فيها الوالي ويعين آخر بإرادة الشعب
- ٢٧- سعي بريطانيا لتولية محمد بك الألفي بدلاً من محمد علي في حكم مصر ؟
- \* لكي تطمئن على مصالحها الإقتصادية في المنطقة
- ٢٨- تدهور العلاقات بين بريطانيا والسلطان العثماني ١٨٠٦ م ؟
- \* بسبب رضوخ السلطان العثماني لرأي الزعامة الشعبية وتخليه عن نقل محمد علي من ولاية مصر وتنصيبه عليها

٢٩- سياسة محمد علي في التخلص من المماليك حتى مذبحة القلعة ١٨١١م ؟

\* قام بحرماتهم من المناصب الرفيعة مثل مشيخة البلد ومطاردتهم وتدبير مذبحة القلعة

٣٠- الهدف من السياسة الزراعية والإجراءات التي أتبعها محمد علي في الزراعة ؟

\* توفير أكبر قدر من الدخل من الإنتاج الزراعي

٣١- قيام محمد علي بنهضة تعليمية وثقافية كبيرة ؟

\* لأن محمد علي أدرك أنه بحاجة إلى موظفين لسد حاجة المصالح الحكومية وفنيين ومتخصصين في مختلف الفروع خاصة لسد حاجة الجيش والأسطول

٣٢- إنشاء محمد علي للمطبعة الأميرية في بولاق ؟

\* لطبع الكتب اللازمة للمدارس والكتب الأدبية والفنية

٣٣- الهدف من مشروعات محمد علي العمرانية والتعليمية ؟

\* هدفت إلى سد حاجات الجيش وبناء القوة العسكرية لأنه أدرك أن بناء القوة العسكرية هي الدعامة الأساسية لتحقيق أهدافه وبناء الدولة الحديثة

٣٤- اتجاه محمد علي لتجنيد المصريين بدلاً من السودانيين ؟

\* لأنهم أثبتوا كفاءتهم بالانتظام في التدريب وإطاعة الأوامر العسكرية وفي ميادين القتال الخارجية

٣٥- قيام محمد علي بإعادة تنظيم الإدارة في مصر ؟ \* حتى يستطيع السيطرة الكاملة على شئون البلاد

٣٦- حروب محمد علي في الجزيرة العربية ؟

\* هدفت إلى القضاء على الدعوة الوهابية لتهديهم نفوذ الدولة العثمانية في الجزيرة العربية وانتهت بالسيطرة على الجزيرة العربية

٣٧- قيام محمد علي بحروب اليونان ؟

\* بهدف القضاء على ثوار اليونان في المورة والذين طالبوا بالاستقلال عن الدولة العثمانية

٣٨- توتر العلاقات بين محمد علي والسلطان العثماني عقب حروب اليونان ؟

\* بسبب تفاوض محمد علي مع القوى الأوروبية لتأمين انسحاب الجيش المصري من المورة

\* تصميم "محمد علي" على الانفصال والاستقلال بمصر

٣٩- إدراك الدول الأوروبية ما يمثله محمد علي من خطر على التوازن الدولي ؟

\* نتيجة انتصاراته على الدولة العثمانية وازدياد نفوذه

٤٠- توجيه الخديو اسماعيل حملات حربية إلى الأقاليم الاستوائية في أفريقيا ؟

\* لمنع تجارة الرقيق والتوسع في الجنوب والسيطرة على مياه النيل

٤١- تقديم الهدايا والمال من الخديو اسماعيل للسلطان العثماني ؟

\* ليحصل على الفرمانات التي يوسع بها نطاق حكمه، ويجعل وراثته العرش في أكبر أبنائه، وزيادة عدد الجيش المصري

٤٢- إنشاء الخديو اسماعيل للمحاكم المختلطة ؟ \* للحد من مساوى المحاكم القنصلية

٤٣- ارسال بريطانيا بعثة برناسة مستر كيف ؟

\* بسبب طلب الخديو اسماعيل من بريطانيا إيفاد موظف كفاء لدراسة أسباب الأوضاع المالية في مصر وتقديم الاقتراحات لعلاجها

٤٤- أسباب الثورة العربية ؟

\* ازدياد التدخل الاجنبي في شئون مصر نتيجة القروض، وفقدان مصر نصيبها من أسهم شركة قناة السويس

\* المؤثرات الفكرية الغربية أدت إلى نمو الوعي القومي والمطالبة بالدستور والحكم النيابي

\* سوء الأحوال الاقتصادية في عهد وزارة رياض باشا

\* اضطهاد عثمان رفقي باشا للضباط المصريين وعدم ترفيتهم

٤٥- أمر الخديو توفيق بالقبض على عرابي وزملانه واعتقالهم بسجن قصر النيل ؟

\* بسبب تقديم عرابي وزملانه بشكوى إلى مجلس الوزراء طالبوا فيها بإقالة عثمان رفقي باشا ناظر الجهادية

٤٦- خروج أحمد عرابي على رأس الجيش ومعه آلاف الوطنيين في مظاهرة عابدين ؟

\* للمطالبة بإسقاط الحكومة المستبدة برناسة رياض باشا

\* تشكيل مجلس نواب على النسق الأوروبي \* زيادة عدد الجيش إلى ١٨ الف جندي

٤٧- عرض شريف باشا اللانحة الأساسية على مجلس النواب ولم تتضمن حق المجلس في مناقشة الميزانية ؟

\* لأنه كان يرى تأجيلها لتجنب الاصطدام بالدول الأوروبية

٤٨- ارسال انجلترا وفرنسا المذكرة المشتركة الأولى للخديو توفيق يناير ١٨٨٢م ؟

\* لتقوية مركز الخديو أمام الحركة الوطنية وأظهروا رغبتهم في حل مجلس النواب ومساندة الخديو

٤٩- استقالة شريف باشا من رناسة الوزارة ؟ \* لإصرار مجلس النواب على مناقشة الميزانية

٥٠- قرار العرابيون الانسحاب من مدينة الإسكندرية إلى كفر الدوار ؟

\* لإنشاء الاستحكامات هناك لمواجهة زحف الجيش البريطاني

٥١- أسباب فشل الثورة العربية ؟

\* عدم تكافؤ القوة العسكرية بين قوات الاحتلال الإنجليزي والقوات المصرية

\* تواطؤ إدارة شركة قناة السويس الأجنبية مع قيادة الجيش البريطاني

\* إصدار السلطان العثماني إعلان بعصيان عرابي

\* عدم إدراك قيادة الثورة العربية أهمية التعبئة الشعبية لمساندة القوات المصرية في معاركها

\* ميول بعض عناصر القوات المصرية للخديو والبريطانيين

\* الظروف الدولية لم تكن في صالح الحركات الوطنية

٥٢- إهمال الاحتلال الإنجليزي التعليم وجعله بمصرفات مرتفعة وحصره في فئة قليلة ؟

\* بهدف تخريج مجموعة من الموظفين للعمل في الإدارات والمصالح الحكومية

٥٣- تخلي فرنسا عن مساندة مصطفى كامل ؟

\* بسبب الاتفاق الودي التي عقدها فرنسا مع إنجلترا ١٩٠٤م

٥٤- دعا محمد فريد لإنشاء مدارس الشعب الليلية ؟ \* لتعليم العمال والفقراء مجاناً

٥٥- مقابلة أعضاء الجمعية التشريعية برئاسة سعد زغلول المعتمد البريطاني السير ونجت ؟

\* للمطالبة بإلغاء الحماية البريطانية، وإنهاء الأحكام العرفية، وإلغاء الرقابة على الصحف والمطبوعات

\* والمطالبة بالاستقلال مع السماح لهم بالسفر إلى باريس لعرض المطالب الوطنية على مؤتمر الصلح هناك

٥٦- إرسال إنجلترا لجنة برئاسة اللورد ملنر وزير المستعمرات البريطاني لمصر ١٩١٩م ؟

\* لإقناع الشعب المصري بقبول الحماية البريطانية

٥٧- رفض الشعب المصري التفاوض مع لجنة ملنر ؟

\* لأن التفاوض معها يعني التنازل عن الوكالة للوفد المصري

٥٨- رفض الشعب المصري بجميع طوائفه مشروع المعاهدة بين ملنر والوفد المصري ؟

\* لأنها كانت ستؤدي إلى استقلال مصر استقلالاً صورياً

٥٩- أهمية دستور ١٩ أبريل ١٩٢٣م ؟

\* كان خطوة في تقرير مبدأ أن الأمة مصدر السلطات ووضع نهاية الحكم المطلق، وقرر مبدأ المساواة بين جميع المصريين في الحقوق والواجبات، ومبدأ احترام الحريات العامة

٦٠- عارض الشعب دستور ١٩٣٠م وقام بالعديد من المظاهرات لإلغائه ؟

\* لأنه أعطى الملك مزيداً من السلطات وأهدر سلطة الأمة وحقوقها في مواضع كثيرة

٦١- تعدد الأحزاب في مصر منذ دستور ١٩٢٣م لم يثري الحياة النيابية ؟

\* لأنها كانت أداة للقصر الملكي ولبريطانيا لتحقيق مصالحهما دون النظر لمصالح الشعب

٦٢- عقد بريطانيا معاهدة ١٩٣٦م مع مصر ؟

\* لتخوفها من قيام ثورة جديدة في الوقت التي ستخوض فيه بريطانيا حرب عالمية جديدة

٦٣- الخلافات بين حكومة مصر وإنجلترا عقب اندلاع الحرب العالمية الثانية ١٩٣٩م ؟

\* بسبب إصرار الإنجليز على أن تعلن مصر الحرب على دول المحور وهو ما كانت ترفضه الحكومة المصرية لإتباع سياسة تجنب مصر ويلات الحرب

٦٤- محاصرة الدبابات البريطانية قصر عابدين "حادث ٤ فبراير ١٩٤٢م" ؟

\* لمماثلة الملك فاروق في تنفيذ طلبها بتشكيل حكومة جديدة برئاسة مصطفى النحاس باشا

٦٥- الصدام بين جنود الشرطة المصرية والانجليز في ٢٥ يناير ١٩٥٢ م ؟

\* بسبب حصار الإنجليز مبنى محافظة الإسماعيلية لنزع سلاح جنود الشرطة ورفض الجنود المصريين التسليم لقوات الاحتلال

### السؤال الخامس : دتل

١- تتميز قارة آسيا بكثرة الجزر وأشباه الجزر ؟

\* حيث تضم جزر كثيرة مثل اندونيسيا واليابان، وأشباه الجزر مثل شبه الجزيرة العربية وشبه جزيرة الملايو

٢- يسود المظهر الهضبي في أفريقيا ؟

\* حيث توجد الهضاب في مناطق واسعة من القارة الأفريقية مثل هضبة الصحراء الكبرى شمالاً وهضبة البحيرات الاستوائية في الوسط وهضبة الحبشة في الشرق وهضبة جنوب أفريقيا في الجنوب

٣- تكثر الهضاب شرق جبال الإنديز ؟

\* مثل هضبة جياتا في الشمال وهضبة البرازيل في الشرق وهضبة بتاجونيا في الجنوب

٤- يتشابه مناخ الاقليم المداري الحار مع مناخ الاقليم الموسمي ؟

\* حيث يتشابه مناخ الإقليمين في الصيف الحار الممطر والشتاء الجاف كما ينمو بهما حشائش السافانا

٥- تقسيم السلالات أمر ظاهري وليس جوهري ؟

\* حيث يتم التقسيم على أسس ظاهرية حسب الشكل الخارجي وليس جوهريه فلا توجد سلالة أكثر ذكاء من سلالة أخرى أو أكثر منها قدرة على العمل والإبداع

٦- هناك قلة نادرة من السلالات النقية في العالم حالياً ؟

\* مثل بعض الزنوج قصار القامة في غابات حوض نهر الكونغو وصحراء كلهاري في أفريقيا ،، الإسكيمو في صحاري التندرا شمال كندا ،، الهنود الحمر في غابات وجبال امريكا الجنوبية ،، الاستراليون الأصليون

٧- لا توجد دولة في العالم يتكون شعبها من سلالة واحدة ؟

\* مثال على ذلك الولايات المتحدة يضم شعبها سلالات مختلفة مثل الزنوج القادمين عن طريق الهجرات الإجبارية من أفريقيا ، والسلالة القوقازية القادمون من أوروبا ، والسلالة المغولية وهم الهنود الحمر السكان الأصليين

\* مثال آخر العرب ليسوا من سلالة واحدة فالغالبية من السلالة القوقازية ولكن مع حدوث الفتوحات والهجرات على مر التاريخ حدث اختلاط مع السلالات الأخرى

٨- هناك عوامل تؤثر على اختلاف معدلات الوفيات في العالم ؟

\* حيث يلعب مستوى السكن والتغذية والخدمات الصحية العامة دوراً مؤثراً في معدل الوفيات فالدول التي تراعى بها مستويات الوقاية الصحية وحماية البيئة من التلوث تقلل بها معدلات الوفيات، بينما تزداد في الدول التي تقل فيها الرعاية الصحية وتنتشر بها الأمراض

\* قد تؤدي الحروب والكوارث الطبيعية مثل الجفاف والزلازل إلى زيادة معدلات الوفيات

٩- ارتفاع نسبة المتعلمين في مصر في الفترات الأخيرة ؟

- \* نتيجة زيادة الاهتمام بالتعليم في مراحل المختلفة وجهود الدولة في مجالات محو الأمية وتحقيق مبدأ تكافؤ الفرص
- ١٠- هناك عادات وتقاليد في بعض دول العالم تؤثر على معدل التعليم فيها خاصة الإناث ؟
- \* حيث بعض المناطق تحرم المرأة من التعليم بسبب المعتقدات الخاطئة ، كذلك تفضيل الزواج المبكر للإناث
- ١١- توجد علاقة بين النشاط الزراعي والصناعي و الدخل الاقتصادي للدول ؟
- \* الدول ذات الدخل الاقتصادي المرتفع تعتمد على النشاط الصناعي بينما الدول ذات الدخل الاقتصادي المنخفض يسودها النشاط الزراعي
- ١٢- هناك سمات مميزة للدول ذات الدخل الاقتصادي المرتفع ؟
- \* تركز معظم السكان في المدن في مستويات معيشية مرتفعة و يعتمدون على الصناعة والخدمات ويستهلكون كمية كبيرة من الطاقة
- ١٣- اختلف موقف مينو عن موقف كليبر في قيادة كل منهما للحملة الفرنسية في مصر ؟
- \* حيث كان كليبر يرى استحالة بقاء الحملة بينما مينو كان ينوي الإقامة في مصر وتحويلها لمستعمرة فرنسية
- ١٤- ساعد انقسام القيادات الشعبية حول تقدير السيد عمر مكرم محمد علي في التخلص منه ؟
- \* حيث أخذ منافسوه يدسون له عند محمد علي الذي انتهز الفرصة وأقدم على خلعه من نقابة الأشراف وإبعاده ونفيه إلى دمياط ١٨٠٩ م
- ١٥- تعددت الإجراءات التي اتخذها محمد علي في سياسته الزراعية ؟
- \* ألغى نظام الالتزام ووزع مساحات من الأرض على الفلاحين
- \* أدخل أساليب وغللات زراعية جديدة
- \* أنشأ مدرسة الزراعة واستقدم الخبراء الزراعيين من الخارج
- \* تحسين طرق الري وإنشاء العديد من القناطر على النيل مثل القناطر الخيرية وحفر ترعة المحمودية
- \* تزويد الفلاحين بكل ما يلزم الزراعة
- ١٦- أتبع محمد علي سياسة تهدف إلى السيطرة على الإنتاج الصناعي وتوزيعه ؟
- \* قام بإمداد الصناع بالمواد الخام اللازمة للصناعة
- \* شراء المنتجات الصناعية
- ١٧- تنوعت الإجراءات التي قام بها محمد علي لتطوير وتحديث الإنتاج الصناعي ؟
- \* إقامة المصانع الحكومية مثل الغزل والنسيج والورق والسكر
- \* الاستعانة بالخبرات الأجانب وإرسال البعثات للخارج في مختلف الصناعات وترجمة الكتب الخاصة بها
- \* جمع الصبية للعمل في مصانع الدولة بأجور رمزية فأصبحت بمثابة مدارس صناعية

١٨- خضعت التجارة في عهد محمد علي لنظام الاحتكار ؟

\* قام بتسويق جميع الحاصلات الزراعية بعد شرائها وجمعها في مخازن الدولة  
\* البيع للتجار الأجانب في مصر

\* البيع في الخارج لحساب الحكومة المصرية \* احتكار تجارة الواردات

١٩- اهتمام محمد علي بالنقل والمواصلات ؟

\* قام بتمهيد وتأمين الطرق البرية والبحرية وبناء أسطول في البحرين الأحمر والمتوسط وحفر الترعة والاهتمام بالموانئ المصرية وتطهير البحر الأحمر من القرصنة

٢٠- قام محمد علي بخطوات كبيرة في مجال التعليم والثقافة ؟

\* أنشأ المدارس الحديثة مثل الطب والزراعة والمهندسخانة

\* أرسل البعثات العلمية إلى أوروبا ومن أبرز أعضائها رفاة رافع الطهطاوي وعلي مبارك اللذان أسهما في استمرار النهضة التعليمية بعد عودتهم من أوروبا

\* الاستعانة ببعض الأساتذة الأجانب للتدريس في المدارس العليا وفي الترجمة

\* إنشاء المطبعة الأميرية في بولاق لطبع الكتب اللازمة للمدارس والكتب الأدبية والفنية

\* إصدار صحيفة الوقائع المصرية

٢١- قيام محمد علي بإجراءات واضحة في إعادة تنظيم الإدارة ؟

\* حيث قسم مصر إلى سبع مديريات وأنشأ على رأس النظام الإداري الحكومة المركزية في القاهرة

\* أنشأ عدة مجالس ودواوين منها الديوان العالي ومجلس المشورة

\* أصدر لائحة جديدة لإعادة تنظيم الإدارة إلى سبع دواوين وحدد اختصاصاتها

٢٢- حقق محمد علي أهداف سياسية واقتصادية وعسكرية من ضم السودان ؟

\* حيث ترتب على ذلك إمتداد النفوذ المصري إلى جنوب السودان وإنشاء العاصمة "الخرطوم" واكتشاف منابع النيل

٢٣- لم يكن خلفاء محمد علي بنفس قوته ووعيه وكفاءته ؟

\* حيث لم يكن أي منهم يمتلك الكفاءة اللازمة لمواجهة التحديات وتارجحوا في ميلهم لكل من فرنسا وبريطانيا والدولة العثمانية وكان ذلك على حساب مصر واستقلالها

٢٤- توقف حركة النهضة في عصر عباس باشا الاول ؟

\* حيث أغلق معظم المدارس والمصانع وتم تخفيض حجم الجيش وعطل أعمال الترساتة البحرية

من أحد البنوك البريطانية، واندفع في ذلك حتى لجأ إلى المرابين مقابل سندات على حساب الحكومة المصرية

٢٥- اهتمام سعيد باشا بإصلاح أحوال الفلاحين ؟

\* أصدر اللائحة السعيدية التي بموجبها أصبح للفلاح حق توريث الأرض الزراعية، وظهر ترعة المحمودية

٢٦- كانت شروط الامتياز الثاني لقناة السويس الذي منحه سعيد باشا لدبليسبس مجحف لمصر؟

\* حيث منحت الحكومة المصرية الشركة امتياز انشاء قناة السويس وحفر ترعة المياه الصالحة للملاحة النيلية "ترعة الإسماعيلية" وانشاء فرعين للري والشرب منها

\* تنازل الحكومة للشركة مجاناً عن جميع الأراضي المملوكة لها والمطلوبة لإنشاء القناة والترعة  
\* يكون أربعة أخماس العمال من المصريين

\* للشركة الحق في فرض ما تشاء من رسوم على السفن المارة في القناة والترعة

\* تحصل مصر فقط على ١٥٪ من صافي الأرباح \* اشترط لصحة الامتياز أن يصدق عليه السلطان العثماني

٢٧- يعتبر عهد سعيد باشا بداية الأزمة المالية في مصر ؟

\* حيث استدان من البيوت المالية الأوروبية وأول قرض كان من أحد البنوك البريطانية، واندفع في ذلك حتى لجأ إلى المرابين مقابل سندات على حساب الحكومة المصرية

٢٨- شمل عهد الخديو اسماعيل تناقض واضح ؟

\* حيث يعتبر فترة من ازهى الفترات وأكثرها تقدماً وعمراناً في تاريخ مصر الحديث كما يمثل حقبة من أخطر ما تعرضت له البلاد من تدخل أجنبي في شئون مصر بسبب الأخطاء التي أدت إلى تدهور مركز مصر المالي وما تبعه من انهيار استقلالها الاقتصادي

٢٩- تعددت العوامل التي سببت الأزمة المالية في عهد الخديو اسماعيل ؟

\* سياسة الاقتراض التي أتبعها الخديو اسماعيل للوفاء بالتزاماته ومشروعاته

\* الاحتفالات بافتتاح قناة السويس والتي دعا إليها ملوك أوروبا وانفق ببذخ عليها

\* علاقة الخديو اسماعيل بالدولة العثمانية، والتي اعتمد فيها الخديو اسماعيل على تقديم المال والهدايا ليحصل على الفرمانات التي يوسع بها نطاق حكمه، ويجعل وراثته العرش في أكبر أبنائه و زيادة عدد الجيش المصري

٣٠- اتخذ الخديو توفيق سياسة أدت إلى زيادة التدخل الأجنبي في شئون البلاد ؟

\* حيث أعاد المراقبة الثنائية ورفض اللانحة الأساسية لمجلس النواب

\* ووضع نفسه تحت حماية إنجلترا وفرنسا بإسناد الوزارة إلى رياض باشا

٣١- انتهزت بريطانيا بعض الأحداث الداخلية في مصر لاحتلال مصر ؟

\* الخلاف الذي وقع في الإسكندرية بين أحد الرعايا الأجانب وأحد الأهالي، ونشوب معركة وقتلى من الجانبين واجتماع قناصل الدول الأجنبية بالإسكندرية وسفر الخديو توفيق لهم

\* تكليف الخديو توفيق "راغب باشا" بتأليف وزارة جديدة

\* عقد ممثلو الدول العظمى مؤتمر بالآستانة للنظر في المسألة المصرية وقرر أعضائه ارسال تركيا قوة لإعادة الأمن في مصر وعدم تدخل الدول الأجنبية منفردة في مصر

٣٢- شهد ميدان القتال في معركة التل الكبير بطولات خالدة رغم الهزيمة ؟

\* حيث صمد الضابط محمد عبيد بقواته أمام القوات البريطانية وقاتلهم بشراسة حتى استشهد هو ومعظم رجاله

٣٣- فرض الاحتلال الإنجليزي سياسة اقتصادية تخدم المصالح البريطانية ؟

\* حيث توسع في زراعة القطن لتوفير المادة الخام اللازمة للمصانع البريطانية ومحاربة الصناعة المصرية بتسويق المنتجات البريطانية والأجنبية في السوق المصرية

٣٤- تحركات مصطفى كامل كانت في اتجاهين ؟

\* داخلياً كانت خطبه ومقالاته موجهة إلى المصريين للتمسك بالوحدة الوطنية ومحاربة اليأس واستثارة روح الكرامة في نفوسهم، طالب بالدستور وإنشاء الجامعة المصرية وأسس جريدة اللواء والحزب الوطني

\* خارجياً قام بتعريف الدول الأوروبية وخاصة فرنسا بحق مصر في الاستقلال، وتخلت فرنسا عنه بعقد اتفاق ودي مع إنجلترا، دعا لرفض اتفاقية الحكم الثنائي في السودان، واستغل حادثة دنشواي للتنديد باحتلال بريطانيا قادي لاستقالة اللورد كرومر المعتمد البريطاني

٣٥- تجمعت عوامل عديدة أسهمت في اشتعال ثورة ١٩١٩م ؟

\* ازدياد نمو الوعي الوطني لدى المصريين من أجل الاستقلال

\* الإجراءات العنيفة التي اتخذتها سلطات الاحتلال أثناء الحرب العالمية الأولى ١٩١٤م - ١٩١٨م

\* ادعاء إنجلترا وحلفائها أنها تحارب من أجل حرية الشعوب واستقلالها

\* إعلان مبادئ الرئيس الأمريكي ولسن الأربعة عشر حق الشعوب في تقرير مصيرها

٣٦- كانت ثورة ١٩١٩م ثورة شعبية عظيمة ؟

\* حيث امتدت من القاهرة إلى كافة المدن والأقاليم واشترك فيها جميع فئات وعناصر الشعب المصري مما يؤكد على الوحدة الوطنية بين أبناء الأمة

٣٧- احتفظت بريطانيا بعدة أمور معروفة بالتحفظات الأربعة بتصريح ٢٨ فبراير ١٩٢٢م ؟

\* تأمين المواصلات البريطانية في مصر

\* الدفاع عن مصر ضد أي اعتداء أو تدخل أجنبي

\* حماية المصالح الأجنبية والأقليات في مصر

\* استمرار أوضاع السودان على ما كانت عليه وفقاً لاتفاقية الحكم الثنائي ١٨٩٩م

٣٨- أعطت نصوص معاهدة ١٩٣٦م بعض الأهداف لبريطانيا وكذلك مصر ؟

\* لبريطانيا

- وضع الموانئ والمطارات وطرق المواصلات المصرية تحت تصرف بريطانيا في حالة الحرب

- تعهد الحكومة المصرية ببناء وصيانة الشكات والمعسكرات والطرق والكباري اللازمة للقوات البريطانية

\* لمصر

- جلاء القوات البريطانية عن القاهرة وجميع الجهات الأخرى ما عدا قناة السويس

- مساعدة بريطانيا لمصر للانضمام إلى عصبة الأمم

- استمرار إدارة السودان وفقاً لاتفاقية ١٨٩٩م مع عودة القوات المصرية إلى السودان

٣٩- كان هناك متغيرات داخلية وخارجية بعد معاهدة ١٩٣٦ م ؟

\* تحول العلاقة بين مصر وبريطانيا من علاقة احتلال إلى علاقة تحالف

\* ازداد نفوذ القصر وسيطرته منذ اعتلاء الملك فاروق العرش

\* أتبعته مصر سياسة تجنبها ويلات الحرب مما أدى إلى الخلافات بين حكومة مصر وانجلترا وحادث ٤ فبراير

التي هددت فيه انجلترا بخلع الملك فاروق إذا لم يشكل حكومة جديدة برئاسة مصطفى النحاس باشا

**السؤال السادس : ما النتائج المترتبة على**

**أولاً : الجغرافيا**

١- تميز سواحل أوروبا بالتعرج وكثرة الجزر ؟ \* ساعد ذلك على إنشاء الموانئ الطبيعية

٢- وقوع القارة القطبية الجنوبية في أقصى جنوب الكرة الأرضية ؟

\* أدى ذلك إلى تجمدها وعدم انتشار السكان بها لشدة برودتها

٣- وقوع أنهار أوب وينسي ولينا شمال آسيا وتصب في المحيط القطبي الشمالي ؟

\* أدى ذلك إلى تجمدهم شتاءً وقلّة أهميتهم

٤- الارتفاع الشاق لجبال روكي ؟ \* أدى ذلك إلى أنه يغطي قممها الجليد في فصل الشتاء

٥- وقوع الإقليم الجبلي فوق قمم الجبال والمنحدرات العليا في العالم ؟

\* أصبح يسوده مناخ شديد البرودة وتغطي القمم الجبلية بالجليد طوال العام مثل قمم جبال الهيمالايا في آسيا

٦- وقوع إقليم مناخ الاستوائي بالقرب من دائرة الاستواء ؟ \* أصبح يتميز بارتفاع الحرارة طوال العام

٧- وقوع إقليم مناخ التندرا في ما وراء الدائرتين القطبيتين ؟

\* أصبح يسود في المناطق القطبية المتجمدة في شمال آسيا وأوروبا وأمريكا الشمالية وبعض جزر المحيط

المتجمد الجنوبي وقارة أنتاركتيكا بالكامل

٨- وقوع جنوب غرب استراليا في نطاق إقليم مناخ البحر المتوسط ؟

\* أصبحت تتميز تلك الجهة بصيف حار وجاف، وشتاء دافئ وممطر

٩- انتماء منطقة شمال اليابان لإقليم مناخ اللورانسى ؟

\* أصبحت تتميز بشتاء بارد ، وصيف معتدل ومطر طوال العام خاصة صيفاً

١٠- استقرار الإنسان في البيئات المختلفة أواخر عصر البلايستوسين ؟

\* بدأ يؤثر فيها ويتأثر بها ، فظهرت اختلافات في الصفات الوراثية بين البشر من حيث لون البشرة وطول القامة

وحجم الرأس وشكل العين والأنف ونشأت السلالات البشرية

١١- زيادة السكان في معظم دول آسيا ؟

\* ترتب بعض المشكلات مثل نقص الغذاء وقلّة نصيب الفرد من الدخل القومي

\* انخفاض مستوى المعيشة \* وجود هجرات غير شرعية إلى الدول المتقدمة مثل دول أوروبا

١٢- وقوع الأطراف الشمالية لكل من اسيا وأوروبا وامريكا الشمالية في نطاق الدائرة القطبية الشمالية ؟

\* نتج عن ذلك شدة البرودة في تلك الجهات وقلة السكان فيها

١٣- ارتفاع فنة صغار السن في بعض الدول ومنها مصر ؟

\* تكلف الدولة ميزانية ضخمة من أجل توفير الغذاء والملبس والرعاية الصحية والتعليم وغيرها من الخدمات

١٤- اعتماد معظم دول أفريقيا على الزراعة ؟ \* أصبحت دول ذات مستوى اقتصادي منخفض

١٥- اعتماد الدول المتقدمة على النشاط الصناعي ؟

\* أصبحت دول ذات دخل اقتصادي مرتفع

### ثانياً : التاريخ

١- كثرة الفتن والصراع المستمر بين المماليك ؟ \* أدى ذلك إلى إضعاف قوتهم العسكرية

٢- موقعة جالديران ١٥١٤م ؟

\* نتج عنها انتصار السلطان العثماني سليم الأول على الصفويين ودخول عاصمتهم تبريز ثم التوجه بالجيش العثماني إلى الدولة المملوكية في الشام ومصر

٣- استيلاء سليم الأول على إمارة ذي القادر المملوكية ؟

\* نتج عن ذلك خروج السلطان قنصوة الغوري للشام وحدث معركة مرج دابق التي انتهت بهزيمة المماليك

٤- معركة مرج دابق ١٥١٦م ؟

\* نتج عنها انتصار العثمانيين بقيادة السلطان سليم الأول على المماليك بقيادة السلطان قنصوة الغوري واستيلاء العثمانيين على الشام والتوجه نحو مصر

٥- معركة الريدانية ١٥١٧م ؟

\* نتج عنها هزيمة طومان باي ودخول العثمانيين القاهرة وانتهاء دولة المماليك وصارت مصر ولاية عثمانية

٦- هزيمة الجيوش المملوكية وانتصار العثمانيين عليهم ؟

\* تحول مصر من دولة مستقلة إلى ولاية من ولايات الدولة العثمانية

\* سيطرة العثمانيين على العالم العربي من الاتجاهين الآسيوي والأفريقي

\* انتقال خلافة العالم الإسلامي الدينية والسياسية إلى الدولة العثمانية

\* إعلان سليم الأول نفسه الحامي الوحيد للحرمين الشريفين ولجميع رعاياه في العالم الإسلامي

٧- تأثير الحكم العثماني على مصر؟

\* تحولت مصر إلى ولاية معزولة عن المؤثرات الحضارية الحديثة في أوروبا

٨- ضعف الدولة العثمانية ؟

\* نتج عنه تطلع البكوات المماليك (حكام الأقاليم) لانفراد بالحكم مثل حركة علي بك الكبير

٩- فشل حركة علي بك الكبير ؟ \* عادت مصر ولاية عثمانية تحت حكم شيخ البلد محمد بك أبو الذهب

١٠- انتقال الحرفيين والصناع المهرة إلى الأستانة عاصمة الدولة العثمانية ؟

\* أصبحت الصناعات في مصر يدوية بسيطة وردينة

١١- تعددت فئات وطبقات المجتمع المصري في العصر العثماني ؟

\* حيث انقسم إلى فئة حكام لهم كافة السلطات وكانوا من الأتراك والمماليك

\* وفئة محكومين منهم طبقة وسطى محدودة مثل المشايخ وعلماء الأزهر وكبار التجار، وطبقة دنيا وهم الأكثرية من الفلاحين وصغار الحرفيين وعانوا الفقر والجهل وتفشي الأوبئة والأمراض

١٢- العزلة التي فرضها العثمانيون على مصر ؟

\* ترتب عليها اهتزاز مكانة الأزهر العلمية ولم يعد هناك اهتمام بالعلوم العقلية أو الطبيعية أو الرياضية والاقتصار فقط على العلوم الشرعية

\* تدهور الحياة الأدبية \* انتشار الدجل والشعوذة والخرافات وشاع الجهل

١٣- وصول الحملة الفرنسية إلى مدينة الإسكندرية ؟

\* واجهها أهالي الإسكندرية بزعامة حاكم المدينة السيد محمد كريم قبل وصول المماليك من القاهرة ولكن تم اعتقال السيد محمد كريم وإعدامه رمياً بالرصاص

١٤- مواجهة المماليك للحملة الفرنسية في شبراخيت يوليو ١٧٩٨ م ؟

\* هزيمة المماليك وفرارهم جنوباً للقاهرة للدفاع عنها

١٥- مواجهة المماليك للحملة الفرنسية في إمبابة ؟

\* انتصار الحملة الفرنسية على المماليك وهروب مراد بك للصعيد وإبراهيم بك والوالي العثماني إلى بلاد الشام

\* انفتح الطريق أمام الحملة الفرنسية للسيطرة على القاهرة

١٦- معركة أبو قير البحرية أغسطس ١٧٩٨ م ؟

\* انتصار الأسطول الإنجليزي بقيادة نلسون وإغراقه الأسطول الفرنسي في خليج أبي قير

\* محاصرة الأسطول الإنجليزي لشواطئ مصر الشمالية

\* القضاء على آمال فرنسا في السيطرة على سواحل البحر المتوسط

\* حرمان الحملة الفرنسية في مصر من إمدادات فرنسا لها

\* شعور جنود الحملة بأنهم محاصرون داخل مصر

\* توقف حركة التجارة الخارجية بالنسبة لمصر

١٧- نجاح مقاومة أهالي الصعيد للحملة الفرنسية ؟

\* أدى ذلك إلى تعاظم الشعور الوطني ونمو الوعي القومي تجاه الحملة الفرنسية

١٨- دخول الفرنسيون الأزهر الشريف بالخيل ؟ \* أدى إلى إثارة الشعور الديني لدى المصريين

١٩- ثورة القاهرة الأولى أكتوبر ١٧٩٨ م ؟

\* إعدام كثير من الأهالي والثوار

\* فرض غرامات مالية على التجار والعلماء

\* الشروع في تحصين القاهرة

٢٠- استيلاء نابليون على يافا ؟

\* أعدم جميع أفراد حاميتها رغم تأمينه على أرواحهم في جريمة بشعة عرفت تاريخياً باسم "مذبحة يافا البشرية"

٢١- مذبحة يافا البشرية واعداد نابليون لأفراد الحامية العثمانية ؟

\* أدى ذلك إلى مقاومة و استبسال أهالي عكا عن مدينتهم بقيادة أحمد باشا الجزار وبمعاونة الأسطول البريطاني و امداداته لهم بالمون والذخائر

٢٢- الحملة الفرنسية على الشام ١٧٩٩ م ؟

\* فشلت ولم تستطع الاستيلاء على عكا لبسالة أهلها بقيادة أحمد باشا الجزار ومساعدة الأسطول الانجليزي لهم  
\* واضطر نابليون للعودة إلى مصر

٢٣- موقعة أبي قير البرية يوليو ١٧٩٩ م ؟

\* انتصار قوات الحملة الفرنسية بقيادة نابليون على قوات الأسطول العثماني التي وصلت مصر أثناء رجوع نابليون من حملته على الشام

٢٤- الأخطار التي حاصرت كليبر من كل جانب ورغبته في الجلاء عن مصر ؟

\* اتجه كليبر للتفاوض مع الدولة العثمانية وعقد اتفاقية العريش ١٨٠٠م لخروج الحملة من مصر على نفقة العثمانيين

٢٥- رفض إنجلترا اتفاقية العريش بين كليبر والعثمانيين ومطالبة الفرنسيين للاستسلام ؟

\* رفض كليبر الاستسلام وقام بمهاجمة القوات العثمانية التي وصلت مصر وطردهم إلى الشام

٢٦- ثورة القاهرة الثانية مارس ١٨٠٠ م ؟

\* تدمير الفرنسيين حي بولاق

\* اشتداد كليبر في فرض الضرائب ومصادرة الأموال

٢٧- نية مينو الإقامة في مصر وتحويلها إلى مستعمرة فرنسية كبرى ؟

\* قام بوضع خطة إصلاحية في مجالات الزراعة والصناعة والتجارة والصحة والنظام القضائي

٢٨- ارسال إنجلترا أسطول حربي إلى أبي قير ١٨٠١م لإخراج الفرنسيين من مصر وانضمام الجيش العثماني له ؟

\* ترتب على ذلك أن القوات الفرنسية لم تستطع المقاومة واستسلمت وغادرت مصر سبتمبر ١٨٠١م

٢٩- نتائج الحملة الفرنسية على مصر في كافة النواحي ؟

\* نمو الروح القومية وتمسك المصريين بحقهم في الحرية واختيار حاكمهم

\* قام علماء الحملة الفرنسية بعدة أعمال أهمها

(أ) دراسة شق قناة تربط بين البحرين الأحمر والمتوسط (ب) إنشاء المجمع العلمي المصري

(ج) تأليف كتاب "وصف مصر" (د) اكتشاف حجر رشيد والتعرف على التاريخ المصري القديم

\* توجيه أنظار الدول الأوروبية إلى أهمية موقع مصر خاصة إنجلترا

\* نظم الحكم والإدارة أنشأ نابليون الديوان العام ودواوين الأقاليم وديوان القاهرة لتدريب المصريين على مجالس الشورى

\* وضعت الحملة مشروعات إصلاحية في النواحي الاقتصادية والاجتماعية مثل

(أ) الزراعة : تنويع المحاصيل والاهتمام بمشاريع الري

(ب) الصناعة : إنشاء مصانع النسيج وصناعة الدباغة وحروف الطباعة

(ج) التجارة : فتح أسواق جديدة لمصر في الدول المحيطة بها (د) الصحة العامة : إنشاء المحاجر الصحية

٣٠- اكتشاف علماء الحملة الفرنسية حجر رشيد ؟ \* ترتب على ذلك التعرف على التاريخ المصري القديم

٣١- خشية محمد علي أن تصيب ثورة الشعب المصري جنوده ؟

\* جاهر بالانضمام إلي العلماء والمشايخ واختلط بالأهالي الساخطين وتعهد للعلماء ببذل قصارى جهده لرفع الضريبة عن الناس

\* اقترح تعيين خورشيد باشا والياً على مصر والذي قام السلطان العثماني بتعيينه

٣٢- حرص محمد علي الوقوف مع الشعب المصري وزعمانه ؟

\* ترتب على ذلك إنه كسب عطف الشعب وثقة زعمانه ونظروا إليه كرجل عادل يكره الظلم

٣٣- وقوف الزعامة الشعبية بجانب محمد علي ضد نقله من مصر ١٨٠٦ ؟

\* ترتب عليه رضوخ السلطان العثماني وتخليه عن فكرة نقل محمد علي من ولاية مصر وتثبيته عليها

٣٤- تدهور العلاقة بين السلطان العثماني وبريطانيا بعد تثبيت محمد علي في مصر ؟

\* إرسال بريطانيا حملة عسكرية ١٨٠٧م لاحتلال مصر وخلع محمد علي وتثبيت تابعها محمد بك الألفي المملوكي

٣٥- حملة فريزر مارس ١٨٠٧م ؟

\* هزيمة الحملة في رشيد والحماد \* جلاء الحملة مقابل الإفراج عن الأسرى

\* دخول محمد علي الإسكندرية منتصراً

٣٦- إدراك محمد علي قوة الزعامة الشعبية ودورها في توليه الحكم والقيود التي فرضتها عليه ؟

\* قرر أن ينفرد بالحكم دون وصاية أو رقابة شعبية وأخذ يترقب الوقت المناسب للتخلص من السيد عمر مكرم

\* انتهاء وجود المماليك كقوة سياسية وانفراد محمد علي بشكل كامل بحكم مصر

٣٨- تطبيق محمد علي نظام الاحتكار ؟

\* ضمن محمد علي بهذا النظام الدخول في سوق التجارة الدولية منافساً لغيره من الدول

٣٩- نهوض محمد علي بالزراعة والصناعة والاستقرار الداخلي ؟ \* نشاط التجارة الداخلية والخارجية

٤٠- دور سياسة محمد علي الاقتصادية في تشكيل وبناء القوى الاجتماعية في مصر ؟

\* انتهاء نفوذ المماليك كهيبة حاكمة وحل محلها أسرة محمد علي وعناصر تركية

\* تضاؤل نفوذ علماء الأزهر والقيادات الشعبية

\* ظهور طبقة الأعيان وطبقة عمال الصناعة واستمرار طوائف الحرف كوسطاء للحكومة

\* تدهور طبقة التجار وظهور البدو كقوة اجتماعية مستقرة

٤١- إدراك محمد علي أن بناء القوة العسكرية هي الدعامة الأساسية لتحقيق أهدافه وبناء الدولة الحديثة ؟

\* كانت كافة مشروعاته العمرانية والتعليمية بهدف سد حاجات الجيش وبناء القوة العسكرية

\* قيامه بإنشاء المدارس العسكرية ومنها مدرسة عسكرية في أسوان

\* استخدام ضباط ومعلمين ذوي خبرة ودراية من أوروبا مثل الكولونيل سيف

\* إعداد الجنود بداية من السودانيين ثم اتجأه للمصريين الذين أثبتوا كفاءتهم في التدريب وإطاعة الأوامر العسكرية

\* تأسيس ترسانة لصناعة السفن في بولاق ثم الإسكندرية وإعداد أماكن تدريب البحارة والجنود

\* إنشاء ترسانة لتصنيع الأسلحة في القلعة وإنشاء القلاع في الإسكندرية ورشيد ودمياط

٤٢- حروب محمد علي في الجزيرة العربية ؟ \* انتهت بالسيطرة على الجزيرة العربية

٤٣- قيام محمد علي بحروب اليونان ضد ثوار اليونان في المورة ؟

\* انتهت بهزيمة الجيش المصري وتحطيم الاسطول المصري في موقعة نفاين ١٨٢٧م

\* ضم جزيرة كريت لمصر

\* علو مكانة مصر دولياً لتفاوض الدول الأوروبية مع محمد علي لإنهاء الحرب

٤٤- موقعة نفاين ١٨٣٧م ؟ \* انتهت بتحطيم الاسطول المصري

٤٥- تفاوض الدول الأوروبية مباشراً مع محمد علي لإنهاء الحرب على ثوار اليونان في المورة ؟

\* ساعد ذلك على نمو فكرة الانفصال عن الدولة العثمانية وتحقيق استقلال مصر

٤٦- حرب الشام الأولى والثانية ؟

\* ترتب عليها وصول القوات المصرية إلى الشام وأعلى الفرات وامتداد النفوذ المصري في بلاد الشام

٤٧- إدراك الدول الأوروبية ما يمثله محمد علي من خطر على التوازن الدولي ؟

\* تدخلت الدول الأوروبية في مفاوضات مع السلطان العثماني لفرض ما تراه من شروط على محمد علي وانتهت بمعاهدة لندن الدولية ١٨٤٠م

٤٨- معاهدة لندن الدولية ١٨٤٠م ؟

\* تضمنت إعادة بلاد الشام والجزيرة العربية إلى السلطان العثماني

\* تثبيت محمد علي في حكم مصر وإعلان خضوعه للسلطان العثماني \* اضطر محمد علي قبول شروط المعاهدة

٤٩- اصدار السلطان العثماني فرماتين بخصوص محمد علي ١٨٤١م ؟

\* أصبح حق وراثته مصر لأكبر أبناء محمد علي الذكور سناً

\* ولاية "محمد علي" على السودان

٥٠- الأخطاء التي ارتكبها إسماعيل من النواحي المالية ؟

\* أدت إلى تدهور مركز مصر المالي، وما تبعه من انهيار استقلالها الاقتصادي

٥١- الحملات الحربية التي وجهها الخديو اسماعيل لوسط أفريقيا ؟

\* وصل النفوذ المصري إلى ساحل البحر الأحمر بكامله

٥٢- احتفالات الخديو اسماعيل بافتتاح قناة السويس ؟

\* أدت إلى ازدياد حدة الأزمة المالية نتيجة إنفاقه ببذخ عليها ودعوته لملوك أوروبا لهذه الاحتفالات

٥٣- ارسال بريطانيا بعثة برناسة مستر كييف إلى مصر ؟

\* اقترح مستر كييف إنشاء إدارة للمراقبة المالية يرأسها موظف انجليزي و ألا يعقد الخديو قرض ما لم توافق عليه إدارة المراقبة الثنائية

٥٤- قرارات لجنة التحقيق العليا الأوروبية ؟

\* تنازل الخديو اسماعيل عن سلطته المطلقة لوزارة مسنولة عن حكم البلاد، والتنازل عن أطيانه وأطيانه عائلته ووضعها تحت الرقابة الدولية مقابل مخصصات مالية تصرف لهم

٥٥- الانتقادات التي وجهتها الحركة الوطنية في مصر للوزارة المختلطة ؟

\* شجعت الخديو اسماعيل على إقصاء الوزيرين الأجبيين من الوزارة، وإصدار مرسوم بتسوية الديون وفق اللانحة الوطنية

٥٦- قيام الخديو اسماعيل بإقصاء الوزيرين الأجبيين من الوزارة وإصدار مرسوم بتسوية الديون ؟

\* تدخل الحكومتين البريطانية والفرنسية والضغط على السلطان العثماني الذي أصدر فرماتاً بخلع اسماعيل وتولية ابنه توفيق

٥٧- حادثة قصر النيل يناير ١٨٨١م ؟

\* استجاب الخديو توفيق لمطالب عرابي وزملائه وعزل عثمان رفقي وعين محمود سامي البارودي

\* اضطر الخديو توفيق أن يوافق على مطالب الأمة والجيش وأسند الوزارة إلى شريف باشا وأقال رياض باشا

٥٩ - تولى محمود سامي البارودي الوزارة بدلاً من شريف باشا ؟

\* أصدر اللائحة الأساسية "الدستور" ونصت على مسئولية الوزارة أمام مجلس النواب، وحق المجلس في مناقشة الميزانية وإقرارها

٦٠ - رفض الخديو توفيق التصديق على حكم نفي الضباط الشراكسة لمؤامرة اغتيال عرابي؟

\* أدى ذلك إلى زيادة التوتر بين وزارة البارودي والخديو توفيق

٦١ - نشوب معركة في الإسكندرية بين الأجانب والمصريين وحدث قتل من الجانبين ١٨٨٢ م؟

\* ترتب عليه اجتماع قناصل الدول الأجنبية بالإسكندرية وسفر الخديو توفيق إلى الإسكندرية بحجة تهدئة الأوضاع

٦٢ - رفض الحكومة المصرية انذار قائد الاسطول الإنجليزي لتسليم بعض المدافع المنصوبة في حصون الإسكندرية ؟

\* قيام الاسطول الإنجليزي بضرب الإسكندرية بالقنابل يوليو ١٨٨٢ م، ثم نزول القوات البريطانية شواطئها برغم دفاع أهل الإسكندرية والجنود المصريين عنها

٦٣ - أرسل الخديو توفيق لأحمد عرابي يأمره بالكف عن استعداداته الحربية وأن يحضر إليه ؟

\* رفض عرابي ذلك واتهمه بمحاباة الإنجليز مما أدى لإصدار الخديو أمراً بعزل عرابي من وزارة الحربية وتحذير المصريين من الانضمام إليه فأظهره بمظهر العصاة لأوامره

٦٤ - معركة كفر الدوار بين الإنجليز والعرابيون ؟

\* تمكن العرابيون من صد هجمات الإنجليز مما اضطرهم إلى التحرك إلى منطقة القناة

٦٥ - اصدار السلطان العثماني منشوراً باعلان عصيان عرابي ؟

\* اضعف الروح المعنوية للمقاتلين

٦٦ - معركة التل الكبير ١٨٨٢ م ؟

\* استشهد الضابط محمد عبيد ومعظم رجاله على يد القوات البريطانية وتراجع عرابي للدفاع عن القاهرة وتقدم القوات الإنجليزية نحو القاهرة حتى تم احتلالها سبتمبر ١٨٨٢ م

٦٧ - روح اليأس والهزيمة التي تسربت للعديد من أنصار عرابي عقب معركة التل الكبير ؟

\* عدم مقدرة العرابيون على الصمود واحتلال الإنجليز للقاهرة سبتمبر ١٨٨٢ م

٦٨ - محاكمة العرابيون عسكرياً ديسمبر ١٨٨٢ م ؟

\* أصدرت المحكمة العسكرية حكماً بإعدام قادة الثورة ثم عدلت الأحكام إلى النفي المؤبد ومصادرة أملاكهم، واختارت الحكومة البريطانية جزيرة سيلان بالهند منفي لهؤلاء الزعماء

٦٩ - تأثير الاحتلال البريطاني على الجيش المصري ؟

\* أصبح عدده فقط ٦ آلاف جندي، يتولى قيادته ضابط إنجليزي مهمته إقرار الأمن وحفظ النظام

٧٠- الأعمال التي قام بها الاحتلال البريطاني في الحياة النيابية ؟

\* قام بإلغاء مجلس النواب المنتخب ١٨٨١م، وإنشاء مجالس صورية لا سلطة لها وهي مجلس شورى القوانين والجمعية العمومية ثم الجمعية التشريعية

٧١- حادثة دنشواي عام ١٩٠٦م ؟

\* استغلها مصطفى كامل للتنديد بالاحتلال البريطاني وسياسته القمعية وأدت لاستقالة اللورد كرومر المعتمد البريطاني

٧٢- إجبار محمد فريد للحكومة المصرية على دعوة مجلس شورى القوانين والجمعية العمومية لمناقشة طلب شركة قناة السويس بحد امتياز قناة السويس ٤٠ عاماً أخرى ؟

\* أدى ذلك إلى رفض الحكومة المصرية طلب الشركة

٧٣- اعتراض السير ونجت على سعد زغلول وزملائه وعدم أحقيتهم التحدث باسم الأمة ؟

\* جمعوا التوكيلات من الأمة للوفد المصري الذي أصبح برئاسة سعد زغلول يمثل الأمة

٧٤- ثورة ١٩١٩م ؟

\* قيام انجلترا بتعيين الجنرال اللنبي مندوباً ساهياً في مصر والإفراج عن سعد زغلول ورفاقه والسماح لهم بالتوجه إلى باريس لعرض قضية استقلال مصر على مؤتمر الصلح

٧٥- سفر الوفد المصري إلى مؤتمر الصلح في باريس ؟

\* خيب مؤتمر الصلح آمال الوفد المصري حيث اعترفت الدول في المؤتمر بالحماية البريطانية على مصر كما أعلن ذلك ولسن مما أصابهم باحباط كبير

٧٦- رفض الشعب المصري التفاوض مع لجنة ملنر ومقاطعتها ؟

\* أبدى ملنر استعداد التفاوض مع الوفد المصري، وانتهت المفاوضات بمشروع معاهدة رفضها الشعب المصري بجميع طوائفه لأنها كانت ستؤدي إلى استقلالاً صورياً مصر

٧٧- استقالة عدلي يكن بعد فشل مفاوضاته مع كيروزن وزير خارجية بريطانيا في وضع الدستور ؟

\* رفض رجال السياسة تشكيل حكومة وتم القبض على سعد زغلول ونفيه للمرة الثانية إلى جزيرة **سيشل**

٧٨- نفي سعد زغلول إلى جزيرة سيشل ؟

\* تجددت الثورة مرة أخرى وقاطع الشعب المصري البضائع الإنجليزية فاضطرت الحكومة البريطانية للإفراج عنه

٧٩- تصريح ٢٨ فبراير ١٩٢٢م ؟

\* اعترفت بريطانيا بمصر دولة مستقلة مع بعض التحفظات وأنهت الحماية البريطانية على مصر وألغت الأحكام العرفية

\* وترتب عليه إعلان الملك فؤاد نفسه ملكاً على مصر وأعيدت وزارة الخارجية المصرية، وشكلت وزارة عبد

الخالق ثروت لجنة من ٣٠ عضو لإعداد دستور ١٩٢٣م

٨٠- اغتيال القائد العام للجيش المصري والحاكم العام للسودان السير لي ستاك ١٩٢٤م ؟

\* تقديم المندوب السامي البريطاني اللورد اللنبي انذار الحكومة المصرية وطالب بسحب الجيش المصري من السودان

٨١- تقديم اللورد للنبي انذار الحكومة المصرية ١٩٢٤م ؟

\* ترتب عليه استقالة سعد زغلول باشا وتأليف وزارة برئاسة زيور باشا رئيس مجلس الشيوخ التي قبلت المطالب البريطانية في الإنذار ومنها سحب الجيش المصري من السودان

٨٢- قيام الشعب المصري بالعديد من المظاهرات لإلغاء دستور ١٩٣٠م ؟

\* اضطر الملك فؤاد إلى الرضوخ لمطالب الأمة وأعاد دستور ١٩٢٣م

٨٣- معاهدة ١٩٣٦م ؟

\* انتهاء احتلال مصر عسكرياً وانضمام مصر إلى عضوية عصبة الأمم باعتبارها دولة مستقلة ذات سيادة

\* إلغاء الامتيازات الأجنبية وفقاً لمؤتمر مونترال ١٩٣٧م

\* تقوية الجيش المصري للدفاع عن قناة السويس بعد جلاء القوات البريطانية

\* حرية مصر في عقد المعاهدات السياسية مع الدول الأجنبية بشرط ألا تتعارض مع المعاهدة

\* عودة الجيش المصري إلى السودان واعتراف بريطانيا بالإدارة المشتركة مع مصر على السودان

٨٤- حادث ٤ فبراير ١٩٤٢م ؟

\* قبول الملك فاروق الإنذار البريطاني وعرض على مصطفى النحاس باشا رئيس حزب الوفد تأليف الوزارة فقبل ذلك

٨٥- عرض مصر قضية جلاء القوات البريطانية الكامل عن مصر على مجلس الأمن ١٩٤٧م ؟

\* لم يتخذ مجلس الأمن قراراً في القضية وتركها معلقة.

٨٦- اعلان مصطفى النحاس باشا رئيس الوزراء إلغاء معاهدة ١٩٣٦م وأطلق الحرية للشعب للنضال المسلح ؟

\* هاجمت جماعات الفدائيين المعسكرات البريطانية، وتعدت الحكومة المصرية زيادة عدد جنود الشرطة لمساعدة الفدائيين

٨٧- حصار البريطانيون مبنى محافظة الإسماعيلية لنزع سلاح جنود الشرطة ؟

\* رفض الجنود المصريين التسليم لقوات الاحتلال مما أدى إلى الصدام بينهما ٢٥ يناير ١٩٥٢م واستشهاد الكثير من المصريين

السؤال السابع : اختر مما بين الأقواس

١- تقع جبال طوروس في ... (تركيا - العراق - إيران - لبنان)

٢- أعلى جبال في العالم هي .. (الحاجز الكبير - الألب - الهيمالايا - الأنديز)

٣- تعرف هضبة ... بسقف العالم (الذكن - التبت - البرازيل - لبرادور)

٤- هضبة تقع في غرب آسيا .. (التبت - الذكن - شبه الجزيرة العربية - جيانا)

٥- يصب نهري دجلة والفرات في .. (الخليج العربي - خليج عمان - المحيط الهندي - المحيط الهادي)

٦- يسود المظهر ... قارة أفريقيا (الجبلي - السهلي - الهضبي - التلالي)

٧- من جبال شرق أفريقيا ... (اطلس - كردستان - كلمنجارو - روكي)

أ / عوني عاطف

٨- تحتوي هضاب ... على الصحراء الشرقية والغربية في مصر

(الصحراء الكبرى - جنوب أفريقيا - الحبشة - البحيرات الاستوائية)

٩- تتبع من هضبتي الحبشة والبحيرات الاستوائية روافد نهر (الكونغو - النيل - الفولجا - دجلة)

١٠- تنتشر سهول صحراء كلهاري في .. قارة أفريقيا (جنوب - شمال - شرق - غرب)

١١- تعرف جبال الألب بجبال البرانس في .. (شبه جزيرة البلقان - اسبانيا - فرنسا - ألمانيا)

١٢- تشغل هضبة ... معظم دولة اسبانيا (لبرادور - بتاجونيا - التبت - الميزيتا)

١٣- من الأنهار التي تقطع هضبة فرنسا الوسطى (الفولجا - السين - الدانوب - سانت لورانس)

١٤- من المدن الرئيسية التي توجد في السهل الأوروبي العظيم (لندن - نيويورك - موسكو - برلين)

١٥- يصب نهر الدانوب في .. (البحر الأسود - البحر المتوسط - المحيط الأطلنطي - الخليج العربي)

١٦- يصب نهر الراين في .. (البحر الكاريبي - بحر الشمال - بحر قزوين - البحر الكاريبي)

١٧- بحر قزوين هو مصب نهر .. (المسيبي - باراجواي - السين - الفولجا)

١٨- تقع جبال ... في شرق أمريكا الشمالية (روكي - الأبلاش - الإنديز - الحاجز الكبير)

١٩- تقع هضبة .... في شمال شرق أمريكا الشمالية (لبرادور - المكسيك - جيانا - البرازيل)

٢٠- يصب نهر المسيسيبي في .. (المحيط الأطلنطي - خليج المكسيك - خليج هدسن - خليج سانت لورانس)

٢١- اصغر هضاب أمريكا الجنوبية (جيانا - الدكن - البرازيل - بتاجونيا)

٢٢- توجد في ... اوسع سهول فيضية في العالم (أمريكا الجنوبية - آسيا - أوروبا - أفريقيا)

٢٣- تقع جبال الحاجز الكبير في ... استراليا (شمال - غرب - جنوب - شرق)

٢٤- تتركز في داخل استراليا السهول (الفيضية - الصحراوية - الساحلية - الخصبة)

٢٥- تنتمي منطقة حوض الكونغو في وسط أفريقيا الي اقليم مناخ (الموسمي - الاستوائي - المداري - الصيني)

٢٦- يسمى اقليم مناخ .. بالمناخ السوداني (اللورانس - التندرا - الجبلي - المداري)

٢٧- توجد حشائش ... في إقليمي المداري والموسمي (السافانا - التندرا - الاستبس - البراري)

٢٨- من الاقاليم الممطرة طوال العام اقليم مناخ (الجبلي - غرب أوروبا - البحر المتوسط - المداري)

٢٩- تعرف حشائش الاستبس بحشائش البراري في .. ( أفريقيا - اسيا - أمريكا الشمالية - استراليا)

٣٠- ينمو شجر الصفاف والبلوط في غابات الاقليم .. (الاستوائي - الموسمي - المداري - الصيني)

٣١- يوجد حيوان الرنة في إقليم مناخ (الجبلي - التندرا - غرب أوروبا - الاستوائي)

٣٢- يوجد حيوان ... في إقليم مناخ المعتدل البارد اللورانس (الرنة - الثعابين - الدب القطبي - الشمبانزي)

٣٣- الصفة المتشابهة لكل من اقليم اللورانس والصيني وغرب أوروبا والاستوائي

(درجة الحرارة - سقوط الأمطار طوال العام - تشابه الحيوانات - تشابه الغابات)

٣٤- يسود اقليم مناخ التندرا قارة ... بالكامل

٣٥- اقاليم تقع في نطاق شرق القارات هي

(الصيني والبحر المتوسط - **الصيني واللورانسى** - الجبلي وغرب أوروبا - المداري والموسمي)

٣٦- اقاليم تقع في غرب القارات هي

(الجبلي والتندرا - الصيني والجبلي - **غرب أوروبا والبحر المتوسط** - الموسمي والمداري)٣٧- أكبر دولة في العالم من حيث السكان .. (**الصين** - الهند - البرازيل - الولايات المتحدة)٣٨- من مناطق تركيز السكان سهول نهر ... في الهند (بانجيتسي - السند - أوب - **الجانج**)٣٩- يعيش السكان في بعض المرتفعات مثل المناطق المدارية بأفريقيا بدولة (السنغال - **كينيا** - توجو - النيجر)٤٠- يقل عدد سكان بعض مناطق الأنهار مثل نهر .. (بانجيتسي - الاورانج - النيل - **الأمزون**)٤١- يتركز جزء كبير من سكان استراليا في جهة .. (الغرب - **الجنوب الشرقي** - الشمال - الشمال الغربي)٤٢- أكثر منطقة يتركز فيها الازدحام السكاني بالعالم هي جزيرة .... (نيوزيلندا - اليابان - **جاوة** - انجلترا)٤٣- أكبر قارة في العالم في معدل الوفيات (أفريقيا - **أوروبا** - أمريكا الشمالية - آسيا)٤٤- مصر دولة ذات رعاية طبية .. (فانقة - **مرتفعة** - منخفضة - متوسطة)٤٥- فئة سنوية تكلف الدولة ميزانية ضخمة (**صغار السن** - البالغون - كبار السن - العمال)٤٦- أقل قارة في نصيب الفرد من الدخل القومي (آسيا - **أفريقيا** - استراليا - أوروبا)٤٧- مصر والمغرب دول ذات مستوى اقتصادي (مرتفع - فوق المتوسط - منخفض - **أقل من المتوسط**)٤٨- الدول ذات الدخل المرتفع تعتمد على النشاط .. (الزراعي - **الصناعي** - الرعوي - الصيد)٤٩- قارة معدل الزيادة الطبيعية فيها صفر (**أوروبا** - أمريكا الشمالية - آسيا - أمريكا الجنوبية)٥٠- من أسباب الحملة الفرنسية قطع الطريق بين انجلترا ومستعمراتها في .. (أفريقيا - مصر - **الهند** - الشام)٥١- قاد .... الحملة الفرنسية نحو مصر (**نابليون** - كليبر - مينو - ديوي)

٥٢- أهدمت الحملة الفرنسية .. بعد مقاومته لهم في الاسكندرية

(عمر مكرم - **محمد كريم** - مراد بك - ابراهيم بك)٥٣- واجهت الحملة الفرنسية قوات ... في شبراخت وامبابة (العثمانيين - الإنجليز - المصريين - **المماليك**)٥٤- هرب مراد بك إلي ... بعد معركة إمبابة (الشام - **الصعيد** - العريش - ليبيا)٥٥- استطاع القائد الانجليزي .. إغراق السلطان الفرنسي في أبو قير البحرية (كليبر - تشرشل - مينو - **نلسون**)٥٦- أتبع أهالي ... حرب المناوشات ضد الحملة الفرنسية (الإسكندرية - **الصعيد** - القاهرة - الإسماعيلية)٥٧- قامت ثورة القاهرة الأولى في عهد ... (**نابليون** - كليبر - مينو - نلسون)٥٨- قام نابليون بمذبحة بشرية ضد حامية ... (عكا - دمشق - صيدا - **يافا**)

- ٥٩- استتبسل أهالي عكا بقيادة ... ضد الحملة الفرنسية ( عمر مكرم - نلسون - أحمد باشا الجزائر - ظاهر العمر )
- ٦٠- انتصر نابليون على الأسطول ... في أبي قير البرية ( العثماني - المملوكي - الإنجليزي - الروسي )
- ٦١- كان ينوي الجلاء عن مصر بالحملة الفرنسية ( نابليون - كليبر - مينو - كولونيل سيف )
- ٦٢- عقدت اتفاقية العريش بين كليبر و... ( الدولة العثمانية - المماليك - إنجلترا - المصريين )
- ٦٣- رفضت ... اتفاقية العريش وطالبت باستسلام الجيش الفرنسي ( ألمانيا - مصر - روسيا - إنجلترا )
- ٦٤- كان ... ينوي تحويل مصر إلى مستعمرة فرنسية كبرى ( نابليون - مينو - كليبر - ويلسون )
- ٦٥- أرادت .. نقل محمد علي من مصر وتعيين محمد بك الألفي ( الدولة العثمانية - روسيا - فرنسا - إنجلترا )
- ٦٦- أول العقبات التي واجهت محمد علي هي .. ( محاولة نقله - الزعامة الشعبية - حملة فريزر - المماليك )
- ٦٧- قامت .. بتوجيه حملة فريزر على مصر ١٨٠٧م ( الولايات المتحدة - فرنسا - الدولة العثمانية - بريطانيا )
- ٦٨- قام محمد علي بنفي السيد عمر مكرم إلى .. ( الإسكندرية - دمياط - الصعيد - بورسعيد )
- ٦٩- أنشأ محمد علي ترعة ... ( الإبراهيمية - الإسماعيلية - المحمودية - بحر يوسف )
- ٧٠- توقفت في عهد .. حركة النهضة التي أقامها محمد علي ( عباس الأول - سعيد باشا - اسماعيل باشا - توفيق )
- ٧١- أكثر خلفاء محمد علي اهتماماً بالفلاحين ( ابراهيم - توفيق - عباس حلمي الثاني - محمد سعيد )
- ٧٢- تولى .. الوزارة المختلطة في عهد الخديو اسماعيل ( نوبار باشا - رياض باشا - زيور باشا - شريف باشا )
- ٧٣- عارض ... اتفاقية الحكم الثنائي على السودان ( أحمد عرابي - سعد زغلول - محمد فريد - مصطفى كامل )
- ٧٤- تم الغاء الامتيازات الأجنبية وفقاً لمؤتمر ... ( باريس - لندن - مونترال - الأستانة )
- ٧٥- تغيرت علاقة مصر بإنجلترا من علاقة احتلال لعلاقة تحالف بعد ... ( مؤتمر الصلح - تصريح ٢٨ فبراير - معاهدة ١٩٣٦م - دستور ١٩٣٠م )

### السؤال الثامن : ضع علامة ✓ أو ✗ أمام كل عبارة مع التصويب

- ١- تقع جزر إندونيسيا في نطاق إقليم مناخ الاستوائي ( ✓ )
- ٢- تعتبر حشائش الاستبس حديقة حيوان طبيعية ( ✗ ) السافانا
- ٣- توجد حشائش السافانا في الاقليم المداري والصيني ( ✗ ) المداري والموسمي
- ٤- تسقط الأمطار طوال العام في إقليم مناخ غرب أوروبا ( ✓ )
- ٥- الأطراف الشمالية من قارات آسيا وأوروبا وأمريكا الشمالية تنتمي لإقليم الجبلي ( ✗ ) التندرا
- ٦- تتنوع الحياة النباتية في إقليم مناخ الجبلي ( ✓ )

٧- يسود اقليم مناخ الجبلي في غرب قارتي امريكا الشمالية والجنوبية ( ✓ )

٨- البشرة الصفراء تميز السلالة الزنجية ( ✗ ) المغولية

٩- تعد قارتي افريقيا و استراليا من مناطق تركيز السلالة الزنجية ( ✓ )

١٠- ينتمي الإسكيمو للسلالة القوقازية ( ✗ ) المغولية

١١- أكبر السلالات في العالم هي الزنجية ( ✗ ) القوقازية

١٢- ينتمي العرب للسلالة الزنجية ( ✗ ) القوقازية

١٣- السلالات البشرية أصلها واحد ( ✓ )

١٤- يتم تقسيم السلالات البشرية بناءً على أسس جوهريّة ( ✗ ) أسس ظاهرية

١٥- لا توجد دولة في العالم تتكون من سلالة واحدة ( ✓ )

١٦- يتركز السكان في غرب ووسط أوروبا أكثر من الشرق ( ✓ )

١٧- من الهضاب التي يقل فيها السكان بأمريكا الجنوبية هضبة بتاجونيا ( ✓ )

١٨- تعتمد الدول المتقدمة على النشاط الزراعي ( ✗ ) الصناعي

١٩- تعتبر دول الخليج العربي من الدول ذات الدخل الاقتصادي المرتفع ( ✓ )

٢٠- قام محمد الثاني بغزو المشرق العربي ودخول الشام ومصر في القرن الـ١٦ ( ✗ ) سليم الأول

٢١- اندلعت ثورة القاهرة الثانية من الازهر الشريف ( ✗ ) هي بولاق

٢٢- يعتبر قرار زعماء الشعب في دار المحكمة بعزل خورشيد باشا وتعيين محمد علي أول مرة في تاريخ مصر الحديث التي يعزل فيها الوالي ويعين آخر بإرادة الشعب ( ✓ )

٢٣- كانت فرنسا وراء محاولة نقل محمد علي من مصر ( ✗ ) إنجلترا

٢٤- تخلص محمد علي من السيد عمر مكرم ونفاه إلى الصعيد ( ✗ ) دمياط

٢٥- كان آخر العقبات في وجه محمد علي المماليك وتخلص منهم في مذبحه القلعة ( ✓ )

٢٦- أرسلت إنجلترا حملة فريزر بعد رضوخ السلطان العثماني لرأي الشعب وتثبيت خورشيد ( ✗ ) محمد علي

٢٧- أرسلت فرنسا بعثة كييف بناءً على طلب من الخديو اسماعيل ( ✗ ) إنجلترا

٢٨- عُرفت وزارة البارودي بوزارة الشعب ( ✗ ) وزارة الثورة

٢٩- كان حريق القاهرة ١٩٥٢ م إيذاناً بنهاية الحكم الملكي في مصر ( ✓ )

السؤال التاسع : ما العلاقة بين

١- هضاب شرق ووسط أفريقيا ، ونهر النيل في مصر ؟

\* تتبع من هضاب شرق أفريقيا " هضبة الحبشة " وهضاب وسط أفريقيا " هضبة البحيرات الاستوائية " روافد نهر النيل مصدر المياه الرئيسي في مصر

٢- امتداد جبال الأنديز ، والسهول الساحلية بأمريكا الجنوبية ؟

\* تضيق السهول الساحلية في غرب أمريكا الجنوبية لامتداد جبال الأنديز من الشمال للجنوب بالقرب من سواحل المحيط الهادي

٣- أشجار الزان ،، و فصل الشتاء ؟

\* أشجار الزان من أهم أشجار الغابات النفضية في إقليم غرب أوروبا والتي تنفض أوراقها في فصل الشتاء بسبب شدة البرودة

٤- ارتفاع السطح في أوغندا وكينيا ،، وتركز السكان ؟

\* أدى ارتفاع السطح في الدول الاستوائية مثل أوغندا وكينيا لاعتدال المناخ وبالتالي تركز السكان فيهما

٥- السهول الفيضية ، والكثافة السكانية ؟

\* ترتفع الكثافة السكانية بالسهولة الفيضية لوفرة المياه وخصوبة التربة وقيام النشاط الزراعي

٦- التضاريس ، وتوزيع السكان في استراليا ؟

\* يتركز السكان في استراليا في السواحل الشرقية حيث المدن الكبرى مثل سيدني وفي سهول نهري مري ودارلنج حيث الأراضي الزراعية، بينما يقل السكان في الداخل والغرب بسبب الظروف الصحراوية ، ويقلوا في الشمال حيث الغابات الموسمية

٧- مشكلات زيادة السكان في آسيا ، و دول أوروبا ؟

\* أدى زيادة السكان في معظم دول آسيا إلى ظهور عدة مشكلات منها الهجرة غير الشرعية إلى الدول المتقدمة خاصة دول أوروبا

٨- امتداد الهضاب والجبال في قارة أفريقيا ، والسهول الساحلية بها ؟

\* تضيق السهول الساحلية في أفريقيا لاقترب حافات الهضاب والجبال من السواحل

٩- العادات والتقاليد ، ونسبة تعليم الإناث ؟

\* هناك عادات وتقاليد في بعض دول العالم تؤثر في معدل تعليم الإناث، حيث يوجد بعض المناطق تحرم المرأة من التعليم لبعض الأفكار الخاطئة ، وتفضل الزواج المبكر للإناث

١٠- عدد الأطباء ، والرعاية الطبية في العالم ؟

\* يعتبر عدد الأطباء مؤشراً مهماً على الرعاية الطبية ، فكلما زاد عدد الأطباء في دولة ما يدل ذلك على ارتفاع الرعاية الطبية بها

١١- حرفة الزراعة البدائية والرعي ،، ومعدلات المواليد في افريقيا ؟

\* من أسباب ارتفاع معدلات المواليد في افريقيا بشكل كبير هو اعتماد السكان على حرف تقليدية مثل الزراعة البدائية والرعي

١٢- التقدم الصحي في قارة أوروبا ،، وتصدرها معدل الوفيات في العالم ؟

\* أدى التقدم الصحي بقارة أوروبا لزيادة عدد فئة كبار السن ، والذي يعتبر السبب في ارتفاع معدل الوفيات فيها

١٣- مستوى الدخل الاقتصادي في الدول ، ونوع النشاط الرئيسي فيها ؟

\* الدول ذات الدخل الاقتصادي المرتفع تعتمد على النشاط الصناعي بينما الدول ذات الدخل الاقتصادي المنخفض يسودها النشاط الزراعي

١٤- الكشوف الجغرافية ، وضعف دولة المماليك ؟

\* أدت الكشوف الجغرافية مثل اكتشاف طريق رأس الرجاء الصالح على يد البرتغاليين إلى تحول طريق التجارة وتدهور دولة المماليك اقتصادياً

١٥- ضعف الدولة العثمانية ، وظهور الحركات الاستقلالية في مصر ؟

\* أدى ضعف الدولة العثمانية لتطلع البكوات المماليك للإنفراد بالحكم مثل حركة علي بك الكبير والذي صار الحاكم الفعلي لمصر عام ١٧٦٨م

١٦- فرمان ١٨٠٦م ، وحملة فريزر ١٨٠٧م ؟

\* نتج عن وقوف الزعامة الشعبية بجانب محمد علي ورفضهم فرمان نقله إلى ولاية سالونيك ورضوخ السلطان العثماني لهم إلى توتر العلاقة بينه وبين بريطانيا فقامت بإرسال حملة فريزر على مصر لخلع محمد علي

١٧- موقعة أبي قير البحرية ،، وثورة القاهرة الأولى ؟

\* نتج عن تحطم الأسطول الفرنسي في موقعة أبي قير البحرية وحصار إنجلترا للحملة الفرنسية في مصر إلى اعتماد الحملة في مواردها على مصر ونهب بيوت المصريين وفرض الضرائب مما أشعل ثورة القاهرة الأولى

١٨- القوة العسكرية ، وبناء الدولة الحديثة في عهد محمد علي ؟

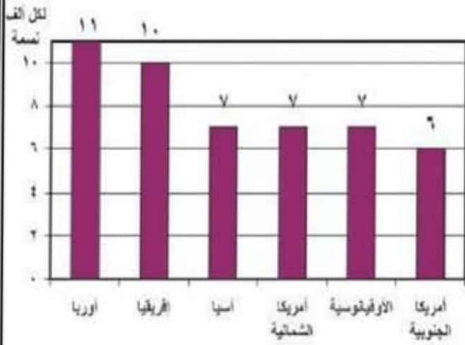
\* أدرك محمد علي أن بناء القوة العسكرية هي الدعامة الأساسية لتحقيق أهدافه وبناء الدولة الحديثة ، فكانت مشروعاته العمرانية والتعليمية بهدف سد حاجة الجيش

١٩- السلطان العثماني ، وهزيمة العرابيين في معركة التل الكبير ١٨٨٢م ؟

\* نجحت إنجلترا في إقناع السلطان العثماني بإصدار منشور بإعلان عصيان عرابي مما أدى إلى إضعاف الروح المعنوية للمقاتلين المصريين وساهم في هزيمة العرابيين في معركة التل الكبير من الإنجليز

٢٠- معاهدة ١٩٣٦م ، وعودة الجيش المصري للسودان ؟

\* كان من نتائج معاهدة ١٩٣٦م بين بريطانيا ومصر عودة الجيش المصري إلى السودان واعتراف بريطانيا بالإدارة المشتركة مع مصر للسودان



**الفقرة الأولى** أمامك تمثيل بياني لمعدل الوفيات في العالم، أجب عما يلي

١- بم تفسر/ تعتبر أوروبا أعلى قارات العالم في معدل الوفيات ؟

\* يرجع ذلك إلى زيادة عدد كبار السن فيها

٢- ما نتائج تقدم الرعاية الصحية والاهتمام بصحة الأطفال بمصر ؟

\* انخفاض معدل الوفيات في مصر

٣- ما العلاقة بين مستوى السكن والتغذية والخدمات الصحية ومعدل الوفيات ؟

\* الدول التي تحرص على مستويات الوقاية الصحية وحماية البيئة من التلوث تقل بها معدلات الوفيات، بينما تزداد في الدول التي تقل فيها الرعاية الصحية وتنتشر بها الأمراض

**الفقرة الثانية** أمامك صورة لهضبة التبت، إحدى هضاب قارة آسيا، أجب من خلالها عن الآتي



١- بم تفسر/ تعرف هضبة التبت بسقف العالم ؟ \* لارتفاعها عن قمم الجبال

٢- دلل // تتميز منطقة وسط آسيا بتضاريس شائقة الارتفاع ؟

\* حيث توجد بها أعلى جبال في العالم "جبال الهيمالايا" ، وأعلى قمة جبلية في العالم "قمة إفرست" ، وأعلى هضاب العالم "هضبة التبت"

٣- ما إسم الإقليم المناخي الذي يسود منطقة وسط آسيا حيث جبال الهيمالايا وهضبة التبت ؟ \* إقليم المناخ الجبلي

**الفقرة الثالثة** أمامك صورة لمنطقة من قارة أنتاركتيكا ، في ضوء ذلك أجب عن الآتي

١- ما النتيجة المترتبة على/ شدة البرودة في قارة أنتاركتيكا ؟

\* أصبحت غير مأهولة بالسكان باستثناء مراكز بحوث للدول الكبرى مثل روسيا والولايات المتحدة وفرنسا وانجلترا

٢- أكمل/ يحيط بقارة أنتاركتيكا من جميع الجهات المحيط .....

\* المحيط القطبي الجنوبي

٣- بم تفسر/ مرور جميع خطوط الطول في قارة أنتاركتيكا ؟

\* لأنها تقع أقصى جنوب الكرة الأرضية، حيث القطب الجنوبي يقع بالقرب من مركزها، و تلتقي عنده كل خطوط الطول

٤- ما هو الإقليم المناخي الوحيد الذي يسود قارة أنتاركتيكا بالكامل ؟

\* إقليم مناخ التندرا

أ / عوني عاطف

الفقرة الرابعة أمامك صورة للسلالات البشرية في العالم، أجب من خلالها عن ما يأتي

١- ما السلالة الأكثر انتشاراً في العالم وتشمل نصف عدد سكان العالم؟



"قوقازي"



"مغولي"



"زنجي"

\* السلالة القوقازية

٢- رغم انصهار السلالات واختلاطها إلا أنه يوجد بعض المجموعات تعرف بالسلالة النقية، حددها مع ذكر أماكن وجودها؟

(أ) بعض الزوج قصار القامة في حوض نهر الكونغو وصحراء كلهاري بأفريقيا

(ب) الإسكيمو في صحاري التندرا شمال كندا

(د) الاستراليون الأصليون في استراليا

٣- أذكر لأي سلالة تنتمي الأقسام الآتية (جماعة التنجوس - البانتو - العرب)

(& جماعة التنجوس "السلالة المغولية" (& البانتو "السلالة الزنجية" (& العرب "السلالة القوقازية"

الفقرة الخامسة أمامك صورة تجمع الزعيم أحمد عرابي والخديو توفيق، من خلالها أجب عن الآتي

١- ما اسم الحدث التاريخي الذي تعبر عنه الصورة في ٩ سبتمبر ١٨٨١م؟ \* مظاهرة عابدين



٢- ما مطالب الأمة التي قدمها عرابي في هذا الحدث؟

\* إسقاط الحكومة المستبدة برئاسة رياض باشا

\* تشكيل مجلس نواب على النسق الأوروبي

\* زيادة عدد الجيش إلى ١٨.٠٠٠ جندي

٣- حدد موقف الخديو توفيق من مطالب الأمة؟

\* اضطر أن يوافق على مطالب الأمة والجيش وأقال رياض باشا وأسند إلى شريف باشا امر تشكيل الوزارة

الفقرة السادسة أمامك صورة تجمع شخصيتين تاريخيتين هما طومان باي وسليم الأول

١- ما المعركة التي انتصر فيها سليم الأول على طومان باي

وصارت مصر بعدها ولاية عثمانية؟ \* معركة الريدانية ١٥١٧م

٢- بم تفسر/ تعرض دولة المماليك إلى أزمات مالية وتدهور

اقتصادي أواخر القرن ال ١٥م؟

\* بسبب اكتشاف البرتغاليين طريق رأس الرجاء الصالح ١٤٩٨م و

تحطم الاسطول المملوكي ١٥٠٩م في معركة ديو البحرية

٣- كان لسقوط دولة المماليك على يد العثمانيين نتائج عديدة أذكر

ما يتعلق بالناحية الدينية؟

\* انتقال خلافة العالم الإسلامي الدينية إلى الدولة العثمانية

\* إعلان سليم الأول نفسه الحامي الوحيد للحرمين الشريفين ولجميع رعاياه في العالم الإسلامي

السلطان سليم الأول

طومان باي

الفقرة السابعة أمامك صورة لثورة شعبية شاملة حدثت في مصر ، أجب عما يلي

١- ما اسم الثورة التي تعبر عنها الصورة ؟ \* ثورة ١٩١٩م

٢- أذكر عاملين من عوامل قيام هذه الثورة ؟

(أ) ازدياد نمو الوعي الوطني لدى المصريين من أجل الاستقلال

(ب) ادعاء انجلترا وحلفائها بأنها تحارب من أجل حرية الشعوب واستقلالها

٣- ما موقف الحكومة البريطانية من هذه الثورة ؟

\* عينت الجنرال النبي مندوباً سامياً في مصر وقررت الإفراج عن سعد زغلول ورفاقه والسماح لهم بالتوجه إلى باريس لعرض قضية استقلال مصر على مؤتمر الصلح



الفقرة الثامنة أمامك صورة تظهر فيها محاصرة الدبابات الإنجليزية لقصر عابدين عام ١٩٤٢م

١- ما اسم الحدث التاريخي الشهير المرتبط بهذه الصورة ؟ \* حادث ٤ فبراير

٢- بم تفسر / محاصرة الدبابات الإنجليزية قصر عابدين ؟

\* لإجبار الملك فاروق تشكيل حكومة جديدة برئاسة مصطفى النحاس وتهديده بخلع عن العرش حال عدم قبول ذلك

٣- ما النتائج المترتبة على / الحدث التاريخي الموضح بالصورة ؟

\* اضطر الملك فاروق قبول الإنذار البريطاني وعرض على مصطفى النحاس باشا رئيس حزب الوفد تأليف الوزارة فقبل ذلك



السؤال الحادي عشر : ما رأيك في

١- مذبحه يافا التي ارتكبتها نابليون أثناء حملته على الشام ؟

\* عمل إجرامي شنيع لا يتوافق مع القيم الأخلاقية حيث قتل جميع أفراد حامية يافا رغم تأمينه على أرواحهم

٢- شروط امتياز حفر قناة السويس ؟

\* ظالمة ومجحفة لمصر ، لأن مصر تنازلت عن الأراضي مجاناً وقدمت ٨٠٪ من العمال ، ونصيبها ١٥٪ فقط من الأرباح

٣- منشور السلطان العثماني بإعلان عصيان عرابي ؟

\* قرار خاطئ لا وافق عليه لأنه أدى لإضعاف الروح المعنوية للمقاتلين المصريين وهزيمتهم أمام الإنجليز

٤- مشاركة المرأة في ثورة ١٩١٩م ؟

\* مشاركة إيجابية وفعالة وتدل على دور المرأة المؤثر في المجتمع المصري وفي العمل الوطني عبر التاريخ

٥- بنود معاهدة ١٩٣٦م ؟

\* لها إيجابيات وسلبيات ، ولكنها كانت خطوة في تحقيق الاستقلال وأدت إلى إلغاء الامتيازات الأجنبية في مصر

٦- موقف أفراد الشرطة المصرية بالإسماعيلية في ٢٥ يناير ١٩٥٢م ؟

\* أظهروا شجاعة الجندي المصري الذي يضحى بدمائه من أجل الوطن

### السؤال الثاني عشر : رتب الأحداث الآتية من الأقدم للأحداث

- \* حركة علي بك الكبير \* معركة الريدانية \* معركة كفر الدوار \* وزارة الشعب  
\* حادث ٤ فبراير \* اكتشاف طريق رأس الرجاء الصالح \* ثورة القاهرة الأولى

### الترتيب من الأقدم للأحدث

- ١- اكتشاف طريق رأس الرجاء الصالح ٢- معركة الريدانية ٣- حركة علي بك الكبير  
٤- ثورة القاهرة الأولى ٥- معركة كفر الدوار ٦- وزارة الشعب ٧- حادث ٤ فبراير

### السؤال الثالث عشر : إلى أي إقليم تنتمي هذه الأشجار والحيوانات

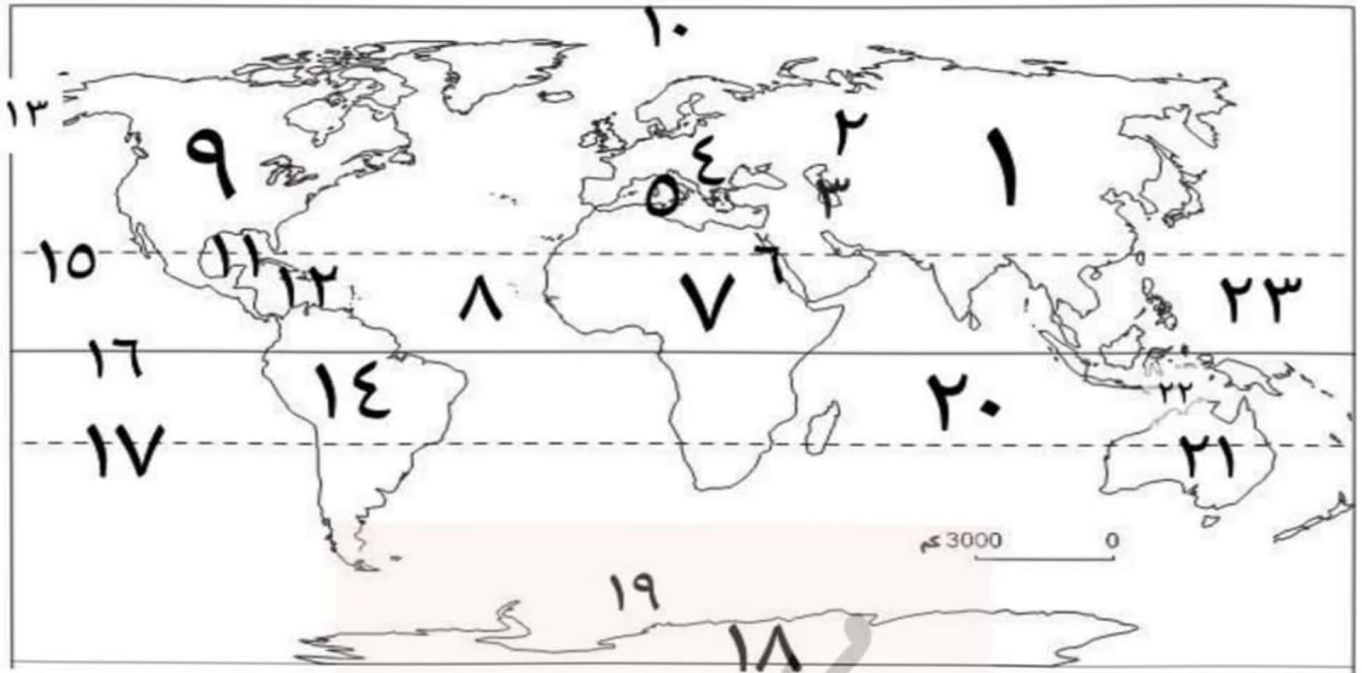
( الماهوجني والمطاط - جوز الهند - الزان - الصفصاف والبلوط - الصنوبر والشربين - الزيتون - الدب القطبي - حيوان الرنة والطحالب - الزواحف والحيوانات المتسلقة )

- ١- الماهوجني والمطاط  إقليم مناخ الاستوائي  
٢- جوز الهند  إقليم مناخ الموسمي  
٣- الزان  إقليم مناخ غرب أوروبا  
٤- الصفصاف والبلوط  إقليم مناخ الصيني  
٥- الصنوبر والشربين  إقليم مناخ اللورانسى  
٦- الزيتون  إقليم مناخ البحر المتوسط  
٧- الدب القطبي  إقليم مناخ اللورانسى  
٨- حيوان الرنة والطحالب  إقليم مناخ التندرا

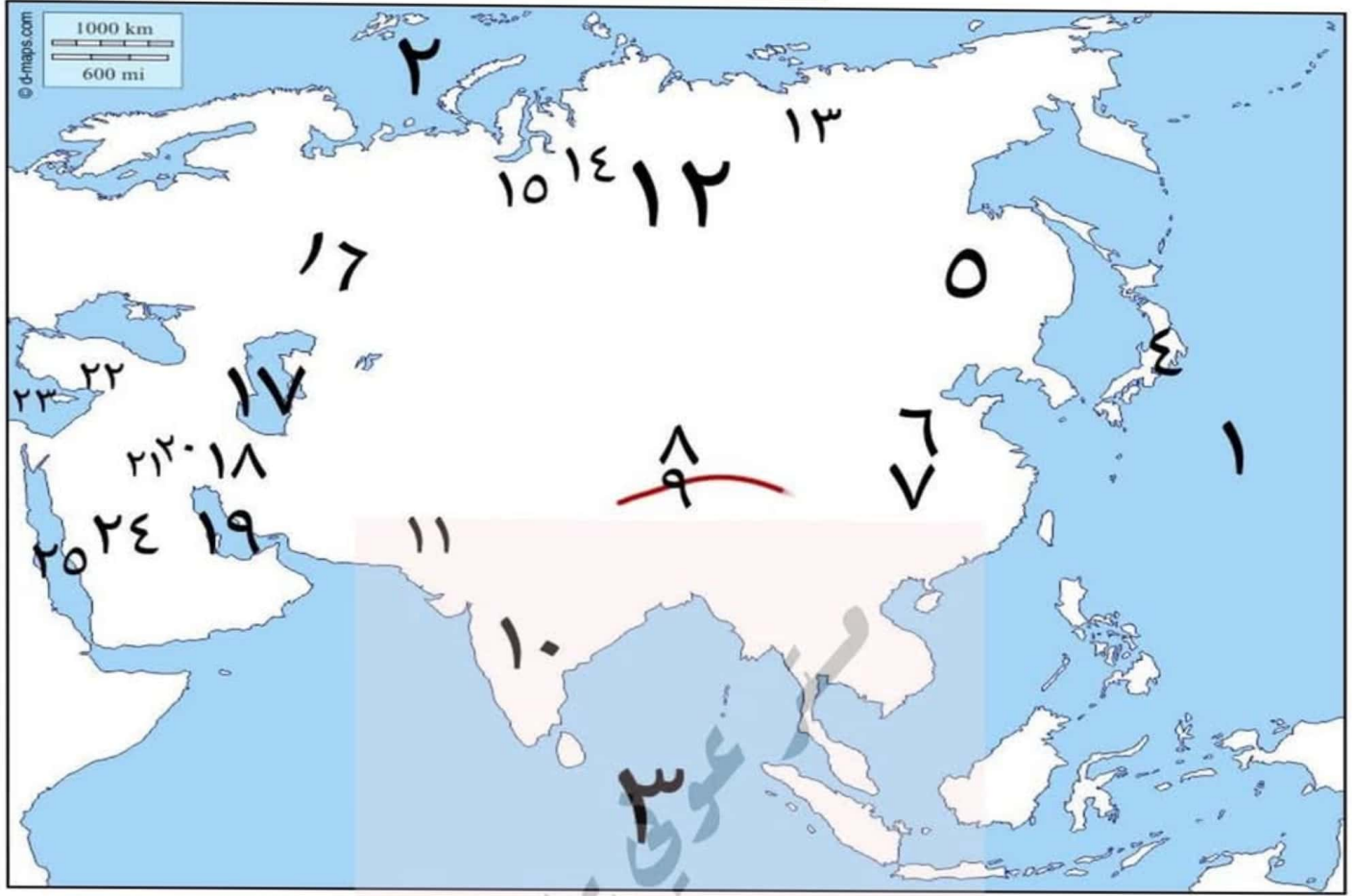
٩- الزواحف والحيوانات المتسلقة  إقليم مناخ الاستوائي

### السؤال الرابع عشر : أذكر مصبات الأنهار الآتية

- ١- يانجتسي (بحر الصين) ٢- السند (المحيط الهندي) ٣- أوب وينسي ولينا (المحيط القطبي الشمالي)  
٤- دجلة والفرات (الخليج العربي) ٥- النيل (البحر المتوسط) ٦- النيجر (خليج غينيا)  
٧- الكونغو (المحيط الأطلنطي) ٨- الأورانج (المحيط الأطلنطي) ٩- ليمبوبو (المحيط الهندي)  
١٠- زمبيزي (المحيط الهندي) ١١- الفولجا (بحر قزوين) ١٢- الدانوب (البحر الأسود)  
١٣- الراين (بحر الشمال) ١٤- نلسن (خليج هدسن) ١٥- المسيسيبي (خليج المكسيك)  
١٦- سانت لورانس (خليج سانت لورانس)  
١٧- الأمزون ولابلاتا وبارانا وباراجواي والأورينكو (المحيط الأطلنطي)

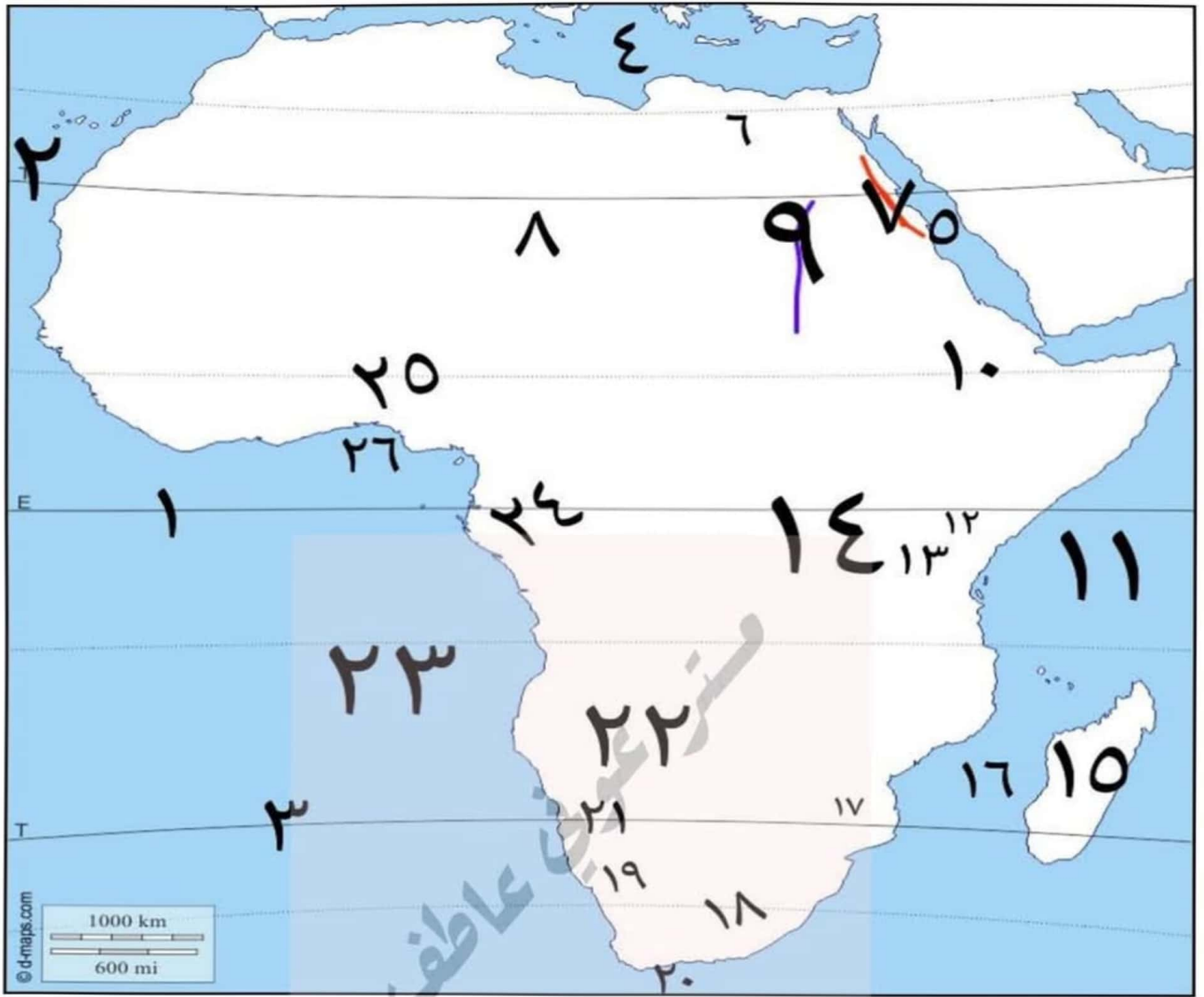


- |                         |                           |                           |                    |
|-------------------------|---------------------------|---------------------------|--------------------|
| ١- قارة آسيا            | ٢- جبال الأورال           | ٣- بحر قزوين              | ٤- قارة أوروبا     |
| ٥- البحر المتوسط        | ٦- البحر الأحمر           | ٧- قارة أفريقيا           | ٨- المحيط الأطلنطي |
| ٩- قارة أمريكا الشمالية | ١٠- المحيط القطبي الشمالي | ١١- خليج المكسيك          | ١٢- البحر الكاريبي |
| ١٣- مضيق بيرنج          | ١٤- قارة أمريكا الجنوبية  | ١٥- مدار السرطان          | ١٦- دائرة الاستواء |
| ١٧- مدار الجدي          | ١٨- قارة أنتاركتيكا       | ١٩- المحيط القطبي الجنوبي | ٢٠- المحيط الهندي  |
| ٢١- قارة أستراليا       | ٢٢- بحر أرافورا           | ٢٣- المحيط الهادي         |                    |

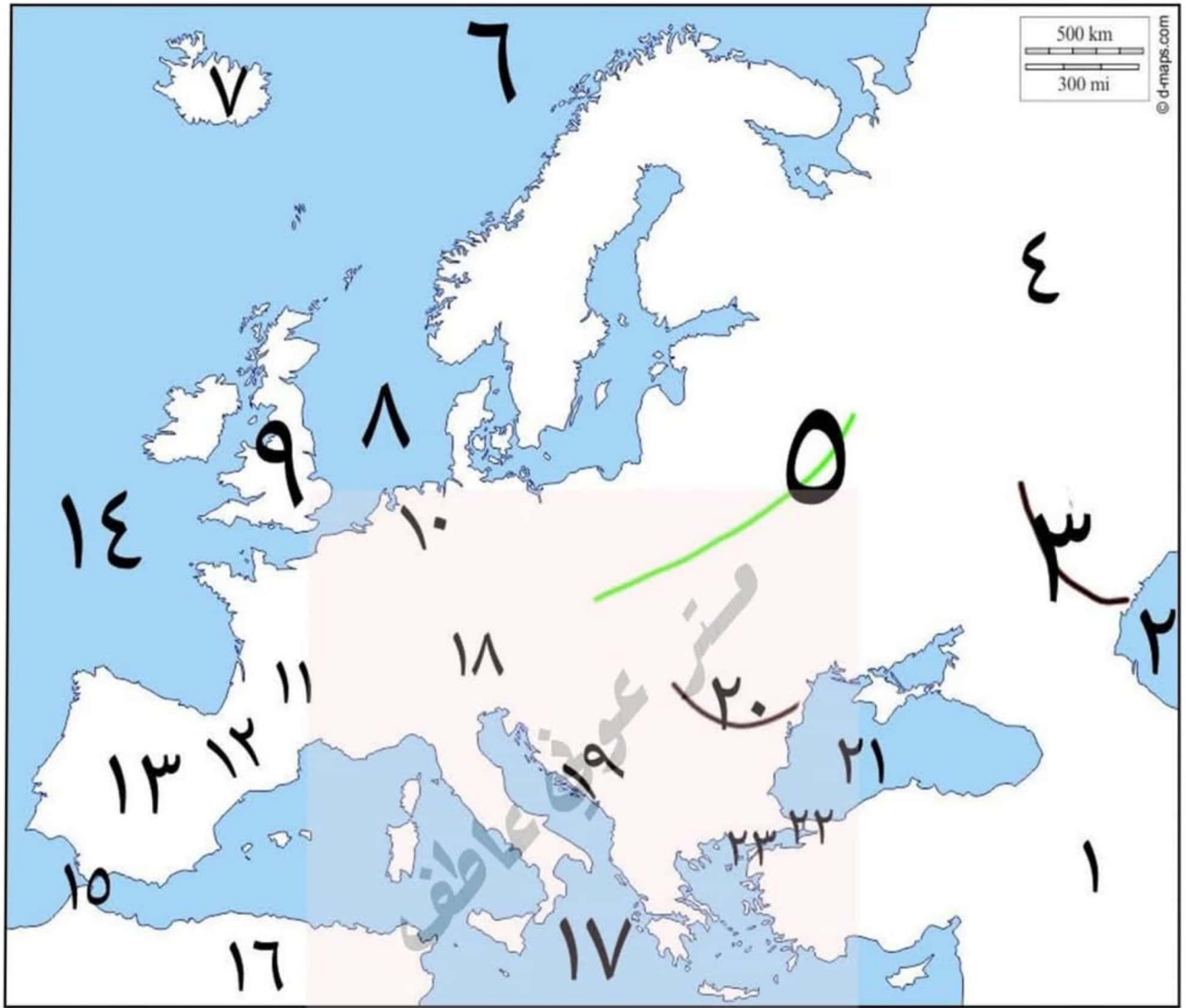
١- تضاريس قارة آسيا

- |                   |                          |                              |
|-------------------|--------------------------|------------------------------|
| ١- المحيط الهادي  | ٢- المحيط القطبي الشمالي | ٣- المحيط الهندي             |
| ٤- جبال اليابان   | ٥- سهول منشوريا          | ٦- سهول شرق الصين            |
| ٧- نهر اليانغتسي  | ٨- هضبة التبت            | ٩- جبال الهيمالايا           |
| ١٠- هضبة الدكن    | ١١- نهر السند            | ١٢- سهول سيبيريا             |
| ١٣- نهر لينا      | ١٤- نهر ينسي             | ١٥- نهر أوب                  |
| ١٦- جبال الأورال  | ١٧- بحر قزوين            | ١٨- جبال زاغروس              |
| ١٩- الخليج العربي | ٢٠- نهر دجلة             | ٢١- نهر الفرات               |
| ٢٢- جبال طوروس    | ٢٣- البحر المتوسط        | ٢٤- هضبة شبه الجزيرة العربية |
| ٢٥- البحر الأحمر  |                          |                              |

## ٢- تضاريس قارة أفريقيا

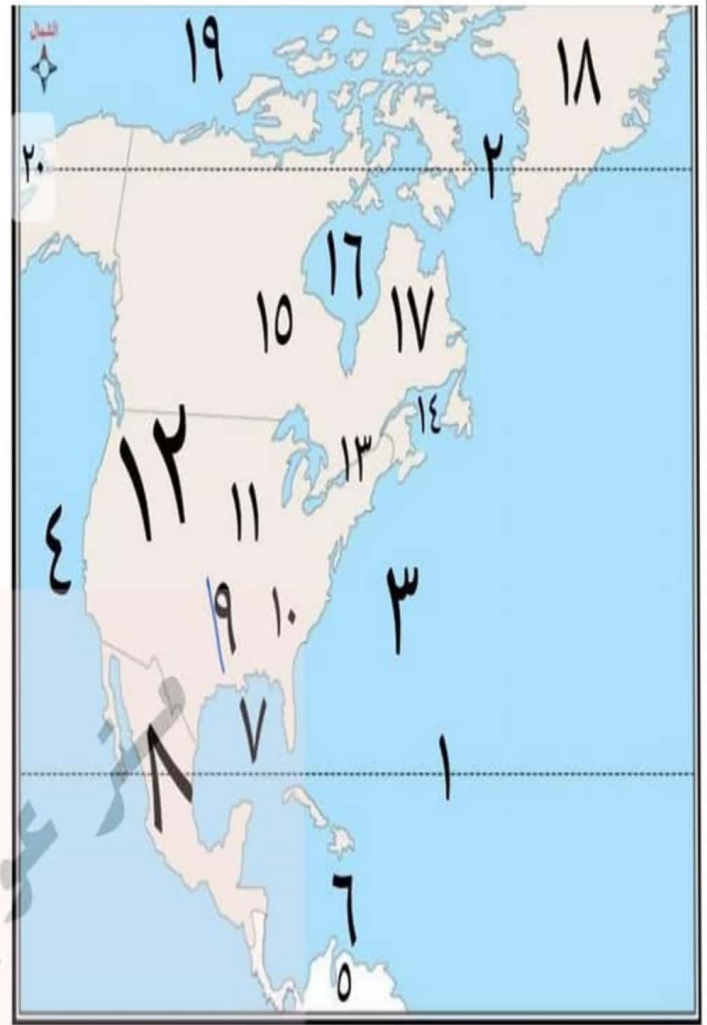


- |                   |                                   |                      |                       |
|-------------------|-----------------------------------|----------------------|-----------------------|
| ١- دائرة الاستواء | ٢- مدار السرطان                   | ٣- مدار الجدي        | ٤- البحر المتوسط      |
| ٥- البحر الأحمر   | ٦- سهل صحراوي "بحر الرمال العظيم" | ٧- جبال البحر الأحمر | ٨- الصحراء الكبرى     |
| ٩- نهر النيل      | ١٠- هضبة الحبشة "أثيوبيا"         | ١١- المحيط الهندي    | ١٢- جبل كينيا         |
| ١٣- جبل كلمنجارو  | ١٤- هضبة البحيرات الاستوائية      | ١٥- جزيرة مدغشقر     | ١٦- مضيق موزمبيق      |
| ١٧- نهر ليمبوبو   | ١٨- جبال دراكنزبرج                | ١٩- نهر أورنج        | ٢٠- رأس الرجاء الصالح |
| ٢١- صحراء كلهاري  | ٢٢- هضبة جنوب أفريقيا             | ٢٣- المحيط الأطلنطي  | ٢٤- نهر الكونغو       |
| ٢٥- نهر النيجر    | ٢٦- خليج غينيا                    |                      |                       |

٣- تضاريس قارة أوروبا

- |                          |                          |                          |
|--------------------------|--------------------------|--------------------------|
| ١- قارة آسيا             | ٢- بحر قزوين             | ٣- نهر الفولجا           |
| ٤- جبال الأورال          | ٥- السهل الأوروبي العظيم | ٦- المحيط القطبي الشمالي |
| ٧- جزيرة آيسلندا         | ٨- بحر الشمال            | ٩- دولة جزرية "انجلترا"  |
| ١٠- نهر الراين           | ١١- هضبة فرنسا الوسطى    | ١٢- جبال البرانس         |
| ١٣- هضبة الميزيتا        | ١٤- المحيط الأطلنطي      | ١٥- مضيق جبل طارق        |
| ١٦- قارة أفريقيا         | ١٧- البحر المتوسط        | ١٨- جبال الألب           |
| ١٩- جبال الألب الدينارية | ٢٠- نهر الدانوب          | ٢١- البحر الأسود         |
| ٢٢- مضيق البسفور         | ٢٣- مضيق الدردنيل        |                          |

## ٤- تضاريس قارة أمريكا الشمالية



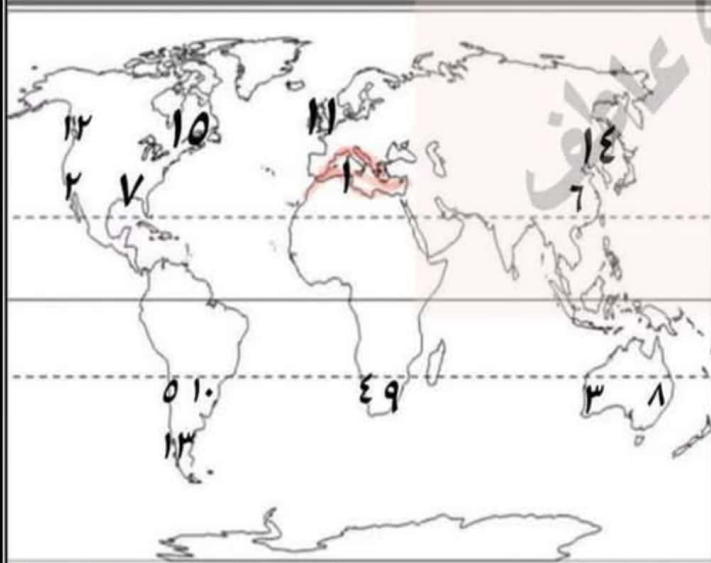
## ٥- تضاريس قارة أمريكا الجنوبية



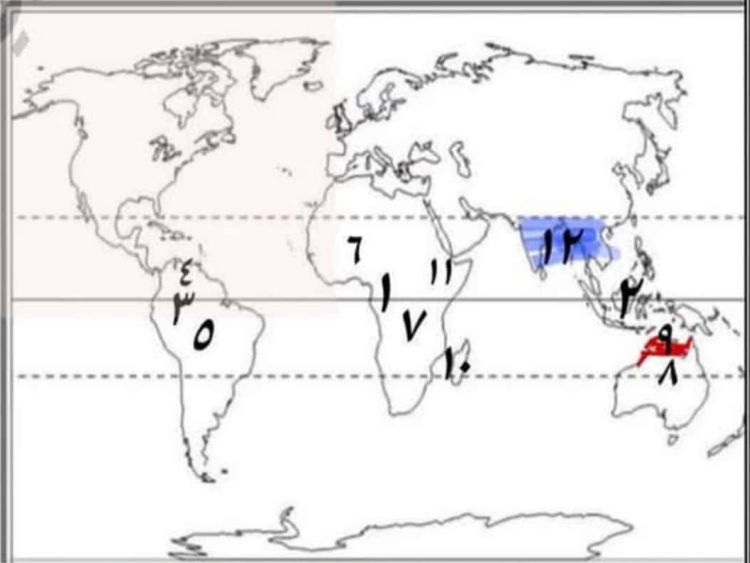
- |                           |                             |                         |                   |
|---------------------------|-----------------------------|-------------------------|-------------------|
| ١- مدار السرطان           | ٢- الدائرة القطبية الشمالية | ١- المحيط الأطلنطي      | ٢- المحيط الهادي  |
| ٣- المحيط الأطلنطي        | ٤- المحيط الهادي            | ٣- قارة أمريكا الشمالية | ٤- البحر الكاريبي |
| ٥- قارة أمريكا الجنوبية   | ٦- البحر الكاريبي           | ٥- نهر الأورينكو        | ٦- هضبة جيانا     |
| ٧- خليج المكسيك           | ٨- هضبة المكسيك             | ٧- نهر الأمزون          | ٨- هضبة البرازيل  |
| ٩- نهر المسيسيبي          | ٩- نهر بارانا               | ٩- نهر بارانا           | ١٠- نهر باراجواي  |
| ١١- السهول الوسطى         | ١٠- جبال الأبلش             | ١١- جبال الأنديز        | ١٢- سهل البمباس   |
| ١٣- نهر سانت لورانس       | ١٢- جبال روكي               | ١٣- نهر لابلاتا         | ١٤- هضبة بتاجونيا |
| ١٥- نهر نلسن              | ١٤- خليج سانت لورانس        | ١٥- مضيق ماجلان         |                   |
| ١٧- هضبة لبرادور          | ١٦- خليج هدسن               |                         |                   |
| ١٧- هضبة لبرادور          | ١٨- جزيرة جرينلاند          |                         |                   |
| ١٩- المحيط القطبي الشمالي | ٢٠- مضيق بيرنج              |                         |                   |

٦- تضاريس قارة أستراليا

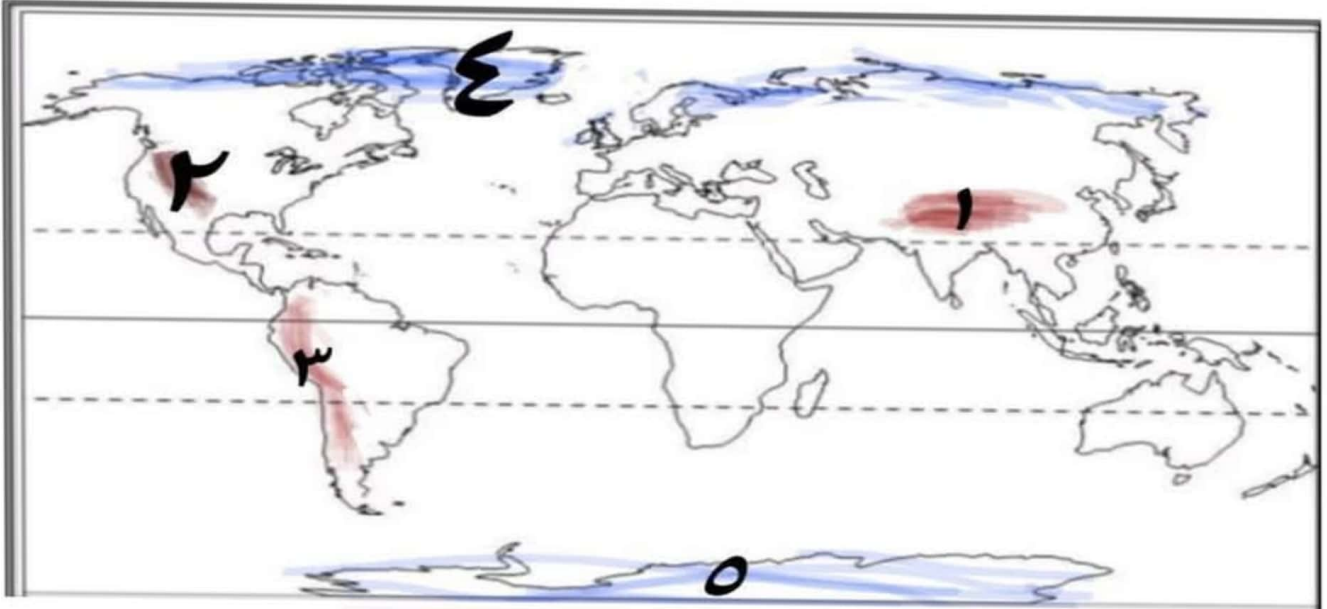
- ١- المحيط الهادي      ٢- المحيط الهندي      ٣- المحيط الهندي      ٤- جزيرة تسمانيا  
 ٥- الخليج الاسترالي الكبير      ٦- خليج كاربنتريا      ٧- بحر أرافورا      ٨- صحراء فيكتوريا الكبرى  
 ٩- الهضبة الغربية      ١٠- الصحراء الرملية الكبرى      ١١- جبال الحاجز الكبير  
 ١٢- جبال الحاجز الكبير      ١٣- نهر دارلنج      ١٤- نهر مري

خرائط درس : المناخ والنبات الطبيعي في العالمخريطة الاقاليم المعتدلةخريطة الأقاليم الحارة

- ١، ٢، ٣، ٤، ٥ ← إقليم مناخ البحر المتوسط  
 ٦، ٧، ٨، ٩، ١٠ ← إقليم مناخ الصيني  
 ١١، ١٢، ١٣ ← إقليم مناخ غرب أوروبا  
 ١٤، ١٥ ← إقليم مناخ المعتدل البارد اللورانسبي

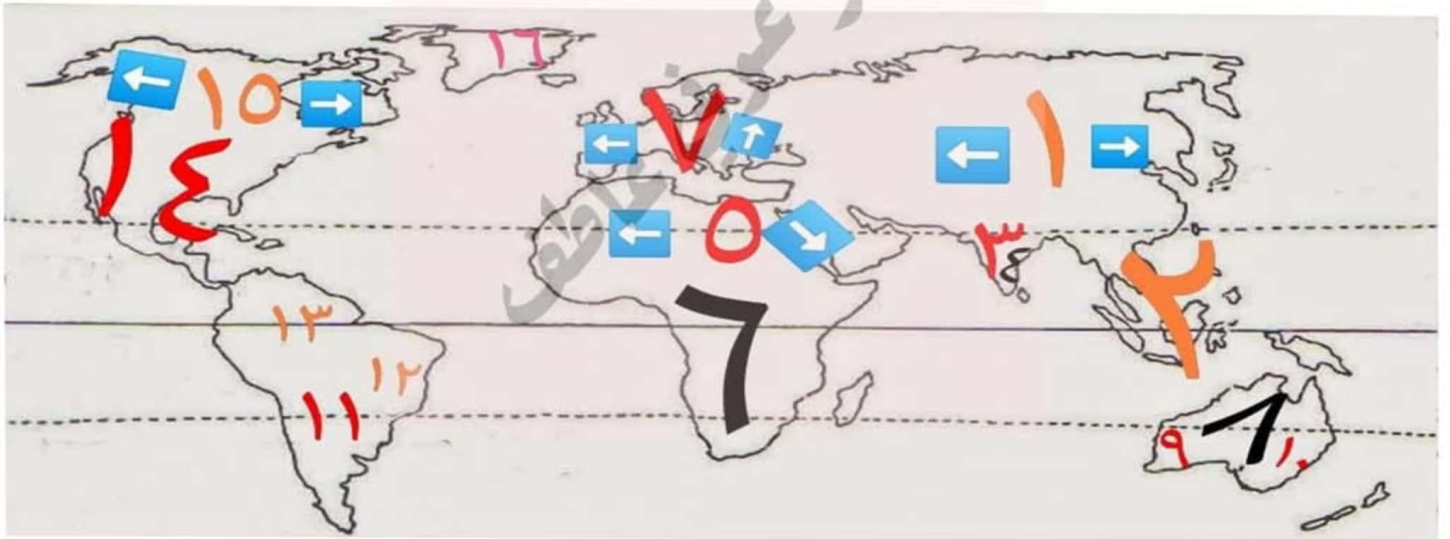


- ١، ٢، ٣ ← إقليم مناخ الاستوائي وشبه الاستوائي  
 ٤، ٥، ٦، ٧، ٨ ← إقليم مناخ المداري  
 ٩، ١٠، ١١، ١٢ ← إقليم مناخ الموسمي

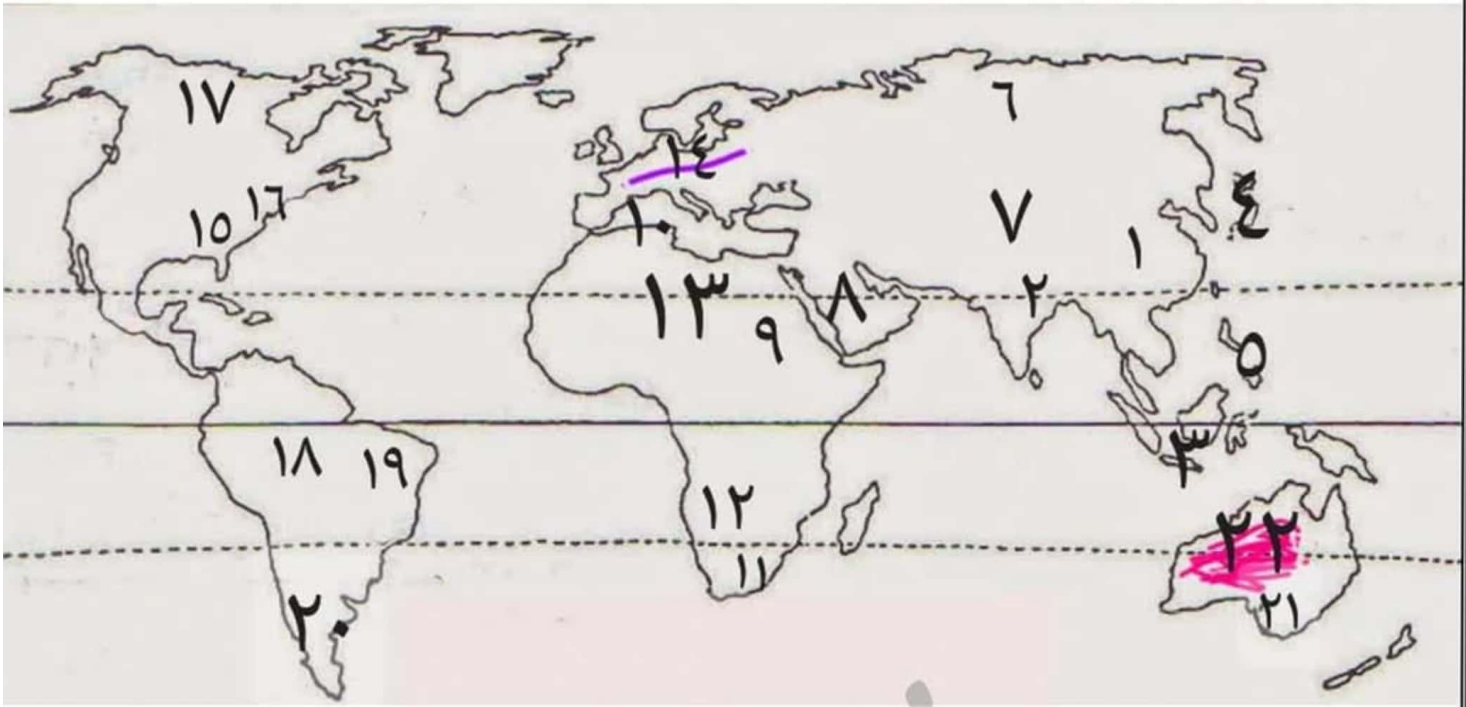


٥ ، ٤ ← إقليم مناخ التندرا

٣ ، ٢ ، ١ ← إقليم مناخ الجبلي

خريطة درس : السلالات البشرية في العالم

- |                      |                       |                       |                      |
|----------------------|-----------------------|-----------------------|----------------------|
| ١- السلالة المغولية  | ٢- السلالة المغولية   | ٣- السلالة القوقازية  | ٤- السلالة الزنجية   |
| ٥- السلالة القوقازية | ٦- السلالة الزنجية    | ٧- السلالة القوقازية  | ٨- السلالة الزنجية   |
| ٩- السلالة القوقازية | ١٠- السلالة القوقازية | ١١- السلالة القوقازية | ١٢- السلالة المغولية |
| ١٣- السلالة المغولية | ١٤- السلالة القوقازية | ١٥- السلالة المغولية  | ١٦- مناطق غير مأهولة |



- ١- منطقة تركيز سكاني (سهول نهر يانجتسي)
- ٢- منطقة تركيز سكاني (سهول نهر الجانج)
- ٣- أكثر منطقة إزدحاماً بالعالم (جزيرة جاوة)
- ٤- منطقة تركيز سكاني (جزر اليابان)
- ٥- منطقة تركيز سكاني (جزر الفلبين)
- ٦- منطقة قليلة السكان (سهول سيبيريا)
- ٧- مناطق قليلة السكان (ج.الهمالايا وهضبة التبت)
- ٨- منطقة صحراوية (شبه الجزيرة العربية)
- ٩- منطقة تركيز سكاني (سهول وادي النيل)
- ١٠- منطقة تركيز سكاني (سواحل البحر المتوسط)
- ١١- منطقة تركيز سكاني (سواحل جنوب أفريقيا)
- ١٢- منطقة قليلة السكان (صحراء كلهاري)
- ١٣- منطقة قليلة السكان (الصحراء الكبرى)
- ١٤- منطقة تركيز سكاني (السهل الأوروبي العظيم)
- ١٥- منطقة تركيز سكاني (سهول المسيسيبي)
- ١٦- مدينة اقتصادية كبرى (نيويورك)
- ١٧- شمال أمريكا الشمالية (منطقة قليلة السكان)
- ١٨- منطقة قليلة السكان (سهول نهر الأمازون)
- ١٩- أكبر دولة سكانية بأمريكا الجنوبية (البرازيل)
- ٢٠- منطقة قليلة السكان (هضبة بتاجونيا)
- ٢١- منطقة تركيز سكاني (سهول نهري مري ودارلنج)
- ٢٢- مناطق صحراوية (داخل وغرب أستراليا)