

الوحدة الاولى :-الدرس الاول

قارات العالم

السؤال الاول:- اكتب المفهوم الذي تدل عليه العبارة:-

- ١) الموقع بالنسبة لخطوط الطول ودوائر العرض (**الموقع الفلكي**)
- ٢) موقع المكان بالنسبة للاماكن الاخرى من بحار و محيطات قارات او دول مجاوره (**الموقع الجغرافي**)
- ٣) الدول التي تتكون من جزيره او اكثر او قد تكون جزءا من جزيره (**الدول الجزرية**)
- ٤) اكبر بحر مغلق في العالم ويوجد في قاره اسيا (**بحر قزوين**)
- ٥) قاره متجمدة وغير مأهولة بالسكان وتقع اقصى جنوب الكره الأرضية (**القاره القطبية الجنوبية**)
- ٦) قاره تتكون من مجموعه من الجزر يحدها من الشرق المحيط الهادي وغربا وجنوبا المحيط الهندي (**استراليا**)
- ٧) قاره تقع معظمها في نصف الكره الجنوبي وتبدو في شكل اقرب للمثلث (**امريكا الجنوبية**)
- ٨) بحر يفصل قارتي امريكا الشمالية و الجنوبية عن بعضهما (**البحر الكاريبي**)
- ٩) قاره تتميز بقله جزرها و يفصلها عن قاره اوروبا البحر المتوسط (**افريقيا**)
- ١٠) قاره يحدها من الشمال المحيط القطبي الشمالي ومن الجنوب البحر المتوسط وتتميز بكثرة جذرها (**اوروبا**)
- ١١) قاره يفصلها عن افريقيا البحر الاحمر ويحدها من الجنوب المحيط الهندي وشرقا المحيط الهادي (**اسيا**)
- ١٢) جبال تفصل قاره اسيا عن اوروبا (**جبال الأورال**)

السؤال الثاني:- بم تفسر:-

- ١) تعتبر قاره استراليا جزيره؟ -----» لأنها محاطة بالمياه من جميع الجهات
- ٢) تعتبر اسيا شبه جزيره؟ -----» لأنها محاطة بالمياه من ثلاث جهات

السؤال الثالث اكمل:-

- ١) تقترب اسيا من افريقيا عند مضيق باب المنذب وتتصل بها عند شبه جزيرة سيناء
- ٢) يحدها اسيا من الغرب كلا من اوروبا و البحر المتوسط والبحر الأحمر ومن الشرق المحيط الهادي
- ٣) يحدها اسيا من الشمال المحيط المتجمد الشمالي ومن الجنوب المحيط الهندي
- ٤) يحدها افريقيا من الغرب المحيط الأطلنطي ومن الشرق البحر الاحمر و المحيط الهندي
- ٥) بحر يفصل قاره اسيا عن افريقيا البحر الاحمر ومن اهم الجزر في افريقيا مدغشقر و جزر القمر
- ٦) يحدها اوروبا من الشمال المحيط المتجمد الشمالي ومن الجنوب البحر المتوسط ومن الشرق قارة اسيا ومن الغرب المحيط الأطلنطي

- ٧) يحد قاره امريكا الجنوبية من الشرق **المحيط الأطلنطي** ومن الغرب **المحيط الهادئ**
- ٨) يحد قاره امريكا الشمالية من الشرق **المحيط الأطلنطي** ومن الغرب **المحيط الهادئ** ومن الجنوب الشرقي **خليج المكسيك و البحر الكاريبي**
- ٩) يحد استراليا من الجنوب والغرب **المحيط الهندي** ومن الشرق **المحيط الهادئ** وشمالا بحر ارفورا
- ١٠) محيط يحد كل من قارة اوروبا و امريكا الشمالية واسيا شمالا **المحيط المتجمد الشمالي**
- ١١) تقع اقصى جنوب الكره الأرضية ويحيط بها المحيط المتجمد الجنوبي من جميع الجهات **قارة انتاركتيكا**
- ١٢) تضم استراليا مجموعه من الجزر منها **نيوزيلندا الشمالية و نيوزيلندا الجنوبية و تسمانيا**
- ١٣) توجد بعض مراكز البحوث في القارة القطبية الجنوبية مقسمة بين عدد من الدول منها **انجلترا و فرنسا و الولايات المتحدة الأمريكية وروسيا**
- ١٤) يمر مدار السرطان في قارة **أمريكا الشمالية و افريقيا و اسيا**
- ١٤) يمر مدار الجدى قارة **أمريكا الجنوبية و افريقيا و استراليا**
- ١٥) تمر الدائرة القطبية الشمالية في كل من **آسيا و أوروبا و أمريكا الشمالية**
- ١٦) تمر الدائرة القطبية الجنوبية في قارة **انتاركتيكا**
- ١٧) تمر دائرة الاستواء في قاره **اسيا و افريقيا و أمريكا الجنوبية**

السؤال الرابع في اى قاره ينتمى كل من:-

- ١) جزر اندونيسيا ----- « اسيا (٢) بحر ارفورا ----- « استراليا
- ٣) جزر تسمانيا ----- « استراليا (٤) نيوزيلندا الشمالية والجنوبية ----- « استراليا
- ٥) خليج المكسيك ----- « أمريكا الشمالية (٦) جزر القمر ----- « افريقيا
- ٧) بحر قزوين ----- « اسيا (٨) شبه جزيره الملايو ----- « اسيا

السؤال الرابع:- اختر:-

- ١) يفصل قاره اسيا عن اوروبا جبال..... (الاورال- الهيمالايا- زاغروس- كينيا)
- ٢) تقترب اسيا من امريكا الشمالية عند مضيق..... (جبل طارق- هرمز- باب المندب- **بيزنج**)
- ٣) اكبر بحر مغلق في العالم (**بحر قزوين**- الميت- الاسود- البحر الاحمر)
- ٤) يحد.....قاره افريقيا من الشمال و يفصلها عن قاره اوروبا (البحر الاحمر- **البحر المتوسط**- المحيط الهادي)
- ٥) يحد امريكا الجنوبية شمالا ويفصل بينها وبين امريكا الشمالية.....
(المحيط الهادي- **البحر الكاريبي** - المحيط الاطلنطي)

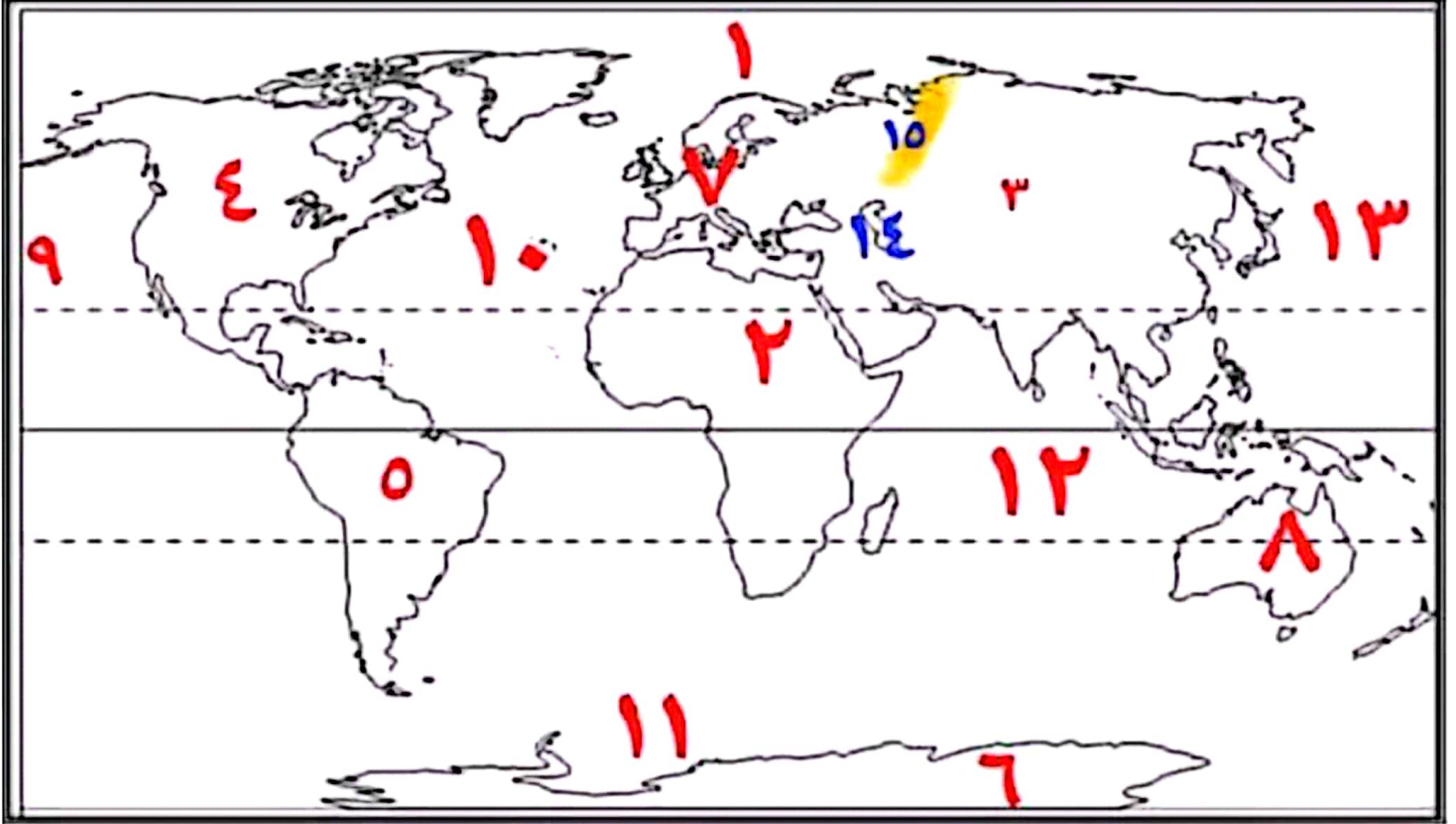
٦) تضم استراليا مجموعه من الجزر مثل..... (مدغشقر- الفلبين - الملايو - **تسمانيا**)

٧) بحر..... يفصل استراليا عن جزر اندونيسيا(قزوين - الميت - **ارفورا** - المتوسط)

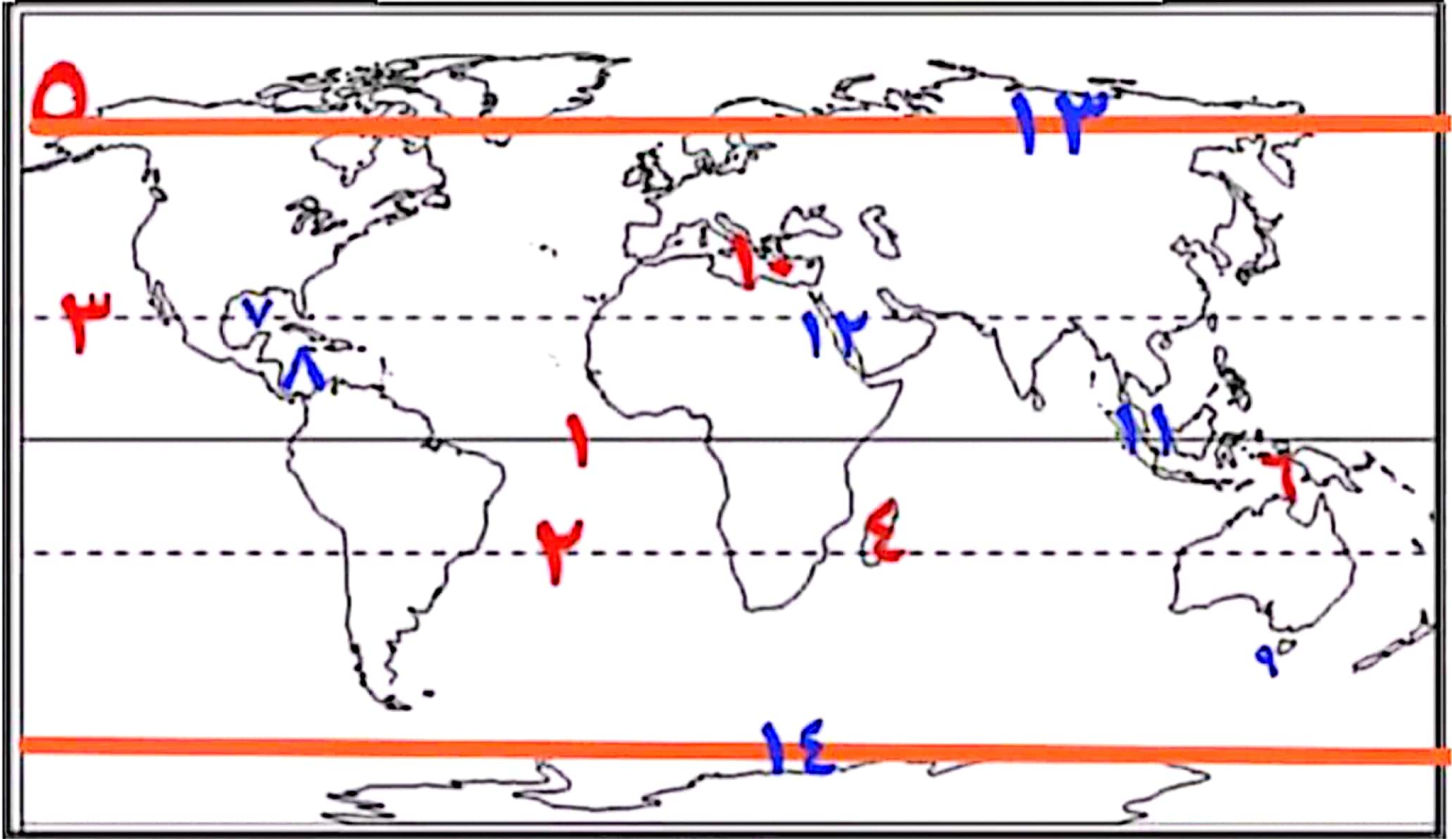
السؤال الخامس:- ما النتائج المترتبة على

١) تعرج السواحل وكثره الجزر في قاره اوروبا؟ «-----» ساعد على كثرة الموانئ الطبيعية

السؤال السادس:- الخريطة



- | | |
|----------------------------|-------------------------|
| ١) المحيط المتجمد الشمالي | ٢) قاره افريقيا |
| ٣) قاره اسيا | ٤) قاره امريكا الشمالية |
| ٥) قاره امريكا الجنوبية | ٦) قارة انتاركتيكا |
| ٧) قاره اوروبا | ٨) قارة استراليا |
| ٩) المحيط الهادئ | ١٠) المحيط الأطلنطي |
| ١١) المحيط المتجمد الجنوبي | ١٢) المحيط الهندي |
| ١٣) المحيط الهادئ | ١٤) بحر قزوين |
| | ١٥) جبال الأورال |



خالد

- | | |
|-------------------------------|-------------------------------|
| (٢) مدار الجدي | (١) دائرة الاستواء |
| (٤) جزيرة مدغشقر | (٣) مدار السرطان |
| (٦) بحر ارفورا | (٥) مضيق بيرنج |
| (٨) البحر الكاريبي | (٧) خليج المكسيك |
| (١٠) البحر المتوسط | (٩) جزر تسمانيا |
| (١٢) البحر الاحمر | (١١) جزر اندونيسيا |
| (١٤) الدائرة القطبية الجنوبية | (١٣) الدائرة القطبية الشمالية |

- (١١) جبال تقع شرق قاره افريقيا (**جبال كينا و كلمنجارو**)
- (١٢) هضبة تقع شرق افريقيا وتتبع منها روافد نهر النيل (**هضبة الحبشة**)
- (١٣) هضبة تقع وسط افريقيا وتتبع منها روافد نهر النيل (**هضبة البحيرات الاستوائية**)
- (١٤) هضبة يجري بها نهري اورانج و لمبوبو (**هضبة جنوب افريقيا**)
- (١٥) احد انهار افريقيا و يصب الخليج غينيا (**نهر النيجر**)
- (١٦) سهل صحراوي يقع في ليبيا. (**سهل كلنشو**)
- (١٧) سهل صحراوي يقع جنوب قاره افريقيا. (**صحراء كلهاري**)
- (١٨) سلاسل جبال تمتد في وسط اوروبا من الغرب للشرق وتختلف في مسمياتها (**جبال الألب**)
- (١٩) جبال تقع في شمال اسبانيا (**جبال البرانس**)
- (٢٠) جبال تقع في شبه جزيرة البلقان (**جبال الألب الدينارية**)
- (٢١) هضبة تشغل معظم مساحة اسبانيا (**هضبة الميرينا**)
- (٢٢) نهر يقطع هضبة فرنسا الوسطى (**نهر السين**)
- (٢٣) اطول انهار قاره اوروبا (**نهر الفولجا**)
- (٢٤) نهر يصب في بحر الشمال (**نهر الراين**)
- (٢٥) نهر يصب في البحر الاسود (**نهر الدانوب**)
- (٢٦) بحر مغلق يصب فيه نهر الفولجا (**بحر قزوين**)
- (٢٧) سلاسل جبال تقع شرق امريكا الشماليه (**جبال الابلاش**)
- (٢٨) اعلى جبال امريكا الشماليه وتقع غرب القاره (**جبال روكي**)
- (٢٩) الاراضي التي تجري بها النهر او احد روافده او تنحدر مياهه اليها (**السهل**)
- (٣٠) سهول تمتد جنوب امريكا الشماليه وتصب في خليج المكسيك (**سهول نهر المسيسيبي**)
- (٣١) سلاسل جبليه مرتفعه تقع غرب امريكا الجنوبيه على سواحل المحيط الهادي (**جبال الانديز**)
- (٣٢) اكبر هضاب امريكا الجنوبيه واكثرها ارتفاعا (**هضبة البرازيل**)
- (٣٣) اصغر هضاب امريكا الجنوبيه وتقع جنوب القاره (**هضبة بتاجونيا**)
- (٣٤) اوسع سهول فيضيه في العالم (**سهول نهر الامازون**)
- (٣٥) هضبة تشغل معظم مساحة استراليا (**الهضبة الغربية**)
- (٣٦) جبال تمتد شرق قاره استراليا على شكل قوس (**جبال الحاجز الكبير**)

(٣٧) خليجي يصب فيه نهري مري ودارلنج (الخليج الاسترالي الكبير)

السؤال الرابع اكمل:-

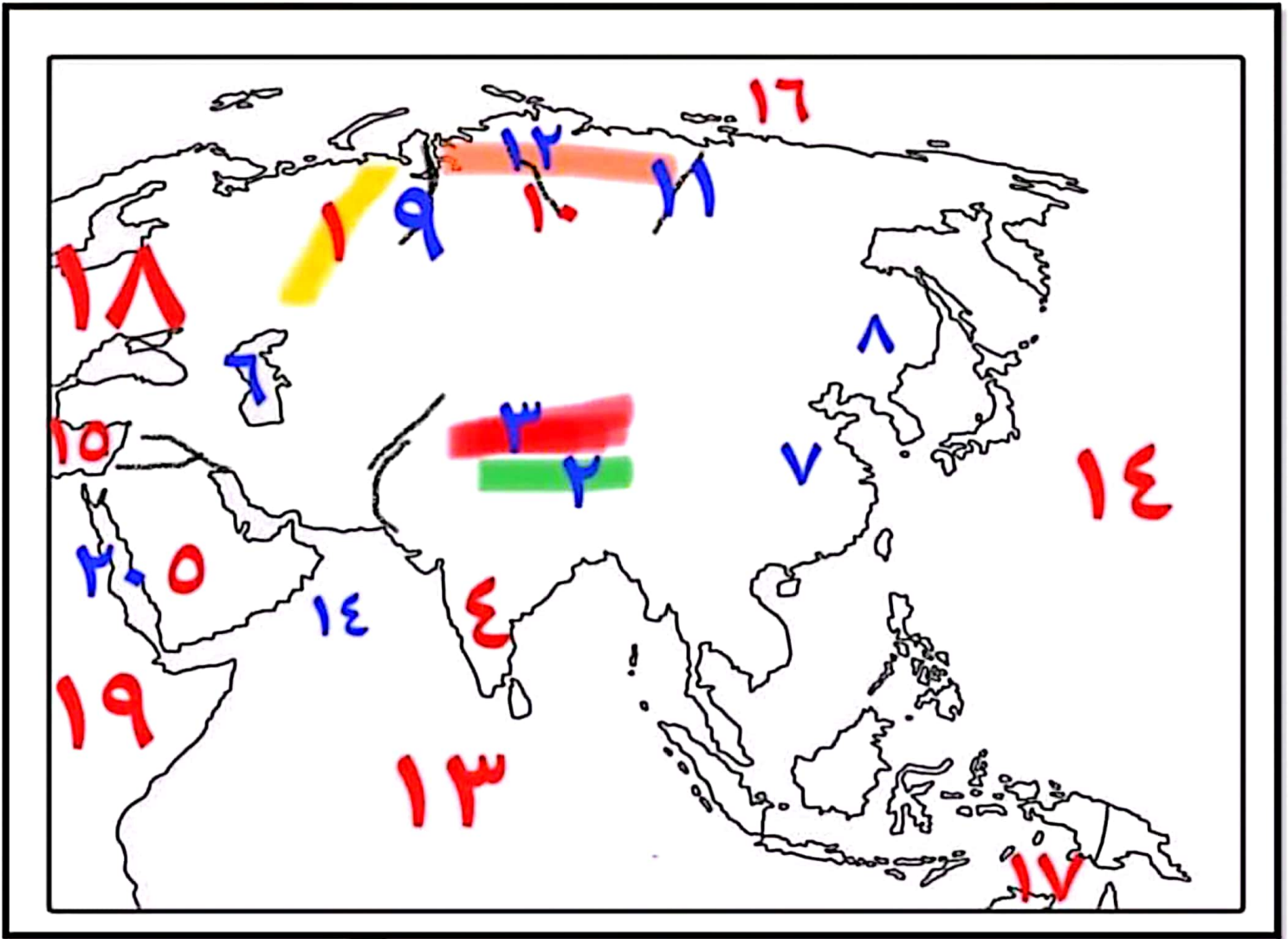
- ١) تقع جبال اليابان شرق قاره اسيا
- ٢) تقع جبال طوروس في تركيا باسيا
- ٣) تقع جبال زاغروس في العراق وايران
- ٤) هضبه شبه الجزيرة العربية تقع جنوب غرب اسيا
- ٥) سهول تجري بها انهار اوب وينسي ولينا سهول سيبريا
- ٦) سهول نهر السند يصب في المحيط الهندي
- ٧) سهول نهري دجله والفرات يصبان في الخليج العربي
- ٨) تقع جبال كينيا و كلمنجارو شرق افريقيا
- ٩) يصب نهر الكونغو في المحيط الاطلنطي
- ١٠) يصب النهر النيل في البحر المتوسط
- ١١) من اهم هضاب قاره اوروبا الميزيتا و فرنسا الوسطى
- ١٢) يصب نهر نلسن في خليج هدسن
- ١٣) سهول البمباس تصب في المحيط الاطلنطي
- ١٤) تقع هضبه جيانا شمال قاره امريكا الجنوبيه

السؤال الخامس ضع علامه صح او خطأ مع التصويب:-

- ١) تمتد جبال الحاجز الكبير في غرب استراليا (x) الشرق
- ٢) تكثر الهضاب غرب جبال الانديز بامريكا الجنوبيه (x) شرق
- ٣) تقع هضبة لبرادور شمال غرب امريكا الشماليه (x) شمال شرق
- ٤) تضيق السهول الساحليه جهة الشرق في استراليا (✓)
- ٥) يمتد السهل الاوروبي العظيم من المحيط الاطلنطي غربا لجبال الاورال شرقا (✓)

السؤال السادس:- اختر:-

- ١) يصب نهر الفولجا في بحر---- (قزوين - الشمال - الاسود -الميت)
- ٢) اعلى هضاب العالم ----(بتاجونيا -جيانا - البرازيل - التبت)



١) جبال الأورال

٢) جبال الهيمالايا

٣) هضبة التبت

٤) هضبة الدكن

٥) هضبة شبه الجزيرة العربية.

٦) بحر قزوين.

٧) سهول شرق الصين (اليانجستي).

٨) سهول منشوريا

٩) نهر اوب

١٠) نهر ينس

١١) نهر لينا

١٢) سهول سيبيريا

١٣) المحيط الهندي

١٤) البحر العربي

١٥) البحر المتوسط

١٦) المحيط القطبي الشمالي

١٧) بحر ارفورا

١٨) قارة أوروبا

١٩) قارة أفريقيا

٢٠) البحر الاحمر

١) المحيط الأطلنطي

٢) السهل الأوربي العظيم

٣) البحر المتوسط

٤) نهر الدانوب

٥) نهر الفولجا

٦) هضبة الميزينا

٧) نهر الراين

٨) بحر الشمال

٩) البحر الأسود

١٠) بحر قزوين

١١) جبال الألب الدينارية

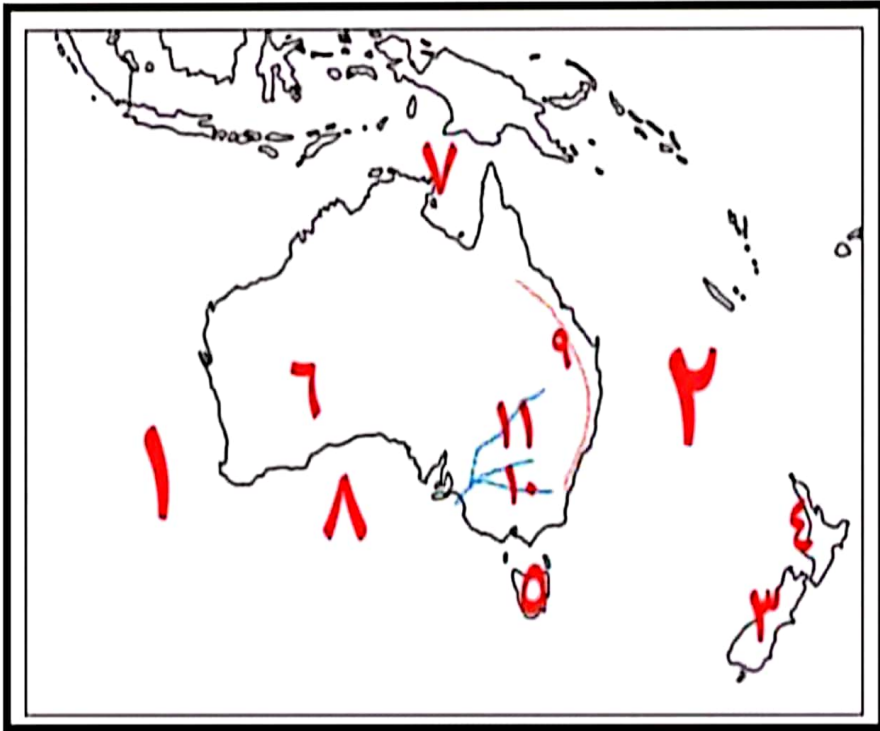
١٢) جبال البرانس

١٣) هضبة فرنسا الوسطى.

١٥) قارة آسيا.

١٤) المحيط القطبي الشمالي

١٦) جبال الأورال



١) المحيط الهندي

٢) المحيط الهادئ

٣) جزيرة نيوزيلندا الجنوبية

٤) جزيرة نيوزيلندا الشمالية

٥) جزيرة تسمانيا

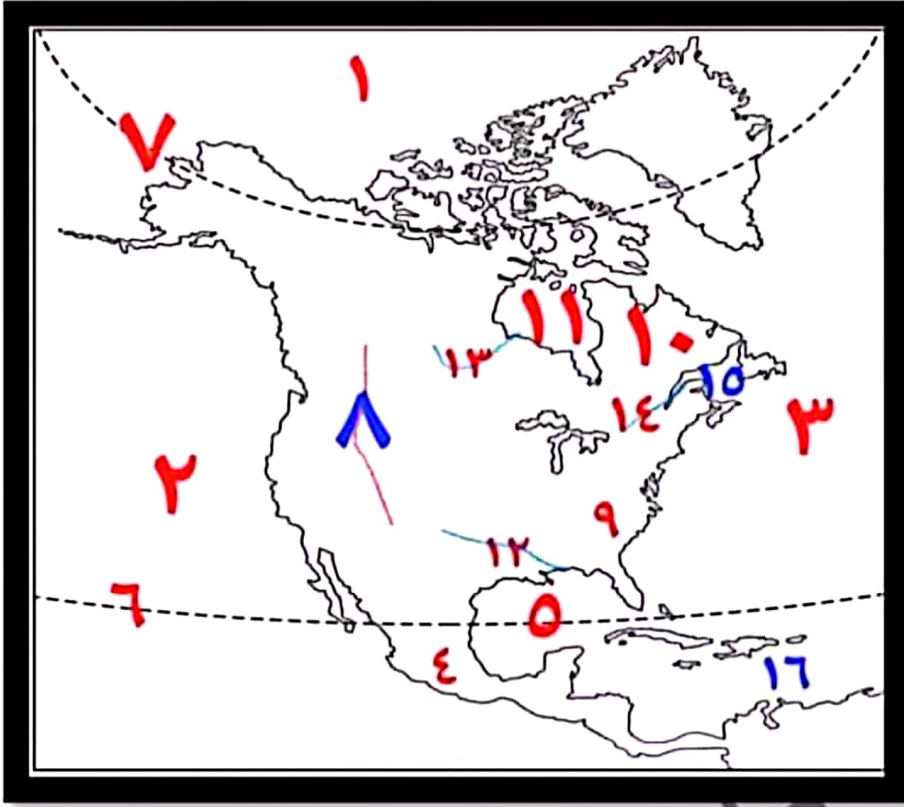
٦) الهضبة الغربية

٧) بحر ارفورا

٨) الخليج الاسترالي الكبير

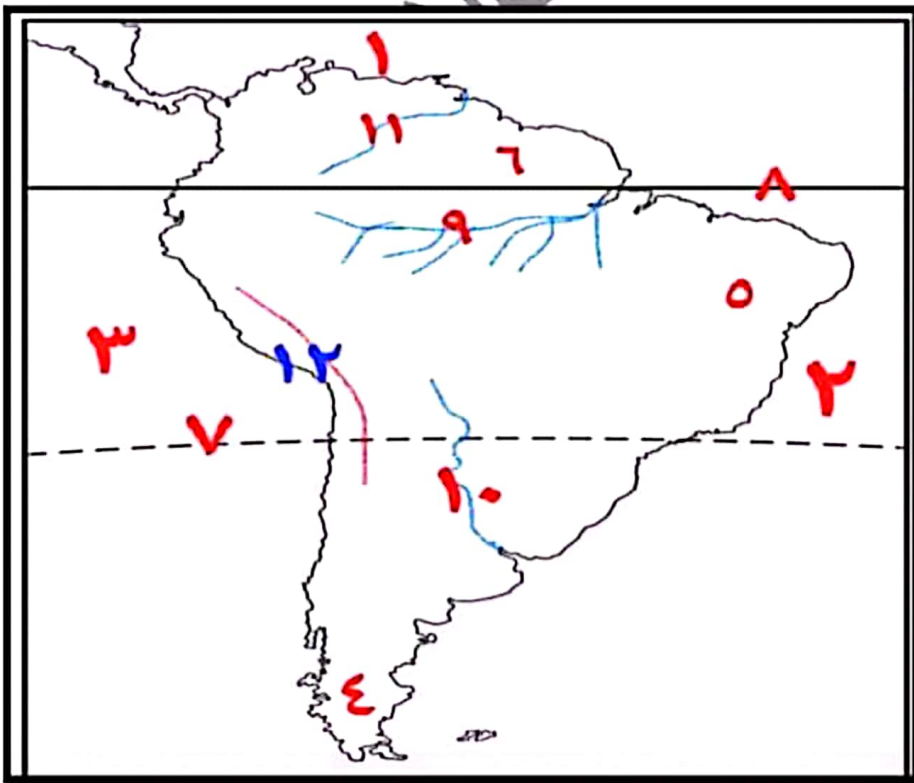
٩) جبال الحاجز الكبير

١٠) نهر مري. ١١) نهر دارلنج



١٣) نهر نلسن. ١٤) نهر سانت لورانس

- ١) المحيط القطبي الشمالي
- ٢) المحيط الهادئ
- ٣) المحيط الأطلنطي
- ٤) هضبة المكسيك
- ٥) خليج المكسيك
- ٦) مدار السرطان
- ٧) الدائرة القطبية الشمالية
- ٨) جبال روكي
- ٩) جبال الابلاش
- ١٠) هضبة لبرادور
- ١١) خليج هدسن
- ١٢) نهر المسيسيبي.
- ١٥) خليج سانت لورانس



- ١) البحر الكاريبي
- ٢) المحيط الأطلنطي
- ٣) المحيط الهندي
- ٤) هضبة بتاجونيا
- ٥) هضبة البرازيل
- ٦) هضبة جيانا
- ٧) مدار الجدي
- ٨) دائرة الاستواء
- ٩) نهر الامازون
- ١٠) سهول لابلاتا
- ١١) سهول نهر اورينوكو

الدرس الثالث :- المناخ والنبات الطبيعي في العالم

السؤال الاول بم تفسر:-

- ١) تعتبر حشائش السافانا حديقة حيوان طبيعية؟ -- «حيث يعيش بها حيوانات أكلة للعشب وحيوانات أكلة للطيور
- ٢) لحشائش الاستبس اهمية كبيره؟. ---- «حيث تستخدم كمراعي طبيعية
- ٣) تسميه الغابات النفصيه بهذا الاسم؟. ----- «لأنها تنفض أوراقها شتاء لشده البرودة
- ٤) اختلاف المناخ داخل القارات من منطقته لأخرى ؟
- «بسبب عوامل تؤثر في المناخ مثل ١) الموقع الفلكي ٢) الموقع الجغرافي ٣) التضاريس
- ٥) تنوع الحياه النباتيه في الاقليم الجبلي؟ -----«بسبب ارتفاع السطح وكمية المطر

السؤال الثاني ما النتائج المترتبة على:-

- ١) انتماء منطقته شمال شرق الصين الاقليم اللورانس؟-----«اصبح معتدل صيفا وبارد شتاء
- ٢) انتماء دول المغرب العربي لاقليم مناخ البحر المتوسط؟ ----«أصبح الجو حار جاف صيفا ودافئ ممطر شتاء
- ٣) وقوع الاقليم الاستواني قرب دائره الاستواء؟«الذي الى ارتفاع الحرارة طوال العام وسقوط الأمطار طوال العام

السؤال الثالث اكتب المفهوم:-

١) منطقته محدوده على سطح الارض لها خصائص مناخيه معينه من حيث الحرارة والرياح والامطار
(الاقليم المناخي)

- ٢) اقليم مناخ يتميز بارتفاع درجات الحرارة وسقوط الامطار طوال العالم (الاقليم الاستواني وشبه الاستواني)
- ٣) اقليم مناخي مرتفع الحرارة صيفا وامطاره تسقط صيفا واشجاره اقل كثافه من الاشجار الاستوانييه (المداري
- ٤) اقليم مناخي ومرتفع الحرارة صيفا وامطاره تسقط صيفا واهم اشجاره جوز الهند (الاقليم الموسمي)
- ٥) اقليم مناخي حار جاف صيفا دافئ ممطر شتاء (اقليم البحر المتوسط)
- ٦) اقليم مناخي مرتفع الحرارة صيفا وامطار وطوال العام ويتعرض لعواصف التيفون (الاقليم الصيني)
- ٧) اقليم مناخي يسقط امطاره طوال العام وتزداد في فصلى الشتاء والخريف (اقليم غرب اوربا)
- ٨) اقليم مناخي معتدل صيفا وبارد شتاء وامطاره طول العام خاصه في الصيف (الاقليم اللورانسى)
- ٩) اقليم مناخ يشغل قمم المنحدرات العليا والمناطق الجبليه وشديد البروده وتتنوع به الحياه النباتيه (الجبلي)
- ١٠) اقليم مناخ يقع وراء الدائرتين القطبيتين وشديد البروده ويعيش به حيوان الرنه (اقليم التندرا)

السؤال الرابع:- اختر:-

١) تنمو الطحالب في اقليم التندرا في فصل----- (الربيع - الخريف - الصيف - الشتاء)

٢) اقليم يقع شرق القارات وتنمو به اشجار الصنوبر (اللورانس - غرب اوروبا - الصيني - الموسمي)

٣) تنتمي اشجار الصنوبر والشربين للغابات (النفضية - المخروطية - الموسمي - الاستوائي)

٤) اقليم مناخ يظهر في جميع القارات المأهولة بالسكان

(البحر المتوسط - الصيني - غرب اوروبا - الاستوائي)

٥) اهم اشجار الاقليم الموسمي (الصنوبر- الماهوجني - جوز الهند - الزان)

٦) اهم اشجار الاقليم المعتدل شرق القارات.....

(الصفصاف و الشربين - البلوط و الزان - الصنوبر و الزان - الصفصاف و البلوط)

٧) تنتمي شمال كندا للإقليم..... (اللورانس - التندرا - الجبلي - غرب اوروبا)

٨) تنمو الغابات النفضية في اقليم مناخ..... (اللورانس - التندرا - الجبلي - غرب اوروبا)

السؤال الخامس:- اكمل:-

١) غابات الاقليم المداري اقل كثافة وتشابكا من الغابات الاستوائية

٢) تنتمي اشجار الماهوجني و المطاط الى الغابات الاستوائية

٣) اهم اشجار الاقليم الصيني الصفصاف و البلوط

٤) تعرف حشائش الاستبس في امريكا الشماليه بحشائش البراري

٥) يتعرض الاقليم الصيني احيانا للعواصف مثل العواصف التيفون

٦) اهم اشجار غابات البحر المتوسط اشجار الزيتون

٧) يعيش حيوان الدب القطبي في الاقليم اللورانسي بينما حيوان الرنة في اقليم التندرا

٨) تعرف غابات الاقليم لورانس باسم الغابات المخروطية بينما غابات اقليم غرب اوروبا باسم الغابات النفضية

٩) اهم اشجار اقليم غرب اوروبا الزان

١٠) اهم اشجار اقليم لورانس الصنوبر و الشربيني

السؤال السادس:- حدد الاقليم الذي ينتمي اليه كلا منه:-

١) الطحالب وحيوان الرنة ؟ ----- « إقليم التندرا

٢) الدب القطبي ؟ ----- « الإقليم المعتد البارد شرق القارة (اللورانسي)

٣) الصنوبر والشربين ؟ ----- « الإقليم المعتد البارد شرق القارة (اللورانسي)

٤) اشجار الزان ؟ ----- « إقليم غرب أوروبا

- ٥) الصفاف والبلوط ؟ ----- « الإقليم المعتدل الدافئ (الصيني)
٦) الماهوجني والمطاط ؟ ----- « الإقليم الاستوائي وشبه الاستوائي
٧) اشجار جوز الهند ؟ ----- « الإقليم الموسمي

ميس / آيات خالد

