

٢٠٢١



كتاب أسئلة

مقدم من

القائد

الدراسات الاجتماعية

للمصف الثالث الإعدادي

اسم الطالب:



اعداد  
احمد حليم



## ابنائى الطلاب

هذا الكتاب هو جهد كبير و خلاصة فكر عميق كل مثال فيه موضوع  
بعناية . وكل سؤال له هدف

هذا الكتاب وإن كان صغير الحجم إلا أنه عظيم القدر يربي فيكم  
ملكة الإبداع . وقدرة الإستنتاج . وذوقا رفيعا . ومهارة التفكير .  
وقوة التحليل .

## ابنائى الطلاب

تذكروا دائما نصائحى فهى دُرر لكم

مهما تشب ومهما تنظ مهما  
لتهعمل فيها سكوت لتهفضل برودوا  
سمير سبوت ولتهفضل برضوا  
عليك بنعط ☺

واجب

المراجعة الأولى

الوحدة الأولى

- ١- يوجد في قارة اسيا اكبر بحر مغلق في العالم وهو .....  
( البحر الاسود - بحر قزوين - بحر اليابان - البحر الاصفر )
- ٢- تقع شبه جزيرة املايو في قارة .....  
( اوروبا - افريقيا - اسيا - امريكا الجنوبية )
- ٣- تفصل جبال ..... بين اسيا و اوروبا  
( البرانس - الالب - القوقاز - اورال )
- ٤- نيوزيلندا من الجزر التابعة لقارة .....  
( اسيا - افريقيا - امريكا الشمالية - امريكا الجنوبية )
- ٥- يفصل قارة استراليا عن جزر اندونيسيا بحر .....  
( المرجان - اراقورا - مرمرة - العرب )
- ٦- تكثر الجزر القريبة من السواحل بقارتي .....  
( افريقيا و اسيا - استراليا و امريكا الجنوبية - اوروبا و افريقيا - اسيا و اوروبا )
- ٧- اعلى قمة جبلية في العالم قمة .....  
( كلمنجارو - مونت بلان - افرست - كينيا )
- ٨- جميع الهضاب الاتية تقع في قارة اسيا عدا هضبة .....  
( التبت - شبه الجزيرة العربية - الميزيتا - الدكن )
- ٩- يوجد جبل ..... شرق افريقيا  
( كلمنجارو - الالب - الهيمالايا - اطلس )
- ١٠- يقع سهل كلنشو في .....  
( الجزائر - المغرب - السودان - ليبيا )
- ١١- يجرى نهر ..... في هضبة جنوب افريقيا  
( مري ودارلنج - اورانج ولمبوبو - دجلة والفرات - النيجر والكونجو )
- ١٢- تشغل هضبة ..... معظم مساحة اسبانيا  
( جيانا - الميزيتا - فرنسا الوسطى - التبت )
- ١٣- اطول انهار قارة اوروبا نهر .....  
( الفولجا - السين - الراين - الدانوب )
- ١٤- تمتد سلاسل جبال ..... في شرق امريكا الشمالية  
( روكي - الابلاش - البرانس - الهيمالايا )
- ١٥- تقع هضبة لبراندور في شمال شرق قارة .....  
( امريكا الشمالية - اوروبا - استراليا - اسيا )
- ١٦- جميع الهضاب الاتية تقع في قارة امريكا الجنوبية عدا .....  
( جيانا - البرازيل - الميزيتا - بتاجونيا )

- ١٧- يمتد سهل نهر ..... في شرق أمريكا الجنوبية  
( الأورينكو - الأمازون - بارانا - لابلاتا )
- ١٨- أوسع سهول فيضية في العالم سهول حوض نهر .....  
( النيل - المسيسيبي - الأمازون - نلسن )
- ١٩- يجري نهرًا مرى ودارلنج في أستراليا ويصبحان في .....  
( الخليج الأسترالي الكبير - خليج كاربنقاريا - بحر تيمور - بحر المرجان )
- ٢٠- تتركز السلالة ..... قرب دائره الاستواء في إفريقيا )  
( السوداء - البيضاء - الصفراء - النوردية )
- ٢١- البشرة الداكنة و الشفاه الغليظة و الانف العريضة من مميزات السلالة .....  
( الزنجية - النوردية - الماغولية - القوقازية )
- ٢٢- تشمل أقسام الزواج كلا مما يلي ما عدا .....  
( النيليون الحاميون - البانتو - التنجوس - البوشمن )
- ٢٣- ينتمي ..... إلى السلالة الصفراء و توجد في كندا والاسكا  
( البانتو - الاسكيمو - التنجوس - البوشمن )
- ٢٤- الهنود الحمر ينتمون إلى السلالة .....  
( القوقازية - الزنجية - النوردية - المغولية )
- ٢٥- ينتمي معظم سكان قاره أوروبا للسلالة .....  
( المغولية - الزنجية - القوقازية - البانتو )
- ٢٦- ينتمي سكان غرب ووسط أوروبا إلى .....  
( المجموعه النوردية الشماليه - المجموعه الألبية - البانتو - الاسكيمو )
- ٢٧- تتركز مجموعه النوردية الشماليه التي تنتمي للسلالة القوقازية في دول .....  
( شمال إفريقيا - شمال أوروبا - شمال اسيا - شرق اسيا )
- ٢٨- من المجموعات البدائية ذات السلالة النقيه .....  
( الاسكيمو - الهنود الحمر - الأستراليين الأصليين - جميع ما سبق )
- ٢٩- ينتمي معظم العرب إلى السلالة .....  
( النوردية - القوقازية - المغولية الصفراء - الزنجية )

**السؤال الثاني**  
اكتب كلمة (صواب) أمام العبارة الصحيحة  
وكلمة (خطأ) أمام العبارة غير الصحيحة. مع التصويب

١- تقترب قاره إفريقيا من قاره اسيا عند مضيق جبل طارق

( )

٢- يحد قاره أمريكا الجنوبية من الشمال المحيط الهادي

( )

٣- تقع هضبه التبت في وسط اسيا وتعرف بسقف العالم

( )

٤- تمتد جبال اطلس شمال غرب قاره افريقيا

( )

٥- تتبع روافد نهر النيل من هضبتى الحبشه والبحيرات الاستوانيه

( )

٦- يصب نهر الراين في البحر الاسود

( )

٧- تمتد جبال الانديز في غرب قاره امريكا الشماليه

( )

٨- تعد هضبه بتاجونيا اكبر هضاب قاره امريكا الجنوبيه

( )

٩- تعتبر سهول نهر المسيسيبي اوسع سهول فيضيه في العالم

( )

١٠- يصب نهر مري ودارلنج في المحيط الهندي

( )

١١- تتميز السلالة القوقازيه بالبشره الداكنه والشعر المجعد

( )

١٢- تنتمي جماعه التنجوس في سيبيريا الى السلالة الزنجيه

( )

١٣- تنتشر السلالة المغوليه في جميع قارات العالم

( )

١٤- ينتمي معظم سكان الصين وجنوب شرق اسيا للسلالة القوقازيه

( )

١٥- تمثل السلالة الزنجيه نصف سكان العالم

( )

١٦- تتركز السلالة المغوليه في قاره اوربا

( )

١٧- من امثله السلالة النقيه شعب الاسكيمو شمال كندا

( )

١٨- يعد معظم العرب من السلالة القوقازيه

( )

## السؤال الثالث صوب ما تحته خط

١- يشغل اليابس ٧٠-٧٠% من مساحة الكرة الارضية بينما تشغل المحيطات والبحار ٢٩-٣%

٢- اكبر قارات العالم قاره اوروبيا و اكبر محيطات العالم المحيط الهندي

٣- تطل قاره امريكا الجنوبيه على المحيط الهادي من الشرق والبحر قزوين من الغرب

٤- من جبال قاره اسيا جبال الالب الهيمالايا

٥- جبال كلمنجارو عباره عن سلاسل جبليه تحصر بينها هضبه الشطوط

٦- تقع جبال دراكنزبرج في اقصى الشمال الغربي من قاره افريقيا

٧- تتسع السهول الساحليه في قاره افريقيا عند حافات الجبال والهضاب

٨- من اهم السلاسل الجبلية في اوروبا سلاسل جبال الاورال التي تمتد من الغرب الى الشرق في وسط القاره

٩- تحتل هضبه لبراتور معظم مساحه دوله اسبانيا

١٠- تمتد السهول الفيضيه في اوروبا من المحيط الهادي غربا حتى جبال اورال شرقا

١١- من اهم هضاب قاره امريكا الشماليه هضبه جيانا

١٢- تمثل المرتفعات الغربيه بقاره امريكا الجنوبيه في سلاسل جبال روكي

١٣- تنتمي الاقزام والبوشمن الى السلام القوقازي

١٤- تمثل السلالة القوقازيه النسبه الاكبر من السكان في الصين واليابان

١٥ - البشرة الصفراء والعيون المنحرفة والشعر المسترسل من صفات السلالة القوقازيه

١٦ - تعرضت السلالة المغوليه للهجرات الاجباريه الى الامريكيتين في الماضي

### السؤال الرابع

#### اكتب ما تُشير إليه كل من العبارات الآتية

١- موقع المكان بالنسبه لخطوط الطول ودوائر العرض

(.....)

٢- موقع المكان سواء كان قاره او دوله بالنسبه للاماكن الاخرى من البحار و المحيطات والقارات او الدول مجاوره

(.....)

٣- دول تتكون من جزيره او اكثر وقد تكون جزء من جزيره

(.....)

٤- قاره تبدو على شكل اقرب الى المثلث و يحدها من الشمال البحر الكاريبي

(.....)

٥- الارض التي يجري فيها النهر وروافده وتنحدر مياهه اليه

(.....)

٦- تعتبر اعلى هضاب العالم وتعرف بسقف العالم

(.....)

٧- سهول صحراويه رمليه تمتد بين مصر وليبيا

(.....)

٨- سهول فيضيه تمتد في اوروبا من المحيط الاطلنطي غربا حتى جبال الاورال شرقا

(.....)

٩- مجموعه بشريه تتشابه في صفاتها الجسميه الخارجيه

(.....)

١٠- سلالة بشريه تمثل ٧٠% من سكان افريقيا

(.....)

١١- سلالة بشريه تمثل نحو نصف عدد سكان العالم

(.....)

١٢- سلالة بشريه تتميز بالبشره البيضاء الورديه

(.....)

## السؤال الخامس ما المقصود بكل من:

١- دولة جزرية

.....  
.....

٢- موقع فلكي

.....  
.....

٣- موقع جغرافي

.....  
.....

٤- حوض النهر

.....  
.....

٥- سلالة بشرية

.....  
.....

## السؤال السادس بح تفسر..

١- انتشار الموانئ الساحلية في قاره اوروبا

.....  
.....

٢- تعرف هضبه التبت بسقف العالم

.....  
.....

٣- قلّه اهميه انهار شمال اسيا شتاء

.....  
.....

٤- ضيق السهول الساحليه بشكل عام في قاره افريقيا

.....  
.....

٥- ضيق السهول الساحليه غرب امريكا الجنوبيه

.....  
.....

٦- ضيق السهول الساحليه شرق قاره استراليا

.....  
.....

٧- نشاه السلالات البشريه المختلفه

.....  
.....

٨- تعرض عدد كبير من الزوج للهجرات الاجباريه الى الامريكيتين

.....  
.....

٩- زياده نسبه الجنس المغولي عن ٤٠% من سكان العالم

.....  
.....

١٠- انعدام تواجد شعب بالكامل من سلاله واحده

.....  
.....

١١- العرب ليسوا من سلاله واحده

.....  
.....

## السؤال السابع ما النتائج المترتبة على

١- كثرة التعاريج فى سواحل قاره اوروبا

.....  
.....

٢- اقتراب حافات الجبال والهضاب من الساحل بقاره افريقيا

.....  
.....

٣- وقوع قاره انتاركتيكا اقصى جنوب الكره الارضيه

.....

٤- انصهار السلالات واختلاط الصفات الطبيعيه

.....  
.....

### السؤال الثامن

دلل تاريخيا على صحة كل مما يأتي:

١- اهمية السهل الاوروبي العظيم

.....  
.....

٢- تشابه تضاريس قاره استراليا مع تضاريس قاره افريقيا

.....  
.....

### السؤال التاسع

## قارن بين

قارة أمريكا الشمالية	قارة أوروبا	من حيث
.....	.....	أهم الهضاب
.....	.....	.....
.....	.....	أهم الأنهار
.....	.....	.....
السهول الفيضية في قارة أمريكا الشمالية	السهول الفيضية في قارة أوروبا	من حيث
.....	.....	الامتداد
.....	.....	.....
.....	.....	أهم الأنهار
.....	.....	.....
السلالة الزنجية	السلالة المغولية	من حيث
.....	.....	الشكل الخارجي
.....	.....	.....
.....	.....	أهم القارات
.....	.....	انتشارا



في أي المحيطات أو البحار أو الخلجان  
يصب كل نهر من الأنهار الآتية

السؤال العاشر

١- السند

.....

٢- الفرات

.....

٣- ينسى

.....

٤- لابلاتا

.....

٥- لينا

.....

٦- الفولجا

.....

٧- مري ودارلنج

.....

٨- الراين

.....

٩- الدانوب

.....

١٠- اورينوكو

.....



في أي القارات توجد كل ظاهرة تضاريس من الظواهر الآتية

السؤال الحادي عشر

١- سهول صحراء كلهاري

.....

٢- جبال الهيمالايا

.....

٣- جبال الابلاش

.....

٤- جبال الالب

.....

٥- هضبه بتاجونيا

.....  
٦- هضبه لايرانور

.....  
٧- هضبه الميزيتا

.....  
٨- هضبه جيانا

.....  
٩- نهر النيجر

.....  
١٠- سهول سيبيريا

.....  
١١- نهر مري ودارلنج

.....  
١٢- جبال البرانس

.....  
١٣- جزر نيوزلندا

.....  
١٤- بحر الرمال العظيم

.....  
١٥- لابلاتا

.....  
١٦- جبال طوروس

.....  
١٧- جزر اليابان

.....  
١٨- جبال الالب الديناريه

.....  
١٩- بحر قزوين

.....  
٢٠- جزر القمر

## السؤال الثاني عشر

حدّد الاسم الجغرافي غير المناسب لمجموعته مع ذكر السبب

١- الهيمالايا - جيانا - بتاجونيا - الدكن

.....

٢- التبت - المزيتا - شبه الجزيرة العربية - الدكن

.....

٣- ينسى - لابلاتا - دجله - السند

.....

## السؤال الثالث عشر

ماذا يحدث إذا

١- كانت جبال الانديز بعيدة عن ساحل المحيط الهادي

.....

.....

٢- مرت دائره الاستواء بوسط قاره اوروبا

.....

.....

٣- لم تختلف او تظهر السلالات مع بعضها البعض

.....

.....

## السؤال الرابع عشر

ما العلاقة بين

١- نهر النيل - وهضاب شرق ووسط قاره افريقيا

.....

.....



واجب

المراجعة الثانية

الوحدة الثالثة

## السؤال الأول

### اختر الإجابة الصحيحة مما بين القوسين

- ١- قامت الدولة المملوكية في مصر وضمت .....  
( الشام - الحجاز - جزء من ساحل افريقيا الشرقي - جميع ما سبق )
- ٢- تمكن السلطان سليم الاول من الانتصار على الصفويين في موقعه .....  
( مرج دابق - الريدانيه - نفارين - جالديران )
- ٣- دخل العثمانيون القاهره بعد هزيمه المماليك في معركة ..... عام ١٥١٧ م  
( مرج دابق - جالديران - الريدانيه - شبراخيت )
- ٤- ابحرت الحملة الفرنسيه المتجهه سرا الى مصر الى ميناء .....  
( مارسيليا - جنوة - طولون - البندقية )
- ٥- اعتقلت القوات الفرنسيه ..... و قامت باعدامه رميا بالرصاص في سبتمبر ١٧٩٨ م  
( محمد كريم - مراد بك - ابراهيم بك - عمر مكرم )
- ٦- فر مراد بك بعد هزيمته في معركة امبابه الى .....  
( الصعيد - الشرقيه - نمياط - الدقهليه )
- ٧- دخل الفرنسيون القاهره عقب معركة .....  
( شبراخيت - امبابه - ابو قير البحريه - ابو قير البريه )
- ٨- ترتب على معركة ابو قير البحريه عام ١٧٩٨ م .....  
( حرمان الحمله من امدادات فرنسا لها - شعور الجنود الفرنسيون انهم محاصرون داخل مصر - توقف حركه التجاره الخارجيه لمصر - جميع ما سبق )
- ٩- اتبع اهالي ..... حرب المناوشات والمعارك المتفرقه و التي انهكت قوه الفرنسيين  
( الاسكندريه - الدلتا - القاهره - الصعيد )
- ١٠- رحل نابليون الى فرنسا بعد معركة .....  
( ابو قير البريه - ابو قير البحريه - شبراخيت - امبابه )
- ١١- في عام ١٧٩٩ م تحالفت الدوله العثمانيه مع ..... لاجراج الحمله الفرنسيه من مصر بالقوه العسكريه  
( انجلترا و المانيا - انجلترا وروسيا - اليونان وروسيا - المانيا وروسيا )
- ١٢- قامت ثوره القاهره الثانيه اثناء قياده ..... للحمله الفرنسيه في مصر  
( نابليون - كليبر - مينو - بوشار )
- ١٣- حاول السلطان العثماني نقل محمد علي علي خارج مصر عام ١٨٠٦ بضغط من .....  
( فرنسا - بريطانيا - المماليك - روسيا )

١٤- ارسلت بريطانيا حمله فريزر عام ١٨٠٧ لاحتلال مصر وخلع محمد علي و تعيين

.....

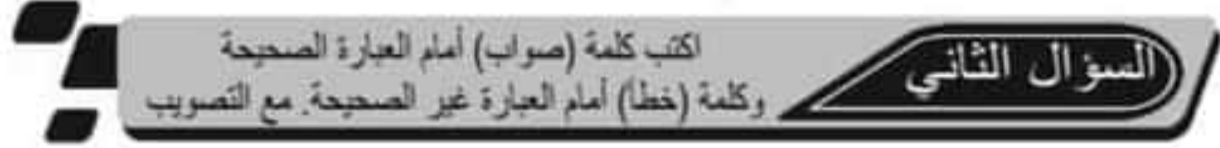
( مراد بك - محمد بك الالفي - علي بك الكبير - خورشيد باشا )

١٥- قام محمد علي بنفي السيد عمر مكرم الى .....

( الاسكندريه - رشيد - دمياط - اسوان )

١٦- تخلص محمد علي من ..... في مذبحة القلعه

( الجنود الالبان - المماليك - الزعامه الشعبيه - الاتراك )



١- تعرضت دوله المماليك لازمات ماليه و تدهور اقتصادي منذ اوخر القرن الـ ١٥ م

( ) .....

٢- تحطم الاسطول المملوكي في معركة ديو البحريه في ١٥٠٩ م

( ) .....

٣- تمكن السلطان سليم الاول من هزيمه الصفويين في معركة مرج دابق عام ١٥١٤ م

( ) .....

٤- تحالف علي بك الكبير مع الشيخ ظاهر العمر حاكم جنوب الشام

( ) .....

٥- اتسمت الحياه الفكرية والثقافية في مصر اثناء الحكم العثماني بالجمود والتخلف

( ) .....

٦- تعد الحملة الفرنسيه على مصر والشام جزءا من التنافس الاستعماري بين انجلترا وفرنسا

( ) .....

٧- انهزم المماليك امام الفرنسيين في معركة شبراخيت

( ) .....

٨- اعتمد المماليك على الفروسية في حروبهم ضد الحملة الفرنسية

( ) .....

٩- كانت لموقعه ابو قير البحريه في اغسطس ١٧٩٨ م اثر على فشل الحملة الفرنسيه على

مصر

( ) .....

١٠- استطاعت القوات الفرنسيه اخضاع اهالي الصعيد

( ) .....

١١- وافقت الحكومه البريطانيه على معاهده العريش بين الفرنسيين والدوله العثمانيه

( ) .....

١٢- رحل الفرنسيين على مصر في عهد كليبر

( )

١٣- قام علماء الحملة الفرنسيه بانشاء المجمع العلمي المصري

( )

١٤- ايقظت الحملة الفرنسيه روح القوميين لدى المصريين

( )

١٥- اتسمت الفتره التاريخيه عقب خروج الحملة الفرنسيه بالصراع على السلطه في مصر

( )

١٦- كان لزعماء الشعب المصري دور مهم في توليه محمد علي حكم مصر عام ١٨٠٥ م

( )

١٧- اصدر السلطان العثماني فرمانا بعزل خورشيد وتعيين محمد علي واليا على مصر عام

١٨٠٥ م

( )

١٨- حاولت انجلترا تدعيم موقف محمد علي بعد توليه السلطه

( )

١٩- ادرك محمد علي قوه الزعامه الشعبيه في توليه الحكم

( )

٢٠- اقدم (محمد علي) على خلع السيد عمر مكرم من نقابه الاشراف

( )

٢١- حرص (محمد علي) على حرمان المماليك من تولي المناصب الرفيعه في الدوله

( )

## السؤال الثالث

### صوب ما تحته خط

١- بادر السلطان العثماني سليم الاول بالاستيلاء على اماره عكا المملوكيه فحدثت معركة مرج دابق ١٥١٦ م

.....

٢- اثناء حكم الدوله العثمانيه لمصر كانت الارض تزرع عن طريق تكليف الفلاحين بزراعتها فيما عرف باسم نظام الاحتكار

.....

٣- فشلت حركه علي بك الكبير وعادت مصر ولايه عثمانيه تحت حكم شيخ البلد ابراهيم بك

.....

٤- قاوم اهالى الاسكندريه الحمله الفرنسيه بز عامه عمر مكرم

٥- توقفت تجاره مصر الخارجيه بعد موقعه ابو قير البحرية عام ١٧٩٨ م

٦- كان حي بولاق مركزا لثوره القاهره الاولى ضد الفرنسيين

٧- عقد كليبر مع العثمانيين اتفقيه لندن عام ١٨٠٠ م

٨- قام علماء الحمله الفرنسيه بتاليف كتاب عن مصر اسمه الوقائع المصريه

٩- وجهت حملة فريزر انظار الدوله الاوروبيه الى اهميه موقع مصر الجغرافي والاستراتيجي

### السؤال الرابع

### اكتب ما تشير إليه كل العبارات الآتية

١- طريق اكتشافه عام ١٤٩٨ م فكان سببا التدهور الاقتصادي لدوله المماليك

(.....)

٢- معركة انتصر فيها سليم الاول على الصفويين عام ١٥١٤ م

(.....)

٣- معركة حربيه تحولت بعدها مصر الى ولايه عثمانيه عام ١٥١٧ م

(.....)

٤- نظام ائقل الفلاح بالضرانب المفروضه على الاراضى الزراعيه في عصر الدوله العثمانيه

(.....)

٥- اول مواجهه عسكريه بين المماليك و الحمله الفرنسيه في مصر

(.....)

٦- رحيل قوات الاحتلال عن البلد المحتل

(.....)

٧- امر من قبل السلطان العثماني و اجيب التنفيذ

(.....)

## السؤال الخامس ما المقصود بكل من

١- حق الانتفاع

.....  
.....

٢- مقاومه

.....  
.....

٣- جلاء

.....  
.....

٤- فرمان

.....  
.....

## السؤال السادس إلى من تنسب الأعمال الآتية

١- ده مكانه من هزيمة الصفويين في معركة جالديران عام ١٥١٤ م

(.....)

٢- تحالف مع الشيخ ظاهر العمر حاكم جنوب الشام و اخضع الحجاز لنفوذه

(.....)

٣- تصدق للفرنسيين في الاسكندرية حتى القي القبض عليه و اعدم

(.....)

٤- قائد الاسطول الانجليزي في معركة ابو قير البحرية عام ١٧٩٨ م

(.....)

٥- ارتكاب مذبحه بشريه ضد اهالي يافا عام ١٧٩٩ م

(.....)

٦- تزعم حركه المقاومه ضد نابليون في عكا

(.....)

٧- تزعم ثوره القاهره الثانيه ضد الفرنسيين عام ١٨٠٠ م

(.....)

٨- تولى قياده الحمله الانجليزيه على مصر عام ١٨٠٧ م

(.....)

## السؤال السابع

# بح تفسر

١- اتجاه العثمانيين للاستيلاء على مصر والشام

.....  
.....

٢- أصبحت مصر ولاية عثمانية عام ١٥١٧ م

.....  
.....

٣- هزيمة الجيوش المملوكية امام جيش العثمانيين

.....  
.....

٤- فشل حركة علي بك الكبير

.....  
.....

٥- تدهور الزراعة في مصر في عصر الدولة العثمانية

.....  
.....

٦- تاخر الصناعة في مصر اثناء الحكم العثماني

.....  
.....

٧- كساد التجارة الداخلية والخارجية في مصر تحت حكم العثمانيين

.....  
.....

٨- الحملة الفرنسية على مصر ١٧٩٨ م

.....  
.....

٩- اصطحاب نابليون لمجموعه من العلماء في حملته على مصر

.....  
.....

١٠- هزيمة المماليك امام الفرنسيين

.....  
.....

١١- اخفاق القوات الفرنسيه في اخضاع اهالي الصعيد

١٢- قيام ثوره القاهره الاولى عام ١٧٩٨ م

١٣- فشل نابليون في دخول عكا

١٤- رحيل نابليون سرا الى فرنسا

١٥- ادراك كليبر استحاله بقاء القوات الفرنسيه في مصر

١٦- فشل اتفقيه العريش عام ١٨٠٠ م

١٧- اهتمام نابليون بانشاء الدواوين في مصر

١٨- ثوره الشعب المصري في مارس ١٨٠٤ م

١٩- اكتسب محمد علي ثقاه و عاطف ز عماء الشعب المصري عام ١٨٠٤ م

٢٠- فرمان السلطان العثماني بنقل محمد علي الى ولايه سالونيك في يونيو ١٨٠٦ م

٢١- حمله فريزر على مصر في مارس ١٨٠٧ م

## السؤال الثامن

### أيد بالأدلة التاريخية صحة كل عبارة مما يأتي

١- حمل نظام الحكم العثماني في ثنأياه عوامل ضعفه

.....  
.....

٢- تدهور الصناعة خلال الحكم العثماني

.....  
.....

٣- اتسمت الحياه الفكرية في مصر تحت الحكم العثماني بالجمود والتخلف

.....  
.....

٤- تولى كليبر أمر قيادة الحملة الفرنسية على مصر والاطار تهدد الحملة من كل جانب

.....  
.....

٥- تركت الحملة الفرنسية في مصر نتائج بعيدة المدى

.....  
.....

٦- يعد تولى محمد علي حكم مصر عام ١٨٠٥ م انتصار الاراده الشعبيه

.....  
.....

٧- وجود تواطؤ بين الانجليز والمماليك للسيطره على مصر اثناء حكم محمد علي

.....  
.....

## السؤال التاسع

### قارن بين

من حيث	معركة مرج دابق	معركة الريدانية
الأطراف	..... .....	..... .....
النتائج	..... .....	..... .....
من حيث	معركة أبو قير البحرية	معركة أبو قير البرية

..... .....	..... .....	الأطراف
..... .....	..... .....	النتائج

ثورة القاهرة الثانية	ثورة القاهرة الأولى	من حيث
.....	.....	قائد الحملة الفرنسية
.....	.....	النتائج
.....	.....	

الحملة الإنجليزية على مصر	الحملة الفرنسية على مصر	من حيث
.....	.....	قائد الحملة
.....	.....	الأسباب
.....	.....	

### السؤال العاشر

اذكر الحدث التاريخي المرتبط بكل تاريخ من التواريخ الآتية:

١. ١٥١٤ م

.....

٢. أغسطس ١٥١٦ م

.....

٣. يناير ١٥١٧ م

.....

٤. أغسطس ١٧٩٨ م

.....

٥. ١٨١١ م

.....

٦. سبتمبر ١٨٠١ م

السؤال الحادي عشر  
اذكر عمل واحد مقابل كل من:

١. سليم الاول

.....

٢. علي بك الكبير

.....

٣. محمد كريم

.....

٤. نابليون بونابرت

.....

٥. أحمد باشا الجزار

.....

٦. كليبر

.....

٧. مينو

.....



واجب

المراجعة الثالثة

الوحدة الأولى

الوحدة الثانية

## السؤال الأول

### اختر الإجابة الصحيحة مما بين القوسين

- ١- يوجد اقليم المناخ الاستوائي في القارات الآتية ما عدا .....  
( افريقيا - أمريكا الجنوبية - آسيا - أستراليا )
- ٢- تنتمي أشجار جوز الهند إلى الغابات .....  
( المدارية - المخروطية - الموسمية - النفضية )
- ٣- يسود جزر اندونيسيا المناخ .....  
( الموسمي - الصحراوي - المعتدل - الاستوائي )
- ٤- يتمثل المناخ الاستوائي في افريقيا في حوض نهر .....  
( لمبوبو - أورنج - النيل - الكونغو )
- ٥- تمثل الغابات الاستوائية في قارة أمريكا الجنوبية في حوض نهر .....  
( بارانا - المسيسيبي - النيل - الأمازون )
- ٦- تسقط الأمطار الإقليم المناخ الموسمي في فصل .....  
( الصيف - الشتاء - الربيع - الخريف )
- ٧- تنتمي سهول دول المغرب العربي إلى إقليم مناخ .....  
( الصحراوي المعتدل - المعتدل شرق القارات - بحر المتوسط - الموسمي )
- ٨- يمتد إقليم المناخى ..... بين دائرتي عرض ٣٠ و ٤٥ شمالا وجنوبا غرب معظم القارات  
( الصيني - البحر المتوسط - غرب أوروبا - اللورانس )
- ٩- كل الأقاليم المناخية الآتية تسقط فيها الأمطار طوال العام ما عدا الإقليم .....  
( الاستوائي - الصيني - غرب أوروبا - البحر المتوسط )
- ١٠- من أهم أشجار غابات الإقليم الصيني .....  
( المطاط - الصفصاف - الصنوبر - الزيتون )
- ١١- تتشابه غابات إقليم مناخ البحر المتوسط و إقليم المناخ الصيني في أنها .....  
( كثيفة ومتشابك - نباتات عشبية - أشجار موسمية - دائمة الخضرة )
- ١٢- تنفض الغابات النفضية أوراقها في فصل .....  
( الخريف - الشتاء - الربيع - الصيف )
- ١٣- من أشجار الغابات المخروطية .....  
( الصنوبر - الزان - الصفصاف - الماهوجني )
- ١٤- قاره أنتاركتيكا يسودها إقليم مناخ .....  
( التندرا - اللورانس - الصيني - البحر المتوسط )
- ١٥- يعيش حيوان الرنة في إقليم مناخ .....  
( غرب أوروبا - البحر المتوسط - الصحراوي المعتدل - التندرا )

- ١٦- اكثر القارات تنوعا في المناخ قاره .....  
( اسيا - افريقيا - اوروبا - الاوقيانوسيه )
- ١٧- يتركز سكان العالم في .....  
( السهول الفيضيه - السهول الساحليه - المدن الكبرى - جميع ما سبق )
- ١٨- اكبر دول العالم سكانا .....  
( الصين و روسيا - الصين والهند - اليابان والصين - الفلبين والهند )
- ١٩- اكثر مناطق العالم ازدهاما بالسكان جزيره .....  
( جاوة - كريت - صقلية - مدغشقر )
- ٢٠- يتركز السكان في مناطق السهول الفيضيه مثل سهل نهر ..... في الصين  
( الجانج - الفرات - يانجتسي - دجله )
- ٢١- من الدول المداريه التي يتركز بها السكان في المناطق مرتفعه السطح .....  
( كينيا - النرويج - فنلندا - روسي )
- ٢٢- يقل السكان في قاره افريقيا في .....  
( السهول الساحليه - السهول الفيضيه - المناطق الاستوائيه - المناطق المداريه المرتفعه )
- ٢٣- من اقل الجهات سكانا في قاره اوروبا الجهات .....  
( الشماليه - الشرقيه - الجنوبيه - الغربيه )
- ٢٤- يتركز السكان في مدينه ..... بكندا لانها من المدن الكبرى  
( مونتريال - شيكاغو - مكسيكو - سيدني )
- ٢٥- يتركز السكان حول سهول نهر ..... في امريكا الجنوبيه  
( المسيسيبي - النيل - الاورينوكو - النيجر )
- ٢٦- يتركز سكان استراليا على ..... حيث المدن الكبرى مثل سيدني  
( السواحل الشماليه - المنطقه الوسطى - السواحل الشرقيه - الهضبه الغربيه - السواحل الشرقيه )
- ٢٧- القاره التي تسجل اعلى معدل مواليد في العالم .....  
( افريقيا - اسيا - اوروبا - امريكا الشماليه )
- ٢٨- يتساوى معدل المواليد مع معدل الوفيات في قاره .....  
( امريكا الشماليه - افريقيا - اوروبا - استراليا )
- ٢٩- توجد اعلى نسب من السكان البالغين في دوله .....  
( الخليج العربي - غرب اوروبا - قاره افريقيا - قاره اسيا )
- ٣٠- تعد مصر من الدول ذات الرعايه الطبيه .....  
( المنخفضه - المتوسط - المرتفعه - الفائقة )
- ٣١- من الدول ذات الرعايه الطبيه المنخفضه .....  
( انجلترا - الاردن - النيجر - كندا )
- ٣٢- اعلان نصيب للفرد من الدخل القومي في العالم في قاره .....  
( اسيا - استراليا - افريقيا - امريكا الشماليه )

- ٣٣- من الدول ذات الدخل الاقتصادي .....  
 ( معظم دول امريكا الجنوبيه - الهند وباكستان - دول غرب اوروبا - معظم دول افريقيا )
- ٣٤- دول الخليج العربي من الدول ذات الدخل الاقتصادي .....  
 ( المرتفع - المنخفض - اقل من المتوسط - فوق المتوسط )
- ٣٥- الدول ذات الدخل الاقتصادي المرتفع تزيد نسبة العاملين بحرفه .....  
 ( الزراعة - الصناعه - الصيد - قطع الغابات )
- ٣٦- من دول العالم ذات الدخل الاقتصادي فوق المتوسط .....  
 ( الهند - الصين - تركيا - باكستان )
- ٣٧- من الدول ذات الاقتصاد الزراعي المنخفض .....  
 ( جنوب افريقيا - الامارات - باكستان - فرنسا )
- ٣٨- تقل نسبة العاملين في مجال الزراعه لتصل الي اقل من ١٠% من القوى العامله في .....  
 ( دول غرب اوروبا - دول امريكا الشماليه - استراليا - جميع ما سبق )

### السؤال الثاني

اكتب كلمة (صواب) امام العبارة الصحيحة  
 وكلمة (خطأ) امام العبارة غير الصحيحة. مع التصويب

- ١- تقل درجه الحراره في قاره اسيا كلما اتجهنا جنوبا  
 ( )
- ٢- الاقليم المناخي المداري و الاقليم المناخي الموسمي يتشابهان في صيف حار ممطر شتاء جاف  
 ( )
- ٣- يقع اقليم المناخ المعتدل البارد شرق القارات في نفس عروض مناخ غرب اوروبا  
 ( )
- ٤- تعتبر حشائش الاستبس حديقته حيوانات طبيعيه  
 ( )
- ٥- الصنوبر والشربين من اشجار الغابات المخروطية  
 ( )
- ٦- تعد قاره امريكا الشماليه اكبر قارات العالم سكانا  
 ( )
- ٧- يوجد في اسيا اكبر دولتين في العالم من حيث عدد السكان وهما اليابان وروسيا  
 ( )
- ٨- يتركز السكان في المناطق المرتفعه السطح بالدول المداريه في افريقيا  
 ( )
- ٩- يزداد عدد السكان في المناطق الشماليه باوروبا  
 ( )

( )  
١٠- يتركز سكان الولايات المتحدة الأمريكية في عدة مناطق منها الساحل الشمالي الشرقي

( )

١١- يقل عدد سكان قاره أمريكا الجنوبية في سهول الامازون الاستوائية

( )

١٢- تعد البرازيل اكبر دول قاره أمريكا الجنوبية سكانا

( )

١٣- يتركز سكان استراليا على السواحل الغربية حيث المدن الكبرى

( )

١٤- ترتفع نسبة فنه صغار السن في الدول المتقدمة وتنخفض في الدول النامية

( )

١٥- ترتفع نسبة كبار السن في الدول النامية

( )

١٦- الاردن من الدول ذات الرعاية الطبية الفائقة

( )

١٧- اقل نصيب للفرد من الدخل القومي في العالم يوجد في قارة افريقيا

( )

١٨- تعتبر دول الخليج العربي ذات دخل اقتصادي متوسط

( )

١٩- الدول ذات الدخل الاقتصادي المرتفع تعتمد على التصنيع النامي و تعدد الانشطة التقليدية

( )

٢٠- تعتبر مصر من الدول ذات الدخل الاقتصادي اقل من المتوسط

( )

## السؤال الثالث صوب ما تحته خط

١- يتميز اقليم المناخ الاستوائي بغزاره الامطار صيفا بينما يسود جفاف شتاء

.....

٢- تعرف السافانا في أمريكا الشمالية بحشائش البراري

.....

٣- تنمو اشجار الصنوبر في اقليم الغابات الاستوائية

.....

٤- يطلق على اقليم المناخ المداري الحار المناخ الصيني

.....  
٥- أكثر مناطق العالم ازدحاما بالسكان جزيره تايبوان في قاره اسيا

.....  
٦- يتركز السكان في المناطق المرتفعه السطح بالدول القريبه من الدائره القطبيه حيث اعتدال المناخ

.....  
٧- يتركز السكان في سهول نهري جوبا وشبيلي لقاره استراليا

.....  
٨- تتساوي معدلات الوفيات و معدلات المواليد في قاره افريقيا

.....  
٩- توجد اعلى نسبه للفئه المتوسطه العمر في دول غرب افريقيا

.....  
١٠- يسود الدول ذات الدخل الاقتصادي المنخفض النشاط التجاري

### السؤال الرابع

### اكتب ما تشير إليه كل العبارات الآتية

١- منطقه محده على سطح الارض لها خصائص مناخيه معينه من حيث الحراره و الامطار و غيرها

(.....)

٢- حشائش حاره تدرج في الطول حسب كميه المطر

(.....)

٣- اقليم مناخي يتعرض لعواصف مداريه عنيفه مثل عواصف التيفون

(.....)

٤- غابات من اهم اشجارها الزان و تنفض اوراقها في فصل الشتاء

(.....)

٥- اقليم مناخي يقع في عرض معتدله غرب معظم القارات بين دائرتي عرض ٣٠ و ٤٥ شمالا وجنوبا

(.....)

٦- اقليم مناخي تتنوع فيه الحياه النباتيه طبقا لارتفاع السطح وكميه المطر

(.....)

٧- علم دراسه السكان من حيث النمو التوزيع والتركييب السكاني

(.....)

٨- ناتج الفرق بين معدلات المواليد ومعدلات الوفيات

(.....)

٩- دراسه عدد ونسبه كل مجموعه من سكان المنطقه وفقا لفئات عمرية محدد

(.....)

١٠- فئه عمرية غير منتج تَضَم الرضع و الاطفال والمراهقين الذين تقل اعمارهم عن ١٥ عام

(.....)

١١- عدد الافراد في سن العمل والقادرين على العمل والذين يعملون فعليا او يبحثون عن عمل

(.....)

## السؤال الخامس ما المقصود بكل من

١- اقليم مناخي

.....  
.....

٢- الهجرات غير الشرعية

.....  
.....

٣- ديموجرافية

.....  
.....

٤- زيادة طبيعية

.....  
.....

٥- تركيب عمرى

.....  
.....

٦- قوة العمل

.....  
.....

## السؤال السادس

# بح تفسر

١- تَقْعِدِي السافانا حديقَه حيوان طبيعِيه

.....

.....

٢- تسميه الغابات النفضيه بهذا الاسم

.....

.....

٣- تنوع الحياه النباتيه في اقليم المناخ الجبلي

.....

.....

٤- تركز اكثر من نصف سكان العالم في المدن الكبرى

.....

.....

٥- تركز السكان في افريقيا في المناطق المرتفعه السطح بالدول المداريه

.....

.....

٦- تعد جزيره جاوه من اكثر مناطق العالم ازدهاما بالسكان

.....

.....

٧- قله عدد السكان في المناطق الاستوائيه في قاره افريقيا

.....

.....

٨- قله عدد السكان في سيبيريا

.....

.....

٩- قله عدد السكان في المناطق الشماليه لقاره اوربا

.....

.....

١٠- تركز السكان على الساحل الشمالي الشرقي للولايات المتحده الامريكيه

.....

.....

.....  
١١- تركيز السكان في منطقة البحيرات العظمى في الولايات المتحدة الامريكه  
.....

.....  
١٢- قله عدد السكان في سهول الامازون في امريكا الجنوبيه  
.....

.....  
١٣- تركيز السكان في جنوب شرق قاره استراليا  
.....

.....  
١٤- تركيز السكان في السواحل الشرقيه لقاره استراليا  
.....

.....  
١٥- قله عدد السكان في غرب ووسط قاره استراليا  
.....

.....  
١٦- قله عدد سكان شمال استراليا  
.....

.....  
١٧- ارتفاع معدلات المواليد في قاره افريقيا  
.....

.....  
١٨- ارتفاع معدلات الوفيات في قاره اوروبا  
.....

.....  
١٩- انخفاض معدلات الوفيات في مصر  
.....

.....  
٢٠- وصلت نسبه التعليم في مصر الى ٦٥ % من السكان  
.....

.....  
٢١- انخفاض معدل تعليم الاناث في بعض الدول  
.....

## السؤال السابع ما النتائج المترتبة على:

١- تقدم الخدمات الصحية في الدول المتقدمة

.....  
.....

٢- زيادة السكان في معظم دول قاره اسيا

.....  
.....

٣- سياده الظروف الصحراويه غرب استراليا

.....  
.....

٤- ارتفاع معدلات المواليد وانخفاض معدلات الوفيات في مصر

.....  
.....

٥- تساوي معدلات المواليد مع معدلات الوفيات في قاره اوروبا

.....  
.....

٦- ارتفاع نسبه فنه صغار السن في الدول الناميه

.....  
.....

## السؤال الثامن دلل على صحة كل مما يأتي:

١- يتشابه مناخ الاقليم السوداني مع مناخ اقليم الموسمي

.....  
.....

٢- يختلف المناخ في اقليم البحر المتوسط والاقليم الصيني رغم وقوعهما في دوائر عرضيه واحده

.....  
.....

٣- يتشابه المناخ المعتدل البارد مع مناخ غرب اوروبا

.....  
.....

.....  
.....  
٤- زيادة السكان في معظم دول اسيا ادت الى مشكلات عديدة

.....  
.....  
٥- يؤثر المناخ في توزيع سكان قاره افريقيا

.....  
.....  
٦- هناك عدة عوامل مؤثره في معدلات الوفيات في العالم

.....  
.....  
٧- انخفاض نسبة الاميه في الدول المتقدمه

.....  
.....  
٨- يعتبر عدد الاطباء مؤشرا مهما في الرعايه الطبيه في العالم

## السؤال التاسع قارن بين

من حيث	إقليم المناخ الاستوائي	والمناخ المداري الحار
القارات التي يظهر فيها	.....	.....
الخصائص النباتية	.....	.....

من حيث	إقليم المناخ الصيني	إقليم مناخ البحر المتوسط
الموقع بالنسبة لدائرة العرض	.....	.....
الخصائص المناخية	.....	.....
الخصائص النباتية	.....	.....

من حيث	إقليم مناخ غرب أوروبا	إقليم المناخ اللورانسى
القارات التي يظهر فيها	.....	.....
الأمطار	.....	.....

من حيث	إقليم مناخ التندرا	إقليم المناخ الجبلى
الموقع	.....	.....
الخصائص المناخية	.....	.....
النبات الطبيعي	.....	.....

من حيث	قارة آسيا	قارة أفريقيا
هضبتين توجدان في كل قارة	.....	.....
المناطق التي يوجد بها الإقليم الاستوائي في القارتين	.....	.....

من حيث	قارة أمريكا الشمالية	قارة أمريكا الجنوبية
مناطق التركيز السكاني	.....	.....
مناطق قلة السكان	.....	.....

من حيث	قارة أفريقيا	قارة أوروبا
مناطق تركيز السكان	.....	.....
مناطق قلة السكان	.....	.....

الدول النامية	الدول المتقدمة	من حيث
.....	.....	الخصائص التعليمية
.....	.....	
.....	.....	
قوة العمل في الدول المتقدمة	قوة العمل في الدول النامية	من حيث
.....	.....	نوع النشاط الاقتصادي
.....	.....	
.....	.....	

انسب الأشجار الآتية إلى الغابات التي تنمو داخلها مع تحديد الإقليم المناخي الذي ترتبط به

### السؤال العاشر

١- المطاط

.....

٢- الصفصاف

.....

٣- الشربين

.....

٤- الزيتون

.....

٥- الصنوبر

.....

٦- الزان

.....

٧- جوز الهند

.....

اذكر أوجه التشابه والاختلاف بين

### السؤال الحادي عشر

اقليم المناخ المعتدل شرق القارات (الصيني)	اقليم مناخ البحر المتوسط	من حيث
.....	.....	الموقع الفلكي

.....	.....	الخصائص المناخية
.....	.....	النبات الطبيعي

## السؤال الثاني عشر ماذا يحدث إذا

١- مرت دائره الاستواء بوسط قاره اوروبا

.....  
.....

٢- انخفضت معدلات المواليد في قاره افريقيا

.....  
.....

٣- تساوي معدلات المواليد والوفيات في افريقيا

.....  
.....

٤- استطاعت مصر خفض معدلات الزيادة الطبيعيه

.....  
.....

٥- انخفضت فنه صغار السن في الدول الناميه

.....  
.....

٦- اصبحت صناعه الحرف الاول في مصر

.....  
.....

٧- استفادة دول قارة افريقيا من ثرواتها المعدنيه والزراعيه في التصنيع

.....  
.....

## السؤال الثالث عشر ما رأيك في

التوسع العمراني على حساب الغابات والحشائش الطبيعيه

.....

## السؤال الرابع عشر ما العلاقة بين

١- مستوى الخدمات الصحية ومعدلات الوفيات

.....  
.....

٢- توزيع السكان والمدن الكبرى

.....  
.....

٣- عدد الاطباء والرعايه الطبيه في العالم

.....  
.....

٤- الدخل الاقتصادي بالدول والنشاط الصناعي في العالم (مع ذكر امثله)

.....  
.....



واجب

امراجعة الرابعة

الوحدة الثالثة

الوحدة الرابعة

## السؤال الأول

### اختر الإجابة الصحيحة مما بين القوسين

- ١- تضاعف نفوذ علماء الازهر بشكل واضح في عهد .....  
( محمد بك ابو الذهب - خورشيد - علي بك الكبير - محمد علي )
- ٢- من الشخصيات العلميه التي اوقدها بها محمد علي الى اوروبا .....  
( رفاعي الطهطاوي - جمال الدين الافغاني - عبد الله النديم - الشيخ محمد عبده )
- ٣- ظهرت طبقة ..... في عهد محمد علي كقوه اجتماعيه مستقره  
( علماء الازهر - التجار - المماليك - البدو )
- ٤- اصبحت لمصر مكانه دوليه بعد حروب محمد علي في .....  
( بلاد الشام - بلاد الحجاز - بلاد اليونان - السودان )
- ٥- ادت حروب محمد علي في اليونان لضم جزيره ..... الى ولايه مصر  
( مالطه - كريت - صقلية - رودس )
- ٦- خشيّت دول اوروبا من ازدياد نفوذ محمد علي فقدت مع السلطان العثماني  
.....  
( صلح اميان - معاهده لندن الدولية - معاهدة العريش - صلح الاسكندرية )
- ٧- توقفت حركه النهضه التي بدأت في عهد (محمد علي) على يد .....  
( ابراهيم باشا - عباس الاول - توفيق - اسماعيل )
- ٨- تم انشاء الخط الحديدي بين القاهره والسويس في عهد .....  
( عباس الاول - سعيد باشا - اسماعيل باشا - توفيق باشا )
- ٩- اتم سعيد باشا مد الخط الحديدي بين القاهره و .....  
( اسوان - بورسعيد - الاسماعيليه - الاسكندريه )
- ١٠- جعل ..... مده الخدمه العسكريه سنه اجباريه للجميع  
( علي بك الكبير - سعيد باشا - عباس باشا الاول - الخديوي اسماعيل )
- ١١- في عهد سعيد باشا تم الغاء ديوان .....  
( الجهاديه - التجاره - المدارس - الايرادات )
- ١٢- بدأت الازمه الماليه في مصر في عهد .....  
( عباس باشا الاول - الخديوي اسماعيل - الخديوي توفيق - سعيد باشا )
- ١٣- كان حفر ترعه ..... شرطاً من شروط حفر قناه السويس  
( الابراهيميه - النوباريه - المحمديه - الاسماعيليه )
- ١٤- تم حفر ترعه الابراهيميه في عهد .....  
( محمد علي - سعيد - اسماعيل - توفيق )
- ١٥- تم انشاء مصلحه البريد المصريه في عهد الخديو .....  
( عباس - سعيد - اسماعيل - توفيق )
- ١٦- ارسلت بريطانيا عام ١٨٧٥ م بعثه الى مصر برئاسة .....  
.....

( ونجت - ملنر - كييف - اللنبي )

١٧- تم افتتاح قناة السويس للملاحة في عهد .....

( الخديو توفيق - عباس الاول - الخديو اسماعيل - سعيد باشا )

١٨- كانت تنازل الخديو اسماعيل عن اطيان عائلته ووضعها تحت الرقابة الدولييه من مطالب.....

( بعثة كييف - صندوق الدين - المراقبه الثنائيه - لجنه التحقيق العليا الاوروبيه )



اكتب كلمة (صواب) امام العبارة الصحيحة  
وكلمة (خطأ) امام العبارة غير الصحيحة. مع التصويب

### السؤال الثاني

١- الغي محمد علي نظام الالتزام في الزراعة و طبق نظام الاحتكار في مجال الاقتصاد  
( )

٢- اثرت سياسته محمد علي الاقتصاديه في تشكيل البناء الاجتماعي في مصر  
( )

٣- تضاعف نفوذ علماء الازهر و القيادات الشعبيه في عهد محمد علي  
( )

٤- زاد نفوذ طبقة التجار في عهد محمد علي  
( )

٥- اهتم محمد علي ببناء القوة العسكرية لتحقيق اهدافه وبناء الدوله الحديثه  
( )

٦- كانت مشروعات محمد علي التعليميه والثقافيه بهدف سد احتياجات الجيش  
( )

٧- قسم محمد علي مصر اداريا الى سبع مديريات  
( )

٨- اصدر محمد علي اللانحة الجديدة ١٨٣٧ م لاعادة تنظيم الاداره الى سبع دواوين وحدد  
اختصاصاتها  
( )

٩- من نتائج ضم محمد علي للسودان انشاء مدينه الخرطوم  
( )

١٠- اصدار سعيد باشا اللانحة السعيديه في اغسطس ١٨٥٨ م  
( )

١١- عقد سعيدباشا اول قرض مع احد البنوك البريطانيه عام ١٨٦٢ م  
( )

١٢- منح عباس باشا الاول ديليسبس عقد الامتياز الاول لحفر قناة السويس في نوفمبر ١٨٥٤ م

( )

١٣- كانت شروط عقد الامتياز الثاني لقناه السويس لصالح مصر

( )

١٤- كانت موافقه السلطان العثماني على امتياز حفر قناه السويس شرطا لصحته

( )

١٥- امتد النفوذ المصري الى ساحل البحر الاحمر بكامله عام ١٨٧٥ م

( )

١٦- اعد الخديو اسماعيل فتح ديوان المدارس

( )

١٧- وجه الخديو اسماعيل عدة حملات حربية الى الاقاليم الاستوائية في افريقيا لمنع تجاره الرقيق

( )

١٨- انشاء الخديوي اسماعيل مجلس شورى النواب عام ١٨٦٦ م

( )

١٩- كانت الوزارة المختلطة في مصر عام ١٨٧٨ م برئاسة شريف باشا

( )

٢٠- كانت المحاكم المختلطة في مصر تتحاز للاجانب

( )

٢١- حاول الخديو اسماعيل الحد من مساوى المحاكم المختلطة في مصر فانشا المحاكم

القنصلية

( )

٢٢- تكونت لجنة التحقيق الاوروبيه في عام ١٨٧٨ م بسبب سوء وارتباك امور مصر الماليه

( )

## السؤال الثالث

### صوب ما تحته خط

١- انشاء محمد علي مدرسه عسكريه في الاسكندريه

( )

٢- صدرت صحيفه الاهرام في عهد محمد علي

( )

٣- كان كليبر من اشهر الضباط الاجانب الذين استعان بهم محمد علي لاعداد الضباط في الجيش

المصري

( )

٤- انشاء محمد علي عدة دواوين مثل ديوان القاهره

( )

٥- أسس محمد علي ترسانه بحريه لصناعه السفن في اسوان

٦- نجح محمد علي في القضاء على الحركة الوهابيه في السودان

٧- اهتم سعيد باشا بالزراعة فقام بتطهير نرعه الابراهيميه

٨- اختصت لجنه التحقيق العليا بالنظر في الجرائم التي يرتكبها الرعايا الاجانب ضد المصريين و الحكومه المصريه نفسها

٩- اصدار الخديو اسماعيل مرسوما بانشاء المراقبه الثنائيه في مايو عام ١٨٧٦ م

### السؤال الرابع

### اكتب ما تشير إليه كل من العبارات الآتية

١- احدى المنشآت التي انشاها (محمد علي) على النيل لتحسين الري

(.....)

٢- معركة تحطم فيها الاسطول المصري اثناء حرب محمد علي في اليونان

(.....)

٣- بموجبها اصبح للفلاح الحق في توريث الارض الزراعيه

(.....)

٤- مجلس اسمه الخديو اسماعيل عام ١٨٦٦ م ويعتبر بدايه تاريخ المؤسسات النيابيه في مصر

(.....)

٥- محاكم اقامها الخديو اسماعيل عام ١٨٧٥ م للفصل في القضايا المدنيه بين المصريين والاجانب والفصل في المنازعات

(.....)

٦- كانت بمثابة خزانه فرعيه للخزانه المصريه وانشاه الخديو اسماعيل للاشراف على تسديد الديون

(.....)

### السؤال الخامس

### ما المقصود بكل من:

١- نظام احتكار

.....  
.....

## السؤال السادس إلى من تنسب الأعمال الآتية

- ١- قام بتطهير البحر الاحمر من القرصنة واهتم بالموانى المصرية  
(.....)
- ٢- قام بتأسيس كل من المطبعة الاميريه وترسانى فى بولاق  
(.....)
- ٣- اهتم باصلاح احوال الفلاحين فاصدر لائحته عام ١٨٥٨ م  
(.....)
- ٤- اعتنى بتطهير ترعه المحموديه لتفى بحاجه الري والزراعه  
(.....)
- ٥- انشادار الكتب المصريه و دار الرصد والجامعيه الجغرافيه عام ١٨٧٥ م  
(.....)
- ٦- اسس مجلس شورى النواب و وضع اول دستور فى مصر عام ١٨٧٨ م  
(.....)
- ٧- تولى رئاسه وزاره المختلطه عام ١٨٧٨ م بناء على اتفاق فرنسا وانجلترا  
(.....)
- ٨- وجه عدة حملات الى الاقاليم الاستوائيه فى افريقيا لمنع تجاره الرقيق  
(.....)
- ٩- اصدر مرسوما بتعيين مراقبه الاجنبيين على المالىه المصريه احدهما بريطانى للايرادات والاخر فرنسى للمصروفات  
(.....)
- ١٠- اصدر مرسوم فى ابريل ١٨٧٩م بتسويه الديوان المصريه وفقا لقرارات اللائحته الوطنيه  
(.....)
- ١١- اعاد نظام المراقبه الثنائيه عند توليه حكم مصر  
(.....)

## السؤال السابع بم تفسر ..

- ١- تطبيق نظام الاحتكار على عهد محمد على  
.....  
.....
- ٢- ازدهار الزراعه فى مصر فى عهد محمد على  
.....  
.....

.....  
٣- نشاط التجارة في مصر في عهد محمد علي

.....  
.....  
.....  
٤- اهتمام محمد علي بالتعليم والثقافة

.....  
.....  
.....  
٥- انشاء محمد علي للمطبعة الاميرية في بولاق

.....  
.....  
.....  
٦- حروب محمد علي في الجزيرة العربية

.....  
.....  
.....  
٧- سعى محمد علي لضم السودان

.....  
.....  
.....  
٨- حروب محمد علي في اليونان

.....  
.....  
.....  
٩- توتر العلاقة بين محمد علي والسلطان العثماني في نهايه حرب اليونان

.....  
.....  
.....  
١٠- عقد معاهده لندن الدوليه عام ١٨٤٠ م

.....  
.....  
.....  
١١- تحسنت احوال الفلاح المصري في عهد سعيد باشا

.....  
.....  
.....  
١٢- اجحاف شروط عقد الامتياز الثاني لحفر قناة السويس بمصر

.....  
.....  
.....  
١٣- توجيه الخديو اسماعيل حملات عسكريه الى الاقليم الاستواني في افريقيا

.....  
.....  
١٤- كانت علاقة الخديو اسماعيل بالدولة العثمانية احد عوامل الازمه الماليه

.....  
.....  
١٥- ازدياد الازمه الماليه في عهد الخديو اسماعيل

.....  
.....  
١٦- انشاء الخديو اسماعيل للمحاكم المختلطه عام ١٨٧٥ م

.....  
.....  
١٧- انشاء الخديو اسماعيل لصندوق الدين مايو ١٨٧٦ م

.....  
.....  
١٨- انشاء لجنه التحقيق الاوروبيه في مصر عام ١٨٧٨ م

.....  
.....  
١٩- صدور فرمان سلطاني بعزل الخديو اسماعيل وتولية ابنه توفيق حكم مصر

## السؤال الثامن ما النتائج المترتبة على

١- اصدار اللانحه السعديه عام ١٨٥٨ م

.....  
.....  
٢- اهتمام الخديو اسماعيل بالزراعه في مصر

.....  
.....  
٣- اسراف الخديو اسماعيل في الاقتراض من الدول الاجنبيه

٤- انشاء المحاكم المختلطة في عهد الخديو اسماعيل

.....  
.....

٥- الانتقادات التي وجهتها الحركة الوطنية للوزاره المختلطة

.....  
.....

٦- اقضاء الخديو اسماعيل الوزيرين الاجنبيين و اصدار لائحته لتسويه الديوان في ابريل  
١٨٧٩ م

.....  
.....

### السؤال التاسع

### أيد بالأدلة التاريخية صحة كل عبارة مما يأتي

١- اتبع محمد علي سياسته زراعيه تهدف الى توفير اكبر قدر من الانتاج الزراعي

.....  
.....

٢- قام محمد علي بتطوير وتحديث الانتاج الصناعي

.....  
.....

٣- اتبع محمد علي سياسته تهدف الى السيطرة على الانتاج الصناعي

.....  
.....

٤- ازدهار النقل والمواصلات في مصر في عهد محمد علي

.....  
.....

٥- اهتم محمد علي بالتعليم والثقافه في مصر

.....  
.....

٦- اثرت سياسته محمد علي الاقتصاديه في تشكيل وبناء القوي الاجتماعيه في مصر

.....  
.....

٧- اثارت انتصارات محمد علي ضد السلطان العثماني الدول الاوروبيه ضده

.....  
.....

٨- حدوث نهضة زراعية في عهد سعيد باشا

٩- توقفت حركة النهضة في عهد عباس الاول

١٠- كانت شروط عقد الامتياز الثاني لحفر قناة السويس وبالا على مصر والمصريين

١١- شهدت مصر في عهد الخديو اسماعيل نهضة عمرانية كبيرة

١٢- اهتم الخديو اسماعيل بالتعليم و النهضة العلمية

١٣- يعتبر عهد الخديو اسماعيل بداية الاصلاح النيابية في مصر

## السؤال العاشر

# قارن بين

احوال الفلاح المصري في عهد محمد سعيد باشا	احوال الفلاح المصري في عهد العثمانيين
.....	.....
.....	.....
.....	.....

السؤال الحادي عشر

اذكر الحدث التاريخي المرتبط بكل تاريخ من التواريخ الآتية

٨- ١٨٤١ م

## السؤال الثاني عشر

### اذكر عملاً واحداً قام به كل من

١ - عباس باشا الاول

٢ - سعيد باشا

٣ - الخديو اسماعيل

## السؤال الثالث عشر

### رتب الأحداث التاريخية الآتية من الأقدم إلى الأحدث

١ - معركة الريدانية - الحملة الفرنسية على الشام - حملة فريزر ثوره القاهره الاولى

٢ - معاهده لندن - معركة شبراخيت - توليه كليبر قياده الحملة الفرنسيه - مذبحة القلعه

٣ - توليه محمد علي حكم مصر - جلاء الفرنسيين عن مصر - معركة ابو قير البحريه - معركة اميايه

٤ - توليه مينو قياده الحملة الفرنسيه - اعدام محمد كريم - خفي عمر مكرم الى دمياط - عوده نابليون الى فرنسا

٥ - حرب محمد علي في اليونان - حرب محمد علي في الجزيره العربيه - حملة فريزر على مصر - الحملة الفرنسيه على الشام ثوره القاهره الاولى - موقعه الريدانيه

## السؤال الرابع عشر

### وضح ما يأتي

١ - نص الاتفاق الودي بين فرنسا وانجلترا

٢ - شروط الامتياز الثاني لحفر قناة السويس



واجب

امراجعة الخامسة

الوحدة الرابعة

## السؤال الأول

### اختر الإجابة الصحيحة مما بين القوسين

- ١- رئيس وزراء مصر الذي اسند وزاره الجهاديه والبحريه لاحمد عرابي هو .....  
( رياض باشا - عثمان رفقي - شريف باشا - محمود سامي البارودي )
- ٢- في يونيو ١٨٧٩ م اصدر السلطان العثماني فرمان بعزل اسماعيل وتولية .....  
( فؤاد الاول - فاروق - توفيق - عباس حلمي )
- ٣- عقد ممثلي الدول العظمى مؤتمر ..... في عام ١٨٨٢ م للنظر في المساله  
المصريه  
( لندن - باريس - الاستانه - برلين )
- ٤- دخل الانجليز القاهره بعد معركة .....  
( كفر الدوار - التل الكبير - الاسكندريه - القصاصين )
- ٥- قامت الحكومه البريطانيه بنفي زعماء الثوره العرابيه الى جزيره .....  
( سيلان - مالطا - سيشل - قبرص )
- ٦- عقدت فرنسا وانجلترا عام ١٩٠٤ م .....  
( معاهده لندن - اتفاقه العريش - اتفاق الوادي - معاهده الصداقه )
- ٧- اسس مصطفى كامل جريده ..... عام ١٩٠٠ م  
( المؤيد - العروه الوثقى - اللواء - الوقائع المصريه )
- ٨- استقاله اللورد كرومر من منصبه عقب .....  
( تصريح ٢٨ فبراير ١٩٢٢ م - موقعه التل الكبير - معاهده ١٩٣٦ م - حادثه دنشواي )
- ٩- تصدي الزعيم ..... لمشروع مد امتياز قناه السويس ٤٠ سنه اخرى  
( احمد عرابي - مصطفى كامل - محمد فؤاد - سعد زغلول )
- ١٠- اعترفت بريطانيا بمصر دوله مستقله ذات سياده وانتهت الحمايه عليها بمقتضى  
.....  
( الوفاق الودي ١٩٠٤ م - تصريح ٢٨ فبراير ١٩٢٢ م - معاهده ١٩٣٦ م - حادث قصر  
عابدين ١٩٤٢ م )
- ١١- شكل ..... اول وزاره برلمانيه مصريه في يناير ١٩٢٤ م  
( محمد فريد - عدلي يكن - سعد زغلول - اسماعيل صدقي )
- ١٢- قدم ..... استقالته بعد فشل مفاوضات مع كيرزون سنه ١٩٢١ م  
( سعد زغلول - شريف باشا - عدلي يكن - البارودي )
- ١٣- اعلان رئيس الوزراء ..... الغاء معاهده ١٩٣٦ م  
( البارودي - شريف باشا - عدلي يكن - مصطفى النحاس )



اكتب كلمة (صواب) أمام العبارة الصحيحة  
وكلمة (خطأ) أمام العبارة غير الصحيحة. مع التصويب

## السؤال الثاني

- ١- اعد الخديو توفيق في بدايه حكمه العمل باللانحة الاساسيه لمجلس النواب  
( )
- ٢- اعد الخديو توفيق المراقبه الثانيه  
( )
- ٣- ادت حادثه قصر النيل في يناير ١٨٨١ م الى اقالة عثمان رفقي  
( )
- ٤- كانت المؤثرات الفكرية الغربية من عوامل قيام الثورة العرابيه  
( )
- ٥- تحرك رجال الجيش الى قصر النيل واخرجو عرابي وزملانه بالقوه في منتصف يناير  
١٨٨١ م  
( )
- ٦- نجحت مظاهرة عابدين ٩ سبتمبر ١٨٨١ م في عزل وزاره البارودي  
( )
- ٧- اعتقل زعماء الثورة العرابيه ما عدا محمد عبده خطيب الثورة  
( )
- ٨- احتلت القوات البريطانيه مدينه الاسكندريه في اغسطس ١٨٨٢ م  
( )
- ٩- عقب الاحتلال البريطاني لمصر اصبحت السلطه الفعلية للخديو  
( )
- ١٠- تولى الزعيم مصطفى كامل قياده الحركه الوطنيه في اواخر القرن التاسع عشر  
( )
- ١١- ادت تنديه الزعيم محمد فريد بحادثه دنشواي الى استقاله اللورد كرومر من منصبه كما  
تمد بريطانيا في مصر  
( )
- ١٢- ساهم محمد فريد في منع مد امتياز قناة السويس ٤٠ سنه اخرى  
( )
- ١٣- تالف الوفد المصري عقب انتهاء الحرب العالميه الثانيه ١٩٤٥ م  
( )
- ١٤- من عوامل قيام ثوره ١٩١٩ م ازدياد الوعي الوطني المصري  
( )

١٥- رفض مؤتمر الصلح بباريس الاعتراف بالحماية البريطانية على مصر

( )

١٦- رفض المصريين التفاوض مع لجنة ملنر

( )

١٧- نتيجة عن تصريح ٢٨ فبراير ١٩٢٢ م الغاء الحماية البريطانية على مصر

( )

١٩- شكلت وزاره عبد الخالق ثروت باشا لجنة من ثلاثين عضوا لاعداد دستور ١٩٢٣ م

( )

٢٠- اكد دستور ١٩٢٣ م ان الامة هي مصدر السلطات

( )

٢١- اعطى دستور ١٩٣٠ م للملك مزيدا من السلطات و اهدر سلطة الامة

( )

٢٢- لم يؤد تعدد الاحزاب بعد دستور ١٩٢٣ م الى اثراء الحياه النيابيه

( )

٢٣- تحولت علاقته مصر لانجلترا من احتلال لتحالف بعد تصليح ٢٨ فبراير ١٩٢٢ م

( )

٢٤- ترتب على معاهده ١٩٣٦ م انضمام مصر الى عضوية عصبة الامة

( )

## السؤال الثالث صوب ما تحته خط

١- تقدم احمد عرابي للخديو توفيق بمطالب الشعب ومنها اسقاط حكومة شريف باشا المستبد

.....

٢- تمكن العرابيين من صد هجمات القوات البريطانية عند مدينة القصاصين

.....

٣- استشهد الضابط محمد عبيد في معظم رجاله في معركة كفر الدوار

.....

٤- طالب الزعيم مصطفى كامل ان يكون التعليم الزاميا وبالمجان في المرحلة الابتدائية

.....

٥- استنقلت وزاره سعد زغلول عقب مقتل اللورد كرومر في نوفمبر ١٩٢٤ م

.....

٦- عقدت معاهده ١٩٣٦ م بين سعد زغلول و الانجليز

## السؤال الرابع

اكتب ما تُشير إليه كل من العبارات الآتية:

- ١- نادي بانثانها الزعيم محمد فريد لتعليم العمال والفقراء مجاناً  
(.....)
- ٢- اتفاق يقضي بانفراد إنجلترا بحكم مصر مقابل انفراد فرنسا بحكم مراكش عام ١٩٠٤ م  
(.....)
- ٣- دستور اعطى الملك فؤاد الاول المزيد من السلطات واهدر سلطه الامه وحقوقها  
(.....)
- ٤- مؤتمر عقده عام ١٩٣٧ م تخلصت مصر بمقتضاها من الامتيازات الاجنبيه  
(.....)
- ٥- الاستيلاء على ارض الغير بالقوه  
(.....)

## السؤال الخامس

إلى من تنسب الأعمال الآتية:

- ١- امر بمحاكمة احمد عرابي وزملائه لطلبهم عزل عثمان رفقي  
(.....)
- ٢- قاد مظاهراته في ميدان عابدين عام ١٨٨١ م  
(.....)
- ٣- قدم استقاله الوزاره لاصرار مجلس النواب على مناقشه الميزانيه  
(.....)
- ٤- تولى رئاسه وزاره الثوره في فبراير ١٨٨٢ م وكان فيها عرابي وزير الجهاديه والبحريه  
(.....)
- ٥- اراد تعطيل الملاحه في قناه السويس ١٨٨٢ م  
(.....)
- ٦- اصدار منشورا اعلن فيها عصيان عرابي  
(.....)
- ٧- صمد بقواته امام القوات البريطانيه وقاتلوهم حتى استشهد في التل الكبير  
(.....)
- ٨- زعيم وطني طالب بالدستور و اصدر جريده اللواء  
(.....)
- ٩- دعا الى رفض اتفاقيه الحكم الثنائي في السودان  
(.....)

١٠- تولى رئاسه الحزب الوطني بعد وفاه مصطفى كامل

(.....)

١١- طالب بانشاء نقابات للعمال ومدارس ليليه لتعليم العمال والفقراء مجانا

(.....)

١٢- اعلن مبدا حق الشعوب (المحتله) في تقرير مصيرها

(.....)

١٣- وزير خارجيه بريطانيا الذي يتفاوض مع عدلي يكن في مارس ١٩٢١ م

(.....)

١٤- شكل اول وزاره برلمانيه و التي عرفت بوزاره الشعب في يناير ١٩٢٤ م

(.....)

١٥- الغي دستور ١٩٢٣ م ووضع مكانه دستور ١٩٣٠ م

(.....)

١٦- الغي معاهده ١٩٣٦ م و اطلق الحريه للشعب للنضال المسلح ضد الانجليز

(.....)

## المسؤال السادس

# بم تفسر

١- مظاهره عابدين ٩ سبتمبر ١٨٨١ م

.....  
.....

٢- قيام الثورة العرابيه

.....  
.....

٣- اصرار شريف باشا على تاجيل مناقشه مجلس النواب للميزانيه

.....  
.....

٤- ارسال انجلترا وفرنسا المنكره المشتركه الاولى في يناير ١٨٨٢ م

.....  
.....

٥- ارسال بريطانيا وفرنسا المنكره المشتركه الثانيه في مايو ١٨٨٢ م

.....  
.....

٦- هزيمه العرابيين في التل الكبير

.....  
.....  
٧- فشل الثورة العربية

.....  
.....  
٨- اهتمام الاحتلال البريطاني بالتوسع في زراعة القطن في مصر

.....  
.....  
٩- تدهور التعليم في ظل الاحتلال البريطاني لمصر

.....  
.....  
١٠- توليه محمد فريد رئاسه الحزب الوطني في ظروف صعبه

.....  
.....  
١١- قيام ثوره ١٩١٩ م

.....  
.....  
١٢- فشل مهمه الوفد المصري في باريس عام ١٩١٩ م

.....  
.....  
١٣- لم يحقق تصريح ٢٨ فبراير للمصريين امانتهم الوطنيه كامله

.....  
.....  
١٤- معارضه الشعب المصري دستور عام ١٩٣٠ م و المطالبه بالغانه

.....  
.....  
١٥- وقوع حادث ٤ فبراير عام ١٩٤٢ م

## السؤال السابع ما النتائج المترتبة على

١- حادثه قصر النيل عام ١٨٨١ م

.....  
.....

٢- مظاهره عابدين ٩ سبتمبر ١٨٨١ م

.....  
.....

٣- تولي محمود سامي البارودي رئاسه وزاره فبراير ١٨٨٢ م

.....  
.....

٤- اصرار مجلس النواب على مناقشه الميزانيه عام ١٨٨٢ م

.....  
.....

٥- خيانه ديليسبس لعرايى (بالنسبه لامر قناه السويس)

.....  
.....

٦- اصدار السلطان العثماني مرسوما بعصيان احمد عرابي

.....  
.....

٧- تنديد الزعيم مصطفى كامل بحادثه دنشواي ١٩٠٦ م

.....  
.....

٨- معارضه محمد فريد مشوار مد امتياز قناه السويس

.....  
.....

٩- صدور تصريح ٢٨ فبراير ١٩٢٢ م

.....  
.....

١٠- صدور دستور ١٩٢٣ م

.....



٦- لم يتضمن تصريح ٢٨ فبراير ١٩٢٢ التحفظات الاربعه

٧- لم يتم اغتيال السير لي ستاك عام ١٩٢٤ م

٨- لم يتعرض الشعب المصري علي دستور ١٩٣٠ م

٩- لم تحصل الدبابات البريطانيه قصر عابدين في ٤ فبراير ١٩٤٢ م

١٠- لم يعلن مصطفى النحاس الغاء معاهده ١٩٣٦ م

### السؤال التاسع

أيد بالأدلة التاريخية صحة كل عبارة مما يأتي

١- ادت سياسته الخديو توفيق الى زياده التدخل الاجنبي في شئون البلاد

٢- فرضت سلطات الاحتلال البريطاني على مصر سياسة اقتصادية تخدم مصالحها

٣- كان لدستور ١٩٢٣ م العديد من المزايا ولكنه لم يخل من العيوب

### السؤال العاشر

قارن بين

من حيث	المذكرة المشتركة الاولى	المذكرة المشتركة الثانية
سبب	.....	.....
ارسالها	.....	.....

.....	.....	محتواها
ثورة ١٩١٩	الثورة العربية	من حيث
.....	.....	الأسباب
.....	.....	النتائج
معاهدة ١٩٣٦	تصريح ٢٨ فبراير ١٩٢٢	من حيث
.....	.....	البنود
حدث ٢٥ يناير ١٩٥٢	حدث ٤ فبراير ١٩٤٢	من حيث
.....	.....	الظروف التي أدت إلى كل منها

## السؤال الحادي عشر

### رتب الأحداث التاريخية الآتية من القديم إلى الحديث

١- انشاء مصطفى كامل جريدة اللواء -حريق القاهرة -المذكرة المشتركة الاولى -مفاوضات عدلى -كبيرزون -حنفى سعد -زغلول الى جزيره مالطة

٢- حادثه دنشواي -الاتفاق الودي بين فرنسا وانجلترا -الاحتلال البريطاني لمصر -الثوره العربيه -افتتاح قناه السويس للملاحة الدوليه

٣- قيام الحرب العالميه الثانيه -اصدار منشور عصيان عرابي -تولييه محمد علي ولايه مصر -اصدار جريده اللواء

٤- تاسيس مجلس شورى النواب -تأييد الشعب للجيش في ميدان عابدين -افتتاح قناه السويس للملاحة -اتفاق الودي بين انجلترا وفرنسا

٥- اكتشاف حجر رشيد -احتلال القوات البريطانية مدينة القاهرة معاهدة لندن الدوليـه حملـه  
فريزر على مصر

السؤال الثاني عشر  
اذكر عاملا واحدا قام به كل من

١- نوبار باشا

٢- الخديو توفيق

٣- محمود سامي البارودي

٤- احمد عرابي

٥- مصطفى كامل

٦- محمد فريد

٧- اسماعيل صدقي

٨- سعد زغلول

٩- مصطفى النحاس

السؤال الثالث عشر  
وضح ما يأتي

١- نصوص تصريح ٢٨ فبراير ١٩٢٢ م

٢- نصوص معاهدة ١٩٣٦ م



## الخرائط

### ١- امامك خريطة لقارة آسيا اكتب ما تدل عليه الأرقام



١- دائره : .....

٢- مدار : .....

٣- الدائره : .....

٤- المحيط : .....

٥- المحيط : .....

٦- المحيط : .....

٧- بحر : .....

٨- جبال : .....

٩- جبال : .....

١٠- جبال : .....

١٢- هضبه : .....

١١- هضبه : .....

١٤- سهول : .....

١٣- هضبه : .....

١٦- نهر : .....

١٥- نهر : .....

١٨- نهر : .....

١٧- نهر : .....

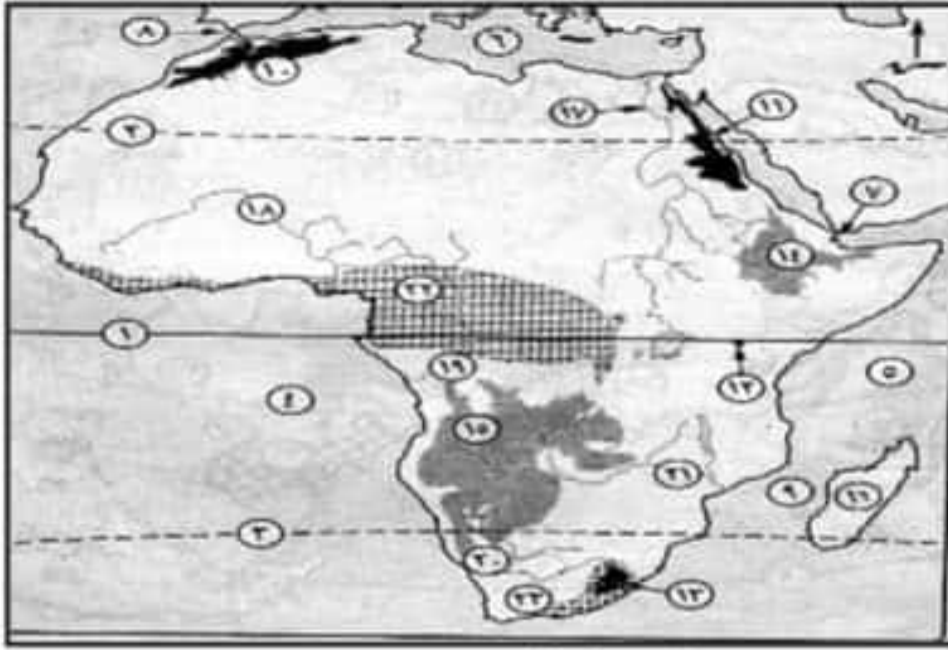
٢٠- اقليم مناخى : .....

١٩- نهرا : .....

٢٢- سهل : .....

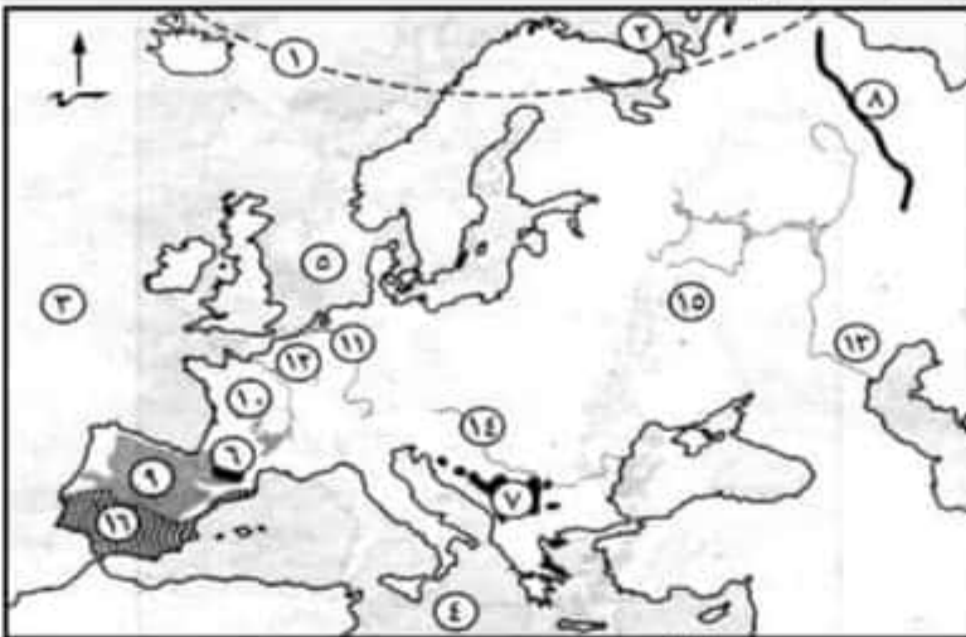
٢١- سهل : .....

## ٢. امامك خريطة لقارة افريقيا. اكتب ما تدل عليه الارقام



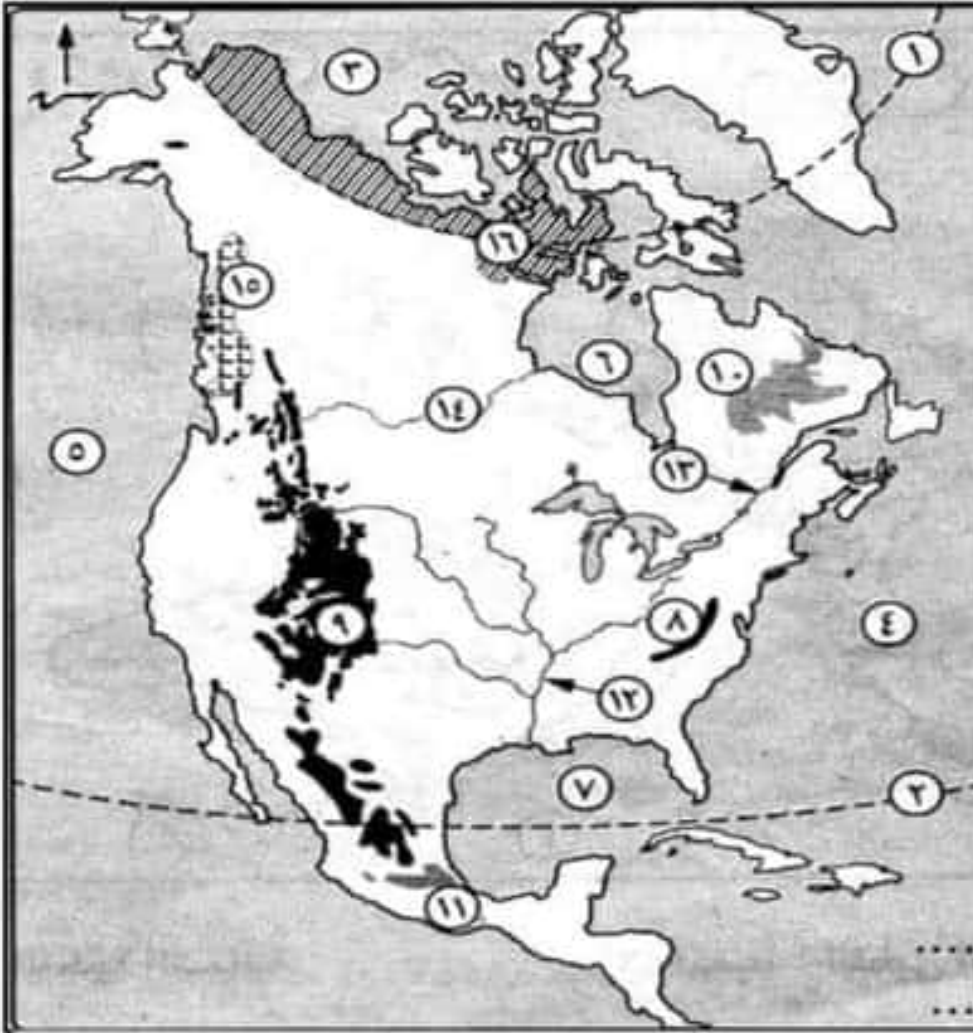
- |                         |                         |
|-------------------------|-------------------------|
| ..... : ١- دائره        | ..... : ٧- مضيق         |
| ..... : ٢- مدار         | ..... : ٩- مضيق         |
| ..... : ٣- مدار         | ..... : ١١- جبال        |
| ..... : ٤- المحيط       | ..... : ١٣- جبال        |
| ..... : ٥- المحيط       | ..... : ١٥- هضبة        |
| ..... : ٦- البحر        | ..... : ١٧- نهر         |
| ..... : ٨- مضيق         | ..... : ١٩- نهر         |
| ..... : ١٠- جبال        | ..... : ٢١- نهر         |
| ..... : ١٢- جبال        | ..... : ٢٣- اقليم مناخى |
| ..... : ١٤- هضبه        |                         |
| ..... : ١٦- جزيره       |                         |
| ..... : ١٨- نهر         |                         |
| ..... : ٢٠- نهر         |                         |
| ..... : ٢٢- اقليم مناخى |                         |

## ٣. امامك خريطة لقارة اوروبا. اكتب ما تدل عليه الارقام



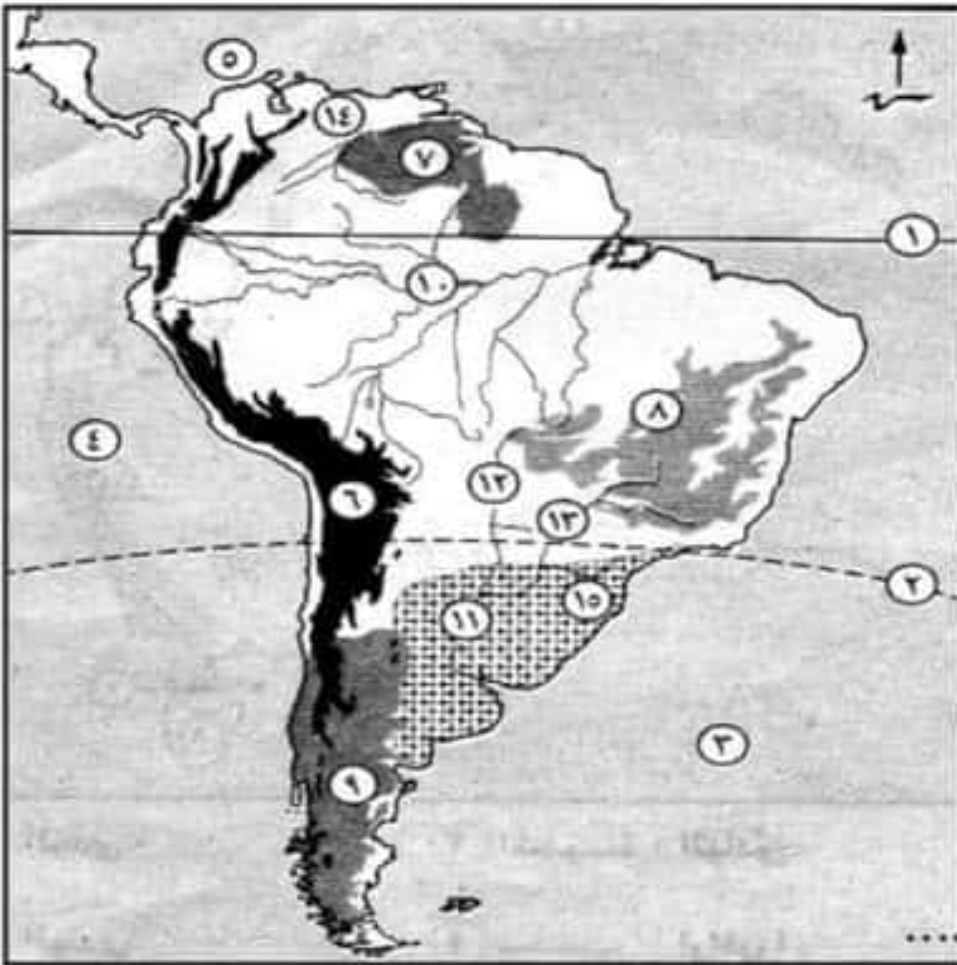
- |                         |                   |
|-------------------------|-------------------|
| ..... : ١- الدائره      | ..... : ١١- نهر   |
| ..... : ٢- المحيط       | ..... : ١٣- نهر   |
| ..... : ٣- المحيط       | ..... : ١٥- السهل |
| ..... : ٤- البحر        |                   |
| ..... : ٥- بحر          |                   |
| ..... : ٦- جبال         |                   |
| ..... : ٧- جبال         |                   |
| ..... : ٨- جبال         |                   |
| ..... : ٩- هضبه         |                   |
| ..... : ١٠- هضبه        |                   |
| ..... : ١٢- نهر         |                   |
| ..... : ١٤- نهر         |                   |
| ..... : ١٦- اقليم مناخى |                   |

#### ٤. امامك خريطة لقارة امريكا الشمالية. اكتب ما تدل عليه الارقام



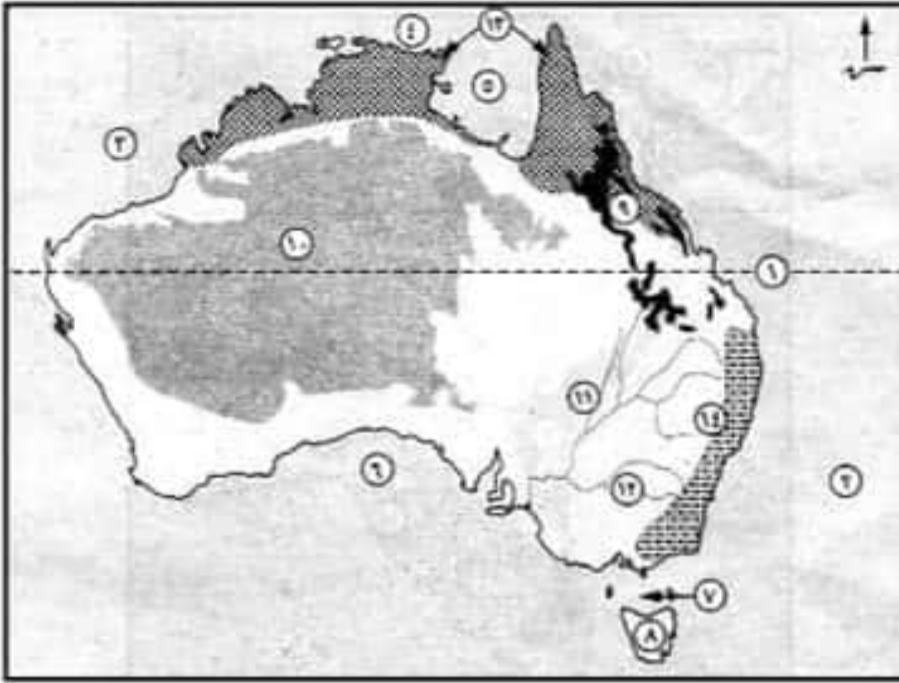
- ١- الدائره : .....
- ٢- مدار : .....
- ٣- المحيط : .....
- ٤- المحيط : .....
- ٥- المحيط : .....
- ٦- خليج : .....
- ٧- خليج : .....
- ٨- جبل : .....
- ٩- جبل : .....
- ١٠- هضبه : .....
- ١١- هضبه : .....
- ١٢- نهر : .....
- ١٣- نهر : .....
- ١٤- نهر : .....
- ١٥- اقليم مناخى : .....
- ١٦- اقليم مناخى : .....

#### ٥. امامك خريطة لقارة امريكا الجنوبية. اكتب ما تدل عليه الارقام

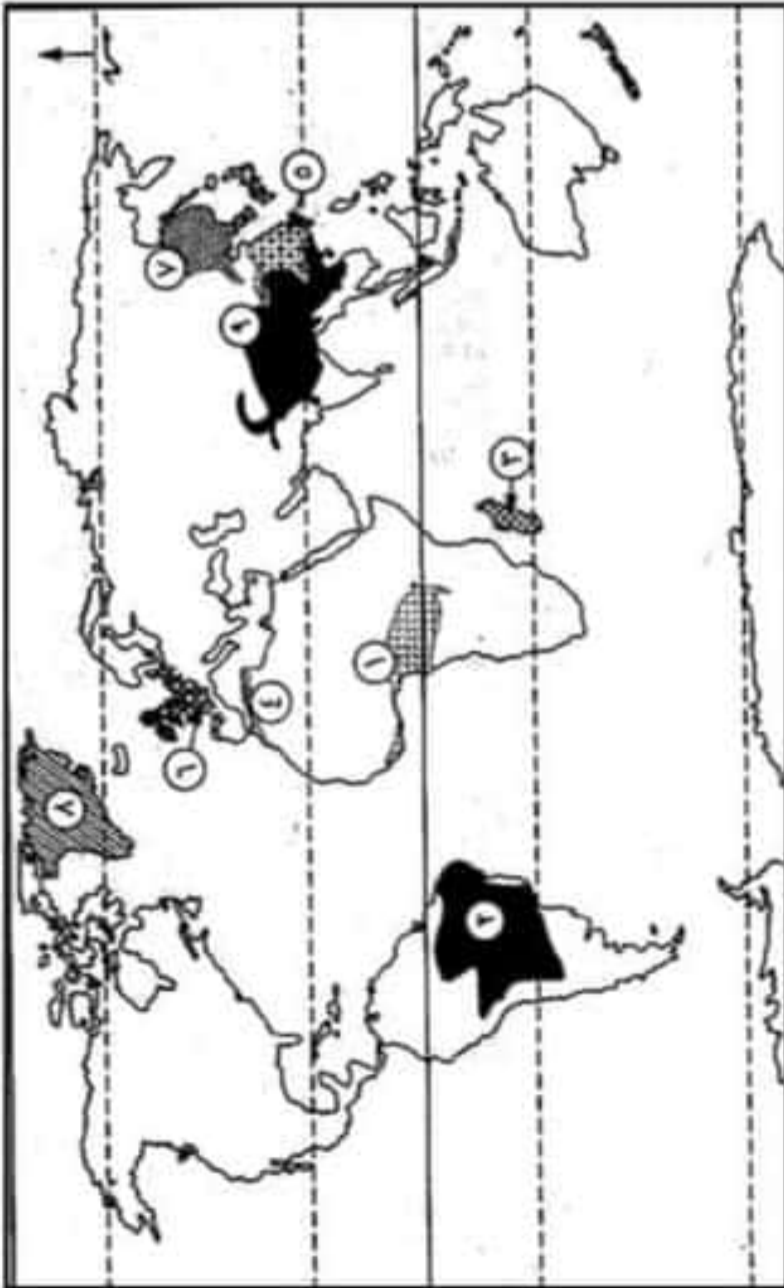


- ١- دائره : .....
- ٢- مدار : .....
- ٣- المحيط : .....
- ٤- المحيط : .....
- ٥- بحر : .....
- ٦- جبل : .....
- ٧- هضبه : .....
- ٨- هضبه : .....
- ٩- هضبه : .....
- ١٠- نهر : .....
- ١١- نهر : .....
- ١٢- نهر : .....
- ١٣- نهر : .....
- ١٤- نهر : .....
- ١٥- اقليم مناخى : .....

## ٦. امامك خريطة لقارة استراليا. اكتب ما تدل عليه الارقام



- ١- مدار .....
- ٢- المحيط .....
- ٣- المحيط .....
- ٤- بحر .....
- ٥- خليج .....
- ٦- الخليج .....
- ٧- مضيق .....
- ٨- جزيرة .....
- ٩- جبال .....
- ١٠- الهضبه .....
- ١١- نهر .....
- ١٢- نهر .....
- ١٣- اقليم مناخي .....
- ١٤- اقليم مناخي .....



## ٧. امامك خريطة للعالم. اكتب ما تدل عليه الارقام

- ١- اقليم مناخي .....
- ٢- الاقليم المناخي .....
- ٣- اقليم مناخي .....
- ٤- اقليم مناخي .....
- ٥- اقليم مناخي .....
- ٦- اقليم مناخي .....
- ٧- اقليم مناخي .....
- ٨- اقليم مناخي .....
- ٩- اقليم مناخي .....