

الدراسات الاجتماعية

المراجعة النهائية

مجابة

الصف الثالث الإعدادي

الفصل الدراسي الأول

أولاً: الجغرافيا

السؤال الأول

أكتب ما تشير إليه العبارات الآتية

- ١- موقع المكان بالنسبة لخطوط الطول ودوائر العرض (الموقع الفلكي)
- ٢- الموقع بالنسبة للأماكن الأخرى من بحار ومحيطات وقارات ودول مجاورة (الموقع الجغرافي)
- ٣- هي الدول التي تتكون من جزيرة أو أكثر أو تكون جزء من جزيرة (دول جزرية)
- ٤- جبال تفصل آسيا عن أوروبا (اورال)
- ٥- أكبر بحر مغلق في العالم (قزوين)
- ٦- قارة تتميز بتعرج سواحلها وكثرة الجزر (أوروبا)
- ٧- قارة تبدو في شكل أقرب للمثلث (أمريكا الجنوبية)
- ٨- أعلى جبال العالم وتوجد وسط آسيا وبها أعلى قمة جبلية أفرست (الهمالايا)
- ٩- هضبة تعرف بسقف العالم وسط آسيا (التبت)
- ١٠- من أهم أنهار سهول شرق الصين (اليانغتسى)
- ١١- هضبة تتحصر بين سلسلة جبال أطلس في أفريقيا (الشطوط)
- ١٢- الأرض التي يجري فيها النهر وروافده أو تتحدر مياهه إليها (حوض النهر)
- ١٣- أعلى جبال أمريكا الشمالية ويغطي قممها الجليد شتاء (روكي)
- ١٤- أكبر هضاب أمريكا الجنوبية وأكثرها ارتفاعا (البرازيل)
- ١٥- أصغر هضاب أمريكا الجنوبية مساحة (بيتاجونيا)
- ١٦- أوسع سهول فيضية في العالم وتوجد في قارة أمريكا الجنوبية (الإمازون)
- ١٧- هضبة تشغل نصف مساحة قارة أستراليا (الهضبة الغربية)
- ١٨- قاراتان يسودهما المظهر الهضبي (أفريقيا وأستراليا)
- ١٩- منطقة محددة على سطح الأرض لها خصائص مناخية معينة من حيث الحرارة والرياح والأمطار (إقليم مناخي)
- ٢٠- حشائش تنمو في العروض المدارية وتعتبر حديقة حيوان طبيعية تتدرج في الطول حسب كمية المطر. (السافانا)
- ٢١- غابات تنمو بالإقليم الموسمي بسبب غزارة الأمطار (الغابات الموسمية)
- ٢٢- إقليم مناخي تتنوع فيه الحياة النباتية طبقا لارتفاع السطح (الإقليم الجبلي)
- ٢٣- إقليم مناخي يتعرض أحيانا لعواصف مدارية مثل عواصف التيفون (الصيني)
- ٢٤- الإقليم الوحيد الذي يظهر في القارة القطبية الجنوبية بأكملها (التنصرا)
- ٢٥- غابات من أهم أشجارها الزان وتنفض أوراقها شتاء (النفصية)

٢٦- إقليم مناخي يقع بالعروض المعتدلة غرب القارات بين دائرتي عرض ٣٠ : ٤٥ ش و ج (المعتدلة الدافئة)

٢٧- مجموعة بشرية تتشابه في صفاتها الجسمية الخارجية (السلالة البشرية)

٢٨- سلالة تمثل ١٠ % من سكان العالم تتميز بالشعر الأجدد وأنف العريض والشفاة الغليظة والبشرة السوداء.

(الرنجيه)

(افريقيا)

٢٩- قارة يمثل فيها الزوج نحو ٧٥ % من زوج العالم.

٣٠- سلالة تمثل ٤٠ % من سكان العالم وتتميز بالشعر المسترسل والعيون المنحرفة والبشرة الصفراء

(المغولية)

(الاسكيمو)

٣١- من أقسام السلالة المغولية يعيشون في شمال كندا وآلاسكا

(الهنود الحمر)

٣٢- من أقسام السلالة المغولية يعيشون في الأمريكتين

(التانجوس)

٣٣- جماعة من أقسام السلالة المغولية تعيش في سيبيريا

(القوقازيه)

٣٤- سلالة تنتشر في كل القارات وتمثل ٥٠ % من سكان العالم

(مجموعة)

٣٥- مجموعة من أقسام السلالة القوقازية ينتمي إليها العرب ودول جنوب أوروبا

(سكان حوض البحر المتوسط)

(الالبية)

٣٦- مجموعة من أقسام السلالة القوقازية تمثل سكان غرب ووسط أوروبا

(النوردية الشماليه)

٣٧- مجموعة من أقسام السلالة القوقازية ينتمي إليها سكان شمال أوروبا

(الهجرات غير الشرعيه)

٣٨- هجرات خارجية تتم من خلال وسائل غير قانونية

٣٩- أكبر دول أمريكا الشمالية وتمثل نحو ٥٧ % من سكان القارة (الولايات المتحدة الامريكه)

(البرازيل)

٤٠- أكبر دول أمريكا الجنوبية ويمثل سكانها نحو ٥٠ % من سكان القارة.

(استراليا)

٤١- أكبر دولة في قارة استراليا وتمثل نحو ٦٠ % من سكان القارة

(ديموجرافيا)

٤٢- علم دراسة السكان من حيث التوزيع والنمو والتركييب العمري

٤٣- أعلى القارات في معدل المواليد - قارة معدل الزيادة الطبيعية بها مرتفع - أقل دخل للفرد (افريقيا)

٤٤- أقل القارات في معدل المواليد - قارة الأعلى في معدل الوفيات - قارة الزيادة الطبيعية بها صفر

(اوروبا)

(امريكا الجنوبيه)

٤٥- أقل القارات معدل الوفيات

(صغار السن)

٤٦- فئة عمرية تضم الأطفال والرضع والمراهقين أقل من ١٥ سنة

(البالغين)

٤٧- فئة عمرية تضم البالغين الذين تتراوح أعمارهم من ١٥ إلى ٦٤ سنة

(كبار السن)

٤٨- فئة عمرية تضم السكان الذين وصلت أعمارهم إلى ٦٥ سنة وأكثر

٤٩- دراسة عدد ونسبة كل مجموعة من سكان المنطقة ووفقا لفئات عمرية محددة (التركييب)

(العمري)

(استراليا)

٥٠- قارة بها أعلى نصيب للفرد من الدخل القومي

٥١- عدد الأفراد في سن العمل والقادرين عليه والذين يعملون فعليا أو يبحثون عن عمل (قوة العمل)

- ١- تعتبر آسيا شبه جزيرة
- لأن المياه تعيظها من ٣ جهات شمالاً المحيط القطبي الشمالي وشرقاً المحيط الهادي وجنوباً المحيط الهندي.
- ٢- كثرة إنشاء الموانئ على سواحل أوروبا
- لكثرة تعاريج السواحل.
- ٣- قارة أنتراكتيكا غير مأهولة بالسكان
- لأنها تقع أقصى جنوب الكرة الأرضية وأصبحت مجمدة ويعيظ بها المحيط القطبي الجنوبي من جميع الاتجاهات.
- ٤- تعرف هضبة التبت بسقف العالم
- لأنها أعلى من قمم الجبال.
- ٥- يسود المظهر الهضبي قارة أفريقيا (أستراليا)
(دلل على تشابه تضاريس أفريقيا وأستراليا)
- حيث تشغل الهضاب مساحات واسعة بها.
- ٦- تفقد أنهار أوب وينسي ولينا أهميتها الاقتصادية؟
- لأنها تتجمد شتاءاً.
- ٧- أهمية هضبتى أثيوبيا والبحيرات الاستوائية
- تنبع منها روافد نهر النيل.
- ٨- تعتبر السهول الساحلية بأفريقيا (أستراليا - أمريكا الجنوبية) بالضيق؟ (ما النتيجة)
- لاقتراب الجبال والهضاب (جبال الحاجز الكبير في أستراليا - جبال الأنديز في أمريكا الجنوبية).
- ٩- تنمو الغابات الموسمية في الإقليم الموسمي (في شبه جزيرة الهند الصيبية)؟ (ما النتيجة)
- بسبب غزارة المطر صيفاً.
- ١٠- الأهمية الاقتصادية للسهول الفيضية (السهل الأوروبي العظيم)؟
- تتكون من رواسب طينية كونتها الأنهار وترتبطها صالحة للزراعة.
- ١١- دلل على تشابه الإقليم المداري الحار مع الإقليم الموسمي
- لأنهم يتشابهان في الخصائص المناخية صيف ممطر وشتاء جاف.
- ١٢- تتدرج السافانا في الطول كلما ابتعدنا عن دائرة الاستواء
- حسب كمية المطر لأنها تقل كلما ابتعدنا عن دائرة الاستواء.
- ١٣- تعتبر السافانا حديقة حيوان طبيعية
- لأن يعيش بها حيوانات أكلة اللحوم والعشب.
- ١٤- الأهمية الاقتصادية لحشائش الاستبس (البراري بأمريكا ش)
- تستخدم كمراعي طبيعية.
- ١٥- تسمية الغابات النفضية بهذا الاسم
- لأنها تنفض أوراقها شتاء لشدة البرودة.

(ما النتيجة)

١٦- تنوع الحياة النباتية بالإقليم الجبلي

- حسب ارتفاع السطح وكمية المطر.

١٧- يتغير حوض الأمازون (حوض الكونغو) بارتفاع الحرارة والمطر طوال العام

- لأنه يمتد بالإقليم الاستوائي وشبه الاستوائي الذي يتميز بارتفاع الحرارة وسقوط الأمطار طوال العام.

١٨- امتداد جميع الأقاليم المناخية في آسيا (تعد آسيا أكبر القارات تنوعاً في المناخ؟ ما النتيجة

- نظراً لاتساع مساحتها لأنها أكبر القارات وامتدادها في عدد كبير من دوائر العرض.

١٩- اختلاف المناخ الصيني عن البحر المتوسط رغم وقوعهم في نفس دوائر العرض؟

- يختلفان في الموقع حيث الإقليم الصيني شرق القارات ممطر طوال العام والبحر المتوسط غرب القارات والمطر شتاء.

٢٠- دليل على تشابه تضاريس أمريكا الشمالية والجنوبية؟

- تمتد الجبال من الشمال للجنوب - توجه السهول الفيضية بالوسط - تضيق السواحل غرباً.

٢١- دليل على تشابه المناخ المعتدل اليارد مع مناخ غرب أوروبا؟

- يتشابهان في أن المناخ بارد شتاءاً وأمطار طوال العام.

٢٢- كيف نشأت السلالات البشرية؟

- من خلال انتشار الإنسان في قارات العالم خاصة قارات العالم القديم واستقراره في البيئات وبها يؤثر فيها ويتأثر بها فظهرت الاختلافات في المظهر الخارجي ولهذا نشأت السلالة البشرية.

(ما النتيجة)

٢٣- تزيد نسبة السلالة المغولية عن ٤٠٪ من سكان العالم

- لأن النسبة الكبرى من سكان الصين وشرق وجنوب آسيا تنتمي إليها (أكثر الدول سكاناً).

٢٤- وجود عدد كبير من الزوج في الأمريكتين؟

- بسبب تعرضهم للهجرة الإجبارية للعمل في مزارع القطن وقصب السكر والتبغ الذي أنشأها الأوروبيون.

٢٥- ندرة وجود السلالات النقية في الوقت الحاضر؟ لا يوجد دولة في العالم يتكون شعبها من

سلالة واحدة (ما النتيجة)

- بسبب انصهار واختلاط الصفات الطبيعية.

(ما النتيجة)

٢٦- دليل على العرب ليسوا سلالة واحدة؟

- بسبب الاختلاط مع السلالات الأخرى بعد حدوث الفتوحات والهجرات حيث الأغلبية سلالة قوقازية.

٢٧- دليل على يتكون شعب الولايات المتحدة من عدة سلالات؟ أعط مثلاً لدولة يتكون شعبها

من عدة سلالات

- حيث تضم السلالة النرجية نتيجة الهجرة الإجبارية - السلالة القوقازية القادمون من أوروبا - السلالة المغولية الهنود الصمراء وهم أصل السكان.

٢٨. دليل على وجود في الوقت الحاضر بعض السلالات البقية في بعض المجتمعات البدائية؟
- تتمثل في سكان غابات حوض الكونغو وصعراء كالهاري - الإسكيمو بصحاري
التنغرا - الهنود الصمر بغابات الأمريكتين - والاسترياليون الأصليون.

٢٩. دليل على تقسيم السلالات البشرية ظاهريا وليس جوهريا؟
- حيث التقسيم على أسس ظاهرية من حيث الشكل الخارجي فلا توجه سلالة أكثر
زكاء أو أكثر إبداعا من الأخرى.

٣٠. تركيز السكان في السهول الفيضية؟
- لتوافر المياه العذبة والتربة الخصبة.

٣١. تركيز السكان في السهول الساحلية؟
- لاعتدال المناخ وقيام النشاط السياحي.

٣٢. تركيز السكان في المدن الكبرى؟ (سيدني في استراليا - مونتريال بكندا)؟
- لتوافر الخدمات والمناطق الصناعية وفرص العمل وارتفاع مستوى المعيشة.

٣٣. دليل على تعدد آسيا أكبر القارات سكانا؟
- لأنها تضم ٦٠% من سكان العالم حيث بها أكبر دولتين سكانا لكما الصين والهند.

٣٤. تعدد جزيرة جاوة أكبر مناطق العالم ازدحاما؟
- بسبب تربتها الجيدة الصالحة للزراعة.

٣٥. تقل السكان في شمال آسيا - سهول سيبيريا - شمال أوروبا - فنلندا والنرويج؟
- لبرودة الجو.

٣٦. قلة السكان في المناطق الجبلية والهضبة وسط آسيا؟ (جبال البحر الأحمر في أفريقيا)
- لوعورة السطح.

٣٧. تركيز السكان في المناطق المرتفعة بالدول المدارية في أفريقيا - في أوغندا وكينيا؟
- لاعتدال المناخ نتيجة ارتفاع السطح.

٣٨. يقل السكان في المناطق الاستوائية في أفريقيا (حوض الكونغو) (سهول الأمازون)؟
- لنمو الغابات الاستوائية الكثيفة وقسوة البيئة وانتشار الأمراض.

٣٩. تركيز السكان في دول غرب ووسط أوروبا أكثر من دول الشرق؟
- لأن دول غرب ووسط أوروبا أكثر تقدما من دول شرق أوروبا.

٤٠. تركيز السكان في الساحل الشرقي للولايات المتحدة؟
- لوجود الموارد الاقتصادية الضخمة والمدن الكبرى مثل نيويورك.

٤١. تركيز السكان في منطقة البحيرات العظمى بالولايات المتحدة؟
- لوجود الموارد الاقتصادية الضخمة.

٤٢. تركيز سكان الولايات المتحدة الأمريكية بالولايات الوسطى؟
- لوجود الأقاليم الزراعية وسهول نهر المسيسيبي.

٤٣. تركيز السكان على سواحل الشرقية لاستراليا (تركيز السكان بالجنوب الشرقي لاستراليا)
- السواحل الشرقية: لوجود المدن الكبرى مثل سيدني والمناطق الصناعية.
- الجنوب الشرقي: لوجود الأراضي الزراعية الخصبة ونهر مري ودارلنج.

٤٤. قلة السكان في شمال وغرب ووسط استراليا (ما النتيجة)

- شمالاً بسبب انتشار الغابات الموسمية والسافانا - وسط وغرب لسيادة الظروف الصحراوية وقلة المياه.

٤٥. تركيز السكان بالمكسيك قرب الحدود مع الولايات المتحدة الأمريكية (الجنوب والجنوب الشرقي لكندا)

- لوجود المناطق الصناعية والسهول الزراعية.

٤٦. دليل على (ما العلاقة) يؤثر المناخ في توزيع السكان في أفريقيا؟

- حيث يتركز السكان في المناطق معتدلة المناخ وتقل بالمناطق الاستوائية الحارة والمناطق الصحراوية.

٤٧. ارتفاع معدلات المواليد في قارة أفريقيا (الدول النامية)؟

- بسبب انتشار الأمية والفقر والاعتماد على الزراعة والعادات والتقاليد مثل كثرة الإنجاب والزواج المبكر.

٤٨. تعتبر قارة أوروبا أكثر القارات ارتفاعاً في معدل الوفيات (ما النتيجة)

- لارتفاع نسبة كبار السن (أكبر من ٦٥ سنة).

٤٩. ارتفاع الزيادة الطبيعية في أفريقيا (ما النتيجة)

- بسبب زيادة عدد المواليد وانخفاض الوفيات.

٥٠. الزيادة الطبيعية في أوروبا صفر؟ (ما النتيجة)

- بسبب تساوي عدد المواليد وعدد الوفيات.

٥١. دليل على: هناك عوامل تؤثر في معدل الوفيات؟

- تتمثل في السكن والتغذية والخدمات الصحية حيث ترتفع نسبة الوفيات بالمول التي تقل بها الرعاية الصحية وتقل بالمول التي تهتم بالرعاية الصحية وأيضاً تؤثر الحروب والصراعات والكوارث الطبيعية مثل الجفاف والزلازل والبراكين تؤدي إلى زيادة الوفيات.

٥٢. دليل على: للعادات والتقاليد تأثير سلبي على معدل تعليم الإناث؟

- حيث في بعض المناطق يتم حرمان المرأة من التعليم حفاظاً عليها أو لتفضيل الزواج المبكر.

٥٣. انخفاض الزيادة الطبيعية بالدول المتقدمة (قارة أمريكا الشمالية)؟ (ما النتيجة)

- بسبب انخفاض معدل المواليد والوفيات معاً.

٥٤. ترتفع نسبة كبار السن بالدول المتقدمة (قارة أوروبا)؟ (ما النتيجة)

- بسبب الاهتمام بالرعاية الصحية والناحية التعليمية.

٥٥. ارتفاع نسبة التعليم في مصر إلى ٦٥٪؟

- بسبب زيادة الاهتمام بالتعليم في كافة المراحل - جهود الدولة في معو الأمية وتكافؤ الفرص.

٥٦- **دليل على: يعد عدد الأطباء مؤشرا مهما على الرعاية الصحية؟**
- حيث كلما زاد عدد الأطباء في دولة يؤدي إلى زيادة الرعاية الطبية وكلما قل قلت الرعاية الصحية.

٥٧- **معظم دول أفريقيا ذات دخل اقتصادي منخفض؟ (ما النتيجة)**
- لاعتمادها على الزراعة.

٥٨- **انخفاض معدل الوفيات في مصر؟**
- بسبب الرعاية الصحية والاهتمام بصحة الطفل.

٥٩- **اختلاف الخصائص الاقتصادية لسكان العالم؟**
- حسب تنوع الأنشطة الاقتصادية ودخل السكان.

السؤال الثالث ما النتائج المترتبة على

١- **وقوع قارة أنتراكتيكا أقصى جنوب الكرة الأرضية؟**
- أصبحت مجمدة غير مأهولة بالسكان.

٢- **ارتفاع درجة الحرارة وسقوط الأمطار طوال العام في حوض الكونغو (الأمازون)؟**
- نمو الغابات الاستوائية ذات الأشجار الكثيفة المتشابكة مثل الماهوجني والمطاط.

٣- **زيادة عدد السكان في معظم دول آسيا؟**
- نقص الغذاء - قلة دخل الفرد - انخفاض مستوى المعيشة - وجود هجرات غير شرعية.

٤- **ارتفاع معدل المواليد وانخفاض الوفيات في مصر (أفريقيا)؟**
- ارتفاع معدل الزيادة الطبيعية.

٥- **ارتفاع نسبة صغار السن في الدول النامية؟**
- تحمل الدولة ميزانية ضخمة لتوفير الغذاء والملبس والرعاية الصحية والتعليم.

السؤال الرابع أكمل ما يلي:

- ١- تبلغ مساحة الكرة الأرضية نحو ٥١٠ م كم - تبلغ نسبة الماء نحو ٧٠.٧% ونسبة اليابس نحو ٢٩.٣%
- ٢- يفصل آسيا عن أفريقيا البحر الأحمر وشبه جزيرة سيناء ومضيق باب المندب.
- ٣- أكبر القارات مساحة وسكانا آسيا - أقل القارات مساحة وسكانا أستراليا.
- ٤- أكبر المحيطات الهادي - والأصغر القطبي الشمالي.
- ٥- من أهم الجزر في آسيا اليابان والفلبين - من أهم الجزر في أفريقيا القمر ومدغشقر.
- ٦- من أهم أشباه الجزر في آسيا شبه الجزيرة العربية وشبه جزيرة الملايو.
- ٧- من أهم الجزر في أستراليا تسمانيا ونيوزيلاند الجنوبية ونيوزيلاند الشمالية.
- ٨- من أهم الدول التي لها بعض مراكز الأبحاث بقارة أنتراكتيكا الولايات المتحدة وروسيا وإنجلترا وفرنسا.
- ٩- يمر مدار الجدي وسط أستراليا ووسط أمريكا الجنوبية وجنوب أفريقيا.
- ١٠- يمر مدار السرطان في جنوب آسيا وشمال أفريقيا وجنوب أمريكا الشمالية.
- ١١- تمر الدائرة القطبية الجنوبية بالأطراف الشمالية لقارة أنتراكتيكا.
- ١٢- تمتد جبال الألب في أوروبا من الغرب للشرق وسط القارة.
- ١٣- تمتد هضاب أوروبا من الشرق للغرب وسط القارة.
- ١٤- تشغل هضبة الميزيتا نصف مساحة إسبانيا - تسمى جبال الألب في إسبانيا باسم جبال البرانس.

- ١٥- من أهم جبال غرب آسيا جبال طوروس في تركيا وجبال زاغروس في العراق وإيران.
- ١٦- من أهم هضاب جنوب آسيا هضبة الدكن بالهند - من أهم هضاب جنوب غرب آسيا هضبة شبه الجزيرة العربية.
- ١٧- من أهم الأنهار التي تقطع هضبة فرنسا الوسطى في أوروبا السين.
- ١٨- يعتبر نهر الفولجا أطول أنهار أوروبا ويصب في بحر قزوين.
- ١٩- من أهم المدن بالساحل الأوروبي العظيم برلين وباريس - يجري نهرا أورنج ولمبوبو بهضبة جنوب أفريقيا.
- ٢٠- تسمى جبال الألب في شبه جزيرة البلقان باسم جبال الألب الدينارية.
- ٢١- تقع هضبة ليرادور شمال شرق أمريكا الشمالية بينما هضبة المكسيك جنوب أمريكا الشمالية.
- ٢٢- تقع هضبة جيانا شمال أمريكا الجنوبية - تقع هضبة بتاجونيا جنوب أمريكا الجنوبية.
- ٢٣- يجري نهر سان فرانسيسكو في هضبة البرازيل - تعتبر هضبة الصحراء الشرقية والغربية بمصر جزء من هضبة الصحراء الكبرى.
- ٢٤- تمتد جبال الحاجز الكبير على طول الساحل الشرقي لقارة استراليا - توجد البحيرات العظمى بالولايات المتحدة وكندا.
- ٢٥- تمتد السهول الوسطى في أمريكا الشمالية من شمالاً القطبي الشمالي إلى خليج المكسيك جنوباً.
- ٢٦- تقترب آسيا من أفريقيا عند مضيق باب المندب.
- ٢٧- أوسع سهول فيضية في العالم سهول الأمازون بقارة أمريكا الجنوبية.
- ٢٨- تمتد سهول بحر الرمال العظيم غرب مصر بينما تمتد شرق ليبيا - توجد قمة أفرست أعلى جبال الهيمالايا.
- ٢٩- تمثل جزيرة جاوة أكبر المناطق ازدحاما بالعالم - يتركز سكان كندا بالمدن الكبرى مثل مونتريال.
- ٣٠- يختلف المناخ الاستوائي في قارة أوروبا واستراليا.

قارن بين

السؤال الخامس

القارة	شمالاً	جنوباً	شرقاً	غرباً
آسيا	القطبي الشمالي	المحيط الهندي	المحيط الهادي	أوروبا والبحرين الأحمر والمتوسط
أفريقيا	البحر المتوسط		الهندي - البحر الأحمر	المحيط الأطلنطي
أوروبا	القطبي الشمالي	البحر المتوسط	قارة آسيا	المحيط الأطلنطي
أمريكا الشمالية	القطبي الشمالي	خليج المكسيك - الكاريبي	الأطلنطي	الهادي
أمريكا الجنوبية	البحر الكاريبي		الأطلنطي	الهادي
أستراليا	بحر أرافورا	المحيط الهندي	المحيط الهادي	المحيط الهندي

قارن بين قارة وقارة من حيث أهم السهول الساحلية والفيضية

القارة	السهول الفيضية
آسيا	شمالا سيبيريا يعبري أنهار أوب ويانسي ولينا شرقا منشوريا وشرق الصين - سهول أنهار وجلة والفرات والسند.
أفريقيا	سهول نهر النيل - سهول نهر النيجر - سهول نهر الكونغو.
أوروبا	السهل الأوروبي العظيم - أهم الأنهار الفولجا والراين والدانوب.
أمريكا الشمالية	السهول الوسطى يوجه بها البعيرات العظمى - سهول أنهار نلسن وسانت لورانس والميسيسيبي
أمريكا الجنوبية	شمالا نهر الأورينوكو - سهول الأمازون - سهول لابلاتا من الشمال للجنوب في أوراجواي والأرجنتين بها أنهار بارانا ولاپلاتا وباراجواي
أستراليا	متسعة يعبري بها أنهار مري ودارلنج وسهول زراعية

قارن بين قارة أفريقيا وقارة أستراليا من حيث السهول الصحراوية:

أفريقيا	أستراليا
تنتشر بالصحراء الكبرى وتضم سهول رملية متسعة مثل سهل كلنشو وسهول صحراء كالهاري جنوبا.	توجد بالداخل والغرب وعبارة عن صحاري رملية تقل بها المياه.

قارن بين قارة وقارة من حيث أهم الجبال والهضاب:

القارة	الجبال	الهضاب
آسيا	غربا طوروس وزاجروس - وسط الهيمالايا - شرقا اليابان	وسط التبت - جنوبا الهكن - جنوب غرب شبه الجزيرة العربية.
أفريقيا	شمال غرب أطلس - شمال شرق البحر الأحمر - شرقا كينيا وكلمنجاور - جنوب شرق صراكنزبرج.	شمالا الصحراء الكبرى - وسط البعيرات الاستوائية - شرقا أثيوبيا جنوبا جنوب أفريقيا
أوروبا	جبال الألب تتميز بارتفاعها ويغطي قممها الجليد بالشتاء ويعبري أنهار الراين والدانوب.	الميزيتا بأسبانيا - فرنسا الوسطى ويقطعها أنهار السين واللوار.
أمريكا ش	شرقا الأبلاش - غربا روكي.	جنوبا المكسيك - شمال شرق لبراور.
أمريكا ج	غربا الإنديز قرب المحيط الهادوي	شمالا جيانا - جنوبا بتاجونيا - شرقا البرازيل
أستراليا	شرقا الحاجز الكبير في شكل	الهضبة الغربية تتميز باستواء

قارن بين الإقليم والإقليم من حيث الموقع والمناخ والنبات والحيوان:

الإقليم	الموقع	المناخ	النبات والحيوان
الاستوائي وشبه الاستوائي	من صفر: ١٠ شمال وجنوب جزر اندونيسيا - حوض الكونغو والأمازون	حرارة مرتفع وأمطار طوال العام	غابات استوائية وأهم الأشجار الماهوجني والمطاط وأهم الحيوانات الزواحف والطيور والحيوانات المتسلقة
المداري (السوداني) حار	من ١٠ : ١٨ شمال وجنوب غرب آسيا - شمال استراليا	حرارة مرتفعة وأمطار صيفا - جاف شتاء	غابات موسمية مثل أشجار جوز الهند - حشائش السافانا
الموسمي (حار)	في اسيا بالهند - شبه جزيرة الهند الصينية - أقصى شمال استراليا - هضبة اثيوبيا - جزيرة مدغشقر	حرارة مرتفعة وأمطار صيفا - جاف شتاء	غابات موسمية مثل أشجار جوز الهند - حشائش السافانا
البحر المتوسط معتدل دافئ	٣٠ : ٤٥ غرب معظم القارات في سواحل الشام - تركيا - المغرب العربي - الجبل الأخضر ليبيا - ولاية كاليفورنيا - الساحل الأوسط شيلي - جنوب غرب استراليا	حار جاف صيفا - دفيئ ممطر شتاء	غابات البحر المتوسط والأشجار الزيتون - حشائش الاستبس
الصيني (معتدل دافئ)	٣٠ : ٤٥ شرق القارات في شرق الصين - جنوب شرق استراليا والأمريكتين	حرارة مرتفعة صيفا ومنخفضة شتاء - أمطار طوال العام - يتعرض لعواصف مدارية	غابات مخروطية أهم الأشجار الصنوبر والشربين - أهم الحيوانات الدب القطبي
اللورانسى معتدل بارد	٤٥ : ٦٠ شرق القارات في شمال شرق الصين - كوريا - شمال اليابان - شمال شرق أمريكا الشمالية	معتدل صيفا بارد شتاء - أمطار طوال العام خاصة الصيف	غابات مخروطية أهم الأشجار الصنوبر والشربين
غرب أوروبا معتدل بارد	٤٥ : ٦٠ غرب القارات في شمال غرب أوروبا في بريطانيا والنرويج شمال غرب أمريكا الشمالية - أقصى جنوب غرب أمريكا الجنوبية	دفيئ صيفا بارد شتاء - أمطار طوال العام تزداد شتاء وخريف	غابات نفضية أهم الأشجار الزان
التندا (البارد)	وراء الدائرين ٦٠ شمالا وجنوبا في المناطق القطبية	شديد البرودة شتاء طويل وصيف قصير -	طحالب تنمو في فصل ذوبان الجليد - أهم

الحيوانات الرنة.	امطار قليلة صيفا.	شمال اسيا واوروبا - شمال كندا - انتر اكتيكا بأكملها.	
تنوع الحياة النباتية	شديد البرودة	القمم والمنحدرات الجبلية	الجبلية (بارد)

أين تصب:

النهر	المصب	النهر	المصب	النهر	المصب
دجلة والفرات	الخليج العربي	النيجر	خليج غينيا	الراين	بحر الشمال
السند	البحر العربي	الكونغو	الاطنطي	الدانوب	البحر الاسوط
النيل	البحر المتوسط	الفلجا	بحر قزوين	نلسن	خليج هدسن
سانت لورانس	خليج سانت لورانس	المسيبي	خليج المكسيك	الاورينوكو	البحر الكاريبي
الامازون ولابلاتا	الاطنطي	بارانا وبارجواي	الاطنطي	مري ودارلنج	الخليج الاسترالي

قارن بين الدول ذات الدخل الاقتصادي والدخل الاقتصادي

دخل مرتفع	دخل فوق متوسط	دخل أقل من متوسط	دخل منخفض
تعتمد على الصناعات والخدمات - ارتفاع مستوى المعيشة.	- التصنيع النامي وتعدد الأنشطة التقليدية	التصنيع والتنمية الاقتصادية وأنشطة أخرى	تعتمد على الزراعة
غرب اوروبا - دول الخليج - دول أمريكا الشمالية	تركيا - دول شرق اسيا - المكسيك - جنوب أفريقيا	الصين - مصر - المغرب - أوكرانيا - البرازيل - هايتي	الكونغو - النيجر - الهند - باكستان

قارن بين السلالات

المقارنة	الزنجية السوداء (١٠%)	المغولية الصفراء (٤٠%)	القوقازية البيضاء (٥٠%)
المميزات	بشرة داكنة - شعر أجد - شفاه غليظة - أنف عريض.	البشرة الصفراء - العيون المنحرفة - الشعر المسترسل	البشرة البيضاء - الشعر المتموج - الشفاة الرفيعة.
الاقسام	الزنوج السودانيون - البانتو - الأقزام - الاستراليون الأصليون - التينيون الحاميون - البوشمن - والهننتوت	الاسكيمو (شمال كندا) - والتجوس (سيبيريا) - الهنود الحمر (بالأمريكتين)	سكان البحر المتوسط - المجموعة الألبية - المجموعة النوردية.

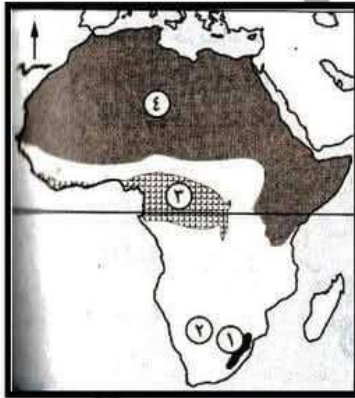
قارن بين الدول فائقة الرعاية والمرتفعة والمنخفضة

فائقة الرعاية الصحية	مرتفعة الرعاية الصحية	منخفضة الرعاية الصحية
روسيا - معظم اوروبا - دول أمريكا ش	مصر - الأردن - الإمارات	النيجر واثيوبيا في أفريقيا - نيبال في اسيا

قارن بين مناطق تركيز السكان والمناطق التي تقل بها السكان في قارة وقارة

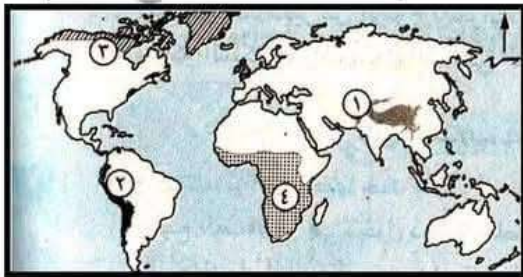
مناطق تقل بها السكان	مناطق تركيز السكان	آسيا
المناطق الشمالية سهول سيبيريا - المناطق الصحراوية مثل شبه الجزيرة العربية والمناطق الجبلية والهضبة بالوسط.	السهول الفيضية مثل انهار اليانجستي في الصين والجانج بالهند - الجزر مثل اليابان والفلبين وجاوة.	آسيا
المناطق الاستوائية حوض الكونغو - والمناطق الصحراوية والجبلية مثل جبال البحر الأحمر.	سهول نهر النيل والنيجر والكونغو - سواحل المتوسط ودول المغرب العربي - المناطق المدارية مرتفعة السطح (أوغندا - كينيا).	أفريقيا
المناطق الشمالية - المناطق الجبلية.	المدن الكبرى - السهل الأوروبي العظيم - دول غرب ووسط وشرق.	أوروبا
دول البرزخ مثل هندوراس وكوستاريكا وبعض الجزر.		أمريكا ش
سهول الأمازون - قمم جبال الأنديز - هضبة بتاجونيا.	السهول الساحلية - الفيضية نهر الأورينوكو - سهول البمباس - هضبة البرازيل بم تفسر : لوجود المدن الكبرى.	أمريكا ج
شمال - ووسط - وغرب القارة.	السواحل الشرقية - جنوب شرق	أستراليا

ندخل بقا علي المهم يا برنيس البرانيس .. بعون الله الخريطة في جيبك



١- امامك خريطة لقارة افريقيا اكتب ما تدل عليه الأرقام

- ١ - جبال دراكنزبرج
- ٢ - سهل صحراوي كلهاري
- ٣ - اقليم مناخي الاستوائي وشبه الاستوائي
- ٤ - سلالة بشرية القوقازيه



٢- امامك خريطة للعالم اكتب ما تدل عليه الأرقام

- ١ - هضبة التبت
- ٢ - جبال الأنديز
- ٣ - اقليم مناخي التندرا
- ٤ - السلالة الزنجية



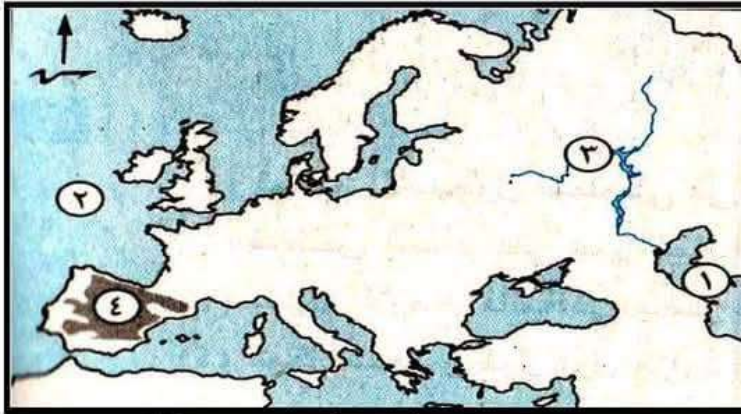
٣- امامك خريطة لقارة اوروبا اكتب ما تدل عليه الأرقام

- ١- دولة النرويج
- ٢- جبال البرانس
- ٣- البحر المتوسط
- ٤- السهل الاوروبي العظيم



٤- امامك خريطة لقارة امريكا الجنوبية اكتب ما تدل عليه الأرقام

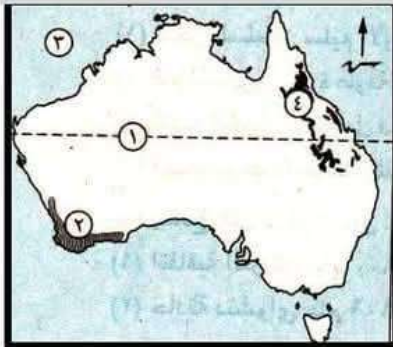
- ١- البحر الكاريبي
- ٢- هضبة جيانا
- ٣- إقليم مناخي غرب اوروبا
- ٤- اكثر دول القارة سكانا البرازيل



٥- امامك خريطة لقارة اوروبا اكتب ما تدل عليه الأرقام

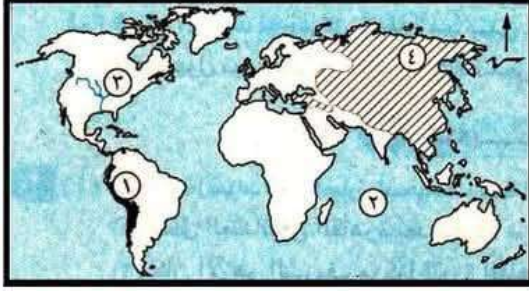
- ١- بحر قزوين
- ٢- المحيط الاطلنطي
- ٣- نهر الفولجا
- ٤- هضبة المزيئا

٦- امامك خريطة لقارة استراليا اكتب ما تدل عليه الأرقام



- ١- مدار الجدي
- ٢- اقليم مناخي البحر المتوسط
- ٣- المحيط الهندي
- ٤- جبال الحاجز الكبير

٧- امامك خريطة للعالم اكتب ما تدل عليه الأرقام



- ١- جبال الانديز
- ٢- المحيط الهندي
- ٣- نهر المسيسيبي
- ٤- سلالة بشرية المغولية

٩- امامك خريطة لقارة امريكا الجنوبية اكتب ما تدل عليه الأرقام



- ١- نهر الامازون
- ٢- جبال الانديز
- ٣- دائرة عرض الاستواء
- ٤- المحيط الهادي

١٠- امامك خريطة لقارتي امريكا الشمالية و الجنوبية اكتب ما تدل عليه الأرقام



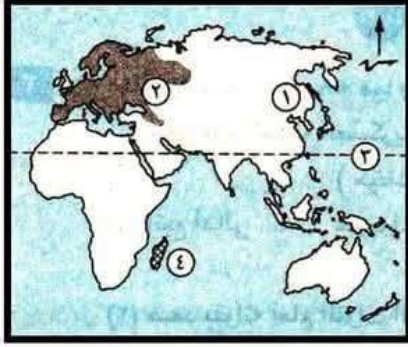
- ١- البحر الكاريبي
- ٢- هضبة بيتاجونيا
- ٣- اقليم مناخي المداري " السوداني "
- ٤- غابات المخروطية تنمو بالأقليم اللورانسي

١١- امامك خريطة لقارة افريقيا اكتب ما تدل عليه الأرقام



- ١- نهر الكونغو
- ٢- صحراء كلهاري
- ٣- جزيرة مدغشقر
- ٤- سلالة بشرية قوقازيه

١٢- امامك خريطة للعالم اكتب ما تدل عليه الأرقام



- ١- سهل منشوريا
- ٢- السلالة القوقازيه
- ٣- دائرة عرض السرطان
- ٤- اقليم مناخي الاستوائي وشبه الاستوائي

١٤- امامك خريطة لقارة استراليا اكتب ما تدل عليه الأرقام



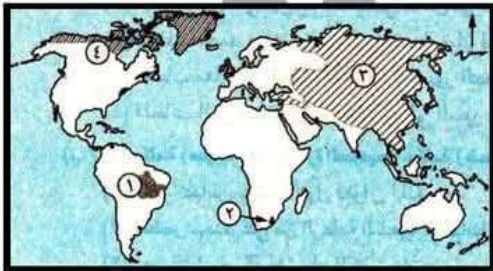
- ١- جزيرة تسمانيا
- ٢- جبال الحاجز الكبير
- ٣- المحيط الهندي
- ٤- نهرا ميرري ودارلنج
- ٥- سلالة بشرية القوقازيه

١٥- امامك خريطة لقارة امريكا الشمالية اكتب ما تدل عليه الأرقام



- ١- المحيط الهادي
- ٢- مدار السرطان
- ٣- مدينة نيويورك
- ٤- جبال روكي

١٦- امامك خريطة للعالم اكتب ما تدل عليه الأرقام

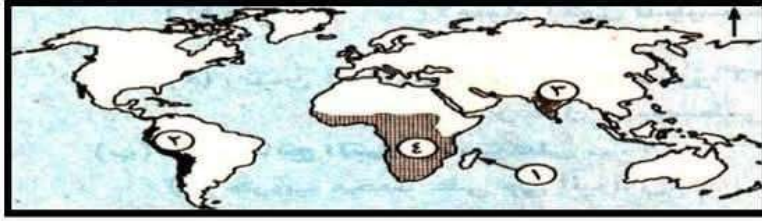


- ١- هضبة البرازيل
- ٢- جبال دراكنزبرج
- ٣- السلالة المغوليه
- ٤- إقليم مناخي التندرا



١٧- امامك خريطة لقارة امريكا الشمالية اكتب ما تدل عليه الأرقام

- ١- هضبة المكسيك
- ٢- المحيط الاطلنطي
- ٣- قبائل الاسكيمو من السلالة المغولية
- ٤- قارة اسيا



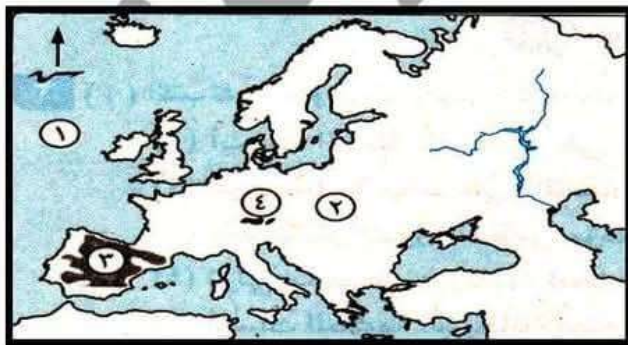
١٨- امامك خريطة للعالم اكتب ما تدل عليه الأرقام

- ١- جزيرة مدغشقر
- ٢- جبال الانديز
- ٣- هضبة الدكن
- ٤- السلالة الزنجيه



١٩- امامك خريطة لقارة امريكا الشمالية اكتب ما تدل عليه الأرقام

- ١- المحيط الهادي
- ٢- سلالة بشرية المغوليه
- ٣- هضبة لبرادور
- ٤- خليج المكسيك



٢٠- امامك خريطة لقارة اوربا اكتب ما تدل عليه الأرقام

- ١- المحيط الاطلنطي
- ٢- السهل الاوروبي العظيم
- ٣- هضبة المزيثا
- ٤- جبال الالب

مستر احمد خليفه ديما معاك

ثانياً :

التاريخ

السؤال الأول

أكتب ما تشير إليه العبارات الآتية

- ١- طريق تم اكتشافه على يد البرتغاليين عام ١٤٩٨م (رأس الرجاء الصالح)
- ٢- معركة انتصر فيها العثمانيين على الصفويين عام ١٥١٤م (جالديران)
- ٣- معركة تحطم فيها الاسطول المملوكي عام ١٨٠٩م (ريو البصريه)
- ٤- اماره مملوكية تقع على حدود الدولة العثمانية بأدر سليم الاول الاستيلاء عليها (اماره نزي القاصر)
- ٥- معركة انتصر فيها العثمانيين بقيادة سليم الاول على المماليك واصبحت مصر ولاية عثمانية (الريهانيه)
- ٦- نظام طبخته الدوله العثمانية في الزراعة يجعل الارض ملكا للدوله ويتم تكليف الفلاح بزراعتها وليس له حق التصرف فيها (مصطح) (حق الانتفاع)
- ٧- نظام طبخته الدوله العثمانية عندما ضعفت منتصف القرن ال ١٧ (الالتزام)
- ٨- مدينه اناقل اليها امهر الصناع المصريين في العصر العثماني (الاستانه)
- ٩- ميناء جنوب فرنسا ابحت منه الحملة الفرنسية سرا (طولون)
- ١٠- أول مدينة مصريه نزلت اليها الحملة الفرنسية وقاومتها بزعامه حكامها محمد كريم (الاسكندريه)
- ١١- اول معركة بين المماليك والفرنسيين في يوليو ١٧٩٨م (شبراخيت)
- ١٢- معركة هرب بعدها مراد بك إلى الصعيد ابراهيم بك مع الوالي العثماني الى بلاد الشام (امبابه)
- ١٣- معركة تحطم فيها الاسطول الفرنسي على يد الاسطول الإنجليزي بقيادة نلسون اغسطس ١٧٩٨م (ابو قير البصريه)
- ١٤- رفض الشعوب للاحتلال ومظاهرة دفعه عن البلاد بمختلف الطرق (مقاومه)
- ١٥- ثورة اتخذت الازهر الشريف مقرالها في اكتوبر ١٧٩٨م (القاكره الاولى)
- ١٦- دولتان تحالفا مع الدوله العثمانية لاجراج الفرنسيين بالقوة العسكريه (انجلترا وروسيا)
- ١٧- مدينة حاصرها ((نابليون)) حصارا شديدا في بلاد الشام واعدم جميع افراد حاميتها (يافا)
- ١٨- مدينة فشل نابليون في اقتحامها لبساله اهلها بقياده ((أحمد باشا الجزائر)) (عكا)
- ١٩- معركة انتصر فيها نابليون على العثمانيين يوليو وعاد بعدها سرا الى فرنسا (ابو قير البريه)
- ٢٠- معاهدة ابرمها كليبر مع العثمانيين عام ١٨٠٠م (العريش)
- ٢١- دولة رفضت اتفاق العريش وطلبت استسلام الفرنسيين وكانت سببا في فشل المعاهدة (انجلترا)
- ٢٢- ثورة اتخذت حى بولاق مراكز لها بزعامه السيد عمر مكرم مارس ١٨٠٠م (القاكره الثانيه)
- ٢٣- دولة ارسلت اسطولا حربيا الى ابى قير في فبراير ١٨٠١م لاخراج الحملة الفرنسية وانضم اليها الجيش العثماني (انجلترا)
- ٢٤- رحيل قوات الاحتلال عن البلد المحتمل (جلاء)

- ٢٥- من اهم الكتب التاريخيه التي قام علماء الفرنسية بتأليفها (وصف مصر)
- ٢٦- حجر تم اكتشافه على يد الفرنسيين ساعد في التعرف على التاريخ المصري القديم (حجر رشيد)
- ٢٧- مكان اجتمع فيها زعماء الشعب والعلماء ونبلاء الطوائف لعزل خورشيد باشا وتعيين محمد علي (دار المحكمة - بيت القاضي)
- ٢٨- امر عثمانى يصدر من قبل السلطان واجب التنفيذ (فرمان)
- ٢٩- دولة لم تقبل بتولى محمد علي وسعت على تولى محمد الالفى بدلا منه ونقله الى ولايه اخرى (انجلترا)
- ٣٠- ولاية امر السلطان العثماني بنقل محمد علي اليها فى يوليو ١٨٠٦م ولكن رفض الزعماء (سالونيك بمقدونيا)
- ٣١- مدينتان مصريتان تصدول للحمله الانجليزيه ١٨٠٧ بقيادة فريزر (رشيد والحصار)
- ٣٢- مذبحه دبرها محمد علي للتخلص من المماليك فى مارس ١٨١١م (مذبحة القلعه)
- ٣٣- مدينة نفي اليها عمر مكرم من قبل محمد علي (رمياط)
- ٣٤- هو نظام تقوم فيها الحكومه ممثله فى محمد علي بتحديد نوع الغلات ونوع الصناعات وتحديد اثمانها (الاحتكار)
- ٣٥- من اهم القناطر التي انشاها محمد علي (احدى المنشآت التي اقامها محمد علي بالنيل) (القناطر الخيره)
- ٣٦- طبقة انتهى نفوذها وحلت محلها اسرة محمد علي وبعض العناصر التركيبية (المماليك)
- ٣٧- طبقة ظهرت نتيجة سياسة محمد علي الاقتصادية كقوة اجتماعية مستقرة (البهو)
- ٣٨- صحيفة اصدرها محمد علي (الوقائع المصريه)
- ٣٩- مطبعة انشاها محمد علي لطباعة الكتب المدرسية والادبية فى بولاق (الاميريه)
- ٤٠- قام محمد علي بتجنيدهم فى البداية (السودانين)
- ٤١- جنود اعتمد عليهم محمد علي عقب إثبات كفائتهم فى القتال والطاعه (المصر بيين)
- ٤٢- حى (مدينة) اقام فيه محمد علي على ترسانه بحريه لصناعه السفن (بولاق)
- ٤٣- كانت على رأس الجهاز الادارى التي اقامها محمد علي لاصدا جميع الاوامر (الحكومه المركزيه)
- ٤٥- مدينة انشاها محمد علي عند ضم السودان (الخرطوم)
- ٤٦- معركة تحطم فيها الاسطول المصرى ١٨٧٢م (نفازين ١٨٣٧)
- ٤٧- جزيرة قام محد علي بضمها بعد حروب اليونان (كريت)
- ٤٨- معاهدة دولية فرضتها الدول الاوروبيه على محمد علي نتيجة نتيجته الانتصاراته (لندن ١٨٤٠)

- ١- تعرضت الممالك في أواخر القرن ١٥ إلى أزمة مالية وتدهور اقتصادي (ما النتيجة؟)
- بسبب اكتشاف البرتغاليين ١٤٩٨ طريق رأس الرجاء الصالح - تصطم الأسطول المملوكي.
- ٢- تعرض الممالك لآزمات سياسية؟ (ما النتيجة)
- بسبب الصراعات والفتن واضطراب الأمن. - ضعف القوة العسكرية.
- ٣- اتجاه العثمانيين إلى مصر والشام؟ (رغبة سليم الأول الاستيلاء على أراضي الممالك؟)
- لظهور التوسع في أوروبا - رغبة سليم الأول توسيع مملكته شرقاً بالاستيلاء على مصر.
- ٤- هزيمة الجيوش المملوكية أمام العثمانيين؟ (ما النتيجة)
- لعدم الاستقرار والنزاع - التفوق العسكري للعثمانيين لاستخدامهم الأسلحة الحديثة.
- ٥- حمل الحكم العثماني في ثنياه عوامل ضعفه؟
- لقصر مدة حكم الوالي (من سنة إلى ٣ سنوات) - زيادة سلطة الديوان وقواد الحامية العثمانية.
- ٦- فشل حركة علي بك الكبير؟ (ما النتيجة)
- لانصار محمد أبو الذهب للسلطان العثماني ضده
- ٧- تدهورت الزراعة في العصر العثماني (تدهور أحوال الريف) (دلت على تدهور الزراعة؟)
- بسبب تطبيق الدولة العثمانية نظام حق الانتفاع ونظام الإلتزام - معاناة الفلاح من كثرة الضرائب - إهمال تنظيم الري وإقامة السدود وحفر الترعة.
- ٨- تدهور وتأخر الصناعات أثناء الحكم العثماني؟ (ما النتيجة)
- تدهور الزراعة - إرسال سليم الأول أمهر الصناع إلى الأستانة.
- ٩- كسدت التجارة الداخلية أثناء الحكم العثماني؟
- بسبب تدهور الزراعة والصناعة - افتقار الأمن - إهمال الطرق - غارات البو.
- ١٠- تدهور التجارة الخارجية أثناء الحكم العثماني؟
- بسبب تحول طريق التجارة إلى أيدي البرتغاليين - منع الدولة العثمانية الامتيازات الأجنبية.
- ١١- دلت على انقسام المجتمع المصري أثناء الحكم العثماني إلى طبقتين؟
دلت على: كانت الحياة الاجتماعية قائمة على النظام الطبقي؟
- طبقة الحكام وتكونت من الأتراك والمماليك - طبقة المصكومين انقسمت إلى ١- طبقة وسطى تضم العلماء ورجال الدين وكبار التجار - ٣- طبقة دنيا: تضم العامة وصغار الحرفيين والفلاحين.
- ١٢- اتسمت الحياة الفكرية والثقافية أثناء الحكم العثماني بالجمود والتخلف؟ لاحظ (ما النتيجة)
- بسبب العزلة التي فرضها العثمانيين على مصر.

١٣- مجئ الحملة الفرنسية مصر عام ١٧٩٨م؟

- قطع الطريق على إنجلترا ومستعمراتها بالهند - تعويض ما فقده فرنسا من مستعمرات.

١٤- اصطحاب نابليون علماء في مختلف المجالات؟

- لدراسة أحوال مصر وكيفية استغلالها.

١٥- هزيمة المماليك أمام الفرنسيين؟

- لاعتمادهم على الأسلحة التقليدية (الفروسية) واعتماد الفرنسيين على الأسلحة الحديثة والمدافع.

١٦- أخفقت القوات الفرنسية في إخضاع أهالي الصعيد؟

- بسبب اتباعهم حرب المناوشات والمعارك المتفرقة التي أنهكت الفرنسيين بسبب طول الودعي.

١٧- قيام ثورة القاهرة الأولى أكتوبر ١٧٩٨م؟

- بسبب فرض نابليون الضرائب وقيام الجنود بتفتيش البيوت وهدم أبواب العارات والمباني والمساجد.

١٨- قيام تحالف بين الدولة العثمانية وإنجلترا وروسيا؟

- لطرء العملة الفرنسية من مصر بالقوة.

١٩- قيام نابليون بحملة على بلاد الشام؟

- للقضاء على الجيش العثماني قبل وصولهم مصر (العملة البرية).

٢٠- فشل نابليون في اقتحام عكا؟

- لمقاومة وبسالة أهلها بقيادة أحمد باشا الجزار ومساعدة الأسطول الإنجليزي لهم بالمعدات.

٢١- دليل على إدراك كليبر في بداية توليه قيادة الحملة أن الأخطار تهددها من كل جانب؟

- حيث تناقص عدد الجيش لكثرة المعارك - إرسال الدولة العثمانية حملة جديدة إلى العريش ودمياط - عودة المماليك للمقاومة - تجدد ثورات المصريين في الشرقية ووسط وغرب الولاة.

٢٢- فشل معاهدة العريش ١٨٠٠ ولم يخرج كليبر بالحملة من مصر؟

- بسبب رفض إنجلترا الاتفاقية وأصررت على تسليم الفرنسيين أنفسهم كأسرى حرب فرفض كليبر.

٢٣- دليل على كان مينو ينوي الإقامة بمصر (عكس كليبر) وتحويلها لمستعمرة فرنسية كبرى؟

- لأنه وضع خطة إصلاحات في كافة المجالات الزراعية والصناعية والصحية والتعليمية والقضائية.

٢٤- دليل على للحملة الفرنسية دوراً هاماً في نمو الروح القومية للمصريين؟

- لأنها أدت إلى تمسك المصريين في صقلهم في الصرية وفي اختيار من يحكمهم.

٢٥- دليل على كان للحملة (نابليون) دوراً في تطوير نظم الحكم والإدارة؟ يتم تفسير

- حيث أنشأ نابليون الديوان العام وحوالين الأقاليم والقاهرة - بهدف تدريب الأعيان والعلماء على نظام مجالس الشورى.

٢٦. **دليل على تعدد نتائج الحملة العلمية والثقافية أبرز إنجازات علماء الحملة؟**

- قاموا بمحاولة توصيل البحر الأحمر والمتوسط - تأليف كتاب وصف مصر - اكتشاف عصر رشيد.

٢٧. **دليل على كان للحملة الفرنسية آثارا إيجابية اقتصادية واجتماعية؟**

- وضع إصلاحات في ١- الزراعة: تنوع المحاصيل والاهتمام بالري ٢- الصناعة: إنشاء مصانع النسيج والرباطة وحروف الطباعة ٣- التجارة: فتح أسواق خارجية في بلاد البحر الأحمر ودارفور في السودان والحبشة وشمال أفريقيا ٤- الصحة العامة: إنشاء المحاجر الصحية بالقاهرة والمون.

٢٨. **دليل على شهدت مصر عقب خروج الحملة فترة من الفوضى والاضطرابات؟**

- بسبب الصراع بين المماليك والعثمانيين وإنجلترا على حكم مصر.

٢٩. **قيام الشعب المصري بثورة مارس ١٨٠٤م؟**

- بسبب فرض الضرائب والآتوات على الأهالي.

٣٠. **اجتماع زعماء الشعب في دار المحكمة ١٣ مايو ١٨٠٥ دليل على تعتبر ١٣ مايو انتصارا لإرادة الشعب المصري؟**

- لعزل خورشيد باشا وتولي محمد علي بولا منه.

٣١. **دليل على لم تقبل إنجلترا بتولية محمد علي حكم مصر؟**

- لأنها سعت إلى تولي صليفا محمد الألفي لكي تطمئن مصالحها الاقتصادية بالمنطقة.

٣٢. **دليل على تعددت محاولات للتخلص من محمد علي؟**

- أولا: محاولة نقله إلى ولاية سالونيك في مقدونيا - ثانيا: إرسال حملة فريزر.

٣٣. **قيام إنجلترا بإرسال حملة فريزر ١٨٠٧م (أهداف حملة فريزر)**

- لخلع محمد علي - تولي محمد الألفي - احتلال مصر.

٣٤. **فشل حملة فريزر (نتائج الحملة)؟**

- بسبب مقاومة أهالي رشيد والسماء وجلاء العملة من مصر ووصل محمد علي الإسكندرية منتصرا.

٣٥. **حرص محمد علي منذ بداية حكمه للتخلص من المماليك؟**

- لأنهم مصدر للقلق والفساد والفوضى.

٣٦. **دليل على: تعددت محاولات محمد علي للتخلص من المماليك؟**

- صر مهم من تولي المناصب مثل لشيخ البله - طاروهم - تدبير مذبحة القلعة.

٣٧. **تخلص محمد علي من المماليك (من الزعماء)؟ (ما النتيجة)**

- للإنفراد بحكم مصر.

٣٨. **نظم محمد علي المجالات الاقتصادية على أساس نظام الاحتكار؟**

- حتى يضمن الوصول والمنافسة في سوق التجارة الحولية.

٤٣- بم تفسر: اهتمام محمد علي بالتعليم والثقافة؟

- لحاجته إلى موظفين للمصالح الحكومية - فنين ومتخصصين لسد حاجة الجيش والأسطول.

٤٤- دليل على اهتمام محمد علي بالتعليم والثقافة؟

- إنشاء المدارس الحديثة مثل الطب والزراعة والمهندسخانة - إرسال البعثات لأوروبا أبرز أعضائها رفاة الطهطاوي وعلي مبارك - الاستعانة بالأساتذة الأجانب - للترجمة والتدريس بالمدارس العليا - إنشاء المطبعة الأميرية في بولاق - لطبع الكتب المدرسية والأدبية والفنية وإصدار صحيفة الوقائع المصرية.

٤٥- دليل على: اهتمام محمد علي ببناء قوة عسكرية نظامية أوروبية بدلا من الفرق غير النظامية؟

- لأنه أدرك أن القوة العسكرية هي الدعامه الأساسية لتحقيق أهدافه فكانت جميع مشروعات لسد حاجة الجيش .

٤٦- دليل على مرت العلاقة بين محمد علي والسلطان بمرحلتين؟

- أولا مرحلة الاتفاق: تمثلت في حروب الجزيرة العربية واليونان بناء على رغبة السلطان.
- ثانيا مرحلة الاختلاف: تمثلت في حروب السودان والشام برغبة محمد علي.

٤٧- أسباب حروب محمد علي في الجزيرة العربية والشام والسودان واليونان وما النتائج؟

الحرب	الأسباب	النتائج
الجزيرة العربية ١٨١١ ١٨١٩	القضاء على الحركة الوهابية.	سيطرة محمد علي (على الجزيرة العربية).
ضم السودان ١٨٢٠ ١٨٢٢	رغبة محمد علي في تحقيق مكاسب اقتصادية وسياسية وعسكرية	امتداد نفوذ مصر جنوبا - إنشاء مدينة الخرطوم - اكتشاف منابع النيل.
حروب اليونان ١٨٢١ ١٨٢٨	القضاء على ثوار المورة لرغبتهم في الاستقلال عن الدولة العثمانية.	تحطم الاسطول المصري في معركة نافرين ١٨٢٧ - ضم جزيرة كريت - علو مكانة مصر دوليا.
حروب الشام ١٨٣١ ١٨٣٩	توتر العلاقة بين محمد علي والسلطان.	امتداد نفوذ مصر إلى الشام واعيال الفرات.

٤٨- بم تفسر: توتر العلاقة بين محمد علي والسلطان العثماني عقب حرب اليونان؟ (ما النتيجة؟)

- بسبب تفاوض محمد علي مباشرة مع الدول الأوروبية لإنهاء الحرب دون الرجوع للسلطان.

٤٩- فرض الدول الأوروبية معاهدة لندن على محمد علي ١٨٤٠ (تدخل الدول الأوروبية أمام

ازدياد نفوذ محمد علي؟

- لأنه أصبح يمثل خطرا على التوازن الدولي نتيجة انتصاراته وزيادة نفوذه.

٥٠- لم يكن خلفاء (محمد علي) على شاكلته من حيث القوة والوعي؟

حيث لم يثبتوا كفائتهم في حكم البلاد وميولهم الاجنبييه على حساب استقلال مصر

٥١- توقفت حركة النهضة التي اقامهم محمد علي في عهد عباس الاول؟

لأنه اغلق معظم المدارس والمصانع وخفض عدد الجيش وعطل الترسانه

٥٢- دليل على اهتمام سعيد باشا بالزراعة؟

ظهر ترعه المحموديه لتكفي حاجة الري والزراعة واصدر اللائحة السعيديه

٥٣. دليل على اهتمام سعيد باشا بالنقل والمواصلات والاتصالات ؟

اتم الخط الحديدي بين القاهرة والاسكندرية - انشاء خط حديدي بين السويس والقاهرة - الاتصالات مد خطوط التلغراف بين القاهرة والاسكندرية والسويس

٥٤. دليل على اهتمام سعيد باشا بالجيش والبحرية ؟

جعل الخدمة اجبارية لزامية - فتح باب الترقى للضباط المصريين - اصلح السفن ووجد الاسطول

٥٥. دليل على اهمال التعليم في عهد سعيد ؟

الغى ديوان المدارس وشجع البعثات الاجنبية فتح مدارس لها

٥٦. دليل على يعد عهد سعيد بداية الازمة المالية في مصر ؟

لأنه استدان من بيوت المال الاوروبية والمرايين - عقد اول قرض مع بنك انجليزي

٥٧. علل على جاءت شروط عقد الامتياز الثاني لمحفة لصر والمصريين ؟

لانه منح الشركة حق (انشاء قناة السويس - حفر ترعه صالحة للملاحة النهريه - انشاء فرعين للرى من خلال ترعه الاسماعيلية - فرض ما تشاء من رسوم - تنازل الحكومه مجانا لجميع الاراضى المطلوبة لحفر القناة والترعة - نسبة العمال المصريين ٨٠% - نسبة ارباح مصر ١٥% - تصديق السلطان على العقد

٥٨. دليل على يعتبر عهد الخديو توفيق ازهى واخطر الفترات فى تاريخ مصر ؟

الازهى بسبب التقدم العمرانى - الاخطر بسبب زيادة التدخل الاجنبى وزيادة الازمة المالية والانهيال السياسى

٥٩. دليل على شهدت الزراعه والصناعه والتعليم والنهضة العلمية والجيش نهضه فى عهد

الخديو اسماعيل ؟

الزراعة	زادت الاراضى - حفر ترعه الابراهيمية - انشا القناطر على النيل
الصناعة	اعاد تشغيل المصانع - توسع فى مصانع السكر بالوجه القبلى
التعليم والنهضة العلميه	اعاد فتح ديوان المدارس - توسع فى انشاء المدارس - انشا دار الرصد ودار الكتب
الجيش والبحريه	نظم الجيش وسلحه وضاعف قوته واهتم بالتعليم البحرى

٦٠. دليل على تقدم العمران & الاتصال & الاصلاح النيابى & التوسع الخارجى فى عهد الخديو اسماعيل ؟

العمران	انشا القصور مثل قصر عابدين - انشا دار الاوبرا والجسور والكبارى
الاتصال	مد خطوط التلغراف بين المحافظات - انشا مصلحة البريد
الاصلاح النيابى	انشاء مجلس شورى النواب ١٨٦٦م - تالف الوزارة المسنولية - وضع اول دستور
التوسع الخارجى	بم تفسر وجه اسماعيل عدة حملات حربيه امتدت الى الاقاليم الاستوائية ؟ لمنع تجارة الرقيق - التوسع جنويا - السيطرة على منابع النيل

٦١. دليل على زادت الازمة المالية والتدخل الاجنبى فى عهد اسماعيل ؟

بسبب سياسة الافتراض للوفاء بالتزاماته ومشروعاته - الانفاق ببذخ على حفل افتتاح القناة - علاقته مع السلطان اعتمدت على الهدايا والمال - الامتيازات الاجنبية

٦٢. بم تفسر اعتمدت علاقة الخديو اسماعيل مع السلطان على تقديم المال والهدايا ؟

للحصول على فرمانات لتوسع حكمه مثل جعل الحكم وراثى - زيادة عدد الجيش

٦٣. انشا اسماعيل المحاكم المختلطة ؟

للحد من مساوىى المحاكم القنصلية

٦٤- أرسلت إنجلترا بعثه كيف ؟

بناء على طلب اسماعيل لدراسة سوء الاوضاع الماليه واقدمحلول لها

٦٥- انشا اسماعيل صندوق الدين ؟

يهدف تسليم المبالغ المخصصه لليون من المصالح المختلفه - الاشراف على تسديد الديون لاصحابها

٦٦- انشاء لجنه التحقيق العليا الاوروبية ؟

بسبب زيادة الازمة المالية بناء على طلب الرقيبان الاجنبيين (الانجليزى والفرنسى)

٦٧- عزل اسماعيل وتولى ابنه توفيق الحكم ؟

بسبب قيام اسماعيل بعزل الوزيرين الاجنبيين واصدار مرسوم ابريل ١٨٧٩م بتسويه الديون طبقا لللائحة الاساسيه فقامت إنجلترا وفرنسا بالضغط على السلطان لعزله وتعيين ابنه الخديو توفيق

٦٨- دليل على تعددت صور التدخل الاجنبى فى عهد اسماعيل ؟

المحاكم القنصلية والمختلطة - بعثه كيبف - المراقبة الثنائية - صندوق والدين - لجنة التحقيق الاوروبية - الوزارة المختلطة

٦٩- دليل على اتخذ الخديو توفيق سياسة ادت الى زيادة التدخل الاجنبى ؟

اعداد المراقبه الثنائية - رفض اللائحة الاساسية - وضع نفسه تحت حماية إنجلترا وفرنسا

٧٠- اسباب قيام الثورة العربية ؟

زيادة التدخل الاجنبى - المؤثرات الفكرية الغربية التى ادت الى نمو الوعي القومى - سوء الاحوال الاقتصادية فى عهد وزارة رياض - اضهاد عثمان رفقى الضباط المصريين وعدم ترقيتهم

٧١- تقدم عرابى وزملائه بشكوى الى رياض باشا (حادث قصر النيل)

لاقاله عثمان رفقى ناظر الجهادية

٧٢- راي شريف باشا تأجيل مناقشة الميزانية

لتجنب الصدام مع الدول الاوروبية

٧٣- عندما عرض شريف باشا اللائحة الاساسية على مجلس النواب لم تتضمن مناقشة الميزانية

لتجنب الصدام مع الدول الاوروبية

٧٤- ارسال إنجلترا وفرنسا المذكرة المشتركة الاولى يناير ١٨٨٢م

لرغبتهم فى حل مجلس النواب وتأييد توفيق ومساندته ضد الحركة الوطنية

٧٥- استقالت وزارة شريف

(ما النتيجة)

لاصرار المجلس على مناقشة الميزانية

٧٦- موامرة الضباط الشراكسة ؟

لا غتيال عرابى والاطاحة بوزارة البارودى

٧٧- ارسال إنجلترا وفرنسا المذكرة المشتركة الثانية مايو ١٨٨٢م ؟

لاقاله وزارة البارودى وابعاد عرابى وزملائه خارج البلاد

٧٨- عقد ممثلوا الدول العظمى مؤتمر الاسناته ؟

للنظر فى المساله المصريه بعد حادث الاسكندريه

٧٩- ارسال قائد الاسطول الانجليزى انذار للحكومة المصريه ؟

لتسليم المدافع المنصوبة على ساحل الاسكندرية

٨٠- فشل الثورة العرابية ؟

لعدم تكافؤ الفرض - خيانه ديليبس - اصدار السلطان منشور عصيان عرابى - ميول بعض الضباط للخديو وبريطانيا - الظروف الدوليه لم تكن فى صالح مصر - عدم ادراك اهمية التعبئة الشعبية لمسانده الثورة

٨١- دليل على اهمل التعليم والجيش والحياة النيابية اثناء البريطاني

التعليم	جعلته بمصروفات مرتفعة وحصره على فئة قليلة بهدف تخريج موظفين للمصالح الحكومية
الحياه النيابيه	الغت مجلس شورى النواب المنتخب - انشأت مجالس صورية مثل شورى القوانين والجمعية العموميه
الجيش	حفضت عدد الجيش ٦ الاف جندي بقيادة ضابط انجليزى مهمته حفظ الامن والنظام

٨٢- دلي على عملت قوات الاحتلال الى سلب السلطة من الخديو توفيق ؟

لان السلطة الفعلية اصبحت للمعتمد البريطاني وسلطة الخديو انحصرت فى التصديق على القرارات

٨٣- دلي على عملت بريطانيا على فرض سياسه اقتصاديه تخدم مصالحها ؟

لانها توسعت فى زراعه القطن المصرى لتوفير الماده الخام للمصانع الانجليزيه - محاربه الصناعه المصريه

٨٤- تخلت فرنسا عن تأييد صطفى كامل ؟ (ما النتجه)

بسبب عقد الاتفاق الودى مع انجلترا

٨٥- استقالة اللورد كرومر ؟ (ما النتجه)

بسبب تنديد مصطفى كامل بحادثه دنشواى

٨٦- انشا محمد فريد مدارس ليليه ؟

لتعليم الفقراء والعمال مجانا

٨٧- فشل مشروع مدا امتياز قناة السويس لمدة ٤٠ سنه ؟

بسبب نجاح محمد فريد بتأييد الرأ العام لاجبار الحكومه المصريه لدعوة مجلس شورى القوانين لمناقشه طلب الشركه الاجنبيه مد الامتياز ورفضت الحكومه طلب الشركه (ما نتجه معارضة محمد فريد لمشروع مد الامتياز)

٨٨- تالف الوفد المصرى برئاسة سعد زغلول لمقابله السير ونجت عقب الحرب العالميه الاولى ؟

للمطالبه بالغاء الحمايه البريطانيه والغاء الاحكام العرفيه والغاء الرقابه على الصحف والاستغلال التام والسماح لهم بالسفر الى باريس (بم تفسر) لعرض المطالب الوطنيه على مؤتمر الصلح

٨٩- نفى سعد زغلول للمرة الاولى الى جزيرة مالطة ؟

بسبب قيام الوفد بجمع توكيلات من الامه للسعى الى الاستقلال - رفض سلطات الاحتلال مطالب الوفد

٩٠- عوامل قيام الثورة ١٩١٩م ؟

ازدياد الوعى القومى - اجراءات الاحتلال العنيفه اثناء الحرب العالميه الاولى - ادعاء انجلترا انها تحارب من اجل حريه الشعوب - اعلان الرئيس الامريكى ولسن مبادئه الاربعه عشر منها حق الشعوب فى تقرير مصيرها

٩١- فشل مهمه الوفد المصرى فى باريس (خيب مؤتمر الصلح امال الوفد المصرى) ؟

لانه اعترف بالحمايه البريطانيه على مصر ومنهم الرئيس الامريكى ولسن

٩٢- دلي على اكدت ثورة ١٩١٩ على الوحدة الوطنيه بين ابناء الامه ؟ (ثورة شعبيه)

حيث امتدت من القاهره الى كافه المدن والاقاليم واشترت فيها جميع فئات الشعب المصرى

٩٣- ارسلت الحكومه البريطانيه لجنه برئاسة ملنر ؟

لاقناع الشعب المصرى بقبول الحمايه البريطانيه

٩٤- رفض الشعب المصرى التفاوض مع لجنه ملنر ؟

لان التفاوض يعنى التنازل عن التوكيلات للوفد

٩٥- رفض الشعب المصرى مشروع معاهده ملنر ؟

لانها كانت تؤدى الى استقلال مصر صوريا

٩٦- قيام مفاوضات عدلى - كيرزون ؟

لوضع دستور يحقق امانى المصريين

٩٧- استقال عدلى يكن من الوزارة ؟ (ما النتيجة)

لفشل المفاوضات مع كيرزون وعدم الوصول لنتيجة

٩٨- نفى سعد زغلول للمرة الثانية الى جزيرة سيشل ؟

بسبب تجدد ثورة ١٩١٩ مرة اخرى

٩٩- لم يحقق تصريح ٢٨ فبراير ١٩٢٢ امانى المصريين فى الاستقلال التام ؟

لان بريطانيا احتفظت بعدة امور وهى التحفظات الاربعه (تأمين المواصلات البريطانية فى مصر - الدفاع عن مصر - حمايه المصالح الاجنبية - استمرار اوضاع السودان على ماكانت وفقا لاتفاقيه الحكم الثانى)

١٠٠- دليل على كان الدستور ١٩ ابريل ١٩٢٢ (مزايا وعيوب)

المزايا	العيوب
افر مبدا الامه مصدر السلطات - وضع نهايه للحكم المطلق	اعطى للملك سلطات واسعه منها حقه فى حل البرلمان

١٠١- تشكيل وزارة عبد الخالق ثروت لجنه من ٣٠ عضو ؟

لا عداد الدستور الذى عرف باسم بدستور ١٩٢٣

١٠٢- استقالة وزارة سعد زغلول ؟

بسبب تقديم اللورد اللبى انذار للحكومة فى ٢٢ نوفمبر ١٩٢٤ لسحب الجيش المصرى من السودان

١٠٣- عارض الشعب المصرى دستور ١٩٣٠ ؟

لانه اعطى للملك سلطات واسعه واهدر سلطه الامه والنتيجة اعاد الملك فؤاد دستور ١٩٢٣ م

١٠٤- دليل على لم تؤدى تعدد الاحزاب منذ دستور ١٩٢٢ الى اثناء الحياة النيابية ؟

لانها كانت اداة فى يد الملك وبريطانيا لتحقيق مصالحهم دون النظر للشعب المصرى

١٠٥- تغيرات العلاقات بين مصر وبريطانيا عقب اندلاع الحرب العالمية الثانية ؟

لاصرار بريطانيا على ان تعلن مصر الحرب على دول المحور وهو ما رفضته الحكومة المصرية (بم تفسر)

لتجنب ويلات الحرب

١٠٦- محاصرة الدبابات البريطانية لقصر عابدين ٤ فبراير ١٩٤٢ م

بسبب ممالطة الملك فى تعيين مصطفى النحاس رئيسا للوزارة وتم اجباره وعينه

١٠٧- يعتبر يوم ٢٥ يناير من كل عام يوم مهم فى تاريخ الشرطه المصرية ؟

بسبب المقاومة الباسلة لرجال الشرطه عندما حاصرت القوات الانجليزية مبنى محافظة الاسماعيلية لنزع سلاح جنود الشرطه فرفضوا ووقع الصدام واستشهد العويده

- ١- هزم الصفويين ودخل عاصمتهم تبريز بعد معركة جالديران - قائد العثمانيين في معركة الريدانية ومرج دابق. (سليم الاول)
- ٢- قائد المماليك في معركة مرج دابق ١٥١٦م (قنصوه الغوري)
- ٣- قائد المماليك في معركة الريدانية ١٥١٧م (طومان باي)
- ٤- أعلن نفسه الحامي الوحيد للحرمين الشريفين ولجميع رعايا العالم الإسلامي (سليم الاول)
- ٥- أعلن نفسه الحاكم الفعلي لمصر وأخضع الحجاز لنفوذه ١٧٩٨ (علي بك الكبير)
- ٦- نائب علي بك الكبير وأرسله إلى حاكم جنوب الشام (ظاهر العمر) - انحاز للسلطان العثماني (محمد بك ابو الذهب)
- ٧- قام بإرسال أمير الصناع المصريين إلى الأستانة عاصمة الدولة العثمانية في عهده (سليم الاول)
- ٨- أعد جيشا واصطحب العديد من العلماء وأبحر بالحملة الفرنسية من ميناء طولون (نابليون)
- ٩- حاكم مدينة الإسكندرية وقاوم الحملة مع أهلها وأعدمه نابليون رميا بالرصاص (محمد كريم)
- ١٠- قائد مملوكي هرب بعد معركة إمبابة إلى الصعيد (سراة بك)
- ١١- قائد الأسطول الإنجليزي وأغرق الأسطول الفرنسي في معركة أبو قير البحرية (نلسون)
- ١٢- فرض الضرائب وأعدم العديد من الثوار وفرض الغرامات أثناء ثورة القاهرة الأولى أكتوبر ١٧٩٨ (نابليون)
- ١٣- قائد الحملة الفرنسية على بلاد الشام - سافر سرا إلى فرنسا عقب معركة أبو قير البرية يوليو ١٧٩٩ (نابليون)
- ١٤- حاكم عكا واستبسل مع أهلها ضد نابليون ونجحوا في صد الاعتداء والدفاع عن عكا (احمد باشا الجزار)
- ١٥- تولى قيادة الحملة عقب رحيل نابليون - كان ينوي مغادرة مصر وأبرم معاهدة العريش مع العثمانيين.
- ١٦- أدرك أن الحملة الفرنسية تهددها الأخطار عقب رحيل نابليون - قام بقتله الطالب السوري (سليمان الحلبي)
- ١٧- زعيم ثورة القاهرة الثانية ونقيب الأشراف - قام محمد علي بنفيه إلى دمياط (محمد مكرم)
- ١٨- كان ينوي الإقامة بمصر وتحويلها إلى مستعمرة فرنسية (مينو)
- ١٩- جاهر بالانضمام إلى العلماء والمشايخ أثناء ثورة مارس ١٨٠٤ - اقترح على العلماء تعيين خورشيد باشا واليا على مصر (محمد علي)
- ٢٠- قائد مملوكي سعت إنجلترا لتوليته مصر لكي تطمئن مصالحها الاقتصادية بدلا من محمد علي (محمد بك الالفي)

٢١- قائد الحملة الإنجليزية على مصر عام ١٨٠٧ لخلع محمد علي وتولية محمد الألفي (فريزر)
٢٢- حرم المماليك من المناصب الهامة مثل شيخ البلد وطاردهم ودبر لهم مذبحه القلعة - أنشاء مدينة الخرطوم

(محمد علي)

٢٣- أنشأ (القناطر الخيرية - طبق نظام الاحتكار - جمع الصببية بالعمل في المصانع - استعان بالخبرات الأجنبية.

(محمد علي)

٢٤- قام تسويق المنتجات المصرية - طهر البحر الأحمر من القراصنة - احتكر تجارة الواردات

(محمد علي)

٢٥- أقام المدارس الحديثة - أرسل البعثات العلمية للخارج - أصدر صحيفة الوقائع المصرية - الطبعة الأميرية.

(محمد علي)

٢٦- معلم لمادة الدراسات هو اللي عاملك الملزمه وببشرحك في اليوتيوب (أحمد خليفه ☺)

٢٧- أحد ضباط نابليون واستعان به محمد علي لتدريب الضباط بالمدرسة العسكرية في أسوان (الكولونيل سيف)

٢٨- حكم مصر عقب محمد علي طبقا لفرمان يونيو الاول ١٨٤١م (ابراهيم باشا)

(
٢٩- انشاء اول خط جديد بين القاهرة والاسكندرية & اغلق معظم المدارس والمصانع وخفض الجيش وعطل الترسانة
(عباس باشا الاول)

٣٠- توقفت في عهده حركة النهضة التي اقامها محمد علي
(عباس باشا الاول)

٣١- تولى حكم مصر عقب وفاة عباس عام ١٨٥٤م & قام بتطهير ترعه المحمودية (محمد سعيد)

(
٣٢- لائحة اصدرها سعيد باشا بموجبها اصبح للفلاح حق توريث الارض (اللائحه السعديه)

٣٣- اتم الخط الحديدي بين القاهرة والاسكندرية & أنشأ خط حديدي جديد بين القاهرة والسويس
(محمد سعيد)

٣٤- مد خطوط التلغراف على الطرق الحديثة بين القاهرة والسويس والاسكندرية (محمد سعيد)

٣٥- ألغى ديوان المدارس وشجع البعثات الأجنبية على فتح مدارس لها بالقاهرة والاسكندرية (محمد سعيد)

٣٦- بدأت في عهده ظهور الأزمة المالية واستدان من بيوت المال الأوروبية وعقد اول قرض مع بنك انجليزي.

(محمد سعيد)

٣٧- اندفع في طلب الاستدانات ولجا للمرابين يستدين منهم على حساب الخزانه الماليه (محمد سعيد)

(
٣٨- منح للفرنسي فرديناند ديليبس عقدين لامتياز قناة السويس (هو هو محمد سعيد ☺)

٣٩- عقد بموجبه تأسيس شركة عامة لحفر القناه واستثمارها ٩٩سنه (الامتياز الاول)

٤٠- عقد كانت شروطه جاحفه وظالمه للمصريين طبقا لكافة شروطه (الامتياز الثاني)

٤١- ترعه تم حفرها طبقا لشروط عقد الامتياز الثاني صالحه للملاحه النيلية (الاسماعهيليه)

٤٢- تولى حكم مصر فى ١٨٦٣م وكانت فترة حكمة ازهى واخطر فترات مصر (الخدويى اسماعيل)

٤٣- زادت مساحة الأراضى الزراعيه فى عهدة وانشا ترعه الابراهيميه & اعاد فتح ديوان المدارس (الخدويى اسماعيل)

٤٤- اعاد فتح المصانع المغلقة وتوسع فى انشاء مصانع السكر فى الوجهة القبلى (الخدويى اسماعيل)

٤٥- انشا دار الرصد بالعباسية ودار الكتب ومصلحة الاحصاء والمساحة والجمعية الجغرافية (الخدويى اسماعيل)

٤٦- اهتم بتنظيم الجيش وتسليحة ومضاعفه قوته واهتم بنهضة التعليم البحرى (الخدويى اسماعيل)

٤٧- اهتم بالعمران وانشا قصر عابدين ودار الاوبرا واقام الجسور والكبارى (الخدويى اسماعيل)

٤٨- مد خطوط التلغراف بين محافظات مصر وانشا مصلحة البريد ومكاتبها بالقاهرة والاسكندرية والاقاليم

(الخدويى اسماعيل)

٤٩- انشا مجلس شورى النواب ١٨٦٦ - تأليف الوزاره المسنوليه ١٨٧٨ - وضع اول دستور (اللائحة الاساسية)

(الخدويى اسماعيل)

٥٠- وجه عدة حملات حربية امتدت الى الاقاليم الاستوائية فى افريقيا (مد نفوذ مصر الى ساحل البحر الاحمر كاملا) & انشا المحاكم القنصلية والمختاطة (الخدويى اسماعيل)

٥١- اتبع سياسة الافتراض من الدول الاجنبية للوفاء بالتزاماته ومشروعاته - اقام حفل القناة وانفق بدخ

(الخدويى اسماعيل)

٥٢- اعتمد فى علاقته مع السلطان العثمانى على تقديم المال والهدايا & زادت فى عهدة الامتيازات الاجنبية

(انا عارف انك زهقت بس معلى استحمل يا بطل" الخدويى اسماعيل)

٥٣- محاكم اختصاصها النظر فى الجرائم التى يرتكبها الاجانب ضد المصريين والحكومة (المحاكم القنصلية)

٥٤- محاكم انشاها اسماعيل للحد من مساوى المحاكم القنصلية تفصل فى القضايا المدنية والعقارية بين الاجانب والحكومة (المحاكم المختلطه)

٥٥- موظف بريطانى أرسلته انجلترا لدراسة سوء الاوضاع الماليه وتقديم حلول لها بناء على رغبه اسماعيل

(المستر كليف)

٥٦- صندوق كانت مهامه تسليم المبالغ المخصصه للديوان من المصالح المختلفه والاشراف على تسديد الديون كان بمثابة خزانه فرعيه للخزانه المصريه (صندوق الدين)

٥٧- مادة كنت بتكرهه بس مع مستر احمد خليفه عشقتها (المراسلات الاجتماعيه)

٥٨- رئيس الوزاره المسنوله التى بها وزيران اجنبيان بريطانى للماليه وفرنسى للاشغال (نوبار باشا)

- ٥٩- تولى الحكم بعد الخديو اسماعيل نتيجة تدخلت إنجلترا وفرنسا (الخديوي توفيق)
- ٦٠- ادرك منذ بداية حكمة قوة النفوذ الاجنبي في مصر واعاد نظام المراقبة الثانية ورفض اللانحه الاساسيه ووضع نفسه تحت حمايه إنجلترا وفرنسا واسند الوزراء الى رياض باشا (الخديوي توفيق)
- ٦١- ناظر الجهادية تقدم عرابي بشكوى الى رياض باشا لعزله بسبب اضطهاد المصريين وتم عزله عقب حادث قصر النيل
- ٦٢- تم تعيينه عقب عزل عثمان رفقي ناظر الجهادية & شكل وزارة الثورة (محمود سامي البارودي)

- ٦٣- تم عزله من رئاسة الوزارة عقب مظاهر عابدين (مطالب الامه) وتعيين شريف باشا بدلا منه (رياض باشا)
- ٦٤- قائد مظاهرة عابدين السلمية ٩ سبتمبر ١٨٨١م (احمد عرابي)
- ٦٥- عرض اللانحه الاساسية على مجلس النواب دون مناقشه الميزانيه واستقال لاصرار المجلس على مناقشة الميزانية (شريف باشا)
- ٦٦- مذكرة أرسلتها إنجلترا وفرنسا يناير ١٨٨٢ لرغبتهم في حل مجلس النواب ومساندة توفيق (المؤكرة المشتركة الاولى)
- ٦٧- وزارة تم تعيين البارودي رئيسا لها وتم تعيين عرابي ناظر للجهادية واصدرت اللانحه الاساسية وحق المجلس مناقشة الميزانية ومبدأ مسئوليه الوزارة امام المجلس (وزاره الثورة)
- ٦٨- مجموعه من الضباط قاموا بمؤامرة الاطاحة بوزارة البارودي وقتل عرابي (الاتراش الشراكسه)

- ٦٩- مذكرة أرسلتها إنجلترا وفرنسا مايو ١٨٨٢م لاقاله البارودي وابعاد عرابي وزملائه خارج البلاد (المؤكرة المشتركة الثانية)
- ٧٠- مؤتمر عقدته الدول العظمى للنظر في المسأله العصريه عقب حادث الاسكندرية (الاستانه)
- ٧١- تولى الوزارة عقب حادث الاسكندرية وعقب استقاله وزارة البارودي وكلفه توفيق بتأليف الوزارة (راغب باشا)
- ٧٢- اكد لعرابي حيادية القناة ولكنه قام بالتواطؤ مع الانجليز وسمح لهم بعبور القناة (وليسيبس)
- ٧٣- مدينة وصلت اليها القوات الانجليزية عقب المرور من قناه السويس (الاسماعيليه)
- ٧٤- معركة انتصر فيها البريطانيون واصبحوا على مقربه من التل الكبير اغسطس ١٨٨٢م (التل الكبير)

- ٧٥- اقنعت إنجلترا باصدار منشور بعصيان عرابي اثناء معركة التل الكبير (السلطان العثماني)
- ٧٦- صمد بقواته امام القوات البريطانيه في معركة التل الكبير واستشهد (مصممه عبيه)
- ٧٧- مدينة دخلتها قوات الاحتلال الانجليزي سبتمبر ١٨٨٢م عقب هزيمة العربيين في معركة التل الكبير (القاهره)
- ٧٨- خطيب الثورة العرابية ولم تستطيع القوات الانجليزية الوصول اليه لمحاكمته مع باقي زعماء الثورة (عبد الله النديم)

٧٩- جزيرة بالهند نفى اليها زعماء الثورة العربية
٨٠- تركزت في يده السلطه الفعليه عقب الاحتلال البريطاني

(سلان)
(المعتمه البريطاني)

(٨١- محصول توسعت في زراعته قوات الاحتلال لتوفير ماده الخام للمصانع الانجليزيه (القطن)

٨٢- قاد الحركة الوطنية اواخر القرن ١٩ & دعا الى رفض اتفاقيه الحكم الثنائى للسودان ١٨٩٩
(مصطفى كامل)

٨٣- عرف الراى العام الأوروبى خاصة فرنسا برفض مصر الاحتلال & انشا جريده اللواء ١٩٠٠
(مصطفى كامل)

٨٤- ندد بحادثه دنشواى وتم اقاله اللورد كرومر بسببها & انشا الحزب الوطنى ١٩٠٧
(مصطفى كامل)

٨٥- دعا الى انشاء الجامعه المصريه (جامعه القاهره الان) عام ١٩٠٨
(مصطفى كامل)

٨٦- خلف مصطفى كامل فى رئاسة الحزب الوطنى & طالب بإنشاء مجلس نيابى سلطاته واسعه
(مصممه فريه)

٨٧- تولى رئاسة الحزب الوطنى فى ظروف صعبه
(مصممه فريه)

٨٨- طالب بإنشاء نقابات للعمال & دعا الى انتشار مدارس ليليه & دعا الى جعل التعليم الزاميا
وبالمجان للأبتدائى
(مصممه فريه)

٨٩- نجح فى تأييد الراى العام لاجبار الحكومه على رفض مدامتياز قناة السويس لمدته ٤٠ سنه اخرى
(مصممه فريه)

٩٠- رئيس الوفد المصرى (اعضاء الجمعيه التشريعيه) توجهوا لمقابله المندوب السامى (السير
ونجت)

٩١- جزيرة قامت قوات الاحتلال بنفى سعد زغول وزملانة اليها فى مارس ١٩١٩ (مالطه)
(سعد زغول)

٩٢- رئيس امريكى اعلن المبادئ الاربعه عشر ومنها حق الشعوب فى تقرير مصيرها (ولسن)
(باريس)

٩٣- مدينه تم السماح للوفد المصرى للسفر اليها عقد بها مؤتمر الصلح
٩٤- المندوب السامى البريطانى الذى عزله نتيجة ثورة ١٩ وتم تعيين الجنرال اللبني بدلا منه (ونجت)

٩٥- خضوع مصر المطلق للاحتلال البريطانى (مصطلح)
(الصمايه البريطانيه)

٩٦- رئيس الحكومه المصريه قام بمفاوضات مع كيرزون وزير خارجيه بريطانيا لوضع دستور يحقق
امانى المصريين
(عولي يكن)

٩٧- جزيرة تم نفي سعد زغول اليها للمرة الثانيه
(سيسيل)

٩٨- رئيس الحكومه المصريه استقال نتيجة فشل المفاوضات مع كيرزون (عولي يكن)
٩٩- تصريح اصدرته بريطانيا عقب فشل مفاوضات على - كيرزون (٢٧ فبراير ١٩٢٢)

١٠٠- اعلن نفسه ملكا للبلاد عقب تصريح فبراير فى مارس ١٩٢٢ (الملك فؤاد)
١٠١- حزب فاز بالاغليه المطلقة فى الانتخابات العامة طبقا لدستور ١٩٢٣ (الوفد)

١٠٢- القائد العام للجيش المصري والحاكم العام للسودان وتم اغتياله ١٩ نوفمبر ١٩٢٤م (السير لي

ستاج)

١٠٣- المندوب السامي البريطاني انذر الحكومة المصرية في ٢٢ نوفمبر ١٩٢٤ وطلب منها سحب الجيش المصري من السودان (الجنرال النبي)

١٠٤- وزارة تقدمت باستقالها لرفض مطلب سحب الجيش المصري من السودان (وزاره

الشعب)

١٠٥- وزارة قبلت مطالب بريطانيا بسحب الجيش المصري من السودان (زيور باشا)

١٠٦- خلف سعد زغلول عقب وفاته في زعامة حزب الوفد (مصطفى النحاس)

١٠٧- شكل الوزارة الجديدة في يونية ١٩٣٠ التي ألغت دستور ١٩٢٣ ووضعت دستور ١٩٣٠ (اسماعيل صدقي)

١٠٨- ابرم معاهدة ١٩٣٦ مع بريطانيا (مصطفى النحاس باشا)

١٠٩- مؤتمر بموجبه تم الغاء الامتيازات الاجنبية (مونترو)

١١٠- منظمة دولية انضمت اليها مصر عقب معاهدة ١٩٣٦م (عصبة الامم)

١١١- ملك قامت بريطانيا بانذاره لتعيين مصطفى النحاس رئيسا للوزارة وحاصرت قصر عابدين

(فاروق)

١١٢- رئيس وزراء مصر قام في اكتوبر ١٩٥١م بالغاء معاهدة ٣٦ واطلق الحريه للشعب للنضال المسلح ضد الاحتلال (مصطفى النحاس)

١١٣- مبنى تم حصاره من قبل قوات الاحتلال لنزع سلاح جنود الشرطه المصريه (محافظة

الاسماعيليه)

حليفة

السؤال الثالث ما النتائج المترتبة على ؟

- ١- معركة مرج دابق ١٥١٦ م (معركة الريدانية ١٥١٧)
- مرج دابق: انتصار العثمانيين وهزيمة المماليك وأصبحت الشام ولاية عثمانية.
- الريدانية: هزيمة المماليك وانتصار العثمانيين وانتهاء دولة المماليك وأصبحت مصر ولاية عثمانية.
- ٢- استيلاء العثمانيين على أراضي الدولة المملوكية، هزيمة الجيوش المملوكية أمام العثمانيين
١- تحولت مصر من دولة مستقلة إلى ولاية عثمانية ٢- انتقال خلافة العالم الإسلامي إلى الدولة العثمانية.
- ٣- أعلن سليم الأول أنه الحامي الوحيد للعربيين. ٤- سيطر العثمانيين على العالم الإسلامي الأسيوطي والأفريقي.
- ٣- تدهور الزراعة والصناعة أثناء الحكم العثماني
- تدهور التجارة الداخلية والخارجية.
- ٤- معركة شبراخيت وإمبابة؟
- شبراخيت هزيمة المماليك وفرارهم جنوبا
- إمبابة: هزيمة المماليك وفرار مراد بك للصعيد وإبراهيم بك للشام.
- ٥- معركة أبوقير البحرية أغسطس ١٧٩٨ م؟
- تصطم الأسطول الفرنسي - حصار الإنجليز الشواطئ الشمالية - قطع الإمدادات عن الصلّة - توقف التجارة الخارجية.
- ٦- ثورة القاهرة الأولى؟
- أعدم نابليون العديّة من الثوار - فرض الضرائب على التجار - تحصين القاهرة.
- ٧- حملة نابليون على الشام؟
- فشل الصلّة وعاو نابليون إلى مصر.
- ٨- مذبحة يافا البشرية؟
- استبسال أهالي عكا بقيادة أحمد باشا الجزائر.
- ٩- معركة أبوقير البرية؟
- هزيمة القوات العثمانية.
- ١٠- معاهدة العريش ١٨٠٠ م؟
- فشلت المعاهدة بسبب رفض إنجلترا الاتفاق وهاجم كليبر العثمانيين وأعادهم للشام.

١١- ثورة القاهرة الثانية مارس؟

- تدمير حي بولاق وفرض كليبر المنزى من الضرائب ومصاورة الأموال.

١٢- العثور على حجر رشيد؟

- التعرف على التاريخ المصري القديم.

١٣- اختلاط محمد علي بالعلماء أثناء ثورة ١٨٠٤؟

- كسب عطف وثقة الشعب المصري بأنه رجل عادل.

١٤- مذبحه القلعة؟

- تخلص محمد علي من المماليك والانفراد بحكم مصر.

١٥- مفاوضات محمد علي مع الدول الأوروبية لإنهاء حرب اليونان؟

- علو مكانة مصر وولوية وتوتر العلاقة مع السلطان.

١٦- فشل حركة علي بك الكبير الاستقلالية؟

- عودة مصر ولاية عثمانية تحت حكم شيخ البلد محمد أبو الذهب.

١٧- ما النتيجة المترتبة على معركة نافرين؟

- هزيمة الجيش المصري وتعطيم الأسطول.

١٨- بم تفسر: تقلص محمد علي من الزعماء (نفي عمر مكرم إلى دمياط)؟

- للانفراد بحكم مصر وكون وصاية من أحد أو رقابة.

١٩- ما النتيجة المترتبة على موقعة نافرين ١٨٢٧

- تعطيم الأسطول المصري وهزيمة الجيش المصري.

٢٠- دليل أثبت الجندي المصري كفائته عندما استعان به محمد علي؟

- الانتظام في التعريب وإطاعة الأوامر.

٢١- انشاء الحاكم المختلطه؟

- تدخل القضاء الاجانب فى السلطه القضائية المصريه

٢٢- انشاء الحاكم القنصلية؟

- تنازل المصريين عن حقوقهم لان احكامها تستألف بالخارج

٢٣- صدور مرسوم نوفمبر عام ١٨٧٦م؟

- تعيين مراقبين اجنبيين على المالية المصرية (المراقبة الثنائية)

٢٤- قيام الحركة الوطنية بتوجيه الانتقادات للوزارة المختلطة؟

- اقضاء الوزيرين الاجنبيين واصدار مرسوم أبريل بتسوية الديون طبقا للائحة

الاساسية

٢٥- حادث قصر النيل؟

- عزل عثمان رفقى وتعيين البارودى ناظر للجهاوية

٢٦- تولى البارودى رئاسة الوزارة فبراير ١٨٨٢م ؟
- تعيين عرابى ناظر للجهاوية - اصدر اللائحة الاساسية التى نصت على حق المجلس فى مناقشة الميزانية

٢٧- معركة كفر الدوار (صد العرابيين للقوات الانجليزية بكفر الدوار)
- اتجاه الانجليز لقناة السويس وعبورها

٢٨- خيانه ديليسبس لعرابى (تواطؤ ادارة شركة قناة السويس مع الانجليز) ؟
- عبور القوات الانجليزية القناة حتى وصلت الى الاسماعيليه واحتلالها -
واصبحت على مقربة من التل الكبير

٢٩- إصدار السلطان منشور عصيان عرابى ؟
- ضعف الروح المهنية للجنود المصريين وتسبب فى الهزيمة

٣٠- معركة التل الكبير سبتمبر ١٨٨٢م ؟
- هزيمة العرابيين وتقدم الانجليز القاهرة واحتلالها

٣١- كفاح مصطفى كامل ؟
- امتداد الحركة الوطنية ضد الاحتلال - عزل اللورد كرومر نتيجة حادث ونشواى

٣٢- إصدار تصريح ٢٨ فبراير ١٩٢٣م ؟
- اعلن الملك فؤاد نفسه ملكا للبلاد - شكل عبد الخالق ثروت لجنة من ٣٠ عضو لا عهد الدستور (دستور ١٩٢٣م).

٣٣- دستور ١٩٢٣م ؟
- اجراء الانتخابات وحصول حزب الوفد على الاغلبية - تشكيل سعد زغلول اول وزارة برلمانية (وزارة الشعب نسبة الى انتخابات الشعب للنواب) - افتتاح اول برلمان مصرى ١٩٢٤م

٣٤- اغتيال السير لى سيتاك القائد العام للجيش المصرى ؟
- تقديم انذار من قبل اللورد النبي للحكومة المصرية بطلب سحب الجيش المصرى من السودان فرفضت وزارة سعد زغلول واستقالت ولكن قبلت وزارة زيور

٣٥- معاهدة ١٩٣٦م ؟ دلل على حققت معاهدة ٦٣ بعض المكاسب ؟
- انتها احتلال مصر عسكريا مع بقاء قوات الاحتلال بقناه السويس للدفاع عنها - انضمام مصر الى عصبة الامم - الغاء الامتيازات الاجنبية فقا لمؤتمر سان ريمو (النتيجة) - تقوية الجيش المصرى للدفاع عن القناة - حربه مصر فى عقد المعاهدات الحولية بشرط عدم تعارضها مع هذه المعاهدة - عودة الجيش المصرى للسودان

٣٦- حادث فبراير ١٩٤٢ (محاضرة الديانات الانجليزية لقصر عابدين)
- قبول الملك فاروق البريطاني وعرض على مصطفى النحاس تأليف الوزارة

٣٧- الغاء مصطفى النحاس معاهده ١٩٢٦م
- اطلاق الحرية للشعب للنضال المسلح ضد الاحتلال - مهاجمة الفدائيين
معسكرات الاحتلال - زيادة عدد الشرطة لمساعدة الفدائيين - قيام الاحتلال
بمحاصرة مبنى اسماعيلية لنزع سلاح جنود الشرطة بالقوة ورفضوا
واستشهد العدي في ٢٥ يناير ١٩٥٢م

٣٨- لجنة التحقيق الاوروبيه ؟
- تنازل اسماعيل عن سلطته واطيانه واطيان عائلته

**انتهت الملزمه لكن المعركة لسه
ما انتهتس يا مقاتل .. !
انا عايز تفرقتل الامتحان**

أ - احمد خليفه ديما معاك

٠١١٥٥١٣٩٥٩٥

خليفه