

الامتحان التعليمي
www.exam-eg.com



سلسلة

البركات

في

المراجعة
النهائية



الصف ٥ الابتدائي

الفصل الدراسي الأول

إعداد

أ / محمد عبد الصبور



01129903122

أقوي مراجعة على الوحدة الأولى

مستّر: محمد عبد الصبور

السؤال الاول : اكتب ما تشير اليه كل عبارة مما يلي :-

- ١- موقع المكان بالنسبة لليابس والماء .
- ٢- الموقع بالنسبة لخطوط الطول ودوائر العرض .
- ٣- أنصاف دوائر رأسية تبدأ من القطب الشمالي الى الجنوبي .
- ٤- دوائر افقية ترسم حول الكرة الارضية وهى غير متساوية .
- ٥- دوران الارض حول الشمس كل ٣٦٥ يوم وربيع .
- ٦- فصل يبدأ فى مصر حيث تتعامد الشمس على مدار الجدى .
- ٧- اقليم مناخى تقع فيه معظم الاراضى المصرية .
- ٨- فصل تهب فيه رياح الخماسين .

- الموقع الجغرافي
- الموقع الفلكي
- خطوط الطول
- دوائر العرض
- الدورة السنوية
- فصل الشتاء
- الصحراوى الحار
- فصل الربيع

السؤال الثاني : اجب عن الاسئلة التالية

١- بم تفسر : أهمية خطوط الطول .

تستخدم في تحديد المواقع شرقاً وغرباً - تحديد الزمن وفرق التوقيت بين الأماكن على الأرض .

٢- بم تفسر : أهمية دوائر العرض .

تستخدم في تحديد المواقع شمالاً وجنوباً - تحديد أحوال المناخ على سطح الأرض .

مستّر: محمد عبد الصبور

٣- ما النتائج المترتبة على : الموقع الفلكي لمصر .

أدى ذلك الى وقوع معظم الاراضى المصرية في الإقليم الصحراوى الحار مثل محافظة الوادي الجديد ووقوع الأطراف الشمالية من مصر في إقليم البحر المتوسط مثل محافظة الإسكندرية .

٤- ما النتائج المترتبة على : الموقع الجغرافي لمصر .

ساعد موقع مصر المتميز على سهولة اتصال مصر بجيرانها تجارياً وحضارياً وخاصة بعد حفر قناة السويس للملاحة .

مستّر: محمد عبد الصبور

٥- حدد المختلف : نهر النيل - الموقع الجغرافي - مناخ مصر - الجيش المصرى .

المختلف هو : الجيش المصرى .

٦- حدد المختلف : الوحدة بين المصريين - كفاح المصرى - الجيش المصرى - الثروات المعدنية .

المختلف هو : الثروات المعدنية .

٧- حدد سبباً نزول الانسان من الهضبة الى الوادى ؟ بسبب حلول الجفاف فوق الهضاب .

٨- حدد اوجه الاختلاف بين عاصمة مملكة الشمال وعاصمة مملكة الجنوب ؟

مملكة الشمال توجد في الوجه البحرى / عاصمتها بوتو / شعارها نبات البردي / معبودها ثعبان الكوبرى

مملكة الجنوب توجد في الوجه القبلي / عاصمتها نخب / شعارها زهرة اللوتس / معبودها انثى النسر

٩- اذكر اهم العوامل الطبيعية لقيام الحضارة المصرية القديمة ؟

نهر النيل - الموقع الجغرافي - مناخ مصر - الثروات المعدنية .

١٠- بم تفسر : تسمية عصر الدولة القديمة بناة الاهرام ؟ لان ملوك هذا العصر بنوا الاهرامات الضخمة .

١١- اذكر العوامل البشرية التي ساعدت على قيام الحضارة المصرية القديمة ؟

الوحدة - الجيش - إقامة الحكومة المركزية - كفاح المصري القديم : محمد عبد الصبور

١٢- ما نتائج الحركات الانكسارية التي حدثت بالصحراء الشرقية ؟

أدى ذلك الى تكون السلاسل الجبلية المرتفعة مثل جبال البحر الأحمر .

١٣- اذكر أهم الجبال في الصحراء الغربية ؟ مثل جبل العوينات يقع في جنوب الصحراء الغربية .

١٤- ما المقصود بالادوية الجافة ؟ أودية كانت تجري بها المياه قديماً ثم جفت .

١٥- حدد سبباً واحداً لتركز السكان في بعض مناطق الصحراء الغربية ؟

بسبب وجود حرفة الزراعة اعتماداً على المياه الجوفية .

١٦- ما العلاقة بين نهر النيل ومنخفض الفيوم ؟

يتصل نهر النيل بمنخفض الفيوم عن طريق ترعة بحر يوسف .

١٧- حدد سبباً لارتفاع درجة الحرارة في الأقصر صيفاً ؟

بسبب وقوعها في الإقليم الصحراوي الحار .

١٨- بم تفسر : فصل الربيع له اثار سلبية على الانسان ؟ حيث يضر بالجهاز التنفسي للإنسان .

١٩- اذكر العوامل المؤثرة في مناخ مصر ؟

القرب او البعد عن المسطحات المائية - مظاهر السطح - الموقع الفلكي .

٢٠- اذكر أهم فصول السنة المناخية ؟

فصل الصيف - فصل الخريف - فصل الشتاء - فصل الربيع . مسر : محمد عبد الصبور

٢١- ما الفرق بين فصل الصيف والشتاء من حيث تعامد أشعة الشمس على الكرة الارضية ؟

تتعامد الشمس على مدار السرطان في الصيف بينما تتعامد الشمس على مدار الجدي في الشتاء .

٢٢- بم تفسر : أهمية النبات الطبيعي في مصر .

يستخدم كغذاء لبعض الحيوانات البرية - يستخدم بعضها في صناعة الادوية والطور والتجميل .

٢٣- صوب : من الحيوانات التي تتحمل الجوع والعطش هي الابقار .

الجمال .

٢٤- ما النتائج المترتبة على : ندرة الامطار في الصحاري المصرية .

أدى ذلك الى قلة النباتات الطبيعية في الصحاري .

٢٥- ما العلاقة بين : البرديات الطبيعية والدولة الحديثة .

تم تسجيل البرديات الطبية مثل ابيرس وهيرست في عصر الدولة الحديثة .

٢٦- ما المقصود : التغيرات المناخية .

حدوث اختلافات وتحولات في الاحوال المناخية مثل الحرارة والرياح والامطار عن المعتاد .

٢٧- صوب : تستضيف الغردقة مؤتمر الامم المتحدة للتغير المناخي ٢٢ مسر : محمد عبد الشريم الشيخ .

٢٨- وضح : تأثير التغير المناخي على المياه العذبة .

يؤثر التغير المناخي حيث يؤدي الى ندرة المياه العذبة .

٢٩- ما العلاقة بين : التغير المناخي وصحة الانسان .

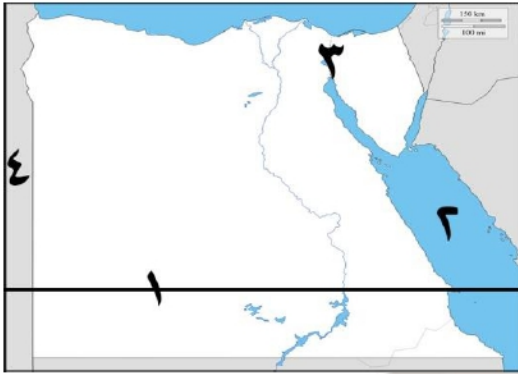
يؤثر التغير المناخي على صحة الانسان فيصاب ببعض الامراض مثل الملاريا .

٣٠- اذكر اهم اعمال الملك تحتمس الثالث .

- (١) اهتم بالجيش وتدريبه .
 (٢) بنى القلاع والحصون .
 (٣) مد حكم مصر حتى بلاد النوبة .
 (٤) كون اقدم امبراطورية في التاريخ .
 (٥) انتصر على امير قادش في معركة مجدو .

السؤال السادس : في أى الاقسام التضاريسية توجد الظواهر الآتية

- ١- هضبة مارميكا **الصحراء الغربية** .
 ٢- هضبة العبادة **الصحراء الشرقية** .
 ٣- فرع دمياط **دلتا النيل** .
 ٤- وادى العريش **شبه جزيرة سيناء** .
 ٥- جبل سانت كاترين **شبه جزيرة سيناء** .
 ٦- منخفض القطارة **الصحراء الغربية** .
 ٧- جبل العوينات **الصحراء الغربية** .
 ٨- بحر الرمال العظيم **الصحراء الغربية** .



السؤال السابع : لاحظ الخريطة المقابلة واكتب مدلول الارقام عليها

- ١- يشير رقم (١) الى **مدال السيرطان** .
 ٢- يشير رقم (٢) الى **البحر الأحمر** .
 ٣- يشير رقم (٣) الى **قناة السويس** .
 ٤- يشير رقم (٤) الى **دولة ليبيا** .



السؤال السابع : لاحظ الخريطة المقابلة واكتب مدلول الارقام عليها

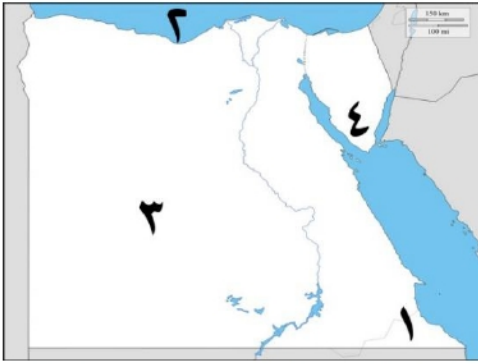
- ١- يشير رقم (١) الى **نهر النيل** .

- ٢- يشير رقم (٢) الى **مدينة خرج منها الملك مينا طيبة** .
 ٣- يشير رقم (٣) الى **عاصمة الوحدة الاولى بوتو** .
 ٤- يشير رقم (٤) الى **مملكة الشمال** .



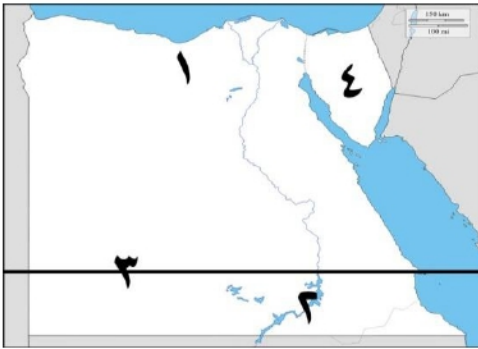
السؤال السابع : لاحظ الخريطة المقابلة واكتب مدلول الارقام عليها

- ١- يشير رقم (١) الى **جبل العوينات** .
 ٢- يشير رقم (٢) الى **هضبة مارميكا** .
 ٣- يشير رقم (٣) الى **سلاسل جبال البحر الأحمر** .
 ٤- يشير رقم (٤) الى **جبل سانت كاترين** .



السؤال السابع : لاحظ الخريطة المقابلة واكتب مدلول الارقام عليها

- ١- يشير رقم (١) الى مدينة تقع فى اقليم البحر المتوسط .
- ٢- يشير رقم (٢) الى مدينة تقع فى اقليم الصحراوى الحار .
- ٣- يشير رقم (٣) الى مدار السرطان .
- ٤- يشير رقم (٤) الى شبه جزيرة سيناء .



السؤال السابع : لاحظ الخريطة المقابلة واكتب مدلول الارقام عليها

- ١- يشير رقم (١) الى محمية جبل علبه .
- ٢- يشير رقم (٢) الى البحر المتوسط .
- ٣- يشير رقم (٣) الى الصحراء الغربية .
- ٤- يشير رقم (٤) الى محمية نبق .

مستّر: محمد عبد الصبور

أقوى إجابات على الوحدة الثانية

مستّر: محمد عبد الصبور

السؤال الاول : أجب عن الاسئلة التالية

١- دلل : تتنوع موارد المياه المالحة فى مصر ؟

حيث تتعدد موارد المياه المالحة ومنها البحار والبحيرات والمياه الجوفية المالحة .

٢- وضح أهمية المياه العذبة فى مصر ؟

تستخدم المياه العذبة فى الزراعة لرى المحاصيل وصيد الأسماك وصناعة النسيج والاعمال المنزلية

٣- بم تفسر : قيام الزراعة على الساحل الشمالى ؟ بسبب سقوط الامطار الشتوية .

٤- لنهر النيل أهمية كبيرة فى مصر اذكرها ؟

تقوم عليها الزراعة على السهول الفيضية - تقوم عليها التجارة لبيع البضائع .

٥- ما هى أهمية : المياه المالحة فى مصر ؟

تستخدم المياه المالحة فى صيد الأسماك واستخراج الاملاح مثل ملح الطعام وسيلة مهمة للنقل البحرى .

٦- اذكر طريقة : للحفاظ على المياه فى مصر ؟ ترشيد استهلاك المياه وزيادة الموارد المائية .

٧- بم تفسر : للحديد أهمية اقتصادية ؟ يستخدم فى صناعة الآلات وقضبان السكك الحديدية وحديد التسليح

٨- دلل : للتعددين والصناعات المختلفة أهمية كبيرة فى مصر ؟

حيث توفر فرص عمل للمواطنين - يساهم فى زيادة الدخل القومى .

٩- وضح أهمية معدن الفوسفات فى مصر ؟

يستخدم فى صناعة الأسمدة الكيماوية والمبيدات الحشرية والطوب الحرارى .

١٠- اذكر اهم الادوات التى صنعها المصرى القديم فى عصر المعادن ؟

اكتشف المصرى القديم النحاس وخالطه بالقصدير وصنع منه الأدوات الطبية مثل الملاقط والمقصات .

١١- ما هي أهمية : معدن الذهب ؟ يستخدم في صناعة الحلى .

١٢- اذكر بعض : الادوات للانسان في العصرى الحجري الحديث ؟

السكاكين والمطارق وأدوات الزراعة مثل المحاريث الحجرية .

١٣- اذكر محطات توليد الكهرباء من المساقط المائية ؟

محطة كهرباء السد العالي - محطة كهرباء خزان اسوان - محطة كهرباء قناطر اسنا .

١٤- اكتب بعض استخدامات الغاز الطبيعي ؟

يستخدم في الأغراض المنزلية وتوليد الكهرباء والوقود لبعض وسائل النقل .

١٥- وضح الأهمية الاقتصادية لمصادر الطاقة ؟

تستخدم مصادر الطاقة في إدارة المصانع والانارة وتوليد الكهرباء ومصدر للدخل القومى وتنمية الصناعة

وتسيير وسائل النقل وتطوير العديد من المشروعات وتوفير فرص عمل .

١٦- حدد المختلف (الفحم - البترول - الشمس - الغاز الطبيعي) ؟ الشمس

١٧- أهمية اكتشاف الانسان المصرى القديم للنار ؟ استخدمها للتدفئة وطهى الطعام .

١٨- اذكر بعض : مصادر الطاقة المتجددة ؟ الشمس والرياح والطاقة الكهرومائية .

١٩- برهن : للبنوك المركزية أهمية كبيرة ؟ أهمية البنوك اصدار النقود الورقية وحفظ واستثمار النقود .

٢٠- ما المقصود بكلمة " المقايضة " ؟ تبادل السلع والخدمات بدون استخدام النقود .

٢١- حدد المختلف (القمح - الابقار - جوز الهند - قصب السكر) ؟ قصب السكر .

مستّر: محمد عبد الصبور

٢٢- وضح الاختلاف بين البيع والشراء ؟

البيع هو إعطاء السلع والخدمات مقابل الحصول على عملة يستخدمها الدولة .

الشراء هو أخذ السلع والخدمات مقابل عملة يستخدمها الدولة .

٢٣- ماذا يحدث : لم يتم وضع علامة مائية على النقود الورقية ؟ يتم تزويرها وتقليدها من الأشخاص

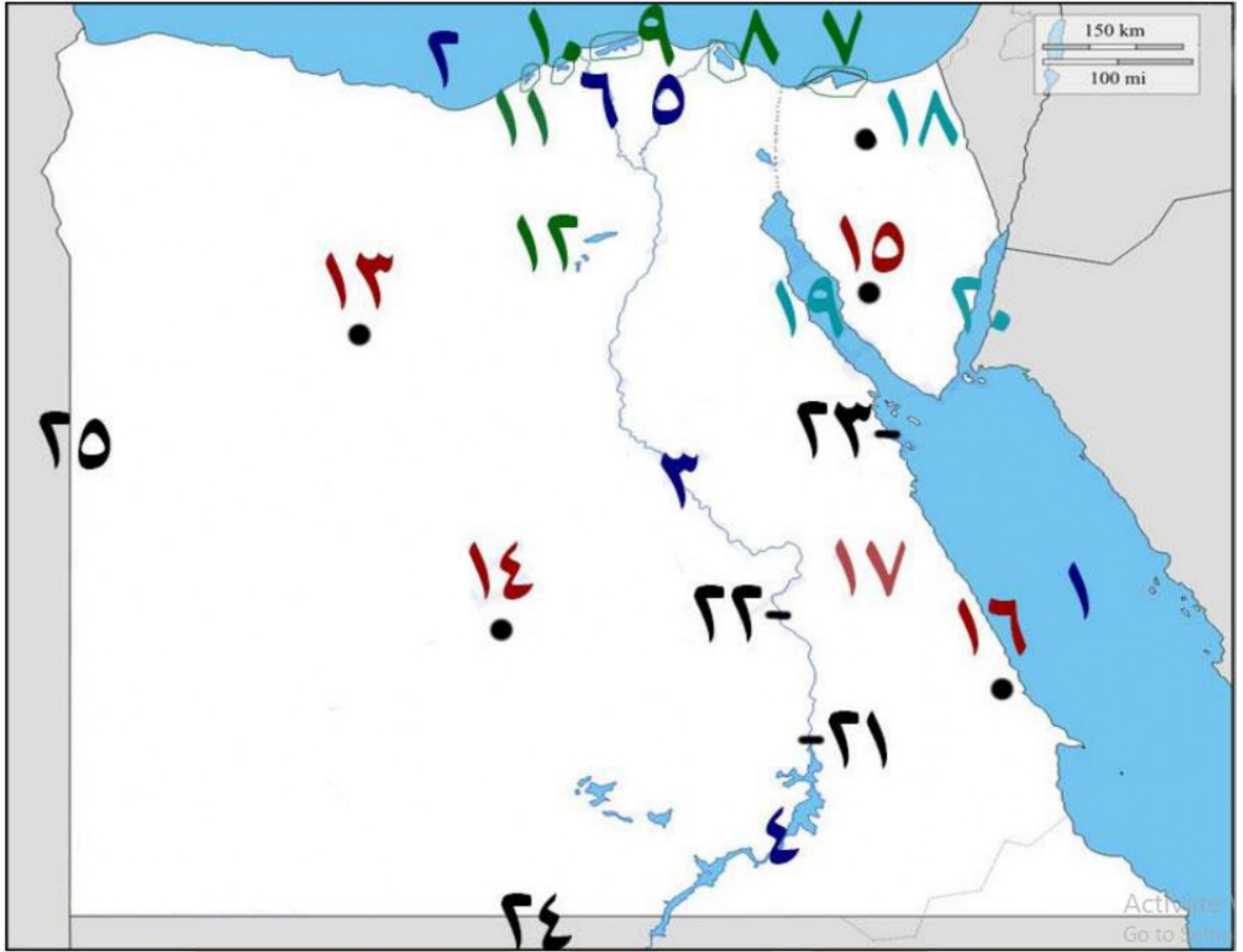
٢٤- ما العلاقة بين : العملة الذهبية فى مصر واليونانيين ؟

استخدم المصريون الذهبية مثل العملة اليونانية التي كانت منتشرة في ايدي اليونانيين المقيمين في مص

مستّر: محمد عبد الصبور

مستّر: محمد عبد الصبور

السؤال الثاني : لاحظ الخريطة المقابلة واكتب مدلول الأرقام عليها



- | | | |
|----------------------|--------------------------|-------------------------|
| (١) البحر الأحمر | (٢) البحر المتوسط | (٣) نهر النيل |
| (٤) بحيرة ناصر | (٥) فرع دمياط | (٦) فرع رشيد |
| (٧) بحيرة البردويل | (٨) بحيرة المنزلة | (٩) بحيرة البرلس |
| (١٠) بحيرة ادكو | (١١) بحيرة مريوط | (١٢) بحيرة قارون |
| (١٣) الواحات البحرية | (١٤) هضبة أبو طرطور | (١٥) منجم أم بجمة |
| (١٦) منجم السكري | (١٧) محافظة البحر الأحمر | (١٨) جبل المغارة |
| (١٩) خليج السويس | (٢٠) خليج العقبة | (٢١) السد العالي |
| (٢٢) قناطر أسنا | (٢٣) محطة جبل الزيت | (٢٤) دولة السودان لصبور |
| (٢٥) دولة ليبيا | | |

اقوى إجابات على الوحدة الثالثة

مستّر: محمد عبد الصبور

السؤال الاول : اكتب ما تشير اليه كل عبارة

- ١- فصل من فصول السنة الزراعية كان يبذر فيه الفلاحون الارض .
- ٢- ترعة توصل مياه النيل الى منخفض الفيوم .
- ٣- اداة استخدمها المصريون القدماء لتقليب التربة .
- ٤- اداة استخدمها المصريون القدماء لحصاد المحصول .
- ٥- مشروع تم تنفيذه لزيادة الثروة الحيوانية في بورسعيد .
- ٦- محافظة مصرية تعد الاولى في الانتاج السمكى في مصر .
- ٧- عصر تاريخي عرف فيه المصري القديم الزراعة .
- ٨- نوع من الحيوانات يحتل المركز الثانى في عدد الرؤوس التى تمتلكها مصر ٢٠١٩ الأغنام

الفيضان

ترعة بحر يوسف

الفأس

المنجل

الفيروز

كفر الشيخ

الحجري الحديث

الأغنام

السؤال الثاني : أجب عن الاسئلة التالية

١- بم تفسر : انشاء المصريين القدماء المقاييس على النيل ؟

لتحديد منسوب مياه النيل وتحديد قيمة الضرائب على أساسها .

٢- اكتب اثنين من أهمية الزراعة ؟

يسهم في نمو الاقتصاد المصري .
توفر فرص عمل للمواطنين .توفر الغذاء للإنسان والحيوان .
تصدير الفائض من المحاصيل الزراعية للخارج .

٣- اذكر فصول الزراعة عند المصريون القدماء ؟ فصل الفيضان وفصل البذر وفصل الحصاد .

٤- بم تفسر : أهمية السد العالى ؟ لتخزين مياه الفيضان واستخدامها في أوقات الجفاف .

٥- حدد المختلف فيما يلى : الشادوف - الطنبور - الساقية - السد . الساقية .

٦- بم تفسر : أهمية الثروة الحيوانية والسمكية في مصر؟

توفير احتياجات السكان من الغذاء .
توفير فرص عمل ومصدر للدخل القومي .

تقوم عليها العديد من الصناعات مثل الصناعات الجلدية ومنتجات الالبان والاسماك المحفوظة .

٧- اكتب اهم مصائد المياه المالحة في مصر ؟ - البحر الأحمر والبحر المتوسط والبحيرات المالحة .

٨- اذكر اهم المشروعات لتنمية الثروة الحيوانية والسمكية ؟

مشروع مجمع الإنتاج الحيواني والالبان المتكامل في محافظتي الفيوم والمنوفية .

مشروع الفيروز في بورسعيد - بركة غليون في كفر الشيخ .

٩- اكتب اثنين من : جهود الدولة لتنمية الثروة الحيوانية ؟

تحسين سلالات الابقار والجاموس المحلية . - تحقيق الاكتفاء وتقليل الاستيراد .

الاعتماد على السلالات المتخصصة في انتاج الالبان واللحوم ذات الإنتاجية العالية .

رفع مستوي معيشة صغار المربين والمزارعين .

١٠- حدد المختلف فيما يلى : بركة غليون - الفيروز - ترعة السلام - مجمع الانتاج الحيوانى .

ترعة السلام .

مستّر: محمد عبد الصبور

١١- اكتب اسم المادة الخام في صناعة المنتجات الآتية :

مستّر: محمد عبد الصبور

- الكراسي والصناديق
- الخشب
- الحبال والحصير
- نبات البردي
- الاواني الحجرية
- الحجر
- الملابس
- الكتان

١٢- بم تفسر : اهمية الصناعة للاقتصاد المصري ؟

- أساس التنمية الاقتصادية في مصر .
- توفر الكثير من فرص العمل للمواطنين .

١٣- ما العلاقة بين النشاط الصناعي والبيئة ؟

الصناعة من الأنشطة الاقتصادية التي تؤثر سلباً على البيئة .

١٤- اذكر اهم الصناعات القديمة عند المصريين القدماء ؟

الاولاني الحجرية - التماثيل - الاواني الفخارية - الحلبي - ادوات الزراعة - الزجاج - المراكب .

١٥- بم تفسر : أهمية منطقة الروبيكي للصناعة المصرية ؟

مدينة متخصصة في صناعة الجلود في محافظة القاهرة .

١٦- حدد المختلف فيما يلي: المراكب - السيارات - السفن - الكراسي . السيارات

١٧- اكتب اسم المادة الخام في صناعة المنتجات الآتية :

مستّر: محمد عبد الصبور

- الاواني الزجاجية
- الرمال البيضاء
- الكراسي والصناديق
- الخشب
- الاواني الفخارية
- طمي النيل
- الحصر والحبال
- نبات البردي
- الملابس
- الكتان

١٨- بم تفسر : اهمية قناة السويس ؟

- اهم طريق ملاحي في العالم . - اهم المصادر الرئيسية للعملة الأجنبية لمصر .

١٩- اذكر اهم الطرق التجارية قديماً ؟ طريق الحرير - طريق التوابل .

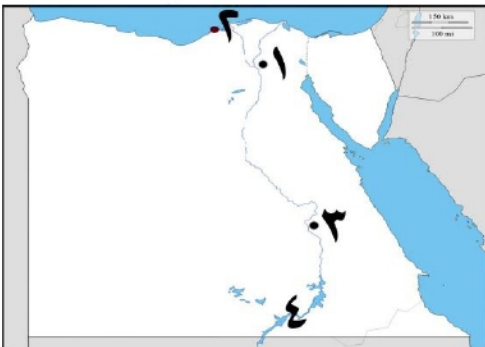
٢٠- حدد المختلف : قناة السويس - ميناء دمياط - الصحراء الشرقية - ميناء الاسكندرية ؟

الصحراء الشرقية .

٢١- ما العلاقة بين : قناة السويس والعملات الاجنبية ؟

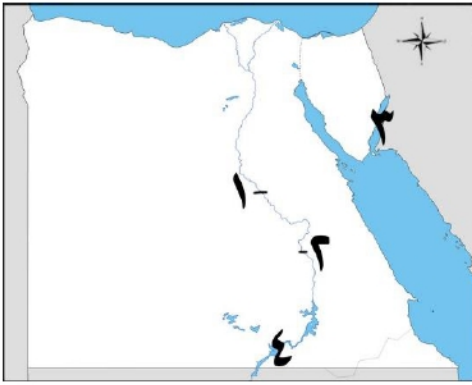
تعتبر قناة السويس مصدر رئيسي للعملة الأجنبية في مصر .

٢٢- اذكر : بعض المطارات المصرية الدولية ؟ مطار القاهرة - مطار الإسكندرية - مطار الأقصر .



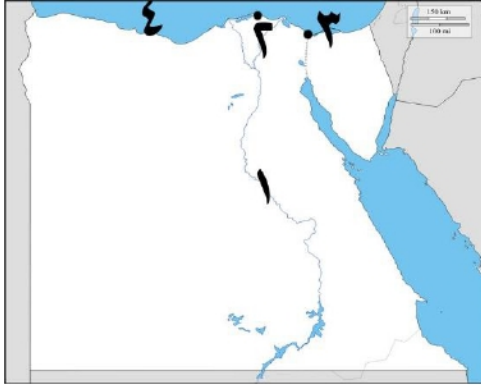
السؤال السابع : لاحظ الخريطة المقابلة و اكتب مدلول الارقام عليها

- ١- يشير رقم (١) الى قناطر أسبوط .
- ٢- يشير رقم (٢) إلى قناطر اسنا .
- ٣- يشير رقم (٣) إلى خليج العقبة .
- ٤- يشير رقم (٤) إلى بحيرة ناصر .



السؤال السابع : لاحظ الخريطة المقابلة واكتب مدلول الأرقام عليها

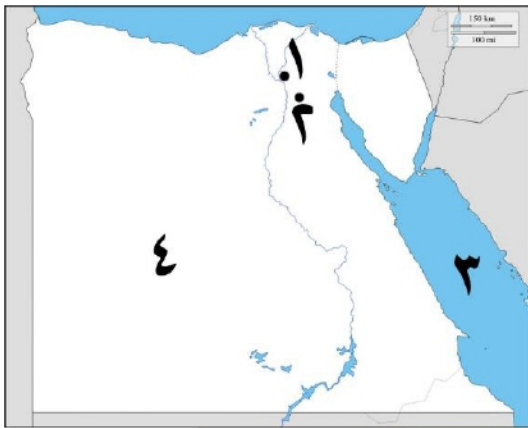
- ١- يشير رقم (١) إلى نهر النيل .
- ٢- يشير رقم (٢) إلى أكبر محافظة للإنتاج السمكي كفر الشيخ .
- ٣- يشير رقم (٣) إلى مشروع الفيروز في بورسعيد .
- ٤- يشير رقم (٤) إلى البحر المتوسط .



السؤال السابع : لاحظ الخريطة المقابلة واكتب مدلول الأرقام عليها

- ١- مدينة متخصصة في صناعة الدواء الخانكة .
- ٢- أكبر محافظة بها مدينة الروبيكي القاهرة .
- ٣- يشير رقم (٣) إلى البحر الأحمر .
- ٤- يشير رقم (٤) إلى الصحراء الغربية .

مستّر: محمد عبد الصبور



السؤال السابع : لاحظ الخريطة المقابلة واكتب مدلول الأرقام عليها

- ١- يشير رقم (١) إلى مطار القاهرة .
- ٢- يشير رقم (٢) إلى ميناء الإسكندرية .
- ٣- يشير رقم (٣) إلى مطار الأقصر .
- ٤- يشير رقم (٤) إلى بحيرة ناصر .

مستّر: محمد عبد الصبور

أهم أسئلة التقييمات الوزارية

السؤال الأول : أجب عن الأسئلة التالية

- ١- ما المقصود بـ : دوائر العرض .
- دوائر وهمية أفقية ترسم حول الكرة الأرضية غير متساوية الطول .
- ٢- حدد أوجه التشابه بين - : دوائر العرض وخطوط الطول . - انهما يحددان موقع المكان الصبور
- ٣- ما النتائج المترتبة على : الموقع الفلكي لمصر .
- أدى إلى وقوع معظم مناخ مصر في الإقليم الصحراوي الحار مثل مدينة الأقصر .
- وقع الأطراف الشمالية في إقليم البحر المتوسط مثل الإسكندرية .
- ٤- اذكر : لأهمية خطوط الطول .
- تحديد موقع المكان شرقاً وغرباً . - تحديد الزمن وفرق التوقيت بين الأماكن .

٥- بم تفسر : أهمية الموقع الجغرافي لمصر .

- ساعد الموقع الجغرافي المتميز على سهولة اتصالها بدول العالم تجارياً وحضارياً .

٦- فسر : سبب نزول المصري القديم الى وادي النيل . - بسبب حلول الجفاف .

٧- ميز بين : العوامل الطبيعية والعوامل البشرية يقيام الحضارة المصرية القديمة .

- العوامل الطبيعية : نهر النيل - الموقع الجغرافي - المناخ المعتدل - تنوع الثروات المعدنية .

- العوامل البشرية : الجيش - الوحدة - الحكومة المركزية - الكفاح المصري .

٨- ما سبب : سمي عصر الدولة الحديثة بعصر المجد الحربي .

- لان ملوك هذا العصر خاضوا المعارك الحربية وانتصروا فيها على اعدائهم .

٩- ما العلاقة بين : المناخ وقيام الحضارة . - ساعد على تنوع المحاصيل والمحافظة على الاثار .

١٠- رتب الاحداث التاريخية التالية من القديم الى الحديث :

عصر الدولة الوسطي - الاسرتان ١ / ٢ - عصر الدولة القديمة - العصر المتأخر .

١- الاسرتان الأولى والثانية .

٢- عصر الدولة القديمة .

٣- عصر الدولة الوسطي .

٤- العصر المتأخر .

١١- فسر : الجزء الجنوبي من سيناء يتصف بتضاريسه الوعرة .

- بسبب وجود الجبال في جنوب سيناء مثل جبل موسى وسانت كاترين .

١٢- صنف الظاهرات حسب عوامل تشكيلها : جبل الشايب - منخفض الخارجة - دلتا النيل - منخفض

الفرافرة .

١٣- ما الأثر الناتج عن : التعرية الهوائية بالصحراء الغربية .

- يتكون المنخفضات مثل منخفض الداخلة والخارجة ويتكون الكثبان الرملية مثل بحر الرمال العظيم .

١٤- اكتب اسم الظاهرة الجغرافية : تقع ضمن النطاق الصحراوي ولا تنطبق عليها مواصفات الصحراء

- منخفض الفيوم - حيث انه ضمن الصحراء الغربية ولكنه يتصل بنهر النيل عن طريق بحر يوسف .

١٥- ما سبب : تكون سلاسل جبال البحر الاحمر . - بسبب الحركات الانكسارية .

١٦- ما العلاقة بين : رياح الخماسين والمحاصيل الزراعية . - رياح الخماسين تتلف المحاصيل الزراعية

١٧- بم تفسر : تعاقب فصول السنة الاربعة . - بسبب دوران الأرض حول الشمس كل ٣٦٥ يوم وربع .

١٨- اذكر : فصول السنة الاربعة . - فصل الصيف والخريف والشتاء والربيع .

١٩- ما المقصود بـ : الدورة السنوية . - هي دوران الأرض حول الشمس كل ٣٦٥ يوم وربع .

٢٠- قارن بين : إقليم البحر المتوسط والاقليم الصحراوي من حيث الخصائص المناخية

- إقليم البحر المتوسط : يتميز باعتدال الحرارة وسقوط الامطار شتاءً مثل مدينة مرسي مطروح .

- الإقليم الصحراوي الحار : شديد الحرارة صيفاً وشديد البرودة شتاءً مثل مدينة الأقصر .

٢١- ما الأثر الناتج عن : ندرة المياه في الصحراء . - يؤدي ذلك الى ندرة النباتات الطبيعية .

٢٢- بم تفسر : أهمية النباتات الطبيعية .

- يستخدمها البدو في رعي حيواناتهم - يستخدم بعضها في صناعة الادوية ومستحضرات التجميل .

٢٣- ما الفرق بين : النبات الطبيعي - المحميات الطبيعية - التنوع البيولوجي .

مستّر: محمد عبد الصبور

- النبات الطبيعي : هو النبات الذي ينمو تلقائياً دون تدخل الانسان .
- التنوع البيولوجي : هو تنوع الحياة النباتية والحيوانية على كوكب الأرض .
- المحميات الطبيعية : مساحة من الأرض او المياه تتميز بوجود نباتات او حيوانات او اسماك او ظواهر طبيعية لها قيمة علمية وثقافية وسياحية وجمالية .

٢٤- دليل : استخدم المصريون القدماء النباتات الطبيعية في المواصفات الطبية .

- حيث استخدموها في العلاج وسجلوا هذه على برديات مثل هيرست وايبرس في عهد الملك امنحتب الأول
- ٢٥- ما الأثر الناتج عن : تعرض الحيوانات البرية للكثير من الاخطار .

- يؤدي ذلك انقراض بعض الحيوانات واختفاؤها مثل الغزال - الفهد المصري والسلاحف .
- ٢٦- بم تفسر : حدوث التغيرات المناخية .

- بسبب العوامل الطبيعية مثل الانفجارات البركانية وعوامل بشرية مثل حرق الوقود الاحفوري وإزالة الغابات والافراط في استخدام الأسمدة والمبيدات وزيادة الأنشطة الصناعية مثل صناعة الحديد والاسمنت

٢٧- ما العلاقة بين : التغير المناخي وصحة الانسان .

- يؤثر التغير المناخي على صحة الانسان ويؤدي الى ظهور العديد من الامراض مثل الملاريا .

٢٨- بم تفسر : قاد تحتمس الثالث الكثير من الحملات العسكرية . - لتأمين حدود البلاد .

٢٩- اذكر : بعض اعمال الملك مينا .

مستّر: محمد عبد الصبور

- استطاع توحيد البلاد ٣٢٠٠ ق.م . - كون اول حكومة مركزية . - كون جيش قوى
- انشأ قلعة من نقر لتكون عاصمة البلاد .

٣٠- قارن بين : أهمية المياه العذبة وأهمية المياه المالحة .

- أهمية المياه العذبة : تستخدم في الزراعة وصيد الأسماك وصناعة الاقمشة والاعمال المنزلية .
- أهمية المياه المالحة : استخراج الاملاح واستخراج البترول والغاز الطبيعي وتستخدم في النقل البحري

٣١- ما النتائج المترتبة على : وجود المياه الجوفية العذبة في الواحات . - أدى ذلك الى قيام الزراعة .

٣٢- دليل : تتنوع الموارد المائية في مصر .

- حيث توجد الموارد المائية العذبة مثل نهر النيل والموارد المائية المالحة مثل البحر الأحمر والمتوسط

٣٣- بم تفسر : أهمية معدن الفوسفات . - يستخدم في صناعة الأسمدة والمبيدات والطوب الحراري .

٣٤- ما العلاقة بين : الصحراء الشرقية والمعادن .

- يستخرج بعض المعادن من الصحراء الشرقية مثل النحاس والذهب .

٣٥- ما الأثر الناتج عن : اكتشاف المصريين القدماء لمعدن النحاس .

مستّر: محمد عبد الصبور

- صنع منه الأدوات الطبية مثل الملاقط والمقصات .

٣٦- بم تفسر : أهمية معدن الحديد .

- يستخدم في صناعة الآلات - قضبان السكك الحديدية - حديد التسليح .

٣٧- دليل : استفاد المصريين القدماء من الرياح . - حيث استخدموا الرياح في تسيير المراكب الشراعية .

٣٨- اذكر : أهمية مصادر الطاقة الاقتصادية .

- تستخدم في إدارة المصانع والانارة - توليد الكهرباء - تسيير وسائل النقل - توفير فرص عمل .

٣٩- حدد : استخدامات الفحم . - يستخدم في صناعة الصلب وبعض الادوية .

مستّر: محمد عبد الصبور

٤٠- بم تفسر : مصر من أغنى دول العالم بالطاقة الشمسية .

- لسطوع الشمس على أرضها طوال العام بسبب موقعها الفلكي .

٤١- اذكر : استخدام النار . - يستخدم في التدفئة وطهي الطعام .

٤٢- ما المقصود بـ : المقايضة . - تبادل السلع والخدمات بدون استخدام النقود .

٤٣- ما الفرق بين : البيع والشراء .

- البيع : هو إعطاء السلع والخدمات مقابل الحصول على عملة تستخدمها الدولة .

- الشراء : هو أخذ السلع والخدمات مقابل عملة تستخدمها الدولة .

٤٤- ما هي : العملة السلعية التي استخدمها المصريون القدماء . - سلعة القمح .

٤٥- بم تفسر : انشاء البنك المركزي المصري . - هي المسئولة عن إصدار النقود الورقية المصرية .

٤٦- بم تفسر : وضع علامة مائية على النقود . - لمنع التزييف والتقليد .

٤٧- ما النتائج المترتبة على : انشاء المقاييس على النيل قديماً .

- أدى الى تحديد قيمة الضرائب وتحديد منسوب المياه .

٤٨- دّلل : اهتمت الدولة بمشروعات استصلاح الاراضى الصحراوية .

- حيث زيادة المساحة المزروعة وتحقيق الأمن الغذائي للمواطنين مثل مشروع الدلتا الجديدة ومشروع

الغرافرة ومشروع شرق العوينات .

مستّر: محمد عبد الصبور

٤٩- دّلل : للزراعة أهمية اقتصادية .

- تسهم في نمو الاقتصاد المصري .

- توفر الغذاء للإنسان والحيوان .

٥٠- اذكر : أهم المحاصيل الزراعية .

- القمح والشعير والعدس والفاول والبصل والثوم والبلح والعب والتين والكتان .

٥١- بم تفسر : أهمية الثروة الحيوانية في مصر قديماً .

- يستخدمها في الحصول على اللحوم والالبان والجلود .

٥٢- ما الأثر الناتج عن : انشاء مشروع الفيروز في بورسعيد . - زيادة انتاج الثروة السمكية .

٥٣- ما العلاقة بين : الثروة الحيوانية والاقتصاد المصري .

- الثروة الحيوانية توفر فرص عمل ومصدر للدخل القومي وزيادة الاقتصاد المصري .

٥٤- ما العلاقة بين : الثروة الحيوانية و المربين .

- تهتم الدولة بتنمية الثروة الحيوانية من رفع مستوى صغار المربين والمزارعين .

مستّر: محمد عبد الصبور

٥٥- بم تفسر : للنشاط الصناعي أهمية كبيرة في مصر .

- أساس التنمية الاقتصادية في مصر . - توفر فرص العمل للمواطنين .

٥٦- اذكر اسم المادة الخام :

- الزجاج : الرمال البيضاء . - المراكب : الخشب . - الحبال : البردى .

- الملابس : الكتان . - الاوانى الحجرية : الحجر .

٥٧- ما الفرق بين : الصناعات اليدوية والصناعات الحديثة .

- الصناعات اليدوية : تعتمد على العمل اليدوي وتتم في الورش الصغيرة مثل الفخار والسجاد اليدوي .
- الصناعات الحديثة : تعتمد على الآلات الحديثة وتتم في المصانع .

٥٨- اذكر : بعض المدن الصناعية التي أنشأتها الدولة .

- مدينة الجلود في الروبيكي " القاهرة " .
- مدينة الدوآء في الخانكة " القليوبية " .

٥٩- ما الفرق بين : طريق الحرير وطريق التوابل .

- طريق الحرير : ربط مصر بقارات العالم القديم بحضاراته القديمة مثل العراق والصين والهند .
- طريق التوابل : اشتهر نتيجة ازدهار تجارة التوابل بين اسيا وافريقيا واوربا .

٦٠- بم تفسر : لقناة السويس أهمية كبيرة لمصر .

- تعد أهم طريق ملاحى فى العالم - تشكل احد المصادر الرئيسية للعملة الأجنبية لمصر .

٦١- اذكر : اهم الصادرات والواردات قديماً .

- اهم الصادرات : الاوانى الزجاجية والحبوب والذهب والكتان وورق البردى .
- أهم الواردات : الحرير والخزف من الصين - خشب الأرز من فينقيا .

٦٢- اذكر : أهم أعمال الملك امنمحات الثالث .

- ارسل العديد من البعثات لاستخراج المعادن مثل الفيروز والنحاس من سيناء .
- اقام سد اللاهون عند المدخل الطبيعى لبحيرة مورييس .

٦٣- اذكر : أهم أعمال الرئيس جمال عبد الناصر .

- انشاء السد العالى .
- إقامة العديد من المصانع مثل مصنع الحديد والصلب فى حلون ومصنع الأسمدة فى اسوان .

مستّر: محمد عبد الصبور

مستّر: محمد عبد الصبور

مستّر: محمد عبد الصبور

مستّر: محمد عبد الصبور