

سلاح التلميذ

منذ عام ١٩٦٠



اللغة العربية

2025 - 2024

الصف السادس الابتدائي الفصل الدراسي الأول

نماذج اختبارات نهاية الفصل الدراسي الأول
طبقاً لآخر مواصفة للورقة الامتحانية

6

نموذج ١

(فقرة الاستماع صفحة ١٢)

السؤال الأول (الاستماع) استمع، ثم أجب:

أ ضع علامة (✓) أمام العبارة الصحيحة وعلامة (X) أمام العبارة غير الصحيحة:

- () ١ الجد رمضان هو حكيم العائلة .
() ٢ المتحدث في الفقرة هو الابن .
ب أجب : بماذا يتصف الجد رمضان ؟

السؤال الثاني (التعبير الكتابي) اكتب رسالة للرد على أحد القراء (يعاني من مشكلة عدم الثقة بالنفس):

السؤال الثالث (النص الأدبي) اقرأ الفقرة التالية:

«في مجلة المدرسة قرأت مقالاً بعنوان (الكتاب الكنز)، مكتوب فيه: هو كتاب تشيع فيه الحكمة، وبه تصلح نفسك، وتهذب أخلاقك؛ فإن عملت بما فيه صانك، وإن خالفته فقد حرمت نفسك فضائل الأمور. إنه كتاب الأدب الكبير للكاتب الحكيم ابن المقفع الذي يرمي فيه إلى مغالبة الرذائل، والتحلي بمكارم الأخلاق».

- أ استخرج من الفقرة ما يلي: ١ مرادف (محاولة هزيمة): ٢ مضاد (ضيعك):
ب أكمل: ١ يدعو ابن المقفع في كتابه إلى التمسك بـ ٢ قرأ الكاتب المقال في
ج أجب: ١ لماذا يرى كاتب المقال أن الكتاب كنز؟ ٢ ماذا يحدث إذا خالفنا ما جاء في كتاب الأدب الكبير؟

السؤال الرابع (النص المعلوماتي) اقرأ الفقرة التالية:

«مرحلة الشباب هي المرحلة التي تأتي بعد الطفولة، وفيها تشتد رغبة الإنسان في معرفة كل ما هو جديد، والشباب هم عتاد الوطن وثروته الغالية، التي لا تقدر بثمن؛ لذلك تحرص كل دولة على تنشئة شبابها، وتقديم لهم سبل الرعاية والاهتمام، وتشحن طاقاتهم للتطور والإبداع؛ لتبني جيلاً يعرف حق وطنه، ويزرع الوداد في أرضه».

أ اختر الإجابة الصحيحة مما بين القوسين:

- ١ مرادف (عتاد): ما أعد للحرب من (طرق - جنود - خطط - أسلحة)
٢ مضاد (الوداد): (الكره - الغيرة - الغضب - القسوة)



ب) أجب: ١) لماذا تهتم الدول بالشباب؟ وما مظاهر هذا الاهتمام؟

٢) اقترح عنواناً للفقرة السابقة.

السؤال الخامس (النص الشعري) اقرأ الأبيات التالية:

الرُّوحُ فِدَاءُ الأَوْطَانِ وَالْعَزْمُ سَبِيلُ البُنْيَانِ
نَجْتَازُ صَعَابًا لَا نَخْشَى وَنُثَابِرُ قَدْرَ الإِمْكَانِ
الْكُلُّ بِإِخْلَاصٍ يَسْعَى كَيْ نُحْرِزَ مَجْدَ الإِنْسَانِ
هَيَّا بُنْيَ أُمِّ الدُّنْيَا كَيْ تَرْقَى بَيْنَ الأَوْطَانِ

أ) اختر الإجابة الصحيحة مما بين القوسين: مرادف (نجتاز): (نؤجل - تترك - نتخطى - نجدد)

ب) أكمل: سيضحي الشاعر من أجل وطنه بـ

ج) هات من الأبيات: ثلاث كلمات بينها نغم موسيقي:

السؤال السادس (القواعد النحوية) اقرأ الفقرة، ثم أجب:

«إن الإيمان بقدراتنا سر النجاح، وهذا ما يجعل الإنسان يطور مهاراته ويتحدى الصعاب. وصار الإنسان يحاول

مرارًا ليحقق أهدافه».

أ) استخرج من الفقرة ما يلي:

١) خبرًا لحرف ناسخ: ■ نوعه:

٢) ضميرًا بارزًا: ■ نوعه:

ب) اختر الإجابة الصحيحة مما بين القوسين:

١) كلمة (النجاح) تعرب (خبرًا - مضافًا إليه - مفعولًا به)

٢) (الإنسان) معرفة؛ لأنه (معرفة بـ «ال» - علم - ضمير)

٣) «يتحدى الصعاب» الفاعل في الجملة ضمير مستتر تقديره (أنت - هما - هو)

السؤال السابع (الخط العربي) اكتب بخط الرقعة:

بني الأمم التقرمة بسواعد أبنائها.

(فقرة الإملاء صفحة ١٢)

السؤال الثامن (الإملاء) اكتب ما يملأ عليك:



نموذج ٢

(فقرة الاستماع صفحة ١٢)

السؤال الأول (الاستماع) استمع، ثم أجب:

أ ضع علامة (✓) أمام العبارة الصحيحة، وعلامة (X) أمام العبارة غير الصحيحة:

- ١) اهتمت كارول في أبحاثها بملاحظة تصرفات الطلاب. ()
- ٢) نظرية كارول تدرس عقليات الناس. ()

ب أكمل: يمكن وصف عقلية الفريق الأول من الطلاب بأنها

السؤال الثاني (التعبير الكتابي) اكتب مذكراتك عن لقاء إذاعي قمت به مع شخصيتك المفضلة مراعيًا عناصرها؛ (التاريخ، اليوم، الساعة، العنوان، اسم الكاتب، الجملة الافتتاحية، الجملة الختامية...):

.....

.....

.....

السؤال الثالث (النص الأدبي) اقرأ الفقرة التالية:

«وقف حاتم وحيداً وسط حديقة الحيوانات المفتوحة، وقد فتح فاه وبدا عليه الخوف، يلتفت يميناً ويساراً، يخشى أن يهاجمه حيوان مفترس في أي لحظة؛ فقد ابتعد عن بقية المشتركين معه في الرحلة؛ لأنه لم يكن ينصت لتعليمات المشرف الذي طلب منهم عدم الابتعاد؛ لتشتته بمتابعة الطريق من نافذة الحافلة».

أ استخرج من الفقرة مرادف ما يلي: ١) ظهر: ٢) يستمع باهتمام:

ب صوب الخطأ في الجمل الآتية:

١) زار حاتم وزملاؤه المتحف المصري.

٢) وضع المشرف تعليمات الرحلة في وسط الحديقة.

ج أجب: ١) ما الخطأ الذي وقع فيه حاتم؟

٢) اكتب نهاية للقصة السابقة.

السؤال الرابع (النص المعلوماتي) اقرأ الفقرة التالية:

«بدأ الإعلام الرسمي في مصر منذ عام ١٩٨٩ يهتم بتوفير خبراء لغة الإشارة؛ لإيصال رسائله بطريقة سلسلة لكل فئات المجتمع ومن بينهم ذوو الإرادة، ومن هؤلاء الخبراء هالة محفوظ خبيرة لغة الإشارة بالإعلام المصري، وصاحبة أول برنامج مرئي يهتم بشئون الصم والبكم على مستوى الوطن العربي، كان يحمل اسم (حديث الأصابع)».



أ اختر الإجابة الصحيحة مما بين القوسين:

١ مرادف (مرئي): ما يمكن بالعين.

٢ مضاد (سلسلة):
(تزيينه - إحساسه - رؤيته - تخيله)
(معتادة - مختلفة - مزعجة - صعبة)

ب صوب الخطأ: برنامج (حديث الأصابع) كان برنامجاً للمكفوفين.

ج أجب: لماذا اهتمت الحكومة بتوفير خبراء لغة الإشارة في الإعلام المصري؟

السؤال الخامس (النص الشعري) اقرأ الأبيات التالية، ثم أجب:

وَطَنٌ دَعَا وَفَتَى أَجَابَ
هَاتُوا الْفِدَا الْعَالِي لِمَضْ
اللَّهُ يَنْظُرُوا لِيَا
الْيَوْمَ يَبْدُو حُبُّ مِصْرَ
بُورِكْتِ يَا عَزَمَ الشَّبَابُ
رَ وَأَرْخُصُوهُ كَالْتُّرَابِ
لِي عِنْدَهَا لَكُمْ الْحِسَابُ
فَلَا خَفَاءَ وَلَا جِجَابُ

أ اختر الإجابة الصحيحة مما بين القوسين:

١ مرادف (عزم):
(إرادة - عمر - مال - صحة)

٢ دعا - أجب) بينهما
(ترادف - تضاد - تشبيه - جرس موسيقي)

ب أجب: ما غرض الشاعر من النص؟

السؤال السادس (القواعد النحوية) اقرأ الفقرة ثم أجب:

«إن المدرسة تقدم الخدمات المتميزة لجميع طلابها، فيظهر من بينهم الموهوبون والمبدعون في أداء الأنشطة المدرسية، وتهتم المدرسة بهؤلاء المبدعين، وتوفر لهم الرعاية المستمرة من أجل إعدادهم للمستقبل».

أ (المدرسة) تعرب:
٢ (الموهوبون) تعرب:

ب اختر الإجابة الصحيحة مما بين القوسين:

١ «الرئيس يكرم العلماء». نوع الخبر في هذه الجملة
(مفرد - جملة فعلية - شبه جملة)

٢ «نحب وطننا ونسعى لنهضته». الفاعل في الجملة السابقة ضمير
(منفصل - بارز - مستتر)

ج صوب الخطأ: أصبح حماك ذا مكانة عظيمة

السؤال السابع (الخط العربي) اكتب بخط الرقعة:

الساح شيرة يتصف بها الأقوياء .

(فقرة الإملاء صفحة ١٢)

السؤال الثامن (الإملاء) اكتب ما يملأ عليك:



نموذج ٣

(فقرة الاستماع صفحة ١٢)

السؤال الأول (الاستماع) استمع، ثم أجب:

أ ضع علامة (✓) أمام العبارة الصحيحة، وعلامة (X) أمام العبارة غير الصحيحة:

- ١) كلا الأخوين أخطأ في حق الآخر. ()
- ٢) عاقب الأب الأخوين بسبب خطئهما. ()
- ب أجب: عن أي شيء تحدث الأب بعد الغداء؟

السؤال الثاني (التعبير الكتابي) اكتب حوارًا بين أب وابنه، تتناول فيه مشكلة سُرود ذهن الابن في أثناء التجمعات العائلية وانشغاله بالهاتف مراعيًا استخدام تعبيرات الاحترام والتحفيز وأسلوبَي الأمر والنهي:

السؤال الثالث (النص الأدبي) اقرأ الفقرة التالية:

«وقف الزميلان أمام لوحة النتائج، كلاهما فشل في اختبار اللغة الأجنبية، طأطأ رامي رأسه، وتملكه الشعور باليأس، أما أدهم فتذكر الحكمة القائلة: (الفشل خطوة في طريق النجاح)؛ فشحن همته، وحاول وثابر واستعان بالله حتى أتم كل الاستعدادات، واجتاز اختبار الدور الثاني؛ فالسرفي العقل وطريقة التفكير».

أ استخرج من الفقرة ما يلي:

١) مرادف (نشط وقوى): مفرد (خطوات):

ب أكمل: ١) شعر بالإحباط واليأس ولم يكرر المحاولة لينجح.

٢) اجتاز الدور الثاني في اختبار اللغة الأجنبية.

ج أجب: ١) ماذا فعل أدهم ليصل إلى النجاح؟

٢) ما رأيك: الفشل خطوة في طريق النجاح.

السؤال الرابع (النص المعلوماتي) اقرأ الفقرة التالية:

«اللسان أداة قوية للتعبير والتواصل، وحفظه مما يهجن من أكبر الفضائل العظيمة، والكلمة الطيبة تشيع بين الناس، ولا ينقضي أثرها أبدًا، كما أن حفظ اللسان يجعلنا أفضل استماعًا للآخرين، وأكثر تفهمًا لمشاعرهم. والإساءة لمن حولنا تفسد العلاقات، وتكدر صفوها، فكلما طورت من قدراتك على التواصل الفعال، كنت شخصًا ناجحًا ومؤثرًا».



أ اختر المرادف الصحيح للكلمتين الملونتين مما بين القوسين :

- ١ يهجن : (يعيب - يضيع - يهلك - يخفي)
٢ تشيع : (تنفع - تنتشر - تبقى - تعظم)

ب أكمل : حفظ اللسان يجعلنا أفضل

ج أجب : كيف تكون شخصًا ناجحًا ومؤثرًا كما فهمت من الفقرة ؟

السؤال الخامس (النص الشعري) اقرأ الأبيات التالية للشاعر (حافظ إبراهيم)، ثم أجب :

رِجَالِ الْعَدِ الْمَأْمُولِ إِنَّ بِلَادَكُمْ
فَصَارَى مَنَى أَوْطَانِكُمْ أَنْ تَرَى لَكُمْ
فَكُونُوا رِجَالًا عَامِلِينَ أَعِزَّةً
فَمَا ضَاعَ حَقٌّ لَمْ يَنَمَ عَنْهُ أَهْلُهُ
تَنَاشِدُكُمْ بِاللَّهِ أَنْ تَتَذَكَّرُوا
يَدًا تَبْتَنِي مَجْدًا وَرَأْسًا يَفْكَرُ
وَصُونُوا جَمَى أَوْطَانِكُمْ وَتَحَرَّرُوا
وَلَا نَالَهُ فِي الْعَالَمِينَ مَقْصَرُ

أ اختر الإجابة الصحيحة مما بين القوسين : مرادف (مجدًا) : (شرفًا - رفعةً - نبلاً - جميع ما سبق)

ب أكمل : يخاطب الشاعر في النص : ، وغرضه من النص :

ج هات من الأبيات معنى : يتمنى الوطن من الشباب أن يكونوا مفكرين يبنون مجدهم .

السؤال السادس (القواعد النحوية) اقرأ الفقرة، ثم أجب :

«إن النصح من صفات الحكماء، ومن شروط النصيحة اختيار أجمل الألفاظ؛ لعل السامع يأخذ بنصيحتك.»

أ استخرج من الفقرة ما يلي :

١ ضميرًا بارزًا متصلًا : ■ نوعه :
٢ خبرًا الحرف ناسخ : ■ نوعه :

ب اختر الإجابة الصحيحة مما بين القوسين :

١ كلمة (النصح) تعرب : (حرفًا ناسخًا - اسم إن - خبر إن)

٢ (لعل) حرف يفيد : (التأكيد - التشبيه - الترجي)

ج ضع خطًا تحت الاسم النكرة في الجملة الآتية: أخوك شخص يحب الخير للناس .

السؤال السابع (الخط العربي) اكتب بخط الرقعة :

الفكر الإيجابي سبيل النجاح .

(فقرة الإملاء صفحة ١٢)

السؤال الثامن (الإملاء) اكتب ما يملأ عليك :



نموذج ٤

(فقرة الاستماع صفحة ١٢)

السؤال الأول (الاستماع) استمع، ثم أجب:

أ ضع علامة (✓) أمام العبارة الصحيحة، وعلامة (X) أمام العبارة غير الصحيحة:

- ١ وضع المعلم القبعة الحمراء على رأس سميرة. ()
- ٢ المعلم يعرف تلاميذه جيداً، ويطور مهاراتهم. ()

ب أكمل: نفهم من النص أن أوجد شخص

السؤال الثاني (التعبير الكتابي) اكتب خطبةً لحفل تكريم المعلمين في مدرستك بمناسبة اليوم العالمي للمعلم بحضور كل من وزير التربية والتعليم ومدير المدرسة والمعلمين والتلاميذ مراعيًا عناصر الخطبة:

السؤال الثالث (النص الأدبي) اقرأ الفقرة التالية:

«لدى كل منا شخص ناجح يقتدي به، ويستمد من تجاربه الخبرات التي تعطيه القدرة على اجتياز العقبات، والمألوف لدى الناس أن يكون هذا الشخص أكبر منهم سنًا، أما بالنسبة لي فإن أخي الأصغر هو قدوتي؛ فإنه على الرغم من صغره إلا أنه يمتلك عقليةً متطورةً ولا يخشى الفشل، ولا يبدأ مهمةً إلا ويتمها بالمحاولة والمثابرة.»

أ استخرج من الفقرة ما يلي: ١ مرادف (ينجزها): ٢ مفرد (القدرات):

ب صوب الخطأ في الجمل الآتية:

١ الأشخاص الناجحون لا يواجهون عقبات في حياتهم.

٢ السروراء نجاح الأخ الأصغر هو سنه الصغيرة.

ج أجب: ١ بم يتصف أصحاب العقلية المتطورة؟

٢ كيف خالف الكاتب المعتاد لدى الناس؟

السؤال الرابع (النص المعلوماتي) اقرأ الفقرة التالية:

«الممثل الجيد هو الممثل الذي يتقمص الشخصية التي يمثلها؛ فيفكر مثلها، ويتصرف مثلها، ويعبر مثلها، وإذا أردت أن تطور طريقة تفكيرك، فعليك أن تتقمص شخصيةً منظمةً أو متفائلةً أو ذات طريقة تفكير إبداعية، حينئذ ستحفز عقلك ليفكر بطريقة مختلفة، وبعد مدة من التقمص والتقليد سيتاح لعقلك التطور.»



أ اختر الإجابة الصحيحة مما بين القوسين:

- ١ مرادف (تحفز):
(تقرب - تبعد - تشجع - تحمي)
- ٢ جمع (شخصية):
(شخوص - شخصيات - شاخصون - تشخيصات)

ب أجب: ١ كيف يتطور صاحب الشخصية غير المنظمة؟

٢ اقترح عنواناً للفقرة السابقة.

السؤال الخامس (النص الشعري) اقرأ الأبيات التالية، ثم أجب:

شَبَابُ النَّيْلِ أَعْلَامُ لَّهُمْ فِي السَّبْقِ أَقْدَامُ
لَهُمْ حُلْمٌ يُنَادِيهِمْ وَفِي الْأَفَاقِ أَحْلَامُ
تَكَاتَفُهُمْ هُنَا يَبْنِي وَلِلتَّارِيخِ أَقْلَامُ
عَتَادُ بِلَادِنَا دَوْمًا لِأَرْضِ النَّيْلِ خُدَامُ

أ اختر الإجابة الصحيحة مما بين القوسين:

- ١ مرادف (تكاتفهم):
(إنتاجهم - سعيهم - تعاونهم - جهدهم)
- ٢ قول الشاعر «لهم في السبق أقدام» يدل على
(التفوق - الإخلاص - الاتحاد - الأمل)

ب هات من الأبيات: تعبيراً مجازياً.

السؤال السادس (القواعد النحوية) اقرأ الفقرة، ثم أجب:

«الناجح مهاراته عديدة، ومن مهاراته الاستماع الجيد، وهو ينصت للنصيحة من كل ذي خبرة، ويعمل بها».

أ استخرج من الفقرة:

- ١ ضميراً بارزاً منفصلاً:
إعرابه: ■
- ٢ اسماً من الأسماء الخمسة:
إعرابه: ■

ب اختر الإجابة الصحيحة مما بين القوسين:

- ١ نوع الخبر في جملة «الناجح مهاراته عديدة»:
(مفرد - جملة اسمية - جملة فعلية)
- ٢ تقدير الفاعل في جملة «ينصت للنصيحة»:
(هو - هي - هما)
- ٣ مهارات الاستماع مهمة.
(كانت - إن - أضحت)

السؤال السابع (الخط العربي) اكتب بخط الرقعة:

استمع جيداً قبل أن تتحدث.

(فقرة الإملاء صفحة ١٢)

السؤال الثامن (الإملاء) اكتب ما يملأ عليك:



نموذج لطلاب الأزهر الشريف

السؤال الأول

(التعبير) اقرأ النص المنشور على وسائل التواصل الاجتماعي التالي ثم أجب:

«تهانينا الحارة لأبطالنا الصغار في الصف السادس على نجاحكم المذهل في المرحلة الابتدائية! لقد قطعتم مسارًا رائعًا مليئًا بالتحديات والإنجازات، ونحن فخورون جدًا بكم، وبما حققتموه. نعرف أن الأمر ليس سهلًا، ولكنكم واجهتم التحديات بقوة وعزيمة، وتجاوزتم العقبات بنجاح. كانت رحلتكم في المرحلة الابتدائية مليئة بالمعرفة والمغامرات، وقد تعلمتم الكثير على طول الطريق، وأظهرتم التفاني والاجتهاد في دراستكم لتحقيق النجاح. في هذه المناسبة السعيدة، ندعوكم للتفاؤل والتطلع إلى المستقبل بثقة. استخدموا المعرفة والمهارات التي اكتسبتموها لتحقيق أحلامكم والمساهمة في بناء عالم أفضل. «فرحة # نجاح # تفوق # الأبطال # الصغار # تخرج # مبارك # المستقبل # بانتظاركم».

أ) النص السابق هو كتابة:

ب) حلل النص إلى عناصره الأساسية، ثم أشر عليها في النص:

٤

٣

٢

١

(القراءة) اقرأ الفقرة التالية من قصة (ما السر؟):

السؤال الثاني

لم أكن أعلم أن لكلمات جدي هذا التأثير، فلم أتذكرها في أي عمل إلا وأحزته، ولا أي مهمة صعبة إلا وأتممتها، فقد كان من المفترض - حيث الصف السادس - تعلم لغة جديدة، وحين شرعت في تعلم تلك اللغة كان الأمر في بدايته صعبًا جدًا بالنسبة لي لمجرد التفكير فيه فقط؛ فهي لغة صعبة، ودائمًا ما كنت أخفق في نطق بعض الكلمات.. فما إن تذكرت ما قاله لي جدي حتى قلت بصوت ليس بخفيض: «إنه السر».

٢) مضاد (عال):

أ) استخرج من الفقرة: ١) معنى (بدأت):

ب) ضع علامة (✓) أمام العبارة الصحيحة، وعلامة (X) أمام العبارة غير الصحيحة:

()

١) كلمات الجد لها تأثير سلبي على بطل القصة.

()

٢) في البداية وجد بطل القصة صعوبة في تعلم لغة جديدة.

ج) أكمل: نجح بطل القصة في تعلم اللغة جديدة بعد أن

د) أجب: ما السر الذي يقصده بطل القصة؟

(النص الشعري) اقرأ الأبيات التالية من نص (دع الأيام تفعل ما تشاء)، ثم أجب:

السؤال الثالث

وَطِبَّ نَفْسًا إِذَا حَكَمَ الْقَضَاءُ

دَعِ الْأَيَّامَ تَفْعَلْ مَا تَشَاءُ

فَمَا لِحَوَادِثِ الدُّنْيَا بَقَاءُ

وَلَا تَجْزَعُ لِحَادِثَةِ اللَّيَالِي

وَشِيمَتِكَ السَّمَاخَةَ وَالْوَفَاءُ

وَكُنْ رَجُلًا عَلَى الْأَهْوَالِ جُلْدًا



أ أكمل:

١ معنى (خُلِّقَ): ٢ مضاد (تصبر): ٣ جمع (حادثة):

ب ضع علامة (✓) أمام العبارة الصحيحة، وعلامة (X) أمام العبارة غير الصحيحة:

- ١ يدعو الشاعر إلى الصبر والرضا بقضاء الله . ()
٢ ينفي الشاعر وجود أي متاعب في الحياة الدنيا . ()

ج استخرج من الأبيات:

- ١ أسلوب أمر، وأسلوب نفي ،
٢ ثلاث كلمات لهما قافية واحدة:

د اكتب البيت الذي يعبر عن: «الرجل من يواجه مخاوفه بصبر وتحمل، فعليك أن تكون كذلك».

السؤال الرابع (القواعد النحوية) اقرأ، ثم أجب:

«الصدقة كنز عظيم يحرص الناس على اقتنائه، وقد أصبحت كلمة الصداقة من أكثر الكلمات المحببة إلى النفس؛ لأنها صفة طيبة يتزين بها الصالحون، ويطلبون بها رضا ربهم، وقد قيل: (إن أخاك من واساك)؛ ولذا كن ذا عقل راجح، واحرص على كسب الصداقات».

أ استخرج من الفقرة السابقة ما يلي:

- ١ مبتدأ:
٢ فعلاً فاعله ضمير مستتر:
■ علامة إعرابه:
■ قدر الضمير:

ب اختر الإجابة الصحيحة مما بين القوسين:

- ١ (الناس): اسم معرفة؛ لأنه (معرفة بـ «ال» - ضمير - علم)
٢ (الكلمات): مضاف إليه مجرور، علامة جره (الألف - الكسرة - الفتحة)
٣ «يحرص الناس على اقتنائه». الضمير هنا (بارز منفصل - بارز متصل - مستتر)

ج أعرب: ١ الصالحون: ٢ كسب:

السؤال الخامس (الخط العربي) اكتب العبارة الآتية بخط النسخ مرة وبخط الرقعة مرة أخرب:

الأزهر الشريف منارة العلم لكل الأجيال.

النسخ: الرقعة:

(فقرة الإملاء صفحة ١٢)

السؤال السادس (الإملاء) اكتب ما يملأ عليك:

.....
.....
.....



فقرات الاستماع والإملاء

نموذج (١)

فقرة الاستماع هل تعرفون من حكيم العائلة؟ إنه جدي رمضان، الرجل الطيب المعروف بين الجميع بحسن الأخلاق، والسماحة والسخاء، ما من مشكلة تحدث في العائلة إلا ولها حل عنده، فقد اكتسب خبرة وحكمة جعلته يزن الأمور بميزان العقل؛ ولذلك نحب الجلوس معه والاستماع إلى حديث الحكمة منه.

فقرة الإملاء الحياة لا تسير على وتيرة واحدة، فلا فرح يدوم ولا حزن يدوم. والعقلاء هم الذين يعيشون حياتهم متمسكين بالتفاؤل ومبتعدين عن اليأس. فكن عاقلاً؛ لتسعد في حياتك.

نموذج (٢)

فقرة الاستماع أجرت كارول دويك الكثير من الأبحاث، ومن خلال عملها شرعت تلاحظ ردود أفعال الطلاب في المدارس عند إعطائهم تمارين صعبة؛ فكان بعضهم يتوقف عن الإجابة بدون إحراز أي تقدم، والبعض الآخر يحاول حل التمارين، وكلما أخطأ أعاد المحاولة من جديد، وكانت تلك الملاحظة مهمة في دعم نظريتها الخاصة بالعقلية.

فقرة الإملاء تحتفل مصرنا الحبيبة في السادس من أكتوبر من كل عام بذكرى انتصار قواتنا المسلحة واستعادة سيناء الحبيبة. لقد تحدى الجيش المصري كل الصعوبات ليحقق هذا الانتصار. فما أروع جيشنا الباسل!

نموذج (٣)

فقرة الاستماع لاحظ الأب من بعيد انتهاء الحوار بين الأخوين، وذهب كل واحد إلى غرفته، فأحمد غضبان من مازن؛ لأنه كان يقاطعه في حديثه، ولم يحترم وجهة نظره، ومازن يحزنه أن أحمد لم يكن يستمع إليه باهتمام، ولم يفهم كلامه جيداً.. وبعد الغداء تحدث الأب عن آداب الحوار؛ فأدرك كل منهما أنه أخطأ في حق الآخر، وقدم اعتذاراً له.

فقرة الإملاء العطلة الدراسية فرصة كبيرة لكل تلميذ؛ لاكتساب مهارات جديدة وتنمية المواهب والقدرات الكامنة، وقضاء وقت ممتع مع أفراد أسرته، فلا تظن خطأ أن العطلة للعب فقط.

نموذج (٤)

فقرة الاستماع دخل المعلم الفصل وفي يده قبعات ملونة، فوضع القبعة الصفراء على رأس أمجد، ووضع القبعة الحمراء على رأس عمرو، ووضع الخضراء على رأس سميرة؛ فاندش التلاميذ؛ فقال المعلم: لا تتعجبوا؛ لقد أعطيت القبعة الصفراء لأمجد؛ ليتعلم التفاؤل، والحمراء لعمرو؛ ليتدرب على التعبير عن مشاعره، والخضراء لسميرة؛ لتعود التفكير خارج الصندوق بطريقة إبداعية.

فقرة الإملاء الإصرار عنصر أساسي في تحقيق النجاح. والشخص الذي يستسلم للعقبات التي تقف في طريقه لا يحقق شيئاً من أهدافه، ويظل يعيش في أحلام اليقظة ولا يتقدم خطوة للأمام.

نموذج لطلاب الأزهر الشريف

فقرة الإملاء يدرك الشعراء أهمية مرحلة الشباب؛ لذلك فهم يكتبون الأشعار؛ ليشحذوا همم الشباب، ويذكروهم بدورهم نحو الوطن؛ فالوطن يرعاهم أطفالاً حتى يصيروا رجالاً أقوياء أشداء قادرين بتكاتفهم وودادهم على النهوض بالوطن ورفع شأنه بين الأمم، وحتى يكون على استعداد للتخلي عن راحتهم ورفقاهم للدفاع عن الوطن ضد الأعداء؛ فالشباب عتاد الأوطان.



سلاح التلميذ

منذ عام ١٩٦٠



اللغة
العربية

2024-2025

الصف السادس الابتدائي
الفصل الدراسي الأول

إجابات نماذج اختبارات
نهاية الفصل الدراسي الأول

6

نموذج ١

السؤال الأول:

- ١ ضع علامة (✓) أو (X): ١ (✓) ٢ (X)
ب) أجب: بحسن الأخلاق والسماحة والسخاء.

السؤال الثالث:

- ١ استخرج: ١ مغالبة ٢ صانك
ب) أكمل: ١ مكارم الأخلاق ٢ مجلة المدرسة
ج) أجب:

- ١ لأنه كتاب تشيع منه الحكمة، وتصلح به النفس،
وتهدب الأخلاق.
٢ حرمانا أنفسنا من فضائل الأمور.

السؤال الرابع:

- ١ اختر: ١ أسلحة ٢ الكره
ب) أجب: ١ تهتم الدول بالشباب؛ لأنهم عتاد الوطن وثروته
الغالية؛ ولذلك تقدم لهم سبل الرعاية والاهتمام، وتشحن
طاقاتهم للتطور والإبداع.

السؤال الخامس:

- ١ اختر: نتخطى
ب) أكمل: الروح
ج) هات: البنيان - الإمكان - الإنسان

السؤال السادس:

- ١ استخرج: ١ سر ٢ قدراتنا
ب) اختر: ١ مضافاً إليه ٢ معرف ب (ال)
٣ هو

نموذج ٢

السؤال الأول:

- ١ ضع علامة (✓) أو (X): ١ (✓) ٢ (✓)
ب) أكمل: ثابتة

السؤال الثالث:

- ١ استخرج: ١ بدا ٢ ينصت
ب) صوب:

- ١ زار حاتم وزملاؤه حديقة حيوانات مفتوحة.
٢ وضح المشرف تعليمات الرحلة في الحافلة قبل الوصول
للحديقة.
ج) أجب: ١ أنه لم ينصت لتعليمات المشرف لتشتته
بمتابعة الطريق من نافذة الحافلة.

السؤال الرابع:

- ١ اختر: ١ رؤيته ٢ صعبة
ب) صوب: للصم والبكم.
ج) أجب: لإيصال رسائل إعلامها بطريقة سلسلة لكل
فئات المجتمع ومن بينهم ذوو الإرادة.

السؤال الخامس:

- ١ اختر: ١ إرادة ٢ تضاد
ب) أجب: غرضه الفخر بالشباب وعزمهم على إجابة دعائه،
وما يقدمونه من نداء.

السؤال السادس:

- ١ اسم إن منصوب، وعلامة نصبه الفتحة.
٢ فاعل مرفوع، وعلامة رفعه الواو؛ لأنه جمع مذكر سالم.
ب) اختر: ١ جملة فعلية ٢ مستتر
ج) صوب: حموك

نموذج ٣

السؤال الأول:

- ١ ضع علامة (✓) أو (X): ١ (✓) ٢ (X)
ب) أجب: تحدث عن أدب الحوار.

السؤال الثالث:

- ١ استخرج:
١ شحذ همته ٢ خطوة
ب) أكمل: ١ رامي ٢ أدهم
ج) أجب: ١ حاول وثابر واستعان بالله حتى أتم كل الاستعدادات.



السؤال الرابع:

- أ اختر: ١ يعيب ٢ تنتشر
ب أكمل: استماعًا للآخرين .
ج أجب: أكون ناجحًا عندما أطور من قدراتي على التواصل الفعال .

السؤال الخامس:

- أ اختر: جميع ما سبق .
ب أكمل: الشباب - التشجيع والتحفيز .
ج هات: قَصَارَى مُنَى أَوْطَانِكُمْ أَنْ تَرَى لَكُمْ
يَدًا تَبْتَنِي مَجْدًا وَرَأْسًا يُفَكِّرُ

السؤال السادس:

- أ استخرج: ١ نصيحتك ٢ مخاطب
٣ من صفات ٤ شبه جملة
ب اختر: ١ اسم إن ٢ الترجي
ج شخص

نموذج ٤

السؤال الأول:

- أ ضع علامة (✓) أو (X): ١ (X) ٢ (✓)
ب أكمل: متشائم

السؤال الثالث:

- أ استخرج: ١ يتمها ٢ القدرة
ب صوب: ١ يواجهون العقبات ويجتازونها .
٢ عقليته المتطورة .
ج أجب: ١ المحاولة والمثابرة وعدم الخوف من الفشل .
٢ خالف الكاتب المعتاد بأن قدوته هو أخوه الأصغر سنًا؛

لأن أخاه يمتلك عقلية متطورة ولا يخشى الفشل، ولا يبدأ مهمته إلا ويتمها بالمحاولة والمثابرة .

السؤال الرابع:

- أ اختر: ١ تشجع ٢ شخصيات
ب أجب: ١ عن طريق تقمص شخصية منظمة، حينئذٍ سيحفز عقله ليفكر بطريقة مختلفة، وبعد مدة من التقمص سيتاح له التطور .

السؤال الخامس:

- أ اختر: ١ تعاونهم ٢ التفوق
ب هات من الأبيات: نَكَاتُفَهُمْ هُنَا يَبْنِي .

السؤال السادس:

- أ استخرج: ١ هو - مبتدأ
٢ ذي - مضاف إليه مجرور، وعلامة جره الياء .
ب اختر: ١ جملة اسمية ٢ هو ٣ إنَّ

نموذج لطلاب الأزهر الشريف

السؤال الثاني:

- أ استخرج: ١ شرعت ٢ خفيض
ب ضع علامة (✓) أو (X): ١ (X) ٢ (✓)
ج أكمل: تذكّر السر الذي قاله له جده .
د أجب: أن لكل إنسان قدرات ومهارات غير محدودة، والسر في عقل الفرد وفي طريقة تفكيره .

السؤال الثالث:

- أ أكمل: ١ شيمتك . ٢ تجزع . ٣ حوادث .
ب ضع علامة (✓) أو (X): ١ (✓) ٢ (X)
ج استخرج:
١ دَعِ الْأَيَّامَ تَفَعَّلْ مَا تَشَاءُ - فَمَا لِحَوَادِثِ الدُّنْيَا بَقَاءُ
٢ قضاء - بقاء - الوفاء
د اكتب: وَكُنْ رَجُلًا عَلَى الْأَهْوَالِ جَلْدًا
وَشِيمَتِكَ السَّمَاخَةَ وَالْوَفَاءُ

السؤال الرابع:

- أ استخرج: ١ الصداقة - الضمة
٢ احرص - أنت
ب اختر:
١ معرف ب«ال» ٢ الكسرة ٣ بارز متصل
ج أعرب:
١ فاعل مرفوع، وعلامة رفعه الواو؛ لأنه جمع مذكر سالم .
٢ اسم مجرور، وعلامة جره الكسرة .



سلاح التلميز

منذ عام ١٩٦٠



الرياضيات

2024-2025

الصف السادس الابتدائي الفصل الدراسي الأول

نماذج اختبارات نهاية الفصل الدراسي الأول
طبقاً لآخر مواصفة للورقة الامتحانية

6

(9 درجات)

السؤال الأول اختر الإجابة الصحيحة من بين الإجابات المعطاة:

- 1) $5^3 =$
 أ 15 ب 10 ج 25 د 125
- 2) أكبر عدد صحيح سالب هو
 أ -1 ب 0 ج -10 د -2
- 3) القيمة المتطرفة لمجموعة البيانات: 15 ، 25 ، 10 ، 100 ، 35 ، 5 ، 45 هي
 أ 15 ب 25 ج 100 د 35
- 4) عدد حدود المقدار الجبري: $5x + 2 - 3y$ يساوي حدود.
 أ 3 ب 4 ج 2 د 5
- 5) جميع البيانات التالية عددية ، ما عدا
 أ الطول ب فصيلة الدم ج الوزن د عدد الأبناء
- 6) قيمة x في المعادلة: $2x = 10$ هي
 أ 20 ب 8 ج 5 د 12
- 7) (ع.م.أ) للعددين: 9 ، 4 هو
 أ 9 ب 36 ج 1 د 0
- 8) المقدار الجبري الذي يُعبر عن (العدد x مضافاً إليه 2) هو
 أ $2x$ ب $x \div 2$ ج $x - 2$ د $x + 2$
- 9) الوسط الحسابي للبيانات: 2 ، 1 ، 4 ، 9 هو
 أ 16 ب 4 ج 12 د 10

(21 درجة)

السؤال الثاني أجب عما يلي:

10) أوجد قيمة التعبير العددي: $5 \times (2 + 3^2) - 10$

11) طائرة يمكنها أن تحمل على الأكثر 136 راكباً في الرحلة الواحدة. اذكر 3 احتمالات ممكنة لأعداد الأشخاص الذين لا يمكنهم ركوب الطائرة.



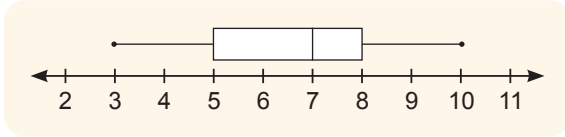
12 أوجد ناتج: $1 \frac{1}{5} + 2 \frac{1}{3} =$

13 حدّد المتغير المستقل والمتغير التابع في المعادلة: $y = 2x + 3$

14 أوجد الوسيط والمدى للقيم: 4 ، 6 ، 8 ، 7 ، 5

15 لدى إسلام $\frac{3}{4}$ لتر من العصير ، شرب منه $\frac{2}{6}$ لتر . ما عدد اللترات المتبقية من العصير؟

16 من مخطط الصندوق التالي ، أكمل:



..... = الحد الأدنى

..... = الربع الثالث

..... = الوسيط

30

اختبار 2

(9 درجات)

السؤال الأول اختر الإجابة الصحيحة من بين الإجابات المعطاة:

- 1) المُعامل في المقدار الجبري: $5 - 3x$ هو
أ 3 ب -3 ج 5 د x
- 2) التمثيل البياني الذي يوضح قيم البيانات على خط الأعداد باستخدام خمس قيم هو
أ المدرج التكراري ب التمثيل البياني بالأعمدة ج مخطط الصندوق د مخطط التمثيل بالنقاط
- 3) هو الفرق بين أكبر قيمة وأصغر قيمة.
أ المدى ب الوسط الحسابي ج الوسيط د المنوال
- 4) مجموعة الأعداد الطبيعية مجموعة الأعداد الصحيحة.
أ تنتمي إلى ب لا تنتمي إلى ج جزئية من د ليست جزئية من
- 5) جميع الأعداد التالية تحقق المتباينة $x \geq -3$ ما عدا
أ -3 ب -4 ج -1 د 0
- 6) أي مما يلي لا يشبه الحد الجبري $3y$ ؟
أ $-y$ ب $2y$ ج $\frac{1}{5}y$ د $3x$
- 7) $|-3| =$
أ 3 ب -3 ج 0 د $\frac{1}{3}$

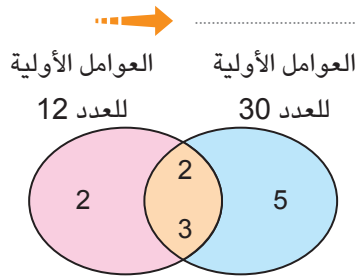


- 8) المعكوس الجمعي للعدد 18- هو
 أ 18 ب $\frac{1}{18}$ ج 0 د $-\frac{1}{18}$
- 9) إذا كان المنوال للقيم: 3 ، 2 ، x ، 1 ، 5 هو 3 ، فإن قيمة x تساوي
 أ 1 ب 2 ج 3 د 5

(21 درجة)

السؤال الثاني أجب عما يلي:

- 10) رتب تصاعدياً: -12 ، | -13 | ، -15 ، 1



- 11) من مخطط فن المقابل ، أوجد:

..... = (ع.م.أ)
 = (م.م.أ)

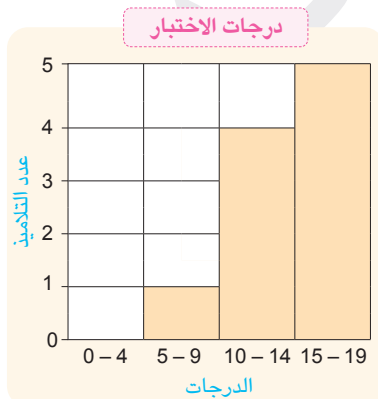
- 12) إذا كانت كتل 5 مشتركين في النشاط الرياضي هي 30 ، 45 ، 35 ، 25 ، 40 من الكيلوجرامات ، احسب الوسط الحسابي لكتل المشتركين.

- 13) إذا كانت العلاقة بين إجمالي التكلفة بالجنيه (c) ، وعدد التذاكر (m) تُعطى بالمعادلة: $c = 7m$ ، فأوجد إجمالي تكلفة 10 تذاكر من نفس النوع.

- 14) أوجد قيمة المقدار الجبري: $3^2 + (9 \times 5 - 2x)$ عندما $x = 10$

- 15) حل المعادلة: $\frac{1}{3}x = 10$

- 16) المدرج التكراري المقابل يوضح درجات التلاميذ في اختبار مادة الرياضيات. تأمل التمثيل البياني ، ثم أجب عن الأسئلة التالية:



- أ ما الفترة الأكثر شيوعاً؟

- ب ما عدد التلاميذ الذين حصلوا على 10 درجات فأكثر؟

- ج ما عدد التلاميذ الذين خاضوا اختبار مادة الرياضيات؟



(9 درجات)

السؤال الأول اختر الإجابة الصحيحة من بين الإجابات المعطاة:

- 1 المتباينة التي تمثل عددًا أكبر من أو يساوي 3 هي
- أ $x > 3$ ب $x < 3$ ج $x \leq 3$ د $x \geq 3$
- 2 العدد 231 يقبل القسمة على
- أ 3 ب 2 ج 5 د 10
- 3 من البيانات الوصفية
- أ العمر ب الوزن ج الجنسية د الطول
- 4 العدد النسبي الذي يقع بين العددين: 3.2 ، 3.3 هو
- أ 3.17 ب 3.21 ج 3.35 د 2.22
- 5 الوسيط لمجموعة القيم: 91 ، 90 ، 92 ، 94 ، 95 هو
- أ 90 ب 91 ج 92 د 95
- 6 العملية العكسية لإيجاد قيمة n في المعادلة: $3n = 18$ هي عملية
- أ الجمع ب الطرح ج الضرب د القسمة
- 7 إذا كان الأساس 2 والأس 3 ، فإن الصورة الأسية هي
- أ 2^3 ب 3^2 ج $2 + 2 + 2$ د $3 + 3$
- 8 أي من مقاييس النزعة المركزية أفضل في حالة وجود قيمة متطرفة؟
- أ الوسيط ب المنوال ج الوسط الحسابي د المدى
- 9 أي المقادير الجبرية التالية مكافئ للمقدار الجبري: $3(2x + 5)$ ؟
- أ $6x + 5$ ب $6x + 15$ ج $2x + 15$ د $x + 15$

(21 درجة)

السؤال الثاني أجب عما يلي:

- 10 اكتب المقدار الجبري الذي يُعبر عن ضعف العدد x مضافًا إليه 10 ، ثم أوجد قيمة المقدار عندما $x = 5$

- 11 أوجد القيمة المتطرفة والمنوال والوسط الحسابي لمجموعة البيانات التالية:

44 ، 55 ، 23 ، 40 ، 55 ، 135 ، 34 ، 30

- 12 أوجد الناتج:

أ ب $\frac{4}{9} - \frac{1}{9} =$

أ $\frac{5}{7} + \frac{2}{7} =$

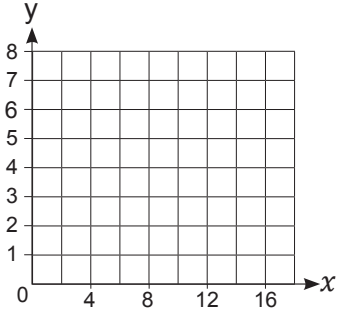


13 اكتب الحدود الجبرية المتشابهة في المقدار الجبري: $7 + 3x + x^2 + 2x - 3$

14 حل المعادلة: $x + 3 = 7$

15 أوجد قيمة التعبير العددي: $3^2 + 21 \div (6 - 3) \times 7$

16 أكمل الجدول ، ثم ممثلاً بيانياً باستخدام المعادلة المعطاة:



$$y = \frac{1}{4}x$$

x	y	(x, y)
4
8
12
16

30

اختبار 4

(9 درجات)

السؤال الأول اختر الإجابة الصحيحة من بين الإجابات المعطاة:

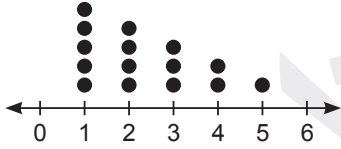
- 1 أصغر عدد صحيح موجب هو
أ 0 ب 1 ج -1 د 2
- 2 الثابت في المقدار الجبري: $4x + 2$ هو
أ 2 ب 4 ج -2 د $4x$
- 3 المدى لمجموعة القيم: 20 ، 30 ، 10 ، 40 ، 60 يساوي
أ 20 ب 30 ج 40 د 50
- 4 السؤال غير الإحصائي هو السؤال الذي له
أ إجابة واحدة ب إجابتان ج 3 إجابات د 4 إجابات
- 5 المقدار الجبري الذي يُعبر عن x مطروحاً منه 3 هو
أ $3 - x$ ب $x + 3$ ج $3x$ د $x - 3$
- 6 $-\frac{7}{5} \square |-\frac{2}{5}|$
أ $>$ ب $<$ ج $=$ د غير ذلك
- 7 الربع الأول للبيانات: 11 ، 10 ، 9 ، 8 ، 7 ، 6 ، 5 يساوي
أ 6 ب 7 ج 8 د 10



(9 درجات)

السؤال الأول اختر الإجابة الصحيحة من بين الإجابات المعطاة:

- 1) $5(2 + \dots) = 10 + 15$
- أ 2 ب 3 ج 5 د 8
- 2) قيمة المقدار الجبري: $x^2 - 5$ عندما $x = 5$ هو
- أ 0 ب 15 ج 20 د 25
- 3) من البيانات الوصفية
- أ العمر ب الوزن ج فصيلة الدم د عدد الأبناء
- 4) أصغر عدد طبيعي هو
- أ 0 ب 1 ج -1 د -100
- 5) الوسط الحسابي =
- أ مجموع القيم ÷ عددها ب مجموع القيم - عددها
ج حاصل ضرب القيم × عددها د القيمة الأكثر تكرارًا ÷ عدد القيم
- 6) من مخطط تمثيل البيانات التالي: أي مقياس النزعة المركزية سيكون من الأفضل استخدامه؟
- أ الوسيط ب الوسط الحسابي
ج المدى د الوسيط والوسط الحسابي
- 7) الكسر الذي يُعبر عن العدد النسبي 0.3 هو
- أ $\frac{3}{150}$ ب $\frac{3}{10}$ ج $-\frac{3}{150}$ د $-\frac{3}{10}$
- 8) أي مما يلي لا يمثل عددًا نسبيًا؟
- أ -12 ب $\frac{3}{5-5}$ ج $\frac{15}{3}$ د $-\frac{1}{4}$
- 9) التعبير الرياضي: $x + 8$ يمثل
- أ تعبيرًا عدديًا ب مقدارًا جبريًا ج معادلة د متباينة



(21 درجة)

السؤال الثاني أجب عما يلي:

- 10) أوجد (ع.م.أ) و (م.م.أ) للعددين: 12 ، 18



11) حلّ المعادلة: $3x - 4 = 5$

12) رتبّ القيم التالية تصاعدياً: 1 ، -6 ، |3| ، |-8| ، 7



13) اذكر الحدود والحدود المتشابهة والثوابت والمعاملات في المقدار الجبري: $3z + 5z + 7$

14) أوجد المنوال والمدى لمجموعة القيم: 5 ، 7 ، 5 ، 4 ، 5 ، 6

15) إذا كان ثمن قطعة الحلوى 5 جنيهاً ، فأكمل الجدول ، ثم اكتب معادلة توضح العلاقة بين عدد قطع الحلوى (x) وإجمالي التكلفة (y) .

x	1	2	3	4
y	5	10

16) مثلّ البيانات التالية بمخطط الصندوق:

4 ، 2 ، 8 ، 5 ، 6 ، 9 ، 3 ، 5



سلاح التلميز

منذ عام ١٩٦٠



الرياضيات

2024-2025

الصف السادس الابتدائي
الفصل الدراسي الأول

إجابات نماذج اختبارات
نهاية الفصل الدراسي الأول

6

إجابة اختبار (1)

السؤال الأول

- 125 ① - 1 ② 100 ③ 3 ④ 5 ⑤ فصيلة الدم
5 ⑥ 1 ⑦ $x + 2$ ⑧ 4 ⑨

السؤال الثاني

$$\begin{aligned} & 5 \times (2 + 9) - 10 \quad ⑩ \\ & = 5 \times 11 - 10 \\ & = 55 - 10 \\ & = 45 \end{aligned}$$

(توجد إجابات أخرى).

11 ⑪ 138 راكبًا ، 140 راكبًا ، 141 راكبًا

$$1 \frac{3}{15} + 2 \frac{5}{15} = 3 \frac{8}{15} \quad ⑫$$

13 ⑬ المتغير المستقل هو x

المتغير التابع هو y

$$6 = \text{الوسيط} \quad ⑭$$

$$\text{المدى} = 4 ؛ \text{لأن: } 8 - 4 = 4$$

$$\frac{3}{4} - \frac{2}{6} = \frac{9}{12} - \frac{4}{12} = \frac{5}{12} \quad ⑮ \text{ عدد اللترات المتبقية من العصير} = \frac{5}{12} \text{ لتر ؛ لأن: } \frac{5}{12}$$

$$\text{الوسيط} = 7$$

$$\text{الربع الثالث} = 8$$

$$\text{الحد الأدنى} = 3 \quad ⑯$$

إجابة اختبار (2)

السؤال الأول

- 1 ① - 3 2 ② مخطط الصندوق 3 ③ المدى 4 ④ جزئية من 5 ⑤ - 4
6 ⑥ $3x$ 7 ⑦ 3 8 ⑧ 18 9 ⑨ 3

السؤال الثاني

$$\rightarrow -15 ، -12 ، 1 ، | -13 | \quad ⑩$$

$$60 = (\text{م.أ.م})$$

$$6 = (\text{ع.م.أ.م}) \quad ⑪$$

$$\frac{30 + 45 + 35 + 25 + 40}{5} = 35 \quad ⑫ \text{ الوسط الحسابي لكتل المشتركين} = 35 \text{ كجم ؛ لأن: } 35$$



$$7 \times 10 = 70 \text{ إجمالي تكلفة 10 تذاكر = 70 جنيهاً؛ لأن: } 7 \times 10 = 70$$

$$(45 - 20) + 3^2 \quad 14$$

$$= 25 + 9 = 34$$

$$\frac{1}{3}x = 10 \quad (\times 3) \quad 15$$

$$x = 30$$

ج 10 تلاميذ

ب 9 تلاميذ

$$15 - 19 \quad \text{أ} \quad 16$$

إجابة اختبار (3)

السؤال الأول

$$92 \quad 5$$

$$3.21 \quad 4$$

الجنسية 3

$$3 \quad 2$$

$$x \geq 3 \quad 1$$

$$6x + 15 \quad 9$$

الوسيط 8

$$2^3 \quad 7$$

القسمة 6

السؤال الثاني

10 المقدار الجبري هو: $2x + 10$

قيمة المقدار عندما $x = 5$

$$2 \times 5 + 10$$

$$= 10 + 10$$

$$= 20$$

• الوسط الحسابي = 52

• المنوال = 55

11 • القيمة المتطرفة = 135

$$\frac{3}{9} = \frac{1}{3} \quad \text{ب}$$

$$\frac{7}{7} = 1 \quad \text{أ} \quad 12$$

13 $3x$ ، $2x$ و -3 ، 7

$$x = 7 - 3 = 4 \quad 14$$

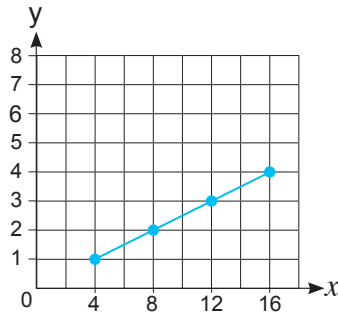
$$9 + 21 \div 3 \times 7 \quad 15$$

$$= 9 + 7 \times 7$$

$$= 9 + 49$$

$$= 58$$





x	y	(x, y)
4	1	(4, 1)
8	2	(8, 2)
12	3	(12, 3)
16	4	(16, 4)

إجابة اختبار (4)

السؤال الأول

- ⑤ $x - 3$ ④ إجابة واحدة ③ 50 ② 2 ① 1
- ⑨ $5 \times 5 \times 5$ ⑧ x ⑦ 6 ⑥ $<$

السؤال الثاني

⑩ • أكبر عدد من الأطباق الممكن تكوينها = 6 أطباق ؛ لأن: (ع.م.أ) للعدد 12 و 18 هو 6

• عدد قطع الحلوى في كل طبق = 2 قطعة ؛ لأن: $12 \div 6 = 2$

• عدد قطع الشيكولاتة في كل طبق = 3 قطع ؛ لأن: $18 \div 6 = 3$

⑪ 9 ، 8 ، 7 (توجد حلول أخرى).

⑫ أ المعادلة هي: $y = 5x$

ب ثمن 8 أقلام = 40 جنيهاً ؛ لأن: $5 \times 8 = 40$

⑬ الوسط الحسابي = 18 درجة ؛ لأن: $180 \div 10 = 18$

⑭ 20 ، $|-18|$ ، 17 ، $|-4|$ ، 0 ، -6 ، -15

هل المقداران الجبريان متساويان؟	$3(x + 5)$	$3x + 15$	
نعم	18	18	$x = 1$
نعم	21	21	$x = 2$

المقداران الجبريان متكافئان.

⑯ يسهل الحل.



إجابة اختبار (5)

السؤال الأول

- ① 3 ② 20 ③ فصيلة الدم ④ 0 ⑤ مجموع القيم ÷ عددها
 ⑥ الوسيط ⑦ $\frac{3}{10}$ ⑧ $\frac{3}{5-5}$ ⑨ مقدارًا جبريًا

السؤال الثاني

- ⑩ (ع.م.أ.) = 6 (م.م.أ.) = 36
 ⑪ بإضافة 4 للطرفين $3x - 4 = 5$
 بقسمة الطرفين على 3 $3x = 9$
 $x = 3$

⑫ $-6, 1, |3|, 7, |-8|$ →

⑬ الحدود هي: 7، 5z، 3z

• الحدود المتشابهة هي: 5z، 3z

• الثوابت هي: 7

• المعاملات هي: 5، 3

⑭ المنوال = 5 • المدى = 3 : لأن: $7 - 4 = 3$

x	1	2	3	4
y	5	10	15	20

المعادلة: $y = 5x$

⑮ مثل بنفسك.

• الوسيط = 5

• الحد الأقصى = 9

• الربع الثالث = 8

• الحد الأدنى = 2

• الربع الأول = 3



أشهر وأحب كتب تعليمية، وأوسعها انتشارًا

Selah El-Telmeez

Since 1960



English Connect

2024-2025

Sixth Primary First Term

نماذج اختبارات نهاية الفصل الدراسي الأول
طبقاً لآخر مواصفة للورقة الامتحانية

6

Test 1

(A) Listening

نصوص الاستماع بملف الإجابات

1 Listen and circle the correct answer from a, b, c or d:

1. Marco Polo was one of the first people from the to visit China.
a. North b. West c. East d. South
2. In the 13th century, he wrote a about his experiences.
a. book b. story c. message d. diary
3. Marco Polo's long voyage started by from Venice to Korcula.
a. sea b. desert c. river d. lake
4. Marco Polo's journey took!
a. days b. months c. years d. centuries

(B) Reading

2 Choose the correct answer from a, b, c or d:

1. Sara is very She shows respect to old people.
a. clever b. shy c. messy d. polite
2. I want to the Bab Zuweila minaret.
a. climb b. walk c. fly d. jump
3. They always use fertilizer. They never use chemicals.
a. fake b. natural c. bad d. unnatural



3 Read and complete the text with the words in the box:

soft – friendly – eat – pets

Cats are my favorite animals. They make the best (1) They are beautiful animals, with (2) fur which is nice to touch. They are clean, calm, and usually (3) animals. Cats like people, but they are independent, so you don't need to take them for a walk every day. Cats have sharp claws and teeth, but they only use them when they are scared.

4 Read the text and answer the questions:

Yesterday, we had a party for my mom's birthday. I made a playlist on my phone. My sister Amira decorated the birthday cake. She had candles for it, too. She also was asked to send the invitations. My brother hung up the streamers, and my dad blew up the balloons. My mom arrived home at 7 pm, but no one came to the party. It seemed that my sister forgot to send the invitations. So my dad sent email invitations to our close friends. They arrived at our house after half an hour. My mom was happy that we surprised her.

(A) Choose the correct answer from a, b, c or d:

- The underlined pronoun "it" refers to
a. cake b. playlist c. invitation d. party
- Dad blew up the
a. streamers b. cakes c. candles d. balloons

(B) Answer the following questions:

- Who forgot to send the invitations?
.....
- When did their close friends arrive?
.....
- Summarize the text in one sentence.
.....



(C) Writing

5 Put the words in the correct order to make sentences:

1. you – melts. – If – sugar, – it – heat

.....

2. games? – How often – you – do – play – video

.....

6 Read and write the correct form of the word(s) between brackets:

1. I like a (few) milk in my tea.

2. These are the shoes (where) I wear to play football.

7 Punctuate the following:

1. he can go early on wednesday.

.....

2. can we go quad biking in Giza

.....

8 Write a paragraph of FIFTY (50) words using the following guiding elements:

“Spices in Egypt”

– What are they used for?

– Where do you find them?

.....

.....

.....

.....

.....

GOOD LUCK



Test 2

(A) Listening

نصوص الاستماع بملف الإجابات

1 Listen and circle the correct answer from a, b, c or d:

- Use 450 grams of wax to make candles.
a. three b. two c. six d. five
- Squeeze in about 40 drops of oil.
a. soap b. juice c. perfume d. water
- We need one glass for each candle and one
a. clay b. wick c. grape d. sail
- We need some sticks to hold the wicks up.
a. honey b. cookie c. chocolate d. popsicle

(B) Reading

2 Choose the correct answer from a, b, c or d:

- Ali by train to Alexandria yesterday.
a. traveled b. rode c. sailed d. crossed
- I went on a family in Croatia last month.
a. experience b. vacation c. travel d. ride
- New York is a big in America.
a. country b. village c. city d. town



3 Read and complete the text with the words in the box:

roof – weekend – gardens – sell

Mariam goes to help her aunt on Fridays. They work in a community garden on the (1) of an apartment block. They grow vegetables and fruit for people in the local area, and sometimes they (2) them, too. Mariam thinks the community garden is a good idea because the roof (3) also help clean the air in the city, and they're a good place to make new friends.

4 Read the text and answer the questions:

Fatma invited her friend Sara to visit some places in Cairo. First, they visited the Manial Palace Museum. They took many photos there. Next, they explored the souks. Sara bought some perfumes and spices. After that, they went to the theme park and rode on a rollercoaster. There was a carnival, too. They went there to ride on the Orient Train. Later that evening, they bought tickets for the waterfalls ride. When they rode on it, it was very scary and they got wet. So they didn't try it again. They were very happy to hang out.

(A) Choose the correct answer from a, b, c or d:

- Fatma and Sara rode on a rollercoaster at the
a. souks b. carnival c. theme park d. museum
- The underlined word "there" refers to the
a. theme park b. souks c. museum d. carnival

(B) Answer the following questions:

- What did they buy for the waterfalls ride?
.....
- Where did Fatma and her friend take many photos?
.....
- Why didn't they try the waterfalls ride again?
.....



(C) Writing

5 Put the words in the correct order to make sentences:

1. didn't – yesterday. – leave – port – The ship – the

.....

2. do – oil – much – How – need? – we

.....

6 Read and write the correct form of the word(s) between brackets:

1. How (**much**) lemons are there in the fridge?

2. It (**rains never**) in August.

7 Punctuate the following:

1. what are you doing today, Malak

.....

2. they're decorating the birthday cake

.....

8 Write an email of FIFTY (50) words using the following guiding elements:

Your name is Salma and your email address is (salma@gmail.com). Your friend's name is Mona and her email address is (mona@yahoo.com).

"My birthday celebration"

(streamers – decorate)

.....
.....
.....
.....
.....

GOOD LUCK



Test 3

(A) Listening

نصوص الاستماع بملف الإجابات

1 Listen and circle the correct answer from a, b, c or d:

1. New York has a lot of spaces.
a. gray b. yellow c. green d. black
2. There are also to create new parks.
a. projects b. plans c. studies d. theaters
3. Years ago, the High Line was a line.
a. plane b. bus c. railway d. bike
4. residents decided to make the old railway into a big park.
a. Local b. Poor c. Different d. Strange

(B) Reading

2 Choose the correct answer from a, b, c or d:

1. Let's the souks!
a. climb b. explore c. take d. go
2. I use palm from Egyptian palm trees to make candles.
a. wax b. drops c. sticks d. oil
3. Omar is He doesn't tidy his room.
a. friendly b. organized c. messy d. nervous



3 Read and complete the text with the words in the box:

reader – about – Ancient – indoors

Shady is studying hard for his exams at the moment. He's not spending all his time (1) He gets outside and does some exercise. He also likes to read in his free time. He's finishing an interesting book about jobs in (2) Egypt, but it's taking ages because he's a slow (3) He loves history books and the documentary is good, too.

4 Read the text and answer the questions:

In a village, a giant has a beautiful garden. In his garden, there are tall trees, beautiful flowers, and green grass. There are birds in the trees. Every afternoon, the local children come to play in the garden. But the selfish giant doesn't want to share his garden. He builds a wall around it. Now the garden is empty and silent because the children never come there to play. The leaves fall from the trees and all the birds fly away. Spring arrives in the village, but in the giant's garden it is still winter. Everything is under the snow.

(A) Choose the correct answer from a, b, c or d:

- The text is about a
a. happy giant b. selfish giant c. excited giant d. tired giant
- In the garden, there are in the trees.
a. birds b. bees c. monkeys d. ants

(B) Answer the following questions:

- Where does the giant live?
.....
- When do the local children come to play in the garden?
.....
- Why is the garden empty and silent?
.....



(C) Writing

5 Put the words in the correct order to make sentences:

1. pass – Will – me – the scissors, – you – please?

.....

2. had – his hand. – The king – scepter – a long – in

.....

6 Read and write the correct form of the word(s) between brackets:

1. Did you (watched) the match last night?

2. He was born (at) January.

7 Punctuate the following:

1. Salma and dina are sending the invitations

.....

2. how often do you go to the club

.....

8 Write a diary of FIFTY (50) words using the following guiding elements:

“My last trip”

(felucca – on board)

.....

.....

.....

.....

.....

GOOD LUCK



Test 4

(A) Listening

نصوص الاستماع بملف الإجابات

1 Listen and circle the correct answer from a, b, c or d:

- Hare lies in the grass. Her makes a loud noise.
a. hand b. mouth c. stomach d. nose
- Something is inside Hare's house.
a. moving b. playing c. eating d. sleeping
- Hare's door opens, and a small runs out.
a. dog b. bird c. cat d. mouse
- Hare goes inside to eat her
a. mangoes b. carrots c. apples d. bananas

(B) Reading

2 Choose the correct answer from a, b, c or d:

- They twenty kilos of vegetables a year.
a. harvest b. help c. work d. make
- The from the minaret is beautiful.
a. price b. trip c. adventure d. view
- We use to make bread and other things.
a. herbs b. honey c. barley d. cream



3 Read and complete the text with the words in the box:

italian – vacation – island – went

I went on a vacation with my family in Croatia a few months ago. I really enjoyed my time there. My favorite part of the (1) was visiting the Marco Polo Museum. Marco Polo was an (2) explorer. The museum was on an (3) called Korcula. We took a boat to the island. We learned about all the travels of Marco Polo.

4 Read the text and answer the questions:

It takes only 10 minutes to prepare the salt dough and three hours to cook it. You need plain flour, salt, and water. First, mix the flour and salt in a large bowl. Next, add a little water and stir the mixture until it starts to form a ball. Then, roll the ball of dough flat and cut out shapes, numbers, or letters. After that, put your finished items on a baking tray and bake them in the oven for 3 hours until they are hard. Finally, leave the items to cool, then paint them.

(A) Choose the correct answer from a, b, c or d:

1. First, mix the flour and salt in a large
a. cup b. plate c. bowl d. tray
2. The underlined pronoun "it" refers to
a. bowl b. oven c. minute d. mixture

(B) Answer the following questions:

3. How long does it take to prepare and cook the salt dough?
.....

4. What are the ingredients you need to make salt dough?
.....

5. Summarize the text in one sentence.
.....



(C) Writing

5 Put the words in the correct order to make sentences:

1. did – Where – your - find – books? – you

.....

2. is – famous – Egypt – its – spices. – for

.....

6 Read and write the correct form of the word(s) between brackets:

1. If he (press) the button, the machine works.

2. This is the school (who) I learn.

7 Punctuate the following:

1. if it rains I can use my umbrella.

.....

2. are you playing tennis today

.....

8 Write a blog of FIFTY (50) words using the following guiding elements:

“A place you visited”

– Who did you go with?

– What did you do there?

.....

.....

.....

.....

.....

GOOD LUCK



Test 5

(A) Listening

نصوص الاستماع بملف الإجابات

1 Listen and circle the correct answer from a, b, c or d:

- The most perfume was called kapet.
a. different b. popular c. difficult d. cheap
- It was expensive because of its many
a. ingredients b. flowers c. seeds d. rocks
- Cheaper perfumes were mixed with to make a cream.
a. water b. juice c. soap d. oil
- They pressed ingredients into a shape to make incense.
a. circle b. cone c. triangle d. square

(B) Reading

2 Choose the correct answer from a, b, c or d:

- The equipment is in the science
a. court b. gymnastics c. laboratories d. playground
- I'm going quad biking in the
a. sea b. desert c. museum d. souks
- Marco Polo sailed by from Venice.
a. ship b. plane c. train d. car



3 Read and complete the text with the words in the box:

rollercoaster – photos – adventure – building

Ahmed and Tarek are planning for their next summer vacation. They will visit the Manial Palace Museum in the first week and take (1) there for their school project. In the second week, they will go to a near theme park where they will ride on a (2) They love rollercoasters because they love (3) Tarek wants to go quad biking in the desert. It's fun.

4 Read the text and answer the questions:

Almost 100 years ago, local people in the small village of Nok in Nigeria discovered some unusual objects under the ground. These objects were beautiful clay sculptures of humans. The sculptures were all in the same style. They had large eyes and complicated hair styles. They were usually in a sitting position with their hands on their legs. There were also iron and stone farming tools. The archaeologists thought that these were most likely from civilization which had the ability to work iron and stone to make tools, and which made beautiful art.

(A) Choose the correct answer from a, b, c or d:

- The text is about the
a. local people
b. clay sculptures
c. surprising discovery
d. archaeologist
- The underlined word "clay" is a type of earth that is sticky when
a. wet
b. cold
c. dry
d. old

(B) Answer the following questions:

- How did the sculptures look like?
.....

- Who found the clay sculptures?
.....

- What did the archaeologists think?
.....



(C) Writing

5 Put the words in the correct order to make sentences:

1. Polo – explorer. – Marco – an – was – Italian

.....

2. Laila – helping – their – Are – mom? – and Mona

.....

6 Read and write the correct form of the word(s) between brackets:

1. He usually (feed) the birds in the morning.

2. The book was really (interested). I liked it.

7 Punctuate the following:

1. Can we travel to cairo on Monday

.....

2. i'll show you where the classroom is

.....

8 Write a paragraph of FIFTY (50) words using the following guiding elements:

“Food in Ancient Egypt”

(grow – festivals)

.....

.....

.....

.....

.....

GOOD LUCK



أشهر وأحب كتب تعليمية، وأوسعها انتشارًا

Selah El-Telmeez

Since 1960



English
Connect

2024-2025

**Sixth Primary
First Term**

إجابات نماذج اختبارات
نهاية الفصل الدراسي الأول

6

Test 1 Answers

(A) Listening

Listening Script:

Marco Polo was an Italian explorer and one of the first people from the West to visit China. In the 13th century, he wrote a diary about his experiences. His long voyage started by sea from Venice to Korcula, then to Iran. He crossed the desert from Hormuz, and rode a camel to China! Marco Polo's journey took years!

1 Listen and circle the correct answer from a, b, c or d:

1. (b) 2. (d) 3. (a) 4. (c)

(B) Reading

2 Choose the correct answer from a, b, c or d:

1. (d) 2. (a) 3. (b)

3 Read and complete the text with the words in the box:

1. pets 2. soft 3. friendly

4 Read the text and answer the questions:

(A) Choose the correct answer from a, b, c or d:

1. (a) 2. (c)

(B) Answer the following questions:

3. Amira forgot to send the invitations.
4. They arrived after half an hour.
5. The text is about mom's birthday party.



(C) Writing

5 Put the words in the correct order to make sentences:

1. If you heat sugar, it melts.
2. How often do you play video games?

6 Read and write the correct form of the word(s) between brackets:

1. little
2. which

7 Punctuate the following:

1. He can go early on Wednesday.
2. Can we go quad biking in Giza?

8 Write a paragraph of FIFTY (50) words using the following guiding elements:

- Egypt is well-known for its spices, which are used in home cooking and restaurants. Special combinations of different spices are a secret ingredient in many recipes. Besides cooking, spices are also used for making perfumes, medicine, and coloring cloth. They are popular souvenirs for tourists who visit spice stores and souks.



Test 2 Answers

(A) Listening

Listening Script:

Here are the instructions for making candles. Use 450 grams of wax to make three candles. Squeeze in about 40 drops of perfume oil. And we can take about 15 flowers and press them on the tops of the candles. Then we need one glass for each candle and one wick. We need some popsicle sticks to hold the wicks up in the glasses.

1 Listen and circle the correct answer from a, b, c or d:

1. (a) 2. (c) 3. (b) 4. (d)

(B) Reading

2 Choose the correct answer from a, b, c or d:

1. (a) 2. (b) 3. (c)

3 Read and complete the text with the words in the box:

1. roof 2. sell 3. gardens

4 Read the text and answer the questions:

(A) Choose the correct answer from a, b, c or d:

1. (c) 2. (d)

(B) Answer the following questions:

3. They bought tickets.
4. They took many photos at the Manial Palace Museum.
5. Because it was very scary and they got wet.



(C) Writing

5 Put the words in the correct order to make sentences:

1. The ship didn't leave the port yesterday.
2. How much oil do we need?

6 Read and write the correct form of the word(s) between brackets:

1. many
2. never rains

7 Punctuate the following:

1. What are you doing today, Malak?
2. They're decorating the birthday cake.

8 Write an email of FIFTY (50) words using the following guiding elements:

– From: salma@gmail.com

To: mona@yahoo.com

Subject: My birthday celebration

Dear Mona,

How are you? I am writing to tell you about my birthday celebration.

I'm so excited about it! My cousin hung up the **streamers**. I blew up some balloons.

Of course, we didn't forget to **decorate** the birthday cake with candles. At night,

I asked my father to let off the fireworks.

Lots of love,

Salma



Test 3 Answers

(A) Listening

Listening Script:

New York is a great city! It has a lot of green spaces. There are also projects to create new parks in parts of the city that no one uses now, like the famous High Line. Years ago, the High Line was a railway line, but trains stopped using it. Some local residents decided to make the old railway into a big park.

1 Listen and circle the correct answer from a, b, c or d:

1. (c) 2. (a) 3. (c) 4. (a)

(B) Reading

2 Choose the correct answer from a, b, c or d:

1. (b) 2. (a) 3. (c)

3 Read and complete the text with the words in the box:

1. indoors 2. Ancient 3. reader

4 Read the text and answer the questions:

(A) Choose the correct answer from a, b, c or d:

1. (b) 2. (a)

(B) Answer the following questions:

3. The giant lives in a village.
4. The local children come to play in the garden every afternoon.
5. Because the children never come there to play.



(C) Writing

5 Put the words in the correct order to make sentences:

1. Will you pass me the scissors, please?
2. The king had a long scepter in his hand.

6 Read and write the correct form of the word(s) between brackets:

1. watch
2. in

7 Punctuate the following:

1. Salma and Dina are sending the invitations.
2. How often do you go to the club?

8 Write a diary of FIFTY (50) words using the following guiding elements:

– 9 January

I went on a **felucca** on the River Nile. The trip was amazing. We went slowly down the river. We stopped to see some incredible things along the way. In the afternoon, we had a delicious lunch **on board** the felucca. It was a very lovely way to travel.



Test 4 Answers

(A) Listening

Listening Script:

Hare lies in the grass. Suddenly, her stomach makes a loud noise. Hare is hungry. She runs back home, but something is moving inside her house. Hare is very scared. She runs to Monkey and Elephant for help. Hare's door opens, and a small mouse runs out. Elephant jumps high in the air! They all laugh. Hare goes inside to eat her carrots.

1 Listen and circle the correct answer from a, b, c or d:

1. (c) 2. (a) 3. (d) 4. (b)

(B) Reading

2 Choose the correct answer from a, b, c or d:

1. (a) 2. (d) 3. (c)

3 Read and complete the text with the words in the box:

1. vacation 2. Italian 3. island

4 Read the text and answer the questions:

(A) Choose the correct answer from a, b, c or d:

1. (c) 2. (d)

(B) Answer the following questions:

3. It takes only 10 minutes to prepare the salt dough and three hours to cook it.
4. The ingredients you need to make salt dough are plain flour, salt, and water.
5. To make a salt dough, you need some ingredients and follow some steps.



(C) Writing

5 Put the words in the correct order to make sentences:

1. Where did you find your books?
2. Egypt is famous for its spices.

6 Read and write the correct form of the word(s) between brackets:

1. presses
2. where

7 Punctuate the following:

1. If it rains, I can use my umbrella.
2. Are you playing tennis today?

8 Write a blog of FIFTY (50) words using the following guiding elements:

– Tuesday June 3rd

All the fun of the theme park!

Last vacation, I went to the theme park with my family. When we arrived at the park, there was a lot to see. I was very excited. There were amazing rides to try like the rollercoaster. There were theaters where I could watch shows. There were also places to eat and stores, too.



Test 5 Answers

(A) Listening

Listening Script:

The Ancient Egyptians loved strong perfumes. The most popular perfume was called kapet. It was expensive because of its many ingredients. It had a few common herbs and many spices. Cheaper perfumes were made from flowers, herbs, and minerals, and then mixed with oil to make a cream. Or they pressed ingredients into a cone shape to make incense.

1 Listen and circle the correct answer from a, b, c or d:

1. (b) 2. (a) 3. (d) 4. (b)

(B) Reading

2 Choose the correct answer from a, b, c or d:

1. (c) 2. (b) 3. (a)

3 Read and complete the text with the words in the box:

1. photos 2. rollercoaster 3. adventure

4 Read the text and answer the questions:

(A) Choose the correct answer from a, b, c or d:

1. (c) 2. (a)

(B) Answer the following questions:

3. They had large eyes and complicated hair styles. They were usually in a sitting position with their hands on their legs.
4. The local people in the small village of Nok in Nigeria found the clay sculptures.
5. The archaeologists thought that these were most likely from civilization which had the ability to work iron and stone to make tools, and which made beautiful art.



(C) Writing

5 Put the words in the correct order to make sentences:

1. Marco Polo was an Italian explorer.
2. Are Laila and Mona helping their mom?

6 Read and write the correct form of the word(s) between brackets:

1. feeds
2. interesting

7 Punctuate the following:

1. Can we travel to Cairo on Monday?
2. I'll show you where the classroom is.

8 Write a paragraph of FIFTY (50) words using the following guiding elements:

- The water of the Nile has always helped Egyptian farmers **grow** food. They could grow onions, garlic, and beans for cooking. They grew wheat and barley for bread. Most people in Ancient Egypt only ate a little meat, usually at **festivals**. They also used honey with bread and cream to make cakes.



سلاح التهيئة

منذ عام ١٩٦٠



العلوم

2024-2025

الصف السادس الابتدائي
الفصل الدراسي الأول

نماذج اختبارات نهاية الفصل الدراسي الأول
طبقاً لآخر مواصفة للورقة الامتحانية

6

الاختبار 1

السؤال الأول

أ اختر الإجابة الصحيحة:

- 1 الوظيفة الأساسية للنواة في الخلية هي
أ إنتاج الطاقة ب انقسام الخلية ج التحكم في مرور المواد د نقل المواد
- 2 أي مما يلي لا يُعتبر من خصائص القوة المغناطيسية؟
أ قوة مرئية ب تؤثر عن بُعد ج تقل ببعُد المسافة بين الجسم والمغناطيس د يمكن ملاحظة تأثيرها على الأجسام
- 3 يتخلص الجسم من فضلات الطعام غير المهضوم عن طريق
أ القناة البولية ب فتحة الشرج ج الأمعاء الدقيقة د المثانة البولية

ب ما المقصود بكل من؟:

- 1 الطاقة الحرارية.
2 الاتزان الحراري.

السؤال الثاني

أ أكمل العبارة التالية:

• عند انقباض العضلة فإن طولها

ب أجب عن الأسئلة التالية:

- 1 تمييز الخلية النباتية عن الخلية الحيوانية؛ من حيث التركيب. حدد اثنين من هذه التراكيب.
- 2 عرّف التمدد الحراري، ثم اذكر أحد التطبيقات العلمية التي تعتمد عليه.

السؤال الثالث

أ ضع علامة (✓) أو علامة (X) أمام العبارة التالية:

• الكُلية عضو أساسي في الجهاز الدوري. ()

ب أجب عن الأسئلة التالية:

1 ما العوامل التي تتوقف عليها الجاذبية؟

2 ماذا يحدث لو كانت جميع المواد جيدة التوصيل للحرارة؟ مع ذكر مثال على المواد الموصلة للحرارة.



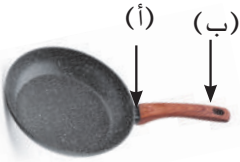
الاختبار 2

السؤال الأول

أ اختر الإجابة الصحيحة:

- 1 لا تستطيع الخلايا الحيوانية القيام بعملية البناء الضوئي؛ لعدم احتوائها على
 أ الميتوكوندريا ب السيتوبلازم ج البلاستيدات الخضراء د الجدار الخلوي
- 2 عند احتراق أحد المصابيح المتصلة على التوالي فإن باقي المصابيح
 أ تزداد إضاءتها ب تقل إضاءتها ج لا تتأثر د تنطفئ
- 3 الجهاز المسئول عن تنقية الدم من الفضلات في جسم الإنسان هو
 أ الجهاز الدوري ب الجهاز الهضمي ج الجهاز البولي د الجهاز العصبي

ب علل: يتحقق أعلى عزل حراري للمقبض عند النقطة (ب) في الشكل المقابل.



السؤال الثاني

أ ضع علامة (✓) أو علامة (X) أمام العبارة التالية:

()

• يمكن رؤية جميع أنواع الخلايا بالعين المجردة.

ب أجب عن الأسئلة التالية:

- 1 حدّد أهمية واحدة لكل مما يلي:
 (أ) اللعب (ب) صبغة أزرق الميثيلين

2 ماذا يحدث عند بناء الكباري بدون فواصل التمدد صيفاً؟

السؤال الثالث

أ اكتب المصطلح العلمي:

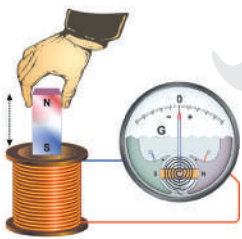
(.....)

• مجموعة خلايا متشابهة في الشكل والوظيفة.

ب أجب عن الأسئلة التالية:

1 لاحظ الشكل المقابل، ثم أجب:

(أ) ماذا سيحدث لمؤشر الجلفانومتر عند تحريك المغناطيس داخل الملف. فسّر إجابتك.



(ب) ماذا يحدث عند زيادة سرعة حركة المغناطيس داخل الملف؟

2 عند انصهار مكعب من الثلج كتلته 10 جرامات. حدّد كتلة الماء الناتج. فسّر إجابتك.



الاختبار 3

السؤال الأول

أ ضع علامة (✓) أو علامة (X) أمام العبارات التالية:

- () 1 تحوّل الميتوكوندريا السكر إلى طاقة، بينما تقوم البلاستيدات الخضراء بالعكس.
- () 2 يستطيع الإنسان التحكم في حركة الدم داخل جسمه.
- () 3 يتولّد مجال مغناطيسي حول سلك يمر به تيار كهربائي.

ب علل: تُصنع أواني الطهي من الألومنيوم.

السؤال الثاني

أ أكمل العبارة التالية:

• وظيفة في الخلية هي جمع ونقل البروتينات.

ب أجب عن الأسئلة التالية:

1 علل: تُستخدم المقاومات لحماية الأجهزة الكهربائية من التلف.

2 ماذا يحدث عند تلامس جسمين لهما نفس درجة الحرارة؟

السؤال الثالث

أ اكتب المصطلح العلمي:

• جهاز يعمل بالبطارية يتم إدخاله في الصدر لتنظيم ضربات القلب. (.....)

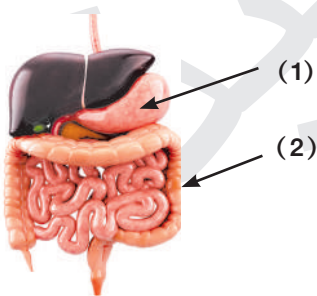
ب أجب عن الأسئلة التالية:

1 لاحظ الشكل المقابل للجهاز الهضمي، ثم أجب:

(أ) اكتب ما تشير إليه الأرقام في الشكل المقابل.

(ب) ما اسم العضو الذي يفرز هرمون الإنسولين؟ وما وظيفة هذا الهرمون؟

2 ماذا يحدث إذا تم تثبيت بالون على فوهة زجاجة موضوعة في إناء ساخن؟



الاختبار 4

السؤال الأول

أ أكمل العبارات التالية:

- 1) السائل الهلامي الذي تسبح فيه مكونات الخلية يُسمى
- 2) لا تمر خلايا الدم والبروتينات عبر النفرونات؛ لأن جسيماتها
- 3) تحافظ الأرض على ثبات الأجسام على سطحها بسبب قوة

ب اذكر مثالاً للمادة التي يُصنع منها كلُّ مما يلي، مع ذكر السبب:

- 1) هياكل السيارات
- 2) مقابض أواني الطهي

السؤال الثاني

أ اكتب المصطلح العلمي:

- عملية استخدام الأكسجين للحصول على الطاقة الكيميائية من الطعام؛ لتستمر الخلايا في العمل. (.....)

ب أجب عن الأسئلة التالية:

- 1) قارن بين العضلات الإرادية والعضلات اللاإرادية؛ من حيث: (التعريف - ذكر مثال لكل منهما)
(أ) العضلات الإرادية

(ب) العضلات اللاإرادية

- 2) علل: ينتشر لون الطعام في الماء الساخن أسرع من الماء البارد.

السؤال الثالث

أ اختر الإجابة الصحيحة:

- يتكون جدار الخلية النباتية من مادة
- أ المطاط ب النيتروجين ج السليلوز د الفسفور

ب أجب عن الأسئلة التالية:


- 1) اذكر المسئول عن الوظائف التالية:

(أ) تحويل الطاقة الميكانيكية إلى طاقة كهربائية.

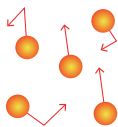
(ب) إفراز الهرمونات للتحكم في الاستجابة للخطر.

- 2) لاحظ الشكلين، ثم أجب:

أي الشكلين يمثل جزيئات الجسم الأعلى في درجة الحرارة؟ فسّر إجابتك.



(2)



(1)



الاختبار 5

السؤال الأول

أ أكمل مما بين القوسين:

- 1 وظيفة الكلوروفيل الموجود في البلاستيدات الخضراء للنباتات هي
(امتصاص طاقة الشمس - تحويل السكر إلى طاقة)
- 2 تبدأ عملية الهضم بمجرد دخول الطعام إلى
(الفم - المعدة)
- 3 تُغلف الأسلاك الكهربائية في الدائرة الكهربائية بمواد عازلة؛ لـ
(زيادة تدفق التيار - تجنب مخاطر الكهرباء)

ب حدّد عاملين من العوامل التي يتوقف عليها انتقال الحرارة.

السؤال الثاني

أ أكمل العبارة التالية:

- عملية حيوية يتخلص خلالها الجسم من الفضلات التي أنتجتها الخلايا هي

ب أجب عن الأسئلة التالية:

- 1 ماذا يحدث عند انقباض عضلة الحجاب الحاجز أثناء عملية التنفس؟
.....
- 2 علل: نشعر بالسخونة عند الإمساك بكوب شاي ساخن.
.....

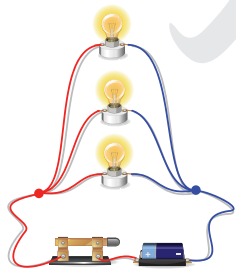
السؤال الثالث

أ اكتب المصطلح العلمي:

- رد فعل أو أعراض تظهر على الجسم عند تعرّضه لتهديد أو خطر أو توتر ما. (.....)

ب أجب عن الأسئلة التالية:

- 1 لاحظ الشكل المقابل، ثم أجب:
(أ) حدّد طريقة توصيل الدائرة الكهربائية في الشكل.



- (ب) علل: يُفضل توصيل الدوائر الكهربائية، كما بالشكل في المنازل.

- 2 ماذا يحدث عند تسخين مادة سائلة لدرجة الغليان؟
.....



سلاح التمهيد

منذ عام ١٩٦٠



العلوم

2024-2025

الصف السادس الابتدائي
الفصل الدراسي الأول
الإجابات النموذجية لاختبارات
نهاية الفصل الدراسي الأول

6

1 إجابة الاختبار

السؤال الأول:

أ 1 (ب) 2 (أ) 3 (ب)

ب 1 مجموع طاقات حركة ذرات وجزيئات المادة كلها.

2 حالة تحدث عند تساوي درجة حرارة الأجسام تؤدي إلى توقف انتقال الحرارة بينها.

السؤال الثاني:

أ يقل

ب 1 الجدار الخلوي - البلاستيدات الخضراء

2 زيادة حجم المادة نتيجة ارتفاع درجة حرارتها - الترمومتر

السؤال الثالث:

أ X

ب 1 الكتلة - المسافة

2 تنتقل الحرارة بسهولة خلال المواد؛ مما يعرضنا للخطر عند الإمساك بها - الحديد. (أي مثال آخر صحيح مقبول)

2 إجابة الاختبار

السؤال الأول:

أ 1 (ج) 2 (د) 3 (ج)

ب لأن العزل الحراري يزداد بزيادة الطول.

السؤال الثاني:

أ X

ب 1 (أ) تليين وتفكيك الطعام كيميائياً.

(ب) تساعدنا على رؤية أنوية الخلايا بوضوح.

2 تتمدد الألواح المعدنية التي يتكون منها الكباري؛ مما يتسبب في انحنائها أو انهيارها.

السؤال الثالث:

أ النسيج

ب 1 (أ) سينحرف مؤشر الجلفانومتر؛ لتولّد تيار كهربائي في الملف.

(ب) يزداد انحراف مؤشر الجلفانومتر؛ لزيادة التيار الكهربائي والجهد المتولّد في الدائرة.

2 10 جرامات - لأن كتلة المادة ثابتة لا تتغير بتغير حالتها.



إجابة الاختبار 3

السؤال الأول:

✓ 3

✗ 2

✓ 1 أ

ب لأنه من المواد الموصلة للحرارة.

السؤال الثاني:

أ الشبكة الإندوبلازمية

ب 1 لأنها تُبطئ من سريان الإلكترونات، فتمنع مرور تيارات عالية بشكل مفاجئ في الأجهزة.

2 لا تنتقل الحرارة بينهما.

السؤال الثالث:

أ منظم ضربات القلب

ب 1 (أ) (1) المعدة (2) الأمعاء الغليظة

(ب) البنكرياس - تنظيم مستوى السكر في الدم

2 يزداد حجم الهواء داخل البالون؛ فينتفخ.

إجابة الاختبار 4

السؤال الأول:

3 الجاذبية

1 أ السيتوبلازم

2 كبيرة الحجم

ب 1 الصلب - لأنه قوي ومتمين.

2 الخشب (أو البلاستيك) - لأنه مادة عازلة للحرارة.

السؤال الثاني:

أ التنفس الخلوي

ب 1 (أ) عضلات يمكن التحكم في حركتها - عضلات الذراع

(ب) عضلات لا يمكن التحكم في حركتها - عضلات القلب

2 لأنه كلما ارتفعت درجة الحرارة كانت طاقة حركة الجسيمات أكبر، وتحركت بشكل أسرع.

السؤال الثالث:

أ (ج)

ب 1 (أ) المولد الكهربائي (أو الدينامو)

(ب) جهاز الغدد الصماء

2 الشكل (1)؛ لأن الجزيئات تظهر وكأنها تتحرك بسرعة أكبر من جزيئات الشكل (2).



إجابة الاختبار 5

السؤال الأول:

- أ 1 امتصاص طاقة الشمس
ب 2 الفم
أ 3 تجنب مخاطر الكهرباء
ب 1 مساحة السطح - نوع المادة

(أي إجابة أخرى صحيحة مقبولة)

السؤال الثاني:

- أ الإخراج
ب 1 يدخل الهواء المُحمل بغاز الأكسجين إلى الرئتين.
2 لانتقال الحرارة من الشاي الأعلى في درجة الحرارة إلى اليد الأقل في درجة الحرارة.

السؤال الثالث:

- أ استجابة المواجهة أو الهروب
ب 1 (أ) التوصيل على التوازي
ب 2 لأنه يسمح لكل جهاز بالعمل بشكل مستقل دون التأثر بتلف أو توقف الأجهزة الأخرى.
2 تضعف قوى الترابط بين الجزيئات، وتتباعد عن بعضها وتتحول إلى غاز.



سلاح التلهين

منذ عام ١٩٦٠



الدراسات الاجتماعية

2024-2025

الصف السادس الابتدائي الفصل الدراسي الأول

نماذج امتحانات نهاية الفصل الدراسي الأول
طبقاً لأحدث مواصفة للورقة الامتحانية 2025م

6

الامتحان ١

٣٠

السؤال الأول

أ لاحظ خريطة الوطن العربي المقابلة، ثم أجب:



- ١ المحيط
- ٢ يشير الرقم (٢) إلى هضبة
- ٣ صواب أم خطأ: يشير الرقم (٣) إلى أولى الدول العربية في تربية الجاموس. ()

ب بم تفسر...؟

- ١ الأهمية الدينية لوطننا العربي.
- ٢ أهمية الواحات في الوطن العربي.

السؤال الثاني

أ اختر الإجابة الصحيحة مما بين القوسين:

- ١ هاجر النبي (ﷺ) وأبو بكر الصديق (رضي الله عنه) من مكة إلى (الحبشة - يثرب - الطائف - حنين)
- ٢ تسقط الأمطار الموسمية صيفاً على (جبال الحجاز - جبال أطلس - مرتفعات اليمن - مرتفعات الشام)

ب ما النتائج المترتبة على ما يلي...؟

- ١ غزوة بدر عام ٢هـ.
- ٢ اقتراب الوطن العربي من قارة أوروبا بالنسبة للمناخ.

السؤال الثالث

أ أكمل العبارات التالية بما يناسبها من كلمات:

- ١ شراء مصر لبعض السلع من المملكة المتحدة يُعد تجارة
- ٢ تُربى الماعز والأغنام على حشائش الإستبس في إقليم مناخ
- ٣ أولى الدول العربية في صناعة الحديد والصلب

ب قارن بين كل مما يلي:

- ١ أهم أعمال أبي بكر الصديق (رضي الله عنه) وعمر بن الخطاب (رضي الله عنه) خلال توليهما الخلافة.
- ٢ أهداف المنظمة العربية للتنمية الزراعية والمنظمة العربية للسياحة.

السؤال الرابع

أ صوب ما تحته خط فيما يلي:

- تشجع الدول العربية المزارعين على استخدام الأسمدة الكيماوية. (.....)

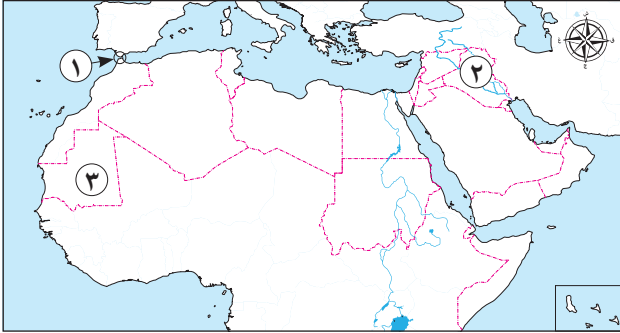
ب دلل على صحة العبارات التالية:

- ١ اتصف العرب قبل الإسلام ببعض الصفات الحسنة.
- ٢ تتعدد المشكلات البيئية في الوطن العربي.
- ٣ تنتشر السياحة العلاجية في مصر والأردن.



السؤال الأول

أ لاحظ خريطة الوطن العربي المقابلة، ثم أجب:



- ١ مضيق
- ٢ تعتمد الزراعة في الدولة رقم (٢) على مياه
- ٣ **صوب:** يشير الرقم (٣) إلى أولى الدول العربية في إنتاج معدن **الذهب**. (.....)

ب **بم تفسر...؟**

- ١ نجاح الرسول (ﷺ) في الهجرة إلى يثرب.
- ٢ ضعف التجارة البينية العربية.

السؤال الثاني

أ اختر الإجابة الصحيحة مما بين القوسين:

- ١ تم إنشاء أول أسطول بحري في الإسلام لتأمين سواحل مصر والشام من هجمات
(الروم - قريش - اليهود - الفرس)
- ٢ يتركز إنتاج محاصيل الألياف في دولتي مصر و
(سوريا - السعودية - عمان - السودان)

ب **ما النتائج المترتبة على ما يلي...؟**

- ١ الموقع الجغرافي المتميز لوطننا العربي.
- ٢ حدوث الحركات الانكسارية في الوطن العربي.

السؤال الثالث

أ أكمل العبارات التالية بما يناسبها من كلمات:

- ١ يسود معظم مساحة الوطن العربي إقليم المناخ
- ٢ يقع وادي الدواسر في دولة
- ٣ تُعد زيارة المحميات الطبيعية نموذجًا لأنشطة السياحة

ب **أجب عما يلي:**

- ١ ما المقصود بـ: المرتدين؟
- ٢ ما مقترحاتك لحل مشكلة ندرة المياه العذبة في الوطن العربي؟

السؤال الرابع

أ اكتب كلمة (صواب) أو كلمة (خطأ) أمام العبارة التالية:

- () - تتعامد أشعة الشمس على مدار الجدي في فصل الصيف بالوطن العربي.

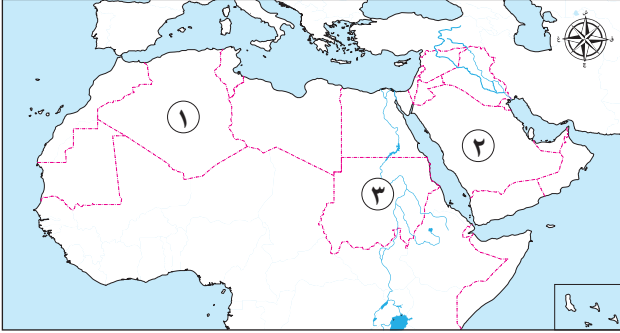
ب **دل على صحة العبارات التالية:**

- ١ ضرب الرسول (ﷺ) مثلًا عظيمًا في التسامح يوم فتح مكة.
- ٢ اتسم عمر بن الخطاب (رضي الله عنه) بالرحمة رغم شدته.
- ٣ تتعدد مشكلات الثروة الحيوانية في الوطن العربي.



السؤال الأول

أ لاحظ خريطة الوطن العربي المقابلة، ثم أجب:



- ١ دولة
- ٢ يشير الرقم (٢) إلى منطقة تقع في إقليم المناخ
- ٣ صواب أم خطأ: توجد أول عاصمة للسياحة العربية في الدولة رقم (٣).

ب بم تفسر أهمية كل من ...؟

- ١ صحيفة المدينة التي وضعها الرسول (ﷺ).
- ٢ رأس المال في قيام الزراعة.

السؤال الثاني

أ اختر الإجابة الصحيحة مما بين القوسين:

- ١ أحد الجبال الالتوائية في الجناح العربي الآسيوي هي جبال
 - ٢ أي من الدول التالية يوجد بها مقر المنظمة العربية للتنمية الزراعية؟
- (الحجاز - أطلس - عسير - كردستان)
(مصر - السودان - ليبيا - الجزائر)

ب ما النتائج المترتبة على ما يلي ...؟

- ١ إيذاء قريش للمسلمين في بداية الدعوة.
- ٢ مرور دائرة الاستواء بجنوب الوطن العربي.

السؤال الثالث

أ أكمل العبارات التالية بما يناسبها من كلمات:

- ١ تعتمد الصناعات الثقيلة والمنشآت والكباري على معدن
- ٢ إنشاء المدن الذكية بالوطن العربي يقلل من انبعاث
- ٣ تستحوذ كل من السعودية والإمارات وعمان على معظم صادرات دولة

ب أجب عما يلي:

- ١ ماذا سيحدث إذا امتدت دول الوطن العربي في قارات آسيا وإفريقيا وأوروبا؟
- ٢ ما العلاقة بين: سكان الوطن العربي ومشكلة ندرة المياه العذبة؟

السؤال الرابع

أ صوب ما تحته خط فيما يلي:

- أول من أشار على الخليفة أبي بكر الصديق (رضي الله عنه) بجمع القرآن الكريم في مصحف هو الزبير بن العوام. (.....)

ب دل على صحة العبارات التالية:

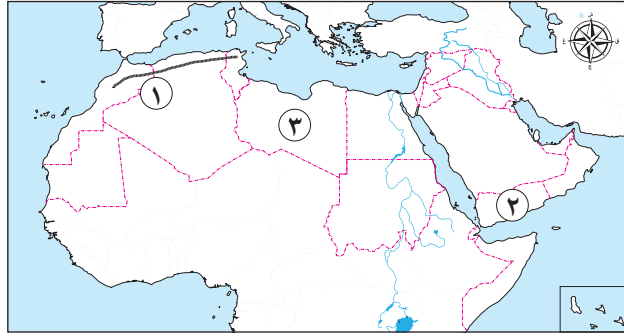
- ١ للتجارة الإلكترونية عدة مخاطر.
- ٢ تبذل الدول العربية جهودًا لتنمية التعدين والصناعة.
- ٣ تتنوع الثروة الحيوانية في السودان.



الامتحان ٤

٣٠

السؤال الأول



- ١ يشير الرقم (١) إلى جبال
- ٢ تحتل الدولة رقم (٢) المركز الأول عربيًا في زراعة
- ٣ صواب أم خطأ: يشير الرقم (٣) إلى إحدى دول الجناح الإفريقي. ()

ب بم تفسر...؟

- ١ تنظيم علي بن أبي طالب (رضي الله عنه) للشرطة.
- ٢ أهمية الأودية الجافة.

السؤال الثاني

- ١ تحول نصر المسلمين إلى هزيمة في غزوة
- ٢ مناخ مدينة الإسكندرية معتدل أكثر من مدينة الرياض بسبب تأثير
- (بدر - الخندق - أحد - تبوك)
- (اتجاه المرتفعات - المسطحات المائية - مدار الجدي - خط جرينتش)

ب ما النتائج المترتبة على ما يلي...؟

- ١ ظهور الإسلام في شبه الجزيرة العربية.
- ٢ زراعة أنواع مميزة من النخيل في واحة سيوة.

السؤال الثالث

- ١ اكتب كلمة (صواب) أمام العبارة الصحيحة، وكلمة (خطأ) أمام العبارة غير الصحيحة:
- () كان تجار مكة يتجهون في فصل الصيف إلى اليمن.
- () يسود الوطن العربي ثلاثة أقاليم مناخية كبرى.
- () تُعد دولة الإمارات أولى الدول العربية إنتاجًا للفوسفات.

ب قارن بين كل مما يلي:

- ١ إقليم مناخ البحر المتوسط وإقليم المناخ الصحراوي الحار من حيث: الخصائص المناخية.
- ٢ السياحة الثقافية والسياحة الرياضية من حيث التعريف مع ذكر مثال لكل منهما.

السؤال الرابع

- ١ - تُعد الأدوات والأجهزة الكهربائية من واردات الوطن العربي.
- (.....)

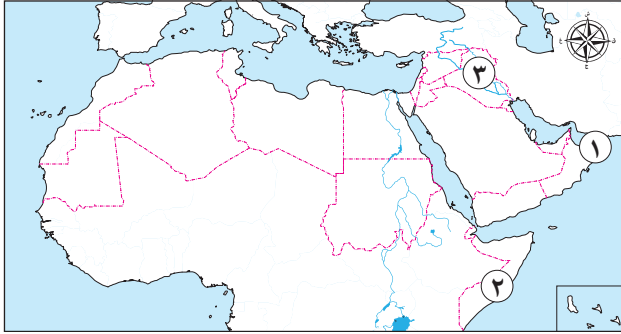
ب أجب عما يلي:

- ١ دلل: قامت على أرض الوطن العربي أقدم الحضارات بالعالم.
- ٢ وضح كيف نجح أبو بكر الصديق (رضي الله عنه) في استعادة وحدة الدولة الإسلامية.
- ٣ ماذا يحدث إذا: زاد اعتماد الدول العربية على الصناعات التحويلية؟



السؤال الأول

أ لاحظ خريطة الوطن العربي المقابلة، ثم أجب:



- ١ خليج
 - ٢ صوب: عانت الدولة رقم (٢) من أكبر موجة سيول. (.....)
 - ٣ صواب أم خطأ: يشير الرقم (٢) إلى أولى الدول العربية في إنتاج البترول. ()
- ب بم تفسر ...؟
- ١ أمر عثمان بن عفان (رضي الله عنه) بجمع القرآن الكريم في مصحف واحد.
 - ٢ أهمية السياحة في الوطن العربي.

السؤال الثاني

أ اختر الإجابة الصحيحة مما بين القوسين:

- ١ بدأت قريش مواجهتها للدعوة الإسلامية بـ
 - ٢ تقع محمية أرز الشوف في دولة
- ب ما النتائج المترتبة على ما يلي ...؟
- ١ مخالفة الرُّمّة لأوامر الرسول (ﷺ) في غزوة أُحد.
 - ٢ تنوع مظاهر سطح الوطن العربي.

السؤال الثالث

أ أكمل العبارات التالية بما يناسبها من كلمات:

- ١ أولى الدول العربية إنتاجًا للمحاصيل السكرية هي
- ٢ تسقط الأمطار على مرتفعات عسير في فصل
- ٣ تشتهر مدينة القيروان في تونس بالسياحة

ب أجب عما يلي:

- ١ وضح جهود الدول العربية لتنمية الثروة الحيوانية.
- ٢ ما المقصود بالتجارة الإلكترونية؟

السؤال الرابع

أ صوب ما تحته خط فيما يلي:

- يوجد مقر المنظمة العربية للتنمية الزراعية في مدينة القاهرة. (.....)

ب دلل على صحة العبارات التالية:

- ١ تعددت أسس بناء الدولة الإسلامية في المدينة.
- ٢ يتوسع الوطن العربي في إنتاج الطاقة المتجددة.
- ٣ تتعرض المحميات الطبيعية بالوطن العربي للعديد من التهديدات البشرية.



سلاح التلهين

منذ عام ١٩٦٠



الدراسات الاجتماعية

2024-2025

الصف السادس الابتدائي الفصل الدراسي الأول

إجابات نماذج امتحانات نهاية الفصل الدراسي الأول
طبقاً لأحدث مواصفة للورقة الامتحانية 2025م

6

إجابة الامتحان |

السؤال الأول:

- أ ١ الهندي. ٢ حضرموت. ٣ صواب.
- ب ١ لأنه يُعد موطن الديانات السماوية (اليهودية، المسيحية، الإسلامية) كما يضم العديد من الأماكن المقدسة ذات الأهمية الدينية الكبيرة، مثل الكعبة المشرفة في السعودية وكنيسة القيامة في فلسطين والأزهر الشريف في مصر.
- ٢ تقوم فيها الزراعة اعتمادًا على المياه الجوفية ويعيش فيها بعض السكان.

السؤال الثاني:

- أ ١ يثرب. ٢ مرتفعات اليمن.
- ب ١ انتصر المسلمون على قُرَيْش رغم قلة عدد المسلمين.
- ٢ هبوب رياح شديدة البرودة من أوروبا شتاءً.

السؤال الثالث:

- أ ١ خارجية. ٢ البحر المتوسط. ٣ مصر.
- ب ١ - **أهم أعمال أبي بكر الصديق** (رضي الله عنه): إرسال جيش أسامة بن زيد (رضي الله عنه) إلى الشام لمحاربة الروم - إرسال عدّة جيوش لمحاربة المرتدين عن الإسلام - جَمْع القرآن الكريم - إرسال الجيوش الإسلامية خارج شبه الجزيرة العربية لنشر الإسلام وتأمين حدود الدولة الإسلامية.
- **أهم أعمال عمر بن الخطاب** (رضي الله عنه): وضع التقويم الهجري - استكمال الفتوحات الإسلامية التي بدأت في عهد الخليفة أبي بكر الصديق (رضي الله عنه) - فتح بلاد العراق وبلاد فارس والشام ومصر - إنشاء عدد من الدواوين.
- ٢ - **أهداف المنظمة العربية للتنمية الزراعية:** تنمية الموارد الطبيعية والبشرية في قطاعي الزراعة والثروة السمكية والأغذية- تسهيل تبادل المنتجات الزراعية والسمكية بين الدول العربية -زيادة الإنتاج الزراعي والسمكي لتحقيق الاكتفاء الذاتي مع مراعاة الاستدامة - دعم إقامة المشاريع والصناعات الزراعية والسمكية.
- **أهداف المنظمة العربية للسياحة:** تنمية صناعة السياحة في الدول العربية وجذب المزيد من السياحة العالمية والسياحة العربية البيئية - توفير الكوادر الفنية المؤهلة، واستثمار التراث الثقافي والمقومات السياحية الغنية في الوطن العربي، تذليل المعوقات التي تواجه الاستثمارات العربية وإيجاد حلول لها وذلك بهدف تنميتها وتطويرها - وتنشيط البحث العلمي وتشجيعه ونشره للمساهمة في تنمية وتطوير السياحة في الوطن العربي.

السؤال الرابع:

- أ العضوية.
- ب ١ حيث اتصف العرب بالشجاعة، والكرم، والوفاء بالعهود.
- ٢ حيث تواجه دول الوطن العربي مشكلات بيئية عديدة، مثل الجفاف والتصحر وندرة المياه العذبة.
- ٣ حيث تتوفر أماكن الاستشفاء والعلاج في مصر مثل العيون الكبريتية في سيوة وعيون موسى، وفي الأردنّ نجد عين ماعين.



إجابة الامتحان ٢

السؤال الأول:

- أ ١ جبل طارق. ٢ الأنهار. ٣ الحديد.
- ب ١ بسبب تخطيط الرسول (ﷺ) الجيد للهجرة، حيث هاجر في سرية تامة في الليل مع صديقه أبي بكر الصديق (رضي الله عنه) وسلكا طريقاً غير معروف حتى وصلا إلى يثرب.
- ٢ بسبب التشابه الكبير بين السلع والخدمات التي تنتجها الدول العربية - عدم تنوع الصادرات العربية - ضعف التكنولوجيا - وجود حواجز جمركية بين الدول العربية - تركيز التبادل التجاري العربي مع دول الجوار.

السؤال الثاني:

- أ ١ الروم. ٢ السودان.
- ب ١ أدى إلى تحكُّم الوطن العربي في أهم طرق التجارة العالمية، وطمع الكثير من الدول للسيطرة على ثرواته على مر العصور.
- ٢ نشأت الجبال الانكسارية في الوطن العربي، مثل جبال البحر الأحمر في مصر والسودان وسلاسل جبال الحجاز وعسير ومرتفعات اليمن في شبه الجزيرة العربية.

السؤال الثالث:

- أ ١ الصحراوي الحار. ٢ السعودية. ٣ البيئية.
- ب ١ هم الذين رفضوا دفع الزكاة، وادعى البعض منهم النبوة مثل مُسَيِّمة الكذاب.
- ٢ أجب بنفسك.

السؤال الرابع:

- أ خطأ.
- ب ١ حيث عفا الرسول (ﷺ) عن أهل مكة وأعطاهم الأمان، رغم إيذائهم له ولأصحابه وقال لهم «انهبوا فأنتم الطلقاء» ونتيجة لعفو الرسول (ﷺ) بدأ الناس يدخلون الإسلام أفواجا.
- ٢ حيث إنَّه عندما جاء إليه رجل يهودي كبير السنَّ يسأله الحاجة ورفع الجزية؛ أعطاه ما يكفيه وأرسل لخازن بيت المال يأمره برفع الجزية عن هذا الرجل وكلَّ من يماثله.
- ٣ تواجه الثروة الحيوانية في الوطن العربي العديد من المشكلات، مثل التأثيرات السلبية للتغيرات المناخية وما يصاحبها من قلة الأمطار وانتشار الجفاف والتصحر على أعداد الحيوانات، بالإضافة إلى فقر المراعي، والرعي الجائر للحيوانات واتباع أساليب الرعي التقليدية، وقلة الأعلاف.



إجابة الامتحان ٣

السؤال الأول:

- أ ١ الجزائر. ٢ الصحراوي الحار. ٣ خطأ.
- ب ١ أدت إلى تنظيم شئون المسلمين فيما بينهم - تنظيم علاقة المسلمين بالطوائف الأخرى الموجودة في المدينة خاصة اليهود وتحديد ما لهم من حقوق وما عليهم من واجبات تجاه الدولة.
- ٢ يُستخدم في إقامة المشروعات الزراعية، وشراء الآلات الزراعية والبذور والأسمدة.

السؤال الثاني:

- أ ١ كردستان. ٢ السودان.
- ب ١ حَتَّ الرسول (ﷺ) المسلمين على الصَّبْر والتَّحَمُّل - أَمَرَ أصحابه بالهِجْرَة إلى الحَبَشَة لأن فيها ملكاً عادلاً يُلقَّب بـ «النجاشي» - لجأ إلى نشر دعوته بين القبائل العربية التي تَفِد إلى مكة في موسم الحج.
- ٢ ارتفاع درجات الحرارة في المناطق الجنوبية من الوطن العربي، وانخفاض درجات الحرارة كلما اتَّجَّهنا شمالاً، لذلك يسود المناخ الحارّ في معظم أجزاء الوطن العربي، بينما يسود المناخ المعتدل في الأجزاء الشمالية.

السؤال الثالث:

- أ ١ الحديد. ٢ الغازات الدفيئة. ٣ البحرين.
- ب ١ أجب بنفسك.
- ٢ يؤدي النمو السكاني المتزايد في معظم الدول العربية إلى ندرة المياه العذبة، نتيجة لتزايد معدلات استهلاك المياه.

السؤال الرابع:

- أ عمر بن الخطاب (رضي الله عنه).
- ب ١ منها عمليات النصب والاحتيال التي قد يتعرض لها الأفراد والشركات كذلك اختراق خصوصية العميل وسرقة بياناته.
- ٢ الاهتمام بالتعليم والبحث العلمي في مجالي التعدين والصناعة - تحديث البنية التحتية - استخدام التكنولوجيا الحديثة - زيادة الاعتماد على مصادر الطاقة النظيفة - إنشاء مدن ومناطق صناعية ذكية.
- ٣ حيث تُعد السودان أولى الدول العربية في تربية كل من الأبقار والأغنام والماعز والخيول.



إجابة الامتحان ٤

السؤال الأول:

- أ ١ أطلس. ٢ البن. ٣ صواب.
- ب ١ للحفاظ على أمن وسلامة المواطنين، ولحراسة بيت المال.
- ٢ تُستخدم كطرق للمواصلات - نحصل منها على المياه الجوفية.

السؤال الثاني:

- أ ١ أحد. ٢ المسطحات المائية.
- ب ١ أدى إلى تغيير حياة سكان شبه الجزيرة العربية نحو الأفضل، واختفت العادات السيئة وانتشر بين العرب العديد من القيم والأخلاق الحميدة.
- ٢ أعلنت منظمة الأغذية والزراعة للأمم المتحدة (الفاو) واحة سيوة موقعًا للتراث الزراعي العالمي.

السؤال الثالث:

- أ ١ خطأ. ٢ صواب. ٣ خطأ.
- ب ١ - خصائص إقليم مناخ البحر المتوسط: يتسم بصيف حار جاف، وشتاء دافئ وممطر.
- خصائص إقليم المناخ الصحراوي الحار: يتسم بندرة الأمطار طوال السنة والتي قد تسقط على هيئة سيول في بعض المناطق - يتسم فصل الصيف بشدة الحرارة التي تصل إلى أكثر من ٥٠ درجة مئوية - فصل الشتاء معتدل نهارًا وشديد البرودة ليلاً حيث تصل درجة الحرارة إلى ما دون الصفر المئوي في بعض المناطق.
- ٢ - السياحة الثقافية: تشمل زيارة المواقع الأثرية والتراثية، مثل مدينة الأقصر بمصر وتدمر بسوريا.
- السياحة الرياضية: تتمثل في حضور المسابقات الرياضية المختلفة مثل: بطولة كأس الأمم الإفريقية لكرة اليد في مصر عام ٢٠٢٢ م.

السؤال الرابع:

- أ صادرات.
- ب ١ حيث قامت على أرضه الحضارة المصرية القديمة (في الجناح الإفريقي) وحضارة بلاد العراق القديم (في الجناح الآسيوي).
- ٢ عندما تولى أبو بكر الصديق (رضي الله عنه) الخلافة أظهر قدرة فائقة في إدارة شؤون الدولة، التي تعرضت في ذلك الوقت لانقسام خطير بسبب ظهور المرتدين فأعاد للدولة وحدتها وأمنها، ووجه طاقتها إلى فتح بلاد العراق والشام.
- ٣ أجب بنفسك.



إجابة الامتحان ٥

السؤال الأول:

- أ ١ عمان. ٢ جفاف. ٣ خطأ.
- ب ١ لتوحيد قراءة القرآن الكريم. ٢ تساعد على التبادل الثقافي - توفر العملات الأجنبية - توفر فرص عمل في السياحة والقطاعات ذات الصلة مثل شركات الطيران والفنادق والمطاعم والمتاجر.

السؤال الثاني:

- أ ١ إيذاء النبي (ﷺ). ٢ لبنان. ٣ التحافية.
- ب ١ تحول نصر المسلمين إلى هزيمة. ٢ أدى التنوع الفريد في مظاهر سطح الوطن العربي إلى تنوع الأنشطة الاقتصادية.

السؤال الثالث:

- أ ١ مصر. ٢ الصيف. ٣ الثقافية.
- ب ١ أجب بنفسك. ٢ تبادل السلع والخدمات باستخدام شبكة المعلومات الدولية (الإنترنت).

السؤال الرابع:

- أ الخرطوم.
- ب ١ بدأ الرسول (ﷺ) في وضع أسس لبناء دولة موحدة قائمة على النظام والعدل فقام ببناء المسجد والمؤاخاة بين المهاجرين والأنصار كما وضع صحيفة المدينة. ٢ حيث يتوسع الوطن العربي في إنتاج الطاقة الكهرومائية والطاقة الشمسية وطاقة الرياح والهيدروجين الأخضر. ٣ حيث تتعرض المحميات الطبيعية بالوطن العربي لأخطار الرعي الجائر والصيد الجائر والتلوث البيئي.



سلاح التلميز

منذ عام ١٩٦٠



التربية الدينية الإسلامية

2024-2025

الصف السادس الابتدائي
الفصل الدراسي الأول
نماذج اختبارات
نهاية الفصل الدراسي الأول

6

نموذج ١

أولاً: القرآن الكريم اقرأ الآيتين الكريمتين، ثم أجب:

قال (تعالى): ﴿لَا يَسْتَوِي أَصْحَابُ النَّارِ وَأَصْحَابُ الْجَنَّةِ أَصْحَابُ الْجَنَّةِ هُمْ لِرَأْيَتِهِمْ خَدِيعًا مُتَّصِدًا وَمَنْ خَشِيَ اللَّهَ وَتِلْكَ الْأَمْثَلُ لِلنَّاسِ لَعَلَّهُمْ يَتَفَكَّرُونَ﴾ ﴿١١﴾ لَوْ أَنْزَلْنَا هَذَا الْقُرْآنَ عَلَى جَبَلٍ

أ) اكتب المحذوف من الآيتين الكريمتين.

ب) اختر الإجابة الصحيحة مما بين القوسين:

١) معنى ﴿مُتَّصِدًا﴾: (ساكنًا - زائلًا - متشققًا - متماسكًا)

٢) حكم الميم الساكنة في ﴿لَعَلَّهُمْ يَتَفَكَّرُونَ﴾ الشفوي. (الإظهار - الإدغام - الإخفاء - الإقلاب)

ج) ما الحكمة من ضرب الله ﷻ الأمثال للناس؟

د) ما واجبنا نحو القرآن الكريم؟

ثانياً: الحديث الشريف اقرأ الحديث الشريف، ثم أجب:

قال ﷺ: «كُلُّ ابْنِ آدَمَ حَطَّاءٌ، وَخَيْرٌ.....»

أ) اكتب المحذوف من الحديث الشريف.

ب) ضع علامة (✓) أمام العبارة الصحيحة، وعلامة (X) أمام العبارة الخطأ:

١) من صفات النفس البشرية ارتكاب الأخطاء. ()

٢) يسارع المؤمنون الصادقون إلى التوبة. ()

ج) إلام يرشدنا الحديث الشريف؟

ثالثاً: العقيدة أجب عما يلي:

أ) أكمل مكان النقط بالكلمة المناسبة:

١) للإنسان القدرة على إصلاح والتعلم منها.

٢) من أسماء الله الحسنى التي تدل على واسع رحمته الرحيم.

٣) الرسل من الخطأ.



ب) كيف تكون رحيماً بأسرتك؟

رابعاً: العبادات

أجب عما يلي:

أ) ضع علامة (✓) أمام العبارة الصحيحة، وعلامة (X) أمام العبارة الخطأ:

()

١) حسن الخلق عبادة مثل الصلاة والصوم.

()

٢) ينقطع بر المسلم بوالديه بعد موتهما.

ب) أجب عن السؤالين الآتيين:

١) اذكر مثلاً للعبادات المالية.

٢) ما الفرق بين الذكر المطلق والذكر المقيد؟

خامساً: السير والشخصيات

أجب عما يلي:

أ) اختر الإجابة الصحيحة مما بين القوسين:

(القدس - الناصرة - بيت لحم - نابلس)

• ولدت السيدة مريم بمدينة بفلسطين.

ب) هل رضي المسلمون ببنود صلح الحديبية في أول الأمر؟ ولماذا؟



نموذج ٢

أولاً: القرآن الكريم اقرأ الآية الكريمة، ثم أجب:

قال (تعالى): ﴿وَقَضَىٰ رَبُّكَ أَلَّا تَعْبُدُوا إِلَّا إِيَّاهُ وَبِالْوَالِدَيْنِ إِحْسَانًا...﴾ إِمَّا يَلْعَنَنَّ عِنْدَكَ الْكِبَرَ أَحَدُهُمَا أَوْ كِلَاهُمَا فَلَا تَقُلْ لَهُمَا أُفٍّ وَلَا نَهْرَهُمَا وَقُلْ لَهُمَا قَوْلًا ﴿٢٣﴾

أ) اكتب المحذوف من الآية الكريمة.

ب) اختر الإجابة الصحيحة مما بين القوسين:

١) ترشدنا الآيتان إلى (إكرام الضيف - المحافظة على الصلاة - صيام رمضان - بر الوالدين)

٢) معنى ﴿قَضَىٰ﴾: (أمر وحكم - فصل بين المتخاصمين - قدر - خير الإنسان)

ج) ما حكم الاستعاذة في بداية التلاوة في أول السور؟

د) ماذا يعني بر الوالدين؟

ثانياً: الحديث الشريف اقرأ الحديث الشريف، ثم أجب:

قال ﷺ: «أَتَذَرُونَ مَا الْغَيْبَةُ؟» قَالُوا: اللَّهُ وَرَسُولُهُ ، قَالَ: «ذِكْرُكَ أَخَاكَ بِمَا».

أ) اكتب المحذوف من الحديث الشريف.

ب) ضع علامة (✓) أمام العبارة الصحيحة، وعلامة (X) أمام العبارة الخاطئة:

١) الصديق الصالح يذكر صديقه بسوء في غيابه. ()

٢) يبتعد الناس عن الشخص المؤذي الذي لا يراعي آداب الصحبة. ()

ج) ما أدب الصحبة الذي يرشدنا إليه الحديث الشريف؟

ثالثاً: العقيدة أجب عما يلي:

أ) أكمل مكان النقط بالكلمة المناسبة:

١) من واجبنا نحو القرآن الكريم تلاوته وتدبر والعمل به.

٢) إذا أخطأ الإنسان فعليه أن لربه ﷻ.

٣) من وظائف الرسل تبليغ الله (تعالى) للناس.



ب) ماذا تقول لشخص لا يعطي نفسه القدر الكافي من الراحة؟

رابعًا: العبادات

أجب عمًا يلي:

أ) ضع علامة (✓) أمام العبارة الصحيحة، وعلامة (X) أمام العبارة الخاطئة:

١) إلقاء السلام من أمثلة الكلمة الطيبة. ()

٢) حسن الظن هو الحكم بأن شخصًا سيئ بلا دليل. ()

ب) أجب عن السؤالين الآتيين:

١) اذكر وسيلتين لبر الوالدين بعد موتهما.

٢) كيف تؤدي حق صاحبك عليك؟

خامسًا: السير والشخصيات

أجب عمًا يلي:

أ) اختر الإجابة الصحيحة مما بين القوسين:

• بعث الله سيدنا عيسى عليه السلام رسولاً إلى (عاد - ثمود - بني إسرائيل - مدين)

ب) كم استمر حصار الأحزاب للمدينة؟



نموذج ٣

أولاً: القرآن الكريم اقرأ الآية الكريمة، ثم أجب:

قال (تعالى): ﴿يَرْفَعُ اللَّهُ الَّذِينَ مِنْكُمْ وَالَّذِينَ دَرَجَاتٍ وَاللَّهُ بِمَا تَعْمَلُونَ خَبِيرٌ﴾ (١١)

أ) اكتب المحذوف من الآية الكريمة.

ب) اختر الإجابة الصحيحة مما بين القوسين:

١) تشير الآية إلى أن من أسباب رفع الدرجات في الجنة (النسب - العلم - المال - القوة)

٢) حكم الميم الملونة الشفوي. (الإظهار - الإخفاء - الإدغام - الإقلاب)

ج) علام تحت الآية الكريمة المسلم؟

د) كيف تقنع طالباً كسولاً أن يجتهد في طلب العلم وفق فهمك الآية الكريمة؟

ثانياً: الحديث الشريف اقرأ الحديث الشريف، ثم أجب:

قال ﷺ: «الْمُسْلِمُ مَنْ الْمُسْلِمُونَ مِنْ وَيَدِهِ».

أ) اكتب المحذوف من الحديث الشريف.

ب) ضع علامة (✓) أمام العبارة الصحيحة، وعلامة (X) أمام العبارة الخطأ:

١) الأخلاق الحسنة من أهم صفات المسلم. ()

٢) مفهوم العبادة محصور في الصلاة والصوم. ()

ج) كيف تكون علاقة المسلم بالناس وفق الحديث الشريف؟

ثالثاً: العقيدة أجب عما يلي:

أ) أكمل مكان النقط بالكلمة المناسبة:

١) من رحمة الله ﷻ بالمؤمنين في الآخرة النبي ﷺ.

٢) الله ﷻ يعلم ما سيحدث في المستقبل؛ لأنه عليم ب.....

٣) جاء جميع الرسل والأنبياء بدعوة واحدة وهي والاستسلام لله ﷻ.



ب) لماذا تنصح صديقك إذا وقع في ذنب؟

رابعًا: العبادات

أجب عمًا يلي:

أ) ضع علامة (✓) أمام العبارة الصحيحة، وعلامة (X) أمام العبارة الخاطئة:

١) صوم ثلاثة أيام من كل شهر فرض. ()

٢) من آداب بر الوالدين طاعتها وقضاء الوقت معها. ()

ب) أجب عن السؤالين الآتيين:

١) اذكر اثنتين من العبادات القلبية.

٢) كيف تختار أصدقاءك؟

خامسًا: السير والشخصيات

أجب عمًا يلي:

أ) اختر الإجابة الصحيحة مما بين القوسين:

• المرأة التي أخذ رسول الله ﷺ برأيها في صلح الحديبية هي السيدة رضي الله عنها

(عائشة - أم سلمة - حفصة - زينب)

ب) ماذا تعلمت من دراستك لشخصية سلمان الفارسي رضي الله عنه ؟



نموذج ٤

أولاً: القرآن الكريم اقرأ الآية الكريمة، ثم أجب:

قال (تعالى): ﴿وَقَضَىٰ رَبُّكَ أَلَّا تَعْبُدُوا إِلَّا إِيَّاهُ وَبِالْوَالِدَيْنِ إِحْسَانًا إِمَّا يَبُلُغَنَّ عِنْدَكَ الْكِبَرَ فَلَا تَقُلْ لَهُمَا

أُفٍّ وَلَا نَهْرَهُمَا وَقُلْ لَهُمَا

أ) اكتب المحذوف من الآية الكريمة.

ب) اختر الإجابة الصحيحة مما بين القوسين:

١) ﴿لَا نَهْرَهُمَا﴾: أي لا ترد عليهما

(بسوء أدب - بهدوء - بانتظام - بدون فهم)

٢) ذكر الله ﷻ بر الوالدين بعد العبادة؛ لبيان البر.

(صعوبة - وسيلة - طريقة - أهمية)

ج) ما حكم قراءة البسملة في منتصف السورة؟

د) ماذا يجب عليك أن تفعل تجاه والديك وفق فهمك الآية الكريمة؟

ثانياً: الحديث الشريف اقرأ الحديث الشريف، ثم أجب:

قال ﷺ: «مَا مِنْ مُسْلِمٍ عَرَسَ فَأَكَلَ مِنْهُ إِنْسَانٌ أَوْ إِلَّا كَانَ لَهُ بِهِ صَدَقَةٌ».

أ) اكتب المحذوف من الحديث الشريف.

ب) ضع علامة (✓) أمام العبارة الصحيحة، وعلامة (X) أمام العبارة الخاطئة:

١) الرفق بالحيوان من الأعمال الصالحة التي يُثاب فاعلها. ()

٢) ليس من مهام الإنسان الحفاظ على البيئة. ()

ج) كيف تكون علاقة المسلم بالكون وفق الحديث الشريف؟

ثالثاً: العقيدة اكتب عما يلي:

أ) أكمل مكان النقط بالكلمة المناسبة:

١) اسم الله يعني الذي لا يخفى عليه شيء.

٢) يبعث الله (تعالى) بكتاب سماوي.



٣ أعد الله (تعالى) لعباده الصالحين.

ب اذكر ثلاثاً من صفات الرسل.

رابعاً: العبادات

أجب عمّا يلي:

أ ضَعْ علامة (✓) أمام العبارة الصحيحة، وعلامة (X) أمام العبارة الخاطئة:

()

١ صوم رمضان من العبادات المفروضة.

()

٢ حسن الظن بالناس يؤدي إلى كثرة الخلافات بينهم.

ب أجب عن السؤالين الآتيين:

١ اذكر صورتين من صور الذكر المقيد.

٢ كيف نحسن الظن بالله (تعالى)؟

خامساً: السير والشخصيات

أجب عمّا يلي:

أ اختر الإجابة الصحيحة مما بين القوسين:

• لقب رضي الله عنه بالباحث عن الحقيقة.

(سلمان الفارس - أبو بكر الصديق - عمر بن الخطاب - بلال بن رباح)

ب ما الدليل على تكريم الله (تعالى) للسيدة مريم؟



نموذج 0

أولاً: القرآن الكريم اقرأ الآية الكريمة، ثم أجب:

قال (تعالى): ﴿لَا يُكَلِّفُ اللَّهُ نَفْسًا إِلَّا وُسْعَهَا لَهَا..... وَعَلَيْهَا..... رَبَّنَا لَا تُؤَاخِذْنَا إِنْ نَسِينَا أَوْ
أَخْطَأْنَا رَبَّنَا وَلَا تَحْمِلْ عَلَيْنَا إَصْرًا كَمَا حَمَلْتَهُ عَلَى الَّذِينَ مِنْ قَبْلِنَا رَبَّنَا وَلَا تُحَمِّلْنَا
وَأَرْحَمْنَا أَنْتَ مَوْلَانَا فَانصُرْنَا عَلَى الْقَوْمِ الْكَافِرِينَ﴾ (٣٨٦)

أ) اكتب المحذوف من الآية الكريمة.

ب) اختر الإجابة الصحيحة مما بين القوسين:

١) معنى ﴿إَصْرًا﴾: (طريقاً طويلاً - عبئاً ثقيلاً - حزناً شديداً - غضباً كثيراً)

٢) ورد في الحديث أن من قرأ الآية السابقة وما قبلها في ليلة (أرشدتاه - أسعدتاه - علمتاه - كفتاه)

ج) عند تلاوة عدة سور متى تستحب الاستعاذة؟

د) كيف يجازي الله ﷻ المحسنين والمسيئين؟

ثانياً: الحديث الشريف اقرأ الحديث الشريف، ثم أجب:

قال رسول الله ﷺ: «مَنْ قَرَأَ حَرْفًا مِنْ..... فَلَهُ بِهِ حَسَنَةٌ، وَالْحَسَنَةُ بِ..... أَمْثَالِهَا، لَا أَقُولُ
(الم) حَرْفٌ، وَلَكِنْ أَلِفٌ حَرْفٌ، وَلَا مٌ حَرْفٌ، وَمِيمٌ حَرْفٌ».

أ) اكتب المحذوف من الحديث الشريف.

ب) ضع علامة (✓) أمام العبارة الصحيحة، وعلامة (X) أمام العبارة الخطأ:

١) واجبنا نحو القرآن أن نقرأه ونتدبر معانيه ونعمل به. ()

٢) تلاوة القرآن من العبادات القولية. ()

ج) إلام يرشدنا الحديث الشريف؟

ثالثاً: العقيدة أجب عما يلي:

أ) أكمل مكان النقط بالكلمة المناسبة:

١) من الممكن أن يكون الخطأ فرصة ل.....



٢ الإنسان مكلف بعبادة الله (تعالى) وب..... الأرض.

٣ كل الرسل دعوا أقوامهم إلى تزكية..... وحسن معاملة الخلق.

ب ما أثر الإيمان باسم الله (العليم) في حياتنا؟

رابعا: العبادات أجِبْ عمَّا يلي:

أ ضَعْ علامة (✓) أمام العبارة الصحيحة، وعلامة (X) أمام العبارة الخاطئة:

١ من ثمرات العبادة محبة الله (تعالى). ()

٢ إخلاص النية يتحقق عندما يكون هدفنا إعجاب الناس. ()

ب أجِبْ عن السؤالين الآتيين:

١ بم شبه الرسول ﷺ الصاحب الصالح؟

٢ ما الفرق بين الذكر المطلق والذكر المقيد؟

خامسا: السير والشخصيات أجِبْ عمَّا يلي:

أ اختر الإجابة الصحيحة مما بين القوسين:

• تكفل نبي الله ﷺ برعاية السيدة مريم. (يحيى - موسى - زكريا - سليمان)

ب اذكر درساً من الدروس المستفادة من غزوة الخندق.



سلاح التمهيد

منذ عام ١٩٦٠



التربية
الدينية
الإسلامية

2024-2025

الصف السادس الابتدائي
الفصل الدراسي الأول

إجابات نماذج اختبارات
نهاية الفصل الدراسي الأول

6

نموذج ١

أولاً: القرآن الكريم

- أ) الفائزون - نضربها
ب) ١) متشققاً ٢) الإظهار
ج) لينفكروا في قدرته وعظمته.
د) تلاوته - تدبر معانيه - العمل به

ثانياً: الحديث الشريف

- أ) الخطائين التوابون.
ب) ١) ✓ ٢) ✓
ج) يرشدنا الحديث الشريف إلى التوبة من الأخطاء.

ثالثاً: العقيدة

- أ) ١) أخطائه ٢) الرحمن ٣) معصومون
ب) بمساعدة أسرتي في أعمال المنزل، والاعتذار إن أخطأت، وبالتعبير لهم عن حبي.

رابعاً: العبادات

- أ) ١) ✓ ٢) ✗
ب) ١) الزكاة ٢) الذكر المقيد يقال في أوقات أو عند أفعال محددة، أما المطلق فليس له وقت أو موقف محدد ويكون طوال اليوم.

خامساً: السير والشخصيات

- أ) الناصرة
ب) لم يكن غالبية المسلمين راضين بينود الصلح مع قريش، وغلب عليهم الحزن لعودتهم إلى المدينة من دون أداء العمرة، لكنهم صبروا وكانوا على يقين بأن الله ﷻ سينصرهم بنصرة رسوله الكريم ﷺ.

نموذج ٢

أولاً: القرآن الكريم

- أ) إحساناً - كريماً
ب) ١) بر الوالدين ٢) أمر وحكم
ج) مستحبة
د) الإحسان إليهما بالقول والفعل الطيبين.

ثانياً: الحديث الشريف

- أ) أعلم - يكره
ب) ١) ✓ ٢) ✓
ج) يرشدنا الحديث الشريف إلى عدم ذكر الصديق بسوء في غيابه.

ثالثاً: العقيدة

- أ) ١) معانيه ٢) يتوب ٣) وحي
ب) أقول له إن من حق النفس على الإنسان أن يعطيها القدر الكافي من الراحة.

رابعاً: العبادات

- أ) ١) ✓ ٢) ✗
ب) ١) الدعاء لهما والإحسان إلى أقاربهما.
٢) - مداومة الاحترام والبعد عن الألفاظ المهينة، خاصة وقت الخلاف.
- مراعاة الوفاء بالوعد؛ حتى يسود الاطمئنان والثقة.
- العفو والتسامح وقبول الاعتذار.
- الدعاء له.

خامساً: السير والشخصيات

- أ) بني إسرائيل
ب) استمر الحصار لما يقارب الشهر.



نموذج ٣

أولاً: القرآن الكريم

أ أمنوا - أوتوا العلم

ب العلم ١

٢ الإظهار

ج الآية الكريمة تحت المسلم على طلب العلم.

د أقول له: إن العلم يرفع مكانة الإنسان في الدنيا والآخرة.

ثانياً: الحديث الشريف

أ سلم - لسانه

ب ١ ✓

٢ ✗

ج علاقة المسلم بالناس مبنية على المعاملة الحسنة

والتعايش بسلام ورحمة وحب.

ثالثاً: العقيدة

أ ١ شفاعة

ب بالتوبة إلى الله والاستغفار من الذنب.

٢ الغيب

٣ التوحيد

رابعاً: العبادات

أ ١ ✗

ب حسن الظن بالله وحسن الظن بالناس.

٢ أختار الأصدقاء الصالحين الذين يتصفون بحسن

الخلق.

خامساً: السير والشخصيات

أ أم سلمة

ب نتعلم البحث عن الحقيقة والصبر على طلب العلم.

نموذج ٤

أولاً: القرآن الكريم

أ أحدهما أو كلاهما - قولاً كريماً

ب ١ بسوء أدب

٢ أهمية

ج مستحبة

د يجب عليّ بر الوالدين والإحسان إليهما، وعدم التلفظ

بأي شيء يغضبهما.

ثانياً: الحديث الشريف

أ ١ غرساً - دابة

ب ١ ✓

٢ ✗

ج علاقة المسلم بالكون مبنية على إعمارها، وفعل كل ما فيه

خير للكون.

ثالثاً: العقيدة

أ ١ العليم

٢ الرسول

٣ الجنة

ب الصدق - الأمانة - الرحمة بجميع الخلق

رابعاً: العبادات

أ ١ ✓

٢ ✗

ب ١ أذكار الصباح والمساء - أذكار ما بعد أداء الصلاة

٢ بأن أدعوه وأنا واثق بأنه يستجيب لي، وأثق بأنه

(تعالى) يدبر لي الخير.

خامساً: السير والشخصيات

أ سلمان الفارسي

ب هي الوحيدة التي ذكرت في القرآن باسمها من

النساء، وهي من أفضل نساء أهل الجنة، ومن

أفضل سيدات العالمين، وهي الوحيدة التي حملت

وولدت وهي عذراء.

نموذج ٥

أولاً: القرآن الكريم

أ ما كسبت - ما اكتسبت - ما لا طاقة لنا به



ب (١) عبثًا ثقيلًا

ب (٢) كفتاه

ج في بداية التلاوة.

د يكافئنا الله بالحسنات على الأفعال والكلمات الطيبة،

ويجازي بالسيئات على الكلمات والأفعال البذيئة.

ثانيًا: الحديث الشريف

أ كتاب الله - عشر

ب (٢) ✓

ب (١) ✓

ج يرشدنا الحديث الشريف إلى فضل تلاوة القرآن الكريم.

ثالثًا: العقيدة

أ (١) التعلم

ب (٢) عمارة

ب (٣) النفس

ب • أن نطمئن لعلم الله (تعالى)؛ فهو الأعم بما ينفعنا.

• ألا نخاف على مستقبلنا؛ فالله (تعالى) معنا.

• الله (تعالى) قادر على حمايتنا من أي أذى لو أراد أحد

بنا سوءًا.

رابعًا: العبادات

ب (٢) X

أ (١) ✓

ب (١) بحامل المسك

ب (٢) الذكر المطلق هو ذكر الله (تعالى) طوال اليوم وفي أي

وقت بلا تحديد، كالتسبيح والتحميد والتكبير، والصلاة

على رسول الله ﷺ .

الذكر المقيد هو ذكر الله (تعالى) في أوقات محددة

أو عند أفعال معينة، مثل أذكار ما بعد الصلاة وأذكار

الطعام وأذكار الصباح والمساء وأذكار النوم.

خامسًا: السير والشخصيات

أ زكريا

ب التعاون وتحمل المسؤولية صفتان للمجتمع المتقدم.



سلاح التمهيد

منذ عام ١٩٦٠



تكنولوجيا المعلومات والاتصالات

2024-2025

الصف السادس الابتدائي الفصل الدراسي الأول

نماذج اختبارات نهاية الفصل الدراسي الأول
طبقاً لآخر مواصفة للورقة الامتحانية

6

الاختبار 1

السؤال الأول

ضع علامة (✓) أمام العبارة الصحيحة، وعلامة (X) أمام العبارة غير الصحيحة:

- 1) تستخدم لغة ترميز النص التشعبي لإنشاء صفحات الويب. ()
- 2) برنامج التعرف على الوجه سيجري مسحاً لليد باستخدام الكاميرا. ()
- 3) يعتبر سكايب من أمثلة الحوسبة السحابية. ()
- 4) الإفراط في اللعب إلكترونياً لا يسبب القلق والاكتئاب. ()
- 5) تشمل حقوق الطبع والنشر الأعمال المكتوبة والمرئية والمسموعة. ()
- 6) يعتبر Outlook من تطبيقات Microsoft 365. ()
- 7) تُستخدم برامج مكافحة الفيروسات للتعامل مع التهديدات السيبرانية. ()

السؤال الثاني

اختر الإجابة الصحيحة من بين الاختيارات التالية:

- 1) أصبحت منصات أمراً شائعاً مع انتشار الإنترنت.
أ) المجلات الورقية ب) التداول المالي الإلكتروني ج) الرسم الورقي د) الكتب الورقية
- 2) يعتبر أداة من أدوات التحرير الرقمي المفيدة.
أ) محرك البحث ب) فهرس المكتبة ج) النسخ د) بنك المعرفة المصري
- 3) يعتبر نظام التشغيل Apple iOS نظاماً
أ) مفتوح المصدر ب) يمكن تعديله ج) مغلق المصدر د) يمكن قراءته
- 4) جهاز يصل شبكة محلية (LAN) بالإنترنت هو
أ) المحول ب) الكمبيوتر ج) المودم د) التليفون
- 5) يعتبر أحد أمثلة الحياة الواقعية.
أ) اللعب إلكترونياً ب) التواصل بالفيديو ج) استخدام الإنترنت د) قضاء الوقت مع الأسرة
- 6) كلمات المرور التي تتكون من 8 حروف وأرقام هي الأكثر
أ) اختراقاً ب) أماناً ج) مشاركة د) تداولاً
- 7) لغة الآلة البسيطة تسمى بـ
أ) النظام الثلاثي ب) النظام الثنائي ج) النظام الثنائي د) النظام البسيط
- 8) يعتبر استخدام أحد إجراءات المصادقة متعددة العوامل.
أ) لوحة المفاتيح ب) محادثة الفيديو ج) القرصنة د) بصمة الإصبع



الاختبار 2

السؤال الأول

ضع علامة (✓) أمام العبارة الصحيحة، وعلامة (X) أمام العبارة غير الصحيحة:

- 1) تربط شبكة الكمبيوتر أجهزة الكمبيوتر ببعضها لمشاركة المعلومات. ()
- 2) يفضل التواصل عبر الإنترنت مع أشخاص لا تعرفهم. ()
- 3) يعتبر فهرس مكتبة الإسكندرية مثلاً على قاعدة بيانات. ()
- 4) يسمح المحول للأجهزة السلكية بالاتصال بشبكة. ()
- 5) الواقع الافتراضي هو بيئة حقيقية تسمح للمستخدمين باستكشاف محيطهم. ()
- 6) تتطلب المصادقة متعددة العوامل طريقتين على الأقل لتحديد الهوية. ()
- 7) يمكن استخدام الذكاء الاصطناعي في تحسين الحياة اليومية. ()

السؤال الثاني

اختر الإجابة الصحيحة من بين الاختيارات التالية:

- 1) تتكون وسوم لغة ترميز النص التشعبي من أجزاء رئيسية.
 أ أربعة ب خمسة ج ثلاثة د سبعة
- 2) يعتبر من أمثلة الحوسبة السحابية.
 أ جوجل درايف ب فيسبوك ج واتساب د يوتيوب
- 3) الإفراط في لعب الألعاب الإلكترونية يتسبب في بعض المخاطر مثل الصداع.
 أ الجسدية ب العدوانية ج النفسية د العصبية
- 4) نظام التشغيل يعمل على غالبية أجهزة الكمبيوتر عالمياً.
 أ Android ب Windows ج macOS د Apple iOS
- 5) يستخدم تطبيق لحفظ الملفات ومشاركتها عبر الإنترنت.
 أ Outlook ب OneDrive ج Word د Facebook
- 6) استخدام متصفحات الإنترنت الآمنة من احتياطات
 أ الأمن السيبراني ب الهجمات الإلكترونية ج التصيد الاحتيالي د الهجمات السيبرانية
- 7) تتكون لغة من عناصر أساسية لإنشاء صفحة الويب.
 أ HTCL ب HTML ج iOS د Android
- 8) لإنشاء كلمة مرور قوية يجب أن تتكون من
 أ حروف فقط ب أرقام فقط ج 5 حروف د حروف وأرقام ورموز



الاختبار 3

السؤال الأول

ضع علامة (✓) أمام العبارة الصحيحة، وعلامة (X) أمام العبارة غير الصحيحة:

- 1) يعتمد المستثمرون في البيئات التقليدية على روبوتات الاستشارة. ()
- 2) تسمى لغة الآلة بالنظام الثنائي. ()
- 3) تعتبر منصة OneDrive مثالاً على الحوسبة السحابية. ()
- 4) تقرأ متصفحات الويب المستندات المكتوبة بلغة (HTML). ()
- 5) تُستخدم المحولات لإرسال البيانات إلى جهاز معين داخل شبكة واحدة. ()
- 6) يفضل استبدال أنشطة الحياة الواقعية بالألعاب الإلكترونية. ()
- 7) يمكن استخدام الذكاء الاصطناعي لكتابة مقال ما. ()

السؤال الثاني

اختر الإجابة الصحيحة من بين الاختيارات التالية:

- 1) لا تشارك على الإنترنت.
أ الآراء ب الحقائق ج المعلومات العامة د المعلومات الشخصية
- 2) تطبيقات كمبيوترية تؤدي مهام تحاكي بها تفكير العنصر البشري وأدائه تسمى ب
أ الذكاء الاصطناعي ب قواعد البيانات ج الشبكات د المحركات
- 3) يعتبر تطبيق من التطبيقات الإنتاجية لميكروسوفت 365.
أ Word ب Facebook ج YouTube د Google
- 4) لإضافة رابط موقع ما في صفحة ويب، يتم استخدام وسم في لغة HTML.
أ <p> ب ج <a> د <d>
- 5) الأمن السيبراني هو الأنظمة والشبكات والأجهزة والبيانات.
أ حماية ب تهديد ج تدمير د قرصنة
- 6) البرمجيات هي التي تتخذ شكل منبهات فيروسية وهي ليست كذلك.
أ المساعدة ب الموثوقة ج الخبيثة د الآمنة
- 7) تعتبر من أجهزة الشبكات الذكية.
أ المحولات ب لوحة المفاتيح ج الطابعة د شاشة العرض
- 8) وجود رسوم مقابل سعة التخزين من الحوسبة السحابية.
أ إيجابيات ب سلبيات ج مميزات د أمان



الاختبار 4

السؤال الأول

ضع علامة (✓) أمام العبارة الصحيحة، وعلامة (X) أمام العبارة غير الصحيحة:

- 1) وضع خطة شخصية للأمان عبر الإنترنت يساعدك على حماية أجهزتك. ()
- 2) يعتبر نظام التشغيل Windows النظام الأكثر شيوعاً في العالم. ()
- 3) تُعطى الأوامر لجهاز الكمبيوتر على هيئة صور توضيحية. ()
- 4) برنامج معالجة الكلمات Word يعتبر مثلاً على الحوسبة السحابية. ()
- 5) يتم استخدام وسم لإضافة صورة في صفحة الويب. ()
- 6) يفضل تغيير كلمات المرور كل 3 سنين. ()
- 7) يمكن الاستعانة بوسيط مالي أثناء الاستثمار في البيئات التقليدية. ()

السؤال الثاني

اختر الإجابة الصحيحة من بين الاختيارات التالية:

- 1) تُستخدم منصة للتعامل مع تطبيقات الحوسبة السحابية.
 - أ) Google Workspace
 - ب) Facebook
 - ج) Word
 - د) Google Chrome
- 2) مجموعة من المعلومات مخزنة في نظام الكمبيوتر تسمى
 - أ) محركات البحث
 - ب) اختصارات المفاتيح
 - ج) قواعد البيانات
 - د) لوحة المفاتيح
- 3) يرسل المحول البيانات إلى عبر الشبكة.
 - أ) الملفات الورقية
 - ب) البريد الإلكتروني
 - ج) جهاز معين
 - د) العرض التقديمي
- 4) يمكن استخدام في رؤية الصور ثلاثية الأبعاد.
 - أ) المواقع المعززة
 - ب) معالجة الكلمات
 - ج) منصّة ثلّابي
 - د) الذكاء الاصطناعي
- 5) من المخاطر النفسية التي يمكن أن تسببها الألعاب الإلكترونية
 - أ) الكسل
 - ب) الصداع
 - ج) العدوانية
 - د) إجهاد العين
- 6) يوجد في الجزء العلوي من الصفحة ويلفت الانتباه.
 - أ) أكبر عنوان
 - ب) العنوان الفرعي
 - ج) أصغر عنوان
 - د) العنوان الثانوي
- 7) نظام التشغيل macOS يعتبر نظاماً
 - أ) يسهل قراءته
 - ب) يمكن تعديله
 - ج) مفتوح المصدر
 - د) مغلق المصدر
- 8) إنشاء احتياطات تحميك من الاختراق الرقمي، يُعرف بـ
 - أ) القرصنة
 - ب) الأمن السيبراني
 - ج) انتحال الصفة
 - د) التصيد الاحتيالي



الاختبار 5

السؤال الأول

ضع علامة (✓) أمام العبارة الصحيحة، وعلامة (X) أمام العبارة غير الصحيحة:

- 1) يعتبر مايكروسوفت تيمز من التطبيقات الإنتاجية لمنصة مايكروسوفت 365. ()
- 2) يعيق نظام التشغيل المستخدم من التواصل مع الكمبيوتر. ()
- 3) يجب عدم إخبار أحد من أسرتك عند تعرض بيانات للخطر. ()
- 4) تستخدم الشبكات السلكية لتوصيل الأجهزة بدون أسلاك. ()
- 5) يستخدم الوسم <p> لتمثيل الفقرة في لغة HTML. ()
- 6) يمكن استخدام بنك المعرفة المصري في البحث عن أحدث الاختراعات. ()
- 7) يؤدي النظامان Android و iOS وظائف مختلفة. ()

السؤال الثاني

اختر الإجابة الصحيحة من بين الاختيارات التالية:

- 1) يعمل على حماية معلوماتك حتى لا يستطيع أحد الوصول إليها.
أ) التشفير الكامل ب) التنمر ج) التواصل د) الاختراق
- 2) النظام هو الأكثر شيوعاً في أنظمة تشغيل الهواتف المحمولة.
أ) Apple iOS ب) Android ج) Windows د) MacOS
- 3) يستخدم لرؤية الأشكال الهندسية وكأنها حقيقة.
أ) الواقع المعزز ب) الرسام ج) معالج الكلمات د) الفيسبوك
- 4) يمكن إبلاغ عند تعرضك لتهديد سيبراني.
أ) مزود خدمة الكهرباء ب) السلطات المتخصصة ج) منظمة اليونسكو د) الشركات التجارية
- 5) تصف كيفية استخدام الأشخاص المنتج والتفاعل معه.
أ) تجربة المستخدم ب) تطبيقات المستخدم ج) البيانات الشخصية د) دائرة الأصدقاء
- 6) يعد تطبيق Word من تطبيقات Microsoft 365
أ) الإنتاجية ب) الإعلانة ج) غير الموثوقة د) غير المفيدة
- 7) تعرف على أنها مجموعات من الأجهزة المرتبطة معاً لأهداف مشتركة.
أ) الملفات ب) المدونات ج) الشبكات د) المقالات
- 8) إنشاء مجالات مزيفة تحاكي الأعمال المشروعة، يُعتبر مثلاً على
أ) التواصل الإلكتروني ب) البرمجيات الخبيثة ج) انتحال الصفة د) الأمن السيبراني



سلاح التمهيد

منذ عام ١٩٦٠



تكنولوجيا
المعلومات
والاتصالات

2024-2025

الصف السادس الابتدائي
الفصل الدراسي الأول

إجابات نماذج اختبارات
الفصل الدراسي الأول

6

1 إجابة الاختبار

السؤال الأول

X 4

X 3

X 2

✓ 1

✓ 7

✓ 6

✓ 5

السؤال الثاني

المودم 4

مغلق المصدر 3

النسخ 2

التداول المالي الإلكتروني 1

بصمة الإصبع 8

النظام الثنائي 7

أماناً 6

قضاء الوقت مع الأسرة 5

2 إجابة الاختبار

السؤال الأول

✓ 4

✓ 3

X 2

✓ 1

✓ 7

✓ 6

X 5

السؤال الثاني

Windows 4

الجسدية 3

جوجل درايف 2

ثلاثة 1

حروف وأرقام ورموز 8

HTML 7

الأمين السيبراني 6

OneDrive 5

3 إجابة الاختبار

السؤال الأول

✓ 4

✓ 3

✓ 2

X 1

✓ 7

X 6

✓ 5

السؤال الثاني

Word 3

الذكاء الاصطناعي 2

المعلومات الشخصية 1

الخبثية 6

حماية 5

<a> 4

سلبيات 8

المحولات 7



4 إجابة الاختبار

X 4

X 3

✓ 2

✓ 1

✓ 7

X 6

✓ 5

السؤال الأول

السؤال الثاني

3 جهاز معين

2 قواعد البيانات

1 Google Workspace

6 أكبر عنوان

5 العدوانية

4 الواقع المعزز

8 الأمن السيبراني

7 مغلق المصدر

5 إجابة الاختبار

X 4

X 3

X 2

✓ 1

X 7

✓ 6

✓ 5

السؤال الأول

السؤال الثاني

3 الواقع المعزز

2 Android

1 التشفير الكامل

6 الإنتاجية

5 تجربة المستخدم

4 السلطات المتخصصة

8 انتحال الصفة

7 الشبكات



سلاح التلميز

منذ عام ١٩٦٠



المهارات المهنية

2024-2025

الصف السادس الابتدائي الفصل الدراسي الأول

نماذج اختبارات نهاية الفصل الدراسي الأول
طبقاً لآخر مواصفة للورقة الامتحانية

6

الاختبار ١

اختر الإجابة الصحيحة مما يلي:

- ١ الطريقة الأفضل لتحقيق التعاون في المجتمع هي
 أ التواصل مع الآخرين ب العمل الفردي ج رفض التعاون د الانعزال
- ٢ التأثير السلبي الذي يُسبِّبه قطاع البناء هو
 أ استخدام مواد خضراء ب استهلاك أقل للطاقة ج زيادة الغابات د تلوث الهواء
- ٣ نسبة الميزانية المخصَّصة للأدخار والاستثمار هي
 أ ٥٠% ب ٣٠% ج ٢٠% د ١٠%
- ٤ مهنة من المهن التي تنتمي إلى مجال الإعلام.
 أ المراسل ب المعلم ج المهندس د الطبيب
- ٥ قدَّمت الفنَّانة سميحة أيوب أوَّل أعمالها الفنِّية في
 أ المسرح ب الإذاعة ج التلفزيون د السينما
- ٦ إحدى المهن الجديدة التي ظهرت مع تطور التكنولوجيا
 أ الطباخ التقليدي ب السبَّك التقليدي ج النجَّار اليدوي د مبرمج الروبوتات
- ٧ الهدف الرئيسي للمبادرة الوطنية للمشروعات الخضراء الذكية هو
 أ توظيف الشباب ب زيادة الأرباح ج التنمية المستدامة د تطوير التعليم
- ٨ إحدى مهامَّ المشاتل هي
 أ إنتاج الشتلات ب نقل المياه ج تسويق المنتجات د بيع الأجهزة
- ٩ نباتات تُزرع لعدة سنوات وتُزهر طوال العام هي
 أ النباتات الصيفية ب النباتات الشتوية ج النباتات العشبية المعمَّرة د النباتات المتسلقة
- ١٠ لتحقيق السياحة المستدامة تم توفير محطات لإعادة تعبئة
 أ الهواء ب المياه ج الوقود د الطعام
- ١١ أحد المصادر الطبيعية للكهرباء
 أ البرق ب المحطات الحرارية ج البطاريات د المحطات الكهرومائية
- ١٢ عندما تتكاثر الطحالب على الشواطئ تُضرُّ بنشاط
 أ الصناعة ب الزراعة ج التجارة د السياحة
- ١٣ يُعدُّ أحد إجراءات الطوارئ أثناء الفيضانات.
 أ تشغيل المضخَّات ب إطفاء المضخَّات ج زيادة المياه د تقليل الري
- ١٤ إحدى طرق ترشيد استهلاك المياه في الزراعة هي
 أ الري بالغمر ب حفر القنوات ج الري بالتنقيط د القنوات المفتوحة
- ١٥ يجب أن يتقن السبَّك مهارة
 أ صنع الأثاث ب دهان الجدران ج تصميم المباني د تركيب الأنابيب



الاختبار ٢

اختر الإجابة الصحيحة مما يلي:

- ١ إحدى مهامَّ مُعلِّمي المسرح
 أ كتابة الأخبار ب تسجيل الصوت ج تدريس التمثيل د كتابة الأخبار
- ٢ إحدى إستراتيجيات ترشيد المياه هي
 أ الري بالغمر ب تبطين القنوات ج ردم الآبار د زيادة الاستهلاك
- ٣ البلاستيك الحيوي يُستخدم في صناعة
 أ الطائرات ب الأخشاب ج المعادن د المنسوجات
- ٤ الهدف من وجود ثقب في أسفل الصناديق الخشبية للزراعة هو
 أ منع التهوية ب زيادة الرطوبة ج تصريف المياه د حبس المياه
- ٥ إحدى طرق التخفيف عن المرضى الذين يشعرون بالوحدة
 أ تركهم دون رعاية ب قراءة القصص لهم ج تجنُّب الحديث معهم د تجاهل مشاعرهم
- ٦ أحد أهداف إعداد الميزانية هو تحديد طرق
 أ إنفاق المال ب الشراء المكلف ج زيادة القروض د تقليل الأضرار
- ٧ يُحظر استخدام في أماكن الإقامة المستدامة.
 أ المنتجات العضوية ب المأكولات الموسمية ج المواد الورقية د المواد البلاستيكية
- ٨ تسعى مصر لتطوير مصادر الطاقة المتجددة مثل
 أ الطاقة النووية ب الطاقة الشمسية ج الطاقة الكهربائية د طاقة الفحم
- ٩ عدد الفئات الأساسية للمبادرة الوطنية للمشروعات الذكية
 أ خمس فئات ب أربع فئات ج سبع فئات د ست فئات
- ١٠ الخطوة الأولى لإصلاح صنوبر هي
 أ استبدال الصنوبر ب إغلاق محبس المياه ج فتح الصنوبر د استخدام المكبس
- ١١ الجائزة التي حصل عليها محمود العربي بعد وفاته وتسلّمها ابنه نيابة عنه هي
 أ الريادة والتميز ب وسام الشرف ج جائزة الابتكار د الشمس المشرقة
- ١٢ هدف مبادرة "الممر الأخضر" هو إنتاج
 أ الوقود الأحفوري ب الوقود النووي ج الطاقة المتجددة د الفحم
- ١٣ تم توثيق مشوار سميحة أيوب الفني عن طريق
 أ المسرحيات ب المقابلات التلفزيونية ج الأفلام الوثائقية د التسجيلات الصوتية
- ١٤ طريقة لتكاثر النباتات تتم بنقل جزء من نبات إلى نبات آخر
 أ التطعيم ب التسميد ج البذرة د الحصاد
- ١٥ تكيف المعلمون مع التطور التكنولوجي عن طريق
 أ الطرق التقليدية ب رفض التكنولوجيا ج تجنُّب التدريب د التوجُّه للمنصات الرقمية



الاختبار ٣

اختر الإجابة الصحيحة ممّا يلي:

- ١ بند الرغبات في الميزانية يشمل
 أ الإيجار ب الرحلات ج الطعام د سداد الديون
- ٢ المساهمة الأساسية للسبّك في المجتمع هي
 أ تنظيف المباني ب برمجة الحواسيب ج بناء المنازل د توفير المياه النظيفة
- ٣ يمكن الترويج للسياحة البيئية عبر مدوّنات
 أ الطبخ ب التعليم ج السفر د الهندسة
- ٤ إحدى التقنيات التي ستؤثر بشكل كبير على مهن المستقبل
 أ الطباعة التقليدية ب الذكاء الاصطناعي ج تصوير الأفلام د الزراعة التقليدية
- ٥ شجّعت الفنّانة سميحة أيوب الشباب على حضور
 أ ورش العمل ب عروض الأزياء ج سباق السيارات د الحفلات الموسيقية
- ٦ طريقة تكاثر النباتات باستخدام فرع مدفون في الأرض
 أ التكاثر بالبذور ب التطعيم ج التقليم د الترقيد الأرضي
- ٧ التحدّيات الناتجة عن التغيّر المناخي يمكن تخفيفها من خلال نشر
 أ التلوث السمعي ب الوعي المجتمعي ج التصنيع العشوائي د الوقود الأحفوري
- ٨ نباتات تُعطي أزهاراً جميلة الشكل وبعضها ذو رائحة عطرية هي
 أ النباتات العشبية ب الأبصال ج الجريبيرا د ست الحسن
- ٩ العمل الذي يُمثل شكلاً من أشكال التطوُّع في المجتمع هو
 أ الأعمال الخيرية ب منع التبرُّع ج تجاهل المحتاجين د رفض المساعدة
- ١٠ التقنية الرئيسية المستخدمة في نظام رصد الفيضانات هي
 أ الذكاء الاصطناعي ب قياسات الزلازل ج التصوير الحراري د الاستشعار عن بعد
- ١١ وسائط الإعلام التربوية تشمل
 أ المواد المطبوعة ب برامج الألعاب ج المجلّات د الأفلام السينمائية
- ١٢ الهدف من بناء محطات تحلية المياه هو
 أ إزالة التلوّث ب إغلاق القنوات ج إنتاج البلاستيك د زيادة مياه الشرب
- ١٣ الاقتصاد الأخضر يركّز على تحقيق التنمية الاقتصادية بطرق
 أ مستدامة ب تقليدية ج صناعية د سريعة
- ١٤ إحدى الأدوات التي يستخدمها عمّال الكهرباء
 أ مقياس الحرارة ب المطرقة ج المفكّات العازلة د المنشار
- ١٥ يمكن أن يساعد مصنع العين السخنة على تحسين البيئة عن طريق
 أ تصنيع البلاستيك ب إنتاج الهيدروجين ج تكرير البترول د صناعة الأسمنت



الاختبار ٤

اختر الإجابة الصحيحة ممّا يلي:

- ١ الهدف الاقتصادي للزراعة في المشاتل توفير
 أ فرص عمل ب الأدوات الزراعية ج الحبوب الغذائية د المواد الصناعية
- ٢ يُعدُّ نبات ست الحسن من النباتات
 أ العشبية المُعمّرة ب الحوليّات الصيفية ج الحوليّات الشتوية د أبصال الزينة
- ٣ تقييم المشروعات الخضراء يتم من خلال دمج
 أ التكلفة المالية ب عدد العاملين ج حجم المشروع د التقنيات الحديثة
- ٤ يمكن تخصيص ٥٠% من الدخل لـ
 أ الرحلات ب الاحتياجات ج الادّخار د الديون
- ٥ أحد التأثيرات السلبية لقطاع الصناعة انبعاث
 أ الغازات الدفيئة ب المياه النظيفة ج الضوضاء د الأكسجين
- ٦ إحدى مهامّ مهندس الصوت هي
 أ التدريس ب الكتابة ج تسجيل الصوت د التصوير
- ٧ سُمّيت القاعة الأكبر في باسم الفنانة سميحة أيوب.
 أ المسرح القومي ب مسرح العرائس ج مكتبة الإسكندرية د دار الأوبرا
- ٨ إحدى الطرق المستخدمة في المشاريع المستدامة لتقليل التأثير البيئي هي تقديم الأطعمة
 أ المستوردة ب الموسمية ج المجمّدة د غير العضوية
- ٩ ستصبح بعض الوظائف مبرمجة بسبب تطوّر التقنيات ومنها
 أ التعليم ب الصناعة ج العلوم الفضائية د علم الروبوتات
- ١٠ يجب تجنّب استخدام الماء أثناء العمل بالكهرباء لأنّه
 أ موصّل الكهرباء ب يسبّب الحرائق ج يسرّب الكهرباء د يزيد من الضغط
- ١١ تم تكريم محمود العربي كأهم رواد
 أ الزراعة ب التجارة ج الصناعة د السياحة
- ١٢ مهنة تساهم في توفير المياه النظيفة
 أ السباكة ب النجارة ج الكهرباء د الزراعة
- ١٣ قلّت كمية المياه العذبة المتاحة استخدامها نتيجة لـ
 أ قلة السكّان ب وفرة المطر ج التلوّث بالمُخلّفات د نقاء المياه
- ١٤ الاقتصاد الأزرق نشاط اقتصادي مرتبط بالموارد
 أ الصناعية ب الصحراوية ج الزراعية د البحرية
- ١٥ المشاركة الإيجابية في المناسبات مع الجيران تظهر من خلال
 أ الحضور والمشاركة ب تجنّب الحضور ج الانصراف سريعاً د الانعزال



الاختبار ٥

اختر الإجابة الصحيحة ممّا يلي:

- ١ يستخدم عامل الكهرباء المواد العازلة للوقاية من
 أ الأمراض المزمنة ب الصدمات الكهربائية ج العدوى د الحروق
- ٢ زيادة السياح تؤدي إلى
 أ تقليل الموارد ب تحسين البيئة ج إصلاح المواقع د إنتاج المخلفات
- ٣ السبب الرئيسي لتطوير القطاعات الصناعية هو
 أ التلوث ب النمو السكاني ج الفقر د الجفاف
- ٤ وظيفة المحرر الأساسية هي
 أ كتابة القصص ب تصحيح الكتابات ج التصوير الفوتوغرافي د تسجيل الفيديو
- ٥ تساعد الميزانية في مواجهة الظروف الطارئة عن طرق
 أ الادّخار ب السفر ج الإنفاق الكامل د الفواتير
- ٦ حصلت الفنانة سميحة أيوب على جائزة تكريماً لمسيرتها الفنيّة.
 أ الأوسكار ب نوبل ج النيل الذهبية د الموسيقى العربية
- ٧ أدّى تغيّر المناخ في مصر إلى ارتفاع
 أ شدّة الضغط ب كمّية الأمطار ج درجة الحرارة د سرعة الرياح
- ٨ دور الحكومة المصرية في الاقتصاد الأخضر هو دعم
 أ الاقتصاد المستدام ب الصناعة الملوّثة ج الزراعة الكيميائية د التلوث البيئي
- ٩ إحدى مهامّ هو حماية المجتمع وتحسينه.
 أ الأطفال ب المراهقين ج المسنين د الشباب
- ١٠ نستطيع إنشاء مجتمع قوي إذا تمسّكنا ب
 أ التنافر ب التعاون ج التخاذل د المشكلات
- ١١ يمكن إعادة تدوير القديمة لصنع أحواض للأزهار.
 أ الأكياس الورقية ب الأصص ج الصناديق الخشبية د الكتب
- ١٢ يُعتبر منصب من أبرز المناصب التي شغلها محمود العربي.
 أ وزير الصناعة ب عضو في البرلمان ج محافظ القاهرة د رئيس الوزراء
- ١٣ التغيّرات التكنولوجية في سوق العمل تفرض على الأشخاص تطوير مهاراتهم
 أ التقنية ب البدنية ج الرياضية د اليدوية
- ١٤ ينتمي النجّارون إلى العاملين في مجال
 أ التصنيع ب التكنولوجيا ج البناء د النقل
- ١٥ إدارة المشتل، إحدى مهامّ
 أ فنيّ الكهرباء ب المهندس الزراعي ج النجّار د السبّك



سلاح التلميز

منذ عام ١٩٦٠



المهارات المهنية

2024-2025

الصف السادس الابتدائي
الفصل الدراسي الأول

إجابات نماذج اختبارات
الفصل الدراسي الأول

6

١ إجابة الاختبار

- ١ التواصل مع الآخرين
- ٢ تلوث الهواء
- ٣ ٢٠٪
- ٤ المراسل
- ٥ الإذاعة
- ٦ مبرمج الروبوتات
- ٧ التنمية المستدامة
- ٨ إنتاج الشتلات
- ٩ النباتات العشبية المعمرة
- ١٠ المياه
- ١١ البرق
- ١٢ السياحة
- ١٣ إطفاء المضخات
- ١٤ الري بالتنقيط
- ١٥ تركيب الأنابيب

٢ إجابة الاختبار

- ١ تدريس التمثيل
- ٢ تبطين القنوات
- ٣ المنسوجات
- ٤ تصريف المياه
- ٥ قراءة القصص لهم
- ٦ إنفاق المال
- ٧ المواد البلاستيكية
- ٨ الطاقة الشمسية
- ٩ ست فئات
- ١٠ إغلاق محبس المياه
- ١١ الريادة والتميز
- ١٢ الطاقة المتجددة
- ١٣ المقابلات التلفزيونية
- ١٤ التطعيم
- ١٥ التوجّه للمنصات الرقمية

٣ إجابة الاختبار

- ١ الرحلات
- ٢ توفير المياه النظيفة
- ٣ السفر
- ٤ الذكاء الاصطناعي
- ٥ ورش العمل
- ٦ الترقيد الأرضي
- ٧ الوعي المجتمعي
- ٨ الأبصار
- ٩ الأعمال الخيرية
- ١٠ الاستشعار عن بُعد
- ١١ المواد المطبوعة
- ١٢ زيادة مياه الشرب
- ١٣ مستدامة
- ١٤ المفكات العازلة
- ١٥ إنتاج الهيدروجين



٤ إجابة الاختبار

- ١ فرص عمل
- ٢ الحوليَّات الصيفية
- ٣ التقنيات الحديثة
- ٤ الاحتياجات
- ٥ الغازات الدفيئة
- ٦ تسجيل الصوت
- ٧ المسرح القومي
- ٨ الموسمية
- ٩ علم الروبوتات
- ١٠ موصِّل الكهرباء
- ١١ الصناعة
- ١٢ السبابة
- ١٣ التلوُّث بالمخلفات
- ١٤ البحرية
- ١٥ الحضور والمشاركة

٥ إجابة الاختبار

- ١ الصدمات الكهربائية
- ٢ إنتاج المخلفات
- ٣ النمو السكاني
- ٤ تصحيح الكتابات
- ٥ الأثَّار
- ٦ النيل الذهبية
- ٧ درجة الحرارة
- ٨ الاقتصاد المستدام
- ٩ الشباب
- ١٠ التعاون
- ١١ الصناديق الخشبية
- ١٢ عضو في البرلمان
- ١٣ التقنية
- ١٤ البناء
- ١٥ المهندس الزراعي

