

سلاح التلميذ

منذ عام ١٩٦٠



اللغة
العربية

2024-2025

الصف الرابع الابتدائي
الفصل الدراسي الأول

نماذج اختبارات نهاية الفصل الدراسي الأول
طبقاً لآخر مواصفة للورقة الامتحانية

4

نموذج ١

(نص الاستماع صفحة ١٢)

(الاستماع) استمع، ثم أجب:

السؤال الأول

١ ضع علامة (✓) أمام العبارة الصحيحة، وعلامة (X) أمام العبارة غير الصحيحة:

١ شاهد أحمد برنامجًا عن الطبيب العالمي مجدي يعقوب. ()

٢ الطبيب العالمي محمد سليمان سعى لإنشاء مركز للقلب في مصر. ()

ب أكمل: يزور الطبيب محمد سليمان مصر سنويًا لـ

السؤال الثاني (التعبير الكتابي):

اكتب نصًا وصفيًا عن (اختراع حديث أعجبك) مراعيًا عناصر النص الوصفي: (العنوان - شكل الاختراع - استخداماته - مميزات - عيوبه - ما يشبهه - رأيك فيه).

السؤال الثالث (النص الأدبي المتحرر) اقرأ الفقرة التالية:

«قالت الأم: غدًا يوم الإجازة، وسأذهب مع أبيكم لزيارة صديقه المريض، فأنتم مسئولون عن شئون المنزل. جلس عمر مهمومًا، وقال: هذا يستغرق وقتًا طويلًا. قالت أخته هالة: سنقسم العمل، وننفذ المهمة في وقت قصير؛ أنا سأجهز الطعام، وأدم يرتب الغرف، وأنت تضع الملابس في الغسالة، والاستمتاع بالإجازة سيلى تنفيذ المهام. فقالت الأم: أحسنت يا هالة، لكل منا دور مؤثر.»

١ استخرج من الفقرة ما يلي:

١ معنى (يأخذ): ٢ مضاد (فرحًا):

ب أكمل: ١ سيذهب الأب لـ ٢ سيقوم آدم بـ

ج أجب: هل سيتمكن عمر من الاستمتاع بالإجازة؟ ولماذا؟

السؤال الرابع (النص المعلوماتي المتحرر) اقرأ الفقرة التالية:

«أسماك السردين تعيش في أسراب كبيرة، تصل بنية السرب الواحد أحيانًا إلى عدة ملايين.. والعجيب في أمر هذه الأسراب أنها حين تشعر بالخطر من مهاجمة أسماك القرش والحيتان، فتشكل على هيئة كرات ضخمة تتحرك بشكل سريع محافظةً على شكلها الكروي؛ لتخيف بذلك الأسماك الكبيرة؛ فتجنب مهاجمتها.»



أ اختر معنى ما يلي مما بين القوسين :

(مناطق - مساحات - مجموعات - أراض)

١ أسراب:

(شكل - بناء - سرعة - زمن)

٢ بُيئة:

ب أكمل: حين تشعر أسراب السردين بالخطر

ج أجب: ما نتيجة التعاون في حياة أسماك السردين؟

السؤال الخامس (النص الشعري) اقرأ الأبيات التالية:

سَأُوَاصِلُ سَعِيِي مُبْتَكِرًا كَيْ تَرْقَى مِصْرُ وَتَزْدَهْرًا
سَأَسَانِدُ مُحْتَاجًا حَتَّى لَا يَشْكُوَهُمْ أَوْ فَقْرًا
عَهْدِيَا مِصْرُ فَلَا أَبْقِي فِي أَرْضِكَ مِنْ بُؤْسٍ أَثْرًا

أ اختر: معنى (أواصل):

ب أكمل: كلمة لها نفس نهاية (أثراً):

ج أجب: ما العهد الذي أخذه الشاعر على نفسه؟

السؤال السادس (القواعد النحوية) اقرأ الفقرة التالية، ثم أجب:

«غداً ستشارك الأسر المنتجة في المعرض السنوي، وسيقدم الوزير دعماً كبيراً لكل الأسر المشاركة، وسيعرض المشاركون في المعرض منتجات متنوعة، وهم مستعدون للمعرض تماماً».

أ استخرج من الفقرة ما يلي:

١ ظرفاً:

■ نوعه:

٢ فاعلاً:

■ علامة إعرابه:

ب ثن الكلمة الملونة: سيقدّم الوزير دعماً.

ج حول (المشاركون) إلى مفرد، وغير ما يلزم: سيعرض المشاركون منتجات.

د حول للمؤنث: هم مستعدون للمعرض.

السؤال السابع (الخط) اكتب بخط النسخ:

للطفل حقوق على المجتمع.

(فقرة الإملاء صفحة ١٢)

السؤال الثامن (الإملاء) اكتب ما يملئ عليك:



نموذج ٢

(نص الاستماع صفحة ١٢)

السؤال الأول (الاستماع) استمع، ثم أجب:

- أ ضع علامة (✓) أو علامة (X) أمام ما يلي: رفض التلاميذ توزيع الأدوار فيما بينهم. ()
- ب اختر: طلب المعلم من التلاميذ إعداد (مجلة حائط - لعبة تعليمية - لوحة فنية - بحث علمي)
- ج أجب: لماذا شكر المعلم مجموعة الطلاب؟

السؤال الثاني (التعبير الكتابي):

اكتب نصًا إقناعيًا عن (فوائد الطعام الصحي)، موضحًا (العنوان - المقدمة - الأسباب - الأدلة الداعمة لها - الخاتمة)، مع مراعاة ما يلي: (الكتابة الصحيحة - وضوح الخط - علامات الترقيم).

السؤال الثالث (النص الأدبي المتحرر) اقرأ الفقرة التالية:

«إجازتنا الصيفية لهذا العام كانت مختلفة؛ ففي كل عام كان يدور نقاش: (أين سنقضي إجازتنا؟) ونظل في الخلاف أيامًا، ولكننا هذا العام اتفقنا ألا نتجادل ونضيع وقتنا؛ لنصل إلى حل وسط يرضي الجميع، وعندما عرض أبي علينا أماكن السفر؛ تشاورنا، ثم قمنا بالتصويت، وبالفعل سافرنا إلى المكان الذي كان له أغلبية الأصوات، ومضت الإجازة، ونحن سعداء جميعًا، فكلنا رابحون».

- أ استخرج من الفقرة ما يلي: ١ معنى (جدال): ٢ مضاد (خاسرون):
- ب أكمل: ١ في كل عام يختلف الأبناء على ٢ اختار الأبناء هذا العام مكان السفر عن طريق
- ج أجب: ما فائدة الحل الوسط كما فهمت من الفقرة؟

السؤال الرابع (النص المعلوماتي المتحرر) اقرأ الفقرة التالية:

«استطاع المخترع المصري (صلاح حسنين) تسجيل أربع براءات اختراع لمجموعة من الأجهزة الرياضية متعددة الأغراض لتحسين اللياقة البدنية للاعبين الملاكمة والكاراتيه. تتميز هذه الأجهزة بأنها متينة مع توافر عوامل الأمن والسلامة بها. وقد حصل (صلاح حسنين) على درع مهرجان الرواد العرب وشهادة تقدير لجهوده في اختراع هذه الأجهزة».

أ اختر معنى ما يلي مما بين القوسين:

- ١ براءات اختراع: رسمي لصاحب الاختراع. (اعتراف - احتفال - استقبال - اهتمام)
- ٢ متينة: (دقيقة - سريعة - قوية - حديثة)



ب) أكمل: تتميز اختراعات (صلاح حسنين) بـ

ج) أجب: كيف أثبت (صلاح حسنين) حقه في اختراعاته؟

السؤال الخامس (النص الشعري) اقرأ الأبيات التالية:

إِذَا الْأَرْضُ نَادَتْ أَتَيْنَا جَمِيعًا
نُبِّي نِدَاهَا وَنَرَجُو رِضَاهَا
سَنَحْيَا الدُّهْرَ نَقِيهَا سَهَامًا
وَنَبْنِي قُصُورًا لَهَا مِنْ ثَرَاهَا
بِتِلْكَ السَّوَاعِدِ نَجْنِي غَلَاً
وَنَبْقَى شُمُوسًا تُضِيءُ سَمَاهَا

أ) اختر الإجابة الصحيحة مما بين القوسين:

١) معنى (نرجو): (تتمنى - نبني - نحيا - نبقي)

٢) مفرد (الدهور): (الهادر - الهدر - الدهر - المهدر)

ب) أكمل: «إذا الأرض نادت». تعبير

ج) أجب: ماذا يفعل الشاعر تجاه الوطن؟

السؤال السادس (القواعد النحوية) اقرأ الفقرة التالية، ثم أجب:

«كرة السرعة اختراع مصري، اخترع المصري محمد حسين لطفي هذه اللعبة عام ١٩٦٠، يضرب اللاعب كرة التنس المثبتة بخيط متين في عمود معدني، ويستخدم اللاعبون مضارب التنس في تحريك الكرة».

أ) استخرج من الفقرة ما يلي:

١) شبه جملة:
نوعه:

٢) خبراً:
علامة رفعه:

ب) اختر الإجابة الصحيحة مما بين القوسين:

١) كلمة (اللاعبون): (مبتدأ - فاعل - مفعول به)

٢) كلمة (مضارب): (مذكر سالم - مؤنث سالم - تكسير)

ج) حول الجملة الآتية للمثنى، وغير ما يلزم: يضرب اللاعب كرة التنس.

السؤال السابع (الخط) اكتب بخط النسخ:

القراءة مفتاح العلم.

(فقرة الإملاء صفحة ١٢)

السؤال الثامن (الإملاء) اكتب ما يملئ عليك:



نموذج ٣

(نص الاستماع صفحة ١٢)

السؤال الأول (الاستماع) استمع، ثم أجب:

١ ضع علامة (✓) أمام العبارة الصحيحة، وعلامة (X) أمام العبارة غير الصحيحة:

١ حدث خلاف بين هاجر وسلمى في أثناء الانتقال للمنزل الجديد. ()

٢ اللون الأبيض هو اللون المفضل لهاجر. ()

ب أكمل: حلت الأم المشكلة عن طريق

(التعبير الكتابي):

السؤال الثاني

اكتب سيرةً غيريةً عن الطبيب مجدي يعقوب مراعيًا عناصر السيرة غيرية (العنوان - الفكرة العامة - التفاصيل - الخاتمة):

السؤال الثالث (النص الأدبي المتحرر) اقرأ الفقرة التالية:

أبي العزيز..

أرجو أن تكون بخير أنت وأسرتي..

أكتب إليك هذه الرسالة بعدما حسمت أمري، وقررت العودة إلى وطني؛ لأفيده بما تعلمت، وأرد جميله علي؛ فالجامعة التي أدرس فيها بالخارج عرضت علي وظيفةً في مجال تخصصي براتب كبير؛ لأبقى فيها بعدما فرغت من دراستي، وحصلت على الدكتوراه، وكنت في حيرة من أمري بين البقاء هناك أو العودة، وقد دفعني لاتخاذ قرار العودة شعوري بأنني مدين لبلادي، وما زرعتَه يا أبي في فؤادي من حب للوطن. أرجو أن أراك قريبًا على خير.

ابنك المخلص

١ اختر معنى ما يأتي مما بين القوسين:

١ فرغت: (عملت - انتهيت - عدت - أتيت) ٢ حيرة: (قلق - توتر - تردد - خوف)

ب أكمل: ١ شعرا الابن بالحيرة من أمره بين أو

٢ في النهاية قرر الابن؛ ليرد جميل الوطن.

ج أجب: من الذي علم الابن حب الوطن؟

السؤال الرابع (النص المعلوماتي المتحرر) اقرأ الفقرة التالية:

«هل تعلم أن الفيلة تهاجر؟ في الحقيقة إن الفيلة تهاجر بحثًا عن الغذاء والماء، تبدأ رحلتها في بداية فصل الصيف بسبب الجفاف، يصل عدد الفيلة في القطيع المهاجر إلى ٥٠٠ فيل، وتقود إناث الفيلة القطيع، وتتولى مهام حماية القطيع، وبالأخص الصغار، ومع انتهاء الصيف تعود الفيلة إلى مواطنها الأصلية، كأنها إنسان يشق إلى وطنه.»



أ اختر الإجابة الصحيحة مما بين القوسين:

١ معنى (بالأخص): (خاصةً - خصوصًا - متخصص - الأول والثاني)

٢ مضاد (المهاجر): (الواقف - الماشي - العائد - الثابت)

ب أكمل: تبدأ الفيلة رحلة الهجرة في فصل؛ بسبب

ج أجب: في أي شيء تشبه الفيلة الإنسان؟

السؤال الخامس (النص الشعري) اقرأ الأبيات التالية:

يَا قَوْمُ تَحِيًّا مِصْرُنَا
الشَّعْبُ قَلْبٌ وَاحِدٌ
بِعَزِيمَةٍ وَتَوْحُّدٍ
بِتَكَاتُفٍ وَتَسَانُودٍ
كُنَّا اللَّهْيَبَ لِنَقْتَدِي
إِنْ مَسَّ مِصْرًا الْمُعْتَدِي

أ اختر: معنى (تساند): (تضحية - حب - تعاون - تقدم)

ب هات من الأبيات:

١ كلمتين لهما النهاية نفسها: ،
٢ تعبيرًا مجازيًا:

السؤال السادس (القواعد النحوية):

أ اختر الإجابة الصحيحة مما بين القوسين:

١ «الطعام فوق المائدة». اختر حرف جر مناسبًا بدلًا من الظرف الملون (عن - في - على)

٢ «تتسلم الفائزات الجوائز». كلمة (الفائزات): (فاعل - خبر - مفعول به)

ب حول الجملة الآتية للمؤنث: يرتب الموظفون المكتبة.

ج أجب بما هو مطلوب بين القوسين:

١ ذاكر جيدًا يا خالد. (حول للمؤنث)

٢ أسافر إلى الإسكندرية في الصيف (استخدم ظرفًا بدلًا مما تحته خط)

السؤال السابع (الخط) اكتب بخط النسخ:

خير الحلول الحل الوسط.

(فقرة الإملاء صفحة ١٢)

السؤال الثامن (الإملاء) اكتب ما يملئ عليك:



نموذج ٤

(نص الاستماع صفحة ١٢)

السؤال الأول (الاستماع) استمع، ثم أجب:

- ١ ضع علامة (✓) أو علامة (X) أمام ما يلي: الآثار المصرية لها أهمية كبيرة عند شعوب العالم. ()
- ٢ اختر: قام المتحف المصري بترميم حسي رع. (لوحات - تماثيل - أهرامات - معابد)
- ٣ أجب: إلى أين تم نقل القطع الأثرية؟
- (التعبير الكتابي):

السؤال الثاني

اكتب رسالةً إلى صديق لك من بلد عربي تدعوه إلى زيارة مصر في الإجازة الصيفية، وأبلغه باشتياقك لرؤيته وقضاء وقت ممتع معه، وصف له خطتك والمعالم التي سوف تزورها معها، مراعيًا عناصر الرسالة: (التاريخ - المرسل إليه - مضمون الرسالة - الخاتمة - المرسل).

السؤال الثالث (النص الأدبي المتحرر) اقرأ الفقرة التالية:

«كتب أمين المكتبة العبارة الآتية: (أريد المساعدة في تنظيم الكتب). وعلقها على باب المكتبة. لفتت العبارة نظر التلاميذ، فقرأها بعضهم ومضوا في طريقهم إلى فناء المدرسة، وقال آخرون: هذا عمل مرهق ووقت الفسحة سيضيع، لكن إبراهيم قال في نفسه: لكل منا دور، ثم طلب من بعض الزملاء أن يذهبوا معه لتقديم العون لأمين المكتبة، وبالفعل تمت المهمة، ولم تستغرق وقتًا طويلًا.»

١ اختر الإجابة الصحيحة مما بين القوسين:

- ١ معنى (لفتت): (أوضحت - جذبت - قدمت - أزلت)
- ٢ جمع (دور): (أدوار - مدارات - دورات - دوائر)
- ٣ أكمل: ١ طلب أمين المكتبة ٢ لم تستغرق المهمة وقتًا طويلًا بفضل
- ٤ أجب: بم تميز إبراهيم عن بقية زملائه؟

السؤال الرابع (النص المعلوماتي المتحرر) اقرأ الفقرة التالية:

«أطفال بلا مأوى هم مجموعة من الأطفال فقدوا بعض حقوقهم؛ كالمسكن الذي يحقق لهم الاستقرار والاسترخاء، أو الوصي الذي يهتم بهم ويحميهم؛ فهم يعيشون في الشوارع وعلى الأرصفة مواجهين الكثير من المخاطر؛ لذلك أطلقت الحكومة برنامج (حماية أطفال بلا مأوى)؛ لتقديم خدمات الرعاية والتأهيل لهؤلاء الأطفال؛ ليساعدهم في الحصول على حياة كريمة ملائمة لاحتياجاتهم.»



أ اختر الإجابة الصحيحة مما بين القوسين:

١ معنى (الاسترخاء): (النوم - الراحة - المال - الطعام)

٢ جمع (الوصي): (الأوصياء - الوصايا - الموصون - التوصيات)

ب أكمل: أطفال بلا مأوى هم أطفال

ج أجب: ماذا قدمت الحكومة لهؤلاء الأطفال؟

السؤال الخامس (النص الشعري) اقرأ الأبيات التالية:

بِلَادِي اسْلَمِي أَنْتِ نُوْرُ الزَّمَانِ وَحُبُّكَ قَدْ فَاقَ كُلَّ الْمَعَانِي
أُمُوتٌ لِيَحْيَا اسْمَهَا خَالِدًا فِدَاءٌ لَهَا قَدْ وَهَبْتُ كِيَانِي
عَلَى الْعَهْدِ دَوْمًا نَصُونُ الْبِلَادِ نُبِّي النَّدَاءَ بِكُلِّ أَوَانِ

أ اختر الإجابة الصحيحة مما بين القوسين:

١ معنى (فداء): (تضحية - إرضاء - شوقًا - احترامًا)

٢ جمع (العهد): (المعاهد - التعهدات - المعاهدات - العهود)

ب أكمل: «أنت نور الزمان». تعبير

ج أجب: ما واجبنا نحو مصرنا الحبيبة؟

السؤال السادس (القواعد النحوية) اقرأ الفقرة التالية، ثم أجب:

«تشاجر لاعبان في الملعب؛ فأوقف الحكم المباراة، وتجمع اللاعبون حول الحكم، ثم قال الحكم: يا أبنائي، الأخلاق أهم من الفوز، والروح الرياضية أساس الرياضة، ضعوا هذه النصيحة أمام أعينكم دائمًا».

أ استخرج: ١ فاعلاً مثنى: ٢ علامة رفعه:

٢ شبه جملة: ٢ نوعه:

ب اختر الإجابة الصحيحة مما بين القوسين:

١ كلمة (الحكم): فاعل علامة رفعه (الضمة - الألف - الواو)

٢ كلمة (حول): (ظرف زمان - ظرف مكان - حرف جر)

ج حول الفاعل إلى مؤنث، وغير ما يلزم: تجمع اللاعبون حول الحكم.

السؤال السابع (الخط) اكتب بخط النسخ:

الحب للجميع، والخير للجميع.

(فقرة الإملاء صفحة ١٢)

السؤال الثامن (الإملاء) اكتب ما يملئ عليك:



نموذج لطلاب الأزهر الشريف

السؤال الأول (التعبير الكتابي):

اكتب وثيقةً عن (قواعد حجرة التربية الفنية بالمدرسة)، موضحًا عناصر الوثيقة: (المقدمة - البنود - الخاتمة)، مع مراعاة ما يلي: (الكتابة الصحيحة - وضوح الخط - علامات الترقيم).

السؤال الثاني (القراءة) اقرأ الفقرة التالية من نص «كلنا رابحون»:

«دق جرس انتهاء الحصة الرابعة، وتوجهنا جميعًا نحو فناء المدرسة؛ لنلعب بكرة أحمد التي دائمًا ما يحضرها معه.. قال أحمد: «هيا بنا نلعب مباراة كرة قدم».

فرد شادي: «ولماذا لا نلعب مباراة كرة يد؟ نشعر بالملل من كثرة لعب كرة القدم». قال أحمد: «هذه كرتي، وأنا فقط من يقرأ!.. كثر النقاش واشتد الحوار بينهما، وانضم بعضنا لأحمد وبعضنا الآخر لشادي، وحاولت تنبيههما إلى وقت الفسحة الذي يمضي دون لعب».

أ اختر الإجابة الصحيحة مما بين القوسين:

- ١ معنى (تنبيههما): (تحذيرهما - تأخيرهما - إبعادهما - انتظارهما)
٢ مضاد (اشتد): (فشل - انتهى - ضعف - تواصل)
٣ ضاع جزء من وقت الفسحة؛ بسبب (الملل - الخصام - المنافسة - الجدل)

ب ضع علامة (✓) أمام العبارة الصحيحة، وعلامة (X) أمام العبارة غير الصحيحة:

- ١ أحمد يفضل كرة اليد. ()
٢ لعب الأصدقاء كرة القدم كثيرًا من قبل. ()
٣ اشتملت الفقرة على حل وسط يرضي كل الأصدقاء. ()

السؤال الثالث (النصوص) اقرأ الأبيات التالية من نص (اسلمي يا مصر)، ثم أجب:

اسلِمي يَا مِصْرُ إِنِّي الْفِدَا
ذِي يَدِي إِنْ مَدَّتِ الدُّنْيَا يَدَا
أَبَدًا لَنْ تَسْتَكِينِي أَبَدًا
إِنِّي أَرْجُو مَعَ الْيَوْمِ غَدَا
وَمَعَى قَلْبِي وَعَزْمِي لِلْجِهَادِ
وَلِقَلْبِي أَنْتِ بَعْدَ الدِّينِ دِينُ



أ أكمل ما يلي:

- ١ مرادف (تستكيني):
٢ جمع (الدنيا):

ب اختر الإجابة الصحيحة مما بين القوسين:

- ١ يتحدث الشاعر إلى
٢ كرر الشاعر كلمة (أبدًا) في البيت الثاني لـ
(دينه - وطنه - عزمه - قلبه)
(تضاد - ترتيب - نفي - تأكيد)

ج هات من الأبيات ما يلي:

- ١ تعبيرًا مجازيًا:
٢ كلمتين لهما نفس نهاية (الفدا):
٣ ما يدل على أن الشاعر لديه أمل ومتفائل:

السؤال الرابع (القواعد النحوية) اقرأ، ثم أجب:

«المؤمن مخلص لله في كل الأعمال؛ لأن الإخلاص من حق الله على المؤمن، وهو دليل على صلاح القلب».

أ استخرج من الفقرة ما يلي:

- ١ جمعًا:
٢ خبرًا:
٣ ضميرًا:
٣ اسمًا:
■ نوعه:
■ نوعه:
■ علامته:

ب أكمل بالمطلوب بين القوسين:

- ١ حققت أهدافهن.
٢ نقرأ القرآن.
٣ الأبوان
(جمع مؤنث سالم واضبطه)
(ضمير متكلم)
(خبر)

السؤال الخامس (الخط) اكتب بخط النسخ:

الصدق من علامات الإيمان.


(فقرة الإملاء صفحة ١٢)


السؤال السادس (الإملاء) اكتب ما يملئ عليك:




فقرات الاستماع والإملاء


نموذج (١)

فقرة الاستماع  سعدت اليوم جدًا يا أمي! فقد شاهدت برنامجًا استضاف جراح القلب المصري العالمي محمد سليمان الذي يعد خليفة مجدي يعقوب في أوروبا، يتأسس محمد سليمان فريقًا يضم ٣٢ طبيبًا من جنسيات مختلفة، يزور مصر سنويًا لنقل الخبرات الأجنبية وتقديم يد العون لوطنه، ويسعى إلى إنشاء مركز قلب عالمي في وسط الدلتا. قالت الأم: وأين الصدفة في ذلك؟ قال أحمد: الصدفة أنني درست اليوم درسًا عن الطبيب العالمي مجدي يعقوب.


فقرة الإملاء  ما أجمل الوطن! فيه ولدت، وعلى أرضه كبرت وتعلمت، ومن خيرات أكلته وشربت، وكان معلمي يقول لي دائمًا: الوطن أم للجميع، وعلينا أن نرد لها الجميل.


نموذج (٢)

فقرة الاستماع  طلب منا المعلم إعداد مجلة حائط عن انقراض بعض الحيوانات، اشتركت مع مجموعتي في البحث وتنفيذ الفكر المطروحة، وكتب يوسف الموضوعات بخطه الجميل، وألصق محمد وجمال الصور على أعمدة المجلة، ثم علق وائل وهشام المجلة في أحد أركان الفصل، وفي النهاية شرح وليد محتويات المجلة لتلاميذ المدرسة، وقد أثنى المعلم على أداء المجموعة وتعاونها.


فقرة الإملاء  عمالة الطفل من العقوبات التي تواجه المجتمع؛ حيث يترك الطفل المدرسة، ويعمل في مهنة غير ملائمة له، ولا ينال حظه من الاهتمام والرعاية؛ مما يقلل عدد المتعلمين، ويزيد نسبة الأمية.


نموذج (٣)

فقرة الاستماع  في أثناء تجديد البيت، لاحظت الأم وجود خلاف بين بنتيها هاجر وسلمي، فصنعت كعكة لذيذة، وجلست تتحدث معهما، فقالت هاجر: أختي سلمى تريد طلاء غرفتنا باللون الأبيض؛ لأنه لونها المفضل، ونسيت أنني شريكة لها في الغرفة، وأنا أفضل اللون الوردى، فقالت الأم: دائمًا هناك حل وسط يرضيك ويرضيها، فمن الممكن أن نستخدم لونك المفضل خلف سريرك، ولونها المفضل خلف سريريها.


فقرة الإملاء  أوصى حكيم ابنه قائلاً: يا بني تعلم فن الاستماع كما تتعلم فن القول، ولتكن أكثر حرصًا على الصمت منك على الكلام الذي لا يفيد، فإني ندمت على الكلام كثيرًا، ولم أندم على الصمت مرة واحدة.

نموذج (٤)

فقرة الاستماع  تهتم دول العالم بالآثار المصرية اهتمامًا كبيرًا؛ فكما تابعت القنوات العالمية خبر ترميم المتحف المصري للوحات الخشبية للمعلم المصري القديم (حسي رع)؛ فقد تابعت أيضًا خبر نقل القطع الأثرية من المتحف المصري بميدان التحرير إلى المتحف القومي للحضارة بمصر القديمة في حفلٍ عالمي. والسبب وراء إنشاء المتحف في هذه المنطقة أنها تعد ملتقى الأديان والحضارات عند كل المصريين.

فقرة الإملاء  إن لكل إنسان حقوقًا، وللطفل أيضًا حقوق، فما هي حقوق الطفل على المجتمع؟ من حقوق الطفل أن يحصل على العناية والحماية، وله الحق في التعليم والصحة، وأيضًا الحق في الراحة واللعب، ما أهم هذه الحقوق للطفل!

نموذج لطلاب الأزهر الشريف

فقرة الإملاء  بالعمل والاجتهاد يصل الإنسان إلى تحقيق أهدافه، وعلى العكس بالكسل والتهاون يفشل الفرد والمجتمع، وقديمًا قالوا: «من جد وجد، ومن زرع حصد»، فما أجمل العمل! وما أقبح الكسل! فماذا تريد النجاح أم الفشل؟



سلاح التلميز

منذ عام ١٩٦٠



اللغة
العربية

2024-2025

الصف الرابع الابتدائي
الفصل الدراسي الأول

إجابات نماذج اختبارات
نهاية الفصل الدراسي الأول

4

نموذج ١

السؤال الأول:

- أ) ضع علامة (✓) أو (X): ١ (X) ٢ (✓)
ب) أكمل: نقل الخبرات الأجنبية وتقديم يد العون لوطنه.

السؤال الثالث:

- أ) استخرج: ١ يستغرق ٢ مهمومًا
ب) أكمل: ١ صديقه المريض ٢ ترتيب الغرف
ج) أجب: نعم؛ فإن المهام ستستغرق وقتًا قصيرًا بفضل تقسيم العمل والتعاون.

السؤال الرابع:

- أ) اختر: ١ مجموعات ٢ بناء
ب) أكمل: تتشكل على هيئة كرات ضخمة وتتحرك بشكل سريع.
ج) أجب: التعاون يجعلها تخيف الأسماك الكبيرة فتجنب مهاجمتها.

السؤال الخامس:

- أ) اختر: أستمِر
ب) أكمل: فقرا / تزدهرا
ج) أجب: العهد ألا يبقى بؤسًا في الوطن.

السؤال السادس:

- أ) استخرج:
١ غداً - ظرف زمان ٢ الأسر - الضمة
ب) ثن الكلمة الملونة: سيقدم الوزيران دعمًا.
ج) حول إلى مفرد: سيعرض المشاركون منتجات.
د) حول للمؤنث: هن مستعدات للمعرض.

نموذج ٢

السؤال الأول:

- أ) ضع علامة (✓) أو (X): (X)
ب) اختر: مجلة حائط
ج) أجب: شكرهم على أدائهم وتعاونهم.

السؤال الثالث:

- أ) استخرج: ١ نقاش ٢ رابحون
ب) أكمل: ١ مكان قضاء الإجازة.
٢ التصويت.
ج) أجب: الحل الوسط يرضي الجميع ولا يضيع الوقت.

السؤال الرابع:

- أ) اختر: ١ اعتراف ٢ قوية
ب) أكمل: أنها متينة وتتوافر فيها عوامل الأمن والسلامة.
ج) أجب: عن طريق تسجيل أربع براءات اختراع لاختراعاته.

السؤال الخامس:

- أ) اختر: ١ تتمنى ٢ الدهر
ب) أكمل: مجازي
ج) أجب: يلبي الشاعر نداء الوطن ويحميه ويبنيه ويحصد محاصيله.

السؤال السادس:

- أ) استخرج:
١ بخيط - جار ومجرور ٢ اختراع - الضمة
ب) اختر: ١ فاعل ٢ تكسير
ج) حول للمثنى: يضرب اللاعبان كرة التنس.

نموذج ٣

السؤال الأول:

- أ) ضع علامة (✓) أو (X): ١ (X) ٢ (X)
ب) اختر: اقتراح حل وسط باستخدام اللون المفضل لكل بنت خلف سريرها.

السؤال الثالث:

- أ) اختر: ١ انتهيت ٢ تردد
ب) أكمل: ١ البقاء للعمل في الخارج أو العودة للوطن.
٢ العودة للوطن.
ج) أجب: الأب هو الذي علم ابنه حب الوطن.



السؤال الرابع:

- أ) اختر: ١) الأول والثاني ٢) العائد
ب) أكمل: الصيف - الجفاف والبحث عن الماء والغذاء.
ج) أجب: في الاشتياق للوطن والعودة إليه بعد الهجرة.

السؤال الخامس:

- أ) اختر: تعاون
ب) هات: ١) توحد - تساند ٢) كنا اللهيبي

السؤال السادس:

- أ) اختر: ١) على ٢) فاعل
ب) حول للمؤنث: ترتب الموظفين المكتبة.
ج) أجب:

- ١) ذاكري جيداً يا خديجة. ٢) صيفاً

نموذج ٤

السؤال الأول:

- أ) ضع علامة (✓) أو (X): (✓)

- ب) اختر: لوحات

- ج) أجب: نقلت إلى المتحف القومي للحضارة بمصر القديمة.

السؤال الثالث:

- أ) اختر: ١) جذبت ٢) أدوار

- ب) أكمل: ١) المساعدة في تنظيم الكتب.

- ٢) تعاون إبراهيم وبعض الزملاء.

- ج) أجب: تميز بالإيجابية والنشاط.

السؤال الرابع:

- أ) اختر: ١) الراحة ٢) الأوصياء

- ب) أكمل: فقدوا بعض حقوقهم، مثل: المسكن أو الوصي.

- ج) أجب: أطلقت برنامج (حماية أطفال بلا مأوى)

لرعايتهم ومساعدتهم.

السؤال الخامس:

- أ) اختر: ١) تضحية ٢) العهود

- ب) أكمل: مجازي

- ج) أجب: ينبغي علينا أن نحبها، ونضحى من أجلها ونحميها ونلبي نداها.

السؤال السادس:

- أ) استخراج:

- ١) لاعبان - الألف ٢) في الملعب - جار ومجرور

- ب) اختر: ١) الضمة ٢) ظرف مكان

- ج) حول إلى للمؤنث: تجمعت اللاعبات حول الحكم.

نموذج لطلاب الأزهر الشريف

السؤال الثاني:

- أ) اختر: ١) تحذيرهما ٢) ضعف ٣) الجدل

- ب) ضع علامة (✓) أو (X):

- ١) (X) ٢) (✓) ٣) (X)

السؤال الثالث:

- أ) أكمل:

- ١) تخضعي ٢) الدنا ٣) مصطفى صادق الرافعي

- ب) اختر: ١) وطنه ٢) تأكيد

- ج) هات من الأبيات:

- ١) إن مدت الدنيا يدا ٢) يدا ، غدا

- ٣) استعداده للتضحية والفداء وتمنيه غداً أفضل لبلاده.

السؤال الرابع:

- أ) استخراج:

- ١) الأعمال - تكسير ٢) مخلص

- ٣) هو - غائب ٤) المؤمن - ال

- ب) أكمل:

- ١) المجتهداثُ ٢) نحن ٣) رحيمان



سلاح التلميز

منذ عام ١٩٦٠



الرياضيات

2024-2025

الصف الرابع الابتدائي الفصل الدراسي الأول

نماذج اختبارات نهاية الفصل الدراسي الأول
طبقاً لآخر مواصفة للورقة الامتحانية

4

(9 درجات)

السؤال الأول اختر الإجابة الصحيحة من بين الإجابات المعطاة:

- 1) القيمة المكانية للرقم 5 في العدد 952,123 هي
 أ عشرات ب عشرات ألوف ج ألوف د مئات
- 2) 422 سم =
 أ 4 سم و 22 م ب 42 م و 2 سم ج 4 م و 22 سم د 4 م و 24 سم
- 3) العدد من مضاعفات العدد 4
 أ 21 ب 2 ج 18 د 20
- 4) $851,000 \approx 851,254$ مقرباً لأقرب
 أ ألف ب مائة ج عشرة د عشرات ألوف
- 5) مستطيل طوله 5 سم ، وعرضه 3 سم ، فإن محيطه = سم
 أ 15 ب 8 ج 16 د 12
- 6) القيمة المجهولة في النموذج المقابل هي

	30	5
7	210

 أ 35 ب 12 ج 30 د 42
- 7) $13 + 27 = 27 + 13$ تمثل خاصية
 أ الإبدال ب الدمج ج العنصر المحايد الجمعي د التوزيع
- 8) (ع.م.أ) للعددين: 6 ، 12 هو
 أ 72 ب 18 ج 12 د 6
- 9) مربع محيطه 24 سم ، فإن طول ضلعه = سم
 أ 8 ب 4 ج 6 د 3

(21 درجة)

السؤال الثاني أجب عما يلي:

10) قسّم أب 325 جنيهاً على 5 من أبنائه بالتساوي. أوجد نصيب كل ابن.

11) غادر أحمد المنزل الساعة 8:00 مساءً ، ثم عاد إليه الساعة 10:20 مساءً ، فما المدة التي قضاها أحمد خارج المنزل؟

12) اشترى محمد سيارة بمبلغ 362,124 جنيهاً ، وهاتفاً بمبلغ 25,205 جنيهاً. أوجد إجمالي ما دفعه محمد.



13) رتّب الأعداد التالية تنازلياً:

650,000 ، 645,000 ، 654,400 ، 605,000



14) أوجد ناتج: $30 \div 5 + 5 \times 8$

15) اكتب بالصيغة اللفظية: 36,425,003

16) تذاكر ليلي ساعتين يومياً ، فكم ساعة تذاكرها في 30 يوماً؟

30

اختبار 2

(9 درجات)

السؤال الأول اختر الإجابة الصحيحة من بين الإجابات المعطاة:

- العامل المشترك لكل الأعداد هو
أ 1 ب 0 ج 2 د 3
- باقي قسمة: $32 \div 5$ هو
أ 1 ب 2 ج 3 د 4
- المليون هو أصغر عدد مكون من أرقام.
أ 6 ب 7 ج 8 د 9
- 3 ساعات و 10 دقائق = دقيقة.
أ 180 ب 185 ج 310 د 190
- 45 تساوي أمثال العدد 9
أ 9 ب 7 ج 5 د 6
- قيمة الرقم 0 في العدد 205,149 هي
أ 10,000 ب 1,000 ج 100 د 0
- صورة على شكل مربع طول ضلعها 6 سم ، فإن محيطها = سم
أ 24 ب 36 ج 12 د 10
- أي مما يلي يكون مضاعفاً مشتركاً للعددين 2 ، 3 ؟
أ 1 ب 4 ج 9 د 12
- مستطيل مساحته 24 سم² ، وطوله 8 سم ، فإن عرضه = سم
أ 7 ب 4 ج 3 د 5



10 أوجد العامل المشترك الأكبر للعددين: 20 ، 30

.....
.....

11 أوجد قيمة x باستخدام النموذج الشريطي المقابل: $7,100 + x = 12,305$ 12 اكتب بالصيغة القياسية: $500,000,000 + 200,000 + 10,000 + 100 + 10 + 2$ 13 أوجد ناتج ضرب: 184×6

14 تشرب منى 3 لترات من الماء يوميًا ، فكم مليلترًا تشرب في اليوم؟

15 حديقة على شكل مستطيل طولها 5 م ، وعرضها 3 م. احسب مساحتها.

16 رتب الأعداد التالية تصاعديًا:

254,221 ، 245,121 ، 254,122 ، 245,122

..... ، ، ،

30

اختبار 3

(9 درجات)

السؤال الأول اختر الإجابة الصحيحة من بين الإجابات المعطاة:

1 50 مائة = آلاف.

د 5,000

ج 500

ب 50

أ 5

2 المضاعف المشترك لكل الأعداد هو

د 0

ج 3

ب 2

أ 1

3 مستطيل طوله L ، وعرضه w ، فإن محيطه =د $L - w$ ج $(L + w) \times 2$ ب $L \times w$ أ $L + w$

4 العدد الذي عوامله الأولية: 3 ، 2 ، 5 هو

د 15

ج 20

ب 30

أ 10

5 8 ملايين و 504 8,540,000

د غير ذلك

ج =

ب >

أ <



6) مربع مساحته 25 سم²، فإن طول ضلعه = سم

د 16

ج 20

ب 4

أ 5

7) $4 \times 27 = (4 \times 7) + (4 \times \dots)$

د 20

ج 7

ب 10

أ 3

8) أي الأعداد التالية يمثل عددًا أوليًا؟

د 12

ج 7

ب 4

أ 1

9) 9,000 جرام = كيلوجرامات.

د 10

ج 900

ب 9

أ 90

(21 درجة)

السؤال الثاني أجب عما يلي:

10) أوجد العدد الناقص في النماذج الشريطية التالية:

ب

..... ملل
3 لترات 30 ملل

أ

..... ملل
8 لترات 910 ملل

11) أوجد قيمة: $18 - 2 \times 3 \div 6$

12) اكتب 4 مضاعفات للعدد 6 أكبر من 0

13) يوجد 124 قلمًا من أقلام الرصاص يجب تقسيمها بالتساوي على 4 مجموعات من التلاميذ ، فما عدد الأقلام التي ستحصل عليها كل مجموعة ؟

14) اشترى خالد 15 كتابًا ، سعر الكتاب الواحد 40 جنيهاً. أوجد إجمالي ما يدفعه خالد.

15) مع سمير 7,250 جنيهاً ، اشترى حذاء وحقيبة بسعر 1,245 جنيهاً. أوجد ما تبقى معه.

16) أوجد محيط ومساحة الشكل المقابل:

6 سم



المحيط =

المساحة =



(9 درجات)

السؤال الأول اختر الإجابة الصحيحة من بين الإجابات المعطاة:

- 1) $165 \times 1 = 165$ تُسمَّى خاصية
 أ الإبدال ب الدمج ج العنصر المحايد الضربي د التوزيع
- 2) 5 ساعات = دقيقة.
 أ 300 ب 30 ج 240 د 180
- 3) أكبر عدد يمكن تكوينه من الأرقام: 2، 0، 1، 8، 7، 4 هو
 أ 102,478 ب 874,210 ج 874,102 د 120,874
- 4) 3 كجم و 200 جم = جرام.
 أ 2,300 ب 32,000 ج 320 د 3,200
- 5) القيمة المكانية للرقم 3 في العدد 478,132 هي
 أ عشرات ب عشرات الألوف ج مئات د ألوف
- 6) مربع طول ضلعه 10 سم، فإن مساحته = سم²
 أ 20 ب 40 ج 100 د 1,000
- 7) تقريب العدد 46,125 لأقرب عشرات الألوف هو
 أ 50,000 ب 40,000 ج 46,000 د 47,000
- 8) 10 أمثال العدد 830 هو
 أ 83 ب 803 ج 83,000 د 8,300
- 9) العدد الأولي الذي مجموع عوامله 8 هو
 أ 7 ب 6 ج 17 د 9

(21 درجة)

السؤال الثاني أجب عما يلي:

10) أوجد ناتج ضرب: 3×125

11) برواز على شكل مستطيل محيطه 18 م، وطوله 6 م. أوجد عرضه.



12 بدأت سها المذاكرة الساعة 7: 15 صباحًا وانتهت الساعة 9: 30 صباحًا. ما المدة التي قضتها سها في المذاكرة؟

13 اشترى زياد 3 أمتار من القماش ، ودفع للبائع 561 جنيهاً ، فما ثمن المتر الواحد؟

7,620
c 4,310

14 من النموذج الشريطي المقابل: أوجد قيمة c

15 اكتب 5 مضاعفات مشتركة للعددين: 5 ، 10

16 رتّب الأعداد التالية تنازليًا:

64,215 ، 64 ألفًا ، 46,125 ، 64,125

..... ، ، ،

30

اختبار 5

(9 درجات)

السؤال الأول اختر الإجابة الصحيحة من بين الإجابات المعطاة:

- 1 إذا كان $33 = 10 \div 330$ ، فإن المقسوم عليه هو
أ 33 ب 10 ج 330 د 340
- 2 العنصر المحايد الجمعي مضافاً إليه 9 =
أ 10 ب 90 ج 9 د 8
- 3 من وحدات قياس الكتلة
أ الساعة ب اللتر ج المتر د الكيلوجرام
- 4 $10 : 8 + 40$ دقيقة =
أ 9 : 50 ب 8 : 50 ج 8 : 15 د 7 : 30
- 5 مستطيل طوله 30 سم ، وعرضه 5 سم ، فإن مساحته = سم²
أ 150 ب 6 ج 70 د 35
- 6 9,412 عشرة 94,120
أ > ب < ج = د غير ذلك



7) أصغر عدد أولي فردي هو

د 5

ج 3

ب 1

أ 2

8) أي مما يلي يمثل 7×42 ؟

د $(7 + 40) \times (7 + 2)$

ج $(7 + 2) \times (7 + 4)$

ب $(7 \times 40) + (7 \times 2)$

أ $(7 \times 4) + (7 \times 2)$

9) $36 \times 12 = 12 \times$

د 63

ج 30

ب 12

أ 36

(21 درجة)

السؤال الثاني أجب عما يلي:

10) أوجد (ع.م.أ) للعددين: 15 ، 40

11) استخدم نموذج مساحة المستطيل التالي لإيجاد ناتج الضرب:



$$142 \times 8 = \dots\dots\dots$$

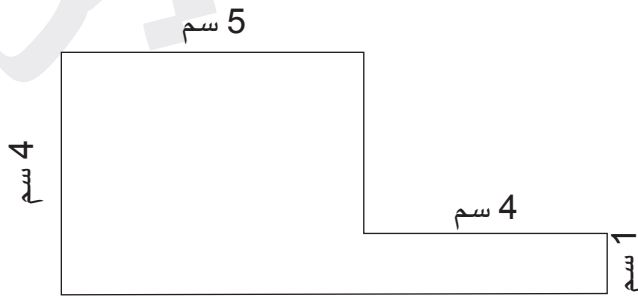
12) إذا كان طول عمرو 1 م و 55 سم ، وطول محمد 165 سم ، فأيهما أقصر ؟ وما الفرق بين طوليهما؟

13) وزع محمود 3,066 جنيهاً بالتساوي على 6 من الجمعيات الخيرية ، فكم يكون نصيب كل جمعية؟

14) اكتب الصيغة الممتدة للعدد: 2,152,023

15) اشترك أحمد وباسم في مشروع ، فدفع أحمد 350,120 جنيهاً ، ودفع باسم 245,136 جنيهاً ، فما إجمالي ما دفعه أحمد وباسم؟

16) احسب محيط ومساحة الشكل المقابل:



المحيط =

المساحة =



سلاح التلميز

منذ عام ١٩٦٠



الرياضيات

2024-2025

الصف الرابع الابتدائي
الفصل الدراسي الأول

إجابات نماذج اختبارات
نهاية الفصل الدراسي الأول

4

إجابة اختبار (1)

السؤال الأول

- ① عشرات ألوف ② 4 م و 22 سم ③ 20 ④ ألف ⑤ 16
⑥ 35 ⑦ الإبدال ⑧ 6 ⑨ 6

السؤال الثاني

- ⑩ نصيب كل ابن = 65 جنيهاً ؛ لأن: $325 \div 5 = 65$
⑪ المدة التي قضاها أحمد خارج المنزل = ساعتين و 20 دقيقة.
⑫ إجمالي ما دفعه محمد = 387,329 جنيهاً ؛ لأن: $362,124 + 25,205 = 387,329$
⑬ \rightarrow 654,400 ، 650,000 ، 645,000 ، 605,000
⑭ $30 \div 5 + 5 \times 8 = 6 + 5 \times 8$
 $= 6 + 40$
 $= 46$
⑮ الصيغة اللفظية: ستة وثلاثون مليوناً ، وأربعمائة وخمسة وعشرون ألفاً ، وثلاثة
⑯ عدد الساعات التي تذاكرها ليلي في 30 يوماً = 60 ساعة ؛ لأن: $2 \times 30 = 60$

إجابة اختبار (2)

السؤال الأول

- ① 1 ② 2 ③ 7 ④ 190 ⑤ 5
⑥ 0 ⑦ 24 ⑧ 12 ⑨ 3

السؤال الثاني

- ⑩ عوامل العدد 20 : 1 ، 2 ، 4 ، 5 ، 10 ، 20
عوامل العدد 30 : 1 ، 2 ، 3 ، 5 ، 6 ، 10 ، 15 ، 30
العوامل المشتركة: 1 ، 2 ، 5 ، 10
العامل المشترك الأكبر هو 10
⑪ $x = 12,305 - 7,100 = 5,205$
⑫ 500,210,112
⑬ 1,104
⑭ تشرب منى 3,000 مليلتر من الماء يومياً ؛ لأن: $3 \times 1,000 = 3,000$
⑮ مساحة الحديقة = 15 م² ؛ لأن: $5 \times 3 = 15$
⑯ \rightarrow 245,121 ، 245,122 ، 254,122 ، 254,221

12,305	
7,100	x



إجابة اختبار (3)

السؤال الأول

- 5 ① 0 ② $(l + w) \times 2$ ③ 30 ④ > ⑤
5 ⑥ 20 ⑦ 7 ⑧ 9 ⑨

السؤال الثاني

- 8,910 أ ⑩ ب 3,030

$$18 - 2 \times 3 \div 6 = 18 - 6 \div 6$$

$$= 18 - 1$$

$$= 17$$

- 12 ⑫ 6 ، 12 ، 18 ، 24 (توجد إجابات أخرى).

- 13 ⑬ عدد الأقلام التي ستحصل عليها كل مجموعة = 31 قلمًا ؛ لأن: $124 \div 4 = 31$

- 14 ⑭ إجمالي ما يدفعه خالد = 600 جنيه ؛ لأن: $40 \times 15 = 600$

- 15 ⑮ ما تبقى مع سمير = 6,005 جنيهات ؛ لأن: $7,250 - 1,245 = 6,005$

- 16 ⑯ المحيط = 20 سم ؛ لأن: $(6 + 4) \times 2 = 20$

- المساحة = 24 سم² ؛ لأن: $6 \times 4 = 24$

إجابة اختبار (4)

السؤال الأول

- 1 ① العنصر المحايد الضربي 300 ② 874,210 ③ 3,200 ④
5 ⑤ عشرات 100 ⑥ 8,300 ⑧ 7 ⑨ 50,000 ⑦

السؤال الثاني

- 10 ⑩ ناتج الضرب = 375

- 11 ⑪ نصف المحيط = 9 م ؛ لأن: $18 \div 2 = 9$

- عرض البرواز = 3 م ؛ لأن: $9 - 6 = 3$

- 12 ⑫ المدة التي قضتها سها في المذاكرة هي: ساعتان وربع ؛ لأن: $9:30 - 7:15 = 2:15$

- 13 ⑬ ثمن المتر الواحد = 187 جنيهاً ؛ لأن: $561 \div 3 = 187$

- 14 ⑭ $c = 3,310$ ؛ لأن: $7,620 - 4,310 = 3,310$

- 15 ⑮ المضاعفات المشتركة هي: 0 ، 10 ، 20 ، 30 ، 40 (توجد إجابات أخرى).

- 16 ⑯ 46,125 ، 64 ألفاً ، 64,125 ، 64,215



السؤال الأول

- 10 ① 9 ② 3 ③ الكيلوجرام 8:50 ④ 150 ⑤
 = ⑥ 3 ⑦ ⑧ $(7 \times 40) + (7 \times 2)$ 36 ⑨

السؤال الثاني

- ⑩ عوامل العدد 15 : 1 ، 3 ، 5 ، 15
 عوامل العدد 40 : 1 ، 2 ، 4 ، 5 ، 8 ، 10 ، 20 ، 40
 العوامل المشتركة: 1 ، 5
 (ع.م.أ) هو: 5
- ⑪ $142 \times 8 = 1,136$
- | | | |
|-----|-----|----|
| 100 | 40 | 2 |
| 800 | 320 | 16 |
- ⑫ عمرو هو الأقصر
 الفرق بين طوليهما = 10 سم : لأن: $165 - 155 = 10$
 ⑬ نصيب كل جمعية = 511 جنيهاً : لأن: $3,066 \div 6 = 511$
 ⑭ الصيغة الممتدة هي: $2,000,000 + 100,000 + 50,000 + 2,000 + 20 + 3$
 ⑮ إجمالي ما دفعه أحمد وباسم = 595,256 جنيهاً : لأن: $350,120 + 245,136 = 595,256$
 ⑯ المحيط = 26 سم
 المساحة = 24 سم²



أشهر وأحب كتب تعليمية، وأوسعها انتشارًا

Selah El-Telmeez

Since 1960



English Connect

2024-2025

Fourth Primary First Term

نماذج اختبارات نهاية الفصل الدراسي الأول
طبقًا لآخر مواصفة للورقة الامتحانية

4

Test 1

(A) Listening

نصوص الاستماع بملف الإجابات

1 Listen and circle the correct answer from a, b, c or d:

- Hana lives in and likes animals.
a. Egypt b. France c. China d. England
- Some animals are and scary.
a. short b. huge c. long d. tall
- Spiders are small but
a. bad b. dangerous c. ugly d. helpful
- All the animals are
a. scary b. important c. little d. huge

(B) Reading

2 Choose the correct answer from a, b, c or d:

- A guide works in the industry.
a. fishing b. farming c. tourism d. education
- Lara opened old radios with her
a. block b. pencil c. doll d. screwdriver

3 Read and complete the text with the words in the box:

kitchen – garden – room – bathrooms – watch

My name is Nour. I live in a big house with my family. We have three bedrooms and two (1) My mom cooks food in the (2) We (3) TV in the living room. My favorite (4) is the bedroom. I like to relax in my bedroom.



4 Read the text and answer the questions:

Cheng was a gardener in China. One day, the emperor decided that there would be a competition to choose the next emperor. He gave a dead seed to each gardener to grow a beautiful plant. Cheng put the seed in the sun and gave it water, but nothing happened. At the palace, all the gardeners had beautiful plants, but Cheng had nothing. The emperor chose Cheng as the winner because he was the only good and honest one.

(A) Choose the correct answer from a, b, c or d:

1. Cheng was a gardener in
a. Japan b. China c. America d. France
2. The emperor decided that there would be a to choose the next emperor.
a. party b. event c. competition d. race

(B) Answer the following questions:

3. What did the emperor give to each gardener?
.....

4. Why did the emperor choose Cheng?
.....

(C) Writing

5 Read and write the correct form of the word(s) between brackets:

1. A mouse is (small) than an elephant.
2. My house is (in front) the supermarket.
3. I eat healthy food (but) I exercise a lot.
4. The Nile is (longer) river in the world.



6 Punctuate the following:

– i listen to my teacher carefully

.....

7 Write a paragraph of EIGHTEEN (18) words using the following guiding elements:

“Rhim gazelles”

(beautiful – Sahara Desert – horns)

.....

.....

.....

.....

.....

GOOD LUCK



Test 2

(A) Listening

نصوص الاستماع بملف الإجابات

1 Listen and circle the correct answer from a, b, c or d:

1. Youssef is a plumber. He fixes and faucets.
a. cars b. pipes c. books d. toys
2. Maged is a/an He makes things work.
a. teacher b. doctor c. electrician d. engineer
3. Adam parcels to people.
a. delivers b. cooks c. makes d. sends
4. Omar takes away.
a. plants b. food c. buses d. garbage

(B) Reading

2 Choose the correct answer from a, b, c or d:

1. After the shoot grows above the soil, it grows
a. sandals b. chickens c. leaves d. baskets
2. My family and I live on a/an We love living on water.
a. houseboat b. tent c. apartment d. house

3 Read and complete the text with the words in the box:

fur – happy – big – insects – hot

The fennec fox lives in the desert. It's smaller than other foxes. Its ears are (1)
The fennec fox needs big ears to hear (2) and small animals. During the
day, it's (3) in the desert. The fennec fox loses heat from its ears. At
night, it's cold. The fox's thick (4) keeps it warm.



4 Read the text and answer the questions:

Sara and Malak are sisters. Each sister had a beautiful mango tree in her garden. Every year, they enjoyed eating mangoes and watching their children play under the trees. One day, Malak needed money. She cut down her tree and sold its wood. She felt happy at first. But the next year, Sara's mango tree grew bigger and gave her more mangoes. Malak had no tree, no mangoes, and no more wood to sell. She was very disappointed.

(A) Choose the correct answer from a, b, c or d:

1. Each sister had a beautiful mango tree in her
a. garden b. room c. house d. balcony
2. Malak cut down her tree and its wood.
a. ate b. played c. grew d. sold

(B) Answer the following questions:

3. What did Sara and Malak enjoy every year?
.....

4. Why was Malak disappointed?
.....

(C) Writing

5 Read and write the correct form of the word(s) between brackets:

1. Horses are (**fast**) than camels.
2. (**These**) is my pen.
3. Hatem washes the rice, (**and**) he can't cook it.
4. (**When**) is the school? – It's next to the hospital.



6 Punctuate the following:

– how long is a rhinoceros's horn

.....

7 Write a paragraph of EIGHTEEN (18) words using the following guiding elements:

“Directions to my school”

(corner – supermarket – left)

.....

.....

.....

.....

.....

GOOD LUCK



Test 3

(A) Listening

نصوص الاستماع بملف الإجابات

1 Listen and circle the correct answer from a, b, c or d:

1. Egyptian produce many things.
a. nurses b. mechanics c. farmers d. teachers
2. They rice, tomatoes, onions, and potatoes.
a. grow b. make c. buy d. drink
3. They also grow grapes,, and mangoes.
a. apples b. milk c. strawberries d. bananas
4. They raise animals like and cows.
a. chickens b. lions c. giraffes d. hippos

(B) Reading

2 Choose the correct answer from a, b, c or d:

1. The bear lifts its to catch the fish.
a. beak b. fur c. wing d. paw
2. The mail carrier delivered my yesterday.
a. garbage b. parcel c. faucet d. pipe

3 Read and complete the text with the words in the box:

pipes – lights – garbage – big – electrician

I'm Laila. We have a big house. A (1) collector takes away our garbage. An (2) connects electricity so that we can use (3) A plumber connects the (4) so that we have water. All jobs are important for us.



4 Read the text and answer the questions:

A habitat is a place where living things live and grow. In the desert habitat, there is not much rain. Plants that live in the desert do not need a lot of water, like tamarisk and acacia. Plants near rivers and lakes need a lot of water. Some types of plants that grow near rivers and lakes are lotus flowers and reeds. Farmers work in agricultural habitats. They grow fruits and vegetables for us to eat, like bean plants and orange trees.

(A) Choose the correct answer from a, b, c or d:

1. A is a place where living things live and grow.
a. fruit b. habitat c. tree d. plant
2. Plants that live in the do not need a lot of water.
a. desert b. river c. lake d. soil

(B) Answer the following questions:

3. What are some types of plants that grow near rivers and lakes?
.....

4. Which habitats do farmers work in?
.....

(C) Writing

5 Read and write the correct form of the word(s) between brackets:

1. The kitchen is (**between**) to the living room.
2. Noha is (**tallest**) than Laila.
3. These (**is**) the plumber's tools.
4. The sunflower is the (**heavy**) flower.



6 Punctuate the following:

- The land in damietta governorate is rich in nutrients

.....

7 Write a paragraph of EIGHTEEN (18) words using the following guiding elements:

“A job you want to do”

(librarian – books – information)

.....

.....

.....

.....

.....

GOOD LUCK



Test 4

(A) Listening

نصوص الاستماع بملف الإجابات

1 Listen and circle the correct answer from a, b, c or d:

1. Yara moved to a new with her family.
a. hospital b. houseboat c. school d. apartment
2. Yara's favorite room is the
a. bedroom b. living room c. kitchen d. bathroom
3. She relaxes and does her quietly in it.
a. sports b. letters c. homework d. cooking
4. She can see the whole street from the
a. balcony b. tent c. dining room d. kitchen

(B) Reading

2 Choose the correct answer from a, b, c or d:

1. There will be a next week. I will try to win.
a. competition b. palace c. garden d. nutrients
2. Ancient Egyptians used to make paper.
a. papyrus b. weather c. sandals d. baskets

3 Read and complete the text with the words in the box:

green – water – liters – life – grew

My grandparents had a farm. They (1) many fruits. They also planted trees and flowers. They used rainwater to (2) the plants. They needed about a billion (3) of water a year. They used plants to make the land (4)



4 Read the text and answer the questions:

There are many animals that live in Egypt. There are spiders, which can be scary, but they are very helpful. Farmers like spiders because they eat insects. There are also crocodiles and snakes. They are dangerous, but they do a very important job. They eat insects, birds, and lizards. This helps control the number of these small animals. Sometimes we think some animals are scary or ugly, but they are all important.

(A) Choose the correct answer from a, b, c or d:

1. Spiders can be scary, but they are very
a. wet b. hard c. helpful d. strong
2. Crocodiles and are dangerous, but they do a very important job.
a. snakes b. lizards c. birds d. insects

(B) Answer the following questions:

3. Why do farmers like spiders?
.....

4. What is the main idea of the text?
.....

(C) Writing

5 Read and write the correct form of the word(s) between brackets:

1. Elephants are bigger (then) cows.
2. My cat is the (big) on the street.
3. I want to go swimming, (and) it's raining.
4. Look at the sky. Those (is) stars.



6 Punctuate the following:

– Lara Talia, and amir are all adults.

7 Write a paragraph of EIGHTEEN (18) words using the following guiding elements:

“People who help us”
(plumbers – pipes – garbage)

GOOD LUCK



Test 5

(A) Listening

نصوص الاستماع بملف الإجابات

1 Listen and circle the correct answer from a, b, c or d:

- You put a in the soil.
a. seed b. flower c. leaf d. shoot
- The roots grow the soil.
a. above b. on c. under d. beside
- The flowers become tomato
a. vegetables b. fruits c. trees d. leaves
- Tomatoes are before they are red.
a. pink b. white c. orange d. green

(B) Reading

2 Choose the correct answer from a, b, c or d:

- The fennec fox loses from its ears.
a. heat b. fur c. mice d. horns
- means can grow again or never run out.
a. Non-renewable b. Sell c. Plant d. Renewable

3 Read and complete the text with the words in the box:

fur – ride – strong – sink – desert

I rode a camel yesterday. Camels are amazing animals! They are beautiful, (1) animals. They help us carry things and people to cross the (2) Their milk is delicious. We can use their (3) to make clothes. Camels have large, flat feet so they don't (4) in sand.



4 Read the text and answer the questions:

Electricity is very dangerous. It moves very fast, close to the speed of light. During a storm, we see a flash of lightning. There is a huge amount of energy in an electrical storm! If we get an electric shock, we can't control our bodies, and it can burn us. We should learn to use electricity safely. Never touch anything electrical with wet hands. Never put anything into a socket, only use plugs. By being careful, we can stay safe around electricity.

(A) Choose the correct answer from a, b, c or d:

- The general idea of the text is about
a. energy b. gas c. lightning d. electricity
- Electricity moves very fast, close to the speed of
a. light b. storm c. water d. sand

(B) Answer the following questions:

- What can happen if we get an electric shock?
.....

- How can we stay safe around electricity?
.....

(C) Writing

5 Read and write the correct form of the word(s) between brackets:

- The giraffe is the (tall) animal.
- Be (care) when you cross the road.
- This (are) the socket the electrician is fixing.
- She likes to play football, (and) she can't play it.



6 Punctuate the following:

– what do you want to do

.....

7 Write a paragraph of EIGHTEEN (18) words using the following guiding elements:

“Damietta governorate”

(nutrients – farmers – catch)

.....

.....

.....

.....

.....

GOOD LUCK



أشهر وأحب كتب تعليمية، وأوسعها انتشارًا

Selah El-Telmeez

Since 1960



English Connect

2024-2025

Fourth Primary First Term

إجابات نماذج اختبارات
نهاية الفصل الدراسي الأول

4

Test 1 Answers

(A) Listening

Listening Script:

I'm Hana. I live in Egypt and I like animals. There are many animals that live in my country. Some animals are huge and scary, like crocodiles. Some animals are small but helpful, like spiders. All the animals are important.

1 Listen and circle the correct answer from a, b, c or d:

1. (a) 2. (b) 3. (d) 4. (b)

(B) Reading

2 Choose the correct answer from a, b, c or d:

1. (c) 2. (d)

3 Read and complete the text with the words in the box:

1. bathrooms 2. kitchen 3. watch 4. room

4 Read the text and answer the questions:

(A) Choose the correct answer from a, b, c or d:

1. (b) 2. (c)

(B) Answer the following questions:

3. He gave a dead seed to each gardener.
4. Because he was the only good and honest one.



(C) Writing

5 Read and write the correct form of the word(s) between brackets:

1. smaller

2. in front of

3. and

4. the longest

6 Punctuate the following:

– I listen to my teacher carefully.

7 Write a paragraph of EIGHTEEN (18) words using the following guiding elements:

– Rhim gazelles look very **beautiful**. They live in the **Sahara Desert**. They have big ears and long **horns**.



Test 2 Answers

(A) Listening

Listening Script:

I'm Youssef. I'm a plumber. I fix pipes and faucets. My friend Maged is an electrician. He makes things work. Adam works as a mail carrier. He delivers parcels to people. Omar is a garbage collector. He takes garbage away.

1 Listen and circle the correct answer from a, b, c or d:

1. (b) 2. (c) 3. (a) 4. (d)

(B) Reading

2 Choose the correct answer from a, b, c or d:

1. (c) 2. (a)

3 Read and complete the text with the words in the box:

1. big 2. insects 3. hot 4. fur

4 Read the text and answer the questions:

(A) Choose the correct answer from a, b, c or d:

1. (a) 2. (d)

(B) Answer the following questions:

3. Every year, they enjoyed eating mangoes and watching their children play under the trees.
4. Because Malak had no tree, no mangoes, and no more wood to sell.



(C) Writing

5 Read and write the correct form of the word(s) between brackets:

1. faster

2. This

3. but

4. Where

6 Punctuate the following:

– How long is a rhinoceros's horn?

7 Write a paragraph of EIGHTEEN (18) words using the following guiding elements:

– From the **corner** of my street, go straight ahead. Turn right at the **supermarket**. It's on your **left**.



Test 3 Answers

(A) Listening

Listening Script:

Egyptian food is delicious. Egyptian farmers produce many things that Egyptian people see on their tables every day. They grow rice, tomatoes, onions, and potatoes. They also grow grapes, bananas, and mangoes. They raise animals like chickens and cows, too.

1 Listen and circle the correct answer from a, b, c or d:

1. (c) 2. (a) 3. (d) 4. (a)

(B) Reading

2 Choose the correct answer from a, b, c or d:

1. (d) 2. (b)

3 Read and complete the text with the words in the box:

1. garbage 2. electrician 3. lights 4. pipes

4 Read the text and answer the questions:

(A) Choose the correct answer from a, b, c or d:

1. (b) 2. (a)

(B) Answer the following questions:

3. Some types of plants that grow near rivers and lakes are lotus flowers and reeds.
4. Farmers work in agricultural habitats.



(C) Writing

5 Read and write the correct form of the word(s) between brackets:

1. next

2. taller

3. are

4. heaviest

6 Punctuate the following:

– The land in Damietta governorate is rich in nutrients.

Write a paragraph of EIGHTEEN (18) words using the following guiding elements:

7

– I want to be a **librarian**. The librarian looks after the **books** and helps children find the **information** they need.



Test 4 Answers

(A) Listening

Listening Script:

I'm Yara. I moved to a new apartment with my family. My favorite room is the bedroom. I relax and do my homework quietly in it. I also like the balcony because I can see the whole street from it.

1 Listen and circle the correct answer from a, b, c or d:

1. (d) 2. (a) 3. (c) 4. (a)

(B) Reading

2 Choose the correct answer from a, b, c or d:

1. (a) 2. (a)

3 Read and complete the text with the words in the box:

1. grew 2. water 3. liters 4. green

4 Read the text and answer the questions:

(A) Choose the correct answer from a, b, c or d:

1. (c) 2. (a)

(B) Answer the following questions:

3. Farmers like spiders because they eat insects.
4. The main idea of the text is that all animals are important.



(C) Writing

5 Read and write the correct form of the word(s) between brackets:

1. than

2. biggest

3. but

4. are

6 Punctuate the following:

– Lara, Talia, and Amir are all adults.

7 Write a paragraph of EIGHTEEN (18) words using the following guiding elements:

– The plumbers connect the pipes so that we have water. The garbage collectors take away our garbage.



Test 5 Answers

(A) Listening

Listening Script:

Tomatoes are easy to grow. You put a seed in the soil and water it every day. The roots grow under the soil. The plant grows flowers and the flowers become tomato fruits. Tomatoes are green before they are red.

1 Listen and circle the correct answer from a, b, c or d:

1. (a) 2. (c) 3. (b) 4. (d)

(B) Reading

2 Choose the correct answer from a, b, c or d:

1. (a) 2. (d)

3 Read and complete the text with the words in the box:

1. strong 2. desert 3. fur 4. sink

4 Read the text and answer the questions:

(A) Choose the correct answer from a, b, c or d:

1. (d) 2. (a)

(B) Answer the following questions:

3. If we get an electric shock, we can't control our bodies, and it can also burn us.
4. Never touch anything electrical with wet hands. Never put anything into a socket, only use plugs.



(C) Writing

5 Read and write the correct form of the word(s) between brackets:

1. tallest

2. careful

3. is

4. but

6 Punctuate the following:

– What do you want to do?

7 Write a paragraph of EIGHTEEN (18) words using the following guiding elements:

– The land in Damietta governorate is rich in **nutrients**. **Farmers** can grow rice and potatoes. Fishermen **catch** fish.



سلاح التلميز

منذ عام ١٩٦٠



العلوم

2024-2025

الصف الرابع الابتدائي
الفصل الدراسي الأول

نماذج اختبارات نهاية الفصل الدراسي الأول
طبقاً لآخر مواصفة للورقة الامتحانية

4

الاختبار 1

السؤال الأول

أ ضع علامة (✓) أو (X) أمام العبارات الآتية:

- () 1 الفراء البنية للوشق المصري تكيف سلوكي.
() 2 يعتبر المخ مركز التحكم الرئيسي في الجسم ويفسر المعلومات ويعالجها.
() 3 تنتج بعض الحشرات الضوء وتستخدمه في التواصل، مثل الخنافس المضيئة.

ب تسقط الكرة لأسفل إذا تركتها من يدك. ما تفسير ذلك؟

السؤال الثاني

أ اختر الإجابة الصحيحة:

- عملية ينقبض فيها الحجاب الحاجز ويتحرك لأسفل، ويتسع القفص الصدري.
أ الهضم ب الزفير ج الشهيق د البلع

ب قارن بين كل مما يلي:

1 الأجسام اللامعة والأجسام الخشنة؛ من حيث اتجاه الأشعة المنعكسة.

2 الأجسام السريعة والأجسام البطيئة عند حدوث التصادم؛ من حيث قوة التصادم والأضرار الناتجة.

السؤال الثالث

أ صوّب ما تحته خط في العبارة التالية:

- المسئول عن سحب اليد بسرعة عند ملامسة جسم ساخن هو الجهاز التنفسي. (.....)

ب لاحظ الأشكال المقابلة، ثم أجب:

1 ما اسم العضو في الشكل (1)؟ وما هي وظيفته؟



(1)



(2)

2 ما نوع الطاقة التي اكتسبتها الأتقال عند رفعها لأعلى في الشكل (2)؟



الاختبار 2

السؤال الأول

أ اكتب المصطلح العلمي:

- 1 حيوان ليلي يمتلك رأساً تشبه الوعاء، ويستطيع لفها في جميع الاتجاهات. (.....)
- 2 الأجسام التي تسمح بمرور الضوء، ولا يتكون لها ظل. (.....)
- 3 عملية تحويل الطعام من صورة معقدة إلى صورة بسيطة. (.....)

ب علل: عندما تصدم سيارة بلافتة على الطريق لا تنتقل كل طاقة حركة السيارة إلى اللافتة.

السؤال الثاني

أ أكمل العبارة الآتية:

- استخلاص الأسماك الأكسجين المذاب في الماء يعتبر تكيفاً..... بينما الهجرة في الحيوانات يعتبر تكيفاً.....

ب اذكر السبب فيما يلي:

- 1 توهج أعين القطط في الظلام.
- 2 تزداد الأضرار الناتجة عن تصادم سيارتين تتحركان في اتجاه معاكس لبعضهما.

السؤال الثالث

أ ضع علامة (✓) أو (X) أمام العبارة الآتية:

- تُعتبر القصبة الهوائية العضو المشترك بين الجهاز الهضمي والجهاز التنفسي. ()

ب 1 علل: لا تتجمد أقدام البطريق على الرغم من وقوفه على الجليد طوال اليوم.

2 كيف تستدل على حركة الكرة عند دفعها لصديقك، كما بالشكل المقابل؟



الاختبار 3

السؤال الأول

أ صوب الكلمات التي تحتها خط فيما يلي:

- 1) يمتلك ثعلب الفنك أذنًا قصيرة لفقد الحرارة وتبريد جسمه. (.....)
- 2) تستخدم الحيتان الحذاء حاسة البصر للتواصل صيفًا وشتاءً من أجل التغذية والتزاوج. (.....)
- 3) تساعد الأوراق المثلثة النباتات على امتصاص أكبر قدر من ضوء الشمس. (.....)

ب علل : عند دفع كرة على الأرض تتحرك مسافة ثم تتوقف.

السؤال الثاني

أ أكمل العبارة التالية:

• يتميز قرش الثور باستخدام إستراتيجية..... التي تمكنه من اصطياد الفريسة.

ب ما المقصود بكل مما يلي؟:

1) الشفرات

2) السرعة

السؤال الثالث

أ اختر الإجابة الصحيحة:

• يتشابه الدولفين والخفاش في استخدام..... للحصول على الغذاء.

أ الرؤية الليلية ب صدى الصوت ج انعكاس الأشعة د التخفي

ب أجب عن الأسئلة التالية:

1) علل : أوراق شجرة الكابوك ذات عروق شبكية تشبه راحة اليد.

2) لاحظ الأشكال التالية، ثم حدّد نوع القوة المؤثرة عليها؛ من حيث كونها قوة سحب أم دفع:



(2)



(1)



الاختبار 4

السؤال الأول

أ أكمل العبارات الآتية:

- 1 الخصائص التي تمكّن الكائن الحي من البقاء والنمو والتكاثر تُعرف بـ
- 2 الوقت الذي يستغرقه الكائن الحي للاستجابة للمثيرات التي تصله من البيئة هو
- 3 حدقة عين الحيوانات الليلية اتساعاً من حدقة عين الإنسان.

ب حدّد تحول الطاقة عند انزلاق كرة من أعلى المنحدر.

السؤال الثاني

أ اكتب المصطلح العلمي:

- مجموعة أعصاب تمر عبر العمود الفقري. (.....)

ب أجب عن الأسئلة الآتية:

- 1 كيف تدافع شجرة السنط عن نفسها إذا حاول أحد الحيوانات أكل أوراقها؟

- 2 إذا كانت المسافة بين بلدين 500 كم، قطعها قطار خلال خمس ساعات، احسب سرعة القطار.

السؤال الثالث

أ أكمل مما بين القوسين:

- قفز اليربوع في مسارات يساعده على الهروب بسرعة من الخطر. (مستقيمة - متعرجة)

ب أجب عن الأسئلة الآتية:

- 1 ما وظيفة الأمعاء الدقيقة في عملية الهضم؟

- 2 ما نوع الطاقة المخزنة في الشكل الذي أمامك؟



بطارية



الاختبار 5

السؤال الأول

أ اختر الإجابة الصحيحة في العبارات التالية:

- 1) الطاقة المرئية التي تنتقل على شكل موجات هي
أ الكهرباء ب الحرارة ج الصوت د الضوء
- 2) من التغيرات البشرية التي تؤثر على البيئة
أ الفيضانات ب حرائق الغابات ج قطع الأشجار د الأمطار الغزيرة
- 3) جميع ما يلي من طرق تواصل الحيوانات، ما عدا
أ الروائح ب الكتابة ج الضوء د الصوت

ب لاحظ الشكل المقابل، ثم حدّد نوع القوى (متزنة أم غير متزنة):



1) إذا نجح الفريق (أ) في شد الحبل نحوه.

2) إذا لم يستطع أحد الفريقين شد الحبل نحوه.

السؤال الثاني

أ اذكر المصطلح العلمي:

• عضلة كبيرة مسئولة عن عمليتي الشهيق والزفير في جسم الإنسان. (.....)

ب أجب عن الأسئلة التالية:

1) ماذا يحدث عند شعور حرباء النمر بالخطر؟

2) ما العوامل التي تتوقف عليها طاقة وضع الجاذبية؟

السؤال الثالث

أ أكمل العبارة الآتية:

• في الجرس الكهربائي تتحول الطاقة إلى طاقة

ب أجب عن الأسئلة التالية:

1) كيف تتنفس الضفادع في الماء؟

2) كيف يتم إيقاف الشاحنة النفاثة في الشكل المقابل؟



سلاح التلميز

منذ عام ١٩٦٠



العلوم

2024-2025

الصف الرابع الابتدائي
الفصل الدراسي الأول

إجابة اختبارات نهاية الفصل الدراسي الأول

4

إجابة الاختبار 1

السؤال الأول:

أ 1 X 2 ✓ 3 ✓

ب بسبب تأثير قوة الجاذبية عليها.

السؤال الثاني:

أ (ج)

ب 1 الأجسام اللامعة: تنعكس الأشعة الضوئية في اتجاه واحد.

الأجسام الخشنة: تنعكس الأشعة الضوئية في اتجاهات مختلفة.

2 الأجسام السريعة: قوة التصادم كبيرة؛ فتسبب ضررًا كبيرًا.

الأجسام البطيئة: قوة التصادم أقل؛ فتسبب ضررًا أقل.

السؤال الثالث:

أ العصبي

ب 1 المعدة - خلط الطعام مع حمض المعدة والعصارات الهاضمة

2 طاقة وضع الجاذبية

إجابة الاختبار 2

السؤال الأول:

أ 1 البومة 2 الأجسام الشفافة 3 الهضم

ب لأن جزءًا من هذه الطاقة يتحول إلى طاقة حرارية وصوتية.

السؤال الثاني:

أ تركيبياً - سلوكياً

ب 1 لوجود غشاء في مؤخرة أعينها، يعمل كمرآة يرد الضوء من خلاله.

2 لأن قوة التصادم تعتمد على سرعة السيارتين معًا.

السؤال الثالث:

أ X

ب 1 بسبب التفاف الأوعية الدموية حول بعضها؛ مما يساعد على انتقال الحرارة من الدم الدافئ إلى الدم البارد.

2 تغيير موضع الكرة.



إجابة الاختبار 3

السؤال الأول:

- أ 1 طويلة
ب 2 السمع
ج 3 العريضة
د بسبب تأثير قوة الاحتكاك.

السؤال الثاني:

- أ التباين اللوني.
ب 1 نمط له معنى للتواصل ونقل المعلومات عند الإنسان.
ج 2 المسافة التي يقطعها الجسم خلال وحدة الزمن.

السؤال الثالث:

- أ (ب)
ب 1 لتسمح بمرور الرياح بلطف بينها دون أن تسقط.
ج 2 (1) قوة سحب (2) قوة دفع

إجابة الاختبار 4

السؤال الأول:

- أ 1 التكيف
ب 2 زمن الاستجابة
ج 3 أكثر
د طاقة وضع إلى طاقة حركة.

السؤال الثاني:

- أ الحبل الشوكي
ب 1 تفرز سُمًّا يجعل مذاق الأوراق سيئًا.
ج 2 سرعة القطار = $\frac{\text{المسافة}}{\text{الزمن}} = \frac{500}{5} = 100 \text{ كم/س}$

السؤال الثالث:

- أ متعرجة
ب 1 استكمال عملية الهضم وامتصاص العناصر الغذائية.
ج 2 طاقة كيميائية.



إجابة الاختبار 5

السؤال الأول:

- أ 1 (د) 2 (جـ) 3 (ب)
ب 1 قوى غير متزنة 2 قوى متزنة

السؤال الثاني:

- أ الحجاب الحاجز
ب 1 تنفخ جسمها بالهواء، وتفتح فمها واسعًا، وتغير ألوان حراشيفها.
2 كتلة الجسم - ارتفاع الجسم.

السؤال الثالث:

- أ الكهربائية - حركية
ب 1 تتنفس عن طريق الجلد.
2 عن طريق تزويد الشاحنة بمظلات.



سلاح التلميز

منذ عام ١٩٦٠



الدراسات الاجتماعية

2024-2025

الصف الرابع الابتدائي الفصل الدراسي الأول

نماذج امتحانات نهاية الفصل الدراسي الأول
طبقاً لأحدث مواصفة للورقة الامتحانية 2025م

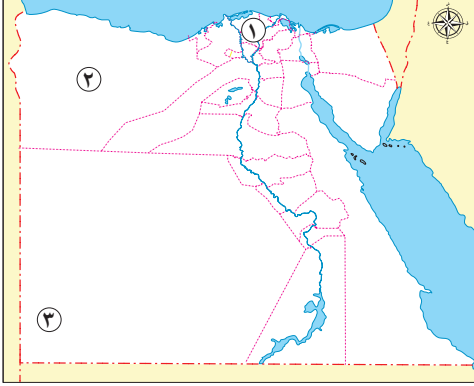
4

الامتحان ١

٣٠

السؤال الأول

أ لاحظ خريطة مصر المقابلة، ثم أجب:



- ١ صواب أم خطأ: يشير الرقم (١) إلى بيئة زراعية. ()
- ٢ يشير الرقم (٢) إلى محافظة حدود صحراوية وهي
- ٣ يشير الرقم (٣) إلى هضبة

ب ما النتائج المترتبة على...؟

- ١ وجود السهول الفيضية في مصر.
- ٢ موقع مصر الجغرافي المتميز.

السؤال الثاني

أ اختر الإجابة الصحيحة مما بين القوسين:

- ١ حماية حدود البلاد ضد أي اعتداء يُعد من الخدمات (الصحية - التعليمية - الأمنية - الثقافية)
- ٢ إصدار النقود من مهام البنك (الأهلي - المركزي المصري - التجاري الدولي - العربي)

ب دلل على صحة كل عبارة مما يلي:

- ١ تتعدد حقوق الأطفال التي أكدت عليها الأديان السماوية والمواثيق الدولية.
- ٢ يختلف مناخ مصر عن مناخ بعض الدول الإفريقية.

السؤال الثالث

أ اكتب كلمة (صواب) أمام العبارة الصحيحة، وكلمة (خطأ) أمام العبارة غير الصحيحة:

- ١ الكتان من الخامات التي يمكن أن نصنع منها النسيج والسجاد اليدوي. ()
- ٢ تساعد تحلية مياه البحر في توفير مصدر جديد للمياه العذبة. ()
- ٣ تتخذ جميع محافظات مصر شعارًا واحدًا. ()

ب بم تفسر أهمية كل من ...؟

- ١ الخريطة بالنسبة للسائح.
- ٢ قناة السويس.

السؤال الرابع

أ من هو...؟

- ١ - ملحن النشيد الوطني لمصر. (.....)

ب أجب عما يلي:

- ١ حدد جهود الدولة لحل مشكلة تلوث الهواء.
- ٢ ما العلاقة بين: الاقتصاد المصري، ومحمد طلعت حرب باشا؟
- ٣ ماذا يحدث إذا: لم يقر طه حسين مجانية التعليم خلال توليه منصب وزير المعارف؟

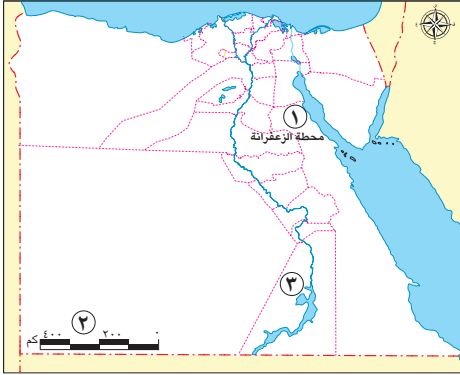


الامتحان ٢

٣٠

السؤال الأول

أ لاحظ خريطة مصر المقابلة، ثم أجب:



١ يشير الرقم (١) إلى محطة توليد الكهرباء من طاقة

٢ صواب أم خطأ: يُستخدم عنصر الخريطة رقم (٢) في قياس المسافات. ()

٣ يشير الرقم (٣) إلى إحدى محافظات الوجه

ب ما المقصود بكل من...؟

١ المصادر الثانوية.

٢ العَلَم.

السؤال الثاني

أ اختر الإجابة الصحيحة مما بين القوسين:

١ يدل اللون البني جنوب غرب مصر على وجود

(المنخفضات - المرتفعات - السهول الفيضية - السهول الساحلية)

٢ إذا شاهدت ولدًا صغيرًا يتعرض للعنف فعليك الاتصال بـ

(خط نجدة الطفل - وزارة الصحة والسكان - المدرسة - الإسعاف)

ب ما النتائج المترتبة على...؟

١ وجود نهر النيل في مصر.

٢ معرفة حالة الطقس يوميًا.

السؤال الثالث

أ اكتب كلمة (صواب) أمام العبارة الصحيحة، وكلمة (خطأ) أمام العبارة غير الصحيحة:

١ البيئات المصرية متشابهة وغير متنوعة. ()

٢ يعبر اللون الأسود في علم مصر عن الظلم الذي تعرضت له البلاد في فترات الاستعمار. ()

٣ يقصد السياح زيارة قرية الحرائية لتمييزها بصناعة الزجاج. ()

ب بم تفسر...؟

١ إطلاق الدولة عددًا من المبادرات للمواطنين.

٢ أهمية الصور الفضائية.

السؤال الرابع

أ اكتب ما تشير إليه العبارة التالية:

– موارد طبيعية لا تنفذ رغم استخدامها لها. (.....)

ب أجب عما يلي:

١ حدد اثنين من أهم المعالم الأثرية في محافظة القاهرة.

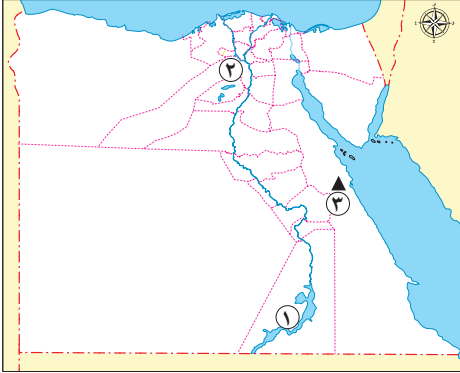
٢ ما العلاقة بين منظمة اليونسكو وصناعة النسيج والسجاد اليدوي في مصر؟

٣ ماذا يحدث إذا: أُغلقَت المؤسسات المصرفية في الدولة؟



السؤال الأول أ لاحظ خريطة مصر المقابلة، ثم حدد مدلول الأرقام الموقعة عليها:

السؤال الأول



١ بحيرة

٢ محافظة

٣ جبل

ب قارن بين تعريف كل مما يلي:

١ الصور الجوية، والصور الفضائية.

٢ الحقيقة والرأي.

السؤال الثاني أ اختر الإجابة الصحيحة مما بين القوسين:

السؤال الثاني

١ أحد جهود الدولة لإحياء الحرف التراثية هي

(إقامة المعارض - بناء المدارس - تجهيز المستشفيات - إنشاء الكباري)

٢ أي مما يلي يُعد من أهداف مبادرة اتحضر للأخضر؟

(تجريف التربة - حرق قش الأرز - إعادة تدوير المخلفات - استخدام الأسمدة الكيماوية)

ب بم تفسر...؟

١ احتفال القاهرة بعيدها القومي يوم ٦ يوليو من كل عام.

٢ إطلاق الدولة حملة ١٠٠ مليون صحة.

السؤال الثالث أ اكتب كلمة (صواب) أمام العبارة الصحيحة، وكلمة (خطأ) أمام العبارة غير الصحيحة:

السؤال الثالث

()

١ المحيطات هي مساحات واسعة من المياه العذبة.

()

٢ نتعرف حالة الطقس من الهيئة العامة للأرصاد الجوية.

()

٣ كلما زاد معدل الادخار، زاد معدل الاستثمار.

ب دل على صحة كل عبارة مما يلي:

١ اهتمام الدولة بحماية الأطفال.

٢ كرّس الكاتب جمال حمدان حياته للكتابة.

السؤال الرابع أ صوب ما تحته خط:

السؤال الرابع

(.....)

- تولى طه حسين منصب وزير الإعلام.

ب أجب عما يلي:

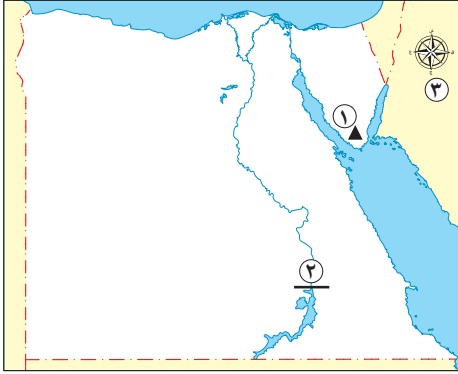
١ ما العلاقة بين: سواحل البحر المتوسط وصناعة الخزف؟

٢ حدد أوجه التشابه والاختلاف بين بحيرة ناصر وبحيرة البرلس.

٣ ماذا يحدث إذا لم: توجد الحدود الإدارية بين المحافظات المصرية؟



السؤال الأول أ لاحظ خريطة مصر المقابلة، ثم حدد مدلول الأرقام الموقعة عليها:



- ١ جبل
- ٢ محطة كهرباء
- ٣ أحد عناصر الخريطة

ب بم تفسر...؟

- ١ يجب علينا احترام علم مصر.
- ٢ تم اختيار القاهرة عاصمة لمصر لفترات طويلة على مر التاريخ.

السؤال الثاني أ اختر الإجابة الصحيحة مما بين القوسين:

- ١ أكبر المحافظات المصرية من حيث المساحة هي
 - ٢ تُقاس سرعة الرياح باستخدام جهاز
- (دمياط - كفر الشيخ - الغربية - الوادي الجديد)
(الأنيمومتر - الترمومتر - جورب الرياح - دوازة الرياح)

ب توقع الأثر الناتج عن كل مما يلي:

- ١ سوء استخدام الموارد الطبيعية.
- ٢ استخدام السفن التجارية لطريق رأس الرجاء الصالح.

السؤال الثالث أ اكتب كلمة (صواب) أمام العبارة الصحيحة، وكلمة (خطأ) أمام العبارة غير الصحيحة:

- ١ تُعد الأبحاث العلمية أحد المصادر الأولية. ()
- ٢ لكل طفل الحق في الرعاية والتعليم والصحة. ()
- ٣ الخدمات الإلكترونية توفر المزيد من الوقت والجهد. ()

ب دلل على صحة كل عبارة مما يلي:

- ١ تستفيد العديد من الأنشطة من خدمات الأرصاد الجوية.
- ٢ تتميز البيئة الصحراوية بتنوع الموارد الطبيعية.

السؤال الرابع أ حدد الكلمة المختلفة فيما يلي، مع ذكر السبب:

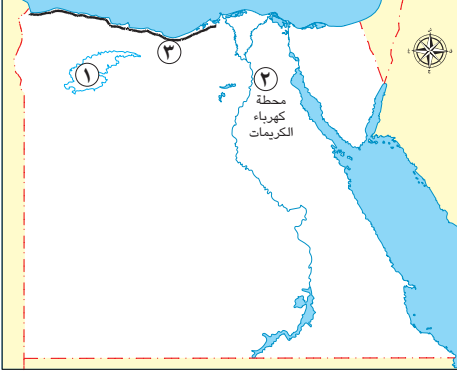
- (آسيا - إفريقيا - أستراليا - أوروبا).

ب أجب عما يلي:

- ١ ما المقصود بالهضبة؟
- ٢ ما العلاقة بين: الحرف التراثية، ومشكلة البطالة في مصر؟
- ٣ حدد الخطوات التي يجب عليك اتباعها لتحقيق الادخار.



السؤال الأول أ لاحظ خريطة مصر المقابلة، ثم حدد مدلول الأرقام الموقعة عليها:



١) منخفض

٢) محطة لتوليد الكهرباء من الطاقة

٣) البيئة

ب بم تفسر...؟

١) إنشاء الدولة للعاصمة الإدارية الجديدة.

٢) يُعد طه حسين نموذجًا مشرفًا لذوي الاحتياجات الخاصة.

السؤال الثاني أ اختر الإجابة الصحيحة مما بين القوسين:

١) "يوضح مدلول البيانات الموقعة على الخريطة" تشير العبارة إلى

(عنوان الخريطة - وردة البوصلة - مقياس الرسم - مفتاح الخريطة)

٢) إحدى الحرف التراثية المنتشرة في قرية جراح هي صناعة

(الزجاج - الفخار - السجاد - الخيامية)

ب ما النتائج المترتبة على...؟

١) حرق قش الأرز.

٢) إنشاء البريد المصري.

السؤال الثالث أ ضع كلمة (صواب) أمام العبارات الصحيحة وكلمة (خطأ) أمام العبارات غير الصحيحة:

١) تُعرف السلع بأنها كل ما يتم إنتاجه وشراؤه. ()

٢) ضمان حصولك على الترفيه والحماية يُعد أحد حقوقك. ()

٣) يحد مصر من الشمال البحر الأحمر. ()

ب دلل على صحة كل عبارة مما يلي:

١) تتعدد الألوان المستخدمة في خريطة مستويات الارتفاع الخاصة بمصر.

٢) تبذل الدولة جهودًا كبيرة لإحياء الحرف التراثية.

السؤال الرابع أ صوب ما تحته خط فيما يلي:

- التعبير عما يشعر به أو يفكر فيه الأشخاص تجاه موضوع معين يسمى حقيقة. (.....)

ب أجب عما يلي:

١) حدد أوجه التشابه والاختلاف بين: الطقس والمناخ.

٢) ما العلاقة بين: ألوان العلم المصري - تاريخ مصر؟

٣) وضح جهود الدولة لحل مشكلات مصادر الطاقة.



سلاح التلميز

منذ عام ١٩٦٠



الدراسات الاجتماعية

2024-2025

الصف الرابع الابتدائي الفصل الدراسي الأول

إجابات نماذج امتحانات نهاية الفصل الدراسي الأول
طبقاً لأحدث مواصفة للورقة الامتحانية 2025م

4

إجابة الامتحان ١

السؤال الأول:

- أ ١ صواب. ٢ مطروح. ٣ الجلف الكبير.
- ب ١ أدت إلى وجود حرفة الزراعة منذ القدم. ٢ ساعد على تسهيل اتصال مصر بجيرانها تجاريًا وحضاريًا، كما أنه كان سببًا في أن أصبحت مصر مركزًا تجاريًا ومعبّرًا للتجارة بين الشرق والغرب.

السؤال الثاني:

- أ ١ الأمنية. ٢ المركزي المصري.
- ب ١ منها الحق في الاسم المناسب، المسكن اللائق، الرعاية الصحية والأسرية، الحماية، التغذية الأساسية، الترفيه والتعليم. ٢ حيث يسود المناخ الصحراوي معظم أراضي مصر بينما بعض الدول الإفريقية يسودها مناخ حار وممطر طوال العام.

السؤال الثالث:

- أ ١ صواب. ٢ صواب. ٣ خطأ.
- ب ١ تساعد الخريطة السائح في الوصول إلى الأماكن السياحية والأثرية. ٢ بفضل قناة السويس احتلت مصر دورًا مهمًا في التجارة الدولية، كما ساهمت في تقليص مدة الإبحار بين آسيا وأوروبا، وتوفير الوقت والمال والجهد مقارنة بطريق رأس الرجاء الصالح.

السؤال الرابع:

- أ سيد درويش.
- ب ١ تقوم الدولة بتوفير السيارات التي تعمل بالغاز الطبيعي بدلاً من البنزين، والتوعية بضرورة تقليل الاعتماد على السيارات الخاصة في التنقل لخفض نسبة العوادم. ٢ ازدهر الاقتصاد المصري بسبب إنشاء بنك مصر على يد محمد طلعت حرب باشا. ٣ إجابة استرشادية: لم يكن باستطاعة الكثيرين من أطفال مصر الحصول على التعليم.

إجابة الامتحان ٢

السؤال الأول:

- أ ١ الرياح. ٢ صواب. ٣ القبلي.
- ب ١ كل ما تم تدوينه بعد مرور زمن طويل من وقوع الحدث، وغالبًا ما يستند إلى المصادر الأولية. ٢ رمز يتخذه كل بلد ليعبر عن تاريخه وتراثه، ولكل جزء فيه معنى خاص به.

السؤال الثاني:

- أ ١ المرتفعات. ٢ خط نجدة الطفل.
- ب ١ قيام الحضارة المصرية القديمة، وازدهار الاقتصاد المصري. ٢ تؤثر معرفة حالة الطقس على قراراتنا اليومية كارتداء الملابس وغيرها.



السؤال الثالث:

- أ ١ خطأ. ٢ صواب. ٣ خطأ.
- ب ١ لتحسين مستوى معيشة المواطنين. ٢ تساعد في رسم الخرائط وتحديد المواقع على سطح الأرض حيث تغطي مساحات أكبر ومواقع أكثر من الصور الجوية.

السؤال الرابع:

- أ الموارد المتجددة. ١ تتعدد المعالم الأثرية في محافظة القاهرة ومنها قلعة صلاح الدين الأيوبي، مسجد عمرو بن العاص، الكنيسة المعلقة. ٢ أدرجت منظمة اليونسكو صناعة النسيج والسجاد اليدوي في مصر على قائمة التراث العالمي. ٣ أجب بنفسك.

إجابة الامتحان ٣

السؤال الأول:

- أ ١ ناصر. ٢ الجيزة. ٣ شايب البنات.
- ب ١ - **الصور الجوية:** يتم التقاطها من الجو باستخدام الطائرات، تعطينا صورة حقيقية لسطح الأرض ومعالمها مما يساعد في رسم خرائط أكثر دقة وتفصيلاً.
- **الصور الفضائية:** يتم التقاطها بالأقمار الصناعية، وتتميز بأنها تغطي مساحات أكبر من الصور الجوية.
- ٢ - **الحقيقة:** معلومات أو أحداث تم إثبات صحتها والتأكد من دقتها سواء بالبحث أو التجربة.
- **الرأي:** تعبير عما يشعر به أو يفكر فيه شخص ما تجاه موضوع معين.

السؤال الثاني:

- أ ١ إقامة المعارض. ٢ إعادة تدوير المخلفات.
- ب ١ لأنه اليوم الذي يوافق وضع القائد جوهر الصقلي حجر الأساس لبناء مدينة القاهرة عام ٩٦٩م. ٢ بهدف الكشف المبكر عن الإصابة ببعض الأمراض، وتقديم خدمات العلاج والمتابعة للمرضى.

السؤال الثالث:

- أ ١ خطأ. ٢ صواب. ٣ صواب.
- ب ١ أكد الدستور المصري على حق الطفل في الرعاية والتعليم والصحة وغيرها - قانون الطفل المصري ويتضمن مواد لحماية الأطفال من التمييز - خط نجدة الطفل للإبلاغ عن حالات العنف التي يتعرض لها الأطفال.
- ٢ ألف أكثر من ٢٥ كتابًا باللغتين العربية والإنجليزية، كما نُشرت له مقالات متعددة في الصحف والمجلات.



السؤال الرابع:

- أ المعارف.
- ب ١) تنتشر في بعض مناطق ساحل البحر المتوسط الرمال السوداء التي تدخل في العديد من الصناعات مثل صناعة الخزف.
- ٢) - التشابه: كلاهما مساحة صغيرة من المياه يحيط بها اليابس من جميع الجهات.
- الاختلاف: بحيرة ناصر تقع في جنوب مصر ومياهها عذبة، بينما بحيرة البرلس تقع شمال مصر ومياهها مالحة.
- ٣) أجب بنفسك.

إجابة الامتحان ٤

السؤال الأول:

- أ ١) سانت كاترين. ٢) السد العالي. ٣) وردة البوصلة.
- ب ١) لأنه رمز للدولة، فقد أكد الدستور على أن إهانة العلم المصري جريمة يعاقب عليها القانون.
- ٢) بسبب موقعها المتميز حيث إنها نقطة التقاء الوجه البحري بالوجه القبلي.

السؤال الثاني:

- أ ١) الوادي الجديد. ٢) الأنيمومتر.
- ب ١) ظهور العديد من المشكلات التي أدت إلى الإضرار بالموارد الطبيعية - تهديد صحة الكائنات الحية - تعرضها للنفاذ.
- ٢) إجابة استرشادية: زيادة مدة الإبحار، وارتفاع التكلفة.

السؤال الثالث:

- أ ١) خطأ. ٢) صواب. ٣) صواب.
- ب ١) حيث تقدم المعلومات الخاصة بالطقس والتي تستفيد منها العديد من الأنشطة مثل صيد الأسماك والزراعة والاتصالات والسياحة، والصناعة والنقل وغيرها من المجالات.
- ٢) حيث تتعدد بها الموارد الطبيعية ومنها الرمال البيضاء التي تدخل في صناعة الزجاج والخلايا الشمسية، والمياه الجوفية التي تقوم عليها الزراعة بالواحات في الصحراء الغربية، توافر مصادر طاقة متنوعة مثل الفحم والبتروال والغاز الطبيعي، وانتشار المعادن كالذهب والنحاس والحديد وغيرها.

السؤال الرابع:

- أ أستراليا، لأنها إحدى قارات العالم الجديد، والباقي قارات العالم القديم.
- ب ١) مساحة واسعة من الأرض المرتفعة مستوية أو شبه مستوية السطح.
- ٢) تساهم الحرف التراثية في توفير الكثير من فرص العمل وبالتالي حل مشكلة البطالة.
- ٣) احسب مجموع الأموال التي تحصل عليها، احسب كم تستهلك لشراء حاجاتك، وكم تستهلك لإشباع رغباتك، ادخر المال الذي عادة ما تنفقه في إشباع رغباتك.



إجابة الامتحان 5

السؤال الأول:

- أ ١ القطارة. ٢ الشمسية. ٣ الساحلية.
- ب ١ لتخفيف الضغط السكاني. ٢ لأنه تحدى إعاقة فقد البصر واستطاع أن يحصل على درجة الدكتوراه ويؤلف العديد من الكتب ويحصل على العديد من الجوائز.

السؤال الثاني:

- أ ١ مفتاح الخريطة. ٢ الزجاج.
- ب ١ حدوث تلوث للهواء. ٢ تقديم الخدمات المصرفية للمواطنين مثل: حسابات التوفير والادخار.

السؤال الثالث:

- أ ١ صواب. ٢ صواب. ٣ خطأ.
- ب ١ حيث يستخدم اللون الأخضر للسهول والمنخفضات، واللون البني للمرتفعات مثل الجبال، واللون الأزرق للمسطحات المائية. ٢ حيث تهتم برعاية مصالح العمال وإعداد برامج تدريبية لتعليمهم المهارات الخاصة ببعض الحرف وتسويق المنتجات من خلال المعارض السنوية مثل معرض تراثنا للحرف التراثية.

السؤال الرابع:

- أ رأي. ب ١ - **أوجه التشابه:** كلاهما يصف حالة الجو من حيث الحرارة والرياح، والأمطار وكلاهما يستخدم نفس الأدوات في قياس عناصره.
- ٢ - **أوجه الاختلاف:** يصف الطقس حالة الجو لفترة زمنية قصيرة، يوم أو أسبوع أو شهر، بينما المناخ يصف حالة الجو لفترة زمنية طويلة، فصل أو سنة.
- ٣ حيث إن علم مصر يتكون من ثلاثة ألوان، وهي: الأحمر ويبدل على مرحلة النضال ودماء الشهداء من أجل الحرية، والأبيض يعبر عن السلام، والأسود يعبر عن الظلم الذي تعرضت له مصر في فترات الاستعمار.
- ٣ استخدام مصادر الطاقة المتجددة وهي طاقة نظيفة لا تلوث البيئة، إنشاء محطة كهرباء السد العالي لتوليد الكهرباء من المياه، ومحطة الزعفرانة في محافظة البحر الأحمر لتوليد الكهرباء من الرياح ومحطة الكريما في الجيزة لتوليد الكهرباء من الشمس وغيرها.



سلاح التلميح

منذ عام ١٩٦٠



التربية
الدينية
الإسلامية

2024-2025

الصف الرابع الابتدائي
الفصل الدراسي الأول

نماذج اختبارات نهاية الفصل الدراسي الأول
طبقاً لآخر مواصفة للورقة الامتحانية

4

الاختبار ١

أولاً: القرآن الكريم اقرأ الآيات الكريمة، ثم أجب:

قال (تعالى): ﴿وَالَّذِينَ وَالزَّيْتُونَ ۝١ وَطُورِ سِينِينَ ۝٢ وَهَذَا الْبَلَدِ الْأَمِينِ ۝٣﴾ لَقَدْ أَحْسَنَ تَقْوِيمٍ ﴿﴾

أ) اكتب المحذوف من الآيات الكريمة.

ب) اكتب المقصود بكل مما يلي:

١ ﴿﴾ الْبَلَدِ الْأَمِينِ ﴿﴾:
٢ ﴿﴾ أَحْسَنَ تَقْوِيمٍ ﴿﴾:

ج) اختر: نزلت سورة التين في (مكة - المدينة - القدس - سيناء)

د) علام تدل الإشارة إلى الأماكن الثلاثة المذكورة في بداية السورة؟

هـ) أكمل: تكون اللام في (ال) التعريف إما قمرية أو

ثانياً: الحديث الشريف اقرأ الحديث الشريف، ثم أجب:

عن جابر بن عبد الله رضي الله عنهما قال: قال رسول الله ﷺ: «مَنْ قَالَ حِينَ يَسْمَعُ النَّدَاءَ: اللَّهُمَّ رَبِّ هَذِهِ الدَّعْوَةُ التَّامَّةُ وَالصَّلَاةُ الْقَائِمَةُ آتِ مُحَمَّدًا الْوَسِيلَةَ وَالْفَضِيلَةَ وَابْعَثْهُ مَقَامًا مَحْمُودًا الَّذِي وَعَدْتَهُ، حَلَّتْ لَهُ شَفَاعَتِي يَوْمَ الْقِيَامَةِ».

أ) أكمل: معنى (الوسيلة):

ب) ما جزاء ترديد هذا الدعاء؟

ج) كيف نعرف دخول وقت الصلاة؟

د) ضَعْ علامة (✓) أمام العبارة الصحيحة، وعلامة (X) أمام العبارة غير الصحيحة:

١) الدعوة التامة هي الدعوة إلى عبادة الله (تعالى) وحده لا شريك له. ()

٢) يطلب الفصل بين الأذان والإقامة بوقت يسمح للمصلين بالاجتماع للصلاة. ()

ثالثاً: العقيدة أجب عما يلي:

أ) ضَعْ علامة (✓) أو (X) أمام ما يلي:

• خلق الله (تعالى) آدم قبل خلق الملائكة. ()



ب) أجب:

١) من أي مادة خلق الله (تعالى) الإنسان؟

.....

٢) ما وظيفة العقل للإنسان؟

.....

ج) أكمل العبارتين الآتيتين:

١) خلق الله (تعالى) سيدنا آدم عَلَيْهِ السَّلَامُ وذريته لـ الأرض وتنفيذ أوامره سبحانه.

٢) أنزل على سيدنا عيسى عَلَيْهِ السَّلَامُ.

رابعًا: العبادات **أجب عمًا يلي:**

أ) اختر الإجابة الصحيحة مما بين القوسين:

١) أول ما يحاسب عليه العبد يوم القيامة (الزكاة - الحج - الصلاة - الصوم)

٢) تعرف بداية الشهر الهجري برؤية (الشمس - النجوم - السحاب - الهلال)

ب) أكمل العبارتين الآتيتين:

١) ينتقض الوضوء بزوال كالإغماء والجنون.

٢) الأذان هو إعلام بدخول وقت بألفاظ مخصوصة.

ج) أجب: كيف نشكر الله (تعالى) على نعمة الماء؟

خامسًا: السير والشخصيات **أجب عمًا يلي:**

أ) اختر: وُلِدَ النبي صَلَّى اللَّهُ عَلَيْهِ وَسَلَّمَ في (المدينة - مكة - ديار بني سعد - الطائف)

ب) أجب عن السؤالين الآتيين:

١) من الرسول الذي أُرسِلَ لِقَوْمٍ عاد؟ وكيف عاقبهم الله (تعالى) على كفرهم؟

.....

٢) كم عامًا استمرت دعوة النبي صَلَّى اللَّهُ عَلَيْهِ وَسَلَّمَ سرًّا؟

.....



الاختبار ٢

أولاً: القرآن الكريم اقرأ الآيات الكريمة ، ثُمَّ أَجِبْ:

قال (تعالى): ﴿لَقَدْ خَلَقْنَا الْإِنْسَانَ فِي أَحْسَنِ ٤ ثُمَّ رَدَدْنَاهُ أَسْفَلَ سَفَلِينَ ٥﴾ إِلَّا الَّذِينَ آمَنُوا وَعَمِلُوا الصَّالِحَاتِ فَلَهُمْ أَجْرٌ غَيْرُ مَمْنُونٍ ﴿٦﴾ فَمَا يُكَذِّبُكَ بَعْدُ ٧ أَلَيْسَ اللَّهُ بِأَحْكَمَ الْحَاكِمِينَ ﴿٨﴾

أ اكتب المحذوف من الآيات الكريمة.

ب اكتب المقصود بكل مما يلي:

١ ﴿رَدَدْنَاهُ أَسْفَلَ سَفَلِينَ﴾: ٢ ﴿غَيْرِ مَمْنُونٍ﴾:

ج ما جزاء الذين آمنوا وعملوا الصالحات يوم القيامة؟

د اختر: نوع لام التعريف في كلمة (الحاكمين) (شمسية - قمرية)

ثانياً: الحديث الشريف اقرأ الحديث الشريف، ثُمَّ أَجِبْ:

عن عبد الله بن مسعود رضي الله عنه قال: قال رسول الله ﷺ: «مَنْ قَرَأَ حَرْفًا مِنْ كِتَابِ اللَّهِ فَلَهُ بِهِ حَسَنَةٌ وَالْحَسَنَةُ ١ أَمْثَالُهَا، لَا أَقُولُ (الم) حَرْفٌ، وَلَكِنْ أَلِفٌ حَرْفٌ وَلَا مٌ حَرْفٌ حَرْفٌ».

أ اكتب المحذوف من الحديث الشريف.

ب ما فضل قراءة القرآن الكريم كما فهمت من الحديث الشريف؟

ج ضَعْ علامة (✓) أمام العبارة الصحيحة، وعلامة (X) أمام العبارة غير الصحيحة:

١ القرآن الكريم هو كلام الله (تعالى) المنزل على نبيه ﷺ. ()

٢ يشتمل القرآن الكريم على أحكام وتشريعات تنظم ديننا ودياننا. ()

ثالثاً: العقيدة أَجِبْ عمَّا يلي:

أ ضَعْ علامة (✓) أو (X) أمام ما يلي:

• الإيمان بالكتب السماوية واجب على كل مسلم ومسلمة. ()

ب أَجِبْ:

١ من أي شيء خلق الله (تعالى) الملائكة؟



٢ ما واجبنا نحو القرآن الكريم؟

ج صوّب الخطأ في العبارتين الآتيتين:

١ خلَقَ الله (تعالى) سيدنا آدم ﷺ من تراب وللتراب لون واحد.

٢ ميَّز الله (تعالى) الإنسان عن باقي المخلوقات بالحجم.

رابعًا: العبادات أجِبْ عمَّا يلي:

أ اختر الإجابة الصحيحة مما بين القوسين:

١ من نواقض الوضوء (النية - التسمية - مسح الرأس - خروج الريح)

٢ يرفع الأذان والإقامة في اليوم والليلة مرات. (ثلاث - أربع - خمس - ست)

ب صوب الخطأ في العبارتين الآتيتين:

١ الأفعال الأساسية التي لا تتم الصلاة إلا بها تسمى: سنن الصلاة.

٢ عند سماع الأذان يقف المصلون في صفوف منتظمة.

ج بَم يثبت شهر رمضان؟

خامسًا: السير والشخصيات أجِبْ عمَّا يلي:

أ اختر: ماتت أم النبي ﷺ وهو في (الرابعة - الخامسة - السادسة - الثامنة)

ب أجِب عن السؤالين الآتيين:

١ ما دور النبي ﷺ في إعادة بناء الكعبة؟

٢ كم عدد السنين التي نامها أصحاب الكهف؟



الاختبار ٣

أولاً: القرآن الكريم

اقرأ الآيات الكريمة، ثم أجب:

قال (تعالى): ﴿عَمَّ يَتَسَاءَلُونَ ١﴾ عَنِ النَّبِيِّ الْعَظِيمِ ٢﴾ الَّذِي هُوَ فِيهِ ٣﴾ كَلَّا سَيَعْمُونَ ٤﴾ تَوَكَّلَا ٥﴾ الْوَكِيلَ ٦﴾ وَالْجِبَالِ أَوْ تَادَا ٧﴾ وَخَلَقْتُمْ أَزْوَاجًا ٨﴾ وَجَعَلْنَا نَوْمَكُمْ سُبَاتًا ٩﴾

أ) اكتب المحذوف من الآيات الكريمة.

ب) اكتب المقصود بكل مما يلي:

١) ﴿النَّبِيِّ الْعَظِيمِ﴾:
٢) ﴿الْأَرْضِ مَهْدًا﴾:

ج) اكتب مظهرين من مظاهر قدرة الله (تعالى) في الكون تضمنتها الآيات الكريمة السابقة.

د) ضع علامة (✓) أو (X) أمام ما يلي:

• الله ﷻ سيحاسب الكفار يوم القيامة.

()

ثانياً: الحديث الشريف

اقرأ الحديث الشريف، ثم أجب:

عن عثمان رضي الله عنه ، قال رسول الله صلى الله عليه وسلم: «مَا مِنْ مُسْلِمٍ يَتَطَهَّرُ فَيَتِمُّ الطَّهْوَرَ الَّذِي عَلَيْهِ فَيُصَلِّي هَذِهِ الصَّلَاةَ الْخَمْسَ إِلَّا كَانَتْ كَفَّارَاتٍ لِمَا بَيْنَهُنَّ».

أ) اكتب المحذوف من الحديث الشريف.

ب) أكمل: معنى (كفارات):

ج) ما فضل الصلاة كما فهمت من الحديث الشريف؟

د) ضع علامة (✓) أمام العبارة الصحيحة، وعلامة (X) أمام العبارة غير الصحيحة:

()

١) الصلاة هي الركن الأول من أركان الإسلام.

()

٢) الصلاة من أعظم أسباب دخول الجنة.



ثالثاً: العقيدة

أجب عمّا يلي:

أ ضَع علامة (✓) أو (X) أمام ما يلي:

• كَلَّمَ الله (تعالى) سيدنا موسى عند جبل عرفات بمكة المكرمة. ()

ب أجب:

١ مَنْ هم الملائكة؟

٢ ما سبب اختلاف أبناء آدم عَلَيْهِ السَّلَامُ في اللون والطباع؟

ج صوب الخطأ في العبارتين الآتيتين:

١ كَلَّمَ الله (تعالى) سيدنا عيسى عَلَيْهِ السَّلَامُ عند جبل الطور بسيناء.

٢ السراج الذي يضيء الكون هو القمر.

رابعاً: العبادات

أجب عمّا يلي:

أ اختر الإجابة الصحيحة مما بين القوسين:

١ يبدأ المسلم صلاته بـ (الركوع - التشهد - التكبير - التسليم)

٢ من النجاسات التي أمرنا الإسلام بالتطهر منها (البول - القيء - الدم الكثير - جميع ما سبق)

ب صوب الخطأ في العبارتين الآتيتين:

١ النوم العميق وسيلان الدم من شروط الوضوء.

٢ من آداب الصوم تعجيل السحور.

ج ما المقصود بالصوم؟

خامساً: السير والشخصيات

أجب عمّا يلي:

أ اختر: أرسل الله (تعالى) عليه السلام إلى قوم عاد. (نوح - هود - صالح - شعيب)

ب أجب عن السؤالين الآتيين:

١ «هذا الأمين رضينا هذا محمد» من قائل العبارة؟ وما الموقف الذي قيلت فيه؟

٢ ماذا نتعلم من قصة أهل الكهف؟



الاختبار ٤

أولاً: القرآن الكريم اقرأ الآيات الكريمة، ثم أجب:

قال (تعالى): ﴿إِنَّ يَوْمَ الْفَصْلِ كَانَ مِيقَتَنَا ﴿٧﴾ يَوْمَ يُنْفَخُ فِي الصُّورِ فَنَأْتُونَ وَفُتِحَتِ السَّمَاءُ فَكَانَتْ أَبْوَابًا ﴿١٨﴾ وَسِيرَتْ ﴿١٩﴾ وَكَانَتْ سَرَابًا ﴿٢٠﴾ إِنَّ جَهَنَّمَ كَانَتْ ﴿٢١﴾ لِلطَّالِعِينَ مَا بَأْسًا ﴿٢٢﴾ لَيْثِينَ فِيهَا أَحْقَابًا ﴿٢٣﴾ .

أ) اكتب المحذوف من الآيات الكريمة.

ب) اكتب المقصود بكل مما يلي:

١) ﴿يَوْمَ الْفَصْلِ﴾: ٢) ﴿مِيقَتَنَا﴾:

ج) ماذا يحدث عندما ينفخ في الصور؟

د) ضع علامة (✓) أو (X) أمام ما يلي:

• موعد يوم القيامة يعلمه جميع الناس.

()

ثانياً: الحديث الشريف اقرأ الحديث الشريف، ثم أجب:

عن أبي هريرة رضي الله عنه قال: قال رسول الله ﷺ: «لَا يَقْبَلُ اللَّهُ صَلَاةً إِذَا أَحْدَثَ حَتَّى يَتَوَضَّأَ».

أ) اكتب المحذوف من الحديث الشريف.

ب) أكمل: معنى (أحدث):

ج) بم يكون الوضوء؟

د) ضع علامة (✓) أمام العبارة الصحيحة، وعلامة (X) أمام العبارة غير الصحيحة:

١) الوضوء فرض على من يريد الصلاة.

٢) السواك من أركان الوضوء التي لا يصح الوضوء إلا بها.

()

()

ثالثاً: العقيدة أجب عما يلي:

أ) ضع علامة (✓) أو (X) أمام ما يلي:

• سجدت الملائكة لسيدنا آدم ﷺ خوفاً منه.

()



ب أجب:

١ إلى أي شيء دعا الرسل أقوامهم؟

٢ ما حروف الإظهار الحلقي؟

ج أكمل العبارتين الآتيتين:

١ خلق الله (تعالى) آدم من

٢ نوع لام (ال) التعريف في كلمة (الأرض):

رابعًا: العبادات أجِبْ عمَّا يلي:

أ اختر الإجابة الصحيحة مما بين القوسين:

(الركوع - السجود - التسليم - جميع ما سبق)

١ من أركان الصلاة

(رجب - شوال - المحرم - رمضان)

٢ تبدأ السنة الهجرية بشهر

ب صوب الخطأ في العبارتين الآتيتين:

١ يصلي المسلم أربع صلوات مفروضة في اليوم واللييلة.

٢ الماء الذي لم يتغير لونه أو طعمه أو رائحته هو الماء النجس.

ج اذكر ثلاثة من آداب قضاء الحاجة؟

خامسًا: السير والشخصيات أجِبْ عمَّا يلي:

(٦٠ - ٥٠ - ٤٠ - ٣٠)

أ اختر: نزل الوحي على النبي ﷺ وعمره يقارب عامًا.

ب أجب عن السؤالين الآتيين:

١ بم عرف قوم عاد؟ وماذا كانوا يعبدون؟

٢ أين يقع غار حراء؟



ثالثًا: العقيدة

أجب عمًا يلي:

()

أ ضع علامة (✓) أو (X) أمام ما يلي: سورة التين مدنية.

ب أجب:

١ ما أهمية الإيمان بالرسول في الإسلام؟

٢ ما معنى اسم الله (تعالى) القادر؟

ج صوب الخطأ في العبارتين الآتيتين:

١ علم الله (تعالى) سيدنا آدم بعض الأسماء بعد أن أتم خلقه.

٢ جعل الله (تعالى) النهار سترًا ووقتًا للراحة والنوم.

رابعًا: العبادات

أجب عمًا يلي:

أ اختر الإجابة الصحيحة مما بين القوسين:

١ يزيد المؤذن «الصلاة خير من النوم» في الأذان لصلاة (الظهر - العصر - المغرب - الفجر)

٢ تتكرر عبارة «الله أكبر» في الأذان مرات. (ثلاث - أربع - ست - ثماني)

ب صوب الخطأ في العبارتين الآتيتين:

١ بعد الانتهاء من التشهد الأخير أسلم أولاً عن شمالي.

٢ صلاة العصر أربع ركعات وصلاة المغرب ركعتان.

ج أجب: للماء فوائد كثيرة ذكرها الله (تعالى) في القرآن الكريم. اذكر ثلاثة منها.

خامسًا: السير والشخصيات

أجب عمًا يلي:

أ ضع علامة (✓) أو (X) أمام ما يلي:

()

• استمرت الدعوة السرية خمس سنوات.

ب أجب عن السؤالين الآتيين:

١ أين ولد النبي ﷺ؟ ومتى؟

٢ لماذا عمل النبي ﷺ في رعي الأغنام عندما انتقل إلى عمه أبي طالب؟



سلاح التلميز

منذ عام ١٩٦٠



التربية الدينية الإسلامية

2024-2025

الصف الرابع الابتدائي
الفصل الدراسي الأول
إجابات نماذج اختبارات نهاية
الفصل الدراسي الأول
طبقاً لآخر مواصفة للورقة الامتحانية

4

إجابة الاختبار ٢

أولاً: القرآن الكريم

- أ) تقويم - بالدين
 ب) أدخلناه النار ١) غير مقطوع
 ج) لهم أجر عظيم مستمر غير منقطع أو منقوص.
 د) قمرية

ثانياً: الحديث الشريف

- أ) بعشر - وميم .
 ب) كل حرف نقرؤه من القرآن بحسنة وكل حسنة بعشر حسنات.
 ج) ١) ✓
 د) ٢) ✓

ثالثاً: العقيدة

- أ) ✓
 ب) ١) من النور
 ج) ٢) قراءته قراءة صحيحة وتدبر معانيه وتطبيق التوجيهات
 الربانية فيه وتعليمه لغيرنا.
 د) ١) ألوان متعددة ٢) بالعقل

رابعاً: العبادات

- أ) ١) خروج الرياح ٢) خمس
 ب) ١) فرائض ٢) الإقامة
 ج) برؤية الهلال.

خامساً: السير والشخصيات

- أ) السادسة
 ب) ١) اشترك ﷺ مع عمه وسادة قريش في نقل الحجارة
 ورفعها.
 د) ٢) ٣٠٩

إجابة الاختبار ١

أولاً: القرآن الكريم

- أ) خلقنا الإنسان
 ب) ١) مكة المكرمة ٢) أحسن صورة
 ج) مكة
 د) ترابط الشرائع السماوية وأن دين الله واحد.
 هـ) شمسية

ثانياً: الحديث الشريف

- أ) منزلة عالية في الجنة.
 ب) ينال شفاعته النبي ﷺ .
 ج) حينما يرفع المؤذن الأذان.
 د) ١) ✓
 د) ٢) ✓

ثالثاً: العقيدة

- أ) X
 ب) ١) من طين
 ج) ١) إعمار
 د) ٢) التفكير والتدبر
 د) ٢) الإنجيل

رابعاً: العبادات

- أ) ١) الصلاة ٢) الهلال
 ب) ١) العقل ٢) الصلاة
 ج) بالمحافظة على الماء وعدم الإسراف فيه.

خامساً: السير والشخصيات

- أ) مكة
 ب) ١) هود ﷺ، أرسل الله (تعالى) عليهم ريحًا
 شديدة دمرتهم.
 د) ٢) ثلاثة أعوام



إجابة الاختبار ٣

أولاً: القرآن الكريم

- أ) مختلفون - سيعلمون
ب) البعث بعد الموت ٢) ممهدة للسير عليها
ج) - جعل الأرض ممهدة ليسهل العيش عليها.
د) - خلق الجبال كالأوتاد؛ لربط طبقات الأرض ببعضها. ✓

ثانياً: الحديث الشريف

- أ) كتب الله عليه.
ب) سبب في غفران الذنوب
ج) تمحي الذنوب
د) ١) X ٢) ✓

ثالثاً: العقيدة

- أ) X
ب) ١) هم عباد مكرمون من خلق الله (تعالى) خلقهم من نور، لا يأكلون ولا يشربون ويفعلون ما يؤمرون.
٢) خلق الله آدم ﷺ من تراب وللتراب ألون مختلفة وطباع مختلفة.

- ج) ١) موسى ٢) الشمس

رابعاً: العبادات

- أ) ١) التكبير ٢) جميع ما سبق
ب) ١) نواقض ٢) الفطور
ج) الإمساك عن الطعام والشراب وسائر المفطرات بنية العبادة من طلوع الفجر إلى غروب الشمس.

خامساً: السير والشخصيات

- أ) هود
ب) ١) سادة قريش - حينما احتدم الخلاف بينهم عند بناء الكعبة.
٢) عدم اتباع الآخرين إن كانوا على غير الحق - اللجوء إلى الله (تعالى) والتوكل عليه.

إجابة الاختبار ٤

أولاً: القرآن الكريم

- أ) أفواجا - الجبال - مرصداً
ب) ١) يوم القيامة ٢) له وقت محدد
ج) يصدر عنه صوت قوي لنداء الناس ليجتمعوا
د) X

ثانياً: الحديث الشريف

- أ) أحدكم
ب) انتقض وضوءه
ج) بالماء الطهور
د) ١) ✓ ٢) X

ثالثاً: العقيدة

- أ) X
ب) ١) دعوهم إلى عبادة الله (تعالى).
٢) ستة أحرف: الهزة والهاء والعين والحاء والغين والخاء.
ج) ١) تراب ٢) قمرية

رابعاً: العبادات

- أ) ١) جميع ما سبق ٢) المحرم
ب) ١) خمس ٢) الطهور
ج) الاستتار عن الأنظار - تنظيف المكان بعد قضاء الحاجة - عدم الكلام عند قضاء الحاجة



خامسًا: السير والشخصيات

أ ٤٠

ب ١ بالقوة وضخامة أجسامهم وكثرة نعم الله (تعالى)

عليهم - كانوا يعبدون الأصنام.

ج ٢ في جبل النور في مكة.

٥ إجابة الاختبار

أولًا: القرآن الكريم

أ أعنابا - جزاء - الرحمن - أذن

ب ١ باطلاً

ج ٢ جبريل عَلَيْهِ السَّلَامُ

د الفوز بالجنة والتمتع بالحدائق والأشجار والشراب اللذيذ.

د X

ثانيًا: الحديث الشريف

أ قدر - وبين ذلك

ب من خشنت معاملته

ج بالماء الطهور

د ٢ ✓

د ١ ✓

ثالثًا: العقيدة

أ X

ب ١ واجب على كل مسلم ومسلمة وركن من أركان

الإيمان.

ج ٢ المدبر لشئون الكون بقدرته التامة وحكمته البالغة

ولا يعجزه شيء أيا كان.

د ١ كل

ج ٢ الليل

رابعًا: العبادات

أ ١ الفجر

ب ٢ ست

ب ١ يميني

ج ٢ ثلاث

د ١ الشرب - زراعة الأرض - التطهر

خامسًا: السير والشخصيات

أ X

ب ١ في مكة في الثاني عشر من ربيع الأول.

ج ٢ ليساعد صَلَّى اللَّهُ عَلَيْهِ وَسَلَّمَ عمه ويخفف عنه حبًا له واعترافًا بفضله

عليه.



سلاح التمهيد

منذ عام ١٩٦٠



تكنولوجيا
المعلومات
والاتصالات

2024-2025

الصف الرابع الابتدائي
الفصل الدراسي الأول

نماذج اختبارات نهاية الفصل الدراسي الأول
طبقاً لآخر مواصفة للورقة الامتحانية

4

الاختبار 1

السؤال الأول

ضع علامة (✓) أمام العبارة الصحيحة، وعلامة (X) أمام العبارة غير الصحيحة:

- 1) يوجد نوع واحد من التنمر وهو التنمر عبر الإنترنت. ()
- 2) يُفضل عمل (Tag) لأي شخص دون استئذانه. ()
- 3) تُسبب الفيروسات الكثير من الأضرار لجهاز الكمبيوتر الخاص بك. ()
- 4) يمكن استخدام الصور بدلاً من الكلمات في عملية البحث. ()
- 5) يجب عليك اختيار كلمات مرور مختلفة لحساباتك حتى تكون آمناً على شبكة الإنترنت. ()
- 6) برنامج العروض التقديمية يقدم طريقة ممتعة لعرض الأفكار. ()
- 7) أدوات التكنولوجيا الحديثة توفر الجهد والتكلفة لعلماء الآثار. ()

السؤال الثاني

اختر الإجابة الصحيحة من بين الاختيارات التالية:

- 1) يمكن إضافة الرمز قبل الكلمات التي تريد استبعادها أثناء البحث على الإنترنت.
أ (-) ب (*) ج (+) د (&)
- 2) قد تتعرض لل..... إذا اخترت كلمة مرور سهلة.
أ سفر ب نجاح ج قرصنة د شهرة
- 3) يمكنك استخدام لإنشاء مقطع فيديو.
أ فأرة التحكم ب الهاتف المحمول ج الملصق الإعلاني د معالج الكلمات
- 4) يستخدم لاكتشاف الأجسام المدفونة تحت الأرض.
أ الرادار المخترق للأرض ب جهاز التسجيل ج مقياس المغناطيسية د نظام تحديد المواقع
- 5) يمكن استخدام جهاز لإضافة نسخة من الأوراق داخل الكمبيوتر.
أ الشاشة ب الماسح الضوئي ج مركب الكلام د الطابعة
- 6) يعتبر Windows من أشهر أنظمة
أ التشغيل ب التوصيل ج الاختراق د التركيب
- 7) التكنولوجيا المساعدة هي التكنولوجيا التي ذوي الهمم.
أ تعيق ب تساعد ج تعطل د تؤخر
- 8) المرحلة الثانية بعد جمع البيانات هي
أ تحليل البيانات ب عرض البيانات ج نقل البيانات د الرسم البياني



الاختبار 2

السؤال الأول

ضع علامة (✓) أمام العبارة الصحيحة، وعلامة (X) أمام العبارة غير الصحيحة:

- 1) يجب استخدام كلمة مرور واحدة لكل حساباتك. ()
- 2) يُستخدم الرادار المخترق للأرض في اكتشاف الأجسام المدفونة تحت الأرض. ()
- 3) يختلف شكل جهاز الكمبيوتر على حسب نوعه وتاريخ صناعته. ()
- 4) نظام التشغيل ليس ضرورياً لتشغيل أي جهاز كمبيوتر. ()
- 5) تعيق التكنولوجيا الأشخاص ذوي الهمم عن إنجاز مهامهم. ()
- 6) إذا توقفت فأرة التحكم عن العمل، فيجب تغييرها فوراً. ()
- 7) يستطيع العلماء حل المشكلات عن طريق جمع البيانات وتحليلها. ()

السؤال الثاني

اختر الإجابة الصحيحة من بين الاختيارات التالية:

- 1) يعتبر من أجهزة الإدخال.
 - أ شاشة عرض
 - ب مكبر الصوت
 - ج الماسح الضوئي
 - د آلة الطباعة
- 2) الإشارة إلى شخص في منشور أو صورة، يسمى
 - أ Post
 - ب Tag
 - ج Gat
 - د Share
- 3) يستخدم لتحديد الأماكن فوق سطح الأرض.
 - أ نظام تحديد المواقع
 - ب مقياس المغناطيسية
 - ج الرادار المخترق للأرض
 - د معالج الكلمات
- 4) يجب على التلاميذ استخدام محركات البحث المخصصة
 - أ لكبار السن
 - ب للأطفال
 - ج للمبرمجين
 - د للقراصنة
- 5) التمر هو تصرف أحد الأشخاص بطريقة تجاه شخص آخر.
 - أ جيدة
 - ب مميزة
 - ج رائعة
 - د سيئة
- 6) يمكن رسم الرسوم البيانية على ورق، أو باستخدام برنامج
 - أ الرسام
 - ب العروض التقديمية
 - ج الجداول الحاسوبية
 - د معالجة الكلمات
- 7) يستقبل المعلومات من وحدة المعالجة المركزية ويعرضها على الشاشة.
 - أ برنامج معالجة الكلمات
 - ب جوجل كروم
 - ج برنامج مشاهدة الفيديو
 - د نظام التشغيل
- 8) الأمر المسئول عن حل مشكلة توقف الشاشة هو
 - أ Alt+Ctrl
 - ب Alt+Shift
 - ج Del+Alt+Ctrl
 - د Esc+Ctrl



الاختبار 3

السؤال الأول

ضع علامة (✓) أمام العبارة الصحيحة، وعلامة (X) أمام العبارة غير الصحيحة:

- 1) يُعتبر نظام برايل الطرفي بديلاً عن الشاشة للمكفوفين. ()
- 2) يتم جمع البيانات من مصدر واحد فقط. ()
- 3) لا يمكن حدوث أي عطل أثناء استخدام جهاز الكمبيوتر. ()
- 4) الجهة الحكومية المختصة بمواجهة مشاكل الإنترنت هي وزارة التربية والتعليم. ()
- 5) يجب التأكد من هوية الشخص الذي تُجري محادثة معه. ()
- 6) يستطيع الهواة من ذوي الهمم ممارسة الأنشطة عن طريق أدوات رياضية معينة. ()
- 7) يضاف الرمز (+) قبل الكلمة المراد ظهورها في نتائج البحث. ()

السؤال الثاني

اختر الإجابة الصحيحة من بين الاختيارات التالية:

- 1) يُستخدم لإدخال الأصوات والموسيقى إلى الكمبيوتر.
 - أ) مكبر الصوت
 - ب) معالج الأصوات
 - ج) الماسح الضوئي
 - د) الميكروفون
- 2) جهاز يستخدم للكتابة على برنامج معالجة الكلمات.
 - أ) لوحة المفاتيح
 - ب) الطابعة
 - ج) الفأرة
 - د) الكاميرا
- 3) مرحلة يتم فيها اكتشاف معلومات جديدة.
 - أ) حذف البيانات
 - ب) عرض البيانات
 - ج) حجب البيانات
 - د) تحليل البيانات
- 4) تعتبر كلمة المرور من كلمات المرور القوية.
 - أ) As12@20
 - ب) 123456
 - ج) abcd
 - د) Abc123
- 5) تُستخدم إذا لم تتوافر بعض الأجهزة التي تحتاجها لعرض أفكارك.
 - أ) العروض التقديمية
 - ب) الجداول الحسابية
 - ج) الملصقات الإعلانية
 - د) مقاطع الفيديو
- 6) لجعل النص رائعاً للنظر في برنامج العروض التقديمية، يمكنك استخدام
 - أ) WordArt
 - ب) PicArt
 - ج) FlowArt
 - د) TextArt
- 7) يستخدم جهاز لكشف المعادن في باطن الأرض.
 - أ) مقياس المغناطيسية
 - ب) الرادار المخترق للأرض
 - ج) تحديد المواقع العالمي
 - د) قياس السمع
- 8) برنامج يساعد على كتابة التقارير.
 - أ) الجداول الحسابية
 - ب) معالجة الكلمات
 - ج) معالجة الصور
 - د) العروض التقديمية



الاختبار 4

السؤال الأول

ضع علامة (✓) أمام العبارة الصحيحة، وعلامة (X) أمام العبارة غير الصحيحة:

- 1) التنمر هو تصرف شخص بشكل مهذب مع الآخرين. ()
- 2) يفضل توحيد كلمة المرور مع اسم المستخدم لسهولة تذكرهما. ()
- 3) تحتاج لجهاز مزوّد بميكروفون فقط لإنشاء مقطع فيديو. ()
- 4) يمكن استخدام الطائرات بدون طيار لتصوير أماكن يصعب الوصول إليها. ()
- 5) تعتبر لوحة المفاتيح من أجهزة الإدخال. ()
- 6) يعتبر برنامج معالج الكلمات من التطبيقات. ()
- 7) تستخدم برمجيات تكبير الشاشة لتكبير كل شيء على شاشة الكمبيوتر. ()

السؤال الثاني

اختر الإجابة الصحيحة من بين الاختيارات التالية:

- 1) هي عبارة عن أجهزة تُعوض عن أطراف مفقودة في جسم الإنسان.
 - أ) الأطراف الصناعية
 - ب) الأدوات الرياضية
 - ج) برامج تكبير الشاشة
 - د) سماعات الأذن
- 2) إذا سخر أحد الأشخاص من صورة لك، يُعتبر هذا
 - أ) تصرفاً مقبولاً
 - ب) فرصة لشهرتك
 - ج) تنمرًا
 - د) إعجابًا بشخصيتك
- 3) يمكن استخدام لعرض نتائج استطلاع الرأي.
 - أ) الكتب الرقمية
 - ب) محركات البحث
 - ج) التجارب العلمية
 - د) الرسم البياني
- 4) إحدى سلبيات الاعتماد الكامل على موقع جوجل في البحث هي الحصول على
 - أ) معلومات دقيقة
 - ب) إجابات غير صحيحة
 - ج) بحث آمن
 - د) حلول للمشكلات
- 5) عند البحث عن جملة معينة، يجب وضع هذه الجملة بين علامتي
 - أ) " "
 - ب) ++
 - ج) --
 - د) ##
- 6) يعتبر من مميزات شبكة الإنترنت.
 - أ) تلقي الرسائل المزعجة
 - ب) ضياع الوقت
 - ج) التعرض للتنمر
 - د) التواصل بين الأفراد
- 7) جهاز يقوم بإخراج معلومات سمعية
 - أ) الطابعة
 - ب) مكبر الصوت
 - ج) شاشة عرض
 - د) الميكروفون
- 8) يفضل استخدام ألوان لكتابة المعلومات في الملصقات الإعلانية.
 - أ) غامقة
 - ب) فاتحة
 - ج) باهتة
 - د) زاهية



الاختبار 5

السؤال الأول

ضع علامة (✓) أمام العبارة الصحيحة، وعلامة (X) أمام العبارة غير الصحيحة:

- 1) يعمل نظام GPS بالأقمار الصناعية لتحديد الأماكن المختلفة. ()
- 2) تُعتبر وحدة المعالجة المركزية (CPU) نوعًا من أنواع البرمجيات. ()
- 3) تعتبر سماعات الأذن الطبية أحد الأجهزة التعويضية لذوي الإعاقة السمعية. ()
- 4) يمكن جمع البيانات من المصادر الورقية والرقمية. ()
- 5) الرسائل المزعجة هي رسائل غير مرغوب فيها، وقد تتضمن فيروسات. ()
- 6) يجب أخذ موافقة الأشخاص أولاً قبل عمل إشارة (Tag) لهم. ()
- 7) يعتبر استغلال الوقت بشكل صحيح من إيجابيات استخدام التكنولوجيا. ()

السؤال الثاني

اختر الإجابة الصحيحة من بين الاختيارات التالية:

- 1) تُستخدم الكاميرا والميكروفون لعمل
 أ عروض تقديمية ب مقاطع فيديو ج ملصق إعلاني د جدول حسابي
- 2) المرحلة الأخيرة بعد تحليل البيانات هي
 أ معالجة البيانات ب تخزين البيانات ج عرض البيانات د جمع البيانات
- 3) يمكن العثور على المعلومات في الإنترنت باستخدام
 أ وحدة المعالجة المركزية ب نظام التشغيل ج محرك البحث د البريد الإلكتروني
- 4) جهاز إلكتروني وظيفته معالجة وتخزين البيانات هو
 أ الآلة الحاسبة ب مقياس المغناطيسية ج الكمبيوتر د الآلة الكاتبة
- 5) مركب الكلام جهاز يستخدمه
 أ ضعاف السمع ب ضعاف البصر ج غير الناطقين د فاقدو أحد الأطراف
- 6) أشخاص يتمكنون من سرقة بياناتك الشخصية هم
 أ الأصدقاء ب قرصنة الكمبيوتر ج زملاء المدرسة د الأقارب
- 7) يمكن إضافة للعرض التقديمي.
 أ ملصقات ورقية ب صور ونصوص ج تطبيقات د برامج خبيثة
- 8) بعد إعادة تركيب فأرة التحكم بعد الإصلاح، يفضل
 أ توصيل شاحن الجهاز ب التأكد من التوصيلات ج إعادة تشغيل الجهاز د الضغط على Ctrl + S



سلاح التمهيد

منذ عام ١٩٦٠



تكنولوجيا
المعلومات
والاتصالات

2024-2025

الصف الرابع الابتدائي
الفصل الدراسي الأول

إجابات نماذج اختبارات
الفصل الدراسي الأول

4

1 إجابة الاختبار

✓ 4

✓ 3

✗ 2

✗ 1

✓ 7

✓ 6

✓ 5

السؤال الأول

الرادار المخترق للأرض 4
تحليل البيانات 8

الهاتف المحمول 3
تساعد 7

قرصنة 2
التشغيل 6

(-) 1

الماسح الضوئي 5

السؤال الثاني

2 إجابة الاختبار

✗ 4

✓ 3

✓ 2

✗ 1

✓ 7

✗ 6

✗ 5

السؤال الأول

للأطفال 4
Del+Alt+Ctrl 8

نظام تحديد المواقع 3
نظام التشغيل 7

Tag 2
الجدول الحسابية 6

الماسح الضوئي 1
سيئة 5

السؤال الثاني

3 إجابة الاختبار

✗ 4

✗ 3

✗ 2

✓ 1

✓ 7

✓ 6

✓ 5

السؤال الأول

تحليل البيانات 3
WordArt 6

لوحة المفاتيح 2
الملصقات الإعلانية 5
معالج الكلمات 8

الميكروفون 1
As12@20 4
مقياس المغناطيسية 7

السؤال الثاني



4 إجابة الاختبار

السؤال الأول

✓ 4

✗ 3

✗ 2

✗ 1

✓ 7

✓ 6

✓ 5

السؤال الثاني

3 الرسم البياني

2 تنمرًا

1 الأطراف الصناعية

6 التواصل بين الأفراد

5 " "

4 إجابات غير صحيحة

8 زاهية

7 مكبر الصوت

5 إجابة الاختبار

السؤال الأول

✓ 4

✓ 3

✗ 2

✓ 1

✓ 7

✓ 6

✓ 5

السؤال الثاني

3 محركات البحث

2 عرض البيانات

1 مقاطع فيديو

6 قرصنة الكمبيوتر

5 غير الناطقين

4 الكمبيوتر

8 إعادة تشغيل الجهاز

7 صور ونصوص



سلاح التلميز

منذ عام ١٩٦٠



المهارات المهنية

2024-2025

الصف الرابع الابتدائي الفصل الدراسي الأول

نماذج اختبارات نهاية الفصل الدراسي الأول
طبقاً لآخر مواصفة للورقة الامتحانية

4

الاختبار ١

اختر الإجابة الصحيحة مما يلي:

- ١ الأسرة التي تضم الجدَّ والجدَّة والأعمام تُسمَّى بالأسرة
 أ النوية ب الممتدَّة ج الفقيرة د الغنية
- ٢ الممثلون الموجودون في القصة يُطلق عليها اسم
 أ الحل ب الحَبْكة ج الشخصيات د ذروة الأحداث
- ٣ يمكن إعادة استخدام البرطمانات الزجاجية الفارغة في
 أ صنع الألعاب ب تخزين المتعلقات ج صناعة الأثاث د الأجهزة الإلكترونية
- ٤ أحد الأسس الواجب اتِّباعها خلال المناقشة، هو خلال النقاش.
 أ المقاطعة ب المجادلة ج التجاهل د التصرف بأدب
- ٥ الصفحة التي تأتي بعد صفحة الغلاف الخارجي هي
 أ الغلاف الداخلي ب قائمة المحتويات ج الغلاف الخلفي د المتن
- ٦ يُستخدم ورق لتنعيم الأسطح قبل الدهان.
 أ شفاف ب الجرائد ج الصنفرة د الطباعة
- ٧ يتكاثر نبات البوتس بـ
 أ البذرة ب العُقلة ج الري د الزهرة
- ٨ يقوم بإضافة الكُتب الجديدة للمكتبة.
 أ المحاسب ب السبَّاك ج الرسام د أمين المكتبة
- ٩ مسئولية الطفل تجاه أسرته
 أ اللعب ب الحرية ج اتِّباع القواعد د الرعاية الصحيَّة
- ١٠ نباتات غير قادرة على النمو بشكل رأسي هي
 أ المتسلِّقات ب الصبَّار ج النباتات المائية د النباتات الصحراوية
- ١١ وصف الأماكن والمعالم السياحية من المهامَّ الخاصَّة بـ
 أ المهندس ب المرشد السياحي ج النجار د عامل الاستقبال
- ١٢ المنشار من الأدوات التي يستخدمها
 أ الميكانيكي ب السبَّاك ج الكهربائي د النجَّار
- ١٣ نُخصِّص بند الأذخار لمواجهة الظروف
 أ الاجتماعية ب التعليمية ج الطارئة د الثقافية
- ١٤ يُعدُّ التفكير صانعًا للفنِّ.
 أ التقليدي ب الإبداعي ج التاريخي د المستقبلي
- ١٥ إهدار المواد البلاستيكية من أكبر المشكلات
 أ البيئية ب المجتمعية ج الأسرية د الصناعية



الاختبار ٢

اختر الإجابة الصحيحة مما يلي:

١. للاعتناء بالنباتات المنزلية يجب توافر جاروف و
 أ أصيص ب قلم ج كماشة د شاكوش
٢. قد تحدث بعض المشكلات للأشياء في المنزل نتيجة لـ
 أ قلة استخدامها ب كثرة استخدامها ج ارتفاع ثمنها د انخفاض ثمنها
٣. الكتب أحد مصادر المعرفة
 أ الإلكترونية ب الصوتية ج المطبوعة د السمعية
٤. قراءة اللوحات الإرشادية من المشكلات التي تواجه
 أ العمَّال ب المزارعين ج المعلمين د السائحين
٥. نباتات عسارية مُعمَّرة تتحمَّل ظروف الجوِّ القاسية هي
 أ المتسلِّقات ب الصبَّارات ج النباتات المائية د النباتات الصحراوية
٦. يجب الدراسة لمدة خمس سنوات ثم التدريب لمدة عامين لتصبح
 أ طبيباً ب فنَّاناً ج مزارعاً د سبَّاكاً
٧. التعاون والحب بين أفراد الأسرة يحققان
 أ التضشتت ب التفكك ج الترابط د الاختلاف
٨. يجب أن نفكر في لأي مشكلة.
 أ طريقة واحدة ب حل واحد ج حلول سلبية د أكثر من حل
٩. يتمتع كل فرد من أفراد الأسرة بدور عن الآخر.
 أ مختلف ب مماثل ج مطابِع د مشابه
١٠. تعالج المسرحية العديد من
 أ الأمراض ب الأشخاص ج القضايا د الأشكال
١١. يستخدم السبَّاك في عمله.
 أ الترمومتر ب الإزميل ج الدبابيس د مفاتيح الربط
١٢. استخدام البرطمانات الفارغة كمقلمة نوع من أنواع
 أ الأذخار ب تجميع المواد ج الحدُّ من الاستخدام د إعادة الاستخدام
١٣. يهتم بتوصيل المعلومات المهمَّة.
 أ المسلسل ب المسرح ج البيان الختامي د البيان الإعلامي
١٤. ما يجب على الممثل قوله وفعله بالمسرحية مسئولية
 أ المؤلف ب الممثل ج المخرج المساعد د مدير الإضاءة
١٥. مراعاة إنفاق المال بحرص إحدى طرق الحياة بطريقة
 أ اجتماعية ب مستدامة ج مستهلكة د غير صحِّية



الاختبار ٣

اختر الإجابة الصحيحة مما يلي:

- ١ تتضمّن صفحة حقوق التأليف والنشر معلومات عن
 أ العنوان ب الفهرس ج المحتويات د دار النشر
- ٢ أولى خطوات حل المشكلة
 أ اختيار الحل ب تحديد الإيجابيات ج تحديد المشكلة د التفكير في حل واحد
- ٣ تتألّف من عدة عناصر منها الشخصيات والحَبْكة.
 أ المسرحية ب المقدمة ج الأزياء د الشخصيات
- ٤ البيان الإعلامي مهم لأنه الانتباه تجاه شيء معيّن.
 أ يشهد ب يقلل ج يجذب د يحدّ
- ٥ تعمل نباتات الزينة على البيئة.
 أ تشويه ب إهمال ج تلوّث د تجميل
- ٦ العمل على راحة ضروري في قطاع السياحة.
 أ المزارعين ب السائحين ج المعلمين د الممثلين
- ٧ التكاثر الخضري يتمُّ باستخدام
 أ البذور ب الأوراق ج جزء من النبات د الضوء
- ٨ المهمة الرئيسية للمزارعين هي
 أ زراعة المحاصيل ب إصلاح السيارات ج إدارة الشركات د دراسة التربة
- ٩ بعد صنفرة الخشب وتنعيمه يمكن البدء في
 أ التكسير ب الفك ج التشحيم د الطلاء
- ١٠ توفّر الاحتياجات الأساسية لأبنائها.
 أ الأسرة ب الحكومة ج المطاعم د المكتبات
- ١١ إحدى أدوات عمّال البناء
 أ المطارق ب الأنابيب ج الترمومتر د القماش
- ١٢ للأطفال حقوق منها
 أ ممارسة الألعاب ب ترتيب المنزل ج سوء المعاملة د عدم احترام الآخرين
- ١٣ بنود ميزانية الأسرة تتميزّ بأنها
 أ ثابتة ب متعددة ج نادرة د قليلة
- ١٤ يمكن تحويل الزجاجات إلى أصيص زراعة نبات.
 أ الورقية ب القطنية ج البلاستيكية د القماشية
- ١٥ فنُّ يتم عمله باستخدام الزجاج المكسور والأطباق والأباريق.
 أ النحت ب الخيامية ج الأبلّيك د الفُسَيْفَسَاء



الاختبار ٤

اختر الإجابة الصحيحة مما يلي:

- ١ النخيل المروحي من
 أ النباتات العشبية ب المتسلقات ج نخيل الزينة د الأشجار
- ٢ شارك في تشييد أكثر من نصف الأنفاق الموجودة في برلين هو
 أ طه حسين ب طلعت حرب ج د. مجدي يعقوب د. هاني عازر
- ٣ يمكننا إنتاج تابلوهات متميِّزة من خامات متنوّعة من القماش يُسمَّى ذلك فنَّ
 أ الأبلّيك ب التطريز ج الحياكة الآلية د التريكو
- ٤ المواد هي التي يمكن إعادة تدويرها وتحويلها لمنتجات جديدة.
 أ صديقة البيئة ب ملوّثة للبيئة ج الموسيقى د الكرسالية
- ٥ يُعتبر من حقوق الطفل.
 أ العمل الشاق ب العنف ج التعليم د الإهمال
- ٦ يُعتبر الترحيب بالزوّار في الفنادق من مهامّ
 أ طبيب الفندق ب موظف الاستقبال ج عامل البناء د أمين المكتبة
- ٧ أحد أهداف الفنون هو
 أ التجارة ب تعزيز الزراعة ج تطوير التكنولوجيا د ترقية الوجدان
- ٨ يُستخدم المعجون الخاص بالأخشاب لإصلاح في الخشب.
 أ الغسالات ب الثلجات ج الشقوق د الجرائد
- ٩ الغلاف الخارجي يشمل الكتاب.
 أ محتويات ب عنوان ج فهرس د مصادر
- ١٠ حل المشكلات الكبيرة يكون عن طريق
 أ نشرها ب تأجيلها ج تجاهلها د تجزئتها
- ١١ تشييد الجدران والطوابق مهمّة
 أ السبّاكين ب النجارين ج البنائين د الخياطين
- ١٢ يتم ريّ على فترات متباعدة.
 أ الريحان ب الورد ج الصبّار د الفل
- ١٣ الأشياء التالفة علينا وليس استبدالها.
 أ إصلاحها ب حرقها ج ادّخارها د تقطيعها
- ١٤ الجزء الأكثر إثارة في المسرحية هو
 أ المقدمة ب ذروة الأحداث ج الشخصيات د الأزياء
- ١٥ اختيار منتج داخل العرض يُعتبر من عمليات
 أ التسوّق الذكي ب إعادة الاستخدام ج إعادة التدوير د ادّخار المنتجات



الاختبار ٥

اختر الإجابة الصحيحة ممّا يلي:

- ١) الأسرة هي المكوّن الأساسي لـ
 أ الفضاء ب المجتمع ج التجارة د الرياضة
- ٢) نستخدم مادة التشحيم لإصلاح
 أ الأحواض ب الثلجات ج الأبواب د الكراسي
- ٣) إحدى المهن المهمّة في مجال السياحة
 أ السباكة ب النجارة ج البناء د الإرشاد السياحي
- ٤) يحتاج النبات إلى لكي ينمو.
 أ الضوء ب المقص ج الجاروف د الأضيص
- ٥) تصنيف الكُتب من مهامّ
 أ المهندسين ب المعلمين ج أمناء المكتبات د الأطباء
- ٦) لكل حل من حلول المشكلة جوانب
 أ إيجابية فقط ب سلبية فقط ج جيدة فقط د إيجابية وسلبية
- ٧) الجزء الأكبر من الكتاب هو
 أ الفهرس ب المتن ج قائمة المحتويات د الغلاف الخارجي
- ٨) الهدف الأساسي من اتفاقية حقوق الطفل هو
 أ حماية حقوق ب تقييد حرية ج زيادة مسئولية د فرض قواعد على
- ٩) ماكينة لحام المواسير يستخدمها
 أ المهندسون ب المعلمون ج النجارون د السبّاكون
- ١٠) نباتات الظل لا تحتاج إلى لكي تنمو.
 أ الماء ب الهواء ج الضوء الشديد د الضوء القليل
- ١١) تسلسل الأحداث هو الجزء في المسرحية.
 أ الأول ب الرئيسي ج الأخير د الأوسط
- ١٢) عملية لا تتطلّب صناعة شيء جديد تمامًا.
 أ التصنيع ب التعدين ج التدوير د التحويل
- ١٣) لمواجهة الظروف الطارئة يجب عليك أن
 أ تنفق ب تدخّر ج تُبدّد د تستهلك
- ١٤) تعتمد شخصيات أي مسرحية على لاستكمال ملامحها.
 أ الأزياء ب الديكورات ج الإكسسوارات د خشبة المسرح
- ١٥) يهتم البيان الإعلامي بتوصيل
 أ الإشاعات ب الأكاذيب ج المعلومات الزائفة د المعلومات المهمّة



سلاح التلميز

منذ عام ١٩٦٠



المهارات المهنية

2024-2025

الصف الرابع الابتدائي
الفصل الدراسي الأول

إجابات نماذج اختبارات
الفصل الدراسي الأول

4

إجابة الاختبار ١

- ١ الممتدة
- ٢ الشخصيات
- ٣ تخزين المتعلقات
- ٤ التصرف بأدب
- ٥ الغلاف الداخلي
- ٦ الصنفرة
- ٧ العُقلة
- ٨ أمين المكتبة
- ٩ أتباع القواعد
- ١٠ المتسلّقات
- ١١ المرشد السياحي
- ١٢ النجّار
- ١٣ الطارئة
- ١٤ الإبداعي
- ١٥ البيئية

إجابة الاختبار ٢

- ١ أبيض
- ٢ كثرة استخدامها
- ٣ المطبوعة
- ٤ السائحين
- ٥ الصبّارات
- ٦ طبيبًا
- ٧ الترابط
- ٨ أكثر من حل
- ٩ مختلف
- ١٠ القضايا
- ١١ مفاتيح الربط
- ١٢ إعادة الاستخدام
- ١٣ البيان الإعلامي
- ١٤ المؤلف
- ١٥ مستدامة

إجابة الاختبار ٣

- ١ دار النشر
- ٢ تحديد المشكلة
- ٣ المسرحية
- ٤ يجذب
- ٥ تجميل
- ٦ السائحين
- ٧ جزء من النبات
- ٨ زراعة المحاصيل
- ٩ الطلاب
- ١٠ الأسرة
- ١١ المطارق
- ١٣ متعددة
- ١٤ البلاستيكية
- ١٥ ممارسة الألعاب
- ١٥ الفُسَيْفَسَاء



إجابة الاختبار ٤

- | | | |
|-----------------|-----------------|------------------|
| ١ تخيل الزينة | ٢ د. هاني عازر | ٣ الأبليلك |
| ٤ صديقة البيئة | ٥ التعليم | ٦ موظف الاستقبال |
| ٧ ترقية الوجدان | ٨ الشقوق | ٩ عنوان |
| ١٠ تجزئتها | ١١ البنائين | ١٢ الصبّار |
| ١٣ إصلاحها | ١٤ ذروة الأحداث | ١٥ التسوّق الذكي |

إجابة الاختبار ٥

- | | | |
|-----------------|------------------|---------------------|
| ١ المجتمع | ٢ الأبواب | ٣ الإرشاد السياحي |
| ٤ الضوء | ٥ أمناء المكتبات | ٦ إيجابية وسلبية |
| ٧ المتن | ٨ حماية حقوق | ٩ السبّاكون |
| ١٠ الضوء الشديد | ١١ الرئيسي | ١٢ التحويل |
| ١٣ تدّخر | ١٤ الإكسسوارات | ١٥ المعلومات المهمة |

