



# مراجعة شهر نوفمبر

الفصل الدراسي الأول



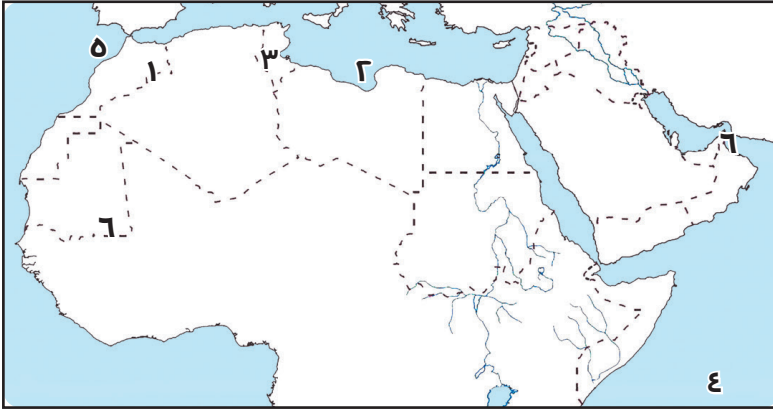
الصف  
السادس  
الابتدائي  
6

الدراسات  
الاجتماعية



## نموذج (١)

١ أمامك خريطة صقّاء للوطن العربي، اكتب ما تدل عليه الأرقام:



- ١ جبال  
٢ البحر  
٣ إقليم مناخي  
٤ المحيط  
٥ مضيق  
٦ إقليم مناخي

٢ صوب ما تحته خط:

- ١ تنمو حشائش السافانا في إقليم البحر المتوسط.  
٢ تتعامد الشمس على مدار الجدي في فصل الصيف بالوطن العربي.  
٣ توجد واحة سيوة في الجزائر.  
٤ توجد أشجار الصنوبر في الإقليم الصحراوي.  
٥ تعيش الأسود في إقليم البحر المتوسط.  
٦ توجد محمية جبل غلبة في سوريا.

٣ بم تفسر ...؟

- ١ أهمية المحميات الطبيعية.  
٢ الأهمية الاقتصادية لغابات البحر المتوسط.

٤ في أي الأقاليم المناخية والنباتية تعيش الحيوانات الآتية:

- ١ الزواحف. ٢ الأسود.  
٣ الزراف. ٤ الثعلب.

## أسئلة على شخصيات عربية مؤثرة

### ١ أكمل ما يأتي:

- ١ تولى ..... الخلافة بعد وفاة أبي بكر الصديق.
- ٢ أول من أسلم من الرجال هو .....
- ٣ تولى ..... الخلافة بعد وفاة النبي (ﷺ)
- ٤ قام ..... بقتل عمر بن الخطاب (رضي الله عنه)
- ٥ من الصحابة الذين أسلموا على يد أبي بكر الصديق .....

### ٢ صوب ما تحته خط:

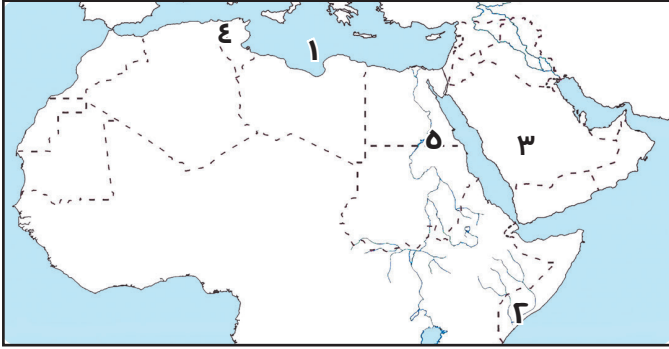
- ١ من أهم أعمال عمر بن الخطاب محاربة المرتدين.
- ٢ استمرت خلافة أبي بكر الصديق عشر سنوات.
- ٣ وُلد أبو بكر الصديق في يثرب.

### ٣ اختر الإجابة الصحيحة مما بين القوسين:

- ١ ولد ..... بعد عام الفيل بعامين ونصف.
- (علي بن أبي طالب - أبي بكر الصديق - عمر بن الخطاب - الرسول (ﷺ))
- ٢ أول من أسلم من الرجال هو .....
- (عثمان بن عفان - عمر بن الخطاب - أبي بكر الصديق - طلحة بن عبد الله)
- ٣ من أهم أعمال عمر بن الخطاب .....
- (جمع القرآن - إنشاء الدواوين - محاربة المرتدين - جميع ما سبق)

## نموذج ( ٢ )

١ أمامك خريطة صقّاء للوطن العربي، اكتب ما تدل عليه الأرقام:



- ١ البحر .....  
 ٢ إقليم مناخي .....  
 ٣ هضبة .....  
 ٤ إقليم مناخي .....  
 ٥ جبال .....

٢ اكتب العبارات الآتية بكلمات مناسبة:

- ١ تُعد ..... أكبر الدول العربية المنتجة لمحصول القمح.  
 ٢ تنمو أشجار الأرز في إقليم .....  
 ٣ تنمو حشائش ..... في الإقليم المداري الحار.  
 ٤ تسقط أمطار ..... على جنوب موريتانيا.

٣ ضع كلمة "صح" أمام العبارة الصحيحة، وكلمة "خطأ" أمام العبارة غير الصحيحة:

- ١ توجد محمية جبل غلبة في مصر. ( ..... )  
 ٢ تعرضت الصومال لأكبر موجة جفاف في الوطن العربي. ( ..... )  
 ٣ محمية ضانا إحدى المحميات بدولة الإمارات. ( ..... )  
 ٤ من المحاصيل السكرية في الوطن العربي القطن. ( ..... )

٤ اكتب ما تُشير إليه كل عبارة مما يلي:

- ١ منطقة جغرافية من سطح الأرض تتسم بخصائص مناخية تميزها عن غيرها. ( ..... )  
 ٢ نقص كمية الأمطار في بعض السنوات بما لا يسمح بالزراعة أو نمو الحشائش. ( ..... )  
 ٣ تناقص قدرة الأرض الزراعية على الإنتاج. ( ..... )

٥ اختر الإجابة الصحيحة مما بين القوسين:

- ١ توجد محمية أرز الشوف في ( مصر - لبنان - الأردن - سوريا ) .....  
 ٢ أمطار الإقليم المداري تكون ( صيفية - شتوية - طوال العام - خريفية ) .....  
 ٣ من الحيوانات التي تعيش في الإقليم الصحراوي ( الفيلة - الأسود - الزراف - الثعلب ) .....

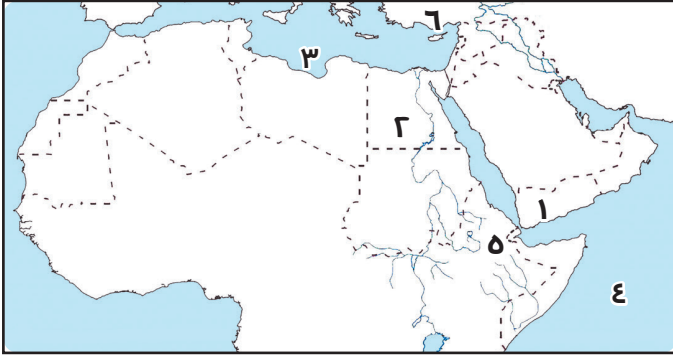
٦ أجب عمّا يلي:

١ بم تفسر: أهمية المحميات الطبيعية؟ [ أ ] تنوع الأقاليم المناخية في الوطن العربي؟ [ ب ]

٢ ما العلاقة بين: السكان ومشكلة ندرة المياه؟ [ أ ] بين: المقومات الطبيعية والبشرية لقيام الزراعة. [ ب ]

## نموذج ( ٣ )

١ أمامك خريطة صماء للوطن العربي، اكتب ما تدل عليه الأرقام:



١ الدولة الأولى عربيًا في إنتاج البن .....

٢ الدولة الأولى عربيًا في إنتاج التمر .....

٣ البحر .....

٤ المحيط .....

٥ مضيق .....

٦ جبال .....

٢ أكمل العبارات الآتية بكلمات مُناسبة:

١ من المقومات الطبيعية لقيام الزراعة .....

٢ تعتمد الزراعة في العراق على مياه نهري .....

٣ تتركز زراعة القطن في دولتي .....

٣ ما النتائج المترتبة على ...؟

١ وجود المياه الجوفية في الواحات.

٢ التغيرات المناخية بالنسبة للزراعة.

٤ بم تفسر ...؟

١ أهمية الزراعة في الوطن العربي.

٢ أهمية رأس المال في الزراعة.

## الإجابات النموذجية

## نموذج (١)

١ أمامك خريطة صقأ للوطن العربي،  
اكتب ما تدل عليه الأرقام:

- ١ أطلس  
٢ المتوسط  
٣ البحر المتوسط  
٤ الهندي  
٥ جبل طارق  
٦ المداري الحار

٢ صوب ما تحته خط:

- ١ حشائش الأستبس  
٢ مدار السرطان  
٣ مصر  
٤ إقليم البحر المتوسط  
٥ الأغنام والماعز  
٦ مصر

٣ بم تفسر ...؟

أجب بنفسك

٤ في أي الأقاليم المناخية والنباتية تعيش

الحيوانات الآتية:

- ١ المداري الحار  
٢ السافانا  
٣ السافانا  
٤ الصحراوي الحار

## أسئلة على شخصيات عربية مؤثرة

١ أكمل ما يأتي:

- ١ عمر بن الخطاب  
٢ أبي بكر الصديق  
٣ أبي بكر الصديق  
٤ أبو لؤلؤة المجوسي  
٥ عثمان بن عفان

٢ صوب ما تحته خط:

- ١ أبي بكر الصديق  
٢ عمر بن الخطاب  
٣ مكة

٣ اختر الإجابة الصحيحة:

- ١ أبي بكر الصديق  
٢ أبي بكر الصديق  
٣ إنشاء الدواوين

## نموذج (٢)

١ أمامك خريطة صقأ للوطن العربي،  
اكتب ما تدل عليه الأرقام:

- ١ المتوسط  
٢ المداري الحار  
٣ نجد  
٤ البحر المتوسط  
٥ البحر الأحمر

٢ أكمل العبارات الآتية بكلمات مناسبة:

- ١ مصر  
٢ البحر المتوسط  
٣ السافانا  
٤ صيفية

٣ ضع كلمة «صح» أمام العبارة الصحيحة،

وكلمة «خطأ» أمام العبارة غير الصحيحة:

- ١ صح  
٢ صح  
٣ خطأ  
٤ خطأ

٤ اكتب ما تشير إليه كل عبارة مما يلي:

- ١ إقليم مناخي  
٢ الجفاف.  
٣ التصحر

٥ اختر الإجابة الصحيحة:

- ١ لبنان  
٢ صيفية  
٣ الثلج

٦ أجب عمًا يلي:

أجب بنفسك

## نموذج (٣)

١ أمامك خريطة صقأ للوطن العربي،

اكتب ما تدل عليه الأرقام:

- ١ اليمن  
٢ مصر  
٣ المتوسط  
٤ الهندي  
٥ باب المنذب  
٦ طوروس

٢ أكمل ما يأتي:

- ١ المياه العذبة  
٢ دجلة والفرات  
٣ مصر والسودان

٣ ما النتائج المترتبة على:

- ١ قيام الزراعة  
٢ أجب بنفسك

٤ بم تفسر ...؟

- ١ لأنها توفر الغذاء للسكان وتوفر فرص العمل وتوفر المواد الخام اللازمة للصناعة ومصدر الدخل القومي.  
٢ يستخدم في إقامة المشروعات الزراعية وشراء الآلات الزراعية والبذور والأسمدة.