

# سندباد

## مراجعة شهر نوفمبر

الفصل الدراسي الأول



الدراسات  
الاجتماعية

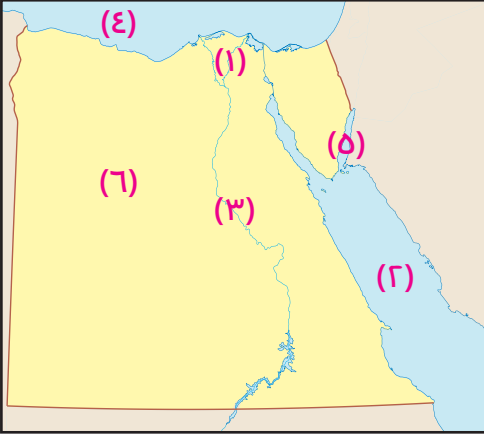
الصف  
الخامس  
الابتدائي

مذكرتي  
Mozkrty.com

## أولاً: نماذج على الدروس

### نموذج ( ١ )

١ أمامك خريطة صقّاء لمصر، اكتب ما تدلّ عليه الأرقام:



- ١ فرع .....
- ٢ البحر .....
- ٣ نهر .....
- ٤ البحر .....
- ٥ خليج .....
- ٦ الصحراء .....

٢ ما النتائج المترتبة على ...؟

- ١ وجود مياه جوفية في واحة سيوة.
- ٢ سقوط أمطار شتوية على الساحل الشمالي لمصر.

٣ حدد نوع المياه فيما يلي:

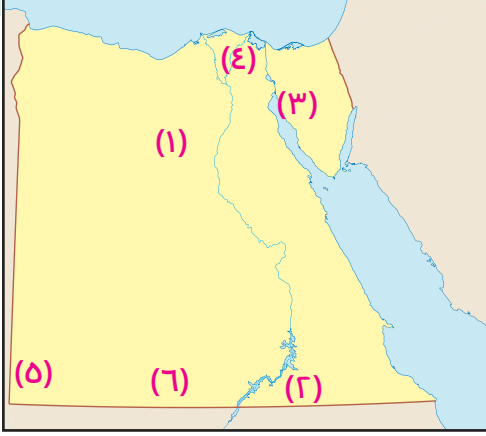
- ١ فرع رشيد.
- ٢ بحيرة ناصر.
- ٣ البحر المتوسط.
- ٤ بحيرة المنزلة.
- ٥ البحر الأحمر.
- ٦ فرع دمياط.

٤ بم تفسر ...؟

- ١ أهميّة المياه العذبة.
- ٢ أهميّة المياه المالحة.

## نموذج ( ٢ )

١ **أمامك خريطة صفاء لمصر، اكتب ما تدلّ عليه الأرقام:**



- ١ منجم حديد .....
- ٢ بحيرة .....
- ٣ منجم منجنيز .....
- ٤ فرع .....
- ٥ جبل .....
- ٦ هضبة .....

٢ **حدّد المعدن المُستخدم في الصناعات الآتية:**

- ١ صناعة الأسمدة
- ٢ صناعة الحلي
- ٣ صناعة الدهانات

٣ **بم تفسّر...؟**

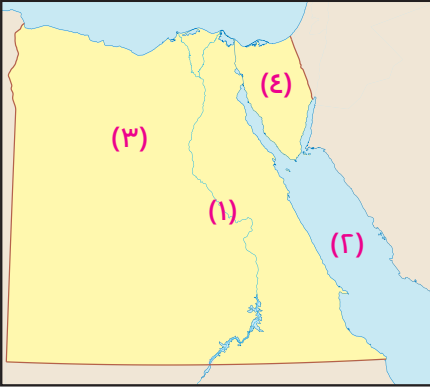
- ١ أهمية التعدين في الاقتصاد القومي.
- ٢ أهمية المياه العذبة.

٤ **ما العلاقة بين...؟**

- ١ الحديد والآلات.
- ٢ النحاس وأسلاك الكهرباء.

## نموذج ( ٣ )

١ أمامك خريطة صفاء لمصر، اكتب ما تدلّ عليه الأرقام:



١ مصدر للمياه العذبة .....

٢ مصدر للمياه المالحة .....

٣ منطقة لاستخراج الحديد .....

٤ منطقة لاستخراج الفحم .....

٢ اختر الإجابة الصحيحة مما بين القوسين:

١ من مصادر الطاقة المتجددة .....

٢ من مصادر المياه المالحة .....

٣ يُستخرج معدن المنجنيز من منجم .....

(الفحم - البترول - الرياح - الغاز الطبيعي)

(نهر النيل - الأمطار - فرع دمياط - خليج العقبة)

(السباعية - السكري - أم بجمة - المغارة)

٣ بم تفسر ...؟

١ أهمية نهر النيل

٢ الأهمية الاقتصادية لمصادر الطاقة في مصر

٣ أهمية معدن الفوسفات

٤ أجب عما يأتي :

١ ما رأيك في:

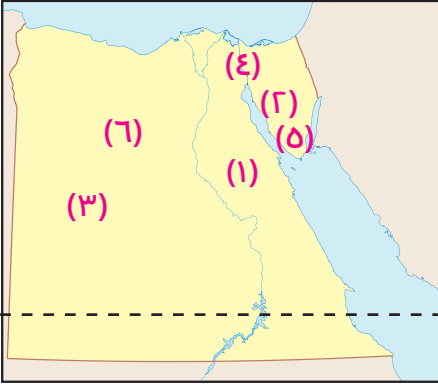
اتجاه مصر وكثير من دول العالم للهيدروجين الأخضر.

٢ اذكر نتيجة واحدة:

اكتشاف المصري القديم للنار؟

## ثانيًا: نموذج على الوحدة الثانية

### ٣ درجات



١ أمامك خريطة صماء لمصر، اكتب ما تدلّ عليه الأرقام:

- ١ هضبة .....
- ٢ منجم منجنيز .....
- ٣ منجم فوسفات .....
- ٤ قناة .....
- ٥ جبل .....
- ٦ منجم حديد .....

### ٣ درجات

- ( القاهرة - السويس - البحر الأحمر - الإسكندرية )  
 ( الهواء - أشعة الشمس - الأرض الزراعية - مياه البحر )  
 ( قارون - البرلس - المنزلة - ناصر )

٢ اختر الإجابة الصحيحة مما بين القوسين:

- ١ يستخرج النحاس من محافظة .....
- ٢ من أنواع الموارد النادرة .....
- ٣ من مصادر المياه العذبة في مصر بحيرة .....

٣ اذكر نتيجة واحدة لكل من:

### ٣ درجات

- ١ اكتشاف المصري القديم للنار.
- ٢ تغطية المياه لنحو ٧١ % من مساحة الأرض.
- ٣ الاتجاه نحو استخدام الهيدروجين الأخضر.

### ٣ درجات

٤ صنّف مصادر الطاقة الآتية إلى متجددة وغير متجددة:

- ١ الغاز الطبيعي.
  - ٢ الشمس.
  - ٣ الفحم.
- ( ..... )  
 ( ..... )  
 ( ..... )

### ٣ درجات

٥ وضح أوجه الشبه والاختلاف بين:

- ١ بحيرة ناصر وبحيرة المنزلة.
  - ٢ الموارد الحرة والموارد النادرة.
- .....  
 .....

## الإجابات النموذجية

## نموذج على الوحدة الثانية

١ أمامك خريطة لمصر، وضع ما تدل عليه الأرقام الآتية:

- ١ المعازة ٢ أم بجمة ٣ أبو طرطور  
٤ السويس ٥ سانت كاترين ٦ الواحات البحرية

٢ اختر الاجابة الصحيحة:

- ١ البحر الأحمر ٢ الأرض الزراعية ٣ ناصر

٣ اذكر نتيجة واحدة لكل من:

- ١ استخدمها في طهي الطعام  
٢ ، ٣ أجب بنفسك

٤ صنف مصادر الطاقة الآتية إلى متجددة

وغير متجددة:

- ١ غير متجددة ٢ متجددة ٣ غير متجددة

٥ وضح أوجه الشبه والاختلاف بين:

- أجب بنفسك

## نموذج (١)

١ أمامك خريطة لمصر، وضع ما تدل عليه الأرقام الآتية:

- ١ دمياط ٢ الأحمر ٣ النيل  
٤ المتوسط ٥ العقبة ٦ الغربية

٢ ما النتائج المترتبة على...؟

- ١ اعتماد الزراعة في واحة سيوة على المياه الجوفية.  
٢ قيام الزراعة ووجود عدد من السكان.

٣ حدد نوع المياه فيما يلي:

- ١ عذبة ٢ عذبة ٣ مالحة  
٤ مالحة ٥ مالحة ٦ عذبة

٤ بم تفسر...؟

- أجب بنفسك

## نموذج (٢)

١ أمامك خريطة لمصر، وضع ما تدل عليه الأرقام الآتية:

- ١ الواحات البحرية ٢ ناصر ٣ أم بجمة  
٤ دمياط ٥ العوينات ٦ الجلف الكبير

٢ حدد المعدن المستخدم في الصناعات الآتية:

- ١ الفوسفات ٢ الذهب ٣ المنجنيز

٣ بم تفسر...؟

- ١ توفير فرص عمل / زيادة الدخل القومي.  
٢ أجب بنفسك

٤ ما العلاقة بين...؟

- ١ يُستخدم الحديد في صناعة الآلات.  
٢ يُستخدم النحاس في صناعة أسلاك الكهرباء.

## نموذج (٣)

١ أمامك خريطة لمصر، وضع ما تدل عليه الأرقام الآتية:

- ١ نهر النيل ٢ البحر الأحمر  
٣ الواحات البحرية ٤ جبل مغارة

٢ اختر الاجابة الصحيحة:

- ١ الرياح ٢ خليج العقبة ٣ أم بجمة

٣ بم تفسر...؟

- ١ ، ٢ أجب بنفسك  
٣ يدخل في صناعة الأسمدة والمبيدات الحشرية والطوب الحراري

٤ أجب عما يأتي:

- ١ أجب بنفسك ٢ استخدامها في طهي الطعام