

سندباد

مراجعة شهر نوفمبر

الفصل الدراسي الأول

الاجتماعية
الدراسات

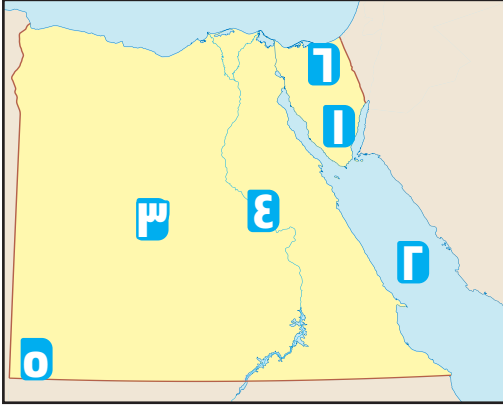
الصف
الرابع
الابتدائي
4

مذكرتي
Mozkrty.com

أولاً: نماذج على الدروس

نموذج (١)

١ أمامك خريطة لمصر، وضع ما تدل عليه الأرقام الآتية:



- ١ جبل
 ٢ البحر
 ٣ الصحراء
 ٤ نهر
 ٥ جبل
 ٦ شبه جزيرة

٢ بم تفسر ...؟

- أهمية وجود نهر النيل في مصر.

٣ اكتب ما تُشير إليه كل عبارة مما يلي:

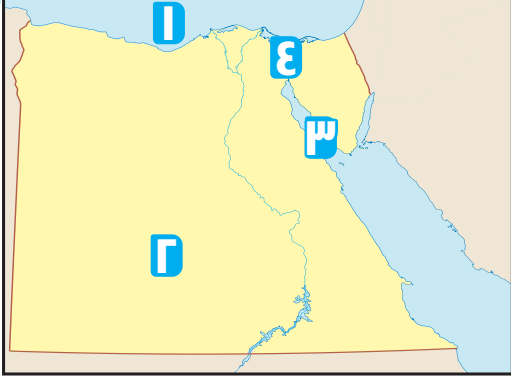
- ١ مجرى مائي عذب. (.....)
 ٢ أرض تُحيط بها المياه من جميع الجهات. (.....)
 ٣ أرض واسعة مرتفعة مستوية أو شبه مستوية. (.....)

٤ حدد اللون المستخدم في تلوين الظاهرات الآتية على الخريطة:

- ١ جبل شايب البنات
 ٢ جبل علبة
 ٣ سهول نهر النيل
 ٤ منخفض القطارة

نموذج (٢)

١ أمامك خريطة لمصر، وضع ما تدل عليه الأرقام الآتية:



١ البحر

٢ الصحراء

٣ خليج

٤ قناة

٢ صل من المجموعة (أ) ما يناسبه من المجموعة (ب):

ب

أ نحدد به سرعة الرياح

ب نحدد به اتجاه الرياح

ج يسود معظم الأراضي المصرية

د نقيس به درجة الحرارة

أ

١ الترمومتر

٢ جوب الرياح

٣ الأنيمومتر

٤ المناخ الصحراوي الحار

٣ بم تفسر ...؟

- تفيدنا دراسة الطقس في حياتنا اليومية.

٤ صوب ما تحته خط فيما يلي:

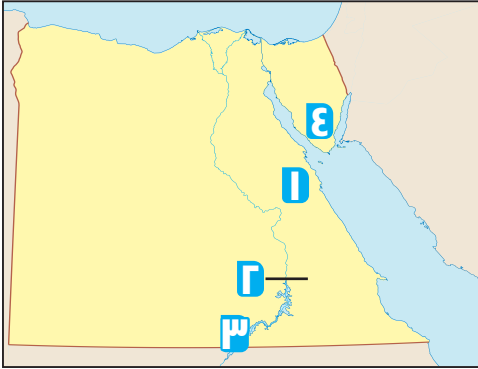
١ المناخ وصف حالة الجو لفترة زمنية قصيرة.

٢ تسقط الأمطار في مصر في فصل الصيف.

٣ يُقاس المطر بالبوصلة.

نموذج (٣)

١ أمامك خريطة لمصر، وضع ما تدل عليه الأرقام الآتية:



- ١ الصحراء
- ٢ السد
- ٣ بحيرة
- ٤ جبل

٢ ضع دائرة حول الإجابة الصحيحة:

- ١ تمثل البيئة معظم مساحة مصر. (الساحلية - الصحراوية - الزراعية - الصناعية)
- ٢ تشمل البيئة الوادي والدلتا ومنخفض الفيوم. (الصحراوية - الزراعية - الساحلية - الجليدية)
- ٣ تنتشر الشعاب المرجانية في (نهر النيل - البحر الأحمر - البحر المتوسط - بحيرة البرلس)

٣ اذكر سببًا واحدًا لكل من:

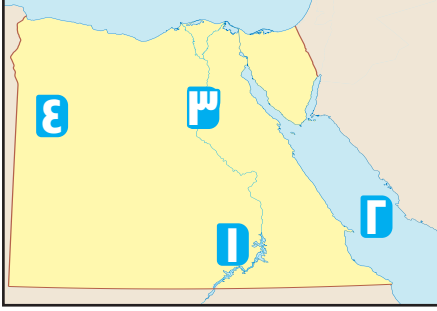
- ١ ضيق السهول الساحلية المطلة على البحر الأحمر.
- ٢ أهمية السد العالي لمصر.

٤ ما العلاقة بين ...؟

- ١ الرمال السوداء وصناعة الخزف.
- ٢ أحوال الطقس ونوع الملابس التي نرتديها.
- ٣ الترمومتر والحرارة.

نموذج (٤)

١ **أمامك خريطة لمصر، وضع ما تدل عليه الأرقام الآتية:**



١ السد

٢ البحر

٣ نهر

٤ الصحراء

٢ **اذكر سببًا واحدًا لكل من:**

١ اتجاه العالم لاستخدام مصادر الطاقة المتجددة.

٢ تتعرض التربة الزراعية لأخطار متعددة.

٣ أهمية دراسة الطقس.

٣ **ما المقصود بـ...؟**

١ الحياة المستدامة.

٢ مصادر الطاقة الحفوية.

٤ **وضح جهود الدولة في:**

١ ترشيد استهلاك المياه.

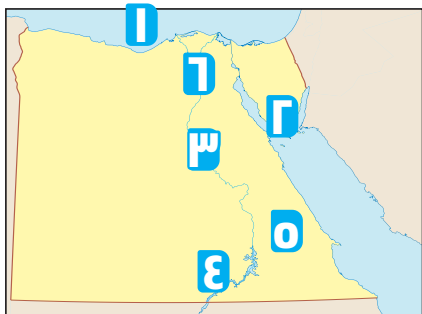
٢ ترشيد استهلاك الطاقة.

٣ توليد الطاقة من المياه.

ثانيًا: نماذج على الوحدة الثانية

نموذج (١)

٣ درجات



١ أمامك خريطة لمصر، وضع ما تدل عليه الأرقام الآتية:

- ١ البحر
 ٢ جبل
 ٣ مجرى مائي عذب
 ٤ بحيرة
 ٥ الصحراء
 ٦ عاصمة مصر

٣ درجات

- (.....)
 (.....)
 (.....)

٢ اكتب ما تُشير إليه كل عبارة مما يلي:

- ١ وصف حالة الجو لفترة زمنية طويلة (فصل أو سنة).
 ٢ أرض تُحيط بها المياه من جميع الجهات.
 ٣ محطة لتوليد الكهرباء من الرياح بمحافظة البحر الأحمر.

٣ درجات

٣ صوب ما تحته خط فيما يلي:

- ١ يُستخدم الترمومتر في قياس سرعة الرياح.
 ٢ توجد تلال المقطم في الإسكندرية.
 ٣ من الموارد الطبيعية المتجددة القمح.

٣ درجات

٤ في أي البيئات المصرية يوجد ما يلي:

- ١ جزيرة شدوان
 ٢ واحة سيوة
 ٣ الدلتا
 ٤ الشعاب المرجانية
 ٥ الوادي
 ٦ بحر الرمال العظيم

٣ درجات

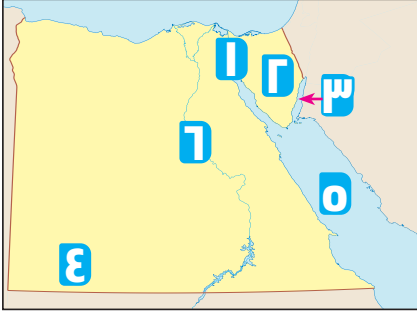
٥ أجب عما يلي:

- ١ كيف يمكن للفرد أن يحافظ على ترشيد استهلاك المياه؟
 ٢ فسر: إطلاق الدولة لمبادرة «اتحضر للأخضر».
 ٣ ما العلاقة بين تلوث البيئة وقش الأرز؟

نموذج (٢)

٣ درجات

١ أمامك خريطة لمصر، وضع ما تدل عليه الأرقام الآتية:



- ١ قناة
 ٢ شبه جزيرة
 ٣ خليج
 ٤ هضبة
 ٥ البحر
 ٦ مجرى مائي

٣ درجات

٢ اختر الإجابة الصحيحة مما بين القوسين:

- ١ يتم قياس درجة الحرارة باستخدام
 (الأنيمومتر - الترمومتر - جوب الرياح - مقياس المطر)
 ٢ توجد الشعاب المرجانية في
 (نهر النيل - البحر الأحمر - البحر المتوسط - الصحراء الغربية)
 ٣ يوجد بحر الرمال العظيم في
 (الصحراء الشرقية - الصحراء الغربية - الوادي - الدلتا)

٣ درجات

٣ صنف الموارد الطبيعية الآتية إلى متجددة أو غير متجددة:

- ١ الهواء
 ٢ المياه
 ٣ الفحم
 ٤ البترول
 ٥ الشمس
 ٦ الغاز الطبيعي

٣ درجات

٤ أكمل العبارات الآتية بكلمات مناسبة:

- ١ يوجد معدن الفوسفات ومعدن الحديد في
 ٢ يوجد السد العالي جنوب نهر النيل في
 ٣ من أسباب تلوث الهواء

٣ درجات

٥ أجب عما يلي:

- ١ فسر تلوث التربة.
 ٢ ما نتيجة اتساع مساحة مصر؟
 ٣ ما رأيك في مبادرة «اتحضر للأخضر».

الإجابات النموذجية

أولاً: نماذج على الدروس

نموذج (١)

١ أمامك خريطة لمصر، وضع ما تدل عليه الأرقام الآتية:

- ١ سانت كاترين ٢ الأحمر ٣ الغربية
٤ النيل ٥ العوينات ٦ سيناء

٢ بم تفسر ...؟

ساعد على قيام الزراعة في مصر منذ القدم.

٣ اكتب ما تشير إليه كل عبارة مما يلي:

- ١ النهر ٢ الجزيرة ٣ الهضبة

٤ حدد اللون المستخدم في تلوين الظاهرات الآتية

على الخريطة:

- ١ اللون البني ٢ اللون البني
٣ اللون الأخضر الفاتح ٤ اللون الأخضر الغامق

نموذج (٢)

١ أمامك خريطة لمصر، وضع ما تدل عليه الأرقام الآتية:

- ١ المتوسط ٢ الغربية ٣ السويس ٤ السويس

٢ صل المجموعة (أ) بما يناسبها من المجموعة (ب):

- ١ ... د ٢ ... ب
٣ ... أ ٤ ... ج

٣ بم تفسر ...؟

لأنها تؤثر على نوعية ارتداء الملابس التي نرتديها ومعرفة سلامة الطرق.

٤ صوب ما تحته خط فيما يلي:

- ١ الطقس ٢ الشتاء ٣ مقياس المطر

نموذج (٣)

١ أمامك خريطة لمصر، وضع ما تدل عليه الأرقام الآتية:

- ١ الشرقية ٢ العالى ٣ ناصر ٤ سانت كاترين

٢ ضع دائرة حول الإجابة الصحيحة:

- ١ الصحراوية ٢ الزراعية ٣ البحر الأحمر

٣ اذكر سببًا واحدًا لكل من:

١ لإقتراب المرتفعات من ساحل البحر الأحمر.

٢ تخزين المياه لرى المناطق الزراعية على طول العام.

٤ ما العلاقة بين ...؟

١ تستخدم الرمال السوداء في صناعة الخزف.

٢ ، ٣ أجب بنفسك

نموذج (٤)

١ أمامك خريطة لمصر، وضع ما تدل عليه الأرقام الآتية:

- ١ العالى ٢ الأحمر
٣ النيل ٤ الغربية

٢ اذكر سببًا واحدًا لكل من:

- ١ لأنها طاقة نظيفة لا تلوث البيئة
٢ بسبب إصراف المزارعين في استخدام الأسمدة الكيميائية والمبيدات الحشرية
٣ أجب بنفسك

٣ ما المقصود ب...؟

١ أسلوب حياة يهدف الى التعامل بشكل مسئول مع موارد بيئتنا وترشيد

استهلاكنا لها وبالتالي تقليل النفايات

٢ هي مصادر الطاقة التي تستخرج من باطن الأرض مثل الفحم والبتترول

والغاز الطبيعي

٤ وضع جهود الدولة في: أجب بنفسك

ثانياً: نماذج على الوحدة الثانية

نموذج (١)

١ أمامك خريطة لمصر، وضع ما تدل عليه الأرقام الآتية:

١ المتوسط ٢ سانت كاترين ٣ نهر النيل

٤ ناصر ٥ الشرقية ٦ القاهرة

٢ اكتب ما تشير إليه كل عبارة مما يلي:

- ١ المناخ ٢ الجزيرة ٣ محطة الزعفرانة

٣ صوب ما تحته خط فيما يلي:

- ١ الأنيمومتر ٢ القاهرة ٣ الرياح

٤ في أي البيئات المصرية يوجد ما يلي:

- ١ الساحلية ٢ الصحراوية ٣ الزراعية
٤ الساحلية ٥ الزراعية ٦ الصحراوية

٥ **أجب عما يلي:** أجب بنفسك

نموذج (٢)

١ **أمامك خريطة لمصر، وضع ما تدل عليه الأرقام الآتية:**

- ١ السويس ٢ سيناء ٣ العقبة
٤ الجلف الكبير ٥ الأحمر ٦ نهر النيل

٢ **اختر الإجابة الصحيحة مما بين القوسين:**

- ١ الترمومتر ٢ البحر الأحمر ٣ الصحراء الغربية

٣ **صنف الموارد الطبيعية الآتية إلى متجددة**

أو غير متجددة:

- ١ متجددة ٢ متجددة ٣ غير متجددة
٤ غير متجددة ٥ متجددة ٦ غير متجددة

٤ **أكمل العبارات الآتية:**

- ١ الصحراء الغربية ٢ أسوان ٣ عوادم السيارات

٥ **أجب عما يلي:** أجب بنفسك