

## تعليمات عامة :

- يستغرق العمل على المهمة حصتان دراسيتان متتاليتان.
- يوزع المعلم أوراق المهمة على الطلاب ويوضح لهم المقصود منها .
- يشرف المعلم على مراحل تنفيذ المهام خلال الحصص المخصصة لذلك.
- يجيب الطلاب عن المطلوب من المهمة في نفس الورقة.
- لا مانع من استخدام الطالب الكتاب المدرسي إذا أراد ذلك .

## المهمة الأولى ( أنماط سكان بلدنا )

### الساعة السكانية الآن

الثلاثاء 15 يونيو 2021 03:46 م حسب توقيت القاهرة

1 0 1 , 9 1 9 , 1 0 9

أمامك شاشة مكتوب عليها بعض الأرقام :

- ١- ما الاسم الذي يطلق على هذه الشاشة ؟ ... الساعة السكانية
- ٢- الأرقام الموجودة بالشاشة تعبر عن ... التعداد السكاني
- ٣- هل الأرقام الموجودة بالشاشة ثابتة أم تتغير باستمرار ؟ ... تتغير.. باستمرار
- ٤- في رأيك ما هو سبب تزايد الأعداد بمرور الوقت ؟ .. زيادة أعداد المواليد
- ٥- القاهرة تعتبر أعلى محافظات جمهورية مصر العربية سكانا



- ، لون محافظة القاهرة على الخريطة التي أمامك بالقلم الأزرق .
- ٦- أكتب اسم محافظة من المحافظات الحضرية بخلاف القاهرة .

الاسكندرية ، السويس ، بورسعيد

- ٧- أذكر المصطلح : عملية حصر شامل للسكان كل عشر سنوات لتحديد الخدمات التي يحتاجها السكان في الحاضر والمستقبل
- ( .....التعداد السكاني..... )

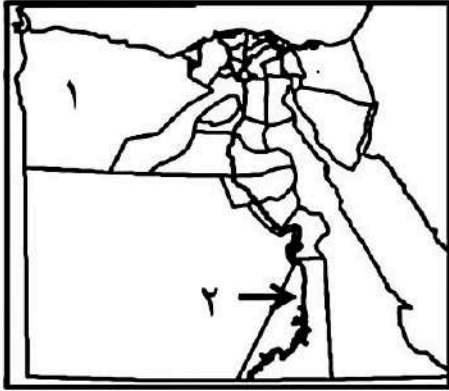
## تعليمات عامة :

- يستغرق العمل على المهمة حصتان دراسيتان متتاليتان.
- يوزع المعلم أوراق المهمة على الطلاب ويوضح لهم المقصود منها .
- يشرف المعلم على مراحل تنفيذ المهام خلال الحصص المخصصة لذلك.
- يجيب الطلاب عن المطلوب من المهمة في نفس الورقة.
- لا مانع من استخدام الطالب الكتاب المدرسي إذا أراد ذلك .

## المهمة الثانية ( التراث الثقافي لسكان بلدنا )

### أمامك خريطة صماء لمصر :-

### مطروح



١- ما اسم المحافظة المدون عليها رقم ( ١ ) .....

٢- جميع العبارات الآتية مرتبطة بواحة " سيوه " .

ما عدا عبارة واحدة ظلل الدائرة التي أمامها :-

- عيد الحصاد .
- ارتداء الملابس المحلية.
- ترديد الاغاني التراثية.
- البمبوظية .

٣- ما أسم المحافظة المدون عليها رقم (٢) ..... **اسوان**

٤- جميع العبارات الآتية مرتبطة " بالنوبة " ما عدا عبارة واحدة ظلل الدائرة التي امامها :-

- التحدث باللغة النوبية .
- ارتداء الملابس المحلية.
- استخدام آلة السمسمية .
- ترديد الاغاني التراثية.

٥- يشتهر سكان مدن القناة بالاغاني المرتبطة بآلة **السمسمية** .....

٦- تشتهر محافظات صعيد مصر بانشاد السيرة **الهلالية** .....

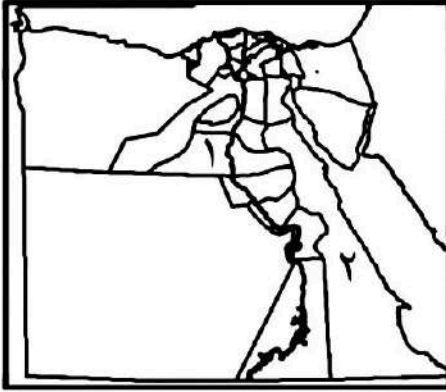
٧- اكتب المصطلح :

فن تراثي عريق تم ادراجه على قائمة التراث العالمي لليونسكو عام ٢٠١٦ ( ..... ) **التحطيب**

## تعليمات عامة :

- يستغرق العمل على المهمة حصتان دراسيتان متتاليتان.
- يوزع المعلم أوراق المهمة على الطلاب ويوضح لهم المقصود منها .
- يشرف المعلم على مراحل تنفيذ المهام خلال الحصص المخصصة لذلك.
- يجيب الطلاب عن المطلوب من المهمة في نفس الورقة.
- لا مانع من استخدام الطالب الكتاب المدرسي إذا أراد ذلك .

## المهمة الثالثة ( نماذج للمشكلات الاجتماعية في بلدنا )



أمامك خريطة محافظات مصر :

١- المحافظة رقم ( ١ ) تعتبر أعلى محافظات مصر  
من حيث الأمية وهي محافظة.....**المنيا**

٢- المحافظة رقم (٢) تعتبر أقل محافظات مصر  
من حيث الأمية وهي محافظة **البحر الأحمر**.....

٣- جميع الاسباب الاتية تؤدي إلى انتشار الأمية في مصر ما عدا سبب واحد ظلل الدائرة التي أمامه :  
○ الزيادة السكانية.

○ عدم التحاق الاطفال بالمدارس.

○ تسرب بعض التلاميذ من المدارس.

● إنشاء عدد كبير من المدارس .

٤- اقترح أحد الحلول للقضاء على الامية الهجائية في مصر .  
.....**القضاء على التسرب من المدارس والتوعية بأهمية التعليم**...

٥- في رأيك هل تؤدي الامية إلى انتشار الجهل والخرافات بين الناس (صواب - خطأ )

٦- ما أسم اللغة التي استخدمها المصريون القدماء وكانت على شكل صور ورسوم ؟  
.....**الهيروغليفية**.....



٧- ما أسم الهيئة الموجودة شعارها أمامك :

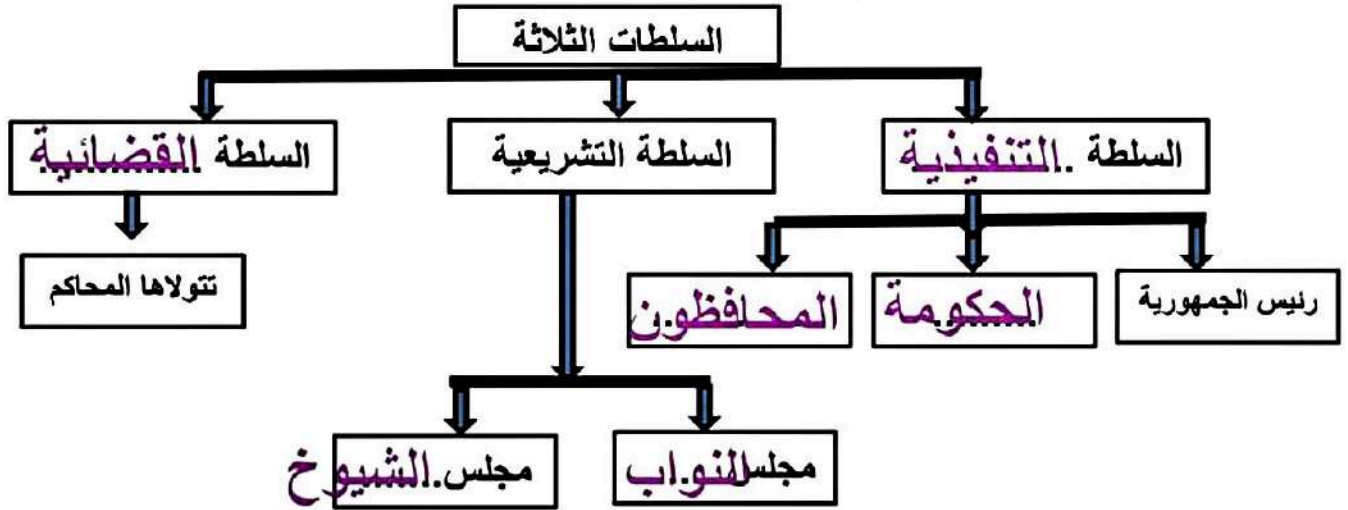
.....**الهيئة العامة لتعليم الكبار**.....

تعليمات عامة :

- يستغرق العمل على المهمة حصتان دراستان متتاليتان.
- يوزع المعلم أوراق المهمة على الطلاب ويوضح لهم المقصود منها .
- يشرف المعلم على مراحل تنفيذ المهام خلال الحصص المخصصة لذلك.
- يجيب الطلاب عن المطلوب من المهمة في نفس الورقة.
- لا مانع من استخدام الطالب الكتاب المدرسي إذا أراد ذلك .

المهمة الرابعة ( نظام الحكم في بلدنا )

١- أمامك خريطة ذهنية توضح نظام الحكم في بلدنا مصر أكمل المربعات الفارغة في ضوء ما درست :-



في ضوء ما سبق أكمل ما يلي :

- ٢- من هو الشخص الذي يمثل مصر محلياً ودولياً ؟ ... رئيس الجمهورية.
- ٣- من هو الشخص المسنول عن حفظ الامن والنظام بالمحافظة ؟ ..... المحافظ.
- ٤- ما اسم المجلس الذي يقوم بسن القوانين في الدولة ؟ ..... مجلس النواب.
- ٥- ما اسم السلطة المستقلة التي تصدر الاحكام في ضوء القانون ليسود العدل ؟ ... القضائية.
- ٦- المجلس الذي يؤخذ رأيه في معاهدات الصلح ومشروعات القوانين هو .... الشيوخ.

## تعليمات عامة :

- يستغرق العمل على المهمة حصتان دراسيتان متتاليتان.
- يوزع المعلم أوراق المهمة على الطلاب ويوضح لهم المقصود منها .
- يشرف المعلم على مراحل تنفيذ المهام خلال الحصص المخصصة لذلك.
- يجيب الطلاب عن المطلوب من المهمة في نفس الورقة.
- لا مانع من استخدام الطالب الكتاب المدرسي إذا أراد ذلك .

## المهمة الخامسة ( تراثنا الوطني )

١- أمامك مجموعة من الصور اكتب أسفل كل صورة هل هي (تراث طبيعي ) أم (تراث ثقافي)



قلعة صلاح الدين بطابا / تراث ثقافي.



الغابة المتحجرة / تراث طبيعي.



مسجد احمد بن طولون / تراث ثقافي.



الوادي الملون بسيناء / تراث طبيعي.

٢- ضع خط تحت الاختيار الصحيح مما يلي :

- الصناعات والحرف التراثية وعادات وتقاليد الشعوب تعتبر تراث. ( طبيعي - ثقافي )
- المعابد والقلاع والمساجد والكنائس والاديرة تعتبر تراث. ( طبيعي - ثقافي )
- المواقع الطبيعية الجميلة ذات القيمة العالمية ولم يتدخل الانسان في صناعتها تعتبر تراث. ( طبيعي - ثقافي )

٣- ما أسم المنظمة التي تشجع كل دول العالم على تحديد مواقع التراث الطبيعي والثقافي فيها ؟

منظمة اليونسكو

٤- أذكر أسم المحمية الطبيعية التي يوجد فيها مجموعة من الأشجار على شكل قطع صخرية .  
الغابة المتحجرة

٥- في رأيك لماذا تم بناء قلعة صلاح الدين بجزيرة فرعون جنوب سيناء ؟

حماية الطرق البرية والبحرية وحماية خليج العقبة والبحر الاحمر من الاعداء

## تعليمات عامة :

- يستغرق العمل على المهمة حصتان دراسيتان متتاليتان.
- يوزع المعلم أوراق المهمة على الطلاب ويوضح لهم المقصود منها .
- يشرف المعلم على مراحل تنفيذ المهام خلال الحصص المخصصة لذلك.
- يجيب الطلاب عن المطلوب من المهمة في نفس الورقة.
- لا مانع من استخدام الطالب الكتاب المدرسي إذا أراد ذلك .

## المهمة السادسة ( الاماكن التراثية فى بلدنا )

١- أمامك مجموعة من الصور لاماكن تراثية فى مصر حدد اسماء المحافظات التى توجد بها هذه الاماكن :



معبد ابو سمبل بمحافظة ..**اسوان**.....



دير سانت كاترين بمحافظة **جنوب..سيناء**



منطقة ابو مينا بمحافظة **الاسكندرية**



وادي الحيتان بمحافظة .....**الفيوم**

- ٢- المنطقة الاثرية المهدهدة بخطر تاكل التربة والمبانى هى منطقة .....**ابو مينا**.....
- ٣- انقذت منظمة اليونسكو منطقة آثار النوبة من الغرق بعد بناء .....**السد العالى**....
- ٤- العبارة الاتية تعتبر صحيحة أم خاطئة :

" القاهرة تعتبر عاصمة سياسية وثقافية وتجارية ودينية عريقة "

.....**صحيحة**.....


٥- طريق الكباش يربط بين معبد .....**الكرنك**..... ومعبد .....**الاقصر**.....

## تعليمات عامة :

- يستغرق العمل على المهمة حصتان دراستان متتاليتان.
- يوزع المعلم أوراق المهمة على الطلاب ويوضح لهم المقصود منها .
- يشرف المعلم على مراحل تنفيذ المهام خلال الحصص المخصصة لذلك.
- يجيب الطلاب عن المطلوب من المهمة في نفس الورقة.
- لا مانع من استخدام الطالب الكتاب المدرسي إذا أراد ذلك .

## المهمة السابعة ( الاماكن السياحية والاثريّة في بلدنا )

١- أمامك مجموعة من الصور لاماكن أثرية في مصر حدد اسماء هذه الاماكن :



برج القاهرة



الاهرامات وابو الهول



جامع احمد بن طولون



حصن بابليون

٢- أذكر سبب واحد لتسمية الكنيسة المعلقة بهذا الاسم ؟

لأنها بنيت على برجين من أبراج الحصن الروماني " بابليون "

٣- أذكر المصطلح:

- عودة الحياة بعد الموت مرة اخرى ( ..... البعث )
- العيش حياة أبدية لا موت بعدها ( ..... الخلود )
- ٤- اكتب ما تعرفه عن التمثال الذي أمامك :



تمثال ابو الهول ، امر بنحته الملك حفرع ، رأس اسد ، والجسم جسم من اللصوص ، لحماية المقابر من اللصوص

## تعليمات عامة :

- يستغرق العمل على المهمة حصتان دراسيتان متتاليتان.
- يوزع المعلم أوراق المهمة على الطلاب ويوضح لهم المقصود منها .
- يشرف المعلم على مراحل تنفيذ المهام خلال الحصص المخصصة لذلك.
- يجيب الطلاب عن المطلوب من المهمة في نفس الورقة.
- لا مانع من استخدام الطالب الكتاب المدرسي إذا أراد ذلك .

## المهمة الثامنة ( السياحة واقتصاد بلدنا )

١- أمامك مجموعة من الصور حدد نوع السياحة الموجودة بها :



مكتبة الاسكندرية / سياحة ..... ثقافية



عيون كبريتية / سياحة ..... علاجية



شعاب مرجانية / سياحة ..... ترفيهية



مؤتمر المناخ / سياحة ..... مهرجانات ومؤتمرات

٢- " تسهم السياحة في دعم الاقتصاد المصري وتوفر فرص عمل للشباب "

هذه العبارة ( صحيحة ) م خاطئة )

٣- جميع الاجراءات الاتية تساهم في تنمية السياحة ما عدا ( ظلل امام العبارة المختلفة ) :-

- إنشاء وتطوير المنشآت السياحية .
- صيانة المناطق الاثرية وترميمها .
- إنشاء المدارس .
- تطوير وسائل النقل .

٤- اكتب رسالة ترحب فيها بأحد السائحين القادمين إلى مصر .

مرحباً بك في مصر بلد الكرم ، بلد الامن والامان ، بلد التاريخ والحضارة

## تعليمات عامة :

- يستغرق العمل على المهمة حصتان دراسيتان متتاليتان.
- يوزع المعلم أوراق المهمة على الطلاب ويوضح لهم المقصود منها .
- يشرف المعلم على مراحل تنفيذ المهام خلال الحصص المخصصة لذلك.
- يجيب الطلاب عن المطلوب من المهمة في نفس الورقة.
- لا مانع من استخدام الطالب الكتاب المدرسي إذا أراد ذلك .

## المهمة التاسعة ( مسنوليتنا نحو تراث بلدنا )

- ١- أمامك صورتان لأحد السلوكيات من أحد الاطفال أحدهما سلوك ايجابي واحدهما سلوك سلبي  
اكتب اسفل كل صورة نوع السلوك :



سلوك ..... سلبي .....



سلوك ..... ايجابي .....

- ٢- أمامك بعض العبارات السلوكية عند زيارة الاماكن الاثرية والسياحية صنف هذه العبارات بالجدول التالي إلى ايجابية وسلبية :
- اتباع قواعد النظافة والامن.
  - الكتابة على الآثار أو خدشها .
  - عدم تناول الطعام والشراب بجانب القطع الاثرية .
  - استخدام ضوء الكاميرا " الفلاش " عند التقاط الصور.
  - البحث عن الآثار أسفل المنزل .
  - عدم لمس القطع الاثرية .

سلوك سلبي	سلوك ايجابي
الكتابة على الآثار أو خدشها	اتباع قواعد النظافة والامن.
استخدام ضوء الكاميرا " الفلاش " عند التقاط الصور	عدم تناول الطعام والشراب بجانب القطع الاثرية
البحث عن الآثار أسفل المنزل	عدم لمس القطع الاثرية



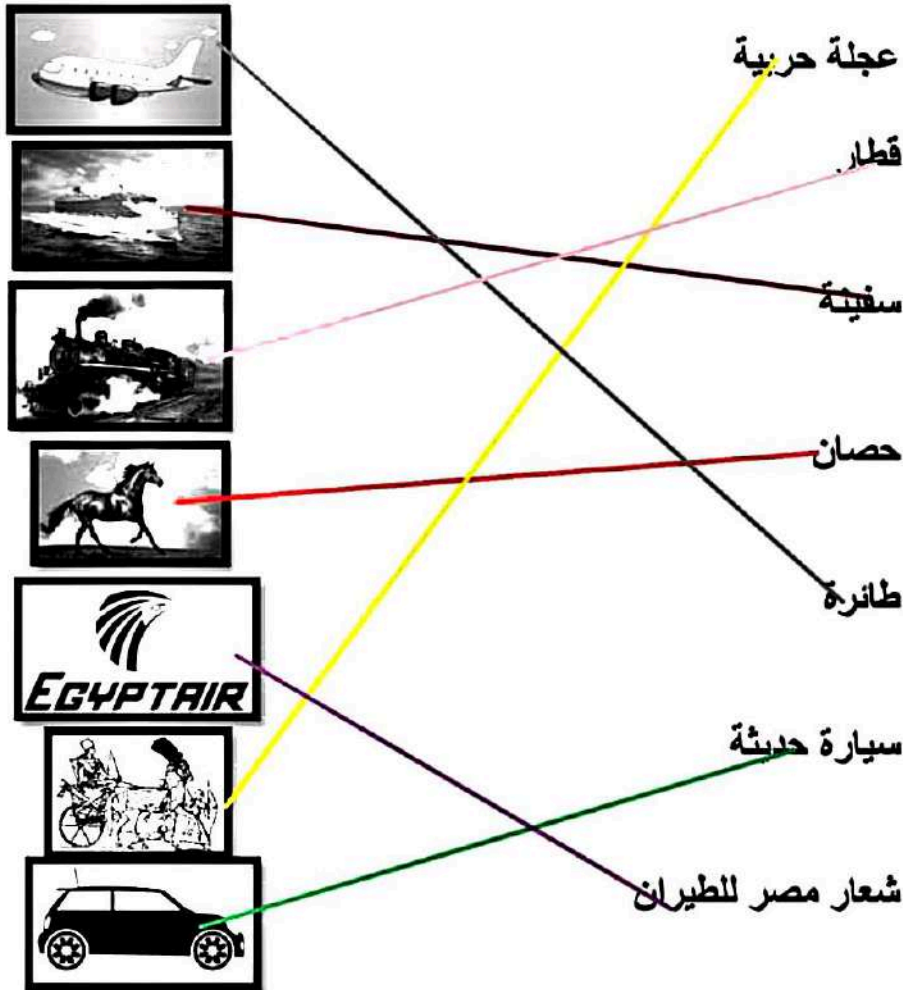
- ٣- الصورة التي أمامك تعبر عن حدث تاريخي كانت بدايته من ميدان التحرير وصولاً إلى المتحف القومي للحضارة بالفسطاط وهو يعبر عن موكب ... **المومياوات**

## تعليمات عامة :

- يستغرق العمل على المهمة حصتان دراستان متتاليتان.
- يوزع المعلم أوراق المهمة على الطلاب ويوضح لهم المقصود منها .
- يشرف المعلم على مراحل تنفيذ المهام خلال الحصص المخصصة لذلك.
- يجيب الطلاب عن المطلوب من المهمة في نفس الورقة.
- لا مانع من استخدام الطالب الكتاب المدرسي إذا أراد ذلك .

## المهمة العاشرة ( تطور وسائل النقل وتأثيرها في المجتمع )

١- أمامك مجموعة من الصور تعبر عن وسائل نقل مختلفة ، صل كل صورة بالكلمة التي تناسبها :



٢- الشخص الذي استخدم جناحين للطيران كمحاكاة لحركة الطيور هو ... **عباس بن فرناس**

٣- أسس بنك مصر مؤسسة تعتبر أول شركة طيران في الشرق الاوسط أطلق عليها أسم شركة **مصر للطيران**

٤- وسيلة النقل التي استخدمها الملك سنفرو لجلب اخشاب الأرز من فينيقيا هي ..... **السفن** .....

## تعليمات عامة :

- يستغرق العمل على المهمة حصتان دراستان متتاليتان.
- يوزع المعلم أوراق المهمة على الطلاب ويوضح لهم المقصود منها .
- يشرف المعلم على مراحل تنفيذ المهام خلال الحصص المخصصة لذلك.
- يجيب الطلاب عن المطلوب من المهمة في نفس الورقة.
- لا مانع من استخدام الطالب الكتاب المدرسي إذا أراد ذلك .

## المهمة الحادية عشر ( قواعد واخلاقيات استخدام وسائل النقل )


١- أمامك مجموعة من السلوكيات التي نتبعها عند استخدام وسائل النقل صنف هذه السلوكيات إلى

إيجابي وسلبي في الجدول التالي :

- استخدام المقاعد المخصصة لكبار السن أو المرضى
- إلقاء الحجارة على القطارات
- عدم جلوس الاطفال في المقاعد الامامية
- عدم الكتابة على وسائل النقل
- الوقوف أمام سيارات الاسعاف لتعطيلها
- استخدام الهاتف المحمول اثناء القيادة

سلوك سلبي	سلوك ايجابي
استخدام المقاعد المخصصة لكبار السن أو المرضى	عدم جلوس الاطفال في المقاعد الامامية
إلقاء الحجارة على القطارات	عدم الكتابة على وسائل النقل
الوقوف أمام سيارات الاسعاف لتعطيلها	
استخدام الهاتف المحمول اثناء القيادة	

٢- أمامك مجموعة من الرموز التي تستخدم كعلامات للمرور صل كل صورة بما يناسبها من كلمات




يوجد مطعم



ممنوع استخدام آلة التنبيه



يوجد مركز اسعاف



٣- لون العلامات الضوئية بإشارات المرور بالالوان المناسبة :