

صفحة وجروب عاشق لفة الضاد
مستر-رضا نصار



مهام أدائية مقترحة

الصف 6



الفصل الدراسي الثاني ٢٠٢٤

مقدمة من :

صفحة وجروب عاشق لفة الضاد
مستر-رضا نصار



لاحظ وأجب

لاحظ الصورة التي أمامك ثم أجب.
تمثل الصورة التي أمامك مبنى لإحدى
الوزارات المسئولة عن الشؤون المالية
في الدولة.

١. أكتب اسم هذه الوزارة.

٢. لخص مهام هذه الوزارة.

٣. ما الهيئة التي كانت مسئولة عن النواحي المالية في عصر الدولة الإسلامية؟ وما أهم
إيراداتها ونفقاتها؟

لاحظ وحلّل

لاحظ الصور التالية لبعض العملات العربية، ثمّ أجب.

١. أكمل البيانات أسفل كلّ صورة.



اسم العملة	الدولة	القيمة



اسم العملة	الدولة	القيمة

٢. توقّع ما الفوائد التي يمكن أن تعود على دول الوطن العربي إذا قرّروا اتّخاذ عملة موحّدة.

صِل كلّ عمل من الأعمال في العمود (أ) بالشخصية التي قامت به في العمود (ب).

العمود (ب)	العمود (أ)
عثمان بن عفان	١. إنشاء مكتبة بيت الحكمة.
أبو العباس عبدالله	٢. أنشأ ديوان بيت المال.
هارون الرشيد	٣. أسس أول أسطول بحري.
سيف الدين قطز	٤. تعريب الدواوين.
جوهر الصقلي	٥. عقد صلح الرملة مع ريتشارد قلب الأسد.
عمر بن الخطاب	٦. طوّر الطريق بين مكّة والكوفة.
صلاح الدين الأيوبي	٧. انتصر على المغول عام ١٢٦٠م.
عبد الملك بن مروان	٨. بنى الجامع الأزهر.

رتّب المدن التالية من الأقدم إلى الأحدث، ثمّ اكتب اسم الشخص الذي شيّدها.

القطائع

الفسطاط

القاهرة

- من خلال دراستك للدولة الأموية..أجب عما يأتي:

سلبيات الدولة الأموية	إيجابيات الدولة الأموية

- متى بدأت الدولة الأموية ؟

-لماذا سميت الدولة الأموية بهذا الاسم؟

- على من أطلق لقب (خامس الخلفاء الراشدين) ، ولماذا ؟

(1) اكتب كلمة (صواب) أمام العبارة الصحيحة، وكلمة (خطأ) أمام العبارة غير الصحيحة.

1- من أبعاد التكامل التجارى العربى الشامل الاهتمام بحجم الصادرات والواردات البينية العربية.

()

2- لتقوم جامعة الدول العربية بمهامها، أنشأت المجلس الاقتصادي والاجتماعي العربي

()

3- اتفاقية أجادير هي اتفاقية اقتصادية تشمل كل الدول العربية.

()

(2) صنف مقومات تحقيق التكامل العربى التالية إلى مقومات طبيعية ومقومات بشرية :

(وحدة الثقافة - التاريخ المشترك - مصادر الطاقة. عدد السكان الكبير - الثروة المعدنية)

مقومات بشرية

مقومات طبيعية



خريطة خط سير جيش عمرو بن العاص

لاحظ وحلّ

لاحظ خريطة خط سير جيش عمرو بن العاص لفتح مصر، ثمّ أجب.

١. رتّب المدن المصرية التي فتحها عمرو بن العاص في شمال مصر بأسبعية الفتح:

الفرما

أم دنين

الإسكندرية

حصن بابليون

العريش

بليبس

٢. ما المدن التي فتحها الجيش الإسلامي في الوجه القبلي؟

٣. توقّع سبب توجّه جيش المسلمين نحو جنوب مصر.

أمامك صورتان لمعلمين أثريين شُيِّدا في مصر بعد الفتح العربي الإسلامي، استخدم شبكة المعلومات الدولية (الإنترنت) وابحث عنهما ثم املأ الجدول الخاص بكلٍّ منهما.



اسم الأثر	
شَيْده	
بُني في عصر الدولة	



اسم الأثر	
شَيْده	
بُني في عصر الدولة	

أنشأت مصر هيئة الرقابة الإدارية وهي هيئة مستقلة تهدف إلى:

1-

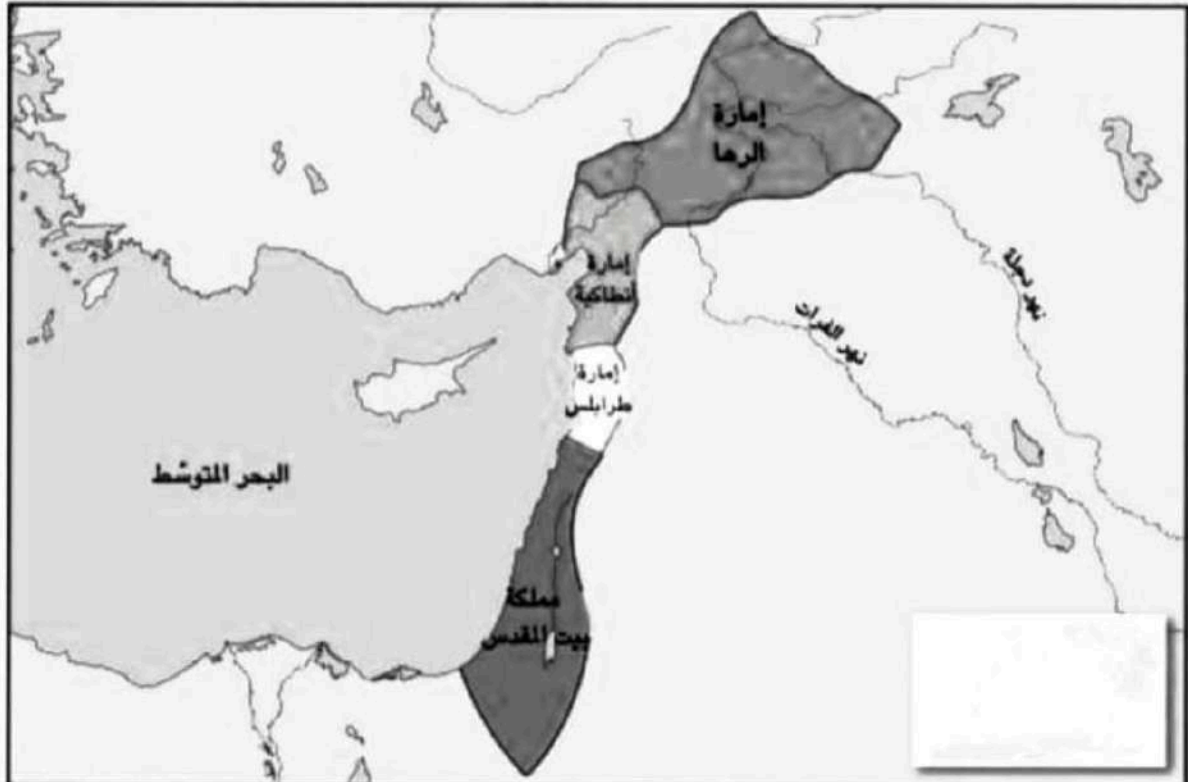
2-



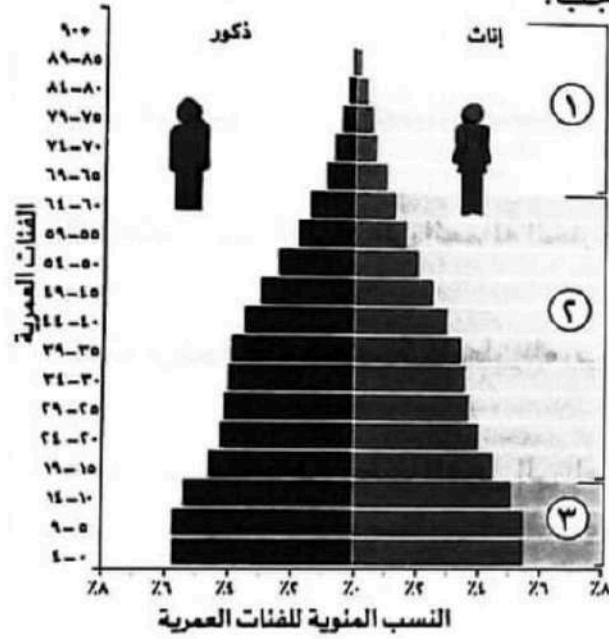
لنعمل على الخريطة

١. لاحظ الخريطة التي أمامك، ثم اكتب أسماء المناطق التي سيطر عليها الصليبيون في بداية حملاتهم.

٢. وضح لماذا استطاع الصليبيون السيطرة على هذه المناطق؟



خريطة للممالك والإمارات التي استولى عليها الصليبيون



الشكل الذي أمامك يمثل الهرم السكاني للوطن العربي ، ادرسه ثم أجب :

١ أكمل : طالب الصف السادس الابتدائي ينتمي إلى الفئة رقم في الهرم السكاني .

٢ وضح : خصائص تلك الفئة التي ينتمي إليها طالب الصف السادس الابتدائي .

٣ اختر : الفئة العاملة تقع في الهرم السكاني .

(قمة - وسط - قاعدة - يمين)

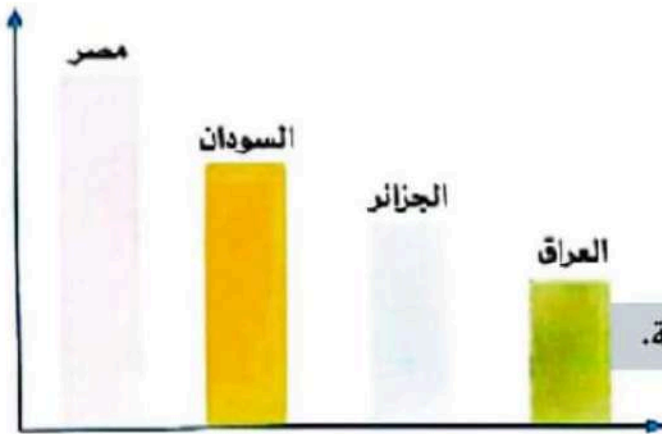
٤ اختر : الهرم الذي أمامك هرم ذو قاعدة

(ضيقة - عريضة - متوسطة - محدودة)

٥ حدد أوجه الشبه والاختلاف بين الفئة رقم (١) والفئة رقم (٣) في الهرم السكاني .

الفئة رقم (٣)	الفئة رقم (١)	
.....	أوجه الشبه
.....	
.....	أوجه الاختلاف
.....	

الرسم البياني الذي أمامك يوضح ترتيب دول الوطن العربي من حيث عدد السكان. ادرسه ثم أجب عن الأسئلة التالية:



١- أكمل: تحتل الجزائر المركز من حيث عدد السكان،

بينما تحتل المركز الأول من حيث عدد السكان.

٢- «يختلف عدد سكان الوطن العربي من دولة إلى أخرى».

هذه العبارة (صواب / خطأ).

3- اشرح كيف تواجه الدول العربية المخاطر التي قد تتعرض لها الأسرة العربية.

الشكل الذي أمامك يوضح طبقات المجتمع في الدولة الإسلامية. أكمل الشكل ثم أجب عن الأسئلة التالية:

الطبقة
(١) تضم

الطبقة
(٢) تضم

الطبقة
(٣) تضم

الطبقة
(٤) تضم

• كان للمرأة في الدولة العباسية دور واضح في المجتمع .

• ومن بين أشهر سيدات العصر العباسي : من خلال دراستك ، أكمل :

السيدة.....زوجة الخليفة.....



اهم اعمالها

- قدمت الكثير من
الأعمال الخيرية
حيث عملت على :

.....

.....

.....

اهتمت بـ

.....

.....

تميزت بـ

.....

من خلال دراستك ، أكمل :

مكانة النساء في الدولة الأموية

أم البنين زوجة (.....)

• اشتهرت السيدة أم البنين زوجة ب..... فكانت تدعو النساء

إلى بيتها و.....

من أقوالها: « والله لو كان ثوبًا ما لبسته ، ولو كان طريقًا ما سلكته » .



"إن وحدة الدولة وقوة جيشها وإيمان شعبها بقدراتهم
عامل قوى لتحقيق النصر على الأعداء " .

قارن بين معركة حطين ومعركة عين جالوت في الجدول التالي :

معركة عين جالوت

الأطراف

الأسباب

النتائج

معركة حطين

الأطراف

الأسباب

النتائج

لاحظ الخريطة، ثم أجب:

١ - ارسم خط سير جيش عمرو بن العاص (رضي الله عنه) لفتح

مصر، على أن تكون أول نقطة هي العريش.

٢ - صنف أعمال عمرو بن العاص (رضي الله عنه) إلى:


- أعمال حربية:
- أعمال بناء:
- أعمال اقتصادية:



إقرأ الفقرة ولاحِظ الصورتين، ثم أجب عن الأسئلة :

اهتم الأمويون ببناء المساجد وزخرفتها بالنقوش والرسوم البديعة، مثل: المسجد الأموي ومسجد قبة الصخرة، كما اهتموا بتطوير وإعادة بناء المساجد القديمة؛ مثل إعادة بناء المسجد الأقصى وتوسعته وذلك لأهميته بالنسبة إلى المسلمين حيث إنه يُعدّ أولى القبلتين وثالث الحرمين وأسري بالنبي محمد (ﷺ) إليه ليلة الإسراء والمعراج.

١- اكتب اسم كل مسجد أسفل كل صورة .



٢- ما أهمية المسجد في الصورة الأولى ؟

٣- لماذا يعد عبد الملك بن مروان المؤسس الثاني للدولة الأموية ؟

٤- ما أسباب سقوط الدولة الأموية ؟

فكر و صنف:

١- صنّف أعمال عمرو بن العاص في الجدول التالي:

أعمال اقتصادية

.....

.....

.....

.....

.....

.....

.....

.....

أعمال بناء

.....

.....

.....

.....

.....

.....

.....

.....

أعمال حربية

.....

.....

.....

.....

.....

.....

.....

.....

٢- رتب المدن التالية من الأقدم إلى الأحدث، ثم اكتب اسم الشخص الذي شيدها:

القطائع

الفسطاط

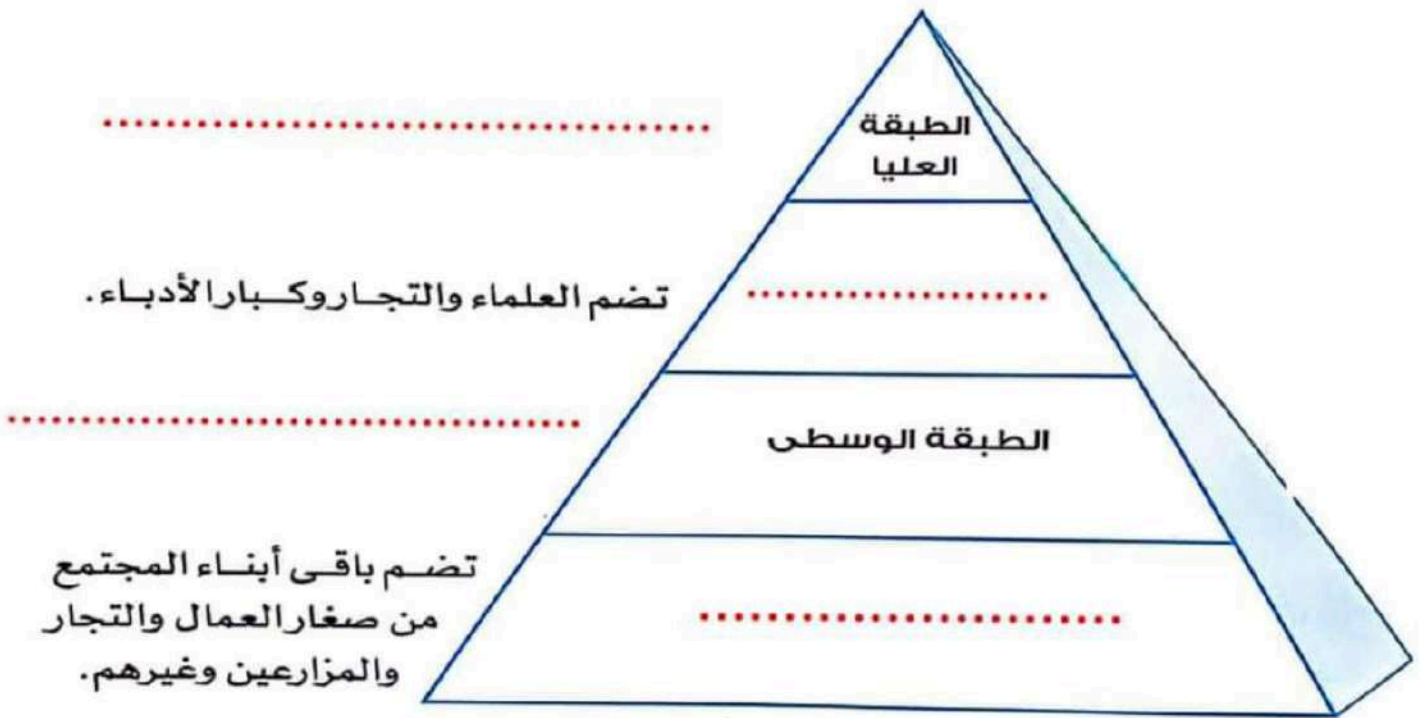
القاهرة

العسكر

الترتيب	اسم الشخص الذي شيدها
.....
.....

اقرأ الفقرة الآتية ثم املأ مكان النقاط:

- تقدّم المجتمع ونهضته يعتمدان على كل طبقاته ، فلا يمكن لأى طبقة العيش بدون الأخرى .
- المجتمع فى الدولة الإسلامية تكوّن من طبقات ، وكان لكل طبقة دورها فى بناء المجتمع حيث تكونت طبقات المجتمع الإسلامى من :
..... : يمثل رأس الهرم فى الطبقة العليا .



لقد كان للحروب الصليبية دوافع مختلفة صنف هذه الدوافع في الشكل التالي:

أسباب الحرب الصليبية

أسباب اقتصادية

أسباب سياسية

أسباب دينية

٢- ما الدافع الحقيقي للحرب في رأيك؟

٣- لماذا استطاع الصليبيون السيطرة على الشرق؟

٤- اذكر اثنين من إنجازات صلاح الدين الأيوبي.

أقرأ الفقرة : ثم أجب عن الأسئلة:

عالم مسلم عبقرى عاش في الأندلس ، فقد اشتهر بمحاولاته للطيران، وكانت لديه روح المخاطرة فصنع لنفسه جناحان وربطهما في جسمه بشرائط دقيقة من الحرير، ثم دفع بنفسه في الهواء من مكان مرتفع ، فطار إلى مسافة وبعدها سقط على الأرض.

١- أكتب اسم العالم المسلم الذي ورد في الفقرة السابقة ، ثم ابحث عن أهم إسهاماته في مجال العلم.

٢- هات دليلاً على اهتمام المسلمين بالعلم والعلماء منذ عهد الرسول صلى الله عليه وسلم.

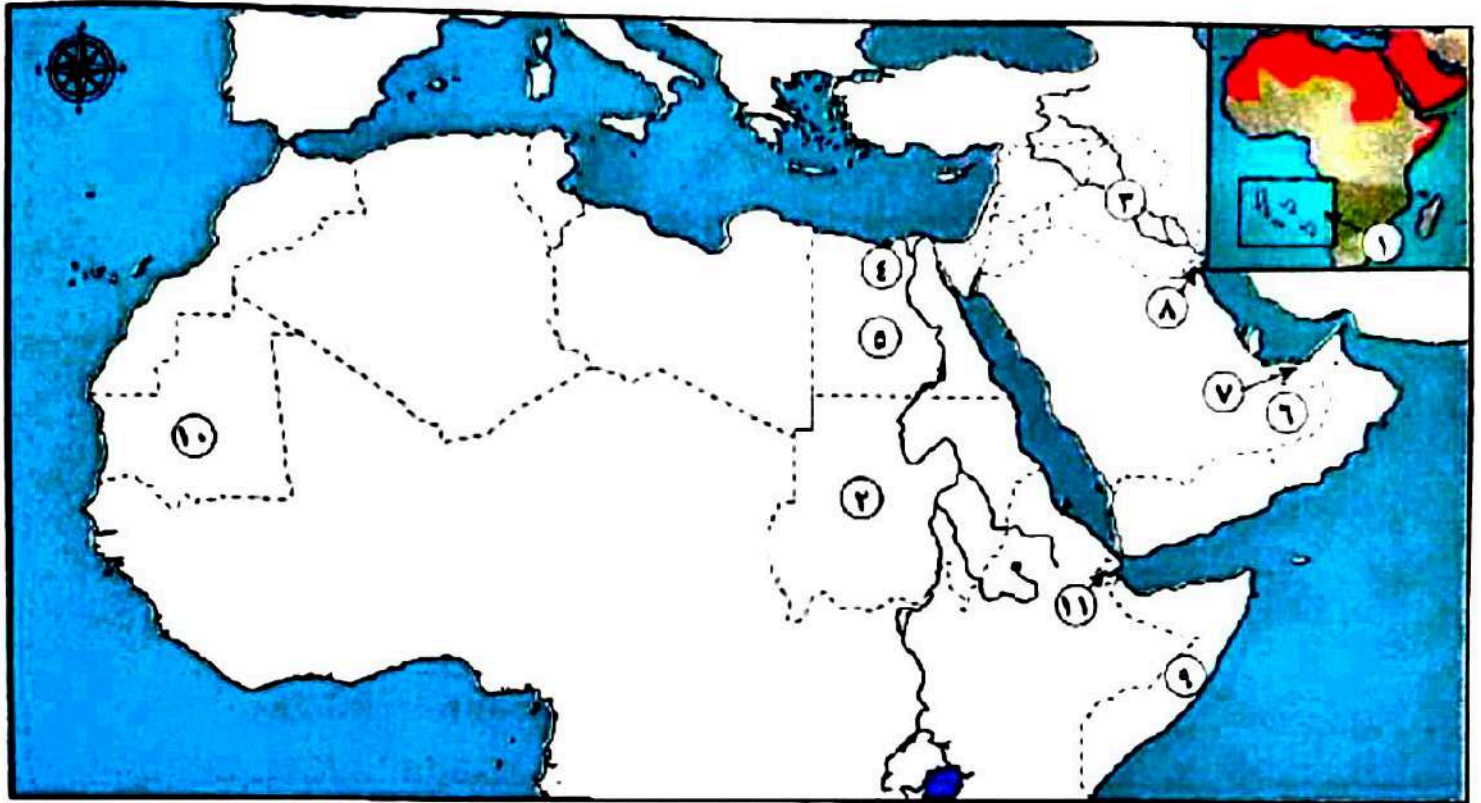
٣- وضح دور الحضارة الإسلامية في تقدم أوروبا.

٤- "ساهم العلماء المسلمين في تطوير أغلب العلوم الطبيعية" في ضوء العبارة أكمل الجدول التالي:

دور العلماء المسلمين في تطويره

	العلم
	الطب
	الفلك
	التاريخ
	الجغرافيا

اكتب مدلول الأرقام على خريطة الوطن العربي التالية:



- ١ - أقل دول الوطن العربي من حيث عدد السكان
- ٢ - دولة يقل فيها المقيدون بالتعليم الابتدائي عن ٩٠٪.
- ٣ - دولة يتركز سكانها بالسهول الفيضية.
- ٤ - مركز تجاري في عصر الدولة الإسلامية
- ٥ - دولة تضم ربع سكان الوطن العربي
- ٦ - صحراء يندر بها السكان.
- ٧ - دولة يزيد بها نسبة الذكور عن الإناث نتيجة هجرة الذكور الوافدة إليها
- ٨ - دولة حضرية كلياً
- ٩ - دولة سجلت أدنى متوسط عمر متوقع بالوطن العربي
- ١٠ - دولة يزيد معدل الأمية بها عن ٤٠٪ من جملة سكانها
- ١١ - دولة سجلت أعلى معدلات بطالة بالوطن العربي

لاحظ الخريطة، ثم أجب:

١ - حدد من الخريطة المدن التي استولى عليها الصليبيون في بلاد الشام.

٢ - رتب الأحداث التالية من الأقدم إلى الأحدث:

- (حصار صلاح الدين لبيت المقدس - عقد هدنة بين بلدوين الرابع وصلاح الدين - قيام معركة حطين - عقد صلح الرملة - قطع أرناط الطريق على الحجاج المسلمين - قدوم حملة صليبية جديدة بقيادة ريتشارد قلب الأسد)



الإمارات الصليبية في بلاد الشام

صفحة وعروب عاشق لفة الضاد
مستر-رضا نصار



نموذج إجابة

مهام أدائية مقترحة

الصف 6



الفصل الدراسي الثاني ٢٠٢٤

مقدمة من :

صفحة وعروب عاشق لفة الضاد
مستر-رضا نصار

لاحظ وحلّل

لاحظ الصور التالية لبعض العملات العربية، ثمّ أجب.
١. أكمل البيانات أسفل كلّ صورة.



اسم العملة	الدولة	القيمة
ريال عمان	عمان	5
ليرة سوريا	سوريا	2000



اسم العملة	الدولة	القيمة
درهم الإمارات	الإمارات	1000
دينار الأردن	الأردن	5

٢. توقّع ما الفوائد التي يمكن أن تعود على دول الوطن العربي إذا قرّروا اتّخاذ عملة موحّدة.
انهيار العملات الأجنبية وتقوية الاقتصاد العربي وزيادة الدخل القومي للدول العربية والتبادل التجاري بنفس العملة وعدم الحاجة للعملات الأخرى



لاحظ وأجب

لاحظ الصورة التي أمامك ثم أجب.
تمثل الصورة التي أمامك مبنى لإحدى
الوزارات المسئولة عن الشؤون المالية
في الدولة.

١. أكتب اسم هذه الوزارة.

وزارة المالية

٢. لخص مهام هذه الوزارة.

إعداد مشروعات الموازنة العامة للدولة - المشاركة في تنظيم

استخدام الموارد المالية التمويل برامج التنمية في الدولة.

٣. ما الهيئة التي كانت مسئولة عن النواحي المالية في عصر الدولة الإسلامية؟ وما أهم إيراداتها ونفقاتها؟

-إيرادات بيت مال المسلمين (الزكاة - المكوس (الضرائب) - الصدقات)

-مصروفات بيت مال المسلمين (نفقات الخليفة والولاة والقضاة - رواتب الجنود

والموظفين - الإنفاق على الفقراء - إقامة المشروعات الاقتصادية في الدولة -

الإنفاق على مصالح المسلمين مثل : إنشاء المساجد والمدارس والمستشفيات).

صِل كلَّ عمل من الأعمال في العمود (أ) بالشخصية التي قامت به في العمود (ب).

العمود (ب)	العمود (أ)
عثمان بن عفان 3	١. إنشاء مكتبة بيت الحكمة.
أبو العباس عبدالله 6	٢. أنشأ ديوان بيت المال.
هارون الرشيد 1	٣. أسس أول أسطول بحري.
سيف الدين قطز 7	٤. تعريب الدواوين.
جوهر الصقلي 8	٥. عقد صلح الرملة مع ريتشارد قلب الأسد.
عمر بن الخطاب 2	٦. طوّر الطريق بين مكّة والكوفة.
صلاح الدين الأيوبي 5	٧. انتصر على المغول عام ١٢٦٠م.
عبد الملك بن مروان 4	٨. بنى الجامع الأزهر.

رتّب المدن التالية من الأقدم إلى الأحدث، ثم اكتب اسم الشخص الذي شيّدها.

2 القطنع

1 الفسطاط

3 القاهرة

جوهـر الصـقلي عمرو بن العاص أحمد بن طولون

صِل كلَّ عملٍ من الأعمال في العمود (أ) بالشخصية التي قامت به في العمود (ب).

العمود (ب)	العمود (أ)
عثمان بن عفان 3	١. إنشاء مكتبة بيت الحكمة.
أبو العباس عبدالله 6	٢. أنشأ ديوان بيت المال.
هارون الرشيد 1	٣. أسس أول أسطول بحري.
سيف الدين قطز 7	٤. تعريب الدواوين.
جوهر الصقلي 8	٥. عقد صلح الرملة مع ريتشارد قلب الأسد.
عمر بن الخطاب 2	٦. طوّر الطريق بين مكّة والكوفة.
صلاح الدين الأيوبي 5	٧. انتصر على المغول عام ١٢٦٠م.
عبد الملك بن مروان 4	٨. بنى الجامع الأزهر.

رتّب المدن التالية من الأقدم إلى الأحدث، ثم اكتب اسم الشخص الذي شيّدها.

2 القطنع

1 الفسطاط

3 القاهرة

جوهـر الصـقلي عمرو بن العاص أحمد بن طولون

- من خلال دراستك للدولة الأموية.. أجب عما يأتي:

سلبيات الدولة الأموية	إيجابيات الدولة الأموية
- صراعات الأسرة الأموية على الحكم.	- تنظيم شؤون الدولة داخلياً وخارجياً.
- ظهور الدولة العباسية.	- الاهتمام بالعلوم والفنون والعمارة.
- الصراع بين القبائل العربية لتولي المناصب المهمة في الدولة.	- استكمال حركة الفتوحات وتوسيع الحدود شرقاً وغرباً.

- متى بدأت الدولة الأموية ؟

مع استشهاد علي بن أبي طالب.. بدأ قيام حكم الدولة الأموية.

- لماذا سميت الدولة الأموية بهذا الاسم؟

نسبة إلى قبيلة بني أمية.

- على من أطلق لقب (خامس الخلفاء الراشدين) ، ولماذا ؟

أطلق على (عمر بن عبدالعزيز) ؛ لاتصافه بالعلم والعفو والورع والتواضع والعدل والحزم والزهد.

محافظة /	الصف / السادس	المادة / دراسات
إدارة /		
مدرسة /	اسم الطالب /	الدرجة / ٣٥

إن وحدة الدولة وقوة جيشها وإيمان شعبها بقدراتهم عامل قوى لتحقيق النصر على الأعداء .

قارن بين معركة حطين ومعركة عين جالوت في الجدول التالي :

معركة عين جالوت

الأطراف

سيف الدين قطز x المغول

الأسباب

مواجهة المغول قبل دخولهم مصر

النتائج

- هزيمة المغول

- القضاء على خطر المغول على العالم العربي

- توحدت مصر وبلاد الشام تحت حكم المماليك

- أصبحت مصر زعيمة العالم الإسلامي

معركة حطين

الأطراف

صلاح الدين x الصليبيين

الأسباب

نقض (أرناط) الهدنة مع المسلمين ، شن هجوماً

على قافلة تجارية ، قطع الطريق على الحجاج

المسلمين إلى الأراضي المقدسة ، رفض طلب

صلاح الدين بالإفراج عن الاسرى

النتائج

- هزيمة الصليبيين

- استرداد بيت المقدس

(1) اكتب كلمة (صواب) أمام العبارة الصحيحة، وكلمة (خطأ) أمام العبارة غير الصحيحة.

1- من أبعاد التكامل التجاري العربي الشامل الاهتمام بحجم الصادرات والواردات البينية العربية.

(صواب)

2- لتقوم جامعة الدول العربية بمهامها، أنشأت المجلس الاقتصادي والاجتماعي العربي

(صواب)

3- اتفاقية أغادير هي اتفاقية اقتصادية تشمل كل الدول العربية.

(خطأ)

(2) صنف مقومات تحقيق التكامل العربي التالية إلى مقومات طبيعية ومقومات بشرية :

(وحدة الثقافة - التاريخ المشترك - مصادر الطاقة. عدد السكان الكبير - الثروة المعدنية)

مقومات بشرية

وحدة الثقافة

التاريخ المشترك

عدد السكان الكبير

مقومات طبيعية

مصادر الطاقة

الثروة المعدنية



خريطة خط سير جيش عمرو بن العاص

لاحظ وحلّ

لاحظ خريطة خط سير جيش عمرو بن العاص لفتح مصر، ثمّ أجب.

١. رتبّ المدن المصرية التي فتحها عمرو بن العاص في شمال مصر بأسبقيّة الفتح:

2

4

6

الفرما

أم دنين

الإسكندرية

5

1

3

حصن بابليون

العريش

بليبس

٢. ما المدن التي فتحها الجيش الإسلامي في الوجه القبلي؟

سوهاج - قنا - أسوان

٣. توقّع سبب توجّه جيش المسلمين نحو جنوب مصر.

تأمين حدود مصر من جهة الجنوب.

أمامك صورتان لمعلمين أثريين شيدا في مصر بعد الفتح العربي الإسلامي، استخدم شبكة المعلومات الدولية (الإنترنت) وابحث عنهما ثم املأ الجدول الخاص بكل منهما.



اسم الأثر	الجامع الأزهر
شيدته	جوهـر الصقلي
بُني في عصر الدولة	الفاطمية



اسم الأثر	مسجد أحمد بن طولون
شيدته	أحمد بن طولون
بُني في عصر الدولة	الطولونية

أنشأت مصر هيئة الرقابة الإدارية وهي هيئة مستقلة تهدف إلى:

- 1- منع ومكافحة الفساد بكافة صورته.
- 2- اتخاذ الإجراءات والتدابير اللازمة للوقاية من الفساد.



لنعمل على الخريطة

١. لاحظ الخريطة التي أمامك، ثم اكتب أسماء المناطق التي سيطر عليها الصليبيون في بداية حملاتهم.

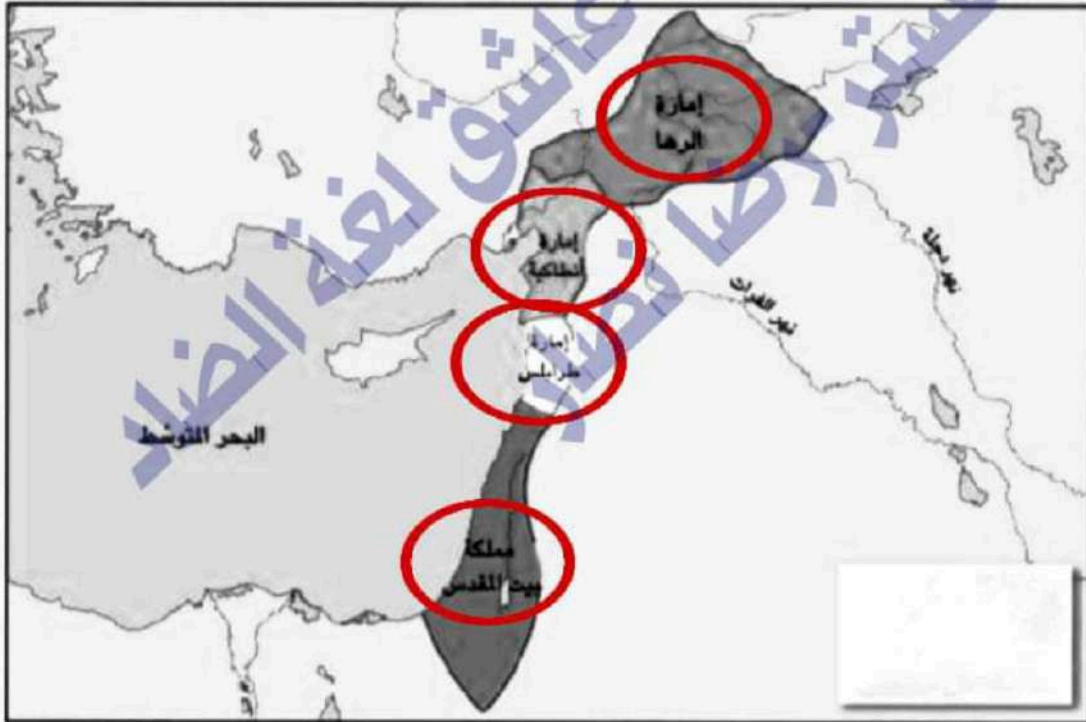
الرها - أنطاكية - طرابلس - بيت المقدس

٢. وضح لماذا استطاع الصليبيون السيطرة على هذه المناطق؟

- ضعف الدولة العباسية.

بسبب :

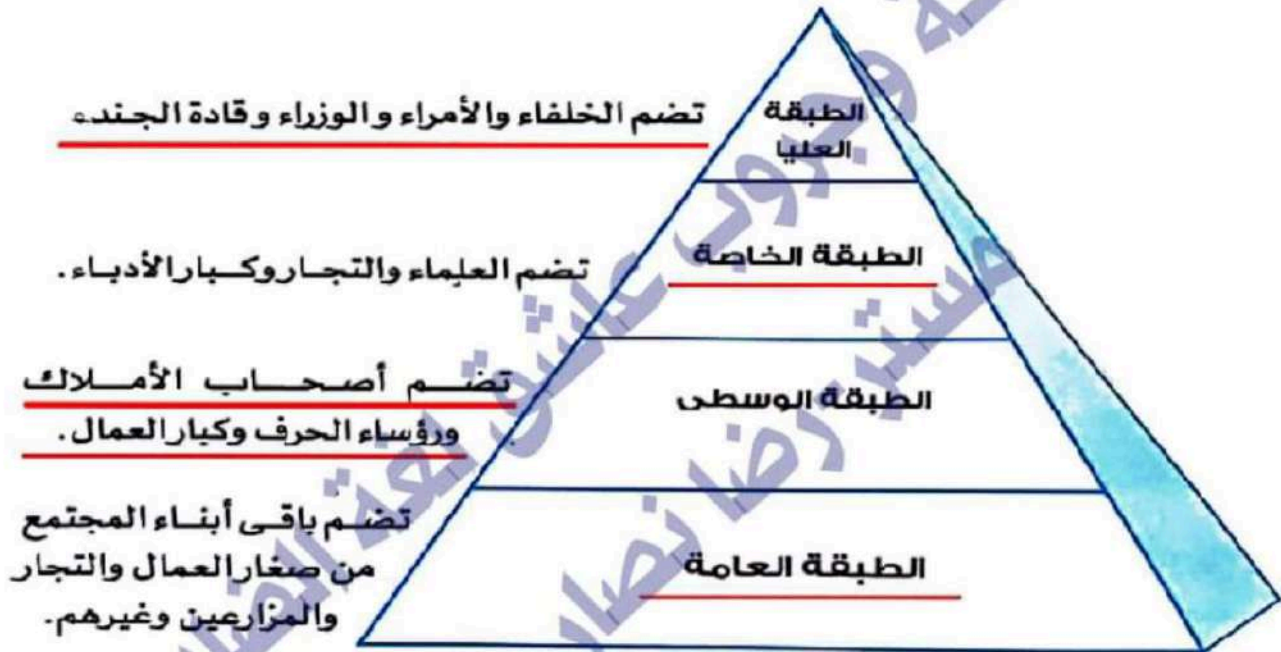
- انقسام الدولة الإسلامية إلى دول منافسة.

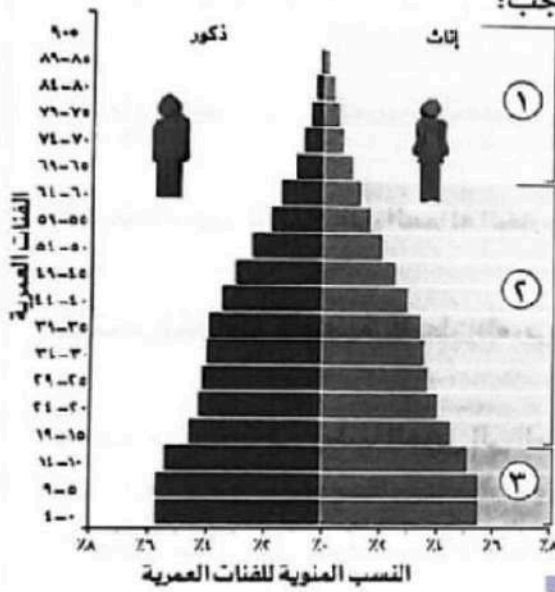


خريطة للممالك والإمارات التي استولى عليها الصليبيون

اقرأ الفقرة الآتية ، ثم أكمل مكان النقاط:

- تقدّم المجتمع ونهضته يعتمدان على كل طبقاته ، فلا يمكن لأى طبقة العيش بدون الأخرى .
- المجتمع فى الدولة الإسلامية تكوّن من طبقات ، وكان لكل طبقة دورها فى بناء المجتمع حيث تكونت طبقات المجتمع الإسلامى من :
الخليفة : يمثل رأس الهرم فى الطبقة العليا .





الشكل الذي أمامك يمثل الهرم السكاني للوطن العربي ، ادرسه ثم أجب:

١ أكمل: طالب الصف السادس الابتدائي ينتمي إلى الفئة

رقم 1-3 في الهرم السكاني.

٢ وضح: خصائص تلك الفئة التي ينتمي إليها طالب الصف

السادس الابتدائي.

فئة غير منتجة وتحتاج إلى رعاية صحية وتعليمية

٣ اختر: الفئة العاملة تقع في الهرم السكاني.

(قمة - وسط - قاعدة - يمين)

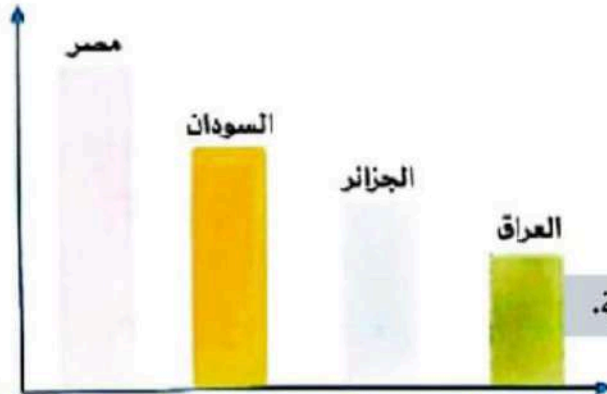
٤ اختر: الهرم الذي أمامك هرم ذو قاعدة **عريضة**.

(ضيقة - عريضة - متوسطة - محدودة)

٥ حدد أوجه الشبه والاختلاف بين الفئة رقم (١) والفئة رقم (٣) في الهرم السكاني.

الفئة رقم (٣)	الفئة رقم (١)	
كلاهما يحتاج إلى رعاية ويمثلان نسبة الإعاقة في الوطن العربي		أوجه الشبه
صغار السن (0-14 سنة)	كبار السن (65 سنة فأكثر)	أوجه الاختلاف
- تقع في قمة الهرم		
- تصل نسبتهم إلى حوالي 4,5% من إجمالي سكان الوطن العربي		
- تمثل 32,5% من سكان الوطن العربي		

الرسم البياني الذي أمامك يوضح ترتيب دول الوطن العربي من حيث عدد السكان. ادرسه ثم اجب عن الأسئلة التالية:



١- أكمل : تحتل الجزائر المركز من حيث عدد السكان،

بينما تحتل **مصر** المركز الأول من حيث عدد السكان.

٢- « يختلف عدد سكان الوطن العربي من دولة إلى أخرى ».

هذه العبارة (صواب / خطأ).

3- اشرح كيف تواجه الدول العربية المخاطر التي قد تتعرض لها الأسرة العربية.

تعطي أولوية قصوى لمواجهة المخاطر التي قد تتعرض لها الأم والطفل ، مثل مخاطر الحمل والولادة ، والمخاطر التي تهدد الشباب ، مثل الأمية والبطالة ، وتعمل على توفير مقومات الحياة الكريمة للأسرة من غذاء وتعليم وصحة ورفاهية . ووضع سياسات سكانية لتحقيق التنمية المستدامة.

الشكل الذي أمامك يوضح طبقات المجتمع في الدولة الإسلامية. أكمل الشكل ثم اجب عن الأسئلة التالية:

الطبقة (١) تضم الخلفاء والأمراء والوزراء وقادة الجيش

الطبقة (٢) تضم العلماء والتجار وكبار الأدباء

الطبقة (٣) تضم أصحاب الأملاك ورؤساء الحرف وكبار العمال

الطبقة (٤) تضم باقي أبناء المجتمع من صغار العمال والتجار والمزارعين وغيرهم

• كان للمرأة في الدولة العباسية دور واضح في المجتمع .

• ومن بين أشهر سيدات العصر العباسي: من خلال دراستك ، أكمل:

السيدة. زبيدة ..زوجة الخليفة. هارون الرشيد



اهم اعمالها

- قدمت الكثير من
الأعمال الخيرية
حيث عملت على:

•
بناء أحواض لسقي الحجاج ،
خاصة القادمين من بغداد
إلى مكة المكرمة

اهتمت بـ

الآداب والعلوم
ورعاية العلماء

تميزت بـ

رجاحة عقلها

من خلال دراستك ، أكمل:

مخالفة النساء في الدولة الأموية

أم البنين زوجة (الوليد بن عبد الملك)



• اشتهرت السيدة أم البنين زوجة الوليد بن عبد الملك بـ جودها وكرمها فكانت تدعو النساء

إلى بيتها و..... تكسوهن الثياب الحسنة وتعطيهن الأموال

من أقوالها: « أف للبخل والله لو كان ثوبًا ما لبسته ، ولو كان طريقًا ما سلكته » .

اقرأ وأجب

تؤدي الهجرة إلى المدن إلى ازدحامها والضغط الكبير على الخدمات العامة، مثل النقل والمستشفيات والمدارس والإسكان، وازدحام المرور، وارتفاع مستويات التلوث، وارتفاع معدلات البطالة، كما تزيد من احتمالية انتشار العشوائيات التي تفتقر إلى البنية التحتية الأساسية، مثل الطرق، والمياه النظيفة، والكهرباء.

١. ما أثر الهجرة إلى المدن على كل مما يلي:

البيئة:

ارتفاع مستويات التلوث

المرافق والبنية التحتية:

الازدحام المروري، الضغط على المستشفيات، الضغط على المدارس، ظهور العشوائيات

اقتصاد الدولة:

ارتفاع البطالة ، انخفاض مستويات المعيشة.

٢. في رأيك، ما الدور الذي تقوم به الجهات المعنية لمعالجة مشكلة الزحف نحو المدن؟

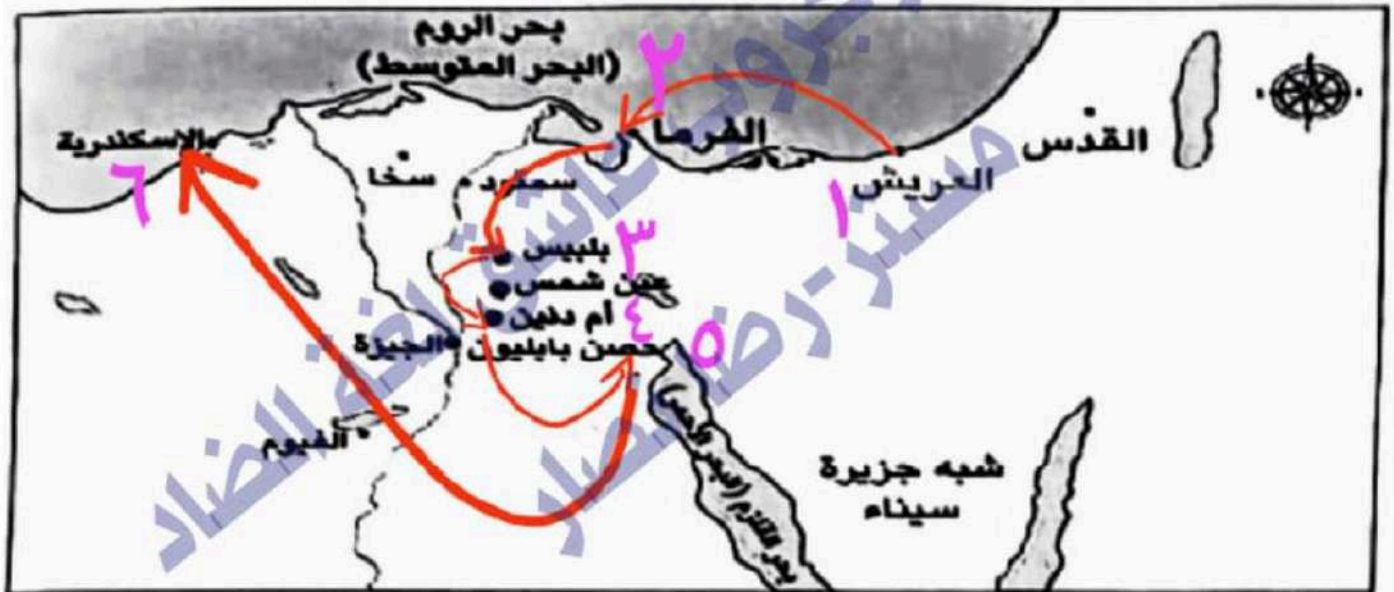
تقوم بزيارة التنمية الشاملة ، وإنشاء مدن جديدة ،

كما تقوم بتطوير البنية التحتية الحضرية

لاحظ الخريطة، ثم أجب:

- ١ - ارسم خط سير جيش عمرو بن العاص (رضي الله عنه) لفتح مصر، على أن تكون أول نقطة هي العريش.
- ٢ - صنف أعمال عمرو بن العاص (رضي الله عنه) إلى:

- أعمال حربية: **حصار وفتح حصن بابلون، حصار وفتح الإسكندرية**
- أعمال بناء: **بناء القسطنطين، بناء جامع عمرو بن العاص**
- أعمال اقتصادية: **حفر خليج أمير المؤمنين**



أقرأ الفقرة : ثم أجب عن الأسئلة:

عالم مسلم عبقرى عاش في الأندلس ، فقد اشتهر بمحاولاته للطيران ، وكانت لديه روح المخاطرة فصنع لنفسه جناحان وربطهما في جسمه بشرائط دقيقة من الحرير، ثم دفع بنفسه في الهواء من مكان مرتفع ، فطار إلى مسافة ويعدها سقط على الأرض.

١- أكتب اسم العالم المسلم الذي ورد في الفقرة السابقة ، ثم ابحث عن أهم إسهاماته في مجال العلم.

عباس بن فرناس - أول محاولة طيران في الإسلام

٢- مات دليلاً على اهتمام المسلمين بالعلم والطعام منذ عهد الرسول صلى الله عليه وسلم.

أمر الرسول صلى الله عليه وسلم الأسرى بتعليم (١٠) من المسلمين حتى يتم إطلاق سراحهم

٣- وضح دور الحضارة الإسلامية في تقدم أوروبا.

كان سبباً في تقدم أوروبا حيث انتقلت إليهم علوم الحضارة الإسلامية عبر الأندلس وجزيرة صقلية ، كما قامت أوروبا بترجمة كتب علماء المسلمين وتدريسها في الجامعات.

٤- "ساهم العلماء المسلمين في تطوير أغلب العلوم الطبيعية" في ضوء العبارة أكمل الجدول التالي:

دور العلماء المسلمين في تطويره

اهتموا بالعلم والعلماء واهتموا بحركة التأليف والترجمة .	العلم
برعوا في مجال الجراحة وتشخيص الأمراض وتركيب الأدوية واكتشفوا الدورة الدموية .	الطب
أنشأوا المراصد الفلكية وقاموا بتحديد أوقات الصلاة والصيام والأعياد .	الفلك
اهتموا بتسجيل وتحليل أحداث الماضي للاستفادة منها في الحاضر .	التاريخ
استخدموا البوصلة ورسموا خريطة للكرة الأرضية .	الجغرافيا

لقد كان للحروب الصليبية دوافع مختلفة صنف هذه الدوافع في الشكل التالي:

أسباب الحرب الصليبية

أسباب اقتصادية

أسباب سياسية

أسباب دينية

رغبة ملوك وأمراء أوروبا في تأمين الحجاج المسيحيين إلى كنيسة القيامة بعد زعم البابوات سوء معاملة الأتراك المسلمين لهم.
 رغبة الصليبيين في تأسيس مستعمرات لهم في الشرق.
 رغبة الصليبيين في الحصول على ثروات الشرق وتحقيق المدن الإيطالية مكاسب تجارية عن طريق نقل الصليبيين على سفنهم

٢- ما الدافع الحقيقي للحرب في رأيك؟

الحصول على مكاسب اقتصادية وتكوين مستعمرات في الشرق.

٣- لماذا استطاع الصليبيون السيطرة على الشرق؟

بسبب حالة الضعف والانقسام في العالم العربي.

٤- اذكر اثنين من إنجازات صلاح الدين الأيوبي.


-اهتم بالزراعة وقام بتطهير الترع.

-اهتم بالتجارة وازدهار الاقتصاد.

اقرأ الفقرة ولاحظ الصورتين، ثم أجب عن الأسئلة :

اهتم الأمويون ببناء المساجد وزخرفتها بالنقوش والرسوم البديعة، مثل: المسجد الأموي ومسجد قبة الصخرة، كما اهتموا بتطوير وإعادة بناء المساجد القديمة؛ مثل إعادة بناء المسجد الأقصى وتوسعته وذلك لأهميته بالنسبة إلى المسلمين حيث إنه يُعدّ أولى القبلتين وثالث الحرمين وأسري بالنبي محمد (ﷺ) إليه ليلة الإسراء والمعراج.

١- اكتب اسم كل مسجد أسفل كل صورة .



قبة الصخرة في القدس



المسجد الأقصى

٢- ما أهمية المسجد في الصورة الأولى ؟

أولى القبلتين وثالث الحرمين الشريفين وأسري النبي محمد صلى الله عليه وسلم

٣- لماذا يعد عبد الملك بن مروان المؤسس الثاني للدولة الأموية ؟

لأنه قام بتوحيد البلاد الإسلامية مرة أخرى بعدما ساد العالم الإسلامي حالة من الفوضى والضعف والانقسام

٤- ما أسباب سقوط الدولة الأموية ؟

-صراعات الأسرة الأموية على الحكم.

-الصراع بين القبائل العربية لتولي المناصب.

-انشغال الحكام بالملذات وظلموا الرعية.

-ظهور الدعوة العباسية في خراسان على يد أبي مسلم الخراساني.

فكر وصنف:

١- صنّف أعمال عمرو بن العاص في الجدول التالي:

أعمال اقتصادية

أعمال بناء

أعمال حربية

- فتح بيت المقدس - بني مدينة الفسطاط - أعاد حفر قناة سيزوستريس
 - فتح مصر - بني جامع سمي باسمه - وسميت بخليج أم المؤمنين

٢- رتب المدن التالية من الأقدم إلى الأحدث، ثم اكتب اسم الشخص الذي شيدها:

القطائع

الفسطاط

القاهرة

العسكر

الترتيب	الفسطاط	القطائع	العسكر	القاهرة
اسم الشخص الذي شيدها	عمرو بن العاص	أحمد بن طولون	محمد بن طعج	جوهرة الصقلي
			الأخشيدي	