

الدراسات الاجتماعية

نماذج وزارة التربية والتعليم لمادة الدراسات الاجتماعية

لإعداد اختبار شهر أبريل

للف الرابع الابتدائي

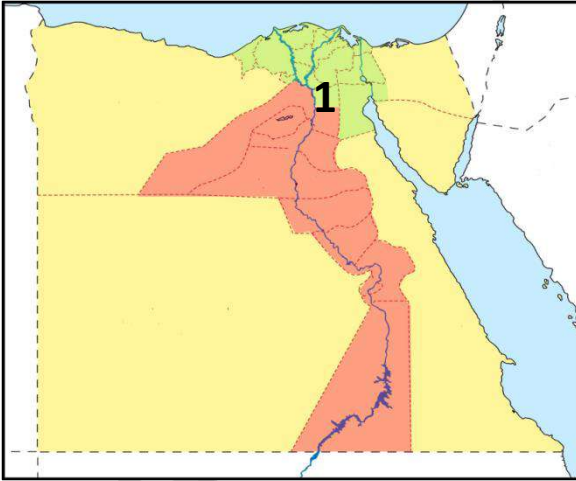
الوحدة الأولى :- السكان ونظام الحكم في بلدنا

الدرس الأول - أنماط سكان بلدنا

١ السؤال الأول

اكتب كلمة (صواب) امام العبارات الصحيحة وكلمة (خطأ) امام العبارات غير الصحيحة

- 1- يقيم معظم السكان الذين يعملون بالزراعة في المدن ()
- 2- يمثل سكان الحضر أكثر من نصف سكان مصر ()
- 3- أدى الزواج المبكر إلى زيادة نسبة السكان في الريف بمصر ()
- 4- تسبب هجرة سكان المدن إلى الريف في ظهور العشوائيات حول المدن ()
- 5- يشير رقم (1) على الخريطة إلى أعلى محافظات مصر من حيث السكان ()



- 6- يتوزع السكان على كل محافظات مصر بالتساوي ()

2 السؤال الثاني

ضع خطأ تحت الإجابة الصحيحة مما بين القوسين

(1) يتم إجراء حصر شامل للسكان في مصر كل عشر سنوات عن طريق

(وزارة الصحة والسكان - الجهاز المركزي للتعبئة والإحصاء - الجهاز المركزي للرقابة الإدارية

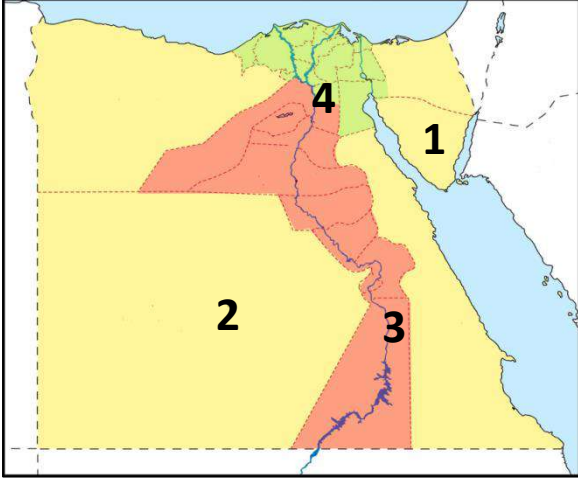
- الجهاز المركزي للمحاسبات)

(2) إذا دعيت إلى إلقاء ندوة لشباب الريف فمن الأفضل أن يكون موضوعها عن

(أهمية تنظيم الأسرة - أهمية الرعي - ضرورة الهجرة إلى الريف - ضرورة زيادة حجم الأسرة)

(3) إذا أرادت الدولة جمع بيانات عن سكانها لتلبية احتياجاتهم في المستقبل فعليها إجراء

(حصر لاحتياجات - تعداد سكاني - حصر للوفيات - حصر للمتقدمين للخدمة العسكرية)



(4) أقل محافظات مصر سكانا على الخريطة المقابلة

هي المحافظة رقم

(1 - 2 - 3 - 4)

7- عندما تريد الإقامة في محافظة حضرية فعليك التوجه إلى محافظة

(الوادي الجديد - بور سعيد - الجيزة - المنيا)

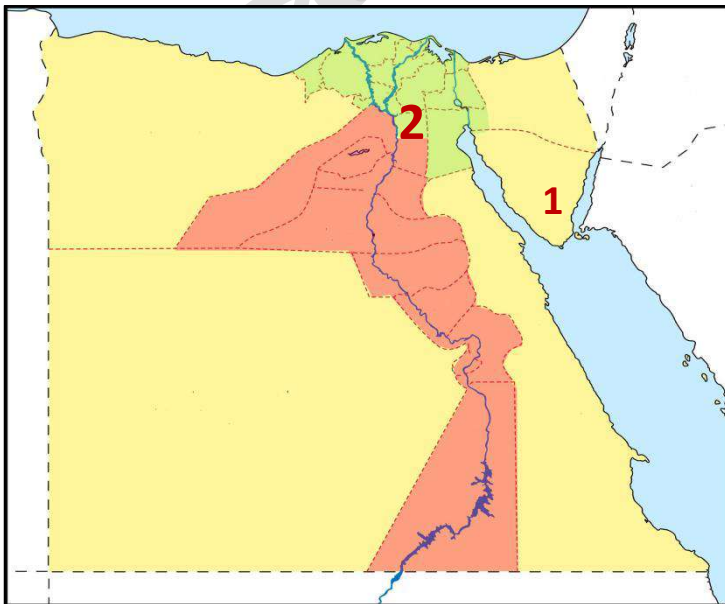
8- النشاط الاقتصادي الأصلي لسكان البدو هو

(الزراعة - الصناعة - التجارة - الرعي)

3 السؤال الثالث

أجب عن الأسئلة التالية

لاحظ الخريطة المقابلة واكتب مدلول الأرقام على الخريطة



1. أقل محافظات مصر سكانا

2. أعلى محافظات مصر سكانا

(1) حدد سبباً واحداً لزيادة حجم الأسرة في الريف عن الحضر

(2) اكتب تفسيراً لانخفاض عدد سكان محافظة جنوب سيناء؟

(3) اكتب مقترحاً للحد من هجرة سكان الريف إلى المدن

(4) ما رأيك في الموقف التالي

تزوج شاب في إحدى القرى المصرية ويرغب في أنجاب ثمانية أطفال

الدرس الثاني التراث الثقافي لسكان بلدنا

السؤال الأول

اكتب كلمة (صواب) أمام العبارات الصحيحة وكلمة (خطأ) أمام العبارات غير الصحيحة

1. يشتهر سكان الصعيد باستخدام الآلة الموسيقية المقابلة في عزف السيرة الهلالية ()

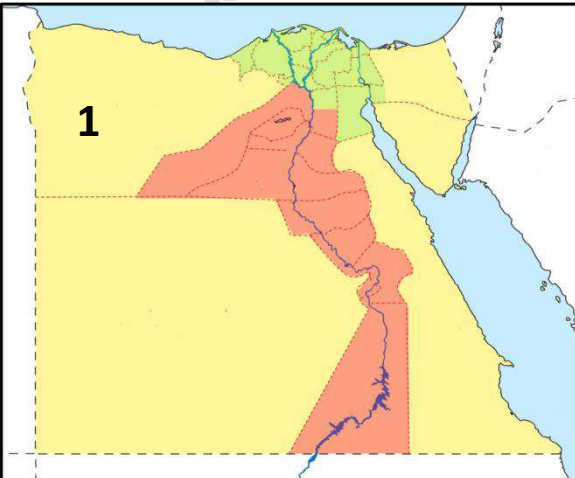


2. يتنوع التراث الثقافي لسكان مصر بتنوع المناطق التي يعيشون فيها ()

3. يشتهر سكان سيناء بإقامة سباقات الهجن ()

4. استخدم الجيش المصري اللغة المصرية القديمة كشفرة في حرب أكتوبر 1973 ()

5. فن التحطيب من الفنون التراثية التي تشتهر بها محافظتي ()



6. يشير رقم (1) على الخريطة إلى منطقة تشتهر

برقصة شعبية تعرف باسم البمبوتية ()

2 السؤال الثاني

ضع خطاً تحت الإجابة الصحيحة مما بين القوسين

(1) فشل الجيش الإسرائيلي في فك الشفرة المصرية المستخدمة في حرب أكتوبر 1973 بسبب ارسالها

باللغة

(الهيروغليفية - الأمازيغية - اليونانية - النوبية)



(2) توضح الصورة المقابلة

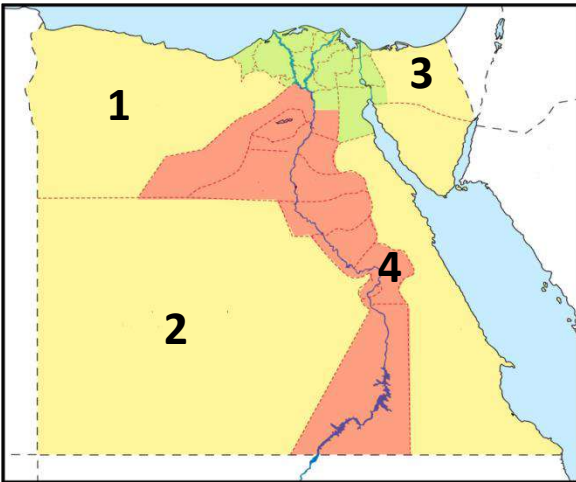
أحد الفنون التراثية المنتشرة في محافظة

(جنوب سيناء - الأقصر - القاهرة - الإسكندرية)

(3) لاحظ الخريطة وحدد رقم المحافظة

التي تشتهر بإنشاد السيرة الهلالية

(المحافظة 1 - المحافظة 2 - المحافظة 3 - المحافظة 4)



(4) احتفل المصريون القدماء بكثير من الأعياد التي ما زلنا نحتفل بها حتى اليوم مثل الاحتفال بعيد

(الفطر - الأم - شم النسيم - رأس السنة الميلادية)

(5) يعد التراث النوبي في محافظة أسوان امتدادا للحضارة

(المصرية القديمة - الرومانية - اليونانية - الإسلامية)

(6) يعتمد اقتصاد واحة سيوة على

(الزراعة والصناعة - الزراعة والسياحة - السياحة والتجارة - الزراعة والتجارة)

3 السؤال الثالث

أجب عن الأسئلة التالية

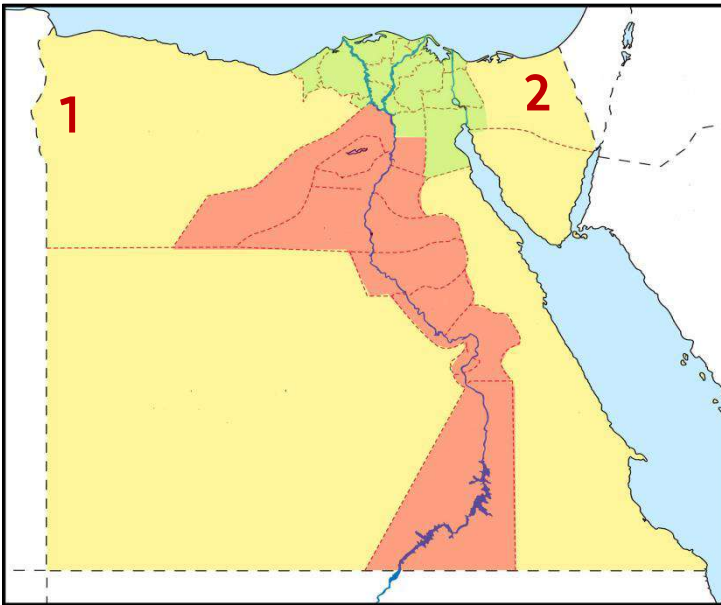
(1) اكتب تفسيراً واحداً لأهمية التراث الثقافي المصري

(2) اكتب مقترحاً لاستفادة من التراث الوطني بمحافظتك في دعم الاقتصاد المصري

(3) اكتب نتيجة واحدة ترتبت على اهتمام الدولة بالتراث الثقافي

(4) دلل على أن فن التحطيب له أصول مصرية قديمة

لاحظ الخريطة المقابلة واكتب مدلول الأرقام على الخريطة



1- منطقة تشتهر بالاحتفال بعيد حصاد

التمور والزيتون كل عام

2- محافظة تشتهر

بسباق الإبل

الدرس الثالث نماذج للمشكلات الاجتماعية في بلدنا

السؤال الأول

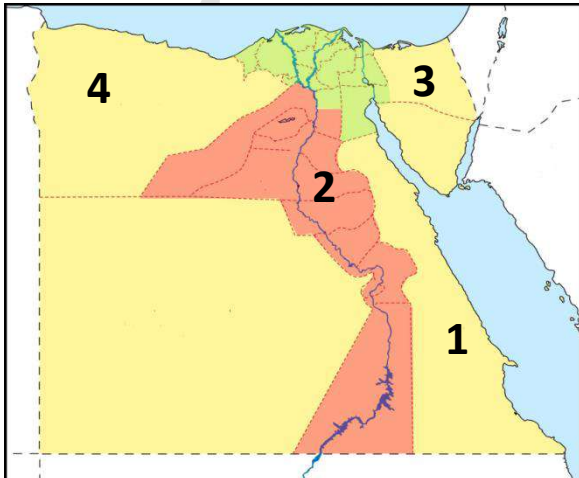
اكتب كلمة (صواب) امام العبارات الصحيحة وكلمة (خطأ) امام العبارات غير الصحيحة

1. تمثل الأمية مشكلة اقتصادية تواجه المجتمع المصري ()
2. إذا كنت من سكان محافظة المنيا فأنت تسكن في أعلى محافظات مصر حيث نسبة الأمية ()
3. يرجع ارتفاع نسبة الأمية الهجائية بين الشعب المصري إلى التحاق جميع الأطفال بالمدارس ()
4. تقلل الأمية من فرص العمل المتاحة أمام الفرد ()
5. إذا استطاع زميلك تشغيل الأجهزة التكنولوجية والتواصل من خلالها فهو يعاني من الأمية المعلوماتية ()
6. استخدم المصريون القدماء الكتابة الهيروغليفية في تسجيل أخبارهم وإنجازاتهم ()

السؤال الثاني

ضع خطأ تحت الإجابة الصحيحة مما بين القوسين

1. مشكلة الأمية من في مصر من المشكلات (الاقتصادية - السياسية - الاجتماعية - النفسية)
2. عدم قدرة أحد جيرائك على القراءة والكتابة تعرف بالأمية (التكنولوجية - البصرية - الهجائية - البيئية)
3. ثاني أعلى محافظات مصر من حيث نسبة الأمية محافظة (المنيا - البحر الأحمر - القاهرة - بني سويف)
4. تسعى مصر للقضاء على الأمية الهجائية لذا أنشأت (الهيئة القومية للتأمين الصحي - الهيئة العامة للاستعلامات - الهيئة العامة لتعليم الكبار - مركز دعم واتخاذ القرار)
5. تؤدي مشكلة الأمية والفقر والبطالة إلى ارتفاع (متوسط عمر الفرد - معدل الرفاهية - معدل الادخار - معدل الجريمة)



6. الرقم الذي يدل على أعلى محافظات مصر من حيث نسبة الامية (4 - 3 - 2 - 1)

3 السؤال الثالث

أجب عن الأسئلة التالية

(1) اكتب تفسيراً واحداً لانتشار الأمية بين سكان مصر

.....

(2) اكتب نتيجة واحدة ترتبت على انتشار الأمية في الدولة

.....

(3) اكتب تفسيراً واحداً لاحتفال منظمة اليونسكو باليوم الدولي لمحو الأمية في الثامن من شهر

سبتمبر من كل عام

.....

(4) اكتب دليلاً واحداً على اهتمام المصريين القدماء بالتعليم

.....

(5) اكتب مقترحا للقضاء على مشكلة الأمية بمحافظتك

.....

(6) ماذا تقول في الموقف التالي

شخص يرفض الذهاب إلى المدرسة لاستكمال دراسته

.....

الدرس الرابع نظام الحكم في بلدنا

السؤال الأول

كلمة (صواب) أمام العبارات الصحيحة وكلمة (خطأ) أمام العبارات غير الصحيحة

1. يمثل رئيس الجمهورية السلطة القضائية في مصر ()
2. تختص الحكومة بسن قوانين لحماية البيئة من التلوث ()
3. يختار رئيس الجمهورية نصف أعضاء مجلس النواب ()
4. يقتصر تمثيل الشعب المصري في المجالس النيابية على الشباب ()
5. يساعد وجود نواب يمثلون الشباب والمرأة على تقدم المجتمع ()
6. يمكن لمجلس النواب توجيه استجواب لأحد أعضاء الحكومة ()

السؤال الثاني

ضع خطأ تحت الإجابة الصحيحة مما بين القوسين

1. يتولى رئيس الجمهورية الرئاسة عن طريق (التعيين - الانتخاب - التوريث - التحكيم)
2. يمثل السلطة التشريعية في مصر
(مجلس النواب - مجلس الوزراء - مجلس الشيوخ - الحكومة)
3. أتوقع أن المسئول عن إصدار قرار إعلان الحرب في حالة تعرض البلاد لأخطار خارجية هو
(رئيس الوزراء - رئيس الجمهورية - المحافظ - المجلس المحلي)
4. يشترك مع رئيس الجمهورية في وضع الخطة العامة للدولة
(الحكومة - السلطة التشريعية - السلطة القضائية - المجلس المحلي)
5. يقوم باستجواب الوزراء في حالة وجود مشكلة في وزاراتهم
(رئيس الحكومة - رئيس الدولة - المجلس المحلي - مجلس النواب)
6. الجهة المسئولة عن سن القوانين في مصر هي
(مجلس النواب - المجلس المحلي - دار القضاء العالي - مجلس الوزراء)

3 السؤال الثالث

أجب عن الأسئلة التالية

- (1) اكتب نتيجة واحدة ترتبت على تأسيس نظام حكم قوى وثابت في مصر القديمة
- (2) اكتب سببا واحدا لأهمية منصب رئيس الجمهورية
- (3) اكتب دليلا واحدا على أهمية منصب الفرعون في مصر القديمة
- (4) اكتب تفسيرا واحدا لأهمية مجلس النواب المصري
- (5) اكتب مقترحا واحدا لتوعية زملائك بضرورة المشاركة في الانتخابات المدرسة
- (6) ما التصرف الذي ستقوم به في الموقف التالي؟
رأيت رجلا مسنا يحرص على الذهاب لمقر لجنته الانتخابية لاختيار عضو مجلس النواب

الدرس الخامس من يحكم محافظتى

١ السؤال الأول

اكتب كلمة (صواب) امام العبارات الصحيحة وكلمة (خطأ) امام العبارات غير الصحيحة

1. يشرف المحافظ على المشروعات القومية بالدولة ()
2. يهتم المجلس المحلى بصيانة وتطوير المدارس والمستشفيات بالمحافظة ()
3. تطوير العشوائيات في منطقة السيدة زينب بالقاهرة من مسؤوليات المحافظ ()
4. يمكن لسكان محافظة المنيا الترشح للمجلس المحلى بمحافظة القاهرة ()
5. يتشابه حكام الأقاليم قديما والمحافظين حاليا في بعض المهام المكلفين بها ()
6. كل مواطن مسئول عن تحسين محافظته وتطويرها ()