


كتاب

البراكين



فحة

الدراسات الاجتماعية

الفصل الدراسي الثاني



مراجعة شهر مارس

اسئلة الجغرافيا

إعداد

مستر : محمد عبد الصبور

واتس 01129903122

الحف
1
مراجعة





مراجعة على منهج شهر مارس

السؤال الاول : اختر الاجابة الصحيحة مما بين الاقواس

- 1- تتعرض منطقة جنوب شرق آسيا لأمطار غزيرة في فصل (الشتاء - الربيع - الصيف - الخريف)
- 2- أمطار المنطقة الاستوائية من النوع (الموسمي - التضاريسي - التصاعدي - الإعصاري)
- 3- تسقط أمطار الإقليم المداري (صيفا - شتاء - طوال العام - نادرا)
- 4- تنتمي المناطق الواقعة بين دائرتي عرض ٣٠ ، ٤٥ شمالا وجنوبا غرب معظم القارات إلى إقليم (البحر المتوسط - الصحراوي الحار - الاستوائي وشبه الاستوائي - القاري البارد)
- 5- الإقليم الذي يختفى من قارتي آسيا وأفريقيا هو (الموسمي - غرب أوروبا - البحر المتوسط - الإقليم الجبلي)
- 6- الأمطار في الإقليم نادرة وتكاد تنعدم . (المداري - البحر المتوسط - غرب أوروبا - الصحراوي الحار)
- 7- يتشابه إقليم مناخ الصحاري المعتدلة مع الإقليم القاري البارد في (درجات الحرارة - موسم سقوط المطر - الموقع داخل اليابس - الموقع الفلكي)
- 8- المطاط والكاكو من أهم أشجار (الغابات الاستوائية - الغابات الموسمية - غابات البحر المتوسط - الغابات الصنوبرية)
- 9- تنمو أشجار ضمن إقليم مناخ البحر المتوسط في السهول والأودية .
- 10- تنمو الغابات في المناطق الباردة . (الفلين - الشربين - الصنوبر - النخيل)
- 11- تعيش الأسود والضباع في (الغابات الاستوائية - حشائش السافانا - حشائش الإستبس)
- 12- تنمو حشائش في الإقليم البارد . (الحلفا - التندرا - السافانا - الإستبس)
- 13- تنمو الحشائش في فصل الصيف وتموت في فصل الشتاء . (الحارة - المعتدلة - الباردة - الصحراوية)
- 14- من النباتات الصحراوية التي لها القدرة على تخزين المياه (الفلين - الماهوجني - الكاكو - الصبار)
- 15- الإبل من الحيوانات التي تعيش في الحشائش (الحارة - المعتدلة - الباردة - الصحراوية)

السؤال الثاني : أكمل العبارات التالية بكلمات مناسبة

- 1- تنمو أشجار في المناطق المعتدلة الباردة .
- 2- تكاد تنعدم الامطار في الاقليم
- 3- تهب الرياح على إقليم غرب اوربا .
- 4- تقسط الامطار طوال العام على الإقليم الصيني و و
- 5- يعرف الإقليم المعتدل الدافئ بـ بينما يعرف الإقليم البارد بـ
- 6- قام العلماء بتقسيم الأرض الى أقاليم مناخية لتسهيل
- 7- الإقليم الذي يهب عليه رياح موسمية صيفية وشتوية .
- 8- المدى الحراري هو الفرق بين متوسط درجات الحرارة بين الليل والنهار .
- 9- النبات هو الذي ينمو دون تدخل الانسان نتيجة تفاعل عناصر المناخ مع التربة .
- 10- من أنواع النبات الطبيعي و (متر : محمد عبد الصبور)
- 11- هي اراضى بها تجمعات شجرية ضخمة وكثيفة ومتشابكة .





- 12- من أنواع الغابات في العالم النفضية و و
- 13- من الحيوانات التي تعيش في غابات البحر المتوسط و
- 14- تنمو الحشائش المعتدلة بالأقاليم *مستر : محمد عبد الصبور* في أواسط القارات .
- 15- أزال الانسان مساحات كبيرة من الغابات وأحل مكانها

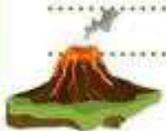
السؤال الثالث : اكتب كلمة (صواب) امام العبارة الصحيحة وكلمة (خطا) امام العبارة غير الصحيحة

- 1- تنوع الأقاليم المناخية يؤدي لتنوع صور الحياة على سطح الأرض . ()
- 2- ترتفع درجة الحرارة طوال العام في الإقليم المناخ المدارى . ()
- 3- يمتد إقليم المناخ الموسمي جنوب شرق قارة آسيا . ()
- 4- المدى الحرارى اليومي والسنوى كبير في الإقليم الصحراوي الحار . ()
- 5- يمتد إقليم المناخ الصحراوي الحار بين دائرتى عرض ١٨ ، ٣٠ شمالا وجنوبا شرق القارات ()
- 6- مناخ إقليم البحر المتوسط جاف صيفا دافئ ممطر شتاء . ()
- 7- يتميز الإقليم الموسمي بأنه حار ممطر طوال العام . ()
- 8- تسقط الأمطار طوال العام على غرب أوروبا بسبب هبوب الرياح العكسية الغربية . ()
- 9- يمتد إقليم المناخ القارى البارد بين دائرتى عرض ٤٥ ، ٦٠ شمالا وجنوبا شرق القارات . ()
- 10- يشغل الإقليم الجبلى القمم الجبلية ومنحدراتها ويسوده مناخ شديد البرودة . ()
- 11- تضم قارة آسيا معظم الأقاليم المناخية . ()
- 12- تتميز غابات البحر المتوسط بأنها تنفض أوراقها في الشتاء . ()
- 13- تساعد الغابات في تقليل نسبة غاز ثاني أكسيد الكربون على سطح الأرض . ()
- 14- إزالة الغابات إحدى أسباب ارتفاع درجة حرارة سطح الأرض . ()
- 15- السافانا تنمو شمال وجنوب الغابات الصنوبرية . ()

مستر : محمد عبد الصبور

السؤال الرابع : اكتب ما تشير اليه كل عبارة

- 1- مناطق متصلة أو منفصلة من سطح الأرض لكنها متشابهة في خصائصها المناخية العامة .
- 2- إقليم مناخى حار يمتد بين دائرتى عرض ١٠ شمالا ، ١٠ جنوبا .
- 3- إقليم مناخى ممطر صيفا يقع بين دائرتى عرض ١٠ ، ١٨ شمالا وجنوبا .
- 4- الفرق بين متوسط درجة حرارة الليل والنهار .
- 5- الفرق بين متوسط درجة حرارة الصيف والشتاء .
- 6- إقليم مناخى بارد يمتد بين دائرتى عرض ٦٠ ، ٩٠ شمالا وجنوبا .
- 7- نبات ينمو دون تدخل الإنسان نتيجة لتفاعل عناصر المناخ المختلفة مع التربة .
- 8- اراض بها تجمعات شجرية ضخمة وكثيفة ومتشابهة .
- 9- غابات دائمة الخضرة غطاؤها الورق مخروطي الشكل .
- 10- غابات تنمو في المناطق المعتدلة الباردة وتنفض أوراقها في الشتاء والخريف .
- 11- نباتات طبيعية أقل حجما وكثافة وطولاً من أشجار الغابات وتظهر مع تناقص كميات المطر *مستر : محمد عبد الصبور*
- 12- حشائش تختلف في طولها وكثافتها حسب كمية المطر .
- 13- حشائش قصيرة ليثة تصلح كمراعى طبيعية .
- 14- طحالب وحشائش سريعة النمو تظهر في الصيف القصير في الإقليم البارد .
- 15- أرض جافة شبه خالية من النبات الطبيعي .





السؤال الخامس : صوب ما تحته خط في العبارات الآتية

- 1- أمطار الإقليم الاستوائي وشبه الاستوائي من النوع الإعصاري .
- 2- يمتد الإقليم المناخي البارد بين دائرتي عرض ٣٠ ، ٤٥ شمالا وجنوبا شرق القارات .
- 3- يمتد إقليم مناخ القاري البارد بين دائرتي عرض ٤٥ - ٦٠ شمالا وجنوبا غرب القارات .
- 4- يُعرف الإقليم المناخي البارد بإقليم شرق القارات .
- 5- يعرف الإقليم المناخي المعتدل الدافئ شرق القارات باسم إقليم البحر المتوسط .
- 6- الزواحف والقردة والطيور الملونة أهم حيوانات الغابات النفضية .
- 7- من النباتات الصحراوية التي لها القدرة على تحمل الجفاف الزان .

متر : محمد عبد الصبور

السؤال السادس : أجب عن الأسئلة التالية

- 1- بم تفسر :-
 - قيام العلماء بتقسيم سطح الأرض إلى أقاليم مناخية .
 - التفاوت الكبير في درجات الحرارة بالمناطق الصحراوية الحارة .
 - سقوط الأمطار طوال العام على إقليم مناخ غرب أوروبا .
 - تنوع النبات الطبيعي على سطح الأرض .
 - لأهمية الغابات على سطح الأرض .
 - تسمية الغابات النفضية بهذا الاسم .
 - عدم تراكم الثلوج فوق أشجار الغابات الصنوبرية .
 - إزالة الإنسان مساحات واسعة من الغابات مثل الغابات النفضية .
 - تُعتبر الحشائش الحارة (السافانا) حديقة حيوان طبيعية .
 - الأهمية الاقتصادية لحشائش الإستبس .

متر : محمد عبد الصبور

2- ما النتائج المترتبة على

متر : محمد عبد الصبور

- وقوع إقليم مناخ غرب أوروبا في نطاق الرياح العكسية .
- وقوع جنوب شرق آسيا ضمن الإقليم المناخي الموسمي .

متر : محمد عبد الصبور





3- ماذا يحدث إذا :

- أزال الإنسان كل الغابات من على سطح الأرض.

مستر : محمد عبد الصبور

- وقعت مصر بين دائرتي عرض ٦٠ ، ٩٠ شمالاً .

مستر : محمد عبد الصبور

4- في أى الأقاليم النباتية ينمو كل من ... ؟

- | | |
|-----------------|-------------|
| 1- الماهوجني | 2- المطاط |
| 3- الفلين | 4- الصنوبر |
| 5- الكاكاو | 6- الزان |
| 7- البلوط | 8- النخيل |
| 9- التين الشوكي | 10- الشربين |

مستر : محمد عبد الصبور

5- في أى الأقاليم النباتية يعيش كل من ... ؟

- | | |
|-------------------|--------------------|
| 1- الجرذان | 2- الطيور الملونة |
| 3- القردة | 4- السناجب |
| 5- القطط | 6- الثعالب القطبية |
| 7- الفيلة والزراف | 8- الأسود والنمور |
| 9- الأغنام | 10- الماشية |

مستر : محمد عبد الصبور

6- ما المقصود بكل مصطلح جغرافي مما يأتي ... ؟

- 1- إقليم مناخي .
- 2- مدى حرارى يومى
- 3- نبات طبيعي
- 4- غابات
- 5- حشائش

7- دلّل جغرافياً على صحة كل عبارة من العبارات الآتية

- توجد علاقة بين الغابات، والنظام البيئي .

مستر : محمد عبد الصبور

8- قارن بين : مستر : محمد عبد الصبور
- الإقليم المعتدل الدافئ (الصينى) ، وإقليم البحر المتوسط، من حيث : الحرارة ، الأمطار.

- الإقليم الموسمي وإقليم الصحارى المعتدلة من حيث : الخصائص المناخية ، الموقع.





9- ما العلاقة بين ... ؟

- الإقليم الاستوائى والامطار التصاعدية .

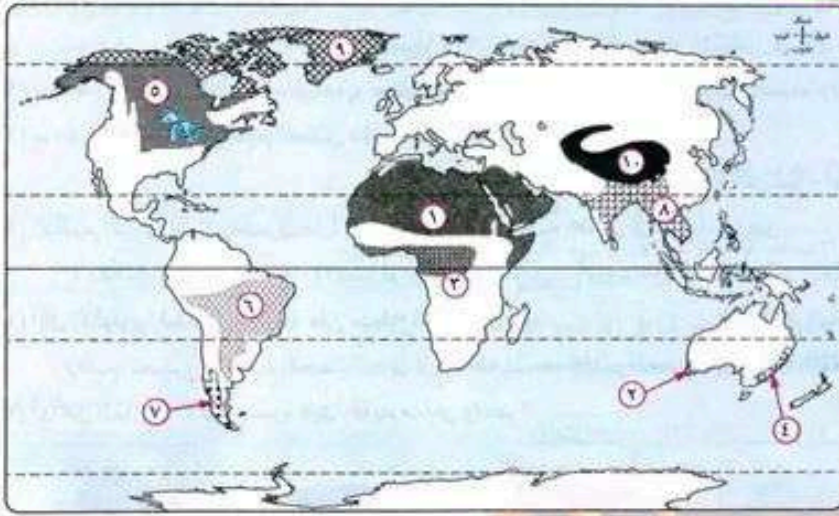
متر : محمد عبد الصبور

- ازالة الغابات والاخلال بالنظام البيئي .

متر : محمد عبد الصبور

- كمية المطر والسافانا .

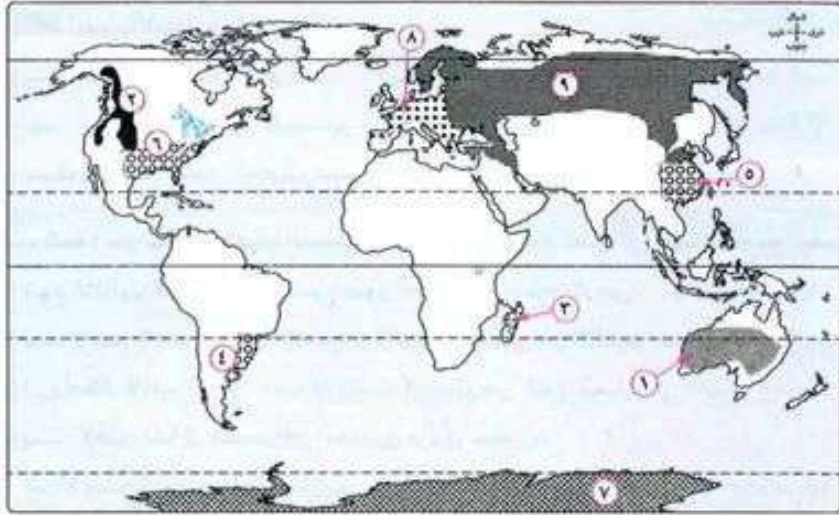
السؤال السابع : امامك خريطة صماء وضع مدلول الأرقام



متر : محمد عبد الصبور

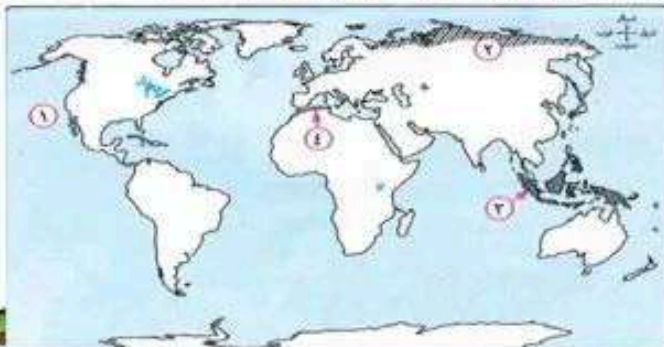
- 1- إقليم مناخى
- 2- إقليم مناخى
- 3- إقليم مناخى محمد عبد الصبور
- 4- إقليم مناخى
- 5- إقليم مناخى
- 6- إقليم مناخى
- 7- إقليم مناخى
- 8- إقليم مناخى
- 9- إقليم مناخى
- 10- إقليم مناخى

السؤال السابع : امامك خريطة صماء وضع مدلول الأرقام



- 1- تنتمى المنطقتين 5 ، 6 لاقليم
- 2- يمثل رقم الإقليم الصحراوى الحار
- 3- يمثل رقم 2 الإقليم الجبلى بقارة
- 4- الإقليم الذى يسود رقم 7
- 5- يمثل رقم الإقليم المناخى المدارى
- 6- يمثل رقم 8 الإقليم الجبلى بقارة
- 7- يمثل رقم 9 الإقليم الجبلى بقارة

السؤال السابع : امامك خريطة صماء وضع مدلول الأرقام

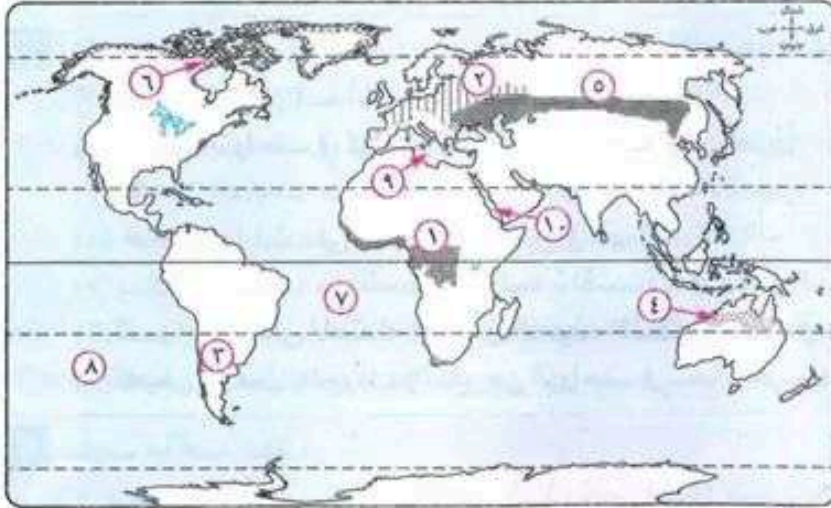


متر : محمد

- 1- المحيط
- 2- إقليم مناخى
- 3- إقليم مناخى
- 4- إقليم مناخى



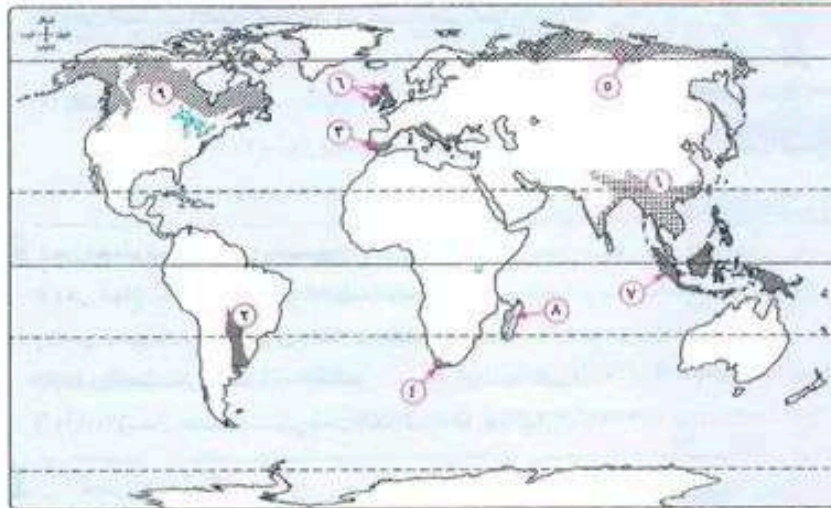
السؤال السابع : امامك خريطة صماء وضع مدلول الأرقام



- 1- الغابات
 - 2- الغابات
 - 3- الغابات
 - 4- حشائش
 - 5- حشائش
 - 6- حشائش
 - 7- المحيط
 - 8- المحيط
 - 9- البحر
 - 10- البحر
- متر : محمد عبد الصبور

متر : محمد عبد الصبور

السؤال السابع : امامك خريطة صماء وضع مدلول الأرقام



- 1- تنمو حشائش التندرا في الإقليم رقم
- 2- تنمو في منطقة 3 ، 4 غابات
- 3- يمثل رقم 2 حشائش
- 4- الغابات الاستوائية تمثل رقم
- 5- الغابات الموسمية تمثل رقم
- 6- يمثل رقم 8 الغابات
- 7- ينمو في الجزء الغربي من الجزيرة رقم 8 حشائش

متر : محمد عبد الصبور

متر : محمد عبد الصبور

انتهت مراجعة الجغرافيا - انتظرونا في مراجعة التاريخ
كتاب البركان - صانع الأوائل - متر محمد عبد الصبور



مراجعة على منهج شهر مارس

السؤال الاول : اختر الاجابة الصحيحة مما بين الاقواس

- 1- انطلق الإسكندر الأكبر للاستيلاء على مصر قادمًا من بلاد (الإغريق - آسيا الصغرى - العراق - فينيقيا)
- 2- استولى الإسكندر الأكبر على مصر بعد هزيمة (الفرس - الروم - البطالمة - الأشوريين)
- 3- أقام الإسكندر الأكبر مهرجانًا رياضيًا على الطريقة الإغريقية فى *متر : محمد عبد الصبور* (مدينة منف - واحة سيوة - مدينة الإسكندرية - مدينة طيبة)
- 4- قُسمت إمبراطورية الإسكندر بعد وفاته نتيجة (عدم وجود أبناء له - الصراع بين قواده - انتصار الفرس على قواته - تمرد المدن الإغريقية)
- 5- تبدأ مرحلة الضعف ثم الانهيار للدولة البطلمية منذ عهد (أنطونيوس - بطلميوس الثالث - كليوباترا السابعة - بطلميوس الرابع)
- 6- تشابه النظام السياسي والإدارى للحضارة البطلمية مع النظام السياسي للملوك الفراعنة فى (مركز إشعاع الحضارة الهلينستية لاصبور)
- 7- من أدوات الرى التي أدخلها البطالمة إلى مصر (الشادوف - الساقية - المحراث - الجرار)
- 8- كانت مدينة مركز إشعاع الحضارة الهلينستية لاصبور (الإسكندرية - روما - بيزنطة - نقرطيس)
- 9- من المدن التي أقامها البطالمة فى مصر مدينة (منف - الإسكندرية - نقرطيس - بيزنطة)
- 10- من أشهر المؤرخين المصريين بجامعة الإسكندرية فى عصر البطالمة (إقليدس - مانيثون - أرشميدس - بطلميوس الأول)
- 11- من علماء جامعة الإسكندرية وصاحب قانون الطفو (مانيثون - أرشميدس - إقليدس - بطلميوس)
- 12- ظهرت عبادة فى عصر البطالمة وهى مزيج بين الديانة الإغريقية والديانة المصرية . (حورس - بتاح - آمون - سراپيس)
- 13- من عجائب العالم القديم التي أسسها البطالمة (جامعة الإسكندرية - منارة الإسكندرية - مكتبة الإسكندرية - معبد السرابيوم)
- 14- تمثل المرحلة الأولى من علاقة روما بدولة البطالمة فى مصر مرحلة (العلاقات الودية - الاحتلال العسكرى - فرض الحماية - التدخل السياسى)
- 15- حدثت معركة أكتيوم البحرية على السواحل الغربية لبلاد (النوبة - اليونان - بونت - العراق)
- 16- يعد آخر ملوك الدولة البطلمية فى مصر (بطلميوس الرابع - كليوباترا السابعة - بطلميوس الثالث - بطلميوس الأول)
- 17- سيطر على مصر عام ٣١ ق. م . (أنطونيوس - يوليوس قيصر - أكتافيوس - قسطنطين)
- 18- اهتم الرومان بتأمين وجودهم فى مصر من خطر الأعداء عن طريق (الإشراف المباشر لأكتافيوس - وضع حاميات عسكرية - استخدام الجنود المرتزقة - تكوين جيش من المصريين)

السؤال الثانى : اكتب كلمة (صواب) امام العبارة الصحيحة وكلمة (خطأ) امام العبارة غير الصحيحة

- 1- نشأ الإسكندر الأكبر فى إقليم مقدونيا بشمال اليونان . ()
- 2- تولى الإسكندر حكم مصر وهو فى سن العشرين عام ٣٣٦ ق . م . ()
- 3- أول نزول للإسكندر فى مصر كان فى مدينة منف . ()
- 4- كانت أول هزائم الفرس على يد الإسكندر المقدونى فى مصر . ()
- 5- رحب المصريون بقدوم الإسكندر الأكبر إلى مصر . ()
- 6- عمل الرومان فى مصر كجنود مرتزقة قبل مجيء الإسكندر الأكبر . ()
- 7- قام الإسكندر الأكبر بزيارة معبد الإله آمون فى طيبة . ()
- 8- مات الإسكندر الأكبر عام ٣٢٣ ق . م ودفن فى الإسكندرية *متر : محمد عبد الصبور* ()
- 9- بعد وفاة الإسكندر الأكبر مباشرة كانت مصر من نصيب أنطونيوس . ()
- 10- قام نظام حكم البطالمة فى مصر على أساس الحكم المطلق . ()





- 11- استحوذ المصريون على المناصب المهمة في عهد البطالمة .
- 12- عمل حكام البطالمة على جعل اللغة والديانة الرسمية لمصر إغريقية .
- 13- أحدث البطالمة تغيير في التقسيم الإدارى لمصر. *الصور*
- 14- اهتم البطالمة بالزراعة في مصر .
- 15- يرجع الفضل إلى علماء جامعة الإسكندرية فى اكتشاف دوران الأرض حول الشمس . ()
- 16- تعرضت مكتبة الإسكندرية للتدمير عام ٤٨ ق . م .
- 17- شيد البطالمة معبد الإلهة إيزيس فى إدفو .
- 18- انتهى بناء منارة الإسكندرية فى عهد بطلميوس الثالث .
- 19- أنشأ البطالمة منارة الإسكندرية الإرشاد السفن فى البحر .
- 20- كانت جامعة الإسكندرية أكبر دار للعلم فى العالم القديم .
- 21- أقام البطالمة العديد من المدن التى حملت أسماء إغريقية .
- 22- كانت العلاقات بين البطالمة والرومان قوية فى المرحلة الأولى .
- 23- انتصر أكتافيوس على الإسكندر فى معركة أكتيوم البحرية عام ٣١ ق . م .
- 24- أشرك الرومان المصريين فى الوظائف المهمة فى الدولة.
- 25- استخدم الرومان اللغة اليونانية فى الجيش *بتر : محمد عبد الصبور*

السؤال الرابع : اكتب ما تشير إليه كل عبارة

- 1- حضارة جمعت بين الحضارة المصرية والحضارة الإغريقية .
- 2- أول مكتبة حكومية عامة عرفها العالم القديم .
- 3- معركة انتصر فيها أكتافيوس وأصبحت بعدها مصر ولاية رومانية .
- 4- طبقة اجتماعية حصلت على بعض الامتيازات لتقربهم من المستعمر الرومانى
- 5- طبقة حصلت على بعض الامتيازات فى عهد الرومان كالعفو من الضرائب

بتر : محمد عبد الصبور

السؤال الخامس : صوب ما تحته خط فى العبارات الآتية

- 1- قام أكتافيوس بالاستيلاء على مصر عام ٣٢٢ ق. م .
- 2- بدأت مرحلة القوة والازدهار للدولة البطلمية منذ عهد بطلميوس الثالث .
- 3- اللغة اللاتينية هى اللغة الرسمية بمصر فى عهد البطالمة .
- 4- أقام البطالمة العديد من معاهد الجمنازيوم والمسارح لنشر الثقافة الرومانية .
- 5- من أشهر علماء جامعة الإسكندرية فى التاريخ إقليدس .
- 6- من علماء جامعة الإسكندرية إقليدس صاحب قانون الطفو .
- 7- اعترف البطالمة بالديانة المسيحية ديناً رسمياً للبلاد .
- 8- آخر ملوك البطالمة فى مصر بطلميوس الرابع .
- 9- بعد مقتل يوليوس قيصر أصبحت الأجزاء الغربية لروما من نصيب أنطونيوس
- 10-

السؤال الثانى : لمن تنسب الاعمال التالية

- 1- وحد إقليم مقدونيا عام ٣٣٨ ق . م تحت زعامته .
- 2- أسس مدينة الإسكندرية بعد هزيمة الفرس .
- 3- زار معبد الإله بتاح فى منف، ومعبد الإله آمون فى واحة سيوة .
- 4- أسس دولة البطالمة فى مصر .
- 5- من أشهر علماء جامعة الإسكندرية، وقسم تاريخ مصر القديمة إلى ثلاثين أسرة
- 6- أنشأ مكتبة الإسكندرية واهتم بتزويدها بالكتب الأصلية .

بتر : محمد عبد الصبور





- 7- انتهى في عهده بناء منارة الإسكندرية .
- 8- حكم الأجزاء الشرقية للإمبراطورية الرومانية بعد مقتل يوليوس قيصر.
- 9- أهدى كليوباترا وأبنائها بعض الأقاليم التي فتحها في الشرق .
- 10- انتصر في معركة أكتيوم البحرية عام 31 ق.م .

متر : محمد عبد الصبور

السؤال السادس : أجب عن الأسئلة التالية

1- بم تفسر :

- تعرض مصر للأطماع الخارجية قبل مجيء الإسكندر الأكبر .

- أطلق لقب أعظم الفاتحين على الإسكندر الأكبر.

- قيام الإسكندر الأكبر بالاستيلاء على مصر.

- ترحيب المصريين بقدوم الإسكندر الأكبر

- كراهية المصريين لحكم الفرس.

- تأسيس الإسكندر الأكبر لمدينة الإسكندرية.

- اهتمام البطالمة الأوائل (بطلميوس الأول) بالحياة الاقتصادية في مصر.

- شهرة مكتبة الإسكندرية في عصر البطالمة.

- إقامة البطالمة العديد من معاهد الجمنازيوم والمسارح.

- ضعف وانهيار دولة البطالمة في مصر

- توتر العلاقة بين القاندين أنطونيوس وأكتافيوس.

- كان الاحتلال الروماني لمصر صورة من صور الاستغلال الاقتصادي.

- شهدت التجارة رواجًا داخل مصر وخارجها في عصر الرومان.

2- ما النتائج المترتبة على :

- وفرة الثروات وتعددتها في مصر منذ القدم.

- زيارة الإسكندر الأكبر لمعبد الإله أمون بواحة سيوة.

- وفاة الإسكندر الأكبر دون وريث للعرش.

- معركة أكتيوم البحرية عام 31 ق.م.

- سوء معاملة الرومان للمصريين.

متر : محمد عبد الصبور





3- ماذا يحدث اذا :

- لم يستطع الإسكندر الأكبر الاستيلاء على مصر .

مستر : محمد عبد الصبور

- كان للإسكندر الأكبر وريثاً .

مستر : محمد عبد الصبور

- لم ينتصر أكتافيوس على أنطونيوس في معركة أكتيوم البحرية.

- لم يهتم الرومان بشئون الري في مصر.

4- ما العلاقة بين :

- بطلميوس الأول، ومكتبة الإسكندرية.

- القديس مرقس، والمسيحية في مصر.

مستر : محمد عبد الصبور

- الإمبراطور دقلديانوس، والمسيحيين.

- الإمبراطور قسطنطين، والمسيحية.

5- دلي تاريخيا على :

- حرص الإسكندر الأكبر على إظهار احترامه للديانة المصرية.

مستر : محمد عبد الصبور

- مرت دولة البطالمة بعدة مراحل

- حكم البطالمة مصر حكماً مطلقاً.

- كان المجتمع المصرى فى عصر الرومان مجتمعاً طبقياً.

5- قارن بين :

- نظام الحكم فى مصر أثناء عصر البطالمة ، وأثناء عصر الرومان.

- الزراعة فى مصر فى عصر البطالمة، وفى عصر الرومان.

- الصناعة فى مصر فى عصر البطالمة، وعصر الرومان.

مستر : محمد عبد الصبور

6- حدد عملاً لكل من :

- الإسكندر الأكبر

- بطلميوس الأول

- أرشميدس

- أقليدس

- مانيون

- أكتافيوس

مستر : محمد عبد الصبور

