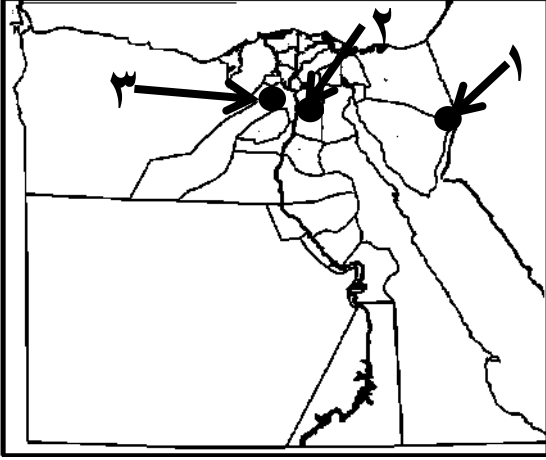


المادة / دراسات اجتماعية  
الصف / الرابع الابتدائي  
الزمن / فقرة دراسية

محافظة .....  
إدارة ..... التعليمية  
مدرسة .....

اختبار شهر مارس للعام الدراسي ٢٠٢٣ - ٢٠٢٤ م

السؤال الأول : أ ) أمامك خريطة صماء لمصر أكتب مدلول الأرقام الآتية :



- ١- مدينة توجد بها قلعة صلاح الدين.....
- ٢- محافظة يوجد بها المتحف المصري.....
- ٣- محافظة يوجد بها تمثال ابو الهول.....

ب) بم تفسر :

تدخل منظمة اليونسكو لأنقاذ آثار النوبة من أبو سمبل إلى فيله ؟

ج) أذكر المصطلح : \* منظمة تساهم في تحقيق اهداف التنمية المستدامة وتدعو كافة الدول إلى توفير فرص التعليم الجيد لجميع الافراد .

**Hany Nageh**

السؤال الثاني : أكتب كلمة ( صواب ) أمام العبارة الصحيحة وكلمة ( خطأ ) أمام العبارة الخاطئة :

- ١- ( ) خصصت اليونسكو يوم ١٨ أبريل من كل عام ليكون يوم عالمي للتراث.
- ٢- ( ) اهرامات الجيزة هي ( خوفو - خفرع - منكاورع )
- ٣- ( ) زيارة مدينة ذهب وشرم الشيخ نوع من انواع السياحة الثقافية .
- ٤- ( ) الدخل القومي هو اجمالي الدخل الذى تحققه الانشطة الاقتصادية فى الدولة فى عام واحد .
- ٥- ( ) التصرف السليم أن نقوم بالكتابة على الاثار وأخذ قطع منها إلى المنزل .

السؤال الثالث : أ ) أكمل العبارات الآتية مما بين القوسين:

( الحديثة - معرض القاهرة الدولي للكتاب - درجات الحرارة - المطرية - الثقافى )

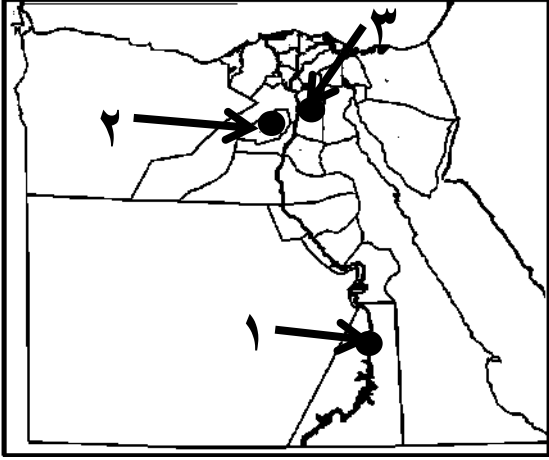
- ١- المعابد والاهرامات والقلاع والمساجد تعد من التراث .....
- ٢- نشأت على أرض مصر الحضارة اليونانية والرومانية والقبطية والاسلامية و .....
- ٣- من أمثلة سياحة المهرجانات والمؤتمرات .....
- ٤- قامت الدولة بتطوير مسار العائلة المقدسة فى حى .....
- ٥- من الاخطار التى تؤثر على مواقع التراث العالمى ، التغيرات المناخية مثل .....

المادة / دراسات اجتماعية  
الصف / الرابع الابتدائي  
الزمن / فترة دراسية

محافظة .....  
إدارة ..... التعليمية  
مدرسة .....

اختبار شهر مارس للعام الدراسي ٢٠٢٣ - ٢٠٢٤ م

السؤال الأول : أ ) أمامك خريطة صماء لمصر أكتب مدلول الأرقام الآتية :



- ١- محافظة يوجد بها معبد ابو سمبل.....
- ٢- محافظة يوجد بها محمية وادي الحيتان.....
- ٣- محافظة يوجد بها حصن بابلون .....

ب) بم تفسر :

تصنف منطقة أبو مينا بأنها مهددة بالخطر ؟

ج) أذكر المصطلح : \* منظمة تتمثل رسالتها في إرساء السلام ونبذ الكراهية والعنف.

(.....)

**Hany Nageh**

السؤال الثاني : أكتب كلمة ( صواب ) أمام العبارة الصحيحة وكلمة ( خطأ ) أمام العبارة الخاطئة :

- ١- ( ) منظمة الامم المتحدة للتربية والعلوم والثقافة هي منظمة " اليونسكو"
- ٢- ( ) اعتقد المصري القديم في الحياة بعد الموت والعيش حياة أبدية لا موت بعدها.
- ٣- ( ) زيارة خان الخليلي وأهرامات الجيزة ومكتبة الاسكندرية نوع من أنواع السياحة الترفيهية
- ٤- ( ) توفر السياحة فرص عمل للشباب.
- ٥- ( ) يجب لمس القطع الاثرية والوقوف ملاصقين لها .

السؤال الثالث : أ ) أكمل العبارات الآتية مما بين القوسين:

( الرومانية - مؤتمر النقل الذكي - الجفاف - التنقيب - اليمن )

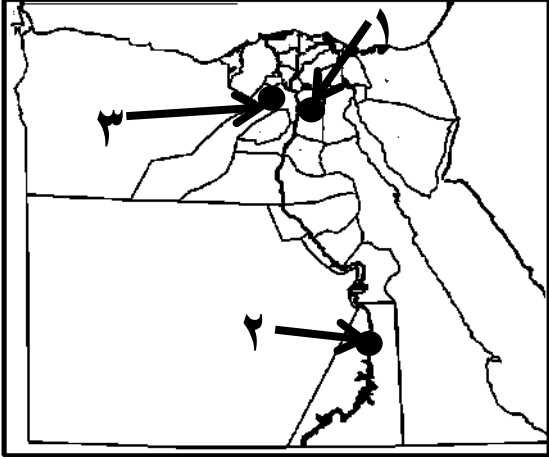
- ١- ساهمت منظمة اليونسكو في ترميم مدينة صنعاء القديمة بدولة .....
- ٢- نشأت على أرض مصر الحضارة اليونانية و ..... والقبطية والاسلامية والحديثة .
- ٣- من امثلة سياحة المؤتمرات والمهرجانات .....
- ٤- نظمت الدولة عملية البحث و ..... عن الاثار والاشراف عليها .
- ٥- من الاخطار التي تؤثر على مواقع التراث العالمي ، التغيرات المناخية مثل .....

المادة / دراسات اجتماعية  
الصف / الرابع الابتدائي  
الزمن / فقرة دراسية

محافظة .....  
إدارة ..... التعليمية  
مدرسة .....

اختبار شهر مارس للعام الدراسي ٢٠٢٣ - ٢٠٢٤ م

السؤال الأول : أ ) أمامك خريطة صماء لمصر أكتب مدلول الأرقام الآتية :



- ١- محافظة توجد بها محمية الغابة المتحجرة .....
- ٢- محافظة يوجد بها معبد ايزيس .....
- ٣- محافظة يوجد بها الاهرامات .....

ب) بم تفسر :

مدينة القاهرة التاريخية من أهم وأكبر المدن التراثية في العالم ؟

ج) أذكر المصطلح : \* هيئة مستقلة تابعة لرئاسة الجمهورية ومسئولة عن التعداد السكاني .

(.....)

**Hany Nageh**

السؤال الثاني : أكتب كلمة ( صواب ) أمام العبارة الصحيحة وكلمة ( خطأ ) أمام العبارة الخاطئة :

- ١- ) تهتم اليونسكو بتوعية دول العالم وشعوبها بضرورة حماية التراث الطبيعي والثقافي
- ٢- ) البعث هو عودة الحياة بعد الموت
- ٣- ) رحلات السفارى والتنزه عبر نهر النيل نوع من السياحة الثقافية .
- ٤- ) تسهم السياحة فى دعم الاقتصاد المصرى بزيادة اعداد السائحين
- ٥- ) يجب التعامل مع السياح معاملة سيئة لكى لا يحضروا إلى مصر مرة أخرى.

السؤال الثالث : أ ) أكمل العبارات الآتية مما بين القوسين:

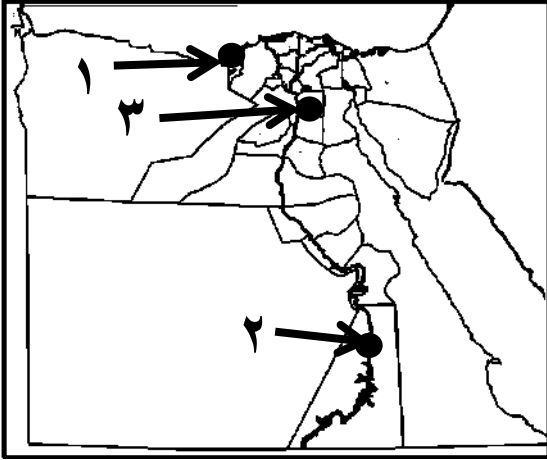
- ( القبطية - مهرجان الاسماعيلية للفنون الشعبية - نوبان الجليد - القاهرة التاريخية - طبيعى )
- ١- المواقع الطبيعية التى لم يتدخل الانسان فى صناعتها أو التأثير فيها تعتبر تراث .....
  - ٢- نشأت على أرض مصر الحضارة اليونانية والرومانية و ..... والاسلامية والحديثة.
  - ٣- من أمثلة سياحة المؤتمرات والمهرجانات .....
  - ٤- من مشروعات تطوير المناطق الاثرية مشروع تطوير مدينة .....
  - ٥- من الاخطار التى تؤثر على مواقع التراث العالمى ، التغيرات المناخية مثل .....

المادة / دراسات اجتماعية  
الصف / الخامس الابتدائي  
الزمن / فترة دراسية

محافظة .....  
إدارة ..... التعليمية  
مدرسة .....

اختبار شهر مارس للعام الدراسي ٢٠٢٣ - ٢٠٢٤ م

السؤال الأول : أ ) أمامك خريطة صماء لمصر أكتب مدلول الأرقام الآتية :



- ١- مدينة قام الاسكندر الاكبر بالتخطيط لبنائها .....
- ٢- محافظة يوجد بها معبد الكرنك .....
- ٣- محافظة يوجد بها العاصمة الادارية الجديدة .....

ب) بم تفسر :

نظام الحكم في عصر البطالمة كان نظام ملكي مطلق ؟

ج) من هي : \* زوجة رمسيس الثاني ولها تمثالان على مدخل معبد بأسمها .

(.....)

Hany Nageh

السؤال الثاني : أكتب كلمة ( صواب ) أمام العبارة الصحيحة وكلمة ( خطأ ) أمام العبارة الخاطئة :

- ١- ( ) دخل تحتمس الثالث مدينة مجدو في فلسطين من أقصر الطرق وأكثرها خطورة وصعوبة
- ٢- ( ) خاض رمسيس الثاني الكثير من المعارك ضد الحيثيين
- ٣- ( ) اهتم الرومان بزراعة القمح في مصر باعتبارها مزرعة القمح لروما
- ٤- ( ) من أمثلة المعابد الجنائزية معبد الاقصر
- ٥- ( ) برع المصري القديم في علم الحساب وعرف الجمع والطرح والقسمة والضرب والكسور

السؤال الثالث : أ ) أكمل العبارات الآتية مما بين القوسين:

( خط بارليف - دقلديانوس - الادب القصصي - الكاتب المصري - الهكسوس )

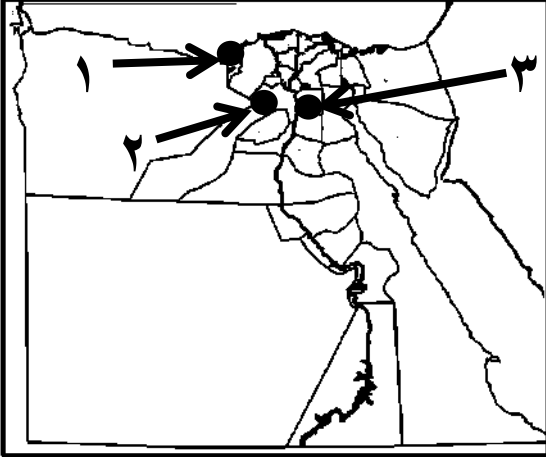
- ١- استطاع الملك أحمس طرد ..... وتأسيس الدولة الحديثة
- ٢- في حرب أكتوبر ١٩٧٣ م عبر الجيش المصري قناة السويس وحطم .....
- ٣- اضطهد الرومان المسيحيين ، وعرف عهد الامبراطور ..... بعصر الشهداء.
- ٤- من أشهر التماثيل المنحوتة تمثال .....
- ٥- أبدع المصري القديم في الأدب وترك لنا كتابات متنوعة في .....

المادة / دراسات اجتماعية  
الصف / الخامس الابتدائي  
الزمن / فترة دراسية

محافظة .....  
إدارة ..... التعليمية  
مدرسة .....

اختبار شهر مارس للعام الدراسي ٢٠٢٣ - ٢٠٢٤ م

السؤال الأول : أ ) أمامك خريطة صماء لمصر أكتب مدلول الأرقام الآتية :



- ١- مدينة استكمل بنائها بظلميوس الاول .....
  - ٢- محافظة توجد بها الاهرامات الثلاثة .....
  - ٣- محافظة يوجد بها مدينة الفنون والثقافة .....
- ب) ما النتائج المترتبة على :

هزيمة كليوباترا السابعة في اكتوبر البحرية ٣١ ق.م ؟

ج) من أنا \* حصلت على لقب بطل الحرب والسلام بعد حرب اكتوبر ١٩٧٣ م

(.....)

**Hany Nageh**

السؤال الثاني : أكتب كلمة ( صواب ) أمام العبارة الصحيحة وكلمة ( خطأ ) أمام العبارة الخاطئة :

- ١- ( ) استطاع تحتمس الثالث هزيمة الاعداء في معركة مجدو بتخطيط عسكري غير متوقع
- ٢- ( ) من أشهر معارك رمسيس الثاني معركة قادش في سوريا ضد الحيثيين
- ٣- ( ) أهتم البطالمة بالزراعة وقاموا بحفر الترعة والقنوات وادخال محاصيل جديدة
- ٤- ( ) معابد الالهة كانت تقام فيها طقوس الجنازة للملك
- ٥- ( ) عرف المصريين القدماء التقويم الشمسي وقسموا السنة إلى ٣٦٥ يوم

السؤال الثالث : أ ) أكمل العبارات الآتية مما بين القوسين:

( اسرائيل - الاسلامي - الادب الديني - العمال - سقنن رع )

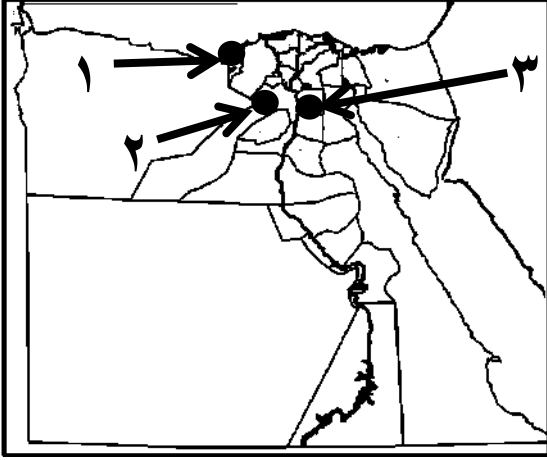
- ١- الملكة إياح حتب هي زوجة الملك .....
- ٢- وقع الرئيس الراحل محمد انور السادات معاهدة سلام مع .....
- ٣- رحب المصريين بالفتح ..... لمصر للتخلص من حكم الرومان
- ٤- كانت منازل ..... تتميز بالبساطة وتتكون من طابق واحد أو اثنين
- ٥- أبدع المصريين القدماء في الآدب وتركوا لنا كتابات متنوعة في .....

المادة / دراسات اجتماعية  
الصف / الخامس الابتدائي  
الزمن / فترة دراسية

محافظة .....  
إدارة ..... التعليمية  
مدرسة .....

اختبار شهر مارس للعام الدراسي ٢٠٢٣ - ٢٠٢٤ م

السؤال الأول : أ ) أمامك خريطة صماء لمصر أكتب مدلول الأرقام الآتية :



- ١- عاصمة البلاد في عصر الاسكندر الأكبر .....
- ٢- محافظة يوجد بها هرم زوسر المدرج .....
- ٣- محافظة يوجد بها مركز مصر الثقافي الاسلامي .....

ب) بم تفسر :

إنشاء البطالمة منارة الاسكندرية ؟

ج) من أنا \* اتخذت قرار الحرب ضد العدوان الاسرائيلي في أكتوبر ١٩٧٣م

(.....)

**Hany Nageh**

السؤال الثاني : أكتب كلمة ( صواب ) أمام العبارة الصحيحة وكلمة ( خطأ ) أمام العبارة الخاطئة :

- ١- ( ) قاد تحتمس الرابع ١٦ حملة عسكرية لتأمين حدود مصر
- ٢- ( ) بعد انتصار الملك رمسيس الثاني على الحيثيين عقد معهم معاهدة سلام
- ٣- ( ) اهتم البطالمة بصناعة الزيوت والمنسوجات والزجاج والطور
- ٤- ( ) من أمثلة معابد الالهة معبد حتشبسوت " الدير البحري "
- ٥- ( ) حدد المصريين القدماء الضرائب بناءً على فيضان النيل

السؤال الثالث : أ ) أكمل العبارات الآتية مما بين القوسين:

( سيناء - الرومانى - ورق البردى - ابو الهول - احمس )

- ١- الملكة إياح حتب هي والدة الملك .....
- ٢- بفضل معاهدة السلام ١٩٧٩ م استعادت مصر أراضي .....
- ٣- من المسارح التي أنشأها الرومان في الاسكندرية المسرح .....
- ٤- من أشهر التماثيل المنحوتة تمثال .....
- ٥- استخدم المصريون القدماء بعض النباتات في العلاج وسجلوا ذلك على .....

محافظة .....  
إدارة ..... التعليمية  
مدرسة .....  
المادة / دراسات اجتماعية  
الصف / السادس الابتدائي  
الزمن / فترة دراسية  
اختبار شهر مارس للعام الدراسي ٢٠٢٣ - ٢٠٢٤ م

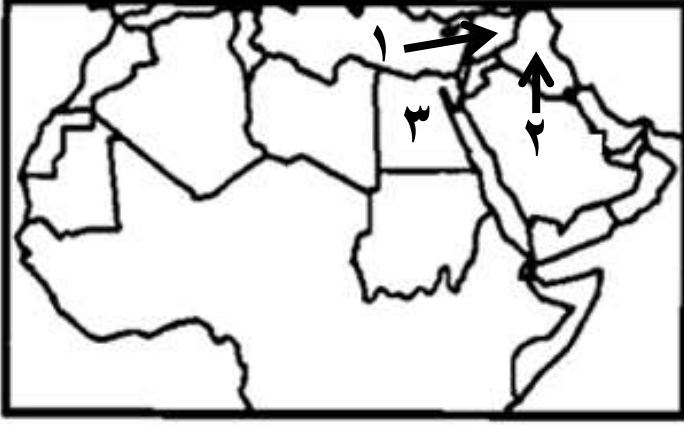
السؤال الأول : أ ) أمامك خريطة صماء للوطن العربي

أكتب مدلول الأرقام الآتية :

- ١- دولة شُيِّد فيها المسجد الاموي.....
- ٢- دولة بنيت فيها مدينة بغداد واصبحت عاصمة الدولة العباسية.....
- ٣- دولة يوجد بها حصن بابلون.....

ب) بم تفسر :

- ١- تأسيس معاوية بن أبي سفيان ديوان البريد ؟
- ٢- سقوط الدولة العباسية على يد المغول ؟



السؤال الثاني : أكتب كلمة ( صواب ) أمام العبارة الصحيحة وكلمة ( خطأ ) أمام العبارة الخاطئة :

- ١- ( ) اتسم عصر الوليد بن عبد الملك بالرخاء والامن والاستقرار الداخلي .
- ٢- ( ) أسس محمد بن طغج الاخشيد الدولة الطولونية .
- ٣- ( ) من اسباب الحروب الصليبية تأسيس مستعمرات صليبية فى الشرق
- ٤- ( ) عقد صلاح الدين الايوبي صلح الرملة مع الملك بلدوين الرابع
- ٥- ( ) عين سيف الدين قطز " بيبرس " قائدا للجيش لمواجهة المغول .

**Hany Nageh**

السؤال الثالث : أ ) أكمل العبارات الآتية مما بين القوسين:

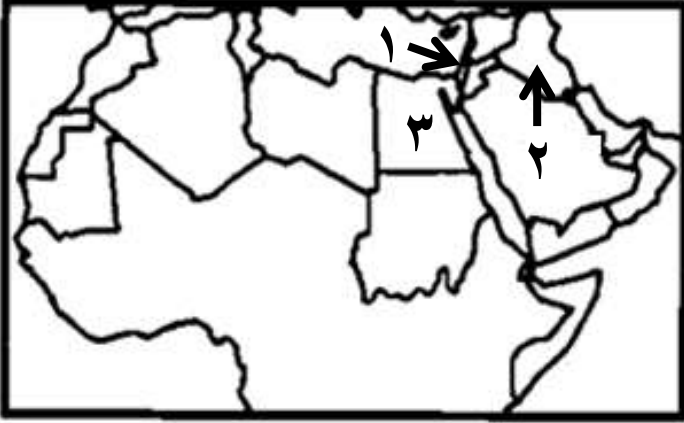
( بلدوين الرابع - آسيا - قطز - مريم الاسطرلابى - البيزنطيين )

- ١- كانت مصر قبل دخول الاسلام تحت حكم .....
- ٢- انتصر صلاح الدين الايوبي على الملك ..... ملك بيت المقدس
- ٣- المغول هم قبائل بدوية كانت تعيش وسط .....
- ٤- رفض السلطان ..... تسليم البلاد للمغول.
- ٥- كوشيار الجيلانى العالم الفلكى والجغرافى هو والد العالمة .....

المادة / دراسات اجتماعية  
الصف / السادس الابتدائي  
الزمن / فترة دراسية

محافظة .....  
إدارة ..... التعليمية  
مدرسة .....

اختبار شهر مارس للعام الدراسي ٢٠٢٣ - ٢٠٢٤ م



السؤال الأول: أ ) أمامك خريطة صماء للوطن العربي

أكتب مدلول الأرقام الآتية :

- ١- دولة يوجد بها مسجد قبة الصخرة.....
- ٢- دولة عربية ضمها صلاح الدين الى مصر  
لمواجهة الصليبيين .....
- ٣- دولة يوجد بها جامع عمرو بن العاص.....

ب) بم تفسر :

١- اعتبر المؤرخون عبد الملك بن مروان المؤسس الثاني للدولة الاموية؟

٢- إنشاء هارون الرشيد سوق الوراقين ؟

السؤال الثاني : أكتب كلمة ( صواب ) أمام العبارة الصحيحة وكلمة ( خطأ ) أمام العبارة الخاطئة :

- ١- ( ) أنشأ معاوية بن أبي سفيان العديد من المصانع لبناء السفن وطور الموانئ البحرية
- ٢- ( ) أعاد عمرو بن العاص حفر قناة سيزوستريس واطلق عليها خليج العقبة
- ٣- ( ) من أسباب الحروب الصليبية تأمين طرق الحجاج المسيحيين إلى كنيسة القيامة
- ٤- ( ) كان للمماليك دور بارز في حماية مصر والعالم الاسلامي من خطر المغول
- ٥- ( ) التقى سيف الدين قطز بالمغول في معركة حطين وهزمهم

**Hany Nageh**

السؤال الثالث : أ ) أكمل العبارات الآتية مما بين القوسين:

( العسكر- مريم الاسطرلابي - جنكيز خان - ريتشارد قلب الاسد - المأمون بن هارون )

١- شهد عصر ..... اختراع الاسطرلاب لرصد النجوم وتحديد الاتجاهات

٢- اتخذ محمد بن طغج الاخشيد من مدينة ..... عاصمة لدولته

٣- حاول ملوك أوروبا استرداد بيت المقدس بقيادة ملك انجلترا .....

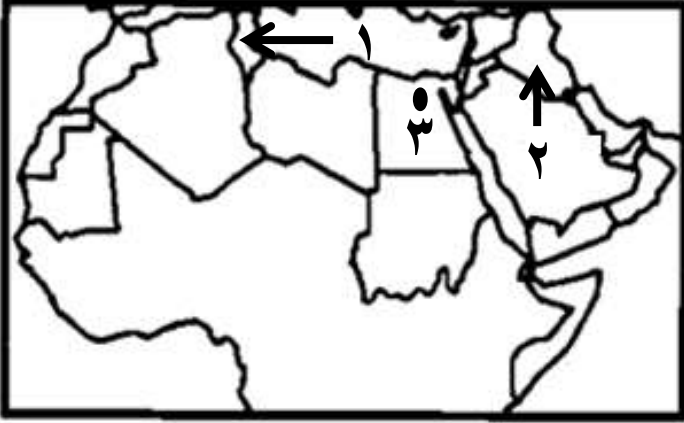
٤- توحدت قبائل المغول على يد .....

٥- ولدت العالمة ..... في حلب بسوريا

المادة / دراسات اجتماعية  
الصف / السادس الابتدائي  
الزمن / فترة دراسية

محافظة .....  
إدارة ..... التعليمية  
مدرسة .....

اختبار شهر مارس للعام الدراسي ٢٠٢٣ - ٢٠٢٤ م



السؤال الأول: أ ) أمامك خريطة صماء للوطن العربي

أكتب مدلول الأرقام الآتية :

- ١- دولة توجد بها مدينة القبروان.....
- ٢- مدينة تم إنشاء أول مرصد فلكي بها.....
- ٣- مدينة بناها القائد جوهر الصقلي.....

ب) بم تفسر :

١- بناء الخانات في عهد عمر بن عبد العزيز ؟

٢- أشار عمرو بن العاص على الخليفة عمر بن الخطاب بفتح مصر؟

السؤال الثاني : أكتب كلمة ( صواب ) أمام العبارة الصحيحة وكلمة ( خطأ ) أمام العبارة الخاطئة :

- ١- ( ) قام عبد الملك بن مروان بتعريب الدواوين وإنشاء أول دار لسك الدراهم والدنانير الإسلامية
- ٢- ( ) سميت الحروب الصليبية بهذا الاسم لانهم اتخذوا من الصليب شعارا لهم
- ٣- ( ) حاكم حصن الكرك الذي انتهك الهدنه هو بلدوين الرابع
- ٤- ( ) هزم المماليك الصليبيين في معركة فارسكور بالقرب من المنصورة
- ٥- ( ) قائد المغول في معركة عين جالوت هو جنكيز خان

**Hany Nageh**

السؤال الثالث : أ ) أكمل العبارات الآتية مما بين القوسين:

( احمد بن طولون - للحكم - نور الدين - أبي جعفر المنصور - هارون الرشيد )

- ١- بلغ العصر العباسي الاول ذروة المجد واتسعت رقعة الدولة الإسلامية في عهد .....
- ٢- أسس ..... الدولة الطولونية
- ٣- اهتم صلاح الدين الايوبي بإنشاء الحصون والقلاع لتكون مقراً ..... وتدريب الجيوش
- ٤- بعد مقتل "عز الدين أيبك" تم اعلان ابنه ..... سلطاناً على البلاد
- ٥- زبيده بنت جعفر كانت حفيدة.....