

سلاح التلميز

منذ عام ١٩٦٠

2025 - 2026



الدراسات الاجتماعية

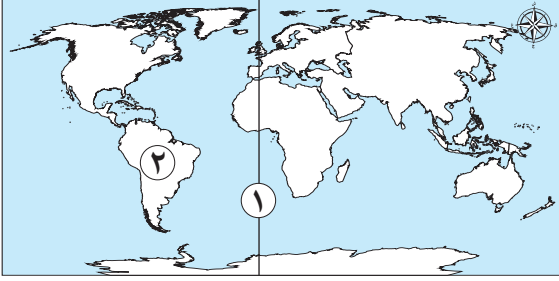
نماذج اختبارات

شهر مارس

طبقاً لآخر مواصفة للورقة الامتحانية

5

الفصل الدراسي الثاني



١ أ لاحظ خريطة العالم المقابلة، ثم أجب:

١ صوب: يشير رقم (١) إلى خط الاستواء.

(.....)

٢ تقع القارة رقم (٢) بأكملها في نصف الكرة

الأرضية.....

ب ما النتائج المترتبة على...؟

- وجود آبار بترول ومواد خام بمحافظة البحر الأحمر.

٢ أ اكتب كلمة (صواب) أمام العبارة الصحيحة، وكلمة (خطأ) أمام العبارة غير الصحيحة:

١ مساحة المكسيك تساوي مساحة مصر تقريباً. ()

٢ استخدام وسائل النقل المستدام أحد جهود الدولة لتطوير البيئة الحضرية. ()

ب دلل على صحة العبارة التالية:

- ينقسم سطح الأرض إلى مناطق حرارية مختلفة.

٣ أ اختر الإجابة الصحيحة مما بين القوسين:

١ يُعد معبد البارثينون أحد المظاهر الحضارية في قارة.....

(آسيا - أستراليا - أوروبا - إفريقيا)

٢ أقرب المسطحات المائية لمحافظة بورسعيد.....

(نهر النيل - البحر الأحمر - فرع دمياط - البحر المتوسط)

ب ما العلاقة بين كل من...؟

١ النشاط السياحي والبيئة الصحراوية.

٢ التربة الخصبة والنشاط الاقتصادي.

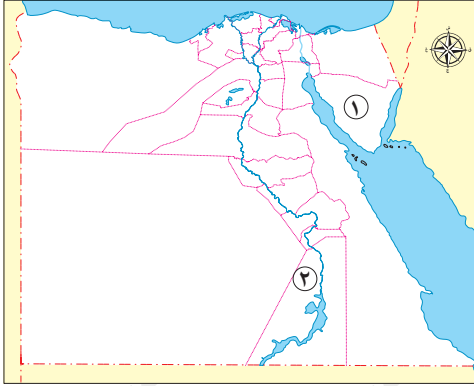


الاختبار الثاني



١٠

١ أ لاحظ الخريطة المقابلة، ثم اكتب كلمة (صواب) أو (خطأ) أمام كل عبارة مما يلي:



- ١ يشير رقم (١) إلى محافظة قليلة السكان. ()
٢ يشير رقم (٢) لإحدى مناطق البيئة الساحلية. ()

ب دّل على صحة العبارة التالية:

– تختلف مساحات المحافظات المصرية.

٢ أ اختر الإجابة الصحيحة مما بين القوسين:

- ١ تتعدد الأنشطة الاقتصادية في محافظة بورسعيد ومن أهمها
(تغليب الأسماك – الزراعة – استخراج البترول – التعدين)
٢ تقع مصر بالنسبة لدائرة الاستواء في المنطقة
(الحارة – المعتدلة – الباردة – القطبية)

ب بم تفسر...؟

– إعادة توزيع الأراضي الزراعية على الفلاحين بمصر بعد قيام ثورة ١٩٥٢م.

٣ أ أكمل كل عبارة مما يلي بما يناسبها من كلمات:

- ١ يعود هرم كوكولكان بالمكسيك إلى حضارة
٢ يوجد بقارة آسيا أعلى قمة جبلية في العالم وهي

ب أجب عما يأتي:

١ ما النتائج المترتبة على: عدم احترام الوقت في حياتنا؟

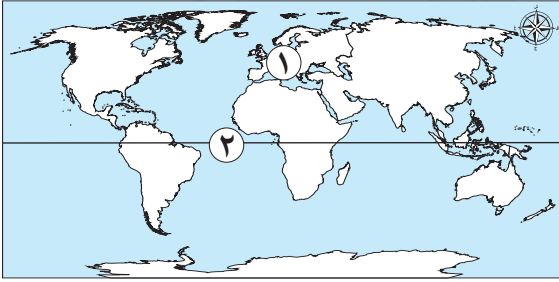
٢ وضح: أهم الحضارات التي نشأت في قارة آسيا.



الاختبار الثالث

١٠

١ أ لاحظ الخريطة المقابلة، ثم اختر الإجابة الصحيحة مما بين القوسين:



١ يشير رقم (١) إلى قارة

(آسيا - إفريقيا - أستراليا - أوروبا)

٢ يشير رقم (٢) إلى

(مدار الجدي - دائرة الاستواء - مدار السرطان -

القطب الشمالي)

ب حدد:

- اثنين من المحاصيل الزراعية التي تُزرع في البيئة الصحراوية.

٢ أ اكتب كلمة (صواب) أمام العبارة الصحيحة، وكلمة (خطأ) أمام العبارة غير الصحيحة:

١ يتركز النشاط الخدمي في المحافظات الحدودية. ()

٢ تشتهر مدينة بورسعيد بوجود ميناء بحري مهم. ()

ب كيف يمكن حساب الكثافة السكانية؟

٣ أ اكتب ما تشير إليه كل عبارة مما يلي:

١ اللغة الرسمية لدولة المكسيك. (.....)

٢ كل ما يحيط بالإنسان يؤثر فيه ويتأثر به. (.....)

ب بم تفسر...؟

١ يغلب المظهر الهضبي على قارة إفريقيا.

٢ وجود فروق في التوقيت بين دول العالم.

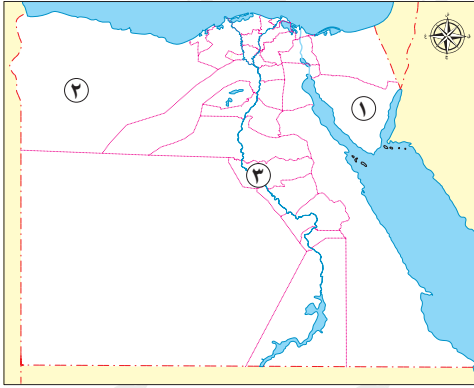


الاختبار الرابع



١٠

١ أ لاحظ خريطة مصر المقابلة، ثم ضع الرقم المناسب أمام كل عبارة مما يلي:



١ محافظة حدودية تجاور ليبيا والبحر المتوسط يشير

لها الرقم. ()

٢ إحدى مناطق البيئة الزراعية يشير لها الرقم ()

ب حدد اسم المسطحات المائية المحيطة بقارة إفريقيا.

٢ أ اختر الإجابة الصحيحة مما بين القوسين:

١ أصغر المحافظات المصرية من حيث المساحة

(القاهرة - دمياط - الجيزة - الشرقية)

٢ تقع محافظة بورسعيد على خريطة مصر في اتجاه

(الشمال الشرقي - الجنوب الغربي - الشمال الغربي - الجنوب الشرقي)

ب دال على صحة العبارة التالية:

- تتنوع الأنشطة الاقتصادية في البيئة الصحراوية.

٣ صوب ما تحته خط فيما يلي:

١ العملة الرسمية لدولة المكسيك هي اليورو الأوروبي. (.....)

٢ يمثل خط جرينتش المرجع الأساسي للمناخ. (.....)

ب ما المقصود بكل من ...؟

١ المنطقة الحرارية.

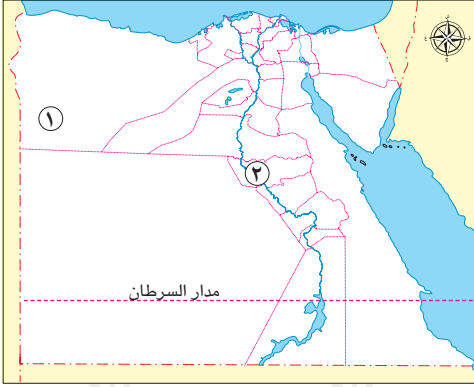
٢ التراث الثقافي.



الاختبار الخامس

١٠

١ أ لاحظ خريطة مصر المقابلة، ثم أجب:



- ١ صواب أم خطأ: يشير رقم (١) لإحدى مناطق البيئة الزراعية في مصر. ()
- ٢ يشير رقم (٢) إلى المنطقة الحرارية.....

ب ما المقصود ب...؟

الأنشطة الاقتصادية.

٢ أ اكتب كلمة (صواب) أمام العبارة الصحيحة، وكلمة (خطأ) أمام العبارة غير الصحيحة:

- ١ توجد جبال الألب في قارة إفريقيا. ()
- ٢ احترام المهن من الصفات التي يجب أن يتحلى بها المواطن الصالح. ()

ب حدد:

القارات التي تطل على المحيط الهندي.

٣ أ أكمل كل عبارة مما يلي بما يناسبها من كلمات:

- ١ تقع دولة المكسيك في قارة.....
- ٢ تدعم محافظة بورسعيد نشاط النقل.....

ب أجب عما يلي:

- ١ بم تفسر: يعمل كثير من سكان محافظة دمياط بمهنة صيد الأسماك؟

- ٢ دلل على صحة العبارة: تؤثر دوائر العرض على المناخ.

سلاح التلميذ

منذ عام ١٩٦٠

2025 - 2026



الدراسات الاجتماعية

إجابات نماذج اختبارات

شهر مارس

5

الفصل الدراسي الثاني

إجابة الاختبار الأول

١ أ ١ جرينتش.

٢ ب الغربي.

ب أدى ذلك إلى انتشار النشاط التعديني في المحافظة، وعمل السكان في استخراج المعادن ومصادر الطاقة.

٢ أ ١ خطأ.

٢ ب صواب.

ب حيث تنقسم الأرض إلى عدة مناطق حرارية هي: المنطقة الحارة حول دائرة الاستواء، والمنطقة المعتدلة بين المدارين

والدائرتين القطبيتين، والمنطقة الباردة حول القطبين.

٣ أ ١ أوروبا.

٢ ب البحر المتوسط.

ب ١ تقوم في البيئة الصحراوية بعض الأنشطة السياحية مثل سياحة السفاري والسياحة البيئية.

٢ وجود التربة الخصبة يؤدي إلى انتشار النشاط الزراعي بين السكان في بعض المحافظات.

إجابة الاختبار الثاني

١ أ ١ صواب.

٢ ب خطأ.

ب حيث توجد محافظات مساحتها كبيرة جداً مثل محافظة الوادي الجديد، ومحافظات مساحتها صغيرة

مثل محافظة دمياط.

٢ أ ١ تغليب الأسماك.

٢ ب المعتدلة.

ب لتحسين أوضاعهم.

٣ أ ١ المايا.

٢ ب إفراست.

ب ١ عدم تعلم الفرد للمسئولية وعدم الانتظام في الحياة اليومية.

٢ حضارة العراق القديم والصين القديمة والحضارة الهندية.

إجابة الاختبار الثالث

١ أ ١ أوروبا.

٢ ب دائرة الاستواء.

ب النخيل، والزيتون.

٢ أ ١ خطأ.

٢ ب صواب.

ب عن طريق قسمة عدد السكان على المساحة الكلية (عدد السكان / المساحة).

٣ أ ١ الإسبانية.

٢ ب البيئة.

- ب ١ بسبب كثرة الهضاب الموجودة بها، حيث تشغل الهضاب مساحات واسعة منها.
٢ بسبب اختلاف موقعها بالنسبة لخطوط الطول.

إجابة الاختبار الرابع

- ١ أ ١ (٢).
ب - من الشمال: البحر المتوسط.
- من الشرق: البحر الأحمر، والمحيط الهندي.
- من الغرب: المحيط الأطلسي.
- ٢ أ ١ ديماط. ٢ الشمال الشرقي.
ب حيث يمارس السكان نشاط الرعي، والزراعة في الواحات، والتعدين واستخراج البترول، والسياحة.
- ٣ أ ١ البيزو المكسيكي. ٢ للتوقيت.
ب هي مساحة على الكرة الأرضية تتشابه في خصائصها المناخية.
٢ هوية الشعوب التي تميزها، وتشمل لغاتهم وفنونهم وعاداتهم وتقاليدهم.

إجابة الاختبار الخامس

- ١ أ ١ خطأ. ٢ المعتدلة.
ب كل ما يقوم به الإنسان من أعمال ومشروعات لتلبية احتياجاته.
- ٢ أ ١ خطأ. ٢ صواب.
ب قارة آسيا، قارة إفريقيا، قارة أستراليا.
- ٣ أ ١ أمريكا الشمالية. ٢ البحري.
ب لأنها محافظة ساحلية تطل على البحر المتوسط، مما يشجع على قيام حرفة الصيد.
٢ حيث كلما اقتربنا من دائرة الاستواء ترتفع درجات الحرارة، وكلما ابتعدنا عن دائرة الاستواء تنخفض درجات الحرارة.

تطبيق



مذكرات جاهزة للطباعة

لتحميل الملفات التعليمية مجاناً للمعلم والطالب

مذكرات وملازم / مراجعات وملخصات / امتحانات / كتب الوزارة /
أدلة المعلم / دفاتر التحضير / سجلات مدرسية / أوراق تأسيس

امسح الكود بموبايلك علشان تقدر تثبت التطبيق

وتقدر ف أي وقت تحمّل ال نفسك فيه ببلاش

هيغنيك عن البحث والجروبات والقنوات الكثيرة

