

## بنك أسئلة البروفيسور الشامل في مادة " الدراسات الاجتماعية "

## علي مقررات شهر فبراير

س ١ : أكمل العبارات الآتية بما يناسبها من كلمات : -

- ١- تم تقسيم خريطة العالم إلى نصفين شمالي وجنوبي بواسطة .....
- ٢- قسمت خريطة العالم إلى نصفين شرقي وغربي بواسطة .....
- ٣- تقع قارتا أمريكا الشمالية والجنوبية في نصف الكرة .....
- ٤- أعلى قمة جبلية في العالم هي .....
- ٥- أعلى هضاب العالم توجد في قارة .....
- ٦- أشهر الخصائص الجغرافية في قارة إفريقيا هي هضبة .....
- ٧- تمتاز قارة أمريكا الجنوبية بكثرة الغابات مثل غابات .....
- ٨- أعظم الحضارات التي عرفها التاريخ قامت في قارة .....
- ٩- نشأت على أراضي قارة آسيا حضارات عديدة مثل حضارة ..... وحضارة .....
- ١٠- قامت على أرض قارنا أمريكا الشمالية والجنوبية حضارات قديمة مثل حضارة ..... وحضارة .....
- ١١- يختلف ..... من دولة لأخرى على حسب موقعها من دوائر العرض .
- ١٢- كلما ابتعدنا عن دائرة الاستواء ..... درجات الحرارة .
- ١٣- تقع المنطقة الحرارية الحارة حول دائرة .....
- ١٤- إذا اتجهنا ..... نتقدم في الوقت .
- ١٥- يمثل خط الطول الرئيسي .....
- ١٦- تتميز البيئة الريفية بتوافر ..... و .....
- ١٧- يزداد النشاط ..... في البيئة الريفية .
- ١٨- تتميز البيئة الحضرية بالتخطيط ..... وجودة .....
- ١٩- تمتد البيئة الساحلية في مصر بمحاذاة البحرين ..... و .....
- ٢٠- أول نموذج لمدينة حضرية في تاريخ مصر القديم مدينة .....
- ٢١- من الصناعات التحويلية المنتشرة بالبيئة الحضرية في مصر .....
- ٢٢- من المحافظات الحضرية تماما في مصر محافظة ..... و .....
- ٢٣- تقع المحافظة الحدودية على أطراف حدود مصر ..... أو .....

مراجعة + بنك أسئلة



- ٢٤ - من المحافظات المصرية ذات المساحة الصغيرة محافظة .....
- ٢٥ - من المحافظات المصرية التي فيها عدد سكان كبير محافظة .....
- ٢٦ - من المحافظات المصرية التي عدد سكانها قليل محافظة .....
- ٢٧ - ينتشر في المحافظة التي تقع على سطح مائي حرفة .....
- ٢٨ - الكثافة السكانية تساوى .....
- ٢٩ - تتنوع التضاريس بالمكسيك ما بين ..... و ..... و .....
- ٣٠ - تساوى مساحة المكسيك ..... مساحة مصر تقريبا .
- ٣١ - تتميز المكسيك باتساع مساحة سواحلها على المحيطين ..... و .....
- ٣٢ - يقوم اقتصاد المكسيك على ..... و .....
- ٣٣ - تعد المكسيك من أكبر مصدري ..... و ..... في العالم .

س ٢ : اكتب كلمة (صواب) أمام العبارة الصحيحة، وكلمة (خطأ) أمام العبارة غير الصحيحة : -

- ١ - تتميز كل قارة ببعض الخصائص الجغرافية التي تميزها عن غيرها من القارات . ( )
- ٢ - توجد أعلى قمة جبلية في العالم في قارة إفريقيا . ( )
- ٣ - تتميز قارة أوروبا بتنوع تضاريسها . ( )
- ٤ - تتسم قارة أمريكا الشمالية بشكلها الأقرب إلى شكل المثلث . ( )
- ٥ - تتسم قارة أمريكا الجنوبية بأن معظم أراضيها صحراوية وجبلية . ( )
- ٦ - تتميز القارة القطبية الجنوبية بوجود المناطق شديدة البرودة التي يغطيها الجليد طوال العام . ( )
- ٧ - تتميز كل قارة من قارات العالم بتراث حضاري وثقافي كبير على مر العصور . ( )
- ٨ - شهدت قارتا أمريكا الشمالية والجنوبية قيام حضارات مثل حضارة الإنكا والمايا . ( )
- ٩ - نشأت على أراضي قارة إفريقيا حضارات عديدة مثل حضارة العراق القديم . ( )
- ١٠ - تؤثر دوائر العرض على فرق التوقيت بين بلدان العالم . ( )
- ١١ - تقسم دوائر العرض الأرض لمناطق حرارية . ( )
- ١٢ - يمثل خط جرينتش ( صفر ) المرجع الأساسي للتوقيت . ( )
- ١٣ - كلما اقتربنا من دائرة الاستواء انخفضت درجات الحرارة . ( )
- ١٤ - تقع المنطقة الباردة حول دائرة الاستواء . ( )
- ١٥ - تتشابه البيئات المصرية في خصائصها . ( )
- ١٦ - تتأثر البيئة الحضرية بالتغيرات التكنولوجية والاجتماعية . ( )



٦- قارة نشأت على أرضها حضارتا اليونان والرومان في العصور القديمة.....

( آسيا - إفريقيا - أوروبا - أستراليا ) .

٧- تقع المنطقة المعتدلة في نصف الكرة الشمالي ما بين.....

( مدار السرطان والدائرة القطبية الشمالية - مدار الجدى والدائرة القطبية الجنوبية - مدار

السرطان ودائرة الاستواء - دائرة الاستواء ومدار الجدى )

٨- تقع المنطقة الحرارية..... حول القطبين .

( الحارة - المعتدلة - الباردة - المطيرة ) .

٩- كلما اقتربنا من ارتفعت درجة الحرارة.....

( مدار السرطان - دائرة الاستواء - مدار الجدى - القطب الشمالي ) .

١٠- كلما اتجهنا غرب..... تأخرنا في الوقت .

( خط جرينتش - القطب الجنوبي - دائرة الاستواء - مدار السرطان ) .

١١- يصنف منخفض الفيوم ضمن البيئة.....

( الريفية - الحضرية - الصحراوية - الساحلية ) .

١٢- تعد البيئة..... مصدرا أساسيا للعديد من المعادن ومصادر الطاقة .

( الريفية - الحضرية - الساحلية - الصحراوية ) .

١٣- أكبر البيئات المصرية من حيث المساحة البيئة.....

( الحضرية - الصحراوية - الساحلية - الريفية ) .

١٤- من جهود الدولة لتطوير البيئة الساحلية إنشاء مدن جديدة مثل مدينة.....

( القاهرة - الجيزة - العلمين الجديدة - حلوان ) .

١٥- يقل النبات الطبيعي في البيئة الصحراوية بسبب.....

( التلوث - خصوبة التربة - غزارة الأمطار - الجفاف ) .

١٦- تتبع واحة الفرازة البيئة.....

( الصحراوية - الريفية - الساحلية - الحضرية ) .

١٧- من المحافظات المصرية التي تتمتع بمساحة كبيرة محافظة.....

( القاهرة - الجيزة - الوادى الجديد - كفر الشيخ ) .

١٨- ينخفض عدد السكان في مصر بمحافظه.....

( القاهرة - الجيزة - الإسكندرية - جنوب سيناء ) .

- ١٩- تنتشر المهن الخدمية بشكل ملحوظ في المحافظات التي توجد بها.....
- ( مسطح مائي - تربة خصبة - المدن الكبرى - آبار البترول ) .
- ٢٠- وجود الأماكن الأثرية بالمحافظة ساعد على انتشار النشاط.....
- ( الزراعي - السياحي - الصناعي - التعدين ) .
- ٢١- وجود التربة الخصبة والمياه العذبة بالمحافظة ساعد على انتشار النشاط.....
- ( الزراعي - السياحي - الصناعي - التعدين ) .
- ٢٢- تطل المكسيك على المحيط.....
- ( الأطلنطي - الهندي - المتجمد الشمالي - المتجمد الجنوبي ) .
- ٢٣- يقوم اقتصاد المكسيك على حرفة.....
- ( التعدين - التجارة - السياحة - الزراعة ) .
- ٢٤- تعد اللغة الرسمية لدولة المكسيك اللغة.....
- ( البرتغالية - الفرنسية - الإسبانية - الإنجليزية ) .
- ٢٥- يعود هرم كوكولكان في المكسيك إلى حضارة.....
- ( الإنكا - المايا - الهند - الأزتک ) .
- ٢٦- إحدى الحضارات القديمة وأهم ما يميزها وجود الأهرامات الحضارة.....
- ( الهندية القديمة - الصينية القديمة - المصرية القديمة - بلاد العراق ) .

### س ٤ : أكتب ما تشير إليه العبارات الآتية : -

- ١- دائرة تقسم خريطة العالم إلى نصفين هما نصف الكرة الشمالي ونصف الكرة الجنوبي .
- ٢- خط يقسم خريطة العالم إلى نصف الكرة الشرقي ونصف الكرة الغربي .
- ٣- قارة تتميز بشكلها الهضبي بسبب تعدد الهضاب بها .
- ٤- قارة تتميز بتنوع تضاريسها، ومن أشهر جبالها جبال الألب .
- ٥- قارة تتميز بأن معظم أراضيها أراض صحراوية وجبلية .
- ٦- قارة شهدت أراضيها قيام حضارتي اليونان والرومان في العصور القديمة .
- ٧- هو موقع المكان بالنسبة لخطوط الطول ودوائر العرض .
- ٨- مساحة على الكرة الأرضية تتشابه في خصائصها المناخية .
- ٩- كل ما يحيط بالإنسان، يؤثر فيه ويتأثر به .
- ١٠- البيئة التي تنتشر بها القرى، ويزداد بها النشاط الزراعي .



١١- بيئة شيدها الإنسان، وتشمل المدن والمناطق العمرانية، وتتأثر بالتغيرات التكنولوجية والاجتماعية .

١٢- البيئة التي توجد بها مساحة واسعة من الرمال والجبال، وتتميز بندرة الأمطار وارتفاع درجة الحرارة وقلة عدد السكان .

١٣- المناطق السهلية (المستوية) الممتدة بمحاذاة البحرين الأحمر والمتوسط وخليجي العقبة والسويس .

١٤- كل ما يقوم به الإنسان من أعمال ومشروعات لتلبية احتياجاته .

١٥- المحافظة التي تقع على أطراف حدود مصر البرية أو البحرية .

١٦- متوسط عدد السكان الذين يعيشون في الكيلومتر مربع الواحد من المساحة .

س ٥ : صوب ما تحته خط : -

١- تعد مدينة منف أول نموذج لمدينة حضرية شيدها الملك **منتوحتب** .

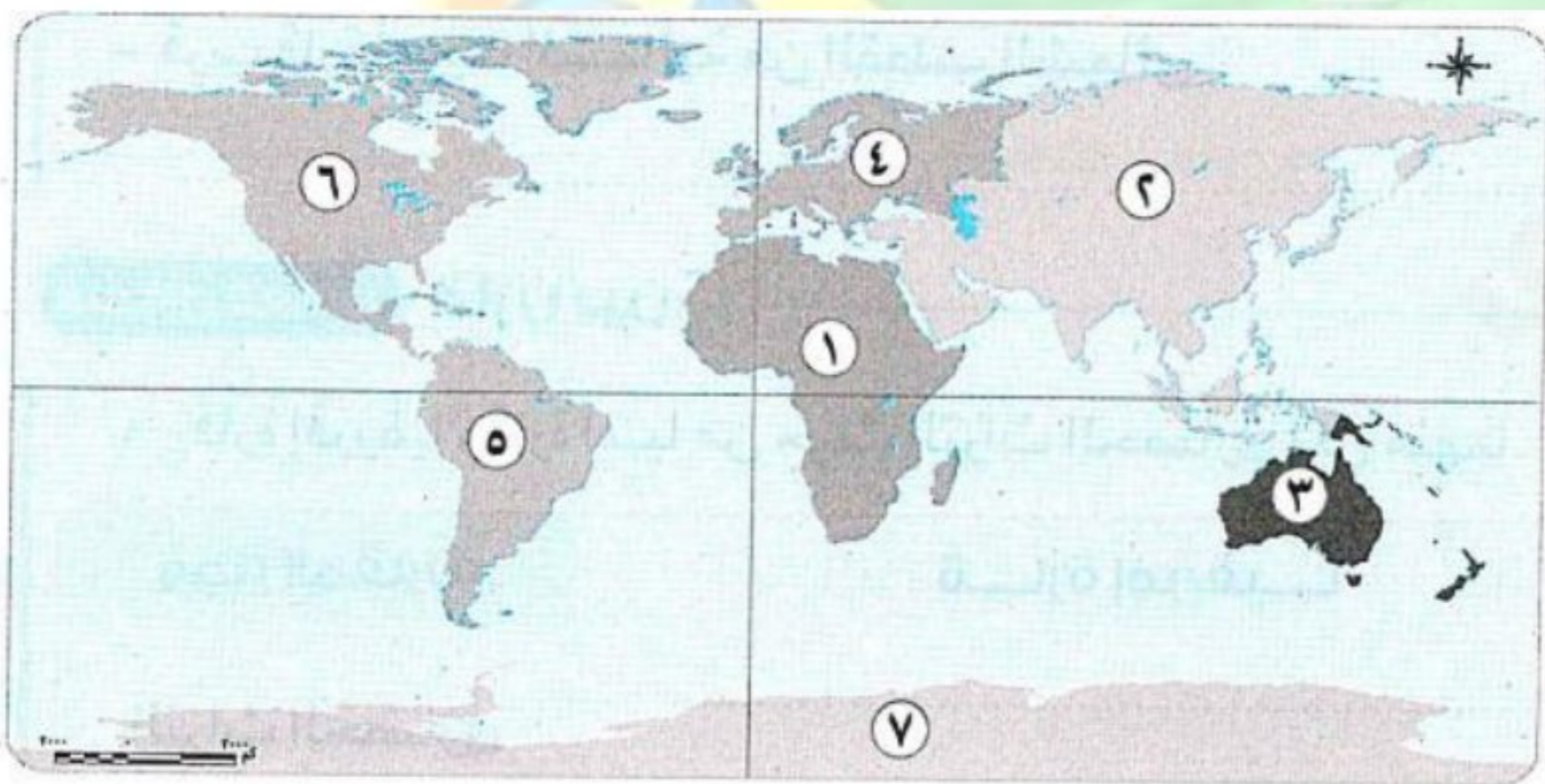
٢- من المحاصيل المميزة في البيئة الصحراوية **القمح** .

٣- من الصناعات الخفيفة بالبيئة الحضرية صناعة **الحديد والصلب** .

٤- تتميز البيئة **الساحلية** بتفاوت كبير في درجات الحرارة .

س ٦ : الخرائط : -

١ : أمامك خريطة صماء للعالم، اكتب مدلول الأرقام الموقعة عليها : -



١- قارة .....

٢- قارة .....

٣- قارة .....

٤- قارة .....

٥- قارة .....

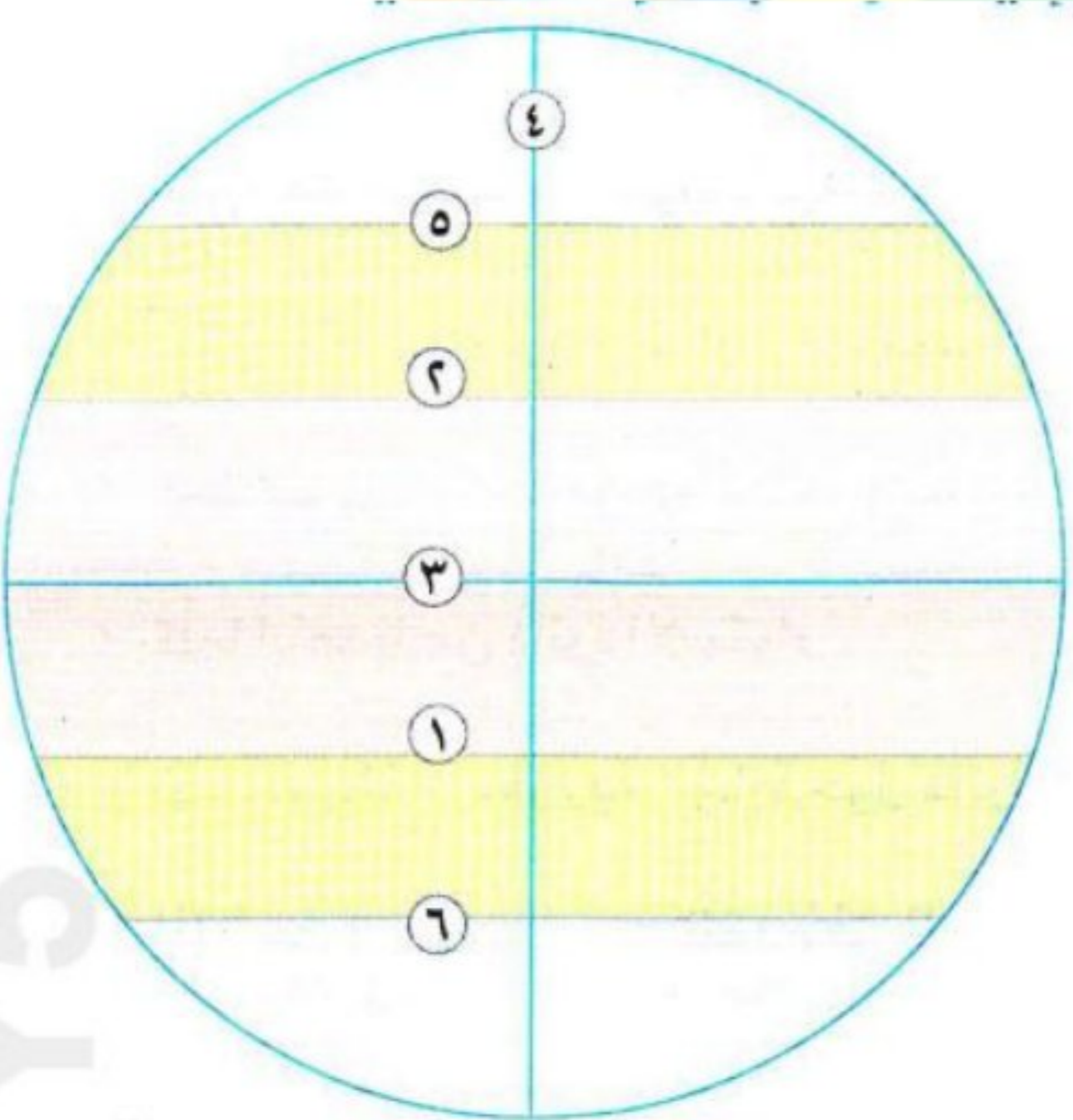
٦- قارة .....

٧- قارة .....

٢ : ادرس خريطة العالم، ثم أجب عن الأسئلة التالية : -

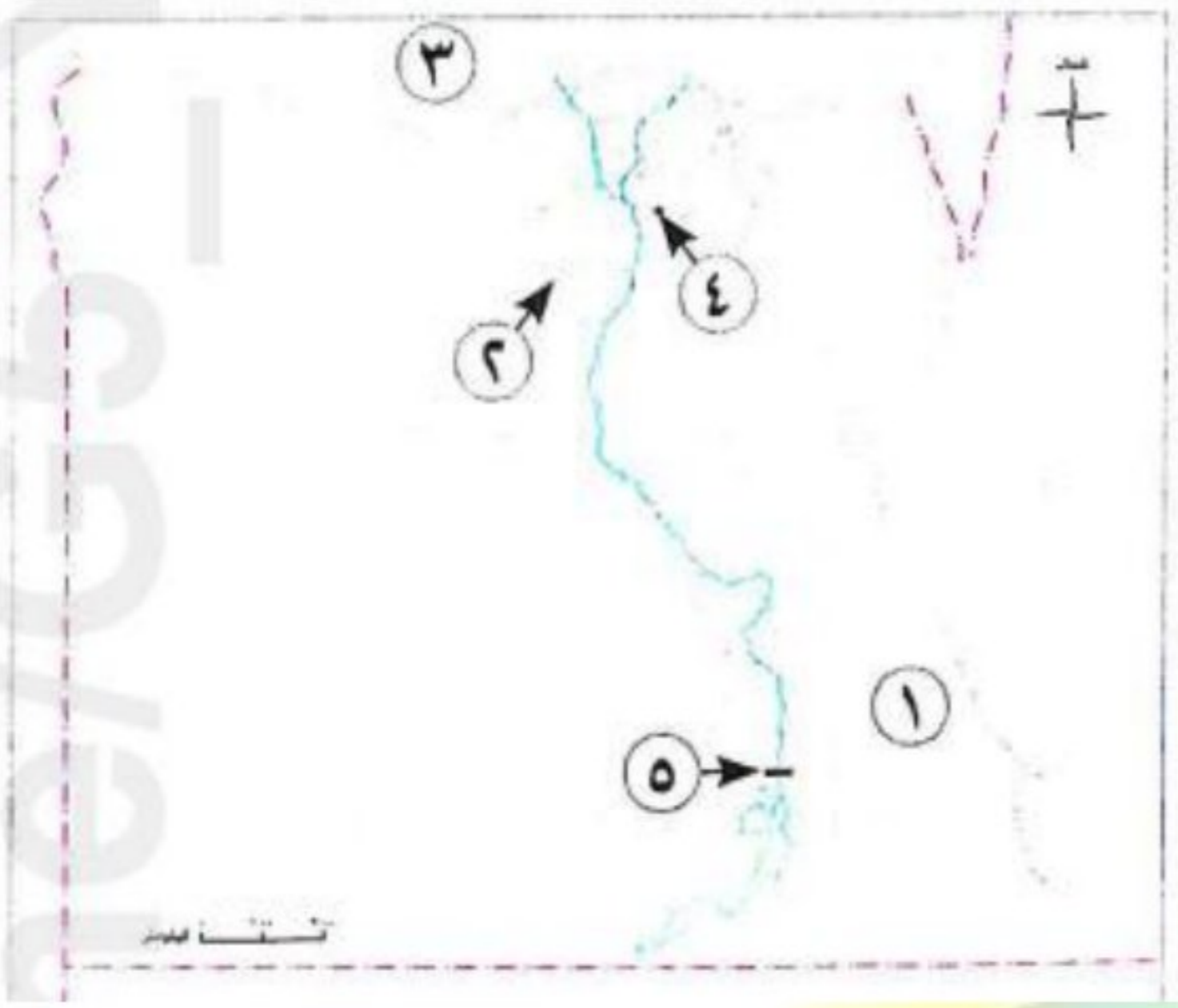


- ١ - القارات التي تقع بالكامل في نصف الكرة الجنوبي ..... و .....
  - ٢ - القارات التي تقع بالكامل في نصف الكرة الشمالي ..... و .....
  - ٣ - تقع قارتا ..... و ..... في نصف الكرة الشرقي .
  - ٤ - تقع قارتا أمريكا الشمالية والجنوبية في نصف الكرة .....
  - ٥ - يحد قارة أمريكا الشمالية والجنوبية من جهة الشرق المحيط .....
  - ٦ - يحد قارة آسيا من جهة الشرق المحيط .....
  - ٧ - يحد قارة أنتاركتيكا من جهة الشمال المحيط .....
  - ٨ - يحد قارة أوروبا من جهة الشمال المحيط .....
- ٢ : أمامك مجسم للكرة الأرضية، اكتب ما تشير إليه الأرقام الموقعة عليه : -



- ١ - مدار .....
- ٢ - مدار .....
- ٣ - دائرة .....
- ٤ - خط .....
- ٥ - الدائرة .....
- ٦ - الدائرة .....

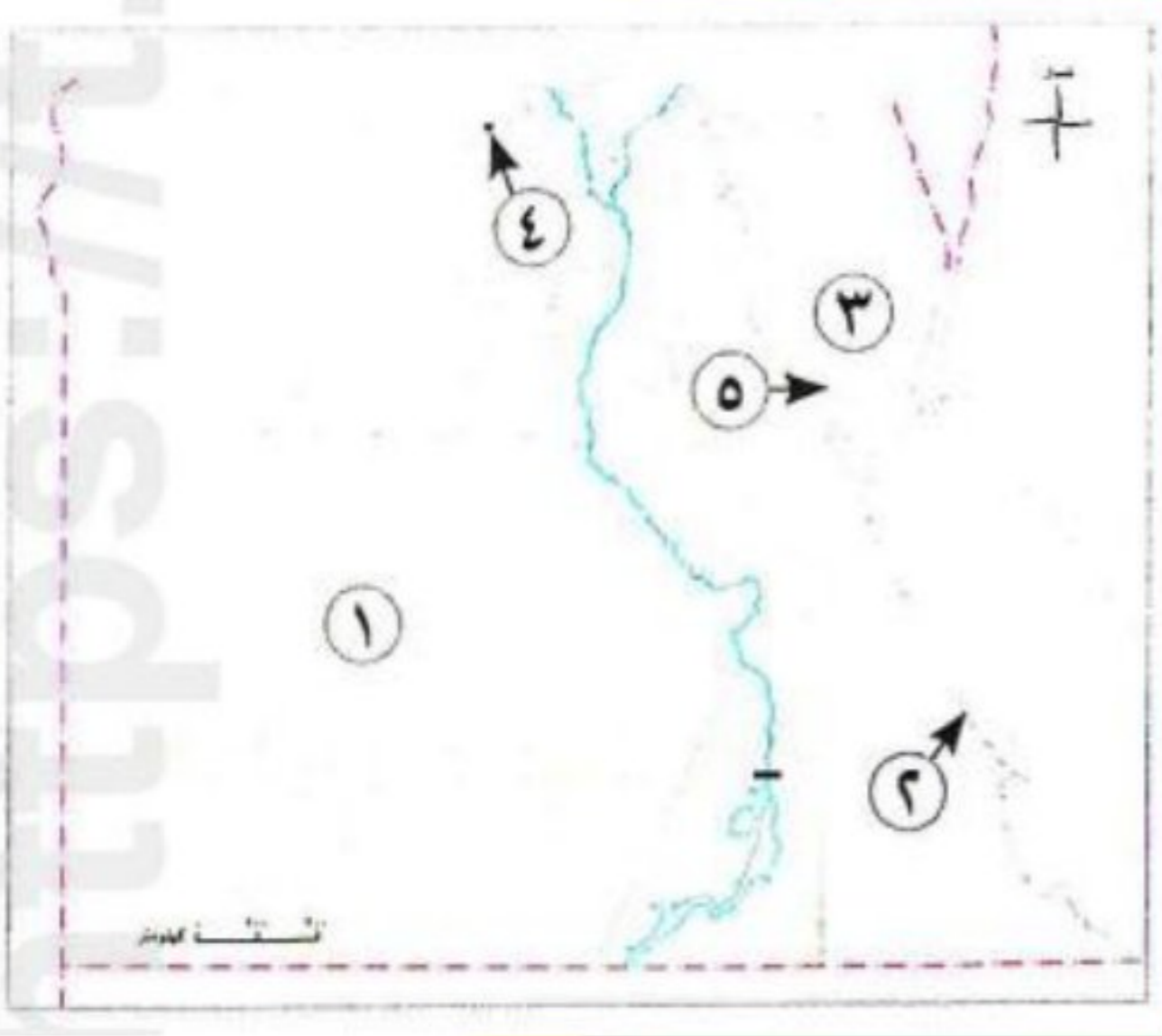
٣ : أمامك خريطة صماء لمصر، اكتب ما تدل عليه الأرقام : -



- ١- الصحراء .....
- ٢- منخفض .....
- ٣- البحر .....
- ٤- محافظة حضرية .....
- ٥- السد .....

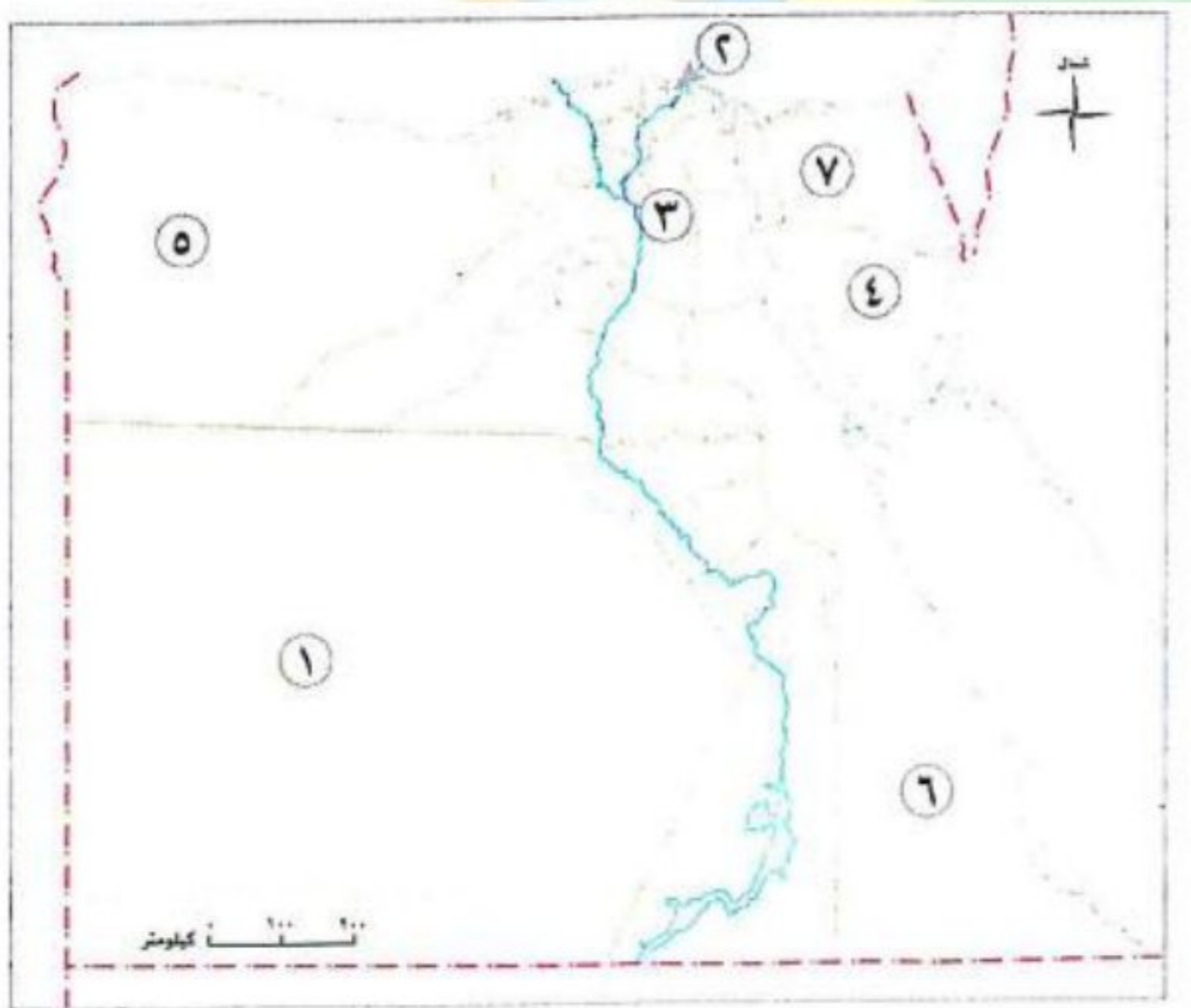
مراجعة + بنك أسئلة

٤ : أمامك خريطة صماء لمصر، اكتب ما تدل عليه الأرقام : -



- ١- البيئة .....
- ٢- البيئة .....
- ٣- شبه جزيرة .....
- ٤- محافظة حضرية .....
- ٥- خليج .....

٥ : أمامك خريطة صماء لمصر، وضح مدلول الأرقام الموقعة عليها : -



- ١- محافظة مساحتها كبيرة .....
- ٢- محافظة مساحتها صغيرة .....
- ٣- محافظة عدد سكانها كبير .....
- ٤- محافظة عدد سكانها قليل .....
- ٥- محافظة حدودية .....
- ٦- محافظة حدودية .....
- ٧- محافظة حدودية .....



٧- أهمية البيئة الصحراوية .

٨- ينتشر نشاط صيد الأسماك في محافظتي السويس والإسكندرية .

٩- انتشار النشاط الزراعي في محافظتي الشرقية والغربية .

مراجعة + بنك أسئلة

١٠- انتشار الأنشطة السياحية في محافظة الأقصر .

١١- انتشار النشاط التعديني في محافظة السويس .

١٢- تزدحم محافظات الوادي والدلتا مثل : القاهرة والجيزة والشرقية بالسكان .

١٣- اختلاف المناخ من دولة لأخرى .

١٤- أهمية دوائر العرض مناخياً .

١٥- أهمية خطوط الطول .

س٨ : ما النتائج المترتبة على : -

١- قرب قارة أمريكا الشمالية من القطب الشمالي .

٢- اشتهار البيئة الساحلية بشواطئها الرملية ومناظرها الطبيعية الخلابة .

٣- انتشار الجفاف في البيئة الصحراوية .



٤- وجود الأماكن الأثرية في محافظة الأقصر .

٥- وقوع محافظة بورسعيد على سطح مائي .

٦- وجود آبار بترول ومواد خام في بعض المحافظات المصرية .

س٩ : دال على صحة العبارات الآتية : -

١- عملت الدولة على تطوير البيئة الريفية .

٢- تتعدد الأنشطة الاقتصادية التي يمارسها سكان البيئة الحضرية .

٣- قيام الدولة بتطوير البيئة الحضرية .

٤- قيام الدولة بتطوير البيئة الصحراوية .

٥- تنوع الأنشطة الاقتصادية بالبيئة الساحلية .

٦- تؤثر البيئة بشكل كبير على نوعية الأنشطة التي يمارسها السكان .

٧- تختلف المحافظات المصرية من حيث المساحة .



٤ : صنف الأماكن التالية حسب البيئة التي تنتمي لها : -

- ١- المدن التي تقع داخل الدلتا .
- ٢- منخفض القطارة .
- ٣- المدن التي تقع على ساحل خليج العقبة .
- ٤- محافظة السويس .

٥ : صنف الظواهر التضاريسية والحضارات القديمة التالية إلى القارة التي تنتمي إليها : -

- ١- هضبة التبت .....
- ٢- جبال الألب .....
- ٣- حضارة العراق القديم .....
- ٤- حضارة اليونان .....
- ٥- حضارة الإنكا .....
- ٦- الحضارة المصرية القديمة .....
- ٧- غابات الأمازون .....

٦ : صنف المحافظات المصرية التالية إلى النشاط الاقتصادي المنتشر بها : -

( القاهرة - الجيزة - الشرقية - الغربية - الأقصر - أسوان - بورسعيد - الإسماعيلية )

النشاط الزراعي	المهن الخدمية	النشاط السياحي	صيد الأسماك

٧ : ما أوجه الاختلاف بين : -

١- محافظة السويس ومحافظة الأقصر .

محافظة الأقصر	محافظة السويس	-
		أوجه الاختلاف



٨- محافظة دمياط ومحافظة الوادي الجديد .

محافظة الوادي الجديد	محافظة دمياط	-
		أوجه الاختلاف

٩- محافظة جنوب سيناء ومحافظة القاهرة .

محافظة القاهرة	محافظة جنوب سيناء	-
		أوجه الاختلاف

مراجعة + بنك أسئلة

س ١١ : قارن بين : -

١- قارة إفريقيا وقارة آسيا من حيث التراث الحضاري لكل منهما .

قارة آسيا	قارة إفريقيا	وجه المقارنة
		التراث الحضاري

٢- قارة أوروبا وقارتي أمريكا الشمالية والجنوبية من حيث التراث الحضاري لكل منهما .

قارتا أمريكا الشمالية والجنوبية	قارة أوروبا	وجه المقارنة
		التراث الحضاري

٣ : أجب عن الأسئلة التالية : -

١- حدد أوجه الشبه والاختلاف بين دائرة الاستواء وخط جرينتش .

وجه المقارنة	دائرة الاستواء	خط جرينتش
أوجه الشبه		
أوجه الاختلاف		

٤- البيئة الريفية والبيئة الحضرية من حيث أهم الأنشطة الاقتصادية بهما .

وجه المقارنة	البيئة الريفية	البيئة الحضرية
أهم الأنشطة الاقتصادية بهما		

٥- البيئة الساحلية والبيئة الصحراوية من حيث أهم الأنشطة الاقتصادية بهما .

وجه المقارنة	البيئة الساحلية	البيئة الصحراوية
أهم الأنشطة الاقتصادية بهما		

س ١٢ : أجب عما يأتي : -

١- دال على صحة العبارات الآتية : تتميز قارة آسيا ببعض الخصائص الجغرافية التي تميزها عن غيرها .

٢- حدد أهم الخصائص الجغرافية لقارة أمريكا الجنوبية .

مراجعة + بنك أسئلة

٣- حدد أهم السمات الجغرافية لقارة أستراليا .

# البروفيسور

أ / أحمد المراكبي



## بنك أسئلة البروفيسور الشامل في مادة " الدراسات الاجتماعية "

## علي مقررات شهر فبراير

س ١ : أكمل العبارات الآتية بما يناسبها من كلمات : -

- ١- تم تقسيم خريطة العالم إلى نصفين شمالي وجنوبي بواسطة دائرة الاستواء .
- ٢- قسمت خريطة العالم إلى نصفين شرقي وغربي بواسطة خط جرينتش .
- ٣- تقع قارتا أمريكا الشمالية والجنوبية في نصف الكرة الغربي .
- ٤- أعلى قمة جبلية في العالم هي قمة إفرست .
- ٥- أعلى هضاب العالم توجد في قارة آسيا .
- ٦- أشهر الخصائص الجغرافية في قارة إفريقيا هي هضبة إفريقيا الشمالية .
- ٧- تمتاز قارة أمريكا الجنوبية بكثرة الغابات مثل غابات الأمازون .
- ٨- أعظم الحضارات التي عرفها التاريخ قامت في قارة إفريقيا .
- ٩- نشأت على أراضي قارة آسيا حضارات عديدة مثل حضارة الصين القديمة وحضارة العراق القديم .
- ١٠- قامت على أرض قارنا أمريكا الشمالية والجنوبية حضارات قديمة مثل حضارة الأزتك وحضارة المايا .
- ١١- يختلف المناخ من دولة لأخرى على حسب موقعها من دوائر العرض .
- ١٢- كلما ابتعدنا عن دائرة الاستواء انخفضت درجات الحرارة .
- ١٣- تقع المنطقة الحرارية الحارة حول دائرة الاستواء .
- ١٤- إذا اتجهنا شرقا نتقدم في الوقت .
- ١٥- يمثل خط الطول الرئيسي جرينتش .
- ١٦- تتميز البيئة الريفية بتوافر التربة الخصبة و المياه العذبة .
- ١٧- يزداد النشاط الزراعي في البيئة الريفية .
- ١٨- تتميز البيئة الحضرية بالتخطيط العمراني وجودة البنية التحتية .
- ١٩- تمتد البيئة الساحلية في مصر بمحاذاة البحرين الأحمر و المتوسط .
- ٢٠- أول نموذج لمدينة حضرية في تاريخ مصر القديم مدينة منف .
- ٢١- من الصناعات التحويلية المنتشرة بالبيئة الحضرية في مصر الحديد والصلب .
- ٢٢- من المحافظات الحضرية تماما في مصر محافظة القاهرة و السويس .
- ٢٣- تقع المحافظة الحدودية على أطراف حدود مصر البرية أو البحرية .

مراجعة + بنك أسئلة

٢٤ - من المحافظات المصرية ذات المساحة الصغيرة محافظة **دمياط** .

٢٥ - من المحافظات المصرية التي فيها عدد سكان كبير محافظة **القاهرة** .

٢٦ - من المحافظات المصرية التي عدد سكانها قليل محافظة **جنوب سيناء** .

٢٧ - ينتشر في المحافظة التي تقع على سطح مائي حرفة **صيد الأسماك** .

٢٨ - الكثافة السكانية تساوي **عدد السكان** مقسوما على **المساحة** .

٢٩ - تتنوع التضاريس بالمكسيك ما بين **جبال** و **هضاب** و **سهول** .

٣٠ - تساوي مساحة المكسيك **ضعف** مساحة مصر تقريبا .

٣١ - تتميز المكسيك باتساع مساحة سواحلها على المحيطين **الأطلسي** و **الهادي** .

٣٢ - يقوم اقتصاد المكسيك على **الزراعة** و **الصناعة** .

٣٣ - تعد المكسيك من أكبر مصدري **الفواكه** و **الخضروات** في العالم .

س ٢ : اكتب كلمة (صواب) أمام العبارة الصحيحة، وكلمة (خطأ) أمام العبارة غير الصحيحة : -

- ١ - تتميز كل قارة ببعض الخصائص الجغرافية التي تميزها عن غيرها من القارات . ( ✓ )
- ٢ - توجد أعلى قمة جبلية في العالم في قارة إفريقيا . ( × )
- ٣ - تتميز قارة أوروبا بتنوع تضاريسها . ( ✓ )
- ٤ - تتسم قارة أمريكا الشمالية بشكلها الأقرب إلى شكل المثلث . ( × )
- ٥ - تتسم قارة أمريكا الجنوبية بأن معظم أراضيها صحراوية وجبلية . ( × )
- ٦ - تتميز القارة القطبية الجنوبية بوجود المناطق شديدة البرودة التي يغطيها الجليد طوال العام . ( ✓ )
- ٧ - تتميز كل قارة من قارات العالم بتراث حضاري وثقافي كبير على مر العصور . ( ✓ )
- ٨ - شهدت قارتا أمريكا الشمالية والجنوبية قيام حضارات مثل حضارة الإنكا والمايا . ( ✓ )
- ٩ - نشأت على أراضي قارة إفريقيا حضارات عديدة مثل حضارة العراق القديم . ( × )
- ١٠ - تؤثر دوائر العرض على فرق التوقيت بين بلدان العالم . ( × )
- ١١ - تقسم دوائر العرض الأرض لمناطق حرارية . ( ✓ )
- ١٢ - يمثل خط جرينتش ( صفر ) المرجع الأساسي للتوقيت . ( ✓ )
- ١٣ - كلما اقتربنا من دائرة الاستواء انخفضت درجات الحرارة . ( × )
- ١٤ - تقع المنطقة الباردة حول دائرة الاستواء . ( × )
- ١٥ - تتشابه البيئات المصرية في خصائصها . ( × )
- ١٦ - تتأثر البيئة الحضرية بالتغيرات التكنولوجية والاجتماعية . ( ✓ )

- ١٧- تشمل البيئة الحضرية المدن والمناطق العمرانية . ( ✓ )
- ١٨- يعمل بعض سكان البيئة الساحلية باستخراج البترول والغاز الطبيعي . ( ✓ )
- ١٩- تعمل الدولة على تطوير البيئة الصحراوية مثل حماية الشواطئ من التآكل . ( ✗ )
- ٢٠- تعد مدينة العلمين الجديدة إحدى المدن الساحلية الجديدة في مصر . ( ✓ )
- ٢١- لكل محافظة في مصر موقع مميز على خريطة الوطن . ( ✓ )
- ٢٢- تشترك المحافظات الحدودية في حدودها مع دول أخرى . ( ✓ )
- ٢٣- تؤثر البيئة بشكل كبير على نوعية الأنشطة التي يمارسها السكان . ( ✓ )
- ٢٤- يعمل سكان المحافظة التي تقع على سطح مائي بحرفة الزراعة . ( ✗ )
- ٢٥- ينتشر النشاط التعديني بين سكان المدن الكبرى بالمحافظة . ( ✗ )
- ٢٦- ينتشر النشاط السياحي بين سكان المحافظات التي يوجد به أماكن أثرية . ( ✓ )
- ٢٧- يتمتع شعب المكسيك بأنه شعب اجتماعي جدا . ( ✓ )
- ٢٨- من صفات شعب المكسيك أنه شعب لا يحب الموسيقى والرقص . ( ✗ )
- ٢٩- شهدت العلاقات بين مصر والمكسيك تعاوناً ثقافياً وسياحياً كبيراً . ( ✓ )
- ٣٠- لكل دولة حضارتها ومعالمها التي تتميز بها . ( ✓ )
- ٣١- الأهرامات ليست حجارة مرصوفة بل تاريخ ناطق بالعظمة . ( ✓ )

### س ٣ : اختر الإجابة الصحيحة مما بين القوسين : -

- ١- تقع قارة أستراليا في نصف الكرة..... ( الشمالي - الجنوبي - **الشرقي** - الغربي )
- ٢- توجد أعلى هضاب العالم في قارة..... ( **آسيا** - إفريقيا - أوروبا - أستراليا )
- ٣- أشهر جبال قارة أوروبا هي جبال..... ( الهيمالايا - الإنديز - **الألب** - روكي )
- ٤- تشتهر قارة أمريكا الجنوبية بشكلها الأقرب إلى شكل..... ( المربع - المستطيل - الدائرة - **المثلث** )
- ٥- نشأت الحضارة الهندية قديماً في قارة..... ( **آسيا** - إفريقيا - أوروبا - أستراليا )

٦- قارة نشأت على أرضها حضارتا اليونان والرومان في العصور القديمة.....

( آسيا - إفريقيا - **أوروبا** - أستراليا ) .

٧- تقع المنطقة المعتدلة في نصف الكرة الشمالي ما بين.....

( **مدار السرطان والدائرة القطبية الشمالية** - مدار الجدى والدائرة القطبية الجنوبية - مدار

السرطان ودائرة الاستواء - دائرة الاستواء ومدار الجدى )

٨- تقع المنطقة الحرارية..... حول القطبين .

( الحارة - المعتدلة - **الباردة** - المطيرة ) .

٩- كلما اقتربنا من ارتفعت درجة الحرارة.....

( مدار السرطان - **دائرة الاستواء** - مدار الجدى - القطب الشمالي ) .

١٠- كلما اتجهنا غرب..... تأخرنا في الوقت .

( **خط جرينتش** - القطب الجنوبي - دائرة الاستواء - مدار السرطان ) .

١١- يصنف منخفض الفيوم ضمن البيئة.....

( **الريفية** - الحضرية - الصحراوية - الساحلية ) .

١٢- تعد البيئة..... مصدرا أساسيا للعديد من المعادن ومصادر الطاقة .

( الريفية - الحضرية - الساحلية - **الصحراوية** ) .

١٣- أكبر البيئات المصرية من حيث المساحة البيئة.....

( الحضرية - **الصحراوية** - الساحلية - الريفية ) .

١٤- من جهود الدولة لتطوير البيئة الساحلية إنشاء مدن جديدة مثل مدينة.....

( القاهرة - الجيزة - **العلمين الجديدة** - حلوان ) .

١٥- يقل النبات الطبيعي في البيئة الصحراوية بسبب.....

( التلوث - خصوبة التربة - غزارة الأمطار - **الجفاف** ) .

١٦- تتبع واحة الفرازة البيئة.....

( **الصحراوية** - الريفية - الساحلية - الحضرية ) .

١٧- من المحافظات المصرية التي تتمتع بمساحة كبيرة محافظة.....

( القاهرة - الجيزة - **الوادي الجديد** - كفر الشيخ ) .

١٨- ينخفض عدد السكان في مصر بمحافظة.....

( القاهرة - الجيزة - الإسكندرية - **جنوب سيناء** ) .

- ١٩- تنتشر المهن الخدمية بشكل ملحوظ في المحافظات التي توجد بها.....
- ( مسطح مائي - تربة خصبة - **المدن الكبرى** - آبار البترول ) .
- ٢٠- وجود الأماكن الأثرية بالمحافظة ساعد على انتشار النشاط.....
- ( الزراعي - **السياحي** - الصناعي - التعدين ) .
- ٢١- وجود التربة الخصبة والمياه العذبة بالمحافظة ساعد على انتشار النشاط.....
- ( **الزراعي** - السياحي - الصناعي - التعدين ) .
- ٢٢- تطل المكسيك على المحيط.....
- ( **الأطلنطي** - الهندي - المتجمد الشمالي - المتجمد الجنوبي ) .
- ٢٣- يقوم اقتصاد المكسيك على حرفة.....
- ( التعدين - التجارة - السياحة - **الزراعة** ) .
- ٢٤- تعد اللغة الرسمية لدولة المكسيك اللغة.....
- ( البرتغالية - الفرنسية - **الإسبانية** - الإنجليزية ) .
- ٢٥- يعود هرم كوكولكان في المكسيك إلى حضارة.....
- ( **الإنكا** - المايا - الهند - الأزتک ) .
- ٢٦- إحدى الحضارات القديمة وأهم ما يميزها وجود الأهرامات الحضارة.....
- ( الهندية القديمة - الصينية القديمة - **المصرية القديمة** - بلاد العراق ) .

### س ٤ : أكتب ما تشير إليه العبارات الآتية : -

- ١- دائرة تقسم خريطة العالم إلى نصفين هما نصف الكرة الشمالي ونصف الكرة الجنوبي . **دائرة الاستواء**
- ٢- خط يقسم خريطة العالم إلى نصف الكرة الشرقي ونصف الكرة الغربي . **خط جرينتش**
- ٣- قارة تتميز بشكلها الهضبي بسبب تعدد الهضاب بها . **إفريقيا**
- ٤- قارة تتميز بتنوع تضاريسها، ومن أشهر جبالها جبال الألب . **أوروبا**
- ٥- قارة تتميز بأن معظم أراضيها أراض صحراوية وجبلية . **أستراليا**
- ٦- قارة شهدت أراضيها قيام حضارتي اليونان والرومان في العصور القديمة . **أوروبا**
- ٧- هو موقع المكان بالنسبة لخطوط الطول ودوائر العرض . **الموقع الفلكي**
- ٨- مساحة على الكرة الأرضية تتشابه في خصائصها المناخية . **منطقة حرارية**
- ٩- كل ما يحيط بالإنسان، يؤثر فيه ويتأثر به . **البيئة**
- ١٠- البيئة التي تنتشر بها القرى، ويزداد بها النشاط الزراعي . **البيئة الزراعية**

١١- بيئة شيدها الإنسان، وتشمل المدن والمناطق العمرانية، وتتأثر بالتغيرات التكنولوجية والاجتماعية . **البيئة الحضرية**

١٢- البيئة التي توجد بها مساحة واسعة من الرمال والجبال، وتتميز بندرة الأمطار وارتفاع درجة الحرارة وقلّة عدد السكان . **البيئة الصحراوية**

١٣- المناطق السهلية (المستوية) الممتدة بمحاذاة البحرين الأحمر والمتوسط وخليجي العقبة والسويس . **البيئة الساحلية**

١٤- كل ما يقوم به الإنسان من أعمال ومشروعات لتلبية احتياجاته . **الأنشطة الاقتصادية**

١٥- المحافظة التي تقع على أطراف حدود مصر البرية أو البحرية . **المحافظة الحدودية**

١٦- متوسط عدد السكان الذين يعيشون في الكيلومتر مربع الواحد من المساحة . **الكثافة السكانية**

س ٥ : صوب ما تحته خط : -

١- تعد مدينة منف أول نموذج لمدينة حضرية شيدها الملك **منتوحتب** . **مينا**

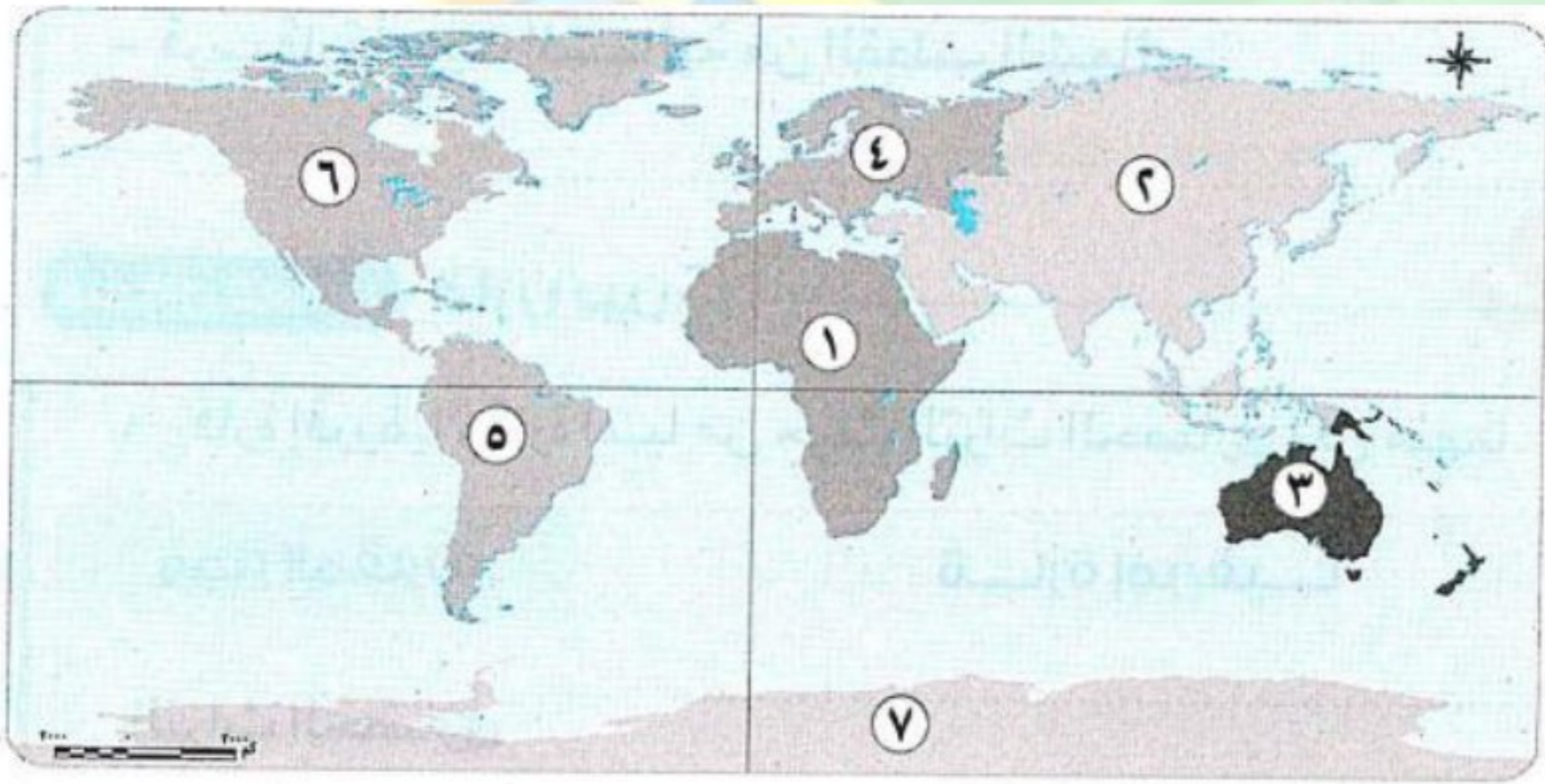
٢- من المحاصيل المميزة في البيئة الصحراوية **القمح** . **الزيتون ، النخيل**

٣- من الصناعات الخفيفة بالبيئة الحضرية صناعة **الحديد والصلب** . **الأغذية**

٤- تتميز البيئة **الساحلية** بتفاوت كبير في درجات الحرارة . **الصحراوية**

س ٦ : الخرائط : -

١ : أمامك خريطة صماء للعالم، اكتب مدلول الأرقام الموقعة عليها : -



١- قارة **إفريقيا** .

٢- قارة **آسيا** .

٣- قارة **أستراليا** .

٤- قارة **أوروبا** .

٥- قارة **أمريكا الجنوبية** .

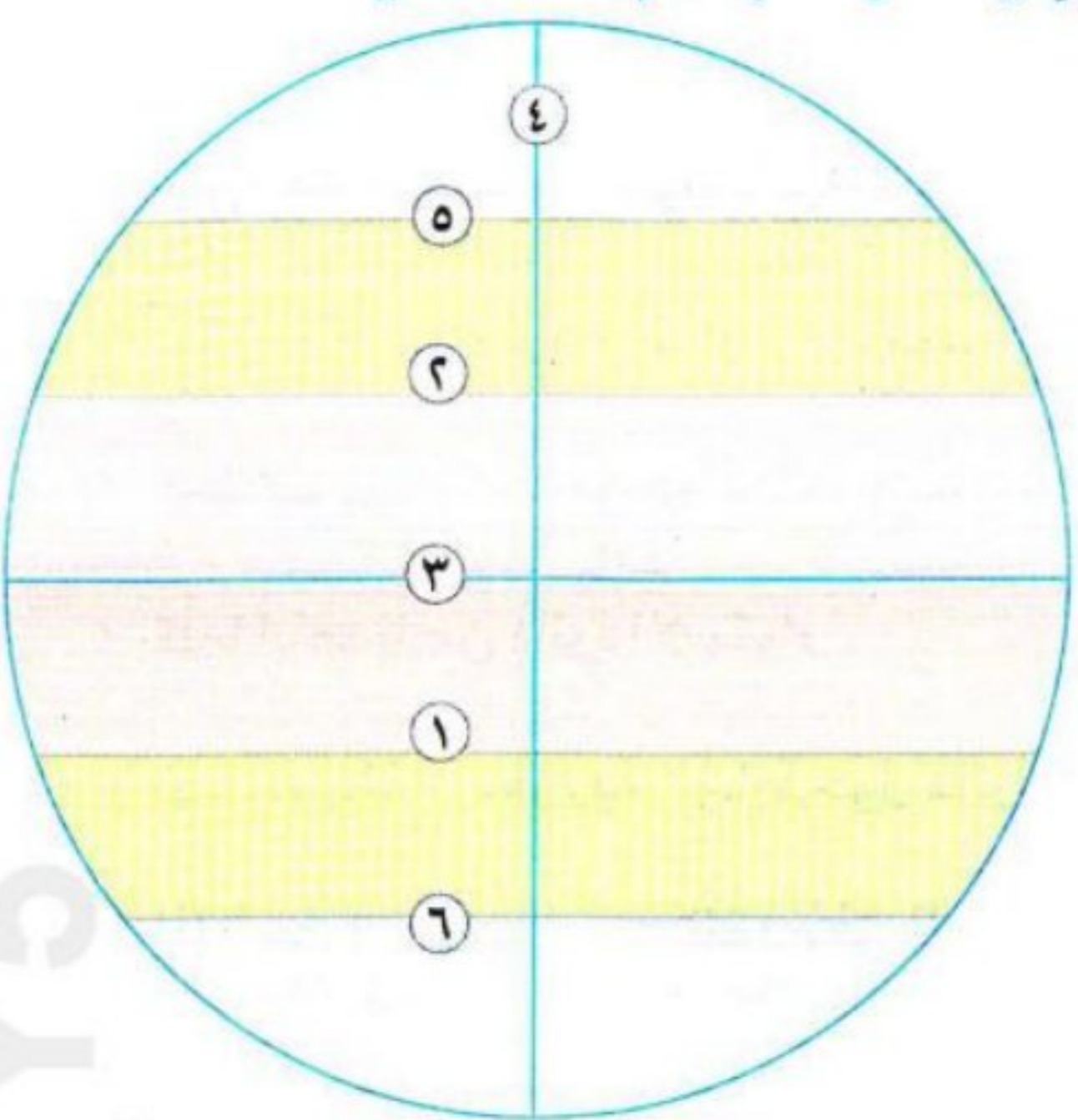
٦- قارة **أمريكا الشمالية** .

٧- قارة **أنتركتيكا**

٢ : ادرس خريطة العالم، ثم أجب عن الأسئلة التالية : -

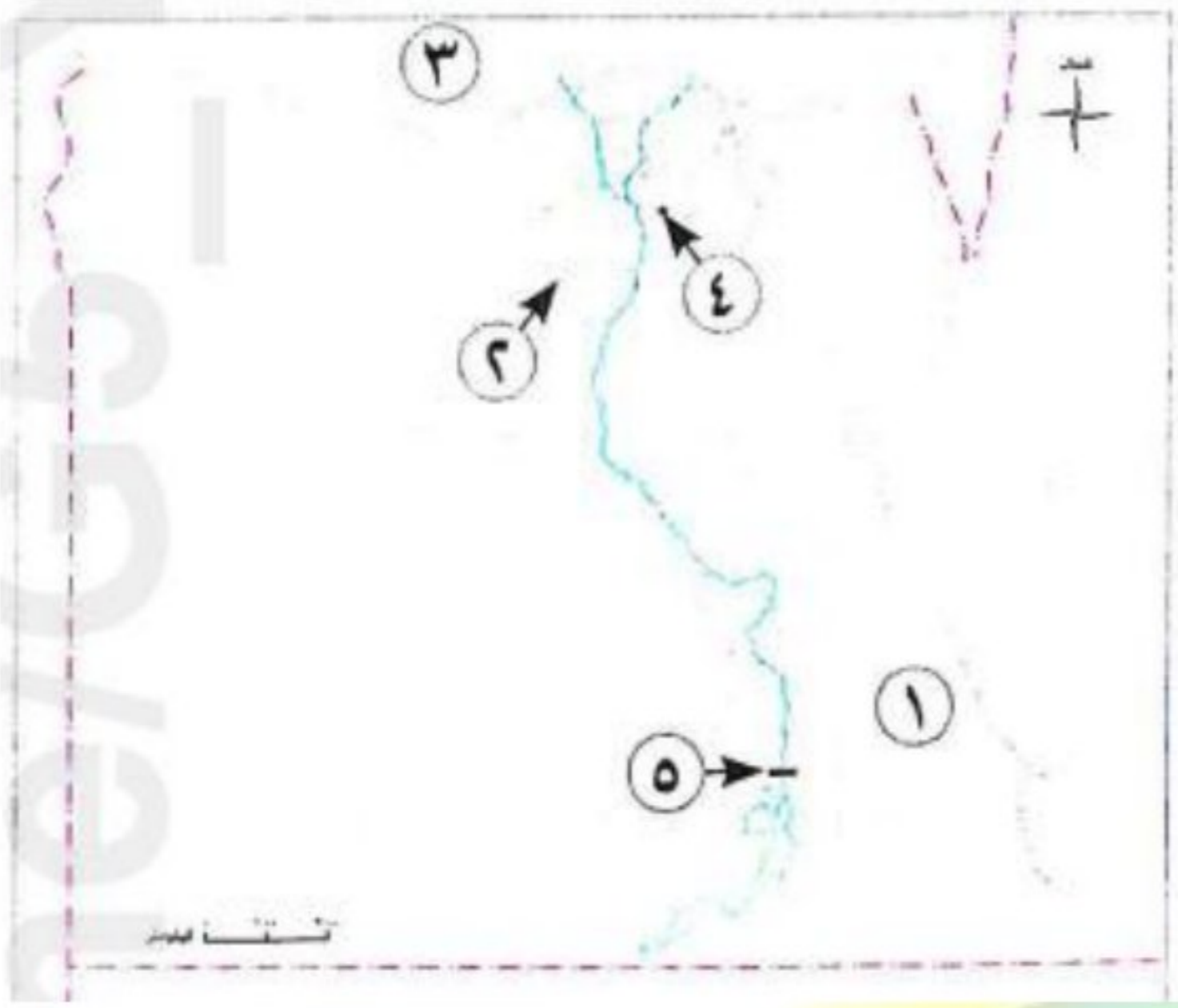


- ١ - القارات التي تقع بالكامل في نصف الكرة الجنوبي **أستراليا و أنتاركتيكا** .
  - ٢ - القارات التي تقع بالكامل في نصف الكرة الشمالي **أوروبا و أمريكا الشمالية** .
  - ٣ - تقع قارتا **آسيا و أستراليا** في نصف الكرة الشرقي .
  - ٤ - تقع قارتا أمريكا الشمالية والجنوبية في نصف الكرة **الغربي** .
  - ٥ - يحد قارة أمريكا الشمالية والجنوبية من جهة الشرق المحيط **الأطلسي** .
  - ٦ - يحد قارة آسيا من جهة الشرق المحيط **الهادي** .
  - ٧ - يحد قارة أنتاركتيكا من جهة الشمال المحيط **المتجمد الجنوبي** .
  - ٨ - يحد قارة أوروبا من جهة الشمال المحيط **المتجمد الشمالي** .
- ٢ : أمامك مجسم للكرة الأرضية، اكتب ما تشير إليه الأرقام الموقعة عليه : -



- ١ - مدار **الجدى** .
- ٢ - مدار **السرطان** .
- ٣ - دائرة **الاستواء** .
- ٤ - خط **جرينتش** .
- ٥ - الدائرة **القطبية الشمالية** .
- ٦ - الدائرة **القطبية الجنوبية** .

٣ : أمامك خريطة صماء لمصر، اكتب ما تدل عليه الأرقام : -



١- الصحراء الشرقية .

٢- منخفض الفيوم .

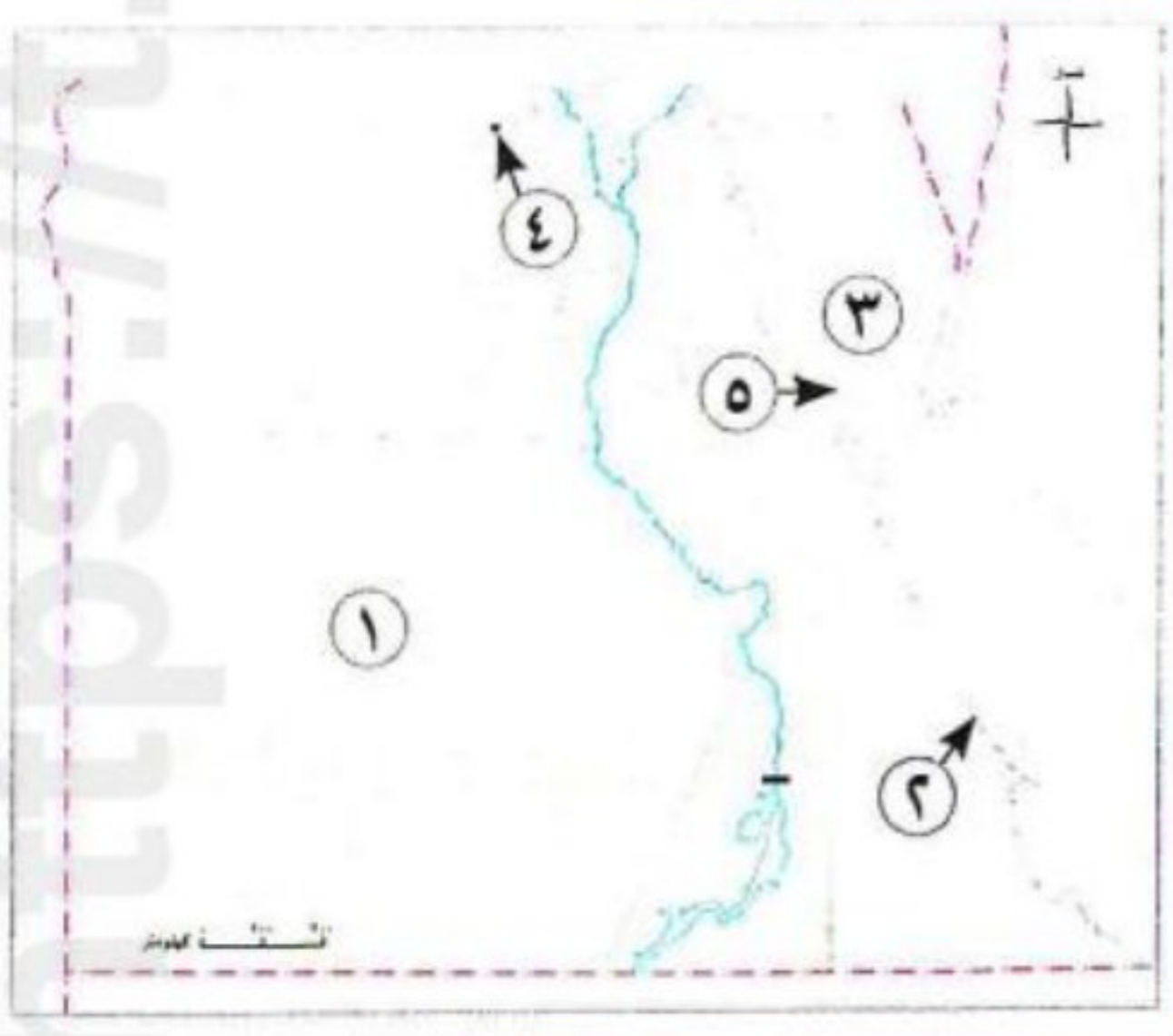
٣- البحر المتوسط .

٤- محافظة حضرية القاهرة .

٥- السد العالي .

مراجعة + بنك أسئلة

٤ : أمامك خريطة صماء لمصر، اكتب ما تدل عليه الأرقام : -



١- البيئة الصحراوية .

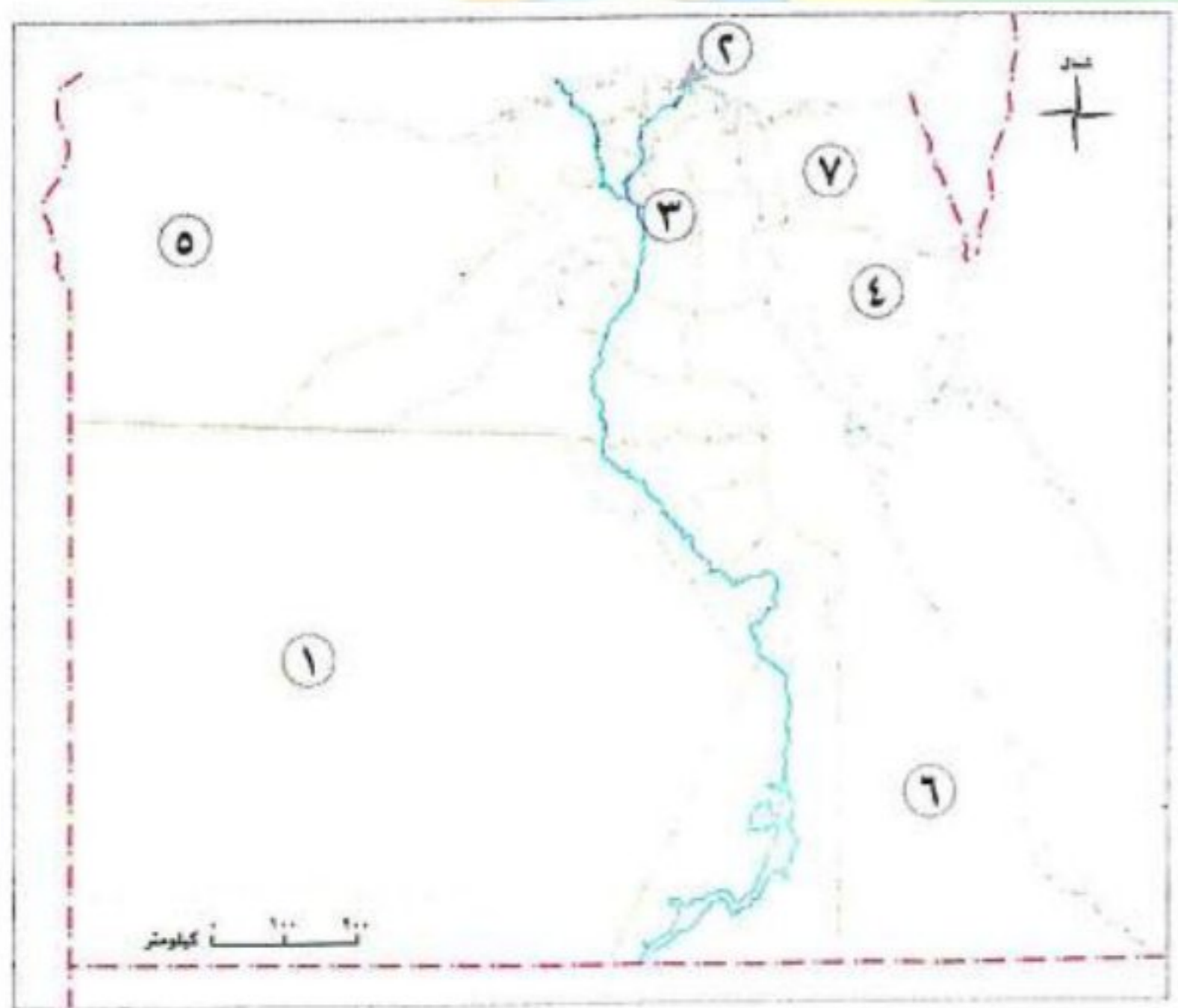
٢- البيئة الساحلية .

٣- شبه جزيرة سيناء .

٤- محافظة حضرية الإسكندرية .

٥- خليج السويس .

٥ : أمامك خريطة صماء لمصر، وضح مدلول الأرقام الموقعة عليها : -



١- محافظة مساحتها كبيرة الوادي الجديد .

٢- محافظة مساحتها صغيرة دمياط .

٣- محافظة عدد سكانها كبير القاهرة .

٤- محافظة عدد سكانها قليل جنوب سيناء .

٥- محافظة حدودية مطروح .

٦- محافظة حدودية البحر الأحمر .

٧- محافظة حدودية شمال سيناء .

٦ : أمام خريطة مصر الإدارية، ادرسها جيدا، ثم أجب عن الأسئلة التالية : -

١- يحد محافظة الإسماعيلية من الشرق محافظة **شمال سيناء** .

٢- يحد محافظة الوادي الجديد من جهة

الشرق محافظات **أسيوط و سوهاج و قنا ، أسوان ، الأقصر** .

٣- يحد محافظة أسوان من جهة

الجنوب دولة **السودان** .

٤- يحد محافظة مطروح من جهة

الغرب دولة **ليبيا** .

٥- يجاور محافظة المنيا من جهة الشمال **بنى سويف** .

٦- يحد محافظة شمال سيناء من جهة الشمال **البحر المتوسط** .

٧- يحد محافظة البحر الأحمر من جهة الشرق **البحر الأحمر** .

س٧ : بم تفسر : -

١- تتميز قارة إفريقيا بشكلها الهضبي .

بسبب تعدد الهضاب فيها، مثل هضبة إفريقيا الشمالية .

٢- تتميز القارة القطبية الجنوبية بوجود المناطق شديدة البرودة .

لقربها من القطب الجنوبي .

٣- تتميز قارة أمريكا الشمالية بوجود مناطق شديدة البرودة .

لقرب هذه المناطق من القطب الشمالي .

٤- أهمية ثورة ٢٣ يوليو ١٩٥٢م بالنسبة للفلاحين .

قامت بإعادة توزيع الأراضي علي الفلاحين بمصر ، مما أدى إلي تحسين أوضاعهم .

٥- اختلاف البيئات المصرية .

لأن لكل منها خصائص مميزة وأسلوب معيشة خاصا بها مستمدا من مواردها .

٦- أهمية البيئة الريفية .

لأنها تعتبر مصدرا رئيسيا للغذاء الأساسى من محاصيل وخضراوات وفاكهة ولحوم وألبان .

٧- أهمية البيئة الصحراوية .

لأنها تعد مصدرا أساسيا للعديد من المعادن ومصادر الطاقة كما يوجد بها بعض المحاصيل المميزة مثل الزيتون والنخيل، فضلا عن أنها بيئة مناسبة للنشاط السياحي خاصة سياحة السفاري والسياحة البيئية .

٨- ينتشر نشاط صيد الأسماك في محافظتي السويس والإسكندرية .  
بسبب وقوعهما على البحر المتوسط .

٩- انتشار النشاط الزراعي في محافظتي الشرقية والغربية .  
بسبب وجود تربة خصبة ومياه عذبة بالمحافظة .

١٠- انتشار الأنشطة السياحية في محافظة الأقصر .  
بسبب وجود أماكن أثرية بالمحافظة .

١١- انتشار النشاط التعدين في محافظة السويس .  
بسبب وجود آبار بترول ومواد خام .

١٢- تزدحم محافظات الوادي والدلتا مثل : القاهرة والجيزة والشرقية بالسكان .  
بسبب خصوبة الأرض ووفرة المياه .

١٣- اختلاف المناخ من دولة لأخرى .

بسبب اختلاف موقع الدول بالنسبة لدوائر العرض .

١٤- أهمية دوائر العرض مناخياً .

لأنها تقسم الأرض إلى مناطق حرارية .

١٥- أهمية خطوط الطول .

لأنها تعد المرجع الأساسي للتوقيت فهي تساعدنا على معرفة فروق التوقيت بين البلدان .

س٨ : ما النتائج المترتبة على : -

١- قرب قارة أمريكا الشمالية من القطب الشمالي .

أدى إلى وجود مناطق شديدة البرودة .

٢- اشتهار البيئة الساحلية بشواطئها الرملية ومناظرها الطبيعية الخلابة .

أدى ذلك إلى اشتهارها بالسياحة ، خاصة السياحة البيئية والترفيهية .

٣- انتشار الجفاف في البيئة الصحراوية .

أدى ذلك إلى قلة النبات الطبيعي .

٤- وجود الأماكن الأثرية في محافظة الأقصر .

أدى ذلك إلى انتشار الأنشطة السياحية في محافظة الأقصر .

٥- وقوع محافظة بورسعيد على سطح مائي .

أدى ذلك إلى انتشار نشاط صيد الأسماك في محافظة بورسعيد .

٦- وجود آبار بترول ومواد خام في بعض المحافظات المصرية .

أدى إلى قيام النشاط التعدين بالمحافظة .

س ٩ : دال على صحة العبارات الآتية : -

١- عملت الدولة على تطوير البيئة الريفية .

حيث قامت بتوفير فرص عمل للشباب وزيادة الخدمات كالمدراس والمستشفيات وتطوير مشاريع البنية التحتية، مثل: الكهرباء والطرق والصرف الصحي .

٢- تعدد الأنشطة الاقتصادية التي يمارسها سكان البيئة الحضرية .

حيث يعمل معظم سكانها بالصناعات الخفيفة كالأغذية، والتحويلية مثل الحديد والصلب، والتجارة والأنشطة الخدمية كالتعليم والصحة والبنوك والسياحة والنقل والمواصلات .

٣- قيام الدولة بتطوير البيئة الحضرية .

حيث قامت الدولة بإنشاء مدن جديدة وتطوير البنية التحتية بالمدن المختلفة والقضاء على العشوائيات واستخدام وسائل النقل المستدام .

٤- قيام الدولة بتطوير البيئة الصحراوية .

تعمل الدولة على إدارة الموارد المائية بالمناطق الصحراوية بشكل مستدام وتطوير البنية التحتية .

٥- تنوع الأنشطة الاقتصادية بالبيئة الساحلية .

يعمل السكان في صيد الأسماك، واستخراج البترول والغاز الطبيعي والسياحة خاصة السياحة البيئية والترفيهية والتجارة عبر الموانئ البحرية .

٦- تؤثر البيئة بشكل كبير على نوعية الأنشطة التي يمارسها السكان .

حيث يعمل سكان البيئة الساحلية بحرفة صيد الأسماك ، ويعمل سكان البيئة الزراعية بحرفة الزراعة ويعمل سكان البيئة الصحراوية بحرفة التعدين واستخراج البترول .

٧- تختلف المحافظات المصرية من حيث المساحة .

حيث يوجد في مصر أكثر من محافظة حدودية مساحتها كبيرة مثل : محافظة الوادي الجديد، ومحافظات غير حدودية مساحتها صغيرة، مثل: دمياط .

٨- تختلف المحافظات المصرية من حيث عدد سكانها .

حيث توجد محافظات عدد سكانها كبير، مثل : محافظة القاهرة. ومحافظات عدد سكانها قليل ،  
مثل : محافظة جنوب سيناء .

س ١٠ : أجب عما يأتي : -

١ : صنف المناطق التالية إلى المناطق الحرارية التي تنتمي إليها : -

( المناطق الواقعة حول القطب الشمالي - المناطق الواقعة بين مدار السرطان والدائرة القطبية الشمالية -  
المناطق الواقعة بين مدار الجدى والدائرة القطبية الجنوبية - المناطق الواقعة حول دائرة الاستواء )

المنطقة الباردة	المنطقة المعتدلة	المنطقة الحارة
المناطق الواقعة حول القطب الشمالي	المناطق الواقعة بين مدار السرطان والدائرة القطبية الشمالية المناطق الواقعة بين مدار الجدى والدائرة القطبية الجنوبية	المناطق الواقعة حول دائرة الاستواء

٢ : ما العلاقة بين : -

١ - دائرة الاستواء ودرجات الحرارة .

حيث إنه كلما اقتربنا من دائرة الاستواء ارتفعت درجات الحرارة، وكلما ابتعدنا عن دائرة الاستواء انخفضت درجات الحرارة .

٢ - دوائر العرض والمناطق الحرارية بالكرة الأرضية .

حيث تقسم المناطق الحرارية في العالم إلى المنطقة الحارة حول دائرة الاستواء ( المنطقة المعتدلة ( بين المدارين والدائرتين القطبيتين ) - المنطقة الباردة حول القطبين ) .

٣ : استنتاج مما درست سببا لكل عبارة مما يلي : -

١ - تشابه مدينتين في التوقيت رغم اختلاف الدول .

لأنهما يقعان علي نفس خط الطول .

٢ - تسبق مصر المغرب في التوقيت .

لأن مصر تقع شرق المغرب .

٤ : صنف الأماكن التالية حسب البيئة التي تنتمي لها : -

- ١- المدن التي تقع داخل الدلتا . **بيئة زراعية**
- ٢- منخفض القطارة . **بيئة صحراوية**
- ٣- المدن التي تقع على ساحل خليج العقبة . **بيئة ساحلية**
- ٤- محافظة السويس . **بيئة حضرية**

٥ : صنف الظواهر التضاريسية والحضارات القديمة التالية إلى القارة التي تنتمي إليها : -

- ١- هضبة التبت آسيا .
- ٢- جبال الألب أوروبا .
- ٣- حضارة العراق القديم آسيا .
- ٤- حضارة اليونان أوروبا .
- ٥- حضارة الإنكا أمريكا الشمالية والجنوبية .
- ٦- الحضارة المصرية القديمة إفريقيا .
- ٧- غابات الأمازون أمريكا الجنوبية .

٦ : صنف المحافظات المصرية التالية إلى النشاط الاقتصادي المنتشر بها : -

( القاهرة - الجيزة - الشرقية - الغربية - الأقصر - أسوان - بورسعيد - الإسماعيلية )

النشاط الزراعي	المهن الخدمية	النشاط السياحي	صيد الأسماك
الشرقية - الغربية	القاهرة - الجيزة	الأقصر - أسوان	بورسعيد - الإسماعيلية

٧ : ما أوجه الاختلاف بين : -

١- محافظة السويس ومحافظة الأقصر .

محافظة الأقصر	محافظة السويس	-
يعمل سكانها بالنشاط السياحي لوجود أماكن أثرية بها	يعمل سكانها بحرفة صيد الأسماك لوقوعها على سطح مائي	أوجه الاختلاف

٨- محافظة دمياط ومحافظة الوادي الجديد .

محافظة الوادي الجديد	محافظة دمياط	-
تعد محافظة ذات مساحة كبيرة	تعد محافظة ذات مساحة صغيرة	أوجه الاختلاف

٩- محافظة جنوب سيناء ومحافظة القاهرة .

محافظة القاهرة	محافظة جنوب سيناء	-
تعد محافظة ذات عدد سكان كبير	تعد محافظة ذات عدد سكان قليل	أوجه الاختلاف

مراجعة + بنك أسئلة

س ١١ : قارن بين : -

١- قارة إفريقيا وقارة آسيا من حيث التراث الحضاري لكل منهما .

قارة آسيا	قارة إفريقيا	وجه المقارنة
نشأت علي أراضيها حضارات عديدة مثل : الصين القديمة ، الهندية ، العراق القديم .	قامت علي أرضها أعظم الحضارات التي عرفها التاريخ وهي الحضارة المصرية القديمة	التراث الحضاري

٢- قارة أوروبا وقارتي أمريكا الشمالية والجنوبية من حيث التراث الحضاري لكل منهما .

قارتي أمريكا الشمالية والجنوبية	قارة أوروبا	وجه المقارنة
قامت علي أراضيها حضارات قديمة مثل : الأزتك ، المايا ، الإنكا	شهدت علي أراضيها قيام حضارتي اليونان والرومان في العصور القديمة	التراث الحضاري

٣ : أجب عن الأسئلة التالية : -

١ - حدد أوجه الشبه والاختلاف بين دائرة الاستواء وخط جرينتش .

وجه المقارنة	دائرة الاستواء	خط جرينتش
أوجه الشبه	يقسم كلا منهما العالم إلي قسمين	
أوجه الاختلاف	تقسم الكرة الأرضية إلي نصف كرة شمالي ونصف كرة جنوبي	تقسم الكرة الأرضية إلي نصف كرة شرقي ونصف كرة غربي

٤ - البيئة الريفية والبيئة الحضرية من حيث أهم الأنشطة الاقتصادية بهما .

وجه المقارنة	البيئة الريفية	البيئة الحضرية
أهم الأنشطة الاقتصادية بهما	<ul style="list-style-type: none"> <li>- الزراعة .</li> <li>- تربية الحيوانات .</li> <li>- الصناعات البسيطة ، مثل :</li> <li>- حفظ وتعليب الفاكهة والخضراوات .</li> <li>- إنتاج اللحوم ومنتجات الألبان .</li> </ul>	<ul style="list-style-type: none"> <li>- الصناعات الخفيفة كالأغذية .</li> <li>- الصناعات التحويلية مثل الحديد والصلب .</li> <li>- التجارة .</li> <li>- الأنشطة الخدمية كالتعليم والصحة والبنوك السياحة والنقل والاتصالات .</li> </ul>

٥ - البيئة الساحلية والبيئة الصحراوية من حيث أهم الأنشطة الاقتصادية بهما .

وجه المقارنة	البيئة الساحلية	البيئة الصحراوية
أهم الأنشطة الاقتصادية بهما	<ul style="list-style-type: none"> <li>- السياحة .</li> <li>- صيد الأسماك .</li> <li>- استخراج البترول والغاز الطبيعي .</li> <li>- التجارة عبر الموانئ البحرية .</li> </ul>	<ul style="list-style-type: none"> <li>- يعمل بعض سكانها بالتعدين حيث استخراج المعادن ومصادر الطاقة من باطن الأرض .</li> <li>- بالإضافة إلى العمل في حرفتي الرعي والزراعة .</li> </ul>

س ١٢ : أجب عما يأتي : -

١- دال على صحة العبارات الآتية : تتميز قارة آسيا ببعض الخصائص الجغرافية التي تميزها عن غيرها .

حيث تشتهر قارة آسيا بوجود أعلى هضاب العالم (هضبة التبت)، وأعلى قمة جبلية في العالم (قمة إفرست) .

٢- حدد أهم الخصائص الجغرافية لقارة أمريكا الجنوبية .

تتسم قارة أمريكا الجنوبية بشكلها الأقرب إلى شكل المثلث، كما أنها تمتاز بكثرة الغابات فيها مثل غابات الأمازون .

٣- حدد أهم السمات الجغرافية لقارة أستراليا .

تتسم قارة أستراليا بأن معظم أراضيها أراض صحراوية وجبلية .

# البروفيسور

أ / أحمد المراكبي



تطبيق



مذكرات جاهزة للطباعة

لتحميل الملفات التعليمية مجاناً للمعلم والطالب

مذكرات وملازم / مراجعات وملخصات / امتحانات / كتب الوزارة /  
أدلة المعلم / دفاتر التحضير / سجلات مدرسية / أوراق تأسيس

امسح الكود بموبايلك علشان تقدر تثبت التطبيق

وتقدر ف أي وقت تحمّل ال نفسك فيه ببلاش

هيغنيك عن البحث والجروبات والقنوات الكثيرة

