

بنك أسئلة البروفيسور الشامل في مادة " الدراسات الاجتماعية "

علي مقررات شهر فبراير

س ١ : أكمل العبارات الآتية بما يناسبها من كلمات : -

- ١ - عاصمة لمصر وتعد من المحافظات المزدهمة بالسكان
- ٢ - يتنوع التركيب السكاني من حيث أو
- ٣ - محافظة القاهرة يعمل سكانها في النشاط و
- ٤ - محافظة يقل بها السكان لقلة المياه العذبة
- ٥ - سكان محافظة الوادي الجديد يعملون في مراجعة + بنك أسئلة
- ٦ - يعمل معظم سكان محافظة سوهاج في مهنة
- ٧ - يكثر الشباب في بعض المحافظات بسبب وجود
- ٨ - عرفت منطقة عين شمس بالقاهرة قديما باسم
- ٩ - إحدى الركائز الأساسية في تقدم بلدنا قطاع
- ١٠ - يزرع الفلاحون الأرض بمختلف المحاصيل، مثل و
- ١١ - يعمل الصيادون في قطاع الزراعة على صيد الأسماك من المزارع
- ١٢ - يقوم المهندسون والعمال بتحويل المواد الخام إلى
- ١٣ - الشخص الذي يحافظ على الأمن داخل الدولة هو
- ١٤ - يقوم التجار بعرض منتجاتهم في و
- ١٥ - يقدم صانع المحتوى الرقمي محتوى على الإنترنت ووسائل
- ١٦ - يربي الفلاحون الأبقار والدواجن الإنتاج و
- ١٧ - تظهر المهن المرتبطة بالزراعة مدى ارتباط الإنسان ب
- ١٨ - ظهرت المهن المستقبلية بفضل التقدم العلمي و
- ١٩ - مشاركة المواطن في صناعة القرار تؤثر على حياته و
- ٢٠ - القرار يمكن أن يتخذه فرد بمفرده أو يشارك في صنعه
- ٢١ - أولى خطوات صناعة قرار سليم هي تحديد
- ٢٢ - بعد تحديد المشكلة يتم جمع
- ٢٣ - لصنع قرار سليم يجب التفكير في سلبيات و كل بديل .





- ٢٤ - يتم تنفيذ القرار بعد اختيار أفضل
- ٢٥ - اختيار مدرسة جديدة لأحد الأبناء يعد أحد القرارات المهمة التي تتخذها
- ٢٦ - كل قرار تتخذه علينا أن نتحمل
- ٢٧ - تتعلم من المشاركة في صنع القرار تعزيز
- ٢٨ - يتجمد خليج هدسن في كندا بالكامل في فصل
- ٢٩ - يشتهر شعب كندا بـ
- ٣٠ - تعد كندا من الدول التي لديها فائض كبير في إنتاج
- ٣١ - تعتمد كندا على تصدير
- ٣٢ - هناك تعاون بين كندا ومصر في مجالات التعليم والهجرة و
- ٣٣ - برج القاهرة تم إنشاؤه في عهد الرئيس الراحل
- ٣٤ - يوجد مراكز للحرف التقليدية بالقاهرة في مدينة
- ٣٥ - قام المصري القديم بحفر الأشكال والرسومات على
- ٣٦ - تزينت الكنائس والأديرة بالمنحوتات الخشبية في العصر
- ٣٧ - أرسلت الملكة حتشبسوت بعثات تجارية لاستيراد
- ٣٨ - صناعة الفخار والخزف تعتمد على تشكيل
- ٣٩ - يشتهر حي الفواخير في مصر القديمة بصناعة
- ٤٠ - من الخامات المستخدمة في صناعة السجاد اليدوي
- ٤١ - قرية بالمنوفية تشتهر بالسجاد اليدوي
- ٤٢ - الصوف والحريير من المواد الخام التي تدخل في صناعة الملابس و
- ٤٣ - مدينة أخميم بسوهاج تشتهر بصناعة
- ٤٤ - معدن استخدمه المصري القديم في صنع أدواته اليومية

مراجعة + بنك أسئلة

س٢ : اكتب كلمة (صواب) أمام العبارة الصحيحة، وكلمة (خطأ) أمام العبارة غير الصحيحة : -

- ١ - يتساوى توزيع السكان بين المحافظات . ()
- ٢ - تتميز المحافظات بخصائص سكانية مختلفة . ()
- ٣ - تنخفض نسبة المتعلمين بالقاهرة . ()
- ٤ - توافر فرص العمل من أسباب ازدهام محافظة القاهرة بالسكان . ()
- ٥ - يعمل سكان محافظة سوهاج في حرفة الرعي . ()





- ٦- عرفت منطقة عين شمس بالقاهرة قديما باسم « أون » .
- ٧- الشباب هم الفئة العاملة والمنتجة في الدولة .
- ٨- تقع معظم قرى محافظة سوهاج بعيداً عن ضفاف نهر النيل .
- ٩- محافظة الوادي الجديد مزدحمة بالسكان بسبب كثرة المياه العذبة .
- ١٠- يقسم السكان حسب العمر إلى (ذكور وإناث) .
- ١١- يعمل الفلاحون في صيد الأسماك من نهر النيل والترع .
- ١٢- تتطلب المهن المرتبطة بالصناعة والتجارة التعاون بين الأفراد .
- ١٣- يعمل مطور التطبيقات على إنتاج الطاقة النظيفة للمحافظة على البيئة .
- ١٤- تساعد الصناعة والتجارة على تلبية احتياجاتنا اليومية .
- ١٥- تعد مهنة عامل النظافة من المهن الخدمية .
- ١٦- يعمل الشرطي على حفظ الأمن .
- ١٧- تحتاج المهن المستقبلية إلى مهارة التفكير الإبداعي .
- ١٨- ظهرت مهن جديدة بفضل التقدم العلمي والتكنولوجي .
- ١٩- يقوم مبرمج الحاسوب بابتكار ألعاب إلكترونية جديدة .
- ٢٠- يقوم السائق بنقل الأشخاص والبضائع .
- ٢١- جعل المواطن يشارك في عملية اتخاذ القرار يؤثر على حياته ومجتمعه .
- ٢٢- صنع القرار السليم يحتاج إلى أن يمر بعدة خطوات .
- ٢٣- تعاون أفراد الأسرة معاً في صنع القرار يعلمنا تحمل المسؤولية .
- ٢٤- تجنب تنفيذ القرار إحدى أهم خطوات صناعة القرار .
- ٢٥- القرار يمكن أن يتخذه فرد بمفرده أو مجموعة .
- ٢٦- القرارات التي يجب على المجتمع أن يتخذها تكون فردية فقط .
- ٢٧- اختيار قائد الفصل يتم بشكل فردي .
- ٢٨- صنع القرار يقلل الثقة بالنفس .
- ٢٩- تتعلم التعاون من خلال المشاركة في القرار .
- ٣٠- القرارات التي نشارك فيها ليس لها تأثير علينا .
- ٣١- من المهم احترام آراء الآخرين عند اتخاذ القرار .
- ٣٢- كل قرار له نتيجة علينا تحملها والتعلم منها .



- ٣٣ - المشاركة في صناعة القرار تشعرنا بالمسئولية . ()
- ٣٤ - يوجد بكندا واحدة من أكبر غابات العالم من حيث المساحة . ()
- ٣٥ - يعيش بكندا الكثير من الأجناس المختلفة من حول العالم . ()
- ٣٦ - تعاني كندا من نقص المحاصيل الزراعية . ()
- ٣٧ - من أشهر معالم كندا السياحية برج القاهرة . ()
- ٣٨ - من مجالات التعاون بين مصر وكندا الهجرة . ()
- ٣٩ - تم بناء برج القاهرة على شكل زهرة اللوتس . ()
- ٤٠ - الحرف التراثية عمل بها المصريون منذ آلاف السنين . ()
- ٤١ - الحرف التراثية في مصر محدودة وليست متنوعة . ()
- ٤٢ - تشتهر مدينة دمياط وحى الجمالية بالحفر على الخشب . ()
- ٤٣ - مصر دولة نادرة الأخشاب رغم براعة المصريين فى المصنوعات الخشبية . ()
- ٤٤ - يصنع الزجاج من رمال الصحراء . ()
- ٤٥ - المصرى القديم صنع أدواته اليومية من الحديد . ()
- ٤٦ - تعد الجمالية والفسطاط من أهم مراكز صناعة المشغولات النحاسية في مصر . ()
- ٤٧ - تأسست مدينة الفسطاط على يد عمرو بن العاص . ()

مراجعة + بنك أسئلة

س ٣ : اختر الإجابة الصحيحة مما بين القوسين : -

- ١ - تصنيف السكان إلى مجموعات حسب النوع أو العمر يعرف ب..... ()
- (النمو السكاني - التركيب السكاني - الكثافة السكانية - التوزيع السكاني)
- ٢ - تعد من المحافظات المزدهمة بالسكان..... محافظة . ()
- (الوادى الجديد - مطروح - الجيزة - البحر الأحمر)
- ٣ - أي من المحافظات التالية تعتبر قليلة السكان..... ()
- (الجيزة - شمال سيناء - كفر الشيخ - سوهاج)
- ٤ - المهنة الرئيسية لمعظم سكان القرى في محافظة سوهاج..... ()
- (التجارة - الصناعة - الزراعة - التعدين)
- ٥ - المحافظة التي تعتبر عاصمة البلاد ومزدهمة بالسكان..... ()
- (الجيزة - القاهرة - سوهاج - مطروح)



٦- القطاع الذي يوفر لنا الغذاء الذي نحتاج إليه هو قطاع.....

(الزراعة - الصناعة - التجارة - الخدمات) .

٧- يقومون بتحويل المواد الخام إلى منتجات.....

(الفلاحون - التجار - العمال - الصيادون) .

٨- يقوم بإصلاح السيارات.....

(المعلم - الطبيب - الميكانيكي - السائق) .

٩- يقوم بنقل الأشخاص والبضائع.....

(الشرطي - السائق - المعلم - الطبيب) .

١٠- إحدى المهن المستقبلية التي لم تكن موجودة من قبل.....

(الفلاحون - التجار - عامل النظافة - مطور التطبيقات) .

١١- يقوم بتقديم محتوى على الإنترنت ووسائل التواصل الاجتماعي.....

(مصمم الألعاب - صانع المحتوى الرقمي - مبرمج الحاسوب - مهندس الطاقة المتجددة) .

١٢- يقومون بأعمال البناء والنقاشة والمحارة عمال.....

(النظافة - التوصيل - المقاولات - البريد) .

١٣- الخطوة الأولى في صنع القرار تعتمد على.....

(تنفيذ القرار - تحديد المشكلة - التفكير في الخيارات - جمع المعلومات) .

١٤- تتمثل أهمية المشاركة في صنع القرار في تعلم.....

(التسلية - التعاون - اللعب - إضاعة الوقت) .

١٥- من أمثلة القرار الجماعي في المدرسة.....

(اختيار قائد فصل - شراء المنتجات - بناء حديقة - إنشاء مستشفى) .

١٦- المشاركة في صنع القرار تعزز.....

(القلق - الثقة بالنفس - التوتر - الضغط) .

١٧- مكان نتعلم فيه ونشارك في صنع بعض القرارات.....

(السوق - المدرسة - العمل - الشارع) .

١٨- يوجد بكندا واحدة من أكبر غابات العالم وتغطي..... مساحة الدولة .

(ربع - نصف - ثلث - خمس) .

١٩- من أشهر المعالم السياحية في كندا.....

(برج القاهرة - منتزه بانف الوطني - أهرامات الجيزة - متحف الحضارة المصرية)

٢٠- محصول زراعي تنتجه كندا بكثرة.....

(الأرز - الذرة - القمح - الشعير)

٢١- من مجالات التعاون بين مصر و كندا.....

(التعليم - الرياضة - السياحة - الزراعة)

٢٢- تتميز مصر وتمتلك مكانة خاصة بين الأمم بسبب.....

(الاقتصاد - الزراعة - الحضارة - التعليم)

٢٣- تتواجد حرفة الحفر على الخشب بحى الجمالية بمحافظة.....

(الجيزة - القاهرة - البحيرة - الدقهلية)

٢٤- تعد إحدى أقدم الصناعات التي برع فيها المصريون منذ فجر التاريخ.....

(الأجهزة - الفخار - المعادن - التكنولوجيا)

٢٥- قرية مصرية توجد بالفيوم وتشتهر بصناعة الفخار.....

(جراح - تونس - الجديّة - أخميم)

٢٦- تشتهر قرية الحرائية في الجيزة بصناعة.....

(الفخار - السجاد - الزجاج - الأجهزة)

٢٧- تشتهر سيناء بصناعة.....

(الفخار والخزف - النسيج اليدوى - الزجاج - الخشب)

٢٨- عصر ازدهرت فيه صناعة الزجاج هو العصر.....

(القبطى - الفرعونى - الإسلامى - الحديث)

٢٩- قرية الجراح التي تشتهر بصناعة الزجاج هو تقع بمحافظة.....

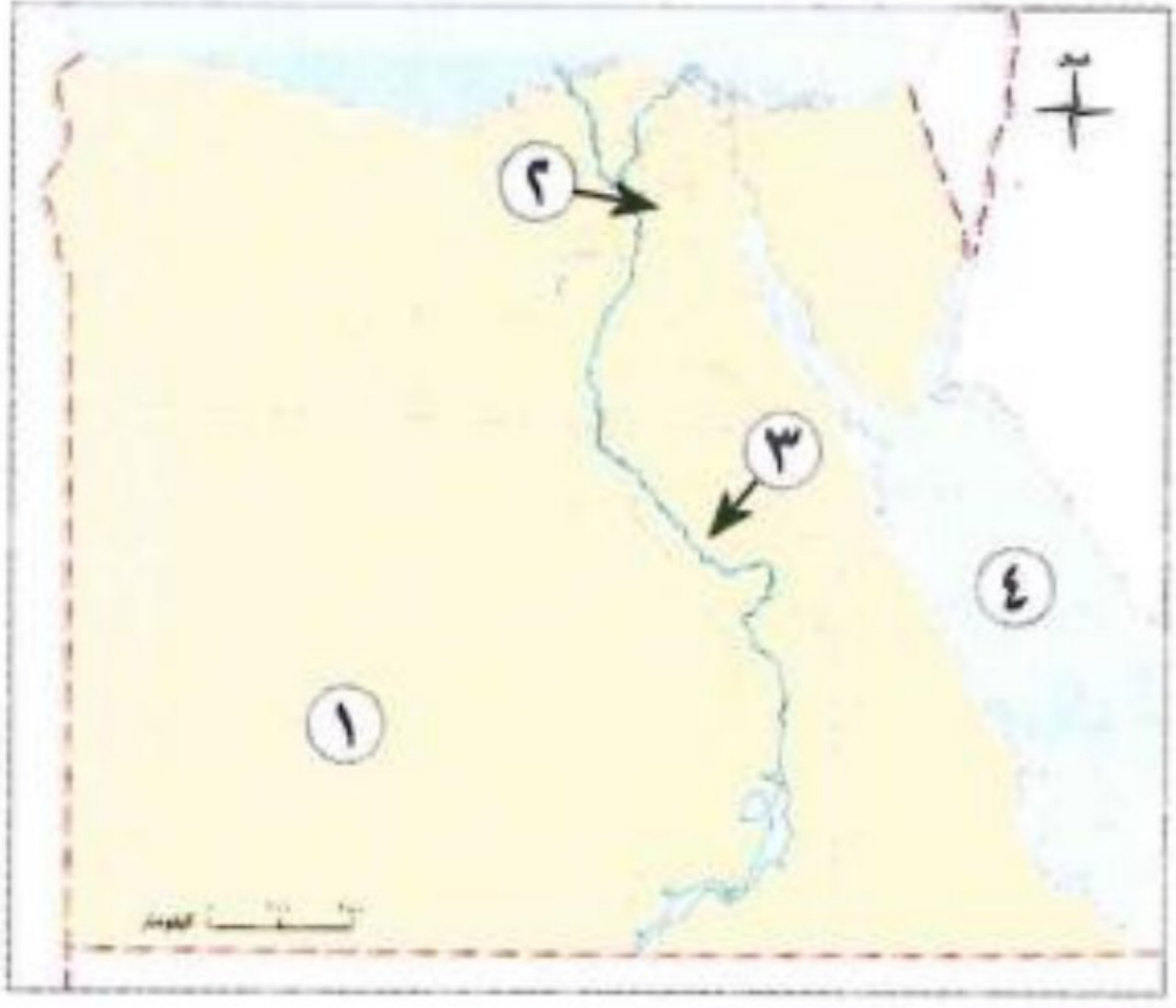
(الأقصر - الدقهلية - الإسكندرية - الفيوم)

٣٠- من أهم مراكز صناعة المشغولات النحاسية في مصر.....

(الجمالية - الإسكندرية - طنطا - أسوان)

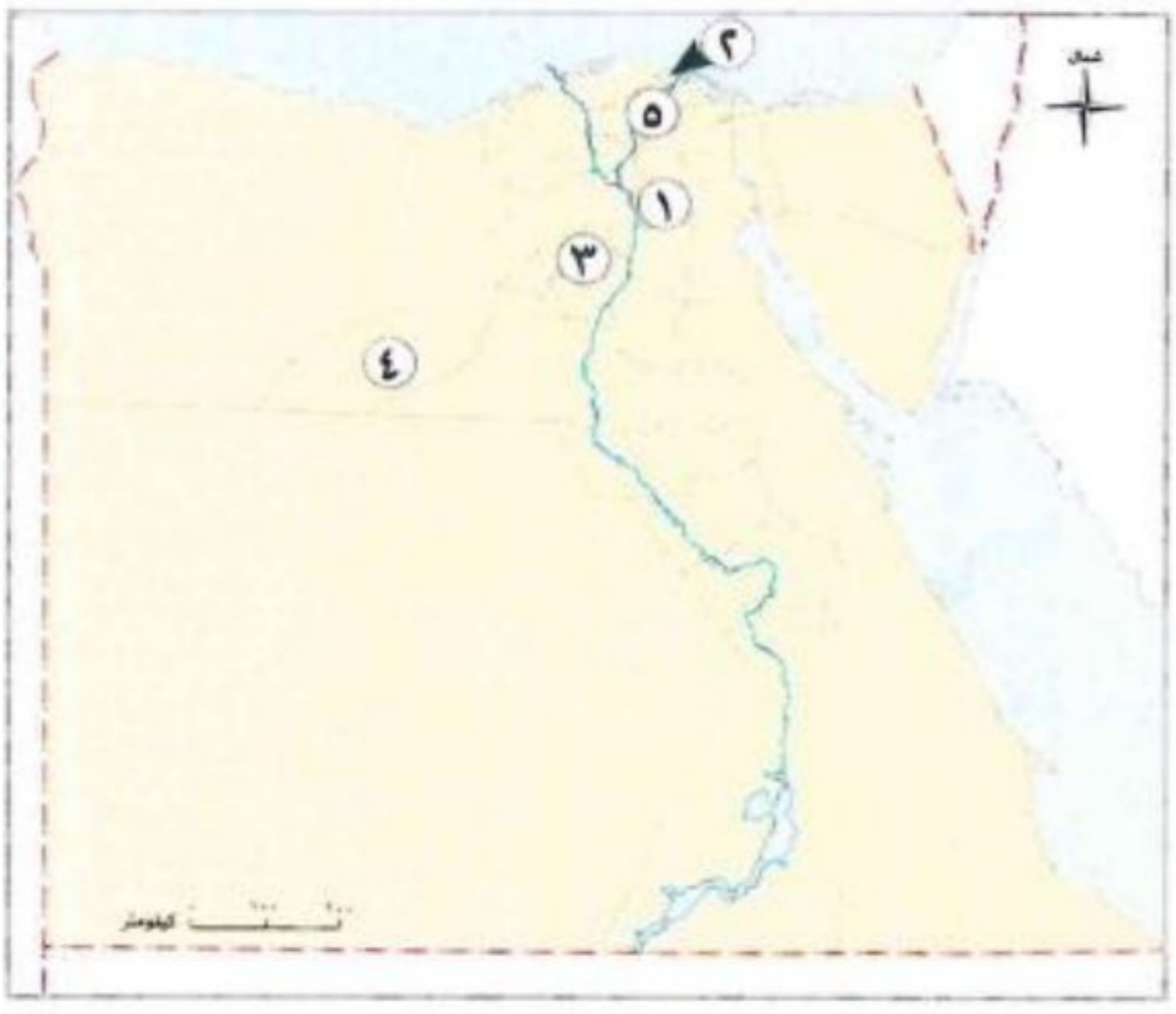
س ٤ : الخرائط : -

س ١ : أمامك خريطة صماء لمصر، اكتب مدلول الأرقام التي عليها : -



- ١- محافظة قليلة السكان
- ٢- محافظة مزدحمة بالسكان
- ٣- محافظة متوسطة السكان
- ٤- البحر

س ٢ : أمامك خريطة صماء لمصر اكتب مدلول الأرقام عليها : -



- ١- محافظة بها مراكز الحرف التقليدية
- ٢- مدينة بها حرفة الحفر على الخشب
- ٣- محافظة بها قرية الصناعة الفخار
- ٤- محافظة تتميز بوجود قرية لصناعة السجاد اليدوي
- ٥- محافظة بها قرية لصناعة الزجاج

س ٥ : اكتب ما تشير إليه العبارات الآتية : -

- ١- يزرعون الأرض بمختلف المحاصيل كالقمح والأرز .
- ٢- يعملون في صيد الأسماك من نهر النيل والترع .
- ٣- يجهز المتعلمين لكل المهن بفهم العلوم والمعارف وبناء العقول .
- ٤- يعمل على إنتاج الطاقة النظيفة للمحافظة على البيئة من التلوث .
- ٥- يقومون بتحويل المواد الخام إلى منتجات نستخدمها مثل السيارات .
- ٦- يقوم بتركيب مواسير المياه وإصلاحها .
- ٧- يدافع عن الوطن ويحميه .
- ٨- صناعات يدوية تعتمد على المواد الخام المحلية .

- ٩- أحد أحياء مصر القديمة ويشتهر بصناعة الفخار والخزف .
- ١٠- حرفه تتميز بحفر الرسومات والأشكال على الخشب .
- ١١- صناعة برع فيها المصري منذ فجر التاريخ ويتم فيها حرق الطين بعد تشكيله .
- ١٢- حرفة تراثية تتميز بالدقة والمتانة وتعد قرية الحرائية من أشهر مراكز صناعتها .
- ١٣- معرض يعد من أحد أكبر الفعاليات السنوية للحرف للتراثية .
- ١٤- مراكز الهدف منها إحياء الحرف التراثية .

س ٦ : صوب ما تحته خط : -

- ١- يعد قطاع **الخدمات** إحدى الركائز الأساسية لتقدم بلدنا بتوفيره الغذاء اللازم للسكان .
- ٢- يعمل **الفلاحون** في صيد الأسماك من نهر النيل والترع .
- ٣- يقوم عامل **النظافة** بتوصيل السلع والمنتجات للأفراد .
- ٤- يبتكر **مبرمج الحاسوب** ألعاباً إلكترونية جديدة .
- ٥- ينقل **الميكانيكي** الأشخاص والبضائع .
- ٦- يتجمد خليج **السويس** بكندا في فصل الشتاء .
- ٧- لدى كندا فائض كبير في إنتاج المحاصيل الزراعية مثل **الشعير** .
- ٨- تعتمد كندا على تصدير **الذهب** .
- ٩- برج **إيفل** من أشهر معالم كندا السياحية .
- ١٠- بعد محصول **الأرز** من أكثر المحاصيل الزراعية بكندا .

س ٧ : بم تفسر : -

- ١- تعد محافظة القاهرة أكثر محافظات مصر سكاناً .
- ٢- كثرة الشباب في بعض محافظات مصر .
- ٣- زيادة نسبة الأطفال في بعض محافظات مصر .
- ٤- يختلف عدد الذكور والإناث من محافظة لأخرى .

٥- ترتفع نسبة التعليم بمحافظة القاهرة .

٦- قلة عدد السكان في محافظة الوادي الجديد .

٧- تركز سكان محافظة سوهاج في القرى .

٨- يُعد قطاع الزراعة إحدى الركائز الأساسية لتقدم بلدنا .

مراجعة + بنك أسئلة

٩- أهمية الفلاحين لقطاع الزراعة .

١٠- أهمية المهندسين والعمال في حياتنا .

١١- تعد مهنة المعلم من المهن المهمة في قطاع الخدمات .

١٢- ظهور مهن جديدة لم تكن موجودة من قبل .

١٣- أهمية مهنة صانع المحتوى الرقمي .

١٤- العودة في اختيار بديل آخر لقرار تم تنفيذه .

١٥- أهمية صناعة القرار .

١٦- يعد السجاد اليدوي المصري مميّزا .

١٧- أهمية معدن النحاس لدى المصري القديم .

١٨ - الأهمية الاقتصادية للحرف التراثية .

١٩ - الأهمية الحضارية للحرف التراثية .

٢٠ - أنشأت الدولة معارض ومراكز للحرف التراثية .

س ٨ : ما النتائج المترتبة على : -

١ - وجود المصالح الحكومية والوزارات بمحافظة القاهرة .

٢ - قلة المياه العذبة بمحافظة الوادي الجديد .

١ - مشاركة جميع أفراد الأسرة في صنع القرارات .

٢ - المشاركة في صناعة القرار .

س ٩ : دال على صحة العبارات الآتية : -

١ - يختلف توزيع السكان في بلدنا من محافظة لأخرى .

٢ - يختلف التركيب العمري لسكان مصر من محافظة لأخرى .

٣- تختلف المهن من محافظة لأخرى .

٤- تساعدنا المهن المرتبطة بالصناعة في تلبية احتياجاتنا اليومية .

٥- بفضل التقدم العلمي والتكنولوجي ظهرت مهن مستقبلية .

٦- تحتاج المهن المستقبلية إلى عدة مهارات .

٧- تتطلب المهن المرتبطة بالصناعة والتجارة التعاون بين الأفراد .

٨- استمرت حرفة الحفر على الخشب العصور مختلفة .

٩- تهتم الدولة بالحرف التراثية وتقدر أهميتها .

١٠- يعد معرض تراثنا « من أكبر الفعاليات السنوية في مصر .

مراجعة + بنك أسئلة



١١- ازدهار صناعة الزجاج في العصر الإسلامي .

س ٩ : أجب عن الأسئلة الآتية : -

١- ما العلاقة بين المياه العذبة ومحافظة الوادي الجديد ؟

٢- وضح رأيك : هل التوزيع غير المتساوي للسكان في مصر يمثل تحديا للدولة المصرية ؟ ولماذا ؟

مراجعة + بنك أسئلة

٣- حدد خطوات صنع القرار السليم .

٤- لماذا من المهم أن يشارك . جميع الأفراد في قرارات الأسرة .

٥- حدد ثلاث أدوات صنعها المصري القديم من النحاس .

٦- حدد الهدف من إنشاء الدولة للمراكز الحرفية .

٧ : صنف المحافظات الآتية إلى مزدحمة بالسكان وقليلة السكان : -

(القاهرة - البحر الأحمر - الوادي الجديد - الجيزة - مطروح)

محافظات قليلة السكان	محافظات مزدحمة بالسكان

٨ : صنف القرارات الآتية إلى قرارات فردية وقرارات جماعية : -

القرار	فردى	جماعى
١- بناء حديقة .		
٢- المذاكرة لامتحان .		
٣- بناء مستشفى .		
٤- رسم لوحة فنية .		
٥- قراءة كتاب .		
٦- زراعة الأشجار .		مراجعة + بنك أسئلة

٩ : صنف أصحاب المهن الآتية إلى المهن المرتبطة بها فى الجدول التالى : -

(المهندسون والعمال - الفلاحون - الطبيب - الشرطى - مبرمج الحاسوب - مطور التطبيقات - الصيادون - التجار)

المهن المستقبلية	الخدمات	الصناعة والتجارة	الزراعة
			أ / أحمد المراكبى

١٠ : ما المقصود بـ : -

١- المشاركة فى صنع القرار .

٢- صنع القرار .



س ١٠ : قارن بين : -

١- المحافظات المزدهمة بالسكان والمحافظات قليلة السكان من حيث الأسباب :

وجه المقارنة	المحافظات المزدهمة بالسكان	المحافظات قليلة السكان
الأسباب		

مراجعة + بنك أسئلة

٢- محافظة القاهرة ومحافظة سوهاج من حيث المهن :

وجه المقارنة	محافظة القاهرة	محافظة سوهاج
المهن		

٣- الفلاحين والصيادين من حيث دور كل منهما في قطاع الزراعة :

وجه المقارنة	الفلاحون	الصيادون
دور كل منهما		



٤- مهندس الطاقة المتجددة وصانع المحتوى الرقمي من حيث دور كل منهما في المهن المستقبلية :

صانع المحتوى الرقمي	مهندس الطاقة المتجددة	وجه المقارنة
		دور كل منهما

مراجعة + بنك أسئلة

٥- قارن بين استخدام حرفة الحفر على الخشب في العصر القبطي والإسلامي من حيث الأماكن التي وجدت بها .

العصر الإسلامي	العصر القبطي	وجه المقارنه
		الأماكن التي وجدت بها

أ / أحمد المراكبي



بنك أسئلة البروفيسور الشامل في مادة " الدراسات الاجتماعية "

علي مقررات شهر فبراير

س ١ : أكمل العبارات الآتية بما يناسبها من كلمات : -

- ١ - عاصمة لمصر وتعد من المحافظات المزدهمة بالسكان **القاهرة** .
- ٢ - يتنوع التركيب السكاني من حيث **النوع** أو **العمر** .
- ٣ - محافظة القاهرة يعمل سكانها في النشاط **الصناعي** و **الخدمات** .
- ٤ - محافظة يقل بها السكان لقلة المياه العذبة **الوادي الجديد** .
- ٥ - سكان محافظة الوادي الجديد يعملون في **الزراعة** ، **الرعي** .
- ٦ - يعمل معظم سكان محافظة سوهاج في مهنة **الزراعة** .
- ٧ - يكثر الشباب في بعض المحافظات بسبب وجود **فرص العمل** .
- ٨ - عرفت منطقة عين شمس بالقاهرة قديما باسم **أون** .
- ٩ - إحدى الركائز الأساسية في تقدم بلدنا قطاع **الزراعة** .
- ١٠ - يزرع الفلاحون الأرض بمختلف المحاصيل، مثل **القمح** و **الأرز** .
- ١١ - يعمل الصيادون في قطاع الزراعة على صيد الأسماك من المزارع **السمكية** .
- ١٢ - يقوم المهندسون والعمال بتحويل المواد الخام إلى **منتجات** .
- ١٣ - الشخص الذي يحافظ على الأمن داخل الدولة هو **الشرطي** .
- ١٤ - يقوم التجار بعرض منتجاتهم في **الأسواق** و **المحلات** .
- ١٥ - يقدم صانع المحتوى الرقمي محتوى على الإنترنت ووسائل التواصل **الاجتماعي** .
- ١٦ - يربي الفلاحون الأبقار والدواجن الإنتاج **اللحوم** و **الألبان** و **البيض** .
- ١٧ - تظهر المهن المرتبطة بالزراعة مدى ارتباط الإنسان ب **الطبيعة** .
- ١٨ - ظهرت المهن المستقبلية بفضل التقدم العلمي و **التكنولوجي** .
- ١٩ - مشاركة المواطن في صناعة القرار تؤثر على حياته و **مجتمعه** .
- ٢٠ - القرار يمكن أن يتخذه فرد بمفرده أو يشارك في صنعه **مجموعة** .
- ٢١ - أولى خطوات صناعة قرار سليم هي تحديد **المشكلة** ، **الهدف** .
- ٢٢ - بعد تحديد المشكلة يتم جمع **المعلومات** .
- ٢٣ - لصنع قرار سليم يجب التفكير في سلبيات و **إيجابيات** كل بديل .

مراجعة + بنك أسئلة

٢٤ - يتم تنفيذ القرار بعد اختيار أفضل البدائل .

٢٥ - اختيار مدرسة جديدة لأحد الأبناء يعد أحد القرارات المهمة التي تتخذها الأسرة .

٢٦ - كل قرار تتخذه علينا أن نتحمل نتائجه .

٢٧ - تتعلم من المشاركة في صنع القرار تعزيز الثقة بالنفس .

٢٨ - يتجمد خليج هدسن في كندا بالكامل في فصل الشتاء .

٢٩ - يشتهر شعب كندا بـ اللطف .

٣٠ - تعد كندا من الدول التي لديها فائض كبير في إنتاج المحاصيل الزراعية .

٣١ - تعتمد كندا على تصدير البترول .

٣٢ - هناك تعاون بين كندا ومصر في مجالات التعليم والهجرة و الطاقة .

٣٣ - برج القاهرة تم إنشاؤه في عهد الرئيس الراحل جمال عبدالناصر .

٣٤ - يوجد مراكز للحرف التقليدية بالقاهرة في مدينة الفسطاط .

٣٥ - قام المصري القديم بحفر الأشكال والرسومات على الخشب .

٣٦ - تزينت الكنائس والأديرة بالمنحوتات الخشبية في العصر القبطي .

٣٧ - أرسلت الملكة حتشبسوت بعثات تجارية لاستيراد الأخشاب .

٣٨ - صناعة الفخار والخزف تعتمد على تشكيل الطين .

٣٩ - يشتهر حى الفواخير فى مصر القديمة بصناعة الفخار والخزف .

٤٠ - من الخامات المستخدمة في صناعة السجاد اليدوى الكتان و الصوف .

٤١ - قرية بالمنوفية تشتهر بالسجاد اليدوى أبو شعرة .

٤٢ - الصوف والحريير من المواد الخام التي تدخل في صناعة الملابس و المفروشات ، الخيم .

٤٣ - مدينة أخميم بسوهاج تشتهر بصناعة النسيج اليدوي .

٤٤ - معدن استخدمه المصري القديم في صنع أدواته اليومية النحاس .

س٢ : اكتب كلمة (صواب) أمام العبارة الصحيحة، وكلمة (خطأ) أمام العبارة غير الصحيحة : -

- ١ - يتساوى توزيع السكان بين المحافظات . (×)
- ٢ - تتميز المحافظات بخصائص سكانية مختلفة . (✓)
- ٣ - تنخفض نسبة المتعلمين بالقاهرة . (×)
- ٤ - توافر فرص العمل من أسباب ازدياد محافظة القاهرة بالسكان . (✓)
- ٥ - يعمل سكان محافظة سوهاج في حرفة الرعي . (×)

- ٦- عرفت منطقة عين شمس بالقاهرة قديماً باسم « أون » . (✓)
- ٧- الشباب هم الفئة العاملة والمنتجة في الدولة . (✓)
- ٨- تقع معظم قرى محافظة سوهاج بعيداً عن ضفاف نهر النيل . (×)
- ٩- محافظة الوادي الجديد مزدحمة بالسكان بسبب كثرة المياه العذبة . (×)
- ١٠- يقسم السكان حسب العمر إلى (ذكور وإناث) . (✓)
- ١١- يعمل الفلاحون في صيد الأسماك من نهر النيل والترع . (×)
- ١٢- تتطلب المهن المرتبطة بالصناعة والتجارة التعاون بين الأفراد . (✓)
- ١٣- يعمل مطور التطبيقات على إنتاج الطاقة النظيفة للمحافظة على البيئة . (×)
- ١٤- تساعد الصناعة والتجارة على تلبية احتياجاتنا اليومية . (✓)
- ١٥- تعد مهنة عامل النظافة من المهن الخدمية . (✓)
- ١٦- يعمل الشرطي على حفظ الأمن . (✓)
- ١٧- تحتاج المهن المستقبلية إلى مهارة التفكير الإبداعي . (✓)
- ١٨- ظهرت مهن جديدة بفضل التقدم العلمي والتكنولوجي . (✓)
- ١٩- يقوم مبرمج الحاسوب بابتكار ألعاب إلكترونية جديدة . (×)
- ٢٠- يقوم السائق بنقل الأشخاص والبضائع . (✓)
- ٢١- جعل المواطن يشارك في عملية اتخاذ القرار يؤثر على حياته ومجتمعه . (✓)
- ٢٢- صنع القرار السليم يحتاج إلى أن يمر بعدة خطوات . (✓)
- ٢٣- تعاون أفراد الأسرة معاً في صنع القرار يعلمنا تحمل المسؤولية . (✓)
- ٢٤- تجنب تنفيذ القرار إحدى أهم خطوات صناعة القرار . (×)
- ٢٥- القرار يمكن أن يتخذه فرد بمفرده أو مجموعة . (✓)
- ٢٦- القرارات التي يجب على المجتمع أن يتخذها تكون فردية فقط . (×)
- ٢٧- اختيار قائد الفصل يتم بشكل فردي . (×)
- ٢٨- صنع القرار يقلل الثقة بالنفس . (×)
- ٢٩- تتعلم التعاون من خلال المشاركة في القرار . (✓)
- ٣٠- القرارات التي نشارك فيها ليس لها تأثير علينا . (×)
- ٣١- من المهم احترام آراء الآخرين عند اتخاذ القرار . (✓)
- ٣٢- كل قرار له نتيجة علينا تحملها والتعلم منها . (✓)

- ٣٣ - المشاركة في صناعة القرار تشعرنا بالمسئولية . (✓)
- ٣٤ - يوجد بكندا واحدة من أكبر غابات العالم من حيث المساحة . (✓)
- ٣٥ - يعيش بكندا الكثير من الأجناس المختلفة من حول العالم . (✓)
- ٣٦ - تعاني كندا من نقص المحاصيل الزراعية . (×)
- ٣٧ - من أشهر معالم كندا السياحية برج القاهرة . (×)
- ٣٨ - من مجالات التعاون بين مصر وكندا الهجرة . (✓)
- ٣٩ - تم بناء برج القاهرة على شكل زهرة اللوتس . (✓)
- ٤٠ - الحرف التراثية عمل بها المصريون منذ آلاف السنين . (✓)
- ٤١ - الحرف التراثية في مصر محدودة وليست متنوعة . (×)
- ٤٢ - تشتهر مدينة دمياط وحى الجمالية بالحفر على الخشب . (✓)
- ٤٣ - مصر دولة نادرة الأخشاب رغم براعة المصريين فى المصنوعات الخشبية . (✓)
- ٤٤ - يصنع الزجاج من رمال الصحراء . (✓)
- ٤٥ - المصرى القديم صنع أدواته اليومية من الحديد . (×)
- ٤٦ - تعد الجمالية والفسطاط من أهم مراكز صناعة المشغولات النحاسية في مصر . (✓)
- ٤٧ - تأسست مدينة الفسطاط على يد عمرو بن العاص . (✓)

س ٣ : اختر الإجابة الصحيحة مما بين القوسين : -

- ١ - تصنيف السكان إلى مجموعات حسب النوع أو العمر يعرف ب.....
- (النمو السكاني - **التركيب السكاني** - الكثافة السكانية - التوزيع السكاني)
- ٢ - تعد من المحافظات المزدهمة بالسكان..... محافظة .
- (الوادى الجديد - مطروح - **الجيزة** - البحر الأحمر)
- ٣ - أي من المحافظات التالية تعتبر قليلة السكان.....
- (الجيزة - **شمال سيناء** - كفر الشيخ - سوهاج)
- ٤ - المهنة الرئيسية لمعظم سكان القرى في محافظة سوهاج.....
- (التجارة - الصناعة - **الزراعة** - التعدين)
- ٥ - المحافظة التي تعتبر عاصمة البلاد ومزدهمة بالسكان.....
- (الجيزة - **القاهرة** - سوهاج - مطروح)



٦- القطاع الذي يوفر لنا الغذاء الذي نحتاج إليه هو قطاع.....

(الزراعة - الصناعة - التجارة - الخدمات) .

٧- يقومون بتحويل المواد الخام إلى منتجات.....

(الفلاحون - التجار - العمال - الصيادون) .

٨- يقوم بإصلاح السيارات.....

(المعلم - الطبيب - الميكانيكي - السائق) .

٩- يقوم بنقل الأشخاص والبضائع.....

(الشرطي - السائق - المعلم - الطبيب) .

١٠- إحدى المهن المستقبلية التي لم تكن موجودة من قبل.....

(الفلاحون - التجار - عامل النظافة - مطور التطبيقات) .

١١- يقوم بتقديم محتوى على الإنترنت ووسائل التواصل الاجتماعي.....

(مصمم الألعاب - صانع المحتوى الرقمي - مبرمج الحاسوب - مهندس الطاقة المتجددة) .

١٢- يقومون بأعمال البناء والنقاشة والمحارة عمال.....

(النظافة - التوصيل - المقاولات - البريد) .

١٣- الخطوة الأولى في صنع القرار تعتمد على.....

(تنفيذ القرار - تحديد المشكلة - التفكير في الخيارات - جمع المعلومات) .

١٤- تتمثل أهمية المشاركة في صنع القرار في تعلم.....

(التسلية - التعاون - اللعب - إضاعة الوقت) .

١٥- من أمثلة القرار الجماعي في المدرسة.....

(اختيار قائد فصل - شراء المنتجات - بناء حديقة - إنشاء مستشفى) .

١٦- المشاركة في صنع القرار تعزز.....

(القلق - الثقة بالنفس - التوتر - الضغط) .

١٧- مكان نتعلم فيه ونشارك في صنع بعض القرارات.....

(السوق - المدرسة - العمل - الشارع) .

١٨- يوجد بكندا واحدة من أكبر غابات العالم وتغطي..... مساحة الدولة .

(ربع - نصف - ثلث - خمس) .

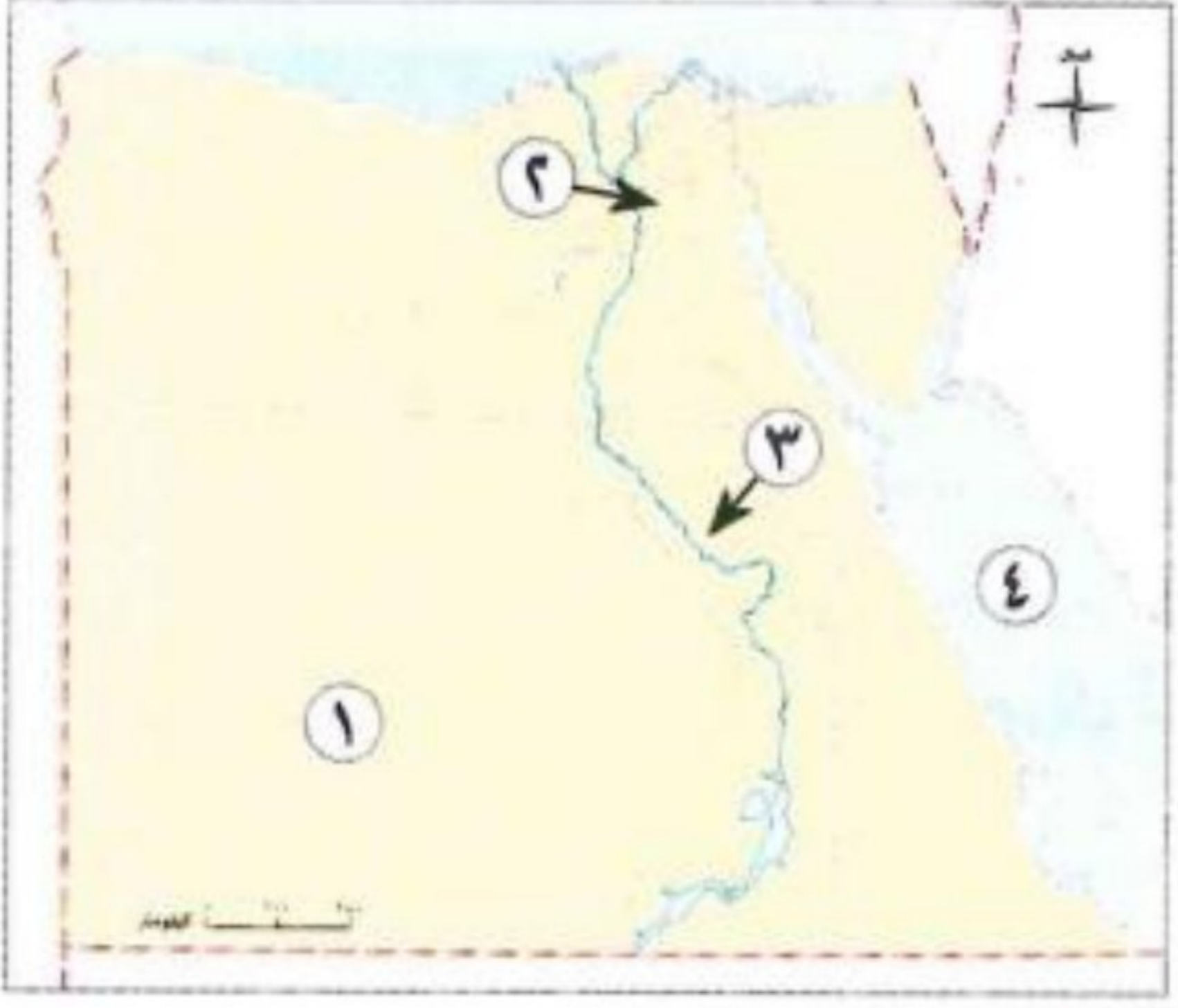
١٩- من أشهر المعالم السياحية في كندا.....

- (برج القاهرة - **منتزه بانف الوطني** - أهرامات الجيزة - متحف الحضارة المصرية) .
- ٢٠- محصول زراعي تنتجه كندا بكثرة.....
- (الأرز - الذرة - **القمح** - الشعير) .
- ٢١- من مجالات التعاون بين مصر و كندا.....
- (**التعليم** - الرياضة - السياحة - الزراعة) .
- ٢٢- تتميز مصر وتمتلك مكانة خاصة بين الأمم بسبب.....
- (الاقتصاد - الزراعة - **الحضارة** - التعليم) .
- ٢٣- تتواجد حرفة الحفر على الخشب بحى الجمالية بمحافظة.....
- (الجيزة - **القاهرة** - البحيرة - الدقهلية) .
- ٢٤- تعد إحدى أقدم الصناعات التي برع فيها المصريون منذ فجر التاريخ.....
- (الأجهزة - **الفخار** - المعادن - التكنولوجيا) .
- ٢٥- قرية مصرية توجد بالفيوم وتشتهر بصناعة الفخار.....
- (جراح - **تونس** - الجديّة - أخميم) .
- ٢٦- تشتهر قرية الحرائية في الجيزة بصناعة.....
- (الفخار - **السجاد** - الزجاج - الأجهزة) .
- ٢٧- تشتهر سيناء بصناعة.....
- (الفخار والخزف - **النسيج البدوي** - الزجاج - الخشب) .
- ٢٨- عصر ازدهرت فيه صناعة الزجاج هو العصر.....
- (القبطى - الفرعونى - **الإسلامى** - الحديث) .
- ٢٩- قرية الجراح التي تشتهر بصناعة الزجاج هو تقع بمحافظة.....
- (الأقصر - **الدقهلية** - الإسكندرية - الفيوم) .
- ٣٠- من أهم مراكز صناعة المشغولات النحاسية في مصر.....
- (**الجمالية** - الإسكندرية - طنطا - أسوان) .

س ٤ : الخرائط : -

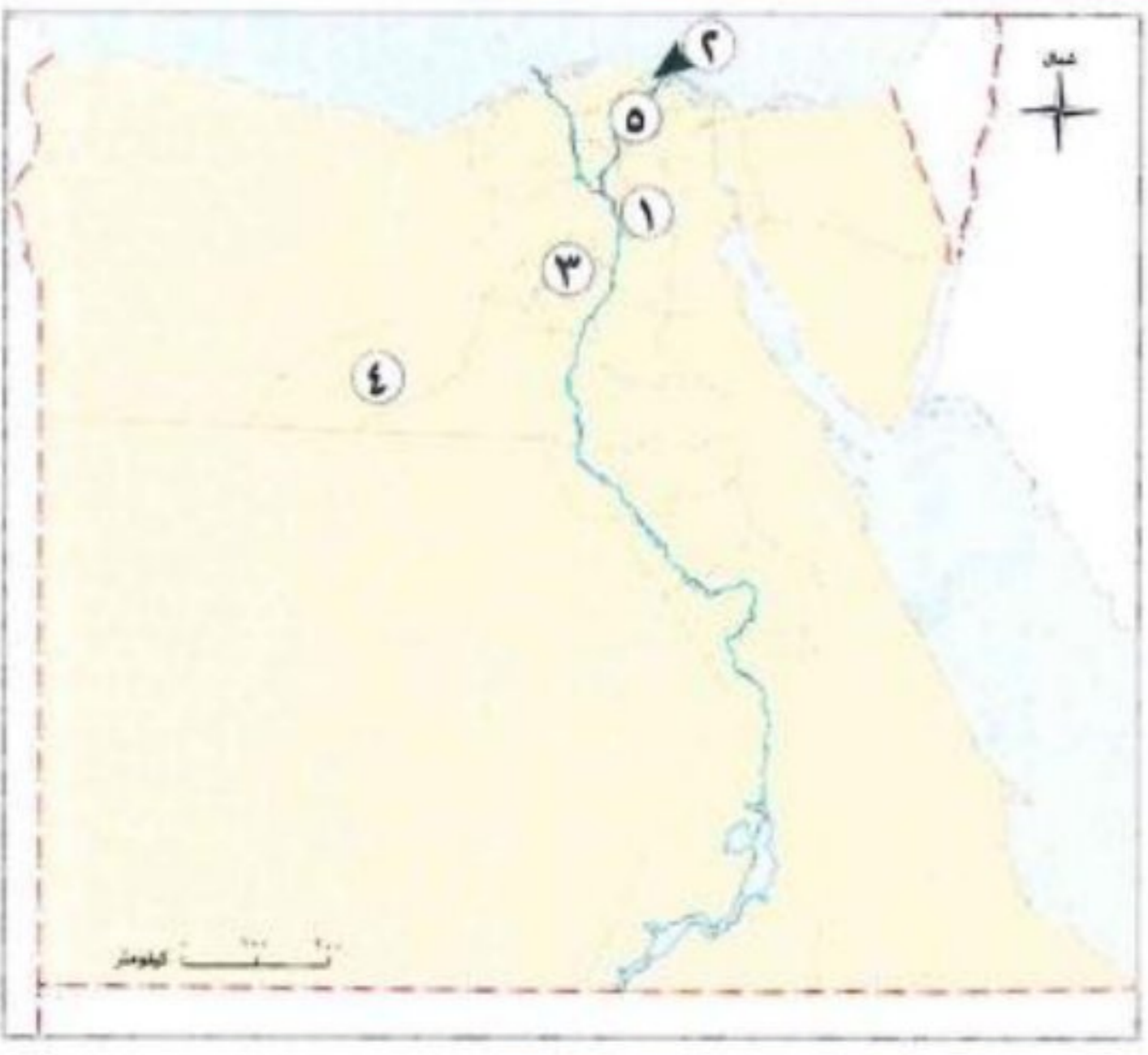
س ١ : أمامك خريطة صماء لمصر، اكتب مدلول الأرقام التي عليها : -

- ١- محافظة قليلة السكان **الوادي الجديد** .
- ٢- محافظة مزدحمة بالسكان **القاهرة** .
- ٣- محافظة متوسطة السكان **سوهاج** .
- ٤- **البحر الأحمر** .



س ٢ : أمامك خريطة صماء لمصر اكتب مدلول الأرقام عليها : -

- ١- محافظة بها مراكز الحرف التقليدية **القاهرة** .
- ٢- مدينة بها حرفة الحفر على الخشب **دمياط** .
- ٣- محافظة بها قرية الصناعة الفخار **الفيوم** .
- ٤- محافظة تتميز بوجود قرية لصناعة السجاد اليدوي **الجيزة** .
- ٥- محافظة بها قرية لصناعة الزجاج **الدقهلية** .



س ٥ : اكتب ما تشير إليه العبارات الآتية : -

- ١- يزرعون الأرض بمختلف المحاصيل كالقمح والأرز . **الفلاحون**
- ٢- يعملون في صيد الأسماك من نهر النيل والترع . **الصيادون**
- ٣- يجهز المتعلمين لكل المهن بفهم العلوم والمعارف وبناء العقول . **المعلم**
- ٤- يعمل على إنتاج الطاقة النظيفة للمحافظة على البيئة من التلوث . **مهندس الطاقة المتجددة**
- ٥- يقومون بتحويل المواد الخام إلى منتجات نستخدمها مثل السيارات . **المهندسون والعمال**
- ٦- يقوم بتركيب مواسير المياه وإصلاحها . **السباك**
- ٧- يدافع عن الوطن ويحميه . **ضابط الجيش**
- ٨- صناعات يدوية تعتمد على المواد الخام المحلية . **الحرف التراثية**

- ٩- أحد أحياء مصر القديمة ويشتهر بصناعة الفخار والخزف . **حي الفواخير**
- ١٠- حرفه تتميز بحفر الرسومات والأشكال على الخشب . **الحفر علي الخشب**
- ١١- صناعة برع فيها المصري منذ فجر التاريخ ويتم فيها حرق الطين بعد تشكيله . **الفخار**
- ١٢- حرفة تراثية تتميز بالدقة والمتانة وتعد قرية الحرائية من أشهر مراكز صناعتها . **السجاد اليدوي**
- ١٣- معرض يعد من أحد أكبر الفعاليات السنوية للحرف للتراثية . **معرض تراثنا**
- ١٤- مراكز الهدف منها إحياء الحرف التراثية . **مراكز الحرف التقليدية**

س٦ : صوب ما تحته خط : -

- ١- يعد قطاع **الخدمات** إحدى الركائز الأساسية لتقدم بلدنا بتوفيره الغذاء اللازم للسكان . **الزراعة**
- ٢- يعمل **الفلاحون** في صيد الأسماك من نهر النيل والترع . **الصيادون**
- ٣- يقوم عامل **النظافة** بتوصيل السلع والمنتجات للأفراد . **التوصيل**
- ٤- يبتكر **مبرمج الحاسوب** ألعاباً إلكترونية جديدة . **مصمم الألعاب**
- ٥- ينقل **الميكانيكي** الأشخاص والبضائع . **السائق**
- ٦- يتجمد خليج **السويس** بكندا في فصل الشتاء . **هدسن**
- ٧- لدى كندا فائض كبير في إنتاج المحاصيل الزراعية مثل **الشعير** . **القمح**
- ٨- تعتمد كندا على تصدير **الذهب** . **البتترول**
- ٩- برج **إيفل** من أشهر معالم كندا السياحية . **CN تورنتو**
- ١٠- يعد محصول **الأرز** من أكثر المحاصيل الزراعية بكندا . **القمح**

س٧ : يم تفسر : -

- ١- تعد محافظة القاهرة أكثر محافظات مصر سكاناً .
لأنها عاصمة البلاد ويوجد بها الوزارات والمصالح الحكومية وتتوافر بها فرص العمل .
- ٢- كثرة الشباب في بعض محافظات مصر .
بسبب وجود فرص العمل .
- ٣- زيادة نسبة الأطفال في بعض محافظات مصر .
بسبب كثرة الإنجاب .
- ٤- يختلف عدد الذكور والإناث من محافظة لأخرى .
بسبب الهجرة الداخلية .

٥- ترتفع نسبة التعليم بمحافظة القاهرة .

لاهتمام الأسر بالتعليم .

٦- قلة عدد السكان في محافظة الوادي الجديد .

بسبب أنها منطقة صحراوية تقل بها المياه العذبة .

٧- تركز سكان محافظة سوهاج في القرى .

بسبب وجود ضفاف نهر النيل حيث المياه العذبة والتربة الخصبة وعملهم بالزراعة .

٨- يُعد قطاع الزراعة إحدى الركائز الأساسية لتقدم بلدنا .

لأنه يوفر الغذاء الذي نحتاج إليه .

٩- أهمية الفلاحين لقطاع الزراعة .

- يزرعون الأرض بمختلف المحاصيل كالقمح والأرز .

- يربون الأبقار والدواجن لإنتاج اللحوم والألبان والبيض .

١٠- أهمية المهندسين والعمال في حياتنا .

يقومون بتحويل المواد الخام إلى منتجات نستخدمها، مثل : الملابس، والأثاث والسيارات .

١١- تعد مهنة المعلم من المهن المهمة في قطاع الخدمات .

لأنه يقوم بتجهيز المتعلمين لكل هذه المهن بفهم العلوم والمعارف وبناء العقول .

١٢- ظهور مهن جديدة لم تكن موجودة من قبل .

بسبب التقدم العلمي والتكنولوجي .

١٣- أهمية مهنة صانع المحتوى الرقمي .

لأنه يقدم محتوى على الإنترنت ووسائل التواصل الاجتماعي يفيد به الناس .

١٤- العودة في اختيار بديل آخر لقرار تم تنفيذه .

لكي نصنع قرارا سليما .

١٥- أهمية صناعة القرار .

تساعدنا صناعة القرار على عيش حياة أفضل .

١٦- يعد السجاد اليدوي المصري مميذا .

لأنه تميز بالدقة والمتانة، ورسم عليه ملامح التراث المصري .

١٧- أهمية معدن النحاس لدى المصري القديم .

استخدمه في صناعة أدواته اليومية من أوان وأسلحة وحلى .

١٨ - الأهمية الاقتصادية للحرف التراثية .

تساهم في التنمية الاقتصادية وزيادة الدخل القومي - توفر فرص عمل للشباب - تساهم في تنمية المناطق البعيدة .

١٩ - الأهمية الحضارية للحرف التراثية .

تحافظ على ثقافة وتراث مصر - تظهر حضارة مصر العريقة .

٢٠ - أنشأت الدولة معارض ومراكز للحرف التراثية .

لحفاظ على الحرف التراثية .

س ٨ : ما النتائج المترتبة على : -

١ - وجود المصالح الحكومية والوزارات بمحافظة القاهرة .

جعلها محافظة مزدحمة بالسكان .

٢ - قلة المياه العذبة بمحافظة الوادي الجديد .

أدى إلى قلة السكان بها .

١ - مشاركة جميع أفراد الأسرة في صنع القرارات .

يجعلنا نتعلم التعاون وتحمل المسؤولية .

٢ - المشاركة في صناعة القرار .

هذه المشاركة تجعلنا نشعر بالمسؤولية، وحل المشكلات، والتعاون والاحترام، وتعزيز الثقة بالنفس، واحترام آراء الآخرين .

س ٩ : دال على صحة العبارات الآتية : -

١ - يختلف توزيع السكان في بلدنا من محافظة لأخرى .

- محافظات مزدحمة بالسكان، مثل: القاهرة الجيزة .

- محافظات متوسطة السكان، مثل: الدقهلية ، البحيرة ، سوهاج .

- محافظات قليلة السكان، مثل : شمال سيناء جنوب سيناء البحر الأحمر، الوادي الجديد، مطروح .

٢ - يختلف التركيب العمري لسكان مصر من محافظة الأخرى .

حيث نجد محافظة يكثر فيها الشباب بسبب وجود فرص العمل، ومحافظة أخرى تزداد نسبة

الأطفال بسبب كثرة الإنجاب، كما توجد نسبة من كبار السن في كل المحافظات، ويختلف عدد

الذكور والإناث من محافظة إلى أخرى وذلك بسبب الهجرة الداخلية .

٣- تختلف المهن من محافظة لأخرى .

حيث : - يعمل سكان القاهرة في النشاط الصناعي والخدمات .

- يعمل معظم سكان سوهاج في الزراعة .

- يعمل سكان الوادي الجديد في الزراعة والرعي .

٤- تساعدنا المهن المرتبطة بالصناعة في تلبية احتياجاتنا اليومية .

حيث يقوم المهندسون والعمال بتحويل المواد الخام إلى منتجات نستخدمها، مثل الملابس، والأثاث، والسيارات .

٥- بفضل التقدم العلمي والتكنولوجي ظهرت مهن مستقبلية .

حيث ظهرت مهن جديدة لم تكن موجودة من قبل، ظهرت بفضل التقدم العلمي والتكنولوجي ،

منها : (مبرمج الحاسوب، ومصمم الألعاب، ومطور التطبيقات، وصانع المحتوى الرقمي،

ومهندس الطاقة المتجددة) .

٦- تحتاج المهن المستقبلية إلى عدة مهارات .

تحتاج هذه المهن إلى عدة مهارات، أهمها : استخدام التكنولوجيا، والتفكير الإبداعي، والعمل

الجماعي ، وهذه المهن ستقود العالم في المستقبل .

٧- تتطلب المهن المرتبطة بالصناعة والتجارة التعاون بين الأفراد .

حيث تتطلب هذه المهن التعاون بين الأفراد، والعمل المنظم لتوفير السلع والخدمات التي نحتاج إليها .

٨- استمرت حرفة الحفر على الخشب العصور مختلفة .

حيث قام المصري القديم بحفر الرسومات والأشكال على الخشب، وفي العصر القبطي تزينت

الكنائس والأديرة بالمنحوتات الخشبية ، أما في العصر الإسلامي فتزينت بها المساجد .

٩- تهتم الدولة بالحرف التراثية وتقدر أهميتها .

لذلك قامت بإنشاء مراكز ومعارض ومهرجانات للحفاظ على الحرف التراثية .

١٠- يعد معرض تراثنا « من أكبر الفعاليات السنوية في مصر .

حيث يتيح المعرض الفرصة أمام الحرفيين والمبدعين العاملين بالحرف التراثية لعرض منتجاتهم

أمام الجمهور .

١١- ازدهار صناعة الزجاج في العصر الإسلامي .

ازدهرت صناعة الزجاج في العصر الإسلامي، واستخدم في صناعة التحف والأكواب وأسقف المساجد والقصور .

س ٩ : أجب عن الأسئلة الآتية : -

١- ما العلاقة بين المياه العذبة ومحافظة الوادي الجديد ؟

أدت قلة المياه العذبة إلى قلة عدد السكان بمحافظة الوادي الجديد .

٢- وضح رأيك : هل التوزيع غير المتساوي للسكان في مصر يمثل تحديا للدولة المصرية ؟ ولماذا ؟

مراجعة + بنك أسئلة

نعم ، حيث يزداد عدد السكان في محافظة القاهرة مما يسبب ضغط علي الخدمات .

٣- حدد خطوات صنع القرار السليم .

تحديد المشكلة أو الهدف - جمع المعلومات - وضع بدائل لحل المشكلة أو تحقيق الهدف ، التفكير في إيجابيات وسلبيات كل بديل - اختيار أفضل البدائل - تنفيذ القرار البديل المناسب ، معاودة اختيار بديل آخر في حال لم يصلح البديل الذي تم تنفيذه .

٤- لماذا من المهم أن يشارك . جميع الأفراد في قرارات الأسرة .

يجعلنا نتعلم التعاون وتحمل المسؤولية .

٥- حدد ثلاث أدوات صنعها المصري القديم من النحاس .

الأواني، الأسلحة، الحلى .

٦- حدد الهدف من إنشاء الدولة للمراكز الحرفية .

إحياء الحرف التراثية ومساعدة الحرفيين والفنانين على ممارسة حرفهم وإبداعهم .

٧ : صنف المحافظات الآتية إلى مزدحمة بالسكان وقليلة السكان : -

(القاهرة - البحر الأحمر - الوادي الجديد - الجيزة - مطروح)

محافظات قليلة السكان	محافظات مزدحمة بالسكان
البحر الأحمر - الوادي الجديد مطروح	القاهرة الجيزة

٨ : صنف القرارات الآتية إلى قرارات فردية وقرارات جماعية : -

القرار	فردى	جماعى
١- بناء حديقة .		✓
٢- المذاكرة لامتحان .	✓	
٣- بناء مستشفى .		✓
٤- رسم لوحة فنية .	✓	
٥- قراءة كتاب .	✓	
٦- زراعة الأشجار .		مراجعة + بنى أسئلة ✓

٩ : صنف أصحاب المهن الآتية إلى المهن المرتبطة بها في الجدول التالي : -

(المهندسون والعمال - الفلاحون - الطبيب - الشرطى - مبرمج الحاسوب - مطور التطبيقات - الصيادون - التجار)

المهن المستقبلية	الخدمات	الصناعة والتجارة	الزراعة
مبرمج الحاسوب - مطور التطبيقات	الطبيب - الشرطى	المهندسون والعمال - التجار	الفلاحون - الصيادون

١٠ : ما المقصود بـ : -

١- المشاركة في صنع القرار .

تعنى إشراك المواطنين في عملية اتخاذ القرارات التي تؤثر على حياتهم ومجتمعاتهم .

٢- صنع القرار .

هو تحديد بدائل متعددة واختيار الأفضل منها لحل مشكلة أو تحقيق هدف معين .

س ١٠ : قارن بين : -

١- المحافظات المزدهمة بالسكان والمحافظات قليلة السكان من حيث الأسباب :

وجه المقارنة	المحافظات المزدهمة بالسكان	المحافظات قليلة السكان
الأسباب	توافر فرص العمل والمصالح الحكومية	مناطق صحراوية تقل بها المياه العذبة

٢- محافظة القاهرة ومحافظة سوهاج من حيث المهن :

مراجعة + بنك أسئلة

وجه المقارنة	محافظة القاهرة	محافظة سوهاج
المهن	النشاط الصناعي - الخدمات	- الزراعة

٣- الفلاحين والصيادين من حيث دور كل منهما في قطاع الزراعة :

وجه المقارنة	الفلاحون	الصيادون
دور كل منهما	- يزرعون الأرض بمختلف المحاصيل كالقمح والأرز . - يربون الأبقار والدواجن الإنتاج اللحوم والألبان والبيض .	يعملون في صيد الأسماك من البحرين الأحمر والمتوسط ونهر النيل والترع وأيضا المزارع السمكية .

٤- مهندس الطاقة المتجددة وصانع المحتوى الرقمي من حيث دور كل منهما في المهن المستقبلية :

وجه المقارنة	مهندس الطاقة المتجددة	صانع المحتوى الرقمي
دور كل منهما	يعمل على إنتاج الطاقة النظيفة للمحافظة على البيئة من التلوث .	يقدم محتوى على الإنترنت ووسائل التواصل الاجتماعي يفيد به الناس .

٥- قارن بين استخدام حرفة الحفر على الخشب في العصر القبطي والإسلامي من حيث الأماكن التي وجدت بها .

وجه المقارنه	العصر القبطي	العصر الإسلامي
الأماكن التي وجدت بها	تزينت الكنائس والأديرة بالمنحوتات الخشبية	تزينت بها المساجد

أ / أحمد المراكبي

تطبيق



مذكرات جاهزة للطباعة

لتحميل الملفات التعليمية مجاناً للمعلم والطالب

مذكرات وملازم / مراجعات وملخصات / امتحانات / كتب الوزارة /
أدلة المعلم / دفاتر التحضير / سجلات مدرسية / أوراق تأسيس

امسح الكود بموبايلك علشان تقدر تثبت التطبيق

وتقدر ف أي وقت تحمّل ال نفسك فيه ببلاش

هيغنيك عن البحث والجروبات والقنوات الكثيرة

