

مراجعة


دراسات اجتماعية

امتحان الشهر الأول

فيراير ومارس

5

سمير الغريب مذكرات تعليمية



السؤال الأول: اختر الإجابة الصحيحة

- (1) توجد (هضبة التبت) في قارة
 (أ) أوروبا (ب) آسيا (ج) إفريقيا (د) أستراليا
- (2) يحد قارة أمريكا الشمالية من جهة الشرق المحيط
 (أ) الهادي (ب) الهندي (ج) الأطلنطي (د) المتجمد الشمالي
- (3) توجد غابات الأمازون في قارة
 (أ) أوروبا (ب) آسيا (ج) إفريقيا (د) أمريكا الجنوبية
- (4) ظهرت حضارة العراق القديمة في قارة
 (أ) أوروبا (ب) آسيا (ج) إفريقيا (د) أستراليا
- (5) معظم أراضي قارة صحراوية وجبلية.
 (أ) أوروبا (ب) آسيا (ج) إفريقيا (د) أستراليا
- (6) يوجد بين كل خط طول وآخر دقيقة.
 (أ) ثلاث (ب) أربع (ج) خمس (د) ست
- (7) إذا اتجهنا جهة الشرق في الوقت.
 (أ) نتقدم (ب) نتأخر (ج) لا يتأثر (د) لا يتغير
- (8) دائرة هي دائرة العرض الرئيسية.
 (أ) السرطان (ب) الجدي (ج) الاستواء (د) القطب الشمالي
- (9) ترتفع درجة الحرارة كلما دائرة الاستواء.
 (أ) ابتعدنا من (ب) شرق (ج) غرب (د) اقتربنا من
- (10) يقع خط جرينتش عند درجة درجة.
 (أ) صفر (ب) 15 (ج) 180 (د) 360
- (11) تتميز البيئة بالتخطيط العمراني وجودة البنية التحتية.
 (أ) الريفية (ب) الصحراوية (ج) الحضرية (د) الساحلية
- (12) تتميز البيئة بالشواطئ الرملية والمناظر الجميلة.
 (أ) الريفية (ب) الصحراوية (ج) الحضرية (د) الساحلية

اختر الإجابة الصحيحة

سمير الغريب مذكرات تعليمية

- (13) تتميز البيئة بقلة النبات الطبيعي؛ بسبب الجفاف.
 (أ) الريفية (ب) الصحراوية (ج) الحضرية (د) الساحلية
- (14) تتميز البيئة بتوافر التربة الخصبة والمياه العذبة.
 (أ) الريفية (ب) الصحراوية (ج) الحضرية (د) الساحلية
- (15) المحافظة الموجود على سطح مائي ينتشر بها نشاط
 (أ) المهن الخدمية (ب) صيد الأسماك (ج) النشاط التعديني
- (16) المحافظة التي يتوافر بها آبار البترول ينتشر بها نشاط
 (أ) المهن الخدمية (ب) صيد الأسماك (ج) النشاط التعديني
- (17) المحافظة التي يتوافر بها أماكن أثرية ينتشر بها نشاط
 (أ) النشاط السياحي (ب) صيد الأسماك (ج) النشاط التعديني
- (18) من المحافظات التي ينتشر بها نشاط الزراعة
 (أ) بورسعيد (ب) القاهرة (ج) الشرقية
- (19) عاصمة دولة المكسيك هي مدينة
 (أ) أوتاوا (ب) طوكيو (ج) لندن (د) مكسيكو
- (20) اللغة الرسمية لدولة المكسيك هي اللغة
 (أ) الإسبانية (ب) الإنجليزية (ج) العربية (د) الفرنسية
- (21) مساحة المكسيك تساوي مساحة مصر تقريبا.
 (أ) ربع (ب) نصف (ج) ضعف (د) ثلث
- (22) تقع القناطر الخيرية في محافظة
 (أ) القاهرة (ب) القليوبية (ج) البحيرة (د) السويس
- (23) أكبر محافظات مصر في الثروة الحيوانية
 (أ) القاهرة (ب) القليوبية (ج) البحيرة (د) السويس
- (24) محافظة القليوبية من المحافظات
 (أ) الريفية (ب) الصحراوية (ج) الحضرية (د) الساحلية

السؤال الثاني: اكتب كلمة (صواب) أو كلمة (خطأ) أمام كل عبارة

- () (1) تقع قارة أستراليا بالكامل في نصف الكرة الأرضية الغربي.
- () (2) يغطي الجليد القارة القطبية الجنوبية طوال العام.
- () (3) حضارة الأزتك من أشهر حضارات قارة آسيا.
- () (4) تتميز قارة أوروبا بالتنوع الحضاري قديماً وحديثاً.
- () (5) يحد المحيط الأطلنطي قارة إفريقيا من جهة الشرق.
- () (6) قمة إفرست من أعلى القمم الجبلية في العالم.
- () (7) تتسم قارة أوروبا بشكلها الأقرب إلى شكل المثلث.
- () (8) ترتفع درجة الحرارة كلما ابتعدنا من دائرة الاستواء.
- () (9) دائرة الاستواء هي دائرة العرض الرئيسية.
- () (10) يمثل الفرق بين كل خط طول وآخر 15 دقيقة.
- () (11) دائرة الاستواء لها دور واضح في تنوع المناخ بالعالم.
- () (12) ترتفع درجة الحرارة كلما اقتربنا من الدائرة القطبية الشمالية.
- () (13) يؤثر الموقع الفلكي للدولة على التوقيت الموجود بها.
- () (14) إذا اتجهنا شرقاً نتقدم في الوقت.
- () (15) تتميز البيئة الصحراوية بارتفاع درجة الحرارة في الصيف.
- () (16) تتميز البيئة الزراعية بتوافر التربة الخصبة والمياه العذبة.
- () (17) محافظة بورسعيد من المحافظات الحضرية بالكامل.
- () (18) يعمل سكان البيئة الصحراوية في الزراعة والرعي.
- () (19) مدينة الإسكندرية هي أول نموذج للمدن الحضرية في التاريخ.
- () (20) تتميز البيئة الساحلية بالشواطئ الرملية والمناظر الجميلة.
- () (21) تمتد البيئة الصحراوية للمناطق المجاورة للبحرين الأحمر والمتوسط.
- () (22) محافظة الوادي الجديد من المحافظات كبيرة المساحة.
- () (23) يختلف توزيع السكان بين محافظات مصر بشكل كبير.
- () (24) تنخفض الكثافة السكانية بشكل ملحوظ بمحافظة القاهرة.

اكتب كلمة (صواب) أو كلمة (خطأ) أمام كل عبارة

- () (25) يحد محافظة الإسماعيلية من جهة الشرق جنوب سيناء.
- () (26) تنتشر الأنشطة التعدينية في محافظة الغربية.
- () (27) لا تؤثر البيئة على نوعية الأنشطة التي يمارسها السكان.
- () (28) الحفاظ على الموارد الطبيعية مسئولية جماعية.
- () (29) الأهرامات ليست حجارة مرصوفة بل تاريخ ناطق بالعظمة.
- () (30) المكسيك من أكبر مستوردي الفواكه والخضروات في العالم.
- () (31) مساحة المكسيك تمثل نصف مساحة مصر.
- () (32) تطل المكسيك على المحيطين الهادي والأطلسي.
- () (33) يلعب خط جرينتش الدور الرئيسي في تنوع المناخ بالعالم.
- () (34) من أشهر حضارات قارة أوروبا حضارة المايا.
- () (35) تنخفض درجة الحرارة كلما اقتربنا من دائرة الاستواء.
- () (36) تنتشر الأنشطة الزراعية في محافظة القاهرة.
- () (37) تُعتبر هضبة التبت أكبر هضاب العالم ارتفاعاً.
- () (38) يحد قارة آسيا من جهة الشرق المحيط الأطلسي.
- () (39) يمثل الفارق الزمني بين الدول ساعة واحدة كل 15 خط طول.
- () (40) تتميز قارة إفريقيا بمظهرها الهضبي.
- () (41) يقوم نشاط المكسيك الاقتصادي على التجارة التكنولوجية.
- () (42) يحد محافظة الإسماعيلية من جهة الشمال محافظة الغربية.
- () (43) التغذية السليمة تقلل من الأمراض وتقوي جهاز المناعة.
- () (44) تقع القناطر الخيرية في محافظة السويس.
- () (45) يقع مشروع شرق العوينات في الصحراء الشرقية.
- () (46) محافظة قنا من أكبر المحافظات في الثروة الحيوانية.
- () (47) النشاط الزراعي هو الركيزة الأساسية للأمن الغذائي.
- () (48) الحفاظ على الأرض الزراعية مسئولية الدولة فقط.

السؤال الثالث: أكمل العبارات التالية بما يناسبها من كلمات

- (1) تقع قارة أمريكا الشمالية في نصف الكرة
- (2) قامت على أراضي قارة آسيا حضارتا و
- (3) يحد قارة أمريكا الجنوبية من جهة الشرق المحيط
- (4) تقع المنطقة المناخية الحارة حول
- (5) يمثل خط الطول الرئيسي
- (6) تقع المنطقة المعتدلة بين المدارين و
- (7) أكبر البيئات المصرية من حيث المساحة
- (8) أنشأت الدولة بعض المدن الساحلية الجديدة مثل
- (9) يعمل معظم سكان البيئة الساحلية في
- (10) أول مدينة حضرية في تاريخ مصر القديم
- (11) يعمل سكن البيئة الزراعية في و
- (12) أكبر محافظات مصر من حيث المساحة
- (13) أقل محافظات مصر من حيث المساحة
- (14) تمثل أكبر المحافظات الحدودية في مصر
- (15) محافظة مصرية ينتشر فيها النشاط الزراعي
- (16) عملة دولة المكسيك هي
- (17) المكسيك من أكبر مصدري و في العالم.
- (18) من أهم المعالم السياحية في دولة المكسيك هرم
- (19) يقع حول دائرة الاستواء المنطقة المناخية
- (20) أكبر محافظات مصر من حيث المساحة
- (21) يحد قارة أمريكا الشمالية من جهة الغرب المحيط

أكمل العبارات التالية بما يناسبها من كلمات

- (22) تقع قارة أستراليا بالكامل في نصف الكرة و.....
- (23) قامت على أراضي قارتي أمريكا الشمالية والجنوبية حضارتا و.....
- (24) قامت حضارة الصين القديمة على أراضي قارة.....
- (25) أقل محافظات مصر من حيث السكان.....
- (26) تمثل دائرة العرض الرئيسية.....
- (27) تمثل إحدى المحافظات الحدودية التي تقع جنوب غرب مصر.....
- (28) محافظة مصرية ينتشر فيها النشاط السياحي.....
- (29) من المحاصيل السكرية في مصر..... و.....
- (30) تقع القناطر الخيرية في محافظة.....
- (31) أحد مشاريع الدولة لتنمية الثروة السمكية مشروع.....
- (32) الغذاء غير الصحي يحتوي على كميات كبيرة من.....
- (33) عرف المصري القديم تربية..... و..... استخدمها في الحرث والتقل.

السؤال الرابع: صل مصدر الغذاء بجهود الدولة لتطويره

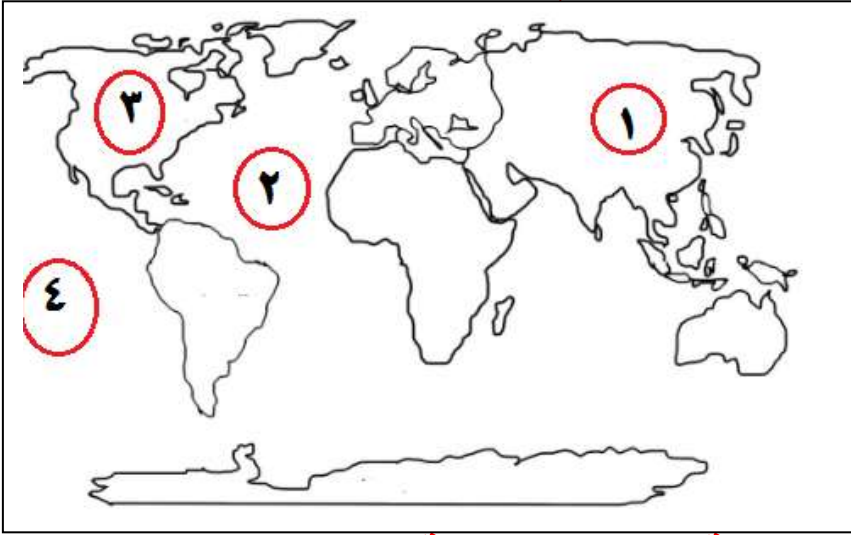
مصدر الغذاء	جهود الدولة
(1) المنتجات الزراعية	() تطوير صناعة الأعلاف
(2) الثروة الحيوانية	() استخدام وسائل صيد حديثة.
(3) الثروة السمكية	() استصلاح الصحراء.

السؤال الخامس: صل من بيئة بأنشطة سكانها

البيئة	أنشطة السكان
(1) البيئة الريفية	() التعدين والرعي.
(2) البيئة الحضرية	() صيد الأسماك والتجارة.
(3) البيئة الصحراوية	() الزراعة وتربية الحيوانات.
(4) البيئة الساحلية	() الصناعة والتجارة والبنوك.

سمير الغريب مذكرات تعليمية

السؤال السادس: (أ) لاحظ الخريطة المقابلة ، ثم أجب



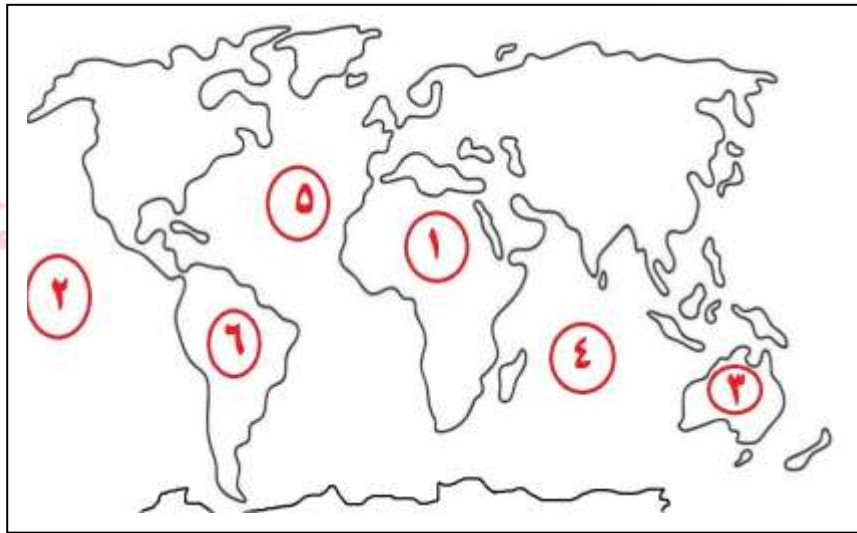
(1) قارة

(2) المحيط

(3) قارة

(4) المحيط

(ب) اكتب مدلول كل رقم على الخريطة الصماء المقابلة



(1) قارة

(2) المحيط

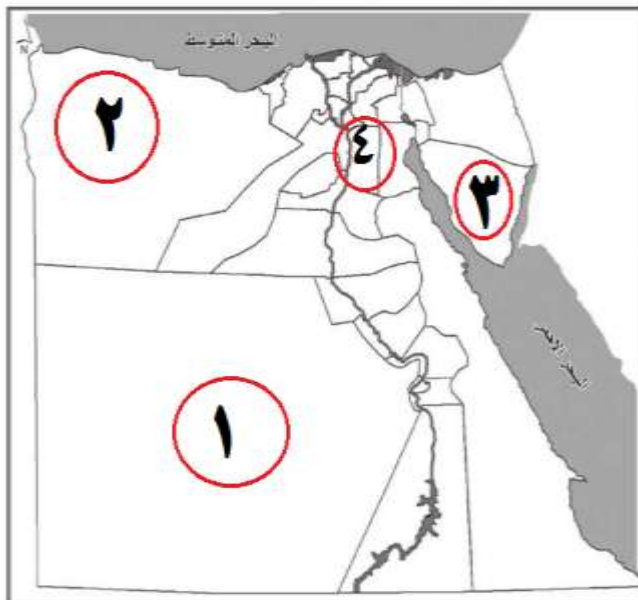
(3) قارة

(4) المحيط

(5) المحيط

(6) قارة

(ج) اكتب مدلول كل رقم على الخريطة



(1) أكبر محافظات مصر من حيث

المساحة

(2) محافظة حدودية تقع شمال في

مصر

(3) محافظة مصرية ينتشر بها النشاط

السياحي

(4) أكبر محافظات مصر من حيث

السكان

السؤال السابع: بم تفسر...؟

(1) يغطي الجليد القارة القطبية الجنوبية طوال العام.

(2) تتميز قارة إفريقيا بشكلها الهضبي.

(3) تتميز قارة آسيا بتنوع حضارتها.

(4) وجود فروق في التوقيت بين دول العالم.

(5) تسمية خط جرينتش بهذا الاسم.

(6) اختلاف درجات الحرارة بين دول العالم.

(7) تركز معظم السكان في البيئة الحضرية.

(8) قلة النبات الطبيعي في البيئة الصحراوية.

(9) البيئة الصحراوية لها أهمية كبيرة.

(10) تزدهم محافظات الوادي والدلتا بالسكان.

(11) محافظة الوادي الجديد منخفضة الكثافة السكانية.

(12) انتشار صيد الأسماك في محافظة بورسعيد.

(13) انتشار الأنشطة السياحية في محافظة جنوب سيناء.

(14) انتشار الأنشطة الزراعية في محافظة المنوفية.

(15) تعتبر المكسيك دولة بحرية.

(16) تنوع التراث الحضاري في قارة أوروبا.

(17) اختلاف التوقيتات الزمنية بين دول العالم.

(18) تُعتبر محافظة جنوب سيناء من المحافظات منخفضة الكثافة السكانية.

(19) يعمل كثير من سكان محافظة دمياط بمهنة صيد الأسماك.

(20) للتغذية السليمة أهمية كبيرة للإنسان.

(21) أهمية تنوع مصادر الغذاء.

(22) إنشاء المزارع السمكية.

سمير الغريب مذكرات تعليمية

(23) للتغذية السليمة أهمية كبيرة للإنسان؟

(24) للثروة الحيوانية أهمية كبيرة.

سمير الغريب مذكرات تعليمية

السؤال الثامن: ما المقصود ب...؟

(1) الجبل:

(2) التراث الحضاري:

(3) الهضبة:

(4) الموقع الفلكي:

(5) منطقة حرارية:

(6) البيئة:

(7) الأنشطة الاقتصادية:

(8) البيئة الصحراوية:

(9) المحافظة الحدودية:

(10) الكثافة السكانية:

(11) الغذاء الصحي:

(12) الغذاء غير الصحي:

سمير الغريب مذكرات تعليمية

سمير الغريب مذكرات تعليمية

السؤال التاسع: ماذا يحدث إذا...؟

(1) كانت مصر ذات طابع بيئي واحد.

سمير الغريب مذكرات تعليمية

السؤال العاشر: ما العلاقة بين...؟

سمير الغريب مذكرات تعليمية

(1) مساحة المحافظة والكثافة السكانية بها.

(2) دائرة الاستواء والمناطق الحرارية.

(3) ساحل البحر الأحمر والنشاط السكاني للمحافظة.

(4) خط جرينتش وفروق التوقيتات الزمنية.

(5) المحيط الهادي وقارة أمريكا الشمالية.

(6) قارة آسيا والتراث الحضاري.

(7) الثروة السمكية والأمن الغذائي.

السؤال الحادي عشر: ما النتائج المترتبة على...؟

(1) توزيع الأراضي الزراعية على الفلاحين بعد ثورة 23 يوليو 1952م.

(2) تحسين سلالات الحيوانات.

(3) اهتمام الدولة بمشروعات الاستزراع السمكي.

(4) وجود الآبار والعيون في البيئة الصحراوية.

سمير الغريب مذكرات تعليمية

السؤال الثاني عشر: أجب عما يأتي

(1) بم تشتهر مدينة بورسعيد؟

سمير الغريب سميير الغريب مذكرات تعليمية

(2) اذكر اثنين من جهود الدولة في تطوير البيئة الريفية.

(3) ما أثر التغذية السليمة في حياتنا؟

(4) اذكر اثنين من جهود الدولة في تطوير البيئة الساحلية.

سمير

(5) اذكر صفتين من صفات شعب المكسيك.

الغريب

(6) اكتب اثنين من جهود الدولة في مجال الزراعة.

السؤال الثالث عشر: قارن بين

(1) البيئة الزراعية والبيئة الساحلية من حيث أهم أنشطة السكان.

• البيئة الزراعية:
• البيئة الساحلية:

(2) البيئة الزراعية والبيئة الصحراوية من حيث نوع التربة.

• البيئة الزراعية:
• البيئة الصحراوية:

(3) المزارع السمكية والمصايد السمكية.

السؤال الرابع عشر: دال على صحة العبارة

(1) لدراسة الحضارات القديمة أهمية كبيرة.

(2) تتنوع تضاريس قارة أوروبا.

(3) تنوع الحضارات التي قامت في قارة آسيا.

(4) يختلف تأثير خطوط الطول عن تأثير دوائر العرض.

(5) تنوع المناطق الحرارية على خريطة العالم.

(6) تؤثر دوائر العرض على المناخ.

(7) تتباين محافظات مصر من حيث المساحة والسكان.

(8) يحد المحيط الهادي حدود أكثر من قارة.

(9) تنوع المناطق الحرارية على خريطة العالم.

دلل على صحة العبارة

سمير الغريب مذكرات تعليمية

(10) تعتبر قارة آسيا أكثر قارات العالم ارتفاعا.

سمير الغريب مذكرات تعليمية

(11) تختلف تأثيرات خطوط الطول ودوائر العرض على خريطة العالم.

(12) لمصر دور عظيم في إبراز التراث الحضاري لقارة إفريقيا.

(13) تباين محافظات مصر من حيث مساحتها.

سمير الغريب مذكرات تعليمية

(14) تقوم مصر بدور كبير في تنمية الثروة الحيوانية.

(15) تقوم مصر بدور كبير في تنمية الثروة السمكية.

سمير الغريب مذكرات تعليمية

(16) الزراعة هي الركيزة الأساسية للأمن الغذائي في مصر.

السؤال الخامس عشر: ما أوجه التشابه والاختلاف بين...؟

(1) خطوط الطول، ودوائر العرض.

مذكرات تعليمية

(2) الثروة الزراعية، والثروة الحيوانية.

الإجابات

سمير الغريب مذكرات تعليمية

السؤال الأول: اختر الإجابة الصحيحة

1	آسيا	2	الأطنطي	3	أمريكا الجنوبية
4	آسيا	5	أستراليا	6	أربع
7	تتقدم	8	الاستواء	9	اقتربنا من
10	صفر	11	الحضرية	12	الساحلية
13	الصحراوية	14	الريفية	15	صيد الأسماك
16	النشاط التعديني	17	السياحي	18	الشرقية
19	مكسيكو	20	الإسبانية	21	ضعف
22	القليوبية	23	البحيرة	24	الريفية

السؤال الثاني: اكتب كلمة (صواب) أو كلمة (خطأ)

1	x	2	✓	3	x	4	✓	5	x
6	✓	7	x	8	x	9	✓	10	x
11	✓	12	x	13	✓	14	✓	15	✓
16	✓	17	✓	18	✓	19	x	20	✓
21	x	22	✓	23	✓	24	x	25	x
26	x	27	x	28	✓	29	✓	30	x
31	x	32	✓	33	x	34	x	35	x
36	x	37	✓	38	x	39	✓	40	✓
41	x	42	x	43	✓	44	x	45	x
46	x	47	✓	48	x				

السؤال الثالث: أكمل العبارات التالية بما يناسبها من كلمات

الأطلنطي	3	العراق الصين الهند	2	الغربي أو الشمالي	1
القطبين	6	جرينتش	5	دائرة الاستواء	4
صيد الأسماك	9	العلمين	8	الصحراوية	7
الوادي الجديد	12	الزراعة وتربية الحيوانات	11	منف	10
الشرقية	15	الوادي الجديد	14	دمياط	13
كوكولكان	18	الفواكه والخضروات	17	البيزو	16
الهادي	21	الوادي الجديد	20	الحارة	19
آسيا	24	الأزتک - المايا	23	الغربي الجنوبي	22
الوادي الجديد	27	دائرة الاستواء	26	جنوب سيناء	25
القليوبية	30	قصب السكر/البنجر	29	جنوب سيناء	28
الأبقار والأغنام	33	الدهون والسكريات	32	غليون	31

السؤال الرابع: صل

بالترتيب من أعلى: (2)، (3)، (1). مذكرات تعليمية

السؤال الخامس: صل من بيئة بأنشطة سكانها

بالترتيب من أعلى: (3)، (4)، (1)، (2).

السؤال السادس: (أ)

(1) آسيا (2) الأطلنطي (3) أمريكا الشمالية (4) الهادي

السؤال السادس: (ب)

(1) إفريقيا (2) الهادي (3) أستراليا (4) الهندي (5) الأطلنطي (6) أمريكا الجنوبية

السؤال السادس: (ج)

(1) الوادي الجديد (2) مرسى مطروح (3) جنوب سيناء (4) القاهرة

السؤال السابع: بم تفسر...؟

- (1) لقربها من القطب الشمالي والقطب الجنوبي.
- (2) بسبب تعدد الهضاب فيها.
- (3) قامت على أرضها حضارات عديدة مثل حضارة: الصين والهند والعراق.
- (4) بسبب اختلاف المواقع الفلكي بين الدول.
- (5) لأنه يمر ببلدة (جرينتش) القريبة من لندن عاصمة بريطانيا.
- (6) بسبب اختلاف المواقع الفلكي بين الدول.
- (7) بسبب جودة البنية التحتية، وتنوع وسائل النقل والمواصلات، وكثرة الخدمات.
- (8) بسبب الجفاف، وندرة المياه.
- (9) مصدر أساسي للمعادن ومصادر الطاقة ووجود الزيتون والنخيل وسياحة السفاري.
- (10) بسبب توافر التربة الخصبة والمياه العذبة، وقيام الزراعة.
- (11) بسبب ندرة وقلة المياه.
- (12) لأنها تقع على سطح مائي (البحر المتوسط).
- (13) لوجود الأماكن الأثرية والبحر الأحمر.
- (14) لوجود التربة الخصبة ووفرة المياه العذبة.
- (15) لاتساع مساحة سواحلها على المحيطين الأطلنطي والهادي وخليج المكسيك.
- (16) قامت على أرضها (حضارة الرومان وحضارة اليونان) في العصر القديم.
- (17) بسبب اختلاف الموقع الفلكي بين الدول.
- (18) بسبب ندرة وقلة المياه.
- (19) لأنها تقع على سطح مائي (البحر المتوسط).
- (20) تجعل الجسم قوياً، وتساعد على النمو السليم.
- (21) توفير احتياجات السكان من الغذاء، وتحقيق الأمن الغذائي.
- (22) مصدر مهم للغذاء، توفر البروتين (الأسماك) للإنسان.
- (23) تجعل الجسم قوياً، وتساعد على النمو السليم.
- (24) مصدر مهم للغذاء؛ حيث توفر البروتين الحيواني (اللحوم).

السؤال الثامن: ما المقصود ب...؟

سمير الغريب مذكرات تعليمية

- (1) **الجبل:** أرض شديدة الارتفاع ولها قمة.
- (2) **التراث الحضاري:** هوية الشعوب التي تميزها وتشمل اللغة والفنون والعادات.
- (3) **الهضبة:** مساحة واسعة ومرتفعة من الأرض مستوية السطح.
- (4) **الموقع الفلكي:** موقع المكان بالنسبة لخطوط الطول ودوائر العرض.
- (5) **منطقة حرارية:** مساحة على الكرة الأرضية تتشابه في خصائصها المناخية.
- (6) **البيئة:** كل ما يحيط بالإنسان يؤثر فيه ويتأثر به.
- (7) **الأنشطة الاقتصادية:** كل ما يقوم به الإنسان من أعمال ومشروعات لتلبية احتياجاته.
- (8) **البيئة الصحراوية:** بيئة توجد بها مساحة واسعة من الرمال والجبال، وتتميز بندرة الأمطار.
- (9) **المحافظة الحدودية:** محافظة تقع على أطراف الحدود وتشارك في حدودها مع دول أخرى، أو مسطحات مائية.
- (10) **الكثافة السكانية:** متوسط عدد السكان الذين يعيشون في كل كم² من المساحة.
- (11) **الغذاء الصحي:** غذاء يحتوي على جميع العناصر الغذائية التي يحتاجها الإنسان.
- (12) **الغذاء غير الصحي:** غذاء يحتوي على كميات كبيرة من الدهون الضارة أو السكريات أو الأملاح أو النشويات.

السؤال التاسع: ماذا يحدث إذا...؟

- (1) تتشابه أنشطة السكان (عملهم)، ولا يحدث تنوع للمنتجات في مصر.

سمير الغريب مذكرات تعليمية

السؤال العاشر: ما العلاقة بين...؟

- (1) المحافظة كبيرة المساحة تقل فيها كثافة السكان.
- (2) يبدأ من دائرة الاستواء تقسيم المناطق الحرارية، وتختلف المنطقة حسب بعدها أو قربها من دائرة الاستواء.
- (3) السكان الذين يعيشون على ساحل البحر الأحمر يعملون بالصيد والسياحة.
- (4) خط جرينتش هو خط الطول الرئيسي، وتم اختياره مرجعًا للتوقيت العالمي.
- (5) يقع المحيط الهادي غرب قارة أمريكا الشمالية.
- (6) تتميز قارة آسيا بتنوع التراث الحضاري فقامت بها حضارة العراق والصين والهند.
- (7) زيادة الثروة السمكية يحقق الأمن الغذائي للسكان.

السؤال الحادي عشر: ما النتائج المترتبة على...؟

- (1) تحسين أحوال الفلاحين.
- (2) زيادة إنتاج الثروة الحيوانية.
- (3) زيادة إنتاج الأسماك وتحقيق الأمن الغذائي.
- (4) قيام الزراعة في الصحراء، ووجود نشاط الرعي.

السؤال الثاني عشر: أجب عما يأتي

- (1) تشتهر بورسعيد بالإنتاج السمكي، ووجود ميناء بحري هام.
- (2) توفير فرص العمل للشباب، وتوفير الخدمات مثل: المدارس والمستشفيات.
- (3) تجعل الجسم قويًا، وتساعد على النمو السليم.
- (4) حماية الشواطئ من التآكل، وإنشاء مدن جديدة مثل مدينة العلمين الجديدة.
- (5) شعب اجتماعي، ولديه روح مرحة.
- (6) استصلاح الصحراء، وإنشاء مشاريع قومية.

السؤال الثالث عشر: قارن بين

- (1) البيئة الزراعية: الزراعة وتربية الحيوانات، البيئة الساحلية: صيد الأسماك والتجارة
- (2) البيئة الزراعية: تربة خصبة، البيئة الصحراوية: تربة رملية.
- (3) المزارع السمكية: أحواض لتربية الأسماك.
- المصايد السمكية: مصايد طبيعية من البحار والأنهار.

السؤال الرابع عشر: دلل على صحة العبارة

- (1) نعرف جهود الأجداد في بناء العلم والفن، ويزيد حبنا لوطننا.
- (2) وجود الجبال مثل: جبال (الألب)، والسهول مثل: (السهل الأوروبي العظيم).
- (3) وجود حضارات كثيرة مثل: الصين والهند والعراق.
- (4) **خطوط الطول**: تؤثر على اختلاف الوقت، **دوائر العرض**: تؤثر في تنوع المناخ.
- (5) وجود المناطق الحارة، والمناطق المعتدلة، والمناطق الباردة.
- (6) اختلاف الموقع الفلكي لأي دولة بالنسبة لدوائر العرض يؤدي إلى تنوع المناخ.
- (7) توجد محافظات كبيرة السكان مثل: القاهرة، وقليلة السكان مثل: جنوب سيناء، وتوجد محافظات كبيرة المساحة مثل: الوادي الجديد وصغيرة المساحة مثل: دمياط.
- (8) يوجد على حدود قارات أمريكا الشمالية وأمريكا الجنوبية وآسا وأستراليا.
- (9) وجود المناطق الحارة، والمناطق المعتدلة، والمناطق الباردة.
- (10) يوجد بها أعلى هضاب العالم (هضبة التبت)، وأعلى قمة جبلية (قمة إفرست).
- (11) **خطوط الطول**: تؤثر على اختلاف الوقت، **دوائر العرض**: تؤثر في تنوع المناخ.
- (12) قامت على أرضها أعظم حضارات إفريقيا (الحضارة المصرية القديمة).
- (13) توجد محافظات كبيرة المساحة مثل: الوادي الجديد وصغيرة المساحة مثل: دمياط.
- (14) تطوير صناعة الأعلاف، وتحسين سلالات الحيوانات، وإنشاء المزارع الحديثة.
- (15) استخدام وسائل صيد حديثة، التوسع في إنشاء المزارع السمكية.
- (16) توفر احتياجات السكان من الغذاء والمحاصيل، وتحقيق الأمن الغذائي للسكان.

السؤال الخامس عشر: ما أوجه التشابه والاختلاف بين...؟

- (1) التشابه: **خطوط الطول**: تحديد المكان. **دوائر العرض**: تحديد المكان.
الاختلاف: **خطوط الطول**: تحديد الوقت. **دوائر العرض**: تحديد المناخ.
- (2) التشابه: **الثروة الزراعية**: توفير الغذاء. **الثروة الحيوانية**: توفير الغذاء.
الاختلاف: **الثروة الزراعية**: توفر المحاصيل والخضروات والفاكهة للسكان.
الاختلاف: **الثروة الحيوانية**: توفير اللحوم والألبان للسكان.

تطبيق



مذكرات جاهزة للطباعة

لتحميل الملفات التعليمية مجاناً للمعلم والطالب

مذكرات وملازم / مراجعات وملخصات / امتحانات / كتب الوزارة /
أدلة المعلم / دفاتر التحضير / سجلات مدرسية / أوراق تأسيس

امسح الكود بموبايلك علشان تقدر تثبت التطبيق

وتقدر ف أي وقت تحمّل ال نفسك فيه ببلاش

هيغنيك عن البحث والجروبات والقنوات الكثيرة

