

الأستاذ

سلسلة كتب الأستاذ

في

الدراسات الاجتماعية

المصف الخامس الابتدائي

الفصل الدراسي الثاني



مراجعة على المنهج

الوحدة الأولى: خرائط ومواقع في مصر والعالم

الدرس الأول: خصائص قارات العالم

قارات العالم

« من الخريطة نجد أن:

- دائرة الاستواء: تقسم خريطة العالم إلى نصف الكرة الشمالي ونصف الكرة الجنوبي.
- خط جرينتش: يقسم خريطة العالم إلى نصف الكرة الشرقي ونصف الكرة الغربي.

الخصائص الجغرافية لكل قارة

قارة آسيا تشتهر بوجود :

- أعلى هضاب العالم (هضبة التبت).
- أعلى قمة جبلية في العالم (قمة إفرست).

قارة إفريقيا:

- تتميز بشكلها الهضبي **بم تفسر؟** بسبب تعدد الهضاب فيها. مثل هضبة إفريقيا الشمالية.

قارة أوروبا:

- تتميز بتنوع تضاريسها، ومن أشهرها:
 - ١ جبال الألب.
 - ٢ السهل الأوروبي العظيم الذي يُعدّ من السهول الفيضية الواسعة.

قارة أمريكا الجنوبية:

- تتسم بشكلها الأقرب إلى شكل المثلث، كما أنها تمتاز بكثرة الغابات، مثل غابات الأمازون.

قارة أستراليا:

- تتسم بأن معظم أراضيها أراض صحراوية وجبلية.

قارة أمريكا الشمالية والقارة القطبية الجنوبية:

- تتميز بوجود المناطق شديدة البرودة التي يغطيها الجليد طوال العام **بم** **تأسر**؟ نظرًا لقربها من القطب الشمالي والجنوبي.

الجبل

- ◀ أرض شديدة الارتفاع ولها قمة.

الهضبة

- ◀ مساحة واسعة من الأرض المرتفعة مستوية السطح.

التراث الحضاري لقارات العالم

قارة آسيا :

- نشأت على أراضيها حضارات عديدة، مثل: حضارة **الصين القديمة**، والحضارة **الهندية**، وحضارة **العراق القديم**.

قارة إفريقيا:

- قامت على أرضها أعظم الحضارات التي عرفها التاريخ وهي الحضارة المصرية القديمة.

قارة أوروبا:

- شهدت على أراضيها قيام حضارتي **اليونان والرومان** في العصور القديمة.

قارة أمريكا الشمالية والجنوبية:

- قامت على أراضيها حضارات قديمة، مثل: حضارة **الأنك**، وحضارة **المايا**، وحضارة **الإنكا**.

التراث الثقافي

- ◀ هي هوية الشعوب التي تميزها، وتشمل لغاتهم وفنونهم وعاداتهم وتقاليدهم.

الدرس الثاني: تأثيرات خطوط الطول ودوائر العرض

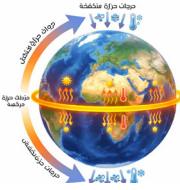
الموقع الفلكي

◀ هو موقع المكان بالنسبة لخطوط الطول ودوائر العرض.

« هناك تأثير كبير لموقع الدولة الفلكي على عديد من الأمور التي نشاهدها وتحدث لنا طوال اليوم **دلال**؟ حيث يؤثر الموقع الفلكي بالنسبة لدوائر العرض وخطوط الطول على النحو التالي.

تأثير دوائر العرض

« تؤثر دوائر العرض على المناخ؛ فكلما اقتربنا من دائرة الاستواء **ترتفع** درجات الحرارة، وكلما ابتعدنا عن دائرة الاستواء **تنخفض** درجات الحرارة.



وعلى هذا النحو تقسم دوائر العرض إلى عدة مناطق حرارية

سلسلة كتب الأستاذ

المنطقة الباردة

حول القطبين



المنطقة المعتدلة

بين المدارين والدائرتين القطبيتين



المنطقة الحارة

حول دائرة الاستواء



تأثير خطوط الطول

سلسلة كتب الأستاذ

« الأرض مقسمة إلى ٣٦٠ خط طول حيث يمثل **خط جرينتش** خط الطول الرئيسي.

« يمثل خط جرينتش (صفر) المرجع الأساسي للتوقيت.

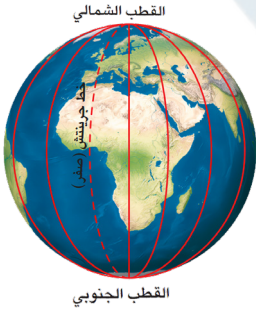
قواعد لحساب فروق التوقيت

◀ إذا اتجهنا شرقاً نتقدم في الوقت.

◀ كل ١٥ خط طول = فرق ساعة زمنية واحدة.

◀ الفرق بين كل خط طول والآخر يمثل ٤ دقائق.

◀ إذا اتجهنا غرباً نتأخر في الوقت.



الدرس الثالث: مواقع بيئات بلدنا

البيئة

◀ كل ما يحيط بالإنسان، ويؤثر فيه ويتأثر به.

الأنشطة الاقتصادية

◀ كل ما يقوم به الإنسان من أعمال ومشروعات لتلبية احتياجاته.

1 البيئة الريفية

« هي البيئة التي تنتشر في القرى ويعمل سكانها بالنشاط الزراعي.

الموقع: تقع في الوادي والدلتا ومنخفض الفيوم.

الخصائص:

- تتميز باستواء السطح وتوافر التربة الخصبة والمياه العذبة.
- يتميز أهلها بالتعاون والتمسك بالعادات والتقاليد.

الأنشطة الاقتصادية:

- يعمل سكانها بالزراعة وتربية الحيوانات.
- يعمل سكانها بالصناعات البسيطة، مثل: حفظ وتعليب الفواكه والخضراوات وإنتاج اللحوم ومنتجات الألبان.

أهمية البيئة الريفية: تعتبر مصدرًا رئيسيًا للغذاء الأساسي من محاصيل وخضراوات وفواكه ولحوم وألبان.

دور الدولة في تطوير البيئة الريفية: عملت الدولة على تطوير البيئة الريفية من خلال:

- 1 توفير فرص العمل للشباب.
- 2 زيادة الخدمات كالمدراس والمستشفيات.
- 3 تطوير مشاريع البنية التحتية، مثل الكهرباء والطرق والصرف الصحي.

٢ البيئة الحضرية

« هي البيئة التي شيدها الإنسان، وتشمل المدن والمناطق العمرانية، وتتأثر بالتغيرات التكنولوجية والاجتماعية.

الموقع: المحافظات الحضرية تمامًا:

- ١ القاهرة. ٢ الإسكندرية. ٣ بورسعيد. ٤ السويس.

الخصائص: تتميز بـ:

- ١ التخطيط العمراني. ٢ جودة البنية التحتية. ٣ تنوع وسائل النقل والمواصلات. الأنشطة الاقتصادية:

- الصناعات الخفيفة، كالأغذية. • التجارة.
- الصناعات التحويلية، مثل: الحديد والصلب.
- الأنشطة الخدمية، كالتعليم والصحة والبنوك والسياحة والنقل والمواصلات.

دور الدولة في تطوير البيئة الحضرية:

- ١ قامت بإنشاء مدن جديدة. ٢ تطوير البنية التحتية بالمدن المختلفة. ٣ القضاء على العشوائيات. ٤ استخدام وسائل النقل المستدام.

٣ البيئة الصحراوية

« هي البيئة التي توجد بها مساحة واسعة من الرمال والجبال، وتتميز بندرة الأمطار وارتفاع درجة الحرارة وقلّة عدد السكان.

- الموقع: • الصحراء الشرقية. • الصحراء الغربية. • شبه جزيرة سيناء.

- المنخفضات، مثل القطارة وسيوة والفرافرة والبحرية والداخلية والخارجية.

الخصائص: • أكبر البيئات في بلادنا من حيث المساحة.

- تتميز بتفاوت كبير في درجة الحرارة بين الصيف والشتاء وقلّة النبات الطبيعي

بم تفسّر؟ بسبب الجفاف.

الأنشطة الاقتصادية:

- العمل في حرفتيّ الرعي والزراعة.
- يعمل بعض سكانها بالتعدين حيث استخراج المعادن ومصادر الطاقة من باطن الأرض.

أهمية البيئة الصحراوية:

- تعتبر مصدرًا أساسيًا للعديد من المعادن ومصادر الطاقة.
- يوجد بها بعض المحاصيل المميزة، مثل: الزيتون والنخيل.
- بيئة مناسبة للنشاط السياحي، وبخاصة سياحة السفاري والسياحة البيئية.

دور الدولة في تطوير البيئة الصحراوية:

- 1 تطوير البنية التحتية.
- 2 تعمل الدولة على إدارة الموارد المائية بالمناطق الصحراوية بشكل مستدام.

4 البيئة الساحلية

سلسلة كتب الأستاذ

« المناطق السهلية (المستوية) الممتدة بمحاذاة البحرين الأحمر والمتوسط وخليجيّ العقبة والسويس.

- الموقع: مدن ساحلية على البحر الأحمر، مثل الغردقة والسويس.
- مدن ساحلية على البحر المتوسط، مثل الإسكندرية ورفح.

الخصائص:

سلسلة كتب الأستاذ

- تتميز بـ: شواطئها الرملية - المناظر الطبيعية الخلابة - كثرة المدن الساحلية والمواني.

الأنشطة الاقتصادية:

- صيد الأسماك.
- استخراج البترول والغاز الطبيعي.
- السياحة، وبخاصة السياحة البيئية والترفيهية. • التجارة عبر المواني البحرية.

دور الدولة في تطوير البيئة الساحلية:

- 1 تعمل الدولة على حماية الشواطئ من التآكل. 2 تطوير الخدمات بالمدن الساحلية.
- 3 إنشاء مدن جديدة، مثل مدينة العلمين الجديدة.

الدرس الرابع: جولة في محافظات مصر

موقع محافظتي

« يختلف الموقع من محافظة لأخرى:

القاهرة: تقع كل محافظة في مكان محدد يميزها.

الإسماعيلية: يجاور كل محافظة محافظات أخرى من الشمال والجنوب والشرق والغرب.

الوادي الجديد: قد تكون هناك محافظة حدودية فيجاورها دولة أخرى أو مسطح مائي.

المحافظة الحدودية

◀ هي تلك المحافظة التي تقع على أطراف حدود مصر البرية أو البحرية، وتشارك في حدودها مع دول أخرى، أو تطل على أحد المسطحات المائية.

مساحة محافظتي وعدد سكانها

« تختلف كل محافظة عن الأخرى في المساحة وعدد السكان والكثافة السكانية.

من حيث المساحة:

• أكبر المحافظات مساحة: **الوادي الجديد**. • أصغر المحافظات مساحة: **دمياط**.

من حيث عدد السكان:

• أكبر المحافظات سكاناً: **القاهرة**. • أصغر المحافظات سكاناً: **جنوب سيناء**.

من حيث الكثافة السكانية:

• من مساحة المحافظة وعدد سكانها يمكن حساب الكثافة السكانية للمحافظة **دلال؟**

حيث الكثافة السكانية تساوي عدد السكان مقسوماً على مساحتها.

الكثافة السكانية

◀ متوسط عدد السكان الذين يعيشون في الكيلومتر مربع الواحد من المساحة.

أضف إلى معلوماتك

« تعد مصر من الدول التي يتباين فيها توزيع السكان بشكل كبير، حيث يوجد:

محافظات مزدحمة

« محافظات الوادي والدلتا، مثل القاهرة والجيزة والشرقية **بم تأسر؟**

بسبب خصوبة الأرض ووفرة المياه.

محافظات منخفضة الكثافة

« المحافظات الصحراوية الحدودية، مثل الوادي الجديد وجنوب سيناء، على الرغم من أن

مساحتها كبيرة.

تأثير البيئة على أنشطة السكان بكل محافظة

سلسلة كتب الاستاذ

« تؤثر البيئة بشكل كبير على نوعية الأنشطة التي يمارسها السكان **دلال؟**

1 وقوع المحافظة على سطح مائي

« ينتشر نشاط صيد الأسماك، مثل: **بورسعيد - السويس.**

2 وجود تربة خصبة ومياه عذبة بالمحافظة

« ينتشر النشاط الزراعي، مثل: **الشرقية - المنوفية.** باد

3 انتشار المدن الكبرى بالمحافظة

« تنتشر المهن الخدمية بشكل ملحوظ، مثل: **القاهرة - الجيزة.**

4 وجود آبار بترول ومواد خام

« ينتشر النشاط التعديني، مثل: **جنوب سيناء - الوادي الجديد.**

5 وجود أماكن أثرية بالمحافظة

« ينتشر النشاط السياحي، مثل: **الأقصر وأسوان والجيزة.**

الوحدة الثانية: أرض بلادي ومواردها

الدرس الأول: الغذاء وحياتنا

الغذاء

◀ هو مصدر الطاقة والنمو للإنسان، وبدونه تصعب الحياة، ولكن ليس كل ما تأكله صحيحاً.

الغذاء غير الصحي

◀ الغذاء الذي يحتوي على كميات كبيرة من الدهون الضارة أو السكريات أو الأملاح أو النشويات.

الغذاء الصحي

◀ الغذاء الذي يحتوي على جميع العناصر الغذائية التي يحتاجها الجسم.

مصادر الغذاء في بلدي

« تتنوع مصادر الغذاء في مصر **دلال**؟ حيث تشمل:

- ١ الزراعة.
- ٢ الثروة الحيوانية.
- ٣ الثروة السمكية.

أولاً الزراعة

« الزراعة من المصادر الرئيسية لإنتاج الغذاء **دلال**؟ حيث توفر لنا:

المحاصيل السكرية

◀ قصب السكر وبنجر السكر.

المحاصيل الغذائية

◀ القمح والذرة والأرز والبقوليات.

الخضراوات

◀ الطماطم والخيار.

الفواكه

◀ البرتقال واليوسفي والعنب.

جهود الدولة في الزراعة لتحقيق الأمن الغذائي

- ١ استصلاح الأراضي الصحراوية.
- ٢ دعم الفلاحين بالأسمدة والبذور.
- ٣ إنشاء مشروعات قومية:
- ◀ مشروع الدلتا الجديدة.
- ◀ مشروعات شرق العوينات.
- ◀ مشروع الفرافرة.
- ◀ بحيرات توشكى.

ثانيًا

الثروة الحيوانية

« تعد الثروة الحيوانية من المصادر المهمة لإنتاج الغذاء في مصر **دال؟** حيث توفر البروتين الحيواني اللازم لصحة الإنسان، وذلك من خلال: الماشية والدواجن. « أكبر محافظات مصر في تربية الثروة الحيوانية: الأستاذ

المنوفية

الدقهلية

المنيا

الشرقية

البحيرة

جهود الدولة في الثروة الحيوانية لتحقيق الأمن الغذائي

سلسلة كتب الأستاذ

- ١ تطوير صناعة الأعلاف.
- ٢ توفير الرعاية البيطرية.
- ٣ تحسين السلالات الحيوانية.
- ٤ إنشاء المزارع الحديثة في مختلف المحافظات.

ثالثًا

الثروة السمكية

« هي من المصادر المهمة للغذاء **يم تفسر؟** لأنها توفر البروتين الغني بالعناصر الغذائية الضرورية للجسم.

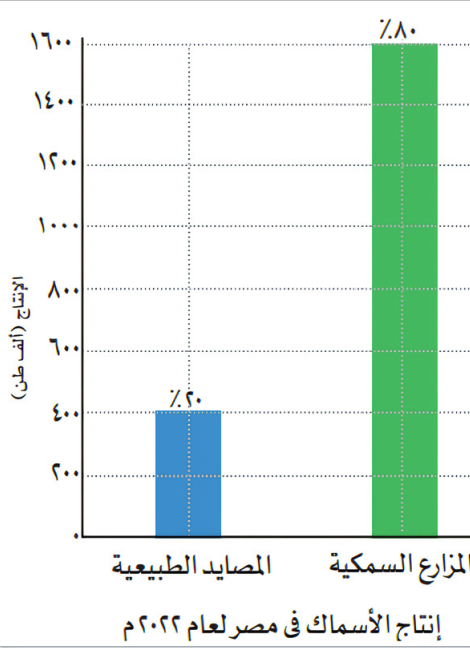
مصادر الثروة السمكية

مصايد طبيعية

تشغل نحو ٢٠٪ من
جملة الإنتاج السمكي
في مصر.

تتمثل في:

- ١ البحر الأحمر
والبحر المتوسط.
- ٢ نهر النيل.
- ٣ بحيرة ناصر.
- ٤ البحيرات الشمالية.



مزارع سمكية

تشغل نحو ٨٠٪ من
جملة الإنتاج السمكي
في مصر.
من أهمها:

- ١ بركة غليون.
- ٢ مشروع الفيروز.

تضم المصادر السمكية أنواعاً متعددة من:

- ١ الأسماك (البوري والبلطي).
- ٢ كائنات بحرية أخرى كالجمبري والسبيط.

تنتشر الصناعات الغذائية في المناطق الساحلية، كتعليب الأسماك.

جهود الدولة في الثروة السمكية لتحقيق الأمن الغذائي

- ١ حماية المسطحات المائية من التلوث.
- ٢ التوسع في إنشاء المزارع السمكية.
- ٣ توفير التدريب اللازم للصيادين وتحسين أوضاعهم المعيشية.
- ٤ استخدام وسائل صيد حديثة ومجهزة.

أثر التغذية السليمة على حياتنا

- ١ تجعل الجسم قوياً ونشطاً وتساعد على ممارسة الرياضة.
- ٢ تساعد على النمو السليم.
- ٣ تقوي جهاز المناعة وتقلل من الإصابة بالأمراض.
- ٤ تحافظ على الصحة.

الدرس الثاني: بلادي مسئوليتي

واجبي نحو وطني

« وطني هو بيتي الكبير الذي نعيش فيه جميعًا، ومن واجبي نحوه أن:

أكون مواطنًا صالحًا.

أحافظ على نظافة الشوارع والحدائق.

ألتزم بالقوانين وأحترم النظام.

أحافظ على المرافق العامة.

أشارك في الأعمال التطوعية.

لا أردد الشائعات التي تسعى لهدم المجتمع.



المسئولية الوطنية

« هي واجب المواطن تجاه وطنه، وتشمل الالتزام بالقوانين والعمل على تقدمه، والحفاظ على موارده.

سلسلة كتب الأستاذ

حماية موارد الوطن

« من واجبنا أن نحافظ على مواردها الطبيعية والبشرية **بم** **تأثير** لأنها سر نهضتنا وتقدمنا. وذلك من خلال:

المساهمة في حماية
الآثار والتراث

ترشيد استهلاك المياه
والكهرباء

حماية الموارد المائية من
التلوث

المشاركة في تنمية الوطن

« يستطيع كل فرد أن يشارك في تنمية وطنه من خلال:

- ١ الاجتهاد في الدراسة.
- ٢ تشجيع المنتجات المحلية.
- ٣ العمل بإخلاص وإتقان.

التعاون بين أفراد المجتمع

« التعاون يجعل المجتمع أكثر ترابطاً يعيش أفراداه في تفاهم. يمكننا أن نتعاون بطرق عديدة،

منها



العمل الجماعي

١ العمل بشكل جماعي.

٢ مساندة بعضنا بعضاً في الشدة والرخاء.

٣ الحفاظ على الأمن والسلام.

نماذج للمسئولية تجاه الوطن

« كل شخص في الوطن له دور مهم يجب أن يقدمه لخدمته وحمايته. ومن هذه النماذج:

المعلم: يربي الأجيال ويغرس فيهم القيم.

الجندي: يدافع عن الوطن ويحمي حدوده.

الشرطي: يحافظ على الأمن والنظام.

الطبيب: يعالج المرضى بإخلاص.

العامل: ينجز عمله بإتقان لخدمة المجتمع.

الدرس الثالث: سيناء كاملة لمصر

« شبه جزيرة سيناء منطقة غنية بالموارد الطبيعية **دلال**؟

- ١ تحتوي على كثير من المعادن. ٢ تتميز بموارد مائية تساعد على قيام الزراعة.
- ٣ تمتلك سواحل سياحية جميلة على البحرين الأحمر والمتوسط.

محطات عودة سيناء كاملة

« بعد أن تحقق نصر أكتوبر العظيم لم تتوقف مسيرة مصر عند ساحة القتال، بل بدأت مرحلة

جديدة من العمل والبناء والسلام **بم تفنسر**؟ فقد أدرك المصريون أن استرداد الأرض بالسلاح كان البداية فقط، وأن الحفاظ عليها لا يكون إلا بالعلم والتنمية والإعمار. ومر ذلك بعدة محطات:

سلسلة كتب الأستاذ

٢ طريق السلام.

١ الانتصار العظيم.

٣ بناء المستقبل.

أولاً الانتصار العظيم

١ حققت مصر في حرب أكتوبر انتصارًا عظيمًا من أجل الوقوف بصلابة على أرض سيناء لاستعادتها كاملة.

سلسلة كتب الأستاذ

٢ تم تحطيم خط بارليف الذي كان العدو يعتقد أنه لا يُقهر.

٣ أظهر الجنود المصريون شجاعة نادرة في القتال وصبرًا كبيرًا في مواجهة العدو.

٤ وقف الشعب المصري كله خلف جيشه يدعمه بالعمل والدعاء والصبر.

٥ تحقق النصر بفضل الإيمان بالله، والتخطيط الجيد، ووحدة الصف بين الجيش والشعب.

٦ وكان هذا النصر دليلاً أن المصريين قادرون على تحقيق المستحيل متى تمسكوا بالأمل.

ثانياً

طريق السلام

« بدأت مصر بعد استعادة بعض أراضي سيناء في خطوات هامة لاستعادة سيناء كاملة، وذلك من خلال خطوات فاعلة للسلام:

تم عقد مفاوضات كامب ديفيد برعاية أمريكية في عام ١٩٧٨م، وقد وضعت أسس السلام.

بدأت عملية السلام بالزيارة التاريخية للرئيس السادات إلى القدس عام ١٩٧٧م من أجل تحقيق السلام العادل.

في ٢٥ أبريل عام ١٩٨٢م رُفِع علم مصر عاليًا على أرض سيناء بعد استعادتها كاملة، باستثناء طابا التي استردتها مصر عام ١٩٨٩م. وقد صار هذا اليوم عيدًا لتحرير سيناء كل عام.

تم توقيع اتفاقية السلام عام ١٩٧٩م، ونصت على انسحاب إسرائيل الكامل من سيناء.

ثالثاً

بناء المستقبل

« منذ استعادة سيناء كاملة بدأت الدولة في: تب الاستاد

١ إعمار سيناء وبناء المدن الجديدة.

٢ إقامة المشروعات الزراعية.

٣ تأمين حدود مصر في سيناء.

مزايا تحقيق السلام

- ١ عودة الأمن والاستقرار للمصريين.
- ٢ تفرغ الدولة للبناء والتنمية.
- ٣ تحسين علاقات مصر مع دول العالم.
- ٤ زيادة الاستثمار والسياحة.

الوحدة الثالثة: حضارة بلدنا

التمهيد: العصور التاريخية لمصر

« نحن دائماً نفكر في أعمار الأشخاص، لكن هل تعلم أن للدول والحضارات أعماراً؟

مع مرور الوقت

◀ ومع نزول المصري القديم للوادي من الهضبة بدأ يتعلم ويكتشف أشياء جديدة، فبنى البيوت، وزرع الأرض، واخترع الأدوات، حتى وصل إلى ما نعيشه الآن من تقدم وتطور.

في الماضي

◀ لم تكن هناك كهرباء ولا سيارات ولا هواتف، بل كان الإنسان يعيش حياة بسيطة جداً.

العصور التاريخية

« فترات من الزمن عاش فيها الإنسان وشهدت تغيرات كبيرة، بدأت بمعرفة الإنسان القديم للكتابة.

العصور التاريخية التي عاشتها مصر

« مصر من أقدم الحضارات في العالم **دلال**؟ حيث يمتد تاريخها إلى آلاف السنين.

« هل تخيلت أن الأرض التي تمشي عليها في الأقصر أو الشرقية أو في أنحاء مصر مشى عليها أجدادنا منذ آلاف السنين؟

العصر	أهم السمات الحضارية	الفترة الزمنية
العصر القديم	بناء الأهرامات العظيمة وازدهار العلوم	بدأ بمعرفة المصري القديم للكتابة وتحقيق الوحدة التاريخية
العصر اليوناني والبطلمي	ازدهار الفن والفلسفة والطب	بدأ بغزو الإسكندر الأكبر ٣٣٢ قبل الميلاد
العصر الروماني	تطوير البنية التحتية والطرق	بدأ باحتلال الرومان ٣٠ قبل الميلاد
العصر الإسلامي	بناء الجامع الأزهر والمعارف الإسلامية	بدأ بالفتح العربي ٦٤٠ ميلادي
العصر الحديث	تطوير الجيش والتعليم والبنية التحتية	بدأ مع محمد علي باشا ١٨٠٥ ميلادي
العصر المعاصر	تنفيذ المشروعات القومية الكبرى	بدأ بعد ثورة ٢٣ يوليو ١٩٥٢ ميلادي

الدرس الأول: منجزات حضارتنا

« اليوم سنتعرف على مظاهر تلك الحضارة، وكيف مارس المصري القديم حياته اليومية بشتى جوانبها الاجتماعية والاقتصادية والدينية.

الحياة السياسية

« عرف المصريون القدماء الدولة المركزية منذ قيام الوحدة في عهد الملك مينا.

« وضعوا نظامًا للحكم يتكون من:

- ١ الملك.
- ٢ الوزراء.
- ٣ حكام الأقاليم.
- ٤ كبار موظفي الدولة.

أعمال الملك:

يكون على رأس الحكم - يدير البلاد - يختار معاونيه.

الحياة الاجتماعية

طبقات المجتمع

« تكوّن المجتمع المصري القديم من عدة طبقات، لكل منها دورها في المجتمع، مما ساهم في تقدم المجتمع وازدهاره.

الطبقة الأولى: الملك وأسرته.

الطبقة الثانية: الوزير والكهنة وقادة الجيش وحكام الأقاليم.

الطبقة الثالثة: الكتّبة والتجار والحرفيون.

الطبقة الرابعة: المزارعون والعمال والعبيد.

الأسرة المصرية

« تتكون الأسرة المصرية القديمة من : الأب والأم والأبناء.

« تميزت الأسرة بـ : ١ التعاون بين أفرادها. ٢ المساواة بين الرجل والمرأة.

« احتلت المرأة مكانة مميزة في المجتمع وشغلت مناصب عليا حتى وصلت لمنصب الملكة والكتابة.

الحياة الاقتصادية

« ازدهرت الحياة الاقتصادية في مصر قديمًا **بم** **تنتشر**؟ وذلك لتوافر العوامل الطبيعية والبشرية المساعدة على ذلك.

١ الزراعة

- ◀ بعد جفاف الهضاب استقر المصري القديم بوادي النيل وعرف الزراعة واستأنس الحيوانات.
- ◀ اهتم حكام مصر بالزراعة وقاموا بما يلي:
 - ١ استصلاح الأراضي الزراعية.
 - ٢ إقامة السدود.
 - ٣ تقسيم السنة لثلاثة فصول، وهي: الفيضان - البذر - الحصاد.
 - ٤ استخدام الحيوانات في الأعمال الزراعية.

٢ الصناعة

- ◀ اهتم المصريون القدماء بالصناعة، وعملوا بالكثير من الصناعات، مثل:
 - ١ صناعة الورق من نبات البردي.
 - ٢ الصناعات الخشبية، كصناعة التوابيت والمراكب.
 - ٣ صناعة الفخار.
 - ٤ صناعة المنسوجات من الصوف والكتان والحريز.
 - ٥ صناعة الحلي.

٣ التجارة

- ◀ ازدهرت التجارة في مصر قديمًا **بم تفسر؟** بفضل تقدمها الزراعي والصناعي، وتأمين الطرق التجارية.

تنقسم التجارة إلى:

التجارة الخارجية

- ◀ ارتبطت مصر بعلاقات تجارية قوية مع بلاد العالم القديم **دلال؟** حيث تبادلت التجارة مع بلاد بونت والعراق القديم وبلاد فينيقيا واليونان والهند والصين وغيرها من البلاد.

التجارة الداخلية

- ◀ استغل المصريون القدماء نهر النيل في نقل بضائعهم بين الجنوب والشمال.

صدّرت مصر الذهب والنحاس والأسلحة والأواني الفخارية.
استوردت مصر التوابل والبخور والأخشاب والعاج.

الحياة الدينية

« نالت الحياة الدينية اهتمامًا كبيرًا من المصريين القدماء، وتميزت حياتهم الدينية بعدة مظاهر، منها:

تعدد الآلهة

« كان المصريون القدماء يؤمنون بتعدد الآلهة **دلال؟**

◀ كان لكل إقليم من أقاليم مصر الـ ٤٢ معبوده الخاص.

◀ جعلوا لكل ظاهرة طبيعية إلهًا يعبر عنها.

« وقد عرفوا التوحيد على يد **إخناتون**.

التحنيط

◀ حفظ جثث الموتى بعد وفاتهم بطرق طبية وكيميائية.

الإيمان بالبعث والخلود

« آمن المصري القديم بوجود حياة أخرى بعد الموت **دلال؟** حيث اعتقد أن المتوفى:

١ سيبعث وتعود الروح للجسد. ٢ يعيش حياة أخرى خالدة.

لذلك:

حَنَطُوا جثث الموتى للحفاظ عليها في حالة جيدة.

وضعوا مع المتوفى مقتنياته الشخصية ليستخدمها في الحياة الأخرى.

الحساب بعد الموت

◀ اعتقد المصري القديم أن المتوفى يقف أمام محكمة تحاسبه على كل أعماله.

◀ تتكون المحكمة من ٤٢ قاضيًا، برئاسة أوزوريس إله الموتى .

◀ يُحدَّد خلال المحاكمة إن كان الشخص صالحًا فيذهب للنعيم الأبدي، أو غير صالح فيُعذَّب.

◀ كان المصريون القدماء يسجلون كل أعمالهم الجيدة على جدران مقابرهم لتشفع لهم لدى المحكمة.

الدرس الثاني: العلوم والآداب في بلادنا

« اهتم المصريون القدماء بشتى مجالات العلوم والآداب.
« برع المصريون القدماء في كثير من العلوم **دلال**؟ فقد وضعوا أسس الفلك والهندسة والطب.

العلوم في الحضارة المصرية القديمة

« من أهم هذه العلوم : الفلك - الطب - الهندسة - الحساب.

١ الفلك

◀ حددوا حركة الشمس ووضعوا التقويم الشمسي وقسموا السنة لثلاثة فصول.

◀ رصد المصريون القدماء الكثير من مواقع النجوم والكواكب.

٢ الطب

◀ عرفوا بعض العمليات الجراحية.

◀ استخدم أدوات كالمشرط والملاقط.

◀ اشتهروا بالتحنيط الذي يعد من أسرار الطب عند المصري القديم، ولم يتم الكشف عنه حتى الآن.

٣ الهندسة

« حيث استخدم المصريون القدماء الهندسة في:

١ تقسيم الأراضي الزراعية وشق الترع.

٢ بناء الأهرامات والمعابد.

٣ استخدموا الأشكال الهندسية، كالمثلث والمستطيل والمربع.

٤ الحساب

١ استخدموه في معظم شئون حياتهم اليومية في الزراعة والتجارة .

٢ واستخدموه في تقدير الرواتب وجمع الضرائب طبقاً لقياس مستوى الفيضان.

الآداب المصرية القديمة

« برع المصريون القدماء في المجالات الأدبية أيضًا، وقدموا لنا إرثًا أدبيًا عريقًا.

الكتابة المصرية القديمة

« كان المصريون القدماء من أوائل من عرف الكتابة ووضعوا أبجديتها وأصولها.
« استخدموا في كتاباتهم:

◀ أوراق البردي.

◀ أعوادًا من البوص والقصب.

◀ الحبر الأحمر والأسود.

أنواع الكتابة المصرية القديمة:

« استخدم المصريون القدماء عدة خطوط للكتابة المصرية القديمة، وهي:

الكتابة الهيراطيقية

◀ تُعد صورة مبسطة من الكتابة الهيروغليافية.
◀ استخدمها الكهنة في كتابة النصوص الدينية.

الكتابة الهيروغليافية

◀ تعني الخط المقدس.
◀ استخدمت في كتابة النصوص على جدران المعابد والمقابر.

الكتابة الديموطيقية

◀ هو الخط الشعبي الذي يُعد أبسط أنواع الخطوط.
◀ استخدم في كتابة العقود التجارية والمعاملات اليومية.

النصوص الأدبية في مصر القديمة:

« انتشرت في مصر قديمًا عدة أنواع من الأدب، ومنها:

الأدب القصصي

◀ يروي قصصًا وحكايات،
مثل قصة سنوهي.

الأدب التهذيبي


◀ يهتم بتوجيه النصح
والإرشاد ونصائح الحكيم
آني لابنه.

الأدب الديني

◀ مثل نصوص الأهرامات،
وقصة إيزيس وأوزوريس.

فضل بلدنا على العالم


« تأثرت الحضارات المجاورة بالحضارة المصرية القديمة، وشمل هذا التأثير عدة مجالات، منها:



الفلك والتقويم

- أخذ الرومان التقويم الشمسي من المصريين القدماء.
- عدلوا فيه عدد أيام السنة من ٣٦٥ يوماً إلى ٣٦٥ يوماً وربع.
- أصبح هذا التقويم هو المستخدم ليومنا هذا.

الأبجدية



- كان المصريون القدماء من أوائل الشعوب التي ابتكرت الكتابة في التاريخ.
- تطورت الكتابة على يد الفينيقيين إلى الأبجدية الفينيقية.
- أخذت منها أوروبا أبجديتها بشكلها الحالي.

الطب والصيدلة



- سجل المصريون القدماء برديات تصف الكثير من الأمراض وطرق علاجها.
- نقلها عنهم اليونانيون والرومان.
- ترُجمت تلك النصوص للُّغات الأوربية الحديثة لتصبح من أسُس علم الطب والصيدلة حالياً.

الدرس الثالث: العمارة والفنون في بلدنا

« ترك لنا المصريون القدماء إرثًا عريقًا من العمارة والفنون يشهد على براعتهم وإتقانهم. وما زال إرثهم بيننا إلى يومنا هذا من معابد ومقابر وأهرامات ونقوش ورسوم.

العمارة والفنون

الفنون

- الرسم
- الموسيقى
- النحت

العمارة

- الأهرامات
- المقابر
- المعابد
- المسلات

العمارة: فن تصميم وتشيد المباني.

الفنون: أحد المجالات التي برع فيها المصريون القدماء.

سلسلة كتب الأستاذ

أولاً

العمارة

« تميز المصريون القدماء في العمارة **دلال**؟

حيث شيّدوا الأهرامات والمعابد والمقابر والمسلات. وقد ارتبطت العمارة بالبيئة المحيطة.

١ الأهرامات

« برع المصريون القدماء في تشييد الأهرامات **بم زوسر**؟ لتكون مقابر لملوكهم.

من أمثلتها:

١ هرم سقارة المدرج (هرم زوسر) وهو أول بناء حجري ضخم في التاريخ.

٢ أهرامات الجيزة.

« المواد المستخدمة : استخدموا الجرانيت والبازلت في بنائها.

٢ المعابد

« شيّدوا الكثير من المعابد التي تميزت بضخامتها وأعمدتها العملاقة.

« من أشهر المعابد في مصر:

١ معبد الكرنك وحتشبسوت في الأقصر . ٢ معبد دندرة بقنا. ٣ معابد فيلة بأسوان.

٣ المقابر

« اهتم المصريون القدماء بتشييد المقابر **ما النتائج؟** »

- ١ حيث زينوا جدرانها برسوم لأعمال المتوفى.
- ٢ وضعوا بها مقتنياته ليستخدمها في الحياة الأخرى.

من أمثلتها:

« وادي الملوك بالأقصر الذي يضم عددًا كبيرًا من مقابر ملوك الدولة الحديثة، أشهرها مقبرة توت عنخ آمون التي اكتشفت كاملة عام ١٩٢٢م. »

٤ المسلات

المسلة

◀ عمود حجري طويل رباعي الجوانب ينتهي بقمة هرمية. وقد استخدمها المصريون في تسجيل أهم الأحداث التاريخية.

« تعد المسلات المصرية القديمة من نماذج الرقي والتميز في العمارة المصرية. »

« يُنقش على جوانبها الأربعة أعمال الملوك. »

« كانت توضع في مداخل المعابد لتزيينها. »

من أشهرها:

◀ مسلة الملكة حتشبسوت في معبد الكرنك.

ثانياً الفنون

« كانت الفنون في مصر قديماً أحد المجالات التي برع فيها المصريون القدماء، ومن هذه الفنون:

١ الرسم

« عرف المصري القديم منذ عصور ما قبل التاريخ النقش على:

- ١ جدران الكهوف.
- ٢ المعابد.
- ٣ المقابر.

النحت

٣

« يشهد فن النحت على براعة المصري القديم، ومن ذلك:

- ١ تمثال أبو الهول بالجيزة. ٢ تمثال رمسيس الثاني الموجود حالياً بالمتحف المصري الكبير.
- « هذا يعكس مهارتهم الفائقة وإبداعهم الفني.

الموسيقى

٣

« اهتم المصريون القدماء بالموسيقى **بني قنسر**؟ لأنها تستخدم في:

- ١ الاحتفالات الكبرى. ٢ المناسبات. ٣ الطقوس الدينية.

« ابتكر المصري القديم الكثير من الآلات الموسيقية، مثل آلة الهارب التي تعد من أقدم الآلات الوترية في التاريخ.

عمارة مصر وفنونها تنير العالم

« تأثرت الحضارات قديماً بعمارة مصر وفنونها. ويتضح ذلك فيما يلي:

- استخدام الأعمدة المصرية الدائرية ذات الأشكال النباتية في العمارة اليونانية والرومانية.
- قيام العديد من الحضارات القديمة ببناء أهرامات على طراز الأهرامات المصرية، مثل حضارتَي المايا والأزتك بالمكسيك.

الأستاذ

سلسلة كتب الأستاذ

الدرس الرابع: شخصيات صنعت التاريخ

« مر بتاريخ مصر العريق كثير من الشخصيات المهمة، التي شاركت في صناعة الحضارة المصرية القديمة. ومن أهم هذه الشخصيات:

- المهندس
- الملك
- الملكة
- إيمحوتب الأول
- أحمس الأول
- حتشبسوت
- الملك
- رمسيس الثاني

إيمحوتب المعماري الأول



الموتيسي إيمحوتب

نشأته:

- شغل منصب مستشار الملك زوسر.
- عاش في عصر الأسرة الثالثة.

إنجازاته:

- برع في عديد من العلوم ولم تقتصر مهاراته على العمارة فقط، بل كان طبيباً وفلكياً.

من أشهر إنجازاته:

- 1 شيد أول هرم في التاريخ، وهو هرم الملك زوسر بسقارة.
- 2 وضع قواعد علم الطب.

أحمس قاهر الهكسوس



أحمس

نشأته:

- ولد الملك أحمس الأول في مدينة طيبة.

إنجازاته:

- بدأ والده الملك سقنن رع حرب تحرير مصر من الهكسوس حتى قُتل.
- تولى القيادة بعده ابنه كامس، الذي قُتل أيضاً.
- تولى أحمس الحكم وواصل جهودهما في تحرير البلاد.

أهم أعماله:

- 1 طرد الهكسوس من مصر.
- 2 تأسيس الدولة الحديثة في مصر.
- 3 تأمين الحدود الجنوبية.
- 4 تنظيم الجيش المصري وإدخال أسلحة جديدة كالعجلات الحربية.

الهكسوس

- قبائل آسيوية بدوية رعوية هاجمت مصر واحتلتها.

الملكة حتشبسوت

نشأتها:

تعلّمت على يد كهنة آمون **ما التاج؟** فأجادت القراءة والكتابة والحساب.



الملكة حتشبسوت

وصولها للحكم:

- تولت حكم مصر بعد زوجها الملك تحتمس الثاني.
- استمرت في حكم مصر حوالي ٢٠ عامًا.

إنجازاتها:

- الاستقرار السياسي: تميز عهدها بالسلام.
- الرخاء الاقتصادي: اهتمت بالزراعة.
- التبادل التجاري: أرسلت البعثات لبلاد بونت (الصومال حاليًا) وفينيقيا (لبنان حاليًا). كان الهدف جلب البخور والأخشاب والذهب والعاج.
- الإنجازات المعمارية: شيدت العديد من المعالم، وأشهرها معبدها بالدير البحري في مدينة الأقصر.

سلسلة كتب الأستاذ

رمسيس الثاني بطل الحرب والسلام

من هو؟

يعد الملك رمسيس الثاني من أشهر ملوك مصر على مر تاريخها، وأطلق عليه بطل الحرب والسلام.



الملك رمسيس الثاني

نشأته:

- أصبح وليًا للعهد وعمره ١٤ عامًا.
- أنتقن ركوب الخيل وفنون القتال والسياسة.
- تميز عهده بالقوة العسكرية والرخاء الاقتصادي.

أهم أعماله:

انتصر على الحيثيين في معركة قادش.

وقّع أول معاهدة سلام في التاريخ مع الحيثيين.

شيد العديد من المعابد، ومنها معبد أبو سمبل في أسوان، ومعبد الرامسيوم في الأقصر. استكمل بهو معبد الكرنك ومعبد والده سيتي الأول.

مراجعة شهر (فبراير) الصف الخامس الابتدائي

الاختبار الأول

س ١ أكمل العبارات الآتية بكلمات مناسبة:

- ١ توجد أعلى قمة جبلية في العالم في قارة
- ٢ كلما اقتربنا من دائرة الاستواء درجة الحرارة.
- ٣ قام الملك بتشييد مدينة منف عام ٣٢٠٠ م قبل الميلاد.
- ٤ تعد محافظة جنوب سيناء من المحافظات ذات الكثافة السكانية
- ٥ من أهم المعالم السياحية لدولة المكسيك هرم

س ٢ ضع علامة (✓) أمام العبارة الصحيحة، وعلامة (X) أمام العبارة غير الصحيحة:

- ١ توجد حضارتا الأزتك والمايا في قارتي أمريكا الشمالية والجنوبية. ()
- ٢ دائرة الاستواء هي المرجع الأساسي للتوقيت في العالم. ()
- ٣ أكبر البيئات المصرية من حيث المساحة البيئة الصحراوية. ()
- ٤ ينتشر نشاط السياحة في الأقصر لوجود الأماكن التراثية. ()
- ٥ يقوم اقتصاد المكسيك على الزراعة والصناعة. ()

س ٣ بم تفسر ...؟

- ١ تنوع التراث الحضاري في قارة آسيا.
- ٢ أهمية خطوط الطول.
- ٣ أهمية البيئة الريفية في حياتنا.
- ٤ تشتهر بورسعيد بنشاط الصيد.

س ٤ ما النتائج المترتبة على ...؟

- ١ قُرب القارة القطبية الجنوبية من القطب الجنوبي.
- ٢ ندرة المياه في البيئة الصحراوية.
- ٣ وفرة التربة الخصبة والمياه العذبة في المنوفية.

س ٥ ما المقصود بكل من ...؟

- ٤ التراث الثقافي.
- ٥ الموقع الفلكي.
- ٦ الكثافة السكانية.

الاختبار الثاني

س ١ صوب ما تحته خط:

- ١ أعلى هضاب العالم هي هضبة التبت، وتقع في قارة **إفريقيا**. (.....)
- ٢ يمثل **مدار السرطان** خط الطول الرئيسي. (.....)
- ٣ تتميز **البيئة الصحراوية** بتوافر المياه العذبة والتربة الخصبة. (.....)
- ٤ تصنف محافظة دمياط **أكبر** محافظات مصر من حيث المساحة. (.....)
- ٥ يتميز شعب المكسيك بأنه شعب **انطوائي**. (.....)

س ٢ اختر الإجابة الصحيحة مما بين القوسين:

- ١ توجد حضارة اليونان في قارة (إفريقيا - آسيا - أستراليا - أوروبا)
- ٢ نتقدم في الوقت كلما اتجهنا نحو (الشرق - الغرب - الشمال - الجنوب)
- ٣ من المحافظات الحضرية تمامًا في مصر (الجيزة - القاهرة - المنيا - الفيوم)
- ٤ أي من المحافظات التالية حدودية؟ (القاهرة - الإسماعيلية - الجيزة - الوادي الجديد)
- ٥ يرجع هرم كوكولكان إلى حضارة (الإنكا - الأزتك - المايا - العراق)

سلسلة كتب الأستاذ

س ٣ بم تفسر ...؟

- ١ تتميز إفريقيا بشكلها الهضبي.
- ٢ أهمية دوائر العرض.
- ٣ قيام الزراعة في البيئة الريفية.
- ٤ ارتفاع الكثافة السكانية في محافظات الوادي والدلتا.

سلسلة كتب الأستاذ

س ٤ دلل على صحة العبارات الآتية:

- ١ قامت على أرض الأمريكتين الشمالية والجنوبية العديد من الحضارات.
- ٢ تؤثر دوائر العرض على المناخ.
- ٣ عملت الدولة على تطوير البيئة الساحلية.
- ٤ تتعدد في مصر المحافظات الحدودية.

س ٥ ما العلاقة بين ...؟

- ١ فرق التوقيت وخطوط الطول.
- ٢ المساحة والكثافة السكانية.

مراجعة شهر (مارس) الصف الخامس الابتدائي

الاختبار الأول

س ١ أكمل العبارات الآتية بكلمات مناسبة:

- ١ من أكبر محافظات مصر في تربية الحيوانات محافظة و
- ٢ يجب علينا ترشيد استهلاكنا لـ
- ٣ تم توقيع اتفاقية السلام عام ١٩٧٩ م بين و
- ٤ من أهم السلاسل الجبلية في إسبانيا
- ٥ تشتهر محافظة القليوبية بإنتاج و

س ٢ اختر الإجابة الصحيحة مما بين القوسين:

- ١ الغذاء غير الصحي يحتوي على (فيتامينات - دهون ضارة - خضراوات - فواكه)
- ٢ يغرس في الأجيال القيم والمبادئ (الشرطي - الجندي - المعلم - الطبيب)
- ٣ نحتفل يوم ٢٥ أبريل من كل عام بعيد (الشرطة - تحرير سيناء - العمال - نصر ١٩٧٣ م)
- ٤ يوجد قصر رأس التين في محافظة (القاهرة - الجيزة - الإسكندرية - المنيا)
- ٥ تعد محافظة القليوبية ضمن البيئة (الريفية - الحضرية - الساحلية - الصحراوية)

س ٣ بم تفسر ...؟

- ١ أهمية الغذاء الصحي للإنسان.
- ٢ للجندي دور مهم في الدولة.
- ٣ زيارة الرئيس السادات القدس عام ١٩٧٧ م.
- ٤ نقوم بتربية الماشية في بلدنا.

س ٤ ما النتائج المترتبة على ...؟

- ١ التوسع في إنشاء المزارع السمكية.
- ٢ تشجيع المنتجات المحلية.
- ٣ التعاون بين الجيش والشعب في حرب أكتوبر ١٩٧٣ م.

س ٥ اذكر اثنين من:

- ١ المشروعات الزراعية.
- ٢ واجبنا نحو الوطن.
- ٣ مزايا تحقيق السلام.

الاختبار الثاني

س ١ صوب ما تحته خط:

- ١ من أمثلة المحاصيل السكرية محصول القطن. ()
- ٢ من واجبنا نحو الوطن الإسراف في استخدام المياه والكهرباء. ()
- ٣ وضعت مفاوضات كامب ديفيد عام ١٩٧٨م أسس الحرب. ()
- ٤ من المعالم السياحية في إسبانيا قصر رأس التين في غرناطة. ()
- ٥ أقرب المسطحات المائية لمحافظة القليوبية هو البحر الأحمر. ()

س ٢ ضع علامة (✓) أمام العبارة الصحيحة، وعلامة (X) أمام العبارة غير الصحيحة:

- ١ تعمل الدولة على تحسين السلالات الحيوانية في مصر. ()
- ٢ تشجيع المنتجات المحلية يساعد في توفير فرص العمل. ()
- ٣ أثبت نصر أكتوبر ١٩٧٣م أن المستحيل يمكن تحقيقه. ()
- ٤ توجد بمحافظة القليوبية كنيسة السيدة العذراء بمسطرد. ()
- ٥ تتمتع إسبانيا بسلاسل جبلية، منها جبال الهيمالايا. ()

س ٣ ما العلاقة بين ...؟

- ١ الصحراء الغربية واستصلاح الأراضي الصحراوية.....
- ٢ المعلم والقيم في المجتمع.....
- ٣ الرئيس السادات واتفاقية السلام.....
- ٤ الثروة السمكية والأمن الغذائي.....

س ٤ دلل على صحة العبارات الآتية:

- ١ تقوم الدولة المصرية بدور كبير في تنمية الثروة السمكية.....
- ٢ تتعدد واجبات الفرد تجاه وطنه.....
- ٣ تعددت جهود الدولة لبناء المستقبل في سيناء.....
- ٤ أقامت الدولة مشروعات للتنمية الزراعية.....

س ٥ ما المقصود ب...؟

- ١ الغذاء الصحي.....
- ٢ المسؤولية الوطنية.....

مراجعة شهر (إبريل) الصف الخامس الابتدائي

الاختبار الأول

س ١ أكمل العبارات الآتية بكلمات مناسبة:

- ١ من أمثلة الصناعات التي عمل بها المصري القديم صناعة
- ٢ وضع المصريون القدماء التقويم
- ٣ أشهر المسلات المصرية القديمة هي مسلة الملكة
- ٤ نجح الملك أحمس في طرد
- ٥ دولة جنوب إفريقيا غنية بالذهب و

س ٢ اختر الإجابة الصحيحة مما بين القوسين:

- ١ يعد هو رأس نظام الحكم في مصر القديمة. (الملك - الوزير - الكاهن - الكاتب)
- ٢ من أمثلة الأدب الديني
- ٣ (نصوص الأهرام - نصائح آني - قصة سنوهي - ليس مما سبق)
- ٤ تقع مقبرة توت عنخ آمون في (الأقصر - الجيزة - سقارة - قنا)
- ٥ يوجد معبد الدير البحري في مدينة (القاهرة - أسوان - الأقصر - الإسكندرية)
- ٥ من الحيوانات المنتشرة بدولة جنوب إفريقيا (الأسد - الفيل - الفهد - جميع ما سبق)

س ٣ بم تفسر ...؟

- ١ تقدم الزراعة في مصر القديمة.
- ٢ أهمية علم الهندسة عند المصريين القدماء.
- ٣ أهمية الموسيقى عند المصريين القدماء.

س ٤ ما النتائج المترتبة على ...؟

- ١ اعتقاد المصري القديم في الحساب بعد الموت.
- ٢ فك رموز حجر رشيد.
- ٣ براعة المصريين في تشييد الأهرامات.

س ٥ اذكر:

- ١ طبقات المجتمع المصري القديم.
- ٢ الأدوات المستخدمة في الكتابة.
- ٣ أشهر المعابد في مصر.

الاختبار الثاني

س ١ صوب ما تحته خط:

- ١ تشتهر دولة جنوب إفريقيا بالسياحة الدينية. ()
- ٢ قسّم المصريون القدماء السنة إلى خمسة فصول. ()
- ٣ تطورت الأبجدية المصرية القديمة على يد الرومان. ()
- ٤ من أشهر المنحوتات المصرية تمثال أبو الهول بمحافظة أسوان. ()
- ٥ تولى أحمس حكم البلاد بعد وفاة أخيه تحتمس الثاني. ()

س ٢ ضع علامة (✓) أمام العبارة الصحيحة، وعلامة (X) أمام العبارة غير الصحيحة:

- ١ ينتشر في دولة جنوب إفريقيا نحو ١١ لغة، منها الإنجليزية. ()
- ٢ عرف المصريون القدماء الدولة المركزية منذ عهد الملك مينا. ()
- ٣ اشتهر المصريون القدماء بالتحنيط الذي يُعدّ سرّاً في علم الهندسة. ()
- ٤ من أشهر المعابد فى مصر قديماً معبد الكرنك ومعابد فيلة. ()
- ٥ الراند الجنوب إفريقي هو العملة الرسمية للدولة. ()

س ٣ ما العلاقة بين ...؟

- ١ مصر وبلاد فينيقيا.
- ٢ الكتابة الهيراطيقية والكهنة.
- ٣ الملكة حتشبسوت والمسلات.
- ٤ الملك أحمس والجيش.

س ٤ دلل على صحة العبارات الآتية:

- ١ تعددت طبقات المجتمع المصري القديم.
- ٢ طوّر الرومان التقويم الشمسي المصري.
- ٣ تأثرت حضارات أخرى بفن العمارة المصرية القديمة.
- ٤ كان للمرأة دور في طرد الهكسوس من مصر.

س ٥ اكتب ما تشير إليه كل عبارة:

- ١ نبات صنع منه المصري القديم الورق. ()
- ٢ آلة موسيقية من أقدم الآلات الوترية في التاريخ، ابتكرها المصري القديم. ()

الأستاذ

سلسلة كتب الأستاذ

في

الدراسات الاجتماعية

الصف الخامس الابتدائي

الفصل الدراسي الثاني



مراجعة شهري (فبراير ومارس) الصف الخامس الابتدائي

س ١ أكمل ما يلي:

- ١ تقسم دائرة خريطة العالم إلى نصف الكرة الشمالي ونصف الكرة الجنوبي.
- ٢ يحدها قارة أمريكا الشمالية من جهة الغرب المحيط
- ٣ تشتهر قارة آسيا بوجود أعلى قمة جبلية في العالم وهي قمة
- ٤ تعد جبال أشهر الجبال بقارة أوروبا.
- ٥ تقع قارة أستراليا بالكامل في نصف الكرة
- ٦ يحدها قارة أوروبا من الغرب المحيط
- ٧ قامت حضارة الصين القديمة على أراضي قارة
- ٨ قامت على أراضي قارتي أمريكا الشمالية والجنوبية حضارتا و
- ٩ يمكننا تحديد المناطق الحرارية من خلال دوائر
- ١٠ تقع حول دائرة الاستواء المنطقة المناخية
- ١١ يمثل خط المرجع الأساسي للتوقيت.
- ١٢ تمثل دائرة العرض الرئيسية هي
- ١٣ تنخفض درجات الحرارة كلما ابتعدنا عن دائرة
- ١٤ تتميز البيئة الريفية بـ
- ١٥ توجد البيئة الريفية في الوادي والدلتا ومنخفض
- ١٦ يُعد إنشاء مدينة العلمين الجديدة أحد جهود الدولة لتطوير البيئة
- ١٧ تنتشر الزراعة وتربية الحيوانات في البيئة
- ١٨ يحدها محافظة الوادي الجديد من جهة الغرب دولة
- ١٩ شيدت مدينة منف قديماً على يد الملك
- ٢٠ أكبر محافظات مصر من حيث المساحة
- ٢١ أقل محافظات مصر من حيث عدد السكان
- ٢٢ تمثل إحدى المحافظات الحدودية التي تقع جنوب غرب مصر
- ٢٣ وجود عدة مدن كبرى بالمحافظة يساعد على انتشار المهن
- ٢٤ محافظة مصرية ينتشر فيها النشاط السياحي
- ٢٥ تتنوع التضاريس بالمكسيك ما بين جبال وهضاب و

٢ الأستاذ في الدراسات الاجتماعية الصف الخامس الابتدائي

اكتب كلمة (صواب) أو كلمة (خطأ) أمام ما يلي:

- ١ () تتميز قارة إفريقيا بشكلها الجبلي.
- ٢ () تتسم قارة أمريكا الجنوبية بشكل أقرب إلى شكل المثلث.
- ٣ () تقع قارة آسيا بأكملها في النصف الغربي للكرة الأرضية.
- ٤ () تعتبر هضبة التبت أكبر هضاب العالم ارتفاعًا.
- ٥ () يحدها قارة آسيا من جهة الشرق المحيط الأطلنطي.
- ٦ () الكرة الأرضية هي مساحات واسعة من اليابس تحيط بها المياه.
- ٧ () من أشهر حضارات قارة أوروبا حضارة المايا.
- ٨ () يفصل البحر الأحمر بين قارتي آسيا وأستراليا.
- ٩ () توجد جبال الألب في قارة إفريقيا.
- ١٠ () قامت حضارتا المايا والإنكا في قارتي أمريكا الشمالية والجنوبية.
- ١١ () المنطقة المعتدلة هي المنطقة الواقعة بين المدارين والدائرتين القطبيتين.
- ١٢ () يلعب خط جرينتش الدور الرئيسي في تنوع المناخ بالعالم.
- ١٣ () كلما اقتربنا من دائرة الاستواء تنخفض درجات الحرارة.
- ١٤ () يمثل الفارق الزمني بين الدول ساعة واحدة كل ١٥ خط طول.
- ١٥ () إذا اتجهنا غربًا نتقدم في الوقت.
- ١٦ () تقسم دائرة الاستواء خريطة العالم إلى نصف شرقي وآخر غربي.
- ١٧ () تختلف المنطقة الحرارية في خصائصها المناخية من مكان لآخر.
- ١٨ () يزداد النشاط الزراعي في البيئة الريفية.
- ١٩ () تعد البيئة الحضرية مصدرًا رئيسيًا للغذاء الأساسي من المحاصيل الزراعية.
- ٢٠ () تتميز البيئة الحضرية بالتخطيط العمراني وجودة البنية التحتية.
- ٢١ () تعد مدينة منف أول نموذج لمدينة حضرية في تاريخ مصر القديم.
- ٢٢ () توجد في مصر خمس محافظات حضرية تمامًا.
- ٢٣ () تبلغ مساحة المكسيك حوالي نفس مساحة مصر تقريبًا.
- ٢٤ () المحافظات الحدودية يجاورها دولة أخرى أو مسطح مائي.
- ٢٥ () الحفاظ على الموارد الطبيعية مسئولية جماعية.

س ٣ اختر الإجابة الصحيحة مما بين القوسين:

- ١ توجد أعلى هضبة بالعالم بقارة (آسيا - أوروبا - إفريقيا - أستراليا)
- ٢ يحد قارة آسيا من جهة الشرق المحيط
- ٣ تقع غابات الأمازون في قارة (إفريقيا - أوروبا - أمريكا الشمالية - أمريكا الجنوبية)
- ٤ تتميز قارة أمريكا الجنوبية بشكلها الأقرب إلى
- ٥ نتقدم في الوقت إذا اتجهنا ناحية (الغرب - الشرق - الشمال - الجنوب)
- ٦ تعد مصر من المناطق ذات الحرارة (المعتدلة - المرتفعة - المنخفضة - الثابتة)
- ٧ المنطقة الباردة هي المنطقة الواقعة حول
- ٨ (مدار السرطان - مدار الجدي - دائرة الاستواء - القطب الشمالي) تمتد المنطقة الحارة حول
- ٩ (الدائرة القطبية الشمالية - دائرة الاستواء - القطب الشمالي - الدائرة القطبية الجنوبية) أكبر البيئات المصرية مساحة البيئة
- ١٠ يعمل سكان البيئة الساحلية في النشاط (الصناعي - الزراعي - السياحي - الخدمي)
- ١١ من أمثلة المحافظات الحدودية في مصر
- ١٢ (القاهرة - الإسماعيلية - السويس - الوادي الجديد) محافظات الحدود الصحراوية ذات كثافة سكانية
- ١٣ (مرتفعة جداً - متساوية - متوسطة - منخفضة جداً) يساعد وجود أماكن أثرية بالمحافظة على انتشار نشاط
- ١٤ (التعدين - السياحة - الصناعة - الصيد) تعد محافظة من أصغر المحافظات المصرية مساحة.
- ١٥ (الوادي الجديد - الجيزة - دمياط - مطروح) محافظات الوادي والدلتا تتسم سكانياً بأنها (مزدحمة - متساوية - متوسطة - نادرة)
- ١٦ يساعد وجود آبار بترول ومواد خام بالمحافظة على انتشار نشاط
- ١٧ (السياحة - التعدين - الزراعة - الصيد) أكثر محافظات مصر عددًا للسكان محافظة
- ١٨ (القاهرة - الإسكندرية - السويس - الإسماعيلية) يعود هرم كوكولكان لحضارة
- ١٩ (الأزتك - الإنكا - اليونان - المايا) أقرب المسطحات المائية لمحافظة بورسعيد هو
- ٢٠ (نهر النيل - البحر الأحمر - البحر المتوسط - المحيط الهندي) وجود تربة خصبة ومياه عذبة بالمحافظة يساعد على انتشار نشاط
- ٢١ (السياحة - التعدين - الصيد - الزراعة)

س ٤ صوب ما تحته خط:

- ١) يحد قارة أمريكا الجنوبية من الغرب المحيط الأطلسي.
- ٢) تشتهر قارة آسيا بوجود أعلى هضاب العالم وهي هضبة إفرست.
- ٣) تتميز قارة أوروبا بتنوع تضاريسها ومن أشهر جبالها جبال روكي.
- ٤) تحيط المياه من جميع الجهات بالقارة المتجمدة الجنوبية وقارة أوروبا.
- ٥) تتسم قارة أوروبا بأن معظم أراضيها أراض صحراوية وجبلية.
- ٦) يقسم مدار الجدي خريطة العالم إلى نصف الكرة الشرقي ونصف الكرة الغربي.
- ٧) نشأت الحضارة الهندية في قارة إفريقيا.
- ٨) تقسم دوائر العرض الأرض إلى أربع مناطق حرارية.
- ٩) يمثل خط جرينتش المرجع الأساسي للمناخ.
- ١٠) إذا اتجهنا شرقاً نتأخر في الوقت.
- ١١) يزداد النشاط الزراعي في البيئة الحضرية.
- ١٢) تتأثر البيئة الصحراوية بالتغيرات التكنولوجية والاجتماعية.
- ١٣) أصغر محافظات مصر من حيث المساحة محافظة مطروح.
- ١٤) يحد محافظة جنوب سيناء من الجنوب البحر المتوسط.
- ١٥) يوجد هرم كوكولكان في دولة فرنسا.

س ٥ اكتب ما تشير إليه كل عبارة :

- ١) أرض شديدة الارتفاع ولها قمة.
- ٢) هوية الشعوب التي تميزها، وتشمل لغاتهم وفنونهم وعاداتهم وتقاليدهم.
- ٣) مساحة واسعة من الأرض المرتفعة مستوية السطح.
- ٤) موقع المكان بالنسبة لخطوط الطول ودوائر العرض.
- ٥) مساحة من الكرة الأرضية، تتشابه في خصائصها المناخية.
- ٦) كل ما يحيط بالإنسان يؤثر فيه ويتأثر به.
- ٧) كل ما يقوم به الإنسان من أعمال ومشروعات لتلبية احتياجاته.
- ٨) أول نموذج لمدينة حضرية في تاريخ مصر القديم.
- ٩) المحافظة التي تقع على أطراف حدود مصر البرية أو البحرية، وتشارك في حدودها مع دول أخرى أو تطل على أحد المسطحات المائية.
- ١٠) متوسط عدد السكان الذين يعيشون في مساحة قدرها كيلومتر مربع.

س ٦ بم تفسر...؟

١ تَميِّزُ قارة إفريقيا بشكلها الهضبي.

٢ تَميِّزُ القارة القطبية الجنوبية بشدة البرودة.

٣ تَميِّزُ قارة آسيا بتنوع حضاراتها.

٤ اختلاف التوقيتات الزمنية بين دول العالم.

٥ للموقع الفلكي تأثير على الدول.

٦ قلة النبات الطبيعي في البيئة الصحراوية.

٧ أهمية البيئة الريفية في مصر.

٨ توزيع الأراضي الزراعية على الفلاحين بعد ثورة يوليو ١٩٥٢م.

٩ تعتبر محافظة جنوب سيناء من المحافظات منخفضة الكثافة السكانية.

١٠ انتشار الأنشطة الزراعية في محافظة المنوفية.

١١ تعتبر المكسيك دولة بحرية.

١٢ يعمل كثير من سكان محافظة دمياط بمهنة صيد الأسماك.

س ٧ ما النتائج المترتبة على...؟

١ الاقتراب من دائرة الاستواء.

٢ وجود خط جرينتش على الكرة الأرضية.

٣ قرب قارة أمريكا الشمالية من القطب الشمالي.

٤ اختلاف وقوع الدول على خطوط الطول.

٥ توافر التربة الخصبة والمياه العذبة في البيئة الريفية.

٦ الجفاف في البيئة الصحراوية.

٧ قيام ثورة يوليو عام ١٩٥٢م بإعادة توزيع الأراضي الزراعية على الفلاحين بمصر.

٨ وقوع المحافظة على مسطح مائي.

٩ وجود أماكن أثرية بالمحافظة.

س ٨ دلل على صحة ما يلي:

١ تنوع تضاريس قارة أوروبا.

٢ يحد المحيط الهندي حدود أكثر من قارة.

٣ تتنوع المناطق الحرارية على خريطة العالم.

٤ تُعتبر قارة آسيا أكثر قارات العالم ارتفاعًا.

٥ تختلف تأثيرات خطوط الطول ودوائر العرض على خريطة العالم.

٦ لمصر دور عظيم في إبراز التراث الحضاري لقارة إفريقيا.

٧ عملت الدولة على تطوير البيئة الريفية.

٨ تختلف بيئات مصر كل منها عن الأخرى.

٩ للبيئة الحضرية خصائص مميزة.

١٠ تؤثر البيئة بشكل كبير على نوعية الأنشطة التي يمارسها السكان.

س ٩ ما العلاقة بين ...؟

١ المحيط الهادي وقارة أمريكا الشمالية.

٢ المدارين والمنطقة المعتدلة.

٣ خط جرينتش وفروق التوقيتات الزمنية.

٤ قارة آسيا والتراث الحضاري.

٥ دائرة الاستواء والمنطقة الحارة.

٦ ساحل البحر الأحمر والنشاط السكاني للمحافظة.

٧ مساحة المحافظة والكثافة السكانية بها.

٨ مصر والمكسيك.

٩ موقع محافظة بورسعيد ومستقبلها.

س ١٠ قارن بين:

١ قارتي آسيا وإفريقيا من حيث الخصائص الجغرافية.

إفريقيا	آسيا	وجه المقارنة
		الخصائص الجغرافية

٢ قارة أوروبا وقارتي أمريكا الشمالية والجنوبية من حيث الحضارات التي نشأت فيهما.

أمريكا الشمالية والجنوبية	أوروبا	وجه المقارنة
		الحضارات التي نشأت

٣ البيئة الصحراوية والبيئة الساحلية من حيث موقع كل منهما.

البيئة الساحلية	البيئة الصحراوية	وجه المقارنة
		الموقع

٤ البيئة الريفية والبيئة الحضرية من حيث خصائص كل منهما.

البيئة الحضرية	البيئة الريفية	وجه المقارنة
		الخصائص

س ١١ أمامك خريطة صماء لمصر اكتب مدلول الأرقام عليها:



- ١ محافظة حضرية
- ٢ محافظة حضرية
- ٣ البيئة
- ٤ البيئة
- ٥ البيئة

س ١٢ أمامك خريطة صماء لمصر اكتب مدلول الأرقام عليها:



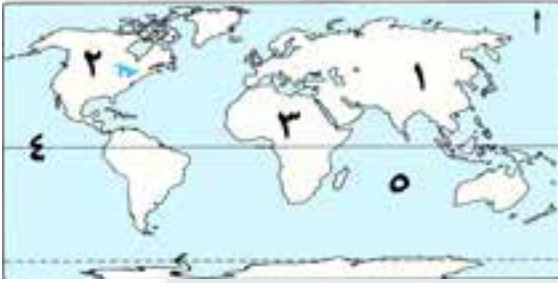
- ١ مدينة ساحلية
- ٢ مدينة ساحلية
- ٣ محافظة حدودية
- ٤ محافظة حدودية
- ٥ محافظة حدودية

س ١٣ أمامك خريطة صماء لمصر اكتب مدلول الأرقام عليها:



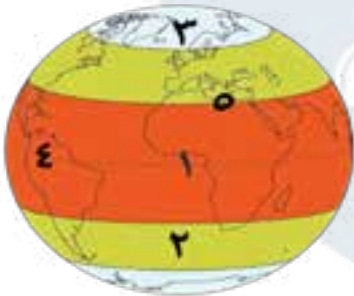
- ١ أقل محافظات مصر سكاناً
- ٢ محافظة ساحلية
- ٣ بحيرة
- ٤ قناة
- ٥ محافظة حدودية

س ١٤ أمامك خريطة صماء للعالم اكتب مدلول الأرقام عليها:



- ١ قارة
- ٢ قارة
- ٣ قارة
- ٤ دائرة عرض
- ٥ المحيط

س ١٥ اكتب مدلول الأرقام على الكرة الأرضية للعالم:



- ١ منطقة حرارية
- ٢ منطقة حرارية
- ٣ منطقة حرارية
- ٤ دائرة عرض
- ٥ دائرة عرض

إجابات مراجعة شهري (فبراير ومارس) الصف الخامس الابتدائي

السؤال الرابع:

- | | |
|-------------|------------|
| ٢ التبت | ١ الهادي |
| ٤ أستراليا | ٣ الألب |
| ٦ خط جرينتش | ٥ أستراليا |
| ٨ ثلاث | ٧ آسيا |
| ١٠ غربًا | ٩ للتوقيت |
| ١٢ الحضرية | ١١ الريفية |
| ١٤ الأحمر | ١٣ دمياط |
| | ١٥ المكسيك |

السؤال الخامس:

- | | |
|---------------------|----------------------|
| ٢ التراث الثقافي | ١ الجبل |
| ٤ الموقع الفلكي | ٣ الهضبة |
| ٦ البيئة | ٥ المنطقة الحرارية |
| ٨ منف | ٧ الأنشطة الاقتصادية |
| ١٠ الكثافة السكانية | ٩ المحافظة الحدودية |

السؤال السادس:

- ١ بسبب تعدد الهضاب فيها.
- ٢ نظرًا لقربها من القطب الجنوبي.
- ٣ لأنها نشأت على أراضيها حضارات عديدة مثل : حضارة الصين القديمة - والحضارة الهندية - حضارة العراق القديم.
- ٤ بسبب اختلاف خطوط الطول بين الدول.
- ٥ لأن دوائر العرض تؤثر من خلال المناخ، وخطوط الطول تؤثر من خلال التوقيت بين الدول.
- ٦ بسبب الجفاف.
- ٧ لأنها تعتبر مصدرًا رئيسيًا للغذاء الأساسي من محاصيل وخضراوات وفاكهة ولحوم وألبان .
- ٨ لتحسين أوضاعهم.
- ٩ لأن جنوب سيناء من محافظات الحدود الصحراوية التي تقل بها المياه.
- ١٠ بسبب توافر المياه العذبة والتربة الخصبة.
- ١١ بسبب اتساع مساحة سواحلها على المحيطين الأطلنطي والهادي بالإضافة لخليج المكسيك.
- ١٢ لأنها من المحافظات التي تقع على سطح مائي وهو البحر المتوسط.

مراجعة شهري (فبراير ومارس)

السؤال الأول:

- | | |
|-------------------|---------------------|
| ٢ الهادي | ١ الاستواء |
| ٤ الألب | ٣ إفرست |
| ٦ الأطلنطي | ٥ الشرقى او الجنوبي |
| ٨ الإنكا والمايا | ٧ آسيا |
| ١٠ الحارة | ٩ العرض |
| ١٢ دائرة الاستواء | ١١ جرينتش |
| ١٤ استواء السطح | ١٣ الاستواء |
| ١٦ الساحلية | ١٥ الفيوم |
| ١٨ ليبيا | ١٧ الريفية |
| ٢٠ الوادي الجديد | ١٩ مينا |
| ٢٢ الوادي الجديد | ٢١ جنوب سيناء |
| ٢٤ الأقصر - أسوان | ٢٣ الخدمية |
| | ٢٥ سهول |

السؤال الثاني:

- | | | | |
|------|------|------|------|
| ✓ ٤ | X ٣ | ✓ ٢ | X ١ |
| X ٨ | X ٧ | ✓ ٦ | X ٥ |
| X ١٢ | ✓ ١١ | ✓ ١٠ | X ٩ |
| X ١٦ | X ١٥ | ✓ ١٤ | X ١٣ |
| ✓ ٢٠ | X ١٩ | ✓ ١٨ | ✓ ١٧ |
| ✓ ٢٤ | X ٢٣ | X ٢٢ | ✓ ٢١ |
| | | | ✓ ٢٥ |

السؤال الثالث:

- | | |
|------------------|-------------------|
| ٢ الهادي | ١ آسيا |
| ٤ المثلث | ٣ أمريكا الجنوبية |
| ٦ المعتدلة | ٥ الشرق |
| ٨ دائرة الاستواء | ٧ القطب الشمالي |
| ١٠ السياحي | ٩ الصحراوية |
| ١٢ منخفضة جدًا | ١١ الوادي الجديد |
| ١٤ دمياط | ١٣ السياحة |
| ١٦ التعدين | ١٥ مزدحمة |
| ١٨ المايا | ١٧ القاهرة |
| ٢٠ الزراعة | ١٩ البحر المتوسط |

السؤال السابع:

- ١ أدى إلى ارتفاع درجات الحرارة.
- ٢ يقسم الكرة الأرضية إلى نصفين شرقي وغربي والمرجع الأساسي للتوقيت في العالم.
- ٣ أصبحت من المناطق شديدة البرودة التي يغطيها الجليد طوال العام.
- ٤ اختلاف التوقيتات الزمنية بين دول العالم.
- ٥ أدى إلى قيام الزراعة بها.
- ٦ أدى إلى قلة النبات الطبيعي.
- ٧ أدى إلى تحسين أوضاع الفلاحين.
- ٨ أدى إلى انتشار نشاط صيد الأسماك في بعض المحافظات مثل بورسعيد والسويس.
- ٩ أدى إلى انتشار السياحة بها مثل الأقصر وأسوان.

السؤال الثامن:

- ١ حيث تتميز بتنوع تضاريسها ومن أشهرها جبال الألب والسهل الأوروبي العظيم الذي يُعدّ من السهول الفيضية الواسعة.
- ٢ حيث يحدها قارة آسيا وأستراليا وإفريقيا.
- ٣ حيث توجد ثلاث مناطق حرارية هي المنطقة الحارة والمنطقة المعتدلة والمنطقة الباردة.
- ٤ حيث يوجد بها قمة إفرست أعلى قمة جبلية في العالم وهضبة التبت أعلى هضاب العالم.
- ٥ حيث إن خطوط الطول تؤثر من خلال التوقيت بينما دوائر العرض تؤثر من خلال المناخ بين الدول.
- ٦ حيث قامت على أرضها أعظم الحضارات التي عرفها التاريخ وهي الحضارة المصرية القديمة.
- ٧ من خلال :

- (١) توفير فرص العمل للشباب.
- (٢) زيادة الخدمات كالمدارس والمستشفيات.
- (٣) تطوير مشاريع البنية التحتية مثل الكهرباء والطرق والصرف الصحي.
- ٨ حيث إن لكل بيئة منها خصائص مميزة وأسلوب معيشة خاص بها مستمد من مواردها.
- ٩ حيث تتميز بـ : (١) التخطيط العمراني (٢) جودة البنية التحتية (٣) تنوع وسائل النقل

- ١٠ حيث في المحافظات التي تطل على مسطحات مائية تنتشر حرفة صيد الأسماك مثل بورسعيد والمحافظات التي توجد بها تربة خصبة ومياه عذبة تنتشر بها النشاط الزراعي مثل المنوفية.

السؤال التاسع:

- ١ يحدها المحيط الهادي قارة أمريكا الشمالية من جهة الغرب.
- ٢ توجد المنطقة المعتدلة بين المدارين والدائرتين القطبيتين.
- ٣ يؤثر خط جرينتش في حساب فروق التوقيتات الزمنية بين الدول حيث يعد المرجع الأساسي للتوقيت.
- ٤ نشأت على أراضي قارة آسيا حضارات عديدة مثل: حضارة الصين القديمة - والحضارة الهندية - وحضارة العراق القديم.
- ٥ تنتشر المنطقة الحارة حول دائرة الاستواء.
- ٦ حيث ينتشر النشاط السكاني للمحافظة التي تطل على ساحل البحر الأحمر بحرفة صيد الأسماك.
- ٧ حيث يتم حساب الكثافة السكانية للمحافظة من خلال قسمة عدد السكان على مساحة المحافظة.
- ٨ شهدت العلاقات بين مصر والمكسيك تعاونًا ثقافيًا وسياسيًا كبيرًا.
- ٩ مستقبل محافظة بورسعيد في الاهتمام بنشاط الصيد وتعليب الأسماك، ودعم نشاط النقل البحري.

السؤال العاشر:

- ١ المقارنة بين آسيا وإفريقيا من حيث الخصائص الجغرافية:

وجه المقارنة	آسيا	إفريقيا
الخصائص الجغرافية	تشتهر بوجود أعلى هضاب العالم (هضبة التبت) أعلى قمة جبلية في العالم (قمة إفرست)	تتميز بشكلها الهضبي بسبب تعدد الهضاب فيها مثل هضبة إفريقيا الشمالية.

٢ المقارنة بين (أوروبا) و(أمريكا الشمالية والجنوبية)

من حيث الحضارات التي نشأت فيهما:

وجه المقارنة	أوروبا	أمريكا الشمالية والجنوبية
الحضارات التي نشأت	شهدت على أراضيها قيام حضارتي اليونان والرومان في العصور القديمة.	قامت على أراضيها حضارات قديمة مثل: حضارة الأزتك، وحضارة المايا، وحضارة الإنكا.

السؤال الحادي عشر:

١ السويس

٣ الساحلية

٥ الصحراوية

السؤال الثاني عشر:

١ الغردقة

٣ الوادي الجديد

٥ جنوب سيناء

السؤال الثالث عشر:

١ جنوب سيناء

٣ ناصر

٥ مطروح

السؤال الرابع عشر:

١ آسيا

٣ إفريقيا

٥ الهندي

السؤال الخامس عشر:

١ الحارة

٣ الباردة

٥ مدار السرطان

٣ المقارنة بين البيئة الصحراوية والبيئة الساحلية من حيث موقع كل منهما:

وجه المقارنة	البيئة الصحراوية	البيئة الساحلية
الموقع	الصحراء الشرقية - الصحراء الغربية - شبه جزيرة سيناء - المنخفضات مثل القطار وسيوة والفرافرة والبحرية والداخلية والخارجية.	مدن ساحلية على البحر الأحمر مثل الغردقة والسويس. مدن ساحلية على البحر المتوسط مثل الإسكندرية ورفع.

٤ البيئة الريفية والبيئة الحضرية من حيث خصائص كل منهما:

وجه المقارنة	البيئة الريفية	البيئة الحضرية
الموقع	- تتميز باستواء السطح وتوافر التربة الخصبة والمياه العذبة. - يتميز أهلها بالتعاون والتمسك بالعادات والتقاليد.	تتميز بـ: التخطيط العمراني - وجود البنية التحتية - وتنوع وسائل النقل والمواصلات.

تطبيق



مذكرات جاهزة للطباعة

لتحميل الملفات التعليمية مجاناً للمعلم والطالب

مذكرات وملازم / مراجعات وملخصات / امتحانات / كتب الوزارة /
أدلة المعلم / دفاتر التحضير / سجلات مدرسية / أوراق تأسيس

امسح الكود بموبايلك علشان تقدر تثبت التطبيق

وتقدر ف أي وقت تحمّل ال نفسك فيه ببلاش

هيغنيك عن البحث والجروبات والقنوات الكثيرة

