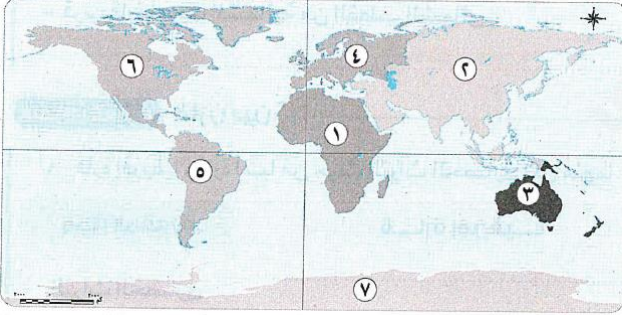


## اختبار على الدرس الاول ( خصائص قارات العالم )

## السؤال الاول ( ا) امامك خريطة صماء لقارات العالم وضع مدلول الارقام ؟



1-قارة .....

3-قارة .....

5-قارة .....

(ب) ما المقصود بالجبل

.....

## السؤال الثاني اكتب كلمة صواب امام العبارة الصحيحة وكلمة خطأ امام العبارة الخاطا؟

1-تقع قاراتا امريكا الشمالية والجنوبية فى نصف الكرة الشمالى ( )

2-تشتهر قارة اسيا بوجود اعلى هضاب العالم ( )

3-قامت على ارض قارة استراليا اعظم حضارة عرفها التاريخ ( )

(ب)دلل على صحة العبارتين الاتيتين :

1- تتميز قارة افريقيا بالمظهر الهضبى

.....

2-تتميز قارة اوربا بتنوع تضاريسها

.....

## السؤال الثالث : اكتب ما تشير اليه العبارات الاتية .

1-اشهر الجبال فى قارة اوربا (.....)

2-اشهر الغابات فى قارة امريكا الجنوبية (.....)

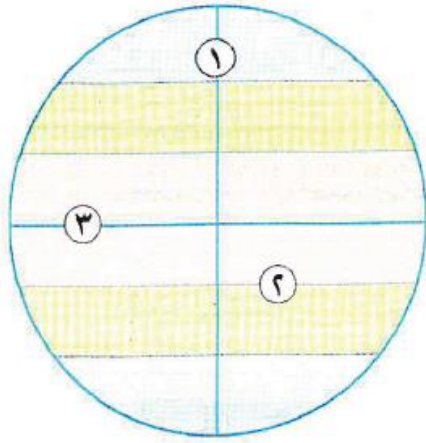
3-قامت على ارضها اعظم الحضارات التى عرفها التاريخ (.....)

(ب) بما تفسر تتميز القارة القطبية الجنوبية بوجود مناطق شديدة البرودة

.....

اختبار على الدرس الثانى ( تأثيرات خطوط الطول ودوائر العرض )

**السؤال الاول (ا) امامك محسم للكرة الارضية وضع مدلول الارقام؟**



1-خط .....

2-مدار .....

3-دائرة .....

(ب) بما تفسر :

1-اختلاف المناخ من مكان الى اخر

.....

2-اهمية خطوط الطول

.....

**السؤال الثانى اكتب كلمة صواب امام العبارة الصحيحة وكلمة خطأ امام العبارة الخاطى؟**

1-تقع المنطقة المناخية الحارة بين القطبين ( )

2-تلعب دوائر العرض دور واضح فى تقسيم المناخ فى العالم ( )

3-كلما اتجهنا غربا تاحرنا فى الوقت ( )

(ب)ماذا يحدث اذا :

1-اتجهنا جهة الشرق بالنسبة للتوقيت .....

2-اتجهنا نحو دائرة الاستواء .....

**السؤال الثالث : اكتب ما تشير اليه العبارات الاتية .**

1-هو موقع المكان بالنسبة لخطوط الطول ودوائر العرض (.....)

2-مساحة على الكرة الارضية تتشابه فى خصائصها المناخية (.....)

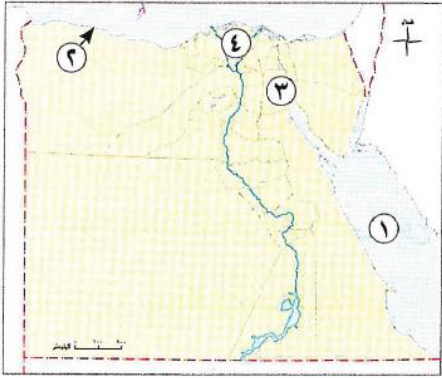
3-المرجع الاساسى للتوقيت (.....)

(ب)دلل على صحة العبارات الاتية

1-تقسم دوائر العرض العالم الى مناطق حرارية مختلفة .....

2-يختلف التوقيت من مكان الى اخر على سطح .....

اختبار على الدرس الثالث ( موقع بيئات بلدنا )



**السؤال الاول (ا) امامك خريطة صماء لقارات العالم وضح مدلول الارقام ؟**

1-البحر.....

2-البيئة .....

3-حافطة حضرية .....

4منطقة ريفية .....

(ب) ما المقصود ب...:

البيئة .....

**السؤال الثانى صوب ما تحته خط فى العبارات الاتية ؟**

1-يعمل بعض سكان البيئة الريفية بالتجارة عبر الموانئ

2-تتميز البيئة الصحراوية بالتخطيط العمرانى والحضارى وجودة البنية التحتية

3-قامت الدولة بجهود لتطوير البيئة الحضرية ومن بينها القضاء على الامية

(ب)بما تفسر:

1-اهمية البيئة الريفية.....

2-اهمية البيئة الصحراوية.....

**السؤال الثالث اختر الاجابة الصحيحة مما بين القوسين**

1-اى من المحافظات الاتية تعتبر محافظة حضرية بالكامل

(قنا-اسوان-اسيوط-الاسكندرية)

2-النشاط الرئيسى لسكان البيئة الريفية يتمثل فى

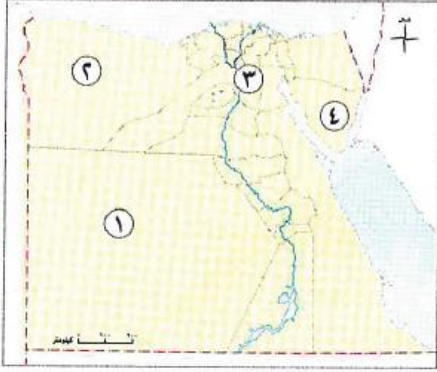
(الرعى -الزراعة-الصناعة-التعدين )

3-اكبر البيئات المصرية من حيث المساحة

(الساحلية-الصحراوية-الريفية-الحضرية )

(ب) وضح الخصائص التى يتميز بها سكان البيئة الريفية :

.....

اختبار على الدرس الرابع ( حولة فى محافظات بلدنا )

السؤال الاول (ا) امامك خريطة صماء لقارات العالم وضع مدلول الارقام ؟

1- محافظة مساحتها كبيرة .....

2- محافظة حدودية.....

3- محافظة عدد سكانها كبير.....

4- محافظة عدد سكانها قليل .....

(ب) ما المقصود بالكثافة السكانية

**السؤال الثانى اكتب كلمة صواب امام العبارة الصحيحة وكلمة خطأ امام العبارة الخاطا؟**

1- تتشابه المحافظات المصرية من حيث عدد السكان والمساحة ( )

2- هناك محافظة حدودية يجاورها دولة اخرى او مسطح مائى ( )

3- تؤثر البيئة بشكل كبير على نوعية الانشطة التى يمارسها السكان ( )

(ب) بما تفسر :

1- انتشار النشاط التعدينى فى محافظة السويس .....

2- انتشار النشاط السياحى فى محافظة الاقصر .....

**السؤال الثالث اختر الاجابة الصحيحة مما بين القوسين**

(القاهرة -الجيزة -الاسكندرية -دمياط)

1- اكبر المحافظات المصرية من حيث عدد السكان

(المنوفية -الدقهلية -الشرقية -السويس)

2- تنتشر الانشطة التعدينية فى محافظة

( القاهرة - مطروح - المنيا - اسيوط )

3- محافظة مصرية تعد من محافظات الحدود

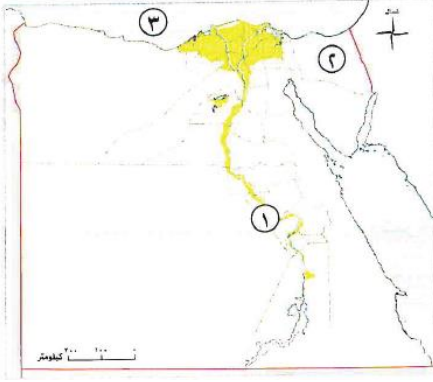
(ب) دلل على صحة العبارات الاتية :

1- تختلف المحافظات المصرية من حيث مساحتها

2- تختلف المحافظات المصرية من حيث عدد سكانها

اختبار على الوحدة الاولى 1

**السؤال الاول (1) امامك خريطة صماء لقارات العالم وضع مدلول الارقام ؟**



1- المنطقة المشار اليها تتبع البيئة .....

2- محافظة حدودية .....

3- البحر .....

(ب) بما تفسر :

1- تتميز افريقيا بالشكل الهضبي .....

2- اهمية البيئة الصحراوية في مصر .....

**السؤال الثاني : اكتب ما تشير اليه العبارات الاتية .**

1- اول نموذج لمدينة حضارية في تاريخ مصر القديم ( )

2- مساحة واسعة من الارض المرتفعة مستوية السطح ( )

(ب) دلل على صحة العبارات الاتية :

1- تقسم دوائر العرض الارض الى مناطق حرارية .....

2- تختلف بيئات مصر كلا منها عن الاخرى .....

3- تنوع تضاريس قارة اوربا .....

**السؤال الثالث اختر الاجابة الصحيحة مما بين القوسين .**

1- تقع غابات الامازون فى قارة ..... (افريقيا - اوربا - امريكا الشمالية - امريكا الجنوبية)

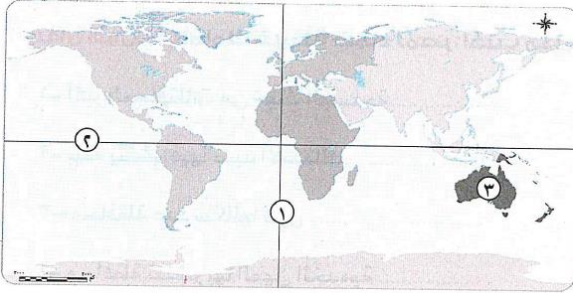
2- اكبر البيئات المصرية مساحة ..... (الريفية - الحضرية - الساحلية - الصحراوية)

(ب) ما النتائج المترتبة على :

1- قرب قارة امريكا الشمالية من القطب الشمالى .....

2- قيام ثورة يوليو عام 1952 باعادة تويح الاراضى الزراعية على الفلاحين بمصر .....

3- انتشار الجفاف البيئة الصحراوية .....

اختبار على الوحدة الاولى 2**السؤال الاول (1) امامك خريطة صماء لقارات العالم وضع مدلول الارقام ؟**

1-خط.....

2-دائرة.....

3-قارة.....

(ب) بما تفسر :

1- تتميز افريقيا بالشكل الهضبى .....

2- اهمية البيئة الصحراوية فى مصر .....

**السؤال الثانى : اكتب ما تشير اليه العبارات الاتية .**

1- كل مايقوم به الانسان من اعمال ومشروعات لتلبية احتياجاته.....

2- متوسط عددالسكان الذين يعيشون فى الكيلو متر الواحد من المساحة.....

(ب) دلل على صحة العبارات الاتية :

1- للبيئة الحضرية بمصر مميزات تميزها عن غيرها من البيئات الاخرى .....

2- تختلف المحافظات فى مصر من حيث عدد سكانها .....

3- لسكان البيئة الريفية خصائص مميزة .....

**السؤال الثالث اكتب كلمة صواب امام العبارة الصحيحة وكلمة خطأ امام العبارة الخطأ؟**

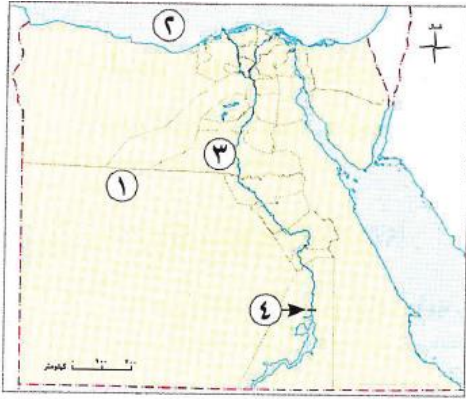
1- اذا اتجهنا شرقا نتقدم فى الوقت ( )

2- توجد فى مصر خمس محافظات حضرية تماما ( )

(ب) قارن بين قارة اوربا والامريكتين من حيث التراث الحضارى لكلا منهما:

| الامريكتين | اوربا | وجه المقارنة   |
|------------|-------|----------------|
|            |       | التراث الحضارى |

## اختبار على الدرس الاول (الغذاء وحياتنا)

**السؤال الاول (ا) امامك خريطة صماء لقارات العالم وضع مدلول الارقام ؟**

1- مشروع زراعى .....

2- احد المصايد الطبيعية .....

3- واحدة من اكبر محافظات مصر فى تربية الثروة الحيوانية .....

4- السد .....

(ب) ما المقصود :

1- الغذاء الصحى .....

**السؤال الثانى : اكمل العبارات الاتية بالكلمات المناسبة :**

1- احد الصناعات الغذائية فى المناطق الساحلية هو تعليب .....

2- تعد الابقار مصدر اساسى لانتاج اللحوم.....و.....

3- اهتم المصريون القدماء بانشاء المشروعات الزراعية فاقاموا سد .....

(ب) بما تفسر :

1- اقامة الدولة مشروعى شرق العوينات والفرافرة .....

2- اهمية الثروة الحيوانية فى مصر .....

**السؤال الثالث : صنف العناصر الاتية فى الجدول التالى:**

(اليوسفى - البقوليات - قصب السكر - العنب - القمح - بنجر السكر)

| المحاصيل الغذائية | المحاصيل السكرية | الفواكه |
|-------------------|------------------|---------|
|                   |                  |         |

(ب) 1- حدد مصادر الثروة السمكية .....

2- اذكر جهود الدولة فى تنمية الثروة الحيوانية .....

اختبار على الدرس الثانى (بلادى مسؤوليتى )**السؤال الاول : اكمل العبارات الاتية بالكلمات المناسبة :**

1-يعد الالتزام ب.....احدواجبات المواطن تجاه وطنه.

2-تشتهر محافظة الوادى الجديد بانتاج زيت .....

3-للمشاركة فى تنمية المجتمع يجب العمل ب.....و.....

(ب) بما تفسر :

1-اهمية مشاركة المواطن فى الاعمال التطوعية .....

2-اهمية دور الجندى والشطى فى المجتمع .....

**السؤال الثانى اكتب كلمة صواب امام العبارة الصحيحة وكلمة خطأ امام العبارة الخطأ؟**

1-الحفاظ على الامن والسلام احد طرق التعاون بين افراد المجتمع ( )

2-واجبك نحو وطنك المحافظة على المرافق العامة ( )

3- المعلم يساهم فى تقدم الوطن من خلال علاج المرضى ( )

(ب) ما النتائج المترتبة على :

1-العمل بشكل جماعى .....

2-ترشيد استهلاك المياه والكهرباء .....

**السؤال الثالث اختر الاجابة الصحيحة مما بين القوسين .**

1-اي مما يلى من مهام العامل تجاه وطنه ( معالجة المرضى -حماية الحدود -اتقان العمل -تربية الاجيال )

2-مهمة .....معالجة المرضى باخلاص (الجندى - العامل - الطبيب- المعلم )

3-مافعله جنود حرب اكتوبر 1973 خير دليل على .....(التعاون والتشجيع-الشجاعة والتضحية -حماية الحدائق-غرس القيم )

(ب) 1- ما المقصود بالمسؤولية الوطنية .....

2-دلل ( يستطيع كل فرد ان يشارك فى تنمية وطنه ).....

اختبار على الدرس الثالث (سيناء كاملة لمصر )

### السؤال الاول : اكمل العبارات الاتية بالكلمات المناسبة :

- 1-تمتلك شبه جزيرة سيناء سواحل سياحية على البحرين .....و.....
  - 2-محطات عودة سيناء كاملة تمثلت فى .....و.....و.....
  - 3-حققت مصر انتصارا عظيما فى حرب اكتوبر من اجل الوقوف بصلابة على ارض .....
  - 4- تم تحطيم خط بارليف الذى كان العدو يعتقد انه لا .....
- (ب) دلل على صحة العبارات الاتية :

1-بدأت مصر بعد استعادة ارض سيناء باخذ خطوات فعالة للسلام .....

### السؤال الثانى : اكتب ما تشير اليه العبارات الاتية .

- 1-قناة مائية عبرها الجيش المصرى ورفع علم مصر على ارض سيناء (.....)
  - 2-مفاوضات وضعت اسس للسلام بين مصر واسرائيل (.....)
  - 3-اتفاقية نصت على انسحاب اسرائيل الكامل من سيناء (.....)
- (ب) ما النتائج المترتبة على :

- 1-عبور الجيش المصرى قناة السويس .....
- 2-استعادة ارض سيناء كاملة .....

### السؤال الثالث صوب ما تحته خط فى العبارات الاتية ؟

- 1-حطم الجيش المصرى قناة السويس الذى كان يعتقد العدو انه لايقهر .
  - 2-بدأت عملية السلام با لزيارة التاريخية للرئيس السادات الى سيناء .
  - 3-اصبحت إلنيا اليوم رمزا للسلام والتنمية بعد ان كانت ميدان للحرب والمعاناة .
- (ب) وضح عوامل تحقيق نصر اكتوبر1973.....

اختبار على الوحدة الثانية 1

**السؤال الأول: ( 1 )** أمامك خريطة صماء لمصر . اكتب الأرقام التي تعبر عن كل مدلول فيما يأتي:



١- مشروع الضراقة يمثل الرقم ( ) .

٢- مشروع شرق العوينات يمثل الرقم ( ) .

٣- مشروع الدلتا الجديدة يمثل الرقم ( ) .

(ب) بهم تفسر...؟

١- أهمية الثروة السمكية .

٢- أهمية حماية موارد الوطن .

**السؤال الثاني: ( 1 )** أكمل العبارتين الآتيتين بما يناسبهما من كلمات:

١- المسؤولية الوطنية هي واجب المواطن تجاه .....

٢- تم عقد مفاوضات كاهب ديفيد برعاية أمريكية في عام ١٩٧٨ م. وقد وضعت أسس .....

(ب) ما النتائج المترتبة على...؟

١- التعاون بين أفراد المجتمع .

٢- دفاع الجندي عن الوطن .

٣- استرداد مطايا عام ١٩٨٩ م. .

**السؤال الثالث: ( 1 )** اكتب كلمة (صواب) أمام العبارة الصحيحة، وكلمة (خطأ) أمام العبارة غير الصحيحة:

١- تعمل الدولة المصرية على تنمية الثروة السمكية من خلال تطوير صناعة الأعلاف . (.....)

٢- من واجباتنا الوطني الحفاظ على الموارد الطبيعية والبشرية . (.....)

(ب) ما المقصود بـ...؟

١- الغذاء .

٢- الغذاء الصحي .

٣- الغذاء غير الصحي .

اختبار على الوحدة الثانية 2**السؤال الأول، ( 1 ) أمامك خريطة صماء لمصر ، اكتب مدلول الأرقام الموقعة عليها:**

١- بحيرة .....

٢- بحيرات .....

٣- قناة .....

**(ب) ما العلاقة بين..؟**

١- الشعب المصري وتحقيق نصر السادس من أكتوبر.....

٢- مفاوضات كامب ديفيد والرئيس السادات.....

**السؤال الثاني، ( 1 ) أكمل العبارتين الآتيتين بما يناسبهما من كلمات:**

١- تُعد الثروة الحيوانية من المصادر المهمة لإنتاج الغذاء في مصر، حيث توفر .....

٢- المعلم هو الذي يربي الأجيال ويغرس فيهم .....

**(ب) دلل على صحة العبارات الآتية:**

١- تدعم الدولة المصرية المشاريع الزراعية الكبرى .....

٢- أصبحت سيناء اليوم رمزاً للسلام والتنمية بعد أن كانت مهدأناً للحرب والمعاناة .....

٣- تعمل الدولة المصرية على تنمية الثروة السمكية لتحقيق الأمن الغذائي .....

**السؤال الثالث، ( 1 ) اكتب كلمة (صواب) أمام العبارة الصحيحة، وكلمة (خطأ) أمام العبارة غير الصحيحة:**

١- مسئولية العامل تجاه وطنه أن ينجز عمله بإتقان. (.....)

٢- يقع مشروع شرق العوينات في الصحراء الشرقية. (.....)

**(ب) قارن بين: الماشية والدواجن من حيث مصادر توفير كل منهما للحوم الحمراء والبيضاء.**

| وجه المقارنة                          | الماشية | الدواجن |
|---------------------------------------|---------|---------|
| مصادر كل منهما للحوم الحمراء والبيضاء | .....   | .....   |
|                                       | .....   | .....   |

## اختبار على الدرس التمهيدي (العصور اتاريخية لمصر )

## السؤال الاول : اكمل العبارات الاتية بالكلمات المناسبة :

1-بدا تاريخ مصر المعاصر بعد ثورة .....حكم مصر .

2-تعتبر مصر واحدة من اقدم الحضارات فى.....

3-من اهم السمات الحضارية فى العصر الاسلامى بناء .....

4-نزل المصرى القديم من الهضبة الى .....

(ب) ما المقصود بالعصور التاريخية .....

## السؤال الثانى اكتب كلمة صواب امام العبارة الصحيحة وكلمة خطأ امام العبارة الخاطا؟

1-تعلم المصرى القديم بناء البيوت وزراعة الارض عندما كان يعيش فوق الهضبة ( )

2-يتميز التاريخ المعاصر بتنفيذ المشروعات القومية الكبرى ( )

3-اهم السمات الحضارية ف العصر الحديث ظهور الفن القبطى ( )

(ب) دلل على صحة العبارات الاتية :

1-مر تاريخ مصر بمجموعة من العصور التاريخية .....

2-تغيرت حياة المصرى القديم بعد نزوله للوادى .....

## السؤال الثالث اختر الاجابة الصحيحة مما بين القوسين .

1-بدا العصر الاسلامى فى مصر بعد فتحها على يد (عبدالله بن ابى السرح -عبدالله بن عمرو بن العاص-عمرو بن العاص- موسى بن نصير)

2-دخلت المسيحية مصر فى منتصف القرن .....الميلادى (الاول - الثانى - الثالث \_ الرابع )

3-بدا العصر القديم بمعرفة المصرى القديم .... ( الزراعة -الكتابة -الصناعة التجارة )

(ب)قارن بين العصر الرومانى والعصر القديم من حيث السمات الحضارية لكلا منهما.

| العصر القديم | العصر الرومانى | وجه المقارنة    |
|--------------|----------------|-----------------|
|              |                | السمات الحضارية |

## اختبار على الدرس الاول (منجزات حضارتنا )

**السؤال الاول اكتب كلمة صواب امام العبارة الصحيحة وكلمة خطأ امام العبارة الخاطا؟**

- 1- استخدم المصريون القدماء نبات البردى فى صناعة العطور ( )
  - 2- تميزت الاسرة المصرية القديمة بتميز الرجل عن المرأة ( )
  - 3- ارتبطت مصر القديمة بعلاقات خارجية مع بلاد الهند والصين ( )
- (ب) دلل على صحة العبارتين الاتيتين .

1- تكون المجتمع المصرى القديم .....

2- احتلت المرأة فى المجتمع مكانة مميزة فى مصر القديمة .....

**السؤال الثانى : اكمل العبارات الاتية بالكلمات المناسبة :**

- 1- قسم المصرى القديم السنة الى ثلاثة فصول وهى .....و.....و.....
- 2- من مظاهر اهتمام حكام مصر القديمة بالزراعة .....
- 3- بعد جفاف الهضاب استقر المصر القديم بـ.....

(ب) ما العلاقة بين :

- 1- اوزيريس والحساب بعد الموت .....
- 2- تعدد الالهة فى مصر القديمة واقاليم مصر القديمة .....

**السؤال الثالث اكتب ما تشير اليه العبارات الاتية**

- 1- حفظ جثث الموتى بعد وفاتهم بطرق طبية وكميائية ( )
- 2- عرف المصريون القدماء الدولة المركزية فى عهده منذ تحقيقه الوحدة السياسية للبلاد ( )
- 3- اعتبره المصريون اله الموتى ( )

(ب) بما تفسر :

1- اذدهار التجارة فى مصر قديما.....

2- سجل المصريون القدماء كل اعمالهم الجيدة على جدران مقابرهم .....

## اختبار على الدرس الثانى (العلوم والاداب فى بلدنا )

**السؤال الاول : اكمل العبارات الاتية بالكلمات المناسبة :**

1-استخدم المصرى القديم فى كتاباته الاحبار ذات اللون .....و.....

2-قام العالم الفرنسى .....بفك رموز حجر رشيد

3-قصة سنوهى احد انواع الادب .....

(ب) ما العلاقة بين:

1-الضرائب وفيضان النيل .....

2-العقود التجارية والكتابة الديموطيقية .....

**السؤال الثانى اكتب كلمة صواب امام العبارة الصحيحة وكلمة خطأ امام العبارة الخطأ؟**

1-سجل المصريون القدماء برديات تصف الكثير من الامراض وطرق علاجها ( )

2-استخدمت الكتابة الهيروغليفية فى معاملات المصريين اليومية ( )

3-اخذ الرومان التقويم الشمسى من المصريين القدماء وعدلوا فيه ( )

(ب) دلل على صحة العبارات الاتية :

1-الفينيقيون هم حلقة الوصل بين انتقال الكتابة المصرية الى الابدجيدية الاوربية بشكلها الحالى

2-استخدم المصريون القدماء علم الحساب فى حياتهم اليومية.....

**السؤال الثالث اختر الاجابة الصحيحة مما بين القوسين .**

1-وضع المصريون القدماء التقويم الشمسى بفضل براعتهم فى علم (الفلك-الطب-الهندسة-الحساب)

2-يعد من حكماء المصريين القدماء الحكيم ..... (اوزوريس-انى-ايزيس-امون)

3-تعرف الكتابة الهيروغليفية بالخط ..... (المقدس -الكهنوتى -الشعبى -المسند )

(ب) ما المقصودبالادب التهذيبي مع ذكر مثال

اختبار على الدرس الثالث (العمارة والفنون فى بلدنا )**السؤال الاول : اكمل العبارات الاتية بالكلمات المناسبة :**

1-اهتم المصريون القدماء بتشبيد المقابر فزينوا جدرانهم برسوم .....

2-اقام المصرى القديم المسلات فى مداخل .....لتزيينها

3-يعد معبد دندرة من اشهر المعابد المصرية القديمة ف.....

(ب) ما المقصودب:

العمارة .....

(ج) ما العلاقة بين الموسيقى والاحتفالات الكبرى.....

**السؤال الثانى صوب ما تحته خط فى العبارات الاتية ؟**

1-عرف المصرى القديم النقش منذ العصور التاريخية

2-كان ينقش على الجوانب الاربعة للمسلات النصوص الدينية

3-تعد مقبرة الملك مينا من اشهر المقابر ملوك الدولة الحديثة بوادى الملوك.

(ب) بما تفسر:

1-اهمية بناء الالهramات فى مصر القديمة .....

2-اهمية احجار الجرانيت والبازلت عند المصرى القديم .....

**السؤال الثالث اختر الاجابة الصحيحة مما بين القوسين .**

1-يوجد فى اسوان معابد ..... (الكرنك -حتشبسوت -فيلة -دندرة )

2-تفوق المصرى القديم فى الموسيقى واخترع عدة الات منها .....(الهارب -الجيتار- الكمان -البيانو)

3-ظهر تأثر الحضارات القديمة فى المكسيكىفى الحضارة المصرية فى بناء هرم (زوسر-خفرع-الازتك-ميدوم )

(ب)حددوجه الشبه بين الحضارة المصرية والحضارة اليونانية فى العمارة

.....

(ج) دلل على صحة العبارة :برع المصريون القدماء فى فن النحت .....

اختبار على الدرس الرابع (شخصيات صنعت التاريخ \_\_\_\_\_)

**السؤال الاول اكتب كلمة صواب امام العبارة الصحيحة وكلمة خطأ امام العبارة الخاطا؟**

- 1- اسس الملك رمسيس الثانى الدولة المصرية الحديثة ( )
- 2- وقع الملك احمس الاول معاهدة سلام مع الهكسوس ( )
- 3- شيدت الملكة حتشبسوت معبدها بالدير البحرى بالاقصر ( )

(ب) دلل على صحة العبارات الاتية :

- 1- يعد رمسيس الثانى اكثر ملوك مصر فى بناء الاثار .....
- 2- اهتمت الملكة حتشبسوت بالتبادل التجارى .....

**السؤال الثانى : اكمل العبارات الاتية بالكلمات المناسبة :**

- 1- ارسلت الملكة حتشبسوت البعثات التجارية الى بلاد .....و.....
- 2- ولد الملك احمس الاول فى مدينة .....
- 3- عاش الملك زوسر فى عصر الاسرة .....
- 4- شاركت المرأة بقوة فى حرب التحرير من الهكسوس مثل الملكة .....

(ب) ما المقصود بالهكسوس .....

**السؤال الثالث اكتب ما تشير اليه العبارات الاتية**

- 1- مدينة مصرية شيد فيها الملك رمسيس الثانى معبدى ابو سمبل ( )
- 2- اول هرم فى التاريخ ( )
- 3- سلاح جديد نجح الملك احمس الاول ادخاله فى الجيش المصرى ( )

(ب) بما تفسر :

- 1- اهمية الملكة اياح حتب فى حرب تحرير مصر .....
- 2- اطلق على الرئيس الراحل محمد السادات بطل الحرب والسلام .....

اختبار على الوحدة الثالثة 1

١٣

**السؤال الأول: ( ١ ) أكمل العبارات الآتية بما يناسبها من كلمات:**

- ١- فُتحت مصر على يد القائد المسلم ..... ٦٤١ م.
- ٢- صنع المصري القديم الورق من نبات .....
- ٣- قام العالم الفرنسي ..... بفك رموز حجر رشيد.

**(ب) ما المقصود بـ ؟**

- ١- العصور التاريخية: .....
- ٢- التحنيط: .....

**السؤال الثاني: ( ١ ) اكتب كلمة (صواب) أمام العبارة الصحيحة، وكلمة (خطأ) أمام العبارة غير الصحيحة:**

- ١- بُنيت مدينة الإسكندرية في العصر الروماني. (.....)
- ٢- أبسط أنواع الخطوط هو الخط المقدس. (.....)
- ٣- تعد آلة الهارب من أقدم الآلات الوترية في التاريخ. (.....)

**(ب) بهم تفسر..؟**

- ١- استقرار المصري القديم على وادي النيل ومعرفته للزراعة. ....
- ٢- جعل المصريون لكل ظاهرة طبيعية إلهاً يعبر عنها. ....

**السؤال الثالث: ( ١ ) اختر الإجابة الصحيحة مما بين القوسين:**

- ١- يرأس محكمة الموتى الإله ..... في اعتقاد المصريين القدماء. ( رع - أوزيريس - أمون - حورس )
- ٢- الكتابة الهيروغليفية تعنى الخط ..... ( المسند - الكهنوتي - المقدس - الشعبي )
- ٣- بدأ الملك ..... حرب تحرير مصر من الهكسوس حتى قُتل. ( سقنن رع - رمسيس الثاني - كامس - أحمنس )

**(ب) دلل على صحة العبارتين الآتيتين:**

- ١- اهتم حكام مصر قديماً بالزراعة. ....

- ٢- برع المصري القديم في علم الطب. ....

اختبار على الوحدة الثالثة 2**السؤال الأول: ( ا ) اكتب كلمة (صواب) أمام العبارة الصحيحة، وكلمة (خطأ) أمام العبارة غير الصحيحة:**

- ١- يوجد معبد دندرة بمحافظة قنا. (.....)
- ٢- وقع تحتمس الثالث أول معاهدة سلام في التاريخ مع الحيثيين. (.....)
- ٣- محمية وادي الريان تقع في محافظة الفيوم. (.....)

**(ب) دلي:**

١- المجتمع المصري القديم مجتمع طبقي.

٢- شيد المصريون القدماء الكثير من المعابد.

**السؤال الثاني: ( ا ) اكتب ما تشير إليه العبارات الآتية:**

- ١- معتقد مصري يعنى الحياة وعودة الروح للجسد بعد الموت والعيش حياة خالدة. (.....)
- ٢- أحد أنواع الكتابة المصرية استخدمها الكهنة في كتابة النصوص الدينية. (.....)
- ٣- الأدب الذي يروي قصصًا وحكايات مثل قصة سنوهي. (.....)

**(ب) ما النتائج المترتبة على..؟**

١- دخول الرومان لمصر عام ٣٠ ق.م.

٢- قياس المصريين القدماء مستوى الفيضان.

**السؤال الثالث: ( ا ) اختر الإجابة الصحيحة مما بين القوسين:**

- ١- يأتي ..... على رأس نظام الحكم في الدولة المصرية القديمة. (الوزير- الملك - الكاتب - الكاهن)
- ٢- حضارة ..... قامت ببناء الأهرامات على الطراز المصري. (الصين - اليمن - الأزتك - الهند)
- ٣- يُعد الملك ..... أكثر ملوك مصر بناءً للآثار (تحتمس الثالث - زوسر - رمسيس الثاني - أحمس)

**(ب) ما المقصود بـ؟**

١- العمارة:

٢- الهكسوس:



تطبيق



مذكرات جاهزة للطباعة

لتحميل الملفات التعليمية مجاناً للمعلم والطالب

مذكرات وملازم / مراجعات وملخصات / امتحانات / كتب الوزارة /  
أدلة المعلم / دفاتر التحضير / سجلات مدرسية / أوراق تأسيس

امسح الكود بموبايلك علشان تقدر تثبت التطبيق

وتقدر ف أي وقت تحمّل ال نفسك فيه ببلاش

هيغنيك عن البحث والجروبات والقنوات الكثيرة

