

خصائص قارات العالم

الدرس

1

أهداف الدرس

في نهاية هذا الدرس، سأكون قادرًا على أن:

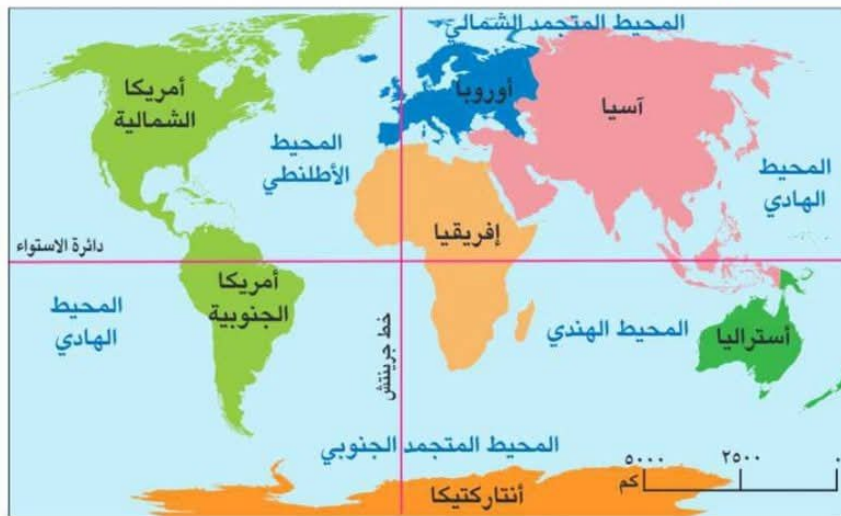
- أتعرّف على موقع القارات المختلفة على خريطة العالم.
- أميز بين أهم المعالم الجغرافية بقارات العالم المختلفة.
- أعبر عن احترامي لثقافات شعوب العالم المختلفة.
- أقارن بين أشكال التراث الحضاري في قارات العالم المختلفة.

درست فيما سبق أن في الكرة الأرضية مساحات واسعة من اليابس تحيط بها المياه، وهذه المساحات تسمى القارات، واليوم سنتعرّف معًا على مواقع قارات العالم وأهم خصائصها الجغرافية وأهم أشكال التراث الحضاري في كل قارة.



واحد

الاحظ



خريطة القارات والمحيطات

تقسم دائرة الاستواء خريطة العالم إلى نصف الكرة الشمالي ونصف الكرة الجنوبي. يقسم خط جرينتش خريطة العالم إلى نصف الكرة الشرقي ونصف الكرة الغربي.

الاحظ وأتعلم

من خلال الخريطة السابقة، نلاحظ ما يلي:

- ١ - القارة التي تقع بالكامل في نصف الكرة الجنوبي **استراليا** و **انتاركتيكا**
- ٢ - القارة التي تقع بالكامل في نصف الكرة الشمالي **اوروبا** و **امريكا الشمالية**
- ٣ - تقع قارتا **اسيا** و **استراليا** في نصف الكرة الشرقي.
- ٤ - تقع قارتا أمريكا الشمالية والجنوبية في نصف الكرة **الغربي**.

أفكر وأجيب

مهارات اتعلمها

ملاحظة تفاصيل الخريطة
والقدرة على رسمها مهارة
مهمة لدراسة الجغرافيا.

١- اذكر المسطحات المائية والقارات التي تُحيط بقارة إفريقيا.

المحيط الاطلنطي والهندي والبحر المتوسط والاحمر، اوروبا واسيا
٢- حدد القارات التي تطل على المحيط الأطلنطي.
امريكا الشمالية والجنوبية وافريقيا واوروبا

أهم الخصائص الجغرافية لكل قارة

تتميز كل قارة ببعض الخصائص الجغرافية التي تميزها، وذلك على النحو التالي:
تشتهر قارة آسيا بوجود أعلى هضاب العالم (هضبة التبت)، وأعلى قمة جبلية في العالم (قمة إفرست).



تتميز قارة إفريقيا بشكلها الهضبي؛ بسبب تعدد الهضاب فيها، مثل: هضبة إفريقيا الشمالية.



تتميز قارة أوروبا بتنوع تضاريسها، ومن أشهر جبالها جبال الألب، كما تضم السهل الأوروبي العظيم الذي يُعدّ من السهول الفيضية الواسعة.



تذكر

الجبل: أرض شديدة الارتفاع ولها قمة.
الهضبة: مساحة واسعة من الأرض المرتفعة مستوية السطح.



تتسم قارة أمريكا الجنوبية بشكلها الأقرب إلى شكل المثلث، كما أنها تمتاز بكثرة الغابات فيها مثل غابات الأمازون.

تتسم قارة أستراليا أن معظم أراضيها أراضي صحراوية وجبلية.



الاحظ وأتعلم

تتميز قارة أمريكا الشمالية والقارة القطبية الجنوبية بوجود المناطق شديدة البرودة التي يغطيها الجليد طوال العام نظرًا لقربها من القطب الشمالي والجنوبي.

التراث الحضاري لقارات العالم

مفاهيم أتعلمها

التراث الثقافي هي هوية الشعوب التي تميزها، وتشمل لغاتهم وفنونهم وعاداتهم وتقاليدهم.

تتميز كل قارة من قارات العالم بتراث حضاري وثقافي كبير على مر العصور، وذلك على النحو التالي:

إفريقيا:

قامت على أرضها أعظم الحضارات التي عرفها التاريخ وهي الحضارة المصرية القديمة.



أهرامات الجيزة



رسم تخيلي لحدائق بابل المعلقة بالعراق

آسيا:

نشأت على أراضيها حضارات عديدة مثل: حضارة الصين القديمة، والحضارة الهندية، وحضارة العراق القديم.



معبد البارثينون (الحضارة اليونانية)

أوروبا:

شهدت على أراضيها قيام حضارتي اليونان والرومان في العصور القديمة.



هرم كوكولكان بالمكسيك

أمريكا الشمالية والجنوبية:

قامت على أراضيها حضارات قديمة مثل:

- حضارة الأزتك.
- حضارة المايا.
- حضارة الإنكا.

واتعلم

ابحث

ابحث مع معلمك عن أهم الحضارات التي انتشرت في قارات عدة.

قيم أتعلمها

احترام ثقافة الغير والتعايش السلمي معه من أساسيات القيم الأخلاقية والأمن المجتمعي.

عزيزي التلميذ، لاحظ أن أي سلوك تقوم به - ولو صغيرًا - يؤثر على مستقبلك ومستقبل بلدك مصر، وذلك على النحو التالي:



ماذا لو؟ تعرفت على الحضارات القديمة

١ ستعرف كيف
عاش الإنسان
في الماضي
وتتعلم منه

٢ ستقدّر جهود
الأجداد في بناء
العلم والفن

٣ ستكتشف منجزاتهم
في العمارة
والكتابة والطب

٤ ستزداد حبًا لوطنك
وفخرًا بتاريخ أمتك

٥ ستتعلم أن
التقدم لا يأتي إلا
بالعلم والعمل

٦ ستفهم أن كل حضارة
تركت بصمة تضيء
طريق الحاضر



أكمل العبارات التالية بما يناسبها من كلمات:

- ١ - يحد قارة أمريكا الجنوبية من جهة الشرق المحيط **الاطلنطي**.
 - ٢ - تقع قارة أمريكا الشمالية في نصف الكرة **الشمالي**.
 - ٣ - قامت على أراضي قارة آسيا حضارتا **الهند - للصين القديمة - العراق القديمة**.
 - ٤ - قامت على أراضي قارتي أمريكا الشمالية والجنوبية حضارات مثل **الآزتك - المايا - الإنكا**.
- اكتب كلمة (صواب) أمام العبارة الصحيحة، وكلمة (خطأ) أمام العبارة غير الصحيحة:

- ١ - تُعتبر قمة إفرست أعلى القمم الجبلية في العالم. (صواب)
- ٢ - يحد قارة إفريقيا من جهة الشرق المحيط الأطلسي. (خطأ)
- ٣ - من أشهر حضارات قارة آسيا حضارة الأزتك. (خطأ)
- ٤ - تتميز قارة أوروبا بالتنوع الحضاري قديماً وحديثاً. (صواب)

بم تفسر...؟

- ١ - تنوع التراث الحضاري في قارة آسيا.

حيث نشأت على أراضيها حضارات الصين القديمة والعراق القديم والهند

٢ - تتميز قارة إفريقيا بشكلها الهضبي.

بسبب تعدد الهضاب مثل هضبة إفريقيا الشمالية

٣ - تميز قارة أوروبا بتنوع حضاراتها.

حيث نشأت على أراضيها حضارات اليونان والرومان في العصور القديمة

د ما المقصود بما يلي...؟

- التراث الثقافي: **هوية الشعوب التي تميزها وتشمل لغاتهم وفنونهم وعاداتهم وتقاليدهم**

ه دلل على صحة العبارة التالية:

- ١ - تتنوع التضاريس في قارة أوروبا. **يوجد بها جبال الالب والسهل الاوروي**
- ٢ - يطل المحيط القطبي الشمالي على عديد من القارات. **حيث يطل على قارات اسيا واوروبا وامريكا الشمالية**
- ٣ - أهمية التراث الحضاري لقارة إفريقيا. **قامت على ارضها اقدم الحضارات وهي الحضارة المصرية القديمة**

هيا نستعد ٢٠٢٦ Hany



وضح تأثيرات موقع الدولة بالنسبة لخطوط الطول ودوائر العرض؟



تأثيرات خطوط الطول ودوائر العرض

أهداف الدرس

في نهاية هذا الدرس، سأكون قادرًا على أن:

- أوضح تأثير دوائر العرض في تحديد المناخ.
- أستنتج تأثير خطوط الطول على فروق التوقيت.
- أحسب فروق التوقيت بين مصر وبعض دول العالم باستخدام خطوط الطول.
- أقدّر أهمية الدقة عند استخدام الخرائط وحساب التوقيت.



جاء طالبان لمعلمهم يتساءلون:

الطالب الأول: لاحظت أننا نرتدي ملابس خفيفة في بعض الأوقات، لكن قريباً لي حينما سافر لدولة أخرى أخذ معه ملابس ثقيلة، فعلمت أن الجو في تلك الدولة شديد البرودة، فلماذا يحدث ذلك الأمر؟

الطالب الثاني: شاهدت مباريات كرة القدم في كأس العالم للأندية ٢٠٢٥ م بالولايات المتحدة الأمريكية وكانت عندهم في وقت الظهر، في حين أنني كنت أشاهدها في المساء.

أجاب المعلم:

هناك تأثير كبير لموقع الدولة الفلكي على عديد من الأمور التي نشاهدها وتحدث لنا طوال اليوم؛ حيث يؤثر الموقع الفلكي بالنسبة لدوائر العرض وخطوط الطول على النحو التالي:

تذكر

الموقع الفلكي:
هو موقع المكان بالنسبة لخطوط الطول ودوائر العرض.



تأثير دوائر العرض

مفاهيم أتعلمها

منطقة حرارية: مساحة على الكرة الأرضية تتشابه في خصائصها المناخية.



تؤثر دوائر العرض على المناخ؛ حيث:

- كلما اقتربنا من دائرة الاستواء ترتفع درجات الحرارة.
- كلما ابتعدنا عن دائرة الاستواء تنخفض درجات الحرارة.

تقسم دوائر العرض الأرض لمناطق حرارية:

- المنطقة الحارة (حول دائرة الاستواء).
- المنطقة المعتدلة (بين المدارين والدائرتين القطبيتين).
- المنطقة الباردة (حول القطبين).

أحدد وأجيب

حدد أي العبارات التالية صحيحة، وأيها غير صحيحة:

١ - ترتفع درجة الحرارة كلما اتجهنا شرقاً.

غير صحيحة

٢ - دائرة الاستواء هي دائرة العرض الرئيسية.

صحيحة

٣ - تُعتبر مصر من المناطق معتدلة الحرارة بالنسبة لموقعها من دائرة الاستواء.

صحيحة

تأثير خطوط الطول

تذكر

الأرض مقسمة إلى ٣٦٠ خط طول. يمثل خط جرينتش خط الطول الرئيسي.

يمثل خط جرينتش (صفر) المرجع الأساسي للتوقيت.

قواعد لحساب فروق التوقيت:

- الفرق بين كل خط طول والآخر يمثل ٤ دقائق.
- كل ١٥ خط طول = فرق ساعة زمنية واحدة.
- إذا اتجهنا شرقاً نتقدم في الوقت.
- إذا اتجهنا غرباً نتأخر في الوقت.



نشاط إثنائي

إذا كانت الساعة ٦ مساءً (١٨) في القاهرة التي تقع عند خط طول (٣٠° شرقًا)، فما الوقت في المكسيك (التي تقع عند خط طول ٩٠° غربًا)؟
الفرق بين خط طول القاهرة (٣٠° شرقًا) والمكسيك (٩٠° غربًا) = ١٢٠ خط طول.
 $١٢٠ \div ١٥ = ٨$ ساعات فرق. المكسيك غرب مصر ← تتأخر عنها.
التوقيت في المكسيك = $٦ - ٨ = ١٠$ صباحًا.

إذا كانت الساعة ٨ صباحًا في القاهرة، فما الوقت في مدينة هيروشيما باليابان (تقع عند خط طول ١٣٥° شرقًا)؟

الفرق بين خط طول القاهرة (٣٠° شرقًا) وهيروشيما (٣٥° شرقًا) = $٣٥ - ٣٠ = ٥$ خط طول.
طول. $١٠٥ \div ١٥ = ٧$ ساعات فرق.
اليابان شرق مصر ← تتقدم عنها.
التوقيت في اليابان = $٨ + ٧ = ١٥$ عصرًا.

معلومة إثرائية

٢٦ قيم أتي Hany

احترام الوقت يعلم الفرد المسؤولية والانتظام في الحياة اليومية.

خط جرينتش هو خط الطول الرئيسي (٠°) الذي تم اختياره مرجعًا للتوقيت العالمي، وقد سُمي بهذا الاسم لأنه يمر في بلدة جرينتش القريبة من العاصمة البريطانية لندن، حيث يقع فيها المرصد الملكي الذي استُخدم قديمًا لمراقبة النجوم وتحديد المواقع بدقة، ومنه اعتمد العالم هذا الخط نقطة بداية لحساب خطوط الطول والتوقيت.



عزيزي التلميذ، لاحظ أن أي سلوك تقوم به - ولو صغيرًا - يؤثر على مستقبلك ومستقبل بلدك مصر، وذلك على النحو التالي:



ماذا لو؟ تعرفت على خطوط الطول ودوائر العرض

١ ستعرف كيف تُحدّد موقع أي دولة أو مدينة على الخريطة

٢ ستفهم كيف يختلف الوقت من بلدٍ إلى آخر

٣ ستتعلم كيف يستخدمها العلماء في معرفة أسباب تنوع المناخ

٤ ستكتشف أن الأرض كرة كبيرة تُقسم بخطوطٍ دقيقة ومنظمة

٥ ستدرك أهمية الجغرافيا في حياتنا اليومية والسفر

٦ ستشعر بأهمية العلم الذي جعلنا نفهم كوكبنا الجميل بدقة

محافظتي



يا أصحابي سأصحبكم في ...
رحلة إلى محافظة بورسعيد

« تقع محافظتي على خريطة مصر في اتجاه **الشمال**.....
« تُعتبر محافظتي من البيئات **الساحلية** (الريفية - الساحلية - الصحراوية)
« أقرب المسطحات المائية لمحافظتي هو **البحر المتوسط**

موارد محافظتي ومستقبلها:

« تُعتبر محافظتي من أهم محافظات الإنتاج السمكي في مصر.
« تقع محافظتي شمال قناة السويس كمدخل بحري هام لمصر.
« تشتهر محافظتي بوجود ميناء بحري هام تُصدّر من خلاله مصر كما يستقبل الميناء معظم
تجارة الحاويات التي تدخل مصر.
« **مستقبل محافظتي في** الاهتمام بنشاط الصيد وتعليب الأسماك، ودعم نشاط النقل البحري.



« هل ترى أن هناك بمصر محافظة تشبه محافظة بورسعيد؟ حدد هذه المحافظة واصنع لها بطاقة مماثلة. **الاسكندرية - دمياط - شمال سيناء - مطروح**

تدريبات Hany المدرس



أ - أكمل العبارات التالية بما يناسبها من كلمات:

١ - تقع المنطقة المناخية الحارة حول دائرة الاستواء

٢ - يمثل خط الطول الرئيسي جرينتش

٣ - تقع المنطقة المعتدلة بين المدارين و الدائرتين القطبيتين

ب - اكتب كلمة (صواب) أمام العبارة الصحيحة، وكلمة (خطأ) أمام العبارة غير الصحيحة:

١ - يمثل الفرق بين كل خط طول والآخر ١٠ دقائق. (خطأ)

٢ - تلعب دائرة الاستواء دورًا واضحًا في تنوع المناخ بالعالم. (خطأ)

٣ - ترتفع درجة الحرارة كلما اقتربنا من الدائرة القطبية الشمالية. (خطأ)

ج - بم تفسر...؟ Hany ٢٠٢٦

١ - وجود فروق في التوقيت بين دول العالم. بسبب اختلاف موقعها بين خطوط الطول

٢ - اختلاف درجات الحرارة بين دول العالم. بسبب اختلاف موقعها بين دوائر العرض

د - ما المقصود بما يلي...؟

١ - الموقع الفلكي: موقع المكان بالنسبة لخطوط الطول ودوائر العرض

٢ - منطقة حرارية: مساحة على الكرة الأرضية تتشابه في خصائصها المناخية

ه - دلل على صحة العبارة التالية:

١ - تتنوع المناطق الحرارية على خريطة العالم.

مناطق حارة حول دائرة الاستواء - مناطق معتدلة بين المدارين والدائرتين القطبيتين - مناطق باردة حول القطبين

٢ - تختلف تأثيرات خطوط الطول ودوائر العرض على خريطة العالم.

لتأثيرهما في المناخ والتوقيت

للدروس القادم

هيا نستعد



إلى أي البيئات تنتمي المنطقة التي تسكن فيها؟ وما أهم خصائص هذه البيئة؟

مواقع بيئات بلدنا

الدرس
٣

أهداف الدرس

في نهاية هذا الدرس، سأكون قادرًا على أن:

- أتعرّف أنواع البيئات في بلادي.
- أصف خصائص كل بيئة موجودة في بلدنا.
- أربط بين أنواع البيئات والنشاط الاقتصادي فيها.
- أستنتج أهمية تنوع البيئات في بلادي.

سوف أصحبكم اليوم في رحلة داخل بلادي، نتعرف من خلالها على البيئات المصرية المختلفة، فلكل بيئة منها خصائص مميزة، وأسلوب معيشة خاص بها مستمد من مواردها.



واتعلم

أتأمل

كم عدد البيئات في مصر؟ وإلى أي نوع من هذه البيئات تنتمي محافظتك؟



البيئة الحضرية



البيئة الريفية (الزراعية)



البيئة الساحلية



البيئة الصحراوية

مفاهيم أتعلمها

البيئة: كل ما يحيط بالإنسان يؤثر فيه ويتأثر به.

البيئة الريفية (الزراعية):

تقع البيئة الريفية (الزراعية) في الوادي والدلتا ومنخفض الفيوم، وتنتشر بها القرى، ويزداد بها النشاط الزراعي.

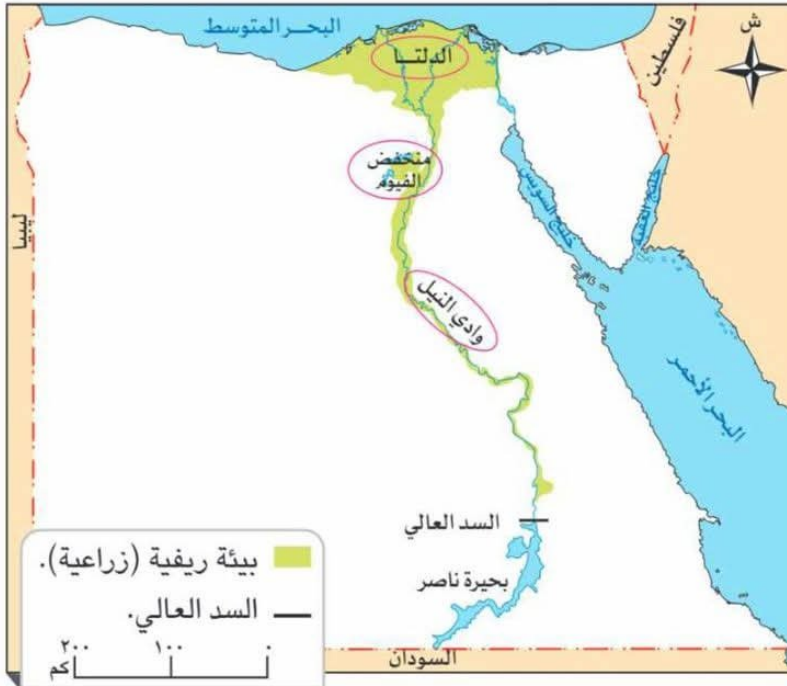


أهم خصائصها:

تتميز باستواء السطح وتوافر التربة الخصبة والمياه العذبة، ويتميز أهلها بالتعاون والتمسك بالعادات والتقاليد.

أهم الأنشطة الاقتصادية بها:

يعمل معظم سكانها بالزراعة وتربية الحيوانات، والصناعات البسيطة مثل: حفظ وتعليب الفواكه والخضراوات وإنتاج اللحوم ومنتجات الألبان.



خريطة (١) مناطق البيئة الريفية في مصر

مفاهيم أتعلمها

الأنشطة الاقتصادية: كل ما يقوم به الإنسان من أعمال ومشروعات لتلبية احتياجاته.

أهمية البيئة الريفية (الزراعية):

تُعتبر مصدرًا رئيسيًا للغذاء الأساسي من محاصيل وخضراوات وفاكهة ولحوم وألبان.

دور الدولة في تطوير البيئة الريفية (الزراعية):

البيئة الريفية

عملت الدولة على تطوير البيئة الريفية من خلال توفير فرص العمل للشباب، وزيادة الخدمات كالمدارس والمستشفيات، وتطوير مشاريع البنية التحتية مثل الكهرباء والطرق والصرف الصحي.

**حقائق تاريخية**

قامت ثورة ٢٣ يوليو عام ١٩٥٢م بإعادة توزيع الأراضي الزراعية على الفلاحين بمصر؛ لتحسين أوضاعهم.

توفير فرص عمل للشباب زيادة الخدمات كالمدارس والمستشفيات وتطوير البنية التحتية من كهرباء وصرف صحي وطرق

أفكر واستنتج

- ١ - وضح مظاهر اهتمام الدولة بتطوير الريف المصري.
- ٢ - ماذا يحدث إذا تراجعت نسبة المياه العذبة في الريف؟

قلة الاراضي الزراعية وعدم زراعة المحاصيل

البيئة الحضرية:

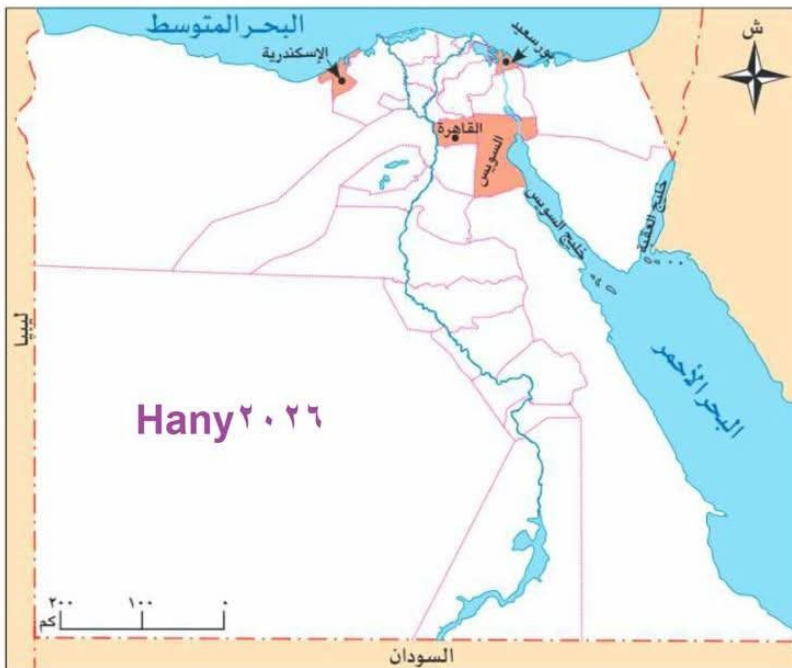
هي البيئة التي شيدها الإنسان وتشمل المدن والمناطق العمرانية، وتتأثر بالتغيرات التكنولوجية والاجتماعية.

**أهم خصائصها:**

تتميز بالتخطيط العمراني وجودة البنية التحتية وتنوع وسائل النقل والمواصلات.

أهم الأنشطة الاقتصادية بها:

يعمل معظم سكانها بالصناعات الخفيفة كالأغذية، والصناعات التحويلية مثل: الحديد والصلب، والتجارة والأنشطة الخدمية كالتعليم والصحة والبنوك والسياحة والنقل والمواصلات. وهناك أربع محافظات حضرية تمامًا هي: القاهرة، الإسكندرية، بورسعيد، السويس.



خريطة (٢) المحافظات الحضرية في مصر

أهمية البيئة الصحراوية:

تُعتبر البيئة الصحراوية مصدرًا أساسيًا للعديد من المعادن ومصادر الطاقة، كما يوجد بها بعض المحاصيل المميزة مثل: الزيتون والنخيل، كما أنها بيئة مناسبة للنشاط السياحي خاصة سياحة السفاري والسياحة البيئية.

دور الدولة في تطوير البيئة الصحراوية:



طريق الواحات الجديد

تعمل الدولة على إدارة الموارد المائية بالمناطق الصحراوية بشكل مستدام، وتطوير البنية التحتية.



معلومة إثرائية

أحد أهداف رؤية مصر ٢٠٣٠ م تحويل البيئة الصحراوية إلى مناطق منتجة؛ لتحقيق التنمية المستدامة.

اتخيل واقتراح

تخيل نفسك أحد سكان البيئة الصحراوية، وقدّم مقترحًا لتحسين الحياة فيها.

بناء المدارس - تمهيد الطرق - إقامة الكباري - إنشاء المستشفيات
إنشاء الأسواق - توصيل مياه النيل - بناء مدن جديدة

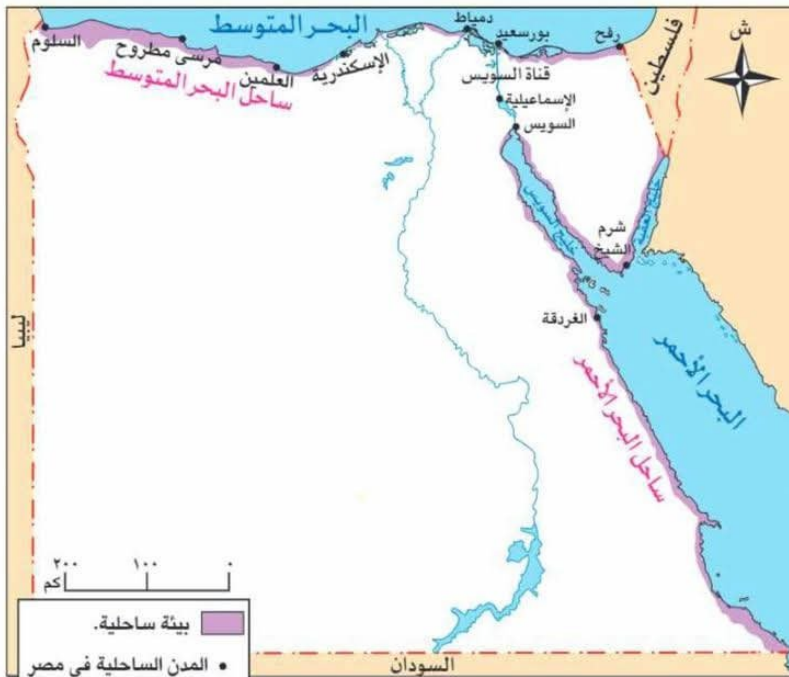
البيئة الساحلية:

المناطق السهلية (المستوية) الممتدة بمحاذاة البحرين الأحمر والمتوسط وخليجي العقبة والسويس.



أهم خصائصها:

تتميز بشواطئها الرملية، والمناظر الطبيعية الخلابة، بالإضافة إلى كثرة المدن الساحلية والمواني.



خريطة (٤) مناطق البيئة الساحلية في مصر

أهم الأنشطة الاقتصادية بها:

يعمل السكان في صيد الأسماك، واستخراج البترول والغاز الطبيعي، والسياحة خاصة السياحة البيئية والترفيهية، والتجارة عبر الموانئ البحرية.



Hany ٢٠٢٦

البيئة الساحلية

دور الدولة في تطوير البيئة الساحلية:

تعمل الدولة على حماية الشواطئ من التآكل، وتطوير الخدمات بالمدن الساحلية وإنشاء مدن جديدة، مثل مدينة العلمين الجديدة.



مدينة العلمين الجديدة



Hany ٢٠٢٦

الصيد واستخراج البترول والغاز الطبيعي والسياحة والتجارة

أفكر وأحدد

قيم اتعلمها

الحفاظ على البيئة خطوة نحو مستقبل أفضل لوطننا.

مثل السياحة البيئية والترفيهية

١ - «تتنوع الأنشطة الاقتصادية في البيئة الساحلية»
وضح ذلك.

٢ - حدّد علاقة البيئة الساحلية بالنشاط السياحي في مصر. نتنشر في البيئة الساحلية أنواع من السياحة

عزيزي التلميذ، لاحظ أن أي سلوك تقوم به - ولو صغيرًا - يؤثر على مستقبلك ومستقبل بلدك مصر، وذلك على النحو التالي:



ماذا لو؟

حافظت على شاطئ
البحر نظيفًا

سيصبح الشاطئ
جميلًا وجذابًا

لن تتضرر
الكائنات الحية
الموجودة بالبحر

سيزيد جمال
الشواطئ وتجذب
السياح لمصر

سيرتفع دخل
العاملين في
النشاط السياحي

ستحقق مصر
التنمية المستدامة
في السياحة



أ - أكمل العبارات التالية بما يناسبها من كلمات:

- ١ - يعمل معظم سكان البيئة الزراعية في الزراعة وتربية الحيوان والصناعات البسيطة
- ٢ - تتميز البيئة الساحلية بالنشاط السياحي وصيد الأسماك والتجارة
- ٣ - أكبر بيئات مصر من حيث المساحة هي البيئة الصحراوية
- ٤ - تدعم الدولة البيئة الساحلية بإنشاء مدن جديدة مثل العلمين الجديدة

ب - اكتب كلمة (صواب) أمام العبارة الصحيحة، وكلمة (خطأ) أمام العبارة غير الصحيحة:

- ١ - تمتد البيئة الصحراوية بمحاذاة خليجي العقبة والسويس. (خطأ)
- ٢ - تعتبر محافظة بورسعيد من المحافظات الحضرية. (صواب)
- ٣ - تتميز البيئة الصحراوية بتفاوت درجات الحرارة بها. (صواب)
- ٤ - مدينة منف أول نموذج للمدن الحضرية في التاريخ. (صواب)

ج - بم تفسر...؟ Hany ٢٠٢٦

- ١ - قلة النبات الطبيعي في البيئة الصحراوية عن البيئات الأخرى.

بسبب الجفاف

- ٢ - تركز السكان في البيئة الحضرية عن البيئات الأخرى.

تتميز بالتخطيط العمراني والحضارى وجودة البنية التحتية وتنوع وسائل النقل وتنوع الانشطة الاقتصادية

د - ما النتائج المترتبة على...؟

- ١ - إعادة توزيع الأراضي على الفلاحين بعد ثورة ٢٣ يوليو ١٩٥٢م. تحسين اوضاع الفلاحين فى مصر
- ٢ - جودة البنية التحتية في البيئة الحضرية. ارتفاع الكثافة السكانية بها

هـ - ما المقصود ب...؟

بيئة تتميز بمساحات واسعة من الرمال والجبال وتتميز بندرة الامطار وارتفاع

- ١ - البيئة الصحراوية: الحرارة وقلنة السكان
- ٢ - البيئة الساحلية مناطق السهلية الممتدة على سواحل البحر المتوسط والاحمر وخليجي العقبة والسويس
- ٣ - البيئة الزراعية: البيئة التي تنتشر فيها القرى ويزداد بها النشاط الزراعى

لندرس Hany

هيا نستعد



هل تعرف موقع محافظتك بشكل دقيق وأهم الأنشطة الاقتصادية بها؟

جولة في محافظات مصر

الدرس

٤

أهداف الدرس

في نهاية هذا الدرس، سأكون قادرًا على أن:

- أحدد موقع محافظتي على خريطة مصر.
- أوضح مساحة محافظتي وعدد سكانها.
- أحسب الكثافة السكانية لمحافظتي.
- أستنتج أثر البيئة الطبيعية على أنشطة السكان.
- أعتز بمحافظتي وأساهم في حمايتها وتنميتها.

لكل محافظة في مصر موقع مميز على خريطة الوطن، ولها مساحة معينة وعدد من السكان؛ لذا دعونا نتعرف على محافظاتنا من حيث الموقع، والمساحة، والسكان، وتأثير البيئة عليها.



جمهورية مصر العربية

مفاهيم أتعلمها

المحافظة الحدودية: هي تلك المحافظة التي تقع على أطراف حدود مصر البرية أو البحرية، وتتشرك في حدودها مع دول أخرى، أو تطل على أحد المسطحات المائية.

موقع محافظتي

تقع كل محافظة في مكان محدد يميزها، ويجاور كل محافظة محافظات أخرى من الشمال والجنوب والشرق والغرب، وقد تكون هناك محافظة حدودية فيجاورها دولة أخرى أو مسطح مائي.



محافظة الوادي الجديد



محافظة الإسماعيلية

ألاحظ وأجب

- (أ) يحد محافظة الإسماعيلية من الشرق محافظة ومن الغرب محافظة **الشرقية** ومن الجنوب محافظة السويس، ومن الشمال محافظة **بورسعيد**
- (ب) يحد محافظة الوادي الجديد من جهة الشرق محافظات **اسيوط وسوهاج وقنا** والأقصر وأسوان، ويحدها من الغرب دولة **ليبيا** ويحدها من الشمال محافظات **المنيا والجيزة** ومطروح، ومن الجنوب دولة **السودان**

أبحث ٢٦ وأدلى Hany

اذكر المحافظة التي تنتمي إليها وشارك معلمك في تحديد حدودها الجغرافية. **القاهرة من الشمال القليوبية من الجنوب والغرب الجيزة من الشرق السويس**

أشارك وأتعلم

شارك زملاءك واذكر حدود محافظة شمال **سيناء** من **الشمال بورسعيد من الجنوب جنوب سيناء** من **الغرب الإسماعيلية من الشرق دولة فلسطين**

قيم أتعلمها

الحفاظ على الموارد الطبيعية
بمحافظةي مسئولية جماعية.

مفاهيم أتعلمها**الكثافة السكانية:**

متوسط عدد السكان
الذين يعيشون في
الكيلومتر مربع الواحد
من المساحة.

مساحة محافظتي وعدد سكانها

تختلف المحافظات من حيث مساحتها؛ فهناك:

- محافظات مساحتها كبيرة مثل: محافظة الوادي الجديد.
- محافظات مساحتها صغيرة مثل: دمياط.

تختلف المحافظات من حيث عدد سكانها؛ فهناك:

- محافظات عدد سكانها كبير مثل: محافظة القاهرة.
 - محافظات عدد سكانها قليل مثل: محافظة جنوب سيناء.
- ومن مساحة المحافظة وعدد سكانها يمكن حساب الكثافة السكانية للمحافظة ، حيث الكثافة السكانية تساوي: عدد السكان مقسومًا على مساحتها.

أضف لمعلوماتك

تُعد مصر من الدول التي يتباين فيها توزيع السكان بشكل كبير؛ فبينما تزدهم محافظات الوادي والدلتا مثل القاهرة والجيزة والشرقية بالسكان بسبب خصوبة الأرض ووفرة المياه، نجد أن المحافظات الصحراوية الحدودية مثل الوادي الجديد وجنوب سيناء ذات كثافة سكانية منخفضة جدًا، على الرغم من أن مساحتها كبيرة.

أبحث وأحلل

اذكر المحافظة التي تنتمي إليها وشارك معلمك في تحديد كثافتها السكانية.

تأثير البيئة على أنشطة السكان بكل محافظة

تؤثر البيئة بشكل كبير على نوعية الأنشطة التي يمارسها السكان؛ حيث:

• وقوع المحافظة على سطح مائي:

– ينتشر نشاط صيد الأسماك. – مثل محافظة



صيد الأسماك



تربة خصبة

• وجود تربة خصبة ومياه عذبة بالمحافظة:

– ينتشر النشاط الزراعي.

– مثل محافظة **سوهاج**.....



المهن الخدمية

• انتشار المدن الكبرى بالمحافظة:

– تنتشر المهن الخدمية بشكل ملحوظ.

– مثل محافظة **السويس**.....




آبار البترول

• وجود آبار بترول ومواد خام:

– ينتشر النشاط التعدين.

– مثل محافظة **شمال سيناء**.....



النشاط السياحي

• وجود أماكن أثرية بالمحافظة:

– ينتشر النشاط السياحي.

– مثل محافظة **الإقصر**.....

قيم أتعلمها

احترام المهن المختلفة من الصفات التي يجب أن يتحلى بها المواطن الصالح.

أبحث

اذكر المحافظة التي تنتمي إليها وشارك معلمك في تحديد أهم الأنشطة التي يمارسها السكان.

عزيزي التلميذ، لاحظ أن أي سلوك تقوم به - ولو صغيرًا - يؤثر على مستقبلك ومستقبل بلدك مصر، وذلك على النحو التالي:



ماذا لو حافظت على البيئة نظيفة؟

١ ستعيش في مكان جميل وصحي خالٍ من التلوث.

٢ ستساعد في حماية الهواء والماء والتربة.

٣ ستسهم في راحة الناس وسعادتهم من حولك.

٤ ستقلل من انتشار الأمراض وتحافظ على صحتك وصحة الآخرين.

٥ ستصبح قدوة طيبة لكل من يراك، فتنشر عادات الخير في المجتمع.



أ - أكمل العبارات التالية بما يناسبها من كلمات:

١ - أكبر محافظات مصر من حيث عدد السكان **القاهرة**

٢ - أقل محافظات مصر من حيث المساحة **جنوب سيناء**

٣ - تمثل أهم المحافظات الحدودية في مصر .. **مطروح - الوادي الجديد - شمال سيناء - جنوب سيناء - محافظة البحر الاحمر**

٤ - محافظة مصرية ينتشر فيها النشاط الزراعي **الشرقية - القليوبية - اسيوط - قنا**

ب - اكتب كلمة (صواب) أمام العبارة الصحيحة، وكلمة (خطأ) أمام العبارة غير الصحيحة:

١ - تنخفض الكثافة السكانية بشكل ملحوظ بمحافظة القاهرة. (خطأ)

٢ - يحد محافظة الإسماعيلية من جهة الشرق محافظة شمال سيناء. **صواب**

٣ - تنتشر الأنشطة التعدينية في محافظة الغربية. (خطأ)

ج - بم تفسر...؟ **Hany ٢٠٢٦**

١ - انتشار الأنشطة السياحية في محافظة جنوب سيناء.

بسبب انتشار الاماكن الاثرية والسياحية بها

٢ - انتشار نشاط صيد الأسماك في محافظة بورسعيد.

لأنها تطل على مسطح مائي

٣ - تُعتبر محافظة الوادي الجديد من المحافظات منخفضة الكثافة السكانية.

بسبب قلة اعداد السكان بالنسبة للمساحة الكلية

د - ما المقصود ب...؟ **Hany ٢٠٢٦**

١ - الكثافة السكانية: متوسط عدد السكان الذين يعيشون في الكيلومتر المربع الواحد من المساحة

٢ - محافظة حدودية: هي التي تقع على أطراف حدود مصر البرية أو البحرية

ه - دلل على صحة العبارة التالية:

١ - تتباين محافظات مصر من حيث مساحتها وعدد سكانها.

توجد محافظات ذات مساحة كبيرة وعدد قليل من السكان

مثل الوادي الجديد ومحافظات مساحتها صغيرة وعدد السكان كبير مثل القاهرة

٢ - تتعدد المحافظات المصرية الحدودية.

مطروح - الوادي الجديد - شمال سيناء - جنوب سيناء - محافظة البحر الاحمر

هيا نستعد للدرس القادم

Hany ٢٠٢٦

ما مصادر الحصول على الغذاء في بلدنا الحبيب مصر؟



أ - أكمل العبارات التالية بما يناسبها من كلمات:

١ - أكبر محافظات مصر من حيث عدد السكان **القاهرة**

٢ - أقل محافظات مصر من حيث المساحة **جنوب سيناء**

٣ - تمثل أهم المحافظات الحدودية في مصر .. **مطروح - الوادي الجديد - شمال سيناء - جنوب سيناء - محافظة البحر الاحمر**

٤ - محافظة مصرية ينتشر فيها النشاط الزراعي **الشرقية - القليوبية - اسيوط - قنا**

ب - اكتب كلمة (صواب) أمام العبارة الصحيحة، وكلمة (خطأ) أمام العبارة غير الصحيحة:

١ - تنخفض الكثافة السكانية بشكل ملحوظ بمحافظة القاهرة. (خطأ)

٢ - يحد محافظة الإسماعيلية من جهة الشرق محافظة شمال سيناء. **صواب**

٣ - تنتشر الأنشطة التعدينية في محافظة الغربية. (خطأ)

ج - بم تفسر...؟ **Hany ٢٠٢٦**

١ - انتشار الأنشطة السياحية في محافظة جنوب سيناء.

بسبب انتشار الاماكن الاثرية والسياحية بها

٢ - انتشار نشاط صيد الأسماك في محافظة بورسعيد.

لأنها تطل على مسطح مائي

٣ - تُعتبر محافظة الوادي الجديد من المحافظات منخفضة الكثافة السكانية.

بسبب قلة اعداد السكان بالنسبة للمساحة الكلية

د - ما المقصود ب...؟ **Hany ٢٠٢٦**

١ - الكثافة السكانية: متوسط عدد السكان الذين يعيشون في الكيلومتر المربع الواحد من المساحة

٢ - محافظة حدودية: هي التي تقع على أطراف حدود مصر البرية أو البحرية

هـ - دلل على صحة العبارة التالية:

١ - تتباين محافظات مصر من حيث مساحتها وعدد سكانها.

توجد محافظات ذات مساحة كبيرة وعدد قليل من السكان

مثل الوادي الجديد ومحافظات مساحتها صغيرة وعدد السكان كبير مثل القاهرة

٢ - تتعدد المحافظات المصرية الحدودية.

مطروح - الوادي الجديد - شمال سيناء - جنوب سيناء - محافظة البحر الاحمر

هيا نستعد للدرس القادم



Hany ٢٠٢٦

ما مصادر الحصول على الغذاء في بلدنا الحبيب مصر؟

المكسيك



Hany ٢٠٢٦

- تتنوع التضاريس بالمكسيك ما بين جبال وهضاب وسهول، وتساوي مساحة المكسيك ضعف مساحة مصر تقريباً، وتتميز باتساع مساحة سواحلها على المحيطين الأطلنطي والهادي بالإضافة لخليج المكسيك.
- يتمتع شعب المكسيك بأنه شعب اجتماعي جداً وترتبط حياتهم بالاحتفالات بشكل كبير، ولديهم روح مرحة ومحبة للموسيقى والرقص.
- يقوم اقتصاد المكسيك على الزراعة والصناعة، وهي من أكبر مصدري الفواكه والخضراوات في العالم.
- شهدت العلاقات بين مصر والمكسيك تعاوناً ثقافياً وسياحياً كبيراً.
- أهم المعالم السياحية: هرم كوكولكان، الذي يعود لحضارة المايا.

والآن جاء وقتكم أصدقائي لتبحثوا وتخبرونا!

عملة الدولة **بيزو مكسيكي** للغة الرسمية: **اسبانية** العاصمة: **مكسيكو**
 مصدر المعلومات: (الأسرة - صديق - المعلم - شبكة الإنترنت - مصدر آخر).

أحترم كل الحضارات لكنني أفتخر بتاريخني

لكل دولة حضارتها ومعالمها التي تتميز بها، ومصر بحضارتها العريقة تمتلك مكانة خاصة تتميزها وتمنحها دورًا رائدًا بين الأمم، ومن بين ما يميزها وجود الأهرامات.

الأهرامات ليست حجارة مرصوفة بل تاريخ ناطق بالعظمة، تحدى بها المصري القديم الزمان، فخلد اسمه في وجدان الإنسان.



تقييم الوحدة الأولى



السؤال الأول: أكمل العبارات التالية بما يناسبها من كلمات:

- ١ - يقع حول دائرة الاستواء المنطقة المناخية **الحارة**.....
- ٢ - أكبر محافظات مصر من حيث المساحة **الوادي الجديد**.....
- ٣ - يحد قارة أمريكا الشمالية من جهة الغرب المحيط **الاطلنطي**.....
- ٤ - تقع قارة أستراليا بالكامل في نصف الكرة **الجنوبي** و- **الشرقي**.....
- ٥ - قامت على أراضي قارتي أمريكا الشمالية والجنوبية حضارتا **الإنكا** - و **الآزتك** - **المايا**.....
- ٦ - قامت حضارة الصين القديمة على أراضي قارة **آسيا**.....
- ٧ - أقل محافظات مصر من حيث عدد السكان **جنوب سيناء**.....
- ٨ - تمثل دائرة العرض الرئيسية **دائرة الاستواء**.....
- ٩ - تمثل إحدى المحافظات الحدودية التي تقع جنوب غرب مصر **الوادي الجديد**.....
- ١٠ - محافظة مصرية ينتشر فيها النشاط السياحي **الأقصر**.....

السؤال الثاني: اكتب كلمة (صواب) أمام العبارة الصحيحة، وكلمة (خطأ) أمام العبارة غير

الصحيحة: Hany ٢٠٢٦

- ١ - يلعب خط جرينتش الدور الرئيسي في تنوع المناخ بالعالم. (خطأ)
- ٢ - من أشهر حضارات قارة أوروبا حضارة المايا. (خطأ)
- ٣ - تنخفض درجة الحرارة كلما اقتربنا من دائرة الاستواء. (خطأ)
- ٤ - تنتشر الأنشطة الزراعية في محافظة القاهرة. (خطأ)
- ٥ - تُعتبر هضبة التبت أكبر هضاب العالم ارتفاعاً. (صواب)
- ٦ - يحد قارة آسيا من جهة الشرق المحيط الأطلسي. (خطأ)
- ٧ - يمثل الفارق الزمني بين الدول ساعة واحدة كل ١٥ خط طول. (صواب)
- ٨ - تتميز قارة إفريقيا بمظهرها الهضبي. (صواب)
- ٩ - يقوم نشاط دولة المكسيك الاقتصادي على التجارة التكنولوجية. (خطأ)
- ١٠ - يحد محافظة الإسماعيلية من جهة الشمال محافظة الغربية. (خطأ)

السؤال الثالث: بم تفسر...؟ Hany ٢٠٢٦

- ١ - انتشار الأنشطة الزراعية في محافظة المنوفية **لتوافر المياه العذبة والتربة الخصبة**.....
- ٢ - تعتبر المكسيك دولة بحرية. **لطول سواحلها على المحيط الاطلنطي والهادي وخليج المكسيك**.....
- ٣ - تنوع التراث الحضاري في قارة أوروبا. **لقيام حضارات اليونان والرومان في العصور القديمة**.....
- ٤ - اختلاف التوقيتات الزمنية بين دول العالم. **بسبب اختلاف المواقع الفلكي من دولة لأخرى**.....
- ٥ - تُعتبر محافظة جنوب سيناء من المحافظات منخفضة الكثافة السكانية. **لأنساع مساحتها بالنسبة لعدد السكان**.....
- ٦ - تميز قارة آسيا بتنوع حضاراتها. **نشأت على أرضها حضارات الهند والصين والعراق القديم**.....
- ٧ - يعمل كثير من سكان محافظة دمياط بمهنة صيد الأسماك. **لأنها تطل على مسطح مائي**.....

Hany ٢٠٢٦

السؤال الرابع: ما المقصود بما يلي...؟ ٢٠٢٦ Hany

- ١ - الهضبة: مساحة واسعة من الأرض المرتفعة مستوية السطح
- ٢ - منطقة حرارية: مساحة من الكرة الأرضية تتشابه في خصائصها المناخية
- ٣ - محافظة حدودية: محافظة تقع على أطراف حدود مصر البرية أو البحرية
- ٤ - الجبل: أرض شديدة الارتفاع ولها قمة
- ٥ - الموقع الفلكي: موقع المكان بالنسبة لخطوط الطول ودوائر العرض
- ٦ - الكثافة السكانية: متوسط عدد السكان الذين يعيشون في الكيلو متر المربع الواحد من المساحة
- ٧ - التراث الثقافي: هوية الشعوب التي تميزها وتشمل عاداتهم وتقاليدهم وفنونهم ولغاتهم

السؤال الخامس: دلل على صحة العبارة: ٢٠٢٦ Hany

- ١ - يحد المحيط الهندي حدود أكثر من قارة. مثل استراليا واسيا وأفريقيا
- ٢ - تتنوع المناطق الحرارية على خريطة العالم. حارة ومعتدلة وباردة
- ٣ - تُعتبر قارة آسيا أكثر قارات العالم ارتفاعاً. يوجد بها أعلى هضاب العالم (التبت) وأعلى قمة (أفرست)
- ٤ - تختلف تأثيرات خطوط الطول ودوائر العرض على خريطة العالم. دوائر العرض تؤثر في المناخ - خطوط الطول تؤثر في فروق التوقيت
- ٥ - لمصر دور عظيم في إبراز التراث الحضاري لقارة إفريقيا. قامت على أرضها أعظم الحضارات (المصرية القديمة)
- ٦ - تباين محافظات مصر من حيث مساحتها. تختلف المساحة من محافظة لأخرى. الوادي الجديد كبيرة. دمياط صغيرة المساحة

السؤال السادس: ما العلاقة بين...؟ ٢٠٢٦ Hany

- ١ - مساحة المحافظة والكثافة السكانية بها. يتم حساب الكثافة بقسمة عدد السكان على المساحة
- ٢ - دائرة الاستواء والمناطق الحرارية. دوائر العرض تقسم الكرة الأرضية إلى مناطق جارية حارة ومعتدلة وباردة
- ٣ - ساحل البحر الأحمر والنشاط السكاني للمحافظة. حيث العمل بصيد الأسماك
- ٤ - خط جرينتش وفروق التوقيتات الزمنية. خط جرينتش هو خط صفر فرق التوقيت بين خط طول وآخر يساوي ٤ دقائق
- ٥ - المحيط الهادي وقارة أمريكا الشمالية. المحيط الهادي يحد أمريكا الشمالية من الغرب
- ٦ - قارة آسيا والتراث الحضاري. قامت على أرضها حضارات الهند والصين والعراق القديم

النشاط الثاني الوحدة Hany ٢٠٢٦

رحلة عبر الزمان والمكان: (من محافظتي إلى حضارات العالم).
يقوم التلاميذ برحلة تخيلية تجمع بين الجغرافيا والتاريخ، للتعرف على موقع محافظاتهم على الخريطة، وتأثير البيئة فيها، وكيف ساهم موقع الدول قديماً في بناء حضارات عظيمة.
خطوات النشاط:

- ١ - ارسم خريطة بسيطة لمصر، وضع محافظتك عليها.
- ٢ - اكتب نشاطاً اقتصادياً يعتمد على بيئتها (زراعة - صيد - صناعة - تجارة).
- ٣ - اختر حضارة قديمة قامت في مصر أو العراق أو اليونان، وكتب مُنجزاً حضارياً واحداً أعجبك فيها.

أرض بلادي ومواردها

الوحدة الثانية

دروس الوحدة

الدرس الأول: الغذاء وحياتنا.

الدرس الثاني: بلادي مسئوليتي.

الدرس الثالث: سيناء كاملة لمصر.

رحلة حول العالم: إسبانيا.



الغذاء وحياتنا

الدرس

1

أهداف الدرس

في نهاية هذا الدرس، سأكون قادرًا على أن:

- أعدّد مصادر الغذاء في مصر (زراعية - ثروة حيوانية - ثروة سمكية).
- أحدّد دور الدولة في تحقيق الأمن الغذائي.
- أعدّد أهم المنتجات الزراعية والحيوانية في مصر.
- أحدّد أهم مصائد الثروة السمكية في مصر.



الغذاء هو مصدر الطاقة والنمو للإنسان، وبدونه تصعب الحياة، ولكن ليس كل ما تأكله صحيًا.

أتأمل وأتعلم

هل تعرف الفرق بين الغذاء الصحي والغذاء غير الصحي، وتأثير كلٍّ منهما على صحة الإنسان؟



هل تعلم؟

الغذاء الصحي: الغذاء الذي يحتوي على جميع العناصر الغذائية التي يحتاجها الجسم.
الغذاء غير الصحي: الغذاء الذي يحتوي على كميات كبيرة من الدهون الضارة أو السكريات أو الأملاح أو النشويات.

مرحبًا يا أصدقائي، هيا بنا لنتعرف على مصادر ومكونات الغذاء الصحي، وأثره على الإنسان، ومصادر الغذاء.



مصادر الغذاء في بلدي



تتنوع مصادر الغذاء في مصر، وتشمل الزراعة والثروة الحيوانية والثروة السمكية، ولكل منها دور في توفير احتياجات السكان من الغذاء وتحقيق الأمن الغذائي.

المنتجات الزراعية:

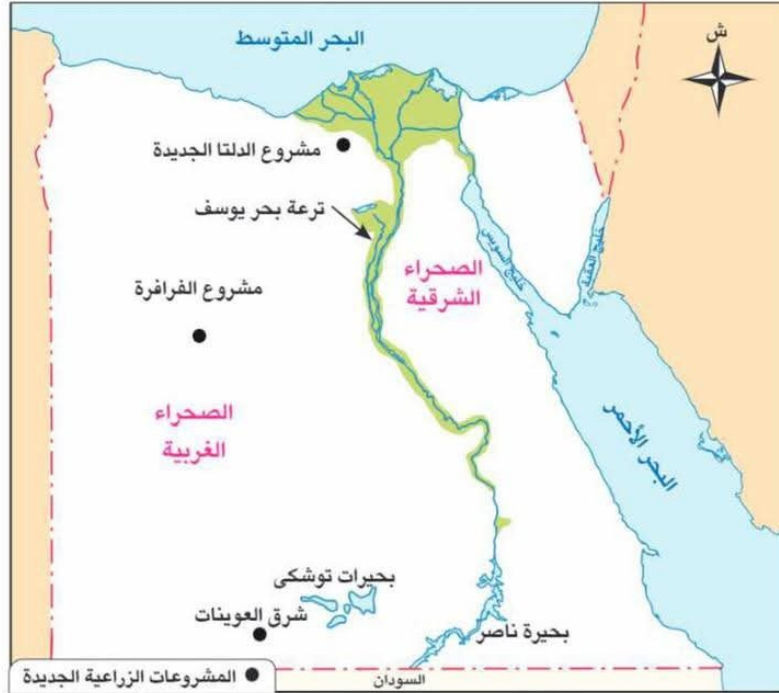


الزراعة من المصادر الرئيسية لإنتاج الغذاء، حيث توفر لنا المحاصيل الغذائية مثل: القمح والذرة والأرز والبقوليات، والمحاصيل السكرية مثل: قصب السكر وبنجر السكر، والفواكه مثل: البرتقال واليوسفي والعنب، والخضراوات مثل: الطماطم والخيار.



جهود الدولة في الزراعة لتحقيق الأمن الغذائي:

- استصلاح الأراضي الصحراوية.
- دعم الفلاحين بالأسمدة والبذور.
- استخدام أساليب الري الحديثة.
- إنشاء مشروعات قومية.



خريطة (١) بعض مشروعات الزراعة في مصر حديثاً

حقائق تاريخية

قيم أتعلمها

الحفاظ على الأرض الزراعية وعدم البناء عليها مسئولية كل مواطن.

اعتمدت الزراعة في مصر على مياه نهر النيل؛ ولذلك حرص المصريون القدماء دائماً على إنشاء مشروعات الري لخدمة الزراعة، مثل: سد اللاهون، وحديثاً مثل: إنشاء القناطر الخيرية وبناء السد العالي.

أفكر واستنتج

- ١- استنتج سبب اهتمام الدولة بمشروعات التنمية الزراعية. **أسد احتياجات السكان من الغذاء**
- ٢- لماذا حرص المصريون على إنشاء المشروعات المائية على نهر النيل؟ **لإعتماد الزراعة على مياه النيل**
- ٣- وجه رسالة لمن يقوم بالبناء على الأراضي الزراعية. **الارض الزراعية توفر احتياجاتنا من الغذاء ومن الضروري الحفاظ عليها للأجيال القادمة لتأمين الغذاء لهم وفي حالة البناء عليها تحدث الازمة وينقص الغذاء**

الثروة الحيوانية

تُعد الثروة الحيوانية من المصادر المهمة لإنتاج الغذاء في مصر، حيث توفر البروتين الحيواني اللازم لصحة الإنسان، وذلك من خلال:



شكل (٢) مزرعة تربية الدواجن

الماشية: مثل الأبقار والأغنام والماعز والجاموس، وتوفر اللحم الحمراء والألبان.
الدواجن: مثل الدجاج والبط والإوز، هي مصدر اللحم البيضاء والبيض.

حقائق تاريخية

• عرّف المصريون القدماء تربية الحيوانات كالأبقار والأغنام والماعز، واستخدموها في توفير المنتجات الحيوانية وأعمال الحرث والنقل.

• أكبر محافظات مصر في تربية الثروة الحيوانية وفق إحصائيات الجهاز المركزي للإحصاء والتعبئة العامة ٢٠٢٢ م، (البحيرة، الشرقية، المنيا، الدقهلية، المنوفية).

جهود الدولة في الثروة الحيوانية لتحقيق الأمن الغذائي:

- تطوير صناعة الأعلاف.
- توفير الرعاية البيطرية.
- تحسين السلالات الحيوانية.
- إنشاء المزارع الحديثة في مختلف المحافظات.

أفكر ٢٦ وأحل

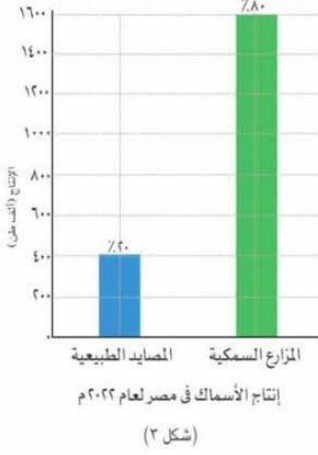
وضح العلاقة بين الثروة الحيوانية والصناعات الغذائية. **يتم تربية الثروة الحيوانية للحصول على المنتجات مثل اللحم والألبان التي تقوم عليها أهم الصناعات الغذائية**

أتعلم ٢٦ وأطو

تخيل أنك مسئول في الدولة، ما أول قراراتك لزيادة الإنتاج الحيواني؟ **إنشاء مزارع مجهزة بأحدث الأساليب العلمية في تربية الحيوانات للحصول على أكبر إنتاج من اللحم والألبان**

الثروة السمكية

من المصادر المهمة للغذاء، حيث توفر البروتين الغني بالعناصر الغذائية الضرورية للجسم، ومن مصادر الثروة السمكية في مصر:



قيم أتعلمها

الحفاظ على الثروة الحيوانية والسمكية وتنميتها واجب وطني لتحقيق الأمن الغذائي.

- البحران الأحمر والمتوسط.
- بحيرة ناصر والبحيرات الشمالية.
- المزارع السمكية ومنها بركة غليون ومشروع الفيروز.
- وكلاهما يضم أنواعًا متعددة من الأسماك (البوري والبلطي)
- وكائنات بحرية أخرى كالجمبري والسبيط. كما تنتشر الصناعات الغذائية في المناطق الساحلية كتعليب الأسماك.

جهود الدولة في تنمية الثروة السمكية لتحقيق الأمن الغذائي:

- حماية المسطحات المائية من التلوث.
- التوسع في إنشاء المزارع السمكية.
- استخدام وسائل صيد حديثة ومجهزة.
- توفير التدريب اللازم للصيادين وتحسين أوضاعهم المعيشية.

أثر التغذية السليمة على حياتنا

- تجعل الجسم قويًا ونشطًا وتساعد على ممارسة الرياضة.
- تساعد على النمو السليم.
- تقوي جهاز المناعة وتقلل من الإصابة بالأمراض.
- تحافظ على الصحة.

حقائق تاريخية

اعتمد المصريون القدماء في غذائهم على القمح والخضراوات والفواكه والأسماك والطيور والحيوانات.

Hany ٢٠٢٦

أفكر ٢٦ واستمتع Hany

ماذا لو: تناولت الوجبات السريعة والمشروبات الغازية أثناء يومك الدراسي بكميات كبيرة؟
حدوث خلل في الجهاز المناعي والإصابة بالأمراض وحدوث خلل في الجهاز الهضمي

أفكر ٢٦ واستمتع Hany

- ١- ما النتائج المترتبة على: التوسع في إنشاء المزارع السمكية؟ زيادة الثروة السمكية
- ٢- فسر أهمية الثروة السمكية في مصر.

محافظتي

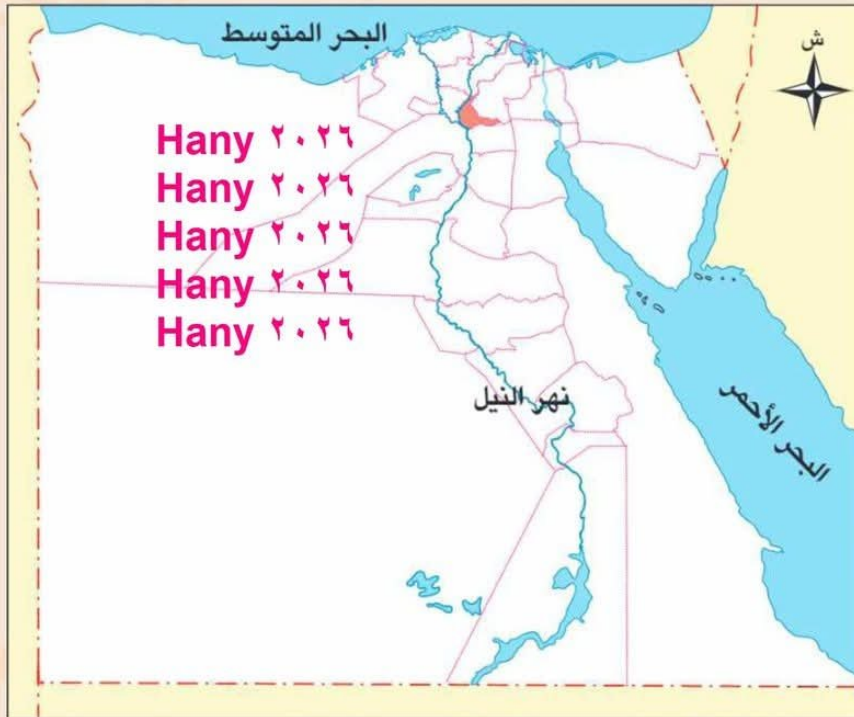


يا أصحابي سأصحبكم في ... رحلة إلى محافظة القليوبية

- « تقع محافظتي على خريطة مصر في
(جنوب الصعيد - شرق الدلتا - غرب مصر)
« تُعتبر محافظتي من البيئات
(الريفية - الساحلية - الصحراوية)
« أقرب المحافظات إلى محافظتي
(البحيرة - المنيا - القاهرة)
« أقرب المسطحات المائية العذبة لمحافظتي هو **نهر النيل**.....

موارد محافظتي ومستقبلها:

- « تُعتبر محافظتي من أهم محافظات إنتاج الخضراوات والفاكهة في مصر.
« توجد بمحافظتي القناطر الخيرية الشهيرة.
« يوجد بمحافظتي عديد من المناطق الأثرية الشهيرة مثل مسجد الأمير حسين بشبرا الخيمة،
ومسجد السلطان الأشرف بالخانكة.
« توجد بمحافظتي كنيسة السيدة العذراء بمسطرد التي تُعتبر أحد مراكز رحلة العائلة المقدسة.
« **مستقبل محافظتي في:** الاهتمام بزراعة الفاكهة والخضراوات وتصديرهما، وإحياء رحلة العائلة المقدسة.



« هل ترى أن هناك بمصر محافظة تشبه محافظة القليوبية؟ حدّد هذه المحافظة واصنع لها بطاقة مماثلة.

تدريبات الدرس



١ أكمل العبارات التالية بما يناسبها من كلمات:

- ١ - من مشروعات الدولة لتحقيق الاكتفاء الذاتي في مصر **شرق العوينات - الفرازة - الدلتا الجديدة**
- ٢ - أحد مشاريع الدولة لتنمية الثروة السمكية مشروع **الفيروز - بركة غليون**

ب اكتب كلمة (صواب) أمام العبارة الصحيحة، وكلمة (خطأ) أمام العبارة غير الصحيحة:

- ١ - يُعتبر النشاط الزراعي هو الركيزة الأساسية للأمن الغذائي. **Hany ٢٠٢٦ (صواب)**
- ٢ - تُعتبر محافظة قنا أكبر المحافظات المصرية في إنتاج الثروة الحيوانية. **(خطأ)**
- ٣ - يقع مشروع شرق العوينات في الصحراء الشرقية. **(خطأ)**

ج بم تفسر...؟ **Hany ٢٠٢٦**

- ١ - أهمية الثروة السمكية. **توفير البروتين الغني بالعناصر الغذائية الضرورية للجسم**
- ٢ - استخدام أساليب الري الحديثة في الزراعة. **لزيادة الانتاج الزراعي وتحقيق الامن الغذائي والحفاظ على المياه**

د ما النتائج المترتبة على...؟ **Hany ٢٠٢٦**

- ١ - تحسين سلالات الحيوانات.
- زيادة الانتاج الحيواني وتحقيق الامن الغذائي**
- ٢ - التوسع في إنشاء المزارع السمكية.
- زيادة الانتاج السمكي وتحقيق الامن الغذائي**

ه دال على صحة العبارات الآتية: **Hany ٢٠٢٦**

- ١ - تدعم الدولة المصرية المشاريع الزراعية الكبرى. **تم انشاء مشاريع شرق العوينات والفرازة والدلتا الجديدة**
- ٢ - تقوم مصر بدور كبير في تنمية الثروة السمكية. **انشاء المزارع السمكية مثل بركة غليون والفيروز وحماية المسطحات المائية واستخدام وسائل صيد حديثة وتحسين اوضاع الصيادين**
- ٣ - لمصر جهود كبيرة في تنمية الثروة الحيوانية لتحقيق الأمن الغذائي. **تطوير صناعة الاعلاف - توفير الرعاية البيطرية - تحسين السلالات - انشاء مزارع حديثة**



بلادي مسئوليتي

أهداف الدرس

في نهاية هذا الدرس، سأكون قادرًا على أن:

- أعرف واجباتي نحو وطني.
- أعرض طرق حماية موارد الوطن.
- أوضح أشكال التعاون بين أفراد المجتمع.
- أظهر دور الفرد في الحفاظ على تماسك المجتمع وتقدمه.

المسئولية الوطنية هي واجب المواطن تجاه وطنه، وتشمل الالتزام بالقوانين، والعمل على تقدمه، والحفاظ على موارده.



أتأمل

وأتعلم

ماذا تفعل إذا رأيت زميلك يرمي القمامة في الشارع؟

امنعهُ بشدة وانصحه بعدم فعل ذلك مرة أخرى حتى لا يتحول الشارع الى مكان لتجميع القمامة وتنتشر به الحشرات والقوارض

مصرنا الحبيبة، نعيش على أرضها ونشرب من مائها؛ يجب علينا الحفاظ عليها، وبذل الجهد لنهضتها حتى تظل قوية ومتقدمة.



واجبي نحو وطني

وطني هو بيتي الكبير الذي نعيش فيه جميعًا، ومن واجبي نحوه أن:



الأعمال التطوعية

- أكون مواطنًا صالحًا.
- ألتزم بالقوانين وأحترم النظام.
- أشارك في الأعمال التطوعية.
- أحافظ على نظافة الشوارع والحدائق.
- أحافظ على المرافق العامة.
- لا أردد الشائعات التي تسعى لهدم المجتمع.

حماية موارد الوطن

من واجبنا أن نحافظ على مواردنا الطبيعية والبشرية؛ لأنها سر نهضتنا وتقدمنا، وذلك من خلال:



- ترشيد استهلاك المياه والكهرباء.
- المساهمة في حماية الآثار والتراث.
- حماية الموارد المائية من التلوث.

معلومة إثرائية

قيم أتعلمها

حماية الموارد مسئولية
جماعية. ٢٠٢٦ Hany
٢٠٢٦ Hany

اعتبر المصريون القدماء أن استقرار فيضان النيل مرهون بالعدل والحق، والحفاظ على مبادئ المعبودة «ماعت» يعني استمرار عطائه، بينما مخالفتها تجلب الفوضى والخراب.

أفكر وأتوقع

– ماذا يحدث إذا: لم يتم ترشيد استهلاك الموارد على المدى البعيد؟

حدوث مشكلة سكانية حيث لا تكفي الموارد المتاحة اعداد السكان المتزايد على مر السنين

عزيزي التلميذ، لاحظ أن أي سلوك تقوم به - ولو صغيرًا - يؤثر على مستقبلك ومستقبل بلدك مصر، وذلك على النحو التالي:



ماذا لو؟ تعودت على العمل بشكل جماعي

١
تزيد الاستفادة
من أفكار وإبداعات
غيرك

٢
تتدرب على
مهارات العمل
الجماعي

٣
ستجد سهولة
في التأقلم مع
الحياة والمجتمع

٤
سيؤثر ذلك إيجابيًا
على إنتاجك في
العمل مستقبلاً

٥
ستكسب الدولة
فرصة توليد
الأفكار والابتكارات
الجماعية

محافظتي

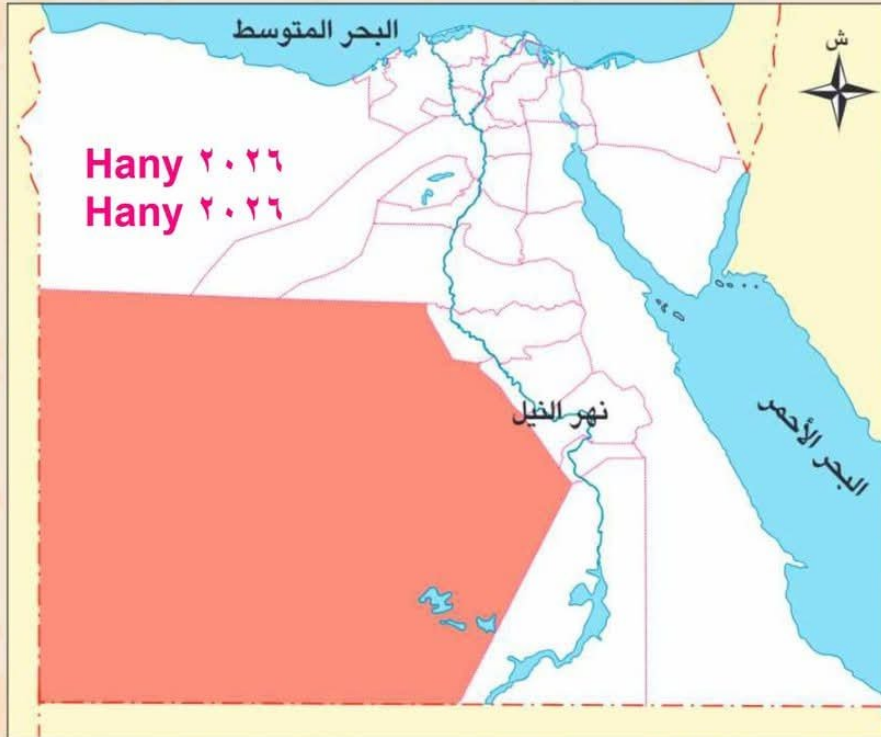


يا أصحابي سأصحبكم في ...
رحلة إلى محافظة الوادي الجديد

« تقع محافظتي على خريطة مصر في اتجاه **الجنوب الغربي** »
 « تُعتبر محافظتي من البيئات (الريفية - الساحلية - الصحراوية) »
 « تُعتبر مساحة محافظتي بالنسبة لباقي المحافظات المساحة.
 (كبيرة - متوسطة - صغيرة) »

موارد محافظتي ومستقبلها:

« تُعتبر محافظتي أكبر محافظات مصر مساحة؛ حيث تبلغ مساحتها ٤٤٪ من مساحة مصر. »
 « تشتهر محافظتي بإنتاج التمور وزيت الزيتون. »
 « تشتهر محافظتي بكثير من المناطق الأثرية، مثل: معبد هيبس، ومقابر المزوقة. »
 « تنتشر التكوينات الرملية في محافظتي، ولكنها تشتهر بالواحات الخضراء، مثل: واحة الخارجة والداخلة والفرافرة. »
 « **مستقبل محافظتي في** الاهتمام بإنتاج التمور وتصديرها، والاهتمام بتسويق الأماكن السياحية. »



هل ترى أن هناك بمصر محافظة تشبه محافظة الوادي الجديد؟ حدّد هذه المحافظة واصنع لها بطاقة مماثلة.



سيناء كاملة لمصر

الدرس

٣

أهداف الدرس

- في نهاية هذا الدرس، سأكون قادرًا على أن:
- أوضح خطوات استعادة سيناء حتى عادت كاملة لمصر.
- أبين كيف اختارت مصر طريق السلام بعد الحرب.
- أقدّر قيمة العمل والبناء للحفاظ على ما تحقق من إنجازات.
- أعبر عن فخري بانتمائي لوطني وجيشي.

تُعد شبه جزيرة سيناء منطقة غنية بالموارد الطبيعية، فهي تحتوي على كثير من المعادن، وتتميز بموارد مائية تساعد على قيام الزراعة، كما تمتلك سواحل سياحية جميلة على البحرين الأحمر والمتوسط.



قيم اتعلمها

السلام لا يتحقق إلا بالقوة والعدل.

بعد أن تحقق نصر أكتوبر العظيم، لم تتوقف مسيرة مصر عند ساحة القتال، بل بدأت مرحلة جديدة من العمل والبناء والسلام، وأدرك المصريون أن استرداد الأرض بالسلاح كان البداية فقط، وأن الحفاظ عليها لا يكون إلا بالعلم والتنمية والإعمار.

محطات عودة سيناء كاملة

- الانتصار العظيم.
- طريق السلام.
- بناء المستقبل.

افكر واستنتج Hany ٢٠٢٦

لماذا كان السلام بعد الحرب خطوة مهمة لمصر والمنطقة العربية؟
عودة العلاقات وتحسينها بين مصر ودول العالم

قيم أتعلمها

الوحدة بين الشعب والجيش

هي سر قوة مصر. Hany ٢٠٢٦

الانتصار العظيم

حققت مصر في حرب أكتوبر انتصارًا عظيمًا من أجل الوقوف بصلابة على أرض سيناء لاستعادتها كاملة؛ حيث:

- في السادس من أكتوبر عام ١٩٧٣ عبرت قواتنا المسلحة قناة السويس ورفعت علم مصر على أرض سيناء.
- تم تحطيم خط بارليف الذي كان العدو يعتقد أنه لا يُقهر.
- أظهر الجنود المصريون شجاعة نادرة في القتال وصبرًا كبيرًا في مواجهة العدو.
- وقف الشعب المصري كله خلف جيشه يدعمه بالعمل والدعاء والصبر.
- تحقق النصر بفضل الإيمان بالله، والتخطيط الجيد، ووحدة الصف بين الجيش والشعب.
- وكان هذا النصر دليلًا أن المصريين قادرين على تحقيق المستحيل متى تمسكوا بالأمل.

افكر وأبدع

حدّد أهم عوامل النصر في حرب أكتوبر ١٩٧٣ م. **الإيمان بالنصر - التخطيط الجيد - وحدة الصف بين الجيش والشعب**

افكر واستنتج

كيف ساعد التعاون بين الجيش والشعب على تحقيق النصر؟
وقوف الشعب كله خلف جيشه بالدعم والعمل والدعاء والصبر تحقق النصر

Hany ٢٠٢٦

Hany ٢٠٢٦

Hany ٢٠٢٦

Hany ٢٠٢٦

Hany ٢٠٢٦

طريق السلام

بدأت مصر بعد استعادة بعض أراضي سيناء في خطوات هامة لاستعادة سيناء كاملة، وذلك من خلال خطوات فاعلة للسلام، حيث:

• بدأت عملية السلام بالزيارة التاريخية للرئيس السادات إلى القدس عام ١٩٧٧ م من أجل تحقيق السلام العادل.

• تم عقد مفاوضات كامب ديفيد برعاية أمريكية في عام ١٩٧٨ م، وقد وضعت أسس السلام.

• تم توقيع اتفاقية السلام عام ١٩٧٩ م ونصت على انسحاب إسرائيل الكامل من سيناء.

قيم اتعلمها

من حق الأجيال أن تحافظ على ما

استردّه الآباء والأجداد. ٢٠٢٦ Hany

• في ٢٥ أبريل عام ١٩٨٢ م رُفِعَ عَلَمُ مصر عاليًا على

أرض سيناء بعد استعادتها كاملة باستثناء طابا التي

استردتها مصر عام ١٩٨٩ م، وقد صار هذا اليوم

عيدًا لتحرير سيناء كل عام.

٢٠٢٦ Hany

وابدع

افكر

ما الدروس التي تعلمتها من طريقة

استعادة مصر لأراضي سيناء؟

الحروب لا تأتي إلا بالخراب ولكن بالحوار.....

تتقارب وجهات النظر للوصول الى حلول ترضى

جميع الاطراف

٢٠٢٦ Hany


واستنتج

افكر

حدّد الهدف من سعي مصر لعقد اتفاقيات

السلام بعد حرب أكتوبر ١٩٧٣ م؟

..... استعادة اراضي سيناء بالكامل



بناء المستقبل

منذ استعادة سيناء كاملة بدأت الدولة في:

- إعمار سيناء وبناء المدن الجديدة.
- إقامة المشروعات الزراعية.
- تأمين حدود مصر في سيناء.

قيم أتعلمها

سلام بلا قوة تحميه هو ضعف واستسلام.

Hany ٢٠٢٦

أصبحت سيناء اليوم رمزاً للسلام والتنمية بعد أن كانت ميداناً للحرب والمعاناة.

Hany ٢٠٢٦

مزايا تحقيق السلام:

- عودة الأمن والاستقرار للمصريين.
- تفرُّغ الدولة للبناء والتنمية.
- تحسين علاقات مصر مع دول العالم.
- زيادة الاستثمار والسياحة.

افكر واستنتج

كيف ساعد السلام على بناء سيناء وتنميتها؟

من خلال بناء المدن الجديدة وإقامة المشروعات الزراعية وتأمين حدود مصر في سيناء



عزيزي التلميذ، لاحظ أن أي سلوك تقوم به - ولو صغيرًا - يؤثر على مستقبلك ومستقبل بلدك مصر، وذلك على النحو التالي:



ماذا لو؟ تعاملت مع زملائك بأسلوب راقٍ بعيدًا عن العنف

١
ستكسب احترامهم
وتقديرهم بثقتك
وهدوئك

٢
ستسهم في نشر
بيئة يسودها الود
والتعاون

٣
ستتعلم كيف تحلُّ
الخلافاً بالحوار لا
بالصدام

٤
ستصبح قدوة
إيجابية لغيرك في
التعامل الأخلاقي

٥
ستقلل من
المشكلات والنزاعات
داخل الفصل

٦
ستفرض في نفسك قيمة
التسامح وضبط النفس

تدريبات الدرس



Hany ٢٠٢٦

i أكمل العبارات التالية بما يناسبها من كلمات:

- ١ - أكدت القوات المصرية كذب مقولة «الجيش الذي لا يقهر» من خلال اقتحام **خط بارليف**
- ٢ - آخر المدن التي استردها المصريون بعد حرب أكتوبر مدينة **طابا**.....
- ٣ - تم عقد مفاوضات كامب ديفيد في عام ١٩٧٨ م برعاية **امريكية**.....
- ٤ - بدأت عملية السلام بالزيارة التاريخية للرئيس السادات إلى **القدس**.....

b اكتب كلمة (صواب) أمام العبارة الصحيحة، وكلمة (خطأ) أمام العبارة غير الصحيحة:

- ١ - أظهر الجنود المصريون شجاعة نادرة في القتال بحرب أكتوبر. (صواب)
- ٢ - ترسخ معاهدات السلام قيمة الحوار بدلاً من الحروب. (صواب)
- ٣ - تم استعادة كافة أراضي سيناء بعد استرداد مدينة شرم الشيخ. (خطأ)
- ٤ - بدأت عملية السلام بعد حرب أكتوبر من خلال مفاوضات كامب ديفيد. (خطأ)

ج بم تفسر...؟ ٢٠٢٦ Hany

- ١ - زيارة الرئيس السادات للقدس عام ١٩٧٧ م.

من أجل تحقيق السلام العادل

- ٢ - نجاح مصر في تحقيق أهدافها في حرب أكتوبر.

لاستعادة اراضي سيناء كاملة دون نقصان شبر واحد منها

د ما النتائج المترتبة على...؟ ٢٠٢٦ Hany

- ١ - مفاوضات كامب ديفيد في عام ١٩٧٨ م. وضع اسس السلام بين الطرفين
- ٢ - توقيع اتفاقية السلام ١٩٧٩ م. انسحاب اسرائيل من سيناء بالكامل

ه دلل على صحة العبارة التالية: ٢٠٢٦ Hany

- ١ - بدأت الدولة المصرية في تعمير سيناء منذ استعادتها كاملة. إقامة المشروعات الزراعية والمدن الجديدة وتأمين الحدود
- ٢ - هناك عديد من المزايا التي عادت على مصر من تحقيق السلام. عودة الامن والاستقرار وبداية البناء والتنمية وتحسين العلاقات مع دول العالم وزيادة الاستثمار والسياحة

للتدرب Hany

هيا نستعد



هل تعرف أهم العصور التاريخية التي عاشتها مصر منذ فجر التاريخ؟

إسبانيا



01:00

مساءً

02:00

مساءً

Hany ٢٠٢٦

Hany ٢٠٢٦

Hany ٢٠٢٦

- تتمتع إسبانيا بسواحل ممتدة تطل على البحر المتوسط والمحيط الأطلسي، وفي داخلها توجد سلاسل جبلية مهمة مثل جبال البرانس.
- يُعرف الشعب الإسباني بأنه ودود ومتسامح مع الثقافات الأخرى، وبأسلوب حياته المتوازن بين العمل والراحة، وتمثل العائلة لديهم جزءاً محورياً من حياتهم.
- يرتكز اقتصاد إسبانيا على السياحة، حيث إنها من أكبر وأهم الوجهات السياحية بالعالم، وتهتم بالصناعات الغذائية مثل: زيت الزيتون.
- تعززت العلاقات بين مصر وإسبانيا في ثمانينيات القرن الماضي وخاصة في مجالي السياحة والطاقة.
- أهم المعالم السياحية: قصر الحمراء في غرناطة - القصر الملكي في مدريد.

والآن جاء وقتكم أصدقائي لتبحثوا وتخبرونا!

عملة الدولة: **بيزيتا** اللغة الرسمية: **الإسبانية** العاصمة: **مدريد**

مصدر المعلومات: (الأُسرة - صديق - المعلم - شبكة الإنترنت - مصدر آخر).

أحترم كل الحضارات
لكنني أفخر بتاريخني

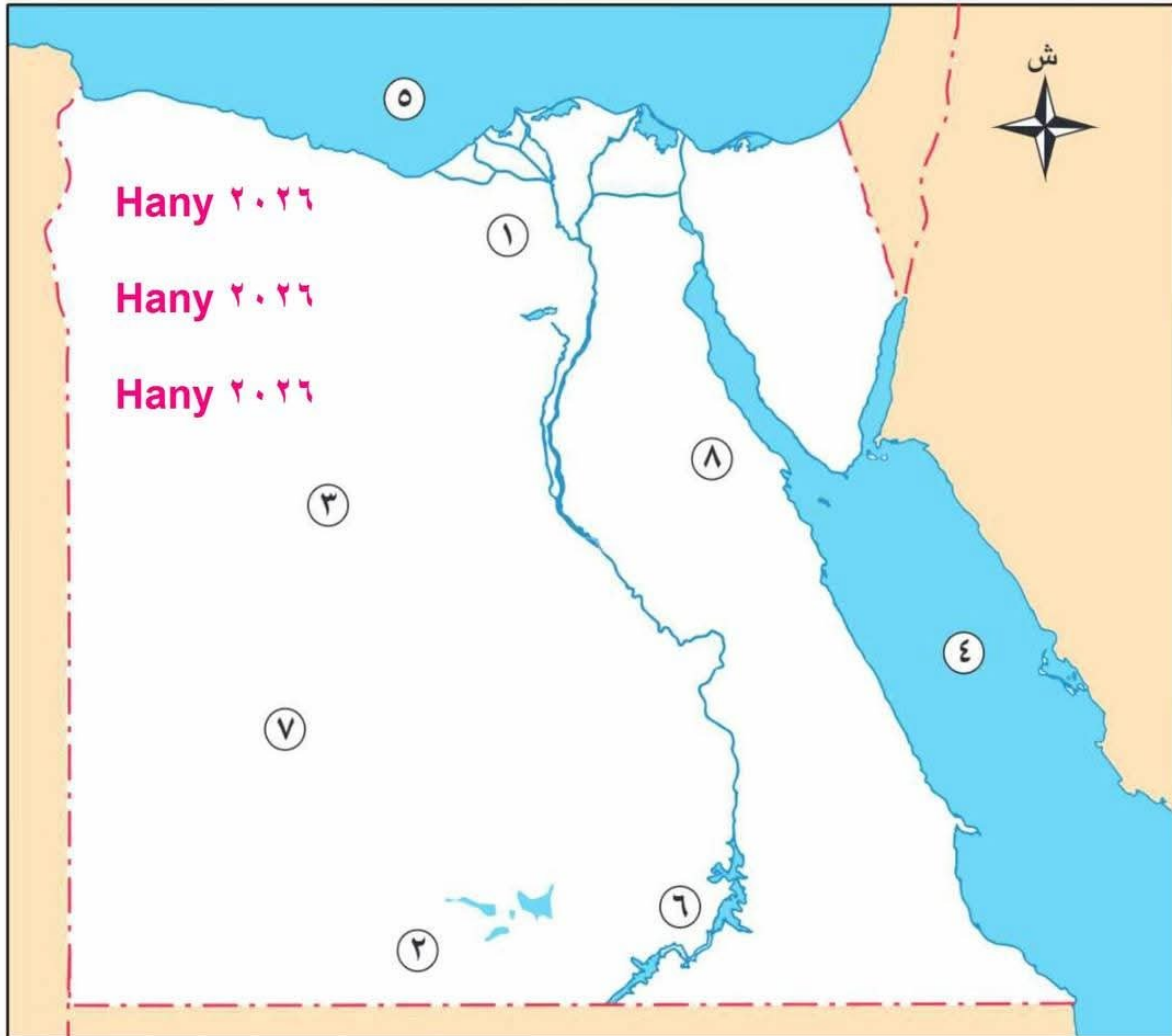
لكل دولة حضارتها ومعالمها
التي تتميز بها، ومصر
بحضارتها العريقة تمتلك مكانة
خاصة تميزها وتمنحها دورًا
رائدًا بين الأمم، ومن بين ما
يميزها وجود قصر رأس التين

يُعد قصر رأس التين بالإسكندرية من أبرز معالم مصر، وقد صُمم ليكون مركزًا لإدارة
شئون الدولة في العصر الملكي، ويعكس الطابع الحضاري والمعماري لمصر ويتميز
بالفخامة.

تقييم الوحدة الثانية



السؤال الأول: أمامك خريطة صماء لمصر، أجب عن الأسئلة الآتية:



Hany ٢٠٢٦

Hany ٢٠٢٦

Hany ٢٠٢٦

Hany
٢٠٢٦Hany
٢٠٢٦Hany
٢٠٢٦Hany
٢٠٢٦Hany
٢٠٢٦Hany
٢٠٢٦Hany
٢٠٢٦Hany
٢٠٢٦١ - مشروع زراعي **الدلتا الجديدة**٢ - مشروع زراعي **شرق العوينات**٣ - مشروع زراعي **الفرافرة**٤ - البحر **الاحمر**٥ - البحر **المتوسط**٦ - بحيرة **ناصر**٧ - الصحراء **الغربية**٨ - الصحراء **الشرقية**

السؤال الثاني: اكتب كلمة (صواب) أمام العبارة الصحيحة، وكلمة (خطأ) أمام العبارة غير الصحيحة: **Hany ٢٠٢٦**

- ١ - دعم الفلاحين بالأسمدة والبذور يحقق الأمن الغذائي. (صواب)
- ٢ - يُعتبر القمح من المحاصيل الإستراتيجية لتحقيق الأمن الغذائي لمصر. (صواب)
- ٣ - تتميز إسبانيا بطبيعتها السهلية الخلابه. (خطأ)

السؤال الثالث: أكمل العبارات الآتية: **Hany ٢٠٢٦**

- ١ - أحد جهود الدولة لتنمية الثروة الحيوانية **صناعة الإعلاف** وتحسين السلالات وتوفير الرعاية البيطرية
- ٢ - من واجبي نحو وطني **الالتزام بالقوانين واحترام النظام والحفاظ على المرافق العامة**

السؤال الرابع: بم تفسر...؟ **Hany ٢٠٢٦**

١ - أهمية تنوع مصادر الغذاء. **Hany ٢٠٢٦**

..... **لتوفير احتياجات السكان من الغذاء وتحقيق الامن الغذائي**

٢ - استخدام أساليب الري الحديثة. **Hany ٢٠٢٦**

..... **لترشيد استهلاك المياه وتحقيق الامن الغذائي**

٣ - اهتمام الدولة بالمشروعات القومية. **Hany ٢٠٢٦**

..... **لزيادة الإنتاج الزراعي وتحقيق الامن الغذائي**

٤ - إنشاء المزارع السمكية. **Hany ٢٠٢٦**

..... **لزيادة الثروة السمكية وتحقيق الامن الغذائي**

٥ - أهمية السلام لتحقيق الأمن والاستقرار. **Hany ٢٠٢٦**

..... **يعمل السلام على تفرغ الدولة للبناء والتنمية وإقامة المشروعات وتحسين العلاقات مع الدول الأخرى**

السؤال الخامس: ما النتائج المترتبة على...؟ **Hany ٢٠٢٦**

١ - اهتمام الدولة بمشروعات الاستزراع السمكي.

..... **زيادة الإنتاج السمكي وتحقيق الامن الغذائي**

٢ - عقد اتفاقية السلام ١٩٧٩م.

..... **انسحاب اسرائيل من سيناء بالكامل واستعادة الاراضي المصرية**

٣ - اعتماد النشاط الاقتصادي لإسبانيا على السياحة.

..... **اصبحت اهم وجهات السياحة في العالم وتعزيز العلاقات بينها وبين مصر سياحيا**

السؤال السادس: حدّد أوجه التشابه والاختلاف بين: ٢٠٢٦ Hany

٢٠٢٦

١ - المزارع السمكية والمصايد الطبيعية. الشبه: كلاهما مصادر للإنتاج السمكي

الاختلاف: المزارع السمكية تمدنا بنسبة ٨٠% من الاسماك اما المزارع الطبيعية ٢٠% فقط

Hany

٢٠٢٦

٢ - دور المعلم والطبيب في الدولة. الشبه: كلاهما يقوم بخدمة الوطن

المعلم: يربي الاجيال ويغرس فيهم القيم أما الطبيب يقوم بعلاج المرضى

Hany

٢٠٢٦

٣ - قصر الحمراء وقصر رأس التين. الشبه: كلاهما معالم سياحية

الاختلاف: قصر الحمراء في اسبانيا، رأس التين في مصر

Hany

٢٠٢٦

السؤال السابع: ما العلاقة بين...؟ ٢٠٢٦ Hany

Hany

١ - الثروة السمكية والأمن الغذائي.

الثروة السمكية مصدر للبروتين الغنى بالعناصر الغذائية الضرورية لجسم الانسان واحد مصادر تحقيق الامن الغذائي

٢ - تلاحم الجيش والشعب وانتصار أكتوبر ١٩٧٣ م.

تحقق النصر بفضل تلاحم الجيش والشعب في حرب أكتوبر ١٩٧٣

٣ - التنمية وتحقيق السلام.

يؤدي تحقيق السلام الى الاستقرار وبالتالي تتفرغ الدولة للبناء والتنمية

السؤال الثامن: ماذا يحدث إذا...؟ ٢٠٢٦ Hany

- لم ينجح الجيش المصري في عبور قناة السويس.

لم يتم تحطيم خط بارليف وعدم تحقيق النصر واستمرار الاحتلال الاسرائيلي لاراضي سيناء

السؤال التاسع: دلل على صحة العبارة: ٢٠٢٦ Hany

١ - الزراعة هي الركيزة الأساسية للأمن الغذائي في مصر.

مصدر لإنتاج الغذاء من المحاصيل الزراعية مثل القمح والذرة والارز والبقوليات والفواكه والسكريات

Hany

٢٠٢٦

٢ - يتمتع شعب إسبانيا بأسلوب الحياة البطيء.

Hany

٢٠٢٦

يعرف عنهم التوازن بين العمل والراحة والعائلة جزء محوري في حياتهم

السؤال العاشر: ما المقصود بالمفاهيم الآتية...؟ ٢٠٢٦ Hany

Hany

١ - الأمن الغذائي:

٢٠٢٦

حصول جميع السكان على الغذاء الكافي لهم في الحاضر والمستقبل بجودة مناسبة وسعر في متناول الجميع

٢ - المسؤولية الوطنية:

واجب المواطن تجاه وطنه وتشمل الالتزام بالقوانين والعمل على تقدمه والحفاظ على موارده

المزارع السمكية : تنتج ٨٠% من الاسماك ومنها الفيروز وبركة غليون
المصايد الطبيعية : تنتج ٢٠% من الاسماك ومنها البحر الاحمر والمتوسط والنيل وبحيرة ناصر والبحيرات المالحة

السؤال الحادي عشر: قارن بين:

١ - المزارع السمكية والمصايد الطبيعية.

٢ - محافظة القليوبية ومحافظة الوادي الجديد وفق الجدول التالي:

وجه المقارنة	محافظة القليوبية ٢٠٢٦	محافظة الوادي الجديد Hany ٢٠٢٦
نوع البيئة	زراعية	صحراوية
أهم المناطق الأثرية	مسجد الامير حسين بشيرا الخيمة ومسجد السلطان الاشرف بالخانكة	معد هيبس ومقابر المزوقة
أهم المحاصيل الزراعية	الخضروات والفاكهة	التمور
مستقبل المحافظة وتطويرها	الاهتمام بالزراعة وتصديرها واحياء مسار العائلة المقدسة	الاهتمام بإنتاج التمور وتصديرها وتسويق المناطق السياحية

النشاط الختامي للوحدة

صمّم مطوية ورقية بعنوان: «غذاؤنا وصحتنا» تتضمن العناصر التالية:

- مصادر الغذاء في مصر (الزراعة - الثروة الحيوانية - الأسماك).
- دور التكنولوجيا الحديثة في إنتاج الغذاء.

Hany ٢٠٢٦

المشاركة في تنمية الوطن



يستطيع كل فرد أن يشارك في تنمية وطنه من خلال:

● العمل بإخلاص وإتقان.

● الاجتهاد في الدراسة.

● تشجيع المنتجات المحلية.

قيم أتعلمها

بناء الوطن مسئولية كل فرد.

أفكر وأستنتج

- ما العلاقة بين تشجيع المنتجات المحلية وتنمية الوطن؟

تشجيع المنتج المحلي يؤدي الى تقليل الاعتماد على المنتجات المستوردة وبالتالي زيادة الدخل القومي

التعاون بين أفراد المجتمع

التعاون يجعل المجتمع أكثر ترابطاً،

ويعيش أفراداه في تفاهم، ويمكننا

أن نتعاون بطرق عديدة، منها:

● العمل بشكل جماعي.

● مساندة بعضنا بعضاً في الشدة

والرخاء.

● الحفاظ على الأمن والسلام.

أتعلم وأطبق

حرفة الزراعة لا تعتمد على شخص بمفرده ولكنها

تتطلب مجهود عدد كبير لانتاج المحاصيل

والتعاون هو الذي يؤدي الى التقدم وزيادة الانتاج اذكر مثلاً يوضح قيمة التعاون مع من حولك.

حقائق تاريخية

ما فعله الجنود المصريون في

حرب أكتوبر ١٩٧٣م خير دليل

على الشجاعة والتضحية لحماية

حدود الوطن.



نماذج للمسئولية تجاه الوطن

كل شخص في الوطن له دور مهم يجب أن يقدمه

لخدمته وحمايته، ومن هذه النماذج:

● المعلم الذي يربي الأجيال ويغرس فيهم القيم.

● الجندي الذي يدافع عن الوطن ويحمي حدوده.

● الشرطي الذي يحافظ على الأمن والنظام.

● الطبيب الذي يعالج المرضى بإخلاص.

● العامل الذي ينجز عمله بإتقان لخدمة المجتمع.

تدريبات الدرس



Hany ٢٠٢٦

أكمل العبارات التالية بما يناسبها من كلمات:

- ١ - التعاون بين أفراد المجتمع يحافظ على **ترابط** المجتمع.
- ٢ - من واجبي نحو وطني أن ألتزم بـ **القوانين**
- ٣ - من نماذج المسؤولية تجاه الوطن المعلم الذي **يربى الاجيال ويغرس فيهم القيم**

ب اكتب كلمة (صواب) أمام العبارة الصحيحة، وكلمة (خطأ) أمام العبارة غير الصحيحة:

- ١ - تشجيع المنتجات المحلية يساعد في توفير فرص العمل. **Hany ٢٠٢٦** (صواب)
- ٢ - العمل الجماعي والإخلاص هما سبيل النجاح. (صواب)
- ٣ - اكتساب مهارات جديدة يخدم الوطن. (صواب)
- ٤ - الطبيب يدافع عن حدود وطنه. (خطأ)
- ٥ - التعاون بين أفراد المجتمع يضعف الروابط بين الناس. (خطأ)

ج بم تفسر...؟ **Hany ٢٠٢٦**

١ - التعاون يحافظ على تماسك المجتمع.

..... **لأن التعاون يجعل المجتمع أكثر ترابطاً ويعيش افراده في تفاهم**

٢ - أهمية تشجيع المنتجات المحلية.

..... **لتنمية الوطن وتوفير فرص عمل للشباب**

٣ - أهمية ترشيد استهلاك المياه والكهرباء.

..... **لحفاظ على موارد الدولة**

د ما النتائج المترتبة على...؟ **Hany ٢٠٢٦**

١ - تعاون أفراد المجتمع.

..... **زيادة التفاهم بين أفراد المجتمع وجعل المجتمع أكثر ترابطاً وبالتالي التقدم ويسود الامن والسلام**

٢ - أداء العامل لعمله بإتقان.

..... **تقديم خدمة للمجتمع وتنميته من خلال الاعتماد على المنتج المحلي**

٣ - المشاركة في الأعمال التطوعية.

..... **تقدم المجتمع وخدمته**

ه ما المقصود بـ...؟ **Hany ٢٠٢٦**

..... **المسؤولية الوطنية:**

..... **واجب المواطن تجاه وطنه وتشمل الالتزام بالقوانين والعمل على تقدمه والحفاظ على موارده**

للدروس القادم

هيا نستعد



هل تعرف كيف استعادت مصر سيئاء كاملة بعد احتلالها من العدو الإسرائيلي؟

العصور التاريخية لمصر

تمهيد:

أهداف الدرس

في نهاية هذا الدرس، سأكون قادرًا على أن:

- أوضح معنى كلمة عصر تاريخي.
- أميز بين العصور التاريخية التي مرت بها مصر.
- أقارن بين مظاهر الحياة في العصور القديمة والحديثة.
- أعبر عن اعتزازي بالحضارة المصرية القديمة.

نحن دائمًا نفكر في أعمار الأشخاص؟ لكن هل تعلم أن للدول والحضارات أعمارًا؟ هل فكرت قبل ذلك في عمر مصر؟ هل تعرف لكم سنة يمتد التاريخ المصري؟



- هل فكرت يومًا أن العالم لم يكن دائمًا كما نراه اليوم؟
- لم تكن هناك كهرباء، ولا سيارات، ولا هواتف، بل كان الإنسان يعيش حياة بسيطة جدًا.
- ومع نزول المصري القديم للوادي من الهضبة بدأ يتعلم ويكتشف أشياء جديدة، فبنى البيوت، وزرع الأرض، واخترع الأدوات، حتى وصل إلى ما نعيشه الآن من تقدم وتطور.

مفاهيم أتعلمها

العصور التاريخية: فترة من الزمن عاش فيها الإنسان وشهدت تغيرات كبيرة، وقد بدأت بعد معرفة الإنسان القديم للكتابة.

أفكر وأستنتج

ما الذي يميز الفترة التي نعيشها حاليًا عن العصور التاريخية السابقة؟
سهولة التواصل والوصول الى المعلومة
ومعرفة الاخبار لحظة حدوثها بمعنى أن العالم اصبح قرية صغيرة



العصور التاريخية التي عاشتها مصر

معلومة إثرائية

يُدرّس تاريخ مصر القديم في كثير من مناهج الدول حول العالم؛ لأنها حضارة عظيمة علّمت البشرية معنى العلم والعمل والنظام.

مصر من أقدم الحضارات في العالم؛ حيث يمتد تاريخها إلى آلاف السنين! هل تخيلت أن الأرض التي تمشي عليها في الأقصر أو الشرقية أو في أنحاء مصر مشى عليها أجدادنا منذ آلاف السنين؟

وعلى هذا..... مر تاريخ مصر بمجموعة من العصور التاريخية التي تتمثل فيما يلي:

التقدم العلمي والتكنولوجي ومواكبة العصر
ومنافسة الدول الأجنبية في جميع المجالات



أفكر وأبدع

تخيل كيف ستكون مصر في المستقبل لو واصلنا العمل والاجتهاد على خطى أجدادنا.

أفكر وأبحث

حدد أهم إنجازات محمد علي لبناء مصر الحديثة؟
ظهور المدارس والنهضة العمرانية والاقتصادية

العصر	الفترة الزمنية	أهم السمات الحضارية
التاريخ المعاصر	بدأ بعد ثورة ٢٣ يوليو ١٩٥٢ م.	تنفيذ المشروعات القومية الكبرى.
العصر الحديث	بدأ مع بداية حكم محمد علي ١٨٠٥ م.	ظهور المدارس والنهضة العمرانية والاقتصادية.
العصر الإسلامي	بدأ بفتح مصر على يد عمرو بن العاص ٦٤١ م.	بناء الجامع الأزهر ونشر العلم.
العصر الروماني	بدأ بدخول الرومان لمصر ٣٠ ق.م، ويشمل الحقبة القبطية التي بدأت بدخول المسيحية مصر في منتصف القرن الأول الميلادي.	ظهور الفن القبطي الذي يتميز بالزخارف الجميلة.
العصر اليوناني والبطلمي	بدأ بسيطرة الإسكندر الأكبر على مصر ٣٣٢ ق.م.	بناء مدينة الإسكندرية.
العصر القديم	بدأ بمعرفة المصري القديم للكتابة وتحقيق الوحدة التاريخية.	بناء الأهرامات العظيمة وازدهار العلوم.



تدريبات الدرس



أكمل العبارات التالية بما يناسبها من كلمات: Hany ٢٠٢٦

١ - بدأ تاريخ مصر الحديث بتولي محمد علي حكم مصر.

٢ - بدأ العصر اليوناني بمصر بسيطرة الإسكندر الأكبر.

اكتب كلمة (صواب) أمام العبارة الصحيحة، وكلمة (خطأ) أمام العبارة غير الصحيحة:

١ - تم تنفيذ المشروعات القومية الكبرى بمصر في العصر الروماني. (خطأ)

٢ - بدأ التاريخ الحديث في مصر بعد ثورة ٢٣ يوليو ١٩٥٢ م. (خطأ)

بم تفسر...؟ Hany ٢٠٢٦

- شهرة الفن القبطي في مصر.

لتميزة بالزخارف الجميلة

د ما المقصود بـ...؟ فترة زمنية عاش فيها الانسان وشهدت تغيرات كبيرة

- العصور التاريخية: وقد بدأت بعد معرفة الانسان القديم الكتابة

ه دلل على صحة العبارة التالية: Hany ٢٠٢٦

- أهمية الكتابة في التاريخ المصري القديم.

سهلت تدوين الأحداث التاريخية والقوانين وغيرها واستخدمت في النصوص الدينية وكانت اساسا للعلوم والفنون

و رتب الأحداث التاريخية التالية: Hany ٢٠٢٦

(دخول المسيحية مصر - قيام ثورة ٢٢ يوليو - تولي محمد علي حكم مصر - بناء مدينة

الإسكندرية- بناء الأهرامات العظيمة)

١- بناء الأهرامات العظيمة ٢- بناء مدينة الإسكندرية

٣- دخول المسيحية مصر ٤- تولي محمد علي حكم مصر ٥- قيام ثورة ٢٣ يوليو

للدروس Hany

هيا نستعد



هل تعرف أهم السمات الحضارية التي تميزت بها مصر قديماً؟



الدرس

1

منجزات حضارتنا

أهداف الدرس

في نهاية هذا الدرس، سأكون قادرًا على أن:

- أتعرف المظاهر الاجتماعية والاقتصادية والدينية للحضارة المصرية القديمة.
- أحدد أهم المعتقدات الدينية للمصريين القدماء.
- أفسر أسباب الازدهار الاقتصادي للحضارة المصرية القديمة.
- أعبر عن احترامي لمعتقدات الآخرين.

تعرفنا من قبل على العصور التاريخية للحضارة المصرية القديمة، واليوم سنتعرف على مظاهر تلك الحضارة، وكيف مارس المصري القديم حياته اليومية بثتى جوانبها الاجتماعية والاقتصادية والدينية.



واجيب

أتأمل

حدّد ما تعرفه عن ملامح الحياة السياسية والاجتماعية والاقتصادية في مصر قديمًا.

الدولة المركزية - طبقات المجتمع - ازدهار الحياة الاقتصادية



الحياة السياسية

عرّف المصريون القدماء الدولة المركزية منذ قيام الوحدة في عهد الملك مينا، ووضعوا نظامًا للحكم يتكون من:



يأتي الملك على رأس نظام الحكم، ويدير البلاد ويختار معاونيه، ويتكون نظام الحكم من الوزراء وحكام الأقاليم وكبار موظفي الدولة.

إثرائية


معلومة

الدولة المركزية: هي دولة موحّدة تحكمها حكومة مركزية واحدة، تسيطر على جميع أقاليمها، ويكون مقرها عاصمة الدولة.

الحياة الاجتماعية

طبقات المجتمع المصري:

تكوّن المجتمع المصري القديم من عدة طبقات، لكل منها دورها في المجتمع، مما ساهم في تقدم المجتمع وازدهاره، حيث تكوّن المجتمع من:



تمثال الكاتب المصري

- الملك وأسرته.
- الوزير والكهنة وقادة الجيش وحكام الأقاليم.
- الكتبة والتجار والحرفيين.
- المزارعين والعمال والعبيد.

إثرائية

معلومة

اهتمت مصر منذ القدم بالكتابة والعلم، وكان الكتّبة من أهم فئات المجتمع المصري القديم؛ وذلك لقلّة عددهم وأهمية دورهم في الحياة الاقتصادية والثقافية والسياسية، ووصل كثير منهم للمناصب العليا في الدولة.

وأحلل

أفكر

في رأيك، ما أكثر الطبقات عددًا في مصر القديمة؟ ولماذا؟

المزارعين والعمال والعبيد - لانهم عامة الشعب والتي تمثل الطبقة الفقيرة ولا تتدخل في الحكم

الأسرة المصرية:

تتكون الأسرة المصرية القديمة من الأب والأم والأبناء، وتميزت الأسرة بالتعاون بين أفرادها، والمساواة بين الرجل والمرأة، واحتلت المرأة مكانة مميزة في المجتمع وشغلت مناصب عليا حتى وصلت لمنصب الملكة والكاتبة.



الأسرة المصرية

واجيب

اقرأ

«حافظت الأسرة المصرية على عاداتها وتقاليدها عبر التاريخ» دلل على صحة العبارة.

حيث تميزت الأسرة بالتعاون والمساواة بين الرجل والمرأة على مر العصور.

قيم أتعلمها

تحتنا الأديان السماوية والقيم والأعراف والتقاليد على احترام المرأة وتقديرها؛ لما لها من دور فعّال في المجتمع وبناء مستقبله من خلال تربية الأبناء والحفاظ عليهم.

الحياة الاقتصادية

ازدهرت الحياة الاقتصادية في مصر قديماً؛ وذلك لتوافر العوامل الطبيعية والبشرية المساعدة على ذلك، فهياً لنستكشف معاً مظاهرها.



الزراعة:

بعد جفاف الهضاب استقر المصري القديم بوادي النيل وعرف الزراعة واستأنس الحيوانات. ولأهمية الزراعة اهتم حكام مصر بها قديماً وقاموا بما يلي:

- استصلاح الأراضي الزراعية.
- إقامة السدود.
- تقسيم السنة لثلاثة فصول، وهي: الفيضان - البذر - الحصاد.
- استخدام الحيوانات في الأعمال الزراعية.



الزراعة في مصر قديماً

إثرائية

معلومة

قامت مصر في الوقت الحاضر بعدد من المشاريع الزراعية، ومنها: مشروع المليون ونصف فدان.

الصناعة:

اهتم المصريون القدماء بالصناعة، وعملوا بالكثير من الصناعات، مثل: صناعة الورق من نبات البردي، والصناعات الخشبية كصناعة التوابيت والمراكب، وصناعة الفخار، وصناعة المنسوجات من الصوف والكتان والحريز، وصناعة الحلبي، وغيرها من الصناعات.



Hany ٢٠٢٦
Hany ٢٠٢٦
Hany ٢٠٢٦
Hany ٢٠٢٦
Hany ٢٠٢٦
Hany ٢٠٢٦
Hany ٢٠٢٦

الصناعة عند المصريين القدماء

قيم أتعلمها

ترتقي الدول وتتقدم بأيدي
عمالها المهرة.

وأجيب**أقرأ**

حدّد أهم الصناعات التي عمل بها المصريون القدماء.
**صناعة الورق والتوابيت والمراكب
والفخار والمنسوجات والحلي**

التجارة:

ازدهرت التجارة في مصر قديمًا بفضل
تقدّمها الزراعي والصناعي، وتأمين الطرق
التجارية، وتنقسم التجارة إلى:

التجارة الداخلية:

استغل المصريون القدماء نهر النيل في نقل
بضائعهم بين الجنوب والشمال.

التجارة الخارجية:

ارتبطت مصر بعلاقات تجارية قوية مع بلاد العالم القديم، حيث تبادلت تجارتها مع بلاد بونت
والعراق القديم وبلاد فينيقيا واليونان والهند والصين وغيرها من البلاد، وصدّرت مصر الذهب
والنحاس والأسلحة والأواني الفخارية، واستوردت التوابل والبخور والأخشاب والعاج.

وأجيب**أفكر**

وضح علاقة الزراعة والصناعة بالتجارة بفضل التقدم الزراعي والصناعي تقدمت التجارة في مصر القديمة

الحياة الدينية

نالَت الحياة الدينية اهتمامًا كبيرًا من المصريين القدماء، وتميزت حياتهم الدينية بعدة مظاهر، ومنها:



الحياة الدينية

تعدُّد الآلهة:

كان المصريون القدماء يؤمنون بتعدُّد الآلهة، فجعلوا لكل ظاهرة طبيعية إلهًا يعبر عنها، وكان لكل إقليم من أقاليم مصر الـ ٤٢ معبوده الخاص به، وقد عرفوا التوحيد على يد إخناتون.

أقرب

وأجيب

بلغ عدد آلهة الأقاليم ٤٢ إلهًا.



الإيمان بالبعث والخلود

الإيمان بالبعث والخلود:

أمن المصري القديم بوجود حياة أخرى بعد الموت، حيث اعتقد أن المتوفى سيُبعث وتعود الروح للجسد ويعيش حياة أخرى خالدة؛ لذلك قاموا بتحنيط جثث موتاهم للحفاظ عليها في حالة جيدة، كما وضعوا مع المتوفى مقتنياته الشخصية ليستخدمها في الحياة الأخرى.

أفكر

وأستنتج

مفاهيم أتعلمها

اذكر النتائج التي ترتبت على اعتقاد المصريين القدماء في البعث والخلود. بطرق طبية وكيميائية. تحنيط جثث موتاهم ووضع مقتنياته الشخصية معه في القبر ليستخدما في الحياة الأخرى

الحساب بعد الموت:

اعتقد المصري القديم أن المتوفى يقف أمام محكمة تحاسبه على كل أعماله، وتتكون المحكمة من ٤٢ قاضيًا، برئاسة «أوزوريس» إله الموتى، ويُحدَّد خلال المحاكمة إن كان الشخص صالحًا فيذهب للنعيم الأبدى، وإن كان غير صالح فيُعذَّب؛ لذلك كان المصريون القدماء يسجلون كل أعمالهم الجيدة على جدران مقابرهم لتشفع لهم لدى المحكمة.

أقرب

وأجيب

لماذا تتكون محكمة حساب المتوفى من ٤٢ قاضيًا؟
عدد إقاليم وآلهة مصر

تدريبات الدرس



أكمل العبارات التالية بما يناسبها من كلمات: Hany ٢٠٢٦

- ١ - قام المصريون القدماء بتصدير الذهب والنحاس والأسلحة والأواني الفخارية
- ٢ - عرّف المصري القديم بعد استقراره بوادي النيل الزراعة.....

اكتب كلمة (صواب) أمام العبارة الصحيحة، وكلمة (خطأ) أمام العبارة غير الصحيحة:

- ١ - استخدم المصريون القدماء التحنيط لحفظ جثث موتاهم. Hany ٢٠٢٦ (صواب)
- ٢ - اعتمدت الحياة الاقتصادية في مصر قديماً على الزراعة. (صواب)
- ٣ - يأتي على رأس المجتمع المصري القديم الملك. (صواب)

بم تفسر ...؟ Hany ٢٠٢٦

- ١ - قيام المصريين القدماء بتحنيط جثث الموتى.
- لاعتقادهم في البعث والخلود وللحفاظ على جثث الموتى لحين البعث والخلود.....
- ٢ - ازدهار التجارة في مصر قديماً.
- بسبب التقدم الزراعي والصناعي وتأمين طرق التجارة.....

ما النتائج المترتبة على...؟ Hany ٢٠٢٦

- ١ - اعتقاد المصريين القدماء في البعث والخلود.
- تحنيط جثث الموتى.....
- ٢ - الاهتمام ببناء السدود وحفر الترع.
- ازدهار الزراعة في مصر القديمة.....

ما المقصود بـ...؟ Hany ٢٠٢٦

- التحنيط: حفظ جثث الموتى بعد الوفاة لحين البعث والخلود بطريقة طبية وكيميائية.....

لادرس Hany

هيا نستعد



وضح أهمية معرفة الكتابة عند المصريين القدماء.



العلوم والآداب في بلدنا

الدرس

٢

أهداف الدرس

في نهاية هذا الدرس، سأكون قادرًا على أن:

- أعدد العلوم المصرية القديمة.
- أوضح أنواع الآداب المصرية القديمة.
- أقارن بين خطوط الكتابة المصرية القديمة.
- أستنتج أثر الحضارة المصرية القديمة على العالم.
- أعبر عن تقديري للإنجازات العلمية والأدبية للحضارة المصرية القديمة.



اهتم المصريون القدماء بشتى مجالات العلوم والآداب، وبرعوا في كثير منها، حيث وضعوا أسس علم الفلك والهندسة والطب، وما زال كثير من إسهاماتهم العلمية والأدبية ممتد تأثيرها إلى يومنا هذا.

Hany ٢٠٢٦
Hany ٢٠٢٦
Hany ٢٠٢٦
Hany ٢٠٢٦
Hany ٢٠٢٦
Hany ٢٠٢٦
Hany ٢٠٢٦

افكر

واجيب

ماذا اخترع المصري القديم في مجال العلوم؟

التقويم الشمسي... التحنيط... التشريح... أدوات
المشرب والملاقط - الأشكال الهندسية - الحساب

معلومة

إثرانية

انحصر تعليم العلوم والآداب المصرية القديمة بشكل كبير في طبقة الكهنة، وكانوا يعتبرونها مهنة مقدسة.

العلوم في الحضارة المصرية القديمة

شاهدتُ بالأمس فيلمًا وثائقيًا عن العلوم في الحضارة المصرية القديمة، وتناول
الفيلم العلوم الآتية:
Hany ٢٠٢٦



الفلك:

رصد المصريون القدماء الكثير من مواقع النجوم والكواكب، وحددوا حركة الشمس ووضعوا
التقويم الشمسي، وقسموا السنة لثلاثة فصول.

أفكر ٢٦ وادرس Hany

ما أوجه الشبه والاختلاف بين فصول السنة عند المصريين القدماء وفصول السنة الحالية؟
قديمًا : فصول السنة ٣ فصول حديثاً : فصول السنة ٤ فصول



الطب عند المصريين القدماء

الطب:

برع المصري القديم في علم التشريح والجراحة
وطب الأسنان وأمراض العيون والباطنة، واستخدم
أدوات كالمشرط والملاقط، وعرفوا بعض العمليات
الجراحية، واشتهروا بالتحنيط الذي يُعد من أسرار
الطب عند المصري القديم، ولم يتم الكشف عنه
حتى الآن.



موكب ملكي لنقل المومياوات

معلومة

إثرائية

نظمت مصر موكبًا ملكيًا لنقل المومياوات
من المتحف المصري بالتحريير لمتحف
الحضارة بالفسطاط.


أنامل وأحل

دل على صحة العبارة «برع المصريون القدماء في الطب».

برعوا في التشريح والجراحة والتحنيط وطب الاسنان والعيون والباطنة

الهندسة:

استخدم المصريون القدماء الهندسة في تقسيم الأراضي الزراعية وشق الترع، وبناء الأهرامات والمعابد، كما استخدموا الأشكال الهندسية كالمثلث والمستطيل والمربع.



الأعمال الهندسية

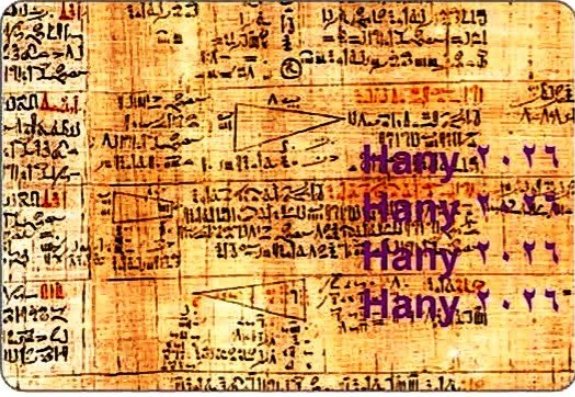
أجيب

أقرأ

فسّر أهمية علم الهندسة في حياة المصريين القدماء. استخدمها في شق الترع وتقسيم الأراضي الزراعية وبناء الأهرامات

الحساب:

عرّف المصريون القدماء علم الحساب واستخدموه في معظم شئون حياتهم اليومية في الزراعة والتجارة، وتقدير الرواتب وجمع الضرائب التي تقدّر طبقاً لقياس مستوى الفيضان.



بردية توضح تقدم المصريين القدماء في علم الحساب

الآداب المصرية القديمة

برع المصريون القدماء في المجالات الأدبية أيضاً، وقدّموا لنا إرثاً أدبياً عريقاً، فهياً لتتعرف على الحياة الأدبية في الحضارة المصرية القديمة.



الكتابة المصرية القديمة:

المصريون القدماء من أوائل من عرف الكتابة، ووضعوا أبجديتها وأصولها، واستخدموا في كتاباتهم الحبر الأحمر والأسود وأعواداً من البوص والقصب وأوراق البردي.



الكتابة الهيروغليفية

حقائق تاريخية

تم اكتشاف حجر رشيد عام ١٧٩٩م بالقرب من مدينة رشيد، وقام العالم الفرنسي شامبليون بفك رموزه عام ١٨٢٢م، ونتيجة لذلك تعرفنا على معالم الحضارة المصرية القديمة.

أجيب

أفكر

قديمًا: الاقلام من اعواد البوص والقصب والورق من قارن بين أدوات الكتابة قديمًا وحديثًا. البردي والحبر احمر واسود فقط.
حديثًا: اوراق خاصة باشكال واحجام مختلفة واقلام حديثة على جميع الاشكال والالوان والانواع

الكتابة المصرية القديمة

استخدم المصريون القدماء عدة خطوط للكتابة المصرية القديمة، وهي:



حجر رشيد

١- الكتابة الهيروغليفية: تعني الخط المقدس، واستُخدمت في كتابة النصوص على جدران المعابد والمقابر.

٢- الكتابة الهيراطيقية: تُعد صورة مبسطة من الكتابة الهيروغليفية، استخدمها الكهنة في كتابة النصوص الدينية.

٣- الكتابة الديموطيقية: هو الخط الشعبي، ويُعد أبسط أنواع الخطوط، واستُخدم في كتابة العقود التجارية والمعاملات اليومية.

واستنتج

أقرأ

لاستخدامها في كتابة النصوص على جدران المعابد والمقابر

استنتج سبب تسمية الكتابة الهيروغليفية بالخط المقدس

النصوص الأدبية في مصر القديمة



قصة إيزيس وأوزوريس

انتشرت في مصر قديماً عدة أنواع من الأدب، ومنها الأدب الديني مثل نصوص الأهرامات، وقصة إيزيس وأوزوريس، والأدب التهذيبي الذي يهتم بتوجيه النصح والإرشاد ونصائح الحكيم آني لابنه، والأدب القصصي الذي يروي قصصاً وحكايات مثل قصة سنوهي.



إثرائية


معلومة

امتد تميُّز مصر الأدبي عبر العصور، ففي عصرنا الحديث برز عديد من الأدباء والكتاب مثل الدكتور طه حسين والكتاب عباس العقاد والكتاب الكبير نجيب محفوظ الحائز على جائزة نوبل للآداب عام ١٩٨٨ م.

فضل بلدنا على العالم

تأثرت الحضارات المجاورة بالحضارة المصرية القديمة، وشمل هذا التأثير عدة مجالات، منها:



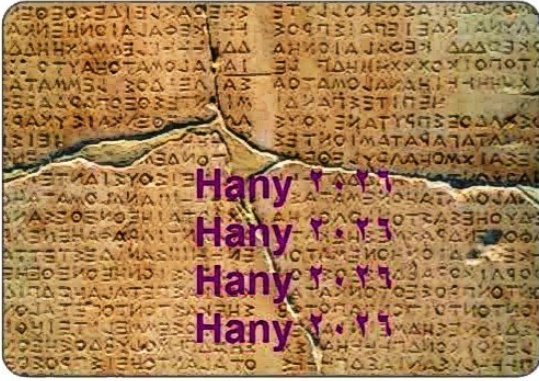


التقويم المصري القديم

الفلك والتقويم: أخذ الرومان التقويم الشمسي من المصريين القدماء وعدّلوا فيه عدد أيام السنة من ٣٦٥ يوماً إلى ٣٦٥ يوماً وربع، وأصبح هذا التقويم هو المستخدم ليومنا هذا.

الأبجدية:

كان المصريون القدماء من أوائل الشعوب التي ابتكرت الكتابة في التاريخ ثم تطورت على يد الفينيقيين إلى الأبجدية الفينيقية التي أخذت منها أوروبا أبجديتها بشكلها الحالي.



الكتابة الفينيقية


اقرأ واستنتج

دلل على صحة العبارة التالية: «يمثل تطور الأبجدية تعاوناً بين الحضارات».

تطورت الكتابة المصرية القديمة على يد الفينيقيين ثم أخذت منها أوروبا أبجديتها الحالية

معلومة إثرانية

الحضارة الفينيقية حضارة سامية قديمة نشأت على الساحل الشرقي للبحر المتوسط لكل من لبنان وسوريا وفلسطين، وأسست عدة مراكز حضارية بها مثل بيروت وعكا وصور.



الطب عند المصريين القدماء

الطب والصيدلة:

سجل المصريون القدماء برديات تصف الكثير من الأمراض وطرق علاجها، ونقلها عنهم اليونانيون والرومان، ثم تُرجمت تلك النصوص للغات الأوربية الحديثة لتصبح من أسس علم الطب والصيدلة حالياً.

اقرأ وأجب

دلل على تطور علم الطب عند المصريين القدماء.

عرف المصري القديم علم التشريح والجراحة وامراض العيون والباطنة والاسنان وعلم التحنيط

تدريبات الدرس



أ - أكمل العبارات التالية بما يناسبها من كلمات: Hany ٢٠٢٦

- ١ - يطلق اسم الخط المقدس على.....الكتابة الهيروغليافية
- ٢ - أول مراحل تطور الكتابة عند المصري القديم الكتابة الهيروغليافية
- ٣ - ابتكر المصريون القدماء بعض الأدوات الطبية مثل.....المشرط والملقاط.....
- ٤ - عرف المصريون القدماء العديد من الأشكال الهندسية ومنها.....المثلث والمستطيل والمربع

ب - اكتب كلمة (صواب) أمام العبارة الصحيحة، وكلمة (خطأ) أمام العبارة غير الصحيحة:

- ١ - استخدمت الكتابة الديموطيقية للكتابة على جدران المعابد والمقابر. (خطأ)
- ٢ - استخدم المصريون القدماء الحساب في الزراعة والتجارة. Hany ٢٠٢٦ (صواب)
- ٣ - قصة إيزيس وأوزوريس من الأدب التهذيبي. (خطأ)

ج - بم تفسر...؟ Hany ٢٠٢٦

- ١ - أهمية معرفة الكتابة.
- استطاع المصري القديم من تسجيل أحداثه وأعماله وتطورت عن طريقها الفنون والعلوم والآداب
- ٢ - اهتمام المصريين القدماء بعلم الهندسة.
- استخدمه في تقسيم الأراضي الزراعية وشق الترع وبناء الأهرامات والمعابد
- ٣ - سُميت الكتابة الهيروغليافية باسم الخط المقدس.
- لاستخدامها في كتابة النصوص على جدران المعابد والمقابر

د - ما النتائج المترتبة على...؟ Hany ٢٠٢٦

- ١ - فك رموز حجر رشيد.
- التعرف على الحضارة المصرية القديمة
- ٢ - ترجمة البرديات الطبية لعدة لغات.
- أصبحت من أسس علم الطب والصيدلة حالياً

هـ - ما المقصود بـ...؟ Hany ٢٠٢٦

- ١ - الكتابة الهيراطيقية: صورة مبسطة من الكتابة الهيروغليافية استخدمها الكهنة في كتابة النصوص الدينية

هيا نستعد لدرس Hany

اذكر أهم الفنون في مصر القديمة.



أهرامات الجيزة

الأهرامات:

برع المصريون القدماء في تشييد الأهرامات، وقاموا ببناء أول بناء حجري ضخم في التاريخ مثل هرم سقارة المدرج (هرم زوسر)، وأهرامات الجيزة، واستخدموا الجرانيت والبازلت في بنائه.

وأحل

أقرأ

وضح سبب بناء المصريين القدماء للأهرامات. **لتكون مقابر لملوكهم**

إثرائية

معلومة

هرم خوفو بالجيزة يُعد إحدى عجائب الدنيا السبع، ويمثل معجزة معمارية وفلكية.



معابد فيلة

المعابد:

شيدوا الكثير من المعابد، التي تميزت بضخامتها وأعمدتها العملاقة، ومن أشهر المعابد في مصر: معبدا الكرنك وحتشبسوت في الأقصر، ومعبد دندرة بقنا، ومعابد فيلة بأسوان.

إثرائية

معلومة

تميز المصريون على مر التاريخ بالطابع الديني، فشيدوا المعابد قديمًا، وبنوا الكنائس في العصر القبطي مثل الكنيسة المعلقة، وبنوا المساجد في العصر الإسلامي كمسجد السلطان حسن.

المقابر:



مقبرة مصرية قديمة

اهتم المصريون القدماء بتشييد المقابر، فزينوا جدرانها برسوم لأعمال المتوفى ووضعوا بها مقتنياته ليستخدمها في الحياة الأخرى، ويضم وادي الملوك بالأقصر عددًا كبيرًا من مقابر ملوك الدولة الحديثة، أشهرها مقبرة توت عنخ آمون التي اكتشفت كاملة عام ١٩٢٢م.

واستنتج

أقرأ

استنتج أسباب شهرة مقبرة الملك توت عنخ آمون.

تم اكتشافها وهي تحتوي على أكثر من ٥.٠٠٠ قطعة ذهبية من كنوز

توت عنخ آمون دون ان تصل اليها اي يد لتهبها

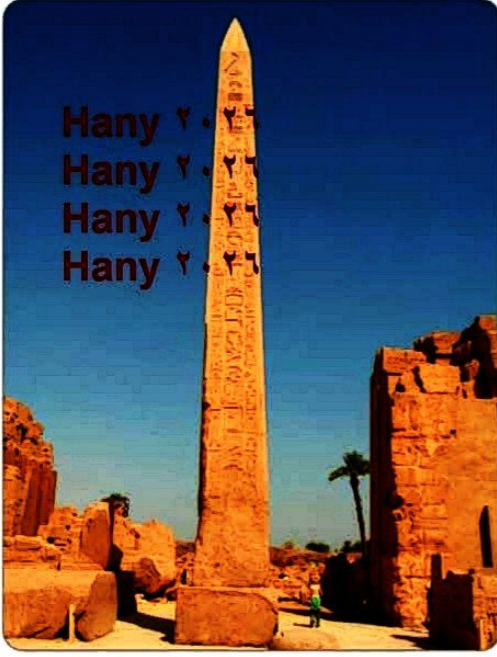
المسلات:

تُعد المسلات المصرية القديمة من نماذج الرقي والتميز في العمارة المصرية، وينقش على جوانبها الأربعة أعمال الملوك، وكانت توضع في مداخل المعابد لتزيينها، ومن أشهرها مسلة الملكة حتشبسوت في معبد الكرنك.

معلومة

تقوم السلطات المصرية بجهود كبيرة لمكافحة تهريب الآثار، وسن القوانين لحمايتها، وتشديد العقوبات على المتورطين في عمليات تهريب الآثار.

إثرائية



مسلة حتشبسوت

مفاهيم اتعلمها

المسلة: عمود حجري طويل رباعي الجوانب ينتهي بقمة هرمية، واستخدمها المصريون في تسجيل أهم الأحداث التاريخية.

أفكر وأجيب

١- فسر أهمية المسلات.
تنقش على جوانبها الأربعة أعمال الملوك والأحداث التاريخية

ثانياً: الفنون

كانت الفنون في مصر قديماً أحد المجالات التي برع فيها المصريون القدماء، ومن هذه الفنون:



الرسم:

عرف المصري القديم النقش على جدران الكهوف والمعابد والمقابر، منذ عصور ما قبل التاريخ.



النقش على الجدران

أفكر وأقارن


وضح وجه التشابه بين الرسم قديماً وحديثاً.

الرسم قديماً: على جدران المعابد والمقابر والكهوف

حديثاً: على الورق والقماش والحوائط والمعادن وجميع الخامات

النحت:

يشهد فن النحت على براعة المصري القديم مثل تمثال أبو الهول بالجيزة، وتمثال رمسيس الثاني الموجود حاليًا بالمتحف المصري الكبير، مما يعكس مهارتهم الفائقة وإبداعهم الفني.



تمثال أبو الهول

قيم أتعلمها

الفن الراقى وسيلة لنشر
المحبة والسلام.

إثرالية**معلومة**

يُعد الفنان محمود مختار من أبرز النحاتين في تاريخ مصر الحديث، ومن أشهر أعماله تمثال نهضة مصر بالجيزة، وبعد وفاته تحوّل منزله متحفًا لأعماله.

الموسيقى:

ابتكر المصري القديم الكثير من الآلات الموسيقية مثل آلة الهارب التي تُعد من أقدم الآلات الوترية في التاريخ، وكانت الموسيقى تُستخدم في الاحتفالات الكبرى والمناسبات والطقوس الدينية.



آلة الهارب

وأفسر**أقرأ**

وضح أهمية الموسيقى في حياة المصري القديم.

كانت تُستخدم في الاحتفالات الكبرى والمناسبات والطقوس الدينية

عمارة مصر وفنونها تنير العالم

تأثرت الحضارات قديمًا بعمارة مصر وفنونها، ويتضح ذلك فيما يلي:



- استخدام الأعمدة المصرية الدائرية ذات الأشكال النباتية في العمارة اليونانية والرومانية.
- قيام العديد من الحضارات القديمة ببناء أهرامات على طراز الأهرامات المصرية مثل حضارتي المايا والأزتك بالمكسيك.



هرم الأرتك

واجيب

اتامل

تأمل الصور التالية وسجل أوجه الشبه بينها وبين العمارة المصرية القديمة. تتشابه جميعها في استخدام الأعمدة الدائرية والتيجان والرسومات عليها



أعمدة مصرية



أعمدة يونانية



أعمدة رومانية

تدريبات الدرس



أ - أكمل العبارات التالية بما يناسبها من كلمات: Hany ٢٠٢٦

١ - توجد معابد فيلة في مدينة اسوان

٢ - تُستخدم في تزيين مداخل المعابد المسلات

ب - اكتب كلمة (صواب) أمام العبارة الصحيحة، وكلمة (خطأ) أمام العبارة غير الصحيحة:

١ - برع المصريون القدماء في عدة فنون كالرسم والنحت والموسيقى. (صواب)

٢ - اعتمد المصريون القدماء على المواد المحلية لبيئتهم في تشييد مبانيهم. (صواب)

٣ - استخدم المصريون القدماء الموسيقى في الاحتفالات الدينية. Hany ٢٠٢٦ (صواب)

ج - بم تفسر ...؟ Hany ٢٠٢٦

١ - وضع مقتنيات المتوفى معه في مقبرته.

ليستخدمها في الحياة الأخرى

٢ - اهتمام المصريين ببناء المعابد.

لإقامة الشعائر الدينية والعبادة والاحتفالات

د - ما النتائج المترتبة على...؟ Hany ٢٠٢٦

- براعة المصريين القدماء في فن النحت.

نحت تمثال أبو الهول وتمثال رمسيس الثاني مما يعكس مهارتهم الفائقة وابداعهم الفني

ه - ما المقصود بكل من...؟ Hany ٢٠٢٦

١ - العمارة:

هي فن تصميم وتشييد المباني

٢ - المسلات:


عمود حجري طويل رباعي الجوانب ينتهي بقمة هرمية واستخدمها المصريون في تسجيل أهم الأحداث التاريخية

تدريبات الدرس Hany

هيا نستعد



عدّد أهم أعمال الملك أحمس الأول.



Hany ٢٠٢٦
Hany ٢٠٢٦
Hany ٢٠٢٦
Hany ٢٠٢٦
Hany ٢٦



شخصيات صنعت التاريخ

الدرس

ع

أهداف الدرس

- في نهاية هذا الدرس، سأكون قادرًا على أن:
- أتعرف شخصيات من تاريخ مصر القديم.
 - أعدد إنجازات الشخصيات المصرية القديمة.
 - أوضح جهود الشخصيات المصرية القديمة.
 - أعبر عن تقديري لجهود المرأة المصرية عبر التاريخ.



مر بتاريخ مصر العريق كثير من الشخصيات المهمة، التي شاركت في صناعة الحضارة المصرية القديمة.

Hany ٢٠٢٦

واجب

أتأمل

«كان للمرأة المصرية في الماضي والحاضر دور في بناء حضارة مصر واستمرار تقدمها»
دلل على صحة العبارة.

في الماضي

الملكة اياح حتب شجعت ابنها احمس على طرد الهكسوس من مصر

الملكة احمس نفرتارى اول امرأة فى التاريخ تتولى قيادة فرقة عسكرية

الملكة حتشبسوت عصرها عصر امن ورخاء وتبادل تجارى

في الحاضر

تقلدت المرأة جميع المناصب واصبحت وزيرة وقاضية ومدرسة وطبيبة ونائبة للشعب..... الخ



وأحلل

أقرأ

- ١ - ساهم إيمحوتب في تغيير العمارة المصرية بشكل جذري، وضح ذلك. شيد أول هرم مدرج في التاريخ وهو هرم الملك زوسر (هرم سقارة).
- ٢ - اكتب فقرة للإذاعة المدرسية بعنوان «المعماري الأول إيمحوتب».

أحمس قاهر الهكسوس:



أحمس

مر بتاريخنا كثير من الشخصيات العظيمة، ويُعد من أهمها الملك أحمس الأول.



وُلد الملك أحمس الأول في مدينة طيبة. بدأ والده الملك سقنن رع حرب تحرير مصر من الهكسوس حتى قُتل، وتولى القيادة بعده ابنه كامس، الذي قُتل أيضًا، ليتولى أحمس الحكم ويواصل جهودهما في تحرير البلاد.

مفاهيم أتعلمها

الهكسوس: هم قبائل آسيوية بدوية رعوية هاجمت مصر واحتلتها.

وأجيب

أفكر

أكمل: تولى أحمس حكم مصر بعد الملك كامس أخوه الأكبر.

قيم أتعلمها

قوة الجيش وتنظيمه أساس حماية الوطن.

أهم أعماله

- طرد الهكسوس من مصر.
- تأسيس الدولة الحديثة في مصر.
- تنظيم الجيش المصري وإدخال أسلحة جديدة كالعجلات الحربية.
- تأمين الحدود الجنوبية.




العجلات الحربية

وأحلل

أفكر

لاهتمامها بالزراعة وانتشار الامن والسلام والبعثات التجارية
فسر أسباب الرخاء الاقتصادي في عهد حتشيسوت.



الملك رمسيس الثاني

قيم أتعلمها

الحكماء وحدهم من يدركون قيمة
السلام.

رمسيس الثاني بطل الحرب والسلام:

يُعد الملك رمسيس الثاني من
أشهر ملوك مصر على مر
تاريخها، وأطلق عليه بطل
الحرب والسلام.



أصبح ولياً للعهد وعمره ١٤ عامًا، أتقن ركوب الخيل
وفنون القتال والسياسة، تميز عهده بالقوة العسكرية
والرخاء الاقتصادي.

وأجيب

أقرأ

«يُعد رمسيس الثاني من أشهر ملوك مصر والعالم القديم»، وضح ذلك.
لأنه بطل الحرب والسلام لانتصاره على الحيثيين وعقد اول معاهدة سلام في التاريخ




معبد أبو سمبل الكبير

أهم أعماله

- انتصر على الحيثيين في معركة قادش.
 - وقّع أول معاهدة سلام في التاريخ مع الحيثيين.
 - شيد العديد من المعابد ومنها: معبد أبو سمبل
في أسوان، ومعبد الرمسيوم في الأقصر.
 - استكمل بهو معبد الكرنك ومعبد والده سيتي الأول.
- لذلك يُعد رمسيس الثاني أكثر ملوك مصر بناءً للآثار.

حقائق تاريخية

أطلق لقب «بطل الحرب والسلام» على الرئيس
الراحل أنور السادات، وذلك بعد الانتصار في
حرب السادس من أكتوبر ١٩٧٣م، وعقده
معاهدة السلام عام ١٩٧٩م.



الرئيس السادات

وأستنتج

أقرأ

بم تفسر: يُعد رمسيس الثاني أكثر ملوك مصر اهتمامًا بالعمارة؟
لتشييده العديد من المعابد مثل ابو سمبل والرومسيوم واستكمال بهو الكرنك ومعبد سيتي الاول

تدريبات الدرس



أ - أكمل العبارات التالية بما يناسبها من كلمات: ٢٠٢٦ Hany

- ١ - كان إيمحوتب مستشارًا للملك زوسر.
- ٢ - نجح في القضاء على الهكسوس الملك احمس الاول
- ٣ - يُعد معبدا أبو سمبل بأسوان من أعمال الملك رمسيس الثاني
- ٤ - أرسلت الملكة حتشبسوت البعثات التجارية لبلاد بونت - فينيقيا

ب - اكتب كلمة (صواب) أمام العبارة الصحيحة، وكلمة (خطأ) أمام العبارة غير الصحيحة:

- ١ - أسس الملك أحمس الأول الدولة المصرية الحديثة. ٢٠٢٦ Hany (صواب)
- ٢ - وقع الملك رمسيس الثاني معاهدة السلام مع الهكسوس. (خطأ)
- ٣ - شيدت الملكة حتشبسوت معبد الكرنك بالأقصر. (خطأ)

ج - بم تفسر ...؟ ٢٠٢٦ Hany

- ١ - ازدهار التجارة الخارجية لمصر في عهد الملكة حتشبسوت.
لاهتمامها بالتبادل التجاري. وإرسال البعثات التجارية الى بلاد بونت وفينيقيا
- ٢ - يُعد إيمحوتب أول معماري في التاريخ.
لأنه شيد أول هرم في التاريخ
- ٣ - لقب رمسيس الثاني ببطل الحرب والسلام.
انتصر على الحيثيين في معركة قادش وعقد معهم أول معاهدة سلام في التاريخ
- ٤ - يُعد الملك أحمس مؤسس الدولة الحديثة.
طرد الهكسوس من مصر وتكوين جيش قوى وقام بتأمين الحدود واصلاح
الايوضاع السياسية والادارية والاقتصادية

د - ما النتائج المترتبة على ...؟ ٢٠٢٦ Hany

- ١ - الدور الذي لعبته إياح حتب مع أحمس.
شجع ذلك احمس على طرد الهكسوس من مصر
- ٢ - الاستقرار السياسي لمصر في عهد الملكة حتشبسوت.
تميز عهدها بالسلام

هـ - ما المقصود بـ ...؟ ٢٠٢٦ Hany

- الهكسوس: قبائل اسبوية بدوية رعوية هاجمت مصر واحتلتها

جنوب إفريقيا



02:00

مساءً

02:00

مساءً

- تقع في أقصى جنوب قارة إفريقيا.
- توجد بجنوب إفريقيا ١١ لغة.
- تُعتبر جنوب إفريقيا من أكبر اقتصاديات إفريقيا، فهي دولة غنية بالذهب والألماس والمعادن النادرة، وتشتهر بالسياحة البيئية.
- دعمت مصر جنوب إفريقيا ضد الاستعمار، وتدعمت العلاقات بينهما على المستوى الدبلوماسي والاقتصادي والثقافي والسياسي فيما بعد.
- أهم المعالم السياحية: حديقة كروغر الوطنية، وهي أكبر محمية سفاري رسمية في جنوب إفريقيا، وهي موطن الخمسة الكبار من الحيوانات البرية: الأسد والفيل والزرافة والفهد الصياد (الشيتا) والخرتيت.

والآن جاء وقتكم أصدقائي لتبحثوا وتخبرونا!

عملة الدولة: راند جنوب أفريقي اللغة الرسمية: الكوسية العاصمة: بريتوريا
 مصدر المعلومات: (الأسرة - صديق - المعلم - شبكة الإنترنت - مصدر آخر).



العملات النقدية حول العالم وفي بلدنا

الدرس
٣

أهداف الدرس

- في نهاية هذا الدرس، سأكون قادرًا على أن:
- أوضح مفهوم العملات النقدية وأهميتها.
 - أعدد معايير تصميم العملة.
 - أفسر رمزية الأشكال والصور الموجودة على العملات المصرية والعالمية.
 - أقارن بين عملة مصر وبعض العملات العالمية من حيث التصميم والدلالات.
 - أعبر عن اعتزازي بالعملة الوطنية وأطبق قيمة ترشيد الإنفاق.

المال وسيلة أساسية في حياة كل إنسان، نستخدمه في شراء احتياجاتنا وتبادل السلع والخدمات، وفي مصر نتعامل بعملتنا الوطنية «الجنيه المصري»، لكن عندما نسافر أو نتعامل مع دول أخرى نستخدم عملاتهم الخاصة؛ لذلك سنتعرف اليوم على عملتنا الوطنية وعلى بعض العملات العالمية المشهورة.



مفاهيم أتعلمها

العملة النقدية:

وسيلة لشراء السلع والخدمات تحمل قيمة محددة، ومُعترف بها داخل الدولة.

أهمية العملات النقدية

- وسيلة لشراء السلع.
- وسيلة للحصول على الخدمات.
- تعمل على تسهيل التبادل التجاري.
- تدعم العلاقات الاقتصادية بين الدول.

أفكر وأستنتج

ماذا يحدث إذا:
لم تتوافر العملات النقدية في الدولة...؟ عدم القدرة على إتمام عملية البيع أو الشراء أو تسهيل التبادل التجاري





٣ - الرمزية:

إبراز هوية الدولة وتاريخها.

٤ - الجمال:

استخدام ألوان ورسومات مميزة تجذب الانتباه.

وأقترح

أفكر

ما الطرق التي يمكن من خلالها ترشيد استهلاك العملات النقدية؟
عدم الكتابة عليها أو تمزيقها - عدم ثني العملة والعبث بها



عملات العالم ورمزيتها:

الجنيه المصري:

تحمل فئة الـ ٢٠٠ جنيه المصري صورة مسجد قانيباي الرماح في الوجه الأمامي، وفي الوجه الخلفي للعملة تحمل صورة تمثال الكاتب المصري القديم.

إثرائية

معلومة

يقع مسجد قانيباي الرماح في منطقة القلعة بالقاهرة وتم إنشاؤه في عهد سلاطين الدولة المملوكية.



الدولار الأمريكي:

تحمل فئات الدولار صور قادة تاريخيين أسهموا في تأسيس الولايات المتحدة.



اليورو (عملة الاتحاد الأوروبي):

يحمل صورة خريطة أوروبا كرمز لوحدة القارة.

وأشارك

أبحث

ابحث على شبكة المعلومات الدولية عن العملات التالية، وحدد رمزية محتوى الصور والأشكال الموجودة عليها: (الين الياباني - الريال السعودي - الروبية الهندية).



هوية محافظتي

Hany ٢٠٢٦



أصدقائي الأعزاء هيا بنا لأصبحكم في ...
رحلة إلى محافظة قنا

- « تقع محافظتي على خريطة مصر في اتجاه...**الجنوب**.....
- « تُعتبر محافظتي بالنسبة لعدد السكان محافظة...**متوسطة**... السكان.
- « يُعتبر النشاط الاقتصادي لمحافظة قنا هو النشاط...**الزراعي**.....
- « أقرب المسطحات المائية لمحافظة قنا هو...**نهر النيل**.....
- « أبرز المهن التي تشتهر بها محافظتي هي...**الزراعة والسياحة والصناعة**.....
- « العيد القومي لمحافظة قنا هو يوم...**٣ مارس**... من كل عام، ويُحتفل به تخليدًا لذكرى انتصار أهالي قرية البارود على الفرنسيين في موقعة البارود عام ١٧٩٩م.

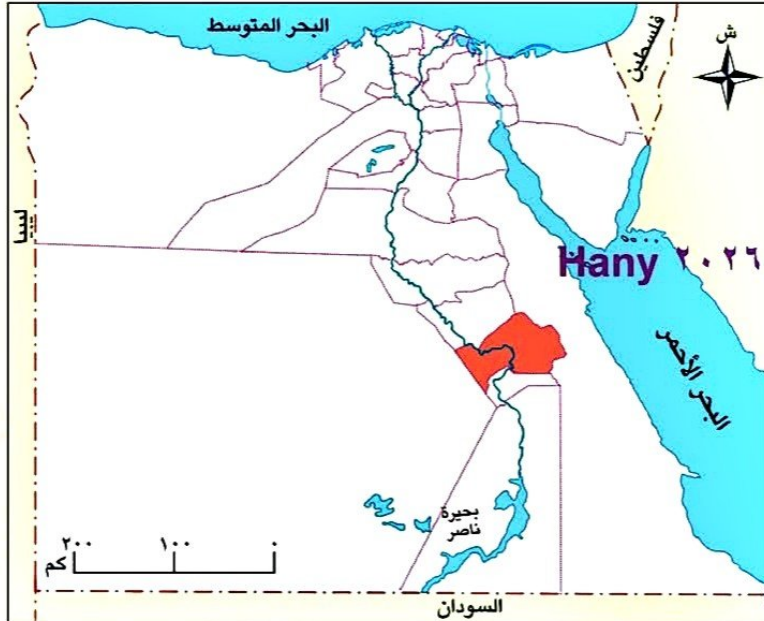
موارد محافظتي ومستقبلها:

- « تشتهر محافظتي بحرفة تراثية شهيرة وهي صناعة الخزف والفخار.
- « تتعدد الأماكن الأثرية في محافظتي مثل معبد دندرة.
- « تنتشر العادات والتقاليد الصعيدية بين سكان محافظتي.
- « تشتهر محافظتي بزراعة قصب السكر وصناعة العسل الأسود.

مستقبل محافظتي في:

Hany ٢٠٢٦
Hany ٢٠٢٦
Hany ٢٠٢٦
Hany ٢٠٢٦
Hany ٢٠٢٦
Hany ٢٠٢٦
Hany ٢٠٢٦

- « الاهتمام بتطوير وتسويق صناعة العسل الأسود ودعم وتسويق الأماكن السياحية.



هل ترى أن هناك بمصر محافظة تشبه محافظة قنا؟ حدد هذه المحافظة واصنع لها بطاقة مماثلة.



السؤال الأول: اقرأ وأجب:

تمتلك مصر تاريخًا عريقًا ممتدًا في القدم، وصنَّع هذا التاريخ كثيرًا من الشخصيات البارزة، التي قدمت الكثير من أجل بناء حضارة مصر، ومن هذه الشخصيات المهندس المصري والمعماري الأول إيمحوتب، الذي وصل بعلمه وذكائه وخبراته لأعلى المناصب، ولكن أهم أعماله على الإطلاق هو استخدامه للحجر في البناء بدلًا من الطين، وقد غيّرت فكرته هذه مجرى التاريخ للأبد.

١ - اذكر أهم أعمال المهندس إيمحوتب.

٢ - قارن بين الملك أحمس والملك رمسيس الثاني من حيث: نشأته - أهم أعماله.

السؤال الثاني: اكتب كلمة (صواب) أمام العبارة الصحيحة، وكلمة (خطأ) أمام العبارة غير

الصحيحة: Hany ٢٠٢٦

- ١ - يدل التحنيط على براعة المصريين القدماء في علم الهندسة. (خطأ)
- ٢ - تم بناء هرم الملك زوسر بسقارة بالجرانيت والبازلت. (صواب)
- ٣ - أقام المصريون القدماء السدود والقناطر على نهر النيل. (صواب)
- ٤ - تتميز دولة جنوب إفريقيا بوحدة اللغة والعرق. (خطأ)
- ٥ - انتصر الملك أحمس على الهكسوس في معركة قادش. (خطأ)

السؤال الثالث: أكمل العبارات الآتية: Hany ٢٠٢٦

- ١ - أحد الآثار التي تعبر عن دقة وتقدم فن النحت المصري القديم هو تمثال ابو الهول
- ٢ - تدل القصص المصرية القديمة على براعة المصريين القدماء في الادب.....
- ٣ - أشهر القصور الملكية في الإسكندرية بمصر رايس التين.
- ٤ - صنع المصري القديم الورق من نبات البردي
- ٥ - وقعت مصر تحت احتلال الهكسوس حتى طردهم الملك احمس الاول
- ٦ - وقّع الملك رمسيس الثاني أقدم معاهدة سلام في التاريخ مع الحيتيين.....
- ٧ - قام المصري القديم بـتحنيط جثمان المتوفى إيمانًا منه بـالبعث والخلود
- ٨ - يُعد هرم الملك زوسر أول بناء حجري في التاريخ وقام ببنائه إيموحتب.....
- ٩ - تفوّق المصري القديم في الموسيقى واخترع عدة آلات منها آلة الهارب.....
- ١٠ - تتمثل أهم المعالم السياحية في دولة جنوب إفريقيا في حديقة كروغر الوطنية.....
- ١١ - أنشأ الملك أحمس الجيش المصري النظامي وأدخل أسلحة جديدة مثل العجلات الحربية

السؤال الرابع: بم تفسر...؟ ٢٠٢٦ Hany

١ - بناء المصريين القدماء للمسلات.

لتزيين مداخل المعابد

٢ - أُطلق على الكتابة الهيروغليفية الخط المقدس.

استخدمت في كتابة النصوص الدينية على جدران المعابد والمقابر

٣ - يُعد الملك أحمدس مؤسس الدولة الحديثة.

طرد الهكسوس من مصر وأمن حدود البلاد وكون جيش قوى

٤ - أهمية علم الهندسة في مصر قديمًا. ٢٠٢٦ Hany

استخدم في تقسيم الأراضي الزراعية وشق الترع وبناء الأهرامات والمعابد

٥ - الرخاء الاقتصادي لمصر في عهد الملكة حتشبسوت.

الاهتمام بالزراعة والتبادل التجاري والبعثات التجارية وإنشاء معبد الدير البحرى

٦ - تحنيط جثمان المتوفى.

للاحتفاظ بها للاعتقادهم فى البعث والخلود

٧ - أُطلق على الملك رمسيس الثاني لقب بطل الحرب والسلام.

انتصر على الحيثيين فى قادش وعقد معهم أول معاهدة سلام فى التاريخ

السؤال الخامس: ما النتائج المترتبة على...؟ ٢٠٢٦ Hany

١ - الإيمان بالبعث والخلود.

تحنيط جثث الموتى ووضع الأدوات الشخصية مع المتوفى فى القبر ليستخدمها فى الحياة الأخرى

٢ - الاستقرار السياسي والسلام فى عهد الملكة حتشبسوت.

تميز عهدها بالسلام وحكمت مصر ٢٠٠ عام

٣ - استقرار المصري القديم بوادي النيل.

عرف الزراعة واستأنس الحيوان وعرف الاستقرار

٤ - التقدم الزراعي والصناعي فى مصر قديمًا.

ازدهار التجارة بمصر القديمة

٥ - تقدّم المصريين القدماء فى علم الحساب. ٢٠٢٦ Hany

استخدامه فى تقدير الرواتب وجمع الضرائب وفى الزراعة والتجارة

٦ - عمق العلاقات بين مصر وجنوب إفريقيا.

دعم مصر جنوب أفريقيا ضد الاستعمار وتقوية العلاقات الدبلوماسية والاقتصادية والثقافية والسياسية فيما بعد

السؤال السادس: أجب عما يلي: ٢٠٢٦ Hany

١ - وضح مظاهر الحياة السياسية في مصر القديمة.

عرف المصريون القدماء الدولة المركزية منذ قيام الوحدة في عهد الملك مينا.

٢٠٢٦ Hany

٢ - اذكر فضل الحضارة المصرية القديمة على الطب الحديث.
سجل المصريون القدماء برديات تصف الكثير من الأمراض وطرق علاجها، ونقلها عنهم اليونانيون والرومان ثم ترجمت للغات الأوروبية الحديثة لتصبح من أسس علم الطب حالياً.

٣ - وضح العلاقة بين فن العمارة والبيئة المحلية.
حيث تم بناء العمارة في مصر القديمة وتصميم وتشيد المباني باستخدام الأحجار والجرانيت والبازلت الموجودة في مصر، وكان التصميم على شكل النباتات المصرية.

٤ - حدّد طبقات المجتمع المصري القديم.
تكون المجتمع المصري من عدة طبقات: الملك وأسرته، الوزير والكهنة وقادة الجيش وحكام الأقاليم، الكتبة والتجار والحرفيون، المزارعون والعمال والعبيد.

Hany
٢٠٢٦

٢٠٢٦ Hany

٥ - وضح دور المهندس إيمحوتب في الحضارة المصرية القديمة.
كان للمهندس المعماري الأول إيمحوتب دور راند في الحضارة المصرية القديمة حيث شيد أول هرم في التاريخ

هرم زوسر بسقارة ووضع قواعد علم الطب. ٢٠٢٦ Hany

٦ - اذكر أهم أعمال الملك رمسيس الثاني.

- انتصر على الحيثيين في معركة قادش. - وقع أول معاهدة سلام في التاريخ مع الحيثيين. - شيد العديد من المعابد منها معبد أبو سمبل بأسوان ومعبد الرمسيوم بالأقصر. استكمل بهو معبد الكرنك ومعبد والده سيتي الأول. ٧ - وضح دور المرأة المصرية في معركة تحرير مصر من الهكسوس.

الملكة إباح حتب: شجعت زوجها وأبناءها كامس وأحمس الأول على مواصلة الكفاح وتحرير مصر من الهكسوس، كما كانت تمر على المصريين في بيوتهم تحمسهم وترفع من روحهم المعنوية. الملكة أحمس نفرتاري: تعد أول امرأة في التاريخ تتولى قيادة فرقة عسكرية.

٨ - وضح مراحل تطور الكتابة المصرية القديمة.

الكتابة الهيروغليفية: تعنى الخط المقدس، واستخدمت في كتابة النصوص على جدران المعابد والمقابر. الكتابة الهيروغليفية: صور مبسطة من الكتابة الهيروغليفية، واستخدمت في كتابة النصوص الدينية. من خلال الكهنة. الكتابة الديموطيقية: الخط الشعبي وتعد أبسط أنواع الخطوط. واستخدمت في كتابة العقود التجارية والمعاملات اليومية.

٩ - اذكر أسباب اهتمام المصريين القدماء بالمقابر.

- اهتم المصريون القدماء بتشييد المقابر لإيمانهم بالبعث والخلود وللمحافظة على جثث موتاهم ووضع

مقتنيات المتوفى في المقبرة معه ليستخدمها في الحياة الآخرة. ٢٠٢٦ Hany

١٠ - دلت على براعة المصري القديم في فن النحت.

١٠ - يشهد فن النحت على براعة المصري القديم مثل تمثال أبو الهول بالجيزة وتمثال رمسيس الثاني بالمتحف المصري الكبير مما يعكس مهاراتهم وإبداعهم.

١١ - اشرح التشابه بين الأسرة المصرية قديماً وحديثاً.

١١ - وجه الشبه: أن الأسرة المصرية قديماً وحديثاً تتكون من الأب والأم والأبناء، وتتميز بالتعاون بين أفرادها والمساواة بين الرجل والمرأة.

Hany السؤال السابع: دلت على صحة العبارات التالية:

٢٠٢٦

- برع المصري القديم في علم الفلك.

- الدليل: رصد المصريون القدماء الكثير من مواقع النجوم والكواكب، وحددوا حركة

الشمس ووضعوا التقويم الشمسي، وقسموا السنة لثلاثة فصول.

السؤال الثامن: قارن بين كل من:

- ١ - الملك أحمس الأول والملك رمسيس الثاني.
- ٢ - الأدب التهذيبي وأدب المديح.
- ٣ - الكتابة الديموطيقية والكتابة الهيراطيقية.
- ٤ - المهندس إيمحوتب والملكة حتشبسوت.

السؤال التاسع: ما المقصود بالمفاهيم الآتية...؟ ٢٠٢٦ Hany

- ١- فن العمارة: - فن تصميم وتشيد المباني.
- ٢- التحنيط: حفظ جثث الموتى بعد وفاتهم بطرق طبية وكيميائية.
- ٣- الهكسوس: قبائل آسيوية بدوية رعوية هاجمت مصر واحتلتها.
- ٤- الكتابة الديموطيقية: - الخط الشعبي وتعد من أبسط أنواع الخطوط، واستخدمت في كتابة العقود التجارية والمعاملات اليومية.

السؤال العاشر: من أكون...؟

(الملك أحمس الأول)

- (الملكة حتشبسوت)

(الملك رمسيس الثاني)

١ - قمت بتحرير مصر من الهكسوس وطردهم خارج البلاد.

٢ - أرسلت البعثات التجارية لبلاد بونت. ٢٠٢٦ Hany

٣ - شيدت الكثير من المعابد كمعبدا أبو سمبل ومعبد الرمسوم.

قارن

الملك أحمس- ولد في طيبة.- طرد الهكسوس من مصر. - أسس الدولة الحديثة في مصر. نظم الجيش المصري وأدخل أسلحة جديدة كالعجلات الحربية.

Hany ٢٠٢٦

أمن حدود مصر الجنوبية.
الملك رمسيس الثاني - أتقن ركوب الخيل وفنون القتال والسياسة. أصبح وليا للعهد وعمره ١٤ عاما. انتصر على الحيثيين في معركة قادش.

وقع أول معاهدة سلام في التاريخ مع الحيثيين.- شيد العديد من المعابد؛ منها معبدا أبو سمبل في أسوان ومعبد الرمسوم في الأقصر، واستكمل بهو معبد الكرنك ومعبد والده سيتي الأول.

Hany ٢٠٢٦

الأدب التهذيبي الذي يهتم بتوجيه النصح والإرشاد مثل نصائح الحكيم أنى لابنه.

أدب المديح الذي يهتم بتمجيد أعمال الملوك وبطولاتهم.

٣-

الكتابة الديموطيقية الخط الشعبي، وتعد أبسط أنواع الخطوط واستخدمت في كتابة العقود التجارية والمعاملات اليومية.

Hany ٢٠٢٦

الكتابة الهيراطيقية صور مبسطة من الكتابة الهيروغليفية واستخدمها الكهنة في كتابة النصوص الدينية.

٤-

المهندس إيمحوتب المعماري الأول ومهندس مصري شغل منصب مستشار الملك زوسر في الأسرة الثالثة بمصر القديمة. برع في مجال العمارة والطب والفلك. شيد أول هرم في التاريخ (هرم زوسر المدرج بسقارة) .

Hany ٢٠٢٦

وضع قواعد علم الطب.

الملكة حتشبسوت - تعلمت على يد كهنة آمون - أجادت القراءة والكتابة والحساب. استمرت في حكم مصر ٢٠ عاما.

تميز عهدها بالاستقرار السياسي والرخاء الاقتصادي حيث اهتمت بالزراعة والتبادل التجاري وتشيد العديد من المعالم أشهرها معبدها بالدير البحري بالأقصر.

مراجعة عامة على الفصل الدراسي الثاني

Hany ٢٠٢٦



السؤال الأول: اختر الإجابة الصحيحة مما بين القوسين: Hany ٢٠٢٦

- ١ - البيئة التي تنتشر بها القرى وتقع في الوادي والدلتا هي البيئة
(الريفية - الحضرية - الساحلية - الصحراوية)
- ٢ - ندرة المياه وقلة السكان من الصعوبات التي تواجه البيئة
(الريفية - الحضرية - الساحلية - الصحراوية) Hany ٢٠٢٦
- ٣ - الذي يدافع عن الوطن ويحمي الحدود هو
(الشرطي - المعلم - العامل - الجندي)
- ٤ - تمثل تولية محمد علي حكم مصر بداية التاريخ Hany ٢٠٢٦
(القديم - الحديث - الإسلامي - المعاصر) Hany ٢٠٢٦
- ٥ - يمثل مشروع الفيروز أهم مشاريع مصر لتحقيق تنمية الثروة
(المعدنية - الحيوانية - السمكية - البشرية)
- ٦ - الكهنة وقادة الجيش في المجتمع المصري القديم يمثلون الطبقة
(الأولى - الثانية - الثالثة - الرابعة)
- ٧ - قام المهندس إيمحوتب ببناء هرم
(زوسر - سنفرو - خوفو - خفرع)
- ٨ - يوجد في مدينة قنا معبد
(الكرنك - حتشبسوت - فيله - دندرة)
- ٩ - الكتابة التي استُخدمت في العقود التجارية هي
(الهيروغليفية - الهيراطيقية - الديموطيقية - جميع ما سبق) Hany ٢٠٢٦

السؤال الثاني: اكتب كلمة (صواب) أمام العبارة الصحيحة، وكلمة (خطأ) أمام

Hany ٢٠٢٦ العبارة غير الصحيحة فيما يلي: Hany ٢٠٢٦

- ١ - نجحت مصر في الانتصار في حرب أكتوبر بفضل تلاحم الجيش مع الشعب. (صواب)
- ٢ - تُعتبر دولة إسبانيا من الدول ذات الطبيعة السهلية الخلابه. (خطأ)
- ٣ - تشتهر دولة جنوب إفريقيا بوجود هرم كوكولكان. (خطأ)
- ٤ - تختلف بيئات مصر في خصائصها وعادات سكانها. (صواب)
- ٥ - يقوم الشرطي بحماية الأمن الخارجي لمصر. (خطأ) Hany ٢٠٢٦
- ٦ - التعاون بين أفراد المجتمع يؤدي لتقدم المجتمع ورُقْيِهِ. (صواب)

- ٧ - تقوم الدولة بحماية المسطحات المائية من التلوث لتنمية الثروة الحيوانية. (خطأ)
- ٨ - من واجبنا نحو وطننا زيادة استهلاك الموارد. Hany ٢٠٢٦ (خطأ)
- ٩ - تُعد قصة إيزيس وأوزوريس من الأدب الديني. (صواب)
- ١٠ - انتصر رمسيس الثاني على الحيثيين في موقعة قادش. (صواب)
- ١١ - يقوم الكتبة والموظفون بمعاونة الملك في إدارة شئون الأقاليم. (خطأ)
- ١٢ - أرسلت حتشبسوت بعثات تجارية لليونان. Hany ٢٠٢٦ (خطأ)
- ١٣ - استخدم المصريون القدماء نهر النيل في التجارة مع بلاد بونت. (صواب)
- ١٤ - تُعد الأهرامات من أهم أعمال النحت في الحضارة المصرية القديمة. (خطأ)

Hany
٢٠٢٦

Hany
٢٠٢٦

السؤال الثالث: أكمل العبارات الآتية: Hany ٢٠٢٦

- ١ - أكبر البيئات المصرية من حيث المساحة هي البيئة الصحراوية
- ٢ - من الحرف اليدوية في البيئة الحضرية ... السجاد... اليهوى... والصناعات الخشبية
- ٣ - نستخدم نظم الملاحة في مجال النقل.....
- ٤ - الذي يربي الأجيال ويغرس فيهم القيم هو المعلم.....
- ٥ - تمتلك مصر واحدًا من أهم الممرات المائية في العالم وهو قناة...السويس
- ٦ - ٢٠٢٦ - أنشئت مشاريع الدلتا الجديدة وشرق العوينات من أجل تنمية...الزراعة.
- ٧ - وقعت أول معاهدة سلام في التاريخ بين...رمسيس الثاني...والحيثيين
- ٨ - استقر المصري القديم بوادي النيل بعد جفاف...الهضاب.....
- ٩ - تولى أحمرس حكم مصر بعد الملك...كامس.....

Hany
٢٠٢٦

السؤال الرابع: بم تفسر...؟ Hany ٢٠٢٦

- ١ - تتميز البيئة الصحراوية بطابعها الثقافي المختلف عن باقي البيئات.
- أكبر البيئات في بلادنا من حيث المساحة ، وتتميز بتفاوت كبير في درجة الحرارة بين الصيف والشتاء،
وقلة النبات الطبيعي بسبب الجفاف.
- ٢ - تدريب الصيادين المصريين على أحدث طرق الصيد.

- لتحسين أحوالهم المعيشية.

٣ - أهمية التعاون بين أفراد المجتمع.

- يساعد على تقدم المجتمع ورقية.

٤ - أهمية الثروة الحيوانية في مصر.

- أحد مصادر الغذاء المهمة ومصدر لإنتاج البروتين.

٥ - ازدهار الحياة الاقتصادية في مصر القديمة.

٥ - بسبب توفر العوامل الطبيعية والبشرية.

Hany ٢٠٢٦

Hany ٢٠٢٦

Hany ٢٠٢٦

Hany

٢٠٢٦

Hany

٢٠٢٦

Hany

٢٠٢٦

Hany

٢٠٢٦

Hany

٢٠٢٦

Hany

٢٠٢٦

Hany

٢٠٢٦

Hany

٢٠٢٦

٦ - أهمية معرفة الكتابة في مصر القديمة.

٦ - بدأ بها العصور التاريخية.

٧ - أهمية المسلات في مصر القديمة.

يدون عليها أعمال الملوك.

٨ - لُقّب رمسيس الثاني ببطل الحرب والسلام.

لأنه انتصر على الحيثيين، وعقد معهم معاهدة سلام.

السؤال الخامس: ما النتائج المترتبة على...؟

١ - وجود الآبار والعيون في البيئة الصحراوية.

١ - المساعدة على الزراعة.

٢ - عبور القوات المصرية لخط بارليف.

٢ - انتصار الجيش المصري في حرب السادس من أكتوبر.

٣ - براعة المصريين القدماء في علم الهندسة.

- استخدم المصريون القدماء الهندسة في تقسيم الأراضي الزراعية وشق الترع، وبناء الأهرامات والمعابد، كما استخدموا الأشكال الهندسية كالمثلث والمستطيل والمربع.

٤ - الاستقرار السياسي في عهد الملكة حتشبسوت.

- تميز عهدها بالسلام.

Hany ٢٠٢٦

Hany ٢٠٢٦

Hany ٢٠٢٦

Hany ٢٠٢٦

السؤال السادس: ماذا يحدث إذا...؟

١ - لم تعقد معاهدة السلام ١٩٧٩ م.

١ - لم يتم انسحاب إسرائيل الكامل من سيناء.

٢ - كانت مصر ذات طابع بيئي موحد.

Hany ٢٠٢٦

Hany ٢٠٢٦

٢ - لم يصبح هناك اختلاف ثقافات.

٣ - لم يتم اكتشاف حجر رشيد.

- لم يتم فك رموز الكتابة المصرية القديمة، ولم نتعرف على معالم الحضارة المصرية.

Hany

٢٠٢٦

Hany

٢٠٢٦

السؤال السابع: ما المقصود بالمفاهيم الآتية...؟ ٢٠٢٦ Hany

- ١ - البيئة: ١ - كل ما يحيط بالإنسان يؤثر فيه ويتأثر به. Hany ٢٠٢٦
- ٢ - العصور التاريخية: - فترة من الزمن عاش فيها الإنسان وشهدت تغيرات كبيرة، وقد بدأت بعد معرفة الإنسان القديم للكتابة. Hany ٢٠٢٦
- ٣ - التحنيط: - حفظ جثث الموتى بعد وفاتهم بطرق طبية وكيميائية. Hany ٢٠٢٦
- ٤ - العمارة: - فن تصميم وتشيد المباني. Hany ٢٠٢٦
- ٥ - الهكسوس: هم قبائل آسيوية بدوية رعوية هاجمت مصر واحتلتها. Hany ٢٠٢٦

السؤال الثامن: ما العلاقة بين كل من...؟ ٢٠٢٦ Hany

- ١ - الشرطي والأمن. Hany ٢٠٢٦
- ١- الشرطة تحقق الأمن. Hany ٢٠٢٦
- ٢ - سلوكياتنا والسياحة. Hany ٢٠٢٦
- السلوكيات الإيجابية تساعد على جذب السياحة والعكس. Hany ٢٠٢٦
- ٣ - الأبجدية المصرية القديمة والأبجديات الأوروبية الحديثة. Hany ٢٠٢٦
- كان المصريون القدماء من أوائل الشعوب التي ابتكرت الكتابة في التاريخ ، ثم تطورت على يد الفينيقيين إلى الأبجدية الفينيقية التي أخذت منها أوروبا أبجديتها بشكلها الحالي. Hany ٢٠٢٦

السؤال التاسع: ما أوجه الشبه والاختلاف بين...؟ ٢٠٢٦ Hany

١ - البيئة الصحراوية والبيئة الريفية.

Hany ٢٠٢٦

٢ - الثروة الزراعية والثروة الحيوانية.

١- وجه الشبه : تعدان من البيئات المصرية. Hany ٢٠٢٦

وجه الاختلاف

تقع البيئة الريفية (الزراعية) في الوادي والدلتا ومنخفض الفيوم تتميز باستواء السطح وتوافر التربة الخصبة والمياه العذبة، ويتميز أهلها بالتعاون والتمسك بالعادات والتقاليد.

يعمل سكانها بالزراعة وتربية الحيوانات، والصناعات البسيطة مثل : حفظ وتعليب الفواكه والخضراوات وإنتاج اللحوم ومنتجات الألبان. Hany ٢٠٢٦

البيئة الصحراوية أكبر البيئات في بلادنا من حيث المساحة، وتتميز الطبيعي بسبب الجفاف. بتفاوت كبير في درجة الحرارة بين الصيف والشتاء، وقلة النبات Hany ٢٠٢٦

Hany ٢٠٢٦

يعمل بعض سكانها بالتعدين حيث استخراج المعادن ومصادر الطاقة من باطن الأرض.

٢- أوجه الشبه :توفر هذه المصادر احتياجات السكان من الغذاء وتحقيق الأمن الغذائي

أوجه الاختلاف

الثروة الزراعية توفر لنا المحاصيل الزراعية والمحاصيل السكرية والفواكه والخضراوات
الثروة الحيوانية توفر البروتين الحيواني اللازم لصحة الإنسان من خلال الماشية والدواجن

تدريبات الدرس



أكمل العبارات التالية بما يناسبها من كلمات:

- ١ - مثلت إحدى أرقى الوظائف عند المصريين القدماء الكاتب المصري
 - ٢ - أطلق المصريون على المؤسسات التعليمية قديماً اسم بيوت الحياة
- اكتب كلمة (صواب) أمام العبارة الصحيحة، وكلمة (خطأ) أمام العبارة غير الصحيحة:

- ١ - حظي العلماء باحترام كبير في العصر الإسلامي. (صواب)
- ٢ - استخدم المصريون القدماء أقلام البوص في الكتابة. (صواب)

بم تفسر...؟ ٢٠٢٦ Hany

- ١ - مجيء عدد كبير من الطلاب لمصر في العصر الإسلامي.
لتلقى العلم في الأزهر الشريف
- ٢ - اهتمام مصر بإنشاء مدارس جديدة في الوقت الحالي.
لتقليل الكثافة في الفصول

د ما النتائج المترتبة على...؟ ٢٠٢٦ Hany

- ١ - إنشاء الكاتيب بمصر في العصر الإسلامي. لتعليم الأطفال القراءة والكتابة والقرآن والحساب
- ٢ - اهتمام مصر بالعملية التعليمية في الوقت الحالي. لدعم تطوير التعليم

ه دلل على صحة العبارات التالية: ٢٠٢٦ Hany

- ١ - أهمية الجامع الأزهر في تطور التعليم بمصر. تدريس اللغة العربية والعلوم الدينية وبعض العلوم الأخرى
- ٢ - تنوعت أدوات الكتابة في مصر القديمة. ورق البردي وأقلام البوص والاحبار الملونة

و ما المقصود بكل من...؟

- البعثات التعليمية: مجموعات طلابية ترسل للدولة المتقدمة للحصول على تعليم متميز

لندرسنا

هيا نستعد



ما أهمية العملات النقدية في حياتنا، وكيف تعبّر تصاميمها وصورها عن هوية كل دولة؟

- ١١ - يُعد ترميم الكنيسة المعلقة من جهود الدولة للاهتمام بالسياحة. (صواب)
- ١٢ - يُعتبر برج إن سول أهم المعالم السياحية في دولة كندا. (خطأ)
- ١٣ - استخدم المصريون القدماء اللون الأحمر في الكتابة. (صواب)

السؤال الثالث: أكمل العبارات الآتية: ٢٠٢٦ Hany

- ١ - يعمل معظم سكان محافظة القاهرة بالنشاط **الصناعي**.....
- ٢ - الفئة الأكبر عددًا من حيث السكان وتساعد في زيادة الإنتاج **الشباب**.....
- ٣ - أكثر محافظات مصر سكانًا **القاهرة**.....
- ٤ - يعمل أغلبية سكان الوادي في **الزراعة وتربية الدواجن**.....
- ٥ - يقومون بتربية الأبقار لإنتاج اللحوم والألبان هم **الفلاحون**.....
- ٦ - إحدى المهن التي يعمل صاحبها على إنتاج الطاقة النظيفة **مهندس الطاقة المتجددة**.....
- ٧ - أنشأت وزارة الثقافة **مركز الحرف التقليدية**..... في مدينة الفسطاط.
- ٨ - تُعد مدينة العلمين الجديدة من أهم مراكز السياحة **الترفيهية**.....
- ٩ - كانت أهم أدوات الكتابة في مصر القديمة **أقلام البوص وورق البردي**.....
- ١٠ - المؤسسة الرئيسية التي يركز عليها التعليم بمصر في العصر الإسلامي **الجامع الأزهر**.....
- ١١ - جهزت القيادة العامة للقوات المسلحة الجيش المصري استعدادًا لحرب أكتوبر ١٩٧٣ م من خلال **رفع الروح المعنوية - تدريب الجنود - تطوير الأسلحة**.....
- ١٢ - من أهم معايير تصميم العملات النقدية **الامان - الرمزية - السهولة - الجمال**.....
- ١٣ - تعتمد دولة كندا على تصدير **البتروول**.....
- ١٤ - تحتفل رواندا بيوم لتنظيف الشوارع يسمى يوم **او.مو.غاندا**.....

السؤال الرابع: بم تفسر...؟ ٢٠٢٦ Hany

- ١ - ارتفاع الكثافة السكانية في محافظة القاهرة.
لأنها عاصمة البلاد وتوجد بها الوزارات والمصالح الحكومية وتتوفر بها فرص العمل.....
- ٢ - أهمية المهن المستقبلية.
لأنها ستقود العالم في المستقبل.....
- ٣ - أهمية جمع المعلومات قبل اتخاذ أي قرار.
لاتخاذ القرار السليم.....
- ٤ - أهمية الكتابيب بمصر في العصر الإسلامي.
تعليم الاطفال القراءة والكتابة والقرآن والحساب.....
- ٥ - ازدهار صناعة الزجاج في مصر.
بسبب وفرة رمال الصحراء.....

تطبيق



مذكرات جاهزة للطباعة

لتحميل الملفات التعليمية مجاناً للمعلم والطالب

مذكرات وملازم / مراجعات وملخصات / امتحانات / كتب الوزارة /
أدلة المعلم / دفاتر التحضير / سجلات مدرسية / أوراق تأسيس

امسح الكود بموبايلك علشان تقدر تثبت التطبيق

وتقدر ف أي وقت تحمّل ال نفسك فيه ببلاش

هيغنيك عن البحث والجروبات والقنوات الكثيرة

