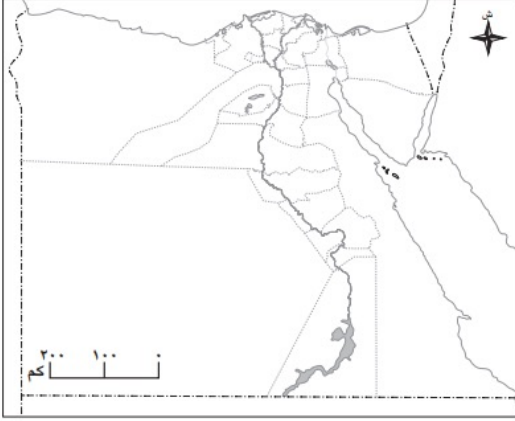




تقييم الكتاب المدرسي على الوحدة الأولى

١ فكر ولون:



- أمامك خريطة صماء لمحافظات مصر، لونها كما يلي:
- أكثر المحافظات سكاناً باللون الأزرق
 - محافظة يتركز معظم سكانها بالقرى باللون الأخضر
 - أكبر محافظات مصر من حيث المساحة باللون الأحمر

٢ اكتب كلمة (صواب) أمام العبارة الصحيحة، وكلمة (خطأ) أمام العبارة غير الصحيحة:

- ١ يختلف عدد الذكور عن الإناث داخل المحافظة الواحدة. ()
- ٢ ترتفع نسبة التعليم في محافظة القاهرة. ()
- ٣ ترتبط مهنة الزراعة بالعلاقة بين الإنسان والبيئة. ()
- ٤ تغطي الغابات كل مساحة كندا. ()
- ٥ إحدى خطوات صنع القرار تحديد المشكلة وجمع المعلومات. ()

٣ أكمل العبارات الآتية:

- ١ إحدى فئات السكان وتزيد أعمارها عن ٦٥ عامًا
- ٢ محافظة الوادي الجديد من المحافظات السكان
- ٣ المهنة التي يقوم صاحبها بتحويل المواد الخام إلى منتجات
- ٤ المهنة التي يقوم صاحبها بتصميم التطبيقات الإلكترونية
- ٥ تنتج كندا كميات كبيرة من محصول
- ٦ التفكير في إيجابيات وسلبيات كل خيار يساعد على
- ٧ عند المشاركة في صنع القرار نتعلم عدة قيم منها



٤ | بم تفسر...؟:

١ أهمية مهن النشاط الزراعي.

.....

٢ أهمية مشاركة الأطفال في القرارات الأسرية.

.....

٥ | ما النتائج المترتبة على...؟:

١ قلة المياه العذبة في محافظة الوادي الجديد.

.....

٢ كثرة الإنجاب في بعض المحافظات.

.....

٦ | أجب عما يلي:

١ ما العلاقة بين التكنولوجيا والمهن المستقبلية؟

.....

٢ ماذا يحدث إذا غاب عامل النظافة؟

.....

٣ ماذا يحدث إذا تم اتخاذ قرار دون جمع المعلومات؟

.....

٤ حدد أهم المعالم السياحية في دولة كندا.

.....

٥ قارن بين الزراعة والصناعة من حيث المنتجات في كل منهما

.....

٧ | ما المقصود بالمفاهيم الآتية...؟:

١ التركيب السكاني

.....

٢ صنع القرار.

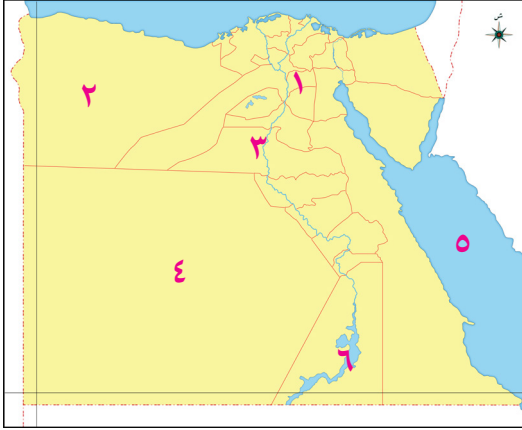
.....





تدريبات (الملتقى) على الوحدة الأولى

١ أمامك خريطة صماء، لجمهورية مصر العربية وضح مدلول الأرقام الآتية :



- ١ أكثر محافظات مصر سكاناً
- ٢ محافظة يندر بها السكان
- ٣ محافظة متوسطة السكان
- ٤ محافظة يعمل سكانها بالرعي
- ٥ البحر
- ٦ بحيرة

٢ اكمل العبارات الآتية بكلمات مناسبة:

- ١ يقل عدد السكان بمصر في محافظات مثل و
- ٢ التركيب السكاني هو تصنيف السكان حسب أو
- ٣ تختلف المهن بمصر من محافظة لأخرى حسب
- ٤ تختلف نسبة الذكور عن الإناث في بعض المحافظات المصرية بسبب
- ٥ تعد من المحافظات متوسطة السكان .
- ٦ يكثر الشباب في محافظة بسبب وجود فرص العمل.
- ٧ توجد محافظات تزداد فيها نسبة الأطفال بسبب
- ٨ النسبة الأكبر من سكان مصر هم الفئة بينما أقل الفئات هم
- ٩ يعمل معظم سوهاج في حرفة بينما يعمل سكان محافظة في الصناعة.
- ١٠ تعرف منطقة عين شمس بالقاهرة قديماً باسم
- ١١ تعرف منطقة باسم أبيدوس قديماً .
- ١٢ يعمل معظم سكان محافظة القاهرة بالنشاط ب
- ١٣ أقرب المسطحات المائية لمحافظة الغربية هو
- ١٤ تنتج قرية بمركز قطور ٥٠% من إنتاج زهرة الياسمين علي مستوي العالم.
- ١٥ أكبر قلاع الصناعة المصرية للغزل والنسيج مدينة
- ١٦ أعلى نسبة سكان في مصر وتساعد في زيادة الانتاج
- ١٧ يقوم الفلاحون بتربية الابقار والدواجن لإنتاج
- ١٨ يعمل الصيادون في صيد الاسماك من البحرين و



- ١٩ المهنة المرتبطة بـ يقوم صاحبها بتحويل المواد الخام الى منتجات .
- ٢٠ تحتاج المهن المستقبلية الى عدة مهارات منهاو.....
- ٢١ المهن المرتبطة بالزراعة تؤكد علي ارتباط الإنسان بـ
- ٢٢ الشخص الذي يعالج المرضي يعمل في
- ٢٣ صانع المحتوي الرقمي يقدم محتوى علي
- ٢٤ قرار اختيار قائد الفصل هو مثال علي
- ٢٥ المشاركة في صنع القرار تعني إشراك في اتخاذ القرارات التي تؤثر على حياتهم .
- ٢٦ شارك جميع قادة الجيش مع الرئيس السادات في اتخاذ قرار حرب
- ٢٧ التفكير في إيجابيات وسلبيات كل بديل يساعدنا على اختيار..... .
- ٢٨ تحديد مكان قضاء الإجازة ووضع قواعد تنظيم الوقت من القرارات على مستوى
- ٢٩ عند المشاركة في صنع القرار نتعلم عدة قيم منها و.....
- ٣٠ تنتج كندا كميات كبيرة من محصول
- ٣١ يعد من أشهر المعالم السياحية بكندا
- ٣٢ تم بناء برج القاهرة في عهد الرئيس

اكتب كلمة (صواب) أمام العبارة الصحيحة، وكلمة (خطأ) أمام العبارة غير الصحيحة:

٢

- ١ يتوزع السكان على كل محافظات مصر بالتساوي. ()
- ٢ تشكل فئة كبار السن أكبر نسبة من سكان مصر. ()
- ٣ أقل محافظات مصر من حيث عدد السكان محافظة الجيزة. ()
- ٤ القاهرة هي عاصمة جمهورية مصر العربية. ()
- ٥ تشكل نسبة صغار السن نصف المجتمع المصري. ()
- ٦ توجد نسبة من كبار السن في كل المحافظات. ()
- ٧ تعد محافظتي الدقهلية والبحيرة من المحافظات متوسطة السكان. ()
- ٨ يقيم معظم السكان الذين يعملون بالزراعة في المدن. ()
- ٩ ترتفع نسبة التعليم في محافظة المنيا لاهتمام الأسر بالتعليم. ()
- ١٠ تمثل نسبة كبار السن ثلث السكان في مصر وتحتاج إلي رعاية. ()
- ١١ تمثل النسبة الأكبر من سكان مصر فئة صغار السن وهم فئة منتجة. ()
- ١٢ يعمل معظم سكان الوادي الجديد بالزراعة والرعي. ()
- ١٣ كانت مدينة أون قديماً «عين شمس» مركزاً للعلم والثقافة . ()
- ١٤ تعد محافظة القاهرة من المحافظات التي يكثر بها وجود الشباب. ()
- ١٥ ترتفع نسبة الذكور عن نسبة الإناث بفارق بسيط بجمهورية مصر العربية. ()
- ١٦ محافظة سوهاج يعمل معظم سكانها في النشاط الصناعي. ()





- ١٧) مستقبل محافظة الغربية في الاهتمام بالمحاصيل النادرة. ()
- ١٨) تنتج مدينة زفتي بالغربية معظم الإنتاج من محصول الكتان في العالم. ()
- ١٩) المشاركة في صنع القرار تعلمنا الشعور بالمسئولية. ()
- ٢٠) القرار الجيد لا يحتاج إلى جمع معلومات. ()
- ٢١) المشاركة في صنع القرارات تعلمنا تحمل النتائج. ()
- ٢٢) القرارات الجماعية تساعد في تحقيق الأفضل للجميع. ()
- ٢٣) اختيار البدائل وجمع المعلومات يعد من خطوات صنع القرار السليم. ()
- ٢٤) القرار الفردي يتخذه مجموعة من الأشخاص. ()
- ٢٥) التفكير في الإيجابيات والسلبيات غير مهم في اتخاذ القرار ()
- ٢٦) وضع قواعد الصف مع المعلم يعد من أمثلة القرارات علي مستوي الأسرة. ()
- ٢٧) حرب أكتوبر مثال على صنع قرار جماعي. ()
- ٢٨) القرارات الفردية والجماعية تؤثر علي المجتمع ككل وتتعلق بالحياة العامة. ()
- ٢٩) صنع القرار في المدرسة يقلل من فرص التعاون بين الطلاب والمعلمين. ()
- ٣٠) يعد من أشهر المعالم السياحية بدولة كندا البرج الأيقوني. ()
- ٣١) يمكن تغيير البدائل في حال لم يصلح البديل الذي تم تنفيذه. ()
- ٣٢) لتدريب علي صنع القرار يصنع إنساناً مسؤولاً. ()

٤ اختر الإجابة الصحيحة مما بين الاقواس :

- ١) يمثل الأطفال ثلث السكان وهي نسبة كبيرة بسبب
(انتشار المدارس - ارتفاع مستوى المعيشة - توافر الخدمات - كثرة الإنجاب)
- ٢) النشاط الاقتصادي السائد في المحافظات الريفية هو.....
(الزراعة - الصناعة - التجارة - الرعي)
- ٣) تعد محافظة الغربية منالسكان .
(نادرة - قليلة - متوسطة - مزدحمة)
- ٤) تقل الكثافة السكانية في محافظات الحدود الصحراوية نتيجة ل.....
(تنظيم الأسرة - توافر المياه العذبة - توافر الخدمات - ندرة المياه العذبة)
- ٥) عندما تريد الإقامة في محافظة يقل بها السكان فعليك التوجه إلى محافظة.....
(الوادي الجديد - بورسعيد - الجيزة - المنيا)
- ٦) يؤثر في التركيب السكان عدة عوامل منها
(التعليم - الهجرة - فرص العمل - جميع ما سبق)



- ٧ عرفت سوهاج قديماً باسم
- ٨ يعمل معظم سكان الوادي الجديد في حرفتي
- (التعدين والصناعة - الزراعة والرعي - الزراعة والصناعة - التجارة والرعي)
- ٩ أكبر قلاع الصناعة المصرية للغزل والنسيج توجد في مدينة
- (طنطا- المحلة الكبرى - السادات - بدر)
- ١٠ مهنة..... إذا اختفي صاحبها تنتشر القمامة في الشوارع .
- (الشرطي - عامل النظافة - السائق - الميكانيكي)
- ١١ يقوم بعرض المنتجات فى الاسواق والمحلات.
- (التجار - العمال - الفلاحين - الصيادين)
- ١٢ الشخص الذي يعمل في إصلاح السيارات هو
- (الطبيب - الميكانيكي - السائق - المعلم)
- ١٣ يمكن رؤية الشخص الذي يعالج المرضى في
- (المدرسة - الورشة - المستشفى - الشركة)
- ١٤ إحدى المهن المرتبطة بالخدمات ويقوم بحفظ الامن هو.....
- (الطبيب - الشرطي - السائق - المعلم)
- ١٥ مهن تطلب الاعتماد على التكنولوجيا المهن
- (الزراعية - الصناعية - المستقبلية - الخدمية)
- ١٦ تحويل القطن إلى ملابس مهمة يقوم بها
- (الفلاحون والعمال- التجار والصيادون - المهندسون والعمال - الصيادون والعمال)
- ١٧ إذا أرادت مدرسة تطوير منصة تعليمية ذكية تتفاعل مع الطالب وتقدم محتوى مناسباً ، فأى مهنة تحتاجها المدرسة
- (صانع المحتوى الرقمي - مطور التطبيقات - مهندس الطاقة المتجددة - مصمم الألعاب)
- ١٨ تقديم محتوى علي وسائل التواصل الاجتماعي يفيد به الناس هو
- (مطور التطبيقات - صانع المحتوى الرقمي -مبرمج الحاسوب- مصمم الألعاب)
- ١٩ يعد من مهام السباك القيام بـ
- (يعالج المرضى- حفظ الأمن- تنظيف الشوارع- تركيب المواسير)
- ٢٠ صنع القرار السليم يبدأ بـ
- (تنفيذ القرار فوراً - تحديد المشكلة - تجاهل المعلومات - تنفيذ المعلومة)
- ٢١ اختيار صديقي رائد الفصل من أمثلة القرارات.....
- (الجماعية - الفردية - الثنائية - المجتمعية)
- ٢٢ يعد من أمثلة صنع القرار في الأسرة
- (المشاركة اختيار رئيس الوحدة المحلية - اختيار قائد الفصل - شراء أشياء للبيت - بناء مستشفى)



- ٢٣ يعد من أمثلة صنع القرار في المدرسة
- (اختيار مكان العشاء - اختيار قائد الفصل - شراء أشياء للبيت - بناء حديقة)
- ٢٤ من نتائج المشاركة في صنع القرار الأسري.....
- (الأناية - الفوضى - التعاون - الصبر)
- ٢٥ التفكير في البدائل يعني
- (حل واحد للمشكلة - عدة حلول يمكن الاختيار منها - عدم وجود حلول - تحديد المشكلة)
- ٢٦ التفكير الجيد قبل اتخاذ القرار يؤدي إلي
- (الخلافات - الاختيار الأفضل- التردد - التسرع)
- ٢٧ يعتمد اقتصاد كندا علي تصدير
- (الفحم - الغاز الطبيعي- البترول - المعادن)
- ٢٨ برج القاهرة صممه المهندس علي شكل زهرة اللوتس.
- (مجدي يعقوب - نعوم شبيب - حسن فتحي - أحمد زويل)
- ٢٩ احترام آراء الآخرين أثناء اتخاذ القرار يؤدي إلي
- (النزاع - التعاون - الغضب -الخلافات)

صوب ما تحته خط:

٥

- ١ تعد محافظة الجيزة من المحافظات **قليلة** السكان .
- ٢ تعد محافظة **سوهاج** عاصمة لمصر حيث بها الوزارات والمصالح الحكومية.
- ٣ تقل المياه العذبة في محافظة **القاهرة** لذلك يقل بها السكان.
- ٤ تصنيف السكان إلي ذكور وإناث يعد ذلك **مشكلة سكانية**.
- ٥ تمثل فئة **الشباب** ثلث السكان وتحتاج إلي رعاية.
- ٦ يعمل **الفلاحون** في صيد الاسماك من نهر النيل والترع
- ٧ يقوم **الميكانيكي** بنقل الاشخاص والبضائع
- ٨ يقوم **الشرطي** بتوصيل السلع والمنتجات للافراد
- ٩ **التجار** احد المهن الخدمية التي تقوم باعمال البناء والنقاشة
- ١٠ مبرمج **الالعاب** يقوم بتصميم البرامج الالكترونية
- ١١ **صانع المحتوى** يعمل على انتاج الطاقة النظيفة
- ١٢ مطور التطبيقات احد المهن **الخدمية**
- ١٣ المهن **الزراعية** تحتاج الى مهارة العمل الجماعي واستخدام التكنولوجيا.
- ١٤ المهن **التجارية** تظهر مدى ارتباط الإنسان بالطبيعة
- ١٥ اتخذ الرئيس **محمد حسني مبارك** قرار حرب أكتوبر.
- ١٦ يعد من قرارات علي مستوي **المجتمع** اختيار مكان الإجازة.



- ١٧ يشتهر شعب كندا بـ **القوة والخشونة** .
- ١٨ تغطي الغابات **ربع** مساحة دولة كندا.
- ١٩ يعد من أمثلة القرارات علي مستوي المدرسة قرار بناء **حديقة أومستشفي** .

٦ اكتب تفسيراً واحداً:

- ١ قلة عدد السكان في محافظة الوادي الجديد
- ٢ شهرة مدينة أون قديماً
- ٣ محافظة القاهرة أكثر محافظات مصر سكاناً
- ٤ تختلف المهن من محافظة لأخرى
- ٥ وجود محافظات تزداد فيها نسبة الأطفال
- ٦ تختلف نسبة الذكور والإناث ما بين محافظة وأخرى
- ٧ تتميز كل محافظة بخصائص سكانية تميّزها عن غيرها
- ٨ عرض التجار للمنتجات في الأسواق
- ٩ أهمية مهنة المعلم في حياتنا اليومية
- ١٠ أهمية دور صانع المحتوى الرقمي في حياتنا
- ١١ ظهور المهن المستقبلية.....
- ١٢ ضرورة ممارسة الطلاب للمهارات الحديثة
- ١٣ تساعدنا التجارة في حياتنا اليومية
- ١٤ أهمية دور مهندس الطاقة المتجددة في حماية البيئة
- ١٥ أهمية التفكير قبل اتخاذ أي قرار.....
- ١٦ أهمية المشاركة في صنع القرار.....
- ١٧ أهمية دور المدرسة في صنع القرار
- ١٨ أهمية مشاركة الأطفال في صنع القرار الأسري
- ١٩ أهمية قرية الياسمين بمحافظة الغربية

٧ ما النتائج المترتبة على :

- ١ قلة الموارد المائية العذبة في بعض المحافظات المصرية
- ٢ توافر فرص التعليم في بعض المحافظات المصرية
- ٣ وجود الوزارات والمصالح الحكومية في القاهرة
- ٤ تحويل المواد الخام في المصانع إلى منتجات أو سلع
- ٥ تطور التكنولوجيا في حياتنا
- ٦ وجود المنتجات في الأسواق





- ٧ اختفاء مهنة المعلم .
- ٨ مشاركة جميع أفراد الأسرة في صنع القرار .
- ٩ عدم احترام آراء الآخرين .
- ١٠ المشاركة في صنع القرار .

دليل على صحة العبارات الآتية:

٨

- ١ يختلف توزيع سكان بلدنا من محافظة إلى أخرى .
- ٢ يختلف تركيب السكان بين محافظات مصر .
- ٣ كانت مدينة أون قديماً مركزاً للعلم والثقافة .
- ٤ مهنة المهندسون والعمال لها أهمية كبرى في حياتنا .
- ٥ ضرورة وجود مهنة الصيادون في حياتنا .
- ٦ تتطلب المهن المرتبطة بالصناعة والتجارة مهارات خاصة .
- ٧ تتطلب المهن المستقبلية مهارات خاصة .
- ٨ أهمية دور مطور التطبيقات .
- ٩ اتخاذ القرارات في عديد من المواقف الحياتية قد يكون فردياً أو جماعياً .
- ١٠ تمر صناعة القرار بعدة خطوات .
- ١١ تعدد القرارات التي تتخذها علي مستوى الأسرة .
- ١٢ وجود معالم سياحية بدولة كندا .
- ١٣ تعدد موارد محافظة الغربية .

ما العلاقة بين كل من:

٩

- ١ المهن والأنشطة الاقتصادية .
- ٢ القاهرة والكثافة السكانية .
- ٣ التكنولوجيا والمهن المستقبلية .
- ٤ الفلاحون والأمن الغذائي .
- ٥ العمل المنظم والمهن الصناعية .
- ٦ الصناعة والتجارة .
- ٧ التفكير في البدائل واتخاذ قرار صحيح .



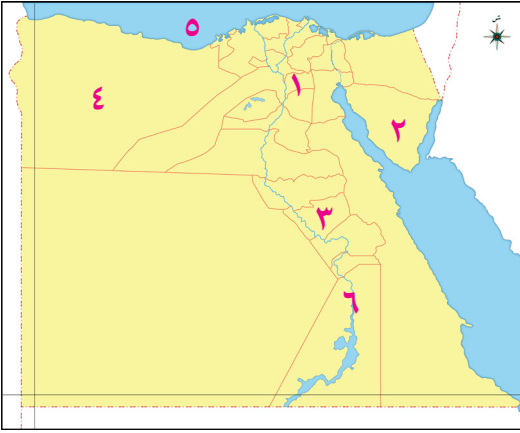


اختبارات (الملتقى) على الوحدة الأولى



الامتحان الشامل الأول على الوحدة الأولى

١ أمامك خريطة صماء لجمهورية مصر العربية وضح مدلول الأرقام الآتية:



- ١ أكثر محافظات مصر سكاناً
- ٢ محافظة يندر بها السكان
- ٣ محافظة متوسطة السكان
- ٤ محافظة يعمل سكانها بالرعي
- ٥ البحر
- ٦ نهر

٢ اكتب كلمة (صواب) أمام العبارة الصحيحة، وكلمة (خطأ) أمام العبارة غير الصحيحة:

- ١ يعمل سكان القاهرة في الزراعة والرعي . ()
- ٢ تحتاج مهن المستقبل إلي مهارة التكنولوجيا. ()
- ٣ المشاركة في صنع القرار تعلمنا الشعور بالمسئولية. ()
- ٤ القرار الجيد لا يحتاج لجمع معلومات. ()

٣ أكمل العبارات الآتية بكلمات مناسبة:

- ١ تنتج كندا كمية كبيرة من محصول.....
- ٢ أحد الأمثلة علي اتخاذ القرار في المجتمع
- ٣ تم تصميم برج علي شكل زهرة اللوتس أحد معالم الحضارة المصرية القديمة.
- ٤ تنتج مدينة ٨٠٪ من إنتاج الكتان في مصر.

٤ أجب عن الأسئلة الآتية:

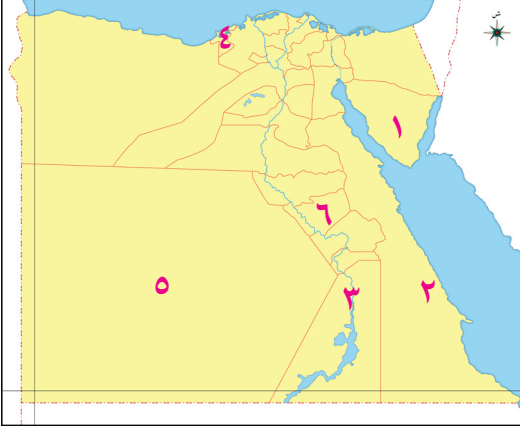
- ١ اكتب تفسيرًا واحدًا لـ أهمية مهنة الفلاح في حياتنا
- ٢ حدد المقصود بالتركيب السكاني
- ٣ وضح أهم المعالم السياحية بدولة كندا





الامتحان الشامل الثاني على الوحدة الأولى

١ أمامك خريطة صماء لجمهورية مصر العربية وضح مدلول الأرقام الآتية:



- ١ أقل محافظات مصر سكاناً
- ٢ محافظة يندر بها السكان
- ٣ محافظة متوسطة السكان
- ٤ محافظة يعمل سكانها بالصناعة والخدمات
- ٥ الصحراء
- ٦ محافظة يعمل سكانها بالزراعة

٢ اكتب كلمة (صواب) أمام العبارة الصحيحة، وكلمة (خطأ) أمام العبارة غير الصحيحة:

- ١ يختلف عدد السكان بين المحافظات المصرية. ()
- ٢ الزراعة تعمل علي ربط المنتج بالمستهلك. ()
- ٣ يجب احترام كل أصحاب المهن. ()
- ٤ صنع القرار لا يؤثر علي وضع المجتمع. ()
- ٥ مستقبل محافظة الغربية في الاهتمام بمصادر الطاقة وتصديرها. ()

٣ أكمل العبارات الآتية بكلمات مناسبة:

- ١ أولي خطوات صنع القرار السليم هي
- ٢ أحد الأمثلة علي اتخاذ القرار في الأسرة.....
- ٣ يعد من أشهر المعالم السياحية في كندا برج
- ٤ تعرف مدينة سوهاج قديماً باسم

٤ أجب عن الأسئلة الآتية:

- ١ اكتب تفسيراً واحداً لـ تختلف نسبة المتعلمين من محافظة لأخرى
- ٢ اكتب دليلاً واحداً لـ تتطلب المهن المستقبلية وجود مهارات خاصة.....
- ٣ حدد المقصود بصنع القرار



تطبيق



مذكرات جاهزة للطباعة

لتحميل الملفات التعليمية مجاناً للمعلم والطالب

مذكرات وملازم / مراجعات وملخصات / امتحانات / كتب الوزارة /
أدلة المعلم / دفاتر التحضير / سجلات مدرسية / أوراق تأسيس

امسح الكود بموبايلك علشان تقدر تثبت التطبيق

وتقدر ف أي وقت تحمّل ال نفسك فيه ببلاش

هيغنيك عن البحث والجروبات والقنوات الكثيرة

