

# توزيع سكان بلدنا وخصائصهم

الدرس

1

## أهداف الدرس

في نهاية هذا الدرس، سأكون قادرًا على أن:

- أتعرف توزيع السكان في بلدنا.
- أقرأ الخرائط والرسوم البيانية المتعلقة بالسكان في بلدنا.
- أوضح تركيب السكان في بلدنا حسب النوع والفئة العمرية.
- أميز خصائص سكان بلدنا من حيث التعليم، والعمل.



مرحبًا يا أصدقائي! بملاحظة خريطة توزيع السكان في محافظات مصر، وجد أن توزيع السكان يختلف من محافظة لأخرى.

## عدد السكان في محافظات بلدنا ٢٠٢٦ Hany

يختلف عدد السكان من محافظة إلى أخرى، لاحظ الشكل التالي ثم أجب:

• أولى محافظات مصر من حيث عدد السكان ..... **القاهرة** .....

• أقل محافظات مصر من حيث عدد السكان ..... **جنوب سيناء** .....

• كم يبلغ عدد سكان محافظتك؟ **متروك حسب كل محافظة**

• ما ترتيب محافظتك بين محافظات مصر من حيث عدد السكان؟ **متروك حسب كل محافظة**



## أنا أتعلم وأتأمل

لماذا يتركز السكان في بعض الأماكن بينما يقلون في أماكن أخرى؟

هيا بنا نكتشف معًا توزيع السكان في بلدنا، ونتعرف الخصائص المميزة لسكان بعض المحافظات.



## توزيع السكان في بلدنا Hany ٢٠٢٦

بلغ عدد سكان مصر ١٠٨ ملايين نسمة (\*)، ويمكن تقسيم محافظات مصر حسب توزيع السكان بها إلى ما يلي:

- محافظات مزدحمة السكان، مثل: القاهرة - الجيزة.
- محافظات متوسطة السكان، مثل: الدقهلية - البحيرة - سوهاج.
- محافظات قليلة السكان، مثل: شمال سيناء - جنوب سيناء - البحر الأحمر - الوادي الجديد - مطروح.



خريطة (١) توزيع السكان في محافظات مصر

### محافظه سوهاج

من المحافظات متوسطة السكان ويتركز معظم سكانها في القرى على ضفاف نهر النيل ويعملون بالزراعة، والقليل من سكانها يعيش في المدن.

### محافظه القاهرة

أكثر محافظات مصر سكاناً؛ لأنها عاصمة البلاد ويوجد بها الوزارات والمصالح الحكومية وتتوافر بها فرص العمل.

### محافظه الوادي الجديد

من المحافظات قليلة السكان، ويرجع ذلك إلى أنها منطقة صحراوية تقل بها المياه العذبة.

(\* جميع بيانات السكان الواردة في هذا الدرس مأخوذة من تقارير الجهاز المركزي للتعبئة العامة والإحصاء لعام ٢٠٢٥ م.

## ألاحظ ٢٠٢٦ Hany

١ - من خلال الخريطة السابقة، حدّد محافظتك، وصنّفها حسب عدد السكان بها (مزدحمة، متوسطة، قليلة).

متروك حسب المحافظة

٢ - وضح سبب تركيز السكان في محافظة القاهرة. لأنها عاصمة مصر ويوجد بها الوزارات والمصالح الحكومية وتتوافر بها فرص العمل

٣ - وضح رأيك: هل التوزيع غير المتساوي للسكان في مصر يمثل تحدياً للدولة المصرية؟ ولماذا؟ نعم يمثل تحدياً للدولة حيث الضغط على المرافق والخدمات في المحافظات المتكدسة بالسكان

٤ - ماذا يحدث إذا تم توزيع السكان على الأراضي المصرية بشكل متساوٍ؟ عدم الضغط على المرافق والخدمات وعدم الازدحام في محافظات ونقص بمحافظات اخرى

## تركيب السكان في بلدنا

### مفاهيم أتعلمها

التركيب السكاني: تصنيف السكان إلى مجموعات حسب النوع أو العمر.

يختلف سكان بلدنا من حيث النوع (ذكور - إناث) أو العمر (صغار السن «أطفال» - شباب - كبار السن).



ويختلف تركيب السكان بين محافظات بلدنا؛ حيث:

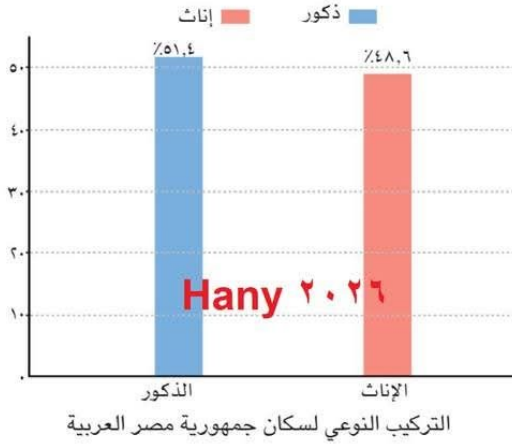


هناك محافظات يكثر فيها الشباب؛ بسبب وجود فرص العمل.

توجد محافظات أخرى تزداد فيها نسبة الأطفال؛ بسبب كثرة الإنجاب.



توجد نسبة من كبار السن في كل المحافظات.



- يُلاحظ من خلال الشكل المقابل أن نسبة الذكور ترتفع عن نسبة الإناث بفارق بسيط.

- كما تختلف نسبة الذكور والإناث ما بين محافظة وأخرى وذلك بسبب الهجرة الداخلية.

### الأخط وأتعلم



يُلاحظ من الشكل البياني المقابل أن الشباب يمثلون النسبة الأكبر من سكان مصر وهم الفئة العاملة والمنتجة في الدولة، بينما يمثل كبار السن الفئة الأقل من السكان، أما الأطفال فيمثلون ثلث السكان وهي فئة تحتاج لرعاية كبيرة مع فئة كبار السن.

من خلال الشكل البياني المقابل أجب عن الأسئلة التالية:

اكتب كلمة (صواب) أمام العبارة الصحيحة، وكلمة (خطأ) أمام العبارة غير الصحيحة:

- ١ - تشكل فئة كبار السن أكبر نسبة من سكان مصر. (خطأ)
- ٢ - تبلغ نسبة الشباب ضعف نسبة صغار السن تقريباً. (صواب)
- ٣ - تشكل نسبة صغار السن نصف المجتمع المصري. (خطأ)

### قيم أتعلمها

احترام الكبير واجب على الجميع، كما أن احترام ذوي الاحتياجات الخاصة ورعايتهم حق أصيل لهم.

### أتعلم وأطبق

- صف التركيبة السكاني، باستخدام الكلمات التالية:

ذكور - إناث - أطفال - شباب - كبار السن.  
**الذكور أكثر من الإناث - الشباب ضعف صغار السن - كبار السن فئة تحتاج الى الرعاية مع صغار السن**

## خصائص السكان في بلدنا

تتميز كل محافظة بخصائص سكانية تميزها عن غيرها، ويرجع هذا الاختلاف إلى طبيعة البيئة التي يعيشون فيها، ومن هذه الخصائص: **Hany ٢٠٢٦**



## ١ التعليم

تختلف نسبة المتعلمين من محافظة لأخرى؛ فهي مرتفعة في معظم المحافظات مثل: القاهرة؛ لاهتمام الأسر بالتعليم.




## أفكر واستنتج

- ١ - هل توجد مدارس كثيرة في منطقتك؟ وهل يذهب جميع الأطفال في منطقتك إلى المدرسة؟  
..... **نعم يوجد مدارس كثيرة والأطفال يذهبون إلى المدرسة** .....
- ٢ - ماذا لو اهتم جميع أولياء الأمور بتعليم أبنائهم؟  
..... **يصبح المجتمع متقدم ومتطور ويواكب العصر** .....

## ٢ المهن

تختلف المهن من محافظة لأخرى حسب النشاط الاقتصادي؛ ففي القاهرة يعمل السكان في النشاط الصناعي والخدمات، بينما يعمل معظم سكان سوهاج في الزراعة، ويعمل سكان الوادي الجديد في الزراعة والرعي.



الخدمات الصحية

## حقائق تاريخية

عُرفت منطقة عين شمس بالقاهرة قديماً باسم «أون»، وكانت مركزاً للعلم والثقافة، وعَمَلَ سكانها بالكتابة والتعليم والصناعات المتنوعة. فيما عُرفت سوهاج قديماً باسم «أبيدوس»، وعَمَلَ سكانها بالزراعة وصناعة الفخار.

قيم أتعلمها

- ١ - اكتب جملة تعبر عن احترامك للمهن المختلفة.  
**جميع المهن والحرف لها قدسيته فلا فرق بين صانع ولا زارع** والاحترام والتقدير حق لكل مهنة  
 ٢ - اذكر اسم محافظتك، وعدد أهم المهن التي يعمل بها السكان في محافظتك.  
 من المهن. **Hany ٢٠٢٦**

**القاهرة ، يعمل معظم السكان بالتجارة والصناعة والسياحة**

عزيزي التلميذ، لاحظ أن أي سلوك تقوم به - ولو صغيرًا - يؤثر على مستقبلك ومستقبل بلدك مصر، وذلك على النحو التالي:



## هوية محافظتي

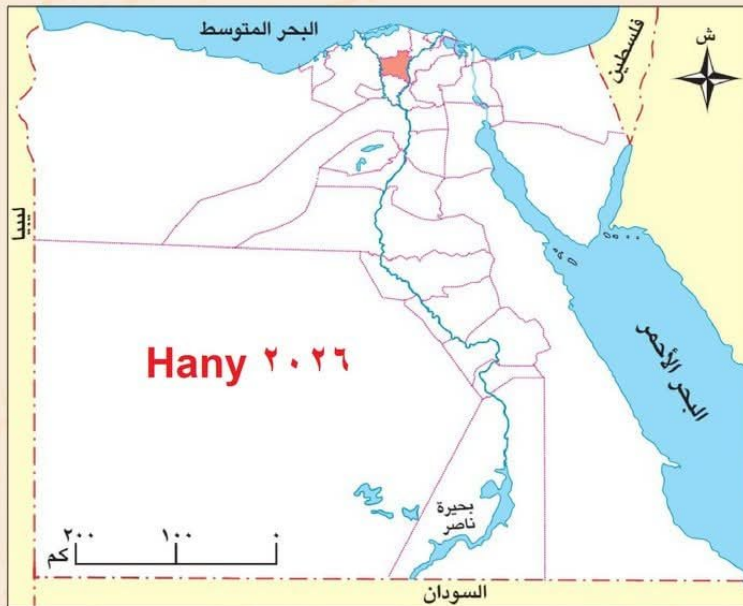


أصدقائي الأصدقاء هيا بنا لأصبحكم في ...  
رحلة إلى محافظة الغربية

- « تقع محافظتي على خريطة مصر في اتجاه **شمال** مصر.
- « تُعتبر محافظتي بالنسبة لعدد السكان محافظة **متوسطة** السكان.
- « يُعتبر النشاط الاقتصادي لمحافظة هي النشاط **الزراعة**.
- « أقرب المسطحات المائية العذبة لمحافظة هي **نهر النيل**.
- « أبرز المهن التي تشتهر بها محافظتي هي **الزراعة** و **الصناعة**.
- « لقد اختارت محافظة الغربية يوم **٧ أكتوبر** عيداً قومياً لها يعكس قوة إرادتها وأصالة و صمود شعبها في مقاومة فلول الحملة الفرنسية.

## موارد محافظتي ومستقبلها:

- « تنتج قرية الياسمين (شبرا بلولة) مركز قطور نحو ٥٠٪ من إنتاج زهرة الياسمين على مستوى العالم.
- « تنتج مدينة زفتى ٨٠٪ من محصول الكتان في مصر.
- « يوجد بها أكبر القلاع الصناعية المصرية للغزل والنسيج بالمحلة الكبرى.
- « **مستقبل محافظتي في:** الاهتمام بالمحاصيل الزراعية النادرة وتصديرها للعالم.



هل ترى أن هناك بمصر محافظة تشبه محافظة الغربية؟ حدد هذه المحافظة واصنع لها بطاقة مماثلة.

# تدريبات الدرس



أ - أكمل العبارات التالية بما يناسبها من كلمات:

- ١ - يقل عدد السكان بمصر في محافظات مثل **الوادي الجديد ومطروح**.....
- ٢ - التركيب السكاني هو تصنيف السكان حسب **النوع** أو **العمر**.....
- ٣ - تختلف المهن بمصر من محافظة لأخرى حسب **نوع النشاط الاقتصادي** بها
- ٤ - تختلف نسبة الذكور عن الإناث في بعض المحافظات المصرية بسبب **الهجرة الداخلية**



ب - أجب عن الأسئلة المطلوبة في إطار الصورة المقابلة:

- ١ - تُعتبر هذه المحافظة وفق عدد السكان من المحافظات **المتوسطة** السكان.
- ٢ - تتمثل الحرفة الرئيسية لسكان هذه المحافظة في حرفة **الزراعة**.
- ٣ - يتركز سكان هذه المحافظة في **القرى**.....

ج - اكتب كلمة (صواب) أمام العبارة الصحيحة، وكلمة (خطأ) أمام العبارة غير الصحيحة:

- ١ - تمثل فئة كبار السن الفئة العمرية الغالبة لسكان مصر. (خطأ)
- ٢ - يختلف عدد السكان بين المحافظات المصرية. (صواب)
- ٣ - يعمل سكان القاهرة في الزراعة والرعي. (خطأ)

د - بم تفسر...؟

- ١ - قلة عدد السكان في محافظة الوادي الجديد. **لأنها منطقة صحراوية وتقل بها المياه العذبة**
- ٢ - شهرة مدينة أون قديماً. **كانت مركز للعلم والثقافة وعمل سكانها بالكتابة والتعليم والصناعة**

هـ - ما النتائج المترتبة على...؟

- ١ - قلة الموارد المائية العذبة في بعض المحافظات المصرية. **قلة اعداد السكان بها**.....
- ٢ - توافر فرص التعليم في بعض المحافظات المصرية. **الهجرة الداخلية والازدحام بها**

و - ما المقصود ب...؟

- التركيب السكاني: **تصنيف السكان الى مجموعات حسب النوع أو العمر**.....

هيا نستعد للدرس القادم



Hany 2026

بعد أن تعرفنا سكان مصر وفئاتهم وخصائصهم المختلفة، ما المهن التي يعمل بها هؤلاء السكان؟ وما دور كل مهنة في تنمية المجتمع وخدمة الوطن؟



## المهن في بلدنا

الدرس

٢

### أهداف الدرس

- في نهاية هذا الدرس، سأكون قادرًا على أن:
- أتعرف أهمية المهن المختلفة في خدمة الوطن.
- أصنّف المهن المختلفة حسب كل قطاع.
- أقارن بين مهن الحاضر ومهن المستقبل.
- أعبر عن احترامي لجميع المهن والعاملين بها.

يعمل الناس في بلدنا في مهن متعددة، ولكل مهنة دور مهم في خدمة الوطن، علينا أن نحترم كل المهن، وعلينا أن نتعاون مع كل صاحب مهنة ونساعده في عمله، من أجل مستقبل أفضل لنا ولوطننا.



### أتأمل وأتعلم



مهن مختلفة

تخيل أنك استيقظت يومًا ولم تجد من يزرع المحاصيل، أو من يصنع الملابس، أو من يعالج المرضى، أو من ينظف الشوارع، أو من يحافظ على أمنك، أو لم تجد معلمًا يقوم بالتدريس لك بالمدرسة ... تخيل، كيف ستكون حياتنا؟



ستكون الحياة صعبة دون المهن، فلكل مهنة أهميتها، ولكل فرد دور يخدم به مجتمعه.

اليوم سأصحبكم في رحلة استكشافية للتعرف على المهن في بلدنا الحبيبة مصر.



## المهنة المرتبطة بالزراعة

يُعد قطاع الزراعة إحدى الركائز الأساسية لتقدُّم بلدنا؛ لأنه يوفر الغذاء الذي نحتاج إليه، ويعمل به:



الزراعة

### الفلاحون

يزرعون الأرض بمختلف المحاصيل كالقمح والأرز، ويربُّون الأبقار والدواجن لإنتاج اللحوم والألبان والبيض.

### الصيادون

يعملون في صيد الأسماك من البحرين الأحمر والمتوسط ونهر النيل والترع وأيضًا المزارع السمكية.

وتُظهر هذه المهنة مدى ارتباط الإنسان بالطبيعة، وتؤكد أهمية التعاون.

### أفكر وأجيب

- ما أوجه التشابه بين مهنتي الفلاح والصيد؟

**كلاهما يعتمدان على استغلال موارد الطبيعة ويحتاجان إلى التعاون بين الأفراد**

## المهنة المرتبطة بالصناعة والتجارة

تساعد الصناعة والتجارة على تلبية احتياجاتنا اليومية، ويعمل بها:

### المهندسون والعمال

يقومون بتحويل المواد الخام إلى منتجات نستخدمها، مثل الملابس، والأثاث، والسيارات.



التجارة

### التجار

يُعرضون المنتجات في الأسواق والمحلات؛ حتى يتمكن من شرائها بسهولة.

تتطلب هذه المهنة التعاون بين الأفراد، والعمل المنظم لتوفير السلع والخدمات التي نحتاج إليها.

## أقرأ وأحل



صناعة السيارات

١ - ما العلاقة بين الصناعة والتجارة؟  
يساعدان على تلبية احتياجاتنا اليومية

٢ - «تساعد الصناعة والتجارة على تلبية احتياجاتنا» وضح ذلك.

توفير المنتجات الصناعية واستيراد الاحتياجات من السلع

٣ - ماذا لو اختفت مهنة التجارة من حياتنا؟ عدم القدرة على سد الاحتياجات اليومية من السلع

## المهن المرتبطة بالخدمات

تلعب المهن المرتبطة بالخدمات دورًا مهمًا في حياتنا، ومن أصحاب المهن الخدمية:

يجهز المتعلمين لكل هذه المهن بفهم العلوم والمعارف وبناء العقول.

يقومون بأعمال البناء والنقاشة والمهارة.

يقوم بتوصيل السلع والمنتجات للأفراد.

يقوم بتركيب مواسير المياه وإصلاحها.

يقوم بإصلاح السيارات.

ينقل الأشخاص والبضائع.



يعالج المرضى.

يدافع عن الوطن ويحميه.

يحافظ على الأمن.

ينظف الشوارع.

يجب علينا احترام أصحاب هذه المهن وتقدير جهودهم.

## أناقش وأجيب



طبيبة

١ - ماذا يحدث إذا: اختفت مهنة الطبيب من المجتمع؟

انتشار الأمراض والابوة

٢ - ما المهنة التي تحب أن تعمل بها من قطاع الخدمات؟ ولماذا؟

الشرطة - للحفاظ على الامن

٣ - استرجع معلوماتك ودلل على صحة العبارة «تمتلك مصر ثروة بشرية هائلة في مختلف المجالات».

حيث يوجد المزارع والصيد والتاجر والمهندس والشرطي وغيرها من المهن التي تخدم البلاد

## قيم أتعلمها

العلم والإبداع هما طريق التقدم وبناء المستقبل.

## المهنة المستقبلية

مهنة جديدة لم تكن موجودة من قبل ظهرت بفضل التقدم العلمي والتكنولوجي، منها:

### مبرمج الحاسوب

يصمم البرامج الإلكترونية.

### مصمم الألعاب

يبتكر ألعاباً إلكترونية جديدة.

### مطور التطبيقات

يصمم تطبيقات الهاتف.

### صانع المحتوى الرقمي

يقدم محتوى على الإنترنت ووسائل التواصل الاجتماعي يفيد به الناس.

### مهندس الطاقة المتجددة

يعمل على إنتاج الطاقة النظيفة للمحافظة على البيئة من التلوث.



تحتاج هذه المهنة إلى عدة مهارات، أهمها: استخدام التكنولوجيا، والتفكير الإبداعي، والعمل الجماعي، وهذه المهنة ستقود العالم في المستقبل.

## أتعلم ٢٠٢٦ Hany

مبرمج حاسوب ، عن طريق تعلم البرامج الخاصة بالكمبيوتر

١ - اختر مهنة مستقبلية واذكر كيف يمكنك الإعداد لها من الآن.

٢ - ما المهارات التي تحتاج إليها المهنة المستقبلية؟

**استخدام التكنولوجيا - التفكير الإبداعي - العمل الجماعي**

٣ - ما رأيك فيمن يرفض تعلم مهارات جديدة؟ **شخص بدائي ولا يقبل التغيير**

٤ - ماذا لو اختفت التكنولوجيا فجأة من حياتنا؟ **سنعود إلى عصور الجاهلية وانهيار العالم**

## حقائق تاريخية


وضع العلماء أمثال ابن الهيثم والخوارزمي والزهرابي أسساً علمية ما زال العالم يستفيد منها حتى اليوم، فالتقنيات الحديثة مثل الذكاء الاصطناعي، والروبوتات، والطاقة المتجددة، قامت على هذه الأسس.

## ألاحظ وأستنتج

أمامك مجموعة من الصور تمثل مهناً مستقبلية، اكتب أسفل كل صورة اسم المهنة التي تُعبّر عنها.



مهندس طاقة متجددة



مبرمج حاسوب



صانع ألعاب



مطور تطبيقات

عزيزي التلميذ، لاحظ أن أي سلوك تقوم به - ولو صغيرًا - يؤثر على مستقبلك ومستقبل بلدك مصر، وذلك على النحو التالي:



ماذا لو؟  
قمت بشراء  
المنتج المصري

1  
ستشجع  
الصناعة في  
بلدك

2  
ستوفر فرص  
عمل جديدة  
للشباب

3  
ستنشط  
التجارة الداخلية  
في مصر

4  
ستقلل الاستيراد  
من الخارج

5  
ستوفر لمصر  
نفقات كثيرة

6  
ستستخدم  
مجتمعك  
وبلدك مصر

# تدريبات الدرس



أكمل العبارات التالية بما يناسبها من كلمات:

- ١ - يعمل الفلاحون بزراعة **الأرض** ..... وتربية **الابقار والدواجن**
- ٢ - الشخص الذي يقوم بعلاج المرضى هو **الطبيب** .....
- ٣ - إحدى المهن المستقبلية ويصمم صاحبها البرامج **ميرمج جاسوب**
- ٤ - يقوم العامل بتحويل المواد الخام إلى **منتجات** .....

حدد صاحب المهنة التي بدونها يحدث هذا:

**Hany ٢٠٢٦**

- ١ - تسود الفوضى وعدم الاستقرار. (..... **الشرطي** .....)
- ٢ - يصعب الانتقال إلى مكان العمل. (..... **السائق** .....)
- ٣ - تنتشر القمامة في الشوارع. (..... **عامل النظافة** .....)
- ٤ - تنتشر الأمراض والأوبئة. (..... **الطبيب** .....)
- ٥ - ينتشر الجهل والتخلف. (..... **المدرس** .....)
- ٦ - يزداد التلوث في البيئة. (..... **عامل النظافة** .....)
- ٧ - يصعب الاستفادة من خدمات الهواتف المحمولة. (..... **مطور التطبيقات** .....)

اكتب كلمة (صواب) أمام العبارة الصحيحة، وكلمة (خطأ) أمام العبارة غير الصحيحة:

- ١ - تحتاج مهن المستقبل إلى مهارة التكنولوجيا. (صواب)
- ٢ - مهنة الطبيب والمعلم من المهن الخدمية. (صواب)
- ٣ - الزراعة تعمل على ربط المنتج بالمستهلك. (خطأ)
- ٤ - يجب احترام أصحاب كل المهن. (صواب)

بم تفسر...؟ **Hany ٢٠٢٦**

- ١ - أهمية مهنة الفلاح في حياتنا. **يقوم بالزراعة ونتاج المحاصيل ويربي الدواجن والابقار**
- ٢ - ظهور المهن المستقبلية. **بسبب التقدم التكنولوجي والعلمي**
- ٣ - ضرورة ممارسة الطلاب للمهارات الحديثة. **لان المهن المستقبلية تحتاج الى استخدام التكنولوجيا والتفكير الابداعى والعمل الجماعى**
- ٤ - تساعدنا التجارة في حياتنا اليومية. **يتم شراء المنتجات بعد عرضها فى الاسواق والمحلات**
- ٥ - أهمية دور مهندس الطاقة المتجددة في حماية البيئة. **يعمل على انتاج الطاقة النظيفة التى لا تلوث البيئة**

هـ ما النتائج المترتبة على...؟

توفير المنتجات والسلع التي يستخدمها الانسان يوميا

١ - تحويل المواد الخام في المصانع إلى منتجات أو سلع.

٢ - تطور التكنولوجيا في حياتنا. **ظهور مهن جديدة لم تكن موجودة من قبل**

و ما المقصود ب...؟

المهن المستقبلية: **مهن جديدة لم تكن موجودة من قبل ظهرت بفضل التقدم العلمي والتكنولوجي**

ز أجب عما ما يلي: Hany ٢٠٢٦

١ - ما العلاقة بين التعليم والمهن المستقبلية؟

**تحتاج المهن المستقبلية الى مهارات استخدام التكنولوجيا والتفكير الابداعي والعمل الجماعي**

٢ - قارن بين دور الطبيب ودور الشرطي في خدمة الناس.

**الطبيب يعالج الامراض ، الشرطي يحافظ على الامن والنظام**

هيا نستعد للدرس Hany

ما المقصود بالمشاركة في صنع القرار؟ وهل تعتقد أن الأطفال يمكن أن يُشاركوا في صنع القرارات داخل المدرسة أو المنزل؟

# المشاركة في صنع القرار في بلدنا

الدرس  
٣

## أهداف الدرس

- في نهاية هذا الدرس، سأكون قادرًا على أن:
- أُميّز بين القرار الفردي والقرار الجماعي.
- أتعرف خطوات صنع القرار السليم.
- أدرك أهمية المشاركة في صنع القرار.
- أعبر عن رأيي باحترام وأستمع لآراء الآخرين.

المشاركة في صنع القرار تعني إشراك المواطنين في عملية اتخاذ القرارات التي تؤثر على حياتهم ومجتمعاتهم.



رحلة مدرسية

أقرأ وأحل

تخيلوا أن مدرستنا قررت تنظيم رحلة... هل تحبون أن تختار إدارة المدرسة المكان وحدها؟ أم نشارك كلنا في اختيار المكان؟

صنع القرار

هو تحديد بدائل متعددة واختيار الأفضل منها لحل مشكلة أو تحقيق هدف معين، وقد يتخذ القرار فرد بمفرده أو يشارك في صنعه مجموعة من الأشخاص معًا.



صنع القرار

# المشاركة في صنع القرار في بلدنا

الدرس  
٣

## أهداف الدرس

- في نهاية هذا الدرس، سأكون قادرًا على أن:
- أُميّز بين القرار الفردي والقرار الجماعي.
- أتعرف خطوات صنع القرار السليم.
- أدرك أهمية المشاركة في صنع القرار.
- أعبر عن رأيي باحترام وأستمع لآراء الآخرين.

المشاركة في صنع القرار تعني إشراك المواطنين في عملية اتخاذ القرارات التي تؤثر على حياتهم ومجتمعاتهم.



رحلة مدرسية

أقرأ وأحل

تخيلوا أن مدرستنا قررت تنظيم رحلة... هل تحبون أن تختار إدارة المدرسة المكان وحدها؟ أم نشارك كلنا في اختيار المكان؟

صنع القرار

هو تحديد بدائل متعددة واختيار الأفضل منها لحل مشكلة أو تحقيق هدف معين، وقد يتخذ القرار فرد بمفرده أو يشارك في صنعه مجموعة من الأشخاص معًا.



صنع القرار

وأجيب

أقرأ

قيّم أتعلمها

هو تحديد بدائل متعددة واختيار الأفضل لحل مشكلة أو تحقيق هدف معين

القرارات الجماعية تساعد في تحقيق الأفضل للجميع.

- ١ - ما المقصود بصنع القرار؟
- ٢ - اختيار صديقي في الفصل من أمثلة القرارات.....  
(الفردية - الجماعية)

حقائق تاريخية

حرب السادس من أكتوبر عام ١٩٧٣م ضربت أروع الأمثلة في المشاركة في صنع القرار، حيث شارك فيها جميع قادة الجيش مع القائد الأعلى للقوات المسلحة، وهو رئيس الجمهورية الراحل محمد أنور السادات، في اتخاذ قرار حرب أكتوبر ١٩٧٣م.

خطوات صنع القرار السليم

لكي نصنع قرارًا سليمًا، نمر بعدة خطوات مهمة:



Hany ٢٠٢٦

- تحديد المشكلة أو الهدف.
- جمع المعلومات.
- وضع بدائل لحل المشكلة أو تحقيق الهدف.
- التفكير في إيجابيات وسلبيات كل بديل.
- اختيار أفضل البدائل.
- تنفيذ القرار (البديل المناسب).
- معاودة اختيار بديل آخر في حال لم يصلح البديل الذي تم تنفيذه.



قيّم أتعلمها

التدريب على مهارات اتخاذ القرار يصنع إنسانًا مسؤولًا.

وأحلل

أقرأ

- فسر أهمية التفكير في الإيجابيات والسلبيات قبل اتخاذ القرار. **لمعرفة الاضرار التي يمكن ان نتعرض لها في حال اتخاذ قرار خاطي ووضع الحلول المناسبة**

نماذج على صنع القرارات في حياتنا



- على مستوى الأسرة: قد نتخذ قرارات كثيرة معًا، مثل تحديد مكان قضاء الإجازة، أو وضع قواعد تنظيم الوقت، والاتفاق على شراء أشياء مهمة للمنزل، أو اختيار مدرسة جديدة لأحد الأبناء ... ومشاركة الجميع في صنع هذه القرارات تجعلنا نتعلم التعاون وتحمل المسؤولية.

## وأحلل

## أقرأ

١ - وضح أهمية مشاركة الأبناء في قرارات الأسرة.

**تعليم الاطفال التعاون وتحمل المسؤولية**

٢ - اذكر موقفاً شاركت فيه في صنع قرار داخل أسرتك.

**قضاء اجازة صيفية في الاسكندرية أو البقاء في المنزل لانجاز بعض المهام الاسرية**

• على مستوى المدرسة: مكان مهم نتعلم فيه ونشارك في صنع بعض القرارات داخلها، مثل:

• تقترح مع المعلم وضع قواعد الصف.

• اختيار قائد للفصل.

• اختيار نشاط مدرسي تشارك فيه.



هذه المشاركة تجعلنا نشعر بالمسؤولية، ونفهم معنى التعاون واحترام آراء الآخرين.

## وأستنتج

## أفكر

ما العلاقة بين المشاركة في صنع القرارات داخل المدرسة وتنمية مهارات القيادة لدى المتعلمين؟

**المشاركة في صنع القرار تساعد على تعلم تحمل المسؤولية وحل المشكلات وتعزيز الثقة بالنفس**

• على مستوى المجتمع: هناك قرارات فردية أو جماعية تؤثر على المجتمع ككل وتتعلق بالحياة العامة، ومنها:

• اختيار رئيس مجلس المدينة أو رئيس الوحدة المحلية في القرية.

• قرار بناء حديقة أو إنشاء مستشفى.

• المشاركة في المبادرات العامة مثل حملات زراعة الأشجار أو النظافة.



## وأطبق

## أتعلم

اقترح مبادرة مجتمعية تساعد في تطوير الحي أو القرية التي تسكن فيها.

**اتحضر للاخضر - بينتك حياتك - حافظ عليها تدوم لاجفادك**

## أهمية صنع القرار

### ٦ قيم Hanby

احترام آراء الآخرين يعزز روح الفريق والتعاون.

يساعدنا صنع القرار على عيش حياة أفضل،

فعندما نشارك في صنع القرار، نتعلم:

● الشعور بالمسؤولية.

● حل المشكلات.

● التعاون والاحترام.

● تعزيز الثقة بالنفس.

● احترام آراء الآخرين.

كل قرار نتخذه له نتيجة، وعلينا أن نتحملها ونتعلم منها.

### ٢٦ وأدب Hanby

١ - اذكر أحد القرارات المهمة في حياتك.

**قررت عدم النزول الى الشارع واللعب فيه والذهاب الى النادي لممارسة الالعب الرياضية**

٢ - حدّد قيمة واحدة تعلّمتها من الدرس، واذكر موقفًا طبّقت فيه هذه القيمة في حياتك.

**التعاون - الاحترام - الثقة بالنفس**



عزيزي التلميذ ، لاحظ أن أي سلوك تقوم به - ولو صغيرًا - يؤثر على مستقبلك ومستقبل بلدك مصر، وذلك على النحو التالي:



## ماذا لو؟ شاركت زميلك بالمدرسة في صنع قرار

١  
ستشعر  
بالمسئولية  
والإنجاز

٢  
سيعود  
ذلك بالنفع  
على مدرستك

٣  
ستتعلم  
المشاركة بشكل  
دائم في حياتك

٤  
ستتعلم الاعتماد  
على نفسك في  
أي قرار

٥  
سيتقدم  
مجتمعك وتنتشر  
فيه روح التعاون



أ - أكمل العبارات التالية بما يناسبها من كلمات:

- ١ - قرار اختيار قائد الفصل هو مثال على **صنع قرار جماعي**
- ٢ - المشاركة في صنع القرار تعزز **الثقة بالنفس**
- ٣ - أحد أمثلة اتخاذ القرار في الأسرة **تحديد مكان قضاء اجازة صيفية**
- ٤ - أولى خطوات صنع القرار السليم هي **تحديد المشكلة او الهدف**

ب - اكتب كلمة (صواب) أمام العبارة الصحيحة، وكلمة (خطأ) أمام العبارة غير الصحيحة:

- ١ - المشاركة في صنع القرار تعلمنا الشعور بالمسؤولية. **Hany ٢٠٢٦** (صواب)
- ٢ - صنع القرار لا يؤثر على وضع المجتمع. (خطأ)
- ٣ - القرار الجيد لا يحتاج إلى جمع معلومات. (خطأ)
- ٤ - المشاركة في صنع القرارات تعلمنا تحمل النتائج. (صواب)

ج - بم تفسر...؟

١ - أهمية التفكير قبل اتخاذ أي قرار.

**لاتخاذ القرار المناسب وتحمل النتائج**

٢ - أهمية المشاركة في صنع القرار.

**للشعور بالمسؤولية والتعاون والاحترام وتعزيز الثقة بالنفس**

٣ - أهمية دور المدرسة في صنع القرار.

**عن طريق التعلم والمشاركة نفهم معنى التعاون واحترام اراء الاخرين**

د - أجب عما يلي:

١ - ما النتائج المترتبة على: مشاركة جميع أفراد الأسرة في صنع القرار؟

**نتعاون مع بعض ونتحمل المسؤولية**

٢ - دلل على صحة العبارة: اتخاذ القرارات في عديد من المواقف الحياتية قد يكون فردياً أو

**جماعياً. المذاكرة. قرار فردي - اختيار رائد الفصل اختيار جماعي**

هـ - ما المقصود بـ:

- صنع القرار؟

**تحديد بدائل متعددة واختيار الافضل منها لحل مشكلة أو تحقيق هدف معين**

للدرس Hany

هيا نستعد



«عمل المصريون منذ فجر التاريخ بالعديد من الحِرَف التي ما زالت موجودة حتى الآن» في ضوء العبارة اذكر بعض الحِرَف التراثية في مصر.

## كندا



07:00

صباحاً



02:00

مساءً



- يوجد بها خليج هدسن الذي يتجمد بالكامل في فصل الشتاء، ويوجد بها واحدة من أكبر غابات العالم من حيث المساحة وتغطي ٥٠% من مساحة الدولة. **Hany ٢٠٢٦**
- يشتهر شعبها باللطف، ولديهم احترام كبير للثقافات المختلفة حول العالم، ويعيش بالدولة كثير من الأجناس المختلفة من حول العالم.
- لدى كندا فائض كبير في إنتاج المحاصيل الزراعية مثل القمح، كما أنها تعتمد على تصدير البترول.
- لدى كندا تعاون مع مصر في مجالات التعليم والهجرة والطاقة.
- من أشهر معالم كندا السياحية: برج CN تورنتو - منتزه بانف الوطني.

والآن جاء وقتكم أصدقائي لتبحثوا وتخبرونا!

الانجليزية

والفرنسية

أوتاوا

عملة الدولة: **دولار كندي** اللغة الرسمية: العاصمة: **أوتاوا**

مصدر المعلومات: (الأسرة - صديق - المعلم - شبكة الإنترنت - مصدر آخر).

# أحترم كل الحضارات لكنني أفتخر بتاريخي

• لكل دولة حضارتها ومعالمها التي تتميز بها، ومصر بحضارتها العريقة تمتلك مكانة خاصة تميزها وتمنحها دورًا رائدًا بين الأمم، ومن بين ما يميزها وجود برج القاهرة.

• برج القاهرة تم إنشاؤه عام ١٩٦١م في عهد الرئيس الراحل جمال عبد الناصر، وصممه المهندس نعوم شبيب على شكل زهرة اللوتس أحد الرموز المصرية القديمة.

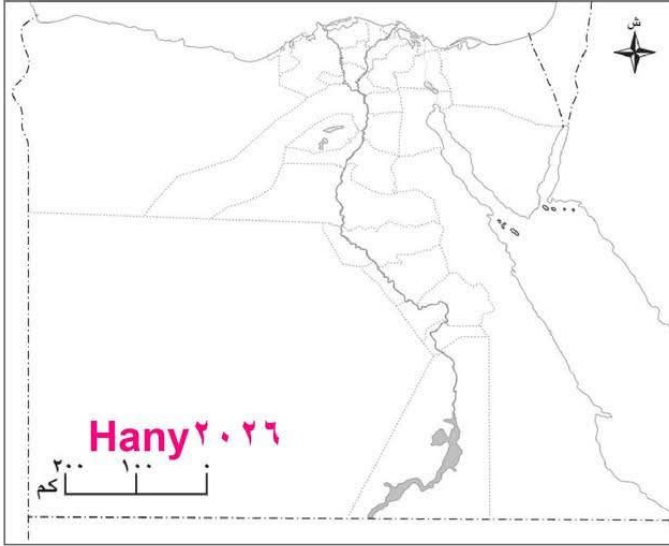


# تقييم الوحدة الأولى



## السؤال الأول: فكر ولوّن:

- أمامك خريطة صماء لمحافظة مصر، لوّنها كما يلي:



- أ أكثر المحافظات سكاناً باللون الأزرق.
- ب محافظة يتركز معظم سكانها بالقرى باللون الأخضر.
- ج أكبر محافظات مصر من حيث المساحة باللون الأحمر.

**السؤال الثاني:** اكتب كلمة (صواب) أمام العبارة الصحيحة، وكلمة (خطأ) أمام العبارة غير الصحيحة:

- ١ - يختلف عدد الذكور عن الإناث داخل المحافظة الواحدة. ( صواب )
- ٢ - ترتفع نسبة التعليم في محافظة القاهرة. ( صواب )
- ٣ - ترتبط مهنة الزراعة بالعلاقة بين الإنسان والبيئة. ( صواب )
- ٤ - تُغطي الغابات كل مساحة كندا. ( خطأ )
- ٥ - إحدى خطوات صنع القرار تحديد المشكلة وجمع المعلومات. ( صواب )

## السؤال الثالث: أكمل العبارات الآتية: Hany ٢٠٢٦

- ١ - إحدى فئات السكان وتزيد أعمارها عن ٦٥ عامًا ..... كبار السن
- ٢ - محافظة الوادي الجديد من المحافظات ..... قليلة السكان.
- ٣ - المهنة التي يقوم صاحبها بتحويل المواد الخام إلى منتجات ..... العمال ..... المهندس
- ٤ - المهنة التي يقوم صاحبها بتصميم التطبيقات الإلكترونية ..... مطور تطبيقات
- ٥ - تنتج كندا كميات كبيرة من محصول ..... القمح
- ٦ - التفكير في إيجابيات وسلبيات كل خيار يساعد على صنع القرار
- ٧ - عند المشاركة في صنع القرار نتعلم عدة قيم منها ..... التعاون ..... والثقة بالنفس

## السؤال الرابع: بم تفسر...؟

١ - أهمية مهن النشاط الزراعي.

توفير الغذاء الذي نحتاجه

٢ - أهمية مشاركة الأطفال في القرارات الأسرية.

تعلم التعاون وتحمل المسؤولية

## السؤال الخامس: ما النتائج المترتبة على...؟

١ - قلة المياه العذبة في محافظة الوادي الجديد.

قلة اعداد السكان بها

٢ - كثرة الإنجاب في بعض المحافظات.

زيادة نسبة صغار السن

## السؤال السادس: أجب عما يلي: Hany ٢٠٢٦

١ - ما العلاقة بين التكنولوجيا والمهن المستقبلية؟

ظهرت المهن المستقبلية بفضل التطور العلمي والتكنولوجي

٢ - ماذا يحدث إذا: غاب عامل النظافة؟

زيادة التلوث في البيئة

٣ - ماذا يحدث إذا: تم اتخاذ قرار دون جمع المعلومات؟

اتخاذ قرار خاطئ

٤ - حدد أهم المعالم السياحية في دولة كندا.

برج CN تورنتو - منتزه بانف الوطني

٥ - قارن بين الزراعة والصناعة من حيث المنتجات في كل منهما: محاصيل زراعية ومنتجات حيوانية

، الصناعة ملابس وإثاث وسيارات

## السؤال التاسع: ما المقصود بالمفاهيم الآتية...؟

١ - التركيب السكاني: تصنيف السكان الى مجموعات حسب النوع أو العمر

٢ - صنع القرار: تحديد البدائل واختيار الأفضل لحل مشكلة او تحقيق هدف معين

## النشاط الختامي للوحدة Hany ٢٠٢٦

بالتعاون مع زملائك صمم مجلة حائط بعنوان «سكان بلدنا» تتناول الموضوعات التالية:

- خريطة مبسطة لتوزيع السكان.
- مقالاً مبسطاً عن المهن في بلدنا.
- تصميم لافتات تشجع على الاحترام وتقبل الآخر وإبداء الرأي.

### دروس الوحدة

- الدرس الأول:** الحرف التراثية في بلدنا.
- الدرس الثاني:** الأماكن التراثية في بلدنا.
- الدرس الثالث:** أنواع السياحة في بلدنا.
- الدرس الرابع:** حرب أكتوبر (معركة الحفاظ على الهوية والكرامة).
- رحلة حول العالم:** جمهورية رواندا.



# الجِرَف التراثية في بلدنا

الدرس

1

## أهداف الدرس

في نهاية هذا الدرس، سأكون قادرًا على أن:

- أتعرّف على الجِرَف التراثية في بلدنا.
- أحدّد أثر البيئة على الجِرَف التراثية.
- أوضح الأهمية الاقتصادية والحضارية للجِرَف التراثية.
- أعبر عن تقديري لجهود الدولة في الحفاظ على الجِرَف التراثية.

### مفاهيم أتعلّمها


الجِرَف التراثية: صناعات يدوية تعتمد على المواد الخام المحلية ومهارة الأيدي العاملة.

عَمَل سكان بلدنا منذ آلاف السنين بعيد من الجِرَف التراثية، التي عكست ثقافتهم المتنوعة وشكّلت هويتهم وشخصيتهم المتميزة.




### أفكر وأناقش

«نجح الإنسان المصري على مر العصور في الاستفادة من الموارد الطبيعية في بلاده»، دُل على صحة العبارة.



مراكز الجِرَف التقليدية بالفسطاط

ذهبت الأسبوع الماضي مع أسرتي إلى مراكز الجِرَف التقليدية بالفسطاط، ورأيت بها جِرَفًا تراثية متعددة.



## إثرانية

## معلومة

في عام ٢٠١٩م افتتح الرئيس عبد الفتاح السيسي معرضًا بعنوان «قصتنا في حرفتنا» لعرض أعمال ذوي الاحتياجات الخاصة في الصناعات اليدوية والإبداعية لدعم الاقتصاد الوطني المصري.



صناعة السجاد اليدوي

## السجاد اليدوي

٣

استخدم المصري القديم الخامات المتاحة في بيئته كالكتان والصوف في صناعة السجاد، الذي تميز بالدقة والمتانة، ورسم عليه ملامح التراث المصري، ومن أشهر مناطق صناعته في مصر قرية الحرائية بالجيزة، وقرية أبو شعرة بالمنوفية.

## وأجيب

## أقرأ

وضح سبب تميُّز السجاد اليدوي المصري.

لأنه يتميز بالدقة والمتانة ورسم عليه ملامح التراث المصري.

## النسيج اليدوي

٤

برع المصريون في صناعة النسيج اليدوي، واستخدموا الصوف والحريير والقطن في صناعة الملابس والمفروشات والخيم، وتشتهر هذه الصناعة في الصعيد وخاصة بمدينة أخميم بسوهاج، وفي سيناء.



صناعة النسيج اليدوي

## إثرانية

## معلومة

قامت اليونسكو بإدراج حرفة النسيج اليدوي في صعيد مصر في قائمة التراث العالمي عام ٢٠٢٠م.

## الجِزْف التِراثِية

## ١ الحِفر على الخِشب



الحِفر على الخِشب

قام المصري القديم بحِفر الرسومات والأشكال على الخِشب، وفي العصر القبطي تزينت الكنائس والأديرة بالمنحوتات الخشبية، أما في العصر الإسلامي فتزينت بها المساجد، وتوجد هذه الجِزْف حاليًا في عدة أماكن منها حي الجمالية بالقاهرة ومدينة دمياط.

## وأحلل

## أقرأ

«تُعد حرفة الحِفر على الخِشب من الجِزْف المصرية العريقة»، هل هذه العبارة صحيحة؟ ولماذا؟ ..... **نعم - لأنها عرفت منذ عصر المصري القديم مرورًا بالعصر القبطي والإسلامي**

## حقائق تاريخية

رغم براعة المصريين في المصنوعات الخشبية فإن مصر من الدول نادرة الأشجار؛ لذلك قامت باستيراد الأخشاب من الخارج، حيث أرسلت الملكة حتشبسوت بعثات تجارية لبلاد بونت (الصومال) لاستيراد الأخشاب منها.

## ٢ الفخار والخِزف

برع في صناعته المصريون منذ فجر التاريخ، وتعتمد صناعة الفخار والخِزف على تشكيل الطين لأوانٍ وأكواب وأشكال أخرى ثم حرقه ليصبح صلبًا، ومن أشهر مناطق صناعة الفخار في مصر: قرية تونس بالفيوم، وحي الفواخير بمصر القديمة بمحافظة القاهرة.



صناعة الفخار

## وأجيب

## أتأمل

حدّد بعض المنتجات المصنوعة من الفخار والخِزف الموجودة في محافظتك.

**الوانى - الاكواب - القلل**

## الزجاج

0



صناعة الزجاج

قام المصريون القدماء بصناعة الزجاج من رمال الصحراء، وازدهرت صناعة الزجاج في العصر الإسلامي، واستُخدم في صناعة التحف والأكواب وتزيين أسقف المساجد والقصور وتُعد (قرية جَرَّاح) بالدقهلية من أشهر مراكز صناعته بمصر.

## اقرأ Hany ٢٠٢٦

دلل على ازدهار صناعة الزجاج في العصر الإسلامي.

تم استخدامه في صناعة الاكواب وتزيين اسقف المساجد والقصور.

## المشغولات النحاسية

٦

استخدم المصري القديم النحاس في صناعة أدواته اليومية من أوانٍ وأسلحة وحُلِي، وفي العصر الإسلامي تم تطعيم النحاس بالفضة، وتُعد الجمالية والفسطاط بمحافظة القاهرة من أهم مراكز صناعة المشغولات النحاسية في مصر.



المشغولات النحاسية

## أبحث وأتعلم

استعن بمصادر التعلم المختلفة، وحدد بعض المنتجات التي يدخل النحاس في صناعتها في وقتنا الحالي. يدخل في صناعة ادوات الزينة واسلاك الكهرباء والمقايض النحاسية

## أهمية الحِرَف التراثية

الحِرَف التراثية لها أهمية كبيرة في بلدنا، فهي ليست حِرَفًا عَمِلَ بها المصريون في الماضي فقط، بل ما زال يعمل بها الكثيرون حتى الآن، وتنقسم أهمية الحِرَف التراثية إلى:



تساهم في التنمية الاقتصادية وزيادة الدخل القومي.

توفر فرص عمل للشباب.

تساهم في تنمية المناطق البعيدة.

أهمية اقتصادية، وتتمثل في:

## قيم أتعلمها

من لا تراث له، لا هويّة له.

أهمية حضارية، وتتمثل في:

تُظهر حضارة مصر العريقة.

Hany ٢٠٢٦  
Hany ٢٠٢٦  
Hany ٢٠٢٦

تحافظ على ثقافة وتراث مصر.

## أقرأ وأستنتج

## أقرأ

ما العلاقة بين الحِرَف التراثية وزيادة الدخل القومي؟

الحرف التراثية تساهم في التنمية الاقتصادية وبالتالي زيادة الدخل القومي

## اهتمام الدولة بالحِرَف التراثية

تهتم بلدنا بالحِرَف التراثية وتقدر أهميتها؛ لذلك قامت بإنشاء مراكز ومعارض ومهرجانات للحفاظ على الحِرَف التراثية، ومنها:



## ١ مراكز الحِرَف التقليدية بالفسطاط



مراكز الحِرَف التقليدية بالفسطاط

أنشأت وزارة الثقافة مراكز للحِرَف التقليدية في مدينة الفسطاط بالقاهرة، مثل مركز الحِرَف ومركز الخزف، والهدف من هذه المراكز إحياء الحِرَف التراثية ومساعدة الحِرَفيين والفنانين على ممارسة حِرَفهم وإبداعهم.

## معرض «تراثنا» للجِزْف التِراثِية

٢



معرض تراثنا

يُعدّ معرض «تراثنا» من أكبر الفعاليات السنوية في مصر، حيث يتيح المعرض الفرصة أمام الحرفيين والمبدعين العاملين بالجِزْف التِراثِية لعرض منتجاتهم أمام الجمهور.

## أفكر ٢٦ وأتوّهني Hany

ماذا يحدث إذا: انتشرت معارض الجِزْف التِراثِية في كافة المحافظات المصرية؟

اتاحة الفرصة لعرض اعمال الحرفيين والمبدعين لعرض منتجاتهم للجمهور على مستوى الجمهورية

## حقائق تاريخية

تأسست مدينة الفسطاط على يد عمرو بن العاص عام (٦٤١ م - ٢١ هـ).

## معلومة إثرائية

قامت الدولة بدعم الجِزْف التِراثِية من خلال مبادرات مثل «صناعية مصر» و«حياة كريمة»، كما شيدت معالم حديثة تجمع بين التراث والحداثة مثل مسجد الفتاح العليم بالعاصمة الإدارية.

Hany ٢٠٢٦  
Hany ٢٠٢٦

## أفكر ٢٦ وأجديني Hany

وضّح الفرق بين مراكز الجِزْف التِراثِية بالفسطاط ومعرض «تراثنا»، من حيث الهدف من كل منهما. **مراكز الحرف التِراثِية : الهدف منها احياء الحرف التِراثِية ومساعدة الحرفيين والفنانين على ممارسة حرفهم وابداعهم**  
**معرض تراثنا : الهدف منه عرض منتجات الحرفيين والفنانين امام الجمهور**

مسجد الفتاح العليم  
بالعاصمة الإدارية الجديدة

عزيزي التلميذ، لاحظ أن أي سلوك تقوم به - ولو صغيرًا - يؤثر على مستقبلك ومستقبل بلدك مصر، وذلك على النحو التالي:



## ماذا لو؟ احترمت المهن اليدوية

1  
ستشجع  
المهنيين على  
الإبداع

2  
ستدعم  
المنتجات المحلية  
لبلدك

3  
ستنهض  
الصناعات  
المحلية

4  
ستدعم  
الاقتصاد الوطني

## تدريبات الدرس



أ - أكمل العبارات التالية بما يناسبها من كلمات: Hany ٢٠٢٦

- ١ - توجد حرفة الحفر على الخشب بمدينة القاهرة بحي **الجمالية**.....
- ٢ - استخدم المصري القديم في صناعة السجاد اليدوي خامات البيئة مثل.....**الكتان والصوف**.....
- ٣ - أنشأت مصر عدة مراكز للحرف التراثية بمدينة الفسطاط ومنها مركز **الخزف**.....**الحرف**

ب - قامت أسرتك بالسؤال عن أماكن بعض المنتجات التراثية التي ترغب في شرائها، فأى الأماكن تنصحها بالذهاب إليها: Hany ٢٠٢٦

- ١ - أدوات ومشغولات نحاسية. **الجمالية والفسطاط بالقاهرة**.....
- ٢ - طواجن فخار. **قرية تونس بالفيوم - حي الفواخير مصر القديمة بالقاهرة**
- ٣ - سجاد يدوي. **الحرانية بالجيزة - ابو شعيرة بالمنوفية**.....

ج - اكتب كلمة (صواب) أمام العبارة الصحيحة، وكلمة (خطأ) أمام العبارة غير الصحيحة:

- ١ - تتمثل أهمية الحرف التراثية في قيمتها الحضارية والاقتصادية. Hany ٢٠٢٦ **(صواب)**
- ٢ - استخدم المصري القديم الأخشاب منذ آلاف السنين في الأعمال الفنية. **(صواب)**
- ٣ - يتم صناعة المفروشات والملابس من الصوف والحريير والقطن. **(صواب)**
- ٤ - يمكننا صناعة الفخار من الرمال. **(خطأ)**

د - بم تفسر...؟

تساهم في التنمية الاقتصادية وزيادة الدخل القومي وتوفر فرص عمل للشباب وتساهم في تنمية المناطق البعيدة

- ١ - الأهمية الاقتصادية للحرف التراثية.....
- ٢ - أهمية حرفة الفخار والخزف للمصريين قديماً. **تشكيل الطين الى اوانى واكواب واشكال اخرى للحياة اليومية**

هـ - ما النتائج المترتبة على...؟ Hany ٢٠٢٦

- ١ - ندرة الأخشاب في مصر على مر تاريخها. **ادى الى استيرادها من الخارج**.....
- ٢ - إقامة معرض «تراثنا» للحرف التراثية. **اتاحة الفرصة لعرض المنتجات على الجمهور**.....

و - ما المقصود بـ: Hany ٢٠٢٦

الحرف التراثية؟ **صناعة يدوية تعتمد على المواد الخام المحلية ومهارة الايدي العاملة**

للمدرس القادم

هيا نستعد



اذكر مواقع التراث العالمي في مصر.



# الأماكن التراثية في بلدنا

الدرس

٢

## أهداف الدرس

في نهاية هذا الدرس، سأكون قادرًا على أن:

- أعدّد مواقع التراث العالمي في مصر.
- أحدّد على الخريطة مواقع التراث العالمي في مصر.
- أفسّر أهمية مواقع التراث العالمي.
- أوضح جهود اليونسكو في الحفاظ على مواقع التراث العالمي.

### معلومة

اليونسكو: منظمة الأمم المتحدة في التربية والعلوم والثقافة.



تقوم اليونسكو باختيار مواقع أثرية وتراثية وطبيعية في العالم، لتكون ضمن قائمة مواقع التراث العالمي، وتهدف اليونسكو من تلك القائمة حماية مواقع التراث العالمي والحفاظ عليها؛ لما تمثله من أهمية كبيرة في حضارات الشعوب وثقافتهم.



وأتعلم

أتأمل

هل تعرفون المواقع التراثية في مصر التي أدرجتها اليونسكو ضمن قائمة التراث العالمي؟  
القاهرة التاريخية - ابو مينا بالإسكندرية - جبانة منف بالجيزة - دير سانت كاترين جنوب سيناء -  
معبد الكرنك بمدينة طيبة بالأقصر - وادي الحيتان بالفيوم

### معلومة

قادت اليونسكو في الستينيات حملة دولية لإنقاذ معبدي أبو سمبل بعد تهديد غمره بمياه السد العالي، فتم تفكيكه ونقله إلى موقع مرتفع، ليصبح مثالاً عالمياً للتعاون في حماية التراث.

٤٤



## الأماكن التراثية

خلال إجازة نصف العام ذهبت مع أسرتي إلى محافظة الأقصر وشاهدت آثارها العريقة، وأخبرنا المرشد السياحي أن منطقة طيبة القديمة في محافظة الأقصر من مواقع التراث العالمي في مصر.



وأجيب

أتأمل



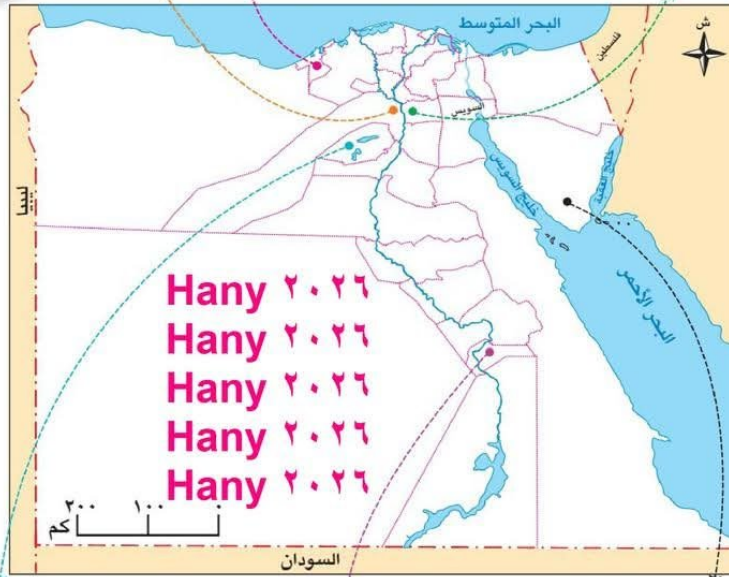
جبانة منف بالجيزة



أبو مينا بالإسكندرية



القاهرة التاريخية



وادي الحيتان بالفيوم



معبد الكرنك بمدينة طيبة




دير سانت كاترين بجنوب سيناء

لاحظ الخريطة وأكمل العبارات التالية:

- ١ - تقع مدينة طيبة القديمة في محافظة **الأقصر**.....
- ٢ - تضم محافظة الفيوم موقع **وادي الحيتان** التراثي.
- ٣ - تقع منطقة أبو مينا جنوب غرب مدينة **الإسكندرية**

## قيم أتعلمها

المحافظة على الآثار واجب وطني؛ لأنها تشكل جزءاً أصيلاً من هويتنا وحضارتنا وتراثنا.



معبد أبو سمبل الكبير

## وأطبق

## أتعلم

تخيّل نفسك مرشداً سياحياً، ووضح للزوار عظمة المواقع التراثية بطيبة. ....

## آثار النوبة

٤

تقع منطقة النوبة في جنوب مصر بمحافظة أسوان وتضم آثاراً من مختلف العصور التاريخية في مصر، حيث تضم معبدي أبو سمبل ومعبد فيلة ودير الأنبا سمعان والمقبرة الإسلامية.

## منطقة أبو مينا

٥

تقع جنوب غرب مدينة الإسكندرية، وتضم بقايا الكنائس والأديرة والمنازل حول قبر القديس مار مينا، والمنطقة مزيج من الحضارات القديمة.

## وأجيب

## أقرأ

وضح الأهمية الحضارية لمنطقة أبو مينا.

تضم بقايا الكنائس والأديرة والمنازل حول قبر القديس مار مينا وهي مزيج من الحضارات القديمة

منطقة أبو مينا

## ٦ دير سانت كاترين

يقع في مدينة كاترين بمحافظة جنوب سيناء، ويُعد من أقدم الأديرة في العالم، وتمثل منطقة كاترين أهمية كبيرة للديانات السماوية الثلاث.



دير سانت كاترين

## ٧ القاهرة التاريخية

توسعت المدينة لتضم المدن والعواصم الإسلامية القديمة كالفسطاط والعسكر والقطائع، وتشمل العديد من الآثار الإسلامية كمقياس النيل ومسجد عمرو بن العاص وجامع أحمد بن طولون، والآثار القبطية كالكنيسة المعلقة.



جامع أحمد بن طولون

وأحدد

أبحث

استعن بمصادر التعلم المختلفة، واكتب فقرة للإذاعة المدرسية بعنوان «القاهرة التاريخية متحف مفتوح على مر العصور» أو «حكاية القاهرة التاريخية».

## أهمية المواقع التراثية

للمواقع التراثية في مصر أهمية كبيرة حضارية واقتصادية، حيث إنها:

Hany ٢٠٢٦  
Hany ٢٠٢٦  
Hany ٢٠٢٦  
Hany ٢٠٢٦

- ١ - تساعد على دراسة وفهم التاريخ المصري.
- ٢ - توفر فرص عمل للشباب في مجال السياحة.
- ٣ - تساهم في زيادة الدخل القومي.



وأجيب

أقرأ

وضح العلاقة: بين مواقع التراث العالمي والتنمية الاقتصادية في مصر.  
**تساهم في زيادة الدخل القومي وتوفر فرص عمل للشباب**

## اهتمام الدولة بمواقع التراث العالمي

قامت بلادنا بجهود كبيرة للحفاظ على مواقع التراث العالمي بمصر وحمايتها وتطويرها، ومن هذه الجهود:



طريق الكباش

## ١ تطوير طريق الكباش

يقع طريق الكباش بمحافظة الأقصر، وتم تطويره وافتتاحه عام ٢٠٢١ م.

## ٢ مشروع الصوت والضوء

انطلق مشروع الصوت والضوء بمنطقة أهرامات الجيزة، والمشروع عبارة عن عروض ليلية تحكي تاريخ المنطقة وآثارها بعدة لغات، وبعد ذلك تم تنفيذ المشروع في عديد من المناطق الأثرية الأخرى.



مشروع الصوت والضوء بمنطقة الأهرامات

## قائمة المواقع التراثية المحتمل إدراجها

تضم قائمة اليونسكو للمواقع المؤقتة ٣٤ موقعًا مصريًا، منها: واحة سيوة بمحافظة مطروح.



## أ تأمل وأجيب

رَسِّحْ أحد المواقع الأثرية في محافظتك لإضافتها على قائمة مواقع التراث العالمي، موضحًا أسباب اختيارك.

عزيزي التلميذ، لاحظ أن أي سلوك تقوم به - ولو صغيرًا - يؤثر على مستقبلك ومستقبل بلدك مصر، وذلك على النحو التالي:



# تدريبات الدرس



## أ - أكمل العبارات التالية بما يناسبها من كلمات: Hany ٢٠٢٦

- ١ - يتم اختيار مواقع التراث العالمي في مختلف دول العالم بواسطة..... **اليونسكو**.
- ٢ - توجد منطقة أبو مينا في محافظة..... **الاسكندرية**.
- ٣ - الموقع الطبيعي الوحيد في مصر ضمن قائمة التراث العالمي هو..... **وادي الحيتان**.

## ب - حد الكلمة أو الجملة غير المناسبة مع ذكر السبب: Hany ٢٠٢٦

- ١ - وادي الحيتان - جبانة منف - مدينة طيبة - آثار النوبة. (..... **موقع طبيعي**)
- ٢ - معبد الكرنك - معبد الدير البحري - معبد فيلة - وادي الملوك. (..... **من آثار النوبة**)
- ٣ - مسجد عمرو بن العاص - دير سانت كاترين - الكنيسة المعلقة - مقياس النيل. (..... **لأنه جنوب سيناء**)

## ج - اكتب كلمة (صواب) أمام العبارة الصحيحة، وكلمة (خطأ) أمام العبارة غير الصحيحة:

- ١ - تقع مدينة طيبة القديمة في محافظة الأقصر. Hany ٢٠٢٦ (..... **صواب**)
- ٢ - يضم موقع النوبة آثارًا تعود لعدة عصور من تاريخ مصر. (..... **صواب**)
- ٣ - يقع دير سانت كاترين في شمال سيناء. (..... **خطأ**)

## د - بم تفسر...: Hany ٢٠٢٦

- ١ - أهمية المواقع التراثية. .... **تساعد في دراسة وفهم التاريخ المصري. توفر فرص عمل للشباب**
- ٢ - يُعد موقع آثار النوبة من المواقع متعددة الحضارات. .... **يضم معبدى أبو سمبل وفيلة ودير الانبا سمعان والمقابر الاسلامية**

## هـ - ما النتائج المترتبة على...: Hany ٢٠٢٦

- ١ - إقامة مشروع الصوت والضوء بمنطقة أهرامات الجيزة. .... **تنفيذ المشروع في عدد من المناطق الاثرية الاخرى**
- ٢ - تطوير طريق الكباش. .... **تم الافتتاح عام ٢٠٢١**

## و - دلل على صحة العبارات التالية: Hany ٢٠٢٦

- ١ - تتعدد المواقع التراثية في القاهرة التاريخية. **مقياس النيل ومسجد عمرو بن العاص وجامع احمد بن طولون والكنيسة المعلقة**
- ٢ - يتمتع دير سانت كاترين بأهمية كبيرة. .... **أقدم اديرة العالم - منطقة اشربة للديانات الثلاثة**

تدريبات Hany

هيا نستعد



وضح واجبنا نحو السياحة والسائحين.



# أنواع السياحة في بلدنا

الدرس  
٣

## أهداف الدرس

- في نهاية هذا الدرس، سأكون قادرًا على أن:
- أستنتج أهمية السياحة.
  - أحدّد أنواع السياحة في بلدنا.
  - أشرح دورنا تجاه السياحة في بلدنا.
  - أستنتج دور مصر في الاهتمام بالسياحة.

### مفاهيم أتعلمها

**السياحة:** الانتقال من مكان إلى آخر بغرض الترفيه أو العلاج أو الاستكشاف.

تُعد السياحة من أهم المجالات الاقتصادية في مصر، حيث تساهم في زيادة الدخل القومي، وتوفير فرص عمل للشباب.



جامع أحمد بن طولون



أهرامات الجيزة



مدينة العلمين الجديدة



واحة سيوة

### أتأمل وأتعلم

هل قمت بزيارة أحد الأماكن السياحية الموجودة بالصورة المقابلة؟

.....

.....

.....

.....

.....

## أنماط السياحة

سافرت مع أسرتي إلى مدينة شرم الشيخ بجنوب سيناء، وشاهدت بها سائحين من دول كثيرة، وعرفت أن السياحة تنقسم إلى:



شرم الشيخ

## ١ سياحة داخلية

هي الانتقال من مكان إلى آخر داخل بلدنا لعدة أغراض، منها: الترفيه أو العلاج أو الاستكشاف، مثل الذهاب للشواطئ في الصيف، أو زيارة الآثار المصرية.

## ٢ سياحة خارجية

هي الانتقال من دولة إلى دولة أخرى لعدة أغراض، منها: الترفيه أو العلاج أو الاستكشاف، مثل زيارة السائحين من الدول الأخرى لمصر.

## وأجب

## أقرأ

أكمل الفقرة التالية: تُعد زيارتك لمدينة شرم الشيخ سياحة ..... بينما زيارتك لفرنسا تُعد سياحة .....

## أنواع السياحة

يأتي السائحون لمصر بأعداد كبيرة ولأسباب متعددة، حيث يوجد عدة أنواع من السياحة ومنها:



## ١ السياحة الثقافية

يوجد في مصر تنوع ثقافي كبير حيث تضم آثارًا متنوعة كأهرامات الجيزة والمسرح الروماني والكنيسة المعلقة وقلعة صلاح الدين الأيوبي، إلى جانب معالم حديثة مثل المتحف القومي للحضارة المصرية الذي يضم آثارًا من مختلف عصور التاريخ المصري.



قلعة صلاح الدين الأيوبي بالقاهرة

## إثرائية

## معلومة

ساهمت هيئة التعاون الدولي اليابانية «جايكا» في إنشاء المتحف المصري الكبير، وتعاون الخبراء اليابانيون والمصريون في ترميم وحفظ القطع الأثرية لعرضها بالمتحف.



رحلات السفاري

زيارة السياح للشواطئ المصرية والقيام برحلات السفاري والتنزه في النيل يزيد من اعداد السائحين بغرض الترفيه وبالتالي زيادة الدخل القومي وتوفير فرص عمل للشباب

## ٢ السياحة الترفيهية

يأتي السائحون لزيارة شواطئنا الجذابة على البحرين الأحمر والمتوسط، والاستمتاع برحلات السفاري في الصحراء المصرية، والتنزه على نهر النيل.

### واجب

### أتأمل

١ - وضح العلاقة بين المناظر الطبيعية الجذابة واقتصاد بلدنا.

٢ - قارن بين السياحة الثقافية والترفيهية.

السياحة الثقافية تعتمد على زيارة الاماكن التاريخية والاثرية --- اما السياحة الترفيهية تعتمد على التمتع بالمناظر الطبيعية والشواطئ والنيل

## ٣ السياحة العلاجية

هي زيارة مكان بغرض تلقي العلاج، وتزخر بلدنا بالعديد من المواقع العلاجية كالعيون الكبرى في سيناء والبحيرات الملحية في سيوة، والرمال الساخنة بالصحراء الغربية.



بحيرات ملحية

Hany ٢٠٢٦  
Hany ٢٠٢٦  
Hany ٢٠٢٦  
Hany ٢٠٢٦  
Hany ٢٠٢٦  
Hany ٢٠٢٦

### وأتعلم

### ألاحظ

اكتب كلمة (صواب) أمام العبارة الصحيحة، وكلمة (خطأ) أمام العبارة غير الصحيحة:

(صواب)

١ - يزور السياح سيوة بغرض العلاج.

(خطأ)

٢ - زيارة شرم الشيخ والغردقة سياحة ثقافية.

(صواب)

٣ - يأتي السياح إلى مصر بأعداد كبيرة كل عام.



منتدى شباب العالم

## ٤ سياحة المعارض والمؤتمرات

تقوم بلدنا بتنظيم العديد من المعارض والمؤتمرات والمهرجانات لجذب السائحين من مختلف بلاد العالم، ومن أشهرها معرض القاهرة الدولي للكتاب، ومنتدى شباب العالم.

# تدريبات الدرس



أ - أكمل العبارات التالية بما يناسبها من كلمات: Hany ٢٠٢٦

- ١ - الانتقال من دولة لأخرى بغرض الترفيه يُسمى... **سياحة خارجية**
- ٢ - توجد في محافظة البحر الأحمر محمية... **جبل عله**
- ٣ - الاستمتاع بالشواطئ يطلق عليه سياحة... **ترفيهية**

ب - اكتب كلمة (صواب) أمام العبارة الصحيحة، وكلمة (خطأ) أمام العبارة غير الصحيحة:

- ١ - يجب علينا كتابة أسمائنا على الآثار لنخلد ذكرى زيارتنا لها. Hany ٢٠٢٦ ( **خطأ** )
- ٢ - يُعتبر معرض القاهرة الدولي للكتاب من أنواع السياحة الترفيهية. ( **خطأ** )
- ٣ - يأتي السائحون للعلاج في رمال الصحراء الغربية بغرض السياحة البيئية. ( **خطأ** )
- ٤ - زيارتك لمدينة شرم الشيخ يُعد سياحة داخلية. ( **صواب** )

ج - بم تفسر...؟ Hany ٢٠٢٦

- ١ - توافد السائحين على مصر.

بسبب تنوع السياحة الثقافية وترفيهية وعلاجية ومعارض و..... الخ

- ٢ - إقامة المحميات الطبيعية.

لجذب السياح لتعرفهم بالمظاهر الطبيعية الخلابة

د - ما النتائج المترتبة على...؟ Hany ٢٠٢٦

- ١ - حسن استقبال السائحين.

تشجيع السائحين على زيارة مصر باعداد كبيرة وتنشيط السياحة وزيادة الدخل القومي

- ٢ - تعدد المواقع الأثرية في مصر.

تنشيط السياحة الثقافية في مصر

ه - ما المقصود بكل من...؟ Hany ٢٠٢٦

- ١ - السياحة: الانتقال من مكان الى اخر بغرض الترفيه او العلاج او الاستكشاف

- ٢ - السياحة الداخلية: الانتقال من مكان الى اخر داخل بلدنا بغرض الترفيه او العلاج او الاستكشاف

للدروس القادم

هيا نستعد



كيف استعدت القيادة العامة للقوات المسلحة لخوض حرب أكتوبر لاستعادة أرض سيناء؟



## حرب أكتوبر (معركة الحفاظ على الهوية والكرامة)

الدرس

ع

### أهداف الدرس

في نهاية هذا الدرس، سأكون قادرًا على أن:

- أستنتج العلاقة بين حرب أكتوبر والحفاظ على هويتنا.
- أوضح كيف تم إعداد الجيش المصري لخوض حرب أكتوبر.
- أشرح أهمية التخطيط الجيد في تحقيق الانتصار.
- أبيّن دور قادة الجيش في حرب أكتوبر.
- أستخلص الدروس المستفادة من حرب أكتوبر.
- أعبر عن فخري بجيش بلادي.



تسعى الشعوب إلى حماية تراثها وهويتها، التي تتمثل في أرضها وتاريخها وحضارتها، وعندما تتعرض هذه الهوية للخطر، فإنها تقف بقوة وإصرار لتدافع عنها بكل ما تملك، وتعدّ حرب أكتوبر المجيدة عام ١٩٧٣ من أعظم الأحداث في تاريخ مصر الحديث، فهي لم تكن مجرد معركة عسكرية لاسترداد الأرض التي استولى عليها الجيش الإسرائيلي، بل كانت معركة للدفاع عن الهوية والكرامة والانتماء.

فقد أثبت المصريون خلال هذه الحرب أنهم أصحاب حضارة عظيمة لا يقبلون الهزيمة، وأن حبهم لوطنهم ليس ترديدًا بالكلمات فقط، بل عملًا وتضحية. ومن خلال وحدة الشعب والجيش وإصرارهم على النصر، استطاعت مصر استعادة أرضها.

### قيم أتعلمها


- الأرض تمثل الشرف، واستردادها واجب وطني.
- الحفاظ على الأرض يعني الحفاظ على كرامة وهوية الوطن.

إن حرب السادس من أكتوبر عام ١٩٧٣م، الموافق العاشر من رمضان، سبقها سلسلة طويلة من الاستعدادات التي جعلت النصر ممكناً، تعالوا نروي معاً حكاية النصر.



### احتلال إسرائيل لسيناء

احتلت إسرائيل جزءاً عريضاً من الأراضي المصرية، وهو شبه جزيرة سيناء عام ١٩٦٧م، وأقامت تحصينات كثيرة على قناة السويس عُرفت باسم خط بارليف، وهو من أقوى وأخطر الخطوط الدفاعية في العالم في ذلك الوقت، واعتقدت إسرائيل أن هذا الخط لا يمكن للجيش المصري اختراقه.



تحصينات خط بارليف (الساتر الرملي)

### إثرائية

### معلومة

خط بارليف هو خط دفاعي عسكري أقامته إسرائيل بعد احتلالها شبه جزيرة سيناء عام ١٩٦٧م، على الضفة الشرقية لقناة السويس. وكان الهدف من بنائه هو منع الجيش المصري من عبور القناة واستعادة سيناء، فصُمم ليكون منيعاً للغاية، وضم تحصينات قوية وسواتر ترابية عالية، وأنفاقاً خرسانية، وأسلاكاً شائكة وألغاماً.

## قيم أتعلمها

الاستعداد الجيد والعمل المنظم  
طريق النجاح في أي وقت.

## ماذا فعل المصريون؟

لم يستسلم المصريون للهزيمة، وبدأ الجيش المصري في التخطيط لاستعادة أرضهم، من خلال مجموعة من الإجراءات التي مثلت محطات لتحقيق النصر.

## رأيك مهم

لماذا كان التخطيط الجيد مهماً قبل بدء  
حرب أكتوبر؟

## التخطيط للحرب:

قامت القيادة العامة للقوات المسلحة بالتخطيط للحرب بشكل دقيق ومنظم من خلال مجموعة من الإجراءات، التي تتمثل فيما يلي:

- قامت مصر بعد حرب ١٩٦٧ م بشن حرب الاستنزاف حيث خاض الجنود معارك شجاعة على طول قناة السويس، وهاجموا مواقع العدو أكثر من مرة محققين خسائر فادحة للعدو، وكانت هذه الحرب طريقاً إلى نصر أكتوبر ١٩٧٣ م.
- الحصول على معلومات عن العدو لمعرفة نقاط ضعفه عن طريق أجهزة المخابرات المصرية.
- تنظيم الوحدات داخل الجيش لضمان تأدية مهامها.
- التدريب المكثف ومحاكاة نماذج من مواقع العدو المستهدفة.
- وضع خطة عبور قناة السويس.



غرفة عمليات الحرب ووضع خطة العبور

## إعداد الجيش:

قامت القيادة العامة للقوات المسلحة بتجهيز الجيش من خلال مجموعة من الإجراءات التي تتمثل فيما يلي:

- رفع الروح المعنوية للجنود وغرس روح الإصرار والانتماء في نفوسهم، والتأكيد على أن المعركة القادمة معركة كرامة وشرف، وليست مجرد حرب عادية.
- تدريب الجنود والضباط تدريباً قوياً ومنظماً.
- تطوير الأسلحة والمعدات وصيانتها باستمرار.



تدريب الجنود على الأسلحة والمعدات الحديثة

## دور القيادة العامة للقوات المسلحة في حرب أكتوبر ١٩٧٣م



الرئيس الراحل محمد أنور السادات  
رئيس الدولة والقائد الأعلى  
للقوات المسلحة

لم يكن النصر في حرب أكتوبر وليد الصدفة، ولكن كان ثمرة قيادة حكيمة وشجاعة، وتمثل أبرز القادة في:

### الرئيس محمد أنور السادات:

كان القائد الأعلى للقوات المسلحة، وهو الذي اتخذ قرار الحرب.

### من خطاب النصر للرئيس السادات

تمكنت القوات المسلحة المصرية من اقتحام مانع قناة السويس، واجتياح خط بارليف المنيع، بعد أن أفقدت العدو توازنه في ست ساعات. لقد كانت المخاطرة كبيرة وكانت التضحيات عظيمة، ولكن النتائج المحققة من حربنا كانت هائلة.



### الفريق أول: أحمد إسماعيل

وزير الحربية  
والقائد العام للجيش.

### اللواء:

محمد عبد الغني الجمسي  
رئيس هيئة عمليات  
القوات المسلحة.



### الفريق:

سعد الدين الشاذلي  
رئيس أركان القوات المسلحة.



اللواء:  
محمد علي فهمي  
قائد قوات الدفاع الجوي.



اللواء:  
محمد حسني مبارك  
قائد القوات الجوية.



اللواء:  
فؤاد زكري  
قائد القوات البحرية.

### يوم النصر:

بدأت الحرب بضربة قوية من الطائرات المصرية، فقد انطلقت الطائرات من المطارات المصرية واتجهت نحو مواقع العدو في سيناء، وقامت بتدمير مراكز القيادة والمطارات التي كانت تستخدمها إسرائيل. وبعدها بدأ جنود مصر الأبطال عبور قناة السويس ليحرروا أرض سيناء.

واستخدم الجنود خراطيم مياه قوية لتدمير الحاجز الترابي العالي الذي أقامه العدو الإسرائيلي، ثم عبروا القناة في قوارب صغيرة وهم يرفعون علم مصر بكل فخر وشجاعة.

بعد ذلك، أقاموا جسورًا عائمة لتسير عليها الدبابات، واستمروا في التقدم حتى الضفة الشرقية للقناة، وقضوا على الأسطورة المزعومة بأن الجيش الإسرائيلي لا يُقهر، فحققوا نصرًا عظيمًا أذهل العالم واستعادوا الكرامة والسيادة.

### رأي إحدى الصحف الأجنبية في حرب أكتوبر ١٩٧٣م:

كان عبور قناة السويس جريئًا وعبقريًا بإذابة السواتر الرملية الدفاعية العملاقة بخراطيم المياه عالية الضغط، وإقامة الجسور العائمة، وعبور القناة في زوارق مطاطية مكشوفة.

#### قيم أتعلمها

أشعر بالفخر والعزة لانتصار جيشنا العظيم في معركة الكرامة.

#### أفكر وأتأمل

تعاون مع زميلك واستخلص الدروس المستفادة من حرب أكتوبر. ....

عزيزي التلميذ، لاحظ أن أي سلوك تقوم به - ولو صغيرًا - يؤثر على مستقبلك ومستقبل بلدك مصر، وذلك على النحو التالي:



## هوية محافظتي

Hany ٢٠٢٦



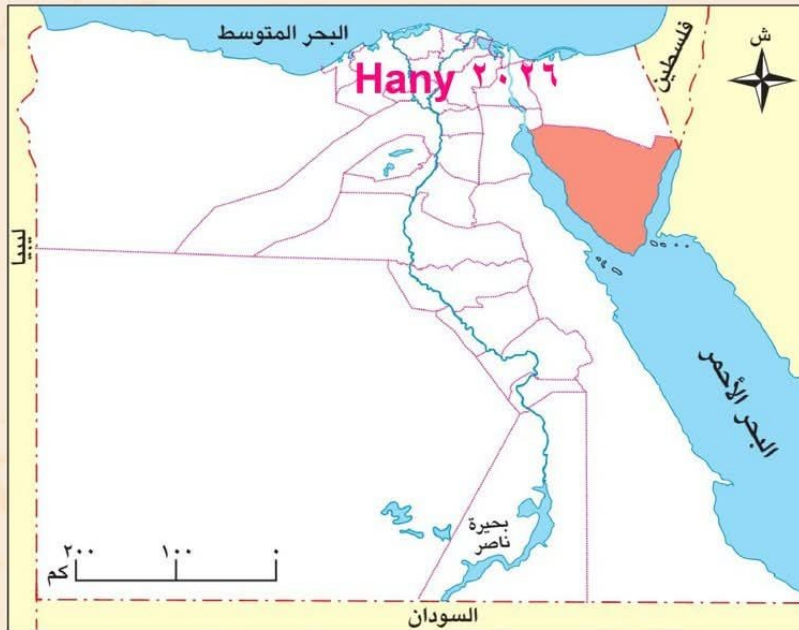
أصدقائي الأعزاء هيا بنا لأصبحكم في ...  
رحلة إلى محافظة جنوب سيناء

« تقع محافظتي على خريطة مصر في اتجاه...**الشمال...الشرقي** »  
 « تُعتبر محافظتي بالنسبة لعدد السكان محافظة...**قليلة**...السكان. »  
 « يُعتبر النشاط الاقتصادي لمحافظة هي النشاط...**السياحي**... »  
 « أقرب المسطحات المائية لمحافظة هي...**خليج السويس وخليج العقبة** »  
 « أبرز المهن التي تشتهر بها محافظتي هي...**التعدين واستخراج البترول** »  
 « العيد القومي لمحافظة جنوب سيناء هو يوم...**١٩ مارس**...، وهو يوافق ذكرى استرداد «طابا». »  
**موارد محافظتي ومستقبلها:**

« تزخر محافظتي بالعديد من أنواع السياحة، كالسياحة الترفيهية بشرم الشيخ ودهب، وبها  
 سياحة بيئية كما في محمية رأس محمد. »  
 « تتعدد الأماكن الأثرية في محافظتي مثل دير سانت كاترين. »  
 « تشتهر محافظتي بإنتاج مصادر الطاقة المختلفة كالبتترول. »  
 « تنتشر العادات والتقاليد البدوية بين سكان محافظتي. »

**مستقبل محافظتي في:**

الاهتمام بتطوير ودعم النشاط السياحي، وتطوير صناعة تكرير البترول.



هل ترى أن هناك بمصر محافظة تشبه محافظة جنوب سيناء؟ حدّد هذه المحافظة وصمّم لها بطاقة مماثلة.

## جمهورية رواندا



02:00

مساءً



02:00

مساءً



Hany ٢٠٢٦

- تُعرَف بأرض «الألف تل» لكثرة التلال بها، ومساحتها صغيرة تمثل نصف مساحة محافظة أسوان فقط، وبها بحيرة كيفو التي تُعتبر من أعمق البحيرات في إفريقيا.
- يشتهر شعبها بالهدوء والانضباط ومجتمعهم متماسك جدًا ولديهم عادة «أوموغاندا» وهو يوم وطني شهري للتطوع في تنظيف الشوارع. **Hany ٢٠٢٦**
- تعتمد رواندا على الزراعة، ومن أشهر محاصيلها البن والشاي، وتركز في الوقت الحالي على السياحة البيئية.
- بدأت علاقة مصر برواندا وتعززت مع نشأة الاتحاد الإفريقي، ولديها تعاون حالي مع مصر في مجالات الزراعة والتعليم والصحة.
- أهم المعالم السياحية: حديقة البراكين الوطنية - حديقة أكاجيرا الوطنية.

والآن جاء وقتكم أصدقائي لتبحثوا وتخبرونا!

عملة الدولة: ..... **فرنك رواندي** اللغة الرسمية: ..... **الكينيارواندية** العاصمة: ..... **كيجالي** مصدر المعلومات: (الأسرة - صديق - المعلم - شبكة الإنترنت - مصدر آخر).

# أحترم كل الحضارات لكنني أفخر بتاريخني

• لكل دولة حضارتها ومعالمها التي تتميز بها، ومصر بحضارتها العريقة تمتلك مكانة خاصة تميزها وتمنحها دورًا رائدًا بين الأمم، ومن بين ما يميزها وجود الحدائق العامة مثل حديقة الأزهر.

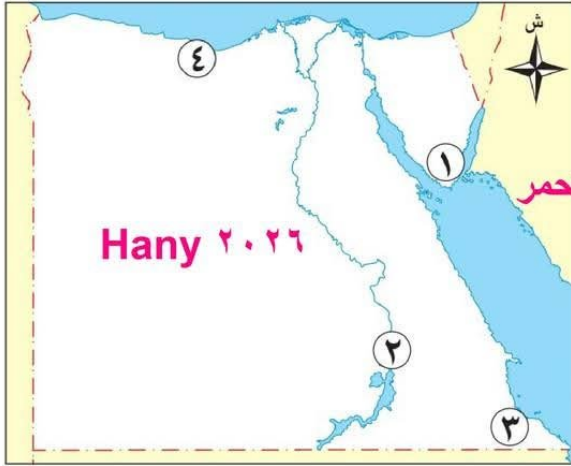
• هي واحدة من أكبر الحدائق العامة، وتم افتتاحها رسميًا للجمهور عام ٢٠٠٥م.



## تقييم الوحدة الثانية



**السؤال الأول:** أمامك خريطة صماء لمصر، أجب عن الأسئلة الآتية:



- ١ - مدينة ساحلية بها سياحة ترفيهية  
**شرم الشيخ**.....
- ٢ - مدينة بها موقع آثار النوبة **اسوان**.....
- ٣ - محافظة بها محمية جبل علبة **محافظة البحر الاحمر**.....
- ٤ - مدينة جديدة على البحر المتوسط  
**العلمين**.....

**السؤال الثاني:** اكتب كلمة (صواب) أمام العبارة الصحيحة، وكلمة (خطأ) أمام العبارة

غير الصحيحة: **Hany ٢٠٢٦**

- ١ - استخدم المصريون الكتان في تزيين المساجد. ( **خطأ** )
- ٢ - يُعد موقع وادي الحيتان هو الموقع الطبيعي الوحيد في مصر ضمن مواقع التراث العالمي. ( **صواب** )
- ٣ - زيارة المحميات الطبيعية يُعد من السياحة العلاجية. ( **خطأ** )
- ٤ - سعت القوات المسلحة لتطوير الأسلحة والمعدات استعدادًا لحرب أكتوبر ١٩٧٣ م. ( **صواب** )
- ٥ - سُميت رواندا بدولة الألف تل لكثرة الأودية بها. **Hany ٢٠٢٦** ( **خطأ** )

**السؤال الثالث:** أكمل العبارات التالية بما يناسبها من كلمات:

- ١ - يُستخدم في صناعة الزجاج **رمال الصحراء**
- ٢ - السجاد اليدوي تشتهر به قرية **الحرانية - ابو شعره**
- ٣ - تُعد قرية تونس بالفيوم من مراكز صناعة **الفخار والخزف**
- ٤ - تُعرض منتجات الحرف التراثية في معرض **تراثنا**.....
- ٥ - تُعد ذكرى استرداد طابا العيد القومي لمحافظة **جنوب سيناء**
- ٦ - أحد مواقع التراث الطبيعي في مصر **وادي الحيتان**
- ٧ - تولى وزارة الحربية قبل اندلاع حرب أكتوبر ١٩٧٣ م **الفريق اول احمد اسماعيل**
- ٨ - زيارة كندا من أشكال السياحة **الخارجية**.....
- ٩ - تم بناء مدينة العلمين الجديدة على ساحل البحر **المتوسط**.....
- ١٠ - توجد برواندا أعرق بحيرة في إفريقيا وهي بحيرة **كيفو**.....

**السؤال الرابع:** بم تفسر...؟ **Hany ٢٠٢٦**

- ١ - إنشاء مراكز للحرف التقليدية بالفسطاط، لحياء الحرف التراثية ومساعدة الحرفيين والفنانين على ممارسة حرفهم وابداعهم
- ٢ - الأهمية الحضارية للحرف التراثية **تحافظ على ثقافة وثروات مصر وتظهر حضارة مصر العريقة**.....
- ٣ - قيام مصر باستيراد الأخشاب من الخارج **مصر من الدول النادرة في الأخشاب**.....
- ٤ - أهمية موقع وادي الحيتان **الموقع الطبيعي الوحيد على قائمة التراث العالمي في مصر ويضم هياكل حيتان من ٤٠ مليون سنة**
- ٥ - اهتمام مصر بمجال السياحة **تساهم في الدخل القومي وتوفر فرص عمل للشباب**.....



# تدريبات الدرس



أكمل العبارات التالية بما يناسبها من كلمات: Hany ٢٠٢٦

- ١ - تولى رئاسة هيئة عمليات القوات المسلحة قبل حرب أكتوبر ١٩٧٣ م ..... **محمد عبد الغنى الجمسى**
- ٢ - سعى المصريون لاستعادة أرض سيناء بعد احتلالها في **حرب ١٩٦٧ م**
- ٣ - قامت مصر بعد حرب ١٩٦٧ م بإعادة بناء ..... **الجيش** .....

ب اكتب كلمة (صواب) أمام العبارة الصحيحة، وكلمة (خطأ) أمام العبارة غير الصحيحة:

- ١ - شغل الفريق سعد الدين الشاذلي منصب وزير الحربية أثناء حرب أكتوبر ١٩٧٣ م. ( **خطأ** )
- ٢ - تم اتخاذ قرار حرب أكتوبر ١٩٧٣ م من قِبَل رئيس عمليات القوات المسلحة. ( **خطأ** )
- ٣ - نجحت مصر في الاستعداد للحرب بفضل التعاون بين الشعب والجيش. ( **صواب** )
- ٤ - يُعلمنا الاستعداد لحرب أكتوبر ١٩٧٣ م حب الوطن والانتماء. ( **صواب** )

ج بم تفسر ...؟ Hany ٢٠٢٦

- ١ - سعي المخابرات المصرية للحصول على معلومات عن العدو قبل حرب أكتوبر ١٩٧٣ م.

لمعرفة نقاط ضعفه

- ٢ - استخدام الجنود لخراطيم المياه في حرب أكتوبر ١٩٧٣ م.

لتدمير الحاجز الترابي الذي إقامه العدو الاسرائيلي

د ما النتائج المترتبة على...؟ Hany ٢٠٢٦

- ١ - وضع خطة عبور قناة السويس. .... **انتصار الجيش المصرى واقتحام خط بارليف**

- ٢ - محاكاة نماذج من مواقع العدو المستهدفة.

**التخطيط الجيد للحرب بشكل دقيق ومنظم وانتصار الجيش المصرى**

ه دل على صحة العبارة التالية:

- ١ - كان للفريق أول أحمد إسماعيل دور بارز في حرب أكتوبر ١٩٧٣ م. .... **كان وزير الحربية والقائد العام للجيش فى حرب أكتوبر**

- ٢ - استعدت مصر لمحو آثار حرب ١٩٦٧ م.

- قامت مصر بعد حرب ١٩٦٧ م بشن حرب الاستنزاف حيث خاض الجنود معارك شجاعة على طول قناة السويس، وهاجموا مواقع العدو أكثر من مرة محققين خسائر فادحة للعدو، وكانت هذه الحرب طريقًا إلى نصر أكتوبر ١٩٧٣ م.
- الحصول على معلومات عن العدو لمعرفة نقاط ضعفه عن طريق أجهزة المخابرات المصرية.
- تنظيم الوحدات داخل الجيش لضمان تأدية مهامها.
- التدريب المكثف ومحاكاة نماذج من مواقع العدو المستهدفة.
- وضع خطة عبور قناة السويس.

هيا نستعد للدروس Hany م

قارن بين وسائل النقل والمواصلات قديمًا وحديثًا



# تطور وسائل النقل في بلدنا

الدرس

1

## أهداف الدرس

- في نهاية هذا الدرس، سأكون قادرًا على أن:
- أعدّد وسائل النقل في العصور المختلفة.
- أميّز بين وسائل النقل القديمة والحديثة.
- أوضح أهمية وسائل النقل الحديثة في حياتنا اليومية.
- أعبّر عن تقديري لدور العلم والتكنولوجيا في تطوير وسائل النقل.

مرت وسائل النقل بمراحل تطوّر كبيرة، بدأت باستخدام الحيوانات وتطورت إلى وسائل النقل الحديثة، التي أصبحت اليوم أكثر سرعة وكفاءة وراحة، وسهلت حياة الإنسان بشكل كبير، فوفرت الجهد والوقت في الانتقال من مكان لآخر.



واتعلم

أتأمل

كيف كان الناس في الماضي ينتقلون من مكان إلى آخر؟ وكيف كانوا ينقلون طعامهم وأغراضهم؟ **عن طريق استخدام بعض الدواب مثل الحمير والجمال والخيول**

Hany ٢٠٢٦

سوف أصحبكم في رحلة عبر الزمن  
لنتعرف معًا كيف تطورت وسائل  
النقل.





قارب قديم

## أولاً: قديماً

- استخدم الإنسان بعض الدواب مثل الحَمِير، والجمال، والخيول.
- كما صنع القوارب الخشبية واستخدمها في الصيد والنقل.

## وأجيب

## أقرأ

– ماذا يحدث لو لم يستخدم الإنسان الحيوانات في النقل؟ ..... عدم القدرة على الانتقال لمسافات بعيدة



عربة تجرها الخيول قديماً

## حقائق تاريخية

في العصور القديمة استخدم المصريون القدماء المراكب النيلية، والعربات التي تجرها الخيول.

## ثانياً: حديثاً



القطار البخاري

تطورت وسائل النقل باختراع القطارات، والسفن البخارية، والسيارات، ثم تم اختراع الطائرة، ثم الترام والمترو؛ لتلبية احتياجات السكان.

## إثرائية

## معلومة

عباس بن فرناس هو أول من حاول الطيران في التاريخ وذلك باستخدام جناحين من الريش.

## ثالثًا: النقل والمواصلات في الوقت الحاضر (النقل المستدام)

شهدت وسائل النقل مرحلة جديدة تعتمد على التكنولوجيا والذكاء الاصطناعي، منها:



القطار الكهربائي السريع

السيارات الكهربائية الصديقة للبيئة.

القطارات السريعة مثل القطار الكهربائي السريع.

ويهدف تطوير وسائل النقل إلى تقليل التلوث، وتوفير الطاقة، وتحقيق الراحة للركاب، وهو ما يُعرف بالنقل المستدام.

### أفكر وأجيب

- لماذا يُفضّل استخدام السيارات الكهربائية في الوقت الحاضر؟  
لأنها صديقة للبيئة وتقلل التلوث

## رابعًا: جهود مصر في تطوير وسائل النقل والمواصلات

- تطوير السكك الحديدية: تحديث القطارات، وإدخال عربات جديدة.
- شبكة الطرق والكباري: إنشاء الطرق الحديثة، والكباري والمحاور لتقليل الزحام وتقليل الوقت.
- مترو الأنفاق: التوسع في الخطوط، خاصة الخط الثالث، والبدء في تنفيذ الخط الرابع.
- إنشاء القطار الكهربائي والمونوريل: ربط القاهرة بالعاصمة الإدارية ومدينة السادس من أكتوبر.
- النقل البحري: تطوير الموانئ الكبرى.
- النقل الجوي: تحديث المطارات وإنشاء مطارات جديدة مثل مطار العاصمة الإدارية الجديدة.

المونوريل

# تدريبات الدرس



أكمل العبارات التالية بما يناسبها من كلمات:

- ١ - وسيلة نقل استخدمها الإنسان قديماً لحمل البضائع **الحيوانات** ( الدواب )
- ٢ - إحدى وسائل النقل الحديثة ..... **القطارات** - السفن البخارية - الطائرات - الترام - المترو

حدد وسيلة النقل التي تفضل استخدامها فيما يلي:

Hany ٢٠٢٦ (الحافلات العامة - القطار السريع - الطائرة - المترو - السفينة)

- ١ - الانتقال من القاهرة إلى الإسكندرية. **القطار السريع**
- ٢ - التنقل بطريقة أسرع داخل القاهرة. **المترو**
- ٣ - الذهاب إلى العمل أو المدرسة. **الحافلات العامة**
- ٤ - الذهاب إلى رحلة ترفيهية إلى لبنان. **الطائرة**
- ٥ - السفر إلى دولة ساحلية عبر البحر المتوسط. **السفينة**

اكتب كلمة (صواب) أمام العبارة الصحيحة، وكلمة (خطأ) أمام العبارة غير الصحيحة:

- ١ - استُخدمت الحيوانات في النقل قديماً. (صواب)
- ٢ - تطوّر وسائل النقل يساعد على توفير الوقت والجهد. (صواب)
- ٣ - يهدف النقل المستدام إلى زيادة التلوث. (خطأ)

بم تفسر...؟ Hany ٢٠٢٦

- ١ - ظهور الترام والمترو. **لتلبية حاجة السكان**
- ٢ - أهمية تطوير وسائل النقل. **اصبحت أكثر سرعة وكفاءة وراحة ووفرت الوقت والجهد**

أجب عما يلي:

- ١ - وضح جهود الدولة في تطوير وسائل النقل والمواصلات **التوسع في مترو الأنفاق - إنشاء القطارات الكهربائية - تطوير السكك الحديدية - إنشاء شبكة طرق وكباري - والمونوريل - تطوير الموانئ - تحديث المطارات**
- ٢ - قارن بين وسائل النقل قديماً وحديثاً.

قديماً : بعض الدواب مثل الحمير والجمال والخيول والقوارب الخشبية  
حديثاً : القطارات والسفن البخارية والسيارات واختراع الطائرة والترام والمترو

هيا نستعد **للدرس القادم**

وضح مراحل تطور التعليم في مصر وخصائص كل مرحلة.



رسم تخيلي لمكتبة الإسكندرية

### قيم أتعلمها

التعليم وسيلة لبناء الإنسان المصري القادر على الإبداع والتفكير.



الجامع الأزهر

- استمر الاهتمام بالعلم، فأُنشئت مدارس لتعليم الطب والهندسة وغيرها من العلوم.
- اشتهرت مدينة الإسكندرية بمكتبتها العظيمة التي كانت منارة للعلم والعلماء في العالم القديم.

### التعليم في مصر خلال العصر الإسلامي

عندما دخل الإسلام مصر استمر اهتمام مصر بالتعليم وانتشرت الكتاتيب في القرى والمدن؛ ليتعلم فيها الأطفال القراءة والكتابة والقرآن الكريم والحساب.

من المؤسسات التعليمية التي كان لها دور بارز في مصر «الجامع الأزهر» في القاهرة الذي أنشئ عام ٣٥٩ هـ، وتميز بما يلي:

- كانت تُدرّس فيه اللغة العربية والعلوم الدينية وبعض العلوم الأخرى.
- تعلّم فيه الطلاب المصريون، وقد إليه طلاب العلم من دول العالم.
- وما زال الجامع الأزهر يواصل دوره في تعليم القيم والأخلاق، ونشر الاعتدال والتسامح في المجتمع.

### معلومة إثرائية

تُعد جامعة الأزهر من أقدم الجامعات في العالم، تأسست عام ٩٧٢م وتضمُّ الملايين من طلاب العلم والأساتذة، وتقوم الجامعة بتدريس العلوم الدينية بالإضافة إلى علوم الطب والهندسة والتكنولوجيا... وغيرها.

### أفكر وأبحث

كيف ساعدت الكتاتيب على نشر التعليم في العصور الإسلامية؟

تعلّم فيها الأطفال القراءة والكتابة والقرآن الكريم والحساب

### أفكر وأبحث

وضح دور الأزهر الشريف في إثراء الحياة العلمية.

كانت تدرّس به اللغة العربية والعلوم الدينية وبعض العلوم الأخرى وتعلّم فيه الطلاب المصريين وغير المصريين



محمد علي باشا

## التعليم في العصر الحديث

حدث تطور كبير للتعليم في مصر في عهد أحد حكام مصر وهو «محمد علي باشا» الذي أراد أن يجعل مصر دولة قوية تقوم على العلم والعمل، فقام بما يلي:

- أنشأ المدارس الحديثة لتعليم العلوم واللغات.
- اهتم بتدريس الرياضيات والهندسة والطب، وأنشأ لها مدارس متخصصة.
- أرسل بعثات تعليمية إلى أوروبا ليتعلم الطلاب المصريون العلوم الحديثة.

• استمر تطوير التعليم، وتم إنشاء جامعة القاهرة سنة ١٩٠٨ م.

### مفاهيم أتعلمها

البعثات التعليمية: مجموعات طلابية تُرسل للدول المتقدمة للحصول على تعليم متميز.

### قيم أتعلمها

احترام المعلم من فضائل الأخلاق.

## التعليم بمصر في الوقت الحالي

تدعم الدولة في الوقت الحالي تطوير التعليم، وذلك من خلال:

- بناء مدارس جديدة؛ وذلك لتقليل الكثافة في الفصول.
- تطوير المناهج الدراسية.

- تجهيز الفصول بوسائل تعليم حديثة.
- تدريب المعلمين وتنميتهم مهنيًا.
- الاهتمام بالجامعات وتطويرها.
- إضافة علوم جديدة تتناسب مع عصر التكنولوجيا الحديثة والذكاء الاصطناعي.



Hany ٢٠٢٦  
Hany ٢٠٢٦  
Hany ٢٠٢٦  
Hany ٢٠٢٦  
Hany ٢٠٢٦  
Hany ٢٠٢٦

### أفكر وأبداع

كيف يمكن لكل تلميذ أن يشارك في تطوير مدرسته؟  
الحفاظ على الأثاث المدرسي وعدم تخريب المباني والاشتراك في الأنشطة المدرسية

### أفكر وأستنتج

لماذا تهتم مصر بتطوير المدارس في الوقت الحالي؟  
لتقليل الكثافة في الفصول

## تدريبات الدرس



أ - أكمل العبارات التالية بما يناسبها من كلمات:

١ - مثلت إحدى أرقى الوظائف عند المصريين القدماء الكاتب المصري

٢ - أطلق المصريون على المؤسسات التعليمية قديماً اسم بيوت الحياة

ب - اكتب كلمة (صواب) أمام العبارة الصحيحة، وكلمة (خطأ) أمام العبارة غير الصحيحة:

١ - حظي العلماء باحترام كبير في العصر الإسلامي. (صواب)

٢ - استخدم المصريون القدماء أقلام البوص في الكتابة. (صواب)

ج - بم تفسر...؟ ٢٠٢٦ Hany

١ - مجيء عدد كبير من الطلاب لمصر في العصر الإسلامي.

لتلقى العلم في الأزهر الشريف

٢ - اهتمام مصر بإنشاء مدارس جديدة في الوقت الحالي.

لتقليل الكثافة في الفصول

د - ما النتائج المترتبة على...؟ ٢٠٢٦ Hany

١ - إنشاء الكاتيب بمصر في العصر الإسلامي. لتعليم الاطفال القراءة والكتابة والقرآن والحساب

٢ - اهتمام مصر بالعملية التعليمية في الوقت الحالي. لدعم تطوير التعليم

هـ - دلل على صحة العبارات التالية: ٢٠٢٦ Hany

١ - أهمية الجامع الأزهر في تطور التعليم بمصر. تدريس اللغة العربية والعلوم الدينية وبعض العلوم الأخرى

٢ - تنوعت أدوات الكتابة في مصر القديمة. ورق البردي وأقلام البوص والاحبار الملونة

و - ما المقصود بكل من...؟

- البعثات التعليمية: مجموعات طلابية ترسل للدولة المتقدمة للحصول على تعليم متميز

لندرسنا Hany

هيا نستعد



ما أهمية العملات النقدية في حياتنا، وكيف تعبّر تصاميمها وصورها عن هوية كل دولة؟



# العملات النقدية حول العالم وفي بلدنا

الدرس  
٣

## أهداف الدرس

- في نهاية هذا الدرس، سأكون قادرًا على أن:
- أوضح مفهوم العملات النقدية وأهميتها.
  - أعدّد معايير تصميم العملة.
  - أفسر رمزية الأشكال والصور الموجودة على العملات المصرية والعالمية.
  - أقارن بين عملة مصر وبعض العملات العالمية من حيث التصميم والدلالات.
  - أعبر عن اعتزازي بالعملة الوطنية وأطبق قيمة ترشيد الإنفاق.

المال وسيلة أساسية في حياة كل إنسان، نستخدمه في شراء احتياجاتنا وتبادل السلع والخدمات، وفي مصر نتعامل بعملتنا الوطنية «الجنيه المصري»، لكن عندما نسافر أو نتعامل مع دول أخرى نستخدم عملاتهم الخاصة؛ لذلك سنتعرف اليوم على عملتنا الوطنية وعلى بعض العملات العالمية المشهورة.



## مفاهيم أتعلمها

### العملة النقدية:

وسيلة لشراء السلع والخدمات تحمل قيمة محددة، ومُعترف بها داخل الدولة.

## أهمية العملات النقدية

- وسيلة لشراء السلع.
- وسيلة للحصول على الخدمات.
- تعمل على تسهيل التبادل التجاري.
- تدعم العلاقات الاقتصادية بين الدول.


## أفكر وأستنتج

ماذا يحدث إذا:  
لم تتوافر العملات النقدية في الدولة...؟ عدم القدرة على تمام عملية البيع أو الشراء أو تسهيل التبادل التجاري



## تطور العملة النقدية

- استخدم الإنسان القديم نظام المقايضة لتبادل سلعة بأخرى مثل تبادل القمح بالفواكه.
- ثم عرف العملات النقدية التي تطورت كما يلي:



## العملة المعدنية:

- ظهرت في مصر والعالم منذ آلاف السنين.
- وكانت تصنع من الذهب أو الفضة أو النحاس.



## العملة الورقية:

- ظهرت لتكون أخف وأسهل في الاستخدام.
- وأول ورقة نقدية في مصر ظهرت سنة ١٨٩٩ م.



## قيم أتعلمها

احترام العملة الوطنية واجب وطني؛ لأنها رمز من رموز الدولة.

## أناقش

## أفكر

ناقش مع زملائك مراحل تطور العملات النقدية في مصر.  
مقايضة - عملة معدنية - عملة ورقية

## قيم أتعلمها

ترشيد الإنفاق واستخدام المال بحكمة ودون إسراف من سمات المواطن الصالح.

## معايير تصميم العملات النقدية

## ١- الأمان:

منع التزوير بوضع علامات مائية وألوان خاصة.

## ٢- السهولة:

وضوح الأرقام والقيمة النقدية.

## إرشادات استخدام العملات الورقية:

- عدم تمزيق العملة أو الكتابة عليها.
- عدم ثني العملة والعبث بها.
- التعرف على محتوى الأشكال والصور والكتابات التي على العملة.



### ٣ - الرمزية:

إبراز هوية الدولة وتاريخها.

### ٤ - الجمال:

استخدام ألوان ورسومات مميزة تجذب الانتباه.

واقترح

أفكر

ما الطرق التي يمكن من خلالها ترشيد استهلاك العملات النقدية؟  
عدم الكتابة عليها أو تمزيقها - عدم ثني العملة والعبث بها



### عملات العالم ورمزيتها:

#### الجنيه المصري:

تحمل فئة الـ ٢٠٠ جنيه المصري صورة مسجد قانيبائي الرماح في الوجه الأمامي، وفي الوجه الخلفي للعملة تحمل صورة تمثال الكاتب المصري القديم.

إثرائية

معلومة

يقع مسجد قانيبائي الرماح في منطقة القلعة بالقاهرة وتم إنشاؤه في عهد سلاطين الدولة المملوكية.



#### الدولار الأمريكي:

تحمل فئات الدولار صور قادة تاريخيين أسهموا في تأسيس الولايات المتحدة.

#### اليورو (عملة الاتحاد الأوروبي):

يحمل صورة خريطة أوروبا كرمز لوحدة القارة.



وأشارك

أبحث

ابحث على شبكة المعلومات الدولية عن العملات التالية، وحدد رمزية محتوى الصور والأشكال الموجودة عليها: (الين الياباني - الريال السعودي - الروبية الهندية).



## هوية محافظتي

Hany ٢٠٢٦



أصدقائي الأعزاء هيا بنا لأصبحكم في ...  
رحلة إلى محافظة قنا

- « تقع محافظتي على خريطة مصر في اتجاه...**الجنوب**.....
- « تُعتبر محافظتي بالنسبة لعدد السكان محافظة...**متوسطة**... السكان.
- « يُعتبر النشاط الاقتصادي لمحافظة قنا هو النشاط...**الزراعي**.....
- « أقرب المسطحات المائية لمحافظة قنا هو...**نهر النيل**.....
- « أبرز المهن التي تشتهر بها محافظتي هي...**الزراعة والسياحة والصناعة**.....
- « العيد القومي لمحافظة قنا هو يوم...**٣ مارس**... من كل عام، ويُحتفل به تخليدًا لذكرى انتصار أهالي قرية البارود على الفرنسيين في موقعة البارود عام ١٧٩٩م.

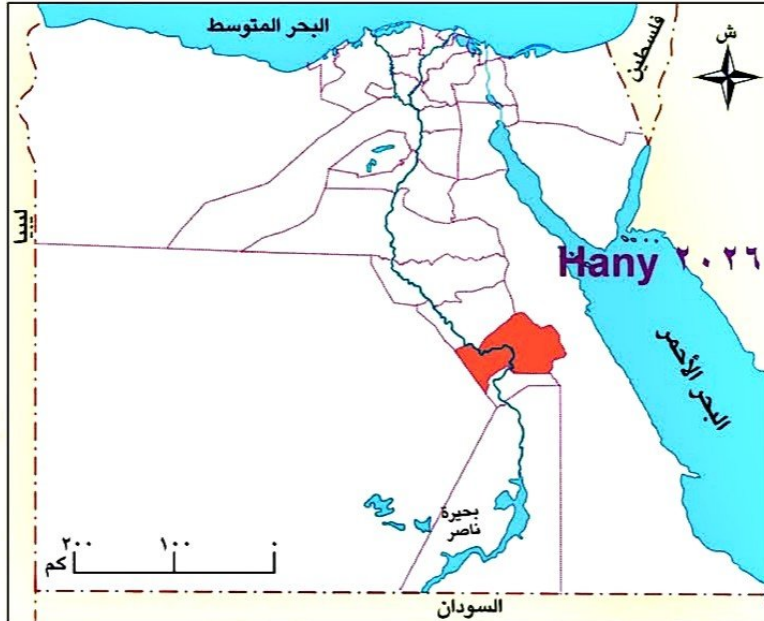
## موارد محافظتي ومستقبلها:

- « تشتهر محافظتي بحرفة تراثية شهيرة وهي صناعة الخزف والفخار.
- « تتعدد الأماكن الأثرية في محافظتي مثل معبد دندرة.
- « تنتشر العادات والتقاليد الصعيدية بين سكان محافظتي.
- « تشتهر محافظتي بزراعة قصب السكر وصناعة العسل الأسود.

## مستقبل محافظتي في:

Hany ٢٠٢٦  
Hany ٢٠٢٦  
Hany ٢٠٢٦  
Hany ٢٠٢٦  
Hany ٢٠٢٦  
Hany ٢٠٢٦  
Hany ٢٠٢٦

- « الاهتمام بتطوير وتسويق صناعة العسل الأسود ودعم وتسويق الأماكن السياحية.



هل ترى أن هناك بمصر محافظة تشبه محافظة قنا؟ حدد هذه المحافظة واصنع لها بطاقة مماثلة.

# تدريبات الدرس



**ا** أكمل العبارات التالية بما يناسبها من كلمات: Hany ٢٠٢٦

١ - من معايير تصميم العملات النقدية ..... الرمزية و الامان .....

٢ - تمثل عملة دول الاتحاد الأوروبي ..... اليورو .....

٣ - يُعتبر الدولار العملة الرسمية لدولة ..... الولايات المتحدة الامريكية

٤ - يحمل وجه العملة المصرية فئة ٢٠٠ جنيه صورة مسجد .....قائبياي..الرماح

**ب** اكتب كلمة (صواب) أمام العبارة الصحيحة، وكلمة (خطأ) أمام العبارة غير الصحيحة:

١ - عرف البشر العملات المعدنية قبل معرفتهم للعملات الورقية. (صواب)

٢ - يعتمد نظام العملات النقدية على تبادل السلع بسلع أخرى. ( خطأ )

٣ - تُسهل العملات النقدية من عمليات التبادل التجاري بين الدول. (صواب)

٤ - تحمل عملة الدولار صورة لخريطة قارة أوروبا. ( خطأ )

**ج** بم تفسر ...؟ Hany ٢٠٢٦

١ - وضع علامات مائية على العملات الورقية بدول العالم.

لمنع تزوير العملات

٢ - أهمية الاعتزاز بالعملة الوطنية.

لأنها رمز من رموز الدولة

٣ - أهمية الرمزية كمعيار من معايير تصميم العملات الورقية.

إبراز هوية الدولة وتاريخها

**د** ما المقصود بما يلي: Hany ٢٠٢٦

- العملات النقدية؟

وسيلة لشراء السلع والخدمات تحمل قيمة محددة ومعترف بها داخل الدولة

**هـ** دلل على صحة العبارات التالية: Hany ٢٠٢٦

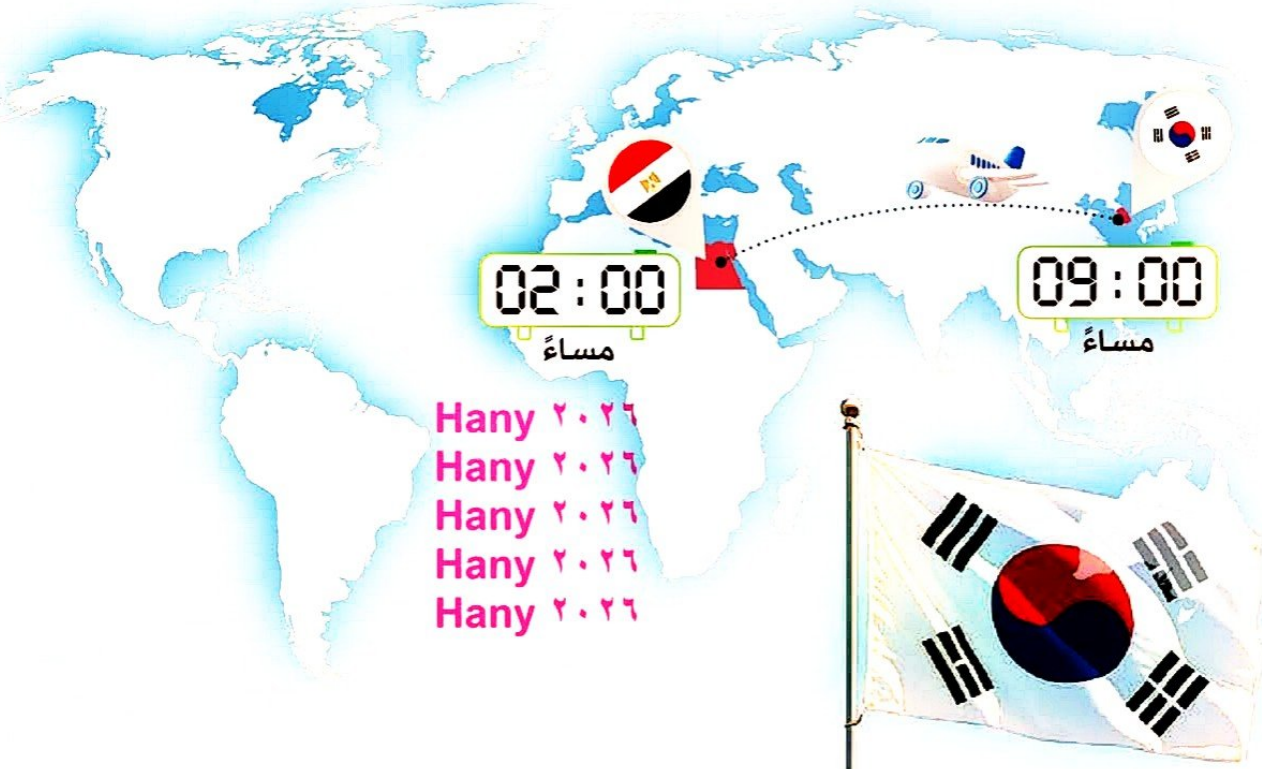
١ - مر تطور العملات النقدية بمراحل متعددة.

ظهرت العملات المعدنية من الذهب أو النحاس أو الفضة ثم العملات الورقية لتكون اخف واسهل فى الاستخدام

٢ - تتنوع العملات النقدية حول العالم.

كل دولة لها عملة خاصة بها ( مصر جنية ) ( امريكا دولار ) ( يورو اتحاد اوروبى )

# كوريا الجنوبية



- دولة ذات طبيعة خلابة وجبال خضراء شاسعة تصل نسبتها نحو ٧٠٪ من مساحة الدولة.
- شعب معروف بالانضباط والجهد ويتميز بروح التعاون والعمل الجماعي.
- بلد استطاع أن يتحول إلى دولة صناعية عملاقة بفضل صناعة الإلكترونيات وصناعة السيارات ولديها شركات كبرى في هذين المجالين (سامسونج وهيونداي).
- ترتبط مصر بعلاقات قوية مع كوريا الجنوبية حيث شاركت كوريا في مشروعات مصرية كبرى مثل مشروع مترو القاهرة واستثمارات الطاقة.
- من أشهر معالم كوريا الجنوبية السياحية: برج إن سول.

**والآن جاء وقتكم أصدقائي لتبحثوا وتخبرونا!**

عملة الدولة: **وون كوري** ..... اللغة الرسمية: **اللغة الكورية** ..... العاصمة: **سيول Seoul**

مصدر المعلومات: (الأسرة - صديق - المعلم - شبكة الإنترنت - مصدر آخر).

## تقييم الوحدة الثالثة



### السؤال الأول: اقرأ وأجب: Hany ٢٠٢٦

شهدت وسائل النقل والمواصلات طفرة هائلة في العالم خلال السنوات القليلة الماضية، حيث ظهرت السيارات الكهربائية والسيارات ذاتية القيادة، والقطارات فائقة السرعة، والطائرات التي تخبط أضعاف سرعة الصوت.

استخدام الحيوانات - القطارات والسفن البخارية

١ حدد مراحل تطور وسائل النقل والمواصلات. والسيارات والطائرات والترام والمترو.....

٢ ماذا يحدث إذا نجح الإنسان في الوصول لسرعة الضوء؟ الوصول إلى الكواكب الأخرى في أسرع وقت

### السؤال الثاني: أكمل العبارات التالية بما يناسبها من كلمات:

- ١ - عملة الاتحاد الأوروبي هي ..... يورو.
- ٢ - من أهم معالم كوريا الجنوبية ..... برج إن سول
- ٣ - من أهم معايير تصميم العملات النقدية ..... الرمزية و الامان ..... السهولة
- ٤ - تتنوع وسائل النقل مثل ..... القطارات و- السفن البخارية - السيارات - الترام - المترو
- ٥ - كان يتم تعليم الصغار بمصر القديمة في ..... بيوت الحياة
- ٦ - عملة الولايات المتحدة الأمريكية هي ..... الدولار.

### السؤال الثالث: اكتب كلمة (صواب) أمام العبارة الصحيحة، وكلمة (خطأ) أمام العبارة غير

#### الصحيحة: Hany ٢٠٢٦

- ١ - ساعدت الحيوانات الإنسان قديماً في نقل الأشخاص والبضائع. ( صواب )
- ٢ - كان المصريون القدماء يتعلمون في مؤسسات تعليمية يطلق عليها اسم بيوت الحياة. ( صواب )
- ٣ - تضع الدول علامات مائة على عملاتها لمنع التزوير. ( صواب )

### السؤال الرابع: بم تفسر...؟ Hany ٢٠٢٦

- ١ - ضرورة إنشاء خطوط المترو.

#### لتلبية احتياجات السكان

- ٢ - إنشاء الكتاتيب بمصر في العصر الإسلامي.

#### لتعليم الاطفال القراءة والكتابة والقرآن والحساب

- ٣ - إرسال محمد علي للبعثات التعليمية.

#### لتعليم الطلاب المصريون العلوم الحديثة

- ٤ - أهمية العملات النقدية.

#### وسيلة للبيع والشراء وتسهيل التبادل التجاري ودعم العلاقات الاقتصادية

## السؤال الخامس: ما النتائج المترتبة على...؟ ٢٠٢٦ Hany

– تفكير القيادة السياسية في إقامة نهضة تعليمية حديثة.  
بناء المدارس - تطوير المناهج - تجهيز الفصول بوسائل تعليمية حديثة - تدريب المعلمين - وتمييزهم اضافة علوم جديدة - الاهتمام بالجامعات وتطويرها

## السؤال السادس: أجب عما يلي: ٢٠٢٦ Hany

١ - وضح أهمية استخدام النقل المستدام.

تقليل التلوث وتوفير الطاقة وتحقيق الراحة وتوفير الوقت والجهد

النقل التقليدي يعتمد على وسائل نقل تستخدم الوقود مثل السيارات وتسبب تلوث الهواء  
النقل المستدام يعتمد على وسائل نقل صديقة للبيئة وتقلل من التلوث وتوفير الطاقة والراحة للركاب مثل السيارات الكهربائية والقطار السريع

٢ - قارن بين استخدام النقل التقليدي واستخدام النقل المستدام.

## السؤال السابع: ما المقصود بالمفاهيم الآتية...؟ ٢٠٢٦ Hany

١ - البعثات التعليمية:

مجموعات طلابية ترسل للدول المتقدمة للحصول على تعليم متميز

٢ - العملات النقدية:

وسيلة لشراء السلع والخدمات تحمل قيمة محددة ومعترف بها داخل الدولة

### النشاط الاختتامى للوحدة

- يقوم التلاميذ بتصميم خط زمني مصور أو رسم لوحة يظهر فيها تطور وسائل النقل.
- تصميم لافتة مكتوب عليها: «رحلة التعليم في مصر عبر التاريخ».
  - كتابة إرشادات استخدام العملات الورقية.

# مراجعة عامة على الفصل الدراسي الثاني



## السؤال الأول: اختر الإجابة الصحيحة مما بين القوسين: ٢٠٢٦ Hany

- ١ - من المحافظات المصرية التي يقل بها عدد السكان .....  
(القاهرة - سوهاج - الإسكندرية - الوادي الجديد)
- ٢ - يؤثر في تركيب السكان عدة عوامل منها .....  
(التعليم - الهجرة - فرص العمل - جميع ما سبق)
- ٣ - أكثر الحِرَف اعتمادًا على التكنولوجيا .....  
(مصمم الألعاب - الفلاح - المعلم - الطبيب)
- ٤ - التفكير الجيد قبل اتخاذ القرار يؤدي إلى .....  
(الخلافات - الاختيار الأفضل - التردد - التسرع)
- ٥ - اختيار رئيس الفصل من القرارات .....  
(الجماعية - الفردية - الأسرية - المجتمعية)
- ٦ - تشتهر بصناعة النسيج اليدوي مدينة .....  
(الحرانية - تونس - الفسطاط - أخميم)
- ٧ - تقع جبانة منف في محافظة .....  
(الجيزة - القاهرة - الأقصر - أسوان)
- ٨ - يوجد بمحافظة جنوب سيناء أحد مواقع التراث العالمي وهو .....  
(أبو مينا - وادي الحيتان - دير سانت كاترين - مدينة طيبة)
- ٩ - تُعد زيارة معبد أبو سمبل بأسوان سياحة .....  
(ترفيهية - علاجية - بيئية - ثقافية)

## السؤال الثاني: اكتب كلمة (صواب) أمام العبارة الصحيحة، وكلمة (خطأ) أمام العبارة غير

### الصحيحة: ٢٠٢٦ Hany

- ١ - يعمل معظم سكان سوهاج في النشاط الصناعي. ( خطأ )
- ٢ - تختلف المهن حسب طبيعة المحافظة. ( صواب )
- ٣ - يقوم العمال والمهندسون بعرض المنتجات في الأسواق والمحلات. ( خطأ )
- ٤ - صنع القرار في المدرسة يعزز التعاون بين الطلاب والمعلمين. ( صواب )
- ٥ - اتخذ الرئيس السادات قرار حرب أكتوبر ١٩٧٣ م. ٢٠٢٦ Hany ( صواب )
- ٦ - يمثل اليورو عملة دولة الولايات المتحدة الأمريكية. ( خطأ )
- ٧ - تُعد المفروشات من أهم منتجات حرفة السجاد اليدوي. ( خطأ )
- ٨ - استخدم المصري القديم الرمال في صناعة الزجاج. ( صواب )
- ٩ - يقع وادي الحيتان في محافظة الفيوم. ( صواب )
- ١٠ - الغرض من السياحة البيئية الاستمتاع بالشواطئ. ( خطأ )

- ١١ - يُعد ترميم الكنيسة المعلقة من جهود الدولة للاهتمام بالسياحة. ( صواب )
- ١٢ - يُعتبر برج إن سول أهم المعالم السياحية في دولة كندا. ( خطأ )
- ١٣ - استخدم المصريون القدماء اللون الأحمر في الكتابة. ( صواب )

### السؤال الثالث: أكمل العبارات الآتية: ٢٠٢٦ Hany

- ١ - يعمل معظم سكان محافظة القاهرة بالنشاط **الصناعي**.....
- ٢ - الفئة الأكبر عددًا من حيث السكان وتساعد في زيادة الإنتاج **الشباب**.....
- ٣ - أكثر محافظات مصر سكانًا **القاهرة**.....
- ٤ - يعمل أغلبية سكان الوادي في **الزراعة وتربية الدواجن**.....
- ٥ - يقومون بتربية الأبقار لإنتاج اللحوم والألبان هم **الفلاحون**.....
- ٦ - إحدى المهن التي يعمل صاحبها على إنتاج الطاقة النظيفة **مهندس الطاقة المتجددة**.....
- ٧ - أنشأت وزارة الثقافة ..... في مدينة الفسطاط. مراكز الحرف التقليدية
- ٨ - تُعد مدينة العلمين الجديدة من أهم مراكز السياحة **الترفيهية**.....
- ٩ - كانت أهم أدوات الكتابة في مصر القديمة **أقلام البوص وورق البردي**.....
- ١٠ - المؤسسة الرئيسية التي يركز عليها التعليم بمصر في العصر الإسلامي **الجامع الأزهر**.....
- ١١ - جهزت القيادة العامة للقوات المسلحة الجيش المصري استعدادًا لحرب أكتوبر ١٩٧٣م من خلال **رفع الروح المعنوية - تدريب الجنود - تطوير الاسلحة**.....
- ١٢ - من أهم معايير تصميم العملات النقدية **الامان - الرمزية - السهولة - الجمال**.....
- ١٣ - تعتمد دولة كندا على تصدير **البتترول**.....
- ١٤ - تحتفل رواندا بيوم لتنظيف الشوارع يسمى يوم **او.مو.غاندا**.....

### السؤال الرابع: بم تفسر...؟ ٢٠٢٦ Hany

- ١ - ارتفاع الكثافة السكانية في محافظة القاهرة.  
لأنها عاصمة البلاد وتوجد بها الوزارات والمصالح الحكومية وتتوفر بها فرص العمل.....
- ٢ - أهمية المهن المستقبلية.  
لأنها ستقود العالم في المستقبل.....
- ٣ - أهمية جمع المعلومات قبل اتخاذ أي قرار.  
لاتخاذ القرار السليم.....
- ٤ - أهمية الكتابيب بمصر في العصر الإسلامي.  
تعليم الاطفال القراءة والكتابة والقرآن والحساب.....
- ٥ - ازدهار صناعة الزجاج في مصر.  
بسبب وفرة رمال الصحراء.....

Hany  
٢٠٢٦

٦ - أهمية الفخار في حياة المصري القديم.

Hany  
٢٠٢٦

يستخدم في صناعة الاواني والاكواب

Hany  
٢٠٢٦

٧ - اختيار مدينة طيبة من ضمن مواقع التراث العالمي.

Hany  
٢٠٢٦

كانت عاصمة مصر القديمة وتضم معبد الكرنك ومعبد الدير البحري ووادي الملكة

Hany  
٢٠٢٦

٨ - أهمية المواقع التراثية في مصر.

Hany  
٢٠٢٦

تساعد في دراسة وفهم التاريخ المصري ولها أهمية حضارية واقتصادية كبيرة

Hany  
٢٠٢٦

٩ - استعداد مصر لبناء جيش قوي بعد حرب ١٩٦٧ م.

Hany  
٢٠٢٦

لاستعادة الاراضي التي احتلتها اسرائيل في حرب ١٩٦٧

**السؤال الخامس: ما النتائج المترتبة على...؟ ٢٠٢٦ Hany**

Hany  
٢٠٢٦

١ - تركيز السكان في محافظة القاهرة. أصبحت القاهرة أكبر محافظات مصر سكانياً

Hany  
٢٠٢٦

٢ - جمع المعلومات قبل اتخاذ القرار. القدرة على اتخاذ القرار السليم

Hany  
٢٠٢٦

٣ - اهتمام مصر بالحرف التراثية. انشاء المعارض والمهرجانات ومراكز الحرف ومعرض تراثنا

Hany  
٢٠٢٦

٤ - إنشاء مشروع الصوت والضوء. تنفيذ العروض الليلية وتنفيذ المشروع في عدة اماكن اخرى

Hany  
٢٠٢٦

**السؤال السادس: ماذا يحدث إذا...؟ ٢٠٢٦ Hany**

Hany  
٢٠٢٦

١ - قل الاهتمام بالتكنولوجيا الحديثة. قلة الحصول على الوظائف للمهن المستقبلية

Hany  
٢٠٢٦

٢ - تعاملنا مع السائحين بطريقة غير لائقة. عدم حضور السياح مرة اخرى واضعاف السياحة

Hany  
٢٠٢٦

٣ - اهتمامنا بالحرف التراثية. تساهم في التنمية الاقتصادية وتزيد الدخل القومي والمحافظة على ثقافة وتراث مصر

Hany  
٢٠٢٦

٤ - قمنا بمذاكرة دروسنا بشكل جيد. الحصول على درجات مرتفعة. استكمال الدراسة في الجامعة والكلية التي احبها

Hany  
٢٠٢٦

٥ - اهتم أفراد المجتمع بشراء المنتج المصري توفير فرص عمل للشباب. تنشيط التجارة الداخلية. تقليل الاستيراد من الخارج

Hany  
٢٠٢٦

٦ - تشارك الأطفال في المدرسة في صناعة القرارات المختلفة. الشعور بالمسئولية والالتزام والمشاركة بشكل دائم

Hany  
٢٠٢٦

٧ - تعلم التلميذ مهارات تكنولوجيا حديثة. التأهيل للعمل بمهن جديدة خاصة بالتقدم العلمي والتكنولوجي

Hany  
٢٠٢٦

٨ - حافظ أفراد المجتمع على الآثار المصرية. تنشيط السياحة. الحفاظ على الآثار. جذب الانظار

**السؤال السابع: ما المقصود بالمفاهيم الآتية...؟ ٢٠٢٦ Hany**

Hany  
٢٠٢٦

١ - السياحة:

Hany  
٢٠٢٦

الانتقال من مكان الى آخر بغرض الترفيه أو العلاج أو الاستكشاف

Hany  
٢٠٢٦

٢ - الحرف التراثية:

Hany  
٢٠٢٦

صناعات يدوية تعتمد على الخامات المحلية ومهارة الابدى العاملة

Hany  
٢٠٢٦

٣ - العملات النقدية:

Hany  
٢٠٢٦

وسيلة لشراء السلع والخدمات تحمل قيمة محددة ومعترف بها داخل الدولة

Han

y

٢٠٢٦ **السؤال الثامن:** ما العلاقة بين كل من...؟ ٢٠٢٦ Hany

Han

١ - المهندس والمواد الخام.

y

٢٠٢٦ المهندس يقوم بتحويل المواد الخام الى منتجات للاستخدام ( الملابس - الاثاث - السيارات)

Han

٢ - التعاون بين أفراد الأسرة وصناعة القرار.

y

اتخاذ القرارات يكون جماعى وتعلمنا التعاون وتحمل المسؤولية

٢٠٢٦

٣ - الصناعة والتجارة.

Han

الصناعة والتجارة تلبى احتياجات السكان اليومية

y

٤ - صنع القرار وتنمية مهارات الأطفال.

٢٠٢٦

Han

تنمى صناعة القرار المسؤولية والتعاون والاحترام لدى الطفل

y

٥ - سلوكياتنا والسياحة.

٢٠٢٦

القيام بواجباتنا نحو السياحة يودى الى تنشيط السياحة وجذب اعداد كبيرة من السياح

Han

y

٢٠٢٦ **السؤال التاسع:** ما أوجه التشابه والاختلاف بين...؟ ٢٠٢٦ Hany

Han

١ - الشرطى والطبيب.

y

٢٠٢٦ التشابه: كلاهما مهن مرتبطة بالخدمات الاختلاف : الشرطى يحافظ على الامن الطبيب يعالج المرضى

Han

٢ - الطائرة والقطارات.

y

التشابه : كلاهما وسائل نقل ، الاختلاف : القطار نقل برى - الطائرة نقل جوى

٢٠٢٦

٣ - النقل التقليدي والنقل المستدام.

Han

التشابه: كلاهما للنقل من مكان الى اخر الاختلاف : التقليدى يلوث البيئة والمستدام يحافظ على البيئة

y

٤ - عملة اليورو وعملة الدولار.

٢٠٢٦

التشابه : كلاهما عملات نقدية ، الاختلاف اليورة عملة الاتحاد الاوروبى الدولار عملة امريكا

Han

y

٢٠٢٦ **السؤال العاشر:** أجب عما يلي: ٢٠٢٦ Hany

Han

١ - وضح جهود الدولة في الحفاظ على الحرف التراثية.

y

انشاء مراكز ومعارض ومهرجانات بالفسطاط ومعرض تراثنا

٢٠٢٦

٢ - عدد مواقع التراث العالمي في مصر.

y

وادي الحيتان - جبانة منف - طيبة - ابو مينا - سانت كاترين - القاهرة التاريخية

٢٠٢٦

٣ - وضح أهمية استخدام العملات النقدية.

Han

وسيلة للبيع والشراء والحصول على الخدمات وتسهيل التبادل التجارى ودعم العلاقات الاقتصادية

y

٢٠٢٦

Han

y

٢٠٢٦

Han

y

٢٠٢٦

تطبيق



مذكرات جاهزة للطباعة

لتحميل الملفات التعليمية مجاناً للمعلم والطالب

مذكرات وملازم / مراجعات وملخصات / امتحانات / كتب الوزارة /  
أدلة المعلم / دفاتر التحضير / سجلات مدرسية / أوراق تأسيس

امسح الكود بموبايلك علشان تقدر تثبت التطبيق

وتقدر ف أي وقت تحمّل ال نفسك فيه ببلاش

هيغنيك عن البحث والجروبات والقنوات الكثيرة

