

مدارس جيل 2000 للغات  
مادة الدراسات الاجتماعية



الصف الثاني الإعدادي

الفصل الدراسي الثاني


شرح وأسئلة وتدريبات الوحدة 1+2+3+4

2026|2025

.....|الاسم

.....|الفصل

## الوحدة الأولى: سكان قارتي آسيا و أوروبا الدرس الأول : نمو وتوزيع سكان قارتي آسيا و أوروبا



شكل بياني لنسب السكان فى قارات العالم

### أولاً :- النمو السكاني في قارتي آسيا وأوروبا

#### < عدد السكان

#### قارة آسيا

- تُعد آسيا أولى قارات العالم من حيث عدد السكان ، حيث يزيد عدد سكانها عن نصف سكان العالم .

- أكبر دول القارة والعالم من حيث عدد السكان ( على الترتيب ) :



#### 1- الهند :-

تحتل المرتبة الأولى آسيوياً وعالمياً .



#### 2- الصين :-

تحتل المرتبة الثانية آسيوياً وعالمياً .

#### قارة أوروبا

- تُعد أوروبا ثالث قارت العالم من حيث عدد السكان حيث يقل عدد سكانها عن عُشر سكان العالم .

- أكبر دول القارة من حيث عدد السكان (على الترتيب):



#### 1- روسيا الاتحادية :-

أولى دول أوروبا .



#### 2- ألمانيا :-

ثاني دول أوروبا .

#### < تطور عدد السكان :

من الشكل البياني المقابل يتضح أن :

- عدد سكان قارة آسيا تزايد بين عامي 1950م و 2025م

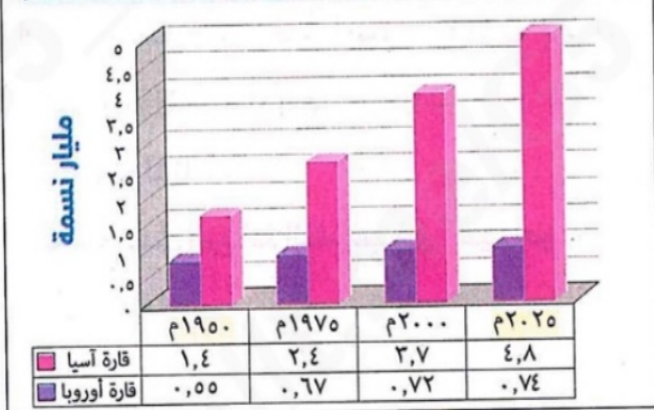
بنسبة 250 % تقريباً ، بينما عدد سكان قارة أوروبا

تزايد في نفس الفترة بنسبة 35 % من هنا نلاحظ أن ...

النمو السكاني يختلف بين القارتين فقد تزايد عدد سكان

قارة آسيا بسرعة فائقة مقارنة بقارة أوروبا .

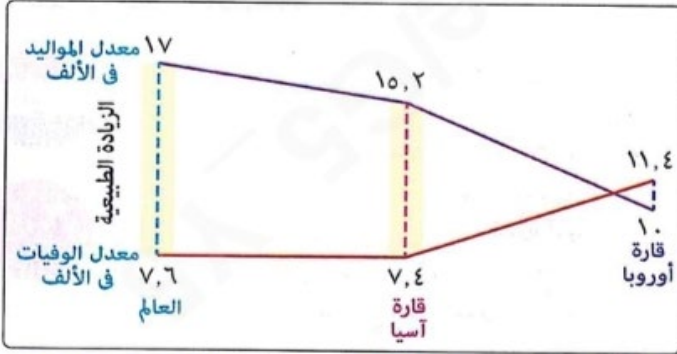
تقديرات سكان قارتي آسيا وأوروبا من عام 1950م حتى عام 2025م



## العوامل ( الأسباب ) المؤثرة في النمو السكاني بقارتي آسيا وأوروبا

- 1- معدل الزيادة الطبيعية ( الفرق بين معدل المواليد ومعدل الوفيات ) .  
2- الهجرة ( الزيادة غير الطبيعية ) .

### 1 - معدل الزيادة الطبيعية



معدل الزيادة الطبيعية لكل من آسيا وأوروبا والعالم عام 2025م

من خلال الشكل البياني السابق يتضح ما يلي :

#### قارة أوروبا

- < انخفاض معدل المواليد ( 10 في الألف )
- عن المعدل العالمي ( 17 في الألف ) .
- < ارتفاع معدل الوفيات ( 11,4 في الألف )
- عن المعدل العالمي ( 7,6 في الألف ) .
- < ارتفاع معدل الوفيات في أوروبا عن معدل المواليد
- ( أي أن : المواليد أقل من الوفيات ) .
- ونتيجة لذلك :** أصبح معدل الزيادة الطبيعية في أوروبا بالسالب ( - 1,4 في الألف ) لعام 2025م .

#### قارة آسيا

- < تقارب معدل المواليد ( 15,2 في الألف ) ومعدل الوفيات ( 7,4 في الألف )
- بآسيا من المعدلات العالمية ( 17 - 7,6 في الألف على التوالي ) .
- < ارتفاع معدل المواليد في آسيا عن معدل الوفيات ،
- ( أي أن : المواليد أكبر من الوفيات ) .
- ونتيجة لذلك :** بلغ معدل الزيادة الطبيعية في آسيا نحو ( 7,8 في الألف ) لعام 2025م .

### أنتبه : معلومات مهمة

- < منذ منتصف القرن الـ 20م حتى بداية القرن الـ 21م تقريباً ، اتسم النمو السكاني بقارة أوروبا بانخفاض معدل المواليد ومعدل الوفيات **ما النتائج ؟** مما أدى إلى :
- 1- انخفاض معدل الزيادة الطبيعية .
- 2- تحقيق استقرار سكاني يتناسب مع خطط التنمية .
- < لوحظ في الأونة الأخيرة : ( منذ بداية القرن الـ 21م وحتى عام 2025م )
- استمرار انخفاض معدل المواليد في أوروبا **بم تفسر ؟** للأسباب التالية :
- 1- تأخر سن الزواج .
- 2- ارتفاع مستويات التعليم .
- 3- زيادة مشاركة المرأة في سوق العمل .
- 4- تفضيل الأسر صغيرة العدد .
- ارتفاع معدل الوفيات في أوروبا عن المعدل العالمي **بم تفسر ؟** بسبب ارتفاع نسبة كبار السن .
- ونتيجة لاستمرار انخفاض معدل المواليد وارتفاع معدل الوفيات بأوروبا أصبح :
- معدل الزيادة الطبيعية بالسالب = معدل المواليد - معدل الوفيات = الزيادة الطبيعية
- 10 في الألف - 11,4 في الألف = - 1,4 في الألف
- أي تناقص عدد سكان قارة أوروبا في الأونة الأخيرة **ما النتائج ؟**
- أدى ذلك إلى قيام أوروبا بتشجيع مواطنيها على زيادة المواليد وذلك بتطبيق عدة إجراءات منها :
- 1- المساعدات المالية للأسر .
- 2- منح الأمهات إجازات طويلة لرعاية أطفالهن .

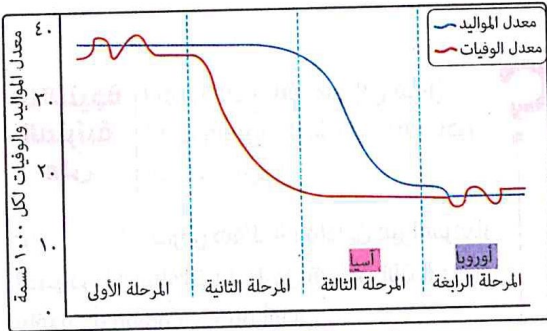
< طبقاً لمراحل نظرية التحول الديموجرافي نستنتج من الشكل البياني المقابل أن :

### قارة أوروبا

< تمر أوروبا بالمرحلة الرابعة من نظرية التحول الديموجرافي والتي تتسم بـ :  
انخفاض معدل المواليد ومعدل الوفيات بشكل كبير .  
تعد أوروبا حالياً على مشارف المرحلة الخامسة من نظرية التحول الديموجرافي .

### قارة آسيا

< تعيش آسيا المرحلة الثالثة من نظرية التحول الديموجرافي والتي تتسم بـ :  
انخفاض مستمر في معدل الوفيات مع انخفاض معدل المواليد .  
مما يؤدي إلى انخفاض معدل الزيادة الطبيعية للسكان .



رسم يوضح نظرية التحول الديموجرافي

2 - الهجرة ( الزيادة غير الطبيعية ) تلعب الهجرة دوراً بارزاً في النمو السكاني حيث :

### قارة آسيا

- تشهد قارة آسيا تيارات هجرة وافدة وخاصة إلى دول الخليج العربي قادمة من دول إفريقيا **بم تفسر؟**
- بسبب توافر فرص العمل .
- تتعرض قارة آسيا لتيارات هجرة غير شرعية ( غير قانونية ) قادمة من :  
الصومال و إثيوبيا عبر خليج عدن إلى اليمن أملاً في الوصول إلى دول الخليج العربي .

### قارة أوروبا

- تؤثر الهجرة بشكل كبير في النمو السكاني في قارة أوروبا **بم تفسر؟** لأن الهجرة الوافدة ( القادمة إلى أوروبا ) تعوض تناقص عدد السكان الناتج عن انخفاض المواليد وارتفاع الوفيات .
- تجذب قارة أوروبا المهاجرين **بم تفسر؟** بسبب توافر :  
\* فرص العمل . \* عوامل الأمن للأجنيين . \* فرص تعليمية وبحثية .
- تتعرض قارة أوروبا لتيارات هجرة غير شرعية ( غير قانونية ) .  
ومن أكثر الدول الأوروبية استقبلاً للمهاجرين غير الشرعيين :  
إيطاليا }  
اليونان } غير الشرعيين القادمين للقارة .



إحدى محاولات الهجرة غير الشرعية

### ما النتيجة المترتبة على ؟

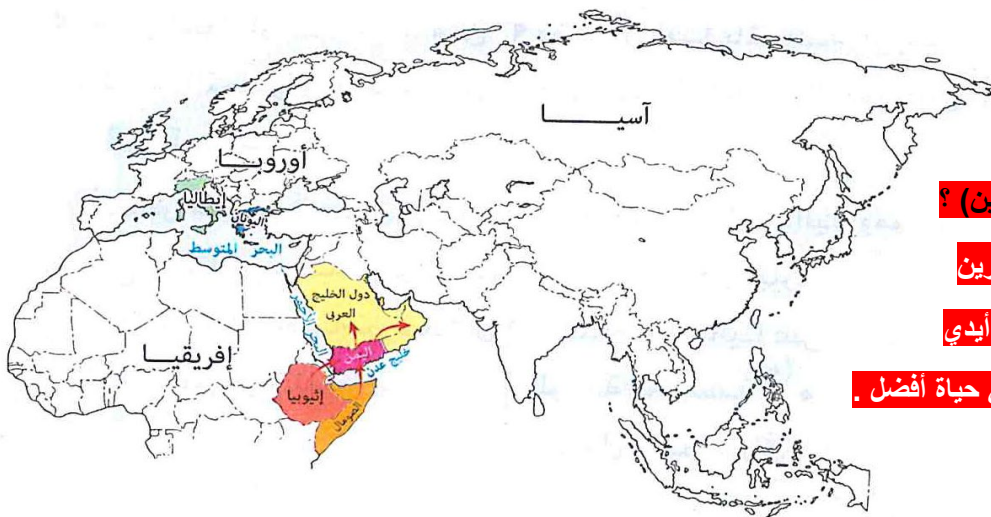
الهجرة غير الشرعية إلى قارتي آسيا

وأوروبا ( بالنسبة للمهاجرين غير الشرعيين ) ؟

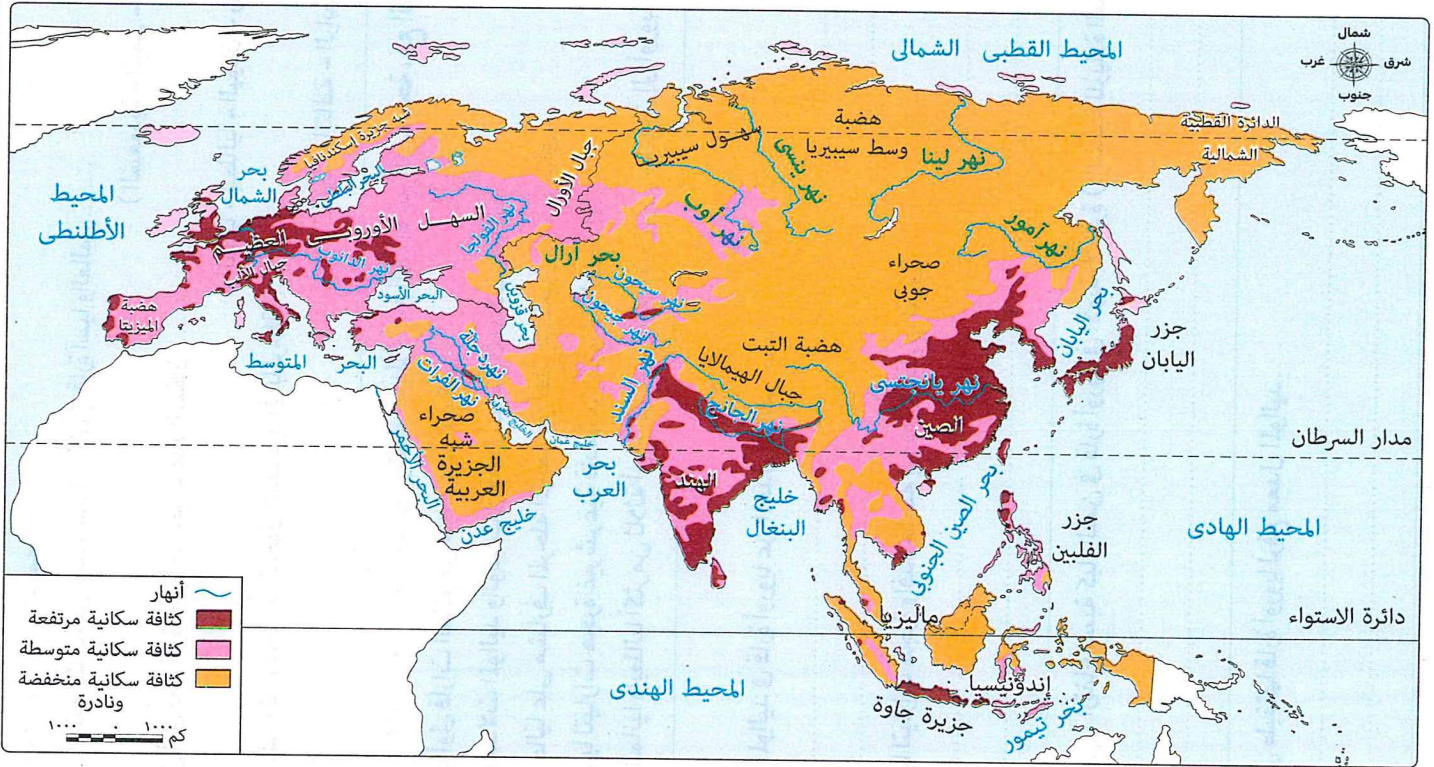
ج / ترتب على ذلك تعرض هؤلاء المهاجرين

غير الشرعيين لكثير من الانتهاكات على أيدي

شركات الإتجار بالبشر فاقدين أحلامهم في حياة أفضل .



## ثانياً :- توزيع السكان في قارتي آسيا وأوروبا



الكثافة السكانية لقارتي آسيا وأوروبا

## مناطق التركيز السكاني

< من خلال الخريطة السابقة نجد أن :

1- مناطق ذات كثافة سكانية مرتفعة حيث ب :

- < قارة آسيا تتمثل في : \* السهول الفيضية ، مثل : - سهول نهر يانغتسي .  
\* الجزر ذات التربة الخصبة ، مثل : - جزيرة جاوة .  
\* المناطق الصناعية شرق وجنوب شرق آسيا .

< قارة أوروبا تتمثل في : - السهل الأوروبي العظيم . - المناطق الصناعية غرب أوروبا .

2- مناطق ذات كثافة سكانية متوسطة كما في :

< بعض مناطق جنوب شرق آسيا . < مناطق وسط وشرق أوروبا .

3- مناطق ذات كثافة سكانية منخفضة ونادرة تتمثل في :

< المناطق الشمالية ، مثل :

\* سهول سيبيريا بقارة آسيا . \* شبه جزيرة إسكندنافيا بقارة أوروبا .

بم تفسر / انخفاض وندرة الكثافة السكانية بالمناطق الشمالية بقارتي آسيا وأوروبا ؟

بسبب : - شدة البرودة . - التربة المتجمدة طوال العام . - صعوبة المواصلات .

< المناطق الجبلية والهضبية ذات التضاريس الوعرة والتربة الفقيرة بقارتي آسيا وأوروبا .  
< المناطق الصحراوية بسبب : - الجفاف . - ندرة المياه . - صعوبة الطقس .

مثل : شبه الجزيرة العربية بقارة آسيا .

**ثالثاً :- المشكلات السكانية في قارتي آسيا وأوروبا****أسبابها** تختلف أسباب المشكلة السكانية من دولة إلى أخرى ، كما يلي :

1- انخفاض معدلات المواليد وزيادة في عدد كبار السن في بعض الدول مما يهدد بتقلص عدد السكان

في سن العمل وبالتالي يؤثر سلباً على معدلات الإنتاج والتنمية الاقتصادية .

2- النمو السكاني المتزايد وارتفاع الكثافة السكانية في بعض الدول مثل الصين **ما النتائج؟** ترتب على ذلك :

2 - زيادة الطلب على الغذاء والمسكن

مما يؤدي إلى الحاجة للتوسع في الأراضي الزراعية والتوسع العمراني على حساب مساحات الغابات والمراعي الطبيعية فيؤدي إلى :- تهديد التنوع البيولوجي .

- تدمير الموائل الطبيعية للعديد من الأنواع النباتية والحيوانية .

1 - زيادة الطلب على المياه العذبة

واستنزاف المياه الجوفية مما يؤثر على الأمن المائي حيث ينخفض نصيب الفرد من المياه العذبة مثال : الهند أولى دول العالم سكاناً حيث انخفض فيها نصيب الفرد من المياه العذبة للنصف خلال الخمسين عاماً الأخيرة .

4 - زيادة تيارات الهجرة الداخلية

( من الريف إلى المدن داخل الدولة )

مما يؤدي إلى :- الضغط على البنية التحتية .

- ظهور العشوائيات بما تتضمنه من مشكلات منها الفقر والمرض والجهل .

3 - زيادة الطلب على الطاقة الأحفورية والإنتاج الصناعي

مما يؤدي إلى :- تلوث الهواء .

- زيادة انبعاثات الغازات الدفينة التي تعد سبباً في التغير المناخي .

وكل ذلك يؤثر سلباً على صحة السكان .

**جهود ( سياسات ) الدول في قارتي آسيا وأوروبا لمواجهة المشكلة السكانية**< تتخذ دول قارتي آسيا وأوروبا سياسات سكانية وتبذل جهوداً لمواجهة المشكلة السكانية **بم تفسر؟** بهدف :

- تحقيق التوازن بين النمو السكاني والموارد المتاحة . - تحسين خصائص السكان لتحقيق التنمية المستدامة .

ومن أمثلة تلك الجهود ( السياسات ) :

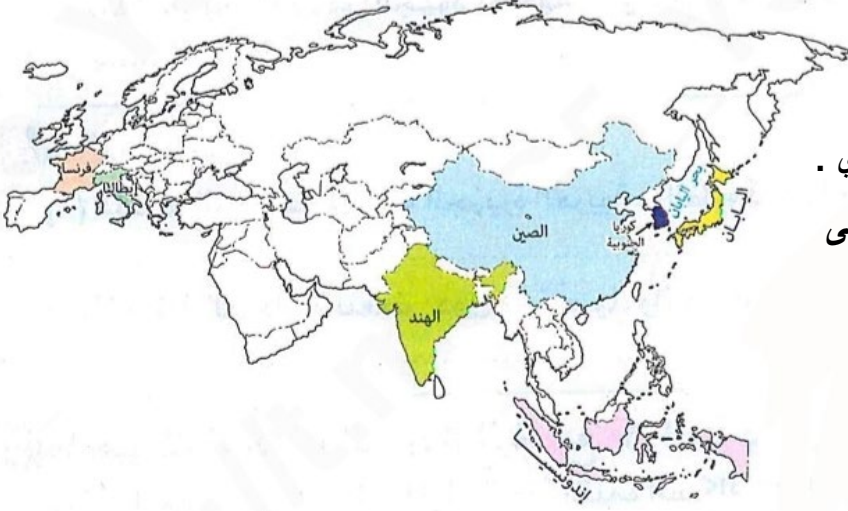
**1 - جهود الدول التي تواجه تحديات زيادة عدد كبار السن وانخفاض معدلات المواليد**مثل : فرنسا وإيطاليا في أوروبا ، اليابان وكوريا الجنوبية في آسيا . **ما المقصود بـ : سن التقاعد ؟**

< رفع سن التقاعد تدريجياً مثلما حدث في فرنسا .

< الاعتماد على التكنولوجيا وتقليل الاعتماد على القوى البشرية .

< تقديم الحوافز المادية والإعفاءات الضريبية للأسر التي تنجب عدداً أكبر من الأطفال .

< تشجيع الهجرة إلى الدولة لتعويض النقص في القوى العاملة .

**2 - جهود الدول التي تعاني من النمو السكاني المرتفع**

- مثل : الصين والهند وإندونيسيا في آسيا .
- < بناء الوحدات الصحية ومراكز تقديم الخدمة
  - وتوفير وسائل تنظيم الأسرة بدون مقابل مادي .
  - < تقديم حوافز مالية ومعنوية لتشجيع الأسر على
  - تنظيم الأسرة وإنجاب عدد قليل من الأطفال .
  - < توعية الأفراد بخطورة الزيادة السكانية على
  - الموارد البيئية ومستوى رفاهية الأسرة .
  - < التخطيط العمراني المستدام ، والاستثمار في
  - الطاقة المتجددة ، وإدارة الموارد .

**أسئلة التدريبات**

س1 : أكمل العبارات الآتية بما يناسبها من كلمات:

- 1- تعد سهول نهر اليانجتسي من المناطق ذات الكثافة السكانية .....
- 2- من الدول التي تعاني من النمو السكاني المرتفع في قارة آسيا ..... و .....
- 3- الدولة التي تمثل أولى دول قارة أوروبا من حيث عدد السكان هي .....

س2 : بم تفسر .....؟

- 1- انخفاض معدل المواليد في قارة أوروبا عن المعدل العالمي حالياً ؟
- 2- تعرض قارة آسيا لتيارات هجرة وافدة خاصة إلى دول الخليج العربي .

س3 : حدد الآثار الناتجة عن :

- 1- زيادة الطلب على الغذاء والمسكن ببعض الدول التي تعاني من ارتفاع كثافة سكانية بقارة آسيا ؟
- 2- زيادة الهجرة الداخلية ببعض دول قارة آسيا ؟

**الإجابة**

ج1 : 1- المرتفعة . 2- الصين والهند وإندونيسيا . 3- روسيا الاتحادية .

ج2 :

- 1- بسبب : - تأخر سن الزواج . - ارتفاع مستويات التعليم . - تفضيل الأسر صغيرة العدد .
- 2- بسبب توافر فرص العمل .

ج3:

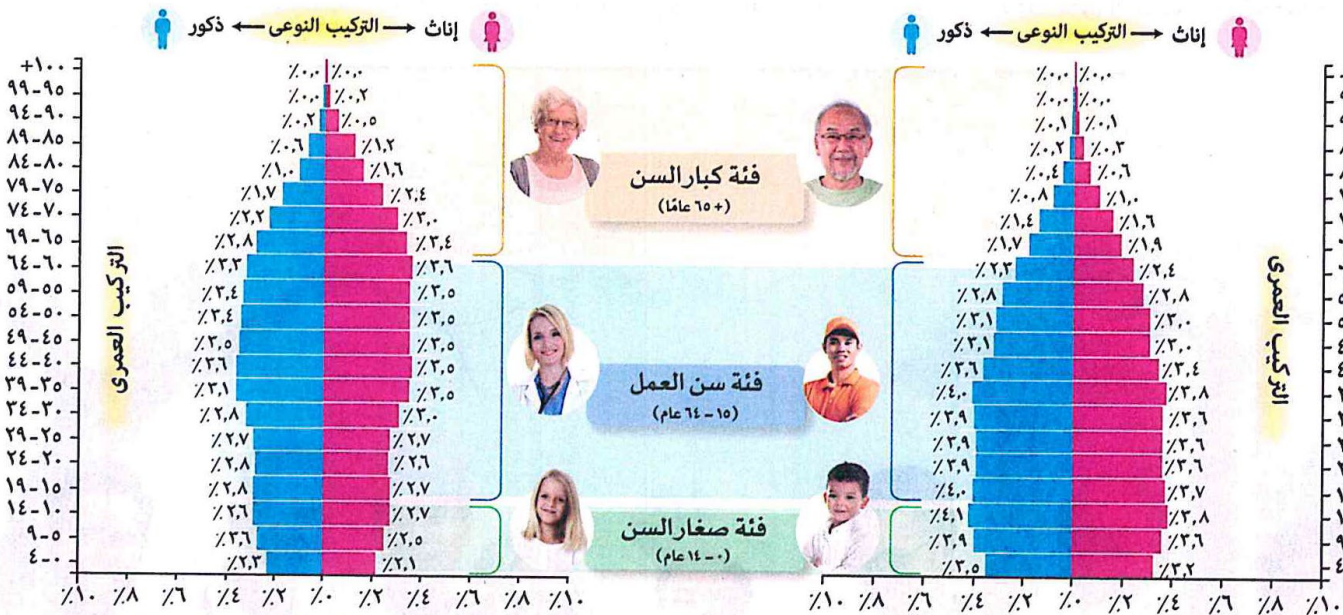
- 1- التوسع العمراني على حساب مساحات الغابات مما يؤدي إلى تهديد التنوع البيولوجي .
- 2- أدى إلى : - الضغط على البنية التحتية . - ظهور العشوائيات وانتشار الفقر والمرض والجهل .

## الدرس الثاني: خصائص سكان قارتي آسيا وأوروبا

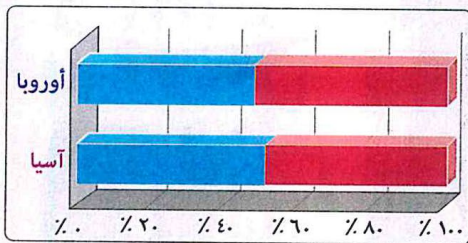
\* لدراسة خصائص السكان أهمية كبيرة **بم نفسر؟** لأنها عاملاً مهماً في تقدم أو تأخر الدول ، وتحليل تلك الخصائص بمثابة بوصلة توجه مسنولي التخطيط وصناع القرار لبناء المجتمع .  
\* تختلف خصائص السكان في قارتي آسيا وأوروبا ، وتتمثل هذه الخصائص في :

### أولاً :- التركيب النوعي والعمرى لسكان قارتي آسيا وأوروبا

< يوضح الهرم السكاني لقارتي آسيا وأوروبا عام 2025م نسب السكان حسب النوع أي ذكوراً وإناً ( التركيب النوعي ) وفق فئات عمرية (( خمس سنوات )) ( التركيب العمري ) .



### 1 - التركيب النوعي من خلال قراءة وتحليل الهرمين السكانيين السابقين والشكل البياني التالي ، يتضح ما يلي :



التركيب النوعي لسكان قارتي آسيا وأوروبا ٢٠٢٥م

#### قارة أوروبا

تبلغ نسبة الذكور ٪(٥١,٦)  
تبلغ نسبة الإناث ٪(٤٨,٤)

- تزداد نسبة الإناث ٪٥١,٦ عن نسبة الذكور ٪٤٨,٤ منذ عام ١٩٥٠م حتى الآن.
- يرجع الارتفاع الطفيف لنسبة الإناث في قارة أوروبا عن الذكور إلى انخراط (دخول) دول أوروبا في الحرب العالمية الثانية (١٩٣٩م : ١٩٤٥م) مما أفقدها كثيراً من الشباب الذكور.

#### قارة آسيا

تبلغ نسبة الذكور ٪(٥١,١)  
تبلغ نسبة الإناث ٪(٤٨,٩)

- يتسم التركيب النوعي للسكان بالتوازن النسبي بين الذكور ٪٥١,١ والإناث ٪٤٨,٩ وهي نسب ثابتة منذ عام ١٩٥٠م حتى الآن.
- قد يرجع الارتفاع الطفيف لنسبة الذكور في قارة آسيا عن الإناث إلى الهجرة للعمل بدول آسيا وخاصة إلى دول الخليج العربي.

## 2 - التركيب العمري

من خلال قراءة وتحليل الهرمين السكانيين السابقين لقارتي آسيا وأوروبا يتضح ما يلي :

\* كلا الهرمين من النوع ذي القاعدة الضيقة **بم تفسر؟**

- بسبب انخفاض معدل المواليد .

\* قاعدة الهرم السكاني بقارة أوروبا أكثر ضيقاً من قارة آسيا .

\* كلاهما يتضمن ثلاث فئات عمرية رئيسية هي :

( أ ) **فئة صغار السن ( 0 - 14 عاماً )** ( تمثل قاعدة الهرم السكاني )

< بلغت نسبة هذه الفئة في قارة آسيا نحو 22 % من إجمالي سكان القارة ، بينما بلغت في قارة أوروبا

نحو 15,7% من إجمالي سكان القارة ، **ويرجع ذلك إلى :**

انخفاض معدل المواليد في قارة أوروبا مقارنة بقارة آسيا .

< عدد الأطفال في قارة آسيا عشرة أضعاف عدد أطفال قارة أوروبا **بم تفسر؟** للأسباب الآتية :

1- حرص سكان قارة آسيا على الزواج والإنجاب .

2- اتساع شريحة الشباب الذين في سن الزواج بقارة آسيا .

< تهتم دول قارتي آسيا وأوروبا بصحة فئة صغار السن **ما النتائج؟**

مما يساعد على ارتفاع العمر المتوقع بصحة جيدة للأجيال القادمة .

( ب ) **فئة سن العمل ( 15 - 64 عاماً )** ( تمثل منتصف الهرم السكاني )

< تبلغ نسبة فئة سن العمل بقارتي آسيا وأوروبا نحو ثلثي السكان **ما النتائج؟**

ترتب على ذلك امتلاك القارتين قوة عاملة تدعم اقتصادهما .

< من المتوقع تناقص فئة سن العمل بقارة أوروبا وتزايدها بقارة آسيا في العقود القادمة .

( ج ) **فئة كبار السن ( 65 عاماً فأكثر )** ( تمثل قمة الهرم السكاني )

### قارة أوروبا

< تزيد نسبة هذه الفئة عن خمس سكان القارة .

< من المتوقع أن ترتفع نسبة هذه الفئة إلى ثلث

سكان القارة بحلول عام 2050م .

< تُعد دولة **إيطاليا** ثاني دول العالم من حيث

نسبة هذه الفئة .

### قارة آسيا

< تبلغ نسبة هذه الفئة نحو عُشر سكان القارة .

< من المتوقع أن ترتفع نسبة هذه الفئة إلى خمس

سكان القارة بحلول عام 2050م .

< تُعد دولة **اليابان** من أولى دول العالم من حيث

نسبة هذه الفئة .

< تسعى دول قارتي آسيا وأوروبا إلى الاهتمام بفئة كبار السن **دلل؟**

حيث قامت بـ : - توفير الخدمات المختلفة لهم .

- الاستعانة بالتكنولوجيا في توفير احتياجاتهم .

ونتج عن ذلك : ظهور ما يعرف بـ (( الاقتصاد الفضي ))

### ما المقصود بـ : الاقتصاد الفضي؟

اقتصاد يهتم بمجموع الأنشطة الاقتصادية التي تلبس احتياجات ومتطلبات كبار السن مما يعزز الشبخونة الصحية التي تعنى العيش بأعمار طويلة وبصحة جيدة .

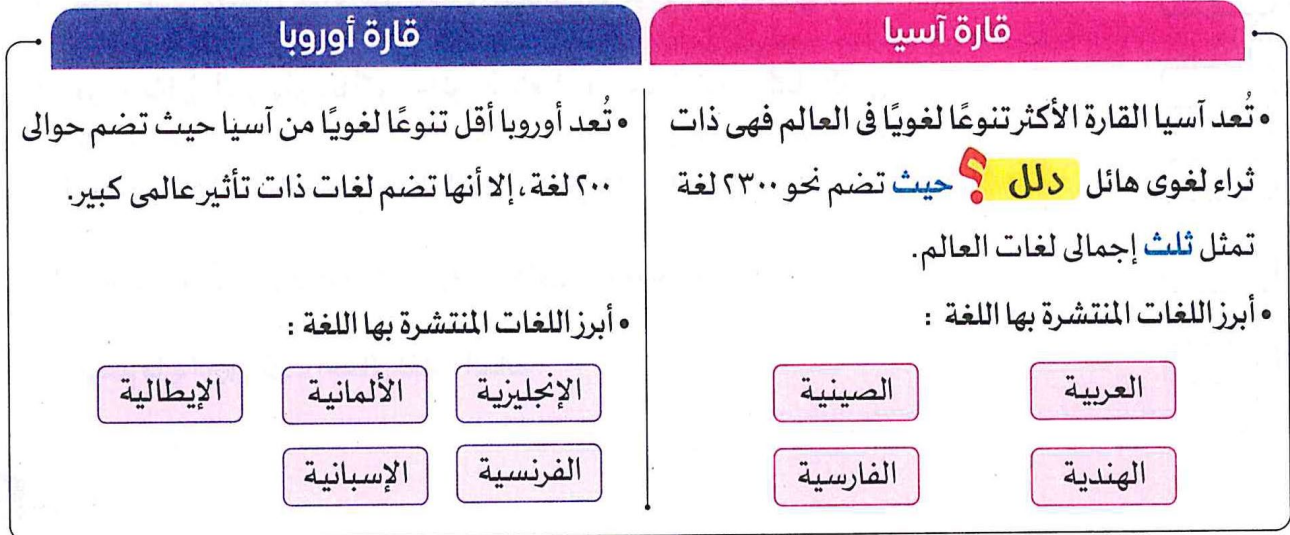
## ثانياً :- التركيب الاقتصادي لسكان قارتي آسيا وأوروبا

< يهتم التركيب الاقتصادي بنسب العاملين في المجالات الاقتصادية المختلفة ففي :



## ثالثاً :- التركيب اللغوي لسكان قارتي آسيا وأوروبا

## 1 - التنوع اللغوي في :



## 2 - تأثير اللغة على الهوية الثقافية والسياسية

\* أسهمت اللغة العربية في :- وحدة الدول العربية . - ثراء التراث الإسلامي والعربي ( أثر إيجابي )

\* فرض لغة معينة كلغة رسمية قد يكون أحد العوامل المؤدية إلى تقسيم الدولة ،

مثال : فرض اللغة الأردية في دولة باكستان كلغة رسمية **ما النتائج ؟**

مما أدى إلى حدوث احتجاجات بالجزء الشرقي منها ( باكستان الشرقية ) وانفصاله عنها

وأصبح دولة بنجلاديش حالياً . ( أثر سلبي )

\* لعبت اللغة دوراً في ترسيم الحدود السياسية

مثال : تم ترسيم الحدود السياسية لدول

وسط أوروبا على أساس اللغة بعد

الحرب العالمية الأولى ( 1914م : 1918م ) .



رابعاً :- الخصائص التعليمية لسكان قارتي آسيا وأوروبا

**الإلتحاق العام على التعليم**

< ارتفعت نسبة الإلتحاق العام على التعليم في قارة أوروبا وشرق قارة آسيا عن نسبة الإلتحاق العام العالمي

التي تبلغ 3,7 % من الدخل القومي .

< أعلى الدول إنفاقاً على التعليم بـ :



الكويت

(ثانى دول القارة)



عمان

(أولى دول القارة)

قارة آسيا



السويد

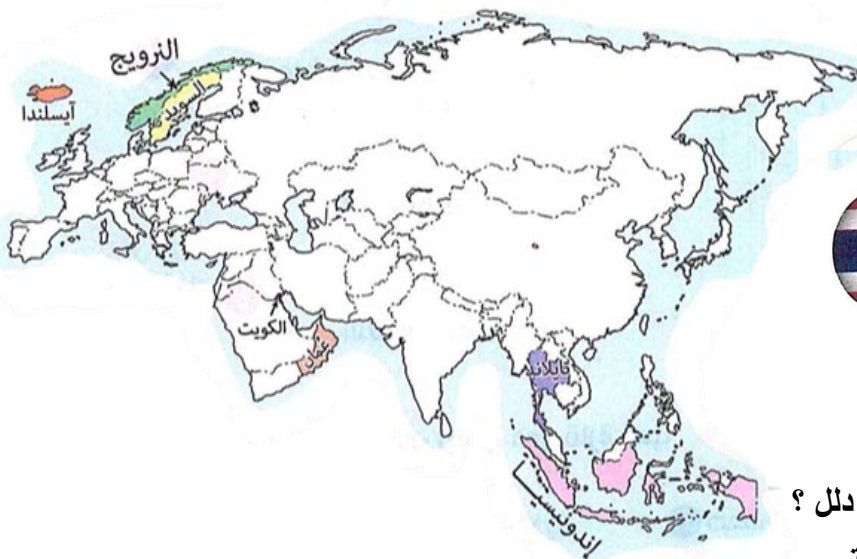


النرويج



آيسلندا

قارة أوروبا




< انخفضت نسبة الإلتحاق على التعليم

ببعض دول جنوب شرق آسيا مثل :



تايلاند



إندونيسيا

**تعليم كبار السن**

< اهتمت دول آسيا وأوروبا بتعليم كبار السن دلى ؟

حيث قدمت دورات تعلم للأفراد في تلك الفئة

العمرية مما أكسبهم الثقة الذاتية وتبادل خبراتهم ومعرفة حقوقهم وحمائتها .

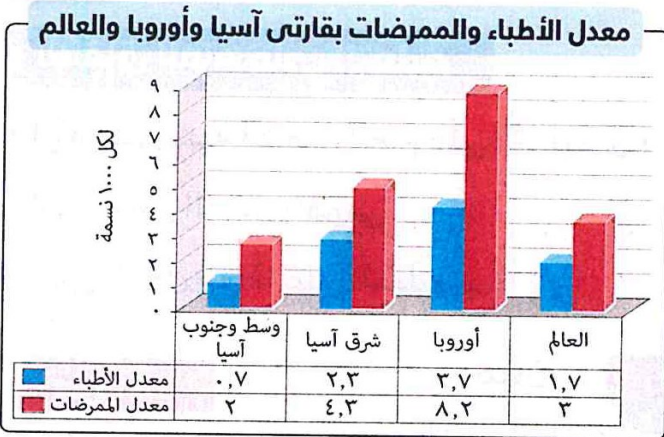
## خامساً :- الخصائص الصحية لسكان قارتي آسيا وأوروبا

### 1 - معدلات الأطباء والمرضات

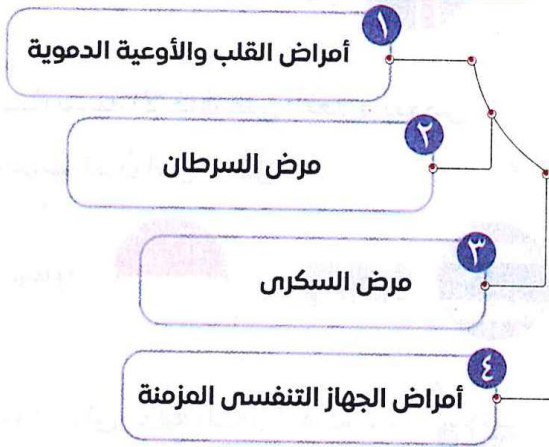
< يتضح من الشكل البياني المقابل أن :

- \* دول قارة أوروبا وشرق قارة آسيا تتمتع بمعدلات أطباء ومرضات تفوق المعدلات العالمية .
- \* دول وسط وجنوب آسيا تقل بها معدلات الأطباء والمرضات عن المعدلات العالمية .

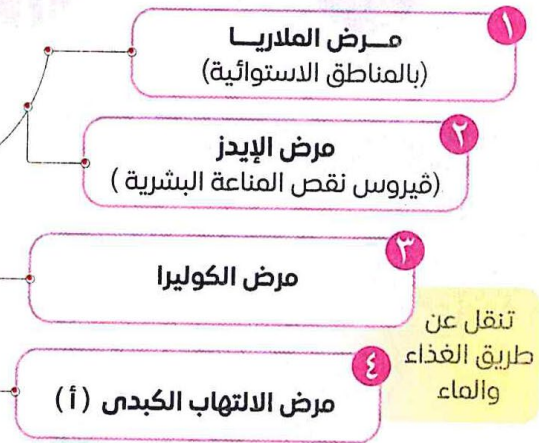
### 2 - الأمراض المنتشرة



### أشهر الأمراض شيوعاً فى قارة أوروبا



### الأمراض المنتشرة فى قارة آسيا



بم تفسر / يزيد انتشار الأمراض ببعض دول قارة آسيا ؟

بسبب : 1 - الفقر . 2- سوء التغذية . 3- ضعف البنية التحتية الصحية .

4- الحروب والصراعات التي تعطل الخدمات الصحية وتزيد من خطر تفشي الأمراض .

جهود قارتي آسيا وأوروبا للحد من انتشار الأمراض ومن أبرز هذه الجهود :

- 1 وضع برامج وقائية والاهتمام بالتطعيمات الدورية .
- 2 الاهتمام بالبحث العلمي وإقامة المراكز الطبية ، مثل : المركز الأوروبي للوقاية من الأمراض ومكافحتها .
- 3 المشاركة في المبادرات العالمية ، مثل : (( مبادرة الأمن الصحي العالمي )) لتعزيز القدرات العالمية على الوقاية من الأوبئة والكشف عنها .
- 4 تتبادل الدول الآسيوية والأوروبية المعرفة والبيانات حول الأمراض الوبائية .

## سادساً :- الخصائص الثقافية لسكان قارتي آسيا وأوروبا

- < تعتبر آسيا وأوروبا من أغني القارات ثقافياً وتاريخياً في العالم دتل ؟  
 حيث تضم مزيجاً فريداً من الحضارات القديمة والتراث المتنوع الذي يمتد لآلاف السنين .  
 < من ملامح ثقافات الشعوب في قارتي آسيا وأوروبا :

قارة أوروبا	قارة آسيا	العادات والتقاليد
<p>تتميز الشعوب الأوروبية بعادات وتقاليد راقية منذ القدم</p> <p><b>مثل</b></p> <p>* تناول الشاي بعد الظهر من أشهر تقاليد الشعب الإنجليزي .</p> 	<p>الانحناء المتبادل : في بعض الدول مثل : اليابان وكوريا الجنوبية ويعد طريقة أساسية للتعبير عن الاحترام والتقدير في مختلف المواقف الاجتماعية والرسمية .</p> 	
<p>* من أشهرها :          - البيتزا الإيطالي . - الكريب الفرنسي .</p> 	<p>* تتميز بفضون الطهي والأطعمة الشعبية الوطنية التي لا تخلو من الأرز والأعشاب والتوابل . ومن أشهرها :</p> <p>• السوشي الياباني .</p> <p>• طبق الكيمتشي بكوريا الجنوبية .</p>  	<p>الأكلات الوطنية (تمثل مظهرًا من مظاهر التراث والثقافة)</p>



للتعرف على موقع الدول المذكورة في هذه الصفحة انظر الخريطة المقابلة

## قارة أوروبا

- \* تُعد الموسيقى الأيرلندية من أشهر الفنون الموسيقية التقليدية .
- \* من أشهر الرقصات الأوروبية الرقصات الفلكلورية الإيطالية .



## قارة آسيا

- \* تنتشر الموسيقى التقليدية التي تعتمد على الآلات الوترية والطبول بكل من :
  - اليابان .
  - جمهورية كوريا الجنوبية .
  - الصين .
- \* تنتشر الرقصات الكلاسيكية كما في الهند



٣ الفنون

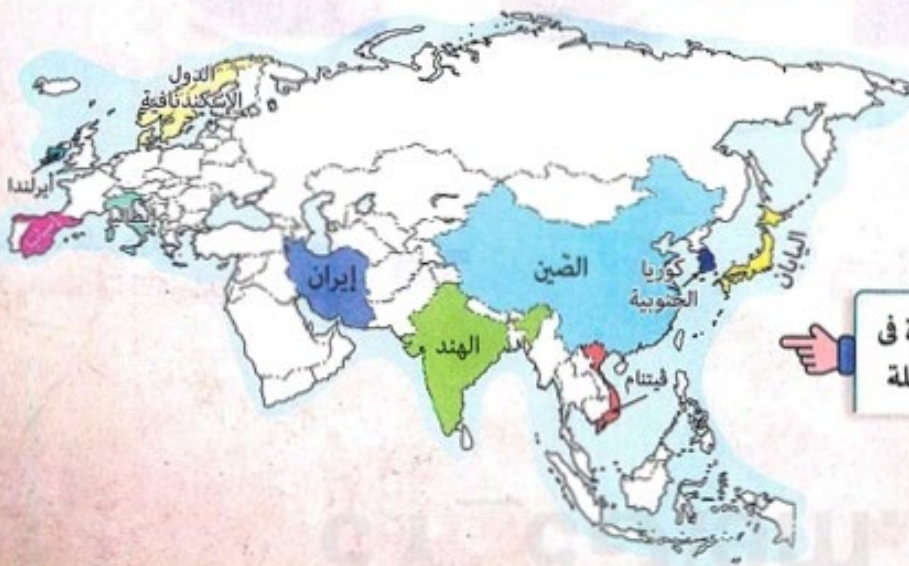
- \* الرسم على الخشب في :
  - الدول الإسكندنافية (السويد - النرويج - الدنمارك) .
  - بعض دول شرق أوروبا .
  - \* صناعة الفخار اليدوي التي تنتشر في إسبانيا .
  - \* صناعة الزجاج في إيطاليا .



- \* الرسم على الخشب وعمل قطع فنية تعكس الثقافة الكورية .
- \* صناعة الفخار اليدوي التي تنتشر في فيتنام .
- \* صناعة الحرير اليدوي في :
  - الصين .
  - الهند .
  - \* صناعة السجاد اليدوي في :
    - إيران .
    - الهند .



٤ الحرف التراثية (تمثل جزءاً مهماً من الهوية الثقافية)



للتعرف على موقع الدول المذكورة في هذه الصفحة انظر الخريطة المقابلة



## أسئلة تدريبات

س1 : أكمل العبارات الآتية بما يناسبها :

- 1- تعد ..... و ..... من أعلى دول قارة آسيا في نسبة الانفاق على التعليم .
  - 2- تنتشر العديد من الأمراض مثل الملاريا بالمناطق ..... بقارة آسيا .
  - 3- أولى دول العالم في فئة كبار السن دولة .....
- س2 : ما النتائج المترتبة على .....

- 1- اهتمام دول قارتي آسيا وأوروبا بصحة فئة صغار السن ؟
  - 2- تبلغ نسبة فئة سن العمل بقارتي آسيا وأوروبا نحو ثلثي السكان ؟
  - 3- فرض اللغة الأردية في دولة باكستان كلغة رسمية ؟
- س3 : بم تفسر .....

- 1- أهمية دراسة خصائص السكان ؟
- 2- عدد الأطفال في قارة آسيا عشرة أضعاف عدد أطفال قارة أوروبا ؟
- 3- يزيد انتشار الامراض ببعض دول قارة آسيا .

الإجابة

ج 1 :

- 1- عمان والكويت .
- 2- الاستوائية .
- 3- اليابان .

ج 2 :

- 1- يساعد على ارتفاع العمر المتوقع بصحة جيدة للأجيال القادمة .
  - 2- ترتب على ذلك امتلاك القارتين قوة عاملة تدعم اقتصادهما .
- ج 3 : أدى إلى حدوث احتجاجات بالجزء الشرقي منها ( باكستان الشرقية ) وانفصاله عنها وأصبح دولة بنجلاديش حالياً .

- 1- لأنها عاملاً مهماً في تقدم أو تأخر الدول ، وتحليل تلك الخصائص يوجه مسنولي التخطيط وصناع القرار لبناء المجتمع .
- 2- بسبب : - حرص سكان قارة آسيا على الزواج والإنجاب .
- اتساع شريحة الشباب الذين في سن الزواج بقارة آسيا .
- 3- بسبب : - الفقر . - سوء التغذية . - ضعف البنية التحتية الصحية .

## الوحدة الثانية :- مصر من الفتح الإسلامي

### حتى عصر الدول المستقلة

### الدرس الأول :- أحوال مصر بعد الفتح الإسلامي

< تعرفنا في الفصل الدراسي الأول أن الشعب المصري عانى كثيراً من اضطهاد الروم خاصة بعد اعتناق المصريين المسيحية :- وفيما يلي سنتعرف كيف تخلص المصريون من هذا الاضطهاد ومن الذي أعاد لهم حريتهم الدينية .

### تذكر في ضوء دراستك السابقة :

أسباب الفتح الإسلامي لمصر:

- ١ نشر الإسلام بها .
- ٢ تخليص أهلها من ظلم البيزنطيين .
- ٣ تأمين حدود الدولة الإسلامية من جهة الغرب .

### أولاً :- الفتح الإسلامي لمصر 21هـ / 641م

**بدأ** < التفكير في نشر الإسلام بمصر منذ عهد الرسول ﷺ حينما

أرسل كتاباً للمقوقس حاكم مصر ( من قبل الروم ) يدعوهُ للإسلام .

**أعيد** < التفكير في فتح مصر مرة أخرى حينما أشار عمرو بن العاص

على الخليفة عمر بن الخطاب رضي الله عنه بفتحها .

< موقف الخليفة عمر بن الخطاب من فتح مصر :

وافق الخليفة على فتح مصر وأمر بخروج الجيش بقيادة عمرو بن العاص من فلسطين متجهاً إلى مصر .

### فتح عمرو بن العاص لمصر

< نجح جيش المسلمين في فتح المدن المصرية من مدينة العريش شرقاً حتى وصلوا إلى مدينة الإسكندرية غرباً .

ومن الخريطة المقابلة نستنتج باقي المدن المصرية

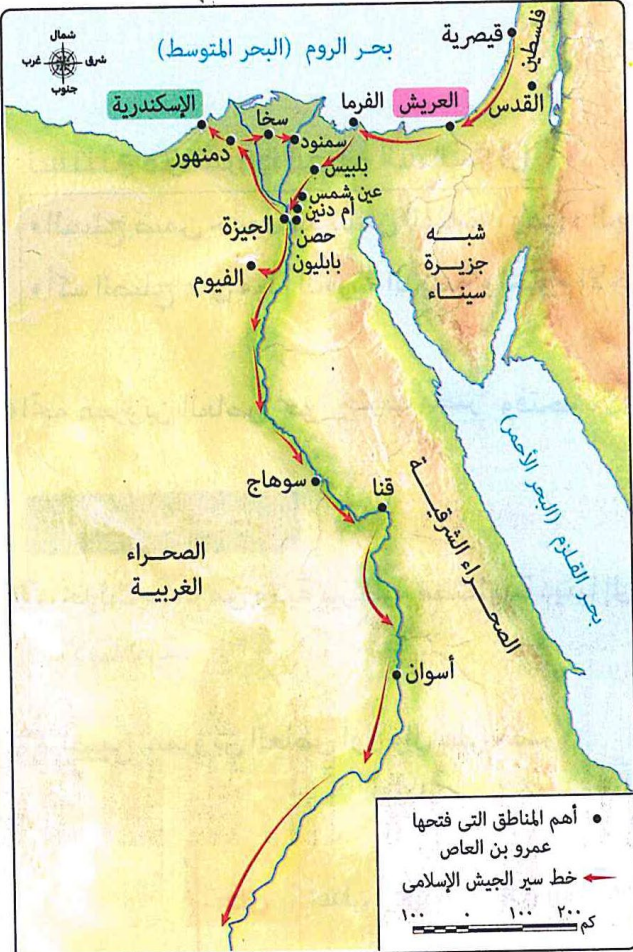
التي فتحها عمرو بن العاص شمال مصر .

الفرما - بلبيس - عين شمس - أم دنين - دمنهور

< اتجه عمرو بن العاص نحو جنوب مصر وفتحها .

< عقد عمرو بن العاص صلحاً مع (( المقوقس )) حاكم مصر

( من قبل الروم ) عُرف بـ (( صلح الإسكندرية )) .



الفتح الإسلامي لمصر

## صلح الإسكندرية

**الأطراف :** عمرو بن العاص و المقوقس .

**من أهم شروط صلح الإسكندرية :-**

- 1- أن تُعقد هدنة مدتها أحد عشر شهراً لا يقوم أحد الطرفين خلالها بأي عمل حربي ضد الآخر .
- 2- أن يتم ترحيل الحامية الرومية عن طريق البحر ، ويحمل الجنود معهم متاعهم وأموالهم ، وهو آمنون على ذلك .
- 3- ألا يعود الروم لمصر ثانية ، أو يحاولوا استردادها .
- 4- ألا يتعرض المسلمون للكنائس بسوء .
- 5- أن يبقى اليهود بالإسكندرية .

نستنتج من شروط الصلح السابقة أن :

- \* الصلح ضمن حقوق عديد من الفئات ، وهي الجنود الروم والمسيحيين واليهود .
- \* أكد الصلح على مبدأ الحرية الدينية واحترام الآخرين .

## نتائج فتح مصر

- 1- تحولت مصر من ولاية بيزنطية مضطهدة دينياً إلى ولاية إسلامية شاركت بدور مهم في بناء الحضارة الإسلامية .
- 2- أصبح عمرو بن العاص أول والٍ على مصر .

**دليل /** أعطى عمرو بن العاص لأهل مصر مثلاً لسماحة الإسلام ؟

حيث منح أهل مصر الحرية الدينية وحرص على حماية أموالهم وأماكن العبادة الخاصة بهم .

## ثانياً :- الملامح الحضارية في مصر خلال عصر الولاية

\* نعمت مصر بالاستقرار والأمن في عصر الولاية ، كما ازدهرت الأنشطة الاقتصادية المختلفة ، وفيما يلي نتعرف بعض الملامح الحضارية في مصر في تلك الفترة التاريخية .

- 1- نظام الحكم .
- 2- القضاء .
- 3- الحياة الاقتصادية .
- 4- الحياة العلمية .
- 5- العمارة .

### 1 - نظام الحكم

**ما المقصود بـ : عصر الولاية ؟**

تلك الفترة التاريخية التي تبدأ بعد الفتح الإسلامي لمصر في عام ٢١ هـ / ٦٤١ م، وتنتهي ببداية تأسيس أحمد بن طولون لدولة مستقلة في مصر تحمل اسم «الدولة الطولونية» في عام ٢٥٤ هـ / ٨٦٨ م، وكانت مصر خلال تلك الفترة ولاية تابعة للخلافة الإسلامية (الخلافة الراشدة - الخلافة الأموية - الخلافة العباسية).

\* أبقى المسلمون على النظام السياسي الذي كان موجوداً في مصر قبل الفتح الإسلامي واكتفوا بشغل بعض المناصب السياسية ليشرفوا على الإدارة بوجه عام ، ومن هذه المناصب :

### الوالي

\* في عصر الخلفاء الراشدين رضي الله عنهم وخلفاء بني أمية وخلفاء بن العباس في العصر العباسي الأول :

- كان الخلفاء يقومون بتعيين الولاية من العرب لحكم مصر وإدارة شئونها الداخلية .

- كان الوالي يُقيم بـ (( دار الإمارة )) التي أنشأها عمرو بن العاص في (( مدينة الفسطاط )) .

\* في العصر العباسي الثاني :

بدأ الخلفاء بتعيين الولاية من الفرس والأتراك ، ونظراً لضعف خلفاء هذا العصر كان يتم تغيير الولاية في مدد قصيرة .

## صاحب الشرطة

- \* كان الوالي يقوم بتعيينه وأحياناً يتدخل الخليفة في اختياره **بم تفسر؟**
- لأن صاحب الشرطة كان ينوب عن الوالي في أداء مهامه حال غيابه عن منصبه .
- < من مهام صاحب الشرطة : - المحافظة على الأمن الداخلي بمنع وقوع الجرائم والقبض على الجناة .
- تنفيذ القوبات التي يحكم بها القضاة .


## 2 القضاء

كانت مجالس القضاء تعقد عادة في جامع عمرو بن العاص .

كان الخليفة هو الذي يقوم بتعيين القاضي .

يقوم على أساس الشريعة الإسلامية **أما** غير المسلمين فكان لهم قضاؤهم إلا إذا احتكموا إلى القاضي المسلم .

نظام إداري وضعه العرب بمصر بعد الفتح الإسلامي .



مقياس النيل

- \* كانت وظيفة القضاء من الوظائف السامية ( المهمة ) التي تحاط بالهيبة .

## 3 الحياة الاقتصادية

### الزراعة

- < اهتم المسلمون بشئون الزراعة والري في مصر **دلل؟** حيث
- \* أمر عمرو بن العاص بإنشاء مقياس على النيل .
- \* اهتم الأمويون والعباسيون بتوسيع رقعة الأرض الزراعية وحفر الترع والقنوات .

### الصناعة

- < ازدهرت الصناعة بمصر في عصر الولاة ، ومن أبرزها :

#### صناعة النسيج والتطريز

- \* كانت الثياب المصرية مزينة بالتطريز البيزنطي حتى أمر الخليفة الأموي عبد الملك بن مروان ( 65 : 86 هـ ) أن تكون الكتابة على النسيج باللغة العربية .
- \* كان يتم تزيين المنسوجات الكتابية بزخارف من الحرير



الكتابة على النسيج بالخط العربي

#### صناعة السفن الحربية

- \* ازدهرت تلك الصناعة بمصر في عصر الدولة الأموية وقد أمر الخليفة الأموي معاوية بن أبي سفيان ، بإنشاء دار لصناعة السفن في بلاد الشام بمدينة عكا وقد استقدم من مصر الخبراء للاستفادة منهم في دار الصناعة الجديدة .



صناعة السفن

**التجارة**

< ازدهرت التجارة في مصر خلال عصر الولاة **بم تفسر؟**

- بسبب : 1- قيام عمرو بن العاص بإعادة حفر القناة التي كانت تربط بين نهر النيل والبحر الأحمر وسُميت بخليج أمير المؤمنين وقد ساعد ذلك على تنشيط التجارة بين مصر وبلاد الحجاز .
- 2- ازدهار الزراعة .
- 3- ازدهار الصناعة .

**4 - الحياة العلمية**

\* بعد الفتح الإسلامي لمصر وفد كثير من الصحابة إلى مصر وقاموا بتعليم الشعب المصري أصول الدين الإسلامي ، ومن أشهرهم عبد الله بن عمرو بن العاص ، وقد قامت بمصر نهضة علمية عظيمة وكانت دعامتها الدين الإسلامي واللغة العربية .

\* في القرن الثاني الهجري نشأ جيل من العلماء من أصل مصري صاروا أئمة في :

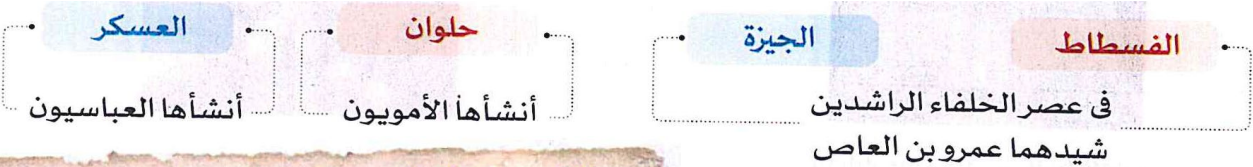
- القراءات . - الأدب . - اللغة . - التاريخ .

وأصبحت مصر مركزاً لنشر العلم والثقافة مما ساهم في بناء وتقديم الحضارة الإسلامية .

**5 - العمارة**

< أهتم العرب بالعمارة في مصر ، ومن مظاهرها :

المدن :- أنشأ العرب المسلمون عديداً من المدن في مصر أهمها :

**مواقف مضيئة في التاريخ الإسلامي (رحمة قائد )**

نصب عمرو بن العاص خيمته خارج أسوار حصن بابلون أثناء حصاره له ، وعند توجهه نحو الإسكندرية أمر بإزالة خيمته فوجد الجنود يمامة قد بنت عشها ووضع بيضها فوق الخيمة ؛ فأمر بترك الخيمة ، ولاحق الروم هو وجنوده وبعد عودته كانت اليمامة قد أخذت صغارها وطارت فأمر ببناء عاصمة جديدة لمصر في نفس مكان الخيمة وأطلق عليها الفسطاط أي (الخيمة) .

**مدينة الفسطاط**

\* شيدها عمرو بن العاص لتكون عاصمة لمصر بدلاً عن الإسكندرية التي كانت بعيدة عن قلب مصر وتحفظ بطابعها البيزنطي .

\* ظلت عاصمة لمصر طوال عصر الخلفاء الراشدين والخلافة الأموية .

**مدينة العسكر**

\* تم تشييدها في العصر العباسي لتصبح عاصمة جديدة لمصر .

**المساجد**

\* قام عمرو بن العاص ببناء أول جامع في مصر بمدينة الفسطاط الذي عُرف باسمه ، وكان مسجداً ومدرسة دينية وعلمية ، ومركزاً للقضاء .



## أسئلة تدريبات

س1 : دلل .....؟

1- أعطى عمرو بن العاص لأهل مصر مثلاً لسماحة الإسلام ؟

2- أهتم المسلمون بشئون الزراعة والري في مصر ؟

س2 : أكتب ما تشير إليه كل عبارة مما يأتي :

1- اضطهدوا المصريين بعد اعتناقهم المسيحية قبل الفتح الإسلامي لمصر . ( )

2- مثلت نقطة انطلاق الجيش الإسلامي نحو فتح مصر . ( )

3- حاكم مصر الذي عقد معه عمرو بن العاص صلحاً . ( )

4- المدينة التي عقد عمرو بن العاص بها صلحاً مع حاكم مصر . ( )

س3 : بم تفسر .....؟

1- إنشاء مدينة الفسطاط في مصر ؟

2- كان صاحب الشرطة يعين بواسطة الوالي وأحياناً يتدخل الخليفة في اختياره ؟

3- ازدهرت التجارة في مصر خلال عصر الولاة ؟

## الإجابة

ج 1 :

1- حيث منح أهل مصر الحرية الدينية وحرص على حماية أموالهم وأماكن العبادة الخاصة بهم .

2- حيث : - أمر عمرو بن العاص بإنشاء مقياس على النيل .

- اهتم الأمويون والعباسيون بتوسيع رقعة الأرض الزراعية وحفر الترغ والقنوات .

ج 2 :

1- الروم . 2- فلسطين . 3- المقوقس . 4- الإسكندرية .

ج 3 :

1- لتكون عاصمة لمصر بدلاً عن الإسكندرية .

2- لأن صاحب الشرطة كان ينوب عن الوالي في أداء مهامه حال غيابه عن منصبه .

3- بسبب : - قيام عمرو بن العاص بإعادة حفر القناة التي كانت تربط بين نهر النيل والبحر الأحمر

وسميت بخليج أمير المؤمنين مما ساعد على تنشيط التجارة بين مصر وبلاد الحجاز .

## ظهور الدول المستقلة بمصر

ظلّت مصر ولاية تابعة للخلافة الإسلامية منذ أن فتحها المسلمون ، ولكن في العصر العباسي الثاني بدأ ظهور الدول المستقلة في مصر **بم تفسر ؟**

## لأسباب الآتية :

- 1 ضعف الخلفاء العباسيين .
  - 2 بُعد مصر عن مقر الخلافة العباسية في بغداد .
- وقد ترتب على ذلك سعى بعض الولاة للانفراد بحكم مصر وتأسيس دول مستقلة .

انقسمت الدول المستقلة في مصر خلال العصر العباسي الثاني إلى قسمين :

## 1 دول مستقلة اسمياً مع الاعتراف بسيادة الخليفة العباسي عليها

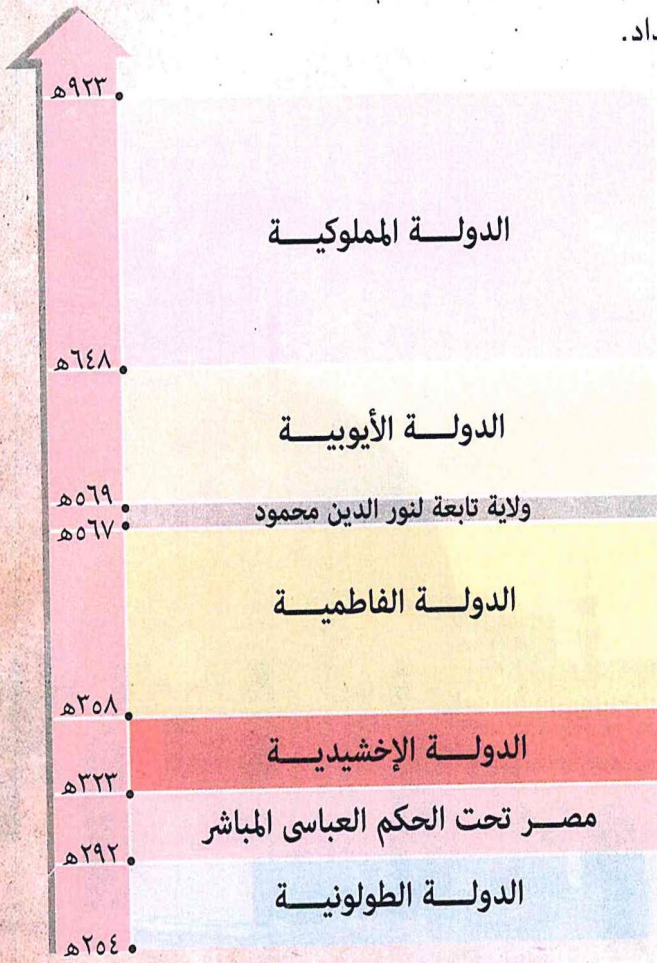
تمثلت في :

- الدولة الطولونية .
- الدولة الإخشيدية .
- الدولة الأيوبية .
- الدولة المملوكية .

## 2 دول مستقلة تماماً عن الخلافة العباسية

وهي :

- الدولة الفاطمية .

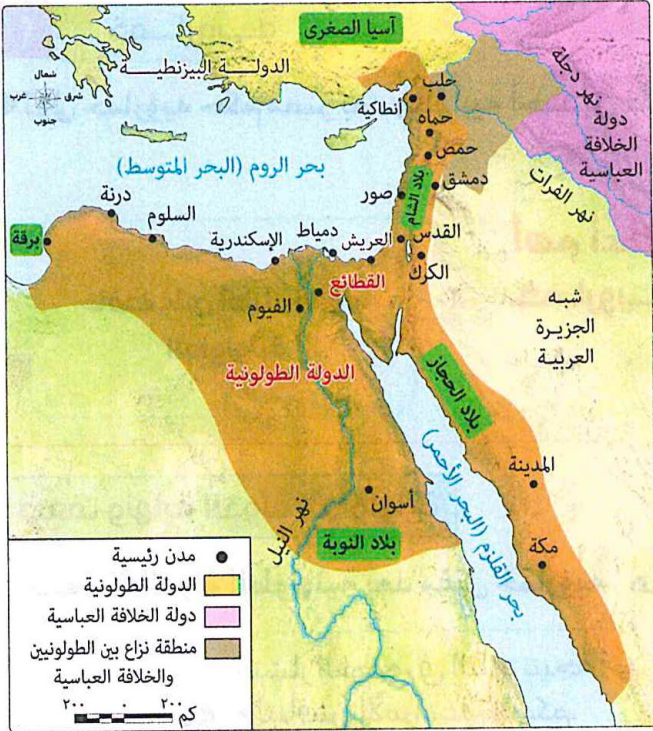


خريطة زمنية للدول المستقلة في مصر خلال العصر العباسي الثاني

وفيما يلي نتعرف هذه الدول بشيء من التفصيل كما يلي :

- الدولة الطولونية
  - الدولة الإخشيدية
  - الدولة الفاطمية
  - الدولة الأيوبية
  - الدولة المملوكية
- في الدرّس الثاني ..... في الدرّس الثالث

## الدرس الثاني : الملامح الحضارية لبعض الدول المستقلة في مصر ( الطولونية والإخشيدية والفاطمية )



امتداد الدولة الطولونية

### أولاً - الدولة الطولونية ( 254 - 292 هـ / 868 - 905 م )

#### التأسيس وأشهر الحكام ونهايتها

- \* تنسب إلى مؤسسها : أحمد بن طولون .
- \* امتدادها : - في مصر - الشام - الحجاز - النوبة - برقة .
- \* أشهر حكامها :- أحمد بن طولون . - خمارويه .

#### 1 - أحمد بن طولون

< كان أحم بن طولون سياسياً ، وقائداً ماهراً  
خبيراً بأساليب الحكم .

#### < أهم أعمال أحمد بن طولون

- 1- شيد مدينة القطنع ، واتخذها عاصمة لدولته .
- 2- قام ببناء جيش وأسطول قويان **بم تفسر ؟** للأسباب الآتية :  
- حتى لا يعتمد فيه على الخلافة العباسية .

- ليساعده ذلك في تحقيق مشروعاته وتنفيذ أهدافه . -

3- وسع حدود دولته فأمتدت من :- بلاد الشام وبلاد الحجاز شرقاً إلى برقة غرباً ،

- بلاد النوبة جنوباً إلى حدود آسيا الصغرى ( تركيا حالياً ) شمالاً .

4- حدد موارد الدولة الاقتصادية ، وعرف كيف يستغلها بمصلحة دولته .

5- عمل على نشر العدل ، فأستتب الأمن وسادت الطمأنينة بين الناس .

#### ونتيجة لأعمال أحمد بن طولون :

- \* عم الرخاء في عهده .
- \* أصبحت مصر في عصر الدولة الطولونية مركز قوة للعالم الإسلامي .

#### 2 - خمارويه

< تولى خمارويه حكم مصر بعد وفاة أبيه أحمد بن طولون

#### < أهم أعمال خمارويه

- 1- حافظ على أملاك الدولة الطولونية .
- 2- وطم علاقة الدولة الطولونية بالخلافة العباسية عندما زوج ابنته (( قطر الندى )) للخليفة العباسي (( المعتضد بالله )) .

#### مواقف مضيئة في حياة أحمد بن طولون

لما دخل أحمد بن طولون دمشق وقع بها حريق عند كنيسة مريم ، فاتجه إليه ، وقال : ما يسمى هذا الموضع ؟ فقيل له كنيسة مريم ... ، فأمر بن طولون بسبعين ألف دينار من ماله ، توزع على كل من أصابه شيء من الحريق من أهل المنطقة .

## ضعف ونهاية الدولة الطولونية

\* ضعفت الدولة الطولونية بعد مقتل خمارويه **ما النتائج؟** مما أدى إلى :

- 1- انتشار الفوضى في البلاد نتيجة : - لتنافس الأمراء على الحكم . - تدخل الجنود في شئون الدولة الطولونية .
- 2- إرسال الخليفة العباسي المكتفي بالله عام 292هـ / 905م جيشاً بقيادة محمد بن سليمان الكاتب لاستعادة تبعية مصر للخلافة العباسية .
- 3- عودة مصر لحكم الخلافة العباسية المباشر .

## مظاهر الحضارة بمصر في عصر الدولة الطولونية

\* تنوعت مظاهر الحضارة في الدولة الطولونية **بم تفسر؟**

بسبب حرص الطولونيين على تحقيق استقلال مصر سياسياً واقتصادياً عن الدولة العباسية .

## \* أبرز مظاهر الحضارة للدولة الطولونية في مصر :

- 1- تأسيس جيش مصري قوي **بم تفسر؟** للحفاظ على استقلال مصر .
- 2- إنشاء الدواوين ، مثل :

### ما المقصود بـ : ديوان الإنشاء ؟

المسئول عن الكتب والرسائل التي ترد

من كافة الدول والحكام وتصدر عنه كافة

المكاتبات والرسائل لكافة الدول والحكام .

- ديوان الجيش .

- ديوان الإنشاء يشبه ( وزارة الخارجية الآن )

- 3- تنمية الأنشطة الاقتصادية ، حيث عمل الطولونيون على :

\* إلغاء عديد من الضرائب . \* الاهتمام بالزراعة .

\* تطوير بعض الصناعات ، مثل :

- صناعة النسيج التي ازدهرت في مدن مثل : الإسكندرية ودمياط .

- صناعة الأسلحة .

\* رواج التجارة الداخلية والخارجية حيث أصبحت عديد من المدن مراكز تجارية مهمة ، مثل : القطائع و الإسكندرية .

### **بم تفسر** / رواج التجارة الداخلية والخارجية في عصر الدولة الطولونية ؟

بسبب : - استقرار البلاد . - موقع مصر الاستراتيجي .

- 4- بناء عديد من المنشآت العمرانية ، مثل :

\* قناطر أحمد طولون **بم تفسر؟** بهدف تزويد مدينة القطائع بالمياه .

\* اليبمارستان ( المستشفى ) لعلاج المرضى من العامة مجاناً .

\* جامع أحمد بن طولون .

جامع أحمد بن طولون الذي يُعد تحفة معمارية ونموذج للإبداع الفني في العمارة الإسلامية.

## ثانياً :- الدولة الإخشيدية ( 323 - 358 هـ / 935 - 969 م )

### التأسيس وأشهر الحكام ونهايتها

\* تنسب إلى مؤسسها : محمد بن طغج الإخشيد .

\* امتدادها

في مصر - جنوب الشام - بلاد الحجاز - برقة - سمنة

\* أشهر حكامها : - محمد بن طغج الإخشيد .

- كافور الإخشيد .

### 1 - محمد بن طغج الإخشيد

< كان أحد القادة الأتراك في الجيش العباسي .

< نجح في صد الجيش الفاطمي ومنعه من الاستيلاء

على مصر فولاه الخليفة العباسي حاكماً عليها .

< أهم أعمال محمد بن طغج الإخشيد :-

1- أعاد إلى مصر النظام والأمن .

2- اتخذ من مدينة العسكر عاصمة لدولته .

### 2 - كافور الإخشيد

< توليه الحكم

\* أوصى محمد بن طغج الإخشيد قبل وفاته بالولاية من بعده لأبنيه (( أبي القاسم أنوجور )) وكان صغير السن

فجعل خادمه (( كافور الإخشيد )) وصياً عليه .

\* بعد وفاة محمد بن طغج ، تولى كافور الإخشيد إدارة الدولة .

< أهم أعمال كافور الإخشيد :-

1- حافظ على ممتلكات الدولة الإخشيدية .

2- شيد مسجد الفقاعي .

### ضعف ونهاية الدولة الإخشيدية

\* بعد وفاة كافور الإخشيد تولى حكم مصر ولادة ضعاف صغار السن **ما النتائج ؟**

ترتب على ذلك : 1- انتشار الفوضى في البلاد .

2- إرسال الفاطميين جيشاً بقيادة جوهر الصقلي تمكن من ضم مصر للخلافة الفاطمية .

مظاهر الحضارة بمصر في عصر الدولة الإخشيدية

< شهدت مصر ازدهاراً واضحاً في مختلف جوانب الحياة خلال عصر الدولة الإخشيدية **دلل ؟** حيث قاموا ب :

1- تحقيق الأمن والاستقرار الداخلي من خلال القضاء على الصراعات الداخلية والأخطار الخارجية

مثل : ( خطر الفاطميين في بداية عصر الدولة الإخشيدية ) .



امتداد الدولة الإخشيدية



2- سك دنائير تحمل اسم حاكم مصر واسم الخليفة العباسي .

3- \* بناء القصور والأسواق والبيمارستان . \* إنشاء السقايات لجلب الماء لسكان مدينة الفسطاط .

\* تشييد مسجد الفقاعي الذي شيده كافور الإخشيدي في المقطم بالقاهرة .

4- الاهتمام بالعلم وتشجيع العلماء والأدباء ومجالستهم ، فقد عُرف كافور الإخشيدي بحبه للعلم والعلماء ورعايتهم .

**ثالثاً :- الدولة الفاطمية في مصر ( 358 – 567 هـ / 969 – 1171 م )**

### التأسيس وأشهر خلفائها ونهايتها

\* تأسيسها : أقام الفاطميون دولتهم في بلاد المغرب وذلك في أواخر القرن الثالث الهجري / العاشر الميلادي .

\* امتدادها : في المغرب الأقصى – الجزائر – تونس -

أطلق على الدولة الفاطمية هذا الاسم نسبة إلى السيدة فاطمة الزهراء عليها السلام بنت الرسول صلى الله عليه وآله وسلم .



برقة – مصر بلاد الحجاز – بلاد الشام .

\* أشهر خلفائها : المعز لدين الله الفاطمي .



امتداد الدولة الفاطمية

### < أسباب اهتمام الفاطميين بضم مصر

1- موقع مصر المتميز . 2- قربها من بلاد الشام والحجاز . 3- وفرة ثروات مصر .

كل هذا جعل مصر ( بالنسبة للفاطميين ) صالحة لإقامة دولة مستقلة تنافس الخلافة العباسية ، لذلك تتابعت محاولات الفاطميين للاستيلاء عليها إلى أن جاء الخليفة المعز لدين الله الفاطمي .

### < الاستعداد لضم مصر

\* بعدما تولى الخليفة المعز لدين الله الفاطمي أخذ يجهز للاستيلاء على مصر **دلل ؟** حيث اهتم بـ :

\* تمهيد الطريق من إفريقية ( تونس ) إلى مصر عن طريق : - حفر الآبار . - إقامة الاستراحات .

\* تدريب الجيش بشكل جيد .

**< ضم مصر تحت حكم الدولة الفاطمية**

\* وصلت أخبار وفاة كافور الإخشيدي عام 357 هـ / 968 م وانتشار الفوضى في البلاد إلى الخليفة المعز لدين الله الفاطمي فقام بإرسال قائده جوهر الصقلي على رأس الجيش إلى مصر **ما النتائج؟** ترتب على ذلك : - نجاح جوهر الصقلي في الاستيلاء على مصر .

**أكد فهمك**

س) **ما النتيجة التي ترتبت على :**

قدوم الخليفة المعز لدين الله الفاطمي إلى مصر وتولى أمور الحكم بنفسه ؟  
**أصبحت** مصر منذ وصوله مركزاً للخلافة الفاطمية .

**< قدوم الخليفة المعز لدين الله الفاطمي إلى مصر**

\* بعد أن استقر الحكم للفاطميين في مصر كتب جوهر الصقلي للخليفة المعز لدين الله الفاطمي يدعوهُ لتولي أمور الحكم بنفسه وقد أصبحت مصر منذ وصوله مركزاً للخلافة الفاطمية .

**< أهم أعمال الخليفة المعز لدين الله الفاطمي**

1- اهتم بتأمين حدود دولته من الأخطار الخارجية . 2- وسع حدود دولته حتى شملت بلاد الشام والحجاز .

**ضعف ونهاية الدولة الفاطمية**

< ضعفت الدولة الفاطمية نتيجة لعدة أسباب منها :

\* حدوث نزاع داخلي بين وزيرين مصريين .  
 \* إرسال نور الدين محمود ( أمير الشام ) جيش بقيادة أسد الدين شيركوه ومعه ابن أخيه صلاح الدين الأيوبي لحسم النزاع .

< استطاع صلاح الدين الأيوبي فيما بعد إنهاء الخلافة الفاطمية بمصر .

**مظاهر الحضارة بمصر في عصر الدولة الفاطمية**

\* ترك الفاطميون تراثاً ثقافياً زاخراً في مصر شمل عديد من الآثار المعمارية والفنية ، بالإضافة إلى التأثيرات الثقافية والاجتماعية التي لا تزال موجودة في مصر حتى اليوم ، والتي نتعرفها فيما يلي :

**< من أبرز إنجازات الفاطميين في مصر :**

- 1- بناء مدينة القاهرة :- بناها جوهر الصقلي لتكون عاصمة لدولتهم .
- 2- بناء المساجد وتشبيد المدارس والاهتمام بالعلم والعلماء :- حيث :  
 \* بنوا المساجد واتخذوها مركزاً لنشر العلم والثقافة مثل الجامع الأزهر الشريف .  
 \* شيّدوا المدارس والمكتبات العامة مثل المدرسة الحافظية بالإسكندرية .  
 \* اهتموا بالعلم والعلماء **ما النتيجة؟** أصبحت مصر عبارة عن جامعة علمية وفكرية وأدبية كبرى أخذ عنها الكثير من علماء الشرق والغرب .
- 3- بناء جيش وأسطول قويين **بم تفسر؟** للأسباب التالية :  
 \* حاجتهم إليهما في فتح بلدان جديدة .  
 \* حماية حدود الدولة .  
 \* نشر الأمن والأمان .

4- سك عملة جديدة للبلاد :- وكانت باسم الخليفة الفاطمي .

5- الاحتفال بالأعياد والمناسبات الدينية :-

وقد حرصوا أثناء احتفالاتهم على نشر مظاهر البهجة والفرح بين الشعب المصري **دلل ؟** حيث قاموا بـ :

\* تزيين الشوارع . \* توزيع الحلوى والطعام على الفقراء .

\* إقامة المواكب الرسمية للخليفة وكبار رجال الدولة وغيرها .

6- تنشيط حركة التجارة مع البلاد الآسيوية والأوروبية **دلل ؟**

حيث كانت لمصر علاقات تجارية مع عديد من الدول وكانت مدينة الإسكندرية من المراكز الرئيسية للتجارة فتنقل

منها البضائع الآسيوية إلى أوروبا وترد إليها السفن الأوروبية محملة بالسلع والخامات اللازمة للصناعة المصرية .

كان الفاطميون يعاملون الفلاحين  
معاملة قائمة على التسامح والرعاية.



7- زراعة أشجار الغابات **بم تفسر ؟** من أجل الحصول على

الأخشاب اللازمة لبناء الأسطول الحربي والمراكب التجارية .

### أسئلة تدريبات

س1 : أكمل العبارات الآتية بما يناسبها :

1- نشأت الدولة الفاطمية في .....

2- أصبحت مصر مركزاً للخلافة الفاطمية بمجى .....

3- كانت مدينة ..... عاصمة الدولة الإخشيدية .

4- تنسب الدولة الطولونية إلى مؤسسها .....

س2 : بم تفسر .....؟

1- قام أحمد بن طولون ببناء جيش وأسطول قويان ؟

2- بناء قناطر أحمد بن طولون ؟

3- قيام الفاطميين بزراعة أشجار الغابات ؟

### الإجابة

ج 1 : 1- بلاد المغرب . 2- المعز لدين الله الفاطمي . 3- العسكر .

ج 2 : 1- حتى لا يعتمد فيه على الخلافة العباسية ، وليحافظ بهما على حدود دولته .

2- بهدف تزويد مدينة القطنع بالمياه .

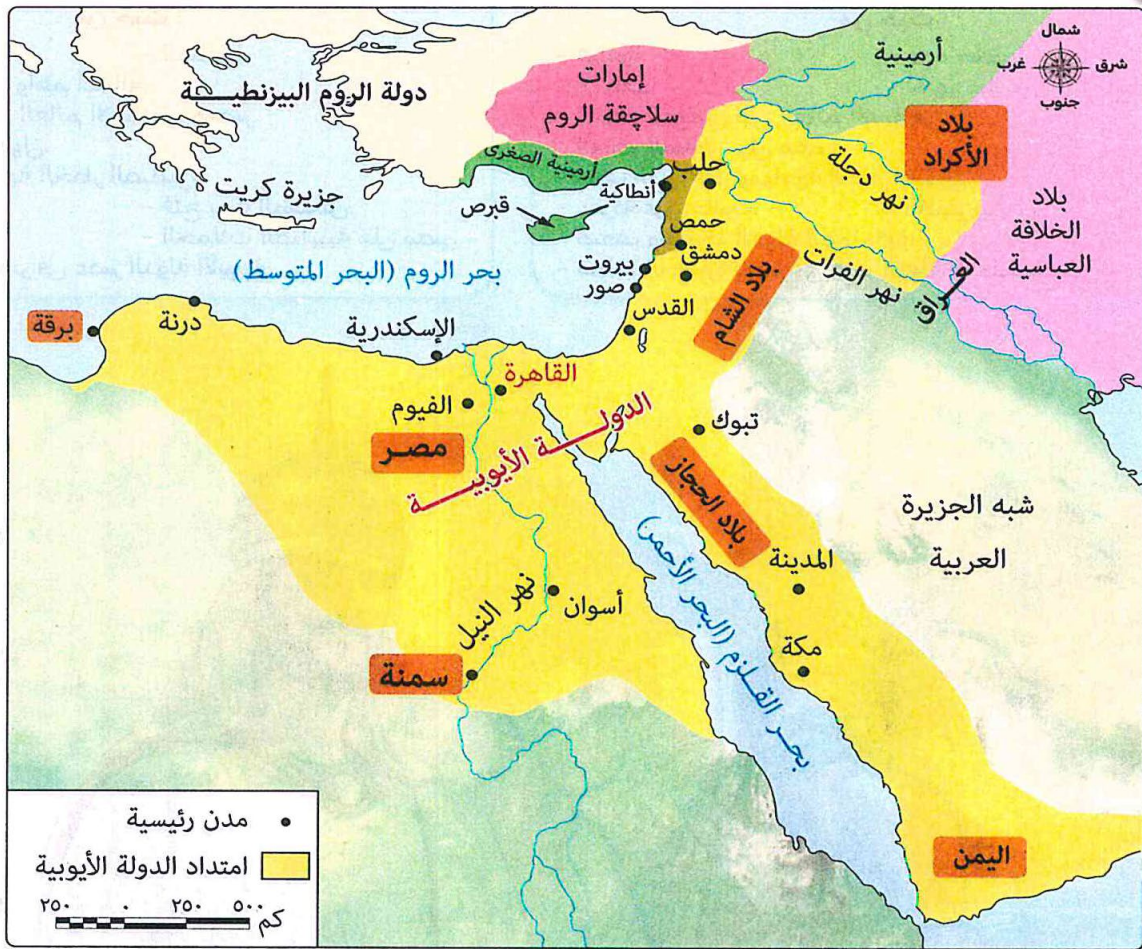
3- من أجل الحصول على الأخشاب اللازمة لبناء الأسطول الحربي والمراكب التجارية .

## الدرس الثالث: الملامح الحضارية لبعض الدول المستقلة في مصر ( الأيوبية والمملوكية )

### تمهيد

< بعد انتهاء الخلافة الفاطمية تعاقب على حكم مصر دولتان ، وهما : **الدولة الأيوبية** و **الدولة المملوكية** وقد تعرض العالم الإسلامي خلال عصر هاتين الدولتين لأخطار خارجية ( الحملات الصليبية والمغول ) هددت حضارته العريقة ، ولكن كان لمصر دوراً كبيراً في التصدي لتلك الأخطار وحماية العالم الإسلامي ومواصلة ركب الحضارة والتقدم . وفيما يلي سنتعرف كيف تصدت مصر لهذه الأخطار .

### أولاً :- الدولة الأيوبية ( 569 – 648 هـ / 1174 – 1250 م )



### < تأسيسها

تنسب الدولة الأيوبية إلى مؤسسها صلاح الدين الأيوبي .

### < اتساعها

شملت مصر – برقة – سمنا – بلاد الحجاز – بلاد الشام – بلاد الأكراد – اليمن .

### < صلاح الدين الأيوبي

\* هو صلاح الدين يوسف بن نجم الدين أيوب .

\* من أصل كردي .

\* جاء إلى مصر مع عمه أسد الدين شيركوه الذي كان على رأس الجيش الذي أرسله نور الدين محمود أمير الشام إلى مصر لحسم نزاع داخلي بين وزيرين مصريين .

\* استطاع صلاح الدين الأيوبي إنهاء الخلافة الفاطمية بمصر وإعلان قيام الدولة الأيوبية فيما بعد .

**< أهم أعمال صلاح الدين الأيوبي**

- 1- أعاد مصر كولاية تابعة للخلافة العباسية واتخذ مدينة القاهرة عاصمة لدولته .
- 2- عمل على توسيع حدود دولته خارج مصر .
- 3- نشر الأمن والأمان في مصر والبلاد المجاورة لها .
- 4- بدأ في بناء قلعة الجبل بالقاهرة **بم تفسر ؟** لتكون مقراً للحكم ولتدريب الجيش .

**< وقد تصدى صلاح الدين الأيوبي للخطر الصليبي وهو ما سنتعرف عليه فيما يلي .****الخطر الصليبي على العالم الإسلامي ومصر**

< توجه الصليبيون من أوروبا نحو الشرق الإسلامي في عدة حملات استمرت نحو 200 سنة بدأت منذ عام 490هـ / 1069م حتي عام 690هـ / 1291م .

**< أسبابها**

- 1- رغبة باباوات أوروبا في الاستيلاء على الأراضي المقدسة بالشرق . ( سبب ديني )
- 2- رغبة ملوك وأمراء أوروبا في إنشاء إمارات مستقلة لهم في الشرق والاستيلاء على خيراته . ( سبب سياسي واقتصادي )
- 3- رغبة سكان أوروبا من الطبقة الدنيا في التخلص من الأزمات الاجتماعية والاقتصادية . ( سبب اجتماعي )

**< بدأت مواجهات المسلمين للحملات الصليبية منذ اللحظة الأولى لهجومها على بلاد الشام .****الحملة الصليبية الأولى**

- < نجحت الحملة الصليبية الأولى في تحقيق أهدافها **بم تفسر ؟** للأسباب التالية :
- 1- ضعف الخلافة العباسية في بغداد .
  - 2- عدم قدرة الخلافة العباسية على السيطرة على الولايات التابعة لها .
  - 3- ضعف الخلافة الفاطمية في مصر .

**< نتائجها**

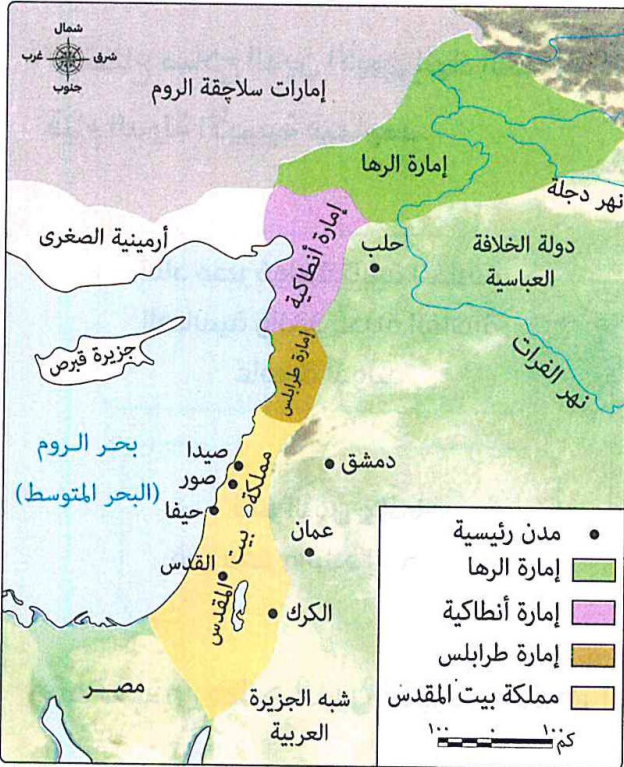
نجحت في إقامة ثلاث إمارات ومملكة في العراق وبلاد الشام .

**أسسوا :**

- 1- إمارة الرها في شمال العراق .
- 2- إمارة أنطاكية في بلاد الشام .
- 3- إمارة طرابلس في بلاد الشام .
- 4- مملكة بيت المقدس في بلاد الشام .

**صلاح الدين الأيوبي ومواجهة الخطر الصليبي**

\* يرجع الفضل الأكبر في التصدي للصليبيين واسترداد بيت المقدس ( أولى القبلتين وثالث الحرمين ) إلى الدولة الأيوبية التي تصدت لأربع حملات صليبية من أهم وأكبر الحملات التي خرجت من غرب أوروبا قاصدة مصر والشام .



**الإمارات والممالك الصليبية في بلاد الشام والعراق**

### \* عمل صلاح الدين الأيوبي على :

- تأمين طريق الحجاج .
- تأمين طرق القوافل التجارية بين مصر والشام .
- نذلك عقد صلاح الدين الأيوبي هدنة مع (( بلدوين الرابع )) ملك مملكة بيت المقدس ، وكان من أهم الشروط التي تمسك بها صلاح الدين الشرط الذي يتعلق بحرية التجارة **بم تفسر ؟**
- لأن الطريق بين مصر والشام كان يتعرض باستمرار للأخطار الناتجة عن القتال بين المسلمين والصليبيين .
- ولكن هذه الهدنة لم تستمر ، وظلت قوافل المسلمين تتعرض للأخطار .

### معركة حطين ( 583هـ / 1187م )

< أطرافها : - المسلمون بقيادة صلاح الدين الأيوبي ( ضد ) الصليبيون

< أسبابها

- 1- قيام أرناط أمير حصن الكرك التابع لمملكة بيت المقدس بخرق الهدنة التي كانت بين صلاح الدين والملك بلدوين الرابع عن طريق :
  - فرض الإتاوة على القوافل التي تجتاز الكرك .
  - مهاجمة قافلة كبيرة للمسلمين كانت متجهة من القاهرة إلى دمشق واستولى عليها وأسر رجالها .
- 2- رفض أرناط تنفيذ مطالب صلاح الدين ، وهي :
  - \* رد ما استولى عليه من مال المسلمين .
  - \* إطلاق سراح الأسرى .
- 3- محاولة أرناط الهجوم على مقدسات المسلمين في مكة والمدينة .

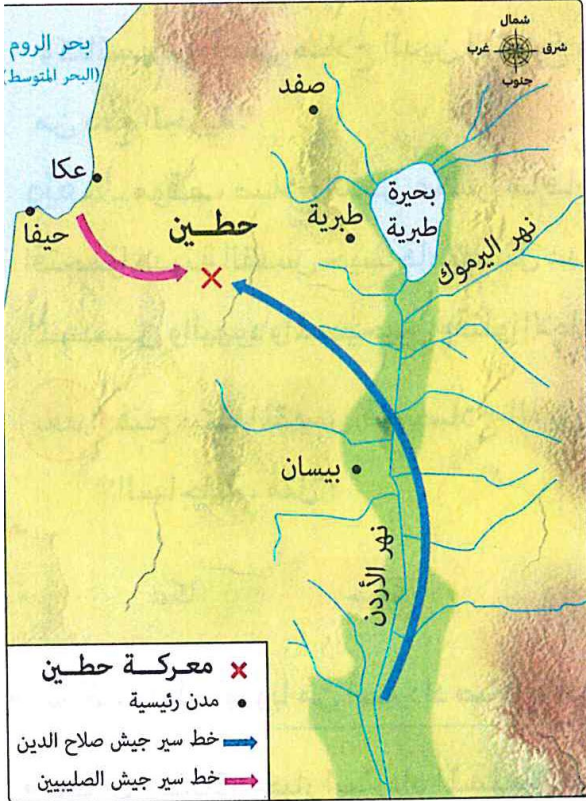
### كل ذلك دفع صلاح الدين للدخول في حرب ضد الصليبيين .

< أحداثها

- \* عمل صلاح الدين على توحيد صفوف المسلمين وجهز جيشاً ضخماً من الدول التي تقع تحت سيطرته ( مصر والشام وشمال العراق ) .
- \* تقدم صلاح الدين بجيشه نحو بحيرة طبرية ، واستدرج الصليبيين إلى حطين حيث حاصرهم ومنع عنهم ماء البحيرة ، فنفذ ما معهم من ماء وازداد بهم الظماً واشتدت حرارة الجو .
- \* حاصر المسلمون الصليبيين وأشعلوا النيران في الأعشاب حول معسكرهم .

< نتائجها

- 1- انهيار الجيش الصليبي وهزيمته .
- 2- وقوع ملك بيت المقدس وأرناط في الأسر وغيرهم من كبار الأمراء والفرسان .



معركة حطين

عفى صلاح الدين عن ملك بيت المقدس ، كما أطلق سراح عدد كبير من الفرسان مقابل تسليمهم ما بأيديهم من قلاع ، بينما قتل صلاح الدين أرناط جزاء غدره بالمسلمين .

< بعد معركة حطين سيطر صلاح الدين على عدد من المدن الساحلية وتوجه نحو بيت المقدس .

< حاصر صلاح الدين بيت المقدس إلى أن تمكن من فتحه ودخوله ، وقد صادف ذكرى (( الإسراء والمعراج )) فأحتفل المسلمون احتفالاً عظيماً بمناسبة هذه الذكرى ودخولهم بيت المقدس بعد أن ظل في يد الصليبيين حوالي تسعين عاماً من الاحتلال .

### < موقف صلاح الدين من الصليبيين وأهل بيت المقدس

\* تسامح صلاح الدين مع الصليبيين في بيت المقدس وعفا عنهم .  
\* أمن المسيحيين من أهل بيت المقدس على أرواحهم وأموالهم وكنائسهم ، وأعطى صلاح الدين الشيوخ والنساء والأطفال من دفع الجزية .  
ويُعد ... موقف صلاح الدين عكس ما قام به الصليبيون عندما اقتحموا مدينة القدس حيث قاموا بقتل عدداً كبيراً من أهلها من المسلمين واليهود والمسيحيين وقتلوا الأطفال والنساء والشيوخ .  
بعد ... فتح بيت المقدس قام صلاح الدين بفتح عديد من المدن الساحلية ، مثل : - عكا - حيفا - صيدا .

### < موقف ملوك أوروبا من استرداد صلاح الدين لبيت المقدس

\* بعد أن وصلت أخبار استرداد المسلمين لبيت المقدس إلى أوروبا ، خرج ثلاثة من ملوك غرب أوروبا في حملة جديدة لاسترداده ، وهم :

**ملك إنجلترا ( قائد الحملة ) ملك فرنسا إمبراطور ألمانيا**

### وحدث ما يلي :

- 1- غرق إمبراطور ألمانيا في أحد أنهار آسيا الصغرى وتشتت جيشه .
- 2- دب النزاع بين ملك فرنسا وملك إنجلترا ريتشارد قلب الأسد ، فعاد ملك فرنسا إلى بلاده ولم يتبق إلا ملك إنجلترا .
- 3- عجز ملك إنجلترا عن مواصلة الحرب مع صلاح الدين الأيوبي منفرداً فقرر عقد صلح معه .

### صلح الرملة ( 588هـ / 1192م )

#### < أسبابه

عجز ريتشارد قلب الأسد (( ملك إنجلترا )) عن مواصلة حرب صلاح الدين الأيوبي منفرداً .

#### < أهم شروطه

- 1- يظل بيت المقدس في أيدي المسلمين .
- 2- يحق للصليبيين تأدية الحج إلى بيت المقدس .
- 3- تظل المنطقة الساحلية الممتدة من صور إلى يافا في أيدي الصليبيين .

### مواقف مضيئة في حياة صلاح الدين الأيوبي

دخل صلاح الدين الأيوبي بيت المقدس دون سفك نقطة دم واحدة، وعامل أسراه بنبل، وسمح للأميرات الأوروبيات بمغادرة بيت المقدس دون أن يصبن بأذى، وعندما طلبن من صلاح الدين الأيوبي إطلاق سراح أزواجهن وأبنائهن الذين أسروا، حرر صلاح الدين الأيوبي الأسرى، كما أن صلاح الدين كان كريماً ينفق كل ما في يده في وجوه الخير وقد بلغ من فرط كرمه وزهده أنه لم يكن لديه مال يتزكى به ولما توفي لم يترك وراءه لا داراً ولا مزرعة .

### الحملة الصليبية على مصر

< رغم عقد صلح الرملة إلا أن الصليبيين فكروا في ضرورة السيطرة على مصر **بم تفسر؟**  
 لأن مصر تمثل قلب المنطقة فإذا استطاع الصليبيون الاستيلاء عليها فأنهم بذلك يستطيعون :  
 \* الحفاظ على أسطولهم في البحر المتوسط قوياً في وجه الأسطول الإسلامي .  
 \* التمكن من السيطرة على خيرات مصر .

لذلك .. توالى الحملات الصليبية على مصر وقد تصدى لها ملوك الدولة الأيوبية ، ومن بعدهم المماليك الذين نجحوا في إنهاء الوجود الصليبي في مصر .

### مظاهر الحضارة بمصر في عصر الدولة الأيوبية

1- الاهتمام بالجيش والأسطول . 2- النهضة الاقتصادية . 3- النهضة العمرانية والعلمية .

1  
 الاهتمام  
 بالجيش  
 والأسطول

< اهتم صلاح الدين وخلفاؤه ب :  
 \* تأسيس جيشاً وأسطولاً بحرياً قوياً **بم تفسر؟**  
 من أجل حماية الحدود البرية والبحرية للدولة الإسلامية .  
 \* تحصين الحدود المصرية .  
 \* إنشاء العديد من المراكز لصناعة السفن الحربية ، مثل :  
 دار صناعة الجزيرة ( جزيرة منيل الروضة بالقاهرة ) .

### < الزراعة :

اهتم الأيوبيون بالزراعة **دلل؟**  
 حيث قاموا ب :

2  
 النهضة  
 الاقتصادية

\* تطهير الترع ، وإقامة الجسور ، وتنظيم وسائل الري .  
 \* زراعة أشجار الغابات من أجل توفير الأخشاب اللازمة لبناء سفن الأسطول .

### < التعدين :


اهتم الأيوبيون بالتعدين **بم تفسر؟**  
 من أجل استخراج المعادن اللازمة لتصنيع الأسلحة والآلات والمعدات اللازمة للجيش الأيوبي .

### < الصناعة :

ازدهرت عدد من الصناعات في عصر الأيوبيين **دلل؟**  
 حيث ازدهرت :  
 الصناعات المعدنية صناعة النسيج من الكتان المصري والحريير الشامي صناعة الزجاج

### < التجارة :

ازدهرت التجارة في عصر الأيوبيين وكانت مصر بمثابة همزة الوصل بين تجارة الشرق والغرب ،  
 وقد تركزت الأسواق التجارية الكبرى في مدن ، مثل : - القاهرة . - الإسكندرية .



قلعة صلاح الدين في جزيرة فرعون في طابا

3  
 النهضة  
 العمرانية  
 والعلمية

< اهتم الأيوبيون ب :  
 \* إنشاء الأسوار حول المدن .  
 \* إنشاء الحصون والقلاع ، مثل :  
 قلعة صلاح الدين الأيوبي ( في جزيرة فرعون بطابا ) .  
 \* إنشاء المدارس والمساجد لنشر تعاليم الإسلام .  
 \* تشجيع العلماء والأدباء .  
 \* إنشاء البيمارستانات ( المستشفيات ) .



## ثانياً :- الدولة المملوكية ( 648 - 923 هـ / 1250 - 1517 م )

< جلب (( الصالح نجم الدين أيوب )) ( أحد السلاطين الأيوبيين ) المماليك الذين شاركوا فيما بعد في حروب الدولة الأيوبية ضد الصليبيين .

< بعد وفاة الصالح نجم الدين أيوب قام المماليك بالتخلص من (( توران شاه )) آخر سلاطين الدولة الأيوبية ، وتولت الحكم (( شجر الدر )) زوجة الصالح نجم الدين أيوب .

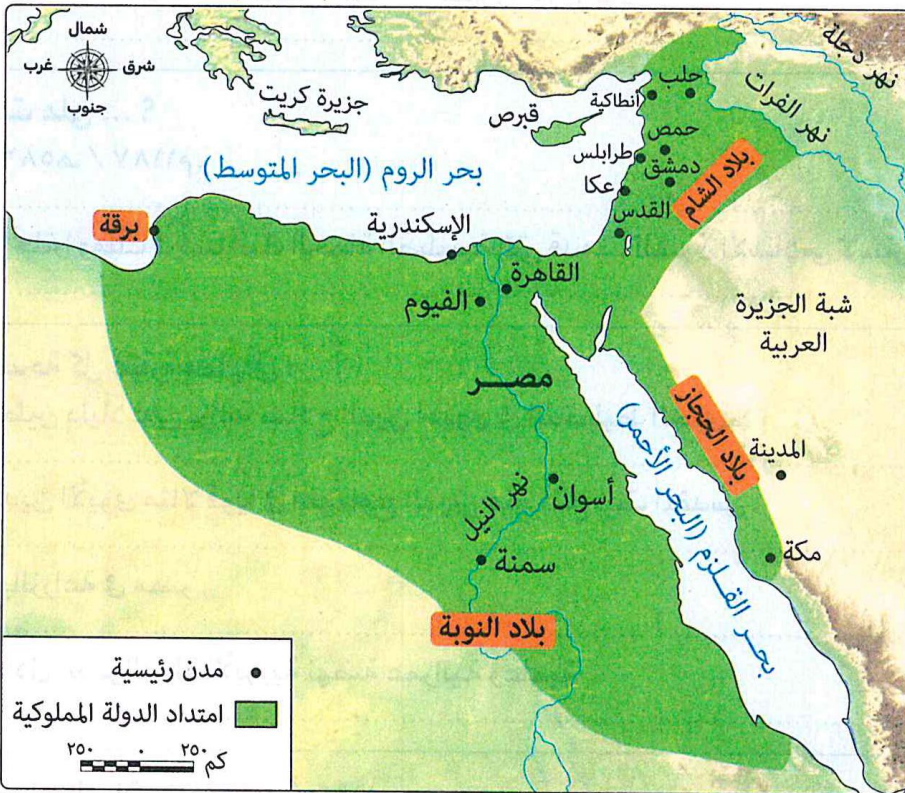
### < قيامها

بعد أن تزوجت شجر الدر من (( عز الدين أيبك )) المملوكي وتنازلت له عن عرش مصر ، بدأ حكم المماليك .

< مدة حكمها : تمكن المماليك من تثبيت حكمهم في مصر على مدار قرنين ونصف من الزمان .

< اتساعها : وسع المماليك حدود دولتهم ، بعد حكمهم لمصر .

امتدت إلى : - بلاد الشام - بلاد النوبة - بلاد الحجاز - برقة



### < أشهر سلاطين المماليك منهم :

عز الدين أيبك

المنصور على

سيف الدين قطز

الظاهر بيبرس

### 1 - عز الدين أيبك

\* تزوج من شجر الدر وتنازلت له

عن الحكم .

### 2 - المنصور على

\* ابن عز الدين أيبك .

\* كان صغير السن لا يقدر على إدارة شؤون الدولة ما النتائج ؟

مما أدى إلى تعيين سيف الدين مرثداً له ونائباً للسلطنة .

في تلك الأثناء كان الخطر المغولي قد زحف على العالم الإسلامي .

وقد أرسل المغول رسالة باسم سلطان مصر يهددونهم

بتدمير بلادهم إن لم يستسلموا .

### 3- سيف الدين قطز

\* اضطر قطز أن يخلع السلطان المنصور على عن الحكم ويعلن نفسه

سلطاناً على البلاد عند وصول رسل المغول إلى مصر .



سيف الدين قطز

**الخطر المغولي على العالم الإسلامي****ما المقصود بـ: المغول؟**

قبائل متفرقة متنازعة عاشت في وسط آسيا (منغوليا) على الرعي والصيد، وتوحدت على يد جنكيز خان، وكانوا يجيدون فنون الحرب والقتال.



جنكيز خان

**وحشية المغول**

عندما دخل المغول بغداد هدموا المساجد وجردوا القصور الجميلة من التحف النادرة وأحرقوا مكتبة بغداد وألقوا بكتبتها في نهر دجلة وجعلوها جسوراً لخيولهم فتحولت مياه النهر الصافي إلى اللون الأسود، كما أنهم قتلوا الخليفة العباسي المستعصم بالله وابنيه كما قتلوا كثيراً من العلماء وأئمة المساجد والأهالي، وانتشر الوباء فمات عدد كبير ممن نجوا من بطش المغول بسبب المرض.

**الخطر المغولي على مصر**

\* بعد سقوط بلاد الشام في يد المغول بدأوا يفكرون في الدخول لمصر **بم تفسر؟** للأسباب الآتية:

- 1- كانت مصر القوة الوحيدة المتبقية في العالم الإسلامي والتي تهدد أمن المغول، حيث أنها كانت مقراً لكل المسلمين الهاربين من المغول.
- 2- موقعها الاستراتيجي المتميز فهي تقع في قلب العالم القديم وتتحكم في طرق التجارة العالمية.
- 3- كان احتلال مصر يعد بوابة لسيطرة المغول على شمال إفريقيا ومن ثم السيطرة على العالم كله.

**سيف الدين قطز ومواجهة خطر المغولي**

\* رفض قطز تسليم البلاد للمغول، وأعلن الجهاد ضدهم واتخذ لذلك عدة إجراءات دفاعية لحماية مصر والعالم الإسلامي.

- 1- عزل المنصور على **بم تفسر؟**
  - لصغر سنه وعدم قدرته على ترتيب الأوضاع التي تحتاج إلى حزم وقيادة قادرة على محاربة المغول.
  - 2- العفو عن المماليك الهاربين.
  - 3- التحالف مع بعض أمراء الشام وتوحيد القوتين **بم تفسر؟**
  - ليكون الجيش أقوى في مواجهة أعدائه.
  - 4- عقد اجتماع مع أمراء المماليك وعلماء الدين الإسلامي **بم تفسر؟**
  - لرفع الروح المعنوية لمواجهة المغول.
  - 5- جمع الأموال من كل طوائف الشعب لتجهيز الجيش وقد التحق بالجيش عدد كبير من المصريين.
  - 6- توفير الأمن والسلامة والاستقرار للشعب وتهينة سبل العيش الكريم وتنظيم الأمور الإدارية.
- \* بعد أن وحد قطز الجبهة الإسلامية وجهاز الجيش خرج على رأس جيشه متجهاً نحو فلسطين وقد التقى بجيش المغول في منقطة عين جالوت.

**معركة عين جالوت ( رمضان 658هـ / سبتمبر 1260م )**

المسلمون بقيادة سيف الدين قطز ( ضد ) المغول بقيادة كُتبغا

&lt; أطرافها

منطقة عين جالوت

&lt; المكان

رفض قطز تسليم مصر للمغول

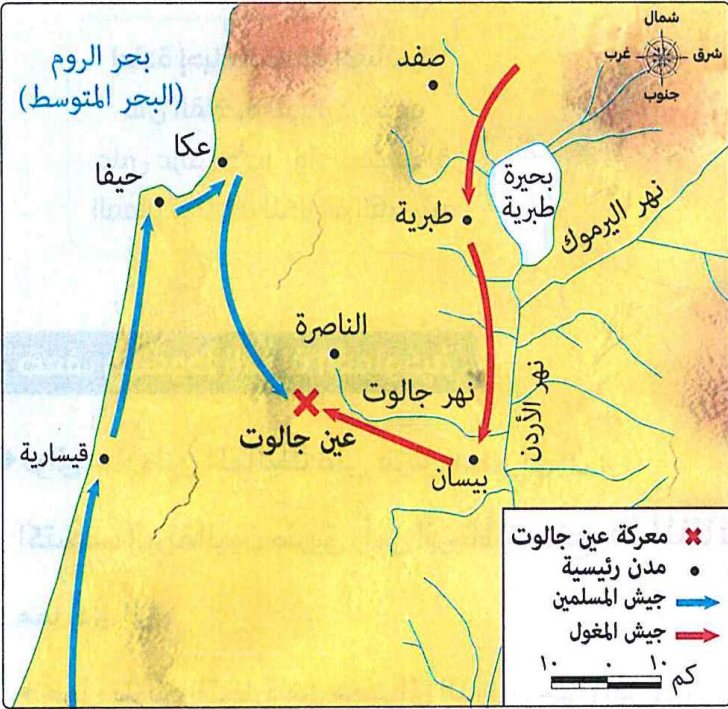
&lt; أسبابها

&lt; أحداثها

- \* دارت معركة شديدة بين جيشي المسلمين والمغول .
- \* كانت المعركة في بدايتها لصالح المغول .
- \* قام السلطان قطز بخلع خوذته وألقاها على الأرض وصرخ بأعلى صوته (( وا إسلاماه )) وقاد الهجوم بنفسه على المغول فدبت الحماسة في نفوس الجنود المسلمين وانقضوا على المغول وأخذوا يقاتلون ببسالة وأنزلوا بالمغول خسائر فادحة .

&lt; نتائجها

- 1- قُتل قائد المغول كُتبغا وقُتل معظم جنوده واضطر الباقون للفرار .
- 2- حماية مصر والعالم الإسلامي من خطر المغول .
- 3- توحدت مصر والشام تحت حكم المماليك .
- 4- أصبحت مصر زعيمة العالم الإسلامي .

**معركة عين جالوت****مواقف مضيئة في حياة قطز**

في معركة عين جالوت قُتل جواد قطز ولم يجد أحد في الساحة يمنحه جوادًا؛ فبقى واقفًا على الأرض ثابتًا والقتال على أشده في المعركة، فلما رآه أحد الأمراء نزل من على فرسه وحلف على السلطان قطز ليركبها؛ فامتنع وقال لذلك الأمير: ما كنت لأحرم المسلمين نفعك.

&lt; وفاة قطز:

- \* بعد أن حقق سيف الدين قطز النصر العظيم على المغول ، قُتل أثناء عودته من عين جالوت ليتولى من بعده عرش مصر (( الظاهر بيبرس )) .

**4 - الظاهر بيبرس**

- \* قائد جيش سيف الدين قطز .
- \* تولى حكم مصر بعد مقتل السلطان قطز .

## أهم أعمال الظاهر بيبرس

1- إعادة إحياء الخلافة العباسية في القاهرة لتوطيد حكمه على عرش مصر

وأصبحت دولة المماليك تابعة للخلافة العباسية .

2- شيد مسجده المعروف باسمه والمدرسة الظاهرية بالقاهرة .

## ضعف وسقوط الدولة المملوكية

توالى سلاطين المماليك على عرش مصر إلى أن :

اكتشف البرتغاليون طريق رأس الرجاء الصالح **ما النتائج؟**

مما أدى إلى :

\* تحول طريق التجارة من مصر إلى الدوران حول إفريقيا .

\* ضعف دولة المماليك وتدهور أحوالها الاقتصادية .

مما ساعد في هزيمة دولة المماليك بمصر والشام أمام

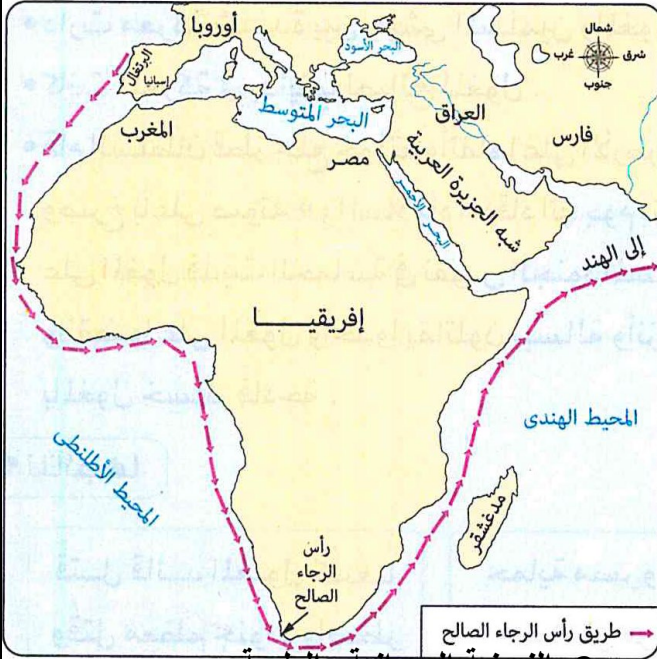
الدولة العثمانية وانتهاء دولتهم .

## مظاهر الحضارة بمصر في عصر الدولة المملوكية

1- الجيش والأسطول .

2- النهضة الاقتصادية .

3- النهضة العمرانية والعلمية .



تمتعت مصر في عصر دولة المماليك بمكانة متميزة حيث اهتموا بعدد من المجالات ، ويتضح ذلك كما يلي :

1- الجيش والأسطول

اهتم المماليك ببناء جيش منظم اعتمد على الفروسية ، وكذلك بناء أسطول بحري قوي .

والأسطول

## الزراعة :

\* اهتم المماليك بالزراعة **دلل؟** حيث :

- حفروا الترع وأقاموا الجسور .

- تنوعت في عهدهم المحاصيل .

\* اهتم المماليك بالثروة الحيوانية **دلل؟** حيث :

- عملوا على تحسين سلالتها .

- جلب الأنواع الممتازة لتربيتها .

2- النهضة الاقتصادية

ازدهرت الصناعة في العصر المملوكي **دلل؟** حيث :

\* ازداد الطلب على الصناعة المملوكية وبخاصة الصناعات الحرفية .

\* اهتموا بالصناعات العسكرية .

\* كانت مصر من أشهر المراكز الصناعية في العالم الإسلامي .

## التجارة :

كانت مجالاً رئيسياً للنشاط الاقتصادي المصري في عصر المماليك **دلل؟**

حيث ساهمت بالنصيب الأكبر في ثراء دولة المماليك

إلى أن تحولت التجارة بين الشرق والغرب في نهاية القرن الخامس عشر الميلادي

إلى طريق رأس الرجاء الصالح بدلاً من البحر الأحمر .



### < العمارة والفنون :

\* تميز عصر المماليك بازدهار العمارة **دلل** ؟

حيث ترك المماليك تراث معماري كبير من المدارس والقصور والبيمارستانات والخانات والمساجد ،

مثل : مسجد السلطان حسن .

\* اشتهر العصر المملوكي بفن :

**النحت الحفر على الخشب تطعيم التحف الخشبية**

### < العلوم :

ازدهرت العلوم المختلفة في عصر المماليك ، حيث :

\* كانت القاهرة دون نزاع أكثر العواصم الإسلامية ازدهاراً بالبحث والدراسة ، وحملت وحدها

مشعل الثقافة العربية الإسلامية ، خاصة بعد سقوط بغداد في أيدي المغول .

\* استقبلت مصر العلماء والطلاب من كل مكان ليدرسوا في مراكز العلم .

\* استعاد الجامع الأزهر الشريف دوره العلمي والديني ، بعد أن جدد وأعاد افتتاحه

السلطان الظاهر بيبرس .

3

النهضة

العمرانية

والعلمية



## أسئلة تدريبات

س1 : أكتب ما تشير إليه كل عبارة من العبارات الآتية :

- 1- آخر سلاطين الدولة الأيوبية . ( )
- 2- تزوجت من عز الدين أيبك المملوكي وتنازلت له عن عرش مصر . ( )
- 3- قائد المغول الذي قتل في معركة عين جالوت . ( )
- 4- خلع المنصور على عن الحكم وأعلن نفسه سلطان على البلاد . ( )

س2 : دلل ..... ؟

- 1- اهتم المماليك بالزراعة ؟
- 2- تميز عصر المماليك بازدهار العمارة ؟
- 3- ازدهرت عدد من الصناعات في عصر الأيوبيين ؟

س3 : بم تفسر .....؟

- 1- اهتم الأيوبيين بالتعدين ؟
- 2- نجحت الحملة الصليبية الأولى في تحقيق أهدافها ؟

## الإجابة

ج 1 :

- 1- توران شاه .
- 2- شجر الدر .
- 3- كتبغا .
- 4- سيف الدين قطز .

ج 2 :

- 1- حيث : - حفروا الترع وأقاموا الجسور . - تنوعت في عهدهم المحاصيل .
- 2- حيث ترك المماليك تراث معماري كبير من المدارس والقصور والبيمارستانات والخانات والمساجد مثل مسجد السلطان حسن .

3- حيث ازدهرت : - الصناعات المعدنية وصناعة النسيج وصناعة الزجاج .

ج 3 :

- 1- لاستخراج المعادن اللازمة لتصنيع الأسلحة والآلات والمعدات اللازمة للجيش .
- 2- بسبب : - ضعف الخلافة العباسية في بغداد . - ضعف الخلافة الفاطمية في مصر .

## الوحدة الثالثة :- الأنشطة الاقتصادية في قارتي آسيا واروبا الدرس الأول :- النشاط الزراعي في قارتي آسيا وأوروبا

< يتنوع النشاط الزراعي تنوعاً كبيراً في قارتي آسيا وأوروبا ، ويختلف مدى مساهمة هذا النشاط في اقتصاد القارتين .

### دور النشاط الزراعي في اقتصاد قارتي آسيا وأوروبا

\* يلعب النشاط الزراعي دوراً حيوياً في اقتصاد قارتي آسيا وأوروبا من حيث :

#### 1 - نسبة العاملين بالنشاط الزراعي

القوة العاملة أى الذين في سن العمل ١٥ - ٦٤ عامًا .

< قارة آسيا :- يعمل بالنشاط الزراعي نحو خمس القوة العاملة بالقارة .

< قارة أوروبا :- يعمل بالنشاط الزراعي نحو 4% من القوة العاملة بالقارة .

وبذلك .. تختلف نسبة العاملين في النشاط الزراعي بين القارتين كما تختلف من منطقة لأخرى داخل القارتين .

**بم تفسر / الانخفاض الكبير لنسبة العاملين بالنشاط الزراعي بقارة أوروبا ؟**

- التوسع الكبير في استخدام الأساليب العلمية الحديثة في العمليات الزراعية .
- اتجاه العاملين بالنشاط الزراعي إلى مهن أخرى .

#### 2 - نسبة مساهمة النشاط الزراعي في الدخل القومي

< قارة آسيا :- يساهم النشاط الزراعي بنحو 7,2% من الدخل القومي للقارة عام 2023 م .

< قارة أوروبا :- يساهم النشاط الزراعي بنحو 1,7% من الدخل القومي للقارة عام 2023 م .

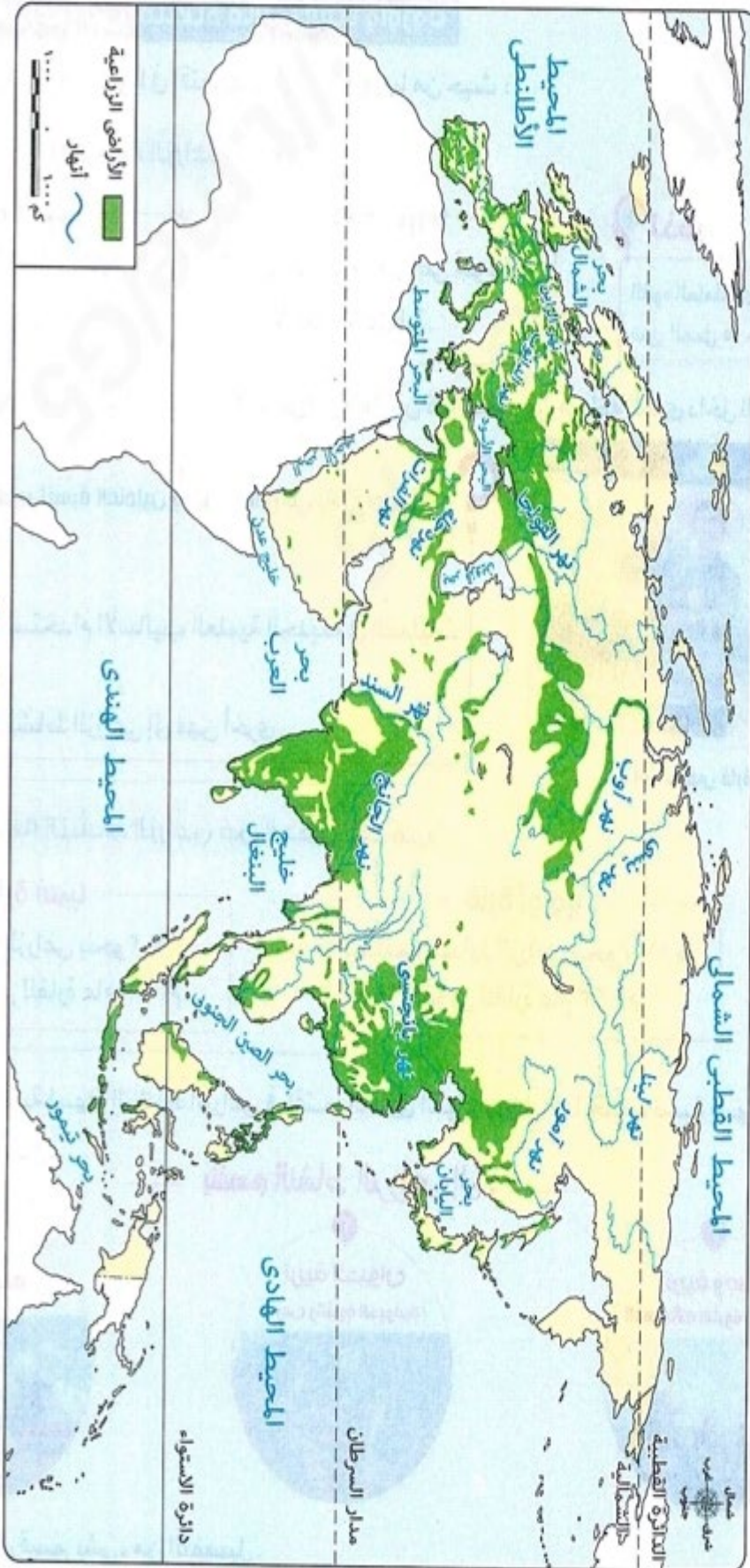
وبذلك .. يختلف نسبة إسهام النشاط الزراعي في اقتصاد قارتي آسيا وأوروبا ، كما تختلف نسبة إسهامه من دولة إلى أخرى .

### ينقسم النشاط الزراعي إلى :



وفيما يلي سنتعرف كل قسم بشيء من التفصيل .

١ الزراعة في قارتي آسيا وأوروبا



توزيع الأراضي الزراعية بقارتي آسيا وأوروبا

مساحة الأراضي الزراعية وأهم مناطق تركزها في قارتي آسيا وأوروبا  
تبلغ مساحة الأراضي الزراعية في العالم نحو 17,5 مليون كم<sup>2</sup>

قارة أوروبا



قارة آسيا

### مساحة الأراضي الزراعية

< يوجد بها نحو 3 مليون كم<sup>2</sup> من مساحة الأراضي  
بالعالم ( أي ثلث مساحة القارة تقريباً ) وبذلك :  
تأتي أوروبا في المرتبة الثانية بين قارات العالم من  
حيث مساحة الأراضي الزراعية **بم تفسر؟** بسبب :  
\* وقوعها في العروض المعتدلة باستثناء أطرافها  
الشمالية .  
\* التقدم العلمي والتكنولوجي .  
\* التوسع في استصلاح الأراضي .

< يوجد بها نحو 6,8 مليون كم<sup>2</sup> من مساحة الأراضي  
الزراعية بالعالم وبذلك :  
تأتي آسيا في المرتبة الأولى بين قارات العالم من حيث  
مساحة الأراضي الزراعية **بم تفسر؟** بسبب :  
\* اتساع مساحتها .  
\* تحويل مساحات من منحدرات الجبال إلى مدرجات  
زراعية ، من أجل توفير الغذاء اللازم للأعداد  
الكبيرة من السكان .

كما في : - الصين - اليابان - الفلبين - إندونيسيا .

### مناطق تركزها

- 1- إقليم السهل الأوروبي العظيم .
- 2- السهول الفيضية للأنهار .
- 3- مساحات كبيرة من دول جنوب القارة .

- 1- المناطق ذات المناخ المعتدل .
- 2- مناطق السهول الفيضية للأنهار .
- 3- عديد من الجزر .

### أكبر دول القارة من حيث مساحة الأراضي الزراعية ( على الترتيب )

- 1- روسيا الاتحادية :- الأولى أوروبياً .
- 2- أوكرانيا :- الثانية أوروبياً .

- 1- الهند :- الأولى آسيوياً .
- 2- الصين :- الثانية آسيوياً .



### أنماط الزراعة في قارتي آسيا وأوروبا

< تتعدد أنماط الزراعة في قارتي آسيا وأوروبا ، وأكثرها انتشاراً الزراعة الكثيفة والواسعة والمختلطة .  
ويتضح هذا فيما يلي :

### < الزراعة البسيطة ( البدائية )

\* أماكن انتشارها :- توجد في مساحات صغيرة بجنوب شرق آسيا .



الزراعة الكثيفة

### < الزراعة الكثيفة

- \* من خصائصها :- تتم زراعة الأرض مرتين أو أكثر في العام .
- \* أماكن انتشارها :- في المناطق المزدحمة بالسكان ، حيث :
- تنتشر في مناطق السهول الفيضية بقارة آسيا .
- توجد بمساحات محدودة بقارة أوروبا .



الزراعة الواسعة

### < الزراعة الواسعة

- \* من خصائصها :
- يستخدم فيها الآلات الزراعية بصورة واضحة .
- تحتاج إلى رؤوس أموال كبيرة **بم تفسر؟**
- لتوفير الآلات الزراعية . = لمد طرق النقل .
- \* أماكن انتشارها :- المناطق السهلية الواسعة حيث توجد في عديد من الدول ، مثل :
- كازاخستان و أوزبكستان بقارة آسيا . - أوكرانيا و روسيا الاتحادية بقارة أوروبا .

### < الزراعة المختلطة



- \* أماكن انتشارها :- تنتشر في مساحات كبيرة من :
- تركيا بقارة آسيا .
- روسيا الاتحادية و أوكرانيا و ألمانيا بقارة أوروبا .
- وتتميز معظم مناطق الزراعة المختلطة بارتفاع أعداد السكان وانتشار المدن المليونية التي تمثل سوقاً رئيسياً .

### أهم المحاصيل الزراعية بقارتي آسيا وأوروبا

- \* تتنوع المحاصيل الزراعية ، في قارتي آسيا وأوروبا
- وإن كانت تتنوع بقارة آسيا أكثر من قارة أوروبا **بم تفسر؟** بسبب تنوع الأقاليم المناخية في قارة آسيا .

وتتمثل أهم المحاصيل فيما يلي :

#### المحاصيل السكرية



#### محاصيل المنبهات



#### المحاصيل الدرنية



#### محاصيل الحبوب



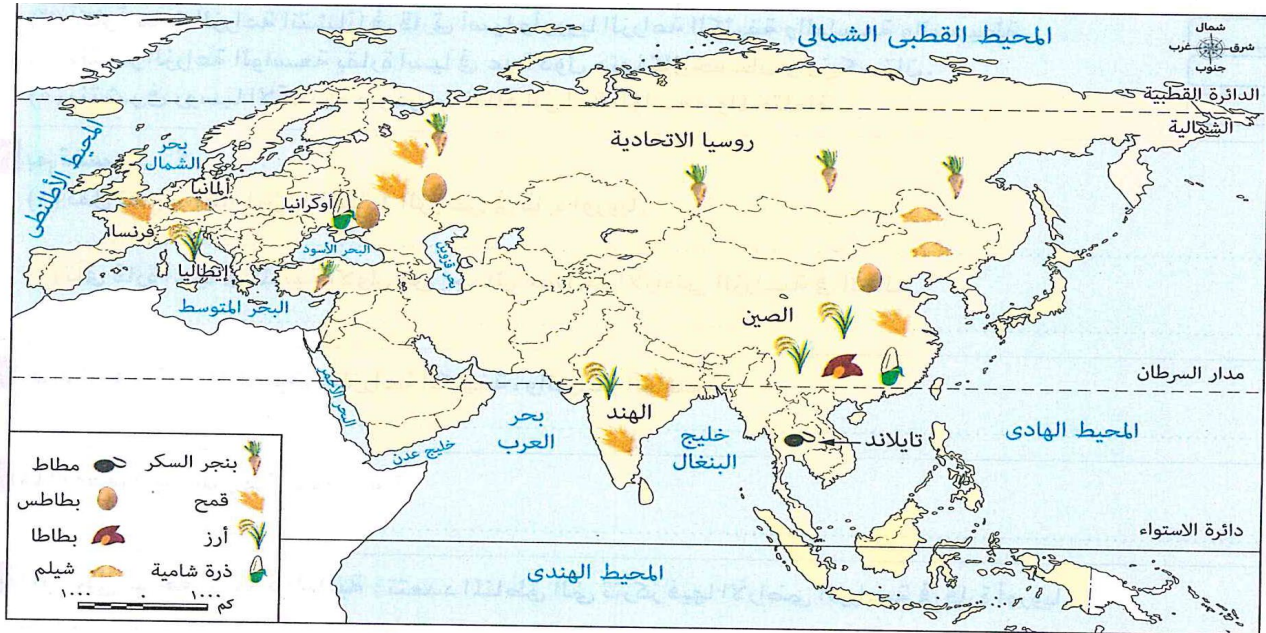
#### محاصيل زيتية



#### محاصيل ذات أهمية خاصة



\* وفيما يلي نتعرف إنتاج قارتي آسيا وأوروبا من هذه المحاصيل وأهم دولها .



توزيع بعض المحاصيل الزراعية في قارتي آسيا وأوروبا

< محاصيل الحبوب :- منها :

المحصول	القمح	الأرز
الأهمية	< أهم وأقدم الحبوب الغذائية وأكثرها قيمة وأكبرها انتشاراً .	< ثاني أهم الحبوب الغذائية بعد القمح . < يعد الغذاء الرئيسي لدول شرق وجنوب شرق آسيا .
مناطق الزراعة	.....	< يزرع في المناطق المدارية والموسمية والمعتدلة الدفينة
الإنتاج	< قارة آسيا : * تنتج نحو 44% وتحتل المرتبة الأولى عالمياً . * أهم الدول المنتجة : - الصين أولى الدول عالمياً . - الهند ثاني الدول عالمياً . < قارة أوروبا : تنتج نحو ثلث الإنتاج وتحتل المرتبة الثانية عالمياً . * أهم الدول المنتجة : روسيا الاتحادية وتليها فرنسا .	< قارة آسيا :- تنتج نحو 90% * أهم الدول المنتجة : - الهند الأولى عالمياً تنتجان نحو نصف الصين الثانية عالمياً الإنتاج العالمي بم تفسر / بالرغم من الإنتاج الكبير للأرز إلا أنه لا يدخل في التجارة الدولية إلا بنسبة ضئيلة ؟ لأن معظم الإنتاج يستهلك محلياً . < قارة أوروبا :- تنتج نحو 5% من الإنتاج . * أهم الدول المنتجة : إيطاليا يأتي منها معظم إنتاج القارة .
المحصول	الذرة الشامية	الشيلم ( يشبه القمح )
الأهمية	< تساهم بنسبة محدودة من الإنتاج في التجارة الدولية بم تفسر ؟ يرجع ذلك إلى استهلاك معظم الإنتاج في مناطق الزراعة .	< يعد المحصول الرئيسي لصناعة الخبز لمعظم سكان ريف السهل الأوروبي .
مناطق الزراعة	.....	< تجود زراعته في المناخ البارد الرطب .
الإنتاج	< قارة آسيا : تنتج نحو ثلث الإنتاج ، وتحتل المرتبة عالمياً . * أهم الدول المنتجة : الصين ثاني الدول عالمياً والأولى آسيوياً . < قارة أوروبا : تنتج نحو عُشر الإنتاج ، وتحتل المرتبة الرابعة عالمياً . * أهم الدول المنتجة : أوكرانيا أولى الدول أوروبياً .	< قارة آسيا : تنتج نحو 10% وتحتل المرتبة الثانية عالمياً * أهم الدول المنتجة : الصين أولى الدول آسيوياً . < قارة أوروبا : * تنتج أكثر من 80% وتأتي في المرتبة الأولى عالمياً . * أهم الدول المنتجة : ألمانيا تنتج نحو ربع الإنتاج عالمياً .



المحصول	البطاطس	البطاطا
الأهمية	< يعد رابع أهم محصول غذائي في العالم بعد القمح والذرة والأرز .	.....
مناطق الزراعة	< تحتاج زراعتها إلى المناخ المعتدل فهي لا تتحمل البرودة والحرارة الشديدة .	< تنمو في المناطق المدارية والمناطق الدفينة .
الإنتاج	<p>&lt; قارة آسيا :</p> <p>* تنتج نحو نصف الإنتاج وتأتي في المركز الأول عالمياً .</p> <p>* أهم الدول المنتجة :</p> <p>الصين تنتج نحو ربع الإنتاج العالمي .</p> <p>&lt; قارة أوروبا : تنتج نحو ربع الإنتاج وتأتي في المركز الثاني عالمياً .</p> <p>* أهم الدول المنتجة :</p> <p>- أوكرانيا</p> <p>- روسيا الاتحادية</p> <p>أكثر دول القارة إنتاجاً</p>	<p>&lt; قارة آسيا :</p> <p>* تنتج نحو ثلثي الإنتاج وتأتي في المرتبة الأولى عالمياً .</p> <p>* أهم الدول المنتجة :</p> <p>الصين تنتج أكثر من نصف الإنتاج العالمي .</p> <p>&lt; قارة أوروبا :</p> <p>لا تزرع بها لعدم توافر المناخ الملائم لزراعتها .</p>

## &lt; محاصيل المنبهات : أهمها :

المحصول	الشاي	البن	الكاكاو
الأهمية	من المحاصيل النقدية		
مناطق الزراعة	محاصيل مدارية تزرع في المناطق المدارية .. لذلك .. لا تزرع في قارة أوروبا		
إنتاج قارة آسيا	تنتج نحو 90% من الإنتاج وتحتل المرتبة الأولى عالمياً .	تنتج نحو ثلث الإنتاج وتحتل المرتبة الثانية عالمياً .	تنتج نحو عُشر الإنتاج وتحتل المرتبة الثالثة عالمياً .

## &lt; المحاصيل السكرية :- منها :

المحصول	قصب السكر	البنجر
مناطق الزراعة	< محصول مداري يزرع في المناطق المدارية .	< تنتشر زراعته في المناطق المعتدلة .
الإنتاج	<p>&lt; قارة آسيا :</p> <p>تحتل المركز الأول عالمياً .</p> <p>* أهم الدول المنتجة :</p> <p>الهند أولى الدول آسيوياً .</p>	<p>&lt; قارة آسيا :</p> <p>* أهم الدول المنتجة ك تركيا أولى دول القارة إنتاجاً .</p> <p>&lt; قارة أوروبا : تحتل المركز الأول عالمياً .</p> <p>* أهم الدول المنتجة :</p> <p>روسيا الاتحادية أولى دول القارة إنتاجاً .</p>

## &lt; محاصيل ذات أهمية خاصة : ومها :

المحصول	المطاط الطبيعي
الأهمية	يستخدم في صناعة الإطارات
مناطق الزراعة	محصول مداري يزرع في المناطق المدارية
الإنتاج	<p>&lt; قارة آسيا : تحتل المركز الأول عالمياً .</p> <p>* أهم الدول المنتجة : تايلاند أولى الدول عالمياً .</p> <p>&lt; قارة أوروبا :</p> <p>* لا يوجد بها لعدم توافر المناخ الملائم لزراعته .</p>

الزيتون	نخيل الزيت
يزرع في قارة آسيا وقارة أوروبا	يزرع في قارة آسيا

### أكد فهمك

- س<sup>1</sup> / بم تفسر :- ارتفاع إنتاجية قارة أوروبا من محصول القمح وانخفاضها من محصول الأرز ؟  
 ج<sup>1</sup> / بسبب :- وقوع معظم قارة أوروبا في المنطقة المعتدلة الشمالية والتي تلائم زراعة القمح ولا تلائم زراعة الأرز الذي يحتاج درجة حرارة مرتفعة .  
 س<sup>2</sup> / بم تفسر : تنوع المحاصيل الزراعية بقارة آسيا أكثر من قارة أوروبا ؟  
 ج<sup>2</sup> / بسبب : تنوع الأقاليم المناخية بقارة آسيا بينما يقع معظم أوروبا ضمن المنطقة المناخية المعتدلة .  
 س<sup>3</sup> / دلل : تتعدد المحاصيل التي تجود زراعتها بقارة آسيا ولا تزرع بقارة أوروبا ؟  
 ج<sup>3</sup> / حيث : تزرع المحاصيل التي تحتاج مناخ مداري أو موسمي في آسيا ولا تزرع في أوروبا وتتمثل تلك المحاصيل في : - الشاي - الكاكاو - قصب السكر - المطاط - البطاطا .

### مشكلات الزراعة في قارتي آسيا وأوروبا

< تواجه الزراعة في قارتي آسيا وأوروبا عديد من المشكلات أهمها :

#### 1- المشكلات المرتبطة بتغير المناخ

- < حيث : موجات الحرارة والبرد وتكرار العواصف الترابية والرملية والثلجية والفيضانات .  
 < نتائجها : جميعها تؤثر سلباً على إنتاجية وجودة المحاصيل الزراعية .

#### 2- مشكلات التربة الزراعية

منها :

- < تعرية التربة الناتجة عن الماء والرياح والجليد والزراعة الكثيفة .  
 < الإفراط في استخدام الأسمدة الكيماوية الذي يؤثر سلباً على جودة التربة .  
 < تلوث التربة بم تفسر ؟ بسبب الثورانات البركانية وصرف المخلفات الصناعية والتعدينية والزراعية والصحية .  
 < تحتل قارة آسيا المرتبة الأولى عالمياً في تدهور التربة الزراعية ، بينما تحتل قارة أوروبا المرتبة السادسة .

#### 3- الزيادة السكانية

< تتركز هذه المشكلة في قارة آسيا بم تفسر ؟

بسبب الزيادة السكانية الكبيرة التي أدت إلى :

- زيادة الضغط على الأراضي الزراعية بزراعتها أكثر من مرة في العام الواحد .  
 - استخدام المبيدات والأسمدة الكيماوية .

## 4- تغيير استخدامات الأرض الزراعية

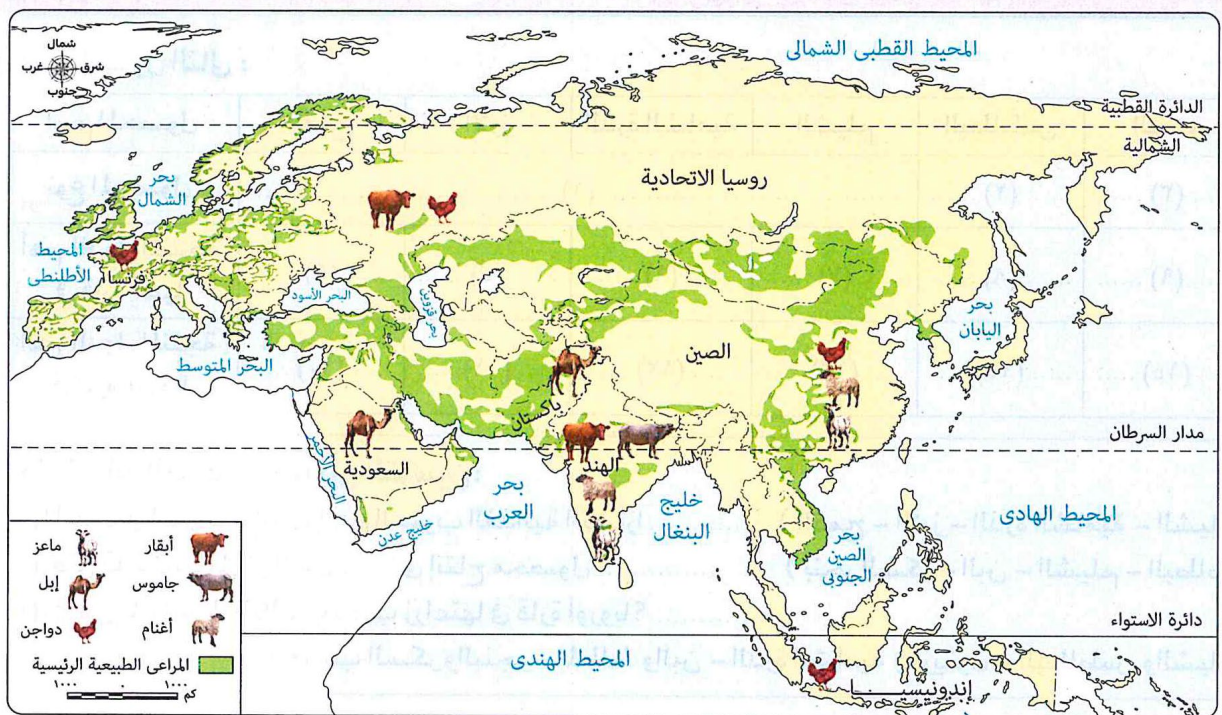
- < تحولت مساحات كبيرة من الأراضي الزراعية إلى استخدامات أخرى وخاصة الاستخدامات الحضرية والصناعية ، **ما النتائج ؟** مما أدى إلى :
- تناقص مساحة الأراضي الزراعية .
  - اتجاه عدد كبير من العاملين في الزراعة إلى أنشطة أخرى أكثر ربحية كالصناعة والخدمات .

## 5- هجمات أسراب الجراد .

< نتائجها :

التهام كميات كبيرة من المحاصيل الزراعية .

## 2 :- الرعي والثروة الحيوانية في قارتي آسيا وأوروبا



توزيع الثروة الحيوانية والمراعى الطبيعية فى قارتي آسيا وأوروبا

## 1 - المراعى الطبيعية

< تبلغ مساحة المراعى فى العالم نحو ضعف مساحة الأراضي الزراعية ، وتمتلك كل من :

قارة أوروبا

< تمتلك نحو 5,3% من مساحة مراعى العالم وبذلك تأتي فى المرتبة السادسة بين قارات العالم من حيث مساحة المراعى .

أكبر الدول فى مساحة المراعى

< روسيا الاتحادية أولى دول القارة .

قارة آسيا

< تمتلك نحو ثلث مساحة مراعى العالم وبذلك تأتي فى المرتبة الأولى بين قارات العالم من حيث مساحة المراعى

< الصين الأولى عالمياً .

## 2 - الثروة الحيوانية في قارتي آسيا وأوروبا

< يوجد في قارتي آسيا وأوروبا أعداد كبيرة ومتنوعة من الثروة الحيوانية ، من أهمها :

قارة أوروبا		قارة آسيا		
أهم الدول المربية	إنتاجها عالمياً	أهم الدول المربية	إنتاجها عالمياً	
روسيا الاتحادية : أولى دول القارة	تأتي في المركز الخامس عالمياً وتشتهر بعدد من سلالات الأبقار المنتجة للحوم والألبان عالية الجودة .	الهند : أولى دول القارة	تحتل المركز الأول عالمياً حيث يوجد بها نحو ثلث أعداد الأبقار في العالم بسبب اتساع المراعي وتنوعها ووفرة الأعلاف والرعاية البيطرية بالقارة .	الأبقار 
يندر تربيتهم بالقارة		الهند تحتل المرتبة الأولى عالمياً ، حيث يوجد بها أكثر من نصف أعداد الجاموس في العالم .	يوجد بها 98% من أعداد الجاموس في العالم .	الجاموس 
يوجد بها نحو 10% من أعداد الماعز بينما يقل وجود الأغنام بها .		تتركز في : - الهند . - الصين .	يوجد بها نحو نصف أعداد كل من الأغنام والماعز في العالم .	الأغنام والماعز 
يندر تربيتهم بالقارة		- السعودية . - باكستان . حيث تتركز في المناطق الصحراوية .	يوجد بها نحو 16% من أعداد الإبل في العالم .	الإبل 
- روسيا الاتحادية . - فرنسا .	يوجد بها نحو عشر أعداد دجاج العالم .	- الصين الأولى عالمياً . - إندونيسيا الثانية عالمياً .	يوجد بها نحو ثلثي أعداد دجاج العالم .	الدجاج 

## مشكلات الثروة الحيوانية في قارتي آسيا وأوروبا

< على الرغم من الأعداد الكبيرة من الثروة الحيوانية والمساحات الكبيرة من المراعي بقارتي آسيا وأوروبا ،

إلا أن هناك عدة مشكلات تواجه الثروة الحيوانية بها ، مثل :

1- تناقص مساحة المراعي الطبيعية **بم تفسر ؟** بسبب :

أ - الزحف العمراني . ب - الرعي الجائر . ج - التوسع الزراعي على حساب المراعي الطبيعية .

2- انتشار عديد من الأمراض الحيوانية ، مثل :

أ - الحمى القلاعية . ب - إنفلونزا الطيور .

3- التأثير السلبي للتلوث وتغير المناخ ، في صحة الحيوانات وبالتالي على الإنتاج .

## 3 - الثروة السمكية في قارتي آسيا وأوروبا

< تحتل قارة آسيا المركز الأول بنسبة 70% من الإنتاج العالمي للأسماك ، بينما تأتي قارة أوروبا في المركز الثاني بنسبة 9% .  
مصايد الأسماك في قارتي آسيا وأوروبا : تنقسم إلى :

## 1- المصايد الطبيعية



## 2- المزارع السمكية

- \* قارة آسيا :- تسهم المزارع السمكية بنحو ثلثي إنتاج القارة من الأسماك حيث أدت الزيادة السكانية الكبيرة بالدول الآسيوية إلى الاتجاه نحو الاستزراع السمكي.
- \* قارة أوروبا :- تسهم المزارع السمكية بنحو ربع إنتاج القارة من الأسماك .

## مشكلات الثروة السمكية في قارتي آسيا وأوروبا

- < تواجه الثروة السمكية في قارتي آسيا وأوروبا مشكلات عديدة ، منها :
- 1- الصيد الجائر للأسماك .
- 2- التلوث البيئي المتزايد .
- 3- التحديات الناجمة عن التغير المناخي .

## جهود قارتي آسيا وأوروبا لتنمية الزراعة والثروة الحيوانية والسمكية

< تبذل كل من قارتي آسيا وأوروبا جهوداً كبيرة لتنمية الزراعة والثروة الحيوانية والسمكية **بم تفسر ؟**  
بهدف تحقيق الأمن الغذائي ، والتنمية المستدامة .

## &lt; من أهم هذه الجهود

<p><b>ما المقصود بـ : الزراعة الرقمية ؟</b></p> <p>تحويل الزراعة التقليدية إلى نظام زراعي ذكي يعتمد على التقنيات الرقمية المتقدمة والبيانات الدقيقة بهدف تحسين كفاءة وإنتاجية المحاصيل الزراعية، لتحقيق الأمن الغذائي.</p>	<p>1- تشجيع الزراعة الرقمية والزراعة العضوية .</p> <p>2 - استحداث أصناف محاصيل مقاومة للجفاف والملوحة ، وتطبيق أنظمة ري متطورة .</p>	<p>الزراعة</p>
<p>1- تحسين السلالات الحيوانية وتطوير الرعاية البيطرية .</p> <p>2- دعم الرعي المستدام الذي يساهم في الحفاظ على التنوع البيولوجي ، ومساعدة الرعاة في اتخاذ قرارات علمية لإدارة الأراضي وتطوير ممارسات مستدامة للمراعي .</p>	<p>1- تحسين السلالات الحيوانية وتطوير الرعاية البيطرية .</p> <p>2- دعم الرعي المستدام الذي يساهم في الحفاظ على التنوع البيولوجي ، ومساعدة الرعاة في اتخاذ قرارات علمية لإدارة الأراضي وتطوير ممارسات مستدامة للمراعي .</p>	<p>الثروة الحيوانية</p>
<p>- دعم صغار الصيادين ، ودعم الاستزراع السمكي المستدام ومكافحة الأمراض وتأثيرات تغير المناخ .</p>	<p>- دعم صغار الصيادين ، ودعم الاستزراع السمكي المستدام ومكافحة الأمراض وتأثيرات تغير المناخ .</p>	<p>الثروة السمكية</p>



## أسئلة تدريبات

س1 : أكمل العبارات الآتية بما يناسبها :

- 1- تتركز الأراضي الزراعية بقارة آسيا في المناطق ذات المناخ .....
- 2- تمثل مساحة المراعي في العالم نحو ..... مساحة الأراضي الزراعية .
- 3- القارة التي تمتلك بمفردها ثلث مساحة مراعي العالم هي .....
- 4- تتركز تربية الابل في المناطق ..... بقارة آسيا .

س2 : ما النتائج المترتبة على .....

- 1- تعرض الأراضي الزراعية بقارتي آسيا وأوروبا لعديد من التغيرات المناخية ؟
- 2- هجمات أسراب الجراد في قارتي آسيا وأوروبا ؟
- 3- الزحف العمراني والرعي الجائر في قارتي آسيا وأوروبا ( بالنسبة للثروة الحيوانية ) ؟

س3 : بم تفسر .....

- 1- تحتاج الزراعة الواسعة إلى رعوس أموال كبيرة في قارتي آسيا وأوروبا ؟
- 2- تتميز قارة آسيا بتنوع محاصيلها الزراعية أكثر من قارة أوروبا ؟
- 3- تساهم قارة آسيا بنسبة ضئيلة من محصول الأرز في التجارة الدولية ؟

### الإجابة

- ج 1 : 1- المعتدل . 2- ضعف . 3 - قارة آسيا . 4- الصحراوية .
- ج 2 : 1- أثر سلباً على إنتاجية الأراضي الزراعية وجودة المحاصيل الزراعية .
- 2- ترتب على ذلك التهام أسراب الجراد كميات كبيرة من المحاصيل الزراعية .
- 3- أدى ذلك إلى تناقص مساحة المراعي الطبيعية بالقارتين .

ج 3 :

- 1- لتوفير الآلات الزراعية ومد طرق النقل .
- 2- بسبب تنوع الأقاليم المناخية في قارة آسيا .
- 3- لأن معظم الإنتاج يستهلك محلياً .

## الدرس الثاني : النشاط الصناعي والتجاري في قارتي آسيا وأوروبا

### أولاً :- الصناعة في قارتي آسيا وأوروبا

< تُعد الصناعة الحديثة مقياساً رئيسياً لتطور الشعوب وازدهارها ، فعادة ما تكون الدول المتقدمة هي الدول الأكثر تطوراً في الصناعة ، وقد كانت أوروبا مركزاً للنهضة الصناعية الحديثة التي غيرت وجه العالم .

### الثورة الصناعية وانتقالها بين دول قارتي أوروبا وآسيا

#### ما المقصود بـ : الثورة الصناعية ....؟

تحولات علمية وتكنولوجية في طرق الصناعة ، تحول الإنتاج الصناعي خلالها من الأساليب البدائية في الحرف التقليدية إلى الأساليب التكنولوجية المتطورة ، مما أدى إلى زيادة سرعة الإنتاج ومضاعفته عدة مرات .

### < الثورة الصناعية الأولى

- قامت في :- بريطانيا ، مع نهاية القرن الثامن عشر الميلادي بعد اختراع العالم الإسكتلندي الشهير

( جيمس واظ ) المحرك البخاري .

- انتقلت :- بعد ذلك إلى بعض الدول الأوروبية .

- ثم :- سلكت طريقها إلى الولايات المتحدة الأمريكية .

- انتقلت متأخرة إلى :- الدول الآسيوية حيث بدأت

في اليابان في النصف الثاني من القرن التاسع

عشر الميلادي .

- ثم :- ظهرت في الصين والهند في

منتصف القرن الـ 20 م .



### < الثورة الصناعية الثانية

\* بدأت في بداية القرن العشرين الميلادي اعتماداً على الطاقة الكهربائية .

### < الثورة الصناعية الثالثة

\* بدأت في السبعينيات من القرن العشرين الميلادي اعتماداً على :

\* الإلكترونيات . \* تكنولوجيا الإنترنت .

### < الثورة الصناعية الرابعة

\* انطلقت مع بدايات القرن الحادي والعشرين الميلادي اعتماداً على :

\* تكنولوجيا المعلومات والاتصالات . \* الذكاء الاصطناعي . \* الروبوتات المتقدمة .

## الثورة الصناعية الخامسة

\* ظهر هذا المصطلح في عام 2017م كرد فعل لاعتماد الثورة الصناعية الرابعة على الذكاء الاصطناعي دون الاهتمام الكافي بالإنسان والبيئة .

\* في عام 2021م اعتمدت المفوضية الأوروبية مصطلح الثورة الصناعية الخامسة بم تفسر ؟ بهدف :  
- تحقيق التوازن بين الإنسان والتكنولوجيا في العمل .  
- المحافظة على استهلاك الطاقة لتحقيق الاستدامة البيئية .

**أنواع الصناعات في قارتي آسيا وأوروبا** تنقسم إلى : 1- الصناعات الاستخراجية . 2- الصناعات التحويلية .

**1- الصناعات الاستخراجية** :- تضم عديد من الصناعات ، منها :

1- الصناعات التعدينية واستخراج البترول والغاز الطبيعي :  
< توجد في دول ، مثل : - الصين والسعودية بقارة آسيا ، - روسيا الاتحادية وأوكرانيا بقارة أوروبا .

2- الصناعات الخشبية :

< توجد في دول ، مثل : - الصين و ماليزيا بقارة آسيا ، - ألمانيا والسويد بقارة أوروبا .

3- صناعة عصر الزيوت : \* يتم الحصول على الزيوت النباتية من عدة مصادر منها :

- نخيل الزيت . - قول الصويا . - الزيتون . - الكتان .

قارة أوروبا

قارة آسيا

< تحتل المركز الثاني في إنتاج الزيوت حيث تنتج

نحو 16% من الإنتاج العالمي .

< أهم دول القارة :

تأتي نسبة كبيرة من الإنتاج من :

- روسيا الاتحادية . - أوكرانيا . - إسبانيا .

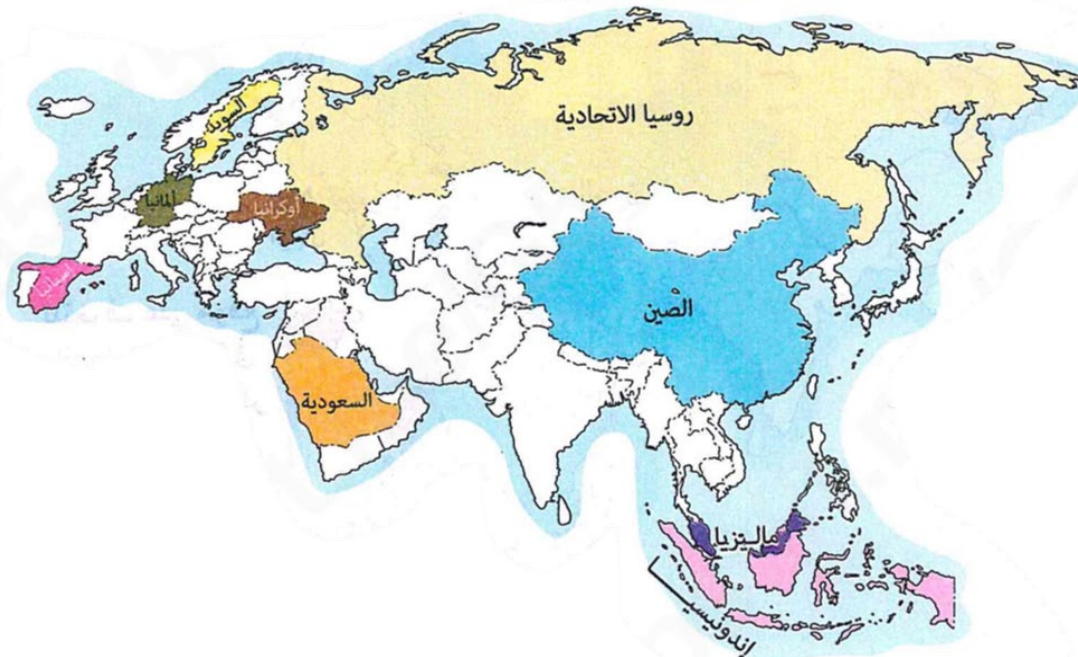
< تحتل المركز الأول في إنتاج الزيوت حيث تنتج

أكثر من نصف الإنتاج العالمي .

< أهم دول القارة :

تأتي نسبة كبيرة من الإنتاج من :

- إندونيسيا . - الصين . - ماليزيا .



## 2 - الصناعات التحويلية

## 1- صناعات تحويلية خفيفة

تشمل

- \* الصناعات الغذائية مثل : السكر وتعليب الفاكهة والخضروات واللحوم .... وغيرها .
- \* صناعة الغزل والنسيج .
- \* صناعة الملابس .
- \* صناعة السجاد .
- \* صناعة الجلود .

توجد في

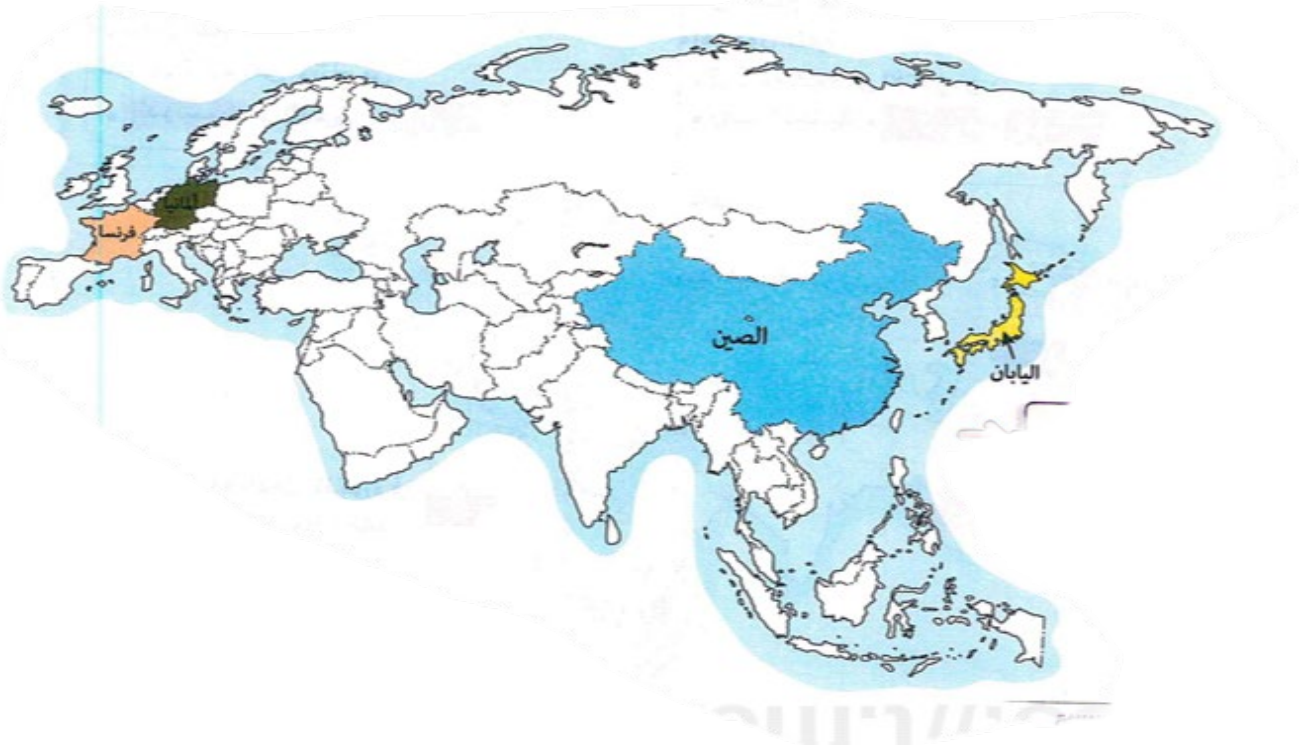
جميع دول قارتي آسيا وأوروبا

## 1- صناعات تحويلية ثقيلة

- \* الصناعات الكيماوية .
- \* الصناعات البتروكيماوية .
- \* صناعة المطاط .
- \* الصناعات المعدنية :  
- الحديد والصلب . - الألومنيوم .

عديد من دول القارتين ، مثل :

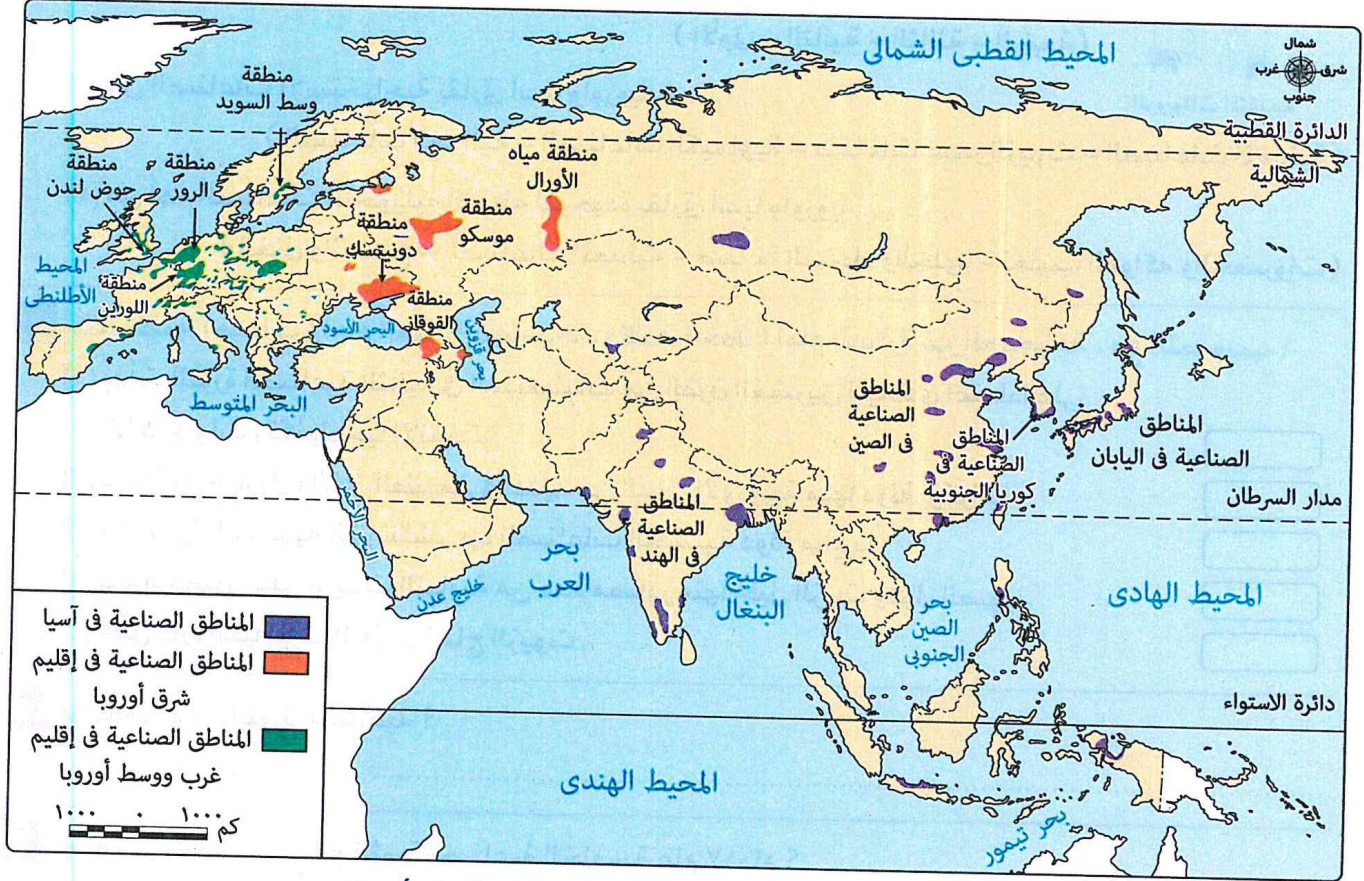
- \* الصين واليابان بقارة آسيا .
- \* ألمانيا وفرنسا بقارة أوروبا .



## الأقاليم والمناطق الصناعية الرئيسية في قارتي آسيا وأوروبا

ما المقصود بـ : الإقليم الصناعي ...؟

مساحة جغرافية كبيرة تضم في داخلها عديد من المناطق الصناعية ، ويوجد في كل منطقة مجموعة متنوعة من الصناعات التي تتكامل بعضها مع بعض .



الأقاليم و المناطق الصناعية الرئيسية في قارتي آسيا وأوروبا

### الأقاليم الصناعية الرئيسية في قارة آسيا

\* شهدت الصناعة في بعض دول قارة آسيا تطوراً كبيراً في العقود الأخيرة ، مما جعلها منافس قوي للدول الصناعية المتقدمة .

\* نستنتج من الخريطة السابقة أن : الأقاليم الصناعية الرئيسية في قارة آسيا تتمثل في :

**- إقليم شرق آسيا الصناعي . - إقليم جنوب آسيا الصناعي .**

وتتضمن تلك الأقاليم عدة مناطق صناعية ، ومنها :

#### 1 - المناطق الصناعية في الصين

\* تُعد الصين أكبر قوة صناعية في العالم ، حيث تساهم بنحو 29% من إجمالي الناتج الصناعي في العالم لعام 2023 م .

\* يوجد في الصين أكثر من 2000 تجمع صناعي .

\* من أشهر الصناعات بها :

- الحديد والصلب . - الإلكترونيات . - البتروكيماويات . - الغزل والنسيج .



## 2 - المناطق الصناعية في اليابان

- \* تحتل اليابان المركز الثالث عالمياً حيث إنها تساهم بنحو 5% من إجمالي الناتج الصناعي العالمي في عام 2023 م .
- \* من أشهر الصناعات بها :
  - الإلكترونيات .
  - السيارات .
  - الطائرات .

## 3 - المناطق الصناعية في كوريا الجنوبية

- \* تحتل كوريا الجنوبية المركز الخامس بين أقوى الدول الصناعية في العالم لعام 2023م بنسبة 2,8% من إجمالي الناتج الصناعي العالمي .
- \* من أشهر الصناعات بها :
  - الروبوتات .
  - السيارات .
  - بناء السفن .

## الأقاليم الصناعية الرئيسية في قارة أوروبا

- \* على الرغم من التطور الصناعي في أجزاء عديدة من العالم ، إلا أن أوروبا ما زالت قوة صناعية كبرى ، وتنتشر الصناعات في عديد من دولها .

\* نستنتج من الخريطة السابقة أن : قارة أوروبا تضم إقليمين رئيسيين للصناعة ، هما :

- إقليم شرق أوروبا الصناعي .
- إقليم غرب ووسط أوروبا الصناعي .

### إقليم شرق أوروبا الصناعي :- يضم :

- 1- المناطق الصناعية في روسيا الاتحادية :- منها :

< منطقة القوقاز

\* تتسم بغناها في البترول مما ساعد على قيام :

- صناعة تكرير البترول .
- الصناعات البتروكيمياوية .

< منطقة جبال الأورال

\* تتسم بغناها في الموارد المعدنية وخاصة الحديد والنحاس .

\* تقوم في هذه المنطقة عديد من الصناعات ، مثل :

- الصناعات الهندسية والإلكترونية .
- الصناعات الحربية .

2- منطقة دونيتسك الصناعية في أوكرانيا

\* تتميز بقربها من حقول الفحم ومناجم الحديد ، وتتوافر بها مصادر متنوعة للطاقة الكهربائية المتجددة وغير المتجددة ، ولذلك تضم :

- أكبر مصانع الحديد والصلب .
- مصانع القاطرات .
- مصانع الآلات الزراعية .
- مصانع للصناعات الحربية .

**إقليم غرب ووسط أوروبا الصناعي** :- يضم عدة مناطق صناعية منها :

< منطقة الرور غرب ألمانيا

\* توجد بها عديد من الصناعات ، ومنها :

- صناعة الحديد والصلب .
- الصناعات الهندسية .
- الصناعات البتروكيمياوية .
- الصناعات النسيجية .

< منطقة حوض لندن جنوب المملكة المتحدة

\* ساهم وجود الفحم والحديد والبتروكيمياوية فيها في قيام عدة صناعات ، مثل :

- صناعة السيارات .
- صناعة الطائرات .

< منطقة اللورين شمال شرق فرنسا :- تشتهر بـ :

\* صناعة الحديد والصلب **بم تفسر ؟** لتوافر خامات الحديد .

\* الصناعات الكيماوية **بم تفسر ؟** لوجود رواسب ضخمة من الأملاح والبوتاسيوم .

### جهود بعض الدول الآسيوية والأوروبية في إطار الصناعة والتنمية المستدامة

\* تعتبر الصناعة محركاً أساسياً لتحقيق أهداف التنمية المستدامة ، من خلال :

- 1- دعم النمو الاقتصادي والابتكار .
  - 2- توفير فرص العمل .
  - 3- الحد من الفقر والجوع .
  - 4- مكافحة التغير المناخي .
  - 5- تطوير التكنولوجيات الخضراء التي تعمل على خفض انبعاثات ثاني أكسيد الكربون.
- \* وضعت حكومات بعض الدول الآسيوية والأوروبية عدة سياسات تنموية في مجال الصناعة بهدف تحقيق أهداف التنمية المستدامة ، ومنها :

#### < السعودية

\* أطلقت مشروع نيوم للهيدروجين الأخضر ليكون من أكبر مصانع العالم لإنتاج الطاقة النظيفة والمتجددة .

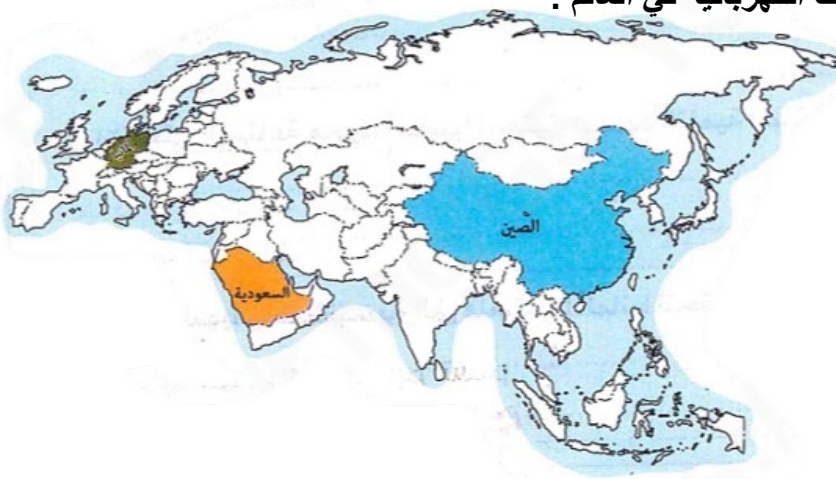
#### < الصين

- \* تدعم الحكومة الصينية خطة التنمية الصناعية الخاصة بالمركبات الكهربائية كوسيلة رئيسية للنقل البري الصديق للبيئة .
- \* تعد الصين المركز الرئيسي لتصنيع السيارات الكهربائية في العالم .

#### < ألمانيا

\* تهتم بالتحول الأخضر والسعي للوصول إلى صفر انبعاثات كربونية بحلول عام 2045م ، وذلك من خلال :

- الانتقال إلى الطاقة المتجددة .
- تقليل الانبعاثات الكربونية .



**ثانياً :- التجارة في قارتي آسيا وأوروبا**

< يُعد النشاط التجاري من الأنشطة المهمة في اقتصاد عديد من دول قارتي آسيا وأوروبا ، وتشمل :

**1 - تجارة السلع ( الصادرات والواردات ) في آسيا وأوروبا :- حيث :****قارة آسيا****قارة أوروبا**

استحوذت كلا القارتين على نحو ٧٠٪ من إجمالي التجارة الدولية للسلع

**من أهم صادراتهما**

- الصناعات الغذائية .
- الصناعات التحويلية .
- المنسوجات .
- البترول .
- السيارات .
- المنتجات المعدنية .
- الحديد والصلب .

**أهم الدول فى التجارة الدولية للسلع**

- **الصين** تأتي في المرتبة الأولى آسيويًا وعالميًا .
- **ألمانيا** تأتي في المرتبة الأولى أوروبيًا والثالثة عالميًا .

**2 - تجارة الخدمات التجارية الدولية**

< تصنف الخدمات التجارية إلى أربع فئات رئيسية هي :

- \* النقل .
- \* السفر .
- \* الخدمات المتعلقة بالسلع .
- \* الخدمات التجارية الأخرى .

< أصبحت ضرورية للدول المتقدمة والنامية بم تفسر ؟ لأنها تساعد على :

- \* تحسين وضع الناتج المحلي الإجمالي للدول .
- \* تحقيق النمو الاقتصادي .

**قارة آسيا****قارة أوروبا**

◀ تحتل المركز الثانى عالمياً بنسبة ٢٦,٣٪

◀ تحتل أوروبا المرتبة الأولى عالمياً فى تجارة الخدمات بنسبة ٤٨,٣٪

**أهم الدول**

- ◀ تأتي **الصين** فى المرتبة الأولى آسيويًا وعالميًا .
- ◀ تأتي **ألمانيا** فى المرتبة الأولى أوروبيًا والثالثة عالميًا .

**من أكثر الخدمات التجارية الدولية المتبادلة بهما**

- خدمات التوصيل الرقمي (\*).
- خدمات الاتصالات .
- الحاسبات الآلية .
- المعلومات وخدمات السفر المتبادلة فى قارتي آسيا وأوروبا .



## أسئلة تدريبات

س1 : أذكر أشهر الصناعات في الدول التالية :

- 1- إندونيسيا .
- 2- اليابان .
- 3- كوريا الجنوبية .
- 4- إسبانيا .

س2 : دلل .....؟

- 1- تعتبر الصناعة محركاً أساسياً لتحقيق أهداف التنمية المستدامة ؟
- 2- اتبعت ألمانيا عديد من الأساليب لتحقيق التحول الأخضر والوصول إلى صفر انبعاثات كربونية ؟
- س3: بم تفسر ؟

- 1- تأخر انتقال الثورة الصناعية الأولى إلى الدول الآسيوية ؟
- 2- اعتماد المفوضية الأوروبية مصطلح الثورة الصناعية الخامسة ؟
- 3- وضعت حكومات بعض الدول الآسيوية والأوروبية عدة سياسات تنموية في مجال الصناعة ؟

## الإجابة

- ج 1 : 1- صناعات عصر الزيوت . 2- الإلكترونيات والسيارات والطائرات .
- 3- الروبوتات والسيارات وبناء السفن . 4 - صناعات عصر الزيوت .
- ج 2 : 1- من خلال : - دعم النمو الاقتصادي والابتكار .
- توفير فرص العمل والحد من الفقر والجوع .
- 2- حيث قامت ب : - الانتقال للطاقة المتجددة . - تقليلي الانبعاثات الكربونية .
- ج 3 : 1- بسبب الاستعمار الذي احتل معظم دول القارة .
- 2- بهدف تحقيق التوازن بين الإنسان والتكنولوجيا في العمل .
- 3- بهدف تحقيق أهداف التنمية المستدامة .

## الدرس الثالث : النشاط السياحي في قارتي آسيا وأوروبا

تعد السياحة من أهم الأنشطة الاقتصادية في العالم ، فهي لا تقتصر على الترفيه والاستجمام فقط ، بل تسهم أيضاً في تبادل الثقافات وزيادة المعرفة بين الشعوب ، وتعد قارتي آسيا وأوروبا من أبرز المقاصد السياحية العالمية لما تتميزان به من تنوع طبيعي وحضاري فريد .

### أولاً :- مقومات السياحة في قارتي آسيا وأوروبا

#### المقومات الطبيعية

##### قارة آسيا

##### قارة أوروبا

#### 1- الموقع الجغرافي

\* تقع قارة آسيا بالقرب من :

- قارة أوروبا .
- قارة أستراليا .
- قارة إفريقيا .

\* تمتلك قارة أوروبا موقع جغرافي متميز جعلها قريبة

- من المناطق الرئيسية المصدرة للسياحة سواء من :
- قارة أمريكا الشمالية .
  - شمال قارة إفريقيا .
  - جنوب غرب قارة آسيا .

#### 2- مظاهر السطح

\* تتنوع مظاهر السطح تنوعاً واضحاً بالقارتين مما ساعد على تنوع أنماط السياحة ،  
ومن أشهر مظاهر السطح جذاباً للسياحة بهما :

\* جبال الهيمالايا في وسط آسيا .

\* هضبة التبت في الصين .

\* جزر المالديف في المحيط الهندي ، التي تتكون من

مجموعة من الجزر المرجانية ذات الشواطئ الرملية  
البيضاء والمياه الفيروزية الصافية .

\* الصحاري الحارة والمعتدلة ذات الظواهر المتميزة

من كثبان رملية وأودية جافة وجبال بركانية .

\* الجبال ذات الشهرة السياحية العالمية ، ومنها :

- جبال الألب . - جبال البرانس .

\* شلالات الراين في سويسرا .

\* الجزر ذات الطبيعة الخلابة ، مثل :

- جزيرة سكايفي في أسكتلندا .

- جزيرة كريت في اليونان .

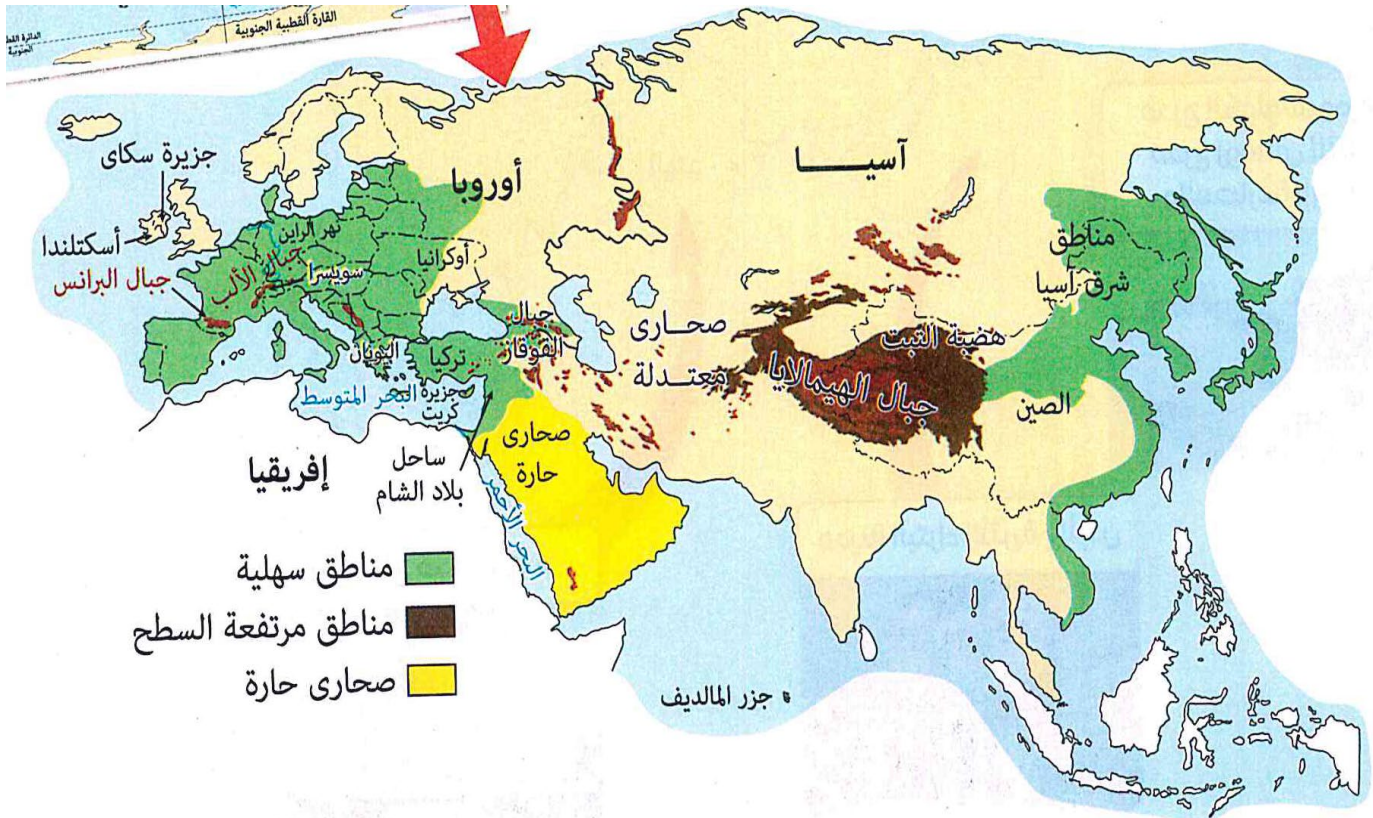
## 3- المناخ

\* تتميز قارة أوروبا بوقوع معظمها ضمن الأقاليم المناخية المعتدلة ما النتيجة ؟  
ترتب على ذلك قدوم أعداد كبيرة من السائحين إليهما معظم أيام السنة .

\* من المناطق الجاذبة للسياحة معظم أيام السنة لا اعتدال مناخها في قارة آسيا :  
\* مناطق شرق آسيا .  
\* ساحل بلاد الشام .  
\* تركيا .

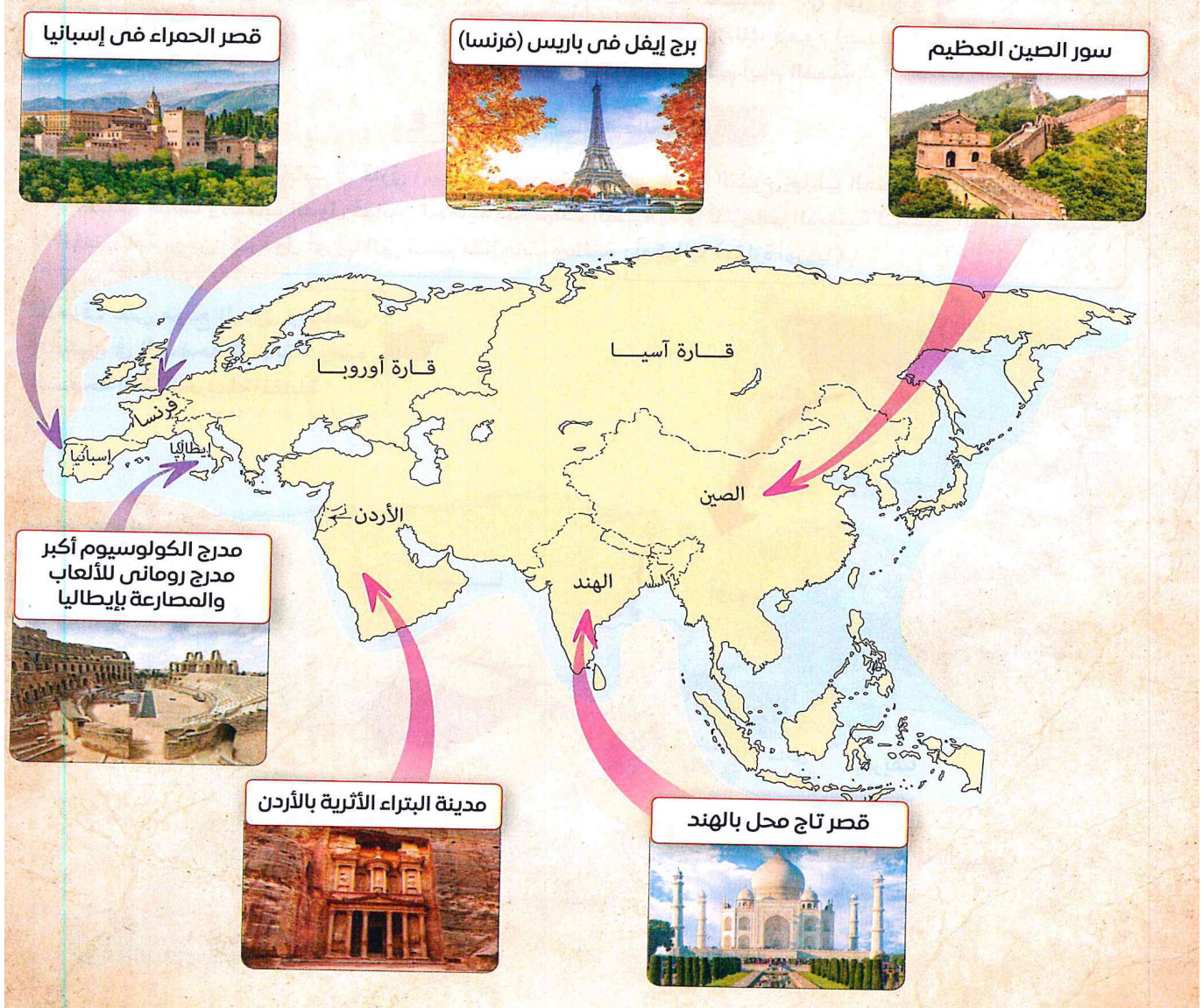
## 4- الحياة النباتية والحيوانية

\* تتنوع النباتات والحيوانات في قارتي آسيا وأوروبا بشكل كبير وهذا التنوع يجذب السائحين للاستمتاع بجمال الطبيعة لذلك وضعت الدول قوانين لحماية المحميات الطبيعية والمتنزهات الوطنية لتحقيق السياحة البيئية المستدامة ، ومن أكثر دول أوروبا التي تضم متنزهات وطنية : أوكرانيا ( بقارة أوروبا ) .



## 1 - المواقع التاريخية والأثرية

\* تمثل مناطق الحضارات القديمة والآثار في قارتي آسيا وأوروبا واحدة من أهم المقومات البشرية للجذب السياحي وتتمتع دول القارتين بعدد من المناطق الأثرية ، مثل :



## 2 - التنوع الاجتماعي والثقافي

\* تتميز قارتي آسيا وأوروبا بتنوع اجتماعي وثقافي كبير ، ولكل ثقافة من هذه الثقافات عادات وتقاليد خاصة بها ، هذا بالإضافة إلى تنوع الفنون من غناء وموسيقى ورسم ونحت وغيرها .

\* يوفر هذا التنوع الاجتماعي والثقافي فرصة كبيرة للسائحين لاستكشاف حياة اجتماعية وثقافية مختلفة عن بينهم .

\* تحرص عدد من دول قارتي آسيا وأوروبا على إقامة المهرجانات المختلفة التي تعكس ثقافتها وتراثها ، مثل مهرجان سابورو للثلج في اليابان .



مهرجان سابورو للثلج

## 3 - شبكات البنية التحتية

## قارة أوروبا

تتسم البنية التحتية في معظم أنحاء أوروبا بأنها حديثة ومتطورة حيث تربط دولها شبكات نقل واسعة ومتنوعة ما بين الطرق السريعة والسكك الحديدية والمطارات الدولية.

مما ساعد على سهولة تحرك السائحين من مكان إلى آخر داخل القارة وخاصة في دول الاتحاد الأوروبي.

## قارة آسيا

تختلف قوة البنية التحتية في قارة آسيا من دولة لأخرى فهي:

• قوية ومتطورة في عدة دول مثل:

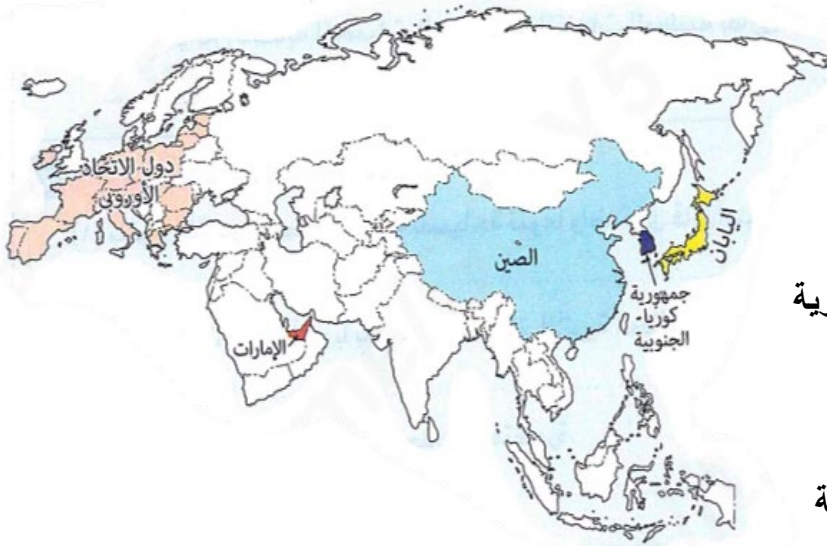
الصين

اليابان

الإمارات

جمهورية كوريا الجنوبية

• أقل تطوراً في دول أخرى.



## 4 - تسهيلات الضيافة والإقامة

\* تتمثل في الفنادق والقرى السياحية

والمنتجعات السياحية وتكون في:

\* قارة آسيا:

متطورة ومتنوعة في عدد من الدول الآسيوية

وأقل تنوعاً وتطوراً في دول أخرى.

\* قارة أوروبا:

متطورة ومتنوعة في معظم الدول الأوروبية

وتوجد بها عدد من السلاسل الفندقية العالمية.

## ثانياً :- حركة السياحة في قارتي آسيا وأوروبا

\* تطور النشاط السياحي تطوراً واضحاً في

قارتي آسيا وأوروبا ، وتوجد عدد من الدول

الآسيوية والأوروبية التي تُعد من أفضل

الواجهات السياحية في العالم ، ولذلك فهي

تجذب ملايين السائحين سنوياً من داخل

القارة وخارجها .

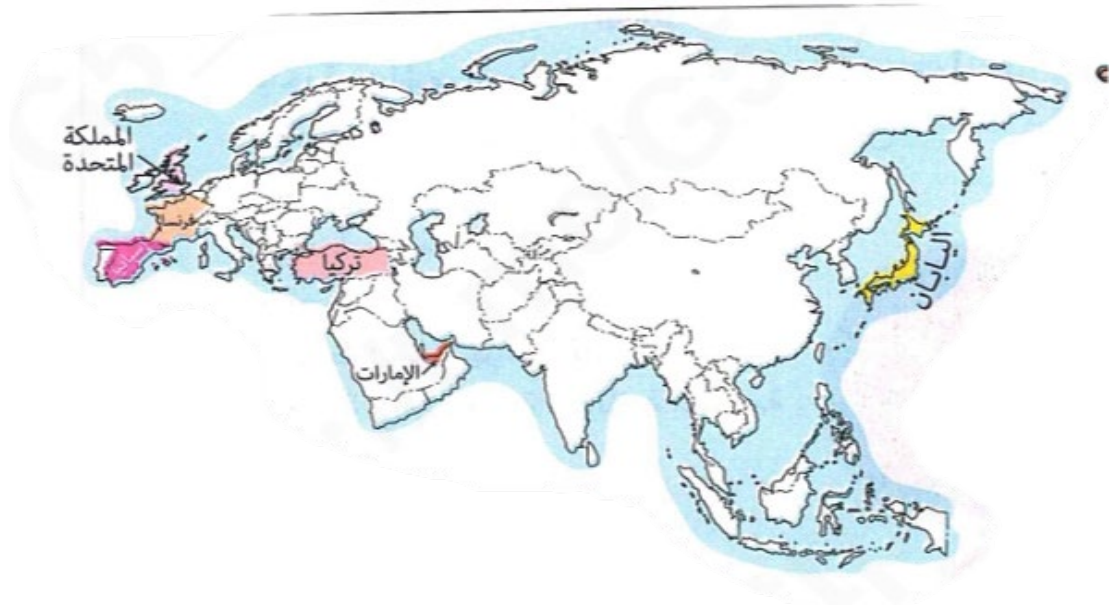
القارة	عدد السائحين (مليون ساخ)	النسبة من العالم %	عائدات السياحة مليار دولار	%
آسيا	٣٨٨,٥	٢٦,٥	٤٨٩,٧	٢٨,٣
إفريقيا	٨٩,٧	٦,١	٥٧,٩	٣,٣
أوروبا	٧٥٥,٧	٥١,٦	٧٢٥,٣	٤١,٩
أمريكا الشمالية	١٨٠,٢	١٢,٣	٣٥٨,٥	٢٠,٧
أمريكا الجنوبية	٣٦,٥	٢,٥	٣٤,٤	٢,٠
الأوقيانوسية (أستراليا ومجموعة الجزر المحيطة بها)	١٤,٤	١,٠	٦٥,٥	٣,٨
العالم	١٤٦٥	١٠٠,٠	١٧٣١	١٠٠,٠

المصدر: منظمة السياحة العالمية.

حركة السياحة في قارات العالم عام ٢٠٢٤م

وبملاحظة الجدول المقابل نجد أن :

قارة أوروبا	قارة آسيا
<b>إجمالي عدد السائحين</b>	
<ul style="list-style-type: none"> <li>* تحتل المركز الأول عالميًا.</li> <li>* <b>أهم الدول بها :</b> • فرنسا الأولى أوروبيًا وعالميًا.</li> <li>• إسبانيا الثانية أوروبيًا وعالميًا.</li> </ul>	<ul style="list-style-type: none"> <li>* تحتل المركز الثاني عالميًا.</li> <li>* <b>أهم الدول بها :</b> • تركيا الأولى آسيويًا.</li> <li>• اليابان الثانية آسيويًا.</li> </ul>
<b>عائدات السياحة</b>	
<ul style="list-style-type: none"> <li>* تُعد أوروبا أعلى القارات من حيث عائدات السياحة.</li> <li>* <b>أهم الدول بها :</b></li> <li>• إسبانيا ثاني أعلى عائدات سياحية دولية لعام ٢٠٢٤م.</li> <li>• المملكة المتحدة ثالث أعلى عائدات سياحية دولية.</li> </ul>	<ul style="list-style-type: none"> <li>* <b>أهم الدول بها :</b></li> <li>• الإمارات الأولى آسيويًا.</li> <li>• تركيا الثانية آسيويًا.</li> </ul>



## ثالثاً :- مواقع التراث العالمي ف قارتي آسيا وأوروبا

### قارة آسيا

< تحتل المركز الثاني بين قارات العالم من حيث عدد المواقع التراثية بنحو 29% .

< تحتل الصين المرتبة الأولى آسيوياً من حيث هدد المواقع التراثية .

من مواقع التراث العالمي بها :

#### محميات دب باندا سيشوان العملاق

- تضم سبع محميات طبيعية وتسعة متنزهات في الصين .
- تأوى أكثر من 30% من مجموع حيوانات الباندا العملاقة في العالم، وهى من الحيوانات المعرضة لخطر الانقراض .
- تُعد من أكثر مواقع العالم في الثروة النباتية بعد الغابات المدارية المطيرة، حيث تضم أكثر من ٥ آلاف نوع من النباتات .



#### قارة آسيا

الأردن  
القدس

الصين

#### مدينة القدس القديمة وأسوارها

- مدينة القدس لها قيمة كبرى في الديانات السماوية الثلاث وتتضمن نحو ٢٢٠ أثرًا وتتضم :
- قبة الصخرة التي تم بناؤها في القرن السابع الميلادي وتنفرد بزخارفها التي تتضمن أجمل الأشكال الهندسية والنباتية .
- كنيسة القيامة .
- حائط البراق .



#### البتراء

- واحدة من أشهر المواقع التاريخية في الأردن في غرب آسيا .
- كانت مأهولة بالسكان في فترات ما قبل التاريخ .
- مقسمة إلى نصفين :
- نصف تم تشييده .
- نصف تم حفره داخل الجبال .
- يختلط فيها تأثيرات التقاليد الشرقية القديمة مع الهندسة اليونانية القديمة .



## قارة أوروبا

< تحتل المركز الأول بين قارات العالم من حيث مواقع التراث العالمي بنحو 40% >

< تحتل إيطاليا المرتبة الأولى اوروبياً من حيث عدد المواقع التراثية . >

من أمثلة مواقع التراث العالمي بها :

## حديقة فاتناكوكول الوطنية

- منطقة بركانية شهيرة تمثل نحو 14% من مساحة آيسلندا.
- تضم عشرة براكين مركزية :  
- ثمانية منها تحت الجليد .  
- اثنان منها من بين أنشط البراكين في آيسلندا .
- تتسم هذه المنطقة بالفيضانات المفاجئة الناتجة عن حدوث انهيارات على جوانب الأنهار الجليدية بسبب حدوث ثوران بركاني .
- أدى الحدوث المتكرر لظاهرة الفيضانات إلى ظهور سهول رملية وأودية فريدة من نوعها .



## المساكن المعلقة دول جبال الألب

- توجد في ست دول أوروبية وهي :  
ألمانيا - إيطاليا - النمسا - سلوفينيا - سويسرا - فرنسا .
- يضم هذا الموقع بقايا مستوطنات ترجع لعصور ما قبل التاريخ .
- بُنيت هذه المساكن على ضفاف البحيرات والأنهار والأراضي الرطبة التي كانت موجودة في تلك الفترة .



## مدينة البندقية

- تأسست في إيطاليا في القرن الخامس الميلادي فوق أرخبيل من الجزر يتكون من 118 جزيرة صغيرة المساحة .
- تعد المدينة بأكملها تحفة هندسية معمارية استثنائية حيث تبدو وكأنها تطفو على مياه البحيرة، لتمثل مشهداً طبيعياً لا يُنسى، ألهم جماله الفنانين والمبدعين .



## رابعاً :- المشكلات التي تواجه السياحة في قارتي آسيا وأوروبا

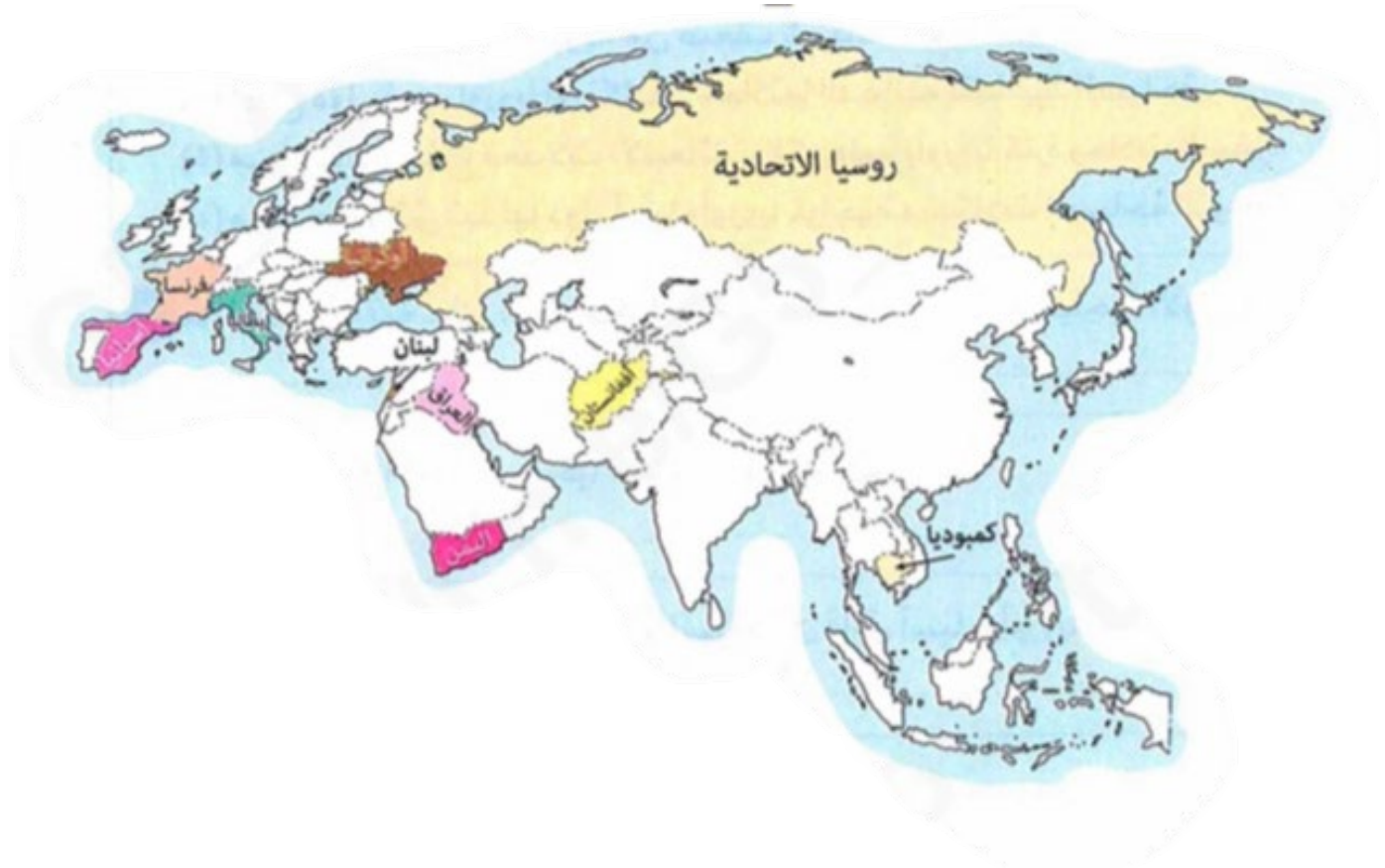
\* تواجه السياحة عدة مشكلات ، تشمل : - التقلبات الاقتصادية . - الأحوال المناخية المتطرفة .  
ولكل قارة مشكلاتها الخاصة ففي :

### قارة أوروبا

< الازدحام الشديد في عديد من المدن السياحية ، مثل :  
\* روما بإيطاليا . \* باريس بفرنسا .  
\* برشلونة بإسبانيا .  
مما يترتب عليه :  
- حدوث ضغط كبير على البنية التحتية لهذه المدن  
- تدهور الموارد الطبيعية بسبب كثرة الزيارات  
والرحلات السياحية .  
< ارتفاع معدلات الانبعاثات الكربونية بسبب كثرة  
رحلات السفر .  
< عدم الاستقرار السياسي والأمني في بعض المدن  
السياحية بم تفسر ؟ بسبب الحروب مثل الحرب  
الروسية الأوكرانية .

### قارة آسيا

< ضعف شبكات البنية التحتية والنقل الجوي في عديد  
من الدول ، مثل :  
\* كمبوديا . \* أفغانستان . \* اليمن .  
< صعوبة الحصول على التأشيرات السياحية .  
< ارتفاع تكاليف الرحلة السياحية .  
< ضعف الحملات التسويقية خاصة لدول وسط آسيا .  
< وجود بعض المشاكل السياسية في بعض الدول ،  
مثل : \* لبنان . \* العراق . \* أفغانستان .





## خامساً :- الجهود التي تبذلها الدول الآسيوية والأوروبية لتنمية السياحة

تبذل الدول الآسيوية والأوروبية مزيداً من الجهود لمواجهة مشكلات السياحة وتحقيق التنمية السياحية ، وذلك من خلال :

- 1- التوجه إلى السياحة المستدامة بتقليل معدلات انبعاث ثاني أكسيد الكربون والاعتماد على الطاقة النظيفة .
- 2- تشجيع السياحة البيئية ووضع قواعد صارمة لممارسة السياحة مع الحفاظ على البيئة .
- 3- تحديث وتطوير البنية التحتية واستخدام وسائل نقل صديقة للبيئة .
- 4- إطلاق نظام التأشيرة الإلكترونية في بعض الدول مثل : - الإمارات . - تركيا .
- 5- السعي لتطبيق التأشيرات الموحدة بين مجموعة من الدول .

أقامت مصر عديد من المشروعات التي تستهدف تطوير المناطق السياحية وجذب مزيد من السائحين،  
مثل : • مشروع مراسى البحر الأحمر . • مشروع رأس الحكمة .



### أسئلة تدريبات

س1 : أكمل العبارات الآتية بما يناسبها :

- 1- تعاني بعض الدول الآسيوية من المشكلات السياسية ومنها لبنان و ..... و .....
- 2- من أشهر المدن الإيطالية التي تعاني من الازدحام الشديد مدينة .....
- 3- تم إطلاق نظام التأشيرة الإلكترونية في بعض الدول مثل الامارات و .....

س2 : بم تفسر .....؟

- 1- تعد الحياة النباتية والحيوانية بقارة أوروبا مصدر جذب سياحي ؟
- 2- وضع القوانين لحماية المحميات الطبيعية والمتنزهات الوطنية بقارتي آسيا وأوروبا ؟

س3 : ما النتائج المترتبة على .....

- 1- وقوع معظم قارة أوروبا ضمن الأقاليم المناخية المعتدلة معظم أيام السنة ( بالنسبة للسياحة ) ؟
- 2- تطبيق نظام التأشيرة الإلكترونية في بعض الدول الآسيوية ( بالنسبة للسياحة ) ؟

### الإجابة

ج 1 :

- 1- العراق وأفغانستان . 2- روما . 3- تركيا .
- ج 2 : 1- لأنها من المقومات الطبيعية التي تساعد على جذب السائحين للاستمتاع بجمال الطبيعة .
- 2- لتحقيق السياحة البيئية المستدامة .

ج 3 :

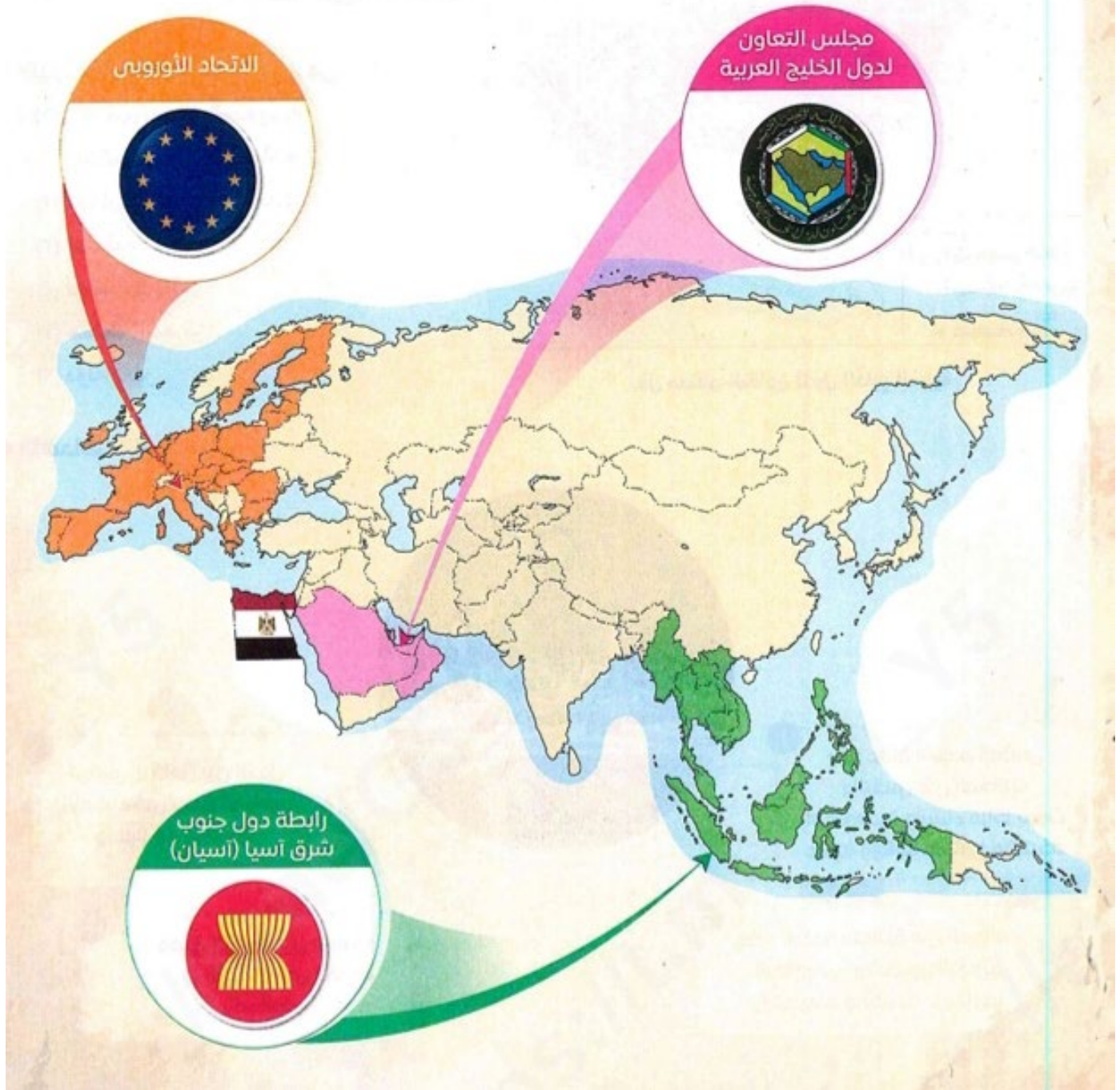
- 1- ترتب على ذلك مجئ أعداد كبيرة من السائحين إلى قارة أوروبا معظم أيام السنة .
- 2- ترتب على ذلك تسهيل إجراءات الرحلات السياحية كما حدث في الإمارات وتركيا .

## الدرس الرابع : بعض المنظمات الإقليمية في قارتي آسيا وأوروبا

« أثبتت التجارب أن مواجهة التحديات العالمية وتحقيق الطموحات القومية يتطلب تعاوناً مشتركاً بين الدول لذا أصبح إنشاء منظمات إقليمية واتحادات دولية ضرورة حتمية **بم تفسر؟** من أجل :

- 1- تعزيز المصالح المشتركة .
- 2- تحقيق التنمية والسلام .
- 3- وضع رؤية أفضل لمستقبل الأجيال القادمة .

« تضم قارتي آسيا وأوروبا عديد من المنظمات والاتحادات، ومن أهمها :



**أولاً :- مجلس التعاون لدول الخليج العربية**

دول مجلس التعاون لدول الخليج العربية

< يُعد مجلس التعاون لدول الخليج العربية

أحد أشكال التعاون الإقليمي بقارة آسيا .

< النشأة : عام 1981 م .

< المقر : في مدينة الرياض بالمملكة العربية السعودية .

الدول الأعضاء : يضم 6 دول ، هي :

( 1 ) المملكة العربية السعودية

( الأكبر من حيث المساحة )

( 2 ) الإمارات العربية المتحدة .

( 3 ) سلطنة عُمان .

( 4 ) دولة الكويت .

( 5 ) مملكة البحرين .

( 6 ) دولة قطر .

< الأهداف :- تتلخص في :

1- تحقيق التكامل بين الدول الأعضاء في جميع الميادين وصولاً إلى وحدتها .

2- تعميق الروابط بين شعوب الدول الأعضاء في مختلف المجالات .

3- وضع أنظمة متماثلة في المجالات الاقتصادية والمالية والتجارية والتعليمية والصحية .. وغيرها .

4- دفع عجلة التقدم العلمي والتقني في المجالات الاقتصادية وإنشاء مراكز بحوث علمية وإقامة مشاريع مشتركة .

**دور مجلس التعاون في تحقيق الأمن والسلام والتنمية**

\* يلعب مجلس التعاون دوراً محورياً في حفظ الأمن والاستقرار في منطقة الخليج العربي دلت .. ؟

تحقيق الأمن والسلام

حيث قام بـ :

- مكافحة الإرهاب والجريمة المنظمة من خلال تبادل المعلومات بين الدول الأعضاء وتنسيق الجهود الأمنية .

- تطبيق مبادئ حقوق الإنسان .

\* يعمل المجلس على تحقيق التنمية الاقتصادية للدول الأعضاء دلت .. ؟ حيث :

التنمية الاقتصادية والاجتماعية

- قام بإنشاء السوق الخليجية المشتركة .

- قام بالاستثمار في قطاعات جديدة كالزراعة والسياحة .

- قامت دول المجلس بتطوير الموانئ والمطارات وشبكات الطرق وتسهيل التجارة .

- يعمل المجلس على تحسين جودة الحياة لجميع مواطني دول المجلس وتمكين المرأة

والشباب ، والقضاء على كافة أشكال العنف ضد الأطفال .

- يسعى المجلس إلى التحول نحو الاقتصاد الأخضر بتقليل الاعتماد على الوقود الأحفوري

والاعتماد على الطاقة المتجددة .

**مصر ومجلس التعاون لدول الخليج العربية**

\* تعمل مصر على دعم وتعزيز العلاقات مع دول مجلس التعاون ، في المجالات المختلفة :

1- على المستوى السياسي والأمني

- تم توقيع مذكرة تفاهم في فبراير 2022 م للتشاور السياسي بين مصر والأمانة العامة لمجلس التعاون الخليجي .

2- على المستوى الاقتصادي

- شهدت السنوات الأخيرة تدفقات استثمارية خليجية كبيرة إلى مصر في مجالات مختلفة .

**ثانياً :- الاتحاد الأوروبي**

< النشأة والملاحج الجغرافية :

استغرق الاتحاد الأوروبي أكثر من نصف قرن حتى

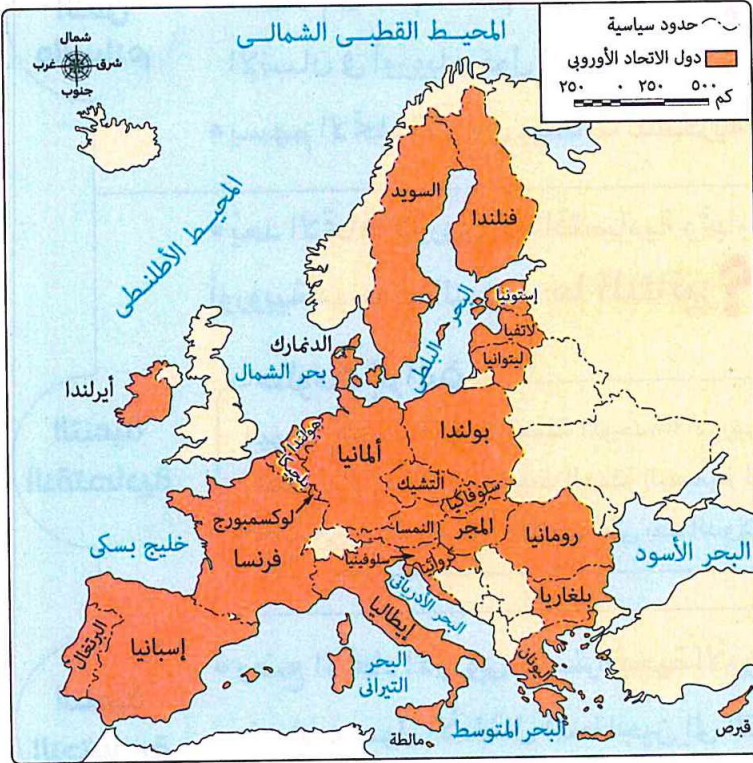
يصل إلى ما هو عليه الآن .

\* الدول الأعضاء :

يضم 27 دولة أوروبية ( بعد خروج بريطانيا منه ) .

الدول أعضاء الاتحاد الأوروبي :

(١) النمسا .	(٢) بلجيكا .	(٣) بلغاريا .
(٤) كرواتيا .	(٥) قبرص .	(٦) جمهورية التشيك .
(٧) الدنمارك .	(٨) إستونيا .	(٩) فنلندا .
(١٠) فرنسا .	(١١) ألمانيا .	(١٢) اليونان .
(١٣) المجر .	(١٤) أيرلندا .	(١٥) إيطاليا .
(١٦) لاتفيا .	(١٧) ليتوانيا .	(١٨) لوكسمبورج .
(١٩) مالطة .	(٢٠) هولندا .	(٢١) بولندا .
(٢٢) البرتغال .	(٢٣) رومانيا .	(٢٤) سلوفاكيا .
(٢٥) سلوفينيا .	(٢٦) إسبانيا .	(٢٧) السويد .



\* عدد سكان دول الاتحاد : يعيش به ما يزيد عن نصف مليار نسمة مختلفين في اللغة والثقافة .

< الأهداف :- من أهمها :

1- توفير الحرية والأمن والعدالة والمساواة وعدم التمييز بين مواطني الاتحاد .

2- تأمين حدود الاتحاد الخارجية وتوفير حرية التنقل داخل دول الاتحاد .

3- تحقيق تنمية مستدامة قائمة على نمو اقتصادي متوازن واستقرار الأسعار داخل الاتحاد .

4- المساهمة في تحقيق السلام والأمن والتنمية المستدامة للأرض .

5- القضاء على الفقر وحماية حقوق الإنسان والاحترام المتبادل بين شعوب العالم .

**دور الاتحاد الأوروبي في تحقيق الأمن والسلام والتنمية**

\* نجح الاتحاد الأوروبي في إرساء مبدأ السلام بعد الحرب العالمية الثانية ، فقد حصل على جائزة نوبل

للسلام في عام 2012م **بم تفسر ..؟** تقديراً لجهوده في تعزيز السلام والديمقراطية وحقوق

الإنسان في أوروبا وحول العالم .

تحقيق

الأمن

والسلام



التنمية الاقتصادية	* يعد الاتحاد الأوروبي قوة اقتصادية وتجارية رائدة على مستوى العالم ، كما أنه نجح في إصدار عملة أوروبية موحدة ( اليورو ) ما النتائج ؟ مما ساهم في تحقيق وحدة اقتصادية بين أعضائه .
التنمية الاجتماعية	* وضع الاتحاد الأوروبي الاستراتيجية الأوروبية للطفل <b>بم تفسر .. ؟</b> بهدف : ضمان وصول الأطفال المحتاجين إلى التعليم والرعايا الصحية والتغذية والسكن الملائم . * مكافحة العنف ضد الأطفال مثل الاعتداء الجنسي والتمتر . * يستخدم الاتحاد الاوروربي شعار (( متحدون في التنوع )) لتأكيد قيمة أن الاتحاد في التنوع على الرغم من الاختلاف في ثقافات أو لغات دول الاتحاد الأوروبي .

## مصر والاتحاد الأوروبي

هناك علاقات وثيقة تربط مصر والاتحاد الأوروبي **دلل ؟** حيث :

- 1- اتفاقية المشاركة المصرية الأوروبية :
- تأتي في مقدمة العلاقات وتستهدف تخفيض الرسوم الجمركية بين مصر ودول الاتحاد الأوروبي على المنتجات الصناعية والزراعية .
- 2- شراكات لتعزيز التعاون في مجالي الأمن والدفاع ، أهمها :  
- شراكتهما في رئاسة المنتدى العالمي لمكافحة الإرهاب .  
- شراكتهما في التعاون لمواجهة الجريمة المنظمة ، مثل :  
1- تهريب المهاجرين غير الشرعيين .  
2- التعاون بين القوات البحرية الأوروبية والقوات البحرية المصرية .

## ثالثاً :- رابطة دول جنوب شرق آسيا ( آسيان )

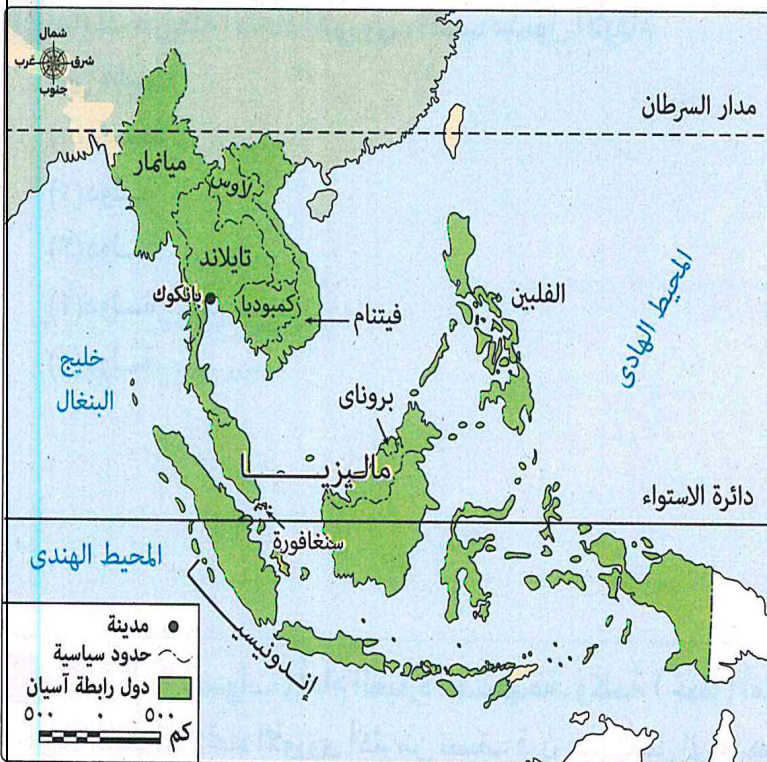
< تُعد رابطة دول جنوب شرق آسيا منظمة إقليمية آسيوية .

< النشأة : تأسست عام 1967م في بانكوك عاصمة تايلاند .

< الدول الأعضاء

\* بدأت بخمس دول مؤسسين ، هي :

- ( 1 ) إندونيسيا . ( 2 ) ماليزيا . ( 3 ) الفلبين .  
( 4 ) سنغافورة . ( 5 ) تايلاند .



رابطة دول جنوب شرق آسيا (آسيان)

\* وصلت حاليا إلى عشر دول بجنوب شرق قارة آسيا ،  
انضمت إليها الدول التالية :

( 6 ) فينتام . ( 7 ) لاوس . ( 8 ) ميانمار .  
( 9 ) كمبوديا . ( 10 ) بروناي .

< عدد سكان دول الرابطة :

يعيش بها نحو 700 مليون نسمة .

< رئاسة الرابطة : تتبادل الدول الأعضاء تولى رئاسة الرابطة ( آسيان ) لمدة عام واحد على التوالي .  
< الأهداف :

- 1- تسريع النمو الاقتصادي والتقدم الاجتماعي والتنمية الثقافية في المنطقة من خلال الجهود المشتركة .
- 2- تعزيز السلام ، والتعاون في المجالات المختلفة بين الدول الأعضاء مع ضرورة التعاون مع المنظمات الدولية والإقليمية الأخرى .

### مجالات عمل الرابطة

- 1- نشر السلام وحل النزاعات بطرق سلمية فقد أعلنت التزامها بخلو منطقة آسيان من الأسلحة النووية .
- 2- التصدي للجرائم الإلكترونية وتهريب المخدرات والاتجار بالبشر .
- 3- إنشاء منطقة تجارة حرة بين أعضائها ، يتم خلالها إلغاء كافة القيود الجمركية ، مما يعزز التبادل التجاري والاستثمار داخل المنطقة في جميع المجالات .
- 4- بناء هوية إقليمية مشتركة وترسيخ الانتماء بين شعوبها ، وتعزيز المواطنة العالمية .

### مصر ودول رابطة آسيان

ترتبط مصر ودول رابطة آسيان بـ :

1- علاقات اقتصادية ، حيث :

\* تزداد الصادرات والواردات بين مصر ودول الرابطة .

\* تم توقيع معاهدة الصداقة بين مصر ورابطة آسيان عام 2016م بم تفسر ..؟

بهدف تحسين الجودة الإنتاجية في مصر بمجالات الصناعة المشهورة في

دول الرابطة خاصة مجال الاستزراع السمكي .

2- علاقات ثقافية ، حيث :

يدرس آلاف من الطلاب الوافدين من دول الرابطة آسيان في الأزهر الشريف .



## أسئلة تدريبات

س1 : اختر الإجابة الصحيحة مما بين القوسين :

- 1- يعد مجلس التعاون لدول الخليج العربية أحد أشكال التعاون .....  
( الدولي - الإقليمي - الآسيوي الأفريقي - الآسيوي الأوروبي )
- 2- يقع مقر مجلس التعاون لدول الخليج العربية في دولة .....  
( الكويت - سلطنة عمان - قطر - المملكة العربية السعودية )
- 3- كل مما يلي أعضاء في مجلس التعاون لدول الخليج العربية ويخرج عنها دولة .....  
( البحرين - الامارات - قطر - مصر )
- 4- أصبح عدد أعضاء الاتحاد الأوروبي 27 دولة بعد خروج دولة .....  
( ألمانيا - فرنسا - إيطاليا - بريطانيا )

س2 : دلل .....؟

- 1- يعمل مجلس التعاون لدول الخليج العربية على إرساء الأمن والسلام بمنطقة الخليج العربي ؟
- 2- تعمل دول رابطة آسيان على نشر السلام وحل النزاعات بطرق سلمية ؟
- س3 : بم تفسر ؟

- 1- أهمية إنشاء المنظمات الإقليمية والاتحادات الدولية ؟
- 2- قيام الاتحاد الأوروبي بوضع الاستراتيجية الأوروبية للطفل ؟

## الإجابة

ج 1 :

- 1- الإقليمي .
- 2- المملكة العربية السعودية .
- 3- مصر .
- 4- بريطانيا .

ج 2 :

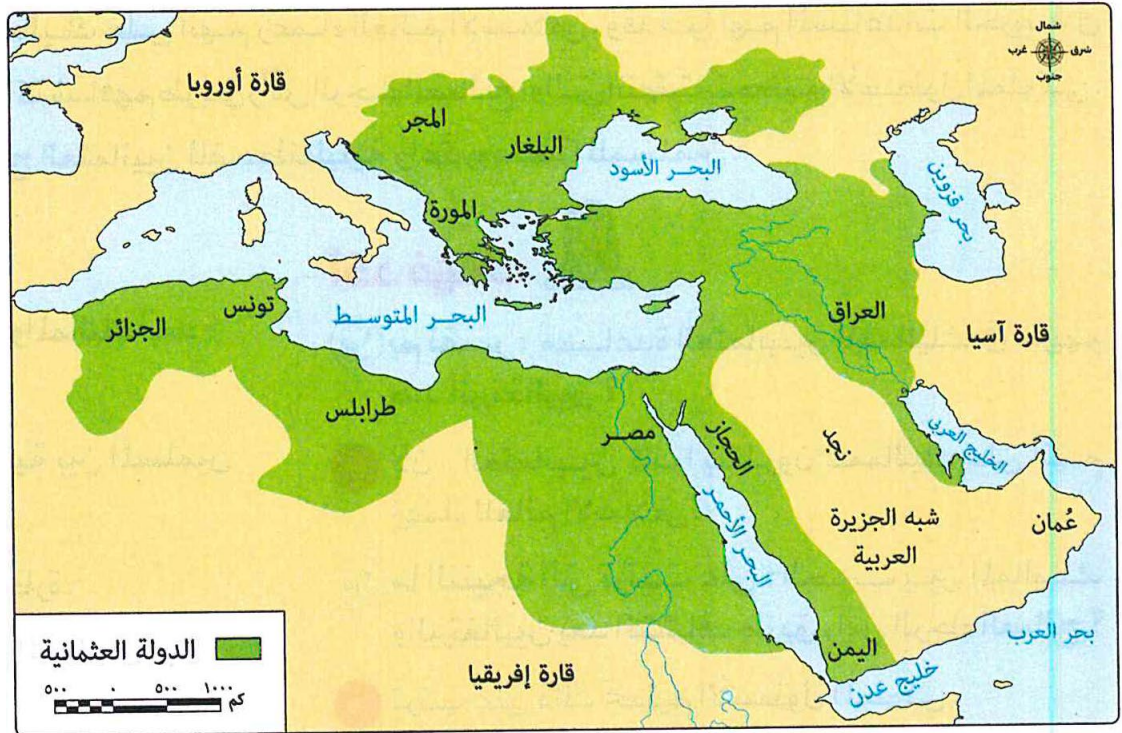
- 1- حيث قام بمكافحة الإرهاب والجريمة المنظمة من خلال تبادل المعلومات بين الأعضاء وتنسيق الجهود الأمنية وتطبيق مبادئ حقوق الانسان .
- 2- حيث أعلنت التزامها بخلو منطقة آسيان من الأسلحة النووية .

ج 3 :

- 1- من أجل : - تعزيز المصالح المشتركة . - تحقيق التنمية والسلام .
- 2- لضمان وصول الأطفال المحتاجين على التعليم والرعاية الصحية والتغذية والسكن الملائم .

الوحدة الرابعة : مصر من الحكم العثماني  
حتى الحملة الفرنسية  
الدرس الأول : مصر تحت الحكم العثماني

< كانت الدولة العثمانية إحدى الإمبراطوريات القوية في العالم في مطلع القرن السادس عشر الميلادي ، وقد اتسعت أراضيها لتشمل مناطق عديدة من قارات العالم القديم ، وكانت مصر ضمن الدول التي خضعت للحكم العثماني : ويتضح ذلك في الخريطة التالية :

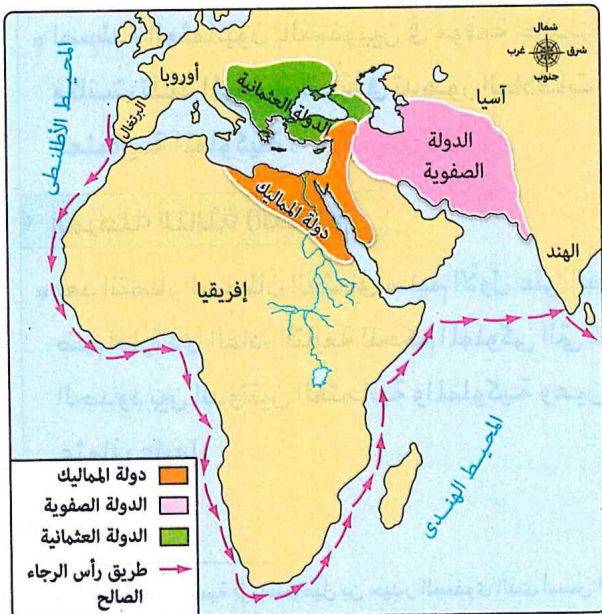


### امتداد الإمبراطورية العثمانية

#### أولاً :- أحوال مصر قبل مجئ العثمانيين

< قبل مجئ السلطان العثماني سليم الأول إلى مصر ، كانت مصر والشام تعيشان فترة من أسوأ فترات حكم المماليك لهما بم تفسر ؟ للأسباب التالية :

- \* تدهور الأحوال الاقتصادية .
- \* فرض الضرائب الباهظة .
- \* اكتشاف طريق رأس الرجاء الصالح الذي تمر به التجارة بعيداً عن مصر .



**علاقة العثمانيين بالمماليك** :- مرت العلاقات العثمانية المملوكية بعدة مراحل :

### < المرحلة الأولى ( علاقة ودية )

\* كانت العلاقة ودية بين المماليك والدولة العثمانية دليلاً ؟ حيث :

- كان العثمانيون ينظرون للمماليك على أنهم زعماء العالم الإسلامي ، وقدموا لهم المساعدات الحربية في حربهم ضد البرتغاليين بعد اكتشافهم طريق رأس الرجاء الصالح ، والتي انتهت بتحطيم الأسطول المملوكي .
- احتفل المماليك في القاهرة بفتح العثمانيين للقسطنطينية واعتبروه نصراً للمسلمين .

### < المرحلة الثانية ( تنافس )

\* تغيرت العلاقة بين العثمانيين والمماليك بعد :

- توسع الدولة العثمانية .
- تعاظم شعبية الدولة العثمانية بين المسلمين نتيجة فتحهم للقسطنطينية .
- تحكم العثمانيين في طرق التجارة .
- \* بدأ التنافس على زعامة العالم الإسلامي بين ثلاث قوى إسلامية .



### أكد فهمك

- (س) **بم تفسر** : مساعدة العثمانيين للمماليك في حربهم ضد البرتغاليين ؟
- (ج) **لأن** : العثمانيين كانوا ينظرون للمماليك على أنهم زعماء للعالم الإسلامي .
- (س) **ما النتيجة التي تترتب على** : الحرب بين المماليك والبرتغاليين بعد اكتشاف طريق رأس الرجاء الصالح ؟
- (ج) **ترتب على ذلك** تحطيم الأسطول المملوكي .

< العثمانيين . < الصفويين . < المماليك .

\* أصطدم العثمانيون بالصفويين في موقعة جالديران ، وكانت تلك الموقعة سبباً في تدهور العلاقات العثمانية المملوكية .

### < المرحلة الثالثة ( الصدام )

\* بعد انتصار السلطان العثماني سليم الأول على الصفويين ضم إمارة ذي القادر التابعة للحكم المملوكي التي تقع على الحدود بين الدولتين العثمانية والمملوكية وعين حاكم عثماني عليها .

< موقف السلطان المملوكي قنصوه الغوري :

\* خرج السلطان الغوري على رأس جيشه إلى بلاد الشام حيث التقى الجيشان العثماني والمملوكي عند منطقة ( مرج دابق ) .

### معركة مرج دابق وضم الشام ( 1516 م )

< أطراف المعركة : العثمانيون بقيادة سليم الأول ضد المماليك بقيادة السلطان الغوري .

**بم تفسر** كانت موقعة جالديران سبباً في تدهور العلاقات العثمانية المملوكية بسبب رفض المماليك التحالف مع العثمانيين لمحاربة الصفويين .

**بم تفسر** استيلاء السلطان سليم الأول على إمارة ذي القادر بسبب غاراتها المتكررة على القوافل العثمانية، ومنعها مرور إمدادات الحرب التابعة للعثمانيين عبر أراضيها .

## &lt; نتائج المعركة :

- \* هزيمة الجيوش المملوكية وانتصار العثمانيين .
- \* دخول السلطان العثماني سليم الأول مدينة حلب دون مقاومة .
- \* الاستيلاء على بعض المدن الساحلية حتى وصل إلى دمشق .
- \* مجئ باقي أمراء الشام للسلطان العثماني مقدمين فروض الطاعة والولاء .
- وبذلك أصبحت الشام تحت الحكم العثماني .

**معركة الريدانية وضم مصر ( 1517م )**

## &lt; أحداث قبل المعركة :

- \* بعد انتصار السلطان سليم الأول في معركة مرج دابق
- تولى حكم مصر طومان باي بعد عمه قنصوه الغوري
- ( الذي قتل في معركة مرج دابق ) .

## \* عرض ( سليم الأول ) على ( طومان باي ) أن :

- يعلن خضوعه له .
- يخطب باسمه على المنابر .
- يضرب العملة باسمه .
- يدفع ضريبه سنوياً له .

موقف طومان باي :\* رفض طومان باي عرض السلطان سليم الأول **ما النتائج ؟**

- ترتب على ذلك تقدم الجيش العثماني نحو الحدود المصرية .
- \* استعد السلطان المملوكي ( طومان باي ) للقتال فقام بـ :
- تجهيز الجيش واعتمد فيه على :

- المماليك . - الجنود المرتزقة والعبيد ( ليسد النقص في القوة البشرية ) .

- إقامة التحصينات حول القاهرة وعسكر بجيشه داخلها بالقرب من الريدانية ونشب القتال بين الطرفين .

< أطراف المعركة : العثمانيون بقيادة سليم الأول ضد المماليك بقيادة طومان باي

## &lt; نتائج المعركة :

- \* هزيمة المماليك وانتصار العثمانيين .
- \* دخول الجيش العثماني مدينة القاهرة .
- \* فرار طومان باي ثم إلقاء القبض عليه وإعدامه .
- وبذلك انتهت دولة المماليك وأصبحت مصر ولاية تابعة للدولة العثمانية .



معركتى مرج دابق والريدانية

**الجنود المرتزقة ؟ ما المقصود بـ :**

أفراد تُقاتل لصالح دولة معينة مقابل أجر مادي وليس لهم ولاء لهذه الدولة.



السلطان سليم الأول

## أسباب هزيمة المماليك في معركة مرج دابق والريدانية

- 1- امتلاك العثمانيين أسلحة حديثة ومتطورة لم يعرفها المماليك في معركة مرج دابق والريدانية مثل البارود والمدافع .
- 2- تنظيم الجيش العثماني في شكل فرق وانضباطه وتماسكه معنوياً على عكس الجيش المملوكي .
- 3- قلة عدد الجنود في جيش المماليك مقارنة بالجيش العثماني .
- 4- انسحاب بعض الأمراء من الجيش المملوكي وانضمامهم للجيش العثماني .
- 5- الخطط العسكرية التي وضعها السلطان العثماني سليم الأول وخذع بها المماليك .

استيلاء العثمانيين على الحجاز واليمن :

- \* اتجه السلطان العثماني سليم الأول بعد السيطرة على مصر إلى :
- الحجاز :- الذي قام بضمها وأصبح بذلك حامي الحرمين الشريفين .
  - اليمن :- الذي قام بالسيطرة عليها بم تفسر ؟ بهدف جعل البحر الأحمر بحيرة إسلامية آمنة من أي أخطار تهدد الأراضي المقدسة وطرق التجارة بين الشرق الأقصى والبلاد الإسلامية وأوروبا .

## ثانياً :- أحوال مصر تحت الحكم العثماني

## 1 - النظام الإداري والسياسي

- < بعد أن استقر حكم مصر للعثمانيين وضعوا نظاماً لإدارتها بم تفسر ؟ لضمان بقاء خضوعها وعدم استقلالها لبعدها عن مركز الخلافة العثمانية وصعوبة المواصلات في ذلك العصر .
- نتيجة لذلك قامت الدولة العثمانية بتقسيم السلطة في مصر بين عدة هيئات كما يلي :

## الحامية العثمانية

- \* ترك العثمانيون في مصر عدة فرق عسكرية تمركزت في القاهرة والمراكز الرئيسية بمصر **بم تفسر ؟**
- بهدف :
- حفظ النظام والدفاع عن البلاد.
- جمع الضرائب.

## الوالي (الباشا)

- \* كان مقره القلعة .
- \* تتراوح مدة ولايته من سنة إلى ثلاثة سنوات
- بم تفسر ؟** حتى لا ينفرد بالحكم.
- \* كان المسئول عن إبلاغ أوامر السلطان للحكومة والشعب ومراقبة تنفيذها.

## الديوان

- \* تم إنشاء ديوانين وهما :
- الديوان الكبير :
- تكوّن من كبار رجال الجيش والعلماء والقضاة .
- كان يجتمع عند مناقشة القضايا المهمة والخطيرة .
- الديوان الصغير :
- تكوّن من كبار الموظفين في الولاية .
- كان يجتمع يومياً في قصر الوالي لمتابعة شئون البلاد .

## أمراء المماليك

- \* أبقى السلطان سليم الأول بعض المماليك لإدارة شئون الأقاليم **بم تفسر ؟**
- لخبرتهم الطويلة في إدارة شئون البلاد .
- لحفظ التوازن بين الوالي والحامية العثمانية
- ومنع أي من الفريقين من الاستبداد بالحكم .

**2 - القضاء**

< قام العثمانيون بـ :

\* إلغاء سلطة قضاة المذاهب الأربعة .

\* جعل جميع الأمور الشرعية بيد قاضٍ واحد من القاضة الأتراك يرسله السلطان العثماني من الأستانة ( إسطنبول ) .

**3 - الأحوال الاقتصادية**

< تدهورت الأحوال الاقتصادية في مصر ، وذلك على النحو التالي :

**الزراعة**

\* تدهورت الزراعة في مصر تحت حكم العثمانيين بم تفسر ؟ بسبب :

1- اعتبار السلطان العثماني نفسه مالك جميع أراضي مصر ، وكان الفلاحون يقومون بزراعتها مجبورين

دون أن يكون لهم حق التصرف فيها بالبيع أو الشراء .

2- فرض الضرائب الباهظة على الفلاحين التي يجمعها

الملتزم منهم بالقوة .

3- إهمال تنمية موارد الدولة ، وإهمال مشروعات الري .

**الصناعة**

\* تدهورت الصناعة في مصر تحت حكم العثمانيين بم تفسر ؟ بسبب :

1- تدهور الزراعة .

2- نقل السلطان العثماني أمهر الصناع من مصر إلى الأستانة للمشاركة في بناء عاصمة الدولة العثمانية .

**ما المقصود بـ : الملتزم ؟**

الشخص المسئول عن جمع الضرائب من الفلاحين وتوريدها إلى السلطان العثماني وكان منصب الملتزم يورث لأبنائه.

**ما النتيجة**

نقل السلطان العثماني أمهر الصناع المصريين إلى الأستانة

أدى ذلك إلى انقراض معظم الصناعات بمصر واقتصرها على بعض الحرف اليدوية البسيطة، مثل :

الحصير

الفخار

الغزل والنسيج

**التجارة**

\* تدهورت التجارة في مصر تحت حكم العثمانيين بم تفسر ؟ بسبب :


1- تدهور الزراعة والصناعة .

2- اكتشاف البرتغاليين طريق رأس الرجاء الصالح مما جعل التجارة بين أوروبا والهند تمر بعيداً عن مصر .

3- افتقار الأمن وتعرض قوافل التجارة لقطاع الطرق وإهمال الطرق البرية .

**4 - العمران**

سبيل وكتاب خسرو باشا



مسجد سليمان باشا

< أصبحت مصر بعد دخول العثمانيين مجرد ولاية تعتمد على مواردها الداخلية ، وضعت قدرتها على بناء المنشآت الضخمة .

ومن أبرز الآثار القليلة في هذا العصر :

سبيل وكتاب خسرو باشا بحي النحاسين بالقاهرة .

< أدخل العثمانيون إلى مصر الطراز التركي في بناء المساجد ،

المأخوذ عن العمارة البيزنطية ، وأهم ما يميز هذا الطراز :

\* استخدام القباب بدلاً من الأسقف المستوية .

\* بناء مآذن أسطوانية أو متعددة الأضلاع ، تنتهي غالباً بمخروط خشبي .

مثال :- مسجد سليمان باشا ( سارية الجبل ) ، أول جامع بُني على الطراز

التركي في مصر عام 935هـ / 1528م داخل القلعة .

**5 - الحياة الفكرية والثقافية**

< فرض العثمانيون العزلة على مصر ما النتائج ؟

ترتب على ذلك أن أصبحت مصر بعيدة عن النهضة العلمية بأوروبا .

< كان التعليم في مصر يتم في :

\* الكتاتيب : حيث يتم فيها تعليم القراءة والكتابة والحساب وحفظ القرآن الكريم .

\* الأزهر الشريف :- تراجعت مكانته كثيراً خلال عصر العثمانيين دلت على : حيث :

- اقتصرت الدراسة فيه على قواعد العلوم الإنسانية والشرعية .

- أهمل تدريس العلوم الطبيعية والرياضيات والطب وغيرها من العلوم .

**ثالثاً :- عودة نفوذ أمراء المماليك**

< زاد نفوذ أمراء المماليك في مصر وزادت قوتهم ونجحوا في استعادة حكم مصر من العثمانيين بم تفسر ؟ بسبب

1- قصر مدة حكم الولاة العثمانيين ، مما أدى إلى ضعف نفوذهم ، واستعادة المماليك جانباً كبيراً من قوتهم .

2- النزاع المستمر بين الولاة العثمانيين والجند .

3- اتحاد المماليك واختيار زعيماً لهم من بينهم وهو حاكم القاهرة وكان يسمى في ذلك الوقت بشيخ البلد .

< من أمراء المماليك الذين تطلعوا إلى الاستقلال بحكم مصر عن الدولة العثمانية

بعد أن زاد نفوذهم وقوتهم ( على بك الكبير ) .

## حركة على بك الكبير

< استطاع الانفراد بحكم مصر مستغلاً فرصة انشغال الدولة العثمانية بحربها مع روسيا حيث قام بـ :

\* توطيد حكمه فيها .

\* إخضاع شبه الجزيرة العربية لنفوذه .

\* إرسال جيشه بقيادة محمد بك أبو الذهب لفتح الشام .



ولكن ....

تحالف محمد بك أبو الذهب مع السلطان العثماني ضد على بك الكبير **ما النتائج؟**

مما ترتب عليه :

- عودة مصر ولاية عثمانية .

- تعيين محمد بك أبو الذهب شيخاً للبد وأصبحت مصر تحت حكمه وكان محل الوالي .

\* توفي محمد أبو الذهب بعد ذلك بعامين وسيطر بعد وفاته على حكم مصر اثنان من أمراء المماليك

هما (( مراد بك )) و (( إبراهيم بك )) حتى مجئ الحملة الفرنسية إلى مصر 1798 م .

### أسئلة تدريبات

س1 : من هو .....؟

- 1- أحد سلاطين الدولة الثمانية استولى على إمارة ذي القادر المملوكية . ( )
  - 2- سلطان مملوكي تمت هزيمته في معركة مرج دابق 1516م . ( )
  - 3- آخر سلاطين الدولة المملوكية في مصر وهزم في معركة الريدانية 1517م . ( )
- س2 : اكتب ما تشير إليه العبارات الآتية :

- 1- إمارة مملوكية مثلت عقبة أمام الجيش العثماني في حروبه ضد الصفويين . ( )
- 2- معركة انتصر فيها السلطان سليم الأول على السلطان طومان باي عام 1517م . ( )
- 3- أحد هيئات نظام الحكم والإدارة بمصر تكونت من عدة فرق عسكرية بهدف جمع الضرائب وحفظ النظام والدفاع عن البلاد . ( )

س3 بم تفسر .....؟

- 1- مساعدة العثمانيين للمماليك في حربهم ضد البرتغاليين ؟
- 2- تدهور العلاقات العثمانية المملوكية بعد موقعة جالديران ؟

### الإجابة

- ج 1 : 1- سليم الأول . 2- قنصوه الغوري . 3- طومان باي .
- ج 2 : 1- إمارة ذي القادر . 2- معركة الريدانية . 3- الحامية العثمانية .
- ج 3 : 1- لأن العثمانيين كانوا ينظرون للمماليك على أنهم زعماء العالم الإسلامي .
- 2- بسبب رفض المماليك التحالف مع العثمانيين لمحاربة الصفويين .

## الدرس الثاني : الحملة الفرنسية على مصر

- < فكرة استيلاء فرنسا على مصر ، راودت ملوك فرنسا منذ القرن السابع عشر الميلادي ،  
وانتهت تلك المحاولات بالحملة الفرنسية على مصر عام 1798م .  
< ساهمت أحوال مصر الداخلية في سيطرة الفرنسيين عليها **دليل** ؟ حيث كانت مصر تعاني من :  
1- ضعف الدولة العثمانية . 2- صراعات المماليك المستمرة . 3- تدهور إنتاجها الزراعي والصناعي .

### أسباب الحملة الفرنسية على مصر

#### الأسباب المعلنة ( غير الحقيقية )

- < ادعت فرنسا أنها جاءت إلى مصر من أجل :  
1- حماية الرعايا والتجار الفرنسيين في مصر .  
2- تحرير المصريين من حكم المماليك الظالم .  
3- تأمين مصالحهم التجارية . 4- إقامة حكومة وطنية . 5- إدخال المدنية الحديثة لمصر .

#### الأسباب الحقيقية

أسباب  
اقتصادية

- 1- رغبة فرنسا في السيطرة على طرق التجارة بين الشرق والغرب وتقليل النفوذ البريطاني في الشرق عن طريق قطع طريق تجارتها إلى الهند .  
2- الاستفادة من موارد مصر وموقعها الاستراتيجي وتحويلها إلى مركز لتجارة فرنسا مع الشرق .  
3- زيادة نفوذ فرنسا في البحر المتوسط وتعويشها عن مستعمراتها التي فقدتها في صراعها مع بريطانيا .  
4- إقامة إمبراطورية فرنسية في الشرق تكون قاعدتها مصر .

أسباب  
سياسية

### أحداث الحملة الفرنسية على مصر

#### الإعداد للحملة

- < أعد نابليون حملته على مصر بسرية تامة **بم تفسر** ؟  
من أجل تجنب معرفة الأسطول البريطاني بها .



نابليون بونابرت

- بالرغم من حرص نابليون على سرية الحملة إلا أن بريطانيا علمت بخروج الحملة وعهدت إلى (( نلسن )) بتتبعها .  
< اصطحب نابليون معه مجموعة كبيرة من العلماء والفنانيين في مختلف المجالات **بم تفسر** ؟ للأسباب الآتية :  
- أراد نابليون أن يجعل للحملة طابعاً حضارياً .  
- دراسة أحوال مصر وكيفية استغلال مواردها .

في أول بيان أذاعه نابليون قبل النزول بقواته إلى البرقي الإسكندرية قال لجنوده :  
«أيها الجنود سوف توجهون إلى إنجلترا الضربة الأكيدة أكثر من سواها» .  
وكان يقصد بالضربة الأكيدة قطع طريق تجارة إنجلترا بالهند .





## مقاومة أهل الصعيد

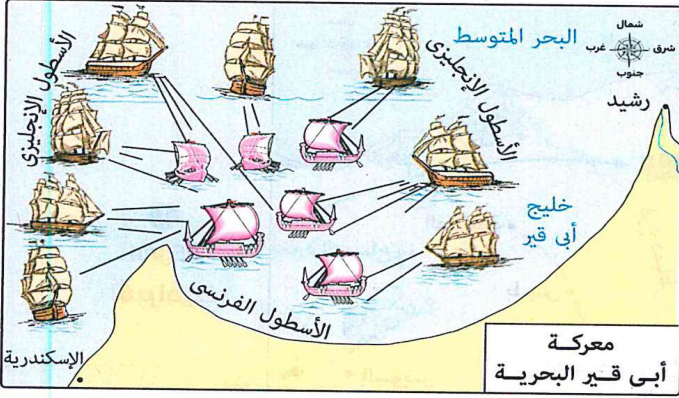
- < لم يستطع نابليون السيطرة على صعيد مصر بم تفسر ؟ بسبب :  
مقاومة أهلها وحروبهم المتفرقة ضد القوات الفرنسية مما أنهك قوة الفرنسيين .
- < بينما كان نابليون منشغلاً بإصلاحاته جاءه نبأ وصول الأسطول البريطاني إلى السواحل المصرية ودارت بينهما معركة أبي قير البحرية .



نلسن

## معركة أبي قير البحرية ( أغسطس 1798 م )

- < مكانها :- خليج أبي قير .
- < أطرافها :- الأسطول البريطاني ضد أسطول الحملة الفرنسية بقيادة نلسن



### < نتائجها

- \* تدمير أسطول الحملة الفرنسية .
- \* انقطاع الاتصال بين نابليون وفرنسا مما أدى إلى حرمان الحملة الفرنسية في مصر من إمدادات فرنسا لها .

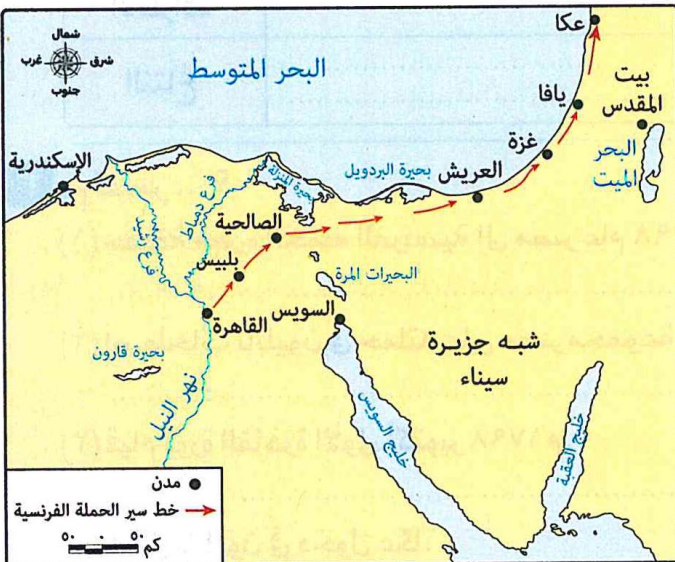
## ثورة القاهرة الأولى ( أكتوبر 1798 م )

- < مركزها \* الأزهر الشريف كان مقراً لثورة المصريين التي اندلعت في شوارع القاهرة ضد قوات الاحتلال الفرنسية .
- < أسبابها

- فرض الضرائب الباهظة .
- تفتيش البيوت بحثاً عن الأحوال .
- قتل الفرنسيين للسيد محمد كريم حاكم الإسكندرية .
- هدم كثير من الآثار والمساجد والمباني لتحسين القاهرة .
- < نتائجها :- قامت القوات الفرنسية بإخماد الثورة مستخدمة سياسة العنف ، حيث :  
- قتلوا الكثير من الثوار .  
- دخلوا الجامع الأزهر بخيولهم .

## الحملة الفرنسية على الشام ( 1799 م )

- < بعد أن أخدم نابليون ثورة القاهرة الأولى تفرغ لتحسين مصر لصد غازات العثمانيين الذين حاولوا استرجاع مصر .
- < عقد العثمانيون معاهدة مع بريطانيا وروسيا واتفقوا فيها على إرسال جيشين إلى مصر :  
- الأول :- يزحف إلى العريش من جهة الشام ( عن طريق البر ) .  
- الثاني :- يتجه إلى سواحل مصر بمساعدة الأسطول البريطاني ( عن طريق البحر ) .



### < أسباب الحملة

- \* رغبة نابليون في مواجهة الجيش العثماني القادم من الشام والقضاء عليه قبل أن يصل إلى مصر .
- < خط سير الحملة وأحداثها
- \* أسرع نابليون بمعظم جيشه نحو الشام وفي طريقه :  
- نجح في السيطرة على غزة ثم ، يافا .  
- وصل نابليون إلى عكا لكنه فشل في اقتحامها بم تفسر ؟ بسبب :  
- مقاومة أهلها بقيادة أحمد باشا الجزار .  
- دعم الأسطول البريطاني لهم .  
- انتشار الأمراض بين جنود الحملة .

## &lt; نتائج الحملة

- \* فشلت الحملة الفرنسية على الشام ( لعدم دخول عكا )
- \* اضطرار نابليون العودة إلى مصر .
- < أثناء عودة نابليون من الشام إلى مصر كان الأسطول العثماني قد وصل إلى أبي قير فتوجه نابليون بقواته إليهم واشتبك معه وهزم العثمانيين .

ترك نابليون الحملة في أغسطس 1799م لئلا يتركها لغيره . وسافر سراً إلى فرنسا بما تفسر ؟ بسبب تدهور الأوضاع بفرنسا وتحالف دول أوروبا ضدها .

رحيل نابليون من مصر

### كليبر قائدا للحملة الفرنسية في مصر



كليبر

- < أدرك كليبر صعوبة مواجهة الأخطار التي تهدد القوات الفرنسية والتي تمثلت في :
  - 1- تناقص عدد الجيش الفرنسي .
  - 2- حصار البريطانيين للسواحل المصرية الشمالية .
  - 3- ثورات المصريين ضد الفرنسيين .
 لذلك قام كليبر بعقد اتفاقية عُرفت بـ (( اتفاقية العريش )) .

### اتفاقية العريش ( 1800 م )

- < أطرافها :- الفرنسيون و العثمانيون و البريطانيون .
- < أسبابها :- إدراك كليبر أن من الضرورة مغادرة الحملة مصر خاصة في ظل الأخطار التي تواجهها .
- < شروطها :- خروج الحملة الفرنسية من مصر بجنودها .
- < نتائجها
  - \* رفضت الحكومة البريطانية التوقيع على الاتفاقية وطالبت بتسليم الفرنسيين كأسرى حرب وتسليم أسلحتهم .
  - \* رفض كليبر طلب بريطانيا وقد حملة ضد العثمانيين وانتصر عليهم .



عمر مكرم

### ثورة القاهرة الثانية ( مارس 1800 م )

- < أسبابها :- إدراك المصريين ضرورة التخلص من الحملة الفرنسية بأنفسهم دون اللجوء للعثمانيين أو البريطانيين لأن لكل منهم مصالحه الشخصية .
- < أحداثها :- خطط المصريون للقيام بثورة القاهرة بقيادة السيد عمر مكرم وقد تصدى المصريون للجنود الفرنسيين ببسالة .
- < نتائجها :- قامت القوات الفرنسية بـ :
  - \* إخماد الثورة .
  - \* هدم كثير من المباني .
  - \* فرض مزيد من الضرائب على الأهالي .



سليمان الحلبي

- < مقتل كليبر :- قُتل كليبر على يد سليمان الحلبي أحد طلاب الأزهر الشريف في يونيو 1800 م .



### مينو قائداً للحملة الفرنسية في مصر

- < تولى مينو قيادة الحملة الفرنسية بعد مقتل كليبر .
- < كما مينو شديد لميل إلى البقاء بمصر بم تفسر ؟
- لأنه كان يعتقد أن بإمكانه تحقيق المشروع الاستعماري وتحويل مصر إلى مستعمرة فرنسية حقيقية .
- < قام مينو بعدد من الإصلاحات بمصر في مجالات :  
الزراعة و الصناعة و التجارة و الصحة و القضاء

### نهاية الحملة و جلاء الفرنسيين ( 1801 م )

- < أرسلت بريطانيا أسطولاً جديداً إلى أبي قير وانضم إليه الجيش العثماني ما النتائج ؟
- ترتب على ذلك هزيمة الجيش الفرنسي ، واضطرار الفرنسيين للخروج من مصر في سبتمبر 1801 م .
- لذلك فشلت فرنسا في تأسيس إمبراطوريتها وتم القضاء على مشروعها الاستعماري للسيطرة على الشرق .

### نتائج الحملة الفرنسية على مصر

- < لم تكن الحملة الفرنسية على مصر مجرد حملة عسكرية ، بل كانت نقطة تحول في تاريخ مصر حيث تركت آثاراً عميقة في مختلف المجالات كالتالي :

#### 1 - المجال السياسي

- 1- كشفت الحملة الفرنسية :  
\* ضعف الدولة العثمانية .  
\* أطماع القوى الأوروبية في مصر .
  - 2- وجهت الحملة أنظار الدول الأوروبية عامة وبريطانيا خاصة لأهمية موقع مصر الجغرافي والاستراتيجي .
  - 3- ساهمت الحملة الفرنسية في إيقاظ الوعي الوطني لدى المصريين للدفاع عن وطنهم ضد الاحتلال .
  - 4- تغيير نظام الحكم والإدارة حيث عمل نابليون على استرضاء المصريين دلي ؟  
حيث قام بإشراكهم في السلطة من خلال تكوين الدواوين ، وهي :  
- الديوان العام .  
- دواوين الأقاليم .  
- ديوان القاهرة .  
وكانت هذه الدواوين تضم الأعيان والعلماء .
- < ورغم أن سلطة هذه الدواوين كانت مقيدة بالمسالح الفرنسية إلا أنها نبهت المصريين إلى فكرة المشاركة في الحكم ، مما كان له أثر في تنمية الوعي السياسي لديهم .

#### 2 - القضاء

- < غيرت الحملة الفرنسية نظام القضاء في مصر **دلي ؟** حيث :  
\* جعل نابليون العلماء المصريين يتولون القضاء بطريقة الانتخاب فيما بينهم بدلاً من القضاة الأتراك .  
\* أنشأ مينو محكمة لكل طائفة من الطوائف الموجودة بمصر في ذلك الوقت .

## 3 - المجال الاقتصادي

## ١ الزراعة

- اهتم الفرنسيون بـ:
  - مشاريع الري.
  - تنويع المحاصيل الزراعية.
  - إدخال محاصيل جديدة مثل: البن وقصب السكر.

## ٢ الصناعة

- اهتم الفرنسيون بإنشاء:
  - مصانع للنسيج واللبانة.
  - صناعة حروف الطباعة.
- لم يسمح الفرنسيون للمصريين بالعمل في المصانع التي أنشأوها **بم تفسر** حتى لا تتسرب أسرار الصناعة إليهم.

## ٣ التجارة

- اهتم الفرنسيون بفتح أسواق جديدة لمصر في:
  - البحر الأحمر.
  - دارفور.
  - الحبشة.
  - بلاد شمال إفريقيا.

رغم محاولات القوات الفرنسية إجراء إصلاحات في الجانب الاقتصادي، فإن هدفها كان مصلحة فرنسا وليس مصلحة الشعب المصري والدليل على ذلك خوف مينو من تسرب أسرار الصناعة للمصريين، وزيادة معاناة المصريين بسبب الضرائب والحروب.

## 4 - النتائج العلمية والفكرية

< ساعد وجود العلماء الفرنسيين في مختلف العلوم على إدخال أفكار جديدة للمجتمع المصري وحدث نشاط علمي كبير من خلال أبحاث العلماء .

< من أهم الإنجازات العلمية للحملة الفرنسية :

- 1- إنشاء المجمع العلمي المصري الذي كان له دور كبير في دراسة مصر ، ونشر المعرفة .
- 2- تأليف موسوعة وصف مصر وهي من أهم إنجازات الحملة الفرنسية حيث تكونت من عدد من المجلدات التي كتبها علماء الحملة تتضمن وصفاً شاملاً لمصر في مختلف الجوانب .
- 3- فك رموز حجر رشيد على يد شامبليون مما أسهم في دراسة الحضارة المصرية القديمة والتعرف على إنجازاتها .
- 4- محاولة شق قناة السويس حيث فكر علماء الحملة في ربط البحرين الأحمر والمتوسط ، لكن المشروع لم يتم بم تفسر ؟ بسبب خطأ في حسابات مستوى البحرين .



## أسئلة تدريبات

س1 : أكتب ما تشير إليه كل عبارة من العبارات الآتية :

- 1- كان مقرأً لثورة القاهرة الأولى أكتوبر 1798م ضد الاحتلال الفرنسي . ( )
- 2- قاد حركة المقاومة في عكا ضد حملة نابليون . ( )
- 3- تولى قيادة الحملة الفرنسية في مصر عقب رحيل نابليون سراً على فرنسا . ( )
- 4- تزعم المصريين اثناء ثورة القاهرة الثانية مارس 1800م ضد الحملة الفرنسية . ( )

س2 : ما النتائج المترتبة على.....؟

1- الحملة الفرنسية على الشام 1799م ؟

2- قيام ثورة القاهرة الثانية مارس 1800م ؟

س3 : بم تفسر.....؟

1- اعد نابليون حملته على مصر سراً ؟

2- فشل نابليون في السيطرة على صعيد مصر ؟

3- فشل محاولة شق قناة السويس في عهد الحملة الفرنسية على مصر ؟

## الإجابة

ج 1 :

- 1- الازهر الشريف .
- 2- احمد باشا الجزار .
- 3- كليبر .
- 4- عمر مكرم .

ج 2 :

- 1- ترتب على ذلك : - فشلت الحملة الفرنسية على الشام ( لعدم دخول عكا ) .
- اضطرار نابليون العودة على مصر .

ج 3 :

- 1- من أجل تجنب معرفة الاسطول البريطاني بها .
- 2- بسبب مقاومة أهلها وحروبهم المتفرقة ضد القوات الفرنسية ، مما انهكت قوة الفرنسيين .
- 3- بسبب خطأ في حسابات مستوى البحرين الأحمر والمتوسط .

تطبيق



مذكرات جاهزة للطباعة

لتحميل الملفات التعليمية مجاناً للمعلم والطالب

مذكرات وملازم / مراجعات وملخصات / امتحانات / كتب الوزارة /  
أدلة المعلم / دفاتر التحضير / سجلات مدرسية / أوراق تأسيس

امسح الكود بموبايلك علشان تقدر تثبت التطبيق

وتقدر فأي وقت تحمّل ال نفسك فيه ببلاش

هيغنيك عن البحث والجروبات والقنوات الكثيرة



تطبيق الموبايل لتحميل الملفات