

مصر وعلاقتها بآسيا وأوروبا  
(الأرض والحضارة والتنمية)

الصف الثاني الاعدادي

2026



2

# المتفوق في الدراسات الاجتماعية

الفصل الدراسي الثاني

اعداد | مستر حاتم عاطف



01066015065

## المحتويات

**الوحدة الأولى: سكان قارتي آسيا وأوروبا**

الدرس الأول. نمو وتوزيع سكان قارتي آسيا وأوروبا

الدرس الثاني. خصائص سكان قارتي آسيا وأوروبا

مراجعة عامة على الوحدة الأولى.

**الوحدة الثانية: مصر من الفتح الإسلامي حتى عصر الدول المستقلة**

الدرس الأول. أحوال مصر بعد الفتح الإسلامي.

الدرس الثاني. الملامح الحضارية لبعض الدول المستقلة في مصر (الطولونية والإخشيديّة والفاطمية).

الدرس الثالث الملامح الحضارية لبعض الدول المستقلة في مصر (الأيوبية والمملوكية).

مراجعة عامة على الوحدة الثانية.

**الوحدة الثالثة: الأنشطة الاقتصادية في قارتي آسيا وأوروبا**

الدرس الأول. النشاط الزراعي في قارتي آسيا وأوروبا.

الدرس الثاني. النشاط الصناعي والتجاري في قارتي آسيا وأوروبا.

الدرس الثالث. النشاط السياحي في قارتي آسيا وأوروبا.

الدرس الرابع. بعض المنظمات الإقليمية في قارتي آسيا وأوروبا.

مراجعة عامة على الوحدة الثالثة.

**الوحدة الرابعة: مصر من الحكم العثماني حتى الحملة الفرنسية**

الدرس الأول. مصر تحت الحكم العثماني.

الدرس الثاني. الحملة الفرنسية على مصر.

مراجعة عامة على الوحدة الرابعة.

## الوحدة الاولى

## الدرس الاول

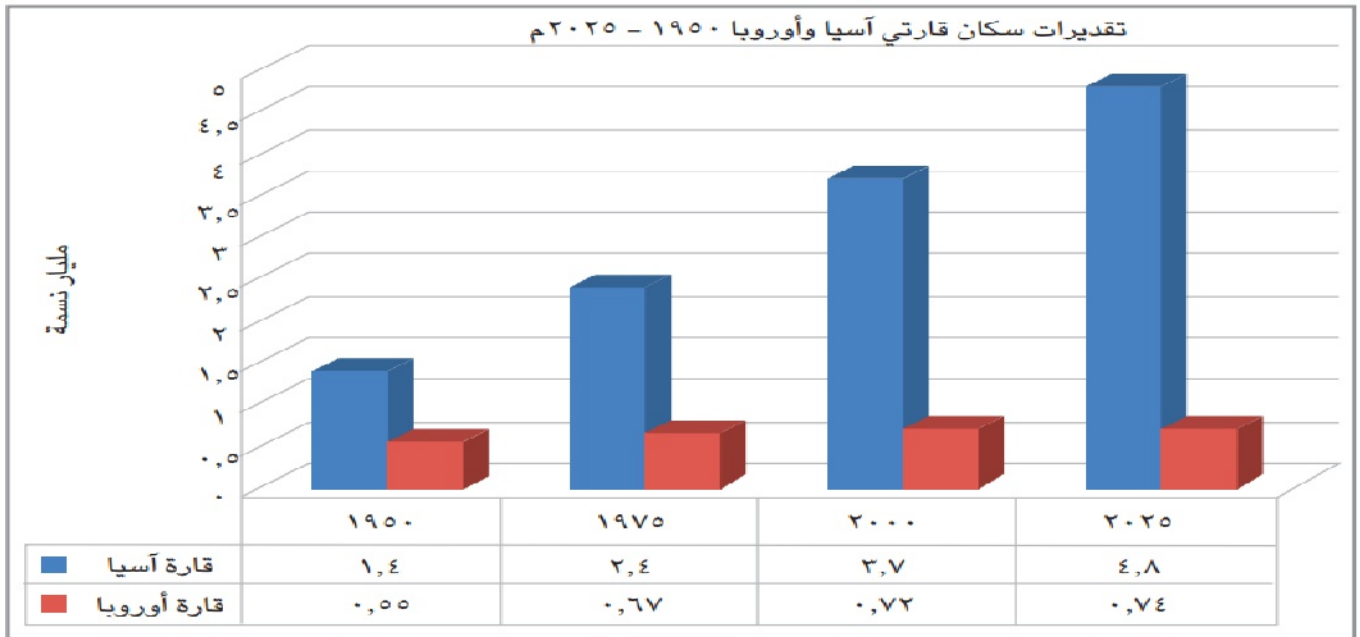
نمو وتوزيع سكان قارتي آسيا وأوروبا

## النمو السكاني في قارتي آسيا وأوروبا

أولا

## تطور عدد السكان والمقارنة

أولا



- تعد قارة آسيا **أولى** قارات العالم من حيث عدد السكان، حيث يزيد عدد سكانها عن نصف سكان العالم.
- تأتي قارة أوروبا في الترتيب **الثالث** عالمياً، حيث يقل عدد سكانها عن عشرين سكان العالم.
- ويتضح من الشكل البياني السابق أن عدد سكان آسيا تزايد بين عامي ١٩٥٠ و٢٠٢٥م بنسبة ٢٥٠% تقريباً، بينما تزايد عدد سكان أوروبا بنسبة ٣٥% في نفس الفترة.
- هذا يؤكد تزايد عدد سكان قارة آسيا بسرعة فائقة مقارنة بقارة أوروبا.

## ترتيب الدول من حيث عدد السكان

الصين في المرتبة الثانية آسيوياً وعالمياً



الهند في المرتبة الأولى آسيوياً وعالمياً



ألمانيا ثاني دول أوروبا



روسيا الاتحادية أولى دول أوروبا.



## العوامل المؤثرة في النمو السكاني بقارتي آسيا وأوروبا

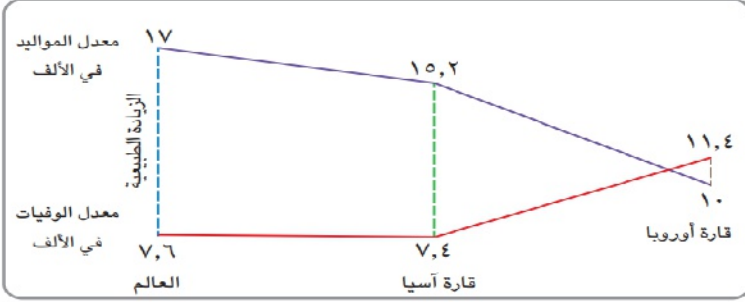
ثانيا

## معدل الزيادة الطبيعية في قارتي آسيا وأوروبا

١

**الزيادة الطبيعية هي الفرق بين معدل المواليد ومعدل الوفيات.**

## أ. قارة آسيا



معدل الزيادة الطبيعية لكل من آسيا وأوروبا والعالم عام ٢٠٢٥ م

- من خلال الشكل المقابل يتضح تقارب معدلي المواليد والوفيات بقارة آسيا من المعدلات العالمية (١٧ - ٧,٦ في الألف على التوالي)
- بلغ معدل الزيادة الطبيعية في قارة آسيا نحو (٧,٨) في الألف عام ٢٠٢٥ م.

بم تفسر؟ ارتفاع معدل الزيادة الطبيعية بقارة آسيا؟

بسبب ارتفاع معدل المواليد عن معدل الوفيات.

## ب. قارة أوروبا

- اتسم النمو السكاني بقاره أوروبا منذ منتصف القرن ٢٠ بانخفاض معدل المواليد ومعدل الوفيات، ما النتائج؟ مما أدى إلى انخفاض معدل الزيادة الطبيعية واستقرار سكاني يتناسب مع خطط التنمية.

لوحظ في الآونة الأخيرة استمرار انخفاض معدل المواليد بم تفسر؟

- نتيجة لتأخر سن الزواج
- زيادة مشاركة المرأة في سوق العمل
- ارتفاع مستويات التعليم
- تفضيل الأسر الصغيرة العدد

كما لوحظ ارتفاع معدل الوفيات بم تفسر؟

- نتيجة لارتفاع نسبة كبار السن
- والدليل على ذلك في عام ٢٠٢٥ م بلغ معدل المواليد بالقارة ١٠ في الألف ومعدل الوفيات ١١,٤ في الألف، مما جعل معدل الزيادة الطبيعية بالسالب (- ١,٤) في الألف، وذلك يعني تناقص عدد سكان القارة؛

ما النتائج؟ تناقص عدد سكان القارة

- لذا تقوم قارة أوروبا بتشجيع مواطنيها على زيادة المواليد، وذلك بتطبيق عدة إجراءات، منها المساعدات المالية للأسر ومنح الأمهات إجازات طويلة لرعاية أطفالهن.

## نظرية التحول الديموجرافي

■ يلاحظ من الشكل المقابل أن :

## ■ قارة آسيا

■ تعيش المرحلة الثالثة من نظرية التحول الديموجرافي، التي تتميز بانخفاض مستمر في

معدل الوفيات مع انخفاض معدل المواليد، مما يؤدي إلى انخفاض معدل الزيادة الطبيعية للسكان.

## ■ قارة أوروبا

■ تمر بالمرحلة الرابعة التي تتسم بانخفاض معدل المواليد ومعدل الوفيات بشكل كبير، وتعد قارة أوروبا حاليًا على مشارف المرحلة الخامسة من نظرية التحول الديموجرافي نمو وتوزيع سكان قارتي آسيا وأوروبا الدرس الأول

## الهجرة (الزيادة غير الطبيعية) في قارتي آسيا وأوروبا

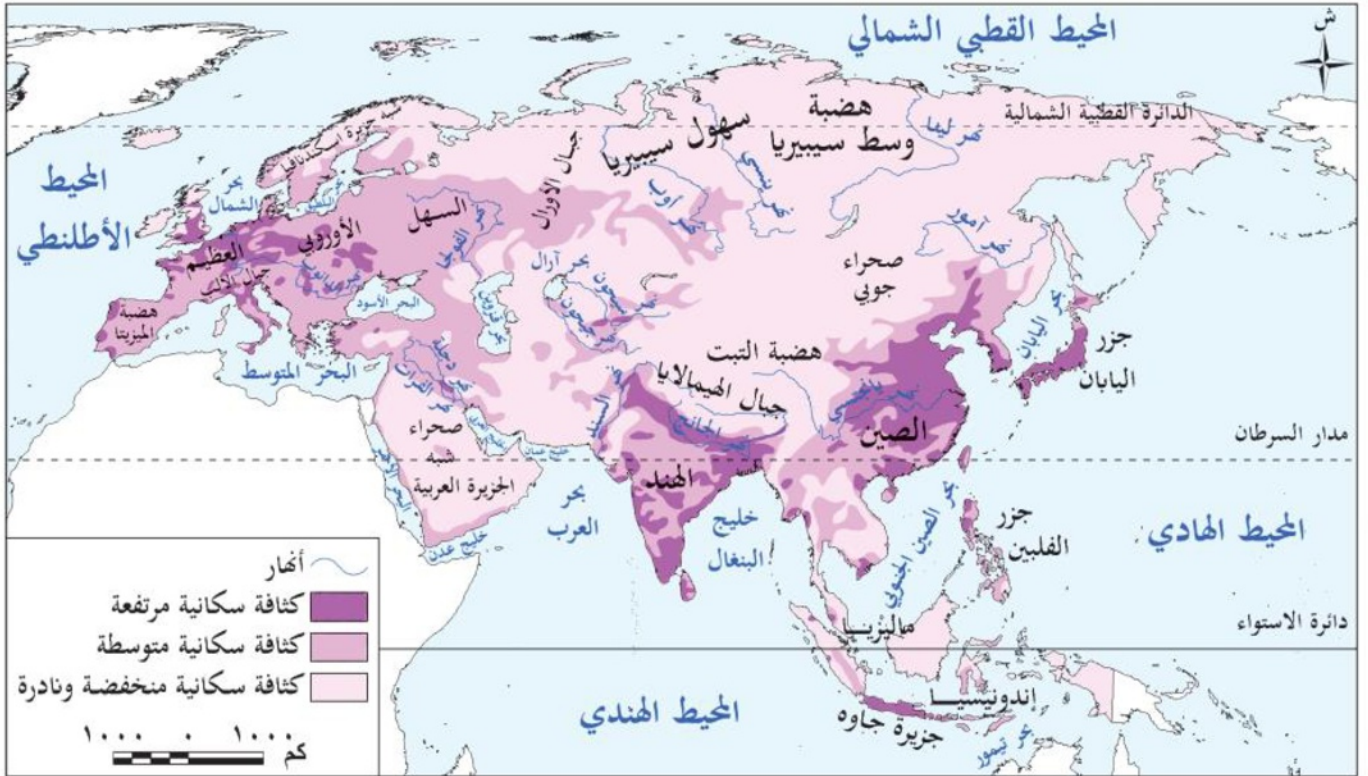
٢

- تلعب الهجرة دورا بارزا في النمو السكاني، فهناك تيارات هجرة إلى قارة آسيا وخاصة إلى دول الخليج العربي قادمة من دول إفريقيا؛ بم تفسم ؟ وذلك لتوافر فرص عمل .
  - تؤثر الهجرة بشكل كبير في النمو السكاني في قارة أوروبا، دلال ؟ حيث تعوض الهجرة الوافدة القادمة إلى أوروبا تناقص عدد السكان الناتج عن انخفاض المواليد وارتفاع الوفيات، وتجذب أوروبا المهاجرين بتوفير فرص عمل، وتوفير عوامل الأمن للاجئين، وتوفير فرص تعليمية وبحثية .
  - تتعرض قارة أوروبا لتيارات هجرة غير شرعية (غير قانونية)، وتعد إيطاليا واليونان من أكثر الدول الأوروبية استقبالا لهؤلاء المهاجرين، حيث تستقبلان أكثر من ثلاثة أرباع المهاجرين غير الشرعيين
  - كما تتعرض قارة آسيا لتيارات هجرة غير شرعية قادمة من إثيوبيا والصومال عبر خليج عدن إلى اليمن
- أملًا في الوصول إلى دول الخليج
- وغالبًا ما يتعرض المهاجرون غير الشرعيين لكثير من الانتهاكات على أيدي شبكات الإتجار بالبشر فاقدين أحلامهم في حياة أفضل .

## فكر وأجب

## أكمل

- المرحلة الثالثة من نظرية التحول الديموجرافي تتميز ب..... و.....
- تستقبل دولتا..... و..... أكثر من ثلاثة أرباع المهاجرين غير الشرعيين في أوروبا.
- تتعرض قارة آسيا لهجرة غير شرعية قادمة من دولتي..... و..... عبر خليج عدن.
- **بم تفسر** : ارتفاع معدل الوفيات في أوروبا.
- **ما النتائج المترتبة علي** : انخفاض معدل الزيادة الطبيعية إلى قيم سالبة في أوروبا.



خريطة (١) الكثافة السكانية لقارتي آسيا وأوروبا

من خلال قراءة الخريطة يمكن تقسيم مناطق التركيز السكاني بقارتي آسيا وأوروبا كما يلي :

## مناطق ذات كثافة سكانية مرتفعة

وتتمثل في :

- **السهول الفيضية** بقارة آسيا مثل سهول نهر يانغتسي والجانج والجزر ذات التربة الخصبة مثل جزيرة جاوة وجزر اليابان
- **السهل الأوروبي العظيم** قارة أوروبا. ▪ **المناطق الصناعية** غرب أوروبا وشرق وجنوب شرق آسيا.

## مناطق ذات كثافة سكانية متوسطة

٢

كما في: بعض مناطق جنوب شرق آسيا - مناطق وسط وشرق أوروبا.

## مناطق ذات كثافة سكانية منخفضة

٣

وتتمثل في

المناطق الشمالية: مثل سهول سيبيريا بقارة آسيا، وشبه جزيرة إسكندنافيا بقارة أوروبا؛ **م تفهم؟** وذلك بسبب شدة البرودة والتربة المتجمدة طوال العام، وصعوبة المواصلات.

المناطق الجبلية والهضبية ذات التضاريس الوعرة والتربة الفقيرة بقارتي آسيا وأوروبا.

المناطق الصحراوية مثل شبه الجزيرة العربية بقارة آسيا؛ **م تفهم؟** بسبب الجفاف وندرة المياه وصعوبة الطقس.

## المشكلات السكانية في قارتي آسيا وأوروبا

رابعاً



منطقة مكتظة بالسكان في الصين

- تختلف المشكلة السكانية من دولة لأخرى، فهناك دول تعاني من انخفاض معدلات المواليد وزيادة في عدد كبار السن، مما يهدد بتقلص عدد السكان في سن العمل، **ما النتائج؟** مما يؤثر سلباً على معدلات الإنتاج والتنمية الاقتصادية.
- دول تعاني من النمو السكاني المتزايد وارتفاع الكثافة السكانية، **ما النتائج؟** مما يترتب عليه العديد من المشكلات مثل:

زيادة الطلب على المياه العذبة واستنزاف المياه الجوفية، **ما النتائج؟** مما يؤثر على الأمن المائي حيث



البناء على الأراضي الزراعية في آسيا

ينخفض نصيب الفرد من المياه العذبة في الهند - أولى دول العالم سكاناً - انخفض نصيب الفرد من المياه العذبة للنصف خلال الخمسين عاماً الأخيرة.

زيادة الطلب على الغذاء والمسكن **ما النتائج؟** مما يؤدي إلى

الحاجة للتوسع في الأراضي الزراعية والتوسع العمراني على

حساب مساحات الغابات والمراعي الطبيعية، **ما النتائج؟**

فيؤدي إلى تدمير الموائل الطبيعية للعديد من الأنواع النباتية والحيوانية، وتهديد التنوع البيولوجي.

- **زيادة الطلب على الطاقة الأحفورية والإنتاج الصناعي ما النتائج؟** الذي يؤدي إلى تلوث الهواء وزيادة انبعاثات الغازات الدفيئة التي تُعد سببًا في التغير المناخي، وكل ذلك يؤثر سلبيًا على صحة السكان .
- **زيادة تيارات الهجرة الداخلية** ( من الريف إلى المدن داخل الدولة **ما النتائج؟** مما يؤدي إلى الضغط على البنية التحتية وظهور العشوائيات بما تتضمنه من مشكلات منها الفقر والمرض والجهل .

## فكر وأجب

## أكمل

- من مناطق التركيز السكاني في أوروبا ..... و ..... .
- من مناطق التركيز المتوسطة: بعض مناطق ..... في آسيا ومناطق ..... في أوروبا.
- من المناطق قليلة السكان سهول ..... في آسيا وتشبه جزيرة ..... في أوروبا.

**بم تفسر:** قلة السكان في سهول سيبيريا وتشبه جزيرة إسكندنافيا.

**دلل:** الموارد الطبيعية تتعرض للتهديد بسبب الأنشطة البشرية.

## خامسا

## جهود قارتي آسيا وأوروبا لمواجهة المشكلة السكانية

- تتخذ دول قارتي آسيا وأوروبا سياسات سكانية لمواجهة المشكلة السكانية، **بم تفسر؟** وتهدف هذه السياسات إلى تحقيق التوازن بين النمو السكاني والموارد المتاحة، وتحسين خصائص السكان لتحقيق التنمية المستدامة .

## جهود الدول التي تعاني من النمو السكاني المرتفع (مثل الصين والهند وإندونيسيا)

## مستتر حاتم عاطف

بناء الوحدات الصحية ومراكز تقديم الخدمة وتوفير وسائل تنظيم الأسرة بدون مقابل مادي .

تقديم حوافز مالية ومعنوية لتشجيع الأسر على تنظيم الأسرة وإجابه عدد قليل من الأطفال .

توعية الأفراد بخطورة الزيادة السكانية على الموارد البيئية ومستوى رفاهية الأسرة .

التخطيط العمراني المستدام، والاستثمار في الطاقة المتجددة، وإدارة الموارد .

**ما المقصود؟ سن التقاعد:** العمر الذي يُسمح فيه للعامل بإنهاء خدمته الوظيفية وغالبا لا يقل عن 60 عاما، ويبدأ في استحقاق المعاش وفقا لقوانين للعمل .

جهود الدول التي تواجه تحديات زيادة عدد كبار السن وانخفاض معدلات المواليد (مثل فرنسا وإيطاليا واليابان وكوريا الجنوبية)

رفع سن التقاعد تدريجيا مثل ما حدث في فرنسا .

الاعتماد على التكنولوجيا وتقليل الاعتماد على القوى البشرية .

تقديم الحوافز المادية والإعفاءات الضريبية للأسر التي تنجب عددا أكبر من الأطفال .

تشجيع الهجرة إلى الدولة لتعويض النقص في القوى العاملة .

في الدراسات الاجتماعية

اعداد /  
مستتر حاتم عاطف

## الدرس الأول: نمو وتوزيع سكان قارتي آسيا وأوروبا

(أ) أمامك خريطة صماء لقارتي آسيا وأوروبا، اكتب ما تدل عليه الأرقام الموقعة عليها:

(١) دولة آسيوية تحتل المرتبة الثانية عالمياً في عدد السكان.....

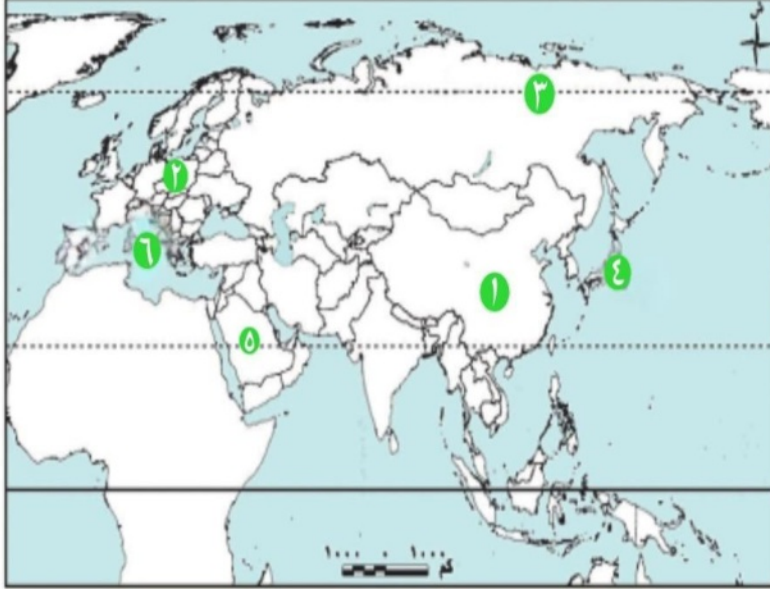
(٢) منطقة كثافة سكانية مرتفعة: .....

(٣) منطقة كثافة سكانية منخفضة بسبب البرودة الشديدة في قارة آسيا. ....

(٤) جزيرة ذات تربة خصبة وكثافة سكانية مرتفعة في آسيا. ....

(٥) منطقة ذات كثافة سكانية نادرة في آسيا بسبب الجفاف وندرة المياه. ....

(٦) مسطح مائي تتأثر سواحله الجنوبية بالهجرة غير الشرعية القادمة إلى أوروبا. ....



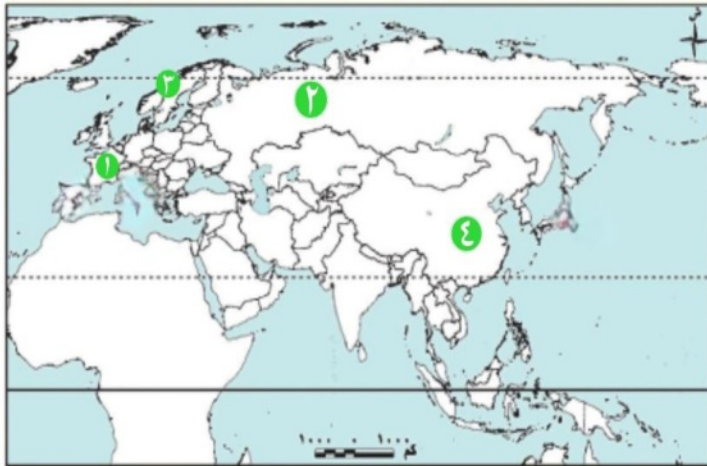
(ب) استعن بخريطة الكثافة السكانية لقارتي آسيا وأوروبا، وكتب الرقم المناسب أمام ما يلي:

(١) دولة أوروبية تتخذ إجراءات لرفع سن التقاعد لمواجهة المشكلة السكانية

(٢) دولة أوروبية تحتل المرتبة الأولى في عدد السكان في القارة. ....

(٣) شبه جزيرة تنخفض بها الكثافة السكانية بسبب شدة البرودة. ....

(٤) منطقة سهول فيضية ذات كثافة سكانية مرتفعة في قارة آسيا. ....



## أسئلة أكمل ما يلي

١. تعد قارة ..... أولى قارات العالم من حيث عدد السكان، بينما تأتي قارة ..... في الترتيب الثالث عالمياً.
٢. تأتي دولة ..... في المرتبة الأولى آسيوياً وعالمياً من حيث عدد السكان، بينما تحتل ..... المرتبة الأولى بين دول قارة أوروبا.
٣. تعيش قارة آسيا المرحلة ..... من نظرية التحول الديموجرافي، بينما تمر قارة أوروبا بالمرحلة ..... وهي على مشارف المرحلة الخامسة.
٤. تلعب الهجرة دوراً بارزاً في النمو السكاني لدول ..... في آسيا لتوافر .....
٥. تتركز الكثافة السكانية المرتفعة في آسيا في السهول الفيضية مثل سهول نهري .....

٦. تنخفض الكثافة السكانية في المناطق الشمالية بقارة أوروبا مثل شبه جزيرة.....، وذلك بسبب شدة البرودة والتربة المتجمدة.
٧. من المشكلات الناجمة عن النمو السكاني المتزايد في آسيا، زيادة الطلب على..... مما يؤثر على الأمن المائي، وظهور..... نتيجة للهجرة الداخلية.
٨. لمواجهة تحديات زيادة عدد كبار السن، قامت دول مثل فرنسا برفع سن..... تدريجياً، بينما تشجع الدول ذات النمو السكاني المرتفع على تنظيم..... بتقديم حوافز مالية

ثانياً: اختر الإجابة الصحيحة من بين البدائل التالية:

(١) تحتل قارة أوروبا الترتيب..... عالمياً من حيث عدد السكان:

(الأول - الثاني - الثالث - الرابع)

(٢) تزايد عدد سكان قارة أوروبا بين عامي ١٩٥٠ و ٢٠٢٥م بنسبة تقترب من:.....

(١٠٪ - ٣٥٪ - ٥٠٪ - ٢٥٠٪)

(٣) أولى دول قارة أوروبا من حيث عدد السكان هي:.....

(ألمانيا - بريطانيا - روسيا الاتحادية - فرنسا)

(٤) الدول التي تعاني من انخفاض معدلات المواليد وزيادة عدد كبار السن هي دول مثل:.....

(إيطاليا واليابان - الهند والصين - إندونيسيا ومصر - الصومال وإثيوبيا)

(٥) بلغ معدل الزيادة الطبيعية في قارة آسيا نحو... في الألف عام ٢٠٢٥م:.....

(١,٤ - ٧,٨ - ١٠ - ١١,٤)

(٦) من المناطق ذات الكثافة السكانية المرتفعة بقارة آسيا:.....

(سهول سيبيريا - سهول نهر يانغتسي - المناطق الصحراوية - هضبة التبت)

(٧) من أهم المناطق الجاذبة للهجرة غير الشرعية في قارة أوروبا:.....

(إيطاليا واليونان - روسيا وألمانيا - بولندا والنمسا - النرويج والسويد)

(٨) المرحلة التي تتميز بانخفاض مستمر في معدل الوفيات مع انخفاض معدل المواليد هي المرحلة:.....

(الثالثة - الأولى - الرابعة - الخامسة)

(٩) تهدف السياسات السكانية لدول آسيا وأوروبا إلى تحقيق:.....

(زيادة المواليد فقط - تقليل الهجرة فقط - زيادة الموارد فقط - التوازن بين النمو السكاني والموارد المتاحة)

ثالثاً: اكتب كلمة (صواب) أمام العبارة الصحيحة، وكلمة (خطأ) أمام العبارة غير الصحيحة، مع التصويب:

١. قارة آسيا أولى قارات العالم من حيث عدد السكان، حيث يزيد عن نصف سكان العالم. ( )

٢. تأتي الصين في المرتبة الأولى آسيوياً وعالمياً في عدد السكان. ( )

٣. تزايد عدد سكان قارة آسيا تزايد بسرعة فائقة مقارنة بقارة أوروبا. ( )

٤. يعني معدل الزيادة الطبيعية بالسالب تناقص عدد سكان القارة، كما حدث في آسيا. ( )
٥. من إجراءات قارة أوروبا لتشجيع زيادة المواليد منح الأمهات إجازات طويلة لرعاية أطفالهن. ( )
٦. تلعب الهجرة دوراً بارزاً في النمو السكاني لدول الخليج العربي لتوافر فرص التعليم. ( )
٧. تتركز الكثافة السكانية في المناطق الجبلية والهضبية ذات التضاريس الوعرة في آسيا وأوروبا. ( )
٨. تعد المناطق الصناعية غرب أوروبا من مناطق الكثافة السكانية المرتفعة. ( )
٩. تنخفض الكثافة السكانية في شبه الجزيرة العربية بسبب شدة البرودة. ( )
١٠. زيادة الطلب على الغذاء والمسكن يؤدي إلى التوسع العمراني على حساب المراعي الطبيعية. ( )
١١. يؤدي التخطيط العمراني المستدام إلى الضغط على البنية التحتية وظهور العشوائيات. ( )
١٢. من جهود الدول التي تعاني من النمو السكاني المرتفع توفير وسائل تنظيم الأسرة بدون مقابل مادي. ( )
١٣. واجهت فرنسا مشكلة زيادة كبار السن عن طريق الاعتماد على القوى البشرية. ( )
١٤. ينخفض نصيب الفرد من المياه العذبة في الهند للنصف خلال الخمسين عاماً الأخيرة بسبب زيادة عدد السكان. ( )

**(أ) بم تفسر...؟**

- (١) التباين الواضح في معدل الزيادة الطبيعية بين قارتي آسيا وأوروبا.
- (٢) تناقص عدد سكان قارة أوروبا (معدل زيادة طبيعية بالسالب).
- (٣) انخفاض معدل المواليد في قارة أوروبا في الآونة الأخيرة.
- (٤) تركيز السكان في السهول الفيضية بقارة آسيا (مثل نهري يانغتسي والجانج).
- (٥) ندرة السكان في المناطق الشمالية مثل سهول سيبيريا وشبه جزيرة إسكندنافيا.
- (٦) أهمية الهجرة الوافدة إلى قارة أوروبا.
- (٧) تهديد التنوع البيولوجي في بعض دول قارة آسيا.

**(ب) ما النتائج المترتبة على...؟**

- (١) زيادة تيارات الهجرة الداخلية (من الريف إلى المدن) في دول قارة آسيا.
- (٢) زيادة عدد كبار السن وانخفاض معدلات المواليد في دول أوروبا (مثل فرنسا وإيطاليا).
- (٣) النمو السكاني المتزايد وارتفاع الكثافة السكانية في دول قارة آسيا.
- (٤) استمرار انخفاض معدل المواليد وارتفاع نسبة كبار السن في قارة أوروبا.
- (٥) زيادة تيارات الهجرة الداخلية (من الريف إلى المدن) في دول قارة آسيا.
- (٦) زيادة الطلب على الطاقة الأحفورية والإنتاج الصناعي في الدول ذات الكثافة المرتفعة.

(٧) لجوء بعض الشباب للهجرة غير الشرعية عبر شبكات الاتجار بالبشر.

(٨) ارتفاع معدل المواليد عن معدل الوفيات في قارة آسيا عام ٢٠٢٥م.

(ج) ما المقصود بـ :

(١) سن التقاعد.

(د) دلل جغرافياً على صحة العبارات التالية:

(١) يوجد تفاوت كبير في النمو السكاني بين قارتي آسيا وأوروبا.

(٢) تتعدد المناطق التي يتركز فيها السكان في قارة أوروبا.

(٣) تتخذ الدول التي تعاني من النمو السكاني المرتفع (مثل الصين والهند) عدة جهود لمواجهة المشكلة السكانية.

(هـ) ما العلاقة بين...؟

(١) معدل الوفيات و مرحلة التحول الديموجرافي في قارة آسيا.

(٢) التوسع العمراني و مساحات الغابات والمراعي الطبيعية في آسيا.

(٣) زيادة انبعاثات الغازات الدفيئة و صحة السكان في القارات.

(٤) توفير عوامل الأمن للاجئين و النمو السكاني في قارة أوروبا.

(٥) الجفاف و ندرة المياه و توزيع السكان في شبه الجزيرة العربية.

(٦) تأخر سن الزواج و الزيادة الطبيعية في قارة أوروبا.

(و) ما مقترحاتك لـ...؟

(١) الحد من المشكلات الناجمة عن زيادة الطلب على المياه العذبة في دول مثل الهند.

(٢) إعادة توزيع الكثافة السكانية في الدول التي تعاني من الاكتظاظ السكاني.

## الوحدة الاولى

## الدرس الثاني

## خصائص سكان قارتي آسيا وأوروبا

تأمل واكتشف

تعد خصائص السكان عاملاً مهماً في تقدم أو تأخر الدول. وتحليل تلك الخصائص بمثابة بوصلة توجه مسئول التخطيط وصناع القرار لبناء المجتمع.

تعلم وشارك

تختلف خصائص السكان في قارتي آسيا وأوروبا من حيث التركيب النوعي والعمري والاقتصادي بالإضافة إلى الخصائص التعليمية والصحية والثقافية وغيرها.

## التركيب النوعي والعمري لسكان قارتي آسيا وأوروبا

أولا

## التركيب النوعي لسكان قارتي آسيا وأوروبا

أولا

لاحظ الرسم البياني التالي



التركيب النوعي لسكان قارتي آسيا وأوروبا ٢٠٢٥ م

## في قارة آسيا

- يتسم التركيب النوعي للسكان بالتوازن النسبي بين الذكور والإناث
- فتبلغ نسبة الذكور ٥١,١% مقابل ٤٨,٩% للإناث وهذه النسبة ثابتة منذ ١٩٥٠م حتى الآن
- وقد يرجع الارتفاع الطفيف بنسبة الذكور إلى هجرة العمل إلى دول آسيا وخاصة إلى دول الخليج العربي.

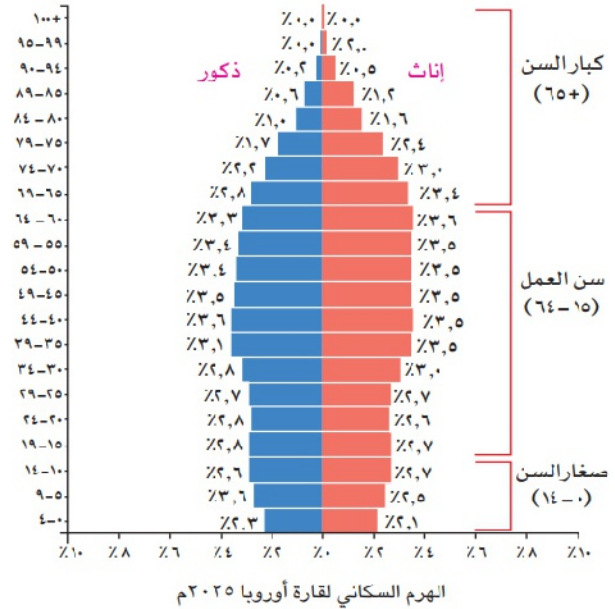
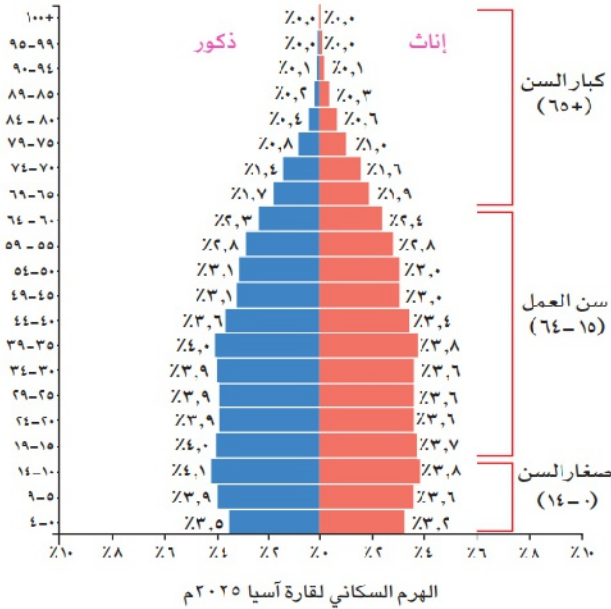
## في قارة أوروبا

- تزداد نسبة الإناث عن الذكور منذ ١٩٥٠م حتى الآن
- حيث بلغت نسبة الإناث ٥١,٦% من إجمالي سكان القارة مقابل ٤٨,٤% للذكور عام ٢٠٢٥م
- وقد يرجع ذلك إلى انخراط دول أوروبا في الحرب العالمية الثانية (١٩٣٩ - ١٩٤٥م) مما أفقدها كثيرًا من الشباب الذكور

## التركيب العمري لسكان قارتي آسيا وأوروبا

ثانيا

يوضح الهرم السكاني لقارتي آسيا وأوروبا عام ٢٠٢٥م نسب السكان ذكورا وإناثا وفق فئات (خمس سنوات).



من خلال قراءة وتحليل الهرمين السكانيين يتضح ما يلي:

- كلاهما من النوع ذي القاعدة الضيقة **بم تقسم؟** لانخفاض معدل المواليد.
- وإن كانت قاعدة الهرم بقارة أوروبا أكثر ضيقًا من آسيا

**هناك ثلاث فئات عمرية رئيسية بكل هرم هي**

١. فئة صغار السن (٠ - ١٤ عامًا):

- بلغت نسبتها بقارة آسيا نحو ٢٢% من إجمالي سكان القارة.
- بلغت نحو ١٥,٧% بقارة أوروبا. **بم تقسم؟ يرجع ذلك إلى** انخفاض معدل المواليد في أوروبا مقارنة بآسيا.

- تمثل أطفال قارة آسيا **عشرة** أضعاف أطفال قارة أوروبا من حيث العدد **م تفسر؟ يرجع ذلك إلى**
- حرص سكان قارة آسيا على **الزواج والإنجاب**، بالإضافة إلى اتساع شريحة الشباب الذين في سن الزواج.
- وتهتم دول قارتي آسيا وأوروبا بصحة تلك الفئة مما يساعد على ارتفاع العمر المتوقع بصحة جيدة للأجيال القادمة
- ٢. فئة سن العمل (١٥ - ٦٤ عامًا):

- تبلغ نسبة فئة سن العمل بقارتي آسيا وأوروبا نحو ثلثي السكان
- تمتلك القارتان قوة عاملة تدعم اقتصادهما
- من المتوقع تناقص هذه الفئة بقارة أوروبا وتزايدها بقارة آسيا في العقود القادمة
- ٣. فئة كبار السن (٦٥ عامًا فأكثر):



كبار السن يمارسون الرياضة

- تمثل **قمة الهرم**
- تزيد عن خمس سكان قارة أوروبا.
- تبلغ نحو عشر سكان قارة آسيا
- تعد **اليابان** من أولى دول العالم من حيث نسبة كبار السن تليها **إيطاليا**

- من المتوقع ارتفاع نسبة كبار السن إلى نحو ثلث سكان قارة أوروبا وإلى خمس سكان قارة آسيا بحلول ٢٠٥٠م
- لذلك تسعى دول القارتين إلى الاهتمام بكبار السن

وتوفير الخدمات المختلفة لهم والاستعانة بالتكنولوجيا في توفير احتياجاتهم **ما النتائج؟**

- مما أدى إلى ظهور ما يُعرف بـ «**الاقتصاد الفضي**» الذي يهتم بمجموع الأنشطة الاقتصادية التي تلبى احتياجات ومتطلبات كبار السن مما يعزز الشيخوخة الصحية التي تعني العيش لأعمار طويلة وبصحة جيدة

## ثانياً التركيب الاقتصادي لسكان قارتي آسيا وأوروبا

يهتم التركيب الاقتصادي بنسب العاملين في المجالات الاقتصادية المختلفة

- الصناعة:** تتساوى نسبة العاملين بها في القارتين، حيث تصل إلى ربع القوة العاملة تقريباً.
- النشاط الزراعي:** تختلف نسبة العاملين فيه
  - قارة آسيا: تبلغ نحو خمس القوة العاملة
  - قارة أوروبا: تصل إلى ٪٢ من القوة العاملة.
- يعمل باقي القوة العاملة في القارتين بالأنشطة الاقتصادية الأخرى **كالتجارة والخدمات**

الهندية

العربية

الفارسية

الصينية

## ثالثاً التركيب اللغوي لسكان قارتي آسيا وأوروبا

- آسيا تعد القارة الأكثر تنوعاً لغوياً في العالم.
- تضم نحو ٢٣٠٠ لغة، وتمثل ثلث إجمالي لغات العالم.
- أبرز هذه اللغات: **العربية، الصينية، الهندية، والفارسية.**

الفرنسية

الألمانية

الإنجليزية

• أوروبا أقل تنوعًا لغويًا من آسيا.

◦ تضم حوالي ٢٠٠ لغة

◦ تضم لغات ذات تأثير عالمي كبير، أبرزها: الإنجليزية، الألمانية، الفرنسية، الإسبانية، والإيطالية

الإيطالية

الإسبانية

تأثير اللغة على الهوية الثقافية والسياسية

- تؤثر اللغة على الهوية الثقافية والسياسية في القارتين.
- **اللغة العربية** أسهمت في وحدة الدول العربية وثراء التراث الإسلامي والعربي.
- قد يكون فرض لغة معينة كلغة رسمية أحد العوامل المؤدية إلى تقسيم الدولة كما حدث في **باكستان**، **دلل؟** حيث أدى فرض اللغة **الأردية** إلى انفصال الجزء الشرقي (باكستان الشرقية) ليصبح دولة **بنجلاديش** حاليًا.
- يمكن أن تلعب اللغة دورًا في ترسيم الحدود السياسية **دلل؟** كما حدث في وسط أوروبا، حيث تم ترسيم حدود الدول بها على أساس اللغة بعد الحرب العالمية الأولى (١٩١٨م).

فكر وأجب

أختر الإجابة الصحيحة

- تشكل الهرم السكاني في قارة آسيا ينشير إلى:.....
- قاعدة واسعة – قمة عريضة – أعمار متقدمة – تناقص في صغار السن)
- ارتفاع نسبة الإناث في أوروبا يرجع إلى:.....
- (الهجرة – طول العمر الافتراضي – ارتفاع المواليد – زيادة الوفيات)
- أجزاء شرق آسيا وغرب أوروبا تتميز ب:.....
- (قلة السكان – متوسط الكثافة – تركيز مرتفع للسكان – انعدام النمو السكاني)
- **بم تفسر:** زيادة نسبة كبار السن في أوروبا.
- **دلل:** تلعب اللغة دورًا في ترسيم الحدود السياسية

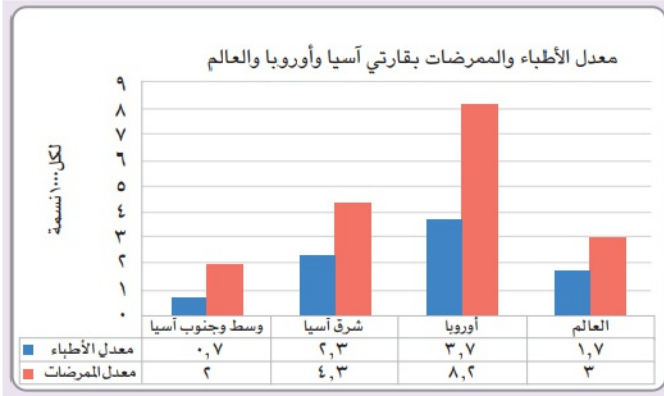
الخصائص التعليمية لسكان قارتي آسيا وأوروبا

رابعاً

- ارتفع الإنفاق العام على التعليم في قارة أوروبا وشرق آسيا عن نسبة الإنفاق العام العالمي على التعليم التي تبلغ ٣,٧% من الدخل القومي.
- أعلى الدول إنفاقًا في أوروبا: **أيسلندا، النرويج، السويد**
- أولى دول قارة آسيا إنفاقًا: **عُمان** يليها **الكويت**
- انخفضت نسبة الإنفاق على التعليم ببعض دول جنوب شرق آسيا مثل **إندونيسيا وتايلاند**
- وقد أهتمت دول آسيا وأوروبا بتعليم كبار السن، وقدمت دورات تعلم للفئات العمرية فوق سن الخمسين. **ما النتائج؟** مما أكسبهم الثقة الذاتية وتبادل خبراتهم ومعرفة حقوقهم وحمايتهم

## الخصائص الصحية لسكان قارتي آسيا وأوروبا

خامساً



- دول أوروبا ودول شرق آسيا تتمتع بمعدلات أطباء وممرضات تفوق المعدلات العالمية.
- تقل تلك المعدلات بدول وسط وجنوب آسيا عن المعدلات العالمية.

## الأمراض المنتشرة:

- **قارة آسيا:** الملاريا بالمناطق الاستوائية، فيروس نقص المناعة البشرية (الإيدز)، والأمراض المنقولة بالغذاء والماء مثل الكوليرا والالتهاب الكبدي (أ)
- **يزيد من انتشار الأمراض ببعض دول قارة آسيا** **تفسر؟** بسبب الفقر وسوء التغذية، وضعف البنية التحتية الصحية، والحروب والصراعات التي تعطل الخدمات الصحية وتزيد من خطر تفشي الأمراض.
- **قارة أوروبا:** أمراض القلب والأوعية الدموية، السرطان، السكري، وأمراض الجهاز التنفسي المزمنة

وتبذل كل من قارتي آسيا وأوروبا جهودًا كبيرة للحد من انتشار الأمراض، ومن أبرز هذه الجهود:

وضع برامج وقائية والاهتمام بالتطعيمات الدورية

الاهتمام بالبحث العلمي وإقامة مراكز الطبية مثل المركز الأوروبي للوقاية من الأمراض ومكافحتها.

المشاركة في المبادرات العالمية مثل مبادرة الأمن الصحي العالمي.

تبادل المعرفة والبيانات حول الأمراض الوبائية بين الدول الآسيوية والأوروبية

## الخصائص الثقافية لسكان قارتي آسيا وأوروبا

سادساً



التحية في اليابان

تعتبر آسيا وأوروبا من أغنى القارات ثقافيًا وتاريخيًا في العالم

ملاحظ ثقافات الشعوب:

## العادات والتقاليد

- تتميز الشعوب الآسيوية والأوروبية بعادات وتقاليد راقية منذ القدم مثل
  - تناول الشاي بعد الظهر من أشهر تقاليد الشعب الإنجليزي
  - الانحناء المتبادل في دول مثل اليابان وكوريا الجنوبية للتعبير عن الاحترام والتقدير

## الأكلات الوطنية

- تمثل مظهرًا من مظاهر التراث والثقافة
- تتميز آسيا بفنون الطهي التي لا تخلو من الأرز والأعشاب والتوابل
- أشهر الأكلات الآسيوية: السوشي الياباني، وطبق الكيمتشي بكوريا الجنوبية
- أشهر الأكلات الأوروبية: البيتزا الإيطالي، والكريب الفرنسي



طبق السوشي الياباني



طبق الكيمتشي الكوري

فكر وأجب

أكمل

- من الأمراض المنتشرة بقارة آسيا: الملاريا، \_\_\_\_\_، و \_\_\_\_\_.
- من الأمراض المنتشرة في أوروبا: أمراض \_\_\_\_\_، و \_\_\_\_\_، ومرض \_\_\_\_\_.
- من أشهر الأكلات الآسيوية \_\_\_\_\_ وطبق \_\_\_\_\_.
- من أشهر الأكلات الأوروبية \_\_\_\_\_ و \_\_\_\_\_.
- **بم تفسر:** انتشار الأمراض في بعض دول آسيا..
- **ما العلاقة بين الثقافة والتراث والأكلات الوطنية في آسيا وأوروبا؟**

## • الفنون

- **آسيا:** تنتشر الموسيقى التقليدية بكل من (اليابان وكوريا والصين) التي تعتمد على الآلات الوترية والطبول ، والرقصات الكلاسيكية الهندية
- **أوروبا:** تعد الموسيقى الإيرلندية أشهر الفنون الموسيقية التقليدية ، بالإضافة إلى الرقصات الفلكلورية الإيطالية



رقصات كلاسيكية هندية

## • الحرف التراثية

- **آسيا:** الرسم على الخشب (كوريا)، صناعة الفخار اليدوي (فيتنام)، صناعة الحرير اليدوي (الصين والهند)، وصناعة السجاد اليدوي (إيران والهند).
- **أوروبا:** الرسم على الخشب (الدول الإسكندنافية وشرق أوروبا)، صناعة الفخار اليدوي (إسبانيا)، وصناعة الزجاج (إيطاليا) ان الاجتماعية



صناعة الزجاج اليدوي في إيطاليا



الفخار اليدوي في فيتنام

## أسئلة على الدرس الثاني: خصائص سكان قارتي آسيا وأوروبا

أولاً: اختر الإجابة الصحيحة مما بين القوسين

(١) يتسم التركيب النوعي لسكان قارة آسيا ب.....

(التوازن النسبي بين الذكور والإناث - ارتفاع نسبة الإناث بشكل كبير - ارتفاع نسبة الذكور بشكل كبير - انخفاض نسبة صغار السن)

(٢) ترجع الزيادة في نسبة الذكور بقارة آسيا بشكل طفيف إلى : .....

(التقدم التكنولوجي - انخراط دول آسيا في صراعات - هجرة العمل وخاصة إلى دول الخليج العربي - انخفاض معدلات المواليد)

(٣) العامل الرئيس وراء زيادة نسبة الإناث عن الذكور في قارة أوروبا منذ عام ١٩٥٠م هو : .....

(ارتفاع معدلات الوفيات بين الذكور في الحروب العالمية - هجرة الإناث للعمل - زيادة معدلات المواليد - ضعف البنية التحتية الصحية)

(٤) الهرم السكاني لقارتي آسيا وأوروبا كلاهما من النوع ذي : .....

(القاعدة العريضة لارتفاع المواليد - القاعدة الضيقة لانخفاض معدل المواليد - القاعدة المتوازنة - القمة العريضة)

(٥) تبلغ نسبة فئة صغار السن (٠-١٤ عامًا) بقارة آسيا حوالي : .....

(نحو ١٥,٧% - نحو ثلثي السكان - نحو ٢٢% - أكثر من خمس السكان)

(٦) من المتوقع تناقص فئة سن العمل (١٥-٦٤ عامًا) في العقود القادمة بقارة : .....

(آسيا - أمريكا الشمالية - أوروبا - إفريقيا)

(٧) تعد قمة الهرم السكاني هي الفئة العمرية التي تمثل : .....

(صغار السن - سن العمل - سن الشباب - كبار السن)

(٨) تحتل المرتبة الأولى عالمياً من حيث نسبة كبار السن، وتليها إيطاليا : .....

(الصين - اليابان - إندونيسيا - السويد)

(٩) تتساوى نسبة العاملين في قارتي آسيا وأوروبا في نشاط : .....

(الزراعة - الصناعة - الخدمات - التعدين)

(١٠) تبلغ نسبة العاملين في النشاط الزراعي بقارة أوروبا حوالي : .....

(خمس القوة العاملة - ربع القوة العاملة - ٤% من القوة العاملة - ثلثي القوة العاملة)

(١١) القارة الأكثر تنوعاً لغوياً في العالم، وتضم نحو ٢٣٠٠ لغة هي قارة : .....

(أوروبا - إفريقيا - آسيا - أمريكا الجنوبية)

(١٢) اللغة التي أسهمت في وحدة الدول العربية وثناء التراث الإسلامي والعربي هي : .....

(الصينية - الفرنسية - العربية - الهندية)

(١٣) من الدول الأوروبية الأعلى إنفاقاً على التعليم بقارة أوروبا : .....

(إيطاليا - أيسلندا - إسبانيا - تايلاند)

(١٤) من الأمراض الأكثر شيوعًا وانتشارًا في قارة أوروبا : .....

(المalaria - الكوليرا - أمراض القلب والأوعية الدموية - فيروس نقص المناعة البشرية)

(١٥) أحد مظاهر التقاليد التي تعكس الاحترام والتقدير في اليابان وكوريا الجنوبية : .....

(تناول الشاي بعد الظهر - الرقصات الفلكلورية - الانحناء المتبادل - صناعة الزجاج)

ثانياً: أكمل العبارات الآتية بما يناسبها من كلمات

(١) بلغت نسبة الذكور في قارة آسيا حوالي ٥١,١٪ مقابل ٤٨,٩٪ للإناث عام ٢٠٢٥م، مما يشير إلى وجود ..... نسبي في التركيب النوعي.

(٢) تزداد نسبة ..... عن الذكور في قارة أوروبا منذ عام ١٩٥٠م حتى الآن.

(٣) بلغت نسبة فئة صغار السن في قارة أوروبا نحو ١٥,٧ نتيجة انخفاض معدل ..... بها مقارنة بآسيا.

(٤) من المتوقع أن يرتفع نسبة كبار السن إلى نحو ..... سكان قارة أوروبا بحلول عام ٢٠٥٠م.

(٥) يشير مصطلح الاقتصاد الفضي إلى مجموع الأنشطة الاقتصادية التي تلبي احتياجات ومتطلبات .....

(٦) تضم قارة أوروبا حوالي ٢٠٠ لغة، أبرزها الإنجليزية والألمانية والفرنسية، وهي لغات ذات تأثير ..... كبير.

(٧) تم ترسيم حدود الدول في وسط أوروبا على أساس ..... بعد الحرب العالمية الأولى.

(٨) تزيد معدلات الأطباء والممرضات عن المعدلات العالمية في دول أوروبا ودول ..... بقارة آسيا.

في الدراسات الاجتماعية

(٩) يعد طبق ..... من أشهر الأكلات الوطنية في كوريا الجنوبية.

(١٠) تنتشر صناعة الفخار اليدوي في دولة فيتنام، بينما تنتشر صناعة الزجاج في دولة ..... الأوروبية.

ثالثاً: اكتب كلمة (صواب) أمام العبارة الصحيحة وكلمة (خطأ) أمام العبارة غير الصحيحة مع التصويب

(١) يرجع الارتفاع الطفيف في نسبة الذكور بقارة آسيا إلى انخراط دول آسيا في الحروب والصراعات. ( )

(٢) الهرم السكاني لقارة آسيا ذو قاعدة عريضة بسبب ارتفاع معدل المواليد بها) ( )

(٣) تمثل فئة صغار السن في قارة آسيا عشرة أضعاف أطفال قارة أوروبا من حيث العدد. ( )

(٤) تمتلك قارتي آسيا وأوروبا قوة عاملة تدعم اقتصادها حيث تبلغ نسبة فئة سن العمل نحو ثلثي السكان. ( )

( )

(٥) من المتوقع أن تزداد نسبة فئة سن العمل في قارة أوروبا في العقود القادمة) ( )

(٦) بلغت نسبة كبار السن بقارة أوروبا نحو عُشر سكان القارة. ( )

(٧) انخفضت نسبة الإنفاق على التعليم في شرق آسيا عن النسبة العالمية) ( )

(٨) أسهم فرض اللغة الأردية كلغة رسمية في تقسيم دولة باكستان إلى دولتين (باكستان وبنجلاديش).

( )

(٩) من الأمراض المنتشرة في آسيا الملاريا وفيروس نقص المناعة البشرية (الإيدز) ( )

(١٠) تعتمد الموسيقى التقليدية في اليابان وكوريا على الرقصات الكلاسيكية الهندية ( )

(١١) يُعد تناول الشاي بعد الظهر من أشهر التقاليد في اليابان وكوريا الجنوبية ( )

(١٢) تنتشر صناعة السجاد اليدوي في كل من إيران والهند. ( )

### رابعاً: اكتب ما تشير إليه كل عبارة مما يلي

(١) مجموعة الأنشطة الاقتصادية التي تلبى احتياجات ومتطلبات كبار السن

(٢) لغة أسهمت في وحدة الدول العربية وثراء التراث الإسلامي والعربي.

(٣) إقليم آسيوي تقل فيه معدلات الأطباء والممرضات عن المعدلات العالمية.

(٤) طبق آسيوي شهير من كوريا الجنوبية يتميز بكونه من الأطعمة الشعبية الوطنية.

### خامساً: بم تفسر

(١) التوازن النسبي في التركيب النوعي لسكان قارة آسيا، مع وجود ارتفاع طفيف في نسبة الذكور.

(٢) زيادة نسبة الإناث عن الذكور في قارة أوروبا منذ عام ١٩٥٠م حتى الآن.

(٣) قاعدة الهرم السكاني في قارتي آسيا وأوروبا ضيقة.

(٤) ضيق قاعدة الهرم السكاني في أوروبا أكثر من آسيا.

(٥) من المتوقع تناقص فئة سن العمل وتزايد فئة كبار السن في قارة أوروبا في العقود القادمة.

(٦) ضرورة اهتمام دول آسيا وأوروبا بكبار السن وتوفير الخدمات المختلفة لهم.

(٧) يعتبر ترسيم الحدود السياسية في وسط أوروبا بعد الحرب العالمية الأولى على أساس اللغة.

(٨) انتشار بعض الأمراض في دول وسط وجنوب آسيا.

### سادساً: دلل على صحة كل عبارة مما يلي

(١) تؤثر اللغة في قارتي آسيا وأوروبا على الهوية الثقافية والسياسية.

(٢) تتمتع قارة آسيا بثراء لغوي هائل مقارنة بقارة أوروبا.

(٣) تمتلك قارتي آسيا وأوروبا قوة عاملة تدعم اقتصادها.

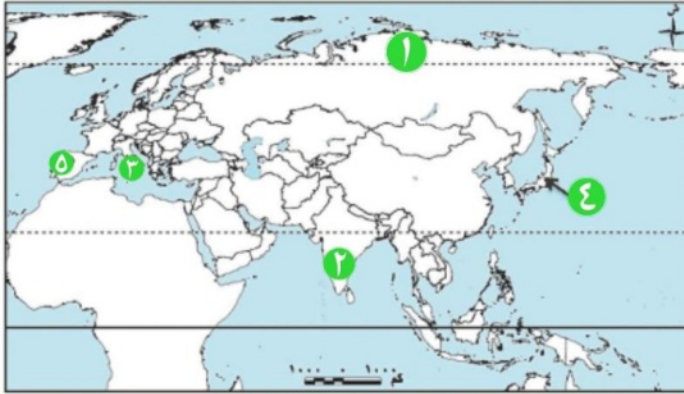
(٤) تهتم دول قارتي آسيا وأوروبا بصحة فئة صغار السن.

- (٥) ظهر مصطلح "الاقتصاد الفضي" نتيجة للخصائص السكانية في قارتي آسيا وأوروبا.
- (٦) تتفوق دول أوروبا وشرق آسيا عن المعدلات العالمية في الرعاية الصحية.
- (٧) تبذل قارتا آسيا وأوروبا جهوداً للحد من انتشار الأمراض.
- (٨) تتميز الشعوب في قارتي آسيا وأوروبا بعادات وتقاليد راقية منذ القدم.
- (٩) تمثل الحرف التراثية جزءاً مهماً من الهوية الثقافية في آسيا وأوروبا.

سابعاً: أسئلة متنوعة

- (١) ما العلاقة بين: انخراط أوروبا في الحرب العالمية الثانية والتركيب النوعي لسكانها؟
- (٢) ماذا يحدث إذا: لم تهتم دول قارتي آسيا وأوروبا بتقديم الخدمات المختلفة لكبار السن؟
- (٣) ما مقترحاتك لـ: رفع معدلات الأطباء والممرضات في دول وسط وجنوب آسيا؟
- (٤) قارن بين: التركيب الاقتصادي لسكان قارتي آسيا وأوروبا من حيث نسبة العاملين في الأنشطة الاقتصادية؟

ثامناً: لاحظ الخريطة ثم اكتب مدلول الأرقام الموضحة على الخريطة:



١- أولى دول قارة آسيا إنفاقاً على التعليم

٢- دولة أوروبية تُعد من أعلى دول العالم في نسبة كبار السن

٣- دولة آسيوية تُعد من أعلى دول العالم في نسبة كبار السن

٤- دولة آسيوية تنتشر بها صناعة الحرير اليدوي

٥- من أعلى دول قارة أوروبا إنفاقاً على التعليم

## أسئلة عامة علي الوحدة الاولي

أولاً: اختر الإجابة الصحيحة مما بين القوسين

١. تُعد قارة آسيا أسرع قارات العالم نموًا سكانيًا، ويرجع ذلك بشكل رئيسي إلى: .....  
( ارتفاع معدل الوفيات - الهجرة الخارجية - انخفاض معدل المواليد - ارتفاع معدل المواليد )
٢. يُقصد بالزيادة الطبيعية الموجبة للسكان في قارة ما أن يكون معدل: .....  
( المواليد = الوفيات - المواليد < الوفيات - المواليد > الوفيات - الوفيات > المواليد )
٣. يُعد النمو السكاني البطيء السمة الغالبة على قارة: .....  
( آسيا - إفريقيا - أمريكا الجنوبية - أوروبا )
٤. تتركز الكثافة السكانية في مناطق السهول الفيضية بقارة آسيا مثل: .....  
( هضبة التبت - سيبيريا - شبه الجزيرة العربية - سهول الصين الشرقية )
٥. منطقة في قارة آسيا تنخفض بها الكثافة السكانية بسبب برودة الجو: .....  
( حوض نهر الغانج - سهول شرق الصين - سهول سيبيريا - هضبة التبت )
٦. تتركز الكثافة السكانية في غرب آسيا لتوفر الثروات البترولية في: .....  
( بلاد الشام - تركيا - دول الخليج العربي - جزر الفلبين )
٧. لجأت بعض الدول الأوروبية التي تعاني من انخفاض المواليد إلى رفع: .....  
( سن التعليم - سن الزواج - سن التقاعد - معدلات الضرائب )
٨. يشير النمو السكاني السالب في دولة أوروبية ما إلى أن: .....  
( معدل المواليد مرتفع - الهجرة الداخلية منخفضة - معدل الوفيات أعلى من المواليد - نسبة الذكور مرتفعة )
٩. التركيب النوعي لسكان قارة آسيا يتسم ب: .....  
( ارتفاع نسبة الإناث - انخفاض نسبة الذكور - التوازن النسبي - ارتفاع نسبة صغار السن )
١٠. العامل الرئيس وراء زيادة نسبة الإناث عن الذكور في أوروبا منذ عام ١٩٥٠م هو: .....  
( هجرة الإناث للعمل - زيادة معدلات المواليد - انخراطها في الحرب العالمية الثانية - التقدم الصحي )
١١. الهرم السكاني لقارتي آسيا وأوروبا كلاهما من النوع ذي: .....

( القاعدة العريضة - القمة العريضة - القاعدة الضيقة - القاعدة المتوازنة )

١٢. من المتوقع تناقص فئة سن العمل في العقود القادمة بقارة: .....

( آسيا - إفريقيا - أوروبا - أمريكا الشمالية )

١٣. الدولة التي تحتل المرتبة الأولى عالمياً من حيث نسبة كبار السن: .....

( الصين - إيطاليا - اليابان - السويد )

١٤. يطلق مصطلح الاقتصاد الفضي على الأنشطة التي تلبي احتياجات ومتطلبات: .....

( صغار السن - سن العمل - كبار السن - العمالة المهاجرة )

١٥. تتساوى كل من آسيا وأوروبا في نسبة العاملين بنشاط: .....

( الزراعة - التجارة - الصناعة - التعدين )

١٦. القارة التي تضم نحو ٢٣٠٠ لغة هي قارة: .....

( أوروبا - إفريقيا - آسيا - أستراليا )

١٧. من الدول الأوروبية الأعلى إنفاقاً على التعليم: .....

( إيطاليا - إسبانيا - النرويج - تايلاند )

١٨. من الدول الآسيوية التي ارتفع فيها الإنفاق على التعليم: .....

( إندونيسيا - تايلاند - الكويت - اليابان )

١٩. من الأمراض المنقولة بالغذاء والماء في قارة آسيا: .....

( السرطان - أمراض القلب - الكوليرا - السكري )

٢٠. معدلات الأطباء والممرضات تفوق المعدلات العالمية في دول: .....

( وسط وجنوب آسيا - شمال إفريقيا - شرق آسيا - أمريكا الجنوبية )

٢١. من أشهر تقاليد الشعب الإنجليزي: .....

( الانحناء المتبادل - صناعة الزجاج - تناول الشاي بعد الظهر - الرقصات الفلكلورية )

٢٢. من الحرف التراثية الآسيوية: .....

( صناعة الزجاج في إيطاليا - الرسم على الخشب في الدول الإسكندنافية - صناعة السجاد اليدوي في إيران - الفخار اليدوي في إسبانيا )

**ثانياً: أكمل العبارات الآتية بما يناسبها من كلمات**

١. تُعد قارة..... أسرع قارات العالم نموًا سكانيًا.
٢. يُقصد بالزيادة الطبيعية للسكان.....
٣. يطلق على قارة..... قارة النمو السكاني البطيء.
٤. تتركز الكثافة السكانية في آسيا في مناطق..... التي تعتمد على الزراعة.
٥. تتركز الكثافة السكانية في أوروبا في الأجزاء..... لتوفر فرص العمل.
٦. لجأت دول آسيا ذات النمو السكاني المرتفع إلى توفير وسائل..... بدون مقابل.
٧. يتسم التركيب النوعي لسكان قارة آسيا ب..... بين الذكور والإناث.
٨. ترجع الزيادة في نسبة الإناث بقارة أوروبا إلى نتائج.....
٩. الهرم السكاني لقارتي آسيا وأوروبا من النوع ذي القاعدة.....
١٠. تمثل فئة كبار السن..... الهرم السكاني.
١١. تمثل أطفال قارة آسيا..... أطفال قارة أوروبا من حيث العدد.
١٢. من المتوقع أن يرتفع نسبة كبار السن إلى نحو..... سكان قارة أوروبا بحلول عام ٢٠٥٠م.
١٣. ظهر مصطلح..... لأول مرة في اليابان.
١٤. تبلغ نسبة العاملين في النشاط الزراعي بقارة آسيا نحو..... القوة العاملة.
١٥. تضم قارة..... نحو ٢٣٠٠ لغة، مما يجعلها الأكثر تنوعًا لغويًا.
١٦. أسهمت اللغة..... في وحدة الدول العربية وثراء التراث الإسلامي والعربي.
١٧. تم ترسيم حدود الدول في وسط أوروبا على أساس..... بعد الحرب العالمية الأولى.
١٨. تقل معدلات الأطباء والممرضات عن المعدلات العالمية في دول.....
١٩. من الأمراض المنتشرة في آسيا، الملاريا وفيروس.....
٢٠. تنتشر صناعة الحرير اليدوي في كل من..... و.....

**ثالثاً: اكتب كلمة (صواب) أمام العبارة الصحيحة وكلمة (خطأ) أمام العبارة غير الصحيحة، مع التصويب**

١. التباين في معدل الزيادة الطبيعية بين القارات هو الفرق بين معدلات المواليد والوفيات. ( )
٢. تتركز الكثافة السكانية في المناطق الجبلية الوعرة بقارة آسيا. ( )
٣. يرجع سبب انخفاض الكثافة السكانية في شمال آسيا (سيبيريا) إلى الظروف المناخية القاسية. ( )
٤. تواجه بعض الدول الأوروبية مشكلة النمو السكاني السالب. ( )
٥. تعتمد جهود دول آسيا لمواجهة المشكلة السكانية على رفع سن التقاعد. ( )
٦. يهدف التخطيط العمراني المستدام إلى تحقيق التوازن بين النمو السكاني والموارد المتاحة. ( )

٧. يرجع الارتفاع الطفيف في نسبة الذكور بآسيا إلى انخراط الدول في صراعات وحروب. ( )
٨. الهرم السكاني لقارة أوروبا أكثر ضيقاً في القاعدة من الهرم السكاني لآسيا. ( )
٩. تنتمي النسبة الأكبر من سكان قارة آسيا لفئة كبار السن. ( )
١٠. من المتوقع أن تزيد نسبة كبار السن في قارتي آسيا وأوروبا بحلول عام ٢٠٥٠م. ( )
١١. تُعد إيطاليا ثاني دول العالم في نسبة كبار السن بعد اليابان. ( )
١٢. الاقتصاد الفضي يهتم بتطوير الخدمات والمساكن الذكية لجيل الشباب. ( )
١٣. تتساوى نسبة العاملين بالصناعة تقريباً في قارتي آسيا وأوروبا. ( )
١٤. تزيد نسبة العاملين بالنشاط الزراعي في أوروبا عن آسيا. ( )
١٥. أوروبا أقل تنوعاً لغوياً من آسيا حيث تضم حوالي ٢٠٠ لغة. ( )
١٦. اللغة الإنجليزية هي التي أسهمت في وحدة الدول العربية وثناء التراث الإسلامي. ( )
١٧. أدت سياسة فرض اللغة الأردية كلغة رسمية إلى انفصال باكستان الشرقية (بنجلاديش). ( )
١٨. انخفض الإنفاق العام على التعليم في أوروبا وشرق آسيا عن النسبة العالمية. ( )
١٩. دول عُمان والكويت من أول دول قارة آسيا في الإنفاق على التعليم. ( )
٢٠. تقل معدلات الأطباء والممرضات عن المعدلات العالمية في دول وسط وجنوب آسيا. ( )
٢١. من الأمراض المنتشرة في أوروبا أمراض القلب والأوعية الدموية. ( )
٢٢. يرجع انتشار الكوليرا والملاريا في آسيا إلى الشيخوخة ونمط الحياة. ( )
٢٣. الانحناء المتبادل في اليابان وكوريا الجنوبية يعكس الاحترام والتقدير. ( )
٢٤. الرقصات الكلاسيكية الهندية تعتمد على الآلات الوترية والطبول. ( )
٢٥. تنتشر صناعة الفخار اليدوي في فيتنام وصناعة الزجاج في إيطاليا. ( )

### رابعاً: اكتب ما تشير إليه كل عبارة مما يلي

١. الفرق بين معدل المواليد ومعدل الوفيات.
٢. توزيع السكان حسب الذكور والإناث.
٣. رسم بياني يوضح توزيع السكان حسب النوع وحسب الفئات العمرية.
٤. العمر الذي يسمح فيه للعامل بإنهاء خدمته الوظيفية ويستحق فيه المعاش.
٥. مجموع الأنشطة الاقتصادية التي تلبي احتياجات ومتطلبات كبار السن.
٦. القارة الأكثر تنوعاً لغوياً في العالم، وتضم نحو ٢٣٠٠ لغة.
٧. دولة آسيوية تحتل المرتبة الأولى عالمياً في نسبة كبار السن.
٨. منظمة إقليمية شاركت في مبادرة الأمن الصحي العالمي لتعزيز القدرات على الوقاية من الأوبئة.
٩. طبق آسيوي شهير من كوريا الجنوبية يتميز بكونه من الأطعمة الشعبية الوطنية.
١٠. لغة أسهمت في وحدة الدول العربية وثناء التراث الإسلامي والعربي.

### خامساً: بم تفسر

١. قارة آسيا أسرع قارات العالم نموًا سكانيًا.
٢. انخفاض معدل النمو السكاني في قارة أوروبا بشكل عام.
٣. ظهور النمو السكاني السالب في بعض دول أوروبا.

٤. ارتفاع الكثافة السكانية في غرب آسيا (دول الخليج العربي).
٥. انخفاض الكثافة السكانية في شمال آسيا (إقليم سيبيريا).
٦. لجوء بعض دول أوروبا لتشجيع الإنجاب ورفع سن التقاعد.
٧. التوازن النسبي في التركيب النوعي لسكان آسيا مع ارتفاع طفيف للذكور.
٨. زيادة نسبة الإناث عن الذكور في أوروبا منذ ١٩٥٠م.
٩. قاعدة الهرم السكاني في القارتين ضيقة.
١٠. ضيق قاعدة الهرم السكاني في أوروبا أكثر من آسيا.
١١. من المتوقع تناقص فئة سن العمل في أوروبا وتزايد كبار السن.
١٢. ضرورة اهتمام دول آسيا وأوروبا بكبار السن وتوفير الخدمات لهم.
١٣. ظهور مصطلح "الاقتصاد الفضي".
١٤. ترسيم الحدود السياسية في وسط أوروبا بعد الحرب العالمية الأولى على أساس اللغة.
١٥. انتشار بعض الأمراض في دول وسط وجنوب آسيا.
١٦. انتشار أمراض القلب والأوعية الدموية والسكري في أوروبا.
١٧. ارتفاع الإنفاق العام على التعليم في أوروبا وشرق آسيا.
١٨. اختلاف نسبة العاملين في النشاط الزراعي بين آسيا وأوروبا.
١٩. يعتبر ترسيم الحدود السياسية في وسط أوروبا بعد الحرب العالمية الأولى على أساس اللغة.

### سادساً: ما النتائج المترتبة علي

١. ارتفاع معدلات المواليد وانخفاض معدلات الوفيات في قارة آسيا.
٢. انخفاض معدلات المواليد والوفيات في قارة أوروبا.
٣. انخراط دول أوروبا في الحرب العالمية الثانية.
٤. انخفاض معدلات المواليد في قارتي آسيا وأوروبا.
٥. الارتفاع المتوقع لنسبة كبار السن في آسيا وأوروبا.
٦. فرض اللغة الأردية كلغة رسمية في باكستان.
٧. استخدام اللغة كأساس في ترسيم الحدود السياسية في وسط أوروبا.
٨. ارتفاع الإنفاق العام على التعليم في أوروبا وشرق آسيا عن النسبة العالمية.
٩. اهتمام دول آسيا وأوروبا بالبرامج الوقائية والتطعيمات الدورية.
١٠. تفوق معدلات الأطباء والممرضات في دول شرق آسيا وأوروبا عن المعدلات العالمية.

### سابعاً: دلل على صحة كل عبارة مما يلي

١. تتخذ دول آسيوية وأوروبية إجراءات متباينة لمواجهة المشكلة السكانية.
٢. تؤثر التضاريس والمناخ في توزيع السكان بقارة آسيا.
٣. تواجه دول قارة أوروبا تحدياً سكانياً يتمثل في تناقص فئة سن العمل.
٤. ظهر مصطلح "الاقتصاد الفضي" نتيجة للخصائص السكانية في القارتين.
٥. تتشابه قارة آسيا وأوروبا في نسبة العاملين ببعض الأنشطة الاقتصادية وتختلف في البعض الآخر.
٦. تؤثر اللغة في قارتي آسيا وأوروبا على الهوية الثقافية والسياسية.
٧. تتمتع قارة آسيا بتراف لغوي هائل مقارنة بقارة أوروبا.
٨. تتفوق دول أوروبا وشرق آسيا على دول وسط وجنوب آسيا في الرعاية الصحية.
٩. تبذل قارتي آسيا وأوروبا جهوداً للحد من انتشار الأمراض.
١٠. تتميز الشعوب في قارتي آسيا وأوروبا بعادات وتقاليد راقية منذ القدم.
١١. تمثل الحرف التراثية جزءاً مهماً من الهوية الثقافية في آسيا وأوروبا.
١٢. أدت المشكلة السكانية في آسيا إلى تدهور بيئي.
١٣. لا بد من اهتمام الدول في آسيا وأوروبا بفئة صغار السن.
١٤. دول آسيا وأوروبا تهتم بالتعليم على مستوى جميع الفئات العمرية.
١٥. تمتلك قارة أوروبا قوة عاملة تدعم اقتصادها رغم تحدي الشيخوخة.

## ثامناً: أسئلة متنوعة

## ماذا يحدث إذا

١. ماذا يحدث إذا: ارتفعت معدلات المواليد في قارة أوروبا بشكل كبير؟
٢. ماذا يحدث إذا: لم تتخذ دول آسيا إجراءات لمواجهة النمو السكاني المرتفع؟
٣. ماذا يحدث إذا: انخفضت نسبة فئة سن العمل في قارة آسيا في العقود القادمة؟
٤. ماذا يحدث إذا: سادت اللغة الإنجليزية كلغة رسمية ووحيدة في جميع دول آسيا؟

## مقارنات شاملة

١. قارن بين مناطق تركيز السكان ومناطق انخفاض الكثافة السكانية في آسيا.
٢. قارن بين التركيب النوعي والعمرى لسكان قارتي آسيا وأوروبا.
٣. قارن بين التركيب الاقتصادي لسكان قارتي آسيا وأوروبا من حيث نسب العاملين بالصناعة والزراعة.



## الوحدة الثانية

## الدرس الأول

أحوال مصر بعد الفتح الإسلامي  
الفتح الإسلامي

## تأمل واكتشف

تعرفنا بالفصل الدراسي الأول أن الشعب المصري عانى كثيراً من اضطهاد الروم خاصة بعد اعتناق المصريين المسيحية ؛ فمن أنقذهم من ذلك الاضطهاد وأعاد لهم حريتهم الدينية ؟

## الفتح الإسلامي لمصر ٢١هـ / ٦٤١م

أولا



خريطة (١) الفتح الإسلامي لمصر

► بدأ التفكير في نشر الإسلام بمصر منذ عهد الرسول (ﷺ) (دلالة؟)

حينما أرسل كتاباً للمقوقس حاكم مصر يدعو للإسلام

▪ ثم أعيد التفكير في فتحها مرة أخرى، حينما أشار عمرو بن

العاص على الخليفة عمر بن الخطاب بفتحها.

▪ وافق عمر بن الخطاب وأمر بخروج الجيش بقيادة عمرو بن

العاص من فلسطين متجهاً إلى مصر.

▪ نجح جيش المسلمين في فتح المدن المصرية من العريش

شرقاً وحتى الإسكندرية غرباً في الدراسات الاجتماعية

▪ وعقد عمرو بن العاص صلحاً مع المقوقس حاكم الروم عُرف

بصلح الإسكندرية

▪ كان من أهم شروطه:

أن تعقد هدنة مدتها أحد عشر شهراً، لا يقوم أحد الطرفين خلالها بأي عمل حربي ضد الآخر

أن يتم ترحيل الحامية الرومية عن طريق البحر، ويحمل الجنود معهم متاعهم وأموالهم، وهم أمنون على ذلك

ألا يعود الروم لمصر ثانية، أو يحاولوا استردادها

ألا يتعرض المسلمون للكنائس بسوء

أن يبقى اليهود بالإسكندرية

- اتجه عمرو بن العاص نحو **جنوب** مصر وفتحها، **ما النتائج؟** وتحولت مصر من ولاية بيزنطية مضطهدة دينيًا إلى ولاية إسلامية شاركت بدور مهم في بناء الحضارة الإسلامية
- وكان عمرو بن العاص أول **وال** على مصر
- **دلال؟ فخير عمرو بن العاص بالتسامح الديني؟** قد منح أهل مصر الحرية الدينية، وحرص على حماية أموالهم وأماكن العبادة الخاصة بهم.

## ثانيًا الملامح الحضارية في مصر خلال عصر الولاة

نعمت مصر بالاستقرار والأمن في عصر الولاة، كما ازدهرت الأنشطة الاقتصادية المختلفة

### ١ نظام الحكم

- أبقى المسلمون على **النظام السياسي** الذي كان موجودًا في مصر قبل الفتح.
- اكتفوا بشغل بعض المناصب السياسية، ليشرّفوا على الإدارة بوجه عام.

### ومن هذه المناصب:

### الوالي:

- كان الخلفاء الراشدون وخلفاء بني أمية وخلفاء بني العباس في العصر الأول يعينون الولاة من **العرب**
- **بم تفسر؟** لحكم مصر وإدارة شئونها الداخلية. إن الاجتماعية
- كان الوالي يقيم **بدار الإمارة** التي أنشأها عمرو بن العاص في مدينة **الفسطاط**.
- **ملاحظة تاريخية**
- في العصر العباسي **الثاني**، بدأ تعيين الولاة من **الفرس والأتراك**.
- كان يتم تغيير الولاة في مدد قصيرة **بم تفسر؟** نظرًا لضعف خلفاء العصر العباسي الثاني،

### صاحب الشرطة:

- كان يقوم الوالي بتعيينه وأحيانًا يتدخل الخليفة في اختياره.
- كان ينوب عن الوالي في أداء مهامه حال غيابه عن منصبه.

### من مهام صاحب الشرطة:

المحافظة على الأمن الداخلي  
بمنع وقوع الجرائم والقبض على  
الجناة.

تنفيذ العقوبات التي يحكم  
بها القضاة.

## مفاهيم تعلمنا

## عصر الولاة

- هو تلك الفترة التاريخية التي تبدأ بعد الفتح الإسلامي لمصر في سنة ٢١هـ / ٦٤١م، وتنتهي ببداية تأسيس أحمد بن طولون لدولة مستقلة في مصر تحمل اسم «الدولة الطولونية» في سنة ٢٥٤هـ / ٨٦٨م، وكانت مصر خلال تلك الفترة ولاية تابعة للخلافة الإسلامية (الخلافة الراشدة - الخلافة الأموية - الخلافة العباسية)

## القضاء :

- يُعد القضاء من **النظم الإدارية** التي وضعها **العرب** بمصر بعد الفتح.
- يقوم نظام القضاء على أساس **الشريعة الإسلامية**.
- غير المسلمين كان لهم قضاؤهم الخاص، إلا إذا احتكموا بأنفسهم إلى القاضي المسلم.
- كان الخليفة هو المسؤول عن **تعيين** القاضي.
- كانت وظيفة القضاء من الوظائف السامية التي تحاط بالهيبة والتقدير.
- كانت مجالس القضاء تعقد عادة في **جامع عمرو بن العاص** بمدينة **الفسطاط**.

## فكر وأجب

## أكملع

- أُنشأ..... على الخليفة عمر بن الخطاب بفتح مصر.
  - نجح جيش المسلمين في فتح المدن المصرية من العريش شرقاً وحتى ..... غرباً.
  - عُرف الصلح الذي عقده عمرو بن العاص مع المقوقس حاكم الروم ب.....
  - كان الوالي يقيم ب..... التي أنشأها عمرو بن العاص في مدينة الفسطاط.
- م فسم :** كان يتم تغيير الولاة في مصر في مدد قصيرة خلال العصر العباسي الثاني ؟

**ما المقصود ؟ عصر الولاة ؟**

## الحياة الاقتصادية

٢

## الزراعة

- اهتم المسلمون بشئون الزراعة والري في مصر ؛ فأمر عمرو بن العاص بإنشاء **مقياس على النيل** ، كما اهتم الأمويون والعباسيون بتوسعة **رقعة الأرض** الزراعية وحفر **الترع والقنوات**.

## الصناعة

ازدهرت الصناعة في عصر الولاة ومن أبرزها:

### ▶ صناعة السفن الحربية

- ازدهرت تلك الصناعة في عصر الدولة الأموية.
- أمر الخليفة الأموي معاوية بن أبي سفيان، بإنشاء دار لصناعة السفن في بلاد الشام بمدينة عكا.
- استقدم من مصر الخبراء **بم تقسم؟** للاستفادة منهم في دار الصناعة الجديدة.

### ▶ صناعة النسيج والتطريز

- كانت الثياب المصرية مزينة بالطراز **البيزنطي**.
- أمر الخليفة الأموي **عبد الملك بن مروان** (٦٥-٨٦هـ) أن تكون الكتابة على النسيج **باللغة العربية**.
- كان يتم تزيين المنسوجات **الكتانية** بزخارف من **الحرير**.

## التجارة

- أعاد عمرو بن العاص حفر القناة التي كانت تربط بين نهر النيل والبحر الأحمر.
- سُميت القناة **بخليج أمير المؤمنين** **سان الاجتماعية**.
- **ما النتائج المترتبة علي حفر قناة خليج أمير المؤمنين؟** ساهم ذلك في تنشيط التجارة بين مصر وبلاد الحجاز.
- ازدهرت التجارة بشكل عام بسبب ازدهار الزراعة والصناعة

## الحياة العلمية

٣

- وفد كثير من الصحابة إلى مصر بعد الفتح.
- قام الصحابة بتعليم الشعب المصري أصول الدين الإسلامي.
- يعد **عبد الله بن عمرو بن العاص**، من أشهر الصحابة الذين قاموا بتعليم المصريين بعد الفتح.
- قامت بمصر نهضة علمية عظيمة.
- كانت دعامة هذه النهضة **الدين الإسلامي واللغة العربية**.
- في القرن **الثاني** الهجري نشأ جيل من العلماء من أصل مصري.
- أصبح هؤلاء العلماء أئمة في **القراءات والأدب واللغة والتاريخ**.



الكتابة على النسيج بالخط العربي

- أصبحت مصر مركزاً لنشر العلم والثقافة.
- ساهم ذلك في بناء وتقدم الحضارة الإسلامية.

## العمارة

٤

- اهتم العرب بالعمارة في مصر. ومن مظاهرها:

## المدن

- أنشأ العرب المسلمون عديداً من المدن في مصر، أهمها مدينة **الفسطاط** التي شيدها عمرو بن العاص.
- شيدت **الفسطاط** **بم تفسم**؟ لتكون عاصمة مصر.
- كانت **الفسطاط** بديلاً عن الإسكندرية التي كانت بعيدة عن قلب مصر وتحفظ بطابعها **البيزنطي**.
- ظلت **الفسطاط** عاصمة لمصر طوال عصر الخلفاء الراشدين والخلافة الأموية.
- في العصر العباسي شيّدوا مدينة **العسكر** كعاصمة جديدة لمصر.
- من المدن الأخرى التي شيدها عمرو بن العاص مدينة **الجيزة**.
- شيّد الأمويون مدينة **حلوان**.

## مواقف مضيئة في التاريخ الإسلامي (رحمة قائد)

- نصب عمرو بن العاص خيمته خارج أسوار حصن بابلليون أثناء حصاره له.
- عند توجهه نحو الإسكندرية أمر بإزالة خيمته فوجد يمامة قد بنت عشها ووضعت بيضها فوق الخيمة.
- أمر بترك الخيمة، ولاحق الروم هو وجنوده.
- بعد عودته كانت اليمامة قد أخذت صغارها وطارت.
- أمر ببناء عاصمة جديدة لمصر في نفس مكان الخيمة وأطلق عليها **الفسطاط** أي (الخيمة).

## المساجد:

- بنى عمرو بن العاص أول جامع في مصر بمدينة **الفسطاط** الذي عُرف باسمه، وكان **مسجداً ومدرسة دينية وعلمية، ومركزاً للقضاء**

## أسئلة على الدرس الأول: أحوال مصر بعد الفتح الإسلامي

أولاً: أكمل العبارات الآتية بكلمات مناسبة:

١. أشار..... على الخليفة عمر بن الخطاب بفتح مصر.
٢. عقد عمرو بن العاص صلحاً مع العقوقس حاكم الروم عُرف ب.....
٣. كانت..... عاصمة الإمبراطورية البيزنطية (الشرقية) التي كانت مصر تابعة لها قبل الفتح الإسلامي.
٤. كان الوالي يقيم ب..... التي أنشأها عمرو بن العاص في مدينة الفسطاط.
٥. في العصر العباسي شيدت مدينة..... لتكون عاصمة جديدة لمصر بدلاً عن الفسطاط.
٦. أعاد عمرو بن العاص حفر القناة التي كانت تربط بين نهر النيل والبحر الأحمر وسميت ب.....

ثانياً: اختر الإجابة الصحيحة مما بين القوسين:

١. ظَلَّتْ الفسطاط عاصمة لمصر طوال عصر الخلفاء الراشدين و.....  
( الخلافة العباسية - الدولة الطولونية - الخلافة الأموية - الدولة الإخشيدية )
٢. أنشأ عمرو بن العاص..... على النيل لخدمة شؤون الزراعة والري  
( ترعة المير - خليج أمير المؤمنين - مقياساً - دار الإمارة )
٣. تم تغيير الولاية في مدد قصيرة في مصر خلال فترة.....  
( عصر الخلفاء الراشدين - العصر العباسي الأول - العصر العباسي الثاني - الخلافة الأموية )
٤. تم تزيين الثياب المصرية بـ "الطراز البيزنطي"، ثم أمر بتغيير الكتابة عليه إلى العربية الخليفة.....  
( معاوية بن أبي سفيان - عبد الملك بن مروان - عمر بن الخطاب - عمرو بن العاص )
٥. كانت مجالس القضاء تعقد عادة في..... بمدينة الفسطاط.  
( دار الإمارة - جامع عمرو بن العاص - الإسكندرية - مدينة العسكر )

ثالثاً: اكتب كلمة (صواب) أمام العبارة الصحيحة، وكلمة (خطأ) أمام العبارة غير الصحيحة، مع التصويب:

١. كانت مصر تحت حكم الإمبراطورية الرومانية الغربية قبل الفتح الإسلامي. ( )
٢. نصَّ صلح الإسكندرية على تعرُّض المسلمين للكنايس بسوء. ( )
٣. كانت مدينة الإسكندرية بعيدة عن قلب مصر وتحتفظ بطابعها البيزنطي، ولهذا تم استبدالها بالفسطاط. ( )
٤. يعد عبد الله بن عمرو بن العاص، من أشهر الصحابة الذين قاموا بتعليم المصريين أصول الدين.

٥. اقتضرت مهام صاحب الشرطة على حفظ الأمن الداخلي فقط . ( )

### رابعاً: إلى من تنسب الأعمال الآتية؟

١. أشار بفتح مصر على الخليفة عمر بن الخطاب .
٢. بنى أول جامع في مصر، وشيد دار الإمارة والفسطاط .
٣. أمر بإنشاء دار لصناعة السفن في بلاد الشام بمدينة عكا واستقدم لها الخبراء من مصر .
٤. أمر بأن تكون الكتابة على النسيج باللغة العربية .
٥. أول وال على مصر بعد الفتح الإسلامي .

### خامساً: بم تفسر...؟

١. تسمية مدينة الفسطاط بهذا الاسم.
٢. اهتمام عمرو بن العاص بإنشاء مقياس على النيل.
٣. بدء تعيين الولاة من الفرس والأتراك في العصر العباسي الثاني وتغييرهم في مدد قصيرة.
٤. اهتمام الخليفة معاوية بن أبي سفيان بإنشاء دار لصناعة السفن في عكا.
٥. تحول مصر من ولاية بيزنطية إلى ولاية إسلامية شاركت بدور مهم في بناء الحضارة الإسلامية.

### سادساً: ما النتائج التي ترتبت على...؟

١. إعادة حفر قناة خليج أمير المؤمنين (القناة التي تربط بين نهر النيل والبحر الأحمر).
٢. قيام عمرو بن العاص بمنح أهل مصر الحرية الدينية وحرصه على حماية أموالهم وأماكن العبادة الخاصة بهم.
٣. وفود كثير من الصحابة إلى مصر بعد الفتح.
٤. اضطهاد الروم للشعب المصري وخاصة بعد اعتناق المسيحية.

### سابعاً: دلل على صحة كل عبارة من العبارات الآتية:

١. عكس صلح الإسكندرية حرص المسلمين على إرساء السلم وحماية غير المحاربين.
٢. لعبت مصر دوراً في دعم الصناعات الاستراتيجية للدولة الإسلامية خارج حدودها.
٣. لم يقتصر جامع عمرو بن العاص على كونه داراً للعبادة فقط.
٤. تنوعت مظاهر العمارة التي شيدها العرب في مصر خلال عصر الولاة.

**ثامناً: ماذا كان يحدث إذا...؟**

١. ماذا كان يحدث إذا لم يقم عمرو بن العاص بإعادة حفر القناة التي تربط بين نهر النيل والبحر الأحمر؟
٢. ماذا كان يحدث إذا تم بناء مدينة الفسطاط في موقع مدينة الإسكندرية؟

**تاسعاً: ما العلاقة بين...؟**

١. ازدهار الزراعة والصناعة في عصر الولاة و حركة التجارة.
٢. الضعف السياسي لخلفاء العصر العباسي الثاني وتغيير الولاة في مصر.

**عاشراً: أسئلة مقالية**

في ضوء دراستك لأحوال مصر بعد الفتح الإسلامي، أجب عن الآتي:

١. حلل أهمية منصب "صاحب الشرطة" في الحفاظ على استقرار ولاية مصر خلال عصر الولاة.
٢. استنتج القيم التي يتضمنها موقف عمرو بن العاص في قصة اليمامة (رحمة قائد).

في الدراسات الاجتماعية

اعداد /

مستتر حاتم عاطف

## الوحدة الثانية

## الدرس الثاني

الملامح الحضارية لبعض الدول المستقلة في  
مصر (الطولونية والإخشيدية والفاطمية)

! تأمل واكتشف

ظلت مصر ولاية تابعة للخلافة الإسلامية منذ أن فتحها المسلمون وحتى العصر العباسي الثاني، حيث بدأ بعض الولاة في الانفراد بحكم مصر وبالتالي ظهرت الدول المستقلة.

🌐 أسباب ظهور الدول المستقلة بم تفسر؟

ظهرت الدول المستقلة في مصر في العصر العباسي الثاني، وكانت أسباب ظهورها:

١. ضعف الخلفاء العباسيين.

٢. بُعد مصر عن مقر الخلافة العباسية في بغداد.

## أنواع الدول المستقلة في مصر

**دول مستقلة اسمياً:** مع الاعتراف بسيادة الخليفة العباسي عليها (مثل: الدول الطولونية، الإخشيدية، الأيوبية، المملوكية).

**دول مستقلة تماماً:** عن الخلافة العباسية هي: الدولة الفاطمية.

أولاً الدولة الطولونية (٢٥٤-٢٩٢هـ / ٨٦٨-٩٠٥م)

أولاً



خريطة (٢) امتداد الدولة الطولونية

👑 أحمد بن طولون وتأسيس الدولة الطولونية

■ أسس أحمد بن طولون الدولة الطولونية في مصر ووسع حدودها فامتدت من بلاد الشام وبلاد الحجاز إلى برقة ومن النوبة إلى حدود آسيا الصغرى (تركيا حالياً)، وشيد مدينة القطائع بم تفسر؟ واتخذها عاصمة لدولته.

■ وكان أحمد بن طولون سياسياً، وقائداً ماهراً خبيراً بأساليب الحكم، كما قام ببناء جيش وأسطول قويين لا يعتمد فيه على الخلافة العباسية، بم تفسر؟ ليساعده في تحقيق مشروعاته وتنفيذ أهدافه، ويحافظ به على حدود دولته

- كما حدد الموارد الاقتصادية وعرف كيف يستغلها لمصلحة دولته، وعمل على نشر العدل، **ما النتائج**
- **المترتبة علي؟** فاستتب الأمن وسادت الطمأنينة بين الناس. وعم الرخاء في عهده
- وقد أصبحت مصر في عصر الدولة الطولونية مركز قوة للعالم الإسلامي.

### ► مواقف مضيئة في حياة أحمد بن طولون

- لما دخل أحمد بن طولون دمشق وقع بها حريق عند كنيسة مريم، فاتجه إليه، وقال: ما يسمى هذا الموضوع؟ فقيل له: كنيسة مريم..... فأمر ابن طولون بسبعين ألف دينار من ماله، توزع على كل من أصابه شيء من الحريق من أهل المنطقة.

### ◀ خمارويه ونهاية الدولة الطولونية

- بعد وفاة أحمد ابن طولون تولى مكانه ابنه **خمارويه**، الذي حافظ على أملاك الدولة الطولونية
- كما توصلت علاقة الدولة الطولونية بالخلافة العباسية عندما تزوج الخليفة **المعتضد بالله** من **قطر الندى** ابنة خمارويه.
- بعد مقتل خمارويه **ما النتائج؟** ضعفت الدولة الطولونية وانتشرت الفوضى في البلاد نتيجة تنافس الأمراء على الحكم وتدخل الجنود في شؤون الدولة الطولونية
- فأرسل الخليفة العباسي **المكتفي بالله** عام ٢٩٢هـ / ٩٠٥ م جيشًا بقيادة **محمد بن سليمان الكاتب** **تفسي؟** لاستعادة تبعية مصر للخلافة العباسية، وعادت مصر لحكم الخلافة العباسية المباشر.

### مظاهر الحضارة بمصر في عصر الدولة الطولونية:

- ❖ تنوعت مظاهر الحضارة في الدولة الطولونية، **دلل؟** حيث حرص الطولونيون على تحقيق استقلال مصر سياسياً واقتصادياً عن الدولة العباسية

### فقاموا بما يلي:

- **تأسيس جيش مصري** قوي للحفاظ على استقلال مصر.
- **إنشاء الدواوين**، مثل: **ديوان الجيش وديوان الإنشاء** (وهو يشبه وزارة الخارجية الآن)، وهذا الديوان مسئول عن الكتب والرسائل التي ترد من كافة الدول والحكام، وتصدر عنه كافة المكاتبات والرسائل لكافة الدول والحكام.
- **تنمية الأنشطة الاقتصادية** من خلال إلغاء العديد من الضرائب، والاهتمام بالزراعة، وتطوير بعض الصناعات كصناعة النسيج التي ازدهرت في مدن مثل الإسكندرية ودمياط، وصناعة الأسلحة، وقد

أدى استقرار البلاد وموقع مصر الاستراتيجي إلى رواج التجارة الداخلية والخارجية، وأصبحت مدن مثل القطائع والإسكندرية مراكز تجارية مهمة.

- **بناء العديد من المنشآت العمرانية** مثل: جامع أحمد بن طولون، وقناطر أحمد بن طولون التي أنشئت بهدف تزويد مدينة القطائع بالمياه والبيمارستان (المستشفى) لعلاج المرضى من العامة مجاناً.

فكر وأجب

أكملع

- ظهرت الدول المستقلة في مصر في العصر العباسي الثاني نظراً لضعف.....
- الدولة الفاطمية تعتبر من الدول المستقلة..... عن الخلافة العباسية.
- أسس أحمد بن طولون الدولة الطولونية وشيد مدينة..... واتخذها عاصمة لدولته.

**بم تفسر:** ظهور الدول المستقلة في مصر في العصر العباسي الثاني؟

**دلل علي صحة العبارة التالية؟** حرص الطولونيون على تحقيق استقلال مصر سياسياً واقتصادياً عن الدولة العباسية.؟

ثانيا

الدولة الإخشيدية (٣٢٣ - ٣٥٨ هـ / ٩٣٥ - ٩٦٩ م)

١ محمد بن طغج الإخشيد وتأسيس الدولة الإخشيدية:

مستتر حاتم عاطف



خريطة (٣) امتداد الدولة الإخشيدية

- تنسب الدولة الإخشيدية إلى مؤسسها **محمد بن طغج الإخشيد**، وكان أحد القادة الأتراك في الجيش العباسي
- نجح في صد الجيش الفاطمي ومنعه من الاستيلاء على مصر **ما النتائج؟** فولاه الخليفة العباسي حاكماً عليها
- فأعاد إليها النظام والأمن، واتخذ من مدينة العسكر عاصمة لدولته.

## كافور الإخشيدى وسقوط الدولة الإخشيدية:

٢

- أوصى محمد بن طفح الإخشيد قبل وفاته بالولاية من بعده لابنه " **أبي القاسم أنوجور** "، وكان صغير السن فجعل خادمه " **كافور الإخشيدى** " وصياً عليه
- وبعد وفاة محمد بن طفح، تولى كافور الإخشيدى إدارة الدولة، وقد حافظ على ممتلكات الدولة الإخشيدية
- وبعد وفاة كافور الإخشيدى تولى حكم مصر ولاة ضعاف صغار السن **ما النتائج؟** فانتشرت الفوضى في البلاد وأرسل الفاطميون جيشاً بقيادة **جوهر الصقلي** تمكن من ضم مصر للخلافة الفاطمية.

## مظاهر الحضارة بمصر في عصر الدولة الإخشيدية:

٣



مسجد الفقاعي

شهدت مصر ازدهاراً واضحاً في مختلف جوانب الحياة؛ ويتضح ذلك فيما يلي:

- تحقيق الأمن والاستقرار الداخلي من خلال القضاء على الصراعات الداخلية والأخطار الخارجية (خطر الفاطميين).
- سك **دنانير** تحمل اسم حاكم مصر واسم الخليفة العباسي.
- بناء القصور والأسواق و**البيمارستان**، كما أنشأوا السقايات لسكان مدينة الفسطاط لجلب الماء، وشيد كافور الإخشيدى « **مسجد الفقاعي** » في سفح **المقطم** بالقاهرة.
- الاهتمام بالعلم وتشجيع العلماء والأدباء ومجالستهم، فقد عُرف كافور الإخشيدى بحبه للعلم والعلماء ورعايتهم.

## الدولة الفاطمية في مصر (٣٥٨ - ٥٦٧ هـ / ٩٦٩ - ١١٧١ م)

ثالثاً



خريطة (٤) امتداد الدولة الفاطمية

- أطلق على الدولة الفاطمية هذا الاسم نسبة إلى **السيدة فاطمة الزهراء بنت الرسول ﷺ**
- أسس الفاطميون دولتهم في بلاد **المغرب** وذلك في أواخر القرن الثالث الهجري / العاشر الميلادي، واتجهت أنظارهم إلى مصر **بم قفسم؟** وذلك لموقعها الجغرافي المتميز وقربها من بلاد الشام والحجاز ووفرة ثرواتها

- الأمر الذي جعلها صالحة لإقامة دولة مستقلة تنافس الخلافة العباسية.
- تتابعت محاولات الفاطميين للاستيلاء على مصر إلى أن جاء الخليفة المعز لدين الله الفاطمي

### الذي اهتم بـ:

- تمهيد الطريق من إفريقية (تونس) إلى مصر وحفر الآبار.
  - إقامة الاستراحات وتدريب الجيش بشكل جيد.
- إلى أن وصلته الأخبار بوفاة **كافور الإخشيدي** سنة ٣٥٧ هـ / ٩٦٨ م وانتشار الفوضى في البلاد فأرسل قائده **جوهر الصقلي** على رأس الجيش، وقد نجح في الاستيلاء على مصر

- وبذلك انتهت تبعية مصر للخلافة العباسية.
- بعد أن استقر الحكم للفاطميين في مصر كتب **جوهر الصقلي** للخليفة المعز لدين الله الفاطمي يدعوه لتولي أمور الحكم بنفسه **ما النتائج؟** وأصبحت مصر منذ وصوله مركزاً للخلافة الفاطمية، وقد اهتم بتأمين حدود دولته من الأخطار الخارجية واتسعت حدود دولته حتى شملت بلاد الشام والحجاز

### مظاهر الحضارة بمصر في عصر الدولة الفاطمية:

- ترك الفاطميون تراثاً ثقافياً زاخراً في مصر** شمل العديد من الآثار المعمارية والفنية، بالإضافة إلى التأثيرات الثقافية والاجتماعية التي لا تزال موجودة في مصر حتى اليوم، ومن أبرز إنجازات الفاطميين في مصر:
- بناء مدينة القاهرة بم تقسم؟** لتكون عاصمة لدولتهم والتي شيدها جوهر الصقلي.



الجامع الأزهر الشريف

- بناء المساجد،** واتخذوها مركزاً لنشر العلم والثقافة، ومن أهم المساجد التي أسسها الفاطميون الجامع الأزهر، كما شيّدوا المدارس والمكتبات العامة مثل المدرسة الحافظية بالإسكندرية، واهتموا بالعلم والعلماء فأصبحت مصر عبارة عن جامعة علمية وفكرية وأدبية كبرى أخذ عنها الكثير من علماء الشرق والغرب.

- بناء جيش وأسطول قويين بم تقسم؟** لحاجتهم إليهما في فتح بلدان جديدة، ولحماية حدود الدولة، ونشر الأمن والأمان.

- **سك عملة جديدة للبلاد** وكانت باسم الخليفة الفاطمي.
- **الاحتفال بالأعياد والمناسبات الدينية** وحرصوا أثناء احتفالاتهم على نشر مظاهر البهجة والفرح بين الشعب المصري من خلال تزيين الشوارع وتوزيع الحلوى والطعام على الفقراء وإقامة المواكب الرسمية للخليفة وكبار رجال الدولة وغيرها.
- **زراعة أشجار الغابات بم تفسم؟** للحصول على الأخشاب اللازمة لبناء الأسطول الحربي والمراكب التجارية، وقد كان الفاطميون يعاملون الفلاحين معاملة قائمة على التسامح والرعاية.
- **تنشيط حركة التجارة مع البلاد الآسيوية والأوروبية**، كانت لمصر علاقات تجارية مع العديد من الدول وكانت الإسكندرية من المراكز الرئيسية للتجارة فتنقل منها البضائع الآسيوية إلى أوروبا وترد إليها السفن الأوروبية محملة بالسلع والخامات اللازمة للصناعة المصرية.

## فكر وأجب

## اختر الإجابة الصحيحة

١. تنسب الدولة الإخشيدية إلى مؤسسها محمد بن طفج الإخشيد، وكان أحد القادة الأتراك في الجيش..... ( البيزنطي- الفاطمي- العباسي- الأيوبي)
  ٢. أوصى محمد بن طفج الإخشيد بالولاية من بعده لابنه "أبي القاسم أنوجور"، وجعل خادمه ..... وصيًا عليه ( أحمد بن طولون-- كافور الإخشيد- جوهر الصقلي- صلاح الدين الأيوبي)
  ٣. تم تأسيس الدولة الفاطمية في بدايتها في منطقة ..... ثم اتجهت أنظارها إلى مصر( بلاد الشام- شبه الجزيرة العربية- بلاد المغرب- بلاد الحجاز)
  ٤. يعتبر ..... من أهم المنشآت العلمية التي أسسها الفاطميون في مصر( قناطر أحمد بن طولون- مسجد الفقاعي- الجامع الأزهر- البيمارستان)
- **بم تفسم** بم تفسر: اتجهت أنظار الفاطميين إلى مصر، وحرصوا على ضمها لدولتهم؟
  - **بم تفسم**: قيام الفاطميين ببناء جيش وأسطول قويين؟
  - **ما النتائج المترتبة على**: نجاح محمد بن طفج الإخشيد في صد الجيش الفاطمي ومنعه من الاستيلاء على مصر؟

## أسئلة الدرس الثاني الملامح الحضارية للدول المستقلة في مصر

### أولاً: أكمل العبارات الآتية بكلمات مناسبة

١. تنقسم الدول المستقلة في مصر إلى دول مستقلة اسمياً، مثل الدولة الإخشيدية، ودول مستقلة تماماً مثل الدولة .....
٢. أنشأ أحمد بن طولون مدينة ..... واتخذها عاصمة لدولته.
٣. يُعد ديوان ..... في الدولة الطولونية مسئولاً عن المكاتبات والرسائل التي تصدر وترد من وإلى كافة الدول والحكام.
٤. تنسب الدولة الإخشيدية إلى مؤسسها محمد بن طغج الإخشيد، واتخذ من مدينة ..... عاصمة لدولته.
٥. الخليفة الفاطمي الذي اهتم بتمهيد الطريق من إفريقية (تونس) إلى مصر هو .....
٦. للحصول على الأخشاب اللازمة لبناء الأسطول الحربي والمراكب التجارية، اهتم الفاطميون بزراعة أشجار .....

### ثانياً: اختر الإجابة الصحيحة مما بين القوسين

١. ظلت مصر ولاية تابعة للخلافة الإسلامية حتى بداية العصر .....  
(الراشدي - الأموي - العباسي الأول - العباسي الثاني)
٢. الدول المستقلة التي اعترفت بسيادة الخليفة العباسي عليها اسمياً هي: .....  
(الفاطمية فقط - الطولونية والإخشيدية والعباسية - الطولونية والإخشيدية والأيوبية والمملوكية - الفاطمية والإخشيدية)
٣. امتدت حدود الدولة الطولونية من النوبة جنوباً حتى حدود ..... شمالاً.  
(برقة - الحجاز - آسيا الصغرى (تركيا) - الشام)
٤. اهتم أحمد بن طولون ببناء منشأة طبية لعلاج المرضى من العامة مجاناً وهي: .....  
(البيمارستان - القناطر - السقاية - دار الكسوة)
٥. الديوان الذي يشبه وزارة الخارجية حالياً في عصر الدولة الطولونية هو ديوان: .....  
(الجيش - الإنشاء - القضاء - الخراج)
٦. أعيدت مصر لحكم الخلافة العباسية المباشر بعد نهاية الدولة الطولونية على يد الخليفة .....  
(المعتضد بالله - المكتفي بالله - الواثق بالله - المستعصم بالله)
٧. قائد الجيش العباسي الذي استعاد تبعية مصر للخلافة بعد سقوط الدولة الطولونية هو: .....  
(محمد بن طغج الإخشيد - كافور الإخشيد - جوهر الصقلي - محمد بن سليمان الكاتب)
٨. العاصمة التي اتخذها محمد بن طغج الإخشيد لدولته هي: .....  
(القطائع - القاهرة - الفسطاط - العسكر)
٩. تميزت الدولة الإخشيدية بسك عملة تحمل اسم حاكم مصر واسم .....

(الخليفة الفاطمي - الخليفة العباسي - الإمبراطور البيزنطي - السلطان العثماني)

١٠. **السبب الرئيسي الذي شجع الفاطميين على الاستيلاء على مصر هو:** .....
- (ضعف الخلافة البيزنطية - موقعها الجغرافي المتميز - وفرة الأخشاب - صغر سن حكام مصر)
١١. **تمكن الفاطميون من ضم مصر بعد أن استقر الحكم لهم في:** .....
- (بغداد - مكة - المغرب - الأندلس)

**ثالثاً: اكتب كلمة (صواب) أمام العبارة الصحيحة ، وكلمة (خطأ) أمام العبارة غير الصحيحة ، مع التصويب**

١. انفرد بعض الولاة بحكم مصر بسبب قوة الخلفاء العباسيين في العصر العباسي الثاني. ( )
٢. حرص الطولونيون على تحقيق استقلال مصر اقتصادياً وسياسياً عن الدولة العباسية. ( )
٣. كانت صناعة النسيج من الصناعات التي ازدهرت في مدن مثل الإسكندرية ودمياط في العصر الطولوني. ( )
٤. توطدت علاقة الدولة الطولونية بالخلافة العباسية بعد مقتل خمارويه. ( )
٥. تولى كافور الإخشيدي إدارة الدولة بعد وفاة أنوجور مباشرة. ( )
٦. من دوافع الفاطميين للاستيلاء على مصر قربها من بلاد الشام والحجاز ووفرة ثرواتها. ( )
٧. المدرسة الحافظية كانت من أهم المدارس التي شيدها الفاطميون في مدينة القاهرة. ( )
٨. اهتم الفاطميون بالتسامح مع الفلاحين ورعايتهم. ( )

**رابعاً: إلى من تنسب الأعمال الآتية**

١. مؤسس الدولة الطولونية في مصر ووسع حدودها من بلاد الشام حتى برقة.
٢. قام بالوصاية على ابن محمد بن طغج الإخشيد، وحافظ على أملاك الدولة الإخشيدية.
٣. تزوج ابنته قطر الندى من الخليفة العباسي المعتضد بالله لتوطيد العلاقة بين الدولتين.
٤. أمر بسبعين ألف دينار توزع على كل من أصابه شيء من حريق كنيسة مريم في دمشق.
٥. قائد تركي نجح في صد الجيش الفاطمي ومنعهم من الاستيلاء على مصر فكافأه الخليفة العباسي بولاية مصر.
٦. الخليفة العباسي الذي أرسل جيشاً لاستعادة تبعية مصر بعد ضعف الدولة الطولونية.
٧. الخليفة الفاطمي الذي أصبحت مصر مركزاً للخلافة في عهده.
٨. شيد مدينة القاهرة والجامع الأزهر في مصر.
٩. أوصى بالولاية من بعده لابنه أبي القاسم أنوجور لصغر سنه.
١٠. شيد مسجد الفقاعي في سفح المقطم بالقاهرة.

**خامساً: بم تفسر**

١. ظهور الدول المستقلة في مصر في العصر العباسي الثاني؟
٢. أصبحت مصر في عصر الدولة الطولونية مركز قوة للعالم الإسلامي؟
٣. انهيار الدولة الطولونية؟

٤. اهتمام الفاطميين بتمهيد الطريق من إفريقيا إلى مصر؟
٥. اتخاذ الفاطميين من المساجد مراكز لنشر العلم والثقافة؟
٦. بناء الفاطميين لجيش وأسطول قويين؟
٧. قيام الطولونيين بإنشاء قناطر أحمد بن طولون؟

### سادساً: ما النتائج التي تترتبت على

١. وصول أخبار وفاة كافور الإخشيدي إلى الخليفة المعز لدين الله الفاطمي؟
٢. نجاح محمد بن طغج الإخشيدي في صد الجيش الفاطمي ومنعه من الاستيلاء على مصر؟
٣. استقرار البلاد وموقع مصر الاستراتيجي في عصر الدولة الطولونية؟
٤. اهتمام الفاطميين بزراعة أشجار الغابات؟
٥. وصول الخليفة المعز لدين الله الفاطمي إلى مصر؟

### سابعاً: دلل على صحة كل عبارة من العبارات الآتية

١. اهتم أحمد بن طولون بالإصلاحات الاجتماعية والإنسانية في دولته.
٢. أظهر الفاطميون اهتماماً واضحاً بالحياة العلمية والثقافية في مصر.
٣. اعتنى الطولونيون بتنظيم شئون الحكم والإدارة.
٤. كانت مدينة الإسكندرية مركزاً تجارياً مهماً في عصر الدول المستقلة في مصر.
٥. قام الفاطميون بتعزيز التواصل الحضاري بين مصر ودول أخرى.
٦. عمل محمد بن طغج الإخشيدي على تحقيق الأمن والاستقرار الداخلي للدولة.

في الدراسات الاجتماعية

### ثامناً : ما العلاقة بين

١. الموقع الجغرافي لمصر وقيام الدولة الفاطمية بها.
٢. كافور الإخشيدي وسقوط الدولة الإخشيديّة.
٣. الخلافة العباسية وسك النقود في الدولة الإخشيديّة.

### تاسعاً : ماذا كان يحدث إذا

١. لم يتمكن محمد بن طغج الإخشيدي من صد الجيش الفاطمي.
٢. اهتم أحمد بن طولون بالجيش فقط ولم يهتم بالعدل بين الناس.
٣. لم تضعف الخلافة العباسية في العصر العباسي الثاني.

## الوحدة الثانية

## الدرس الثالث

الملاح الحضارية لبعض الدول المستقلة في  
مصر (الأيوبية والمملوكية)

تأمل واكتشف!

بعد انتهاء الخلافة الفاطمية تعاقب على حكم مصر دولتان وهما **الدولة الأيوبية والدولة المملوكية** وفي عصرهما تعرض العالم الإسلامي لأخطار خارجية هددت حضارته العريقة، ولكن كان لمصر دور كبير في التصدي لتلك الأخطار وحماية العالم الإسلامي ومواصلة ركب الحضارة والتقدم

الدولة الأيوبية (٥٦٩ - ٦٤٨ هـ / ١١٧٤ - ١٢٥٠م)

أولا



خريطة (٥) امتداد الدولة الأيوبية

- تنسب الدولة الأيوبية لمؤسسها **صلاح الدين يوسف بن نجم الدين أيوب**
- وهو **كردي الأصل** جاء إلى مصر مع عمه **أسد الدين شيركوه** الذي كان على رأس الجيش الذي أرسله **نور الدين محمود أمير الشام** إلى مصر **بم تقسم؟** لحسم نزاع داخلي بين وزيرين مصريين.
- نجح **صلاح الدين** فيما بعد في إنهاء **الخلافة الفاطمية** وإعلان قيام **الدولة الأيوبية**.

## أهم أعمال صلاح الدين الأيوبي

أعاد مصر كولاية تابعة للخلافة العباسية واتخذ من القاهرة عاصمة لدولته

نشر الأمن والأمان في مصر والبلاد المجاورة لها

بدأ في بناء قلعة الجبل بالقاهرة **بم تفسر؟** لتكون مقراً للحكم ولتدريب الجيش

عمل على توسيع حدود دولته خارج مصر.

## الخطر الصليبي على العالم الإسلامي ومصر



خريطة (٦) الإمارات والممالك الصليبية في بلاد الشام والعراق

- توجه الصليبيون من أوروبا نحو الشرق الإسلامي في عدة حملات استمرت نحو ٢٠٠ سنة بدأت منذ عام ٤٩٠ هـ / ١٠٩٦ م حتى عام ٦٩٠ هـ / ١٢٩١ م ،
- عرفت هذه الحملات باسم **الحملات الصليبية** **تفسر؟** لأنهم اتخذوا من الصليب شعارًا لهم وجاءت تلك الحملات لعدة أسباب وهي:

- رغبة باباوات أوروبا في الاستيلاء على الأراضي المقدسة بالشرق
- رغبة ملوك وأمراء أوروبا في إنشاء إمارات مستقلة لهم في الشرق والاستيلاء على خيراته .

- رغبة سكان أوروبا من الطبقة الدنيا في التخلص من الأزمات الاجتماعية والاقتصادية .

- بدأت مواجهات المسلمين للحملات الصليبية منذ اللحظة الأولى لهجومها على بلاد الشام ولكن **نجحت الحملة الصليبية الأولى في تحقيق أهدافها** **تفسر؟**
- بسبب ضعف الخلافة العباسية في بغداد ■ عدم قدرتها على السيطرة على الولايات التابعة له ■ بالإضافة لضعف الخلافة الفاطمية في مصر ■ وقد أقام الصليبيون ثلاث إمارات ومملكة في بلاد **الشام والعراق**.

## أكمل

## فكر وأجب

- بعد انتهاء الخلافة الفاطمية، تعاقب على حكم مصر دولتان هما الدولة ..... والدولة.....
- تنسب الدولة الأيوبية لمؤسسها ..... والذي كان كردي الأصل.
- من أهم أعمال صلاح الدين الأيوبي أنه أعاد مصر كولاية تابعة للخلافة ..... واتخذ من مدينة ..... عاصمة لدولته.
- **بم تفسر** : نجاح الحملة الصليبية الأولى في تحقيق أهدافها ؟
- **ما العلاقة بين** ضعف الخلافة العباسية والفاطمية ونجاح الحملة الصليبية الأولى ؟

## ٢ صلاح الدين الأيوبي ومواجهة الخطر الصليبي

- يرجع الفضل الأكبر في التصدي للصليبيين واسترداد **بيت المقدس** أولى القبلتين وثالث الحرمين إلى الدولة الأيوبية التي تصدت لأربع حملات صليبية من أهم وأكبر الحملات التي خرجت من **غرب أوروبا** قاصدة مصر والشام .
- عمل صلاح الدين الأيوبي على تأمين طريق الحجاج، وتأمين طرق القوافل التجارية بين مصر والشام من خلال عقد هدنة مع **بلدوين الرابع** ملك مملكة بيت المقدس
- وكان من أهم الشروط التي تمسك بها صلاح الدين الشرط الذي يتعلق بحرية التجارة، **م تفسر؟**
- وذلك لأن الطريق بين مصر والشام كان يتعرض باستمرار للأخطار الناتجة عن القتال بين المسلمين والصليبيين ولكن هذه الهدنة لم تستمر .

## ٣ معركة حطين (٥٨٣هـ - ١١٨٧م):

## م تفسر؟ ▶ أسباب المعركة (معركة حطين) ◀

- خرق الهدنة**: قام أرناط أمير حصن الكرك (التابع لمملكة بيت المقدس) بخرق الهدنة التي كانت بين صلاح الدين والملك بلدوين.
- الاعتداء على القوافل**: فرض أرناط الإتاوة على القوافل التي تجتاز الكرك، وهاجم قافلة كبيرة للمسلمين كانت متجهة من القاهرة إلى دمشق، فاستولى عليها وأسر رجالها.
- رفض رد الحقوق**: أرسل صلاح الدين إلى أرناط يطلب منه رد ما استولى عليه من مال المسلمين وإطلاق سراح الأسرى، فرفض أرناط ذلك.
- محاولة الهجوم على المقدسات**: حاول أرناط الهجوم على مقدسات المسلمين في مكة والمدينة، مما دفع صلاح الدين للدخول في حرب ضد الصليبيين

## ▶ أحداث معركة حطين (٥٨٣هـ - ١١٨٧م) ◀

- ❖ **التجهيز والتوحيد**: عمل صلاح الدين على توحيد صفوف المسلمين، وجهز جيشًا ضخمًا من الدول التي تقع تحت سيطرته (مصر، الشام، شمال العراق).
- ❖ **الاستدراج والحصار**: تقدم بجيشه نحو بحيرة طبرية، واستدرج الصليبيين إلى منطقة حطين حيث حاصرهم ومنع عنهم ماء البحيرة.
- ❖ **إشعال النيران**: نفذ ما معهم من ماء وازداد بهم الظمأ واشتدت حرارة الجو، فحاصرهم المسلمون وأشعلوا النيران في الأعشاب حول معسكرهم.

## ▶ نتائج معركة حطين (٥٨٣هـ - ١١٨٧م) ◀

- **انهيار الجيش الصليبي والأسر:** انهزم الجيش الصليبي ووقع في الأسر كل من ملك بيت المقدس وأرناط وغيرهم من كبار الأمراء والفرسان.
- **مصارعة أرناط والعفو:** عفا صلاح الدين عن ملك بيت المقدس وأطلق سراح عدد كبير من الفرسان مقابل تسليمهم قلاعهم، أما أرناط فقتله **بم نفسه؟** جزاءً لغدره بالمسلمين.
- **استرداد بيت المقدس:** توجه صلاح الدين نحو بيت المقدس وحاصره حتى تمكن من فتحه ودخله (وصادف ذلك ذكرى الإسراء والمعراج)، بعد حوالي تسعين سنة من احتلال الصليبيين له.
- **فتح المدن الساحلية:** فتح صلاح الدين العديد من المدن الساحلية بعد ذلك، مثل: عكا وحيفا وصيدا.

### ما موقف صلاح الدين من المسيحيين في بيت المقدس؟

- تسامح صلاح الدين مع المسيحيين في بيت المقدس وعفا عنهم وأمنهم على أرواحهم وأموالهم وكنائسهم كما أبقى الشيوخ والنساء والأطفال من دفع الجزية، وهذا عكس ما قام به الصليبيون عندما اقتحموا مدينة القدس فقتلوا عددًا كبيرًا من أهلها من المسلمين واليهود والمسيحيين وقتلوا الأطفال والنساء والشيوخ.

### صلح الرملة

٤

- بعد أن وصلت أخبار استرداد المسلمين لبيت المقدس إلى أوروبا، خرج **ثلاثة** من ملوك غرب أوروبا (ملك فرنسا وإمبراطور ألمانيا وملك إنجلترا)، في حملة جديدة بقيادة ملك إنجلترا **بم نفسه؟** لاسترداد بيت المقدس
- ولكن **غرق** إمبراطور ألمانيا في أحد أنهار آسيا الصغرى وتشتت جيشه
- ودبَّ النزاع بين ملك فرنسا وملك إنجلترا، **ما النتائج؟** فعاد ملك فرنسا إلى بلاده ولم يتبق إلا ملك إنجلترا (ريتشارد قلب الأسد) الذي عجز عن مواصلة حرب صلاح الدين الأيوبي منفردًا
- فقرر عقد صلح معه عُرفَ **بصلح الرملة** عام ٥٨٨هـ / ١١٩٢م

### ▶ كان من شروط هذا الصلح ◀

- يظل بيت المقدس في أيدي المسلمين .
- تظل المنطقة الساحلية الممتدة من صور إلى يافا في أيدي الصليبيين .
- يحق للصليبيين تأدية الحج إلى بيت المقدس .

- ورغم الصلح إلا أن الصليبيين فكروا في ضرورة السيطرة على مصر **بم تقسم؟** لأن مصر قلب المنطقة، فإن استطاعوا الاستيلاء عليها فإنهم بذلك يستطيعون الحفاظ على أسطولهم في البحر المتوسط قويا في وجه الأسطول الإسلامي، وكذلك يتمكنوا من السيطرة على خيرات مصر
- فتوالت الحملات الصليبية على مصر وتصدى لها ملوك الدولة الأيوبية، إلى أن نجح المماليك بعد ذلك في إنهاء الوجود الصليبي في مصر.

### مواقف مضيئة في حياة صلاح الدين الأيوبي

- دخل صلاح الدين الأيوبي بيت المقدس دون سفك نقطة دم واحدة، وعامل أسراه بنبيل، وسمح للأميرت الأوروبيات بمغادرة بيت المقدس دون أن يصبن بأذى ، وعندما طلبن من صلاح الدين الأيوبي إطلاق سراح أزواجهن وأبنائهن الذين أسروا، حرر صلاح الدين الأيوبي الأسرى .
- كما أن صلاح الدين كان كريما ينفق كل ما في يده في وجوه الخير، وقد بلغ من فرط كرمه وزهده أنه لم يكن لديه مال يتزكى به، ولما توفي لم يترك وراءه لا دارًا ولا مزرعة .

### مظاهر الحضارة بمصر في عصر الدولة الأيوبية

#### ١. الاهتمام بالجيش

- حرص صلاح الدين الأيوبي وخلفاؤه على تأمين الدولة من الأخطار الخارجية والداخلية، ويتضح ذلك في:
- تأسيس جيش وأسطول بحري قوي لحماية الحدود البرية والبحرية للدولة الإسلامية.
  - تحصين الحدود المصرية وبناء القلاع والحصون.
  - إنشاء العديد من المراكز لصناعة السفن الحربية، مثل: دار صناعة الجزيرة (جزيرة منيل الروضة بالقاهرة).

#### ٢. النهضة الاقتصادية

شهدت الدولة الأيوبية ازدهارًا اقتصاديًا كبيرًا في مجالات:

المجال	مظاهر الاهتمام
الزراعة	تطهير الترع، إقامة الجسور، تنظيم وسائل الري. زراعة أشجار الغابات لتوفير الأخشاب اللازمة لبناء سفن الأسطول.
التعدين والصناعة	الاهتمام بالتعدين (الاستخراج المعادن اللازمة لتصنيع الأسلحة والمعدات للجيش الأيوبي). ازدهار الصناعات المعدنية، وصناعة النسيج (الكتان المصري والحريير الشامي)، وصناعة الزجاج.
التجارة	ازدهار التجارة، حيث كانت مصر بمثابة همزة الوصل بين تجارة الشرق والغرب. تركزت الأسواق التجارية الكبرى في مدن مثل القاهرة والإسكندرية.

## ٤. النهضة العمرانية والعلمية

برز اهتمام الأيوبيين بالعمران والعلوم كالتالي:



قلعة صلاح الدين في جزيرة فرعون في طابا

## • الجانب العمراني:

- إنشاء الأسوار حول المدن، بالإضافة إلى الحصون والقلاع.

## • الجانب العلمي:

- إنشاء المدارس والمساجد لنشر تعاليم الإسلام.
- تشجيع العلماء والأدباء.
- إنشاء البيمارستانات (المستشفيات) لتقديم الرعاية الصحية.

## فكر وأجب

## أختر الإجابة الصحيحة

- نسب الدولة الأيوبية لمؤسسها صلاح الدين يوسف بن نجم الدين أيوب، وهو في الأصل من: (المغول - الأتراك - الأكراد - المماليك)
- بعد معركة عين جالوت، قام الظاهر بيبرس بإعادة إحياء الخلافة ..... في القاهرة: (الفاطمية - الأموية - العباسية - العثمانية)
- **بم تفسر**: رص صلاح الدين الأيوبي على توحيد الدول الإسلامية تحت قيادته قبل مواجهة الصليبيين؟
- **ما النتائج المترتبة على**: انتصار المسلمين في معركة حطين عام ٥٨٣هـ / ١١٨٧م؟

الدولة المملوكية (٦٤٨ - ٩٢٣هـ / ١٢٥٠ - ١٥١٧م)

ثانيا

ما المقصود؟

هم الغلمان الذين كانوا يتم شراؤهم وتدريبهم على فنون الحرب والقتال لاستخدامهم كفرق عسكرية في الجيش .

المماليك

- جلب الصالح **نجم الدين أيوب** المماليك الذين شاركوا في حروب الدولة الأيوبية ضد الصليبيين
- وبعد وفاته تخلص المماليك من **توران شاه** آخر سلاطين الدولة الأيوبية
- وتولت الحكم شجر الدر زوجة الصالح نجم أيوب والتي تزوجت من **عز الدين أيبك** المملوكي وتنازلت له عن عرش مصر



خريطة (٧) امتداد الدولة المملوكية

- ومن هنا بدأ حكم المماليك الذين تمكنوا على مدار قرنين ونصف من الزمان من تثبيت حكمهم في مصر وتوسيع حدود دولتهم.
- وبعد مقتل عز الدين أيبك تولى ابنه **المنصور علي** وكان صغير السن لا يقدر على إدارة شؤون الدولة فعين سيف الدين قطز مرييا له ونائبا للسلطنة
- وفي تلك الأثناء كان الخطر المغولي قد زحف على العالم الإسلامي، وقام المغول بتدمير كل الدول الإسلامية التي دخلوها **فارس "إيران" - العراق - بلاد الشام** وسقطت الخلافة العباسية واستولوا على عاصمتها بغداد .

### ► وحشية المغول

- عندما دخل المغول بغداد هدموا المساجد وجردوا القصور الجميلة من التحف النادرة وأحرقوا مكتبة بغداد وألقوا بكتبها في نهر دجلة وجعلوها جسورًا لخيولهم فتحوّلت مياه النهر الصافي إلى اللون الأسود ، كما أنهم قتلوا الخليفة العباسي المستعصم بالله وابنيه كما قتلوا كثيرًا من العلماء وأئمة المساجد والأهالي، وانتشر الوباء فمات عدد كبير ممن نجوا من بطش المغول بسبب المرض .

### ١ الخطر المغولي على العالم الإسلامي ومصر

بعد سقوط بلاد الشام في يد المغول بدأوا يفكرون في الدخول لمصر **م تفسر؟**

- لأنها كانت **القوة الوحيدة المتبقية** في العالم الإسلامي والتي تهدد أمن المغول، حيث إنها كانت **مقرًا** لكل المسلمين الهاربين من المغول.
- بالإضافة إلى **موقعها الاستراتيجي المتميز** فهي تقع في قلب العالم القديم وتتحكم في طرق التجارة العالمية.
- كما أن احتلال مصر يعد **بوابة لسيطرة المغول على شمال إفريقيا** ومن ثم السيطرة على العالم كله .

► وقد أرسل المغول رسالة باسم سلطان مصر يهددونهم بتدمير بلادهم إن لم يستسلموا

► **وعند وصول رسل المغول لمصر، ما النتائج؟** اضطر سيف الدين قطز لخلع السلطان (المنصور علي) وأعلن نفسه سلطانا على البلاد .

## ما المقصود؟

**المغول**  
قبائل متفرقة متنازعة عاشت في وسط آسيا (منغوليا) على الرعي والصيد، وتوحدت على يد جنيكز خان، كانوا يجيدون فنون الحرب والقتال.

## سيف الدين قطز ومواجهة الخطر المغولي

٢

► رفض قطز تسليم البلاد للمغول، وأعلن الجهاد ضدهم، واتخذ عدة إجراءات دفاعية لحماية مصر والعالم الإسلامي من خطر المغول منها :

❖ عزل المنصور علي **بم تفسر؟** لصغر سنه وعدم قدرته على ترتيب الأوضاع التي تحتاج إلى حزم ووحدة وقيادة قادرة على محاربة المغول .

❖ العفو عن المماليك الهاربين .

❖ التحالف مع بعض أمراء الشام وتوحيد القوتين **بم تفسر؟** ليكون الجيش أقوى في مواجهة أعدائه .

❖ عقد اجتماعاً مع أمراء المماليك وعلماء الدين الإسلامي لرفع الروح المعنوية لمواجهة المغول .

❖ جمع الأموال من كل طوائف الشعب لتجهيز الجيش وقد التحق بالجيش عدد كبير من المصريين .

❖ توفير الأمن والسلامة والاستقرار له، وتهيئة سبل العيش الكريم وتنظيم الأمور الإدارية .

## معركة عين جالوت

٣

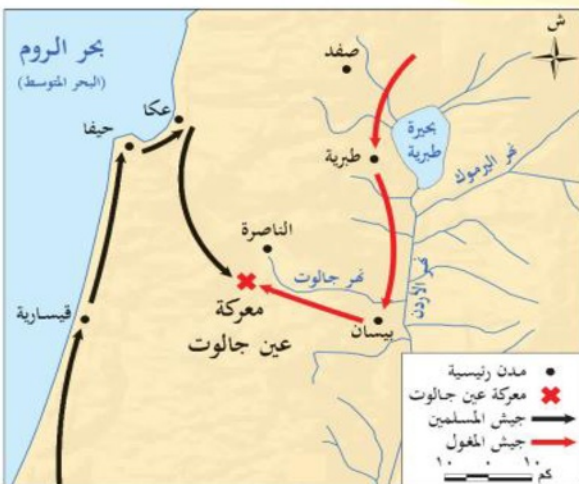
- بعد أن وحد قطز الجبهة الإسلامية وجهاز الجيش خرج على رأس جيشه متجها نحو **فلسطين**
- وقد التقى جيش المغول في منطقة عين جالوت وكان ذلك في شهر رمضان ٦٥٨هـ: سبتمبر ١٢٦٠م.

## أحداث ونتائج معركة عين جالوت

- دارت معركة شديدة بين جيشي المسلمين والمغول وكانت المعركة في بدايتها لصالح المغول
- فقام السلطان قطز بخلع خوذته وألقاها على الأرض وصرخ بأعلى صوته "والإسلاماه" وقاد الهجوم بنفسه

## على المغول ما النتائج؟

- فدبت الحماسة في نفوس الجنود المسلمين وانقضوا على المغول وأخذوا يقاتلون ببسالة



خريطة (٨) معركة عين جالوت

- أنزلوا بالمغول خسائر فادحة حتى أنهم قتلوا معظم جنودهم
- كما قتل قائدهم كتبغا واضطر الباقون للفرار
- وبذلك حمت مصر العالم الإسلامي من خطر المغول، وتوحدت مصر والشام تحت حكم المماليك وأصبحت مصر زعيمة العالم الإسلامي .

### ► مواقف مضيئة في حياة قطز ◀

- في معركة عين جالوت قتل جواد قطز ولم يجد أحد في الساحة يمنحه جوادًا ؛ فبقى واقفا على الأرض ثابتا والقتال على أشده في المعركة ، فلما رآه أحد الأمراء نزل من على فرسه وحلف على السلطان قطز ليركبها؛ فامتنع وقال لذلك الأمير: ما كنت لأحرم المسلمين نفعك.

### الظاهر بيبرس وإحياء الخلافة العباسية

٤

- قتل سيف الدين قطز أثناء عودته من عين جالوت بعد ما حققه من نصر عظيم على المغول، وتولى عرش مصر من بعده قائد جيشه الظاهر بيبرس الذي عمل على **إعادة إحياء الخلافة العباسية** في القاهرة لتوطيد حكمه على عرش مصر ، وأصبحت دولة المماليك تابعة للخلافة **العباسية**، كما شيد مسجده المعروف باسمه والمدرسة الظاهرية بالقاهرة.
- وتوالى سلاطين المماليك على عرش مصر، إلى أن اكتشف **البرتغاليون** طريق رأس الرجاء الصالح وتحول طريق التجارة من مصر إلى الدوران حول إفريقيا **ما النتائج؟** فضعت دولة المماليك وتدهورت أحوالها

### مظاهر الحضارة بمصر في عصر الدولة المملوكية

٥

تمتعت مصر في عصر دولة المماليك بمكانة متميزة حيث اهتم المماليك بالعديد من المجالات ويتضح ذلك كما يلي :

- **الجيش والأسطول** ◀ اهتم المماليك ببناء جيش منظم اعتمد على الفروسية، وكذلك بناء أسطول بحري قوي .
- **النهضة الاقتصادية:** ◀
- **الزراعة:** اهتم المماليك بالزراعة فحفروا الترع وأقاموا الجسور، وتنوعت في عهدهم المحاصيل. كما اهتموا بالثروة الحيوانية، فعملوا على تحسين سلالتها، وجلب الأنواع الممتازة لتربيتها.
- **الصناعة:** ازدهرت الصناعة في العصر المملوكي وازداد الطلب عليها وبخاصة الصناعات الحرفية، كما اهتموا بالصناعات العسكرية وكانت مصر من أشهر المراكز الصناعية في العالم الإسلامي.

- **التجارة**: كانت التجارة مجالاً رئيسياً للنشاط الاقتصادي المصري، وساهمت بالنصيب الأكبر في ثراء دولة المماليك، إلى أن تحولت التجارة بين الشرق والغرب في نهاية القرن **الخامس عشر** الميلادي إلى **طريق رأس الرجاء الصالح** بدلاً من البحر الأحمر.

### • النهضة العمرانية والعلمية:



مسجد السلطان حسن

تميز عصر المماليك بازدهار العمارة فتركوا لنا تراثاً معمارياً كبيراً من المساجد والمدارس والقصور والبيمارستانات والخانات.

- اشتهر العصر المملوكي بفن **النحت والحفر على الخشب** وكذلك تطعيم التحف الخشبية.
- ازدهرت **العلوم** المختلفة فكانت القاهرة دون نزاع أكثر العواصم الإسلامية ازدهاراً **بالبحث والدراسة**، وحملت وحدها مشعل الثقافة العربية الإسلامية، خاصة بعد سقوط **بغداد** في أيدي المغول.
- استقبلت مصر العلماء والطلاب من كل مكان ليدرسوا في مراكز العلم، وقد استعاد **الجامع الأزهر الشريف** دوره العلمي والديني، بعد أن جدد وأعاد افتتاحه السلطان الظاهر **بيبرس**.

في الدراسات الاجتماعية

اعداد /

مستتر حاتم عاطف

## أسئلة على الدرس الثالث: الملامح الحضارية للدولتين الأيوبية والمملوكية

أولاً: أكمل العبارات الآتية بكلمات مناسبة:

١. تنسب الدولة الأيوبية لمؤسسها صلاح الدين يوسف بن نجم الدين أيوب وهو ..... الأصل
٢. قام صلاح الدين الأيوبي بإنهاء الخلافة ..... وإعلان قيام الدولة الأيوبية
٣. بدأ صلاح الدين في بناء قلعة ..... بالقاهرة لتكون مقرًا للحكم ولتدريب الجيش
٤. اتخذ صلاح الدين من مدينة ..... عاصمة لدولته بعد أن أعاد مصر ولاية تابعة للخلافة .....
٥. عرفت الحملات الأوروبية على الشرق الإسلامي باسم الحملات ..... لأنهم اتخذوا من ..... شعارًا لهم
٦. تمكنت الحملة الصليبية الأولى من تحقيق أهدافها بسبب ضعف الخلافة ..... في بغداد وضعف الخلافة ..... في مصر
٧. تمكن الصليبيون من تأسيس ..... إمارات ومملكة في بلاد .....
٨. وقع ملك بيت المقدس وأرناط في الأسر بعد معركة .....
٩. عقد صلاح الدين صلح ..... مع ملك إنجلترا ..... عام ٥٨٨ هـ / ١١٩٢ م
١٠. تخلص المماليك من ..... آخر سلاطين الدولة الأيوبية، وتولت الحكم بعده .....
١١. قامت شجر الدر بالتنازل عن عرش مصر لزوجها ..... المملوكي
١٢. تم إحياء الخلافة ..... في القاهرة على يد السلطان المملوكي .....
١٣. تدهورت أحوال دولة المماليك الاقتصادية بعد اكتشاف البرتغاليين طريق .....

ثانياً: اختر الإجابة الصحيحة مما بين القوسين:

١. جاء صلاح الدين إلى مصر مع عمه أسد الدين شيركوه الذي كان على رأس الجيش الذي أرسله: .....  
(شجر الدر - سيف الدين قطز - نور الدين محمود - عز الدين أيبك).
٢. انتهت الخلافة الفاطمية وقامت الدولة الأيوبية على يد صلاح الدين الأيوبي عام: .....  
(٥٦٦ هـ - ٥٦٩ هـ - ٦٤٨ هـ - ٦٥٨ هـ).
٣. كان الهدف الأساسي من بناء صلاح الدين لقلعة الجبل بالقاهرة هو: .....  
(إقامة احتفالات النصر - استقبال الوفود الأجنبية - تكون مقرًا للحكم وتدريب الجيش - مقرًا للعلماء والأدباء).
٤. تعد إمارة ..... هي أولى الإمارات الصليبية سقوطاً في يد المسلمين:  
(طرابلس - أنطاكية - الرها - مملكة بيت المقدس).
٥. السبب المباشر لاندلاع معركة حطين هو قيام أمير حصن الكرك ..... بخرق الهدنة:  
(بلدوين الرابع - ريتشارد قلب الأسد - أرناط - الإمبراطور فريديريك).
٦. تمكن صلاح الدين الأيوبي من تحرير بيت المقدس بعد معركة حطين بعام: .....

(٥٨٠ هـ - ٥٨٦ هـ - ٥٨٣ هـ - ٥٨٨ هـ).

٧. من أهم شروط صلح الرملة عام ٥٨٨ هـ بين صلاح الدين وريتشارد قلب الأسد أن يسمح للمسيحيين بـ: .....

(تسلم جميع المدن الساحلية - حرية تأدية الحج - تحصين بيت المقدس - إطلاق سراح أرناط).

٨. قامت الدولة المملوكية عقب التخلص من آخر سلاطين الدولة الأيوبية وهو: .....

(المنصور علي - شجر الدر - توران شاه - الظاهر بيبرس).

٩. أول من تولت حكم مصر من النساء في العصر الإسلامي بعد مقتل آخر سلاطين الأيوبيين هي: (شجر الدر - فاطمة الزهراء - الملكة فيكتوريا - أمينة هانم).

١٠. تولى حكم مصر بعد تنازل شجر الدر له بالزواج: .....

(عز الدين أيبك - سيف الدين قطز - الظاهر بيبرس - المنصور علي).

١١. قام بإسقاط الخلافة العباسية في بغداد عام ٦٥٦ هـ: .....

(الصليبيون - المماليك - المغول - العثمانيون).

١٢. وقعت معركة عين جالوت عام ٦٥٨ هـ بين المماليك والمغول بقيادة: .....

(هولاكو - تيمورلنك - كتبغا - صلاح الدين).

١٣. قام السلطان المملوكي..... بإحياء الخلافة العباسية في القاهرة اسمياً:

(عز الدين أيبك - سيف الدين قطز - الظاهر بيبرس - المنصور علي).

١٤. من أهم المؤسسات التي أنشأها الأيوبيون والمماليك للعلاج هي: .....

(الكتاتيب - البيمارستانات - المدارس - الخانات).

١٥. تدهورت أحوال دولة المماليك الاقتصادية بسبب اكتشاف طريق .....

(طريق الحرير - طريق التوابل - رأس الرجاء الصالح - قناة السويس).

ثالثاً: اكتب كلمة (صواب) أمام العبارة الصحيحة، وكلمة (خطأ) أمام العبارة غير الصحيحة، مع التصويب:

١. تنسب الدولة الأيوبية لمؤسسها صلاح الدين وهو عربي الأصل. ( )

٢. نجحت الحملة الصليبية الأولى في تحقيق أهدافها بسبب ضعف الخلافة العباسية والخلافة الفاطمية. ( )

٣. كان السبب المباشر لمعركة حطين هو قيام أرناط أمير الكرك بخرق الهدنة. ( )

٤. تمكن صلاح الدين من فتح بيت المقدس بعد معركة حطين بعامين. ( )

٥. اشترط صلاح الدين في صلح الرملة أن يتمكن المسيحيون من تحصين أسوار بيت المقدس. ( )

٦. قُتل توران شاه آخر سلاطين الأيوبيين وتولت الحكم من بعده شجر الدر. ( )

٧. قاد الظاهر بيبرس معركة عين جالوت ضد المغول وانتصر فيها. ( )

٨. تعد البيمارستانات مؤسسات تعليمية أنشأها الأيوبيون والمماليك لنشر العلوم. ( )

٩. قام سيف الدين قطز بإحياء الخلافة العباسية في القاهرة اسمياً بعد مقتل الخليفة في بغداد. ( )  
١٠. ازدهرت التجارة في عصر المماليك بعد اكتشاف طريق رأس الرجاء الصالح. ( )

### رابعاً: إلى من تنسب الأعمال الآتية؟

١. قائد الجيش الذي أرسله نور الدين محمود لحسم النزاع في مصر والذي جاء معه صلاح الدين.
٢. أحد ملوك الصليبيين عقد هدنة مع صلاح الدين الأيوبي لضمان سلامة قوافل التجار بين مصر والشام.
٣. قائد صليبي قام بخرق هدنة بلدوين الرابع وكان سبباً مباشراً لاندلاع معركة حطين.
٤. ملك إنجلترا الذي عقد صلح الرملة مع صلاح الدين الأيوبي عام ٥٨٨ هـ.
٥. آخر سلاطين الدولة الأيوبية الذي قُتل على يد المماليك.
٦. السلطنة التي حكمت مصر لفترة وجيزة وتنازلت عن الحكم لزوجها المملوكي ليتولى هو قيادة البلاد.
٧. السلطان المملوكي الذي قام بعزل سلفه لصغر سنه، وأعلن الجهاد، وقاد معركة عين جالوت.
٨. القائد المغولي الذي قُتل في معركة عين جالوت.
٩. السلطان المملوكي الذي قام بإحياء الخلافة العباسية في القاهرة اسمياً.

### خامساً: بم تفسر

١. إطلاق اسم "الحملات الصليبية" على الحملات الأوروبية على الشرق الإسلامي.
٢. نجاح الحملة الصليبية الأولى في إقامة إمارات ومملكة في بلاد الشام والعراق.
٣. حرص صلاح الدين الأيوبي على شرط حرية التجارة في الهدنة التي عقدها مع بلدوين الرابع.
٤. قيام أرنط بخرق الهدنة مع صلاح الدين الأيوبي.
٥. تسامح صلاح الدين الأيوبي عند فتحه بيت المقدس عام ٥٨٣ هـ.
٦. سقوط الخلافة العباسية في بغداد على يد المغول عام ٦٥٦ هـ.
٧. قيام سيف الدين قطز بعزل السلطان المنصور علي وإعلان نفسه سلطاناً على البلاد.
٨. تفكير المغول في دخول مصر بعد سقوط بلاد الشام.
٩. دخول المغول بلاد المسلمين ببطش ووحشية شديدة.
١٠. تدهور الأحوال الاقتصادية لدولة المماليك في نهاية حكمها.
١١. ازدهار العمارة والعلوم في عصر المماليك.
١٢. بناء الأيوبيين للمدارس والمساجد والبيمارستانات.

### سادساً: ما النتائج التي ترتبت على؟

١. تجهيز صلاح الدين الأيوبي لجيشه ودخوله معركة حطين عام ٥٨٣ هـ.
٢. تولي شجر الدر حكم مصر بعد مقتل توران شاه.
٣. إسقاط المغول للخلافة العباسية في بغداد عام ٦٥٦ هـ.
٤. انتصار المسلمين بقيادة قطز في معركة عين جالوت عام ٦٥٨ هـ.
٥. قيام المماليك بإنشاء أسطول بحري قوي.

٦. اكتشاف طريق رأس الرجاء الصالح وتحول طرق التجارة إليه.
٧. اهتمام المماليك بالزراعة وحفر الترع وإقامة الجسور.

### سابعاً: دلل على صحة كل عبارة من العبارات الآتية:

١. كان لصلاح الدين الأيوبي موقف أخلاقي مشرف ومغاير لتصرفات الصليبيين عند دخول بيت المقدس.
٢. كان لمصر دور كبير في حماية العالم الإسلامي في عصر الدولتين الأيوبية والمملوكية.
٣. اهتمت الدولة الأيوبية بالنهضة العسكرية للدولة الإسلامية.
٤. كانت القاهرة في عصر المماليك مركزاً للثقافة العربية الإسلامية.
٥. اتسمت مظاهر الحضارة في عصر الدولة المملوكية بالاهتمام بالجوانب الاقتصادية.
٦. لعبت شجر الدر دوراً محورياً في انتقال الحكم من الأيوبيين إلى المماليك.

### ثامناً: ما العلاقة بين...؟

١. الخلافة العباسية ونجاح الحملة الصليبية الأولى.
٢. الهدنة بين صلاح الدين وبلدوين الرابع ومعركة حطين.
٣. سقوط بغداد في يد المغول والنهضة العلمية في القاهرة.
٤. البرتغاليين وسقوط دولة المماليك.

### تاسعاً: ماذا كان يحدث إذا...؟

١. لم يتنازل صلاح الدين عن شرط حرية التجارة في صلح الرملة.
٢. لم يقم سيف الدين قطز بعزل المنصور علي عن الحكم.
٣. لم يقم الأيوبيون بإنشاء البيمارستانات.
٤. لم يكتشف البرتغاليون طريق رأس الرجاء الصالح.

## بنك أسئلة شامل على الوحدة الثانية : مصر تحت الحكم الإسلامي

أولاً: أكمل العبارات الآتية بكلمات مناسبة:

١. بدأ التفكير في فتح مصر في عهد الرسول ..... حينما أرسل كتاباً لحاكم مصر ..... يدعو للإسلام.
٢. كانت مصر تحت حكم الإمبراطورية ..... وعاصمتها القسطنطينية قبل الفتح الإسلامي.
٣. كانت مدينة ..... هي عاصمة مصر في عصر الخلفاء الراشدين وبداية العصر الأموي.
٤. في العصر العباسي، شيد العرب مدينة ..... لتكون عاصمة جديدة لمصر.
٥. ظهرت الدول المستقلة في مصر في العصر العباسي الثاني نتيجة ..... الخلفاء العباسيين.
٦. من الدول المستقلة اسماً مع الاعتراف بسيادة الخليفة العباسي: الدول ..... و ..... والأيوبية والمملوكية.
٧. الدولة المستقلة تماماً عن الخلافة العباسية هي الدولة .....
٨. أسس أحمد بن طولون مدينة ..... لتكون عاصمة لدولته.
٩. أقيمت دار للعلاج تسمى ..... في العصر الطولوني لعلاج المرضى مجاناً.
١٠. أطلق على محمد بن طغج لقب ..... ومعناها ملك الجبال.
١١. قام ..... بقيادة الجيش الفاطمي لفتح مصر في عهد الخليفة .....
١٢. بنيت مدينة ..... لتكون عاصمة للدولة الفاطمية.
١٣. أنشأ الفاطميون ..... لتفصيل الثياب لموظفي الدولة وثياب الأمراء والأشراف.
١٤. تنسب الدولة الأيوبية لمؤسسها ..... وهو ..... الأصل.
١٥. قام صلاح الدين بإنهاء الخلافة ..... وإعادة مصر ولاية تابعة للخلافة .....
١٦. بدأ صلاح الدين الأيوبي في بناء قلعة ..... بالقاهرة لتكون مقراً للحكم.
١٧. وقع ملك ..... وفي الأسر بعد معركة حطين.
١٨. عقد صلاح الدين صلح ..... مع ملك إنجلترا .....
١٩. قام السلطان المملوكي ..... بإحياء الخلافة العباسية في القاهرة.
٢٠. تدهورت أحوال دولة المماليك الاقتصادية بعد اكتشاف طريق .....

ثانياً: اختر الإجابة الصحيحة مما بين القوسين:

١. أشار..... على الخليفة عمر بن الخطاب بفتح مصر:  
(عثمان بن عفان - عمرو بن العاص - سعد بن أبي وقاص - علي بن أبي طالب).
٢. وصل الجيش الإسلامي في زحفه لفتح مصر إلى مدينة ..... بعد العريش والفرما وبلبيس:  
(الإسكندرية - حصن بابليون - حلوان - الفسطاط).
٣. من أشهر الصحابة الذين قاموا بتعليم المصريين أصول الدين بعد الفتح الإسلامي: .....  
(أبو هريرة - عبد الله بن عمرو بن العاص - معاذ بن جبل - زيد بن ثابت).

٤. قام عمرو بن العاص بتشييد مدينة الجيزة التي كانت على الضفة ..... لنهر النيل:  
(الشرقية - الغربية - الشمالية - الجنوبية).
٥. شيد الأمويون مدينة ..... بالقرب من الفسطاط:  
(الإسكندرية - حلوان - العسكر - القاهرة).
٦. تميزت مصر بعد الفتح الإسلامي بـ: .....  
(الاضطهاد الديني - التبعية للإمبراطورية البيزنطية - نهضة علمية وعمرانية - الصراع على الحكم).
٧. كانت مدينة ..... عاصمة مصر في العصر العباسي:  
(الفسطاط - الإسكندرية - العسكر - القاهرة).
٨. ترجع أسباب ظهور الدول المستقلة في مصر إلى ضعف: .....  
(الخلفاء الأمويين - الخلفاء الفاطميين - الخلفاء العباسيين - الخلفاء الأيوبيين).
٩. تنتمي الدولة ..... إلى الدول المستقلة استقلالاً كاملاً عن الخلافة العباسية:  
(الطولونية - الإخشيدية - الأيوبية - الفاطمية).
١٠. أسس أحمد بن طولون عاصمته الجديدة: .....  
(القاهرة - الفسطاط - القطائع - العسكر).
١١. تميزت الدولة الطولونية بالاهتمام بـ: .....  
(حماية الحرمين الشريفين - بناء الأسطول البحري - مد نفوذها إلى بلاد الشام - إنشاء دار للكسوة).
١٢. كان الغرض الأساسي من بناء الجامع الذي أسسه أحمد بن طولون هو: .....  
(مقرًا للحكم - إقامة الاحتفالات - مركزًا للعلم - الدفاع عن المدينة).
١٣. جاء محمد بن طغج إلى مصر بتكليف من الخليفة العباسي للقضاء على: .....  
(الطولونيين - الفاطميين - خطر البدو - النزاعات الداخلية).
١٤. من أهم أهداف الدولة الإخشيدية كان: .....  
(التوسع في السودان - حماية طريقي الحج - إقامة جيش قوي - بناء البيمارستانات).
١٥. تمكن القائد ..... من فتح مصر نيابة عن الخليفة الفاطمي:  
(جوهر الصقلي - محمد بن طغج - أحمد بن طولون - المعز لدين الله).
١٦. اتخذ الفاطميون من الجامع ..... مركزاً لنشر المذهب الشيعي:  
(الأزهر الشريف - عمرو بن العاص - ابن طولون - الظاهر بيبرس).
١٧. كانت كسوة الكعبة تنسج في دار ..... وترسل في موكب ضخم إلى الحجاز:  
(العسكر - الكسوة - الأسطول - الفسطاط).
١٨. قُتل آخر سلاطين الدولة الأيوبية على يد المماليك وهو: .....  
(صلاح الدين - عز الدين أيبك - توران شاه - سيف الدين قطز).
١٩. مؤسس الدولة الأيوبية جاء إلى مصر مع عمه أسد الدين شيركوه وكان أمير الشام هو: .....

(هولاكو - نور الدين محمود - الظاهر بيبرس - بلدوين الرابع).

٢٠. من أهم الإمارات الصليبية التي تأسست في بلاد الشام والعراق: .....

(بيت المقدس - الرها - أنطاكية - جميع ما سبق).

٢١. انتهت معركة ..... بهزيمة الجيش الصليبي وفتح بيت المقدس:

(عين جالوت - حطين - الرها - طبرية).

٢٢. القائد المملوكي الذي انتصر على المغول في معركة عين جالوت: .....

(الظاهر بيبرس - عز الدين أيبك - المنصور علي - سيف الدين قطز).

٢٣. سقطت الخلافة العباسية في بغداد على يد المغول عام: .....

(٥٨٣ هـ - ٦٤٨ هـ - ٦٥٦ هـ - ٦٥٨ هـ).

٢٤. كانت التجارة مجالاً رئيسياً للنشاط الاقتصادي في عصر المماليك قبل اكتشاف: .....

(قناة السويس - طريق الحرير - طريق رأس الرجاء الصالح - البيمارستانات).

٢٥. أنشأ المماليك البيمارستانات بهدف: .....

(التعليم - العبادة - العلاج - التجارة).

ثالثاً: اكتب كلمة (صواب) أمام العبارة الصحيحة، وكلمة (خطأ) أمام العبارة غير الصحيحة، مع التصويب:

١. وافق الخليفة عمر بن الخطاب مباشرة على رأي عمرو بن العاص لفتح مصر. ( )
٢. عانى المصريون من الاضطهاد الديني على يد الروم قبل الفتح الإسلامي. ( )
٣. تهدف حركة الفتح الإسلامي لمصر إلى تحريرها من الروم فقط. ( )
٤. ظلت الإسكندرية عاصمة لمصر طوال عصر الولاة بعد الفتح الإسلامي. ( )
٥. يعد عبد الله بن عمرو بن العاص من أشهر الصحابة الذين قاموا بتعليم المصريين بعد الفتح. ( )
٦. ظهرت الدول المستقلة في مصر نتيجة لقوة الخلفاء العباسيين في بغداد. ( )
٧. الدولة الأيوبية والمملوكية هما دولتان مستقلتان استقلالاً كاملاً عن الخلافة العباسية. ( )
٨. بدأ أحمد بن طولون في بناء الجامع الذي يحمل اسمه لتكون عاصمة لدولته. ( )
٩. تميز عصر الدولة الطولونية بإنشاء البيمارستانات لعلاج الفقراء فقط. ( )
١٠. اهتم محمد بن طغج الإخشيد بالحرمين الشريفين وحماية طريق الحج. ( )
١١. قاد جوهر الصقلي الحملة الفاطمية على مصر في عهد الخليفة المستنصر بالله الفاطمي. ( )
١٢. أنشأ الفاطميون ديواناً يسمى "دار الكسوة" لتنظيم الشؤون المالية للدولة. ( )
١٣. كان الفاطميون يعتمدون على سك عملة باسم الخليفة العباسي. ( )
١٤. كانت كسوة الكعبة تنسج في مكة المكرمة وترسل إلى القاهرة في عصر الفاطميين. ( )
١٥. تنسب الدولة الأيوبية لمؤسسها صلاح الدين وهو عربي الأصل. ( )
١٦. أعاد صلاح الدين مصر ولاية تابعة للخلافة الفاطمية بعد انتهاء الخطر الصليبي. ( )
١٧. وقعت معركة حطين قبل سقوط إمارة الرها في يد المسلمين. ( )

١٨. واجه سيف الدين قطز خطر المغول بالاستسلام لرسالتهم بعد سقوط بغداد. ( )  
 ١٩. أدت وحشية المغول عند دخول بغداد إلى تحول مياه نهر دجلة إلى اللون الأحمر. ( )  
 ٢٠. تدهورت أحوال دولة المماليك الاقتصادية بسبب تفشي الأمراض في البلاد. ( )

#### رابعاً: اكتب ما تشير إليه العبارة:

١. ولاية كانت مصر تابعة لها قبل الفتح الإسلامي، وكانت عاصمتها القسطنطينية.
٢. المدينة التي شيدها عمرو بن العاص لتكون عاصمة مصر بديلاً عن الإسكندرية.
٣. المدينة التي شيدها العباسيون كعاصمة جديدة لمصر في العصر العباسي.
٤. اسم يطلق على عصور حكم مصر بعد الفتح الإسلامي حيث كان حاكمها يُعين من قبل الخليفة.
٥. اسم يطلق على الدول التي ظهرت في العصر العباسي الثاني واعترفت بسيادة الخليفة العباسي اسماً.
٦. المدينة التي بناها أحمد بن طولون بالقرب من الفسطاط وجعلها عاصمة لدولته.
٧. دار للعلاج أسسها أحمد بن طولون لعلاج المرضى وتقديم الدواء مجاناً.
٨. اللقب الذي أطلقه الخليفة العباسي على محمد بن طغج ومعناه ملك الجبال.
٩. القائد الفاطمي الذي نجح في فتح مصر وبناء مدينة القاهرة والجامع الأزهر.
١٠. المدينة التي بناها الفاطميون لتكون عاصمة جديدة لبلادهم ومقرّاً للخليفة الفاطمي.
١١. أول مسجد في العالم الإسلامي يتم تأسيسه ليكون جامعة علمية.
١٢. دار أنشأها الفاطميون لتفصيل الثياب لموظفي الدولة والأمراء والوزراء.
١٣. الحملات الأوروبية على الشرق الإسلامي التي اتخذت من الصليب شعاراً لها.
١٤. أولى الإمارات الصليبية التي استردها المسلمون عام ٥٤٠ هـ.
١٥. المعركة التي وقعت عام ٥٨٣ هـ ومهدت لفتح بيت المقدس.
١٦. القلعة التي بدأ صلاح الدين الأيوبي في بنائها لتكون مقرّاً للحكم وتدريب الجيش.
١٧. صلح عقده صلاح الدين مع ريتشارد قلب الأسد وكانت حرية تأدية الحج من شروطه.
١٨. القوة التي قضت على الخلافة العباسية في بغداد عام ٦٥٦ هـ.
١٩. المعركة الفاصلة التي انتصر فيها المماليك بقيادة قطز على المغول عام ٦٥٨ هـ.
٢٠. طريق اكتشفه البرتغاليون أدى إلى تدهور الأحوال الاقتصادية لدولة المماليك.

#### خامساً: إلى من تنسب الأعمال الآتية؟

١. أشار على الخليفة عمر بن الخطاب بفتح مصر لتكون قوة للمسلمين.
٢. أمر ببناء مدينة الفسطاط لتكون عاصمة جديدة لمصر.
٣. من أشهر الصحابة الذين قاموا بتعليم المصريين أصول الدين بعد الفتح الإسلامي.
٤. أمر ببناء مدينة حلوان على النيل للاستشفاء.
٥. الخليفة العباسي الذي أرسل محمد بن طغج لتولي حكم مصر والقضاء على النلافات.

٦. حاكم مصر في عهد الخليفة العباسي الذي انتهز فرصة ضعف الخلفاء العباسيين وأسس الدولة الطولونية.
٧. قام بتأسيس مدينة القطائع وبناء الجامع الذي يحمل اسمه.
٨. القائد الذي أطلق عليه الخليفة العباسي لقب "الإخشيد" ومعناه ملك الجبال.
٩. الخليفة الفاطمي الذي استقر في مصر بعد فتحها وجعلها مركزاً لخلافته.
١٠. القائد الذي تولى قيادة الجيش الفاطمي لفتح مصر وبناء القاهرة.
١١. الأمير الشامي الذي أرسل عمه أسد الدين شيركوه ومعه صلاح الدين إلى مصر.
١٢. قائد كردي الأصل جاء مع عمه إلى مصر ثم أسس الدولة الأيوبية بعد إنهاء الخلافة الفاطمية.
١٣. ملك صليبي كان أمير حصن الكرك وخرق الهدنة مع المسلمين وكان سبب معركة حطين.
١٤. ملك إنجلترا الذي عقد صلح الرملة مع صلاح الدين الأيوبي.
١٥. آخر سلاطين الدولة الأيوبية الذي قُتل على يد المماليك.
١٦. أول امرأة تتولى حكم مصر في العصر الإسلامي بعد مقتل آخر السلاطين الأيوبيين.
١٧. أول سلاطين المماليك الذي تولى الحكم رسمياً بعد تنازل زوجته عن العرش.
١٨. القائد المملوكي الذي قاد الجيوش الإسلامية لقتال المغول في معركة عين جالوت.
١٩. السلطان المملوكي الذي قام بإحياء الخلافة العباسية في القاهرة اسمياً.

## سادساً: بم تفسر

١. حرص المسلمين على فتح مصر.
٢. نجاح الحملة الصليبية الأولى في تحقيق أهدافها.
٣. سعي الفاطميين للاستيلاء على مصر.
٤. مجيء الحملات الصليبية إلى العالم الإسلامي.
٥. رغبة المغول في السيطرة على مصر.
٦. ضعف دولة المماليك وسقوطها.
٧. إحياء الظاهر بيبرس للخلافة العباسية في القاهرة.
٨. إشارة عمرو بن العاص على الخليفة عمر بن الخطاب بفتح مصر.
٩. قيام عمرو بن العاص بتشييد مدينة الفسطاط بدلاً من الإسكندرية كعاصمة لمصر.
١٠. اهتمام العرب باللغة العربية في مصر بعد الفتح الإسلامي.
١١. قيام الأمويين بتشييد مدينة حلوان.
١٢. النهضة العلمية العظيمة التي قامت في مصر بعد الفتح الإسلامي.
١٣. ظهور الدول المستقلة في مصر في العصر العباسي الثاني.
١٤. اعتبار الدولة الفاطمية دولة مستقلة استقلالاً كاملاً عن الخلافة العباسية.
١٥. قيام أحمد بن طولون بإنشاء مدينة القطائع.

- ١٦ . قيام أحمد بن طولون بإنشاء البيمارستان.
- ١٧ . استعانة الخلفاء العباسيين بمحمد بن طغج لتولي حكم مصر.
- ١٨ . حرص الإخشيديين على حماية الحرمين الشريفين.
- ١٩ . قيام جوهر الصقلي بإنشاء مدينة القاهرة.
- ٢٠ . بناء الفاطميين لأسطول بحري قوي.
- ٢١ . قيام الفاطميين بتأسيس الجامع الأزهر.
- ٢٢ . حرص الفاطميين على الاحتفال بالأعياد والمناسبات الدينية.
- ٢٣ . اتخاذ الفاطميين من الجامع الأزهر مركزاً لنشر المذهب الشيعي.
- ٢٤ . إطلاق اسم "الحملات الصليبية" على الحملات الأوروبية على الشرق الإسلامي.
- ٢٥ . حرص صلاح الدين الأيوبي على توحيد الجبهة الإسلامية.
- ٢٦ . قيام صلاح الدين بإنشاء قلعة الجبل في القاهرة.
- ٢٧ . إعدام صلاح الدين لـ أرناط بعد معركة حطين.
- ٢٨ . تسامح صلاح الدين مع أهل بيت المقدس عند فتحه.
- ٢٩ . أهمية شرط حرية تأدية الحج في صلح الرملة.
- ٣٠ . مقتل آخر سلاطين الأيوبيين وتولي شجر الدر الحكم.
- ٣١ . قيام سيف الدين قطز بعزل السلطان المنصور علي وإعلان نفسه سلطاناً.
- ٣٢ . تفكير المغول في الدخول إلى مصر بعد سقوط بلاد الشام.
- ٣٣ . أهمية معركة عين جالوت في تاريخ العالم الإسلامي.
- ٣٤ . قيام الظاهر بيبرس بإحياء الخلافة العباسية في القاهرة اسمياً.
- ٣٥ . تدهور الأحوال الاقتصادية لدولة المماليك في نهاية حكمها.

### سابعاً: ما النتائج التي ترتبت على:

- ١ . إعادة عمرو بن العاص حفر قناة خليج أمير المؤمنين.
- ٢ . مقتل خمارويه.
- ٣ . صلح الإسكندرية سنة ٦٤ م.
- ٤ . ضعف الخلافة العباسية في بغداد.
- ٥ . فتح عمرو بن العاص لمصر.
- ٦ . إشارة عمرو بن العاص على الخليفة عمر بن الخطاب بفتح مصر.
- ٧ . انتقال مصر إلى الحكم الإسلامي.
- ٨ . تشييد عمرو بن العاص لمدينة الفسطاط.
- ٩ . وجود جيل من العلماء المصريين في القرن الثاني الهجري.
- ١٠ . ضعف الخلفاء العباسيين وبعد مصر عن مقر الخلافة.

- ١١ . اهتمام أحمد بن طولون بالمجال الطبي والاجتماعي.
  - ١٢ . اتساع نفوذ الدولة الطولونية لتشمل بلاد الشام.
  - ١٣ . اهتمام الإخشيديين بحماية الحرمين الشريفين.
  - ١٤ . نجاح جوهر الصقلي في فتح مصر والقضاء على الإخشيديين.
  - ١٥ . بناء الجامع الأزهر في العصر الفاطمي.
  - ١٦ . اهتمام الفاطميين بزراعة أشجار الغابات.
  - ١٧ . قيام صلاح الدين الأيوبي بإنهاء الخلافة الفاطمية.
  - ١٨ . نجاح صلاح الدين في توحيد صفوف المسلمين وتجهيز الجيش ودخول معركة حطين.
  - ١٩ . فتح صلاح الدين لبيت المقدس.
  - ٢٠ . خرق أرناط للهدنة وقيامه بالاعتداء على قوافل الحجاج المسلمين.
  - ٢١ . مقتل توران شاه آخر سلاطين الدولة الأيوبية.
  - ٢٢ . سقوط بغداد في يد المغول عام ٦٥٦ هـ.
  - ٢٣ . انتصار المماليك بقيادة قطز في معركة عين جالوت عام ٦٥٨ هـ.
  - ٢٤ . اكتشاف البرتغاليين طريق رأس الرجاء الصالح.
  - ٢٥ . اهتمام المماليك بالزراعة وحفر الترغ وإقامة الجسور.
- ثامناً: دلل على صحة كل عبارة من العبارات الآتية:**
- ١ . قامت بمصر نهضة ثقافية وعلمية في عصر الولاة.
  - ٢ . شهدت مصر ازدهاراً في مختلف جوانب الحياة في عصر الدولة الإخشيدية.
  - ٣ . تعددت مظاهر احتفال الفاطميين بالأعياد والمناسبات.
  - ٤ . تعددت مهام صاحب الشرطة في عصر الولاة.
  - ٥ . كان للفتح الإسلامي لمصر أهمية دينية وعلمية كبيرة.
  - ٦ . اهتم العرب بالجانب العمراني في مصر بعد الفتح الإسلامي.
  - ٧ . كانت الدولة الطولونية دولة مستقلة قوية ومزدهرة.
  - ٨ . كانت حماية الأماكن المقدسة من أهم أهداف محمد بن طغج.
  - ٩ . اهتم الفاطميون بالبناء العسكري.
  - ١٠ . كان صلاح الدين الأيوبي مثلاً للتسامح والمثل العليا.
  - ١١ . أثرت النهضة العلمية في عصر الأيوبيين على المجتمع.
  - ١٢ . كان لمصر دور كبير في حماية العالم الإسلامي في عصر الدولة الأيوبية.
  - ١٣ . لعبت شجر الدر دوراً محورياً في انتقال الحكم من الأيوبيين إلى المماليك.
  - ١٤ . كان لاستيلاء المغول على بغداد أثر إيجابي على القاهرة.
  - ١٥ . اهتمت دولة المماليك بالجانب الاقتصادي.

١٦. تميز عصر المماليك بازدهار العمارة.
١٧. كان المماليك مهتمين بالعناية بالثروة الحيوانية.
١٨. مدت قوة المماليك العسكرية على عناصر مختلفة.

### تاسعاً: ما العلاقة بين...؟

١. اضطهاد الروم للمصريين والفتح الإسلامي لمصر.
٢. الخلفاء العباسيين وضعف الدول المستقلة في مصر.
٣. توحيد صلاح الدين للجبهة الإسلامية ومعركة حطين.
٤. سقوط بغداد في يد المغول والنهضة العلمية في القاهرة.
٥. البرتغاليين وسقوط دولة المماليك.

### عاشراً: ماذا كان يحدث إذا...؟

١. لم يتمكن جوهر الصقلي من فتح مصر.
٢. لم يقيم سيف الدين قطز بعزل المنصور علي عن الحكم.
٣. لم يكتشف البرتغاليون طريق رأس الرجاء الصالح.
٤. استسلم سيف الدين قطز لمطالب المغول.
٥. رفض الخليفة عمر بن الخطاب فتح مصر.
٦. التزم أرناط بالهدنة التي عقدها صلاح الدين الأيوبي مع ملك بيت المقدس.
٧. ظلت الدولة العباسية قوية متماسكة طيلة فترة حكمها.

في الدراسات الاجتماعية

### السؤال الحادي عشر: قارن بين كل من...؟

١. معركة حطين ومعركة عين جالوت من حيث الأطراف - الأسباب - النتائج.
٢. صلح الإسكندرية و صلح الرملة من حيث الأطراف والشروط.
٣. عوامل سقوط كل من (الدولة الطولونية والدولة الإخشيدية والدولة المملوكية).

## الوحدة الثالثة

## الدرس الأول

## النشاط الزراعي في قارتي آسيا وأوروبا

## تأمل واكتشف

- يتنوع النشاط الزراعي تنوعاً كبيراً في قارتي آسيا وأوروبا، كما توجد اختلافات في مدى مساهمة هذا النشاط في اقتصاد القارتين
- ينقسم النشاط الزراعي إلى الزراعة، وتربية الحيوان، وتربية الأسماك، كما أنه يلعب دوراً حيوياً في اقتصاد قارتي آسيا وأوروبا، ويتضح فيما يلي:



الألات الزراعية الحديثة في قارة آسيا

## دور النشاط الزراعي في اقتصاد قارتي آسيا وأوروبا

- قارة آسيا** : يعمل بالنشاط الزراعي في قارة آسيا نحو خمس القوة العاملة بالقارة (الذين في سن العمل ١٥ - ٦٤ عاماً)
- قارة أوروبا** : يعمل بها نحو ٤٪ من القوة العاملة .
- م تفسر؟ الانخفاض الكبير لنسبة العاملين في النشاط الزراعي في قارة أوروبا؟**
  - بسبب التوسع الكبير في استخدام الأساليب العلمية الحديثة في العمليات الزراعية
  - اتجاه العاملين في النشاط الزراعي إلى مهن أخرى
- وتختلف نسبة العاملين في النشاط الزراعي من منطقة لأخرى في القارتين.
- كما يساهم النشاط الزراعي بنحو ٧,٢٪ من الدخل القومي لقارة آسيا عام ٢٠٢٣م، بينما يساهم بنحو ٤٪ من الدخل القومي لقارة أوروبا عام ٢٠٢٣م، ويختلف نسبة إسهامه في الاقتصاد من دولة لأخرى.

## الزراعة في قارتي آسيا وأوروبا

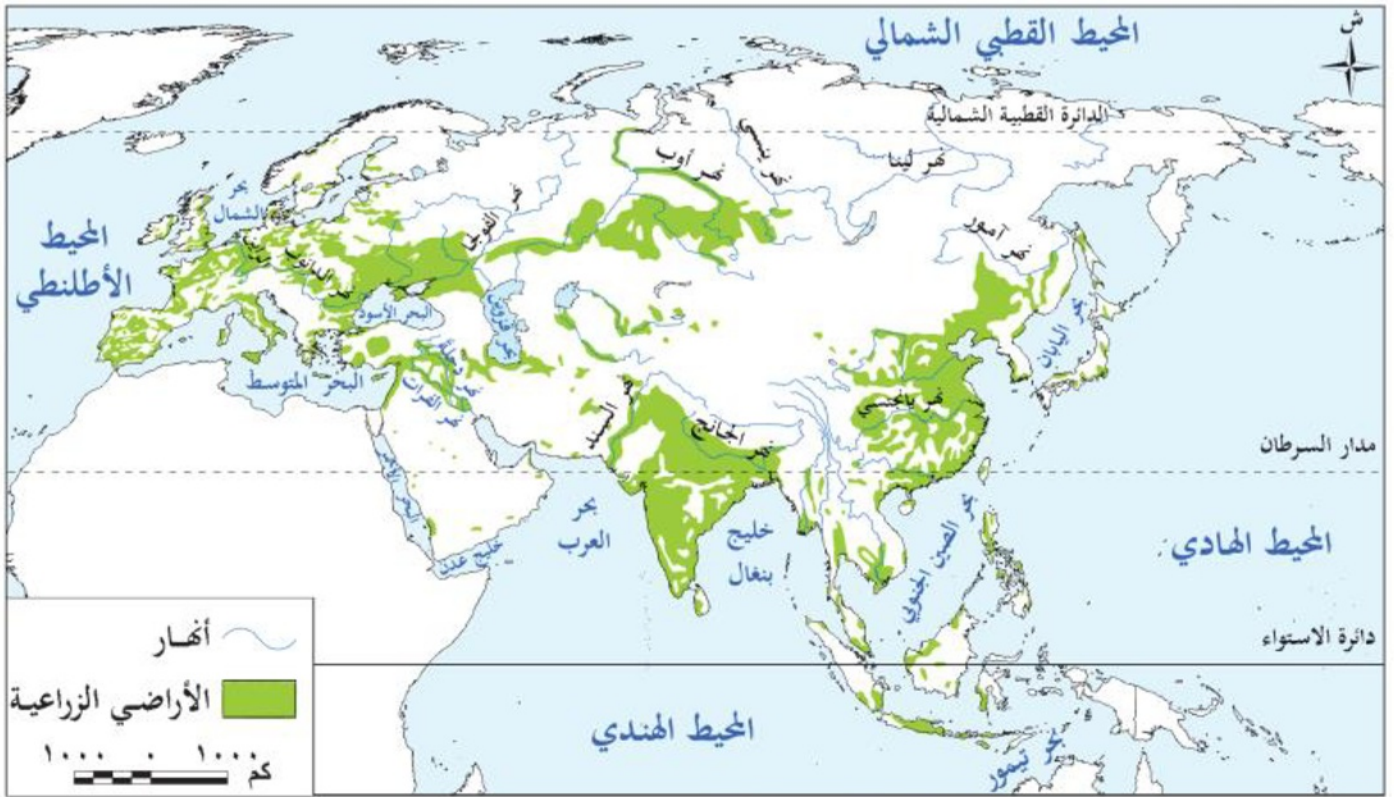
أولاً

## مساحة الأراضي الزراعية

١

- تبلغ جملة مساحة الأراضي الزراعية في العالم نحو ١٧,٥ مليون كم<sup>٢</sup>،
- قارة آسيا: المرتبة الأولى عالمياً في الأراضي الزراعية**
- م تفسر؟ تأتي قارة آسيا في المرتبة الأولى بين قارات العالم في مساحة الأراضي الزراعية** (نحو ٦,٨ مليون كم مربع). ويرجع ذلك إلى: ١. اتساع مساحتها الكبيرة. ٢. تحويل مساحات من منحدرات الجبال إلى مدرجات زراعية كما في (الصين، اليابان، الفلبين، إندونيسيا).

- **بم تفسر؟ تحويل منحدرات الجبال إلى مدرجات زراعية؟** (كما في الصين واليابان...) وذلك لتوفير الغذاء اللازم للأعداد الكبيرة جداً من السكان في القارة (حيث تعد آسيا القارة الأكبر في عدد السكان).



خريطة (١) توزيع الأراضي الزراعية بقارتي آسيا وأوروبا

### توزيع ومساحة الأراضي الزراعية في العالم

#### أولاً: قارة آسيا

تعد قارة آسيا من أهم القارات في العالم من حيث الأراضي الزراعية، وتتركز هذه الأراضي في مناطق محددة:

- **مناطق التركيز:**
  - المناطق ذات المناخ المعتدل.
  - السهول الفيضية للأنهار الكبرى بالقارة.
  - العديد من الجزر الآسيوية.
- **الترتيب العالمي (مساحة الأراضي الزراعية):**
  - ١. الهند: تأتي في المرتبة الأولى عالمياً.
  - ٢. الصين: تليها في المرتبة الثانية.

#### ثانياً: قارة أوروبا

تحتل قارة أوروبا مكانة متقدمة في مساحة الأراضي الزراعية، حيث تأتي في المرتبة **الثانية** عالمياً. مساحة الأراضي الزراعية

- **المساحة الإجمالية:** تبلغ نحو ٥ ملايين كم مربع.
- **النسبة من مساحة القارة:** تمثل ثلث مساحة القارة تقريباً.

## مفسر؟ احتلال قارة أوروبا المرتبة الثانية عالمياً في مساحة الأراضي الزراعية؟

- يرجع ذلك لسببين رئيسيين: وقوع معظم القارة في العروض المعتدلة، وهو مناخ مناسب للزراعة (باستثناء أطرافها الشمالية شديدة البرودة).
- التقدم العلمي والتكنولوجي والتوسع في استصلاح الأراضي الجديدة.

### مناطق التركيز في أوروبا

- تتركز الأراضي الزراعية في قارة أوروبا في الأقاليم التالية:
- ▶ إقليم السهل الأوروبي العظيم.
  - ▶ السهول الفيضية للأنهار.
  - ▶ مساحات كبيرة من دول جنوب القارة.

### الترتيب داخل أوروبا (مساحة الأراضي الزراعية):

- روسيا الاتحادية: تحتل المرتبة الأولى أوروبياً.
- أوكرانيا: تليها في المرتبة الثانية.

## أنماط الزراعة الرئيسية في قارتي آسيا وأوروبا

تتعدد أنماط الزراعة وتختلف خصائصها وطبيعتها انتشارها في القارتين، وأكثرها شيوعاً هي الزراعة الكثيفة والواسعة والمختلطة.

نمط الزراعة	الخصائص والسمات الرئيسية	مناطق الانتشار في آسيا وأوروبا
الزراعة البسيطة (البداية)	<ul style="list-style-type: none"> <li>تمارس في مساحات صغيرة جداً.</li> </ul>	<ul style="list-style-type: none"> <li>توجد في مساحات محدودة بجنوب شرق آسيا.</li> </ul>
الزراعة الكثيفة	<ul style="list-style-type: none"> <li>تمارس في المناطق المزدهمة بالسكان.</li> <li>يتم زراعة الأرض مرتين أو أكثر في العام.</li> </ul>	<ul style="list-style-type: none"> <li>آسيا: تنتشر في مناطق السهول الفيضية (انتشار واسع).</li> <li>أوروبا: توجد في مساحات محدودة جداً.</li> </ul>
الزراعة الواسعة (التجارية)	<ul style="list-style-type: none"> <li>تمارس في المناطق السهلية الواسعة.</li> <li>تعتمد على الآلات الزراعية بصورة واضحة.</li> <li>تتطلب رؤوس أموال كبيرة لتوفير الآلات ومد طرق النقل.</li> </ul>	<ul style="list-style-type: none"> <li>آسيا: دول مثل كازاخستان وأوزبكستان.</li> <li>أوروبا: أوكرانيا وروسيا الاتحادية.</li> </ul>

▪ تنتشر في مساحات كبيرة من **تركيا، روسيا، أوكرانيا، وألمانيا.**

▪ يقوم المزارعون ب: الزراعة + تربية الحيوانات والدواجن .  
 ▪ الأهداف: التجارة والاستهلاك المحلي .  
 ▪ تتميز ب: ارتفاع أعداد السكان وانتشار المدن المليونية التي تمثل سوقاً رئيسياً لمنتجاتها.

## الزراعة المختلطة

### أهم المحاصيل الزراعية بقارتي آسيا وأوروبا

٣

**مفسر؟** تتنوع المحاصيل في آسيا بشكل أكبر من أوروبا بسبب التنوع الكبير في الأقاليم المناخية بقارة

آسيا. وتتمثل المحاصيل الزراعية فيما يلي:

**أولاً: محاصيل الحبوب الغذائية**

## سلسلة


### القمح

- أهم وأقدم الحبوب الغذائية وأكثرها قيمة وأعظمها انتشاراً
- وتحتل قارة **آسيا** المرتبة الأولى عالمياً بنسبة ٤٤٪ من الإنتاج العالمي
- بينما تأتي قارة **أوروبا** في المرتبة الثانية حيث تنتج ثلث الإنتاج العالمي.
- وتأتي **الصين** في المرتبة الأولى عالمياً تليها **الهند**
- ومن أهم الدول الأوروبية **روسيا** الاتحادية تليها **فرنسا.**



### الأرز

- يُعد ثاني أهم الحبوب الغذائية في العالم بعد القمح، ويُعد الغذاء الرئيسي لدول **شرق وجنوب شرق آسيا**
- ويزرع بالمناطق المدارية والموسمية والمناطق المعتدلة الدفيئة.
- وتنتج آسيا نحو ٩٠٪ من الإنتاج العالمي للأرز
- وتحتل دولتا **الهند والصين** المركزين الأول والثاني على مستوى العالم حيث تنتجان نحو نصف إنتاج العالم.
- وبالرغم من الإنتاج الكبير للأرز فإنه لا يدخل في التجارة الدولية إلا بنسبة ضئيلة؛ **مفسر؟** وذلك لأن معظم الإنتاج يستهلك محلياً. بينما تنتج أوروبا نحو ٥،٠٪ من الإنتاج العالمي ويأتي معظمه من دولة **إيطاليا.**



## الذرة الشامية

- تأتي قارة آسيا في المرتبة **الثانية**، حيث تنتج نحو ثلث الإنتاج العالمي
- بينما تأتي قارة أوروبا في المرتبة **الرابعة** وتنتج نحو عشر الإنتاج العالمي.
- وتأتي دولة **الصين** في المرتبة الثانية عالمياً والأولى آسيوياً
- بينما تأتي دولة **أوكرانيا** في المرتبة الأولى في قارة أوروبا.
- تساهم الذرة الشامية بنسبة محدودة من الإنتاج في التجارة الدولية، **م تفسر؟**
- ويرجع ذلك إلى استهلاك معظم الإنتاج في مناطق الزراعة.



## الشيلم


- يشبه القمح، وتوجد زراعته في **المناخ البارد الرطب**.
- وتأتي قارة أوروبا في المرتبة الأولى حيث تنتج أكثر من ٨٠٪ من الإنتاج العالمي
- ويُعد الشيلم المحصول الرئيس لصناعة الخبز لمعظم سكان ريف السهل الأوروبي.
- وتنتج **ألمانيا** نحو ربع الإنتاج العالمي
- بينما تأتي قارة آسيا في الترتيب الثاني، حيث تنتج ١٠٪ من الإنتاج العالمي، وتأتي **الصين** في المرتبة الأولى بالقارة.

في الدراسات الاجتماعية

## ثانياً : المحاصيل الدرنية

## البطاطس

- تعد **رابع** أهم محصول غذائي في العالم بعد القمح والذرة والأرز
- تحتاج زراعة البطاطس إلى مناخ معتدل **م تفسر؟** فهي لا تتحمل البرودة والحرارة الشديدة.
- وتأتي قارة آسيا في المركز الأول حيث تنتج نحو نصف إنتاج العالم، وتنتج **الصين** نحو ربع الإنتاج العالمي.
- وتأتي أوروبا في المركز الثاني وتنتج نحو ربع إنتاج العالم، وتعد **أوكرانيا وروسيا الاتحادية** أكثر الدول إنتاجاً.



## البطاطا

- تنمو في المناطق المدارية والدفينة.
- وتأتي آسيا في المرتبة الأولى عالمياً، حيث تنتج نحو ثلثي الإنتاج العالمي،
- بينما لا تزرع في أوروبا.
- وتنتج الصين أكثر من نصف الإنتاج العالمي.



## ثالثاً: محاصيل المنبهات

الشاي  
والقهوة  
والكاكاو

- وهي محاصيل مدارية نقدية؛ لذا لا تزرع في قارة أوروبا.
- بينما يختلف إنتاج تلك المحاصيل بقارة آسيا؛ حيث تأتي في المرتبة الأولى عالمياً في إنتاج الشاي بنحو ٩٠٪ من الإنتاج العالمي
- وتحتل المرتبة الثانية في إنتاج البن بنحو ثلث الإنتاج العالمي.
- أما بالنسبة لمحصول الكاكاو فتنتج نحو عشر الإنتاج العالمي، وبهذا تحتل المرتبة الثالثة عالمياً.



## رابعاً: المحاصيل السكرية

## قصبه السكر

- هو محصول مداري، وتحتل قارة آسيا المركز الأول عالمياً من حيث الإنتاج، وتأتي الهند في المرتبة الأولى في إنتاجه بالقارة.

## البنجر

- هو محصول ينتشر بالمناطق المعتدلة؛ لذا تأتي قارة أوروبا في المرتبة الأولى إنتاجاً له، وأولى الدول في إنتاجه روسيا الاتحادية، كما تعد تركيا أولى دول قارة آسيا إنتاجاً للبنجر.

## خامساً: محاصيل ذات أهمية خاصة

## المطاط

- يستخدم في صناعة الإطارات، وهو محصول مداري؛ وتحتل قارة آسيا المركز الأول عالمياً، وتأتي دولة تايلاند في المرتبة الأولى عالمياً، بينما لا يوجد بقارة أوروبا.

المحاصيل  
الزيتية

- مثل الزيتون الذي يُزرع في قارتي آسيا وأوروبا ونخيل الزيت في قارة آسيا.

## مشكلات الزراعة بقارتي آسيا وأوروبا

٤

**تواجه الزراعة في قارتي آسيا وأوروبا العديد من المشكلات، أهمها:**

١. **المشكلات المرتبطة بتغير المناخ:** حيث موجات الحرارة والبرد، وتكرار العواصف الترابية والرملية والثلجية والفيضانات، وجميعها **ما النتائج؟** تؤثر سلبًا على إنتاجية وجودة المحاصيل الزراعية.
٢. **مشكلات التربة الزراعية:** ومنها: **تعرية التربة** الناتجة عن الماء والرياح والجليد والزراعة الكثيفة، كما أن الإفراط في استخدام الأسمدة الكيماوية **ما النتائج؟** يؤثر سلبًا على جودة التربة، بالإضافة إلى تلوث التربة **بم تفسر؟** بسبب الثورانات البركانية وصرف المخلفات الصناعية والتعدينية والزراعية والصحية.
- ▶ تحتل قارة آسيا المرتبة الأولى عالميًا في تدهور التربة الزراعية
- ▶ بينما تحتل قارة أوروبا المرتبة السادسة.
٣. **الزيادة السكانية:** تتركز هذه المشكلة في قارة آسيا، حيث أدت الزيادة السكانية الكبيرة بها إلى زيادة الضغط على الأراضي الزراعية بزراعتها أكثر من مرة في العام الواحد، واستخدام المبيدات الكيماوية والأسمدة.
٤. **تغيير استخدامات الأرض الزراعية:** تحولت مساحات كبيرة من الأراضي الزراعية إلى استخدامات أخرى وخاصة الاستخدامات الحضرية والصناعية، **ما النتائج؟** مما أدى إلى تناقص مساحة الأراضي الزراعية، واتجاه عدد كبير من العاملين في الزراعة إلى أنشطة أخرى أكثر ربحية كالصناعة والخدمات.
٥. **هجمات أسراب الجراد ما النتائج؟** وما يترتب على ذلك من التهام كميات كبيرة من المحاصيل الزراعية.

فكر وأجب

أكمل

- تحتل قارة.....المرتبة الاولى في تدهور التربة .
  - أولي الدول انتاجا لمحصول القمح دولة.....
  - من أنماط الزراعة الرئيسية.....و.....
  - من المحاصيل ذات أهمية خاصة.....
- بم تفسر:** تحتاج زراعة البطاطس إلى مناخ معتدل ؟
- ما النتائج ؟** الإفراط في استخدام الأسمدة الكيماوية ؟

## الرعي والثروة الحيوانية في قارتي آسيا وأوروبا

ثانيًا

## المراعي الطبيعية

١



تتمثل الثروة الحيوانية في العديد من الحيوانات التي ترعى في مناطق المراعي الطبيعية بقارتي آسيا وأوروبا، بالإضافة إلى ما يُربى منها في المزارع أو حظائر خاصة، كما يلي:

- تمثل مساحة المراعي في العالم نحو **ضعف** مساحة الأراضي الزراعية، وتأتي قارة **آسيا** في المرتبة الأولى بين قارات العالم حيث تمتلك نحو **ثلث** مساحة مراعي العالم، وتأتي **الصين** في المرتبة الأولى عالميًا، بينما تحتل قارة **أوروبا** المرتبة السادسة بنسبة ٠,٣٪، وعلى مستوى الدول تعد **روسيا الاتحادية** أولى دول أوروبا.



## أهم الدول المنتجة للثروة الحيوانية في قارتي آسيا وأوروبا

٢

يوجد في قارتي آسيا وأوروبا أعداد كبيرة ومتنوعة من الثروة الحيوانية، من أهمها:

- يوجد في قارة آسيا ٩٨٪ من أعداد الجاموس في العالم، بينما **يندر** وجوده في أوروبا. وتأتي دولة **الهند** في المرتبة الأولى عالميًا، حيث يوجد بها أكثر من نصف أعداد الجاموس في العالم.

## الجاموس

## الأبقار

- تحتل آسيا المركز الأول عالمياً حيث يوجد بها نحو ثلث أعداد الأبقار في العالم؛ **م**
- تفسر؟** بسبب اتساع المراعي وتنوعها ووفرة الأعلاف والرعاية البيطرية.
- ومن أولى الدول الآسيوية في أعدادها **الهند**.
- بينما تأتي أوروبا في المركز **الخامس** عالمياً، وتشتهر بالعديد من سلالات الأبقار المنتجة للحوم والألبان عالية الجودة، ومن أولى دولها روسيا الاتحادية.

الأغنام  
والماعز

- يوجد في قارة آسيا نحو **نصف** أعداد كل من الأغنام والماعز في العالم، وتتركز في **الهند والصين**.
- بينما يوجد في قارة أوروبا نحو ١٠٪ من أعداد الماعز، بينما يقل وجود الأغنام بها.



## الإبل

- يوجد في قارة آسيا نحو ١٦٪ من أعداد الإبل في العالم، وتتركز في المناطق الصحراوية في دول **السعودية وباكستان**، بينما تندر الإبل في قارة أوروبا.



## الدجاج

- يوجد في قارة آسيا نحو ثلثي أعداد الدجاج في العالم، وتأتي دولة **الصين** في المرتبة الأولى عالمياً تليها **إندونيسيا**.
- بينما يوجد في قارة أوروبا نحو عشر دجاج العالم، وتأتي **روسيا وفرنسا** كأهم الدول المنتجة للدجاج بقارة أوروبا.



## مشكلات الثروة الحيوانية

٣

على الرغم من الأعداد الكبيرة من الثروة الحيوانية والمساحات الكبيرة من المراعي بقارتي آسيا وأوروبا، فإن هناك عدة مشكلات تواجه الثروة الحيوانية بهما مثل:

١. **تناقص مساحة المراعي الطبيعية** **م تفسر؟** نتيجة للزحف العمراني والرعي الجائر والتوسع الزراعي على حساب المراعي الطبيعية.
٢. **انتشار عديد من الأمراض الحيوانية** مثل الحمى القلاعية وإنفلونزا الطيور.
٣. **التأثير السلبي للتلوث وتغير المناخ** في صحة الحيوانات وبالتالي على الإنتاج.

## الثروة السمكية في قارتي آسيا وأوروبا

ثالثاً

- تحتل قارة آسيا المركز الأول بنسبة ٧٠٪ من الإنتاج العالمي للأسماك
- بينما تأتي قارة أوروبا في المركز الثاني بنسبة ٩٪ .

## ١ مصايد الأسماك

تتنوع مصايد الأسماك في قارتي آسيا وأوروبا على النحو التالي:

- المصايد الطبيعية:** تسهم المصايد الطبيعية بنحو ثلث الإنتاج السمكي في قارة آسيا، ونحو ثلاثة أرباع الإنتاج السمكي في قارة أوروبا.
- ومن أهم مناطق الصيد البحري منطقة **غرب وشمال غرب قارة أوروبا وشمال شرق وجنوب شرق** قارة آسيا، بالإضافة إلى **المصايد الداخلية (القارية)** التي تتمثل في الأنهار والبحيرات المنتشرة داخل القارتين.
- المزارع السمكية:** لقد أدت الزيادة السكانية الكبيرة بالدول الآسيوية إلى الاتجاه نحو الاستزراع السمكي.
- تسهم المزارع السمكية بثلاثي إنتاج قارة آسيا مقابل ربع إنتاج قارة أوروبا.

## ٢ مشكلات الثروة السمكية بقارتي آسيا وأوروبا

- تواجه الثروة السمكية في قارتي آسيا وأوروبا مشكلات عديدة، ومنها
- الصيد الجائر للأسماك
  - التلوث البيئي المتزايد
  - التحديات الناجمة عن التغير المناخي.

## فكر وأجب

## أكملع

- تمثل مساحة المراعي في العالم نحو .....مساحة الأراضي الزراعية.
  - تحتل قارة آسيا المركز ..... من الإنتاج العالمي للأسماك
  - أولي الدول المنتجة للدواجن بقارة آسيا .....
  - من المشكلات التي تواجه الثروة السمكية بقارتي آسيا وأوروبا .....
- م تفسم :** تناقص مساحة المراعي الطبيعية بقارتي آسيا وأوروبا ؟

**ما النتائج ؟** الزيادة السكانية الكبيرة بالدول الآسيوية ؟

## جهود قارتي آسيا وأوروبا لتنمية الزراعة والثروة الحيوانية والسمكية

رابعاً

تبذل كل من قارتي آسيا وأوروبا جهوداً كبيرة لتنمية الزراعة والثروة الحيوانية والسمكية، بهدف تحقيق الأمن الغذائي، والتنمية المستدامة.

ومن أهم هذه الجهود:

١. تشجيع الزراعة الرقمية والزراعة العضوية.
٢. استحداث أصناف محاصيل مقاومة للجفاف والملوحة، وتطبيق أنظمة ري متطورة.
٣. تحسين السلالات الحيوانية وتطوير الرعاية البيطرية.
٤. دعم الرعي المستدام الذي يساهم في الحفاظ على التنوع البيولوجي، ومساعدة الرعاة في اتخاذ قرارات علمية لإدارة الأراضي وتطوير ممارسات مستدامة للمراعي.
٥. دعم صغار الصيادين، ودعم الاستزراع السمكي المستدام ومكافحة الأمراض وتأثيرات تغير المناخ.

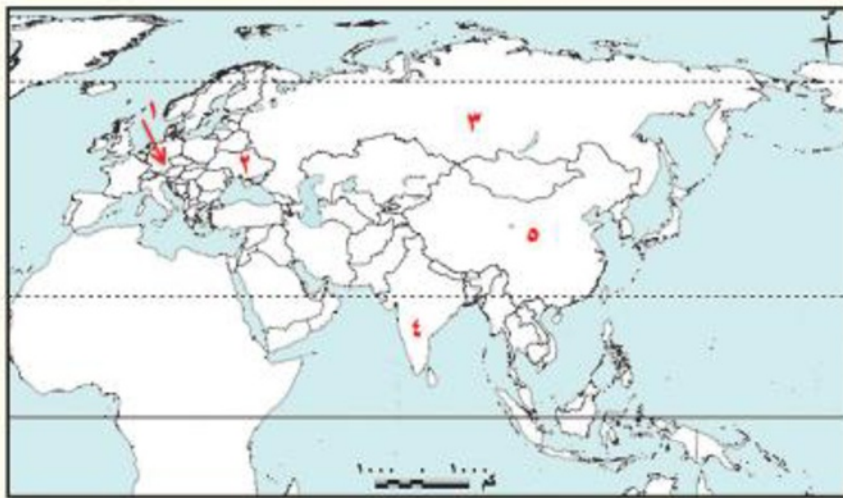
ما المقصود

**الزراعة الرقمية:** تعني تحويل الزراعة التقليدية إلى نظام زراعي ذكي يعتمد على التقنيات الرقمية المتقدمة والبيانات الدقيقة بهدف تحسين كفاءة وإنتاجية المحاصيل الزراعية لتحقيق الأمن الغذائي.

في الدراسات الاجتماعية

أسئلة علي الدرس الأول النشاط الزراعي في قارتي آسيا وأوروبا

أمامك خريطة لقارتي العالم (آسيا وأوروبا)، اكتب ما تدل عليه الأرقام:



١. أولى دول قارة أوروبا إنتاجاً للشيلم

.....

٢. من أولى الدول الأوروبية لإنتاج

البطاطس .....

٣. أولى دول قارة أوروبا إنتاجاً للبنجر

.....

٤. دولة تحتل المرتبة الأولى عالمياً

في تربية الجاموس

.....

٥. دولة آسيوية تحتل المرتبة الأولى عالمياً في تربية الدجاج .....

## أكمل العبارات الآتية:

١. ينقسم النشاط الزراعي إلى الزراعة و..... و.....
٢. تأتي قارة آسيا في المرتبة الأولى عالمياً في مساحة .....
٣. تمثل الأراضي الزراعية في قارة أوروبا نحو ..... مساحة القارة.
٤. تتركز الزراعة الكثيفة في المناطق ..... بالسكان.
٥. يُزرع الشيلم في المناخ ..... الرطب.
٦. لا تزرع محاصيل المنبهات في قارة .....
٧. من المحاصيل ذات الأهمية الخاصة محصول .....
٨. توجد زراعة محصول ..... في ريف السهل الأوروبي ويستخدم في صناعة الخبز.
٩. تتركز زراعة الشاي في دول شرق آسيا خاصة دولة .....
١٠. تعد قارة ..... هي القارة الأولى عالمياً في إنتاج محصول بنجر السكر.
١١. يعتمد سكان المناطق الجبلية في آسيا على زراعة ..... لاستغلال المنحدرات.
١٢. يزرع الأرز في قارة أوروبا بمناطق محدودة أهمها دولة .....
١٣. محصول مداري نقدي يزرع في آسيا وتصدره للخارج هو .....
١٤. تعد قارة ..... المركز الأول عالمياً في صيد الأسماك.
١٥. يندر وجود حيوان ..... في قارة أوروبا بينما يتركز في الهند بآسيا.
١٦. تسعى دول القارتين حالياً لتطبيق الزراعة ..... لتحسين الإنتاج وحماية البيئة.

في الدراسات الاجتماعية

## اختر الإجابة الصحيحة

١. يرجع انخفاض نسبة العاملين بالنشاط الزراعي في قارة أوروبا إلى: .....
- ( التوسع في الأساليب العلمية الحديثة - قلة الأراضي - قسوة المناخ - زيادة السكان )
٢. تتركز الزراعة الكثيفة في قارة آسيا في: .....
- ( الهضاب - السهول الفيضية - الصحاري - المناطق الجبلية )
٣. من الدول التي تنتشر بها الزراعة الواسعة في آسيا: .....
- ( اليابان - إندونيسيا - كازاخستان - الفلبين )
٤. المحصول الغذائي الرئيسي لسكان شرق وجنوب شرق آسيا هو: .....
- ( القمح - الذرة - الأرز - البطاطس )
٥. الدولة الأولى أوروبياً في مساحة الأراضي الزراعية هي: .....
- ( فرنسا - ألمانيا - روسيا الاتحادية - إيطاليا )
٦. من مشكلات الزراعة المرتبطة بالمناخ: .....
- ( تدهور التربة - الزحف العمراني - موجات الحرارة والبرد - الرعي الجائر )

٧. تحتل قارة آسيا المرتبة الأولى عالمياً في: .....
- ( مساحة المراعي - إنتاج البنجر - إنتاج الشيلم - قلة السكان )
٨. من الحيوانات التي يندر وجودها في قارة أوروبا: .....
- ( الأبقار - الأغنام - الجاموس - الدواجن )
٩. المحصول السكري الأول في قارة أوروبا هو: .....
- (قصب السكر - بنجر السكر - الذرة - الفاكهة).
١٠. تتركز تربية الأبقار في آسيا في دولة: .....
- (الصين - اليابان - الهند - تيلاند).
١١. المحصول الذي لا يزرع في أوروبا لعدم ملاءمة المناخ هو: .....
- (القمح - البنجر - المطاط - الشيلم).
١٢. تساهم الأسماك في قارة آسيا بنسبة كبيرة في: .....
- (الأمّن الغذائي - التلوّث - الجفاف - الرعي).
- في الدراسات الاجتماعية
١٣. يزرع الشاي في المناطق: .....
- (الباردة - المعتدلة - المدارية الحارة - القطبية).
١٤. تأتي قارة أوروبا في المركز الثاني عالمياً من حيث مساحة: .....
- (المراعي - الأراضي الزراعية - الصحاري - البحار).
١٥. تشتهر دولة روسيا في أوروبا بإنتاج محصول: .....
- (المطاط - البنجر - البن - الكاكاو).
١٦. تهدف الزراعة المختلطة في أوروبا إلى: .....
- (إنتاج المحاصيل فقط - تربية الحيوان فقط - التكامل بين المحصول والحيوان - زراعة محصول واحد).
١٧. أهم وسيلة لزيادة إنتاج الأسماك في آسيا لمواجهة زيادة السكان هي: .....

(الصيد البدائي - الاستزراع السمكي - منع الصيد - تصدير الأسماك).

١٨. تعاني التربة الزراعية في آسيا من مشكلة: .....

(الزحف العمراني - نقص المياه - تجريف التربة - كل ما سبق).

١٩. الدولة الأولى في إنتاج الدواجن بقارة آسيا هي: .....

(الهند - الصين - إندونيسيا - العراق).

اكتب كلمة (صواب) أو (خطأ) مع التصويب

١. تعد قارة آسيا أكبر قارات العالم من حيث مساحة الأراضي الزراعية ( )
٢. يتميز النشاط الزراعي في أوروبا بالاعتماد على الأيدي العاملة البشرية بشكل أساسي . ( )
٣. يزرع قصب السكر في كل قارات العالم ماعدا قارة أوروبا . ( )
٤. الهند هي الدولة الأولى عالمياً في إنتاج المطاط الطبيعي . ( )
٥. تتركز زراعة الأرز في السهول الفيضية للأنهار الكبرى في آسيا . ( )
٦. يندر وجود المراعي الطبيعية في قارة أوروبا . ( )
٧. تستخدم "الميكنة الزراعية" على نطاق واسع في الزراعة الكثيفة بآسيا . ( )
٨. تعتبر الأسماك المصدر الرئيسي للبروتين لقطاع كبير من سكان آسيا . ( )
٩. محصول الشاي يحتاج إلى تربة خفيفة ومناخ حار ومطر غزير . ( )
١٠. يقل عدد العاملين بالزراعة في أوروبا بسبب الاتجاه للعمل بالصناعة والخدمات ( )

اكتب ما تشير إليه العبارات

١. نظام زراعي يعتمد على التكنولوجيا الرقمية والبيانات الدقيقة.
٢. محصول مداري يدخل في صناعة إطارات السيارات وتتصدر آسيا إنتاجه.
٣. زراعة تجمع بين إنتاج المحاصيل وتربية الحيوانات وتنتشر في أوروبا.
٤. تحويل منحدرات الجبال إلى درجات مستوية لزراعتها.
٥. محصول حبوب يتحمل البرودة وتنتجه أوروبا بكميات ضخمة للخبز.

## صوب ما تحته خط

١. تعد قارة **أوروبا** أولى قارات العالم في إنتاج الأرز.
٢. يزرع **البن** في شرق آسيا ويعد محصولاً نقدياً هاماً.
٣. تتركز تربية **الأغنام** في الهند وتعد الأولى عالمياً فيها.
٤. تساهم آسيا بنسبة ضئيلة في إنتاج **الأسماك** عالمياً.
٥. يزرع المطاط في المناطق **القطبية** الباردة.
٦. يعد القمح المحصول السكري الأول في **أوروبا**.
٧. تعتمد الزراعة في أوروبا على الأساليب **البدائية**.
٨. تتركز زراعة الشاي في دولة **روسيا**.
٩. **الجاموس** حيوان ينتشر بكثرة في المراعي الطبيعية بأوروبا.

## بم تفسر

١. انخفاض نسبة العاملين بالنشاط الزراعي في قارة أوروبا.
٢. تحويل منحدرات الجبال إلى مدرجات زراعية في بعض دول آسيا.
٣. تنوع المحاصيل الزراعية في قارة آسيا.
٤. قلة دخول الأرز في التجارة الدولية.
٥. احتلال قارة آسيا المرتبة الأولى عالمياً في تدهور التربة الزراعية.
٦. عدم زراعة محاصيل المنبهات في قارة أوروبا.
٧. احتياج البطاطس إلى مناخ معتدل.
٨. انتشار الزراعة المختلطة في بعض دول آسيا وأوروبا.
٩. تركّز الجاموس في قارة آسيا دون أوروبا.
١٠. تحتل آسيا المركز الأول في مساحة الأراضي الزراعية عالمياً.
١١. أهمية زراعة المدرجات في المناطق الجبلية بآسيا.
١٢. تركّز زراعة بنجر السكر في قارة أوروبا.
١٣. شهرة قارة آسيا بإنتاج المطاط الطبيعي.
١٤. ضرورة التوسع في الاستزراع السمكي بدول آسيا.
١٥. تدهور جودة التربة في بعض مناطق الزراعة الكثيفة بآسيا.
١٦. صعوبة استخدام الآلات الزراعية الضخمة في بعض مزارع آسيا (ضييق المساحة).
١٧. تركّز زراعة الشاي في شرق آسيا.
١٨. سيادة الزراعة المختلطة في ريف أوروبا.
١٩. تعد الأسماك غذاءً رئيسياً لسكان الجزر في آسيا.

٢٠. اتجاه دول القارتين نحو الزراعة العضوية

### ما النتائج المترتبة على

١. الإفراط في استخدام الأسمدة الكيماوية.
٢. هجمات أسراب الجراد على المناطق الزراعية.
٣. الصيد الجائر للأسماك.
٤. الزيادة السكانية الكبيرة في دول قارة آسيا.
٥. استخدام الأساليب العلمية والميكنة في زراعة أوروبا.
٦. وقوع معظم قارة أوروبا في المنطقة المعتدلة والباردة.
٧. توافر السهول الفيضية والأنهار الكبرى في قارة آسيا.
٨. انتشار مزارع الشاي في الصين.
٩. اهتمام أوروبا بتحسين سلالات الماشية والرعاية البيطرية.
١٠. الزحف العمراني على الأراضي الزراعية في آسيا.
١١. اعتماد الزراعة الرقمية في القارتين.

### دلل علي صحة العبارات الاتية

١. يتنوع النشاط الزراعي في قارة آسيا تنوعاً كبيراً.
٢. ترتبط الزراعة في أوروبا بالتقدم العلمي والتكنولوجي.
٣. تواجه الثروة السمكية في القارتين مشكلات متعددة.
٤. تعد آسيا مملكة "المحاصيل المدارية" في العالم.
٥. بذلت أوروبا جهوداً كبيرة لتحقيق التنمية الزراعية المستدامة.
٦. تلعب الثروة الحيوانية دوراً مهماً في اقتصاد الهند.

### ما العلاقة بين

١. التنوع المناخي - تنوع المحاصيل الزراعية في آسيا.
٢. الزحف العمراني - تناقص مساحة الأراضي الزراعية.
٣. المناخ في أوروبا وزراعة بنجر السكر والشيلم.
٤. الزيادة السكانية في آسيا وتجارة الأرز الدولية.
٥. التطور التكنولوجي ونسبة العمالة الزراعية في أوروبا.

## ماذا يحدث إذا

١. أفرط في استخدام الأسمدة الكيماوية في الزراعة.
٢. استمر تغير المناخ في قارتي آسيا وأوروبا.
٣. تناقصت مساحة المراعي الطبيعية.
٤. لم تتوفر الأساليب العلمية الحديثة في زراعة قارة أوروبا.
٥. نجحت دول آسيا في القضاء على مشكلة الزحف العمراني.
٦. لم تكن آسيا تمتلك جبالاً ومنحدرات (بالنسبة لزراعة المدرجات).

## ما المقصود بـ:

- الزراعة الرقمية .....

## فكر وأجب:

١. قارن بين الزراعة الكثيفة والزراعة الواسعة من حيث مناطق الانتشار.
٢. وضح دور النشاط الزراعي في اقتصاد قارتي آسيا وأوروبا.



## الوحدة الثالثة

## الدرس الثاني

## النشاط الصناعي والتجاري في قارتي آسيا وأوروبا

## تأمل واكتشف

تعد الصناعة الحديثة مقياساً رئيسياً لتطور الشعوب وازدهارها، فعادة ما تكون الدول المتقدمة هي الدول الأكثر تطوراً في الصناعة، وقد كانت أوروبا مركزاً للنهضة الصناعية الحديثة التي غيرت وجه العالم، فكيف حدثت تلك النهضة الصناعية؟ وما تأثيرها على اقتصاد القارتين؟

الصناعة

أولاً

الثورة الصناعية وانتقالها بين دول قارتي أوروبا وآسيا:

ما المقصود

**الثورة الصناعية** هي تحولات علمية وتكنولوجية في طرق الصناعة، تحول الإنتاج الصناعي خلالها من الأساليب البدائية في الحرف التقليدية إلى الأساليب التكنولوجية المتطورة، مما أدى إلى زيادة سرعة الإنتاج ومضاعفته عدة مرات .

- **الثورة الصناعية الأولى**؛ قامت في بريطانيا مع نهاية القرن **الثامن عشر** الميلادي بعد اختراع العالم الإسكتلندي الشهير **(جيمس واط)** المحرك البخاري، وانتقلت الصناعة بعد ذلك إلى بعض الدول الأوروبية، ثم سلكت طريقها إلى **الولايات المتحدة الأمريكية**. وقد تأخر انتقال الثورة الصناعية إلى الدول الآسيوية **بم تفسم؟ بسبب الاستعمار الذي احتل معظم دول القارة**، حيث بدأت في اليابان في النصف الثاني من القرن **التاسع عشر**، ثم ظهرت في **الصين والهند** في منتصف القرن **العشرين** .
- **الثورة الصناعية الثانية**؛ بدأت في بداية القرن **العشرين** اعتماداً على **الطاقة الكهربائية** .
- **الثورة الصناعية الثالث**؛ بدأت في **السبعينيات** من القرن العشرين اعتماداً على **الإلكترونيات وتكنولوجيا الإنترنت** .

- **الثورة الصناعية الرابعة:** انطلقت مع بدايات القرن **الحادي والعشرين** اعتمادًا على تكنولوجيا المعلومات والاتصالات، والذكاء الاصطناعي والروبوتات المتقدمة .
- **الثورة الصناعية الخامسة:** ظهر مصطلح الثورة الصناعية الخامسة في عام ٢٠١٧م كرد فعل لاعتماد الثورة الصناعية الرابعة على الذكاء الاصطناعي دون الاهتمام الكافي بالإنسان والبيئة، وفي ٢٠٢١م اعتمدت المفوضية الأوروبية ذلك المصطلح **بم تفسر؟** بهدف تحقيق التوازن بين الإنسان والتكنولوجيا في العمل مع المحافظة على استهلاك الطاقة لتحقيق الاستدامة البيئية .



## أنواع الصناعات في قارتي آسيا وأوروبا:

٢

### أ- الصناعات الاستخراجية

تضم العديد من الصناعات، ومنها ما يلي :

- **الصناعات التعدينية واستخراج البترول والغاز الطبيعي:** وتوجد في دول مثل: الصين و السعودية في قارة آسيا، وروسيا الاتحادية وأوكرانيا في قارة أوروبا .
- **الصناعات الخشبية:** وتوجد في دول مثل: الصين وماليزيا في قارة آسيا .
- **الصناعات عصر الزيوت:** يتم الحصول على الزيوت النباتية من عدة مصادر منها نخيل الزيت وفول الصويا والزيتون والكتان وغيرها .
- **قارة آسيا:** تحتل المركز الأول عالمياً (أكثر من نصف إنتاج العالم)، وأهم دولها: إندونيسيا والصين وماليزيا .
- **قارة أوروبا:** تحتل المركز الثاني عالمياً بنسبة ١٦٪، وأهم دولها: روسيا الاتحادية وأوكرانيا وإسبانيا .



صناعة عصر الزيوت

### ب- الصناعات التحويلية

- **صناعات تحويلية خفيفة:** تنتشر في جميع دول القارتين، وتضم الصناعات الغذائية (سكر، تعليب فاكهة وخضروات ولحوم)، وصناعة الغزل والنسيج والملابس والسجاد والجلود .
- **صناعات تحويلية ثقيلة:** تشمل الصناعات الكيماوية والبتروكيماوية والمطاط والصناعات المعدنية كالحديد والصلب والألومنيوم .توجد في دول مثل: الصين واليابان وألمانيا وفرنسا .

## فكر وأجب

## أكمل

- قامت الثورة الصناعية الأولى في دولة ..... مع نهاية القرن الثامن عشر.
- اخترع العالم الأسكتلندي ..... المحرك البخاري الذي كان أساس الثورة الصناعية الأولى.
- بدأت الثورة الصناعية الثانية في القرن العشرين اعتمادًا على .....
- تعتمد الثورة الصناعية الثالثة على تكنولوجيا ..... والإلكترونيات.
- **بم تفسر** : أحر انتقال الثورة الصناعية إلى الدول الآسيوية مقارنة بأوروبا؟
- **ما الهدف من** : اعتماد المفوضية الأوروبية لمصطلح الثورة الصناعية الخامسة في عام ٢٠٢١م؟

## الأقاليم والمناطق الصناعية الرئيسية في قارتي آسيا وأوروبا

٣

## سلسلة

## ما المقصود

**الإقليم الصناعي** : هو مساحة جغرافية كبيرة تضم في داخلها العديد من المناطق الصناعية، ويوجد في كل منطقة مجموعة متنوعة من الصناعات التي تتكامل بعضها مع بعض .



خريطة (٣) الأقاليم والمناطق الصناعية في قارتي آسيا وأوروبا

## أ : الأقاليم الصناعية في قارة آسيا : <<<

تتركز في شرق آسيا وجنوب آسيا

- ▶ المناطق الصناعية في الصين : تعد الصين أكبر قوة صناعية في العالم (ساهمت بنحو ٢٩٪ من الناتج الصناعي العالمي لعام ٢٠٢٣ م). أشهر صناعاتها: الحديد والصلب، الإلكترونيات، البتروكيماويات، والغزل والنسيج .
- ▶ المناطق الصناعية في اليابان : تحتل المركز الثالث عالمياً (تساهم بنحو ٥٪ عالمياً لعام ٢٠٢٣ م). أشهر صناعاتها: الإلكترونيات، السيارات، والطائرات .
- ▶ المناطق الصناعية في كوريا الجنوبية : تحتل المركز الخامس عالمياً بنسبة ٢,٨٪. أشهر صناعاتها: السيارات، بناء السفن، والروبوتات .

## ب : الأقاليم الصناعية الرئيسية في قارة أوروبا : <<<

على الرغم من التطور الصناعي في أجزاء عديدة من العالم، إلا أن أوروبا ما زالت قوة صناعية كبرى، وتنتشر الصناعات في عديد من دولها.

نستنتج من الخريطة (٣) أن قارة أوروبا تضم إقليمين رئيسيين للصناعة، هما

- ▶ إقليم غرب ووسط أوروبا الصناعي ◀ ويضم:
  - ◀ (١) منطقة الرور (ألمانيا) : يوجد بها عديد من الصناعات، منها: صناعة الحديد والصلب والصناعات الهندسية والبتروكيماوية والنسيجية
  - ◀ (٢) منطقة حوض لندن (المملكة المتحدة) : ساهم وجود الفحم والحديد والبتترول بها في قيام عدة صناعات مثل: صناعة السيارات والطائرات.
  - ◀ (٣) منطقة اللورين (فرنسا) : تشتهر بصناعة الحديد والصلب لتوافر خامات الحديد، كما تشتهر بالصناعات الكيماوية حيث توجد رواسب ضخمة من الأملاح والبيوتاسيوم.
- ▶ إقليم شرق أوروبا الصناعي ◀ ويضم:
  - يضم العديد من المناطق الصناعية في دول شرق أوروبا، ومن أهمها:

## ▶ (١) المناطق الصناعية في روسيا الاتحادية: منها منطقة القوقاز التي تتسم بغناها بالبتترول ما

التتابع؟ مما ساعد على قيام صناعة تكرير البترول والصناعات البتروكيماوية.

- منطقة جبال الأورال: التي تتسم بغناها بالموارد المعدنية وخاصة الحديد والنحاس، وتقوم في هذه المنطقة عديد من الصناعات مثل الصناعات الهندسية والإلكترونيات والصناعات الحربية.

▶ (١) **منطقة دونيتسك الصناعية في أوكرانيا:** تتميز بقربها من حقول الفحم ومناجم الحديد، وتتوفر

بها مصادر متنوعة للطاقة الكهربائية المتجددة وغير المتجددة.

• لذا فهي تضم أكبر مصانع الحديد والصلب ومصانع القاطرات والآلات الزراعية والصناعات الحربية.

## فكر وأجب

## أكمل

- تحتل اليابان المركز..... عالمياً في الإنتاج الصناعي، ومن أشهر صناعاتها السيارات والطائرات.
- من أشهر الصناعات في دولة كوريا الجنوبية صناعة بناء السفن و.....
- تقع منطقة..... الصناعية في غرب ألمانيا وتشتهر بصناعة الحديد والصلب.
- تشتهر منطقة..... في روسيا الاتحادية بصناعة تكرير البترول والصناعات البتروكيمياوية
- **م تفسر:** قيام صناعة السيارات والطائرات في منطقة حوض لندن بالمملكة المتحدة؟
- صنف المناطق الصناعية التالية حسب القارة التابعة لها: (منطقة اللورين - منطقة حوض لندن - منطقة دونيتسك - منطقة جبال الأورال).

## ٤ جهود بعض الدول الآسيوية والأوروبية في إطار الصناعة والتنمية المستدامة

تعتبر **الصناعة** محركاً أساسياً لتحقيق أهداف التنمية المستدامة من خلال دعم النمو الاقتصادي والابتكار وتوفير فرص العمل والحد من الفقر والجوع ومكافحة التغير المناخي، وتعمل على تطوير التكنولوجيات الخضراء التي تعمل على خفض انبعاثات ثاني أكسيد الكربون . وقد وضعت حكومات بعض الدول الآسيوية والأوروبية عدة سياسات تنموية في مجال الصناعة بهدف تحقيق أهداف التنمية المستدامة، ومنها :

▶ **السعودية:** أطلقت مشروع **نيوم** للهيدروجين الأخضر **م تفسر؟** ليكون من أكبر مصانع العالم لإنتاج الطاقة النظيفة والمتجددة .

▶ **الصين:** تدعم الحكومة خطة التنمية الصناعية الخاصة بالمركبات الكهربائية كوسيلة رئيسية للنقل البري الصديق للبيئة، وتعد الصين المركز الرئيسي لتصنيع السيارات الكهربائية في العالم.

▶ **ألمانيا:** تهتم الدولة بالتحول الأخضر والسعي للوصول إلى صفر انبعاثات كربونية بحلول عام

٢٠٤٥م، **م تفسر؟** وذلك من خلال الانتقال إلى الطاقة المتجددة، وتقليل الانبعاثات الكربونية.

## التجارة في قارتي آسيا وأوروبا

ثانياً

يُعد النشاط التجاري من الأنشطة المهمة في اقتصاد عديد من دول قارتي آسيا وأوروبا ويشمل :

## ١ . تجارة السلع (الصادرات والواردات) في آسيا وأوروبا :

- استحوذت قارتا أوروبا وآسيا على نحو ٧٠٪ من إجمالي التجارة الدولية للسلع.
- تأتي الصين في المرتبة الأولى آسيوياً وعالمياً في التجارة الدولية للسلع،
- بينما تأتي ألمانيا في المرتبة الثالثة عالمياً والأولى أوروبياً.

أهم الصادرات: من أهم صادرات قارتي آسيا وأوروبا من السلع: الصناعات الغذائية والتحويلية والمنسوجات والحديد والصلب والسيارات والبتترول والمنتجات المعدنية.

## ٢ . تجارة الخدمات التجارية الدولية :

أصبحت ضرورية للدول المتقدمة والنامية بم تفسر؟ حيث تساعد على تحسين الناتج المحلي الإجمالي للدول وتحقيق النمو الاقتصادي.

تصنف الخدمات التجارية إلى أربع فئات رئيسية هي:

- النقل
- السفر
- الخدمات المتعلقة بالسلع
- الخدمات التجارية الأخرى.

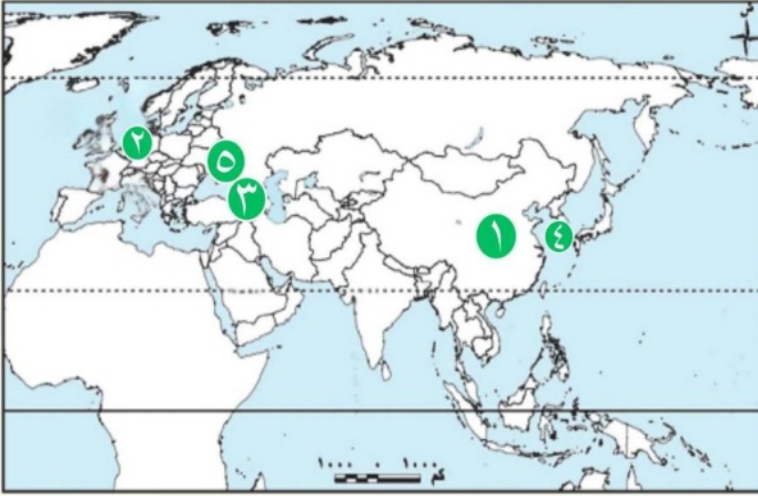
- تحتل أوروبا المرتبة الأولى عالمياً في تجارة الخدمات بنسبة ٤٨,٣٪،
- تليها آسيا في المركز الثاني بنسبة ٢٦,٣٪.
- تأتي الصين في المرتبة الأولى آسيوياً وعالمياً
- بينما تحتل ألمانيا المرتبة الأولى أوروبياً والثالثة عالمياً.
- وتعد خدمات التوصيل الرقمي وخدمات الاتصالات والحاسبات الآلية والمعلومات وخدمات السفر والنقل من أكثر الخدمات التجارية الدولية المتبادلة في قارتي آسيا وأوروبا.

**معلومة إثرائية:** خدمات التوصيل الرقمي: جميع المعاملات التجارية الدولية التي تتم عبر شبكات الحاسبات

الآلية، بداية من تحميل البرامج والدورات التدريبية عبر الإنترنت وتحميل الكتب الإلكترونية والمعاملات الإلكترونية.

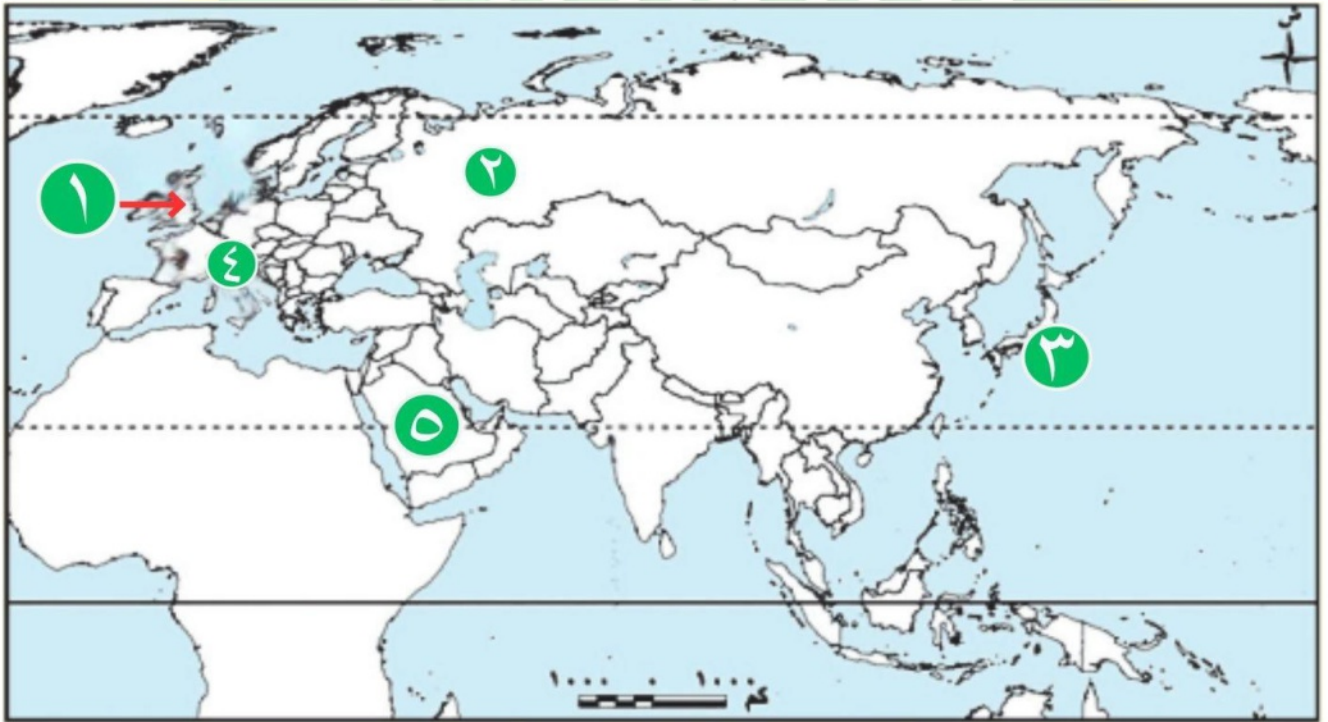
## تدريبات النشاط الصناعي والتجاري في قارتي آسيا وأوروبا

أمامك خريطة صماء لقارتي آسيا وأوروبا، اكتب ما تشير إليه الأرقام:



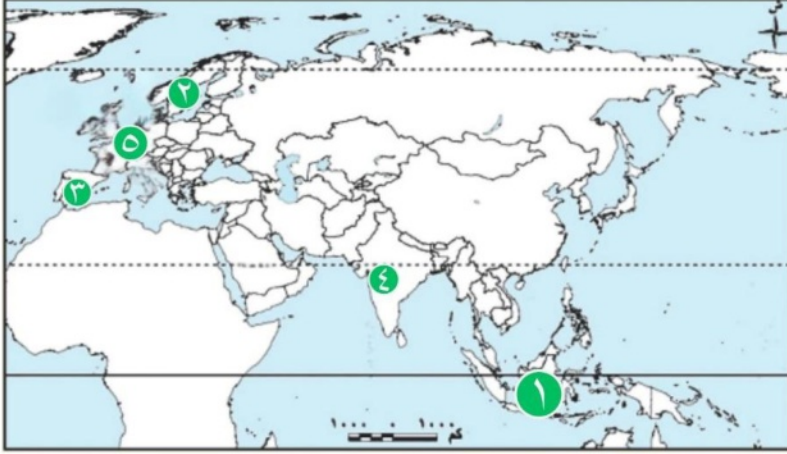
١. أكبر قوة صناعية في العالم دولة.....
٢. منطقة صناعية في غرب ألمانيا.....
٣. منطقة تشتهر بصناعة تكرير البترول في روسيا.....
٤. دولة تشتهر بصناعة بناء السفن والروبوتات.....
٥. إقليم صناعي في أوكرانيا يضم مصانع القاطرات.....

أمامك خريطة صماء لقارتي آسيا وأوروبا، اكتب ما تشير إليه الأرقام:



١. إقليم صناعي بريطاني يشتهر بصناعة السيارات والطائرات.....
٢. منطقة صناعية في روسيا غنية بالمعادن وتشتهر بالصناعات الحربية.....
٣. دولة آسيوية تحتل المركز الثالث عالمياً في الإنتاج الصناعي.....
٤. منطقة صناعية فرنسية تشتهر بصناعة الحديد والصلب والصناعات الكيماوية.....
٥. دولة عربية آسيوية تبرز في الصناعات التعدينية (استخراج البترول):.....

## أمامك خريطة صماء لقارتي آسيا وأوروبا، اكتب ما تشير إليه الأرقام:



١. دولة آسيوية تشتهر بصناعة عصر

الزيوت النباتية (تحتل المركز الأول

مع الصين وماليزيا)..... :

٢. دولة أوروبية تشتهر بالصناعات

الخشبية (بجانب ألمانيا) :

.....

٣. دولة أوروبية تحتل المركز الثاني

عالمياً في إنتاج الزيوت النباتية

(بجانب روسيا وأوكرانيا)..... :

٤. دولة آسيوية ظهرت فيها الثورة الصناعية في منتصف القرن العشرين (بجانب الصين) :

.....

٥. دولة أوروبية تعتبر القوة الصناعية الأولى في قارتها والثالثة عالمياً في تجارة السلع..... :

## أكمل العبارات الآتية بكلمات مناسبة

١. قامت الثورة الصناعية الأولى في بريطانيا بعد اختراع العالم جيمس واط ل.....

٢. اعتمدت الثورة الصناعية الثانية بشكل أساسي على الطاقة.....

٣. الثورة الصناعية الثالثة اعتمدت على الإلكترونيات وتكنولوجيا.....

٤. تحتل قارة..... المركز الأول عالمياً في إنتاج زيوت عصر النباتات.

٥. من أمثلة الصناعات الاستخراجية الخشبية في آسيا دولتا الصين و.....

٦. تشمل الصناعات التحويلية الثقيلة صناعة..... والحديد والصلب.

٧. تشتهر اليابان بصناعة الإلكترونيات والسيارات و.....

٨. منطقة..... في فرنسا تشتهر بصناعة الحديد والصلب والصناعات الكيماوية.

٩. تعتبر الصين المركز الرئيسي لتصنيع السيارات..... في العالم.

١٠. تأتي ألمانيا في المرتبة الأولى..... في تجارة السلع.

١١. تحتل قارة..... المرتبة الأولى عالمياً في تجارة الخدمات.

١٢. مشروع..... في السعودية يهدف لإنتاج الطاقة النظيفة والمتجددة.

## ضع علامة صح أو علامة خطأ أمام العبارات مع التصويب

١. بدأت الثورة الصناعية الأولى في بريطانيا نتيجة اختراع المحرك البخاري . ( )

٢. تأخر انتقال الثورة الصناعية إلى آسيا بسبب حركة الاستعمار . ( ) ( )

٣. تعتمد الثورة الصناعية الرابعة على تكنولوجيا المعلومات والذكاء الاصطناعي . ( )

٤. ظهرت الثورة الصناعية الخامسة بهدف تحقيق التوازن بين الإنسان والتكنولوجيا . ( )
٥. تعتبر صناعة تعليب الفاكهة والخضروات من الصناعات التحويلية الثقيلة . ( )
٦. تدعم حكومة الصين خطة المركبات الكهربائية كبديل صديق للبيئة . ( )
٧. تقع منطقة "الروور" الصناعية في دولة ألمانيا . ( )
٨. تشتهر جبال الأورال في روسيا بالصناعات الهندسية والحربية . ( )
٩. تحتل قارة آسيا المركز الثاني عالمياً في إنتاج زيوت عصر النباتات . ( )
١٠. استحوذت قارتا آسيا وأوروبا على معظم إجمالي التجارة الدولية للسلع . ( )
١١. تعتبر السيارات وبناء السفن من أشهر صناعات كوريا الجنوبية . ( )
١٢. تسعى ألمانيا للوصول إلى صفر انبعاثات كربونية من خلال الطاقة المتجددة . ( )
١٣. تأتي الصين في المرتبة الأولى عالمياً وآسيوياً في تجارة السلع . ( )
١٤. صناعة السجاد والجلود تصنف ضمن الصناعات التحويلية الخفيفة . ( )
١٥. منطقة دونيتسك في أوكرانيا تتميز بقربها من حقول الفحم ومناجم الحديد . ( )

### أختر الإجابة الصحيحة مما بين القوسين

١. قامت الثورة الصناعية الأولى اعتماداً على: .....  
(الكهرباء - الطاقة النووية - المحرك البخاري - طاقة الرياح)
٢. بدأت الثورة الصناعية في اليابان في النصف الثاني من القرن: .....  
(السابع عشر - الثامن عشر - التاسع عشر - العشرين)
٣. من الدول الآسيوية التي تبرز في الصناعات التعدينية واستخراج البترول: .....  
(اليابان - السعودية - فرنسا - السويد)
٤. من أشهر صناعات اليابان الحديثة: .....  
(الغزل والنسيج - السكر - المنسوجات - الطائرات)
٥. منطقة حوض لندن تشتهر بصناعة السيارات والطائرات لتوافر: .....  
(النحاس - الأخشاب - الفسفات - الفحم والحديد)
٦. تعتمد الثورة الصناعية الثالثة بشكل أساسي على: .....  
(البخار - الفحم - الإلكترونيات - الروبوتات)
٧. تقع منطقة اللورين الصناعية في دولة: .....  
(فرنسا - ألمانيا - أوكرانيا - بريطانيا)
٨. تشتهر كوريا الجنوبية عالمياً بصناعة: .....  
(تكرير البترول - الأخشاب - بناء السفن - المنسوجات)
٩. من أهم صادرات قارتي آسيا وأوروبا من السلع: .....  
(السيارات - المنسوجات - الحديد والصلب - كل ما سبق)

١٠. تحتل قارة آسيا في تجارة الخدمات المركز العالمي: .....

(الأول - الثاني - الثالث - الرابع)

١١. الثورة الصناعية التي ركزت على تكنولوجيا المعلومات والذكاء الاصطناعي هي: .....

(الأولى - الثانية - الثالثة - الرابعة)

١٢. منطقة القوقاز في روسيا تشتهر بصناعة: .....

(الغزل والنسيج - الحديد - تكرير البترول - الأخشاب)

١٣. يتم الحصول على الزيوت النباتية من مصادر منها: .....

(نخيل الزيت - الزيتون - فول الصويا - كل ما سبق)

١٤. انطلقت الثورة الصناعية الخامسة بهدف الحفاظ على: .....

(الآلات فقط - الفحم - الإنسان والبيئة - البخار)

١٥. منطقة دونيتسك الصناعية تتبع دولة: .....

(روسيا - أوكرانيا - بريطانيا - ألمانيا)

١٦. أي من الثورات الصناعية التالية كانت "نقطة التحول" التي جعلت الصناعة تعتمد على قوى غير مرئية

لأول مرة في تاريخها؟ .....

(الثورة الصناعية الأولى - الثورة الصناعية الثانية - الثورة الصناعية الثالثة - الثورة الصناعية الخامسة)

١٧. الرابط المشترك بين تأخر الثورة الصناعية في قارة آسيا قديماً، وبين أهداف الثورة الصناعية الخامسة

حالياً هو: .....

(الاعتماد على الآلات - العنصر البشري - تكنولوجيا الفضاء - اكتشاف الفحم)

١٨. إذا أردنا إنشاء مصنع يجمع بين الصناعة "التحويلية الثقيلة" والصناعة "الاستخراجية التعدينية" في آن

واحد، فأى المناطق التالية هي الأنسب بناءً على شهرتها؟ .....

(حوض لندن - القوقاز - دونيتسك - الرور)

١٩. "تعد الصين المرتبة الأولى عالمياً في تصنيع المركبات الكهربائية"؛ هذا النجاح الصناعي يخدم

بشكل مباشر أهداف أي من الدول التالية في سياستها المعلنة؟ .....

(بريطانيا في الثورة الأولى - ألمانيا في التحول الأخضر - روسيا في جبال الأورال - اليابان في صناعة

الطائرات)

٢٠. أي من فئات الخدمات التالية تساهم في جعل العالم "قرية صغيرة" وتعد عصب تجارة الخدمات في قارتي آسيا وأوروبا حالياً؟.....

(خدمات النقل البري - خدمات السفر - خدمات التوصيل الرقمي - خدمات استخراج المعادن)

### صوب ما تحته خط

١. بدأت الثورة الصناعية الثانية اعتماداً على المحرك البخاري.(.....) .
٢. تحتل قارة أوروبا المركز الأول عالمياً في إنتاج زيوت عصر النباتات.(.....) .
٣. تقع منطقة اللورين في دولة ألمانيا.(.....) .
٤. تعتبر فرنسا الدولة الأولى عالمياً وآسيوياً في تجارة السلع.(.....) .
٥. تقع منطقة الرور في دولة المملكة المتحدة.(.....) .

### اكتب ما تشير إليه العبارات

١. تحولات علمية وتكنولوجية حولت الإنتاج من الحرف التقليدية إلى الأساليب المتطورة.
٢. مساحة جغرافية كبيرة تضم العديد من المناطق الصناعية المتكاملة.
٣. ثورة صناعية تعتمد على تكنولوجيا المعلومات والذكاء الاصطناعي والروبوتات المتقدمة.
٤. صناعات تضم التعدين واستخراج البترول والغاز الطبيعي والأخشاب.
٥. صناعات تشمل الكيماويات والبتروكيماويات والحديد والصلب.
٦. العالم الأسكتلندي الذي اخترع المحرك البخاري.
٧. منطقة بريطانية ساهم وجود الفحم والحديد بها في قيام صناعة السيارات والطائرات.
٨. مشروع سعودي رائد لإنتاج الهيدروجين الأخضر والطاقة النظيفة.
٩. الدولة الأولى أوروبياً والثالثة عالمياً في تجارة السلع.

### بم تفسر

١. الصناعة الحديثة مقياس رئيسي لتطور الشعوب وازدهارها؟
٢. تأخر انتقال الثورة الصناعية إلى الدول الآسيوية؟
٣. ظهور مصطلح الثورة الصناعية الخامسة؟
٤. تركز صناعة الحديد والصلب في منطقة اللورين بفرنسا؟
٥. قيام صناعة السيارات والطائرات في منطقة حوض لندن؟
٦. أهمية منطقة دونيتسك الصناعية في أوكرانيا؟
٧. اهتمام ألمانيا بالتحول الأخضر في الصناعة؟
٨. أهمية تجارة الخدمات للدول المتقدمة والنامية؟
٩. قيام الثورة الصناعية الأولى في بريطانيا.
١٠. اعتبار الصناعة المحرك الأساسي للتنمية المستدامة

**ما النتائج المترتبة على**

١. اختراع جيمس واط للمحرك البخاري؟
٢. غنى منطقة جبال الأورال بالموارد المعدنية كالحديد والنحاس؟
٣. اعتماد الثورة الصناعية الرابعة على الذكاء الاصطناعي دون الاهتمام بالبيئة؟
٤. توفر البترول في منطقة القوقاز بروسيا؟
٥. قرب منطقة دونيتسك من مناجم الحديد وحقول الفحم؟

**دل على صحة العبارات**

١. تعتبر الصين قوة صناعية كبرى في العالم حالياً.
٢. تساهم قارة آسيا بنصيب كبير في إنتاج الزيوت النباتية عالمياً.
٣. تتنوع المناطق الصناعية داخل إقليم شرق أوروبا الصناعي.
٤. تسعى المملكة العربية السعودية لتحقيق أهداف التنمية المستدامة في الصناعة.
٥. تسيطر قارتا آسيا وأوروبا على الجزء الأكبر من التجارة الدولية للسلع.
٦. لأوروبا مكانة رائدة عالمياً في مجال تجارة الخدمات.

**ما المقصود**

١. الثورة الصناعية؟
٢. الإقليم الصناعي؟

**سؤال مقارنات وتصنيف**

١. قارن بين الثورة الصناعية الأولى والثانية من حيث مصدر الطاقة الأساسي.
٢. قارن بين الصين وألمانيا من حيث الترتيب في تجارة السلع (عالمياً وقارياً).
٣. صنف المناطق والمشاريع التالية حسب القارة (آسيا / أوروبا): (الرور - جبال الأورال - نيوم - كوريا الجنوبية).
٤. صنف الصناعات التالية إلى (خفيفة) و(ثقيلة): (السكر - الألومنيوم - الملابس - البتروكيماويات).

## الوحدة الثالثة

## الدرس الثالث

## النشاط السياحي في قارتي آسيا وأوروبا

## تأمل واكتشف

تعد السياحة من أهم الأنشطة الاقتصادية في العالم؛ فهي لا تقتصر على الترفيه والاستجمام فقط، بل تسهم أيضًا في تبادل الثقافات وزيادة المعرفة بين الشعوب. وتعدُّ قارتا آسيا وأوروبا من أبرز المقاصد السياحية العالمية؛ لما تتميزان به من تنوع طبيعي وحضاري فريد .

## مقومات السياحة في قارتي آسيا وأوروبا

## أولاً

يتوفر في القارتين عديد من المقومات الجغرافية الطبيعية والبشرية التي ساعدت على تنشيط السياحة :

## ١. المقومات الطبيعية:

## الموقع الجغرافي :

- تقع آسيا بالقرب من أوروبا وأستراليا وإفريقيا .
- أما أوروبا فموقعها متميز وقريب من المناطق المصدرة للسياحة مثل أمريكا الشمالية، شمال إفريقيا، وجنوب غرب آسيا .



جزر المالديف التي تتكون من مجموعة من الجزر المرجانية ذات الشواطئ الرملية البيضاء والمياه الفيروزية الصافية

## المناخ :

- تجذب مناطق شرق آسيا، ساحل بلاد الشام، وتركيا السياح بم نفسهم؟ لاعتدال مناخها
- وتقع معظم أوروبا ضمن الأقاليم المناخية المعتدلة، ما التناج؟ مما يجذب السائحين معظم أيام السنة .

## مظاهر السطح :تنوع مظاهر السطح تنوعاً واضحاً في قارتي آسيا وأوروبا

## ومن أشهر مظاهر السطح جذبا للسياحة في قارة آسيا

بالإضافة للصحاري الحارة والمعتدلة ذات الظاهرات المتميزة من كثبان وأودية جافة وجبال بركانية

جزر المالديف في المحيط الهندي

هضبة التبت في الصين

جبال الهيمالايا في وسط آسيا





مهرجان سابورو للثلج في اليابان

- يشمل التنوع الفنون من غناء وموسيقى ورسم ونحت، ما **التناج؟** مما يوفر فرصة للسائحين لاستكشاف حياة اجتماعية وثقافية مختلفة عن بيئتهم.
- تحرص الدول على إقامة مهرجانات متنوعة تعكس ثقافتها وتراثها، مثل مهرجان **سابورو** للثلج في اليابان.

### ▶ شبكات البنية التحتية

- تتسم البنية التحتية في معظم أنحاء أوروبا بأنها **حديثة** و**متطورة**، **دلال؟** حيث تربط دولها شبكات نقل واسعة ومتنوعة (طرق سريعة، سكك حديد، مطارات دولية)، مما يسهل حركة السائحين.
- **البنية التحتية في آسيا:** تختلف قوتها من دولة لأخرى؛ **دلال؟** حيث تجدها قوية ومتطورة في دول مثل اليابان والصين وكوريا الجنوبية والإمارات، بينما تقل تطوراً في دول أخرى.
- **تسهيلات الضيافة والإقامة**
- تتمثل في **الفنادق والقرى والمنتجعات السياحية**، وهي متطورة ومتنوعة في معظم الدول الأوروبية، وتوجد سلاسل فندقية عالمية فيها. كما نجد هذه التسهيلات متطورة في العديد من الدول الآسيوية، وأقل تنوعاً وتطوراً في دول أخرى.

### أكمل

### فكر وأجب

- الدولة التي تحتل المرتبة الأولى عالمياً وأوروبياً في عدد السائحين هي.....
- تقع محميات دب الباندا العملاق في دولة.....
- **بم تفسر:** تعتبر مدينة القدس القديمة منطقة ذات قيمة عالمية استثنائية؟

### حركة السياحة في قارتي آسيا وأوروبا

### ثانياً

تطور النشاط السياحي تطوراً واضحاً في القارتين، وتوجد العديد من الدول الآسيوية والأوروبية التي تعد من أفضل الوجهات السياحية في العالم؛ ولذلك فهي تجذب ملايين السائحين سنوياً من داخل القارة ومن خارجها

### ١. ترتيب القارات والدول من حيث عدد السائحين:

الترتيب	على مستوى القارات	على مستوى الدول (أوروبا)	على مستوى الدول (آسيا)
المركز الأول	قارة أوروبا	فرنسا	تركيا
المركز الثاني	قارة آسيا	إسبانيا	اليابان


## ٢. ترتيب القارات والدول من حيث عائدات السياحة:

- عالمياً: تعد قارة **أوروبا** هي الأعلى من حيث العائدات.
- على مستوى الدول عالمياً: تأتي **إسبانيا** في المركز الثاني كأعلى عائدات سياحية (عام ٢٠٢١م)، تليها **المملكة المتحدة**.
- على مستوى دول آسيا: تأتي دولة **الإمارات** في المركز الأول، ثم **تركيا**.

## مواقع التراث العالمي في قارتي آسيا وأوروبا

ثالثاً

- قارة أوروبا: تحتل المركز الأول بين قارات العالم من حيث عدد المواقع التراثية بنسبة ٤٠٪.
- قارة آسيا: تأتي في المركز الثاني بنسبة تقارب ٢٩٪.
- على مستوى الدول \* تأتي **إيطاليا** في المرتبة الأولى على مستوى قارة أوروبا.
- تأتي **الصين** في المرتبة الأولى على مستوى قارة آسيا.



مدينة البتراء

## أمثلة من مواقع التراث العالمي في قارة آسيا: ◀◀◀

▶ البتراء \* تعد من أشهر المواقع التاريخية في **الأردن** وتقع في منطقة **غرب آسيا**.

- كانت مأهولة بالسكان منذ **عصور ما قبل التاريخ**.
- تتميز بانقسامها إلى نصفين: جزء تم **تشييده** وجزء آخر **نُحت** وحُفر داخل الجبال.
- يظهر فيها مزيج فريد بين تقاليد **الشرق القديم** وفنون **الهندسة اليونانية القديمة**.
- ▶ مدينة القدس القديمة وأسوارها \* تمتلك مكانة وقيمة عظيمة في الديانات السماوية الثلاث.



القدس

- تحتوي المدينة على ما يقارب ٢٢٠ أثراً تاريخياً.
- تتميز بوجود "قبة الصخرة" التي شيدت في القرن **السابع الميلادي**، وتشتهر بزخارفها الهندسية والنباتية الرائعة.
- تضم معالم دينية بارزة مثل **كنيسة القيامة** وحائط **البراق**.



محميات دب باندا سيشوان

### ▶ محميات دب باندا سيشوان العملاق \* تقع في الصين

وتتكون من ٧ محميات طبيعية و ٩ متنزهات.

- تعد موطنًا لأكثر من ٣٠٪ من إجمالي حيوانات الباندا العملاقة حول العالم، وهي فصيلة مهددة بالانقراض.
- تعتبر من أغنى المناطق عالميًا بالتنوع النباتي بعد الغابات المدارية المطيرة، إذ تحتوي على أكثر من ٥ آلاف نوع من النباتات.

### ◀ أمثلة من مواقع التراث العالمي في قارة أوروبا: ▶▶▶

#### • مدينة البندقية (إيطاليا):



مدينة البندقية

- تأسست في القرن الخامس الميلادي فوق أرخبيل يتكون من ١١٨ جزيرة صغيرة المساحة.
- تعد المدينة بأكملها تحفة هندسية معمارية استثنائية.
- تبدو كأنها تطفو على مياه البحيرة، لتمثل مشهدًا طبيعيًا لا يُنسى.

#### • المساكن المعلقة حول جبال الألب:



المساكن المعلقة حول جبال الألب

في الدراسات الاجتماعية

- توجد في ست دول أوروبية (ألمانيا، إيطاليا، النمسا، سلوفينيا، سويسرا، وفرنسا).
- يضم الموقع بقايا مستوطنات ترجع إلى عصور ما قبل التاريخ.

○ بُنيت هذه المساكن على ضفاف البحيرات والأنهار والأراضي الرطبة التي كانت موجودة في تلك الفترة.

#### • حديقة فاتناجوكول الوطنية (أيسلندا):



حديقة فاتناجوكول الوطنية

- منطقة **بركانية** شهيرة تمثل نحو ١٤٪ من مساحة **أيسلندا**، وتضم عشرة براكين مركزية.
- تتسم المنطقة **بالفيضانات المفاجئة** الناتجة عن حدوث انهيارات على جوانب **الأنهار الجليدية** بسبب ثوران بركاني.

○ أدت هذه الظاهرة المتكررة إلى ظهور **سهول رملية وأودية** فريدة من نوعها.

## المشكلات التي تواجه السياحة في قارتي آسيا وأوروبا

رابعاً

تواجه السياحة عدة مشكلات تشمل التقلبات الاقتصادية، والأحوال المناخية المتطرفة، ولكل قارة مشكلاتها الخاصة:

## ١. مشكلات السياحة في قارة آسيا:

- ضعف شبكات البنية التحتية والنقل الجوي في عديد من الدول مثل: **كمبوديا وأفغانستان واليمن**.
- صعوبة الحصول على التأشيرات السياحية.
- ارتفاع تكاليف الرحلة السياحية.
- ضعف الحملات التسويقية خاصة **لدول وسط آسيا**.
- وجود بعض المشكلات السياسية في بعض الدول مثل: **لبنان والعراق وأفغانستان**.

## ٢. مشكلات السياحة في قارة أوروبا:

- الازدحام الشديد في عديد من المدن السياحية كما في **روما وباريس وبرشلونة، ما النتائج؟** ويمثل ذلك ضغطاً كبيراً على البنية التحتية لهذه المدن، ويؤدي لتدهور الموارد الطبيعية بسبب كثرة الزيارات والرحلات السياحية.
- ارتفاع معدلات الانبعاثات الكربونية بسبب كثرة رحلات السفر.
- عدم الاستقرار السياسي والأمني في بعض المدن السياحية **بم تفسر؟** بسبب الحروب مثل الحرب الروسية الأوكرانية.

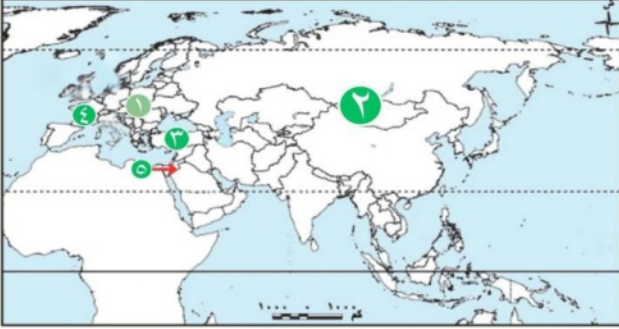
## الجهود التي تبذلها الدول الآسيوية والأوروبية لتنمية السياحة

خامساً

تبذل الدول الآسيوية والأوروبية مزيداً من الجهود لمواجهة مشكلات السياحة وتحقيق التنمية السياحية، وذلك من خلال:

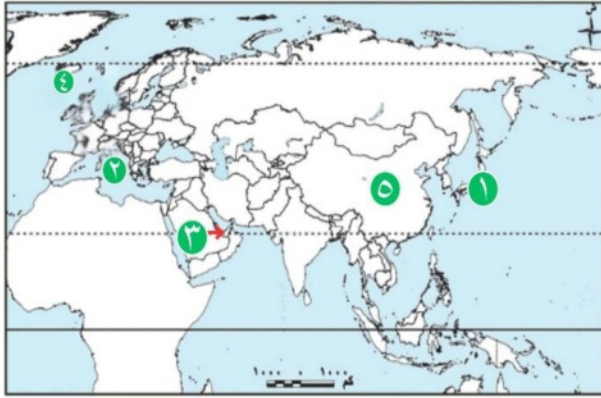
- التوجه إلى **السياحة المستدامة ما النتائج؟** بتقليل معدلات انبعاث ثاني أكسيد الكربون والاعتماد على الطاقة النظيفة.
- تشجيع **السياحة البيئية** ووضع قواعد صارمة لممارسة السياحة مع الحفاظ على البيئة.
- تحديث وتطوير البنية التحتية واستخدام وسائل نقل **صديقة للبيئة**.
- إطلاق نظام التأشيرة الإلكترونية في بعض الدول مثل **الإمارات وتركيا**.
- السعي لتطبيق التأشيرات الموحدة بين مجموعة من الدول.

## تدريبات "النشاط السياحي في قارتي آسيا وأوروبا"



## أمامك خريطة صماء لأوراسيا، حدد مدلول الأرقام الآتية

١. قارة تحتل المركز الأول عالمياً في عدد السائحين :  
(.....)
٢. قارة تأتي في المركز الثاني من حيث عدد المواقع التراثية(.....):
٣. دولة آسيوية هي الأولى في عدد السائحين بالقارة(.....):
٤. دولة أوروبية هي الأولى عالمياً وأوروبياً في جذب السياح(.....):
٥. دولة عربية تقع في غرب آسيا وتضم مدينة البتراء(.....):



## أمامك خريطة صماء لأوراسيا، حدد مدلول الأرقام الآتية

١. دولة آسيوية تأتي في المركز الثاني من حيث عدد السائحين بالقارة(.....):
٢. دولة أوروبية تضم مدينة البندقية التاريخية(.....):
٣. دولة آسيوية هي الأولى في عائدات السياحة بقارتها :  
(.....)
٤. دولة تقع بها حديقة فاتناجوكول الوطنية وتغطي مساحة واسعة منها(.....):
٥. دولة آسيوية تضم أكبر عدد من مواقع التراث العالمي في قارتها(.....):

## أكمل العبارات الآتية

١. تعد قارة ..... هي الأعلى عالمياً من حيث عائدات النشاط السياحي.
٢. مدينة البتراء تتميز بنوعين من العمارة؛ جزء مشيد والآخر محفور داخل.....
٣. تضم مدينة القدس القديمة نحو ..... أثر تاريخي وتنفرد بوجود قبة الصخرة.
٤. تقع محميات دب الباندا العملاق في دولة ..... وتضم ٧ محميات طبيعية.
٥. المساكن المعلقة التي تعود لعصور ما قبل التاريخ في أوروبا توجد حول جبال.....
٦. يمثل الازدحام الشديد ضغطاً كبيراً على البنية التحتية في مدن أوروبية مثل ..... وباريس.
٧. من مشكلات السياحة في آسيا ضعف شبكات ..... والنفط الجوي في بعض الدول.
٨. التوجه إلى السياحة المستدامة يهدف إلى تقليل انبعاثات ..... والاعتماد على الطاقة النظيفة.

٩. أطلقت دولة ..... ودولة تركيا نظام التأشيرة الإلكترونية لتسهيل حركة السائحين.  
١٠. مدينة ..... هي تحفة معمارية استثنائية تأسست فوق أرخبيل من الجزر.

## اختر الإجابة الصحيحة

١. تحتل إسبانيا المركز ..... عالمياً في عدد السائحين.  
(الأول - الثاني - الثالث - الرابع).  
٢. تأتي دولة ..... في المركز الثاني آسيوياً من حيث عدد السائحين.  
(الصين - اليابان - تركيا - الهند).  
٣. تقع مدينة البترا في منطقة ..... قارة آسيا.  
(شرق - وسط - غرب - جنوب).  
٤. بُنيت قبة الصخرة في مدينة القدس في القرن ..... الميلادي.  
(الخامس - السادس - السابع - الثامن).  
٥. تعاني دولة ..... من مشكلات سياسية تؤثر سلباً على سياحتها.  
(الإمارات - اليابان - أفغانستان - فرنسا).  
٦. حديقة فاتناجوكول الوطنية تضم عشرة ..... مركزية.  
(شلالات - بحيرات - براكين - كهوف).  
٧. تعد ..... ثاني أعلى دول العالم في عائدات السياحة عام ٢٠٢١م.  
(فرنسا - إسبانيا - المملكة المتحدة - الصين).  
٨. محميات دب الباندا سيشوان تعتبر من أغنى مواقع العالم في الثروة .....  
(الحيوانية - النباتية - المعدنية - السمكية).  
٩. المساكن المعلقة في أوروبا توجد في ..... دول أوروبية.  
(أربع - خمس - ست - سبع).  
١٠. تعتبر قارة ..... هي الأولى عالمياً في عدد المواقع التراثية المسجلة.  
(آسيا - أفريقيا - أوروبا - أستراليا).  
١١. من أسباب تدهور الموارد الطبيعية في مدن أوروبا .....

(قلة السائحين - كثرة الزيارات - الحروب - التلوث الصناعي).

١٢ . تقع مدينة البندقية في دولة .....

(فرنسا - ألمانيا - إيطاليا - النمسا).

١٣ . من جهود تنمية السياحة تحديث وسائل نقل .....

(سريعة - صديقة للبيئة - جوية - ضخمة).

١٤ . تضم مدينة القدس معالم دينية منها كنيسة .....

(المهد - القيامة - المرقسية - البشارة).

١٥ . تسببت الحرب ..... في عدم الاستقرار الأمني ببعض المدن السياحية الأوروبية.

(العالمية - الباردة - الروسية الأوكرانية - الأهلية).

صح أم خطأ مع التصويب

- ١ . تحتل فرنسا المركز الأول عالمياً في عدد السائحين . ( )
- ٢ . تحتل الصين المرتبة الأولى في عدد المواقع التراثية في قارة آسيا ( )
- ٣ . تعتبر المملكة المتحدة هي الدولة الأولى آسيوياً في عائدات السياحة. ( )
- ٤ . البتراء مدينة مأهولة بالسكان منذ عصور ما قبل التاريخ ( )
- ٥ . تقع حديقة فاتناجوكول الوطنية في دولة النمسا ( )
- ٦ . تهدف السياحة المستدامة إلى الحفاظ على البيئة واستخدام الطاقة النظيفة ( )
- ٧ . تعاني دول وسط آسيا من قوة الحملات التسويقية السياحية ( )
- ٨ . مدينة البندقية تأسست فوق ١١٨ جزيرة صغيرة المساحة ( )
- ٩ . تعتبر إيطاليا الأولى أوروبياً في عدد المواقع التراثية ( )
- ١٠ . قبة الصخرة تتميز بزخارفها الهندسية والنباتية الجميلة . ( )

تصويب ما تحته خط

- ١ . تقع مدينة البتراء في دولة فلسطين
- ٢ . تعتبر تركيا الدولة الأولى آسيوياً في عائدات السياحة .
- ٣ . محميات دب الباندا تأوي أكثر من ثلث مجموع حيوان الكنغر في العالم.
- ٤ . المساكن المعلقة في أوروبا بُنيت على ضفاف البحار المفتوحة
- ٥ . تعاني مدينة روما من الفيضانات المفاجئة بسبب الانهيارات الجليدية

## اكتب ما تشير إليه العبارات

١. مدينة تاريخية في الأردن تجمع بين التقاليد الشرقية والهندسة اليونانية.
٢. مدينة لها قيمة كبرى في الديانات الثلاث وتضم معالم مثل حائط البراق.
٣. موقع صيني يضم أكثر من ٥ آلاف نوع من النباتات ويحمي حيوانات مهددة بالانقراض.
٤. مدينة إيطالية تبدو كأنها تطفو على مياه البحيرة وتمثل تحفة هندسية.
٥. ظاهرة طبيعية في أيسلندا ناتجة عن ثوران البراكين تحت الأنهار الجليدية.
٦. بقايا مستوطنات قديمة في أوروبا بُنيت في الأراضي الرطبة وضاف البحيرات.
٧. نظام تقني سهل الحصول على تصاريح الدخول لبعض الدول مثل الإمارات.
٨. قارة تستحوذ على النصيب الأكبر من المواقع التراثية العالمية.
٩. نوع من السياحة يضع قواعد صارمة لممارستها مع الحفاظ على الطبيعة.
١٠. مشكلة تواجهها مدن مثل برشلونة تؤدي للضغط على مرافق المدينة.

## بم تفسر

١. تعتبر فرنسا أهم وجهة سياحية في العالم؟
٢. شهرة مدينة البترا الأردنية عالمياً؟
٣. الأهمية التاريخية والدينية لمدينة القدس القديمة؟
٤. أهمية محميات سيشوان في الصين من الناحية البيئية؟
٥. اعتبار مدينة البندقية معجزة هندسية معمارية؟
٦. تكوّن السهول الرملية والأودية الفريدة في أيسلندا؟
٧. سعي الدول الآسيوية والأوروبية نحو السياحة المستدامة؟
٨. تراجع النشاط السياحي في بعض دول قارة آسيا؟
٩. تأثير السياحة في أوروبا بالنزاعات السياسية المعاصرة؟
١٠. تميز المساكن المعلقة حول جبال الألب كقيمة تراثية؟

## ما النتائج المترتبة على

١. تركيز ١١٨ جزيرة في موقع مدينة البندقية؟
٢. الازدحام السياحي الشديد في المدن التاريخية الكبرى؟
٣. ثوران البراكين المركزية في منطقة "فاتناجوكول" بأيسلندا؟
٤. استخدام وسائل نقل صديقة للبيئة في المناطق السياحية؟
٥. ضعف البنية التحتية في بعض الدول مثل كمبوديا وأفغانستان؟

٦. تميز مدينة البتراء بنوعي العمارة (التشييد والحفر)؟  
٧. إطلاق نظام التأشيرة الإلكترونية في دولة الإمارات؟

### دلل على صحة العبارات

١. قارة أوروبا هي القارة الرائدة سياحياً على مستوى العالم.
٢. لآسيا دور هام في حماية التنوع البيولوجي العالمي.
٣. تتنوع المواقع التراثية في أوروبا بين مدن مائية ومستوطنات قديمة.
٤. تبذل الدول جهوداً تقنية لتسهيل حركة السائحين.
٥. تواجه السياحة في القارتين تحديات اقتصادية وسياسية

### قارن بين

١. مشكلات السياحة في آسيا وأوروبا (من حيث الأسباب والحلول).
٢. معالم مدينة القدس ومعالم مدينة البتراء.
٣. ترتيب إيطاليا والصين من حيث المواقع التراثية في قاراتهما.

### صنف المواقع الآتية حسب القارة (قارة آسيا / قارة أوروبا):

- مدينة البتراء المحفورة في الجبال (.....):
- مدينة البندقية (فوق ١١٨ جزيرة) (.....):
- محميات دب الباندا العملاق (سيشوان) (.....):
- حديقة فاتناجوكول الوطنية (منطقة البراكين) (.....):
- مدينة القدس القديمة وأسوارها (.....):
- المساكن المعلقة (مستوطنات ما قبل التاريخ) (.....):
- دولة إيطاليا (الأولى في عدد المواقع التراثية بالقارة) (.....):
- دولة الصين (الأولى في عدد المواقع التراثية بالقارة) (.....):
- كنيسة القيامة وقبة الصخرة (.....):
- جبال الألب (التي توجد حولها المساكن المعلقة): (.....)

### • ماذا يحدث إذا

١. تم حل مشكلة الازدحام السياحي في المدن الأوروبية؟
٢. توفرت بنية تحتية قوية ونقل جوي متطور في جميع دول آسيا؟
٣. لم تضع الدول قواعد صارمة لممارسة السياحة البيئية؟

## الوحدة الثالثة

## الدرس الرابع

## بعض المنظمات الإقليمية في قارتي آسيا وأوروبا

تأمل واكتشف

أثبتت التجارب العالمية أن مواجهة التحديات العالمية وتحقيق الطموحات القومية يتطلب تعاوناً مشتركاً بين الدول؛ لذا أصبح إنشاء منظمات إقليمية واتحادات دولية ضرورة حتمية لتعزيز المصالح المشتركة وتحقيق التنمية والسلام، ووضع رؤية أفضل لمستقبل الأجيال القادمة، توقع ما المنظمات أو الاتحادات التي نشأت بقارتي آسيا وأوروبا؟ وما علاقتها بمصر؟



تتعدد المنظمات والاتحادات في قارتي آسيا وأوروبا، ومن أهمها:

مجلس التعاون لدول الخليج العربية

أولاً

يعد مجلس التعاون لدول الخليج العربية أحد أشكال التعاون الإقليمي، وقد تم إنشاؤه عام ١٩٨١م، ومقره مدينة الرياض بالمملكة العربية السعودية.

**أهداف المجلس:** تتلخص أهداف مجلس التعاون لدول الخليج العربية فيما يلي:  
في الدراسات الاجتماعية

تحقيق التكامل بين الدول الأعضاء في جميع الميادين وصولاً إلى وحدتها.

تعميق الروابط بين شعوب دول الأعضاء في مختلف المجالات.

وضع أنظمة متماثلة في المجالات الاقتصادية والمالية والتجارية والتعليمية والصحية... وغيرها.

دفع عجلة التقدم العلمي والتقني في المجالات الاقتصادية، وإنشاء مراكز بحوث علمية وإقامة مشاريع مشتركة.

**دور مجلس التعاون في تحقيق الأمن والسلام والتنمية:**

- تحقيق الأمن والسلام: يلعب مجلس التعاون دوراً محورياً في حفظ الأمن والاستقرار في منطقة الخليج العربي، **دلاً؟** حيث قام بمكافحة الإرهاب والجريمة المنظمة من خلال تبادل المعلومات بين الدول الأعضاء وتنسيق الجهود الأمنية، وتطبيق مبادئ حقوق الإنسان.



خريطة (٤) دول مجلس التعاون لدول الخليج العربية

- التنمية الاقتصادية والاجتماعية: يعمل المجلس على تحقيق التنمية الاقتصادية للدول الأعضاء، فقد **دلل؟** قام بإنشاء السوق المشتركة الخليجية المشتركة، والاستثمار في قطاعات جديدة كالزراعة والسياحة، كما قامت دول المجلس بتطوير المواني والمطارات وشبكات الطرق وتسهيل التجارة.
- يعمل المجلس على تحسين جودة الحياة لجميع مواطني

دول المجلس، وتمكين المرأة والشباب، والقضاء على كافة أشكال العنف ضد الأطفال.

- يسعى المجلس إلى التحول نحو الاقتصاد الأخضر **بم تفسم؟** بتقليل الاعتماد على الوقود الأحفوري والاعتماد على الطاقة المتجددة.

### مصر ومجلس التعاون لدول الخليج العربية

تعمل مصر على دعم وتعزيز العلاقات مع دول مجلس التعاون في المجالات المختلفة:

- على المستوى السياسي والأمني: تم توقيع مذكرة تفاهم في فبراير ٢٠٢٢م **بم تفسم؟** للتشاور السياسي بين مصر والأمانة العامة لمجلس التعاون الخليجي.
- على المستوى الاقتصادي: شهدت السنوات الأخيرة تدفقات استثمارية خليجية كبيرة إلى مصر في مجالات مختلفة.



خريطة (٥) دول الاتحاد الأوروبي

### الاتحاد الأوروبي

ثانياً

#### ١- النشأة والملاعب الجغرافية

- استغرق الاتحاد الأوروبي أكثر من نصف قرن حتى يصل إلى ما هو عليه الآن
- أصبح عدد دول الاتحاد الأوروبي ٢٧ دولة أوروبية بعد خروج **بريطانيا** منه، يعيش بها ما يزيد عن نصف مليار نسمة مختلفين في اللغة والثقافة.



## ٢- أهداف الاتحاد الأوروبي

تم إنشاء الاتحاد الأوروبي لتحقيق عديد من الأهداف، منها:

توفير الحرية والأمن، والعدالة والمساواة وعدم التمييز بين مواطني الاتحاد.

تأمين حدود الاتحاد الخارجية، وتوفير حرية التنقل داخل دول الاتحاد.

تحقيق تنمية مستدامة قائمة على نمو اقتصادي متوازن واستقرار الأسعار داخل الاتحاد.

المساهمة في تحقيق السلام والأمن والتنمية المستدامة للأرض.

القضاء على الفقر وحماية حقوق الإنسان والاحترام المتبادل بين شعوب العالم.

## ٣- دور الاتحاد الأوروبي في تحقيق الأمن والسلام والتنمية:

- تحقيق الأمن والسلام: نجح الاتحاد الأوروبي في إرساء مبدأ السلام بعد الحرب العالمية الثانية، فقد حصل على جائزة نوبل للسلام في عام ٢٠١٢ م تقديراً **بم تفهم؟** لجهوده في تعزيز السلام والديمقراطية وحقوق الإنسان في أوروبا وحول العالم، كما يسهم الاتحاد ببعثات عسكرية في مناطق الأزمات حول العالم.
- التنمية الاقتصادية والاجتماعية: يُعد الاتحاد الأوروبي قوة اقتصادية وتجارية رائدة على مستوى العالم، كما أنه نجح في إصدار عملة أوروبية موحدة (اليورو)، **ما النتائج؟** مما ساهم في تحقيق وحدة اقتصادية بين أعضائه.
- وضع الاتحاد الأوروبي الإستراتيجية الأوروبية للطفل التي تهدف إلى ضمان وصول الأطفال المحتاجين إلى التعليم والرعاية الصحية والتغذية والسكن اللائق.
- كما أنه يكافح العنف ضد الأطفال مثل الاعتداء الجنسي والتنمر.
- يستخدم الاتحاد الأوروبي شعار «متحدون في التنوع» **بم تفهم؟** لتأكيد قيمة أن الاتحاد في التنوع على الرغم من الاختلاف في ثقافات أو لغات دول الاتحاد الأوروبي.

## مصر والاتحاد الأوروبي

- هناك علاقات وثيقة تربط مصر والاتحاد الأوروبي
- تأتي في مقدمتها اتفاقية المشاركة المصرية الأوروبية التي تستهدف تخفيض الرسوم الجمركية بين مصر ودول الاتحاد الأوروبي على المنتجات الصناعية والزراعية.
- وأيضاً هناك شراكات لتعزيز التعاون في مجالي الأمن والدفاع، أهمها شراكتها في رئاسة المنتدى العالمي لمكافحة الإرهاب وشراكتها في التعاون لمواجهة الجريمة المنظمة مثل تهريب المهاجرين غير الشرعيين والتعاون بين القوات البحرية الأوروبية والقوات البحرية المصرية.

## مزايا اتفاقية المشاركة المصرية - الأوروبية للاقتصاد المصري:

- زيادة حجم الصادرات المصرية الصناعية إلى الأسواق الأوروبية عن طريق إزالة الرسوم الجمركية.
- توسيع قائمة السلع الزراعية المصرية التي يمكن تصديرها للاتحاد الأوروبي.
- تقديم منح لمساعدة الاقتصاد المصري وتمويل برامج إصلاح قطاعي الصحة والتعليم.
- جذب مزيد من الاستثمارات المباشرة من الاتحاد الأوروبي إلى مصر.

## فكر وأجب

## أكمل

- حصل الاتحاد الأوروبي على جائزة ..... للسلام في عام ٢٠١٢م.
- يستخدم الاتحاد الأوروبي شعار «.....» للتعبير عن احترامه لاختلاف الثقافات
- العملة الموحدة لمعظم دول الاتحاد الأوروبي هي.....
- **قارن بين:** دور كل من مجلس التعاون الخليجي والاتحاد الأوروبي في مكافحة الإرهاب والجريمة المنظمة.



خريطة (٦) رابطة دول جنوب شرق آسيا (آسيان)

## رابطة دول جنوب شرق آسيا (آسيان)

## ثالثاً

- تعد رابطة دول جنوب شرق آسيا منظمة إقليمية
- آسيوية تأسست في بانكوك عاصمة تايلاند عام ١٩٦٧م
- وبدأت بخمس دول مؤسسين هي **إندونيسيا وماليزيا والفلبين وسنغافورة وتايلاند**
- ووصلت حالياً إلى **عشر** دول بجنوب شرق قارة آسيا يعيش بها نحو ٧٠٠ مليون نسمة
- وتتبادل الدول الأعضاء تولي رئاسة الرابطة (آسيان) لمدة عام واحد على التوالي.

**أهداف رابطة دول جنوب شرق آسيا: تهدف الرابطة إلى:**

- تسريع النمو الاقتصادي والتقدم الاجتماعي والتنمية الثقافية في المنطقة من خلال الجهود المشتركة.
- تعزيز السلام، والتعاون في المجالات المختلفة بين الدول الأعضاء، مع ضرورة التعاون مع المنظمات الدولية والإقليمية الأخرى.

**مجالات عمل الرابطة:**

- نشر السلام وحل النزاعات بطرق سلمية، فقد أعلنت التزامها بخلو منطقة آسيان من الأسلحة النووية.
- التصدي للجرائم الإلكترونية، وتهريب المخدرات والإتجار بالبشر.
- إنشاء منطقة تجارة حرة بين أعضائها، يتم خلالها إلغاء كافة القيود الجمركية، **ما النتائج؟** مما يعزز التبادل التجاري والاستثمار داخل المنطقة في جميع المجالات.
- بناء هوية إقليمية مشتركة وترسيخ الانتماء بين شعوبها، وتعزيز المواطنة العالمية.

**مصر ودول رابطة آسيان**

- تربط مصر ودول رابطة آسيان علاقات اقتصادية حيث تزداد الصادرات والواردات بين مصر ودول الرابطة
- بالإضافة إلى أنه تم توقيع **معاهدة الصداقة بين مصر ورابطة آسيان** عام ٢٠١٦م **بم تفسر؟** بهدف تحسين الجودة الإنتاجية في مصر بمجالات الصناعة المشهورة في دول الرابطة خاصة مجال **الاستزراع السمكي**
- كما أن هناك آلافاً من **الطلاب الوافدين** من دول رابطة آسيان يدرسون في **الأزهر الشريف**.

## تدريبات الدرس الرابع "بعض المنظمات الإقليمية في قارتي آسيا وأوروبا"

### أولاً: أكمل العبارات الآتية

١. يقع مقر مجلس التعاون لدول الخليج العربية في مدينة.....
٢. أطلق الاتحاد الأوروبي شعار «.....» للتأكيد على قيمة التعاون رغم اختلاف الثقافات.
٣. تأسست رابطة "آسيان" في مدينة ..... عاصمة تايلاند.
٤. تهدف اتفاقية المشاركة المصرية الأوروبية إلى تخفيض ..... على المنتجات الصناعية والزراعية.
٥. يسعى مجلس التعاون الخليجي للتحول نحو ..... لتقليل الاعتماد على الوقود الأحفوري.
٦. العملة الموحدة التي أصدرها الاتحاد الأوروبي لتحقيق وحدة اقتصادية هي.....
٧. وقعت مصر معاهدة الصداقة مع رابطة "آسيان" لتحسين الجودة الإنتاجية في مجال.....
٨. يدرس الآلاف من الطلاب الوافدين من دول رابطة "آسيان" في مؤسسة ..... بمصر.
٩. تهدف الاستراتيجية الأوروبية للطفل إلى حمايتهم من ..... و.....
١٠. أنشأت رابطة "آسيان" منطقة ..... بين أعضائها لتعزيز التبادل التجاري.

### ثانياً: اختر الإجابة الصحيحة

١. مجلس التعاون الخليجي يعد من المنظمات .....  
(الدولية - الإقليمية -الاقتصادية العالمية - الثقافية)
٢. تقع مدينة الرياض مقر مجلس التعاون الخليجي في دولة.....  
(الكويت - الإمارات - السعودية - البحرين)
٣. أحد أهداف مجلس التعاون الخليجي تحقيق..... بين الدول الأعضاء.  
(الصراع - التنافس - التكامل - الانفصال)
٤. حصل الاتحاد الأوروبي على جائزة نوبل للسلام نتيجة جهوده في.....  
(الصناعة - الزراعة - الديمقراطية وحقوق الإنسان - التجارة)
٥. الدولة التي خرجت من الاتحاد الأوروبي هي .....  
(فرنسا - ألمانيا - إيطاليا - بريطانيا)

٦. من أهداف الاتحاد الأوروبي توفير حرية ..... داخل دول الاتحاد.

(التسلح - التنقل - الانعزال - التملك الخارجي)

٧. تسعى رابطة "آسيان" إلى جعل منطقتها خالية من الأسلحة.....

(البيولوجية - الكيماوية - النووية - التقليدية)

٨. يتم تولي رئاسة رابطة "آسيان" بين الدول الأعضاء بشكل.....

(دائم - دوري كل عام - بالانتخاب كل عقد - عشوائي)

٩. تهدف معاهدة الصداقة بين مصر وآسيان إلى تطوير صناعة.....

(السيارات - الملابس - الاستزراع السمكي - الأجهزة الكهربائية)

١٠. يساهم الاتحاد الأوروبي ببعثات عسكرية في .....

(الغزو - مناطق الأزمات - استعمار الدول - التدريبات فقط)

١١. يعمل مجلس التعاون الخليجي على تمكين.....

في الدراسات الاجتماعية

(الأجانب - كبار السن فقط - المرأة والشباب - الأطفال فقط)

١٢. من مجالات عمل آسيان التصدي للجرائم.....

(السياسية - الإلكترونية - القديمة - المحلية فقط)

١٣. تهدف اتفاقية المشاركة المصرية الأوروبية إلى زيادة الصادات.....

(الأمريكية - الآسيوية - الأفريقية - المصرية)

١٤. استثمر مجلس التعاون الخليجي في قطاعات جديدة مثل.....

(الصيد فقط - التعدين - السياحة والزراعة - النسيج)

١٥. الاتحاد الأوروبي نجح في إرساء مبدأ السلام خاصة بعد الحرب .....

(الأولى - العالمية الثانية - الباردة - الأهلية).

## ثالثاً: ضع علامة (✓) أو (X) مع التصويب

١. يهدف مجلس التعاون الخليجي إلى تعميق الروابط بين شعوب دوله الأعضاء. ( )
٢. تقتصر أهداف الاتحاد الأوروبي على الجوانب العسكرية فقط. ( )
٣. تساهم الاستثمارات الخليجية في دعم الاقتصاد المصري. ( )
٤. رابطة "آسيان" منظمة إقليمية تضم دولاً من قارة أوروبا. ( )
٥. يعمل الاتحاد الأوروبي على مكافحة التنمر ضد الأطفال. ( )
٦. ترفض رابطة "آسيان" التعاون مع المنظمات الدولية الأخرى. ( )
٧. وقعت مصر مذكرة تفاهم للتشاور السياسي مع مجلس التعاون الخليجي. ( )
٨. السوق الخليجية المشتركة تسمح بمعاملة مواطني دول المجلس معاملة المواطن المحلي. ( )
٩. يهدف الاتحاد الأوروبي إلى تحقيق نمو اقتصادي غير متوازن. ( )
١٠. تسعى رابطة "آسيان" إلى بناء هوية إقليمية مشتركة وترسيخ الانتماء. ( )
١١. اليورو هو العملة الرسمية لجميع دول قارة آسيا. ( )
١٢. تشارك مصر الاتحاد الأوروبي في رئاسة المنتدى العالمي لمكافحة الإرهاب. ( )

## رابعاً: صوب ما تحته خط

١. مقر مجلس التعاون لدول الخليج العربية مدينة القاهرة
٢. حصل الاتحاد الأوروبي على جائزة أوسكار للسلام
٣. تأسست رابطة دول جنوب شرق آسيا في مدينة باريس
٤. تهدف اتفاقية المشاركة المصرية الأوروبية إلى زيادة الرسوم الجمركية
٥. يعتمد الاقتصاد الأخضر على تقليل الاعتماد على الطاقة المتجددة

## خامساً: أكتب ما تشير إليه العبارة

١. منظمة إقليمية مقرها الرياض وتضم دول الخليج العربي.
٢. اتحاد يضم دولاً أوروبية ويسعى لتحقيق تكامل اقتصادي وسياسي.
٣. رابطة تضم دول جنوب شرق آسيا وتأسست في بانكوك.
٤. عملة موحدة تستخدمها معظم دول الاتحاد الأوروبي.
٥. أفعال غير قانونية تتم عبر الإنترنت تهدف للإضرار بالأفراد أو الحكومات.

## بم تفسر

١. إنشاء مجلس التعاون لدول الخليج العربية.
٢. حصول الاتحاد الأوروبي على جائزة نوبل للسلام.
٣. أهمية اتفاقية المشاركة المصرية الأوروبية للاقتصاد المصري.
٤. سعي مجلس التعاون الخليجي للتحول نحو الاقتصاد الأخضر.

٥. إنشاء رابطة "آسيان" لمنطقة تجارة حرة بين أعضائها.
٦. حرص مصر على توقيع معاهدة الصداقة مع رابطة "آسيان".
٧. أهمية السوق الخليجية المشتركة للمواطن الخليجي.
٨. اهتمام الاتحاد الأوروبي بوضع "إستراتيجية للطفل".

### ما النتائج المترتبة على

١. إنشاء السوق الخليجية المشتركة.
٢. خروج بريطانيا من الاتحاد الأوروبي.
٣. إصدار العملة الأوروبية الموحدة (اليورو).
٤. التعاون بين القوات البحرية المصرية والقوات البحرية الأوروبية.
٥. التزام رابطة "آسيان" بخلو منطقتها من الأسلحة النووية.
٦. توقيع مذكرة تفاهم للتشاور السياسي بين مصر ومجلس التعاون الخليجي.

### دل على صحة العبارات

١. يلعب مجلس التعاون الخليجي دوراً في تحقيق الأمن الاجتماعي.
٢. الاتحاد الأوروبي قوة اقتصادية وتجارية رائدة عالمياً.
٣. توجد علاقات ثقافية وتعليمية قوية بين مصر ودول رابطة "آسيان".
٤. اهتمام الاتحاد الأوروبي بحقوق الإنسان والقضاء على الفقر.
٥. تسعى رابطة آسيان لتحقيق المواطنة العالمية.

في الدراسات الاجتماعية

### ما العلاقة بين

١. الوقود الأحفوري والاقتصاد الأخضر.
٢. الرسوم الجمركية والصادرات المصرية لأوروبا.
٣. الأزهر الشريف ودول رابطة "آسيان".

### قارن بين

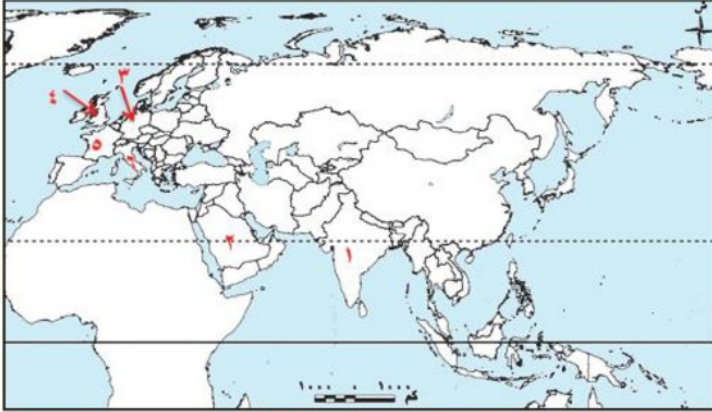
١. مجلس التعاون الخليجي والاتحاد الأوروبي من حيث (المقر - العملة).
٢. أهداف مجلس التعاون الخليجي وأهداف رابطة "آسيان".
٣. دور الاتحاد الأوروبي ودور "آسيان" في تحقيق الأمن والسلام.
٤. علاقة مصر بمجلس التعاون وعلاقتها بالاتحاد الأوروبي (من الناحية الاقتصادية).

### ماذا يحدث إذا

١. لم يتم إنشاء منطقة تجارة حرة بين دول رابطة "آسيان".
٢. لم تتوحد العملة في معظم دول الاتحاد الأوروبي.
٣. لم توقع مصر اتفاقية المشاركة مع الاتحاد الأوروبي.

## بنك أسئلة علي الوحدة الثالثة

أمامك خريطة لقارتي آسيا وأوروبا، لاحظها ثم أجب:



١. ثاني دول العالم إنتاجاً للقمح

.....

٢. الدولة التي بها مقر مجلس التعاون لدول

الخليج العربية.....

٣. الدولة التي تنتج ربع إنتاج العالم من

الشيمل.....

٤. دولة ظهرت فيها الثورة الصناعية الأولى

.....

٥. دولة تحتل المركز الأول عالمياً من حيث عدد السائحين.....

٦. دولة تحتل المرتبة الأولى من حيث عدد المواقع السياحية في قارة أوروبا.....

## أكمل العبارات الآتية بكلمات مناسبة:

١. يعد القمح المحصول الغذائي الرئيسي في معظم دول قارة.....

٢. تنتشر تربية الأبقار في قارة أوروبا اعتماداً على المراعي.....

في الدراسات الاجتماعية

٣. بدأت الثورة الصناعية الأولى في دولة.....

٤. تحتل مدينة ..... مكانة متميزة كمقر لمجلس التعاون لدول الخليج العربية.

٥. العملة الموحدة التي يستخدمها معظم دول الاتحاد الأوروبي تسمى.....

٦. تأسست رابطة دول جنوب شرق آسيا (آسيان) في مدينة.....

٧. يعد الموقع الجغرافي من المقومات ..... للجذب السياحي.

٨. تهدف الزراعة ..... إلى تحويل الزراعة التقليدية لنظام ذكي يعتمد على البيانات.

٩. تسعى دول العالم حالياً للتحول نحو الاقتصاد ..... لحماية البيئة.

١٠. تعتبر قارة ..... مركز النهضة الصناعية الحديثة التي غيرت وجه العالم.

١١. تعتمد السياحة ..... في آسيا وأوروبا على وجود الآثار والمتاحف التاريخية.

١٢. من أهم صادرات قارتي آسيا وأوروبا الصناعية وسائل.....

١٣. يهدف مجلس التعاون الخليجي إلى تحقيق ..... بين دوله في جميع الميادين.

١٤. أطلق الاتحاد الأوروبي شعار «متحدون في .....» للتأكيد على قيمة التعاون.

١٥. تزداد أهمية تربية ..... في قارة آسيا لإنتاج اللحوم والألبان.

١٦. يعد الصيد ..... من المشكلات التي تواجه الثروة السمكية في القارتين.

١٧. ترتبط مصر بعلاقات اقتصادية قوية مع رابطة آسيان في مجال الاستزراع.....
١٨. تعد ..... الأولى عالمياً وأسيوياً في التجارة الدولية للسلع.
١٩. تساهم السياحة في زيادة ..... القومي للدول.
٢٠. يقع مقر الاتحاد الأوروبي في مدينة.....
٢١. من أهم المحاصيل المدارية في قارة آسيا محصول.....
٢٢. الثورة الصناعية الثالثة اعتمدت بشكل كبير على ..... والحاسبات.
٢٣. يدرس الطلاب الوافدون من دول آسيان في مصر بمؤسسة.....
٢٤. يهدف الاتحاد الأوروبي إلى تأمين الحدود ..... وتوفير حرية التنقل.
٢٥. من المقومات البشرية للسياحة توفر شبكة ..... والاتصالات.
٢٦. يساعد الاستخدام المكثف للتكنولوجيا في الزراعة على تقليل الحاجة إلى.....
٢٧. تسعى رابطة آسيان لجعل منطقتها خالية من الأسلحة.....
٢٨. تساهم الاستثمارات ..... في دعم مشروعات التنمية في مصر.
٢٩. من مشكلات السياحة في أوروبا ..... الشديد في المدن الكبرى.
٣٠. تهدف اتفاقية المشاركة المصرية الأوروبية لتخفيض ..... الجمركية.

**اختر الإجابة الصحيحة مما بين القوسين:**

١. يعد القمح من المحاصيل.....  
في الدراسات الاجتماعية  
(المدارية - الغذائية - السكرية - النسيجية).
٢. تقع مدينة الرياض مقر مجلس التعاون الخليجي في دولة.....  
الإمارات - السعودية - الكويت - عمان).
٣. اخترع جيمس واط المحرك.....  
(الكهربائي - البخاري - النووي - المائي).
٤. من الدول المؤسسة لرابطة آسيان.....  
(الصين - اليابان - تايلاند - الهند).
٥. المقصد السياحي الذي يشتهر بالثلوج والرياضات الشتوية هو قارة.....

(أوروبا - أفريقيا - أستراليا - أمريكا الجنوبية).

٦. تهدف الزراعة الرقمية لتحقيق الأمن.....

(المائي - الغذائي - الصناعي - التجاري).

٧. حصل الاتحاد الأوروبي على جائزة نوبل في.....

(الكيمياء - الفيزياء - السلام - الطب).

٨. من الصناعات التحويلية الشهيرة في القارتين صناعة.....

(الصلب - المنسوجات - استخراج البترول - الفحم).

٩. الدولة التي خرجت من الاتحاد الأوروبي مؤخرًا هي.....

(بريطانيا - فرنسا - ألمانيا - إيطاليا).

١٠. تعتمد سياحة الاستجمام على وجود.....

(المتاحف - الشواطئ - المصانع - الأسواق).

في الدراسات الاجتماعية

١١. محصول يزرع في آسيا وتصنع منه الملابس.....

(القمح - الأرز - القطن - قصب السكر).

١٢. أولى دول العالم في إنتاج الأرز هي.....

(الصين - الهند - مصر - إسبانيا).

١٣. الصناعة التي تعتمد على تحويل المواد الخام إلى منتجات نهائية هي.....

(التحويلية - الاستخراجية - البدائية - اليدوية).

١٤. من مجالات عمل رابطة آسيان التصدي للجرائم.....

(الإلكترونية - السياسية - القديمة - المحلية).

١٥. تهدف اتفاقية المشاركة المصرية الأوروبية لزيادة الصادرات.....

(المصرية - الصينية - الأمريكية - الهندية).

١٦. يعد الموقع الجغرافي من المقومات.....

(الطبيعية - البشرية - الثقافية - السياسية).

١٧. تسعى دول الخليج لتقليل الاعتماد على الوقود.....

(الأحفوري - الحيوي - الشمسي - المائي).

١٨. من أهم مناطق الصيد البحري شمال غرب قارة.....

(أوروبا - أفريقيا - أستراليا - أمريكا).

١٩. ترأس دول آسيان الرابطة بشكل.....

(دائم - دوري كل عام - عشوائي - بالانتخاب الطويل).

٢٠. محصول يزرع في أوروبا ويستخدم لإنتاج السكر هو.....

(بنجر السكر - قصب السكر - المطاط - القطن).

٢١. شعار الاتحاد الأوروبي هو.....

(يد واحدة - متحدون في التنوع - السلام العالمي - القوة في الاتحاد).

٢٢. تنتشر المزارع السمكية في آسيا لمواجهة الزيادة

(السكانية - الصناعية - السياحية - التجارية).

٢٣. الثورة الصناعية الأولى بدأت في نهاية القرن.....

(الثامن عشر - التاسع عشر - العشرين - الحادي والعشرين).

٢٤. يقع مقر رابطة آسيان في مدينة.....

(جاكرتا - الرياض - بروكسل - لندن).

٢٥. تستثمر دول الخليج في مصر في قطاع.....

(الزراعة والسياحة - المناجم - الغابات - الجليد).

٢٦. سياحة تعتمد على زيارة المحميات الطبيعية هي.....

(البيئية - العلاجية - الرياضية - الثقافية).

٢٧. يتميز الإنتاج الزراعي في أوروبا بالاعتماد على.....

(الآلات الحديثة - الأيدي العاملة المكثفة - الطرق البدائية - المطر فقط).

٢٨. مكافحة التنمر والاعتداء من أهداف إستراتيجية الاتحاد الأوروبي ل.....

(الطفل - الشباب - المرأة - العمال).

٢٩. محصول مداري يزرع في جنوب آسيا.....

(البنجر - المطاط الطبيعي - الجليد - الكتان).

٣٠. تساهم تجارة الخدمات في تحسين.....

(الناجح المحلي - المناخ - التضاريس - اللغات).

في الدراسات الاجتماعية

اكتب كلمة (صواب) أو (خطأ) مع التصويب:

١. القمح هو المحصول الرئيسي لإنتاج الخبز في العالم. ( )
٢. تقع مدينة الرياض مقر الاتحاد الأوروبي في السعودية. ( )
٣. بدأت الثورة الصناعية الأولى باختراع المحرك البخاري. ( )
٤. رابطة آسيان هي منظمة تضم دولا من قارة أوروبا. ( )
٥. تساهم السياحة في تبادل الثقافات بين الشعوب. ( )
٦. محصول بنجر السكر يزرع في المناطق المدارية الحارة بآسيا. ( )
٧. اليورو هو العملة الموحدة لجميع دول قارة آسيا. ( )
٨. تهدف الزراعة الرقمية لتقليل إنتاجية المحاصيل. ( )
٩. تعد الصين الأولى عالمياً في التجارة الدولية للسلع. ( )
١٠. السياحة العلاجية تهدف لزيارة الأماكن التاريخية. ( )
١١. خروج بريطانيا من الاتحاد الأوروبي أدى لزيادة عدد دوله. ( )
١٢. تستورد أوروبا البترول والغاز الطبيعي من دول قارة آسيا. ( )

- ١٣ . تعمل رابطة آسيان على نشر السلام وحل النزاعات سلمياً. ( )
- ١٤ . الصيد الجائر يساعد على نمو الثروة السمكية. ( )
- ١٥ . يهدف الاقتصاد الأخضر لزيادة انبعاثات الكربون. ( )
- ١٦ . الموقع الجغرافي المتميز لآسيا ساعد على جذب السياح. ( )
- ١٧ . الزراعة في آسيا تعتمد بشكل كلي على الأمطار فقط. ( )
- ١٨ . الاتحاد الأوروبي حصل على جائزة نوبل في العلوم. ( )
- ١٩ . السوق الخليجية المشتركة تسمح بحرية التنقل والعمل للمواطنين. ( )
- ٢٠ . الصناعة هي المقياس الرئيسي لتطور الشعوب وازدهارها. ( )
- ٢١ . محصول القطن من أهم المحاصيل المدارية في قارة أوروبا. ( )
- ٢٢ . الجرائم الإلكترونية هي الأفعال القانونية عبر الإنترنت. ( )
- ٢٣ . تشارك مصر في رئاسة المنتدى العالمي لمكافحة الإرهاب مع الاتحاد الأوروبي. ( )
- ٢٤ . الغابات والمراعي الطبيعية من المقومات البشرية للسياحة. ( )
- ٢٥ . تسعى دول آسيان لإنشاء منطقة تجارة حرة بين أعضائها. ( )
- ٢٦ . تشتهر دول وسط آسيا بسياحة المغامرات والتسلق. ( )
- ٢٧ . تربية الخزائير تنتشر بشكل واسع في الدول الإسلامية بآسيا. ( )
- ٢٨ . الثورة الصناعية الرابعة تعتمد على الذكاء الاصطناعي. ( )
- ٢٩ . يهدف مجلس التعاون الخليجي لتعميق الروابط بين شعوبه. ( )
- ٣٠ . تعتبر السياحة البيئية ضارة بالموارد الطبيعية. ( )

**اكتب ما تشير إليه العبارة:**

- ١ . تحولات علمية وتكنولوجية في طرق الصناعة بدأت في بريطانيا.
- ٢ . تحويل الزراعة التقليدية لنظام ذكي يعتمد على التقنيات الرقمية والبيانات.
- ٣ . منظمة إقليمية مقرها الرياض وتضم دول الخليج العربي.
- ٤ . شعار الاتحاد الأوروبي الذي يؤكد على الوحدة رغم اختلاف الثقافات.
- ٥ . أفعال غير قانونية تتم عبر الإنترنت تهدف للإضرار بالأفراد أو المؤسسات.
- ٦ . نوع من السياحة يعتمد على السفر للاستشفاء والعلاج.
- ٧ . عملة موحدة أصدرها الاتحاد الأوروبي لتحقيق وحدة اقتصادية.
- ٨ . سياحة تهدف لزيارة المحميات الطبيعية مع الحفاظ على البيئة.
- ٩ . اقتصاد يهدف لتقليل الاعتماد على الوقود الأحفوري والحد من التلوث.
- ١٠ . محصول غذائي رئيسي يستخدم في إنتاج الخبز والمكرونه.

- ١١ . رابطة تضم دول جنوب شرق آسيا وتأسست في بانكوك.
- ١٢ . نظام يسمح بمعاملة مواطني دول الخليج معاملة المواطن المحلي اقتصادياً.
- ١٣ . إستراتيجية تهدف لضمان وصول الأطفال للتعليم والرعاية الصحية في أوروبا.
- ١٤ . صناعات تعتمد على استخراج المواد الخام من باطن الأرض.
- ١٥ . منطقة يتم فيها إلغاء القيود الجمركية بين دول آسيان.
- ١٦ . عملية تحويل المواد الخام إلى منتجات تلبي احتياجات السكان.
- ١٧ . اتفاقية تهدف لتخفيض الرسوم الجمركية بين مصر ودول أوروبا.
- ١٨ . تربية الحيوانات في مزارع واسعة لإنتاج اللحوم والألبان.
- ١٩ . صيد الأسماك بكميات تتجاوز قدرة الموارد على التجدد.
- ٢٠ . مدينة تايلاندية شهدت تأسيس رابطة آسيان.
- ٢١ . تبادل السلع والخدمات بين الدول (صادرات وواردات).
- ٢٢ . تحول الإنتاج من الأساليب اليدوية إلى الآلات الضخمة.
- ٢٣ . تعاون بين دول تشترك في منطقة جغرافية واحدة لتحقيق مصالح مشتركة.
- ٢٤ . سياحة تهدف للاستجمام والراحة على الشواطئ.
- ٢٥ . تربية الأسماك في أحواض مخصصة لمواجهة زيادة الطلب.
- ٢٦ . محصول يزرع في آسيا وتصنع منه الإطارات لمرونته.

## في الدراسات الاجتماعية

## إلى من تنسب الأعمال الآتية؟

- ١ . اخترع المحرك البخاري وكان سبباً في الثورة الصناعية الأولى.
- ٢ . حصلت على جائزة نوبل للسلام تقديراً لجهودها في الديمقراطية.
- ٣ . وقعت معها مصر معاهدة صداقة لتحسين الجودة الإنتاجية في الصناعة.
- ٤ . دولة أوروبية كانت مركز النهضة الصناعية الحديثة في العالم.
- ٥ . منظمة مقرها الرياض تعمل على مكافحة الإرهاب وتنسيق الجهود الأمنية). ملاحظة: يمكنك تكرار بعض الإجابات أو صياغة ٢٥ سؤالاً إضافياً بناءً على الشخصيات أو المنظمات المذكورة في الوحدة).

## بم تفسر؟

- ١ . أهمية الزراعة الرقمية؟
- ٢ . شهرة أوروبا بال جذب السياحي؟
- ٣ . سعي دول الخليج نحو الاقتصاد الأخضر؟
- ٤ . اتجاه آسيا نحو الاستزراع السمكي؟
- ٥ . أهمية "اليورو" لدول الاتحاد الأوروبي؟

٦. قيام الثورة الصناعية في أوروبا؟
٧. اهتمام الاتحاد الأوروبي بإستراتيجية الطفل؟
٨. أهمية معاهدة الصداقة بين مصر وآسيان؟
٩. تركيز زراعة الأرز في قارة آسيا؟
١٠. اتجاه الدول لاستخدام الطاقة المتجددة في الصناعة؟
١١. أهمية الثروة الحيوانية في آسيا وأوروبا؟
١٢. تنوع الأنشطة السياحية في قارة آسيا؟
١٣. أهمية التجارة الدولية لاقتصاد القارتين؟
١٤. إنشاء السوق الخليجية المشتركة؟
١٥. زيادة الحاجة لصيد الأسماك في القارتين؟
١٦. ضرورة التشاور السياسي بين مصر ومجلس التعاون الخليجي؟
١٧. تميز ألمانيا في التجارة الدولية؟
١٨. اهتمام الدول بالسياحة المستدامة؟
١٩. أهمية الموقع الجغرافي لقارة أوروبا سياحياً؟
٢٠. انتشار صناعة السيارات والحديد والصلب في القارتين؟
٢١. سعي آسيان لحل النزاعات بطرق سلمية؟
٢٢. أهمية المحاصيل المدارية لقارة آسيا؟
٢٣. تأثير التغير المناخي على الثروة السمكية؟
٢٤. أهمية القمح كمحصول إستراتيجي؟
٢٥. دور السياحة في زيادة الناتج المحلي؟
٢٦. ضرورة التصدي للجرائم الإلكترونية في دول آسيان؟
٢٧. أهمية اتفاقية المشاركة المصرية الأوروبية؟
٢٨. تركيز الأراضي الزراعية في مناطق السهول الفيضية؟
٢٩. نجاح الاتحاد الأوروبي في إرساء مبدأ السلام؟
٣٠. أهمية المراعي الطبيعية لتربية الحيوان في أوروبا؟

### ما النتائج التي ترتبت على:

١. اختراع المحرك البخاري على يد العالم جيمس واط؟
٢. انتشار الصيد الجائر وتلوث المياه في قارتي آسيا وأوروبا؟
٣. إنشاء السوق الخليجية المشتركة بين دول مجلس التعاون؟

- ٤ . توقيع اتفاقية المشاركة المصرية الأوروبية؟
- ٥ . استخدام التكنولوجيا المتقدمة والزراعة الرقمية في أوروبا؟
- ٦ . الزيادة السكانية الكبيرة في دول قارة آسيا (بالنسبة للغذاء)؟
- ٧ . خروج بريطانيا من الاتحاد الأوروبي؟
- ٨ . التزام رابطة آسيان بخلو منطقتها من الأسلحة النووية؟
- ٩ . انتشار الجرائم الإلكترونية (بالنسبة لجهود رابطة آسيان)؟
- ١٠ . استخدام الذكاء الاصطناعي في الثورة الصناعية الرابعة؟
- ١١ . إنشاء منطقة تجارة حرة بين الدول الأعضاء في رابطة آسيان؟
- ١٢ . اهتمام دول الخليج العربي بالاستثمار في الطاقة المتجددة والاقتصاد الأخضر؟
- ١٣ . الازدحام السياحي الشديد في بعض المدن الأوروبية (مثل روما وباريس)؟
- ١٤ . توفر المتاحف والآثار التاريخية بكثرة في قارتي آسيا وأوروبا؟
- ١٥ . التعاون بين القوات البحرية المصرية والأوروبية في البحر المتوسط؟
- ١٦ . زيادة رحلات السفر الجوي (بالنسبة للانبعاثات الكربونية)؟
- ١٧ . توقيع معاهدة الصداقة والتعاون بين مصر ورابطة آسيان؟
- ١٨ . توفير حرية التنقل والإقامة والعمل داخل دول الاتحاد الأوروبي؟
- ١٩ . تنوع المناخ في قارة آسيا (بالنسبة لإنتاج المحاصيل الزراعية)؟
- ٢٠ . سعي دول القارتين نحو تحقيق التنمية المستدامة في الأنشطة الاقتصادية؟

في الدراسات الاجتماعية

**دلل على صحة كل عبارة من العبارات الآتية:**

- ١ . الاتحاد الأوروبي قوة اقتصادية عالمية.
- ٢ . تنوع المقومات الطبيعية للسياحة في قارتي آسيا وأوروبا.
- ٣ . لمجلس التعاون لدول الخليج العربية دور فعال في تحقيق الأمن.
- ٤ . تسعى دول أوروبا للحفاظ على حقوق الأطفال وحمايتهم.
- ٥ . تعتبر الصين وألمانيا من رواد التجارة العالمية للسلع.
- ٦ . للصناعة دور كبير في تغيير وجه الحياة والنشاط الاقتصادي في أوروبا.
- ٧ . تساهم الزراعة الرقمية في تحقيق الأمن الغذائي للدول.
- ٨ . توجد علاقات ثقافية وتعليمية قوية تربط مصر بدول رابطة "آسيان".
- ٩ . نجحت دول مجلس التعاون الخليجي في تنويع استثماراتها الاقتصادية.
- ١٠ . ترتبط مصر بعلاقات سياسية وثيقة مع مجلس التعاون الخليجي.
- ١١ . تؤثر المشكلات والنزاعات السياسية سلباً على النشاط السياحي في بعض دول آسيا.
- ١٢ . مرت الثورة الصناعية بمراحل وتطورات تاريخية وتكنولوجية متتابعة.

١٣. تعد مصر شريكاً تجارياً استراتيجياً ومهماً للاتحاد الأوروبي.
١٤. يوفر مجلس التعاون الخليجي امتيازات وحقوقاً اقتصادية لمواطني دوله الأعضاء.
١٥. تساهم مصر بدور حيوي في تأمين الملاحة البحرية بالتعاون مع الجانب الأوروبي.

### ما العلاقة بين...؟

١. الوقود الأحفوري والاقتصاد الأخضر؟
٢. الرسوم الجمركية وحركة التجارة؟
٣. الزيادة السكانية والاستزراع السمكي؟
٤. الثورة الصناعية والتجارة الدولية؟
٥. التغير المناخي والثروة السمكية؟
٦. الغابات والمراعي والإنتاج الحيواني؟
٧. الانبعاثات الكربونية والسياحة المستدامة؟
٨. الذكاء الاصطناعي والثورة الصناعية الرابعة؟

### ماذا كان يحدث إذا...؟

١. لم تتوحد العملة في دول الاتحاد الأوروبي؟
٢. لم تتوفر البنية التحتية المتطورة في المدن السياحية؟
٣. لم تظهر الثورة الصناعية في أوروبا؟ دراسات الاجتماعية

اعداد /  
مستتر حاتم عاطف

## الوحدة الرابعة

## الدرس الأول

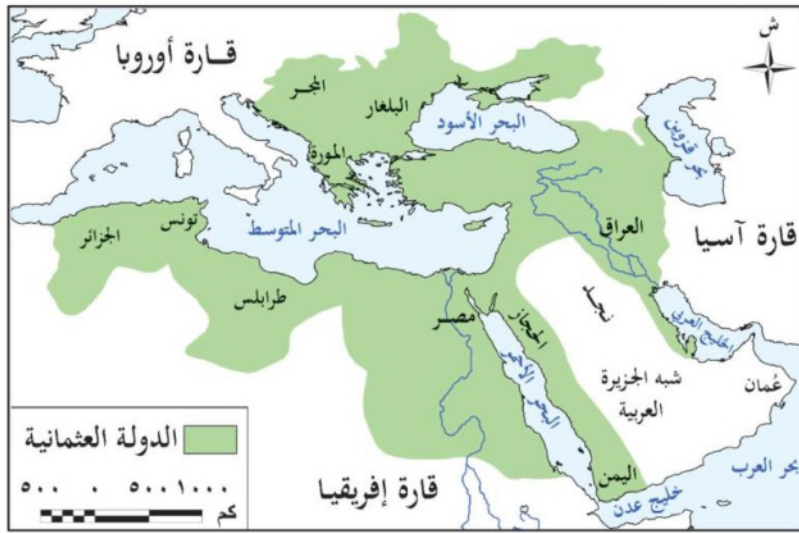
## مصر تحت الحكم العثماني

## تأمل واكتشف

كانت الدولة العثمانية إحدى الإمبراطوريات القوية في العالم في مطلع القرن السادس عشر الميلادي، وقد اتسعت أراضيها لتشمل مناطق عديدة من قارات العالم القديم، وكانت مصر ضمن الدول التي خضعت للحكم العثماني .

## أحوال مصر قبل مجيء العثمانيين

## أولاً



خريطة ( ١ ) امتداد الإمبراطورية العثمانية

- كانت مصر والشام تعيشان فترة من أسوأ فترات حكم المماليك لهما،

## تقسم؟

- نتيجة لتدهور الأحوال الاقتصادية
- فرض الضرائب الباهظة
- بالإضافة لاكتشاف رأس الرجاء الصالح الذي تمر به التجارة بعيداً عن مصر .

## علاقة العثمانيين بالمماليك

## طبيعة العلاقة بين العثمانيين والمماليك

- المرحلة الأولى (علاقة ودية): كانت العلاقة في بدايتها ودية، حيث نظر العثمانيون للمماليك كزعماء للعالم الإسلامي.
- الدعم العسكري: قدم العثمانيون مساعدات حربية للمماليك في حربهم ضد البرتغاليين بعد اكتشاف طريق رأس الرجاء الصالح، وهي الحرب التي انتهت بتحطيم الأسطول المملوكي.
- الاحتفال بفتح القسطنطينية: احتفل المماليك في القاهرة بفتح العثمانيين للقسطنطينية، معتبرين ذلك نصراً للمسلمين.

## أسباب تحول وتدهور العلاقة

- التوسع والمنافسة: تغيرت العلاقة مع توسع الدولة العثمانية وزيادة شعبيتهم بعد فتح القسطنطينية وتحكمهم في طرق التجارة.
- الصراع على الزعامة: بدأ التنافس على زعامة العالم الإسلامي بين ثلاث قوى رئيسية: (العثمانيين - المماليك - الصفويين).
- الموقف من الصفويين: اصطدم العثمانيون بالصفويين في موقعة "جالديران"، وأدى رفض المماليك التحالف مع العثمانيين لمحاربة الصفويين إلى تدهور العلاقات بينهم بشكل كبير

## ▶▶ معركة مرج دابق وضم الشام (١٥١٦م) ◀◀



- بعد انتصار السلطان العثماني سليم الأول على الصفويين ضم إمارة **ذي القادر** التابعة للحكم المملوكي التي تقع على الحدود بين الدولتين العثمانية والمملوكية وعين حاكماً عثمانياً عليها؛ **بم نفسه؟** وذلك بسبب غاراتها المتكررة على القوافل العثمانية ومنعها مرور إمدادات الحرب التابعة للعثمانيين عبر أراضيها، فلما علم السلطان الغوري خرج على رأس جيشه إلى بلاد الشام حيث التقى الجيشان عند منطقة (مرج دابق)

## ▶▶ النتائج ◀◀:

- وهزمت الجيوش المملوكية، ودخل السلطان العثماني (سليم الأول) مدينة **حلب** دون مقاومة
- واستولى على بعض المدن الساحلية حتى وصل إلى دمشق، وجاءه باقي أمراء الشام مقدمين فروض الطاعة والولاء.

## ▶▶ معركة الريدانية وضم مصر (١٥١٧م) ◀◀:

- بعد انتصار السلطان سليم الأول في معركة مرج دابق عرض على **طومان باي** الذي تولى حكم مصر بعد عمه قنصوه الغوري أن يعلن خضوعه له ويخطب باسمه على المنابر وأن يضرب العملة باسمه ويدفع ضريبة سنوية له
- ولكن طومان باي رفض، **ما النتائج؟** فتقدم الجيش العثماني نحو الحدود المصرية

- واستعد السلطان المملوكي (طومان باي) للقتال وتمكن من تجهيز الجيش واعتمد فيه على المماليك والجنود المرتزقة والعبيد **بم تفسر؟** ليسد النقص في القوة البشرية
- وأقام التحصينات حول القاهرة، وعسكر بجيشه داخلها بالقرب من الريدانية، ونشب القتال بين الفريقين
- **النتائج** ◀ :
- انتهى بهزيمة المماليك ودخول الجيش العثماني مدينة **القاهرة**، وفر طومان باي ثم تم إلقاء القبض عليه **وإعدامه**.
- وبذلك انتهت دولة المماليك وأصبحت مصر ولاية تابعة للدولة العثمانية
- ثم اتجه بعد ذلك السلطان العثماني (سليم الأول) لضم **الحجاز ما النتائج؟** وأصبح بذلك حامي الحرمين الشريفين
- كما سيطر على **اليمن بم تفسر؟** بهدف جعل البحر الأحمر بحيرة إسلامية آمنة من أي أخطار تهدد الأراضي المقدسة أو طرق التجارة بين الشرق الأقصى والبلاد الإسلامية وأوروبا.

### ما المقصود

**"الجنود المرتزقة: أفراد تقاتل لصالح دولة معينة مقابل أجر مادي، وليس لهم ولاء لهذه الدولة".**

▶ ▶ **أسباب هزيمة المماليك في معركة مرج دابق والريدانية** ◀ ◀ :

امتلاك العثمانيين أسلحة حديثة ومتطورة لم يعرفها المماليك في معركة مرج دابق والريدانية مثل البارود والمدافع.

تنظيم الجيش العثماني في شكل فرق وانضباطه وتماسكه معنويًا على عكس الجيش المملوكي.

قلة عدد الجنود في جيش المماليك مقارنة بالجيش العثماني.

انسحاب بعض الأمراء من الجيش المملوكي وانضمامهم للجيش العثماني.

الخطط العسكرية التي وضعها السلطان العثماني (سليم الأول) وخذع بها المماليك

## فكر وأجب

## أكمل

- وقعت معركة مرج دابق بين العثمانيين والمماليك في بلاد.....
- كانت القوى الثلاث المتصارعة على زعامة العالم الإسلامي هي: العثمانيون، المماليك، و.....
- استخدم العثمانيون أسلحة حديثة في حروبهم مثل ..... و.....
- **قارن بين:** معركتي (مرج دابق) و (الريديانية) من حيث: (السنة - القائد المملوكي - المكان - النتيجة).
- "كانت الخيانة والفرقة بين أمراء المماليك أحد أسباب ضياع دولتهم". استخرج من النص ما يؤيد هذه العبارة.

## ثانياً

## أحوال مصر تحت الحكم العثماني

## ١- النظام الإداري والسياسي :

- بعد أن استقر حكم مصر للعثمانيين وضعوا نظاماً لإدارتها يضمن بقاء خضوعها وعدم استقلالها **تفسر؟** لبعدها عن مركز الخلافة العثمانية وصعوبة المواصلات في ذلك العصر
- فتم تقسيم السلطة بين عدة هيئات:

## في الدراسات الاجتماعية

الديوان	أمراء المماليك	الحامية العثمانية	الوالي (الباشا)
<ul style="list-style-type: none"> <li>• تم إنشاء ديوانين وهما:</li> <li>• <b>الديوان الكبير:</b> تكون من كبار رجال الجيش والعلماء والقضاة بم تفسر؟ ومناقشة القضايا المهمة والخطيرة.</li> <li>• <b>الديوان الصغير:</b> تكون من كبار الموظفين في الولاية، بم تفسر؟ متابعة شؤون البلاد اليومية ومراقبة تنفيذ الأوامر، وكان يجتمع يومياً في قصر الوالي.</li> </ul>	<ul style="list-style-type: none"> <li>• أبقى السلطان سليم الأول بعض المماليك لإدارة شؤون الأقاليم بم تفسر؟ وذلك لخبرتهم الطويلة في إدارة شؤون البلاد.</li> </ul>	<ul style="list-style-type: none"> <li>• ترك العثمانيون في مصر عدة فرق عسكرية تمركزت في القاهرة والمراكز الرئيسية بمصر، بم تفسر؟</li> <li>• بهدف حفظ النظام والدفاع عن البلاد، وكذلك حفظ التوازن بين الوالي والحامية العثمانية</li> <li>• ومنع أي منهم من الاستبداد بالحكم.</li> </ul>	<ul style="list-style-type: none"> <li>• وكان مقره القلعة، وتتراوح مدة ولايته من سنة إلى ثلاث سنوات بم تفسر؟ حتى لا ينفرد بالحكم</li> <li>• وكان هو المسئول عن إبلاغ أوامر السلطان وجمع الضرائب.</li> </ul>

## ٢- القضاء :

- ألغى العثمانيون سلطة قضاة المذاهب الأربعة
- وجعلوا جميع الأمور الشرعية بيد قاض واحد من القضاة الأتراك يرسله السلطان العثماني من الآستانة (إسطنبول).

## ٣- الأحوال الاقتصادية :

- تدهورت الأحوال الاقتصادية في مصر على النحو التالي:
- الزراعة: **م تفسم؟** تدهورت بسبب اعتبار السلطان مالكا للأرض، وزراعتها مجبورين دون حق التصرف فيها، وفرض الضرائب الباهظة التي يجمعها "الملتزم" بالقوة، وإهمال مشروعات الري.
- الصناعة: **م تفسم؟** تدهورت بسبب تدهور الزراعة، ونقل أمهر الصناع من مصر إلى الآستانة (إسطنبول).
- التجارة **م تفسم؟** : تدهورت بسبب تدهور الزراعة والصناعة واكتشاف طريق رأس الرجاء الصالح، وافتقار الأمن وتعرض القوافل لقطاع الطرق وإهمال الطرق البرية.

## ما المقصود

**الملتزم** : هو الشخص المسئول عن جمع الضرائب من الفلاحين وتوريدها الي السلطان العثماني وكان منصب الملتزم

## يورث لابنائه

في الدراسات الاجتماعية

## ٤- العمران :

- أصبحت مصر مجرد ولاية تعتمد على مواردها الداخلية، وضعفت قدرتها على بناء المنشآت الضخمة، ومن أبرز الآثار **سبيل خسرو باشا**
- كما أدخل العثمانيون الطراز التركي المتميز باستخدام القباب والمآذن الأسطوانية، ويُعد مسجد سليمان باشا (سارية الجبل) أول جامع بني بهذا الطراز سنة ١٥٢٨م.

## ٥- الحياة الفكرية والثقافية:

- فرض العثمانيون العزلة على مصر، واقتصرت التعليم في الأزهر الشريف على العلوم **الشرعية** وإهمال العلوم الطبيعية والرياضيات والطب
- واقتصرت الكتابيب على تعليم القراءة والكتابة وحفظ القرآن.



سبيل وخطاب خسرو باشا

## عودة نفوذ امراء المماليك

ثالثاً

- زاد نفوذ المماليك **بم تفسر؟** بسبب قصر مدة حكم الولاة والنزاع المستمر بين الولاة والجند واتحاد المماليك واختيار زعيم لهم يسمى "شيخ البلد"
- ▶ **حركة علي بك الكبير** ◀
- استطاع علي بك الكبير الانفراد بحكم مصر **بم تفسر؟** مستغلاً انشغال الدولة العثمانية بحربها مع روسيا
- ووطد حكمه وأخضع **الحجاز**
- وأرسل **محمد بك أبو الذهب** لفتح **الشام** إلا أن الأخير تحالف مع السلطان العثماني ضده **ما النتائج؟**
- وعادت مصر ولاية عثمانية وتولى أبو الذهب منصب **الوالي**.



## تدريبات الدرس الأول "مصر تحت الحكم العثماني"

## أولاً: أكمل العبارات التالية

١. تمكن السلطان العثماني ..... من فتح مدينة القسطنطينية عام ١٤٥٣ م.
٢. أصبحت مصر ولاية عثمانية عقب معركة ..... عام ١٥١٧ م.
٣. استولى سليم الأول على إمارة ..... المملوكية، مما أدى لنشوب معركة مرج دابق.
٤. تراوحت مدة بقاء ..... في منصبه بمصر بين سنة إلى ثلاث سنوات.
٥. طبق العثمانيون نظام ..... لجمع الضرائب بعد ضعف دولتهم في منتصف القرن الـ ١٧ م.
٦. تمثلت الهيئة التي كانت تراقب الوالي ولها حق عزله في.....
٧. أرسل السلطان العثماني أمير الصناع المصريين إلى مدينة.....
٨. تحالف علي بك الكبير مع ..... حاكم جنوب الشام أثناء حركته الاستقلالية.
٩. أصبحت مصر مجرد ولاية معزولة عن المؤثرات الحضارية في.....
١٠. صار ..... شيخاً للبلد بعد فشل حركة علي بك الكبير.

## ثانياً: اختر الإجابة الصحيحة

١. تحطم الأسطول المملوكي عام ١٥٠٩ م في معركة.....  
(جالديران - مرج دابق - ديو البحرية - الريدانية)
٢. تعرضت دولة المماليك لأزمات اقتصادية بسبب اكتشاف.....  
(طريق البخور - طريق رأس الرجاء الصالح - قناة السويس - طريق الحرير)
٣. هزم سليم الأول الصفويين ودخل عاصمتهم تبريز بعد معركة.....  
(ديو البحرية - مرج دابق - الريدانية - جالديران)
٤. كان ..... يمثلون قمة الهرم الاجتماعي في مصر العثمانية ولهم كافة السلطات.  
(المشايخ والعلماء - الأتراك والمماليك - الفلاحون - التجار)
٥. أول جامع بُني على الطراز التركي (البيزنطي) في مصر هو مسجد.....  
(عمرو بن العاص - الأزهر - سليمان باشا - الظاهر بيبرس)
٦. تدهورت التجارة الخارجية لمصر بسبب منح الدولة العثمانية ..... للدول الأوروبية.  
(الأراضي - القروض - الامتيازات الأجنبية - المناصب الهامة)
٧. ضمت الطبقة الوسطى من المجتمع المصري في العهد العثماني.....  
(الأجانب - المماليك - كبار التجار والعلماء - الفلاحين)
٨. اعتمد طومان باي في معركة الريدانية على ..... لسد النقص البشري في جيشه  
(الأتراك - الجنود المرتزقة والعبيد - المتطوعين من العرب - القوات الروسية)
٩. اتجه السلطان ..... بتوسعاته نحو الشرق في مطلع القرن الـ ١٦ م.  
(محمد الفاتح - سليم الأول - بايزيد الثاني - سليمان القانوني)

١٠. أعلن سليم الأول نفسه الحامي الوحيد لـ ..... بعد دخوله مصر  
(طرق التجارة - الحرمين الشريفين - الدولة الصفوية - المماليك)
١١. كانت سلطة المماليك في العهد العثماني تتركز في إدارة.....  
(الديوان - شئون الأقاليم - الحامية العسكرية - الضرائب)
١٢. تراجعت مكانة ..... العلمية واقتصرت على العلوم الشرعية في العهد العثماني.  
(الكتاتيب - مدرسة الطب - الأزهر الشريف - مدرسة الألسن)
١٣. فقدت دولة المماليك أهميتها كوسيط تجاري بسبب.....  
(الثورات الداخلية - الكشوف الجغرافية - الصراع مع الصفويين - التطور التكنولوجي)
١٤. استطاع علي بك الكبير إخضاع منطقة ..... لنفوذه عام ١٧٦٨م  
(السودان - تبريز - الحجاز - اليمن)
١٥. كان يتم تعليم القراءة والكتابة وحفظ القرآن في.....  
(القصور - الكتاتيب - الجامعات - الثكنات العسكرية)

ثالثاً: ضع كلمة (صواب) أو (خطأ) مع التصويب

١. كانت العلاقة بين العثمانيين والمماليك في بدايتها علاقة ودية وتحالف . ( )
٢. انتصر المماليك على العثمانيين في معركة مرج دابق عام ١٥١٦ م . ( )
٣. حمل نظام الحكم العثماني في ثنياه عوامل ضعفه . ( )
٤. طبق العثمانيون "حق الانتفاع" في ملكية الأرض الزراعية بمصر . ( )
٥. اهتم العثمانيون بمشروعات الري وتطهير الترع في مصر . ( )
٦. تميز الطراز المعماري العثماني باستخدام القباب والمآذن الأسطوانية . ( )
٧. فشلت حركة علي بك الكبير بسبب قوة الجيش العثماني عسكرياً . ( )
٨. كانت الطبقة الدنيا في المجتمع المصري هي الأكثر عدداً وعانت من الفقر . ( )
٩. اتسمت الحياة الفكرية في مصر العثمانية بالجمود والتخلف . ( )
١٠. أصبحت الشام ولاية عثمانية بعد معركة الريدانية عام ١٥١٧ م . ( )

رابعاً: صوب ما تحته خط

١. هزم سليم الأول الصفويين في معركة الريدانية عام ١٥١٤م.
٢. كان الديوان هو المسئول عن جمع الضرائب من الفلاحين.
٣. أرسل السلطان العثماني أمهر الصناع المصريين إلى مدينة تبريز
٤. أعلن محمد بك أبو الذهب استقلاله بمصر عام ١٧٦٨م.
٥. أصبحت مصر ولاية عثمانية بعد معركة مرج دابق .

**خامساً: من هو؟**

١. سلطان عثماني اتجه بتوسعاته نحو الشرق وهزم الصفويين والمماليك(.....).
٢. سلطان مملوكي قُتل في معركة مرج دابق ببلاد الشام(.....).
٣. قائد المماليك الذي واجه العثمانيين في الريدانية وأعدم على باب زويلة(.....).
٤. أحد بكوات المماليك أعلن نفسه سلطان مصر وانفرد بالحكم عام ١٧٦٨م(.....).
٥. قائد جيش علي بك الكبير الذي انحاز للسلطان العثماني وخبائه(.....).
٦. حاكم جنوب الشام الذي تحالف معه علي بك الكبير ضد العثمانيين(.....).

**سادساً: اكتب ما تشير إليه كل عبارة**

١. طريق تجاري أدى اكتشافه لتحطم القوة الاقتصادية للمماليك(.....).
٢. نظام جعل الأرض ملكاً للدولة ويزرعها الفلاح وليس له حق التصرف فيها(.....).
٣. عاصمة الدولة الصفوية التي دخلها العثمانيون عام ١٥١٤م(.....).
٤. منصب مملوكي تركه العثمانيون للمماليك لإدارة الأقاليم(.....).

**سابعاً: ما المقصود بكل من**

١. الملتمزم.
٢. شيخ البلد.
٣. حق الانتفاع.

**ثامناً: بم تفسر؟**

١. تعرض دولة المماليك لأزمات اقتصادية وتدهور مالي أواخر القرن الـ ١٥.
٢. اتجاه العثمانيين للاستيلاء على مصر والشام.
٣. هزيمة الجيوش المملوكية أمام العثمانيين في مرج دابق والريدانية.
٤. حمل نظام الحكم العثماني في ثنياه عوامل ضعفه.
٥. تدهور الزراعة في مصر خلال العصر العثماني.
٦. فشل حركة علي بك الكبير الاستقلالية.
٧. تدهور التجارة الداخلية في مصر إبان الحكم العثماني.
٨. اتسام الحياة الفكرية والثقافية في مصر بالجمود والتخلف.

**تاسعاً: ما النتائج المترتبة على؟**

١. معركة ديو البحرية عام ١٥٠٩م.
٢. معركة الريدانية عام ١٥١٧م.
٣. نقل أمهر الصناع المصريين إلى الآستانة.
٤. فشل حركة علي بك الكبير الاستقلالية.
٥. سياسة العزلة التي فرضها العثمانيون على مصر.

٦. اكتشاف طريق رأس الرجاء الصالح عام ١٤٩٨ م بالنسبة للمماليك.

### عاشرًا: دلل تاريخياً على صحة العبارات

١. عانى الفلاح المصري من ظلم الدولة العثمانية.
٢. انقسم المجتمع المصري في العهد العثماني إلى طبقتين متميزتين.
٣. استفادت عاصمة الدولة العثمانية اقتصادياً من خبرات المصريين.
٤. كان للمماليك دور في إدارة شؤون مصر تحت الحكم العثماني.

### حادي عشر: ما العلاقة بين؟

١. الكشوف الجغرافية وانهيار دولة المماليك.
٢. روسيا وتغير الوضع السياسي في مصر عام ١٧٦٨ م.
٣. تدهور الزراعة وتدهور الصناعة في العهد العثماني.

### ثاني عشر: ماذا يحدث إذا؟

١. انتصر طومان باي في معركة الريدانية عام ١٥١٧ م.
٢. لم ينحز محمد بك أبو الذهب للسلطان العثماني ضد علي بك الكبير.

### ثالث عشر: قارن في جدول بين

١. معركة مرج دابق ومعركة الريدانية من حيث (التاريخ - المكان - النتائج).

# المتفوق

في الدراسات الاجتماعية

اعداد /

مستتر حاتم عاطف

## الوحدة الرابعة

## الدرس الثاني

## الحملة الفرنسية على مصر

## تأمل واكتشف

استيلاء فرنسا على مصر فكرة راودت ملوك فرنسا منذ القرن السابع عشر الميلادي، وانتهت تلك المحاولات بالحملة الفرنسية على مصر عام ١٧٩٨ م، وقد ساهمت أحوال مصر الداخلية في سيطرة الفرنسيين عليها، حيث كانت مصر تعاني من ضعف الدولة العثمانية وصراعات المماليك المستمرة، بالإضافة لتدهور الإنتاج الزراعي والصناعي. توقع أسباب الحملة الفرنسية على مصر، وأهم نتائجها .

## أولاً

## أسباب الحملة الفرنسية على مصر

التجار الفرنسيين في مصر وتأمين مصالحهم

التجارية وتحرير المصريين من حكم المماليك الظالم وإقامة حكومة وطنية وإدخال المدنية الحديثة لمصر

▪ لكن الحقيقة كانت هناك أسباب أخرى تمثلت في :

رغبة فرنسا في السيطرة على طرق التجارة بين الشرق والغرب، وتقليل النفوذ البريطاني في الشرق عن طريق قطع طريق تجارتها إلى الهند .

الاستفادة من موارد مصر وموقعها الإستراتيجي وتحويلها إلى مركز لتجارة فرنسا مع الشرق .

زيادة نفوذ فرنسا في البحر المتوسط وتعويضها عن مستعمراتها التي فقدتها في صراعها مع بريطانيا .

إقامة إمبراطورية فرنسية في الشرق تكون قاعدتها مصر .

## ثانياً

## أحداث الحملة الفرنسية على مصر



نابليون بونابرت

## ① الإعداد للحملة:

▪ أعد نابليون حملته بسرية تامة؛ **بم تفسر؟** لتجنب معرفة الأسطول البريطاني بها

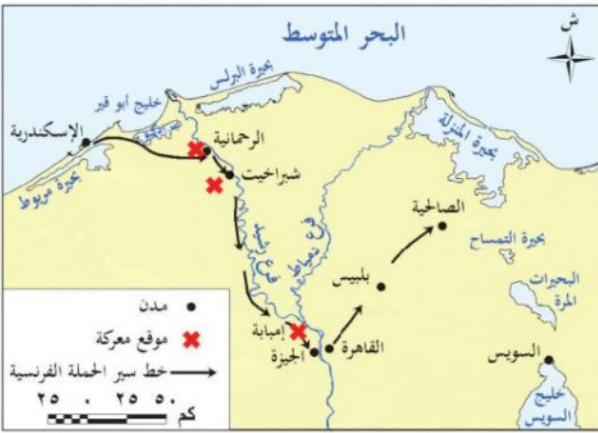
- كما أنه أراد أن يجعل للحملة طابعاً حضارياً، **دلاً؟** فاصطحب معه مجموعة كبيرة من العلماء والفنانين في مختلف المجالات؛ **بم تفسر؟** لدراسة أحوال مصر وكيفية استغلال مواردها.

### 2 الوصول للإسكندرية

- أبحرت الحملة من ميناء **طولون** في مايو ١٧٩٨م، وعلمت بريطانيا بخروج الحملة وعهدت إلى **نلسن** بتتبع الحملة التي وصلت إلى مدينة الإسكندرية في يوليو ١٧٩٨م.
- ودهش نابليون عندما وجد أهالي **الإسكندرية** بزعامة حاكمها السيد **محمد كريم** يحتشدون للدفاع عنها.
- ولكن القوات الفرنسية تمكنت من السيطرة على **الإسكندرية**، واعتقال محمد كريم .

### أهم المعارك:

#### 3 معركة شبراخيت (يوليو ١٧٩٨ م)



خريطة (٣) خط سير الحملة الفرنسية في مصر

- ووصلت القوات الفرنسية زحفها في طريقها إلى القاهرة، وفي الطريق نهبوا العديد من القرى
- والتقت الحملة بقوات المماليك بقيادة **مراد بك** بالقرب من **شبراخيت** في البحيرة
- وانتصر الفرنسيون فاضطر المماليك للتقهقر جنوباً للدفاع عن القاهرة.

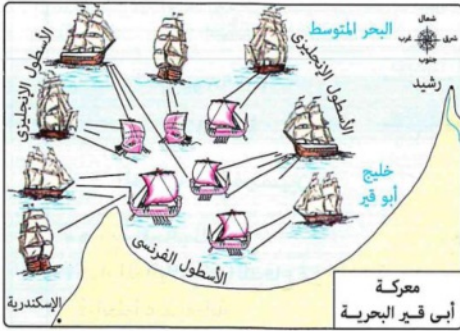
#### 4 معركة إمبابة (يوليو ١٧٩٨ م)

- استكملت القوات الفرنسية طريقها إلى القاهرة والتقت بالمماليك بالقرب من إمبابة وهزمتهم
- فر مراد بك إلى **الصعيد**، وإبراهيم بك والوالي العثماني إلى **الشام**، حاملين معهم كل ما يستطيعون من غال ونفيس، وتركوا أهل البلاد في مواجهة القوات الفرنسية
- واستطاع نابليون السيطرة على **القاهرة**.
- أما بالنسبة ل**صعيد** مصر فلم يستطع نابليون السيطرة عليه **بم تفسر؟** بسبب مقاومة أهلها وحروبهم المتفرقة ضد القوات الفرنسية مما أنهكت قوة الفرنسيين.

### فكر وأجب

#### أكمل

- أبحرت الحملة الفرنسية من ميناء .....
- أول من قاوم الحملة الفرنسية أهالي .....
- بم تفسر:** أخفقت الحملة الفرنسية في إخضاع الصعيد؟



### 5 معركة أبي قير البحرية (أغسطس ١٧٩٨ م) ◀

- بينما كان نابليون منشغلاً بإصلاحاته جاءه نبأ تدمير الأسطول البريطاني بقيادة **نلسن** للأسطول الفرنسي في خليج **أبي قير**
- وانقطع الاتصال بين نابليون وفرنسا، **ما النتائج؟** مما أدى لحرمان الحملة في مصر من إمدادات فرنسا لها .

### 6 ثورة القاهرة الأولى (أكتوبر ١٧٩٨ م) ◀

- كان **الأزهر الشريف** مقر الثورة المصريين التي اندلعت في شوارع القاهرة ضد قوات الاحتلال الفرنسية وذلك بسبب **م تفسم؟**



خريطة (٤) الحملة الفرنسية على الشام

- فرض الضرائب الباهظة
- وقتل الفرنسيين للسيد محمد كريم حاكم الإسكندرية
- وتفتيش البيوت بحثاً عن الأموال
- وهدم كثير من الآثار والمساجد والمباني لتحسين القاهرة .
- وقد استخدمت القوات الفرنسية سياسة العنف لإخماد الثورة
- وقتلوا الكثير من الثوار
- كما أنهم دخلوا الأزهر بخيولهم .

### 7 الحملة الفرنسية على الشام ١٧٩٩ م ▶

- وبعد أن أخذ نابليون الثورة **ما النتائج؟** تفرغ لتحسين مصر لصد غارات **العثمانيين** الذين حاولوا استرجاع مصر
- فعدوا معاهدة مع **بريطانيا وروسيا** واتفقوا على إرسال **جيشين** الأول يزحف على **العريش** من جهة **الشام**، والثاني يتجه لسواحل مصر بمساعدة **الأسطول البريطاني**
- فلما علم نابليون بذلك أسرع بمعظم جيشه لمواجهة جيش الشام . ونجح في السيطرة على **غزة** و**بيافا**، لكنه فشل في اقتحام **عكا** **م تفسم؟** بسبب مقاومة أهلها بقيادة **أحمد باشا الجزار** ودعم الأسطول البريطاني له
- وفي تلك الأثناء انتشرت **الأمراض** بين جنود نابليون **ما النتائج؟** فاضطر للعودة إلى مصر

- وفي تلك الأثناء وصل الأسطول العثماني عند **أبي قير** فتوجه نابليون بقواته إليهم واشتبك معه وهزم العثمانيين .

### 8 كليب

- ترك** نابليون الحملة في أغسطس ١٧٩٩ م لثأبه **كليب** وسافر سرا إلى فرنسا **بم تفسم؟** بسبب تدهور الأوضاع بها وتحالف دول أوروبا ضدها
- وقد أدرك كليب صعوبة مواجهة الأخطار التي تهدد القوات الفرنسية **بم تفسم؟**

- حيث تناقص عدد الجيش الفرنسي
- بالإضافة لحصار البريطانيين
- وثورات المصريين ضدهم

- ورأى من الضرورة مغادرة مصر، **ما النتائج؟** فعقد اتفاقية العريش عام ١٨٠٠ م مع العثمانيين والبريطانيين للرحيل بجنوده

- لكن الحكومة البريطانية رفضت التوقيع على الاتفاقية وطالبت بتسليم الفرنسيين **كأسرى حرب** وتسليم أسلحتهم، فرفض كليب وقاد حملة ضد العثمانيين وانتصر عليهم .

### 9 ثورة القاهرة الثانية مارس (١٨٠٠ م)

- أدرك المصريون ضرورة التخلص من الحملة الفرنسية بأنفسهم دون اللجوء للعثمانيين أو البريطانيين؛ لأن لكل منهم مصالحه الشخصية
- فخططوا للقيام بثورة القاهرة الثانية بقيادة السيد **عمر مكرم**، وتصدى المصريون للجنود الفرنسيين ببسالة، **ما النتائج؟** إلا أن القوات الفرنسية قامت بإخماد الثورة وهدم كثير من المباني ① وفرض المزيد من الضرائب على الأهالي .

### 10 مينو

- قتل كليب على يد **سليمان الحلبي** أحد طلاب الأزهر الشريف في يونيو ١٨٠٠ م، وتولى مينو قيادة الحملة بعد كليب وكان شديد **الميل** إلى البقاء بمصر، **دلال؟** حيث كان يعتقد أنه يمكنه تحقيق المشروع الاستعماري وتحويل مصر إلى مستعمرة فرنسية حقيقية،
- فقام بعدد من الإصلاحات في مجالات **الزراعة والصناعة والتجارة والصحة والقضاء** .

### 11 نهاية الحملة وجلاء الفرنسيين (١٨٠١ م)

- أرسلت بريطانيا أسطولاً جديداً إلى أبي قير، وانضم إليه الجيش العثماني، وهزم الجيش الفرنسي، مما اضطر الفرنسيين للخروج من مصر في سبتمبر ١٨٠١ م، وبذلك فشلت فرنسا في تأسيس إمبراطوريتها، وتم القضاء على مشروعها الاستعماري للسيطرة على الشرق .

## فكر وأجب

## أكمل

- كان المقر الرئيسي لثورة القاهرة الأولى هو .....
- قاد المقاومة في مدينة عكا ضد نابليون القائد .....
- قاد المصريون ثورة القاهرة الثانية بزعامة السيد .....
- قُتل كليبر على يد الطالب الأزهري .....
- **بم تفسر:** قيام ثورة القاهرة الأولى (أكتوبر ١٧٩٨م)؟
- **بم تفسر:** مغادرة نابليون مصر سراً إلى فرنسا في أغسطس ١٧٩٩م؟
- **قارن بين** موقف "كليبر" وموقف "مينو" من البقاء في مصر.

## ثالثاً

## نتائج الحملة الفرنسية على مصر

لم تكن مجرد حملة عسكرية، بل كانت نقطة تحول في تاريخ مصر، حيث تركت آثارا عميقة في مختلف المجالات كالتالي

## ① المجال السياسي

في الدراسات الاجتماعية

- كشفت ضعف الدولة العثمانية والمماليك وأطماع القوى الأوروبية في مصر .
- وجهت الحملة أنظار الدول الأوروبية عامة وبريطانيا خاصة لأهمية موقع مصر الجغرافي والإستراتيجي .
- ساهمت الحملة الفرنسية في إيقاظ الوعي الوطني لدى المصريين للدفاع عن وطنهم ضد الاحتلال .
- **تغيير نظام الحكم والإدارة: دلا؟** حيث عمل نابليون على استرضاء المصريين، فقام بإشراكهم في السلطة بتكوين **الديوان العام ودواوين الأقاليم وديوان القاهرة**، وكانت تضم **الأعيان والعلماء** ورغم أن سلطة هذه الدواوين كانت مقيدة بالمصالح الفرنسية فإنها نبهت المصريين إلى فكرة المشاركة في الحكم، مما كان له أثر في تنمية الوعي السياسي لديهم .
- أجرى نابليون تغييرا في نظام القضاء، حيث جعل العلماء المصريين يتولون القضاء بطريقة الانتخاب فيما بينهم بدلا من القضاة الأتراك .
- وأنشأ **مينو** محكمة لكل طائفة من الطوائف الموجودة بمصر في ذلك الوقت .

## ② المجال الاقتصادي

- اهتم الفرنسيون بمشاريع الري وتنوع المحاصيل الزراعية وأدخلوا محاصيل جديدة (مثل البن وقصب السكر)
- كما أنشئوا مصانع للنسيج والدباغة وصناعة حروف الطباعة، لكنه لم يسمح للمصريين بالعمل فيها **بم تفهم؟** حتى لا تتسرب أسرار الصناعة إليهم
- كما فتح الفرنسيون أسواقا جديدة لمصر في **البحر الأحمر ودارفور والحبشة وبلاد شمال إفريقيا**.

## ③ النتائج العلمية والفكرية

- ساعد وجود العلماء في مختلف العلوم على إدخال أفكار جديدة للمجتمع المصري وحدث نشاط علمي كبير من خلال أبحاث العلماء. ومن أهم الإنجازات العلمية للحملة الفرنسية :
- إنشاء **المجمع العلمي المصري** الذي كان له دور كبير في دراسة مصر، ونشر المعرفة .
  - تأليف موسوعة وصف مصر: وهي من أهم إنجازات الحملة الفرنسية في مصر وتتكون من عدد من المجلدات كتبها علماء الحملة تتضمن وصفاً شاملاً لمصر في مختلف الجوانب .
  - فك رموز حجر رشيد على يد شامبليون، **ما النتائج؟** مما أسهم في دراسة الحضارة المصرية القديمة والتعرف على إنجازاتها .
  - محاولة حفر قناة السويس: فكر علماء الحملة في ربط البحرين الأحمر والمتوسط، لكن المشروع لم يتم بسبب خطأ في حسابات مستوى البحرين .

اعداد /  
مستتر حاتم عاطف

## تدريبات الدرس الثاني الحملة الفرنسية على مصر

## أولاً: أكمل العبارات التالية

١. أبحرت الحملة الفرنسية من ميناء ..... في مايو ١٧٩٨ م.
٢. أعد نابليون حملته بسرية تامة لتجنب معرفة ..... بها.
٣. التقت الحملة بقوات المماليك بقيادة مراد بك لأول مرة في ..... بالبحيرة.
٤. فر إبراهيم بك والوالي العثماني إلى ..... بعد هزيمتهم في معركة إمبابة.
٥. تحطم الأسطول الفرنسي في خليج أبي قير على يد الأسطول البريطاني بقيادة.....
٦. كان مقر ثورة القاهرة الأولى هو ..... بينما قاد عمر مكرم ثورة القاهرة الثانية من حي.....
٧. فشل نابليون في اقتحام مدينة عكا بسبب مقاومة أهلها بقيادة.....
٨. غادر نابليون مصر سراً بسبب تحالف دول ..... ضد فرنسا.
٩. قُتل القائد كليبر في يونيو ١٨٠٠ م على يد الطالب الأزهري.....
١٠. تم فك رموز حجر رشيد على يد العالم الفرنسي.....

## ثانياً: اختر الإجابة الصحيحة

١. راودت فكرة استيلاء فرنسا على مصر ملوك فرنسا منذ القرن.....
- (السادس عشر - السابع عشر - الثامن عشر - التاسع عشر)
٢. واجه أهالي الإسكندرية الحملة الفرنسية بزعامة حاكمها السيد.....
- (عمر مكرم - محمد كريم - عبد الله الشرقاوي - أحمد الجزار)
٣. فر مراد بك بعد معركة إمبابة إلى.....
- (الشام - الصعيد - الإسكندرية - القاهرة)
٤. ترتب على موقعة ..... حرمان الحملة في مصر من إمدادات فرنسا لها.
- (شبراخيت - إمبابة - أبي قير البحرية - أبي قير البرية)
٥. اندلعت ثورة القاهرة الأولى بسبب.....
- (الرغبة في رحيل كليبر - فرض الضرائب الباهظة - التحالف مع إنجلترا - رحيل نابليون)
٦. فشل نابليون في السيطرة على ..... بسبب حرب المناوشات والمقاومة الشعبية.
- (الوجه البحري - الإسكندرية - صعيد مصر - القاهرة)
٧. اتفقت الدولة العثمانية مع بريطانيا و..... على إرسال جيشين لطرد الفرنسيين.
- (ألمانيا - إيطاليا - روسيا - النمسا)
٨. عاد نابليون من الشام ليواجه الأسطول العثماني ويهزمه في موقعة.....
- (أبي قير البحرية - أبي قير البرية - الريدانية - مرج دابق)
٩. تولى ..... قيادة الحملة وكان ينوي تحويل مصر إلى مستعمرة فرنسية حقيقية.
- (نابليون - كليبر - مينو - نيلسون)

١٠. عقدت اتفاقية ..... عام ١٨٠٠م لرحيل الفرنسيين ولكن بريطانيا رفضتها.  
(لندن - باريس - العريش - القاهرة)

١١. من أهم نتائج الحملة العلمية تأليف كتاب.....

(تاريخ مصر - وصف مصر - نهضة مصر - عجائب الآثار)

١٢. أشرك نابليون المصريين في السلطة عن طريق تكوين.....

(البرلمان - الدواوين - الجمعية التشريعية - مجلس الشيوخ)

١٣. فشل مشروع ربط البحرين الأحمر والمتوسط بسبب.....

(اعتراض بريطانيا - خطأ في حسابات مستوى البحرين - قلة الأموال - ثورات المصريين)

١٤. أنشأ مينو مصانع للنسيج والدباغة لكنه لم يسمح ب.....

(استخدام الآلات - عمل المصريين بها - تصدير الإنتاج - دفع الأجور)

١٥. بدأت أول مقاومة وطنية ضد الحملة الفرنسية عند وصولها مدينة.....

(القاهرة - الإسكندرية - رشيد - بورسعيد)

١٦. التقت القوات الفرنسية بقوات المماليك لأول مرة بالقرب من..... في البحيرة.

(إمبابة - شبراخيت - الصالحية - أبي قير)

١٧. كان المقر الرئيسي لثورة القاهرة الأولى (أكتوبر ١٧٩٨م) هو.....

(حي بولاق - القلعة - الأزهر الشريف - قصر عابدين)

١٨. حدث فراغ سياسي في حكم مدينة القاهرة أثناء الحملة الفرنسية بعد معركة.....

(شبراخيت - أبي قير البرية - أبي قير البحرية - إمبابة)

١٩. اطلع المصريون على بعض ملامح الحياة الديمقراطية من خلال مشاركتهم في.....

(المجمع العلمي - تأليف كتاب وصف مصر - الدواوين - مقاومة أهل الصعيد)

ثالثاً: ضع كلمة (صواب) أو (خطأ) مع التصويب

١. ساهمت صراعات المماليك المستمرة في تسهيل سيطرة الفرنسيين على مصر. ( )

٢. اصطحب نابليون معه مجموعة من العلماء لدراسة أحوال مصر واستغلال مواردها. ( )

٣. نجح نابليون في دخول مدينة عكا بعد حصار طويل. ( )

٤. استخدمت القوات الفرنسية الشدة والعنف لإخماد ثورة القاهرة الأولى. ( )

٥. أصرت الحكومة البريطانية على خروج الفرنسيين من مصر بكامل أسلحتهم. ( )

٦. وجهت الحملة الفرنسية أنظار أوروبا إلى أهمية موقع مصر الجغرافي. ( )

٧. ساهمت الحملة في إيقاظ الوعي الوطني لدى المصريين للدفاع عن وطنهم. ( )

٨. جعل نابليون القضاة الأتراك يتولون القضاء بالانتخاب بدلاً من المصريين. ( )

٩. نجحت فرنسا في تأسيس إمبراطورية فرنسية كبرى في الشرق قاعدتها مصر. ( )

١٠. اهتم الفرنسيون بمشاريع الري وأدخلوا محاصيل جديدة مثل البن وقصب السكر. ( )

## رابعاً: صوب ما تحته خط

١. أبحرت الحملة الفرنسية من ميناء مارسيليا في مايو ١٧٩٨م.
٢. تحطم الأسطول الفرنسي في موقعة أبي قير البرية عام ١٧٩٨م.
٣. قاد السيد محمد كريم ثورة القاهرة الثانية من حي بولاق.
٤. تولى كليبر قيادة الحملة وكان شديد الميل للبقاء في مصر.
٥. تم فك رموز حجر رشيد على يد العالم نيلسون

## خامساً: من هو؟

١. حاكم الإسكندرية الذي أعدمه الفرنسيون رمياً بالرصاص.(.....).
٢. بطل مصري قاد ثورة القاهرة الثانية من حي بولاق.(.....).
٣. قائد الأسطول البريطاني الذي دمر الأسطول الفرنسي في أبي قير(.....).
٤. طالب سوري قام بقتل القائد كليبر في يونيو ١٨٠٠م.(.....).
٥. قائد المقاومة في مدينة عكا ضد القوات الفرنسية(.....).
٦. أنشأ محكمة لكل طائفة من الطوائف الموجودة بمصر(.....).

## سادساً: اكتب ما تشير إليه كل عبارة

١. موسوعة شاملة عن مصر في مختلف الجوانب ألفها علماء الحملة(.....).
٢. وسيلة أنشأها نابليون لإشراك الأعيان والعلماء في نظام الحكم(.....).
٣. حجر تم اكتشافه أسهم في التعرف على الحضارة المصرية القديمة(.....).

## سابعاً: رتب الأحداث التاريخية الآتية من القديم إلى الحديث:

- ( ) اتفاقية العريش ■ معركة أبي قير البحرية ■ معركة شبراخيت ■ مذبحه يافا البشرية ■ جلاء الحملة الفرنسية عن مصر.)

## ثامناً: بم تفسر؟

١. مجيء الحملة الفرنسية على مصر (الأسباب الحقيقية).
٢. اصطحاب نابليون لمجموعة من العلماء والفنانين في حملته.
٣. فشل نابليون في السيطرة على صعيد مصر.
٤. قيام ثورة القاهرة الأولى في أكتوبر ١٧٩٨م.
٥. فشل نابليون في دخول مدينة عكا عام ١٧٩٩م.
٦. رغبة كليبر في مغادرة مصر وعقد اتفاقية العريش.
٧. اهتمام نابليون بإنشاء الدواوين (الديوان العام ودواوين الأقاليم).
٨. لم يسمح مينو للمصريين بالعمل في المصانع الفرنسية.

**تاسعاً: ما النتائج المترتبة على؟**

١. معركة أبي قير البحرية (أغسطس ١٧٩٨م).
٢. ثورة القاهرة الثانية (مارس ١٨٠٠م) بالنسبة للمباني والضرائب.
٣. اكتشاف حجر رشيد على يد علماء الحملة الفرنسية.
٤. إشراك المصريين في الدواوين التي أنشأها نابليون.
٥. فشل اتفاقية العريش عام ١٨٠٠م.
٦. انضمام الجيش العثماني للأسطول البريطاني في فبراير ١٨٠١م.

**عاشراً: دلل تاريخياً على صحة العبارات**

١. لم تكن الحملة الفرنسية على مصر مجرد حملة عسكرية للغزو.
٢. اتسمت سياسة نابليون تجاه ثورة القاهرة الأولى بالعنف الشديد.
٣. ساهمت أحوال مصر الداخلية في تسهيل سيطرة الفرنسيين عليها.
٤. كان للحملة الفرنسية آثار إيجابية على نظام القضاء في مصر.

**حادي عشر: ما العلاقة بين؟**

١. معركة أبي قير البحرية وقوة الحملة الفرنسية في مصر.
٢. حجر رشيد والتاريخ المصري القديم.
٣. الحكومة البريطانية وفشل رحيل كليبر عن مصر عام ١٨٠٠م.
٤. تحالف دول أوروبا ضد فرنسا، وتغير قيادة الحملة الفرنسية عام ١٧٩٩م؟

**ثاني عشر: ماذا يحدث إذا؟**

١. نجح مشروع علماء الحملة الفرنسية في ربط البحرين الأحمر والمتوسط.
٢. انتصر المماليك في معركتي شبراخيت وإمبابة.

**ثالث عشر: قارن في جدول بين**

ثورة القاهرة الأولى وثورة القاهرة الثانية من حيث (المقر/المركز - القائد الفرنسي - النتائج).

## مراجعة عامة علي الوحدة الرابعة

## أولاً: أكمل العبارات التالية

١. تمكن السلطان ..... من فتح مدينة القسطنطينية عام ١٤٥٣م.
٢. أصبحت مصر ولاية عثمانية عقب معركة ..... عام ١٥١٧م.
٣. طبق العثمانيون نظام ..... لجمع الضرائب بعد ضعف دولتهم في القرن الـ ١٧م.
٤. استولى سليم الأول على إمارة ..... المملوكية مما أدى لنشوب معركة مرج دابق.
٥. تمثلت الهيئة التي كانت تراقب الوالي ولها حق عزله في .....
٦. أرسل السلطان العثماني أمهر الصناع المصريين إلى مدينة .....
٧. تحالف علي بك الكبير مع ..... حاكم جنوب الشام أثناء حركته الاستقلالية.
٨. صار ..... شيخاً للبلد بعد فشل حركة علي بك الكبير.
٩. أبحرت الحملة الفرنسية من ميناء ..... في مايو ١٧٩٨م.
١٠. استولى نابليون في طريقه إلى مصر على جزيرتي ..... و .....
١١. قاوم أهالي الإسكندرية الحملة الفرنسية بقيادة حاكمها .....
١٢. فر مراد بك بعد معركة إمبابة إلى ..... بينما فر إبراهيم بك إلى .....
١٣. تحطم الأسطول الفرنسي في موقعة ..... البحرية عام ١٧٩٨م.
١٤. كان مقر ثورة القاهرة الأولى حي ..... بينما كان مركز ثورة القاهرة الثانية حي .....
١٥. ارتكب نابليون جريمة بشعة في الشام سميت ب .....
١٦. قاد المقاومة في مدينة عكا ضد نابليون البطل .....
١٧. عقد القائد ..... اتفاقية العريش مع الدولة العثمانية عام ١٨٠٠م.
١٨. قُتل القائد كليبر على يد أحد طلاب الأزهر وهو .....
١٩. من أهم النتائج العلمية للحملة الفرنسية تأليف كتاب .....
٢٠. تم فك رموز حجر رشيد على يد العالم .....

## ثانياً: اختر الإجابة الصحيحة مما بين القوسين

١. تحطم الأسطول المملوكي عام ١٥٠٩م في معركة .....  
(مرج دابق - الريدانية - ديو البحرية - جالديران)
٢. تعرضت دولة المماليك لأزمات اقتصادية بسبب اكتشاف .....  
(طريق الحرير - رأس الرجاء الصالح - قناة السويس - طريق البخور)

٣. هزم سليم الأول الصفويين ودخل عاصمتهم تبريز بعد معركة .....  
(مرج دابق - الريدانية - ديو البحرية - جالديران)
٤. كان ..... يمثلون قمة الهرم الاجتماعي في مصر العثمانية.  
(المشايع - الأتراك والمماليك - الفلاحون - التجار)
٥. أول جامع بُني على الطراز العثماني في مصر هو مسجد .....  
(الأزهر الشريف - عمرو بن العاص - سليمان باشا - الظاهر بيبرس)
٦. تدهورت التجارة الخارجية لمصر بسبب منح الدولة العثمانية ..... للدول الأوروبية.  
(القروض - الأراضي - الامتيازات الأجنبية - المساعدات)
٧. ضمت الطبقة الوسطى من المجتمع المصري في العهد العثماني .....  
(الأجانب - المماليك - المشايخ والعلماء - الفلاحين)
٨. اتجه السلطان ..... بتوسعاته نحو الشرق في مطلع القرن الـ ١٦ م.  
(محمد الفاتح - سليم الأول - بايزيد الثاني - سليمان القانوني)
٩. فقدت دولة المماليك أهميتها كوسيط تجاري بسبب .....  
(الثورات - الكشوف الجغرافية - الصراع الصفوي - ضعف الجيش)
١٠. استطاع علي بك الكبير إخضاع منطقة ..... لنفوذه عام ١٧٦٨ م.  
(السودان - تبريز - الحجاز - اليمن)
١١. استيلاء فرنسا على مصر فكرة راودت ملوك فرنسا منذ القرن .....  
(الخامس عشر - السادس عشر - السابع عشر - الثامن عشر)
١٢. ساهمت أحوال مصر الداخلية في سيطرة الفرنسيين بسبب صراعات ..... المستمرة.  
(العثمانيين - الإنجليز - المماليك - الفرنسيين)
١٣. التقى الفرنسيون بالمماليك لأول مرة في موقعة ..... بالبحيرة.  
(شبراخيت - إمبابة - أبي قير - الصالحية)
١٤. غرق الأسطول الفرنسي بقيادة نلسن في موقعة .....  
(أبي قير البحرية - أبي قير البرية - شبراخيت - إمبابة)

١٥ . فشل نابليون في السيطرة على ..... بسبب حرب المناوشات والمقاومة الشعبية.  
(الوجه البحري - الإسكندرية - القاهرة - صعيد مصر)

١٦ . اندلعت ثورة القاهرة الأولى ضد الاحتلال بسبب .....  
(موت كليبر - فرض الضرائب الباهظة - رحيل نابليون - فشل اتفاقية العريش)

١٧ . ساعد الأسطول ..... أهل عكا في الصمود أمام نابليون.  
(الفرنسي - البريطاني - المملوكي - الروسي)

١٨ . غادر نابليون مصر سراً في أغسطس ١٧٩٩م بسبب تحالف دول ..... ضد فرنسا.  
(آسيا - أفريقيا - أوروبا - الأمريكتين)

١٩ . عقدت اتفاقية ..... عام ١٨٠٠م لرحيل الفرنسيين ولكن بريطانيا رفضتها.  
(لندن - باريس - العريش - القاهرة)

٢٠ . قاد السيد ..... ثورة القاهرة الثانية ضد القوات الفرنسية من حي بولاق.  
(محمد كريم - عمر مكرم - سليمان الحلبي - أحمد الجزائر)

٢١ . رحلت الحملة الفرنسية عن مصر في عهد القائد .....  
(نابليون - كليبر - مينو - نيلسون)

٢٢ . أنشأ نابليون ..... لتدريب المصريين على نظام الشورى.  
(المجمع العلمي - الدواوين - القلعة - البرلمان)

٢٣ . اكتشف علماء الحملة ..... مما ساعد على قراءة التاريخ المصري القديم.  
(حجر رشيد - قناة السويس - معبد الكرنك - طريق الحرير)

٢٤ . فكر علماء الحملة في ربط البحرين ..... و .....  
(الأحمر والمتوسط - الأسود والميت - العرب والأحمر - إيجه والمتوسط)

٢٥ . أنشأ مينو مصانع للنسيج والدباغة لكنه لم يسمح ب .....  
(استخدام الآلات - عمل المصريين فيها - تصدير الإنتاج - دفع الأجور)

٢٦ . أجرى نابليون تغييراً في نظام القضاء بجعل القضاة من ..... بالانتخاب.  
(المصريين - الأتراك - الفرنسيين - المماليك)

٢٧. لفتت الحملة الفرنسية أنظار العالم خاصة ..... لأهمية موقع مصر.

(روسيا - بريطانيا - ألمانيا - إيطاليا)

٢٨. فر مراد بك بعد هزيمته في معركة إمبابة إلى .....

(الشام - الإسكندرية - الصعيد - القاهرة)

٢٩. كان ..... هو المسئول عن جمع الضرائب من الفلاحين في العصر العثماني.

(الوالي - الملتزم - شيخ البلد - القاضي)

٣٠. تراجعت مكانة ..... العلمية واقتصرت على العلوم الشرعية في العهد العثماني.

(الكتاتيب - مدرسة الطب - الأزهر الشريف - المجمع العلمي)

ثالثاً: ضع كلمة (صواب) أو (خطأ)

١. كانت العلاقة بين العثمانيين والمماليك في بدايتها علاقة ودية. ( )
٢. انتصر المماليك على العثمانيين في معركة مرج دابق عام ١٥١٦م. ( )
٣. حمل نظام الحكم العثماني في ثنياه عوامل ضعفه. ( )
٤. طبق العثمانيون "حق الانتفاع" في ملكية الأرض الزراعية. ( )
٥. اهتم العثمانيون بمشروعات الري وتطهير الترع في مصر. ( )
٦. فشلت حركة علي بك الكبير بسبب قوة الجيش العثماني عسكرياً. ( )
٧. اتسمت الحياة الفكرية في مصر العثمانية بالجمود والتخلف. ( )
٨. أصبحت الشام ولاية عثمانية بعد معركة الريدانية. ( )
٩. جاءت الحملة الفرنسية لتعويض فرنسا عن فقدان مستعمراتها. ( )
١٠. واجه أهالي الإسكندرية الحملة الفرنسية قبل وصول المماليك. ( )
١١. كانت معركة أبي قير البحرية بداية النهاية للحملة الفرنسية. ( )
١٢. دخل نابليون وجنوده الجامع الأزهر بالخيول خلال الثورة. ( )
١٣. نجحت اتفاقية العريش وتم جلاء الفرنسيين عام ١٨٠٠م. ( )
١٤. اقتصرت نتائج الحملة الفرنسية على الجوانب العسكرية فقط. ( )
١٥. رفضت إنجلترا خروج الفرنسيين إلا كأسرى حرب. ( )
١٦. فشلت القوات الفرنسية في إخضاع أهالي الصعيد. ( )
١٧. أنشأ مينو محاجر صحية في القاهرة والعديد من المدن. ( )
١٨. أظهرت الحملة الفرنسية ضعف الدولة العثمانية والمماليك. ( )
١٩. اهتم الفرنسيون بتنوع المحاصيل الزراعية مثل البن وقصب السكر. ( )

٢٠. نجح علماء الحملة في تنفيذ مشروع ربط البحرين الأحمر والمتوسط. ( )  
 ٢١. اعتمد المماليك في مواجهة الفرنسيين على سلاح الفروسية. ( )  
 ٢٢. ساهمت الحملة الفرنسية في إيقاظ الوعي الوطني لدى المصريين. ( )

### رابعاً: أكتب ما تشير إليه العبارات

١. طريق تجاري أدى اكتشافه لتدهور اقتصاد المماليك. (.....)  
 ٢. نظام جعل الأرض ملكاً للدولة ويزرعها الفلاح مقابل ضرائب. (.....)  
 ٣. نائب السلطان العثماني في مصر ومقره القلعة. (.....)  
 ٤. منصب مملوكي تركه العثمانيون للمماليك لإدارة الأقاليم. (.....)  
 ٥. كتاب يعد موسوعة شاملة عن مصر ألفه علماء الحملة. (.....)  
 ٦. حجر ساعد اكتشافه على التعرف على التاريخ المصري القديم. (.....)  
 ٧. هيئة أنشأها نابليون كان لها دور كبير في دراسة مصر ونشر المعرفة. (.....)  
 ٨. جريمة بشعة ارتكبها نابليون في الشام بعد استسلام الحامية. (.....)  
 ٩. اتفاقية فشلت بسبب إصرار إنجلترا على استسلام الفرنسيين كأسرى حرب. (.....)

### خامساً: بم تفسر؟

١. تعرض دولة المماليك لأزمات اقتصادية أواخر القرن الـ ١٥.  
 ٢. اتجاه العثمانيين للاستيلاء على مصر والشام.  
 ٣. هزيمة المماليك أمام العثمانيين في مرج دابق والريدانية.  
 ٤. ضعف نظام الحكم العثماني في مصر.  
 ٥. تدهور الزراعة في مصر خلال العصر العثماني.  
 ٦. تدهور الصناعة في مصر في ظل الحكم العثماني.  
 ٧. فشل حركة علي بك الكبير الاستقلالية.  
 ٨. اتسام الحياة الفكرية في العهد العثماني بالجمود.  
 ٩. مجيء الحملة الفرنسية على مصر (الأسباب الحقيقية).  
 ١٠. اصطحاب نابليون لمجموعة من العلماء في حملته.  
 ١١. سرية إعداد نابليون للحملة الفرنسية.  
 ١٢. هزيمة المماليك أمام الفرنسيين في شبراخيت وإمبابة.  
 ١٣. فشل نابليون في السيطرة على صعيد مصر.  
 ١٤. موقعة أبي قير البحرية كانت ضربة قاضية للحملة الفرنسية.

١٥. قيام ثورة القاهرة الأولى (أكتوبر ١٧٩٨م).
١٦. فشل نابليون في دخول مدينة عكا.
١٧. رحيل نابليون سراً إلى فرنسا في أغسطس ١٧٩٩م.
١٨. رغبة كليبر في الرحيل عن مصر (عقد اتفاقية العريش).
١٩. قيام ثورة القاهرة الثانية (مارس ١٨٠٠م).
٢٠. اهتمام نابليون بإنشاء الدواوين في مصر.

### سادساً: ما النتائج المترتبة على؟

١. اكتشاف طريق رأس الرجاء الصالح عام ١٤٩٨م.
٢. معركة الريدانية عام ١٥١٧م.
٣. نقل أمهر الصناع المصريين إلى الآستانة.
٤. انحياز محمد بك أبو الذهب للسلطان العثماني.
٥. العزلة التي فرضها العثمانيون على مصر.
٦. معركة أبي قير البحرية (أغسطس ١٧٩٨م).
٧. فشل نابليون في اقتحام مدينة عكا.
٨. ثورة القاهرة الأولى بالنسبة للآثار والمساجد.
٩. ثورة القاهرة الثانية بالنسبة لحي بولاق.
١٠. اكتشاف حجر رشيد عام ١٧٩٩م.
١١. حملة نابليون على بلاد الشام.
١٢. مقتل القائد كليبر في يونيو ١٨٠٠م.
١٣. انضمام الجيش العثماني للأسطول البريطاني عام ١٨٠١م.
١٤. إشراك المصريين في الدواوين التي أنشأها نابليون.
١٥. رغبة مينو في تحويل مصر لمستعمرة (المشروع العظيم).

### سابعاً: دلل على صحة العبارات

١. عانى الفلاح المصري من ظلم الدولة العثمانية.
٢. انقسم المجتمع المصري في العهد العثماني لطبقتين متميزتين.
٣. لم تكن الحملة الفرنسية مجرد حملة عسكرية للغزو.
٤. وقفت إنجلترا حائط صد أمام طموحات فرنسا في مصر.
٥. ساهمت أحوال مصر الداخلية في سهولة سيطرة الفرنسيين عليها.

٦. اهتم القائد مينو بالجانب الاقتصادي والصحي في مصر.
٧. كان للمماليك دور في إدارة مصر تحت الحكم العثماني.
٨. تركت الحملة الفرنسية آثاراً علمية وفكرية عميقة في مصر.
٩. اتبع نابليون سياسة العنف في إخماد ثورة القاهرة الأولى.

### ثامناً: قارن بين

١. معركة مرج دابق ومعركة الريدانية (التاريخ - المكان - النتائج).
٢. ثورة القاهرة الأولى وثورة القاهرة الثانية (المقر - القائد الفرنسي - النتائج).
٣. طبقة الحكام وطبقة المحكومين في المجتمع المصري العثماني.
٤. نظام الحكم في عهد العثمانيين ونظام الدواوين في عهد نابليون.

### تاسعاً: رتب الأحداث التاريخية من القديم للحديث

١. ( ) معركة الريدانية.
٢. ( ) اكتشاف طريق رأس الرجاء الصالح.
٣. ( ) حركة علي بك الكبير.
٤. ( ) ثورة القاهرة الأولى.
٥. ( ) جلاء الحملة الفرنسية عن مصر.

### عاشرأً: ما المقصود بكل من

١. حق الانتفاع.
٢. الملتزم.

تطبيق



مذكرات جاهزة للطباعة

لتحميل الملفات التعليمية مجاناً للمعلم والطالب

مذكرات وملازم / مراجعات وملخصات / امتحانات / كتب الوزارة /  
أدلة المعلم / دفاتر التحضير / سجلات مدرسية / أوراق تأسيس

امسح الكود بموبايلك علشان تقدر تثبت التطبيق

وتقدر ف أي وقت تحمّل ال نفسك فيه ببلاش

هيفغنيك عن البحث والجروبات والقنوات الكثيرة



تطبيق الموبايل لتحميل الملفات