


الدراسات الاجتماعية

الصف الرابع

مراجعة الفصل الدراسي الأول

سمير الغريب مذكرات تعليمية

2026/2025



سمير الغريب مذكرات تعليمية

السؤال الأول: اكتب كلمة (صواب) أو كلمة (خطأ)

- () (1) يشير النجم القطبي في السماء إلى اتجاه الشمال.
- () (2) اتجاه الجنوب هو الاتجاه المقابل لاتجاه الشرق.
- () (3) المعلم هو المسئول عن بناء المدارس والفصول.
- () (4) يوجد بين كل اتجاهين أصليين اتجاه فرعي.
- () (5) استخدم الناس قديماً النجوم لمعرفة الاتجاهات نهائياً.
- () (6) يوجد بين كل اتجاهين فرعيين اتجاه أصلي.
- () (7) اتجاه الغرب يعتبر من الاتجاهات الأصلية.
- () (8) يقع اتجاه الجنوب الغربي بين الشمال والغرب.
- () (9) المخطط الذي نرسمه لأي مكان يكون أكبر من المكان نفسه.
- () (10) اختيار الطريق للوصول إلى المكان يقتصر على السرعة فقط.
- () (11) الاتجاه الجنوب الغربي يُقابل الاتجاه الشمالي الشرقي.
- () (12) يشير اللون الأخضر إلى الأراضي المرتفعة مثل الجبال.
- () (13) تساعدنا وردة البوصلة في تحديد موقع الأماكن والاتجاهات.
- () (14) تلون السهول والأماكن المنخفضة على الخريطة باللون الأخضر.
- () (15) تلون هضبة التيه على الخريطة باللون البني.
- () (16) تحديد الأماكن والاتجاهات على الخريطة يحتاج إلى وردة البوصلة.
- () (17) مدينة القاهرة هي عاصمة جمهورية مصر العربية.
- () (18) يمكن حساب المسافات بين الأماكن من خلال مفتاح الخريطة.
- () (19) يستخدم المزارع الخريطة في تحديد موقع الأراضي الزراعية.
- () (20) يستخدم الطيار الخريطة في تحديد مسارات الرحلات.
- () (21) تساعدنا الخريطة في معرفة الأماكن من حولنا.
- () (22) نجح العالم العربي الإدريسي في رسم خريطة للعالم.
- () (23) طورت عالمة مريم الأسطرلابي جهاز الأسطرلاب قديماً.

سمير الغريب مذكرات تعليمية

اكتب كلمة (صواب) أو كلمة (خطأ)

سمير الغريب مذكرات تعليمية

- (24) يتم استخدام تطبيق **GPS** للوصول إلى الأماكن التي لا نعرفها. ()
- (25) ساعد الأسطرلاب قديماً على في تحديد أوقات الصلاة. ()
- (26) يصعب الاستعانة بتطبيق **GPS** لتحديد طريق الذهاب للمدرسة. ()
- (27) الصور الجوية تغطي مساحات أكبر من الصور الفضائية. ()
- (28) الصورة الفضائية تغطي مساحة محدودة من سطح الأرض. ()
- (29) تطبيق **GPS** من الوسائل الحديثة لتحديد المواقع. ()
- (30) كان والد العالمة مريم الأسطرلابي يعمل في مجال الطب. ()
- (31) استخدم المصري القديم الخرائط في وصف مسار نهر النيل. ()
- (32) يعتبر تطبيق **GPS** تطوراً لأدوات تحديد المواقع مثل الأسطرلاب. ()
- (33) ساعدت الأسطرلابات قديماً في تحديد اتجاه القبلة. ()
- (34) من أهم مميزات المصادر الأولية صعوبة الحصول عليها. ()
- (35) المصادر الثانوية هي مصادر سُجلت في زمن وقوع الحدث. ()
- (36) تنوع مصادر جمع المعلومات يعطينا صورة كاملة عن الأحداث. ()
- (37) لو صدق الناس الشائعات تنتشر الفوضى والخراب. ()
- (38) تُعد البرديات أحد المصادر الثانوية لجمع المعلومات. ()
- (39) النقوش على جدران معبد الكرنك تُعد مصدراً أولياً للمعلومات. ()
- (40) مواجهة الشائعات والأخبار الزائفة يساعد على استقرار المجتمع. ()
- (41) الحقائق تُعبر عن وجهات نظر شخصية. ()
- (42) المصادر الأولية هي المصادر التي سُجلت في زمن وقوع الحدث. ()
- (43) مسجد عمرو بن العاص هو أول جامع في مصر وإفريقيا. ()
- (44) تستفيد القرية من الخدمات والمنتجات التي توفرها المدينة. ()
- (45) تُعد الكنيسة المعلقة من أحدث الكنائس التي بُنيت في مصر. ()
- (46) تستفيد المدينة من المنتجات الزراعية التي توفرها القرية. ()

سمير الغريب مذكرات تعليمية

اكتب كلمة (صواب) أو كلمة (خطأ) أمام كل عبارة سمير الغريب مذكرات تعليمية

- () (47) يتم إقامة المناطق الصناعية في وسط المدن لقربها من العمال.
- () (48) مسجد عمرو بن العاص هو أول جامع في مصر وإفريقيا.
- () (49) مدينة الخارجة من المدن التي توجد على البحر الأحمر.
- () (50) تستفيد القرية من الخدمات والمنتجات التي توفرها المدينة.
- () (51) تُعد الكنيسة المعلقة من أحدث الكنائس التي بُنيت في مصر.
- () (52) يُعد جامع عمرو بن العاص أقدم مسجد تم بناؤه في إفريقيا.
- () (53) تستفيد المدينة من المنتجات الزراعية التي توفرها القرية.
- () (54) من مميزات الدراجات أنها غير مكلفة لكنها تلوث البيئة.
- () (55) كانت المنازل في الماضي بسيطة والطرق ضيقة وغير ممهدة.
- () (56) توافر فرص العمل من النتائج الإيجابية لتطور المدن.
- () (57) قامت الدولة ببناء العديد من المناطق العشوائية لتطوير المدن.
- () (58) استخدام الساعات الذكية دليل على تطوير الأجهزة في حياتنا.
- () (59) اعتمد السكان في الماضي على أدوات بسيطة في أعمالهم.
- () (60) يُعد الأتوبيس الترددي إحدى وسائل النقل القديمة.
- () (61) نزور المكتبات دائما للحصول على الخدمات الصحية والأمنية.
- () (62) تقوم الدولة ببناء المدارس والجامعات، وتعمل على تطويرها.
- () (63) يجب احترام رجال الشرطة وتقدير دورهم في حمايتنا.

اكتب كلمة (صواب) أو كلمة (خطأ) أمام كل عبارة

سمير الغريب مذكرات تعليمية

- (64) يقدم مركز الحماية المدنية الدعم للمتضررين في الكوارث الطبيعية.) ()
- (65) يشارك رجال الشرطة في إنقاذ الأشخاص في الكوارث الطبيعية. ()
- (66) من الأسواق نشترى السلع والمنتجات المتنوعة والمختلفة. ()
- (67) الحفاظ على المقاعد والكتب والمكتبة ليس من واجبات التلميذ. ()
- (68) حُسن استخدام التكنولوجيا يُساعد على بناء مدينتنا في المستقبل. ()
- (69) يُمكن لنا التخلي عن قيمنا تاريخنا المصري القديم في المستقبل. ()
- (70) يُتوقع في المستقبل أن تكون وسائل المواصلات ملوثة للبيئة. ()
- (71) استخدام المزارع للآلات الزراعية الحديثة يساعد على زيادة الإنتاج. ()
- (72) شيد الملك إخناتون مدينة أخيتاتون على الضفة الغربية لنهر النيل. ()
- (73) يترتب على التخطيط الجيد للمدن حل مشكلتي التلوث والازدحام. ()
- (74) بناء مدينتنا المستقبلية يتطلب حُسن استخدام التكنولوجيا. ()
- (75) تم تقسيم محافظات مصر لتسهيل إدارتها. ()
- (76) تشتهر مدينة القاهرة بأنها مدينة الألف مئذنة. ()
- (77) محافظة الوادي الجديد هي أصغر محافظات مصر في المساحة. ()
- (78) تعمل الدولة على تطوير القاهرة والحفاظ على طابعها المعماري. ()
- (79) تُقسم مصر إدارياً إلى محافظات نظراً لاتساع مساحتها. ()
- (80) تم إنشاء العاصمة الإدارية الجديدة غرب محافظة القاهرة. ()
- (81) لكل محافظة شعار خاصة بها يختلف عن المحافظات الأخرى. ()

سمير الغريب مذكرات تعليمية

سمير الغريب مذكرات تعليمية

اكتب كلمة (صواب) أو كلمة (خطأ) أمام كل عبارة

- () (82) ظهرت الرايات قديماً على جدران المعابد والمسلات والمراكب.
- () (83) يتوسط علم مصر الحالي نس أخضر اللون.
- () (84) يرمز اللون الأبيض في علم مصر إلى الرخاء والسلام.
- () (85) لم تغير شكل علم مصر في العصر الحديث.
- () (86) يمكن لنا أن نرسم على علم مصر ونكتب عليه.
- () (87) يجب علينا أن نقف باحترام أثناء تحية العلم.
- () (88) المصريون القدماء هم أول من استخدموا الرايات والأعلام.
- () (89) ساعد موقع مصر على قيام الحضارة المصرية القديمة.
- () (90) نسبة الماء أقل من نسبة اليابس على الكرة الأرضية.
- () (91) عدد قارات العالم القديم 5 قارات.
- () (92) تُعد قارة أمريكا الشمالية من قارات العالم القديم.
- () (93) الماء له أشكال متعددة منها النهر والبحر والمحيط.
- () (94) المحيط المتجمد الشمالي هو أصغر المحيطات.
- () (95) الجيش المصري هو المسئول عن حماية حدود مصر.
- () (96) اختلاف ألوان الخريطة يدل على اختلاف تضاريس مصر.
- () (97) توجد جبال البحر الأحمر في الصحراء الغربية.
- () (98) تحيط المياه بشبه جزيرة سيناء من جميع الجهات.
- () (99) استفاد المصريون القدماء من الجبال في الحصول على المعادن.
- () (100) تطل مصر على بحرين هما البحر المتوسط والبحر الأحمر.
- () (101) بحيرة ناصر من البحيرات المالحة على ساحل البحر المتوسط.
- () (102) يجري النيل من الشمال إلى الجنوب ويصب في البحر المتوسط.

سمير الغريب مذكرات تعليمية

اكتب كلمة (صواب) أو كلمة (خطأ) أمام كل عبارة

سمير الغريب مذكرات تعليمية

- (103) طور الدكتور مصطفى السيد علاجًا للسرطان باستخدام الذهب. ()
- (104) إلقاء نفايات المصانع في الأنهار من السلوكيات غير المفيدة. ()
- (105) لُقّب الدكتور جمال حمدان بـ (عميد الأدب العربي). ()
- (106) الحفاظ على الحياة المستدامة مسؤولية الدولة فقط. ()
- (107) المعادن والبتروول من من الموارد الطبيعية المتجددة. ()
- (108) مبادرة (اتحضر للأخضر) هدفها الحفاظ على البيئة. ()
- (109) الرياح والشمس ينتجان الطاقة النظيفة. ()
- (110) الحفاظ على المعالم التاريخية واجب على كل مصري. ()
- (111) توفر المعالم التاريخية وظائف للمصريين من خلال السياحة. ()
- (112) يوجد المسرح الروماني في مدينة طيبة (الأقصر حاليًا). ()
- (113) سُمي الجامع الأزهر بهذا الاسم نسبة إلى السيدة فاطمة الزهراء. ()
- (114) لكل دولة معالم شهيرة تُظهر تاريخها وتجعلها مميزة عن غيرها. ()
- (115) يمكننا مشاهدة الأماكن الأثرية من الداخل دون الذهاب إليها. ()
- (116) المعالم التاريخية والأثرية تقلل من فرص العمل للمصريين. ()

سمير الغريب مذكرات تعليمية

السؤال الثاني: اختر الإجابة الصحيحة

سمير الغريب مذكرات تعليمية

- (1) الاتجاه الأصلي المقابل لاتجاه الجنوب هو اتجاه
(أ) الشرق (ب) الغرب (ج) الشمال (د) الليل
- (2) الاتجاه الذي يكون خلفك إذا واجهت الشمس وقت الشروق هو
(أ) الشمال (ب) الجنوب (ج) الشرق (د) الغرب
- (3) المسئول عن تصميم وبناء المنازل والمدارس هو
(أ) المهندس (ب) المعلم (ج) الطبيب (د) المزارع
- (4) يشير النجم القطبي إلى اتجاه
(أ) الشمال (ب) الجنوب (ج) الشرق (د) الغرب
- (5) المكان الذي يتعلم فيه التلاميذ ويتلقون دروسهم هو
(أ) النادي (ب) المستشفى (ج) السوق (د) المدرسة
- (6) استخدم الإنسان قديماً النجوم في معرفة الإتجاهات
(أ) صباحاً (ب) نهاراً (ج) ليلاً (د) ظهراً
- (7) تُلون المسطحات المائية مثل البحار على الخريطة باللون
(أ) الأخضر (ب) البني (ج) الأزرق (د) الأحمر
- (8) نعرف مدلول الألوان والرموز المستخدمة في الخريطة من
(أ) عنوان الخريطة (ب) مفتاح الخريطة (ج) وردة البوصلة (د) مقياس الرسم
- (9) يستخدم الخريطة في تحديد موقع الأرض الزراعية.
(أ) السائح (ب) المزارع (ج) الجندي (د) المهندس
- (10) العنصر المستخدم في شرح الرموز على الخريطة هو
(أ) عنوان الخريطة (ب) مفتاح الخريطة (ج) مقياس الرسم (د) وردة البوصلة
- (11) من الأماكن المرتفعة التي تُلون على الخريطة باللون البني
(أ) البحار (ب) البحيرات (ج) السهول (د) الجبال
- (12) تظهر المرتفعات مثل الهضاب على الخريطة باللون
(أ) الأخضر (ب) البني (ج) الأزرق (د) الأحمر

اختر الإجابة الصحيحة

سمير الغريب مذكرات تعليمية

- (13) من أهم إنجازات العالم العربي (الإدريسي)
- (أ) طور الأسطرلاب (ب) حفر المناجم (ج) رسم خريطة للعالم (د) اختراع البوصلة
- (14) كان والد عالمة العربية (مريم الأسطرلابي) يعمل في مجال
- (أ) الفلك (ب) الطب (ج) الهندسة (د) الكيمياء
- (15) استخدم المصريون القدماء لوصف مسار نهر النيل.
- (أ) تطبيق **GPS** (ب) الخرائط (ج) الأقمار الصناعية (د) الأسطرلاب
- (16) من أشهر العلماء العرب الذين رسموا خريطة للعالم
- (أ) الفارابي (ب) ابن الهيثم (ج) ابن النفيس (د) الإدريسي
- (17) يتم التقاط الصور الجوية لرسم الخرائط باستخدام
- (أ) صواريخ الفضاء (ب) مكوك الفضاء (ج) الطائرات (د) القمر الصناعي
- (18) من المصادر الأولية التي نستعين بها في جمع المعلومات
- (أ) المقالات (ب) الكتب (ج) الموسوعات (د) البرديات
- (19) الأحاديث غير الصحيحة التي يتناقلها الناس دون معرفة مصدرها
- (أ) الشائعات (ب) الآراء (ج) الحقائق (د) المقالات
- (20) المعلومات المتداولة دون التأكد من صحتها هي
- (أ) آراء (ب) حقائق (ج) انطباعات (د) شائعات
- (21) صنع المصريون القدماء ورق الكتابة من نبات
- (أ) القطن (ب) البردي (ج) الخشب (د) الكتان
- (22) من المصادر الثانوية التي نستعين بها في جمع المعلومات
- (أ) الآثار (ب) النقوش (ج) المقالات (د) البرديات
- (23) استغل المصري القديم الأراضي الخصبة في
- (أ) التجارة (ب) الزراعة (ج) الصناعة (د) السياحة
- (24) من المدن التي توجد على البحر المتوسط مدينة
- (أ) أسوان (ب) الخارجة (ج) الغردقة (د) الإسكندرية

اختر الإجابة الصحيحة

سمير الغريب مذكرات تعليمية

- (25) استغل المصري القديم الأراضي الخصبة في
 (أ) التجارة (ب) الزراعة (ج) الصناعة (د) السياحة
- (26) من المدن التي توجد على البحر المتوسط مدينة
 (أ) أسوان (ب) الخارجة (ج) الغردقة (د) الإسكندرية
- (27) تقع الكنيسة المعلقة في مدينة
 (أ) القاهرة (ب) الإسكندرية (ج) أسوان (د) الغردقة
- (28) تنتشر أنشطة الزراعة وتربية الحيوانات في
 (أ) المدن (ب) المنطقة الصناعية (ج) القرى (د) المنطقة السياحية
- (29) أول جامع أقيم في مصر هو
 (أ) الجامع الأزهر (ب) جامع النور (ج) جامع الفتح (د) جامع عمرو بن العاص
- (30) تتميز المدن والقرى في الحاضر بـ
 (أ) منازل بسيطة (ب) طرق ضيقة (ج) مباني حديثة (د) وسائل مواصلات محدودة
- (31) ساهمت الأجهزة الحديثة في
 (أ) ببطء الإنجاز (ب) زيادة المشكلات (ج) تعطيل التقديم (د) تسهيل الحياة
- (32) تتصف وسائل مواصلات المدن في الماضي بأنها
 (أ) سريعة (ب) حديثة (ج) محدودة (د) متطورة
- (33) تميزت الطرق في العصر الحاضر بأنها طرق
 (أ) ضيقة (ب) غير ممهدة (ج) غير صالحة (د) واسعة وممهدة
- (34) من الأدوات والأجهزة الحديثة التي يستخدمها الإنسان
 (أ) الغسالات (ب) المصباح الكهربائي (ج) الهواتف المحمولة (د) مصابيح الكيروسين
- (35) الشخص المسئول عن تقديم الخدمات التعليمية هو
 (أ) الطبيب (ب) المعلم (ج) المهندس (د) رجل الشرطة
- (36) عندما أرغب في الحصول على الخدمات الصحية أذهب إل
 (أ) المدرسة (ب) السوق (ج) النادي (د) المستشفى
- (37) يومركز الحماية المدنية الخدمات
 (أ) التجارية (ب) الصحية (ج) التعليمية (د) الأمنية

اختر الإجابة الصحيحة

سمير الغريب مذكرات تعليمية

- (38) نتعلم ونمارس الهوايات المفيدة في
 (أ) المدرسة (ب) السوق (ج) البنوك (د) المستشفى
- (39) عندما نرغب في شراء السلع والمنتجات نذهب إلى
 (أ) المدرسة (ب) السوق (ج) النادي (د) المستشفى
- (40) شيد الملك إخناتون مدينة على الضفة الشرقية لنهر النيل.
 (أ) القاهرة (ب) أحياتون (ج) العمرانية (د) الإسكندرية
- (41) يُتوقع أن تعتمد المُدن مستقبلاً في إنتاج الطاقة على
 (أ) الفحم (ب) البترول (ج) الغاز الطبيعي (د) طاقة الشمس
- (42) لتحويل ضوء الشمس إلى طاقة كهربية نستخدم
 (أ) البطاريات (ب) الألواح الشمسية (ج) المُولدات (د) المصابيح الكهربائية
- (43) استخدام المزارع آلات حديثة في الزراعة الإنتاج.
 (أ) يُضعف (ب) يُقلل (ج) يُزيد (د) يُهدد
- (44) التخطيط الجيد للمُدن حل مشكلتي
 (أ) الضوضاء (ب) التلوث (ج) احترام القوانين (د) زيادة الأسعار
- (45) أضغر محافظات مصر من حيث المساحة هي محافظة
 (أ) القاهرة (ب) دمياط (ج) السويس (د) الوادي الجديد
- (46) شعار محافظة القاهرة يحتوي على صورة
 (أ) الأهرامات (ب) نهر النيل (ج) الجامع الأزهر (د) قلعة صلاح الدين
- (47) تحتفل مدينة القاهرة بعيدها القومي في شهر من كل عام.
 (أ) مارس (ب) أبريل (ج) مايو (د) يوليو
- (48) تُسمى مدينة باسم جوهرة الشرق.
 (أ) القاهرة (ب) الإسكندرية (ج) أسوان (د) السويس
- (49) وضع القائد حجر الأساس لبناء مدينة القاهرة.
 (أ) إخناتون (ب) الإدريسي (ج) جوهر الصقلي (د) عمرو بن العاص

اختر الإجابة الصحيحة

سمير الغريب مذكرات تعليمية

- (50) يظهر علم مصر على شكل أفقي.
- (أ) مربع (ب) دائرة (ج) مستطيل (د) مثلث
- (51) اللون الذي يرمز إلى فترات الاستعمار في علم مصر هو اللون
- (أ) الذهبي (ب) الأسود (ج) الأحمر (د) الأبيض
- (52) يتكون علم مصر من ألوان.
- (أ) ثلاثة (ب) خمسة (ج) ستة (د) سبعة
- (53) النسر الموجود على علم مصر مستوحى من نسر
- (أ) الإدريسي (ب) صلاح الدين (ج) عمرو بن العاص (د) الصحراء
- (54) استخدم المصريون القدماء (الرايات) لتمييز
- (أ) مدنها (ب) منازلهم (ج) مقابرهم (د) أسلحتهم
- (55) من قارات العالم الجديد
- (أ) أستراليا (ب) إفريقيا (ج) آسيا (د) أوروبا
- (56) تحد دولة مصر من جهة الجنوب.
- (أ) فلسطين (ب) ليبيا (ج) السودان (د) العراق
- (57) تقع مصر في الركن من قارة إفريقيا.
- (أ) الشمالي الغربي (ب) الشمالي الشرقي (ج) الجنوب الغربي (د) الجنوب الشرقي
- (58) تبلغ مساحة مصر حوالي كيلو متر مربع.
- (أ) 3 مليون (ب) 2 مليون (ج) مليون (د) 4 مليون
- (59) أكبر محيطات الكرة الأرضية هو المحيط
- (أ) الأطلنطي (ب) الهادي (ج) الهندي (د) المتجد الشمالي

اختر الإجابة الصحيحة

سمير الغريب مذكرات تعليمية

- (60) تحيط المياه بالجزيرة من
- (أ) جهة واحدة (ب) جهتين (ج) ثلاث جهات (د) جميع الجهات
- (61) (مجرى مائي عذب)، تشير هذه العبارة إلى مفهوم
- (أ) الجبل (ب) النهر (ج) التل (د) الهضبة
- (62) تقع جبال سانت كاترين في
- (أ) الصحراء الشرقية (ب) الصحراء الغربية (ج) جنوب غرب مصر (د) شبه جزيرة سيناء
- (63) يصب نهر النيل في
- (أ) البحر الأحمر (ب) البحر المتوسط (ج) بحيرة ناصر (د) قناة السويس
- (64) تقع جزيرة شدوان في
- (أ) البحر الأحمر (ب) البحر المتوسط (ج) بحيرة ناصر (د) قناة السويس
- (65) من الموارد المتجددة التي يجب الحفاظ عليها
- (أ) المعادن (ب) البترول (ج) الفحم (د) الشمس
- (66) حصل الدكتور على جائزة نوبل في الكيمياء.
- (أ) أحمد زويل (ب) مصطفى السيد (ج) جمال حمدان (د) مجدي يعقوب
- (67) كان للدكتورة سميرة موسى جهودا كبيرة في مجال
- (أ) تطوير التعليم (ب) الطاقة النووية (ج) الجغرافيا (د) الكيمياء
- (68) الموارد الطبيعية غير المتجددة توجد بكميات في الطبيعة.
- (أ) كبيرة (ب) متوفرة (ج) محدودة (د) كثيرة
- (69) من الموارد غير المتجددة التي يجب المحافظة عليها
- (أ) الرياح (ب) الشمس (ج) البترول (د) التربة

اختر الإجابة الصحيحة

سمير الغريب مذكرات تعليمية

(70) يترتب على قيام الأفراد بالكتابة على المعالم التاريخية

(أ) حماية الآثار (ب) زيادة السياح (ج) ضرر بالآثار (د) تطوير الآثار

(71) يوجد المسرح الروماني في مدينة

(أ) الأقصر (ب) الإسكندرية (ج) القاهرة (د) الجيزة

(72) لقب الملك توت عنخ آمون بلقب الملك

(أ) العظيم (ب) الذهبي (ج) الفضي (د) القوي

(73) يوجد المسجد الأقصى في دولة

(أ) مصر (ب) السعودية (ج) فرنسا (د) فلسطين

(74) يوجد الجامع الأزهر في مدينة

(أ) الأقصر (ب) الإسكندرية (ج) القاهرة (د) الجيزة

السؤال الثالث: اكتب ما تشير إليه العبارة

- (1) نجم لامع في السماء يشير إلى اتجاه الشمال. (.....)
- (2) أداة تحتوي على إبرة مغناطيسية تشير إلى اتجاه الشمال. (.....)
- (3) رسم يوضح سطح الأرض باستخدام الرموز والألوان. (.....)
- (4) تساعدنا في تحديد موقع الأماكن والاتجاهات على الخريطة. (.....)
- (5) أداة فلكية قديمة استخدمت لتحديد الاتجاهات والمواقع. (.....)
- (6) صورة يتم التقاطها بواسطة الطائرات. (.....)
- (7) مصادر سُجلت بعد وقوع الحدث بفترة طويلة. (.....)
- (8) معلومات صحيحة تم التأكد منها، ويمكن إثباتها. (.....)
- (9) علم دراسة الأجسام السماوية مثل: النجوم والكواكب. (.....)
- (10) معلومات صحيحة تم التأكد منها، وإثبات صحتها. (.....)

اكتب ما تشير إليه العبارة

سمير الغريب مذكرات تعليمية

- (11) تجمع سكني تتركز فيه أنشطة الزراعة وتربية الحيوانات. (.....)
- (12) مناطق مخصصة للتنزه مثل الأندية الرياضية والحدائق. (.....)
- (13) وسيلة مواصلات استخدمها المصريون قبل السيارات. (.....)
- (14) مدينة تعرضت للتخريب على يد إسرائيل في حرب أكتوبر. (.....)
- (15) أماكن تقدم خدمات صحية للمرضى. (.....)
- (16) شخص يقوم بتقديم الخدمات التعليمية. (.....)
- (17) التفكير المسبق لتنظيم واستخدام الأرض وتحسين الحياة. (.....)
- (18) مدينة شيدها الملك إخناتون على الضفة الشرقية لنهر النيل. (.....)
- (19) جزء من الدولة تضم مجموعة من المراكز أو الأحياء. (.....)
- (20) راية تتخذها المحافظة رمزاً لها تعبر عنها. (.....)
- (21) عاصمة مصر وهي من أقدم المدن التاريخية في العالم. (.....)
- (22) رمز للدولة يمثلها ويعبر عن تاريخها وشعبها. (.....)
- (23) ما يتوسط العلم ولونه أصفر ذهبي. (.....)
- (24) مساحة واسعة من الأرض تضم عددًا من الدولة. (.....)
- (25) مساحة شاسعة وعميقة من المياه المالحة. (.....)
- (26) هي الخطوط الفاصلة بين كل دولة وغيرها من الدول. (.....)
- (27) أشكال سطح الأرض المختلفة ما بين مرتفعات ومنخفضات. (.....)
- (28) أرض مرتفعة قليلاً ولها قمة تقل عن 1000 متر. (.....)
- (29) مساحة من اليابس تحيط بها المياه من جميع الجهات. (.....)
- (30) مساحة من المياه المالحة أقل من المحيط. (.....)
- (31) مجرى مائي عذب. (.....)

السؤال الرابع: أكمل العبارات التالية بما يناسبها من كلمات سمير الغريب مذكرات تعليمية

- (1) النجم الذي يظهر في السماء ليلاً ويشير لاتجاه الشمال هو النجم.....
- (2) الاتجاه الفرعي الذي يقع بين الجنوب والغرب هو
- (3) تستخدم في تحديد الاتجاهات عن طريق حركة الإبرة المغناطيسية.
- (4) يوضح الألوان والرموز المستخدمة في الخريطة.
- (5) تُلون البحار والبحيرات على الخريطة باللون
- (6) استخدم المصريون القدماء المخططات والخرائط لوصف مسار
- (7) يتم التقاط الصورة الجوية بواسطة
- (8) تُستخدم الأقمار الصناعية في التقاط الصور
- (9) كان الأسطراب يستخدم قديماً في تحديد
- (10) كل ما تركه لنا الأجداد من مبانٍ وتماثيل وأدوات يُسمى
- (11) صنع المصريون القدماء ورق الكتابة من نبات
- (12) النقوش الأثرية الموجودة على جدران المعابد من مصدر للمعلومات.
- (13) توجد المدارس في المناطق
- (14) عرف المصري القديم الزراعة، واستقر على ضفاف
- (15) توجد مدينة بورسعيد على البحر
- (16) توجد المدارس في المناطق
- (17) عرف المصري القديم الزراعة، واستقر على ضفاف
- (18) توجد مدينة بورسعيد على البحر
- (19) تعرضت مدينة السويس لأضرار كبيرة وتدمير أثناء حرب
- (20) من مميزات الطرق في القرى والمدن في العصر الحاضر
- (21) من وسائل المواصلات المتطورة التي تتميز بالسرعة والأمان
- (22) الشخص المسئول عن تقديم الخدمات الصحية هو
- (23) المنشآت المسئولة عن تقديم الخدمات التجارية هي

سمير الغريب مذكرات تعليمية

أكمل العبارات التالية بما يناسبها من كلمات

- (24) حملة 100 مليون صحة تقوم بالكشف المبكر عن
- (25) التخطيط الجيد لبناء المدن يساعد على حل مشكلتي الازدحام و
- (26) يجب أن نتمسك بقيمنا التي تعلمناها من تاريخنا المصري مثل
- (27) شيد الملك (إخناتون) مدينة (أخيتاتون) على الضفة لنهر النيل.
- (28) عدد محافظات جمهورية مصر العربية محافظة.
- (29) راية تتخذها المحافظة رمزاً لها يُطلق عليها
- (30) من الأسماء التي سُميت بها مدينة القاهرة
- (31) اللون الذي يدل على فترات الاستعمار هو اللون
- (32) تغير شكل علم مصر أكثر من مرة في العصر
- (33) كان شعار مملكة الشمال قديماً هو نبات
- (34) يحد من جهة الشمال الشرقي دولة
- (35) نسبة أكبر من نسبة اليابس على الكرة الأرضية.
- (36) أكبر محيطات الكرة الأرضية هو المحيط
- (37) تحيط المياه بشبه الجزيرة من جهات فقط.
- (38) من أشهر الجزر المصرية في البحر الأحمر جزيرة
- (39) من البحيرات المالحة على ساحل البحر المتوسط
- (40) أُطلق لقب (عميد الأدب العربي) على الدكتور
- (41) حصل الدكتور أحمد زويل على جائزة نوبل في مجال
- (42) الموارد التي تتجدد باستمرار وهي غير قابلة للنفاد هي الموارد
- (43) تم بناء برج القاهرة على شكل زهرة المصرية القديمة.
- (44) يوجد دير سانت كاترين في محافظة
- (45) لُقّب الملك (توت عنخ آمون) بلقب الملك

(1) اذكر السبب: أهمية البوصلة الرقمية في الهاتف الذكي.

(2) ما العلاقة بين النجم القطبي والاتجاهات؟

(3) دلل (هات دليل) على براعة المصريين القدماء في علم الفلك.

(4) فسر: رسم المصريون القدماء الخرائط قديماً.

(5) بم تفسر (انكر السبب): أهمية رسم أي مخطط لأي مكان من الأعلى؟

(6) بم تفسر (انكر السبب): أهمية الخريطة للجندي.

(7) فسر أهمية الخريطة لقبطان السفينة.

(8) ما أهمية وردة البوصلة؟

(9) بم تفسر (انكر السبب): أهمية البوصلة الرقمية الموجودة في الهواتف الذكية؟

(10) ما العلاقة بين: الخريطة وقائد الطائرة؟

(11) بم تفسر (انكر السبب): أهمية الخريطة المزارع.

(12) فسر أهمية الخريطة للسائح.

أجب عما يأتي

سمير الغريب مذكرات تعليمية

(13) فسر أهمية الخريطة للتلميذ.

(14) فسر: عند رسم خريطة لدولة نستخدم الصور الفضائية.

(15) ما العلاقة بين: استخدام الأقمار الصناعية ورسم الخرائط.

(16) إلى من يرجع الفضل في تطوير الأسطرلاب؟

(17) ما الفرق بين الخرائط اليدوية والخرائط الرقمية؟

(18) اذكر السبب: كان للأسطرلاب أهمية كبيرة في الماضي.

(19) كيف اعترف العالم بفضل العالم العربية (مريم الأسطرلابي)؟

(20) فسر السبب: المصادر الأولية لها مميزات كثيرة.

(21) بم تفسر: أهمية الاستعانة بمصادر متعددة عند جمع المعلومات؟

(22) دلل على وجود اختلاف بين المصادر الأولية، والمصادر الثانوية.

(23) بم تفسر: استقر المصري القديم على ضفاف نهر النيل؟

(24) لماذا سُميت الكنيسة المعلقة بهذا الاسم؟

أجب عما يأتي

سمير الغريب مذكرات تعليمية

(23) بم تفسر: استقر المصري القديم على ضفاف نهر النيل؟

(26) ما أهمية المناطق السياحية؟

(27) وضح أهمية المناطق الزراعية للقرى والمدن.

(28) ما سبب بناء المناطق الصناعية بعيداً عن المناطق السكنية؟

(29) اذكر السبب: المناطق الزراعية ثروة قومية يجب الحفاظ عليها.

(30) لماذا سُميت الكنيسة المعلقة بهذا الاسم؟

(31) اذكر السبب: إنشاء المحاور مثل محور روض الفرج.

(32) اشرح فوائد استخدام الدراجات.

(33) ما الآثار السلبية لتطوير المدن.

(34) دلل على جهود الدولة في تطوير المدن المصرية.

أجب عما يأتي

سمير الغريب مذكرات تعليمية

(35) اكتب نتيجة لتصدي المقاومة الشعبية في السويس للعدو الإسرائيلي.

(36) اكتب سبب إنشاء الدولة عديد من المدن الجديدة في الصحراء.

(37) اذكر السبب: تراقب الدولة الأسواق.

(38) اذكر بعض الخدمات التي يقدمها رجال الشرطة.

(39) حدد واجبك نحو مدرستك.

(40) ما واجبك نحو المستشفيات؟

(41) اذكر أهمية مبادرة 100 مليون صحة.

(42) ما أهمية التخطيط المسبق لبناء المُدن؟

(43) ما نتيجة: اعتمادنا على الطاقة الشمسية؟

(44) بم تفسر: أهمية التخطيط قبل بناء المُدن؟

أجب عما يأتي

سمير الغريب مذكرات تعليمية

(45) دال على: براعة المصريين القدماء في تخطيط المُدن.

(46) ما النتائج المترتبة على: استخدام المزارع لآلات زراعية حديثة في المستقبل؟

(47) ما نتيجة أن: يضم المستشفى أجهزة للاستشفاء قائمة على الذكاء الاصطناعي؟

(48) ما العلاقة بين الاجتهاد في الدراسة وبناء مدينتنا المستقبلية؟

(49) بم تفسر: تم تقسيم مصر إلى عدد من المحافظات؟

(50) اذكر السبب: وجود شمس خلف الجامع الأزهر على شاعر محافظة القاهرة.

(51) هات دليل على: تَميُّز محافظة القاهرة عن غيرها من المحافظات.

(52) ما العلاقة بين القاهرة وجوهر الصقلي؟

(53) دال على: اهتمام الدولة بإنشاء مُدن تعتمد على التكنولوجيا الحديثة.

أجب عما يأتي

سمير الغريب مذكرات تعليمية

(54) اذكر سبباً: كان الملوك قديماً يستخدمون الرايات في المعارك.

(55) حدد نتيجة واحدة ترتبت على اتحاد مصر وليبيا وسوريا.

(56) دلل على صحة العبارة: يُرفع العلم المصري في كثير من الأماكن.

(57) بم تفسر: يتوسط علم مصر نسر لونه أصفر؟

(58) ما واجبنا نحو علم بلدنا مصر؟

(59) ما العلاقة بين علم مصر وصلاح الدين الأيوبي؟

(60) بم تفسر: يُطلق على كوكب الأرض اسم (الكوكب المائي)؟

(61) اذكر السبب: سُميت قارات العالم القديم بهذا الاسم.

(62) ما العلاقة بين موقع مصر وقيام الحضارة المصرية القديمة؟

(63) بم تفسر: تتميز مصر بموقع جغرافي فريد؟

أجب عما يأتي

سمير الغريب مذكرات تعليمية

(64) اكتب نتيجة: تطل مصر على البحرين الأحمر والمتوسط.

(65) بم تفسر: السهول الساحلية على البحر الأحمر تتميز بأنها ضيقة؟

(66) اذكر السبب: تسمية سيناء باسم (شبه جزيرة سيناء).

(67) دلل على: استفاد المصريون القدماء من الجبال والهضاب.

(68) اذكر السبب: السهول الساحلية في مصر لها أهمية كبيرة.

(69) ما العلاقة بين المعالم السياحية والاقتصاد المصري؟

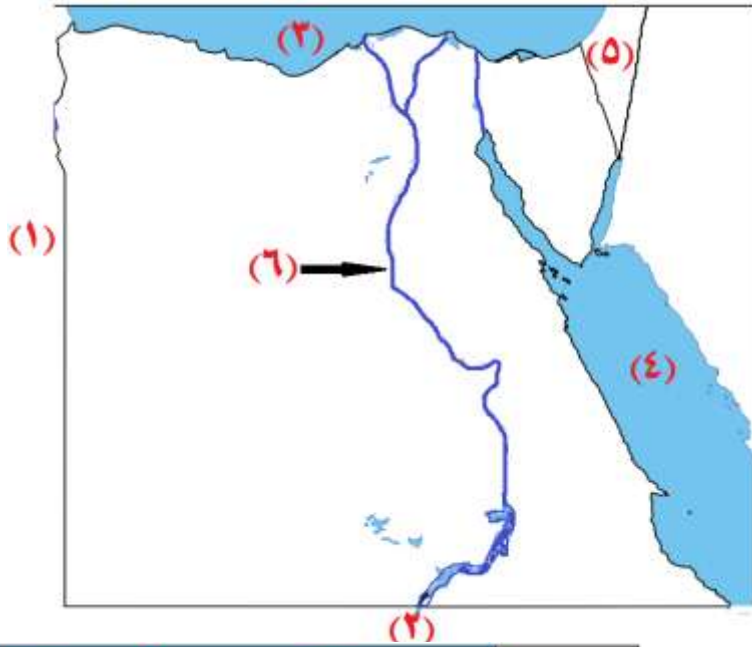
(70) هات دليلاً: المعالم السياحية لها أهمية كبيرة.

(71) بم تفسر: يتم تدريس التاريخ المصري في كثير من دول العالم؟

(72) ما النتائج المترتبة على كثرة المعالم التاريخية والأثرية في مصر؟

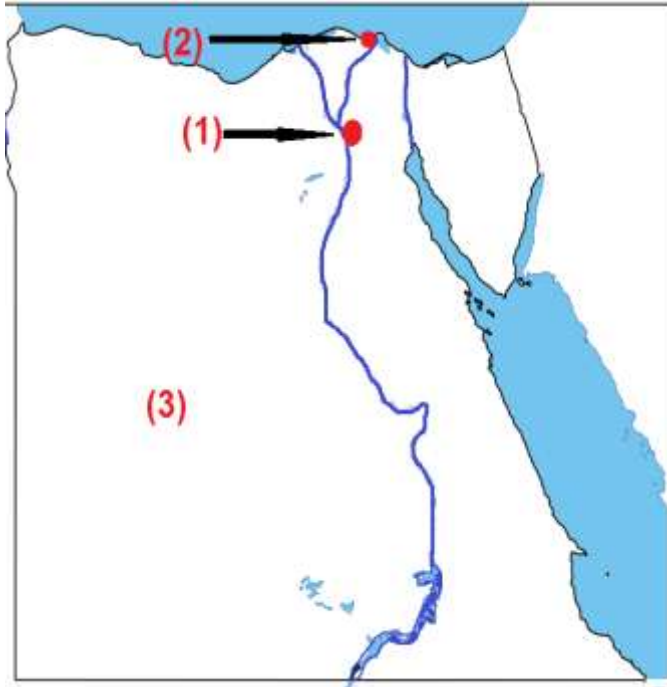
(73) اذكر اثنين من الأشياء التي يجب القيام بها عند زيارة الأماكن التاريخية.

السؤال السادس: (أ) لاحظ الخريطة المقابلة



- (1) دولة غرب مصر
- (2) دولة جنوب مصر
- (3) البحر
- (4) البحر
- (5) دولة شرق مصر
- (6) نهر

(ب) لاحظ الخريطة المقابلة، وأكمل



- يمثل رقم (1) على الخريطة المقابلة
عاصمة مصر
- يمثل رقم (2) على الخريطة أصغر محافظة
في مصر من حيث المساحة
- يمثل رقم (3) على الخريطة أكبر محافظة
في مصر من حيث المساحة

(ج) صل كل صورة بنوع المنطقة التي تنتمي إليها



(1) منطقة سياحية

(2) منطقة صناعية

(3) منطقة سكنية

(4) منطقة زراعية

السؤال السابع: (أ) اكتب تعريفا

سمير الغريب مذكرات تعليمية

(1) البوصلة:

(2) النجم القطبي:

(3) الخريطة:

(4) مقياس الرسم:

(5) نظام GPS:

(6) الأسطرلاب:

(ب) حدد نوع كل معلومة من الآتي (حقيقة - رأي)

- (1) عدد أيام الأسبوع 7 أيام، وعدد شهور السنة 12 شهرا. (.....)
- (2) مدينة الغردقة هي أجمل مدن البحر الأحمر. (.....)
- (3) اللون الأحمر هو أجمل الألوان. (.....)

(ج) صل من العمود (أ) ما يناسبه من العمود (ب)

(أ)	(ب)
(1) الإداريسي	• صورة يتم التقاطها بواسطة الطائرات. ()
(2) مريم الأسطرلابي	• صورة يتم التقاطها بواسطة القمر الصناعي. ()
(3) الصورة الجوية	• نظام يُستخدم في تحديد المواقع والاتجاهات. ()
(4) الصورة الفضائية	• هو عالم عربي وأول من رسم خريطة للعالم. ()
(5) نظام GPS	• طورت الأسطرلاب لتحديد الاتجاهات والمواقع. ()

(د) صل كل صورة باللون المناسب لها على الخريطة

(1) اللون البني

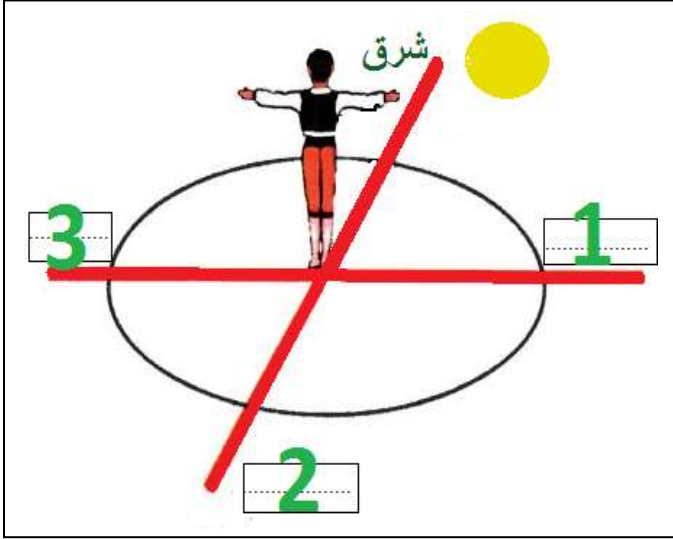
(2) اللون الأزرق



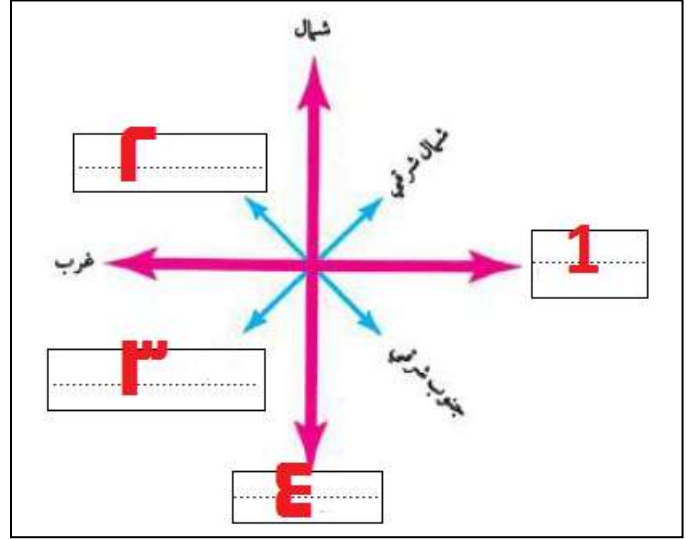
سمير الغريب مذكرات تعليمية

السؤال الثامن: (أ) أكمل الشكل بكلمة مناسبة

الصورة الثانية



الصورة الأولى



(ب) اكتب أسفل كل صورة (مصدر ثانوي أو مصدر أولي)



(2)

(1)



(4)

(3)

(ج) حدد أوجه الشبه والاختلاف بين الجزيرة وشبه الجزيرة مستخدماً

بنك الكلمات (شدوان - سيناء - اليابس - ثلاث جهات - أربع جهات)

الجزيرة	شبه الجزيرة	
.....	مساحة من	أوجه الشبه
يحيط بها الماء من	يحيط بها الماء من	أوجه الاختلاف
جزيرة	شبه جزيرة	مثال

السؤال التاسع: (أ) صل بين صورة ونوع الخدمة التي تناسبها

(1) الخدمات التعليمية

(2) الخدمات الصحية

(3) الخدمات الأمنية

(4) الخدمات التجارية



(ب) أكمل المقارنة بين القرى والمدن قديما وحديثا

المقارنة	في الماضي	في الحاضر
(1) المنازل
(2) الطرق
(3) وسائل المواصلات

(ج) صل من العمود (أ) ما يناسبه من العمود (ب)

(أ)	(ب)
(1) تميز المصريون القدماء ببراعة فائقة في	• التلوث. ()
(2) استخدام المزارع آلات حديثة في الزراعة	• تخطيط المُدن. ()
(3) التخطيط الجيد لبناء المدن يحل مشكلة	• يُزيد الإنتاج. ()


الدراسات الاجتماعية

الصف الرابع

مراجعة الفصل الدراسي الأول

سمي الغريب مذكرات تعليمية

الإجابة



السؤال الأول: اكتب كلمة (صواب) أو كلمة (خطأ)

× (5)	✓ (4)	× (3)	× (2)	✓ (1)
× (10)	× (9)	× (8)	✓ (7)	✓ (6)
✓ (15)	✓ (14)	✓ (13)	× (12)	✓ (11)
✓ (20)	✓ (19)	× (18)	✓ (17)	✓ (16)
✓ (25)	✓ (24)	✓ (23)	✓ (22)	✓ (21)
× (30)	✓ (29)	× (28)	× (27)	× (26)
× (35)	× (34)	✓ (33)	✓ (32)	✓ (31)
✓ (40)	✓ (39)	× (38)	✓ (37)	✓ (36)
✓ (46) × (45) ✓ (44)	✓ (43)	✓ (42)	× (41)	
× (51)	✓ (50)	× (49)	✓ (48)	× (47)
✓ (56)	✓ (55)	× (54)	✓ (53)	✓ (52)

× (61)	× (60)	✓ (59)	✓ (58)	× (57)
✓ (66)	✓ (65)	✓ (64)	✓ (63)	✓ (62)
✓ (71)	✓ (70)	× (69)	✓ (68)	× (67)
✓ (76)	✓ (75)	✓ (74)	✓ (73)	× (72)
✓ (81)	× (80)	✓ (79)	✓ (78)	× (77)
× (86)	× (85)	✓ (84)	× (83)	✓ (82)
× (91)	× (90)	✓ (89)	✓ (88)	✓ (87)
✓ (96)	✓ (95)	✓ (94)	✓ (93)	× (92)
× (101)	✓ (100)	✓ (99)	× (98)	× (97)
✓ (106)	× (105)	✓ (104)	✓ (103)	× (102)
✓ (111)	✓ (110)	✓ (109)	✓ (108)	× (107)
× (116)	✓ (115)	✓ (114)	✓ (113)	× (112)

السؤال الثاني: اختر الإجابة الصحيحة

- (1) (ج) (2) (د) (3) (أ) (4) (أ) (5) (د)
- (6) (ج) (7) (ج) (8) (ب) (9) (ب) (10) (ب)
- (11) (د) (12) (ب) (13) (ج) (14) (أ) (15) (ب)
- (16) (د) (17) (ج) (18) (د) (19) (أ) (20) (د)
- (21) (ب) (22) (ج) (23) (ب) (24) (د)
- (25) (ب) (26) (د) (27) (أ) (28) (ج) (29) (د)
- (30) (ج) (31) (د) (32) (ج) (33) (د) (34) (ج)
- (35) (ب) (36) (د) (36) (د) (38) (أ) (39) (ب)
- (40) (ب) (41) (د) (42) (ب) (43) (ج) (44) (ب)
- (45) (ب) (46) (ج) (47) (د) (48) (أ) (49) (ج)
- (50) (ج) (51) (ب) (52) (أ) (53) (ب) (54) (أ)
- (55) (أ) (56) (ج) (57) (ب) (58) (ج) (59) (ب)
- (60) (د) (61) (ب) (62) (د) (63) (ب) (64) (أ)
- (65) (د) (66) (أ) (67) (ب) (68) (ج) (69) (ج)
- (70) (ج) (71) (ب) (72) (ب) (73) (د) (74) (ج)

السؤال الرابع: اكتب ما تشير إليه العبارة

- | | | |
|---------------------|--------------------------|--------------------|
| (1) النجم القطبي | (2) البوصلة | (3) الخريطة |
| (4) وردة البوصلة | (5) الأسطرلاب | (6) الصورة الجوية |
| (7) المصادر الأولية | (8) الحقائق | (9) علم الفلك |
| (10) الحقيقة | (11) القرية | (12) مناطق ترفيهية |
| (13) الدرجات | (14) السويس | (15) المستشفيات |
| (16) المعلم | (17) التخطيط لبناء المدن | (18) أخيتاتون |
| (19) المحافظة | (20) الشعار | (21) القاهرة |
| (22) العلم | (23) النسر | (24) قارة |
| (25) المحيط | (26) الحدود الدولية | (27) التضاريس |
| (28) التل | (29) الجزيرة | (30) البحر |
| (31) النهر | | |

السؤال الرابع: أكمل العبارات التالية بما يناسبها من كلمات

- | | | |
|-------------------|---------------------|-------------------|
| (1) القطبي | (2) الجنوب الغربي | (3) البوصلة |
| (4) مفتاح الخريطة | (5) الأزرق | (6) نهر النيل |
| (7) الطائرات | (8) الفضائية | (9) وقت الصلاة |
| (10) آثار | (11) البردي | (12) أولي |
| (13) السكنية | (14) النيل | (15) المتوسط |
| (16) السكنية. | (17) نهر النيل | (18) المتوسط. |
| (19) 6 من أكتوبر | (20) واسعة وممهدة | (21) مترو الأنفاق |
| (22) الطبيب | (23) الأسواق | (24) الأمراض |
| (25) التلوث | (26) التعاون والكرم | (27) الشرقية |
| (28) 27 | (29) الشعار | (30) جوهرة الشرق |
| (31) الأسود | (32) الحديث | (33) البردي |
| (34) فلسطين | (35) المياه | (36) الهادي |
| (37) ثلاث | (38) شدوان | (39) المنزلة |
| (40) طه حسين | (41) الكيمياء | (42) المتجددة |
| (43) اللوتس | (44) جنوب سيناء | (45) الذهبي |

السؤال الخامس: أجب عما يأتي

سمير الغريب مذكرات تعليمية

- (1) لتحديد الاتجاهات بسرعة ودقة أكبر.
- (2) يُستخدم النجم القطبي في تحديد الاتجاهات ليلاً.
- (3) استعان المصريون القدماء بالنجم القطبي الشمالي لتحديد الاتجاهات ليلاً.
- (4) استخدم المصريون القدماء الخرائط لوصف مسار نهر النيل.
- (5) ساعد على معرفة تفاصيل المكان بطريقة أوضح.
- (6) يستخدم الجندي الخريطة في تحديد المواقع العسكرية.
- (7) يستخدم القبطان الخريطة في تحديد مسار الرحلات.
- (8) تساعدنا في تحديد موقع الأماكن والاتجاهات على الخريطة.
- (9) تحديد الاتجاهات بسرعة ودقة أكبر.
- (10) يستخدم قائد الطائرة الخريطة في تحديد مسار الرحلات.
- (11) يستخدم المزارع الخريطة في تحديد موقع الأرض الزراعية.
- (12) يستخدم السائح الخريطة في الوصول إلى الأماكن السياحية والأثرية.
- (13) يستخدم التلميذ الخريطة في المذاكرة.
- (14) لأنها تغطي مساحة واسعة من الأرض.
- (15) تُستخدم الأقمار الصناعية في رسم الخرائط.
- (16) مريم الأسطرلابي.
- (17) الخريطة الرقمية تعطي معلومات أدق من الخريطة اليدوية.
- (18) كان يستخدم في تحديد بداية الشهور وموعد الصلاة والقبلة.

- (19) تم تسمية أحد الكويكبات باسمها.
- (20) تتميز بالدقة.
- (21) الاستعانة بمصادر متعددة يساعد على جمع معلومات دقيقة وموثوق بها.
- (22) الأولوية: كُتبت في زمن وقوع الحدث، والثانوية: سُجلت بعد الحدث بفترة طويلة.
- (23) بسبب وجود المياه الذعبة والتربة الخصبة.
- (24) لأنها بُنيت فوق برجين من بقايا حصن عسكري قديم.
- (25) لوفرة المياه العذبة والأرض الخصبة.
- (26) تنشيط السياحة، وتوفير فرص عمل.
- (27) توفر المحاصيل والغذاء.
- (28) لتقليل التلوث البيئي.
- (29) لأنها توفر لنا المحاصيل والغذاء.
- (30) لأنها بُنيت فوق برجين من بقايا حصن عسكري قديم.
- (31) لتخفيف الازدحام المروري.
- (32) لا تلوث البيئة، غير مكلفة، تقوي العضلات.
- (33) زيادة التلوث، ارتفاع تكاليف الحياة.
- (34) تحسين محطات مياه الشرب، وتحديث شبكات الكهرباء والصرف الصحي.
- (35) منعه من دخول السويس، و تعرضت أجزاء من مدينة السويس لأضرار كبيرة.
- (36) بهدف تقليل الازدحام.

- (37) لمنع الغلاء والتأكد من صلاحية المنتجات وسلامتها.
- (38) حفظ الأمن وضبط الخارجين عن القانون وتنظيم المرور والنجدة وإطفاء الحرائق
- (39) نحافظ على المقاعد والكتب والمكتبة، لا نكتب على الجدران، نحترم المعلمين.
- (40) نلتزم بالهدوء عند زيارة المرضى، ونحترم الأطباء.
- (41) الكشف المبكر عن الأمراض.
- (42) حل المشكلات مثل: الازدحام والتلوث.
- (43) يقل التلوث.
- (44) حل المشكلات مثل: الازدحام والتلوث.
- (45) بناء مدينة (أخيتاتون) التي بناها الملك (إخناتون).
- (46) تجعل الزراعة أسهل، وتُرشد الماء، وتُزيد الإنتاج.
- (47) تشخيص (تحديد) الأمراض وعلاجها في أقصر وقت.
- (48) الاجتهاد في الدراسة يساعدنا على بناء مدينتنا المستقبلية.
- (49) بسبب اتساع مساحة مصر، لتسهيل إدارتها وتنظيم شئونها.
- (50) لتعبر عن أنه منارة الإسلام في العالم.
- (51) أنها عاصمة مصر، وأقدم المُدن التاريخية في العالم.
- (52) بنى جوهر الصقلي مدينة القاهرة.
- (53) بناء العاصمة الإدارية الجديدة شرق محافظة القاهرة.
- (54) لتميز جيوشهم وتشجيعهم على القتال.
- (55) تغير علم مصر.

- (56) يرفع العلم في المدارس والوزارات والهيئات والمؤسسات الحكومية.
- (57) رمز القوة ومستوحى من نسر صلاح الدين الأيوبي.
- (58) نحافظ عليه، و نقف باحترام أثناء تحية العلم.
- (59) النسر مستوحى من نسر صلاح الدين الأيوبي.
- (60) لأن نسبة الماء أكبر من نسبة اليابس على الكرة الأرضية.
- (61) لأن الإنسان عرفها منذ القدم.
- (62) ساعد على قيام الحضارة المصرية القديمة وسهولة تواصلها مع الحضارات.
- (63) تتميز مصر بموقع جغرافي فريد؛ لأنها تقع في قلب قارات العالم القديم.
- (64) ساعد على قيام مصر بدور مهم في التجارة الدولية.
- (65) بسبب اقتراب الجبال.
- (66) تحيط بها المياه من ثلاث جهات.
- (67) الحصول على المعادن المهمة، وصنع الأدوات.
- (68) تجذب السائحين؛ وساعد ذلك على توفير فرص العمل.
- (69) تجذب المعالم السياحية السياح وتوفر فرص عمل وتقوي الاقتصاد.
- (70) تجذب المعالم السياحية السياح وتوفر فرص عمل وتقوي الاقتصاد.
- (71) لأن الحضارة المصرية من أعظم الحضارات في التاريخ
- (72) تجذب المعالم السياحية السياح وتوفر فرص عمل وتقوي الاقتصاد.
- (73) الحفاظ على نظافة المكان، عدم الكتابة على الآثار وحسن معاملة السياح.

سمير الغريب مذكرات تعليمية

السؤال السادس: (أ) لاحظ الخريطة المقابلة

- (1) ليبيا (2) السودان (3) المتوسط
- (4) الأحمر (5) فلسطين (6) النيل

(ب) لاحظ الخريطة المقابلة

- (1) القاهرة (2) دمياط (3) الوادي الجديد

(ج) صل كل صورة بنوع المنطقة التي تنتمي إليها

(1) منطقة سياحية

(2) منطقة صناعية

(3) منطقة سكنية

(4) منطقة زراعية

السؤال السابع: اكتب تعريفا

- (1) البوصلة: أداة تحتوي على إبرة مغناطيسية تشير إلى اتجاه الشمال المغناطيسي.
- (2) النجم القطبي: نجم لامع في السماء يشير إلى اتجاه الشمال.
- (3) الخريطة: رسم مصغر يوضح سطح الأرض أو جزءاً منه باستخدام الرموز والألوان.
- (4) مقياس الرسم: النسبة بين المسافة على الخريطة وما يقابلها على أرض الواقع.
- (5) نظام GPS: نظام يعتمد على الأقمار الصناعية في تحديد المواقع والاتجاهات.
- (6) الأسطرلاب: أداة قديمة استخدمت لتحديد الاتجاهات والمواقع من خلال النجوم.

(ب) حدد نوع كل معلومة من الآتي (حقيقة - رأي)

(1) حقيقة (2) رأي (3) رأي

(ج) صل من العمود (أ) ما يناسبه من العمود (ب)

بالترتيب (3) (4) (5) (1) (2)

(د) صل كل صورة باللون المناسب لها على الخريطة

(1) الجبل (2) البحيرة

السؤال الثامن: (أ) أكمل الشكل بكلمة مناسبة

الصورة الأولى:

(1) شرق (2) شمال غربي (3) جنوب غربي (4) جنوب

الصورة الأولى:

(1) جنوب (2) غرب (3) شمال

(ب) اكتب أسفل كل صورة (مصدر ثانوي أو مصدر أولي)

(1) ثانوي (2) أولي (3) أولي (4) ثانوي

(ج) حدد أوجه الشبه والاختلاف بين الجزيرة وشبه الجزيرة

الجزيرة	شبه الجزيرة	
	مساحة من اليابس	أوجه الشبه
يحيط بها الماء من أربع جهات	يحيط بها الماء من ثلاث جهات	أوجه الاختلاف
جزيرة شدوان	شبه جزيرة سيناء	مثال

السؤال التاسع: صل بين صورة ونوع الخدمة التي تناسبها



(1) الخدمات التعليمية

(2) الخدمات الصحية

(3) الخدمات الأمنية

(4) الخدمات التجارية



(ب) أكمل المقارنة بين القرى والمدن قديما وحديثا

في الحاضر	في الماضي	المقارنة
• مباني حديثة وأحياء جديدة.	• منازل بسيطة.	(1) المنازل
• واسعة وممهدة.	• ضيقة وغير ممهدة.	(2) الطرق
• متنوعة وأكثر سهولة وراحة.	• محدودة.	(3) وسائل المواصلات

(ج) صل من العمود (أ) ما يناسبه من العمود (ب)

(ب)	(أ)
• التلوث. (3)	(1) تميز المصريون القدماء ببراعة فائقة في
• تخطيط المدن. (1)	(2) استخدام المزارع آلات حديثة في الزراعة
• يزيد الإنتاج. (2)	(3) التخطيط الجيد لبناء المدن يحل مشكلة

تطبيق



مذكرات جاهزة للطباعة

لتحميل الملفات التعليمية مجاناً للمعلم والطالب

مذكرات وملازم / مراجعات وملخصات / امتحانات / كتب الوزارة /
أدلة المعلم / دفاتر التحضير / سجلات مدرسية / أوراق تأسيس

امسح الكود بموبايلك علشان تقدر تثبت التطبيق

وتقدر فأي وقت تحمّل ال نفسك فيه ببلاش

هيغنيك عن البحث والجروبات والقنوات الكثيرة



تطبيق الموبايل لتحميل الملفات