

المتوفى

وق

الصف السادس الإبتدائي

2026

الدراسات

الاجتماعية

الفصل الدراسي الأول

اعداد | مستر حاتم عاطف



01066015065



المحتويات

الوحدة الأولى: وطننا العربي (خصائص وتحديات)

الدرس الأول: وطننا العربي الموقع - الأهمية) ..

الدرس الثاني: تضاريس وطننا العربي.

الدرس الثالث: وطننا العربي (المناخ - النبات الطبيعي).

الدرس الرابع: التحديات البيئية في وطننا العربي

تقييم الكتاب المدرسي علي الوحدة الأولى.

مراجعة عامة علي الوحدة الاولي

الوحدة الثانية: الدولة الإسلامية من النشأة إلى العالمية

الدرس الأول: نشبه الجزيرة العربية قبل وبعد ظهور الإسلام)

الدرس الثاني: الهجرة وعالمية الدعوة.

الدرس الثالث: إنجازات الخلفاء الراشدين (رضي الله عنهم).

الدرس الرابع: الدولة الإسلامية (الأمويون - العباسيون).

تقييم الكتاب المدرسي علي الوحدة الثانية.

مراجعة عامة علي الوحدة الثانية

في الدراسات الاجتماعية

الوحدة الثالثة: وطننا العربي والتنمية الاقتصادية

الدرس الأول: النشاط الزراعي في وطننا العربي.

الدرس الثاني: الثروة الحيوانية والسمكية في وطننا العربي.

الدرس الثالث: المعادن ومصادر الطاقة في وطننا العربي

الدرس الرابع: النشاط السياحي في وطننا العربي

تقييم الكتاب المدرسي علي الوحدة الثالثة.

مراجعة عامة علي الوحدة الثالثة

مراجعة عامة على الفصل الدراسي الأول.

الوحدة الأولى

العربي الأول

وطننا العربي الموقع - الأهمية

لكل إنسان وطن ينتمي إليه وبعيش فيه، وتحرص مصر منذ القدم على إقامة علاقات طيبة مع الدول العربية، قائمة على التعاون والاحترام المتبادل.

الوطن العربي

ما المقصود

مساحة الوطن العربي

أولا

الدول العربية التي يجمعها لغة وعادات وتقاليد واحدة وتاريخ مشترك.

- وطننا العربي يضم (٢٢) دولة، هذه الدول تقع في قارتين هما **إفريقيا وآسيا**، يفصل بينهما البحر الأحمر بين جناحيه (الآسيوي والأفريقي)
 - وتبلغ مساحة وطننا العربي حوالي (١٣) مليون كيلومتر مربع، ويتركز معظم اليابس في الجناح الأفريقي
- هيا بنا نبدأ رحلتنا ونتعرف على أسماء هذه الدول ومواقعها على الخريطة.



خريطة (١) دول الوطن العربي

دول الجناح
الآسيوي

تمثل ٢٨٪ من مساحة
الوطن العربي، ويبلغ
عددتها ١٢ دولة هي:

فلسطين، الأردن، لبنان،
سوريا، العراق، الكويت،
السعودية، البحرين،
قطر، الإمارات، عمان،
اليمن).

دول الجناح
الإفريقي

تمثل ٧٢٪ من مساحة
الوطن العربي، ويبلغ
عددتها ١٠ دول هي

(مصر، السودان - ليبيا
تونس - الجزائر - المغرب
موريتانيا، جيبوتي،
الصومال، جزر القمر
«تقع في المحيط الهندي».



الجزائر أكبر الدول العربية مساحة

البحرين أصغرها مساحة

ثانيا

الموقع الجغرافي للوطن العربي

ما المقصود

الموقع الجغرافي

هو موقع المكان بالنسبة لليابس والماء.

- تطل جميع دول وطننا العربي علي مسطحات مائية
- يقع وطننا العربي في وسط قارات العالم القديم (إفريقيا وآسيا وأوروبا)، ما النتائج المترتبة؟ مما جعله يحتل مكانة مهمة بين دول العالم.
- ويحيط به حدود طبيعية تتمثل فيما يلي:

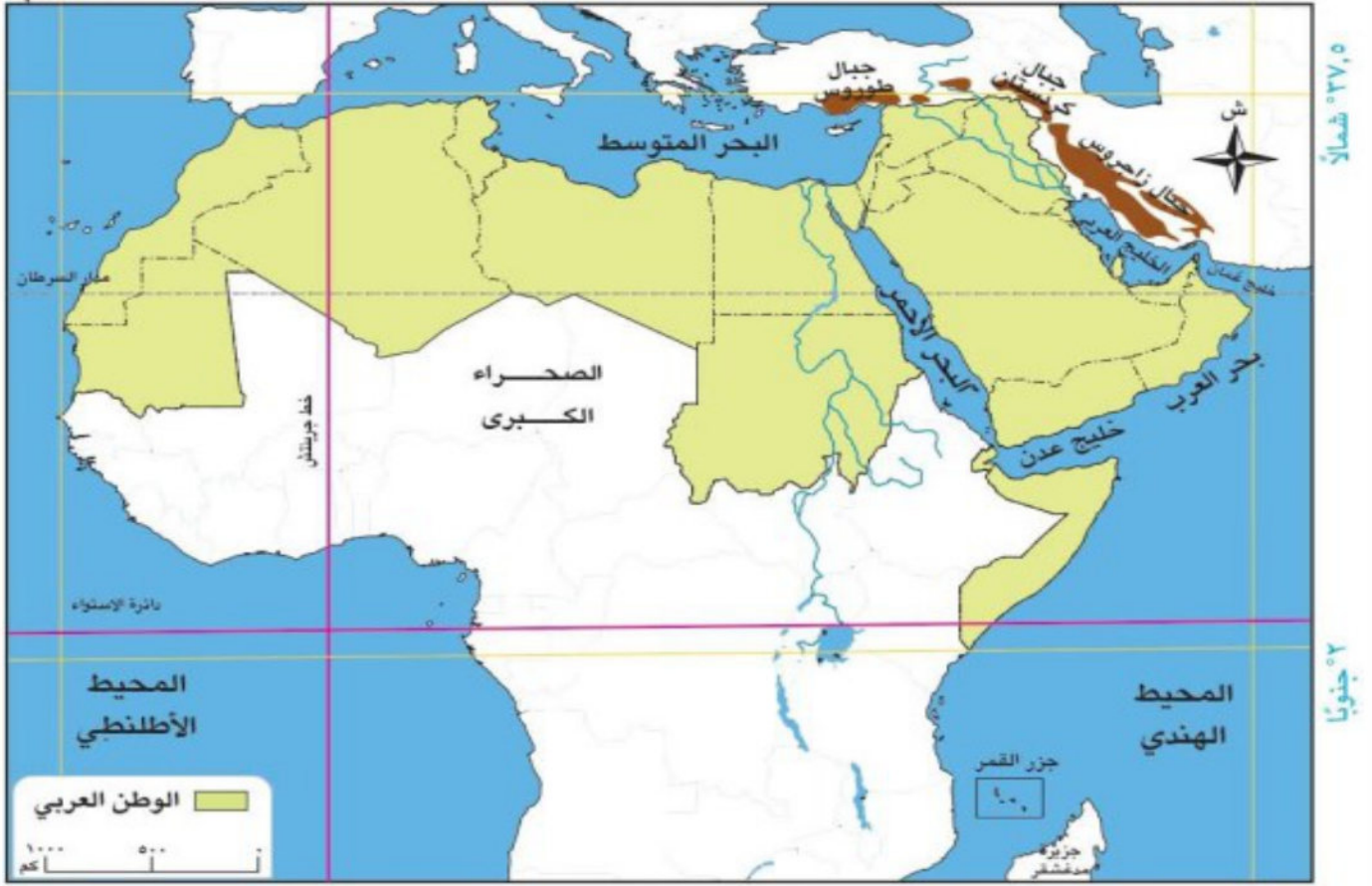
الحدود الشرقية : جبال كردستان جبال زاغروس الخليج العربي، خليج عمان.

الحدود الشمالية : البحر المتوسط، جبال طوروس

الحدود الجنوبية : المحيط الهندي، بحر العرب الصحراء الكبرى.

الحدود الغربية : المحيط الأطلسي.

الوطن



خريطة (٢) الموقع الجغرافي للوطن العربي

حقائق تاريخية

الحدود الطبيعية للوطن العربي أثرت في تاريخه وحضارته، ولم تمنع تواصله مع العالم الخارجي.

الموقع الفلكي

ما المقصود

الموقع الفلكي للوطن العربي

ثالثاً

هو موقع المكان بالنسبة لخطوط الطول ودوائر العرض

يمتد الوطن العربي بين

- ❖ دائرتي عرض ٢ جنوباً و ٣٧,٥ شمالاً
- ❖ وخطي طول ٦٠ شرقاً و ١٧ غرباً.
- يمر بالوطن العربي دوائر عرض رئيسية وهي دائرة الاستواء في الجنوب، ومدار السرطان الذي يمر في منتصفه تقريباً.
- يمر خط الطول الرئيسي (جرينتش) غرب الوطن العربي وتحديداً بدولة الجزائر.
- دولة جزر القمر هي الدولة العربية الوحيدة التي تقع خارج النطاق الفلكي للوطن العربي.

ما النتائج المترتبة على الموقع الفلكي للوطن العربي ؟

أدى إلى وقوع معظمه في النصف الشمالي من الكرة الأرضية، وأثر على مناخه ونباتاته الطبيعية.

اختر الاجابة الصحيحة من بين الأقواس:

- يحد الوطن العربي بشرقا (الخليج العربي - المحيط الاطلنطي - البحر المتوسط - خليج عدن)
 - يحد الوطن العربي غربا (البحر العربي - المحيط الاطلنطي - جبال كردستان - البحر المتوسط)
- أكمل ما يأتي:**

- يقع الوطن العربي وسط قارات العالم القديم الثلاث وهي و و
 - تمتد أراضي الوطن العربي بين قارتين هما و
- ما النتائج المترتبة علي**
- الموقع الفلكي للوطن العربي؟

أهمية موقع وطننا العربي

رابعاً

الأهمية الحضارية للوطن العربي:

١


ترجع إلى الحضارات القديمة التي نشأت على أرض الوطن العربي، منها الحضارة المصرية وحضارة العراق وحضارة اليمن



حضارة اليمن



حضارة العراق



الحضارة المصرية

**اعداد /
مستتر حاتم عاطف****الأهمية الدينية للوطن العربي:**

٢

الوطن العربي مهد الديانات السماوية الثلاث (اليهودية - المسيحية - الإسلام)، والتي تمثلها أماكن مقدسة يقصدها الزائرون من جميع أنحاء العالم، مثل: بيت الله الحرام (الكعبة المشرفة)، والمسجد الأقصى، وكنيسة المهد.



كنيسة المهد بفلسطين



المسجد الأقصى بفلسطين



الكعبة المشرفة بالسعودية

الأهمية الإستراتيجية للوطن العربي

٣

يتمتع الوطن العربي بأهمية إستراتيجية كبيرة؛ وذلك بسبب:

تحكمه في ممرات مائية هامة مثل قناة السويس - مضيق هرمز - مضيق جبل طارق - مضيق باب المندب - مضيق جبل طارق

مضيق باب المندب

- يربط بين البحر الاحمر وخليج عدن وتطل عليه دولتا اليمن وجيبوتي

مضيق جبل طارق

- يربط بين البحر المتوسط والمحيط الاطلسي وتطل عليه من الجنوب دولة المغرب

قناة السويس

- تصل بين البحر المتوسط والبحر الاحمر وتوجد في مصر

مضيق هرمز

- يربط بين الخليج العربي وخليج عمان وتطل عليه دولة عمان

١ مضيق باب المندب



٢ مضيق جبل طارق



٣ قناة السويس



٤ مضيق هرمز



ما النتائج المترتبة علي الاهمية الاستراتيجية للوطن العربي؟

في الدراسات الاجتماعية

أصبح له أهمية كبيرة وقت الحروب والصراعات الدولية.



خريطة (٣) الممرات المائية بالوطن العربي

الأهمية الاقتصادية للوطن العربي

٤

يتمتع الوطن العربي بأهمية اقتصادية كبيرة **بم تفسر؟**؛ وذلك لأنه:

- يُطل على مسطحات مائية مهمة منها البحر المتوسط والبحر الأحمر والخليج العربي، **ما النتائج المترتبة على** مما جعله يتحكم في طرق التجارة العالمية.
- اتساع مساحة الوطن العربي وتنوع الموارد الطبيعية به مثل المعادن والبتروول والأقاليم المناخية والنباتية، **ما النتائج المترتبة على** مما يساعد على تنوع الإنتاج وزيادة النشاط الاقتصادي في الوطن العربي.

ما النتائج المترتبة على الموقع الجغرافي المتميز والثروات الطبيعية للوطن العربي؟

جعل ذلك مطمعا لكثير من المحتلين عبر العصور المختلفة، حيث حاولوا السيطرة عليه من أجل نهب ثرواته والتحكم في موقعه وممراته الحيوية.

سلسلة

فكر وأجب

أكمل العبارات الآتية:

- الممر المائي الذي يربط بين البحرين الأحمر والمتوسط هو.....
- يربط مضيق جبل طارق بين البحر.....والمحيط
- الدولتان اللتان تشرفان على مضيق باب المندب دولة..... ودولة.....
- تشرف دولة عُمان على مضيق.....

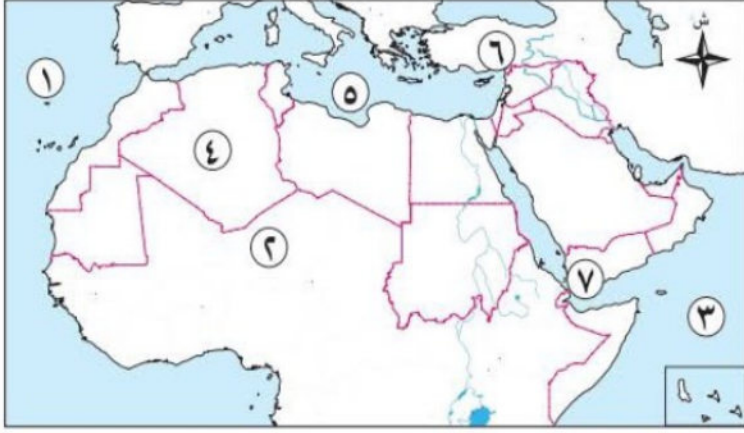
بم تفسر

- يتمتع الوطن العربي بأهمية اقتصادية كبيرة

مسئور باسم عاطف

تدريبات الدرس

اكتب مدلول الأرقام التالية على الخريطة



١. المحيط
٢. الصحراء
٣. المحيط
٤. أكبر الدول العربية مساحة
٥. البحر
٦. جبال
٧. مضيق

أكمل العبارات الآتية:

١. يقع الوطن العربي وسط قارات العالم القديم الثلاث وهي و و
٢. تمتد أراضي الوطن العربي بين قارتين هما و
٣. يمتد الوطن العربي بين دائرتي عرض جنوبًا و شمالًا.
٤. تعرض الوطن العربي للاحتلال بسبب
٥. الجزء الأكبر من مساحة الوطن العربي يقع في الجناح
٦. يمر خط الطول الرئيسي (جرينتش) غرب الوطن العربي في دولة
٧. الدولة العربية الوحيدة التي تقع خارج النطاق الفلكي للوطن العربي هي
٨. الممر المائي الذي يربط بين البحرين الأحمر والمتوسط هو
٩. يربط مضيق جبل طارق بين البحر والمحيط
١٠. الدولتان اللتان تشرفان على مضيق باب المندب هما و
١١. تشرف دولة عُمان على مضيق
١٢. أكبر الدول العربية من حيث المساحة هي

اختر الإجابة الصحيحة مما بين الأقواس:

١. يحد الوطن العربي شرقًا
- (الخليج العربي - المحيط الأطلسي - البحر المتوسط - خليج عدن)
٢. يحد الوطن العربي غربًا
- (البحر العربي - المحيط الأطلسي - جبال كردستان - البحر المتوسط)
٣. يمتد الوطن العربي في قارتي
- (أوروبا وإفريقيا - إفريقيا وآسيا - أوروبا وآسيا - إفريقيا وأستراليا)
٤. يمر خط الطول الرئيسي (جرينتش) غرب الوطن العربي في دولة
- (مصر - السعودية - تونس - الجزائر)
٥. الدولة العربية الوحيدة التي تقع خارج النطاق الفلكي للوطن العربي هي

(البحرين - جزر القمر - الكويت - جيبوتي)

٦. أكبر الدول العربية من حيث المساحة هي

(السودان - الجزائر - السعودية - ليبيا)

٧. أصغر الدول العربية من حيث المساحة هي

(البحرين - قطر - الكويت - لبنان)

٨. الممر المائي الذي يربط البحرين الأحمر والمتوسط هو

(قناة السويس - مضيق هرمز - مضيق باب المندب - مضيق جبل طارق)

٩. يربط مضيق جبل طارق بين البحر والمحيط

(المتوسط والأطلنطي - الأحمر والهندي - العربي والأطلنطي - المتوسط والهندي)

١٠. الدولتان اللتان تشرفان على مضيق باب المندب هما و

(السعودية واليمن - مصر وجيبوتي - اليمن وجيبوتي - اليمن والصومال)

١١. تشرف دولة عُمان على مضيق

(هرمز - باب المندب - جبل طارق - تيران)

١٢. مدار السرطان يمر

(شمال الوطن العربي - جنوب الوطن العربي - في منتصف الوطن العربي تقريبًا - شرق الوطن العربي)

١٣. دائرة الاستواء تمر

(شمال الوطن العربي - جنوب الوطن العربي - في منتصف الوطن العربي - شرق الوطن العربي)

١٤. الوطن العربي يضم عدد دولة عربية.

(٢٠ - ٢١ - ٢٢ - ٢٣)

١٥. البحر الذي يفصل بين جناحي الوطن العربي الآسيوي والأفريقي هو

(البحر الأحمر - البحر المتوسط - بحر العرب - الخليج العربي)

ضع كلمة صواب أو خطأ

١. يجمع الدول العربية لغة وعادات وتقاليد وتاريخ مشترك. ()
٢. تقع جبال طوروس شرق الوطن العربي. ()
٣. تطل دولتان عربيتان على المحيط الأطلنطي. ()
٤. تقع دولة جزر القمر خارج النطاق الفلكي للوطن العربي. ()
٥. يمر مدار الجدي جنوب الوطن العربي. ()
٦. يمر خط الطول جرينتش غرب الوطن العربي في دولة الجزائر. ()
٧. يمتد الوطن العربي بين دائرتي عرض ٢ جنوبًا و ٣٧,٥ شمالًا. ()
٨. تقع جميع دول الوطن العربي في قارة إفريقيا. ()
٩. يطل الوطن العربي على البحر المتوسط والخليج العربي. ()

١٠. يشرف اليمن وجيبوتي على مضيق باب المندب. ()

ما المقصود بالمصطلحات التالية:

- الموقع الجغرافي
- الموقع الفلكي

أكتب ما تشير إليه العبارات الآتية:

١. أصغر الدول العربية مساحة.
٢. الممر المائي الذي يربط البحر الأحمر بالبحر المتوسط.
٣. الدولة التي يمر بها خط جرينتش في الوطن العربي.
٤. الدولة العربية الوحيدة التي تقع خارج النطاق الفلكي للوطن العربي.

بم تفسر:

١. الأهمية الدينية للوطن العربي.
٢. يتمتع الوطن العربي بأهمية اقتصادية كبيرة.
٣. للوطن العربي أهمية استراتيجية كبيرة.
٤. تعرض الوطن العربي للاحتلال عبر العصور.
٥. تنوع الإنتاج الاقتصادي في الوطن العربي.

ما النتائج المترتبة على

١. الموقع الفلكي للوطن العربي؟
٢. الأهمية الاستراتيجية للوطن العربي؟
٣. الموقع الجغرافي المتميز للوطن العربي؟
٤. اتساع مساحة الوطن العربي وتنوع موارده الطبيعية؟
٥. تحكم الوطن العربي في ممرات مائية هامة؟

دل على صحة العبارات:

١. تتنوع المسطحات المائية التي يطل الوطن العربي عليها.
٢. للوطن العربي أهمية استراتيجية كبيرة.

ما العلاقة بين:

١. اتساع مساحة الوطن العربي وتنوع موارده الطبيعية.
٢. الموقع الجغرافي للوطن العربي وطرق التجارة العالمية.

قارن بين:

١. الأهمية الحضارية والأهمية الدينية للوطن العربي.
٢. الموقع الجغرافي والموقع الفلكي للوطن العربي.

الوحدة الأولى

تضاريس وطننا العربي

الدرس الثاني

عوامل تشكيل سطح الوطن العربي

أولاً

يتميز وطننا العربي بتضاريس متنوعة ما بين جبال شاهقة وهضاب واسعة وسهول فيضية خصبة ساعدت على الاستقرار، تكونت منذ ملايين السنين بفعل عوامل باطنية (داخلية) وأخرى سطحية (خارجية).

تنقسم عوامل تشكيل سطح الوطن العربي إلى:



مظاهر السطح في الوطن العربي.

ثانياً

لاحظ الخريطة التالية، وتعرف على مظاهر سطح وطننا العربي:



خريطة (١) تضاريس الوطن العربي

الجبال

١

تتقسم الجبال في الوطن العربي إلى نوعين هما :

الجبال الالتوائية

- سبب النشأة
- نشأت نتيجة حركات التوائية تعرضت لها الأرض.

الجبال الانكسارية

- سبب النشأة
- نشأت نتيجة حركات انكسارية في القشرة الأرضية

أمثلة في الجناح الإفريقي

جبال **أطلس** التي تمتد في ثلاث دول هي **المغرب والجزائر وتونس**، وبها أعلى جبل بالوطن العربي وهو **جبل توبقال**.

سلاسل جبال **البحر الأحمر** في **مصر والسودان**

أمثلة في الجناح الآسيوي

جبال **زاجروس** و**جبال عمان**.

سلاسل جبال **الحجاز** و**عسير** و**مرتفعات اليمن** في **السعودية** و**اليمن**.



جبال أطلس

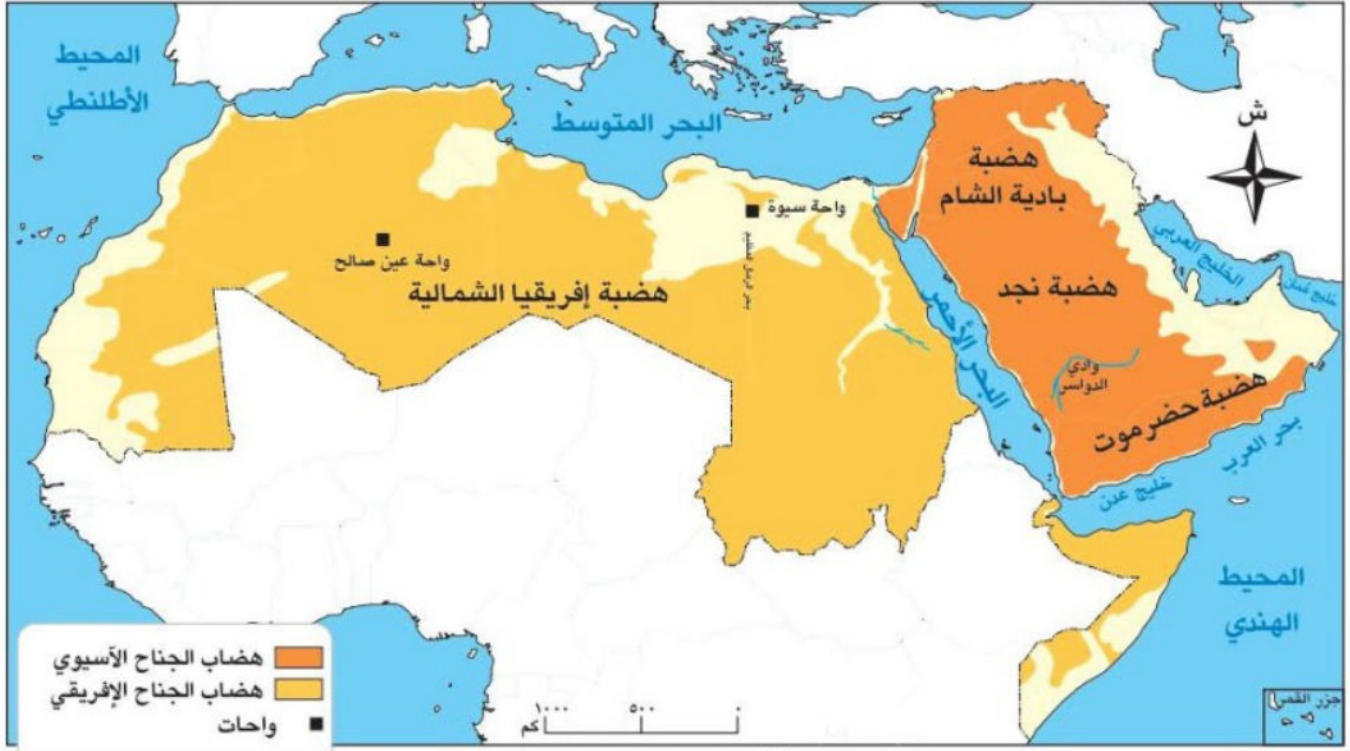


جبال البحر الأحمر

حقائق علمية

للجبال أهمية كبيرة بم تفسر؟ فقد استخدمها الإنسان في استخراج المعادن ومواد البناء، كما أنها تتميز بالمناظر الخلابة التي تجذب السياح للاستمتاع بها.

بملاحظة الخريطة التالية نجد أن الهضاب هي أكثر مظاهر السطح انتشارا في الوطن العربي **دلال** حيث تتوزع كالتالي:



خريطة (٢) هضاب الوطن العربي

هضاب الجناح الإفريقي

- **هضبة إفريقيا الشمالية:**
- تعد أكبر هضاب الوطن العربي مساحة **دلال** حيث تمتد من البحر الأحمر شرقا إلى المحيط الأطلسي غربا، ومن البحر المتوسط شمالا إلى وسط إفريقيا جنوبا.

هضاب الجناح الآسيوي

- أمثلة
- تتميز شبه الجزيرة العربية بتعدد هضابها ، ومنها :
- **هضبة بادية الشام** في شمال شبه الجزيرة العربية).
- **هضبة نجد** في وسط شبه الجزيرة العربية).
- **هضبة حزموت** (في جنوب شبه الجزيرة العربية) .

فكر وأجب

اكتب كلمة (صواب) أمام العبارة الصحيحة ، وكلمة (خطأ) أمام العبارة غير الصحيحة:

- (أ) نشأت جبال البحر الأحمر نتيجة لحركات التوائية.
 (ب) تساهم جبال الوطن العربي في ازدهار نشاط السياحة.
 (ج) تقع هضبة حزموت شمال شبه الجزيرة العربية.

بم تفسر؟

١. للجبال أهمية كبيرة؟

أهم الظواهر التضاريسية بالهضاب

ينتشر في هضاب الوطن العربي عديد من الظواهر مثل:

الكثبان الرملية

- نشأتها
- تكونت بفعل التعرية الهوائية، وتنتشر في المناطق الصحراوية.
- أمثلتها
- بحر الرمال العظيم بين مصر وليبيا.



الكثبان الرملية

الادوية الجافة

- تعريفها
- مجار كانت تملؤها المياه قديما ثم جفت.
- نشأتها
- تكونت بفعل التعرية المائية.
- أهميتها بم تفسر؟ -
- تستخدم كطرق للمواصلات والنقل.
- استخراج المياه الجوفية.
- أمثلتها
- - وادي العلاقي في مصر.
- وادي الدواسر في السعودية.



وادي العلاقي

الواحات

- أرض منخفضة تقع وسط الصحراء.
- أهميتها
- تزرع باستخدام المياه الجوفية؛ ولذلك يعيش فيها السكان ويمارسون الزراعة.
- أمثلتها
- واحة سيوة في مصر.
- واحة عين صالح في الجزائر.



واحة سيوة

التعرية المائية

ما المقصود

▪ نحت الصخور ونقلها وإرسابها بواسطة المياه.

التعرية الهوائية

ما المقصود

▪ نحت الصخور ونقلها وإرسابها بواسطة الرياح.

السهول

٣


هي أراض مستوية أو شبه مستوية السطح، وبملاحظة الخريطة التالية نجد أن السهول في الوطن العربي تنقسم إلى ثلاثة أنواع :



خريطة (٣) سهول الوطن العربي

السهول الفيضية

أ



سهول فيضية - نهر النيل

تكوينها:


▪ بفعل إرساب الأنهار للمواد العالقة بمياهها.

مميزاتها:

- خصوبة تربتها وتركز السكان فيها، مثل:
- سهول وادي النيل في مصر والسودان (الجناب الإفريقي).
- سهول دجلة والفرات في العراق (الجناب الآسيوي).

السهول الساحلية

ب



السهول الساحلية

مميزاتها:

- تنوع الموارد والاستخدامات **دلا** حيث:
- تتميز سهول البحر الأحمر والخليج العربي بأنها غنية بالثروات المعدنية ومصادر الطاقة.
- تتميز سهول البحر المتوسط، بتربة خصبة صالحة للزراعة.

السهول الصحراوية

ج



السهول الصحراوية

تكوينها

- كونتها الرياح عن طريق النحت أو الترسيب.

مميزاتها:

- تعد أكبر سهول الوطن العربي من حيث المساحة كما تتصف بندرة الغطاء النباتي الطبيعي.
- تتنوع ما بين رملية وصخرية.

ما النتائج المترتبة على تنوع مظاهر السطح في الوطن

في الدراسات الاجتماعية

العربي؟

يساعد ذلك على تنوع الموارد وبالتالي تنوع الأنشطة الاقتصادية مثل الزراعة والصيد والتعدين والسياحة والصناعة، مما أثر في حياة السكان وأنشطتهم.

اعداد /

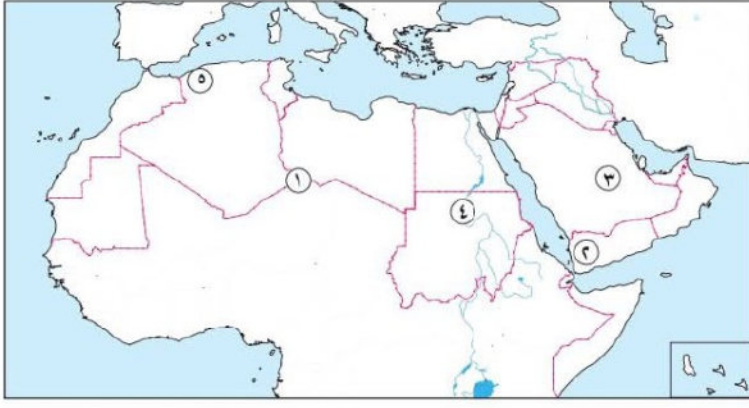
مستر حاتم عاطف

قيم تعلمها

تنوع التضاريس يدعو إلى تأمل قدرة الله (عز وجل) في الخلق وتقبل الاختلاف والتنوع.

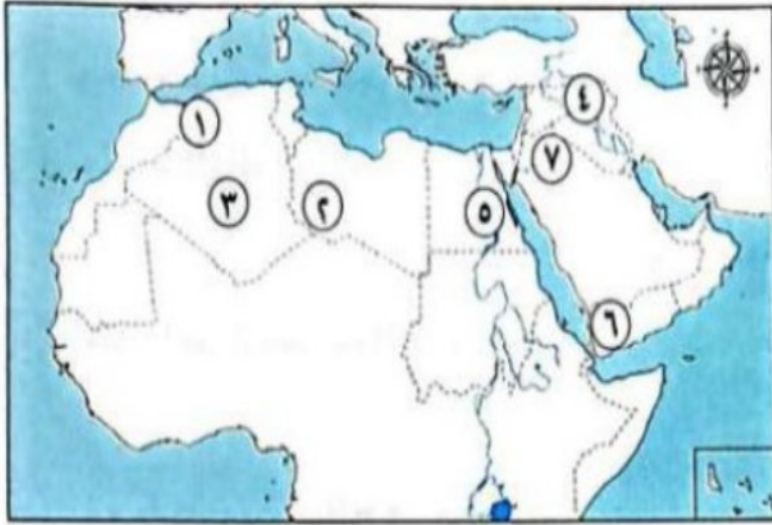
تدريبات الدرس

لاحظ الخريطة المقابلة، ثم اكتب مدلول الأرقام الموقعة عليها:



١. هضبة.....
٢. مرتفعات.....
٣. هضبة.....
٤. سهول.....
٥. جبال.....

لاحظ خريطة الوطن العربي التي أمامك، ثم أجب:



١. يشير رقم (١) إلى جبال.....
٢. يشير رقم (٢) إلى هضبة.....
٣. يشير رقم (٣) إلى واحة.....
٤. أكمل: نوع السهول رقم (٤).....
٥. صواب أم خطأ.....
٦. تكونت الجبال رقم (٥) نتيجة حركات (انكسارية).....
٧. يشير رقم (٦) إلى.....
٨. اختر: يشير رقم (٧) لموقع.....

مستر حاتم عاطف

(جبل توبقال - جبال عمان - جبل سانت كاترين - هضبة بادية الشام)

أكمل العبارات الآتية:

١. تنقسم الجبال في الوطن العربي إلى نوعين هما الجبال..... و.....
٢. من أمثلة الجبال في الجناح الإفريقي جبال.....
٣. من أمثلة الجبال في الجناح الآسيوي جبال.....
٤. نشأت جبال البحر الأحمر نتيجة حركات.....
٥. السهول الفيضية تكوّنت بفعل إرساب الأنهار للمواد..... بمياهها.
٦. من أمثلة السهول الفيضية في الجناح الإفريقي سهول.....
٧. سهول البحر الأحمر والخليج العربي غنية ب.....
٨. أكبر السهول مساحة في الوطن العربي هي السهول.....
٩. تكوّنت السهول الصحراوية بفعل الرياح عن طريق النحت أو.....
١٠. ساعد تنوع مظاهر السطح في الوطن العربي على تنوع.....

اختر الإجابة الصحيحة مما بين الأقواس:

١. تنقسم الجبال في الوطن العربي إلى أنواع.
(نوعين - ثلاثة - أربعة - خمسة)
٢. من أمثلة الجبال في الجناح الإفريقي
(جبال أطلس - جبال عمان - جبال زاغروس - جبال طوروس)
٣. نشأت جبال البحر الأحمر نتيجة حركات
(التوائية - انكسارية - بركانية - زلزالية)
٤. من أمثلة السهول الفيضية في الجناح الإفريقي سهول
(وادي النيل - دجلة والفرات - جيزان - الباطنة)
٥. سهول البحر الأحمر والخليج العربي غنية ب
(الثروات المعدنية ومصادر الطاقة - الغابات - الثروة السمكية - الجليد)
٦. أكبر السهول في الوطن العربي من حيث المساحة هي السهول
(الصحراوية - الفيضية - الساحلية - الجبلية)
٧. من أمثلة السهول الساحلية ذات التربة الخصبة سهول البحر
(المتوسط - الأحمر - الميت - العربي)
٨. تكوّنت السهول الصحراوية بفعل
(الرياح - الأنهار - الجليد - البراكين)
٩. ساعد تنوع مظاهر السطح في الوطن العربي على تنوع
(الموارد والأنشطة الاقتصادية - اللغات - الأعراق - العادات)
١٠. من الأنشطة الاقتصادية التي تأثرت بتنوع التضاريس في الوطن العربي
(الزراعة والصيد والتعدين والسياحة - الفضاء - صناعة السفن - الزراعة فقط)
١١. تقع سهول دجلة والفرات في الجناح
(الآسيوي - الإفريقي - الأوروبي - الأسترالي)
١٢. هضبة حضرموت تقع في
(اليمن - ليبيا - الجزائر - سوريا)
١٣. التعرية المائية تحدث بفعل
(المياه - الرياح - الجليد - البراكين)
١٤. التعرية الهوائية تحدث بفعل

(الرياح – الأمطار – الأنهار – الزلازل)

١٥. السهول الساحلية المطلة على البحر المتوسط تتميز ب.....

(تربة خصبة صالحة للزراعة – غابات كثيفة – جليد دائم – أراضي مرتفعة)

السؤال الثاني اكتب كلمة (صواب) أمام العبارة الصحيحة، وكلمة (خطأ) أمام العبارة غير الصحيحة

١. نشأت جبال البحر الأحمر نتيجة لحركات التوائية ()
٢. تساهم جبال الوطن العربي في جذب السياح ()
٣. هضبة حزموت تقع شمال شبه الجزيرة العربية ()
٤. السهول الفيضية تتميز بخصوبة التربة ()
٥. سهول البحر المتوسط غنية بالثروات المعدنية ومصادر الطاقة ()
٦. السهول الصحراوية تعد أكبر سهول الوطن العربي من حيث المساحة ()
٧. تكوّنت السهول الفيضية بفعل الرياح ()
٨. من أمثلة السهول الفيضية سهول وادي النيل في مصر والسودان ()
٩. التعرية المائية تحدث بفعل الأمطار والأنهار ()
١٠. تنوع التضاريس ساعد على تنوع الموارد والأنشطة الاقتصادية ()
١١. السهول الساحلية المطلة على البحر المتوسط تتميز بتربة خصبة صالحة للزراعة ()
١٢. التعرية الهوائية تحدث بفعل الرياح ()
١٣. جبال أطلس تقع في الجناح الإفريقي ()
١٤. سهول دجلة والفرات تقع في الجناح الإفريقي ()
١٥. السهول الصحراوية تتصف بندرة الغطاء النباتي الطبيعي ()

أكتب ما تشير إليه العبارات الآتية:

١. جبال تقع في الجناح الإفريقي، استخدمها الإنسان في استخراج المعادن ومواد البناء. (.....)
٢. هضبة تقع في شبه الجزيرة العربية وتتميز بانتشار الظاهرات التضاريسية الصحراوية. (.....)
٣. سهول تكونت بفعل إرساب الأنهار وتتميز بخصوبة التربة وتركز السكان. (.....)
٤. سهول غنية بالثروات المعدنية ومصادر الطاقة، تطل على البحر الأحمر والخليج العربي. (.....)
٥. سهول أكبر من حيث المساحة في الوطن العربي، تتصف بندرة الغطاء النباتي. (.....)
٦. عملية نحت الصخور ونقلها وإرسابها بواسطة المياه. (.....)
٧. عملية نحت الصخور ونقلها وإرسابها بواسطة الرياح. (.....)

ما المقصود بالمصطلحات التالية:

١. التعرية المائية
٢. التعرية الهوائية
٣. السهول الفيضية
٤. السهول الصحراوية
٥. الاودية الجافة

بم تفسر:

١. نشأة جبال البحر الأحمر..
٢. نشأة جبال زاغروس..
٣. أهمية وادي العلاقي

٤. تسهم السهول الساحلية في دعم اقتصاد بعض الدول العربية.
٥. أهمية السهول الفيضية.
٦. تكون بحر الرمال العظيم..
٧. قيام الزراعة في الواحات

ما النتائج المترتبة على:

١. حدوث حركات انكسارية بالقشرة الأرضية للوطن العربي..
٢. حدوث حركات التوائية تعرضت لها الأرض بالوطن العربي..
٣. وجود المياه الجوفية بالواحات
٤. خصوبة التربة في السهول الفيضية..

دل على صحة العبارات الآتية:

١. تعد هضبة إفريقيا الشمالية أكبر الظواهر التضاريسية مساحة..
٢. أثرت الحركات الالتوائية على مظاهر سطح الوطن العربي..
٣. تختلف سهول البحر الأحمر عن سهول البحر المتوسط من حيث الأهمية.
٤. للجبال أهمية كبيرة في الوطن العربي.
٥. تنوع السهول في الوطن العربي.
٦. السهول الفيضية من أكثر المناطق جذبًا للسكان.
٧. تنوع التضاريس يؤثر في الأنشطة الاقتصادية.

قارن بين:

١. الجبال في الجناح الإفريقي والجبال في الجناح الآسيوي (من حيث الأمثلة).
٢. عوامل تكوين كل من: الكتلان الرملية والأودية الجافة.
٣. عوامل نشأة كل من: جبال البحر الأحمر وجبال أطلس.
٤. السهول الفيضية والسهول الساحلية (من حيث التكوين والمميزات).

اكتب مثالاً واحدًا في الوطن العربي لكل مما يلي: **تر حاتم عاطف**

١. الأودية الجافة.
٢. الجبال الانكسارية.
٣. الواحات.
٤. الجبال الالتوائية.
٥. الهضاب في الجناح الآسيوي.
٦. السهول الفيضية.

ما العلاقة بين الأنهار والسهول الفيضية ...

اذكر وجه الاختلاف بين سهول البحر الأحمر وسهول نهر النيل.

ماذا يحدث إذا لم يتعرض الوطن العربي الحركات التوائية ...

الوحدة الأولى

الدرس الثالث

وطننا العربي (المناخ - النبات الطبيعي)

أدى تنوع المناخ في الوطن العربي إلى تنوع النباتات الطبيعية والحيوانات البرية والأنشطة الاقتصادية المختلفة **ما النتائج المترتبة على... مما يعزز تحقيق التكامل بين دول الوطن العربي.**

المناخ

ما المقصود

هو وصف حالة الجو خلال فترة زمنية طويلة (فصل أو سنة) من حيث درجة الحرارة والرياح والأمطار.

عندما تتابع النشرة الجوية في بعض المدن العربية تجد أن درجات الحرارة وكميات المطر تختلف من دولة إلى أخرى. هل تعرف السبب؟ حدد مع زميلك في ضوء دراستك السابقة لمناخ مصر أهم العوامل التي يمكن أن تؤثر في مناخ الوطن العربي؟

العوامل المؤثرة في مناخ وطننا العربي

أولا

يتأثر مناخ وطننا العربي بعدة عوامل، وهي كالتالي:

مظاهر السطح

الموقع بالنسبة

للمسطحات المائية

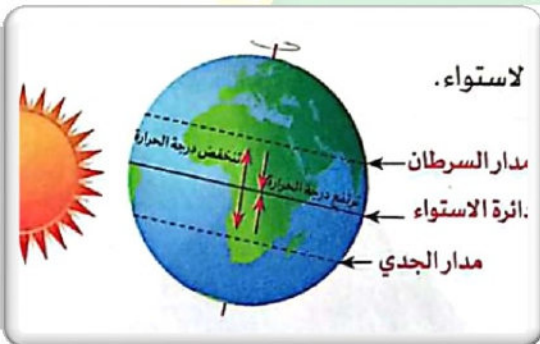
الموقع الفلكي

الموقع الفلكي

أ

يؤثر الموقع الفلكي في المناخ **دلال** حيث:

- ترتفع درجات الحرارة في المناطق القريبة من دائرة **الاستواء**.
- تنخفض درجات الحرارة تدريجياً كلما ابتعدنا عن دائرة الاستواء شمالاً أو جنوباً لذلك
- يسود **المناخ الحار** معظم أنحاء الوطن العربي ما عدا الأجزاء الشمالية فتتميز بالمناخ **المعتدل**.





المدن الساحلية

الموقع بالنسبة للمسطحات المائية

٢

- المناطق القريبة من المسطحات المائية (البحار والمحيطات) تتميز باعتدال المناخ، مثل مدينة الإسكندرية.
- المناطق البعيدة عن المسطحات المائية المناطق الداخلية تكون شديدة الحرارة صيفا وشديدة البرودة شتاء، مثل مدينة الرياض.

مظاهر السطح

٣

تؤثر مظاهر السطح في مناخ الوطن العربي من حيث:

الارتفاع

أ

تنخفض درجة الحرارة درجة مئوية واحدة كلما ارتفعنا ١٥٠ مترا عن مستوى سطح البحر. **ما النتائج امة تبة علي**.. لذلك تغطي الثلوج بعض القمم العالية مثل جبال لبنان.

اتجاه الكتل الجبلية

ب

يؤثر اتجاه الجبال في توزيع كمية المطر: **دلال**

- سفوح (جوانب الجبال المواجهة للرياح المحملة ببخار الماء تسقط عليها أمطار غزيرة.
- سفوح الجبال الداخلية (غير المواجهة للرياح) تقل فيها كمية المطر. مثل: جبال أطلس تسقط عليها أمطار أكثر في السفوح المواجهة للرياح.



الكتل الجبلية وتوزيع المطر

فكر وأجب

اكتب كلمة (صواب) أمام العبارة الصحيحة ، وكلمة (خطأ) أمام العبارة غير الصحيحة:

- من العوامل المؤثرة في مناخ الوطن العربي الموقع الفلكي والموقع بالنسبة للمسطحات المائية ومظاهر السطح ()
- المناطق القريبة من المسطحات المائية تتميز باعتدال المناخ ()
- المناطق الداخلية البعيدة عن المسطحات المائية تكون شديدة الحرارة صيفا وشديدة البرودة شتاءً ()
- كلما ابتعدنا عن دائرة الاستواء ترتفع درجات الحرارة ()

بم تفسر؟

- انخفاض درجات الحرارة في المناطق المرتفعة؟

الأقاليم المناخية في الوطن العربي

ثانيا

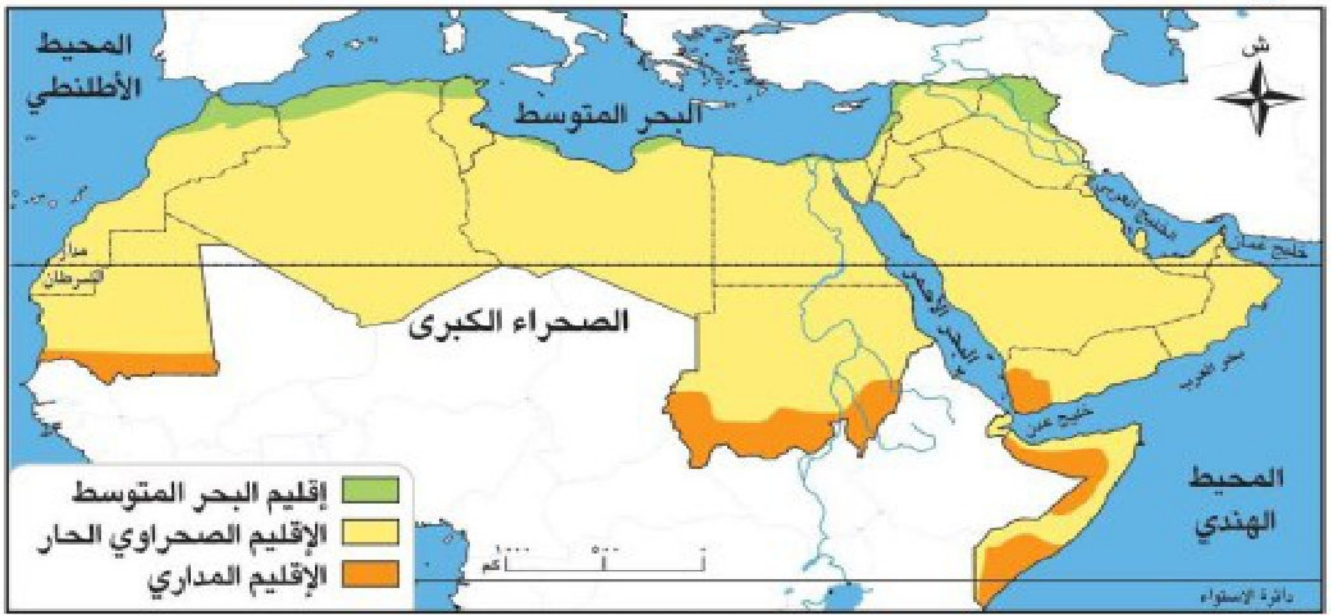
يوجد في وطننا العربي ثلاثة أقاليم مناخية، وهي:

الإقليم المناخي

ما المقصود

▪ مساحة من الأرض لها نفس الخصائص المناخية من حيث الحرارة والمطر.

لاحظ توزيع هذه الأقاليم المناخية على خريطة الوطن العربي التالية:



خريطة (١) الأقاليم المناخية في الوطن العربي

اعداد / مستتر حاتم عاطف

إقليم البحر المتوسط

١

أ - الموقع

▪ يمتد في الأجزاء الشمالية للوطن العربي، ويشتمل بعض المدن العربية مثل: بيروت وطرابلس وتونس.

ب - الخصائص المناخية

- فصل الصيف: يتميز بارتفاع درجة الحرارة.
- فصل الشتاء: يتميز باعتدال درجة الحرارة وسقوط الأمطار.

ج - النباتات الطبيعية والحيوانات البرية

تذكران

- النبات الطبيعي: هو النبات الذي ينمو دون تدخل من الإنسان.
- الحيوان البري: هو الحيوان الذي يعيش في بيئة طبيعية دون تدخل أو رعاية من الإنسان.



الغابات المعتدلة

- ❖ تنمو الغابات المعتدلة فوق المنحدرات الجبلية بم تفسم لغزارة الأمطار. ومن أهم أشجارها الزيتون والأرز.
- ❖ تنمو به الحشائش المعتدلة (الإستبس) التي تزدهر شتاء وتجف صيفاً، وتربى عليها: الأغنام - الماعز.

الإقليم الصحراوي

٢

أ - الموقع

- يقع بين إقليم البحر المتوسط بشمالاً والإقليم المداري جنوباً ويسود في معظم أنحاء الوطن العربي.

ب - الخصائص المناخية

- فصل الصيف: يتميز بارتفاع شديد في درجة الحرارة خاصة في النهار.
- فصل الشتاء: يتميز بانخفاض شديد في درجة الحرارة خاصة في الليل.



الأعشاب القصيرة

ج - النباتات الطبيعية والحيوانات البرية

- يختلف النبات الطبيعي حسب كمية المطر، **دلل** حيث تنمو الأعشاب القصيرة في المناطق قليلة المطر.
- تنمو النباتات الشوكية في المناطق نادرة المطر.
- يعيش بالإقليم الصحراوي حيوانات مثل: الغزلان - الإبل - الزواحف

حقائق تاريخية

المصريون القدماء أظهروا تقديراً للطبيعة وحرصوا على عدم إلحاق الضرر بها.

الإقليم المداري

٣

أ - الموقع

- يقع في جنوب الوطن العربي.

ب - الخصائص المناخية

- فصل الصيف ترتفع درجة الحرارة وتسقط الأمطار.
- فصل الشتاء: يتميز باعتدال الحرارة وجفاف المناخ.

ج - النباتات الطبيعية والحيوانات البرية

- تنمو الغابات المدارية وتكثر بها أشجار السنط **ما النتائج** **لمرتبة على ... ؟** يستخرج من هذه الأشجار الصمغ العربي.
- تنمو حشائش السافانا وتدرج في الطول **بم تفسم ؟** حسب كمية المطر؛ فكلما زادت الأمطار، زاد طول الحشائش.
- من أهم الحيوانات بالإقليم المداري: الزراف - الأسود - النمور - الأفيال وتعيش جميعها في مناطق **السافانا**



حشائش السافانا

فكر وأجب

أكتب ما تشير إليه العبارات الآتية:

- منطقة من الأرض لها نفس الخصائص المناخية من حيث الحرارة والمطر. (.....)
- نبات ينمو دون تدخل من الإنسان. (.....)
- حيوان يعيش في بيئة طبيعية دون تدخل أو رعاية من الإنسان. (.....)
- إقليم مناخي يمتد في الأجزاء الشمالية للوطن العربي ويتميز بصيف حار وشتاء معتدل ممطر. (.....)

دلل علي صحة العبارة؟

- يختلف النبات الطبيعي في الإقليم الصحراوي حسب كمية المطر.

تأثير المناخ على تنوع الأنشطة الاقتصادية في الوطن العربي

ثالثا

يؤثر تنوع المناخ في الوطن العربي تأثيرًا كبيرًا على الأنشطة الاقتصادية؛ حيث يؤدي إلى:

تنوع المحاصيل الزراعية من مكان لآخر.

في الدراسات الاجتماعية

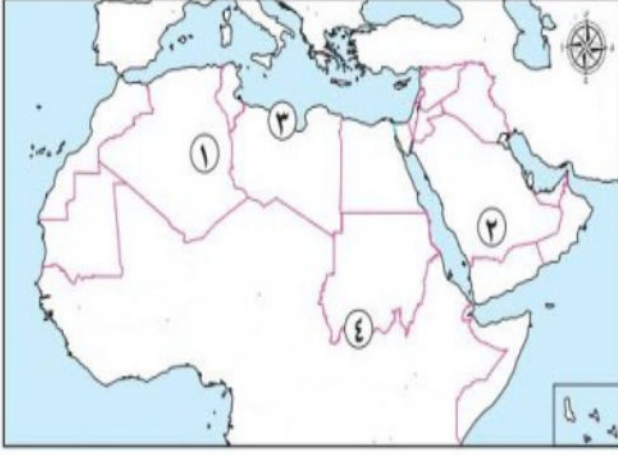
تنشيط السياحة البيئية.

مستتر حاتم عاطف

تحقيق التكامل بين الدول العربية من خلال تبادل المحاصيل والمنتجات.

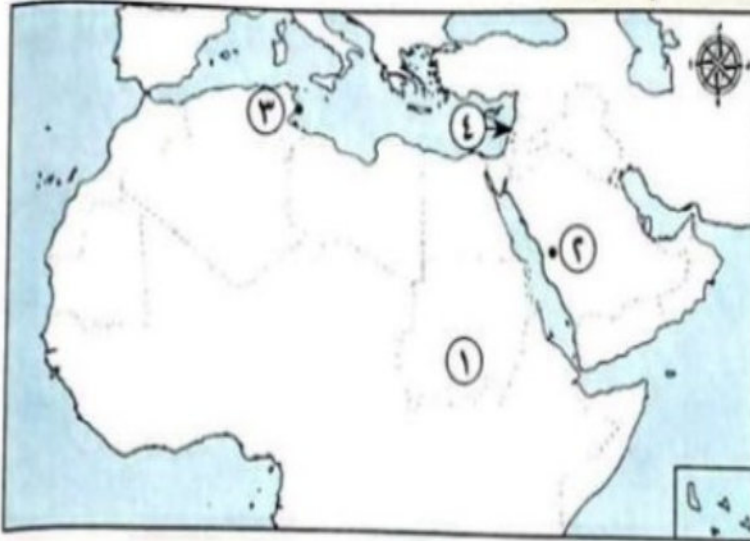
تدريبات الدرس

لاحظ خريطة الوطن العربي التي أمامك، ثم أجب:



١. يشير رقم (١) إلى دولة تقع أطرافها الشمالية في إقليم البحر المتوسط.....
٢. يشير رقم (٢) إلى إقليم مناخي يسود الوطن العربي.....
٣. يشير رقم (٣) إلى إقليم مناخي يمتد في الأطراف الشمالية للوطن العربي.....
٤. يشير رقم (٤) إلى إقليم مناخي يمتد في جنوب الوطن العربي.....

لاحظ خريطة الوطن العربي التي أمامك، ثم أجب:



١. يسود المنطقة رقم (١) الإقليم المناخي.....
٢. اختر تنتمي المدينة رقم (٢) إلى الإقليم المناخي.....
(شبه الاستوائي - البحر المتوسط - الصحراوي المداري)
٣. صواب أم خطأ: تقع المنطقة رقم (٣) في إقليم مناخ البحر المتوسط.....
٤. يشير الرقم (٤) إلى جبال تغطي الثلوج قمتها في الشتاء. ()

اختر الإجابة الصحيحة مما بين الأقواس:

١. المناخ هو وصف حالة الجو خلال فترة زمنية..... من حيث درجة الحرارة والرياح والأمطار.

(قصيرة - طويلة - متوسطة - لحظية)

٢. كلما ابتعدنا عن دائرة الاستواء..... درجات الحرارة.

(ترتفع - تنخفض - تثبت - تتقلب)

٣. المناطق القريبة من المسطحات المائية تتميز ب..... المناخ.

(اعتدال - حرارة شديدة - برودة شديدة - جفاف)

٤. تنخفض درجة الحرارة درجة واحدة كلما ارتفعنا مترا عن مستوى سطح البحر.

(١٠٠ - ١٢٠ - ١٥٠ - ٢٠٠)

٥. الإقليم الذي يمتد في الأجزاء الشمالية للوطن العربي هو إقليم

(البحر المتوسط - الصحراوي - المداري - الاستوائي)

٦. من أهم أشجار إقليم البحر المتوسط

(الزيتون - النخيل - السنط - الأرز الأفريقي)

٧. الإقليم الذي يسود في معظم أنحاء الوطن العربي هو الإقليم

(البحر المتوسط - الصحراوي - المداري - القطبي)

٨. الإقليم الذي يقع في جنوب الوطن العربي هو الإقليم

(المداري - الصحراوي - البحر المتوسط - الاستوائي)

٩. يُستخرج الصمغ العربي من أشجار

(السنط - الزيتون - النخيل - الأرز)

١٠. من حيوانات الإقليم الصحراوي

(الغزلان - الفيلة - النمر - الأسود)

١١. كلما زادت كمية الأمطار في الإقليم المداري طول الحشائش.

(زاد - قل - لم يتغير - اختفى)

١٢. سفوح الجبال المواجهة للرياح المحملة ببخار الماء تسقط عليها أمطار

(غزيرة - قليلة - معدومة - موسمية)

١٣. في الإقليم الصحراوي، فصل الشتاء يتميز ب..... الحرارة خاصة في الليل.

(انخفاض - ارتفاع - اعتدال - ثبات)

١٤. من أهم حيوانات الإقليم المداري

(الزراف - الإبل - الغزلان - الماعز)

١٥. تنمو الغابات المعتدلة في إقليم البحر المتوسط فوق المنحدرات الجبلية بسبب الأمطار.

(غزارة - قلة - ندرة - انعدام)

أكمل العبارات الآتية:

١. المناخ هو وصف حالة الجو خلال فترة زمنية من حيث درجة الحرارة والرياح والأمطار.
٢. من العوامل المؤثرة في مناخ الوطن العربي و و
٣. كلما اقتربنا من دائرة الاستواء درجات الحرارة.
٤. كلما ابتعدنا عن دائرة الاستواء درجات الحرارة.
٥. المناطق القريبة من المسطحات المائية تتميز بـ المناخ.
٦. المناطق الداخلية البعيدة عن المسطحات المائية تكون شديدة الحرارة وشديدة البرودة
٧. تنخفض درجة الحرارة درجة واحدة كلما ارتفعنا مترا عن مستوى سطح البحر.
٨. تسقط أمطار غزيرة على سفوح الجبال للرياح المحملة ببخار الماء.
٩. الإقليم الذي يمتد في الأجزاء الشمالية للوطن العربي هو إقليم
١٠. من أمثلة المدن التي تقع ضمن إقليم البحر المتوسط و و
١١. من أهم أشجار إقليم البحر المتوسط و
١٢. يسود الإقليم الصحراوي في معظم الوطن العربي.
١٣. من أهم حيوانات الإقليم الصحراوي و و
١٤. يُستخرج الصمغ العربي من أشجار في الإقليم المداري.
١٥. يؤثر تنوع المناخ في الوطن العربي على و و

ضع علامة (✓) أمام العبارة الصحيحة، وعلامة (X) أمام العبارة غير الصحيحة:

١. المناخ هو وصف حالة الجو خلال فترة زمنية قصيرة ()
٢. من العوامل المؤثرة في مناخ الوطن العربي الموقع الفلكي والموقع بالنسبة للمسطحات المائية ومظاهر السطح ()
٣. المناطق القريبة من المسطحات المائية تتميز باعتدال المناخ ()
٤. المناطق الداخلية البعيدة عن المسطحات المائية تكون شديدة الحرارة صيفًا وشديدة البرودة شتاءً ()
٥. كلما ابتعدنا عن دائرة الاستواء ترتفع درجات الحرارة ()
٦. تنخفض درجة الحرارة درجة واحدة كلما ارتفعنا ١٥٠ مترا عن مستوى سطح البحر ()

٧. تسقط أمطار غزيرة على سفوح الجبال المواجهة للرياح المحملة ببخار الماء ()
٨. إقليم البحر المتوسط يمتد في الأجزاء الشمالية للوطن العربي ()
٩. من أمثلة المدن الواقعة في إقليم البحر المتوسط بيروت وطرابلس وتونس ()
١٠. من أهم أشجار إقليم البحر المتوسط النخيل والسنط ()
١١. الإقليم الصحراوي يسود في معظم أنحاء الوطن العربي ()
١٢. حيوانات الإقليم الصحراوي تشمل الغزلان والإبل والزواحف ()
١٣. الإقليم المداري يقع في شمال الوطن العربي ()
١٤. يُستخرج الصمغ العربي من أشجار السنط ()
١٥. كلما زادت الأمطار في الإقليم المداري يقل طول الحشائش ()

ما المقصود بالمصطلحات التالية:

■ الإقليم المناخي

أكتب ما تشير إليه العبارات الآتية:

١. منطقة من الأرض لها نفس الخصائص المناخية من حيث الحرارة والمطر. (.....)
٢. نبات ينمو دون تدخل من الإنسان. (.....)
٣. حيوان يعيش في بيئة طبيعية دون تدخل أو رعاية من الإنسان. (.....)
٤. إقليم مناخي يمتد في الأجزاء الشمالية للوطن العربي ويتميز بصيف حار وشتاء معتدل ممطر. (.....)
٥. إقليم مناخي يسود في معظم أنحاء الوطن العربي ويتميز بشتاء بارد ليلاً وصيف شديد الحرارة نهاراً. (.....)
٦. إقليم مناخي يقع في جنوب الوطن العربي ويتميز بأمطار صيفية وحرارة مرتفعة. (.....)
٧. أشجار مدارية يُستخرج منها الصمغ العربي. (.....)
٨. حشائش مدارية تتدرج في الطول حسب كمية المطر. (.....)

بم تفسر...؟

١. تنوع النباتات الطبيعية والحيوانات البرية في الوطن العربي ...
٢. اختلاف درجات الحرارة من دولة إلى أخرى في الوطن العربي.
٣. اعتدال مناخ مدينة الإسكندرية على عكس مدينة الرياض ...
٤. تغطي الثلوج بعض القمم العالية في الوطن العربي.
٥. الأهمية الاقتصادية لإقليم البحر المتوسط.
٦. أهمية أشجار السنط.

٧. تعتبر حشائش السافانا حديقة حيوان طبيعية.
٨. اختلاف النباتات الطبيعية في الإقليم الصحراوي..
٩. تدرج حشائش السافانا في الطول...

ما النتائج المترتبة على...؟

١. تنوع المناخ في الوطن العربي..
٢. مرور دائرة الاستواء في جنوب الوطن العربي بالنسبة للمناخ.
٣. نمو الحشائش المعتدلة في إقليم مناخ البحر المتوسط.
٤. غزارة الأمطار فوق المنحدرات الجبلية بإقليم البحر المتوسط.

دل على صحة ما يلي:

١. يتأثر المناخ بالقرب والبعد عن المسطحات المائية.
٢. يؤثر الموقع الفلكي في مناخ الوطن العربي..
٣. يؤثر اتجاه الكتل الجبلية في توزيع كمية المطر.
٤. يختلف النبات الطبيعي حسب كمية المطر في الإقليم الصحراوي....
٥. التنوع المناخي له تأثير اقتصادي إيجابي..

أجب عما يلي:

١. ما العلاقة بين اتجاه كتلة الجبال والأمطار.
٢. قارن بين إقليم البحر المتوسط والإقليم المداري من حيث الموقع والخصائص المناخية.

في الدراسات الاجتماعية

اعداد /
مستر حاتم عاطف

الوحدة الأولى

الدرس الرابع

التحديات البيئية في وطننا العربي

المشكلات البيئية في الوطن العربي

أولاً

تواجه دول وطننا العربي العديد من المشكلات والتحديات البيئية **بم تفسر؟** بسبب التغيرات المناخية التي تؤثر على حياتنا اليومية ومستقبل التنمية والاستقرار في المنطقة.

التغير المناخي

ما المقصود

هو تغير طويل في درجات الحرارة وأنماط المطر، ويؤدي إلى موجات جفاف، وحرائق غابات، وانقراض نباتات.

تؤدي التغيرات المناخية إلى حدوث بعض المشكلات البيئية **دلل** مثل:

ندرة المياه
العذبة

التصحر

تلوث الهواء

السيول

الجفاف

الجفاف

ما المقصود

مشكلة الجفاف

أ

نقص كمية الأمطار خلال فترة زمنية محددة.

في الدراسة

يتعرض كثير من الدول العربية لخطر الجفاف.

النتائج المترتبة على المشكلة :

- نقص الغذاء
- انتشار الأمراض وسوء التغذية
- التأثير بالسلب على النشاط الزراعي والرعي.

طرق مواجهة المشكلة :

- تطوير شبكات الري
- إعادة تدوير المياه.
- ترشيد استهلاك المياه.



حقائق تاريخية : عانت الصومال من أكبر موجة جفاف ونقص في الغذاء وحدوث مجاعة لأكثر من مليون إنسان.



مشكلة ندرة المياه

٢

يعاني الوطن العربي من مشكلة ندرة المياه العذبة **مفسر؟** ويرجع ذلك لعدة أسباب، منها:

أسباب المشكلة:

- قلة سقوط الأمطار
- زيادة عدد السكان في بعض الدول العربية
- سوء إدارة الموارد المائية (دلال) باستخدام طرق الري التقليدية

طرق مواجهة المشكلة:

- ترشيد استهلاك المياه
- تحسين شبكات المياه والصرف الصحي
- استخدام أساليب جديدة في الري مثل الري بالرش والتنقيط
- حملات توعية للحفاظ على المياه.



التصحّر

ما المقصود

- تناقص قدرة الأراضي الزراعية على الإنتاج.



مشكلة التصحر

٣

- يغطي نسبة كبيرة من مساحة الوطن العربي **ما النتائج المترتبة على؟** ترتب عليه تدهور الأراضي الزراعية واختفاء النباتات.

أسباب المشكلة:

في الحاسبات الاجتماعية

أسباب بشرية

أسباب طبيعية

قطع الأشجار

زحف الكثبان الرملية

الرعي الجائر للحيوانات

تناقص الأمطار والمياه الجوفية

التوسع العمراني.

فكر وأجب

أختر الاجابة الصحيحة

- الجفاف هو (زيادة كمية الأمطار - نقص كمية الأمطار - ذوبان الجليد) خلال فترة زمنية محددة.
- من نتائج مشكلة الجفاف (زيادة الغذاء - انتشار الأمراض وسوء التغذية - زيادة المياه الجوفية).
- من أسباب ندرة المياه العذبة (قلة سقوط الأمطار - زحف الكثبان الرملية - انتشار الغابات).
- التصحر هو (توسع المدن - تناقص قدرة الأراضي الزراعية على الإنتاج - زيادة الإنتاج الزراعي).
- من الأسباب الطبيعية للتصحر (قطع الأشجار - تناقص الأمطار والمياه الجوفية - التوسع العمراني).

دلل علي صحة العبارة ؟

- يعاني الوطن العربي من مشكلة ندرة المياه العذبة.



سلسلة

مشكلة تلوث الهواء

٤

تلوث الهواء في الوطن العربي له عدة أسباب، ومن أهمها:

أسباب المشكلة :

- ١- الاعتماد على مصادر الطاقة غير المتجددة.
- ٢- زيادة النشاط الصناعي الملوث للبيئة.
- ٣- العواصف الرملية.
- ٤- حرق النفايات

طرق مواجهة المشكلة :

- ١- الاعتماد على الطاقة المتجددة.
- ٢- زيادة المساحات الخضراء.
- ٣- استخدام النقل المستدام.
- ٤- إعادة تدوير النفايات.

حقائق جغرافية : الحفاظ على البيئة من التلوث والانبعاث الحراري يساهم في التخفيف من آثار التغير المناخي وارتفاع درجة الحرارة.

اعداد /

السيول

ما المقصود

مشكلة السيول

٥

- أمطار غزيرة وفجائية تتجمع وتتدفق بسرعة في الأودية.



تشكل تهديدا كبيرا على الوطن العربي.

النتائج المترتبة على المشكلة :

- ١- الأضرار التي تلحقها بالبنية التحتية
- ٢- إتلاف المحاصيل الزراعية.
- ٣- الخسائر الفادحة الكبيرة جدا في الأرواح والممتلكات.
- ٤- انتشار الأمراض والأوبئة.

طرق مواجهة المشكلة :

- ١- تطوير البنية التحتية.
- ٢- بناء سدود للاستفادة منها في الزراعة.
- ٣- إنشاء مخبرات لتصريف السيول.
- ٤- استخدام التكنولوجيا في التنبؤ بالأخطار البيئية (السيول).

حقائق تاريخية : قام المصريون القدماء بإنشاء خزانات للسيول (حجر مائية) لتصريف مياه الأمطار لحماية المعابد والمقابر.

التغيرات المناخية

ثانيا



تؤثر التغيرات المناخية على المشكلات البيئية وتزيد من حدتها.

النتائج المترتبة على التغيرات المناخية

- ١- ارتفاع درجة الحرارة.
- ٢- الجفاف.
- ٣- السيول.
- ٤- ارتفاع مستوى سطح البحر.
- ٥- انتشار الأمراض.

إجراءات عاجلة للحد من التغيرات المناخية

- ١- حماية الغابات وزيادة مساحة الأراضي الخضراء.
- ٢- تفعيل القوانين لمواجهة التغيرات البيئية.
- ٣- الاعتماد على مصادر الطاقة المتجددة.
- ٤- الحد من انبعاثات الغازات الدفيئة.

أمثلة لجهود بعض الدول العربية لزيادة المساحات الخضراء ومواجهة التغير المناخي

في الدراسات الاجتماعية

مصر

- أطلقت مبادرة زراعة ١٠٠ مليون شجرة مثمرة في كل أنحاء مصر **م تفسر** ؟ وذلك لتحسين الهواء وتقليل التلوث، وتجميل البيئة، ومواجهة التغيرات المناخية.

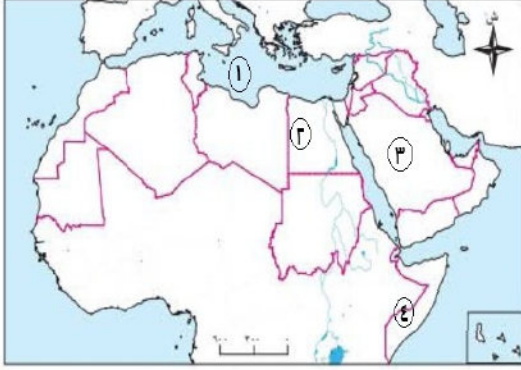
مستر حاتم عاطف

السعودية

- أطلقت مبادرة زراعة ١٥٠ مليون شجرة **م تفسر** ؟ للحد من التلوث ومواجهة التغير المناخي.
- تعمل على إنشاء مدينة **نيوم الخضراء**، وهي مدينة تعتمد على الطاقة النظيفة وتحافظ على البيئة.

تدريبات الدرس

السؤال الأول لاحظ خريطة الوطن العربي المقابلة ، ثم أجب:



- ١- يثنير رقم (١) إلى البحر.....
- ٢- اختر: يثنير رقم (٢) إلى دولة تعمل على إنشاء مدينة.....
- (العلمين الجديدة - العاصمة الإدارية - نيوم الخضراء - المنصورة الجديدة)
- ٣- صواب أم خطأ يثنير رقم (٣) إلى دولة أطلقت مبادرة زراعة ١٠٠ مليون شجرة مثمرة ()
- ٤- يثنير رقم (٤) إلى دولة عانت من أكبر موجة جفاف وهي دولة.....

السؤال الثاني اكتب كلمة (صواب) أمام العبارة الصحيحة، وكلمة (خطأ) أمام العبارة غير الصحيحة

١. الجفاف هو نقص كمية الأمطار خلال فترة زمنية محددة.
٢. يؤثر التغير المناخي على درجة الحرارة وكمية المطر.
٣. يحدث التصحر في الوطن العربي بسبب استخدام طرق الري الحديثة.
٤. يساهم القطع العشوائي للأشجار في حل مشكلة التصحر.
٥. الرعي الجائر للحيوانات يقلل من مشكلة التصحر.
٦. المشكلات البيئية في الوطن العربي تؤثر على مستقبل التنمية فيه.
٧. استخدام مصادر الطاقة المتجددة يساهم في حل المشكلات البيئية في الوطن العربي.
٨. استخدام طرق الري التقليدية يساهم في حل مشكلة ندرة المياه العذبة.
٩. تطوير البنية التحتية إحدى طرق مواجهة السيول.

السؤال الثالث أكمل العبارات التالية بما يناسبها من كلمات

١. من الأسباب البشرية للتصحر:
٢. يتعرض الوطن العربي لمشكلة التصحر بسبب زحف
٣. انطلقت مبادرة زراعة ١٥٠ مليون شجرة في دولة
٤. يتم مواجهة ندرة المياه العذبة باستخدام طرق ري حديثة مثل الري بالتنقيط و
٥. تنتشر ببعض مناطق الوطن العربي الأمراض وسوء التغذية بسبب مشكلة
٦. التوسع في استخدام مصادر الطاقة غير المتجددة يؤدي لتفاقم مشكلة

السؤال الرابع اختر الإجابة الصحيحة مما بين القوسين

١. الجفاف هو خلال فترة زمنية محددة.
(زيادة كمية الأمطار - نقص كمية الأمطار - ذوبان الجليد - هبوب الرياح)
٢. من نتائج مشكلة الجفاف
(زيادة الغذاء - انتشار الأمراض وسوء التغذية - زيادة المياه الجوفية - وفرة المحاصيل)
٣. من أسباب ندرة المياه العذبة
(قلة سقوط الأمطار - انتشار الغابات - ارتفاع درجات الحرارة - بناء السدود)
٤. التصحر هو على الإنتاج.
(زيادة قدرة الأراضي الزراعية - تناقص قدرة الأراضي الزراعية - تحسين التربة - تنمية المحاصيل)

٥. من الأسباب الطبيعية للتصحّر.....

(قطع الأشجار - تناقص الأمطار والمياه الجوفية - التوسع العمراني - حرق النفايات)

٦. من أسباب تلوث الهواء.....

(زراعة الأشجار - زيادة النشاط الصناعي - استخدام النقل المستدام - ترشيد استهلاك المياه)

٧. السيول هي أمطار..... تتجمع وتتدفق بسرعة في الأودية.

(خفيفة - غزيرة وفجائية - موسمية - متقطعة)

٨. من نتائج السيول.....

(تحسين التربة - زيادة المحاصيل - الخسائر الكبيرة في الأرواح والممتلكات - خفض درجات الحرارة)

٩. الدولة التي أطلقت مبادرة زراعة ١٠٠ مليون شجرة هي.....

(مصر - السعودية - الإمارات - الأردن)

١٠. الدولة التي تعمل على إنشاء مدينة نيوم الخضراء هي.....

(مصر - السعودية - السودان - البحرين)

١١. أحد أسباب التصحر في الوطن العربي.....

(زراعة الأشجار - ترشيد استهلاك المياه - الرعي الجائر - استخدام الطاقة الشمسية)

١٢. تستخدم الطاقة المتجددة لمواجهة.....

(التصحر - تلوث الهواء - ندرة المياه - السيول)

١٣. إحدى نتائج مشكلة الجفاف.....

(زيادة الرعي - انتشار الأمراض - ازدهار الغابات - زيادة المياه)

١٤. نبنى السدود للحد من آثار مشكلة.....

(الجفاف - التصحر - السيول - التلوث)

١٥. يساهم حرق النفايات في.....

(ترشيد المياه - زيادة الجفاف - تلوث الماء - تلوث الهواء)

١٦. تزداد مشكلة ندرة المياه العذبة بسبب.....

(الري التقليدي - حرق النفايات - قطع الأشجار - زحف الرمال)

١٧. يؤدي تدهور الأراضي الزراعية إلى.....

(التصحر - التلوث - السيول - الجفاف)

السؤال الخامس صوب ما تحته خط

١. زيادة المساحات الخضراء يساعد في مواجهة مشكلة ندرة المياه.

٢. يتم مواجهة السيول عن طريق بناء القناطر.

٣. أحد أسباب تلوث الهواء زيادة النشاط الزراعي.

السؤال السادس ما المقصود ب...؟

١. التغير المناخي
٢. الجفاف.
٣. التصحر.
٤. السيول

السؤال السابع اكتب ما تشير إليه العبارة

١. مبادرة أطلقتها مصر لزيادة المساحات الخضراء.
٢. مدينة أنشأتها السعودية لمواجهة التغير المناخي.

السؤال الثامن بم تفسر...؟

١. تواجه دول وطننا العربي العديد من المشكلات والتحديات البيئية.
٢. تؤدي التغيرات المناخية إلى حدوث بعض المشكلات البيئية.
٣. أطلقت مصر مبادرة زراعة ١٠٠ مليون شجرة مثمرة.
٤. أطلقت السعودية مبادرة زراعة ١٥٠ مليون شجرة.
٥. حدوث الجفاف في بعض الدول العربية..
٦. تلوث الهواء في الوطن العربي.
٧. حدوث مشكلة التصحر في مساحات واسعة من الوطن العربي..
٨. إنشاء المصريين القدماء لمخزات السيول..
٩. ندرة المياه العذبة في الوطن العربي..

السؤال التاسع اكتب نتيجة واحدة ترتبت على

١. تعرض بعض المناطق في الوطن العربي للجفاف
٢. الرعي الجائر للحيوانات في الوطن العربي.
٣. التغيرات المناخية بالوطن العربي..
٤. تناقص كمية الأمطار في وطننا العربي.
٥. الاعتماد على الطاقة المتجددة..
٦. حرق النفايات والمخلفات
٧. حدوث السيول ..

السؤال العاشر دلل على صحة كل عبارة مما يلي:

١. جهود السعودية في مواجهة التغير المناخي
٢. يهدد التصحر الإنتاج الزراعي
٣. تبذل بعض الدول العربية جهود لمواجهة السيول.
٤. تؤثر التغيرات المناخية على الوطن العربي..
٥. تتعدد طرق مواجهة مشكلة ندرة المياه في الوطن العربي.

السؤال الحادي عشر ما العلاقة بين...ين...؟

١. الجفاف و دولة الصومال
٢. طرق الري القديمة والمياه العذبة ..
٣. الطاقة غير المتجددة والهواء
٤. السيول وتطوير البنية التحتية.
٥. التصحر وقطع الأشجار....
٦. النقل المستدام وتلوث الهواء
٧. زيادة السكان والمياه العذبة..

السؤال الثاني عشر ما أوجه الشبه بين...؟

١. الجفاف وندرة المياه العذبة من حيث الأسباب..
٢. التصحر والسيول من حيث النتائج.
٣. جهود مصر والسعودية في الحفاظ على البيئة..

تقييم الكتاب المدرسي علي الوحدة الأول**السؤال الأول: أمامك خريطة صماء للوطن العربي، حدد ما يلي عليها:**

١. أكبر دول الوطن العربي من حيث المساحة.....
٢. جبال أطلس.....
٣. هضبة حضرموت.....
٤. نهر يمر في أكثر من دولة عربية إفريقية.....
٥. دولة عربية تقع في المحيط الهندي.....
٦. دولة تطل على بحر ومحيط.....

السؤال الثاني: اكتب كلمة (صواب) أمام العبارة الصحيحة، وكلمة (خطأ) أمام العبارة غير الصحيحة:

١. يمتد الوطن العربي بين قارتي آسيا وأوروبا. ()
٢. أحد العوامل المؤثرة في المناخ الموقع الفلكي. ()
٣. توجد سهول فيضية في العراق ومصر. ()

٤. تقع جبال أطلس في شبه الجزيرة العربية. ()
٥. نهر النيل من السهول الخصبة في الوطن العربي. ()
٦. يفصل البحر الأحمر بين جناحي وطننا العربي. ()
٧. جبال البحر الأحمر من الجبال الالتوائية في وطننا العربي. ()
٨. أكبر هضاب الوطن العربي تقع في الجناح الإفريقي. ()
٩. يسود المناخ الصحراوي معظم أراضي الوطن العربي. ()
١٠. يؤدي التنوع المناخي إلى تنوع النبات الطبيعي. ()

السؤال الثالث: أكمل العبارات الآتية:

١. يحد الوطن العربي من الغرب.....
٢. العوامل المؤثرة في مناخ الوطن العربي
٣. تمتد جبال أطلس في دولة
٤. الإقليم المناخي السائد في الوطن العربي
٥. السهول الساحلية في الوطن العربي يستخرج منها
٦. العوامل الداخلية لتشكيل سطح الأرض.....
٧. هضبةمن أهم هضاب وطننا العربي.
٨. يساعد نهر.....على قيام الزراعة في مصر والسودان.
٩. تسود الأعشاب في الوطن العربي بالإقليم.....
١٠. يمر خط الاستواء في الوطن العربي عبر دولة.....
١١. السبب الرئيسي في ندرة الأمطار في الوطن العربي

السؤال الرابع: بم تفسر...؟

١. الأهمية الإستراتيجية لموقع الوطن العربي..
٢. تنوع مظاهر السطح في الوطن العربي.
٣. تعد الجبال من مظاهر السطح المؤثرة في المناخ..
٤. أهمية السهول الفيضية في الوطن العربي.
٥. تركز سكان الوطن العربي في مناطق السهول الفيضية.
٦. تأثير النبات الطبيعي بالمناخ.
٧. انتشار المناخ الصحراوي في أغلب الدول العربية..
٨. حدوث التصحر بالوطن العربي..

السؤال الخامس: ما النتائج المترتبة على...؟

١. الموقع الجغرافي المتميز للوطن العربي..
٢. تنوع التضاريس في الوطن العربي.
٣. تنوع المناخ في الوطن العربي.
٤. وجود السهول الساحلية في الوطن العربي..
٥. ندرة الأمطار في معظم أراضي الوطن العربي..

السؤال السادس: ماذا يحدث إذا...؟

١. لم يكن للوطن العربي موقع جغرافي متميز..
٢. لم تتنوع مظاهر السطح في الوطن العربي..
٣. لم يؤثر المناخ على نوعية النباتات.
٤. لم توجد سهول فيضية في الوطن العربي.

السؤال السابع: ما المقصود بالمفاهيم الآتية...؟

١. التعرية المائية.
٢. الإقليم المناخي..
٣. التصحر.
٤. السيول..

السؤال الثامن: ما العلاقة بين كل من...؟

١. الموقع الفلكي والمناخ في الوطن العربي / اعداد /
٢. المناخ والنبات الطبيعي. / مستر حاتم عاطف
٣. الهضاب والجبال في تشكيل سطح الوطن العربي.

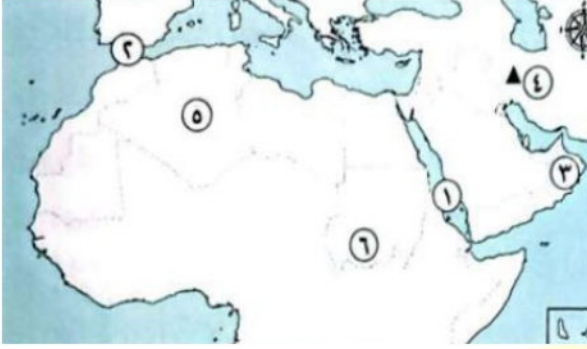
السؤال التاسع: ما الفرق بين...؟

١. السهول الساحلية والسهول الفيضية.
٢. العوامل الباطنية والعوامل الخارجية لتشكيل سطح الأرض.

تدريبات عامة على الوحدة الأولى

السؤال الأول الخرائط:

لاحظ الخريطة المقابلة، ثم حدد مدلول الأرقام الموقعة عليها:



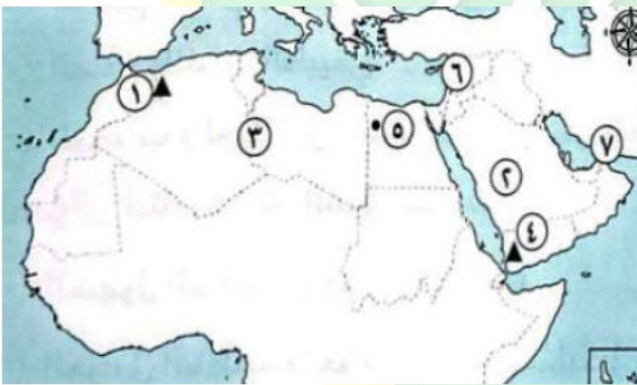
١. البحر.....
٢. مضيق.....
٣. دولة.....
٤. جبال.....
٥. دولة.....
٦. إقليم مناخي.....

لاحظ الخريطة المقابلة، ثم حدد مدلول الأرقام ال قام الموقعة عليها



١. البحر.....
٢. دولة.....
٣. المحيط.....
٤. مضيق.....
٥. الخليج.....
٦. إقليم مناخي.....

لاحظ الخريطة المقابلة، ثم حدد مدلول الأرقام الموقعة عليها:



١. جبال.....
٢. دولة.....
٣. هضبة.....
٤. مرتفعات.....
٥. واحة.....
٦. إقليم مناخي.....
٧. مضيق.....

السؤال الثاني اكتب كلمة (صواب) أمام العبارة الصحيحة، وكلمة (خطأ) أمام العبارة غير الصحيحة

١. تقع دول الوطن العربي في قارتي أوروبا وإفريقيا. ()
٢. تعد كل من فلسطين والأردن من دول الجناح العربي الإفريقي. ()
٣. تقع دولة جزر القمر في المحيط الهندي. ()
٤. يقع الوطن العربي وسط قارات العالم القديم. ()
٥. ترجع الأهمية الحضارية للوطن العربي إلى موقعه الإستراتيجي. ()
٦. تتعدد الأماكن المقدسة في الوطن العربي ومنها الكعبة المشرفة في فلسطين. ()
٧. يربط مضيق جبل طارق بين المحيط الأطلسي والبحر المتوسط. ()
٨. الموقع الجغرافي المميز للوطن العربي جعله مطمعا للمحتلين عبر العصور. ()
٩. تقع جبال أطلس في الجناح الآسيوي للوطن العربي. ()

١٠. تشكلت مظاهر السطح في الوطن العربي بفعل عوامل باطنية وأخرى سطحية. ()
١١. تتكون جبال أطلس من عدة سلاسل جبلية تمتد في ثلاث دول عربية. ()
١٢. جبال زاغروس وعمان من الجبال الالتوائية في الوطن العربي. ()
١٣. تمتد هضبة إفريقيا الشمالية من البحر الأحمر إلى المحيط الأطلسي. ()
١٤. تنتشر الواحات في المناطق الساحلية في الوطن العربي. ()
١٥. تكونت الكثبان الرملية بفعل التعرية الهوائية. ()
١٦. سهول البحر المتوسط صالحة للزراعة وتتميز بتربة خصبة. ()
١٧. تنوع مظاهر السطح في الوطن العربي ساعد على تنوع الأنشطة الاقتصادية. ()
١٨. تتميز المناطق البعيدة عن المسطحات المائية باعتدال المناخ طوال العام. ()
١٩. تغطي الثلوج بعض قمم الجبال المرتفعة في الوطن العربي. ()
٢٠. يتميز إقليم البحر المتوسط باعتدال الحرارة صيفا وغازارة الأمطار شتاء. ()
٢١. تنمو أشجار الزيتون والأرز في إقليم البحر المتوسط بسبب وفرة الأمطار. ()
٢٢. تختلف أنواع النباتات في الإقليم الصحراوي حسب كمية المطر. ()
٢٣. تنوع مناخ الوطن العربي أدى إلى تشابه المحاصيل الزراعية. ()
٢٤. التوسع العمراني ساعد على حدوث مشكلة التصحر بالوطن العربي. ()
٢٥. ترشيد استهلاك المياه وإعادة تدويرها من أهم طرق مواجهة مشكلة الجفاف. ()
٢٦. تعد واحة عين صالح إحدى أشهر الواحات بالجزائر. ()

السؤال الثالث أكمل العبارات التالية بما يناسبها من كلمات

١. الدولة العربية التي يمر بها خط جرينتش هي دولة
٢. أصغر دول الوطن العربي من حيث المساحة هي
٣. تنتمي سوريا والعراق إلى الجناح العربي
٤. ممر مائي يربط بين البحر الأحمر والبحر المتوسط هو
٥. تطل دولة جيبوتي على مضيق
٦. يحد الوطن العربي من الشرق جبال كردستان وجبال
٧. توجد النسبة الأكبر من مساحة الوطن العربي في الجناح
٨. أكبر هضاب الوطن العربي من حيث المساحة هضبة
٩. تكونت الكثبان الرملية بفعل التعرية
١٠. ساعد تنوع مظاهر السطح في الوطن العربي على تنوع
١١. توجد واحة عين صالح في دولة
١٢. تسقط الأمطار في إقليم البحر المتوسط خلال فصل
١٣. أحد أسباب تلوث الهواء في الوطن العربي حرق
١٤. إحدى طرق مواجهة تلوث الهواء الاعتماد على الطاقة
١٥. قام المصريون القدماء بإنشاء مخزات للسيول لحماية المعابد و

السؤال الرابع صوب ما تحته خط فيما يلي :

١. يحد الوطن العربي من جهة الشمال البحر المتوسط وجبال زاغروس
٢. يحد الوطن العربي غربا المحيط الهندي.
٣. تمتلك دولة السودان سواحل مطلة على البحر المتوسط.
٤. يستخرج الصمغ العربي من أشجار الزيتون.
٥. تزدهر حشائش الإستيس في إقليم البحر المتوسط خلال فصل الربيع.

٦. تربي الأغنام والماعز على حشائش السافانا.
٧. يقع إقليم الصحراوي بين إقليم البحر المتوسط والإقليم الاستوائي.
٨. إنشاء مدينة نيوم الخضراء هو أحد الجهود للحفاظ على البيئة في دولة البحرين.

السؤال السادس ما المقصود بكل مما يلي ...؟

١. الوطن العربي .
٢. التعرية المائية.
٣. التعرية الهوائية.
٤. الأودية الجافة.
٥. الإقليم المناخي
٦. الجفاف
٧. التصحر
٨. السيول.

السؤال السابع بم تفسر ...؟

١. الأهمية الحضارية الكبيرة للوطن العربي..
٢. يتمتع الوطن العربي بأهمية دينية ..
٣. أهمية الوطن العربي الاقتصادية ..
٤. تنوع المناخ في الوطن العربي.
٥. تنوع مظاهر السطح في الوطن العربي
٦. يعيش بعض السكان في الواحات بالوطن العربي.
٧. أهمية الأودية الجافة..
٨. أهمية الجبال في الوطن العربي..
٩. تغطي الثلوج بعض القمم الجبلية في الوطن العربي..
١٠. ازدهار حشائش الإستبس شتاء وجفافها صيفا..
١١. تتدرج حشائش السافانا في الطول ..
١٢. تنوع الأنشطة الاقتصادية في الوطن العربي.
١٣. انتشار أمراض سوء التغذية في بعض مناطق الوطن العربي.
١٤. يعاني الوطن العربي من مشكلة ندرة المياه العذبة ..
١٥. قيام المصريين القدماء بإنشاء مخزات للسيول
١٦. إطلاق مصر لمبادرة زراعة ١٠٠ مليون شجرة مثمرة ..

السؤال الثامن ما النتائج المترتبة على ...؟

١. الموقع الفلكي للوطن العربي.
٢. تحكم الوطن العربي في ممرات مائية مهمة.
٣. تنوع المناخ في الوطن العربي..
٤. الموقع الجغرافي المتميز للوطن العربي عبر العصور.
٥. تنوع مظاهر السطح في الوطن العربي..
٦. سقوط الأمطار في إقليم البحر المتوسط شتاء.
٧. اختلاف كمية المطر في الإقليم الصحراوي
٨. سقوط الأمطار صيفا في الإقليم المداري..

السؤال التاسع دلل على صحة كل عبارة مما يلي:

١. حدوث السيول في المناطق الزراعية..
٢. تنوع الأهمية الاقتصادية للسهول الساحلية في الوطن العربي..
٣. أثرت الحركات الانكسارية على مظاهر سطح الوطن العربي.
٤. يختلف النبات الطبيعي في الإقليم الصحراوي من مكان لآخر..
٥. يتنوع الغطاء النباتي في الوطن العربي.
٦. تحدث المشكلات البيئية لأسباب طبيعية وأخرى بشرية..
٧. يمكن استخدام التكنولوجيا الحديثة في مواجهة السيول والتصحر.

السؤال العاشر ما العلاقة بين ...؟

سنة

١. نهر النيل والسهول الفيضية.
٢. المسطحات المائية والمناخ..
٣. التضاريس والمناخ.
٤. الكتل الجبلية وتوزيع كمية الأمطار.
٥. مبادرات زراعة الأشجار ومواجهة التغير المناخي..

السؤال الحادي عشر قارن بين

١. الجناح العربي الأنسيوي والجناح العربي الإفريقي من حيث عدد الدول.
٢. إقليم البحر المتوسط والإقليم المداري في الوطن العربي من حيث الخصائص المناخية - النباتات الطبيعية - أهم الحيوانات المنتشرة بكل منهما).
٣. الحشائش الحارة - الحشائش المعتدلة من حيث الموقع - أهم الحيوانات التي تعيش بكل منهما).

السؤال الثاني عشر ماذا يحدث إذا ...؟

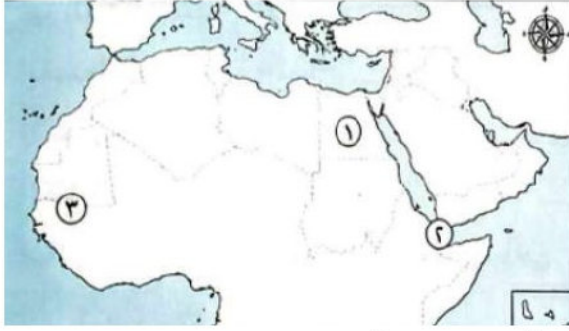
١. لم يتعرض الوطن العربي الحركات التوائية.
٢. سقطت أمطار قليلة على منحدرات جبال أطلس..
٣. اختفت الأنهار من الوطن العربي..

السؤال الثالث عشر أجب عما يأتي:

١. صنف الجبال التالية حسب نوعها في الجدول التالي:
(جبال عمان - جبال الحجاز - جبال زاغروس - جبال عسير - جبال البحر الأحمر - جبال أطلس).
٢. اقترح ثلاث طرق لمواجهة خطر الجفاف في الوطن العربي..

اختبار على الوحدة الأولى

السؤال الأول. (أ) أمامك خريطة للوطن العربي، لاحظها ثم أجب:



١. يشير رقم (١) إلى دولة

٢. يشير رقم (٢) إلى مضيق

٣. صوب: تنتمي المدينة رقم (٣) للإقليم المناخي

لموسمي

ثانياً: أكمل

١. الوطن العربي يضم دولة عربية، تقع في قارتين

هما و

٢. من أمثلة الجبال في الجناح الآسيوي جبال وفي الجناح الإفريقي جبال

٣. الإقليم المناخي الذي يمتد في الأجزاء الشمالية للوطن العربي هو إقليم

ثالثاً: ضع علامة (✓) أمام العبارة الصحيحة أو (X) أمام العبارة غير الصحيحة

١. السهول الصحراوية أكبر السهول مساحة في الوطن العربي. ()

٢. الإقليم المداري يتميز بأمطار صيفية وحرارة مرتفعة. ()

٣. من أسباب التصحر زحف الكثبان الرملية. ()

٤. أطلقت مصر مبادرة زراعة ١٥٠ مليون شجرة. ()

رابعاً: اختر الإجابة الصحيحة مما بين القوسين

١. الممر المائي الذي يربط البحرين الأحمر والمتوسط هو

(مضيق هرمز - قناة السويس - مضيق جبل طارق - مضيق باب المندب)

٢. من الحيوانات التي تعيش في الإقليم الصحراوي

(الفيلة - الإبل - الأسود - الزراف)

٣. من طرق مواجهة مشكلة الجفاف

(قطع الأشجار - إعادة تدوير المياه - حرق النفايات - الرعي الجائر)

٤. الدولة التي تقع خارج النطاق الفلكي للوطن العربي هي

(البحرين - جزر القمر - الكويت - جيبوتي)

خامساً: ما المقصود بـ

١. الموقع الجغرافي.

٢. التصحر.

سادساً: أكتب ما تشير إليه العبارات الآتية

١. عملية نحت الصخور ونقلها وإرسابها بواسطة المياه.

٢. أشجار مدارية يُستخرج منها الصمغ العربي.

سابعاً: بم تفسر

١. للوطن العربي أهمية استراتيجية كبيرة.

٢. يعاني الوطن العربي من مشكلة ندرة المياه العذبة.

ثامناً: ما النتائج المترتبة على

١. تنوع مظاهر السطح في الوطن العربي.

٢. مشكلة السيول في الوطن العربي.

تاسعاً: ما العلاقة بين

الطاقة المتجددة وتلوث الهواء.

الوحدة الثانية

الفصل الأول

شبه الجزيرة العربية (قبل وبعد ظهور الإسلام)

أحوال العرب في شبه الجزيرة العربية قبل ظهور الإسلام

أولا

الحياة السياسية

١

- كان النظام القبلي هو النظام السائد في شبه الجزيرة العربية قبل ظهور الإسلام **بم تفسر؟**
- بسبب الحروب والخلافات بين القبائل.
- من أشهر القبائل في ذلك الوقت قبيلة **قريش**

القبيلة

ما المقصود

- جماعة من الناس ينتمون إلي نسب وأصل واحد ولهم عادات وتقاليد مشتركة .

النظام القبلي

ما المقصود

- نظام يتكون من قبائل متفرقة ولكل قبيلة شيوخ يحكمها.

الحياة الاقتصادية

٢

عرف سكان شبه الجزيرة العربية عديدا من الحرف والأنشطة الاقتصادية، منها:

أ- رعي الأغنام: كان أكثر الحرف انتشارا

ب- الصناعة: تميز العرب بصناعة السيوف والرماح والأواني الفخارية.

ج- التجارة: عمل العرب بالتجارة، وكان أهل مكة أعظمهم مكانة تجارية **(بم تفسر)؟** لأنهم نظموا رحلتهم الشتاء والصيف.

- رحلة **الشتاء:** إلى اليمن

- رحلة **الصيف:** إلى الشام



خريطة (١) طرق التجارة في مكة

الحياة الاجتماعية

٣

كان المجتمع في شبه الجزيرة العربية قبل الإسلام ينقسم إلى طبقات اجتماعية مختلفة، وهي:

١ - طبقة الأغنياء من التجار وأصحاب الأراضي والمراعي.

٢- طبقة صغار التجار والحرفيين.

٣- طبقة الفقراء والعبيد.

- كان الناس يعيشون في قبائل لها عادات وتقاليد متنوعة.
- تميزوا ببعض العادات (أفعال اعتادوا القيام بها في حياتهم)، منها:



الحياة الدينية

٤



▪ كانت شبه الجزيرة العربية مهدا لكثير من الأنبياء، منهم: هود وصالح وشعيب **ما النتائج المترتبة على؟** لذلك عرف

أهلها عبادة الله الواحد
 ▪ لكن مع مرور الوقت، ابتعد بعض الناس عن عبادة الله، وظهرت بينهم عبادات غير سماوية، مثل عبادة الأصنام.

الحياة الثقافية

٥



إلقاء الشعر في أحد أسواق العرب القديمة

اعداد /
 مستر حاتم عاطف

▪ اشتهر العرب بالشعر والخطابة.

▪ كانت الأسواق مكانا لتنافس الشعراء والخطباء، مثل

سوق عكاظ وسوق ذي المجاز

فكر وأجب

ضع علامة صح او خطأ

١. عاش العرب قبل الإسلام في قبائل متفرقة. ()
٢. ساد النظام الملكي في شبه الجزيرة العربية قبل الإسلام. ()
٣. رحبت قريش بدعوة الرسول (ﷺ) للإسلام. ()
٤. كانت حرفة الزراعة هي الحرفة الأكثر انتشاراً في شبه الجزيرة العربية قبل الإسلام. ()
٥. وأد البنات وشرب الخمر من الصفات الحسنة عند العرب قبل الإسلام. ()

ظهور الإسلام في شبه الجزيرة العربية

ثانيا

- نتيجة لما شهدهته شبه الجزيرة العربية قبل ظهور الإسلام من البعد عن عبادة الله الواحد الأحد، كانوا في حاجة إلى ظهور نبي **م تفسر**؟ ليرشد الناس إلى عبادة الله الواحد الأحد، وينشر العدل والمساواة بينهم.

بطاقة تعريف النبي محمد (ص)

١ ميلاد النبي محمد (ﷺ)



- **اسمه** : محمد بن عبد الله بن عبد المطلب.
- **والده** : عبد الله (توفي قبل ولادته، لذا ولد رسول الله (ﷺ) يتيما).
- **والدته** : آمنه بنت وهب.
- **جدة** : عبد المطلب
- **عمه** : أبو طالب
- **زوجته** : السيدة خديجة بنت خويلد
- **تاريخ ميلاده** : ١٢ من ربيع الأول الموافق لعام ٥٧٠م الذي عرف بعام الفيل **م تفسر**؟ لأن أبرهة الحبشي حاول هدم الكعبة في هذا العام مستخدما الفيلة
- **مكان ميلاده** : مكة.

٢ نشأة النبي محمد (ﷺ) وحياته

أهم المحطات في حياة النبي محمد (ﷺ) - دراسات الاجتماعية

- ١- عاش النبي محمد (ﷺ) في ديار بني سعد عند مرضعته السيدة حليمة السعدية **ما النتائج المترتبة على؟**
 - اكتسب منهم فصاحة اللسان
 - وقوة البنيان
 - ورجاحة العقل.
- ٢- عاش النبي محمد (ﷺ) مع أمه آمنه بنت وهب حتى توفيت وهو في عمر ٦ سنوات.
- ٣- تولى جده عبد المطلب رعايته، ثم توفي عندما كان النبي محمد (ﷺ) في عمر ٨ سنوات.
- ٤- ثم عاش النبي محمد (ﷺ) في بيت عمه أبي طالب وعمل برعي الأغنام **م**



تفسر؟ لكي لا يكون عبئا على عمه، وفي شبابه عمل بالتجارة ولقب **بالصادق الأمين**.

- ٥- ثم تزوج من السيدة **خديجة بنت خويلد** وأنجب منها من الذكور اثنين، ومن الإناث أربعا.
- ٦- نزل سيدنا جبريل بالوحي لأول مرة على النبي محمد (ﷺ) وهو يتعبد في **غار حراء** في إحدى ليالي **شهر رمضان**.

الوحي

ما المقصود

- تعاليم صادرة من الله إلى الأنبياء بواسطة جبريل

٧- أخيره **ورقة بن نوفل** ابن عم السيدة خديجة أنه نبي هذه الأمة.

حقائق تاريخية : اكتسب النبي عدة صفات من حرفة الرعي ، مثل : الصبر و التواضع و الرحمة و الشجاعة

مراحل الدعوة الإسلامية

ثالثا

٤- عالمية
الدعوة٣- مواجهة
المعتدين
على الدعوة٢- الدعوة
الجهرية
دون
مواجهة١- الدعوة
السرية

سرية الدعوة

المرحلة الأولى

- استغرقت ثلاث سنوات.
- بدأ النبي (ﷺ) بدعوة أهل بيته وأصحابه المقربين **سرايم تفسر**؟ خوفاً من أذى قريش.
- أبرز من أمن في هذه المرحلة: السيدة خديجة - أبو بكر الصديق - علي بن أبي طالب
- اتخذ النبي (ﷺ) من **دار الأرقم بن أبي الأرقم** مدرسة ليعلم فيها المسلمين مبادئ الدين الإسلامي.

الدعوة الجهرية دون مواجهة

المرحلة الثانية

- أذن الله للنبي محمد (ﷺ) بإعلان الدعوة بعد ٣ سنوات من الدعوة السرية، فخافت قريش على مكانتها ونفوذها بين القبائل **ما النتائج المترتبة على**؟ فقامت به
 - ١- إيذاء النبي و واتهامه بالسحر و الجنون
 - ٢- التفاوض معه وإغرائه بالمال والزعامة والسلطة، ولكنه رفض
 - ٣- حصار المسلمين ومقاطعتهم (عدم البيع والشراء منهم).
 - ٤- تعذيب وإيذاء المسلمين.
- **رد فعل النبي (ﷺ) على إيذاء قريش**
 - حث المسلمين على الصبر والتحمل.
 - أمر أصحابه بالهجرة إلى الحبشة **بم تفسر**؟ لأن ملكها النجاشي كان عادلاً لا يظلم عنده أحد.
 - حاول نشر الدعوة في الطائف، لكن أهلها قابلوه بالأذى فعاد إلى مكة.
- استمر النبي (ﷺ) في دعوة القبائل القادمة إلى مكة في **موسم الحج**، واستجاب له وفد من أهل يثرب ودخلوا الإسلام.

لاحظ أن: بالصبر والإصرار نستطيع التغلب على أي صعوبات قد تواجهنا في الحياة.

تدريبات الدرس

السؤال الأول اختر الإجابة الصحيحة مما بين القوسين

- ١- ولد الرسول في.....
(يثرب - تبوك - مكة - الطائف)
- ٢- عاش النبي (ﷺ) في ديار بني سعد عند مرضعته السيدة.....
(أمّنة - حلّيمة - خديجة - فاطمة)
- ٣- عم النبي (ﷺ) الذي تربي عنده هو.....
(عبد الله - أبو طالب - أبو بكر - الحارث)
- ٤- الغار الذي كان النبي (ﷺ) يتعبد فيه هو غار.....
(حراء - نور - الكهف - الصفا)
- ٥- انتقل الرسول للعيش في بيت عمه وهو في سن.....
(السابعة - الثامنة - التاسعة - العاشرة)
- ٦- إحدى العادات الحسنة عند العرب قبل الإسلام.....
(وأد البنات - إكرام الضيف - الأخذ بالنار - شرب الخمر)
- ١- كان أكثر الحرف انتشاراً في شبه الجزيرة العربية قبل الإسلام:.....
(الصناعة - الرعي - التجارة - الزراعة)
- ٢- تميز العرب قبل الإسلام بصناعة:.....
(الملابس - الأواني الفخارية - السيارات - الورق)
- ٣- رحلة الشتاء كانت إلى:.....
(الشام - اليمن - الطائف - المدينة)
- ٤- وُلد النبي (ﷺ) في عام:.....
(الهجرة - الفتح - الفيل - بدر)
- ٥- كان عمر النبي (ﷺ) عند وفاة أمه:.....
(٤ سنوات - ٦ سنوات - ٨ سنوات - ١٠ سنوات)
- ٦- كان لقب النبي (ﷺ) في شبابه:.....
(الفصيح - القوي - الصادق الأمين - الهادي)
- ٧- أول من آمن بالنبي (ﷺ) من النساء:.....
(خديجة - عائشة - فاطمة - صفية)
- ٨- استمرت الدعوة السرية:.....
(سنة - سنتين - ثلاث سنوات - خمس سنوات)
- ٩- هاجر المسلمون إلى الحبشة لأن ملكها كان:.....
(قوياً - غنياً - عادلاً - كريماً)
- ١٠- من أسواق العرب قبل الإسلام:.....
(عكاظ - بدر - مؤتة - حنين)

السؤال الثاني اكتب كلمة (صواب) أمام العبارة الصحيحة، وكلمة (خطأ) أمام العبارة غير الصحيحة.

١. عاش العرب قبل الإسلام في قبائل متفرقة.
٢. ساد النظام الملكي في شبه الجزيرة العربية قبل الإسلام.
٣. رحبت قريش بدعوة الرسول (ﷺ) للإسلام.
٤. كانت حرفة الزراعة هي الحرفة الأكثر انتشاراً في شبه الجزيرة العربية قبل الإسلام.
٥. وأد البنات وشرب الخمر من الصفات الحسنة عند العرب قبل الإسلام.
٦. نزل جبريل على الرسول (ﷺ) لأول مرة في شهر المحرم.
٧. عمل النبي (ﷺ) بحرفتي الرعي والتجارة قبل البعثة.

٨. نزلت رسالة الإسلام على سيدنا محمد (ﷺ) وهو في غار ثور
٩. لقب الرسول (ﷺ) في شبابه بالصادق الأمين.
١٠. تزوج الرسول من السيدة خديجة بنت خويلد
١١. أنجب الرسول من السيدة خديجة اثنين من الذكور وثلاثا من الإناث.
١٢. استمرت الدعوة الإسلامية سيرا لفترة سبع سنوات تجنباً للصدام مع قريش.
١٣. هاجر المسلمون إلى الحبشة لأن بها ملكاً عادلاً.
١٤. دعا الرسول (ﷺ) إلى عبادة الله الواحد وترك عبادة الأصنام.

السؤال الثالث أكمل العبارات الآتية بما يناسبها من كلمات

١. عرف عن العرب قديماً الخطابة وحب
٢. عمل الرسول (ﷺ) وهو في بيت عمه بحرفة
٣. عرف النبي بين قومه بلقب
٤. دار اتخذها الرسول (ﷺ) ليعلم فيها الناس مبادئ الإسلام هي دار
٥. كان النظام القبلي هو النظام السائد في شبه الجزيرة العربية قبل ظهور الإسلام بسبب
٦. من أشهر القبائل في ذلك الوقت قبيلة
٧. كان أكثر الحرف انتشاراً في شبه الجزيرة العربية قبل الإسلام هو
٨. تميز العرب بصناعة
٩. كانت رحلة الشتاء إلى
١٠. طبقة الأغنياء قبل الإسلام كانت من
١١. من العادات الحسنة للعرب قبل الإسلام
١٢. من العادات السيئة للعرب قبل الإسلام
١٣. شبه الجزيرة العربية مهذاً لكثير من الأنبياء مثل
١٤. من أشهر أسواق العرب قبل الإسلام سوق
١٥. وُلد النبي محمد ﷺ يوم
١٦. عاش النبي ﷺ في طفولته في ديار بني سعد عند مرضعته
١٧. عمل النبي ﷺ برعي الأغنام لكي
١٨. لُقّب النبي ﷺ في شبابه بـ
١٩. أول من آمن بالنبي ﷺ من النساء
٢٠. هاجر بعض المسلمين إلى الحبشة لأن ملكها

السؤال الرابع صوب ما تحته خط فيما يلي:

١. عاش النبي في طفولته عند مرضعته في ديار بني هاشم.
٢. اعتاد النبي (ﷺ) في شبابه على الذهاب إلى غار ثور
٣. نزلت رسالة الإسلام في إحدى ليالي شهر شوال.
٤. أعلى طبقات المجتمع العربي قبل الإسلام طبقة الأغنياء من التجار وصغار التجار والحرفيين.
٥. استجاب الدعوة النبي (ﷺ) في موسم الحج القبائل القادمة من الطائف.

السؤال الخامس اكتب اسم الشخصية التاريخية الدالة عليها كل عبارة مما يلي:

١. والدة الرسول عاش معها حتى سن السادسة.
٢. جد الرسول (ﷺ) عاش معه حتى الثامنة من عمره.
٣. عم الرسول الذي عاش في بيته.

٤. ملك الحبشة الذي هاجر إليه المسلمون
٥. زوجة النبي (ﷺ) وأول من أمنت من النساء.
٦. أخبر النبي (ﷺ) أنه نبي هذه الأمة.
٧. حاول هدم الكعبة بجيش من القبلة.

السؤال السادس ما المقصود بكل من ...؟

١. القبيلة
٢. النظام القبلي
٣. الوحي.

السؤال السابع بم تفسر ...؟

- ١- حاجة العالم إلى قدوم النبي
- ٢- عرف أهل شبه الجزيرة العربية التوحيد قبل ظهور الإسلام.
- ٣- انتقال الرسول للإقامة مع جده
- ٤- التقاء الرسول (ﷺ) بالمسلمين في دار الأرقم...
- ٥- ذهاب الرسول (ﷺ) إلى غار حراء
- ٦- رفض قريش للدعوة الإسلامية.
- ٧- أمر الرسول (ج) أصحابه بالهجرة إلى الحبشة.
- ٨- ساد نظام الحكم القبلي في شبه الجزيرة العربية.

السؤال الثامن دلل على صحة العبارات التالية:

- ١- شهرة العرب بالشعر والخطابة
- ٢- رفضت قريش الدعوة الإسلامية.
- ٣- اتصف العرب قبل الإسلام بعدة عادات حسنة

السؤال التاسع ما النتائج المترتبة على ...؟

- ١- دعوة النبي (ﷺ) وقود القبائل إلى الإسلام في موسم الحج..
- ٢- عمل النبي (ﷺ) في رعي الأغنام...
- ٣- رفض قريش للدعوة الإسلامية.
- ٤- وجود سوق عكاظ وذي المجاز
- ٥- ظهور الإسلام في شبه الجزيرة العربية.

السؤال العاشر ما العلاقة بين...؟

- ١- الأسواق والشعر عند العرب ..
- ٢- الدعوة السرية ودار الأرقم بن أبي الأرقم...
- ٣- غار حراء وبداية الرسالة.
- ٤- موقف قريش من الدعوة الإسلامية وهجرة المسلمين إلى الحبشة ..

السؤال الحادي عشر أجب عما يلي:

- ١- اكتب أسماء ثلاث شخصيات استجابت لدعوة الرسول إلى الإسلام في المرحلة الأولى.
- ٢- رتب الأحداث التاريخية التالية من الأقدم إلى الأحدث
(الهجرة إلى الحبشة - نزول جبريل بالوحي - الدعوة للإسلام سرا - عمل النبي (ﷺ) بالرعي)
- ٣- وضع طبقات المجتمع العربي قبل ظهور الإسلام.
- ٤- ماذا كان سيحدث إذا كان ملك الحبشة ظالما؟

الوحدة الثانية

القرن الثاني

الهجرة و عالمية الدعوة

الهجرة إلى يثرب

أولا

سبب الهجرة : بعد أن اشتد أذى قريش للمسلمين في مكة ، أذن النبي (ﷺ) لأصحابه بالهجرة إلى يثرب، فتركوا خلفهم أموالهم ومنازلهم **بم تفسر ؟ هربا من التعذيب والاضطهاد.**



مؤامرة قريش ضد النبي

خافت قريش من هجرة المسلمين إلى يثرب **ما النتائج المترتبة على ؟** فاجتمع زعماءؤها في **دار الندوة** ليتأمروا على قتل النبي ليمنعوه من الهجرة.

خطة النبي للهجرة

- طلب النبي من أبي بكر الصديق تجهيز ناقتين للهجرة وخرجا معا ليلا في سرية تامة.
- اختبأ النبي (ﷺ) وصاحبه في غار ثور ثلاثة أيام، وكانت عناية الله تحرسهما من أعين المشركين.
- استأجر النبي (ﷺ) رجلا أمينا يعرف طرق الصحراء فسارا وسلكا معه طريقا غير مألوف **بم تفسر ؟ حتى لا يكتشف أمرهم.**
- كانت رحلة الهجرة شاقة وطويلة، لكن وصل النبي (ﷺ) وصاحبه إلى يثرب، وهناك استقبلهما أهلها بالفرح والسرور **بم تفسر ؟**



لاحظ أن :

تعددت العوامل التي ساعدت على نجاح خطة هجرة الرسول (ﷺ) **(دلال)**، ومنها عناية الله، والتخطيط الجيد، والسرية التامة، والاستعانة بذوي الخبرة.

أسس بناء الدولة الإسلامية في المدينة.

ثانيا



بناء المسجد

١

▪ أول أعمال النبي (ﷺ) بعد وصوله إلى المدينة **بم تفسر؟** ليكون مركزاً للعبادة ومقراً للحكم.

المؤاخاة بين المهاجرين والأنصار

٢

▪ حرص النبي على تقوية وحدة المسلمين **بم تفسر؟** لنشر المحبة والتعاون وبناء مجتمع إسلامي قوي ومتماسك.

الأنصار

ما المقصود

▪ المسلمون الذين نصرروا النبي (ﷺ) من أهل المدينة.

المهاجرون

ما المقصود

▪ المسلمون الذين تركوا ديارهم وأموالهم في مكة وهاجروا إلى المدينة.

وضع صحيفة المدينة

٣

▪ وضعها النبي لتحديد حقوق المسلمين وغير المسلمين، وأكدت على التعايش السلمي.

تأمين الدولة وحمايتها

٤

▪ كون النبي جيشاً قويا، ودربه وسلحه التأسيس الدولة والدفاع عنها.

في الدراسات الاجتماعية

فكر وأجب

أكمل العبارات الآتية

- هاجر المسلمون من مكة إلى يثرب هرباً من
- اجتمع زعماء قريش في دار ليتآمروا على قتل النبي (ﷺ).
- اختبأ النبي (ﷺ) وأبو بكر في غار ثلاثة أيام.
- سلك النبي (ﷺ) وصاحبه طريقاً غير مألوف حتى
- أول أعمال النبي (ﷺ) في المدينة كان ليكون مركزاً للعبادة ومقراً للحكم.
- المؤاخاة بين المهاجرين والأنصار كانت لنشر وبناء مجتمع قوي.

بم تفسر؟

١. هجرة المسلمين إلى يثرب.؟

المرحلة الثالثة من الدعوة: (مواجهة المعتدين على الدعوة)

ثالثا

بدأت مرحلة جديدة من الدعوة بعد تأسيس الدولة الإسلامية في المدينة، فخاض النبي (ﷺ) الغزوات وأرسل السبأنا لحماية الدهلة.

السرية

ما المقصود

▪ خروج الجيش للقتال دون النبي (ﷺ).

الغزوة

ما المقصود

▪ خروج الجيش للقتال بقيادة النبي (ﷺ).

أهم غزوات النبي (ﷺ)

غزوة
الخندق ٥هـغزوة أحد
٣هـغزوة بدر
٢هـ

غزوة بدر ٢هـ

١



▪ الأبطال المسلمون ضد قريش.

▪ سبب التسمية: لأن الصحابي الحباب بن المنذر أنشأ حياضاً

على النبي (ﷺ) أن يعسكر عند أقرب بئر لبدر **تفسر؟**

لمنع الماء عن المشركين.

▪ النتائج: انتهت بانتصار المسلمين على قريش رغم

قلة عدد المسلمين.

مستتر حاتم عاطف

غزوة أحد ٣هـ

٢



▪ الأبطال المسلمون ضد قريش.

▪ الأحداث في بداية المعركة انتصر المسلمون، ولكن

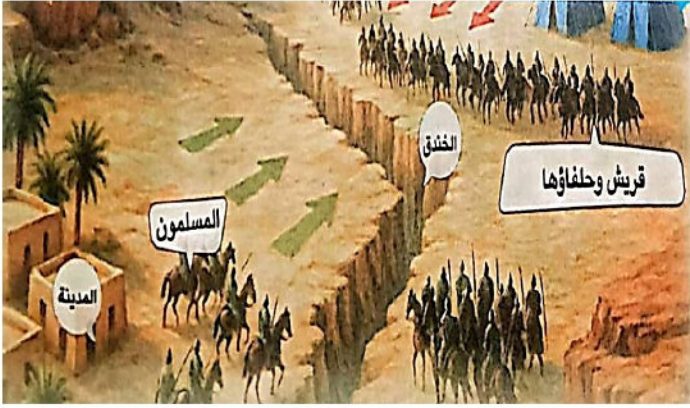
خالف بعض الرماة أمر النبي (ﷺ) وتركوا أماكنهم **تفسر؟**

لجمع الغنائم

▪ النتائج: تحول نصر المسلمين إلى هزيمة.

غزوة الخندق ٥هـ

٣



- **الأطراف المسلمون** ضد قريش وحلفائها.
- **سبب التسمية:** سميت بهذا الاسم لأن الصحابي سلمان الفارسي اقترح على النبي (ﷺ) حفر الخندق حول المدينة **بم تفسر؟ لمنع قريش وحلفائها من الوصول إلى المسلمين.**
- **الأحداث** هبت رياح شديدة فغادرت قريش **النتائج** انتهت بانتصار المسلمين على قريش وحلفائها دون قتال.

المرحلة الرابعة من الدعوة (عالمية الدعوة)

رابعاً

صلح الحديبية (٦هـ)

١

- **الأحداث:** خرج النبي محمد (ﷺ) مع أصحابه لأداء العمرة. فمنعته قريش من دخول مكة، فدارت مفاوضات بين الطرفين، وانتهت بصلح الحديبية.
- **شروط الصلح:** وقف الحرب بين الطرفين المسلمين وقريش لمدة ١٠ سنوات.
- **نتائج الصلح:** بدأ النبي محمد (ﷺ) بإرسال الرسل إلى ملوك العالم يدعوهم إلى الإسلام، وكانت هذه بداية مرحلة عالمية الدعوة.

فتح مكة (٨هـ)

٢

- **الأسباب:** نقضت قريش صلح الحديبية باعتمادها على قبيلة خزاعة، وهي من حلفاء المسلمين.
- **النتائج:** توجه النبي (ﷺ) بجيش كبير إلى مكة وفتحها دون قتال وحطم الأصنام.
- ضرب النبي أروع الأمثلة في التسامح والعفو عند فتح مكة حيثما قال لأهل مكة **" اذهبوا فأنتم الطلقاء "**

لاحظ أن:

تعد مكة المكرمة من أهم مدن شبة الجزيرة العربية، حيث تقع في واد تحيط به الجبال العالية، مما وفر لها حماية طبيعية وجعل الوصول إليها أمراً صعباً، وعلى الرغم من طبيعتها الجبلية وندرة المياه والزراعة فيها، إلا أن موقعها المميز جعلها مركزاً دينياً وتجارياً بارزاً في المنطقة

وفاة النبي

خامساً

- أدى النبي فريضة الحج في السنة العاشرة من الهجرة (**حجة الوداع**)، وألقى فيها خطبة الوداع، حيث:
 - ١- أرسى فيها النبي مبادئ الدين والحياة.
 - ٢- أوصى فيها النبي بحسن معاملة النساء.
- وبعد عودته إلى المدينة أصيب بمرض شديد في العام الحادي عشر، وانتقل إلى جواربه بعد تمام رسالته ونشر نور الإسلام.
- **لاحظ أن:** الصبر والتخطيط هما البداية الحقيقية لأي نجاح، وأن التعاون والعدل هما الأساس في بناء مجتمع قوي.

تدريبات الدرس

السؤال الأول أكمل العبارات التالية بما يناسبها من كلمات

١. هاجر المسلمون من مكة إلى يثرب هرباً من
٢. اجتمع زعماء قريش في دار ليتأمرؤا على قتل النبي ﷺ.
٣. اختبأ النبي ﷺ وأبو بكر في غار ثلاثة أيام.
٤. سلك النبي ﷺ وصاحبه طريقاً غير مألوف حتى
٥. أول أعمال النبي ﷺ في المدينة كان ليكون مركزاً للعبادة ومقرّاً للحكم.
٦. وثيقة وضعها النبي ﷺ لتحديد حقوق المسلمين وغير المسلمين تسمى
٧. سميت غزوة بدر بهذا الاسم لأن الصحابي أشار على النبي ﷺ بالمعسكر عند أقرب بئر.
٨. سميت غزوة الخندق بهذا الاسم لأن الصحابي اقترح حفر خندق حول المدينة.
٩. مدة صلح الحديبية كانت سنوات.
١٠. نقضت قريش صلح الحديبية باعتدائها على قبيلة
١١. عند فتح مكة قال النبي ﷺ لأهلها:
١٢. أوصى النبي ﷺ في خطبة الوداع ب.....
١٣. رافق الرسول (ﷺ) في هجرته من مكة إلى المدينة الصحابي
١٤. أول عمل قام به الرسول (ﷺ) في المدينة هو بناء
١٥. بدأ النبي (ﷺ) بإرسال الرسائل إلى الملوك بعد صلح
١٦. تحول نصر المسلمين إلى هزيمة عام ٣ هـ في غزوة
١٧. عمل الرسول (ﷺ) على تقوية جبهة المسلمين في المدينة من خلال

السؤال الثاني اختر الإجابة الصحيحة مما بين القوسين

- ١- صاحب النبي (ﷺ) عند هجرته إلى يثرب
- ٢- أحد أسس قيام الدولة الإسلامية في المدينة.....
(فتح مكة - حفر الخندق - بناء المسجد - إنشاء قلعة)
- ٣- قال رسول الله (ﷺ): «اذهبوا فأنتم الطلقاء» في
- ٤- إحدى نتائج صلح الحديبية قيام الرسول (ﷺ)
- ٥- أحد عوامل نجاح خطة النبي في أثناء الهجرة
- ٦- أي من المبادئ التالية أكدتها صحيفة المدينة.....
(التوسع السياسي - التعايش السلمي - التفوق الاقتصادي - السيطرة الدينية)
- ٧- استفاد المسلمون من خبرات الفرسان العسكرية خلال أحداث غزوة
- ٨- تختلف السرايا عن الغزوات في

السؤال الثالث اكتب كلمة (صواب) أمام العبارة الصحيحة، وكلمة (خطأ) أمام العبارة غير الصحيحة:

١. اشتد أذى قريش للمسلمين فأمر النبي (ﷺ) المسلمين بالهجرة إلى اليمن. ()
٢. اجتمع زعماء قريش في دار الأرقم بن أبي الأرقم لمنع الرسول من الهجرة. ()

٣. طلب النبي من أبي بكر الصديق أن يصحبه في الهجرة. ()
٤. سلك النبي (ﷺ) في طريقه للهجرة طريقاً معروفاً للوصول إلى يثرب. ()
٥. اختبأ النبي خلال هجرته ليثرب في غار حراء لمدة ثلاثة أيام. ()
٦. كان التخطيط الجيد أحد العوامل التي ساهمت في نجاح هجرة النبي (ﷺ) إلى يثرب. ()
٧. يعد مسجد قباء أول مسجد في الإسلام. ()
٨. استقبل أهل يثرب النبي (ﷺ) بالفرح والسرور. ()
٩. حرص النبي (ﷺ) على تقوية وحدة المسلمين، فأخي بين المهاجرين والأنصار ()
١٠. وضع النبي (ﷺ) صحيفة المدينة لتنظيم الحقوق والواجبات في المدينة. ()
١١. كان الهدف من غزوات الرسول هو حماية الدولة الإسلامية. ()
١٢. أخذ النبي (ﷺ) في غزوة بدر بمشورة سلمان الفارسي. ()
١٣. خالف الرماة أمر النبي في غزوة أحد فتعرض المسلمون للهزيمة. ()
١٤. نص صلح الحديبية على وقف الحرب بين المسلمين وقريش. ()
١٥. نقضت قريش صلح الحديبية بالاعتداء على قبيلة خزاعة. ()
١٦. أوصى النبي في خطبة الوداع بحسن معاملة النساء. ()

السؤال الرابع صوب ما تحته خط فيما يلي:

١. حقت صحيفة المدينة بين المسلمين وغير المسلمين مبدأ القوة العسكرية
٢. دبرت قريش مؤامرة لقتل الرسول (ﷺ) في دار الأرقم.
٣. صاحب النبي (ﷺ) في هجرته من مكة ليثرب هو الحباب بن المنذر

السؤال الخامس لمن تنسب الأعمال التاريخية التالية...؟

١. أثنار على النبي (ﷺ) بحفر الخندق في عام ٥هـ.
٢. أثنار على النبي (ﷺ) بأن يعسكر بالمسلمين عند أقرب بئر لبدر في عام ٥هـ.

السؤال السادس رتب الأحداث التاريخية التالية من الأقدم إلى الأحدث

- (بناء المسجد في المدينة - غزوة الخندق - مؤامرة قريش لقتل النبي (ﷺ) - إرسال الرسول لملوك العالم يدعوهم إلى الإسلام - غزوة أحد) ..

السؤال السابع ما المقصود بكل من...؟

١. المهاجرون
٢. الأنصار
٣. السرية
٤. الغزوة.

السؤال الثامن بم تفسر...؟

١. اجتماع زعماء قريش في دار الندوة ..
٢. بناء النبي (ﷺ) المسجد بعد وصوله إلى المدينة ..
٣. حرص النبي (ﷺ) على المؤاخاة بين المهاجرين والأنصار ..
٤. وضع النبي (ﷺ) لصحيفة المدينة ..
٥. كون النبي جيشاً قويا في المدينة ..
٦. ترك بعض الرماة أماكنهم في غزوة أحد.

السؤال التاسع ما النتائج المترتبة على...؟

١. فتح مكة.
٢. غزوة أحد.
٣. اعتداء قبيلة قريش على قبيلة خزاعة ..
٤. غزوة الخندق.
٥. غزوة بدر

السؤال العاشر دلل على صحة كل عبارة مما يلي:

١. بدأت مرحلة مواجهة المعتدين على الدعوة بعد الهجرة إلى المدينة ..
٢. كانت القرارات العسكرية التي اتخذها الرسول في غزواته قائمة على الشورى...
٣. ساهمت الظروف المناخية في انتصار المسلمين في غزوة الخندق ..
٤. تعددت العوامل التي ساهمت في نجاح هجرة الرسول إلى يثرب ..

السؤال الحادي عشر ما العلاقة بين...؟

١. صحيفة المدينة والدولة الإسلامية في المدينة.
٢. صلح الحديبية وفتح مكة ..
٣. الغنائم وغزوة أحد.
٤. مبدأ الشورى وغزوات النبي (ﷺ).

السؤال الثاني عشر ماذا كان سيحدث إذا...؟

١. لم يهاجر النبي من مكة إلى المدينة.
٢. لم يؤاخ الرسول (ﷺ) بين المهاجرين والأنصار.
٣. لم يصدر النبي صحيفة المدينة..
٤. أطاع الرماة أوامر النبي (ﷺ) في غزوة أحد...

السؤال الثالث عشر أجب عما يلي:

١. قارن بين غزوني بدر والخندق من حيث نتائج كل منهما ..
٢. ما الدروس التي تعلمتها من خلال هجرة النبي ..

في الدراسات الاجتماعية

اعداد /

مستتر حاتم عاطف

الوحدة الثانية

الدرس الثالث

إنجازات الخلفاء الراشدين

بعد وفاة النبي (ﷺ)، اجتمع الصحابة في **سقيفة بني ساعدة** **بم تفسر؟** للتشاور في من يتولى خلافة المسلمين، وتم مبايعة أبي بكر الصديق ليصبح أول خليفة للمسلمين.

الخلفاء الراشدون هم أربعة خلفاء عظاماء....

علي بن أبي طالب

عثمان بن عفان

عمر بن الخطاب

أبو بكر الصديق

الخلفاء الراشدون

ما المقصود

▪ هم الذين خلفوا الرسول (ﷺ) وساروا على نهجه.

- نشروا الإسلام وحققوا العدالة بين الناس.
- لكل واحد منهم مواقف عظيمة، وقرارات حكيمة، وأعمال لا تنسى **ما النتائج امة تبة علي؟** لذلك تتعلم منهم دروسا في القيادة والعدل.

أولا

الخليفة ابو بكر الصديق

أبو بكر الصديق (عبد الله بن أبي قحافة)

حياته قبل الخلافة

١

- كانت تربطه علاقة قوية بالنبي محمد (ﷺ).
- عندما دعاه النبي محمد (ﷺ) إلى الإسلام استجاب فورا دون تردد.
- كان من كبار تجار مكة، ومعروفا بين الناس بالصدق والأمانة.

خلافة أبي بكر الصديق

٢

- بعد وفاة النبي (ﷺ) أجمع المسلمون على خلافة أبي بكر الصديق **بم تفسر؟** لعدة أسباب، منها:
- ١- أنه أول من آمن من الرجال.
 - ٢- أسلم على يديه عدد كبير من الصحابة.
 - ٣- أنفق معظم أمواله في سبيل الله لمساعدة الفقراء والمساكين.
 - ٤- صاحب النبي (ﷺ) الذي شاركه في الهجرة
 - ٥- شارك النبي (ﷺ) في جميع غزواته
 - ٦- اختاره النبي (ﷺ) ليؤم المسلمين في الصلاة أثناء مرضه.

الفتوحات الإسلامية

- أرسل الجيوش الإسلامية لقتال الفرس والروم في الشام والعراق **بم تفسر؟**
- لنشر الإسلام و تأمين حدود الدولة الإسلامية.

جمع القرآن الكريم

- كلف أبو بكر الصديق الصحابي **زيد بن ثابت** بجمع القرآن الكريم **بم تفسر؟**
- بسبب استشهاد عدد كبير من حفظة القرآن الكريم في حروب الردة.

مخاربة المرتدين

- قضى على حركات الردة دليلاً، ومنها القضاء على **مسيلمة الكذاب** الذي ادعى النبوة.

إرسال جيش أسامة بن زيد

- أرسل جيش أسامة بن زيد إلى بلاد الشام **بم تفسر؟** لتأمين حدود الدولة الإسلامية مع الروم.

المرتدون

ما المقصود

- جماعة من الناس خرجوا عن الإسلام، وادعى بعضهم النبوة.

لاحظ ان

قبل وفاة أبي بكر الصديق رشح الصحابي عمر بن الخطاب ليكون الخليفة من بعده، ووافق الصحابة على ذلك.

في الدراسات الاجتماعية

فكر وأجب

أكمل العبارات الآتية

- أول من آمن من الرجال هو _____.
- اختار النبي ﷺ ليوم المسلمين في الصلاة أثناء مرضه.
- كان أبو بكر الصديق من كبار تجار مكة ومعروفًا بين الناس ب_____.
- أرسل أبو بكر الصديق جيش _____ إلى بلاد الشام لتأمين حدود الدولة الإسلامية مع الروم.
- كلف أبو بكر الصديق _____ بجمع القرآن الكريم بعد استشهاد عدد كبير من حفظة القرآن الكريم في حروب الردة.

بم تفسر؟

- إجماع المسلمين على خلافة أبي بكر الصديق بعد وفاة النبي ﷺ.



عمر بن الخطاب

ثانيا

حياته قبل الخلافة

١

- لقبه النبي بالفاروق **م تفسر** ؟ لأنه فرق بين الحق والباطل.
- كان مثلاً في العدل والزهد والتواضع والرحمة
- أسلم في السنة **الخامسة** من البعثة.
- شارك مع النبي في كل غزواته.

أهم أعمال الخليفة عمر بن الخطاب

٢

تأسيس مدن جديدة في
البلاد المفتوحة

- مثل: الفسطاط في مصر
- الكوفة في العراق.

التقويم الهجري

- جعل من هجرة النبي بداية للتقويم الهجري للمسلمين.

انشاء الدواوين

- لتنظيم شؤون الدولة، مثل: ديوان الجند..
- ديوان بيت المال.

الفتوحات الإسلامية

- استكمل عمر بن الخطاب الفتوحات التي بدأت في عهد أبي بكر الصديق حيث تم في عهده فتح كل من:
- أ. الشام عام ١٣ هـ : على يد خالد بن الوليد في معركة اليرموك.
- ب. العراق عام ١٥ هـ : على يد سعد بن أبي وقاص في معركة القادسية.
- ج. فارس عام ٢١ هـ : على يد النعمان بن مقرن في معركة فتح الفتوح.
- د. مصر عام ٢١ هـ : على يد عمرو بن العاص ، وأمن الأقباط على أنفسهم وأموالهم وكنائسهم.

- رفض عمر بن الخطاب الصلاة داخل كنيسة القيامة عندما عرض عليه البطريق ذلك. حتى لا يتخذها المسلمون مسجداً من بعده، وصلى خارجها احتراماً لمكانتها ولأهلها.
- استشهد عمر بن الخطاب في صلاة الفجر على يد **أبي لؤلؤة المجوسي** سنة ٢٣ هـ.

ثالثا

عثمان بن عفان



حياته قبل الخلافة

١

- أسلم على يد **أبي بكر الصديق**
- وبشارك مع النبي (ﷺ) في جميع الغزوات ما عدا غزوة بدر **تم تفسر**؟
- بسبب **مرض زوجته**
- أنفق كثيرا من ماله في خدمة الإسلام.

أهم أعمال الخليفة عثمان بن عفان

٢

- **نسخ القرآن الكريم في مصحف واحد**، وتوزيعه على البلدان المفتوحة **تم تفسر** لتوحيد قراءة القرآن الكريم.
- **إنشاء أول أسطول بحري إسلامي تم تفسر**؟ لحماية سواحل مصر والشام من هجمات الروم في عهده.
- **الفتوحات الإسلامية تم تفسر**؟ لتأمين حدود الدولة ونشر الإسلام

لاحظ أن :

أدت الفتنة التي أثارها **عبد الله بن سبأ** إلى استشهاده الخليفة عثمان بن عفان عام ٣٥ هـ.

رابعا

الخليفة علي بن أبي طالب

حياته قبل الخلافة

١



في الدراسات الاجتماعية

- تربى في بيت النبي وكان معروفاً بذكائه وفصاحته وبلاغته، كما اتصف بالعلم والزهد والتواضع.
- يعد أول فدائي في الإسلام **تم تفسر**؟ لأنه نام في فراش النبي ليلة الهجرة.
- أسلم وهو في العاشرة من عمره وتعلم في دار الأرقم بن أبي الأرقم.
- شارك في كل الغزوات مع النبي (ﷺ) ما عدا : غزوة تبوك.

أهم أعمال الخليفة علي بن أبي طالب

٢

أ- نقل مقر الخلافة:

من المدينة إلى الكوفة في العراق **تم تفسر** لتسهيل إدارة شئون الدولة بعد اتساعها.

ب- تنظيم الشرطة:

لحفظ الأمن والاستقرار وملاحقة المجرمين والخارجين عن القانون.

لاحظ أن :

استشهد علي بن أبي طالب عام ٤٠ هـ، على يد **عبد الرحمن بن ملجم** أثناء خروجه الصلاة الفجر

تدريبات الدرس

السؤال الأول اختر الإجابة الصحيحة مما بين القوسين

١. يبدأ عصر الخلفاء الراشدين بالخليفة _____
(عمر بن الخطاب - أبي بكر الصديق - علي بن أبي طالب - عثمان بن عفان)
٢. تم جمع القرآن الكريم في عهد أبي بكر الصديق على يد الصحابي _____
(عمرو بن العاص - خالد بن الوليد - زيد بن ثابت - أسامة بن زيد)
٣. أي مما يلي يعد من أعمال الخليفة عمر بن الخطاب _____
(وضع التقويم الهجري - جمع القرآن الكريم - نقل مقر الخلافة - إنشاء الأسطول البحري)
٤. أرسل أبو بكر الصديق جيش أسامة بن زيد إلى _____
(مصر - العراق - الشام - فارس)
٥. تم نسخ القرآن الكريم وتوزيعه على البلاد المفتوحة في عهد _____
(أبي بكر الصديق - عمر بن الخطاب - عثمان بن عفان - علي بن أبي طالب)
٦. أنشئ أول أسطول بحري إسلامي لتأمين سواحل مصر والشام من هجمات _____
(الروم - قريش - اليهود - الفرس)
٧. أي من المدن التالية أمر الخليفة عمر بن الخطاب ببنائها في العراق؟ _____
(الفسطاط - الإسكندرية - الكوفة - بغداد)
٨. الغزوة التي لم يشترك بها علي بن أبي طالب مع النبي ﷺ هي _____
(حنين - بدر - تبوك - أحد)
٩. أي مما يلي من أعمال الخليفة أبي بكر الصديق _____
(إنشاء ديوان الجند - تنظيم الشرطة - محاربة المرتدين - وضع التقويم الهجري)
١٠. فتحت مصر في عهد الخليفة _____
(أبي بكر الصديق - عمر بن الخطاب - علي بن أبي طالب - عثمان بن عفان)
١١. اهتم علي بن أبي طالب بحفظ الاستقرار في الدولة من خلال _____
(إنشاء الدواوين - تنظيم الشرطة - الفتوحات الإسلامية - جمع القرآن)
١٢. كان اجتماع الصحابة في سقيفة بني ساعدة له دور في _____
(تأسيس جيش للدولة - ازدهار الأحوال الاقتصادية - وضع نظام سياسي جديد - مكافحة الخارجين عن القانون)
١٣. أجمع المسلمون على اختيار أبي بكر خليفة للمسلمين لأنه _____
(حارب حركات الردة - جمع القرآن الكريم - استكمل الفتوحات الإسلامية - صاحب النبي ﷺ في الهجرة)
١٤. اختلفت فترة خلافة علي بن أبي طالب عن سبقوه في _____
(نظام الحكم - النظام الإداري - مقر الحكم - الأحوال الاقتصادية)

السؤال الثاني اكتب كلمة (صواب) أمام العبارة الصحيحة، وكلمة (خطأ) أمام العبارة غير الصحيحة

- ١- أسلم كثير من الصحابة على يد أبي بكر الصديق ()
- ٢- شارك أبو بكر الصديق مع النبي ﷺ في جميع الغزوات ()
- ٣- نسخ عثمان بن عفان القرآن الكريم لتوزيعه على البلاد المفتوحة ()
- ٤- تم تنظيم الشرطة في عهد الخليفة علي بن أبي طالب ()
- ٥- اختار النبي ﷺ أثناء مرضه أبا بكر الصديق ليؤم المسلمين في الصلاة ()

- ٦- عرف علي بن أبي طالب بالذكاء والفصاحة والبلاغة ()
- ٧- اجتمع الصحابة في دار الأرقم بن أبي الأرقم لاختيار خليفة للنبي ()
- ٨- نقل الخليفة علي بن أبي طالب مقر الخلافة إلى دمشق ()
- ٩- فتحت مصر على يد النعمان بن مقرن في عهد الخليفة عمر بن الخطاب ()
- ١٠- ظهرت حركات الردة في نهاية عهد الخليفة علي بن أبي طالب ()
- ١١- اضطهد عمرو بن العاص الأقباط بعد فتح مصر ()
- ١٢- استشهد عمر بن الخطاب خلال إحدى المعارك الحربية ()
- ١٣- قضى أبو بكر الصديق على مسيلمة الكذاب الذي ادعى النبوة ()
- ١٤- أسلم علي بن أبي طالب بعد هجرة الرسول ﷺ ()

السؤال الثالث أكمل العبارات التالية بما يناسبها من كلمات

- ١- بدأ المسلمون استخدام التقويم الهجري في عهد الخليفة _____.
- ٢- تم فتح بلاد الشام عام ١٣ هـ بعد معركة _____.
- ٣- أوصى أبو بكر الصديق أن تكون الخلافة من بعده للصحابي _____.
- ٤- قتل عمر بن الخطاب على يد _____.
- ٥- أمر أبو بكر الصديق بجمع القرآن الكريم عقب حروب _____.
- ٦- أنشأ عمر بن الخطاب عدة دواوين مثل ديوان بيت المال وديوان _____.
- ٧- انتهى حكم الخلفاء الراشدين بوفاة الخليفة _____.
- ٨- قضى أبو بكر الصديق على حركة مسيلمة الكذاب لأنه زعم _____.
- ٩- أمر عمر بن الخطاب بتنشيد مدينة الفسطاط في _____.
- ١٠- المعركة التي أدت إلى فتح بلاد العراق عام ١٥ هـ هي معركة _____.
- ١١- المعركة التي مهدت لفتح بلاد فارس عام ٢١ هـ هي معركة _____.

السؤال الرابع صوب ما تحته خط فيما يلي:

١. أول من أسلم من الرجال هو عمر بن الخطاب
٢. ثالث الخلفاء الراشدين هو علي بن أبي طالب
٣. نقل علي بن أبي طالب مقر الخلافة من المدينة إلى مكة.
٤. تم القضاء على حركة الردة في عهد الخليفة عمر بن الخطاب
٥. ملاحقة المجرمين والخارجين عن القانون كانت إحدى مهام الدواوين.

السؤال الخامس لمن تنسب الأعمال التاريخية التالية ...

١. صلى إماما بالمسلمين أثناء مرض النبي
٢. أنشأ ديوان الجند وديوان بيت المال.
٣. أمر بإنشاء أول أسطول بحري في الإسلام.
٤. أسلم في العاشرة من عمره وكان أول فدائي في الإسلام.
٥. أثار الفتنة في عهد الخليفة عثمان بن عفان
٦. قاد جيش المسلمين في معركة اليرموك.
٧. نجح في فتح العراق خلال معركة القادسية.
٨. فتح بلاد فارس في معركة فتح الفتوح

السؤال السادس فسر ما يلي:

١. اجتمع الصحابة في سقيفة بني ساعدة بعد وفاة النبي ﷺ.
٢. إجماع المسلمين على خلافة أبي بكر الصديق بعد وفاة النبي ﷺ.
٣. إرسال أبي بكر الصديق جيش أسامة بن زيد إلى بلاد الشام.
٤. قضاء أبي بكر الصديق على حركات الردة.

٥. تكليف أبي بكر الصديق الصحابي زيد بن ثابت بجمع القرآن الكريم.
٦. إرسال أبي بكر الصديق الجيوش لقتال الفرس والروم في الشام والعراق.
٧. تلقيب عمر بن الخطاب بـ "الفاروق".
٨. عدم صلاة عمر بن الخطاب داخل كنيسة القيامة.
٩. عدم مشاركة عثمان بن عفان في غزوة بدر.
١٠. نسخ عثمان بن عفان القرآن الكريم في مصحف واحد وتوزيعه على البلدان المفتوحة.
١١. إنشاء عثمان بن عفان أول أسطول بحري إسلامي.
١٢. قيام عثمان بن عفان بالفتوحات الإسلامية.
١٣. يعد علي بن أبي طالب أول فدائي في الإسلام.
١٤. نقل علي بن أبي طالب مقر الخلافة من المدينة إلى الكوفة.
١٥. استنشهاد الخليفة عثمان بن عفان

السؤال السابع دلي على صحة العبارات التالية:

١. اهتمام أبي بكر الصديق بتأمين حدود الدولة الإسلامية ..
٢. حزم وقوة أبي بكر الصديق في محاربة المرتدين.
٣. اهتمام عمر بن الخطاب بالفتوحات الإسلامية.
٤. اتساع حدود الدولة الإسلامية في عهد الخليفة علي بن أبي طالب

السؤال الثامن أجب عما يلي:

١. ما المقصود بالمرتدين؟
٢. ما النتائج المترتبة على الفتنة التي أثارها عبد الله بن سبأ؟
٣. حدد اثنين من أهم أعمال الخليفة عمر بن الخطاب
٤. ما العلاقة بين حروب الردة - جمع القرآن الكريم؟

في الدراسات الاجتماعية

اعداد /

مستر حاتم عاطف

الوحدة الثانية

الدرس الرابع

الدولة الإسلامية (الأمويون - العباسيون)

- بعد انتهاء عصر الخلفاء الراشدين ، بدأت الدولة الإسلامية عهدا جديدا :
- اتسعت فيه الفتوحات الإسلامية .
- تطور فيه نظام الحكم والإدارة .
- ازدهرت فيه العمارة ، والعلوم في مختلف المجالات .

عصر الدولة الأموية (٤١ - ١٣٢) هـ

أولا

قامت الدولة الأموية بعد انتهاء عصر الخلفاء الراشدين ، وامتد حكمها حوالي ٩١ عاما
ومن أشهر خلفائها

الوليد بن عبد
الملكعم بن
عبد العزيزعبد الملك بن
مروانمعاوية بن أبي
سفيان

معاوية بن أبي سفيان (٤٠:٤) هـ

١

أول خلفاء الدولة الأموية.

في الدراسات الاجتماعية

أهم أعماله

اتخذ من **دمشق** عاصمة للأمويين (للدولة الأموية).

اهتم ببناء البحرية الإسلامية (الأسطول البحري الإسلامي).

أنشأ مدينة **القيروان** بم **تونس** ؟ لنشر الإسلام في شمال إفريقيا.أسس **ديوان الخاتم** بم **تونس** ؟ لحماية رسائل الدولة من التزوير



مسجد قبة الصخرة في فلسطين

٢ عبد الملك بن مروان (٦٥: ٨٦) هـ

في عهده استقرت الدولة الإسلامية بعد فترة من الفوضى والصراعات.

أهم أعماله

قام بسبك (صنع النقود) أول عملة إسلامية.

أمر بنقل المصحف بم تفسر ؟ لتسهيل قراءة القرآن الكريم.

عرب الدواوين

شيد مسجد قبة الصخرة في فلسطين

٣ الوليد بن عبد الملك (٨٦: ٩٦) هـ

تميز عهده بالرخاء الاقتصادي، وانتشار الأمن والاستقرار

أهم أعماله

شيد المسجد الأموي في دمشق.

أعاد بناء المسجد النبوي ووسع الحرم المكي.

واصل الفتوحات الإسلامية شرقاً إلى بلاد الهند، وغرباً إلى بلاد الأندلس ما النتائج امتازت به على ، بلغت الدولة الأموية في عهده أقصى اتساعها.

٤ عمر بن عبد العزيز (٩٩: ١٠١) هـ

أطلق عليه خامس الخلفاء الراشدين بم تفسر لما عرف عنه من عدل وزهد وحرص على مصلحة الأمة.

أهم أعماله

- اختار القضاء والولاة والموظفين ممن عرفوا بحسن السيرة والعدل.
- نشر الإسلام في البلاد المفتوحة بالقوة والموعظة الحسنة.
- اهتم بالعلم والعلماء، وشيد المدارس

ضعف وسقوط الدولة الاموية

تعددت أسباب ضعف وسقوط الدولة الاموية ومنها :

توالى بعد عمر بن عبد العزيز خلفاء ضعاف كانوا سببا في سقوط الدولة

كثرة الصراعات بين القبائل العربية بسبب التنافس على السلطة.

ظهور الدعوة العباسية على يد أبي مسلم الخراساني.

حقائق جغرافية

إقليم خراسان الذي انطلقت منه الدعوة العباسية ، يقع اليوم بين عدة دول هي إيران وأفغانستان وتركمانستان، وأوزبكستان

فكر وأجب

أكمل العبارات الآتية

- اتخذ معاوية بن أبي سفيان من عاصمة للدولة الأموية.
- بنى عبد الملك بن مروان مسجد في فلسطين.
- بنى الوليد بن عبد الملك المسجد الأموي في
- أعاد الوليد بن عبد الملك بناء المسجد النبوي ووسع

بم تفسر؟

- أنشأ معاوية بن أبي سفيان مدينة القيروان.
- أمر عبد الملك بن مروان بنقط المصحف.

ثانيا

عصر الدولة العباسية (١٣٢: ٦٥٦) هـ

قامت الدولة العباسية بعد هزيمة الأمويين في معركة الزاب الكبرى عام ١٣٢ هـ، واستمرت أكثر من خمسة قرون، وتنقسم فترتها إلى عصرين، هما:

العصر العباسي الأول	العصر العباسي الثاني
ويُعرف بـ العصر الذهبي بم تقسم ؟ لأنه تميز بقوة الخلفاء وازدهار العلوم والثقافة	عصر الضعف والانقسام

أبرز خلفاء العصر العباسي الأول وإخاراتهم التي ميزت هذا العصر


المعتصم بالله

المأمون بن هارون

هارون الرشيد

أبو جعفر المنصور

أبو العباس
عبد الله



رسم تخيلي لطريق الحجاج

١ أبو العباس عبد الله (١٣٢: ١٣٦)

أهم أعماله

- وضع أسس الدولة الجديدة.
- نقل عاصمة الخلافة إلى مدينة الأنبار في العراق.
- اهتم براحة الحجاج في فجدد الطريق بين مكة والكوفة (دلال)، وزوده بالمنارات الإرشاد المسافرين.

٢ أبو جعفر المنصور (١٣٦: ١٥٨) هـ

المؤسس الحقيقي للدولة العباسية.

أهم أعماله

- قضى على الثورات والفتن، ونشر الأمن والاستقرار في أرجاء الدولة.
- بنى مدينة بغداد، وجعلها عاصمة الخلافة.

٣ هارون الرشيد (١٧٠: ١٩٣) هـ

أشهر خلفاء الدولة العباسية، واشتهر بحبه للعلم والعلماء.

أهم أعماله

في الدراسات الاجتماعية


- أسس مكتبة بيت الحكمة
- أنشأ سوق الوراقين في بغداد لنسخ الكتب وبيعها.
- أقام علاقات قوية مع ملوك أوروبا.
- توسعت الدولة الإسلامية في عهده.

٤ المأمون بن هارون (١٩٨: ٢١٨) هـ


اهتم بالعلوم والفلك.

أهم أعماله

- دعم العلماء والمفكرين في مختلف العلوم.
- شجع على ترجمة الكتب من الحضارات الأخرى.
- أنشأ أول مرصد فلكي في بغداد بم تفسر؟ لرصد النجوم.



رسم تخيلي لمدينة بغداد



المعتصم بالله (٢١٨: ٢٢٧) هـ

٤



المنذنة الملوية بمدينة سامراء

أهم أعماله

- اهتم ببناء جيش قوي وضم إليه الجنود الأتراك.
- أنشأ مدينة **سامراء** لتكون مقراً للخلافة.
- نجح في فتح مدينة عمورية.

أسباب سقوط الدولة العباسية

- الصراع بين الأمراء العباسيين على الحكم
- ضعف الخلفاء العباسيين في نهاية العصر العباسي الثاني.
- سيطرة العناصر غير العربية على نظم الحكم.

كل ذلك أدى في النهاية إلى سقوط الدولة العباسية على يد **المغول** سنة ٦٥٦ هـ.

فكر وأجب

أختر الإجابة الصحيحة

- المؤسس الحقيقي للدولة العباسية هو
(أبو العباس عبد الله - أبو جعفر المنصور - هارون الرشيد - المأمون)
- أسس هارون الرشيد مكتبة
(بيت الحكمة - الأزهر - قبة الصخرة - بيت المال)
- أنشأ المأمون أول مرصد فلكي في
(بغداد - دمشق - مكة - الكوفة)
- أنشأ المعتصم بالله مدينة لتكون مقراً للخلافة.
(سامراء - الكوفة - الفسطاط - البصرة)

بم تفسر؟

- يعرف العصر العباسي الأول بـ "العصر الذهبي".
- اهتمام المأمون بإنشاء أول مرصد فلكي في بغداد.

تدريبات الدرس

أولاً: أكمل العبارات الآتية بما يناسبها من النص

١. بني المسجد الأموي خلال عهد الخليفة
٢. شيد مسجد قبة الصخرة في دولة حالياً.
٣. أعاد الخليفة الوليد بن عبد الملك بناء المسجد النبوي ووسع
٤. أسس معاوية بن أبي سفيان بتونس مدينة
٥. ينقسم عصر الدولة العباسية إلى عصرين هما و
٦. بدأ عصر الدولة العباسية بعد سقوط الدولة
٧. أول من اتخذ من مدينة الأنبار عاصمة للدولة العباسية هو الخليفة
٨. أنشأ الخليفة هارون الرشيد سوق
٩. بنيت مدينة بغداد في عهد الخليفة

ثانياً: ضع كلمة (صواب) أو (خطأ) أمام العبارات الآتية

١. بدأت الدولة العباسية بعد انتهاء عصر الخلفاء الراشدين. ()
٢. اتخذ الأمويون من الأنبار عاصمة لهم. ()
٣. شهدت الدولة الإسلامية نهضة علمية خلال عهد هارون الرشيد. ()
٤. توسعت الفتوحات الإسلامية في عهد الخليفة الوليد بن عبد الملك شرقاً وغرباً. ()
٥. أهمل الخليفة عمر بن عبد العزيز التنظيم الإداري للدولة. ()
٦. أصبحت بلاد السند والأندلس جزءاً من الدولة الإسلامية خلال عصر العباسيين. ()
٧. اهتم الخليفة معاوية بن أبي سفيان ببناء البحرية الإسلامية. ()
٨. اتصف خلفاء الدولة الأموية بعد عمر بن عبد العزيز بالقوة. ()
٩. أصبحت اللغة الفارسية هي اللغة الرسمية للدولة الإسلامية خلال عصر الأمويين. ()
١٠. واجه الخليفة أبو جعفر المنصور خلال فترة حكمه عدة ثورات. ()
١١. استمرت الخلافة العباسية لأقل من خمسة قرون. ()
١٢. تعددت الإنجازات العلمية والأدبية في العصر العباسي الأول. ()
١٣. ظهرت الدعوة العباسية على يد أبي مسلم الخراساني. ()
١٤. تأسست مكتبة بيت الحكمة في عهد الخليفة المعتصم بالله. ()
١٥. أصبحت بغداد مركزاً للخلافة العباسية في عهد الخليفة أبي العباس عبد الله. ()
١٦. يعد الصراع على الحكم من أسباب سقوط الدولة الأموية. ()
١٧. سقطت الدولة العباسية على يد الروم. ()

١٨. يعد الخليفة أبو جعفر المنصور هو المؤسس الحقيقي للدولة الأموية. ()
 ١٩. شيّدت مدينة القيروان بهدف نشر الإسلام في شمال إفريقيا. ()
 ٢٠. عمل عمر بن عبد العزيز على نشر الإسلام بالقدوة والموعظة الحسنة. ()

ثالثًا: اختر الإجابة الصحيحة مما بين القوسين

١. **تغيرت المعاملات المالية للدولة الإسلامية خلال عهد الخليفة.....**
 (علي بن أبي طالب – معاوية بن أبي سفيان – عبد الملك بن مروان – عثمان بن عفان)
٢. **ظهرت الدعوة العباسية على يد.....**
 (معاوية بن أبي سفيان – الوليد بن عبد الملك – عمر بن عبد العزيز – أبي مسلم الخراساني)
٣. **وصل الفتح الإسلامي للأندلس خلال عهد الخليفة.....**
 (الوليد بن عبد الملك – عمر بن عبد العزيز – أبي العباس عبد الله – أبي جعفر المنصور)
٤. **أنشأ الخليفة معاوية بن أبي سفيان ديوانًا لمنع تزوير رسائل الخليفة يسمى بديوان.....**
 (البريد – الخراج – الخاتم – الجند)
٥. **تعددت أعمال الخليفة عبد الملك بن مروان، ومنها.....**
 (تعريب الدواوين للغة العربية – بناء مدينة القيروان بتونس – فتح بلاد السند – فتح بلاد الأندلس)
٦. **ظهرت الدولة العباسية بعد هزيمة.....**
 (الفرس – الروم – المغول – الأمويين)
٧. **أي مما يلي يعد من أعمال الخليفة المأمون بن هارون؟.....**
 (بناء مدينة بغداد – إنشاء مرصد فلكي – إنشاء سوق الوراقين – توسيع الحرم المكي)
٨. **تأسست مكتبة بيت الحكمة في عهد الخليفة.....**
 (معاوية بن أبي سفيان – عبد الملك بن مروان – هارون الرشيد – المعتصم بالله)

رابعًا: صوب ما تحته خط

١. امتدت الدولة الأموية في عهد الخليفة الوليد بن عبد الملك غربًا حتى بلاد السند.
٢. الديوان المختص بمنع تزوير مراسلات الخليفة هو ديوان البريد.
٣. شهدت مدينة بغداد في عهد الخليفة معاوية بن أبي سفيان.
٤. شيّد أول مرصد فلكي بالدولة الإسلامية في مدينة عمورية.

خامسًا: أكتب ما تشير إليه العبارات

١. مدينة في تونس حاليًا شيّدت في عهد الخليفة معاوية بن أبي سفيان.

٢. بلاد وصلتها الفتوحات الإسلامية شرقاً في عهد الخليفة الوليد بن عبد الملك.
٣. مدينة نقلت إليها عاصمة الخلافة في عهد الخليفة أبي العباس.
٤. مدينة اتخذها الخليفة أبو جعفر المنصور عاصمة لدولته.

سادساً: بم تفسر

١. انتشار الصراعات القبلية في أواخر عصر الأمويين.
٢. تأسيس ديوان الخاتم.
٣. تسمية العصر العباسي الأول بالعصر الذهبي.
٤. انتشار نسخ الكتب في عهد الخليفة هارون الرشيد.
٥. إنشاء الخليفة أبي جعفر المنصور مدينة بغداد.
٦. إنشاء الخليفة معاوية بن أبي سفيان مدينة القيروان.
٧. نقت المصحف في عهد الخليفة عبد الملك بن مروان.

سابعاً: ما النتائج المترتبة على

١. إنشاء سوق الوراقين في بغداد.
٢. قيام ثورات في عهد الخليفة أبي جعفر المنصور.
٣. حركة الفتوحات الإسلامية في عهد الخليفة الوليد بن عبد الملك.

ثامناً: دلل

١. اهتم الخليفة المأمون بن هارون بالعلم والعلماء.
٢. تحققت العدالة في عهد الخليفة عمر بن عبد العزيز.
٣. اهتم الخليفة الوليد بن عبد الملك بالعمارة.
٤. كانت مدينة بغداد مركزاً للعلم والعلماء في عصر الدولة العباسية.

تاسعاً: أجب

١. حدد شروط اختيار القضاة والموظفين في عهد الخليفة عمر بن عبد العزيز.
٢. ماذا يحدث إذا انتصر الأمويون في معركة الزاب الكبرى على العباسيين؟
٣. ما العلاقة بين بغداد و علم الفلك؟

عاشراً: قارن

١. بين الخليفة معاوية بن أبي سفيان والخليفة عبد الملك بن مروان من حيث أهم الأعمال.
٢. بين الخليفة عبد الملك بن مروان والخليفة الوليد بن عبد الملك من حيث أوجه التشابه.

تقييم الكتاب المدرسي علي الوحدة الثانية

السؤال الأول: اكتب كلمة (صواب) أمام العبارة الصحيحة، وكلمة (خطأ) أمام العبارة غير الصحيحة:

١. الدولة الإسلامية بدأت بعد وفاة النبي (ﷺ). ()
٢. هجرة المسلمين الأولى كانت إلى الحبشة. ()
٣. أبو بكر الصديق (رضي الله عنه) هو أول من جمع القرآن الكريم. ()
٤. الخلفاء الراشدون (رضي الله عنهم) عددهم أربعة. ()
٥. نشأت الدولة الأموية في المدينة. ()
٦. فتحت العراق علي يد سعد بن أبي وقاص في خلافة عمر بن الخطاب. ()
٧. عمر بن الخطاب (رضي الله عنه) كان أول من أدخل الدواوين إلى الدولة الإسلامية. ()
٨. العباسيون اهتموا بالفتوحات العسكرية فقط. ()
٩. كانت بغداد هي عاصمة الدولة العباسية بداية من عصر أبي جعفر المنصور (رضي الله عنه).

السؤال الثاني: أكمل العبارات الآتية:

١. أول خليفة للمسلمين بعد وفاة النبي (ﷺ) هو
٢. كانت الهجرة النبوية من مكة إلى
٣. عاصمة الدولة في خلافة علي بن أبي طالب (رضي الله عنه)
٤. نقل أبو العباس العاصم إلى مدينة
٥. من أعمال الخليفة عمر بن الخطاب (رضي الله عنه)
٦. مكتبة بيت الحكمة أسسها الخليفة
٧. أحد أسباب الهجرة النبوية
٨. الخليفة الذي أمر بنسخ القرآن الكريم في مصحف واحد
٩. أشهر المدن التجارية بنسبه الجزيرة العربية
١٠. اختارها النبي (ﷺ) لأصحابه للهجرة إليها بلاد
١١. انطلقت حروب الردة من مدينة
١٢. أسس عمر بن الخطاب (رضي الله عنه) في العراق مدينة
١٣. أسس أبو جعفر المنصور في العراق مدينة

السؤال الثالث: بم تفسر...؟

١. أسباب الهجرة النبوية من مكة إلى المدينة..
٢. اختيار أبي بكر الصديق (رضي الله عنه) خليفة للمسلمين ..

٣. أهمية عصر الخلفاء الراشدين..
٤. تأسيس معاوية بن أبي سفيان المدينة القيروان..
٥. نسخ القرآن الكريم في مصحف واحد في عهد عثمان بن عفان (رضي الله عنه)..
٦. عمل النبي (ﷺ) في بيت عمه بالرعي.
٧. يُطلق على عمر بن عبد العزيز خامس الخلفاء الراشدين..

السؤال الرابع: ما النتائج المترتبة على...؟

١. عمل النبي (ﷺ) بالرعي..
٢. تنظيم قريش لرحلتي الشتاء والصيف..
٣. المؤاخاة بين المهاجرين والأنصار.
٤. ضعف الخلفاء العباسيين في العصر العباسي الثاني..
٥. الفتن في أواخر عهد عثمان (رضي الله عنه)..
٦. مخالفة الرماة لأوامر النبي (ﷺ) في غزوة أحد..
٧. استشهاد عدد كبير من حفظة القرآن في حروب الردة..

السؤال الخامس: ماذا كان يحدث إذا لم...؟

١. يهاجر المسلمون إلى يثرب
٢. يتم نسخ القرآن الكريم في خلافة عثمان بن عفان (رضي الله عنه)..
٣. تهتم الدولة الأموية بالعمارة.
٤. يُنشىء هارون الرشيد سوق الوراقين.
٥. يؤسس عثمان بن عفان (رضي الله عنه) أول أسطول بحري.
٦. يهتم علي بن أبي طالب (رضي الله عنه) بتأسيس الشرطة..
٧. يعقد النبي (ﷺ) صلح الحديبية.
٨. يخالف الرماة أوامر النبي (ﷺ)

السؤال السادس: ما المقصود بالمفاهيم الآتية...؟

- القبيلة..
- المهاجرون.
- المرتدون.

السؤال السابع: ما العلاقة بين كل من...؟

١. أبي بكر الصديق (رضي الله عنه) وحروب الردة..
٢. عمر بن الخطاب (رضي الله عنه) والدواوين.
٣. الدولة العباسية والحياة العلمية.
٤. الهجرة إلى يثرب وبناء الدولة الإسلامية.

السؤال الثامن: قارن بين...؟

١. الهجرة إلى الحبشة والهجرة إلى يثرب.
٢. العصر العباسي الأول والعصر العباسي الثاني..
٣. الدولة الأموية والدولة العباسية من حيث العاصمة..
٤. عمر بن الخطاب وعلي بن أبي طالب (رضي الله عنه) من حيث أهم الأعمال.

مراجعة عامة علي الوحدة الثانية**أولاً: ضع علامة (✓) أمام العبارة الصحيحة، وعلامة (X) أمام العبارة الخاطئة**

١. كان النظام القبلي هو النظام السائد في شبه الجزيرة العربية قبل الإسلام. ()
٢. اشتهر العرب قبل الإسلام بصناعة السيوف والرماح والأواني الفخارية. ()
٣. كانت الأسواق العربية القديمة تجمع بين النشاط التجاري والثقافي. ()
٤. من الصفات السائدة عند العرب قبل الإسلام الكرم والشجاعة والوفاء. ()
٥. بدأ النبي محمد ﷺ دعوته سرًا بين أهل بيته وأصحابه المقربين. ()
٦. اشتد أذى قريش للنبي ﷺ وأصحابه بعد الجهر بالدعوة الإسلامية. ()
٧. حدثت الهجرة إلى المدينة قبل نزول الوحي على النبي محمد ﷺ. ()
٨. كانت السيدة خديجة وأبو بكر الصديق من أوائل من دخلوا الإسلام. ()
٩. خطط النبي ﷺ لهجرته من مكة إلى يثرب بدقة متناهية. ()
١٠. كانت الهجرة الأولى للمسلمين إلى مدينة يثرب. ()
١١. المسجد النبوي أول مؤسسة أقامها النبي ﷺ في المدينة. ()
١٢. ساهمت صحيفة المدينة في تنظيم العلاقات بين المسلمين وغيرهم. ()
١٣. تأسس الجيش الإسلامي لحماية الدولة وتأمين حدودها. ()
١٤. كان مبدأ الشورى واضحًا في أسلوب حكم النبي محمد ﷺ. ()

١٥. اقتصر دور المسجد في عهد الرسول ﷺ على أداء العبادات فقط. ()
١٦. حقق المسلمون النصر في غزوة بدر رغم قلة عددهم. ()
١٧. مخالفة الرماة لأمر النبي في غزوة أحد حولت النصر إلى هزيمة. ()
١٨. تم اختيار أبي بكر الصديق خليفة للمسلمين بعد التشاور في سقيفة بني ساعدة. ()
١٩. أمر أبو بكر الصديق جيش أسامة بن زيد بقتال الفرس. ()
٢٠. الفتنة التي أثارها عبد الله بن سبأ كانت سبباً في استئثار الخليفة عثمان بن عفان. ()
٢١. أصبحت الكوفة عاصمة الخلافة في عهد الخليفة علي بن أبي طالب. ()
٢٢. أنشئ أول أسطول بحري إسلامي في عهد علي بن أبي طالب. ()
٢٣. اتخذ معاوية بن أبي سفيان مدينة دمشق عاصمة للدولة الأموية. ()
٢٤. بدأ تعريب الدواوين في عهد الخليفة عبد الملك بن مروان. ()
٢٥. بُنيت مدينة بغداد في عهد الخليفة أبي جعفر المنصور. ()
٢٦. أنشأ الخليفة المعتصم بالله سوق الوراقين في بغداد. ()
٢٧. عُرف الخليفة المأمون بدعمه وتشجيعه للعلماء. ()
٢٨. سقطت الدولة العباسية سنة ٦٥٦ هـ على يد المغول. ()

ثانياً: أكمل العبارات الآتية بما يناسبها

١. أكثر الحرف انتشاراً عند العرب قبل الإسلام هي
٢. كانت سوق عكاظ قبل الإسلام مركزاً لتنافس الشعراء و.....
٣. وُلد النبي محمد ﷺ في مكة عام
٤. بعد وفاة والديه، عاش النبي ﷺ في رعاية عمه
٥. لُقّب النبي محمد ﷺ قبل البعثة ب.....
٦. أول من آمن من النساء بدعوة النبي ﷺ هي
٧. كان المسلمون الأوائل يتلقون تعاليم الإسلام سرّاً في دار.....
٨. هاجر المسلمون لأول مرة بأمر الرسول ﷺ إلى
٩. أثناء الهجرة، احتفى النبي ﷺ في غار
١٠. في المدينة، آخى الرسول ﷺ بين المهاجرين و.....
١١. انتظمت العلاقات بين المسلمين وغيرهم في المدينة بعد وضع
١٢. في غزوة بدر أخذ النبي ﷺ بمشورة
١٣. تحول النصر إلى هزيمة في غزوة

١٤. تم الاتفاق بين المسلمين وقريش على هدنة مؤقتة في صلح
١٥. أنشأ عمر بن الخطاب ديوان الجند وديوان
١٦. أسس عثمان بن عفان أول أسطول بحري إسلامي لمواجهة خطر
١٧. أصبحت الكوفة مقر الخلافة في عهد الخليفة
١٨. أسس هارون الرشيد سوق الوراقين في مدينة
١٩. بُني المسجد الأموي بدمشق في عهد الخليفة

ثالثاً: اختر الإجابة الصحيحة مما بين القوسين

١. حاول هدم الكعبة مستخدماً جيشاً من الفيلة هو:
(أبو جهل - أبرهة الأشترم - أبي بن خلف - أبو سفيان)
٢. ابن عم السيدة خديجة الذي أخبر النبي ﷺ أنه نبي هذه الأمة:
(الزبير بن العوام - العباس بن عبد المطلب - ورقة بن نوفل - علي بن أبي طالب)
٣. نام في فراش النبي ﷺ ليلة الهجرة إلى المدينة:
(علي بن أبي طالب - عمر بن الخطاب - حمزة بن عبد المطلب - الزبير بن العوام)
٤. أشار على النبي ﷺ بالتخيم عند بئر بدر:
(سعد بن أبي وقاص - الحباب بن المنذر - خالد بن الوليد - أبو عبيدة بن الجراح)
٥. جمع القرآن الكريم بأمر من الخليفة:
(عمر بن الخطاب - عثمان بن عفان - أبي بكر الصديق - علي بن أبي طالب)
٦. ادعى النبوة بعد وفاة الرسول ﷺ:
(مسيلمة الكذاب - أبو جهل - الأسود العنسي - عمرو بن هشام)
٧. لقب بالفاروق لأنه فرق بين الحق والباطل:
(أبو بكر الصديق - عمر بن الخطاب - عثمان بن عفان - علي بن أبي طالب)
٨. قاد المسلمين لفتح العراق في معركة القادسية:
(خالد بن الوليد - سعد بن أبي وقاص - عمرو بن العاص - الزبير بن العوام)
٩. أثار الفتنة التي أدت إلى استشهاده عثمان بن عفان:
(عبد الله بن سبأ - أبو لؤلؤة المجوسي - عمرو بن العاص - المغيرة بن شعبة)
١٠. أسس ديوان الخاتم لحماية رسائل الدولة من التزوير:
(معاوية بن أبي سفيان - الوليد بن عبد الملك - عبد الملك بن مروان - عمر بن عبد العزيز)

١١. أمر بنقط المصحف وعرب الدواوين:

(عبد الملك بن مروان – معاوية بن أبي سفيان – الوليد بن عبد الملك – عمر بن عبد العزيز)

١٢. وصلت الفتوحات الإسلامية في عهده إلى بلاد الأندلس:

(معاوية بن أبي سفيان – عبد الملك بن مروان – الوليد بن عبد الملك – هشام بن عبد الملك)

١٣. لقب بخامس الخلفاء الراشدين لعدله وزهده:

(معاوية بن أبي سفيان – عمر بن عبد العزيز – الوليد بن عبد الملك – عبد الملك بن مروان)

١٤. أول من قاد الدعوة العباسية في خراسان:

(أبو جعفر المنصور – أبو مسلم الخراساني – هارون الرشيد – المعتصم بالله)

١٥. أنشأ أول مرصد فلكي في بغداد:

(المأمون – هارون الرشيد – المعتصم بالله – أبو جعفر المنصور)

١٦. المؤسس الحقيقي للدولة العباسية وباني بغداد:

(أبو العباس – أبو جعفر المنصور – هارون الرشيد – المعتصم بالله)

رابعًا: ما المقصود بالمصطلحات الآتية

١٧. النظام القبلي:

١٨. القبيلة:

١٩. الوحي:

٢٠. المهاجرون:

٢١. الأنصار:

٢٢. الغزوة:

٢٣. السرية:

٢٤. المرتدون:

خامسًا: بم تفسر

١. انتشار النظام القبلي في شبه الجزيرة العربية قبل الإسلام.

٢. شهرة سوق ذي المجاز بين العرب قبل الإسلام.

٣. حاجة العالم لقدم النبي محمد ﷺ.

٤. عمل النبي ﷺ بحرفة الرعي في بيت عمه.

٥. بدء النبي ﷺ الدعوة سرًا في بداية الإسلام.

٦. اجتماع زعماء قريش في دار الندوة قبل هجرة النبي ﷺ.

٧. هجرة المسلمين الأوائل إلى الحبشة.
٨. رفض قريش لدعوة النبي محمد ﷺ.
٩. نجاح خطة النبي ﷺ في الهجرة إلى يثرب.
١٠. أهمية بناء المسجد النبوي في المدينة.
١١. وضع الرسول ﷺ صحيفة المدينة.
١٢. هزيمة المسلمين في غزوة أحد.
١٣. توجه النبي ﷺ بجيش كبير لفتح مكة.
١٤. اتفاق الصحابة على اختيار أبي بكر الصديق أول خليفة للمسلمين.
١٥. أمر أبي بكر الصديق بجمع القرآن الكريم.
١٦. إنشاء عثمان بن عفان الأسطول البحري الإسلامي.
١٧. نقل علي بن أبي طالب مقر الخلافة.
١٨. إنشاء معاوية بن أبي سفيان مدينة القيروان.
١٩. ضعف وسقوط الدولة الأموية.
٢٠. بناء مدينة سامراء في عهد المعتصم بالله.

سادسًا: ما النتائج المترتبة على

١. حياة النبي ﷺ في ديار بني سعد في طفولته.
٢. جهر النبي محمد ﷺ بالدعوة الإسلامية.
٣. إيذاء قريش للمسلمين الأوائل.
٤. دعوة النبي ﷺ للقبائل في موسم الحج.
٥. صلح الحديبية بين المسلمين وقريش.
٦. نقض قريش صلح الحديبية.
٧. فتح مكة عام ٨ هـ.
٨. دعوة النبي ﷺ للإسلام سرًا في مكة.
٩. المؤاخاة بين المهاجرين والأنصار.
١٠. مخالفة بعض الرماة أوامر النبي ﷺ في غزوة أحد.
١١. استشهاد عدد من حفظة القرآن في حروب الردة.
١٢. رغبة عمر بن الخطاب في تنظيم أمور الدولة الإسلامية.
١٣. الفتوحات الإسلامية في عهد الوليد بن عبد الملك.

سابعًا: دلي على صحة العبارة

١. كانت شبه الجزيرة العربية مهذاً لكثير من الأنبياء.
٢. ارتفعت المكانة التجارية لأهل مكة.
٣. حرص النبي ﷺ على عدم تعرض أصحابه للأذى منذ بداية الدعوة.
٤. استفادت قريش من أخطاء المسلمين في غزوة أحد.
٥. اتبع الرسول ﷺ أساليب متعددة لنشر الدعوة الإسلامية.
٦. تعددت أساليب قريش في مواجهة الدعوة الإسلامية.
٧. حرص النبي ﷺ على تأمين الدولة الإسلامية وحمايتها منذ بدايتها.
٨. كانت فكرة سلمان الفارسي في غزوة الخندق ذات أهمية.
٩. اتبع الرسول ﷺ مبدأ الثبوري مع أصحابه في العديد من الغزوات.
١٠. كان الرسول ﷺ مثلاً للتسامح في فتح مكة.
١١. اهتم عمر بن الخطاب بإنشاء المدن.
١٢. خطورة الفتنة التي أثارها عبد الله بن سبأ.
١٣. اتسعت رقعة الدولة الإسلامية في عهد علي بن أبي طالب.
١٤. اهتم الوليد بن عبد الملك بالعمران.
١٥. شجع المأمون بن هارون الحركة العلمية.
١٦. اهتمام أبي العباس براحة الحجاج والمسافرين.

ثامناً: ما العلاقة بين

١. الشجر عند العرب والأسواق.
٢. غار حراء ورسالة الإسلام.
٣. صلح الحديبية وفتح مكة.
٤. سقيفة بني ساعدة والخلفاء الراشدين.
٥. عثمان بن عفان وحماية حدود الدولة الإسلامية.

امتحان بنامل – الوحدة الثانية

السؤال الأول: ضع كلمة (صواب) أو (خطأ)

١. انتشر النظام القبلي في شبه الجزيرة العربية قبل الإسلام. ()
٢. كانت مكة مركزاً دينياً وتجارياً هاماً قبل الإسلام. ()
٣. أول من آمن بدعوة النبي محمد ﷺ من الرجال هو عمر بن الخطاب. ()
٤. أول أسطول بحري إسلامي أنشأه معاوية بن أبي سفيان. ()
٥. عبد الملك بن مروان هو الذي بنى مسجد قبة الصخرة. ()
٦. سقطت الدولة العباسية على يد المغول سنة ٦٥٦ هـ. ()

السؤال الثاني: أكمل العبارات التالية



١. أول من آمن من النساء بالنبي محمد ﷺ هي السيدة.....
٢. كانت سوق..... من أشهر الأسواق العربية قبل الإسلام.
٣. أول هجرة للمسلمين كانت إلى.....
٤. كتب النبي ﷺ..... لتنظيم العلاقات بين المسلمين وغيرهم في المدينة.
٥. قائد معركة القادسية هو.....
٦. أسس الخليفة..... مدينة بغداد.

في الدراسات الاجتماعية

السؤال الثالث: اختر الإجابة الصحيحة

١. حاول هدم الكعبة باستخدام الفيلة:.....
(أبرهة – أبو جهل – عبد الله بن الزبير – عمرو بن العاص)
٢. أول من أُنشِر على النبي ﷺ بحفر الخندق:.....
(سلمان الفارسي – أبو بكر الصديق – عمر بن الخطاب – علي بن أبي طالب)
٣. أطلق على عمر بن الخطاب لقب:.....
(الصديق – الفاروق – الأمين – الأسد)
٤. وصل الفتح الإسلامي إلى الأندلس في عهد:.....
(معاوية بن أبي سفيان – عبد الملك بن مروان – الوليد بن عبد الملك – عمر بن عبد العزيز)

السؤال الرابع: بم تفسر

١. انتشار النظام القبلي في شبه الجزيرة العربية قبل الإسلام.
٢. هزيمة المسلمين في غزوة أحد.
٣. بناء معاوية بن أبي سفيان مدينة القيروان.
٤. تسمية العصر العباسي الأول بالعصر الذهبي.

السؤال الخامس: ما النتائج المترتبة على

١. نقض قريش صلح الحديبية.
٢. إنشاء بيت الحكمة في بغداد.

السؤال السادس: دلل على صحة العبارة

١. كان المسجد مركزاً دينياً وسياسياً وعلمياً في عهد الرسول ﷺ.
٢. العصر العباسي الأول شهد نهضة علمية كبيرة.

السؤال السابع: ما العلاقة بين

١. الأسواق العربية والشعر.
٢. بيت الحكمة والنهضة العلمية في العصر العباسي.

السؤال الثامن: قارن بين

١. الخليفة عبد الملك بن مروان والخليفة الوليد بن عبد الملك من حيث أوجه التشابه.

السؤال التاسع: ماذا يحدث إذا

١. لم يقم عبد الملك بن مروان بتعريب الدواوين.

الوحدة الثالثة

الدرس الأول

النشاط الزراعي في وطننا العربي

يملك الوطن العربي العديد من الثروات، منها الثروة الحيوانية والسمكية، والمعادن ومصادر الطاقة، كما تتنوع به الأنشطة الاقتصادية مثل النشاط الزراعي والسياحي والصناعي والتجاري، وسوف تبدأ بالنشاط الزراعي.

مقومات الزراعة في وطننا العربي

أولاً

يملك الوطن العربي منذ القدم كل مقومات الزراعة الأساسية (العوامل التي تساعد على نجاح الزراعة) مما جعله موطناً للاستقرار البشري، ومهداً لقيام حضارات مزدهرة عبر العصور

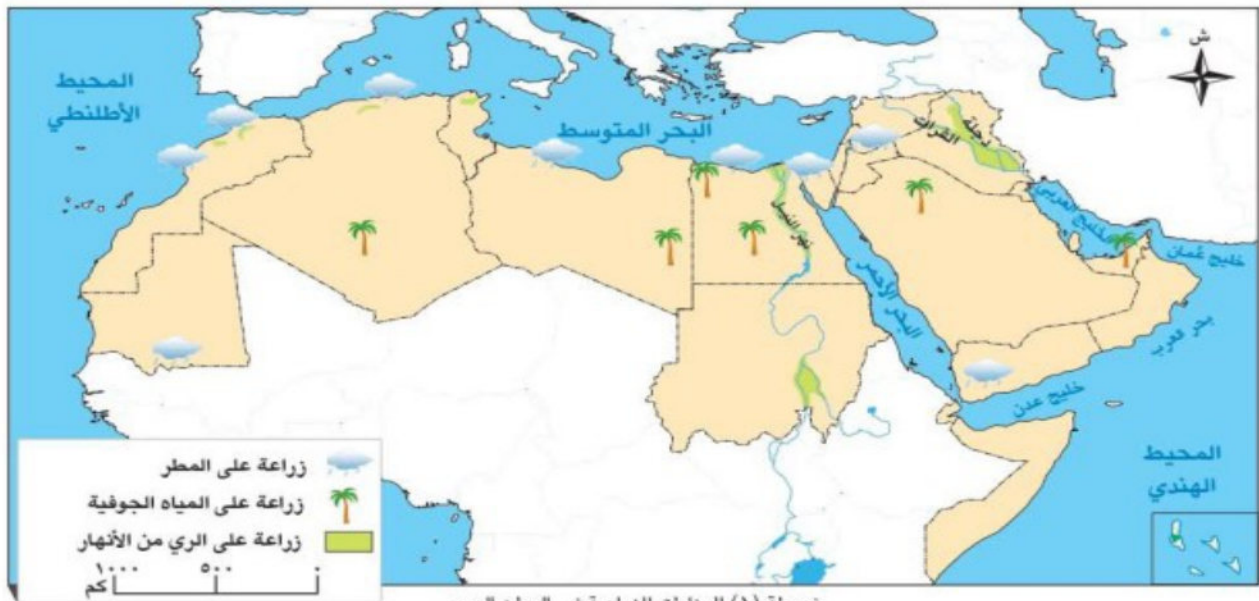
تنقسم مقومات الزراعة في وطننا العربي إلى:

المقومات البشرية

- الأيدي العاملة المدربة
- وسائل النقل والمواصلات
- رأس المال
- الأسواق

المقومات الطبيعية

- المياه العذبة
- التربة الخصبة
- تنوع المناخ





المقومات الطبيعية

أ

المياه العذبة

١

وتتمثل في:

أ- **الأنهار**: نهر النيل في مصر والسودان - نهري دجلة و الفرات في العراق

ب- **المياه الجوفية**: في الواحات

ج- **مياه الأمطار**: في بلاد المغرب ولبنان.

التربة الخصبة

٢

- هي تربة غنية تساعد على نمو المحاصيل.
- تتوفر في سهول نهر النيل في مصر والسودان، وسهول دجلة والفرات في العراق.

تنوع المناخ

٣

يتمتع الوطن العربي بمناخ معتدل ومطهر في الشمال و حار ومطير في الجنوب **ما النتائج** **ألم تربة على**؟ ترتب على ذلك تنوع المحاصيل والمنتجات الزراعية.

المقومات البشرية

ب

الأيدي العاملة المدربة

١



- يمتلك الوطن العربي ثروة بشرية مدربة على الزراعة تعرف كيفية استخدام الأساليب الحديثة

رأس المال

٢



- ضروري لإنشاء المشروعات الزراعية وشراء البذور والأسمدة والآلات
- تعد **دول الخليج** من أكثر الدول امتلاكاً لرأس المال.

الأسواق

٣



مهمة لبيع وتسويق المنتجات الزراعية. **دلل** حيث يترتب على بيع المنتجات زيادة الإنتاج الزراعي ومنافسة الدول الأخرى.



▪ تساعد على نقل المحاصيل من المزارع إلى الأسواق قبل أن تتلف

لاحظ أن

المقومات (العوامل) البشرية ضرورية لنجاح الزراعة، وهي تكمل العوامل الطبيعية، وبهما معا تحقق الزراعة نجاحا كبيرا في وطننا العربي

فكر وأجب

ضع علامة صح أو خطأ

- يمتلك الوطن العربي مقومات طبيعية وبشرية ساعدت على قيام الزراعة منذ القدم. ()
- نهر النيل يوجد فقط في مصر. ()
- التربة الخصبة تنتشر في سهول نهر النيل وسهول دجلة والفرات. ()
- تنوع المناخ في الوطن العربي أدى إلى تنوع المحاصيل الزراعية. ()
- رأس المال ضروري فقط لشراء الأسمدة الزراعية. ()

بم تفسر؟

- انتشار التربة الخصبة في سهول نهر النيل ودجلة والفرات.
- تنوع المحاصيل الزراعية في الوطن العربي.

الاجتماعية

أهم المحاصيل الزراعية في الوطن

ثانيا



ينتج الوطن العربي أنواعا متعددة من المحاصيل الزراعية، تستخدم في الغذاء والصناعة والتجارة. ومن أهمها: **القمح** / **الحبوب الغذائية**، ومنها:

١ - **القمح**: تعد **مصر** من أكثر الدول العربية إنتاجا له. ويستخدم في صناعة الخبز.



٢ - **المحاصيل السكرية**، ومنها:

قصب السكر: يزرع في مناطق متعددة من صعيد **مصر**، ويستخدم بشكل رئيسي في صناعة السكر.



٣ - **محاصيل الألياف**، ومنها:

القطن تتصدر **مصر** إنتاج القطن طويل التيلة، وهو من أجود الأنواع ويستخدم في صناعة الملابس والمنسوجات الفاخرة.

أهمية الزراعة في وطننا العربي

ثالثا

١- قديما

حقائق تاريخية: سجل المصريون القدماء أنشطتهم الزراعية على جدران المعابد والمقابر، مما يدل على أهمية الزراعة في حياتهم واقتصادهم

٢- حديثا

تعد الزراعة من أهم الأنشطة الاقتصادية في وطننا العربي: حيث تلعب دورا كبيرا في حياة السكان لأنها:

توفر المواد الخام اللازمة للصناعة.

توفر الغذاء للإنسان والعلف للحيوان.

توفر فرص عمل للشباب.

تعد مصدرا رئيسيا للدخل القومي لبعض الدول العربية.

أهم مشكلات الزراعة وجهود الدول العربية لحلها

رابعاً

١- أهم مشكلات الزراعة في الوطن العربي

تواجه الزراعة عدة مشكلات تعوق تطورها، رغم توافر المقومات الطبيعية والبشرية **دلل:**

المشكلات البشرية

- التلوث والزحف العمراني
- نقص العمالة المدربة
- ضعف الاستثمار الزراعي.

المشكلات الطبيعية

- قلة الأمطار
- ندرة المياه العذبة
- التغيرات المناخية.

٢ - جهود بعض الدول العربية لحل مشكلات الزراعة .



تعمل الدول العربية على حل مشكلات الزراعة **دلل** من خلال :

- ١- استخدام أساليب الري الحديثة مثل الري بالتنقيط.
- ٢- استحداث بذور مقاومة للتغيرات المناخية (في المعامل).
- ٣- بناء السدود والخزانات
- ٤- معالجة مياه الصرف.
- ٥- استصلاح الأراضي الصحراوية.
- ٦- تحلية مياه البحر.

٣ - أهم المشروعات القومية لحل مشكلات الزراعة في مصر



الزراعة الحديثة

(أ) مشروع مستقبل مصر للزراعة المستدامة .

- يعد جزءاً من مشروع الدلتا الجديدة.
- **يهدف المشروع إلى** : استصلاح أكثر من مليون فدان باستخدام طرق الري الحديثة والطاقة النظيفة.
- **أهميته** : يساعد في تحقيق الأمن الغذائي ، و توفير فرص عمل للشباب.

(ب) مشروع توشكى بجنوب الوادي

- **يهدف المشروع إلى** : استصلاح آلاف الأفدنة بالصحراء الغربية بالاعتماد على مياه نهر النيل.
- **أهميته** :
 - ١- زراعة القمح والفواكه والنخيل.
 - ٢- يساهم في زيادة الرقعة الزراعية.
 - ٣- تحقيق الأمن الغذائي.



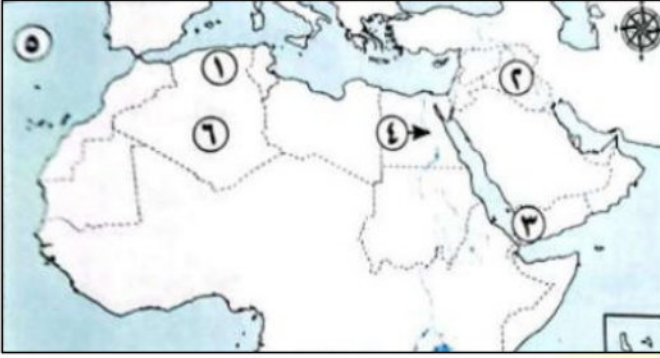
زراعة النخيل



خريطة مشروع التنمية الزراعية في توشكى جنوب مصر

تدريبات الدرس

السؤال الأول لاحظ خريطة الوطن العربي التالية، ثم أجب:



١. تقوم الزراعة في المنطقة رقم (١) اعتماداً على مياه.....
٢. يشير رقم (٢) إلى نهري.....
٣. صوب: تقوم الزراعة في المنطقة رقم (٣) اعتماداً على مياه الأنهار
٤. يشير رقم (٤) إلى نهر.....
٥. يشير رقم (٥) إلى المحيط.....
٦. تقوم الزراعة في المنطقة رقم (٦) اعتماداً على المياه.....

السؤال الثاني اختر الإجابة الصحيحة مما بين القوسين:

١. أي من العوامل التالية يعد من المقومات الطبيعية للزراعة في الوطن العربي؟
(تقدم الصناعة - توافر المياه العذبة - نقص الأيدي العاملة - الازدحام السكاني)
٢. الدولة العربية الأكثر إنتاجاً لمحصول القمح هي:
(السودان - لبنان - مصر - قطر)
٣. تربة سهول نهر النيل تتميز بأنها:
(رملية - خصبة - مالحة - حجرية)
٤. العامل البشري الذي يساعد على وصول المحاصيل إلى الأسواق هو:
(المناخ - وسائل النقل - رأس المال - التربة)
٥. أي من الدول التالية تمتلك رأس مال كبير لتطوير الزراعة؟
(المغرب - لبنان - دول الخليج - اليمن)
٦. من المحاصيل التي تستخدم في صناعة الملابس والمنسوجات:
(القطن - القمح - قصب السكر - الأرز)
٧. من الدول التي تزرع قصب السكر بكثرة في صعيدها:
(مصر - الجزائر - الكويت - الأردن)
٨. أي من التالي يعد من جهود الدول العربية لحل مشكلات نقص المياه؟
(إزالة الغابات - تحلية مياه البحر - بناء الموانئ - إنشاء المصانع)

السؤال الثالث أكمل العبارات الآتية بكلمات مناسبة:

١. تتوافر التربة الخصبة في العراق في سهول نهري و
٢. أكثر الدول العربية امتلاكاً لرأس المال هي دول
٣. أكبر دولة عربية إنتاجاً للقمح هي دولة
٤. مصدر المياه الرئيسي للزراعة في مصر هو
٥. أحد أساليب الحفاظ على المياه هو الري بالريش و
٦. يقع مشروع توشكي في جنوب
٧. تسعى الدول العربية لتوفير المياه العذبة عن طريق تحلية مياه
٨. مشروع مستقبل مصر للزراعة المستدامة جزء من مشروع
٩. يزرع القطن طويل التيلة بكثرة في
١٠. من المحاصيل السكرية التي تشتهر بها مصر

السؤال الرابع ضع كلمة (صواب) أو (خطأ) أمام كل عبارة:

١. يمتلك الوطن العربي مقومات طبيعية وبشرية تساعد على قيام الزراعة. ()
٢. تنوع المحاصيل يؤدي إلى تنوع المناخ في الوطن العربي. ()
٣. يعد الزحف العمراني من مشكلات الزراعة في الوطن العربي. ()
٤. الأيدي العاملة المدربة من المقومات الطبيعية للزراعة. ()
٥. يعتمد مشروع توشكي على مياه نهر النيل. ()
٦. تعد التغيرات المناخية من المشكلات التي تواجه الزراعة. ()
٧. زراعة القمح تقتصر على مصر فقط. ()
٨. استخدام الأسمدة المحسنة من جهود تطوير الزراعة. ()
٩. سهول نهر النيل في مصر والسودان تتميز بتربتها الخصبة. ()
١٠. مشروع مستقبل مصر يستهدف استصلاح أكثر من مليون فدان. ()

السؤال الخامس بم تفسر:

١. أهمية الزراعة لسكان الوطن العربي.
٢. دور وسائل النقل في نجاح النشاط الزراعي.
٣. أهمية الأيدي العاملة المدربة في الزراعة.
٤. تنوع المحاصيل الزراعية في الوطن العربي.
٥. اهتمام الدولة بمشروع مستقبل مصر للزراعة المستدامة.
٦. إنشاء مشروع توشكي بجنوب الوادي.
٧. اعتماد بعض المناطق الزراعية على مياه الأمطار.
٨. أهمية الأسواق في زيادة الإنتاج الزراعي.

السؤال السادس ما النتائج المترتبة على:

١. تنوع المناخ في الوطن العربي.
٢. ندرة المياه العذبة في بعض الدول العربية.
٣. إقامة مشروع توشكي.
٤. امتلاك الوطن العربي لمقومات الزراعة منذ القدم.
٥. استخدام طرق الري الحديثة.
٦. معالجة مياه الصرف الزراعي.

٧. استصلاح الأراضي الصحراوية.
٨. نقص العمالة المدربة في الزراعة.

السؤال السابع دلل على صحة العبارات الآتية:

١. يمتلك الوطن العربي مقومات طبيعية للزراعة.
٢. رأس المال عامل مهم لتنمية النشاط الزراعي.
٣. قصب السكر من المحاصيل السكرية المهمة.
٤. الزراعة توفر فرص عمل للشباب.
٥. بعض الدول العربية تبذل جهوداً لحل مشكلات الزراعة.
٦. مشروع مستقبل مصر يساعد في تحقيق الأمن الغذائي.

السؤال الثامن صوّب ما تحته خط:

١. رأس المال يعد من معوقات الزراعة.
٢. قصب السكر يزرع في دلتا مصر.
٣. القطن من محاصيل الحبوب.
٤. أكثر الدول إنتاجاً للقمح هي الصومال.
٥. يعتمد مشروع توشكى على مياه الأمطار الشتوية.
٦. القمح يزرع فقط في المناطق الصحراوية.
٧. القطن طويل التيلة يستخدم في صناعة السكر.

السؤال التاسع ما العلاقة بين:

١. المناخ والمحاصيل الزراعية.
٢. وسائل النقل والزراعة في الوطن العربي.
٣. رأس المال وتطوير الزراعة.
٤. الزراعة والصناعة.
٥. التغيرات المناخية والإنتاج الزراعي.
٦. الأسواق وزيادة الإنتاج الزراعي.



سلسلة
المتفوق
اعداد /
مستر حاتم عاطف

الوحدة الثالثة

الدرس الثاني

الثروة الحيوانية و السمكية فى وطننا العربى

يتميز الوطن العربى بتربية أعداد كبيرة من الحيوانات، خاصة فى المناطق التى تنتشر فيها المراعى الطبيعية ما النتائج المترتبة على؟
 ١- أصبحت هذه الثروة مصدراً مهماً للغذاء. ٢- تساهم فى دعم الاقتصاد المحلى.

الثروة الحيوانية فى الوطن العربى

أولاً

المراعى الطبيعية

ما المقصود

١ المراعى الطبيعية فى الوطن العربى

١

حشائش تنمو طبيعياً دون تدخل من الإنسان

تربي الحيوانات فى الحظائر وأيضاً فى المراعى الطبيعية التى خلقها الله ، وتنقسم إلى:

أ- المراعى المعتدلة (الإستبس)

أعشاب قصيرة تربي عليها الأغنام والماعز كما فى المغرب ..

ب- المراعى الحارة (السافانا)

حشائش طويلة تربي عليها الأبقار والأغنام كما فى السودان.

٢ أهم الحيوانات وتوزيعها فى الوطن

٢



خريطة (١) أولى دول الوطن العربى إنتاجاً للثروة الحيوانية



أ - الجاموس

- تحتل مصر المركز الأول عربيا في تربية الجاموس **بم تفسر؟** وذلك بفضل البيئة الزراعية الخصبة على ضفاف نهر النيل التي تعد مناسبة جدا لتربية هذا الحيوان.
- يحتاج الجاموس إلى مياه وفيرة وبيئة رطبة وهي متوافرة في بعض مناطق وطننا العربي.

ب - الإبل (الجمال)

- تعد الصومال أولى الدول العربية في تربية الإبل **بم تفسر؟** نظرا لطبيعة أراضيها الجافة.

ج - الأبقار والأغنام والماعز والخيول

- تعد السودان من أكثر الدول العربية تربية لهذه الحيوانات **بم تفسر؟** لوفرة المراعي الطبيعية بها.



٣ أهمية الثروة الحيوانية في الوطن العربي.

- تعد الثروة الحيوانية من أهم الموارد الاقتصادية في الوطن العربي **بم تفسر؟** لأنها:

تعد مصدرا غذائيا غنيا بالبروتين الحيواني.

في الدراسات الاجتماعية

تستخدم بعض الحيوانات في الزراعة والنقل.

توفر مواد خاما للصناعات مثل الجلود والألبان واللحوم.

مستتر حاتم عاطف

٤ مشكلات الثروة الحيوانية في الوطن

نقص الأعلاف وارتفاع أسعارها.

قلة الرعاية البيطرية.

الإفراط في الرعي ما النتائج المترتبة على؟ مما يضر بالمراعي الطبيعية.

التغيرات المناخية و قلة المراعي الطبيعية.

تحسين الرعاية
البيطرية.

تنظيم المراعي
وحمايتها.

تصنيع الأعلاف بأسعار
مناسبة.

استخدام الأساليب
العلمية في الإنتاج
الحيواني.

تنفيذ مشروعات
المواجهة التغيرات
المناخية وزيادة
المساحات الخضراء.

فكر وأجب

أكمل العبارات الآتية

- تنتشر تربية أعداد كبيرة من الحيوانات خاصة في المناطق التي تتوافر بها
- من أمثلة المراعي المعتدلة (الإستبس) حيث تربي عليها الأغنام والماعز.
- من أمثلة المراعي الحارة (السافانا) حيث تربي عليها الأبقار والأغنام.
- تحتل مصر المركز الأول عربيًا في تربية الجاموس بسبب
- تحتاج الإبل إلى بيئة ولذلك تنتشر في الصومال.

بم تفسر؟

- تحتل مصر المركز الأول عربيًا في تربية الجاموس.
- تعد الصومال أولى الدول العربية في تربية الإبل.

عاطف

الدواجن في الوطن العربي

ثانيا



- تهتم الدول العربية بتربية الدواجن **بم تفسر؟** لأنها تساهم في تقليل الاعتماد على اللحوم الحمراء.
- تعد مصر والسعودية من أكثر الدول العربية إنتاجاً للدواجن **بم تفسر؟** بسبب وفرة الأعلاف والمزارع الحديثة بهما.

الثروة السمكية في الوطن

ثالثاً

يتميز الوطن العربي بموارد مائية غنية توفر كميات كبيرة من الأسماك، منها:

المصايد السمكية

ما المقصود

- مصادر طبيعية يتم صيد الأسماك منها مباشرة.
- تتمثل في المحيطات - البحار - الأنهار - البحيرات.

المزارع السمكية

ما المقصود

- أماكن يتم فيها تربية الأسماك بطريقة حديثة ومنظمة.



١ - أهم الدول العربية المنتجة للثروة السمكية

- مصر
- أكبر دول الوطن العربي في إنتاج الأسماك من المزارع السمكية، ومن أشهرها: مزارع دلتا النيل وبركة غليون.



بركة غليون

- المغرب
- أكبر دول الوطن العربي في إنتاج الأسماك من المصايد البحرية
- تفسر؟ بسبب طول سواحلها على المحيط الأطلنطي والبحر المتوسط.

٢ - أهمية الثروة السمكية في الوطن العربي

سد النقص في
اللحوم الحمراء .مصدر مهم للغذاء
الغني بالبروتين .توفير فرص عمل
للشباب .

٣ - مشكلات الثروة السمكية في الوطن العربي

الصيد الجائر للأسماك .

تلوث المياه بسبب المخلفات والنفايات .

استخدام وسائل صيد بدائية .

التغير المناخي وارتفاع درجة حرارة المياه ونقص الأكسجين .

ترك الصيادين الحرفة الصيد .

٤ - جهود الدول العربية لتنمية الثروة السمكية

سن القوانين للحد من
التلوث وتنظيم عملية
الصيد .

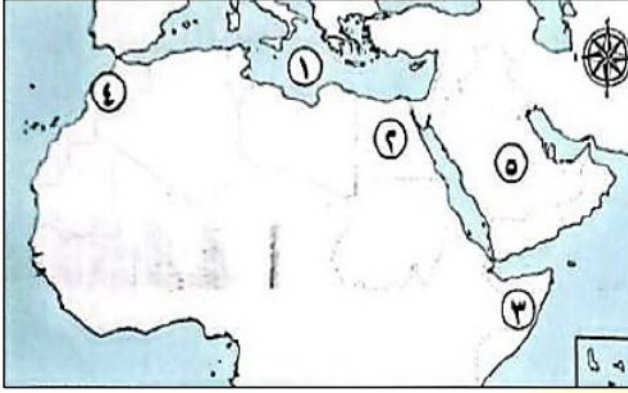
منع الصيد الجائر .

توفير وسائل صيد حديثة
وأمنة .التوسع في مشروعات
الاستزراع السمكي .

تحسين أحوال الصيادين .

تدريبات الدرس

السؤال الأول لاحظ خريطة الوطن العربي التالية، ثم أجب:



١. يشير رقم (١) إلى البحر.....
٢. صواب أم خطأ: يشير رقم (٢) إلى أولى الدول العربية في تربية الجاموس.....
٣. اختر يشير رقم (٣) إلى أولى الدول العربية في تربية الأبقار - الخيول - الماعز - الإبل)
٤. يشير رقم (٤) إلى أولى الدول العربية في إنتاج الأسماك من.....
٥. يشير رقم (٥) إلى إحدى أهم الدول العربية المنتجة للدواجن وهي.....

السؤال الثاني ضع كلمة (صواب) أو (خطأ) أمام العبارات التالية:

١. تعد السودان من أكثر الدول العربية تربية للأبقار والأغنام والماعز بسبب وفرة المراعي الطبيعية. ()
٢. تنتشر المراعي المعتدلة في المغرب وتربي عليها الأغنام والماعز. ()
٣. مصري الدولة الأولى عربيًا في تربية الجاموس. ()
٤. الصومال هي أولى الدول العربية في تربية الإبل. ()
٥. تمثل الثروة الحيوانية مصدرًا غذائيًا غنيًا بالبروتين الحيواني. ()
٦. نقص الأعلاف أحد المشكلات التي تواجه الثروة الحيوانية في الوطن العربي. ()
٧. الإفراط في الرعي يضر بالمراعي الطبيعية. ()
٨. تنمو المراعي الطبيعية بفعل العوامل الطبيعية وليس النشاط البشري. ()
٩. مصر أكبر دولة عربية إنتاجًا للأسماك من المزارع السمكية. ()
١٠. المغرب تتمتع بوفرة في المصايد البحرية. ()
١١. من مشكلات الثروة السمكية الصيد الجائر. ()
١٢. الثروة الحيوانية توفر مواد خامًا للصناعة مثل الجلود. ()
١٣. استخدام الوسائل الحديثة في الصيد من جهود الدول لتنمية الثروة السمكية. ()

السؤال الثالث اختر الإجابة الصحيحة مما بين القوسين:

١. أي من الدول التالية تشتهر بتربية الماعز بكثرة؟

(السودان - الصومال - المغرب - الجزائر)

٢. أي مشكلة تؤثر على الثروتين الحيوانية والسمكية معًا؟

(التغير المناخي - التصحر - ندرة المياه - سوء التوزيع)

٣. تتصدر مصر الدول العربية في تربية الجاموس بسبب توافر.....

(البيئة الفيضية – المناخ الحار – البيئة الساحلية – المراعي الجافة)

٤. أول الدول العربية في إنتاج الأسماك من المصايد البحرية هي.....

(المغرب – مصر – الجزائر – السودان)

٥. المادة الخام التي توفرها الثروة الحيوانية للصناعة هي.....

(الجلود – القطن – الغاز – الفوسفات)

٦. تعد السعودية من أكثر الدول العربية إنتاجًا ل.....

(الدواجن – الجاموس – الإبل – الأبقار)

٧. تأتي معظم الأسماك في مصر من.....

(المزارع السمكية – الأنهار – المحيطات – البحار)

٨. من أسباب وفرة الأسماك في المغرب.....

(طول سواحلها – وجود الأنهار – كثرة البحيرات – وفرة المزارع)

السؤال الرابع أكمل العبارات الآتية:

في الدراسات الاجتماعية

١. تسهم الدواجن في تقليل الاعتماد على اللحوم.....
٢. تنتج المغرب كميات كبيرة من الأسماك من.....
٣. تتركز تربية الإبل في الوطن العربي بدولة.....
٤. ارتفاع حرارة المياه يؤدي إلى تدهور الثروة.....
٥. أكبر الدول العربية إنتاجًا للدواجن هما مصر و.....
٦. تستخدم الثروة الحيوانية في إنتاج الألبان واللحوم و.....
٧. ترتبط تربية الجاموس في مصر بالبيئة.....
٨. تناقص أعداد الحيوانات في الوطن العربي بسبب التغيرات.....

السؤال الخامس صوب ما تحته خط:

١. تعد مصر أكبر الدول العربية إنتاجًا للأسماك من المصايد البحرية.
٢. يعد نقص الأعلاف من مشكلات الثروة السمكية.
٣. تساهم الأبقار والأغنام في توفير البروتين النباتي.
٤. تعد مصر والسعودية من أكبر الدول إنتاجًا للأسماك.

٥. تنتشر المراعي الحارة في المغرب.
٦. تتركز تربية الإبل في المغرب بسبب طول سواحلها.

السؤال السادس بم تفسر:

١. تركّز تربية الجاموس في مصر.
٢. أهمية الثروة السمكية في الوطن العربي.
٣. مصر والسعودية من أكبر الدول العربية إنتاجًا للدواجن.
٤. اهتمام الدول العربية بتنظيم المراعي.
٥. إنتاج المغرب كميات كبيرة من الأسماك من المصايد البحرية.
٦. انخفاض أعداد بعض أنواع الأسماك في الوطن العربي.

السؤال السابع دلل على صحة العبارات:

١. تعاني الثروة الحيوانية في الوطن العربي من مشكلات عديدة.
٢. تنوع مصادر الحصول على الأسماك في الوطن العربي.
٣. تهتم الدول العربية بتنمية الثروة السمكية.
٤. الدواجن تساعد على سد العجز في اللحوم الحمراء.
٥. المراعي الطبيعية توفر غذاءً للحيوانات.
٦. الجلود من أهم المواد الخام التي توفرها الثروة الحيوانية للصناعة.

السؤال الثامن ما النتائج المترتبة على:

١. وفرة المراعي الطبيعية في السودان.
٢. انتشار المزارع السمكية في مصر.
٣. الإفراط في الرعي في الوطن العربي.
٤. ارتفاع أسعار الأعلاف.
٥. تلوث المياه بالمخلفات.
٦. تحسين الرعاية البيطرية.

السؤال التاسع ما المقصود بـ:

١. المراعي الطبيعية.
٢. المصايد السمكية.
٣. المزارع السمكية.

السؤال العاشر أجب عما يلي:

١. ما العلاقة بين التغيرات المناخية والثروة الحيوانية؟
٢. ماذا يحدث إذا أهملت الدول العربية تربية الدواجن؟
٣. قارن بين الثروة الحيوانية والثروة السمكية من حيث المشكلات والجهود.
٤. اقترح وسيلتين لزيادة إنتاج الثروة السمكية.
٥. اذكر اثنين من استخدامات الحيوانات في الوطن العربي.
٦. ما أوجه التشابه بين المراعي المعتدلة والمراعي الحارة؟



الوحدة الثالثة

الدرس الثالث

المعادن و مصادر الطاقة في وطننا العربي

يملك وطننا العربي ثروات معدنية هائلة، ومصادر طاقة متنوعة، تستخدمها في حياتنا اليومية، وتعد هذه الثروات من أهم أسباب تقدم الدول وازدهارها، فهي كنوز مدفونة في باطن الأرض يجب علينا المحافظة عليها واستغلالها بشكل يخدم التنمية ويحمي البيئة.

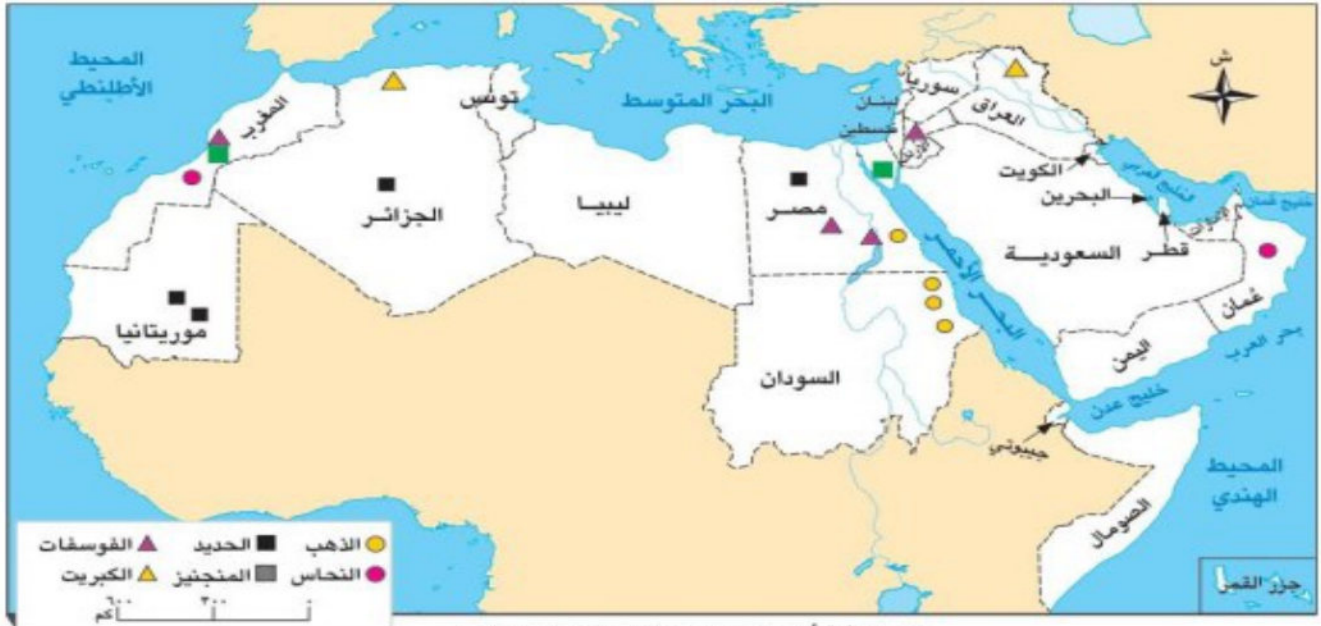
التعدين

ما المقصود

الثروة المعدنية في الوطن العربي.

أولا

- عملية استخراج المعادن ومصادر الطاقة من باطن الأرض أو بالقرب من سطحها



المعادن

أ

الحديد

١

أول الدول المنتجة : موريتانيا والجزائر ومصر.

الأهمية : يستخدم في بناء الكباري وصناعة القطارات والسيارات.

النحاس

٢

أول الدول المنتجة : سلطنة عمان والمغرب.

الأهمية : يستخدم في صناعة الأسلاك الكهربائية



الذهب

٣

- أول الدول المنتجة : السودان ومصر.
- الأهمية : يستخدم في صناعة الحلي والعملات وبعض الأدوية



المنجنيز

٤

- أول الدول المنتجة : المغرب ومصر.
- الأهمية : يستخدم في صناعة الصلب ومواد الطلاء.



الصخور

ب

الكبريت

١

سلسلة

- أول الدول المنتجة : العراق والجزائر
- الأهمية : يستخدم في صناعة الأدوية والصناعات الكيميائية.



الفوسفات

١

- أول الدول المنتجة : المغرب ومصر والأردن.
- الأهمية : يستخدم في صناعة الأسمدة الزراعية والطوب الحراري.

حقائق تاريخية : أدركت الحضارات القديمة أهمية المعادن، فاستخرج المصريون القدماء الذهب من الصحراء الشرقية واستخدموه في أدوات الزينة، كما استخدمت حضارة بلاد الرافدين (بلاد العراق القديم) المعادن في صناعة أدوات الزراعة والطب والكتابة.

فكر وأجب

أكمل العبارات الآتية

- من أهم الدول العربية المنتجة للحديد: و و
- من أهم الدول العربية المنتجة للذهب: و
- يستخدم المنجنيز في صناعة ومواد الطلاء.
- أولى الدول المنتجة للفوسفات هي و و
- الكبريت يستخدم في صناعة والصناعات الكيميائية.

بم تفسر؟

- استخدام النحاس في صناعة الأسلاك الكهربائية.
- أهمية الفوسفات.

مصادر الطاقة في الوطن العربي

ثانيا

يملك وطننا العربي أنواعا متعددة من مصادر الطاقة، وهي أساس التقدم والرفاهية في حياتنا، وتنقسم مصادر الطاقة إلى نوعين، هما:

مصادر الطاقة المتجددة - مصادر الطاقة غير المتجددة

مصادر الطاقة غير المتجددة

أ



خريطة (٢) مصادر الطاقة غير المتجددة بالوطن العربي

البتترول

١

- أهميته: يستخدم في تشغيل المصانع والسيارات والطائرات ويدخل في صناعة البلاستيك، وهو سبب رئيسي في قوة الاقتصاد لبعض دول وطننا العربي..
- أكثر الدول العربية إنتاجا: السعودية العراق الكويت.

الغاز الطبيعي

٢

- أهميته:
- يستخدم في الطهي وتوليد الكهرباء وتشغيل المصانع.
- أقل مصادر الطاقة غير المتجددة تلويثا للبيئة.
- أكثر الدول العربية إنتاجا: قطر، الجزائر، مصر



الفحم

٣



- **أهميته:** يستخدم في المصانع الصهر الحديد.
- أكثر مصادر الطاقة غير المتجددة تلويثاً للبيئة.
- **أكثر الدول العربية إنتاجاً:** المغرب ومصر.

مصادر الطاقة المتجددة

ب

الطاقة الشمسية

١



- **أهميتها:** تستخدم في توليد الكهرباء وتسخين المياه وتشغيل الأجهزة.
- **الدول المنتجة:** تعتمد عليها عديد من الدول العربية، منها مصر والجزائر والسعودية.

الطاقة المائية (الكهرومائية)

٢



توليد الطاقة من المياه

- **أهميتها:** تستخدم في توليد الكهرباء بطريقة آمنة ونظيفة.
- **الدول المنتجة:** أكثر الدول اعتماداً عليها مصر والسودان.

طاقة الرياح

٣

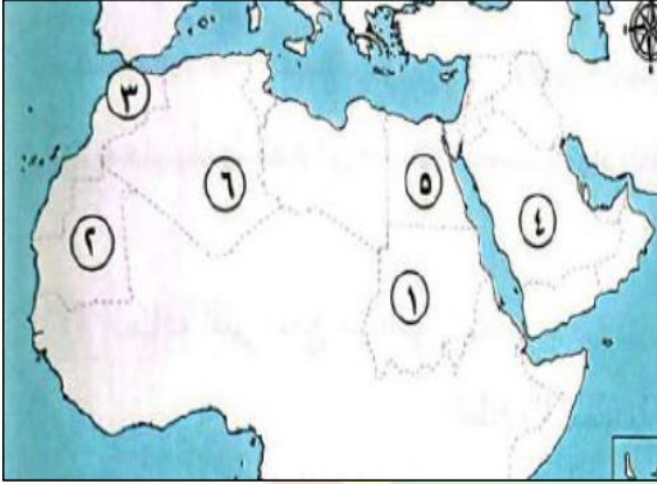


توليد الطاقة من الرياح

- **أهميتها:** تساعد في توليد الكهرباء من خلال التوربينات (دوارة الرياح).
- **الدول المنتجة:** أكثر الدول إنتاجاً لها مصر والمغرب وتونس.

اعداد /
مستتر حاتم عاطف

تدريبات الدرس



- السؤال الأول لاحظ خريطة الوطن العربي ، ثم أجب**
١. صواب أم خطأ: يشير رقم (١) إلى أولى الدول العربية في إنتاج الذهب ()
 ٢. اكمل: يشير رقم (٢) إلى أولى الدول العربية في إنتاج معدن.....
 ٣. يشير رقم (٣) إلى دولة يوجد بها كميات كبيرة من النحاس وهي دولة.....
 ٤. يشير رقم (٤) إلى أولى الدول العربية المنتجة للبتترول وهي دولة.....
 ٥. يشير رقم (٥) إلى دولة تنتج الكهرباء من الطاقة المائية وهي دولة.....
 ٦. يشير رقم (٦) إلى دولة تعتمد على الطاقة الشمسية وهي دولة.....

ضع كلمة صواب أو خطأ أمام كل عبارة

١. موريتانيا من أولى الدول العربية في إنتاج الحديد. ()
٢. يستخدم المنجنيز في صناعة الصلب ومواد الطلاء. ()
٣. السودان ومصر من الدول المنتجة للذهب. ()
٤. يدخل الكبريت في صناعة الطوب الحراري. ()
٥. يدخل النحاس في صناعة الأسلاك الكهربائية. (الاجابة اعلى)
٦. تعد السودان أولى دول الوطن العربي إنتاجًا للغاز الطبيعي. ()
٧. تستخدم الطاقة الشمسية في تسخين المياه. ()
٨. يستخدم الحديد في صناعة مواد الطلاء. ()
٩. تعد دولة عمان الأولى عربيًا في إنتاج النحاس. ()
١٠. تعد طاقة الرياح أحد مصادر الطاقة غير المتجددة. ()
١١. الثروات المعدنية ومصادر الطاقة من أهم أسباب تقدم الدول وازدهارها. ()
١٢. يعد الغاز الطبيعي أحد مصادر الطاقة المتجددة غير الملوثة للبيئة. ()
١٣. يستخدم الفحم في تشغيل السيارات والطائرات. ()
١٤. يدخل الذهب في صناعة بعض الأدوية والحلي. ()
١٥. يدخل البترول في صناعة البلاستيك. ()

اختر الإجابة الصحيحة مما بين القوسين

١. أولى الدول العربية إنتاجًا للفوسفات هي.....

(المغرب ومصر والأردن – الجزائر والسودان – قطر والكويت – العراق والجزائر)

٢. أقل مصادر الطاقة غير المتجددة تلويثاً للبيئة هو

(الفحم – الغاز الطبيعي – البترول – الطاقة المائية)

٣. تستخدم طاقة الرياح في

(تشغيل السيارات – توليد الكهرباء – صناعة الصلب – صناعة الأسمدة)

٤. يستخدم الحديد في صناعة

(الكباري والمنشآت – الأسلاك الكهربائية – الأدوية – المبيدات الحشرية)

٥. من الدول العربية المنتجة للنحاس

(سلطنة عمان – مصر – السودان – الجزائر)

٦. أولى الدول العربية إنتاجاً للكبريت هي

(العراق والجزائر – مصر والسودان – الأردن وسوريا – العراق ولبنان)

٧. أحد مصادر الطاقة المتجددة

(البترول – الغاز الطبيعي – الطاقة الشمسية – الفحم)

٨. يتم توليد الكهرباء بطريقة آمنة ونظيفة من

(الطاقة المائية – الفحم – الغاز الطبيعي – البترول)

٩. أكثر مصادر الطاقة غير المتجددة تلويثاً للبيئة هو

(الفحم – الغاز الطبيعي – الطاقة الشمسية – البترول)

١٠. يستخدم الفوسفات في صناعة

(الأسمدة – الكباري – الأسلاك الكهربائية – الأدوية)

مستر حاتم عاطف

أكمل العبارات التالية

١. من أهم الدول العربية المنتجة للحديد و..... و.....
٢. يستخدم خام الفوسفات في صناعة الأسمدة و.....
٣. أولى دول الوطن العربي إنتاجاً للغاز الطبيعي هي قطر و..... و.....
٤. أحد مصادر الطاقة يستخدم في المصانع لصهر الحديد هو
٥. يمكن توليد الكهرباء وتسخين المياه باستخدام الطاقة
٦. تعتمد صناعة الأسلاك الكهربائية على معدن
٧. من أمثلة مصادر الطاقة المتجددة و..... و.....
٨. يستخدم المنجنيز في صناعة الصلب و.....
٩. من أهم الدول العربية المنتجة للبترول و..... و.....

١٠. يستخدم الكبريت في صناعة الأدوية و.....

أكتب ما تنشير إليه

١. معدن يستخدم في صناعة الأسمدة الزراعية.
٢. معدن يستخدم في صناعة الحلي والعملات.
٣. مصدر طاقة غير متجددة وأقل تلويثاً للبيئة.
٤. معدن يدخل في صناعة الصلب ومواد الطلاء.
٥. معدن أساسي في صناعة الكباري والقطارات.
٦. صخر يدخل في صناعة الأسمدة والطوب الحراري.
٧. مصدر طاقة يعتمد على حركة الهواء لتوليد الكهرباء.

صنف ما يلي إلى مصادر طاقة ومعادن:

(البتترول - الفحم - النحاس - الغاز الطبيعي - المنجنيز - الرياح - الذهب)

بم تفسر

١. أهمية معدن الذهب.
٢. أهمية معدن الحديد.
٣. أهمية معدن المنجنيز.
٤. أهمية معدن النحاس.
٥. أهمية صخر الفوسفات.
٦. أهمية صخر الكبريت.
٧. أهمية الغاز الطبيعي.
٨. أهمية الفحم.

ماذا يحدث إذا...؟

١. أصبح الفحم المصدر الرئيسي للطاقة في الوطن العربي.
٢. استنزفت المعادن في الوطن العربي.
٣. توسعت الدول العربية في استخدام الطاقة المتجددة.

أجب عما يلي

١. ما العلاقة بين الفحم والحديد؟
٢. دلل على أهمية البترول.
٣. قارن بين الكبريت والفوسفات من حيث الأهمية.

الوحدة الثالثة

الدرس الرابع

النشاط السياحي في وطننا العربي

يعد الوطن العربي من أهم المناطق التي تجذب السياح من كل مكان في العالم **م تفسر؟** لأنه يتميز بطبيعة خلابة وتاريخ قديم.

السياحة

ما المقصود

انتقال الأفراد من مكان إلى آخر داخل بلدهم أو خارجه.

مقومات السياحة في الوطن العربي

أولا

يملك الوطن العربي مقومات السياحة مما جعله وجهة للسياح من أنحاء العالم..

تنقسم مقومات السياحة في الوطن العربي إلى:

مقومات بشرية

- توافر الأمن والأمان
- النقل والمواصلات
- تنوع الآثار
- حسن الضيافة
- الفنادق والقرى السياحية.

مقومات طبيعية

- الموقع المتميز
- المناخ المعتدل
- التنوع الطبيعي.

أنواع السياحة في الوطن العربي

ثانيا

السياحة الدينية

السياحة الثقافية

سياحة التسوق

السياحة الرياضية

السياحة العلاجية

السياحة البيئية

السياحة الترفيهية

سياحة المؤتمرات والمعارض

١ - السياحة الدينية

تتمثل في زيارة الأماكن المقدسة، مثل:
المسجد الحرام بالسعودية - المسجد الأقصى بفلسطين - كنيسة المهد بفلسطين



٢ - السياحة الثقافية

منها زيارة المتاحف والآثار، مثل:
مدينة الأقصر والأهرامات - مدينة بابل بالعراق - مدينة القيروان بتونس



٣ - السياحة العلاجية

تقوم على زيارة أماكن تحتوي على مياه معدنية مثل عيون موسى والعيون الكبريتية مثل عين كليوباترا في مصر و عين ماعين في الأردن.



٤ - السياحة الترفيهية

تهدف إلى الاستمتاع بالشواطئ والطبيعة، ومن أشهر الأماكن:
شرم الشيخ والغردقة في مصر. و جزر القمر وسلطنة عمان.



٥ - سياحة التسوق

تتمثل في زيارة الأسواق والمراكز التجارية لشراء الهدايا مثل
الاسواق الشعبية في المغرب و أماكن التسوق الحديثة في الإمارات و الكويت والبحرين



٦ - السياحة الرياضية

وتتمثل في: حضور البطولات والمباريات، مثل كأس العالم في قطر المشاركة في أنشطة رياضية مثل: الغوص وركوب الجمال.

٧ - السياحة البيئية

تتمثل في زيارة المحميات الطبيعية، مثل: محمية أرز الشوف في لبنان، محمية علبه في مصر، محمية ضانا في الأردن.

٨ - سياحة المؤتمرات والمعارض

تتمثل في حضور المؤتمرات العلمية والثقافية والمعارض الدولية، وتنتشر في بعض الدول العربية مثل: مصر والسعودية والإمارات والكويت والبحرين.



محمية ضانا في الأردن

فكر وأجب

أكمل العبارات الآتية

- من المقومات الطبيعية للسياحة في الوطن العربي و..... و.....
- من المقومات البشرية للسياحة في الوطن العربي و..... و.....
- من أمثلة السياحة الدينية زيارة و..... و.....
- من أشهر أماكن السياحة الترفيهية في مصر و.....
- من أشهر الأسواق الشعبية في الوطن العربي توجد في دولة
- من أمثلة السياحة الثقافية مدينة في العراق ومدينة في تونس.

ما النتائج المترتبة علي ؟

- الاهتمام بتوفير الأمن والأمان للسائحين.
- إنشاء الفنادق والقرى السياحية.

تم عاطف

أهمية السياحة في الوطن العربي

ثالثا

مصدر مهم للدخل القومي للدول العربية.

تشجع على تطوير المدن والبنية التحتية.

توفر فرص عمل للشباب في الفنادق والمطاعم ووسائل النقل.

تساعد على تبادل الثقافات والتواصل بين الشعوب.

فرصة للتعرف على حضارات الوطن العربي الرائعة والمميزة.

جهود الحكومات العربية لتنمية السياحة

رابعاً

تبذل الدول العربية جهوداً كبيرة لتنمية السياحة **بم تفسر**؟ لأنها مصدر مهم للدخل وفرص العمل.

١ - خطوات الحكومات العربية لتنمية السياحة

الاهتمام بتوفير
الأمن والأمان.

تدريب وتأهيل
العاملين في
السياحة.

تنظيم
مهرجانات
وفعاليات
لجذب السياح.

تطوير الأماكن
السياحية
القديمة
وتجديدها.

إنشاء مطارات
وفنادق حديثة
لاستقبال
السياح.

تسهم هذه الجهود في جذب مزيد من السياح، ومعرفة العالم بجمال وروعة الحضارة في وطننا العربي.

٢ - نأذج من جهود الدول العربية لتنمية السياحة .

تسعى الدول العربية إلى تنمية السياحة من خلال عدة مشروعات **بم تفسر**؟

بهدف جذب السياح وتنشيط الاقتصاد المحلي، مثل:

أ- تعتنى المغرب وتونس بالمدن القديمة والمواقع التراثية لجذب السياحة الثقافية.

ب- تنظم السعودية فعاليات مثل موسم الرياض **بم تفسر**؟ لتشجيع السياحة الترفيهية.

ت- تهتم دولة الإمارات العربية المتحدة بالسياحة من خلال عدة مشاريع مثل برج خليفة وجزيرة النخلة.

في الدراسات الاجتماعية

٣ - جهود مصر لتنشيط السياحة

تنظيم احتفالات عالية مثل موكب المومياوات

تطوير منطقة الأهرامات.

بناء مدن سياحية جديدة مثل العلمين الجديدة.


توفير الأمن وتحسين البنية التحتية وبناء الفنادق.

إنشاء المتحف المصري الكبير.

تهدف هذه الجهود لجذب السياح وتعريفهم بحضارة مصر

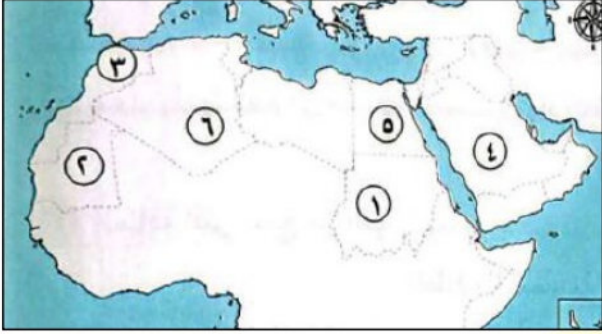


برج خليفة في الإمارات



تدريبات الدرس

السؤال الأول لاحظ خريطة الوطن العربي التالية ، ثم اكتب مدلول الأرقام الموقعة عليها :



١. دولة تنظم فاعليات موسم الرياض.....

٢. دولة توجد بها مدينة القيروان.....

٣. دولة تنتشر بها السياحة العلاجية.....

٤. دولة تنتشر بها السياحة الترفيهية.....

ثانياً: أكمل العبارات الاتية

١. من العوامل الطبيعية التي تجذب السياح إلى مصر..... و.....
٢. من أشهر أنواع السياحة في مصر..... و.....
٣. من العوامل البشرية التي تساعد على جذب السياحة.....
٤. السياحة تعتبر مصدراً مهماً ل..... في مصر.
٥. من الأماكن الأثرية التي يحرص السياح على زيارتها..... و.....
٦. من المناطق الطبيعية التي تجذب السياح في مصر..... و.....
٧. من المقومات التي تساعد على ازدهار السياحة في مصر.....
٨. من واجباتنا تجاه السائحين أن.....
٩. السياحة البيئية تعني زيارة.....
١٠. السياحة العلاجية تعني زيارة.....

ثالثاً: ضع علامة صح أو خطأ امام كل عبارة

١. من العوامل البشرية التي تجذب السياحة المناخ المعتدل. ()
٢. الأهرامات وأبو الهول من أهم المعالم السياحية في مصر. ()
٣. السياحة لا تؤثر على الدخل القومي لمصر. ()
٤. السياحة الثقافية تشمل زيارة المتاحف والمعابد. ()
٥. السياحة البيئية تعني زيارة الشواطئ والمحميات الطبيعية. ()
٦. السياحة مصدر من مصادر العملة الصعبة لمصر. ()
٧. يجب معاملة السائحين معاملة سيئة. ()
٨. السياحة الرياضية تعتمد على مشاهدة المباريات فقط. ()
٩. السياحة العلاجية تهدف للاستفادة من الموارد الطبيعية للعلاج. ()
١٠. من المقومات الطبيعية للسياحة في مصر تنوع المناخ. ()
١١. من المقومات البشرية للسياحة في مصر توفر الأمن والاستقرار. ()
١٢. السياحة الداخلية هي سفر المواطنين لزيارة أماكن داخل وطنهم. ()
١٣. السياحة الخارجية هي سفر المواطنين لزيارة أماكن خارج وطنهم. ()
١٤. تنوع السياحة في مصر يجذب مزيداً من السياح. ()
١٥. السياحة تساعد على توفير فرص عمل للشباب. ()

رابعاً: اختر الإجابة الصحيحة مما بين القوسين

١. من العوامل الطبيعية التي تجذب السياح إلى مصر:.....
(المناخ - الأمن - الاستقرار - الخدمات)

٢. من أنواع السياحة في مصر:.....
(ثقافية - زراعية - صناعية - علمية)

٣. من المقومات البشرية للسياحة في مصر:
- (المعالم الأثرية - الشواطئ - الأمن والاستقرار - الجبال)
٤. السياحة التي تعتمد على زيارة المعابد والمتاحف تسمى:
- (ثقافية - بيئية - علاجية - رياضية)
٥. من واجباتنا تجاه السائحين:
- (سوء المعاملة - الاحترام - تجاهلهم - فرض الضرائب)
٦. السياحة البيئية تشمل:
- (زيارة الشواطئ - زيارة المستشفيات - زيارة المصانع - مشاهدة المباريات)
٧. السياحة العلاجية تعني:
- (زيارة أماكن العلاج - زيارة المعابد - زيارة المتاحف - زيارة الملاعب)
٨. من آثار ازدهار السياحة في مصر:
- (زيادة الدخل - قلة فرص العمل - قلة الأمن - تلوث البيئة)
٩. من المقومات الطبيعية للسياحة في مصر:
- (الشواطئ - الأمن - الاستقرار - الأسواق)
١٠. السياحة الداخلية هي:
- (زيارة أماكن داخل الوطن - زيارة أماكن خارج الوطن - السفر الجوي - السفر البحري)

رابعًا: ما المقصود بالمفاهيم والمصطلحات التالية:

١. السياحة الثقافية.

٢. السياحة العلاجية.

٣. السياحة الترفيهية.

٤. المقومات الطبيعية للسياحة.

٥. السياحة البيئية.

خامسًا: أكتب ما تشير إليه العبارات التالية:

١. نوع من السياحة يقوم على زيارة المناطق الأثرية والمتاحف.
٢. نوع من السياحة يعتمد على التمتع بالشواطئ وممارسة السباحة والرياضات المائية.
٣. أماكن يقصدها الناس للاستشفاء من أمراضهم بمياهها المعدنية أو جوها النقي.
٤. زيارات تتم لمناطق المحميات الطبيعية لمشاهدة النباتات والحيوانات النادرة.
٥. آثار فرعونية مشهورة تقع في محافظة الأقصر.

سادسًا: بم تفسر:

١. تنوع الأنشطة السياحية في مصر.
٢. أهمية السياحة لمصر اقتصاديًا.
٣. إقبال السياح على زيارة مصر طوال العام.
٤. إقامة الدولة مشروعات لتطوير المناطق السياحية.
٥. اهتمام الدولة بحماية المحميات الطبيعية.

سابعًا: ما النتائج المترتبة على:

١. تنوع المقومات السياحية في مصر.
٢. تدهور البيئة في المناطق السياحية.
٣. إنشاء الطرق والمطارات بالقرب من المناطق السياحية.
٤. تعرض بعض الآثار للتلف أو السرقة.
٥. زيادة الوعي السياحي لدى المواطنين.

ثامنًا: دلل على صحة العبارات التالية:

١. لمصر مكانة سياحية كبيرة على مستوى العالم.
٢. السياحة مصدر مهم للعملة الصعبة في مصر.
٣. السياحة البيئية تحافظ على الموارد الطبيعية.
٤. السياحة الثقافية تنتشر في العديد من محافظات مصر.
٥. الدولة تشجع السياحة العلاجية.

تاسعًا: ما العلاقة بين:

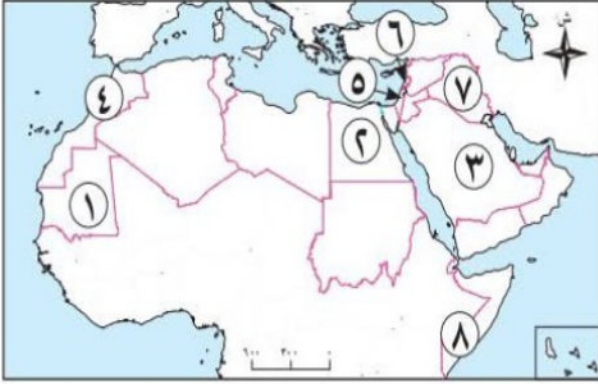
١. السياحة والاقتصاد المصري. الدراسات الاجتماعية
٢. السياحة البيئية والمحميات الطبيعية.
٣. السياحة الثقافية والآثار المصرية. اعداد /
٤. السياحة العلاجية والمياه المعدنية. ميسر حاتم عاطف
٥. السياحة الترفيهية والمناطق الساحلية.

عاشرًا: قارن بين:

١. السياحة الثقافية والسياحة الترفيهية.
٢. المقومات الطبيعية للسياحة والمقومات البشرية للسياحة.
٣. السياحة البيئية والسياحة العلاجية

تقييم الكتاب المدرسي علي الوحدة الثالثة

السؤال الأول: أمامك خريطة صماء للوطن العربي، أجب عن الأسئلة الآتية:



١. أولى دول الوطن العربي في إنتاج الحديد
٢. أولى دول الوطن العربي إنتاجا للقمح
٣. أولى دول الوطن العربي في إنتاج البترول
٤. أولى دول الوطن العربي في المصايد البحرية
٥. دولة يوجد بها المسجد الأقصى
٦. يتركز إنتاج الكبريت بدولة
٧. دولة تشتهر بتربية الإبل

السؤال الثاني: اكتب كلمة (صواب) أمام العبارة الصحيحة، وكلمة (خطأ) أمام العبارة غير الصحيحة:

١. يعتمد النشاط الزراعي على نوع التربة والمناخ. ()
٢. تمتلك دول الخليج رأس المال اللازم للزراعة. ()
٣. تنتج السعودية كميات كبيرة من البترول. ()
٤. السياحة تعمل على زيادة الدخل القومي. ()
٥. الرياح من مصادر الطاقة المتجددة. ()
٦. الفحم أكثر مصادر الطاقة غير المتجددة تلويثا للبيئة. ()
٧. يعتمد الوطن العربي على المراعي الطبيعية فقط. ()

السؤال الثالث: أكمل العبارات الآتية:

١. تشتهر المغرب بإنتاج معدن الذي يدخل في صناعة الأسلاك.
٢. أولى دول الوطن العربي في توليد الكهرباء من الرياح
٣. أكثر دول الوطن العربي امتلاكاً للثروة الحيوانية
٤. تعتمد السياحة على عدة مقومات
٥. معدن يدخل في صناعة الآلات
٦. زيارة الأماكن الأثرية مثل الأهرامات سياحة
٧. أولى دول الوطن العربي في المزارع السمكية دولة

السؤال الرابع: بم تفسر...؟

١. أهمية الأسواق بالنسبة للزراعة.
٢. أهمية البترول في الوطن العربي.
٣. اهتمام الوطن العربي بتنمية الثروة السمكية.
٤. أهمية الثروة الحيوانية.
٥. استحداث بذور مقاومة للتغيرات المناخية.
٦. أهمية السياحة للدخل القومي.
٧. أهمية معدن المنجنيز.
٨. انخفاض إنتاج الثروة الحيوانية في بعض المناطق.

السؤال الخامس: ما النتائج المترتبة على ...؟

١. تنوع المناخ في الوطن العربي.
٢. تعدد أنواع السياحة بالوطن العربي.
٣. الاعتماد على مصادر الطاقة غير المتجددة.
٤. الصيد الجائر بالنسبة للثروة السمكية.
٥. تدهور المراعي الطبيعية في الوطن العربي.

السؤال السادس: ماذا يحدث إذا لم ...؟

١. وفرة حشائش السافانا بالسودان.
٢. يستخدم الري الحديث في الوطن العربي.
٣. تستخدم وسائل صيد حديثة بالنسبة للثروة السمكية.
٤. يترك الصيادون حرفة الصيد في الوطن العربي.
٥. تتوفر الأعلاف وتحسن الرعاية البيطرية في الوطن العربي.
٦. يتم معالجة مياه الصرف الصحي في الوطن العربي.

السؤال السابع: ما المقصود بالمفاهيم الآتية...؟

- ١- المراعي الطبيعية.
- ٢- السياحة الدينية.

السؤال الثامن: ما العلاقة بين كل من ...؟

- ١- النشاط الزراعي والمناخ.
- ٢- الثروة الحيوانية والمراعي.
- ٣- المعادن والنشاط الاقتصادي.

المتفوق

في الدراسات الاجتماعية

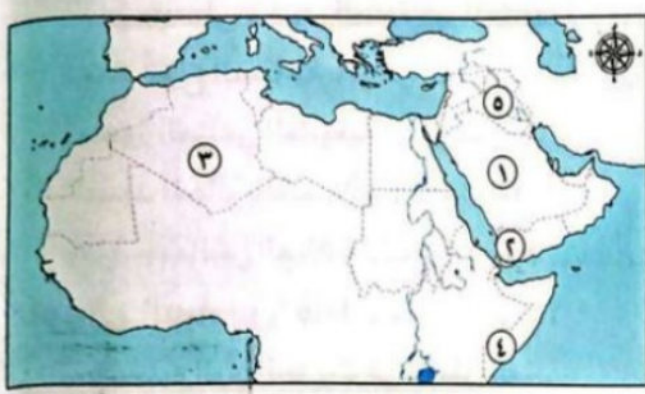
اعداد /

مستر حاتم عاطف

مراجعة عامة علي الوحدة الثالثة

السؤال الأول الخرائط:

لاحظ الخريطة المقابلة ، ثم أجب:



١. يشير رقم (١) إلى أولى الدول العربية إنتاجا

للبنترول وهي

٢. يشير رقم (٢) إلى منطقة تقوم بها الزراعة

اعتمادا على

٣. اختر: تقوم الزراعة في المنطقة رقم (٣) اعتمادا

على

(الأمطار - المياه الجوفية - الأنهار - البحيرات العذبة)

٤. صواب أم خطأ: يشير رقم (٤) إلى إحدى أكبر الدول العربية في تربية الدواجن

٥. يشير رقم (٥) إلى مدينة بابل في دولة

لاحظ الخريطة المقابلة ، ثم أجب:

١. صواب أم خطأ: يشير رقم (١) إلى أكبر الدول في

تربية الخيول. ()

٢. اختر: يشير رقم (٢) إلى أولى الدول العربية في

تربية

(الماعز - الأغنام - الجاموس - الأبقار)

٣. يشير رقم (٣) إلى أولى الدول العربية في إنتاج

الفوسفات وهي

٤. يشير رقم (٤) إلى أولى الدول العربية إنتاجا للغاز الطبيعي وهي

٥. يشير رقم (٥) إلى السهل الفيضي في دولة

لاحظ الخريطة المقابلة ، ثم أجب:

يشير رقم (١) إلى أولى الدول العربية في تربية

١. صواب أم خطأ: يشير رقم (٢) إلى الدولة الأولى

عربيا في إنتاج القمح. ()

٢. اختر: يشير رقم (٣) إلى أولى الدول العربية في

إنتاج

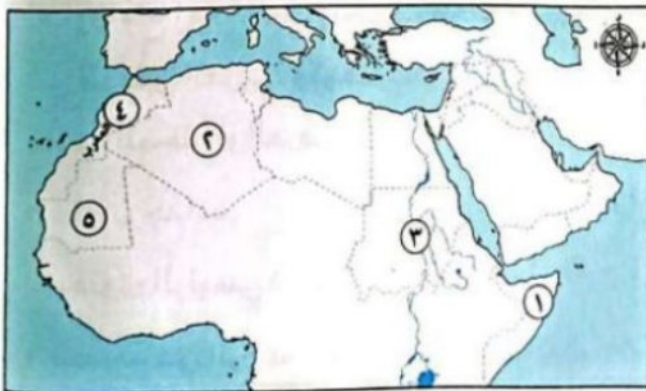
(الفوسفات - البنترول - الذهب - الكبريت)

٣. يشير رقم (٤) إلى أولى الدول العربية في إنتاج

الأسماك من

٤. يشير رقم (٥) إلى دولة عربية منتجة لمعدن

الحديد وهي



السؤال الثاني اكتب كلمة (صواب) أمام العبارة الصحيحة، وكلمة (خطأ) أمام العبارة غير الصحيحة

١. تقوم بعض الدول العربية بزراعة المراعي الطبيعية. ()
٢. السياحة من أهم مصادر الدخل القومي وفرص العمل في الدول العربية. ()
٣. استصلاح الأراضي الصحراوية من أساليب التغلب على مشكلات الزراعة. ()
٤. إنشاء المطارات والفنادق الحديثة من مقومات تنشيط السياحة. ()
٥. المصريون القدماء سجلوا أنشطتهم الزراعية على جدران المعابد والمقابر. ()
٦. المياه العذبة من المقومات الطبيعية للزراعة في الوطن العربي. ()
٧. مشروع توشكى للتنمية الزراعية يقع في مصر. ()
٨. حضور المباريات العالمية يعد من السياحة الرياضية. ()
٩. مصر تصدر إنتاج القطن طويل التيلة في الوطن العربي. ()
١٠. رأس المال أحد المقومات البشرية لنشاط الزراعة. ()
١١. الدواجن تساعد على تقليل الاعتماد على اللحوم الحمراء. ()
١٢. من مشكلات الثروة الحيوانية استخدام وسائل صيد بدائية. ()
١٣. قلة الأمطار من المشكلات الطبيعية للزراعة في الوطن العربي. ()
١٤. الوطن العربي يمتلك ثروات معدنية ومصادر طاقة متنوعة. ()
١٥. الكبريت يستخدم في صناعة الأدوية والمواد الكيميائية. ()
١٦. مشروع مستقبل مصر للزراعة المستدامة يهدف لاستصلاح مليون فدان. ()
١٧. حضارة بلاد الرافدين استخدمت المعادن في صناعة أدوات الزراعة. ()
١٨. الثروة الحيوانية توفر مواد خام للصناعات الغذائية والنسيجية. ()
١٩. مصادر الثروة السمكية في الوطن العربي تشمل المصايد البحرية والمزارع السمكية. ()
٢٠. النحاس يوجد بكميات كبيرة في المغرب وسلطنة عمان. ()
٢١. مناخ الشمال العربي معتدل ومطر والجنوب حار مطير. ()
٢٢. قلة الرعاية البيطرية مشكلة للثروة الحيوانية لا السمكية. ()
٢٣. الكويت من أكبر الدول العربية إنتاجاً للبترول. ()
٢٤. النشاط السياحي يساهم في تبادل الثقافات بين الشعوب. ()
٢٥. المعادن ومصادر الطاقة أساس تقدم وازدهار الدول. ()
٢٦. الوطن العربي ينتج محاصيل غذائية وصناعية وتجارية. ()
٢٧. من جهود مصر في تنشيط السياحة إنشاء المتحف المصري الكبير. ()
٢٨. الفوسفات يدخل في صناعة الأسمدة الزراعية. ()
٢٩. الموقع المتميز من المقومات البشرية للسياحة. ()
٣٠. القطن محصول صناعي وليس غذائي. ()

٣١. الفحم أكثر مصادر الطاقة غير المتجددة تلويناً للبيئة. ()
٣٢. مصر أكبر منتج عربي للأسماك من المزارع السمكية. ()
٣٣. تنوع الآثار من المقومات الثقافية للسياحة. ()
٣٤. الذهب لا يستخدم في صناعة الأسلاك الكهربائية. ()
٣٥. الماعز يربي في مناطق حشائش الإستبس. ()
٣٦. زيارة الأماكن المقدسة سياحة دينية. ()
٣٧. الوطن العربي ينتج محاصيل متنوعة وليس محدودة. ()
٣٨. حماية الآثار واجب وطني. ()
٣٩. المصريون القدماء استخرجوا الذهب من الصحراء الشرقية. ()
٤٠. المغرب تهتم بالمدن القديمة لجذب السياحة الثقافية. ()
٤١. توفر مقومات الزراعة ساعد على الاستقرار البشري قديماً. ()
٤٢. الحديد يستخدم في البناء وصناعة القطارات. ()
٤٣. التغيرات المناخية من المشكلات الطبيعية للزراعة. ()
٤٤. الأغنام تربي في مناطق الإستبس. ()
٤٥. الطاقة الشمسية مصدر متجدد لا يلوث البيئة. ()
٤٦. الإمارات من الدول العربية الرائدة في السياحة الترفيهية. ()
٤٧. عين ماعين في الأردن من مناطق السياحة العلاجية. ()
٤٨. تونس تشتهر بإنتاج زيت الزيتون بكميات كبيرة. ()
٤٩. الغاز الطبيعي أقل تلويناً من الفحم. ()
٥٠. الأرز يزرع في دلتا النيل ومناطق الأهوار في العراق. ()
٥١. السياحة البيئية تهدف إلى الاستمتاع بالمحميات الطبيعية. ()
٥٢. اليمن تنتج البن العربي بكميات مشهورة عالمياً. ()
٥٣. الثروة السمكية تسهم في تحقيق الأمن الغذائي. ()
٥٤. البترول يطلق عليه "الذهب الأسود" لأهميته الاقتصادية. ()
٥٥. بعض الصناعات السياحية تشمل الحرف اليدوية التقليدية. ()

السؤال الثالث: أكمل العبارات التالية:

١. استخرج المصريون القدماء الذهب من الصحراء
٢. أحد أمثلة السياحة البيئية زيارة محمية أرز الشوف في دولة
٣. تسعى الدول العربية لاستخدام طرق ري حديثة منها الري بالرش و.....
٤. أحد أمثلة السياحة الثقافية زيارة مدينة القيروان في دولة
٥. تساهم الدواجن في تقليل اعتماد الوطن العربي على اللحوم
٦. يعد المسجد الأقصى في فلسطين مقصدًا لسياحة
٧. يستخدم قصب السكر بشكل رئيسي في صناعة
٨. تقع محمية رأس محمد في جنوب مدينة
٩. تشتهر منطقة سيوة في مصر بانتشار أشجار

١٠. تعد مدينة البتراء في الأردن من أهم مواقع السياحة.....
١١. من أهم المحاصيل النقدية التي تزرع في الوطن العربي محصول.....
١٢. يستخدم القطن في صناعة المنسوجات و.....
١٣. تقع محمية وادي الجمال في محافظة.....
١٤. يتميز مناخ الوطن العربي بأنه..... في الصيف و..... في الشتاء.
١٥. يعتبر نهر..... أهم مصدر للمياه العذبة في مصر.
١٦. من أهم الثروات المعدنية في الوطن العربي معدن.....
١٧. تعد السياحة العلاجية في الوطن العربي قائمة على ينابيع المياه.....
١٨. من أهم مصادر الطاقة التقليدية في الوطن العربي.....

السؤال الرابع صوب ما تحته خط

١. يتمتع الوطن العربي بمناخ معتدل ومطير في الغرب.
٢. قصب السكر من المحاصيل السكرية التي تزرع في دلتا النيل.
٣. يستخدم في صناعة الأسلاك الكهربائية والأجهزة الإلكترونية معدن المنجنيز.
٤. الطاقة التي تنتج من المياه تسمى الطاقة النووية.

السؤال الرابع ما المقصود بكل مما يلي....؟

١. المراعي الطبيعية.
٢. المصايد السمكية.
٣. المزارع السمكية.
٤. السياحة.

السؤال الخامس: أكتب ما تشير إليه العبارات الآتية:

١. نباتات عشبية طويلة، تُربى عليها الأبقار والأغنام في بعض مناطق الوطن العربي.
٢. نوع من الصخور يُستخدم في الصناعات الكيميائية.
٣. نباتات عشبية قصيرة، تُربى عليها الأغنام والماعز في بعض مناطق الوطن العربي.
٤. نوع من السياحة يعتمد على الاستمتاع بالشواطئ الطبيعية.
٥. مصدر للطاقة غير المتجددة يُستخدم في صهر الحديد، ويُعد من أكثر الملوثات البيئية.
٦. نوع من السياحة يعتمد على حضور البطولات والمباريات الرياضية.
٧. الدولة العربية التي تصدر إنتاج الأسماك من المزارع السمكية.
٨. معدن يُستخدم في صناعة بعض العملات المعدنية.
٩. نوع من السياحة يعتمد على زيارة المحميات الطبيعية.
١٠. مصدر طاقة غير متجدد يُعد السبب الرئيسي في قوة اقتصاد بعض الدول العربية.
١١. أوسع أنواع السهول انتشارًا في الوطن العربي.
١٢. أكثر أنواع الأخشاب الصلبة استخدامًا في صناعة الأثاث.
١٣. المحصول الزراعي الذي يحتل المرتبة الأولى في الوطن العربي من حيث المساحة المزروعة.
١٤. المصدر المائي الذي يمثل النسبة الأكبر من استهلاك المياه في الزراعة.
١٥. دولة عربية تُعد الأولى في إنتاج الغاز الطبيعي المسال.
١٦. منطقة ساحلية تشتهر بانتشار الشعاب المرجانية وتجذب السياحة البيئية.
١٧. دولة عربية تشتهر بإنتاج الفوسفات بكميات كبيرة.

١٨. المعدن الذي يدخل في صناعة الأسمدة الفوسفاتية.
١٩. المصدر الرئيسي للطاقة الكهربائية في مصر.
٢٠. دولة عربية تُعد الأولى في تربية الإبل.

السؤال السادس بم تفسر...؟

١. أهمية السياحة في الوطن العربي.
٢. أهمية التربة الخصبة بالوطن العربي..
٣. يعد الوطن العربي إحدى أهم مناطق الجذب السياحي في العالم....
٤. تنوع المحاصيل في الوطن العربي..
٥. أهمية الطاقة الشمسية.
٦. اهتمام المغرب وتونس بالمدن القديمة والمواقع التراثية..
٧. أهمية الأسواق للزراعة في وطننا العربي..
٨. أهمية الثروة الحيوانية في الوطن العربي..
٩. أهمية الثروة السمكية في الوطن العربي..
١٠. أهمية الزراعة في الوطن العربي.
١١. أهمية البترول..
١٢. تعد الصومال أولى عربيا في تربية الإبل....
١٣. أهمية عين كليوباترا في سيوة.
١٤. تعد مصر والسعودية من أكثر الدول العربية إنتاجا للدواجن...
١٥. أهمية رأس المال للزراعة في وطننا العربي..
١٦. أهمية المعادن عند المصريين القدماء.
١٧. اهتمام الدول العربية بإنشاء المطارات والفنادق الحديثة..
١٨. يُفضّل استخدام الغاز الطبيعي على الفحم من الناحية البيئية..
١٩. تعد المغرب أولى الدول العربية إنتاجا للأسمك من المصايد السمكية..
٢٠. اهتمام مصر بتنشيط السياحة.
٢١. أهمية المعادن الحضارة بلاد الرافدين..

السؤال السابع ما النتائج المترتبة على....؟

١. طول سواحل المغرب على المحيط الأطلسي والبحر المتوسط.
٢. امتلاك الوطن العربي منذ القدم المقومات الزراعة.
٣. مشروع توشكي بجنوب مصر..
٤. كثرة المزارع السمكية في مصر...
٥. تنوع مناخ الوطن العربي.
٦. تفعيل الدول العربية للقوانين بالنسبة للثروة السمكية..

السؤال الثامن دلي على صحة العبارات الآتية:

١. تبذل الدول العربية جهودًا لتنمية الثروة الحيوانية.
٢. تتعدد مصادر المياه العذبة في الوطن العربي..
٣. تبذل مصر جهودًا كبيرة لتنشيط السياحة..
٤. تبذل بعض الدول العربية جهودًا لحل مشكلات الزراعة.
٥. تبذل الدول العربية جهودًا لتنمية الثروة السمكية..
٦. تواجه الزراعة في الوطن العربي عدة مشكلات تعوق تطورها..
٧. يعد البترول من مصادر الطاقة المهمة..
٨. تعد مصر أكثر الدول العربية ملاءمة لتربية الجاموس..
٩. تبذل الدول العربية جهودًا للحد من تأثير التغير المناخي على الزراعة..
١٠. يعد الغاز الطبيعي من مصادر الطاقة المهمة..
١١. تسعى مصر لتحقيق الأمن الغذائي..
١٢. تسجيل المصريين القداماء أنشطتهم الزراعية..

السؤال التاسع ما العلاقة بين...؟

١. البترول والاقتصاد.
٢. التغيرات المناخية والزراعة في الوطن العربي..
٣. الثروة الحيوانية والصناعة.
٤. مصادر الطاقة المتجددة والبيئة.
٥. السياحة وعلاج الأمراض..

السؤال العاشر قارن بين

١. الحديد والنحاس من حيث الاستخدامات في الوطن العربي.
٢. الغاز الطبيعي والفحم من حيث الأهمية والخصائص.
٣. السياحة الدينية والثقافية في الوطن العربي من حيث الهدف مع ذكر مثال لكل منهما.

مراجعة عامة على الفصل الدراسي الأول

السؤال الأول: اكتب كلمة (صواب) أمام العبارة الصحيحة، وكلمة (خطأ) أمام العبارة غير الصحيحة فيما يلي:

١. يمتد الوطن العربي في قارتي آسيا وإفريقيا. ()
٢. تسود الغابات الاستوائية في معظم أراضي الوطن العربي. ()
٣. عاصمة الدولة العباسية كانت دمشق. ()
٤. الهجرة النبوية كانت بسبب حماية الدعوة. ()
٥. تسهم السياحة في دعم الاقتصاد العربي. ()
٦. الطاقة الشمسية من مصادر الطاقة المتجددة. ()
٧. من نتائج الهجرة تأسيس مجتمع إسلامي في المدينة. ()
٨. يعد بيت الحكمة مركزاً للترجمة والبحث العلمي. ()
٩. الخلافة هي نظام حكم إسلامي. ()
١٠. من مصادر الطاقة غير المتجددة الرياح. ()
١١. أشهر القبائل في شبه الجزيرة العربية قبيلة قريش. ()
١٢. من عادات العرب الحسنة قبل الإسلام الكرم والشجاعة. ()
١٣. فتحت العراق على يد سعد بن أبي وقاص في خلافة عمر بن الخطاب. ()
١٤. وصلت الدولة الإسلامية إلى أقصى اتساع لها في عهد الأمويين. ()
١٥. أسس معاوية بن أبي سفيان مدينة القيروان بتونس. ()

السؤال الثاني: اختر الإجابة الصحيحة مما بين القوسين

١. من المحاصيل السكرية في الوطن العربي.....
(القطن - القمح - الكتان - قصب السكر)
٢. أنشأ مكتبة بيت الحكمة الخليفة.....
(هارون الرشيد - المنصور - عمر - معاوية)
٣. الطاقة الكهربائية تنتج من.....
(الرياح - السدود - الشمس - البترول)
٤. صناعة السيارات تعتمد على معدن.....
(الكبريت - الحديد - الذهب - النحاس)
٥. الدولة الأموية اتخذت عاصمتها في.....
(المدينة - الكوفة - بغداد - دمشق)
٦. الفتوحات الإسلامية انتشرت في عهد الخليفة.....
(عثمان - عمر - علي - أبي بكر)
٧. الدولة الإسلامية بعد وفاة النبي (ﷺ) قادها.....
(معاوية - أبو بكر - العباس - خالد بن الوليد)
٨. يتركز السكان بالمناطق الصحراوية في.....
(الجبال - الواحات - الهضاب - السهول)
٩. أحد مصادر الطاقة المتجددة بالوطن العربي.....
(البترول - الفحم - الرياح - الغاز الطبيعي)
١٠. أحد مقومات الزراعة الطبيعية.....
(التربة الخصبة - الأيدي العاملة - رأس المال - الأسواق)

السؤال الثالث: بم تفسر...؟

١. الأهمية الحضارية والدينية للوطن العربي.
٢. الأهمية الإستراتيجية للوطن العربي.
٣. نشأة جبال البحر الأحمر.
٤. أهمية الأودية الجافة.
٥. أهمية السهول الساحلية.
٦. تنوع الأنشطة الاقتصادية في الوطن العربي.
٧. تنوع النبات الطبيعي في الوطن العربي.
٨. أهمية حشائش السافانا.
٩. ندرة المياه العذبة في الوطن العربي.
١٠. بعثة النبي محمد (ﷺ).
١١. نسخ عثمان بن عفان (رضي الله عنه) القرآن الكريم في مصحف واحد.
١٢. ضعف وسقوط الدولة العباسية.
١٣. اختيار أبي بكر الصديق (رضي الله عنه) خليفة للمسلمين.
١٤. أهمية النشاط السياحي.
١٥. قيام عبد الملك بن مروان بنقط المصحف.
١٦. الاعتماد على الزراعة في بعض الدول العربية.
١٧. انتشار المناخ الصحراوي في معظم أراضي الوطن العربي.
١٨. وجود السهول الفيضية في مصر والعراق.

السؤال الرابع: ما النتائج المترتبة على...؟

١. تنوع التضاريس في الوطن العربي.
٢. تنوع الموارد والثروات الطبيعية في الوطن العربي..
٣. الموقع الفلكي للوطن العربي..
٤. حدوث السيول في الوطن العربي..
٥. فتح مكة ٨ هـ.
٦. غزوة الخندق ٥ هـ.
٧. اهتمام المأمون بالترجمة..
٨. تنوع الأنشطة الاقتصادية في الوطن العربي..
٩. وجود أنهار مثل النيل والفرات في الوطن العربي..
١٠. اهتمام الدول العربية بتنمية السياحة.
١١. تحسين وسائل النقل والمواصلات

السؤال الخامس: اكتب ما تشير إليه كل عبارة مما يلي:

١. منطقة انتقل إليها النبي (ﷺ) وأسس بها أول مجتمع إسلامي.
٢. أحد مصادر الطاقة المتجددة يعتمد على حرارة الشمس.
٣. مكان علمي في بغداد اهتم بالترجمة والعلوم.
٤. أول خليفة للمسلمين بعد وفاة النبي

٥. نشاط يعتمد على زراعة الأرض وإنتاج المحاصيل.
٦. نباتات تنمو دون تدخل الإنسان.
٧. دولة عربية تشتهر بإنتاج الفوسفات.
٨. مدينة كانت عاصمة الدولة الأموية.
٩. نهر يمر في مصر والسودان.
١٠. أحد الخلفاء الراشدين جمع المسلمين على مصحف واحد.
١١. أكثر الحيوانات التي يتم تربيتها في الوطن العربي.
١٢. مصدر من مصادر الطاقة غير المتجددة وأقل تلويثاً للبيئة.
١٣. من الدول العربية المشهورة بسياحة التسوق.
١٤. من مظاهر سطح الأرض ويمثل مرتفعات واسعة.

السؤال السادس: ماذا يحدث إذا...؟

١. لم يتم فتح بلاد الشام في عهد الخلفاء الراشدين.
٢. لم يهاجر المسلمون الأوائل إلى الحبشة..
٣. لم يتعاون المسلمون مع النبي (ﷺ) في المدينة..
٤. لم تنتشر الفتوحات الإسلامية.
٥. لم يكن هناك تواصل جغرافي بين الدول العربية.
٦. كانت معظم أراضي الوطن العربي مغطاة بالغابات.
٧. استنزفت مصادر الطاقة غير المتجددة..
٨. توقفت السياحة في الوطن العربي..
٩. لم تهتم الدول بتخزين مياه الأمطار والسيول..
١٠. تم الاعتماد الكامل على الطاقة غير المتجددة دون بدائل.

في الدراسات الاجتماعية

اعداد /
مستتر حاتم عاطف