

سلسلة العزّة في الدراسات الاجتماعية

د / عزة الحسن
امتادة التاريخ والدراسات الاجتماعية

٠١٢٧٢٣٧٨٨٨٧



الترم الاول



محتوى المنهج

الوحدة الأولى

الدرس الاول	وطنا العربي (الموقع - الأهمية)
الدرس الثاني	تضاريس وطننا العربي
الدرس الثالث	وطنا العربي (المناخ - النبات الطبيعي)
الدرس الرابع	التحديات البيئية في وطننا العربي

الوحدة الثانية

الدرس الاول	شبه الجزيرة العربية (قبل وبعد ظهور الإسلام)
الدرس الثاني	الهجرة وعالمية الدعوة
الدرس الثالث	إنجازات الخلفاء الراشدين
الدرس الرابع	الدولة الإسلامية (الأمويون - العباسيون) .

الوحدة الثالثة

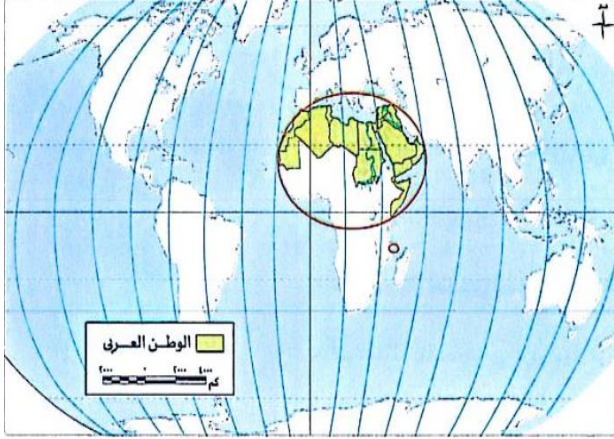
الدرس الاول	النشاط الزراعي في وطننا العربي
الدرس الثاني	الثروة الحيوانية والسمكية في وطننا العربي
الدرس الثالث	المعادن ومصادر الطاقة في وطننا العربي
الدرس الرابع	النشاط السياحي في وطننا العربي

الوحدة الأولى

الدرس الاول

وطننا العربي (الموقع - الأهمية)

- لكل إنسان وطن ينتمي إليه ويعيش فيه ووطننا العربي تجمع له لغة وعادات وتقاليده واحده وتاريخ مشترك
 أولاً: الموقع الجغرافي للوطن العربي



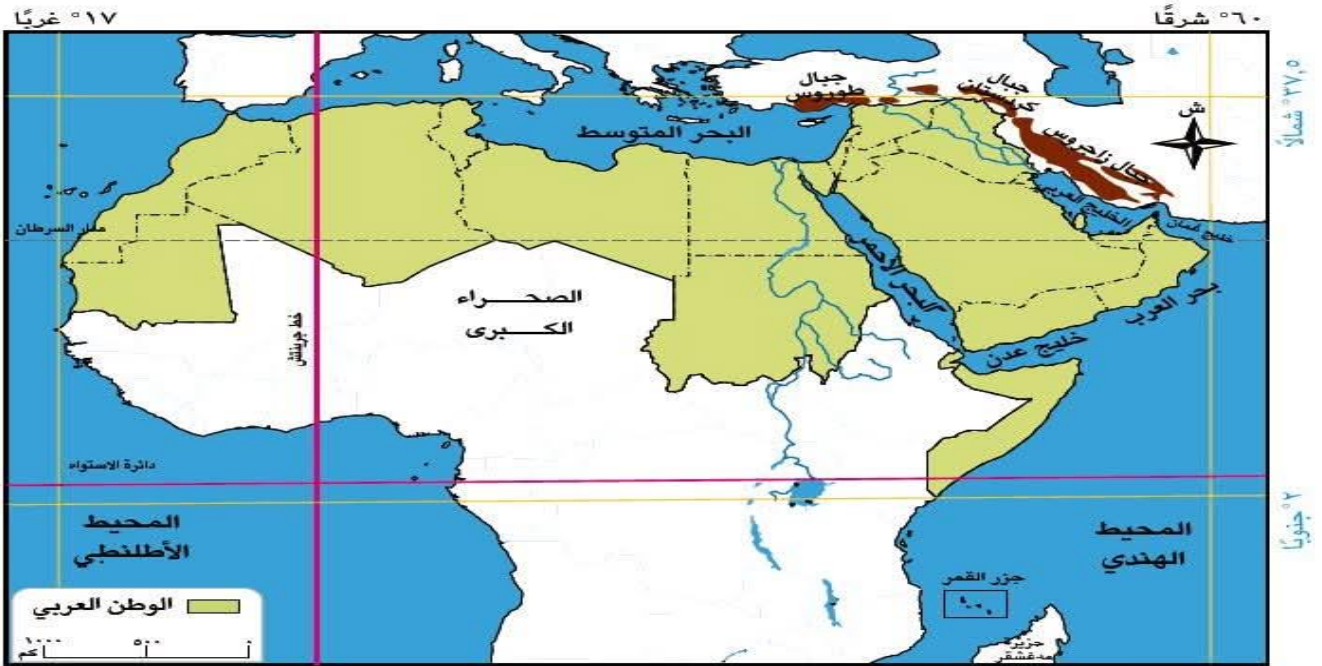
- يقصد به موقع الوطن العربي بالنسبة لليابس والماء.
- يقع الوطن العربي وسط قارات العالم القديم (آسيا، إفريقيا، أوروبا). ما النتائج؟
- جعله يحتل مكانة مهمة بين دول العالم.

ما المقصود بـ الوطن العربي

عدد من الدول العربية التي تجمعها لغة وعادات واحده وتاريخ مشترك

الحدود الطبيعية للوطن العربي:

- تحيط بالوطن العربي حدود طبيعية تتمثل فيما يلي:



خريطة (٢) الموقع الجغرافي للوطن العربي

الحدود الشمالية	البحر المتوسط وجبال طوروس
الحدود الجنوبية	المحيط الهندي
الحدود الشرقية	جبال كردستان
الحدود الغربية	المحيط الأطلنطي
	الصحراء الكبرى
	بحر العرب
	جبال زاغروس
	الخليج العربي
	خليج عمان

حقائق تاريخية

- تحرص مصر منذ القدم على إقامة علاقات طيبة مع الدول العربية قائمة على التعاون والاحترام المتبادل.
- الحدود الطبيعية للوطن العربي أثرت في تاريخه وحضارته، ولم تمنع تواصله مع العالم الخارجي.

ثانياً: الموقع الفلكي للوطن العربي

يقصد به موقع الوطن العربي بالنسبة لخطوط الطول ودوائر العرض

يمتد الوطن العربي بين

دائرتي عرض:

٢٢° جنوباً : ٣٧,٥° شمالاً

خطي طول

١٧° غرباً : ٦٠° شرقاً

يمر بالوطن العربي دوائر عرض

رئيسية وهي:

✓ دائرة الاستواء في الجنوب

✓ مدار السرطان في منتصفه تقريباً.

يمر خط الطول الرئيسي

✓ خط جرينتش غرب الوطن

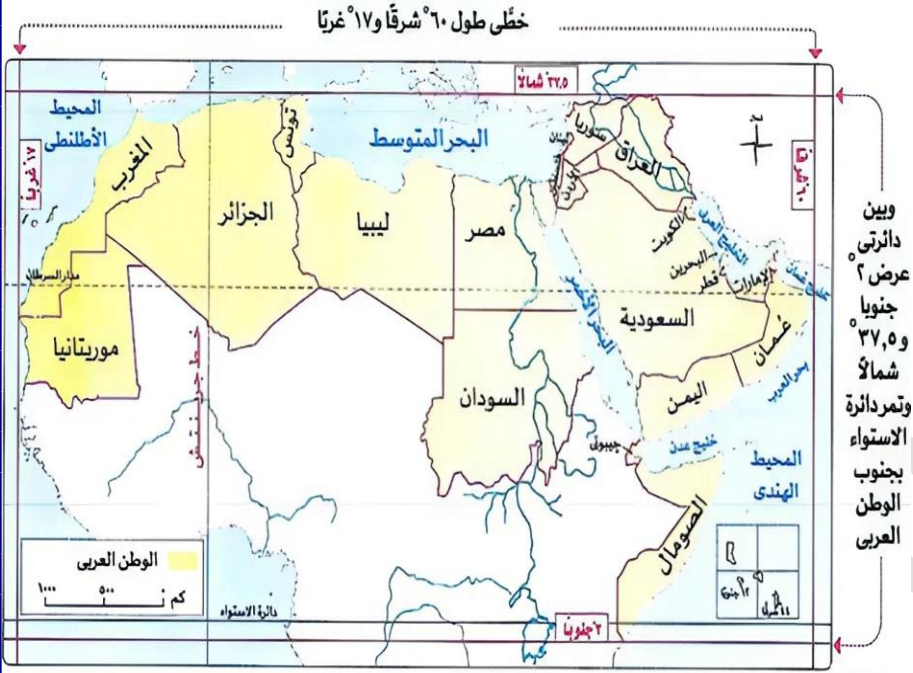
العربي وتحديدًا بدولة الجزائر.

هذا الامتداد جعل معظمه يقع في

نصف الكرة الشمالي ما النتائج؟

أثر ذلك على مناخه ونباتاته

الطبيعية.



خريطة الموقع الفلكي للوطن العربي

حقائق جغرافية

○ دولة جزر القمر هي الدولة العربية الوحيدة التي تقع خارج النطاق الفلكي للوطن العربي (تقع في المحيط الهندي).

تدريب

(١) أكمل العبارات الآتية بما يناسبها من كلمات:

١. يحدها الوطن العربي من الغرب المحيط.

٢. يحدها الوطن العربي من الشمال البحر وجبال

(٢) ما النتائج المترتبة على ... ؟

▪ وقوع معظم الوطن العربي في نصف الكرة الشمالي.

ثالثا : دول الوطن العربي

- تبلغ مساحة وطننا العربي حوالي ١٣ مليون كيلومتر مربع.
- يضم وطننا العربي ٢٢ دولة تقع في قارتين هما : آسيا وإفريقيا، ومقسمة إلى :

دول الجناح الإفريقي	دول الجناح الآسيوي	عدددها
١٠ دول	١٢ دولة	مساحتها
تمثل ٧٢٪ من مساحة الوطن العربي	تمثل ٢٨٪ من مساحة الوطن العربي	الدول
(٦) المغرب (٧) موريتانيا (٨) جيبوتي (٩) الصومال (١٠) جزر القمر (تقع في المحيط الهندي)	(١) مصر (٢) السودان (٣) ليبيا (٤) تونس (٥) الجزائر	(١) سوريا (٢) لبنان (٣) الأردن (٤) فلسطين (٥) العراق (٦) الإمارات
	(٧) السعودية (٨) عُمان (٩) اليمن (١٠) الكويت (١١) البحرين (١٢) قطر	



خريطة (١) دول الوطن العربي

البحرين

- ✓ أصغر دول الوطن العربي من حيث المساحة (تقع في الجناح الآسيوي).

الجزائر

- ✓ أكبر الدول العربية من حيث المساحة (تقع في الجناح الإفريقي).
- ✓ وهي الدولة العربية الوحيدة التي يمر بها خط جرينتش

تدريب

(أ) أكمل العبارات الآتية:

(١) أكبر دول الوطن العربي من حيث المساحة

(٢) دولة عربية تقع في المحيط الهندي

(ب) دلل على صحة العبارة الآتية:

▪ تتركز معظم مساحة الوطن العربي في الجناح الإفريقي

■ رابعًا: أهمية موقع الوطن العربي

- لموقع الوطن العربي أهمية كبيرة تظهر في النواحي التالية :
(١) الأهمية الحضارية

- لموقع الوطن العربي أهمية حضارية **بم تفسر لأنه:**
نشأت على أرضه العديد من الحضارات القديمة، منها

(٣) حضارة اليمن



(٢) حضارة العراق



(١) الحضارة المصرية



(٢) الأهمية الدينية

- لموقع الوطن العربي أهمية دينية **بم تفسر؟ لأنه :**
✓ مهد الديانات السماوية الثلاث (اليهودية، المسيحية، الإسلام).
✓ تمثل تلك الديانات أماكن مقدّسة يقصدها الزائرون من جميع أنحاء العالم مثل :

(٣) كنيسة المهد بفلسطين



(٢) المسجد الأقصى بفلسطين



(١) بيت الله الحرام (الكعبة المشرفة) في السعودية



■ تدريب

- اكتب كلمة (صواب) أمام العبارة الصحيحة، وكلمة (خطأ) أمام العبارة غير الصحيحة:
- (١) ترجع الأهمية الدينية للوطن العربي إلى أنه مهد الديانات السماوية الثلاث. ()
 - (٢) توجد الكعبة المشرفة في دولة فلسطين. ()
 - (٣) نشأت حضارة العراق في الوطن العربي بالجناح الإفريقي. ()

بم تفسر ... ؟

- (١) الأهمية الدينية للوطن العربي.
- (٢) لموقع الوطن العربي أهمية حضارية.

٣) الأهمية الاقتصادية والاستراتيجية

يتمتع الوطن العربي بأهمية اقتصادية كبيرة **بم تفسر؟** نظرًا لـ :

- ✓ أنه يطل على مسطحات مائية مهمة منها : البحر المتوسط والبحر الأحمر والخليج العربي **ما النتائج** مما جعله يتحكم في طرق التجارة العالمية.
- ✓ اتساع مساحته وتنوع موارده الطبيعية مثل : (المعادن والبترو)، وتنوع الأقاليم المناخية والنباتية **ما النتائج** مما ساعد على تنوع الإنتاج وزيادة النشاط الاقتصادي في الوطن العربي.

يتمتع الوطن العربي بأهمية استراتيجية تتمثل في :

- **تحكمه في ممرات مائية هامة** مثل (قناة السويس مَضيق هرمز مَضيق باب المندب مَضيق جبل طارق) **ما النتائج؟** وهذا جعله ذا أهمية كبيرة وقت الحروب والصراعات الدولية.

الموقع الجغرافي المتميز والثروات الطبيعية للوطن العربي **ما النتائج؟**

- جعله مطمعًا لكثير من المحتلين عبر العصور المختلفة، حيث حاولوا السيطرة عليه من أجل نهب ثرواته والتحكم في موقعه وممراته الحيوية.



خريطة (٣) الممرات المائية بالوطن العربي



تدريبات على الدرس

❖ السؤال الأول اكتب كلمة (صواب) أمام العبارة الصحيحة، وكلمة (خطأ) أمام العبارة غير الصحيحة .:

- (١) يقع الوطن العربي وسط قارات العالم القديم. ()
- (٢) تعد دولة اليمن من دول الجناح الإفريقي للوطن العربي. ()
- (٣) تشغل دول الجناح الإفريقي في الوطن العربي مساحة أكبر من الجناح الآسيوي. ()
- (٤) تجمع الوطن العربي لغة وعادات وتقاليد واحدة. ()
- (٥) يتحكم الوطن العربي في ممرات مائية هامة مثل قناة السويس. ()
- (٦) يقع معظم الوطن العربي في نصف الكرة الجنوبي. ()
- (٧) يجمع الدول العربية تاريخ مشترك. ()
- (٨) تقع جبال طوروس شرق الوطن العربي. ()
- (٩) تطل دولتان عربيتان على المحيط الأطلنطي. ()
- (١٠) توجد دولة جزر القمر خارج النطاق الفلكي للوطن العربي. ()
- (١١) يمر مدار الجدي جنوب الوطن العربي. ()
- (١٢) يجمع الدول العربية لغة وعادات وتقاليد وتاريخ مشترك. ()
- (١٣) تقع جبال طوروس شرق الوطن العربي. ()
- (١٤) تطل دولتان عربيتان على المحيط الأطلنطي. ()
- (١٥) تقع دولة جزر القمر خارج النطاق الفلكي للوطن العربي. ()
- (١٦) يمر مدار الجدي جنوب الوطن العربي. ()
- (١٧) يمر خط الطول جرينتش غرب الوطن العربي في دولة الجزائر. ()
- (١٨) يمتد الوطن العربي بين دائرتي عرض ٢ جنوباً و ٣٧,٥ شمالاً. ()

❖ السؤال الثاني أكمل العبارات الآتية بما يناسبها من كلمات:

- (١) يحد الوطن العربي من الغرب المحيط.....
- (٢) يحد الوطن العربي من الجنوب و..... و.....
- (٣) توجد النسبة الأكبر من مساحة الوطن العربي في قارة.....
- (٤) دولة عربية تقع بأكملها في المحيط الهندي هي دولة.....
- (٥) البحر الذي يفصل بين الجناح الإفريقي والجناح الآسيوي للوطن العربي هو البحر.....
- (٦) يحد الوطن العربي من جهة الشرق خليج..... والخليج.....
- (٧) يحد الوطن العربي المحيط .. غرباً والمحيط..... جنوباً
- (٨) تعرض الوطن العربي للاحتلال بسبب.....
- (٩) أكبر الدول العربية من حيث المساحة هي.....
- (١٠) يضم الوطن العربي عدد.....دولة.
- (١١) يقع الوطن العربي وسط قارات العالم القديم الثلاث وهي..... و..... و.....
- (١٢) تمتد أراضي الوطن العربي بين قارتين هما..... و.....
- (١٣) يمتد الوطن العربي بين دائرتي عرض..... جنوباً و.....شمالاً.
- (١٤) تعرض الوطن العربي للاحتلال بسبب.....
- (١٥) الجزء الأكبر من مساحة الوطن العربي يقع في الجناح.....
- (١٦) يمر خط الطول الرئيسي (جرينتش) غرب الوطن العربي في دولة.....
- (١٧) الدولة العربية الوحيدة التي تقع خارج النطاق الفلكي للوطن العربي هي.....
- (١٨) الممر المائي الذي يربط بين البحرين الأحمر والمتوسط هو.....
- (١٩) يربط مضيق جبل طارق بين البحر..... والمحيط.....
- (٢٠) الدولتان اللتان تشرفان على مضيق باب المندب هما.....
- (٢١) تشرف دولة عُمان على مضيق.....
- (٢٢) أكبر الدول العربية من حيث المساحة هي.....

❖ أكتب ما تشير إليه العبارات الآتية:

- (١) أصغر الدول العربية مساحة.
- (٢) الممر المائي الذي يربط البحر الأحمر بالبحر المتوسط.
- (٣) الدولة التي يمر بها خط جرينتش في الوطن العربي.
- (٤) الدولة العربية الوحيدة التي تقع خارج النطاق الفلكي للوطن العربي.

❖ المقصود بالمصطلحات التالية:

- الموقع الجغرافي
- الموقع الفلكي

❖ السؤال الثالث اختر الإجابة الصحيحة مما بين القوسين:

- (١) يحد الوطن العربي من الجنوب
✓ (المحيط الهندي البحر المتوسط البحر الأحمر جبال زاغروس)
- (٢) أكبر الدول العربية من حيث المساحة
✓ (المغرب السودان الجزائر ليبيا)
- (٣) من الحدود الطبيعية للوطن العربي من جهة الشرق
✓ (جبال طوروس المحيط الأطلسي جبال كردستان جبال البحر الأحمر)
- (٤) يقع الوطن العربي وسط قارات العالم القديم إفريقيا وآسيا و
✓ (أمريكا الشمالية أمريكا الجنوبية أوروبا أستراليا)
- (٥) يقع البحر المتوسط بالنسبة للوطن العربي جهة
✓ (الشمال الجنوب الشرق الغرب)
- (٦) إحدى الدول العربية التي تقع في الجناح الآسيوي دولة
✓ (مصر المغرب الصومال فلسطين)
- (٧) بالوطن العربي أماكن مقدسة مثل المسجد الأقصى الذي يوجد في دولة
✓ (مصر فلسطين السعودية الجزائر)
- (٨) إحدى الدول العربية التي تقع في الجناح الإفريقي هي دولة
✓ (تونس اليمن السعودية لبنان)
- (٩) تشرف دولة اليمن على
✓ (مضيق باب المندب مضيق جبل طارق مضيق هرمز قناة السويس)
- (١٠) تضم فلسطين بعض أماكن دينية مقدسة منها
✓ (المسجد الأقصى المسجد النبوي المسجد الأموي الكنيسة المعلقة)
- (١١) يمتد الوطن العربي في قارتي
✓ (أوروبا وإفريقيا إفريقيا وآسيا أوروبا وآسيا إفريقيا وأستراليا)
- (١٢) يمر خط الطول صفر بالوطن العربي عند دولة
✓ (مصر السعودية تونس الجزائر)
- (١٣) يحد الوطن العربي شرقا.
✓ (الخليج العربي المحيط الأطلسي البحر المتوسط خليج عدن)
- (١٤) يحد الوطن العربي غربا
✓ (البحر العربي المحيط الأطلسي جبال كردستان البحر المتوسط)
- (١٥) يمتد الوطن العربي في قارتي
✓ (أوروبا وإفريقيا إفريقيا وآسيا أوروبا وآسيا إفريقيا وأستراليا)
- (١٦) يمر خط الطول الرئيسي (جرينتش) غرب الوطن العربي في دولة
✓ (مصر السعودية تونس الجزائر)
- (١٧) الدولة العربية الوحيدة التي تقع خارج النطاق الفلكي للوطن العربي هي
✓ (البحرين جزر القمر الكويت جيبوتي)

١٨) أكبر الدول العربية من حيث المساحة هي

✓ (السودان الجزائر السعودية ليبيا)

١٩) أصغر الدول العربية من حيث المساحة هي

✓ (البحرين قطر الكويت لبنان)

٢٠) الممر المائي الذي يربط البحرين الأحمر والمتوسط هو

✓ (قناة السويس مضيق هرمز مضيق باب المندب مضيق جبل طارق)

٢١) يربط مضيق جبل طارق بين البحر والمحيط.....

✓ (المتوسط والأطلنطي الأحمر والهندي العربي والأطلنطي المتوسط والهندي)

٢٢) الدولتان اللتان تشرفان على مضيق باب المندب هما

✓ (السعودية واليمن مصر وجيبوتي اليمن وجيبوتي اليمن والصومال)

٢٣) تشرف دولة عُمان على مضيق

✓ (هرمز باب المندب جبل طارق تيران)

٢٤) مدار السرطان يمر.....

✓ (شمال الوطن العربي جنوب الوطن العربي في منتصف الوطن العربي تقريبا شرق الوطن العربي)

❖ السؤال الرابع صوب ما تحته خط مما يلي:

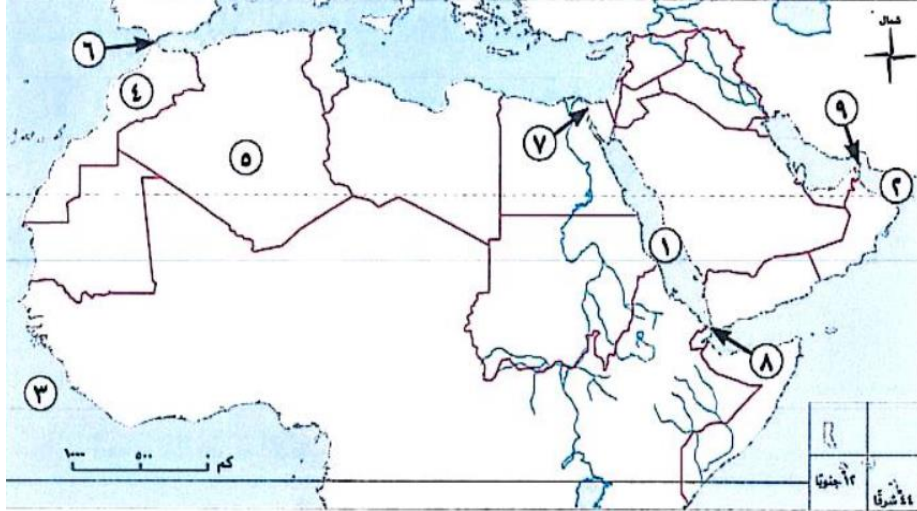
(١) يحد الوطن العربي من جهة الشمال جبال **زاجروس**.

(٢) أقرب ممر مائي لدولة المغرب هو مضيق باب **المندب**.

(٣) لموقع الوطن العربي أهمية **دينية** لوجود العديد من الممرات المائية.

(٤) يحد الوطن العربي من جهة الشرق خليج **عدن**.

❖ السؤال الخامس أمامك خريطة صماء للوطن العربي، اكتب ما تدل عليه الأرقام:



(١) البحر.....

(٢) خليج.....

(٣) المحيط.....

(٤) دولة تشرف على

مضيق جبل طارق.....

(٥) أكبر الدول العربية

مساحة.....

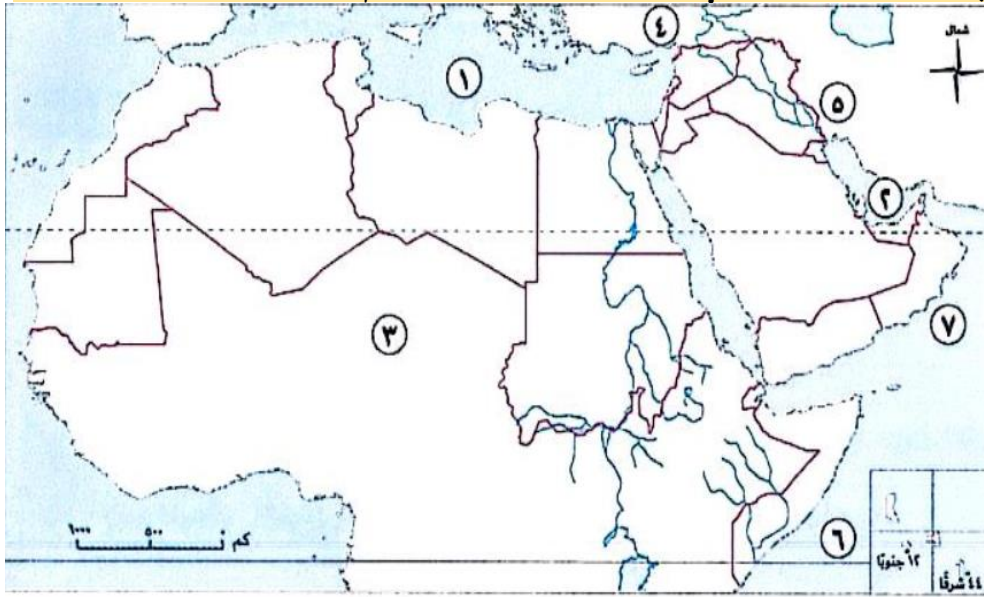
(٦) مضيق.....

(٧) قناة.....

(٨) مضيق.....

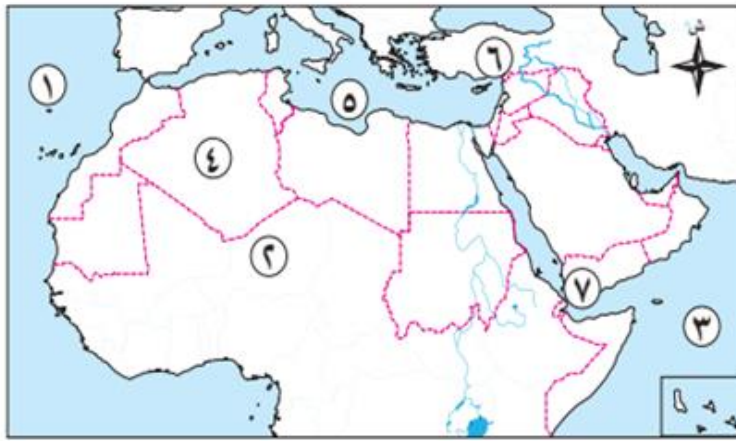
(٩) مضيق.....

❖ السؤال السادس أمامك خريطة صماء للوطن العربي، اكتب ما تدل عليه الأرقام:



- (١) البحر
- (٢) الخليج
- (٣) الصحراء
- (٤) جبال
- (٥) جبال
- (٦) المحيط
- (٧) بحر

❖ اكتب مدلول الأرقام التالية على الخريطة :



- (١) المحيط
- (٢) الصحراء
- (٣) المحيط
- (٤) أكبر الدول العربية مساحة
- (٥) البحر
- (٦) جبال
- (٧) مضيق

❖ السؤال السابع حدد المختلف في المجموعات التالية:

- | | | | |
|-------------------|---------------|-------------|---------------|
| (١) مصر | السودان | الجزائر | العراق. |
| (٢) البحر المتوسط | البحر الأسود | بحر العرب | البحر الأحمر. |
| (٣) خليج عُمان | الخليج العربي | جبال زاغروس | جبال طوروس. |
| (٤) سوريا | السعودية | السودان | الكويت. |

❖ السؤال الثامن بم تفسر ... ؟

- (١) الأهمية الاقتصادية لموقع الوطن العربي.
- (٢) تحكّم الوطن العربي في طرق التجارة العالمية
- (٣) الأهمية الحضارية للوطن العربي ..
- (٤) الأهمية الدينية للوطن العربي.
- (٥) تعرض الوطن العربي للاحتلال. عبر العصور.
- (٦) للوطن العربي أهمية استراتيجية كبيرة.
- (٧) تنوع الإنتاج الاقتصادي في الوطن العربي.

❖ السؤال التاسع ما النتائج المترتبة على ... ؟

- (١) تحكّم الوطن العربي في ممرات مائية هامة
- (٢) تمتع الوطن العربي بموقع جغرافي متميز وثروات طبيعية
- (٣) الموقع الفلكي للوطن العربي ؟

- (٤) الأهمية الاستراتيجية للوطن العربي ؟
 (٥) الموقع الجغرافي المتميز للوطن العربي ؟
 (٦) اتساع مساحة الوطن العربي وتنوع موارده الطبيعية ؟
 ❖ السؤال العاشر دلل على صحة العبارات الآتية:

- (١) للوطن العربي أهمية حضارية.
 (٢) للوطن العربي مكانة دينية مهمة.
 (٣) يتمتع الوطن العربي بموقع جغرافي متميز
 (٤) يتحكم وطننا العربي في العديد من الممرات المائية الهامة
 (٥) أغلب مساحة الوطن العربي تقع في الجناح الإفريقي.
 (٦) تتنوع المسطحات المائية التي يطل الوطن العربي عليها.
 (٧) للوطن العربي أهمية استراتيجية كبيرة.

❖ ما العلاقة بين

- ١- اتساع مساحة الوطن العربي وتنوع موارده الطبيعية.
 ٢- الموقع الجغرافي للوطن العربي وطرق التجارة العالمية.

❖ السؤال الحادي عشر ماذا يحدث إذا لم ... ؟

- (١) توجد أماكن مقدسة في الوطن العربي.
 (٢) يتحكم الوطن العربي في ممرات مائية هامة

■ اسئلة تميز

❖ اختر الإجابة الصحيحة:

✓ أي من العوامل التالية كان له التأثير الأكبر في جعل الوطن العربي مطمعا لكثير من المحتلين عبر العصور المختلفة؟

١. التنوع الثقافي
 ٢. الوحدة الجغرافية
 ٣. الثروات الطبيعية
 ٤. تنوع المناخ

❖ دلل على صحة العبارة التالية:

- يُعتبر الوطن العربي جسراً يربط بين قارات العالم القديم.

❖ «امتلاك الوطن العربي لموقع جغرافي متميز وثروات طبيعية متنوعة ساهم في أن يواجه العديد من التحديات»

- اذكر أحد هذه التحديات.

الدرس الثاني

تضاريس وطننا العربي

- نجد في بعض الأماكن بالوطن العربي الجبال وفي أماكن أخرى السهول والأنهار، أو قد نجد الصحارى، فهل تعرف ما أهم أشكال سطح الأرض التي تميز الوطن العربي؟

أولاً : عوامل تشكل تضاريس الوطن العربي

■ يتميز وطننا العربي بتضاريس متنوعة ما بين :

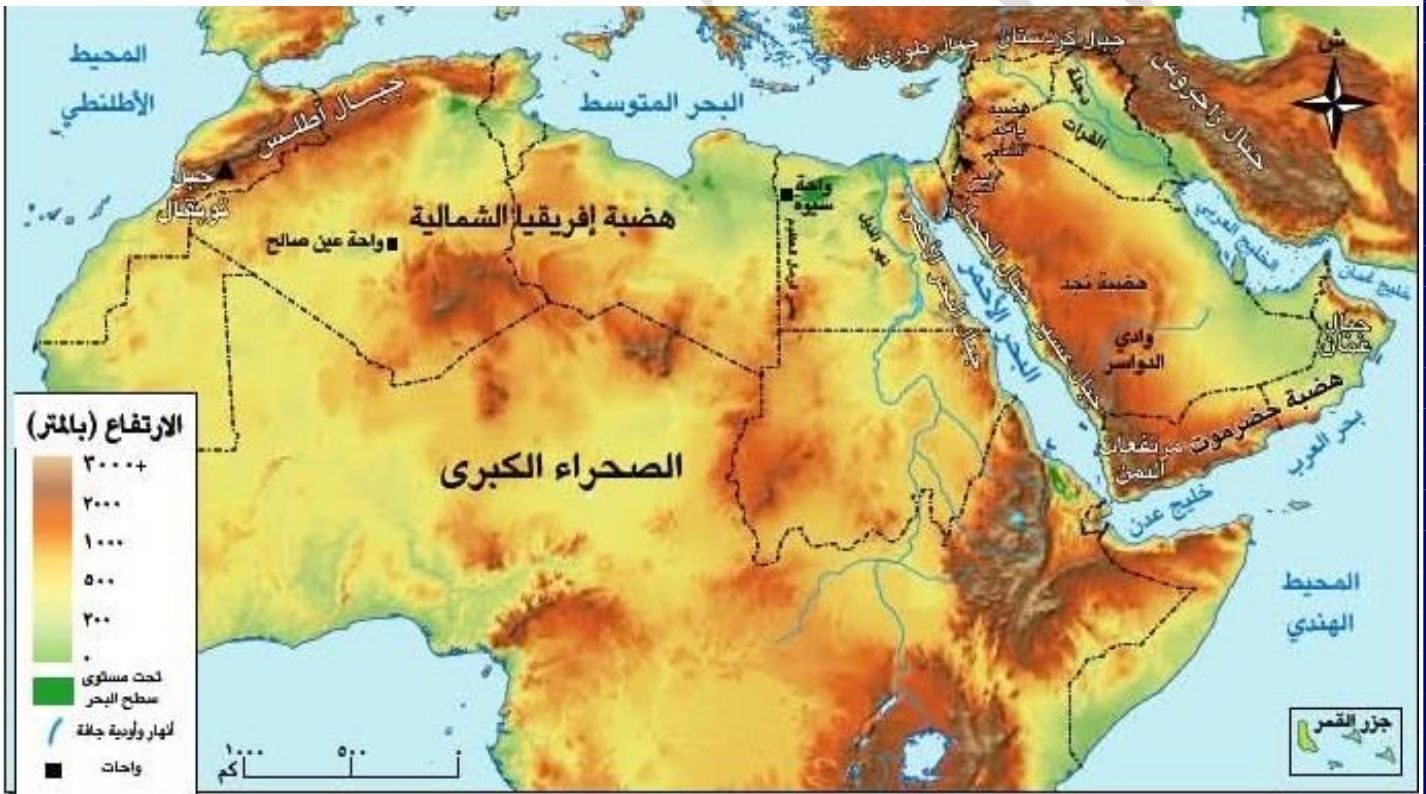
- جبال شاهقة وهضاب واسعة
- سهول فيضية خصبة ساعدت على الاستقرار

● تكونت منذ ملايين السنين بفعل عوامل باطنية (داخلية) وأخرى سطحية (خارجية).

عوامل باطنية (داخلية)		عوامل سطحية (خارجية).	
الالتواءات	الانكسارات	البراكين	تعرية مائية
نتج عنها تكون الجبال والهضاب		نتج عنها تشكيل السهول والوديان	

■ هكذا أصبح لوطننا العربي تضاريس متنوعة أثرت في حياة السكان وأنشطتهم.

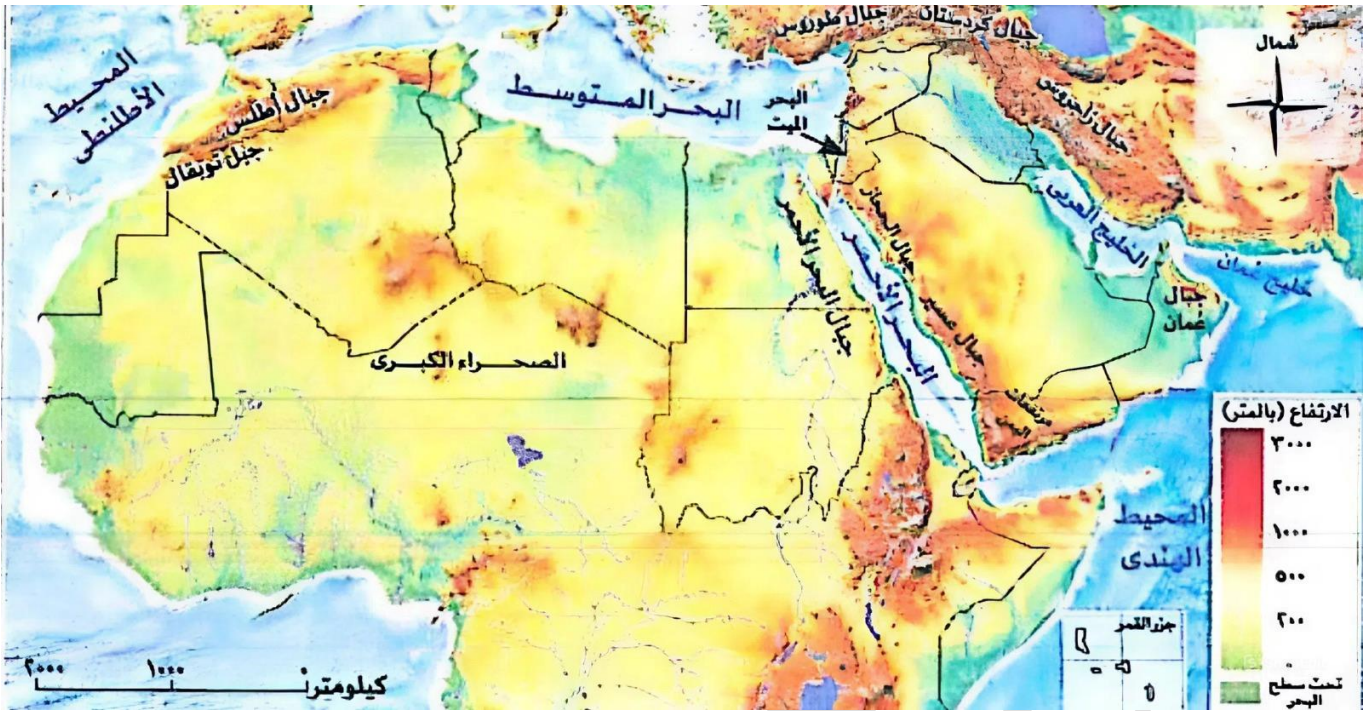
ثانياً : المظاهر التضاريسية في الوطن العربي



خريطة (١) تضاريس الوطن العربي

(١) الجبال :

- تنقسم الجبال في الوطن العربي إلى نوعين هما :



الجبال الالتوائية	الجبال الانكسارية	سبب النشأة
<ul style="list-style-type: none"> نشأت نتيجة حركات التوائية تعرضت لها الأرض. جبال أطلس 	<ul style="list-style-type: none"> نشأت نتيجة حركات انكسارية في القشرة الأرضية سلاسل جبال البحر الاحمر في مصر والسودان سلاسل جبال الحجاز وعسير في السعودية مرتفعات اليمن في اليمن 	<ul style="list-style-type: none"> الجناح الإفريقي الجناح الاسيوي
<ul style="list-style-type: none"> جبال زاغروس وجبال عمان . 		

■ جبال أطلس

- تمتد في ثلاث دول هي : المغرب والجزائر وتونس
- بها أعلى جبل بالوطن العربي وهو جبل توبقال



جبال البحر الأحمر



جبال أطلس

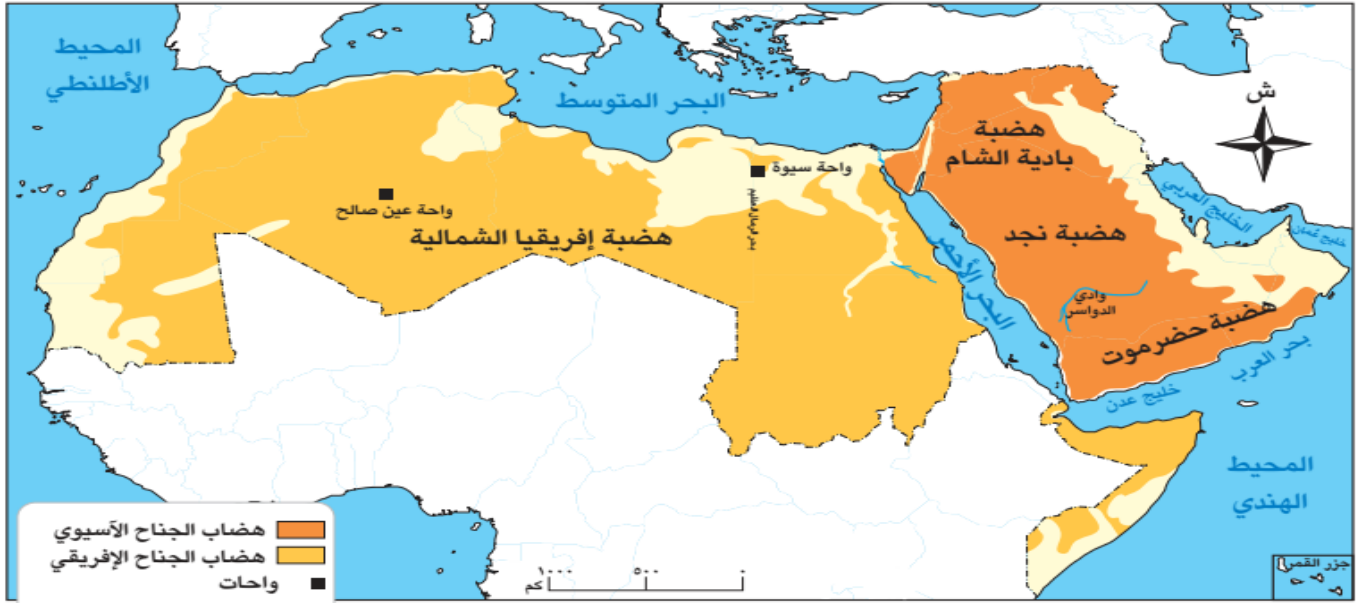
❖ حقائق علمية

للجبال أهمية كبيرة **بم تفسر؟**

- فقد استخدمها الإنسان في استخراج المعادن ومواد البناء
- كما أنها تتميز بالمناظر الخلابة التي تجذب السياح للاستمتاع بها

٢) الهضاب

تعد الهضاب هي أكثر مظاهر السطح انتشارا في الوطن العربي **دلل؟** حيث تتوزع كالتالي:



هضاب الجناح الآسيوي

- تتميز شبه الجزيرة العربية بتعدد الهضاب بها **ومنها:**
 - هضبة بادية الشام في شمال شبه الجزيرة
 - هضبة نجد في وسط شبه الجزيرة العربية .
 - هضبة حضرموت في جنوب شبه الجزيرة العربية.

هضاب الجناح الأفريقي

- هضبة إفريقيا الشمالية :
 - تعد أكبر هضاب الوطن العربي مساحة **دلل؟** حيث تمتد من
 - ✓ من البحر الأحمر شرقا إلى المحيط الأطلسي غربا
 - ✓ من البحر المتوسط شمالا إلى وسط إفريقيا جنوبا.

أهم الظواهر التضاريسية المنتشرة بالهضاب

- ينتشر في هضاب الوطن العربي عديد من الظواهر مثل:

٣) الكثبان الرملية	٢) الأودية الجافة	١) الواحات
<ul style="list-style-type: none"> - تجمعات من الرمال الخفيفة ❖ نشأتها ■ تكونت بفعل التعرية الهوائية، وتنتشر في المناطق الصحراوية. ❖ أمثلتها ■ بحر الرمال العظيم بين مصر وليبيا. 	<ul style="list-style-type: none"> - مجار كانت تملؤها المياه قديما ثم جفت ❖ نشأتها ○ تكونت بفعل التعرية المائية. ❖ أهميتها ■ تستخدم كطرق للمواصلات والنقل. ■ استخراج المياه الجوفية. ❖ أمثلتها ■ وادي العلاقي في مصر. ■ وادي الدواسر في السعودية 	<ul style="list-style-type: none"> - أرض منخفضة تقع وسط الصحراء. ❖ أهميتها - تزرع باستخدام المياه الجوفية ما النتائج؟ ✓ لذلك يعيش فيها السكان ويمارسون الزراعة. ❖ أمثلتها ■ واحة سيوة في مصر. ■ واحة عين صالح في الجزائر
<p>الكثبان الرملية</p>	<p>وادي العلاقي</p>	<p>واحة سيوة</p>

ما المقصود بـ

- ❖ التعرية الهوائية : نحت الصخور ونقلها وإرسابها بواسطة الرياح.
- ❖ التعرية المائية : نحت الصخور ونقلها وإرسابها بواسطة المياه.

(٣) السهول

هي أراضٍ مستوية أو شبه مستوية السطح

- تنقسم السهول في الوطن العربي إلى ثلاثة أنواع :



١ السهول الفيضية

- ❖ سبب تكوينها
- بفعل إرساب الأنهار للمواد العالقة بمياهها.
- ❖ أهميتها

- خصوبة تربتها وتركز السكان فيها، مثل:

- مثل
- سهول وادي النيل في مصر والسودان (الجناح الإفريقي).
- سهول دجلة والفرات في العراق (الجناح الآسيوي).



سهول فيضية - نهر النيل

٢ السهول الساحلية

- ❖ أهميتها
- ❖ تتميز بتنوع الموارد والاستخدامات **دل؟** حيث
- ❖ تتميز سهول البحر الأحمر والخليج العربي بأنها غنية بالثروات المعدنية ومصادر الطاقة.
- ❖ تتميز سهول البحر المتوسط، بتربة خصبة صالحة للزراعة



السهول الساحلية



السهول الصحراوية

٣ السهول الصحراوية

❖ سبب تكوينها

- كونتها الرياح عن طريق النحت أو الترسيب.

❖ تتميز بـ

• تعد أكبر سهول الوطن العربي من حيث المساحة

• ندرة الغطاء النباتي الطبيعي.

• تتنوع ما بين رملية وصخرية.

■ ما النتائج المترتبة على تنوع مظاهر السطح في الوطن العربي؟

👉 ساعد ذلك على تنوع الموارد وبالتالي تنوع الأنشطة الاقتصادية مثل الزراعة والصيد والتعدين والسياحة والصناعة، مما أثر في حياة السكان وأنشطتهم

■ قيم أنعلمها

- تنوع التضاريس يدعو إلى تأمل قدرة الله في الخلق وتقبل الاختلاف والتنوع

■ تدريب

○ اكتب كلمة (صواب) أمام العبارة الصحيحة، وكلمة (خطأ) أمام العبارة غير الصحيحة:

١- توجد واحة عين صالح في دولة ليبيا.

٢- من هضاب الجناح الآسيوي حضرموت وبادية الشام.

٣- تنوع مظاهر السطح في الوطن العربي ساعد على تنوع الأنشطة الاقتصادية.

❖ (ب) أجب عن الأسئلة الآتية

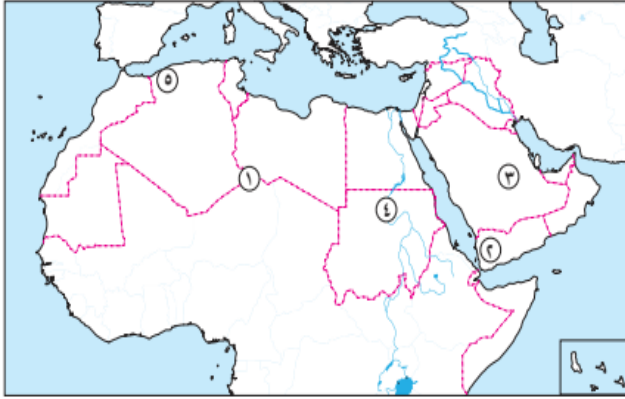
١- بم تفسر: تكون السهول الفيضية بالوطن العربي؟

٢- قارن بين: السهول الساحلية والسهول الصحراوية.

تدريبات الدرس



❖ لاحظ الخريطة المقابلة، ثم اكتب مدلول الأرقام الموقعة عليها:



١. هضبة.....
٢. مرتفعات.....
٣. هضبة.....
٤. سهول.....
٥. جبال.....

❖ أكمل العبارات الآتية:

- ١- تنقسم الجبال في الوطن العربي إلى نوعين هما الجبال.....و.....
- ٢- من أمثلة الجبال في الجناح الإفريقي جبال.....
- ٣- من أمثلة الجبال في الجناح الآسيوي جبال.....
- ٤- نشأت جبال البحر الأحمر نتيجة حركات.....
- ٥- السهول الفيضية تكونت بفعل إرساب الأنهار للمواد.....بمياهاها.
- ٦- من أمثلة السهول الفيضية في الجناح الإفريقي سهول.....
- ٧- سهول البحر الأحمر والخليج العربي غنية ب.....
- ٨- أكبر السهول مساحة في الوطن العربي هي السهول.....
- ٩- تكونت السهول الصحراوية بفعل الرياح عن طريق النحت أو.....

❖ اختر الإجابة الصحيحة مما بين الأقواس:

١. تنقسم الجبال في الوطن العربي إلى أنواع.
٢. من أمثلة الجبال في الجناح الإفريقي.....
٣. نشأت جبال البحر الأحمر نتيجة حركات.....
٤. من أمثلة السهول الفيضية في الجناح الإفريقي سهول.....
٥. سهول البحر الأحمر والخليج العربي غنية ب.....
٦. أكبر السهول في الوطن العربي من حيث المساحة هي السهول.....
٧. من أمثلة السهول الساحلية ذات التربة الخصبة سهول البحر.....
٨. تكونت السهول الصحراوية بفعل.....
٩. ساعد تنوع مظاهر السطح في الوطن العربي على تنوع.....
١٠. من الأنشطة الاقتصادية التي تأثرت بتنوع التضاريس في الوطن العربي.....

(نوعين ثلاثة أربعة خمسة)

(جبال أطلس جبال عمان جبال زاغروس جبال طوروس)

(التوائية انكسارية بركانية زلزالية)

(وادي النيل دجلة والفرات جيزان الباطنة)

(الثروات المعدنية ومصادر الطاقة الغابات الثروة السمكية الجليد)

(الصحراوية الفيضية الساحلية الجبلية)

(المتوسط الأحمر الميت العربي)

(الرياح الأنهار الجليد البراكين)

(الموارد والأنشطة الاقتصادية اللغات الأعراق العادات)

(الزراعة والصيد والتعدين والسياحة الفضاء صناعة السفن الزراعة فقط)

❖ السؤال الثاني اكتب كلمة (صواب) أمام العبارة الصحيحة، وكلمة (خطأ) أمام العبارة غير الصحيحة

- (١) نشأت جبال البحر الأحمر نتيجة لحركات التوائية ()
- (٢) تساهم جبال الوطن العربي في جذب السياح ()
- (٣) هضبة حضرموت تقع شمال شبه الجزيرة العربية ()
- (٤) السهول الفيضية تتميز بخصوبة التربة ()
- (٥) سهول البحر المتوسط غنية بالثروات المعدنية ومصادر الطاقة ()
- (٦) السهول الصحراوية تعد أكبر سهول الوطن العربي من حيث المساحة ()
- (٧) تكونت السهول الفيضية بفعل الرياح ()
- (٨) من أمثلة السهول الفيضية سهول وادي النيل في مصر والسودان ()
- (٩) التعرية المائية تحدث بفعل الأمطار والأنهار ()
- (١٠) تنوع التضاريس ساعد على تنوع الموارد والأنشطة الاقتصادية ()
- (١١) السهول الساحلية المطلة على البحر المتوسط تتميز بتربة خصبة صالحة للزراعة ()
- (١٢) التعرية الهوائية تحدث بفعل الرياح ()
- (١٣) جبال أطلس تقع في الجناح الإفريقي ()
- (١٤) سهول دجلة والفرات تقع في الجناح الإفريقي ()
- (١٥) السهول الصحراوية تتصف بندرة الغطاء النباتي الطبيعي ()

❖ أكتب ما تشير إليه العبارات الآتية:

- ١- جبال تقع في الجناح الإفريقي، استخدمها الإنسان في استخراج المعادن ومواد البناء. (.....)
- ٢- هضبة تقع في شبه الجزيرة العربية وتتميز بانتشار الظاهرات التضاريسية الصحراوية. (.....)
- ٣- سهول تكونت بفعل إرساب الأنهار وتتميز بخصوبة التربة وتركز السكان (.....)
- ٤- سهول غنية بالثروات المعدنية ومصادر الطاقة، تطل على البحر الأحمر والخليج العربي (.....)
- ٥- سهول أكبر من حيث المساحة في الوطن العربي، تتصف بندرة الغطاء النباتي. (.....)
- ٦- عملية نحت الصخور ونقلها وإرسابها بواسطة المياه (.....)

❖ ما المقصود بالمصطلحات التالية:

- ١- التعرية المائية
- ٢- التعرية الهوائية
- ٣- السهول الفيضية
- ٤- السهول الصحراوية
- ٥- الاودية الجافة

❖ بم تفسر

(١) نشأة جبال البحر الأحمر

..... ✓

(٢) نشأة جبال زاغروس .

..... ✓

(٣) أهمية وادي العلاقي

..... ✓

(٤) تسهم السهول الساحلية في دعم اقتصاد بعض الدول العربية.

..... ✓

(٥) أهمية السهول الفيضية.

..... ✓

(٦) قيام الزراعة في الواحات

..... ✓

✓ ما النتائج المترتبة على :

- ١- حدوث حركات انكسارية بالقشرة الأرضية للوطن العربي...
- ٢- حدوث حركات التوائية تعرضت لها الأرض بالوطن العربي...
- ٣- وجود المياه الجوفية بالواحات
- ٤- خصوبة التربة في السهول الفيضية.

✓ دلل على صحة العبارات الآتية:

- (١) تعد هضبة إفريقيا الشمالية أكبر الظاهرات التضاريسية مساحة ...
- (٢) أثرت الحركات الالتوائية على مظاهر سطح الوطن العربي...
- (٣) تختلف سهول البحر الأحمر عن سهول البحر المتوسط من حيث الأهمية.



- عندما تتابع النشرة الجوية تجد أن درجات الحرارة وكميات المطر تختلف من دولة إلى أخرى هل تعرف السبب؟

العوامل المؤثرة في مناخ وطننا العربي

- يتنوع المناخ في الوطن العربي ما النتائج المترتبة ... ؟
- ↳ ادى إلى تنوع النباتات الطبيعية والحيوانات البرية والأنشطة الاقتصادية المختلفة مما يعزز تحقيق التكامل بين دول الوطن العربي
- يتأثر مناخ وطننا العربي بعدة عوامل وهي كالتالي:

مظاهر السطح

الموقع بالنسبة للمسطحات المائية

الموقع الفلكي

(١) الموقع الفلكي

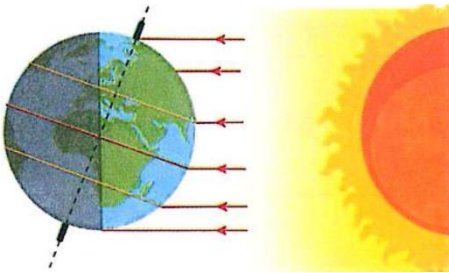
يؤثر الموقع الفلكي في المناخ **دليل**؟ **حيث**

ترتفع درجات الحرارة في المناطق القريبة من دائرة الاستواء.

تنخفض درجات الحرارة تدريجياً كلما ابتعدنا عن دائرة الاستواء شمالاً

أو جنوباً **ما النتائج**؟

✓ لذلك يسود المناخ الحار معظم أنحاء الوطن العربي ما عدا الأجزاء الشمالية فتميز بالمناخ المعتدل



المدن الساحلية

(٢) الموقع بالنسبة للمسطحات المائية

■ المناطق القريبة من المسطحات المائية (البحار والمحيطات)

- تتميز باعتدال المناخ مثل مدينة الإسكندرية.

■ المناطق البعيدة عن المسطحات المائية (المناطق الداخلية)

- تكون شديدة الحرارة صيفاً وشديدة البرودة شتاءً مثل مدينة الرياض

(٣) مظاهر السطح

■ تؤثر مظاهر السطح في مناخ الوطن العربي من حيث :

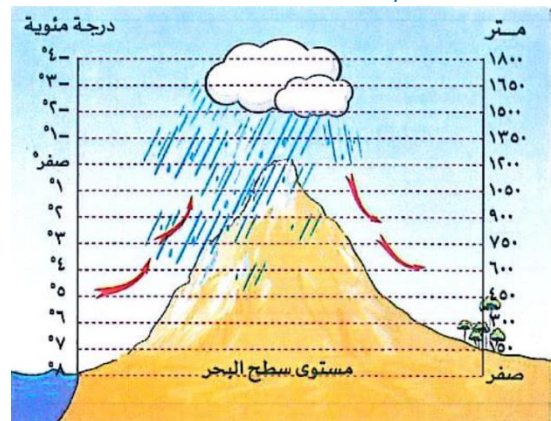
اتجاه الكتل الجبلية

- يؤثر اتجاه الجبال في توزيع كمية المطر **دليل**
- ✓ حيث نجد أن سفوح (جوانب) الجبال المواجهة للرياح المحملة ببخار الماء تسقط عليها أمطار غزيرة اما سفوح الجبال الداخلية (غير المواجهة للرياح) تقل فيها كمية المطر. مثل: جبال أطلس



الارتفاع

- يؤثر الارتفاع في درجة الحرارة **دليل**؟
- ✓ حيث كلما ارتفعنا ١٥٠ متر عن مستوى سطح البحر تنخفض درجة الحرارة درجة مئوية واحدة **ما النتائج المترتبة** لذلك تغطي الثلوج بعض القمم العالية مثل جبال لبنان

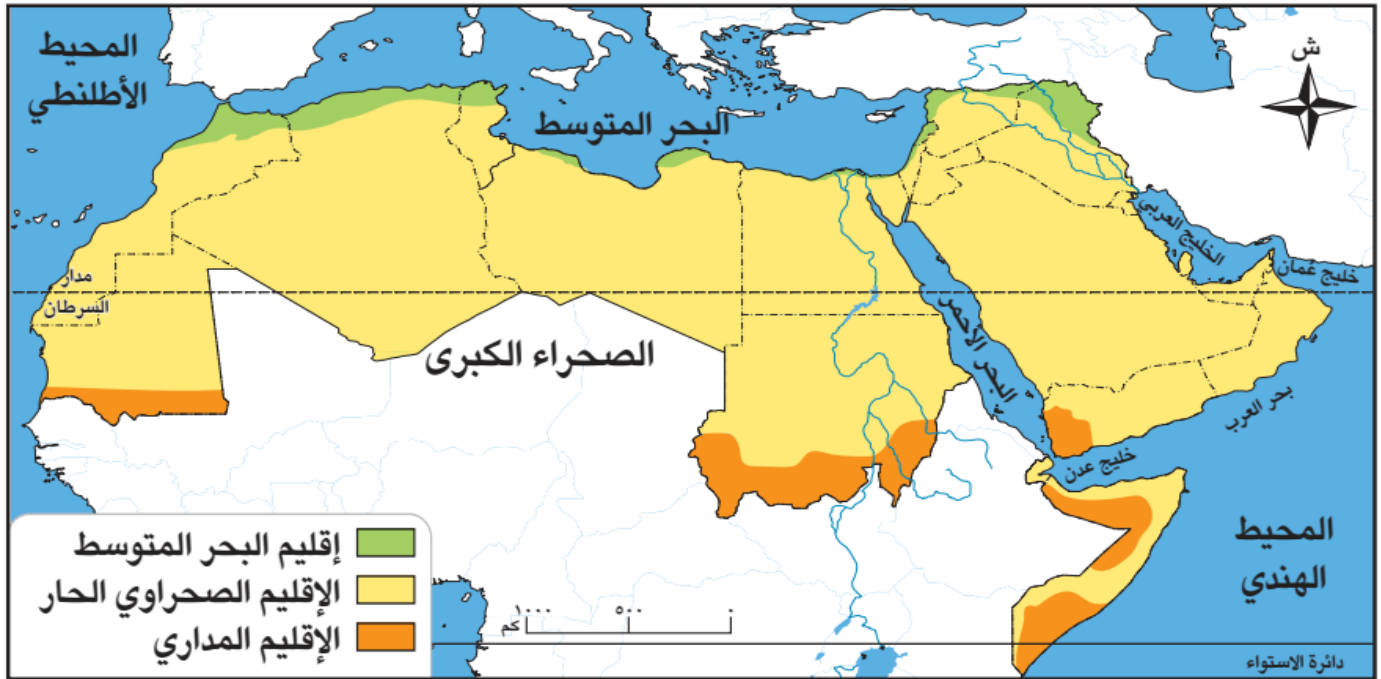


إقليم مناخي

هو مساحة من الأرض لها نفس الخصائص المناخية من حيث الحرارة والمطر.

الأقاليم المناخية في الوطن العربي

■ يوجد في وطننا العربي ثلاثة أقاليم مناخية، وهي :



١ إقليم البحر المتوسط

❖ أ) الموقع
✓ يمتد في الأجزاء الشمالية للوطن العربي ويشمل بعض المدن العربية مثل: بيروت وطرابلس وتونس.

❖ ب) الخصائص المناخية

👉 فصل الصيف: يتميز بارتفاع درجة الحرارة.

👉 فصل الشتاء: يتميز باعتدال درجة الحرارة وسقوط الأمطار.

❖ ج) النباتات الطبيعية والحيوانات البرية

🌍 تنمو الغابات المعتدلة فوق المنحدرات الجبلية **بم تفسر؟**

✓ لغزارة الأمطار ومن أهم أشجارها الزيتون والأرز.

🌍 تنمو به الحشائش المعتدلة (الإستبس)

✓ تزدهر شتاءً وتجف صيفاً، وتربى عليها: الأغنام و الماعز



الغابات المعتدلة

٢ الإقليم الصحراوي

❖ أ) الموقع

✓ يقع بين إقليم البحر المتوسط شمالاً وإقليم المداري جنوباً ويسود في معظم أنحاء الوطن العربي.

❖ ب) الخصائص المناخية

👉 فصل الصيف: يتميز بارتفاع شديد في درجة الحرارة خاصة في النهار.

👉 فصل الشتاء: يتميز بانخفاض شديد في درجة الحرارة خاصة في الليل.

❖ ج) النباتات الطبيعية والحيوانات البرية

✓ يختلف النبات الطبيعي حسب كمية المطر، **دل؟ حيث**

👉 تنمو الأعشاب القصيرة في المناطق قليلة المطر

👉 تنمو النباتات الشوكية في المناطق نادرة المطر.

👉 يعيش بالإقليم الصحراوي

حيوانات مثل:

- الغزلان - الإبل
- الزواحف

٣ الإقليم المداري

قيم أتعلمها
• الحفاظ على الحياة
النباتية والحيوانية
مسئولية بيئية.

❖ أ) الموقع

✓ يقع في جنوب الوطن العربي.

❖ ب) الخصائص المناخية

❖ فصل الصيف: ترتفع درجة الحرارة وتسقط الأمطار.

❖ فصل الشتاء: يتميز باعتدال الحرارة وجفاف المناخ

❖ ج) النباتات الطبيعية والحيوانات البرية

• تنمو الغابات المدارية وتكثر بها أشجار السنط ما النتائج المترتبة على ... ؟

✓ يستخرج من هذه الأشجار الصمغ العربي. (أهمية أشجار السنط)

• تنمو حشائش السافانا وتدرج في الطول بم تفسر؟ حسب كمية المطر

• من أهم الحيوانات بالإقليم المداري: الزراف الأسود النمر الافعال

• وتعيش جميعها في مناطق السافانا ما النتائج المترتبة على ... ؟

❖ لذلك يُعد الإقليم المداري حديقة حيوان طبيعية.

🌍 ثالثا: تأثير المناخ على تنوع الأنشطة الاقتصادية في الوطن العربي

- يؤثر تنوع المناخ في الوطن العربي تأثيرًا كبيرًا على الأنشطة الاقتصادية: حيث يؤدي إلى:

• تنوع المحاصيل الزراعية من مكان لآخر.

• تنشيط السياحة البيئية.

• تحقيق التكامل بين الدول العربية من خلال تبادل المحاصيل والمنتجات.

📖 حقائق تاريخية

- المصريون القدماء أظهروا تقديرا للطبيعة وحرصوا على عدم إلحاق الضرر بها.

تدريبات الدرس



- لاحظ خريطة الوطن العربي التي أمامك، ثم أجب:
- ١) يشير رقم (١) إلى دولة تقع أطرافها الشمالية في إقليم البحر المتوسط.
 - ٢) يشير رقم (٣) إلى إقليم مناخي يسود الوطن العربي.....
 - ٣) يشير رقم (٣) إلى إقليم مناخي يمتد في الأطراف الشمالية للوطن العربي.....
 - ٤) يشير رقم (٤) إلى إقليم مناخي يمتد في جنوب الوطن العربي.....

■ اختر الإجابة الصحيحة مما بين الأقواس

- ١) المناخ هو وصف حالة الجو خلال فترة زمنية من حيث درجة الحرارة والرياح والأمطار.
✓ (قصيرة طويلة متوسطة لحظية)
- ٢) كلما ابتعدنا عن دائرة الاستواء درجات الحرارة.
✓ (ترتفع تنخفض تثبت تتقلب)
- ٣) المناطق القريبة من المسطحات المائية تتميز ب المناخ.
✓ (اعتدال حرارة شديدة برودة شديدة جفاف)
- ٤) تنخفض درجة الحرارة درجة واحدة كلما ارتفعنا مترا عن مستوى سطح البحر.
✓ (١٠٠ ١٢٠ ١٥٠ ٢٠٠)
- ٥) الإقليم الذي يمتد في الأجزاء الشمالية للوطن العربي هو إقليم
✓ (البحر المتوسط الصحراوي المداري الاستوائي)
- ٦) من أهم أشجار إقليم البحر المتوسط
✓ (الزيتون النخيل السنط الأرز الأفريقي)
- ٧) الإقليم الذي يسود في معظم أنحاء الوطن العربي هو الإقليم
✓ (البحر المتوسط الصحراوي المداري القطبي)
- ٨) الإقليم الذي يقع في جنوب الوطن العربي هو الإقليم
✓ (المداري الصحراوي البحر المتوسط الاستوائي)
- ٩) يستخرج الصمغ العربي من أشجار
✓ (السنط الزيتون النخيل الأرز)
- ١٠) من حيوانات الإقليم الصحراوي
✓ (الغزلان الفيلة النمر الأسود)

■ أكمل العبارات الآتية:

١. المناخ هو وصف حالة الجو خلال فترة زمنية من حيث درجة الحرارة والرياح والأمطار.
٢. من العوامل المؤثرة في مناخ الوطن العربي و..... و.....
٣. كلما اقتربنا من دائرة الاستواء درجات الحرارة.
٤. كلما ابتعدنا عن دائرة الاستواء درجات الحرارة.
٥. المناطق الداخلية البعيدة عن المسطحات المائية تكون شديدة الحرارة وشديدة البرودة.....
٦. تنخفض درجة الحرارة درجة واحدة كلما ارتفعنا مترا عن مستوى سطح البحر.

٧. تسقط أمطار غزيرة على سفوح الجبال.....للرياح المحملة ببخار الماء.
٨. الإقليم الذي يمتد في الأجزاء الشمالية للوطن العربي هو إقليم
٩. من أمثلة المدن التي تقع ضمن إقليم البحر المتوسط.....و.....و.....
١٠. من أهم أشجار إقليم البحر المتوسط.....
١١. يسود الإقليم الصحراوي في معظمالوطن العربي.

■ ضع علامة (٧) أمام العبارة الصحيحة، وعلامة (X) أمام العبارة غير الصحيحة

- ١- المناخ هو وصف حالة الجو خلال فترة زمنية قصيرة
- ٢- من العوامل المؤثرة في مناخ الوطن العربي الموقع الفلكي والموقع بالنسبة للمسطحات المائية ومظاهر السطح
- ٣- المناطق القريبة من المسطحات المائية تتميز باعتدال المناخ
- ٤- المناطق الداخلية البعيدة عن المسطحات المائية تكون شديدة الحرارة صيفا وشديدة البرودة شتاء
- ٥- كلما ابتعدنا عن دائرة الاستواء ترتفع درجات الحرارة
- ٦- تنخفض درجة الحرارة درجة واحدة كلما ارتفعنا ١٥٠ مترا عن مستوى سطح البحر

■ المقصود بالمصطلحات التالية:

.....الإقليم المناخي.....

■ أكتب ما تشير إليه العبارات الآتية:

- ١- منطقة من الأرض لها نفس الخصائص المناخية من حيث الحرارة والمطر.
- ٢- نبات ينمو دون تدخل من الإنسان
- ٣- حيوان يعيش في بيئة طبيعية دون تدخل أو رعاية من الإنسان.
- ٤- إقليم مناخي يمتد في الأجزاء الشمالية للوطن العربي ويتميز بصيف حار وشتاء معتدل ممطر.
- ٥- إقليم مناخي يسود في معظم أنحاء الوطن العربي ويتميز بشتاء بارد ليلاً وصيف شديد الحرارة نهاراً.
- ٦- إقليم مناخي يقع في جنوب الوطن العربي ويتميز بأمطار صيفية وحرارة مرتفعة.
- ٧- أشجار مدارية يستخرج منها الصمغ العربي
- ٨- حشائش مدارية تتدرج في الطول حسب كمية المطر

■ بم تفسر ...؟

- ١- تنوع النباتات الطبيعية والحيوانات البرية في الوطن العربي
- ٢- اختلاف درجات الحرارة من دولة إلى أخرى في الوطن العربي.
- ٣- اعتدال مناخ مدينة الإسكندرية على عكس مدينة الرياض....
- ٤- تغطي الثلوج بعض القمم العالية في الوطن العربي.
- ٥- الأهمية الاقتصادية للإقليم البحر المتوسط.
- ٦- أهمية أشجار السنط.

■ ما النتائج المترتبة على؟

- ١- اتنوع المناخ في الوطن العربي...
- ٢- مرور دائرة الاستواء في جنوب الوطن العربي بالنسبة للمناخ.
- ٣- نمو الحشائش المعتدلة في إقليم مناخ البحر المتوسط.
- ٤- غزارة الأمطار فوق المنحدرات الجبلية بإقليم البحر المتوسط.

■ دلل على صحة ما يلي:

- ١- يتأثر المناخ بالقرب والبعد عن المسطحات المائية.
- ٢- يؤثر الموقع الفلكي في مناخ الوطن العربي

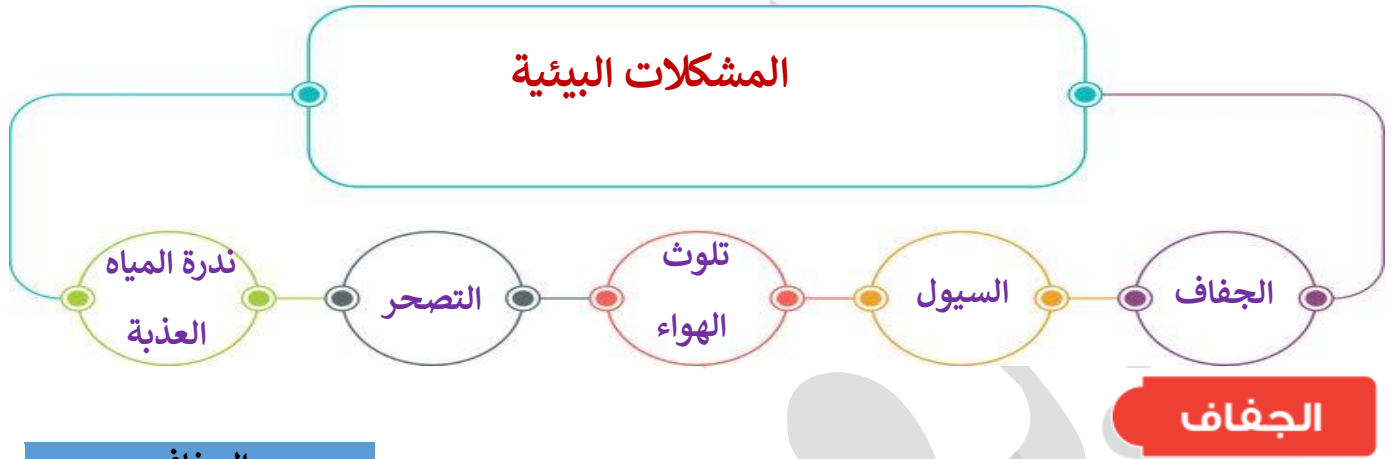
الدرس الرابع

التحديات البيئية في وطننا العربي

اولا : المشكلات البيئية في الوطن العربي

- تواجه دول وطننا العربي العديد من المشكلات والتحديات البيئية **بم تفسر؟**
- بسبب التغيرات المناخية **ما النتائج المترتبة؟**
- ✓ التي تؤثر على حياتنا اليومية ومستقبل التنمية والاستقرار في المنطقة.
- ✓ حدوث العديد من المشكلات البيئية مثل:

المشكلات البيئية



الجداف

الجداف

نقص كمية الأمطار خلال فترة زمنية محددة.



- يتعرض كثير من الدول العربية لخطر الجداف.

النتائج المترتبة على المشكلة :

- نقص الغذاء
- انتشار الأمراض وسوء التغذية
- التأثير بالسلب على النشاط الزراعي والرعي.

طرق مواجهة المشكلة

- تطوير شبكات الري
- إعادة تدوير المياه.
- ترشيد استهلاك المياه

ندرة المياه العذبة

يعاني الوطن العربي من مشكلة ندرة المياه العذبة

أسباب المشكلة

- ✓ قلة سقوط الأمطار
- ✓ سوء إدارة الموارد المائية (دلل) باستخدام طرق الري التقليدية

طرق مواجهة المشكلة

- ترشيد استهلاك المياه
- تحسين شبكات المياه والصرف الصحي
- استخدام أساليب جديدة في الري مثل الري بالرش والتنقيط
- حملات توعية للحفاظ على المياه.



الطرق الحديثة للري

حقائق تاريخية

عانت الصومال من أكبر موجة جفاف ونقص في الغذاء وحدثت مجاعة لأكثر من مليون إنسان.

التصحّر

التصحّر

تناقص قدرة الأراضي
الزراعية على الإنتاج.

- يغطي التصحر نسبة كبيرة من مساحة الوطن العربي ما النتائج المترتبة على؟

ترتب عليه تدهور الأراضي الزراعية واختفاء النباتات.

أسباب المشكلة

أسباب بشرية



تقطع الأشجار

- ✓ قطع الأشجار
- ✓ الرعي الجائر للحيوانات
- ✓ التوسع العمراني

أسباب طبيعية

- ✓ زحف الكثبان الرملية
- ✓ تناقص الأمطار والمياه الجوفية

تلوث الهواء

- تلوث الهواء في الوطن العربي له عدة أسباب، ومن أهمها: أسباب المشكلة

- (١) الاعتماد على مصادر الطاقة غير المتجددة.
- (٢) زيادة النشاط الصناعي الملوث للبيئة.
- (٣) العواصف الرملية.
- (٤) حرق النفايات

طرق مواجهة المشكلة

- (١) الاعتماد على الطاقة المتجددة.
- (٢) زيادة المساحات الخضراء.
- (٣) استخدام النقل المستدام.
- (٤) إعادة تدوير النفايات.

السيول

السيول

أمطار غزيرة وفجائية تتجمع
وتتدفق بسرعة في الأودية.

- تشكل تهديدا كبيرا على الوطن العربي.

النتائج المترتبة على المشكلة

- ١- الأضرار التي تلحقها بالبنية التحتية
- ٢- إتلاف المحاصيل الزراعية.
- ٣- الخسائر الفادحة الكبيرة جدا في الأرواح والممتلكات.
- ٤- انتشار الأمراض والأوبئة.

طرق مواجهة المشكلة

- ١- تطوير البنية التحتية.
- ٢- بناء سدود للاستفادة منها في الزراعة.
- ٣- إنشاء مخبرات لتصريف السيول.
- ٤- استخدام التكنولوجيا في التنبؤ بالأخطار البيئية (السيول)

حقائق تاريخية

قام المصريون القدماء بإنشاء مخّرات للسيول (مجار مائية) لتصريف مياه الأمطار لحماية المعابد والمقابر.



أخطار السيول

ثانياً : التغيرات المناخية

- تؤثر التغيرات المناخية على المشكلات البيئية وتزيد من حدتها.

■ النتائج المترتبة على التغيرات المناخية

- (١) ارتفاع درجة الحرارة.
- (٢) الجفاف
- (٣) السيول.
- (٤) ارتفاع مستوى سطح البحر.
- (٥) انتشار الأمراض.

■ اجراءات عاجلة للحد من التغيرات المناخية

- (١) حماية الغابات وزيادة مساحة الأراضي الخضراء.
- (٢) تفعيل القوانين لمواجهة التغيرات البيئية.
- (٣) ٣-الاعتماد على مصادر الطاقة المتجددة.
- (٤) الحد من انبعاثات الغازات الدفيئة

- التغير المناخي

هو تغير طويل في درجات الحرارة وأنماط المطر، ويؤدي إلى موجات جفاف، وحرائق غابات، وانقراض نباتات.



امثلة لجهود بعض الدول العربية الزيادة المساحات الخضراء ومواجهة التغير المناخي

السعودية

أطلقت مبادرة زراعة ١٥٠ مليون شجرة بم تفسر؟
للحد من التلوث ومواجهة التغير المناخي.
تعمل على إنشاء مدينة نيوم الخضراء، وهي مدينة تعتمد على الطاقة النظيفة وتحافظ على البيئة

مصر

أطلقت مبادرة زراعة ١٠٠ مليون شجرة
مثمرة في كل أنحاء مصر بم تفسر؟
وذلك لتحسين الهواء وتقليل التلوث،
وتجميل البيئة، ومواجهة التغيرات
المناخية

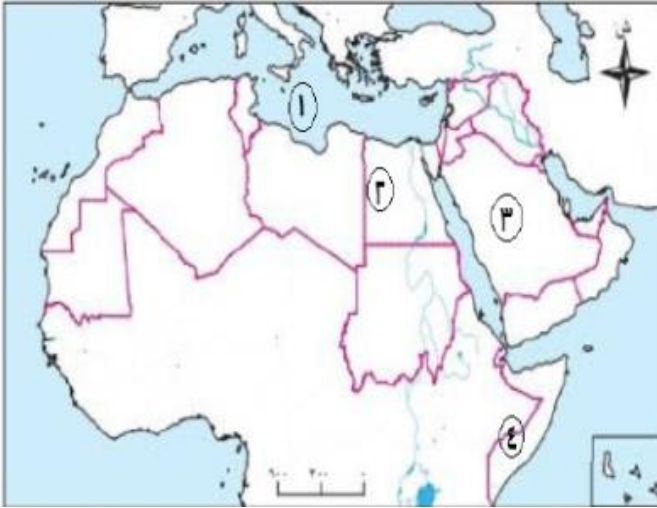
حقائق جغرافية

الحفاظ على البيئة من التلوث والانبعاث الحراري يساهم في التخفيف من آثار التغير المناخي وارتفاع درجة الحرارة

تدريبات الدرس



■ لاحظ خريطة الوطن العربي التي أمامك، ثم أجب:



- ١) يشير رقم (١) إلى البحر.....
- ٢) اختر : يشير رقم (٢) إلى دولة تعمل على إنشاء مدينة.....
(العلمين الجديدة العاصمة الإدارية
نيوم الخضراء المنصورة الجديدة)
- ٣) صواب أم خطأ يشير رقم (٣) (٣) إلى دولة أطلقت مبادرة زراعة ١٠٠ مليون شجرة مثمرة (.....)
- ٤) يشير رقم (٤) إلى دولة عانت من أكبر موجة جفاف وهي دولة.....

■ السؤال الثاني اكتب كلمة (صواب) أمام العبارة الصحيحة، وكلمة (خطأ) أمام العبارة غير الصحيحة

١. الجفاف هو نقص كمية الأمطار خلال فترة زمنية محددة.
٢. يؤثر التغير المناخي على درجة الحرارة وكمية المطر.
٣. يحدث التصحر في الوطن العربي بسبب استخدام طرق الري الحديثة.
٤. يساهم القطع العشوائي للأشجار في حل مشكلة التصحر.
٥. الرعي الجائر للحيوانات يقلل من مشكلة التصحر.
٦. المشكلات البيئية في الوطن العربي تؤثر على مستقبل التنمية فيه.
٧. استخدام مصادر الطاقة المتجددة يساهم في حل المشكلات البيئية في الوطن العربي.
٨. تطوير البنية التحتية إحدى طرق مواجهة السيول.
٩. استخدام طرق الري التقليدية يساهم في حل مشكلة ندرة المياه العذبة.

■ السؤال الثالث أكمل العبارات التالية بما يناسبها من كلمات

١. من الأسباب البشرية للتصحر.....
٢. يتعرض الوطن العربي لمشكلة التصحر بسبب زحف.....
٣. انطلقت مبادرة زراعة ١٥٠ مليون شجرة في دولة.....
٤. يتم مواجهة ندرة المياه العذبة باستخدام طرق ري حديثة مثل الري بالتنقيط و.....
٥. تنتشر ببعض مناطق الوطن العربي الأمراض وسوء التغذية بسبب مشكلة.....
٦. تستخدم الري بالرش لمواجهة مشكلة.....
٧. التوسع في استخدام مصادر الطاقة غير المتجددة يؤدي لتفاقم مشكلة.....

■ السؤال الرابع اختر الإجابة الصحيحة مما بين القوسين

١) الجفاف هو..... خلال فترة زمنية محددة.

- ١) (زيادة كمية الأمطار) ✓ نقص كمية الأمطار ذوبان الجليد هبوب الرياح
- ٢) من نتائج مشكلة الجفاف.....
(زيادة الغذاء) ✓ انتشار الأمراض وسوء التغذية زيادة المياه الجوفية وفرة المحاصيل
- ٣) من أسباب ندرة المياه العذبة.....
(قلة سقوط الأمطار) ✓ ارتفاع درجات الحرارة بناء السدود
- ٤) التصحر هو..... على الإنتاج.
(زيادة قدرة الأراضي الزراعية) ✓ تناقص قدرة الأراضي الزراعية تحسين التربة تنمية المحاصيل
- ٥) تستخدم الطاقة المتجددة لمواجهة.....
(التصحر) ✓ تلوث الهواء ندرة المياه السيول

- (٦) إحدى نتائج مشكلة الجفاف.....
 (زيادة الري) ✓ انتشار الأمراض ازدهار الغابات زيادة المياه
 (٧) تبني السدود للحد من آثار مشكلة.....
 (الجفاف) ✓ التصحر السيول التلوث
 (٨) يساهم حرق النفايات في.....
 (ترشيد المياه) ✓ زيادة الجفاف تلوث الماء تلوث الهواء
 (٩) تزداد مشكلة ندرة المياه العذبة بسبب.....
 (الري التقليدي) ✓ حرق النفايات قطع الأشجار زحف الرمال

■ السؤال الخامس صوب ما تحته خط

- أ- زيادة المساحات الخضراء يساعد في مواجهة مشكلة ندرة المياه .
 ب- يتم مواجهة السيول عن طريق بناء القناطر
 ت- أحد أسباب تلوث الهواء زيادة النشاط الزراعي .

■ السؤال السادس ما المقصود ب...؟

- ← التغير المناخي.....
 ← الجفاف.....
 ← التصحر.....
 ← السيول.....

■ السؤال السابع اكتب ما تشير إليه العبارة

- ١) مبادرة أطلقتها مصر لزيادة المساحات الخضراء.
 ٢) مدينة أنشأتها السعودية لمواجهة التغير المناخي.

■ السؤال الثامن بم تفسر...؟

١. تواجه دول وطننا العربي العديد من المشكلات والتحديات البيئية.
 ٢. تؤدي التغيرات المناخية إلى حدوث بعض المشكلات البيئية.
 ٣. أطلقت مصر مبادرة زراعة ١٠٠ مليون شجرة مثمرة.
 ٤. أطلقت السعودية مبادرة زراعة ١٥٠ مليون شجرة.
 ٥. حدوث الجفاف في بعض الدول العربية .
 ٦. تلوث الهواء في الوطن العربي .
 ٧. حدوث مشكلة التصحر في مساحات واسعة من الوطن العربي.
 ٨. إنشاء المصريين القدماء المخترات السيول.
 ٩. ندرة المياه العذبة في الوطن العربي

■ السؤال التاسع اكتب نتيجة واحدة ترتبت على

١. تعرض بعض المناطق في الوطن العربي للجفاف
 ٢. الرعي الجائر للحيوانات في الوطن العربي
 ٣. التغيرات المناخية بالوطن العربي.
 ٤. تناقص كمية الأمطار في وطننا العربي.
 ٥. الاعتماد على الطاقة المتجددة..
 ٦. حرق النفايات والمخلفات
 ٧. حدوث السيول .

■ السؤال العاشر دلل على صحة كل عبارة مما يلي:

١. جهود السعودية في مواجهة التغير المناخي
 ٢. يهدد التصحر الإنتاج الزراعي
 ٣. تبذل بعض الدول العربية جهود لمواجهة السيول.
 ٤. تؤثر التغيرات المناخية على الوطن العربي.

٥. تتعدد طرق مواجهة مشكلة ندرة المياه في الوطن العربي

■ السؤال الحادي عشر ما العلاقة بين...؟

١. الجفاف و دولة الصومال

٢. طرق الري القديمة والمياه العذبة .

٣. الطاقة غير المتجددة والهواء

٤. السيول وتطوير البنية التحتية.

٥. التصحر وقطع الأشجار .

٦. النقل المستدام وتلوث الهواء

٧. زيادة السكان والمياه العذبة...

■ السؤال الثاني عشر ما أوجه الشبه بين....؟

١. الجفاف وندرة المياه العذبة من حيث الأسباب...

٢. التصحر والسيول من حيث النتائج.

٣. جهود مصر والسعودية في الحفاظ على البيئة.

تقييم الكتاب المدرسي



السؤال الأول: أمامك خريطة صماء للوطن العربي، حدد ما يلي عليها:



١. أكبر دول الوطن العربي من حيث المساحة
٢. جبال أطلس
٣. هضبة حضرموت
٤. نهر يمر في أكثر من دولة عربية إفريقية
٥. دولة عربية تقع في المحيط الهندي
٦. دولة تطل على بحر ومحيط

السؤال الثاني: اكتب كلمة (صواب) أمام العبارة الصحيحة، وكلمة (خطأ) أمام العبارة غير الصحيحة

- ١) يمتد الوطن العربي بين قارتي آسيا وأوروبا.
- ٢) أحد العوامل المؤثرة في المناخ الموقع الفلكي.
- ٣) توجد سهول فيضية في العراق ومصر.
- ٤) تقع جبال أطلس في شبه الجزيرة العربية
- ٥) نهر النيل من السهول الخصبة في الوطن العربي.
- ٦) يفصل البحر الأحمر بين جناحي وطننا العربي.
- ٧) جبال البحر الأحمر من الجبال الالتوائية في وطننا العربي.
- ٨) أكبر هضاب الوطن العربي تقع في الجناح الإفريقي .
- ٩) يسود المناخ الصحراوي معظم أراضي الوطن العربي.
- ١٠) التنوع المناخي إلى تنوع النبات الطبيعي.

السؤال الثالث: أكمل العبارات الآتية:

١. يحد الوطن العربي من الغرب
٢. العوامل المؤثرة في مناخ الوطن العربي
٣. تمتد جبال أطلس في دولة
٤. الإقليم المناخي السائد في الوطن العربي
٥. السهول الساحلية في الوطن العربي يستخرج منها
٦. العوامل الداخلية لتشكيل سطح الأرض.
٧. هضبة. من أهم هضاب وطننا العربي.
٨. ساعد نهر..... على قيام الزراعة في مصر والسودان.
٩. تسود الأعشاب في الوطن العربي بالإقليم.....
١٠. يمر خط الاستواء في الوطن العربي عبر دولة
١١. السبب الرئيسي في ندرة الأمطار في الوطن العربي.....

السؤال الرابع: بم تفسر؟

١. الأهمية الإستراتيجية لموقع الوطن العربي...
٢. تنوع مظاهر السطح في الوطن العربي.
٣. تعد الجبال من مظاهر السطح المؤثرة في المناخ...
٤. أهمية السهول الفيضية في الوطن العربي.
٥. تركز سكان الوطن العربي في مناطق السهول الفيضية.

٦. تأثر النبات الطبيعي بالمناخ.
٧. انتشار المناخ الصحراوي في أغلب الدول العربية.
٨. حدوث التصحر بالوطن العربي.

■ السؤال الخامس: ما النتائج المترتبة على ...؟

١. الموقع الجغرافي المتميز للوطن العربي.
٢. تنوع التضاريس في الوطن العربي.
٣. تنوع المناخ في الوطن العربي.
٤. وجود السهول الساحلية في الوطن العربي.
٥. ندرة الأمطار في معظم أراضي الوطن العربي.

■ السؤال السادس: ماذا يحدث إذا ...؟

١. لم يكن للوطن العربي موقع جغرافي متميز.
٢. لم تتنوع مظاهر السطح في الوطن العربي.
٣. لم يؤثر المناخ على نوعية النباتات.
٤. لم توجد سهول فيضية في الوطن العربي.

■ السؤال السابع: ما المقصود بالمفاهيم الآتية ...؟

- ← التعرية المائية.....
- ← الإقليم المناخي.....
- ← التصحر.....
- ← السيول.....

■ السؤال الثامن: ما العلاقة بين كل من ...؟

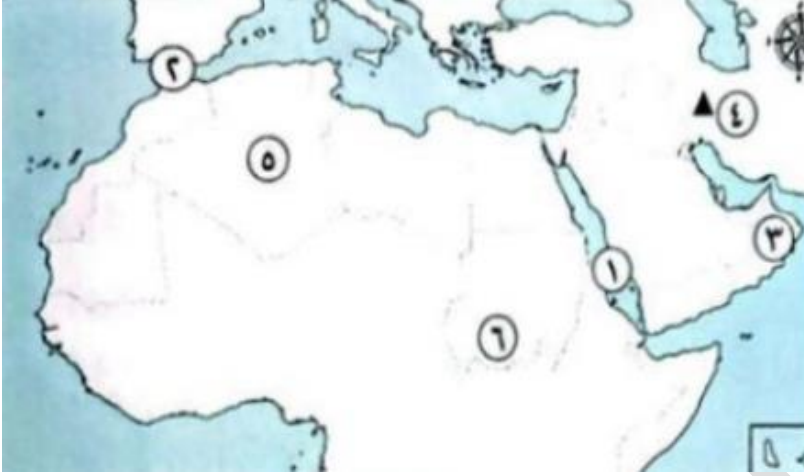
- ← الموقع الفلكي والمناخ في الوطن العربي
- ← المناخ والنبات الطبيعي.
- ← الهضاب والجبال في تشكيل سطح الوطن العربي.

■ السؤال التاسع: ما الفرق بين ...؟

١. السهول الساحلية والسهول الفيضية.
٢. العوامل الباطنية والعوامل الخارجية لتشكيل سطح الأرض.

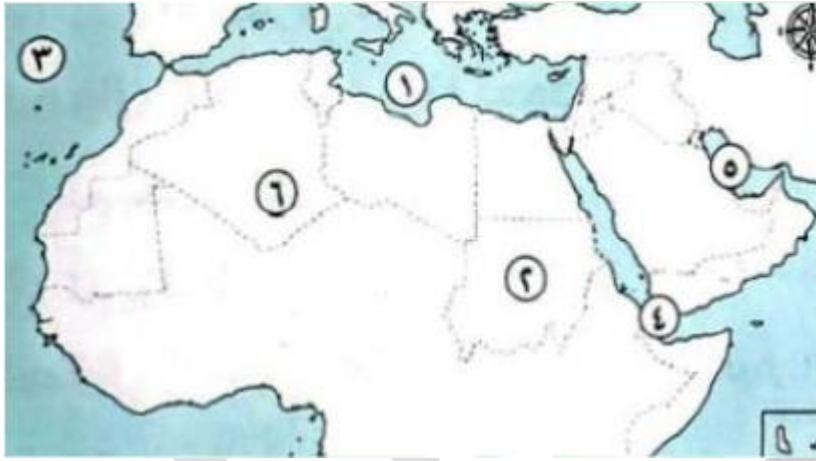
تدريبات على الوحدة الاولى

السؤال الأول الخرائط: لاحظ الخريطة المقابلة ، ثم حدد مدلول الأرقام الموقعة عليها:



١. البحر.....
٢. مضيق.....
٣. دولة.....
٤. جبال.....
٥. دولة.....
٦. إقليم مناخي.....

٢. لاحظ الخريطة المقابلة، ثم حدد مدلول الأرقام الموقعة عليها



١. البحر.....
٢. دولة.....
٣. المحيط.....
٤. مضيق.....
٥. الخليج.....
٦. إقليم مناخي.....

السؤال الثاني اكتب كلمة (صواب) أمام العبارة الصحيحة، وكلمة (خطأ) أمام العبارة غير الصحيحة

١. تقع دول الوطن العربي في قارتي أوروبا وإفريقيا
٢. تعد كل من فلسطين والأردن من دول الجناح العربي الإفريقي
٣. تقع دولة جزر القمر في المحيط الهندي.
٤. يقع الوطن العربي وسط قارات العالم القديم.
٥. ترجع الأهمية الحضارية للوطن العربي إلى موقعه الإستراتيجي.
٦. تتعدد الأماكن المقدسة في الوطن العربي ومنها الكعبة المشرفة في فلسطين.
٧. يربط مضيق جبل طارق بين المحيط الأطلنطي والبحر المتوسط
٨. الموقع الجغرافي المميز للوطن العربي جعله مطمعا للمحتلين عبر العصور.
٩. تقع جبال أطلس في الجناح الآسيوي للوطن العربي.
١٠. تختلف أنواع النباتات في الإقليم الصحراوي حسب كمية المطر.
١١. تنوع مناخ الوطن العربي أدى إلى تشابه المحاصيل الزراعية.
١٢. التوسع العمراني ساعد على حدوث مشكلة التصحر بالوطن العربي
١٣. ترشيد استهلاك المياه وإعادة تدويرها من أهم طرق مواجهة مشكلة الجفاف .
١٤. تعد واحة عين صالح إحدى أشهر الواحات بالجزائر.

السؤال الثالث أكمل العبارات التالية بما يناسبها من كلمات

١. الدولة العربية التي يمر بها خط جرينتش هي دولة
٢. أصغر دول الوطن العربي من حيث المساحة هي

٣. تنتمي سوريا والعراق إلى الجناح العربي
٤. ممر مائي يربط بين البحر الأحمر والبحر المتوسط هو
٥. تطل دولة جيبوتي على مضيق
٦. يحد الوطن العربي من الشرق جبال كردستان و جبال
٧. توجد النسبة الأكبر من مساحة الوطن العربي في الجناح
٨. أكبر هضاب الوطن العربي من حيث المساحة هضبة
٩. تكونت الكثبان الرملية بفعل التعرية.
١٠. ساعد تنوع مظاهر السطح في الوطن العربي على تنوع
١١. توجد واحة عين صالح في دولة
١٢. تسقط الأمطار في إقليم البحر المتوسط خلال فصل
١٣. أحد أسباب تلوث الهواء في الوطن العربي حرق
١٤. إحدى طرق مواجهة تلوث الهواء الاعتماد على الطاقة.
١٥. قام المصريون القدماء بإنشاء مخزات للسيول لحماية المعابد

■ السؤال الرابع صوب ما تحته خط فيما يلي :

١. يحد الوطن العربي من جهة الشمال البحر المتوسط و جبال **زاجروس**
٢. يحد الوطن العربي غربا المحيط **الهندي**.
٣. تمتلك دولة السودان سواحل مطلة على البحر **المتوسط**.
٤. يستخرج الصمغ العربي من أشجار **الزيتون**.
٥. تزدهر حشائش الإستبس في إقليم البحر المتوسط خلال فصل **الربيع**

■ السؤال السادس ما المقصود بكل مما يلي ...؟

١. الوطن العربي
٢. التعرية المائية
٣. التعرية الهوائية
٤. الأودية الجافة
٥. الإقليم المناخي
٦. الجفاف
٧. التصحر
٨. السيول

■ السؤال السابع بم تفسر ...؟

١. الأهمية الحضارية الكبيرة للوطن العربي.
٢. يتمتع الوطن العربي بأهمية دينية .
٣. أهمية الوطن العربي الاقتصادية .
٤. تنوع المناخ في الوطن العربي.
٥. تنوع مظاهر السطح في الوطن العربي
٦. أهمية الأودية الجافة..
٧. تغطي الثلوج بعض القمم الجبلية في الوطن العربي.
٨. ازدهار حشائش الإستبس شتاء وجفافها صيفا ...
٩. تتدرج حشائش السافانا في الطول ...
١٠. تنوع الأنشطة الاقتصادية في الوطن العربي.
١١. انتشار أمراض سوء التغذية في بعض مناطق الوطن العربي.
١٢. يعاني الوطن العربي من مشكلة ندرة المياه العذبة
١٣. إطلاق مصر لمبادرة زراعة ١٠٠ مليون شجرة مثمرة ...

■ السؤال الثامن ما النتائج المترتبة على ...؟

١. الموقع الفلكي للوطن العربي.
٢. تحكم الوطن العربي في ممرات مائية مهمة.
٣. تنوع المناخ في الوطن العربي...
٤. الموقع الجغرافي المتميز للوطن العربي عبر العصور.
٥. سقوط الأمطار في إقليم البحر المتوسط شتاء.
٦. اختلاف كمية المطر في الإقليم الصحراوي
٧. سقوط الأمطار صيفا في الإقليم المداري

■ السؤال التاسع دلل على صحة كل عبارة مما يلي:

١. حدوث السيول في المناطق الزراعية.
٢. تنوع الأهمية الاقتصادية للسهول الساحلية في الوطن العربي.
٣. أثرت الحركات الانكسارية على مظاهر سطح الوطن العربي.
٤. يختلف النبات الطبيعي في الإقليم الصحراوي من مكان لآخر.

الوحدة الثانية

الدرس الاول شبه الجزيرة العربية (قبل وبعد ظهور الإسلام)

أحوال العرب في شبه الجزيرة العربية قبل ظهور الإسلام

(١) الحياة السياسية

- كان النظام القبلي هو النظام السائد في شبه الجزيرة العربية قبل ظهور الإسلام **بم تفسر؟**
- بسبب الحروب والخلافات بين القبائل
- من أشهر القبائل في ذلك الوقت قبيلة قريش

(٢) الحياة الاقتصادية

- عرف سكان شبه الجزيرة العربية عديدا من الحرف والأنشطة الاقتصادية، منها:
- (١) رعي الأغنام : كان أكثر الحرف انتشارا
- (٢) الصناعة : تميز العرب بصناعة السيوف والرماح والأواني الفخارية.
- (٣) التجارة : عمل العرب بالتجارة، وكان أهل مكة أعظمهم مكانة تجارية **(بم تفسر) ؟** لأنهم نظموا رحلتى الشتاء والصيف.
- رحلة الشتاء : إلى اليمن
- رحلة الصيف : إلى الشام



خريطة (١) طرق التجارة في مكة

(٣) الحياة الاجتماعية

- كان المجتمع في شبه الجزيرة العربية قبل الإسلام ينقسم إلى طبقات اجتماعية مختلفة **دلل؟** وهي:
- ✓ طبقة الأغنياء من التجار وأصحاب الأراضي والمراعي
- ✓ طبقة صغار التجار والحرفيين.
- ✓ طبقة الفقراء والعبيد
- كان الناس يعيشون في قبائل لها عادات وتقاليد متنوعة وتميزوا ببعض العادات (أفعال اعتادوا القيام بها في حياتهم) منها :

❖ العادات الحسنة مثل :

الكرم

الوفاء بالعهد

الصبر

الشجاعة

❖ العادات السيئة مثل :

لعب الميسر

شرب الخمر

الأخذ بالثأر

وأد البنات

(٤) الحياة الدينية

- كانت شبه الجزيرة العربية مهداً لكثير من الأنبياء **دلل؟** منهم هود وصالح وشعيب
- ما النتائج المترتبة على ذلك **عرف** أهلها عبادة الله الواحد
- لكن مع مرور الوقت ابتعد بعض الناس عن عبادة الله وظهرت بينهم عبادات غير سماوية مثل عبادة الأصنام



(٥) الحياة الثقافية

- اشتهر العرب بالشعر والخطابة.
- كانت الأسواق مكانا لتنافس الشعراء والخطباء مثل سوق عكاظ وسوق ذي المجاز



ما المقصود بـ

- القبيلة: - جماعة من الناس ينتمون الى نسب وأصل واحد ولهم عادات وتقاليد مشتركة
- النظام القبلي: - نظام يتكون من قبائل متفرقة ولكل قبيلة شيخ يحكمها.

ظهور الإسلام في شبه الجزيرة العربية

- نتيجة لما شهدته شبه الجزيرة العربية قبل ظهور الإسلام من البعد عن عبادة الله الواحد الأحد، كانوا في حاجة إلى ظهور نبي **بم تفسر؟** ليرشد الناس إلى عبادة الله الواحد الأحد، وينشر العدل والمساواة بينهم.



الوحي

تعاليم صادرة من الله عزوجل الى الانبياء بواسطة جبريل

■ ميلاد النبي محمد (ﷺ)

❖ بطاقة تعريف النبي محمد (ﷺ)

- اسمه: محمد بن عبد الله بن عبد المطلب.
- والده: عبد الله (توفي قبل ولادته لذا ولد رسول الله (ﷺ) يتيماً .
- والدته: آمنة بنت وهب.
- جدة: عبد المطلب
- عمه: أبو طالب
- زوجته السيدة خديجة بنت خويلد
- تاريخ ميلاده: ١٢ من ربيع الأول الموافق لعام ٥٧٠م الذي عرف بعام الفيل **بم تفسر؟** لأن أبرهة الحبشي حاول هدم الكعبة في هذا العام مستخدماً الفيلة
- مكان ميلاده: مكة

○ نشأة النبي محمد (ﷺ) وحياته

❖ أهم المحطات في حياة النبي محمد (ﷺ)

عاش النبي محمد (ﷺ) في ديار بني سعد عند مرضعته السيدة حليلة السعدية ما

النتائج المترتبة؟

✓ اكتسب منهم فصاحة اللسان وقوة البنين

عاش النبي محمد (ﷺ) مع أمه آمنة بنت وهب حتى توفيت وهو في عمر ٦ سنوات.

ثم عاش النبي محمد (ﷺ) في بيت عمه أبي طالب وعمل برعي الأغنام. **بم تفسر؟** لكي لا يكون عبئاً على عمه، وفي شبابه عمل بالتجارة ولقب بالصادق الأمين.

تولى جده عبد المطلب رعايته ، ثم توفي عندما كان النبي محمد (ﷺ) في عمر ٨ سنوات.

ثم تزوج من السيدة خديجة بنت خويلد وأنجب منها من الذكور اثنين ومن الإناث أربعاً.

نزل سيدنا جبريل بالوحي لأول مرة على النبي محمد (ﷺ) وهو يتعبد في غار حراء في إحدى ليالي شهر رمضان

أخبره ورقة بن نوفل ابن عم السيدة خديجة أنه نبي هذه الأمة.

■ حقائق تاريخية

- اكتسب النبي عدة صفات من حرفة الرعي ، مثل : الصبر و التواضع و الرحمة و الشجاعة

مراحل الدعوة الإسلامية

١- الدعوة السرية	٢.الدعوة الجهرية دون مواجهة	٣- مواجهة المعتدين على الدعوة	٤- عالمية الدعوة
------------------	-----------------------------	-------------------------------	------------------

(١) الدعوة السرية

استغرقت ثلاث سنوات.

بدأ النبي (ﷺ) بدعوة أهل بيته وأصحابه المقربين سرا بم تفسر؟ **خوفا من أذى قريش.**

أبرز من أمن في هذه المرحلة :

السيدة خديجة أبو بكر الصديق علي بن أبي طالب



اتخذ النبي (ﷺ) من دار الأرقم بن أبي الأرقم مدرسة **بم تفسر؟** ليعلم فيها المسلمين مبادئ الدين الإسلامي

(٢) الدعوة الجهرية دون مواجهة

أذن الله للنبي محمد (ﷺ) بإعلان الدعوة بعد ٣ سنوات من الدعوة السرية **ما النتائج؟** فخافت قريش على مكانتها ونفوذها بين القبائل **ما النتائج المترتبة على؟** فقامت به

■ موقف قريش من الدعوة

(١) إيذاء النبي واتهامه بالسحر و الجنون

(٢) التفاوض معه وإغرائه بالمال والزعامة والسلطة ولكنه رفض

(٣) تعذيب وإيذاء المسلمين.

(٤) حصار المسلمين ومقاطعتهم (عدم البيع والشراء منهم).

← رد فعل النبي (ﷺ) على إيذاء قريش

(١) حث المسلمين على الصبر والتحمل.

(٢) أمر أصحابه بالهجرة إلى الحبشة **بم تفسر؟** لأن ملكها النجاشي كان عادلا لا يظلم عنده أحد .

(٣) حاول نشر الدعوة في الطائف لكن أهلها قابلوه بالأذى فعاد إلى مكة.

• استمر النبي (ﷺ) في دعوة القبائل القادمة إلى مكة في موسم الحج واستجاب له وفد من أهل يثرب ودخلوا الإسلام.

• لاحظ أن : بالصبر والإصرار نستطيع التغلب على أي صعوبات قد تواجهنا في الحياة

■ قيم أتعلمها

• يدعو الإسلام إلى التسامح مع الآخرين، على الرغم من اختلاف الثقافات والمعتقدات.

تدريبات الدرس



السؤال الاول اختر الإجابة الصحيحة مما بين القوسين

- ١ ✓ ولد الرسول في (يثرب تبوك مكة الطائف)
- ٢ ✓ عاش النبي (ﷺ) في ديار بني سعد عند مرضعته السيدة (أمينة حليلة خديجة فاطمة)
- ٣ ✓ عم النبي (ﷺ) الذي تربى عنده (عبد الله أبو طالب أبو بكر الحارث)
- ٤ ✓ الغار الذي كان النبي (ﷺ) يتعبد فيه هو غار..... (حراء نور الكهف الصفا)
- ٥ ✓ انتقل الرسول للعيش في بيت عمه وهو في سن (السابعة الثامنة التاسعة العاشرة)
- ٦ ✓ إحدى العادات الحسنة عند العرب قبل الإسلام (وأد البنات إكرام الضيف الأخذ بالثأر شرب الخمر)
- ٧ ✓ كان أكثر الحرف انتشارا في شبه الجزيرة العربية قبل الإسلام..... (الصناعة الرعي التجارة الزراعة)
- ٨ ✓ تميز العرب قبل الإسلام بصناعة (الملابس الأواني الفخارية السيارات الورق)
- ٩ ✓ رحلة الشتاء كانت إلى (الشام اليمن الطائف المدينة)
- ١٠ ✓ ولد النبي في عام (الهجرة الفتح الفيل بدر)
- ١١ ✓ كان عمر النبي عند وفاة أمه (٤ سنوات ٦ سنوات ٨ سنوات ١٠ سنوات)
- ١٢ ✓ كان لقب النبي في شبابه..... (الفصح القوي الصادق الأمين الهادي)
- ١٣ ✓ أول من آمن بالنبي من النساء..... (خديجة عائشة فاطمة صفية)
- ١٤ ✓ استمرت الدعوة السرية. (سنة سنتين ثلاث سنوات خمس سنوات)

السؤال الثاني اكتب كلمة (صواب) أمام العبارة الصحيحة، وكلمة (خطأ) أمام العبارة غير الصحيحة.

- ١ . عاش العرب قبل الإسلام في قبائل متفرقة.
- ٢ . ساد النظام الملكي في شبه الجزيرة العربية قبل الإسلام.
- ٣ . رحبت قريش بدعوة الرسول (ﷺ) للإسلام.
- ٤ . كانت حرفة الزراعة هي الحرفة الأكثر انتشارًا في شبه الجزيرة العربية قبل الإسلام.
- ٥ . وأد البنات وشرب الخمر من الصفات الحسنة عند العرب قبل الإسلام.
- ٦ . نزل جبريل على الرسول (ﷺ) لأول مرة في شهر المحرم.
- ٧ . عمل النبي (ﷺ) بحرفتي الرعي والتجارة قبل البعثة.
- ٨ . تزوج الرسول من السيدة خديجة بنت خويلد
- ٩ . أنجب الرسول من السيدة خديجة اثنين من الذكور وثلاثا من الإناث.
- ١٠ . استمرت الدعوة الإسلامية سرا لفترة سبع سنوات تجنبًا للصدام مع قريش.

السؤال الثالث أكمل العبارات الآتية بما يناسبها من كلمات

- ١ . عرف عن العرب قديما الخطابة وحب
- ٢ . عمل الرسول (ﷺ) وهو في بيت عمه بحرفة
- ٣ . عرف النبي بين قومه بلقب
- ٤ . دار اتخذها الرسول (ﷺ) ليعلم فيها الناس مبادئ الإسلام في دار.....
- ٥ . كان النظام القبلي هو النظام السائد في شبه الجزيرة العربية قبل ظهور الإسلام بسبب.....
- ٦ . من أشهر القبائل في ذلك الوقت قبيلة
- ٧ . كان أكثر الحرف انتشارًا في شبه الجزيرة العربية قبل الإسلام هو
- ٨ . تميز العرب بصناعة
- ٩ . كانت رحلة الشتاء إلى.....
- ١٠ . ورحلة الصيف إلى.....
- ١١ . هاجر بعض المسلمين إلى الحبشة لأن ملكها

■ السؤال الرابع صوب ما تحته خط فيما يلي:

- اعتاد النبي (ﷺ) في شبابه على الذهاب إلى غار **ثور**
- عاش النبي في طفولته عند مرضعته في ديار **بني هاشم**.
- نزلت رسالة الإسلام في إحدى ليالي شهر **شوال**

■ السؤال الخامس اكتب اسم الشخصية التاريخية الدالة عليها كل عبارة مما يلي :

١. والدة الرسول (ﷺ) عاش معها حتى سن السادسة.
٢. جد الرسول (ﷺ) عاش معه حتى الثامنة من عمره.
٣. عم الرسول (ﷺ) الذي عاش في بيته.
٤. أخبر النبي (ﷺ) أنه نبي هذه الأمة.
٥. حاول هدم الكعبة بجيش من القبلة.

■ السؤال السادس ما المقصود بكل من ...؟

- القبيلة
- النظام القبلي
- الوحي.

■ السؤال السابع بم تفسر ...؟

١. حاجة العالم إلى قدوم النبي
٢. عرف أهل شبه الجزيرة العربية التوحيد قبل ظهور الإسلام.
٣. انتقال الرسول للإقامة مع جده
٤. التقاء الرسول (ﷺ) بالمسلمين في دار الأرقم....
٥. ذهاب الرسول (ﷺ) إلى غار حراء
٦. رفض قريش للدعوة الإسلامية.
٧. أمر الرسول (ﷺ) أصحابه بالهجرة إلى الحبشة.
٨. ساد نظام الحكم القبلي في شبه الجزيرة العربية.

■ السؤال الثامن دلل على صحة العبارات التالية:

- (١) شهرة العرب بالشعر والخطابة
- (٢) رفضت قريش الدعوة الإسلامية.
- (٣) اتصف العرب قبل الإسلام بعدة عادات حسنة

■ السؤال التاسع ما النتائج المترتبة على ...؟

- (١) دعوة النبي (ﷺ) وقود القبائل إلى الإسلام في موسم الحج.
- (٢) عمل النبي (ﷺ) في رعي الأغنام.... دراسات الاجتماعية
- (٣) رفض قريش للدعوة الإسلامية.
- (٤) وجود سوق عكاظ وذئ المجاز
- (٥) ظهور الإسلام في شبه الجزيرة العربية.

■ السؤال العاشر ما العلاقة بين..؟

- (١) الأسواق والشعر عند العرب
- (٢) الدعوة السرية ودار الأرقم بن أبي الأرقم... حاتم عاطف
- (٣) غار حراء وبداية الرسالة.
- (٤) موقف قريش من الدعوة الإسلامية وهجرة المسلمين إلى الحبشة .

- بعد أن استجاب للنبي ﷺ وفد من أهل يثرب ودخلوا الإسلام هاجر النبي ﷺ من مكة إلى المدينة، فهل تعلم لماذا هاجر النبي ﷺ من مكة إلى المدينة؟ وكيف استقبل أهل المدينة الرسول م وأصحابه؟


الهجرة الى يثرب

سبب الهجرة: 

- بعد أن اشتد أذى قريش للمسلمين في مكة أذن النبي (ﷺ) لأصحابه بالهجرة إلى يثرب فتركوا خلفهم أموالهم ومنازلهم **بم تفسر؟** هربا من التعذيب والاضطهاد

مؤامرة قريش ضد النبي 

- أسبابها: خافت قريش من هجرة المسلمين إلى يثرب ما النتائج المترتبة على؟
- أحداثها: فاجتمع زعماءؤها في دار الندوة ليتأمرؤا على قتل النبي ليمنعوه من الهجرة.

خطة النبي للهجرة 

- 👉 طلب النبي (ﷺ) من أبي بكر الصديق تجهيز ناقتين للهجرة وخرجا معا ليلا في سرية تامة.
- 👉 اختبأ النبي (ﷺ) وصاحبه في غار ثور ثلاثة أيام، وكانت عناية الله تحرسهما من أعين المشركين.
- 👉 استأجر النبي (ﷺ) رجلا أميناً يعرف طرق الصحراء فسارا وسلكا معه طريقا غير مألوف **بم تفسر؟** حتى لا يكتشف أمرهم.
- 👉 كانت رحلة الهجرة شاقة وطويلة، لكن وصل النبي (ﷺ) وصاحبه إلى يثرب، وهناك استقبلهما أهلها بالفرح والسرور



بم تفسر نجاح خطة هجرة الرسول (ﷺ)؟ بسبب

- عناية الله
- التخطيط الجيد
- السرية التامة
- الاستعانة بذوي الخبرة.

أسس بناء الدولة الإسلامية في المدينة

١) بناء المسجد	٢) المؤاخاة بين المهاجرين والأنصار	٣) وضع صحيفة المدينة	٤) تأمين الدولة وحمايتها
أول أعمال النبي (ﷺ) بعد وصوله إلى المدينة بم تفسر؟ ليكون مركزاً للعبادة ومقراً للحكم.	حرص النبي على تقوية وحدة المسلمين بم تفسر؟ لنشر المحبة والتعاون وبناء مجتمع إسلامي قوي ومتماسك	وضعها النبي (ﷺ) بم تفسر؟ لتحديد حقوق المسلمين وغير المسلمين، وأكدت على التعايش السلمي.	كون النبي جيشاً قوياً، ودربه وسلحه بم تفسر؟ لتأسيس الدولة والدفاع عنها.

ما المقصود بـ

- **المهاجرون:** المسلمون الذين تركوا ديارهم وأموالهم في مكة وهاجروا إلى المدينة.
- **الأنصار:** المسلمون الذين نصرؤا النبي (ﷺ) من أهل المدينة.

المرحلة الثالثة من الدعوة الإسلامية : مواجهة المعتدين على الدعوة

- بدأت مرحلة جديدة من الدعوة بعد تأسيس الدولة الإسلامية في المدينة حيث خاض النبي (ﷺ) مجموعة من الغزوات وأرسل السرايا **بم تفسر؟** لحماية الدولة الإسلامية

ما المقصود بـ

- الغزوة : خروج الجيش للقتال بقيادة النبي (ﷺ)
 - السرية : خروج الجيش للقتال دون النبي (ﷺ)
- أهم غزوات النبي (ﷺ)

١ غزوة بدر (٢ هـ)

الأطراف المسلمون ضد قريش

سبب التسمية لأن الصحابي **الحياب بن المنذر** أشار على النبي (ﷺ) أن يعسكر عند أقرب بئر لبدر **بم تفسر؟** لمنع الماء عن المشركين.

النتائج انتصار المسلمين وهزيمة قريش رغم قلة عدد المسلمين

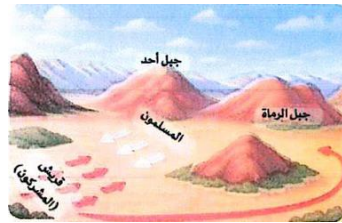


٢ غزوة أحد (٣ هـ)

الأطراف المسلمون ضد قريش

الأحداث في بداية المعركة انتصر المسلمون

النتائج تحول نصر المسلمين إلى هزيمة **بم تفسر؟** بسبب مخالفة بعض الرماة أمر النبي (ﷺ) وتركوا أماكنهم **بم تفسر؟** لجمع الغنائم



٣ غزوة الخندق (٥ هـ)

الأطراف المسلمون ضد قريش وحلفائها

سبب التسمية سميت بهذا الاسم لأن الصحابي **سلمان الفارسي** اقترح على النبي (ﷺ) حفر الخندق حول المدينة **بم تفسر؟** لمنع قريش وحلفائها من الوصول إلى المسلمين.

الأحداث هبت رياح شديدة فغادرت قريش

النتائج انتهت بانتصار المسلمين على قريش وحلفائها دون قتال



المرحلة الرابعة من الدعوة : عالمية الدعوة

١ صلح الحديبية (٦ هـ)

الأطراف المسلمون وقريش

الأحداث خرج النبي محمد (ﷺ) مع أصحابه لأداء العمرة فمنعته قريش من دخول مكة. فدارت مفاوضات بين الطرفين، وانتهت بصلح الحديبية


شروط الصلح وقف الحرب بين الطرفين المسلمين وقريش لمدة ١٠ سنوات.

النتائج بدأ النبي محمد (ﷺ) بإرسال الرسل إلى ملوك العالم يدعوهم إلى الإسلام، وكانت هذه بداية مرحلة عالمية الدعوة

معلومة إثرائية

"كان لأم سلمة (رضي الله عنها) دور حكيم يوم الحديبية، حين تأخر المسلمون في تنفيذ أمر النبي (ﷺ)، فأشارت عليه أن يبدأ بنفسه بالحلقة والذبح دون أن يكلم أحداً فلما فعل، اقتدى به الصحابة، مما أدى إلى تهدئة الموقف وحل المشكلة".

فتح مكة



الأطراف	المسلمون ضد قريش
الاسباب	نقضت قريش صلح الحديبية باعتمادها على قبيلة خزاعة وهي من حلفاء المسلمين
الأحداث	توجه النبي (ﷺ) بجيش كبير إلى مكة
النتائج	فتحها النبي (ﷺ) دون قتال وحطم الأصنام

■ ضرب النبي أروع الامثلة في التسامح والعفو عند فتح مكة حيثما قال لأهل مكة " اذهبوا فأنتم الطلقاء "

حقائق جغرافية

- تعد مكة المكرمة من أهم مدن شبه الجزيرة العربية حيث تقع في واد تحيط به الجبال العالية ما النتائج؟
- مما وفر لها حماية طبيعية وجعل الوصول إليها أمرا صعبا
- وعلى الرغم من طبيعتها الجبلية وندرة المياه والزراعة فيها إلا أن موقعها المميز جعلها مركزا دينيا وتجاريا بارزا في المنطقة

وفاة النبي (ﷺ)

- أدى النبي فريضة الحج في السنة العاشرة من الهجرة (حجة الوداع) وألقى فيها خطبة الوداع حيث :
 - 1 أرسى فيها النبي مبادئ الدين والحياة.
 - 2 أوصى فيها النبي بحسن معاملة النساء.
- بعد عودته إلى المدينة أصيب بمرض شديد في العام الحادي عشر وانتقل إلى جوار ربه بعد تمام رسالته ونشر نور الإسلام.
- لاحظ أن :
 - الصبر والتخطيط هما البداية الحقيقية لأي نجاح، وأن التعاون والعدل هما الأساس في بناء مجتمع قوي.

تدريبات الدرس



❖ السؤال الأول أكمل العبارات التالية بما يناسبها من كلمات

١. هاجر المسلمون من مكة إلى يثرب هرباً من
٢. اجتمع زعماء قريش في دار ليتأمرؤا على قتل النبي .
٣. اختبأ النبي وأبو بكر في غار..... ثلاثة أيام.
٤. سلك النبي وصاحبه طريقاً غير مألوف حتى
٥. أول أعمال النبي في المدينة كان..... ليكون مركزاً للعبادة ومقراً للحكم.
٦. وثيقة وضعها النبي لتحديد حقوق المسلمين وغير المسلمين تسمى
٧. سميت غزوة بدر بهذا الاسم لأن الصحابي أشار على النبي بالمعسكر عند أقرب بئر.
٨. سميت غزوة الخندق بهذا الاسم لأن الصحابي اقترح حفر خندق حول المدينة.
٩. مدة صلح الحديبية كانت
١٠. نقضت قريش صلح الحديبية باعتمادها على قبيلة

❖ السؤال الثاني اختر الإجابة الصحيحة مما بين القوسين

- ١ صاحب النبي (ﷺ) عند هجرته إلى يثرب
✓ (علي بن أبي طالب أبا بكر الصديق عمر بن الخطاب عثمان بن عفان)
- ٢ أحد أسس قيام الدولة الإسلامية في المدينة.....
✓ (فتح مكة حفر الخندق بناء المسجد إنشاء قلعة)
- ٣ قال رسول الله (ﷺ): اذهبوا فأنتم الطلقاء» في
- ✓ (غزوة أحد صلح الحديبية غزوة الخندق فتح مكة)
- ٤ إحدى نتائج صلح الحديبية قيام الرسول.....
✓ (حفر الخندق التوجه لبئر بدر تحطيم الأصنام إرسال الرسائل للملوك)
- ٥ أحد عوامل نجاح خطة النبي في أثناء الهجرة
- ✓ (العلنية السير بالطرق المعروفة السرية إحضار جيش لتأمينها)
- ٦ أي من المبادئ التالية أكدتها صحيفة المدينة.....
✓ (التوسع السياسي التعايش السلمي التفوق الاقتصادي السيطرة الدينية)
- ٧ استفاد المسلمون من خبرات الفرس العسكرية خلال أحداث غزوة
- ✓ (الخندق تبوك أحد بدر)
- ٨ تختلف السرايا عن الغزوات في.....
✓ (مدة القتال نوع الأسلحة مكان المعركة قائد الجيش)

❖ السؤال الثالث اكتب كلمة (صواب) أمام العبارة الصحيحة، وكلمة (خطأ) أمام العبارة غير الصحيحة:

١. اشتد أذى قريش للمسلمين فأمر النبي (ﷺ) المسلمين بالهجرة إلى اليمن.
٢. اجتمع زعماء قريش في دار الأرقم بن أبي الأرقم لمنع الرسول من الهجرة.
٣. أخذ النبي (ﷺ) في غزوة بدر بمشورة سلمان الفارسي.
٤. خالف الف الرماة أمر النبي في غزوة أحد فتعرض المسلمون للهزيمة.
٥. نص صلح الحديبية على وقف الحرب بين المسلمين وقريش.
٦. نقضت قريش صلح الحديبية بالاعتداء على قبيلة خزاعة .
٧. أوصى النبي في خطبة الوداع بحسن معاملة النساء.

❖ السؤال الرابع صوب ما تحته خط فيما يلي :

١. حققت صحيفة المدينة بين المسلمين وغير المسلمين مبدأ القوة العسكرية
٢. دبرت قريش مؤامرة لقتل الرسول (ﷺ) في دار الأرقم.
٣. صاحب النبي (ﷺ) في هجرته من مكة ليثرب هو الحياب بن المنذر

❖ السؤال الخامس لمن تنسب الأعمال التاريخية التالية

- أشار على النبي (ﷺ) بحفر الخندق في عام ٥هـ.
- أشار على النبي (ﷺ) بأن يعسكر بالمسلمين عند أقرب بئر لبدر في عام ٢هـ

❖ السؤال السادس رتب الأحداث التاريخية التالية من الأقدم إلى الأحدث

- بناء المسجد في المدينة () غزوة الخندق () مؤامرة قريش لقتل النبي (ﷺ) ()
- إرسال الرسول لملوك العالم يدعوهم إلى الإسلام () غزوة أحد ()

❖ السؤال السابع ما المقصود بكل من؟

- المهاجرون
- الأنصار
- السرية
- الغزوة.

❖ السؤال الثامن بم تفسر

١. اجتماع زعماء قريش في دار الندوة ...
٢. بناء النبي (ﷺ) المسجد بعد وصوله إلى المدينة ...
٣. حرص النبي (ﷺ) على المؤاخاة بين المهاجرين والأنصار...
٤. وضع النبي (ﷺ) لصحيفة المدينة ...
٥. كون النبي (ﷺ) جيشاً قويا في المدينة
٦. ترك بعض الرماة أماكنهم في غزوة أحد.

❖ السؤال التاسع ما النتائج المترتبة على

١. فتح مكة.
٢. غزوة أحد.
٣. اعتداء قبيلة قريش على قبيلة خزاعة ...
٤. غزوة الخندق.
٥. غزوة بدر

❖ السؤال العاشر دلل على صحة كل عبارة مما يلي:

- بدأت مرحلة مواجهة المعتدين على الدعوة بعد الهجرة إلى المدينة.
- كانت القرارات العسكرية التي اتخذها الرسول في غزواته قائمة على الشورى
- ساهمت الظروف المناخية في انتصار المسلمين في غزوة الخندق ...

❖ السؤال الحادي عشر ما العلاقة بين؟

١. تعددت العوامل التي ساهمت في نجاح هجرة الرسول إلى يثرب
٢. صحيفة المدينة والدولة الإسلامية في المدينة.
٣. صلح الحديبية وفتح مكة .

الدرس الثالث

إنجازات الخلفاء الراشدين

- بعد وفاة النبي (ﷺ) اجتمع الصحابة في سقيفة بني ساعدة **بم تفسر؟**
 للتشاور في اختيار من يتولى خلافة المسلمين وتم مبايعة أبي بكر الصديق ليصبح أول خليفة للمسلمين

الخلفاء الراشدين

أربعة خلفاء عظماء خلفوا الرسول (ﷺ) وساروا على نهجه ونشروا الإسلام وحققوا العدالة بين الناس
 لكل واحد منهم له مواقف عظيمة وقرارات حكيمة وأعمال لا تُنسى **ما النتائج المترتبة؟**
 لذلك تتعلم منهم دروساً في القيادة والعدل.

وهم

أبو بكر الصديق عمر بن الخطاب عثمان بن عفان علي بن أبي طالب
 ما المقصود بالخلفاء الراشدين: هم الذين خلفوا الرسول (ﷺ) وساروا على نهجه.
 بم تفسر يطلق على الخلفاء الراشدين هذا الاسم:

✓ لانهم خلفوا الرسول (ﷺ) في تولى أمور المسلمين وساروا على نهجه ونشروا الإسلام وحققوا العدالة بين الناس

أبو بكر الصديق (رضي الله عنه) (عبد الله بن أبي قحافة)

حياته قبل الخلافة

- كانت تربطه علاقة قوية بالنبي محمد (ﷺ)
- عندما دعاه النبي محمد (ﷺ) إلى الإسلام استجاب فوراً دون تردد.
- كان من كبار تجار مكة، ومعروفاً بين الناس بالصدق والأمانة.

خلافة أبي بكر الصديق

- بعد وفاة النبي (ﷺ) أجمع المسلمون على خلافة أبي بكر الصديق **بم تفسر؟** لعدة أسباب منها:
 1. أنه أول من آمن من الرجال.
 2. أسلم على يديه عدد كبير من الصحار
 3. أنفق معظم أمواله في سبيل الله لمساعدة الفقراء والمساكين.
 4. صاحب النبي (ﷺ) الذي شاركه في الهجرة
 5. شارك النبي (ﷺ) في جميع غزواته
 6. اختاره النبي (ﷺ) ليؤم المسلمين في الصلاة أثناء مرضه.

أهم أعمال الخليفة أبي بكر الصديق

(1) محاربة المرتدين

- قضى على حركات الردة **دل** ومنها القضاء على مسيلمة الكذاب الذي ادعى النبوة.

(2) إرسال جيش أسامة بن زيد

- أرسل جيش أسامة بن زيد إلى بلاد الشام.
- بم تفسر؟**
- ✓ لتأمين حدود الدولة الإسلامية مع الروم.

(4) الفتوحات الإسلامية

- أرسل الجيوش الإسلامية لقتال الفرس والروم في الشام والعراق **بم تفسر؟**
- ✓ لنشر الإسلام وتأمين حدود الدولة الإسلامية

(3) جمع القرآن الكريم

- كلف أبو بكر الصديق الصحابي زيد بن ثابت بجمع القرآن الكريم **بم تفسر؟**
- ✓ بسبب استشهاد عدد كبير من حفظة القرآن الكريم في حروب الردة.

مفاهيم أتعلمها

المرتدّون:
جماعة من الناس خرجوا
عن الإسلام، وادعى بعضهم
النبوة.

شارك مع النبي (ﷺ)
في كل غزواته.

كان مثلاً في العدل والزهد
والتواضع والرحمة



وفاته :

- قبل وفاة أبي بكر الصديق رشح الصحابي عمر بن الخطاب ليكون
ال خليفة من بعده، ووافق الصحابة على ذلك.

عمر بن الخطاب (رضي الله عنه)

حياته قبل الخلافة

أسلم في السنة الخامسة
من البعثة.

لقبه النبي بالفاروق **بم تفسر؟**
لأنه فرق بين الحق والباطل.

أهم أعماله

١ إنشاء الدواوين

٢ التقويم الهجري

٣ تأسيس مدن جديدة في البلاد المفتوحة

٤ الفتوحات الإسلامية

لتنظيم شؤون الدولة مثل: ديوان الجند، ديوان بيت المال.

جعل من هجرة النبي بداية للتقويم الهجري للمسلمين.

منها الكوفة في العراق ، والفسطاط في مصر

استكمل عمر بن الخطاب الفتوحات التي بدأت في عهد أبي بكر الصديق **دلّل؟**

✓ حيث تم في عهده فتح كل من:

- الشام عام ١٣ هـ : على يد خالد بن الوليد في معركة اليرموك.
- العراق عام ١٥ هـ : على يد سعد بن أبي وقاص في معركة القادسية.
- فارس عام ٢١ هـ : على يد النعمان بن مقرن في معركة فتح الفتوح.
- مصر عام ٢١ هـ : على يد عمرو بن العاص ، وأمن الأقباط على أنفسهم وأموالهم وكنائسهم.

وفاته :

- استشهد عمر بن الخطاب في صلاة الفجر على يد أبي لؤلؤة المجوسي سنة ٢٣ هـ .

قيم أتعلمها

التضحية والعطاء يعبران
عن حب الوطن.

عثمان بن عفان (رضي الله عنه)

حياته قبل الخلافة

أسلم على يد أبي بكر الصديق

وشارك مع النبي (ﷺ) في جميع الغزوات ما عدا غزوة **بم تفسر؟** بسبب مرض زوجته

أنفق كثيراً من ماله في خدمة الإسلام

أهم أعماله

١ نسخ القرآن الكريم في مصحف واحد

وتوزيعه على البلدان المفتوحة **بم تفسر؟** لتوحيد قراءة القرآن الكريم.

٢ إنشاء أول أسطول بحري إسلامي

لحماية سواحل مصر والشام من هجمات الروم في عهده.

٣ الفتوحات الإسلامية

لتأمين حدود الدولة ونشر الإسلام.

وفاته:

أدت الفتنة التي أثارها عبد الله بن سبأ إلى استشهاد الخليفة عثمان بن عفان عام ٣٥ هـ.

معلومة

إثرانية

حرص علي بن أبي طالب (رضي الله عنه) على تطبيق العدل، فخصص يوماً للنظر في مظالم الناس.

علي بن أبي طالب (رضي الله عنه)

حياته قبل الخلافة

تربى في بيت النبي وكان معروفاً بذكائه وفصاحته وبلاغته، كما اتصف بالعلم والزهد والتواضع.

يعد أول فدائي في الإسلام **بم تفسر؟** لأنه نام في فراش النبي ليلة الهجرة.

شارك في كل الغزوات مع النبي (صلى الله عليه وسلم) ما عدا: غزوة تبوك.

أسلم وهو في العاشرة من عمره وتعلم في دار الأرقم بن أبي الأرقم



أهم أعماله

١ نقل مقر الخلافة

من المدينة إلى الكوفة في العراق **بم تفسر؟** لتسهيل إدارة شؤون الدولة بعد اتساعها.

٢ تنظيم الشرطة

لحفظ الأمن والاستقرار وملاحقة المجرمين والخارجين عن القانون.

وفاته

- استشهد علي بن أبي طالب عام ٤٠ هـ، على يد عبد الرحمن بن ملجم أثناء خروجه الصلاة الفجر

تدريبات الدرس



- ❖ السؤال الاول اختر الإجابة الصحيحة مما بين القوسين
- (١) يبدأ عصر الخلفاء الراشدين بالخليفة
 ✓ (عمر بن الخطاب أبي بكر الصديق علي بن أبي طالب عثمان بن عفان)
- (٢) تم جمع القرآن الكريم في عهد أبي بكر الصديق على يد الصحابي
 ✓ (عمرو بن العاص خالد بن الوليد زيد بن ثابت أسامة بن زيد)
- (٣) أي مما يلي يعد من أعمال الخليفة عمر بن الخطاب
 ✓ (وضع التقويم الهجري جمع القرآن الكريم نقل مقر الخلافة إنشاء الأسطول البحري)
- (٤) أرسل أبو بكر الصديق جيش أسامة بن زيد إلى
 ✓ (مصر العراق الشام فارس)
- (٥) تم نسخ القرآن الكريم وتوزيعه على البلاد المفتوحة في عهد
 ✓ (أبي بكر الصديق عمر بن الخطاب عثمان بن عفان علي بن أبي طالب)
- (٦) أنشئ أول أسطول بحري إسلامي لتأمين سواحل مصر والشام من هجمات
 ✓ (الروم قريش اليهود الفرس)
- (٧) أي من المدن التالية أمر الخليفة عمر بن الخطاب ببنائها في العراق ؟
 ✓ (الفسطاط الإسكندرية الكوفة بغداد)
- (٨) الغزوة التي لم يشترك بها علي بن أبي طالب مع النبي هي
 ✓ (حنين بدر تبوك أحد)
- (٩) أي مما يلي من أعمال الخليفة أبي بكر الصديق
 ✓ (إنشاء ديوان الجند تنظيم الشرطة محاربة المرتدين وضع التقويم الهجري)
- (١٠) فتحت مصر في عهد الخليفة
 ✓ (أبي بكر الصديق عمر بن الخطاب علي بن أبي طالب عثمان بن عفان)
- (١١) اهتم علي بن أبي طالب بحفظ الاستقرار في الدولة من خلال
 ✓ (إنشاء الدواوين تنظيم الشرطة الفتوحات الإسلامية جمع القرآن)

❖ السؤال الثاني اكتب كلمة (صواب) أمام العبارة الصحيحة، وكلمة (خطأ) أمام العبارة غير الصحيحة

- ١ ✓ أسلم كثير من الصحابة على يد أبي بكر الصديق ()
- ٢ ✓ شارك أبو بكر الصديق مع النبي في جميع الغزوات ()
- ٣ ✓ نسخ عثمان بن عفان القرآن الكريم لتوزيعه على البلاد المفتوحة ()
- ٤ ✓ تم تنظيم الشرطة في عهد الخليفة علي بن أبي طالب ()
- ٥ ✓ اختار النبي أثناء مرضه أبا بكر الصديق ليؤم المسلمين في الصلاة ()

❖ السؤال الثالث أكمل العبارات التالية بما يناسبها من كلمات

- ١ . بدأ المسلمون استخدام التقويم الهجري في عهد الخليفة
- ٢ . تم فتح بلاد الشام عام ١٣ هـ بعد معركة
- ٣ . أوصى أبو بكر الصديق أن تكون الخلافة من بعده للصحابي
- ٤ . قتل عمر بن الخطاب على يد
- ٥ . أمر أبو بكر الصديق بجمع القرآن الكريم عقب حروب
- ٦ . أنشأ عمر بن الخطاب عدة دواوين مثل ديوان بيت المال وديوان
- ٧ . انتهى حكم الخلفاء الراشدين بوفاة الخليفة
- ٨ . قضى أبو بكر الصديق على حركة مسيلمة الكذاب لأنه زعم
- ٩ . أمر عمر بن الخطاب بتشديد مدينة الفسطاط في
- ١٠ . المعركة التي أدت إلى فتح بلاد العراق عام ١٥ هـ هي معركة
- ١١ . المعركة التي مهدت لفتح بلاد فارس عام ٢١ هـ هي معركة

❖ السؤال الرابع صوب ما تحته خط فيما يلي:

١. أول من أسلم من الرجال هو عمر بن الخطاب
٢. ثالث الخلفاء الراشدين هو علي بن أبي طالب
٣. نقل علي بن أبي طالب مقر الخلافة من المدينة إلى مكة.
٤. تم القضاء على حركة الردة في عهد الخليفة عمر بن الخطاب
٥. ملاحقة المجرمين والخارجين عن القانون كانت إحدى مهام الدواوين.

❖ السؤال الخامس لمن تنسب الأعمال التاريخية التالية .

١. صلى إماما بالمسلمين أثناء مرض النبي (ﷺ)
٢. أنشأ ديوان الجند وديوان بيت المال.
٣. أمر بإنشاء أول أسطول بحري في الإسلام.
٤. أسلم في العاشرة من عمره وكان أول فدائي في الإسلام.
٥. أثار الفتنة في عهد الخليفة عثمان بن عفان
٦. قاد جيش المسلمين في معركة اليرموك.
٧. نجح في فتح العراق خلال معركة القادسية.
٨. فتح بلاد فارس في معركة فتح الفتوح

❖ السؤال السادس فسر ما يلي:

١. اجتمع الصحابة في سقيفة بني ساعدة بعد وفاة النبي (ﷺ)
٢. إجماع المسلمين على خلافة أبي بكر الصديق بعد وفاة النبي (ﷺ).
٣. إرسال أبي بكر الصديق جيش أسامة بن زيد إلى بلاد الشام.
٤. قضاء أبي بكر الصديق على حركات الردة
٥. قيام عثمان بن عفان بالفتوحات الإسلامية.
٦. يعد علي بن أبي طالب أول فدائي في الإسلام.
٧. نقل علي بن أبي طالب مقر الخلافة من المدينة إلى الكوفة.
٨. استشهاد الخليفة عثمان بن عفان

❖ السؤال السابع دلل على صحة العبارات التالية:

١. اهتمام أبي بكر الصديق بتأمين حدود الدولة الإسلامية ...
٢. حزم وقوة أبي بكر الصديق في محاربة المرتدين.
٣. اهتمام عمر بن الخطاب بالفتوحات الإسلامية.
٤. اتساع حدود الدولة الإسلامية في عهد الخليفة علي بن أبي طالب

❖ السؤال الثامن أجب عما يلي:

- ما المقصود بالمرتدين؟
- ما النتائج المترتبة على الفتنة التي أثارها عبد الله بن سبأ ؟ .
- حدد اثنين من أهم أعمال الخليفة عمر بن الخطاب
- ما العلاقة بين حروب الردة جمع القرآن الكريم ؟.

الدرس الرابع

الدولة الإسلامية (الأمويون - العباسيون).

- بعد انتهاء عصر الخلفاء الراشدين بدأت الدولة الإسلامية عهداً جديداً حيث :
 - ✍ اتسعت فيه الفتوحات الإسلامية
 - ✍ تطور فيه نظام الحكم والإدارة.
 - ✍ ازدهرت فيه العمارة، والعلوم في مختلف المجالات

■ عصر الدولة الأموية (٤١ - ١٣٢) هـ

قامت الدولة الأموية بعد انتهاء عصر الخلفاء الراشدين ، وامتد حكمها حوالي ٩١ عاماً



مدينة القيروان

■ معاوية بن أبي سفيان (٤١ - ٦٠) هـ

- أول خلفاء الدولة الأموية.

❖ أهم أعماله

- ✍ اتخذ من دمشق عاصمة للأمويين (للدولة الأموية).
- ✍ اهتم ببناء البحرية الإسلامية (الأسطول البحري الإسلامي).
- ✍ أنشأ مدينة القيروان بم تفسر ؟ لنشر الإسلام في شمال إفريقيا.
- ✍ أسس ديوان الخاتم بم تفسر ؟ لحماية رسائل الدولة من التزوير

■ عبد الملك بن مروان (٦٥ : ٨٦) هـ

- في عهده استقرت الدولة الإسلامية بعد فترة من الفوضى والصراعات.

❖ أهم أعماله

- ✍ قام بسلك (صنع النقود) أول عملة إسلامية.
- ✍ أمر بنقط المصحف بم تفسر ؟ لتسهيل قراءة القرآن الكريم.
- ✍ عرب الدواوين
- ✍ شيد مسجد قبة الصخرة في فلسطين

■ الوليد بن عبد الملك (٨٦ : ٩٦) هـ

- تميز عهده بالرخاء الاقتصادي، وانتشار الأمن والاستقرار.

❖ أهم أعماله

- ✍ شيد المسجد الأموي في دمشق.
- ✍ واصل الفتوحات الإسلامية شرقاً إلى بلاد الهند، وغرباً إلى بلاد الأندلس ما النتائج المترتبة
- ✓ بلغت الدولة الأموية في عهده أقصى اتساعها.



■ عمر بن عبد العزيز (٩٩ : ١٠١) هـ

- أطلق عليه خامس الخلفاء الراشدين **بم تفسر؟**

✓ لما عرف عنه من عدل وزهد وحرص على مصلحة الأمة.

معلومة إثرائية

في خلافة عمر بن عبد العزيز لم يكن هناك فقراء أو محتاجون، حتى إن عمال الزكاة لم يجدوا من يعطوه الزكاة!

❖ أهم أعماله

- ✍ اختار القضاء والولاية والموظفين ممن عرفوا بحسن السيرة والعدل.
- ✍ نشر الإسلام في البلاد المفتوحة بالقدوة والموعظة الحسنة.
- ✍ اهتم بالعلم والعلماء، وشيد المدارس

■ أسباب ضعف وسقوط الدولة الأموية

- تعددت أسباب ضعف و سقوط الدولة الأموية ومنها :

- توالى بعد عمر بن عبد العزيز خلفاء ضعاف كانوا سببا في سقوط الدولة
- كثرة الصراعات بين القبائل العربية بسبب التنافس على السلطة.
- ظهور الدعوة العباسية على يد أبي مسلم الخراساني.
- هزيمة الأمويين على يد الدولة العباسية في معركة الزاب الكبرى عام ١٣٢ هـ

• قيم أتعلمها

أساس قوة الأمم وبقائها يكمن في وحدتها وتماسك صفوفها، أما الصراع والانقسام فهما أول طريق الضعف والسقوط والانهايار.

• ما النتائج المترتبة على معركة الزاب ١٣٢ هـ؟

• هزيمة الأمويين على يد الدولة العباسية وانتهاء الدولة الاموية

■ حقائق جغرافية

■ إقليم خراسان، الذي انطلقت منه الدعوة العباسية، يقع اليوم بين عدة دول هي: إيران، وأفغانستان، وتركمانستان وأوزبكستان

■ ثانيا : عصر الدولة العباسية (١٣٢- ٦٥٦) هـ

- قامت الدولة العباسية بعد هزيمة الأمويين في معركة الزاب الكبرى عام ١٣٢ هـ، واستمرت أكثر من خمسة قرون، وتنقسم فترتها إلى عصرين هما:

العصر العباسي الثاني

■ عصر الضعف والانقسام

العصر العباسي الأول


■ يُعرف بـ العصر الذهبي **بم تفسر؟**
لأنه تميز بقوة الخلفاء وازدهار العلوم والثقافة

■ أشهر خلفاء الدولة العباسية





رسم تخيلي لمدينة بغداد



❖ أبو العباس عبد الله (١٣٢ : ١٣٦) هـ

أهم أعماله

- ✍ وضع أسس الدولة الجديدة.
- ✍ نقل عاصمة الخلافة إلى مدينة الأنبار في العراق.
- ✍ اهتم براحة الحجاج في فجدد الطريق بين مكة والكوفة **دل**؟
- ✓ وزوده بالمنارات الإرشاد المسافرين.

❖ أبو جعفر المنصور (١٣٦ : ١٥٨) هـ

✓ المؤسس الحقيقي للدولة العباسية.

أهم أعماله

- ✍ قضى على الثورات والفتن ونشر الأمن والاستقرار في أرجاء الدولة.
- ✍ بنى مدينة **بغداد**، وجعلها عاصمة الخلافة

❖ هارون الرشيد (١٧٠ : ١٩٣) هـ

✓ أشهر خلفاء الدولة العباسية واشتهر بحبه للعلم والعلماء.

أهم أعماله

- أسس مكتبة بيت الحكمة في بغداد
- إنشأ سوق الوراقين في بغداد **بم تفسر؟** لنسخ الكتب وبيعها.
- أقام علاقات قوية مع ملوك أوروبا.
- توسعت الدولة الإسلامية في عهده

❖ المأمون بن هارون (١٩٨ : ٢١٨) هـ

✓ اهتم بالعلوم والفلك.

أهم أعماله

- ✍ دعم العلماء والمفكرين في مختلف العلوم.
- ✍ شجع على ترجمة الكتب من الحضارات الأخرى.
- ✍ أنشأ أول مرصد فلكي في بغداد **بم تفسر؟** لرصد النجوم

❖ المعتصم بالله (٢١٨ : ٢٢٧) هـ

أهم أعماله

- ✍ اهتم ببناء جيش قوي وضم إليه الجنود الأتراك.
- ✍ أنشأ مدينة سامراء **بم تفسر؟** لتكون مقرا للخلافة.
- ✍ نجح في فتح مدينة عمورية.

■ أسباب سقوط الدولة العباسية

- ◀ الصراع بين الأمراء العباسيين على الحكم
- ◀ ضعف الخلفاء العباسيين في نهاية العصر العباسي الثاني.
- ◀ سيطرة العناصر غير العربية على نظم الحكم.

✓ كل ذلك أدى في النهاية إلى سقوط الدولة العباسية على يد المغول سنة ٦٥٦ هـ.

تدريبات الدرس



❖ أولاً: أكمل العبارات الآتية بما يناسبها من النص

١. بني المسجد الأموي خلال عهد الخليفة
٢. شيد مسجد قبة الصخرة في دولة حالياً.
٣. أعاد الخليفة الوليد بن عبد الملك بناء المسجد النبوي ووسع
٤. أسس معاوية بن أبي سفيان بتونس مدينة
٥. ينقسم عصر الدولة العباسية إلى عصرين هما
٦. بدأ عصر الدولة العباسية بعد سقوط الدولة
٧. أول من اتخذ من مدينة الأنبار عاصمة للدولة العباسية هو الخليفة
٨. أنشأ الخليفة هارون الرشيد سوق
٩. بنيت مدينة بغداد في عهد الخليفة

❖ ثانياً: ضع كلمة (صواب) أو (خطأ) أمام العبارات الآتية

١. بدأت الدولة العباسية بعد انتهاء عصر الخلفاء الراشدين
٢. اتخذ الأمويون من الأنبار عاصمة لهم.
٣. شهدت الدولة الإسلامية نهضة علمية خلال عهد هارون الرشيد.
٤. توسعت الفتوحات الإسلامية في عهد الخليفة الوليد بن عبد الملك شرقاً وغرباً.
٥. أهمل الخليفة عمر بن عبد العزيز التنظيم الإداري للدولة.
٦. أصبحت بلاد السند والأندلس جزءاً من الدولة الإسلامية خلال عصر العباسيين.
٧. اهتم الخليفة معاوية بن أبي سفيان ببناء البحرية الإسلامية.
٨. اتصف خلفاء الدولة الأموية بعد عمر بن عبد العزيز بالقوة.
٩. أصبحت اللغة الفارسية هي اللغة الرسمية للدولة الإسلامية خلال عصر الأمويين.
١٠. واجه الخليفة أبو جعفر المنصور خلال فترة حكمه عدة ثورات.
١١. استمرت الخلافة العباسية لأقل من خمسة قرون.

❖ ثالثاً: اختر الإجابة الصحيحة مما بين القوسين

١. تغيرت المعاملات المالية للدولة الإسلامية خلال عهد الخليفة.....
٢. ✓ (علي بن أبي طالب معاوية بن أبي سفيان عبد الملك بن مروان عثمان بن عفان) ظهرت الدعوة العباسية على يد
٣. ✓ (معاوية بن أبي سفيان الوليد بن عبد الملك عمر بن عبد العزيز أبي مسلم الخراساني) وصل الفتح الإسلامي للأندلس خلال عهد الخليفة
٤. ✓ (الوليد بن عبد الملك عمر بن عبد العزيز أبي العباس عبد الله أبي جعفر المنصور) أنشأ الخليفة معاوية بن أبي سفيان ديواناً لمنع تزوير رسائل الخليفة يسمى بديوان.....
٥. ✓ (البريد الخراج الخاتم الجند) تعددت أعمال الخليفة عبد الملك بن مروان، ومنها
٦. ✓ (تعريب الدواوين للغة العربية بناء مدينة القيروان بتونس فتح بلاد السند فتح بلاد الأندلس) ظهرت الدولة العباسية بعد هزيمة
٧. ✓ (الفرس الروم المغول الأمويين) أي مما يلي يعد من أعمال الخليفة المأمون بن هارون ؟
٨. ✓ (بناء مدينة بغداد إنشاء مرصد فلكي إنشاء سوق الوراقين توسيع الحرم المكي) تأسست مكتبة بيت الحكمة في عهد الخليفة
٩. ✓ (معاوية بن أبي سفيان عبد الملك بن مروان هارون الرشيد المعتصم بالله) رابعا: صوب ما تحته خط

- امتدت الدولة الأموية في عهد الخليفة الوليد بن عبد الملك غرباً حتى بلاد السند.
- الديوان المختص بمنع تزوير مراسلات الخليفة هو ديوان البريد.

◀ شهدت مدينة **بغداد** في عهد الخليفة معاوية بن أبي سفيان.

◀ شيد أول مرصد فلكي بالدولة الإسلامية في مدينة **عمورية**.

❖ خامسا: أكتب ما تشير إليه العبارات

١. مدينة في تونس حاليا شيدت في عهد الخليفة معاوية بن أبي سفيان.
٢. بلاد وصلتها الفتوحات الإسلامية شرقاً في عهد الخليفة الوليد بن عبد الملك.
٣. مدينة نقلت إليها عاصمة الخلافة في عهد الخليفة أبي العباس.
٤. مدينة اتخذها الخليفة أبو جعفر المنصور عاصمة لدولته.

❖ سادسا: بم تفسر

١. انتشار الصراعات القبلية في أواخر عصر الأمويين.
٢. تأسيس ديوان الخاتم.
٣. تسمية العصر العباسي الأول بالعصر الذهبي.
٤. انتشار نسخ الكتب في عهد الخليفة هارون الرشيد.
٥. إنشاء الخليفة أبي جعفر المنصور مدينة بغداد.
٦. إنشاء الخليفة معاوية بن أبي سفيان مدينة القيروان.
٧. نقط المصحف في عهد الخليفة عبد الملك بن مروان.

❖ سابعا: ما النتائج المترتبة على

١. إنشاء سوق الوراقين في بغداد.
٢. قيام ثورات في عهد الخليفة أبي جعفر المنصور.
٣. حركة الفتوحات الإسلامية في عهد الخليفة الوليد بن عبد الملك.

❖ ثامنا: دلل

- اهتم الخليفة المأمون بن هارون بالعلم والعلماء.
- تحققت العدالة في عهد الخليفة عمر بن عبد العزيز.
- اهتم الخليفة الوليد بن عبد الملك بالعمران
- كانت مدينة بغداد مركزا للعلم والعلماء في عصر الدولة العباسية

تقييم الوحدة الثانية



❖ السؤال الأول : اكتب كلمة (صواب) أمام العبارة الصحيحة، وكلمة (خطأ) أمام العبارة غير الصحيحة:

١. الدولة الإسلامية بدأت بعد وفاة النبي ()
٢. هجرة المسلمين الأولى كانت إلى الحبشة. ()
٣. أبو بكر الصديق هو أول من جمع القرآن الكريم. ()
٤. الخلفاء الراشدون عددهم أربعة. ()
٥. نشأت الدولة الأموية في المدينة. ()
٦. فتحت العراق على يد سعد بن أبي وقاص في خلافة عمر بن الخطاب. ()
٧. عمر بن الخطاب كان أول من أدخل الدواوين إلى الدولة الإسلامية ()
٨. العباسيون اهتموا بالفتوحات العسكرية فقط ()
٩. كانت بغداد هي عاصمة الدولة العباسية بداية من عصر أبي جعفر المنصور ()

❖ السؤال الثاني: أكمل العبارات الآتية:

١. تفوق أول خليفة للمسلمين بعد وفاة النبي (ﷺ) هو
٢. كانت الهجرة النبوية من مكة إلى
٣. عاصمة الدولة في خلافة علي بن أبي طالب
٤. نقل أبو العباس العاصم إلى مدينة
٥. من أعمال الخليفة عمر بن الخطاب
٦. مكتبة بيت الحكمة أسسها الخليفة
٧. أحد أسباب الهجرة النبوية
٨. الخليفة الذي أمر بنسخ القرآن الكريم في مصحف
٩. أشهر المدن التجارية بشبه الجزيرة العربية
١٠. اختارها النبي (ﷺ) لأصحابه للهجرة إليها بلاد
١١. انطلقت حروب الردة من مدينة
١٢. أسس عمر بن الخطاب في العراق مدينة
١٣. أسس أبو جعفر المنصور في العراق مدينة

❖ السؤال الثالث: بم تفسر ...؟

١. أسباب الهجرة النبوية من مكة إلى المدينة
٢. اختيار أبي بكر الصديق خليفة للمسلمين.
٣. أهمية عصر الخلفاء الراشدين.
٤. تأسيس معاوية بن أبي سفيان المدينة القيروان.
٥. نسخ القرآن الكريم في مصحف واحد في عهد عثمان بن عفان
٦. عمل النبي (ﷺ) في بيت عمه بالرعي.
٧. يُطلق على عمر بن عبد العزيز خامس الخلفاء الراشدين.

❖ السؤال الرابع: ما النتائج المترتبة على؟

١. عمل النبي (ﷺ) بالرعي .
٢. تنظيم فريش لرحلتي الشتاء والصيف.
٣. المؤاخاة بين المهاجرين والأنصار.
٤. ضعف الخلفاء العباسيين في العصر العباسي الثاني.
٥. الفتن في أواخر عهد عثمان
٦. مخالفة الرماة لأوامر النبي (ﷺ) في غزوة أحد.
٧. استشهاد عدد كبير من حفظة القرآن في حروب الردة.

❖ السؤال الخامس : ماذا كان يحدث إذا لم؟

١. يهاجر المسلمون إلى يثرب
٢. يتم نسخ القرآن الكريم في خلافة عثمان بن عفان
٣. تهتم الدولة الأموية بالعمارة.
٤. ينشئ هارون الرشيد سوق الوراقين.
٥. يؤسس عثمان بن عفان أول أسطول بحري.
٦. يهتم علي بن أبي طالب بتأسيس الشرطة...
٧. يعقد النبي (ﷺ) صلح الحديبية.
٨. يخالف الرماة أوامر النبي (ﷺ)

❖ السؤال السادس: ما المقصود بالمفاهيم الآتية ...؟

- القبيلة..
- المهاجرون
- المرتدون.

❖ السؤال السابع: ما العلاقة بين كل من ...؟

١. أبي بكر الصديق وحروب الردة ...
٢. عمر بن الخطاب والدواوين.
٣. الدولة العباسية والحياة العلمية.
٤. الهجرة إلى يثرب وبناء الدولة الإسلامية.

❖ السؤال الثامن: قارن بين؟

١. الهجرة إلى الحبشة والهجرة إلى يثرب.
٢. العصر العباسي الأول والعصر العباسي الثاني...
٣. الدولة الأموية والدولة العباسية من حيث العاصمة...
٤. عمر بن الخطاب وعلي بن أبي طالب من حيث أهم الأعمال

تدريبات الوحدة الثانية

- ❖ أولاً: ضع علامة (√) أمام العبارة الصحيحة، وعلامة (X) أمام العبارة الخاطئة
١. كان النظام القبلي هو النظام السائد في شبه الجزيرة العربية قبل الإسلام. ()
 ٢. اشتهر العرب قبل الإسلام بصناعة السيوف والرماح والأواني الفخارية ()
 ٣. كانت الأسواق العربية القديمة تجمع بين النشاط التجاري والثقافي ()
 ٤. من الصفات السائدة عند العرب قبل الإسلام الكرم والشجاعة والوفاء. ()
 ٥. بدأ النبي محمد دعوته سرا بين أهل بيته وأصحابه المقربين. ()
 ٦. اشتد أذى قريش للنبي وأصحابه بعد الجهر بالدعوة الإسلامية. ()
 ٧. حدثت الهجرة إلى المدينة قبل نزول الوحي على النبي محمد. ()
 ٨. كانت السيدة خديجة وأبو بكر الصديق من أوائل من دخلوا الإسلام. ()
 ٩. خطط النبي لهجرته من مكة إلى يثرب بدقة متناهية. ()
 ١٠. كانت الهجرة الأولى للمسلمين إلى مدينة يثرب. ()
 ١١. المسجد النبوي أول مؤسسة أقامها النبي في المدينة. ()
 ١٢. ساهمت صحيفة المدينة في تنظيم العلاقات بين المسلمين وغيرهم ()
 ١٣. أنشأ الخليفة المعتصم بالله سوق الوراقين في بغداد. ()
 ١٤. عرف الخليفة المأمون بدعمه وتشجيعه للعلماء. ()
 ١٥. سقطت الدولة العباسية سنة ٦٥٦ هـ على يد المغول ()

❖ ثانياً: أكمل العبارات الآتية بما يناسبها

١. أكثر الحرف انتشاراً عند العرب قبل الإسلام هي
٢. كانت سوق عكاظ قبل الإسلام مركزاً لتنافس الشعراء
٣. ولد النبي محمد في مكة عام
٤. بعد وفاة والديه، عاش النبي في رعاية عمه
٥. لقب النبي محمد قبل البعثة بـ
٦. أول من آمنت من النساء بدعوة النبي هي
٧. كان المسلمون الأوائل يتلقون تعاليم الإسلام سرا في دار
٨. هاجر المسلمون لأول مرة بأمر الرسول إلى
٩. أثناء الهجرة، احتفى النبي في غار
١٠. في المدينة، أختى الرسول بين المهاجرين
١١. انتظمت العلاقات بين المسلمين وغيرهم في المدينة بعد وضع
١٢. في غزوة بدر أخذ النبي بمشورة
١٣. تحول النصر إلى هزيمة في غزوة
١٤. أسس عثمان بن عفان أول أسطول بحري إسلامي لمواجهة خطر
١٥. أصبحت الكوفة مقر الخلافة في عهد الخليفة
١٦. أسس هارون الرشيد سوق الوراقين في مدينة
١٧. شيد المسجد الأموي بدمشق في عهد الخليفة

❖ ثالثاً: اختر الإجابة الصحيحة مما بين القوسين

١. حاول هدم الكعبة مستخدماً جيشاً من الفيلة هو
✓ (أبو جهل أبرهة الأشرم أبي بن خلف أبو سفيان)
٢. ابن عم السيدة خديجة الذي أخبر النبي أنه نبي هذه الأمة.....
✓ (الزبير بن العوام العباس بن عبد المطلب ورقة بن نوفل علي بن أبي طالب)
٣. نام في فراش النبي ليلة الهجرة إلى المدينة.....
✓ (علي بن أبي طالب عمر بن الخطاب حمزة بن عبد المطلب الزبير بن العوام)

٤. أشار على النبي بالتخيم عند بئر بدر.....
 ✓ (سعد بن أبي وقاص الحباب بن المنذر خالد بن الوليد أبو عبيدة بن الجراح)
٥. جمع القرآن الكريم بأمر من الخليفة.....
 ✓ (عمر بن الخطاب عثمان بن عفان أبي بكر الصديق علي بن أبي طالب)
٦. ادعى النبوة بعد وفاة الرسول.....
 ✓ (مسيلمة الكذاب أبو جهل الأسود العنسي عمرو بن هشام)
٧. لقب بالفاروق لأنه فرق بين الحق والباطل.....
 ✓ (أبو بكر الصديق عمر بن الخطاب عثمان بن عفان علي بن أبي طالب)
٨. قاد المسلمين لفتح العراق في معركة القادسية.....
 ✓ (خالد بن الوليد سعد بن أبي وقاص عمرو بن العاص الزبير بن العوام)
٩. أثار الفتنة التي أدت إلى استشهاد عثمان بن عفان.....
 ✓ (عبد الله بن سبأ أبو لؤلؤة المجوسي عمرو بن العاص المغيرة بن شعبة)
١٠. أسس ديوان الخاتم لحماية رسائل الدولة من التزوير.....
 ✓ (معاوية بن أبي سفيان الوليد بن عبد الملك عبد الملك بن مروان عمر بن عبد العزيز)
١١. أنشأ أول مرصد فلكي في بغداد.....
 ✓ (المأمون هارون الرشيد المعتصم بالله أبو جعفر المنصور)
١٢. المؤسس الحقيقي للدولة العباسية وباني بغداد.....
 ✓ (أبو العباس أبو جعفر المنصور هارون الرشيد المعتصم بالله)

❖ رابعا: ما المقصود بالمصطلحات الآتية

- النظام القبلي.....
- القبيلة:.....
- الوحي:.....
- المهاجرون:.....
- الأنصار:.....
- الغزوة:.....
- السرية:.....
- المرتدون:.....

❖ خامسا: بم تفسر

١. انتشار النظام القبلي في شبه الجزيرة العربية قبل الإسلام.
٢. شهرة سوق ذي المجاز بين العرب قبل الإسلام.
٣. حاجة العالم لقدم النبي محمد (ﷺ).
٤. عمل النبي بحرفة الرعي في بيت عمه.
٥. بدء النبي الدعوة سرا في بداية الإسلام.
٦. اجتماع زعماء قريش في دار الندوة قبل هجرة النبي (ﷺ).
٧. إنشاء عثمان بن عفان الأسطول البحري الإسلامي.
٨. نقل علي بن أبي طالب مقر الخلافة
٩. إنشاء معاوية بن أبي سفيان مدينة القيروان.
١٠. ضعف وسقوط الدولة الأموية.
١١. بناء مدينة سامراء في عهد المعتصم بالله.

❖ سادسا: ما النتائج المترتبة على

١. حياة النبي (ﷺ) في ديار بني سعد في طفولته
٢. جهر النبي محمد (ﷺ) بالدعوة الإسلامية.
٣. إيذاء قريش للمسلمين الأوائل.

٤. دعوة النبي ﷺ للقبائل في موسم الحج.
٥. صلح الحديبية بين المسلمين وقريش.
٦. نقض قريش صلح الحديبية.
٧. فتح مكة عام ٨ هـ
٨. دعوة النبي للإسلام سرا في مكة.
٩. المؤاخاة بين المهاجرين والأنصار.
١٠. مخالفة بعض الرماة أوامر النبي في غزوة أحد.
١١. استشهاد عدد من حفظة القرآن في حروب الردة.
١٢. رغبة عمر بن الخطاب في تنظيم أمور الدولة الإسلامية.
١٣. الفتوحات الإسلامية في عهد الوليد بن عبد الملك

❖ سابعاً: دلل على صحة العبارة

١. كانت شبه الجزيرة العربية مهدا لكثير من الأنبياء.
٢. ارتفعت المكانة التجارية لأهل مكة.
٣. حرص النبي على عدم تعرض أصحابه للأذى منذ بداية الدعوة.
٤. استفادت قريش من أخطاء المسلمين في غزوة أحد.
٥. اتبع الرسول أساليب متعددة لنشر الدعوة الإسلامية.
٦. تعددت أساليب قريش في مواجهة الدعوة الإسلامية.
٧. حرص النبي على تأمين الدولة الإسلامية وحمايتها منذ بدايتها.
٨. كانت فكرة سلمان الفارسي في غزوة الخندق ذات أهمية.
٩. اتبع الرسول مبدأ الشورى مع أصحابه في العديد من الغزوات.
١٠. كان الرسول مثالاً للتسامح في فتح مكة.
١١. اهتم عمر بن الخطاب بإنشاء المدن.
١٢. خطورة الفتنة التي أثارها عبد الله بن سبأ.
١٣. اتسعت رقعة الدولة الإسلامية في عهد: علي بن أبي طالب.
١٤. اهتم الوليد بن عبد الملك بالعمران.
١٥. شجع المأمون بن هارون الحركة العلمية.
١٦. اهتمام أبي العباس براحة الحجاج والمسافرين.

❖ ثامناً: ما العلاقة بين

- الشعر عند العرب والأسواق
- غار حراء ورسالة الإسلام.
- صلح الحديبية وفتح مكة.
- سقيفة بني ساعدة والخلفاء الراشدين.
- عثمان بن عفان وحماية حدود الدولة الإسلامية

■ امتحان شامل الوحدة الثانية

- ❖ السؤال الأول: ضع كلمة (صواب) أو (خطأ) امام العبارات الاتية
- انتشر النظام القبلي في شبه الجزيرة العربية قبل الإسلام.
 - كانت مكة مركزا دينيا وتجاريا هاما قبل الإسلام .
 - أول من آمن بدعوة النبي محمد من الرجال هو عمر بن الخطاب .
 - أول أسطول بحري إسلامي أنشأه معاوية بن أبي سفيان.
 - عبد الملك بن مروان هو الذي شيد مسجد قبة الصخرة.
 - سقطت الدولة العباسية على يد المغول سنة ٦٥٦ هـ .

❖ السؤال الثاني: أكمل العبارات التالية

- أول من آمن من النساء بالنبي محمد هي السيدة
- كانت سوق من أشهر الأسواق العربية قبل الإسلام.
- أول هجرة للمسلمين كانت إلى
- كتب النبي لتنظيم العلاقات بين المسلمين وغيرهم في المدينة. ا
- قائد معركة القادسية هو
- أسس الخليفة مدينة بغداد.

❖ السؤال الثالث : اختر الإجابة الصحيحة

- (١) حاول هدم الكعبة باستخدام الفيلة
- ✓ (أبرهة أبو جهل عبد الله بن الزبير عمرو بن العاص)
- (٢) أول من أشار على النبي بحفر الخندق ..
- ✓ (سلمان الفارسي أبو بكر الصديق عمر بن الخطاب علي بن أبي طالب)
- (٣) أطلق على عمر بن الخطاب لقب
- ✓ (الصديق الفاروق الأمين الأسد)
- (٤) وصل الفتح الإسلامي إلى الأندلس في عهد.....
- ✓ (معاوية بن أبي سفيان عبد الملك بن مروان الوليد بن عبد الملك عمر بن عبد العزيز)

❖ السؤال الرابع: بم تفسر

- انتشار النظام القبلي في شبه الجزيرة العربية قبل الإسلام.
- هزيمة المسلمين في غزوة أحد.
- بناء معاوية بن أبي سفيان مدينة القيروان.
- تسمية العصر العباسي الأول بالعصر الذهبي.

❖ السؤال الخامس: ما النتائج المترتبة على

- نقض قريش صلح الحديبية.
- إنشاء بيت الحكمة في بغداد.

❖ السؤال السادس: دلل على صحة العبارة

- كان المسجد مركزا دينيا وسياسيا وعلميا في عهد الرسول (ﷺ).
- العصر العباسي الأول شهد نهضة علمية كبيرة.

❖ السؤال السابع: ما العلاقة بين

- الأسواق العربية والشعر.
- بيت الحكمة والنهضة العلمية في العصر العباسي.

❖ السؤال الثامن: قارن بين

- الخليفة عبد الملك بن مروان والخليفة الوليد بن عبد الملك من حيث أوجه التشابه.

❖ السؤال التاسع: ماذا يحدث إذا

- لم يقم عبد الملك بن مروان بتعريب الدواوين

الوحدة الثالثة

الدرس الاول

النشاط الزراعي في وطننا العربي

■ يمتلك الوطن العربي العديد من الثروات مما جعله مهذاً لقيام الحضارات على أرضه

■ دلل يمتلك الوطن العربي العديد من الثروات ؟

✓ حيث يمتلك الثروة الحيوانية والسمكية، والمعادن ومصادر الطاقة

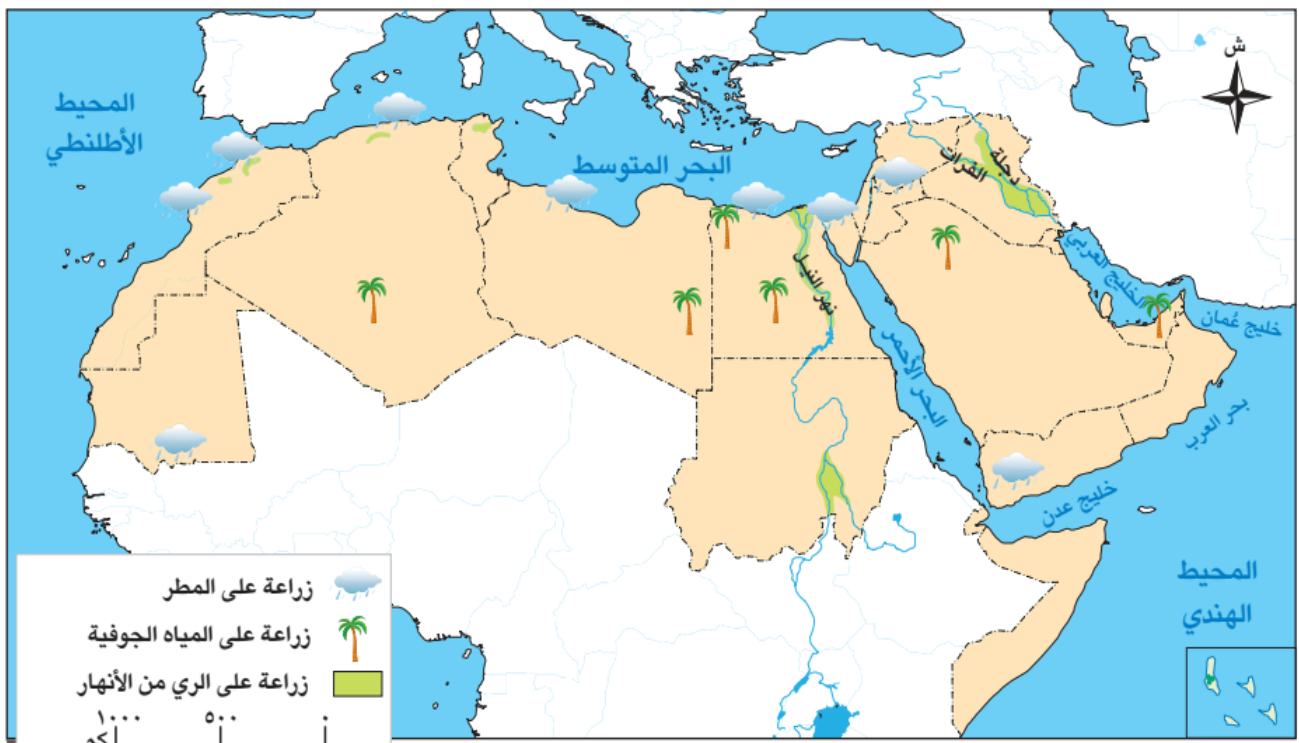
✓ تتنوع به الأنشطة الاقتصادية مثل النشاط الزراعي والسياحي والصناعي والتجاري

❖ أولاً : مقومات الزراعة في الوطن العربي



■ يمتلك الوطن العربي منذ القدم كل مقومات الزراعة الأساسية ما النتائج المترتبة ؟

✓ مما جعله موطناً للاستقرار البشري، ومهداً لقيام حضارات مزدهرة عبر العصور



(١) المقومات الطبيعية

المياه العذبة

- تتنوع مصادر المياه العذبة في الوطن العربي دلل حيث نجد:
 - أ ✓ الأنهار: نهر النيل في مصر والسودان نهر دجلة والفرات في العراق
 - ب ✓ المياه الجوفية: في الواحات
 - ج ✓ مياه الأمطار: في بلاد المغرب ولبنان

التربة الخصبة

- هي تربة غنية تساعد على نمو المحاصيل.
- تتوافر في سهول نهر النيل في مصر والسودان وسهول دجلة والفرات في العراق

تنوع المناخ

- يتمتع الوطن العربي بمناخ متنوع معتدل دلل؟ حيث يظهر
 - (١) مناخ معتدل في الشمال
 - (٢) حار ومطير في الجنوب
- ترتب على ذلك تنوع المحاصيل والمنتجات الزراعية ✓

ما النتائج المترتبة على؟

(٢) المقومات البشرية

الأيدي العاملة

- يملك الوطن العربي ثروة بشرية مدربة على الزراعة تعرف كيفية استخدام الأساليب الحديثة رأس المال
- ضروري لإنشاء المشروعات الزراعية وشراء البذور والأسمدة والآلات
- تعد دول الخليج من أكثر الدول امتلاكاً لرأس المال الأسواق

مهمة لبيع وتسويق المنتجات الزراعية دلل؟

- ✓ حيث يترتب على بيع المنتجات زيادة الإنتاج الزراعي ومنافسة الدول الأخرى.
- وسائل النقل والمواصلات
- تساعد على نقل المحاصيل من المزارع إلى الأسواق قبل أن تتلف

مما سبق نستنتج أن

المقومات (العوامل البشرية) ضرورية لنجاح الزراعة وهي تكمل العوامل الطبيعية وبهما معا تحقق الزراعة نجاحاً كبيراً في وطننا العربي

ثانياً: أهم المحاصيل الزراعية في الوطن العربي

- ينتج الوطن العربي أنواعاً متعددة من المحاصيل الزراعية، تستخدم في الغذاء والصناعة والتجارة. ومن أهمها:

محاصيل الألياف
القطن

- تنتج مصر إنتاج القطن طويل التيلة وهو من أجود الأنواع
- يستخدم في صناعة الملابس والمنسوجات الفاخرة.

المحاصيل السكرية
قصب السكر

- يزرع في مناطق متعددة من صعيد مصر
- يستخدم بشكل رئيسي في صناعة السكر

الحبوب الغذائية
القمح

- تعد مصر من أكثر الدول العربية إنتاجاً له
- يستخدم في صناعة الخبز

ثالثاً : أهمية الزراعة في وطننا العربي

- (١) **قديمًا** : سجل المصريون القدماء أنشطتهم الزراعية على جدران المعابد والمقابر مما يدل على أهمية الزراعة في حياتهم واقتصادهم
- (٢) **حديثاً** : تعد الزراعة من أهم الأنشطة الاقتصادية في وطننا العربي : حيث تلعب دورا كبيرا في حياة السكان لأنها:

✓ تعد مصدرا رئيسيا للدخل القومي لبعض الدول العربية.

✓ توفر فرص عمل للشباب.

✓ توفر الغذاء للإنسان والعلف للحيوان.

✓ توفر المواد الخام اللازمة للصناعة.

■ دلل أهمية الزراعة في حياة واقتصاد المصريون القدماء ؟

✓ حيث سجل المصريون القدماء أنشطتهم الزراعية على جدران المعابد والمقابر مما يدل على أهمية الزراعة في حياتهم واقتصادهم

رابعاً أهم المشكلات التي تواجه الزراعة في الوطن العربي

- تواجه الزراعة عدة مشكلات تعوق تطورها، رغم توافر المقومات الطبيعية والبشرية

المشكلات البشرية

٢

- نقص العمالة المدربة
- التغيرات المناخية.
- ضعف الاستثمار الزراعي.

المشكلات الطبيعية

١

- قلة الأمطار
- التلوث والزحف العمراني
- ندرة المياه العذبة

❖ خامساً : جهود بعض الدول العربية لحل مشكلات الزراعة ..

- تعمل الدول العربية على حل مشكلات الزراعة **دلل** من خلال :
 - (١) استخدام أساليب الري الحديثة مثل الرش والتنقيط.
 - (٢) استحداث بذور مقاومة للتغيرات المناخية (في المعامل).
 - (٣) بناء السدود والخزانات
 - (٤) معالجة مياه الصرف.
 - (٥) استصلاح الأراضي الصحراوية.
 - (٦) تحلية مياه البحر

❖ سادساً : أهم المشروعات القومية لحل مشكلات الزراعة في مصر



الزراعة الحديثة

أ- مشروع مستقبل مصر للزراعة المستدامة.

👉 يعد جزءاً من مشروع الدلتا الجديدة.

👉 **يهدف المشروع إلى** : استصلاح أكثر من مليون فدان باستخدام طرق الري الحديثة والطاقة النظيفة.

👉 **أهميته** : يساعد في تحقيق الأمن الغذائي ، وتوفير فرص عمل للشباب.

ب- مشروع توشكى بجنوب الوادي

• **يهدف المشروع إلى** :

استصلاح آلاف الأفدنة بالصحراء الغربية بالاعتماد على مياه نهر النيل.

• **أهميته** :

١. زراعة القمح والفاوكة والنخيل
٢. يساهم في زيادة الرقعة الزراعية.
٣. تحقيق الأمن الغذائي.

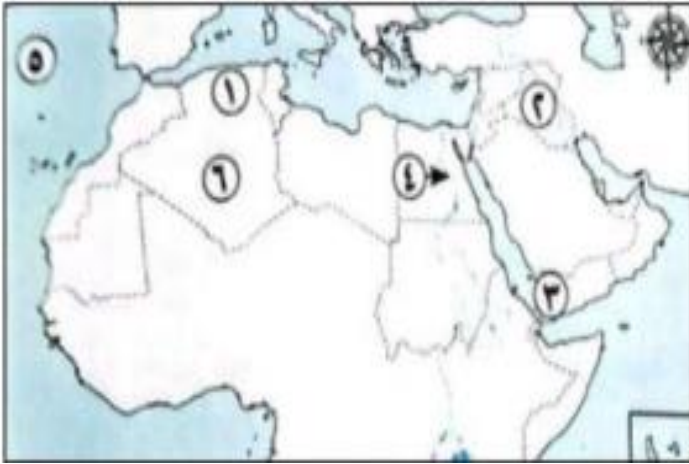


خريطة مشروع التنمية الزراعية في توشكى جنوب مصر

تدريبات الدرس



❖ السؤال الأول لاحظ خريطة الوطن العربي التالية ، ثم أجب:



١. تقوم الزراعة في المنطقة رقم (١) اعتماداً على مياه
٢. يشير رقم (٢) إلى نهرى
٣. صوب : تقوم الزراعة في المنطقة رقم (٣) اعتماداً على مياه الأنهار.....
٤. يشير رقم (٤) إلى نهر.....
٥. يشير رقم (٥) إلى المحيط
٦. تقوم الزراعة في المنطقة رقم (٦) اعتماداً على المياه.....

❖ السؤال الثاني اختر الإجابة الصحيحة مما بين القوسين

- (١) أي من العوامل التالية يعد من المقومات الطبيعية للزراعة في الوطن العربي؟:.....
✓ (تقدم الصناعة توافر المياه العذبة نقص الأيدي العاملة الازدحام السكاني)
- (٢) الدولة العربية الأكثر إنتاجاً لمحصول القمح هي:
✓ (السودان لبنان مصر قطر)
- (٣) تربة سهول نهر النيل تتميز بأنها:
✓ (رملية خصبة مالحة حجرية)
- (٤) العامل البشري الذي يساعد على وصول المحاصيل إلى الأسواق هو:
✓ (المناخ وسائل النقل رأس المال التربة)
- (٥) أي من الدول التالية تمتلك رأس مال كبير لتطوير الزراعة؟:
✓ (المغرب لبنان دول الخليج اليمن)
- (٦) من المحاصيل التي تستخدم في صناعة الملابس والمنسوجات.....
✓ (القطن القمح قصب السكر الأرز)
- (٧) من الدول التي تزرع قصب السكر بكثرة في صعيدها :
✓ (مصر الجزائر الكويت الأردن)

❖ السؤال الثالث أكمل العبارات الآتية بكلمات مناسبة:

١. تتوافر التربة الخصبة في العراق في سهول نهرى
٢. أكثر الدول العربية امتلاكاً لرأس المال هي دول
٣. أكبر دولة عربية إنتاجاً للقمح هي دولة
٤. مصدر المياه الرئيسي للزراعة في مصر هو
٥. أحد أساليب الحفاظ على المياه هو الري بالرش و
٦. يقع مشروع توشكى في جنوب
٧. تسعى الدول العربية لتوفير المياه العذبة عن طريق تحلية مياه
٨. مشروع مستقبل مصر للزراعة المستدامة جزء من مشروع
٩. يزرع القطن طويل التيلة بكثرة في
١٠. من المحاصيل السكرية التي تشتهر بها مصر

❖ السؤال الرابع ضع كلمة (صواب) أو (خطأ) أمام كل عبارة

١. يمتلك الوطن العربي مقومات طبيعية وبشرية تساعد على قيام الزراعة. ()
٢. تنوع المحاصيل يؤدي إلى تنوع المناخ في الوطن العربي. ()
٣. يعد الزحف العمراني من مشكلات الزراعة في الوطن العربي. ()

٤. الأيدي العاملة المدربة من المقومات الطبيعية للزراعة. ()
٥. يعتمد مشروع توشكى على مياه نهر النيل ()
٦. تعد التغيرات المناخية من المشكلات التي تواجه الزراعة. ()
٧. زراعة القمح تقتصر على مصر فقط ()
٨. استخدام الأسمدة المحسنة من جهود تطوير الزراعة ()
٩. سهول نهر النيل في مصر والسودان تتميز بترتتها الخصبة. ()
١٠. مشروع مستقبل مصر يستهدف استصلاح أكثر من مليون فدان. ()

❖ السؤال الخامس بم تفسر

١. أهمية الزراعة لسكان الوطن العربي.
٢. دور وسائل النقل في نجاح النشاط الزراعي.
٣. أهمية الأيدي العاملة المدربة في الزراعة،
٤. تنوع المحاصيل الزراعية في الوطن العربي.
٥. اهتمام الدولة بمشروع مستقبل مصر للزراعة المستدامة.
٦. إنشاء مشروع توشكى بجنوب الوادي.
٧. اعتماد بعض المناطق الزراعية على مياه الأمطار.
٨. أهمية الأسواق في زيادة الإنتاج الزراعي.

❖ السؤال السادس ما النتائج المترتبة على :

١. تنوع المناخ في الوطن العربي.
٢. ندرة المياه العذبة في بعض الدول العربية.
٣. إقامة مشروع توشكى.
٤. امتلاك الوطن العربي لمقومات الزراعة منذ القدم.
٥. استخدام طرق الري الحديثة.



❖ السؤال السابع دلل على صحة العبارات الآتية:

١. يمتلك الوطن العربي مقومات طبيعية للزراعة.
٢. رأس المال عامل مهم لتنمية النشاط الزراعي.
٣. قصب السكر من المحاصيل السكرية المهمة.
٤. الزراعة توفر فرص عمل للشباب.
٥. بعض الدول العربية تبذل جهوداً لحل مشكلات الزراعة.
٦. مشروع مستقبل مصر يساعد في تحقيق الأمن الغذائي.

❖ السؤال الثامن صوب ما تحته خط

١. رأس المال يعد من معوقات الزراعة.
٢. قصب السكر يزرع في دلتا مصر.
٣. القطن من محاصيل الحبوب.
٤. أكثر الدول إنتاجاً للقمح هي الصومال.
٥. يعتمد مشروع توشكى على مياه الأمطار الشتوية.
٦. القمح يزرع فقط في المناطق الصحراوية.
٧. القطن طويل التيلة يستخدم في صناعة السكر.

❖ السؤال التاسع ما العلاقة بين

- المناخ والمحاصيل الزراعية. 
- وسائل النقل والزراعة في الوطن العربي 

الدرس الثاني

الثروة الحيوانية والسمكية في وطننا العربي

أولاً: النشاط الحيواني في الوطن العربي

- يتميز الوطن العربي بتربية أعداد كبيرة من الحيوانات خاصة في المناطق التي تنتشر فيها المراعي الطبيعية ما

النتائج المترتبة على ؟

- ✓ ١ أصبحت هذه الثروة مصدراً مهماً للغذاء.
- ✓ ٢ تسهم في دعم الاقتصاد المحلي.

المراعي الطبيعية في الوطن العربي

- هي حشائش تنمو طبيعياً دون تدخل من الإنسان.
- تربي الحيوانات في الحظائر وأيضا في المراعي الطبيعية التي خلقها الله ، وتنقسم إلى :

المراعي الحارة (السافانا)

حشائش طويلة تربي عليها الأبقار والأغنام كما في السودان.

المراعي المعتدلة (الإستبس)

أعشاب قصيرة تربي عليها الأغنام والماعز كما في المغرب .

الثروة الحيوانية في الوطن العربي



أ الإبل (الجمال)

← تعد الصومال أولى الدول العربية في تربية الإبل بم تفسر ؟
✓ نظر الطبيعة أراضيها الجافة.

ب الجاموس

← يحتاج الجاموس إلى مياه وفيرة وبيئة رطبة وهي متوافرة في بعض مناطق وطننا العربي.
← تحتل مصر المركز الأول عربيا في تربية الجاموس بم تفسر ؟
← ذلك بفضل البيئة الزراعية الخصبة على ضفاف نهر النيل التي تعد مناسبة جدا لتربية هذا الحيوان.

ج الابقار والأغنام والماعز والخيول

← تعد السودان من أكثر الدول العربية تربية لهذه الحيوانات بم تفسر ؟
✓ لوفرة المراعي الطبيعية بها.

❖ أهمية الثروة الحيوانية في الوطن العربي

- تعد الثروة الحيوانية من أهم الموارد الاقتصادية في الوطن العربي **بم تفسر؟** لأنها
 - 👉 تعد مصدرا غذائيا غنيا بالبروتين الحيواني
 - 👉 تستخدم بعض الحيوانات في الزراعة والنقل.
 - 👉 توفر مواد خاما للصناعات مثل الجلود والألبان واللحوم.

❖ مشكلات الثروة الحيوانية وجهود الدول العربية لتنميتها

جهود الدول العربية	مشكلات الثروة الحيوانية
👉 تصنيع الأعلاف بأسعار مناسبة.	👉 نقص الأعلاف وارتفاع أسعارها.
👉 تنظيم المراعي وحمايتها.	👉 قلة الرعاية البيطرية.
👉 تحسين الرعاية البيطرية.	👉 الإفراط في الرعي ما النتائج المترتبة؟ مما يضر
👉 تنفيذ مشروعات المواجهة التغيرات المناخية	👉 بالمراعي الطبيعية.
👉 وزيادة المساحات الخضراء.	👉 التغيرات المناخية وقلة المراعي الطبيعية
👉 استخدام الأساليب العلمية في الإنتاج الحيواني.	

☞ ثانيا: الدواجن في الوطن العربي

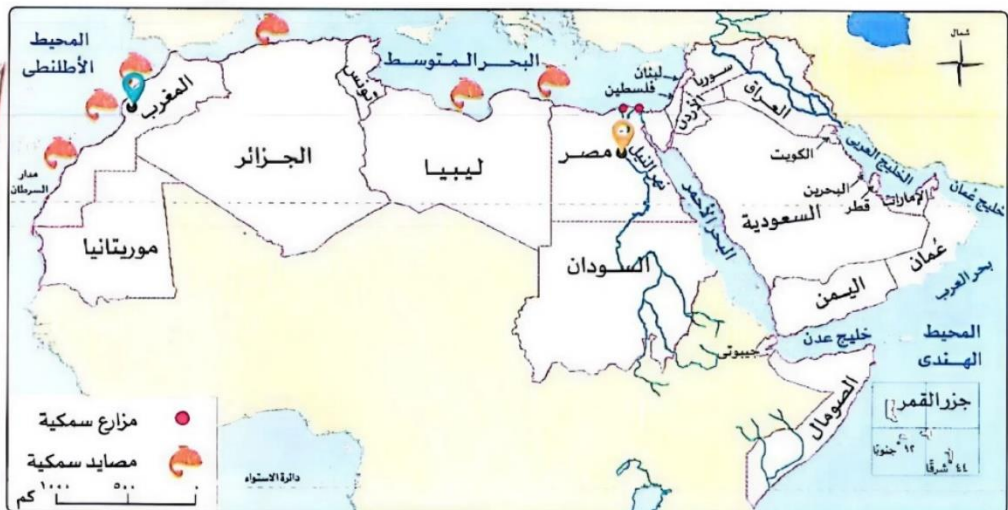
- تهتم الدول العربية بتربية الدواجن **بم تفسر؟** لأنها
 - ✓ تسهم في تقليل الاعتماد على اللحوم الحمراء.
- تعد مصر والسعودية من أكثر الدول العربية إنتاجا للدواجن **بم تفسر؟**
 - ✓ بسبب وفرة الأعلاف والمزارع الحديثة بهما

☞ ثالثا: الثروة السمكية في الوطن العربي

- يتميز الوطن العربي بموارد مائية غنية توفر كميات كبيرة من الأسماك، منها:

المصايد السمكية
مصادر طبيعية يتم الصيد منها مباشرة مثل:
المحيطات - البحار - الأنهار - البحيرات.

المزارع السمكية
أماكن يتم فيها تربية الأسماك
بطريقة حديثة ومنظمة.



خريطة مصايد الأسماك في الوطن العربي

**المغرب**

- أكبر دول الوطن العربي في إنتاج الأسماك من المصايد البحرية **بم تفسر؟** بسبب طول سواحلها على المحيط الأطلنطي والبحر المتوسط.

**مصر**

- أكبر دول الوطن العربي في إنتاج الأسماك من المزارع السمكية.
- من أشهر المزارع السمكية بها: مزارع دلتا النيل وبركة غليون.

❖ أهم الدول العربية المنتجة للثروة السمكية

- ✍️ **مصر**
- أكبر دول الوطن العربي في إنتاج الأسماك من المزارع السمكية ومن أشهرها : مزارع دلتا النيل وبركة غليون.
- ✍️ **المغرب**
- أكبر دول الوطن العربي في إنتاج الأسماك من المصايد البحرية **بم تفسر؟**

✓ بسبب طول سواحلها على المحيط الأطلسي والبحر المتوسط.

❖ أهمية الثروة السمكية في الوطن العربي

← توفير فرص عمل للشباب .

← مصدر مهم للغذاء الغني بالبروتين .

← سد النقص في اللحوم الحمراء .

❖ مشكلات الثروة السمكية وجهود الدول العربية لتنميتها

جهود الدول العربية

- ✍️ توفير وسائل صيد حديثة وآمنة.
- ✍️ منع الصيد الجائر .
- ✍️ سن القوانين للحد من التلوث وتنظيم عملية الصيد .
- ✍️ تحسين أحوال الصيادين.
- ✍️ التوسع في مشروعات الاستزراع السمكي

مشكلات الثروة السمكية

- ✍️ الصيد الجائر للأسماك.
- ✍️ تلوث المياه بسبب المخلفات والنفايات.
- ✍️ استخدام وسائل صيد بدائية.
- ✍️ التغير المناخي وارتفاع درجة حرارة المياه ونقص الأكسجين .
- ✍️ ترك الصيادين الحرفة الصيد .

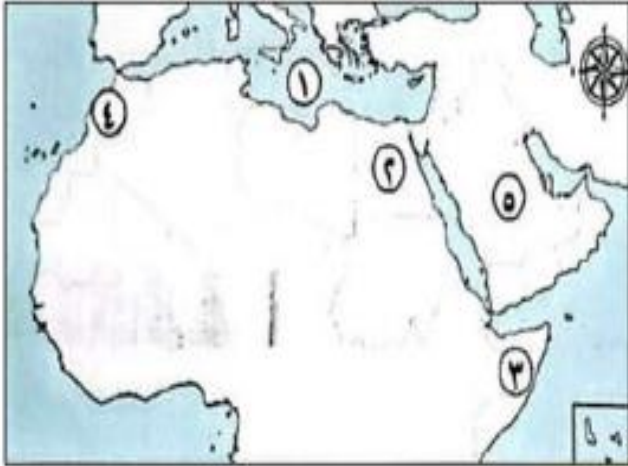
■ قيم أتعلمها

- الاستثمار الحيواني يؤدي إلى إنتاج أفضل.

تدريبات الدرس



■ السؤال الأول لاحظ خريطة الوطن العربي التالية، ثم أجب:



- ١) يشير رقم (١) الى البحر.....
- ٢) صواب أم خطأ يشير رقم (٢) إلى أولى الدول العربية في تربية الجاموس.....
- ٣) اختر يشير رقم (٣) إلى أولى الدول العربية في تربية... (الأبقار الخيول الماعز الإبل)
- ٤) يشير رقم (٤) إلى أولى الدول العربية في إنتاج الأسماك من.....
- ٥) يشير رقم (٥) إلى إحدى أهم الدول العربية المنتجة للدواجن وهي.....

■ السؤال الثاني ضع كلمة (صواب) أو (خطأ) أمام العبارات التالية:

١. تعد السودان من أكثر الدول العربية تربية للأبقار والأغنام والماعز بسبب وفرة المراعي الطبيعية. ()
٢. تنتشر المراعي المعتدلة في المغرب وترى عليها الأغنام والماعز. ()
٣. مصر هي الدولة الأولى عربياً في تربية الجاموس. ()
٤. الصومال هي أولى الدول العربية في تربية الإبل. ()
٥. تمثل الثروة الحيوانية مصدراً غذائياً غنياً بالبروتين الحيواني ()
٦. نقص الأعلاف أحد المشكلات التي تواجه الثروة الحيوانية في الوطن العربي. ()
٧. الإفراط في الرعي يضر بالمراعي الطبيعية. ()
٨. تنمو المراعي الطبيعية بفعل العوامل الطبيعية وليس النشاط البشري. ()
٩. مصر أكبر دولة عربية إنتاجاً للأسماك من المزارع السمكية. ()
١٠. المغرب تتمتع بوفرة في المصايد البحرية ()
١١. من مشكلات الثروة السمكية الصيد الجائر. ()
١٢. الثروة الحيوانية توفر مواد خاماً للصناعة مثل الجلود ()
١٣. استخدام الوسائل الحديثة في الصيد من جهود الدول لتنمية الثروة السمكية. ()

■ السؤال الثالث اختر الإجابة الصحيحة مما بين القوسين

- ١) أي من الدول التالية تشتهر بتربية الماعز بكثرة؟
✓ (السودان الصومال المغرب الجزائر)
- ٢) أي مشكلة تؤثر على الثروتين الحيوانية والسمكية معا؟
✓ (التغير المناخي التصحر ندرة المياه سوء التوزيع)
- ٣) تتصدر مصر الدول العربية في تربية الجاموس بسبب توافر.....
✓ (البيئة الفيضية المناخ الحار البيئة الساحلية المراعي الجافة)
- ٤) أولى الدول العربية في إنتاج الأسماك من المصايد البحرية هي.....
✓ (المغرب مصر الجزائر السودان)
- ٥) المادة الخام التي توفرها الثروة الحيوانية للصناعة هي.....
✓ (الجلود القطن الغاز الفوسفات)
- ٦) تعد السعودية من أكثر الدول العربية إنتاجاً ل.....
✓ (الدواجن الجاموس الإبل الأبقار)
- ٧) تأتي معظم الأسماك في مصر من.....
✓ (المزارع السمكية الأنهار المحيطات البحار)

٨) من أسباب وفرة الأسماك في المغرب
 ✓ (طول سواحلها وجود الأنهار كثرة البحيرات وفرة المزارع)

■ السؤال الرابع أكمل العبارات الآتية:

١. تسهم الدواجن في تقليل الاعتماد على اللحوم.
٢. تنتج المغرب كميات كبيرة من الأسماك من
٣. تتركز تربية الإبل في الوطن العربي بدولة.....
٤. ارتفاع حرارة المياه يؤدي إلى تدهور الثروة.....
٥. أكبر الدول العربية إنتاجا للدواجن هما مصر و
٦. تستخدم الثروة الحيوانية في إنتاج الألبان واللحوم و.....
٧. ترتبط تربية الجاموس في مصر بالبيئة
٨. تناقص أعداد الحيوانات في الوطن العربي بسبب التغيرات

■ السؤال الخامس صوب ما تحته خط

١. تعد **مصر** أكبر الدول العربية إنتاجا للأسماك من المصايد البحرية.
٢. يعد نقص الأعلاف من مشكلات الثروة **السمكية**.
٣. تساهم الأبقار والأغنام في توفير البروتين **النباتي**.
٤. تعد **مصر والسعودية** من أكبر الدول إنتاجا للأسماك

■ السؤال السادس بم تفسر

١. تركز تربية الجاموس في مصر.
٢. أهمية الثروة السمكية في الوطن العربي.
٣. مصر والسعودية من أكبر الدول العربية إنتاجا للدواجن.
٤. اهتمام الدول العربية بتنظيم المراعي.
٥. إنتاج المغرب كميات كبيرة من الأسماك من المصايد البحرية.
٦. انخفاض أعداد بعض أنواع الأسماك في الوطن العربي.

■ السؤال السابع دلل على صحة العبارات

١. تعاني الثروة الحيوانية في الوطن العربي من مشكلات عديدة.
٢. تنوع مصادر الحصول على الأسماك في الوطن العربي.
٣. تهتم الدول العربية بتنمية الثروة السمكية.
٤. الدواجن تساعد على سد العجز في اللحوم الحمراء.
٥. المراعي الطبيعية توفر غذاء للحيوانات.
٦. الجلود من أهم المواد الخام التي توفرها الثروة الحيوانية للصناعة.

■ السؤال الثامن ما النتائج المترتبة على:

١. وفرة المراعي الطبيعية في السودان
٢. انتشار المزارع السمكية في مصر.
٣. الإفراط في الرعي في الوطن العربي لتر
٤. ارتفاع أسعار الأعلاف.
٥. تلوث المياه بالمخلفات.
٦. تحسين الرعاية البيطرية.

■ السؤال التاسع ما المقصود ب:

- المراعي الطبيعية.
- المصايد السمكية.

الدرس الثالث

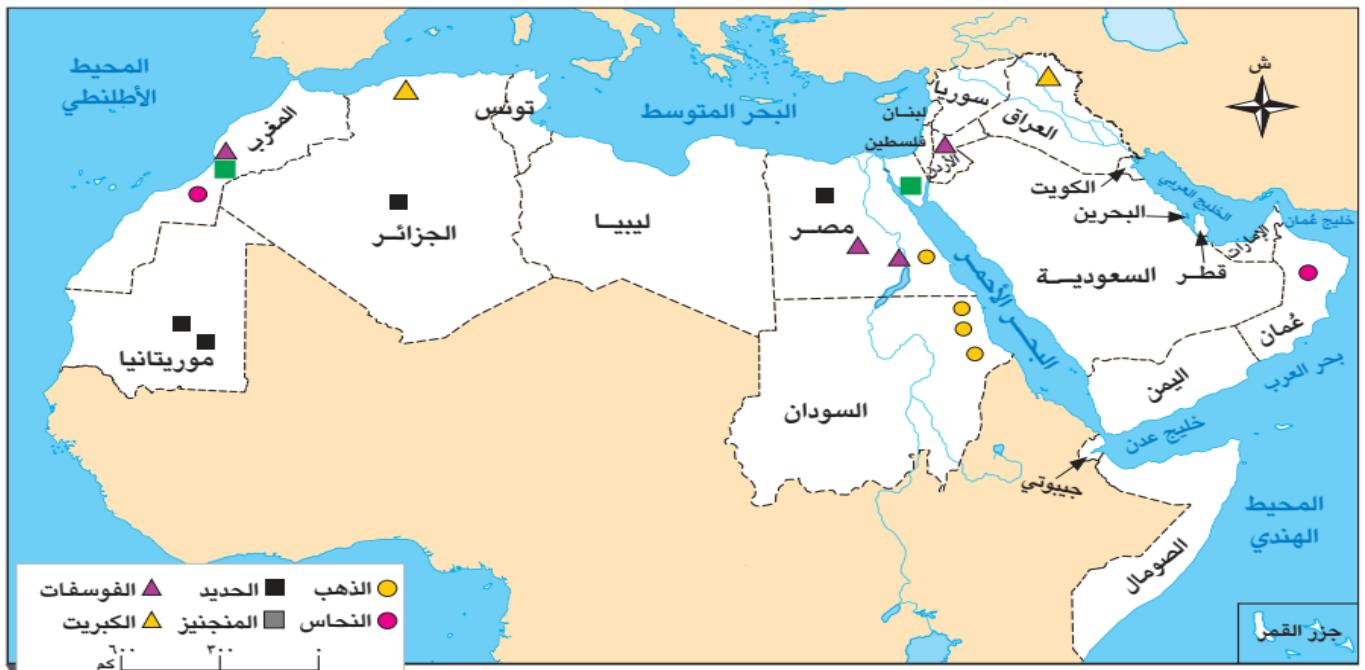
المعادن ومصادر الطاقة في وطننا العربي

أولا : الثروة المعدنية في الوطن العربي

- يمتلك وطننا العربي ثروات معدنية هائلة، ومصادر طاقة متنوعة، تستخدمها في حياتنا اليومية، وتعد هذه الثروات من أهم أسباب تقدم الدول وازدهارها، فهي كنوز مدفونة في باطن الأرض يجب علينا المحافظة عليها واستغلالها بشكل يخدم التنمية ويحمي البيئة.
- تتنوع المعادن في الوطن العربي منها :



- توجد المعادن والصخور في أماكن مختلفة في الوطن العربي يمكن ملاحظتها من الخريطة التالية:



أولى الدول المنتجة للمعادن بالوطن العربي

■ أهم المعادن في الوطن العربي

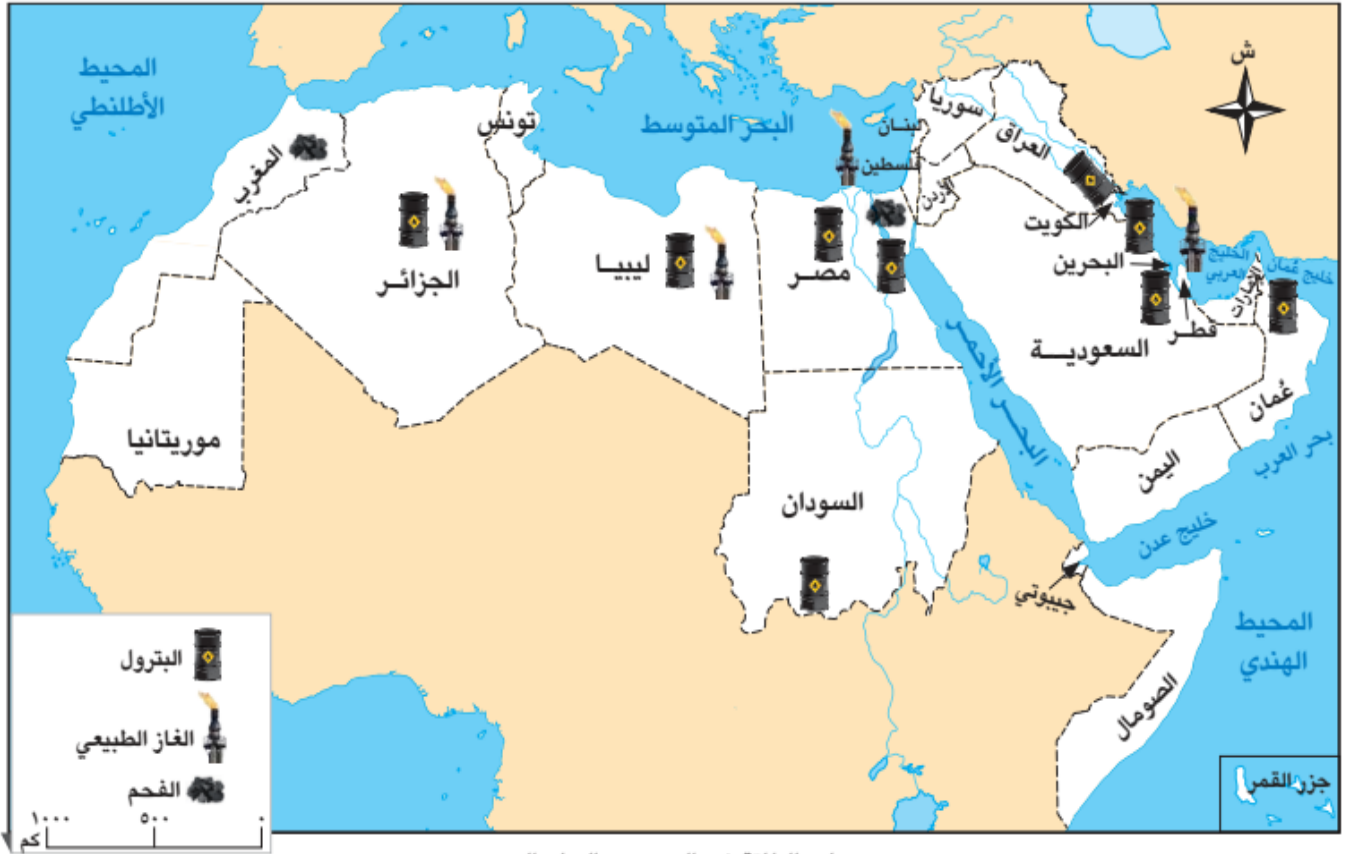
الأهمية والاستخدام	أولى الدول المنتجة
■ يستخدم في بناء الكباري وصناعة القطارات والسيارات	١) الحديد ■ موريتانيا والجزائر ومصر
■ يستخدم في صناعة الأسلاك الكهربائية	٢) النحاس ■ سلطنة عمان والمغرب
■ يستخدم في صناعة الحلي والعملات وبعض الأدوية	٣) الذهب ■ السودان ومصر
■ يستخدم في صناعة الصلب ومواد الطلاء	٤) المنجنيز ■ المغرب ومصر
■ يستخدم في صناعة الأسمدة الزراعية والطوب	٥) الفوسفات ■ المغرب ومصر والأردن.
الحراري	٦) الكبريت ■ العراق والجزائر
■ يستخدم في صناعة الأدوية والصناعات الكيميائية	

■ حقائق تاريخية :

- أدركت الحضارات القديمة أهمية المعادن، فاستخرج المصريون القدماء الذهب من الصحراء الشرقية واستخدموه في أدوات الزينة
- استخدمت حضارة بلاد الرافدين بلاد العراق القديم المعادن في صناعة أدوات الزراعة والطب والكتابة.

✂ ثانيًا مصادر الطاقة في الوطن العربي

- يمتلك وطننا العربي أنواعا متعددة من مصادر الطاقة، وهي أساس التقدم والرفاهية في حياتنا، وتنقسم مصادر الطاقة إلى نوعين، هما: **مصادر الطاقة المتجددة** **مصادر الطاقة غير المتجددة**



مصادر الطاقة غير المتجددة بالوطن العربي

✂ مصادر الطاقة غير المتجددة

الدول المنتجة

البتترول ■ السعودية العراق الكويت

الغاز الطبيعي ■ قطر، الجزائر، مصر

الفحم ■ المغرب ومصر

الاستخدام والأهمية

- يستخدم في تشغيل المصانع والسيارات والطائرات ويدخل في صناعة البلاستيك
- هو سبب رئيسي في قوة الاقتصاد لبعض دول وطننا العربي.

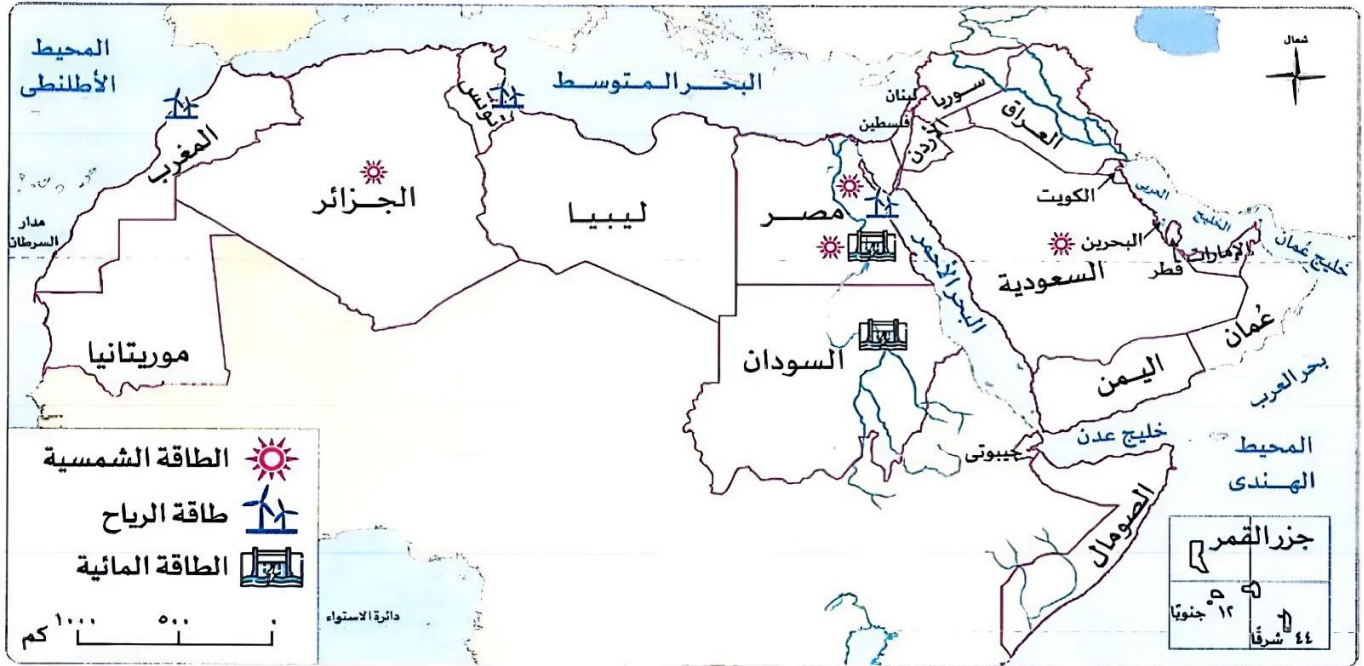
- يستخدم في الطهي وتوليد الكهرباء وتشغيل المصانع.

- **يتسم بـ:** أقل مصادر الطاقة غير المتجددة تلويثا للبيئة.

- يستخدم في المصانع الصهر الحديد.
- **يتسم بـ:** أكثر مصادر الطاقة غير المتجددة تلويثا للبيئة.

مصادر الطاقة المتجددة

- توجد مصادر الطاقة المتجددة في أماكن مختلفة في الوطن العربي يمكن ملاحظتها من الخريطة التالية:



الاستخدام و الأهمية

- تستخدم في توليد الكهرباء وتسخين المياه وتشغيل الأجهزة.
- تساعد في توليد الكهرباء من خلال التوربينات (دوارة الرياح).

- تستخدم في توليد الكهرباء بطريقة آمنة ونظيفة

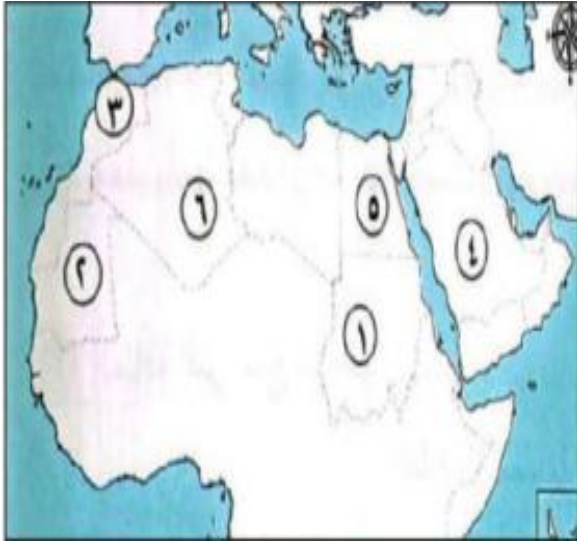
الدول المنتجة

- | | |
|--|------------------------------|
| تتعلم عليها عدد من الدول العربية، منها مصر والجزائر والسعودية. | الطاقة الشمسية |
| مصر والمغرب وتونس | طاقة الرياح |
| أكثر الدول اعتمادا عليها مصر والسودان | الطاقة المائية (الكهرومائية) |

تدريبات الدرس



■ السؤال الأول لاحظ خريطة الوطن العربي ، ثم أجب



- ١) صواب أم خطأ: يشير رقم (١) إلى أولى الدول العربية في إنتاج الذهب ()
- ٢) اكمل: يشير رقم (٢) إلى أولى الدول العربية في إنتاج معدن.....
- ٣) يشير رقم (٣) إلى دولة يوجد بها كميات كبيرة من النحاس وهي دولة.....
- ٤) يشير رقم (٤) إلى أولى الدول العربية المنتجة للبتروول وهي دولة.....
- ٥) يشير رقم (٥) إلى دولة تنتج الكهرباء منا من الطاقة المائية وهي دولة.....
- ٦) يشير رقم (٦) إلى دولة تعتمد على الطاقة الشمسية وهي دولة.....

■ ضع كلمة صواب أو خطأ أمام كل عبارة

١. موريتانيا من أولى الدول العربية في إنتاج الحديد.
٢. يستخدم المنجنيز في صناعة الصلب ومواد الطلاء.
٣. السودان ومصر من الدول المنتجة للذهب.
٤. يدخل الكبريت في صناعة الطوب الحراري.
٥. يدخل النحاس في صناعة الأسلاك الكهربائية.
٦. تعد السودان أولى دول الوطن العربي إنتاجا للغاز الطبيعي.
٧. تستخدم الطاقة الشمسية في تسخين المياه.
٨. يستخدم الحديد في صناعة مواد الطلاء.
٩. تعد دولة عمان الأولى عربيا في إنتاج النحاس.
١٠. تعد طاقة الرياح أحد مصادر الطاقة غير المتجددة.

■ اختر الإجابة الصحيحة مما بين القوسين

- ١) أولى الدول العربية إنتاجا للفوسفات هي
✓ (المغرب ومصر والأردن الجزائر والسودان قطر والكويت العراق والجزائر)
- ٢) من الدول العربية المنتجة للنحاس
✓ (سلطنة عمان مصر السودان الجزائر)
- ٣) أولى الدول العربية إنتاجا للكبريت هي
✓ (العراق والجزائر مصر والسودان الأردن وسوريا العراق ولبنان)
- ٤) أحد مصادر الطاقة المتجددة.
✓ (البتروول الغاز الطبيعي الطاقة الشمسية الفحم)
- ٥) يتم توليد الكهرباء بطريقة آمنة ونظيفة من
✓ (الطاقة المائية الفحم الغاز الطبيعي البتروول)
- ٦) أكثر مصادر الطاقة غير المتجددة تلويثا للبيئة هو
✓ (الفحم الغاز الطبيعي الطاقة الشمسية البتروول)
- ٧) يستخدم الفوسفات في صناعة
✓ (الأسمدة الكباري الأسلاك الكهربائية الأدوية)

■ أكمل العبارات التالية

١. من أهم الدول العربية المنتجة للحديد .
٢. يستخدم خام الفوسفات في صناعة الأسمدة .
٣. أولى دول الوطن العربي إنتاجاً للغاز الطبيعي هي قطر و..... و.....
٤. أحد مصادر الطاقة يستخدم في المصانع لصهر الحديد هو
٥. يمكن توليد الكهرباء وتسخين المياه باستخدام الطاقة .
٦. تعتمد صناعة الأسلاك الكهربائية على معدن .
٧. من أمثلة مصادر الطاقة المتجددة . و.....
٨. يستخدم المنجنيز في صناعة الصلب . و.....
٩. من أهم الدول العربية المنتجة للبترول و..... و.....

■ أكتب ما تشير إليه

١. معدن يستخدم في صناعة الأسمدة الزراعية.
٢. معدن يستخدم في صناعة الحلي والعملات.
٣. مصدر طاقة غير متجددة وأقل تلويثاً للبيئة.
٤. معدن يدخل في صناعة الصلب ومواد الطلاء.
٥. معدن أساسي في صناعة الكباري والقطارات.
٦. صخر يدخل في صناعة الأسمدة والطوب الحراري.
٧. مصدر طاقة يعتمد على حركة الهواء لتوليد الكهرباء.

■ صنف ما يلي إلى مصادر طاقة ومعادن

(البترول الفحم النحاس الغاز الطبيعي المنجنيز الرياح الذهب)

■ بم تفسر

١. أهمية معدن الذهب.
٢. أهمية معدن الحديد.
٣. أهمية معدن المنجنيز.
٤. أهمية معدن النحاس.
٥. أهمية صخر الفوسفات.
٦. أهمية صخر الكبريت.
٧. أهمية الغاز الطبيعي.
٨. أهمية الفحم.

■ ماذا يحدث إذا...؟

١. أصبح الفحم المصدر الرئيسي للطاقة في الوطن العربي.
٢. استنزفت المعادن في الوطن العربي.
٣. توسعت الدول العربية في استخدام الطاقة المتجددة.

■ أجب عما يلي

١. ما العلاقة بين الفحم والحديد ؟
٢. دلل على أهمية البترول.
٣. قارن بين الكبريت والفوسفات من حيث الأهمية.

الدرس الرابع

النشاط السياحي في وطننا العربي

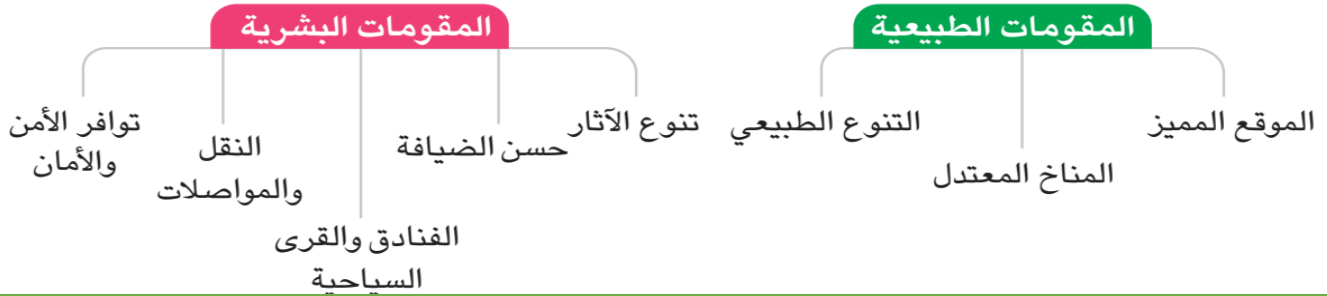
- يعد الوطن العربي من أهم المناطق التي تجذب السائحين من كل مكان في العالم ، **بم تفسر؟**
- ✓ لأنه يتميز بطبيعة خلابة وتاريخ قديم. وتعد السياحة مصدرًا مهمًا للدخل، وفرصة للتعرف على حضاراته الرائعة والمميزة.

■ المقصود بالسياحة؟

- انتقال الأفراد من مكان إلى آخر داخل بلدهم أو خارجه.

✂️ أولًا : مقومات السياحة في الوطن العربي

- يمتلك الوطن العربي مقومات السياحة مما جعله وجهة للسائحين من أنحاء العالم دلل ؟ حيث يتوافر به



✂️ ثانيًا : أنواع السياحة في الوطن العربي

(١) السياحة الدينية

كنيسة المهد بفلسطين



المسجد الأقصى بفلسطين



- المسجد الحرام بالسعودية



(٢) السياحة الثقافية

- تتمثل في منها زيارة المتاحف والآثار، مثل مدينة الأقصر والأهرامات في مصر

مدينة القيروان بتونس



مدينة بابل بالعراق



(٣) السياحة العلاجية

- تتمثل في زيارة أماكن تحتوى على المياه المعدنية مثل والعيون الكبرى مثل
- ✓ عيون موسى في مصر
- ✓ عين ماعين في الأردن.



عيون موسى



الشعاب المرجانية

٤) السياحة الترفيهية

- تتمثل في الاستمتاع بالشواطئ والطبيعة مثل
- شرم الشيخ والغردقة في مصر
- وجزر القمر
- سلطنة عمان

٥) سياحة التسوق

- تتمثل في زيارة الأسواق والمراكز التجارية لشراء الهدايا مثل
- ✓ الاسواق الشعبية في المغرب
- ✓ أماكن التسوق الحديثة في الامارات و الكويت والبحرين

٦) السياحة البيئية

- تتمثل في زيارة المحميات الطبيعية، مثل
- ✓ محمية أرز الشوف في لبنان
- ✓ محمية علبة في مصر
- ✓ محمية ضانا في الأردن.

٧) سياحة المؤتمرات والمعارض

- تتمثل في حضور المؤتمرات العلمية والثقافية والمعارض الدولية ، وتنتشر في بعض الدول العربية مثل
- ✓ مصر والسعودية والإمارات و الكويت والبحرين.

٨) السياحة الرياضية

- وتتمثل في: حضور البطولات والمباريات، مثل
- ✓ كأس العالم في قطر
- ✓ المشاركة في أنشطة رياضية مثل: الغوص وركوب الجمال



ثالثًا : أهمية السياحة في الوطن العربي

- ✍ مصدر مهم للدخل القومي للدول العربية.
- ✍ تشجع على تطوير المدن والبنية التحتية.
- ✍ توفر فرص عمل للشباب في الفنادق والمطاعم ووسائل النقل.
- ✍ تساعد على تبادل الثقافات والتواصل بين الشعوب.
- ✍ فرصة للتعرف على حضارات الوطن العربي الرائعة والمميزة.

رابعًا : تنمية السياحة وجهود الحكومات العربية

- تبذل الدول العربية جهودا كبيرة لتنمية السياحة بم تفسر ؟ لأنها مصدر مهم للدخل وفرص العمل.

(١) خطوات الحكومات العربية لتنمية السياحة

- (١) إنشاء مطارات وفنادق حديثة لاستقبال السياح.
- (٢) تطوير الأماكن السياحية القديمة وتجديدها.
- (٣) تنظيم مهرجانات وفعاليات لجذب السياح.
- (٤) تدريب وتأهيل العاملين في السياحة.
- (٥) الاهتمام بتوفير الأمن والأمان.

ما النتائج المترتبة على خطوات الحكومات العربية لتنمية السياحة ؟

- ✍ تسهم هذه الجهود في جذب مزيد من السياح، ومعرفة العالم بجمال وروعة الحضارة في وطننا العربي

(٢) نماذج من جهود الدول العربية للتنمية السياحية .

• تسعى الدول العربية إلى تنمية السياحة من خلال عدة مشروعات **بم تفسر؟**

✓ **بهدف جذب السياح وتنشيط الاقتصاد المحلي**

• ويتم ذلك من خلال عدة مشروعات مثل :

أ- تهتم **المغرب وتونس** بالمدن القديمة والمواقع التراثية **بم تفسر؟** لجذب السياحة الثقافية.

ب- تنظم **السعودية** فعاليات مثل موسم الرياض **بم تفسر؟** لتشجيع السياحة الترفيهية.

ت- تهتم دولة **الإمارات العربية المتحدة** بالسياحة من خلال عدة مشاريع مثل برج خليفة وجزيرة النخلة

(٣) جهود مصر لتنشيط السياحة

✍ تنظيم احتفالات عالمية مثل موكب المومياوات

✍ تطوير منطقة الأهرامات.

✍ بناء مدن سياحية جديدة مثل العلمين الجديدة.

✍ توفير الأمن وتحسين البنية التحتية وبناء الفنادق

✍ إنشاء المتحف المصري الكبير.

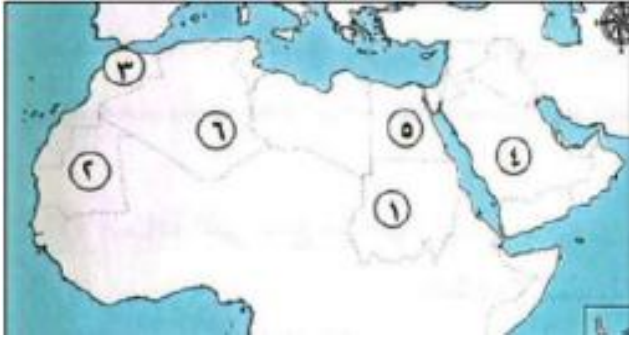
✓ **تهدف هذه الجهود لجذب السياح وتعريفهم بحضارة مصر**



تدريبات الدرس



❖ السؤال الأول لاحظ خريطة الوطن العربي التالية . ثم اكتب مدلول الأرقام الموقعة عليها :



١. دولة تنظم فاعليات موسم الرياض.....
٢. دولة توجد بها مدينة القيروان.....
٣. دولة تنتشر بها السياحة العلاجية.....
٤. دولة تنتشر بها السياحة الترفيهية.....

❖ ثانيا : أكمل العبارات الاتية

١. من العوامل الطبيعية التي تجذب السياح إلى مصر.....و.....
٢. من أشهر أنواع السياحة في مصر.....و.....
٣. من العوامل البشرية التي تساعد على جذب السياحة .
٤. السياحة تعتبر مصدرا مهما ل..... في مصر.
٥. من الأماكن الأثرية التي يحرص السياح على زيارتها.....و.....
٦. من المناطق الطبيعية التي تجذب السياح في مصر.....و.....
٧. من واجباتنا تجاه السائحين أن.....
٨. من المقومات التي تساعد على ازدهار السياحة في مصر.....
٩. السياحة باحة البيئية تعني زيارة.....
١٠. السياحة العلاجية تعني زيارة.....

❖ ثالثا : ضع علامة صح أو خطأ أمام كل عبارة

١. الأهرامات وأبو الهول من أهم المعالم السياحية في مصر.
٢. السياحة لا تؤثر على الدخل القومي لمصر.
٣. السياحة الثقافية تشمل زيارة المتاحف والمعابد
٤. السياحة البيئية تعني زيارة الشواطئ والمحميات الطبيعية
٥. السياحة مصدر من مصادر العملة الصعبة لمصر.
٦. يجب معاملة السائحين معاملة سيئة.
٧. السياحة الرياضية تعتمد على مشاهدة المباريات فقط.
٨. السياحة العلاجية تهدف للاستفادة من الموارد الطبيعية للعلاج.
٩. السياحة الداخلية هي سفر المواطنين لزيارة أماكن داخل وطنهم
١٠. السياحة الخارجية هي سفر المواطنين لزيارة أماكن خارج وطنهم .
١١. تنوع السياحة في مصر يجذب مزيداً من السياح

❖ رابعا: اختر الاجابة الصحيحة مما بين القوسين

- (١) من العوامل الطبيعية التي تجذب السياح إلى مصر.....
- ✓ (المناخ الأمن الاستقرار الخدمات)
- (٢) من أنواع السياحة في مصر.....
- ✓ (ثقافية زراعية صناعية علمية)
- (٣) من المقومات البشرية للسياحة في مصر.....
- ✓ (المعالم الأثرية الشواطئ الأمن والاستقرار الجبال)
- (٤) من واجباتنا تجاه السائحين.....
- ✓ (سوء المعاملة الاحترام تجاههم فرض الضرائب)

٥) السياحة البيئية تشمل.....

✓ (زيارة الشواطئ زيارة المستشفيات زيارة المصانع مشاهدة المباريات)

٦) السياحة العلاجية تعني.....

✓ (زيارة أماكن العلاج زيارة المعابد زيارة المتاحف زيارة الملاعب)

٧) من آثار ازدهار السياحة في مصر.....

✓ (زيادة الدخل قلة فرص العمل قلة الأمن تلوث البيئة)

٨) من المقومات الطبيعية للسياحة في مصر.....

✓ (الشواطئ الأمن الاستقرار الأسواق)

❖ رابعا: ما المقصود بالمفاهيم والمصطلحات التالية:

١) السياحة الثقافية.

٢) السياحة العلاجية.

٣) السياحة الترفيهية.

٤) المقومات الطبيعية للسياحة.

٥) السياحة البيئية.

❖ خامسا : أكتب ما تشير إليه العبارات التالية:

١) نوع من السياحة يقوم على زيارة المناطق الأثرية والمتاحف.

٢) نوع من السياحة يعتمد على التمتع بالشواطئ وممارسة السباحة والرياضات المائية.

٣) أماكن يقصدها الناس للاستشفاء من أمراضهم بمياهها المعدنية أو جوها النقي.

٤) زيارات تتم لمناطق المحميات الطبيعية لمشاهدة النباتات والحيوانات النادرة.

❖ سادسا: بم تفسر

١. تنوع الأنشطة السياحية في مصر.

٢. أهمية السياحة لمصر اقتصاديا.

٣. إقبال السياح على زيارة مصر طوال العام.

٤. إقامة الدولة مشروعات لتطوير المناطق السياحية.

٥. اهتمام الدولة بحماية المحميات الطبيعية.

❖ سابعا: ما النتائج المترتبة على:

١. تنوع المقومات السياحية في مصر.

٢. تدهور البيئة في المناطق السياحية.

٣. إنشاء الطرق والمطارات بالقرب من المناطق السياحية.

٤. تعرض بعض الآثار للتلف أو السرقة.

٥. زيادة الوعي السياحي لدى المواطنين.

❖ ثامنا : ددل على صحة العبارات التالية:

١. لمصر مكانة سياحية كبيرة على مستوى العالم.

٢. السياحة مصدر مهم للعملة الصعبة في مصر.

٣. السياحة البيئية تحافظ على الموارد الطبيعية.

٤. السياحة الثقافية تنتشر في العديد من محافظات مصر.

٥. الدولة تشجع السياحة العلاجية.

❖ تاسعا: ما العلاقة بين

• السياحة والاقتصاد المصري

• السياحة البيئية والمحميات الطبيعية.

• السياحة الثقافية والآثار المصرية.

• السياحة العلاجية والمياه المعدنية

❖ عاشرًا: قارن بين

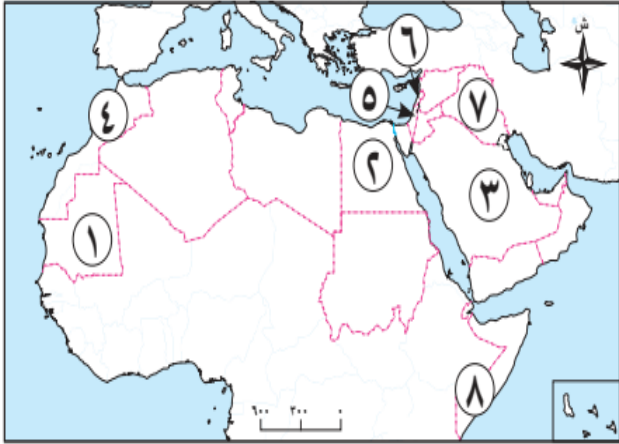
- السياحة الترفيهية والمناطق الساحلية.
- السياحة الثقافية والسياحة الترفيهية.
- المقومات الطبيعية للسياحة والمقومات البشرية للسياحة.
- السياحة البيئية والسياحة العلاجية



تقييم الوحدة الثالثة



❖ السؤال الأول: أمامك خريطة صماء للوطن العربي، أجب عن الأسئلة الآتية:



١. أولى دول الوطن العربي في إنتاج الحديد
٢. أولى دول الوطن العربي إنتاجاً للقمح
٣. أولى دول الوطن العربي في إنتاج البترول
٤. أولى دول الوطن العربي في المصايد البحرية
٥. دولة يوجد بها المسجد الأقصى
٦. يتركز إنتاج الكبريت بدولة
٧. دولة تشتهر بتربية الإبل

❖ السؤال الثاني : اكتب كلمة (صواب) أمام العبارة الصحيحة، وكلمة (خطأ) أمام العبارة غير الصحيحة:

١. يعتمد النشاط الزراعي على نوع التربة والمناخ
٢. تمتلك دول الخليج رأس المال اللازم للزراعة
٣. تنتج السعودية كميات كبيرة من البترول.
٤. السياحة تعمل على زيادة الدخل القومي.
٥. الرياح من مصادر الطاقة المتجددة.
٦. الفحم أكثر مصادر الطاقة غير المتجددة تلويثاً للبيئة.
٧. يعتمد الوطن العربي على المراعي الطبيعية فقط

❖ السؤال الثالث: أكمل العبارات الآتية:

١. تشتهر المغرب بإنتاج معدن..... الذي يدخل في صناعة الأسلاك.
٢. أولى دول الوطن العربي في توليد الكهرباء من الرياح.....
٣. أكثر دول الوطن العربي امتلاكاً للثروة الحيوانية.....
٤. تعتمد السياحة على عدة مقومات
٥. معدن يدخل في صناعة الآلات
٦. زيارة الأماكن الأثرية مثل الأهرامات سياحة
٧. أولى دول الوطن العربي في المزارع السمكية دولة

❖ السؤال الرابع: بم تفسر؟

١. أهمية الأسواق بالنسبة للزراعة.
٢. أهمية البترول في الوطن العربي.
٣. اهتمام الوطن العربي بتنمية الثروة السمكية.
٤. أهمية الثروة الحيوانية.
٥. استحداث بذور مقاومة للتغيرات المناخية.
٦. أهمية السياحة للدخل القومي.
٧. أهمية معدن المنجنيز.
٨. انخفاض إنتاج الثروة الحيوانية في بعض المناطق

❖ السؤال الخامس: ما النتائج المترتبة على ...؟

١. تنوع المناخ في الوطن العربي.
٢. تعدد أنواع السياحة بالوطن العربي.
٣. الاعتماد على مصادر الطاقة غير المتجددة.
٤. الصيد الجائر بالنسبة للثروة السمكية.

٥. تدهور المراعي الطبيعية في الوطن العربي.

❖ السؤال السادس: ماذا يحدث إذا لم؟

١. وفرة حشائش السافانا بالسودان.
٢. يستخدم الري الحديث في الوطن العربي.
٣. تستخدم وسائل صيد حديثة بالنسبة للثروة السمكية.
٤. يترك الصيادون حرفة الصيد في الوطن العربي.
٥. تتوفر الأعلاف وتحسن الرعاية البيطرية في الوطن العربي.
٦. يتم معالجة مياه الصرف الصحي في الوطن العربي.

❖ السؤال السابع : ما المقصود بالمفاهيم الآتية ...؟

المراعي الطبيعية.

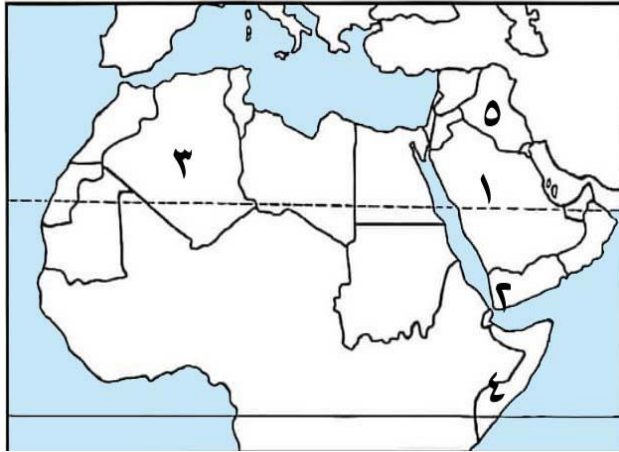
السياحة الدينية.

❖ السؤال الثامن: ما العلاقة بين كل من ...؟

- ١ النشاط الزراعي والمناخ .
- ٢ الثروة الحيوانية والمراعي
- ٣ المعادن والنشاط الاقتصادي

تدريبات الوحدة الثالثة

❖ السؤال الأول لاحظ الخريطة المقابلة ، ثم أجب:



١) يشير رقم (١) إلى أولى الدول العربية إنتاجاً للبتروول وهي

٢) يشير رقم (٢) إلى منطقة تقوم بها الزراعة اعتماداً على.....

٣) اختر: تقوم الزراعة في المنطقة رقم (٣) اعتماداً على.... (الأمطار المياه الجوفية الأنهار البحيرات العذبة)

٤) صواب أم خطأ: يشير رقم (٤) إلى إحدى أكبر الدول العربية في تربية الدواجن.....

٥) يشير رقم (٥) إلى مدينة بابل في دولة

❖ السؤال الثاني اكتب كلمة (صواب) أمام العبارة الصحيحة، وكلمة (خطأ) أمام العبارة غير الصحيحة

١. السياحة من أهم مصادر الدخل القومي وفرص العمل في الدول العربية.
٢. استصلاح الأراضي الصحراوية من أساليب التغلب على مشكلات الزراعة.
٣. إنشاء المطارات والفنادق الحديثة من مقومات تنشيط السياحة.
٤. المصريون القدماء سجلوا أنشطتهم الزراعية على جدران المعابد والمقابر.
٥. المياه العذبة من المقومات الطبيعية للزراعة في الوطن العربي
٦. مشروع توشكي للتنمية الزراعية يقع في مصر.
٧. حضور المباريات العالمية يعد من السياحة الرياضية.
٨. مصر تصدر إنتاج القطن طويل التيلة في الوطن العربي.
٩. رأس المال أحد المقومات البشرية لنشاط الزراعة.
١٠. الدواجن تساعد على تقليل الاعتماد على اللحوم الحمراء .
١١. الوطن العربي ينتج محاصيل غذائية وصناعية وتجارية.
١٢. من جهود مصر في تنشيط السياحة إنشاء المتحف المصري الكبير.
١٣. الفوسفات يدخل في صناعة الأسمدة الزراعية.
١٤. الموقع المتميز من المقومات البشرية للسياحة
١٥. البتروول يطلق عليه "الذهب الأسود" لأهميته الاقتصادية.
١٦. بعض الصناعات السياحية تشمل الحرف اليدوية التقليدية.

❖ السؤال الثالث : أكمل العبارات التالية:

١. الإستخرج المصريون القدماء الذهب من الصحراء
٢. أحد أمثلة السياحة البيئية زيارة محمية أرز الشوف في دولة
٣. تسعى الدول العربية لاستخدام طرق ري حديثة منها الري بالرش و
٤. أحد أمثلة السياحة الثقافية زيارة مدينة القيروان في دولة
٥. تساهم الدواجن في تقليل اعتماد الوطن العربي على اللحوم.....
٦. يعد المسجد الأقصى في فلسطين مقصداً لسياحة
٧. يستخدم قصب السكر بشكل رئيسي في صناعة
٨. تقع محمية رأس محمد في جنوب مدينة
٩. تشتهر منطقة سيوة في مصر بانتشار أشجار
١٠. من أهم مصادر الطاقة التقليدية في الوطن العربي .

❖ السؤال الرابع صوب ما تحته خط

١. يتمتع الوطن العربي بمناخ معتدل ومطير في **الغرب**.
٢. قصب السكر من المحاصيل السكرية التي تزرع في **دلتا النيل**.
٣. يستخدم في صناعة الأسلاك الكهربائية والأجهزة الإلكترونية معدن **المنجنيز**.
٤. الطاقة التي تنتج من المياه تسمى الطاقة **النووية**.

❖ السؤال الرابع ما المقصود بكل مما يلي؟

١. المراعي الطبيعية.
٢. المصايد السمكية.
٣. المزارع السمكية.
٤. السياحة.

❖ السؤال الخامس: أكتب ما تشير إليه العبارات الآتية:

١. نباتات عشبية طويلة، تربي عليها الأبقار والأغنام في بعض مناطق الوطن العربي.
٢. نوع من الصخور يستخدم في الصناعات الكيماوية.
٣. نباتات عشبية قصيرة، تُربي عليها الأغنام والماعز في بعض مناطق الوطن العربي.
٤. نوع من السياحة يعتمد على الاستمتاع بالشواطئ الطبيعية.
٥. مصدر للطاقة غير المتجددة يستخدم في صهر الحديد، ويُعد من أكثر الملوثات البيئية.
٦. نوع من السياحة يعتمد على حضور البطولات والمباريات الرياضية.
٧. الدولة العربية التي تصدر إنتاج الأسماك من المزارع السمكية
٨. معدن يستخدم في صناعة بعض العملات المعدنية.
٩. نوع من السياحة يعتمد على زيارة المحميات الطبيعية.
١٠. مصدر طاقة غير متجدد يعد السبب الرئيسي في قوة اقتصاد بعض الدول العربية.
١١. أوسع أنواع السهول انتشارًا في الوطن العربي.
١٢. أكثر أنواع الأخشاب الصلبة استخدامًا في صناعة الأثاث.
١٣. المحصول الزراعي الذي يحتل المرتبة الأولى في الوطن العربي من حيث المساحة المزروعة.

❖ السؤال السادس بم تفسر ...؟

١. أهمية السياحة في الوطن العربي.
٢. أهمية التربة الخصبة بالوطن العربي...
٣. يعد الوطن العربي إحدى أهم مناطق الجذب السياحي في العالم
٤. تنوع المحاصيل في الوطن العربي...
٥. أهمية الطاقة الشمسية.
٦. اهتمام المغرب وتونس بالمدن القديمة والمواقع التراثية...
٧. أهمية الأسواق للزراعة في وطننا العربي...
٨. أهمية الثروة الحيوانية في الوطن العربي..
٩. أهمية الثروة السمكية في الوطن العربي...
١٠. أهمية الزراعة في الوطن العربي.
١١. أهمية البترول.

❖ السؤال السابع ما النتائج المترتبة على

١. طول سواحل المغرب على المحيط الأطلنطي والبحر المتوسط.
٢. امتلاك الوطن العربي منذ القدم المقومات الزراعية.
٣. مشروع توشكي بجنوب مصر.
٤. كثرة المزارع السمكية في مصر.
٥. تنوع مناخ الوطن العربي.
٦. تفعيل الدول العربية للقوانين بالنسبة للثروة السمكية

❖ السؤال الثامن ددل على صحة العبارات الآتية:

١. تبذل الدول العربية جهودًا لتنمية الثروة الحيوانية.
٢. تتعدد مصادر المياه العذبة في الوطن العربي...
٣. تبذل مصر جهودًا كبيرة لتنشيط السياحة...
٤. تبذل بعض الدول العربية جهودًا لحل مشكلات الزراعة.
٥. تبذل الدول العربية جهودًا لتنمية الثروة السمكية.
٦. تواجه الزراعة في الوطن العربي عدة مشكلات تعوق تطورها ...
٧. يعد البترول من مصادر الطاقة المهمة...
٨. تعد مصر أكثر الدول العربية ملاءمة لتربية الجاموس...
٩. تبذل الدول العربية جهودًا للحد من تأثير التغير المناخي على الزراعة...
١٠. يعد الغاز الطبيعي من مصادر الطاقة المهمة...
١١. تسعى مصر لتحقيق الأمن الغذائي..

❖ السؤال التاسع ما العلاقة بين ...؟

١. البترول والاقتصاد.
٢. التغيرات المناخية والزراعة في الوطن العربي...
٣. الثروة الحيوانية والصناعة.
٤. مصادر الطاقة المتجددة والبيئة. الدراسات الاجتماعية
٥. السياحة وعلاج الأمراض...

❖ السؤال العاشر قارن بين

- الحديد والنحاس من حيث الاستخدامات في الوطن العربي.
- الغاز الطبيعي والفحم من حيث الأهمية والخصائص.
- السياحة الدينية والثقافية في الوطن العربي من حيث الهدف مع ذكر مثال لكل منهما.

مراجعة عامة على الفصل الدراسي الأول

❖ السؤال الأول: اكتب كلمة (صواب) أمام العبارة الصحيحة، وكلمة (خطأ) أمام العبارة غير الصحيحة فيما

١. يمتد الوطن العربي في قارتي آسيا وإفريقيا. ()
٢. تسود الغابات الاستوائية في معظم أراضي الوطن العربي. ()
٣. عاصمة الدولة العباسية كانت دمشق. ()
٤. الهجرة النبوية كانت بسبب حماية الدعوة. ()
٥. تسهم السياحة في دعم الاقتصاد العربي ()
٦. الطاقة الشمسية من مصادر الطاقة المتجددة. ()
٧. من نتائج الهجرة تأسيس مجتمع إسلامي في المدينة. ()
٨. يعد بيت الحكمة مركزاً للترجمة والبحث العلمي. ()
٩. الخلافة هي نظام حكم إسلامي. ()
١٠. من مصادر الطاقة غير المتجددة الرياح. ()
١١. أشهر القبائل في شبه الجزيرة العربية قبيلة قريش. ()
١٢. من عادات العرب الحسنة قبل الإسلام الكرم والشجاعة. ()
١٣. فتحت العراق على يد سعد بن أبي وقاص في وقاص في خلافة عمر بن الخطاب. ()
١٤. وصلت الدولة الإسلامية إلى أقصى اتساع لها في عهد الأمويين. ()
١٥. أسس معاوية بن أبي سفيان مدينة القيروان بتونس. ()

❖ السؤال الثاني : اختر الإجابة الصحيحة مما بين القوسين

١. من المحاصيل السكرية في الوطن العربي.....
(القطن القمح الكتان قصب السكر)
٢. أنشأ مكتبة بيت الحكمة الخليفة
(هارون الرشيد المنصور عمر معاوية)
٣. الطاقة الكهربائية تنتج من
(الرياح السدود الشمس البترول)
٤. صناعة السيارات تعتمد على معدن.....
(الكبريت الحديد الذهب النحاس)
٥. الدولة الأموية اتخذت عاصمتها في
(المدينة الكوفة بغداد دمشق)
٦. الفتوحات الإسلامية انتشرت في عهد الخليفة.....
(عثمان عمر علي أبي بكر)
٧. الدولة الإسلامية بعد وفاة النبي (ﷺ) قادها
(معاوية أبو بكر العباس خالد بن الوليد)
٨. يتركز السكان بالمناطق الصحراوية في
(الجبال الواحات الهضاب السهول)
٩. أحد مصادر الطاقة المتجددة بالوطن العربي
(البترول الفحم الرياح الغاز الطبيعي)
١٠. أحد مقومات الزراعة الطبيعية
(التربة الخصبة الأيدي العاملة رأس المال الأسواق)

❖ السؤال الثالث: بم تفسر...؟

١. الأهمية الحضارية والدينية للوطن العربي.
٢. الأهمية الإستراتيجية للوطن العربي.
٣. نشأة جبال البحر الأحمر.
٤. أهمية الأودية الجافة.

٥. أهمية السهول الساحلية.
٦. تنوع الأنشطة الاقتصادية في الوطن العربي.
٧. تنوع النبات الطبيعي في الوطن العربي.
٨. أهمية حشائش السافانا.
٩. ندرة المياه العذبة في الوطن العربي.
١٠. بعثة النبي محمد (ﷺ).
١١. نسخ عثمان بن عفان (رضي الله عنه) القرآن الكريم في مصحف واحد.
١٢. ضعف وسقوط الدولة العباسية.
١٣. اختيار أبي بكر الصديق (رضي الله عنه) خليفة للمسلمين.
١٤. أهمية النشاط السياحي.
١٥. قيام عبد الملك بن مروان بنقط المصحف.
١٦. الاعتماد على الزراعة في بعض الدول العربية.
١٧. انتشار المناخ الصحراوي في معظم أراضي الوطن العربي.
١٨. وجود السهول الفيضية في مصر والعراق

❖ السؤال الرابع : ما النتائج المترتبة على؟

١. تنوع التضاريس في الوطن العربي.
٢. تنوع الموارد والثروات الطبيعية في الوطن ال العلية في الوطن العربي
٣. الموقع الفلكي للوطن العربي
٤. فتح مكة ٨ هـ
٥. حدوث السيول في الوطن العربي.
٦. غزوة الخندق ٥ هـ
٧. اهتمام المأمون بالترجمة .
٨. تنوع الأنشطة الاقتصادية في الوطن العربي.
٩. وجود أنهار مثل النيل والفرات في الوطن العربي .
١٠. اهتمام الدول العربية بتنمية السياحة.
١١. تحسين وسائل النقل والمواصلات

❖ السؤال الخامس: اكتب ما تشير إليه كل عبارة مما يلي:

١. منطقة انتقل إليها النبي (ﷺ) وأسس بها أول مجتمع إسلامي.
٢. أحد مصادر الطاقة المتجددة يعتمد على حرارة الشمس.
٣. مكان علمي في بغداد اهتم بالترجمة والعلوم.
٤. أول خليفة للمسلمين بعد وفاة النبي ﷺ
٥. نشاط يعتمد على زراعة الأرض وإنتاج المحاصيل.
٦. نباتات تنمو دون تدخل الإنسان.
٧. دولة عربية تشتهر بإنتاج الفوسفات.
٨. مدينة كانت عاصمة الدولة الأموية.
٩. نهر يمر في مصر والسودان.
١٠. أحد الخلفاء الراشدين جمع المسلمين على مصحف واحد.
١١. أكثر الحيوانات التي يتم تربيتها في الوطن العربي.
١٢. مصدر من مصادر الطاقة غير المتجددة وأقل تلويثا للبيئة.
١٣. من الدول العربية المشهورة بسياحة التسوق.
١٤. من مظاهر سطح الأرض ويمثل مرتفعات واسعة.

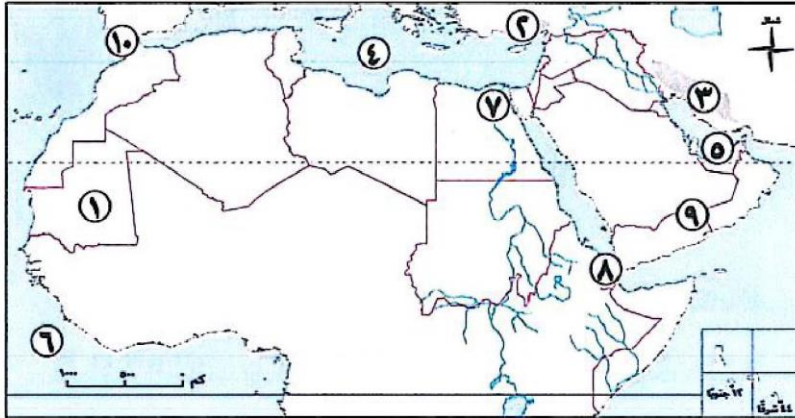
❖ السؤال السادس: ماذا يحدث إذا...؟

١. لم يتم فتح بلاد الشام في عهد الخلفاء الراشدين.
٢. لم يهاجر المسلمون الأوائل إلى الحبشة...
٣. لم يتعاون المسلمون مع النبي (ﷺ) في المدينة..
٤. لم تنتشر الفتوحات الإسلامية.
٥. لم يكن هناك تواصل جغرافي بين الدول العربية.
٦. .. كانت معظم أراضي الوطن العربي مغطاة بالغابات.
٧. استنزفت مصادر الطاقة غير المتجددة..
٨. توقفت السياحة في الوطن العربي.
٩. لم تهتم الدول بتخزين مياه الأمطار والسيول...
١٠. تم الاعتماد الكامل على الطاقة غير المتجددة دون بدائل

بنك أسئلة الفصل الدراسي الأول

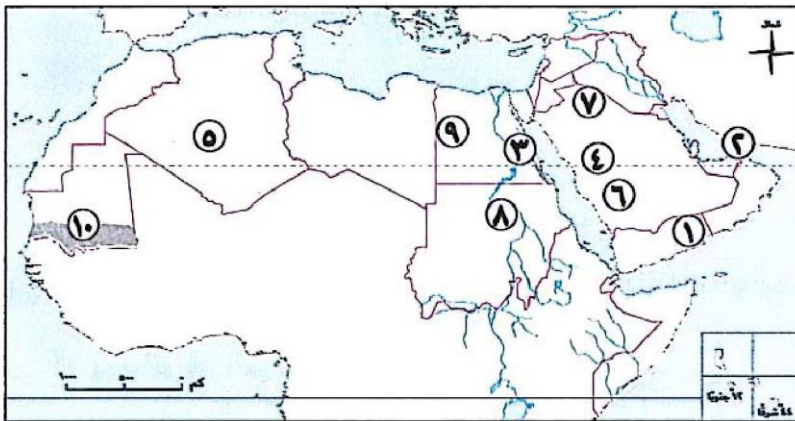
المجموعة الأولى

(أ) أمامك خريطة صماء للوطن العربي، اكتب مدلول الأرقام الموقعة عليها:



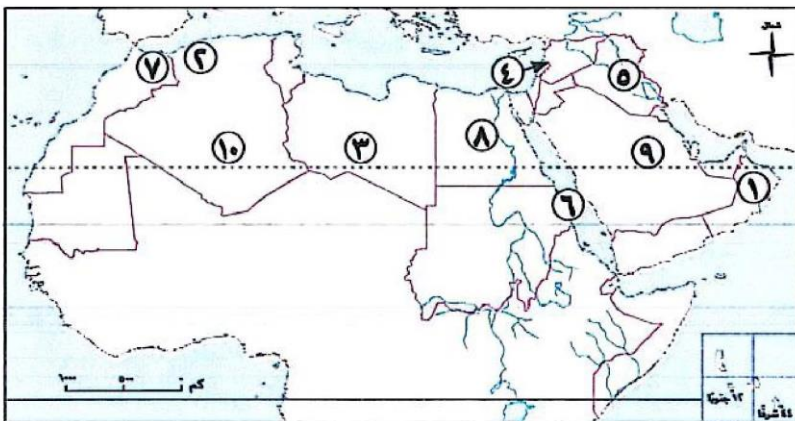
- ١ إحدى دول الجناح العربي الإفريقي
- ٢ جبال
- ٣ جبال
- ٤ البحر
- ٥ الخليج
- ٦ المحيط
- ٧ سهول
- ٨ مضيق
- ٩ هضبة
- ١٠ مضيق

(ب) أمامك خريطة صماء للوطن العربي، اكتب مدلول الأرقام الموقعة عليها:



- ١ إحدى دول الجناح العربي الآسيوي
- ٢ مضيق
- ٣ جبال
- ٤ هضبة
- ٥ واحة
- ٦ وادي
- ٧ هضبة
- ٨ نهر
- ٩ أحد نواتج التعرية الهوائية
- ١٠ الإقليم

(ج) أمامك خريطة صماء للوطن العربي، اكتب مدلول الأرقام الموقعة عليها:



- ١ من أكبر الدول العربية إنتاجاً للنحاس
- ٢ إقليم
- ٣ إقليم
- ٤ دولة تعتمد فيه الزراعة على مياه الأمطار
- ٥ سهول
- ٦ البحر
- ٧ جبال
- ٨ من أكبر الدول العربية إنتاجاً للأسماك
- ٩ من أكبر الدول العربية إنتاجاً للبتروك
- ١٠ دولة يوجد بها معدن الكبريت

❖ المجموعة الثانية اكتب كلمة (صواب) أمام العبارة الصحيحة، وكلمة (خطأ) أمام العبارة غير الصحيحة:

- (١) يقع الوطن العربي وسط قارات العالم القديم.
- (٢) العراق من دول الجناح العربي الإفريقي.
- (٣) تؤدي السيول إلى إتلاف المحاصيل الزراعية.
- (٤) تعد الجزائر الدولة العربية الوحيدة التي يقطعها خط جرينتش.
- (٥) من الأماكن الدينية المقدسة بفلسطين المسجد الأقصى.
- (٦) من أشهر أسواق العرب سوق عكاظ.
- (٧) اتخذ النبي ل من دار الأرقم بن أبي الأرقم مدرسة ومكاناً للبيع والشراء.
- (٨) أشار الحباب بن المنذر على الرسول لا بحفر خندق حول المدينة.
- (٩) كلف أبوبكر الصديق ٤ زيد بن حارثة بجمع القرآن الكريم.
- (١٠) قام عبد الملك بن مروان بسك أول عملة إسلامية.
- (١١) (١١) تتصدر مصر إنتاج القطن طويل التيلة.
- (١٢) من مشكلات الثروة الحيوانية في الوطن العربي توافر الأعلاف وانخفاض أسعارها.
- (١٣) تسهم الثروة السمكية في سد النقص في اللحوم الحمراء.
- (١٤) يتمتع الوطن العربي بالعديد من مقومات السياحة.
- (١٥) يعد البترول من مصادر الطاقة غير المتجددة.

❖ المجموعة الثالثة اختر الإجابة الصحيحة مما بين الأقواس :-

- (١) يحد الوطن العربي من ناحية الغرب المحيط
 - (الأطلنطي - الهادي - الهندي - القطبي الجنوبي)
 - (٢) تشرف دولة عمان على مضيق
 - (هرمز-باب المندب - جبل طارق- البسفور)
 - (٣) يصل مضيق باب المندب بين البحر الأحمر وخليج.
 - (عمان- عدن-العقبة- السويس)
 - (٤) تطل دولة المغرب على مضيق.
 - (جبل طارق - هرمز- باب المندب - البسفور)
 - (٥) أعلى قمة في جبال أطلس جبل
 - (توبقال-سانت كاترين- علبة- شايب البنات)
 - (٦) تحول نصر المسلمين إلى هزيمة في غزوة
 - (بدر - أحد - الخندق- فتح مكة)
 - (٧) أول أعمال النبي طال بعد الهجرة
 - (المؤاخاة بين المهاجرين والأنصار- بناء المسجد - وضع صحيفة المدينة- تأمين الدولة)
 - (٨) عدد الخلفاء الراشدين قة
 - (خمسة - ستة - أربعة - ثلاثة)
 - (٩) تعد من المشكلات الطبيعية التي تواجه الزراعة في الوطن العربي.
 - (قلة الأمطار- نقص العمالة المدربة- التلوث والزحف العمراني - ضعف الاستثمار الزراعي)
 - (١٠) من أهم الدول في الوطن العربي في زراعة محاصيل الألياف.
 - (مصر - السعودية - الامارات اليمن)
 - (١١) تُعد من أكثر الدول العربية تربية للأبقار والأغنام والماعز والخيول.
 - (السودان - الأردن - اليمن - قطر)
 - (١٢) تُعد دولة أولى الدول العربية في تربية الإبل.
 - (مصر - اليمن - السودان - الصومال)
 - (١٣) يُستخدم في بناء الكبارى وصناعة القطارات والسيارات.
 - (الحديد- الفوسفات - اليورانيوم - الذهب)

❖ المجموعة الرابعة ما المقصود بكل من ... ؟

- (١) التعرية الهوائية.
- (٢) الإقليم المناخى.
- (٣) الجفاف.
- (٤) التصحر ..
- (٥) السيول
- (٦) النظام القبلى.
- (٧) الوحى.
- (٨) الأنصار ..
- (٩) الغزوة ..
- (١٠) المرتدون
- (١١) المصايد السمكية
- (١٢) السياحة.

❖ المجموعة الخامسة اكتب ما تشير إليه العبارات الآتية:

- (١) الدولة العربية الوحيدة التي تقع خارج النطاق الفلكى للوطن العربى.
- (٢) أكبر هضاب الوطن العربى من حيث المساحة.
- (٣) نحت الصخور ونقلها وإرسابها بواسطة المياه.
- (٤) مجارٍ كانت تملؤها المياه قديماً ثم جفت.
- (٥) جماعة من الناس ينتمون إلى أصل ونسب واحد، ولهم عادات وتقاليد مشتركة.
- (٦) المسلمون الذين تركوا ديارهم وأموالهم في مكة وهاجروا إلى المدينة.
- (٧) خروج الجيش للقتال دون النبى للم
- (٨) حشائش تنمو طبيعياً دون تدخل من الإنسان.
- (٩) أماكن يتم فيها تربية الأسماك بطريقة حديثة ومنظمة.

❖ المجموعة السادسة بم تفسر ... ؟

- (١) الأهمية الحضارية للوطن العربى.
- (٢) الأهمية الدينية للوطن العربى ..
- (٣) تحكم الوطن العربى فى طرق التجارة العالمية
- (٤) تنوع الإنتاج وزيادة النشاط الاقتصادى للوطن العربى.
- (٥) الأهمية الاستراتيجية للوطن العربى
- (٦) تكون جبال البحر الأحمر فى الوطن العربى.
- (٧) كان النظام القبلى هو النظام السائد فى شبه الجزيرة العربية قبل ظهور الإسلام.
- (٨) أمر النبى أصحابه بالهجرة إلى الحبشة
- (٩) أمر النبى أصحابه بالهجرة إلى يثرب.
- (١٠) تأمر زعماء قريش على قتل النبى ولالز.
- (١١) كان بناء المسجد أول أعمال النبى ل بعد وصوله إلى المدينة
- (١٢) حرص النبى ل على المؤاخاة بين المهاجرين والأنصار.
- (١٣) تتسم المحاصيل الزراعية فى الوطن العربى بالتنوع.
- (١٤) أهمية مشروع مستقبل مصر للزراعة المستدامة.
- (١٥) أهمية وسائل النقل والمواصلات بالنسبة للزراعة.
- (١٦) تحتل مصر المركز الأول عربياً فى تربية الجاموس.
- (١٧) الأهمية الاقتصادية للسياحة فى الوطن العربى.

❖ المجموعة السابعة ما النتائج المترتبة على ... ؟

- (١) الموقع الجغرافي المتميز والثروات الطبيعية للوطن العربي.
- (٢) تحكم الوطن العربي في ممرات مائية مهمة.
- (٣) اتساع مساحة الوطن العربي وتنوع موارده الطبيعية.
- (٤) الموقع الفلكي للوطن العربي.
- (٥) وقوع الوطن العربي في وسط قارات العالم القديم.
- (٦) تنوع مظاهر السطح في الوطن العربي.
- (٧) أمر الله النبي محمد لة بإعلان الدعوة الإسلامية ..
- (٨) الفتنة التي أثارها عبد الله بن سبأ.
- (٩) تنوع المناخ في الوطن العربي.
- (١٠) وجود وسائل النقل والمواصلات كأحد المقومات البشرية للزراعة.
- (١١) التوسع في مشروعات الاستزراع السمكي بالوطن العربي.
- (١٢) استخدام الطاقة الشمسية بالوطن العربي ..
- (١٣) تنمية السياحة في الوطن العربي ..

❖ المجموعة الثامنة دلل على صحة العبارات الآتية:

- (١) تتميز السهول الساحلية في الوطن العربي بتنوع الموارد والاستخدامات.
- (٢) تؤثر التعرية الهوائية على سطح الوطن العربي.
- (٣) لأشجار الغابات المدارية أهمية اقتصادية كبرى.
- (٤) اختلاف النبات الطبيعي في الإقليم الصحراوي الحار ..
- (٥) تعد حشائش السافانا حديقة حيوان طبيعية.
- (٦) كانت شبه الجزيرة العربية مهدًا لكثير من الأنبياء.
- (٧) اهتمام العرب بالحياة الثقافية في شبه الجزيرة العربية
- (٨) قام النبي ل بوضع أسس بناء الدولة الإسلامية في المدينة.
- (٩) تقوم الدول العربية بالعديد من الجهود لتنمية الثروة الحيوانية
- (١٠) تواجه الثروة السمكية في الوطن العربي العديد من المشكلات.
- (١١) تكثرت استخدامات الغاز الطبيعي بالوطن العربي ..
- (١٢) تعددت أنواع السياحة في الوطن العربي
- (١٣) قامت الحكومات العربية بالعديد من الخطوات لتنمية السياحة.