

وطننا العربي (الموقع - الأهمية)

الدرس

1

أهداف الدرس

- في نهاية هذا الدرس، سأكون قادرًا على أن:
- أحدد الموقع الفلكي والجغرافي للوطن العربي.
- أفسّر أهمية موقع الوطن العربي (الحضارية - الاقتصادية - الدينية - الإستراتيجية).
- أميّز بين دول الجَنَاح العربي الإفريقي والجَنَاح العربي الآسيوي.
- أعبر عن اعتزازي بانتمائي العربي بأساليب متنوعة.

قيم أتعلمها

أعتز بوطني العربي وثقافته وتاريخه.

لكل إنسان وطن ينتمي إليه ويعيش فيه، ووطننا العربي يجمعه لغة وعادات وتقاليد واحدة وتاريخ مشترك.



وأكتشف

أتأمل

هل تعرف لماذا تحرص مصر على التواصل مع الدول العربية؟

لان مصر جزء من الوطن العربي وتوجد علاقات تعاون اقتصادي واجتماعي وسياسي وتعليمي و..... الخ بينها وباقي الدول العربية



التواصل بين الشعوب

Hany 2026

حقائق تاريخية

تحرص مصر منذ القَدَم على إقامة علاقات طيبة مع الدول العربية، قائمة على التعاون والاحترام المتبادل.

أصدقائي، من خلال استخدامي لمصادر التعلم المختلفة، عرّفت أن وطننا العربي يضم ٢٢ دولة، هذه الدول تقع في قارتين هما إفريقيا وآسيا، وتبلغ مساحة وطننا العربي حوالي ١٣ مليون كيلومتر مربع، هيا بنا نبدأ رحلتنا ونتعرف على أسماء هذه الدول ومواقعها على الخريطة.





خريطة (١) دول الوطن العربي

دول الجَنَاح الآسيوي: تمثل ٢٨٪ من مساحة الوطن العربي، ويبلغ عددها ١٢ دولة هي: (فلسطين، الأردن، لبنان، سوريا، العراق، الكويت، السعودية، البحرين، قطر، الإمارات، عمان، اليمن).

دول الجَنَاح الإفريقي: تمثل ٧٢٪ من مساحة الوطن العربي، ويبلغ عددها ١٠ دول هي: (مصر، السودان، ليبيا، تونس، الجزائر، المغرب، موريتانيا، جيبوتي، الصومال، جزر القمر «تقع في المحيط الهندي»).

حقائق جغرافية

الجزائر أكبر الدول العربية من حيث المساحة، والبحرين أصغرها.

ألاحظ Hany 2026

- ١ - يفصل بين جناحي الوطن العربي البحر **الإحمر**.....
- ٢ - تتركز معظم مساحة اليابس في الجَنَاح **الإفريقي**.....
- ٣ - أصغر الدول العربية من حيث المساحة هي دولة **البحرين**.....

أنا أحب السفر واكتشاف الأماكن الجديدة، واليوم رحلتنا مختلفة، فسوف أصحبكم إلى مكان عزيز علينا جميعاً، هو وطننا العربي. هيا بنا نتعرف على موقعه الجغرافي والفلكي.



الموقع الفلكي للوطن العربي

يقصد به موقع الوطن العربي بالنسبة لخطوط الطول ودوائر العرض:

حقائق جغرافية

دولة جزر القمر هي الدولة العربية الوحيدة التي تقع خارج النطاق الفلكي للوطن العربي.

- يمتد الوطن العربي بين دائرتي عرض ٢° جنوباً و ٣٧,٥° شمالاً، وخطي طول ٦٠° شرقاً و ١٧° غرباً.
- هذا الامتداد جعل معظمه يقع في نصف الكرة الشمالي، وأثر على مناخه ونباتاته الطبيعية.

ألاحظ وأستنتج

- ١ - هل تطل جميع الدول العربية على مسطحات مائية؟ وضح السبب.
جميع الدول العربية تطل على مسطحات مائية باختلاف المساحة حيث ان العراق اصغر الدول من حيث السواحل البحرية المحدودة على الخليج العربي
- ٢ - ما الدولة العربية الوحيدة التي يمر بها خط جرينتش؟
الجزائر

٣ - اذكر أحد حدود الوطن العربي المائية. **Hany 2026**

المحيط الهندي وبحر العرب في الجنوب - المحيط الاطلسي في الغرب - الخليج العربي وخليج عمان في الشرق - البحر المتوسط في الشمال

مرحباً يا أصدقائي، استخدمت مصادر بحث مختلفة؛ لأتعرّف أهمية موقع وطننا العربي، وتوصلت إلى الآتي:

Hany 2026



١ الأهمية الحضارية للوطن العربي:


نشأت على أرض الوطن العربي العديد من الحضارات القديمة، منها الحضارة المصرية وحضارة العراق وحضارة اليمن.



حضارة اليمن



حضارة العراق




الحضارة المصرية

٢ الأهمية الدينية للوطن العربي:

الوطن العربي مَهْد الديانات السماوية الثلاث (اليهودية - المسيحية - الإسلام)، والتي تمثلها أماكن مقدّسة يقصدها الزائرون من جميع أنحاء العالم، مثل: بيت الله الحرام (الكعبة المُشَرَّفَة)، والمسجد الأقصى، وكنيسة المهد.



كنيسة المهد بفلسطين



المسجد الأقصى بفلسطين



الكعبة المُشَرَّفَة بالسعودية

وأستنتج

أقرأ

١- فسّر الأهمية الدينية لوطننا العربي.

مهد الديانات السماوية الثلاثة (اليهودية - المسيحية - الإسلام) - ويوجد به اماكن دينية مقدسة

٢- استعن بالمكتبة في البحث عن حضارة أخرى من حضارات وطننا العربي

Hany 2026

واعرضها على معلمك.

حضارة الانباط في الاردن وفلسطين - حضارة شبة الجزيرة العربية (سبأ وحمير وكندة وثمود)

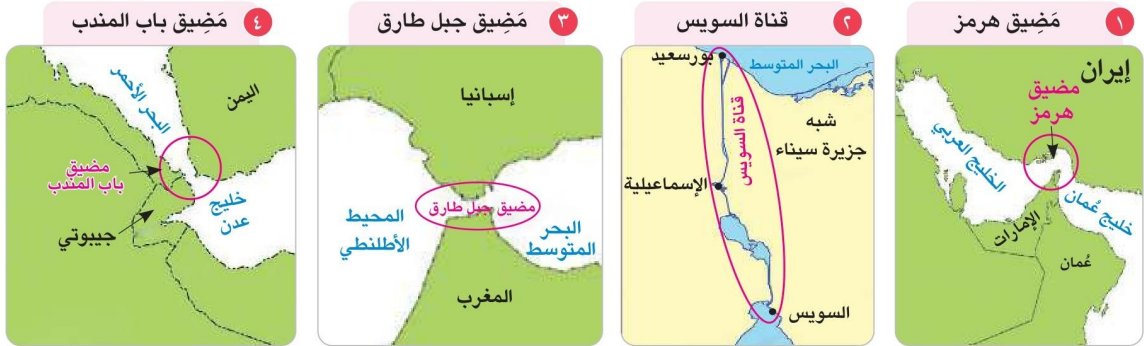
٣ الأهمية الاقتصادية والإستراتيجية للوطن العربي:

يتمتع الوطن العربي بأهمية اقتصادية كبيرة؛ وذلك لأنه:

- يُطل على مسطحات مائية مهمة منها البحر المتوسط والبحر الأحمر والخليج العربي، مما جعله يتحكم في طرق التجارة العالمية.
- اتساع مساحة الوطن العربي وتنوع الموارد الطبيعية به مثل المعادن والبتروول والأقاليم المناخية والنباتية، مما يساعد على تنوع الإنتاج وزيادة النشاط الاقتصادي في الوطن العربي.
- كما يتمتع الوطن العربي بأهمية إستراتيجية تتمثل في: تحكُّمه في ممرات مائية هامة مثل قناة السويس - مَضِيق هرمز - مَضِيق باب المندب - مَضِيق جبل طارق، وهذا جعله ذا أهمية كبيرة وقت الحروب والصراعات الدولية.



خريطة (٣) الممرات المائية بالوطن العربي



Hany 2026

ألاحظ وأجيب

- ١ - الممر المائي الذي يربط بين البحرين الأحمر والمتوسط هو **قناة السويس**.
- ٢ - يربط مضيق جبل طارق بين البحر **المتوسط** والمحيط **الإطنطي**.
- ٣ - الدول التي تشرف على مضيق باب المندب دولة **اليمن** ودولة **جيبوتي**.
- ٤ - تشرف دولة عُمان على مضيق **هرمز**.



الموقع الجغرافي المتميز والثروات الطبيعية للوطن العربي جعله مطمعا لكثير من المحتلين عبر العصور المختلفة، حيث حاولوا السيطرة عليه من أجل نهب ثرواته والتحكم في موقعه وممراته الحيوية.

أقرأ وأحل

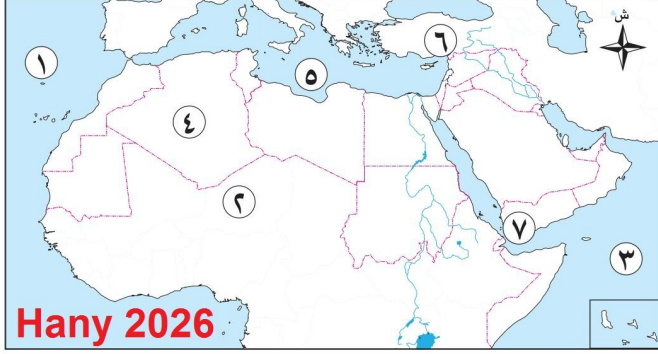
دل على صحة العبارة: «لموقع وطننا العربي أهمية اقتصادية وإستراتيجية».

تدريبات الدرس



١ لاحظ وأجب

اكتب مدلول الأرقام التالية على الخريطة:



- ١ - المحيط **الإطلنطي**
- ٢ - الصحراء **الكبرى**
- ٣ - المحيط **الهندي**
- ٤ - أكبر الدول العربية مساحة **الجزائر**
- ٥ - البحر **المتوسط**
- ٦ - جبال **طوروس**
- ٧ - مضيق **باب المندب**

٢ لاحظ وصنف

١ لاحظ الخريطة ص ٩ ثم صنف الدول التالية إلى دول عربية آسيوية وأخرى إفريقية:
مصر - قطر - البحرين - السودان - المغرب - اليمن - الجزائر - الصومال - فلسطين - العراق).

دول عربية إفريقية

Hany 2026

دول عربية آسيوية

مصر - السودان - المغرب -
الجزائر - الصومال

قطر - البحرين - اليمن -
فلسطين - العراق

أعلام الدول العربية

ع صوراً
ه الدول



ب لكل بلد عربي علم خاص
لأعلام الدول العربية وض
واكتب فقرة عن وصفه و

٣ فكر وأجب

١ اكتب كلمة (صواب) أمام العبارة الصحيحة، وكلمة (خطأ) أمام العبارة الخاطئة:

- ١ - يجمع الدول العربية تاريخ مشترك. (صواب)
- ٢ - تقع جبال طوروس شرق الوطن العربي. (خطأ)
- ٣ - تُطل دولتان عربيّتان على المحيط الأطلسي. (صواب)
- ٤ - توجد دولة جزر القمر خارج النطاق الفلكي للوطن العربي. (صواب)
- ٥ - يمر مدار الجدي جنوب الوطن العربي. (خطأ)

Hany 2026

ب أكمل العبارات التالية بما يناسبها من كلمات:

- ١ - تعرض الوطن العربي للاحتلال بسبب **الموقع الجغرافي المتميز - الثروات الطبيعية**
- ٢ - أكبر الدول العربية من حيث المساحة هي **الجزائر**.....
- ٣ - يضم الوطن العربي عدد**٢٢** دولة.
- ٤ - الجزء الأكبر من مساحة الوطن العربي يقع في الجَنَاح **الإفريقي**.....

ج اختر الإجابة الصحيحة مما بين الأقواس لكل عبارة مما يلي:

- ١ - تشرف دولة اليمن على **Hany 2026**
(مضيق باب المندب - مضيق جبل طارق - مضيق هرمز - قناة السويس)
- ٢ - تضم فلسطين بعض أماكن دينية مقدّسة منها
(المسجد الأقصى - المسجد النبوي - المسجد الأموي - الكنيسة المعلقة)
- ٣ - يمتد الوطن العربي في قارتي
(أوروبا وإفريقيا - إفريقيا وآسيا - أوروبا وآسيا - إفريقيا وأستراليا)
- ٤ - يمر خط الطول صفر بالوطن العربي عند دولة
(مصر - السعودية - تونس - الجزائر)

Hany 2026

د بم تفسر...؟

- ١ - الأهمية الدينية للوطن العربي. **مهد الديانات السماوية الثلاثة (اليهودية - المسيحية - الاسلام)**
- ٢ - الأهمية الاقتصادية للوطن العربي **الطبيعية والأنشطة الاقتصادية والإنتاج بسبب اتساع المساحة**
يتحكم في طرق التجارة العالمية لأنه يطل على ممرات مائية هامة ، تنوع الموارد
- ٣ - تعرّض الوطن العربي للاحتلال **للسيطرة عالية ونهب ثرواته والتحكم في موقعه وممراته الحيوية**

Hany 2026

ه دلل على صحة ما يلي:

- تتنوع المسطحات المائية التي يطل الوطن العربي عليها **البحر المتوسط - البحر الاحمر - الخليج العربي - المحيط الاطلنطي - المحيط الهندي**

و ما النتائج المترتبة على...؟

- الموقع المتميز للوطن العربي. **اصبح مطمعا لكثير من المحتلين عبر العصور المختلفة**

Hany 2026

هيا نستعد



هل تعلم أن أرض وطننا العربي ليست كلها متشابهة؟ ففي بعض الأماكن نجد الجبال، وفي أخرى نجد الصحاري والسهول والأنهار.
ما أشكال سطح الأرض التي يمكن أن تجدها في وطننا العربي؟

حقائق علمية

للجبال أهمية كبيرة، فقد استخدمها الإنسان في استخراج المعادن ومواد البناء، كما أنها تتميز بالمناظر الخلابة التي تجذب السياح للاستمتاع بها.

Hany 2026

أقرأ وأجيب

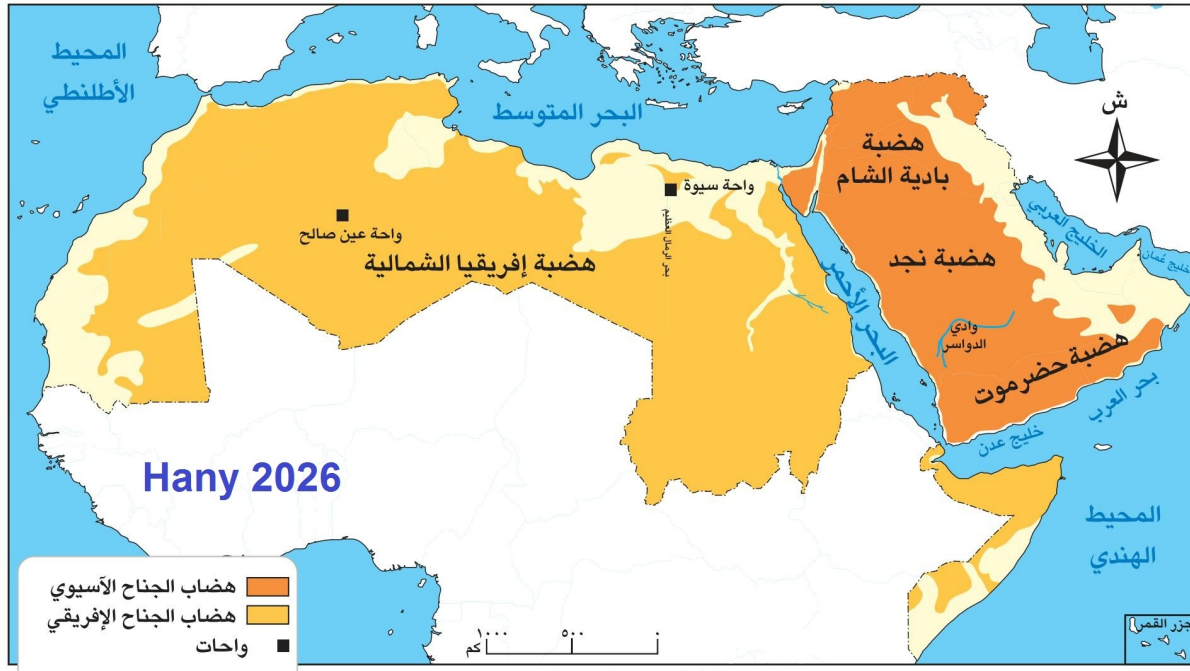
- ١ - تمتد جبال أطلس في ثلاث دول **تونس** و **الجزائر** و **المغرب**.
- ٢ - قارن بين جبال البحر الأحمر وجبال زاغروس. جبال البحر الأحمر جبال انكسارية ، جبال زاغروس جبال التوائية
- ٣ - تُعرف سلاسل جبال البحر الأحمر في الجَنَاح الآسيوي باسم **جبال الحجاز** و **عسير**.

Hany 2026

الهضاب في وطننا العربي

تُعد الهضاب أكثر مظاهر السطح انتشارًا بالوطن العربي، ومنها:

هضبة إفريقيا الشمالية: أكبر هضاب الوطن العربي من حيث المساحة، تمتد من البحر الأحمر شرقًا إلى المحيط الأطلسي غربًا، ومن البحر المتوسط شمالاً إلى وسط إفريقيا جنوبًا.



هضاب الجناح الآسيوي:

تتميز شبه الجزيرة العربية بعدد من الهضاب منها هضبة بادية الشام في شمال شبه الجزيرة العربية، وهضبة نجد في الوسط، وهضبة حضرموت في الجنوب.

أهم الظاهرات التضاريسية المنتشرة بالهضاب

١ الواحات



واحة سيوة

أرض منخفضة تقع وسط الصحراء، وتُزرَع باستخدام المياه الجوفية؛ ولذلك يعيش فيها السكان ويمارسون الزراعة، ومنها واحة سيوة في مصر، وواحة عين صالح في الجزائر.

٢ الكثبان الرملية



الكثبان الرملية

تجمّعات من الرمال الخفيفة تكوّنت بفعل التعرية الهوائية، وتنتشر في المناطق الصحراوية مثل بحر الرمال العظيم بين مصر وليبيا.

٣ الأودية الجافة



وادي العلاقي

تكوّنت بفعل التعرية المائية، وتُستخدم كطريق للنقل والمواصلات واستخراج المياه الجوفية، ومنها:
- وادي العلاقي في مصر.
- وادي الدواسر في السعودية.

مفاهيم أتعلمها

التعرية المائية: نحت الصخور ونقلها وإرسابها بواسطة المياه.
التعرية الهوائية: نحت الصخور ونقلها وإرسابها بواسطة الرياح.
الأودية الجافة: مجارٍ كانت تملؤها المياه قديماً ثم جفّت.

Hany 2026

أفهم وأجيب

- ١ - حدّد هضاب الجناح الآسيوي على خريطة صماء للوطن العربي.
- ٢ - فسّر قيام الزراعة في الواحات. لوجود المياه الجوفية
- ٣ - عدّد استخدامات الأودية الجافة. تستخدم كطرق للنقل والمواصلات - استخراج المياه الجوفية

Hany 2026

أبحث وأكتب

ابحث في مكتبة المدرسة وكتب فقرة عن الأهمية الاقتصادية للهضاب.

تعتبر الهضاب ذات أهمية اقتصادية كبيرة نظراً لتعدد الموارد الطبيعية التي تحتويها، مثل المعادن والفحم والنفط، بالإضافة إلى أنها قد تكون موطناً للزراعة وتربية الحيوانات.

قيم أتعلمها

تنوع التضاريس يدعو إلى تأمل قدرة الله في الخلق وتقبُّل الاختلاف والتنوع.

أفكر وأستنتج

١ - استنتج أوجه التشابه بين السهول الفيضية والسهول الساحلية.

كلاهما أراضي مستوية أو شبه مستوية السطح

٢ - وضح كيف تسهم مظاهر السطح في دعم الأنشطة الاقتصادية.

Hany 2026 ساعد تنوع مظاهر السطح في الوطن العربي على تنوع الموارد وبالتالي تنوع الأنشطة الاقتصادية

٣ - حدّد أكبر السهول مساحة في الوطن العربي.

السهول الساحلية



ساعد تنوع مظاهر السطح في الوطن العربي على تنوع الموارد، وبالتالي الأنشطة الاقتصادية مثل: الزراعة والصيد والتعدين والسياحة والصناعة.

Hany 2026

اكتب اسم المظهر التضاريسي أسفل كل صورة من المظاهر التالية:



جبال

Hany 2026



سهول ساحلية



سهول فيضية

Hany 2026



سهول صحراوية

تدريبات الدرس



1 صف واكتب

أ لاحظ الخريطة المقابلة، ثم اكتب مدلول الأرقام الموقعة عليها:



- ١ - هضبة إفريقيا الشمالية
- ٢ - مرتفعات اليمن
- ٣ - هضبة نجد
- ٤ - سهول نهر النيل
- ٥ - جبال أطلس

Hany 2026



Hany 2026

ب لاحظ الصورة المقابلة، ثم أجب:

١ - ما اسم مظهر السطح بالصورة؟

الواحة

٢ - اذكر أمثلة لهذا المظهر في الوطن العربي.

سيوة في مصر - عين صالح في الجزائر

٣ - ما أهم الأنشطة الاقتصادية به؟

الزراعة والرعي

ج اكتب فقرة بأسلوبك تعبر فيها عن تقديرك لنعمة الله في تنوع مظاهر السطح في الوطن العربي.

واحة سيوة (نص إثرائي)

تعد واحة سيوة من الواحات المميزة في مصر والوطن العربي، حيث تمتاز بالطقس الجاف الذي يخلو من الرطوبة، مما يساعد على علاج بعض أمراض الجهاز التنفسي، كذلك تنتشر بها الرمال البيضاء الساخنة التي تساعد في علاج كثير من الأمراض الروماتيزمية وآلام المفاصل، كما تتميز بعيون المياه الكبريتية التي تُستخدم في علاج بعض الأمراض الجلدية.

Hany 2026

- ١ - صف موقع واحة سيوة في مصر. تقع شمال غرب مصر في الصحراء الغربية
- ٢ - فسّر أهمية واحة سيوة بوجودها عيون كبريتية ورمال ساخنة تساعد على الشفاء من بعض الأمراض
- ٣ - استعن بمصادر التعلم المختلفة وابحث عن واحات أخرى في الوطن العربي واكتب عنها فقرة تضم موقعها وتاريخها وأهميتها الاقتصادية، ثم انشرها على مدونة الفصل الإلكتروني.

عين صالح هي واحة ومدينة جزائرية تقع في قلب الصحراء الكبرى. كانت في السابق نقطة وصل تجارية هامة على طريق القوافل. تشتهر اليوم بحقول الغاز الطبيعي.

٢٢

٣ فكر وأجب

أ اختر الإجابة الصحيحة مما بين الأقواس:

- ١ - تشكلت جبال أطلس بسبب
(الحركات الانكسارية - الحركات الالتوائية - الثورات البركانية - التعرية المائية)
- ٢ - أعلى قمة في جبال أطلس هي جبل
(أطلس التل - توبقال - سانت كاترين - شايب البنات)
- ٣ - توجد واحة عين صالح في دولة
(مصر - ليبيا - الجزائر - السعودية)
- ٤ - أكبر هضاب الوطن العربي مساحة هضبة
(شمال إفريقيا - بادية الشام - نجد - حضرموت)
- ٥ - أحد الجبال الانكسارية في الوطن العربي
(أطلس - توبقال - مرتفعات اليمن - عمان)

ب بم تفسر...؟

١ - الأهمية الاقتصادية لمظاهر السطح في الوطن العربي.

تنوع مظاهر السطح أدى إلى تنوع الموارد الطبيعية وبالتالي تنوع الأنشطة الاقتصادية مثل الزراعة والصيد والصناعة والتعدين والسياحة وغيرها

٢ - تنوع مظاهر السطح في الوطن العربي.

حيث توجد الجبال الالتوائية والانكسارية والهضاب والسهول الساحلية والفيضية والصحراوية

ج ما النتائج المترتبة على...؟

Hany 2026

١ - وجود المياه الجوفية في الواحات.

قيام حرفة الزراعة والرعي وتركز السكان بها

٢ - الحركات الانكسارية بالوطن العربي.

تكون الجبال الانكسارية مثل جبال البحر الاحمر والحجاز وعسير ومرتفعات اليمن

د دلل على صحة العبارة:

Hany 2026

- تتنوع استخدامات السهول الساحلية.

سهول البحر الاحمر والخليج العربي غنية بالثروات المعدنية ومصادر الطاقة

سهول البحر المتوسط تتميز بتربتها الخصبة الصالحة للزراعة

ه ما العلاقة بين...؟

- التضاريس والأنشطة الاقتصادية في الوطن العربي.

تنوع مظاهر السطح أدى إلى تنوع الموارد الطبيعية وبالتالي تنوع الأنشطة الاقتصادية مثل الزراعة والصيد والصناعة والتعدين والسياحة وغيرها

Hany 2026

هيا نستعد

هل تعلم أن هناك عوامل تتحكم في مناخ كل دولة، وتؤثر على نوع النباتات التي تنمو فيها؟
توقع العوامل المؤثرة في مناخ الوطن العربي.

مرحبًا يا أصدقائي، بالاستعانة بالمخطط السابق هيا نتعرف من خلاله على العوامل المؤثرة في مناخ وطننا العربي.



المناطق المناخية

١ الموقع الفلكي

يؤثر الموقع الفلكي في المناخ، فالمناطق القريبة من دائرة الاستواء تكون أعلى حرارة، وتقل درجات الحرارة كلما ابتعدنا عن دائرة الاستواء شمالاً أو جنوباً؛ لذلك فمعظم الوطن العربي يتميز بالمناخ الحار ما عدا الأجزاء الشمالية فتتميز بالمناخ المعتدل.



٢ الموقع بالنسبة للمساحات المائية

تتميز المناطق القريبة من المساحات المائية (البحار - المحيطات) باعتدال المناخ، أما المناطق البعيدة عن المساحات المائية (المناطق الداخلية) فتكون شديدة الحرارة صيفاً وشديدة البرودة شتاءً.

أتعلم وأطبق

الإسكندرية ذات مناخ معتدل بسبب اقترابها من المساحات المائية الساحلية
الرياض ترتفع فيها الحرارة صيفاً وشديدة البرودة شتاءً لأنها منطقة داخلية
وضح سبب اختلاف درجة الحرارة بين مدينة الإسكندرية ومدينة الرياض.



قمة جبلية مغطاة بالثلج

٣ مظاهر السطح

تؤثر في مناخ الوطن العربي من حيث:

- **الارتفاع:** كلما ارتفعنا ١٥٠ مترًا عن سطح البحر تنخفض درجة الحرارة درجة مئوية واحدة؛ ولذلك تغطي الثلوج بعض القمم العالية مثل جبال لبنان.

- **اتجاه الكتل الجبلية:** يؤثر في توزيع كمية المطر؛ لذلك نجد سفوح (جوانب) الجبال المواجهة للرياح المحملة ببخار الماء تكون أغزر مطرًا من السفوح (الجوانب) الداخلية مثل جبال أطلس.

أقرأ وأحل



الكتل الجبلية وتوزيع المطر

بسبب انخفاض درجات الحرارة

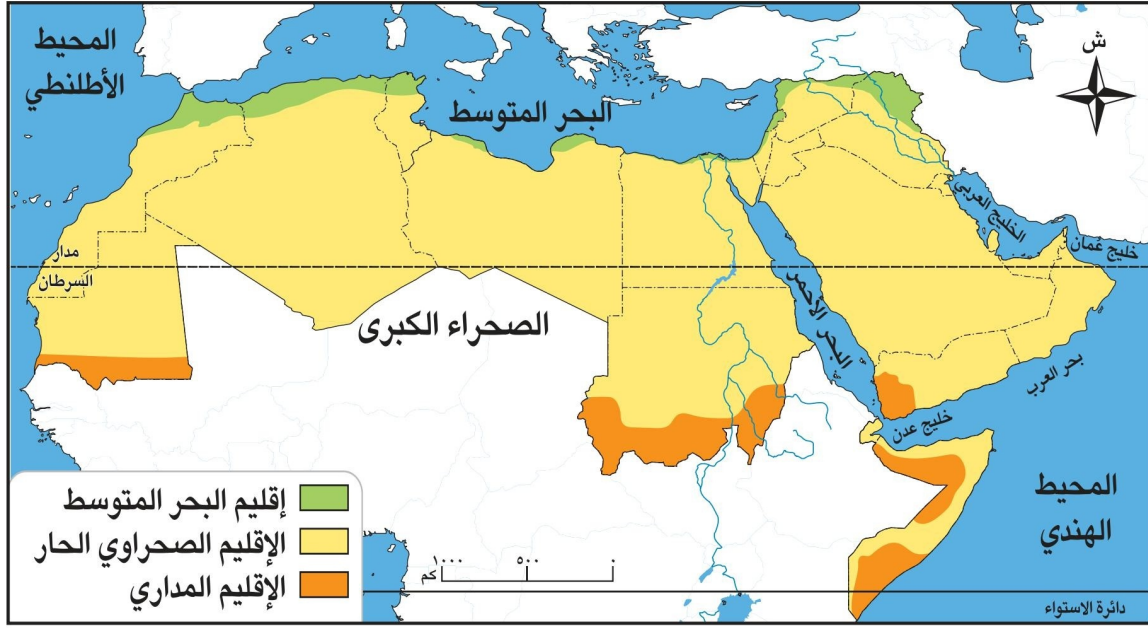
١- فسّر سبب تغطية الجليد لبعض قمم الجبال المرتفعة.

٢- وضح العلاقة بين اتجاه الجبال، وتوزيع كمية المطر في الوطن العربي.

الجوانب المواجهة للرياح تكون امطارها غزيرة عن الجوانب الداخلية

الأقاليم المناخية في الوطن العربي:


سوف أصبحكم في جولة ممتعة لتتعرف فيها على الأقاليم المناخية في وطننا العربي.



خريطة (١) الأقاليم المناخية في الوطن العربي

مفاهيم أتعلمها

الإقليم المناخي: مساحة من الأرض لها نفس الخصائص المناخية من حيث الحرارة والمطر. Hany 2026



الغابات المعتدلة

١ إقليم البحر المتوسط

- يمتد في الأجزاء الشمالية للوطن العربي، ويتميز بارتفاع درجة الحرارة صيفاً، واعتدالها وسقوط الأمطار شتاء.
- تنمو بهذا الإقليم الغابات المعتدلة فوق المنحدرات الجبلية لغزارة الأمطار، ومن أهم أشجارها الزيتون والأرز.
- تنمو به الحشائش المعتدلة (الإستبس) وتزدهر شتاءً وتجف صيفاً، وتُربى عليها الأغنام والماعز.

ألاحظ وأكتب

سجّل أسماء بعض المدن العربية التي تنتمي لإقليم البحر المتوسط.

الإسكندرية وبورسعيد ودمياط والعريش ومرسى مطروح في مصر

طنجة وسبتة ومليلية والناظور وتطوان في المغرب

اللاذقية وطرطوس في سوريا

صيدا وبيروت وصور وطرابلس (لبنان) وجبيل في لبنان

طرابلس وطبرق وبنغازي وسرت في ليبيا

طبرقة ونفزة وبنزرت وتونس ونابل وسوسة والمنستير والمهدية وصفاقس وقابس ومدنين في تونس

وغزة وحيفا وعكا في فلسطين وعنابة

الجزائر العاصمة، بجاية، وهران في الجزائر.

Hany 2026



الأعشاب القصيرة

٢ الإقليم الصحراوي

• يقع الإقليم الصحراوي بين إقليم البحر المتوسط شمالاً والإقليم المداري جنوباً، ويتميز بارتفاع شديد في درجة الحرارة صيفاً (خاصة في النهار)، وانخفاض شديد في درجة الحرارة شتاءً (خاصة في الليل).

- يختلف النبات الطبيعي حسب كمية المطر، حيث تنمو الأعشاب القصيرة في المناطق قليلة المطر، وتنمو النباتات الشوكية في المناطق نادرة المطر.
- يعيش بالإقليم حيوانات مثل الزواحف والإبل والغزلان.

Hany 2026

وأجيب

أقرأ

دلل على اختلاف النبات الطبيعي باختلاف كمية المطر. **تنمو الأعشاب القصيرة في المناطق قليلة المطر وتنمو النباتات الشوكية في المناطق نادرة المطر**

٣ الإقليم المداري



Hany 2026

حشائش السافانا

• يقع في جنوب الوطن العربي، ويتميز بارتفاع درجة الحرارة وسقوط الأمطار صيفاً، واعتدال الحرارة وجفاف المناخ شتاءً.

• تنمو في هذا الإقليم الغابات المدارية وتكثر بها أشجار السنط التي يُستخرج منها الصمغ العربي، وحشائش السافانا التي تتدرج في الطول حسب كمية المطر.

- من أهم الحيوانات: الزراف - الأسود - النمور - الأفيال، وتعيش جميعها في مناطق السافانا.

تأثير المناخ على تنوع الأنشطة الاقتصادية في الوطن العربي:

استخدمت مصادر البحث المختلفة وتوصلت إلى أن تنوع المناخ في الوطن العربي له تأثير كبير على الأنشطة الاقتصادية، ويتمثل في: **Hany 2026**



حقائق تاريخية

المصريون القدماء أظهروا تقديرًا للطبيعة وحرصوا على عدم إلحاق الضرر بها.

- تنوع المحاصيل الزراعية من مكان لآخر.
- تنشيط السياحة البيئية.
- تحقيق التكامل بين الدول العربية من خلال تبادل المحاصيل والمنتجات.

تدريبات الدرس



أ- يؤدي تنوع المناخ الى تنوع المحاصيل الزراعية وتنشيط السياحة البيئية وتحقيق التكامل بين الدول العربية في تبادل المحاصيل والمنتجات

1 اقرأ واستنتج

يتنوع المناخ في الوطن العربي بين الصحراوي والمداري والمعتدل، ويؤثر هذا التنوع بشكل مباشر على توزيع النبات الطبيعي، وتسبب تغير المناخ في أضرار كبيرة للنبات في وطننا العربي، حيث جفت التربة في بعض المناطق واختفت النباتات، كما أدت درجات الحرارة المرتفعة إلى حرائق الغابات. لذلك علينا أن نعتني بالبيئة، من خلال زراعة المزيد من الأشجار، والحد من التلوث؛ لنحافظ على أرضنا ونحمي مستقبلنا.

Hany 2026

أ وضوح أهمية تنوع المناخ في الوطن العربي وتأثيره على الاقتصاد.

ب ما أثر تغير المناخ على النبات الطبيعي؟ جفاف التربة - حرائق الغابات - اختفاء النباتات

ج ما النتائج المترتبة على اختلاف المناخ بين أجزاء الوطن العربي؟ تنوع المحاصيل الزراعية - تنشيط السياحة البيئية - التكامل العربي في تبادل المحاصيل والمنتجات

د وضوح العلاقة بين كمية الأمطار وأنواع النباتات التي تنمو في الوطن العربي.

تنمو الاعشاب القصيرة في المناطق قليلة المطر - تنمو النباتات الشوكية في المناطق نادرة المطر

2 قارن واكتب

- قارن بين الأقاليم المناخية في الوطن العربي مستعيناً بالجدول التالي:

أوجه المقارنة	الإقليم المداري	الإقليم الصحراوي الحار	إقليم البحر المتوسط Hany 2026
مناطق انتشاره	جنوب الوطن العربي	يسود معظم أراضي الوطن العربي	في الأجزاء الشمالية للوطن العربي
الخصائص المناخية	ارتفاع الحرارة وسقوط الامطار صيفاً اعتدال الحرارة وجفاف العنخام شتاءً	ارتفاع شديد للحرارة صيفاً وخاصة في النهار وإنخفاض شديد في الحرارة شتاءً خاصة في الليل	ارتفاع الحرارة صيفاً واعتدالها وسقوط الامطر في الشتاء
الخصائص النباتية والحيوانية	غابات مدارية - حشائش سافانا زرايف واسود ونمور وافيال تعيش في مناطق السافانا	اعشاب قصيرة في المناطق قليلة المطر - نباتات شوكية في المناطق نادرة المطر - زواحف وابل و غزلان	غابات معتدلة فوق المنحدرات الجبلية (الاستبس) تزدهر في الشتاء وتحف في الصيف - تربي الاغنام والماعز

Hany 2026

3 فكر واكتب

أ اكتب فقرة تعبر فيها عن تقديرك لنعمة الله في تنوع المناخ في الوطن العربي.

ب باستخدام شبكة المعلومات الدولية (الإنترنت) ابحث عن جهود الدول العربية للتصدي لتأثيرات

التغير المناخي ولخصها. تتخذ الدول العربية العديد من الإجراءات لمواجهة آثار تغير المناخ، بما في ذلك تعزيز الطاقة المتجددة، وتحسين كفاءة استخدام الموارد، والتكيف مع التغيرات المناخية. وتشمل هذه الجهود نشر أنظمة الطاقة المتجددة على نطاق واسع، وتطوير تقنيات جديدة لاستيعاب مصادر الطاقة المتجددة، وزيادة استخدامها في مختلف القطاعات، والتخلص التدريجي من الوقود الأحفوري، والتحول إلى مصادر طاقة بديلة مثل الهيدروجين الأخضر.

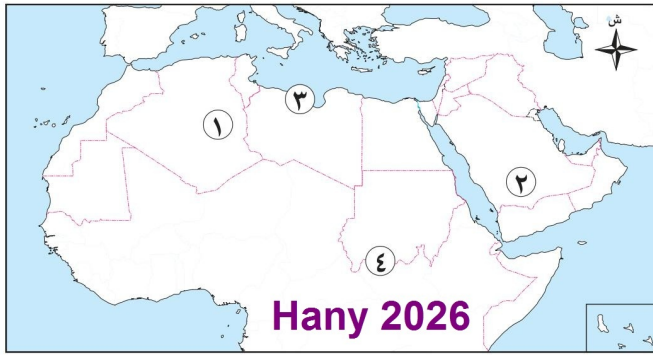
4 فكر وأجب

أ اكتب كلمة (صواب) أمام العبارة الصحيحة، وكلمة (خطأ) أمام العبارة غير الصحيحة:

- 1- تعيش الأسود في الغابات الاستوائية. (خطأ)
- 2- يسود المناخ الصحراوي في معظم أراضي الوطن العربي. (صواب)
- 3- تنمو أشجار السنط (الصمغ العربي) في الغابات المدارية. (صواب)
- 4- تعيش الإبل في المناطق الصحراوية. (صواب)
- 5- تقع مدينة الإسكندرية في الإقليم المداري. (خطأ)

Hany 2026

ب لاحظ خريطة الوطن العربي التي أمامك، ثم أجب:



١- يشير رقم (١) إلى دولة تقع

أطرافها الشمالية في إقليم
البحر المتوسط... **الجزائر**.....

٢- يشير رقم (٢) إلى إقليم مناخي

يسود الوطن العربي... **الصحراوي**

٣- يشير رقم (٣) إلى إقليم مناخي

يمتد في الأطراف الشمالية للوطن

العربي... **إقليم البحر المتوسط**

٤- يشير رقم (٤) إلى إقليم مناخي يمتد في جنوب الوطن العربي... **الإقليم المداري**

ج بم تفسر...؟ **Hany 2026**

١- نمو النباتات الشوكية في المناطق الصحراوية.

بسبب ندرة الأمطار

٢- تغطية الثلوج للجبال في بعض الدول العربية.

بسبب انخفاض درجات الحرارة (كل ١٥٠ متر تنخفض درجة مئوية)

٣- يُعد الإقليم المداري حديقة حيوان طبيعية.

تعيش فيه الأسود والزراف والافياء والنمور

Hany 2026

٤- الأهمية الاقتصادية لمناخ الوطن العربي.

تنوع مناخ الوطن العربي أدى الى تنوع المحاصيل الزراعية وتنشيط السياحة البيئية وتكامل الدول العربية في تبادل المحاصيل والمنتجات

د ما النتائج المترتبة على...؟

١- انتشار المناخ الصحراوي في معظم أنحاء الوطن العربي.

Hany 2026 **يسود معظم الوطن العربي المناخ الحار**

٢- تنوع الأقاليم المناخية في الوطن العربي.

أدى الى تنوع النباتات الطبيعية والحيوانات البرية والانشطة الاقتصادية

هيا نستعد **للدروس القادمة**

هل سمعت عن مشكلة نقص المياه أو التصحر أو تلوث الهواء؟

فكر: ما أكثر مشكلة بيئية تؤثر على حياتنا في الوطن العربي؟

ومن المسئول عن حماية البيئة؟



الطرق الحديثة للري

ويمكن مواجهة ندرة المياه من خلال:

- ترشيد استهلاك المياه.
- تحسين شبكات المياه والصرف الصحي.
- حملات توعية للحفاظ على المياه.
- استخدام أساليب جديدة في الري مثل الري بالرش والتنقيط.

وأحلل

أقرأ

تحلية مياه البحر - استخراج المياه الجوفية - سن
القوانين التي تجرم إهدار المياه - إنشاء الخزانات
والسدود للاستفادة من مياه السيول

اقترح أحد الحلول لمواجهة مشكلة ندرة المياه.

الجفاف

Hany 2026

يتعرض كثير من الدول العربية لخطر الجفاف، ويترتب على ذلك:

مفاهيم أتعلمها

الجفاف:

نقص كمية الأمطار خلال فترة زمنية محددة.

● نقص الغذاء.

● التأثير بالسلب على النشاط الزراعي والرعي.

● انتشار الأمراض وسوء التغذية.

ويمكن مواجهة الجفاف من خلال:

● إعادة تدوير المياه.

● تطوير شبكات الري.

● ترشيد استهلاك المياه.

حقائق تاريخية

عانت الصومال من أكبر موجة جفاف
ونقص في الغذاء وحدوث مجاعة لأكثر
من مليون إنسان.

وأشارك

أتعاون

تعاون مع أصدقائك وقدم حلولاً أخرى للتغلب على الجفاف.



الجفاف في الوطن العربي

التصحّر

يغطي نسبة كبيرة من مساحة الوطن العربي، وترتّب عليه تدهور الأراضي الزراعية، ومن أسباب التصحر:

مفاهيم أتعلمها

التصحّر:
تناقص قدرة الأراضي الزراعية على الإنتاج.



Hany 2026

قطع الأشجار

أفكر وأقارن

صنف أسباب التصحر إلى أسباب طبيعية وأسباب بشرية.

طبيعية: زحف الكثبان الرملية - تناقص الأمطار والمياه الجوفية
بشرية: قطع الأشجار - الرعي الجائر - التوسع العمراني

أبحث وأسجل

Hany 2026

ابحث في مصادر التعلم المختلفة وسجّل أساليب مكافحة التصحر.

مواجهة التصحر تتطلب جهودًا متعددة الأبعاد تشمل الإدارة المستدامة للموارد الطبيعية، والتشجير، ومكافحة تدهور الأراضي، والتوعية بأهمية الحفاظ على البيئة.

تلوث الهواء



تلوث الهواء

تلوث الهواء في الوطن العربي له عدة أسباب، من أهمها:

- حرق النفايات.
- العواصف الرملية.
- زيادة النشاط الصناعي الملوث للبيئة.
- الاعتماد على مصادر الطاقة غير المتجددة.

ويمكن مواجهة تلوث الهواء من خلال:

- الاعتماد على الطاقة المتجددة.
- زيادة المساحات الخضراء.
- استخدام النقل المستدام.
- إعادة تدوير النفايات.



خلايا الطاقة الشمسية

أقرأ وأجيب

قدّم حلاً لمواجهة تلوث الهواء في وطننا العربي.
تقليل استخدام السيارة واستبداله بالمشي أو ركوب الدراجات أو استخدام وسائل النقل العام، بالإضافة إلى تقليل استهلاك الطاقة في المنازل والمكاتب

السيول

تشكّل تهديداً كبيراً على الوطن العربي لعدة أسباب، منها:

- الأضرار التي تلحقها بالبنية التحتية.
- إتلاف المحاصيل الزراعية.
- الخسائر الفادحة في الأرواح والممتلكات.
- انتشار الأمراض والأوبئة.

مفاهيم أتعلمها

السيول:

أمطار غزيرة وفجائية تتجمع وتتدفق بسرعة في الأودية.



أخطار السيول

ويمكن مواجهة السيول من خلال:

- استخدام التكنولوجيا في التنبؤ بالأخطار البيئية (السيول).
- بناء سدود للاستفادة منها في الزراعة.
- إنشاء مخرات لتصريف السيول.
- تطوير البنية التحتية.

أفكر وأشارك

شارك زملاءك في البحث عن طرق جديدة لمواجهة خطر السيول في وطننا العربي واعرضها على معلمك.

حقائق تاريخية

قام المصريون القدماء بإنشاء مخرات للسيول (مجارٍ مائية) لتصريف مياه الأمطار لحماية المعابد والمقابر.

إنشاء الخزانات والسدود على مخرات السيول
منع إقامة المنشآت أو شق الطرق أو الزراعة في مجرى السيول



التغيرات المناخية لها تأثير كبير على المشكلات البيئية والزيادة من حدتها، فما يشهده الوطن العربي من ارتفاع درجة الحرارة وجفاف وسيول وارتفاع مستوى سطح البحر وانتشار الأمراض من نتائج التغيرات المناخية.

ولا بد من اتخاذ إجراءات عاجلة للحد من التغيرات المناخية، منها:



نتائج الاحتباس الحراري

- الحد من انبعاثات الغازات الدفيئة.
- الاعتماد على مصادر الطاقة المتجددة.
- تفعيل القوانين لمواجهة التغيرات البيئية.
- حماية الغابات وزيادة مساحة الأراضي الخضراء.

أمثلة لجهود بعض الدول العربية لزيادة المساحات الخضراء ومواجهة التغير المناخي:

١ مصر

قيم أتعلمها

الحفاظ على البيئة مسئولية مشتركة تقع على عاتق الفرد والمجتمع.

أطلقت مبادرة زراعة ١٠٠ مليون شجرة مثمرة في كل أنحاء مصر؛ وذلك لتحسين الهواء، وتقليل التلوث، وتجميل البيئة، ومواجهة التغيرات المناخية.

٢ السعودية



مدينة نيوم الخضراء

أطلقت مبادرة زراعة ٤٥٠ مليون شجرة في الدول العربية؛ للحد من التلوث ومواجهة التغير المناخي، كما تعمل السعودية على إنشاء مدينة نيوم الخضراء، وهي مدينة تعتمد على الطاقة النظيفة وتحافظ على البيئة.

أفكر وأستنتج

١- ماذا يحدث إذا اعتمد الوطن العربي بشكل أساسي على الطاقة المتجددة؟

الحفاظ على البيئة من التلوث - التقليل من حدة تأثير التغيرات المناخية على البيئة

٢- في ضوء دراستك لجهود الدول العربية في زيادة المساحات الخضراء ومواجهة التغير المناخي، ناقش كيف يمكن تحقيق التوازن بين التوسع العمراني والحفاظ على البيئة.

يمكن إنشاء المدن الجديدة في الظهير الصحراوي لتقليل الازدحام في المدن والحفاظ على البيئة

Hany 2026

تدريبات الدرس



١ اقرأ وأجب

التصحّر

يسبّب التصحر اختفاء النباتات وتدهور الأراضي الزراعية بسبب قلة الأمطار وقطع الأشجار والرعي الجائر.

- أ ما النتائج المترتبة على التصحر؟ **تدهور الأراضي الزراعية - اختفاء النباتات**
- ب فسر: الرعي الجائر يسبّب التصحر. **رعى الحيوانات باعداد كبيرة يقضى على النباتات وبالتالي التصحر**

٢ اقرأ وأجب

السيول

تحدث السيول فجأة بعد سقوط أمطار غزيرة، فتجرف التربة والمباني وتتلّف المحاصيل، وتزداد خطورتها في المناطق التي لا توجد فيها سدود أو شبكات صرف جيدة؛ لذلك تبني الدول العربية السدود وتطوّر البنية التحتية لتقليل أضرار السيول. **Hany 2026**

- أ ما النتائج المترتبة على السيول في الوطن العربي؟ **تجرف التربة - تتلف المحاصيل**
- ب بم تفسر: بناء السدود وسيلة لمواجهة السيول؟ **لتقليل اضرار السيول**
- ج دّل على خطورة السيول باستخدام مثال من الحياة أو البيئة المحيطة.
- تعرض منطقة الزرايب بعلوان سنة ٢٠٢٠ لسيول جرفت المنازل**
- واسفرت عن سقوط ضحايا**

٣ اقرأ وأجب

تلوث الهواء **Hany 2026**

يزداد تلوث الهواء في المدن الكبرى بسبب عوادم السيارات ودخان المصانع وحرق النفايات. ويؤثر هذا التلوث على صحة الإنسان، فيسبّب أمراضاً تنفسية، كما يؤذي النباتات والحيوانات، ويؤدي إلى تغيرات في المناخ على المدى الطويل.

- أ فسر: تلوث الهواء يؤثر على صحة الإنسان. **لأنه يسبب امراض تنفسية**
- ب ما النتائج المترتبة على استمرار تلوث الهواء في المدن؟ **يؤدي الى تغير المناخ على المدى البعيد**
- ج اقترح ثلاث طرق لمواجهة تلوث الهواء في وطننا العربي.

- استخدام مصادر الطاقة المتجددة - تقليل استخدام وسائل النقل الفردية - استخدام الدراجات بدلاً من السيارات**

٤ فكر وأجب

أ أكمل الجمل الآتية بما يناسبها من كلمات:

- ١ - يؤدي تلوث الهواء إلى الإضرار ب..... **البيئة**.....
- ٢ - يمكن مواجهة ندرة المياه من خلال تحسين شبكات..... **المياه**..... و..... **الصرف الصحي**.....
- ٣ - تحدث ندرة المياه العذبة في وطننا العربي بسبب **قلة سقوط الأمطار**..... **زيادة عدد السكان**.....
- ٤ - أحد أسباب السيول في الوطن العربي **الأمطار الغزيرة**..... **الفجائية**.....
- ٥ - أحد أسباب تلوث الهواء في الوطن العربي.....

Hany 2026

ب اكتب كلمة (صواب) أمام العبارة الصحيحة، وكلمة (خطأ) أمام العبارة غير الصحيحة:

- ١ - السيول وتلوث الهواء من آثار التغير المناخي. (صواب)
٢ - اعتمدت كل دول الوطن العربي على طرق ري حديثة. (خطأ)
٣ - تؤثر السيول على حياة السكان. (صواب)
٤ - العواصف الرملية تُعتبر من أسباب تلوث الهواء. (صواب)

ج بم تفسر...؟

١ - يعاني الوطن العربي من قلة المياه العذبة.

بسبب قلة سقوط الأمطار - زيادة عدد السكان - سوء إدارة الموارد المائية - طرق الري التقليدية
٢ - استخدام طرق الري الحديثة.

لمواجهة ندرة المياه العذبة في الوطن العربي

٣ - استخدام النقل المستدام.

لمواجهة تلوث الهواء في الوطن العربي

د ما النتائج المترتبة على...؟

Hany 2026

١ - زيادة النشاط الصناعي.

يؤدي إلى زيادة تلوث الهواء

٢ - استخدام التكنولوجيا في التنبؤ بحدوث السيول.

تقليل الخسائر والتهديدات الناتجة عن السيول مثل اتلاف المحاصيل الزراعية

ه دلل على صحة العبارات الآتية:

Hany 2026

١ - قطع الأشجار يؤدي إلى زيادة التصحر.

لأنه يؤدي إلى تدهور الأراضي الزراعية وزيادة التصحر

٢ - السيول تُسبب خسائر بشرية ومادية.

اتلاف المحاصيل الزراعية - خسائر في الأرواح والممتلكات - الأضرار بالبنية التحتية

٣ - التغير المناخي يؤثر على حياة الإنسان والبيئة.

أدى إلى ارتفاع درجات الحرارة والجفاف والسيول وارتفاع مستوى سطح البحر وانتشار الأمراض

و ما العلاقة بين...؟

Hany 2026

١ - التغيرات المناخية والمشكلات البيئية.

التغيرات المناخية تؤثر على البيئة حيث أدت إلى ارتفاع درجات الحرارة والجفاف والسيول وارتفاع مستوى سطح البحر وانتشار الأمراض

٢ - قطع الأشجار والتصحر.

هو أحد أسباب التصحر في الوطن العربي

Hany 2026

فكّر: ما الظروف التي وُلد فيها النبي محمد (ﷺ)، وكيف أثّرت على نشأته ودوره في تغيير مجرى التاريخ؟



السؤال الأول: أمامك خريطة صماء للوطن العربي، حدد ما يلي عليها:



- ١ - أكبر دول الوطن العربي من حيث المساحة.
- ٢ - جبال أطلس.
- ٣ - هضبة حضرموت.
- ٤ - نهر يمر في أكثر من دولة عربية إفريقية.
- ٥ - دولة عربية تقع في المحيط الهندي.
- ٦ - دولة تطل على بحر ومحيط.

السؤال الثاني: اكتب كلمة (صواب) أمام العبارة الصحيحة، وكلمة (خطأ) أمام العبارة غير الصحيحة:

- | | | |
|----------|------------------|---|
| (خطأ) | Hany 2026 | ١ - يمتد الوطن العربي بين قارتي آسيا وأوروبا. |
| (صواب) | | ٢ - أحد العوامل المؤثرة في المناخ الموقع الفلكي. |
| (صواب) | | ٣ - توجد سهول فيضية في العراق ومصر. |
| (خطأ) | | ٤ - تقع جبال أطلس في شبه الجزيرة العربية. |
| (صواب) | Hany 2026 | ٥ - نهر النيل من السهول الخصبة في الوطن العربي. |
| (صواب) | | ٦ - يفصل البحر الأحمر بين جناحي وطننا العربي. |
| (خطأ) | | ٧ - جبال البحر الأحمر من الجبال الالتوائية في وطننا العربي. |
| (صواب) | | ٨ - أكبر هضاب الوطن العربي تقع في الجناح الإفريقي. |
| (صواب) | | ٩ - يسود المناخ الصحراوي معظم أراضي الوطن العربي. |
| (صواب) | Hany 2026 | ١٠ - يؤدي التنوع المناخي إلى تنوع النبات الطبيعي. |

السؤال الثالث: أكمل العبارات الآتية:

- ١ - يحد الوطن العربي من الغرب **المحيط الاطلنطي**
- ٢ - العوامل المؤثرة في مناخ الوطن العربي **الموقع الفلكي - الموقع بالنسبة للمساحات المائية - مظاهر السطح**
- ٣ - تمتد جبال أطلس في دولة **تونس والجزائر والمغرب**
- ٤ - الإقليم المناخي السائد في الوطن العربي **الصحراوي الحار**
- ٥ - السهول الساحلية في الوطن العربي يستخرج منها **الثروات المعدنية ومصادر الطاقة**
- ٦ - العوامل الداخلية لتشكيل سطح الأرض **الالتواءات والانكسارات**

- ٧ - هضبة من أهم هضاب وطننا العربي. **أفريقيا الشمالية**
- ٨ - ساعد نهر **النيل** على قيام الزراعة في مصر والسودان.
- ٩ - تسود الأعشاب في الوطن العربي بالإقليم **الصحراوي الحار**
- ١٠ - يمر خط الاستواء في الوطن العربي عبر دولة **الصومال**
- ١١ - السبب الرئيسي في ندرة الأمطار في الوطن العربي **التغيرات المناخية**

السؤال الرابع: بم تفسر...؟ Hany 2026

- ١ - الأهمية الإستراتيجية لموقع الوطن العربي **طريق، وهذا جعله ذا أهمية كبيرة. وقت الحروب والصراعات الدولية.**
- ٢ - تنوع مظاهر السطح في الوطن العربي **بسبب العوامل الباطنية مثل الالتواءات والكتسارات والبراكين التي كونت الجبال والهضاب، والعوامل السطحية مثل الرياح والمياه التي شكلت السهول والوديان**
- ٣ - تُعد الجبال من مظاهر السطح المؤثرة في المناخ. **بالارتفاع عن سطح البحر تنخفض درجة الحرارة وتتكون الثلوج فوق الجبال، ويؤثر اتجاه الجبال في توزيع كمية المطر**
- ٤ - أهمية السهول الفيضية في الوطن العربي. **تقوم عليها الزراعة ويتركز عليها السكان بسبب خصوبة تربتها**
- ٥ - تركز سكان الوطن العربي في مناطق السهول الفيضية. **بسبب خصوبة تربتها**
- ٦ - تأثر النبات الطبيعي بالمناخ. **تنوع المناخ يؤدي الى تنوع النباتات الطبيعية**
- ٧ - انتشار المناخ الصحراوي في أغلب الدول العربية. **بسبب الموقع الفلكي للوطن العربي**
- ٨ - حدوث التصحر بالوطن العربي. **زحف الكثبان الرملية - قطع الأشجار - الرعي الجائر - التوسع العمراني - نقص الأمطار والمياه الجوفية**

السؤال الخامس: ما النتائج المترتبة على...؟ Hany 2026

- ١ - الموقع الجغرافي المتميز للوطن العربي. **اصبح موطناً للمحتلين عبر العصور لنهب ثرواته والتحكم في موقعه وممراته الحيوية**
- ٢ - تنوع التضاريس في الوطن العربي. **تنوع الموارد وتنوع الأنشطة الاقتصادية**
- ٣ - تنوع المناخ في الوطن العربي. **تنوع النباتات الطبيعية والحيوانات البرية والأنشطة الاقتصادية**
- ٤ - وجود السهول الساحلية في الوطن العربي. **وجود تربة خصبة وثروات معدنية ومصادر طاقة**
- ٥ - ندرة الأمطار في معظم أراضي الوطن العربي. **تعرض كثير من الدول العربية لخطر الجفاف**

السؤال السادس: ماذا يحدث إذا...؟ Hany 2026

- ١ - لم يكن للوطن العربي موقع جغرافي متميز. **عدم وجود اطماع استعمارية**
- ٢ - لم تتنوع مظاهر السطح في الوطن العربي. **عدم تنوع الموارد الطبيعية والأنشطة الاقتصادية**
- ٣ - لم يؤثر المناخ على نوعية النباتات. **عدم تنوع النباتات الطبيعية ما بين الاستبس والسافانا**
- ٤ - لم توجد سهول فيضية في الوطن العربي. **عدم تركز السكان بسبب التربة الخصبة**

السؤال السابع: ما المقصود بالمفاهيم الآتية...؟

- ١ - التعرية المائية. **نحت الصخور ونقلها وإرسائها بواسطة المياه**

٢ - الإقليم المناخي. مساحة من الأرض لها نفس الخصائص المناخية من حيث الحرارة والمطر.

٣ - التصحر. تناقص قدرة الأراضي الزراعية على الإنتاج.

٤ - السيول. أمطار غزيرة وفجائية تتجمع وتتدفق بسرعة في الأودية.

السؤال الثامن: ما العلاقة بين كل من...؟

Hany 2026

١ - الموقع الفلكي والمناخ في الوطن العربي.

يؤثر الموقع الفلكي في المناخ حيث ترتفع درجات الحرارة كلما اقتربنا من دائرة الاستواء والعكس صحيح

٢ - المناخ والنبات الطبيعي.

أدى تنوع مناخ الوطن العربي الى تنوع النباتات الطبيعية

٣ - الهضاب والجبال في تشكيل سطح الوطن العربي.

تكونت الجبال والهضاب بسبب الحركات الالتوائية والانكسارية والبراكين وشكلت سطح الارض

السؤال التاسع: ما الفرق بين...؟

Hany 2026

١ - السهول الساحلية والسهول الفيضية.

الساحلية: تتميز بتنوع الموارد والاستخدامات، فسهول البحر المتوسط تتميز بتربة خصبة صالحة للزراعة، وسهول البحر الأحمر والخليج العربي غنية بالثروات المعدنية ومصادر الطاقة الفيضية: تكونت بفعل إرساب الأنهار للمواد العالقة، وتتميز بخصوبة تربتها وتركز السكان فيها، مثل سهول نهر النيل في مصر والسودان، وسهول نجلة والفرات في العراق

٢ - العوامل الباطنية والعوامل الخارجية لتشكيل سطح الأرض.

الباطنية: مثل الالتواءات والانكسارات والبراكين نتج عنها الجبال والهضاب

الخارجية: مثل الرياح والمياه نتج عنها السهول والوديان

النشاط الختامي للوحدة

بالاستعانة بمعلمك وبالتعاون مع زملائك صمم مجلة حائط بعنوان «وطننا العربي: خصائص وتحديات»، على أن تتضمن العناصر التالية:

Hany 2026

• موقع الوطن العربي وحدوده.

• أشكال السطح المختلفة (جبال - هضاب - سهول).

• أبرز التحديات البيئية (التصحر - الجفاف - التلوث).

• الأقاليم المناخية والنباتية.



٤ الحياة الدينية

كانت شبه الجزيرة العربية مهدًا لكثير من الأنبياء، منهم: هود وصالح وشُعيب. لذلك عرّف أهلها عبادة الله الواحد، لكن مع مرور الوقت ابتعد بعض الناس عن عبادة الله، وظهرت بينهم عبادات غير سماوية مثل عبادة الأصنام.



٥ الحياة الثقافية

اشتهر العرب بالشعر والخطابة، وكانت الأسواق مكانًا لتنافس الشعراء والخطباء، مثل سوق عُكاظ وسوق ذي المجاز.

أفهم وأجيب

اذكر جوانب استخدام العرب للأسواق.

كانت مكانًا لتنافس الشعراء والخطباء مثل سوق عُكاظ وسوق ذي المجاز



نتيجة لما شهدته شبه الجزيرة العربية قبل ظهور الإسلام من البعد عن عبادة الله الواحد الأحد، كانوا في حاجة إلى ظهور نبي ليُرشد الناس إلى عبادة الله الواحد الأحد، وينشر العدل والمساواة بينهم.



١ ميلاد النبي محمد (ﷺ)

سأحكي لكم قصة ميلاد النبي محمد (ﷺ). وُلد النبي محمد (ﷺ) في ١٢ من ربيع الأول الموافق لعام ٥٧٠م في مكة، وكان يتيمًا بعد أن تُوفي والده عبد الله قبل ولادته، أما أمُّه فهي آمنه بنت وهب. ويُعرّف عام مولده بعام الفيل؛ لأن أبرهة الحبشي حاول هدم الكعبة في هذا العام مستخدمًا الفيلة.



أتعلم وأطبق

صمم بطاقة تعريفية بالنبي محمد (ﷺ) من خلال النص السابق، واعرضها على معلمك.

حقائق تاريخية

اكتسب النبي (ﷺ) عدة صفات من حرفة الرعي مثل الصبر والتواضع والرحمة والشجاعة.

مفاهيم أتعلمها

الوحي:
تعاليم صادرة من الله عز وجل إلى الأنبياء بواسطة جبريل عليه السلام.

ألاحظ وأحلل

١ - ما الصفات التي اكتسبها النبي (ﷺ) في ديار بني سعد؟

فصاحة اللسان وقوة البنيان ورجاحة العقل

٢ - دلل: حياة النبي (ﷺ) علّمتنا الاعتماد على النفس.

في صغره عمل برعى الأغنام حتى لا يكون عبء على احد ثم عمل بالتجارة في شبابه

Hany 2026

هيا بنا لنتعرف معًا على المراحل التي مرت بها الدعوة الإسلامية.



المرحلة الأولى (سرية الدعوة)

استغرقت ثلاث سنوات، بدأ النبي (ﷺ) بدعوة أهل بيته وأصحابه المقربين سرًّا؛ خوفًا من أذى قريش، ومن أبرز من آمنوا في هذه المرحلة:

علي بن
أبي طالب (ﷺ)

السيدة خديجة
(ﷺ)

أبو بكر
الصدّيق (ﷺ)

اتخذ النبي (ﷺ) من دار الأرقم بن أبي الأرقم مدرسة ليعلم فيها المسلمين مبادئ الدين الإسلامي.



رسم تخيلي لدار الأرقم بن أبي الأرقم

المرحلة الثانية (الدعوة الجهرية دون مواجهة)

- أذن الله للنبي محمد (ﷺ) بإعلان الدعوة بعد ٣ سنوات من الدعوة السرية، فخافت قريش على مكانتها ونفوذها بين القبائل فقامت بـ:
- إيذاء النبي (ﷺ) واتهامه بالسحر والجنون.
 - التفاوض معه وإغرائه بالمال والزعامة والسلطة ولكنه رفض.
 - تعذيب وإيذاء المسلمين.
 - حصار المسلمين ومقاطعتهم (عدم البيع والشراء منهم).

Hany 2026

يدعو الإسلام إلى التسامح مع الآخرين، على الرغم من اختلاف الثقافات والمعتقدات.

رد فعل النبي (ﷺ) على إيذاء قريش

- حث المسلمين على الصبر والتحمل.
 - أمر أصحابه بالهجرة إلى الحبشة؛ لأن ملكها النجاشي كان عادلاً لا يُظلم عنده أحد.
 - حاول نشر الدعوة في الطائف، لكن أهلها قابلوه بالأذى فعاد إلى مكة.
- استمر النبي (ﷺ) في دعوة القبائل القادمة إلى مكة في موسم الحج، واستجاب له وفد من أهل يثرب ودخلوا الإسلام.

لقد تعلمت أنه بالصبر والإصرار أستطيع التغلب على أي صعوبات قد تواجهني في الحياة.



أفكر وأستنتج

- ١ - لماذا اختار النبي محمد (ﷺ) أن تكون الدعوة في بدايتها سرّية؟
خوفاً من إيذاء أهل قريش
- ٢ - فسر شدة إيذاء قريش للمسلمين بعد الجهر بالدعوة.
خوفاً على مكانتها ونفوذها بين القبائل
- ٣ - ما الدروس المستفادة من تعامل النبي (ﷺ) خلال المرحلة الجهرية للدعوة؟
الصبر والاصرار على استكمال الدعوة بالرغم من كثرة المحاربة

تدريبات الدرس



١ لاحظ وأجب

أمامك مجموعة صور تعبر عن بعض الأنشطة الاقتصادية التي انتشرت في شبه الجزيرة العربية قبل الإسلام، اكتب اسم النشاط الاقتصادي أسفل كل صورة، ثم حدد النشاط الأكثر انتشارًا:



Hany 2026

النشاط: **الرعى**



النشاط: **الصناعة**



النشاط: **التجارة**

٢ فكر وأكمل

أكمل بيانات النبي محمد (ﷺ) في البطاقة التالية:

الاسم **محمد** اسم الأب **عبد الله** اسم الأم **آمنة بنت وهب**
اسم المرضعة **حليمة السعدية** اشتهر عام ميلاده بعام **الفيل** مكان الميلاد **مكة**
أول حرفة عمل بها **الرعى** أولى زوجاته **السيدة خديجة**

١ «تحلّى العرب قبل الإسلام ببعض القيم الأخلاقية الحميدة»، اذكر اثنتين منها ثم اذكر موقفًا حدث لك تحلّيت فيه بإحدى تلك القيم.

١ - **الشجاعة**

٢ - **الكرم**

موقف تحلّيت فيه بإحدى القيم السابقة:

الكرم : اقوم باقتسام طعامي مع زملائي اثناء اليوم الدراسي

ب ابحث في مصادر التعلم المختلفة، واكتب سطرين عن «سبب تسمية النبي (ﷺ) بالصادق الأمين».

لانه كان صادق وأمين على التجارة التي كانت بين يديه من اهل مكة

ج في رأيك، ما تأثير انتشار سلوكيات الصدق والأمانة في المجتمع؟

عدم الغش في الموازين واعطاء كل ذي حق حقه والشعور بالعدل في الحصول على متطلبات الحياة

٤٨

أكمل الجمل الآتية بما يناسبها من كلمات:

- ١ - عمل العرب قديماً بالصناعة ومنها صناعة .. **السيوف والرماح - الاواني الفخارية**
- ٢ - كانت أول هجرة للمسلمين إلى **الحبشة** ..
- ٣ - عمل النبي (ﷺ) في شبابه بحرفة **التجارة** ..
- ٤ - تولى رعاية النبي (ﷺ) بعد وفاة أمه **جده عبد المطلب**

ب اكتب كلمة (صواب) أمام العبارة الصحيحة، وكلمة (خطأ) أمام العبارة غير الصحيحة:

- ١ - عرّفت شبه الجزيرة العربية التوحيد قبل مجيء النبي محمد (ﷺ). (صواب)
- ٢ - للشعر والخطابة مكانة كبيرة عند العرب قبل ظهور الإسلام. (صواب)
- ٣ - بدأت قريش في إيذاء النبي (ﷺ) في المرحلة السرية للدعوة. (خطأ)
- ٤ - كانت الهجرة إلى الحبشة بأمر من النبي (ﷺ). (صواب)

ج بم تفسر...؟

- ١ - ازدهار التجارة في مكة قديماً. **لتنظيم رحلتى الشتاء الى اليمن والصيد الى الشام**
- ٢ - عمل النبي (ﷺ) في صغره بحرفة الرعي. **حتى لا يكون عبء على عمه**
- ٣ - الأهمية الثقافية والدينية لشبه الجزيرة العربية قبل الإسلام. **اشتهروا بالشعر والخطابه كانت مهد لكثير من الانبياء**

د أيد بالأدلة صحة العبارات التالية:

- ١ - لم تقتصر أسواق العرب قديماً على التجارة. **كانت الاسواق مكان لتنافس الشعراء والخطباء (عكاظ - ذي المجاز)**
- ٢ - لم يجتمع العرب على عبادة واحدة قبل الإسلام. **بسبب البعد عن عبادة إله واحد وظهور عبادة الاصنام**
- ٣ - تحلّى النبي (ﷺ) بالأخلاق الحميدة في التعامل مع قريش. **حث المسلمين على التحلى بالصبر والتحمل لا يذء قريش لهم**

ه ما النتائج المترتبة على...؟

- ١ - سيادة النظام القبلي في شبه الجزيرة العربية قبل الإسلام.

حدوث الحروب والخلافات بين القبائل

- ٢ - عمل النبي (ﷺ) في التجارة.

لقب بالصادق الامين

- ٣ - دعوة النبي لبعض القبائل التي تقد إلى مكة في موسم الحج للدخول في الإسلام.

استجابة اهل يثرب ودخولهم فى الاسلام

Hany 2026 للدرس القادم

لماذا هاجر النبي (ﷺ) من مكة إلى المدينة؟

الهجرة وعالمية الدعوة

الدرس

٢

أهداف الدرس

في نهاية هذا الدرس، سأكون قادرًا على أن:

- أشرح أهمية الهجرة إلى يثرب.
- أفسر أهمية أسس بناء الدولة الإسلامية.
- أتعرف بعض غزوات الرسول (ﷺ).
- أستنتج قيم المواطنة من صحيفة المدينة.

بعد أن اشتد أذى قريش للمسلمين في مكة، أذن النبي (ﷺ) لأصحابه بالهجرة إلى يثرب، فتركوا خلفهم أموالهم ومنازلهم، هربًا من التعذيب والاضطهاد. لكن «قريش» خافت من هجرة المسلمين إلى يثرب، فاجتمع زعماءها في دار الندوة ليتآمروا على قتل النبي (ﷺ)، ليمنعوه من الهجرة.




ألاحظ وأجيب

لماذا هاجر المسلمون إلى يثرب؟ توقع كيف استقبل أهل يثرب الرسول (ﷺ) وأصحابه.

خوفًا من إيذاء قريش وهربًا من التعذيب والاضطهاد استقبلوهم بالفرح والسرور

خطة الرسول (ﷺ) للهجرة



Hany2026

اليوم سأحكي لكم قصة هجرة النبي محمد (ﷺ). طلب النبي (ﷺ) من أبي بكر الصديق تجهيز ناقتين للهجرة، وخرجا معًا ليلًا في سرية تامة، اختبأ النبي (ﷺ) وصاحبه في غار ثور ثلاثة أيام، وكانت عناية الله تحرسهما من أعين المشركين، ثم استأجر النبي (ﷺ) رجلًا أمينًا يعرف طرق الصحراء، فسارا وسلكا معه طريقًا غير مألوف؛ حتى لا يُكتشف أمرهما، وبعد رحلة شاقة وطويلة وصلا إلى يثرب، وهناك استقبلهم أهلها بالفرح والسرور.



٥٠

أبحث وأتعلم

السرية التامة * عدم التحدث عن أي خطط في حياتي لاحد قبل تحقيقها

استنتج العوامل التي ساعدت على نجاح هجرة الرسول (ﷺ)، وكيف تستفيد منها في حياتك.

أسس بناء الدولة الإسلامية في المدينة

وضع صحيفة المدينة:
وضعها النبي (ﷺ) لتحديد حقوق المسلمين وغير المسلمين، وأكدت على التعايش السلمي.




Hany2026

أول مسجد في الإسلام (مسجد قباء)

بناء المسجد:
أول أعمال النبي (ﷺ) بعد وصوله إلى المدينة ليكون مركزاً للعبادة ومقرّاً للحكم.

تأمين الدولة وحمايتها:
كوّن النبي (ﷺ) جيشاً قوياً، ودرّب به وسلّحه؛ لتأسيس الدولة والدفاع عنها.



صحيفة المدينة

المؤاخاة بين المهاجرين والأنصار:
حرّص النبي (ﷺ) على تقوية وحدة المسلمين لنشر المحبة والتعاون، وبناء مجتمع إسلامي قوي و متماسك.

مفاهيم أتعلّمها

المهاجرون: المسلمون الذين تركوا ديارهم وأموالهم في مكة وهاجروا إلى المدينة.
الأنصار: المسلمون الذين نصرّوا النبي (ﷺ) من أهل المدينة.

أقرأ وأجيب

١ - وضح دور كل من (المسجد - الجيش) في بناء الدولة الإسلامية في المدينة.

المسجد : مركز للعبادة ومقر للحكم / الجيش : لتأسيس الدولة والدفاع عنها

٢ - ما النتائج المترتبة على وضع صحيفة المدينة؟

لتحديد حقوق المسلمين وغير المسلمين والتعايش السلمي بينهم

لنكمل معاً مراحل الدعوة الإسلامية التي مر بها النبي (ﷺ) في نشر الإسلام.



مفاهيم أتعلّمها

الغزوة: خروج الجيش للقتال بقيادة النبي (ﷺ).
السريّة: خروج الجيش للقتال دون النبي (ﷺ).

المرحلة الثالثة (مواجهة المعتدين على الدعوة)

بدأت مرحلة جديدة من الدعوة بعد تأسيس الدولة الإسلامية في المدينة، فخاض النبي (ﷺ) الغزوات وأرسل السرايا لحماية الدولة.

١ غزوة بدر (٢ هـ)



كانت بين المسلمين وقريش، وسميت بهذا الاسم لأن الصحابي الحُباب بن المُنذر أشار على النبي (ﷺ) أن يعسكر عند أقرب بئر لبدر؛ لمنع الماء عن المشركين، وانتهت بانتصار المسلمين رغم قلة عددهم عن قريش.

٢ غزوة أُحد (٣ هـ)



كانت بين المسلمين وقريش، وفي بداية المعركة انتصر المسلمون، ولكن خالف بعض الرماة أمر النبي (ﷺ) وتركوا أماكنهم لجمع الغنائم، فتحول نصر المسلمين إلى هزيمة.

أفكر وأستنتج

١- ما أسباب هزيمة المسلمين في غزوة أُحد؟

..... مخالفة الرماة اوامر الرسول (ص) ونزولهم من على جبل أحد لجمع الغنائم

٣ غزوة الخندق (٥ هـ)



كانت بين المسلمين وقريش وحلفائها، وسميت بهذا الاسم لأن الصحابي سلمان الفارسي اقترح على النبي (ﷺ) حفر الخندق حول المدينة لمنع قريش وحلفائها من الوصول إلى المسلمين، وهبت رياح شديدة فغادرت قريش وانتهت بانتصار المسلمين على قريش وحلفائها دون قتال.

أفكر وأحلل

أسس النبي (ﷺ) دولته على مبدأ الشورى. دلل على صحة العبارة.

في غزوة بدر كان الرأي لحباب بن المنذر / في غزوة الخندق كان الرأي لسلمان الفارسي

المرحلة الرابعة (عالمية الدعوة)

اليوم أحدثكم عن صلح الحديبية، عندما خرج النبي محمد (ﷺ) مع أصحابه لأداء العمرة منعه قريش من دخول مكة، فدارت مفاوضات بين الطرفين، وانتهت بصلح الحديبية.



معلومة إثرائية

"كان لأم سلمة (رضي الله عنها) دور حكيم يوم الحديبية، حين تأخر المسلمون في تنفيذ أمر النبي (صلى الله عليه وسلم)، فأشارت عليه أن يبدأ بنفسه بالحلق والذبح دون أن يكلم أحداً فلما فعل، اقتدى به الصحابة، مما أدى إلى تهدئة الموقف وحل المشكلة".

Hany 2026

ضرب النبي (صلى الله عليه وسلم) أروع الأمثلة في التسامح والعفو عند فتح مكة حينما قال لأهل مكة: «أذهبوا فأنتم الطلقاء».

١ صلح الحُدَيْبِيَّة (٦ هـ)

عُقد بين المسلمين وقريش، ينص على وقف الحرب بين الطرفين لمدة ١٠ سنوات، ومن ثم بدأ النبي (صلى الله عليه وسلم) بإرسال الرسل إلى ملوك العالم يدعوهم إلى الإسلام، وبدأت مرحلة عالمية الدعوة.

٢ فتح مكة (٨ هـ)

توجه النبي (صلى الله عليه وسلم) بجيش كبير إلى مكة، حيث نقضت قريش صلح الحديبية باعتمادها على قبيلة خزاعة، وهي من حلفاء المسلمين، وكانت النتيجة فتح مكة دون قتال وتحطيم الأصنام.

حقائق جغرافية



تُعد مكة المكرمة من أهم مدن شبه الجزيرة العربية، حيث تقع في وادٍ تحيط به الجبال العالية، مما وفر لها حماية طبيعية وجعل الوصول إليها أمراً صعباً. وعلى الرغم من طبيعتها الجبلية وندرة المياه والزراعة فيها، إلا أن موقعها المميز جعلها مركزاً دينياً وتجارياً بارزاً في المنطقة.

وفاة النبي (صلى الله عليه وسلم)

أدى النبي (صلى الله عليه وسلم) فريضة الحج، وألقى فيها خطبة الوداع في السنة العاشرة من الهجرة وأرسى فيها مبادئ الدين والحياة وحسن معاملة النساء. وبعد عودته إلى المدينة، أصيب بمرض شديد في العام الحادي عشر، وانتقل إلى جوار ربه بعد تمام رسالته ونشر نور الإسلام.

لقد تعلمت أن الصبر والتخطيط هما البداية الحقيقية لأي نجاح، وأن التعاون والعدل هما الأساس في بناء مجتمع قوي.



ألاحظ وأجيب

- ١- ما الدروس المستفادة من فتح مكة ٨ هـ؟ **التسامح والعفو**
- ٢- ما رأيك في هذه العبارة: يُعد صلح الحديبية خطوة مهمة نحو عالمية الدعوة؟
- ٣- علام تدل وصية النبي (صلى الله عليه وسلم) بحسن معاملة النساء؟.....

٢- حيث أرسل الرسول (ص) الرسل إلى ملوك العالم يدعوهم للإسلام

٣- لان المرأة نصف المجتمع وشريك فيه يجب التعامل معها برفق وهذا دليل على احترام الرسول (ص) للمرأة

تدريبات الدرس Hany 2026

١ اقرأ وحل

تُعد صحيفة المدينة أول وثيقة سياسية في الإسلام، وأول نموذج عملي للتعايش بين الأديان والثقافات في مجتمع واحد. فقد ضمّت المدينة آنذاك المسلمين واليهود وغيرهم، فوضع النبي (ﷺ) هذه الوثيقة لتضمن الحقوق والواجبات، وتمنع الفوضى والنزاع. ولم تفرّق في الحماية أو الكرامة بين المسلمين وغير المسلمين، وهو مبدأ سبّاق في إرساء مفهوم المواطنة، كما ضمنت حرية العقيدة، وألزمت الجميع بالدفاع المشترك عن المدينة، مما يجعلها نموذجًا يُحتذى به في بناء المجتمعات الحديثة.

- ١ - استخرج من الفقرة ما يدل على العدل والمساواة بين الناس. لم تفرق في الحماية أو الكرامة بين المسلمين وغير المسلمين
- ٢ - دلل من الفقرة على أن الصحيفة نموذج يُحتذى به في بناء المجتمعات الحديثة. ... ارست مفهوم المواطنة وحرية العقيدة
- ٣ - قارن بين ما ورد في صحيفة المدينة من مبادئ، وبعض الوثائق الحديثة في العالم، من حيث حماية الحقوق واحترام العقائد.

Hany 2026

٢ صمم ورتب

رتّب في خط زمني الأحداث التاريخية التالية من الأقدم إلى الأحدث:
غزوة بدر - وفاة النبي (ﷺ) - صلح الحديبية - غزوة الخندق - هجرة النبي (ﷺ) - حجة الوداع).



Hany 2026

٣ فكر وأجب

ا اختر الإجابة الصحيحة مما بين القوسين:

- ١ - توفي النبي محمد (ﷺ) في (مكة - المدينة - الطائف - الرياض)
- ٢ - بدأت مرحلة عالمية الدعوة بعد (صلح الحديبية - غزوة أُحُد - غزوة الخندق - فتح مكة)
- ٣ - انتصر المسلمون دون قتال في غزوة (أحد - بدر - الخندق - الحديبية)
- ٤ - تحول نصر المسلمين إلى هزيمة في غزوة (بدر - أحد - الخندق - فتح مكة)
- ٥ - أول أعمال النبي (ﷺ) بعد الهجرة (المؤاخاة بين المهاجرين والأنصار - بناء المسجد - وضع صحيفة المدينة - تأمين الدولة)

ب اكتب كلمة (صواب) أمام العبارة الصحيحة، وكلمة (خطأ) أمام العبارة غير الصحيحة:

- ١ - هاجر النبي (ﷺ) إلى المدينة سرًا. (صواب)
- ٢ - أحد أعمال النبي (ﷺ) في المدينة المؤاخاة بين المهاجرين والأنصار. (صواب)
- ٣ - أحد أسباب انتصار المسلمين في غزوة بدر حفر الخندق. (خطأ) Hany 2026
- ٤ - حطّم النبي (ﷺ) الأصنام عند فتح مكة وعفا عن أهلها. (صواب)

ج بم تفسر...؟

- ١ - توجّه النبي (ﷺ) لفتح مكة. بسبب تقض قريش صلح الحديبية واعتمادها على قبيلة خزاعة
- ٢ - أهمية المسجد في الإسلام. .. كان مركزاً للعبادة ومقراً للحكم
- ٣ - أحد أسباب انتصار المسلمين في غزوة بدر تطبيق مبدأ الشورى. الحباب بن المنذر أشار على النبي (ص) ان يعسكر عند أقرب بئر لبدر لمنع الماء عن المشركين
- ٤ - أهمية صلح الحديبية. بدأت الدعوة العالمية للإسلام برسالة الرسل إلى ملوك العالم يدعواهم للإسلام

Hany 2026

د أيّد بالأدلة صحة العبارات التالية:

- ١ - تحلى النبي (ﷺ) بالأخلاق الحميدة في التعامل مع قريش. فتح مكة دون قتال وعفا عن أهلها وقال لهم اذهبوا فانتم الطلقاء
- ٢ - نصر الله المسلمين في إحدى الغزوات دون قتال. غزوة الخندق حين هبت رياح شديدة وغادرت قريش وانتصر المسلمين

ه ما المقصود بالمصطلحات التاريخية التالية...؟

- ١ - المهاجرون: ... المسلمون الذين تركوا ديارهم وأموالهم في مكة وهاجروا إلى المدينة
- ٢ - الأنصار: ... الذين نصرروا النبي (ص) من اهلى المدينة

Hany 2026 للدرس القادم

ماذا حدث بعد وفاة النبي (ﷺ)؟ ومن سيقود الأمة بعد النبي (ﷺ)؟

الشورى والتعاون يقودان إلى قرارات حكيمة ويحافظان على وحدة المجتمع.

- ١ - لماذا أنفق أبو بكر الصديق (رضي الله عنه) الكثير من ماله؟
- ٢ - وضح سبب جمع أبي بكر الصديق (رضي الله عنه) للقرآن الكريم.
- ٣ - ماذا كان يحدث إذا لم يقم أبو بكر (رضي الله عنه) بمحاربة المرتدّين؟

عمر بن الخطاب (رضي الله عنه)

أسلم في السنة الخامسة من البعثة، لقّبه النبي (صلى الله عليه وسلم) بالفاروق لأنه فرّق بين الحق والباطل، شارك مع النبي (صلى الله عليه وسلم) في كل غزواته، وكان مثلاً في العدل والزهد والتواضع والرحمة.

أهم أعمال عمر بن الخطاب (رضي الله عنه) بعد تولّيه الخلافة:

Hany 2026

هل تعلم؟

رفض عمر بن الخطاب (رضي الله عنه) الصلاة داخل كنيسة القيامة عندما عرض عليه البطريق ذلك؛ حتى لا يتخذها المسلمون مسجداً من بعده، وصلى خارجها احتراماً لمكانتها ولأهلها.

١ إنشاء الدواوين

لتنظيم شئون الدولة، مثل ديوان بيت المال وديوان الجند.

٢ التقويم الهجري

جعل من هجرة النبي (صلى الله عليه وسلم) بداية للتقويم الهجري للمسلمين.

٣ تأسيس مدن جديدة في البلاد المفتوحة

منها الكوفة في العراق، والفسطاط في مصر.

٤ الفتوحات الإسلامية

استكمل عمر بن الخطاب الفتوحات التي بدأت في عهد أبي بكر الصديق (رضي الله عنه)، حيث تم في عهده فتح:

- الشام عام ١٣ هـ على يد خالد بن الوليد في معركة اليرموك.
 - العراق عام ١٥ هـ على يد سعد بن أبي وقاص في معركة القادسية.
 - فارس عام ٢١ هـ على يد النعمان بن مقرن في معركة فتح الفتوح.
 - مصر عام ٢١ هـ فتحها عمرو بن العاص، وأمن الأقباط على أنفسهم وأموالهم وكنائسهم.
- استشهد عمر بن الخطاب (رضي الله عنه) في صلاة الفجر على يد أبي لؤلؤة المجوسي سنة ٢٣ هـ.

أفكر وأجيب

قيم أتعلمها

العدل أساس القوة، واحترام الناس يكون بالحق لا بالتمييز.

١ - فسّر تلقيب عمر بن الخطاب (رضي الله عنه) بالفاروق.

بإسلامه فرق بين الحق والباطل

٢ - حدّد أهم أعمال عمر بن الخطاب (رضي الله عنه) بعد تولّيه الخلافة موضحاً السبب.

إنشاء الدواوين لتنظيم شؤون الدولة

عثمان بن عفان (رضي الله عنه)

أسلم على يد أبي بكر الصديق (رضي الله عنه)، وشارك مع النبي (صلى الله عليه وسلم) في جميع الغزوات ما عدا غزوة بدر بسبب مرض زوجته، وأنفق كثيراً من ماله في خدمة الإسلام.

أهم أعمال عثمان بن عفان (رضي الله عنه) بعد تولّيه الخلافة:

١ نسخ القرآن الكريم في مصحف واحد

وتوزيعه على البلدان المفتوحة لتوحيد قراءة القرآن الكريم.

٢ إنشاء أول أسطول بحري إسلامي

لحماية سواحل مصر والشام من هجمات الروم في عهده.

٣ الفتوحات الإسلامية

لتأمين حدود الدولة ونشر الإسلام.

أدت الفتنة التي أثارها عبد الله بن سبأ إلى استشهاد الخليفة عثمان بن عفان (رضي الله عنه) عام ٣٥ هـ.

Hany2026

قيم أتعلمها

التضحية والعطاء يعبران عن حب الوطن.

١- ما سبب إنشاء الأسطول البحري الإسلامي في عهد عثمان بن عفان (رضي الله عنه)؟

لحماية سواحل مصر والشام من هجمات الروم

٢- بم تفسر عدم مشاركة عثمان بن عفان (رضي الله عنه) في غزوة بدر

٢٥هـ؟ بسبب مرض زوجته

علي بن أبي طالب (ع)

تربى في بيت النبي (ﷺ) وكان معروفًا بذكائه وفصاحته وبلاغته، كما اتَّصف بالعلم والزهد والتواضع. أسلم وهو في العاشرة من عمره، وتعلَّم في دار الأرقم بن أبي الأرقم، ويُعد أول فدائي في الإسلام؛ لأنه نام في فراش النبي (ﷺ) ليلة الهجرة، شارك مع النبي (ﷺ) في كل الغزوات ما عدا غزوة تبوك.

أهم أعمال علي بن أبي طالب (ع) بعد تولّيه الخلافة:

١ نقل مقر الخلافة

من المدينة إلى الكوفة في العراق لتسهيل إدارة شؤون الدولة بعد اتساعها.

٢ تنظيم الشرطة

لحفظ الأمن والاستقرار وملاحقة المجرمين والخارجين عن القانون.

استشهد علي بن أبي طالب (ع) عام ٤٠ هـ على يد عبد الرحمن بن ملجم أثناء خروجه لصلاة الفجر.

تعلمت من هذا الدرس الصدق والأمانة، وأن العدل أساس كل شيء.



أقرأ وأحد

١ - اذكر أهمية الشرطة في خلافة علي بن أبي طالب (ع).

قيم أتعلّمها

التواضع مع الناس من صفات القادة الحقيقيين.

لحفظ الامن والاستقرار وملاحقة المجرمين والخارجين عن القانون

٢ - لماذا أطلق على علي بن أبي طالب (ع) أول فدائي في الإسلام؟

لأنه نام في فراش النبي (ص) ليلة الهجرة



١ اقرأ وحل

اقرأ خطاب الخليفة أبي بكر الصديق (رضي الله عنه) بعد مبايعته خليفة للمسلمين، ثم أجب:
«أما بعد أيها الناس، فإني وُلِّيت عليكم ولست بخيركم، فإن أحسنت فأعينوني، وإن أسأت فقوموني، الصدق أمانة، والكذب خيانة، والضعيف فيكم قوي عندي حتى أريح (أرد) عليه حقه إن شاء الله تعالى، والقوي فيكم ضعيف عندي حتى آخذ منه الحق إن شاء الله تعالى».

١ - حدد من الخطاب أعلاه القواعد التي استند إليها الخليفة أبو بكر الصديق (رضي الله عنه) في إدارة شؤون الدولة الإسلامية.

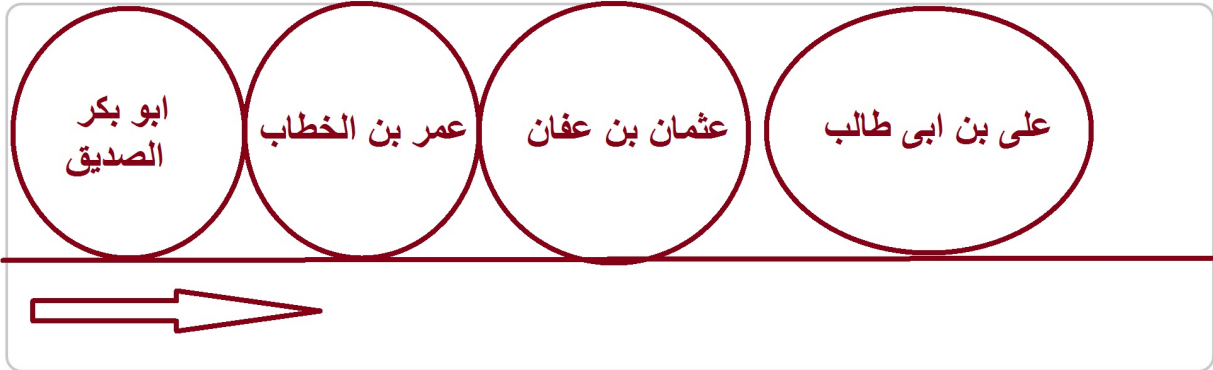
..... العدل - المساواة - مساعدة الفقراء والمساكين - محاسبة المقصرين

٢ - حدد أهم الصفات الواجب توافرها في الحاكم.

..... حسن التصرف - الحكمة - العدل - المساواة - عدم التحيز لآحد الاطراف

٢ صمم ورتب

رتب الخلفاء الراشدين أدناه على خط زمني من تصميمك:
(عمر بن الخطاب - عثمان بن عفان - أبو بكر الصديق - علي بن أبي طالب).



٣ اقرأ وحل

عمر بن الخطاب (رضي الله عنه) وفتح بيت المقدس

عندما فُتح بيت المقدس في عهد الخليفة عمر بن الخطاب (رضي الله عنه)، طلب أهل المدينة أن يسلموا مفاتيح المدينة للخليفة بنفسه، فخرج من المدينة إلى بيت المقدس ومعه خادمه وجمل واحد. كان عمر وخادمه يتبادلان الركوب، فإذا ركب أحدهما مشى الآخر، وعندما اقتربا من بيت المقدس، كان الدور على عمر أن يمشي، فرفض أن يركب ليظهر بمظهر القائد، وقال: "نحن قوم أعزنا الله بالإسلام، فإن ابتغينا العزة بغيره أذلنا الله".

دخل عمر إلى بيت المقدس بثوب بسيط والغبار على ملابسه، مما أثار إعجاب الناس بتواضعه وعدله.

- صف مظاهر تواضع وعدل عمر بن الخطاب (رضي الله عنه) كما ظهرت في رحلته إلى بيت المقدس.

..... رفض ركوب الجمل عند دخول بيت المقدس - الثوب بسيط - الغبار على ملابسه

ا اختر الإجابة الصحيحة مما بين القوسين:

١ - الخليفة الذي قام بمحاربة المرتدّين (ع).
(أبو بكر الصديق - عمر بن الخطاب - عثمان بن عفان - علي بن أبي طالب)

٢ - كُلف بجمع القرآن وكتابته Hany 2026

(أبو عبيدة بن الجراح - خالد بن الوليد - عمرو بن العاص - زيد بن ثابت)

٣ - قام بتنظيم الشرطة الخليفة (ع).

(أبو بكر الصديق - عمر بن الخطاب - عثمان بن عفان - علي بن أبي طالب)

٤ - قام بوضع التقويم الهجري للدولة الإسلامية الخليفة (ع).

(أبو بكر الصديق - عمر بن الخطاب - عثمان بن عفان - علي بن أبي طالب)

٥ - أول الخلفاء الراشدين (ع) هو Hany 2026

(أبو بكر الصديق - عمر بن الخطاب - عثمان بن عفان - علي بن أبي طالب)

٦ - تم نسخ القرآن الكريم في عهد (ع).

(أبي بكر الصديق - عمر بن الخطاب - عثمان بن عفان - معاوية بن أبي سفيان)

ب اكتب كلمة (صواب) أمام العبارة الصحيحة، وكلمة (خطأ) أمام العبارة غير الصحيحة:

١ - قام أسامة بن زيد بجمع القرآن بتكليف من الخليفة أبي بكر الصديق (ع). (خطأ)

٢ - يرجع بدء الفتوحات الإسلامية لعهد الخليفة أبي بكر الصديق (ع). (صواب)

٣ - يرجع تأسيس المدن في الدولة الإسلامية لعهد الخليفة عمر بن الخطاب (ع). (صواب)

٤ - أنشأ الخليفة عمر بن الخطاب (ع) أول أسطول بحري إسلامي. (خطأ)

٥ - الخليفة علي بن أبي طالب (ع) هو أول من نظّم الشرطة. (صواب)

٦ - يُعد عمر بن الخطاب أول من جمع القرآن الكريم. (خطأ) Hany 2026

٧ - الفتوحات الإسلامية توقفت في عهد الخلفاء الراشدين. (خطأ)

ج بم تفسر...؟

١ - اختيار أبي بكر الصديق (ع) أول خليفة للمسلمين.

أول من آمن من الرجال - شارك النبي (ص) في غزواته - اختاره النبي (ص) ليوم المسلمين في الصلاة - أنفق أمواله لمساعدته الفقراء والمساكين - صاحب النبي (ص) في الهجرة

٢ - قيام الخليفة عثمان بن عفان (ع) بنسخ القرآن في مصحف واحد.

Hany 2026

لتوحيد قراءة القرآن الكريم

د دل على صحة العبارات التالية:

١ - اتسعت حركة الفتوحات الإسلامية في خلافة عمر بن الخطاب (رضي الله عنه).

فتح العراق والشام وفارس ومصر

٢ - حرص الخليفة علي بن أبي طالب (رضي الله عنه) على حفظ الأمن داخل الدولة الإسلامية.

تنظيم الشرطة

ه ما النتائج المترتبة على: Hany 2026

- إرسال جيش أسامة بن زيد إلى بلاد الشام؟

تأمين حدود الدولة الإسلامية من جهة الروم

ه اكتب ما تشير إليه كل عبارة مما يلي:

١ - أحد الخلفاء الراشدين الذي قام بجمع القرآن الكريم. (أبو بكر الصديق)

٢ - اهتم ببناء المدن في البلاد المفتوحة. Hany 2026 (عمر بن الخطاب)

٣ - أحد الخلفاء الراشدين (رضي الله عنه) الذي نقل العاصمة من المدينة إلى الكوفة. (علي بن أبي طالب)

٤ - شارك النبي (صلى الله عليه وسلم) في كل الغزوات ما عدا غزوة بدر. (عثمان بن عفان)

هيا نستعد للدرس القادم

حدد اسم الدولتين اللتين جاءتتا بعد عصر الخلفاء الراشدين (رضي الله عنهم)؟

عصر الدولة الأموية (٤١ - ١٣٢ هـ)

١ معاوية بن أبي سفيان (٤١-٦٠ هـ)



مدينة القيروان

أول خلفاء الدولة الأموية.

ومن أعماله:

- ١ - اتخذ من دمشق عاصمة للأمويين.
- ٢ - اهتم ببناء البحرية الإسلامية.
- ٣ - أنشأ مدينة القيروان لنشر الإسلام في شمال إفريقيا.
- ٤ - أسس ديوان الخاتم لحماية رسائل الدولة من التزوير.

٢ عبد الملك بن مروان (٦٥-٨٦ هـ)



مسجد قبة الصخرة

في عهده استقرت الدولة الإسلامية بعد فترة من الفوضى والصراعات.

ومن أعماله:

- ١ - قام بسك أول عملة إسلامية.
- ٢ - أمر بنقطة المصحف لتسهيل قراءة القرآن الكريم.
- ٣ - شيد مسجد قبة الصخرة في فلسطين.
- ٤ - عربّ الدواوين للغة العربية.

أفكر وأستنتج

ما النتائج المترتبة على نَقْط المصحف الشريف في عهد عبد الملك بن مروان؟

تسهيل قراءة القرآن الكريم



Hany 2026

المسجد الأموي في دمشق

٣ الوليد بن عبد الملك (٨٦-٩٦ هـ)

تميّز عهده بالرخاء الاقتصادي، وانتشار الأمن والاستقرار.

ومن أعماله:

- ١ - واصل الفتوحات الإسلامية شرقاً إلى بلاد الهند، وغرباً إلى بلاد الأندلس، وبلغت الدولة الأموية أقصى اتساعها.
- ٢ - أعاد بناء المسجد النبوي ووسع الحرم المكي.
- ٣ - شيد المسجد الأموي في دمشق.

أفكر وأقارن

قارن بين جهود معاوية بن أبي سفيان والوليد بن عبد الملك في العمارة الإسلامية.

اعاد بناء المسجد النبوي
وسع الحرم المكي
شيد المسجد الاموي في دمشق

انشأ مدينة القيروان
اتخذ من دمشق عاصمة للامويين

٤ عمر بن عبد العزيز (٩٩-١٠١ هـ)

أُطلق عليه «خامس الخلفاء الراشدين»؛ لما عُرف عنه من عدل وزهد وحرص على مصلحة الأمة.

من أعماله:

- ١- اختار القضاة والولاة والموظفين ممن عُرفوا بحُسن السيرة والعدل.
- ٢- نشر الإسلام في البلاد المفتوحة بالقدوة والموعظة الحسنة.
- ٣- اهتم بالعلم والعلماء، وشيّد المدارس.

معا Hany 2026

في خلافة عمر بن عبد العزيز لم يكن هناك فقراء أو محتاجون، حتى إن عمّال الزكاة لم يجدوا من يعطوه الزكاة!

أفكر وأستنتج

لأنه تميز بالعدل وحسن اختيار القضاة والولاة واهتم بالعلم والعلماء وساعد الفقراء والمساكين

لماذا يُعد عمر بن عبد العزيز قدوة في الحكم؟

أسباب ضعف وسقوط الدولة الأموية

قيم أتعلّمها

أساس قوة الأمم وبقائها يكمن في وحدتها وتماسك صفوفها، أما الصراع والانقسام فهما أول طريق الضعف والسقوط والانهايار.

- ١- توالى بعد عمر بن عبد العزيز خلفاء ضعاف كانوا سبباً في سقوط الدولة.
- ٢- كثرة الصراعات بين القبائل العربية بسبب التنافس على السلطة.
- ٣- ظهور الدعوة العباسية على يد أبي مسلم الخراساني.

ألاحظ وأحلّ

ما السبب الأهم في سقوط الدولة الأموية؟ ... كثرة الصراعات بين القبائل العربية على السلطة

حقائق جغرافية

إقليم خراسان، الذي انطلقت منه الدعوة العباسية، يقع اليوم بين عدة دول هي: إيران، وأفغانستان، وتركمانستان، وأوزبكستان.

قامت الدولة العباسية بعد هزيمة الأمويين في معركة الزاب الكبرى عام ١٣٢هـ.



عصر الدولة العباسية (١٣٢ - ٦٥٦ هـ)



تنقسم الدولة العباسية إلى عصرين: العصر الأول ويُعرف بـ العصر الذهبي، ويتميز بقوة الخلفاء وازدهار العلوم والثقافة، والعصر الثاني وهو عصر الضعف والانقسام. هيا نتعرف على أبرز خلفاء العصر العباسي الأول وإنجازاتهم التي ميّزت هذا العصر.



أحد المساجد التي أسستها الدولة العباسية في بغداد

١ أبو العباس عبد الله (١٣٢-١٣٦) هـ

من أعماله:

- ١ - وضع أسس الدولة الجديدة.
- ٢ - نقل عاصمة الخلافة إلى مدينة الأنبار في العراق.
- ٣ - اهتم براحة الحجاج، فجدّد الطريق بين مكة والكوفة، وزوّده بالمنارات لإرشاد المسافرين.

٢ أبو جعفر المنصور (١٣٦-١٥٨) هـ

المؤسس الحقيقي للدولة العباسية.

من أعماله:

- ١ - قضى على الثورات والفتن، ونشر الأمن والاستقرار في أرجاء الدولة.
- ٢ - بنى مدينة بغداد، وجعلها عاصمة الخلافة.

أفهم وأحلل

١ - ما أهمية دور أبي العباس في قيام الدولة العباسية؟ ... **لأنه وضع أسس الدولة الجديدة**

٢ - لماذا يُعد أبو جعفر المنصور المؤسس الحقيقي للدولة العباسية؟ **لأنه قضى على الثورات والفتن ونشر الأمن والاستقرار في البلاد**

٣ هارون الرشيد (١٧٠-١٩٣) هـ

أشهر خلفاء الدولة العباسية.

من أعماله:

- ١ - اشتهر بحبه للعلم والعلماء.
- ٢ - أسس مكتبة «بيت الحكمة» في بغداد.
- ٣ - أقام علاقات قوية مع ملوك أوروبا.
- ٤ - أنشأ سوق الوراقين في بغداد لنسخ الكتب وبيعها.
- ٥ - توسعت الدولة الإسلامية في عهده.

٤ المأمون بن هارون (١٩٨-٢١٨) هـ

اهتم بالعلوم والفلك.

من أعماله:


- ١ - شجع على ترجمة الكتب من الحضارات الأخرى.
- ٢ - دعم العلماء والمفكرين في مختلف العلوم.
- ٣ - أنشأ أول مرصد فلكي في بغداد لرصد النجوم.

معلومة إثرائية

سوق الوراقين في بغداد مخصص لبيع الكتب ونسخها، وكان هذا السوق مليئاً بالعلماء والطلاب والمهتمين بالعلم.



٥ المعتصم بالله (٢١٨ - ٢٢٧) هـ



Hany 2026

من أعماله:

- ١ - اهتم ببناء جيش قوي، وضم إليه الجنود الأتراك.
- ٢ - أنشأ مدينة سامراء لتكون مقراً للخلافة.
- ٣ - نجح في فتح مدينة عمورية.

ألاحظ وأحدد

١ - اكتب رأيك في أحد خلفاء الدولة العباسية واعرضه على معلمك.

٢ - فسّر: يُعد عهد هارون الرشيد من أزهى عصور الدولة العباسية.

بسبب توسع الدولة الإسلامية في عهده والعلاقات القوية مع ملوك أوروبا والنهضة العلمية

٣ - لماذا يُعد المأمون من أكثر المهتمين بالعلم؟

..... شجع حركة ترجمة الكتب - دعم العلماء والمفكرين - أنشأ أول مرصد فلكي

أسباب سقوط الدولة العباسية

- ١ - الصراع بين الأمراء العباسيين على الحكم.
- ٢ - ضعف الخلفاء العباسيين في نهاية العصر العباسي الثاني.
- ٣ - سيطرة العناصر غير العربية على نظم الحكم.



كل ذلك أدى في النهاية إلى سقوط الدولة العباسية على يد المغول سنة ٦٥٦ هـ، بعد أن استمرت أكثر من خمسة قرون.

تعلمت من الدرس أن الدولتين الأموية والعباسية اهتمتا بالعلم ونشر الإسلام. وأن التقدم يأتي من خلال العدل والاجتهاد.



أفكر وأستنتج

ما النتائج المترتبة على ضعف حكام الدولة العباسية؟

..... سقوط الدولة العباسية على يد المغول سنة ٦٥٦ هـ

تدريبات الدرس



١ اقرأ وحل

الدولة العباسية

تعد الدولة العباسية من أعظم الدول الإسلامية، وقد تأسست عام ١٣٢ هـ (٧٥٠م) على يد أبي العباس عبد الله بعد سقوط الدولة الأموية. اتخذت في البداية الأنبار عاصمة لها، ثم انتقل العباسيون بعاصمتهم إلى بغداد التي أصبحت مركزاً للعلم والثقافة والاقتصاد.

تميّزت الدولة العباسية بازدهار العلوم والفنون، وشهدت العصر الذهبي للحضارة الإسلامية، حيث ظهرت شخصيات بارزة مثل الخوارزمي رائد الرياضيات ومؤسس علم الخوارزميات، وابن سينا في الطب، والرازي في الكيمياء. كما ازدهرت حركة الترجمة من اللغات اليونانية والفارسية إلى العربية.

١ - من مؤسس الدولة العباسية؟

أبو العباس عبد الله

٢ - ما العاصمة التي بناها الخليفة أبو جعفر المنصور؟

بغداد

٣ - ما اسم المؤسسة العلمية التي أنشأها الخليفة المأمون؟

المرصد الفلكي

٤ - اذكر اثنين من العلماء الذين ظهوروا في العصر العباسي.

الخوارزمي - ابن سينا - الرازي

٢ أفهم وأجيب (نشاط كتابي)

اكتب فقرة قصيرة تشرح فيها سبب ازدهار الدولة العباسية في الجانب العلمي والثقافي.

٣ ألاحظ وأجيب



Hany 2026

لاحظ صورة المسجد الأموي بدمشق أدناه، ثم أجب:

١ - من قام بإنشاء المسجد الأموي بدمشق؟

الوليد بن عبد الملك

٢ - استخدم شبكة المعلومات الدولية (الإنترنت) لتتعرف على

أدوار المساجد في الدولة الإسلامية.

كانت مركزاً لتلقى العلم وإدارة شئون البلاد

٣ - تخيّل أنك صحفي تعيش في زمن الخليفة عمر بن عبد العزيز، وطلب منك أن تجري معه

لقاء صحفياً، اطرح ثلاثة أسئلة بناء على ما تعرفه من أعماله.

E فكر وأجب

اكتب كلمة (صواب) أمام العبارة الصحيحة، وكلمة (خطأ) أمام العبارة غير الصحيحة:

- ١ - كان لدعم أبي مسلم الخراساني دور في نجاح قيام الدولة العباسية. (صواب)
- ٢ - قام الخليفة العباسي هارون الرشيد بإنشاء سوق الوراقين. (صواب)
- ٣ - استمرت الدولة العباسية أكثر من ستة قرون. (خطأ)
- ٤ - ازدهرت حركة الترجمة في العصر العباسي الثاني. (خطأ)

ب اختر الإجابة الصحيحة مما بين القوسين:

- ١ - قام الخليفة ببناء مدينة سامراء. (أبو العباس - المأمون - المعتصم - الأمين)
- ٢ - الخليفة الذي قام ببناء مدينة بغداد
(أبو جعفر المنصور - الوليد بن عبد الملك - أبو مسلم الخراساني - مروان بن محمد)
- ٣ - عاصمة الدولة الإسلامية في العصر الأموي
(المدينة - دمشق - الكوفة - بغداد)
- ٤ - كل الأعمال التالية قام بها الوليد بن عبد الملك، ما عدا
(بناء المسجد الأموي - الاهتمام بالفتوحات الإسلامية - بناء مسجد قبة الصخرة - توسعة الحرم النبوي)
- ٥ - قام بتعريب الدواوين في الدولة الإسلامية
(معاوية بن أبي سفيان - الوليد بن عبد الملك - عبد الملك بن مروان - عمر بن عبد العزيز)

ج بم تفسر...؟

- ١ - نجاح العباسيين في إسقاط الدولة الأموية. .. بسبب ظهور الدعوة العباسية وهزيمتهم في معركة الزاب الكبرى
- ٢ - ضعف الدولة الأموية في أواخر عهدها. بسبب ضعف الحكام بعد عمر بن عبد العزيز
- ٣ - سقوط الدولة العباسية. .. الصراع بين الامراء - ضعف الخلفاء - سيطرة العناصر غير العربية على الحكم

د دلل على صحة العبارات التالية:

- ١ - شهد المجتمع الإسلامي في العصر الأموي نهضة عمرانية. .. مدينة القيروان في عهد معاوية بن أبي سفيان
مسجد قبة الصخرة في عهد عبد الملك بن مروان
المسجد الأموي والمسجد النبوي والحرم المكي
- ٢ - تميزت العملة في العصر الأموي بطابع إسلامي. .. سك عبد الملك بن مروان أول عملة إسلامية

Hany 2026

هيا نستعد



ما العوامل التي تساعد على قيام الزراعة؟

.....

٧٠

تقييم الوحدة الثانية

Hany 2026



السؤال الأول: اكتب كلمة (صواب) أمام العبارة الصحيحة، وكلمة (خطأ) أمام العبارة غير الصحيحة:

- ١ - الدولة الإسلامية بدأت بعد وفاة النبي (ﷺ). (خطأ)
- ٢ - هجرة المسلمين الأولى كانت إلى الحبشة. **Hany 2026** (صواب)
- ٣ - أبو بكر الصديق (رضي الله عنه) هو أول من جمع القرآن الكريم. (صواب)
- ٤ - الخلفاء الراشدون (رضي الله عنهم) عددهم أربعة. (صواب)
- ٥ - نشأت الدولة الأموية في المدينة. (خطأ)
- ٦ - فتحت العراق على يد سعد بن أبي وقاص في خلافة عمر بن الخطاب (رضي الله عنه). (صواب)
- ٧ - عمر بن الخطاب (رضي الله عنه) كان أول من أدخل الدواوين إلى الدولة الإسلامية. (صواب)
- ٨ - العباسيون اهتموا بالفتوحات العسكرية فقط. **Hany 2026** (خطأ)
- ٩ - كانت بغداد هي عاصمة الدولة العباسية بداية من عصر أبي جعفر المنصور. (صواب)

السؤال الثاني: أكمل العبارات الآتية:

- ١ - أول خليفة للمسلمين بعد وفاة النبي (ﷺ) هو **أبو بكر الصديق**
- ٢ - كانت الهجرة النبوية من مكة إلى **المدينة**.....
- ٣ - عاصمة الدولة في خلافة علي بن أبي طالب (رضي الله عنه) **الكوفة**.....
- ٤ - نقل أبو العباس العاصم إلى مدينة **الأنبار**.....
- ٥ - من أعمال الخليفة عمر بن الخطاب (رضي الله عنه) **انشاء الدواوين - وضع التقويم الهجري**
- ٦ - مكتبة بيت الحكمة أسسها الخليفة **هارون الرشيد**
- ٧ - أحد أسباب الهجرة النبوية **ايذاء قريش للمسلمين**
- ٨ - الخليفة الذي أمر بنسخ القرآن الكريم في مصحف واحد **عثمان بن عفان**
- ٩ - أشهر المدن التجارية بشبه الجزيرة العربية **مكة**.....
- ١٠ - اختارها النبي (ﷺ) لأصحابه للهجرة إليها بلاد **الحبشة**.....
- ١١ - انطلقت حروب الردة من مدينة **المدينة (يثرب)**
- ١٢ - أسس عمر بن الخطاب (رضي الله عنه) في العراق مدينة **الكوفة**.....
- ١٣ - أسس أبو جعفر المنصور في العراق مدينة **بغداد**.....

السؤال الثالث: بم تفسر...؟ Hany 2026

- ١ - أسباب الهجرة النبوية من مكة إلى المدينة. بسبب إيذاء قريش للمسلمين
- ٢ - اختيار أبي بكر الصديق (رضي الله عنه) خليفة للمسلمين. اول من آمن من الرجال - رافق النبي (ص) في الهجرة - شارك في جميع الغزوات
- ٣ - أهمية عصر الخلفاء الراشدين. يعتبر امتداد لحكم النبي (ص) ونشر الإسلام والعدل والحكمة والمساواة
- ٤ - تأسيس معاوية بن أبي سفيان لمدينة القيروان. لنشر الإسلام في شمال أفريقيا
- ٥ - نسخ القرآن الكريم في مصحف واحد في عهد عثمان بن عفان (رضي الله عنه). لتوحيد قراءة القرآن الكريم
- ٦ - عمل النبي (ﷺ) في بيت عمه بالرعي. لكي لا يكون عبء على أحد Hany 2026
- ٧ - يُطلق على عمر بن عبد العزيز خامس الخلفاء الراشدين. لعدله وزهده وحرصه على مصلحة الأمة

السؤال الرابع: ما النتائج المترتبة على...؟ Hany 2026

- ١ - عمل النبي (ﷺ) بالرعي. اكتسب صفات الصبر والتواضع والرحمة والشجاعة
- ٢ - تنظيم قريش لرحلتي الشتاء والصيف. اصبح لاهل مكة مكانة تجارية عظيمة بين القبائل
- ٣ - المؤاخاة بين المهاجرين والأنصار. بناء مجتمع إسلامي قوى متماسك
- ٤ - ضعف الخلفاء العباسيين في العصر العباسي الثاني. سقوط الدولة العباسية على يد المغول
- ٥ - الفتن في أواخر عهد عثمان (رضي الله عنه). استشهاد عثمان بن عفان ٣٥ هـ
- ٦ - مخالفة الرماة لأوامر النبي (ﷺ) في غزوة أحد. تحول النصر الى هزيمة
- ٧ - استشهاد عدد كبير من حفظة القرآن في حروب الردة كلف ابو بكر زيد بن ثابت بجمع القرآن الكريم

السؤال الخامس: ماذا كان يحدث إذا لم...؟ Hany 2026

- ١ - يهاجر المسلمون إلى يثرب. استمر إيذاء قريش للمسلمين
- ٢ - يتم نسخ القرآن الكريم في خلافة عثمان بن عفان (رضي الله عنه). عدم توحيد قراءة القرآن الكريم
- ٣ - تهتم الدولة الأموية بالعمارة. عدم حدوث نهضة عمرانية وبناء المساجد والمدن
- ٤ - يُنشئ هارون الرشيد سوق الوراقين. عدم ترجمة الكتب ونسخها ونشرها
- ٥ - يؤسس عثمان بن عفان (رضي الله عنه) أول أسطول بحري. عدم حماية الحدود الإسلامية المطلة على البحر
- ٦ - يهتم علي بن أبي طالب (رضي الله عنه) بتأسيس الشرطة. عدم نشر الامن والاستقرار الداخلي والقبض على الخارجين
- ٧ - يعقد النبي (ﷺ) صلح الحديبية. عدم نشر الدعوة الإسلامية خارج شبه الجزيرة العربية
- ٨ - يخالف الرماة أوامر النبي (ﷺ). انتصار المسلمين في غزوة أحد

السؤال السادس: ما المقصود بالمفاهيم الآتية...؟

- ١ - القبيلة. ... جماعة من الناس ينتمون الى أصل ونسب واحد ولهم عادات وتقاليد مشتركة ...
- ٢ - المهاجرون. ... المسلمون الذين تركوا ديارهم واموالهم وهاجروا الى المدينة
- ٣ - المرتدون. ... جماعة من الناس خرجوا عن الاسلام وادعى بعضهم النبوة

السؤال السابع: ما العلاقة بين كل من...؟

- ١ - أبي بكر الصديق (رضي الله عنه) وحروب الردة. قضى ابو بكر على حروب الردة
- ٢ - عمر بن الخطاب (رضي الله عنه) والدواوين. ... انشاء عمر بن الخطاب الدواوين لتنظيم شئون الدولة
- ٣ - الدولة العباسية والحياة العلمية. ... اهتم الخلفاء بالحياة العلمية وتم انشاء مكتبة بيت الحكمة والمرصد الفلكي
- ٤ - الهجرة إلى يثرب وبناء الدولة الإسلامية. ... تم وضع اساس بناء الدولة ومنها بناء المسجد والمواخاه وصحيفة المدينة وتأمين الدولة

السؤال الثامن: قارن بين...؟ Hany 2026

- ١ - الهجرة إلى الحبشة والهجرة إلى يثرب.
- ٢ - العصر العباسي الأول والعصر العباسي الثاني.
- ٣ - الدولة الأموية والدولة العباسية من حيث العاصمة.
- ٤ - عمر بن الخطاب وعلي بن أبي طالب (رضي الله عنهما) من حيث أهم الأعمال.

النشاط الختامي للوحدة

Hany 2026

تعاون مع زملائك واستعن بمصادر المعرفة المختلفة في تصميم خريطة ذهنية أو خط زمني يوضح مراحل تطور الدولة الإسلامية منذ الهجرة حتى العصر العباسي.

أفكر وأجيب

١- المقوم الأكثر أهمية للزراعة بوطننا العربي: وفرة المياه أم النقل والمواصلات؟

وفرة المياه

٢- فسّر نجاح الزراعة في بعض الدول العربية التي لا تمتلك أنهارًا.

لاعتمادها على المياه الجوفية أو مياه الامطار

أهم المحاصيل الزراعية في الوطن العربي

ينتج الوطن العربي أنواعًا متعددة من المحاصيل الزراعية، تُستخدم في الغذاء والصناعة والتجارة، ومن أهمها:



القمح

١ الحبوب الغذائية

القمح: تُعد مصر من أكثر الدول العربية إنتاجًا له، ويُستخدم في صناعة الخبز.



قصب السكر

٢ المحاصيل السكرية

قصب السكر: يُزرع في مناطق متعددة من صعيد مصر، ويُستخدم بشكل رئيسي في صناعة السكر.



القطن

٣ محاصيل الألياف

القطن: تنتصد مصر إنتاج القطن طويل التيلة، وهو من أجود الأنواع، ويُستخدم في صناعة الملابس والمنسوجات الفاخرة.

أناقش وأجيب

اكتب فقرة عن أهم المحاصيل الزراعية في الوطن العربي.

تشمل أهم المحاصيل الزراعية في الوطن العربي الحبوب مثل القمح، والشعير، والأرز، والذرة، بالإضافة إلى المحاصيل الصناعية كقصب السكر وبنجر السكر، والمحاصيل الزيتية عباد الشمس وفول الصويا، إلى جانب المحاصيل البستانية كالموالح والخضروات والفاكهة.

أهمية الزراعة في وطننا العربي

تعد الزراعة من أهم الأنشطة الاقتصادية في وطننا العربي؛ حيث تلعب دورًا كبيرًا في حياة السكان، فهي:

- توفر الغذاء للإنسان، والعلف للحيوان.
- توفر المواد الخام اللازمة للصناعة.
- توفر فرص عمل للشباب.
- مصدر رئيسي للدخل القومي لبعض الدول العربية.

حقائق تاريخية

سجل المصريون أنشطتهم الزراعية على جدران المعابد والمقابر، مما يدل على أهمية الزراعة في حياتهم واقتصادهم.

أتعلم وأطبق

ماذا يمكن أن يحدث إذا لم تهتم الدول العربية بالزراعة؟

عدم توفير الغذاء للإنسان والعلف للحيوان والمواد الخام اللازمة للصناعة

أهم المشكلات التي تواجه الزراعة في الوطن العربي

تواجه الزراعة عدة مشكلات تعوق تطورها، رغم توافر المقومات الطبيعية والبشرية:

٢ المشكلات البشرية

- نقص العمالة المدربة.
- التلوث والزحف العمراني.
- ضعف الاستثمار الزراعي.

١ المشكلات الطبيعية

- قلة الأمطار.
- ندرة المياه العذبة.
- التغيرات المناخية.

جهود بعض الدول العربية لحل مشكلات الزراعة

تعمل الدول العربية على حل مشكلات الزراعة من خلال:

- تحلية مياه البحر.
- استصلاح الأراضي الصحراوية.
- معالجة مياه الصرف.
- بناء السدود والخزانات.
- استخدام أساليب الري الحديثة مثل الرش والتنقيط.
- استحداث بذور مقاومة للتغيرات المناخية.



معمل لاستحداث البذور

أهم المشروعات القومية لحل مشكلات الزراعة في مصر

Hany 2026



الزراعة الحديثة

مشروع مستقبل مصر للزراعة المستدامة

هو جزء من مشروع الدلتا الجديدة، ويهدف لاستصلاح أكثر من مليون فدان باستخدام طرق الري الحديثة والطاقة النظيفة، ويساعد في تحقيق الأمن الغذائي وتوفير فرص عمل للشباب.

مشروع توشكى بجنوب الوادي



زراعة النخيل

بهدف استصلاح آلاف الأفدنة بالصحراء الغربية، ويعتمد على مياه نهر النيل، ويزرع القمح والفاكهة والنخيل، ويسهم في زيادة الرقعة الزراعية وتحقيق الأمن الغذائي.

أبحث وأجيب

بالاستعانة بمصادر المعرفة المختلفة ابحث عن بعض المشروعات الزراعية الرائدة في الدول العربية واكتب ملخصاً عنها.

.....

.....

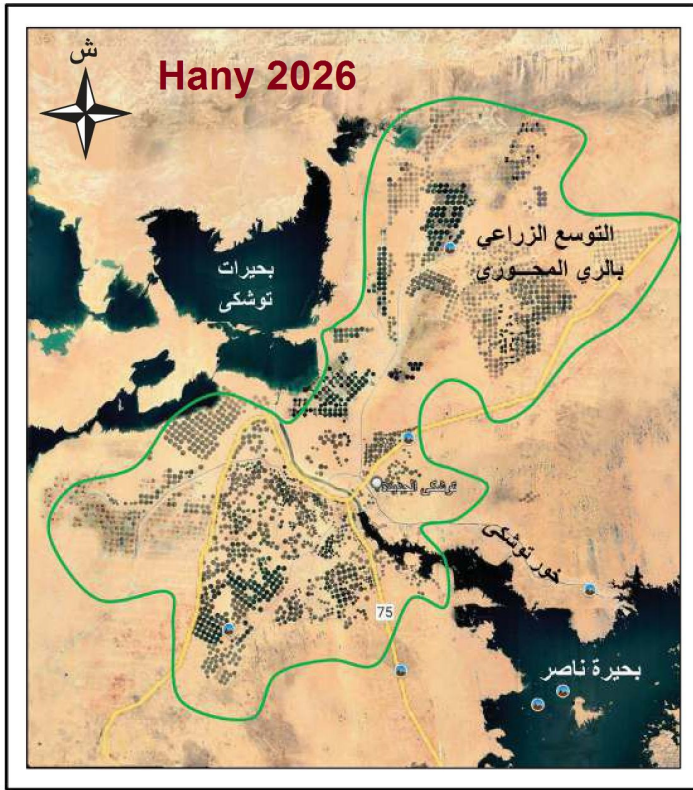
ألاحظ وأجيب

استنتج من الخريطة مصدر المياه الذي يعتمد عليه مشروع توشكى الزراعي.

مياه بحيرة ناصر

.....

.....



خريطة مشروع التنمية الزراعية في توشكى جنوب مصر



الزراعة في وطننا العربي.. تحديات وحلول

الزراعة من أقدم الأنشطة التي مارسها الإنسان في الوطن العربي، وساعدت على قيام حضارات قديمة على ضفاف الأنهار. اليوم ما زالت الزراعة تلعب دورًا مهمًا في توفير الغذاء وفرص العمل. ولكن تواجه الزراعة بعض التحديات مثل قلة المياه والتصحر؛ لذلك تعمل بعض الدول على إيجاد حلول مثل

استصلاح الأراضي الصحراوية واستخدام أساليب الري الحديثة. الزراعة من أقدم الأنشطة التي مارسها الإنسان في

الوطن العربي، وساعدت على قيام حضارات قديمة

١ - ما العلاقة بين الزراعة وقيام الحضارات القديمة؟ على ضفاف الأنهار.

٢ - اذكر اثنتين من فوائد الزراعة في الوقت الحاضر. **توفير الغذاء وفرص العمل**

٣ - ما المشكلة التي تواجه الزراعة وذكّرت في النص؟ .. **قلة المياه والتصحر**

٤ - ما الحل الذي لجأت إليه الدول العربية لمواجهة هذه المشكلة؟ **استصلاح الأراضي الصحراوية واستخدام أساليب الري الحديثة**

٥ - اقترح حلًا لتطوير الزراعة في مصر. **الاعتماد على أساليب الري الحديث - تحلية مياه البحر - الاعتماد على المياه الجوفية - استخدام بذور وتقوى جيدة - الاعتماد على السماد العضوي بديل السماد الكيماوي**

Hany 2026 رَوَاقع وتوقع

تخيّل أنك خبير زراعي يعمل في دولة عربية، ومطلوب منك إعداد تقرير بسيط عن الزراعة في هذه الدولة، ثم أجب عن الأسئلة الآتية:

١ - حدّد ثلاثة مقومات (طبيعية أو بشرية) ساعدت على قيام الزراعة.

طبيعية: التربة الخصبة وتنوع المناخ والمياه العذبة / البشرية: الأيدي العاملة ورأس المال والأسواق

٢ - اذكر مشكلتين تواجهان الزراعة، وبيّن كيف يمكن التغلب عليهما.

ندرة المياه و قلة الامطار والتغيرات المناخية / الحل: بناء السدود والخزانات واستصلاح الأراضي الصحراوية

٣ - وضح رأيك في أهمية الزراعة لمستقبل الدول العربية؟ عبر عن رأيك في سطرين.

الزراعة تؤمن احتياجات المواطنين من الغذاء وكذلك توفر المواد الخام اللازمة للصناعة وبدونها لا يستقيم مجتمع ولا ينمو

Hany 2026 رَاقع وأجب

أ اكتب كلمة (صواب) أمام العبارات الصحيحة، وكلمة (خطأ) أمام العبارات الخاطئة:

١ - تُعد الزراعة من الأنشطة الاقتصادية المهمة في وطننا العربي. (صواب)

٢ - قصب السكر من المحاصيل السكرية التي تُزرع في صعيد مصر. (صواب)

٣ - من أهداف مشروع توشكى استصلاح الأراضي الصحراوية. (صواب)

٤ - تنوع المناخ في وطننا العربي ساعد على زراعة محاصيل متنوعة. (صواب)

٥ - استحداث أنواع جديدة من البذور يضر بالمزارعين. (خطأ)

ب أكمل العبارات التالية بما يناسبها: Hany 2026

قصب السكر

١ - أحد المحاصيل السكرية التي تُزرع في الوطن العربي ...

٢ - أحد المقومات البشرية للزراعة ... راس المال

٣ - أحد مشكلات الزراعة في الوطن العربي ... ندرة المياه العذبة

٤ - أحد أهم المشروعات القومية الزراعية في مصر مشروع مستقبل مصر للزراعة المستدامة

٥ - تُستخدم محاصيل الألياف مثل القطن في صناعة الملابس والمنسوجات

ج بم تفسر...؟ Hany 2026

١ - أهمية الزراعة في الوطن العربي. توفر الغذاء للإنسان، والعلف للحيوان. توفر فرص عمل للشباب. توفر المواد الخام اللازمة للصناعة. مصدر رئيسي للدخل القومي لبعض الدول العربية.

٢ - استخدام بعض الدول العربية أساليب ري حديثة.

لحل مشكلات الزراعة في الوطن العربي

د ما النتائج المترتبة على: تنوع المناخ في الوطن العربي؟

تنوع المحاصيل والمنتجات الزراعية

ه دلل على صحة العبارات الآتية:

١ - تبذل مصر جهودًا كبيرة لحل مشكلات الزراعة.

إنشاء مشروع مستقبل مصر للزراعة المستدامة - مشروع توشكى جنوب الوادي

٢ - الزراعة تُعد نشاطًا اقتصاديًا مهمًا في وطننا العربي.

توفر الغذاء للإنسان، والعلف للحيوان. توفر فرص عمل للشباب. توفر المواد الخام اللازمة للصناعة. مصدر رئيسي للدخل القومي لبعض الدول العربية.

و ما العلاقة بين...؟ Hany 2026

١ - رأس المال وإقامة المشروعات الزراعية.

راس المال ضروري لإقامة المشروعات الزراعية وشراء البذور والاسمدة والالات

٢ - الزراعة وتحقيق الأمن الغذائي في وطننا العربي.

الزراعة توفر الغذاء للإنسان والعلف للحيوان

هيا نستنتج Hany 2026 قادم

الثروة الحيوانية مصدر مهم للغذاء والصناعة. هل يمكنك أن تتخيل حياتنا بدونها؟

أفكر وأستنتج

١ - اذكر أسباب انتشار تربية الأغنام في السودان. **لوفرة المراعى الطبيعية اللازمة بها**

٢ - ما العلاقة بين الثروة الحيوانية وتوافر البيئة الفيضية في مصر؟

احتلت مصر المركز الاول عربيا فى تربية الجاموس بفضل البيئة الزراعية الخصبة على ضفاف نهر النيل



Hany 2026

قيم أتعلمها

الاستثمار الحيواني يؤدي إلى إنتاج أفضل.

أهمية الثروة الحيوانية في الوطن العربي

تعد الثروة الحيوانية من أهم الموارد الاقتصادية في الوطن العربي؛ لأنها:

- تُعد مصدرًا غذائيًا غنيًا بالبروتين الحيواني.
- تُستخدم بعض الحيوانات في الزراعة والنقل.
- توفر مواد خامًا لصناعات مثل الجلود والألبان واللحوم.

مشكلات الثروة الحيوانية وجهود الدول العربية لتنميتها

جهود الدول العربية لتنمية الثروة الحيوانية

- ١ - تصنيع الأعلاف بأسعار مناسبة.
- ٢ - تحسين الرعاية البيطرية.
- ٣ - استخدام الأساليب العلمية في الإنتاج الحيواني.
- ٤ - تنظيم المراعي وحمايتها.
- ٥ - تنفيذ مشروعات لمواجهة التغيرات المناخية وزيادة المساحات الخضراء.

مشكلات الثروة الحيوانية في الوطن العربي

- ١ - نقص الأعلاف وارتفاع أسعارها.
- ٢ - قلة الرعاية البيطرية.
- ٣ - الإفراط في الرعي مما يضر بالمراعي الطبيعية.
- ٤ - التغيرات المناخية وقلّة المراعي الطبيعية.

Hany 2026

أفكر وأستنتج

١ - اقترح فكرة تساعد في حماية المراعي من التدهور. **عدم الرعي الجائر بها**

٢ - وضح العلاقة بين التغيرات المناخية وتدهور المراعي الطبيعية.

تؤدى التغيرات المناخية الى تدمير المراعى الطبيعية بسبب ارتفاع درجات الحرارة والجفاف

٣ - اقترح مشروعًا صغيرًا يساهم في تنمية الثروة الحيوانية.

مساعدة دولة السودان فى تربية اعداد كبيرة من الثروة الحيوانية وتوفير الاعلاف لها ثم تصديها لجميع دول الوطن العربى



أهمية الثروة السمكية في الوطن العربي

- مصدر مهم للغذاء الغني بالبروتين.
- سد النقص في اللحوم الحمراء.
- توفير فرص عمل للشباب.

مفاهيم أتعلمها

المصايد السمكية:

مصادر طبيعية يتم الصيد منها مباشرة.

المزارع السمكية:

أماكن يتم فيها تربية الأسماك بطريقة حديثة ومنظمة.

مشكلات الثروة السمكية وجهود الدول العربية لتنميتها

جهود الدول العربية لتنمية الثروة السمكية

- ١ - منع الصيد الجائر.
- ٢ - سن القوانين للحد من التلوث وتنظيم عملية الصيد.
- ٣ - توفير وسائل صيد حديثة وآمنة.
- ٤ - التوسع في مشروعات الاستزراع السمكي.
- ٥ - تحسين أحوال الصيادين.

مشكلات الثروة السمكية في الوطن العربي

- ١ - الصيد الجائر للأسماك.
- ٢ - تلوث المياه بسبب المخلفات والنفايات.
- ٣ - استخدام وسائل صيد بدائية.
- ٤ - التغير المناخي وارتفاع درجة حرارة المياه ونقص الأكسجين.
- ٥ - ترك الصيادين لحرفة الصيد.

Hany 2026

أناقش وأجيب

١ - اقترح طريقة للحفاظ على نظافة المياه، واعرضها على معلمك.

منع تصريف مياه الصرف الصحي على الشواطئ - تجريم القاء المخلفات في مياه الأنهار

٢ - وضح العلاقة بين الاستزراع السمكي وزيادة الإنتاج الغذائي.

الاستزراع السمكي طريقة حديثة لتوفير البروتين وسد النقص من اللحوم الحمراء

تدريبات الدرس



١ اقرأ وحل

Hany 2026

الثروة الحيوانية في الوطن العربي

تلعب الثروة الحيوانية دورًا مهمًا في حياة سكان الوطن العربي، فهي مصدر رئيسي للحوم والألبان والجلود والصوف، كما تُستخدم بعض الحيوانات في أعمال الزراعة والنقل، خاصة في المناطق الريفية. ومن أهم الحيوانات التي يرببها الإنسان: الأغنام، والأبقار، والماعز، والإبل.

١ - ما أهمية الثروة الحيوانية في حياة سكان الوطن العربي **مصدر رئيسي للحوم والألبان والجلود والصوف**

٢ - اذكر بعض الاستخدامات المفيدة للحيوانات في الريف **تستخدم بعض الحيوانات في أعمال الزراعة والنقل**

٢ اقرأ واستنتج

Hany 2026

الثروة السمكية في وطننا العربي

يمتلك الوطن العربي سواحل طويلة تُطل على البحار والمحيطات، مما جعله غنيًا بالثروة السمكية. وتعد الأسماك مصدرًا مهمًا للبروتين، كما أنها تُستخدم في صناعات مثل الزيوت والعلف. وتواجه الثروة السمكية بعض التحديات مثل التلوث والصيد الجائر؛ لذلك تعمل الدول العربية على حماية البحار وتنمية مشاريع الاستزراع السمكي.

١ - ما سبب غنى الوطن العربي بالثروة السمكية؟ **لامتلاكه سواحل طويلة على البحار والمحيطات**

٢ - ما الفوائد الغذائية التي نحصل عليها من الأسماك؟ **مصدر للبروتين وصناعة الزيوت والعلف**

٣ - استنتج حلولًا للتحديات التي تواجه الثروة السمكية. **إنشاء المزارع السمكية - تجريم الصيد الجائر**

٣ فكر وأجب

Hany 2026

١ اكتب كلمة (صواب) أمام العبارات الصحيحة، وكلمة (خطأ) أمام العبارات

الخطئة:

- ١ - تعتمد الصناعات الجلدية على الأسماك. (خطأ)
- ٢ - الرعي الجائر يسهم في الحفاظ على المراعي. (خطأ)
- ٣ - إحدى فوائد الثروة الحيوانية توفير مواد خام للصناعة. (صواب)
- ٤ - يتركز الجاموس في المناطق الجافة الصحراوية. (خطأ)
- ٥ - تعتمد الدول العربية على استيراد اللحوم رغم امتلاكها ثروة حيوانية كبيرة. (صواب)
- ٦ - تعتمد الثروة الحيوانية على المراعي الطبيعية. (صواب)

ب اختر الإجابة الصحيحة مما بين القوسين: **Hany 2026**

– أحد الحيوانات التي ترعى في البيئة الصحراوية
(الخيول – الإبل – الجاموس – الأبقار)

ج أكمل العبارات التالية بما يناسبها: **Hany 2026**

- ١ – الدول العربية الكبرى في إنتاج الدواجن .. **مصر والسعودية**
- ٢ – تُعد الثروة الحيوانية مصدرًا لـ **البروتين** ..
- ٣ – تتمثل أهم تحديات الثروة السمكية في ... **التغيرات المناخية**
- ٤ – إحدى وسائل حماية الثروة الحيوانية .. **تحسين الرعاية البيطرية**

د بم تفسر...؟ **Hany 2026**

١ – اهتمام الدول العربية بتربية الماشية.

تستخدم في الزراعة والنقل لأنها مصدر للبروتين الحيواني توفير المواد الخام للصناعة

٢ – تُعد الأسماك مصدرًا مهمًا للقيمة الغذائية.

مصدر للغذاء الغن بالبروتين

٣ – زيادة تربية الإبل في المناطق الصحراوية.

بسبب طبيعة اراضيها الجافة

هـ ما النتائج المترتبة على...؟ **Hany 2026**

١ – التغيرات المناخية بالنسبة لحرفة الرعي.

ادت الى نقص المساحات الخضراء والمراعى الطبيعية

٢ – التوسع في مشروعات الاستزراع السمكي.

لسد العجز في كميات اللحوم الحمراء

و دال على صحة العبارات التالية: **Hany 2026**

١ – تسهم الدواجن في تحقيق الأمن الغذائي للسكان.

لأنها تسهم في تقليل الاعتماد على اللحوم الحمراء

٢ - وفرة المراعي الطبيعية تساعد في تربية الحيوانات.

حيث توجد المراعي المعتدلة (الاستبس) وتربى عليها الاغنام والماعز كما توجد المراعي الحارة (السافانا) التي تربى عليها الابقار والاعنام

١ وضح العلاقة بين: Hany 2026

- تدهور المراعي الطبيعية والتغير المناخي.

ادت التغيرات المناخية الى قلة المراعي الطبيعية

١ ماذا يحدث إذا...؟ Hany 2026

١ - ازداد التلوث في البحار العربية.

قلة انتاج الثروة السمكية

٢ - لم تهتم الدول بتطوير الثروة السمكية.

عدم توفير بديل للبروتين الحيواني واللحوم الحمراء

٢ قارن بين كل من: Hany 2026

١ - مصر المزارع السمكية والمصايد السمكية من حيث أولى الدول إنتاجًا.

٢ - أولى الدول العربية في تربية الإبل والجاموس والأبقار.

السودان

الصومال
رأس القادم
هيا نسن

مصر

هناك عديد من المعادن ومصادر الطاقة بالوطن
ما أهمية هذه الموارد؟ وكيف ساعدت على تقدُّم الوطن العربي؟

لاحظ معي خريطة المعادن لوطننا العربي، سوف أصحبكم في رحلة إلى باطن الأرض لنكتشف معاً أهم المعادن وأماكن وجودها وفوائدها، هل أنتم مستعدون؟



خريطة (١) أولى الدول المنتجة للمعادن بالوطن العربي

١ الحديد

- أولى الدول إنتاجاً له موريتانيا والجزائر ومصر.
- يُستخدم في بناء الكباري وصناعة القطارات والسيارات.



مصنع للسيارات

٢ النحاس

- أولى الدول إنتاجاً له سلطنة عُمان والمغرب.
- يُستخدم في صناعة الأسلاك الكهربائية والأجهزة الإلكترونية.



الأسلاك

أفكر واستنتج

ما أهم استخدامات الحديد والنحاس؟

الحديد : بناء الكباري وصناعة القطارات والسيارات
النحاس : صناعة الاسلاك الكهربائية والاجهزة الالكترونية



معدن الذهب

٣ الذهب

- أولى الدول المنتجة له السودان ومصر.
- يُستخدم في صناعة الحُلي والعملات وبعض الأدوية.



معدن المنجنيز

٤ المنجنيز

- أولى الدول المنتجة له المغرب ومصر.
- يُستخدم في صناعة الصلب ومواد الطلاء.



مصنع للأسمدة

٥ الفوسفات

- أولى الدول المنتجة له المغرب ومصر والأردن.
- يُستخدم في صناعة الأسمدة الزراعية والطوب الحراري.



صخر الكبريت

٦ الكبريت

- أولى الدول المنتجة له العراق والجزائر.
- يُستخدم في صناعة الأدوية والصناعات الكيميائية.

هكذا يا أصدقائي، تعرّفنا خلال رحلتنا على كنوز وطننا العربي المدفونة في باطن الأرض، فهي ثروات عظيمة علينا المحافظة عليها واستغلالها بشكل يخدم التنمية ويحمي البيئة.



Hany 2026

حقائق تاريخية

أدركت الحضارات القديمة أهمية المعادن، فاستخرج المصريون القدماء الذهب من الصحراء الشرقية واستخدموه في أدوات الزينة، كما استخدمت حضارة بلاد الرافدين المعادن في صناعة أدوات الزراعة والطب والكتابة.

أقرأ وأحل

- ١ - حدد اسم المعدن الأكثر أهمية للاقتصاد العربي. **الذهب**
- ٢ - فسّر أهمية الفوسفات في الزراعة.
- ٣ - دلل على أن وطننا العربي غني بالمعادن.
- ٤ - وضح العلاقة بين المنجنيز وصناعة الصلب.

٢- الفوسفات يستخدم في صناعة الاسمدة الزراعية والطوب الحراري
٣- حيث يوجد الحديد والنحاس والذهب والمنجنيز في باطن الأرض
٤- يستخدم المنجنيز في صناعة الصلب



الفحم

٣ الفحم

يُستخدم في المصانع لصهر الحديد، ومن أكثر دول الوطن العربي إنتاجًا له المغرب ومصر، وهو أكثر مصادر الطاقة غير المتجددة تلويثًا للبيئة.

أفهم وأجيب

١ - فسّر: يُعد البترول من أهم مصادر الدخل في بعض دول وطننا العربي.

لأنه سبب رئيسي في قوة الاقتصاد لبعض دول وطننا العربي

٢ - أيهما أكثر ضررًا من حيث التأثير على البيئة (الفحم - الغاز الطبيعي)؟

الفحم لأنه أكثر مصادر الطاقة غير المتجددة تلويثًا للبيئة



خلايا الطاقة الشمسية

مصادر الطاقة المتجددة

١ الطاقة الشمسية

تُستخدم في توليد الكهرباء وتسخين المياه وتشغيل الأجهزة، وتعتمد عليها عديد من الدول العربية، منها مصر والجزائر والسعودية.



توليد الطاقة من الرياح

٢ طاقة الرياح

تساعد في توليد الكهرباء من خلال التوربينات (دوارة الرياح)، وأكثر الدول إنتاجًا لها مصر والمغرب وتونس.



توليد الطاقة من المياه

٣ الطاقة المائية

تُستخدم في توليد الكهرباء بطريقة آمنة ونظيفة، وأكثر دول الوطن العربي اعتمادًا عليها مصر والسودان.

أفكر وأستنتج

١ - ماذا يحدث إذا اعتمدت الدول العربية على الطاقة المتجددة بدلاً من غير المتجددة؟

الحفاظ على البيئة من التلوث

٢ - اكتب فقرة عن أحد مصادر الطاقة المتجددة في الوطن العربي واعرضها في الإذاعة المدرسية.

قيم أتعلمها

سوء استخدام الإنسان لثروات الأرض قد يعرضها للنفاذ.

تدريبات الدرس



1 اقرأ وحل

Hany 2026

المعادن كنوز الأرض

المعادن هي ثروات طبيعية توجد في باطن الأرض، وتعد من أهم الموارد التي اعتمدت عليها الحضارات منذ آلاف السنين، فهي مواد صلبة، تختلف في اللون والشكل والخواص، ولكل معدن استخدام معين في حياتنا. **Hany 2026** لا تقتصر أهمية المعادن على الصناعة فقط، بل تمتد إلى الزراعة والطب، مثل الفوسفات الذي يُستخدم في صناعة الأسمدة، والكبريت الذي يدخل في صناعة الأدوية. يُعد الوطن العربي من أغنى مناطق العالم بالمعادن، حيث تتوفر فيه كميات كبيرة من الذهب والحديد والفوسفات والنحاس والمنجنيز. وتعد هذه الثروات من ركائز الاقتصاد العربي.

١ - لماذا يجب علينا استخدام المعادن بحكمة؟ سوء استخدام الإنسان لثروات الأرض قد يُعرضها للنفاذ

٢ - ما العلاقة بين المعادن والتقدم الصناعي في الوطن العربي؟ .. المعادن هي أساس الصناعات الثقيلة

٣ - الفوسفات معدن مهم في الزراعة، ويُستخدم في صناعة .. الاسمدة الزراعية

Hany 2026

٢ اقرأ وتعلم

اختر معدناً من معادن الوطن العربي (الذهب - الحديد - الفوسفات - النحاس - الكبريت...)، ثم اكتب فقرة قصيرة على لسان هذا المعدن وكأنه «شخصية تتكلم» تعرّف بنفسها وتشرح.

Hany 2026

- من أنا؟ .. انا الذهب

- أماكن وجودي. .. السودان ومصر

- كيف يستخدمني الناس؟ .. في صناعة الحلى والعملات وبعض الادوية

- لماذا أنا مهم في حياة الإنسان؟ .. لانني معدن نادر الوجود في الطبيعة

- اكتب رسالة توعية لاستخدام المعادن بشكل مستدام. (رسالة توعية للحفاظ على المعادن).

..... يجب علينا الحفاظ على المعادن وايجاد بديل لها لان استخدامها بكثرة يعرضها للنفاذ بسرعة

٣ فكر وأجب

١ اكتب كلمة (صواب) أمام العبارة الصحيحة، وكلمة (خطأ) أمام العبارة الخاطئة:

- ١ - يُستخدم النحاس في صناعة الأدوية. **Hany 2026** (خطأ)
- ٢ - الغاز الطبيعي أقل تلويثاً من البترول والفحم. (صواب)
- ٣ - وطننا العربي فقير في مصادر الطاقة والمعادن. (خطأ)
- ٤ - الطاقة المائية تنتج من الأنهار والسدود دون تلويث البيئة. (صواب)
- ٥ - تُعد المعادن من الموارد المتجددة التي لا تنفذ مع الزمن. (خطأ)

Hany 2026

٩٧

ب اختر الإجابة الصحيحة مما بين القوسين:

- ١ - يُستخدم النحاس بشكل رئيسي في صناعة
(الطوب - الحلي - الأسلاك الكهربائية - الأدوية) **Hany 2026**
- ٢ - أكثر الدول العربية إنتاجًا للذهب هما
(قطر واليمن - مصر والسودان - تونس وسوريا - العراق والكويت)
- ٣ - معدن يُستخدم في صناعة الصلب ومواد الطلاء
(الفوسفات - المنجنيز - الكبريت - الذهب)
- ٤ - الطاقة التي تنتج من المياه تُسمى
(الطاقة الشمسية - طاقة الرياح - الطاقة الكهرومائية - الطاقة النووية)
- ٥ - أكثر مصادر الطاقة تلويثًا للهواء هو
(الغاز الطبيعي - الفحم - الطاقة الشمسية - طاقة الرياح) **Hany 2026**
- ٦ - أكبر دول وطننا العربي في إنتاج طاقة الرياح
(المغرب - الجزائر - مصر - السعودية)
- ٧ - مصدر الطاقة الذي لا ينتهي ويمكن استخدامه في جميع الدول العربية
(الفحم - الشمس - الغاز الطبيعي - البترول) **Hany 2026**

ج بم تفسر...؟

- ١ - تُعد الطاقة الشمسية مصدرًا صديقًا للبيئة.
لانها طاقة متجددة نظيفة لا تلوث
- ٢ - غنى الوطن العربي بالمعادن.
يوجد الحديد والنحاس والمنجنيز والذهب

Hany 2026

- ٣ - ضرورة الحفاظ على المعادن ومصادر الطاقة.
لانها من اسباب تقدم الدول وازدهارها واستغلالها بشكل جيد يخدم التنمية ويحمي البيئة

د دلل على صحة العبارات التالية:

- ١ - تُستخدم المعادن في مجالات متعددة في حياتنا.
الحديد : الكبارى والسيارات والقطارات ،
الذهب : الحلى والادوية والعملات ،
المنجنيز : صناعة الصلب ومواد الطلاء ،
النحاس : الاسلاك الكهربائية والاجهزة الالكترونية
- ٢ - أهمية البترول في بعض الدول العربية.

Hany 2026

يستخدم في تشغيل المصانع والسيارات والطائرات ويدخل في صناعة البلاستيك

هـ ما العلاقة بين كل من ...؟

١ - الفحم والتأثير السلبي على البيئة.

الفحم أكثر مصادر الطاقة غير المتجددة تلويثاً للبيئة Hany 2026

٢ - الحديد والصناعة الحديثة.

الحديد اساس الصناعة الحديثة ويستخدم فى صناعة السيارات والقطارات وبناء الكبارى

٣ - الطاقة والتنمية الاقتصادية.

استخدام مصادر الطاقة فى تشغيل الآلات والمعدات والمصانع يسهم فى تحقيق التنمية الاقتصادية للدول

و ما الفرق بين ...؟

١ - الطاقة الشمسية والطاقة الكهرومائية.

الطاقة الشمسية تعتمد على الشمس - الطاقة الكهرومائية تعتمد على المياه Hany 2026

٢ - الفوسفات والنحاس.

الفوسفات صخر - النحاس معدن

٩ ما النتائج المترتبة على:

- الاعتماد على مصادر الطاقة غير المتجددة؟

يعرضها للنفاذ بسرعة وتؤدى الى تلوث البيئة Hany 2026

للدروس القادم

هيا نستعد



يتميز وطننا العربي بوفرة مقومات السياحة. ما أنواع السياحة التي يمكن أن توجد في وطننا؟ وأي نوع منها تفضله؟

تدريبات الدرس



١ اقرأ وحل

Hany 2026

دور السياحة في تنمية القيم والاقتصاد

السياحة تُعلمنا الكثير من القيم الجميلة، مثل احترام الآخرين، والاعتزاز بتاريخ بلادنا، والمحافظة على النظافة والآثار، كما تُعزز التعاون بين الدول العربية، وتوفر فرص عمل، وتنشط مجالات مثل النقل والتجارة والفندقة، كما تسهم في تحسين البنية التحتية وتجميل المدن؛ ولهذا تهتم الحكومات بتنميتها وتطويرها.

١ - ما القيم التي نكتسبها من الاهتمام بالسياحة؟

..... احترام الآخرين - الاعتزاز بتاريخ بلادنا - المحافظة على النظافة والآثار - التعاون

٢ - دلل على أن السياحة وسيلة لنشر الوعي الثقافي بين الشعوب.

..... تساعد السياحة على تبادل الثقافات والتواصل بين الشعوب

٣ - ما رأيك: هل السياحة وسيلة للسلام والتواصل بين الشعوب؟ لماذا؟

نعم ، عن طريق السفر الى البلدان المختلفة اتعرف على ثقافتهم وعاداتهم وتقاليدهم وكيفية التعايش معهم

Hany 2026

٢ فكر وخطط

قم بالتخطيط لرحلة إلى إحدى الدول العربية، تتضمن: (اسم الدولة - نوع السياحة - أبرز الأماكن التي سيزورها السائح - وسيلة النقل - ملاحظات خاصة لجذب السائحين).

Hany 2026

٣ فكر وأجب

أ اكتب كلمة (صواب) أمام الكلمة الصحيحة، وكلمة (خطأ) أمام العبارات الخاطئة:

- ١ - تُعد السياحة مصدرًا مهمًا للدخل القومي في عديد من الدول العربية. (صواب)
- ٢ - حضور مؤتمر المناخ من أنواع السياحة البيئية في الوطن العربي. (صواب)
- ٣ - تشتهر مصر والإمارات والسعودية بأنشطة سياحية متنوعة. (صواب)
- ٤ - تُعد السياحة في الوطن العربي محدودة بسبب عدم وجود معالم طبيعية. (خطأ)
- ٥ - إقامة المهرجانات والفعاليات تساعد على جذب السياح. (صواب)

Hany 2026

ب أكمل العبارات التالية بما يناسبها:

١ - من المقومات الطبيعية للسياحة الموقع المتميز - المناخ المعتدل - التنوع الطبيعي

٢ - الدول المشهورة بالسياحة الدينية السعودية وفلسطين

٣ - تهتم الحكومات العربية بتنمية السياحة من خلال و.....

توفير الامن والامان - تدريب وتأهيل العاملين بالسياحة

٤ - من آثار السياحة على الاقتصاد... مصدر للدخل القومي - توفر فرص عمل للشباب

٥ - من جهود مصر الحديثة في السياحة... انشاء المتحف الكبير - تطوير منطقة الاهرامات

ج بم تفسر...؟ Hany 2026

١ - أهمية السياحة في وطننا العربي.

مصدر للدخل القومي - توفير فرص عمل للشباب - تبادل الثقافات بين الشعوب - تشجع على تطوير المدن والبنية التحتية

٢ - إقبال السياح على زيارة دول مثل مصر ولبنان والمغرب.

بسبب تنوع انواع السياحة بهما

د ما النتائج المترتبة على: Hany 2026

- تنمية السياحة في الوطن العربي؟

زيادة الدخل القومي من السياحة وتوفير فرص عمل للشباب

ه دال على صحة العبارات الآتية:

١ - السياحة تؤثر على الاقتصاد العربي.

مصدر للدخل القومي - توفر فرص عمل للشباب

٢ - هناك جهود حقيقية من الدول العربية لتنمية السياحة.

الامارات اقامت برج الخليفة وجزيرة النخلة - السعودية اقامت موسم الرياض

و أجب عما يلي: Hany 2026

١ - ما العلاقة بين الأمن والاستقرار وحركة السياحة؟

الامن والاستقرار احد عوامل تنشيط السياحة

٢ - ما المقصود بالسياحة؟ وما أنواعها في الوطن العربي؟

انتقال الافراد من مكان الى اخر داخل او خارج بلادهم

النوع السياحة : دينية - ثقافية - علاجية - ترفيهية - بيئية - تسوق - رياضية - مؤتمرات - معارض

تقييم الوحدة الثالثة



السؤال الأول: أمامك خريطة صماء للوطن العربي، أجب عن الأسئلة الآتية:



١ - أولى دول الوطن العربي في إنتاج الحديد

..... **موريتانيا**

٢ - أولى دول الوطن العربي إنتاجًا للقمح

..... **مصر**

٣ - أولى دول الوطن العربي في إنتاج البترول

..... **السعودية**

٤ - أولى دول الوطن العربي في المصايد البحرية **المغرب**

٥ - دولة يوجد بها المسجد الأقصى **فلسطين**

٦ - يتركز إنتاج الكبريت بدولة **العراق**

٧ - دولة تشتهر بتربية الإبل .. **الصومال** ..

السؤال الثاني: اكتب كلمة (صواب) أمام العبارة الصحيحة، وكلمة (خطأ) أمام العبارة غير

الصحيحة: **Hany 2026**

- ١ - يعتمد النشاط الزراعي على نوع التربة والمناخ. (**صواب**)
- ٢ - تمتلك دول الخليج رأس المال اللازم للزراعة. (**صواب**)
- ٣ - تنتج السعودية كميات كبيرة من البترول. (**صواب**)
- ٤ - السياحة تعمل على زيادة الدخل القومي. (**صواب**)
- ٥ - الرياح من مصادر الطاقة المتجددة. (**صواب**)
- ٦ - الفحم أكثر مصادر الطاقة غير المتجددة تلوينًا للبيئة. (**صواب**)
- ٧ - يعتمد الوطن العربي على المراعي الطبيعية فقط. (**خطأ**)

السؤال الثالث: أكمل العبارات الآتية: **Hany 2026**

- ١ - تشتهر المغرب بإنتاج معدن **النحاس** الذي يدخل في صناعة الأسلاك.
- ٢ - أولى دول الوطن العربي في توليد الكهرباء من الرياح ... **مصر - المغرب - تونس**
- ٣ - أكثر دول الوطن العربي امتلاكًا للثروة الحيوانية. **السودان**
- ٤ - تعتمد السياحة على عدة مقومات .. **طبيعية وبشرية**
- ٥ - معدن يدخل في صناعة الآلات ... **الحديد**
- ٦ - زيارة الأماكن الأثرية مثل الأهرامات سياحة .. **ثقافية**
- ٧ - أولى دول الوطن العربي في المزارع السمكية دولة ... **مصر**

٢- تشغيل المصانع والسيارات والطائرات وصناعة البلاستيك وتقوية الاقتصاد
٤- مصدر للبروتين الحيواني وتوفر المواد الخام للصناعة تستخدم في الزراعة والنقل
٦- مصدر للدخل القومي بالدول العربية

١- مهمة لشراء وبيع المنتجات الزراعية
٣- مصدر للبروتين وسد العجز في اللحوم الحمراء
٥- لحل مشكلات الزراعة

السؤال الرابع: بم تفسر...؟ Hany 2026

- ١ - أهمية الأسواق بالنسبة للزراعة. ٢ - أهمية البترول في الوطن العربي.
- ٣ - اهتمام الوطن العربي بتنمية الثروة السمكية.
- ٤ - أهمية الثروة الحيوانية. ٥ - استحداث بذور مقاومة للتغيرات المناخية.
- ٦ - أهمية السياحة للدخل القومي. ٧ - انخفاض إنتاج الثروة الحيوانية في بعض المناطق.
- ٨ - أهمية معدن المنجنيز. ٧- بسبب نقص الاعلاف - قلة الرعاية البيطرية- الرعى الجائر التغيرات المناخية
٨- يستخدم في صناعة الصلب ومواد الطلاء

السؤال الخامس: ما النتائج المترتبة على...؟

- ١ - تنوع المناخ في الوطن العربي. ٢ - الاعتماد على مصادر الطاقة غير المتجددة.
- ٣ - تعدد أنواع السياحة بالوطن العربي. ٤ - تدهور المراعي الطبيعية في الوطن العربي.
- ٥ - الصيد الجائر بالنسبة للثروة السمكية. ٦ - وفرة حشائش السافانا بالسودان.

السؤال السادس: ماذا يحدث إذا لم...؟ Hany 2026

- ١ - يُستخدم الري الحديث في الوطن العربي. ٢ - يُستخدم وسائل صيد حديثة بالنسبة للثروة السمكية. **عدم حل مشكلات الزراعة في الوطن العربي**
- ٣ - يترك الصيادون حرفة الصيد في الوطن العربي. **نقص الثروة السمكية وعدم تنميتها وتطويرها**
- ٤ - تتوفر الأعلاف وتحسن الرعاية البيطرية في الوطن العربي. **زيادة الانتاج وتنمية وتطوير الثروة السمكية**
- ٥ - يتم معالجة مياه الصرف الصحي في الوطن العربي. **نقص الانتاج وتدهور الثروة الحيوانية**
- ٥ - استمرار وجود مشكلات في الزراعة بالوطن العربي.

السؤال السابع: ما المقصود بالمفاهيم الآتية...؟

- ١ - المراعي الطبيعية. ٢ - السياحة الدينية. **المراعي الطبيعية : هي حشائش تنمو طبيعياً دون تدخل الانسان**
- ٢ - السياحة الدينية : هي زيارة الاماكن المقدسة مثل المسجد الحرام في السعودية وكنيسة المهدي والمسجد الأقصى في فلسطين

السؤال الثامن: ما العلاقة بين كل من...؟

- ١ - النشاط الزراعي والمناخ. ٢ - الثروة الحيوانية والمراعي. ٣ - المعادن والنشاط الاقتصادي.

السؤال الخامس :

Hany 2026

- السؤال الثامن
- ١- المناخ من العوامل الطبيعية لقيام النشاط الزراعي
 - ٢- الوطن العربي به كميات كبيرة من الثروة الحيوانية التي تنتشر في المراعي الطبيعية
 - ٣- تستخدم المعادن في العديد من الصناعات مما يؤدي إلى ازدهار النشاط الاقتصادي

Hany 2026

- ١- تنوع المحاصيل والمنتجات الزراعية
- ٢- تلويث البيئة
- ٣- ساعدت على تبادل الثقافات - مصدر للدخل القومي - توفير فرص عمل للشباب - تشجيع تطوير المدن والبنية التحتية
- ٤- نقص الثروة الحيوانية في الوطن العربي
- ٥- حدوث مشكلات للثروة السمكية في الوطن العربي
- ٦- تربية الابقار والاغنام في السودان