

2026

5

ابتدائي

الاجتماعات النقاشات

في

الدراسات الاجتماعية



إعداد

أ / محمد عبد الصبور

01129903122

الفصل الدراسي الاول

سلسلة البركان  طريقك للدرجة النهائية



مراجعة الوحدة الاولى - خامسة ابتدائي

السؤال الأول : أكمل العبارات الاتية بما يناسبها من كلمات :

- ١- يعرف خط الطول الرئيسي بخط
- ٢- تهب رياح الخماسين على مصر في فصل
- ٣- تقع مصر شمال دائرة الاستواء في نصف الكرة
- ٤- تقع معظم الأراضي المصرية ضمن الإقليم
- ٥- دائرة العرض الرئيسية هي دائرة
- ٦- لتحديد مواقع الأماكن بدقة نستخدم خطوط الطول و
- ٧- إحدى دوائر العرض الرئيسية وتقع في النصف الجنوبي للكرة الأرضية ودرجتها ٢٣.٥ هي
- ٨- لحساب فرق التوقيت بين مدينة القاهرة ومدينة لندن و أنت تحتاج لمعرفة
- ٩- دلتا نهر النيل تأخذ شكل
- ١٠- وادي العريش هو أحد الأودية
- ١١- يطلق على تنوع الحياة النباتية والحيوانية على كوكب الأرض التنوع
- ١٢- من أشهر هضاب الصحراء الغربية في الجنوب هضبة
- ١٣- توجد شمال الصحراء الشرقية هضبة
- ١٤- أعلى قمة جبلية في سلاسل جبال البحر الأحمر هي
- ١٥- الأراضي الخصبة التي كونها نهر النيل نتيجة ترسيب الطمي عند المصب تُعرف بـ
- ١٦- يوجد في جنوب شبه جزيرة سيناء جبل سانت كاترين وجبل
- ١٧- تكونت جبال البحر الأحمر نتيجة الحركات
- ١٨- ندرة الأمطار إحدى الخصائص المناخية التي تميز الإقليم
- ١٩- تقوم الزراعة في المناطق الشمالية لمصر على
- ٢٠- يوجد جبل الحلال في شمال
- ٢١- تصل ترعة بحر يوسف بين نهر النيل ومنخفض
- ٢٢- الجزء الأوسط من سيناء يغلب عليه الطابع
- ٢٣- نصف الأرض الزراعية في مصر تقريبا توجد في
- ٢٤- تعتمد الزراعة في شمال مصر على مياه
- ٢٥- من العوامل الباطنية المسؤولة عن تكون جبال البحر الأحمر
- ٢٦- يبدأ فصل الخريف في مصر عندما تتعامد الشمس على
- ٢٧- من النباتات المائية التي تنمو في المستنقعات وعلى ضفاف نهر النيل
- ٢٨- من أهم الحيوانات البرية التي تعيش في الصحارى المصرية
- ٢٩- من النباتات المثمرة في المناطق الساحلية
- ٣٠- من الاخطار التي تتعرض لها النباتات الطبيعية



تم تحميل هذه الأوراق مجاناً من
 أثير وزخيم مؤسسة تعليمية
 موقعنا الإلكتروني www.athir.com

السؤال الثاني : أكتب كلمة (صواب) أمام العبارة الصحيحة وكلمة (خطأ) أمام العبارة الخاطئة

- ١- يقع مدار الجدى فى نصف الكرة الجنوبي . ()
- ٢- تفيد دوائر العرض فى معرفة أحوال المناخ . ()
- ٣- يتميز منخفض الفيوم بوصول مياه نهر النيل إليه عن طريق ترعة الإسماعيلية . ()
- ٤- تساعدنا خطوط الطول فى تحديد الموقع شرقاً وغرباً . ()
- ٥- تدور الأرض حول الشمس مرة كل ٣٦٥ يوماً وربع . ()
- ٦- تقع مصر فى النصف الجنوبي للكرة الأرضية . ()
- ٧- تشكل وادى النيل نتيجة التعرية الهوائية . ()
- ٨- جبل سانت كاترين هو أعلى قمة جبلية فى شبه جزيرة سيناء . ()
- ٩- يُعد وادى النيل والدلتا أكبر الوحدات التضاريسية فى مصر . ()
- ١٠- تعد التعرية أحد العوامل الباطنية لتشكيل سطح الأرض . ()
- ١١- ينتشر معدن الذهب فى الصحراء الغربية . ()
- ١٢- يقع منخفض القطارة فى الصحراء الغربية . ()
- ١٣- تعد شبه جزيرة سيناء أصغر الوحدات التضاريسية . ()
- ١٤- تتميز الصحراء الشرقية بانتشار الجبال والهضاب . ()
- ١٥- وادى العريش هو أحد الأودية الجافة فى الصحراء الشرقية . ()
- ١٦- يوجد بحر الرمال العظيم فى الصحراء الشرقية . ()
- ١٧- تتميز شبه جزيرة سيناء بوجود جبال مرتفعة فى وسطها . ()
- ١٨- ساعد نهر النيل على قيام الزراعة واستقرار الإنسان . ()
- ١٩- تقع هضبة مارمريكا فى جنوب غرب مصر . ()
- ٢٠- تكونت جبال البحر الأحمر نتيجة الحركات الانكسارية . ()
- ٢١- تقع معظم أراضي مصر ضمن إقليم البحر المتوسط . ()
- ٢٢- تتعامد الشمس على مدار السرطان عندما يأتى فصل الشتاء فى مصر . ()
- ٢٣- المناطق الساحلية أعلى حرارة من المناطق الداخلية صيفاً . ()
- ٢٤- تمتد معظم الأراضي المصرية فى الإقليم الصحراوي . ()
- ٢٥- تُستخدم الأودية الجافة كخزانات للمياه خلال أوقات السيول . ()
- ٢٦- تغيرت أشكال سطح مصر فى عصور مختلفة فى الماضى . ()
- ٢٧- ساهمت الزراعة فى استقرار المصريين القدماء بجوار وادى النيل . ()
- ٢٨- الصحراء الشرقية أكبر أقسام سطح مصر من حيث المساحة . ()
- ٢٩- تنتشر أشجار التين والزيتون فى وادى النيل . ()
- ٣٠- بعض النباتات الطبيعية والحيوانات البرية توفر الغذاء للإنسان . ()



السؤال الثالث : اختر الإجابة الصحيحة مما بين الأقواس

- ١- يمر في جنوب مصر مدار (الجدى - الاستواء - القطب الشمالي - السرطان)
- ٢- أي مما يلى درجته ٢٣.٥ (السرطان والجدى - السرطان والاستواء - الجدى والاستواء - الاستواء وجرينتش)
- ٣- تتشابه كل من خطوط الطول ودوائر العرض فى أنهما تستخدمان في تحديد (المناخ - الوقت - الموقع - السطح)
- ٤- الموقع بالنسبة لخطوط الطول ودوائر العرض يسمى الموقع (الجغرافي - الفلكى - الطبيعى - الاستراتيجي)
- ٥- يتصل منخفض الفيوم بنهر النيل عن طريق (قناة السويس - ترعة بحر يوسف - البحر المتوسط - البحر الأحمر)
- ٦- يبدأ وادي النيل من حدود مصر (الشمالية - الشرقية - الغربية - الجنوبية)
- ٧- يُعد منخفض الفيوم جزءاً من البيئة الزراعية رغم وقوعه في (الصحراء الشرقية - دلتا النيل - الصحراء الغربية - جنوب مصر)
- ٨- المدينة التي تشرق عليها الشمس أولاً مدينة (رفح - بورسعيد - دمياط - الإسكندرية)
- ٩- تقع مصر دائرة الاستواء . (شمال - جنوب - شرق - غرب)
- ١٠- أحد الأودية الجافة في الصحراء الشرقية وادي (النيل - الملوك - قنا - العريش)
- ١١- احد مظاهر السطح في الصحراء الشرقية (جبل موسى - السهل الفيضي - هضبة المعازة - وادي العريش)
- ١٢- توجد هضبة الجلف الكبير في (الصحراء الشرقية - شمال مصر - الصحراء الغربية - جنوب سيناء)
- ١٣- توجد الجبال الوعرة في شبه جزيرة سيناء . (شمال - جنوب - وسط - غرب)
- ١٤- يقطع وادي العريش هضبة (المعازة - العباودة - التيه - مارمرিকা)
- ١٥- تصل مياه نهر النيل إلى منخفض الفيوم عن طريق ترعة (الإسماعيلية - الإبراهيمية - المريوطية - بحر يوسف)
- ١٦- من الجبال التي توجد بالصحراء الشرقية (العوينات - شايب البنات - سانت كاترين - موسى)
- ١٧- تتساقط الثلوج على الجبال العالية مثل جبل سانت كاترين في فصل (الصيف - الخريف - الشتاء - الربيع)
- ١٨- تتعامد الشمس في فصل الصيف في مصر على (مدار السرطان - مدار الجدى - دائرة الاستواء - الدائرة القطبية)
- ١٩- من الأودية الجافة في الصحراء الشرقية وادي (العريش - فيران - الفيوم - قنا)
- ٢٠- يكون الجو حاراً جافاً في فصل (الشتاء - الخريف - الربيع - الصيف)
- ٢١- معظم أراضي مصر ذات طبيعة (ساحلية - صحراوية - زراعية - جبلية)
- ٢٢- تتعامد أشعة الشمس على مدار السرطان في فصل (الشتاء - الخريف - الربيع - الصيف)



تم تحميل هذه الأوراق مجاناً من
أكبر وأضخم مكتبة تعليمية
موقع وتطبيق مذكرات جاهزة

٢٣- يبدأ فصل الشتاء في مصر حينما تتعامد أشعة الشمس على مدار (الاستواء - السرطان - جرينتش - الجدى)

٢٤- من النباتات الطبيعية التي تنمو في الصحاري المصرية (البوص - البردي - الصبار - المانجروف)

٢٥- من النباتات التي تنمو في الوادي والدلتا (البوص - اللوز - الصبار - الزيتون)

السؤال الرابع : اكتب ما تشير اليه كل عبارة من العبارات التالية

- ١- يقصد بها خطوط الطول ودوائر العرض .
- ٢- انصاف دوائر رأسية تصل بين القطبين الشمالى والجنوبى .
- ٣- دوائر افقية غير متساوية الطول ترسم حول الكرة الأرضية .
- ٤- الموقع بالنسبة لخطوط الطول ودوائر العرض .
- ٥- اصغر الوحدات التضاريسية مساحة في مصر .
- ٦- اراضى خصبة كونها نهر النيل نتيجة ترسيب الطمي عند المصب .
- ٧- منخفض يتصل بنهر النيل عن طريق ترعة بحر يوسف .
- ٨- اودية كانت تملؤها المياه قديماً ثم جفت .
- ٩- تحدث في باطن الأرض مثل الالتواءات والانكسارات .
- ١٠- تحدث على سطح الأرض مثل التعرية الهوائية والتعرية المائية .
- ١١- مصدر للمياه العذبة بالصحراء الغربية .
- ١٢- وصف حالة الجو خلال فترة زمينة طويلة قد تكون فصلاً او سنة .
- ١٣- وصف حالة الجو في فترة زمنية قصيرة قد تكون يوماً او اسبوعاً او شهراً .
- ١٤- مساحة من الأرض لها نفس الخصائص المناخية من حيث الحرارة والرياح والمطر .
- ١٥- دوران الأرض حول الشمس مرة كل ٣٦٥ يوماً وربع .
- ١٦- فصل تتعامد فيه الشمس على مدار الجدى ويبدأ يوم ٢١ ديسمبر .
- ١٧- فصل يتميز بارتفاع الحرارة خاصة المناطق الداخلية والجنوبية من مصر .
- ١٨- رياح محملة بالرمال والأتربة تهب على مصر في فصل الربيع .
- ١٩- النبات الذى ينمو دون تدخل من الانسان .
- ٢٠- الحيوان الذى يعيش في بيئة طبيعية دون تدخل او رعاية من الانسان .
- ٢١- تفاعل الكائنات الحية مع البيئة المحيطة بطريقة تحافظ على استمرارها واستقرارها .
- ٢٢- تنوع الحياة النباتية والحيوانية على كوكب الأرض .
- ٢٣- مساحة من الأرض او المياه بها نباتات او حيوانات او اسماك نادرة مهددة بالانقراض .

السؤال الخامس : بم تفسر ... ؟

- ١- أهمية خطوط الطول .
- ٢- أهمية دوائر العرض في حياتنا .



- ٣- وجود فروق في الوقت بين الدول .
- ٤- أهمية الأودية الجافة .
- ٥- نشأة سلاسل جبال البحر الأحمر .
- ٦- يُعد منخفض الفيوم بيئة زراعية رغم وقوعه في الصحراء الغربية .
- ٧- استقرار المصري القديم بجانب نهر النيل .
- ٨- تركيز السكان في منخفض سيوة وندرتهم في منخفض القطارة .
- ٩- قيام الزراعة في واحة سيوة .
- ١٠- تعد الصحراء الشرقية ثروة قومية .
- ١١- يُعد منخفض الفيوم جزءًا من البيئة الزراعية .
- ١٢- يغلب المظهر الهضبي على الصحراء الغربية .
- ١٣- ترتفع درجة الحرارة في الأجزاء الجنوبية من مصر في شهر يوليو .
- ١٤- تكون الثلوج فوق جبل سانت كاترين شتاء .
- ١٥- وقوع معظم مساحة مصر ضمن الإقليم الصحراوي الحار .
- ١٦- تعاقب فصول السنة الأربعة .
- ١٧- أسباب اعتدال درجة الحرارة في المدن الساحلية .
- ١٨- حدوث فصل الشتاء في مصر .
- ١٩- أهمية النبات الطبيعي والحيوانات البرية .
- ٢٠- أهمية نبات البوص .

السؤال السادس : ما النتائج المترتبة على ؟

- ١- دوران كوكب الأرض حول الشمس مرة كل ٣٦٥ يوما وربع يوم.
- ٢- التعرية الهوائية بالصحراء الغربية .
- ٣- مرور مدار السرطان بجنوب مصر .
- ٤- تعامد الشمس على دائرة الاستواء مرتين في العام .
- ٥- هبوب رياح الخماسين على مصر في فصل الربيع .
- ٦- وجود مياه جوفية بالصحراء الغربية .
- ٧- تنوع مظاهر السطح في مصر .
- ٨- ترسيب نهر النيل للطين عند المصب .



تم تحميل هذه الأوراق مجاناً من
أكبر وأضخم مكتبة تعليمية
موقع وتطبيق مذكرات جاهزة

٩- وصول مياه نهر النيل والظمي إلى منخفض الفيوم .

١٠- الحركات الانكسارية في منطقة الصحراء الشرقية.

١١- وجود المناظر الخلابة في الشواطئ والصحاري المصرية .

السؤال السابع : دال على صحة العبارات التالية

١- اهتمام المصريين القدماء في علم الفلك .

٢- تتنوع مظاهر السطح في الصحراء الغربية .

٣- تتميز الصحراء الشرقية بأنها جبلية هضبية .

٤- تتنوع مظاهر سطح شبه جزيرة سيناء .

السؤال الثامن : حدد المختلف فيما يلي

١- الاستواء - السرطان - جرينتش - الجدى .

٢- جبل شايب البنات - جبل موسى - جبل الحلال - جبل سانت كاترين .

٣- وادى النيل - منخفض الفيوم - هضبة التيه - دلتا النيل .

٤- الصيف - الربيع - الامطار - الخريف .

٥- البوص - التين - الزيتون - المانجروف .

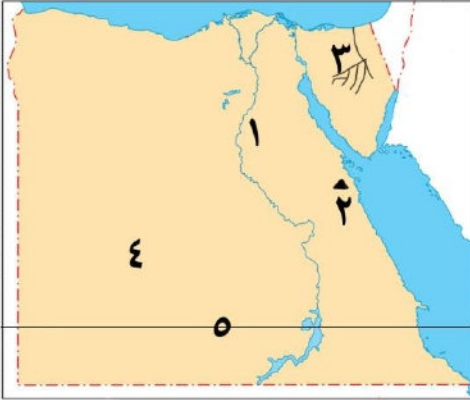


تم تحميل هذه الأوراق مجاناً من
أنكر وانضم مكتبة تعلمون
موقع وتطبيق مذكرات جاهزة



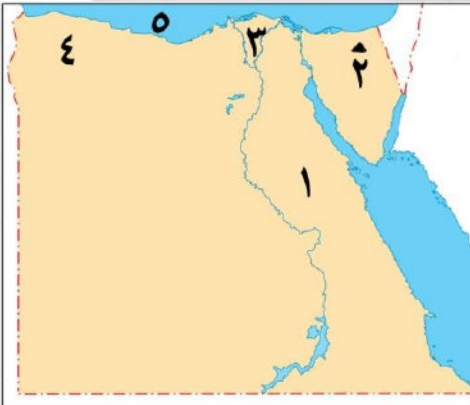
السؤال التاسع : أمامك خريطة صماء لمصر اكتب مدلول الأرقام عليها

- ١- ترعة
- ٢- الصحراء
- ٣- جبل
- ٤- دلتا
- ٥- هضبة



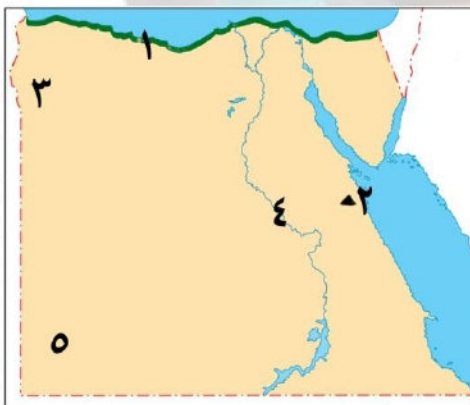
السؤال التاسع : أمامك خريطة صماء لمصر اكتب مدلول الأرقام عليها

- ١- هضبة
- ٢- جبل
- ٣- وادى
- ٤- الصحراء
- ٥- مدار



السؤال التاسع : أمامك خريطة صماء لمصر اكتب مدلول الأرقام عليها

- ١- الصحراء
- ٢- جبل
- ٣- دلتا
- ٤- هضبة
- ٥- سطح مائى البحر



السؤال التاسع : أمامك خريطة صماء لمصر اكتب مدلول الأرقام عليها

- ١- اقليم
- ٢- جبل
- ٣- واحة
- ٤- نهر
- ٥- هضبة



مراجعة الوحدة الثانية – خامسة ابتدائي

السؤال الأول : أكمل العبارات الآتية بما يناسبها من كلمات :

- ١- ساعد على استقرار المصري القديم وقيام الزراعة
- ٢- «مصر حجر الزاوية، فهي بوابة مشتركة لإفريقيا وآسيا» هذه العبارة من أقوال الدكتور
- ٣- تميز المصريون القدماء في كثير من العلوم بعد معرفتهم الكتابة
- ٤- تتمتع مصر بحدود طبيعية آمنة تتمثل في البحرين و
- ٥- تُعد مصر من أقدم الدول التي اهتمت ببناء
- ٦- يمكننا تعرف مراحل نشأة الحضارة المصرية القديمة من خلال زيارتنا للقرية
- ٧- سكن المصري القديم خلال العصر الحجري القديم في
- ٨- بني المصري القديم منزله في العصر الحجري الحديث من
- ٩- اتخذت مملكة الشمال شعاراً لها من نبات بينما كانت أنثى النسر هي معبود مملكة
- ١٠- صنع المصري القديم أدواته من الفخار والحجارة في العصر
- ١١- تأسست أول أسرة حاكمة في مصر قديماً على يد الملك
- ١٢- اكتشف المصري القديم النار في العصر
- ١٣- كان الملك تعمر (مينا) حاكماً لمدينة
- ١٤- يُنسب الهرم الأكبر إحدى عجائب الدنيا السبع القديمة إلى الملك
- ١٥- يُعرّف عصر الدولة القديمة بعصر
- ١٦- صاحب الهرم الأوسط وتمثال أبو الهول الملك
- ١٧- تم تقسيم التاريخ المصري القديم إلى ثلاثين أسرة على يد المؤرخ
- ١٨- خاض الملك رمسيس الثاني معركة قادش ضد
- ١٩- سُمي عصر الدولة الوسطى بعصر
- ٢٠- قاد حرب التحرير ضد الهكسوس الملك
- ٢١- انتصر تحتمس الثالث على أمراء آسيا في معركة
- ٢٢- شيد الملك أمنمحات الثالث الفيوم سد
- ٢٣- سُمي عصر الدولة الحديثة بعصر
- ٢٤- تم استكمال بناء مدينة الإسكندرية على يد
- ٢٥- تلقى الإسكندر الأكبر تعليمه على يد الفيلسوف
- ٢٦- أسس البطالمة أشهر مكتبة عرفها العالم القديم وهي مكتبة
- ٢٧- زار الإسكندر الأكبر معبد الإله آمون في واحة
- ٢٨- تحولت مصر إلى ولاية رومانية بعد معركة
- ٢٩- آخر ملوك البطالمة في مصر الملكة
- ٣٠- احتلت الإسكندرية المركز الثاني تجارياً في العصر الروماني بعد مدينة
- ٣١- ولد الإسكندر الأكبر في إقليم
- ٣٢- ادخل البطالمة نظام في الزراعة في مصر .



- ٣٣- استغل الرومان موارد مصر خاصة محصول لتزويد روما به .
 ٣٤- يرجع معبد الرأس السوداء في مصر إلى العصر
 ٣٥- من الصناعات التي اهتم بتصنيعها البطالمة في مصر

السؤال الثاني : أكتب كلمة (صواب) أمام العبارة الصحيحة وكلمة (خطأ) أمام العبارة غير الصحيحة

- ١- من العوامل البشرية لقيام الحضارة المصرية الموارد الطبيعية . ()
 ٢- ساعد موقع مصر الجغرافي على التأثير والتأثر بالحضارات القديمة . ()
 ٣- ساعد المناخ الجاف على بقاء آثار المصريين القدماء خالدة حتى الآن . ()
 ٤- كان دور الحكومة المركزية إدارة شئون البلاد . ()
 ٥- الجيش من العوامل الطبيعية لقيام الحضارة المصرية القديمة . ()
 ٦- لعب نهر النيل دورًا مهمًا في استقرار المصري القديم وبناء حضارته . ()
 ٧- الحضارة هي كل ما أنتجه الإنسان سواء كان ماديا أو أدبيا . ()
 ٨- تميز المصريون القدماء بالترابط الاجتماعي والأسري . ()
 ٩- تعد مصر من أقدم الدول التي اهتمت ببناء جيش قوي . ()
 ١٠- بنى المصري القديم مسكنه من الطوب اللبن في عصر المعادن . ()
 ١١- في العصر الحجري القديم عاش المصري القديم فوق الهضاب وسكن الكهوف . ()
 ١٢- تم توحيد مصر لأول مرة على يد الملك مينا . ()
 ١٣- اكتشف المصري القديم النار في العصر الحجري القديم واستخدمها في أغراض عديدة . ()
 ١٤- استخدم المصري القديم الصخور والمعادن في بناء الأهرامات ونحت التماثيل . ()
 ١٥- نزل المصري القديم إلى ضفاف نهر النيل بعد جفاف الهضاب . ()
 ١٦- عصر ما قبل الأسرات هي الفترة التالية لتوحيد مصر تحت حكم ملك واحد . ()
 ١٧- سجل الملك مينا انتصاراته على مملكة الجنوب على لوحة نعمر . ()
 ١٨- اعتمد المصري القديم على التنقل والترحال لصيد الحيوانات في العصر الحجري القديم . ()
 ١٩- بنى المصري القديم منزله من الطوب اللبن في العصر الحجري الحديث . ()
 ٢٠- اكتشف المصري القديم النحاس في عصر المعادن . ()
 ٢١- بنى الملك مينا مدينة «من نمر» لتكون عاصمة للبلاد . ()
 ٢٢- يبدأ العصر العتيق بتأسيس أول أسرة حاكمة على يد الملك أحمس . ()
 ٢٣- اهتم ملوك الدولة الوسطى بالمشروعات الاقتصادية . ()
 ٢٤- اضطر المصري القديم إلى الانتقال من فوق الهضاب إلى الوادي بسبب الأمطار الغزيرة . ()
 ٢٥- حُفرت قناة سيزوستريس في نهاية عصر الدولة الحديثة . ()
 ٢٦- يُعد الملك خوفو صاحب أقدم هرم في التاريخ . ()
 ٢٧- بنى الملك أمنمحات الثالث سد اللاهون في مدينة طيبة . ()
 ٢٨- شجعت الملكة إياح حتب زوجها وابنها على محاربة الفرس . ()
 ٢٩- ربطت قناة سيزوستريس بين البحر الأحمر و البحر المتوسط عن طريق نهر النيل . ()
 ٣٠- تدهورت الأحوال الاقتصادية في نهاية عصر الدولة الحديثة . ()



- ٣١- وقع الملك سنوسرت الثالث أقدم معاهدة سلام في التاريخ . ()
- ٣٢- شيد الملك أمنمحات الثالث سد اللاهون لحماية الأراضي الزراعية من خطر الفيضان . ()
- ٣٣- طرد الملك رمسيس الثاني الهكسوس من مصر . ()
- ٣٤- شجعت إباح حتب ابنها الملك أحمس على محاربة الهكسوس وتحرير مصر . ()
- ٣٥- اهتم البطالمة بتطوير الزراعة في مصر . ()
- ٣٦- رحب المصريون بقدوم الإسكندر الأكبر إلى مصر . ()
- ٣٧- بنى الإسكندر الأكبر مدينة أون لتكون عاصمة لمصر . ()
- ٣٨- كانت مصر تابعة لحكم الفرس قبل مجيء الإسكندر الأكبر . ()
- ٣٩- زار الإسكندر الأكبر معبد الكرنك بواحة سيوة . ()
- ٤٠- أنقذت منظمة اليونسكو معبدي أبو سمبل من الغرق . ()
- ٤١- تحولت مصر إلى ولاية يونانية بعد معركة أكتيوم البحرية . ()
- ٤٢- شارك المصريون في حكم بلادهم خلال العصر الروماني . ()
- ٤٣- توفي الإسكندر الأكبر في مدينة الإسكندرية عام ٣٢٣ ق.م . ()
- ٤٤- اعترف البطالمة بالديانة المصرية ديناً رسمياً . ()
- ٤٥- قام الرومان بإنشاء منارة الإسكندرية . ()

السؤال الثالث : اختر الإجابة الصحيحة مما بين الأقواس

- ١- أحد العوامل الطبيعية التي ساعدت على نشأة الحضارة المصرية القديمة هو
(الجيش المصرى - الحدود الطبيعية - كفاح المصريين - الحكومة المركزية)
- ٢- أحد العوامل البشرية التي ساعدت على نشأة الحضارة المصرية القديمة هو
(نهر النيل - الثروات الطبيعية - الحكومة المركزية - المناخ المعتدل)
- ٣- ساعد على الحفاظ على الآثار . (الجيش - المناخ - نهر النيل - الموقع الجغرافي)
- ٤- تميز العصر الحجري القديم
(حفر قناة سيزوستريس - معرفة الزراعة - اكتشاف النار - بناء سد اللاهون)
- ٥- من خصائص العصر الحجري الحديث
(اكتشاف النار - معرفة الزراعة - استخراج المعادن - اختراع الكتابة)
- ٦- ترك المصري القديم الهضاب في
(العصر الحجري القديم - العصر البرونزي - العصر الحجري الحديث - عصر الأسرات)
- ٧- سعى المصري القديم لتحقيق الوحدة في
(العصر الحجري القديم . عصر ما قبل الأسرات - عصر المعادن - العصر الحجري الحديث)
- ٨- نشأت من تجمع القرى وكان لها حاكم
(القرية - المدينة - الإقليم - المملكة)
- ٩- كانت عاصمة مملكة الشمال
(نخب - بوتو - أون - طيبة)
- ١٠- نجحت في توحيد البلاد عام ٤٢٤٢ ق . م مملكة
(الشمال - الجنوب - الشرق - الغرب)
- ١١- عاصمة مملكة الجنوب في عصر ما قبل الأسرات مدينة
(بوتو - نخب - أون - طيبة)



- ١٢- أول عاصمة لمصر بعد الوحدة عام ٤٢٤٢ ق.م. هي مدينة
- (أون - من نفر- الإسكندرية - طيبة)
- ١٣- صاحب الهرم الأوسط وتمثال أبو الهول
- (زوسر- خوفو - خفرع - منكاورع)
- ١٤- سمي عصر الدولة الحديثة بعصر
- (بناء الأهرامات - العصر العتيق - المجد الحربي - الرخاء الاقتصادي)
- ١٥- قام الملك سنوسرت الثالث بحفر قناة
- (السويس - سيزوستريس - مورييس - اللاهون)
- ١٦- عرف عصر الدولة القديمة بعصر
- (بناء الأهرام - الرخاء الاقتصادي - المجد الحربي - الإمبراطورية الرومانية)
- ١٧- عقد الملك رمسيس الثاني أول معاهدة سلام موثقة في التاريخ مع
- (الفرس - الروم - الحيثيين - الهكسوس)
- ١٨- بدأ الكفاح ضد الهكسوس بقيادة أمراء
- (منف - طيبة - أواريس - أسوان)
- ١٩- وقعت معركة مجدو في دولة
- (الأردن - فلسطين - مصر - سوريا)
- ٢٠- أول معاهدة سلام موثقة في التاريخ وقعها الملك
- (رمسيس الأول - رمسيس الثاني - رمسيس الثالث - تحتمس الثالث)
- ٢١- إحدى الآلات الزراعية التي أدخلها البطالمة في مصر
- (الطنبور - المنجل - الساقية - الشادوف)
- ٢٢- الملكة كليوباترا السابعة هي آخر ملوك
- (في مصر .
- ٢٣- استغل الرومان موارد مصر الاقتصادية خاصة محصول
- (الأرز - القمح - الشعير - الذرة)
- ٢٤- أنشئ معبد رأس السوداء في مصر خلال عصر
- (البطالمة - الرومان - الفرس - الإغريق)
- ٢٥- زار الإسكندر الأكبر في واحة سيوة معبد
- (أتون - فيله - دندرة - آمون)
- ٢٦- تحولت مصر بعد معركة أكتيوم البحرية إلى ولاية
- (فارسية - إغريقية - بطلمية - رومانية)
- ٢٧- اهتم الرومان في مصر بالعمران فأنشئوا
- (مكتبة الإسكندرية - معبد رأس السوداء - منارة الإسكندرية - هرم زوسر المدرج)

السؤال الرابع : اكتب ما تشير إليه كل عبارة من العبارات التالية

- ١- عصور بدأت بعد معرفة الإنسان القديم للكتابة .
- ٢- كل ما أنتجه الإنسان سواء كان ماديا كالمباني والعمران أو ثقافيا كالعلوم والفنون
- ٣- لوحة سجل عليها الملك مينا انتصاراته على مملكة الشمال .
- ٤- يُقصد بها الفترة الزمنية التي سبقت ميلاد السيد المسيح عيسى عليه السلام .
- ٥- العصر الذي سبق توحيد مصر تحت حكم ملك واحد .
- ٦- يُقصد بها عصور ما قبل معرفة الإنسان للكتابة .
- ٧- قناة حفرها الملك سنوسرت الثالث لتسهيل التجارة .



- ٨- مدينة اتخذها الهكسوس عاصمة لهم في مصر .
- ٩- منظمة دولية ساهمت في إنقاذ معبدي أبو سمبل من الغرق .
- ١٠- المدينة التي خططها الإسكندر الأكبر لتكون عاصمة لمصر .
- ١١- دولة واسعة الأطراف تضم عدة أقاليم وشعوب تحت حكم واحد .
- ١٢- مؤسس دولة البطالمة في مصر .
- ١٣- معركة تحولت بعدها مصر إلى ولاية رومانية .
- ١٤- القائد المسلم الذي تم على يديه الفتح الإسلامي لمصر .
- ١٥- المدينة التي تُعد أول مركز تجاري في العالم في العصر الروماني .
- ١٦- معركة انتصر فيها تحتمس الثالث ضد أمراء آسيا في فلسطين .
- ١٧- إحدى المنشآت التي بنيت في عصر البطالمة لإرشاد السفن .
- ١٨- الإقليم الذي ولد فيه الإسكندر الأكبر .

السؤال الخامس : لمن تنسب الاعمال التاريخية التالية

- ١- صاحب أول هرم فى التاريخ المعروف بالهرم المدرج .
- ٢- وحد مملكة الشمال ومملكة الجنوب في الوحدة الثانية ٣٢٠٠ ق.م .
- ٣- أمر بنحت تمثال أبو الهول وصاحب الهرم الأوسط .
- ٤- صاحب الهرم الأكبر احد عجائب الدنيا السبع .
- ٥- شيد سد اللاهون عند مدخل بحيرة مورييس بالفيوم .
- ٦- حفر قناة سيزوستريس لتربط بين البحر الأحمر ونهر النيل .
- ٧- استطاع من طرد الهكسوس من مصر .
- ٨- عقد مع ملك الحيثيين أول معاهدة سلام موثقة في التاريخ .
- ٩- انتصر على امراء اسيا في معركة مجدو .
- ١٠- الملكة التي شجعت زوجها وابنيها لمحاربة الهكسوس .
- ١١- أسس دولة البطالمة واستكمل بناء مدينة الإسكندرية .
- ١٢- خطط لبناء مدينة الإسكندرية لتكون عاصمة جديدة لمصر .
- ١٣- آخر ملوك دولة البطالمة في مصر .
- ١٤- تم على يده الفتح الإسلامي لمصر .

السؤال السادس : صوب ما تحته خط

- ١- كل ما انتجه الإنسان سواء كان مادياً أو أدبياً يُسمى البيئة .
- ٢- ساعد المصري القديم على الوحدة والتعاون الموقع الجغرافي .
- ٣- أحد العوامل البشرية التي ساعدت فى قيام الحضارة المصرية نهر النيل .
- ٤- نزل المصري القديم إلى نهر النيل بعد جفاف السهول .
- ٥- اكتشف المصري القديم النار في العصر الحجري الحديث .
- ٦- بنى الملك نعرمر (مينا) مدينة أون هليوبوليس .
- ٧- اتخذت مملكة الشمال عاصمة لها وهي مدينة نخب .



- ٨- سجل الملك مينا انتصاراته على مملكة الشمال على لوحة تورين .
- ٩- أقام الملك أمنمحات الثالث سد اللاهون عند مدخل مدينة طيبة .
- ١٠- قام ببناء الهرم الأكبر الملك زوسر .
- ١١- انتصر الملك تحتمس الثالث على أمراء آسيا في معركة قادش .
- ١٢- انتصر الملك أحمس على الحيثيين .
- ١٣- عقد رمسيس الثاني أول معاهدة سلام موثقة في التاريخ مع ملك الهكسوس .
- ١٤- آخر ملوك مصر في عصر البطالمة بطلميوس الأول .
- ١٥- كانت مصر قبل مجيء الإسكندر الأكبر تحت حكم الرومان .
- ١٦- استكمل بطلميوس الأول بناء مدينة الجيزة .
- ١٧- ربطت قناة سيزوستريس البحر المتوسط بالبحر الأحمر عن طريق نهر الفرات .

السؤال السابع : بم تفسر ... ؟

- ١- بقاء الآثار المصرية خالدة حتى الآن .
- ٢- أهمية الجيش في مصر قديماً .
- ٣- تميز المصريين القدماء في العلوم المختلفة .
- ٤- أهمية نهر النيل للحضارة المصرية القديمة .
- ٥- نزول المصري القديم إلى ضفاف النيل في العصر الحجري الحديث .
- ٦- بناء الملك نعمر (مينا) لمدينة «من - نفر» .
- ٧- بناء الملك نعمر جيش قوى .
- ٨- تسمية عصر الدولة القديمة بعصر بناة الأهرامات .
- ٩- عرف عصر الدولة الوسطى بعصر الرخاء الاقتصادي .
- ١٠- عرف عصر الدولة الحديثة بعصر المجد الحربي .
- ١١- حفر الملك سنوسرت الثالث قناة سيزوستريس .
- ١٢- سقوط مصر في يد الهكسوس .
- ١٣- إقامة أمنمحات الثالث لسد اللاهون .
- ١٤- ترحيب المصريين بالفتح الإسلامي .
- ١٥- تخطيط الإسكندر الأكبر لبناء مدينة الإسكندرية .
- ١٦- سقوط دولة البطالمة .



١٧- انتهاء الحكم الروماني في مصر .

السؤال الثامن : ما النتائج المترتبة على ؟

١- تمتع مصر بحدود طبيعية آمنة .

٢- المناخ المعتدل في مصر .

٣- تمتع مصر بثروات طبيعية متنوعة .

٤- إقامة حكومة مركزية في مصر قديماً .

٥- توحيد مصر عام ٤٢٤٢ ق.م على يد مملكة الشمال .

٦- توحيد مصر عام ٣٢٠٠ ق.م على يد الملك مينا .

٧- اكتشاف المصري القديم للمعادن .

٨- معركة مجدو .

٩- معركة قادش بقيادة رمسيس الثاني .

١٠- ضعف الحكام في أواخر عصر الدولة الحديثة .

١١- سياسة الرومان في مصر .

١٢- وفاة الإسكندر الأكبر .

١٣- معركة اكتيوم البحرية ٣١ ق.م .

١٤- اهتمام الرومان بمدينة الإسكندرية .

١٥- كراهية المصريين لحكم الفرس .

السؤال التاسع : دلل على صحة العبارات التالية

١- تنوعت الأنشطة الاقتصادية عند المصريين القدماء .

٢- ساعد مناخ مصر في قيام الحضارة المصرية .

٣- كفاح وإبداع المصريين القدماء لقيام الحضارة .

٤- برع المصريون القدماء في رسم الخرائط .

٥- كان للملكة إباح حتب دور في حرب التحرير .



٦- شهد عصر الدولة الحديثة مجدا جريبا لمصر .

٧- احترام الإسكندر الأكبر للديانة المصرية .

٨- اهتم البطالمة بالعلم والثقافة في مصر .

٩- ازدهرت الزراعة في عصر دولة البطالمة .

١٠- اهتم البطالمة بالحياة الدينية في مصر .

١١- شهدت مصر في عصر الرومان نهضة في العمران .

السؤال العاشر : ما العلاقة بين كل مما يلي ...؟

١- نهر النيل والحضارة المصرية القديمة .

٢- الملك مينا والعصر العتيق .

٣- الملك زوسر والنهضة العمرانية في مصر قديماً .

٤- الملكة إياح حتب وانتصار مصر على الهكسوس .

٥- قناة سيزوستريس والنشاط التجاري .

٦- معركة اكتيوم البحرية والحكم الروماني في مصر .

٧- سياسة الرومان في مصر والفتح الإسلامي لها .



تم تحميل هذه الأوراق مجاناً من
أكبر وأضخم مكتبة تعليمية
موقع وتطبيق مذكرات جاهزة

السؤال الحادي عشر : اذكر عملاً واحداً لكل من :

١- مانيتون :

٢- الملك مينا :

٣- زوسر :

٤- خوفو :

٥- خفرع :

٦- سنوسرت الثالث :

٧- أمنمحات الثالث :

٨- رمسيس الثاني :

٩- تحتمس الثالث :

١٠- احمس :

١١- الإسكندر الأكبر :

١٢- بطلميوس الأول :

١٣- عمرو بن العاص :



مراجعة الوحدة الثالثة - خامسة ابتدائي

السؤال الأول : أكمل العبارات الآتية بما يناسبها من كلمات :

- ١- معدن يتم استخراجها من الواحات البحرية
- ٢- من المعادن النفيسة ويُستخرج من منجم السكري
- ٣- المعدن الذي يستخدم في صناعة الأسمدة الكيماوية
- ٤- المعدن الذي يستخدم في صناعة قضبان السكك الحديدية هو
- ٥- البنزين والسولار من مشتقات
- ٦- يدخل المنجنيز في صناعة الصلب و
- ٧- قام المصري القديم بتسيير المراكب الشراعية بالاعتماد على
- ٨- استخدم المصري القديم في التدفئة وطهي الطعام
- ٩- تتمثل مصادر الطاقة غير المتجددة في الفحم والبتروول و
- ١٠- الطاقة الكهرومائية وطاقة الرياح من مصادر الطاقة
- ١١- أنشأت الدولة في أسوان محطة بنبان لتوليد الكهرباء من
- ١٢- أحد أهم محطات طاقة الرياح في محافظة البحر الأحمر محطنا جبل الزيت و
- ١٣- بحيرة البردويل وإدكو من موارد المياه
- ١٤- تزايد عدد السكان يؤدي إلى ندرة
- ١٥- يؤثر تلوث المياه في مصر سلباً على الثروة
- ١٦- تعتمد الحياة على المياه الجوفية العذبة في
- ١٧- تهتم الدولة بتحلية مياه البحر، لذا أنشأت في محافظة السويس محطة
- ١٨- أنشأت الدولة محطة بحر البقر لإعادة تدوير مياه
- ١٩- تهدف رؤية مصر ٢٠٣٠م لتحقيق التنمية
- ٢٠- اهتمت الحكومة المصرية بالمشروعات القومية من أجل
- ٢١- من مشروعات الاستزراع السمكي في محافظة كفر الشيخ
- ٢٢- أكبر محطات توليد الكهرباء من الرياح في الشرق الأوسط وشمال إفريقيا هي محطة
- ٢٣- يهدف مشروع الاستزراع السمكي بمحافظة كفر الشيخ إلى توفير
- ٢٤- يقع مشروع الدلتا الجديدة في الصحراء
- ٢٥- مشروع بركة غليون يقع في محافظة

السؤال الثاني : أكتب كلمة (صواب) أمام العبارة الصحيحة وكلمة (خطأ) أمام العبارة غير الصحيحة

- ١- أسلاك الكهرباء والسبائك تصنع من النحاس . ()
- ٢- تمتلك مصر ثروة معدنية كبيرة تختلف في توزيعها من مكان لآخر . ()
- ٣- يستخرج معدن الحديد في مصر من الصحراء الغربية . ()
- ٤- يقع منجم السكري لاستخراج المنجنيز في الصحراء الشرقية . ()
- ٥- يستخدم المنجنيز في صناعة الدهانات . ()



- ٦- تعمل مصر على البحث عن بدائل للمعادن ومصادر الطاقة . ()
- ٧- تعد مصر من أكثر الدول الملائمة لإنتاج الطاقة الشمسية . ()
- ٨- يدخل الفوسفات في صناعة الزجاج . ()
- ٩- مصادر الطاقة غير المتجددة صديقة للبيئة . ()
- ١٠- استخدم المصريون القدماء طاقة الرياح في تسيير المراكب الشراعية . ()
- ١١- يستخدم النحاس في صناعة أسلاك الكهرباء . ()
- ١٢- تعد منطقة «أبو طرطور» إحدى أهم مناطق استخراج الحديد في مصر . ()
- ١٣- يُستخرج المنجنيز من منجم أم بجمة في شبه جزيرة سيناء . ()
- ١٤- ترشيد استهلاك الطاقة واجب على كل مواطن . ()
- ١٥- يُستخرج البترول من خليج السويس والصحراء الشرقية . ()
- ١٦- تنتج محطة بنبان الطاقة الكهربائية من الرياح . ()
- ١٧- تعد محطة جبل الزيت إحدى محطات توليد الكهرباء من الطاقة الشمسية . ()
- ١٨- محطة العين السخنة تعد واحدة من أكبر محطات تحلية المياه في العالم . ()
- ١٩- من استخدامات المياه العذبة في مصر استخراج البترول والغاز الطبيعي . ()
- ٢٠- ارتفاع درجات الحرارة فوق معدلها الطبيعي يؤدي إلى نقص في المياه العذبة . ()
- ٢١- مياه الأمطار الشتوية هي المصدر الأساسي للمياه العذبة في مصر . ()
- ٢٢- بحيرة ناصر إحدى أكبر البحيرات المالحة . ()
- ٢٣- يُستخرج ملح الطعام من البحر الأحمر . ()
- ٢٤- القاء المخلفات في نهر النيل أحد السلوكيات الصحيحة . ()
- ٢٥- تؤثر التغيرات المناخية على ندرة المياه في مصر . ()
- ٢٦- يهدف مشروع الدلتا الجديدة إلى زيادة الاستيراد من الخارج . ()
- ٢٧- وضعت الدولة خطة لتحقيق التنمية المستدامة وأطلقت عليها رؤية مصر ٢٠٣٠ م . ()
- ٢٨- منطقة الفسطاط واحدة من المناطق التي قامت الدولة بتطويرها . ()
- ٢٩- تقع العاصمة الإدارية الجديدة غرب مدينة القاهرة . ()
- ٣٠- يهدف مشروع الدلتا الجديدة إلى تحقيق الأمن الغذائي . ()

السؤال الثالث : اختر الإجابة الصحيحة مما بين الأقواس

- ١- « عملية استخراج المعادن ومصادر الطاقة من باطن الأرض » تعرف بـ
(الصناعة - السياحة - التعدين - النجارة)
- ٢- يستخرج معدن من منطقة أم بجمة في سيناء . (الفوسفات - الذهب - الحديد - المنجنيز)
- ٣- يستخرج معدن الذهب من منجم (أم بجمة - السكرى - أبو طرطور - الواحات البحرية)
- ٤- يُستخرج خام الحديد من (الزعفرانة - الواحات البحرية - أبو طرطور - أم بجمة)
- ٥- يستخرج معدن الفوسفات من منطقة
(أم بجمة - الواحات البحرية - أبو طرطور - حقل ظهر)
- ٦- من مصادر الطاقة غير المتجددة
(الرياح - أشعة الشمس - الفحم - مياه البحر)



تم تحميل هذه الأوراق مجاناً من
أكبر وأضخم مكتبة تعليمية
موقع وتطبيق مذكرات جاهزة

- ٧- أى مصادر الطاقة التالية يستخدم في صناعة الصلب ؟
- ٨- إحدى محطات إنتاج الطاقة الكهرومائية محطة
(البترول - الفحم - الشمس - الرياح)
- ٩- يستخرج البترول في مصر من
(منخفض القطارة - خليج السويس - وادي النيل - الواحات البحرية)
- ١٠- من مصادر الطاقة المتجددة (البترول - الطاقة الشمسية - الفحم - الغاز الطبيعي)
- ١١- تعتمد صناعة الآلات الثقيلة والسكك الحديدية على معدن
(الذهب - الفضة - الحديد - النحاس)
- ١٢- يستخرج النحاس من محافظة (البحر الأحمر - دمياط - الفيوم - القاهرة)
- ١٣- يقع منجم أبو طرطور لاستخراج الفوسفات في
(جنوب سيناء - الصحراء الغربية - وادي النيل - الصحراء الشرقية)
- ١٤- أحد المعادن التي تدخل في صناعة الصلب والدهانات
(الذهب - المنجنيز - الحديد - النحاس)
- ١٥- يُستخدم الغاز الطبيعي في
(صناعة الحصى - الأغراض المنزلية - استخراج البترول - إنتاج المعادن)
- ١٦- تعد محطة السد العالي من محطات إنتاج الطاقة
(الشمسية - الكهرومائية - الرياح - الضوئية)
- ١٧- البنزين والسولار من مشتقات
(الفحم - البترول - الغاز الطبيعي - الهيدروجين الأخضر)
- ١٨- تعتمد حياة سكان واحة سيوة على المياه (المالحة - الجوفية - الأمطار - السيول)
- ١٩- من موارد المياه العذبة في الساحل الشمالي مياه (الآبار - الأمطار - البحار - البحيرات)
- ٢٠- من بحيرات المياه العذبة في مصر بحيرة (البردويل - المنزلة - ناصر - البرلس)
- ٢١- محطة العين السخنة أنشئت بغرض المياه . (تنقية - تحلية - رفع - ضخ)
- ٢٢- إحدى المحافظات التي بها محطات لتحلية مياه البحر محافظة
(السويس - الغربية - البحر الاحمر - المنوفية)
- ٢٣- من محطات إعادة تدوير مياه الصرف الزراعي محطة
(بحر البقر - العين السخنة - الكريمت - الزعفرانة)
- ٢٤- من موارد المياه المالحة في مصر (نهر النيل - بحيرة ناصر - الأمطار - بحيرة البردويل)
- ٢٥- أي مما يلي يُعد أحد موارد المياه المالحة ؟
(نهر النيل - بحيرة ناصر - البحر الاحمر - الأمطار الشتوية)
- ٢٦- تُستخدم المياه العذبة في أغراض متعددة منها
(استخراج الأملاح - النقل البحري - استخراج البترول - الري والزراعة)
- ٢٧- احد اسباب ندرة المياه في مصر (كثرة البحيرات - وفرة الأمطار - التغيرات المناخية - قلة السكان)



تم تحميل هذه الأوراق مجاناً من
أكبر وأضخم مكتبة تعليمية
موقع وتطبيق مذكرات جاهزة

- ٢٨- مشروع زراعي يقع غرب الدلتا
- (الدلتا الجديدة - واحة سيوة - شرق العوينات - واحة الفرافرة)
- ٢٩- من مشروعات توليد الكهرباء من طاقة الرياح محطة
- (جبل الزيت - بنيان - الكريمات - السد العالي)
- ٣٠- من مشروعات توليد الطاقة الكهربائية من الشمس محطة
- (بنيان بأسوان - السد العالي - خزان أسوان - الزعفرانة)
- ٣١- تم إنشاء محطة العين السخنة لـ
- (معالجة الصرف الصحي - تحلية مياه البحر - توليد الكهرباء - معالجة الصرف الزراعي)
- ٣٢- يؤثر التلوث المائي سلباً على
- (الثروة السمكية - درجات الحرارة - طاقة الرياح - الثروة المعدنية)
- ٣٣- أحد مشروعات معالجة مياه الصرف الزراعي محطة
- (بنبان - جبل الزيت - بحر البقر - الكريمات)
- ٣٤- تهدف الدولة من خلال رؤية ٢٠٣٠ إلى
- (زيادة الديون - التنمية المستدامة - إهمال التعليم - تقليل الوظائف)
- ٣٥- يُعد مشروع بركة غليون أحد مشروعات الدولة في مجال
- (تحلية المياه - توليد الكهرباء - الاستزراع السمكي - تطوير الصناعة)
- ٣٦- أحد أهداف تطوير منطقة الفسطاط
- (تشجيع الهجرة - تطوير العشوائيات - زيادة التلوث - تطوير الريف)
- ٣٧- تتعدد وسائل النقل الحديثة في مصر ومنها
- (العربات الحربية - الحصان العربي - القطار الكهربائي - القوارب الشراعية)
- ٣٨- أدى مشروع بنبان للطاقة الشمسية إلى
- (زيادة الاستيراد - ارتفاع التلوث - تقليل التلوث - استخراج الغاز)

السؤال الرابع : اكتب ما تشير اليه كل عبارة من العبارات التالية

- ١- معدن يُستخدم في صناعة الأسمدة الكيماوية والمبيدات الحشرية .
- ٢- أحد أهم المعادن ويُعد أساس الصناعة الحديثة .
- ٣- من المعادن النادرة ويستخدم في صناعة الحلى ويدخل في علاج بعض الأمراض
- ٤- أحد المعادن التي استخدمها المصري القديم ويدخل في صناعة السبائك حديثاً .
- ٥- أحد مصادر الطاقة وتُستخرج منه مشتقات متعددة منها البنزين والسولار .
- ٦- عملية استخراج المعادن ومصادر الطاقة من باطن الأرض .
- ٧- من محطات توليد الكهرباء من المساقط المائية الصناعية على نهر النيل .
- ٨- من أقدم المعادن التي عرفها المصري القديم، ويُستخدم في صناعة أسلاك الكهرباء
- ٩- أحد مصادر الطاقة غير المتجددة ويستخدم في الأغراض المنزلية وتوليد الكهرباء
- ١٠- من أكبر مشروعات توليد الطاقة الكهربائية من الشمس في أسوان .



- ١١- من أضخم مشروعات توليد الكهرباء من طاقة الرياح بمحافظة البحر الأحمر .
- ١٢- أول من استفاد من الطاقة الشمسية في تدفئة المنازل .
- ١٣- مورد المياه العذبة بالواحات المصرية .
- ١٤- المصدر الأساسي للمياه العذبة في مصر .
- ١٥- بحيرة عذبة تعد من أهم مصايد الأسماك في مصر .
- ١٦- معالجة الأملاح والمعادن من مياه البحر لتحويلها إلى مياه صالحة للاستخدام البشري .
- ١٧- إعادة استخدام المياه التي تم استخدامها في الزراعة بعد معالجتها .
- ١٨- استثمار الموارد لتلبية احتياجات السكان دون الإضرار بحقوق الأجيال المستقبلية .
- ١٩- أحد المشروعات الزراعية العملاقة بالصحراء الغربية ويقع غرب الدلتا .
- ٢٠- واحد من أكبر مشاريع الاستزراع السمكي في العالم ويقع بمحافظة كفر الشيخ .
- ٢١- مدينة ذكية تقع شرق محافظة القاهرة .
- ٢٢- إحدى محطات إعادة تدوير مياه الصرف الزراعي ومعالجتها .
- ٢٣- إحدى أكبر محطات تحلية المياه في العالم وتوجد في محافظة السويس .
- ٢٤- تلبية احتياجات السكان دون الإضرار بحقوق الأجيال المستقبلية .

السؤال الخامس : صوب ما تحته خط فيما يلي

- ١- يدخل الفوسفات في صناعة السكك الحديدية والآلات .
- ٢- محطة العين السخنة من محطات إعادة تدوير مياه الصرف الزراعي .
- ٣- يُستخدم المنجنيز في صناعة الأسمدة الكيماوية والمبيدات الحشرية .
- ٤- بحيرة إدكو أحد مصادر المياه العذبة في مصر .
- ٥- من أهم محطات توليد الكهرباء من المساقط المائية محطة بنبان بأسوان .
- ٦- يعد الغاز الطبيعي من مصادر الطاقة المتجددة .
- ٧- يستخرج البترول من نهر النيل .
- ٨- من أشهر حقول الفحم في مصر حقل ظهر .
- ٩- تعتمد صناعة الآلات الثقيلة على معدن النحاس .
- ١٠- يُستخدم الفوسفات في صناعة الأسمدة والسكك الحديدية .
- ١١- يُستخرج النحاس من محافظة الوادى الجديد .
- ١٢- تُعد منطقة أم بجمة في شبه جزيرة سيناء من مناطق استخراج الفحم .
- ١٣- أحد أهم مناجم استخراج الذهب في مصر هو منجم المغارة .
- ١٤- ترجع أهمية محطة الكريمت إلى توليد الكهرباء من طاقة الرياح .
- ١٥- المصدر الأساسي للمياه العذبة في مصر هو البحر الأحمر .
- ١٦- تعتمد الواحات بشكل أساسي على مياه الأمطار .
- ١٧- تقع العاصمة الإدارية الجديدة شرق محافظة الجيزة .
- ١٨- يستهدف مشروع الدلتا الجديدة زراعة محاصيل شجرية .



- ١٩- أقامت الدولة مشروع بركة غليون لزيادة الإنتاج الزراعي .
٢٠- يقع مشروع بنبان لتوليد الكهرباء من الطاقة الشمسية بمحافظة الأقصر .

السؤال السادس : بم تفسر ... ؟

- ١- الأهمية الاقتصادية لمعدن الفوسفات .
٢- الأهمية الاقتصادية لمعدن الحديد في مصر .
٣- الأهمية الاقتصادية لمعدن المنجنيز في مصر .
٤- أهمية طاقة الرياح بالنسبة للمصرى القديم .
٥- للغاز الطبيعي أهمية كبيرة .
٦- الأهمية الاقتصادية لمعدن النحاس .
٧- الأهمية الاقتصادية للفحم .
٨- أهمية الطاقة الشمسية .
٩- ضرورة ترشيد استهلاك المياه في مصر .
١٠- أهمية المياه المالحة في مصر .
١١- أهمية المياه العذبة في مصر .
١٢- ندرة المياه العذبة في مصر .
١٣- تعرض المياه في مصر للتلوث .
١٤- أهمية المياه الجوفية .
١٥- إنشاء محطة بحر البقر .
١٦- اهتمام الحكومة المصرية بإنشاء المشروعات القومية .
١٧- أنشأت الدولة محطة جبل الزيت .
١٨- إنشاء محطة بنبان في أسوان .
١٩- إقامة الدولة مشروع الدلتا الجديدة .
٢٠- حفر قناة السويس الجديدة .
٢١- إنشاء الدولة مشروع بركة غليون .
٢٢- حرص الدولة على إنشاء المشروعات الخاصة بالطاقة .



٢٣- إنشاء العاصمة الإدارية الجديدة .

٢٤- مصر من أكثر الدول الملائمة لإنتاج الطاقة الشمسية .

السؤال السابع : ما النتائج المترتبة على ... ؟

- ١- اكتشاف الإنسان النار قديماً .
- ٢- استغلال المصريين القدماء الطاقة الشمسية في حياتهم اليومية .

٣- إلقاء مخلفات المصانع في المياه دون معالجتها .

٤- حدوث التغيرات المناخية .

٥- إقامة العديد من مشروعات النقل في مصر .

٦- سطوع الشمس معظم العام بمحافظة أسوان .

٧- التوسع في استخدام مصادر الطاقة المتجددة .

٨- وجود بعض السدود على منابع النيل .

٩- استخدام مياه نهر النيل بشكل رئيسي في مصر .

١٠- إنشاء العاصمة الإدارية الجديدة .

١١- إقامة مشروع الدلتا الجديدة .

١٢- مشروع القطار الكهربائي السريع .

١٣- إنشاء محطة بنبان للطاقة الشمسية .

١٤- حفر قناة السويس الجديدة .

السؤال الثامن : دلل على صحة العبارات التالية

١- استخدم المصريون القدماء الطاقة منذ القدم .

٢- تهتم الدولة بالحفاظ على المياه واستدامتها .

٣- تتنوع الثروات المعدنية في مصر .



٤- تتعدد استخدامات معدن الحديد .

٥- للفوسفات أهمية كبيرة في الصناعة .

٦- تتمتع مصر بتنوع في مصادر الطاقة .

٧- تستخدم مصر الطاقة الشمسية في توليد الكهرباء .

٨- تهتم مصر بإنتاج الكهرباء من طاقة الرياح .

٩- تشجع الدولة على استخدام الطاقة النظيفة .

١٠- تتنوع موارد المياه العذبة في مصر .

١١- تتعرض الموارد المائية في مصر لعدد من المشكلات .

١٢- تهتم الدولة بمشروعات تحلية مياه البحر .

١٣- يهدف مشروع العاصمة الإدارية الجديدة للعديد من الاهداف .

السؤال التاسع : ما المقصود بـ ؟

١- التعدين

٢- تحلية مياه البحر

٣- تدوير مياه الصرف الزراعي

٤- التنمية المستدامة

السؤال العاشر : ما العلاقة بين ؟

١- منجم السكري والذهب .

٢- الفوسفات والزراعة .

٣- طاقة الرياح ومحطة جبل الزيت .



تم تحميل هذه الأوراق مجاناً من
أكبر وأضخم مكتبة تعليمية
موقع وتطبيق مذكرات جاهزة

٤- الطاقة المتجددة والبيئة .

٥- المعادن والصناعة المصرية .

٦- مصادر الطاقة ووسائل النقل .

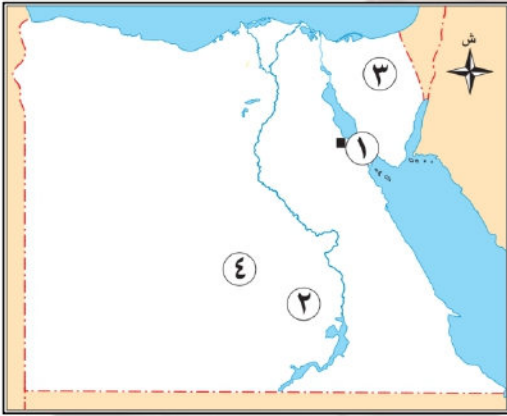
٧- تحلية مياه البحر ومشكلة ندرة المياه .

٨- تلوث المياه وصحة الإنسان .

٩- رؤية مصر ٢٠٣٠ والتنمية المستدامة .

١٠- القطار الكهربائي والنقل المستدام .

السؤال الحادي عشر : أمامك خريطة صماء لمصر اكتب مدلول الأرقام عليها



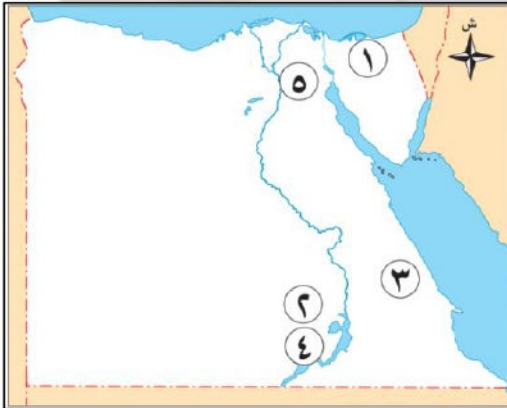
١- يشير رقم (١) الى محطة

٢- يشير رقم (٢) الى محطة

٣- منجم لاستخراج الفحم

٤- منطقة لاستخراج الفوسفات

السؤال الحادي عشر : أمامك خريطة صماء لمصر اكتب مدلول الأرقام عليها



١- منطقة لاستخراج الفحم وهي

٢- من أكبر مشروعات الطاقة الشمسية

٣- منطقة لاستخراج معدن الذهب

٤- أحد مصادر المياه العذبة في مصر

٥- مدينة ذكية من اكبر المشروعات القومية في مصر



مراجعة الوحدة الاولى - خامسة ابتدائي

السؤال الأول : أكمل العبارات الاتية بما يناسبها من كلمات :

- ١- يعرف خط الطول الرئيسي بخط **جرينتش** .
- ٢- تهب رياح الخماسين على مصر في فصل **الربيع** .
- ٣- تقع مصر شمال دائرة الاستواء في نصف الكرة **الشمالي** .
- ٤- تقع معظم الأراضي المصرية ضمن الإقليم **الصحراوي الحار** .
- ٥- دائرة العرض الرئيسية هي دائرة **الاستواء** .
- ٦- لتحديد مواقع الأماكن بدقة نستخدم خطوط الطول و **دوائر العرض** .
- ٧- إحدى دوائر العرض الرئيسية وتقع في النصف الجنوبي للكرة الأرضية ودرجتها ٢٣.٥ هي **مدار الجدي** .
- ٨- لحساب فرق التوقيت بين مدينة القاهرة ومدينة لندن و أنت تحتاج لمعرفة **خطوط الطول** .
- ٩- دلتا نهر النيل تأخذ شكل **مثلث** .
- ١٠- وادي العريش هو أحد الأودية **الجافة** .
- ١١- يطلق على تنوع الحياة النباتية والحيوانية على كوكب الأرض التنوع **البيولوجي** .
- ١٢- من أشهر هضاب الصحراء الغربية في الجنوب هضبة **الجلف الكبير** .
- ١٣- توجد شمال الصحراء الشرقية هضبة **المعازة** .
- ١٤- أعلى قمة جبلية في سلاسل جبال البحر الأحمر هي **شايب البنات** .
- ١٥- الأراضي الخصبة التي كونها نهر النيل نتيجة ترسيب الطمي عند المصب تُعرف بـ **الدلتا** .
- ١٦- يوجد في جنوب شبه جزيرة سيناء جبل سانت كاترين وجبل **موسى** .
- ١٧- تكونت جبال البحر الأحمر نتيجة الحركات **الانكسارية** .
- ١٨- ندرة الأمطار إحدى الخصائص المناخية التي تميز الإقليم **الصحراوي الحار** .
- ١٩- تقوم الزراعة في المناطق الشمالية لمصر على **الامطار** .
- ٢٠- يوجد جبل الحلال في شمال **سيناء** .
- ٢١- تصل ترعة بحر يوسف بين نهر النيل ومنخفض **الفيوم** .
- ٢٢- الجزء الأوسط من سيناء يغلب عليه الطابع **الهضبي** .
- ٢٣- نصف الأرض الزراعية في مصر تقريبا توجد في **الدلتا** .
- ٢٤- تعتمد الزراعة في شمال مصر على مياه **الامطار الشتوية** .
- ٢٥- من العوامل الباطنية المسؤولة عن تكون جبال البحر الأحمر **الانكسارات** .
- ٢٦- يبدأ فصل الخريف في مصر عندما تتعامد الشمس على دائرة **الاستواء** .
- ٢٧- من النباتات المائية التي تنمو في المستنقعات وعلى ضفاف نهر النيل نبات **البردى** .
- ٢٨- من اهم الحيوانات البرية التي تعيش في الصحارى المصرية **الابل والزواحف** .
- ٢٩- من النباتات المثمرة في المناطق الساحلية **التين** و **الزيتون** .
- ٣٠- من الاخطار التي تتعرض لها النباتات الطبيعية **الرعى الجائر** و **الصيد الجائر** .



تم تحميل هذه الأوراق مجاناً من
أخبار وزخيم موقع تعليمية
موقع تعليمي للمصابين

السؤال الثاني : أكتب كلمة (صواب) أمام العبارة الصحيحة وكلمة (خطأ) أمام العبارة الخاطئة

- ١- يقع مدار الجدى فى نصف الكرة الجنوبي . (صواب)
- ٢- تفيد دوائر العرض فى معرفة أحوال المناخ . (صواب)
- ٣- يتميز منخفض الفيوم بوصول مياه نهر النيل إليه عن طريق ترعة الإسماعيلية . (خطأ)
- ٤- تساعدنا خطوط الطول فى تحديد الموقع شرقاً وغرباً . (صواب)
- ٥- تدور الأرض حول الشمس مرة كل ٣٦٥ يوماً وربع . (صواب)
- ٦- تقع مصر فى النصف الجنوبي للكرة الأرضية . (خطأ)
- ٧- تشكل وادى النيل نتيجة التعرية الهوائية . (خطأ)
- ٨- جبل سانت كاترين هو أعلى قمة جبلية فى شبه جزيرة سيناء . (صواب)
- ٩- يُعد وادى النيل والدلتا أكبر الوحدات التضاريسية فى مصر . (خطأ)
- ١٠- تعد التعرية أحد العوامل الباطنية لتشكيل سطح الأرض . (خطأ)
- ١١- ينتشر معدن الذهب فى الصحراء الغربية . (خطأ)
- ١٢- يقع منخفض القطارة فى الصحراء الغربية . (صواب)
- ١٣- تعد شبه جزيرة سيناء أصغر الوحدات التضاريسية . (خطأ)
- ١٤- تتميز الصحراء الشرقية بانتشار الجبال والهضاب . (صواب)
- ١٥- وادى العريش هو أحد الأودية الجافة فى الصحراء الشرقية . (خطأ)
- ١٦- يوجد بحر الرمال العظيم فى الصحراء الشرقية . (خطأ)
- ١٧- تتميز شبه جزيرة سيناء بوجود جبال مرتفعة فى وسطها . (خطأ)
- ١٨- ساعد نهر النيل على قيام الزراعة واستقرار الإنسان . (صواب)
- ١٩- تقع هضبة مارمريكا فى جنوب غرب مصر . (خطأ)
- ٢٠- تكونت جبال البحر الأحمر نتيجة الحركات الانكسارية . (صواب)
- ٢١- تقع معظم أراضي مصر ضمن إقليم البحر المتوسط . (خطأ)
- ٢٢- تتعامد الشمس على مدار السرطان عندما يأتى فصل الشتاء فى مصر . (خطأ)
- ٢٣- المناطق الساحلية أعلى حرارة من المناطق الداخلية صيفاً . (خطأ)
- ٢٤- تمتد معظم الأراضي المصرية فى الإقليم الصحراوي . (صواب)
- ٢٥- تُستخدم الأودية الجافة كخزانات للمياه خلال أوقات السيول . (صواب)
- ٢٦- تغيرت أشكال سطح مصر فى عصور مختلفة فى الماضى . (صواب)
- ٢٧- ساهمت الزراعة فى استقرار المصريين القدماء بجوار وادى النيل . (صواب)
- ٢٨- الصحراء الشرقية أكبر أقسام سطح مصر من حيث المساحة . (خطأ)
- ٢٩- تنتشر أشجار التين والزيتون فى وادى النيل . (خطأ)
- ٣٠- بعض النباتات الطبيعية والحيوانات البرية توفر الغذاء للإنسان . (صواب)



تم تحميل هذه الأوراق مجاناً من
أكبر وأضخم مكتبة تعليمية
موقع وتطبيق مذكرات جاهزة

السؤال الثالث : اختر الإجابة الصحيحة مما بين الأقواس

- ١- يمر في جنوب مصر مدار (الجدى - الاستواء - القطب الشمالي - السرطان)
- ٢- أي مما يلي درجته ٢٣.٥
(السرطان والجدى - السرطان والاستواء - الجدى والاستواء - الاستواء وجرينتش)
- ٣- تتشابه كل من خطوط الطول ودوائر العرض فى أنهما تستخدمان في تحديد
- ٤- الموقع بالنسبة لخطوط الطول ودوائر العرض يسمى الموقع
- ٥- يتصل منخفض الفيوم بنهر النيل عن طريق
- ٦- قناة السويس - ترعة بحر يوسف - البحر المتوسط - البحر الأحمر)
(الشمالية - الشرقية - الغربية - الجنوبية)
- ٧- يبدأ وادي النيل من حدود مصر
يُعد منخفض الفيوم جزءاً من البيئة الزراعية رغم وقوعه في
- ٨- (الصحراء الشرقية - دلتا النيل - الصحراء الغربية - جنوب مصر)
المدينة التي تشرق عليها الشمس أولاً مدينة (رفح - بورسعيد - دمياط - الإسكندرية)
- ٩- تقع مصر دائرة الاستواء . (شمال - جنوب - شرق - غرب)
- ١٠- أحد الأودية الجافة في الصحراء الشرقية وادي (النيل - الملوك - قنا - العريش)
- ١١- احد مظاهر السطح في الصحراء الشرقية
- ١٢- (جبل موسى - السهل الفيضي - هضبة المعازة - وادي العريش)
توجد هضبة الجلف الكبير في
- ١٣- (الصحراء الشرقية - شمال مصر - الصحراء الغربية - جنوب سيناء)
توجد الجبال الوعرة في شبه جزيرة سيناء . (شمال - جنوب - وسط - غرب)
- ١٤- يقطع وادي العريش هضبة (المعازة - العباددة - التيه - مارمرিকা)
- ١٥- تصل مياه نهر النيل إلى منخفض الفيوم عن طريق ترعة
- ١٦- (الإسماعيلية - الإبراهيمية - المريوطية - بحر يوسف)
من الجبال التي توجد بالصحراء الشرقية
- ١٧- (العوينات - شايب البنات - سانت كاترين - موسى)
تتساقط الثلوج على الجبال العالية مثل جبل سانت كاترين في فصل
- ١٨- (الصيف - الخريف - الشتاء - الربيع)
تتعادم الشمس في فصل الصيف في مصر على
- ١٩- (مدار السرطان - مدار الجدى - دائرة الاستواء - الدائرة القطبية)
من الأودية الجافة في الصحراء الشرقية وادي (العريش - فيران - الفيوم - قنا)
- ٢٠- يكون الجو حاراً جافاً في فصل (الشتاء - الخريف - الربيع - الصيف)
- ٢١- معظم أراضي مصر ذات طبيعة (ساحلية - صحراوية - زراعية - جبلية)
- ٢٢- تتعادم أشعة الشمس على مدار السرطان في فصل (الشتاء - الخريف - الربيع - الصيف)



- ٢٣- يبدأ فصل الشتاء في مصر حينما تتعامد أشعة الشمس على مدار
 (الاستواء - السرطان - جرينتش - الجدى)
- ٢٤- من النباتات الطبيعية التي تنمو في الصحاري المصرية
 (البوص - البردي - الصبار - المانجروف)
- ٢٥- من النباتات التي تنمو في الوادي والدلتا
 (البوص - اللوز - الصبار - الزيتون)

السؤال الرابع : اكتب ما تشير اليه كل عبارة من العبارات التالية

- ١- يقصد بها خطوط الطول ودوائر العرض .
- ٢- انصاف دوائر رأسية تصل بين القطبين الشمالى والجنوبى .
- ٣- دوائر افقية غير متساوية الطول ترسم حول الكرة الأرضية .
- ٤- الموقع بالنسبة لخطوط الطول ودوائر العرض .
- ٥- اصغر الوحدات التضاريسية مساحة في مصر .
- ٦- اراضى خصبة كونها نهر النيل نتيجة ترسيب الطمي عند المصب .
- ٧- منخفض يتصل بنهر النيل عن طريق ترعة بحر يوسف .
- ٨- اودية كانت تملؤها المياه قديماً ثم جفت .
- ٩- تحدث في باطن الأرض مثل الالتواءات والانكسارات .
- ١٠- تحدث على سطح الأرض مثل التعرية الهوائية والتعرية المائية .
- ١١- مصدر للمياه العذبة بالصحراء الغربية .
- ١٢- وصف حالة الجو خلال فترة زمينة طويلة قد تكون فصلاً او سنة .
- ١٣- وصف حالة الجو في فترة زمنية قصيرة قد تكون يوماً او اسبوعاً او شهراً .
- ١٤- مساحة من الأرض لها نفس الخصائص المناخية من حيث الحرارة والرياح والمطر . الإقليم المناخى
- ١٥- دوران الأرض حول الشمس مرة كل ٣٦٥ يوماً وربع .
- ١٦- فصل تتعامد فيه الشمس على مدار الجدى ويبدأ يوم ٢١ ديسمبر .
- ١٧- فصل يتميز بارتفاع الحرارة خاصة المناطق الداخلية والجنوبية من مصر .
- ١٨- رياح محملة بالرمال والأتربة تهب على مصر في فصل الربيع .
- ١٩- النبات الذى ينمو دون تدخل من الانسان .
- ٢٠- الحيوان الذى يعيش في بيئة طبيعية دون تدخل او رعاية من الانسان .
- ٢١- تفاعل الكائنات الحية مع البيئة المحيطة بطريقة تحافظ على استمرارها واستقرارها . التوازن البيئى
- ٢٢- تنوع الحياة النباتية والحيوانية على كوكب الأرض .
- ٢٣- مساحة من الأرض او المياه بها نباتات او حيوانات او اسماك نادرة مهددة بالانقراض . محمية طبيعية

السؤال الخامس : بم تفسر ... ؟

- ١- أهمية خطوط الطول . تحديد المواقع شرقاً وغرباً - معرفة فروق التوقيت بين الدول .
- ٢- أهمية دوائر العرض في حياتنا .
- تساعد في تحديد المواقع شمالاً وجنوباً - تساعدنا في دراسة المناخ من حيث الحرارة والرياح والمطر .



تم تحميل هذه الأوراق مجاناً من
أكبر وأضخم مكتبة تعليمية
موقع وتطبيق مذكرات جاهزة

- ٣- وجود فروق في الوقت بين الدول . بسبب اختلاف خطوط الطول بين الدول .
- ٤- أهمية الأودية الجافة . لأنه يمكن استخدامها في تخزين المياه عند حدوث السيول .
- ٥- نشأة سلاسل جبال البحر الأحمر . بسبب الحركات الانكسارية .
- ٦- يُعد منخفض الفيوم بيئة زراعية رغم وقوعه في الصحراء الغربية .
- لأنه يتميز بوصول مياه نهر النيل والطمى اليه عن طريق ترعة بحر يوسف .
- ٧- استقرار المصري القديم بجانب نهر النيل . بسبب قيام حرفة الزراعة والحضارة المصرية القديمة .
- ٨- تركيز السكان في منخفض سيوة وندرتهم في منخفض القطارة .
- لأنه واحة سيوة توجد فيه المياه الجوفية بينما منخفض الفيوم لا توجد به مياه .
- ٩- قيام الزراعة في واحة سيوة . بسبب وجود المياه الجوفية وقيام الزراعة .
- ١٠- تعد الصحراء الشرقية ثروة قومية . لأنها غنية بالمعادن كالذهب ويوجد بها البترول والغاز الطبيعي .
- ١١- يُعد منخفض الفيوم جزءاً من البيئة الزراعية . لأنه يتصل بنهر النيل عن طريق ترعة بحر يوسف .
- ١٢- يغلب المظهر الهضبي على الصحراء الغربية . بسبب وجود هضبة الجلف الكبير وهضبة مارمريكا .
- ١٣- ترتفع درجة الحرارة في الأجزاء الجنوبية من مصر في شهر يوليو .
- بسبب حلول فصل الصيف وتعادم الشمس على مدار السرطان الذي يمر بالأجزاء الجنوبية .
- ١٤- تكون الثلوج فوق جبل سانت كاترين شتاء . بسبب انخفاض الحرارة فوق المرتفعات شتاءً .
- ١٥- وقوع معظم مساحة مصر ضمن الإقليم الصحراوي الحار . بسبب الموقع الفلكي لمصر .
- ١٦- تعاقب فصول السنة الأربعة . بسبب دوران الأرض حول الشمس مرة كل ٣٦٥ يوم وربع .
- ١٧- أسباب اعتدال درجة الحرارة في المدن الساحلية . بسبب القرب من المسطحات المائية .
- ١٨- حدوث فصل الشتاء في مصر . بسبب تعادم الشمس على مدار الجدى .
- ١٩- أهمية النبات الطبيعي والحيوانات البرية . توفر الغذاء للإنسان - تجذب السياح للاستمتاع بجمال الطبيعة - تساهم الحيوانات في خصوبة التربة - مأوى للحيوانات البرية - صناعة الادوية والعطور .
- ٢٠- أهمية نبات البوص . لأنه يستخدم في صناعة الحصير .

السؤال السادس : ما النتائج المترتبة على ؟

- ١- دوران كوكب الأرض حول الشمس مرة كل ٣٦٥ يوماً وربع يوم .
- أدى الى تعاقب فصول السنة الأربعة (الصيف - الخريف - الشتاء - الربيع) .
- ٢- التعرية الهوائية بالصحراء الغربية . أدى الى تشكيل الكثبان الرملية مثل بحر الرمال العظيم .
- ٣- مرور مدار السرطان بجنوب مصر . أدى الى ارتفاع الحرارة بحلول فصل الصيف .
- ٤- تعادم الشمس على دائرة الاستواء مرتين في العام .
- أدى الى حلول فصلي الربيع والخريف واعتدال الحرارة .
- ٥- هبوب رياح الخماسين على مصر في فصل الربيع .
- أدى اضرار بالجهاز التنفسي للإنسان واضرار وتلف للمحاصيل الزراعية .
- ٦- وجود مياه جوفية بالصحراء الغربية . أدى الى قيام الزراعة وتركز السكان فيها .
- ٧- تنوع مظاهر السطح في مصر . أدى الى تنوع الثروات الطبيعية وتعدد الأنشطة الاقتصادية .
- ٨- ترسيب نهر النيل للطمى عند المصب . أدى الى تشكيل دلتا النيل عند المصب .



تم تحميل هذه الأوراق مجاناً من
أكبر وأضخم مكتبة تعليمية
موقع وتطبيق مذكرات جاهزة

٩- وصول مياه نهر النيل والظمي إلى منخفض الفيوم .

أدى إلى خصوبة ارضه رغم وقوعه بالصحراء الغربية .

١٠- الحركات الانكسارية في منطقة الصحراء الشرقية . أدى إلى تكوين جبال البحر الأحمر .

١١- وجود المناظر الخلابة في الشواطئ والصحاري المصرية .

أدى إلى جذب السياح وتسهم في تنوع الأنشطة الاقتصادية .

السؤال السابع : دلل على صحة العبارات التالية

١- اهتمام المصريين القدماء في علم الفلك .

حيث استخدموه في مجالات متعددة منها تحديد المواقع وتوقيت الزراعة وتنظيم الأعياد الدينية وبناء الأهرامات .

٢- تتنوع مظاهر السطح في الصحراء الغربية .

- حيث يجري بها نهر النيل وتمتد على جانبيه السهول الفيضية .

- يوجد بها الصحاري الشاسعة والجبال الشاهقة وما يزيد بها جمالاً سهولها الساحلية شمالاً وشرقاً .

- المناظر الطبيعية الخلابة التي تجذب السياح وتسهم في تنوع الأنشطة الاقتصادية .

٣- تتميز الصحراء الشرقية بأنها جبلية هضبية .

حيث يكثر بها الجبال والهضاب مثل جبال البحر الأحمر وهضبة المعازة والعبادة .

٤- تتنوع مظاهر سطح شبه جزيرة سيناء .

حيث يوجد بها الجبال الوعرة مثل جبل سانت كاترين وجبل موسى وينتشر بها الهضاب مثل هضبة التيه ويقطعها الأودية الجافة منها وادي العريش .

السؤال الثامن : حدد المختلف فيما يلي

١- الاستواء - السرطان - جرينتش - الجدى .

٢- جبل شايب البنات - جبل موسى - جبل الحلال - جبل سانت كاترين .

٣- وادي النيل - منخفض الفيوم - هضبة التيه - دلتا النيل .

٤- الصيف - الربيع - الامطار - الخريف .

٥- البوص - التين - الزيتون - المانجروف .

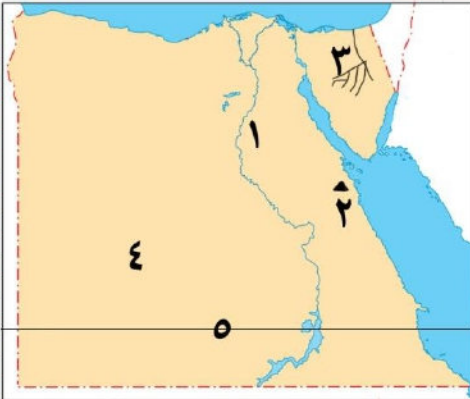


تم تحميل هذه الأوراق مجاناً من
أكبر وأشهر مكتبة تعليمية
موقع وتطبيق مذكرات جاهزة



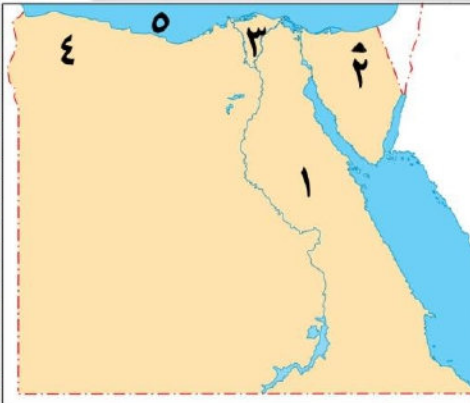
السؤال التاسع : أمامك خريطة صماء لمصر اكتب مدلول الأرقام عليها

- ١- ترعة بحر يوسف .
- ٢- الصحراء الشرقية .
- ٣- جبل الحلال شمال سيناء .
- ٤- دلتا النيل .
- ٥- هضبة الجلف الكبير .



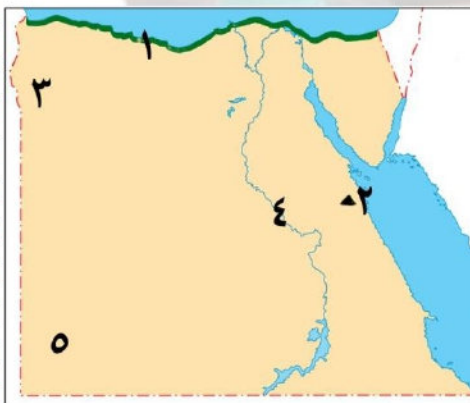
السؤال التاسع : أمامك خريطة صماء لمصر اكتب مدلول الأرقام عليها

- ١- هضبة المعازة .
- ٢- جبل شايب البنات .
- ٣- وادي العريش .
- ٤- الصحراء الغربية .
- ٥- مدار السرطان .



السؤال التاسع : أمامك خريطة صماء لمصر اكتب مدلول الأرقام عليها

- ١- الصحراء الشرقية .
- ٢- جبل الحلال شمال سيناء .
- ٣- دلتا النيل .
- ٤- هضبة مارمرিকা .
- ٥- سطح مائي البحر المتوسط .



السؤال التاسع : أمامك خريطة صماء لمصر اكتب مدلول الأرقام عليها

- ١- إقليم البحر المتوسط .
- ٢- جبل شايب البنات .
- ٣- واحة سيوة .
- ٤- نهر النيل .
- ٥- هضبة الجلف الكبير .



مراجعة الوحدة الثانية - خامسة ابتدائي

السؤال الأول : أكمل العبارات الآتية بما يناسبها من كلمات :

- ١- ساعد **نهر النيل** على استقرار المصري القديم وقيام الزراعة .
- ٢- «مصر حجر الزاوية، فهي بوابة مشتركة لإفريقيا وآسيا» هذه العبارة من أقوال الدكتور **جمال حمدان**
- ٣- تميز المصريون القدماء في كثير من العلوم بعد معرفتهم الكتابة **الهيروغليفية** .
- ٤- تتمتع مصر بحدود طبيعية آمنة تتمثل في **البحرين الأحمر** و **المتوسط** .
- ٥- تُعد مصر من أقدم الدول التي اهتمت ببناء **جيش قوى** .
- ٦- يمكننا تعرف مراحل نشأة الحضارة المصرية القديمة من خلال زيارتنا للقرية **الفرعونية** .
- ٧- سكن المصري القديم خلال العصر الحجري القديم في **الكهوف** .
- ٨- بني المصري القديم منزله في العصر الحجري الحديث من **الطوب اللبن** .
- ٩- اتخذت مملكة الشمال شعاراً لها من نبات **البردى** بينما كانت أنثى النسر هي معبود مملكة **الجنوب** .
- ١٠- صنع المصري القديم أدواته من الفخار والحجارة في العصر **الحجري الحديث** .
- ١١- تأسست أول أسرة حاكمة في مصر قديماً على يد الملك **مينا** .
- ١٢- اكتشف المصري القديم النار في العصر **الحجري القديم** .
- ١٣- كان الملك **تعمر** (مينا) حاكماً لمدينة **طيبة** .
- ١٤- يُنسب الهرم الأكبر إحدى عجائب الدنيا السبع القديمة إلى الملك **خوفو** .
- ١٥- يُعرّف عصر الدولة القديمة بعصر **بناء الأهرام** .
- ١٦- صاحب الهرم الأوسط وتمثال أبو الهول الملك **خفرع** .
- ١٧- تم تقسيم التاريخ المصري القديم إلى ثلاثين أسرة على يد المؤرخ **مانيتون** .
- ١٨- خاض الملك رمسيس الثاني معركة قادش ضد **الحيثيين** .
- ١٩- سُمي عصر الدولة الوسطى بعصر **الرخاء الاقتصادي** .
- ٢٠- قاد حرب التحرير ضد الهكسوس الملك **أحمس** .
- ٢١- انتصر تحتمس الثالث على أمراء آسيا في معركة **مجدو** .
- ٢٢- شيد الملك أمنمحات الثالث بالفيوم سد **اللاهون** .
- ٢٣- سُمي عصر الدولة الحديثة بعصر **المجد الحربي** .
- ٢٤- تم استكمال بناء مدينة الإسكندرية على يد **بطلميوس الأول** .
- ٢٥- تلقى الإسكندر الأكبر تعليمه على يد الفيلسوف **ارسطو** .
- ٢٦- أسس البطالمة أشهر مكتبة عرفها العالم القديم وهي مكتبة **الإسكندرية** .
- ٢٧- زار الإسكندر الأكبر معبد الإله آمون في واحة **سيوة** .
- ٢٨- تحولت مصر إلى ولاية رومانية بعد معركة **أكتيوم البحرية** .
- ٢٩- آخر ملوك البطالمة في مصر الملكة **كليوباترا السابعة** .
- ٣٠- احتلت الإسكندرية المركز الثاني تجارياً في العصر الروماني بعد مدينة **روما** .
- ٣١- ولد الإسكندر الأكبر في إقليم **مقدونيا** .
- ٣٢- ادخل البطالمة نظام **السواقي** في الزراعة في مصر .



تم تحميل هذه الأوراق مجاناً من
أكبر وأضخم مكتبة تعليمية
موقع وتطبيق مذكرات جاهزة

- ٣٣- استغل الرومان موارد مصر خاصة محصول **القمح** لتزويد روما به .
٣٤- يرجع معبد الرأس السوداء في مصر إلى العصر **الروماني** .
٣٥- من الصناعات التي اهتم بتصنيعها البطالمة في مصر **الزيوت و الزجاج** .

السؤال الثاني : أكتب كلمة (صواب) أمام العبارة الصحيحة وكلمة (خطأ) أمام العبارة غير الصحيحة

- ١- من العوامل **البشرية** لقيام الحضارة المصرية الموارد الطبيعية . (خطأ)
٢- ساعد موقع مصر الجغرافي على التأثير والتأثر بالحضارات القديمة . (صواب)
٣- ساعد المناخ الجاف على بقاء آثار المصريين القدماء خالدة حتى الآن . (صواب)
٤- كان دور الحكومة المركزية إدارة شئون البلاد . (صواب)
٥- الجيش من العوامل **الطبيعية** لقيام الحضارة المصرية القديمة . (خطأ)
٦- لعب نهر النيل دوراً مهماً في استقرار المصري القديم وبناء حضارته . (صواب)
٧- الحضارة هي كل ما أنتجه الإنسان سواء كان مادياً أو أدبياً . (صواب)
٨- تميز المصريون القدماء بالترابط الاجتماعي والأسري . (صواب)
٩- تعد مصر من أقدم الدول التي اهتمت ببناء جيش قوي . (صواب)
١٠- بنى المصري القديم مسكنه من الطوب اللبن في عصر **المعادن** . (خطأ)
١١- في العصر الحجري القديم عاش المصري القديم فوق الهضاب وسكن الكهوف . (صواب)
١٢- تم توحيد مصر لأول مرة على يد الملك مينا . (خطأ)
١٣- اكتشف المصري القديم النار في العصر الحجري القديم واستخدمها في أغراض عديدة . (صواب)
١٤- استخدم المصري القديم الصخور والمعادن في بناء الأهرامات ونحت التماثيل . (صواب)
١٥- نزل المصري القديم إلى ضفاف نهر النيل بعد جفاف الهضاب . (صواب)
١٦- عصر ما قبل الأسرات هي الفترة التالية لتوحيد مصر تحت حكم ملك واحد . (صواب)
١٧- سجل الملك مينا انتصاراته على مملكة **الجنوب** على لوحة نعرمر . (خطأ)
١٨- اعتمد المصري القديم على التنقل والترحال لصيد الحيوانات في العصر الحجري القديم . (صواب)
١٩- بنى المصري القديم منزله من الطوب اللبن في العصر الحجري الحديث . (صواب)
٢٠- اكتشف المصري القديم النحاس في عصر المعادن . (صواب)
٢١- بنى الملك مينا مدينة «من نفر» لتكون عاصمة للبلاد . (صواب)
٢٢- يبدأ العصر العتيق بتأسيس أول أسرة حاكمة على يد الملك **أحمس** . (خطأ)
٢٣- اهتم ملوك الدولة الوسطى بالمشروعات الاقتصادية . (صواب)
٢٤- اضطر المصري القديم إلى الانتقال من فوق الهضاب إلى الوادي بسبب **الأمطار الغزيرة** . (خطأ)
٢٥- حُفرت قناة سيزوستريس في نهاية عصر الدولة الحديثة . (خطأ)
٢٦- يُعد الملك **خوفو** صاحب أقدم هرم في التاريخ . (خطأ)
٢٧- بنى الملك أمنمحات الثالث سد اللاهون في الفيوم . (صواب)
٢٨- شجعت الملكة إياح حتب زوجها وابنها على محاربة **الفرس** . (خطأ)
٢٩- ربطت قناة سيزوستريس بين البحر الأحمر و البحر المتوسط عن طريق نهر النيل . (صواب)
٣٠- تدهورت الأحوال الاقتصادية في نهاية عصر الدولة الحديثة . (صواب)



- ٣١- وقع الملك سنوسرت الثالث أقدم معاهدة سلام في التاريخ . (خطأ)
- ٣٢- شيد الملك أمنمحات الثالث سد اللاهون لحماية الأراضي الزراعية من خطر الفيضان . (صواب)
- ٣٣- طرد الملك رمسيس الثاني الهكسوس من مصر . (خطأ)
- ٣٤- شجعت إباح حتب ابنها الملك أحمس على محاربة الهكسوس وتحرير مصر . (صواب)
- ٣٥- اهتم البطالمة بتطوير الزراعة في مصر . (صواب)
- ٣٦- رحب المصريون بقدوم الإسكندر الأكبر إلى مصر . (صواب)
- ٣٧- بنى الإسكندر الأكبر مدينة أون لتكون عاصمة لمصر . (خطأ)
- ٣٨- كانت مصر تابعة لحكم الفرس قبل مجيء الإسكندر الأكبر . (صواب)
- ٣٩- زار الإسكندر الأكبر معبد الكرنك بواحة سيوة . (خطأ)
- ٤٠- أنقذت منظمة اليونسكو معبدي أبو سمبل من الغرق . (صواب)
- ٤١- تحولت مصر إلى ولاية يونانية بعد معركة أكتيوم البحرية . (خطأ)
- ٤٢- شارك المصريون في حكم بلادهم خلال العصر الروماني . (خطأ)
- ٤٣- توفي الإسكندر الأكبر في مدينة الإسكندرية عام ٣٢٣ ق.م . (خطأ)
- ٤٤- اعترف البطالمة بالديانة المصرية ديناً رسمياً . (صواب)
- ٤٥- قام الرومان بإنشاء منارة الإسكندرية . (خطأ)

السؤال الثالث : اختر الإجابة الصحيحة مما بين الأقواس

- ١- أحد العوامل الطبيعية التي ساعدت على نشأة الحضارة المصرية القديمة هو
(الجيش المصرى - الحدود الطبيعية - كفاح المصريين - الحكومة المركزية)
- ٢- أحد العوامل البشرية التي ساعدت على نشأة الحضارة المصرية القديمة هو
(نهر النيل - الثروات الطبيعية - الحكومة المركزية - المناخ المعتدل)
- ٣- ساعد على الحفاظ على الآثار . (الجيش - المناخ - نهر النيل - الموقع الجغرافي)
- ٤- تميز العصر الحجري القديم
(حفر قناة سيزوستريس - معرفة الزراعة - اكتشاف النار - بناء سد اللاهون)
- ٥- من خصائص العصر الحجري الحديث
(اكتشاف النار - معرفة الزراعة - استخراج المعادن - اختراع الكتابة)
- ٦- ترك المصري القديم الهضاب في
(العصر الحجري القديم - العصر البرونزي - العصر الحجري الحديث - عصر الأسرات)
- ٧- سعى المصري القديم لتحقيق الوحدة في
(العصر الحجري القديم - عصر ما قبل الأسرات - عصر المعادن - العصر الحجري الحديث)
- ٨- نشأت من تجمع القرى وكان لها حاكم
(القرية - المدينة - الإقليم - المملكة)
- ٩- كانت عاصمة مملكة الشمال
(نخب - بوتو - أون - طيبة)
- ١٠- نجحت في توحيد البلاد عام ٤٢٤٢ ق . م مملكة (الشمال - الجنوب - الشرق - الغرب)
- ١١- عاصمة مملكة الجنوب في عصر ما قبل الأسرات مدينة (بوتو - نخب - أون - طيبة)



- ١٢- أول عاصمة لمصر بعد الوحدة عام ٤٢٤٢ ق.م. هي مدينة
- (أون - من نفر- الإسكندرية - طيبة)
- ١٣- صاحب الهرم الأوسط وتمثال أبو الهول
- (زوسر- خوفو - خفرع - منكاورع)
- ١٤- سمي عصر الدولة الحديثة بعصر
- (بناء الأهرامات - العصر العتيق - المجد الحربي - الرخاء الاقتصادي)
- ١٥- قام الملك سنوسرت الثالث بحفر قناة
- (السويس - سيزوستريس - مورييس - اللاهون)
- ١٦- عرف عصر الدولة القديمة بعصر
- (بناء الأهرام - الرخاء الاقتصادي - المجد الحربي - الإمبراطورية الرومانية)
- ١٧- عقد الملك رمسيس الثاني أول معاهدة سلام موثقة في التاريخ مع
- (الفرس - الروم - الحيثيين - الهكسوس)
- ١٨- بدأ الكفاح ضد الهكسوس بقيادة أمراء
- (منف - طيبة - أواريس - أسوان)
- ١٩- وقعت معركة مجدو في دولة
- (الأردن - فلسطين - مصر - سوريا)
- ٢٠- أول معاهدة سلام موثقة في التاريخ وقعها الملك
- (رمسيس الأول - رمسيس الثاني - رمسيس الثالث - تحتمس الثالث)
- ٢١- إحدى الآلات الزراعية التي أدخلها البطالمة في مصر
- (الطنبور - المنجل - الساقية - الشادوف)
- ٢٢- الملكة كليوباترا السابعة هي آخر ملوك
- (في مصر .
- ٢٣- استغل الرومان موارد مصر الاقتصادية خاصة محصول
- (الرومان - البطالمة - الفراعنة - الإخشيد)
- ٢٤- أنشئ معبد رأس السوداء في مصر خلال عصر
- (البطالمة - الرومان - الفرس - الإغريق)
- ٢٥- زار الإسكندر الأكبر في واحة سيوة معبد
- (أتون - فيله - دندرة - آمون)
- ٢٦- تحولت مصر بعد معركة أكتيوم البحرية إلى ولاية
- (فارسية - إغريقية - بطلمية - رومانية)
- ٢٧- اهتم الرومان في مصر بالعمران فأنشئوا
- (مكتبة الإسكندرية - معبد رأس السوداء - منارة الإسكندرية - هرم زوسر المدرج)

السؤال الرابع : اكتب ما تشير إليه كل عبارة من العبارات التالية

- ١- عصور بدأت بعد معرفة الإنسان القديم للكتابة .
- ٢- كل ما أنتجه الإنسان سواء كان ماديا كالمباني والعمران أو ثقافيا كالعلوم والفنون **الحضارة**
- ٣- لوحة سجل عليها الملك مينا انتصاراته على مملكة الشمال . **لوحة نعرمر**
- ٤- يُقصد بها الفترة الزمنية التي سبقت ميلاد السيد المسيح عيسى عليه السلام . **قبل الميلاد**
- ٥- العصر الذي سبق توحيد مصر تحت حكم ملك واحد . **عصر ما قبل الاسرات**
- ٦- يُقصد بها عصور ما قبل معرفة الإنسان للكتابة . **عصور ما قبل التاريخ**
- ٧- قناة حفرها الملك سنوسرت الثالث لتسهيل التجارة . **سيزوستريس**



تم تحميل هذه الأوراق مجاناً من
أكبر وأشهر مكتبة تعليمية
موقع ونورسنوات جاهزة

اليونسكو

الاسكندرية

الامبراطورية

بطلميوس الاول

أكتيوم البحرية

عمرو بن العاص

روما

مجدو

منارة الاسكندرية

مقدونيا

زوسر

مينا

خفرع

خوفو

امنحات الثالث

سنوسرت الثالث

أحمس

رمسيس الثاني

تحتمس الثالث

اياح حتب

بطلميوس الاول

الاسكندر الاكبر

كليوباترا السابعة

عمرو بن العاص

الحضارة

نهر النيل

الطبيعية

الهضاب

القديم

من نفر

بوتو

- ٨- مدينة اتخذها الهكسوس عاصمة لهم في مصر .
- ٩- منظمة دولية ساهمت في إنقاذ معبد أبو سمبل من الغرق .
- ١٠- المدينة التي خططها الإسكندر الأكبر لتكون عاصمة لمصر .
- ١١- دولة واسعة الأطراف تضم عدة أقاليم وشعوب تحت حكم واحد .
- ١٢- مؤسس دولة البطالمة في مصر .
- ١٣- معركة تحولت بعدها مصر إلى ولاية رومانية .
- ١٤- القائد المسلم الذي تم على يديه الفتح الإسلامي لمصر .
- ١٥- المدينة التي تُعد أول مركز تجاري في العالم في العصر الروماني .
- ١٦- معركة انتصر فيها تحتمس الثالث ضد أمراء آسيا في فلسطين .
- ١٧- إحدى المنشآت التي بنيت في عصر البطالمة لإرشاد السفن .
- ١٨- الإقليم الذي ولد فيه الإسكندر الأكبر .

السؤال الخامس : لمن تنسب الاعمال التاريخية التالية

- ١- صاحب أول هرم فى التاريخ المعروف بالهرم المدرج .
- ٢- وحد مملكة الشمال ومملكة الجنوب في الوحدة الثانية ٣٢٠٠ ق.م .
- ٣- أمر بنحت تمثال أبو الهول وصاحب الهرم الأوسط .
- ٤- صاحب الهرم الأكبر احد عجائب الدنيا السبع .
- ٥- شيد سد اللاهون عند مدخل بحيرة مورييس بالفيوم .
- ٦- حفر قناة سيزوستريس لتربط بين البحر الأحمر ونهر النيل .
- ٧- استطاع من طرد الهكسوس من مصر .
- ٨- عقد مع ملك الحيثيين أول معاهدة سلام موثقة في التاريخ .
- ٩- انتصر على امراء اسيا في معركة مجدو .
- ١٠- الملكة التي شجعت زوجها وابنيها لمحاربة الهكسوس .
- ١١- أسس دولة البطالمة واستكمل بناء مدينة الإسكندرية .
- ١٢- خطط لبناء مدينة الإسكندرية لتكون عاصمة جديدة لمصر .
- ١٣- آخر ملوك دولة البطالمة في مصر .
- ١٤- تم على يده الفتح الإسلامي لمصر .

السؤال السادس : صوب ما تحته خط

- ١- كل ما انتجه الإنسان سواء كان مادياً أو أدبياً يُسمى البيئة .
- ٢- ساعد المصري القديم على الوحدة والتعاون الموقع الجغرافي .
- ٣- أحد العوامل البشرية التي ساعدت فى قيام الحضارة المصرية نهر النيل .
- ٤- نزل المصري القديم إلى نهر النيل بعد جفاف السهول .
- ٥- اكتشف المصري القديم النار في العصر الحجري الحديث .
- ٦- بنى الملك نعرمر (مينا) مدينة أون هليوبوليس .
- ٧- اتخذت مملكة الشمال عاصمة لها وهي مدينة نخب .



نعمر
بحيرة مورييس
خوفو
مجدو
الهكسوس
الحيثيين
كليوباترا السابعة
الفرس
الإسكندرية
نهر النيل

- ٨- سجل الملك مينا انتصاراته على مملكة الشمال على لوحة تورين .
- ٩- أقام الملك أمنمحات الثالث سد اللاهون عند مدخل بحيرة ناصر .
- ١٠- قام ببناء الهرم الأكبر الملك زوسر .
- ١١- انتصر الملك تحتمس الثالث على أمراء آسيا في معركة قادش .
- ١٢- انتصر الملك أحمس على الحيثيين .
- ١٣- عقد رمسيس الثاني أول معاهدة سلام موثقة في التاريخ مع ملك الهكسوس .
- ١٤- آخر ملوك مصر في عصر البطالمة بطلميوس الأول .
- ١٥- كانت مصر قبل مجيء الإسكندر الأكبر تحت حكم الرومان .
- ١٦- استكمل بطلميوس الأول بناء مدينة الجيزة .
- ١٧- ربطت قناة سيزوستريس البحر المتوسط بالبحر الأحمر عن طريق نهر الفرات . نهر النيل

السؤال السابع : بم تفسر ... ؟

- ١- بقاء الآثار المصرية خالدة حتى الآن . بسبب المناخ الجاف .
- ٢- أهمية الجيش في مصر قديماً . لحماية البلاد واستقرارها ووحدة أراضيها .
- ٣- تميز المصريين القدماء في العلوم المختلفة .
- بسبب معرفتهم الكتابة الهيروغليفية والفضل في ذلك يرجع الى البيئة الغنية بالموارد والانسان المبدع .
- ٤- أهمية نهر النيل للحضارة المصرية القديمة .
- ساعد على الزراعة والاستقرار على ضفافه - ساعد على الوحدة والتعاون لبناء الجسور والسدود .
- ٥- نزول المصري القديم إلى ضفاف النيل في العصر الحجري الحديث . بسبب جفاف الهضاب .
- ٦- بناء الملك نعمر (مينا) لمدينة «من - نفر» . لتكون عاصمة للبلاد .
- ٧- بناء الملك نعمر جيش قوى . ليحمي البلاد .
- ٨- تسمية عصر الدولة القديمة بعصر بناء الأهرامات . لكثرة ما تم تشييده من اهرامات .
- ٩- عرف عصر الدولة الوسطى بعصر الرخاء الاقتصادي .
- لأنهم حققوا نهضة اقتصادية كبيرة في الزراعة والصناعة والتجارة والعمارة .
- ١٠- عرف عصر الدولة الحديثة بعصر المجد الحربي .
- نظراً للتطور الكبير الذي شهده الجيش المصري حيث خاض العديد من الحروب دفاعاً عن مصر محققاً انتصارات عظيمة بفضل قوته وبراعته .
- ١١- حفر الملك سنوسرت الثالث قناة سيزوستريس .
- لتربط بين البحر الأحمر ونهر النيل - لتسهيل التجارة بين البحر الأحمر والمتوسط .
- ١٢- سقوط مصر في يد الهكسوس . بسبب ضعف الملوك وكثرة الصراعات وانتشرت الفوضى .
- ١٣- إقامة أمنمحات الثالث لسد اللاهون . لحماية الاراضي الزراعية من خطر الفيضانات - لتخزين المياه .
- ١٤- ترحيب المصريين بالفتح الإسلامي . ليخلصهم من ظلم الرومان .
- ١٥- تخطيط الإسكندر الأكبر لبناء مدينة الإسكندرية . لتكون عاصمة جديدة لمصر عام ٣٣١ ق.م .
- ١٦- سقوط دولة البطالمة . بسبب زيادة الضرائب - ضعف الحكام - ثورات المصريين - هزيمة الملكة كليوباترا السابعة في معركة أكتيوم البحرية عام ٣١ ق.م .



تم تحميل هذه الأوراق مجاناً من
أكبر وأضخم مكتبة تعليمية
وهي **مكتبة مصر** جديده

١٧- انتهاء الحكم الروماني في مصر . بسبب فرض الضرائب على المصريين – **حوران المصريين** المشاركة في حكم بلدهم – اضطهاد المصريين خاصة بعد دخول المسيحية .

السؤال الثامن : ما النتائج المترتبة على ... ؟

- ١- تمتع مصر بحدود طبيعية آمنة . ساعد على حماية بلادهم من الغزاة ووفرت لهم الأمن والاستقرار .
- ٢- المناخ المعتدل في مصر . ساعد المصريين القدماء على الابتكار والعمل .
- ٣- تمتع مصر بثروات طبيعية متنوعة .
- أدى الى استخدام المصري القديم لها في بناء الاهرامات ونحت التماثيل وصناعة أدوات الزينة والحلى .
- ٤- إقامة حكومة مركزية في مصر قديما .
- لعبت دور في إدارة شئون البلاد – رعاية مصالح المواطنين – متابعة المشروعات .
- ٥- توحيد مصر عام ٤٢٤٢ ق.م على يد مملكة الشمال . اتخذت من مدينة اون هليوبوليس عاصمة للبلاد .
- ٦- توحيد مصر عام ٣٢٠٠ ق.م على يد الملك مينا . بنى مدينة من نفر لتكون عاصمة للبلاد .
- ٧- اكتشاف المصري القديم للمعادن . استخدمها المصري القديم في صناعة ادواتهم .
- ٨- معركة مجدو . نجح تحتمس الثالث في هزيمة امراء اسيا ومد نفوذ مصر الي فلسطين .
- ٩- معركة قادش بقيادة رمسيس الثاني .
- عقد الملك رمسيس الثاني مع ملك الحيثيين اول معاهدة سلام موثقة في التاريخ .
- ١٠- ضعف الحكام في أواخر عصر الدولة الحديثة .
- تراجع قوة الدولة وزيادة التدخلات الخارجية وتدهور أحوال البلاد .
- ١١- سياسة الرومان في مصر . أدى الى قيام المصريين بثورات ضدهم .
- ١٢- وفاة الإسكندر الأكبر . قسمت امبراطوريته بين قواده وتم تأسيس دولة البطالمة .
- ١٣- معركة اكتيوم البحرية ٣١ ق.م . تحولت مصر الى ولاية رومانية .
- ١٤- اهتمام الرومان بمدينة الإسكندرية . أصبحت ثاني اكبر مركز تجارى في العالم بعد روما .
- ١٥- كراهية المصريين لحكم الفرس . رحب المصريون بالاسكندر الأكبر في مصر .

السؤال التاسع : دلل على صحة العبارات التالية

- ١- تنوعت الأنشطة الاقتصادية عند المصريين القدماء . حيث اهتموا بتطوير نظم الري وأتقنوا الكثير من الصناعات منها الفخار والنسيج والحلى لذلك ازدهرت التجارة مع الحضارات المجاورة .
- ٢- ساعد مناخ مصر في قيام الحضارة المصرية . حيث المناخ المعتدل ساعد المصريين القدماء على الابتكار والعمل – والمناخ الجاف ساعد على بقاء آثار المصريين القدماء خالدة حتى الان .
- ٣- كفاح وإبداع المصريين القدماء لقيام الحضارة .
- حيث استثمر المصريون القدماء موارد الطبيعة مع ما لديهم من ابداع واتقان العمل وحب العلم والمعرفة .
- ٤- برع المصريون القدماء في رسم الخرائط .
- حيث قدموا للعالم أقدم خريطة وتعرف ب (بردية تورين) لمناجم الذهب في وادي الحمامات .
- ٥- كان للملك إباح حتب دور في حرب التحرير . حيث شجعت ابناها احمس على مواجهة الهكسوس بعد وفاة زوجها سقن رع وابنها كامس خلال هذه الحروب .



تم تحميل هذه الأوراق مجاناً من
أكبر وأضخم مكتبة تعليمية
موقع وتطبيق مذكرات جاهزة

٦- شهد عصر الدولة الحديثة مجداً حربيًا لمصر .

نظراً للتطور الكبير الذي شهده الجيش المصري حيث خاض العديد من الحروب دفاعاً عن مصر محققاً انتصارات عظيمة بفضل قوته وبراعته .

٧- احترام الإسكندر الأكبر للديانة المصرية .

حيث زار معبد الاله أمنون في واحة سيوة .

٨- اهتم البطالمة بالعلم والثقافة في مصر .

حيث أسسوا مكتبة الإسكندرية كما أنشئوا جامعة الإسكندرية .

٩- ازدهرت الزراعة في عصر دولة البطالمة .

حيث أدخلوا نظام السواقي واهتموا بحفر الترعة .

١٠- اهتم البطالمة بالحياة الدينية في مصر .

حيث اعترفوا بالديانة المصرية ديناً رسمياً للبلاد وقدموا القرابين للآلهة المصرية .

١١- شهدت مصر في عصر الرومان نهضة في العمران .

حيث أنشئوا المسرح الروماني ومعبد رأس السوداء في الإسكندرية .

السؤال العاشر : ما العلاقة بين كل مما يلي ...؟

١- نهر النيل والحضارة المصرية القديمة .

يعد نهر النيل من العوامل الطبيعية لقيام الحضارة المصرية القديمة .

٢- الملك مينا والعصر العتيق .

يبدأ العصر العتيق بالملك نعرمر مؤسس الأسرة الأولى وموحد القطرين .

٣- الملك زوسر والنهضة العمرانية في مصر قديماً .

حيث استطاع الملك زوسر ببناء أول هرم في التاريخ المعروف بهرم زوسر المدرج .

٤- الملكة إياح حتب وانتصار مصر على الهكسوس .

شجعت الملكة إياح حتب ابنها احمس للانتصار على الهكسوس .

٥- قناة سيزوستريس والنشاط التجاري .

حفر قناة سيزوستريس أدى الى زيادة النشاط التجاري .

٦- معركة اكتيوم البحرية والحكم الروماني في مصر .

من نتائج معركة اكتيوم البحرية بداية الحكم الروماني في مصر .

٧- سياسة الرومان في مصر والفتح الإسلامي لها .

رحب المصريون بالفتح الإسلامي ليخلصهم من ظلم الرومان لهم .



تم تحميل هذه الأوراق مجاناً من
أكبر وأضخم مكتبة تعليمية
موقع وتطبيق مذكرات جاهزة

السؤال الحادي عشر : اذكر عملاً واحداً لكل من :

- ١- مانيتون : قسم التاريخ المصري القديم الى ٣٠ اسرة حاكمة .
- ٢- الملك مينا : بنى مدينة من نفر - بنى جيش قوى - اقام اقدم حكومة مركزية .
- ٣- زوسر : صاحب اول هرم في التاريخ المعروف بهرم زوسر المدرج .
- ٤- خوفو : صاحب الأكبر الذي يعد من عجائب الدنيا السبع القديمة .
- ٥- خفرع : صاحب الهرم الأوسط وتمثال أبو الهول .
- ٦- سنوسرت الثالث : قام بحفر قناة سيزوستريس .
- ٧- أمنمحات الثالث : شيد سد اللاهون عند مدخل بحيرة موريس .
- ٨- رمسيس الثاني : عقد مع الحيثيين اول معاهدة سلام موثقة في التاريخ .
- ٩- تحتمس الثالث : انتصر على امراء اسيا في معركة مجدو .
- ١٠- احمس : استطاع من طرد الهكسوس من مصر .
- ١١- الإسكندر الأكبر : خطط لبناء مدينة الإسكندرية لتكون عاصمة للبلاد .
- ١٢- بطلميوس الأول : مؤسس دولة البطالمة واستكمل بناء مدينة الإسكندرية .
- ١٣- عمرو بن العاص : قام بالفتح الاسلامي لمصر ليخلصهم من ظلم الرومان .



مراجعة الوحدة الثالثة - خامسة ابتدائي

السؤال الأول : أكمل العبارات الآتية بما يناسبها من كلمات :

- ١- معدن يتم استخراجها من الواحات البحرية **الحديد** .
- ٢- من المعادن النفيسة ويُستخرج من منجم السكري **الذهب** .
- ٣- المعدن الذي يستخدم في صناعة الأسمدة الكيماوية **الفوسفات** .
- ٤- المعدن الذي يستخدم في صناعة قضبان السكك الحديدية هو **الحديد** .
- ٥- البنزين والسولار من مشتقات **البتترول** .
- ٦- يدخل المنجنيز في صناعة الصلب و **الدهانات** .
- ٧- قام المصري القديم بتسيير المراكب الشراعية بالاعتماد على **طاقة الرياح** .
- ٨- استخدم المصري القديم في التدفئة وطهي الطعام **النار** .
- ٩- تتمثل مصادر الطاقة غير المتجددة في الفحم والبتترول و **الغاز الطبيعي** .
- ١٠- الطاقة الكهرومائية وطاقة الرياح من مصادر الطاقة **المتجددة** .
- ١١- أنشأت الدولة في أسوان محطة بنبان لتوليد الكهرباء من **الشمس** .
- ١٢- أحد أهم محطات طاقة الرياح في محافظة البحر الأحمر محطة جبل الزيت و **الزغفرانة** .
- ١٣- بحيرة البردويل وإدكو من موارد المياه **المالحة** في مصر .
- ١٤- تزايد عدد السكان يؤدي إلى ندرة **المياه العذبة** .
- ١٥- يؤثر تلوث المياه في مصر سلباً على الثروة **السمكية** .
- ١٦- تعتمد الحياة على المياه الجوفية العذبة في **الواحات** .
- ١٧- تهتم الدولة بتحلية مياه البحر، لذا أنشأت في محافظة السويس محطة **العين السخنة** .
- ١٨- أنشأت الدولة محطة بحر البقر لإعادة تدوير مياه **الصرف الزراعي** .
- ١٩- تهدف رؤية مصر ٢٠٣٠م لتحقيق التنمية **المستدامة** .
- ٢٠- اهتمت الحكومة المصرية بالمشروعات القومية من أجل **مستقبل أفضل** لأبناء الشعب المصري .
- ٢١- من مشروعات الاستزراع السمكي في محافظة كفر الشيخ **بركة غليون** .
- ٢٢- أكبر محطات توليد الكهرباء من الرياح في الشرق الأوسط وشمال إفريقيا هي محطة **جبل الزيت** .
- ٢٣- يهدف مشروع الاستزراع السمكي بمحافظة كفر الشيخ إلى توفير **فرص عمل** للشباب .
- ٢٤- يقع مشروع الدلتا الجديدة في الصحراء **الغربية** .
- ٢٥- مشروع بركة غليون يقع في محافظة **كفر الشيخ** .

السؤال الثاني : أكتب كلمة (صواب) أمام العبارة الصحيحة وكلمة (خطأ) أمام العبارة غير الصحيحة

- ١- أسلاك الكهرباء والسبائك تصنع من النحاس . (صواب)
- ٢- تمتلك مصر ثروة معدنية كبيرة تختلف في توزيعها من مكان لآخر . (صواب)
- ٣- يستخرج معدن الحديد في مصر من الصحراء الغربية . (صواب)
- ٤- يقع منجم السكري لاستخراج المنجنيز في الصحراء الشرقية . (خطأ)
- ٥- يستخدم المنجنيز في صناعة الدهانات . (صواب)



- ٦- تعمل مصر على البحث عن بدائل للمعادن ومصادر الطاقة .
 ٧- تعد مصر من أكثر الدول الملائمة لإنتاج الطاقة الشمسية .
 ٨- يدخل الفوسفات في صناعة الزجاج .
 ٩- مصادر الطاقة غير المتجددة صديقة للبيئة .
 ١٠- استخدم المصريون القدماء طاقة الرياح في تسيير المراكب الشراعية .
 ١١- يستخدم النحاس في صناعة أسلاك الكهرباء .
 ١٢- تعد منطقة «أبو طرطور» إحدى أهم مناطق استخراج الحديد في مصر .
 ١٣- يُستخرج المنجنيز من منجم أم بجمة في شبه جزيرة سيناء .
 ١٤- ترشيد استهلاك الطاقة واجب على كل مواطن .
 ١٥- يُستخرج البترول من خليج السويس والصحراء الشرقية .
 ١٦- تنتج محطة بنبان الطاقة الكهربائية من الرياح .
 ١٧- تعد محطة جبل الزيت إحدى محطات توليد الكهرباء من الطاقة الشمسية .
 ١٨- محطة العين السخنة تعد واحدة من أكبر محطات تحلية المياه في العالم .
 ١٩- من استخدامات المياه العذبة في مصر استخراج البترول والغاز الطبيعي .
 ٢٠- ارتفاع درجات الحرارة فوق معدلها الطبيعي يؤدي إلى نقص في المياه العذبة .
 ٢١- مياه الأمطار الشتوية هي المصدر الأساسي للمياه العذبة في مصر .
 ٢٢- بحيرة ناصر إحدى أكبر البحيرات المالحة .
 ٢٣- يُستخرج ملح الطعام من البحر الأحمر .
 ٢٤- القاء المخلفات في نهر النيل أحد السلوكيات الصحيحة .
 ٢٥- تؤثر التغيرات المناخية على ندرة المياه في مصر .
 ٢٦- يهدف مشروع الدلتا الجديدة إلى زيادة الاستيراد من الخارج .
 ٢٧- وضعت الدولة خطة لتحقيق التنمية المستدامة وأطلقت عليها رؤية مصر ٢٠٣٠م .
 ٢٨- منطقة الفسطاط واحدة من المناطق التي قامت الدولة بتطويرها .
 ٢٩- تقع العاصمة الإدارية الجديدة غرب مدينة القاهرة .
 ٣٠- يهدف مشروع الدلتا الجديدة إلى تحقيق الأمن الغذائي .

السؤال الثالث : اختر الإجابة الصحيحة مما بين الأقواس

- ١- «عملية استخراج المعادن ومصادر الطاقة من باطن الأرض» تعرف بـ
 (الصناعة - السياحة - التعدين - النجارة)
 ٢- يستخرج معدن من منطقة أم بجمة في سيناء . (الفوسفات - الذهب - الحديد - المنجنيز)
 ٣- يستخرج معدن الذهب من منجم (أم بجمة - السكري - أبو طرطور - الواحات البحرية)
 ٤- يُستخرج خام الحديد من (الزعفرانة - الواحات البحرية - أبو طرطور - أم بجمة)
 ٥- يستخرج معدن الفوسفات من منطقة
 (ام بجمة - الواحات البحرية - أبو طرطور - حقل ظهر)
 ٦- من مصادر الطاقة غير المتجددة (الرياح - أشعة الشمس - الفحم - مياه البحر)



تم تحميل هذه الأوراق مجاناً من
أكبر وأضخم مكتبة تعليمية
موقع وتطبيق مذكرات جاهزة

- ٧- أي مصادر الطاقة التالية يستخدم في صناعة الصلب ؟
- (البترول - الفحم - الشمس - الرياح)
- ٨- إحدى محطات إنتاج الطاقة الكهرومائية محطة
- (جبل الزيت - الكريمات - خزان أسوان - الزعفرانة)
- ٩- يستخرج البترول في مصر من
- (منخفض القطارة - خليج السويس - وادي النيل - الواحات البحرية)
- ١٠- من مصادر الطاقة المتجددة
- (البترول - الطاقة الشمسية - الفحم - الغاز الطبيعي)
- ١١- تعتمد صناعة الآلات الثقيلة والسكك الحديدية على معدن
- (الذهب - الفضة - الحديد - النحاس)
- ١٢- يستخرج النحاس من محافظة
- (البحر الأحمر - دمياط - الفيوم - القاهرة)
- ١٣- يقع منجم أبو طرطور لاستخراج الفوسفات في
- (جنوب سيناء - الصحراء الغربية - وادي النيل - الصحراء الشرقية)
- ١٤- أحد المعادن التي تدخل في صناعة الصلب والدهانات
- (الذهب - المنجنيز - الحديد - النحاس)
- ١٥- يُستخدم الغاز الطبيعي في
- (صناعة الحصير - الأغراض المنزلية - استخراج البترول - إنتاج المعادن)
- ١٦- تعد محطة السد العالي من محطات إنتاج الطاقة
- (الشمسية - الكهرومائية - الرياح - الضوئية)
- ١٧- البنزين والسولار من مشتقات
- (الفحم - البترول - الغاز الطبيعي - الهيدروجين الأخضر)
- ١٨- تعتمد حياة سكان واحة سيوة على المياه
- (المالحة - الجوفية - الأمطار - السيول)
- ١٩- من موارد المياه العذبة في الساحل الشمالي مياه
- (الآبار - الأمطار - البحار - البحيرات)
- ٢٠- من بحيرات المياه العذبة في مصر بحيرة
- (البردويل - المنزلة - ناصر - البرلس)
- ٢١- محطة العين السخنة أنشئت بغرض
- (تنقية - تحلية - رفع - ضخ) المياه
- ٢٢- إحدى المحافظات التي بها محطات لتحلية مياه البحر محافظة
- (السويس - الغربية - البحر الاحمر - المنوفية)
- ٢٣- من محطات إعادة تدوير مياه الصرف الزراعي محطة
- (بحر البقر - العين السخنة - الكريمات - الزعفرانة)
- ٢٤- من موارد المياه المالحة في مصر
- (نهر النيل - بحيرة ناصر - الأمطار - بحيرة البردويل)
- ٢٥- أي مما يلي يُعد أحد موارد المياه المالحة ؟
- (نهر النيل - بحيرة ناصر - البحر الاحمر - الأمطار الشتوية)
- ٢٦- تُستخدم المياه العذبة في أغراض متعددة منها
- (استخراج الأملاح - النقل البحري - استخراج البترول - الري والزراعة)
- ٢٧- احد اسباب ندرة المياه في مصر (كثرة البحيرات - وفرة الأمطار - التغيرات المناخية - قلة السكان)



- ٢٨- مشروع زراعي يقع غرب الدلتا
 (**الدلتا الجديدة** - واحة سيوة - شرق العوينات - واحة الفرازة)
- ٢٩- من مشروعات توليد الكهرباء من طاقة الرياح محطة
 (**جبل الزيت** - بنيان - الكريمت - السد العالي)
- ٣٠- من مشروعات توليد الطاقة الكهربائية من الشمس محطة
 (**بنيان بأسوان** - السد العالي - خزان أسوان - الزعفرانة)
- ٣١- تم إنشاء محطة العين السخنة لـ
 (معالجة الصرف الصحي - **تحلية مياه البحر** - توليد الكهرباء - معالجة الصرف الزراعي)
- ٣٢- يؤثر التلوث المائي سلبيًا على
 (**الثروة السمكية** - درجات الحرارة - طاقة الرياح - الثروة المعدنية)
- ٣٣- أحد مشروعات معالجة مياه الصرف الزراعي محطة
 (بنبان - جبل الزيت - **بحر البقر** - الكريمت)
- ٣٤- تهدف الدولة من خلال رؤية ٢٠٣٠ إلى
 (زيادة الديون - **التنمية المستدامة** - إهمال التعليم - تقليل الوظائف)
- ٣٥- يُعد مشروع بركة غليون أحد مشروعات الدولة في مجال
 (**تحلية المياه** - توليد الكهرباء - **الاستزراع السمكي** - تطوير الصناعة)
- ٣٦- أحد أهداف تطوير منطقة الفسطاط
 (تشجيع الهجرة - **تطوير العشوائيات** - زيادة التلوث - تطوير الريف)
- ٣٧- تتعدد وسائل النقل الحديثة في مصر ومنها
 (العربات الحربية - الحصان العربي - **القطار الكهربائي** - القوارب الشراعية)
- ٣٨- أدى مشروع بنبان للطاقة الشمسية إلى
 (زيادة الاستيراد - ارتفاع التلوث - **تقليل التلوث** - استخراج الغاز)

السؤال الرابع : اكتب ما تشير اليه كل عبارة من العبارات التالية

- ١- معدن يُستخدم في صناعة الأسمدة الكيماوية والمبيدات الحشرية .
- ٢- أحد أهم المعادن ويُعد أساس الصناعة الحديثة .
- ٣- من المعادن النادرة ويستخدم في صناعة الحلى ويدخل في علاج بعض الأمراض
- ٤- أحد المعادن التي استخدمها المصري القديم ويدخل في صناعة السبائك حديثاً .
- ٥- أحد مصادر الطاقة وتُستخرج منه مشتقات متعددة منها البنزين والسولار .
- ٦- عملية استخراج المعادن ومصادر الطاقة من باطن الأرض .
- ٧- من محطات توليد الكهرباء من المساقط المائية الصناعية على نهر النيل .
- ٨- من أقدم المعادن التي عرفها المصري القديم، ويُستخدم في صناعة أسلاك الكهرباء **النحاس**
- ٩- أحد مصادر الطاقة غير المتجددة ويستخدم في الأغراض المنزلية وتوليد الكهرباء **الغاز الطبيعي**
- ١٠- من أكبر مشروعات توليد الطاقة الكهربائية من الشمس في أسوان . **مشروع بنبان**



- ١١- من أضخم مشروعات توليد الكهرباء من طاقة الرياح بمحافظة البحر الأحمر . **جبل الزيت**
- ١٢- أول من استفاد من الطاقة الشمسية في تدفئة المنازل . **المصريون القدماء**
- ١٣- مورد المياه العذبة بالواحات المصرية . **المياه الجوفية**
- ١٤- المصدر الأساسي للمياه العذبة في مصر . **نهر النيل**
- ١٥- بحيرة عذبة تعد من أهم مصايد الأسماك في مصر . **بحيرة ناصر**
- ١٦- معالجة الأملاح والمعادن من مياه البحر لتحويلها إلى مياه صالحة للاستخدام البشرى **تحلية مياه البحر**
- ١٧- إعادة استخدام المياه التي تم استخدامها في الزراعة بعد معالجتها . **تدوير مياه الصرف الزراعي**
- ١٨- استثمار الموارد لتلبية احتياجات السكان دون الإضرار بحقوق الأجيال المستقبلية **التنمية المستدامة**
- ١٩- أحد المشروعات الزراعية العملاقة بالصحراء الغربية ويقع غرب الدلتا . **الدلتا الجديدة**
- ٢٠- واحد من أكبر مشاريع الاستزراع السمكي في العالم ويقع بمحافظة كفر الشيخ . **بركة غليون**
- ٢١- مدينة ذكية تقع شرق محافظة القاهرة . **العاصمة الإدارية الجديدة**
- ٢٢- إحدى محطات إعادة تدوير مياه الصرف الزراعي ومعالجتها . **محطة بحر البقر**
- ٢٣- إحدى أكبر محطات تحلية المياه في العالم وتوجد في محافظة السويس . **العين السخنة**
- ٢٤- تلبية احتياجات السكان دون الإضرار بحقوق الأجيال المستقبلية . **التنمية المستدامة**

السؤال الخامس : صوب ما تحته خط فيما يلي

- ١- يدخل الفوسفات في صناعة السكك الحديدية والآلات . **الحديد**
- ٢- محطة العين السخنة من محطات إعادة تدوير مياه الصرف الزراعي . **محطة بحر البقر**
- ٣- يُستخدم المنجنيز في صناعة الأسمدة الكيماوية والمبيدات الحشرية . **الفوسفات**
- ٤- بحيرة إدكو أحد مصادر المياه العذبة في مصر . **ناصر**
- ٥- من أهم محطات توليد الكهرباء من المساقط المائية محطة بنبان بأسوان . **السد العالي**
- ٦- يعد الغاز الطبيعي من مصادر الطاقة المتجددة . **الشمس**
- ٧- يستخرج البترول من نهر النيل . **خليج السويس**
- ٨- من أشهر حقول الفحم في مصر حقل ظهر . **جبل المغارة**
- ٩- تعتمد صناعة الآلات الثقيلة على معدن النحاس . **الحديد**
- ١٠- يُستخدم الفوسفات في صناعة الأسمدة والسكك الحديدية . **المبيدات الحشرية**
- ١١- يُستخرج النحاس من محافظة الوادي الجديد . **البحر الأحمر**
- ١٢- تُعد منطقة أم بجمة في شبه جزيرة سيناء من مناطق استخراج الفحم . **المنجنيز**
- ١٣- أحد أهم مناجم استخراج الذهب في مصر هو منجم المغارة . **السكرى**
- ١٤- ترجع أهمية محطة الكريما إلى توليد الكهرباء من طاقة الرياح . **الطاقة الشمسية**
- ١٥- المصدر الأساسي للمياه العذبة في مصر هو البحر الأحمر . **نهر النيل**
- ١٦- تعتمد الواحات بشكل أساسي على مياه الأمطار . **المياه الجوفية**
- ١٧- تقع العاصمة الإدارية الجديدة شرق محافظة الجيزة . **القاهرة**
- ١٨- يستهدف مشروع الدلتا الجديدة زراعة محاصيل شجرية . **استراتيجية**



تم تحميل هذه الأوراق مجاناً من
أكبر وأحدث مكتبة تعليمية
موقع المنطوق هوبليكس حصرية

أسوان

١٩- أقامت الدولة مشروع بركة غليون لزيادة الإنتاج الزراعي .

٢٠- يقع مشروع بنبان لتوليد الكهرباء من الطاقة الشمسية بمحافظة الأقصر .

السؤال السادس : بم تفسر ... ؟

١- الأهمية الاقتصادية لمعدن الفوسفات . يستخدم في صناعة الأسمدة الكيماوية والمبيدات الحشرية .

٢- الأهمية الاقتصادية لمعدن الحديد في مصر .

لأنه أساس الصناعة الحديثة ويدخل في العديد من الصناعات منها السكك الحديدية والآلات الثقيلة .

٣- الأهمية الاقتصادية لمعدن المنجنيز في مصر . لأنه يدخل في صناعة الصلب والدهانات .

٤- أهمية طاقة الرياح بالنسبة للمصري القديم . لأنه يستخدم في تسيير المراكب الشراعية .

٥- للغاز الطبيعي أهمية كبيرة .

لأنه يستخدم في الأغراض المنزلية - توليد الكهرباء - وقود لبعض وسائل المواصلات .

٦- الأهمية الاقتصادية لمعدن النحاس . لأنه يستخدم في صناعة أسلاك الكهرباء والسبائك .

٧- الأهمية الاقتصادية للقمح . لأنه يستخدم في صناعة الصلب ويدخل في صناعة بعض الأدوية .

٨- أهمية الطاقة الشمسية . تستخدم في توليد الطاقة الكهربائية .

٩- ضرورة ترشيد استهلاك المياه في مصر . للحفاظ على المياه كمورد حيوي للأجيال القادمة .

١٠- أهمية المياه المالحة في مصر . لأنه يستخدم في استخراج البترول والغاز الطبيعي من أعماق البحار

- استخراج الأملاح منها ملح الطعام - صيد الأسماك .

١١- أهمية المياه العذبة في مصر . يستخدم في الاستخدامات المنزلية والزراعة والصناعة وصيد الأسماك

١٢- ندرة المياه العذبة في مصر . بسبب الاعتماد على مياه نهر النيل بشكل رئيسي - تزايد عدد السكان -

قلة سقوط الأمطار - إقامة بعض السدود على منابع النيل .

١٣- تعرض المياه في مصر للتلوث . بسبب القاء مخلفات المصانع والسفن والصرف الزراعي بها .

١٤- أهمية المياه الجوفية . تعتمد عليها الحياة في الواحات المصرية .

١٥- إنشاء محطة بحر البقر . لإعادة تدوير مياه الصرف الزراعي ومعالجتها لإعادة استخدامها .

١٦- اهتمام الحكومة المصرية بإنشاء المشروعات القومية .

من أجل مستقبل أفضل لآبناء الشعب المصري لانهم الركيزة الأساسية لتحقيق التنمية الشاملة .

١٧- أنشأت الدولة محطة جبل الزيت . لتوليد الكهرباء من الرياح .

١٨- إنشاء محطة بنبان في أسوان . لتوليد الكهرباء من الشمس .

١٩- إقامة الدولة مشروع الدلتا الجديدة . يهدف الى زراعة المحاصيل الاستراتيجية مثل القمح - تحقيق

الامن الغذائي - تقليل الاستيراد من الخارج - توفير فرص عمل للشباب - تحسين مستوى المعيشة .

٢٠- حفر قناة السويس الجديدة . لتسيير السفن في الاتجاهين .

٢١- إنشاء الدولة مشروع بركة غليون . يهدف لزيادة الإنتاج السمكي في مصر - تلبية احتياجات السوق

المحلى - توفير فرص عمل للشباب - توفير فائض للتصدير .

٢٢- حرص الدولة على إنشاء المشروعات الخاصة بالطاقة . لتوفير احتياجات مصر من الطاقة - تقليل

انبعاثات الكربون - الحفاظ على البيئة - توفير فرص عمل للشباب .



- ٢٣- إنشاء العاصمة الإدارية الجديدة . لتخفيف الضغط السكاني عن القاهرة – انشاء مجتمعات عمرانية متطورة – توفير فرص عمل للشباب – جذب الاستثمارات .
- ٢٤- مصر من أكثر الدول الملائمة لإنتاج الطاقة الشمسية . بسبب سطوع الشمس بها معظم أيام العام .

السؤال السابع : ما النتائج المترتبة على ... ؟

- ١- اكتشاف الإنسان النار قديماً . استخدمها المصريون القدماء في طهي الطعام والتدفئة .
- ٢- استغلال المصريين القدماء الطاقة الشمسية في حياتهم اليومية .
- ٣- إلقاء مخلفات المصانع في المياه دون معالجتها .
- مما يعرض الإنسان والحيوانات للأمراض ويؤثر سلباً على الثروة السمكية .
- ٤- حدوث التغيرات المناخية . تؤدي الى نقص في المياه العذبة .
- ٥- إقامة العديد من مشروعات النقل في مصر .
- أدى الى تقليل الازدحام المروري – تسهيل الانتقال بين المدن الجديدة .
- ٦- سطوع الشمس معظم العام بمحافظة أسوان .
- أدى الى انشاء احد اكبر مشروعات توليد الطاقة الشمسية في قرية بنبان بأسوان .
- ٧- التوسع في استخدام مصادر الطاقة المتجددة . أدى الى توفير احتياجات مصر من الطاقة – تقليل انبعاثات الكربون – الحفاظ على البيئة – توفير فرص عمل للشباب .
- ٨- وجود بعض السدود على منابع النيل . أدى الى حدوث مشكلة ندرة المياه العذبة .
- ٩- استخدام مياه نهر النيل بشكل رئيسي في مصر . أدى الى حدوث مشكلة ندرة المياه العذبة .
- ١٠- إنشاء العاصمة الإدارية الجديدة . أدى الى تخفيف الضغط السكاني عن القاهرة – انشاء مجتمعات عمرانية متطورة – توفير فرص عمل للشباب – جذب الاستثمارات .
- ١١- إقامة مشروع الدلتا الجديدة . أدى الى زراعة المحاصيل الاستراتيجية مثل القمح – تحقيق الامن الغذائي – تقليل الاستيراد من الخارج – توفير فرص عمل للشباب – تحسين مستوى المعيشة .
- ١٢- مشروع القطار الكهربائي السريع . أدى الى تقليل الازدحام المروري وتسهيل الانتقال بين المدن .
- ١٣- إنشاء محطة بنبان للطاقة الشمسية . أدى الى توليد الكهرباء من الطاقة الشمسية .
- ١٤- حفر قناة السويس الجديدة . مما يقلل من زمن عبور السفن ويزيد القناة على استيعاب عدد أكبر من السفن وبالتالي زيادة الطلب على استخدام القناة كمر ملاحى عالمى وزيادة الدخل القومى لمصر .

السؤال الثامن : دلل على صحة العبارات التالية

- ١- استخدم المصريون القدماء الطاقة منذ القدم . حيث استخدموا النار في طهي الطعام والتدفئة – والرياح في تسيير المراكب الشراعية – والشمس في تدفئة منازلهم .
- ٢- تهتم الدولة بالحفاظ على المياه واستدامتها .
- من خلال تطبيق القوانين لمواجهة التلوث المائى – عمل حملات توعية لترشيد استهلاك المياه – إقامة المشروعات لتقليل الفاقد من المياه واستدامتها .
- ٣- تتنوع الثروات المعدنية في مصر .

حيث يوجد العديد من المعادن منها المنجنيز – الحديد – الذهب – الفوسفات – النحاس .



- ٤- تتعدد استخدامات معدن الحديد .
 حيث تستخدم في العديد من الصناعات منها السكك الحديدية والالات الثقيلة .
- ٥- للفوسفات أهمية كبيرة في الصناعة .
 حيث يستخدم في صناعة الأسمدة الكيماوية والمبيدات الحشرية .
- ٦- تتمتع مصر بتنوع في مصادر الطاقة .
 حيث توجد مصادر طاقة متجددة مثل الشمس والرياح والمياه ومصادر طاقة غير متجددة مثل الفحم والبتترول والغاز الطبيعي .
- ٧- تستخدم مصر الطاقة الشمسية في توليد الكهرباء .
 حيث تعد مصر من اكثر الدول الملائمة لانتاج الطاقة الشمسية لسطوح الشمس على ارضها طوال العام ومن مشروعات توليد الكهرباء من الشمس محطة بنبان باسوان ومحطة الكريما بالجزيرة .
- ٨- تهتم مصر بإنتاج الكهرباء من طاقة الرياح .
 من اهم هذه المشروعات لانتاج الكهرباء مثل محطة جبل الزيت والزعفرانة في محافظة البحر الأحمر .
- ٩- تشجع الدولة على استخدام الطاقة النظيفة .
 حيث ان الطاقة المتجددة نظيفة وصديقة البيئة وتسهم في الحد من التغيرات المناخية ولا تنفذ مع الاستخدام
- ١٠- تتنوع موارد المياه العذبة في مصر .
 حيث توجد موارد مياه مالحة مثل البحار والبحيرات المالحة والمياه الجوفية المالحة ، وتوجد موارد مياه عذبة مثل نهر النيل والامطار والبحيرات العذبة والمياه الجوفية العذبة .
- ١١- تتعرض الموارد المائية في مصر لعديد من المشكلات .
 من المشكلات التي تواجه المياه في مصر ندرة المياه العذبة وتلوث المياه والتغيرات المناخية .
- ١٢- تهتم الدولة بمشروعات تحلية مياه البحر .
 حيث تقوم مصر بإنشاء العديد من المحطات لتحلية مياه البحر مثل محطة العين السخة بالسويس .
- ١٣- يهدف مشروع العاصمة الإدارية الجديدة للعديد من الاهداف .
 من خلال تخفيف الضغط السكاني عن القاهرة - انشاء مجتمعات عمرانية متطورة - توفير فرص عمل للشباب - جذب الاستثمارات .

السؤال التاسع : ما المقصود بـ ؟

- ١- التعدين عملية استخراج المعادن ومصادر الطاقة من باطن الأرض او بالقرب من سطحها .
 ٢- تحلية مياه البحر معالجة الأملاح والمعادن من مياه البحر لتحويلها إلى مياه صالحة للاستخدام البشري .
 ٣- تدوير مياه الصرف الزراعي إعادة استخدام المياه التي تم استخدامها في الزراعة بعد معالجتها .
 ٤- التمنية المستدامة استثمار الموارد لتلبية احتياجات السكان دون الإضرار بحقوق الأجيال المستقبلية .

السؤال العاشر : ما العلاقة بين ؟

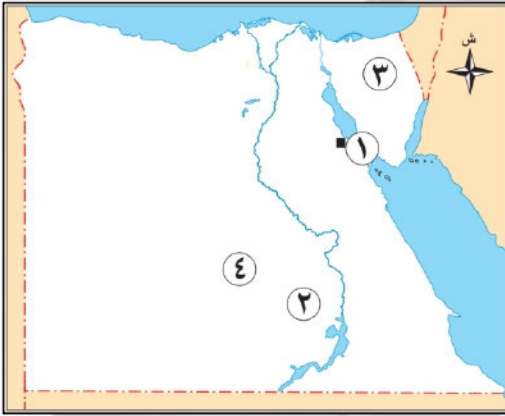
- ١- منجم السكرى والذهب . حيث يستخرج الذهب من منجم السكرى بالصحراء الشرقية .
 ٢- الفوسفات والزراعة . تستخدم الفوسفات في صناعة المبيدات والاسمدة للأرض الزراعية .
 ٣- طاقة الرياح ومحطة جبل الزيت . من محطات امنتاج الكهرباء من الرياح محطة جبل الزيت .



تم تحميل هذه الأوراق مجاناً من
أكبر وأضخم مكتبة تعليمية
موقع وتطبيق مذكرات جاهزة

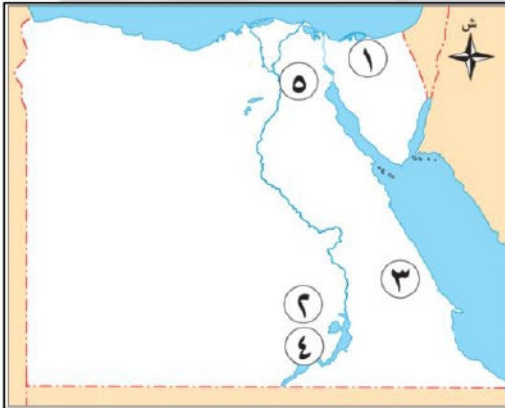
- ٤- الطاقة المتجددة والبيئة . تعد الطاقة المتجددة هي طاقة نظيفة وصديقة البيئة .
- ٥- المعادن والصناعة المصرية . تدخل المعادن في صناعة العديد من الأدوات والأجهزة التي نحتاجها .
- ٦- مصادر الطاقة ووسائل النقل . من أهمية مصادر الطاقة تسيير وسائل النقل .
- ٧- تحلية مياه البحر ومشكلة ندرة المياه . لحل مشكلة ندرة المياه نقوم بتحلية مياه البحر .
- ٨- تلوث المياه وصحة الإنسان . تلوث المياه يضر بصحة الإنسان والحيوان ويعرضهم للأمراض .
- ٩- رؤية مصر ٢٠٣٠ والتنمية المستدامة . لتحقيق التنمية المستدامة أطلقت الدولة رؤية ٢٠٣٠ م .
- ١٠- القطار الكهربائي والنقل المستدام . من وسائل النقل المستدام القطار الكهربائي السريع .

السؤال الحادي عشر : أمامك خريطة صماء لمصر اكتب مدلول الأرقام عليها



- ١- يشير رقم (١) الى محطة جبل الزيت .
- ٢- يشير رقم (٢) الى محطة بنبان .
- ٣- منجم لاستخراج الفحم جبل المغارة .
- ٤- منطقة لاستخراج الفوسفات أبو طرطور .

السؤال الحادي عشر : أمامك خريطة صماء لمصر اكتب مدلول الأرقام عليها



- ١- منطقة لاستخراج الفحم وهي جبل المغارة .
- ٢- من أكبر مشروعات الطاقة الشمسية بنبان .
- ٣- منطقة لاستخراج معدن الذهب منجم السكرى .
- ٤- أحد مصادر المياه العذبة في مصر بحيرة ناصر .
- ٥- مدينة ذكية من اكبر المشروعات القومية في مصر العاصمة الإدارية الجديدة .

تطبيق



مذكرات جاهزة للطباعة

لتحميل الملفات التعليمية مجاناً للمعلم والطالب

مذكرات وملازم / مراجعات وملخصات / امتحانات / كتب الوزارة /
أدلة المعلم / دفاتر التحضير / سجلات مدرسية / أوراق تأسيس

امسح الكود بموبايلك علشان تقدر تثبت التطبيق

وتقدر ف أي وقت تحمّل ال نفسك فيه ببلاش

هيغنيك عن البحث والجروبات والقنوات الكثيرة



تطبيق الموبايل لتحميل الملفات