


الدراسات الاجتماعية

الصف الخامس

مراجعة الفصل الدراسي الأول

سمير الغريب مذكرات تعليمية

2026/2025



السؤال الأول: اكتب كلمة (صواب) أو كلمة (خطأ) أمام كل عبارة

- () (1) تدور الأرض حول نفسها كل 24 ساعة من الشرق إلى الغرب.
- () (2) تقع مصر في النصف الجنوبي للكرة الأرضية.
- () (3) يمر مدار السرطان جنوب مصر.
- () (4) تساعدنا شبكة الإحداثيات في السفر واكتشاف الأماكن.
- () (5) يوجد فرق زمني 4 دقائق بين كل خط طول والخط الذي يليه.
- () (6) خطوط الطول تساعد في دراسة المناخ والحرارة والمطر.
- () (7) استخدم المصريون القدماء علم الفلك في تحديد المواقع.
- () (8) أصغر الوحدات التضاريسية في مصر هي الصحراء الغربية.
- () (9) تربة الدلتا ووادي النيل والفيوم تربة صخرية صلبة.
- () (10) تتميز شبه جزيرة سيناء باستواء السطح وعدم وجود مرتفعات.
- () (11) تكثر الأودية الجافة في الصحراء الشرقية لمصر.
- () (12) تتميز أراضي جنوب سيناء بوعورة السطح.
- () (13) تدور الأرض حول نفسها من الشرق إلى الغرب.
- () (14) منخفض القطارة من المنخفضات المزدحمة بالسكان.
- () (15) تساعدنا خطوط الطول في تحديد الموقع شرقاً وغرباً.
- () (16) تمتد معظم الأراضي المصرية في الإقليم الصحراوي.
- () (17) تدور الأرض حول نفسها من الشرق إلى الغرب.
- () (18) منخفض القطارة من المنخفضات المزدحمة بالسكان.

اكتب كلمة (صواب) أو كلمة (خطأ) أمام كل عبارة

سمير الغريب مذكرات تعليمية

- () (19) الصحراء الشرقية أكبر أقسام سطح مصر من حيث المساحة.
- () (20) توجد هضبة مارمريكا في شمال الصحراء الغربية.
- () (21) الأودية الجافة كانت مجاري للمياه قديماً ولكنها جفت.
- () (22) لا تؤثر المرتفعات والمنخفضات والجبال على درجة الحرارة.
- () (23) تتعامد الشمس على مدار السرطان في فصل الصيف.
- () (24) تسبب رياح الخماسين تلف المحاصيل الزراعية.
- () (25) تقع مدينة الإسكندرية في الإقليم الصحراوي.
- () (26) يتميز إقليم البحر المتوسط باعتدال المناخ وسقوط الأمطار شتاءً.
- () (27) تتعامد أشعة الشمس على دائرة الاستواء مرتين في السنة.
- () (28) تدور الأرض حول الشمس مرة كل شهر.
- () (29) أقامت الدولة المحميات الطبيعية؛ لحماية الحيوانات البرية.
- () (30) إنقراض الحيوانات يهدد التنوع البيولوجي.
- () (31) ندرة المياه وارتفاع الحرارة يزيد من النباتات الطبيعية في الصحراء.
- () (32) أبو قردان طائر بري يعيش بالقرب من وادي النيل والدلتا.
- () (33) يتميز النبات الطبيعي في الصحاري بأنه قادر على التكيف.
- () (34) تنمو أشجار المانجروف على جوانب الترع في وادي النيل.
- () (35) تصدر الدولة القوانين لتجريم الرعي الجائر والصيد الجائر.
- () (36) تتميز أراضي جنوب سيناء باستواء السطح والمنخفضات.

سمير الغريب مذكرات تعليمية

سمير الغريب مذكرات تعليمية

اكتب كلمة (صواب) أو كلمة (خطأ) أمام كل عبارة

- (37) كان المصري القديم يؤمن بالحياة بعد الموت ويتمسك بالأخلاق. ()
- (38) لم توفر الحدود الطبيعية لمصر الحماية من الغزاة. ()
- (39) لعب نهر النيل دورا كبيرا في قيام الحضارة المصرية القديمة. ()
- (40) أبهرت الحضارة المصرية العالم بآثارها العظيمة وعلومها. ()
- (41) مناخ مصر أضر بالآثار وأدى إلى تلف معظمها وضياعه. ()
- (42) ساعد نهر النيل على سهولة التواصل بين الشمال والجنوب. ()
- (43) ساعد كفاح المصريين القدماء على قيام الحضارة المصرية القديمة. ()
- (44) عاش المصري القديم في بداية حياته فوق الهضاب. ()
- (45) بعد أن نزل المصري القديم إلى وادي النيل تعلم حرفة الزراعة. ()
- (46) سكن المصري القديم منازل الطوب اللبن قبل أن يسكن الكهوف. ()
- (47) بدأت عصور ما قبل التاريخ بمعرفة الإنسان القديم للكتابة. ()
- (48) استطاع الملك نعرمر (مينا) حاكم مدينة طيبة توحيد البلاد. ()
- (49) تم اكتشاف النار في العصر الحجري الحديث. ()
- (50) نشأت المدن المصرية قبل ظهور القرى. ()
- (51) يبدأ العصر العتيق بانتصار الملك رمسيس الثاني على الحيثيين. ()
- (52) قامت أقدم حكومة مركزية في التاريخ بمدينة (من - نفر). ()
- (53) حرر الملك رمسيس الثاني مصر من الهكسوس. ()
- (54) انتصر الملك تحتمس الثالث على العدو في معركة مجدو. ()

اكتب كلمة (صواب) أو كلمة (خطأ) أمام كل عبارة

سمير الغريب مذكرات تعليمية

- () (55) عقد الملك رمسيس الثاني أول معاهدة سلام مع ملك الحيثيين.
- () (56) شجعت الملكة إياح حتب ابنها على طرد الهكسوس.
- () (57) شهد عصر الدولة الوسطى نهضة اقتصادية في الزراعة والصناعة.
- () (58) أشرك الرومان المصريين من المشاركة في حكم بلدهم.
- () (59) أظهر الإسكندر الأكبر احترامه بالديانة المصرية.
- () (60) بطلميوس الأول هو آخر ملوك دولة البطالمة في مصر.
- () (61) انتصرت الملكة كليوباترا في معركة أكتيوم البحرية.
- () (62) أنشأ الرومان منارة الإسكندرية؛ لإرشاد السفن.
- () (63) سقطت دولة البطالمة بسبب ثورات الشعب المصري.
- () (64) زاد اضطهاد الرومان للمصريين بعد دخول المسيحية مصر.
- () (65) يتم استخراج الحديد من منطقة أم بجمة في سيناء.
- () (66) يُستخرج الحديد من الواحات البحرية في الصحراء الغربية.
- () (67) استخدم المصري القديم النار في التدفئة وطهي الطعام.
- () (68) مصادر الطاقة غير المتجددة مصادر صديقة للبيئة.
- () (69) الفحم من مصادر الطاقة صديقة البيئة.
- () (70) يدخل الفحم في صناعة البلاستيك.
- () (71) يتم توليد الطاقة الكهرومائية من مساقط المياه على نهر النيل.
- () (72) تقوم الزراعة في الواحات على المياه الجوفية.

سمير الغريب مذكرات تعليمية

- () (73) توجد بحيرة البردويل على شاطئ البحر الأحمر.
- () (74) تُستخرج الأسماك من المياه المالحة والمياه العذبة.
- () (75) بحيرة البردول من أكبر البحيرات العذبة في مصر.
- () (76) نهر النيل من موارد المياه المالحة في مصر.
- () (77) تعتمد الحياة في الواحات المصرية على مياه الأمطار.
- () (78) (مصر هبة النيل) من أقوال المؤرخ اليوناني (هيرودوت).
- () (79) تهدف الحكومة إلى الارتقاء بجودة حياة المواطن المصري.
- () (80) تم إنشاء مشروع قرية بنبان لإنتاج الكهرباء في محافظة أسوان.
- () (81) تقع العاصمة الإدارية شرق محافظة مدينة القاهرة.
- () (82) مشروع بركة غليون للاستزراع السمكي من أكبر المشاريع العالمية.
- () (83) شهد النقل والمواصلات طفرة كبيرة خاصة النقل المستدام.
- () (84) مبادرة حياة كريمة هدفها الارتقاء بمستوى الخدمات للمواطنين.
- () (85) العاصمة الإدارية هدفها تخفيف الضغط السكاني عن القاهرة.

السؤال الثاني: اختر الإجابة الصحيحة

سمير الغريب مذكرات تعليمية

- (1) الفرق بين كل خط طول وخط آخر هو مدة دقائق.
(أ) ثلاث (ب) أربع (ج) خمس (د) ست
- (2) تُساعد خطوط الطول في تحديد
(أ) درجة الحرارة (ب) الرياح (ج) كمية الأمطار (د) الوقت
- (3) دائرة العرض الرئيسية التي تقسم الأرض إلى نصفين شمالي وجنوبي هي
(أ) دائرة الاستواء (ب) مدار السرطان (ج) مدار الجدي (د) خط جرينتش
- (4) نستفيد من في معرفة الوقت وتحديد الأماكن.
(أ) دائرة الاستواء (ب) مدار السرطان (ج) مدار الجدي (د) خط جرينتش
- (5) يقسم خط (جرينتش) الأرض إلى نصفين
(أ) شمالي وجنوبي (ب) شمالي وشرقي (ج) شرقي وغربي (د) جنوبي وغربي
- (6) أكبر الوحدات التضاريسية في مصر هي
(أ) شبه جزيرة سيناء (ب) الصحراء الشرقية (ج) الصحراء الغربية (د) الدلتا
- (7) تشكل وادي النيل والدلتا والفيوم نتيجة
(أ) التعرية المائية (ب) التعرية الهوائية (ج) تآكل الشواطئ (د) الحرارة
- (8) تبدو دلتا النيل على شكل
(أ) دائرة (ب) مربع (ج) مستطيل (د) مثلث
- (9) يوجد وادي العريش في
(أ) شبه جزيرة سيناء (ب) الصحراء الشرقية (ج) الصحراء الغربية (د) الدلتا
- (10) يبدأ وادي النيل في مصر من حدود مصر
(أ) الشمالية (ب) الجنوبية (ج) الشرقية (د) الغربية

اختر الإجابة الصحيحة

سمير الغريب مذكرات تعليمية

- (11) تتعامد أشعة الشمس على دائرة الاستواء في
 (أ) الصيف (ب) الشتاء (ج) الربيع والخريف (د) الصيف والشتاء
- (12) معظم أراضي مصر تقع في الإقليم
 (أ) الصحراوي الحار (ب) البحر المتوسط (ج) المداري (د) الاستوائي
- (13) في فصل الربيع يسود مصر مناخًا
 (أ) حارًا (ب) باردًا (ج) معتدلاً (د) شديد البرودة
- (14) المدينة التي تشرق عليها الشمس أولاً مدينة
 (أ) رفح (ب) بورسعيد (ج) دمياط (د) الإسكندرية
- (15) تقع مصر دائرة الاستواء.
 (أ) شمال (ب) جنوب (ج) شرق (د) غرب
- (16) من النباتات الطبيعية التي تنمو في الصحاري المصرية
 (أ) البوص (ب) البردي (ج) الصبار (د) المانجروف
- (17) من الأودية الجافة في الصحراء الشرقية وادي
 (أ) العريش (ب) فيران (ج) الفيوم (د) قنا
- (18) عندما تتعامد الشمس على مدار السرطان يبدأ في مصر فصل
 (أ) الربيع (ب) الخريف (ج) الصيف (د) الشتاء
- (19) تنشط رياح الخماسين في مصر في فصل
 (أ) الصيف (ب) الخريف (ج) الشتاء (د) الربيع
- (20) في فصل الشتاء تتكون الثلوج على قمم جبال
 (أ) العوينات (ب) سانت كاترين (ج) شايب البنات (د) الحلال

اختر الإجابة الصحيحة

سمير الغريب مذكرات تعليمية

- (21) في مصر تنمو أشجار التين والزيتون في
- (أ) الصحراء الشرقية (ب) المناطق الساحلية (ج) الدلتا والفيوم (د) الصحراء الغربية
- (22) تحمي الدولة التنوع البيولوجي عن طريق
- (أ) قطع الغابات (ب) إزالة النباتات (ج) الرعي الجائر (د) المحمية الطبيعية
- (23) تتميز تربة وادي النيل والدلتا والفيوم بأنها تربة
- (أ) صخرية صلبة (ب) طينية خصبة (ج) رملية واسعة (د) جبلية واعرة
- (24) ينمو نبات البردي على
- (أ) مياه الأمطار (ب) قمم الجبال (ج) ضفاف النيل (د) سواحل البحار
- (25) من العوامل الطبيعية لقيام الحضارة المصرية
- (أ) الجيش المصري (ب) الحكومة (ج) نهر النيل (د) كفاح المصريين
- (26) مؤلف كتاب (شخصية مصر) هو الكاتب والمؤرخ
- (أ) نجيب محفوظ (ب) محمد نجيب (ج) جمال حمدان (د) أحمد شوقي
- (27) التمسك بالقيم والأخلاق من المظاهر للحضارة المصرية القديمة.
- (أ) السياسية (ب) الاجتماعية (ج) الدينية (د) الثقافية
- (28) من العوامل البشرية لقيام الحضارة المصرية
- (أ) الجيش المصري (ب) المناخ المعتدل (ج) نهر النيل (د) الحدود الطبيعية
- (29) من الصناعات التي برع فيها المصريون القدماء صناعة
- (أ) السيارات (ب) الطائرات (ج) القطن (د) الفخار
- (30) توجد القرية الفرعونية في محافظة
- (أ) القاهرة (ب) الإسكندرية (ج) الجيزة (د) أسوان

اختر الإجابة الصحيحة

سمير الغريب مذكرات تعليمية

(31) كان ملك مملكة الشمال يلبس التاج

(أ) الأبيض (ب) الأحمر (ج) الأصفر (د) الأسود

(32) استطاع الملك توحيد مملكة الشمال ومملكة الجنوب.

(أ) رمسيس (ب) حسن رجب (ج) تحتمس (د) نعرمر مينا

(33) في العصر الحجري القديم صنع المصري القديم أدواته من

(أ) المعادن (ب) الفخار (ج) الحجارة (د) النحاس

(34) كان شعار مملكة الجنوب

(أ) نبات البردي (ب) زهرة اللوتس (ج) نبات اليوص (د) نبات الحلفا

(35) أول معاهدة سلام في التاريخ وقعها الملك مع الحيثيين.

(أ) أحمس (ب) نعرمر مينا (ج) تحتمس الثالث (د) رمسيس الثاني

(36) احتل الهكسوس مصر واتخذوا من عاصمة لهم.

(أ) طيبة (ب) من نفر (ج) القاهرة (د) أواريس

(37) انتصر الملك على الهكسوس وطردهم خارج مصر.

(أ) أحمس (ب) نعرمر مينا (ج) تحتمس الثالث (د) رمسيس الثاني

(38) أشهر معارك الملك تحتمس الثالث هي معركة

(أ) مجدو (ب) قادش (ج) سيناء (د) أكتوبر

(39) تم بناء سد اللاهون عن مدخل بحيرة

(أ) ناصر (ب) المنزلة (ج) البرلس (د) موريس

(40) تلقى الإسكندر الأكبر تعليمه على يد الفيلسوف

(أ) سقراط (ب) أرسطو (ج) أفلاطون (د) سارتر

اختر الإجابة الصحيحة

سمير الغريب مذكرات تعليمية

- (41) خطط الإسكندر الأكبر لبناء مدينة على شاطئ البحر المتوسط.
 (أ) القاهرة (ب) دمياط (ج) بابل (د) الإسكندرية
- (42) آخر ملوك البطالمة في مصر
 (أ) الإسكندر الأكبر (ب) بطليموس الأول (ج) نعرمر مينا (د) كليوباترا السابعة
- (43) من الآثار المصرية في فترة حكم الرومان معبد
 (أ) رأس السوداء (ب) إدفو (ج) دندرة (د) فيلة
- (44) أصبحت مصر ولاية رومانية بعد هزيمة كليوباترا في معركة
 (أ) أكتيوم البحرية (ب) مجدو (ج) أكتوبر (د) قادش
- (45) يُستخدم معدن في صناعة الحلي وعلاج بعض الأمراض.
 (أ) الحديد (ب) النحاس (ج) الذهب (د) البرونز
- (46) يتم استخراج الحديد من
 (أ) أم بجمة (ب) الواحات البحرية (ج) منجم السكري (د) أبو طرطور
- (47) يُستخدم المنجنيز في صناعة
 (أ) الأسمدة (ب) الحلي (ج) البويات (د) المبيدات الحشرية
- (48) معدن يُستخدم في صناعة أسلاك الكهرباء والسبائك
 (أ) الذهب (ب) الحديد (ج) الفوسفات (د) النحاس
- (49) يتم استخراج الفحم من منطقة
 (أ) جبل المغارة (ب) منجم السكري (ج) أم بجمة (د) الواحات البحرية
- (50) تقوم الزراعة في الواحات على مياه
 (أ) نهر النيل (ب) الأمطار (ج) البحار (د) المياه الجوفية

اختر الإجابة الصحيحة

سمير الغريب مذكرات تعليمية

- (51) تسقط الأمطار الشتوية في مصر على الساحل
 (أ) الشمالي (ب) الجنوبي (ج) الشرقي (د) الغربي
- (52) يقوم سكان واحة سيوة بالزراعة على مياه
 (أ) نهر النيل (ب) الأمطار (ج) البحار (د) المياه الجوفية
- (53) يصب فرع رشيد وفرع دمياط في البحر
 (أ) الأحمر (ب) المتوسط (ج) الميت (د) الأسود
- (54) تعتمد الزراعة في الساحل الشمالي على مياه
 (أ) نهر النيل (ب) الأمطار (ج) البحار (د) المياه الجوفية
- (55) يوجد مشروع بركة غليون في محافظة
 (أ) القاهرة (ب) كفر الشيخ (ج) أسوان (د) الإسكندرية
- (56) يقع مشروع الدلتا الجديدة في الدلتا.
 (أ) شمال (ب) جنوب (ج) شرق (د) غرب
- (57) تم إنشاء محطة جبل الزيت لتوليد الكهرباء من
 (أ) الرياح (ب) الفحم (ج) مساقط المياه (د) الشمس
- (58) توجد محطة بنبان لتوليد الكهرباء في محافظة
 (أ) القاهرة (ب) كفر الشيخ (ج) أسوان (د) الإسكندرية
- (59) تم إنشاء محطة بنبان لتوليد الكهرباء من
 (أ) الرياح (ب) الفحم (ج) مساقط المياه (د) الشمس

السؤال الثالث: أجب عما يأتي

سمير الغريب مذكرات تعليمية

(1) حدد أوجه الشبه والاختلاف بين خطوط الطول ودوائر العرض

• الشبه
• الاختلاف

(2) بم تفسر: أهمية خطوط الطول؟

(3) اكتب دليلا على أهمية دوائر العرض.

(4) ماذا تتوقع في حالة عدم وجود خطوط طول ودوائر عرض؟

(5) اذكر سببا واحدا: معظم مناطق الصحراء الغربية مأهولة بالسكان.

(6) اكتب دليلا على أهمية الصحراء الشرقية.

(7) فسر أسباب تركيز السكان في منخفض سيوة، وندرتهم في منخفض القطارة.

(8) اكتب سبباً واحداً: أراضي منخفض الفيوم خصبة صالحة للزراعة.

(9) ما العلاقة بين السياحة ومظاهر السطح في مصر؟

(10) دلل على : تنوع مظاهر السطح في الصحراء الغربية.

(11) وضح أهمية الأودية الجافة.

(12) اذكر سببا واحدا لاعتدال درجة الحرارة في المناطق القريبة من البحر.

أجب عما يأتي

سمير الغريب مذكرات تعليمية

(13) ماذا تتوقع إذا وقعت مصر بالكامل في إقليم البحر المتوسط؟

(14) اكتب نتيجة واحدة تترتب على دوران الأرض حول الشمس.

(15) اكتب نتيجة واحدة تترتب على تعامد الشمس على مدار السرطان بالنسبة لمصر.

(16) اكتب نتيجة واحدة تترتب على هبوب رياح الخماسين.

(17) اكتب سبباً واحداً: النباتات الصحراوية لها جذور طويلة.

(18) اكتب نتيجة واحدة تترتب على قلة الأمطار وارتفاع درجة الحرارة في الصحراء.

(19) بم تفسر: تمتلك مصر ثروة نباتية وحيوانية متنوعة؟

(20) اكتب سبباً واحداً: تقوم الدولة بإنشاء المحميات الطبيعية.

(21) اكتب نتيجة واحدة: الرعي الجائر للحيوانات.

(22) دلل على صحة العبارة: (النباتات الطبيعية لها استخدامات كثيرة).

(23) ما الفرق بين: خطوط الطول ودوائر العرض؟

أجب عما يأتي

سمير الغريب مذكرات تعليمية

(24) ما النتيجة المترتبة على: دوران الأرض حول الشمس مرة كل عام؟

(25) ماذا يحدث إذا: تعامدت الشمس على مدار الجدي طول العام؟

(26) ما العلاقة بين نهر النيل وقيام الحضارة المصرية القديمة؟

(27) بم تفسر: أهمية الجيش في مصر قديمًا؟

(28) ما نتيجة الترابط الأسري والاستقرار السياسي عند المصريين القدماء؟

(29) دلل على صحة العبارة التالية: تعدد الصناعات عند المصريين القدماء.

(30) ما العلاقة بين مناخ مصر وبقاء الآثار المصرية القديمة؟

(31) ما دور الحكومة المركزية في مصر قديمًا؟

(32) اذكر سببا واحدا لانتقال المصري القديم من مكان لآخر فوق الهضاب.

(33) ما نتيجة توحيد مصر على يد الملك نعرمر مينا؟

(34) وح أهمية نهر النيل بالنسبة لقيام الحضارة المصرية القديمة.

(35) اكتب نتيجة واحدة تترتب على: حدوث الجفاف فوق الهضاب.

أجب عما يأتي

سمير الغريب مذكرات تعليمية

(36) قارن بين مسكن المصري القديم في العصرين الحجري القديم والحديث.

(37) اكتب دور إياح حتب في طرد الهكسوس من مصر.

(38) اكتب نتيجة ترتبت على: الصراعات بين الحكام في نهاية الدولة الوسطى.

(39) بم تفسر: يُسمى عصر الدولة القديمة باسم (عصر بناء الأهرامات)؟

(40) اذكر السبب: يُسمى عصر الدولة الحديثة باسم (عصر المجد الحربي)؟

(41) اكتب نتيجة واحدة: ضعف الحكومة في نهاية عصر الدولة القديمة.

(42) دلل على دور المرأة في انتصار مصر على الهكسوس.

(43) اذكر السبب: بناء أمنمحات الثالث سد اللاهون عند مدخل بحيرة مورييس.

(44) اكتب دليلا على احترام البطالمة للديانة المصرية القديمة.

(45) اكتب سببا ازدهرت التجارة في مصر في عهد البطالمة.

(46) بم تفسر سقوط دولة البطالمة في مصر؟

أجب عما يأتي

سمير الغريب مذكرات تعليمية

(47) اكتب السبب: سعى الإسكندر الأكبر للسيطرة على مصر.

(48) ما الدليل على اهتمام البطالمة بالعلم والثقافة؟

(49) اذكر سببا لسقوط دولة الرومان في مصر.

(50) ما نتيجة هزيمة كليوباترا السابعة في معركة أكتيوم البحرية عام 31 ق.م؟

(51) بم تفسر: بناء البطالمة لمنارة الإسكندرية؟

(52) اكتب سبباً: ترحيب المصريين بالفتح الإسلامي لمصر.

(53) ما الأهمية الاقتصادية لمعدن الحديد؟

(54) بم تفسر: أهمية الغاز الطبيعي؟

(55) اكتب دليلاً على جهود الدولة لتنمية الطاقة المتجددة.

(56) اذكر اثنين من أهمية الطاقة حديثاً.

(57) بم تفسر: للمياه المالحة أهمية كبيرة؟

(58) اذكر اسم بحيرتين على شاطئ البحر المتوسط.

أجب عما يأتي

سمير الغريب مذكرات تعليمية

(59) ما النتائج المترتبة على: تعرض المياه في مصر للتلوث؟

(60) اذكر السبب: للمياه العذبة أهمية كبيرة.

(61) بم تفسر: تتعرض المياه في مصر للتلوث؟

(62) بم تفسر: اهتمت الحكومة المصرية بالمشروعات القومية؟

(63) اذكر اثنين من أهداف خطة التنمية الشاملة والمستدامة بحلول 2030

(64) دلل على: محطة جبل الزيت من أكبر المحطات في توليد الكهرباء من الرياح؟

(65) بم تفسر: إنشاء مشروع الدلتا الجديدة؟

(66) ما أهداف مشروعات النقل والمواصلات؟

(67) أهمية مشروع قناة السويس الجديدة.

(68) بم تفسر: إنشاء قرية بنبان في محافظة أسوان؟

(69) اذكر السبب: إنشاء العاصمة الإدارية شرق القاهرة.

(70) بم تفسر: إنشاء قناة السويس الجديدة؟

السؤال الرابع: أكمل العبارات التالية بما يناسبها من كلمات سمير الغريب مذكرات تعليمية

- (1) تشرق الشمس على المناطق الشرقية قبل المناطق
- (2) تُقسم الأرض إلى نصفين شمالي وجنوبي.
- (3) خط الطول الرئيسي (خط جرينتش) درجته
- (4) من أشهر هضاب الصحراء الغربية في الجنوب هضبة
- (5) الأراضي الخصبة التي كوَّنها النيل نتيجة ترسيب الطمي عند المصب هي
- (6) الدلتا أرض خصبها كونها النيل نتيجة ترسيب الطمي عند
- (7) يوجد جبال الحلال في شمال
- (8) نصف الأراضي الزراعية توجد في
- (9) دائرة العرض التي تمر جنوب مصر هي دائرة مدار
- (10) تتساقط الثلوج على جبال سانت كاترين في فصل
- (11) تقوم الزراعة في مصر في المناطق الشمالية على مياه
- (12) من الحيوانات البرية التي تعيش في الصحراء المصرية
- (13) تنمو أشجار النخيل والصابار في
- (14) من النباتات الشجرية التي تنمو في المناطق الساحلية
- (15) من العوامل الطبيعية لقيام الحضارة المصرية القديمة
- (16) من العوامل البشرية لقيام الحضارة المصرية القديمة
- (17) من الصناعات القديمة التي عرفها المصري القديم
- (18) نزل المصري القديم إلى وادي النيل بسبب

أكمل العبارات التالية بما يناسبها من كلمات سمير الغريب مذكرات تعليمية

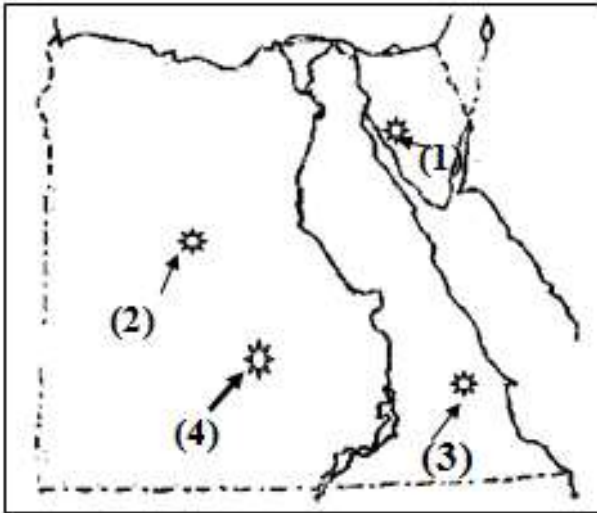
- (19) كان لون تاج مملكة الشمال هو اللون
- (20) كانت عاصمة مملكة الجنوب هي مدينة
- (21) انتصر أحمس على الهكسوس بتشجيع من والدته الملكة
- (22) الملك هو صاحب أول هرم مدرج في التاريخ.
- (23) معركة من أكبر معارك رمسيس الثاني ضد الحيثيين.
- (24) أنشأ البطالمة منارة الإسكندرية؛ لإرشاد
- (25) آخر ملوك البطالمة في مصر هي
- (26) دخلت المسيحية مصر في منتصف القرن الميلادي.
- (27) يتم استخراج معدن الذهب من منجم
- (28) من مشتقات البترول و
- (29) محطة السد العالي إحدى محطات الطاقة
- (30) من البحيرات العذبة في مصر بحيرة
- (31) المصدر الأساسي للمياه العذبة في مصر هو
- (32) محطة في مصر من أكبر محطات تحلية المياه في العالم.
- (33) يقع مشروع الاستزراع السمكي بركة غليون في محافظة
- (34) تعمل الدولة جاهدة على تطوير العشوائيات مثل تطوير منطقة
- (35) يتم توليد الكهرباء في محطة جبل الزيت من

سمير الغريب مذكرات تعليمية

السؤال الخامس: اكتب ما تشير إليه العبارة

- (1) يُقصد بها خطوط الطول ودوائر العرض. (.....)
- (2) أنصاف دوائر رأسية تصل بين القطبين الشمالي والجنوبي. (.....)
- (3) هو الموقع بالنسبة لخطوط الطول ودوائر العرض. (.....)
- (4) يُقصد بها خطوط الطول ودوائر العرض. (.....)
- (5) أكبر الوحدات التضاريسية في مصر من حيث المساحة. (.....)
- (6) مساحة من الأرض لها نفس الخصائص المناخية. (.....)
- (7) دوران الأرض حول الشمس مرة كل 365 يوماً وربع. (.....)
- (8) رياح تتشط في فصل الربيع تضر الإنسان والمحاصيل. (.....)
- (9) نبات مائي ينمو على ضفاف النيل أستخدم في صناعة الورق. (.....)
- (10) الحيوان الذي يعيش في بيئة طبيعية دون رعاية من الإنسان. (.....)
- (11) تفاعل الكائنات الحية مع البيئة بطريق تحافظ على استمرارها. (.....)
- (12) كل ما أنتجه الإنسان، سواء كان مادياً، أو ثقافياً. (.....)
- (13) كتاب قام بتأليفه وكتابته المؤرخ المصري جمال حمدان. (.....)
- (14) وقع أقدم معاهدة سلام مع الحيثيين. (.....)
- (15) انتصر على الأعداء في معركة مجدو. (.....)
- (16) طارد الهكسوس بتشجيع من والدته إياح حتب. (.....)
- (17) خطط لبناء مدينة الإسكندرية. (.....)
- (18) دخلت المسيحية مصر على يديه في القرن الأول. (.....)
- (19) مؤسس دولة البطالمة وأول ملوكها. (.....)
- (20) استخراج المعادن ومصادر الطاقة من باطن الأرض. (.....)
- (21) استثمار الموارد لتلبية احتياجات السكان دون ضرر الجيل القادم. (.....)
- (22) مدن تعتمد على التكنولوجيا الحديثة ومصادر الطاقة المتجددة. (.....)

السؤال السادس: (أ) انظر إلى الخريطة وكتب ما يشير إليه كل رقم



• يشير رقم (1) منطقة استخراج المنجنيز

..... في سيناء هي

• يشير رقم (2) إلى منطقة في الصحراء

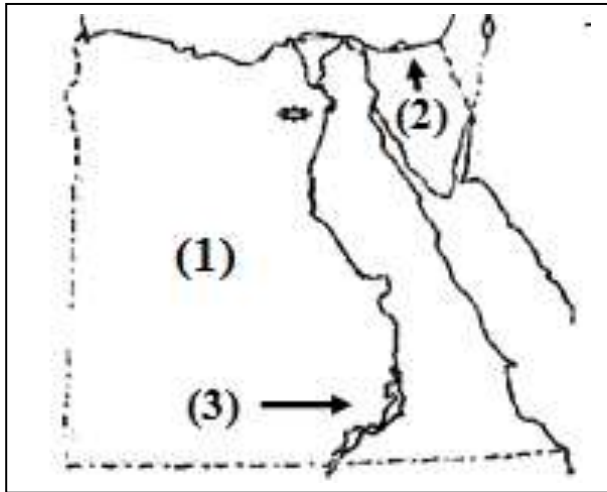
..... الغربية لاستخراج الحديد

• يشير رقم (3) إلى منطقة استخراج الذهب

..... في الصحراء الشرقية

• يشير رقم (4) إلى منطقة استخراج الفوسفات في الصحراء الغربية

(ب) انظر إلى الخريطة وكتب ما يشير إليه كل رقم



(1) يشير رقم (1) إلى الصحراء

..... الصحراء

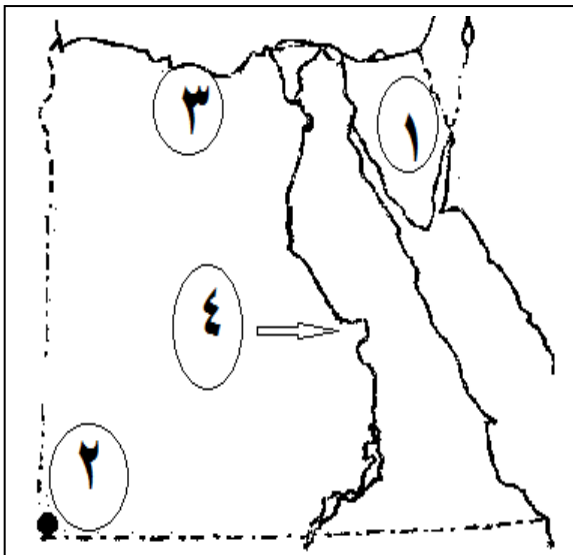
(2) يشير رقم (2) إلى بحيرة شمال سيناء.

..... بحيرة

(3) يشير رقم (3) بحيرة عذبة هي بحيرة.

..... بحيرة

(ج) لاحظ الخريطة المقابلة ، ثم أجب



(1) شبه جزيرة

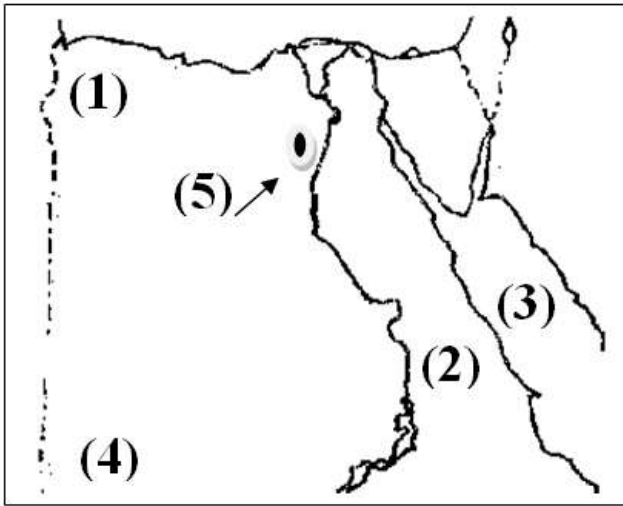
(2) جبل

(3) إقليم مناخي

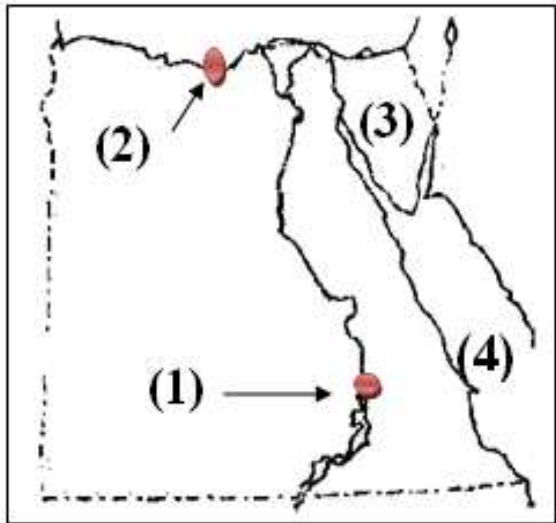
(4) نهر

سمير الغريب مذكرات تعليمية

السؤال السابع (أ) اكتب مدلول كل رقم على الخريطة



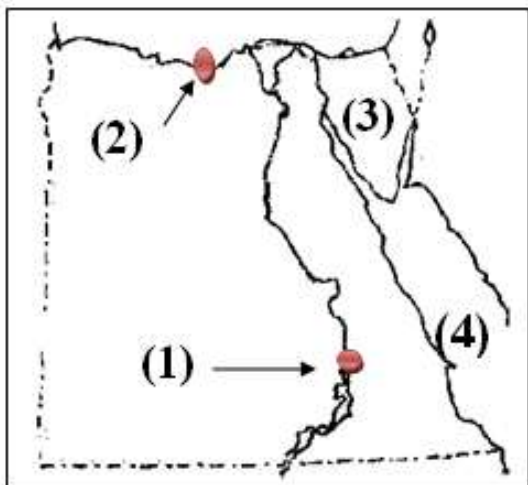
- رقم (1) هضبة
- رقم (2) الصحراء
- رقم (3) البحر
- رقم (4) جبل
- رقم (5) منخفض



(ب) اكتب مدلول كل رقم على الخريطة

- (1) المدينة رقم (1) تقع في الإقليم
- (2) المدينة رقم (2) تقع في إقليم
- (3) رقم (3) تشير إلى شبه جزيرة
- (4) يشير رقم (4) إلى البحر

(ج) اكتب مدلول كل رقم على الخريطة

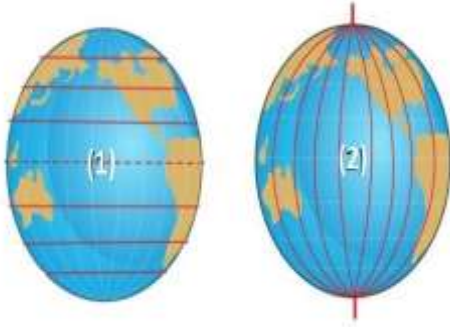


- (1) بحيرة
- (2) مدينة
- (3) رقم (3) تشير إلى شبه جزيرة
- (4) يشير رقم (4) إلى البحر

سمير الغريب مذكرات تعليمية

السؤال الثامن: (أ) اختر الإجابة الصحيحة

سمير الغريب مذكرات تعليمية



- (1) يمثل رقم (1) على الشكل
 (خط جرينتش - دائرة الاستواء - مدار السرطان)
- (2) يمثل رقم (2) على الشكل
 (خط جرينتش - دائرة الاستواء - مدار السرطان)

(ب) صوب ما تحته خط

- (1) الموقع الجغرافي الموقع بالنسبة لخطوط الطول ودوائر العرض. (.....)
- (2) يمر مدار السرطان شمال مصر. (.....)
- (3) تتميز أراضي جنوب سيناء باستواء السطح. (.....)

(ج) استبعد الكلمة المختلفة

- (1) الإبل - الزواحف - أبو قردان - الغزلان. (.....)
- (2) الصبار - التين الشوكي - النخيل - البوص. (.....)

(د) أكمل الجدول الآتي بالكلمة المناسبة

(نبات البردي - بوتو - نخب - زهرة اللوتس - أحمر - أبيض)

مملكة الجنوب	مملكة الشمال	المقارنة
.....	العاصمة
.....	الشعار (العلم)
.....	لون التاج

(هـ) معركة مجدو ومعركة قادش

معركة قادش	معركة مجدو	المقارنة
.....	قائد الجيش المصري
.....	نتيجة المعركة

سمير الغريب مذكرات تعليمية

السؤال التاسع: (أ) حدد الكلمة المختلفة

- (1) الفحم - البترول - الرياح - الغاز الطبيعي . (.....)
- (2) الشمس - الفحم - الرياح - الطاقة الكهربائية . (.....)

(ب) استبعد المختلف مع ذكر السبب

- (1) بحيرة المنزلة - بحيرة البرلس - بحيرة ناصر - بحيرة البردويل.

• السبب

(ج) صوب ما تحته خط

- (1) يصب فرعا دمياط ورشيد في البحر الأحمر. (.....)
- (2) بحيرة ناصر من البحيرات المالحة. (.....)
- (3) الأنهار من موارد المياه المالحة. (.....)

(د) ما المقصود ب...؟

(1) خطوط الطول:

(2) الموقع الفلكي:

(3) الأودية الجافة:

(4) دلتا النيل:

(5) الطقس:

(6) المناخ:

(7) الحيوانات البرية:

(8) النبات الطبيعي:


الدراسات الاجتماعية

الصف الخامس

مراجعة الفصل الدراسي الأول

سمي الغريب مذكرات تعليمية

الإجابة



السؤال الأول: اكتب كلمة (صواب) أو كلمة (خطأ) أمام كل عبارة

✓ (5)	✓ (4)	✓ (3)	✗ (2)	✗ (1)
✗ (10)	✗ (9)	✗ (8)	✓ (7)	✗ (6)
✓ (15)	✗ (14)	✗ (13)	✓ (12)	✓ (11)
✓ (20)	✗ (19)	✗ (18)	✗ (17)	✓ (16)
✗ (25)	✓ (24)	✓ (23)	✗ (22)	✓ (21)
✓ (30)	✓ (29)	✗ (28)	✓ (27)	✓ (26)
✗ (36) ✓ (35)	✗ (34)	✓ (33)	✓ (32)	✗ (31)
✗ (41)	✓ (40)	✓ (39)	✗ (38)	✓ (37)
✗ (46)	✓ (45)	✓ (44)	✓ (43)	✓ (42)
✗ (51)	✗ (50)	✗ (49)	✓ (48)	✗ (47)
✓ (56)	✓ (55)	✓ (54)	✗ (53)	✓ (52)
✗ (61)	✗ (60)	✓ (59)	✗ (58)	✓ (57)
✓ (66)	✗ (65)	✓ (64)	✓ (63)	✗ (62)
✓ (71)	✗ (70)	✗ (69)	✗ (68)	✓ (67)
✗ (76)	✗ (75)	✓ (74)	✗ (73)	✓ (72)
✓ (81)	✓ (80)	✓ (79)	✓ (78)	✗ (77)
	✓ (85)	✓ (84)	✓ (83)	✓ (82)

السؤال الثاني: اختر الإجابة الصحيحة

- (1) ب (2) د (3) أ (4) د (5) ج
- (6) ج (7) أ (8) د (9) أ (10) ب
- (11) ج (12) أ (13) ج (14) أ (15) أ
- (16) ج (17) د (18) ج (19) د (20) ب
- (21) ب (22) د (23) ب (24) ج (25) ج
- (26) ج (27) ج (28) أ (29) د (30) ج
- (31) ب (32) د (33) ج (34) ب (35) د
- (36) د (37) أ (38) أ (39) د (40) ب
- (41) د (42) د (43) أ (44) أ (45) ج
- (46) ب (47) ج (48) د (49) أ (50) د
- (51) أ (52) د (53) ب (54) ب (55) ب
- (56) د (57) أ (58) ج (59) د

السؤال الثالث: أجب عما يأتي

- (1) الشبه: تحديد المكان.
- الاختلاف، خطوط الطول: تحدد الوقت، ودوائر العرض: دراسة المناخ.
- (2) تحديد المواقع وفروق التوقيت.
- (3) تحديد المواقع ودراسة المناخ.
- (4) عدم معرفة الأماكن أو فروق التوقيت أو المناخ.
- (5) لوجود المنخفضات والماء العذب والزراعة.
- (6) غنية بالمعادن مثل: الذهب ويوجد بها حقول البترول والغاز الطبيعي.
- (7) وجود المياه العذب في سيوة، وندرة المياه العذبة في منخفض القطارة.
- (8) تصل إليه مياه النيل والظمي عن طريق ترعة بحر يوسف.
- (9) تنوع مظاهر السطح يجذب السياح.
- (10) وجود الجبال مثل: جبل العوينات، والهضاب مثل: الجلف الكبير.
- (11) تستخدم في تخزين المياه عند حدوث السيول.
- (12) بسبب الهواء البارد الذي يأتي من المسطحات المائية.
- (13) يكون المناخ حار وجاف صيفاً، ودافئ ممطر شتاءً.
- (14) تعاقب فصول السنة الأربعة بانتظام.
- (15) ترتفع درجة الحرارة خاصة على المناطق الداخلية وجنوب مصر.
- (16) تصيب الإنسان ببعض أمراض الجهاز التنفسي، وتضر المحاصيل

- (17) لتصل إلى المياه الجوفية.
- (18) قلة النباتات وقدرتها على التكيف مع الظروف المناخية الصعبة.
- (19) بسبب تنوع المناخ والبيئات وموارد المياه بها.
- (20) لحماية النباتات والحيوانات من الانقراض.
- (21) تدهور النباتات.
- (22) توفر الغذاء وتدخل في صناعة الأدوية، وتنشط السياحة.
- (23) خطوط الطول: أنصاف دوائر رئيسية، ودوائر العرض: دوائر أفقية.
- (24) تعاقب فصول السنة الأربعة بانتظام.
- (25) يسود المناخ البارد في مصر، وتسقط الأمطار.
- (26) ساعد نهر النيل على قيام الحضارة المصرية.
- (27) ساعد على حماية البلاد واستقرارها ووحدة أراضيها.
- (28) ساعد على الاستقرار السياسي لمصر.
- (29) اهتم المصري القديم بصناعة الفخار والنسيج والحلي.
- (30) ساعد المناخ الجاف على بقاء آثار المصريين القدماء خالدة حتى الآن.
- (31) إدارة شئون البلاد ورعاية مصالح المواطنين، ومتابعة المشروعات.
- (32) لصيد الحيوانات وجمع الثمار.
- (33) بدأت مصر مرحلة عظيمة من تاريخها القديم.
- (34) ساعد على قيام الزراعة والاستقرار.

- (35) نزل المصري القديم إلى ضفاف نهر النيل وتعلم الزراعة والاستقرار.
- (36) في العصر الحجري القديم: الكهوف، في العصر الحجري الحديث: الطوب اللبن.
- (37) شجعت الملكة إياح حتب ابنها أحمس على مواجهة الهكسوس.
- (38) انتشرت الفوضى في البلاد، وتعرضت مصر لغزو الهكسوس.
- (39) لكثرة ما تم تشييده (بناؤه) من أهرامات.
- (40) بسبب كثرة انتصارات الجيش المصري.
- (41) تعرضت البلاد لهجمات من الخارج.
- (42) شجعت الملكة إياح حتب ابنها أحمس على مواجهة الهكسوس.
- (43) لحماية الأراضي الزراعية من خطر الفيضان وتخزين المياه.
- (44) زار الإسكندر الأكبر معبد الإله آمون في واحة سيوة.
- (45) بسبب بناء منارة الإسكندرية.
- (46) بسبب زيادة الضرائب، ضعف الحكام، ثورات المصريين.
- (47) لتأمين (توفير) الغذاء لجيشه وبناء إمبراطوريته.
- (48) بناء مكتبة وجامعة الإسكندرية.
- (49) فرض الضرائب على المصريين، وحرمان المصريين من المشاركة في حكم بلدهم
- (50) أصبحت مصر ولاية (دولة) رومانية.
- (51) لإرشاد السفن ليلا.
- (52) ليخلصهم من ظلم الرومان.

- (53) أساس الصناعات الحديثة، ويستخدمه في صناعة الآلات.
- (54) يُستخدم في المنازل وتوليد الكهرباء ووقود لبعض وسائل النقل والمواصلات.
- (55) التشجيع على الاستثمار في مجال الطاقة المتجددة، وتوعية المواطنين.
- (56) توليد الكهرباء إدارة المصانع ووسائل المواصلات.
- (57) صيد الأسماك واستخراج ملح الطعام.
- (58) المنزلة والبردويل.
- (59) يُعرض الإنسان والحيوانات للأمراض، ويؤثر سلبًا على الثروة السمكية.
- (60) الزراعة والصناعة وصيد الأسماك.
- (61) بسبب إلقاء مخلفات المصانع والسفن والصرف الزراعي.
- (62) من أجل مستقبل أفضل لأبناء الشعب المصري.
- (63) الارتقاء بجودة حياة المواطن المصريين وتحقيق العدالة الاجتماعية.
- (64) تنتج نصف إنتاج الكهرباء المولدة من الرياح في مصر.
- (65) تحقيق الأمن الغذائي، وتوفير فرص عمل للشباب وتقليل الاستراد.
- (66) تقليل استخدام السيارات، وتقليل الازدحام المروري.
- (67) لتسيير السفن في الاتجاهين، مما يقلل من زمن عبور السفن.
- (68) لسطوع الشمس بها معظم العام.
- (69) تخفيف الضغط السكاني عن القاهرة، وجذب الاستثمارات.
- (70) لتسيير السفن في الاتجاهين، مما يقلل من زمن عبور السفن.

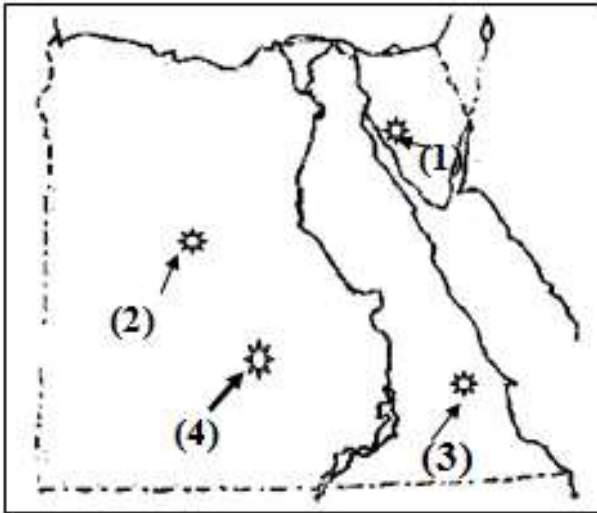
السؤال الرابع: أكمل العبارات التالية بما يناسبها من كلمات

- | | | |
|-------------------------|---------------------|----------------|
| (1) الغربية | (2) دائرة الاستواء | (3) صفر |
| (4) الجلف الكبير | (5) الدلتا | (6) المصب |
| (7) سيناء | (8) الدلتا | (9) السرطان |
| (10) الشتاء | (11) الأمطار | (12) الإبل |
| (13) الصحراء | (14) التين والزيتون | (15) نهر النيل |
| (16) الجيش | (17) الفخار والنسيج | (18) الجفاف |
| (19) الأحمر | (20) نخب | (21) إياح حتب |
| (22) زوسر | (23) قادش | (24) السفن |
| (25) كليوباترا السابعة | (26) الأول | (27) السكري |
| (28) البنزين والبلاستيك | (29) الكهرومائية | (30) ناصر |
| (31) نهر النيل | (32) السويس | (33) كفر الشيخ |
| (34) السيدة زينب | (35) الرياح | |

السؤال الخامس: اكتب ما تشير إليه العبارة

- | | | |
|--------------------------|----------------------|------------------------|
| (1) شبكة الإحداثيات | (2) خطوط الطول | (3) الموقع الفلكي |
| (4) شبكة الإحداثيات | (5) الصحراء الغربية | (6) الإقليم المناخي |
| (7) الدورة السنوية للشمس | (8) رياح الخماسين | (9) نبات البردي |
| (10) الحيوان البري | (11) النظام البيئي | (12) الحضارة |
| (13) شخصية مصر | (14) رمسيس الثاني | (15) تحتمس الثالث |
| (16) أحمس | (17) الإسكندر الأكبر | (18) القديس مرقس |
| (19) بطليموس الأول | (20) لتعدين | (21) التنمية المستدامة |
| (22) المدن الكية | | |

السؤال السادس: (أ) انظر إلى الخريطة واكتب ما يشير إليه كل رقم



• يشير رقم (1) منطقة استخراج المنجنيز

..... في سيناء هي

• يشير رقم (2) إلى منطقة في الصحراء

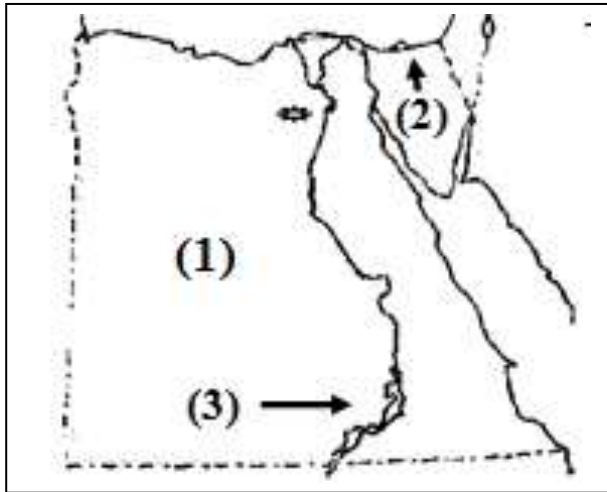
..... الغربية لاستخراج الحديد

• يشير رقم (3) إلى منطقة استخراج الذهب

..... في الصحراء الشرقية

• يشير رقم (4) إلى منطقة استخراج الفوسفات في الصحراء الغربية

(ب) انظر إلى الخريطة واكتب ما يشير إليه كل رقم



(1) يشير رقم (1) إلى الصحراء

..... الصحراء

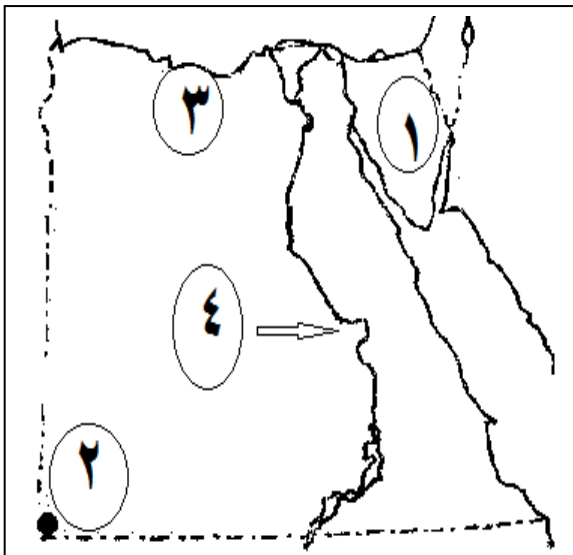
(2) يشير رقم (2) إلى بحيرة شمال سيناء.

..... بحيرة

(3) يشير رقم (3) بحيرة عذبة هي بحيرة.

..... بحيرة

(ج) لاحظ الخريطة المقابلة ، ثم أجب



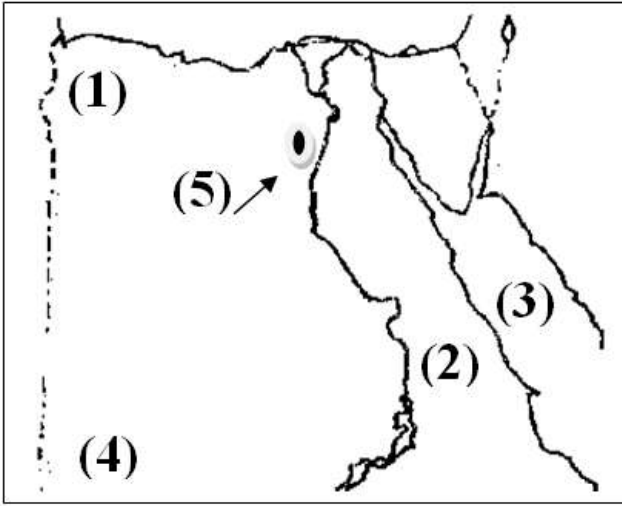
(1) شبه جزيرة

(2) جبل

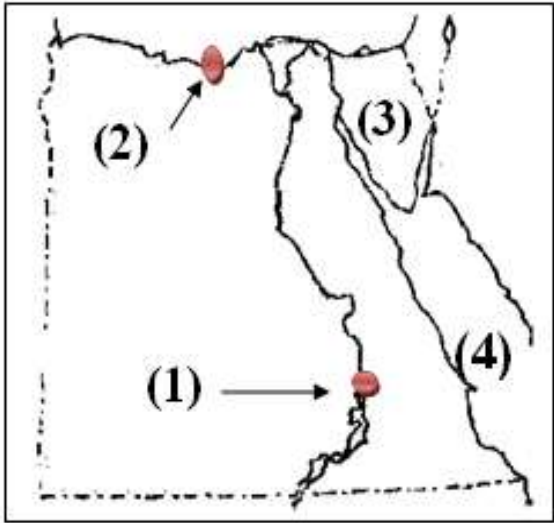
(3) إقليم مناخي

(4) نهر

السؤال السابع (أ) اكتب مدلول كل رقم على الخريطة



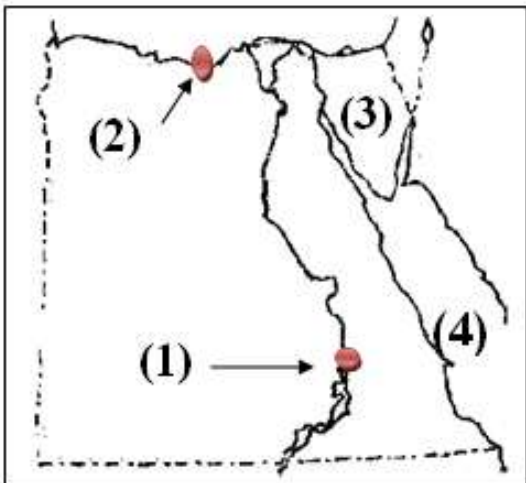
- رقم (1) هضبة
- رقم (2) الصحراء
- رقم (3) البحر
- رقم (4) جبل
- رقم (5) منخفض



(ب) اكتب مدلول كل رقم على الخريطة

- (1) المدينة رقم (1) تقع في الإقليم
- (2) المدينة رقم (2) تقع في إقليم
- (3) رقم (3) تشير إلى شبه جزيرة
- (4) يشير رقم (4) إلى البحر

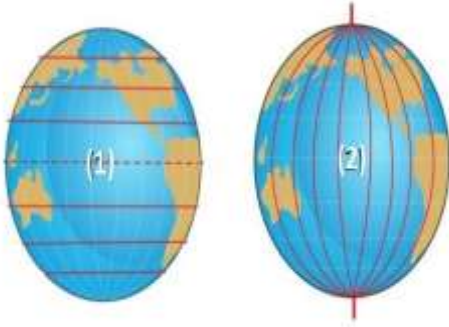
(ج) اكتب مدلول كل رقم على الخريطة



- (1) بحيرة
- (2) مدينة
- (3) رقم (3) تشير إلى شبه جزيرة
- (4) يشير رقم (4) إلى البحر

السؤال الثامن: (أ) اختر الإجابة الصحيحة

- (1) يمثل رقم (1) على الشكل
 (خط جرينتش - دائرة الاستواء - مدار السرطان)
- (2) يمثل رقم (2) على الشكل
 (خط جرينتش - دائرة الاستواء - مدار السرطان)

**(ب) صوب ما تحته خط**

- (1) الموقع الجغرافي الموقع بالنسبة لخطوط الطول ودوائر العرض. (.....)
- (2) يمر مدار السرطان شمال مصر. (.....)
- (3) تتميز أراضي جنوب سيناء باستواء السطح. (.....)

(ج) استبعد الكلمة المختلفة

- (1) الإبل - الزواحف - أبو قردان - الغزلان. (.....)
- (2) الصبار - التين الشوكي - النخيل - البوص. (.....)

(د) أكمل الجدول الآتي بالكلمة المناسبة

(نبات البردي - بوتو - نخب - زهرة اللوتس - أحمر - أبيض)

مملكة الجنوب	مملكة الشمال	المقارنة
.....	العاصمة
.....	الشعار (العلم)
.....	لون التاج

(هـ) معركة مجدو ومعركة قادش

معركة قادش	معركة مجدو	المقارنة
.....	قائد الجيش المصري
.....	نتيجة المعركة

السؤال التاسع: (أ) حدد الكلمة المختلفة

- (1) الفحم - البترول - الرياح - الغاز الطبيعي . (.....)
- (2) الشمس - الفحم - الرياح - الطاقة الكهربائية . (.....)

(ب) استبعد المختلف مع ذكر السبب

- (1) بحيرة المنزلة - بحيرة البرلس - بحيرة ناصر - بحيرة البردويل.

• السبب

(ج) صوب ما تحته خط

- (1) يصب فرعا دمياط ورشيد في البحر الأحمر. (.....)
- (2) بحيرة ناصر من البحيرات المالحة. (.....)
- (3) الأنهار من موارد المياه المالحة. (.....)

(د) ما المقصود ب...؟

(1) خطوط الطول:

(2) الموقع الفلكي:

(3) الأودية الجافة:

(4) دلتا النيل:

(5) الطقس:

(6) المناخ:

(7) الحيوانات البرية:

(8) النبات الطبيعي:

السؤال السادس:

- (أ) (1) أم بجمة (2) الواحات البحرية (3) منجم السكري (4) أبو طرطور
 (ب) (1) الغربية (3) البردويل (3) ناصر
 (ج) (1) سيناء (2) العوينات (3) البحر المتوسط (4) النيل

السؤال السابع:

- (1) مارماريكا (2) الشرقية (3) الأحمر (4) العوينات (5) الفيوم
 (ب) اكتب مدلول كل رقم على الخريطة
 (1) الصحراوي الحار (2) البحر المتوسط (3) سيناء (4) الأحمر
 (ج) لاحظ الخريطة المقابلة ، ثم أجب
 (1) ناصر (2) الإسكندرية (3) سيناء (4) الأحمر

السؤال السابع:

- (أ) (1) دائرة الاستواء (2) خط جرينتش
 (ب) (1) الفلكي (2) جنوب (3) وعورة
 (ج) (1) أبو قردان (2) البوص

السؤال السابع: أكمل الجدول الآتي بالكلمة المناسبة

(نبات البردي - بوتو - نخب - زهرة اللوتس - أحمر - أبيض)

المقارنة	مملكة الشمال	مملكة الجنوب
العاصمة	بوتو	نخب
الشعار (العلم)	نبات البردي	زهرة اللوتس
لون التاج	أحمر	أبيض

السؤال الثامن: معركة مجدو ومعركة قادش

المقارنة	معركة مجدو	معركة قادش
قائد الجيش المصري	تحتمس الثالث	رمسيس الثاني
نتيجة المعركة	انتصر جيش مصر	انتصر جيش مصر

السؤال الثامن:

(أ) حدد الكلمة المختلفة

(1) الرياح (2) الفحم

(ب) استبعد المختلف مع ذكر السبب

(1) بحيرة ناصر، لأنها بحيرة عذبة

(ج) صوب ما تحته خط

(1) المتوسط (2) العذبة (3) العذبة

(د) ما المقصود ب...؟

(1) خطوط الطول: أنصاف دوائر رأسية تصل بين القطبين الشمالي والجنوبي.

(2) الموقع الفلكي: هو الموقع بالنسبة لخطوط الطول ودوائر العرض.

(3) الأودية الجافة: أودية كانت تمتلئ بالمياه قديماً ثم جفت.

(4) دلتا النيل: أرض خصبها كونها نهر النيل نتيجة ترسيب الطمي عند المصب.

(5) الطقس: وصف حالة الجو خلال فترة زمنية قصيرة، يوم أو أسبوع أو شهر.

(6) المناخ: وصف حالة الجو خلال فترة زمنية طويلة، قد تكون فصلاً أو سنة.

(7) الحيوانات البرية: الحيوان الذي يعيش في بيئة طبيعية دون رعاية من الإنسان.

(8) النبات الطبيعي: النبات الذي ينمو دون تدخل من الإنسان.

تطبيق



مذكرات جاهزة للطباعة

لتحميل الملفات التعليمية مجاناً للمعلم والطالب

مذكرات وملازم / مراجعات وملخصات / امتحانات / كتب الوزارة /
أدلة المعلم / دفاتر التحضير / سجلات مدرسية / أوراق تأسيس

امسح الكود بموبايلك علشان تقدر تثبت التطبيق

وتقدر ف أي وقت تحمّل ال نفسك فيه ببلاش

هيغنيك عن البحث والجروبات والقنوات الكثيرة

