

2026

4
ابتدائي

الدراسات الاجتماعية

في

الدراسات الاجتماعية

إعداد



الفصل الدراسي الاول

أ / محمد عبد الصبور

01129903122

سلسلة البركان  طريقك للدرجة النهائية



مراجعة الوحدة الاولى - رابعة ابتدائي

السؤال الأول : أكمل العبارات الاتية بما يناسبها من كلمات :

- ١- وصف مكان لشخص ما عن طريق رسم مصغر له من الأعلى يطلق عليه
- ٢- ترسم المخططات كأننا نراها من
- ٣- المكان الذي تتعلم فيه ويعتبر بيتنا الثاني هو
- ٤- إذا كنت من سكان مدينة الجيزة، وتريد زيارة مدينة أسوان عليك الاتجاه إلى
- ٥- عندما نسلك الطريق يجب أن تفكر في الهدف و
- ٦- بعد اتجاه الشمال الشرقي من الاتجاهات
- ٧- تنقسم الجهات الأصلية إلى
- ٨- اتجاه الجنوب يقابله اتجاه
- ٩- اتجاه فرعى يقع بين اتجاه الشمال واتجاه الشرق هو
- ١٠- الاتجاه الجنوبي الغربي يقع بين اتجاه الجنوب واتجاه
- ١١- عندما تقف مواجهين للشمس عند الشروق ، فسيكون عن يميننا اتجاه
- ١٢- أداة تحتوى على إبرة مغناطيسية تشير لاتجاه الشمال المغناطيسي تسمى
- ١٣- أحد عناصر الخريطة ويوضح موضوعها يسمى
- ١٤- مجموعة الرموز والألوان المستخدمة في الخريطة تسمى
- ١٥- تساعد في تحديد اتجاهات الأماكن على الخريطة
- ١٦- يشير اللون البني على الخريطة إلى الأراضي
- ١٧- تستخدم معلمة الدراسات الاجتماعية
- ١٨- يشير اللون الأخضر على الخريطة إلى المناطق الأقل ارتفاعاً ومنها
- ١٩- تلون المسطحات المائية على الخريطة باللون
- ٢٠- تلون الهضاب على الخريطة باللون
- ٢١- تساعد الخريطة المزارع في تحديد موقع
- ٢٢- قام المصريون القدماء برسم الخرائط والمخططات على جدران
- ٢٣- أحد أشهر العلماء العرب في رسم الخرائط هو
- ٢٤- تأثرت مريم الإسطرلابي بوالدها وتفوقت في علم
- ٢٥- يعتمد نظام تحديد المواقع العالمي فى تحديد الاتجاهات على
- ٢٦- الصور الجوية يتم التقاطها من الجو عن طريق
- ٢٧- يتم النقاط الصور الفضائية بواسطة
- ٢٨- نوع من المصادر يقوم بتسجيل الأحداث في زمن وقوعها ويتميز بدقته هو
- ٢٩- من أمثلة المصادر الثانوية
- ٣٠- الأحاديث غير الصحيحة التي يتناقلها الناس دون معرفة مصدرها تسمى



السؤال الثاني : أكتب كلمة (صواب) أمام العبارة الصحيحة وكلمة (خطأ) أمام العبارة غير الصحيحة

- ١- المخطط هو وصف كيف يبدو مكان ما عن طريق رسم صورة للمكان من الأعلى . ()
- ٢- تُسهّم المخططات في توضيح تفاصيل الأماكن التي نزرورها باستمرار . ()
- ٣- اختيار الطريق يعتمد على السرعة فقط . ()
- ٤- البوصلة الرقمية تمكننا من تحديد الاتجاهات بدقة أكبر . ()
- ٥- اعتمد الإنسان قديماً على الشمس لتحديد الاتجاهات ليلاً . ()
- ٦- بعد اتجاه الشمال الشرقي أحد الاتجاهات الأصلية . ()
- ٧- إذا وقفت مواجهاً للشمس وقت شروقها، يكون الغرب أمامك . ()
- ٨- النجم القطبي الشمالي يشير دائماً إلى اتجاه الجنوب . ()
- ٩- يوجد بين كل اتجاهين أصليين اتجاه فرعي . ()
- ١٠- مفتاح الخريطة يوضح موضوع الخريطة . ()
- ١١- يستخدم الطيار الخريطة في تحديد مسار الرحلات . ()
- ١٢- تحتوي البوصلة على إبرة مغناطيسية تشير دائماً إلى اتجاه الشمال المغناطيسي . ()
- ١٣- تساعد وردة البوصلة في تحديد اتجاهات الأماكن على الخريطة . ()
- ١٤- يشير اللون الأزرق على الخريطة إلى المسطحات المائية . ()
- ١٥- تساعد الخريطة المزارع في تحديد مواقع الأراضي الزراعية . ()
- ١٦- يتم النقاط الصور الجوية بواسطة الأقمار الصناعية . ()
- ١٧- يصعب قراءة الخريطة بدون مقياس الرسم . ()
- ١٨- تستخدم البوصلة الرقمية لتحديد الاتجاهات بسرعة ودقة . ()
- ١٩- تلون السهول باللون البنّي على الخريطة . ()
- ٢٠- تعطي الصور الفضائية مساحة أوسع من الصور الجوية . ()
- ٢١- تساعد الخريطة الجندي في تحديد المواقع العسكرية . ()
- ٢٢- كان العلماء العرب إسهاماتهم في تطوير الخرائط، ومنهم العالم الإدريسي . ()
- ٢٣- كل ما تركه لنا الأجداد من مبانٍ وتماثيل يعد من المصادر الثانوية . ()
- ٢٤- رسم المصريون القدماء الخرائط على ورق صنع من نبات البردى . ()
- ٢٥- تفوقت مريم الأسطرلابي في علم الكيمياء . ()
- ٢٦- جمع المعلومات من مصادر موثوقة يجنبنا التحيز إلى مصدر واحد . ()
- ٢٧- يعتمد على الزمن في التمييز بين المصادر الأولية والثانوية . ()
- ٢٨- الآراء تعبر عن وجهات نظر شخصية . ()
- ٢٩- تطبيق (GPS) من الوسائل الحديثة لتحديد المواقع . ()
- ٣٠- الحقائق تعبر عن وجهات نظر شخصية قد تكون صحيحة أو غير صحيحة . ()



السؤال الثالث : اختر الإجابة الصحيحة مما بين الأقواس

- ١- يعتمد اختيار الطريق على
(الطول والعرض - اللون والشكل - الهدف والسهولة - الاسم والعنوان)
- ٢- الاتجاه الفرعي الذي يوجد بين الشرق والجنوب هو
(الشمال الشرقي - الجنوب الشرقي - الشمال الغربي - الجنوب الغربي)
- ٣- الجهة المقابلة لاتجاه الشمال هي
(الشرق - الجنوب - الشمال الشرقي - الغرب)
- ٤- يشير النجم القطبي إلى جهة
(الشرق - الغرب - الشمال - الجنوب)
- ٥- مجموع عدد الاتجاهات الأصلية والفرعية هو
(اتجاهات (خمسة - سنة - سبعة - ثمانية)
- ٦- عرف المصريون القدماء الاتجاهات ليلا من خلال
(النجم القطبي - البوصلة - الشمس - البوصلة الرقمية)
- ٧- استخدام المصريين القدماء للنجوم لتحديد الاتجاهات يدل على تفوقهم في علم
(الكيمياء - الفيزياء - الفلك - الطب)
- ٨- تستطيع حاليا تحديد الاتجاهات بسرعة ودقة عن طريق
(الإسطرلاب - الشمس - النجم القطبي الشمالي - البوصلة الرقمية)
- ٩- تساعدنا في تحديد اتجاهات الأماكن على الخريطة
(وردة البوصلة - مفتاح الخريطة - مقياس الرسم - عنوان الخريطة)
- ١٠- تساعد الخريطة السائح في الوصول إلى
(المواقع المسكرية - الأراضي الزراعية - المواقع الأثرية - المناطق الصناعية)
- ١١- العنصر المستخدم في شرح الرموز على الخريطة هو
(عنوان الخريطة - مفتاح الخريطة - مقياس الرسم - وردة البوصلة)
- ١٢- يوضح موضوع الخريطة
(وردة البوصلة - مفتاح الخريطة - مقياس الرسم - عنوان الخريطة)
- ١٣- استخدم الإسطرلاب قديما في
(البوصلة الرقمية - تحديد القبلة - وصف الأماكن - الأقمار الصناعية)
- ١٤- يشير اللون البني على الخريطة إلى
(الجبال - السهول - البحار - الصحارى)
- ١٥- تأثرت مريم الإسطرلابي بوالدها الذي كان يعمل في مجال
(الطب - الهندسة - الفلك - الزراعة)
- ١٦- اللون الأخضر على الخريطة يدل على
(الجبال - المرتفعات - السهول - البحار)
- ١٧- تحديد موقع الأرض الزراعية هو أحد استخدامات الخريطة بالنسبة لـ
(الطيار - المعلم - المزارع - السائح)
- ١٨- يستخدم الخريطة في تحديد مسار الرحلات .
(التلميذ - المزارع - الجندي - القبطان)
- ١٩- لتحديد المواقع الحربية يستخدم الخريطة .
(الجندي - السائح - القبطان - المزارع)
- ٢٠- تختلف الصور الفضائية عن الصور الجوية فى أنها تلتقط عن طريق

(الطائرات - الأقمار الصناعية - السفن)





- ٢١- أحد أهم إنجازات العالم الإداريسي
- (رسم الخرائط - اختراع GPS - تطوير الإسطرلاب - اختراع البوصلة)
- ٢٢- المعلومات المنتشرة دون التأكد من صحتها هي (آراء - حقائق - شائعات - نظريات)
- ٢٣- أحد المصادر الأولية وهو عبارة عن رموز محفورة على الحجارة هو
- (كتابات المؤرخين - النقوش الأثرية - البرديات - الأفلام التاريخية)
- ٢٤- صنع المصريون القدماء الورق من نبات (اللوتس - الكتان - البردي - الصبار)
- ٢٥- يقع البحر المتوسط في شمال مصر تعد هذه العبارة (حقيقة - رأياً - خيالاً - شائعة)

السؤال الرابع : اكتب ما تشير اليه كل عبارة من العبارات التالية

- ١- أحد الاتجاهات الفرعية يقع بين الجنوب والغرب .
- ٢- شكل مبسط لفكرة الخريطة .
- ٣- أداة تحتوي على إبرة مغناطيسية تشير إلى اتجاه الشمال المغناطيسي .
- ٤- اتجاهات تقع بين الاتجاهات الأربعة الأصلية .
- ٥- رسم مصغر يوضح سطح الأرض باستخدام الرموز والألوان ومقياس رسم محدد .
- ٦- تساعدنا في تحديد اتجاهات الأماكن على الخريطة .
- ٧- يشير إلى النسبة بين المسافة على الخريطة وما يقابلها على أرض الواقع .
- ٨- أداة فلكية قديمة استخدمت في تحديد اتجاه القبلة وأوقات الصلاة .
- ٩- صور يتم التقاطها من الجو بواسطة الطائرات .
- ١٠- صور يتم التقاطها من الفضاء بواسطة الأقمار الصناعية .
- ١١- مصادر قامت بتسجيل الحدث بعد وقوعه بفترة زمنية طويلة .
- ١٢- مصادر صعب الحصول عليها وسجلت الحدث وقت وقوعه .
- ١٣- معلومات صحيحة مؤكدة ويمكن إثباتها .
- ١٤- الأحاديث غير الصحيحة التي يتناقلها الناس دون معرفة مصدرها .
- ١٥- تُعبر عن وجهات نظر شخصية وقد تكون صحيحة وغير صحيحة .

السؤال الخامس : صوب ما تحته خط فيما يلي

- ١- الاتجاه المقابل لاتجاه الشرق هو اتجاه الشمال .
- ٢- تشرق الشمس من جهة الغرب .
- ٣- يستخدم النجم القطبي الشمالي لتحديد الاتجاهات نهاراً .
- ٤- استخدم الإغريق النجم القطبي الشمالي في تحديد الاتجاهات .
- ٥- الأحاديث غير الصحيحة التي ينقلها الناس تسمى بالحقائق .
- ٦- الحقائق هي تعبير عن وجهات النظر .
- ٧- يعد اتجاهها الشمال والشرق من الاتجاهات الفرعية .
- ٨- يقع اتجاه الشمال الشرقي بين الشمال والجنوب .
- ٩- الأماكن الأقل ارتفاعاً على الخريطة يُشار إليها باللون الأزرق .



- ١٠- تساعد الخريطة المزارع في تحديد المواقع الأثرية .
- ١١- حدد المسلمون أوقات الصلاة قديما بالاعتماد على البوصلة .
- ١٢- يتم التقاط الصور الفضائية عن طريق الطائرات الحربية .
- ١٣- تعرف المصادر التي سجلت وقت وقوع الحدث بالمصادر الثانوية .

السؤال السادس : بم تفسر ... ؟

١- أهمية رسم مخطط لمكان ما عند وصفه لشخص .

٢- أهمية استخدام البوصلة الرقمية الموجودة بالهواتف الذكية .

٣- استخدم المصريون القدماء النجم القطبي الشمالي .

٤- أهمية مقياس الرسم في الخريطة .

٥- أهمية مفتاح الخريطة .

٦- أهمية وردة البوصلة على الخريطة .

٧- أهمية عنوان الخريطة .

٨- أهمية الخريطة في حياتنا .

٩- أهمية الخريطة للمزارع .

١٠- أهمية الخريطة لقائد الطائرة .

١١- أهمية الخريطة للسائح .

١٢- أهمية الإسطرلاب قديما .

١٣- أهمية المصادر الأولية .

١٤- أهمية المصادر الثانوية .

السؤال السابع : ما النتائج المترتبة على ... ؟

١- استخدام المصريين القدماء للنجم القطبي الشمالي .

٢- اختراع البوصلة الرقمية في الهواتف الذكية .

٣- معرفة مقياس الرسم عند قراءة الخريطة .

٤- الاعتراف الرسمي بإنجازات مريم الإسطرلابي .

٥- تسجيل المعلومات زمن وقوع الحدث .

السؤال الثامن : دلل على صحة العبارات التالية

١- تفوق المصريين القدماء في علم الفلك .



٢- برع العرب في رسم الخرائط .

٣- أسهمت مريم الإسطرلابي في علم الفلك .

٤- يعتمد تصنيف المصادر على زمن إنتاجها .

السؤال التاسع : أمامك خريطة صماء لمصر اكتب مدلول الأرقام عليها



٤ خريطة (١) جمهورية مصر العربية

١- يشير رقم (١) الى

٢- يشير رقم (٢) الى

٣- يشير رقم (٣) الى

٤- يشير رقم (٤) الى

السؤال العاشر : لاحظ الشكل المقابل ثم اجب



١- يشير رقم (١) الى اتجاه

٢- يشير رقم (٢) الى اتجاه

٣- يشير رقم (٣) الى اتجاه

٤- يشير رقم (٤) الى اتجاه

٥- يشير رقم (٥) الى اتجاه



مراجعة الوحدة الثانية - رابعة ابتدائي

السؤال الأول : أكمل العبارات الآتية بما يناسبها من كلمات :

- ١- استقر المصريون القدماء على ضفاف
- ٢- تعد مدينة الخارجة من المدن
- ٣- تستفيد المدينة من المنتجات الزراعية التي توفرها
- ٤- يوجد جامع عمرو بن العاص في مدينة
- ٥- تقع بورسعيد على ساحل البحر
- ٦- من المدن التي تقع على ضفاف نهر النيل مدينة
- ٧- تقع مدينة على ساحل البحر المتوسط .
- ٨- تقوم الدولة بإقامة المناطق الصناعية بعيداً عن المناطق
- ٩- تقع مدينة شرم الشيخ على ساحل البحر
- ١٠- تعد الكنيسة المعلقة أحد الأماكن الأثرية في مدينة
- ١١- ساعدت مبادرة حياة كريمة على تطوير المصري .
- ١٢- سعت الدولة إلى إنشاء العديد من المحاور مثل محور
- ١٣- وسيلة انتقال قل استخدامها بعد ظهور السيارات وهى صديقة للبيئة .
- ١٤- طورت الدولة وحدة معالجة مياه الصرف الصحي بالجبل
- ١٥- اعتمد السكان في الماضي على مصباح في الإنارة .
- ١٦- أقدم المساجد التي بنيت في مصر هو جامع
- ١٧- يحصل الطلاب في المدرسة على الخدمات
- ١٨- يقوم مركز الحماية المدنية بإنقاذ المحاصرين وإخماد
- ١٩- تعمل الدولة على تطوير جهاز الشرطة من خلال المستمر .
- ٢٠- تحصل على الخدمات التعليمية من
- ٢١- يريد صديقك ووالده شراء احتياجاتهم من الملابس لذا عليهم الذهاب إلى
- ٢٢- من واجبنا تجاه مدرستنا المحافظة عليها وعدم الكتابة على
- ٢٣- مؤسسة تقوم بتقديم الخدمات الصحية والعلاج
- ٢٤- التخطيط لبناء المدن يعني التفكير المسبق لتنظيم استخدام
- ٢٥- تقدم الشرطة خدمات أمنية منها حفظ
- ٢٦- يقوم مركز بالاستجابة للكوارث الطبيعية مثل الزلازل .
- ٢٧- قام الملك إخناتون ببناء مدينة
- ٢٨- بنيت مدينة أخيتاتون على الضفة لنهر النيل .
- ٢٩- تتوقع في المستقبل أن تكون أجهزة الاستشفاء بالمستشفيات قائمة على الذكاء
- ٣٠- لتحويل ضوء الشمس إلى طاقة كهربائية نستخدم الألواح
- ٣١- استخدام الآلات الزراعية الحديثة يساعد على زيادة
- ٣٢- تم تقسيم مصر إلى محافظة .



- ٣٣- يفصل بين المحافظات المصرية حدود
- ٣٤- المحافظة جزء من الدولة تضم مجموعة من
- ٣٥- محافظتا الغربية والقليوبية من محافظات الوجه
- ٣٦- تصنف محافظتي (بنى سويف) من محافظات
- ٣٧- أكبر محافظات الحدود الصحراوية مساحة هي محافظة
- ٣٨- شعار محافظة القاهرة به الجامع الأزهر مكتوب على قاعدته كلمة
- ٣٩- أكبر المحافظات المصرية مساحة محافظة
- ٤٠- تعد محافظة شمال سيناء من محافظات مصر
- ٤١- تم نقل الوزارات والمصالح الحكومية في مصر إلى
- ٤٢- وضع حجر الأساس لمدينة القاهرة عام ٩٦٩م القائد
- ٤٣- أطلق اسم جوهره الشرق على مدينة
- ٤٤- تعد محافظتا الجيزة وقنا من محافظات الوجه
- ٤٥- أصغر المحافظات المصرية مساحة محافظة

السؤال الثاني : أكتب كلمة (صواب) أمام العبارة الصحيحة وكلمة (خطأ) أمام العبارة غير الصحيحة

- ١- نتج عن استقرار المصري القديم على ضفاف النيل نشأة القرى والمدن . ()
- ٢- استغل المصري القديم التربة الخصبة في الزراعة . ()
- ٣- تتركز الأنشطة الزراعية وتربية الحيوانات في المدن . ()
- ٤- نشأت المدن قبل استقرار المصريين القدماء على ضفاف نهر النيل . ()
- ٥- تنتشر المناطق الزراعية في القرى وحول المدن . ()
- ٦- تعد مدينتنا القاهرة وأسوان من المدن الصحراوية . ()
- ٧- القرية تجمع سكني تتركز فيه أنشطة الصناعة والتجارة . ()
- ٨- تستفيد المدينة من المنتجات الزراعية التي توفرها القرية . ()
- ٩- تبنى المناطق الصناعية عادة داخل المدن . ()
- ١٠- تعد مدينة الخارجة إحدى المدن الواقعة على ضفاف نهر النيل . ()
- ١١- تقع مدينتنا الإسكندرية وبورسعيد على ساحل البحر المتوسط . ()
- ١٢- يعد جامع عمرو بن العاص من أقدم الجوامع التي أقيمت في إفريقيا . ()
- ١٣- تخصص المناطق الترفيهية لبناء المنازل التي يعيش فيها السكان . ()
- ١٤- تجذب المناطق السياحية الزوار من داخل وخارج البلاد . ()
- ١٥- تعد الأندية الرياضية من المناطق الترفيهية . ()
- ١٦- تعمل الدولة على تحديث شبكات الصرف مثل محطة الجبل الأصفر بالقليوبية . ()
- ١٧- عادت مدينة السويس للحياة بعد حرب عام ١٩٧٣م بفضل تعاون أهلها . ()
- ١٨- انشأت الدولة عديداً من المدن الجديدة في المناطق الصحراوية . ()
- ١٩- كان المصريون يستخدمون الدراجات للذهاب إلى العمل أو السوق منذ زمن قريب . ()
- ٢٠- تعمل الدولة على تطوير الريف المصري من خلال مبادرة اتحضر للأخضر . ()



- ٢١- شهدت مصر تطورًا ملحوظًا في وسائل المواصلات منذ عام ٢٠١٤م. ()
- ٢٢- تسعى الحكومة إلى تطوير الريف المصرى من خلال مبادرة حياة كريمة. ()
- ٢٣- يعد محور روض الفرج نموذجًا للتطور في إنشاء المحاور المرورية . ()
- ٢٤- الأتوبيس الترددى من وسائل النقل القديمة. ()
- ٢٥- يساهم استخدام الدراجات في حماية البيئة . ()
- ٢٦- تساعد التكنولوجيا على تسهيل الحياة وسرعة إنجاز الأعمال . ()
- ٢٧- من وسائل الاتصال القديمة الهاتف المحمول . ()
- ٢٨- تحقيق التوازن بين مزايا التطوير وتحدياته أمر ضروري لضمان جودة الحياة . ()
- ٢٩- من التحديات المصاحبة لتطور المدن تحسن مستوى حياة السكان. ()
- ٣٠- أطلقت الدولة مبادرة ١٠٠ مليون صحة للكشف المبكر عن الأمراض . ()
- ٣١- تقع مدينة أحيثانون حاليًا في محافظة أسيوط . ()
- ٣٢- يعد التخطيط لبناء المدن حل لمشكلات الازدحام والتلوث . ()
- ٣٣- تعد محافظة مطروح إحدى محافظات الحدود الصحراوية . ()
- ٣٤- تعد الإسكندرية عاصمة مصر والمقر الرسمي للحكم والإدارة حاليًا . ()
- ٣٥- قامت الدولة بإنشاء العاصمة الإدارية الجديدة غرب محافظة القاهرة . ()
- ٣٦- يرفع شعار محافظتي في عيدها القومي . ()
- ٣٧- يعبر شعار المحافظة عن نشاط سكانها أو جزء من تاريخها . ()
- ٣٨- تعتمد العاصمة الإدارية الجديدة على التكنولوجيا الحديثة والطاقة النظيفة . ()
- ٣٩- لكل محافظة من محافظات مصر شعار خاص بها . ()
- ٤٠- مدينة الالف مئذنة اسم اطلق على محافظة الجيزة . ()

السؤال الثالث : اختر الإجابة الصحيحة مما بين الأقواس

- ١- أقيم جامع عمرو بن العاص في مدينة (اسوان - القاهرة - حلوان - الإسكندرية)
- ٢- مدينة تقع على ساحل البحر الاحمر . (اسوان - أسيوط - الغردقة - المنيا)
- ٣- يجب بناء المصانع (في وسط المدينة - بين المنازل - على اطراف المدينة - على جانبي النهر)
- ٤- تحصل المدينة من القرية على المنتجات (الزراعية - الصناعية - التجارية - التعدينية)
- ٥- اى مما يلي من المدن الصحراوية (الإسكندرية - القاهرة - اسوان - الخارجة)
- ٦- توافر المياه العذبة أدى إلى استقرار المصريين القدماء بجوار (البحر المتوسط - نهر النيل - البحيرات الشمالية - الجبال المرتفعة)
- ٧- استغل المصريون القدماء التربة الخصبة في نشاط (الزراعة - الصناعة - التجارة - السياحة)
- ٨- إحدى المدن التي تقع على ضفاف نهر النيل هي (القاهرة - الخارجة - الغردقة - الإسكندرية)
- ٩- أي مما يلي يتم بناؤه في المناطق الترفيهية ؟ (الأندية الرياضية - المصانع - مكاتب البريد - البنوك)
- ١٠- إحدى وسائل المواصلات التي تجمع بين السرعة والكفاءة والأمان هي (القطار البخاري - الأتوبيس الترددي - الدراجة البخارية - الأتوبيس النهري)



- ١١- اعتمد السكان في الماضي على أدوات تقليدية منها
- (المصابيح الكهربائية - الهواتف المحمولة - الغسالات الحديثة - مصابيح الكيروسين)
- ١٢- تقدم الخدمات الصحية للمرضى في (المدرسة - مكتب البريد - المستشفى - قسم الشرطة)
- ١٣- تعد من المهام الأساسية للشرطة
- (تنظيم المرور - تنظيف الشوارع - توفير الأدوية - تعليم الطلاب)
- ١٤- إحدى مهام مركز الحماية المدنية
- (إصدار الوثائق - إخماد الحرائق - مراقبة الامتحانات - تنظيم المرور)
- ١٥- تعمل الدولة على مراقبة الأسعار في الأسواق من أجل
- (زيادة الاستهلاك - تشجيع السياحة - منع الغلاء - زيادة الإنتاج)
- ١٦- تم تشييد مدينة أحياتون في عهد الملك (رمسيس الثاني - أحس - تحتمس الثالث - إخناتون)
- ١٧- إحدى القيم التي نتمسك بها ونأخذها من الماضي إلى المستقبل
- (الأناية - الغرور - التعاون - التعصب)
- ١٨- إحدى محافظات الحدود الصحراوية
- (الجيزة - بني سويف - البحيرة - البحر الأحمر)
- ١٩- إحدى أقدم المواسم التاريخية
- (أسيوط - القاهرة - المنصورة - الغردقة)
- ٢٠- أى من المدن الآتية تقع على ضفاف نهر النيل؟
- (القاهرة - مطروح - الإسكندرية - السويس)
- ٢١- من المدن الساحلية التي تقع على ساحل البحر الأحمر
- (مطروح - الغردقة - السلوم - دمياط)
- ٢٢- المناطق المخصصة لإنتاج المحاصيل الغذائية هي المناطق
- (الصناعية - الزراعية - السكنية - الترفيهية)
- ٢٣- المناطق المخصصة لبناء المنازل هي المناطق
- (الزراعية - السكنية - الصناعية - الترفيهية)
- ٢٤- المناطق المخصصة للتنزه هي المناطق
- (الترفيهية - الزراعية - الصناعية - السكنية)
- ٢٥- كان المصري القديم يعتمد في الزراعة على مياه
- (نهر النيل - الأمطار - الآبار - العيون)
- ٢٦- توجد الكنيسة المعلقة في مدينة
- (القليوبية - سيناء - القاهرة - أسيوط)
- ٢٧- تعرضت مدينة للقصف خلال حرب أكتوبر ١٩٧٣ م .
- (الإسكندرية - القاهرة - السويس - مطروح)
- ٢٨- من فوائد ركوب الدراجة
- (التلوث - الزحام - تقوية العضلات - زيادة الإنفاق)
- ٢٩- توفر لنا المستشفيات الخدمات
- (الصحية - الأمنية - التعليمية - التجارية)
- ٣٠- الكشف وتقديم العلاج من مهام
- (الشرطي - المعلم - الطبيب - رجل المرور)
- ٣١- من مهام مركز الحماية المدنية
- (إطفاء الحرائق - إصدار الوثائق - تقديم العلاج - حفظ الأمن)
- ٣٢- عند انهيار المباني يكون إنقاذ الأشخاص مسئولية
- (الحماية المدنية - مراكز الشرطة - المؤسسات التعليمية - الأسواق التجارية)
- ٣٣- توجد مدينة أحياتون في تل العمارنة بمدينة
- (الأقصر - أسوان - أسيوط - المنيا)



- ٣٤- يتوقع أن تعتمد المدن مستقبلاً في إنتاج الطاقة على
- (الفحم - البترول - الغاز الطبيعي - الشمس)
- ٣٥- من محافظات الوجه البحرى فى مصر محافظة
- (القاهرة - الجيزة - مطروح - أسوان)
- ٣٦- من محافظات الوجه القبلى فى مصر محافظة
- (الشرقية - المنوفية - قنا - الإسكندرية)
- ٣٧- من محافظات الحدود الصحراوية فى مصر محافظة
- (المنوفية - المنيا - مطروح - البحيرة)
- ٣٨- يضم شعار محافظة القاهرة عدة رموز منها
- (قمر مضى - شمس ساطعة - مركب بشرايين - سنابل القمح)
- ٣٩- تحتفل محافظة القاهرة بعيدها القومى فى شهر
- (يوليو - أغسطس - سبتمبر - أكتوبر)
- ٤٠- محافظة
- (البحر الاحمر - المنيا - الفيوم - قنا)

السؤال الرابع : اكتب ما تشير اليه كل عبارة من العبارات التالية

- ١- مناطق مخصصة للتنزه منها الأندية الرياضية والحدائق العامة .
- ٢- تجمع سكانى تتركز فيه أنشطة الزراعة وتربية الحيوانات .
- ٣- مناطق مخصصة لإقامة المصانع لتوفير المنتجات المتنوعة .
- ٤- تجمع سكنى تتركز فيه الخدمات وأنشطة الصناعة والتجارة .
- ٥- مناطق تضم معالم أثرية وسياحية وتسهم في تنشيط السياحة .
- ٦- إحدى المناطق التي تنتشر في القرى وحول بعض المدن تنتج المحاصيل والغذاء .
- ٧- مدينة أنشأها الملك إخناتون على الضفة الشرقية لنهر النيل .
- ٨- المقر الرسمي للحكم والإدارة للدولة .
- ٩- راية تتخذها المحافظة رمزاً لها لتعبر عن نشاط سكانها أو جزء من تاريخها .
- ١٠- أول جامع أقيم فى مصر بعد الفتح الإسلامى لها .
- ١١- مدينة مصرية تعرضت للقصف وتدمرت بها بعض المباني خلال فى أكتوبر ١٩٧٣ م
- ١٢- مبادرة مصرية تهدف إلى تطوير الريف المصرى .
- ١٣- وسيلة استخدمت للإشارة قديماً .
- ١٤- مناطق تسعى الدولة إلى إزالتها واستبدالها بمساكن آمنة ومناسبة .
- ١٥- الأماكن التي تقدم متطلبات ضرورية للحياة اليومية مثل التعليم والصحة والأمن
- ١٦- أحد الأماكن الخدمية التي تقدم الخدمات الصحية للمرضى .
- ١٧- أحد الأماكن الخدمية التي تعمل على حفظ الأمن والنظام وتنظيم المرور والنجدة
- ١٨- أحد الأماكن الخدمية التي تسهم فى توفير السلع المختلفة للناس .
- ١٩- التفكير المسبق لتنظيم استخدام الأرض وتحسين حياة السكان .
- ٢٠- مصدر طاقة تعتمد عليه مدن المستقبل ويستخدم فى تشغيل السيارات الكهربائية
- ٢١- جزء من الدولة يضم مجموعة من المراكز أو الأحياء .
- ٢٢- العيد الذي يمثل حدثاً تاريخياً أو ذكرى مهمة مرت بها المحافظة .
- ٢٣- منارة الإسلام فى العالم ويظهر على شعار محافظة القاهرة .



السؤال الخامس : صوب ما تحته خط فيما يلي

- ١- من المدن التي تقع على ضفاف نهر النيل مدينة بورسعيد .
- ٢- المناطق السكنية مخصصة لبناء المصانع .
- ٣- استغل المصري القديم التربة الخصبة في الصيد .
- ٤- أول جامع أقيم في مصر وإفريقيا جامع السيدة زينب .
- ٥- أنشأت الدولة مشروع بشاير الخير بمحافظة المنوفية .
- ٦- استخدم السكان في الماضي الهواتف المحمولة .
- ٧- أحد الأماكن التي تقدم خدمات تعليمية المستشفى .
- ٨- حفظ الأمن والنظام أحد واجبات الأطباء .
- ٩- شيدت مدينة أحياتون على الضفة الغربية لنهر النيل .
- ١٠- أكبر محافظات مصر مساحة هي محافظة البحر الأحمر .
- ١١- محافظة الفيوم إحدى محافظات الحدود الصحراوية .
- ١٢- المدينة التي اشتهرت باسم مدينة الألف منذنة هي مدينة الأقصر .
- ١٣- يُعد يوم ٦ يوليو هو العيد القومي لمدينة الإسكندرية .
- ١٤- وضع حجر الأساس لمدينة القاهرة عام ٩٦٩م على يد القائد عمرو بن العاص .
- ١٥- اطلقت الدولة مبادرة حياة كريمة للكشف المبكر عن الأمراض .

السؤال السادس : بم تفسر ... ؟

- ١- استقرار المصريون القدماء على ضفاف نهر النيل .
- ٢- سميت الكنيسة المعلقة بهذا الاسم .
- ٣- أهمية المناطق السياحية .
- ٤- إقامة المصانع على أطراف المدن .
- ٥- أنشأت الدولة عديدا من المدن الجديدة في المناطق الصحراوية .
- ٦- منعت القوات الإسرائيلية من دخول مدينة السويس في حرب أكتوبر ١٩٧٣م .
- ٧- استخدام الدراجات يحافظ على مدينتنا .
- ٨- أهمية مكتبة المدرسة .
- ٩- قيام الدولة بإنشاء أسواق متخصصة .
- ١٠- أهمية الشرطة في مدينتنا .
- ١١- تقوم الدولة ببناء المدارس والجامعات .
- ١٢- تعمل الدولة على مراقبة الأسعار في الأسواق .



١٣- أهمية الأسواق بالنسبة للناس .

١٤- أهمية مبادرة ١٠٠ مليون صحة .

١٥- أهمية التخطيط لبناء المدن .

١٦- تعمل الدولة على توفير الخدمات للسكان .

١٧- استخدام أجهزة للاستشفاء بمستشفيات المستقبل قائمة على الذكاء الاصطناعي .

١٨- أهمية الطاقة الشمسية في المدن المستقبلية .

١٩- تقسيم مصر إلى عدد من المحافظات .

٢٠- ضرورة وجود عاصمة لكل دولة .

٢١- تتخذ كل محافظة شعارًا خاصًا بها .

٢٢- وجود شمس ساطعة خلف الجامع الأزهر بشعار محافظة القاهرة .

٢٣- تحتفل القاهرة بعيدها القومي يوم ٦ يوليو من كل عام .

٢٤- تعد القاهرة من أقدم العواصم التاريخية في العالم .

السؤال السابع : ما النتائج المترتبة على ؟

١- تحتوى المناطق السياحية تحتوى على معالم أثرية او طبيعية .

٢- وفرة التربة الخصبة على ضفاف نهر النيل .

٣- تطوير الدولة للمدن وانتقال السكان إليها .

٤- محاولات العدوان الإسرائيلي دخول مدينة السويس في أثناء حرب ١٩٧٣ م .

٥- استخدام الألواح الشمسية في المستقبل .

٦- استخدام المزارعين في المستقبل للآلات الحديثة .

٧- إنشاء الدولة للعاصمة الإدارية الجديدة .

٨- اعتماد العاصمة الإدارية الجديدة على التكنولوجيا الحديثة والطاقة النظيفة .



السؤال الثامن : دلل على صحة العبارات التالية
١- تتنوع طبيعة المدن في مصر حسب موقعها .

٢- يتبادل كل من المدينة والقرية المنافع .

٣- تبذل الدولة جهودًا كبيرة لتطوير القرى والمدن المصرية .

٤- شهدت مصر تطورًا ملحوظًا عام ٢٠١٤م في الطرق ووسائل المواصلات .

٥- تمتلك مصر وسائل نقل حديثة ومتنوعة .

٦- مدينة السويس رمز للصمود والتحدى .

٧- تقدم الشرطة عديدا من الخدمات في المجتمع .

٨- تعمل الدولة على تطوير جهاز الشرطة .

٩- تسعى الدولة إلى حماية المستهلك داخل الأسواق .

١٠- تميز المصريون القدياء في تخطيط مدتهم .

١١- الزراعة في المستقبل ستكون أكثر تطورًا .



١٢- شهرة القاهرة عبر الزمن بعدة أسماء .

١٣- لشعار المحافظة أهمية كبيرة .

السؤال التاسع : ما العلاقة بين ؟

١- القرية والمدينة .

٢- الدرجات وصحة الإنسان .

٣- التخطيط الجيد لبناء المدن وحياة السكان .

٤- مساحة مصر والمحافظات .

٥- شعار المحافظة والعيد القومي لها .

السؤال العاشر : ما المقصود بـ ؟

١- القرية

٢- المدينة

٣- الأماكن الخدمية

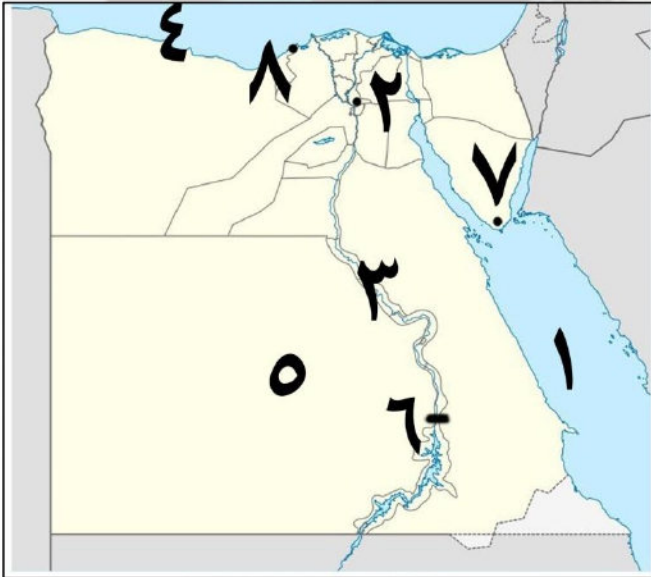
٤- شعار المحافظة

٥- العيد القومي للمحافظة .

٦- المحافظة

٧- التخطيط لبناء المدن .

السؤال الحادي عشر : أمامك خريطة صماء لمصر اكتب مدلول الأرقام عليها



١- يشير رقم (١) الى البحر

٢- محافظة تقع على نهر النيل

٣- يشير رقم (٣) الى نهر

٤- يشير رقم (٤) الى البحر

٥- مدينة تقع في الصحراء

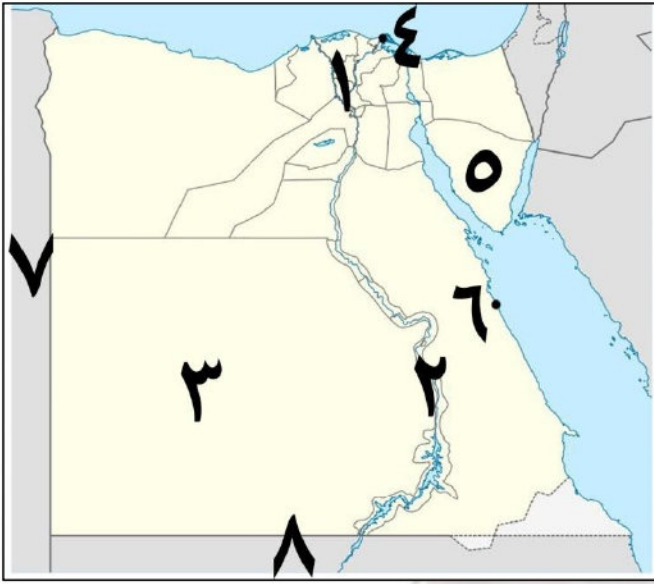
٦- مدينة تقع على النيل

٧- مدينة تقع على البحر الاحمر

٨- مدينة تقع على البحر المتوسط



الحادي عشر : أمامك خريطة صماء لمصر اكتب مدلول الأرقام عليها



- ١- يشير رقم (١) الى محافظات الوجه
- ٢- يشير رقم (٢) الى محافظات الوجه
- ٣- اكبر محافظات مصر مساحة هي
- ٤- اصغر محافظات مصر مساحة هي
- ٥- محافظة صحراوية هي
- ٦- يشير الى مدينة ساحلية
- ٧- يشير رقم (٧) الى دولة
- ٨- يشير رقم (٨) الى دولة



مراجعة الوحدة الثالثة - رابعة ابتدائي

السؤال الأول : أكمل العبارات الاتية بما يناسبها من كلمات :

- ١- اتخذت مملكة الشمال بمصر قديماً رمزاً لها وهو
- ٢- العلم هو رمز يمثلها ويعبر عن تاريخها وشعبها .
- ٣- علم مصر على شكل افقي .
- ٤- كانت زهرة اللوتس في مصر قديماً شعاراً لمملكة
- ٥- اللون في العلم المصري يرمز إلى النقاء والرخاء والسلام .
- ٦- النشيد الوطني لمصر هو
- ٧- من واجبنا تجاه علم بلدنا و
- ٨- من قارات العالم القديم آسيا و و
- ٩- عدد قارات العالم قارات وتعد قارة أكبر القارات مساحة .
- ١٠- تقع قارة أمريكا الجنوبية في نصف الكرة الأرضية
- ١١- تعد هي مساحة واسعة وعميقة من المياه المالحة مثل
- ١٢- تعد قارة من قارات العالم الجديد .
- ١٣- يعد المحيط أكبر المحيطات مساحة .
- ١٤- تعد قارة أصغر القارات من حيث المساحة .
- ١٥- تقع مصر في الركن من قارة إفريقيا .
- ١٦- تنقسم قارات العالم إلى قارات العالم وقارات العالم
- ١٧- تمتد السهول الفيضية على جانبي وتتميز بتربتها
- ١٨- من أمثلة الجبال في مصر وهو أعلى قمة جبلية في مصر .
- ١٩- من التلال التي تقع بمصر هي تلال
- ٢٠- توجد جبال البحر الأحمر في الصحراء
- ٢١- تقع هضبة الجلف الكبير في الركن لمصر .
- ٢٢- من أمثلة البحيرات الشمالية المالحة في مصر بحيرة وبحيرة
- ٢٣- يجرى نهر النيل في مصر من إلى ويصب في البحر
- ٢٤- من أمثلة الموارد غير المتجددة و
- ٢٥- تعد الشمس والرياح من الموارد
- ٢٦- الموارد هي التي تتجدد باستمرار وغير قابلة للنفاذ .
- ٢٧- من أمثلة الموارد الطبيعية المياه و و
- ٢٨- مبادرة أطلقتها الدولة لحث المواطنين على الحفاظ على البيئة هي
- ٢٩- من أهم مؤلفات الدكتور جمال حمدان موسوعة
- ٣٠- استخدم الدكتور مصطفى السيد في علاج مرض السرطان .
- ٣١- درس الدكتور طه حسين في جامعة
- ٣٢- حصل الدكتور أحمد زويل على جائزة نوبل في



- ٣٣- أسهمت الدكتوراة في تأسيس هيئة الطاقة الذرية في العالم .
- ٣٤- برع المصريون القدماء في الفن و و
- ٣٥- من المعالم الشهيرة بمحافظة القاهرة
- ٣٦- من المعالم التاريخية في مصر دير بجنوب سيناء .
- ٣٧- يمكن زيارة الأماكن الأثرية ومشاهدتها دون الذهاب إليها باستخدام
- ٣٨- شهد برج القاهرة في شكل أسطواني كهينة زهرة
- ٣٩- يوجد برج إيفل في دولة
- ٤٠- يوجد دير سانت كاترين في جنوب شبه

السؤال الثاني : أكتب كلمة (صواب) أمام العبارة الصحيحة وكلمة (خطأ) أمام العبارة غير الصحيحة

- ١- كانت مصر قديما مقسمة إلى ثلاث ممالك لكل منها شعار يميزها . ()
- ٢- يدل النسر الذي يتوسط علم مصر على القوة والشجاعة . ()
- ٣- تردد النشيد الوطني لمصر بلادي بلادي " تعبيرا عن الانتماء والفخر . ()
- ٤- المصريون من أحدث شعوب العالم استخداما للأعلام . ()
- ٥- يشير اللون الأحمر في علم مصر للنقاء والسلام . ()
- ٦- يرفع العلم المصري في العديد من المواقع السياحية والوزارات . ()
- ٧- اتخذت مملكة الجنوب في مصر قديما من زهرة اللوتس شعارا لها . ()
- ٨- يظهر علم مصر الحالي بشكل مربع ويتكون من ثلاثة ألوان . ()
- ٩- بلون النسر في علم مصر باللون الأبيض . ()
- ١٠- يُعد المصريون القدماء من أوائل الشعوب التي استخدمت الأعلام . ()
- ١١- وصل المستكشفون إلى الأمريكتين في العصور الحديثة . ()
- ١٢- تضم الكرة الأرضية عدد سبع قارات وخمسة محيطات . ()
- ١٣- يغطي الماء النسبة الأكبر من سطح الكرة الأرضية . ()
- ١٤- تعد قارة أمريكا الشمالية من قارات العالم الجديد . ()
- ١٥- تقل مساحة مصر عن المليون كيلو متر مربع . ()
- ١٦- يقصد بالموقع الجغرافي موقع المكان بالنسبة لليابس والماء . ()
- ١٧- تعد قارة أستراليا إحدى قارات العالم القديم . ()
- ١٨- يبلغ عدد قارات العالم خمس قارات . ()
- ١٩- البحر الأحمر يحد مصر من جهة الغرب . ()
- ٢٠- يحد مصر من الشرق خليج العقبة والبحر الأحمر . ()
- ٢١- حماية حدود وطننا إحدى مسئوليات الجيش المصري . ()
- ٢٢- يطلق على كوكب الأرض اسم الكوكب المائي . ()
- ٢٣- يحد مصر من جهة الشمال دولة ليبيا . ()
- ٢٤- تقع جبال البحر الأحمر في الصحراء الغربية . ()
- ٢٥- تعد بحيرة ناصر إحدى البحيرات المالحة جنوب مصر . ()



- ٢٦- تقع جزيرة شدوان في البحر الأحمر . ()
- ٢٧- تختلف الألوان على خريطة مستويات ارتفاع السطح . ()
- ٢٨- يقع جبل سانت كاترين في الصحراء الغربية . ()
- ٢٩- يجرى نهر النيل في مصر من الشمال إلى الجنوب . ()
- ٣٠- توجد هضبة الجلف الكبير في جنوب شرق مصر . ()
- ٣١- الموارد المتجددة غير قابلة للنفاذ . ()
- ٣٢- اليابان من الدول التي ليس لديها موارد طبيعية وفيرة . ()
- ٣٣- نجح الدكتور مصطفى السيد في تطوير علاج للسرطان باستخدام جزيئات الذهب . ()
- ٣٤- يمتاز الجندي المصري بالبسالة والشجاعة . ()
- ٣٥- يعد الهواء والتربة من الموارد الطبيعية . ()
- ٣٦- تستخدم طاقة الرياح والشمس في إنتاج الطاقة النظيفة . ()
- ٣٧- الإسراف في استخدام المبيدات الحشرية والأسمدة الكيميائية يسبب تلوث التربة . ()
- ٣٨- تتنوع الموارد في مصر ما بين موارد طبيعية وموارد بشرية . ()
- ٣٩- تعد المعادن والبتروول من مصادر الطاقة غير المتجددة . ()
- ٤٠- علينا أن نستخدم مواردنا بحكمة لكي تكفي الجميع والأجيال القادمة . ()
- ٤١- أطلقت الدولة مبادرة (اتحضر للأخضر) للحفاظ على البيئة . ()
- ٤٢- تفوق الدكتور جمال حمدان في مجال الطب . ()
- ٤٣- سميرة موسى هي أول عالمة مصرية تحصل على الدكتوراه في مجال الطاقة النووية . ()
- ٤٤- تخصص الدكتور طه حسين في مجال العلوم الطبية . ()
- ٤٥- يجب علينا معاملة السياح بأدب وأن تكون سفراء لبلدنا مصر . ()
- ٤٦- ترك المصريون القدماء تراثاً حضارياً عظيماً . ()
- ٤٧- يعكس المسرح الروماني ازدهار الحياة التجارية في الإسكندرية قديماً . ()
- ٤٨- بني برج القاهرة في عهد الرئيس محمد أنور السادات . ()
- ٤٩- يُسمح بتناول الطعام داخل المعالم التاريخية . ()
- ٥٠- تعد معابد الكرنك أحد المعالم المميزة لمحافظة أسوان . ()

السؤال الثالث : اختر الإجابة الصحيحة مما بين الأقواس

- ١- كان نبات البردى شعاراً لمملكة في مصر القديمة (الشمال - الجنوب - الشرق - الغرب)
- ٢- يرمز اللون الأحمر في علم مصر إلى
- (خصوبة التربة - السلام والنقاء - فترات الاستعمار - دماء الشهداء)
- ٣- النسر الموجود على علم مصر يرمز إلى
- (الرخاء - القوة - الشهداء - السلام)
- ٤- النسر في علم مصر مستوحى من نسر القائد
- (عمرو بن العاص - صلاح الدين الأيوبي - أحمد بن طولون - عمر بن الخطاب)
- ٥- من سلوكيات عدم احترام العلم
- (الحفاظ عليه - القاؤه على الأرض - رفعه عالياً - الوثوق بالحدائق العامة)



- ٦- أحد السلوكيات التي تعبر عن احترامنا لعلم مصر هو
- (الرسم عليه - تغيير ألوانه - الوقوف لتحتيته - وضعه أرضاً)
- ٧- العبارة المكتوبة على قاعدة النسب في علم مصر هي
- (تحيا مصر - جمهورية مصر العربية - مصر أولا - قوة الشعب المصري)
- ٨- يطلق على كوكب الأرض اسم الكوكب
- (الصخرى - البارد - المائي - الناري)
- ٩- أصغر المحيطات على كوكب الأرض من حيث المساحة هو المحيط
- (الهادي - القطبي الجنوبي - الهندي - القطبي الشمالي)
- ١٠- تحد البحار مصر من جهتي
- (الشمال والشرق - الشمال والغرب - الجنوب والشرق - الجنوب والغرب)
- ١١- تعتبر قارة
- (إفريقيا - أستراليا - آسيا - أوروبا)
- ١٢- تفصل الحدود الدولية بين
- (المدن - القارات - المحيطات - الدول)
- ١٣- يعد المحيط
- (أصغر محيطات العالم مساحة .
- (الهادي - الهندي - الأطلنطي - المتجمد الشمالي)
- ١٤- تحد مصر من الغرب دولة
- (فلسطين - ليبيا - السودان - الأردن)
- ١٥- أي من الدول الآتية لها حدود دولية مع مصر ؟
- (الجزائر - تونس - السودان - قطر)
- ١٦- أي مما يلي تكون عن طريق رواسب الأنهار ؟
- (السهل الفيضي - السهل الساحلي - السلاسل الجبلية - شبه الجزيرة)
- ١٧- تقع هضبة الجلف الكبير على حدود مصر
- (الشمالية الغربية - الجنوبية الشرقية - الشمالية الشرقية - الجنوبية الغربية)
- ١٨- تتميز سهول
- (بالاتساع (البحر الأحمر - البحر المتوسط - خليج العقبة - خليج السويس)
- ١٩- تقع تلال المقطم شرق محافظة
- (اسوان - القاهرة - الإسكندرية - الجيزة)
- ٢٠- أرض مرتفعة لها قمة تزيد عن ١٠٠٠ متر تشير العبارة إلى ... (الهضبة - التل - الجبل - الجزيرة)
- ٢١- توجد بحيرة
- (في جنوب مصر . (البردويل - المنزلة - البرلس - ناصر)
- ٢٢- يقع السد العالي على مجرى
- (البحر المتوسط - البحر الأحمر - نهر النيل - قناة السويس)
- ٢٣- حصل الدكتور
- (على جائزة نوبل في الكيمياء .
- (أحمد زويل - مصطفى السيد - جمال حمدان - طه حسين)
- ٢٤- برعت الدكتورة سميرة موسى في مجال
- (الطاقة النووية - الهندسة - الذكاء الاصطناعي - الجغرافيا)
- ٢٥- أي من الموارد التالية بعد من الموارد المتجددة ؟
- (البترول - المعادن - الرياح - الغاز الطبيعي)
- ٢٦- أي مما يلي ينصح باستخدامه للحفاظ على التربة ؟
- (الأسمدة الكيماوية - السماد العضوي - المبيدات الحشرية - نفايات المصانع)
- ٢٧- أحد أشهر المعالم في دولة فلسطين
- (برج ايفل - تمثال الحرية - قصر الكرم - تل أبيب)



- ٢٨- أشهر كتب الدكتور طه حسين (شخصية مصر - السراب - الأيام - القاهرة الجديدة)
- ٢٩- ساهمت الدكتورة سميرة موسى في تأسيس هيئة
(الأرصاد الجوية - الطاقة الذرية - الدواء المصرية - الآثار المصرية)
- ٣٠- هرم زوسر المدرج يوجد بمنطقة (تل العمارنة - ميت عقبة - الفيوم - سقارة)
- ٣١- استوحي تصميم برج القاهرة من
(نبات البردي - زهرة اللوتس - نبات النخيل - أشجار الزيتون)
- ٣٢- سمي الجامع الأزهر بهذا الاسم نسبة لـ
(فاطمة الزهراء - عمرو بن العاص - عمر بن الخطاب - جوهر الصقلي)
- ٣٣- يعد برج إيفل أحد المعالم الشهيرة لدولة (جنوب إفريقيا - مصر - فرنسا - استراليا)
- ٣٤- يقع أقدم بناء حجري في التاريخ بمحافظة (القاهرة - الجيزة - الأقصر - أسوان)

السؤال الرابع : اكتب ما تشير اليه كل عبارة من العبارات التالية

- ١- النشيد الوطني لمصر الذي نردده في المناسبات الرسمية .
- ٢- رمز الدولة يمثلها ويعبر عن تاريخها وشعبها .
- ٣- رمز في علم مصر يشير إلى القوة والشجاعة .
- ٤- يقصد به موقع المكان بالنسبة لليابس والمياه .
- ٥- دولة تحد مصر من جهة الشمال الشرقي .
- ٦- أشكال سطح الأرض المختلفة ما بين مرتفعات ومنخفضات .
- ٧- أرض شديدة الارتفاع ولها قمة يزيد ارتفاعها عن ١٠٠٠ م وجوانبها شديدة الانحدار .
- ٨- أرض منخفضة عما حولها من الأراضي .
- ٩- مجرى مائي عذب .
- ١٠- مساحة من الأرض مرتفعة مستوية أو شبه مستوية .
- ١١- مساحة من الماء المالح أصغر من المحيط .
- ١٢- أرض مستوية تمتد على طول سواحل البحار .
- ١٣- مساحة من اليابس محاطة بالماء من جميع الاتجاهات .
- ١٤- إحدى قارات العالم القديم وتعد أكبر قارات العالم .
- ١٥- أرض مرتفعة لها قمة يقل ارتفاعها عن ١٠٠٠ متر .
- ١٦- مساحة من الأرض مستوية وقليلة الارتفاع وتتكون من رواسب الأنهار .
- ١٧- بحيرة عذبة توجد في جنوب مصر .
- ١٨- إحدى البحيرات الشمالية المالحة، وفي شمال شبه جزيرة سيناء .
- ١٩- أول بناء حجري ضخيم في التاريخ .
- ٢٠- موارد وهبها الله للإنسان في الطبيعة دون تدخل الإنسان .
- ٢١- مبادرة أطلقتها مصر لحث المواطنين على المشاركة في الحفاظ على البيئة .
- ٢٢- معلم ديني وتاريخي تشتهر به فلسطين .



السؤال الخامس : صوب ما تحته خط فيما يلي

- ١- كان شعار مملكة الشمال في مصر القديمة زهرة اللوتس .
- ٢- يرمز اللون الأسود في علم مصر إلى فترات الرخاء .
- ٣- يظهر علم مصر على شكل مربع أفقي .
- ٤- تعد قارة أوروبا أصغر قارات العالم .
- ٥- عدد قارات العالم خمس .
- ٦- عدد المحيطات في العالم سبعة .
- ٧- أصغر المحيطات في العالم هو المحيط المتجمد الجنوبي .
- ٨- أكبر قارات العالم من حيث المساحة هي استراليا .
- ٩- يحد مصر من الشمال البحر الأحمر .
- ١٠- تقع مصر في قارة أوروبا .
- ١١- يقع جبل سانت كاترين في شمال سيناء .
- ١٢- يمتد السهل الساحلي على طول ساحل النهر .
- ١٣- النهر مجرى مائي مالح .
- ١٤- ولد الدكتور أحمد زويل في محافظة الشرقية .
- ١٥- نشأت الدكتورة سميرة موسى في محافظة المنيا .
- ١٦- حصل طه حسين على درجة الدكتوراه من جامعة السوريون بـ إنجلترا .
- ١٧- لقب الملك توت عنخ آمون بلقب الملك الفضي .
- ١٨- يتجه السائحون لمحافظة القاهرة لزيارة المسرح الروماني .

السؤال السادس : بم تفسر ... ؟

- ١- أهمية علم الدولة .
- ٢- استخدام المصريين القدماء الأعلام أو الرايات .
- ٣- استخدام الملوك القدماء للرايات .
- ٤- تميز مصر بموقع جغرافي فريد .
- ٥- يطلق على كوكب الأرض الكوكب المائي .
- ٦- تعد الأمريكان من قارات العالم الجديد .
- ٧- أهمية موقع مصر في التجارة الدولية حالياً .
- ٨- ضرورة وجود الجيش المصري على حدود بلدنا .
- ٩- تعد سيناء شبه جزيرة .
- ١٠- قيام الزراعة بسهول نهر النيل في مصر .
- ١١- ضيق السهول الساحلية على البحر الأحمر .



- ١٢- اختلاف الألوان المتدرجة على خريطة مستويات الارتفاع في مصر .
- ١٣- تنوع مظاهر سطح الأرض في مصر .
- ١٤- احتياج الإنسان للموارد الطبيعية في مختلف جوانب حياته .
- ١٥- إطلاق مصر مبادرة «اتحضر للأخضر» .
- ١٦- أهمية تقنية «الفيتمو ثانية» التي اخترعها الدكتور أحمد زويل .
- ١٧- اهتمام معظم دول العالم بدراسة التاريخ المصري القديم .
- ١٨- تسمية جامع الأزهر بهذا الاسم .
- ١٩- تعد المعالم التاريخية ثروة قومية .

السؤال السابع : ما النتائج المترتبة على ؟

- ١- وقوع أحداث مهمة بالدول بالنسبة لأعلامها .
- ٢- اتحاد كل من مصر وسوريا فقط بالنسبة لعلم مصر .
- ٣- اتحاد مصر مع سوريا عام ١٩٥٨ بالنسبة للعلم .
- ٤- موقع مصر الجغرافي المتميز .
- ٥- اقتراب الجبال من ساحل البحر الأحمر .
- ٦- جمال السهول الساحلية في مصر .
- ٧- وجود السهول الفيضية الخصبة في مصر القديمة .
- ٨- استخدام المبيدات الحشرية والأسمدة الكيميائية على التربة .
- ٩- التوسع في زراعة الأشجار بالنسبة للبيئة .
- ١٠- غنى أرض مصر بالمعالم الأثرية .
- ١١- إبداع المصريين القدماء عبر العصور في الفن والعمارة .

السؤال الثامن : دلل على صحة العبارات التالية

- ١- كانت مصر قديما مقسمة إلى مملكتين ولكل مملكة شعار يميزها .
- ٢- تعددت استخدامات العلم في المجال العسكري أثناء عصر مصر القديمة .



٣- هناك سلوكيات إيجابية تعبر عن احترام العلم .

٤- اختلاف دلالات ألوان علم مصر .

٥- يُعد الجيش المصري أحد أقوى جيوش العالم .

٦- استفاد المصريون القدماء من الجبال والهضاب والتلال .

٧- الموارد البشرية هي أساس تقدم دولة اليابان .

٨- تتعدد المعالم التاريخية بمحافظة القاهرة .

٩- تعتبر مصر غنية بالمعالم التاريخية .

١٠- هناك مجموعة من القواعد للحفاظ على المعالم التاريخية .

السؤال التاسع : ما المقصود بـ ؟

١- القارات

٢- المحيطات

٣- الحدود الدولية

٤- الموقع الجغرافي

٥- الجبل

٦- الهضبة

٧- البحيرة

٨- الجزيرة

٩- شبه الجزيرة

١٠- المنخفض

١١- نهر



١٢- التضاريس

١٣- المعلم التاريخي

١٤- الموارد الطبيعية

١٥- الموارد غير المتجددة

١٦- الحياة المستدامة

السؤال العاشر : اجب حسب المطلوب ؟

١- ما العلاقة بين السهول الفيضية وقيام الحضارة المصرية القديمة ؟

٢- ماذا يحدث إذا لم يكن لمصر حدود دولية ؟

٣- أين يُرفع علم مصر في وقتنا الحاضر .

٤- سجل السلوكيات الواجب عليك اتباعها تجاه العلم المصري .

٥- حدد من قارات العالم الاكبر مساحة والاصغر مساحة .

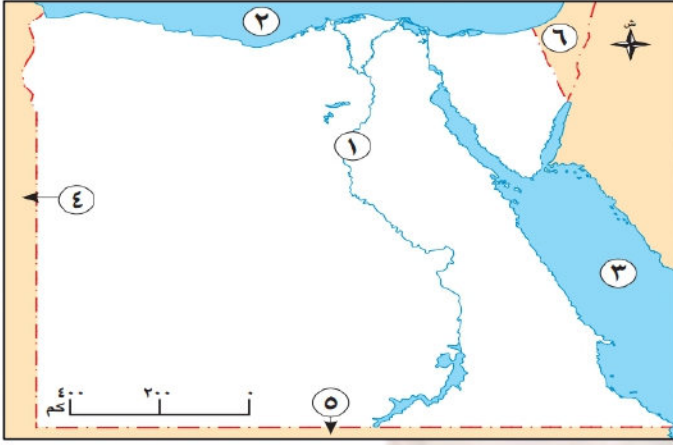
٦- وضح السلوكيات الواجب اتباعها للحفاظ على الحياة المستدامة .

٧- حدد اثنين من السلوكيات التي يجب تجنبها للحفاظ على الموارد الطبيعية .

٨- اكتب أهم القواعد الواجب عليك اتباعها عند زيارة المعالم التاريخية .

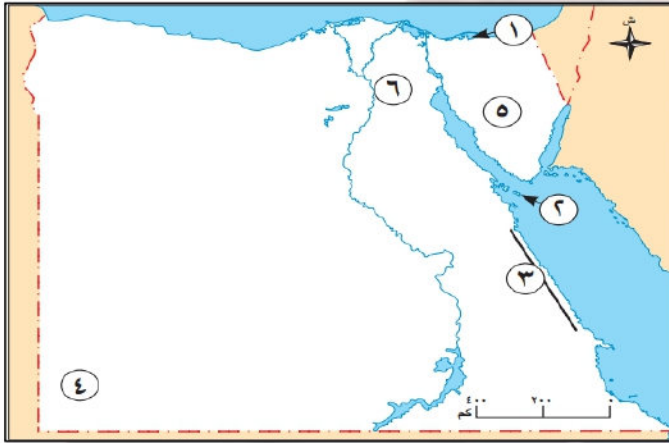


السؤال الحادي عشر : أمامك خريطة صماء لمصر اكتب مدلول الأرقام عليها



- ١- يشير رقم (١) الى نهر
- ٢- يشير رقم (٢) الى البحر
- ٣- يشير رقم (٣) الى البحر
- ٤- يشير رقم (٤) الى دولة
- ٥- يشير رقم (٥) الى دولة
- ٦- يشير رقم (٦) الى دولة

السؤال الحادي عشر : أمامك خريطة صماء لمصر اكتب مدلول الأرقام عليها



- ١- يشير رقم (١) الى بحيرة
- ٢- يشير رقم (٢) الى جزيرة
- ٣- يشير رقم (٣) الى جبال
- ٤- يشير رقم (٤) الى هضبة
- ٥- يشير رقم (٥) الى شبه جزيرة
- ٦- يشير رقم (٦) الى تلال



مراجعة الوحدة الأولى - رابعة ابتدائي

السؤال الأول : أكمل العبارات الآتية بما يناسبها من كلمات :

- ١- وصف مكان لشخص ما عن طريق رسم مصغر له من الأعلى يطلق عليه **المخطط** .
- ٢- ترسم المخططات كأننا نراها من **الأعلى** .
- ٣- المكان الذي تتعلم فيه ويعتبر بيتنا الثاني هو **المدرسة** .
- ٤- إذا كنت من سكان مدينة الجيزة، وتريد زيارة مدينة أسوان عليك الاتجاه إلى **الجنوب** .
- ٥- عندما نسلك الطريق يجب أن تفكر في الهدف و **السهولة** .
- ٦- بعد اتجاه الشمال الشرقي من الاتجاهات **الفرعية** .
- ٧- تنقسم الجهات الأصلية إلى **اربعة** اتجاهات .
- ٨- اتجاه الجنوب يقابله اتجاه **الشمال** .
- ٩- اتجاه فرعى يقع بين اتجاه الشمال واتجاه الشرق هو **الشمال الشرقي** .
- ١٠- الاتجاه الجنوبي الغربي يقع بين اتجاه الجنوب واتجاه **الغرب** .
- ١١- عندما تقف مواجهين للشمس عند الشروق ، فسيكون عن يميننا اتجاه **الجنوب** .
- ١٢- أداة تحتوى على إبرة مغناطيسية تشير لاتجاه الشمال المغناطيسي تسمى **البوصلة** .
- ١٣- أحد عناصر الخريطة ويوضح موضوعها يسمى **عنوان الخريطة** .
- ١٤- مجموعة الرموز والألوان المستخدمة في الخريطة تسمى **مفتاح الخريطة** .
- ١٥- تساعد في تحديد اتجاهات الأماكن على الخريطة **وردة البوصلة** .
- ١٦- يشير اللون البني على الخريطة إلى الأراضي **المرتفعة** .
- ١٧- تستخدم معلمة الدراسات الاجتماعية **الخريطة** أثناء الشرح .
- ١٨- يشير اللون الأخضر على الخريطة إلى المناطق الأقل ارتفاعاً ومنها **السهول** .
- ١٩- تلون المسطحات المائية على الخريطة باللون **الأزرق** .
- ٢٠- تلون الهضاب على الخريطة باللون **البني** .
- ٢١- تساعد الخريطة المزارع في تحديد موقع **الأراضي الزراعية** .
- ٢٢- قام المصريون القدماء برسم الخرائط والمخططات على جدران **المعابد** .
- ٢٣- أحد أشهر العلماء العرب في رسم الخرائط هو **الإدريسي** .
- ٢٤- تأثرت مريم الإسطرلابي بوالدها وتفوقت في علم **الفلك** .
- ٢٥- يعتمد نظام تحديد المواقع العالمي في تحديد الاتجاهات على **الأقمار الصناعية** .
- ٢٦- الصور الجوية يتم التقاطها من الجو عن طريق **الطائرات** .
- ٢٧- يتم النقاط الصور الفضائية بواسطة **الأقمار الصناعية** .
- ٢٨- نوع من المصادر يقوم بتسجيل الأحداث في زمن وقوعها ويتميز بدقته هو **المصادر الأولية** .
- ٢٩- من أمثلة المصادر الثانوية **الكتب والمقالات** بينما من المصادر الأولية **النقوش والبرديات** .
- ٣٠- الأحاديث غير الصحيحة التي يتناقلها الناس دون معرفة مصدرها تسمى **الشائعات** .



السؤال الثاني : أكتب كلمة (صواب) أمام العبارة الصحيحة وكلمة (خطأ) أمام العبارة غير الصحيحة

- ١- المخطط هو وصف كيف يبدو مكان ما عن طريق رسم صورة للمكان من الأعلى . (صواب)
- ٢- تُسهّم المخططات في توضيح تفاصيل الأماكن التي نزرورها باستمرار . (صواب)
- ٣- اختيار الطريق يعتمد على السرعة فقط . (خطأ)
- ٤- البوصلة الرقمية تمكننا من تحديد الاتجاهات بدقة أكبر . (صواب)
- ٥- اعتمد الإنسان قديماً على الشمس لتحديد الاتجاهات ليلاً . (خطأ)
- ٦- بعد اتجاه الشمال الشرقي أحد الاتجاهات الأصلية . (خطأ)
- ٧- إذا وقفت مواجهاً للشمس وقت شروقها، يكون الغرب أمامك . (خطأ)
- ٨- النجم القطبي الشمالي يشير دائماً إلى اتجاه الجنوب . (خطأ)
- ٩- يوجد بين كل اتجاهين أصليين اتجاه فرعي . (صواب)
- ١٠- مفتاح الخريطة يوضح موضوع الخريطة . (خطأ)
- ١١- يستخدم الطيار الخريطة في تحديد مسار الرحلات . (صواب)
- ١٢- تحتوي البوصلة على إبرة مغناطيسية تشير دائماً إلى اتجاه الشمال المغناطيسي . (صواب)
- ١٣- تساعد وردة البوصلة في تحديد اتجاهات الأماكن على الخريطة . (صواب)
- ١٤- يشير اللون الأزرق على الخريطة إلى المسطحات المائية . (صواب)
- ١٥- تساعد الخريطة المزارع في تحديد مواقع الأراضي الزراعية . (صواب)
- ١٦- يتم النقاط الصور الجوية بواسطة الأقمار الصناعية . (خطأ)
- ١٧- يصعب قراءة الخريطة بدون مقياس الرسم . (صواب)
- ١٨- تستخدم البوصلة الرقمية لتحديد الاتجاهات بسرعة ودقة . (صواب)
- ١٩- تلون السهول باللون البنّي على الخريطة . (خطأ)
- ٢٠- تغطي الصور الفضائية مساحة أوسع من الصور الجوية . (صواب)
- ٢١- تساعد الخريطة الجندي في تحديد المواقع العسكرية . (صواب)
- ٢٢- كان العلماء العرب إسهاماتهم في تطوير الخرائط، ومنهم العالم الإدريسي . (صواب)
- ٢٣- كل ما تركه لنا الأجداد من مبانٍ وتماثيل يعد من المصادر الثانوية . (خطأ)
- ٢٤- رسم المصريون القدماء الخرائط على ورق صنع من نبات البردى . (صواب)
- ٢٥- تفوقت مريم الأسطرلابي في علم الكيمياء . (خطأ)
- ٢٦- جمع المعلومات من مصادر موثوقة يجنبنا التحيز إلى مصدر واحد . (صواب)
- ٢٧- يعتمد على الزمن في التمييز بين المصادر الأولية والثانوية . (صواب)
- ٢٨- الآراء تعبر عن وجهات نظر شخصية . (صواب)
- ٢٩- تطبيق (GPS) من الوسائل الحديثة لتحديد المواقع . (صواب)
- ٣٠- الحقائق تعبر عن وجهات نظر شخصية قد تكون صحيحة أو غير صحيحة . (خطأ)



السؤال الثالث : اختر الإجابة الصحيحة مما بين الأقواس

- ١- يعتمد اختيار الطريق على
(الطول والعرض - اللون والشكل - الهدف والسهولة - الاسم والعنوان)
- ٢- الاتجاه الفرعي الذي يُوجد بين الشرق والجنوب هو
(الشمال الشرقي - الجنوب الشرقي - الشمال الغربي - الجنوب الغربي)
- ٣- الجهة المقابلة لاتجاه الشمال هي
(الشرق - الجنوب - الشمال الشرقي - الغرب)
- ٤- يشير النجم القطبي إلى جهة
(الشرق - الغرب - الشمال - الجنوب)
- ٥- مجموع عدد الاتجاهات الأصلية والفرعية هو
(اتجاهات) خمسة - سنة - سبعة - ثمانية)
- ٦- عرف المصريون القدماء الاتجاهات ليلا من خلال
(النجم القطبي - البوصلة - الشمس - البوصلة الرقمية)
- ٧- استخدام المصريين القدماء للنجوم لتحديد الاتجاهات يدل على تفوقهم في علم
(الكيمياء - الفيزياء - الفلك - الطب)
- ٨- نستطيع حاليا تحديد الاتجاهات بسرعة ودقة عن طريق
(الإسطرلاب - الشمس - النجم القطبي الشمالي - البوصلة الرقمية)
- ٩- تساعدنا في تحديد اتجاهات الأماكن على الخريطة
(وردة البوصلة - مفتاح الخريطة - مقياس الرسم - عنوان الخريطة)
- ١٠- تساعد الخريطة السائح في الوصول إلى
(المواقع العسكرية - الأراضي الزراعية - المواقع الأثرية - المناطق الصناعية)
- ١١- العنصر المستخدم في شرح الرموز على الخريطة هو
(عنوان الخريطة - مفتاح الخريطة - مقياس الرسم - وردة البوصلة)
- ١٢- يوضح موضوع الخريطة
(وردة البوصلة - مفتاح الخريطة - مقياس الرسم - عنوان الخريطة)
- ١٣- استخدم الإسطرلاب قديما في
(البوصلة الرقمية - تحديد القبلة - وصف الأماكن - الأقمار الصناعية)
- ١٤- يشير اللون البني على الخريطة إلى
(الجبال - السهول - البحار - الصحارى)
- ١٥- تأثرت مريم الإسطرلابي بوالدها الذي كان يعمل في مجال
(الطب - الهندسة - الفلك - الزراعة)
- ١٦- اللون الأخضر على الخريطة يدل على
(الجبال - المرتفعات - السهول - البحار)
- ١٧- تحديد موقع الأرض الزراعية هو أحد استخدامات الخريطة بالنسبة لـ
(الطيار - المعلم - المزارع - السائح)
- ١٨- يستخدم الخريطة في تحديد مسار الرحلات .
(التلميذ - المزارع - الجندي - القبطان)
- ١٩- لتحديد المواقع الحربية يستخدم الخريطة .
(الجندي - السائح - القبطان - المزارع)
- ٢٠- تختلف الصور الفضائية عن الصور الجوية فى أنها تلتقط عن طريق
(الطائرات - الأقمار الصناعية - السفن)



- ٢١- أحد أهم إنجازات العالم الإداريسي
- (رسم الخرائط - اختراع GPS - تطوير الإسطرلاب - اختراع البوصلة)
- ٢٢- المعلومات المنتشرة دون التأكد من صحتها هي (آراء - حقائق - شائعات - نظريات)
- ٢٣- أحد المصادر الأولية وهو عبارة عن رموز محفورة على الحجارة هو
- (كتابات المؤرخين - النقوش الأثرية - البرديات - الأفلام التاريخية)
- ٢٤- صنع المصريون القدماء الورق من نبات (اللوتس - الكتان - البردي - الصبار)
- ٢٥- يقع البحر المتوسط في شمال مصر تعد هذه العبارة (حقيقة - رأياً - خيالاً - شائعة)

السؤال الرابع : اكتب ما تشير اليه كل عبارة من العبارات التالية

الجنوب الغربي
المخطط
البوصلة
الفرعية
الخريطة
وردة البوصلة
مقياس الرسم
البوصلة
صور جوية
صور فضائية
مصادر ثانوية
مصادر أولية
الحقيقة
الشائعة
الرأى

- ١- أحد الاتجاهات الفرعية يقع بين الجنوب والغرب .
- ٢- شكل مبسط لفكرة الخريطة .
- ٣- أداة تحتوي على إبرة مغناطيسية تشير إلى اتجاه الشمال المغناطيسي .
- ٤- اتجاهات تقع بين الاتجاهات الأربعة الأصلية .
- ٥- رسم مصغر يوضح سطح الأرض باستخدام الرموز والألوان ومقياس رسم محدد . الخريطة
- ٦- تساعدنا في تحديد اتجاهات الأماكن على الخريطة .
- ٧- يشير إلى النسبة بين المسافة على الخريطة وما يقابلها على أرض الواقع .
- ٨- أداة فلكية قديمة استخدمت في تحديد اتجاه القبلة وأوقات الصلاة .
- ٩- صور يتم التقاطها من الجو بواسطة الطائرات .
- ١٠- صور يتم التقاطها من الفضاء بواسطة الأقمار الصناعية .
- ١١- مصادر قامت بتسجيل الحدث بعد وقوعه بفترة زمنية طويلة .
- ١٢- مصادر صعب الحصول عليها وسجلت الحدث وقت وقوعه .
- ١٣- معلومات صحيحة مؤكدة ويمكن إثباتها .
- ١٤- الأحاديث غير الصحيحة التي يتناقلها الناس دون معرفة مصدرها .
- ١٥- تُعبر عن وجهات نظر شخصية وقد تكون صحيحة وغير صحيحة .

السؤال الخامس : صوب ما تحته خط فيما يلي

الغرب
الشرق
ليلاً
المصريون القدماء
الشائعات
الرأى
الأصلية
الشرق

- ١- الاتجاه المقابل لاتجاه الشرق هو اتجاه الشمال .
- ٢- تشرق الشمس من جهة الغرب .
- ٣- يستخدم النجم القطبي الشمالي لتحديد الاتجاهات نهاراً .
- ٤- استخدم الإغريق النجم القطبي الشمالي في تحديد الاتجاهات .
- ٥- الأحاديث غير الصحيحة التي ينقلها الناس تسمى بالحقائق .
- ٦- الحقائق هي تعبير عن وجهات النظر .
- ٧- يعد اتجاه الشمال والشرق من الاتجاهات الفرعية .
- ٨- يقع اتجاه الشمال الشرقي بين الشمال والجنوب .
- ٩- الأماكن الأقل ارتفاعاً على الخريطة يُشار إليها باللون الأزرق .



الاراضى الزراعية
الاسطرلاب
الأقمار الصناعية
الأولية

- ١٠- تساعد الخريطة المزارع في تحديد المواقع الأثرية .
- ١١- حدد المسلمون أوقات الصلاة قديما بالاعتماد على البوصلة .
- ١٢- يتم التقاط الصور الفضائية عن طريق الطائرات الحربية .
- ١٣- تعرف المصادر التي سجلت وقت وقوع الحدث بالمصادر الثانوية .

السؤال السادس : بم تفسر ... ؟

- ١- أهمية رسم مخطط لمكان ما عند وصفه لشخص .
- لان ذلك يساعد على معرفة تفاصيل المكان بطريقة أوضح من الوصف بالكلمات .
- ٢- أهمية استخدام البوصلة الرقمية الموجودة بالهواتف الذكية . لتحديد الاتجاهات بسرعة ودقة أكبر .
- ٣- استخدم المصريون القدماء النجم القطبي الشمالى . لتحديد الاتجاهات ليلاً .
- ٤- أهمية مقياس الرسم فى الخريطة .
- يشير الى النسبة بين المسافة على الخريطة وما يقابها على ارض الواقع .
- ٥- أهمية مفتاح الخريطة . يشرح معنى الألوان والرموز المستخدمة على الخريطة .
- ٦- أهمية وردة البوصلة على الخريطة . تساعدنا في تحديد موقع الأماكن والاتجاهات على الخريطة .
- ٧- أهمية عنوان الخريطة . يوضح معنى الخريطة .
- ٨- أهمية الخريطة فى حياتنا . تساعدنا في معرفة الأماكن من حولنا .
- ٩- أهمية الخريطة للمزارع . تستخدم في تحديد موقع الأرض الزراعية .
- ١٠- أهمية الخريطة لقائد الطائرة . تستخدم في تحديد مسار الرحلات .
- ١١- أهمية الخريطة للسائح . تستخدم في الوصول الى الأماكن السياحية والاثرية .
- ١٢- أهمية الإسطرلاب قديما . لانه يستخدم في تحديد اتجاه القبلة واوقات الصلاة وبداية الشهور القمرية .
- ١٣- أهمية المصادر الأولية . لانها تتميز بالدقة كما يصعب الحصول عليها .
- ١٤- أهمية المصادر الثانوية . لانها متوفرة ويسهل الحصول عليها .

السؤال السابع : ما النتائج المترتبة على ... ؟

- ١- استخدام المصريين القدماء للنجم القطبي الشمالى .
- أدى الى تحديد اتجاه الشمال واستطاعوا تحديد باقى الاتجاهات .
- ٢- اختراع البوصلة الرقمية فى الهواتف الذكية . أدى الى تحديد الاتجاهات بسرعة ودقة عالية .
- ٣- معرفة مقياس الرسم عند قراءة الخريطة .
- أدى الى معرفة المسافة على الخريطة وبالتالي تحديدها على ارض الواقع .
- ٤- الاعتراف الرسمى بإنجازات مريم الإسطرلابى . أدى الى تسمية احد الكويكبات المكتشفة باسمها .
- ٥- تسجيل المعلومات زمن وقوع الحدث . أصبحت معلومات صحيحة ودقيقة .

السؤال الثامن : دلل على صحة العبارات التالية

- ١- تفوق المصريين القدماء فى علم الفلك .
- حيث استعان المصريون القدماء بالنجم القطبي الشمالى لتحديد الاتجاهات ليلاً .



٢- برع العرب في رسم الخرائط .

حيث قام العالم الادريسي برسم خريطة للعالم – كما تفوقت مريم الاطرلابي في علم الفلك .

٣- أسهمت مريم الإسطرلابي في علم الفلك .

حيث استخدمت حسابات رياضية دقيقة لتطوير الاسطرلاب .

٤- يعتمد تصنيف المصادر على زمن إنتاجها .

حيث اذا كانت المصادر وقت الحدث تسمى المصادر الأولية – اما اذا كانت المصادر بعد الحدث بزمن طويل تسمى المصادر الثانوية .

السؤال التاسع : أمامك خريطة صماء لمصر اكتب مدلول الأرقام عليها



٤ خريطة (١) جمهورية مصر العربية

١- يشير رقم (١) الى وردة البوصلة .

٢- يشير رقم (٢) الى مفتاح الخريطة .

٣- يشير رقم (٣) الى مقياس الرسم .

٤- يشير رقم (٤) الى عنوان الخريطة .

السؤال العاشر : لاحظ الشكل المقابل ثم اجب

١- يشير رقم (١) الى اتجاه الشمال الشرقي .

٢- يشير رقم (٢) الى اتجاه الشرق .

٣- يشير رقم (٣) الى اتجاه الجنوب .

٤- يشير رقم (٤) الى اتجاه الجنوب الغربي .

٥- يشير رقم (٥) الى اتجاه الشمال .





مراجعة الوحدة الثانية - رابعة ابتدائي

السؤال الأول : أكمل العبارات الآتية بما يناسبها من كلمات :

- ١- استقر المصريون القدماء على ضفاف **نهر النيل** .
- ٢- تعد مدينة الخارجة من المدن **الصحراوية** .
- ٣- تستفيد المدينة من المنتجات الزراعية التي توفرها **القرية** .
- ٤- يوجد جامع عمرو بن العاص في مدينة **القاهرة** .
- ٥- تقع بورسعيد على ساحل البحر **المتوسط** .
- ٦- من المدن التي تقع على ضفاف نهر النيل مدينة **القاهرة واسوان** .
- ٧- تقع مدينة **بورسعيد** على ساحل البحر المتوسط .
- ٨- تقوم الدولة بإقامة المناطق الصناعية بعيداً عن المناطق **السكنية** .
- ٩- تقع مدينة شرم الشيخ على ساحل البحر **الأحمر** .
- ١٠- تعد الكنيسة المعلقة أحد الأماكن الأثرية في مدينة **القاهرة** .
- ١١- ساعدت مبادرة حياة كريمة على تطوير **الريف** المصري .
- ١٢- سعت الدولة إلى إنشاء العديد من المحاور مثل محور **روض الفرج** .
- ١٣- وسيلة انتقال قل استخدامها بعد ظهور السيارات **الدراجة** وهي صديقة للبيئة .
- ١٤- طورت الدولة وحدة معالجة مياه الصرف الصحي بالجبل **الأصفر** .
- ١٥- اعتمد السكان في الماضي على مصباح **الكيروسين** في الإنارة .
- ١٦- أقدم المساجد التي بنيت في مصر هو جامع **عمرو بن العاص** .
- ١٧- يحصل الطلاب في المدرسة على الخدمات **التعليمية** .
- ١٨- يقوم مركز الحماية المدنية بإنقاذ المحاصرين وإخماد **الحرائق** .
- ١٩- تعمل الدولة على تطوير جهاز الشرطة من خلال **التدريب** المستمر .
- ٢٠- تحصل على الخدمات التعليمية من **المدرسة** .
- ٢١- يريد صديقك ووالده شراء احتياجاتهم من الملابس لذا عليهم الذهاب إلى **السوق** .
- ٢٢- من واجبنا تجاه مدرستنا المحافظة عليها وعدم الكتابة على **الجدران** .
- ٢٣- مؤسسة تقوم بتقديم الخدمات الصحية والعلاج **المستشفى** .
- ٢٤- التخطيط لبناء المدن يعني التفكير المسبق لتنظيم استخدام **الأرض** .
- ٢٥- تقدم الشرطة خدمات أمنية منها حفظ **الأمن والنظام** .
- ٢٦- يقوم مركز **الحماية المدنية** بالاستجابة للكوارث الطبيعية مثل الزلازل .
- ٢٧- قام الملك إخناتون ببناء مدينة **أخيتاتون** .
- ٢٨- بنيت مدينة أخيتاتون على الضفة **الشرقية** لنهر النيل .
- ٢٩- تتوقع في المستقبل أن تكون أجهزة الاستشفاء بالمستشفيات قائمة على الذكاء **الاصطناعي** .
- ٣٠- لتحويل ضوء الشمس إلى طاقة كهربائية نستخدم الألواح **الشمسية** .
- ٣١- استخدام الآلات الزراعية الحديثة يساعد على زيادة **الإنتاج** .
- ٣٢- تم تقسيم مصر إلى **٢٧** محافظة .



- ٣٣- يفصل بين المحافظات المصرية حدود إدارية .
- ٣٤- المحافظة جزء من الدولة تضم مجموعة من المراكز والاحياء .
- ٣٥- محافظتا الغربية والقليوبية من محافظات الوجه البحرى .
- ٣٦- تصنف محافظتي (بنى سويف) من محافظات الوجه القبلى .
- ٣٧- أكبر محافظات الحدود الصحراوية مساحة هي محافظة الوادى الجديد .
- ٣٨- شعار محافظة القاهرة به الجامع الأزهر مكتوب على قاعدته كلمة القاهرة .
- ٣٩- أكبر المحافظات المصرية مساحة محافظة الوادى الجديد .
- ٤٠- تعد محافظة شمال سيناء من محافظات مصر الصحراوية .
- ٤١- تم نقل الوزارات والمصالح الحكومية في مصر إلى العاصمة الإدارية الجديدة .
- ٤٢- وضع حجر الأساس لمدينة القاهرة عام ١٩٦٩م القائد جواهر الصقلى .
- ٤٣- أطلق اسم جوهرة الشرق على مدينة القاهرة .
- ٤٤- تعد محافظتا الجيزة وقنا من محافظات الوجه القبلى .
- ٤٥- أصغر المحافظات المصرية مساحة محافظة دمياط .

السؤال الثانى : أكتب كلمة (صواب) أمام العبارة الصحيحة وكلمة (خطأ) أمام العبارة غير الصحيحة

- ١- نتج عن استقرار المصرى القديم على ضفاف النيل نشأة القرى والمدن . (صواب)
- ٢- استغل المصري القديم التربة الخصبة في الزراعة . (صواب)
- ٣- تتركز الأنشطة الزراعية وتربية الحيوانات في المدن . (خطأ)
- ٤- نشأت المدن قبل استقرار المصريين القدماء على ضفاف نهر النيل . (خطأ)
- ٥- تنتشر المناطق الزراعية في القرى وحول المدن . (صواب)
- ٦- تعد مدينتنا القاهرة وأسوان من المدن الصحراوية . (خطأ)
- ٧- القرية تجمع سكني تتركز فيه أنشطة الصناعة والتجارة . (خطأ)
- ٨- تستفيد المدينة من المنتجات الزراعية التي توفرها القرية . (صواب)
- ٩- تبنى المناطق الصناعية عادة داخل المدن . (خطأ)
- ١٠- تعد مدينة الخارجة إحدى المدن الواقعة على ضفاف نهر النيل . (خطأ)
- ١١- تقع مدينتنا الإسكندرية وبورسعيد على ساحل البحر المتوسط . (صواب)
- ١٢- يعد جامع عمرو بن العاص من أقدم الجوامع التي أقيمت في إفريقيا . (صواب)
- ١٣- تخصص المناطق الترفيهية لبناء المنازل التي يعيش فيها السكان . (خطأ)
- ١٤- تجذب المناطق السياحية الزوار من داخل وخارج البلاد . (صواب)
- ١٥- تعد الأندية الرياضية من المناطق الترفيهية . (صواب)
- ١٦- تعمل الدولة على تحديث شبكات الصرف مثل محطة الجبل الأصفر بالقليوبية . (صواب)
- ١٧- عادت مدينة السويس للحياة بعد حرب عام ١٩٧٣م بفضل تعاون أهلها . (صواب)
- ١٨- انشأت الدولة عديداً من المدن الجديدة في المناطق الصحراوية . (صواب)
- ١٩- كان المصريون يستخدمون الدراجات للذهاب إلى العمل أو السوق منذ زمن قريب . (صواب)
- ٢٠- تعمل الدولة على تطوير الريف المصري من خلال مبادرة انحضر للأخضر . (صواب)

تم تحميل هذه الأوراق مجاناً من أكبر وأضخم مكتبة تعليمية في مصر موقع وتطبيق مذكرات لياض



- ٢١- شهدت مصر تطورًا ملحوظًا في وسائل المواصلات منذ عام ٢٠١٤م. (صواب)
- ٢٢- تسعى الحكومة إلى تطوير الريف المصرى من خلال مبادرة حياة كريمة. (صواب)
- ٢٣- يعد محور روض الفرج نموذجا للتطور في إنشاء المحاور المرورية. (صواب)
- ٢٤- الأتوبيس الترددى من وسائل النقل القديمة. (خطأ)
- ٢٥- يساهم استخدام الدراجات في حماية البيئة. (صواب)
- ٢٦- تساعد التكنولوجيا على تسهيل الحياة وسرعة إنجاز الأعمال. (صواب)
- ٢٧- من وسائل الاتصال القديمة الهاتف المحمول. (خطأ)
- ٢٨- تحقيق التوازن بين مزايا التطوير وتحدياته أمر ضروري لضمان جودة الحياة. (صواب)
- ٢٩- من التحديات المصاحبة لتطور المدن تحسن مستوى حياة السكان. (خطأ)
- ٣٠- أطلقت الدولة مبادرة ١٠٠ مليون صحة للكشف المبكر عن الأمراض. (صواب)
- ٣١- تقع مدينة أحيثانون حاليا في محافظة أسيوط. (خطأ)
- ٣٢- يعد التخطيط لبناء المدن حل لمشكلات الازدحام والتلوث. (صواب)
- ٣٣- تعد محافظة مطروح إحدى محافظات الحدود الصحراوية. (صواب)
- ٣٤- تعد الإسكندرية عاصمة مصر والمقر الرسمي للحكم والإدارة حاليا. (خطأ)
- ٣٥- قامت الدولة بإنشاء العاصمة الإدارية الجديدة غرب محافظة القاهرة. (خطأ)
- ٣٦- يرفع شعار محافظتي في عيدها القومي. (صواب)
- ٣٧- يعبر شعار المحافظة عن نشاط سكانها أو جزء من تاريخها. (صواب)
- ٣٨- تعتمد العاصمة الإدارية الجديدة على التكنولوجيا الحديثة والطاقة النظيفة. (صواب)
- ٣٩- لكل محافظة من محافظات مصر شعار خاص بها. (صواب)
- ٤٠- مدينة الالف مئذنة اسم اطلق على محافظة الجيزة. (خطأ)

السؤال الثالث : اختر الإجابة الصحيحة مما بين الأقواس

- ١- أقيم جامع عمرو بن العاص في مدينة (اسوان - القاهرة - حلوان - الإسكندرية)
- ٢- مدينة تقع على ساحل البحر الاحمر. (اسوان - أسيوط - الغردقة - المنيا)
- ٣- يجب بناء المصانع (في وسط المدينة - بين المنازل - على اطراف المدينة - على جانبي النهر)
- ٤- تحصل المدينة من القرية على المنتجات (الزراعية - الصناعية - التجارية - التعدينية)
- ٥- اى مما يلي من المدن الصحراوية (الإسكندرية - القاهرة - اسوان - الخارجة)
- ٦- توافر المياه العذبة أدى إلى استقرار المصريين القدماء بجوار (البحر المتوسط - نهر النيل - البحيرات الشمالية - الجبال المرتفعة)
- ٧- استغل المصريون القدماء التربة الخصبة في نشاط (الزراعة - الصناعة - التجارة - السياحة)
- ٨- إحدى المدن التي تقع على ضفاف نهر النيل هي (القاهرة - الخارجة - الغردقة - الإسكندرية)
- ٩- أي مما يلي يتم بناؤه في المناطق الترفيهية ؟ (الأندية الرياضية - المصانع - مكاتب البريد - البنوك)
- ١٠- إحدى وسائل المواصلات التي تجمع بين السرعة والكفاءة والأمان هي (القطار البخاري - الأتوبيس الترددي - الدراجة البخارية - الأتوبيس النهري)



- ١١- اعتمد السكان في الماضي على أدوات تقليدية منها
- (المصابيح الكهربائية - الهواتف المحمولة - الغسالات الحديثة - مصابيح الكيروسين)
- ١٢- تقدم الخدمات الصحية للمرضى في (المدرسة - مكتب البريد - المستشفى - قسم الشرطة)
- ١٣- تعد من المهام الأساسية للشرطة
- (تنظيم المرور - تنظيف الشوارع - توفير الأدوية - تعليم الطلاب)
- ١٤- إحدى مهام مركز الحماية المدنية
- (إصدار الوثائق - إخماد الحرائق - مراقبة الامتحانات - تنظيم المرور)
- ١٥- تعمل الدولة على مراقبة الأسعار في الأسواق من أجل
- (زيادة الاستهلاك - تشجيع السياحة - منع الغلاء - زيادة الإنتاج)
- ١٦- تم تشييد مدينة أحياتون في عهد الملك (رمسيس الثاني - أحس - تحتمس الثالث - إخناتون)
- ١٧- إحدى القيم التي نتمسك بها ونأخذها من الماضي إلى المستقبل
- (الأناية - الغرور - التعاون - التعصب)
- ١٨- إحدى محافظات الحدود الصحراوية
- (الجيزة - بني سويف - البحيرة - البحر الأحمر)
- ١٩- إحدى أقدم المواسم التاريخية
- (أسيوط - القاهرة - المنصورة - الغردقة)
- ٢٠- أى من المدن الآتية تقع على ضفاف نهر النيل ؟
- (القاهرة - مطروح - الإسكندرية - السويس)
- ٢١- من المدن الساحلية التي تقع على ساحل البحر الأحمر
- (مطروح - الغردقة - السلوم - دمياط)
- ٢٢- المناطق المخصصة لإنتاج المحاصيل الغذائية هي المناطق
- (الصناعية - الزراعية - السكنية - الترفيهية)
- ٢٣- المناطق المخصصة لبناء المنازل هي المناطق
- (الزراعية - السكنية - الصناعية - الترفيهية)
- ٢٤- المناطق المخصصة للتنزه هي المناطق
- (الترفيهية - الزراعية - الصناعية - السكنية)
- ٢٥- كان المصري القديم يعتمد في الزراعة على مياه
- (نهر النيل - الأمطار - الآبار - العيون)
- ٢٦- توجد الكنيسة المعلقة في مدينة
- (القليوبية - سيناء - القاهرة - أسيوط)
- ٢٧- تعرضت مدينة للقصف خلال حرب أكتوبر ١٩٧٣ م .
- (الإسكندرية - القاهرة - السويس - مطروح)
- ٢٨- من فوائد ركوب الدراجة
- (التلوث - الزحام - تقوية العضلات - زيادة الإنفاق)
- ٢٩- توفر لنا المستشفيات الخدمات
- (الصحية - الأمنية - التعليمية - التجارية)
- ٣٠- الكشف وتقديم العلاج من مهام
- (الشرطي - المعلم - الطبيب - رجل المرور)
- ٣١- من مهام مركز الحماية المدنية
- (إطفاء الحرائق - إصدار الوثائق - تقديم العلاج - حفظ الأمن)
- ٣٢- عند انهيار المباني يكون إنقاذ الأشخاص مسئولية
- (الحماية المدنية - مراكز الشرطة - المؤسسات التعليمية - الأسواق التجارية)
- ٣٣- توجد مدينة أحياتون في تل العمارنة بمدينة
- (الأقصر - أسيوط - أسوان - المنيا)



- ٣٤- يتوقع أن تعتمد المدن مستقبلاً في إنتاج الطاقة على
- (الفحم - البترول - الغاز الطبيعي - الشمس)
- ٣٥- من محافظات الوجه البحرى فى مصر محافظة
- (القاهرة - الجيزة - مطروح - أسوان)
- ٣٦- من محافظات الوجه القبلى فى مصر محافظة
- (الشرقية - المنوفية - قنا - الإسكندرية)
- ٣٧- من محافظات الحدود الصحراوية فى مصر محافظة
- (المنوفية - المنيا - مطروح - البحيرة)
- ٣٨- يضم شعار محافظة القاهرة عدة رموز منها
- (قمر مضى - شمس ساطعة - مركب بشرايين - سنابل القمح)
- ٣٩- تحتفل محافظة القاهرة بعيدها القومى فى شهر
- (يوليو - أغسطس - سبتمبر - أكتوبر)
- ٤٠- محافظة
- (البحر الاحمر - المنيا - الفيوم - قنا)

السؤال الرابع : اكتب ما تشير اليه كل عبارة من العبارات التالية

- ١- مناطق مخصصة للتنزه منها الأندية الرياضية والحدائق العامة .
- ٢- تجمع سكانى تتركز فيه أنشطة الزراعة وتربية الحيوانات .
- ٣- مناطق مخصصة لإقامة المصانع لتوفير المنتجات المتنوعة .
- ٤- تجمع سكنى تتركز فيه الخدمات وأنشطة الصناعة والتجارة .
- ٥- مناطق تضم معالم أثرية وسياحية وتسهم في تنشيط السياحة .
- ٦- إحدى المناطق التي تنتشر في القرى وحول بعض المدن تنتج المحاصيل والغذاء .
- ٧- مدينة أنشأها الملك إخناتون على الضفة الشرقية لنهر النيل .
- ٨- المقر الرسمي للحكم والإدارة للدولة .
- ٩- راية تتخذها المحافظة رمزاً لها لتعبر عن نشاط سكانها أو جزء من تاريخها .
- ١٠- أول جامع أقيم فى مصر بعد الفتح الإسلامى لها .
- ١١- مدينة مصرية تعرضت للقصف وتدمرت بها بعض المباني خلال فى أكتوبر ١٩٧٣م السويس
- ١٢- مبادرة مصرية تهدف إلى تطوير الريف المصرى .
- ١٣- وسيلة استخدمت للإنارة قديماً .
- ١٤- مناطق تسعى الدولة إلى إزالتها واستبدالها بمساكن آمنة ومناسبة .
- ١٥- الأماكن التي تقدم متطلبات ضرورية للحياة اليومية مثل التعليم والصحة والأمن
- ١٦- أحد الأماكن الخدمية التي تقدم الخدمات الصحية للمرضى .
- ١٧- أحد الأماكن الخدمية التي تعمل على حفظ الأمن والنظام وتنظيم المرور والنجدة
- ١٨- أحد الأماكن الخدمية التي تسهم فى توفير السلع المختلفة للناس .
- ١٩- التفكير المسبق لتنظيم استخدام الأرض وتحسين حياة السكان .
- ٢٠- مصدر طاقة تعتمد عليه مدن المستقبل ويستخدم فى تشغيل السيارات الكهربائية الطاقة الشمسية
- ٢١- جزء من الدولة يضم مجموعة من المراكز أو الأحياء .
- ٢٢- العيد الذي يمثل حدثاً تاريخياً أو ذكرى مهمة مرت بها المحافظة .
- ٢٣- منارة الإسلام فى العالم ويظهر على شعار محافظة القاهرة .

المناطق الترفيهية

القرية

المناطق الصناعية

المدينة

المناطق السياحية

المناطق الزراعية

إخناتون

القاهرة

شعار المحافظة

جامع عمرو بن العاص

حياة كريمة

مصابيح الكيروسين

العشوائيات

الأماكن الخدمية

المستشفى

مركز الشرطة

الاسواق

التخطيط لبناء المدن

المحافظة

العيد القومي





السؤال الخامس : صوب ما تحته خط فيما يلي

- ١- من المدن التي تقع على ضفاف نهر النيل مدينة بورسعيد .
- ٢- المناطق السكنية مخصصة لبناء المصانع .
- ٣- استغل المصري القديم التربة الخصبة في الصيد .
- ٤- أول جامع أقيم في مصر وإفريقيا جامع السيدة زينب .
- ٥- أنشأت الدولة مشروع بشاير الخير بمحافظة المنوفية .
- ٦- استخدم السكان في الماضي الهواتف المحمولة .
- ٧- أحد الأماكن التي تقدم خدمات تعليمية المستشفى .
- ٨- حفظ الأمن والنظام أحد واجبات الأطباء .
- ٩- شيدت مدينة أحياتون على الضفة الغربية لنهر النيل .
- ١٠- أكبر محافظات مصر مساحة هي محافظة البحر الأحمر .
- ١١- محافظة الفيوم إحدى محافظات الحدود الصحراوية .
- ١٢- المدينة التي اشتهرت باسم مدينة الألف منذنة هي مدينة الأقصر .
- ١٣- يُعد يوم ٦ يوليو هو العيد القومي لمدينة الإسكندرية .
- ١٤- وضع حجر الأساس لمدينة القاهرة عام ٩٦٩م على يد القائد عمرو بن العاص .
- ١٥- أطلقت الدولة مبادرة حياة كريمة للكشف المبكر عن الأمراض .

السؤال السادس : بم تفسر ... ؟

- ١- استقرار المصريون القدماء على ضفاف نهر النيل . بسبب وفرة المياه العذبة والتربة الخصبة .
- ٢- سميت الكنيسة المعلقة بهذا الاسم . لأنها بنيت فوق برجين من بقايا حصّة عسكري قديم .
- ٣- أهمية المناطق السياحية .
- لأنها تجذب الزوار من داخل البلاد وخارجها وتسهم في تنشيط السياحة وتوفير فرص عمل .
- ٤- إقامة المصانع على أطراف المدن . لتوفير المنتجات الصناعية .
- ٥- أنشأت الدولة عديدا من المدن الجديدة في المناطق الصحراوية . بهدف تقليل الازدحام .
- ٦- منعت القوات الإسرائيلية من دخول مدينة السويس في حرب أكتوبر ١٩٧٣م .
- لان المقاومة الشعبية وقوات الجيش والشرطة دافعوا ببسالة عن مدينة السويس .
- ٧- استخدام الدراجات يحافظ على مدينتنا .
- لان الدراجات لا تلوث البيئة وتساعد على تقليل الازدحام المروري واقتصادية وغير مكلفة .
- ٨- أهمية مكتبة المدرسة .
- لأنها تضم العديد من الكتب مثل كتب التاريخ التي تحكى عن اجدادنا المصريين القدماء وحضارتنا العظيمة .
- ٩- قيام الدولة بإنشاء أسواق متخصصة . لبيع أنواع معينة من السلع مثل سوق الجلود .
- ١٠- أهمية الشرطة في مدينتنا . لأنها تقوم بحفظ الامن والنظام – ضبط المخالفين والخارجين عن القانون .
- ١١- تقوم الدولة ببناء المدارس والجامعات . من أجل مستقبل أفضل للطلاب .
- ١٢- تعمل الدولة على مراقبة الأسعار في الأسواق . لمنع الغلاء والتأكد من صلاحية المنتجات وسلامتها .



١٣- أهمية الأسواق بالنسبة للناس .

لأنها تقدم لنا احتياجات ومستلزمات الطعام - الملابس - الأدوات المدرسية .

١٤- أهمية مبادرة ١٠٠ مليون صحة . للكشف المبكر عن الامراض .

١٥- أهمية التخطيط لبناء المدن .

لأنه يساعد على (١) ظهور المدن بشكل أكثر تنظيماً وجمالاً (٢) حل مشكلات الازدحام والتلوث

(٣) توفير المرافق والخدمات للسكان .

١٦- تعمل الدولة على توفير الخدمات للسكان . لتحسين حياة السكان .

١٧- استخدام أجهزة للاستشفاء بمستشفيات المستقبل قائمة على الذكاء الاصطناعي .

لتشخيص الامراض وعلاجها في اقصر وقت .

١٨- اهمية الطاقة الشمسية في المدن المستقبلية .

توليد الطاقة الكهربائية لتشغيل الإضاءة والأجهزة في المنزل - تشغيل السيارات الكهربائية .

١٩- تقسيم مصر إلى عدد من المحافظات . بسبب اتساع مساحة مصر ولتسهيل ادارتها وتنظيم شئونها .

٢٠- ضرورة وجود عاصمة لكل دولة . لتكون المقر الرسمي للحكم والإدارة .

٢١- تتخذ كل محافظة شعارًا خاصًا بها . ليعبر عن نشاط سكانها او جزء من تاريخها .

٢٢- وجود شمس ساطعة خلف الجامع الأزهر بشعار محافظة القاهرة .

لأنها تعبر عن ان الجامع الأزهر منارة الإسلام في العالم .

٢٣- تحتفل القاهرة بعيدها القومي يوم ٦ يوليو من كل عام .

لأنه اليوم الذي يوافق ذكرى وضع القائد جوهر الصقلي حجر الأساس لبناء مدينة القاهرة عام ٩٦٩ م .

٢٤- تعد القاهرة من أقدم العواصم التاريخية في العالم . لأنها أنشئت قبل أكثر من ألف عام .

السؤال السابع : ما النتائج المترتبة على ؟

١- **تحتوى المناطق السياحية تحتوى على معالم أثرية او طبيعية .**

تجذب الزوار من داخل البلاد وخارجها مثل المتاحف والمعابد القديمة .

٢- **وفرة التربة الخصبة على ضفاف نهر النيل . أدى الى زراعة المحاصيل والغذاء .**

٣- **تطوير الدولة للمدن .**

أدت الى نتائج متعددة تنوعت بين (١) الاثار الإيجابية مثل : تحسن مستوى حياة السكان وتوفير فرص عمل

(٢) تحديات مصاحبة للتطور مثل : ارتفاع بعض تكاليف المعيشة وارتفاع معدلات التلوث .

٤- **محاولات العدوان الإسرائيلي دخول مدينة السويس في أثناء حرب ١٩٧٣ م .**

تعرضت أجزاء من مدينة السويس لاضرار كبيرة وتدمير العديد من المباني نتيجة القصف .

٥- **استخدام الألواح الشمسية في المستقبل . تحويل ضوء الشمس الى طاقة كهربائية من خلالها .**

٦- **استخدام المزارعين في المستقبل للآلات الحديثة .**

مما جعل الزراعة اسهل واسرع - وساعدتهم في ترشيد استخدام الماء وزيادة الإنتاج .

٧- **إنشاء الدولة للعاصمة الإدارية الجديدة . أدى الى نقل الوزارات والمصالح الحكومية اليها .**

٨- **اعتماد العاصمة الإدارية الجديدة على التكنولوجيا الحديثة والطاقة النظيفة .**

مما يساعد في بناء مستقبل افضل .



السؤال الثامن : دلل على صحة العبارات التالية

- ١- تتنوع طبيعة المدن في مصر حسب موقعها .
حيث يوجد مدن على ضفاف نهر النيل مثل القاهرة واسوان – مدن صحراوية مثل الخارجة – مدن ساحلية مثل الإسكندرية وبورسعيد على البحر المتوسط والغدقة وشرم الشيخ على البحر الأحمر .
- ٢- يتبادل كل من المدينة والقرية المنافع .
حيث تستفيد المدينة من المنتجات الزراعية التي توفرها القرية – وتستفيد القرية من الخدمات والمنتجات الصناعية التي توفرها المدينة .
- ٣- تبذل الدولة جهودًا كبيرة لتطوير القرى والمدن المصرية . من خلال :
 - (١) انشاء العديد من المدن الجديدة في المناطق الصحراوية بهدف تقليل الازدحام .
 - (٢) تطوير الريف المصرى من خلال مبادرة حياة كريمة .
 - (٣) تحسين محطات مياه الشرب وتحديث شبكات الكهرباء والصرف الصحى مثل محطة الجبل الأصفر .
 - (٤) إزالة العديد من المناطق العشوائية مع بناء مساكن بديلة آمنة ومناسبة .
- ٤- شهدت مصر تطورًا ملحوظًا عام ٢٠١٤م فى الطرق ووسائل المواصلات .
الطرق : من خلال توسعة شبكة الطرق وانشاء الكبارى والانفاق الجديدة والمحاور مثل محور روض الفرج ووسائل المواصلات : ادخال وسائل مواصلات متطورة لنقل ملايين المصريين يوميا .
- ٥- تمتلك مصر وسائل نقل حديثة ومتنوعة .
حيث يوجد وسائل مواصلات تجمع بين السرعة والكفاءة والأمان مثل مترو الانفاق والقطار الكهربائى والاتوبيس الترددى .
- ٦- مدينة السويس رمز للصمود والتحدى .
حيث بعد انتهاء الحرب بانتصار مصر تعاون اهالى السويس جميعاً لاعادة بناء مدينتهم حتى عادت نابضة بالحياة من جديد .
- ٧- تقدم الشرطة عديدا من الخدمات فى المجتمع .
حيث تقوم بحفظ الأمن والنظام – ضبط المخالفين والخارجين عن القانون – بالإضافة الى خدمات أخرى مثل تنظيم المرور والنجدة وإصدار الوثائق الرسمية .
- ٨- تعمل الدولة على تطوير جهاز الشرطة .
من خلال التدريب المستمر – تحديث الوسائل التكنولوجية المستخدمة فى حفظ الأمن – الاستجابة السريعة للحوادث والبلاغات .
- ٩- تسعى الدولة إلى حماية المستهلك داخل الأسواق .
من خلال مراقبة الأسعار لمنع الغلاء – والتأكد من صلاحية المنتجات وسلامتها .
- ١٠- تميز المصريون القدماء فى تخطيط مدتهم .
حيث أنشأ الملك إخناتون مدينة اخيتاتون على الضفة الشرقية لنهر النيل وضمت مناطق سكنية ودينية ومراكز الحكم والإدارة .
- ١١- الزراعة فى المستقبل ستكون أكثر تطورًا .
من خلال استخدام المزارعون للالات الحديثة مما يجعلها اسهل واسرع وترشيد



- ١٢- شهرة القاهرة عبر الزمن بعدة أسماء . حيث اطلق عليها مدينة الألف منذنة وجوهرة الشرق .
 ١٣- لشعار المحافظة أهمية كبيرة .
 حيث يرفع على مبنى المحافظة والمؤسسات الحكومية بها - ويرفع في المناسبات الوطنية للمحافظة مثل العيد القومي للمحافظة .

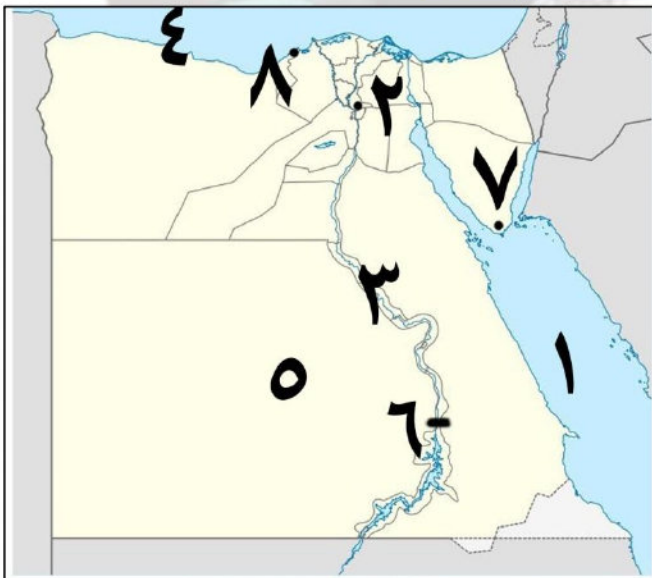
السؤال التاسع : ما العلاقة بين ؟

- ١- القرية والمدينة . حيث تستفيد المدينة من المنتجات الزراعية التي توفرها القرية .
 ٢- الدراجات وصحة الإنسان . تحافظ الدراجات على صحة الانسان وتقوى عضلاته .
 ٣- التخطيط الجيد لبناء المدن وحياة السكان .
 التخطيط الجيد لبناء المدن يعنى التفكير المسبق لتنظيم استخدام الأرض وتحسين حياة السكان .
 ٤- مساحة مصر والمحافظات . تم تقسيم مصر الى عدد من المحافظات لاتساع مساحة مصر .
 ٥- شعار المحافظة والعيد القومي لها . يرفع شعار المحافظة في المناسبات مثل العيد القومي للمحافظة .

السؤال العاشر : ما المقصود بـ ؟

- ١- القرية تجمع سكنى تتركز فيه أنشطة الزراعة وتربية الحيوانات .
 ٢- المدينة تجمع سكنى تتركز فيه الخدمات والأنشطة مثل الصناعة والتجارة .
 ٣- الأماكن الخدمية هي منشآت مخصصة لتقديم الخدمات المتنوعة للناس مثل الصحية والأمنية .
 ٤- شعار المحافظة راية تتخذها المحافظة رمزا لها لتعبر عن نشاط سكانها أو جزء من تاريخها .
 ٥- العيد القومي للمحافظة . هو العيد الذى يمثل حدثاً تاريخياً او ذكرى مهمة مرت بها المحافظة .
 ٦- المحافظة هي جزء من الدولة تضم مجموعة من المراكز أو الأحياء وتختص بتقديم الخدمات لسكانها .
 ٧- التخطيط لبناء المدن . يعنى التفكير المسبق لتنظيم استخدام الأرض وتحسين حياة السكان .

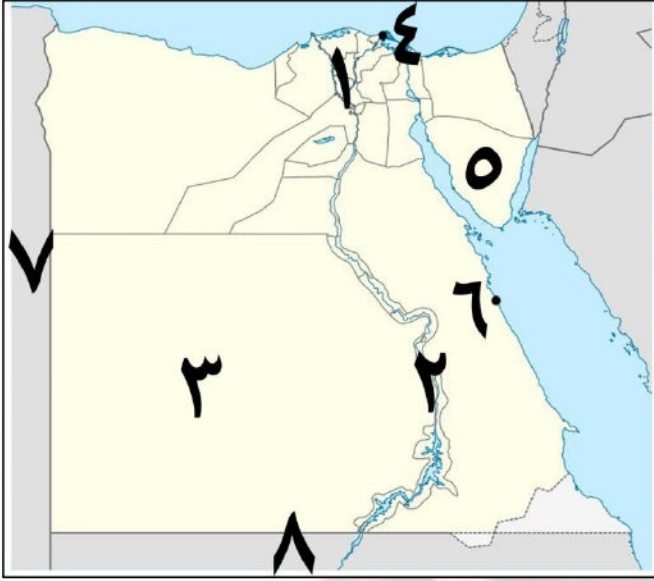
السؤال الحادى عشر : أمامك خريطة صماء لمصر اكتب مدلول الأرقام عليها



- ١- يشير رقم (١) الى البحر الأحمر .
 ٢- محافظة تقع على نهر النيل القاهرة .
 ٣- يشير رقم (٣) الى نهر النيل .
 ٤- يشير رقم (٤) الى البحر المتوسط .
 ٥- مدينة تقع في الصحراء الخارجة .
 ٦- مدينة تقع على النيل اسوان .
 ٧- مدينة تقع على البحر الاحمر شرم الشيخ .
 ٨- مدينة تقع على البحر المتوسط الإسكندرية .



السؤال الحادي عشر : أمامك خريطة صماء لمصر اكتب مدلول الأرقام عليها



- ١- يشير رقم (١) الى محافظات الوجه البحرى .
- ٢- يشير رقم (٢) الى محافظات الوجه القبلى .
- ٣- اكبر محافظات مصر مساحة هى الوادى الجديد .
- ٤- اصغر محافظات مصر مساحة هى دمياط .
- ٥- محافظة صحراوية هى جنوب سيناء .
- ٦- يشير الى مدينة ساحلية الفردقة .
- ٧- يشير رقم (٧) الى دولة ليبيا .
- ٨- يشير رقم (٨) الى دولة السودان .



مراجعة الوحدة الثالثة - رابعة ابتدائي

السؤال الأول : أكمل العبارات الآتية بما يناسبها من كلمات :

- ١- اتخذت مملكة الشمال بمصر قديماً رمزاً لها وهو **نبات البردي** .
- ٢- العلم هو رمز **الدولة** يمثلها ويعبر عن تاريخها وشعبها .
- ٣- علم مصر على شكل **مستطيل** افقي .
- ٤- كانت زهرة اللوتس في مصر قديماً شعاراً لمملكة **الجنوب** .
- ٥- اللون **الابيض** في العلم المصري يرمز إلى النقاء والرخاء والسلام .
- ٦- النشيد الوطني لمصر هو **بلادى بلادى** .
- ٧- من واجبتنا تجاه علم بلدنا **رفعه عالياً** و **المحافظة عليه** .
- ٨- من قارات العالم القديم آسيا و **أفريقيا** و **أوروبا** .
- ٩- عدد قارات العائم **سبعة** قارات وتعد قارة **آسيا** أكبر القارات مساحة .
- ١٠- تقع قارة أمريكا الجنوبية في نصف الكرة الأرضية **الجنوبي** .
- ١١- تعد **المحيطات** هي مساحة واسعة وعميقة من المياه المالحة مثل **المحيط الهادى** .
- ١٢- تعد قارة **أمريكا الشمالية** من قارات العالم الجديد .
- ١٣- يعد **المحيط الهادى** أكبر المحيطات مساحة .
- ١٤- تعد قارة **استراليا** أصغر القارات من حيث المساحة .
- ١٥- تقع مصر في الركن **الشمالى الشرقى** من قارة إفريقيا .
- ١٦- تنقسم قارات العالم إلى قارات العالم **القديم** وقارات العالم **الجديد** .
- ١٧- تمتد السهول الفيضية على جانبي **نهر النيل** وتتميز بتربته **الخصبة** .
- ١٨- من أمثلة الجبال في مصر **سانت كاترين** وهو أعلى قمة جبلية في مصر .
- ١٩- من التلال التي تقع بمصر هي **تلال المقطم** .
- ٢٠- توجد جبال البحر الأحمر في الصحراء **الشرقية** .
- ٢١- تقع هضبة الجلف الكبير في الركن **الجنوب الغربى** لمصر .
- ٢٢- من أمثلة البحيرات الشمالية المالحة في مصر بحيرة **البردويل** وبحيرة **المنزلة** .
- ٢٣- يجرى نهر النيل في مصر من **الجنوب** الى **الشمال** ويصب في البحر **المتوسط** .
- ٢٤- من أمثلة الموارد غير المتجددة **الفحم** و **البتروى** .
- ٢٥- تعد الشمس والرياح من الموارد **المتجددة** .
- ٢٦- الموارد **المتجددة** هي التي تتجدد باستمرار وغير قابلة للنفاذ .
- ٢٧- من أمثلة الموارد الطبيعية المياه و **الهواء** و **التربة** .
- ٢٨- مبادرة أطلقته الدولة لحث المواطنين على الحفاظ على البيئة هي **اتحضر للاخضر** .
- ٢٩- من أهم مؤلفات الدكتور جمال حمدان موسوعة **شخصية مصر** .
- ٣٠- استخدم الدكتور مصطفى السيد **جزيئات الذهب** في علاج مرض السرطان .
- ٣١- درس الدكتور طه حسين في جامعة **السوربون** .
- ٣٢- حصل الدكتور أحمد زويل على جائزة نوبل في **الكيمياء** .



- ٣٣- أسهمت الدكتورة **سميرة موسى** في تأسيس هيئة الطاقة الذرية في العالم .
- ٣٤- برع المصريون القدماء في الفن و **العلم** و **العمارة** .
- ٣٥- من المعالم الشهيرة بمحافظة القاهرة **الجامع الازهر** .
- ٣٦- من المعالم التاريخية في مصر دير **سانت كاترين** بجنوب سيناء .
- ٣٧- يمكن زيارة الأماكن الأثرية ومشاهدتها دون الذهاب إليها باستخدام **التكنولوجيا الحديثة** .
- ٣٨- شهد برج القاهرة في شكل أسطواني كهيئة زهرة **اللوتس** .
- ٣٩- يوجد برج إيفل في دولة **فرنسا** .
- ٤٠- يوجد دير سانت كاترين في جنوب شبه **سيناء** .

السؤال الثاني : أكتب كلمة (صواب) أمام العبارة الصحيحة وكلمة (خطأ) أمام العبارة غير الصحيحة

- ١- كانت مصر قديماً مقسمة إلى ثلاث ممالك لكل منها شعار يميزها . (خطأ)
- ٢- يدل النسر الذي يتوسط علم مصر على القوة والشجاعة . (صواب)
- ٣- تردد النشيد الوطني لمصر بلادي بلادي " تعبيراً عن الانتماء والفخر . (صواب)
- ٤- المصريون من أحدث شعوب العالم استخداماً للأعلام . (خطأ)
- ٥- يشير اللون الأحمر في علم مصر للنقاء والسلام . (خطأ)
- ٦- يرفع العلم المصري في العديد من المواقع السياحية والوزارات . (صواب)
- ٧- اتخذت مملكة الجنوب في مصر قديماً من زهرة اللوتس شعاراً لها . (صواب)
- ٨- يظهر علم مصر الحالي بشكل مربع ويتكون من ثلاثة ألوان . (خطأ)
- ٩- بلون النسر في علم مصر باللون الأبيض . (خطأ)
- ١٠- يُعد المصريون القدماء من أوائل الشعوب التي استخدمت الأعلام . (صواب)
- ١١- وصل المستكشفون إلى الأمريكتين في العصور الحديثة . (صواب)
- ١٢- تضم الكرة الأرضية عدد سبع قارات وخمسة محيطات . (صواب)
- ١٣- يغطي الماء النسبة الأكبر من سطح الكرة الأرضية . (صواب)
- ١٤- تعد قارة أمريكا الشمالية من قارات العالم الجديد . (صواب)
- ١٥- تقل مساحة مصر عن المليون كيلو متر مربع . (خطأ)
- ١٦- يقصد بالموقع الجغرافي موقع المكان بالنسبة لليابس والماء . (صواب)
- ١٧- تعد قارة أستراليا إحدى قارات العالم القديم . (خطأ)
- ١٨- يبلغ عدد قارات العالم خمس قارات . (خطأ)
- ١٩- البحر الأحمر يحد مصر من جهة الغرب . (خطأ)
- ٢٠- يحد مصر من الشرق خليج العقبة والبحر الأحمر . (صواب)
- ٢١- حماية حدود وطننا إحدى مسئوليات الجيش المصري . (صواب)
- ٢٢- يطلق على كوكب الأرض اسم الكوكب المائي . (صواب)
- ٢٣- يحد مصر من جهة الشمال دولة ليبيا . (خطأ)
- ٢٤- تقع جبال البحر الأحمر في الصحراء الغربية . (خطأ)
- ٢٥- تعد بحيرة ناصر إحدى البحيرات المالحة جنوب مصر . (خطأ)



- ٢٦- تقع جزيرة شدوان في البحر الأحمر . (صواب)
- ٢٧- تختلف الألوان على خريطة مستويات ارتفاع السطح . (صواب)
- ٢٨- يقع جبل سانت كاترين في الصحراء الغربية . (خطأ)
- ٢٩- يجرى نهر النيل في مصر من الشمال إلى الجنوب . (خطأ)
- ٣٠- توجد هضبة الجلف الكبير في جنوب شرق مصر . (خطأ)
- ٣١- الموارد المتجددة غير قابلة للنفاذ . (صواب)
- ٣٢- اليابان من الدول التي ليس لديها موارد طبيعية وفيرة . (خطأ)
- ٣٣- نجح الدكتور مصطفى السيد في تطوير علاج للسرطان باستخدام جزيئات الذهب . (صواب)
- ٣٤- يمتاز الجندي المصري بالبسالة والشجاعة . (صواب)
- ٣٥- يعد الهواء والتربة من الموارد الطبيعية . (صواب)
- ٣٦- تستخدم طاقة الرياح والشمس في إنتاج الطاقة النظيفة . (صواب)
- ٣٧- الإسراف في استخدام المبيدات الحشرية والأسمدة الكيميائية يسبب تلوث التربة . (صواب)
- ٣٨- تتنوع الموارد في مصر ما بين موارد طبيعية وموارد بشرية . (صواب)
- ٣٩- تعد المعادن والبتروول من مصادر الطاقة غير المتجددة . (صواب)
- ٤٠- علينا أن نستخدم مواردنا بحكمة لكي تكفي الجميع والأجيال القادمة . (صواب)
- ٤١- أطلقت الدولة مبادرة (اتحضر للأخضر) للحفاظ على البيئة . (صواب)
- ٤٢- تفوق الدكتور جمال حمدان في مجال الطب . (خطأ)
- ٤٣- سميرة موسى هي أول عالمة مصرية تحصل على الدكتوراه في مجال الطاقة النووية . (صواب)
- ٤٤- تخصص الدكتور طه حسين في مجال العلوم الطبية . (خطأ)
- ٤٥- يجب علينا معاملة السياح بأدب وأن نكون سفراء لبلدنا مصر . (صواب)
- ٤٦- ترك المصريون القدماء تراثاً حضارياً عظيماً . (صواب)
- ٤٧- يعكس المسرح الروماني ازدهار الحياة التجارية في الإسكندرية قديماً . (خطأ)
- ٤٨- بني برج القاهرة في عهد الرئيس محمد أنور السادات . (خطأ)
- ٤٩- يُسمح بتناول الطعام داخل المعالم التاريخية . (خطأ)
- ٥٠- تعد معابد الكرنك أحد المعالم المميزة لمحافظة أسوان . (خطأ)

السؤال الثالث : اختر الإجابة الصحيحة مما بين الأقواس

- ١- كان نبات البردي شعاراً لمملكة في مصر القديمة (الشمال - الجنوب - الشرق - الغرب)
- ٢- يرمز اللون الأحمر في علم مصر إلى
(خصوبة التربة - السلام والنقاء - فترات الاستعمار - دماء الشهداء)
- ٣- النسر الموجود على علم مصر يرمز إلى
(الرخاء - القوة - الشهداء - السلام)
- ٤- النسر في علم مصر مستوحى من نسر القائد
(عمرو بن العاص - صلاح الدين الأيوبي - أحمد بن طولون - عمر بن الخطاب)
- ٥- من سلوكيات عدم احترام العلم
(الحفاظ عليه - القاؤه على الأرض - رفعه عالياً - الوقوف باحترام أثناء تحيته)



- ٦- أحد السلوكيات التي تعبر عن احترامنا لعلم مصر هو
- (الرسم عليه - تغيير ألوانه - الوقوف لتحتيته - وضعه أرضاً)
- ٧- العبارة المكتوبة على قاعدة النسب في علم مصر هي
- (تحيا مصر - جمهورية مصر العربية - مصر أولا - قوة الشعب المصري)
- ٨- يطلق على كوكب الأرض اسم الكوكب
- (الصخرى - البارد - المائي - الناري)
- ٩- أصغر المحيطات على كوكب الأرض من حيث المساحة هو المحيط
- (الهادي - القطبي الجنوبي - الهندي - القطبي الشمالي)
- ١٠- تحد البحار مصر من جهتي
- (الشمال والشرق - الشمال والغرب - الجنوب والشرق - الجنوب والغرب)
- ١١- تعتبر قارة
- (إفريقيا - أستراليا - آسيا - أوروبا)
- ١٢- تفصل الحدود الدولية بين
- (المدن - القارات - المحيطات - الدول)
- ١٣- يعد المحيط
- (الهادي - الهندي - الأطلنطي - المتجمد الشمالي)
- ١٤- تحد مصر من الغرب دولة
- (فلسطين - ليبيا - السودان - الأردن)
- ١٥- أي من الدول الآتية لها حدود دولية مع مصر ؟
- (الجزائر - تونس - السودان - قطر)
- ١٦- أي مما يلي تكون عن طريق رواسب الأنهار ؟
- (السهل الفيضي - السهل الساحلي - السلاسل الجبلية - شبه الجزيرة)
- ١٧- تقع هضبة الجلف الكبير على حدود مصر
- (الشمالية الغربية - الجنوبية الشرقية - الشمالية الشرقية - الجنوبية الغربية)
- ١٨- تتميز سهول
- (بالاتساع (البحر الأحمر - البحر المتوسط - خليج العقبة - خليج السويس))
- ١٩- تقع تلال المقطم شرق محافظة
- (اسوان - القاهرة - الإسكندرية - الجيزة)
- ٢٠- أرض مرتفعة لها قمة تزيد عن ١٠٠٠ متر تشير العبارة إلى ... (الهضبة - التل - الجبل - الجزيرة)
- ٢١- توجد بحيرة
- (في جنوب مصر . (البردويل - المنزلة - البرلس - ناصر)
- ٢٢- يقع السد العالي على مجرى
- (البحر المتوسط - البحر الأحمر - نهر النيل - قناة السويس)
- ٢٣- حصل الدكتور
- (على جائزة نوبل في الكيمياء . (أحمد زويل - مصطفى السيد - جمال حمدان - طه حسين)
- ٢٤- برعت الدكتورة سميرة موسى في مجال
- (الطاقة النووية - الهندسة - الذكاء الاصطناعي - الجغرافيا)
- ٢٥- أي من الموارد التالية بعد من الموارد المتجددة ؟
- (البترول - المعادن - الرياح - الغاز الطبيعي)
- ٢٦- أي مما يلي ينصح باستخدامه للحفاظ على التربة ؟
- (الأسمدة الكيماوية - السماد العضوي - المبيدات الحشرية - نفايات المصانع)
- ٢٧- أحد أشهر المعالم في دولة فلسطين
- (برج ايفل - تمثال الحرية - قصر الكورنيش - جبل الشيخ)



- ٢٨- أشهر كتب الدكتور طه حسين (شخصية مصر - السراب - الأيام - القاهرة الجديدة)
- ٢٩- ساهمت الدكتورة سميرة موسى في تأسيس هيئة
(الأرصاد الجوية - الطاقة الذرية - الدواء المصرية - الآثار المصرية)
- ٣٠- هرم زوسر المدرج يوجد بمنطقة
(تل العمارنة - ميت عقبة - الفيوم - سقارة)
- ٣١- استوحي تصميم برج القاهرة من
(نبات البردي - زهرة اللوتس - نبات النخيل - أشجار الزيتون)
- ٣٢- سمي الجامع الأزهر بهذا الاسم نسبة لـ
(فاطمة الزهراء - عمرو بن العاص - عمر بن الخطاب - جوهر الصقلي)
- ٣٣- يعد برج إيفل أحد المعالم الشهيرة لدولة (جنوب إفريقيا - مصر - فرنسا - استراليا)
- ٣٤- يقع أقدم بناء حجري في التاريخ بمحافظة (القاهرة - الجيزة - الأقصر - أسوان)

السؤال الرابع : اكتب ما تشير اليه كل عبارة من العبارات التالية

- ١- النشيد الوطني لمصر الذي نردده في المناسبات الرسمية .
- ٢- رمز الدولة يمثلها ويعبر عن تاريخها وشعبها .
- ٣- رمز في علم مصر يشير إلى القوة والشجاعة .
- ٤- يقصد به موقع المكان بالنسبة لليابس والمياه .
- ٥- دولة تحد مصر من جهة الشمال الشرقي .
- ٦- أشكال سطح الأرض المختلفة ما بين مرتفعات ومنخفضات .
- ٧- أرض شديدة الارتفاع ولها قمة يزيد ارتفاعها عن ١٠٠٠ م وجوانبها شديدة الانحدار .
- ٨- أرض منخفضة عما حولها من الأراضي .
- ٩- مجرى مائي عذب .
- ١٠- مساحة من الأرض مرتفعة مستوية أو شبه مستوية .
- ١١- مساحة من الماء المالح أصغر من المحيط .
- ١٢- أرض مستوية تمتد على طول سواحل البحار .
- ١٣- مساحة من اليابس محاطة بالماء من جميع الاتجاهات .
- ١٤- إحدى قارات العالم القديم وتعد أكبر قارات العالم .
- ١٥- أرض مرتفعة لها قمة يقل ارتفاعها عن ١٠٠٠ متر .
- ١٦- مساحة من الأرض مستوية وقليلة الارتفاع وتتكون من رواسب الأنهار .
- ١٧- بحيرة عذبة توجد في جنوب مصر .
- ١٨- إحدى البحيرات الشمالية المالحة، وفي شمال شبه جزيرة سيناء .
- ١٩- أول بناء حجري ضخيم في التاريخ .
- ٢٠- موارد وهبها الله للإنسان في الطبيعة دون تدخل الإنسان .
- ٢١- مبادرة أطلقتها مصر لحث المواطنين على المشاركة في الحفاظ على البيئة .
- ٢٢- معلم ديني وتاريخي تشتهر به فلسطين .

بلادي بلادي

العلم

النسر

الموقع الجغرافي

فلسطين

التضاريس

الجبل

المنخفض

النهر

الهضبة

البحر

السهل الساحلي

الجزيرة

اسيا

التل

السهل الفيضي

بحيرة ناصر

البرديول

هرم زوسر

الموارد الطبيعية

اتحضر للاخضر

المسجد الأقصى



السؤال الخامس : صوب ما تحته خط فيما يلي

- الجنوب
- الاستعمار
- مستطيل
- استراليا
- سبعة
- خمسة
- الشمالي
- اسيا
- المتوسط
- افريقيا
- جنوب
- البحر
- عذب
- البحيرة
- الغربية
- فرنسا
- الذهبي
- الاسكندرية

- ١- كان شعار مملكة الشمال في مصر القديمة زهرة اللوتس .
- ٢- يرمز اللون الأسود في علم مصر إلى فترات الرخاء .
- ٣- يظهر علم مصر على شكل مربع أفقي .
- ٤- تعد قارة أوروبا أصغر قارات العالم .
- ٥- عدد قارات العالم خمس .
- ٦- عدد المحيطات في العالم سبعة .
- ٧- أصغر المحيطات في العالم هو المحيط المتجمد الجنوبي .
- ٨- أكبر قارات العالم من حيث المساحة هي استراليا .
- ٩- يحد مصر من الشمال البحر الأحمر .
- ١٠- تقع مصر في قارة أوروبا .
- ١١- يقع جبل سانت كاترين في شمال سيناء .
- ١٢- يمتد السهل الساحلي على طول ساحل النهر .
- ١٣- النهر مجرى مائي مالح .
- ١٤- ولد الدكتور أحمد زويل في محافظة الشرقية .
- ١٥- نشأت الدكتورة سميرة موسى في محافظة المنيا .
- ١٦- حصل طه حسين على درجة الدكتوراه من جامعة السوريون بـ إنجلترا .
- ١٧- لقب الملك توت عنخ آمون بلقب الملك الفضي .
- ١٨- يتجه السائحون لمحافظة القاهرة لزيارة المسرح الروماني .

السؤال السادس : بم تفسر ... ؟

- ١- أهمية علم الدولة . لأنه رمز الدولة فهو رمز كرامتنا ووحدتنا واعتزازنا بوطننا الغالي .
- ٢- استخدام المصريين القدماء الأعلام أو الرايات . لتمييز أقاليم ومدنهم .
- ٣- استخدام الملوك القدماء للرايات . لتمييز جيوشهم ولتشجيع الجنود على القتال .
- ٤- تميز مصر بموقع جغرافي فريد .
- ٥- يطلق على كوكب الأرض الكوكب المائي .
- ٦- لأن نسبة المياه تشغل ٧١% من مساحة الكرة الأرضية بينما مساحة اليابس ٢٩% .
- ٦- تعد الأمريكان من قارات العالم الجديد . لأنه وصل إليها المستكشفون في العصور الحديثة .
- ٧- أهمية موقع مصر في التجارة الدولية حالياً . لأنها تطل على البحرين الأحمر والمتوسط .
- ٨- ضرورة وجود الجيش المصري على حدود بلدنا .
- ٩- لأنه المسئول عن حماية حدود مصر ومنع تسلل الافراد ومنع تهريب المخدرات والأسلحة .
- ٩- تعد سيناء شبه جزيرة . لأن سيناء ارض تحيط بها المياه من ثلاث جهات .
- ١٠- قيام الزراعة بسهول نهر النيل في مصر . لأن السهول الفيضية تتميز بتربثها الخصبة ومياه النيل .
- ١١- ضييق السهول الساحلية على البحر الأحمر . بسبب اقتراب جبال البحر الأحمر .



- ١٢- اختلاف الألوان المتدرجة على خريطة مستويات الارتفاع في مصر . بسبب اختلاف التضاريس .
 - ١٣- تنوع مظاهر سطح الأرض في مصر . بسبب اختلاف تضاريس مصر ما بين مرتفعات ومنخفضات .
 - ١٤- احتياج الإنسان للموارد الطبيعية في مختلف جوانب حياته . لأنها تساعد على استمرار الحياة .
 - ١٥- إطلاق مصر مبادرة «اتحضر للأخضر» . للحفاظ على الحياة المستدامة .
 - ١٦- أهمية تقنية «الفيتمو ثانية» التي اخترعها الدكتور أحمد زويل . لأنها تساعد في هم كيفية حدوث التفاعلات الكيميائية فائقة السرعة .
 - ١٧- اهتمام معظم دول العالم بدراسة التاريخ المصري القديم . لان الحضارة المصرية من اعظم الحضارات في التاريخ .
 - ١٨- تسمية جامع الأزهر بهذا الاسم . نسبة الى السيدة فاطمة الزهراء ابنة الرسول محمد ﷺ .
 - ١٩- تعد المعالم التاريخية ثروة قومية .
- لأنها تعلمنا تاريخ اجدادنا وتشهد على انجازاتهم - توفر وظائف للمصريين من خلال السياحة - تشعرنا بالانتماء الى وطننا الغالى مصر .

السؤال السابع : ما النتائج المترتبة على ؟

- ١- وقوع أحداث مهمة بالدول بالنسبة لأعلامها . أدى الى تغير الدول اعلامها .
 - ٢- اتحاد كل من مصر وسوريا فقط بالنسبة لعلم مصر .
 - أدى الى تغير شكل العلم الى علم الجمهورية العربية المتحدة ١٩٥٨ - ١٩٧١ م .
 - ٣- اتحاد مصر مع سوريا عام ١٩٥٨ بالنسبة للعلم .
 - أدى الى تغير شكل العلم الى علم الجمهوريات العربية ١٩٧١ - ١٩٨٤ م .
 - ٤- موقع مصر الجغرافى المتميز . ساعد على زيادة النشاط التجارى بين مصر وافريقيا عن طريق النيل - قيام مصر بدورها في التجارة الدولية لأنها تصل على البحرين الأحمر والمتوسط - قيام الحضارة وسهولة التواصل مع الحضارات الأخرى .
 - ٥- اقتراب الجبال من ساحل البحر الأحمر . أدى الى ضيق السهول الساحلية بها .
 - ٦- جمال السهول الساحلية فى مصر . أدى الى جذب السياح وتوفير المزيد من فرص العمل .
 - ٧- وجود السهول الفيضية الخصبة فى مصر القديمة . ساعد على قيام الزراعة واستقرار الانسان .
 - ٨- استخدام المبيدات الحشرية والأسمدة الكيميائية على التربة . أدى الى تلوث التربة .
 - ٩- التوسع فى زراعة الأشجار بالنسبة للبيئة . أدى الى تنقية الهواء من التلوث بسبب الأشجار .
 - ١٠- غنى أرض مصر بالمعالم الأثرية . أدى الى مجئ السياح من العالم كله لرؤية هذه المعالم .
 - ١١- إبداع المصريين القدماء عبر العصور فى الفن والعمارة .
- مما أدى انهم تركوا لنا تراثاً حضارياً لا يقدر بثمن .

السؤال الثامن : دلل على صحة العبارات التالية

- ١- كانت مصر قديماً مقسمة إلى مملكتين ولكل مملكة شعار يميزها .
- حيث كان شعار مملكة الشمال هو نبات البردى بينما شعار مملكة الجنوب هو زهرة اللوتس .
- ٢- تعددت استخدامات العلم فى المجال العسكرى أثناء عصر مصر القديمة .

حيث استخدمه الملوك قديماً فى المعارك والاحفالات لتمييز جيوشهم وتشجيعهم على القتال .



- ٣- هناك سلوكيات إيجابية تعبر عن احترام العلم .
- منها المحافظة على علم بلدنا - رفع علم مصر عالياً بفخر واعتزاز - الوقوف باحترام اثناء تحية العلم .
- ٤- اختلاف دلالات ألوان علم مصر .
- حيث اللون الأحمر يعبر عن دم الشهداء واللون الأبيض يعبر عن النقاء والرخاء والسلام واللون الأسود يعبر عن فترات الاستعمار والنسر يعبر عن القوة .
- ٥- يُعد الجيش المصري أحد أقوى جيوش العالم .
- حيث هو المسئول عن حماية حدود الدولة ومنع تسلل الافراد وتهريب الأسلحة والمخدرات .
- ٦- استفاد المصريون القدماء من الجبال والهضاب والتلال .
- حيث حصلوا منها على المعادن المهمة التي استخدموها في صناعة ادواتهم - الصخور والاحجار التي استخدموها في بناء المعابد والاهرامات ونحتوا منها تماثيلهم مثل معبدا أبو سمبل باسوان .
- ٧- الموارد البشرية هي أساس تقدم دولة اليابان .
- حيث ان اليابان لا تمتلك موارد طبيعية وفيرة ومع ذلك أصبحت من الدول المتقدمة بسبب مواطنيها المتعلمين الذين استخدموا عقولهم وعملوا بجد واجتهاد .
- ٨- تتعدد المعالم التاريخية بمحافظة القاهرة .
- حيث يوجد بها برج القاهرة الذى يتخذ شكل زهرة اللوتس في الحضارة المصرية القديمة ، كما يوجد بها الجامع الازهر الشريف الذى يعد من اهم واشهر المساجد ف بالعالم الاسلامى .
- ٩- تعتبر مصر غنية بالمعالم التاريخية .
- من امثلتها برج القاهرة في القاهرة - المسرح الرومانى في الإسكندرية - الجامع الازهر في القاهرة - هرم زوسر في الجيزة - دير سانت كاترين في جنوب سيناء - معبد الكرنك في الأقصر .
- ١٠- هناك مجموعة من القواعد للحفاظ على المعالم التاريخية .
- منها الحفاظ على نظافتها - عدم لمسها - عدم الكتابة عليها - معاملة السياح بأدب وابتسامة - عدم تلوينها بالمأكولات والمشروبات .

السؤال التاسع : ما المقصود بـ ؟

- ١- القارات هي مساحة واسعة من الأرض تضم عدداً من الدول .
- ٢- المحيطات هي مساحة شاسعة وعميقة من المياه المالحة .
- ٣- الحدود الدولية هي الحدود الفاصلة بين كل دولة وأخرى .
- ٤- الموقع الجغرافي موقع المكان بالنسبة لليابس والمياه .
- ٥- الجبل ارض شديدة الارتفاع ولها قمة تزيد عن ١٠٠٠ متر وجوانبها شديدة الانحدار .
- ٦- الهضبة مساحة واسعة من الأرض المرتفعة مستوية أو شبه مستوية السطح .
- ٧- البحيرة مساحة صغيرة من المياه (العذبة أو المالحة) يحيط بها اليابس من جميع الجهات .
- ٨- الجزيرة مساحة من اليابس تحيط بها المياه من جميع الجهات .
- ٩- شبه الجزيرة مساحة من اليابس تحيط بها المياه من ثلاث جهات .
- ١٠- المنخفض ارض منخفضة عما حولها .
- ١١- نهر مجرى مائي عذب .



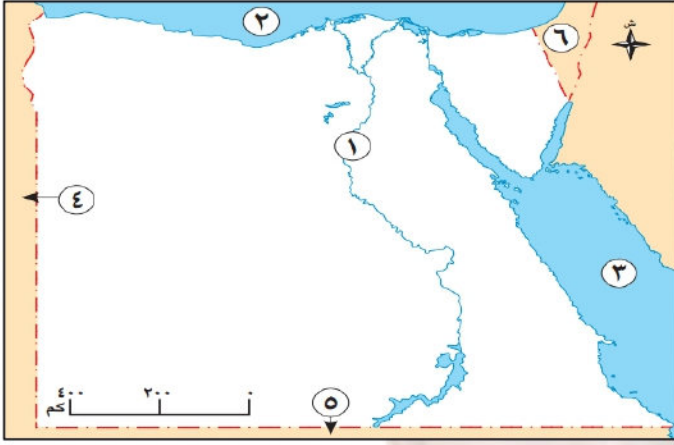
- ١٢- التضاريس اشكال سطح الأرض المختلفة ما بين مرتفعات ومنخفضات .
- ١٣- المعلم التاريخي مكان او مبنى قديم بنى في الماضى وله قيمة تاريخية وثقافية .
- ١٤- الموارد الطبيعية هي كل ما وهبه الله لنا في الطبيعة دون تدخل من الإنسان مثل المياه والهواء والتربة
- ١٥- الموارد غير المتجددة الموارد الطبيعية غير القابلة للتجدد والاستمرار .
- ١٦- الحياة المستدامة استخدام جميع الموارد بحكمة حتى تكفى الجميع وتبقى للأجيال القادمة .

السؤال العاشر : اجب حسب المطلوب ؟

- ١- ما العلاقة بين السهول الفيضية وقيام الحضارة المصرية القديمة ؟
السهول الفيضية قامت بها الزراعة والتي ساعد على قيام الحضارة المصرية القديمة .
- ٢- ماذا يحدث إذا لم يكن لمصر حدود دولية ؟ لم يوجد فاصل بين مصر والدول المجاورة لها .
- ٣- أين يُرفع علم مصر في وقتنا الحاضر .
يرفع العلم في المناسبات الرسمية والمؤتمرات – الوزارات والهيئات والمؤسسات الحكومية – المواقع السياحية والمعالم الاثرية – وسائل النقل الدولية مثل الطائرات والقطارات والسفن .
- ٤- سجل السلوكيات الواجب عليك اتباعها تجاه العلم المصري .
منها المحافظة على علم بلدنا – رفع علم مصر عالياً بفخر واعتزاز – الوقوف باحترام اثناء تحية العلم .
- ٥- حدد من قارات العالم الاكبر مساحة والاصغر مساحة .
اكبر القارات مساحة هي قارة اسيا – اصغر القارات مساحة هي قارة استراليا .
- ٦- وضح السلوكيات الواجب اتباعها للحفاظ على الحياة المستدامة .
يقوم المواطنون بالمشاركة في الحفاظ على البيئة .
- ٧- حدد اثنين من السلوكيات التي يجب تجنبها للحفاظ على الموارد الطبيعية .
استخدام وسائل رى حديثة – زراعة الأشجار لتنقية الهواء من التلوث – إطفاء المصابيح عند مغادرة الغرفة – القاء القمامة في الأماكن المخصصة لها .
- ٨- اكتب أهم القواعد الواجب عليك اتباعها عند زيارة المعالم التاريخية .
الحفاظ على نظافتها – عدم لمسها – عدم الكتابة عليها – معاملة السياح بأدب وابتسامة – عدم تلوينها بالمأكولات والمشروبات .

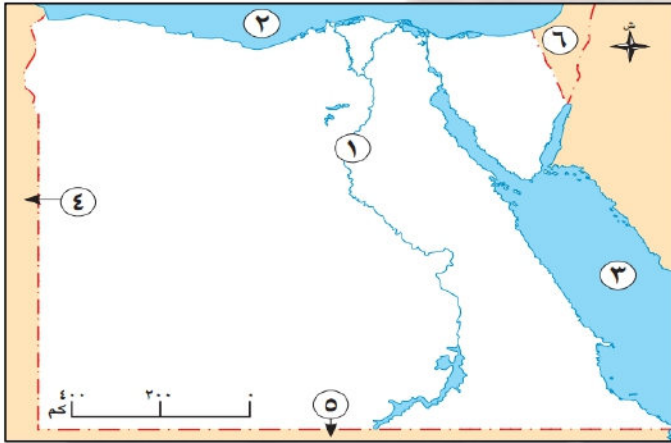


السؤال الحادي عشر : أمامك خريطة صماء لمصر اكتب مدلول الأرقام عليها



- ١- يشير رقم (١) الى نهر النيل .
- ٢- يشير رقم (٢) الى البحر الأحمر .
- ٣- يشير رقم (٣) الى البحر المتوسط .
- ٤- يشير رقم (٤) الى دولة ليبيا .
- ٥- يشير رقم (٥) الى دولة السودان .
- ٦- يشير رقم (٦) الى دولة فلسطين .

السؤال الحادي عشر : أمامك خريطة صماء لمصر اكتب مدلول الأرقام عليها



- ١- يشير رقم (١) الى بحيرة البردويل .
- ٢- يشير رقم (٢) الى جزيرة شنوان .
- ٣- يشير رقم (٣) الى جبال البحر الأحمر .
- ٤- يشير رقم (٤) الى هضبة الجلف الكبير .
- ٥- يشير رقم (٥) الى شبه جزيرة سيناء .
- ٦- يشير رقم (٦) الى تلال المقطم .

تطبيق



مذكرات جاهزة للطباعة

لتحميل الملفات التعليمية مجاناً للمعلم والطالب

مذكرات وملازم / مراجعات وملخصات / امتحانات / كتب الوزارة /
أدلة المعلم / دفاتر التحضير / سجلات مدرسية / أوراق تأسيس

امسح الكود بموبايلك علشان تقدر تثبت التطبيق

وتقدر ف أي وقت تحمّل ال نفسك فيه ببلاش

هيغنيك عن البحث والجروبات والقنوات الكثيرة



تطبيق الموبايل لتحميل الملفات