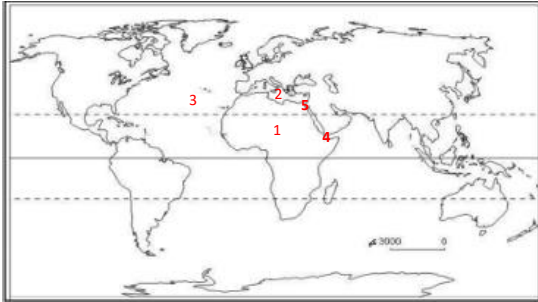




قارة افريقيا(الموقع-الكشوف الجغرافية)

1 الموقع الجغرافي والفلكى لقارة إفريقيا



الاداء الصفى

1. لاحظ واستنتج:

تعاون مع زميلك المجاور، ولاحظ الخريطة، وكتب مدلول الأرقام التي عليها، ثم أكمل العبارة.

1- يشير رقم (1) على الخريطة إلى قارة افريقيا

2- البحر المتوسط يفصل بين قارتي افريقيا و اوربا

3- المحيط الاطلنطي يفصل بين قارة افريقيا والامريكتين

4- مضيق باب المندب يقترب عنده قارتي اسيا و افريقيا

5- شبه جزيرة سيناء تصل بين قارتي اسيا و افريقيا

2. لاحظ واختر:

بالتعاون مع مجموعتك لاحظ الخريطة واختر الإجابة الصحيحة مما بين القوسين.

1- رقم (1) يشير إلى دائرة.....

(الجدى - السرطان - الاستواء - جرينتش)

2- إجمالي دوائر العرض بقارة إفريقيا نحو

دائرة عرض. (72 - 52 - 43 - 34)

3- يمر خط جرينتش في النصف..... من قارة إفريقيا.

(الشرقي - الغربي - الجنوبي - الجنوب الشرقي)

4- تشقة الشمس، أما على الموقع..... (ب - ج - د - و)

الأداء المنزلى (الواجب)

- اكتب ملخصا يوضح الموقع الجغرافي لقارة إفريقيا.

شمالا البحر المتوسط - شرقا: البحر الاحمر والمحيط الهندي - غربا: المحيط الاطلنطي

التقييم الأسبوعي

نموذج (أ)



1. لاحظ الخريطة التي أمامك واكتب مدلول الرقم (1) البحر المتوسط

* حدد امتداد قارة إفريقيا وفق دوائر العرض. 34.30: 37.30

* عدد دوائر العرض الرئيسية التي تمر بقارة إفريقيا 3

* أي من المضائق تقترب عنده قارة إفريقيا من قارة أوروبا؟ جبل طارق

* بم تفسر: الأهمية الحضارية لشبه جزيرة سيناء بالنسبة لقارة إفريقيا؟

حيث كانت سبب لانتقال الحضارات والثقافات لإفريقيا من الحضارة الإسلامية

نموذج (ب)



1. لاحظ الخريطة التي أمامك واكتب مدلول الرقم (1). المحيط الأطلنطي

* حدد امتداد قارة إفريقيا وفق خطوط الطول 51 شرقاً: 17 غرباً

* ما خط الطول الرئيس الذي يمر بقارة إفريقيا؟ جرينتش

* أي المضائق تقترب عنده قارة إفريقيا من قارة آسيا؟ باب المندب

* بم تفسر: الأهمية الاستراتيجية لشبه جزيرة سيناء بالنسبة لقارة إفريقيا؟

بسبب تعرض مصر للعديد من الحملات العسكرية من خلالها ولذلك فإن الحفاظ على أمنها حفاظ على

الأمن القومي المصري والإفريقي

نموذج (ج)



1. لاحظ الخريطة التي أمامك واكتب مدلول الرقم (1) المحيط الهندي

* ما المسطح المائي الذي يحد إفريقيا من جهة الشمال؟ البحر المتوسط

* ما المسطحان المائيان اللذان يحدان إفريقيا من جهة الشرق؟

البحر الأحمر والمحيط الهندي

* ما المقصود بمفهوم الحضارة؟ مجموع الانتاج الثقافي مثل العادات والتقاليد

والعلوم والفنون والقيم والانتاج المادي مثل القلاع والمباني والقصور وهو ما يميز

مجتمعا عن غيره

* ما المسطح المائي الذي يحد إفريقيا من جهة الغرب؟ المحيط الأطلنطي



الاداء الصفى

1. فكر وواجب:

أ- بم تفسر: الأهمية الاستراتيجية لموقع قارة إفريقيا؟

حيث تشرف على ممرات مائية مثل مضيق جبل طارق وباب المنديب وقناة السويس.

2. دلل على الأهمية الحضارية لقارة إفريقيا.

حيث قام بها العديد من الحضارات مثل المصرية واكسوم وقرطاج وكوش

لاحظ وحدد:

بالتعاون مع زميلك المجاور لاحظ الخريطة السياسية لقارة إفريقيا بالكتاب المدرسي صفحة 10 ، ثم أجب:

1- أكبر دول القارة من حيث المساحة وهل هي دولة عربية؟

الجزائر. عربية

2- ثلاث دول حبيسة.

زامبيا- زيمبابوي- بوتسوانا

3- أربع دول يمر بها نهر النيل.

مصر- السودان- إثيوبيا- أوغندا

4- ثلاث دول ساحلية غير عربية.

موزمبيق- جنوب إفريقيا- نامبيا

الاداء المنزلى (الواجب)

قارن في جدول بين الأهمية الاقتصادية والاستراتيجية لموقع قارة إفريقيا.

وجه المقارنه	الاهمية الاقتصادية	الاهمية الاستراتيجية
	الموقع الجغرافي ادي الي تحكمها في طرق الملاحة الموقع الفلكي ادي الي تنوع المناخ وبالتالي تنوع النباتات والمحاصيل والحيوانات	حيث تطل على ممرات مائية هامة مثل جبل طارق وباب المنديب وقناة السويس



الاداء الصفى

1. تعاون وواجب:

بالتعاون مع أفراد مجموعتك لاحظ الخريطة الصماء لقارة إفريقيا المقابلة، ثم أجب.
أ) ارسم على الخريطة التي أمامك خط سير الرحلة الاستكشافية للقارة الإفريقية في عهد الملك نخاو الثاني.



ب) أثبت صحة العبارة التالية:

للمصريين القدماء دور في الكشوف الجغرافية بقارة إفريقيا.

حيث قام حر خوف بأربع رحلات نحو الجنوب - نخاو الثاني. قام بالدوران حول إفريقيا

ج) في العصر الحديث اقتصر اهتمام مصر بالكشوف الجغرافية الإفريقية على فترة حكم محمد علي، أثبت مدى صحة أو خطأ العبارة السابقة.

خاطئة حيث قام الخديوي اسماعيل بأستكشاف منابع النيل ووصل حكمة حتى جنوب دائرة الاستواء

2. لاحظ واجب:

بالتعاون مع زميلك المجاور لاحظ الصورة المقابلة عن احد الكشوف الجغرافية في القارة الافريقية. ثم اجب :



أ) الي من يرجع الفضل في الكشف الجغرافي بالصورة التي امامك **البرتغاليون**

ب) اكتب نتيجة واحدة مترتبة على هذا الكشف **وصلوا الي الهند**

ج) كان العرب ملهمين لغيرهم من الرحالة في اكتشاف القارة الافريقية

في ضوء العبارة السابقة. اكتب اثنين من انجازات العرب في اكتشاف افريقيا

ابن بطوطة وصل الي مالي - المسعودي كان من اوائل من كتبوا عن افريقيا

2- اي من العبارات التالية تعد من انجازات الاوروبيون في اكتشاف القارة الافريقية

أ) انشاء ممالك على السواحل الشرقية للقارة الافريقية امتدت حتى الهضبة الاستوائية

ب) رسم خريطة للنيل حتى جنوب السودان

ج) اقامة مواني ومراكز تجارية على طول طريق رأس الرجاء الصالح

د) اختراق الصحراء الكبرى من الشمال الي الجنوب

الأداء المنزلي (الواجب)

صمم شكلا تخطيطيا يضم دور كل من مصر والاوروبيون في الكشوف الجغرافية في افريقيا



التقييم الاسبوعي

نموذج (أ)

1. أكمل العبارة التالية: يفصل البحر المتوسط بين قارة إفريقيا وقارة أوروبا.
2. دل على الأهمية الحضارية لشبه جزيرة سيناء بالنسبة لقارة إفريقيا. حيث ساهمت في انتقال الثقافات والحضارات من آسيا مثل الحضارة الإسلامية
3. حدد دور الملك نخاو في اكتشاف قارة إفريقيا. نام بعثة للدوران حول قارة إفريقيا تبدأ من البحر الأحمر وتنتهي في مضيق جبل طارق مدتها 3 سنوات
4. بم تفسر: تقسيم قارة إفريقيا إلى عدد كبير من الدول؟ لضمان الدول الأوروبية سيطرتها واستمرار نفوذها
5. مستعينا بالخريطة المرفقة، حدد المسطحات المائية والمضايق التي تمر بها إذا قمت برحلة من مدينة الإسكندرية إلى دولة موريتانيا. البحر المتوسط - جبل طارق - المحيط الاطلسي

نموذج (ب)



1. أكمل العبارة التالية: يفصل البحر الأحمر بين قارة إفريقيا وقارة آسيا.
- 2- دل على: الأهمية الاستراتيجية لموقع قارة إفريقيا. حيث تشرف على ممرات مائية مثل جبل طارق وباب المندب وقناة السويس
- 3- حدد دور محمد علي باشا في اكتشاف قارة إفريقيا. وصل الي النيل الابيض ورسم خريطة للنيل حتي جنوب السودان
- 4- بم تفسر: تمثل شبه جزيرة سيناء أهمية استراتيجية لمصر؟ تعرضت مصر من خلالها لعدد من الحملات العسكرية لذلك فأن الحفاظ على امنها حفاظ على الامن لقوي المصري والافريقي
- 5- مستعينا بالخريطة المرفقة، حدد المسطحات المائية والمضايق التي تمر بها إذا قمت برحلة من بورسعيد إلى دولة الصومال. لبحر المتوسط - قناة السويس - البحر الاحمر

نموذج (ج)

1. أكمل العبارة التالية: يفصل المحيط الاطلنطي بين قارة إفريقيا وقارة أمريكا الشمالية.
- 2- دلل على الأهمية الاقتصادية لموقع قارة إفريقيا.

الموقع الجغرافي ادي لتحكمها في طرق الملاحة والموقع الفلكي ادي الي تنوع المناخ وبالتالي تنوع النباتات والمحاصيل والحيوانات



- 3- حدد دور الخديو إسماعيل في اكتشاف قارة إفريقيا.

اهتم باكتشاف منابع النيل ووصل حكمه الي جنوب دائرة الاستواء

- 4- بم تفسر: تمثل شبه جزيرة سيناء أهمية حضارية لمصر؟

حيث سببت انتقال العديد من الحضارات والثقافات مثل الحضارة الاسلامية

- 5- مستعينا بالخريطة المرفقة، حدد المسطحات المائية التي تربها إذا قمت برحلة

من سواحل نيجيريا متجها جنوبا وصولا إلى جزيرة مدغشقر.

الاطلنطي - الهندي



مظاهر سطح قارة افريقيا

الهضاب

1

الاداء الصفى

(أ). لاحظ وواجب:

1- بالتعاون مع زميلك المجاور لاحظ الخريطة الطبيعية لقارة افريقيا بكتاب المدرسة صفحة 14 ثم حدد:

- (أ) ثلاث هضاب: الحبشة - الجنوبية - شمال افريقيا
 (ب) نهرين: النيل - النيجر
 (ج) جبلين: البحر الاحمر - اطلس

2- برهن على تنوع مظاهر سطح قارة افريقيا.

حيث يوجد بها جبال وهضاب وسهول فيضية وساحلية

الاداء الصفى

1. فكر وواجب:

أ- اكتب مدلول الرقم الموضح على الخريطة.

* هضبة شمال افريقيا

ب- برهن على صحة العبارة التالية:

* تنوع مظاهر السطح فوق الهضبة الشمالية لإفريقيا.

يوجد بها الصحراء الكبرى، وواحة سيوة والجوف وحيل العيونات ومنخفض القطارة

ب- لاحظ وواجب:

أ- اكتب مدلول رقم (2) على الخريطة.

* هضبة الحبشة

ب- أمامك صورة لإحدى هضاب قارة إفريقيا، اشرح أهميتها بالنسبة لمصر.

المنايع الموسمية لنهر النيل



الأداء المنزلي (الواجب)



أ- أمامك خريطة صماء لقارة إفريقيا، وضع عليها أرقام الهضاب التالية:

أ) الهضبة الشمالية.

ب) هضبة الحبشة.

ج) تعد مصر جزءاً من هضبة شمال إفريقيا

2- قارن بين الهضبة الشمالية وهضبة الحبشة من حيث: الموقع، وأشهر الظواهر التضاريسية عليها في جدول.

وجه المقارنه	الهضبة الشمالية	هضبة الحبشة
الموقع	الشمال	الشرق
اشهر الظواهر	الصحراء الكبرى - سيوة - القطارة - العوينات	المنابع الموسمية - اعلي الهضاب

2 هضبة البحيرات الاستوائية - الهضبة الجنوبية

2



ا- فكر و اجب:

أ- اكتب مدلول الرقم الموضح على الخريطة.

* هضبة البحيرات الاستوائية

2- بم تفسر: تعد هضبة البحيرات الاستوائية المنبع الدائم لنهر النيل؟

بسبب سقوط الامطار طوال العام

ب- فكر واكتشف

1- اكتب مدلول الرقم الموضح على الخريطة.

* هضبة الجنوبية

2- وضح العلاقة بين الهضبة رقم (1) على الخريطة والأخدود

الإفريقي العظيم.

يوجد بالجزء الشرقي منها



الأداء المنزلي (الواجب)

1- قارن بين هضبي البحيرات الاستوائية والحبشة من حيث: (الموقع - الأهمية بالنسبة لمصر) في جدول.

وجه المقارنه	هضبة البحيرات الاستوائية	هضبة الحبشة
الموقع	الوسط	الشرق
الاهمية	منابع دائمة	منابع استوائية

2- ارسم شكلا تخطيطيا يلخص أبرز المعلومات التي درستها حول هضاب قارة إفريقيا.

التقييم الأسبوعي

نموذج (أ)



1- اكتب مدلول الرقم الموضح على الخريطة.

* هضبة الجنوبية

2- ما النتائج المترتبة على انحدار هضبة البحيرات الاستوائية من الجنوب إلى الشمال؟

وصول نهر النيل إلى مصر ويصب في البحر المتوسط.

3- ما العلاقة بين هضبة الحبشة والتربة في مصر؟

حيث أدت إلى خصوبة التربة بسبب نقل النيل لتربة الحبشة البركانية إلى مصر.

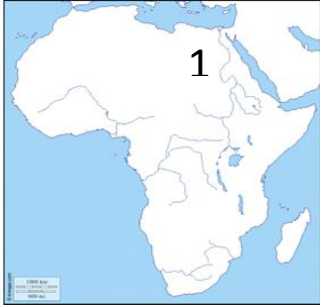
4- برهن على تنوع مظاهر السطح بقارة إفريقيا.

جبال - هضاب - سهول فيضية وساحلية.

5- بم تفسر: أهمية هضبة البحيرات الاستوائية بالنسبة لمصر؟

المنايع الدائمة لنهر النيل.

نموذج (ب)



1- اكتب مدلول الرقم الموضح على الخريطة.

* هضبة شمال إفريقيا

2- ما النتائج المترتبة على خصوبة التربة في هضبة الحبشة؟

قيام الزراعة - نشأة الحضارات.

3- ماذا يحدث إذا كانت هضبة البحيرات الاستوائية تنحدر من الشمال إلى الجنوب؟

لم يصل نهر النيل إلى مصر.

4- برهن على تنوع مظاهر السطح بصفة شمال إفريقيا.

صحراء كبرى - واحة سيوة والحواف - حيل العيونات - منخفض القطارة.

5- بم تفسر: أهمية هضبة الحبشة بالنسبة لمصر؟

المنايع الموسمية لنهر النيل.



نموذج (ج)

1- اكتب مدلول الرقم الموضح على الخريطة.

* هضبة الحبشة

2- بم تفسر: تعد هضبة البحيرات الاستوائية المنبع الدائم لنهر النيل؟

لان الامطار تسقط بها طوال العام

3- ما النتائج المترتبة على امتداد الأخدود الإفريقي العظيم في شرق إفريقيا؟

تكون البحر الاحمر وخليج عدن والعقبة

4- ما العلاقة بين الطفوح البركانية وظهور الحضارات القديمة في إثيوبيا؟

حيث ادت الي خصوبة التربة مما ادى لقيام الزراعة ونشأة الحضارات

5- ماذا يحدث إذا كانت الأمطار تسقط على هضبة الحبشة طول العام؟

اصبحت المناخ الدائمة

محمود جلال



الاداء الصفي

1. تعاون وحدد:

أ- تعاون مع زميلك في تحديد موقع الجبال التالية على خريطة إفريقيا التي أمامك باستخدام الأرقام.



1- جبال أطلس.

2- جبال البحر الأحمر.

3- جبال الكاب.

2- اختر الإجابة الصحيحة مما بين القوسين:

أعلى قمة جبلية التوائية في قارة إفريقيا هو جبل ... (شانب البنان - **توبقال** - أطلس - كينيا)

ب- صنف واجب

1- صنف الجبال التالية حسب عوامل تشكيلها ثم اذكر موقع كل جبل بالنسبة لقارة إفريقيا (جبال البحر الأحمر-جبال أطلس-جبال دراكنزبرج-جبال الكاب)

الموقع	اسم الجبل	العوامل
شمال غرب-جنوب	أطلس-الكاب	الالتواءات
الشرق	البحر الأحمر	الانكسارات
الجنوب	دراكنزبرج	البراكين

2- اشرح العلاقة بين جبال كلمنجارو والسياحة في قارة إفريقيا

الأداء المنزلي (الواجب)

1- اكتب اسم المظهر التضاريسي الذي تدل عليه كل عبارة مما يلي:

أ) يمتد بشرق قارة إفريقيا في مصر والسودان وتكون

بفعل انكسار القشرة الأرضية جبال البحر الأحمر

ب) اسمه على اسم دولة تقع في شرق قارة إفريقيا


وتكون بفعل البراكين كلمنجارو

2- اشرح بأسلوبك الأهمية الاقتصادية للجبال في قارة إفريقيا، مدعماً شريكك بالأمثلة.

تجذب السياح بفعل المناظر الطبيعية- يوجد بها ثروات معدنية

3- فسر: تكون الجليد فوق المظهر التضاريسي الموجود بالصورة.

يسبب الارتفاع الكبير عن سطح البحر



الاداء الصفي

1. فكر وفسر:

1- أكمل العبارة التالية بكلمة مناسبة:

* ساعدت الأنهار في قارة إفريقيا على تكوين السهول الفيضية

2- فسر: الأهمية الاقتصادية للسهول الفيضية بقارة إفريقيا.

سهول خصبة صالحة للزراعة

2. لاحظ وواجب:

* لاحظ خريطة مظاهر سطح قارة إفريقيا بالكتاب المدرسي صفحة ١٤، ثم أجب عن الأسئلة التالية:

أ) تمتد السهول الساحلية لشمال قارة إفريقيا على **البحر المتوسط**

2- تمتد السهول الساحلية لشرق قارة إفريقيا على **البحر الأحمر و المحيط الهندي**

10- تمتد السهول الساحلية الغربية لقارة إفريقيا على **المحيط الاطلنطي**

2- اختر الإجابة الصحيحة مما بين القوسين:

أي من الجزر التالية تعد دولة عربية إفريقية؟ (مدغشقر - القمر - سيشل - زنجبار)

الاداء المنزلي (الواجب)

تطل قارة إفريقيا على مسطحات مائية واسعة غنية بثرواتها الطبيعية التي تحرص الدول القارة على استثمارها بشكل مستدام، في ضوء العبارة السابقة أجب عن الأسئلة التالية:

1- اشرح المقصود بالاقتصاد الأزرق، موضحا علاقته بأهداف التنمية المستدامة.

استثمار الموارد المائية لتحقيق التنمية المستدامة والاكتفاء الذاتي و القضاء على الفقر مع

المحافظة على النظام البيئي

2- قارن بين السهول الساحلية لكل من البحر المتوسط، البحر الأحمر، المحيط الهندي، المحيط الأطلنطي والتي تطل عليها قارة إفريقيا من حيث: (الموقع - الاتساع - الأهمية) في جدول.

وجه المقارنة	البحر الاحمر	البحر المتوسط	المحيط الهندي	المحيط الاطلنطي
الموقع	شرق	شمال	شرق	غرب
الاتساع	ضيقة	متسعة في مصر ضيقة في المغرب	متسعة في تنزانيا ضيقة في كينيا	متسعة
الاهمية	معادن- مصادر طاقة	تنمو النباتات والمحاصيل		حقول زراعية

3- وقع على خريطة قارة إفريقيا التي أمامك المظاهر التضاريسية التالية باستخدام الأرقام:



- 1- جزيرة مدغشقر.
- 2- سهول المحيط الهندي.
- 3- سهول وادي النيل.
- 3- سهول البحر الأحمر.

التقييم الأسبوعي

نموذج (أ)



1- اكتب مدلول الرقم الموضح على الخريطة.

* جبال كلمنجارو

2- فسر: الأهمية الاقتصادية لسهول البحر المتوسط في إفريقيا.

ينمو بها نباتات طبيعية

3- ما النتائج المترتبة على الارتفاع الشديد لجبل كلمنجارو؟

يغطي قممها الجليد

4- برهن: تساهم الجبال في دعم كثير من الأنشطة الاقتصادية في قارة إفريقيا.

السياحة-المعادن

5- ما العلاقة بين المرتفعات والسهول الساحلية بإفريقيا؟

يختلف اتساع السهول الساحلية بأقتراب أو ابتعاد المرتفعات

نموذج (ب)



1- اكتب مدلول الرقم الموضح على الخريطة.

* جبال دراكنز برج

2- فسر: تكون الجليد فوق قمة جبل كلمنجارو.

بسبب الارتفاع

3- ما النتائج المترتبة على اقتراب جبال أطلس من ساحل البحر المتوسط؟

ضيقت السهول الساحلية في المغرب

4- برهن على اختلاف اتساع السهول الساحلية في قارة إفريقيا.

تتسع سهول البحر المتوسط في مصر وتتضيق في المغرب

5- ما العلاقة بين الأنهار والسهول الفيضية في قارة إفريقيا؟

كونت الأنهار السهول الفيضية



نموذج (ج)

- 1- اكتب مدلول الرقم الموضح على الخريطة.
* سهول فيضية
- 2- فسر: الأهمية الاقتصادية لسهول البحر الأحمر.
يوجد بها معادن ومصادر طاقة
- 3- ما النتائج المترتبة على: نقل نهر النيل للطمي من هضبة الحبشة إلى مصر؟
خصوبة التربة
- 4- برهن على تنوع جبال قارة إفريقيا من حيث نشأتها.
يوجد جبال انكسارية مثل جبال البحر الأحمر وجبال التوائية مثل اطلس
- 5- ما العلاقة بين جبال قارة إفريقيا وتدفق الأنشطة الاقتصادية؟
حيث تجذب السياح ويوجد بها معادن ومصادر طاقة

محمود جلال



نهر النيل والحضارات القديمة في افريقيا

الاداء الصفي

نهر النيل

1

1. تعاون وواجب:

أ- تعاون مع زميلك، ولاحظ خريطة " حوض نهر النيل " بالكتاب المدرسي ص ٢٠، ثم أكمل العبارات التالية:

أ) يحد حوض نهر النيل من الشمال **البحر المتوسط**

ب) يبلغ عدد دول حوض النيل 11 دولة، ومنها دولة **مصر واثيوبيا و اريتريا**

2- بم تفسر: اعتبار نهر النيل نهرا دوليا؟
امتداد مجراه في 11 دولة

3- وضع أهداف تجمع " الأندوجو " .

التشاور والتنسيق ودعم التعاون بين دول حوض النيل والحفاظ على المصالح المشتركة

ب- لاحظ واكتب:

1- لاحظ خريطة " حوض نهر النيل " بالكتاب المدرسي ص ٢٠، ثم أكمل العبارات التالية:

أ) أنشأت مصر خزان سنار على النيل **الازرق** بدولة **السودان**

ب) دعمت مصر تكاليف إنشاء خزان جبل **الاولياء** في السودان.

ج) أقامت مصر سد " أوين " بدولة **اوغندا**

2- اكتب المقصود بالاقتصاد الأخضر.

اقتصاد صديق للبيئة يستهدف تحقيق نمو اقتصادي مستدام مع الحفاظ على البيئة وتحقيق العدالة الاجتماعية والحد من الفقر والبطالة

3- إذا كنت أحد المسؤولين بالدولة، هل تؤيد أم تعارض اتفاقيتي عام 1929م، و 1959م

بشأن تنظيم مياه نهر النيل بين مصر ودول حوض النيل، مع إعطاء مبرر لرأيك.

وافق لانها تحافظ على المصالح المشتركة لدول حوض النيل

الأداء المنزلي (الواجب)

1- قارن بين المنابع الموسمية والمنابع الدائمة لنهر النيل، من حيث: (الموقع، الجغرافي، وأهم الروافد، وأهميتها لمصر).

وجه المقارنه	المنابع الموسمية	المنابع الدائمة
الموقع الجغرافي	شرق	وسط
اهم الروافد	السوبات - عطبرة - الازرق - الجبيل	كاجيرا
الاهمية	معظم المياه	كمية قليلة

2- حدد ثلاثة من الجهود التي قامت بها مصر لتحقيق التنمية المستدامة في دول حوض النيل.

خزان سينار - سد اوين - خزان حيل الاولياء

3- قارن بين اتفاقية 1929م واتفاقية 1959م اللتين تنظمان تنمية مياه نهر النيل بين دول حوض النيل.

1929: نصت على الالتزام بين دول حوض النيل بعد القيام بأي مشروعات على نهر النيل بغير اتفاق مسبق مع مصر

2015: اتفقت مصر واثيوبيا والسودان على عدة مبادئ لاستخدام مياه نهر النيل منها التعاون والتنية وعدم التسبب في ضرر والاستخدام المنصف والمناسب لمياه نهر النيل

الحضارات القديمة في إفريقيا

2

الاداء الصفي

1. لاحظ وواجب:

لاحظ الصور أدناه، ثم تعاون مع زميلك في حل الأسئلة التالية:



أهرامات مروي (2)



أهرامات الجيزة (1)

(أ) ما الحضارة التي تمثلها الصورة رقم (2)؟

كوش

(ب) اختر أحد البدائل التالية:

يعد المقوم الطبيعي الأساسي لقيام الحضارة " ... " المتمثلة بالصورة رقم (1).

(الجيش القوي - الحكومة المركزية - **نهر النيل** - الجهد المتواصل)

(ج) تشابهت الأنشطة الاقتصادية الرئيسة التي قامت عليها الحضارتان بالصور أعلاه، أثبت صحة العبارة السابقة.

الزراعة

(د) " كانت حضارة كوش بمعزل عن غيرها من الحضارات الأخرى "، دلل على خطأ العبارة السابقة.

خاطئة حيث اقامت علاقات تجارية مع مصر واكسوم

**ب- أكمل وفسر:**

أ- لاحظ الخريطة الصماء لقارة إفريقيا، ثم أجب:
 (أ) يمثل الرقم (1) حضارة **قرطاج** التي اعتمدت في نشأتها على نشاط التجارة.

(ب) تميزت حضارة **أكسوم** التي يمثلها رقم (2) بتصدير الذهب والعاج والعمود والتوابل.

(ج) "كان للفينيقيين دور في نشأة حضارة قرطاج"، دلل على صحة العبارة السابقة.
حيث أسس الفينيقيين حضارة قرطاج

(د) "كان نشاط التجارة هو النشاط الوحيد الذي مارسه شعب حضارة أكسوم"، أثبت خطأ العبارة السابقة.
حيث مارسوا الزراعة وتربية الحيوانات وصناعة الفخار والزجاج

الأداء المنزلي (الواجب)

أ) صل كل عبارة من العبارات التالية من العمود (أ) بالحضارة المرتبطة بها بالعمود (ب).

(ب)	(أ)
حضارة مصرية قديمة	- ظهرت في شرق إفريقيا.
حضارة كوش	ارتبطت بعلاقات تجارية مع حضارة كوش وبلاد بونت
حضارة أكسوم	عبدوا بعض المعبودات المصرية القديمة مثل: رع، أمون، وأوزوريس، وإيزيس.
حضارة قرطاج	استقلت عن فينقيا وكونت مملكة قوية

ب) ما العلاقة بين؟

* الفينيقيين وحضارة قرطاج.

أسس الفينيقيين حضارة قرطاج

* نهر النيل والحضارة المصرية القديمة.

أحد أهم العوامل الطبيعية لقيام الحضارة المصرية القديمة

التقييم الأسبوعي

نموذج (أ)

- 1- اكتب المفهوم الذي تدل عليه العبارة التالية:
* المساحة التي يجري بها نهر النيل وروافده حوض النيل
- 2- يعد نهر النيل نهرا دوليا، اذكر السبب.
حيث يمتد مجراه في 11 دولة
- 3- يعد نهر النيل ثنائي المنبع، دلل على صحة العبارة السابقة.
البحيرات الاستوائية - هضبة الحبشة
- 4- "كان لنشأة مدينة قرطاج دور في نهضة الحضارة الفينيقية"، أثبت صحة العبارة السابقة.
حيث أسسوها لتأمين رحلاتهم التجارية من فينيقيا إلى إسبانيا
- * قدم توقعا واحدا في حالة عدم تواجد مستنقعات في منطقة هضبة البحيرات الاستوائية.
زيادة المياه التي تصل إلى مصر من هضبة البحيرات الاستوائية

نموذج (ب)

- 1- اكتب المفهوم الذي تدل عليه العبارة التالية:
* تجمع يضم دول حوض النيل، وتم إنشاؤه عام 1993م، للتنسيق والتعاون بين دول الحوض والحفاظ على المصالح المشتركة بينها. الاندوجو
- 2- تسعى مصر منذ القدم لتنمية واستثمار الموارد المائية لنهر النيل، اذكر السبب.
تحقيقا لمبادئ الاقتصاد الأخضر
- 3- "تأثرت حضارة كوش بالحضارة المصرية القديمة في مجال العمارة"، دلل على صحة العبارة السابقة.
حيث أنشأوا أهرامات مروى تأثرا بأهرامات الجيزة
- 4- حظى تنظيم مياه الأنهار وتنميتها وإدارتها وحمايتها باهتمام دولي، أثبت صحة العبارة السابقة.
حيث وضعت الأمم المتحدة اتفاقية قانون تنظيم استخدام المجاري المائية في الأغراض غير الملاحة
- 5- قدم توقعا واحدا في حالة جفاف المنابع الموسمية لنهر النيل.
عدم استدامة وصول مياه النيل إلى مصر

نموذج (ج)

1- اكتب المفهوم الذي تدل عليه العبارة التالية:

* اقتصاد صديق للبيئة، يستهدف تحقيق نمو اقتصادي مستدام، مع الحفاظ على البيئة وتحقيق العدالة الاجتماعية والحد من الفقر والبطالة. الاقتصاد الأخضر

2- قامت العديد من الحضارات العريقة منذ آلاف السنين على أرض القارة الإفريقية، اذكر السبب.

بسبب الموقع المتميز والثروات الطبيعية وسكان القارة الذين استثمروا الثروات لإنشاء الحضارات

3- "تتعدد جهود مصر لتحقيق التنمية المستدامة المائية لحوض النيل"، دلل على صحة العبارة السابقة.

مثل إنشاء خزان سينار وخزان جبل الاولياء وسد اوين

4- "تنوعت الأنشطة الاقتصادية لشعوب حضارة أكسوم"، أثبت صحة العبارة السابقة.

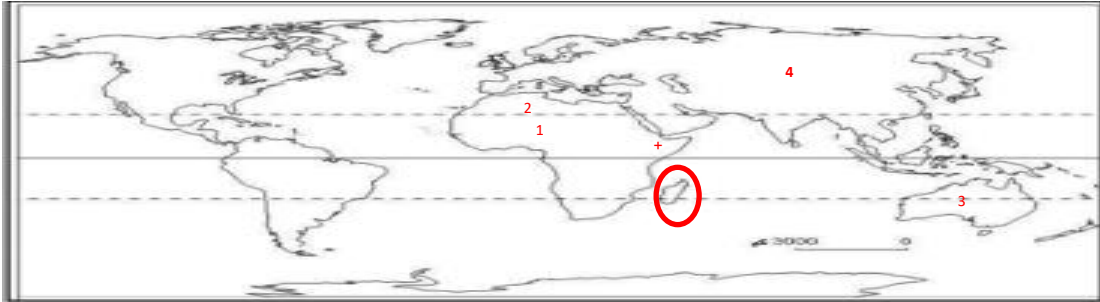
التجارة- الزراعة- تربية الحيوانات- الصناعة

5- إذا عقدت دول الأندوجو اتفاقية جديدة في الوقت الحالي، قدم مقترحا لأحد بنود هذه الاتفاقية.

عدم الاضرار او تلويث مياه النيل

التدريب الشهري

السؤال الأول: لاحظ خريطة العالم الصماء أدناه، ثم أجب.



أ) أي من الأرقام الواردة بالخريطة لا تعبر عن إحدى قارات العالم القديم 3

ب) صوب العبارة التالية:

* يعتبر الرقم (1) عن أولى قارات العالم من حيث المساحة. 4.

ج) حدد على الخريطة أعلاه مستخدماً القلم الرصاص دائرة الاستواء.

د) حدد أكبر صحاري العالم الخريطة أعلاه بوضع رقم (٢) عليها.

هـ) حدد على الخريطة أعلاه أكبر جزر قارة إفريقيا مساحة.

و) ضع دائرة حول علامة (+) التي توضح المنابع الموسمية لنهر النيل واذكر اسم

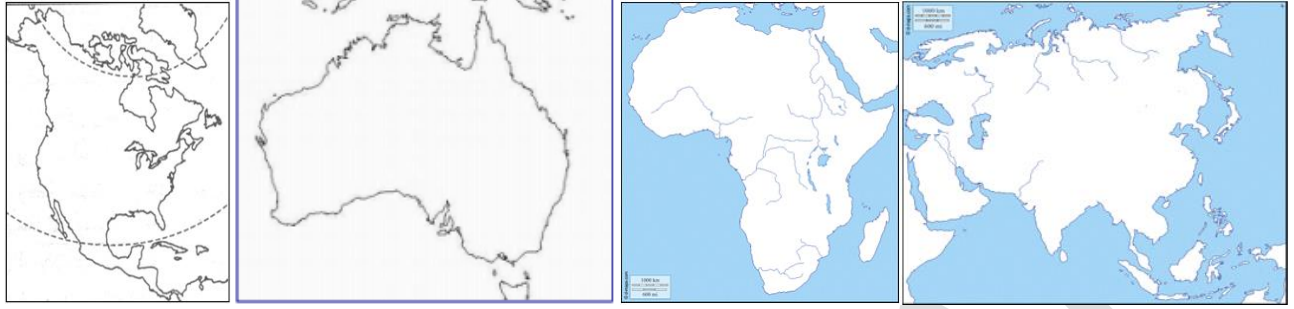
إحدى الحضارات القديمة التي قامت في تلك المنطقة. اكسوم

السؤال الثاني: اكتب كلمة (صح) أمام العبارة الصحيحة، وكلمة (خطأ) أمام العبارة غير

الصحيحة مع تصويبها.

- 1- تعد دولة السودان أكبر دول القارة الإفريقية مساحة. (خطأ-الجزائر)
- 2- يعد جبل شايب البنات أعلى قمة جبلية بالقارة الإفريقية. (خطأ-كلمنجارو)
- 3- النيل تمثل ثنائي المنبع، فأغلب العبارة العالم المصري جمال حمدان. (صح)
- 4- تتشابه التراث الثقافي بين حضارات القارة الإفريقية. (خطأ-يتنوع)
- 5- بدأت رحلات محمد علي لكشف منابع النيل في النصف الأول من القرن التاسع عشر. (صح)

السؤال الثالث: اختر بديلاً واحداً صحيحاً من البدائل أدناه لكل عبارة من العبارات التالية.
1- أي من القارات أدناه تعد أكبر قارات العالم مساحة؟



2- إلى أي الحضارات القديمة بالقارة الإفريقية ينتهي الأثر الذي أمامك؟

(حضارة أكسوم - حضارة قرطاج - **حضارة كوش** - الحضارة المصرية القديمة)

3- إلى أي مظاهر السطح التالية بالقارة الإفريقية ينتهي المظهر

التضاريسي الذي أمامك؟

(هضبة البحيرات الاستوائية - الهضبة الجنوبية - **هضبة شمال إفريقيا** - هضبة الحبشة)

4- إلى أي ملوك مصر قديماً يرجع الفضل في القيام برحلة استكشافية للقارة الإفريقية؟
(الملك سنفرو - الملكة حتشبسوت - الملك رمسيس الثاني - **الملك نخاو الثاني**)

السؤال الرابع: بم تفسر؟

1- الأهمية الاستراتيجية لموقع قارة إفريقيا.

تشرف على ممرات مائية هامة مثل جبل طارق و باب المندب وقناة السويس

2- انقسام القارة الإفريقية للعديد من الدول المختلفة في المساحة.

قسمتها الدول الأوروبية لضمان سيطرتها واستمرار نفوذها

3- خصوبة هضبة الحبشة (الهضبة الإثيوبية).

بسبب الطفوح البركانية

4- يختلف اتساع السهول الساحلية بالقارة الإفريقية من منطقة لأخرى.

حسب اقتراب او ابتعاد المرتفعات

5- يعد نهر النيل نهراً دولياً.

حيث يمر مجراه ب 11 دولة

6- تكون الجليد على قمة جبل كلمنجارو رغم وقوعه بالمنطقة الاستوائية الحارة بالقارة الإفريقية.

بسبب الارتفاع

7- إقامة البرتغاليين الموانئ والمراكز التجارية على طول طريق رأس الرجاء الصالح.

لتأمين التجارة والملاحة

السؤال الخامس: ما النتائج المترتبة على؟

- 1- انشاء تجمع الأندوجو بالقارة الافريقية
الحفاظ على المصالح المشتركة والتعاون والتشاور
- 2- جهود مصر لتحقيق التنمية المستدامة لمياه حوض النيل.
استثمار الموارد المائية لنهر النيل بشكل مستدام يحافظ على البيئة ويراعي حقوق الاجيال القادمة
- 3- الموقع الاستراتيجي لمدينة قرطاج.
سيطرتها على التجارة في البحر المتوسط.
- 4- الأهمية الاقتصادية لموقع قارة إفريقيا.
الموقع الجغرافي ادي الي تحكمها في طرق الملاحة والموقع الفلكي ادي الي تنوع المناخ وبالتالي تنوع المحاصيل والنباتات والحيوانات

السؤال السادس: دلل على صحة العبارات التالية:

- 1- لم يكن للرحالة الأوروبيين السبق في الدوران حول القارة الإفريقية.
حيث قام بذلك الملك نخاو الثاني
- 2- تنوع مظاهر السطح بهضبة شمال إفريقيا.
الصحراء الكبرى وجبل العوينات ومنخفض القطارة وواحة سيوة والجوف
- 3- تنوع منابع نهر النيل بالقارة الإفريقية.
منايع موسمية في الحيشة ودائمة في هضبة البحيرات الاستوائية
- 4- تنسيق أهداف القارة الإفريقية مع أهداف التنمية المستدامة.
انشاء مصر العديد من المشاريع مثل خزان سينار و سد اوين
- 5- لعبت جبال القارة الإفريقية دورا في نمو الاقتصاد الإفريقي.
جذب السياح ويوجد بها العديد من المعادن

السؤال السابع: ماذا يحدث إذا؟

- 1- كان انحدار هضبة البحيرات الاستوائية من الشمال للجنوب.
لم يصل نهر النيل الي مصر ويصب في البحر المتوسط.
- 2- أهمل العرب كشافهم الجغرافية للقارة الإفريقية.
لم يتمكن الاوروبيون من الدوران حول افريقيا للوصول الي الهند
- 3- لم يقدم الأوروبيين على احتلال القارة الإفريقية.
لم يتم تقسيمها ونهب ثرواتها ولم ينتشر الفقر

السؤال الثامن: ادرس الرأيين أدناه ثم أجب.

- أ) احترمت دول حوض النيل اتفاقيتي 1929م و 1959م.
ب) خالفت (رفضت) دول حوض النيل اتفاقيتي 1929م و 1959م.

استخدم شبكة المعلومات الدولية (الإنترنت) لتدل على صحة أو خطأ الآراء السابقة.

السؤال التاسع: قارن بين كل من:

- 1- سهول البحر المتوسط وسهول البحر الأحمر بالقارة الإفريقية من حيث: (الامتداد - الموقع - أهم السمات (الخصائص).)

وجه المقارنه	البحر الاحمر	البحر المتوسط
الامتداد	شرق	شمال
الموقع	شرق	شمال
السمات	ضيقة	واسعة في مصر ضيقة بالمغرب

- 2- الجبال الالتوائية والجبال الانكسارية بالقارة الإفريقية من حيث: (الامتداد - الموقع - مثال أعلى قمة جبلية بها).

وجه المقارنه	الجبال الالتوائية	الجبال الانكسارية
الامتداد	الكاب- اطلس	البحر الاحمر
الموقع	جنوب- شمال غرب	شرق
مثال	توبقال	شايب البنات

- 3- المنابع الدائمة والمنابع الموسمية لنهر النيل من حيث: (الموقع - موسم سقوط المطر).

وجه المقارنه	المنابع الدائمة	المنابع الموسمية
الموقع	وسط	شرق
موسم سقوط المطر	دائمة	صيفا



عصر الدولة القديمة (عصر بناء الأهرام)

الاداء الصفي

العص العتيق وخصائصه - عصر الدولة القديمة

1

1. فكر وواجب:

- 1- دلل على صحة العبارة الآتية: "اهتم ملوك العصر العتيق بالأنشطة الاقتصادية".
فأهتموا بالطرق الصحراوية لتأمين التجارة والسيطرة على المناطق الواقعة جنول الجنول الاول واستغلال مجاز سيناء
- 2- ما العلاقة بين: الملك مينا وعصر التأسيس؟

2. لاحظ وواجب:

- 1- تطور شكل المقبرة عند قدماء المصريين، من خلال قراءتك للعبارة السابقة ودراستك لهذا الدرس، لاحظ الصور التالية ورتبها من الأقدم للأحدث.



أ- بم تفسر: اهتمام المصريين القدماء بنحت التماثيل الملكية؟

للاعتقاد في قدسية الملك

- 3- دلل على صحة العبارة الآتية: "تقدم المصريون القدماء في فن العمارة والهندسة والفلك".

تطور شكل المقبرة حجرة يعلوها مصطبة البعدة مصاطب الي هرم كامل

الأداء المنزلي (الواجب)

- 1- بم تفسر: تسمية عصر الدولة القديمة بعصر بناء الأهرامات؟
اهتمام الملوك ببناء مقابرهم على شكل اهرامات
- 2- ما النتائج المترتبة على: اهتمام ملوك العصر العتيق بتأمين حدود مصر؟
الاستقرار وتحقيق الامن
- 3- ما العلاقة بين: التماثيل الملكية والاعتقادات الدينية؟
حيث اعتقد المصريون في قدسية الملك

2 أشهر ملوك عصر الدولة القديمة-عصر الاضمحلال - علاقة مصر بأفريقيا في عصر الدولة القديمة

2

الاداء الصفى

(ب)	(أ)
تمثال ابو الهول	الملك اوسر كاف
كتاب نصوص الاهرامات	الملك خوفو
الهرم الاكبر	الملك زوسر
معابد الشمس	الملك اوناس
الهرم المدرج	الملك خفرع

2- بم تفسر لقب الملك سنفرو بالملك المحسن المحبوب؟

ملك عظيم عادل

ب. أكمل وواجب:

1- "يعد تمثال أبو الهول من أشهر تماثيل عصر الدولة القديمة"، من خلال دراستك لهذا الدرس أكمل الشكل التخطيطي أدناه:



2- ما النتائج المترتبة على: تدهور أحوال مصر في أواخر عهد الملك بيبي الثاني؟

قيام المصريين بثورة عارمة وانتهاء عصر الدولة القديمة

3- دلل تاريخيا على صحة العبارة: "تأثرت بعض الدول الإفريقية بالعوادات المصرية خلال عصر الدولة القديمة".

انتشار المعبودات المصرية في أنحاء إفريقيا مثل الصقر (المعبود حورس) في أوغندا

التحنيط عند ملوك وامراء الكونغو

الالات الموسيقية في غرب إفريقيا

الأداء المنزلي (الواجب)

- 1- بم تفسر: أهمية نصوص الأهرام؟
امتدنا بكثير من المعلومات الهامة عن المعتقدات الدينية للمصريين القدماء.
- 2- ماذا كان يحدث إذا لم: يقيم الملك أوناس بكتابة نصوص الأهرام على جدران حجرة الدفن داخل الهرم
لم نعرف معلومات عن المعتقدات الدينية
- 3- دلل تاريخيا على صحة العبارة: اهتمام ملوك الدولة القديمة بأكتشاف القارة الافريقية
ارسل ملوك الاسرة الخامسة والسادسة الرحلات التجارية والاستكشافية الي افريقيا مثل الرحالة جر خوف نحو جنوب افريقيا

محمود جلال

التقييم الأسبوعي

نموذج (أ)

- 1- اختر الإجابة الصحيحة من بين (أ - ب - ج - د):
* تم نحت تمثال أبو الهول في عهد الملك
(أ) خوفو (ب) خفرع (ج) زوسر (د) سنفرو.
- 2- ما المقصود بالمصطلح التاريخي: نصوص الأهرام؟
نصوص كتب على جدران الأهرام من الداخل بهدف حماية الملك في الحياة الآخرة
- 3- بم تفسر: تسمية عصر الدولة القديمة بـ "عصر بناء الأهرام"؟
لأنهم انشأوا مقابرهم على شكل أهرامات
- 4- ما العلاقة بين: فينيقيا وملوك الأسرة الرابعة؟
أرسل الملك سنفرو أسطولاً بحرياً مكوناً من 40 سفينة إلى فينيقيا لإحضار أخشاب الأرز
- 5- دلل على مدى صدق العبارة التالية:
"بلغت الحضارة المصرية القديمة أوج قوتها خلال عهد الأسرات (٧، ١٠، ١١)."
عبارة خاطئة حيث إن البلاد تعرضت للانقسام والغارات الخارجية وتوقفت عجلة البناء والتطور الحضاري

نموذج (ب)

- 1- اختر الإجابة الصحيحة من بين (أ - ب - ج - د):
* مؤسس الأسرة الرابعة ولقب بالملك المحسن المحبوب هو الملك
(أ) سنفرو (ب) خفرع (ج) زوسر (د) خوفو.
- 2- ما المقصود بالمصطلح التاريخي: عصر الاضمحلال؟
فترات زمنية في التاريخ المصري القديم سادت فيها البلاد حالة من ضعف سلطة الملك والحكومة وانتشرت الاضرابات السياسية والاقتصادية
- 3- بم تفسر: سقوط الأسرة الرابعة في عصر الدولة القديمة؟
زيادة نفوذ كهنة اله الشمس رع فتمكن كبيرهم اوسر كاف من الوصول الي حكم مصر
- 4- ماذا كان يحدث إذا: حافظ الملك بيبي الثاني على سيطرته على مقاليد البلاد طوال فترة حكمه؟
لم ينتهي عصر الدولة القديمة وتعرض البلاد للانقسام والضعف

5- ما النتائج المترتبة على: ظهور الأسرة الحادية عشر في مصر القديمة؟
إعادة البلاد للوحدة

نموذج (ج)

- 1- اختر الإجابة الصحيحة من بين (أ - ب - ج - د):
* قاموا بتقليد المصريين القدماء في تحنيط جثث موتاهم هم ملوك وامراء
- (أ) الجزائر (ب) اثيوبيا (ج) الكونغو (د) السودان.
- 2- ما المقصود بالمصطلح التاريخي: عصر بناء الاهرام؟
عصر الدولة القديمة
- 3- بم تفسر: أهمية نصوص الاهرام؟
إمدتنا بكثير من المعلومات حول المعتقدات الدينية للمصريين القدماء
- 4- اكتب احد اعمال الملك أوناس؟
اول من كتب نصوص الاهرام
- 5- دلل على مدى صدق العبارة التالية؟ اهتم كل من سنفرو والملك خوفو بالتجارة الخارجية
سنفرو ارسل اسطولا بحريا مكون من 40 سفينة الي فينقيا لحلب خشب الارز
خوفو ازدهرت التجارة الخارجية خاصة مع فينقيا



عصر الدولة الوسطى (عصر الرخاء الاقتصادي)

1 أملاك خصائص عصر الدولة الوسطى - ثانياً: أشهر ملوك الدولة الوسطى:

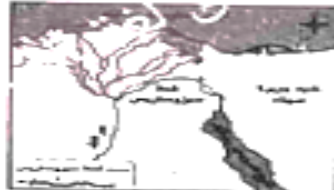
الاداء الصفى

1- لاحظ وفسر:

أمامك عدة صور تعبر عن خصائص عصر الدولة الوسطى. من خلال هذه الصور وضع:
 أهم خصائص عصر الدولة الوسطى. **تأمين الحدود - استقرار الحكم - النشاط المعماري -
 ازدهار الاطباء والفنون - الاهتمام بالتعددين - زيادة النشاط التجاري - الاهتمام
 بالمشروعات الزراعية**



الملك أتمنحات الأول



خريطة (٣) قناة سيروستريس



مدينة الأقصر حالياً



سد اللاهون حالياً

2- **بم تفسر؟**

* الاهتمام ببناء الحصون في عصر الدولة الوسطى.

لتأمين حدود مصر الشرقية والجنوبية

* ازدهار الأدب والفنون في عصر الدولة الوسطى.

زيادة الانتاج الادبي والتقدم في الفنون

* سمي عصر الدولة الوسطى بـ "عصر الرخاء الاقتصادي".

الاهتمام بالتعددين - زيادة النشاط التجاري - الاهتمام بالمشروعات الزراعية

3- دلل على صحة العبارة الآتية:

"ازدهار النشاط التجاري في عصر الدولة الوسطى".

مثل فينثيا وبلاد بونت



ب) فكر . واجب

1- أمامك صورة لأول حاكم في طيبة بعد عصر الدولة القديمة.

* من هذا الحاكم؟ **منتوحتب2**

* ما أهم أعماله؟ **إعادة السلطة المركزية- تجميل طيبة- توسع جنوبا- بعثة لبلاد بونت**

2- **دل على صحة العبارة الآتية:**

"بعد فترة حكم منتوحتب الثاني بداية لمجد الأسرة الحادية عشرة".
كان أول حاكم في طيبة يسيطر على الوجهين البحري والقبلي ليطبق على كل أنحاء البلاد

3- **بم تفسر؟**

* نقل الملك أمنمحات الأول عاصمة البلاد من طيبة إلى اثيت تاوي.

لتكون في موقع متوسط بين الوجهين البحري والقبلي ليطبق على كل أنحاء البلاد

* حفر الملك سنوسرت الثالث قناة سيزوستريس؟

ليربط بين البحر الأحمر والمتوسط عن طريق النيل

* أقام الملك أمنمحات الثالث سد اللاهون.

لتخزين مياه الفيضان لحماية البلاد من المجاعة والتوسع في مساحة الأراضي الزراعية

الأداء المنزلي (الواجب)

1- **دل على صحة العبارات التالية:**

* اهتم الملك منتوحتب الثاني بتعمير المدن.

فأهتم بتجميل طيبة

* تشابهت الملكة سبك نفرو مع ملوك الدولة القديمة.

فأنشأت هرمًا لها بالقرب من دهشور واستكملت هرم والدها في هواره

2- **بم تفسر؟**

* إنشاء الملك أمنمحات الثالث مقاييس النيل.

لمراقبة ارتفاع منسوب مياه النيل

* إقامة السدود خلال عصر الدولة الوسطى.

لتخزين مياه الفيضان للاستفادة منها وقت الجفاف

3- **إلى من تنسب الأعمال التاريخية الآتية:**

* قام ببناء حصني سمنا وقمنة سنوسرت الثالث

* مؤسس الأسرة الثانية عشرة أمنمحات الأول

4- **ماذا كان يحدث إذا: لم يتم إنشاء سد اللاهون؟**

عدم تخزين المياه وعدم التوسع في مساحة الأراضي

2 عصر الاضمحلال الثاني (عصر الضعف الثاني)

الاداء الصفى

أ- فسر واجب

1- بم تفسر:

* سقوط الدولة الوسطى.

ضعف الملوك والصراع بين حكام الاقاليم على السلطة

* قام الملك كامس بحملة مفاجئة على أرض كوش.

لاحيار اميرها على قطع الامدادات عن الهكسوس عن طريق النيل2- ما المقصود: بالهكسوس؟ قبائل جاءت من وسط اسيا

3- لاحظ وتوقع:

أمامك صورة لأحد الملوك لمحاربة الهكسوس:

* من اسم الملك الذي حرر البلاد من الهكسوس؟ احمس* ما اسم المدينة التي اتخذها الهكسوس عاصمة لهم؟ اوريس

* ماذا كان يحدث إذا: فشل أحمس الأول في طرد الهكسوس؟

اجتلاوا كامل البلاد واخضعوا المصريين لسلطتهم

4- برهن على وجود علاقات بين مصر وإفريقيا في عصر الدولة الوسطى.

تبادل الجلي والمجوهرات والعبور والمعادن والعاج والتوابل مع كوش

الأداء المنزلي (الواجب)

1- أكمل العبارات التالية بالكلمة المناسبة:

* الملك الذي تعد فترة حكمه بداية لمجد الأسرة الحادية عشرة منتوحتب الثاني

* عمل الملك أمنمحات الأول على تأمين حدود الدلتا الغربية من غارات الليبية

2- بم تفسر؟

* أقام ملوك الدولة الوسطى مراكز ومحطات تجارية على طول نهر النيل جنوبا.
تخزين وتوزيع السلع المستوردة والمصدرة

* نجاح الهكسوس في احتلال مصر.

بسبب ضعف الملوك وزيادة الصراع بين حكام الاقاليم

التقييم الأسبوعي

نموذج (أ)

- 1- لمن تنسب العمل التاريخي الآتي؟
* قام ببناء حصني سمنة وقمنة عند الجندل الثاني، وكتب على لوحة أمامهما هناك أنه برئ من ابن يأتي بعده ولا يحافظ على تلك الحدود سنوسرت الثالث
2- بم تفسر: تميز عهد الملك أمنمحات الثالث بلازدهار الزراعي؟

بسبب إنشاء سد اللاهون

- 3- دلل تاريخيا على صحة العبارة التالية:

"تعددت الأدوار الوطنية التي قامت بها الملكة إياح حتب"

شجعت كامس وأحمس على الكفاح ضد الهكسوس - تولت شؤون البلاد أثناء الحرب

- 4- ما النتائج المترتبة على حفر قناة سيزوستريس؟

زيادة النشاط التجاري

- 5- مارأيك في: موقف الملكة إياح حتب من الهكسوس؟

موقف يدل على الانتماء والوطنية وتحمل المسؤولية

نموذج (ب)

- 1- لمن تنسب العمل التاريخي الآتي؟ سبك نفرو
* أخر حكام الأسرة الثانية عشرة وأستكملت بناء هرم والدهما في منطقة هواره.

- 2- بم تفسر: إنشاء الملك أمنمحات الثالث لسد اللاهون؟

لتخزين مياه الفيضان - وحماية البلاد من المجاعة والتوسع في مساحات الأراضي

- 3- دلل تاريخيا على صحة العبارة التالية: "حقق الملك سنوسرت الثالث إنجازات عسكرية واقتصادية".

اقتصادية: حفر قناة سيزوستريس عسكرية: بناء حصني سمته وقمنه

- 4- ما النتائج المترتبة على إنشاء سد اللاهون؟

حماية البلاد من خطر الفيضان - التوسع في مساحات الأراضي

- 5- ما مدى صدق العبارة التالية:

"توجد علاقات تجارية بين ملوك مصر في عصر الدولة الوسطى وحضارة كوش"

بإفريقيا". حيث تم تبادل الحلى والمجوهرات والعطور والمعادن والعاج والتوابل والزيوت مثل زيت النخيل

نموذج (ج)

- 1- اكتب ما تشير إليه العبارة التالية: "سد أقيم عند مدخل بحيرة مورييس لتخزين مياه الفيضان". **...سد اللاهون**
- 2- بم تفسر: كان عصر الأسرة السابعة عشرة عصر "الانتفاضة".
لأنهم نجحوا في مواجهة وطرد الهكسوس وإعادة وحدة البلاد.
- 3- دلل تاريخيا على صحة العبارة التالية: "أساء الهكسوس للمصريين".
دمرو المعابد- سلبوا ممتلكات المصريين- فرضوا الضرائب
- 4- ما النتائج المترتبة على:
* اهتمام الملك أمنمحات الثالث بإقامة بعض المقاييس عند الجندل الثاني في نهر النيل.
مراقبة ارتفاع منسوب مياه النيل.
- * ما مقترحاتك: للحفاظ على الآثار المصرية؟
إقامة المتاحف- توعية المواطنين



عصر الدولة الحديثة (عصر المجد الحربي)

1 خصائص عصر الدولة الحديثة - ثانيا: أشهر ملوك عصر الدولة الحديثة حتى الملكة حتشبسوت

الاداء الصفى

ا- تذكر واكمل:

في ضوء دراستك لدرس عصر الدولة الحديثة.. أمامك خريطة زمنية لأشهر ملوكها قم بملء الفراغات طبقا لترتيب الملوك من الأقدم للأحدث.

احمس الاول	رمسيس الثانى	رمسيسى الثالث
..تحتمس الاول	توت عتخ امون	
حتشبسوت	تحتمس الثالث	

ب- فكر وأجب:

1- بم تفسر: قيام الملك أحمس الأول بإرسال حملة إلى جنوب مصر؟

للقضاء على التمرد وإعادة الامن

2- ما المقصود بالمصطلح التاريخي: إمبراطورية.

دولة كبيرة تسيطر على مناطق وشعوب مختلفة تحت قيادة مركزية قوية وتتشكل هذه الدولة عبر الفتوحات او التحالفات وتضم ثقافات متعددة

3- لاحظ الصورة التي أمامك لأحد أشهر ملوك مصر القديمة،

ثم أجب عن الأسئلة الآتية:

(أ) اذكر اسم الملك تحتمس الاول

(ب) اكتب أحد أسباب شهرته ضم نبتة للحدود المصرية

الأداء المنزلى (الواجب)

1- اكتب كلمة (صواب) أو كلمة (خطأ) أمام العبارة الآتية:

* وصل نفوذ مصر في عهد الملك تحتمس الأول إلى نهر الفرات بقارة آسيا. (صح)

2- دلل على صحة العبارة الآتية: "كانت فترة حكم الملك أحمس الأول بداية تاريخ جديد لمصر".

اصبحت مصر بلدا جريا قويا عاشت خلالها فترة من الاستقلال والرخاء

3- ما النتائج التي ترتبت على: وجود جيش قوي متطور لمصر في عصر الدولة الحديثة؟

الحفاظ على النظام والاستقرار الداخلي لمصر وجماها من الاخطار والتهديدات الخارجية

4- ما المقصود بـ: "الابن الملكي لكوش"؟ **الموظف الذي يحكم المنطقة من نبتة الى شمال ادفو**

أشهر ملوك عصر الدولة الحديثة - ثالثا: علاقات مصر بإفريقيا في عصر الدولة الحديثة

الاداء الصفى

1- صل وفسر:

أمامك صور لبعض ملوك عصر الدولة الحديثة وبعض إنجازاتهم، صل من العمود (أ) بما يناسبه من العمود (ب).

(أ) (ب)

الملك توت عنخ آمون أقام إمبراطورية وصلت حتى إلى ما وراء الجندل الرابع.
الملك رمسيس الثاني أعاد مدينة طيبة عاصمة للبلاد.
الملك تحتمس الثالث أكمل بناء معبد أبيدوس الذي بدأ بناءه في عهد أبيه سيتي الأول.

2- بم تفسر: يعتبر رمسيس الثالث المؤسس الحقيقي للأسرة العشرين؟

هزم شعوب البحر المتوسط - تصدى للبين - اهتم بالشؤون الداخلية - اعد تنظيم الجيش - نظم بعثات إلى بونت

ب) فكر وأجب:

1- ما النتائج التي ترتبت على: الصراع بين كوش والمصريين أثناء عصر الأسرة الـ ٢٤؟

سيطرة الملك الكوشي على معظم مصر وتكوين الأسرة 25

2- دلل على صحة العبارة الآتية: "تأثرت بعض المناطق الإفريقية بالحضارة المصرية القديمة".

ارتدى نبيلاء كوش ملابس مشابهة لملابس النخبة المصرية

الأداء المنزلى (الواجب)

1- أكمل العبارة الآتية بكلمة مناسبة:

* حظيت البعثات التجارية لبلاد بونت باهتمام الملك رمسيس الثالث.

2- قارن بين كل من: معركة مجدو، ومعركة قادش من حيث الأطراف والنتائج.

وجه المقارنه	مجدو	قادش
الاطراف	مصر* امراء اسيا	مصر* الحوثيون
النتائج	انتصار تحتمس الثالث	انتصار رمسيس الثاني وعقد اول معاهدة سلام

3- ما العلاقة بين: كهنة الإله آمون بطيبة وسقوط الدولة الحديثة؟

تسبب تدخلهم في شؤون الحكم في سقوط الدولة الحديثة

4- ما النتائج التي ترتبت على: ضعف الملوك بعد انتهاء حكم الملك رمسيس الثالث؟

سقوط الدولة الحديثة

التقييم الاسبوعي

نموذج (أ)

1- اختر الاجابة الصحيحة مما بين القوسين:

اشهر ملوك الدولة الحديثة امر بنحت معبدين في منطقة ابو سمبل احدهما له والاخر لزوجته نفرتاري, واقام العديد من المسلات هو الملك.....

(رمسيس الاول-رمسيس الثاني-اخناتون-توت عنخ امون)

2- لمن ينسب العمل الاتي: قاد امراء اسيا في معركة مجدو؟ تحتمس الثالث

3- بم تفسر: سبب تسمية عصر الدولة الحديثة بعصر المجد الحربي؟

بسبب وجود جيش قوي للبلاد وتكوين امبراطورية عظيمة

4- وضح اوجه التشابه بين: الملك احمس الاول والملك توت عنخ امون في مجال التشييد والبناء

كلاهما قام باصلاح المعابد

5- دلل علي صحة العبارة الاتية: اختلفت العلاقات المصرية لافريقية في العصر المتأخر عن عصر الدولة الحديثة

اتسمت بالصراعات والحروب بين مصر وبعض المناطق الافريقية

نموذج (ب)

1- اختر الاجابة الصحيحة مما بين القوسين:

اشهر الرحلات التجارية التي ارسلتها الملكة حتشبسوت اتجهت الي.....
(فينيقيا-بلاد بونت-ليبيا-فلسطين)

2- لمن ينسب العمل الاتي: يعد من اعظم ملوك مصر في مجالي الحرب قاد 16 حملة عسكرية في اسيا وبنى اسطولا بحريا قويا؟. تحتمس الثالث

3- بم تفسر: كانت فترة حكم الملك احمس بداية تاريخ جديد لمصر؟

حيث اصبحت مصر بلدا جريا قويا عاشت خلال عهده فترة من الاستقلال والرخاء

4- ماذا كان يحدث اذا: لم يتم اكتشاف مقبرة توت عنخ امون؟

لم نعرف مدى تقدم الفنون في مصر القديمة

5- حدد عملات تاريخيا واحدا قام به تحتمس الاول

ضم مدينة نيته الي حدود مصر

نموذج (ج)

1- اختر الإجابة الصحيحة مما بين القوسين:

إعاد مدينة طيبة عاصمة للبلاد وأعاد لعبادة الإله آمون مكانتها هو الملك.....

(رمسيس الأول-رمسيس الثاني-أخناتون-توت عنخ آمون)

2- لمن ينسب العمل الآتي: يعتبر المؤسس الحقيقي للأسرة العشرين؟ رمسيس الثالث

3- بم تفسر: تعتبر الملكة حتشبسوت من أشهر ملكات مصر القديمة؟

لما قامت به من أعمال في عصر الدولة الحديثة من إنجازات سياسية واقتصادية وثقافية وعمرانية

4- ماذا كان يحدث إذا: لم يقم الملك أحمس بحملته على جنوب مصر؟

عدم القضاء على جركات التمرد وإعادة الأمر

5- ما العلاقة بين: الملك توت عنخ آمون والفنون في مصر القديمة؟

حيث إن اكتشاف مقبرته يدل على مدى تقدم الفنون في مصر القديمة

محمود جلال

التدريب الشهري

السؤال الأول اكتب كلمة (صواب) أمام العبارة الصحيحة وكلمة (خطأ) أمام العبارة غير الصحيحة مع التصويب.

- 1- اتحد الملك مينا بمدينة من نهر عاصمة لمصر الموحدة. (صح)
- 2- عرف عصر الدولة القديمة بعصر الرخاء الاقتصادي. (خطأ - بناء الاهرام)
- 3- أقام الملك سنوسرت الثالث سد اللاهون بالفيوم. (خطأ - سيزوستريس)
- 4- أرسل الملك سنفرو أسطولا تجاريا لجلب خشب الأرز من بلاد النوبة. (خطأ - بونت)
- 5- اقتصر حكم الهكسوس على الوجه البحري طوال مدة وجودهم في مصر. (صح)
- 6- أقام الملك أمنمحات الأول سلسلة حصون على الحدود الغربية للدلتا. (صح)
- 7- شهدت فترة حكم الملك أمنمحات الثالث نتاجا في المجال الزراعي. (صح)
- 8- اتخذ الملك أحمس الأول بعض أبناء أمراء آسيا إلى مصر ليعيشوا نشأة مصرية. (خطأ - تحتمس 3)
- 9- انتشرت عبادة الإله بالصورة التي أمامك عند ملوك اثيوبيا. (خطأ - اوغندا)

السؤال الثاني أكمل العبارات التالية:

- 1- تعد **حتشبسوت** من أشهر ملوك عصر الدولة الحديثة
- 2- عقد الملك **رمسيس 2** معاهدة سلام في التاريخ
- 3- تعد **الملكة سبك نفرو** آخر حكام الأسرة الثانية عشرة
- 4- أسقط حكام بلاد **كوش** الأسرة الـ 24 و سيطروا على معظم أراضي
- 5- كان للأسرة 17 دور في تحرير مصر من الهكسوس.
- 6- يعد الملك **اوناس** أول من كتب نصوص الأهرام.
- 7- يضم العصر العتيق الأسرتين 1 و 2
- 8- انتشرت الآلات الموسيقية المصرية القديمة في **غرب إفريقيا** في عصر الدولة القديمة.

السؤال الثالث اختر الإجابة الصحيحة مما بين القوسين:

- 1- قام الرحالة برحلات لاستكشاف إفريقيا.
(سنوسرت الثالث - أمنمحات الثالث - حخوف)
- 2- اهتم الملك منتوحتب الثاني بتجميل مدينة وإقامة المعابد فيها.
(إثيث تاوي - أخيتاون - طيبة - أوارييس)

- 3- قناة سيزوستريس تربط بين البحر المتوسط و
 (البحر الميت - البحر اليابان - **البحر الأحمر** - البحر الأسود)
 4- في اي العصور التاريخية بمصر تم نحت التمثال الذي امامك ؟
 (العتيق - **الدولة القديمة** - الدولة الوسطى - الدولة الحديثة)
 5- كانت المقابر على شكل في العصر العتيق .
 (**مصطبة** - حجرتين - هرم مدرج - هرم كامل)



- 6- الي اي العصور التاريخية تنتهي الكتابات بالصورة التي امامك
 (العتيق - **الدولة القديمة** - الدولة الوسطى - الدولة الحديثة)
 7- يعد اول بناء حجري ضخم في التاريخ هو
 (ابو الهول - ابي صير - هرم خوفو - **هرم سقارة المدرج**)

السؤال الرابع: بم تفسر؟

- 1- تسمية عصر الدولة القديمة بـ* "عصر بناء الأهرام"*؟

اهتمام ملوكه ببناء مقابرهم على شكل هرم

- 2- تعد فترة حكم الملك منتوحتب الثاني بداية لمجد الأسرة الحادية عشرة.

حيث وجد مصر واعداد السلطة المركزية وقام بتجميل طيبة وتوسع جنوبا

- 3- امتاز عهد الملك أمنمحات الثالث بالسلام، والتنمية الاقتصادية.

فأهتم باستثمار موارد مصر وارسل 24 بعثة تعدين في سيناء وانشأ سد الياهو

- 4- شهرة الملك توت عنخ آمون.

بسبب اكتشاف مقبرته كاملة في وادي الملوك في الير الغربي للاقص فأحتوت على كنوز لا مثيل لها تعبر عن تقدم الفن

- 5- يعد الملك رمسيس الثالث المؤسس الحقيقي للأسرة العشرين.

هزم شعوب البحر المتوسط - تصدى للسين - نظم البلاد داخليا - نظم الجيش - نظم بعثات بلاد يونيت - اهتم ببناء المعابد

السؤال الخامس: ما النتائج المترتبة على...؟

- 1- انتهاء حكم رمسيس الثالث.

تولى حكاه ضعاف وتدخل كهنة الاله امون في شئون الحكيم

- 2- جهود الملك تحتمس الثالث في المجال العسكري.

اقام امبراطورية امتدت حتى ماوراء الجندل الرابع

- 3- حفر الملك سنوسرت الثالث قناة سونسوستريس.

لربط البحرين الاحمر والمتوسط عن طريق سيزوستريس لتنشيط التجارة

- 4- ازدهار الأدب والفنون في عصر الدولة الوسطى.

زيادة الانتاج الادبي والتقدم في الفنون

5- ازدياد نفوذ كهنة إله الشمس "رع" في نهاية الأسرة الرابعة.

سقوط الأسرة الرابعة وتلوي كبيرهم اوسر كاف الحكم

6- تشييد إيمحوتب الهرم المدرج.

اول بناء حجري ضخم في التاريخ

7- تدهور أحوال مصر في أواخر عهد الملك بيبي الثاني.

قيام الشعب بالثورة وسقوط عصر الدولة القديمة

السؤال السادس: دلل على صحة العبارات التالية:

1- براعة الفنان المصري القديم في عصر الدولة القديمة.

نحت تماثيل للملوك وتماثيل النبلاء وتمثال الكاتب المصري

2- تقدم فن النحت في عهد الملك خفرع.

نحت تماثيل ابو الهول

3- كان عصر الأسرة السابعة عشرة عصر انتفاضة ضد الهكسوس.

حيث تمكنوا من طرد الهكسوس

4- سوء معاملة الهكسوس للمصريين.

حيث سلبوا ممتلكات المصريين- وفرضوا الضرائب- هدموا المعابد

5- تغير العلاقات المصرية الإفريقية في العصر المتأخر.

حيث تحولت لعلاقات نزاع وحروب

6- اهتمام الملك تحتمس الأول بالعمران والتشييد.

طور معبد الكرنك

7- اهتمام ملوك الدولة القديمة باكتشاف القارة الإفريقية.

قيام ملوك الاسره 6-7 بأرسال حملات تجارية واستكشافية مثل إرسال جرجوف لاستكشاف قارة افريقيا-

السؤال السابع: ما العلاقة بين...؟

1- الملك تحتمس الثالث واستقرار وأمن مصر في عصر الدولة الحديثة.

حيث قاد 16 حملة عسكرية في اسيا وواحدة في كوش وبسط نفوذه على جزر البحر المتوسط وساحل فينيقيا

2- السياسة العسكرية والإدارية للملك أمنمحات الأول واستقرار مصر في عصر الدولة الوسطى.

حيث نقل العاصمة الي اثبت تاوي لتكون في موقع متوسط واخضع حكام الاقاليم

3- قيام الدولة القديمة وتطور بناء المقابر.

حيث قاموا بتطوير المقابر من حفرة تعلوها مصطبه الي عده مصاطب الي هرم كامل

السؤال الثامن: رتب الملوك أدناه من الأقدم إلى الأحدث:

(الملكة سبك نفرو - تحتمس الثالث - الملك مينا - الملكة حتشبسوت - الملك

سنوسرت الثالث - الملك اوناس).

السؤال التاسع: قارن بين:

1- أعمال كل من الملك سنفرو والملك رمسيس الثاني.

وجه المقارنه	سنفرو	رمسيس الثاني
	الملك المحسن المحبوب	اكمل معبد ابيدوس وبني معبدين في ابو سمبل
	ارسل اسطول لفينقيا لجلب خشب الارز	اقام المسلات واستعاد سيادة مصر في الشام وجزر البحر المتوسط
	ارسل حملة للجنوب ليعيد الامن	انتصر علي الحيثين وعقد اقدم معاهدة سلام

2- أعمال كل من الملك تحتمس الأول والملك أمنحتب الثالث.

وجه المقارنه	تحتمس الاول	امنحات الثالث
	اتجه جنوبا وضم نبتة حتي شمال ادفو	استثمر موارد مصر
	وصل الي الفرات	ارسل 24 بعثة تعدين
	طور الكرنك	بناء سد اللاهون

السؤال العاشر: ماذا يحدث إذا...؟

1- تولى حكم البلاد ملوك أقوياء بعد وفاة رمسيس الثالث؟

استمرت الدولة الحديثة ولم تضعف البلاد

2- لم يقم الملك أمنحتب الثالث ببناء سد اللاهون.

تعرض البلاد لخطر المجاعة وتدمير الاراضي وعدم توسيع المساحات الزراعي

3- لم يقم الملك مينا بتوحيد مملكتي الشمال والجنوب.

ظلت مصر مقسمة ولم يتم تحقيق انجازات حضارية

4- لم يقم الملك اونس بكتابة نصوص الأهرام على جدران حجرة الدفن داخل الهرم.

لم نعرف الكثير عن المعتقدات الدينية المصرية



نظم الغابات في افريقيا (الغابات المدارية المطيرة وغابات البحر المتوسط)

1 النظم البيئية وانواعها

الاداء الصفى

ا- فكر و صنف:

النظام البيئي بمنطقته الجغرافية تضم مكونات حية ومكونات غير حية. في ضوء هذه العبارة، صنف المكونات التالية إلى مكونات حية وأخرى غير حية.
(أشجار - صخور - تربة - مياه - حرارة - أمطار - حيوان - رطوبة - طيور - فطريات)

مكونات غير حية	مكونات حية
صخور- تربة- مياه- حرارة- امطار-	اشجار- حيوان- طيور- فطريات

ب- تعاون واجب:

- 1- اكتب مدلول العبارة التالية: " حالة من الاستقرار تحدث داخل النظم البيئية عبر التفاعل بين مكوناتها الحية وغير الحية ". التوازن البيئي
- 2- بم تفسر: اختلال النظام البيئي؟

زلزال- حرائق- جفاف- إزالة غابات- الرعي الجائر- التوسع العمراني- الجيوب- المبيدات- التلوث المائي والهوائي

الأداء المنزلى (الواجب)

اكتب المقصود بكل من المصطلحات التالية:

- النظام البيئي: منطقة جغرافية متكاملة بها مكونات حية وغير حية تتفاعل معها وفق نظام للحفاظ على التوازن البيئي
- التوازن البيئي: حالة من الاستقرار تحدث داخل النظم البيئية عبر التفاعل بين مكوناتها الحية وغير الحية
- الاختلال البيئي: حالة من عدم الاستقرار تحدث داخل النظم البيئية عبر التفاعل بين مكوناتها الحية وغير الحية

نظام الغابات المدارية المطيرة

2



الاداء الصفي

(1) - تعاون واجب:

بالتعاون مع أفراد مجموعتك أجب عما يلي :

- لاحظ الخريطة ثم:

حدد أي الأرقام توضح مناطق انتشار نظام الغابات المدارية المطيرة 2

- حدد أسماء تلك المناطق الجغرافية .

غابات البحر المتوسط (1-3) مدارية (4)

2- بم تفسر: انخفاض كل من المدى الحراري السنوي والضغط الجوي في نظام الغابات المدارية المطيرة ؟

يعود الهواء الي اعلي ويسكون حركة الرياح نسيبا

ب - فكر وقر:

تعاون مع أفراد مجموعتك، وأجب:

1- ما النتائج المترتبة على كثافة أشجار الغابات المدارية المطيرة وتشابك أغصانها؟

يمنع وصول الضوء الي ارض الغاية ولذلك تكثر النباتات المتسلقة والطفيلية بها

ضع دائرة حول الحيوانات التي تعيش في الغابات المدارية المطيرة وخطا أسفل الأشجار التي تنمو بنفس الغابات:

(الما هو جني - القردة - الأرز - الأبنوس - الثعالب - الصنوبر - الماعز - التماسيح - المطاط - الموز -

النمر - الكاكاو - البلوط الفليني - الأغنام - الأفاعي - السناجب - النمل الأبيض - الفئران)

بم تفسر: أهمية الغابات المدارية المطيرة ؟

مصدر للمواد الخام مثل المطاط والاشباب - مقصد للسانحين - تحافظ على البيئة - نمقية البيئة من التلوث

الأداء المنزلي (الواجب)

قارن بين الخصائص المناخية والحيوية لنظام " غابات المدارية المطيرة " في جدول.

وجه المقارنة	الخصائص المناخية	الخصائص الحيوية
	ارتفاع الحرارة والرطوبة	اشجارها كثيفة ويوجد بها حيوانات متنوعة و
	انخفاض الضغط الجوي	تربتها حمراء

ما الفرق بين المدى الحراري السنوي والرطوبة النسبية ؟

المدى الحراري السنوي: الفرق بين متوسط الحرارة لاعلى الشهور وادنى الشهور

الرطوبة النسبية: نسبة بخار الماء الموجودة ي الهواء

التقييم الأسبوعي

نموذج (أ)

1- أكمل العبارة التالية:

- من أشجار نظام الغابات المدارية المطيرة الماهوجني و المطاط
- 2- بم تفسر: انخفاض الضغط الجوي بنظام الغابات المدارية المطيرة؟
صعود الهواء الي اعلى وسكون حركة الرياح نسبيا
- 3- ماذا يحدث إذا، تم إزالة الغابات المدارية المطيرة؟
يقل امتصاص ثاني اكسيد الكربون مما يؤدي لتلوث البيئة
- 4- ما العلاقة بين نظام الغابات المدارية المطيرة وكميات الكربون الناتج عن الأنشطة البشرية.
تعمل على تنقية البيئة من التلوق
- 5- قارن بين الموقع الفلكي والموقع الجغرافي لنظام الغابات المدارية.

وجه المقارنه	الموقع الفلكي	الموقع الجغرافي
	10 شمال - 10 جنوبا	شمال حوض الكونغو وساحل غانا وشرق مدغشقر

نموذج (ب)

1- أكمل العبارة التالية:

- من الحيوانات التي تعيش بنظام الغابات المدارية المطيرة النمر و القردة
- 2- بم تفسر: انخفاض المدى الحراري السنوي بنظام الغابات المدارية المطيرة؟
ارتفاع الحرارة طوال العام
- 3- ماذا يحدث إذا، تم إزالة غابات حوض الكونغو بقارة إفريقيا؟
يقل امتصاص ثاني اكسيد الكربون مما يؤدي لتلوث البيئة
- 4- ما العلاقة بين أشجار الغابات المدارية المطيرة وانتشار الحيوانات الضخمة أكلة العشب؟
نقل بسبب صعوبة الحركة بين الاشجار الكثيفة

5- قارن بين الخصائص المناخية والنباتية لنظام الغابات المدارية المطيرة.

وجه المقارنه	الموقع الفلكي	الموقع الجغرافي
	ارتفاع حرارة ورطوبة	اشجار كثيفة متشابكة
	انخفاض ضغط جوي	ماهو جني - ابنوس - مطاط

نموذج (ج)

1- أكمل العبارة التالية:

• من النظم البيئية الارضية البرية الغابات و الحشائش

2- بم تفسر: ندرة الحيوانات الضخمة آكلة العشب في الغابات المدارية المطيرة؟

نقل بسبب صعوبة الحركة بين الاشجار الكثيفة

3- ماذا يحدث إذا، لم تكن أشجار نظام الغابات المدارية الرطبة كثيفة ومتشابكة الأغصان؟

وصول الشمس الي الارض وتقل النباتات الطفيلية والمتسلقة

4- ما العلاقة بين: ارتفاع درجة الحرارة وكل من المدى الحراري السنوي والضغط الجوي

بنظام الغابات المدارية المطيرة؟

ارتفاع الحرارة يؤدي الي انخفاض المدى الحراري وانخفاض الضغط الجوي

5- قارن بين: عنصري التنوع الحيوي (الخصائص النباتية والحيوانات) لنظام الغابات

المدارية .

النباتية: غابات كثيفة متشابكة

الحيوانات: نمور- قردة- تماسيح- افاعي- نمل



الاداء الصفى

1- فكر واستنتج:

لاحظ مع زميلك المجاور الصورة التي امامك ثم أجب:

1- حدد المناطق التي تنتشر بها هذه الاشجار في قارة افريقيا.

شمال غرب افريقيا والكاب في الجنوب الغربي

2- استنتج انواع هذه الاشجار محدد طرق تكيفها التي جعلتها دائمة الخضرة طوال العام

الارز- الصنوبر- البلوط (من خلال جذورها العميقة واوراقها صغيرة الحجم المغطاة بطبقة

شمعية لتقليل الفاقد بالنتج)

ب- فكر وقرر:

1- ضع دائرة حول الحيوانات التي تعيش في الغابات المدارية المطيرة وخطاً أسفل الأشجار التي تنمو بنفس الغابات.

(الما هوجني - القرده - الأرز - الأبنوس - الثعالب - الصنوبر - الماعز - التماسيح -

المطاط - الموز - النمر - الكاكو - البلوط - القليني - الأغنام - السناجب - النمل

(الأبيض - الفئران)

2- بم تفسر: أهمية الغابات المدارية المطيرة؟

مصدر للمواد الخام مثل المطاط والاشخاب- مقصد للسانحين- تحافظ على البيئة- نمقية البيئة من التلوث

- خصوبة تربة نظام البحر المتوسط.

مكوناتها معدنية وعضوية

الأداء المنزلي (الواجب)

- قارن بين الخصائص المناخية والحيوية لنظام غابات البحر المتوسط في جدول

وجه المقارنه	مناخية	حيوية
	حار- جاف صيفا معتدل ممطر شتاء	

- قارن بين الغابات المدارية المطيرة وغابات البحر المتوسط من حيث الأهمية

وجه المقارنه	بحر متوسط	مدارية
	مصدر للغذاء والنباتات العطرية يربي الاغنام والماعز ومناطق استجمام	مصدر للمواد الخام والغذاء والوقود ومقصد للسياح وتحافظ على البيئة



الاداء الصفى

1- لاحظ وصف:

بالتعاون مع زميلك المجاور، لاحظ الصور التالية والتي تمثل الأخطار التي تواجه نظم الغابات بقارة إفريقيا، حدد اسم الخطر وسبب الحدوث.



اسم الخطر	ازالة الغابات	الحرائق	الجفاف
السبب	بيع الاخشاب وتحويلها لارض زراعية	التغير المناخي	قلة سقوط الامطار

2- فكر وحدد:

أ- حدد سببا واحدا لكل مما يلي:
أ- حرائق الغابات في إفريقيا.

التغير المناخي

ب- انقرض كثير من الحيوانات بنظم الغابات في إفريقيا.

الصيد الجائر

ج- دلل على صحة العبارة التالية: "تواجه نظم الغابات في إفريقيا العديد من الأخطار البشرية".

مثل ازالة الغابات

الأداء المنزلي (الواجب)

- تتناقص مساحة الغابات بأفريقيا بسبب الجفاف
- يحدث انقرض لكثير من الحيوانات في قارة افريقيا بسبب التغير المناخي
- تتعرض غابات البحر المتوسط بقارة افريقيا لحالات الجفاف بسبب ارتفاع درجة الحرارة
- تحدث الحرائق الغابات في افريقيا بسبب التغير المناخي

التقييم الأسبوعي

نموذج (أ)

1- أكمل العبارة التالية:

* من الحيوانات التي تعيش بنظام الغابات المطيرة الزراف والاسود.

2- بم تفسر: تعرض الكثير من الحيوانات بنظم الغابات بقارة إفريقيا لخطر الانقراض؟

بسبب التغير المناخي والصيد الجائر والتوسع الزراعي والعمري

3- ماذا يحدث إذا: فقدت تربة نظام الغابات البحر المتوسط مكوناتها المعدنية والعضوية؟

لم تصبح خصبة صالحة للزراعة

4- ما العلاقة بين نظم غابات البحر المتوسط وانتعاش السياحة في إفريقيا؟

تعد مناطق للاستخدام والسياحة البيئية والصيد

5- قارن بين الأهمية الاقتصادية والبيئية لنظام غابات البحر المتوسط.

وجه المقارنة	اقتصادية	بيئية
	مصدر للغذاء ويربي فيها الاعنام والماعز ولها أهمية سياحية	امتصاص الكربون وتحسين جودة الهواء

نموذج (ب)

1- أكمل العبارة التالية:

* من أشجار نظام غابات البحر المتوسط الارز والصنوبر.

2- بم تفسر: نشوب الحرائق في نظم الغابات بقارة إفريقيا.

بسبب التغير المناخي الذي يؤدي الي ارتفاع درجة الحرارة

3- ماذا يحدث إذا: لم تسقط أمطار شتوية في مناطق غابات البحر المتوسط؟

لم تنمو النباتات

4- ما العلاقة بين غابات البحر المتوسط وجودة الهواء؟

تعمل على امتصاص الكربون وتحسين جودة الهواء

5- قارن بين خطري حرائق الغابات وموجات الجفاف اللذين يواجهان نظم الغابات بقارة افريقيا من حيث الاسباب

وجه المقارنة	حرائق الغابات	الجفاف
الاسباب	التغير المناخي	قلة الامطار

نموذج (ج)

1- أكمل العبارة التالية:

* من الأخطار التي تواجه نظم الغابات بقارة إفريقيا الجفاف والانقراض

2- بم تفسر: تعرض نظم غابات البحر المتوسط لحالات الجفاف؟

بسبب قلة سقوط الامطار

3- ماذا يحدث إذا: اختفى نظام غابات البحر المتوسط من الكرة الأرضية؟

زيادة الكربون مما يؤدي الي التغير المناخي وعدم توفر مصدر لغذاء الانسان والحيوان

4- ما العلاقة بين: تحويل أرض الغابات إلى أرض زراعية ومساحة الغابات في إفريقيا؟

ادت الي تناقص مساحة الاراضي الزراعية

5- قارن بين الأهمية الاقتصادية و الأهمية السياحية لنظام غابات البحر المتوسط.

وجه المقارنة	اقتصادية	سياحية
الأهمية	مصدر للغذاء والمواد الخام	مناطق للاستجمام والسياسة البيئية



نظم الحشائش (الحارة المعتدلة) والصحارى الحارة في افريقيا

نظم الحشائش الحارة

1

1- لاحظ وقارن:

لاحظ مع زميلك المجاور خريطة توزيع نظم الحشائش بالكتات المدرسية ص 61 ثم أكمل العبارة التالية بكلمة مناسبة.

* تنتشر حشائش السافانا في جزيرة مدغشقر.

2- قارن بين: السافانا الغنية والفقيرة من حيث (التوزيع والخصائص) في الجدول أدناه.

وجه المقارنه	السافانا الغنية	السافانا الفقيرة
التوزيع	بالقرب من الغابات المدارية	بالقرب من الصحاري الحارة
الخصائص	حشائش طويلة يتخللها اشجار	حشائش قصيرة

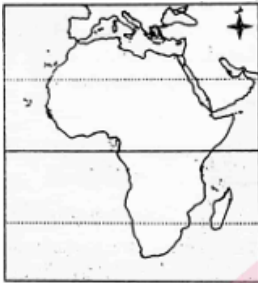
ب) فسر وحل:

1- فسر الأهمية الاقتصادية لحشائش السافانا.

مصدر لغذاء الانسان حيث تستغل في تربية الحيوانات ونتاج بعض المحاصيل مثل الذرة والبن

2- دلل على صحة أو خطأ العبارة التالية:

* "تؤثر بعض الأنشطة الاقتصادية البشرية سلبا على نظام حشائش السافانا".
تجريف التربة والرعي الجائر والصيد الجائر وسوء إدارة أنشطة التعدين



الأداء المنزلي (الواجب)

لون نطاق حشائش السافانا على الخريطة التي أمامك بلون من اختيارك.

صف الأخطار التي يتعرض لها نظام حشائش السافانا في الجدول أدناه، ثم اذكر

الأخطار وقدم بعض المقترحات لمواجهتها في الجدول أدناه.

وجه المقارنة	طبيعية	بشرية
الاهمية	زيادة الاملاح والتصحر والفيضانات	تجريف التربة والرعي والصيد الجائر

خطر 1. الرعي الجائر مقترحاتي لمواجهته: وضع قوانين تمنعه

خطر 2. الفيضانات مقترحاتي لمواجهته: بناء السدود



(ا) فسر واقترح:

1- فسر الأهمية الاقتصادية لحشائش الاستبس .

مراعي طبيعية للحيوانات مثل الاغنام والماعز وتنتشر بها حرفة الصيد

2- يواجه نظام حشائش الاستبس العديد من الأخطار بسبب الأنشطة الاقتصادية للسكان) في ضوء العبارة السابقة، تعاون مع زميلك في كتابة ثلاثة من الأخطار التي يتعرض لها نظام حشائش الاستبس ثم اكتب مقترحا واحدا لمواجهة كل خطر من الأخطار في الجدول أدناه.

الخطر. تحويلها لارض زراعية | مقترح لمواجهةته. منع تحويلها |

الخطر. تربية الاغنام والماشية لاغراض تجارية | مقترح لمواجهةته. الحد من ذلك |

الخطر. الحرائق | مقترح لمواجهةته. وضع انظمة مناسبة لمواجهة ذلك |

(ب) اقرأ الخريطة، واجب:

تعاون مع زميلك المجاور، ولاحظ الخريطة المقابلة، ثم أجب عن الأسئلة.

* يشير الجزء المظلل على الخريطة إلى نظام الصحاري.

* فسر ندرة النباتات الطبيعية في ذلك النظام البيئي.

حيث تتسم بالجفاف وقلة الامطار وارتفاع المدى الحراري

2- اكتب اسم أحد الحيوانات التي تعيش في ذلك النظام البيئي الابل

3- يتعرض ذلك النظام البيئي لبعض الأخطار منها:

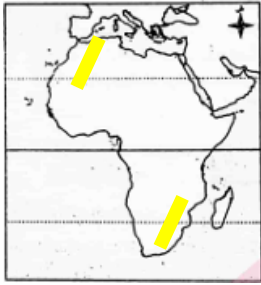
* الرعي الجائر * تجريف التربة. * **الصيد الجائر** * التصحر

الأداء المنزلي (الواجب)

قارن بين نظم الحشائش الحارة والحشائش المعتدلة والصحاري الحارة، من حيث: (الموقع الفلكي، والخصائص المناخية، والخصائص النباتية والحيوانات).

وجه المقارنه	المعتدلة	الحارة
الموقع الفلكي	بين 24:32 جنوبا	18:30 شمالا وجنوبا
المناخ	معتدل صيفا بارد ممطر شتاء	جاف- قليل الامطار- ارتفاع مدى حراري
نبات - حيوان	حشائش واعشاب واشجار	الصبار والاكاسيا- ثعالب وابل وماعز وعقارب وثعابين

التقييم الأسبوعي



نموذج (أ)

- 1- تشير الأجزاء المظللة على الخريطة إلى نظام الحشائش المعتدلة
- 2- فسر الأهمية الاقتصادية لحشائش السافانا.

مصدر لغذاء الإنسان حيث تستغل في تربية الحيوانات ونتاج بعض المحاصيل مثل الذرة والبن

- 3- ما النتائج المترتبة على تربية الماشية والأغنام بأعداد كبيرة في نظام حشائش الاستبس؟

تغير في التنوع الحيوي - انقراض بعضها - تدهور التربة

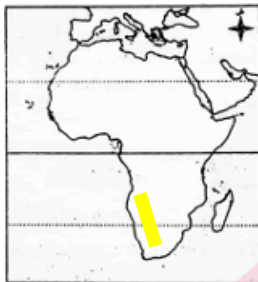
- 4- برهن على صحة أو خطأ العبارة التالية:

* تستطيع النباتات في نظام الصحاري الحارة التكيف مع شدة الجفاف والحرارة.

جذور طويلة تصل للمياه الجوفية - اوراث صغيرة تقلل النتج وتخزن المياه

- 5- ما العلاقة بين كمية الأمطار ونظام حشائش الاستبس؟

تنمو الحشائش والإعشاب في المناطق قليلة المطر والأشجار في الأماكن الأكثر مطرا



نموذج (ب)

- 1- يشير الجزء المظلل على الخريطة إلى نظام الصحارة الحارة
- 2- فسر الأهمية الاقتصادية لحشائش "الاستبس".

تعد مراعي طبيعية للحيوانات وتنتشر بها حرفة الصيد

- 3- ما النتائج المترتبة على زيادة حدة موجات الجفاف في نظام الصحاري الحارة؟

ندرة النبات الطبيعي وتقل كمية الغذاء التي تحتاجها الكائنات الحية

- 4- برهن على صحة أو خطأ العبارة التالية:

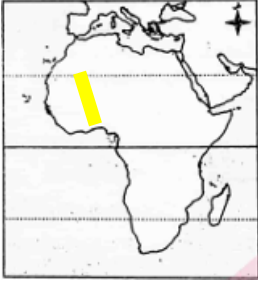
* تنوع الحيوانات التي تعيش في نظام حشائش السافانا.

زراف وإسود ونمور وإفيال

- 5- ما العلاقة بين نظام الصحاري الحارة والطاقة المتجددة؟

تعتبر مصدرا لتوليد الطاقة الشمسية

نموذج (ج)



- 1- تشير الأجزاء المظللة على الخريطة إلى نظام السافانا
- 2- فسر الأهمية الاقتصادية لنظام الصحاري الحارة.

يوجد به معادن ومصادر طاقة وتعد مناطق رعي جيدة للابل والماعز وتنتشر الزراعة في الواحات وتوليد الطاقة المتجددة من الشمس وتتميز بمناظر طبيعية خلابة ومعالم تاريخية وأثري

- 3- ما النتائج المترتبة على تعرض نظام حشائش السافانا لموجات من الجفاف والتصحر؟
تدهور التربة وموت النباتات

4- برهن على صحة أو خطأ العبارة التالية:

* لا يوجد نظام حشائش معتدلة بقارة إفريقيا إلا في الأطراف الشمالية.

عبارة خاطئة. حيث يوجد في جنوب القارة عند إقليم الفلد

- 5- ما العلاقة بين نظم حشائش السافانا و الأمطار؟

فيختلف توزيعا تبعاً لنوعها (حيث كمية الأمطار) إلى سافانا فثيرة ومكشوفة وفقيرة



النظم البيئية المائية في افريقيا

1 أهمية النظم البيئية المائية

الاداء الصفى

فكر و صنف:

1- إلى أي أنواع النظم البيئية للمياه العذبة تنتهي الظواهر الطبيعية بالقارة الإفريقية أدناه؟

- بحيرة فيكتوريا بحيرية
- نهر النيجر نهريّة
- مستنقعات السد اراضي رطبية عذبة

2- من أنا؟

* نظام يضم مكونات حية ومكونات غير حية، تتفاعل مع بعضها لاستدامة الحياة في النظام. تجديني في المسطحات المائية أو على حواشها. النظام البيئي المائي

اقرأ واجب:

بالتعاون مع زميلك المجاور، اقرأ الفقرة أدناه عن نظام المانجروف في "قارة إفريقيا"، ثم أجب:

يضم نظام المانجروف أشجارا وشجيرات تنمو في المناطق الساحلية المدارية وشبه المدارية وتعد موطنًا للعديد من الكائنات البحرية كما يعيش بها الطيور والزواحف والحشرات، وتعمل على حماية الشواطئ من التآكل وتنقية الهواء من الكربون كما أنها واحدة من المناطق الجاذبة للنشاط السياحي ويواجه نظام المانجروف عدة أخطار مثل التغيرات المناخية، والصيد الجائر، وإزالة مساحات منها لأغراض التنمية العمرانية والسياحية.

أ) اكتب أهمية واحدة لنظام المانجروف.

موطننا للعديد من الكائنات البحرية مثل الاسماك والقشريات

ب) "تعدد الأخطار التي تواجه نظام المانجروف". أثبت صحة العبارة السابقة.

التغيرات المناخية وإزالة مساحات منها والصيد الجائر

ج) قدم مقترحا واحدا للحد من الأخطار التي تواجه نظام المانجروف

وضع قوانين لحمايتها

نتائج النظم البيئية للمياه المالحة والجهود الإفريقية والمصرية للحفاظ على النظم البيئية.

2

الاداء الصفى

1- تعاون واجب:

بالتعاون مع زملائك، لاحظ الصور أدناه لبعض النظم البيئية المائية، ثم أجب:

(1) الشعاب المرجانية (2) الأراضي الرطبة المالحة

أ) إلى أي أنواع النظم البيئية المائية تنتمي الصور أعلاه؟

المالحة

ب) اكتب أهمية واحدة للنظم البيئية المائية بالصورة (1).

توفر المأوى والغذاء للعديد من الكائنات البحرية

ج) يعد بعض نظم الأراضي الرطبة المالحة محميات طبيعية، أثبت صحة العبارة السابقة.

مثل المحمية الوطنية لحوض اركين في موريتانيا ومحمية الزرائق والبردويل في مصر.

د) قدم مقترحاً للحد من الأخطار التي تهدد نظم الشعاب المرجانية.

وضع قوانين لحمايتها

2- صنف وفسر:

أ- بم تفسر: تأسيس الصندوق الإفريقي لتغير المناخ؟

لمساعدة الدول في مواجهة مشكلة التغيرات المناخية

2- ما أهم أهداف اجندة 2063 افريقيا التي نريدها؟

تحقيق الاستدامة البيئية والتكيف مع الظروف المناخية

3- صنف في الجدول أدناه الجهود المصرية والافريقية للحفاظ على النظم البيئية:

(تأسيس الصندوق الإفريقي لتغير المناخ عام 2014 - مبادرة الشبكات الشمسية

الصغيرة لتوليد الكهرباء في افريقيا - اصدار قوانين لحماية المحميات الطبيعية -

المشاركة في جميع المؤتمرات الافريقية والدولية - مبادرة افريقيا لاستعادة المناظر

الطبيعية للغابات - اطلاق رؤية مصر لتحقيق اهداف التنمية المستدامة)

وجه المقارنه	جهود مصرية	جهود افريقية
	المشاركة في جميع المؤتمرات الافريقية والدولية - اطلاق رؤية مصر لتحقيق اهداف التنمية المستدامة	الصندوق الإفريقي لتغير المناخ - اجندة 2063 - مبادرة افريقيا لاستعادة المناظر الطبيعية للغابات

الأداء المنزلي (الواجب)

1- صمم شكلاً تخطيطياً يلخص أهمية نظم الأراضي الرطبة المالحة.
مأوى للعديد من الطيور المستوطنة والمهاجرة

تعد بعض النظم محميات طبيعية

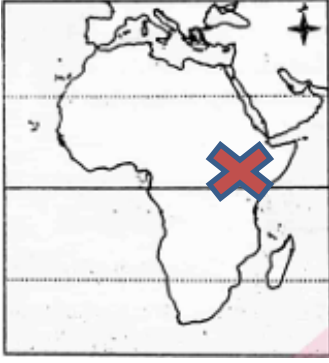
2- اختر اثنين من الجهود الإفريقية والمصرية للحفاظ على النظم البيئية في إفريقيا،
 وقدم مقترحات لتطوير تلك الجهود لزيادة حماية تلك النظم في المستقبل.

المشاركة في جميع المؤتمرات الإفريقية والدولية - إطلاق رؤية مصر لتحقيق أهداف التنمية المستدامة	البنوك الإفريقية لتغير المناخ - اجندة 2063 - مبادرة إفريقيا لاستعادة الماظر الطبيعية للغابات
---	--

محمود جلال

التقييمات الأسبوعية

نموذج (أ)



1- لاحظ الخريطة الصماء لقارة إفريقيا، ثم أجب:

* حدد إحدى مناطق توزيع النظم البحرية العذبة بوضع الرمز (X).

2- بم تفسر: أهمية النظم البيئية المائية؟

الحفاظ على التوازن البيئي والتنوع البيولوجي - مصدر لغذاء الإنسان ويستخرج منها

الطحالب - يوجد بها مصادر طاقة حفزية وطاقة كهرومائية - توفر فرص عمل

3- تلعب العوامل الطبيعية دورها في توزيع أشجار المانجروف بالقارة الإفريقية، دلل على صحة العبارة السابقة.

الشواطئ الضحلة - دالات الأنهار - الخلجان والبحيرات الساحلية

4- تعد منطقة البحر الأحمر بيئة ملائمة لنمو الشعاب المرجانية، أثبت صحة العبارة السابقة.

وفرة المياه الدافئة وضوء شمس كافي ومياه نظيفة ودرجة ملوحة ثابتة وتيارات هادئة

5- قدم مقترحا واحدا للحد من تدهور بحيرة فيكتوريا.

وضع قوانين لحمايتها

نموذج (ب)

1- لاحظ الخريطة الصماء لقارة إفريقيا، ثم أجب.

* حدد إحدى مناطق توزيع الأراضي الرطبة بوضع الرمز (X).

2- بم تفسر: أهمية نظم الأراضي الرطبة العذبة؟

تمتص ثاني أكسيد الكربون - تنقية المياه - حاجر للفيضانات والحفاف

3- تتعدد الجهود الإفريقية للحفاظ على النظم البيئية والتنوع البيولوجي، دلل على صحة العبارة السابقة.

الصندوق الإفريقي لتغير المناخ - اجندة 2063 - مبادرة إفريقيا لاستعادة الماظر الطبيعية للغابات

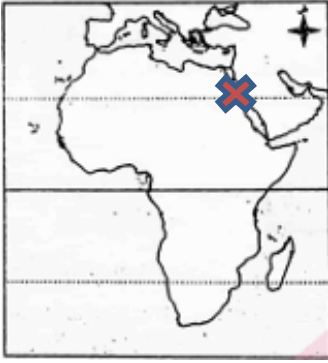
4- تواجه نظم الشعاب المرجانية العديد من الأخطار الطبيعية والبشرية، أثبت صحة العبارة السابقة.

التغيرات المناخية - التلوث - السياحة - الصيد بالمتفجرات - ردم الشواطئ

5- قدم مقترحا واحدا للحد من الأخطار التي تواجه نظام المانجروف.

وضع قوانين لحمايتها

نموذج (ج)



1- لاحظ الخريطة الصماء لقارة إفريقيا، ثم أجب:

* حدد إحدى مناطق توزيع نظم الشعاب المرجانية بوضع الرمز (X).

2- بم تفسر: تعرض نظام المانجروف للتدهور؟

التغيرات المناخية والصيد الحائر وإزاله مساحات منها

3- "يعد بعض نظم الأراضي الرطبة محميات طبيعية". دلل على صحة العبارة السابقة.

مثل المحمية الوطنية لحوض اركين في موريتانيا و محمية الزرائيق والبردويل في مصر

4- تعددت الجهود المبذولة على المستوى المحلي للحفاظ على النظم البيئية والتنوع

البيولوجي، أثبت صحة العبارة السابقة.

المشاركة في جميع المؤتمرات الافريقية والدولية - اطلاق رؤية مصر لتحقيق اهداف التنمية المستدامة

5- قدم مقترحا واحدا للحد من الأخطار التي تواجه نظم الشعاب المرجانية.

وضع قوانين لحمايتها

التدريب الشهري



السؤال الأول: لاحظ الخريطة واكتب مدلول الأرقام الموقعة عليها.

- 1- نظام غابات المدارية المطيرة
- 2- أحد الأنظمة البيئية الصحراوية الحارة
- 3- حشائش الاستبس

السؤال الثاني: اكتب كلمة (صواب) أمام العبارة الصحيحة، وكلمة (خطأ) أمام العبارة غير الصحيحة.

- 1- يعد نظام المانجروف من نظم المياه المالحة. صح
- 2- تسقط الأمطار في مناطق غابات البحر المتوسط طول العام. خطأ- شتاء
- 3- تتسم تربة نظام الغابات المدارية بلونها الأحمر. صح
- 4- تعد حشائش الاستبس أحد نظم الغابات المدارية المطيرة. خطأ
- 5- توجد الشعاب المرجانية في معظم السواحل الشرقية لقارة إفريقيا. صح

السؤال الثالث: اختر الإجابة الصحيحة مما بين القوسين:

- 1- أحد المكونات الحية في النظام البيئي هو: (الحرارة - الرطوبة - الفطريات - الأمطار).
- 2- تنمو السافانا الاستوائية بالقرب من:
- (دائرة الاستواء - مدار الجدي - مدار السرطان - الدائرة القطبية).
- 3- تتعدد نظم المياه المالحة في إفريقيا، فمنها:
- (نهر النيجر - بحيرة تانا - **المستنقعات المغطاة** - الشعاب المرجانية).
- 4- حدث أكبر انقراض جماعي للفقاريات في العصور التي تلي بحيرة:
- (تانا - ناصر - **فيكتوريا** - البرت).
- 5- تنمو في الغابات المدارية المطيرة أشجار:
- (الصنوبر - **الماهوجني** - البلوط - اللبان).

السؤال الرابع: بم تفسر...؟

- 1- ارتفاع درجة حرارة نظام السافانا في فصل الصيف.

يسبب انخفاض كثافة النباتات

- 2- تميز تربة نظام حشائش الاستبس باللون الأسود.

لأنها غنية بالمواد العضوية والمعدنية

3- أهمية الأراضي الرطبة العذبة .

تمتص ثاني أكسيد الكربون -تنقية المياه- حاجز للفيضان و الجفاف

4- الأهمية الاقتصادية لنظم الصحاري الحارة .

مصدر للطاقة المتجددة -يوجد بها معادن- مواقع أثرية و طبيعة خلابة

5- اختفاء الشعاب المرجانية من السواحل الشمالية لمصر .

بسبب عدم توافر الظروف الملائمة لنمو لكائنات البحرية مثل المياه النظيفة والملوحة

6- تعرض كثير من الأسماك في بحيرة فيكتوريا لخطر الانقراض .

بسبب ادخال انواع جديدة من الاسماك

7- الأهمية الاقتصادية للنظم البيئية المائية في قارة إفريقيا .

تحافظ على التوازن البيئي -مصدر للغذاء- صناعة بعض الادوية -مصدر للطاقة الحفوية

والكهرومائية - بها املاح مثل المغنسيوم ومعادن مثل النحاس والذهب - فرص عمل

8- يطلق على نظام حشائش السافانا حديقة حيوان طبيعية .

حيث يعيش بها انواع متنوعه من الحيوانات مثل الفيل والزرافة والاسد والنمر

9- ندرة النباتات الطبيعية في نظام الصحاري الحارة .

بسبب ندرة الامطار

السؤال الخامس: ما النتائج المترتبة على...؟

1- زيادة حدة موجات الجفاف في مناطق الصحاري الحارة .

نقص الغذاء مما يهدد كثير من الحيوانات بالانقراض

2- تعرض الأراضي الرطبة العذبة للتجفيف وإزالة النباتات .

تدهور النباتات وتاكل التربة وتعرض بعض الحيوانات والطيور للانقراض

3- كثرة التبخر في نظم الغابات المدارية .

ارتفاع الرطوبة النسبية

4- تربية الماشية والأغنام بأعداد كبيرة في نظام حشائش الاستبس .

ادي الي تدهورها وتقلص مساحتها

5- عدم وصول الضوء إلى أرض الغابات المدارية المطيرة .

نمو النباتات المتسلقة والطفيلية

6- تعرض مساحات واسعة من الأراضي الإفريقية للتصحّر .

تدهور النباتات والتربة وتعرض انواع كثيرة من الطيور والحيوانات للانقراض

7- التنوع الحيوي في نظام غابات البحر المتوسط.

مصدر للغذاء - مصدر للنباتات العطرية والطبية - يربي فيها الإغنام والماعز - مناطق

للاستحمام والسياحة البيئية وتساعد في امتصاص كميات من الكربون

8- سقوط الأمطار على هيئة سيول في نظام الصحاري الحارة.

تسبب أخطارا على الأنشطة البشرية

السؤال السادس: أجب عن الأسئلة التالية.

(أ) ماذا يحدث إذا...؟

1- لم تسقط الأمطار الشتوية في مناطق غابات البحر المتوسط.

عدم نمو الغابات وتدهور التربة

2- اختفى نظام الحشائش الحارة من قارة إفريقيا.

يزداد ثاني أكسيد الكربون وانقراض كثير من الحيوانات والطيور

(ب) ما العلاقة بين...؟

1- الشعاب المرجانية والتوازن البيئي.

تعمل الشعاب المرجانية على الحفاظ على التوازن البيئي

2- الأمطار وحشائش السافانا.

يختلف توزيع حشائش السافانا تبعاً لنوعها (حيث كمية المطر)

(ج) قارن بين...

(أ) نظامي الغابات المدارية المطيرة وغابات البحر المتوسط من حيث: (الموقع

الجغرافي - الخصائص المناخية - الخصائص النباتية - التربة).

وجه المقارنه	الغابات المدارية المطيرة	البحر المتوسط
الموقع	10ش:10ج (شمال الكونغو وساحل غانا وشرق مدغشقر)	30:45 شمالا وجنوبا (شمال غرب القارة و الكاب)
المناخ	امطار غزيرة وارتفاع الحرارة والرطوبة وانخفاض الضغط (الجوي)	صيف حار جاف وشتاء دافئ ممطر

النبات: الارز والسنوبر والبلوط التربة: تتعدد الوانها بين الاحمر والبني والاسود	النبات: مثل الماهوجني والمطاط والكاكو التربة: حمراء وفقيرة الاملاح المعدنية	التربة والنبات
---	--	-------------------

ب) نظامي السافانا والاستبس من حيث: (الموقع الفلكي والجغرافي - الخصائص المناخية - الأهمية الاقتصادية).

وجه المقارنه	السافانا	الاستبس
الموقع	10:18 شمال وجنوب الاستواء (شمال وجنوب وشرق الغابات المدارية المطيرة)	24:32 جنوبا (اقليم الفلد في الجنوب بدولتي جنوب افريقيا وليسوتو) شمال القارة يشغل مساحة اقل بين غابات البحر المتوسط ونظام الصحاري الحارة
المناخ	ارتفاع في الحرارة صيفا مع سقوط امطار وتعتدل شتاء	معتدل صيفا وتنخفض الحرارة شتاء مع سقوط الامطار
الاهمية الاقتصادية	مصدر لغذاء الانسان حيث يربي فيها الماشية وتستغل في انتاج بعض المحاصيل كالذرة والبن	مراعي طبيعية للحيوانات وتنتشر بها حرفة الصيد



انتشار الإسلام في إفريقيا

1 أهداف درس انتقال الإسلام في إفريقيا وأساليب انتشاره في إفريقيا.

الاداء الصفى

1- تخيل واستنتج:

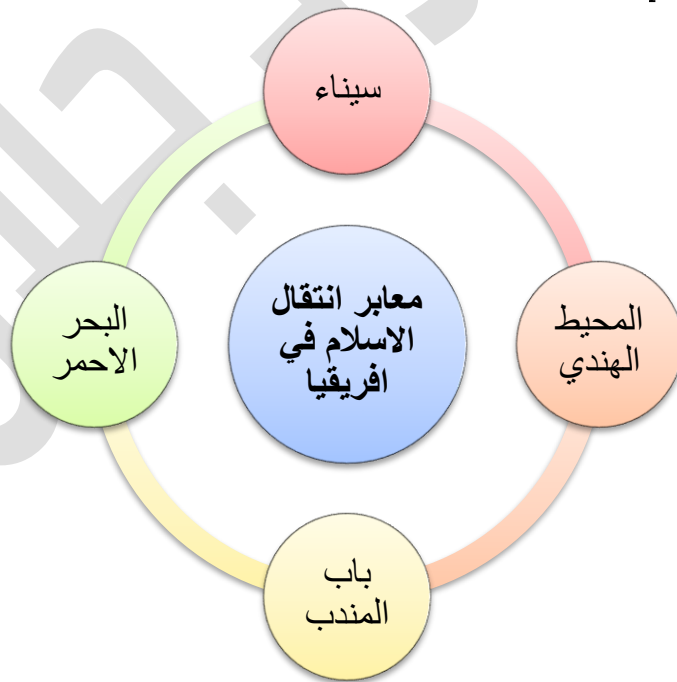
أ- تخيل أنك تعيش في العصور الوسطى وأردت الانتقال من قارة آسيا لقارة إفريقيا. حدد أهم المعابر بين شبه الجزيرة العربية وإفريقيا.

سيناء - البحر الاحمر - المحيط الهندي ومضيق باب المنذب

ب- كان المعبر البري لانتقال الإسلام للقارة الإفريقية ولا يزال هو بوابة القارة الإفريقية. استنتج الدور الذي لعبه المعبر البري للقارة الإفريقية على مر العصور.

عبرت من سيناء جيوش المسلمين لفتح شمال إفريقيا ونشر الإسلام

ج- حدد معابر انتقال الإسلام إلى قارة إفريقيا من خلال إكمال البيانات بالشكل التالي:



2- لاحظ واجب:

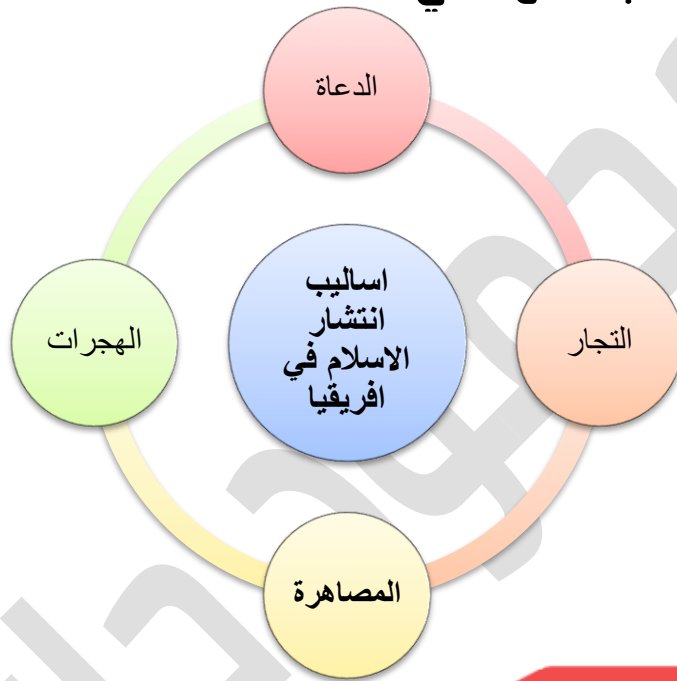
أ- لاحظ الصورة، واستنتج:

* أمامك صورة تعبر عن أحد أساليب انتشار الإسلام وهو...

* اشرح كيف ساهم هذا الأسلوب في نشر الإسلام في قارة إفريقيا.

التجار المسلمون: من خلال ملايسهم وحسن اخلاقهم واتسامهم بالصدق والامانةورفض التعامل بالربا والغش.

ب- فكر، ثم أكمل البيانات بالشكل التالي:



الأداء المنزلي (الواجب)

ما النتائج المترتبة على...؟

1- وصول عرب شبه الجزيرة العربية إلى ساحل إفريقيا الشرقي عبر عدة معابر.

اختلط العرب بأهل الساحل وتزوجوا منهم واقاموا محطات تجارية هناك

2- زواج التجار المسلمين من النساء الإفريقية.

تقوية العلاقات ونقل العادات والتقاليد الإسلامية للشعوب الإفريقية

3- إرسال الدعاة وعلماء الدين للقبائل الإفريقية.

نشر الإسلام



2 الفتوحات الإسلامية في شمال إفريقيا وتأثير الإسلام في إفريقيا.

الاداء الصفى

1- فكر واجب:

- أ- ما أول مدينة مصرية مر بها الجيش الإسلامي لفتح مصر؟
(العريش- الاسكندرية- الفسطاط- السويس)
- ب- قامت معركة ذات الصواري بين المسلمين والبيزنطيين في...
(البحر الأبيض - البحر الأحمر - بحر العرب - بحر الشمال)
- ج- اشرح أثر معركة ذات الصواري على الفتوحات الإسلامية.

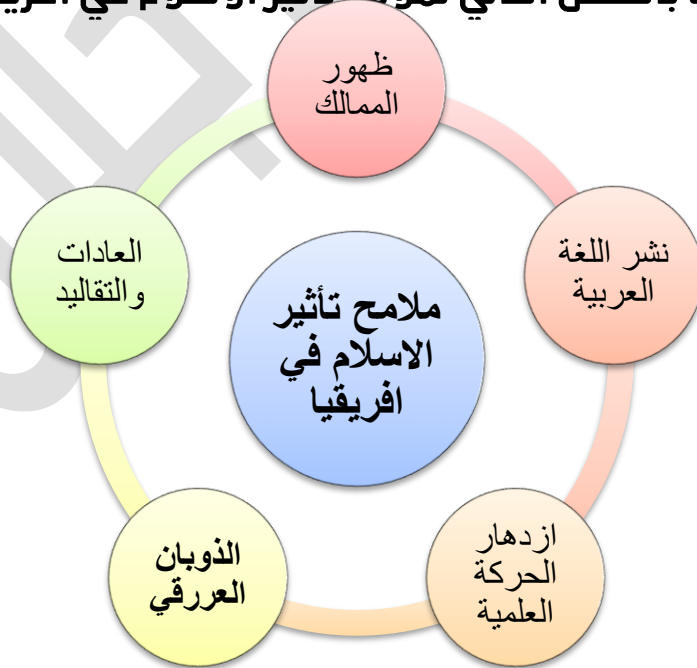
مهد الطريق امام المسلمين لفتح مدن وحصون اخري في شمال افريقيا

2- لاحظ واجب:

أمامك خريطة توضح خط سير الفتح الإسلامي لشمال إفريقيا، ادرسها جيدا، ثم اكتب بأسلوبك خط سير الفتح الإسلامي من مصر إلى إفريقيا (تونس الحالية).

فتح مصر ثم برقة ثم طرابلس ثم سبيطة

- كان لانتشار الاسلام في افريقيا اثر كبير في حياة الشعوب الافريقية التي دخلت في الاسلام: اكمل البيانات بالشكل التالي لملامح تأثير الاسلام في افريقيا



الأداء المنزلي (الواجب)

- 1- في رأيك. لماذا كان فتح افريقية (تونس الحالية) مهما للدولة الاسلامية ؟
احكام سيطرة المسلمين على شمال افريقيا وتامين حدود الدولة لاسلامية ودخول عدد كبير من سكان شمال افريقيا الاسلام
- 2- تعددت ملامح تأثير الإسلام في افريقيا. وضع ذلك باختصار
ظهور الممالك الاسلامية ونشر اللغة العربية وازدهار الحركة العلمية والذويان العرقي بين العرب وسكان افريقيا والعادات والتقاليد

محمود جلال

التقييم الأسبوعي

نموذج (أ)

- 1- من هم؟ الأفراد الذين تلقوا قدرا من العلوم الدينية التي تؤهلهم لنشر الإسلام وتعاليمه بالطرق السلمية؟...الدعاة
- 2- بم تفسر: أهمية قناة خليج امير المؤمنين؟
ساعدت في انتشار الإسلام في افريقيا
- 3- ما النتائج المترتبة على: امانة التجار المسلمين وحسن معاملتهم في افريقيا؟
انتشار الإسلام في افريقيا
- 4- دلل على صحة العبارة التالية: تنوعت اساليب انتشار الإسلام في افريقيا
الدعاة - التجار المسلمون - الزواج والمصاهرة - الهجرات
- 5- وضع دور مدينة كانو في نيجيريا في نشر الإسلام؟
تحولت الكثير من الموانئ والمراكز التجارية الي مراكز ثقافية وعلمية لنشر الإسلام

نموذج (ب)

- 1- من هم " الجماعة من المسلمين فر الكثير منهم إلى السودان بعد سقوط دولتهم وقيام الدولة العباسية؟ **بني امية**
- 2- بم تفسر: أهمية شبه جزيرة سيناء في نشر الإسلام في إفريقيا؟
حيث عبر من خلالها جيوش المسلمين لفتح شمال افريقيا
- 3- ما النتائج المترتبة على: زواج التجار المسلمين من النساء الأفريقية؟
تقوية العلاقات ونقل العادات والتقاليد
- 4- ما العلاقة بين: الدعاة، وانتشار الإسلام في إفريقيا؟
عمل الدعاة على نشر الإسلام في افريقيا
- 5- لخص بأسلوبك: وسائل نشر الإسلام في إفريقيا.
الدعاة - التجار المسلمون - الزواج والمصاهرة - الهجرات

نموذج (ج)

1- من هم: "الأفراد الذين تلقوا قدرا من العلوم الدينية التي تؤهلهم لنشر الإسلام وتعاليمه بالطرق السلمية؟ الدعاة

2- بم تفسر: هجرة المسلمين إلى الحبشة في عهد النبي (صلى الله عليه وسلم)؟

لتجنب اذي قريش

3- ما النتائج المترتبة على: أهمية مدينتي كانو في نيجيريا ومدينة تمبكتو في مالي كمراكز تجارية؟

تحولوا الي مراكز ثقافية وعلمية لنشر الاسلام

4- دلل تاريخيا: يعتبر البحر الأحمر معبرا مهما في انتشار الإسلام في شرق إفريقيا؟
حيث استخدمه المسلمون في التنقل بين شبه الجزيرة وافريقيا ثم أنشأوا بعض المراكز التجارية الاسلامية على طول الساحل الشرقي الافريقي والتي اصبحت مركز لنشر الاسلام في قلب افريقيا

تم حفر قناة خليج امير المؤمنين بعد الفتح الاسلامي والتي ساعدت في نشر الاسلام

5- اكتب بأسلوبك عن دور الإسلام في تشكيل الهوية الثقافية والاجتماعية لشعوب إفريقيا.

حيث حافظ على الكثير من عاداتهم الطيبة التي لا تتنافي مع الشريعة الاسلامية مثل اكرام الضيف ومساعد المحتاج والتضامن الاجتماعي وساهم في تغير بعض العادات السلبية مما ادي الي اصلاح شأن المجتمعات الافريقية من خلال تنظيم الزواج وتنظيم الحياة لاجتماعية والاسرية

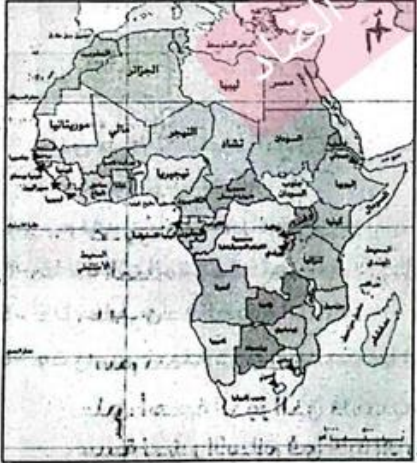


دور مصر الحضاري في إفريقيا

العلاقات السياسية

1

الاداء الحفي



1- لاحظ وأكمل:

- أمامك خريطة لقارة إفريقيا، أجب عما يلي:
- * تقع مصر في الركن الشمالي الشرقي من قارة إفريقيا.
 - * يحد مصر من الغرب دولة ليبيا ومن الجنوب دولة السودان
 - * تطل مصر من الشمال على البحر المتوسط
 - * تطل القارة الإفريقية على المحيط الاطلنطي والمحيط الهندي

2- فكر وواجب:

- 1- ما المقصود بالمصطلح التاريخي "العصور الوسطى"؟
الفترة الزمنية التي امتدت من القرن 15م الي القرن 15م
- 2- صوب ما تحته خط: " تولت مصر مسؤولية حماية الحرمين الشريفين والأماكن المقدسة في ظل حكم الخلافة الأموية ". العباسية
- 3- بم تفسر؟
* حرص حكام الدول الإسلامية بإفريقيا على الحصول على تأييد مصر السياسي.
للاعترااف بشرعيتهم في حكم البلاد التي تولوا ادارة شؤونها
* مساهمة المماليك في تطوير الجوانب الإدارية بالحبشة.
حيث نظموا طرق حياية الامزال وانشأوا ديوانا خاصا بذلك ووضعوا القوانين لحماية

الإموال

- 4- حدد الأثر الناتج عن اتخاذ القاهرة مركزا للخلافة العباسية بعد سقوط الخلافة في بغداد.
توطيد العلاقات السياسية بين مصر والدول الإسلامية في إفريقيا
- 5- دلل: حرص حكام الدول الإفريقية على الاستفادة من الخبرات السياسية والعسكرية لمصر.
فاستعان حكام الحبشة على الاستفادة من الخبرت الحربية المصرية

الأداء المنزلي (الواجب)

1- أكمل العبارة الآتية بكلمة مناسبة:

* انتشرت عبادة بعض الآلهة المصرية في حضارات افريقيا

2- دلل على صحة العبارة الآتية: " اكتسب معظم المطارنة المصريين مكانة رفيعة تلي مكانة ملك الحبشة ".
فكان يلحاً ملوك الحبشة لاستشارتهم في شئونهم الدينية والسياسية

3- بم تفسر: كان لأداء فريضة الحج عاملاً مهماً في تنشيط العلاقات الثقافية بين مصر والدول الإسلامية بإفريقيا؟
فكان حجاج الدول الإفريقية يمرون عبر مصر لبلاد الحرمين فيتعرفوا على أهلها وينهلوا من علومها الدينية



- شاهد ودل:

أمامك صورة، إحدى المؤسسات الدينية والعلمية المهمة
الإسلامي ...

أجب عما يلي:

* اذكر اسم هذه المؤسسة الأزهر

* دل على: أهمية الدور الذي قامت به هذه المؤسسة لنشر الإسلام في قارة إفريقيا.

**اهم المؤسسات العلمية الدينية التي قدمت العلوم والمعرفة الى الدول الاسلامية
بإفريقيا**

* ما المقصود بالمصطلح التاريخي "أروقة الأزهر الشريف"؟

**اماكن الدراسة والإعاشة الكاملة بالمجان تخصص للطلاب الدارسين بالأزهر تكريماً
وراحة لهم وتقسيم حسب مناطق الطلاب الوافدين**

* دل على صحة العبارة التالية: "اهتم الأزهر الشريف بالطلبة الوافدين للدراسة به".

**اعدل لهم الرواتب ووفر لهم اقامة مستقرة من خلال تخصيص اروقة لهم مثل رواق
الجزيرية والمغاربة**

* بم تفسر: تفضيل ملوك وحكام الدول الإفريقية للمنتجات المصرية؟

لأنها اشتهرت بالحدودة والدقة الفنية

1- اقرأ وأكمل:

* كان الطلاب الأفارقة يقدون إلى مصر للدراسة الدينية والعلمية وخصصت لهم أروقة
بالأزهر

أ- أكمل الشكل التالي لتتعرف عليهم:

رواق الجزيرية لطلبة الحبشة و ساحل البحر الاحمر

رواق المغاربة لطلبة شمال افريقيا و دول المغرب العربي

2- أكمل العبارة الآتية بكلمة مناسبة:

* تم تعزيز دور مصر كمركز اقتصادي مهم في إفريقيا خلال العصور الوسطى وخاصة في
مجال التجارة

3- حدد الأثر الناتج عن: وجود جاليات مصرية كبيرة في المدن التجارية الإفريقية.

تعميق العلاقات الاقتصادية بين مصر والدول الإفريقية

4- دلل: اختلفت تخصصات المصريين الموجودين بالجاليات المصرية بالمدن التجارية الإفريقية.

فقهاء وعلماء وتجار

الأداء المنزلي (الواجب)

1- أكمل العبارة الآتية بكلمة مناسبة:

* كان الوسيط الوحيد في استيراد سلع الشرق ونقلها لإفريقيا دولة مصر

2- دلل على صحة العبارة الآتية: " ساهمت العلاقات السياسية المنشئة بين مصر

والدول الإفريقية على تعزيز دور مصر اقتصاديا خاصة في مجال التجارة".

حيث مرت طرق التجارة بالصحراء الكبرى وكانت مصر الوسيط الوحيد في استيراد سلع

الشرق ونقلها لإفريقيا

3- بم تفسر: اتسمت العلاقات الاقتصادية بين مصر ودول إفريقيا بالعمق في العصور الوسطى؟

وجود جاليات مصرية كبيرة في المدن التجارية الإفريقية سواء كان هؤلاء فقهاء او

علماء او تجار

تفضيل الملوك وحكام الدول الإفريقية للمنتجات المصرية لحدودتها ودقتها الفنية

وجود العديد من السجلات التجارية والوثائق الأثرية التي تشير الي التبادل التجاري بين

مصر ودول إفريقيا

التقييمات الأسبوعية

نموذج (أ)

- 1- اكتب كلمة (صح) أمام العبارة الصحيحة، وكلمة (خطأ) أمام العبارة غير الصحيحة:
* ربطت الطرق التجارية بين مصر ودول شمال وغرب إفريقيا ودول جنوب الصحراء الكبرى صح
- 2- اكمل العبارة الآتية بكلمة مناسبة:
انتقلت التجارة من مصر الي وسط افريقيا عبر الصحراء الكبرى
- 3- وضع اثر ظهور حركة علمية وادبية مزدهرة في مصر خلال القرن التاسع الهجري على البلاد الافريقية؟
- اسهمت بشكل واضح في تشكيل فكر وثقافة الدول الإسلامية حيث اهتم المماليك ببناء المدارس والمساجد والكتاتيب**
- 4- دلل صدرت مصر الي الدول الافريقية العديد من المنتجات.
الاواني النحاسية والمصنوعات الحديدية والفضية والذهبية وادوات الزينة والزجاج
- 5- اكتب بأسلوبك عن احد مظاهر عمق العلاقات الاقتصادية بين مصر ودول افريقيا في العصور الوسطى.

فضيل الملوك وحكام الدول الافريقية للمنتجات المصرية لجودتها ودقتها الفنية

نموذج (ب)

- 1- اكتب كلمة (صح) أمام العبارة الصحيحة، وكلمة (خطأ) أمام العبارة غير الصحيحة:
* ساهمت الصحراء الكبرى بدور اقتصادي مهم في العصور الوسطى. صح
- 2- أكمل العبارة الآتية بعبارة مناسبة:
* ساعد دخول الإسلام إلى إفريقيا على تحول الحياة القبلية القائمة على الحروب والعصية إلى نظام دولة
- 3- ما النتائج المترتبة على: دراسة الطلاب الأفارقة في الأزهر الشريف والمدارس المصرية؟

اقاموا المدارس والمساجد وحلقات العلم والتدريس ببلادهم

4- دلل على صحة العبارة الآتية: " ساهم المماليك في تطوير الجوانب الإدارية بالحبشة " **نظموا طرق حياة الاموال وانشأوا ديوانا خاصا بذلك ووضعوا القوانين التي تساعد على حماية اموال الدولة**

5- اكتب أهم واردات مصر من الدول الإفريقية .
العاج وريش النعام والصبغ والجلود

نموذج (ج)

1- اكتب كلمة (صح) أمام العبارة الصحيحة ، وكلمة (خطأ) أمام العبارة غير الصحيحة :
* اهتم المماليك بإنشاء المدارس والمساجد والكتاتيب. صح
2- أكمل العبارة الآتية بكلمة مناسبة :
* وجدت أوان فخارية وزجاجية وعملات تاريخية مصرية في مناطق من سواحل إفريقيا الغربية

3- ما النتائج المترتبة على : تعيين مطران مصري من قبل بطريك الإسكندرية ليكون مسؤولا عن الكنيسة الحبشية ؟
اكتسبوا مكانة رفيعة تلي مكانة ملك الحبشة

4- دلل على : تأثير الحركة العلمية والأدبية التي ظهرت في مصر خلال القرن الخامس عشر الميلادي على البلاد الإفريقية .
اسهمت بشكل واضح في تشكيل فكر وثقافة الدول الإسلامية حيث اهتم المماليك ببناء المدارس والمساجد والكتاتيب

5- اشرح العبارة التالية: " ظلت مصر مركزا علميا تشع نور العلم والثقافة والدين على العالم " .
حيث كانت مصر على مر العصور مركزا للعلوم الدينية والطبيعية وغيرها لكافة دول العالم

التدريب الشهري

السؤال الأول: أكمل العبارات التالية بكلمات مناسبة.

- 1- ارتبط العرب بعلاقات تجارية مع إفريقيا قديماً قبل ظهور الإسلام بسبب **القرب الجغرافي**
 - 2- من أساليب انتشار الإسلام في إفريقيا **الدعاة**
 - 3- يعد فتح برقة اتجاه عمرو بن العاص نحو **طرابلس**
 - 4- بعد فتح سببلة لفتح مدن وحصون أخرى فيما بعد بقيادة قادة مسلمين كبار مثل **عقبة بن نافع وموسى ابن نصير**
 - 5- ساهمت العلاقات السياسية والثقافية بين مصر والدول الإفريقية خلال العصور الوسطى في تعزيز دور مصر خاصة في مجال **التجارة**
 - 6- تعد الأزهر من أهم المؤسسات العلمية الدينية التي قدمت إلى الدول الإسلامية بإفريقيا **العلوم والمعرفة**
 - 7- ظلت مصر منارة التي تشع نور العلم والثقافة والدين على العالم من خلال مؤسساتها **الدينية**
 - 8- قام التجار المسلمون في إفريقيا **بتشييد المساجد**
 - 9- كانت مصر الوسيط الوحيد في استيراد إفريقيا لسلع **الشرق**
 - 10- من أشهر أروقة التي خصصت للأزهر من شمال إفريقيا رواق **المغاربة**
- السؤال الثاني: اكتب كلمة (صواب) أمام العبارة الصحيحة، وكلمة (خطأ) أمام العبارة غير الصحيحة، مع تصويبها.**

- 1- انتشر الإسلام في غرب إفريقيا أولاً ثم انتقل إلى شرق إفريقيا. **خطأ الشرق ثم الغرب**
- 2- دخل المسلمون الأوائل الحبشة عن طريق مضيق "باب طارق". **خطأ- باب المنذب**
- 3- رحب أهل برقة بالفتح الإسلامي لمصر كما رحب أهل مصر. **صح**
- 4- اختلط العرب شبه الجزيرة العربية بإفريقيا قديماً وتزوجوا منها. **صح**
- 5- اعتمد انتشار الإسلام في إفريقيا على الأسلوب السلمي في الاقتناع. **صح**
- 6- عرف حكام الحبشة طرق جباية الأموال من الفرس. **خطأ- المماليك**
- 7- عرف نظام الدولة في إفريقيا قبل دخول الإسلام إليها. **خطأ- بعد**

السؤال الثالث: بم تفسر...؟

- 1- انتشار الطابع المعماري الإسلامي في شرق إفريقيا.
نتيجة لهجرة العرب بحثًا عن المعادن والأحجار الكريمة ونقلوا معهم صور من الحضارة العربية مثل في العمارة الإسلامية فقد أرسل الخليفة الأموي عبد الملك بن مروان البنايين إلى الساحل الشرقي الإفريقي ليساهموا في بناء المدن هناك
- 2- أهمية شبه جزيرة سيناء في نشر الإسلام في إفريقيا.
عبرت منهم حيوش المسلمين لفتح شمال إفريقيا ونشر الإسلام بها
- 3- زيادة العلاقات الاقتصادية بين مصر والدول الإسلامية في إفريقيا خلال عصر المماليك حيث ساهمت العلاقات السياسية والثقافية بين مصر ودول إفريقيا في تعزيز دور مصر كمركز اقتصادي مهم

4- انتقال العادات والتقاليد الإسلامية لشعوب إفريقيا.
بسبب زواج التجار المسلمين من النساء الأفارقة

5- ارتبط العرب بعلاقات مع إفريقيا قبل ظهور الإسلام.
بسبب القرب الجغرافي بين شبه الجزيرة العربية وشرق إفريقيا

السؤال الرابع: ما المقصود بكل من...؟

- 1- العصور الوسطى. الفترة الزمنية التي امتدت من القرن 5م حتى القرن 15.
- 2- أروقة الأزهر الشريف. أماكن للدراسة والإعاشة الكاملة بالمجان تخصص للطلاب الدارسين بالأزهر تكريمًا وراحة لهم وتقسيم حسب مناطق الطلاب الوافدين
- 3- الدعاة. هم الأفراد الذين تلقوا قدرًا من العلوم الدينية تؤهلهم لنشر الإسلام وتعاليمه بالطرق السلمية

السؤال الخامس: ما النتائج المترتبة على ما يلي؟

- 1- زواج التجار المسلمين من النساء الأفارقة.
تقوية العلاقات - نقل العادات والتقاليد
- 2- حرص أمراء وملوك المماليك الإسلامية في إفريقيا على إقامة دور العلم والمساجد.
نشر اللغة العربية والثقافة الإسلامية وتدريب أعداد كبيرة من العلماء
- 3- تركز السلطة الدينية والسياسية للعالم الإسلامي بمصر.
توطيد العلاقات السياسية بين مصر ودول إفريقيا فقد حرصوا على الحصول على تأييد مصر السياسي

4- مرور حجاج الدول الإفريقية عبر مصر لبلاد الحرمين.

فيتعرفوا على أهلها وينهلوا من علومها الدينية

5- اهتمام المماليك ببناء المدارس.

ظهور نهضة ثقافية كبيرة في البلاد لأفريقية وانتشار الإسلام بشكل أوسع في أفريقيا

6- فرار بني أمية و انصارهم إلى داخل إفريقيا.

نشر الإسلام واللغة العربي بين أهل تلك البلاد

7- إتمام الجيوش الإسلامية فتح بلاد المغرب العربي.

احكام السيطرة على شمال افريقيا وتأمين حدود الدولة الاسلامية ودخول عدد كبير الاسلام

السؤال السادس: ما العلاقة بين...؟

1- الصراعات السياسية بين الدولة الأموية والعباسية ونشر الإسلام في إفريقيا.

حيث هاجر الامويين الي افريقيا بعد سقوط دولتهم من الدولة العباسية مما ساهم

في انتشار اللغة العربية والاسلام

2- سقوط الخلافة العباسية والعلاقات بين مصر والدول الإسلامية الإفريقية.

اصبحت القاهرة مركزا للخلافة العباسي مما اثر في توطيد العلاقات السياسية بين

مصر والدول الاسلامية في افريقيا

3- فريضة الحج وتأثر الافارقة بالعلوم في مصر.

حيث انهم كانوا يملوا على مصر فيتعرفوا على أهلها وينهلوا من علومها الدينية

4- انتشار الإسلام في إفريقيا، وانتشار اللغة العربية.

حيث ادى انتشار الاسلام الي انتشار اللغة العربية

السؤال السابع: دلل على صحة "العبارات التالية"؟

1- ارتبط انتشار الإسلام في إفريقيا بانتشار اللغة العربية.

حيث انها لغة القران الكريم فكان على القبائل تعلمها لاقامة الشعائر الاسلامية

2- استمد حكام الحبشة من الخبرات السياسية والإدارية لمصر.

حيث حرص حكام بلاد الحبشة على الاستفادة من الخبرات الحربية المصرية فاستعانوا

بالمماليك لتعليمهم فنون الحرب وتصنيع الاسلحة والرمي بالسهم والرمح

3- تعدد أساليب انتشار الإسلام في إفريقيا.

الدعاة- التجار المسلمون- الزواج- الهجرات

4- فتحت طرابلس دون صعوبة رغم قوة أسوارها وحصونها.

حيث أقبل عمرو بن العاص من الشرق واستقر في موقع مرتفع يشرف على المدينة وحصنها لمدة شهر حتى انحسار المياه عن شواطئها وفاجأ الروم من جهة الساحل

5- كان للبحر الأحمر دور مهم في انتشار الإسلام في شرق إفريقيا.

استخدمه المسلمون في التنقل بين شبه الجزيرة العربية وإفريقيا وأنشأوا بعض

المراكز التجارية الإسلامية على طول الساحل الشرقي - حفر قناة خليج أمير المؤمنين التي ساعدت على نشر الإسلام

6- لعب المماليك خلال القرن التاسع الهجري دورا بارزا في تشكيل ثقافة الدول الإسلامية بإفريقيا.

حيث اهتموا ببناء المدارس والمساجد والكتاتيب

7- وجود علاقات اقتصادية قوية بين مصر ودول إفريقيا في العصور الوسطى بالعمق الشديد.

وجود جاليات مصرية كبيرة في المدن التجارية الإفريقية - تفضل ملوك وحكام الدول الإفريقية للمنتجات المصرية - وجود العديد من السجلات التجارية والوثائق الاثرية التي تشير الى التبادل التجاري بين مصر ودول إفريقيا

السؤال الثامن: صوب ما تحته خط فيما يلي:

1- نجح القائد **عمرو بن العاص** في فتح سببيلة. عبد الله بن ابي السرح

2- رواق المغاربة يضم طلاب **جنوب إفريقيا**. شمال

3- كان من الواردات المصرية القادمة من الدول الإفريقية **الزجاج**. العاج

4- انتشرت عبادة بعض الآلهة المصرية في حضارات السودان مثل **عشتار**. رع

5- تم الفتح الإسلامي لمصر في عهد الخليفة **علي بن أبي طالب**. عمر بن الخطاب

السؤال التاسع: ما رأيك فيما يلي؟

1- إنشاء أروقة الأزهر: **دور عظيم للأزهر لما ساهم فيه في نشر الثقافة والدين**

الإسلامي

2- كان للتجار المسلمين دور بارز في نشر الإسلام بإفريقيا. **حيث نجحوا في ذلك من خلال**

حسن مظهرهم وإخلاقهم ورفضهم للربا والغش

نموذج امتحان الفصل الدراسي الأول للعام الدراسي 2025 / 2026

السؤال الأول:



أ) أمامك خريطة صماء لقارة إفريقيا أكمل ما يلي:

- 1- دائرة عرض رئيسية ...
- 2- غابات ...
- 3- البحر ...

ب) صحح ما تحته خط في العبارات الآتية:

- 1- أكبر دولة إفريقية مساحة تؤول. ()
- 2- تم الفتح الإسلامي لمصر في عهد الخليفة أبو بكر الصديق. ()

ج) بم تفسر: إرسال سنفرو أسطولا إلى فينيقيا؟

السؤال الثاني:

أ) اختر الإجابة الصحيحة مما بين القوسين:

- 1- أسس الأسرة الرابعة ولقب بالملك المحسن المحبوب هو الملك ... (سنفرو - خفرع - أخناتون - زوسر).
- 2- تمثل الصحاري ... مساحة اليابس. (نصف - ثلث - ربع - خمس).

ب) ما العلاقة بين ...؟

- 1- النظام البيئي المائي والطاقة.

2- الملك نخاو الثاني واكتشاف قارة إفريقيا.

ج) دلل على: الأهمية الاقتصادية للسعول الساحلية للبحر الأحمر بمصر والسودان.

(ج) صوب ما تحته خط :

- 1- شهدت بحيرة اليرت أكبر عملية انقراض جماعي للفقاريات في العصر الحديث... ()
- 2- طائر النورس يعيش في الصحراء الكبرى ومعرض لخطر الانقراض... ()

السؤال الثالث:

(أ) اكتب كلمة (صح) أمام العبارة الصحيحة، وكلمة (خطأ) أمام العبارة غير الصحيحة:

- 1- تعتبر الملكة حتشبسوت من أشهر ملكات عصر بناء الأهرامات. ()
- 2- كانت الكنيسة الحبشية تابعة للكنيسة المصرية. ()
- 3- يعد نهر النيل نهرا دوليا. ()

(ب) ما النتائج المترتبة على...؟

- 1- كثافة أشجار الغابات المدارية المطيرة وتشابك أغصانها.
- 2- خصوبة التربة في هضبة الحبشة.

- 3- إتمام الجيوش الإسلامية فتح بلاد المغرب العربي.

(ج) اكتب ما تشير إليه العبارة الآتية:

- 1- تجمع شكله على حوض النيل عام 1983م ويعني الواحة باللغة السواحلية. ()
- 2- الأفراد الذين تلقوا قدرا من العلوم الدينية التي تؤهلهم لنشر الإسلام بالطرق السلمية. ()

السؤال الرابع:

(أ) أكمل العبارات الآتية بما يناسبها:

- 1- نشأت حضارة قرطاج على ساحل البحر...
- 2- تأمر ملوك... بالماليك في وضع القوانين لحماية أموال الدولة.
- 3- تتميز تربة الغابات المدارية المطيرة باللون...

(ب) لمن تنسب الأعمال التاريخية الآتية؟

- 1- استطاع القضاء على خطر الهكسوس في مصر...
- 2- عقد أقدم معاهدة سلام في التاريخ...

ج) دلل على صحة العبارة الآتية:

1- تعددت معايير انتقال الإسلام إلى إفريقيا.

2- أهمية النظم البيئية المائية.

المحمود جلال

نموذج امتحان الفصل الدراسي الأول للعام الدراسي 2025 / 2026

أجب عن الأسئلة الآتية:

السؤال الأول:



(أ) أمامك خريطة صماء لقارة إفريقيا، وضع مدلول الأرقام عليها:

- 1- يمثل المحيط الأطلسي الرقم (....)
- 2- يمثل جبال أطلس الرقم (....)
- 3- يمثل الغابات المدارية المطيرة الرقم (....)
- 4- يمثل حضارة... الرقم (....)

(ب) بم تفسر...؟

- 1- مثلت شبه جزيرة سيناء " حماية استراتيجية لمصر".

- 2- تعد هضبة البحيرات الاستوائية المنبع الدائم لنهر النيل.

- 3- الأهمية الاقتصادية لحشائش الاستبس.

السؤال الثاني:

(أ) اختر الإجابة الصحيحة مما بين القوسين:

- 1- تنمو العديد من الأشجار في نظام غابات البحر المتوسط مثل...
(الأنوس - الصنوبر - الماهوجني - المطاط)
- 2- وصل نفوذ مصر في عهد الدولة الوسطى إلى الجنوب...
(الواو - الثالث - الرابع)
- 3- تقع جزيرة مدغشقر في...
(البحر الأحمر - البحر المتوسط - المحيط الهندي - المحيط الأطلسي)

(ب) ما العلاقة بين...؟

- 1- انتشار الإسلام في إفريقيا وانتشار اللغة العربية.

2- هرم سقارة، المدرج، ومؤسس الأسرة الثالثة.

السؤال الثالث:

(أ) أكتب كلمة (صح) أمام العبارة الصحيحة، وكلمة (خطأ) أمام العبارة الخاطئة:

- 1- تقع المنابع الدائمة لنهر النيل في هضبة الحبشة. (.....)
 - 2- توجد الشعاب المرجانية بسواحل البحر الأحمر في مصر. (.....)
 - 3- ساعدت الظواهر الطبيعية عمرو بن العاص في فتح طرابلس. (.....)
- (ب) من يكون...؟
- 1- أحد ملوك الدولة الحديثة الذي عقد أول معاهدة سلام في التاريخ. (.....)
 - 2- قام بتجميل مدينة طيبة وإنشاء المعابد فيها. (.....)
 - 3- أنشأ سد اللاهون عند مدخل بحيرة مورييس. (.....)
 - 4- أعظم ملوك مصر في مجاله " حرب والإدارة " وقاد ١٦ حملة عسكرية في آسيا. (.....)

السؤال الرابع:

(أ) أكمل العبارات بما يناسبها:

- 1- أصبحت القاهرة مركزا للسلطة السياسية في ظل الخلافة
 - 2- توجد ثلاثة أنواع من المستنقعات في نظم
- (ب) ما النتائج المترتبة علي ...؟
- 1- اقتراب جبال أطلس من ساحل البحر المتوسط.

2- عدم حصول الضوء إلى أرض الغابة المدارية المطيرة.

(ج) ما رأيك في إنشاء أروقة الأزهر؟

تطبيق



مذكرات جاهزة للطباعة

لتحميل الملفات التعليمية مجاناً للمعلم والطالب

مذكرات وملازم / مراجعات وملخصات / امتحانات / كتب الوزارة /
أدلة المعلم / دفاتر التحضير / سجلات مدرسية / أوراق تأسيس

امسح الكود بموبايلك علشان تقدر تثبت التطبيق

وتقدر ف أي وقت تحمّل ال نفسك فيه ببلاش

هيغنيك عن البحث والجروبات والقنوات الكثيرة



تطبيق الموبايل لتحميل الملفات