

الأستاذ

محمد عبد الصبور

المراجعة النهائية

الصف الأول الاعدادي
الفصل الدراسي الأول

إعداد/ محمد عبد الصبور

1

الدراسات الاجتماعية
2026

المراجعة النهائية

مراجعة الوحدة الأولى

س ١ أكمل العبارات الآتية:

- ١ يحد قارة أفريقيا من الشمال
- ٢ تأتي قارة أفريقيا في المرتبة الثانية من حيث المساحة بعد قارة
- ٣ تقترب قارة أفريقيا من قارة آسيا عند مضيق
- ٤ تقع قارة أفريقيا إلى الشرق من المحيط
- ٥ تشرف قارة أفريقيا على ممر إستراتيجي يقع في نصف الكرة الأرضية الغربي هو
- ٦ وصل المصريون القدماء إلى السودان وشرق أفريقيا وامتد التأثير الحضاري لهم إلى
- ٧ تعددت الممالك الإسلامية على السواحل الشرقية للقارة وامتدت إلى هضبة
- ٨ انتهت جهود الحملات الاستكشافية التي أرسلها محمد علي لأفريقيا بالوصول إلى
- ٩ تنحدر هضبة البحيرات الاستوائية تجاه
- ١٠ تسقط الأمطار طوال العام على هضبة
- ١١ من الجبال الالتوائية في قارة أفريقيا
- ١٢ ارتبط بالأخدود الأفريقي العظيم ظهور مسطح مائي يحد مصر من جهة
- ١٣ تمتد جبال أطلس في ثلاث دول؛ لذلك فهي تشبه جبال
- ١٤ يشبه جبل كلمنجارو في تكويناته البركانية تلك التكوينات السائدة في هضبة
- ١٥ ترتبط تربة مصر الطينية شديدة الخصوبة بالرواسب النهرية القادمة من
- ١٦ تضيق السهول الساحلية في بلاد
- ١٧ تتسع السهول الساحلية المطلة على المحيط الهندي في دولة
- ١٨ من الجهود المصرية لتحقيق التنمية المستدامة في أفريقيا إنشاء سد أوين في
- ١٩ ينبع نهر النيل من وسط وشرق قارة أفريقيا حتى يصل إلى مصبه في البحر
- ٢٠ تسقط الأمطار على هضبة الحبشة في فصل
- ٢١ أكثر دولة اهتمت بعقد اتفاقيات لتنظيم وإدارة وتنمية مياه النيل هي
- ٢٢ شكلت دول حوض النيل تجمعاً يعرف باسم
- ٢٣ أسس الفينيقيون مدينة قرطاج لتأمين رحلاتهم التجارية من فينيقيا إلى
- ٢٤ يبدأ نهر النيل جنوباً حيث المناخ الاستوائي لينتهي عند البحر
- ٢٥ قامت مصر بإنشاء خزان جبل الأولياء في السودان لإنتاج الطاقة

س ٢ ضع علامة (✓) أمام العبارة الصحيحة، وعلامة (X) أمام العبارة غير الصحيحة:

- ١ تتسم سهول البحر الأحمر بالضيق. ()
- ٢ تقترب قارة أفريقيا من قارة أوروبا عند مضيق باب المندب. ()
- ٣ يحدها البحر المتوسط أفريقيا من جهة الشمال. ()
- ٤ يمر خط طول جرينتش شرق قارة أفريقيا. ()
- ٥ يقترب اليباس الأفريقي من اليباس الأوروبي عند مضيق جبل طارق. ()
- ٦ تقع كل الدول العربية التي توجد بقارة أفريقيا شمال دائرة الاستواء. ()
- ٧ تقع مصر في الركن الشمالي الشرقي من قارة أفريقيا. ()
- ٨ تعرضت شعوب قارة أفريقيا للاستعمار من قبل دول قارة أوروبا. ()
- ٩ تبذل مصر جهودًا مكثفة لتعميق العلاقات المصرية الأفريقية. ()
- ١٠ جميع الدول العربية الأفريقية تمتلك سواحل على مسطحات مائية. ()
- ١١ سهول البحر الأحمر الساحلية غنية بالثروات المعدنية ومصادر الطاقة. ()
- ١٢ تقع هضبة الحبشة غرب أفريقيا. ()
- ١٣ تنحدر الهضبة الجنوبية بشدة جهة المحيط الأطلسي. ()
- ١٤ تعتبر هضبة البحيرات الاستوائية المنبع الدائم لنهر النيل. ()
- ١٥ تكونت جبال كينيا وكلمنجارو نتيجة الثورات البركانية. ()
- ١٦ ساهمت الطفوح البركانية في ارتفاع خصوبة التربة بهضبة الصحراء الكبرى. ()
- ١٧ يُعد جبل شايب البنات أعلى قمة جبلية في سلسلة جبال البحر الأحمر. ()
- ١٨ تظهر الجبال الالتوائية في أقصى جنوب قارة أفريقيا. ()
- ١٩ تتسع السهول الساحلية الأفريقية المطللة على المحيط الأطلسي. ()
- ٢٠ تقع سهول البحر الأحمر شرق إريتريا. ()
- ٢١ أعلنت هيئة اليونسكو أن أهرامات مروي بإريتريا تعد أحد مواقع التراث العالمي. ()

- ٢٢ تحملت مصر تكاليف إنشاء خزان جبل الأولياء المقام في السودان. ()
- ٢٣ يعد البخور والعاج من أبرز صادرات حضارة أكسوم وأعلىها قيمة اقتصادية. ()
- ٢٤ انتشرت عند حضارة كوش عبادة الإله آمون. ()
- ٢٥ تسقط الأمطار بغزارة في الصيف على دولة أثيوبيا. ()
- ٢٦ كانت السودان هي صاحبة فكرة إنشاء تجمع يضم دول حوض نهر النيل. ()
- ٢٧ تصل لمصر كميات كبيرة من مياه هضبة البحيرات الاستوائية عبر نهر النيل. ()
- ٢٨ تعد هضبة الحبشة أكثر هضاب قارة أفريقيا ارتفاعاً. ()
- ٢٩ تمتد جبال البحر الأحمر في ثلاث دول عربية. ()
- ٣٠ نشأت مدينة قرطاج لتحقيق أهداف تجارية. ()

س ٣ اختر الإجابة الصحيحة مما بين القوسين:

- ١ استطاع ابن بطوطة خلال رحلته بقارة أفريقيا أن يخترق الصحراء الكبرى حتى وصل إلى (نيجيريا - مالي - جزر القمر - أنجولا)
- ٢ نشأت حضارة قرطاج في (حالياً). (السودان - تونس - مصر - أثيوبيا)
- ٣ في عهد محمد علي تم ترسيم خريطة النيل حتى جنوب (الصومال - أثيوبيا - السودان - النيجر)
- ٤ تقع في الركن الشمالي الشرق من قارة أفريقيا دولة (المغرب - مصر - الجزائر - ليبيا)
- ٥ يحد قارة أفريقيا من جهة الغرب (البحر الأحمر - البحر المتوسط - المحيط الهندي - المحيط الأطلنطي)
- ٦ أي الدول التالية دولة عربية أفريقية؟ (موزمبيق - جيبوتي - نيجيريا - تشاد)
- ٧ تقع قارة أفريقيا إلى الجنوب من (البحر الأحمر - البحر المتوسط - المحيط الهندي - المحيط الأطلنطي)
- ٨ أي من الممرات المائية التالية تتحكم فيه الدولة المصرية؟ (قناة السويس - مضيق جبل طارق - مضيق باب المنذب - مضيق موزمبيق)

- ٩ تقع دولة جزر القمر في مدخل مضيق موزمبيق من ناحية.....
(الشرق - الغرب - الشمال - الجنوب)
- ١٠ تم رسم خريطة للنيل حتى جنوب السودان في عهد.....
(حر خوف - إسماعيل - نخاو الثاني - محمد علي)
- ١١ من أوائل الرحالة العرب الذين زاروا قارة أفريقيا وكتبوا عنها.....
(هنري الملاح - حر خوف - المسعودي - ابن بطوطة)
- ١٢ بدأ البرتغاليون محاولاتهم لاكتشاف أفريقيا في القرن الـ ١٥ م خلال عهد.....
(محمد علي - هنري الملاح - الخديوي إسماعيل - نخاو الثاني)
- ١٣ بدأ تأسيس مجموعة من الموانئ لتأمين الملاحة والتجارة على طول طريق رأس الرجاء الصالح على يد.....
(الإنجليز - الفرنسيين - الهولنديين - البرتغاليين)
- ١٤ تقع جزيرة مدغشقر في.....
(البحر الأحمر - البحر المتوسط - المحيط الهندي - المحيط الأطلنطي)
- ١٥ توجد هضبة الشطوط في دولة.....
(نيجيريا - مالي - الجزائر - أنجولا)
- ١٦ تنحدر الهضبة الجنوبية بشدة نحو السواحل.....
(الشرقية - الغربية - الجنوبية - الشمالية)
- ١٧ المسطح المائي الذي تنحدر إليه أكبر هضاب أفريقيا مساحة هو.....
(البحر الأحمر - البحر المتوسط - المحيط الأطلنطي - المحيط الهادي)
- ١٨ يوجد على الحدود بين مصر وليبيا والسودان جبل.....
(العوينات - شايب البنات - توبقال - كلمنجارو)
- ١٩ تقع سهول نهر النيجر إلى الجنوب من هضبة.....
(الشطوط - الحبشة - البحيرات الاستوائية - شمال أفريقيا)
- ٢٠ أقام الكوشيون علاقات تجارية من جهة الشرق مع.....
(مصر - قرطاج - أكسوم - اليونان)
- ٢١ تتعدد الواحات الصالحة للزراعة في الصحراء الكبرى ومنها واحة سيوة في دولة.....
(الجزائر - ليبيا - مصر - تونس)
- ٢٢ أعلى هضاب قارة أفريقيا هضبة.....
(الحبشة - البحيرات الاستوائية - شمال أفريقيا - الشطوط)

- ٣٣ تمتد في أقصى جنوب شرق قارة أفريقيا جبال
(أطلس - كينيا - كلمنجارو - دراكنزبرج)
- ٣٤ تنحصر بين سلاسل جبال أطلس هضبة
(جنوب أفريقيا - الحبشة - البحيرات الاستوائية - الشطوط)
- ٣٥ من الجبال الالتوائية التي توجد في قارة أفريقيا
(جبال أطلس - جبل كينيا - جبل كلمنجارو - جبال البحر الأحمر)
- ٣٦ تضيق السهول الساحلية في بعض دول قارة أفريقيا ومنها دولة
(كينيا - تنزانيا - موريتانيا - أنجولا)
- ٣٧ تقع أكبر الجزر الأفريقية من حيث المساحة في
(البحر الأحمر - البحر المتوسط - المحيط الأطلنطي - المحيط الهندي)
- ٣٨ من روافد المنابع الموسمية لنهر النيل
(نهر كاجيرا - نهر السوايط - بحيرة فيكتوريا - بحيرة البرت)
- ٣٩ أي من الأنهار الآتية ينتمي إلى المنابع الدائمة لنهر النيل؟
(نهر السوبات - نهر كاجيرا - النيل الأزرق - نهر عطبرة)
- ٤٠ الرافد الذي يلتقي ببحر الجبل ويساعده على الجريان جهة الشمال هو
(نهر كاجيرا - نهر السوبات - نهر عطبرة - النيل الأزرق)
- ٤١ قامت مصر بإنشاء خزان سنار على النيل الأزرق لصالح دولة
(تنزانيا - السودان - أوغندا - كينيا)
- ٤٢ امتدت حضارة أكسوم الأفريقية في دولتي
(مصر والسودان - تونس والمغرب - إريتريا وأثيوبيا - أثيوبيا والسودان)
- ٤٣ يصب نهر كاجيرا في بحيرة فيكتوريا من جهة
(الشرق - الجنوب - الغرب - الشمال)
- ٤٤ البحيرة التي تُعد ثاني أكبر البحيرات الطبيعية العذبة في العالم هي بحيرة
(تانا - ألبرت - كيوجا - فيكتوريا)
- ٤٥ إحدى دول منابع النيل ونشأت بها حضارة أفريقية قديمة
(مصر - تونس - أثيوبيا - المغرب)
- ٤٦ من المشروعات التي أُقيمت على نهر النيل في منطقة المنابع الدائمة
(سد أوين - خزان سنار - خزان جبل الأولياء - السد العالي)

٣٧ ظهرت حضارة أكسوم بالمنطقة التي توجد بها حالياً دولتا أثيوبيا و.....
(أوغندا - إريتريا - تونس - كينيا)

٣٨ يرجع الفضل في تأسيس مدينة قرطاج إلى.....
(المصريين - الفينيقيين - الكوشيين - الليبيين)

٣٩ معظم حضارات أفريقيا حضارات زراعية ولكن يخرج عنها حضارة.....
(كوش - أكسوم - قرطاج - مصر القديمة)

٤٠ يُطلق على تجمع دول حوض النيل اسم الأندوجو ويعني.....
(المحبة - الصدق - الإخاء - العهد)

س ٤ اكتب ما تشير إليه كل عبارة:

١ مجموع الإنتاج الثقافي كالعلوم والفنون والإنتاج المادي كالقلاع والحصون.
(.....)

٢ مجموعة انكسارات طولية تتجه من الجنوب إلى الشمال في شرق أفريقيا.
(.....)

٣ كانت ذات أهمية حضارية حيث انتقلت عن طريقها الحضارة الإسلامية من آسيا لأفريقيا.
(.....)

٤ مضيق تلتقي عنده قارتا أفريقيا وآسيا.
(.....)

٥ إحدى جزر أفريقيا تقع شمال غرب جزيرة مدغشقر.
(.....)

٦ انتقلت عن طريقها بعض الثقافات والحضارات من آسيا إلى أفريقيا كالحضارة الإسلامية.
(.....)

٧ أكبر دول القارة الأفريقية من حيث المساحة.
(.....)

٨ دول تطل على بحار ومحيطات.
(.....)

٩ دول لا تطل على مسطحات مائية (البحار أو المحيطات).
(.....)

- ١٠ دولة تم انتخابها لرئاسة الاتحاد الأفريقي عام ٢٠١٩م. (.....)
- ١١ مدينة بدأت فيها حضارة كوش قبل الانتقال إلى مروي. (.....)
- ١٢ سهول كونتها الأنهار عن طريق ترسيب المواد العالقة بمياهها. (.....)
- ١٣ هضبة تنحدر بشدة نحو السواحل الشرقية وتقع جنوب أفريقيا. (.....)
- ١٤ جبال التوائية تمتد في سلسلتين متوازيتين على طول الساحل الشمالي الغربي لأفريقيا. (.....)
- ١٥ جبال انكسارية تمتد في ثلاث دول وتُعد جزءاً من الأخدود الأفريقي العظيم. (.....)
- ١٦ سهول فيضية تمتد في مصر والسودان وتتميز بخصوبة تربتها. (.....)
- ١٧ سهول ساحلية تقع شمال أفريقيا تتميز بوجود النباتات الطبيعية والمحاصيل الزراعية. (.....)
- ١٨ سهول ساحلية تقع غرب أفريقيا وتتميز باتساعها. (.....)
- ١٩ استثمار الموارد المائية بشكل يضمن تحقيق التنمية المستدامة والقضاء على الفقر. (.....)
- ٢٠ حضارة أفريقية أثرت في تاريخ القارة ولكنها لم ترتبط بنهر النيل. (.....)
- ٢١ المساحة التي يجري فيها النهر وروافده. (.....)
- ٢٢ حضارة ظهرت في الساحل الشرقي لقارة أفريقيا. (.....)
- ٢٣ النهر الذي يمتد مجراه وروافده في أكثر من دولة. (.....)
- ٢٤ تجمع شكلته دول حوض النيل عام ١٩٨٣م يهدف إلى الحفاظ على المصالح المشتركة. (.....)
- ٢٥ اقتصاد صديق للبيئة يستهدف تحقيق نمو اقتصادي مستدام مع الحفاظ على البيئة. (.....)

س ٥ صوّب ما تحته خط في العبارات التالية:

- ١ من الجبال البركانية في قارة أفريقيا جبال الكاب. (.....)
- ٢ يحد قارة أفريقيا من الشرق البحر الأحمر والمحيط الأطلنطي. (.....)
- ٣ امتد حكم الخديوي إسماعيل حتى جنوب مدار الجدي. (.....)
- ٤ يعتبر من الممرات الإستراتيجية ذات الإشراف الأفريقي الخالص مضيق باب المنذب. (.....)
- ٥ اكتشف البريطانيون طريق رأس الرجاء الصالح. (.....)
- ٦ نشأت حضارة كوش في الصومال. (.....)
- ٧ أكثر الهضاب الأفريقية اتساعًا هي هضبة أثيوبيا. (.....)
- ٨ تعد جزر القمر أكبر جزر قارة أفريقيا. (.....)
- ٩ تعد صحراء كلهاري أكبر صحاري قارة أفريقيا. (.....)
- ١٠ الهضبة التي ينعدم ارتباطها بنهر النيل هي هضبة البحيرات الاستوائية. (.....)
- ١١ يجري نهر النيجر في شرق أفريقيا. (.....)
- ١٢ قامت مملكة كوش في شمال دولة تونس. (.....)
- ١٣ يرتبط بالأخدود الأفريقي العظيم ظهور جبال أطلس. (.....)
- ١٤ يمثل أعلى قمة جبلية في سلسلة جبال أطلس جبل العوينات. (.....)
- ١٥ من أهم القمم الجبلية الانكسارية الموجودة في مصر جبل توبقال. (.....)
- ١٦ يُعد جبل توبقال أعلى قمم جبال قارة أفريقيا. (.....)
- ١٧ يصب نهر كاجيرا في بحيرة فيكتوريا من جهة الشرق. (.....)
- ١٨ تأتي معظم مياه النيل من شرق قارة أفريقيا في فصل الشتاء. (.....)
- ١٩ قامت الحضارة المصرية القديمة بشمال غرب القارة الأفريقية. (.....)
- ٢٠ من الحضارات الأفريقية التي نشأت بعيدة عن نهر النيل حضارة كوش. (.....)

س ٦ من أكون...؟

- ١ من أوائل المصريين القدماء الذين اكتشفوا قارة أفريقيا وقام بأربع رحلات كشفية للجنوب.
(.....)
- ٢ حاكم مصري أرسل رحلات لاكتشاف منابع النيل عام ١٨٣٩م وانتهت باكتشاف النيل الأبيض.
(.....)
- ٣ أحد أحفاد محمد علي اهتم باكتشاف منابع نهر النيل، ووصل حكمه إلى جنوب دائرة الاستواء.
(.....)
- ٤ رحالة عربي استطاع أن يخترق الصحراء الكبرى من الجنوب إلى الشمال حتى وصل إلى مالي.
(.....)
- ٥ عالم جغرافي مصري أشار إلى أن نهر النيل ثنائي المنبع وهذا سبب استدامته ووصوله إلى مصر.
(.....)

س ٧ بم تفسر...؟

- ١ لموقع قارة أفريقيا أهمية استراتيجية.
.....
- ٢ تقسيم أفريقيا لعدد كبير من الدول.
.....
- ٣ تحكم قارة أفريقيا في أهم طرق الملاحة العالمية.
.....
- ٤ الأهمية الاقتصادية لموقع قارة أفريقيا. كتب الأستاذ
.....
- ٥ لشبه جزيرة سيناء أهمية حضارية لأفريقيا.
.....
- ٦ أسس البرتغاليون الموانئ والمراكز التجارية على طريق رأس الرجاء الصالح.
.....
- ٧ تعميق دور مصر الريادي في قارة أفريقيا عام ٢٠١٩م.
.....

٨ تكون الجليد فوق قمة جبل كلمنجارو.

٩ ارتباط النشاط السياحي بجمال قارة أفريقيا.

١٠ تميز هضبة الحبشة بخصوبة تربتها.

١١ تعد هضبة الحبشة المنبع الموسمي لنهر النيل.

١٢ تكون الأخدود الأفريقي العظيم.

١٣ يختلف اتساع السهول الساحلية بأفريقيا من منطقة لأخرى.

١٤ ضيق السهول الساحلية المطلة على البحر الأحمر.

١٥ تقل مساهمة المنابع الدائمة في مياه نهر النيل بمصر.

١٦ أهمية اتفاقية قانون تنظيم استخدام المجاري المائية في الأغراض غير الملاحية.

١٧ عقد كل من مصر وأثيوبيا والسودان اتفاقية ٢٠١٥م.

١٨ بعد نهر النيل نهرًا دوليًا.

١٩ قيام مصر بمشروعات خارج حدودها على نهر النيل.

٢٠ ظهور العديد من الحضارات القديمة في قارة أفريقيا.

س ٨ ما النتائج المترتبة على.... ؟

١ الموقع الجغرافي لقارة أفريقيا.

٢ انتخاب مصر لرئاسة الاتحاد الأفريقي عام ٢٠١٩م.

٣ اتصال أفريقيا بقارة آسيا عند شبه جزيرة سيناء إستراتيجياً.

٤ تنوع المناخ في قارة أفريقيا.

٥ اهتمام محمد علي باكتشاف منابع النيل.

٦ تصارع الدول الاستعمارية على قارة أفريقيا. الأستاذ

٧ الطفوح البركانية في هضبة الحبشة.

٨ اقتراب جبال أطلس من ساحل البحر المتوسط.

٩ سقوط الأمطار طوال العام على هضبة البحيرات الاستوائية.

١٠ شدة ارتفاع جبال كلمنجارو.

١١ الثورانات البركانية قديماً في قارة أفريقيا (بالنسبة للتضاريس).

١٢ سقوط الأمطار شتاءً على السهول الساحلية للبحر المتوسط.

١٣ اقتراب جبال البحر الأحمر من الساحل الشرقي لكل من مصر والسودان وإريتريا.

١٤ انتشار المستنقعات وزيادة معدلات البحر في هضبة البحيرات الاستوائية.

١٥ استقرار المصري القديم على ضفاف النيل.

١٦ موقع حضارة أكسوم الجغرافي.

١٧ الموقع الإستراتيجي لمدينة قرطاج.

١٨ نهر النيل نهر ثنائي المنبع.

س ٩ دل على صحة العبارات التالية:

١ الأهمية الحضارية لقارة أفريقيا.

٢ الأهمية الإستراتيجية لموقع قارة أفريقيا.

٣ لم يكن للبرتغاليين السبق في الدوران حول أفريقيا.

٤ لشبه جزيرة سيناء أهمية إستراتيجية.

٥ كان للتجار العرب دور في الكشف الجغرافية لقارة أفريقيا.

٦ تتنوع مظاهر السطح على هضبة شمال أفريقيا.

٧ تختلف أجزاء سهول المحيط الهندي في الاتساع.

٨ تأثرت الأراضي المصرية بالأخدود الأفريقي العظيم.

٩ اهتمت مصر بزيادة مائية بحيرة فيكتوريا وبحيرة كيوجا.

١٠ تأثر الكوشيون بمظاهر الحضارة المصرية القديمة.

١١ كان لمصر دور مهم في تنمية مائة حوض النيل.

س ١٠ ما العلاقة بين ... ؟

١ الاستعمار، والحالة الاقتصادية في أفريقيا.

٢ الملك نخاو الثاني، واكتشاف قارة أفريقيا.

٣ شبه جزيرة سيناء، والأمن القومي المصري.

٤ الموقع الجغرافي لأفريقيا، والملاحة العالمية.

٥ العدد الكبير لدول قارة أفريقيا، والاستعمار الأوروبي.

٦ هضاب شرق ووسط أفريقيا، ومائية نهر النيل في مصر.

٧ هضبة الحبشة، والتربة في مصر.

٨ الأخدود الأفريقي العظيم، وتشكيل سطح قارة أفريقيا.

٩ الجبال، والسهول الساحلية في شمال قارة أفريقيا.

١٠ نهر النيل، وقيام الحضارات في قارة أفريقيا.

١١ الفينيقيين، وحضارة قرطاج.

س ١١ ما المقصود ب...؟

- ١ الحضارة
- ٢ الأهمية الإستراتيجية
- ٣ الدول الساحلية
- ٤ الدول الحبيسة
- ٥ الجبل البركاني
- ٦ الاقتصاد الأزرق
- ٧ النهر الدولي
- ٨ الأندوجو
- ٩ حوض نهر النيل
- ١٠ الاقتصاد الأخضر

س ١٢ ماذا يحدث إذا..؟

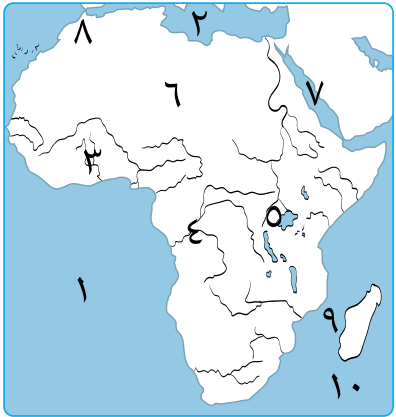
- ١ لم تتعرض قارة أفريقيا لثورانات بركانية.
- ٢ اقتصرت منابع نهر النيل على هضبة البحيرات الاستوائية.
- ٣ لم يتعرض سطح أفريقيا لحركات التوائية.
- ٤ لم ينقل الطمي من هضبة الحبشة إلى مصر والسودان.
- ٥ كانت هضبة البحيرات الاستوائية تنحدر نحو الجنوب.
- ٦ استغلت قارة أفريقيا مواردها الطبيعية بشكل صحيح.

س ١٣ أمامك خريطة صماء لقارة أفريقيا، اكتب ما تشير إليه الأرقام التي عليها:



- ١ يشير رقم (١) إلى جبال
- ٢ يشير رقم (٢) إلى هضبة
- ٣ يشير رقم (٣) إلى بحيرة
- ٤ يشير رقم (٤) إلى جزيرة
- ٥ يشير رقم (٥) إلى النيل
- ٦ يشير رقم (٦) إلى مدار
- ٧ يشير رقم (٧) إلى نهر
- ٨ يشير رقم (٨) إلى حضارة
- ٩ يشير رقم (٩) إلى جبال
- ١٠ يشير رقم (١٠) إلى جزر

س ١٤ أمامك خريطة صماء لقارة أفريقيا، اكتب ما تشير إليه الأرقام التي عليها:



- ١ يشير رقم (١) إلى المحيط
- ٢ يشير رقم (٢) إلى البحر
- ٣ يشير رقم (٣) إلى نهر
- ٤ يشير رقم (٤) إلى نهر
- ٥ يشير رقم (٥) إلى هضبة
- ٦ يشير رقم (٦) إلى هضبة
- ٧ يشير رقم (٧) إلى البحر
- ٨ يشير رقم (٨) إلى مضيق
- ٩ يشير رقم (٩) إلى مضيق
- ١٠ يشير رقم (١٠) إلى المحيط

مراجعة الوحدة الثانية

س ١ أكمل العبارات الآتية:

- ١ اهتم الفنانون بمصر في عصر الدولة القديمة بنحت تماثيل النبلاء مثل تمثال.....
- ٢ ثاني ملوك الأسرة الرابعة في مصر القديمة هو الملك.....
- ٣ صاحب الهرم الأوسط هو الملك.....
- ٤ انتشرت بعض المعابد المصرية في أفريقيا مثل الصقر وخاصة في دولة.....
- ٥ إحدى ملكات عصر الدولة الوسطى تولت حكم مصر عقب وفاة أمنمحات الرابع الملك.....
- ٦ المدينة التي اتخذها الهكسوس عاصمة لهم في مصر هي.....
- ٧ سعى الملك كامس لقطع الإمدادات التي كانت تصل إلى الهكسوس من حاكم.....
- ٨ تأسس عصر الدولة الحديثة بمصر القديمة على يد الملك.....
- ٩ عمل الملك تحتمس الأول على تطوير معبد.....
- ١٠ أرسل الملك تحتمس الثالث ست عشرة حملة عسكرية إلى قارة.....
- ١١ من أشهر المعارك التي خاضها الملك تحتمس الثالث معركة.....
- ١٢ بدء ظهور الضعف في الدولة الحديثة بمصر القديمة بعد انتهاء حكم الملك.....
- ١٣ عرف عصر الدولة القديمة بمصر.....
- ١٤ كلف الملك زوسر وزيره..... بتشييد هرم سقارة المدرج.
- ١٥ أرسل الملك سنفرو أسطولاً تجارياً لجلب أخشاب شجر الأرز من.....
- ١٦ أزال كهنة الإله..... حكم آخر ملوك الأسرة الرابعة.
- ١٧ انتصر الملك رمسيس الثاني على الحيثيين في معركة.....
- ١٨ أقام الملك سنوسرت الثالث حصنًى..... و..... لتأمين الحدود الجنوبية.
- ١٩ امتدت الإمبراطورية المصرية في عهد تحتمس الأول حتى وصلت إلى نهر..... في آسيا.
- ٢٠ دعا أمنمحتب الرابع إلى توحيد الآلهة في إله واحد سماه.....

س ٢ ضع علامة (✓) أمام العبارة الصحيحة، وعلامة (X) أمام العبارة غير الصحيحة:

- ١ يعتبر عصر الأسرة الثالثة والرابعة عصر البناء والتأسيس بمصر القديمة. ()
- ٢ من المواد المستخدمة في مقابر الملوك في العصر العتيق الحجر الجيري والطوب اللبن. ()
- ٣ سمي عصر الدولة القديمة بعصر بناء الإمبراطورية. ()
- ٤ يعبر بناء الهرم الكامل عن تقدم المصريين القدماء في العمارة والفلك والهندسة. ()
- ٥ اهتم ملوك عصر بناء الأهرام ببناء المعابد الجنائزية ومعابد الآلهة. ()
- ٦ ازدهر الأدب الديني في عصر الدولة القديمة مثل نصوص الأهرام. ()
- ٧ أقام الملك زوسر هرمه المدرج بمنطقة هواره. ()
- ٨ كانت زيادة الأعباء على كاهل الفلاح المصري أحد أسباب انهيار عصر الدولة القديمة. ()
- ٩ انتشرت بعض المعبودات المصرية في أفريقيا مثل الصقر (المعبود حورس). ()
- ١٠ انتشرت الآلات الموسيقية المصرية في غرب أفريقيا خلال عصر الدولة القديمة. ()
- ١١ بدأ عصر الرخاء الاقتصادي على يد أحد حكام مدينة (من - نفر). ()
- ١٢ قام ملوك الدولة الوسطى بتوسيع حدود مصر الجنوبية. ()
- ١٣ استطاع الملك أحمس الأول الانتصار على ملوك إهناسيا في الشمال. ()
- ١٤ ساهمت قناة سيزوستريس في تنشيط حركة التجارة بمصر. ()
- ١٥ أقام الملك أمنمحات الأول سد اللاهون. ()
- ١٦ يرمز اسم الإله سبك عند المصريين القدماء إلى العدالة. ()
- ١٧ يعد الملك تحتمس الثالث من أعظم حكام مصر في مجالي الحرب والإدارة. ()
- ١٨ تم اكتشاف مقبرة الملك توت عنخ آمون في وادي الملوك في البر الغربي بالجيزة. ()
- ١٩ أشهر المعارك التي قادها الملك رمسيس الثاني معركة قادش. ()
- ٢٠ تدخل كهنة الإله رع في شئون الحكم بعد انتهاء حكم الملك رمسيس الثالث. ()
- ٢١ فقدت مصر السيطرة على بعض المناطق الأفريقية خلال عصر الأسرة الـ ٢١. ()
- ٢٢ اهتم الفنان المصري القديم بنحت التماثيل الملكية لاعتقاده في قدسية الملك. ()
- ٢٣ لقب الملك زوسر بالملك المحسن المحبوب. ()
- ٢٤ يعد هرم زوسر أول بناء حجري ضخم في التاريخ. ()

- ٢٥ يشير تمثال أبو الهول إلى القوة والحكمة. ()
- ٢٦ شيد الملك سنفرو معابد الشمس المكشوفة في الجيزة. ()
- ٢٧ كان أوسر كاف كبيرًا لكهنة الإله آمون. ()
- ٢٨ بدأ عصر الرخاء الاقتصادي على يد أحد حكام مدينة (من - نفر). ()
- ٢٩ اهتم المصريون القدماء في عصر الدولة الوسطى بتأمين الحدود الجنوبية حتى الجندل الرابع. ()
- ٣٠ اهتم الملك منتوحتب الثاني بتجميل مدينة (من - نفر). ()
- ٣١ كان الازدهار الحضاري من سمات عصر الدولة الحديثة. ()
- ٣٢ نجح الملك سقنن رع الثاني في طرد الهكسوس وتوحيد البلاد. ()
- ٣٣ أخذ الملك تحتمس الثالث بعض أبناء أمراء آسيا إلى مصر لينشئوا نشأة مصرية. ()
- ٣٤ اقتصر اهتمام الملك أحمس الأول على التوسعات الخارجية. ()
- ٣٥ أقام الملك تحتمس الثالث إمبراطورية امتدت إلى الجندل الثاني. ()

س ٣ اختر الإجابة الصحيحة مما بين القوسين:

- ١ العصر الفرعوني الذي يشمل الأسرتين الأولى والثانية هو العصر
(القديم - الحديث - العتيق - المتأخر)
- ٢ أقام الملك أوسر كاف معابد الشمس المكشوفة في
(دهشور - سقارة - أبو صير - غرب الأقصر)
- ٣ أسس الملك أوسر كاف الأسرة
(الثالثة - الرابعة - الخامسة - السادسة)
- ٤ مجد الأسرة الحادية عشرة يتمثل في فترة حكم
(أمنمحات الأول - أمنمحات الثالث - سنوسرت الثالث - منتوحتب الثاني)
- ٥ عمل الملك أمنمحات الأول على تأمين حدود الدلتا الغربية من غارات
(القبائل الآسيوية - الليبيين - الهكسوس - أمراء كوش)
- ٦ آخر حكام الأسرة الثانية عشرة
(الملك سنفرو - الملك أبسماتيك - الملكة نفرتاري - الملكة سبك نفر)
- ٧ يرمز اسم الإله سبك عند المصريين القدماء إلى
(القوة - الخصوبة - الموت - العدالة)

- ٨ أقام الملك مقاييس النيل عند الجندل الثاني.
- (نعرمر - أحمس الأول - أمنمحات الثالث - سنفرو)
- ٩ أرسل الملك أمنمحات الثالث أربعًا وعشرين بعثة لاستخراج المعادن وقطع الأحجار من
- (شبه جزيرة سيناء - بلاد بونت - فينيقيا - الجيزة)
- ١٠ كانت الإمدادات التي تصل إلى الهكسوس من أرض كوش يتم نقلها عبر
- (البحر الأحمر - البحر المتوسط - نهر النيل - الصحراء الشرقية)
- ١١ نجح الملك في قطع الإمدادات القادمة من أرض كوش إلى الهكسوس.
- (سنفرو - توت عنخ آمون - كامس - رمسيس الثاني)
- ١٢ تكونت أول إمبراطورية في مصر في عصر
- (الدولة القديمة - الدولة الوسطى - الدولة الحديثة - الاضمحلال الأول)
- ١٣ كان معبد المعبد الرئيسي لمدينة طيبة خلال حكم تحتمس الأول.
- (الكرك - الأقصر - أبيدوس - الدير البحري)
- ١٤ ترجع شهرة الملك لاكتشاف مقبرته كاملة عام ١٩٢٢م.
- (تحتمس الأول - أحمس الأول - توت عنخ آمون - إخناتون)
- ١٥ أمر الملك رمسيس الثاني بنحت معبدي
- (الكرك - أبو سمبل - فيلة - الدير البحري)
- ١٦ تحولت العلاقة بين مصر وأمراء سوريا من الصراع إلى التحالف في عهد الملك
- (رمسيس الثاني - أمنحتب الرابع - سنفرو - زوسر)
- ١٧ كانت الثورة الدينية إحدى خصائص عصر
- (الدولة القديمة - الدولة الوسطى - الدولة الحديثة - الاضمحلال الأول)
- ١٨ انتهى العصر المتأخر بدخول سلسلة كتب الأستاذ لمصر.
- (الهكسوس - الإسكندر الأكبر - الكوشيين - الفرس)
- ١٩ كانت مقبرة الملك خوفو عبارة عن
- (مصطبة واحدة - هرم مدرج - هرم كامل - حفرة عميقة)
- ٢٠ صاحب أول بناء حجري ضخم في التاريخ الملك
- (خفرع - زوسر - خوفو - أوناس)
- ٢١ أطلق لقب الملك المحسن المحبوب على مؤسس الأسرة الفرعونية
- (الأولى - الثالثة - الرابعة - الخامسة)

- ٢٢ أرسل الملك سنfro حملة ليعيد الأمن لحدود مصر.....
 (الشمالية - الشرقية - الغربية - الجنوبية)
- ٢٣ أرسل الملك سنfro أسطولاً بحرياً لإحضار أخشاب شجر الأرز من.....
 (الكونغو - بلاد بونت - فينيقيا - أوغندا)
- ٢٤ ازدهرت التجارة الخارجية لمصر في عهد الملك خوفو خاصة مع.....
 (كوش - بونت - فينيقيا - ليبيا)
- ٢٥ استطاع الفنان المصري استخدام حجر الديوريت في نحت التماثيل بداية من.....
 (عصر الدولة القديمة - العصر العتيق - عصر المجد الحربي - عصر الرخاء الاقتصادي)
- ٢٦ كان أوسر كاف كبيراً لكهنة المعبود.....
 (أتون - رع - آمون - أوزوريس)
- ٢٧ كل الملوك الآتية لهم الفضل في تأسيس أسرات فرعونية يخرج عنهم الملك.....
 (زوسر - سنfro - خوفو - أوسر كاف)
- ٢٨ سيطر رجال الدين بشكل كامل على مقاليد الحكم خلال عصر الدولة القديمة في عهد.....
 الأسرة (الأولى - الثانية - الثالثة - الرابعة)
- ٢٩ أي من ملوك الدولة القديمة اهتم بالأدب الديني؟ الملك.....
 (زوسر - خفرع - خوفو - أوناس)
- ٣٠ أي من الملوك التاليين تُعد فترة حكمه بداية لمجد الأسرة الحادية عشرة؟ الملك.....
 (منتوحتب الثاني - أمنمحات الأول - سنوسرت الثالث - أمنمحات الثالث)
- ٣١ اهتم الملك منتوحتب الثاني بتجميل مدينة..... وإنشاء المعابد بها.
 (أواريس - إثيت تاوي - طيبة - «من نفر»)
- ٣٢ أرسل الملك منتوحتب الثاني بعثة تجارية عبر الصحراء إلى.....
 (بلاد بونت - فينيقيا - شبه جزيرة سيناء - فلسطين)
- ٣٣ تم نقل العاصمة خلال عصر الأسرة الفرعونية الثانية عشرة إلى مدينة.....
 («من نفر» - طيبة - إثيت تاوي - أواريس)
- ٣٤ العامل الأساسي الذي دفع الملك أمنمحات الأول لاختيار «إثيت تاوي» لتكون عاصمة.....
 للبلاد هو (خصوبة أرضها - موقعها الجغرافي - كثرة مواردها - كثرة حصونها)

- ٣٥ عمل الملك أمنمحات الأول على تأمين حدود الدلتا الغربية من غارات
(القبائل الآسيوية - الليبيين - الهكسوس - أمراء كوش)
- ٣٦ من أعظم الملوك الذين قاموا بحملات عسكرية ناجحة لتأمين حدود مصر والدفاع عنها
من جهة الشمال والجنوب الملك
- (منتوحتب الثاني - أمنمحات الأول - سنوسرت الثالث - سقنن رع)
- ٣٧ يتشابه الملك سنوسرت الثالث مع الملك أمنمحات الأول في
(الاهتمام ببناء الحصون - نقل مقر العاصمة - تشييد الأهرامات الضخمة - حفر القنوات المائية)
- ٣٨ أرسل الملك أمنمحات الثالث أربعًا وعشرين بعثة لاستخراج المعادن وقطع الأحجار من
(بلاد بونت - شبه جزيرة سيناء - فينيقيا - الجيزة)
- ٣٩ تشابهت الملكة سبك نفرو مع ملوك الدولة القديمة في
(تشييد الأهرامات - بناء السدود - حفر القنوات - نقل عاصمة البلاد)
- ٤٠ كانت عاصمة الهكسوس في مصر تقع في
(غرب الدلتا - شرق الدلتا - جنوب الوادي - شبه جزيرة سيناء)
- ٤١ افتقد الهكسوس وصول الإمدادات لهم من أرض كوش نتيجة لإنجازات الملك
(أمنمحات الثالث - سقنن رع - كامس - أحمس الأول)
- ٤٢ فر الهكسوس بعد هزيمتهم في مصر إلى
(كوش - فلسطين - ليبيا - بلاد بونت)
- ٤٣ أي من الملوك التاليين أشار إلى أنه ابن لسيدة من الجنوب وتحدث عن عظمتها ومكانتها؟
..... (منتوحتب الثاني - أمنمحات الأول - سنوسرت الثالث - أمنمحات الثالث)
- ٤٤ تكونت أول إمبراطورية مصرية في عصر
(الدولة القديمة - الدولة الوسطى - الدولة الحديثة - العصر العتيق)
- ٤٥ أول اختيار لوادي الملوك ليدفن فيه حكام مصر كان في عهد
(الملك أحمس الأول - الملك تحتمس الأول - الملكة حتشبسوت - الملك تحتمس الثالث)
- ٤٦ قام بست عشرة حملة في آسيا لتوطيد النفوذ المصري بها الملك
(رمسيس الثاني - رمسيس الثالث - تحتمس الأول - تحتمس الثالث)
- ٤٧ وصلت حدود الدولة المصرية إلى ما وراء الجندل الرابع نتيجة لجهود الملك
(أحمس الأول - تحتمس الأول - رمسيس الثاني - تحتمس الثالث)

- ٤٨ «نجح أكثر من ملك مصري في تحقيق الانتصار على الأعداء في فلسطين» العبارة السابقة تنطبق على كل من
- (سقن رع وأحمس الأول -
- أحمس الأول وتحتمس الثالث - تحتمس الأول وتوت عنخ آمون - رمسيس الثاني وتوت عنخ آمون)
- ٤٩ أي من ملوك مصر التاليين أعاد مدينة طيبة مركزًا لحكم البلاد؟
- (مينا - أمنمحات الأول - إخناتون - توت عنخ آمون)
- ٥٠ الملك الذي أعاد لعبادة الإله آمون مكانتها هو
- (أحمس - تحتمس الثالث - توت عنخ آمون - رمسيس الثاني)
- ٥١ ترجع شهرة الملك لاكتشاف مقبرته كاملة عام ١٩٢٢م.
- (تحتمس الأول - أحمس الأول - توت عنخ آمون - إخناتون)
- ٥٢ أي من ملوك مصر التاليين أطلق على عصره عصر الإمبراطورية الثانية؟
- (أحمس الأول - تحتمس الثالث - تحتمس الأول - رمسيس الثاني)
- ٥٣ «كانت أحد أعمالهم المعمارية متممة لما بدأ في عهد آبائهم» ينطبق مضمون هذه العبارة على كل من أعمال (توت عنخ آمون ورمسيس الثالث -
- سبك نفرو ورمسيس الثاني - أحمس ومنتوحتب الثاني - إخناتون وخوفو)
- ٥٤ أقام أول معاهدة سلام في التاريخ الملك
- (زوسر - أحمس الأول - رمسيس الثاني - خفرع)
- ٥٥ اختلف رمسيس الثاني عن سابقيه من ملوك الدولة الحديثة في
- (تحقيق الانتصارات العسكرية - حماية حدود البلاد -
- إرساء قواعد الحرب والسلام - الاهتمام ببناء المعابد)
- ٥٦ استطاع الملك رمسيس الثالث هزيمة
- (أمراء آسيا - الحيثيين - الليبيين - الهكسوس)
- ٥٧ أشهر الرحلات التجارية التي أرسلتها الملكة حتشبسوت اتجهت إلى
- (فينيقيا - بلاد بونت - ليبيا - فلسطين)
- ٥٨ نجح ملوك الأسرة السادسة والعشرين في استعادة استقلال البلاد بعد أن سيطر عليها
- (الليبيون - الهكسوس - الكوشيون - أمراء قادش)

س ٤ اكتب ما تشير إليه كل عبارة من العبارات التالية:

- ١ تمثال تم نحته في عصر الدولة القديمة يظهر بجسم أسد ليدل على القوة وبرأس إنسان.
(.....)
- ٢ أصلب أنواع الأحجار الذي استخدم في نحت التماثيل خلال عصر الدولة القديمة.
(.....)
- ٣ معابد مكشوفة تم تشييدها في أبي صير بالجيزة خلال عصر الأسرة الخامسة.
(.....)
- ٤ مجموعة نصوص دينية نقشت بالخط الهيروغليفي على جدران الحجرات الداخلية للأهرام.
(.....)
- ٥ عصر امتد من الأسرة السابعة حتى الأسرة العاشرة وتعرضت البلاد خلاله للانقسام والغارات الأجنبية.
(.....)
- ٦ اتخذها الملك أمنمحات الأول عاصمة للبلاد ومعناها القابضة على الأرضين.
(.....)
- ٧ قناة مائية تم حفرها للربط بين البحر الأحمر والبحر المتوسط عن طريق نهر النيل.
(.....)
- ٨ سد أقيم عند مدخل بحيرة مورييس لتخزين مياه الفيضان.
(.....)
- ٩ دولة كبيرة تسيطر على مناطق وشعوب مختلفة تحت قيادة مركزية قوية.
(.....)
- ١٠ معبد أكمله الملك رمسيس الثاني بعد والده سيتي الأول.
(.....)
- ١١ عصر البناء والتأسيس ويضم الأسرتين الأولى والثانية.
(.....)
- ١٢ مجموعة نصوص دينية نقشت بالخط الهيروغليفي على جدران الأهرام.
(.....)
- ١٣ اسم أطلق على عصر الدولة الوسطى لاهتمامهم بمشروعات الزراعة.
(.....)
- ١٤ مدينة اهتم بها منتوحتب الثاني وبنى بها المعابد وجعلها عاصمة البلاد.
(.....)
- ١٥ المدينة الجديدة التي اتخذها الملك أمنمحات الأول عاصمة للبلاد.
(.....)
- ١٦ المدينة التي اتخذها الهكسوس عاصمة لمصر.
(.....)
- ١٧ قامت بإمداد الهكسوس بالمؤن فترة احتلالهم لمصر.
(.....)

س ٥ صوّب ما تحته خط في العبارات التالية:

- ١ شيد الملك خوفو الهرم المدرج على هضبة الجيزة. (.....)
- ٢ ازداد نفوذ كهنة إله الشمس رع في نهاية الأسرة الثالثة. (.....)
- ٣ الملكة سبك نفرو ابنة الملك سنوسرت الثالث. (.....)
- ٤ أنشأت الملكة إياح حتب هرمًا خاصًا بها بالقرب من منطقة دهشور. (.....)
- ٥ استولى الهكسوس على مدينة طيبة بالقوة ودمروا المعابد. (.....)
- ٦ قام الملك كامس بحملة على فينيقيا وبسط نفوذه عليها وبذلك مهد لتكوين الإمبراطورية المصرية. (.....)
- ٧ اتجه تحتمس الأول نحو آسيا حتى وصل إلى نهر السند. (.....)
- ٨ انتصر الملك تحتمس الثالث على أمراء آسيا في معركة قادش. (.....)
- ٩ تولى الملك توت عنخ آمون عرش مصر خلفًا للملك تحتمس الأول. (.....)
- ١٠ أمر الملك رمسيس الثالث بنحت معبدين في أبو سمبل. (.....)
- ١١ نظم الملك رمسيس الثالث البعثات التجارية خاصة إلى بلاد فينيقيا. (.....)
- ١٢ تم تصوير البعثة التي أرسلتها الملكة حتشبسوت إلى بلاد بونت على جدران معبد الكرنك. (.....)

س ٦ مَن أكون...؟

- ١ قام بتوحيد مملكة الشمال والجنوب وكان عهده بداية لعصر جديد. (.....)
- ٢ مؤسس الأسرة الرابعة الذي أرسل أسطولاً بحرياً لإحضار خشب الأرز من فينيقيا. (.....)
- ٣ مؤسس الأسرة الخامسة وشيد العديد من المسلات الضخمة. (.....)
- ٤ آخر ملوك الأسرة الخامسة وأول من كتب نصوص الأهرام على جدران المقابر. (.....)
- ٥ أعاد السلطة المركزية وأصلح النظام الإداري في الدولة أثناء عصر الدولة الوسطى. (.....)
- ٦ مؤسس الأسرة الثانية عشرة الذي وصلت حدود مصر الجنوبية في عهده إلى الجندل الثاني. (.....)

- ٧ قام بطرد القبائل الآسيوية التي دخلت مصر عن طريق الشرق في عصر الدولة الوسطى.
(.....)
- ٨ أحد حكام الأسرة الثانية عشرة والذي أمر بحفر قناة مائية للربط بين البحر الأحمر والبحر المتوسط عن طريق نهر النيل.
(.....)
- ٩ أقام مقاييس لمراقبة ارتفاع منسوب مياه النيل عند الجندل الثاني. (.....)
- ١٠ أول ملكة مصرية يتم تسميتها على اسم الإله الذي يرمز للقوة. (.....)
- ١١ آخر حكام الأسرة الثانية عشرة واستكملت بناء هرم والدها في منطقة هواره.
(.....)
- ١٢ بدأ النضال الحقيقي لتحرير البلاد من الهكسوس وقتل في ساحة المعركة.
(.....)
- ١٣ حمل لواء الكفاح بعد مقتل أبيه وقاد المصريين في حروبهم ضد الهكسوس ولكنه قتل في حرب التحرير.
(.....)
- ١٤ استطاع تحرير أجزاء كبيرة من مصر الوسطى من نفوذ الهكسوس. (.....)
- ١٥ حاصر مدينة أواريس وتعقب الهكسوس إلى فلسطين وحاربهم حتى قضى على خطرهم.
(.....)
- ١٦ تولت شؤون الحكم إلى حين عودة أبنائها منتصرين من حرب التحرير. (.....)
- ١٧ جعل المنطقة من «نبته» إلى شمال «إدفو» وحدة واحدة يحكمها موظف أطلق الابن الملكي لكوش.
(.....)
- ١٨ من أشهر الملكات في مصر القديمة لما قامت به من أعمال سياسية واقتصادية وثقافية وعمرانية في عصر الدولة الحديثة.
(.....)
- ١٩ أعاد لعبادة الإله آمون مكانتها في عصر الدولة الحديثة. (.....)
- ٢٠ استعادت مصر في عهده سيادتها على بلاد الشام وبعض جزر البحر المتوسط.
(.....)
- ٢١ المؤسس الحقيقي للأسرة العشرين واستطاع هزيمة شعوب البحر المتوسط.
(.....)

١ تسمية العصر العتيق بعصر البناء والتأسيس.

٢ تميز العصر العتيق بالاستقرار وتحقيق الأمن.

٣ اهتمام ملوك العصر العتيق بالطرق الصحراوية.

٤ تسمية عصر الدولة القديمة بعصر بناء الأهرام.

٥ اهتمام المصري القديم بنحت التماثيل الملكية خلال عصر الدولة القديمة.

٦ عرف هرم سقارة بالهرم المدرج.

٧ تسمية الملك سنفرو بالملك المحسن المحبوب.

٨ قيام الملك أوناس بكتابة نصوص الأهرام على جدران حجرة الدفن داخل الهرم.

٩ قيام المصريين بثورة عارمة في أواخر عصر الدولة القديمة.

١٠ اهتمام ملوك عصر الدولة الوسطى ببناء الحصون.

١١ يعرف عصر الدولة الوسطى بعصر الرخاء الاقتصادي.

١٢ تُعد فترة حكم الملك منتوحتب الثاني بداية لمجد الأسرة الحادية عشرة.

١٣ قيام الملك أمنمحات الأول بنقل العاصمة إلى «إثيت تاوي».

١٤ قيام الملك أمنمحات الأول ببناء الحصون على الحدود الغربية للدلتا.

١٥ قيام الملك سنوسرت الثالث بحفر قناة سيزوستريس.

١٦ إنشاء الملك أمنمحات الثالث لسد اللاهون.

١٧ سقوط وانهيار الدولة الوسطى.

١٨ قيام الملك كامس بحملة مفاجئة على أرض كوش.

١٩ أقام ملوك الدولة الوسطى مراكز ومحطات تجارية على طول نهر النيل جنوبًا.

٢٠ أهمية وجود جيش قوي خلال عصر الدولة الحديثة.

٢١ يسمى عصر الدولة الحديثة بعصر المجد الحربي.

٢٢ حرص الملك تحتمس الأول على تطوير معبد الكرنك.

٢٣ حدوث معركة مجدو بين الملك تحتمس الثالث وأمراء آسيا.

٢٤ اتباع الملك تحتمس الثالث سياسات سلمية مع أمراء آسيا بعد معركة مجدو.

٢٥ إحضار الملك تحتمس الثالث لأبناء الأمراء الآسيويين إلى مصر.

٢٦ سمي عصر الملك رمسيس الثاني بعصر الإمبراطورية الثانية.

٢٧ حدوث معركة قادش.

٢٨ يعتبر الملك رمسيس الثالث المؤسس الحقيقي للأسرة العشرين.

٢٩ سقوط عصر الدولة الحديثة.

٣٠ ازدياد النشاط التجاري بين مصر وأفريقيا خلال عصر الدولة الحديثة.

س ٨ ما النتائج المترتبة على...؟

١ حاجة الملك سنفرو إلى الأخشاب.

٢ زيادة نفوذ كهنة الإله رع في أواخر عصر الأسرة الرابعة.

٣ وصول أوسر كاف إلى الحكم.

٤ ضعف السلطة المركزية في نهاية عصر الأسرة السادسة.

٥ قيام المصريين بثورة عارمة في نهاية عصر الدولة القديمة.

٦ حالة الضعف التي امتدت من الأسرة السابعة حتى الأسرة العاشرة.

٧ قيام الملك سنوسرت الثالث بحفر قناة سيزوستريس.

٨ وصول الملكة سبك نفرو إلى حكم البلاد.

٩ ضعف الملوك في أواخر عصر الدولة الوسطى.

١٠ أعمال الملك كامس العسكرية ضد الهكسوس.

١١ الازدهار الحضاري لمصر خلال عصر الدولة الحديثة.

١٢ قيام الملك أحمس الأول بحملة على فينيقيا وبسط نفوذه عليها.

١٣ إنشاء الملك تحتمس الثالث أسطولاً حربياً قوياً.

١٤ إرسال الملك تحتمس الثالث حملته العسكرية الـ ١٧ على بلاد كوش.

١٥ تولى الملك توت عنخ آمون الحكم خلفاً للملك إخناتون. (يكتفى باثنين).

١٦ هزيمة الحيثيين على يد الملك رمسيس الثاني.

١٧ تدخل كهنة آمون بطيبة في شؤون الحكم بعد وفاة الملك رمسيس الثالث.

١٨ الصراع بين المصريين والكوشيين في عصر الأسرة الرابعة والعشرين.

س ٩ دّل على صحة العبارات التالية:

١ اهتمام ملوك العصر العتيق بالأنشطة الاقتصادية.

٢ تعددت المواد المستخدمة في بناء المقابر في العصر العتيق.

٣ تطورت مقابر الملوك في عصر الدولة القديمة.

٤ برع الفنان المصري القديم خلال عصر الدولة القديمة في فن النحت.

٥ براعة الفنان المصري القديم خلال عصر الدولة القديمة في فن النقش.

٦ برع الفنان المصري القديم في فن الرسم خلال عصر الدولة القديمة.

٧ وصل فن النحت إلى قمته في عهد الملك خفرع.

٨ كان للملك أوناس دور في حفظ التراث الديني للمصريين القدماء.

٩ اهتم ملوك عصر الدولة القديمة باكتشاف القارة الأفريقية.

١٠ تأثر أمراء الكونغو بالحضارة المصرية القديمة.

١١ تنوع إنجازات الملك منتوحتب الثاني.

١٢ اهتم كل من الملك سنوسرت الثالث والملك أمنمحات الثالث بمنطقة الجندل الثاني ولكن بشكل مختلف.

١٣ تعددت أعمال آخر حكام الأسرة الثانية عشرة المعمارية.

١٤ لم يحترم الهكسوس الديانة المصرية القديمة. الاستاذ

١٥ كان عصر الأسرة السابعة عشرة عصر الانتفاضة ضد الهكسوس.

١٦ العبقرية العسكرية للملك كامس في مواجهته للهكسوس.

١٧ لعبت الملكة إياح حتب دورًا مهمًا في طرد الهكسوس.

١٨ وجود علاقات تجارية بين ملوك مصر في عصر الدولة الوسطى وحضارة كوش بأفريقيا.

١٩ اختلفت اهتمامات الملك أمنحتب الرابع عن باقي ملوك الدولة الحديثة.

٢٠ كانت فترة أحمس الأول بداية تاريخ جديد لمصر.

٢١ اهتم أحمس بتأمين الحدود الجنوبية لمصر.

٣٢ كان للملك أحمس دور إداري يعادل دوره الحربي في مواجهة الهكسوس.

٣٣ خالف الملك تحتمس الأول سياسة الملوك الذين سبقوه في طريقة الدفن.

٣٤ كانت كوش موضع اهتمام الملك تحتمس الثالث عسكرياً.

٣٥ براعة تحتمس الثالث الإدارية في الحفاظ على تماسك الإمبراطورية المصرية في آسيا.

٣٦ يمكن إطلاق لقب رجل الحرب والسلام على الملك رمسيس الثاني.

٣٧ توتر العلاقات المصرية الأفريقية في العصر المتأخر.

س ١٠ ما العلاقة بين...؟

١ الملك زوسر، والعمارة الملكية.

٢ الملك أوناس، والأدب الديني في مصر القديمة.

٣ ملوك الأسرة الحادية عشرة، ووحدة البلاد.

٤ الملك أمنمحات الثالث، واتساع مساحة الأراضي الزراعية.

٥ أمراء طيبة، والهكسوس.

٦ الملكة حتشبسوت، ونشاط التجارة في عصر الدولة الحديثة.

٧ الملك توت عنخ آمون، والفنون المصرية القديمة.

س ١١ ما المقصود بكل من...؟

١ متون الأهرام.

.....

٢ عصر الاضمحلال.

.....

٣ الهكسوس.

.....

٤ الإمبراطورية.

.....

س ١٢ في عهد من بنيت المنشآت الآتية...؟

١ الهرم المدرج. سلسلة كتب الأستاذ (.....)

٢ الهرم الأوسط. (.....)

٣ معابد الشمس. (.....)

٤ قناة سيزوستريس. (.....)

٥ حصنا سمنا وقمنة. (.....)

٦ سد اللاهون. (.....)

سلسلة كتب الأستاذ

مراجعة الوحدة الثالثة

س ١ أكمل العبارات الآتية بما يناسبها من كلمات:

- ١ تعيش القوارض وطيور النورس في نظام غابات
- ٢ من المكونات غير الحية للنظام البيئي
- ٣ من أمثلة النظم البشرية و
- ٤ يعيش النمل الأبيض والأفاعي في نظام الغابات
- ٥ تسقط الأمطار طوال العام في مناطق الغابات
- ٦ من الأخطار التي تواجه نظم الغابات في قارة أفريقيا
- ٧ النظام البيئي منطقة متكاملة تتكون من كائنات حية منها و
- ٨ تتميز الغابات المدارية المطيرة بـ الرطوبة النسبية.
- ٩ تنتشر الغابات الاستوائية في جزيرة سلسلة كتل الأستاز شرق أفريقيا.
- ١٠ يتميز نظام غابات البحر المتوسط بمناخ في فصل الصيف.
- ١١ تعيش الأغنام في نظام غابات
- ١٢ توجد غابات البحر المتوسط على طول الساحل لقارة أفريقيا.
- ١٣ التطرف الشديد في درجات الحرارة إحدى خصائص نظام
- ١٤ من الحيوانات آكلة اللحوم التي تعيش في نظام الحشائش الحارة
- ١٥ تتنوع التربة في نظام حشائش السافانا وتتسم باللون
- ١٦ تعرف حشائش بأنها حديقة حيوان طبيعية.
- ١٧ تسقط الأمطار في فصل الصيف في نظام الحشائش
- ١٨ من المخاطر الطبيعية التي تواجه حشائش السافانا و
- ١٩ يشغل نظام معظم مساحة الأراضي المصرية .
- ٢٠ تنقسم حشائش السافانا إلى و و
- ٢١ من الحيوانات المعرضة لخطر الانقراض في نظام الصحاري الحارة بأفريقيا
- ٢٢ تمتد حشائش السافانا بين الغابات والصحاري الحارة.
- ٢٣ تنمو بالقرب من الأنهار ومنحدرات الجبال في نطاق حشائش الإستبس.

- ٢٤ يعد نظام حشائش الإستبس مراعي طبيعية للحيوانات مثل و
- ٢٥ يتعرض طائر لخطر الانقراض بالصحراء الكبرى.
- ٢٦ تنمو في نظام الصحاري الحارة نباتات و وأشجار
- ٢٧ يشغل نظام الصحاري الحارة معظم الأراضي المصرية عدا الجهات
- ٢٨ تعد مستنقعات السد من أشهر المستنقعات المكشوفة في
- ٢٩ حدث أكبر انقراض جماعي للفقاريات في العصر الحديث في بحيرة
- ٣٠ يأتي نهر الكونغو في المرتبة الثانية من حيث التنوع البيولوجي بعد نهر
- ٣١ أكبر الأحواض النهرية من حيث التنوع الجيولوجي هو حوض في أمريكا الجنوبية.
- ٣٢ يعد من المستنقعات المغطاة بالنبات في شرق ووسط وجنوب قارة أفريقيا.
- ٣٣ من العوامل البشرية التي أدت إلى تدهور أشجار المانجروف
- ٣٤ أشهر المستنقعات المكشوفة مستنقعات
- ٣٥ تشمل النظم البيئية للمياه المالحة الأراضي الرطبة المالحة و و
- ٣٦ تعتبر محمية من المحميات الطبيعية بمصر ويوجد بها أشجار المانجروف.
- ٣٧ صنفت المحمية الوطنية لحوض في موريتانيا كمنطقة تراث عالمي
- ٣٨ يُعد نظام المانجروف موطناً للعديد من الكائنات البحرية مثل الأسماك و
- ٣٩ من التهديدات البشرية التي تتعرض لها الشعاب المرجانية
- ٤٠ من محميات الأراضي الرطبة المالحة التي تقع على سواحل شمال الدلتا في مصر

س ٢ ضع علامة (✓) أمام العبارة الصحيحة، وعلامة (X) أمام العبارة غير الصحيحة:

- ١ تعد الفطريات والبكتريا من أمثلة المكونات غير الحية للنظام البيئي. ()
- ٢ تعتبر برك المياه أحد الأنظمة البيئية كبيرة المساحة. ()
- ٣ الثورانات البركانية من الأسباب الطبيعية لحدوث اختلال للتوازن البيئي. ()
- ٤ تسقط الأمطار طوال العام في نظام الغابات المدارية المطيرة. ()
- ٥ تربي الأغنام والماعز في غابات البحر المتوسط. ()
- ٦ غابات البحر المتوسط دائمة الخضرة لسقوط الأمطار عليها طوال العام. ()
- ٧ تتميز الغابات المدارية المطيرة بأنها غابات قليلة الأشجار. ()
- ٨ يوجد نظام الغابات المدارية المطيرة بشمال حوض نهر الكونغو بوسط قارة أفريقيا. ()

- ٩) النمر والأفاعي من الحيوانات التي تعيش في نظام الغابات المدارية المطيرة. ()
- ١٠) تتسم تربة الغابات المدارية المطيرة بأنها فقيرة في الأملاح المعدنية. ()
- ١١) تعد الغابات المدارية المطيرة مقصدًا لعدد كبير من السائحين. ()
- ١٢) يوجد نظام غابات البحر المتوسط في أقصى جنوب شرق قارة أفريقيا. ()
- ١٣) تزداد كثافة حشائش السافانا كلما اقتربنا من غابات البحر المتوسط. ()
- ١٤) تسجل قارة أفريقيا أعلى معدلات خسارة في مساحة الغابات على مستوى العالم. ()
- ١٥) توجد الغابات المدارية المطيرة بساحل غانا غرب قارة أفريقيا. ()
- ١٦) يخلو أقصى جنوب أفريقيا من نمو أشجار الأبنوس. ()
- ١٧) تسقط الأمطار طوال العام في نظام غابات البحر المتوسط. ()
- ١٨) يندر النبات والحيوان بشكل واضح في نظام الصحاري الحارة. ()
- ١٩) تُعد حشائش الإستبس أحد نظم الغابات المدارية المطيرة. ()
- ٢٠) تعتبر حشائش السافانا من أمثلة النظم البيئية الأرضية. ()
- ٢١) تمثل الصحاري نحو ثلث مساحة اليابس في العالم. ()
- ٢٢) توجد حشائش السافانا الفقيرة بالقرب من نظام الصحاري الحارة. ()
- ٢٣) يعمل عدد كبير من سكان نظم حشائش الإستبس في السياحة والرعي. ()
- ٢٤) تتنوع النظم الصحراوية في العالم ما بين صحارٍ حارة ومعتدلة وقطبية. ()
- ٢٥) تقع الصحراء الكبرى في جنوب قارة أفريقيا وتُعد أكبر الصحاري الحارة في العالم. ()
- ٢٦) السافانا البستانية توجد بالقرب من النظام الصحراوي، وهي قصيرة الطول. ()
- ٢٧) تنتشر أشجار السنط داخل حشائش السافانا القصيرة. ()
- ٢٨) تؤثر الأنشطة البشرية مثل التوسع الزراعي إيجابياً على حشائش السافانا. ()
- ٢٩) السافانا غطاء نباتي كثيف من الحشائش تتداخل معها أشجار متنوعة. ()
- ٣٠) يعد نظام حشائش السافانا بيئة انتقالية بين الصحاري المعتدلة والغابات المطيرة. ()
- ٣١) تتسم التربة في حشائش السافانا باللون الأحمر. ()
- ٣٢) تنمو الأشجار بالقرب من الأنهار في نظام حشائش الإستبس. ()
- ٣٣) يتعرض الكثير من حيوانات الصحاري الحارة للانقراض مثل الغزال المصري. ()
- ٣٤) يصنف نظام الأراضي الرطبة ضمن النظم البيئية الأرضية. ()
- ٣٥) توفر الشعاب المرجانية غذاء ومأوى للعديد من الكائنات البحرية. ()
- ٣٦) تقوم النظم البيئية المائية بدور حيوي في الحفاظ على التوازن البيئي. ()

- ٣٧ حدث أكبر انقراض جماعي للفقاريات في العصر الحديث في بحيرة فيكتوريا. ()
- ٣٨ تعتبر المستنقعات جزءاً من نظم الأراضي الرطبة المالحة. ()
- ٣٩ تقع نظم الأراضي الرطبة العذبة بين الأنظمة البرية والمائية. ()
- ٤٠ تأتي أفريقيا في المركز الثاني بين قارات العالم القديم من حيث مساحة المانجروف. ()
- ٤١ تمثل نظم الأراضي الرطبة المالحة مأوى للعديد من الطيور المستوطنة والمهاجرة. ()
- ٤٢ تعمل الأشجار الصنوبرية على حماية الشواطئ من التآكل والتعرية. ()
- ٤٣ تنمو أشجار المانجروف في المناطق الساحلية المدارية وشبه المدارية. ()
- ٤٤ يهدف إطلاق رؤية مصر ٢٠٣٠م إلى تحقيق أهداف التنمية المستدامة. ()
- ٤٥ تنتشر نظم الشعاب المرجانية على معظم السواحل الشرقية لقارة أفريقيا. ()

س ٣ اختر الإجابة الصحيحة مما بين القوسين:

- ١ تتعدد الأسباب البشرية لاختلال التوازن البيئي ومنها.....
(الثورانات البركانية - الأعاصير - الزلازل - الرعي الجائر)
- ٢ من الأشجار التي تنمو في نظام الغابات المدارية المطيرة بقارة أفريقيا.....
(الأبنوس - الصنوبر - الأرز - البلوط الفليني)
- ٣ ينمو في نظام غابات البحر المتوسط أشجار.....
(الماهو جني - الأبنوس - المطاط - الصنوبر)
- ٤ أحد المكونات الحية الدقيقة في النظام البيئي.....
(الحرارة - الرطوبة - الفطريات - الأمطار)
- ٥ توجد نظم بيئية صغيرة المساحة مثل..... (البحار - البرك - الغابات - الجبال)
- ٦ تكثر النباتات المتسلقة في المنطقة التي يوجد بها أشجار.....
(الكاكو - البلوط الفليني - الصنوبر - الأرز)
- ٧ يعد فصل الشتاء فصل النمو الحقيقي لبعض النباتات منها.....
(السنط - الصبار - الماهو جني - الأرز)
- ٨ يخلو أقصى جنوب أفريقيا من نمو أشجار.....
(الصنوبر - البلوط الفليني - الأرز - الأبنوس)
- ٩ من الأسباب الطبيعية لحدوث اختلال التوازن البيئي.....
(الزلازل - الثورانات البركانية - الأعاصير - جميع ما سبق)

- ١٠ ينمو بحوض نهر الكونغو النباتات التالية ولكن يخرج عنها
- (الأرز - المانجو - الكاكاو - الأبنوس)
- ١١ توجد الغابات المدارية المطيرة بساحل غرب قارة أفريقيا.
- (مالي - موريتانيا - الصومال - غانا)
- ١٢ يتشابه الساحل الشرقي لجزيرة مدغشقر مع ساحل خليج غينيا في وجود أشجار
- (المطاط - الأرز - الصنوبر - البلوط الفليني)
- ١٣ من الحيوانات التي تعيش بالغابات المطيرة (الثعالب - الذئاب - الأغنام - النمر)
- ١٤ تنمو أشجار في غابات البحر المتوسط.
- (الأبنوس - الكاكاو - الماهوجني - الصنوبر)
- ١٥ تتسم تربة نظام بتعدد ألوانها ما بين الأحمر والبني والأسود تبعاً لمكوناتها.
- (الغابات المدارية المطيرة - غابات البحر المتوسط - الصحاري الحارة - حشائش الإستبس)
- ١٦ من الأخطار التي تواجه نظم الغابات بقارة أفريقيا وترجع إلى عوامل طبيعية وأخرى بشرية
- (إزالة الغابات - الانقراض - التوسع العمراني - الصيد الجائر)
- ١٧ أعلى معدل خسارة في مساحات الغابات بقارة
(أوروبا - أستراليا - آسيا - أفريقيا)
- ١٨ تتميز المناطق الواقعة بين دائرتي عرض ١٠ ، ١٨ شمال وجنوب دائرة الاستواء
- (انخفاض درجات الحرارة شتاء - سقوط الأمطار الصيفية - فقر التربة - انخفاض المدى الحراري السنوي)
- ١٩ حيوان يعيش في حشائش الإستبس والسافانا
- (الأغنام - الخيول - الغزلان - الماعز)
- ٢٠ توجد حشائش السافانا البستانية بالقرب من الغابات المدارية المطيرة ويتخللها أشجار
- (الأكاسيا - السنط - الصنوبر - الأرز)
- ٢١ تتميز تربة السافانا والإستبس بغناها بـ
- (المواد الكيميائية - المواد العضوية - التكوينات الصخرية - التكوينات البركانية)
- ٢٢ أي المحاصيل الآتية تصلح زراعتها في نظام الحشائش الحارة؟
- (القمح والأرز - القطن والبن - القمح والبنجر - الفول والقطن)
- ٢٣ تنمو السافانا البستانية في مناطق أقرب إلى
- (دائرة الاستواء - مدار الجدي - مدار السرطان - الدائرة القطبية)

- ٢٤ يواجه نظام حشائش السافانا العديد من المخاطر البشرية ويخرج عنها.....
(الفيضان - الرعي الجائر - سوء إدارة الأنشطة التعدينية - الصيد الجائر)
- ٢٥ تنحصر حشائش الإستبس بين نظام غابات البحر المتوسط شمالاً ونظام..... جنوباً.
(الغابات المدارية المطيرة - الحشائش الحارة - الغابات المعتدلة - الصحاري الحارة)
- ٢٦ تنمو حشائش السافانا الفقيرة بالقرب من.....
(الصحاري الحارة - الغابات المدارية المطيرة - الغابات الصنوبرية - الغابات المعتدلة)
- ٢٧ القارة التي تأتي في المرتبة الثانية بين أكثر المناطق تضرراً من الفيضانات في العالم هي.....
(آسيا - أفريقيا - أوروبا - أمريكا الجنوبية)
- ٢٨ تنمو بالسافانا الغنية أشجار..... (الصبار - التين الشوكي - السنط - الأكاسيا)
- ٢٩ يمكن إقامة مشروعات استغلال الطاقة الشمسية في نظام.....
(الصحاري المعتدلة - الصحاري القطبية - الصحاري الحارة - حشائش الإستبس)
- ٣٠ يقع إقليم الفلد بقارة أفريقيا بالجهة.....
(الشمالية - الجنوبية - الشرقية - الغربية)
- ٣١ تتسم صحراء ناميبيا بالعديد من الخصائص يخرج عنها.....
(ارتفاع المدى الحراري اليومي - التطرف الشديد في درجات الحرارة - فقر التربة - انعدام الثروات المعدنية بها)
- ٣٢ من النباتات التي تتميز بقلة النتج.....
(الأرز والمطاط - السيل والصبار - السنط والأبنوس - الماهوجني والبلوط الفليني)
- ٣٣ أكثر النظم البيئية الأرضية انتشاراً بقارة أفريقيا بالقرب من مضيق جبل طارق.....
(الغابات المدارية المطيرة - غابات البحر المتوسط - حشائش السافانا البستانية - حشائش السافانا الفقيرة)
- ٣٤ جميع ما يأتي يعتبر من أمثلة النظم البيئية المائية ويخرج منها.....
(أشجار المانجروف - أشجار السنط - الشعاب المرجانية - مستنقعات نبات البردي)
- ٣٥ توجد الشعاب المرجانية في معظم سواحل أفريقيا.....
(الجنوبية - الشمالية - الغربية - الشرقية)
- ٣٦ أحد نظم المياه المالحة في أفريقيا.....
(نهر الكونغو - بحيرة فيكتوريا - الشعاب المرجانية - المستنقعات المكشوفة)

- ٣٧ تأتي قارة أفريقيا في المرتبة الثانية عالمياً في مساحة المانجروف بعد قارة.....
(آسيا - أوروبا - أمريكا الجنوبية - أمريكا الشمالية)
- ٣٨ تقع محمية أركين في دولة.....
(كينيا - مصر - موريتانيا - أوغندا)
- ٣٩ من التهديدات البشرية التي تواجه نظام المانجروف.....
(زيادة درجات الحرارة - نقص الأمطار - الجفاف - الصيد الجائر)
- ٤٠ أحد النظم النهرية في قارة أمريكا الجنوبية.....
(نهر الكونغو - نهر الزمبيري - نهر الدانوب - نهر الأمازون)
- ٤١ محمية طبيعية في مصر تنتشر بها شجيرات المانجروف.....
(علبة - المنزلة - البردويل - العلمين)
- ٤٢ تقع محمية رأس محمد في دولة.....
(مصر - المغرب - تونس - الجزائر)
- ٤٣ أحد الأنظمة البيئية العذبة التي تمر بها دائرة الاستواء هي بحيرة.....
(تانا - تنجانيقا - فيكتوريا - تشاد)
- ٤٤ من أمثلة النظم البيئية المالحة بقارة أفريقيا بحيرة.....
(تشاد - تنجانيقا - البردويل - فيكتوريا)
- ٤٥ استهدف البرنامج الإنمائي لهيئة الأمم المتحدة زيادة إنتاج الطاقة الخضراء بأفريقيا
اعتماداً على.....
(الرياح - الشمس - البحار - الأنهار)

س ٤ اكتب ما تشير إليه كل عبارة من العبارات التالية:

- ١ منطقة جغرافية متكاملة تضم مكونات حية وغير حية تتفاعل مع بعضها البعض.
(.....)
- ٢ تعتبر أكبر النظم البيئية الموجودة على الأرض.
(.....)
- ٣ حالة من الاستقرار تحدث داخل النظم البيئية عبر التفاعل بين مكوناتها الحية وغير الحية؛ مما يمنع حدوث تغييرات جذرية وغير طبيعية فيها.
(.....)
- ٤ الفرق بين متوسط درجة الحرارة بالنسبة لأعلى شهور السنة وأدنى شهور السنة.
(.....)
- ٥ نظام غابات يمتد على الساحل الشمالي الغربي لقارة أفريقيا.
(.....)
- ٦ أحد نظم الغابات وتعد مصدراً رئيسياً لإنتاج الزيتون والموالح.
(.....)

- ٧ نسبة كمية بخار الماء الموجودة في الهواء بالنسبة إلى كمية بخار الماء التي يستطيع الهواء أن يحملها. (.....)
- ٨ أراضٍ مشبعة بالمياه بصورة دائمة أو موسمية. (.....)
- ٩ أحد النظم البيئية ويتمثل في المناطق العمرانية والأراضي الزراعية. (.....)
- ١٠ أشجار دائمة الخضرة طوال العام لها جذور عميقة وأوراقها صغيرة الحجم مغطاة بطبقة شمعية. (.....)
- ١١ نظام الغابات الذي ترتفع به نسبة الرطوبة. (.....)
- ١٢ نظام حشائش ينتشر غرب جزيرة مدغشقر. (.....)
- ١٣ حشائش تنمو بين غابات البحر المتوسط والصحراء الحارة. (.....)
- ١٤ نهر يحتل المرتبة الأولى عالمياً من حيث التنوع البيولوجي. (.....)

س ٥ صوّب ما تحته خط فيما يلي:

- ١ تعد الأراضي الزراعية أحد أمثلة النظم البيئية **الأرضية**. (.....)
- ٢ تقل الأمطار الساقطة على نظام غابات البحر المتوسط بقارة أفريقيا كلما اتجهنا **غرباً**. (.....)
- ٣ لغابات البحر المتوسط أهمية **بيئية** لإنتاجها النباتات العطرية. (.....)
- ٤ تنمو النباتات الشوكية وأشجار الأكاسيا في نظام **الحشائش الحارة**. (.....)
- ٥ تعد قارة **أستراليا** أكثر قارات العالم عرضة لتأثير التغيرات المناخية. (.....)
- ٦ تعد **السافانا** مراعي طبيعية للحيوانات وتنتشر بها حرفة الصيد. (.....)
- ٧ تعرف حشائش **الإستبس** بأنها حديقة حيوان طبيعية. (.....)
- ٨ تتسم تربة حشائش السافانا باللون **الأحمر** لغناها بالمواد العضوية. (.....)
- ٩ يتسم نظام **الحشائش الحارة** بندرة الأمطار وفقرة التربة. (.....)
- ١٠ ينتشر نظام حشائش **الإستبس** غرب جزيرة مدغشقر. (.....)
- ١١ تقع محمية رأس محمد على ساحل البحر **المتوسط**. (.....)
- ١٢ تبلغ مساحة **الشعاب المرجانية** في مصر نحو ٢٠٠ كم. (.....)
- ١٣ تنمو أشجار المانجروف في المناطق الساحلية **الباردة**. (.....)

١ حدوث اختلال في التوازن البيئي.

٢ تعد الغابات المدارية المطيرة من أكثر النظم البيئية تنوعاً.

٣ انخفاض المدى الحراري السنوي في نظام الغابات المدارية المطيرة بأفريقيا.

٤ تعرض غابات البحر المتوسط في قارة أفريقيا للعديد من حالات الجفاف.

٥ انخفاض الضغط الجوي في نظام الغابات المدارية المطيرة.

٦ ندرة الحيوانات الضخمة آكلة العشب في نظام الغابات المدارية.

٧ ارتفاع نسبة الرطوبة النسبية في الغابات المدارية.

٨ صعوبة وصول الضوء إلى أرض الغابات المدارية المطيرة.

٩ تتسم التربة في الغابات المدارية المطيرة في معظمها بأنها حمراء اللون.

١٠ تغطي طبقة من الشمع أوراق الأشجار في نظام غابات البحر المتوسط.

١١ قدرة الأشجار الكثيفة على النمو في نظام الغابات المدارية المطيرة.

١٢ كثرة النباتات المتسلقة والطفيلية في نظام الغابات المدارية المطيرة.

١٣ للغابات المدارية المطيرة أهمية بيئية كبيرة.

١٤ الأهمية البيئية لغابات حوض نهر الكونغو.

١٥ تتميز غابات البحر المتوسط بأن أشجارها دائمة الخضرة طوال العام.

١٦ الأهمية الاقتصادية لغابات البحر المتوسط.

١٧ الأهمية السياحية لغابات البحر المتوسط.

١٨ الأهمية البيئية لغابات البحر المتوسط.

١٩ إزالة مساحات كبيرة من الغابات في أفريقيا.

٢٠ تعرض نظم الغابات في قارة أفريقيا للحرائق.

٢١ يعتبر نظام حشائش السافانا حديقة حيوان طبيعية.

٢٢ الأهمية الاقتصادية لحشائش السافانا.

٢٣ تعرض تربة نظام حشائش السافانا للتجريف.

٢٤ ارتفاع درجة الحرارة بشكل ملحوظ في نظام حشائش السافانا خاصة في فصل الصيف

٢٥ تتميز تربة حشائش الإستبس باللون الأسود.

٢٦ تنتشر حرفة الصيد في نظام حشائش الإستبس.

٢٧ الأهمية الاقتصادية لحشائش الإستبس.

٢٨ ندرة النبات الطبيعي في نظام الصحاري الحارة بأفريقيا.

٢٩ الأهمية الاقتصادية للنظام البيئي المائي (يكتفى باثنتين).

٣٠ الأهمية البيئية لنظم الأراضي الرطبة العذبة.

٣١ تعرض أشجار المانجروف للتدهور.

٣٢ يعتبر نظام الشعاب المرجانية إحدى مناطق التنوع البيولوجي المهمة.

٣٣ تأسيس الصندوق الأفريقي لتغير المناخ عام ٢٠١٤ م.

س ٧ ما النتائج المترتبة على...؟

١ كثرة التبخر في نظام الغابات المدارية المطيرة.

٢ تعرض أفريقيا لتأثير التغير المناخي.

٣ كثافة الأشجار وتشابكها في نظام الغابات المدارية المطيرة بأفريقيا.

٤ الصيد الجائر والتوسع العمراني والزراعي بقارة أفريقيا.

٥ غنى تربة الغابات المدارية المطيرة بأكاسيد الحديد.

٦ تفاوت كميات المطر من مكان لآخر في مناطق حشائش السافانا.

٧ تعرض مساحات واسعة من الأراضي بأفريقيا للتصحّر.

٨ تعرض نظام حشائش الإستبس للأخطار بشرية.

٩ غنى تربة حشائش الإستبس بالمواد المعدنية والعضوية.

١٠ غزارة الأمطار بالقرب من الأنهار وعلى منحدرات الجبال في نظام الحشائش المعتدلة (الإستبس).

١١ تعرض نظام الصحاري الحارة للعديد من موجات الجفاف.

١٢ وجود مناطق طبيعية ومعالم تاريخية في نظم الصحاري الحارة

١٣ تعرض الأراضي الرطبة العذبة للتجفيف وإزالة النبات.

١٤ تتعرض النظم البحرية العذبة بأفريقيا للتدهور.

١٥ إدخال أنواع جديدة من الأسماك في بحيرة فيكتوريا.

١٦ تعرض الشواطئ لعمليات ردم.

١٧ نمو أعشاب بحرية في نظام الأراضي الرطبة المالحة.

س ٨ دّل على صحة العبارات التالية:

سلسلة كتب الأستاذ

١ يتفاوت حجم النظم البيئية في العالم.

٢ يرجع اختلال النظام البيئي إلى عوامل بشرية وطبيعية.

٣ يعيش في غابات البحر المتوسط بعض القوارض.

٤ للغابات المدارية المطيرة أهمية اقتصادية.

٥ تتعدد الأخطار التي تواجه الغابات بقارة أفريقيا.

٦ تتسم تربة غابات البحر المتوسط بتعدد ألوانها.

٧ تتعدد أنواع الأشجار التي تنمو في نظام الغابات المدارية المطيرة.

٨ لنظام غابات البحر المتوسط أثر إيجابي على التنمية السياحية.

٩ تندر الحيوانات الضخمة آكلة العشب في نظام الغابات المدارية.

١٠ تمثل نظام حشائش السافانا مصدرًا رئيسيًا لغذاء الإنسان.

١١ يمتد نظام حشائش الإستبس في مناطق المناخ المعتدل.

١٢ يواجه نظام الحشائش الحارة بأفريقيا العديد من الأخطار الطبيعية والبشرية.

١٣ لحشائش الإستبس أهمية كبيرة.

١٤ لحشائش السافانا أهمية اقتصادية للعديد من الصناعات.

١٥ تشترك النظم الصحراوية في العالم بعدة سمات رغم اختلافها في درجة الحرارة.

١٦ ترتفع درجات الحرارة في نظم حشائش السافانا في فصل الصيف.

١٧ تنمو نباتات في نظام الصحاري الحارة قادرة على تحمل الظروف المناخية القاسية.

١٨ تتعدد الأخطار التي تواجه الصحاري بقارة أفريقيا.

١٩ لنظام الصحاري الحارة بقارة أفريقيا أهمية بالنسبة للنشاط التعديني.

٢٠ تعتبر الصحاري الأفريقية بيئة مثالية لتوليد الطاقة الشمسية.

٢١ تتعدد النظم البيئية للمياه العذبة.

٢٢ لأشجار المانجروف أهمية كبرى.

٣٣ تتعدد العوامل التي تؤثر سلبيًا على الشعاب المرجانية بقارة أفريقيا.

٣٤ تعد الشعاب المرجانية واحدة من مناطق التنوع البيولوجي في البحار والمحيطات.

٣٥ توجد العديد من المحميات الطبيعية في نظام الأراضي الرطبة المالحة.

٣٦ تتعدد العوامل التي تؤدي إلى تدهور نظام المانجروف.

٣٧ تعمل مصر على التوسع في إنشاء مدن صديقة للبيئة.

س ٩ ما العلاقة بين...؟

١ الزلازل والنظام البيئي. سلسلة كتب الأستاذ

٢ نظام الغابات المدارية المطيرة والنشاط الصناعي.

٣ التبخر والرطوبة النسبية في نظام الغابات المدارية المطيرة بأفريقيا.

٤ الأعاصير والنظام البيئي.

٥ الجفاف وغابات البحر المتوسط. سلسلة كتب الأستاذ

٦ التغير المناخي وخطر الانقراض.

٧ الأمطار وتنوع نظام السافانا.

٨ نظام الحشائش الحارة وصناعة السكر بأفريقيا.

٩ نظام الصحاري الحارة وإنتاج الطاقة المتجددة.

١٠ التكنولوجيا الحديثة والحفاظ على النظم البيئية.

١١ الأراضي الرطبة العذبة والاحتباس الحراري.

س ١٠ ما المقصود بكل من...؟

١ النظام البيئي.

٢ المدى الحراري السنوي.

٣ الرطوبة النسبية.

٤ السافانا.

٥ الصحراء.

٦ التوازن البيئي.

٧ السبخات.

٨ النظام البيئي المائي.

٩ الشعاب المرجانية.

س ١١ ماذا يحدث إذا...؟

١ لم تتميز الغابات المدارية المطيرة بكثافة أشجارها.

٢ اختفى نظام الغابات المدارية المطيرة في قارة أفريقيا.

٣ لم تسقط الأمطار الشتوية في مناطق غابات البحر المتوسط.

٤ اختفى نظام الحشائش الحارة من قارة أفريقيا (بالنسبة للثروة الحيوانية).

٥ اختفت النباتات من النظم البيئية المائية العذبة بقارة أفريقيا.

س ١٢ ما تقييمك لمصادقية العبارات الآتية...؟

١ تتعرض بعض الحيوانات لخطر الانقراض في نظم الغابات بقارة أفريقيا نتيجة عوامل طبيعية وبشرية.

٢ للغابات المدارية المطيرة أهمية سياحية كبيرة.

٣ تتعدد طرق تكيف غابات البحر المتوسط مع الظروف المناخية لتظل دائمة الخضرة.

٤ يعد الحفاظ على غابات حوض الكونغو ضرورة للتوازن البيئي.

٥ ينخفض المدى الحراري السنوي في نظام الحشائش الحارة.

٦ تتنوع الحيوانات والطيور بالحشائش المعتدلة.

٧ يعد السافانا مصدر غذاء للإنسان.

٨ تعرض التربة في نطاق السافانا للتجريف طبيعياً.

٩ تتسم تربة نظام الصحاري الحارة بغناها من المواد العضوية والمعدنية.

١٠ تشتهر البحيرات الأفريقية العذبة بالتنوع البيولوجي.

١١ تنمو أشجار المانجروف في المناطق الساحلية المعتدلة.

١٢ تنتشر أشجار المانجروف في أفريقيا بصورة أكثر وضوحاً على سواحل المحيط الهندي.

س ١٣ أجب حسب المطلوب:

• حدّد النظم البيئية التي تنتمي إليها الكائنات الحية الآتية:

- | | |
|--------------|---------|
| ١ النورس. | (.....) |
| ٢ الأفاعي. | (.....) |
| ٣ الماهوجني. | (.....) |
| ٤ السناجب. | (.....) |

• حدد النظام البيئي الذي تنتمي له المناطق التالية بقارة أفريقيا:

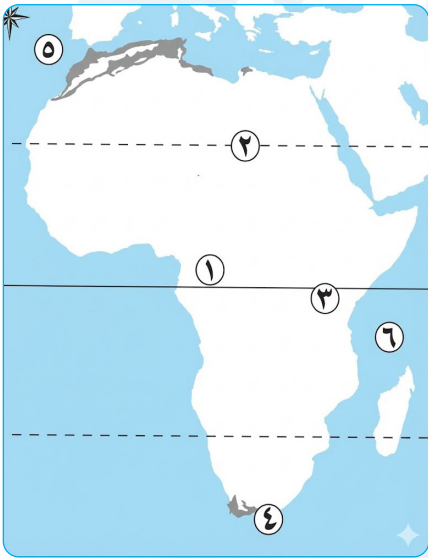
- | | |
|-------------------------|---------|
| ١ طائر الحباري. | (.....) |
| ٢ صقر الجديان الأفريقي. | (.....) |
| ٣ حوض نهر الكونغو. | (.....) |
| ٤ بحيرة تنجانيقا. | (.....) |
| ٥ محمية حوض أركين. | (.....) |
| ٦ وحيد القرن. | (.....) |

س ١٤ أمامك خريطة صماء لقارة أفريقيا، اكتب ما تشير إليه الأرقام التي عليها:



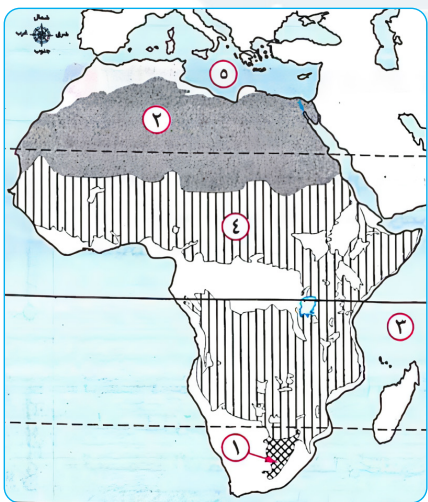
• خريطة (١):

- ١ غابات
- ٢ مدار
- ٣ دائرة
- ٤ غابات
- ٥ المحيط
- ٦ جزيرة



• خريطة (٢):

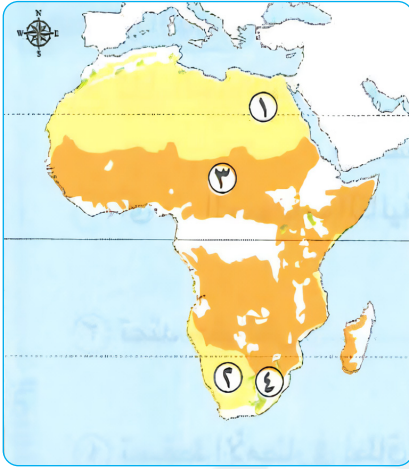
- سلسلة كتب الأستاذ
- ١ غابات
 - ٢ مدار
 - ٣ دائرة
 - ٤ غابات
 - ٥ المحيط
 - ٦ مسطح مائي



• خريطة (٣):

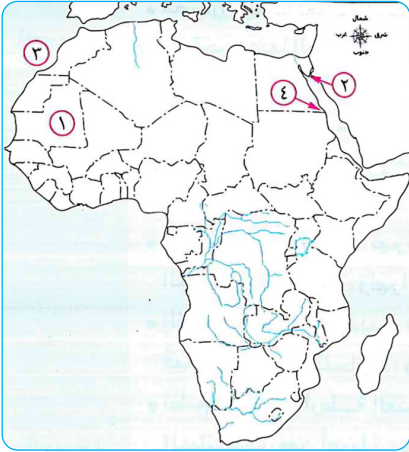
- سلسلة كتب الأستاذ
- ١ حشائش
 - ٢ أحد الأنظمة البيئية
 - ٣ المحيط
 - ٤ نظام الحشائش
 - ٥ البحر

• خريطة (٤):



- ١ يمثل الرقم إقليم الفلد.
 ٢ يمثل الرقم حشائش السافانا.
 ٣ يمثل الرقم الصحراء الكبرى.
 ٤ يمثل الرقم صحراء كلهاري.

• خريطة (٥):



- ١ محمية تراث عالمي
 ٢ محمية تنتشر بها الشعاب المرجانية
 ٣ المحيط
 ٤ محمية تتميز بوجود أشجار المانجروف

• خريطة (٦):



- ١ نهر
 ٢ بحيرة
 ٣ خليج
 ٤ نهر
 ٥ شبه جزيرة
 ٦ دائرة
 ٧ مستنقعات
 ٨ مدار

مراجعة الوحدة الرابعة

س ١ أكمل العبارات الآتية بما يناسبها من كلمات:

- ١ أولى المحطات التي وصل إليها الإسلام خارج شبه الجزيرة العربية
- ٢ اللغة العربية أصبحت لغة رئيسية لبعض الدول الأفريقية بجانب اللغة
- ٣ حاصر عمرو بن العاص مدينة طرابلس لمدة
- ٤ حرص أمراء وملوك الممالك الإسلامية في أفريقيا على إقامة المساجد مثل مسجد
- ٥ من أهم العلوم التي انتشرت خلال ازدهار الحركة العلمية في أفريقيا
- و
- ٦ قام كبار قادة المسلمين بالفتوحات الإسلامية في عهد الدولة الأموية مثل
- ٧ ساعد حفر قناة على انتشار الإسلام في أفريقيا.
- ٨ من المراكز الثقافية لنشر الإسلام في أفريقيا في مالي.
- ٩ المحيط الهندي ومضيق باب المنذب أحد معابر انتقال إلى قارة أفريقيا.
- ١٠ تولت مصر مهمة حماية الحرمين الشريفين في ظل حكم الخلافة
- ١١ أثر انتقال الخلافة إلى مدينة القاهرة إيجابياً على مصر من الناحية السياسية.
- ١٢ كانت مكانة المطارنة تلي مكانة ملك الحبشة.
- ١٣ استعان حكام الحبشة بـ لوضع القوانين التي تساعد على حماية أموال الدولة.
- ١٤ كان من ضمن الجاليات المصرية في المدن الأفريقية أو
- أو
- ١٥ ربطت قناة خليج أمير المؤمنين بين البحر الأحمر و
- ١٦ تم إنشاء بعض المراكز الإسلامية على طول الساحل الأفريقي.
- ١٧ أعطى الإسلام المرأة الأفريقية الحق في ومنع
- ١٨ ساعد دخول الإسلام إلى أفريقيا التحول من الحياة القبلية إلى نظام
- ١٩ الأفراد الذين تلقوا العلوم الدينية التي تؤهلهم لنشر الإسلام بالطرق السلمية هم
- ٢٠ المدينة التي تحولت إلى مركز ثقافي إسلامي في نيجيريا هي

س ٢ ضع علامة (✓) أمام العبارة الصحيحة، وعلامة (X) أمام العبارة غير الصحيحة:

- ١ ترتب على فتح بلاد المغرب إحكام السيطرة على شمال أفريقيا. ()
- ٢ تُعد شبه جزيرة سيناء من المعابر البرية لنشر الإسلام وفتح شمال أفريقيا. ()
- ٣ كانت الهجرات الإسلامية إلى قارة أفريقيا إحدى الوسائل المهمة لنشر الإسلام. ()
- ٤ كان الدعاة يحظون بنوع من التقدير والاحترام بين القبائل الإسلامية في أفريقيا. ()
- ٥ تم حفر قناة خليج أمير المؤمنين قبل فتح المسلمين لمصر. ()
- ٦ عرف نظام الدولة في أفريقيا قبل دخول الإسلام إليها. ()
- ٧ تم فتح مصر في عصر الدولة الأموية. ()
- ٨ تشابه موقف أهل مصر وأهل برقة من الفتح الإسلامي. ()
- ٩ فتح عقبة بن نافع طرابلس دون صعوبة رغم قوة أسوارها وحصونها. ()
- ١٠ شبه جزيرة سيناء هي المعبر البري الوحيد لأفريقيا. ()
- ١١ كان جامع سنكوري بدولة مالي بمثابة جامع وجامعة. ()
- ١٢ يعد موسى بن نصير أحد أبرز قادة الفتوحات في عهد الدولة العباسية. ()
- ١٣ كانت الهجرات الإسلامية إلى قارة أفريقيا إحدى الوسائل المهمة لنشر الإسلام. ()
- ١٤ هاجر العديد من بني أمية إلى مناطق أخرى داخل أفريقيا بعد قيام الدولة العباسية. ()
- ١٥ استفاد حكام الحبشة من الممالك سياسياً وعسكرياً. ()
- ١٦ بدأ التأثير الديني لمصر على الشعوب الأفريقية منذ عصر الممالك. ()
- ١٧ كانت الكنيسة الحبشية الأثيوبية تابعة للكنيسة المصرية. ()
- ١٨ تم تخصيص رواق المغاربة لطلاب الأزهر القادمين من إثيوبيا والبحر الأحمر. ()
- ١٩ دخل المسلمون الأوائل إلى بلاد الحبشة عن طريق المحيط الهندي. ()
- ٢٠ انتشر الإسلام في غرب أفريقيا أولاً ثم انتقل إلى شرق القارة. ()

- ١ أولى الدول الأفريقية التي فتحها المسلمون
(مصر - المغرب - الصومال - أوغندا)
- ٢ أي من البلاد الآتية عند فتحها تم حصارها لمدة شهر قبل الفتح؟
(مصر - برقة - طرابلس - أفريقية)
- ٣ اكتسب حكام الدول الإسلامية بأفريقيا شرعيتهم في حكم البلاد من خلال تأييد
(الأيوبيين - العثمانيين - المماليك - الفاطميين)
- ٤ أي من أساليب انتشار الإسلام بقارة أفريقيا كان له دور مباشر ودور غير مباشر؟
(الدعاة - التجار المسلمون - الزواج والمصاهرة - الهجرات)
- ٥ هاجر المسلمون الأوائل إلى الحبشة عبر
(المحيط الأطلنطي - المحيط الهندي - البحر الميت - البحر المتوسط)
- ٦ كان وصول العرب قديماً إلى أفريقيا مرتبطاً أساساً بالجانب
(التجاري - الديني - الثقافي - السياسي)
- ٧ ظهور جيل جديد يعتز بنسبه العربي وأصله الأفريقي في نفس الوقت نتيجة لـ
(ظهور الممالك - نشر اللغة العربية - ازدهار الحركة العلمية - الذوبان العرقي)
- ٨ عرفت أفريقيا الإسلام عن طريق الفتوحات التي وفدت إلى أفريقيا من
(شمال شرق القارة - شمال غرب القارة - جنوب شرق القارة - جنوب القارة)
- ٩ تم فتح مصر على يد القائد
(عمرو بن العاص - عقبة بن نافع - طارق بن زياد - موسى بن نصير)
- ١٠ اتجه عمرو بن العاص بجيشه لتأمين حدود مصر الغربية لفتح
(برقة - طرابلس - أفريقية - غانا)
- ١١ تم ربط البحر المتوسط بالبحر الأحمر عن طريق نهر النيل من خلال قناة مائية تم حفرها في
(عهد النبي - عصر الخلفاء الراشدين - عصر الدولة الأموية - عصر الدولة العباسية)
- ١٢ أي من الأساليب الآتية كان لها دور بارز في نشر الإسلام بشكل غير مباشر في أفريقيا؟
(الدعاة - التجار المسلمون - الزواج والمصاهرة - الهجرات)
- ١٣ من العادات التي حث عليها الإسلام في أفريقيا
(لعب الميسر - التعصب الديني - الأخذ بالتأثر - التضامن الاجتماعي)
- ١٤ تم فتح طرابلس على يد القائد المسلم
(عمرو بن العاص - عبد الله بن أبي السرح - عقبة بن نافع - موسى بن نصير)
- ١٥ أول مواجهة بين المسلمين والروم في أفريقيا كانت في
(عهد النبي - عصر الخلفاء الراشدين - عصر الدولة الأموية - عصر الدولة العباسية)

- ١٦ استوردت مصر في العصور الوسطى من الدول الأفريقية.....
(الأواني النحاسية - المصنوعات الحديدية - المصنوعات الزجاجية - ريش النعام)
- ١٧ انتقلت المؤثرات الدينية المصرية إلى أفريقيا بداية من.....
(العصور القديمة - العصور الوسطى - العصر الحديث - التاريخ المعاصر)
- ١٨ كان يتم تعيين مطران..... من خلال بطريك الإسكندرية ليكون مسئولاً عن الكنيسة الحبشية.
(صومالي - سوداني - مصري - سوري)
- ١٩ استخدم المسلمون الأوائل أثناء الهجرة إلى الحبشة معبر.....
(شبه جزيرة سيناء - المحيط الهندي - البحر المتوسط - المحيط الأطلسي)
- ٢٠ تحولت العديد من المراكز التجارية إلى مراكز ثقافية وعلمية لنشر الإسلام منها مدينة تمبكتو التي تقع حالياً في دولة.....
(الصومال - موريتانيا - مالي - غانا)
- ٢١ أرسل عبد الله بن أبي السرح حملات استطلاعية إلى أطراف.....
(برقة - طرابلس - أفريقية - الحبشة)
- ٢٢ تم هزيمة الروم في مدينة سببيلة في عهد الخليفة.....
(عمر بن الخطاب - أبي بكر الصديق - عثمان بن عفان - عمر بن عبد العزيز)
- ٢٣ تم فتح سببيلة على يد القائد.....
(عمرو بن العاص - عبد الله بن أبي السرح - عقبة بن نافع - موسى بن نصير)
- ٢٤ آخر مدينة بأفريقيا تم فتحها في عصر الخلفاء الراشدين.....
(الإسكندرية - برقة - طرابلس - سببيلة)
- ٢٥ من أشهر مساجد العلم في أفريقيا جامع سنكوري في دولة.....
(الصومال - غانا - موريتانيا - مالي)
- ٢٦ أحكم المسلمون سيطرتهم على شمال أفريقيا منذ.....
(عهد الرسول - عصر الخلفاء الراشدين - عصر الدولة الأموية - عصر الدولة العباسية)
- ٢٧ أصبحت اللغة العربية لغة رئيسية بجانب اللغة الأصلية للسكان في دولة.....
(مالي - الصومال - مصر - موريتانيا)
- ٢٨ يستدل على براعة الممالك الإدارية الاستعانة بهم في تطوير الجوانب الإدارية في.....
(أفريقية - بلاد الحبشة - مالي - غانا)
- ٢٩ إحدى السلع التي كانت تأتي إلى مصر من أفريقيا.....
(الأواني النحاسية - المصنوعات الذهبية - العاج - أدوات الزينة)
- ٣٠ من الواردات المصرية خلال العصور الوسطى من أفريقيا.....
(العاج - ريش النعام - الصمغ - جميع ما سبق)
- ٣١ حرص المسلمون على تقوية الروابط الأسرية مع الشعوب الأفريقية من خلال.....
(الدعاة - الهجرات المتعددة - التجار - الزواج والمصاهرة)

س ٤ اكتب ما تشير إليه كل عبارة من العبارات التالية:

- ١ أهم المؤسسات العلمية الدينية في مصر التي قدمت العلوم والمعرفة للدول الإسلامية.
(.....)
- ٢ الأفراد الذين تلقوا قدرًا من العلوم الدينية لنشر الإسلام وتعاليمه بالطرق السلمية.
(.....)
- ٣ جامعة أقيمت بمدينة تمبكتو وقد كانت في بدايتها مسجدًا.
(.....)
- ٤ أحد أساليب تأثير الإسلام في أفريقيا، ونتج عنه جيل جديد يفخر بنسبه.
(.....)
- ٥ رواق خصص للطلاب الوافدين من بلاد الحبشة وسواحل البحر الأحمر.
(.....)
- ٦ الفترة الزمنية التي امتدت من القرن الخامس حتى القرن الخامس عشر الميلادي.
(.....)
- ٧ أماكن للدراسة والإعاشة الكاملة بالمجان تخصص للطلاب الدارسين بالأزهر.
(.....)
- ٨ رواق ضم طلاب شمال أفريقيا وبلاد المغرب العربي.
(.....)
- ٩ فريضة من فرائض الإسلام كانت عاملاً من عوامل قيام العلاقات الثقافية بين مصر والدول الأفريقية.
(.....)
- ١٠ كنيسة كانت تتبع لها الكنيسة الإثيوبية.
(.....)
- ١١ فئة من مصر استفاد منها حكام الحبشة عسكرياً وإدارياً في تطوير شئون بلادهم.
(.....)
- ١٢ مدينة انتقلت إليها الخلافة العباسية بعد سقوط الخلافة في بغداد.
(.....)
- ١٣ دولة أفريقية سعى حكام أفريقيا إلى الحصول على تأييدها السياسي للاعتراف بشرعيتهم.
(.....)
- ١٤ قناة تم حفرها بعد الفتح الإسلامي لمصر ساعدت على انتشار الإسلام في أفريقيا.
(.....)
- ١٥ أولى المحطات الأفريقية التي وصل إليها الإسلام.
(.....)
- ١٦ جامع بمصر قام بدور مهم في الحفاظ على الهوية الإسلامية عبر تاريخه الطويل.
(.....)
- ١٧ دولة أفريقية كانت الوسيط الوحيد في استيراد سلع الشرق ونقلها لأفريقيا.
(.....)

س ٥ صوّب ما تحته خط فيما يلي:

- ١ اتخذ عبد الله بن أبي السرح الطريق الساحلي حتى وصل قرب **طرابلس**. (.....)
- ٢ حرص المسلمون الأفارقة على إقامة شعائر الإسلام فتعلموا اللغة **اللاتينية**. (.....)
- ٣ أنشأ المسلمون الأوائل بعض المراكز الإسلامية على طول الساحل **الغربي** الأفريقي. (.....)
- ٤ كانت أولى المحطات التي وصل إليها الإسلام خارج شبه الجزيرة العربية **برقة**. (.....)
- ٥ قبل فتح طرابلس تم حصارها لمدة **سنة أشهر**. (.....)
- ٦ الإشراف على مصالح المسلمين في بلاد الحبشة خلال العصور الوسطى كان من مهام مبعوث **الكنيسة العراقية**. (.....)
- ٧ بعد انتشار الإسلام في أفريقيا تحول النظام السياسي فيها إلى نظام **القبيلة**. (.....)
- ٨ رواق **الجبرية** ضم طلابًا من شمال أفريقيا. (.....)
- ٩ ظهرت في حضارات السودان المعبودات المصرية، وهذا يدل على العلاقات **السياسية** القوية بين مصر وأفريقيا. (.....)
- ١٠ خلال العصور الوسطى كانت مصر هي الوسيط الوحيد في استيراد سلع **الغرب** ونقلها لأفريقيا. (.....)
- ١١ أرسل عبد الله بن أبي السرح حملات استطلاعية لأطراف أفريقية لمعرفة قدرة **الفرس** على صد هجمات المسلمين. (.....)

س ٦ لمن تنسب الأعمال التاريخية التالية...؟

- ١ أمر أصحابه بالهجرة إلى الحبشة. (.....)
- ٢ ملك بقارة أفريقيا لعب دورًا هامًا في هجرة المسلمين الأوائل للحبشة. (.....)
- ٣ أرسل البنائين للساحل الشرقي الأفريقي. (.....)
- ٤ قائد مسلم قام بفتح سببيلة. (.....)
- ٥ قائد مسلم قام بفتح مصر. (.....)
- ٦ بطريك كان يقوم بتعيين مطران للكنيسة الحبشية. (.....)
- ٧ كان يقوم بارسال مبعوثين للإشراف على مصالح المسلمين بالحبشة. (.....)
- ٨ الخليفة الذي بدأ في عهده فتح مصر. (.....)
- ٩ أرسل الحملات الاستطلاعية لأطراف أفريقية. (.....)
- ١٠ استأذن الخليفة عثمان بن عفان في فتح أفريقية. (.....)

١ أهمية المحيط الهندي ومضيق باب المندب لانتشار الإسلام في أفريقيا.

٢ أهمية حفر قناة خليج أمير المؤمنين.

٣ ترحيب أهل برقة ومصر بالفتح الإسلامي.

٤ فتح عمرو بن العاص برقة.

٥ اتجاه عمرو بن العاص بجيشه لفتح طرابلس.

٦ إقبال القبائل الأفريقية على تعلم اللغة العربية.

٧ تميز شرق أفريقيا بالسبق إلى الإسلام.

٨ إرسال عبد الله بن أبي السرح حملات استطلاعية لأطراف أفريقية (تونس حالياً).

٩ هجرة بعض المسلمين إلى بلاد الحبشة في عهد النبي.

١٠ أهمية شبه جزيرة سيناء في نشر الإسلام في أفريقيا.

١١ تحول أفريقيا من النظام القبلي إلى نظام الدولة.

١٢ ارتفاع مكانة القاهرة بعد سقوط الخلافة العباسية في بغداد.

١٣ إرسال بطريك الإسكندرية مبعوثاً مصرياً إلى الكنيسة الحبشية.

١٤ سعى حكام الدول الإسلامية في أفريقيا للحصول على تأييد مصر السياسي.

١٥ أهمية فريضة الحج في العلاقات الثقافية المصرية الأفريقية.

س ٨ ما النتائج المترتبة على ... ؟

١ قرب الموقع الجغرافي للساحل الشرقي الأفريقي من شبه الجزيرة العربية.

٢ إنشاء المسلمين الأوائل مراكز إسلامية على طول الساحل الشرقي الأفريقي.

٣ نجاح المسلمين في فتح سببيلة.

٤ معاناة المصريين من حكم الروم.

٥ فرار بني أمية إلى السودان.

٦ الذوبان العرقى بين المسلمين العرب والأفارقة. الاستاذ

٧ ارتباط الدين الإسلامي باللغة العربية.

٨ حرص أمراء الممالك الإسلامية في أفريقيا على إقامة دور العلم والمساجد.

٩ عودة الطلاب الأفارقة بعد دراستهم بالأزهر الشريف إلى بلادهم في أفريقيا.

١٠ سقوط الخلافة العباسية في بغداد بالنسبة لمصر. الاستاذ

١١ استعانة الأحباش بالماليك في الجانب العسكري.

١٢ مرور حجاج الدول الأفريقية عبر مصر إلى بلاد الحرمين.

١٣ شهرة المنتجات المصرية المصدرة لأفريقيا في العصور الوسطى بالجودة والدقة الفنية.

س ٩ دلل على صحة العبارات التالية:

- ١ تعددت معابر انتقال الإسلام إلى أفريقيا.
- ٢ تعد الحبشة أولى المحطات التي وصل إليها الإسلام خارج شبه الجزيرة العربية.
- ٣ تنوعت أساليب انتشار الإسلام في أفريقيا.
- ٤ تعددت الفتوحات الإسلامية في شمال أفريقيا.
- ٥ كان للإسلام دور في تنظيم عادات وتقاليد الزواج في أفريقيا.
- ٦ تعددت أروقة الطلاب الأفارقة بالأزهر الشريف.
- ٧ ارتبط انتشار الإسلام في أفريقيا بانتشار اللغة العربية.
- ٨ كان للإسلام دور مهم في تشكيل الهوية الثقافية والاجتماعية لشعوب أفريقيا.
- ٩ ظهور الممالك الإسلامية في أفريقيا.
- ١٠ لعب التجار المسلمون بشكل غير مباشر دورًا بارزًا في نشر الإسلام في أفريقيا.
- ١١ ساهم المماليك في تطوير النظم الدفاعية للحبشة.
- ١٢ تعددت المنتجات التي استوردتها مصر من أفريقيا.
- ١٣ اكتسب معظم المطارنة المصريين مكانة رفيعة تلي مكانة ملك الحبشة.

١٤ ارتفاع مكانة القاهرة سياسياً بين الدول الأفريقية بعد انتقال الخلافة العباسية إليها.

١٥ قام الدعاة وعلماء الدين بدور بارز في نشر الإسلام.

١٦ كان للإسلام في أفريقيا بعد انتشاره دور هام في رفع شأن المرأة.

١٧ أثر دخول الإسلام على طبيعة الحياة السياسية في العديد من البلاد الأفريقية.

١٨ احتفظت مصر بمكانتها الدينية على المستوى الأفريقي بعد انتشار المسيحية.

١٩ ساهم الخليفة عبد الملك بن مروان في نشر مظاهر الحضارة الإسلامية في الساحل الأفريقي.

٢٠ المكانة المرموقة للمطارنة المصريين في بلاد الحبشة. سلسلة كتب الأستاذ

س ١٠ ما المقصود بكل من...؟

١ الدعاة.

٢ أروقة الأزهر الشريف.

٣ العصور الوسطى. سلسلة كتب الأستاذ

الإجابات الاسترشادية

مراجعة الوحدة الأولى

السؤال الأول:

- ١ البحر المتوسط. ٢ آسيا. ٣ باب المنذب.
٤ الأطلسي. ٥ جبل طارق. ٦ غرب أفريقيا.
٧ البحيرات الاستوائية. ٨ جنوب السودان.
٩ الشمال. ١٠ البحيرات الاستوائية.
١١ أطلس والكاب. ١٢ الشرق. ١٣ البحر الأحمر.
١٤ الحبشة. ١٥ هضبة الحبشة البركانية.
١٦ المغرب العربي. ١٧ تنزانيا. ١٨ أوغندا.
١٩ المتوسط. ٢٠ الصيف. ٢١ مصر الزراعية.
٢٢ الأندوجو. ٢٣ إسبانيا. ٢٤ المتوسط.
٢٥ الكهرومائية.

السؤال الثاني:

- | | | | | |
|------|------|------|------|------|
| ✓ ١ | × ٢ | ✓ ٣ | × ٤ | ✓ ٥ |
| × ٦ | ✓ ٧ | ✓ ٨ | ✓ ٩ | ✓ ١٠ |
| ✓ ١١ | × ١٢ | × ١٣ | ✓ ١٤ | ✓ ١٥ |
| × ١٦ | ✓ ١٧ | ✓ ١٨ | ✓ ١٩ | ✓ ٢٠ |
| × ٢١ | ✓ ٢٢ | × ٢٣ | ✓ ٢٤ | ✓ ٢٥ |
| × ٢٦ | × ٢٧ | ✓ ٢٨ | × ٢٩ | ✓ ٣٠ |

السؤال الثالث:

- ١ مالي. ٢ تونس. ٣ السودان.
٤ مصر. ٥ المحيط الأطلسي.
٦ جيبوتي. ٧ البحر المتوسط.
٨ قناة السويس. ٩ الشمال. ١٠ محمد علي.
١١ المسعودي. ١٢ هنري الملاح. ١٣ البرتغاليين.
١٤ المحيط الهندي. ١٥ الجزائر. ١٦ الشرقية.
١٧ البحر المتوسط. ١٨ العوينات. ١٩ شمال أفريقيا.
٢٠ أكسوم. ٢١ مصر. ٢٢ الحبشة.
٢٣ دراكنزبرج. ٢٤ الشطوط. ٢٥ جبال أطلس.
٢٦ كينيا. ٢٧ المحيط الهندي. ٢٨ نهر السوايط.
٢٩ نهر كاجيرا. ٣٠ نهر السوايط. ٣١ السودان.

- ٣٢ إريتريا وأثيوبيا. ٣٣ الغرب. ٣٤ فيكتوريا.
٣٥ أثيوبيا. ٣٦ سد أوين. ٣٧ إريتريا.
٣٨ الفينيقيين. ٣٩ قرطاج. ٤٠ الإخاء.

السؤال الرابع:

- ١ الحضارة. ٢ الأخدود الأفريقي.
٣ سيناء. ٤ باب المنذب. ٥ جزر القمر.
٦ سيناء. ٧ الجزائر. ٨ دول ساحلية.
٩ دول حبيسة. ١٠ مصر. ١١ نبتة.
١٢ سهول فيضية. ١٣ الهضبة الجنوبية.
١٤ جبال أطلس. ١٥ جبال البحر الأحمر.
١٦ سهول نهر النيل. ١٧ البحر المتوسط.
١٨ المحيط الأطلسي. ١٩ الاقتصاد الأزرق. ٢٠ حضارة قرطاج.
٢١ حوض النهر. ٢٢ حضارة أكسوم. ٢٣ النهر الدولي.
٢٤ الأندوجو. ٢٥ الاقتصاد الأخضر.

السؤال الخامس:

- ١ دراكنزبرج. ٢ المحيط الهندي.
٣ دائرة الاستواء. ٤ موزمبيق. ٥ البرتغاليون.
٦ السودان. ٧ شمال أفريقيا. ٨ جزيرة مدغشقر.
٩ الصحراء الكبرى. ١٠ الهضبة الجنوبية. ١١ غرب.
١٢ السودان. ١٣ البحر الأحمر. ١٤ توبقال.
١٥ شايب البنات. ١٦ كلمنجاو. ١٧ الغرب.
١٨ الصيف. ١٩ شمال شرق. ٢٠ قرطاج.

السؤال السادس:

- ١ حر - خوف. ٢ محمد علي باشا.
٣ الخديوي إسماعيل. ٤ ابن بطوطة. ٥ جمال حمدان

السؤال السابع:

- ١ لأنها تشرف بحكم موقعها الجغرافي على ممرات مائية مهمة مثل مضيق جبل طارق ومضيق باب المنذب وقناة السويس.
٢ بسبب تصارع الدول الاستعمارية عليها لنهب خيراتها واستغلال ثرواتها الطبيعية وضمان السيطرة عليها.

- ٣ أدى إلى تعرض مصر إلى العديد من الحملات العسكرية من خلال شبه جزيرة سيناء.
- ٤ بسبب الموقع الفلكي لقارة أفريقيا.
- ٥ أدى إلى إرسال رحلات لاكتشاف منابع النيل وانتهت باكتشاف النيل الأبيض ورسم خريطة للنيل حتى جنوب السودان.
- ٦ أدى إلى تقسيم قارة أفريقيا لعدد كبير من الدول مختلفة المساحة.
- ٧ أدى إلى خصوبة التربة وقيام الزراعة بها ونشأة الحضارات.
- ٨ أدى إلى ضيق السهول الساحلية ببلاد المغرب.
- ٩ أصبحت هضبة البحيرات الاستوائية المنبع الدائم لنهر النيل.
- ١٠ ترتب على ذلك تكون الجليد على قمته رغم وقوعه بالمنطقة الاستوائية.
- ١١ أدى إلى خصوبة التربة بهضبة الحبشة - أدى إلى تكوين الجبال البركانية منها جبل كينيا وكلمنجارو ودراكنزبرج.
- ١٢ أدى إلى وجود النباتات الطبيعية والمحاصيل الزراعية.
- ١٣ أدى إلى ضيق السهول الساحلية على البحر الأحمر.
- ١٤ أدى إلى وصول كميات قليلة إلى مصر من مياه المناخ الدائمة.
- ١٥ عرف الإنسان الزراعة واستأنس الحيوانات ثم أنشأ القرى ثم المدن ثم الأقاليم وبعد ذلك استطاع توحيد البلاد وتكوين الأسرات الحاكمة.
- ١٦ أدى إلى وجود مركز تجاري قوي بأكسوم وملتقى الطرق التجارية.
- ١٧ حكمت قرطاج معظم ساحل شمال أفريقيا وبعض جزر البحر المتوسط.
- ١٨ أدى إلى استدامته ووصوله إلى مصر.

السؤال التاسع:

- ١ حيث نشأت العديد من الحضارات في العالم على أرضها مثل الحضارة المصرية القديمة في مصر وحضارة كوش في السودان وحضارة أكسوم في إريتريا وأثيوبيا وحضارة قرطاج في تونس.

- ٣ بسبب الموقع الجغرافي المتميز لقارة أفريقيا.
- ٤ بسبب الموقع الجغرافي الذي أدى إلى تحكمها في أهم طرق الملاحة العالمية - والموقع الفلكي الذي أدى إلى تنوع مناخها وبالتالي تنوع النباتات الطبيعية والحيوانات والمحاصيل الزراعية.
- ٥ بسبب انتقال بعض الثقافات والحضارات عن طريقها من آسيا إلى أفريقيا مثل الحضارة الإسلامية.
- ٦ لتأمين الملاحة والتجارة.
- ٧ لتدعيم علاقتها مع دول وشعوب أفريقيا.
- ٨ لأنه أعلى قمة جبلية أفريقية وانخفاض درجات الحرارة.
- ٩ لأنها تتميز بمناظر طبيعية خلابة تجذب السياح الذين يمارسون العديد من الأنشطة السياحية بالمناطق الجبلية.
- ١٠ بسبب الطفوح البركانية.
- ١١ بسبب الأمطار التي تسقط عليها في فصل الصيف.
- ١٢ بسبب الانكسارات الطولية التي تتجه من الجنوب إلى الشمال.
- ١٣ بسبب اقتراب أو ابتعاد المرتفعات من السواحل بأفريقيا.
- ١٤ بسبب وجود جبال البحر الأحمر.
- ١٥ بسبب المستنقعات وزيادة التبخر.
- ١٦ بهدف: ١- تنظيم استخدام مياه الأنهار وتنميتها وإدارتها وحمايتها.

٢- تحقيق الانتفاع الأمثل والمستدام بها للأجيال الحالية والمقبلة.

- ١٧ لاستخدام مياه نهر النيل ضوابط منها التعاون والتنمية وعدم التسبب في ضرر والاستخدام المنصف والمناسب لمياه نهر النيل.
- ١٨ بسبب امتداد مجراه وروافده داخل أراضي إحدى عشرة دولة.
- ١٩ لتحقيق التنمية المستدامة لمياه نهر النيل في دول حوض النيل.
- ٢٠ بسبب وجود العوامل الطبيعية منها الموقع المتميز والثروات الطبيعية من مياه عذبة ونباتات طبيعية وثروة حيوانية ومعادن ومصادر طاقة - وعوامل بشرية منها سكان القارة الذين استطاعوا استثمار الثروات الطبيعية.

السؤال الثامن:

- ١ أدى إلى تحكمه في أهم طرق الملاحة العالمية.
- ٢ أدى ذلك إلى وجود فرصة قوية لتعميق دور مصر الريادي في قارة أفريقيا وتدعيم علاقاتها مع دول وشعوب القارة الأفريقية.

السؤال العاشر:

- ١ أدى الاستعمار الأوروبي لأفريقيا إلى معاناة أفريقيا من الفقر رغم ما تمتلكه من ثروات طبيعية متعددة.
- ٢ أرسل الملك نخاو الثاني بعثة للدوران حول أفريقيا بدأت من البحر الأحمر وعادت من مضيق جبل طارق واستمرت ثلاث سنوات.
- ٣ ولذلك فإن الحفاظ على أمن شبه جزيرة سيناء ضرورة للحفاظ على الأمن القومي المصري والأفريقي.
- ٤ الموقع الجغرافي لقارة أفريقيا أدى إلى تحكمه في أهم طرق الملاحة العالمية.
- ٥ تصارع الدول الاستعمارية الأوروبية على قارة أفريقيا أدى إلى تقسيم قارة أفريقيا لعدد كبير من الدول مختلفة المساحة.
- ٦ تعد هضاب شرق ووسط أفريقيا هي المنبع الدائم والموسمي لنهر النيل وساعدت على استدامته.
- ٧ تتميز سهول نهر النيل في مصر السودان بخصوبة تربتها لأنها تكونت من الطمي الذي نقلته مياه نهر النيل من هضبة الحبشة البركانية.
- ٨ ساعد الأخدود الأفريقي العظيم على تشكيل سطح أفريقيا مثل البحر الأحمر وخليجي العقبة وعدن.
- ٩ تتسع أو تضيق السهول الساحلية في شمال أفريقيا بسبب اقتراب أو ابتعاد الجبال من ساحل البحر المتوسط.
- ١٠ ساعد نهر النيل على قيام الحضارات القديمة في أفريقيا ومنها الحضارة المصرية القديمة وحضارة كوش وحضارة أكسوم.
- ١١ قام الفينيقيون بتأسيس قرطاج لتأمين التجارة بين بلاد فينيقيا وإسبانيا.

السؤال الحادي عشر:

- ١ مجموع الإنتاج الثقافي مثل العادات والتقاليد والعلوم والفنون والقيم والإنتاج المادي مثل القلاع والمباني والقصور وهو ما يميز مجتمع عن غيره.
- ٢ الأهمية وقت السلم ووقت الحروب والأزمات.
- ٣ هي الدول التي تطل على بحار ومحيطات.
- ٤ هي الدول لا تطل على مسطحات مائية كبحار ومحيطات.

- ٢ حيث إن أفريقيا تشرف على ممرات مائية مهمة مثل مضيق جبل طارق ومضيق باب المندب وقناة السويس.
- ٣ حيث قام المصريون القدماء أثناء عهد الملك نخاو الثاني بإرسال بعثة للدوران حول أفريقيا بدأت من البحر الأحمر وعادت عبر مضيق جبل طارق واستمرت الرحلة ثلاث سنوات.
- ٤ حيث تعرضت مصر للعديد من الحملات العسكرية من خلالها ولذلك فإن الحفاظ على أمن شبه جزيرة سيناء ضرورة للحفاظ على الأمن القومي المصري والأفريقي.
- ٥ حيث وصلت قوافلهم إلى السودان وبلاد الحبشة وجزر القمر وغيرها وساهموا في نشر الإسلام.
- ٦ حيث توجد الصحراء الكبرى أكبر الصحاري الحارة في العالم - وجبال مثل جبل العوينات على الحدود بين مصر وليبيا والسودان - ومنخفضات مثل منخفض القطارة بمصر - والعديد من الواحات مثل واحة سيوة بمصر وواحة الجوف بليبيا.
- ٧ حيث دولة تنزانيا تتميز بسهول ساحلية واسعة - بينما في دولة كينيا تكون عبارة عن شريط ضيق ينحصر بين الساحل وهضبة البحيرات الاستوائية.
- ٨ حيث تعد جبال البحر الأحمر وخليج العقبة جزءاً من الأخدود الأفريقي العظيم.
- ٩ حيث قامت مصر بتطهير بحيرتي فيكتوريا وكيوجا من الحشائش والنباتات.
- ١٠ حيث قامت بنحت التماثيل - وبناء المعابد والأهرامات مثل أهرامات مروى - عبادة بعض المعبودات المصرية القديمة مثل الإله رع - الإله آمون - الإله أوزوريس - الإلهة إيزيس.
- ١١ حيث قامت بإنشاء خزان سنار على النيل الأزرق لصالح السودان - إنشاء سد أوين بأوغندا - دفع تكاليف إنشاء خزان جبل الأولياء في السودان لتوليد الطاقة الكهرومائية - تطهير بحيرتي فيكتوريا وكيوجا من الحشائش والنباتات - حفر عشرات الآبار في كينيا - إنشاء مركز للبحوث المائية في تنزانيا.

مراجعة الوحدة الثانية

السؤال الأول:

- ١ النبل كاعبر. ٢ خوفو. ٣ خفرع. ٤ أوغندا. ٥ سبك نفرو. ٦ أواريس. ٧ كوش. ٨ أحمس الأول. ٩ الكرنك. ١٠ آسيا. ١١ مجدو. ١٢ رمسيس الثالث. ١٣ بناء الأهرام. ١٤ إيمحوتب. ١٥ فينيقيا. ١٦ رع. ١٧ قادش. ١٨ قمنة وسمنة. ١٩ الفرات. ٢٠ آتون.

السؤال الثاني:

- ١ X ٢ ✓ ٣ X ٤ ✓ ٥ ✓ ٦ ✓ ٧ X ٨ ✓ ٩ ✓ ١٠ ✓ ١١ X ١٢ ✓ ١٣ ✓ ١٤ ✓ ١٥ X ١٦ X ١٧ ✓ ١٨ X ١٩ ✓ ٢٠ X ٢١ ✓ ٢٢ ✓ ٢٣ X ٢٤ ✓ ٢٥ ✓ ٢٦ X ٢٧ X ٢٨ X ٢٩ ✓ ٣٠ X ٣١ ✓ ٣٢ X ٣٣ ✓ ٣٤ X ٣٥ X

السؤال الثالث:

- ١ العتيق. ٢ أبو صير. ٣ الخامسة. ٤ منتوحتب الثاني. ٥ الليبيين. ٦ الملكة سبك نفرو. ٧ القوة. ٨ أمنمحات الثالث. ٩ شبه جزيرة سيناء. ١٠ نهر النيل. ١١ كامس. ١٢ الدولة الحديثة. ١٣ الكرنك. ١٤ توت عنخ آمون. ١٥ أبو سمبل. ١٦ رمسيس الثاني. ١٧ الدولة الحديثة. ١٨ الإسكندر الأكبر. ١٩ هرم كامل. ٢٠ زوسر. ٢١ الرابعة. ٢٢ الجنوبية. ٢٣ فينيقيا. ٢٤ فينيقيا. ٢٥ عصر الدولة القديمة. ٢٦ رع. ٢٧ خوفو. ٢٨ الرابعة. ٢٩ أوناس. ٣٠ منتوحتب الثاني. ٣١ طيبة. ٣٢ بلاد بونت. ٣٣ إثيث تاوي. ٣٤ موقعها الجغرافي. ٣٥ الليبيين.

٥ جبال نشأت نتيجة الثورات البركانية.

- ٦ استثمار الموارد المائية بشكل مستدام لتحقيق التنمية المستدامة والقضاء على الفقر وتحقيق الاكتفاء الذاتي من الغذاء مع المحافظة على النظام البيئي. ٧ النهر الذي يمتد مجراه وروافده في أكثر من دولة. ٨ يعني الإخاء باللغة السواحلية. ٩ يطلق على المساحة التي يجري بها نهر النيل وروافده. ١٠ هو الاقتصاد الصديق للبيئة الذي يستهدف تحقيق نمو اقتصادي مستدام مع الحفاظ على البيئة وتحقيق العدالة الاجتماعية والحد من الفقر والبطالة.

السؤال الثاني عشر:

- ١ لم تصبح هضبة الحبشة ذات تربة خصبة - لم تتكون الجبال البركانية بأفريقيا مثل كينيا وكلمنجارو. ٢ لم تتميز سهول نهر النيل بالخصوبة حيث لم يصل الطمي من هضبة الحبشة البركانية. ٣ لم تتكون الجبال الالتوائية مثل جبال أطلس والكاب. ٤ لم تتميز سهول نهر النيل بأنها ذات تربة خصبة. ٥ لم تصل المياه منها إلى دول حوض النيل ولم تصبح المنبع الدائم. ٦ أصبحت من أغنى القارات من حيث الاقتصاد.

السؤال الثالث عشر:

- ١ أطلس. ٢ الحبشة. ٣ فيكتوريا. ٤ مدغشقر. ٥ الأزرق. ٦ السرطان. ٧ عطبرة. ٨ كوش. ٩ دراكنزبرج. ١٠ القمر.

السؤال الرابع عشر:

- ١ الأطلنطي. ٢ المتوسط. ٣ النيجر. ٤ الكونغو. ٥ البحيرات الاستوائية. ٦ شمال أفريقيا. ٧ الأحمر. ٨ جبل طارق. ٩ موزمبيق. ١٠ الهندي.

- ١٥ أحمس الأول. ١٦ إياح حتب.
 ١٧ تحتمس الأول. ١٨ حتشبسوت.
 ١٩ توت عنخ آمون. ٢٠ رمسيس الثاني.
 ٢١ رمسيس الثالث.

السؤال السابع:

- ١ لأنه بدأ بتوحيد الملك نعرمر لمملكتي الشمال والجنوب
 وتأسيس عاصمة مصر الموحدة مدينة من نفر.
 ٢ بسبب اهتمام ملوك هذا العصر بتأمين حدود مصر
 وبناء الحصون.
 ٣ لتأمين التجارة المارة بها.
 ٤ بسبب اهتمام ملوكه ببناء مقابرهم على شكل أهرامات.
 ٥ لاعتقادهم في قدسية الملك.
 ٦ لأنه يتكون من ست مصاطب مختلفة الحجم.
 ٧ لأنه كان ملكاً عادلاً عظيماً.
 ٨ بهدف حماية الملك في الحياة الآخرة.
 ٩ بسبب زيادة الأعباء على كاهل الفلاح المصري.
 ١٠ لتأمين الحدود الشرقية والغربية.
 ١١ بسبب الإنجازات التي شهدتها هذا العصر.
 ١٢ لأنه قام بعدة أعمال، منها: نجاح في الانتصار على
 ملوك إهناسيا - أعاد السلطة المركزية القوية -
 أصلح النظام الإداري في الدولة - نجاح في الحد من
 نفوذ حكام الأقاليم - اهتم بتجميل مدينة طيبة.
 ١٣ لتكون في موقع متوسط بين الوجهين البحري والقبلي
 وحتى يتحقق له السيطرة على كل أنحاء البلاد.
 ١٤ لحماية مصر من الغارات الليبية.
 ١٥ لتربط بين البحر الأحمر والبحر المتوسط عن طريق
 نهر النيل.
 ١٦ لتخزين مياه الفيضان مما أدى إلى حماية البلاد من
 المجاعة التي قد تصيبها نتيجة انخفاض منسوب مياه نهر
 النيل.
 ١٧ بسبب ضعف الملوك - زيادة الصراعات بين حكام الأقاليم
 على السلطة.
 ١٨ لإجبار أميرها على قطع الإمدادات التي كانت تصل
 الهكسوس عن طريق نهر النيل.
 ١٩ لتستخدم في تخزين وتوزيع السلع المستوردة والمصدرة.

- ٣٦ سنوسرت الثالث. ٣٧ الاهتمام ببناء الحصون.
 ٣٨ شبه جزيرة سيناء. ٣٩ تشييد الأهرامات.
 ٤٠ شرق الدلتا. ٤١ كامس. ٤٢ فلسطين.
 ٤٣ أمنمحات الأول. ٤٤ الدولة الحديثة.
 ٤٥ الملك تحتمس الأول. ٤٦ تحتمس الثالث.
 ٤٧ تحتمس الثالث. ٤٨ أحمس الأول وتحتمس الثالث.
 ٤٩ توت عنخ آمون. ٥٠ توت عنخ آمون.
 ٥١ توت عنخ آمون. ٥٢ رمسيس الثاني.
 ٥٣ سبك نفرو ورمسيس الثاني.
 ٥٤ رمسيس الثاني. ٥٥ إرساء قواعد الحرب والسلام.
 ٥٦ الليبيين. ٥٧ بلاد بونت. ٥٨ الكوشيين.

السؤال الرابع:

- ١ أبو الهول. ٢ الديوريت.
 ٣ معابد الشمس. ٤ نصوص الأهرام.
 ٥ عصر الاضمحلال الأول.
 ٦ إثيث تاوي. ٧ سيزوستريس.
 ٨ سد اللاهون. ٩ الإمبراطورية.
 ١٠ معبد أبيدوس. ١١ العصر العتيق.
 ١٢ متون الأهرام. ١٣ الرخاء الاقتصادي.
 ١٤ طيبة. ١٥ أثيث تاوي.
 ١٦ أواريس. ١٧ كوش.

السؤال الخامس:

- ١ الهرم الأكبر. ٢ الرابعة.
 ٣ أمنمحات الثالث. ٤ سبك نفرو. ٥ أواريس.
 ٦ كوش. ٧ الفرات. ٨ مجدو.
 ٩ إخناتون. ١٠ رمسيس الثاني.
 ١١ بونت. ١٢ الدير البحري.

السؤال السادس:

- ١ نعرمر. ٢ سنفرو.
 ٣ أوسر كاف. ٤ أوناس.
 ٥ منتوحتب الثاني. ٦ أمنمحات الأول.
 ٧ أمنمحات الأول. ٨ سنوسرت الثالث.
 ٩ أمنمحات الثالث. ١٠ سبك نفرو. ١١ سبك نفرو.
 ١٢ سقنن رع الثاني. ١٣ كامس. ١٤ كامس.

- ٩ أدى إلى تعرض البلاد للأطماع الخارجية حتى سقطت فريسة في يد الهكسوس.
- ١٠ أدى إلى قطع الإمدادات التي كانت تصل إليهم من كوش عن طريق نهر النيل.
- ١١ أصبحت مصر مركزاً تجارياً متقدماً؛ مما أدى إلى وجود تأثير متبادل بينها وبين الحضارات الأخرى.
- ١٢ أدى إلى التمهيد لتكوين الإمبراطورية المصرية.
- ١٣ استطاع أن يبسط به سيطرته على الكثير من جزر البحر المتوسط وساحل فينيقيا.
- ١٤ أقام إمبراطورية كبيرة امتدت إلى ما وراء الجندل الرابع.
- ١٥ أعاد مدينة طيبة عاصمة للبلاد - أعاد لعبادة الإله آمون مكانتها وغير اسمه من توت عنخ آتون إلى توت عنخ آمون - أمر بإصلاح المعابد التي أغلقت أو تضررت في خلال فترة إخناتون.
- ١٦ اضطر ملك الحيثيين إلى طلب الصلح فوافق رمسيس الثاني فأبرمت أول معاهدة سلام دولية في التاريخ.
- ١٧ أدى إلى انتهاء عصر الدولة الحديثة وبداية العصر المتأخر.
- ١٨ انتهى بسيطرة الملك الكوشي على معظم أرض مصر وتكوين الأسرة الـ ٢٥.

السؤال التاسع:

- ١ حيث قام ملوكة بـ: الاهتمام باستغلال محاجر سيناء - الاهتمام بالطرق الصحراوية - السيطرة على المنطقة الواقعة جنوب الجندل الأول.
- ٢ حيث استخدموا المواد المختلفة في النحت مثل: الحجر - العاج - الخشب.
- ٣ حيث تحولت من حجرة يعلوها مصطبة إلى عدة مصاطب أخذت شكل الهرم المدرج ثم وصلت إلى شكل الهرم الكامل في عهد الملك خوفو.
- ٤ حيث قام بنحت التماثيل الملكية لاعتقاده في قدسية الملك - تماثيل النبلاء مثل تماثيل النيل كاعبر - تماثيل في وضعية الجلوس مثل تماثيل الكاتب المصري.
- ٥ حيث ظهرت النقوش البارزة على الأسطح الصلبة كالحجر والمعادن.

- ٢٠ ليحافظ على النظام والاستقرار الداخلي لمصر وحمايتها من الأخطار والتهديدات الخارجية.
- ٢١ لكثرة انتصارات ملوك هذا العصر على الأعداء.
- ٢٢ ليكون المعبد الرئيسي لمدينة طيبة.
- ٢٣ بسبب خروج أمراء آسيا بقيادة أمير قادش على الحكم المصري.
- ٢٤ للحفاظ على الإمبراطورية المصرية.
- ٢٥ لتعليمهم العادات والتقاليد المصرية، وليغرس في نفوسهم حب مصر حتى إذا ما عادوا إلى بلادهم وتولوا الحكم أصبحوا من أتباعه المخلصين.
- ٢٦ لأنه وصلت مصر في عهده إلى قمة مجدها.
- ٢٧ بسبب تزايد نفوذ الحيثيين في بلاد الشام وتحالف ملكهم مع أمراء المدن السورية ضد مصر.
- ٢٨ لأنه استطاع هزيمة شعوب البحر المتوسط - تصدى للبيبين الذين هاجموا حدود مصر الغربية.
- ٢٩ بسبب تولي الحكم ملوك ضعفاء بعد رمسيس الثالث - تدخل كهنة الإله آمون بطيبة في شئون الحكم.
- ٣٠ بسبب اتساع الإمبراطورية المصرية في عصر الدولة الحديثة.

السؤال الثامن:

- ١ أدى إلى إرسال أسطول بحري مكون من ٤٠ سفينة إلى بلاد فينيقيا.
- ٢ أدى إلى سقوط الأسرة الرابعة وتأسيس الأسرة الخامسة على يد كبيرهم أوسر كاف.
- ٣ قام بتشديد المسلات الضخمة - ومعابد الشمس المكشوفة في أبي صير بالجيزة.
- ٤ أدى إلى تدهور الأحوال السياسية والاقتصادية والاجتماعية وانتهاء عصر الدولة القديمة.
- ٥ أدى إلى انتهاء عصر الدولة القديمة.
- ٦ تعرضت البلاد للانقسام والغارات الخارجية وتوقف عجلة البناء والتطور الحضاري.
- ٧ نتج عنها زيادة حركة التجارة بين مصر وجيرانها.
- ٨ أسست الكثير من المعابد - استكملت بناء هرم والدها في منطقة هواره - أنشأت هرمًا خاصًا بها بالقرب من منطقة دهشور.

- ٦ حيث استخدم الألوان لتصميم الصور الجدارية على جدران المعابد.
- ٧ حيث استطاع الفنان المصري القديم استخدام أصلب أنواع الحجر في نحت التماثيل مثل حجر الديوريت.
- ٨ حيث يعد أول من كتب نصوص الأهرام على جدران المقابر من الداخل؛ بهدف حماية الملك في الحياة الآخرة.
- ٩ حيث أرسل ملوك الأسرة الخامسة والسادسة الرحلات التجارية والاستكشافية إلى أفريقيا مثل رحلات الرحالة حرخوف نحو الجنوب في أفريقيا.
- ١٠ من خلال انتشار بعض العادات المصرية بين الشعوب الأفريقية مثل التحنيط، وتم تحنيط جثث ملوك وأمراء الكونغو وإن لم يعرفوا أسرار التحنيط كاملة.
- ١١ حيث أعاد السلطة المركزية وأصلح النظام الإداري واهتم بتجميل طيبة وأنشأ المعابد فيها وقام بالتوسع جنوباً وأرسل بعثة تجارية إلى بلاد بونت عبر الصحراء.
- ١٢ حيث قام سنوسرت الثالث ببناء الحصون مثل حصني سمنة وقمنة عند الجندل الثاني، وأقام أمنمحات الثالث مقاييس للنيل عند الجندل الثاني؛ لمراقبة ارتفاع منسوب مياه النيل.
- ١٣ حيث قامت الملكة سبك نفرو بتأسيس العديد من المعابد - استكملت بناء هرم والدها في منطقة هواره - أنشأت هرمًا خاصًا بها بالقرب من منطقة دهشور.
- ١٤ حيث قام الهكسوس بتدمير المعابد وسلب ممتلكات المصريين وفرض الضرائب.
- ١٥ حيث عمل ملوك هذه الأسرة على تنظيم أمور ممتلكاتهم في طيبة وبث الشعور الوطني وروح المقاومة لدى المصريين لمواجهة الهكسوس.
- ١٦ حيث قام بحملة مفاجئة على أرض كوش وأجبر أميرها على قطع الإمدادات التي كانت تصل إلى الهكسوس عن طريق النيل.
- ١٧ شجعت ابنها كامس وأحمس على الاستمرار في الكفاح بعد مقتل أبيهما سقنن رع، كما تولت نيابة عنهما شئون الحكم إلى حين عودتهما منتصرين.
- ١٨ حيث تم تبادل الحلي والمجوهرات والعمود والمعادن والعاج والتوابل والزيوت كزيت الزيتون والنخيل.
- ١٩ حيث قام بثورة دينية ودعا فيها إلى عبادة إله واحد وهو آتون، ورمز له بقرص الشمس.
- ٢٠ حيث أصبحت فيها مصر بلدًا حرًا قويًا عاشت خلالها فترة من الاستقرار والرخاء.
- ٢١ حيث توجه نحو الجنوب للقضاء على حركات التمرد وإعادة الأمن.
- ٢٢ حيث اهتم بالبناء والتعمير وإصلاح ما تم هدمه من معابد أثناء فترة الهكسوس.
- ٢٣ حيث فضل أن يدفن في مكان خفي فاختر له مهندسه إيني وادي الملوك ليدفن فيه.
- ٢٤ حيث اهتم بالتوسع في أفريقيا فشن عليها حملته الـ ١٧ وانتصر فيها وأقام إمبراطورية كبيرة وصلت إلى ما وراء الجندل الرابع.
- ٢٥ حيث اتبع سياسات سلمية مع أمراء آسيا ليحافظ على الإمبراطورية المصرية فأخذ بعض أبنائهم لتعليمهم العادات والتقاليد المصرية وليغرس في نفوسهم حب مصر حتى إذا ما عادوا إلى بلادهم وتولوا الحكم أصبحوا من أتباعه المخلصين.
- ٢٦ حيث استطاع أن ينتصر على الحيثيين في معركة قادش وعقد معهم أول معاهدة سلام دولية في التاريخ.
- ٢٧ حيث اتسمت بالصراعات والحروب بين مصر وبعض المناطق الأفريقية:
- ففي الأسرة ٢١ فقدت مصر السيطرة على بعض المناطق الأفريقية.
 - في الأسرة ٢٤ دار صراع بين المصريين والكوشيين وانتهى بسيطرة الملك الكوشي على معظم أرض مصر وتكوين الأسرة الـ ٢٥.
 - في الأسرة ٢٦ نجح ملوك مصر من استعادة استقلالها ومد نفوذها بأفريقيا.

السؤال العاشر:

- ١ حيث تطورت العمارة الملكية من حجرة يعلوها مصطبة إلى هرم مدرج مثل هرم زوسر المدرج.
- ٢ حيث يعد الملك أوناس أول من كتب نصوص الأهرام التي تعد من الأدب الديني عند المصريين القدماء.
- ٣ حيث قام الملك منتوحت الثاني أحد ملوك الأسرة الحادية عشرة من إعادة السيطرة على البلاد ووحدة البلاد.
- ٤ حيث قام أمنمحات الثالث بإنشاء سد اللاهون عند مدخل موريس بهدف التوسع في مساحات الأراضي الزراعية.
- ٥ حيث قام أمراء طيبة في مواجهة الهكسوس في الأسرة السابعة عشرة مثل سقنن رع الثاني وكامس وأحمس الأول بتشجيع من الملك إياح حتب.
- ٦ حيث أرسلت حتشبسوت رحلات تجارية إلى بلاد بونت فأدت إلى نشاط التجارة في عصر الدولة الحديثة.
- ٧ حيث قام باكتشاف مقبرة الملك توت عنخ آمون في عام ١٩٢٢م واحتوت على كنوز أثرية لا مثيل لها تعبر عن تقدم الفنون في مصر القديمة.

السؤال الحادي عشر:

- ١ نصوص دينية نقشت بالخط الهيروغليفي على جدران الحجرات الداخلية للأهرام.
- ٢ فترات زمنية في التاريخ المصري القديم سادت فيها البلاد حالة من الضعف لسلطة الملك والحكومة المركزية وانتشرت فيها الاضطرابات السياسية والاقتصادية.
- ٣ مجموعة من القبائل جاءت من وسط آسيا.
- ٤ دولة كبيرة تسيطر على مناطق وشعوب مختلفة تحت قيادة مركزية قوية، وتتشكل هذه الدولة عبر الفتوحات أو التحالفات وتضم ثقافات متعددة.

السؤال الثاني عشر:

- ١ زوسر.
- ٢ خفرع.
- ٣ أوسر كاف.
- ٤ سنوسرت الثالث.
- ٥ سنوسرت الثالث.
- ٦ أمنمحات الثالث.

مراجعة الوحدة الثالثة

السؤال الأول:

- ١ البحر المتوسط. ٢ عناصر المناخ.
- ٣ المناطق العمرانية والأراضي الزراعية.
- ٤ المدارية المطيرة. ٥ المدارية المطيرة.
- ٦ إزالة الغابات. ٧ النباتات والحيوانات.
- ٨ ارتفاع. ٩ مدغشقر.
- ١٠ حار وجاف. ١١ البحر المتوسط.
- ١٢ الشمالي الغربي. ١٣ الصحراوي الحار.
- ١٤ الأسود والتمور. ١٥ الأسود.
- ١٦ السافانا. ١٧ السافانا.
- ١٨ زيادة الأملاح، تجريف التربة.
- ١٩ الصحراوي الحار. ٢٠ الغنية، المكشوفة، الفقيرة.
- ٢١ طائر الحبارى. ٢٢ المدارية المطيرة.
- ٢٣ الأشجار. ٢٤ الغزلان، الظباء.
- ٢٥ الحبارى. ٢٦ الصبار، التين، السيلال.
- ٢٧ الشمالية. ٢٨ السودان.
- ٢٩ فيكتوريا. ٣٠ الأمازون.
- ٣٢ نبات البردي. ٣٣ الصيد الجائر. ٣٤ السد.
- ٣٥ المانجروف، الشعاب المرجانية.
- ٣٦ نيق. ٣٧ أركين.
- ٣٩ التلوث ورم الشواطئ. ٤٠ المنزلة.

السؤال الثاني:

- | | | | |
|------|------|------|------|
| ✓ ٤ | ✓ ٣ | X ٢ | X ١ |
| ✓ ٨ | X ٧ | X ٦ | ✓ ٥ |
| X ١٢ | ✓ ١١ | ✓ ١٠ | ✓ ٩ |
| ✓ ١٦ | ✓ ١٥ | ✓ ١٤ | X ١٣ |
| ✓ ٢٠ | X ١٩ | ✓ ١٨ | X ١٧ |
| ✓ ٢٤ | X ٢٣ | ✓ ٢٢ | ✓ ٢١ |
| X ٢٨ | X ٢٧ | X ٢٦ | X ٢٥ |
| ✓ ٣٢ | X ٣١ | X ٣٠ | ✓ ٢٩ |
| ✓ ٣٦ | ✓ ٣٥ | X ٣٤ | ✓ ٣٣ |
| ✓ ٤٠ | ✓ ٣٩ | X ٣٨ | ✓ ٣٧ |
| ✓ ٤٤ | ✓ ٤٣ | X ٤٢ | ✓ ٤١ |
| | | | ✓ ٤٥ |

السؤال السادس:

- ١ بسبب العوامل الطبيعية مثل: الزلازل والأعاصير والحرائق الطبيعية والثورات البركانية.
- ٢ والعوامل البشرية مثل: إزالة الغابات والرعي الجائر والتوسع العمراني والحروب.
- ٣ لأنها تحتوي على آلاف الأنواع من النباتات والحيوانات.
- ٤ بسبب ارتفاع درجة الحرارة طوال العام.
- ٥ بسبب قلة سقوط الأمطار في بعض السنوات والذي أدى إلى زيادة موت الأشجار وتدهور التربة.
- ٦ بسبب صعود الهواء إلى أعلى وسكون حركة الرياح نسبياً.
- ٧ بسبب صعوبة الحركة بين أشجار الغابات الكثيفة.
- ٨ بسبب كثرة التبخر.
- ٩ لأن أشجار الغابات المدارية المطيرة كثيفة ومتشابكة الأغصان.
- ١٠ لأنها غنية بأكاسيد الحديد.
- ١١ لتقليل الفاقد بالنتح.
- ١٢ بسبب غزارة الأمطار وارتفاع درجة الحرارة التي تساعد على سرعة التفاعلات الكيميائية وتحلل المواد العضوية.
- ١٣ بسبب كثافة الأشجار وتشابك الأغصان؛ مما يمنع وصول الضوء إلى أرض الغابة.
- ١٤ لأنها تحافظ على التوازن البيئي - وتعمل على تنقية البيئة من التلوث.
- ١٥ لأنها تمتص انبعاثات الكربون بكمية أكبر من الكمية الصادرة عن قارة أفريقيا بأكملها، كما تنتج كميات كبيرة من الأكسجين.
- ١٦ لأنها تتكيف مع الظروف المناخية من خلال جذورها العميقة وأوراقها صغيرة الحجم المغطاة بطبقة شمعية لتقليل الفاقد بالنتح.
- ١٧ لأنها مصدر للغذاء حيث إنتاج الزيتون والموالح والعنب والتين - مصدر رئيسي للنباتات العطرية والطبية - يربى فيها الأغنام والماعز.
- ١٨ لأنها تعد مناطق للاستجمام والسياحة البيئية والصيد وتحسين جودة الهواء.

السؤال الثالث:

- ١ الرعي الجائر.
 - ٢ الأبنوس.
 - ٣ الصنوبر.
 - ٤ الفطريات.
 - ٥ البرك.
 - ٦ الكاكو.
 - ٧ الأرز.
 - ٨ الأبنوس.
 - ٩ جميع ما سبق.
 - ١٠ الأرز.
 - ١١ غانا.
 - ١٢ المطاط.
 - ١٣ النمر.
 - ١٤ الصنوبر.
 - ١٥ غابات البحر المتوسط.
 - ١٦ الانقراض.
 - ١٧ أفريقيا.
 - ١٨ سقوط الأمطار الصيفية.
 - ١٩ الغزلان.
 - ٢٠ السنط.
 - ٢١ المواد العضوية.
 - ٢٢ القطن والبن.
 - ٢٣ دائرة الاستواء.
 - ٢٤ الفيضانات.
 - ٢٥ الصحاري الحارة.
 - ٢٦ الصحاري الحارة.
 - ٢٧ أفريقيا.
 - ٢٨ السنط.
 - ٢٩ الصحاري الحارة.
 - ٣٠ الجنوبية.
 - ٣١ انعدام الثروات المعدنية بها.
 - ٣٢ أفريقيا.
 - ٣٣ غابات البحر المتوسط.
 - ٣٤ أشجار السنط.
 - ٣٥ الشرقية.
 - ٣٦ الشعاب المرجانية.
 - ٣٧ آسيا.
 - ٣٨ موريتانيا.
 - ٣٩ الصيد الجائر.
 - ٤٠ نهر الأمازون.
 - ٤١ علبة.
 - ٤٢ مصر.
 - ٤٣ فيكتوريا.
 - ٤٤ البردويل.
 - ٤٥ الشمس.
- السؤال الرابع:
- ١ النظام البيئي.
 - ٢ الغلاف الجوي.
 - ٣ التوازن البيئي.
 - ٤ المدى الحراري السنوي.
 - ٥ البحر المتوسط.
 - ٦ البحر المتوسط.
 - ٧ الرطوبة النسبية.
 - ٨ المستنقعات.
 - ٩ النظم البشرية.
 - ١٠ أشجار البحر المتوسط.
 - ١١ غابات مدارية مطيرة.
 - ١٢ حشائش السافانا.
 - ١٣ حشائش الإستبس.
 - ١٤ نهر الأمازون.
- السؤال الخامس:
- ١ البشرية.
 - ٢ شرقاً.
 - ٣ اقتصادية.
 - ٤ الصحاري الحارة.
 - ٥ أفريقيا.
 - ٦ الإستبس.
 - ٧ السافانا.
 - ٨ الأسود.
 - ٩ الصحاري الحارة.
 - ١٠ السافانا.
 - ١١ الأحمر.
 - ١٢ المانجروف.
 - ١٣ المدارية.

السؤال السابع:

- ١ أدى إلى ارتفاع الرطوبة النسبية.
- ٢ أدى إلى نقص كبير في كميات الأمطار.
- ارتفاعات واضحة في درجات الحرارة وزيادة معدلات الجفاف والتصحر؛ مما يهدد التنمية المستدامة في القارة الأفريقية.
- ٣ أدى إلى منع وصول الضوء إلى أرض الغابة؛ ولذلك تكثر النباتات المتسلقة والطفيلية بها.
- ٤ أدى إلى تعرض أنواع كثيرة من الحيوانات بغابات أفريقيا لخطر الانقراض.
- ٥ أصبحت تربة هذه الغابات يتسم معظمها باللون الأحمر.
- ٦ مما يؤدي إلى تدرج حشائش السافانا في الطول.
- ٧ يؤدي ذلك إلى تدهور التربة وموت النباتات.
- ٨ أدى إلى: • حدوث تغيرات في التنوع الحيوي.
- انقراض العديد من الحيوانات - تدهور التربة.
- ٩ أصبحت تربة طينية خصبة سوداء اللون.
- ١٠ أدى إلى نمو الأشجار بها لوجود كمية أكبر من الأمطار.
- ١١ تؤدي لندرة النبات الطبيعي أو انعدامه في كثير من الصحاري الأفريقية وبالتالي تقل كميات الغذاء التي تحتاجها الكائنات الحية في هذا النظام.
- ١٢ مما يجعلها مناطق جذب سياحي.
- ١٣ مما أدى إلى:
- تدهور الحياة النباتية.
- تآكل التربة.
- تعرض العديد من الحيوانات والطيور بها لخطر الانقراض.
- ١٤ مما أدى إلى انخفاض أعداد الحيوانات المرتبطة بها كما حدث في بحيرة فيكتوريا.
- ١٥ أدى إلى حدوث أكبر انقراض جماعي للفقاريات في العصر الحديث حيث تعرضت أنواع عديدة من الأسماك لخطر الانقراض.
- ١٦ مما يؤدي إلى تدمير الشعاب المرجانية.
- ١٧ أصبحت بيئة مناسبة لوجود الأسماك وسرطان البحر وغيرهما.

- ١٩ بهدف بيع أخشابها واستخدامها كوقود - وتحويل أرض الغابات إلى أرض زراعية.
- ٢٠ بسبب التغير المناخي مثل ارتفاع درجة الحرارة.
- ٢١ لأنه يعيش بها حيوانات آكلة للحشائش مثل الفيل الأفريقي والغزلان والزرافات ووحيد القرن وحيوانات آكلة للحوم مثل الأسود والنمور والضباع.
- ٢٢ لأنها تمثل مصدرًا رئيسيًا لغذاء الإنسان حيث تربي الماشية والتي تعد ثروة حيوانية برية غنية ويستغل في إنتاج بعض المحاصيل كالذرة والبن وقصب السكر والقطن.
- ٢٣ بسبب سقوط الأمطار بغزارة في فصل الصيف.
- ٢٤ بسبب انخفاض كثافة النباتات في حشائش السافانا عن الغابات المدارية المطيرة.
- ٢٥ لأنها غنية بالمواد العضوية والمعدنية
- ٢٦ بسبب كثرة أعداد الحيوانات التي تعيش فيها
- ٢٧ لأنها: • تُعد مراعي طبيعية للحيوانات مثل الأغنام والماعز والخيل.
- تنتشر بها حرفة الصيد بسبب كثرة أعداد الحيوانات التي تعيش فيها.
- ٢٨ بسبب ندرة المياه وفقر التربة وارتفاع درجات الحرارة.
- ٢٩ (١) لأنها تقوم بدور حيوي في الحفاظ على التوازن البيئي والتنوع البيولوجي على كوكب الأرض.
- (٢) تُعد مصدرًا رئيسيًا لغذاء الإنسان.
- ٣٠ لأن النبات الموجود بها يساهم في:
- (١) امتصاص كميات كبيرة من ثاني أكسيد الكربون.
- (٢) الإبطاء من ظاهرة الاحتباس الحراري.
- ٣١ بسبب عدة عوامل تتمثل في:
- (١) عوامل طبيعية مثل التغيرات المناخية ومنها زيادة درجات الحرارة ونقص الأمطار.
- (٢) عوامل بشرية مثل الصيد الجائر وإزالة مساحات منها لأغراض التنمية العمرانية والسياحية.
- ٣٢ لأنها توفر المأوى والغذاء للعديد من الكائنات البحرية
- ٣٣ لمساعدة الدول الأفريقية لمواجهة مشكلة التغيرات المناخية.

السؤال الثامن:

- ١٣ • حيث تُعد مراعي طبيعية للحيوانات مثل الأغنام والماعز والخيل.
- تنتشر بها حرفة الصيد بسبب كثرة أعداد الحيوانات التي تعيش فيها.
- ١٤ • حيث يُستغل نظام السافانا لإنتاج بعض المحاصيل كالقطن والذرة والبن وقصب السكر.
- ١٥ • حيث تتسم جميع الصحاري بالجفاف وقلة الأمطار وارتفاع المدى الحراري اليومي والسنوي.
- ١٦ • حيث انخفاض كثافة النباتات في حشائش السافانا عن الغابات المدارية المطيرة.
- ١٧ • حيث: بعضها لها جذور تمتد إلى أعماق كبيرة ولمسافات واسعة تحت السطح لتصل إلى المياه الجوفية.
- والبعض الآخر صغير الأوراق حتى تقلل من النتح وتستطيع أن تحتزن كمية من المياه في سيقانها.
- ١٨ • منها: • الصيد الجائر.
- زيادة حدة موجات تؤدي لندرة النبات الطبيعي أو انعدامه في كثير من الصحاري الأفريقية وبالتالي تقل كميات الغذاء التي تحتاجها الكائنات الحية في هذا النظام.
- ١٩ • حيث تحتوي الصحاري الأفريقية على كثير من الثروات المعدنية والنفط والغاز الطبيعي.
- ٢٠ • حيث تتلقى كميات كبيرة من أشعة الشمس على مدار السنة.
- ٢١ • حيث تضم النظم النهرية والنظم البحرية العذبة ونظم الأراضي الرطبة العذبة.
- ٢٢ • حيث تمثل أشجار المانجروف محطة من المحطات التي تقف عندها الطيور المهاجرة.
- تعمل أشجار المانجروف على حماية الشواطئ من التآكل والتعرية.
- تنقية الهواء من الكربون.
- واحدة من المناطق الجاذبة للنشاط السياحي.
- ١ • فهناك نظم بيئية صغيرة المساحة مثل برك المياه - ونظم بيئية كبيرة المساحة مثل نظام الغابات المدارية المطيرة.
- ٢ • حيث العوامل الطبيعية مثل: الزلازل والأعاصير والحرائق الطبيعية والثورانات البركانية.
- والعوامل البشرية مثل: إزالة الغابات والرعي الجائر والتوسع العمراني والحروب.
- ٣ • حيث يعيش بها الفئران والسناجب.
- ٤ • حيث تحافظ على التوازن البيئي - وتعمل على تنقية البيئة من التلوث.
- ٥ • حيث تتمثل في: (١) إزالة الغابات. (٢) الحرائق. (٣) الجفاف. (٤) الانقراض.
- ٦ • حيث تتعدد ألوانها ما بين الأحمر والبني والأسود تبعاً لمكوناتها المعدنية والعضوية وظروف تكوينها.
- ٧ • حيث توجد الأشجار الكثيفة ومتشابكة الأغصان وتكثر بها النباتات المتسلقة والطفيلية.
- ٨ • حيث تعد مناطق للاستجمام والسياحة البيئية والصيد.
- ٩ • حيث صعوبة الحركة بين أشجار الغابات الكثيفة وتشابك الأغصان.
- ١٠ • تُربى فيها الماشية والتي تُعد ثروة حيوانية برية غنية.
- يُستغل نظام السافانا لإنتاج بعض المحاصيل كالقطن والذرة والبن وقصب السكر.
- ١١ • حيث في شمال القارة: تشغل مساحات قليلة بين نظام غابات البحر المتوسط في الشمال وبين نظام الصحاري الحارة في الجنوب. وفي جنوب القارة: توجد في النطاق الممتد بين دائرتي عرض ٢٤° و ٣٢° جنوباً.
- ١٢ • من الأخطار الطبيعية:
 - زيادة الأملاح في التربة.
 - التعرض لموجات الجفاف.
 - تجريف التربة بسبب سقوط الأمطار بغزارة في فصل الصيف.
 - التعرض لموجات التصحر الذي يصيب مساحات واسعة من الأراضي الأفريقية.
 - من الأخطار البشرية:
 - تجريف التربة.
 - الرعي الجائر.
 - الصيد الجائر.
 - سوء إدارة أنشطة التعدين.

- ٧ تختلف كمية الأمطار وفترة سقوطها من مكان إلى آخر مما يؤدي إلى تدرج حشائش السافانا في الطول.
- ٨ يُستغل نظام السافانا لإنتاج بعض المحاصيل مثل قصب السكر لصناعة السكر.
- ٩ تُعد الصحاري الأفريقية بيئة مثالية لتوليد الطاقة الشمسية حيث تتلقى كميات كبيرة من أشعة الشمس على مدار السنة.
- ١٠ سعي دول أفريقيا للاستفادة من التكنولوجيا الحديثة في مواجهة التغير المناخي والحفاظ على التنوع البيولوجي.
- ١١ يساهم النبات الموجود في الأراضي الرطبة العذبة في الإبطاء من ظاهرة الاحتباس الحراري.

السؤال العاشر:

- ١ منطقة جغرافية متكاملة تضم مكونات حية وغير حية، وهذه المكونات تتفاعل مع بعضها البعض وفق نظام دقيق للحفاظ على التوازن البيئي واستدامة الحياة.
- ٢ الفرق بين متوسط درجة الحرارة بالنسبة لأعلى شهور السنة حرارة وأدنى شهور السنة حرارة.
- ٣ نسبة كمية بخار الماء الموجودة في الهواء بالنسبة إلى كمية بخار الماء التي يستطيع الهواء أن يحملها.
- ٤ عبارة عن غطاء نباتي كثيف من الحشائش تتداخل معها أشجار متنوعة، تزداد كثافتها كلما اقتربنا من الغابات المدارية المطيرة.
- ٥ منطقة تتسم بنقص أو ندرة في الأمطار والنبات الطبيعي والحيوان وفقرة التربة.
- ٦ حالة من الاستقرار تحدث داخل النظم البيئية عبر التفاعل بين مكوناتها الحية وغير الحية، مما يمنع حدوث تغييرات جذرية وغير طبيعية فيها.
- ٧ هي مسطحات ملحية تتركز فوق تكوينات من الصلصال والطين، وغالبًا ما تغطي بقشور ملحية يتحكم في منسوبها مستوى الماء الجوفي.
- ٨ يوجد في المسطحات المائية أو على هوامشها ويوجد به مكونات حية ومكونات غير حية تتفاعل مع بعضها البعض لاستدامة الحياة في النظام.
- ٩ عبرة عن إفرازات لكائنات بحرية دقيقة أهمها حيوان المرجان.

- ٣٣ حيث تتعرض للعديد من الأخطار التي ترجع إلى:
- (١) عوامل طبيعية مثل التغيرات المناخية.
- (٢) عوامل بشرية مثل التلوث والأنشطة السياحية والصيد باستخدام المتفجرات ورمد الشواطئ مما يؤدي إلى تدمير الشعاب المرجانية.
- ٣٤ حيث توفر المأوى والغذاء للعديد من الكائنات البحرية.
- ٣٥ • المحمية الوطنية لحوض أركين في موريتانيا والتي صنفت كمنطقة تراث عالمي من قبل اليونسكو.
- محمية الزرانيق والبردويل في مصر.
- ٣٦ (١) عوامل طبيعية مثل التغيرات المناخية ومنها زيادة درجات الحرارة ونقص الأمطار.
- (٢) عوامل بشرية مثل الصيد الجائر وإزالة مساحات منها لأغراض التنمية العمرانية والسياحية.
- ٣٧ منها: • مدينة العلمين الجديدة.
- مدينة الجلالة الجديدة.
- العاصمة الإدارية الجديدة.

السؤال التاسع:

- ١ تعد الزلازل من الأسباب الطبيعية لاختلال النظام البيئي.
- ٢ حيث إن أشجار الغابات المدارية المطيرة مصدر للعديد من المواد الخام، وتدخل في عدة صناعات مثل: الصناعات الخشبية والمطاط وصناعة الأدوية.
- ٣ حيث ترتفع الرطوبة النسبية في الغابات المدارية المطيرة؛ بسبب كثرة التبخر.
- ٤ تعد الأعاصير من الأسباب الطبيعية لاختلال النظام البيئي.
- ٥ حيث تتعرض غابات البحر المتوسط في قارة أفريقيا للعديد من حالات الجفاف؛ بسبب قلة سقوط الأمطار في بعض السنوات.
- ٦ تتعرض أنواع كثيرة من الحيوانات بغابات أفريقيا لخطر الانقراض؛ بسبب التغير المناخي.

السؤال الحادي عشر:

- ١ كان سيعيش بها الحيوانات آكلة العشب في الغابات المدارية المطيرة.
- ٢ • لم يقصد عدد كبير من السائحين هذه المناطق.
• لم تعد مصدرًا للغذاء والوقود.
• لم تحافظ على التوازن البيئي.
• لم تعد مصدرًا للعديد من المواد الخام.
- ٣ لم يعد فصل الشتاء هو فصل النمو الحقيقي للنباتات هناك.
- ٤ لم تُرب فيها الماشية والتي تُعد ثروة حيوانية برية غنية.
- ٥ • لم يتوفر مصدر للغذاء من النظم المائية.
• لم يستخرج منها طحالب التي تُستخدم في صناعة بعض الأدوية ومواد التجميل والأقمشة.
- لم تحتو على العديد من مصادر الطاقة الحفرية (البترول والغاز الطبيعي) والطاقة الكهرومائية.
- تحتوي على العديد من الأملاح والمعادن مثل الماغنيسيوم والنحاس والذهب

السؤال الثاني عشر:

- ١ عبارة صادقة؛ لأن الحيوانات تتعرض للانقراض بسبب التغير المناخي والصيد الجائر والتوسع العمراني والزراعي.
- ٢ عبارة صادقة؛ حيث تعد مقصدًا لعدد كبير من السائحين.
- ٣ عبارة صادقة؛ حيث تتكيف مع الظروف المناخية من خلال جذورها العميقة وأوراقها صغيرة الحجم المغطاة بطبقة شمعية لتقليل الفاقد بالنتح.
- ٤ عبارة صادقة؛ حيث إن هذه الغابات تمتص انبعاثات الكربون بكميات أكبر من الكمية الصادرة عن قارة أفريقيا بأكملها.

- ٥ عبارة غير صادقة؛ حيث إن المدى الحراري السنوي في الحشائش الحارة (السافانا) مرتفع.
- ٦ عبارة صادقة؛ حيث يوجد تنوع واضح ومن أشهرها الأغنام والغزلان والظباء والأرانب والخيول وصقر الجديان الأفريقي.
- ٧ عبارة صادقة؛ حيث:
 - تُربى فيها الماشية والتي تُعد ثروة حيوانية برية غنية.
 - يُستغل نظام السافانا لإنتاج بعض المحاصيل كالقطن والذرة والبن وقصب السكر.
- ٨ عبارة صادقة؛ حيث سقوط الأمطار بغزارة في فصل الصيف.
- ٩ عبارة غير صادقة؛ حيث يتسم نظام الصحاري الحارة بتربة فقيرة في المواد العضوية، مثل التربة الحصوية والتربة الرملية.
- ١٠ عبارة صادقة؛ حيث تنوع الأسماك ووجود مجموعة متنوعة من اللافقاريات والقشريات والرخويات والطحالب.
- ١١ عبارة غير صادقة؛ حيث تنمو في المناطق الساحلية المدارية وشبه المدارية.
- ١٢ عبارة غير صادقة؛ حيث تنتشر أشجار المانجروف في أفريقيا بشكل أكثر وضوحًا في السواحل الغربية عن الشرقية.

السؤال الثالث عشر:

- حدد النظم البيئية التي تنتمي إليها الكائنات الحية الآتية:
 - ١ غابات البحر المتوسط.
 - ٢ الغابات المدارية المطيرة.
 - ٣ الغابات المدارية المطيرة.
 - ٤ غابات البحر المتوسط.

مراجعة الوحدة الرابعة

السؤال الأول:

- ١ بلاد الحبشة. ٢ الأصلية. ٣ شهر.
- ٤ سنكوري. ٥ الفقه، التفسير.
- ٦ عقبة بن نافع. ٧ خليج أمير المؤمنين.
- ٨ مدينة تمبكتو. ٩ الإسلام.
- ١٠ العباسية. ١١ العباسية. ١٢ المصريين.
- ١٣ المماليك. ١٤ الفقهاء، العلماء، التجار.
- ١٥ نهر النيل. ١٦ الشرقي.
- ١٧ الميراث، التفرقة العنصرية. ١٨ الدولة.
- ١٩ الدعاة. ٢٠ كانو.

السؤال الثاني:

- | | | | | |
|------|------|------|------|------|
| ✓ ١ | ✓ ٢ | ✓ ٣ | ✓ ٤ | X ٥ |
| X ٦ | X ٧ | ✓ ٨ | X ٩ | ✓ ١٠ |
| ✓ ١١ | X ١٢ | ✓ ١٣ | ✓ ١٤ | ✓ ١٥ |
| X ١٦ | ✓ ١٧ | X ١٨ | ✓ ١٩ | X ٢٠ |

السؤال الثالث:

- ١ مصر. ٢ طرابلس. ٣ المماليك.
- ٤ التجار المسلمون. ٥ المحيط الهندي.
- ٦ التجاري. ٧ الذوبان العرقي.
- ٨ شمال شرق القارة. ٩ عمرو بن العاص.
- ١٠ برقة. ١١ التجار المسلمون.
- ١٢ المصريين. ١٣ التضامن الاجتماعي.
- ١٤ عمرو بن العاص. ١٥ عصر الخلفاء الراشدين.
- ١٦ ريش النعام. ١٧ العصور القديمة.
- ١٨ مصري. ١٩ المحيط الهندي.
- ٢٠ مالي. ٢١ أفريقية.
- ٢٢ عثمان بن عفان. ٢٣ عبد الله بن أبي السرح.
- ٢٤ سببيلة. ٢٥ مالي.
- ٢٦ عصر الخلفاء الراشدين. ٢٧ مالي.
- ٢٨ بلاد الحبشة. ٢٩ العاج.
- ٣٠ جميع ما سبق. ٣١ الزواج والمصاهرة.

• حدد النظام البيئي الذي تنتمي له المناطق التالية بقارة

أفريقيا:

- ١ الصحراوي الحار. ٢ حشائش الإستبس.
- ٣ غابات مدارية مطيرة. ٤ النظم المائية العذبة.
- ٥ النظم المائية المالحة. ٦ حشائش السافانا.

السؤال الرابع عشر:

• خريطة (١):

- ١ مدارية مطيرة. ٢ السرطان.
- ٣ الاستواء. ٤ البحر المتوسط.
- ٥ الأطلنطي. ٦ مدغشقر.

• خريطة (٢):

- ١ مدارية مطيرة. ٢ السرطان.
- ٣ الاستواء. ٤ البحر المتوسط.
- ٥ الأطلنطي. ٦ المحيط الهندي.

• خريطة (٣):

- ١ الإستبس. ٢ الصحراوي الحار.
- ٣ الهندي. ٤ الحارة (السافانا).
- ٥ المتوسط.

• خريطة (٤):

- | | |
|---|---|
| ١ | ٤ |
| ٣ | ١ |

• خريطة (٥):

- ١ أركين. ٢ رأس محمد.
- ٣ الأطلنطي. ٤ علبه.

• خريطة (٦):

- ١ النيل. ٢ فيكتوريا.
- ٣ العقبة. ٤ النيجر.
- ٥ سيناء. ٦ الاستواء.
- ٧ السد. ٨ السرطان.

السؤال الرابع:

- ٦ لإقامة الشعائر الإسلامية.
- ٧ لأن بلاد الحبشة تعد أولى المحطات التي وصل إليها الإسلام خارج شبه الجزيرة العربية.
- ٨ لمعرفة قدرة الروم على صد هجمات المسلمين.
- ٩ فرارًا من أذى قريش ولأن بها ملكًا عادلًا لا يظلم عنده أحد اسمه النجاشي.
- ١٠ لأنها المعبر البري الوحيد الذي يربط شبه الجزيرة العربية بأفريقيا ومنها عبرت جيوش المسلمين لفتح شمال أفريقيا ونشر الإسلام بها.
- ١١ بسبب دخول الإسلام إلى أفريقيا.
- ١٢ بسبب اتخاذ القاهرة مركزًا للخلافة العباسية في الفترة التي تلت سقوط الخلافة في بغداد، وكونها مقرًا لحكم سلاطين المماليك ولذلك أثر كبير في توطيد العلاقات السياسية بين مصر والدول الإسلامية في أفريقيا.

- ١٣ ليكون مسئولًا عن الكنيسة الحبشية.
- ١٤ للاعتراف بشرعيتهم في حكم البلاد التي تولوا إدارة شؤونها.
- ١٥ لأن حجاج الدول الأفريقية كانوا يمرون عبر مصر لبلاد الحرمين، فيتعرفوا على أهلها وينهلوا من علومها الدينية.

السؤال الثامن:

- ١ مهد هذا الأمر لانتشار الإسلام في تلك الأماكن وكان شرق أفريقيا أولى تلك المناطق بحكم موقعه الجغرافي.
- ٢ أصبحت مراكز لنشر الإسلام في قلب أفريقيا.
- ٣ مهد فتح سببلة الطريق أمام المسلمين لفتح مدن وحصون أخرى في عصر الدولة الأموية.
- ٤ معاناة المصريين من حكم الروم أدى إلى ترحيبهم بالفتح الإسلامي لهم.
- ٥ أصبحوا عاملاً مهمًا في نشر الإسلام واللغة العربية بين أهل تلك البلاد.
- ٦ نتج عنه جيل جديد يحمل صفات الأب العربي والأم الأفريقية أو العكس وهذا الجيل الجديد يعتز بنسبه العربي وبأصله الأفريقي في نفس الوقت.

- ١ الأزهر الشريف. ٢ الدعاة.
- ٣ جامعة سنكوري. ٤ الذوبان العرقي.
- ٥ رواق الجبرتية. ٦ العصور الوسطى.
- ٧ أروقة الأزهر الشريف.
- ٨ رواق المغاربة. ٩ فريضة الحج.
- ١٠ الكنيسة المصرية. ١١ المماليك. ١٢ القاهرة.
- ١٣ مصر. ١٤ خليج أمير المؤمنين.
- ١٥ بلاد الحبشة. ١٦ الأزهر الشريف. ١٧ مصر.

السؤال الخامس:

- ١ سببلة.
- ٢ العربية.
- ٣ الشرقي.
- ٤ بلاد الحبشة.
- ٥ شهر.
- ٦ المصرية.
- ٧ الدولة.
- ٨ المغاربة.
- ٩ الدينية.
- ١٠ الشرق.
- ١١ الروم.

السؤال السادس:

- ١ الرسول صلى الله عليه وسلم. ٢ النجاشي.
- ٣ عبد الملك بن مروان. ٤ عبد الله بن أبي السرح.
- ٥ عمرو بن العاص. ٦ بطيريك الإسكندرية.
- ٧ حاكم مصر. ٨ عمر بن الخطاب.
- ٩ عبد الله بن أبي السرح. ١٠ عبد الله بن أبي السرح.

السؤال السابع:

- ١ (١) كان يستخدمهما العرب قبل ظهور الإسلام للتجارة مع شرق قارة أفريقيا.
- (٢) قد استخدمهما المسلمون الأوائل أثناء الهجرة إلى بلاد الحبشة.
- (٣) كما انتشر عن طريقهما الإسلام في شرق أفريقيا ومنهما امتد إلى غربها.
- ٢ للربط بين البحر الأحمر والبحر المتوسط عن طريق نهر النيل.
- ٣ لأنهم كانوا يعانون من حكم الروم.
- ٤ لتأمين الحدود المصرية ونشر الإسلام.
- ٥ (١) نظرًا لأهميتها على الشاطئ الأفريقي. (٢) إحكام السيطرة على شمال أفريقيا.

- ٧ أدى إلى انتشار الإسلام في أفريقيا بانتشار اللغة العربية.
- ٨ مما كان له دور كبير في:
- (١) نشر اللغة العربية والثقافة الإسلامية في المجتمع الأفريقي.
- (٢) تخريج أعداد كبيرة من العلماء ساهموا في ازدهار الحركة العلمية في القرن الثالث عشر الهجري.
- ٩ أقاموا بها المدارس والمساجد، وحلقات العلم والتدريس وحاولوا الاقتداء بالأزهر الشريف في أساليب التدريس وتلقي العلم.
- ١٠ أصبحت القاهرة مركزاً للخلافة العباسية وكان لها أثر كبير في توطيد العلاقات السياسية بين مصر والدول الإسلامية في أفريقيا.
- ١١ أدى إلى تعليمهم فنون الحرب وتصنيع الأسلحة والرمي بالسهم والرمح والضرب بالسيف.
- ١٢ أدى إلى أن يتعرفوا على أهلها وينهلوا من علومها الدينية.
- ١٣ أدى إلى وجود علاقات اقتصادية بين مصر ودول أفريقيا في العصور الوسطى من خلال التصدير والاستيراد.
- السؤال التاسع:**
- ١ من أهم معابر انتقال الإسلام المحيط الهندي ومضيق باب المندب وشبه جزيرة سيناء والبحر الأحمر.
- ٢ حيث أوصى الرسول صلى الله عليه وسلم أصحابه بالهجرة إلى بلاد الحبشة في السنة الخامسة من البعثة النبوية فراراً من أذى قريش ولأن بها ملكاً عادلاً لا يظلم عنده أحد اسمه النجاشي.
- ٣ من أهم هذه الأساليب الدعاة والتجار المسلمين والزواج والمصاهرة والهجرة.
- ٤ حيث قام المسلمون بفتح مصر وفتح برقة وفتح طرابلس وفتح أفريقية.
- ٥ حيث قام الإسلام بـ:
- (١) توضيح حقوق الزوجين وواجباتهما.
- (٢) تنظيم العلاقة بينهما.
- (٣) كما منح المرأة حرية اختيار الزوج.
- (٤) حدد عدد الزوجات.
- ٦ منها: (١) رواق الجبريتية الذي خصص للطلاب الوافدين من بلاد الحبشة وسواحل البحر الأحمر.
- (٢) رواق المغاربة ليضم طلاب شمال أفريقيا وبلاد المغرب العربي.
- ٧ حيث أصبحت اللغة العربية:
- (١) اللغة الرسمية في بعض الدول الأفريقية ومنها الصومال وموريتانيا.
- (٢) لغة رئيسية بجانب اللغة الأصلية لسكان بعض الدول الأخرى مثل مالي.
- ٨ فقد حافظ على كثير من عاداتهم الطيبة التي لا تتنافى مع الشريعة الإسلامية مثل:
- (١) إكرام الضيف. (٢) مساعدة المحتاج.
- (٣) التضامن الاجتماعي.
- ٩ حيث تكونت مجموعات إسلامية من المهاجرين العرب والقبائل الأفريقية التي اعتنقت الإسلام ومع مرور الزمن نجحت تلك المجموعات في تكوين الممالك والسلطنات الإسلامية في مناطق مختلفة بالقارة الأفريقية مثل:
- مملكة غانا.
 - مملكة مالي وغيرها من الممالك الإسلامية التي ساهمت في نشر الإسلام بأفريقيا.
- ١٠ من خلال: (١) مظهرهم وملابسهم النظيفة المحتشمة.
- (٢) حسن أخلاقهم من الصدق والأمانة.
- (٣) رفض التعامل بالربا أو الغش.
- ١١ فاستعانوا ببعض الممالك لتعليمهم فنون الحرب وتصنيع الأسلحة والرمي بالسهم والرمح والضرب بالسيف.
- ١٢ كانت مصر تستورد من أفريقيا العديد من المنتجات مثل العاج وريش النعام والصمغ وبعض الجلود.
- ١٣ حيث كان كثيراً ما كان يلجأ ملوك بلاد الحبشة لاستشارتهم في شؤونهم الدينية والسياسية.

- ١٩ فقد أرسل الخليفة الأموي عبد الملك بن مروان البنائين إلى الساحل الشرقي الأفريقي ليساهموا في بناء المدن هناك.
- ٢٠ فقد اكتسب معظم المطارنة المصريين مكانة رفيعة تلي مكانة ملك الحبشة حيث كان كثيرًا ما كان يلجأ ملوك بلاد الحبشة لاستشارتهم في شئونهم الدينية والسياسية.

السؤال العاشر:

- ١ هم الأفراد الذين تلقوا قدرًا من العلوم الدينية التي تؤهلهم لنشر الإسلام وتعاليمه بالطرق السلمية.
- ٢ أماكن للدراسة والإعاشة الكاملة بالمجان (طعام وإقامة وكسوة ومرتبات وخدمات كثيرة تخصص للطلاب الدارسين بالأزهر تكريمًا وراحة لهم، وتقسم حسب مناطق الطلاب الوافدين.
- ٣ الفترة الزمنية التي امتدت من القرن الخامس حتى القرن الخامس عشر الميلادي.

- ١٤ كان لاتخاذ القاهرة مركزًا للخلافة العباسية في الفترة التي تلت سقوط الخلافة في بغداد، وكونها مقرًا لحكم سلاطين المماليك أثر كبير في توطيد العلاقات السياسية بين مصر والدول الإسلامية في أفريقيا.
- ١٥ حيث كان قادة القبائل الإسلامية بأفريقيا يرسلون الدعاة لنشر الإسلام بين بقية القبائل الأفريقية. وكان هؤلاء الدعاة يحظون بنوع من التقدير والاحترام بين تلك القبائل.
- ١٦ • من خلال منح الأم الحق في حضانة الأطفال.
- إعطاء المرأة حق الميراث ومنع التفرقة العنصرية.
- ١٧ حيث ساعد على تحول الحياة القبلية القائمة على الحروب والعصبية إلى نظام الدولة.
- ١٨ حيث كانت الكنيسة الحبشية الإثيوبية تابعة للكنيسة المصرية فكان يتم تعيين مطران مصري من قبل بطريرك الإسكندرية ليكون مسئولًا عن الكنيسة الحبشية.

الأستاذ

سلسلة كتب الأستاذ

تطبيق



مذكرات جاهزة للطباعة

لتحميل الملفات التعليمية مجاناً للمعلم والطالب

مذكرات وملازم / مراجعات وملخصات / امتحانات / كتب الوزارة /
أدلة المعلم / دفاتر التحضير / سجلات مدرسية / أوراق تأسيس

امسح الكود بموبايلك علشان تقدر تثبت التطبيق
وتقدر ف أي وقت تحمّل ال نفسك فيه ببلاش
هيغنيك عن البحث والجروبات والقنوات الكثيرة

