

الأستاذ

Dr. Ali Al-Masri



# المراجعة النهائية

الصف الرابع الابتدائي  
الفصل الدراسي الأول  
إعداد/ محمد عبد الصبور

4

# الدراسات الاجتماعية

2026

# المراجعة النهائية

## مراجعة الوحدة الاولى

س ١ أكمل العبارات الآتية بما يناسبها من كلمات:

- ١ وصف مكان لشخص ما عن طريق رسم مصغر له من الأعلى يُطلق عليه .....
- ٢ ترسم المخططات كأننا نراها من .....
- ٣ المكان الذي نتعلم فيه ويعتبر بيتنا الثاني هو .....
- ٤ إذا كنت من سكان مدينة الجيزة، وتريد زيارة مدينة أسوان فعليك الاتجاه إلى .....
- ٥ عندما نسلك الطريق يجب أن نفكر في الهدف و .....
- ٦ يعد اتجاه الشمال الشرقي من الاتجاهات .....
- ٧ تنقسم الجهات الأصلية إلى ..... اتجاهات.
- ٨ اتجاه الجنوب يقابله اتجاه ..... سلسلة كتب الأستاذ
- ٩ اتجاه فرعي يقع بين اتجاه الشمال واتجاه الشرق هو .....
- ١٠ الاتجاه الجنوبي الغربي يقع بين اتجاه الجنوب واتجاه .....
- ١١ عندما نقف مواجهين للشمس عند الشروق، فسيكون عن يميننا اتجاه .....
- ١٢ أداة تحتوي على إبرة مغناطيسية تشير لاتجاه الشمال المغناطيسي تُسمى .....
- ١٣ أحد عناصر الخريطة ويوضح موضوعها يُسمى .....
- ١٤ مجموعة الرموز والألوان المستخدمة في الخريطة تُسمى .....
- ١٥ تساعد في تحديد اتجاهات الأماكن على الخريطة .....
- ١٦ يشير اللون البني على الخريطة إلى الأراضي ..... سلسلة كتب الأستاذ
- ١٧ تستخدم معلمة الدراسات الاجتماعية ..... أثناء الشرح.
- ١٨ يشير اللون الأخضر على الخريطة إلى المناطق الأقل ارتفاعاً ومنها .....
- ١٩ تلون المسطحات المائية على الخريطة باللون .....
- ٢٠ تلون الهضاب على الخريطة باللون .....
- ٢١ تساعد الخريطة المزارع في تحديد موقع .....
- ٢٢ قام المصريون القدماء برسم الخرائط والمخططات على جدران .....
- ٢٣ أحد أشهر العلماء العرب في رسم الخرائط هو .....

- ٢٤ تأثرت مريم الإسطرلابي بوالدها وتفوقت في علم .....
- ٢٥ يعتمد نظام تحديد المواقع العالمي في تحديد الاتجاهات على .....
- ٢٦ الصور الجوية يتم التقاطها من الجو عن طريق .....
- ٢٧ يتم التقاط الصور الفضائية بواسطة .....
- ٢٨ نوع من المصادر يقوم بتسجيل الأحداث في زمن وقوعها ويتميز بدقته هو .....
- ٢٩ من أمثلة المصادر الثانوية ..... بينما من المصادر الأولية .....
- ٣٠ الأحاديث غير الصحيحة التي يتناقلها الناس دون معرفة مصدرها تُسمى .....

س ٢ ضع علامة (✓) أمام العبارة الصحيحة، وعلامة (X) أمام العبارة غير الصحيحة:

- ١ المخطط هو وصف كيف يبدو مكان ما عن طريق رسم صورة للمكان من الأعلى. ( )
- ٢ تُسهّم المخططات في توضيح تفاصيل الأماكن التي نزورها باستمرار. ( )
- ٣ اختيار الطريق يعتمد على السرعة فقط. ( )
- ٤ البوصلة الرقمية تمكننا من تحديد الاتجاهات بدقة أكبر. ( )
- ٥ اعتمد الإنسان قديماً على الشمس لتحديد الاتجاهات ليلاً. ( )
- ٦ يعد اتجاه الشمال الشرقي أحد الاتجاهات الأصلية. ( )
- ٧ إذا وقفت مواجهاً للشمس وقت شروقها، فيكون الغرب أمامك. ( )
- ٨ النجم القطبي الشمالي يشير دائماً إلى اتجاه الجنوب. ( )
- ٩ يوجد بين كل اتجاهين أصليين اتجاه فرعي. ( )
- ١٠ مفتاح الخريطة يوضح موضوع الخريطة. ( )
- ١١ يستخدم الطيار الخريطة في تحديد مسار الرحلات. ( )
- ١٢ تحتوي البوصلة على إبرة مغناطيسية تشير دائماً إلى اتجاه الشمال المغناطيسي. ( )
- ١٣ تساعد وردة البوصلة في تحديد اتجاهات الأماكن على الخريطة. ( )
- ١٤ يشير اللون الأزرق على الخريطة إلى المسطحات المائية. ( )
- ١٥ تساعد الخريطة المزارع في تحديد مواقع الأراضي الزراعية. ( )

- ١٦ يتم التقاط الصور الجوية بواسطة الأقمار الصناعية. ( )
- ١٧ يصعب قراءة الخريطة بدون مقياس الرسم. ( )
- ١٨ تستخدم البوصلة الرقمية لتحديد الاتجاهات بسرعة ودقة. ( )
- ١٩ تلون السهول باللون البني على الخريطة. ( )
- ٢٠ تعطي الصور الفضائية مساحة أوسع من الصور الجوية. ( )
- ٢١ تساعد الخريطة الجندي في تحديد المواقع العسكرية. ( )
- ٢٢ كان للعلماء العرب إسهاماتهم في تطوير الخرائط، ومنهم العالم الإدريسي. ( )
- ٢٣ كل ما تركه لنا الأجداد من مبانٍ وتماثيل يعد من المصادر الثانوية. ( )
- ٢٤ رسم المصريون القدماء الخرائط على ورق صنع من نبات البردي. ( )
- ٢٥ تفوقت مريم الإسطرلابي في علم الكيمياء. ( )
- ٢٦ جمع المعلومات من مصادر موثوقة يجنبنا التحيز إلى مصدر واحد. ( )
- ٢٧ يعتمد على الزمن في التمييز بين المصادر الأولية والثانوية. ( )
- ٢٨ الآراء تعبر عن وجهات نظر شخصية. ( )
- ٢٩ تطبيق (GPS) من الوسائل الحديثة لتحديد المواقع. ( )
- ٣٠ الحقائق تعبر عن وجهات نظر شخصية قد تكون صحيحة أو غير صحيحة. ( )

### س ٣ اختر الإجابة الصحيحة مما بين القوسين:

- ١ يعتمد اختيار الطريق على .....
- (الطول والعرض - اللون والشكل - الهدف والسهولة - الاسم والعنوان)
- ٢ الاتجاه الفرعي الذي يُوجد بين الشرق والجنوب هو .....
- (الشمال الشرقي - الجنوب الشرقي - الشمال الغربي - الجنوب الغربي)
- ٣ الجهة المقابلة لاتجاه الشمال هي .....
- (الشرق - الجنوب - الشمال الشرقي - الغرب)
- ٤ يشير النجم القطبي إلى جهة .....
- (الشرق - الغرب - الشمال - الجنوب)

- ٥ مجموع عدد الاتجاهات الأصلية والفرعية هو ..... اتجاهات.
- (خمسة - ستة - سبعة - ثمانية)
- ٦ عرف المصريون القدماء الاتجاهات ليلاً من خلال .....
- (النجم القطبي - البوصلة - الشمس - البوصلة الرقمية)
- ٧ استخدام المصريين القدماء للنجوم لتحديد الاتجاهات يدل على تفوقهم في علم .....
- (الكيمياء - الفيزياء - الفلك - الطب)
- ٨ تستطيع حالياً تحديد الاتجاهات بسرعة ودقة عن طريق .....
- (الإسطرلاب - الشمس - النجم القطبي الشمالي - البوصلة الرقمية)
- ٩ تساعدنا في تحديد اتجاهات الأماكن على الخريطة .....
- (وردة البوصلة - مفتاح الخريطة - مقياس الرسم - عنوان الخريطة)
- ١٠ تساعد الخريطة السائح في الوصول إلى .....  
سلسلة كتب الاستاذ
- (المواقع العسكرية - الأراضي الزراعية - المواقع الأثرية - المناطق الصناعية)
- ١١ العنصر المستخدم في شرح الرموز على الخريطة هو .....
- (عنوان الخريطة - مفتاح الخريطة - مقياس الرسم - وردة البوصلة)
- ١٢ يوضح موضوع الخريطة .....
- (وردة البوصلة - مفتاح الخريطة - مقياس الرسم - عنوان الخريطة)
- ١٣ استخدم الإسطرلاب قديماً في .....
- (البوصلة الرقمية - تحديد القبلة - وصف الأماكن - الأقمار الصناعية)
- ١٤ يشير اللون البني على الخريطة إلى .....
- (الجبال - السهول - البحار - الصحاري)
- ١٥ تأثرت مريم الإسطرلابي بوالدها الذي كان يعمل في مجال .....
- (الطب - الهندسة - الفلك - الزراعة)
- ١٦ اللون الأخضر على الخريطة يدل على .....
- (الجبال - المرتفعات - السهول - البحار)

- ١٧ تحديد موقع الأرض الزراعية هو أحد استخدامات الخريطة بالنسبة لـ.....  
(الطيار - المعلم - المزارع - السائح)
- ١٨ يستخدم ..... الخريطة في تحديد مسار الرحلات.  
(التلميذ - المزارع - الجندي - القبطان)
- ١٩ لتحديد المواقع الحربية يستخدم ..... الخريطة.  
(الجندي - السائح - القبطان - المزارع)
- ٢٠ تختلف الصور الفضائية عن الصور الجوية في أنها تلتقط عن طريق .....  
(الطائرات - الأقمار الصناعية - الصواريخ - السفن)
- ٢١ أحد أهم إنجازات العالم الإدريسي .....  
(رسم الخرائط - اختراع GPS - تطوير الإسطرلاب - اختراع البوصلة)
- ٢٢ المعلومات المنتشرة دون التأكد من صحتها هي .....  
(آراء - حقائق - شائعات - نظريات)
- ٢٣ أحد المصادر الأولية وهو عبارة عن رموز محفورة على الحجارة هو .....  
(كتابات المؤرخين - النقوش الأثرية - البرديات - الأفلام التاريخية)
- ٢٤ صنع المصريون القدماء الورق من نبات .....  
(اللوتس - الكتان - البردي - الصبار)
- ٢٥ يقع البحر المتوسط في شمال مصر، تعد هذه العبارة .....  
(حقيقة - رأياً - خيالاً - شائعة)

س ٤ اكتب ما تشير إليه كل عبارة من العبارات التالية:

- ١ أحد الاتجاهات الفرعية يقع بين الجنوب والغرب. (.....)
- ٢ شكل مبسط لفكرة الخريطة. (.....)
- ٣ أداة تحتوي على إبرة مغناطيسية تشير إلى اتجاه الشمال المغناطيسي. (.....)
- ٤ اتجاهات تقع بين الاتجاهات الأربعة الأصلية. (.....)
- ٥ رسم مصغر يوضح سطح الأرض باستخدام الرموز والألوان ومقياس رسم محدد. (.....)

- ٦ تساعدنا في تحديد اتجاهات الأماكن على الخريطة. (.....)
- ٧ يشير إلى النسبة بين المسافة على الخريطة وما يقابلها على أرض الواقع. (.....)
- ٨ أداة فلكية قديمة استخدمت في تحديد اتجاه القبلة وأوقات الصلاة. (.....)
- ٩ صور يتم التقاطها من الجو بواسطة الطائرات. (.....)
- ١٠ صور يتم التقاطها من الفضاء بواسطة الأقمار الصناعية. (.....)
- ١١ مصادر قامت بتسجيل الحدث بعد وقوعه بفترة زمنية طويلة. (.....)
- ١٢ مصادر صعب الحصول عليها وسجلت الحدث وقت وقوعه. (.....)
- ١٣ معلومات صحيحة مؤكدة ويمكن إثباتها. (.....)
- ١٤ الأحاديث غير الصحيحة التي يتناقلها الناس دون معرفة مصدرها. (.....)
- ١٥ تُعبر عن وجهات نظر شخصية وقد تكون صحيحة وغير صحيحة. (.....)

### س ٥ صوّب ما تحته خط في العبارات التالية:

- ١ الاتجاه المقابل لاتجاه الشرق هو اتجاه الشمال. (.....)
- ٢ تشرق الشمس من جهة الغرب. (.....)
- ٣ يستخدم النجم القطبي الشمالي لتحديد الاتجاهات نهارًا. (.....)
- ٤ استخدم الإغريق النجم القطبي الشمالي في تحديد الاتجاهات. (.....)
- ٥ الأحاديث غير الصحيحة التي ينقلها الناس تُسمى بالحقائق. (.....)
- ٦ الحقائق هي تعبير عن وجهات النظر. (.....)
- ٧ يعد اتجاهها الشمال والشرق من الاتجاهات الفرعية. (.....)
- ٨ يقع اتجاه الشمال الشرقي بين الشمال والجنوب. (.....)
- ٩ الأماكن الأقل ارتفاعًا على الخريطة يُشار إليها باللون الأزرق. (.....)
- ١٠ تساعد الخريطة المزارع في تحديد المواقع الأثرية. (.....)
- ١١ حدد المسلمون أوقات الصلاة قديمًا بالاعتماد على البوصلة. (.....)
- ١٢ يتم التقاط الصور الفضائية عن طريق الطائرات الحربية. (.....)
- ١٣ تعرف المصادر التي سجلت وقت وقوع الحدث بالمصادر الثانوية. (.....)

١ أهمية رسم مخطط لمكان ما عند وصفه لشخص.

٢ أهمية استخدام البوصلة الرقمية الموجودة بالهواتف الذكية.

٣ استخدم المصريون القدماء النجم القطبي الشمالي.

٤ أهمية مقياس الرسم في الخريطة.

٥ أهمية مفتاح الخريطة.

٦ أهمية وردة البوصلة على الخريطة.

٧ أهمية عنوان الخريطة.

٨ أهمية الخريطة في حياتنا.

٩ أهمية الخريطة للمزارع.

١٠ أهمية الخريطة لقائد الطائرة.

١١ أهمية الخريطة للسائح.

١٢ أهمية الإسطرلاب قديماً.

١٣ أهمية المصادر الأولية.

١٤ أهمية المصادر الثانوية.

س ٧ ما النتائج المترتبة على...؟

١ استخدام المصريين القدماء للنجم القطبي الشمالي.

٢ اختراع البوصلة الرقمية في الهواتف الذكية.

٣ معرفة مقياس الرسم عند قراءة الخريطة.

٤ الاعتراف الرسمي بإنجازات مريم الإسطرلابي.

٥ تسجيل المعلومات زمن وقوع الحدث.

س ٨ دّل على صحة العبارات التالية:

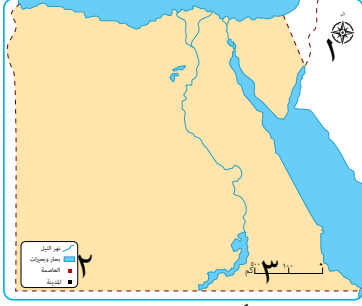
١ تفوق المصريين القدماء في علم الفلك. كتب الاستاذ

٢ برع العرب في رسم الخرائط.

٣ أسهمت مريم الإسطرلابي في علم الفلك.

٤ يعتمد تصنيف المصادر على زمن إنتاجها.

س ٩ أمامك خريطة صماء لمصر، اكتب مدلول الأرقام عليها:



٤ خريطة (١) جمهورية مصر العربية

- ١ يشير رقم (١) إلى .....
- ٢ يشير رقم (٢) إلى .....
- ٣ يشير رقم (٣) إلى .....
- ٤ يشير رقم (٤) إلى .....

س ١٠ لاحظ الشكل المقابل، ثم أجب:



- ١ يشير رقم (١) إلى اتجاه .....
- ٢ يشير رقم (٢) إلى اتجاه .....
- ٣ يشير رقم (٣) إلى اتجاه .....
- ٤ يشير رقم (٤) إلى اتجاه .....
- ٥ يشير رقم (٥) إلى اتجاه .....

الأستاذ

سلسلة كتب الأستاذ

## مراجعة الوحدة الثانية

س ١ أكمل العبارات الآتية بما يناسبها من كلمات:

- ١ استقر المصريون القدماء على ضفاف .....
- ٢ تعد مدينة الخارجة من المدن .....
- ٣ تستفيد المدينة من المنتجات الزراعية التي توفرها .....
- ٤ يوجد جامع عمرو بن العاص في مدينة .....
- ٥ تقع بورسعيد على ساحل البحر .....
- ٦ من المدن التي تقع على ضفاف نهر النيل مدينة .....
- ٧ تقع مدينة ..... على ساحل البحر المتوسط.
- ٨ تقوم الدولة بإقامة المناطق الصناعية بعيداً عن المناطق .....
- ٩ تقع مدينة شرم الشيخ على ساحل البحر .....
- ١٠ تعد الكنيسة المعلقة أحد الأماكن الأثرية في مدينة .....
- ١١ ساعدت مبادرة حياة كريمة على تطوير ..... المصري.
- ١٢ سعت الدولة إلى إنشاء العديد من المحاور مثل محور .....
- ١٣ وسيلة انتقال قل استخدامها بعد ظهور السيارات ..... وهى صديقة للبيئة.
- ١٤ طورت الدولة وحدة معالجة مياه الصرف الصحي بالجبل .....
- ١٥ اعتمد السكان في الماضي على مصباح ..... في الإنارة.
- ١٦ أقدم المساجد التي بنيت في مصر هو جامع .....
- ١٧ يحصل الطلاب في المدرسة على الخدمات .....
- ١٨ يقوم مركز الحماية المدنية بإنقاذ المحاصرين وإخماد .....
- ١٩ تعمل الدولة على تطوير جهاز الشرطة من خلال ..... المستمر.
- ٢٠ تحصل على الخدمات التعليمية من .....
- ٢١ يريد صديقك ووالده شراء احتياجاتهم من الملابس لذا عليهم الذهاب إلى .....

- ٢٢ من واجبنا تجاه مدرستنا المحافظة عليها وعدم الكتابة على .....
- ٢٣ مؤسسة تقوم بتقديم الخدمات الصحية والعلاج .....
- ٢٤ التخطيط لبناء المدن يعني التفكير المسبق لتنظيم استخدام .....
- ٢٥ تقدم الشرطة خدمات أمنية منها حفظ .....
- ٢٦ يقوم مركز ..... بالاستجابة للكوارث الطبيعية مثل الزلازل.
- ٢٧ قام الملك إخناتون ببناء مدينة .....
- ٢٨ بنيت مدينة أخيتاتون على الضفة ..... لنهر النيل.
- ٢٩ تتوقع في المستقبل أن تكون أجهزة الاستشفاء بالمستشفيات قائمة على الذكاء .....
- ٣٠ لتحويل ضوء الشمس إلى طاقة كهربائية نستخدم الألواح .....
- ٣١ استخدام الآلات الزراعية الحديثة يساعد على زيادة .....
- ٣٢ تم تقسيم مصر إلى ..... محافظة.
- ٣٣ يفصل بين المحافظات المصرية حدود .....
- ٣٤ المحافظة جزء من الدولة تضم مجموعة من .....
- ٣٥ محافظتا الغربية والقليوبية من محافظات الوجه .....
- ٣٦ تصنف محافظتي (بنى سويف) من محافظات .....
- ٣٧ أكبر محافظات الحدود الصحراوية مساحة هي محافظة .....
- ٣٨ شعار محافظة القاهرة به الجامع الأزهر مكتوب على قاعدته كلمة .....
- ٣٩ أكبر المحافظات المصرية مساحة محافظة .....  
الاستاذ
- ٤٠ تعد محافظة شمال سيناء من محافظات مصر .....
- ٤١ تم نقل الوزارات والمصالح الحكومية في مصر إلى .....
- ٤٢ وضع حجر الأساس لمدينة القاهرة عام ٩٦٩م القائد .....
- ٤٣ أطلق اسم جوهره الشرق على مدينة .....
- ٤٤ تعد محافظتا الجيزة وقنا من محافظات الوجه .....
- ٤٥ أصغر المحافظات المصرية مساحة محافظة .....

س ٢ ضع علامة (✓) أمام العبارة الصحيحة، وعلامة (X) أمام العبارة غير الصحيحة:

- ١ ( ) نتج عن استقرار المصري القديم على ضفاف النيل نشأة القرى والمدن.
- ٢ ( ) استغل المصري القديم التربة الخصبة في الزراعة.
- ٣ ( ) تتركز الأنشطة الزراعية وتربية الحيوانات في المدن.
- ٤ ( ) نشأت المدن قبل استقرار المصريين القدماء على ضفاف نهر النيل.
- ٥ ( ) تنتشر المناطق الزراعية في القرى وحول المدن.
- ٦ ( ) تعد مدينتا القاهرة وأسوان من المدن الصحراوية.
- ٧ ( ) القرية تجمع سكني تتركز فيه أنشطة الصناعة والتجارة.
- ٨ ( ) تستفيد المدينة من المنتجات الزراعية التي توفرها القرية.
- ٩ ( ) تبنى المناطق الصناعية عادة داخل المدن.
- ١٠ ( ) تعد مدينة الخارجة إحدى المدن الواقعة على ضفاف نهر النيل.
- ١١ ( ) تقع مدينتا الإسكندرية وبورسعيد على ساحل البحر المتوسط.
- ١٢ ( ) يعد جامع عمرو بن العاص من أقدم الجوامع التي أقيمت في إفريقيا.
- ١٣ ( ) تخصص المناطق الترفيهية لبناء المنازل التي يعيش فيها السكان.
- ١٤ ( ) تجذب المناطق السياحية الزوار من داخل وخارج البلاد.
- ١٥ ( ) تعد الأندية الرياضية من المناطق الترفيهية.
- ١٦ ( ) تعمل الدولة على تحديث شبكات الصرف مثل محطة الجبل الأصفر بالقليوبية.
- ١٧ ( ) عادت مدينة السويس للحياة بعد حرب عام ١٩٧٣م بفضل تعاون أهلها.
- ١٨ ( ) انشأت الدولة عديداً من المدن الجديدة في المناطق الصحراوية.
- ١٩ ( ) كان المصريون يستخدمون الدراجات للذهاب إلى العمل أو السوق منذ زمن قريب.
- ٢٠ ( ) تعمل الدولة على تطوير الريف المصري من خلال مبادرة اتحضر للأخضر.
- ٢١ ( ) شهدت مصر تطوراً ملحوظاً في وسائل المواصلات منذ عام ٢٠١٤م.
- ٢٢ ( ) تسعى الحكومة إلى تطوير الريف المصري من خلال مبادرة حياة كريمة.
- ٢٣ ( ) يعد محور روض الفرج نموذجاً للتطور في إنشاء المحاور المرورية.
- ٢٤ ( ) الأتوبيس الترددي من وسائل النقل القديمة.
- ٢٥ ( ) يساهم استخدام الدراجات في حماية البيئة.
- ٢٦ ( ) تساعد التكنولوجيا على تسهيل الحياة وسرعة إنجاز الأعمال.

- ( ) ٢٧ من وسائل الاتصال القديمة الهاتف المحمول.
- ( ) ٢٨ تحقيق التوازن بين مزايا التطوير وتحدياته أمر ضروري لضمان جودة الحياة.
- ( ) ٢٩ من التحديات المصاحبة لتطور المدن تحسن مستوى حياة السكان.
- ( ) ٣٠ أطلقت الدولة مبادرة ١٠٠ مليون صحة للكشف المبكر عن الأمراض.
- ( ) ٣١ تقع مدينة أحيثانون حاليا في محافظة أسيوط.
- ( ) ٣٢ يعد التخطيط لبناء المدن حل لمشكلات الازدحام والتلوث.
- ( ) ٣٣ تعد محافظة مطروح إحدى محافظات الحدود الصحراوية.
- ( ) ٣٤ تعد الإسكندرية عاصمة مصر والمقر الرسمي للحكم والإدارة حاليا.
- ( ) ٣٥ قامت الدولة بإنشاء العاصمة الإدارية الجديدة غرب محافظة القاهرة.
- ( ) ٣٦ يرفع شعار محافظتي في عيدها القومي.
- ( ) ٣٧ يعبر شعار المحافظة عن نشاط سكانها أو جزء من تاريخها.
- ( ) ٣٨ تعتمد العاصمة الإدارية الجديدة على التكنولوجيا الحديثة والطاقة النظيفة.
- ( ) ٣٩ لكل محافظة من محافظات مصر شعار خاص بها.
- ( ) ٤٠ مدينة الالف مئذنة اسم اطلق على محافظة الجيزة.

### س ٣ اختر الإجابة الصحيحة مما بين القوسين:

- ١ أقيم جامع عمرو بن العاص في مدينة .....  
(اسوان - القاهرة - حلوان - الإسكندرية)
- ٢ مدينة ..... تقع على ساحل البحر الاحمر.  
سلسلة كتب الاستاذ (اسوان - أسيوط - الغردقة - المنيا)
- ٣ يجب بناء المصانع .....  
(في وسط المدينة - بين المنازل - على اطراف المدينة - على جانبي النهر)
- ٤ تحصل المدينة من القرية على المنتجات .....  
(الزراعية - الصناعية - التجارية - التعدينية)
- ٥ اى مما يلي من المدن الصحراوية .....  
(الإسكندرية - القاهرة - اسوان - الخارجة)

- ٦ توافر المياه العذبة أدى إلى استقرار المصريين القدماء بجوار.....  
(البحر المتوسط - نهر النيل - البحيرات الشمالية - الجبال المرتفعة)
- ٧ استغل المصريون القدماء التربة الخصبة في نشاط.....  
(الزراعة - الصناعة - التجارة - السياحة)
- ٨ إحدى المدن التي تقع على ضفاف نهر النيل هي.....  
(القاهرة - الخارجة - الغردقة - الإسكندرية)
- ٩ أي مما يلي يتم بناؤه في المناطق الترفيهية؟.....  
(الأندية الرياضية - المصانع - مكاتب البريد - البنوك)
- ١٠ إحدى وسائل المواصلات التي تجمع بين السرعة والكفاءة والأمان هي.....  
(القطار البخاري - الأتوبيس الترددي - الدراجة البخارية - الأتوبيس النهري)
- ١١ اعتمد السكان في الماضي على أدوات تقليدية منها.....  
(المصابيح الكهربائية - الهواتف المحمولة - الغسالات الحديثة - مصابيح الكيروسين)
- ١٢ تقدم الخدمات الصحية للمرضى في.....  
(المدرسة - مكتب البريد - المستشفى - قسم الشرطة)
- ١٣ تعد من المهام الأساسية للشرطة.....  
(تنظيم المرور - تنظيف الشوارع - توفير الأدوية - تعليم الطلاب)
- ١٤ إحدى مهام مركز الحماية المدنية.....  
(إصدار الوثائق - إخماد الحرائق - مراقبة الامتحانات - تنظيم المرور)
- ١٥ تعمل الدولة على مراقبة الأسعار في الأسواق من أجل.....  
(زيادة الاستهلاك - تشجيع السياحة - منع الغلاء - زيادة الإنتاج)
- ١٦ تم تشييد مدينة أحياتون في عهد الملك.....  
(رمسيس الثاني - أحمس - تحتمس الثالث - إخناتون)
- ١٧ إحدى القيم التي نتمسك بها ونأخذها من الماضي إلى المستقبل.....  
(الأناية - الغرور - التعاون - التعصب)
- ١٨ إحدى محافظات الحدود الصحراوية.....  
(الجيزة - بني سويف - البحيرة - البحر الأحمر)

- ١٩ إحدى أقدم المواسم التاريخية ..... (أسيوط - القاهرة - المنصورة - الغردقة)
- ٢٠ أى من المدن الآتية تقع على ضفاف نهر النيل ؟ .....  
(القاهرة - مطروح - الإسكندرية - السويس)
- ٢١ من المدن الساحلية التي تقع على ساحل البحر الأحمر .....  
(مطروح - الغردقة - السلوم - دمياط)
- ٢٢ المناطق المخصصة لإنتاج المحاصيل الغذائية هي المناطق .....  
(الصناعية - الزراعية - السكنية - الترفيهية)
- ٢٣ المناطق المخصصة لبناء المنازل هي المناطق .....  
(الزراعية - السكنية - الصناعية - الترفيهية)
- ٢٤ المناطق المخصصة للتنزه هي المناطق .....  
(الترفيهية - الزراعية - الصناعية - السكنية)
- ٢٥ كان المصري القديم يعتمد في الزراعة على مياه .....  
(نهر النيل - الأمطار - الآبار - العيون)
- ٢٦ توجد الكنيسة المعلقة في مدينة .....  
(القليوبية - سيناء - القاهرة - أسيوط)
- ٢٧ تعرضت مدينة ..... للقصف خلال حرب أكتوبر ١٩٧٣ م.  
(الإسكندرية - القاهرة - السويس - مطروح)
- ٢٨ من فوائد ركوب الدراجة .....  
(التلوث - الزحام - تقوية العضلات - زيادة الإنفاق)
- ٢٩ توفر لنا المستشفيات الخدمات ..... (الصحية - الأمنية - التعليمية - التجارية)
- ٣٠ الكشف وتقديم العلاج من مهام .....  
(الشرطي - المعلم - الطبيب - رجل المرور)
- ٣١ من مهام مركز الحماية المدنية .....  
(إطفاء الحرائق - إصدار الوثائق - تقديم العلاج - حفظ الأمن)
- ٣٢ عند انهيار المباني يكون إنقاذ الأشخاص مسئولية .....  
(الحماية المدنية - مراكز الشرطة - المؤسسات التعليمية - الأسواق التجارية)

- ٣٣ توجد مدينة أختيانون فى تل العمارنة بمدينة .....
- (الأقصر - أسيوط - أسوان - المنيا)
- ٣٤ يتوقع أن تعتمد المدن مستقبلا فى إنتاج الطاقة على .....
- (الفحم - البترول - الغاز الطبيعي - الشمس)
- ٣٥ من محافظات الوجه البحرى فى مصر محافظة .....
- (القاهرة - الجيزة - مطروح - أسوان)
- ٣٦ من محافظات الوجه القبلى فى مصر محافظة .....
- (الشرقية - المنوفية - قنا - الإسكندرية)
- ٣٧ من محافظات الحدود الصحراوية فى مصر محافظة .....
- (المنوفية - المنيا - مطروح - البحيرة)
- ٣٨ يضم شعار محافظة القاهرة عدة رموز منها .....
- (قمر مضى - شمس ساطعة - مركب بشراعين - سنابل القمح)
- ٣٩ تحتفل محافظة القاهرة بعيدها القومى فى شهر .....
- (يوليو - أغسطس - سبتمبر - أكتوبر)
- ٤٠ محافظة .....
- (البحر الاحمر - المنيا - الفيوم - قنا)

#### س ٤ اكتب ما تشير إليه كل عبارة من العبارات التالية:

- ١ مناطق مخصصة للتنزه منها الأندية الرياضية والحدائق العامة.  
(.....) سلسلة كتب الأستاذ
- ٢ تجمع سكانى تتركز فيه أنشطة الزراعة وتربية الحيوانات.  
(.....)
- ٣ مناطق مخصصة لاقامة المصانع لتوفير المنتجات المتنوعة.  
(.....)
- ٤ تجمع سكنى تتركز فيه الخدمات وانشطة الصناعة والتجارة.  
(.....)
- ٥ مناطق تضم معالم اثرية وسياحية وتسهم فى تنشيط السياحة.  
(.....)

٦ إحدى المناطق التي تنتشر في القرى وحول بعض المدن تنتج المحاصيل والغذاء.

(.....)

٧ مدينة أنشأها الملك إخناتون على الضفة الشرقية لنهر النيل.

(.....)

٨ المقر الرسمي للحكم والإدارة للدولة.

(.....)

٩ راية تتخذها المحافظة رمزاً لها لتعبر عن نشاط سكانها أو جزء من تاريخها.

(.....)

١٠ أول جامع أقيم في مصر بعد الفتح الإسلامي لها.

(.....)

١١ مدينة مصرية تعرضت للقصف وتدمرت بها بعض المباني خلال في أكتوبر ١٩٧٣م.

(.....)

١٢ مبادرة مصرية تهدف إلى تطوير الريف المصري.

(.....)

١٣ وسيلة استخدمت للإنارة قديماً.

(.....)

١٤ مناطق تسعى الدولة إلى إزالتها واستبدالها بمساكن آمنة ومناسبة.

(.....)

١٥ الأماكن التي تقدم متطلبات ضرورية للحياة اليومية مثل التعليم والصحة والأمن.

(.....)

١٦ أحد الأماكن الخدمية التي تقدم الخدمات الصحية للمرضى.

(.....)

١٧ أحد الأماكن الخدمية التي تعمل على حفظ الأمن والنظام وتنظيم المرور والنجدة.

(.....)

١٨ أحد الأماكن الخدمية التي تسهم في توفير السلع المختلفة للناس.

(.....)

١٩ التفكير المسبق لتنظيم استخدام الأرض وتحسين حياة السكان.

(.....)

٢٠ مصدر طاقة تعتمد عليه مدن المستقبل ويستخدم في تشغيل السيارات الكهربائية.

(.....)

٢١ جزء من الدولة يضم مجموعة من المراكز أو الأحياء.

(.....)

٢٢ العيد الذي يمثل حدثاً تاريخياً أو ذكرى مهمة مرت بها المحافظة.

(.....)

٢٣ منارة الإسلام في العالم ويظهر على شعار محافظة القاهرة.

(.....)

س ٥ صوّب ما تحته خط في العبارات التالية:

- ١ من المدن التي تقع على ضفاف نهر النيل مدينة بورسعيد. (.....)
- ٢ المناطق السكنية مخصصة لبناء المصانع. (.....)
- ٣ استغل المصري القديم التربة الخصبة في الصيد. (.....)
- ٤ أول جامع أقيم في مصر وإفريقيا جامع السيدة زينب. (.....)
- ٥ أنشأت الدولة مشروع بشاير الخير بمحافظة المنوفية. (.....)
- ٦ استخدم السكان في الماضي الهواتف المحمولة. (.....)
- ٧ أحد الأماكن التي تقدم خدمات تعليمية المستشفى. (.....)
- ٨ حفظ الأمن والنظام أحد واجبات الأطباء. (.....)
- ٩ شيدت مدينة أختياتون على الضفة الغربية لنهر النيل. (.....)
- ١٠ أكبر محافظات مصر مساحة هي محافظة البحر الأحمر. (.....)
- ١١ محافظة الفيوم إحدى محافظات الحدود الصحراوية. (.....)
- ١٢ المدينة التي اشتهرت باسم مدينة الألف مئذنة هي مدينة الأقصر. (.....)
- ١٣ يُعد يوم ٦ يوليو هو العيد القومي لمدينة الإسكندرية. (.....)
- ١٤ وضع حجر الأساس لمدينة القاهرة عام ٩٦٩م على يد القائد عمرو بن العاص. (.....)
- ١٥ أطلقت الدولة مبادرة حياة كريمة للكشف المبكر عن الأمراض. (.....)

س ٦ بَم تفسر...؟

١ استقرار المصريون القدماء على ضفاف نهر النيل.

.....

٢ سميت الكنيسة المعلقة بهذا الاسم.

.....

٣ أهمية المناطق السياحية.

.....

٤ إقامة المصانع على أطراف المدن.

٥ أنشأت الدولة عددا من المدن الجديدة في المناطق الصحراوية.

٦ منعت القوات الإسرائيلية من دخول مدينة السويس في حرب أكتوبر ١٩٧٣ م.

٧ استخدام الدراجات يحافظ على مدينتنا.

٨ أهمية مكتبة المدرسة.

٩ قيام الدولة بإنشاء أسواق متخصصة.

١٠ أهمية الشرطة في مدينتنا.

١١ تقوم الدولة ببناء المدارس والجامعات.

١٢ تعمل الدولة على مراقبة الأسعار في الأسواق.

١٣ أهمية الأسواق بالنسبة للناس.

١٤ أهمية مبادرة ١٠٠ مليون صحة.

١٥ أهمية التخطيط لبناء المدن.

١٦ تعمل الدولة على توفير الخدمات للسكان.

١٧ استخدام أجهزة للاستشفاء بمستشفيات المستقبل قائمة على الذكاء الاصطناعي.

١٨ أهمية الطاقة الشمسية في المدن المستقبلية.

١٩ تقسيم مصر إلى عدد من المحافظات.

٢٠ ضرورة وجود عاصمة لكل دولة.

٢١ تتخذ كل محافظة شعارًا خاصًا بها.

٢٢ وجود شمس ساطعة خلف الجامع الأزهر بشعار محافظة القاهرة.

٢٣ تحتفل القاهرة بعيدها القومي يوم ٦ يوليو من كل عام.

٢٤ تعد القاهرة من أقدم العواصم التاريخية في العالم.

١ تحتوى المناطق السياحية تحتوى على معالم اثرية او طبيعية.

.....

.....

٢ وفرة التربة الخصبة على ضفاف نهر النيل.

.....

.....

٣ تطوير الدولة للمدن وانتقال السكان إليها.

.....

.....

٤ محاولات العدوان الإسرائيلي دخول مدينة السويس في أثناء حرب ١٩٧٣ م.

.....

.....

٥ استخدام الألواح الشمسية في المستقبل.

.....

.....

٦ استخدام المزارعين في المستقبل للآلات الحديثة.

.....

.....

٧ إنشاء الدولة للعاصمة الإدارية الجديدة.

.....

.....

٨ اعتماد العاصمة الإدارية الجديدة على التكنولوجيا الحديثة والطاقة النظيفة.

.....

.....

١ تتنوع طبيعة المدن في مصر حسب موقعها.

.....

.....

٢ يتبادل كل من المدينة والقرية المنافع.

.....

.....

٣ تبذل الدولة جهودًا كبيرة لتطوير القرى والمدن المصرية.

.....

.....

٤ شهدت مصر تطورًا ملحوظًا عام ٢٠١٤م في الطرق ووسائل المواصلات.

.....

.....

٥ تمتلك مصر وسائل نقل حديثة ومتنوعة.

.....

.....

٦ مدينة السويس رمز للصمود والتحدى.

.....

.....

٧ تقدم الشرطة عددا من الخدمات في المجتمع.

.....

.....

٨ تعمل الدولة على تطوير جهاز الشرطة.

.....

.....

٩ تسعى الدولة إلى حماية المستهلك داخل الأسواق.

.....

.....

١٠ تميز المصريون القدماء في تخطيط مدتهم.

.....

.....

١١ الزراعة في المستقبل ستكون أكثر تطورًا.

.....

.....

١٢ شهرة القاهرة عبر الزمن بعدة أسماء.

.....

.....

١٣ لشعار المحافظة أهمية كبيرة.

.....

.....

س ٩ ما العلاقة بين ... ؟

١ القرية والمدينة.

.....

.....

٢ الدراجات وصحة الإنسان.

.....

.....

٣ التخطيط الجيد لبناء المدن وحياة السكان.

.....

.....

٤ مساحة مصر والمحافظات.

.....

.....

٥ شعار المحافظة والعيد القومي لها.

.....

.....

س ١٠ ما المقصود بـ ... ؟

١ القرية

.....

.....

٢ المدينة

.....

.....

٣ الأماكن الخدمية

.....

.....

٤ شعار المحافظة

.....

.....

٥ العيد القومي للمحافظة

.....

.....

٦ المحافظة

.....

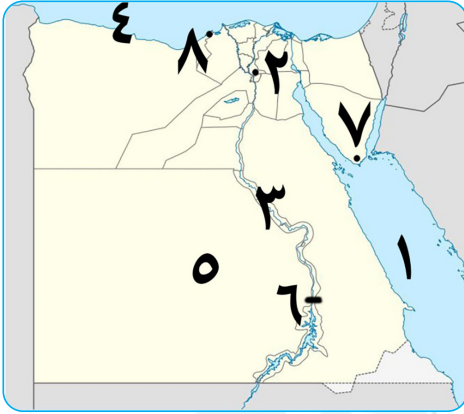
.....

٧ التخطيط لبناء المدن

.....

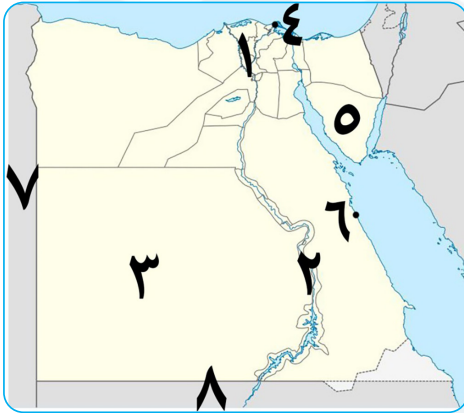
.....

س ١١ أمامك خريطة صماء لمصر اكتب مدلول الأرقام عليها:



- ١ يشير رقم (١) إلى البحر .....
- ٢ محافظة تقع على نهر النيل.....
- ٣ يشير رقم (٣) إلى نهر .....
- ٤ يشير رقم (٤) إلى البحر .....
- ٥ مدينة تقع في الصحراء .....
- ٦ مدينة تقع على النيل .....
- ٧ مدينة تقع على البحر الاحمر .....
- ٨ مدينة تقع على البحر المتوسط .....

س ١٢ أمامك خريطة صماء لمصر اكتب مدلول الأرقام عليها:



- ١ يشير رقم (١) إلى محافظات الوجه .....
- ٢ يشير رقم (٢) إلى محافظات الوجه .....
- ٣ اكبر محافظات مصر مساحة هي .....
- ٤ اصغر محافظات مصر مساحة هي .....
- ٥ محافظة صحراوية هي .....
- ٦ يشير الى مدينة ساحلية .....
- ٧ يشير رقم (٧) إلى دولة .....
- ٨ يشير رقم (٨) إلى دولة .....

## مراجعة الوحدة الثالثة

س ١ أكمل العبارات الآتية بما يناسبها من كلمات:

- ١ اتخذت مملكة الشمال بمصر قديماً رمزاً لها وهو .....
- ٢ العلم هو رمز ..... يمثلها ويعبر عن تاريخها وشعبها.
- ٣ علم مصر على شكل ..... افقي.
- ٤ كانت زهرة اللوتس في مصر قديماً شعاراً للمملكة .....
- ٥ اللون ..... في العلم المصرى يرمز إلى النقاء والرخاء والسلام.
- ٦ النشيد الوطني لمصر هو .....
- ٧ من واجبنا تجاه علم بلدنا ..... و .....
- ٨ من قارات العالم القديم آسيا و ..... و .....
- ٩ عدد قارات العالم ..... قارات وتعد قارة ..... أكبر القارات مساحة.
- ١٠ تقع قارة أمريكا الجنوبية فى نصف الكرة الأرضية .....
- ١١ تعد ..... هي مساحة واسعة وعميقة من المياه المالحة مثل .....
- ١٢ تعد قارة ..... من قارات العالم الجديد.
- ١٣ يعد المحيط ..... أكبر المحيطات مساحة.
- ١٤ تعد قارة ..... أصغر القارات من حيث المساحة.
- ١٥ تقع مصر فى الركن ..... من قارة إفريقيا.
- ١٦ تنقسم قارات العالم إلى قارات العالم ..... وقارات العالم .....
- ١٧ تمتد السهول الفيضية على جانبي ..... وتتميز بتربتها .....
- ١٨ من أمثلة الجبال في مصر ..... وهو أعلى قمة جبلية في مصر.
- ١٩ من التلال التي تقع بمصر هي تلال .....

- ٢٠ توجد جبال البحر الأحمر في الصحراء .....
- ٢١ تقع هضبة الجلف الكبير في الـركن ..... لمصر.
- ٢٢ من أمثلة البحيرات الشمالية المالحة في مصر بحيرة ..... وبحيرة .....
- ٢٣ يجرى نهر النيل في مصر من ..... الى ..... ويصب في البحر .....
- ٢٤ من أمثلة الموارد غير المتجددة ..... و .....
- ٢٥ تعد الشمس والرياح من الموارد .....
- ٢٦ الموارد ..... هي التي تتجدد باستمرار وغير قابلة للنفاذ.
- ٢٧ من أمثلة الموارد الطبيعية المياه و ..... و .....
- ٢٨ مبادرة أطلقتها الدولة لحث المواطنين على الحفاظ على البيئة هي .....
- ٢٩ من أهم مؤلفات الدكتور جمال حمدان موسوعة ..... الأستاذ .....
- ٣٠ استخدم الدكتور مصطفى السيد ..... في علاج مرض السرطان.
- ٣١ درس الدكتور طه حسين في جامعة .....
- ٣٢ حصل الدكتور أحمد زويل على جائزة نوبل في .....
- ٣٣ أسهمت الدكتورة ..... في تأسيس هيئة الطاقة الذرية في العالم.
- ٣٤ برع المصريون القدماء في الفن و ..... و .....
- ٣٥ من المعالم الشهيرة بمحافظة القاهرة ..... الأستاذ .....
- ٣٦ من المعالم التاريخية في مصر دير ..... بجنوب سيناء.
- ٣٧ يمكن زيارة الأماكن الأثرية ومشاهدتها دون الذهاب إليها باستخدام .....
- ٣٨ شهد برج القاهرة في شكل أسطواني كهيئة زهرة .....
- ٣٩ يوجد برج إيفل في دولة .....
- ٤٠ يوجد دير سانت كاترين في جنوب شبه .....

## س ٢ ضع علامة (✓) أمام العبارة الصحيحة، وعلامة (X) أمام العبارة غير الصحيحة:

- ١ كانت مصر قديما مقسمة إلى ثلاث ممالك لكل منها شعار يميزها. ( )
- ٢ يدل النسر الذي يتوسط علم مصر على القوة والشجاعة. ( )
- ٣ تردد النشيد الوطني لمصر بلادي بلادي «تعبيرا عن الانتماء والفخر». ( )
- ٤ المصريون من أحدث شعوب العالم استخداما للأعلام. ( )
- ٥ يشير اللون الأحمر في علم مصر للنقاء والسلام. ( )
- ٦ يرفع العلم المصري في العديد من المواقع السياحية والوزارات. ( )
- ٧ اتخذت مملكة الجنوب في مصر قديما من زهرة اللوتس شعارا لها. ( )
- ٨ يظهر علم مصر الحالي بشكل مربع ويتكون من ثلاثة ألوان. ( )
- ٩ بلون النسر في علم مصر باللون الأبيض. ( )
- ١٠ يُعد المصريون القدماء من أوائل الشعوب التي استخدمت الأعلام. ( )
- ١١ وصل المستكشفون إلى الأمريكتين في العصور الحديثة. ( )
- ١٢ تضم الكرة الأرضية عدد سبع قارات وخمسة محيطات. ( )
- ١٣ يغطي الماء النسبة الأكبر من سطح الكرة الأرضية. ( )
- ١٤ تعد قارة أمريكا الشمالية من قارات العالم الجديد. ( )
- ١٥ تقل مساحة مصر عن المليون كيلو متر مربع. ( )
- ١٦ يقصد بالموقع الجغرافي موقع المكان بالنسبة لليابس والماء. ( )
- ١٧ تعد قارة أستراليا إحدى قارات العالم القديم. ( )
- ١٨ يبلغ عدد قارات العالم خمس قارات. سلة كتب الأستاذ ( )
- ١٩ البحر الأحمر يحد مصر من جهة الغرب. ( )
- ٢٠ يحد مصر من الشرق خليج العقبة والبحر الأحمر. ( )
- ٢١ حماية حدود وطننا إحدى مسئوليات الجيش المصري. ( )
- ٢٢ يطلق على كوكب الأرض اسم الكوكب المائي. ( )
- ٢٣ يحد مصر من جهة الشمال دولة ليبيا. ( )
- ٢٤ تقع جبال البحر الأحمر في الصحراء الغربية. ( )
- ٢٥ تعد بحيرة ناصر إحدى البحيرات المالحة جنوب مصر. ( )

- ( ) ٣٦ تقع جزيرة شدوان في البحر الأحمر.
- ( ) ٣٧ تختلف الألوان على خريطة مستويات ارتفاع السطح
- ( ) ٣٨ يقع جبل سانت كاترين في الصحراء الغربية.
- ( ) ٣٩ يجرى نهر النيل في مصر من الشمال إلى الجنوب.
- ( ) ٣٠ توجد هضبة الجلف الكبير في جنوب شرق مصر.
- ( ) ٣١ الموارد المتجددة غير قابلة للنفاذ.
- ( ) ٣٢ اليابان من الدول التي ليس لديها موارد طبيعية وفيرة.
- ( ) ٣٣ نجح الدكتور مصطفى السيد في تطوير علاج للسرطان باستخدام جزيئات الذهب.
- ( ) ٣٤ يمتاز الجندي المصري بالبسالة والشجاعة.
- ( ) ٣٥ يعد الهواء والتربة من الموارد الطبيعية.
- ( ) ٣٦ تستخدم طاقة الرياح والشمس في إنتاج الطاقة النظيفة.
- ( ) ٣٧ الإسراف في استخدام المبيدات الحشرية والأسمدة الكيميائية يسبب تلوث التربة.
- ( ) ٣٨ تتنوع الموارد في مصر ما بين موارد طبيعية وموارد بشرية.
- ( ) ٣٩ تعد المعادن والبتترول من مصادر الطاقة غير المتجددة.
- ( ) ٤٠ علينا أن نستخدم مواردنا بحكمة لكي تكفي الجميع والأجيال القادمة.
- ( ) ٤١ أطلقت الدولة مبادرة (اتحضر للأخضر) للحفاظ على البيئة.
- ( ) ٤٢ تفوق الدكتور جمال حمدان في مجال الطب.
- ( ) ٤٣ سميرة موسى هي أول عالمة مصرية تحصل على الدكتوراه في مجال الطاقة النووية.
- ( )
- ( )
- ( ) ٤٤ تخصص الدكتور طه حسين في مجال العلوم الطبية.
- ( ) ٤٥ يجب علينا معاملة السياح بأدب وأن تكون سفراء لبلدنا مصر.
- ( ) ٤٦ ترك المصريون القدماء تراثاً حضارياً عظيماً.
- ( ) ٤٧ يعكس المسرح الروماني ازدهار الحياة التجارية في الإسكندرية قديماً.
- ( ) ٤٨ بني برج القاهرة في عهد الرئيس محمد أنور السادات.
- ( ) ٤٩ يُسمح بتناول الطعام داخل المعالم التاريخية.
- ( ) ٥٠ تعد معابد الكرنك أحد المعالم المميزة لمحافظة أسوان.

سلسلة كتب الاساتذ

- ١ كان نبات البردى شعارا لمملكة ..... في مصر القديمة.  
(الشمال - الجنوب - الشرق - الغرب)
- ٢ يرمز اللون الأحمر في علم مصر إلى .....  
(خصوبة التربة - السلام والنقاء - فترات الاستعمار - دماء الشهداء)
- ٣ النسر الموجود على علم مصر يرمز إلى .....  
(الرخاء - القوة - الشهداء - السلام)
- ٤ النسر في علم مصر مستوحى من نسر القائد .....  
(عمرو بن العاص - صلاح الدين الأيوبي - أحمد بن طولون - عمر بن الخطاب)
- ٥ من سلوكيات عدم احترام العلم .....  
(الحفاظ عليه - القاؤه على الأرض - رفعه عاليا - الوقوف باحترام أثناء تحيته)
- ٦ أحد السلوكيات التي تعبر عن احترامنا لعلم مصر هو .....  
(الرسم عليه - تغيير ألوانه - الوقوف لتحيته - وضعه أرضاً)
- ٧ العبارة المكتوبة على قاعدة النسر في علم مصر هي .....  
(تحيا مصر - جمهورية مصر العربية - مصر أولا - قوة الشعب المصري)
- ٨ يطلق على كوكب الأرض اسم الكوكب ..... (الصخري - البارد - المائي - الناري)
- ٩ أصغر المحيطات على كوكب الأرض من حيث المساحة هو المحيط .....  
(الهادي - القطبي الجنوبي - الهندي - القطبي الشمالي)
- ١٠ تحد البحار مصر من جهتي .....  
(الشمال والشرق - الشمال والغرب - الجنوب والشرق - الجنوب والغرب)
- ١١ تعتبر قارة ..... إحدى قارات العالم الجديد.  
(إفريقيا - أستراليا - آسيا - أوروبا)

- ١٢ تفصل الحدود الدولية بين ..... (المدن - القارات - المحيطات - الدول)
- ١٣ يعد المحيط ..... أصغر محيطات العالم مساحة.
- (الهادي - الهندي - الأطلنطي - المتجمد الشمالي)
- ١٤ تحد مصر من الغرب دولة ..... (فلسطين - ليبيا - السودان - الأردن)
- ١٥ أي من الدول الآتية لها حدود دولية مع مصر؟ .....
- (الجزائر - تونس - السودان - قطر)
- ١٦ أي مما يلي تكون عن طريق رواسب الأنهار؟ .....
- (السهل الفيضي - السهل الساحلي - السلاسل الجبلية - شبه الجزيرة)
- ١٧ تقع هضبة الجلف الكبير على حدود مصر .....  
سلسلة كتب الأستاذ
- (الشمالية الغربية - الجنوبية الشرقية - الشمالية الشرقية - الجنوبية الغربية)
- ١٨ تتميز سهول ..... بالاتساع.
- (البحر الأحمر - البحر المتوسط - خليج العقبة - خليج السويس)
- ١٩ تقع تلال المقطم شرق محافظة ..... (اسوان - القاهرة - الإسكندرية - الجيزة)
- ٢٠ أرض مرتفعة لها قمة تزيد عن ١٠٠٠ متر تشير العبارة إلى .....  
سلسلة كتب الأستاذ
- (الهضبة - التل - الجبل - الجزيرة)
- ٢١ توجد بحيرة ..... في جنوب مصر. (البردويل - المنزلة - البرلس - ناصر)
- ٢٢ يقع السد العالي على مجرى .....  
سلسلة كتب الأستاذ
- (البحر المتوسط - البحر الأحمر - نهر النيل - قناة السويس)
- ٢٣ حصل الدكتور ..... على جائزة نوبل في الكيمياء.
- (أحمد زويل - مصطفى السيد - جمال حمدان - طه حسين)

- ٢٤ برعت الدكتورة سميرة موسى في مجال .....
- (الطاقة النووية - الهندسة - الذكاء الاصطناعي - الجغرافيا)
- ٢٥ أى من الموارد التالية بعد من الموارد المتجددة؟ .....
- (البترو - المعادن - الرياح - الغاز الطبيعي)
- ٢٦ أي مما يلي ينصح باستخدامه للحفاظ على التربة؟ .....
- (الأسمدة الكيماوية - السماد العضوي - المبيدات الحشرية - نفايات المصانع)
- ٢٧ أحد أشهر المعالم في دولة فلسطين .....
- (برج ايفل - تمثال الحرية - قصر الكرمين - المسجد الأقصى)
- ٢٨ أشهر كتب الدكتور طه حسين .....
- (شخصية مصر - السراب - الأيام - القاهرة الجديدة)
- ٢٩ ساهمت الدكتورة سميرة موسى في تأسيس هيئة .....
- (الأرصاد الجوية - الطاقة الذرية - الدواء المصرية - الآثار المصرية)
- ٣٠ هرم زوسر المدرج يوجد بمنطقة .....
- (تل العمارنة - ميت عقبة - الفيوم - سقارة)
- ٣١ استوحى تصميم برج القاهرة من .....
- (نبات البردي - زهرة اللوتس - نبات النخيل - أشجار الزيتون)
- ٣٢ سمي الجامع الأزهر بهذا الاسم نسبة لـ .....
- (فاطمة الزهراء - عمرو بن العاص - عمر بن الخطاب - جواهر الصقلي)
- ٣٣ يعد برج إيفل أحد المعالم الشهيرة لدولة .....
- (جنوب إفريقيا - مصر - فرنسا - استراليا)
- ٣٤ يقع أقدم بناء حجري في التاريخ بمحافظة .....
- (القاهرة - الجيزة - الأقصر - أسوان)

## س ٤ اكتب ما تشير إليه كل عبارة من العبارات التالية:

- ١ النشيد الوطني لمصر الذي نرده في المناسبات الرسمية. (.....)
- ٢ رمز الدولة يمثلها ويعبر عن تاريخها وشعبها. (.....)
- ٣ رمز في علم مصر يشير إلى القوة والشجاعة. (.....)
- ٤ يقصد به موقع المكان بالنسبة لليابس والميا. (.....)
- ٥ دولة تحد مصر من جهة الشمال الشرقي. (.....)
- ٦ أشكال سطح الأرض المختلفة ما بين مرتفعات ومنخفضات. (.....)
- ٧ أرض شديدة الارتفاع ولها قمة يزيد ارتفاعها عن ١٠٠٠ م وجوانبها شديدة الانحدار. (.....)
- ٨ أرض منخفضة عما حولها من الأراضي. (.....)
- ٩ مجرى مائي عذب. (.....)
- ١٠ مساحة من الأرض مرتفعة مستوية أو شبه مستوية. (.....)
- ١١ مساحة من الماء المالح أصغر من المحيط. (.....)
- ١٢ أرض مستوية تمتد على طول سواحل البحار. (.....)
- ١٣ مساحة من اليابس محاطة بالماء من جميع الاتجاهات. (.....)
- ١٤ إحدى قارات العالم القديم وتعد أكبر قارات العالم. (.....)
- ١٥ أرض مرتفعة لها قمة يقل ارتفاعها عن ١٠٠٠ متر. (.....)
- ١٦ مساحة من الأرض مستوية وقليلة الارتفاع وتتكون من رواسب الأنهار. (.....)
- ١٧ بحيرة عذبة توجد في جنوب مصر. (.....)
- ١٨ إحدى البحيرات الشمالية المالحة، وفي شمال شبه جزيرة سيناء. (.....)
- ١٩ أول بناء حجري ضخم في التاريخ. (.....)
- ٢٠ موارد وهبها الله للإنسان في الطبيعة دون تدخل الإنسان. (.....)
- ٢١ مبادرة أطلقتها مصر لحث المواطنين على المشاركة في الحفاظ على البيئة. (.....)
- ٢٢ معلم ديني وتاريخي تشتهر به فلسطين. (.....)

س ٥ صوّب ما تحته خط في العبارات التالية:

- ١ كان شعار مملكة الشمال في مصر القديمة زهرة اللوتس. (.....)
- ٢ يرمز اللون الأسود في علم مصر إلى فترات الرخاء. (.....)
- ٣ يظهر علم مصر على شكل مربع أفقي. (.....)
- ٤ تعد قارة أوروبا أصغر قارات العالم. (.....)
- ٥ عدد قارات العالم خمس. (.....)
- ٦ عدد المحيطات في العالم سبعة. (.....)
- ٧ أصغر المحيطات في العالم هو المحيط المتجمد الجنوبي. (.....)
- ٨ أكبر قارات العالم من حيث المساحة هي استراليا. (.....)
- ٩ يحد مصر من الشمال البحر الأحمر. (.....)
- ١٠ تقع مصر في قارة أوروبا. (.....)
- ١١ يقع جبل سانت كاترين في شمال سيناء. (.....)
- ١٢ يمتد السهل الساحلي على طول ساحل النهر. (.....)
- ١٣ النهر مجرى مائي مالح. (.....)
- ١٤ ولد الدكتور أحمد زويل في محافظة الشرقية. (.....)
- ١٥ نشأت الدكتورة سميرة موسى في محافظة المنيا. (.....)
- ١٦ حصل طه حسين على درجة الدكتوراه من جامعة السوربون بـ إنجلترا. (.....)
- ١٧ لقب الملك توت عنخ آمون بلقب الملك الفضي. (.....)
- ١٨ يتجه السائحون لمحافظة القاهرة لزيارة المسرح الروماني. (.....)

س ٦ بّم تفسر...؟

١ أهمية علم الدولة.

.....

٢ استخدام المصريين القدماء الأعلام أو الرايات.

.....

٣ استخدام الملوك القدماء للرايات.

٤ تميز مصر بموقع جغرافى فريد.

٥ يطلق على كوكب الأرض الكوكب المائي.

٦ تعد الأمريكان من قارات العالم الجديد.

٧ أهمية موقع مصر في التجارة الدولية حاليا.

٨ ضرورة وجود الجيش المصري على حدود بلدنا.

٩ تعد سيناء شبه جزيرة.

١٠ قيام الزراعة بسهول نهر النيل فى مصر.

١١ ضيق السهول الساحلية على البحر الأحمر.

١٢ اختلاف الألوان المتدرجة على خريطة مستويات الارتفاع في مصر.

١٣ تنوع مظاهر سطح الأرض في مصر.

١٤ احتياج الإنسان للموارد الطبيعية فى مختلف جوانب حياته.

١٥ إطلاق مصر مبادرة «اتحضر للأخضر».

١٦ أهمية تقنية «الفيمتو ثانية» التي اخترعها الدكتور أحمد زويل.

١٧ اهتمام معظم دول العالم بدراسة التاريخ المصري القديم.

١٨ تسمية جامع الأزهر بهذا الاسم.

١٩ تعد المعالم التاريخية ثروة قومية.

س ٧ ما النتائج المترتبة على...؟

١ وقوع أحداث مهمة بالدول بالنسبة لأعلامها.

٢ اتحاد كل من مصر وسوريا فقط بالنسبة لعلم مصر.

٣ اتحاد مصر مع سوريا عام ١٩٥٨ بالنسبة للعلم.

٤ موقع مصر الجغرافي المتميز. سلسلة كتب الاستاذ

٥ اقتراب الجبال من ساحل البحر الأحمر.

٦ جمال السهول الساحلية في مصر.

٧ وجود السهول الفيضية الخصبة في مصر القديمة .

٨ استخدام المبيدات الحشرية والأسمدة الكيميائية على التربة.

٩ التوسع في زراعة الأشجار بالنسبة للبيئة.

١٠ غنى أرض مصر بالمعالم الأثرية.

١١ إبداع المصريين القدماء عبر العصور فى الفن والعمارة.

س ٨ دُلّ على صحة العبارات التالية:

١ كانت مصر قديما مقسمة إلى مملكتين ولكل مملكة شعار يميزها.

٢ تعددت استخدامات العلم فى المجال العسكرى أثناء عصر مصر القديمة.

٣ هناك سلوكيات إيجابية تعبر عن احترام العلم.

٤ اختلاف دلالات ألوان علم مصر.

٥ يُعد الجيش المصري أحد أقوى جيوش العالم. الأستاذ

٦ استفاد المصريون القدماء من الجبال والهضاب والتلال.

٧ الموارد البشرية هي أساس تقدم دولة اليابان.

٨ تتعدد المعالم التاريخية بمحافظة القاهرة.

٩ تعتبر مصر غنية بالمعالم التاريخية.

١٠ هناك مجموعة من القواعد للحفاظ على المعالم التاريخية.

س ٩ ما المقصود ب... ؟

١ القارات

٢ المحيطات

٣ الحدود الدولية

٤ الموقع الجغرافي

٥ الجبل

٦ الهضبة

٧ البحيرة

٨ الجزيرة

٩ شبه الجزيرة

١٠ المنخفض

١١ نهر

١٢ التضاريس

١٣ المعلم التاريخي

١٤ الموارد الطبيعية

١٥ الموارد غير المتجددة

١٦ الحياة المستدامة

## س ١٠ اجب حسب المطلوب .... ؟

١ ما العلاقة بين: السهول الفيضية وقيام الحضارة المصرية القديمة؟

.....

.....

٢ ماذا يحدث إذا: لم يكن لمصر حدود دولية؟

.....

.....

٣ أين يُرفع علم مصر في وقتنا الحاضر.

.....

.....

٤ سجل السلوكيات الواجب عليك اتباعها تجاه العلم المصري.

سلسلة كتب الأستاذ

.....

.....

٥ حدد من قارات العالم الاكبر مساحة والاصغر مساحة.

.....

.....

٦ وضح السلوكيات الواجب اتباعها للحفاظ على الحياة المستدامة.

سلسلة كتب الأستاذ

.....

.....

٧ حدد اثنين من السلوكيات التي يجب تجنبها للحفاظ على الموارد الطبيعية.

.....

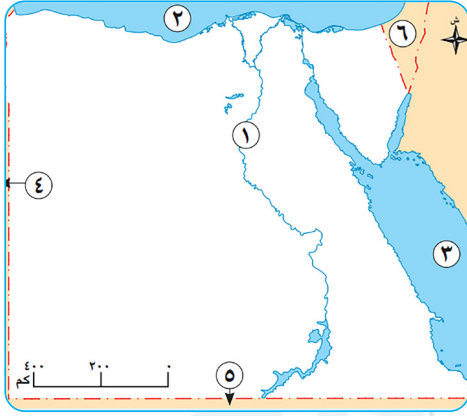
.....

٨ اكتب أهم القواعد الواجب عليك اتباعها عند زيارة المعالم التاريخية.

.....

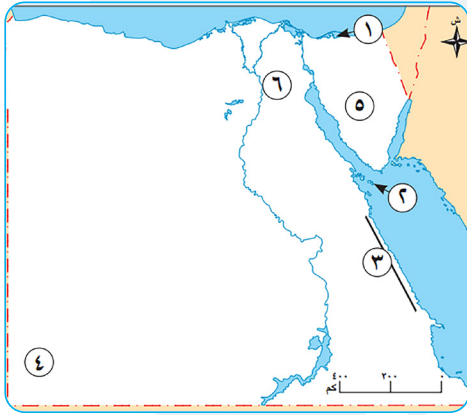
.....

س ١١ أمامك خريطة صماء لمصر اكتب مدلول الأرقام عليها:



- ١ يشير رقم (١) إلى نهر .....
- ٢ يشير رقم (٢) إلى البحر .....
- ٣ يشير رقم (٣) إلى البحر .....
- ٤ يشير رقم (٤) إلى دولة .....
- ٥ يشير رقم (٥) إلى دولة .....
- ٦ يشير رقم (٦) إلى دولة .....

س ١٢ أمامك خريطة صماء لمصر اكتب مدلول الأرقام عليها:



- ١ يشير رقم (١) إلى بحيرة .....
- ٢ يشير رقم (٢) إلى جزيرة .....
- ٣ يشير رقم (٣) إلى جبال .....
- ٤ يشير رقم (٤) إلى هضبة .....
- ٥ يشير رقم (٥) إلى شبه جزيرة .....
- ٦ يشير رقم (٦) إلى تلال .....

سلسلة كتب الأستاذ

## الإجابات الاسترشادية

## مراجعة الوحدة الأولي

## السؤال الأول:

- ١ المخطط.
- ٢ الأعلى.
- ٣ المدرسة.
- ٤ الجنوب.
- ٥ السهولة.
- ٦ الفرعية.
- ٧ أربعة.
- ٨ الشمال.
- ٩ الشمال الشرقي.
- ١٠ الغرب.
- ١١ الجنوب.
- ١٢ البوصلة.
- ١٣ عنوان الخريطة.
- ١٤ مفتاح الخريطة.
- ١٥ وردة البوصلة.
- ١٦ المرتفعة.
- ١٧ الخريطة.
- ١٨ السهول.
- ١٩ الأزرق.
- ٢٠ البني.
- ٢١ الأراضي الزراعية.
- ٢٢ المعابد.
- ٢٣ الإداريسي.
- ٢٤ الفلك.
- ٢٥ الأقمار الصناعية.
- ٢٦ الطائرات.
- ٢٧ الأقمار الصناعية.
- ٢٨ المصادر الأولية.
- ٢٩ الكتب والمقالات، النقوش والبرديات.
- ٣٠ الشائعات.

## السؤال الثاني:

- |      |      |      |      |      |
|------|------|------|------|------|
| ✓ ١  | ✓ ٢  | X ٣  | ✓ ٤  | X ٥  |
| X ٦  | X ٧  | X ٨  | ✓ ٩  | X ١٠ |
| ✓ ١١ | ✓ ١٢ | ✓ ١٣ | ✓ ١٤ | ✓ ١٥ |
| X ١٦ | ✓ ١٧ | ✓ ١٨ | X ١٩ | ✓ ٢٠ |
| ✓ ٢١ | ✓ ٢٢ | X ٢٣ | ✓ ٢٤ | X ٢٥ |
| ✓ ٢٦ | ✓ ٢٧ | ✓ ٢٨ | ✓ ٢٩ | X ٣٠ |

## السؤال الثالث:

- ١ الهدف والسهولة.
- ٢ الجنوب الشرقي.
- ٣ الجنوب.
- ٤ الشمال.
- ٥ ثمانية.
- ٦ النجم القطبي.
- ٧ الفلك.
- ٨ البوصلة الرقمية.
- ٩ وردة البوصلة.
- ١٠ المواقع الأثرية.
- ١١ مفتاح الخريطة.
- ١٢ عنوان الخريطة.
- ١٣ تحديد القبلة.
- ١٤ الجبال.
- ١٥ الفلك.
- ١٦ السهول.
- ١٧ المزارع.
- ١٨ القبطان.
- ١٩ الجندي.
- ٢٠ الأقمار الصناعية.
- ٢١ رسم الخرائط.
- ٢٢ شائعات.
- ٢٣ النقوش الأثرية.
- ٢٤ البردي.
- ٢٥ حقيقة.

## السؤال الرابع:

- ١ الجنوب الغربي.
- ٢ المخطط.
- ٣ البوصلة.
- ٤ الفرعية.
- ٥ الخريطة.
- ٦ وردة البوصلة.
- ٧ مقياس الرسم.

٨ الإسطرلاب.

٩ صور جوية.

١٠ صور فضائية.

١١ مصادر ثانوية.

١٢ مصادر أولية.

١٣ الحقيقة.

١٤ الشائعات.

١٥ الرأي.

السؤال الخامس:

- ١ الغرب.
- ٢ الشرق.
- ٣ ليلاً.
- ٤ المصريون القدماء.
- ٥ الشائعات.
- ٦ الرأي.
- ٧ الأصلية.
- ٨ الشرق.
- ٩ الأخضر.
- ١٠ الأراضي الزراعية.
- ١١ الإسطرلاب.
- ١٢ الأقمار الصناعية.
- ١٣ الأولية.

السؤال السادس:

- ١ لأن ذلك يساعد على معرفة تفاصيل المكان بطريقة أوضح من الوصف بالكلمات.
- ٢ لتحديد الاتجاهات بسرعة ودقة أكبر.
- ٣ لتحديد الاتجاهات ليلاً.
- ٤ يشير إلى النسبة بين المسافة على الخريطة وما يقابلها على أرض الواقع.
- ٥ يشرح معنى الألوان والرموز المستخدمة على الخريطة.
- ٦ تساعدنا في تحديد موقع الأماكن والاتجاهات على الخريطة.
- ٧ يوضح معنى الخريطة.
- ٨ تساعدنا في معرفة الأماكن من حولنا.
- ٩ تستخدم في تحديد موقع الأرض الزراعية.
- ١٠ تستخدم في تحديد مسار الرحلات.
- ١١ تستخدم في الوصول إلى الأماكن السياحية والأثرية.
- ١٢ لأنه يستخدم في تحديد اتجاه القبلة وأوقات الصلاة وبداية الشهور القمرية.
- ١٣ لأنها تتميز بالدقة كما يصعب الحصول عليها.
- ١٤ لأنها متوفرة ويسهل الحصول عليها.

السؤال السابع:

- ١ أدى إلى تحديد اتجاه الشمال، واستطاعوا تحديد باقي الاتجاهات.
- ٢ أدى إلى تحديد الاتجاهات بسرعة ودقة عالية.
- ٣ أدى إلى معرفة المسافة على الخريطة؛ وبالتالي تحديدها على أرض الواقع.
- ٤ أدى إلى تسمية أحد الكويكبات المكتشفة باسمها.
- ٥ أصبحت معلومات صحيحة ودقيقة.

الأستاذ في الدراسات الاجتماعية الصف الرابع الابتدائي

٤٢

تم تحميل هذه الأوراق مجاناً من  
أكبر وأضخم مكتبة تعليمية  
موقع وتطبيق مذكرات جاهزة

السؤال الثاني:

- |      |      |      |      |      |
|------|------|------|------|------|
| ✓ ١  | ✓ ٢  | × ٣  | × ٤  | ✓ ٥  |
| × ٦  | × ٧  | ✓ ٨  | × ٩  | × ١٠ |
| ✓ ١١ | ✓ ١٢ | × ١٣ | ✓ ١٤ | ✓ ١٥ |
| ✓ ١٦ | ✓ ١٧ | ✓ ١٨ | ✓ ١٩ | × ٢٠ |
| ✓ ٢١ | ✓ ٢٢ | ✓ ٢٣ | × ٢٤ | ✓ ٢٥ |
| ✓ ٢٦ | × ٢٧ | ✓ ٢٨ | × ٢٩ | ✓ ٣٠ |
| × ٣١ | ✓ ٣٢ | ✓ ٣٣ | × ٣٤ | × ٣٥ |
| ✓ ٣٦ | ✓ ٣٧ | ✓ ٣٨ | ✓ ٣٩ | × ٤٠ |

السؤال الثالث:

- ١ القاهرة.
- ٢ الغردقة.
- ٣ على اطراف المدينة.
- ٤ الزراعية.
- ٥ الخارجة.
- ٦ نهر النيل.
- ٧ الزراعة.
- ٨ القاهرة.
- ٩ الأندية الرياضية.
- ١٠ الأتوبيس الترددي.
- ١١ مصابيح الكيروسين.
- ١٢ المستشفى.
- ١٣ تنظيم المرور.
- ١٤ إخماد الحرائق.
- ١٥ منع الغلاء.
- ١٦ إختاتون.
- ١٧ التعاون.
- ١٨ البحر الأحمر.
- ١٩ القاهرة.
- ٢٠ القاهرة.
- ٢١ الغردقة.
- ٢٢ الزراعية.
- ٢٣ السكنية.
- ٢٤ الترفيهية.
- ٢٥ نهر النيل.
- ٢٦ القاهرة.
- ٢٧ السويس.
- ٢٨ تقوية العضلات.
- ٢٩ الصحية.
- ٣٠ الطبيب.
- ٣١ إطفاء الحرائق.
- ٣٢ الحماية المدنية.
- ٣٣ المنيا.
- ٣٤ الشمس.
- ٣٥ القاهرة.
- ٣٦ قنا.
- ٣٧ مطروح.
- ٣٨ شمس ساطعة.
- ٣٩ يوليو.
- ٤٠ البحر الاحمر.

السؤال الرابع:

- ١ المناطق الترفيهية.
- ٢ القرية.
- ٣ المناطق الصناعية.
- ٤ المدينة.
- ٥ المناطق السياحية.
- ٦ المناطق الزراعية.
- ٧ اخيتاتون.
- ٨ القاهرة.
- ٩ شعار المحافظة.
- ١٠ جامع عمرو بن العاص.
- ١١ السويس.
- ١٢ حياة كريمة.
- ١٣ مصابيح الكيروسين.
- ١٤ العشوائيات.
- ١٥ الأماكن الخدمية.
- ١٦ المستشفى.
- ١٧ مركز الشرطة.
- ١٨ الاسواق.
- ١٩ التخطيط لبناء المدن.
- ٢٠ الطاقة الشمسية.
- ٢١ المحافظة.
- ٢٢ العيد القومي.
- ٢٣ الجامع الازهر.

السؤال الثامن:

- ١ حيث استعان المصريون القدماء بالنجم القطبي الشمالي لتحديد الاتجاهات ليلاً.
- ٢ حيث قام العالم الإدريسي برسم خريطة للعالم - كما تفوقت مريم الإسطرلابي في علم الفلك.
- ٣ حيث استخدمت حسابات رياضية دقيقة لتطوير الإسطرلاب.
- ٤ حيث إذا كانت المصادر وقت الحدث تسمى المصادر الأولية - أما إذا كانت المصادر بعد الحدث بزمن طويل تسمى المصادر الثانوية.

السؤال التاسع:

- ١ وردة البوصلة.
- ٢ مفتاح الخريطة.
- ٣ مقياس الرسم.
- ٤ عنوان الخريطة.

السؤال العاشر:

- ١ الشمال الشرقي.
- ٢ الشرق.
- ٣ الجنوب.
- ٤ الجنوب الغربي.
- ٥ الشمال.

مراجعة الوحدة الثانية

السؤال الأول:

- ١ نهر النيل.
- ٢ الصحراوية.
- ٣ القرية.
- ٤ القاهرة.
- ٥ المتوسط.
- ٦ القاهرة واسوان.
- ٧ بورسعيد.
- ٨ السكنية.
- ٩ الأحمر.
- ١٠ القاهرة.
- ١١ الريف.
- ١٢ روض الفرج.
- ١٣ الدراجة.
- ١٤ الأصفر.
- ١٥ الكيروسين.
- ١٦ عمرو بن العاص.
- ١٧ التعليمية.
- ١٨ الحرائق.
- ١٩ التدريب.
- ٢٠ المدرسة.
- ٢١ السوق.
- ٢٢ الجدران.
- ٢٣ المستشفى.
- ٢٤ الأرض.
- ٢٥ الأمن والنظام.
- ٢٦ الحماية المدنية.
- ٢٧ اخيتاتون.
- ٢٨ الشرقية.
- ٢٩ الاصطناعي.
- ٣٠ الشمسية.
- ٣١ الإنتاج.
- ٣٢ ٢٧.
- ٣٣ إدارية.
- ٣٤ المراكز والاحياء.
- ٣٥ البحرى.
- ٣٦ الوجه القبلى.
- ٣٧ الوادى الجديد.
- ٣٨ القاهرة.
- ٣٩ الوادى الجديد.
- ٤٠ الصحراوية.
- ٤١ العاصمة الإدارية الجديدة.
- ٤٢ جوهـر الصقلى.
- ٤٣ القاهرة.
- ٤٤ القبلى.
- ٤٥ دميـاط.

السؤال الخامس:

- ١٨ توليد الطاقة الكهربائية لتشغيل الإضاءة والأجهزة في المنزل - تشغيل السيارات الكهربائية.
- ١٩ بسبب اتساع مساحة مصر ولتسهيل ادارتها وتنظيم شئونها.
- ٢٠ لتكون المقر الرسمي للحكم والإدارة.
- ٢١ ليعبر عن نشاط سكانها او جزء من تاريخها.
- ٢٢ لأنها تعبر عن ان الجامع الازهر منارة الإسلام في العالم.
- ٢٣ لانه اليوم الذى يوافق ذكرى وضع القائد جوهر الصقلى حجر الأساس لبناء مدينة القاهرة عام ٩٦٩ م.
- ٢٤ لأنها أنشئت قبل أكثر من ألف عام.

السؤال السابع:

- ١ تجذب الزوار من داخل البلاد وخارجها مثل المتاحف والمعابد القديمة
- ٢ أدى الى زراعة المحاصيل والغذاء
- ٣ أدت الى نتائج متعددة تنوعت بين:
  - (١) الاثار الإيجابية مثل : تحسن مستوى حياة السكان وتوفير فرص عمل.
  - (٢) تحديات مصاحبة للتطور مثل: ارتفاع بعض تكاليف المعيشة وارتفاع معدلات التلوث.
  - ٤ تعرضت أجزاء من مدينة السويس لاضرار كبيرة وتدمير العديد من المباني نتيجة القصف.
  - ٥ تحويل ضوء الشمس الى طاقة كهربائية من خلالها.
  - ٦ مما جعل الزراعة اسهل واسرع - وساعدتهم في ترشيد استخدام الماء وزيادة الإنتاج.
  - ٧ أدى الى نقل الوزارات والمصالح الحكومية اليها.
  - ٨ مما يساعد في بناء مستقبل افضل.

السؤال الثامن:

- ١ حيث يوجد مدن على ضفاف نهر النيل مثل القاهرة واسوان - مدن صحراوية مثل الخارجة - مدن ساحلية مثل الإسكندرية وبورسعيد على البحر المتوسط والغردقة وشرم الشيخ على البحر الأحمر.
- ٢ حيث تستفيد المدينة من المنتجات الزراعية التي توفرها القرية - وتستفيد القرية من الخدمات والمنتجات الصناعية التي توفرها المدينة.

- ١ اسوان.
- ٢ المنازل.
- ٣ الزراعة.
- ٤ عمرو بن العاص.
- ٥ الإسكندرية.
- ٦ الأرضية.
- ٧ المدرسة.
- ٨ الشرطة.
- ٩ الشرقية.
- ١٠ الوادى الجديد.
- ١١ شمال سيناء.
- ١٢ القاهرة.
- ١٣ القاهرة.
- ١٤ جوهر الصقلى.
- ١٥ ١٠٠ مليون صحة.

السؤال السادس:

- ١ بسبب وفرة المياه العذبة والتربة الخصبة.
- ٢ لأنها بنيت فوق برجين من بقايا حصن عسكري قديم.
- ٣ لأنها تجذب الزوار من داخل البلاد وخارجها وتسهم في تنشيط السياحة وتوفير فرص عمل.
- ٤ لتوفير المنتجات الصناعية.
- ٥ بهدف تقليل الازدحام.
- ٦ لان المقاومة الشعبية وقوات الجيش والشرطة دافعوا ببسالة عن مدينة السويس.
- ٧ لان الدراجات لا تلوث البيئة وتساعد على تقليل الازدحام المرورى واقتصادية وغير مكلفة.
- ٨ لأنها تضم العديد من الكتب مثل كتب التاريخ التي تحكى عن اجدادنا المصريين القدماء وحضارتنا العظيمة.
- ٩ لبيع أنواع معينة من السلع مثل سوق الجلود.
- ١٠ لأنها تقوم بحفظ الامن والنظام - ضبط المخالفين والخارجين عن القانون.
- ١١ من أجل مستقبل أفضل للطلاب.
- ١٢ لمنع الغلاء والتأكد من صلاحية المنتجات وسلامتها.
- ١٣ لأنها تقدم لنا احتياجات ومستلزمات الطعام - الملابس - الأدوات المدرسية.
- ١٤ للكشف المبكر عن الامراض.
- ١٥ لانه يساعد على:
  - (١) ظهور المدن بشكل أكثر تنظيماً وجمالاً.
  - (٢) حل مشكلات الازدحام والتلوث.
  - (٣) توفير المرافق والخدمات للسكان.
  - ١٦ لتحسين حياة السكان.
  - ١٧ لتشخيص الامراض وعلاجها في اقصر وقت.

٣ من خلال:

- ١) انشاء العديد من المدن الجديدة في المناطق الصحراوية بهدف تقليل الازدحام.
- ٢) تطوير الريف المصرى من خلال مبادرة حياة كريمة.
- ٣) تحسين محطات مياه الشرب وتحديث شبكات الكهرباء والصرف الصحى مثل محطة الجبل الأصفر.
- ٤) إزالة العديد من المناطق العشوائية مع بناء مساكن بديلة آمنة ومناسبة.
- ٤) الطرق: من خلال توسعة شبكة الطرق وانشاء الكبارى والانفاق الجديدة والمحاور مثل محور روض الفرج وسائل المواصلات : ادخال وسائل مواصلات متطورة لنقل ملايين المصريين يوميا.
- ٥) حيث يوجد وسائل مواصلات تجمع بين السرعة والكفاءة والأمان مثل مترو الانفاق والقطار الكهربائى والاتوبيس الترددى.

- ٦) حيث بعد انتهاء الحرب بانتصار مصر تعاون اهالى السويس جميعاً لاعادة بناء مدينتهم حتى عادت نابضة بالحياة من جديد.
- ٧) حيث تقوم بحفظ الأمن والنظام - ضبط المخالفين والخارجين عن القانون - بالإضافة الى خدمات أخرى مثل تنظيم المرور والنجدة وإصدار الوثائق الرسمية.
- ٨) من خلال التدريب المستمر - تحديث الوسائل التكنولوجية المستخدمة في حفظ الأمن - الاستجابة السريعة للحوادث والبلاغات.
- ٩) من خلال مراقبة الأسعار لمنع الغلاء - والتأكد من صلاحية المنتجات وسلامتها.

- ١٠) حيث أنشأ الملك إخناتون مدينة اخيتاتون على الضفة الشرقية لنهر النيل وضمت مناطق سكنية ودينية ومراكز الحكم والإدارة.
- ١١) من خلال استخدام المزارعون للالات الحديثة مما يجعلها اسهل واسرع وترشيد المياه وزيادة الإنتاج.
- ١٢) حيث اطلق عليها مدينة الألف مئذنة وجوهرة الشرق.
- ١٣) حيث يرفع على مبنى المحافظة والمؤسسات الحكومية بها - ويرفع في المناسبات الوطنية للمحافظة مثل العيد القومى للمحافظة.

السؤال التاسع:

- ١) حيث تستفيد المدينة من المنتجات الزراعية التي توفرها القرية
- ٢) تحافظ الدراجات على صحة الانسان وتقوى عضلاته.
- ٣) التخطيط الجيد لبناء المدن يعنى التفكير المسبق لتنظيم استخدام الأرض وتحسين حياة السكان.
- ٤) تم تقسيم مصر الى عدد من المحافظات لاتساع مساحة مصر.
- ٥) يرفع شعار المحافظة في المناسبات مثل العيد القومى للمحافظة.

السؤال العاشر:

- ١) تجمع سكنى تتركز فيه أنشطة الزراعة وتربية الحيوانات.
- ٢) تجمع سكنى تتركز فيه الخدمات والأنشطة مثل الصناعة والتجارة.
- ٣) هي منشآت مخصصة لتقديم الخدمات المتنوعة للناس مثل الصحية والأمنية.
- ٤) راية تتخذها المحافظة رمزا لها لتُعبّر عن نشاط سكانها أو جزء من تاريخها
- ٥) هو العيد الذى يمثل حدثاً تاريخياً او ذكرى مهمة مرت بها المحافظة.
- ٦) هي جزء من الدولة تضم مجموعة من المراكز أو الأحياء وتختص بتقديم الخدمات لسكانها
- ٧) يعنى التفكير المسبق لتنظيم استخدام الأرض وتحسين حياة السكان.

السؤال الحادي عشر:

- ١) الأحمر.
- ٢) القاهرة.
- ٣) النيل.
- ٤) المتوسط.
- ٥) الخارجة.
- ٦) اسوان.
- ٧) شرم الشيخ.
- ٨) الإسكندرية.

السؤال الثاني عشر:

- ١) البحرى.
- ٢) القبلى.
- ٣) الوادى الجديد.
- ٤) دمياط.
- ٥) جنوب سيناء.
- ٦) الغردقة.
- ٧) ليبيا.
- ٨) السودان.

مراجعة الوحدة الثالثة

السؤال الأول:

- ١ نبات البردى. ٢ الدولة. ٣ مستطيل.
- ٤ الجنوب. ٥ الابيض. ٦ بلادى بلادى.
- ٧ رفعه عالياً، المحافظة عليه.
- ٨ افريقيا وأوروبا. ٩ سبعة، اسيا. ١٠ الجنوبي.
- ١١ المحيطات، المحيط الهادى.
- ١٢ أمريكا الشمالية. ١٣ الهادى. ١٤ استراليا.
- ١٥ الشمالى الشرقى. ١٦ القديم، الجديد.
- ١٧ نهر النيل، الخصبة.
- ١٨ سانت كاترين. ١٩ المقطم. ٢٠ الشرقية.
- ٢١ الجنوب الغربى. ٢٢ البردويل، المنزلة.
- ٢٣ الجنوب، الشمال، المتوسط.
- ٢٤ الفحم، البترول. ٢٥ المتجددة. ٢٦ المتجددة.
- ٢٧ الهواء، التربة. ٢٨ اتحضر للاخضر.
- ٢٩ شخصية مصر. ٣٠ جزئيات الذهب. ٣١ السوريون.
- ٣٢ الكيمياء. ٣٣ سميرة موسى. ٣٤ العلم، العمارة.
- ٣٥ الجامع الازهر. ٣٦ سانت كاترين.
- ٣٧ التكنولوجيا الحديثة. ٣٨ اللوتس.
- ٣٩ فرنسا. ٤٠ سيناء.

السؤال الثاني:

- |      |      |      |      |      |
|------|------|------|------|------|
| ✓ ١  | ✓ ٢  | ✓ ٣  | × ٤  | × ٥  |
| ✓ ٦  | ✓ ٧  | × ٨  | × ٩  | ✓ ١٠ |
| ✓ ١١ | ✓ ١٢ | ✓ ١٣ | ✓ ١٤ | × ١٥ |
| ✓ ١٦ | × ١٧ | × ١٨ | × ١٩ | ✓ ٢٠ |
| ✓ ٢١ | ✓ ٢٢ | × ٢٣ | × ٢٤ | × ٢٥ |
| ✓ ٢٦ | ✓ ٢٧ | × ٢٨ | × ٢٩ | × ٣٠ |
| ✓ ٣١ | × ٣٢ | ✓ ٣٣ | ✓ ٣٤ | ✓ ٣٥ |
| ✓ ٣٦ | ✓ ٣٧ | ✓ ٣٨ | ✓ ٣٩ | ✓ ٤٠ |
| ✓ ٤١ | × ٤٢ | ✓ ٤٣ | × ٤٤ | ✓ ٤٥ |
| ✓ ٤٦ | × ٤٧ | × ٤٨ | × ٤٩ | × ٥٠ |

السؤال الثالث:

- ١ الشمال.
- ٢ دماء الشهداء. ٣ القوة.
- ٤ صلاح الدين الأيوبي. ٥ القاؤه على الأرض.
- ٦ الوقوف لتحيته. ٧ جمهورية مصر العربية.
- ٨ المائى. ٩ القطبي الشمالي.
- ١٠ الشمال والشرق. ١١ أستراليا. ١٢ الدول.

- ١٣ المتجمد الشمالى. ١٤ ليبيا. ١٥ السودان.
- ١٦ السهل الفيضى. ١٧ الجنوبية الغربية.
- ١٨ البحر المتوسط. ١٩ القاهرة. ٢٠ الجبل.
- ٢١ ناصر. ٢٢ نهر النيل.
- ٢٣ أحمد زويل. ٢٤ الطاقة النووية. ٢٥ الرياح.
- ٢٦ السماد العضوي. ٢٧ المسجد الأقصى. ٢٨ الأيام.
- ٢٩ الطاقة الذرية. ٣٠ سقارة.
- ٣١ زهرة اللوتس. ٣٢ فاطمة الزهراء. ٣٣ فرنسا.
- ٣٤ الجيزة.

السؤال الرابع:

- ١ بلادى بلادى. ٢ العلم. ٣ النسر.
- ٤ الموقع الجغرافى. ٥ فلسطين. ٦ التضاريس.
- ٧ الجبل. ٨ المنخفض. ٩ النهر.
- ١٠ الهضبة. ١١ البحر.
- ١٢ السهل الساحلى. ١٣ الجزيرة. ١٤ اسيا.
- ١٥ التل. ١٦ السهل الفيضى.
- ١٧ بحيرة ناصر. ١٨ البردويل.
- ١٩ هرم زوسر. ٢٠ الموارد الطبيعية.
- ٢١ اتحضر للاخضر. ٢٢ المسجد الأقصى.

السؤال الخامس:

- ١ الجنوب. ٢ الاستعمار. ٣ مستطيل.
- ٤ استراليا. ٥ سبعة. ٦ خمسة.
- ٧ الشمالى. ٨ اسيا. ٩ المتوسط.
- ١٠ افريقيا. ١١ جنوب. ١٢ البحر.
- ١٣ عذب. ١٤ البحيرة. ١٥ الغربية.
- ١٦ فرنسا. ١٧ الذهبى. ١٨ الاسكندرية.

السؤال السادس:

- ١ لانه رمز الدولة فهو رمز كرامتنا ووحدتنا واعتزازنا بوطننا الغالى.
- ٢ لتمييز أقاليم ومدنهم.
- ٣ لتمييز جيوشهم ولتشجيع الجنود على القتال.
- ٤ لانه تقع في قلب قارات العالم القديم في الركن الشمالى الشرقى من قارة افريقيا.
- ٥ لان نسبة المياه تشغل ٧١٪ من مساحة الكرة الأرضية بينما مساحة اليابس ٢٩.

السؤال الثامن:

- ١ حيث كان شعار مملكة الشمال هو نبات البردى بينما شعار مملكة الجنوب هو زهرة اللوتس.
- ٢ حيث استخدمه الملوك قديماً في المعارك والاحتفالات لتمييز جيوشهم وتشجيعهم على القتال.
- ٣ منها المحافظة على علم بلدنا - رفع علم مصر عالياً بفخر واعتزاز - الوقوف باحترام اثناء تحية العلم.
- ٤ حيث اللون الأحمر يعبر عن دم الشهداء واللون الأبيض يعبر عن النقاء والرخاء والسلام واللون الأسود يعبر عن فترات الاستعمار والنسر يعبر عن القوة.
- ٥ يعد هو المسئول عن حماية حدود الدولة ومنع تسلل الافراد وتهريب الأسلحة والمخدرات.
- ٦ حيث حصلوا منها على المعادن المهمة التي استخدموها في صناعة ادواتهم - الصخور والاحجار التي استخدموها في بناء المعابد والاهرامات ونحتوا منها تماثيلهم مثل معبدا أبو سمبل باسوان.
- ٧ حيث ان اليابان لا تمتلك موارد طبيعية وفيرة ومع ذلك أصبحت من الدول المتقدمة بسبب مواطنيها المتعلمين الذين استخدموا عقولهم وعملوا بجد واجتهاد.
- ٨ حيث يوجد بها برج القاهرة الذي يتخذ شكل زهرة اللوتس في الحضارة المصرية القديمة ، كما يوجد بها الجامع الازهر الشريف الذي يعد من اهم واشهر المساجد في العالم الاسلامي.
- ٩ من امثلتها برج القاهرة في القاهرة - المسرح الروماني في الإسكندرية - الجامع الازهر في القاهرة - هرم زوسر في الجيزة - دير سانت كاترين في جنوب سيناء - معبد الكرنك في الأقصر.
- ١٠ منها الحفاظ على نظافتها - عدم لمسها - عدم الكتابة عليها - معاملة السياح بأدب وابتسامة - عدم تلوينها بالمأكولات والمشروبات.

- ٦ لانه وصل اليها المستكشفون في العصور الحديثة.
- ٧ لانها تطل على البحرين الأحمر والمتوسط.
- ٨ لانه المسئول عن حماية حدود مصر ومنع تسلل الافراد ومنع تهريب المخدرات والأسلحة.
- ٩ لان سيناء ارض تحيط بها المياه من ثلاث جهات.
- ١٠ لان السهول الفيضية تتميز بتربتها الخصبة ومياه النيل.
- ١١ بسبب اقتراب جبال البحر الأحمر منها.
- ١٢ بسبب اختلاف التضاريس.
- ١٣ بسبب اختلاف تضاريس مصر ما بين مرتفعات ومنخفضات.
- ١٤ لانها تساعد على استمرار الحياة.
- ١٥ للحفاظ على الحياة المستدامة.
- ١٦ لانها تساعد في فهم كيفية حدوث التفاعلات الكيميائية فائقة السرعة.
- ١٧ لان الحضارة المصرية من اعظم الحضارات في التاريخ.
- ١٨ نسبة الى السيدة فاطمة الزهراء ابنة الرسول محمد صلى الله عليه وسلم.
- ١٩ لانها تعلمنا تاريخ اجدادنا وتشهد على انجازاتهم - توفر وظائف للمصريين من خلال السياحة - تشعرتنا بالانتماء الى وطننا الغالى مصر.

السؤال السابع:

- ١ أدى الى تغير الدول اعلامها.
- ٢ أدى الى تغير شكل العلم الى علم الجمهورية العربية المتحدة ١٩٥٨ - ١٩٧١ م.
- ٣ أدى الى تغير شكل العلم الى علم الجمهوريات العربية ١٩٧١ - ١٩٨٤ م.
- ٤ ساعد على زيادة النشاط التجارى بين مصر وافريقيا عن طريق النيل - قيام مصر بدورها في التجارة الدولية لانها تصل على البحرين الأحمر والمتوسط - قيام الحضارة وسهولة التواصل مع الحضارات الأخرى.
- ٥ أدى الى ضيق السهول الساحلية بها.
- ٦ أدى الى جذب السياح وتوفير المزيد من فرص العمل.
- ٧ ساعد على قيام الزراعة واستقرار الانسان.
- ٨ أدى الى تلوث التربة.
- ٩ أدى الى تنقية الهواء من التلوث بسبب الأشجار.
- ١٠ أدى الى مجئ السياح من العالم كله لرؤية هذه المعالم.
- ١١ مما أدى انهم تركوا لنا تراثاً حضارياً لا يقدر بثمن.

السؤال التاسع:

- ١ هي مساحة واسعة من الأرض تضم عدداً من الدول.
- ٢ هي مساحة شاسعة وعميقة من المياه المالحة.
- ٣ هي الحدود الفاصلة بين كل دولة وأخرى.
- ٤ موقع المكان بالنسبة لليابس والمياه.
- ٥ ارض شديدة الارتفاع ولها قمة تزيد عن ١٠٠٠ متر وجوانبها شديدة الانحدار.
- ٦ مساحة واسعة من الأرض المرتفعة مستوية أو شبه مستوية السطح.
- ٧ مساحة صغيرة من المياه (العذبة أو المالحة) يحيط بها اليابس من جميع الجهات.
- ٨ مساحة من اليابس تحيط بها المياه من جميع الجهات.
- ٩ مساحة من اليابس تحيط بها المياه من ثلاث جهات.
- ١٠ ارض منخفضة عما حولها.
- ١١ مجرى مائي عذب.
- ١٢ اشكال سطح الأرض المختلفة ما بين مرتفعات ومنخفضات.
- ١٣ مكان او مبنى قديم بنى في الماضى وله قيمة تاريخية وثقافية.
- ١٤ هي كل ما وهبه الله لنا في الطبيعة دون تدخل من الإنسان مثل المياه والهواء والتربة.
- ١٥ الموارد الطبيعية غير القابلة للتجدد والاستمرار.
- ١٦ استخدام جميع الموارد بحكمة حتى تكفى الجميع وتبقى للأجيال القادمة.

السؤال العاشر:

- ١ السهول الفيضية قامت بها الزراعة والتي ساعد على قيام الحضارة المصرية القديمة.
- ٢ لم يوجد فاصل بين مصر والدول المجاورة لها.
- ٣ يرفع العلم في المناسبات الرسمية والمؤتمرات - الوزارات والهيئات والمؤسسات الحكومية - المواقع السياحية والمعالم الاثرية - وسائل النقل الدولية مثل الطائرات والقطارات والسفن.
- ٤ منها المحافظة على علم بلدنا - رفع علم مصر عالياً بفخر واعتزاز - الوقوف باحترام اثناء تحية العلم.
- ٥ اكبر القارات مساحة هي قارة اسيا - اصغر القارات مساحة هي قارة استراليا.
- ٦ يقوم المواطنون بالمشاركة في الحفاظ على البيئة.
- ٧ استخدام وسائل رى حديثة - زراعة الأشجار لتنقية الهواء من التلوث - إطفاء المصابيح عند مغادرة الغرفة - القاء القمامة في الأماكن المخصصة لها.
- ٨ الحفاظ على نظافتها - عدم لمسها - عدم الكتابة عليها - معاملة السياح بأدب وابتسامة - عدم تلوينها بالمأكولات والمشروبات.

السؤال الحادي عشر:

- |            |           |
|------------|-----------|
| ١ النيل.   | ٢ الأحمر. |
| ٣ المتوسط. | ٤ ليبيا.  |
| ٥ السودان. | ٦ فلسطين. |

السؤال الثاني عشر:

- |                 |                 |
|-----------------|-----------------|
| ١ البردويل.     | ٢ شدوان.        |
| ٣ البحر الأحمر. | ٤ الجلف الكبير. |
| ٥ سيناء.        | ٦ المقطم.       |

تطبيق



مذكرات جاهزة للطباعة

لتحميل الملفات التعليمية مجاناً للمعلم والطالب

مذكرات وملازم / مراجعات وملخصات / امتحانات / كتب الوزارة /  
أدلة المعلم / دفاتر التحضير / سجلات مدرسية / أوراق تأسيس

امسح الكود بموبايلك علشان تقدر تثبت التطبيق

وتقدر ف أي وقت تحمّل ال نفسك فيه ببلاش

هيغنيك عن البحث والجروبات والقنوات الكثيرة

