


# الدراسات الاجتماعية

## الصف الرابع

مراجعة شهر نوفمبر

سمير الغريب مذكرات تعليمية

2026/2025



## الوحدة الثانية الدرس الثاني تطور مدينتنا القرى والمدن في الماضي والحاضر

- في الماضي كانت المنازل في القرى والمدن بسيطة، والطرق (الطرق) ضيقة وغير ممهدة (مستوية)، وكانت وسائل المواصلات محدودة (قليلة).
- ثم تطورت القرى والمدن، وشيدت (بُنيت) المباني الحديثة، وتم تمهيد الطرق وتوسيعها وتنوعت (اختلفت) وسائل المواصلات وأصبحت أكثر سهولة وراحة.



المقارنة	في الماضي	في الحاضر
(1) المنازل	• منازل بسيطة.	• مباني حديثة وأحياء جديدة.
(2) الطرق	• ضيقة وغير ممهدة.	• واسعة وممهدة.
(3) وسائل المواصلات	• محدودة.	• متنوعة وأكثر سهولة وراحة.

### جُهود الدولة لتطوير القرى والمدن

- تبذل (تقدم) الدولة جهودا كبيرة لتطوير (تحسين) القرى والمدن ومن هذه الجهود:
  - (1) إنشاء عديد (كثير) من المدن الجديدة في الصحراء؛ بهدف تقليل الازدحام.
  - (2) تطوير الريف المصري من خلال مبادرة (حياة كريمة).
  - (3) تحسين محطات مياه الشرب، وتحديث شبكات الكهرباء والصرف الصحي.
  - (4) إزالة العديد من المناطق العشوائية وبناء مساكن بديلة آمنة ومناسبة.

### إعادة بناء مدينة السويس

- تعرضت أجزاء من مدينة السويس لأضرار كبيرة وتدمير عديد من المباني أثناء حرب أكتوبر عام 1973 م؛ نتيجة محاولة العدو الإسرائيلي دخول المدينة.
- تصدت (واجهت) المقاومة الشعبية وقوات الجيش والشرطة العدو ببسالة (شجاعة) ومنعته من دخول المدينة.
- بعد انتهاء الحرب وانتصار مصر، تعاون أهالي السويس في إعادة بناء المدينة.



## تطور وسائل المواصلات

• شهدت مصر عام 2014 م تطورا ملحوظا في الطرق ووسائل المواصلات من خلال:

(1) توسيع شبكة الطرق وإنشاء الكباري والأنفاق الجديدة.

(2) إنشاء المحاور مثل محور روض الفرج؛ لتخفيف الازدحام المروري.

(3) إدخال وسائل مواصلات متطورة تجمع بين السرعة والكفاءة والأمان وعدد

الإضرار بالبيئة مثل: • مترو الأنفاق.



• القطار الكهربائي.

• الأتوبيس الترددي.

## مميزات استخدام الدرجات

(1) لا تلوث البيئة. (2) تحافظ على الصحة وتقوي العضلات.

(3) اقتصادية وغير مكلفة. (4) تساعد على تقليل الازدحام المروري.

• حتى وقت قريب كان المصريون يستخدمون الدراجة في الذهاب إلى

العمل، ومع مرور الوقت قل استخدامها والاعتماد على السيارات.



## تطور الأجهزة والأدوات في حياتنا

• اعتمد السكان في الماضي على أدوات بسيطة وتقليدية في أعمالهم

مثل مصابيح الكيروسين والغسلات والثلاجات القديمة والهواتف الأرضية.

• أما اليوم أصبحت التكنولوجيا جزء من حياتنا، حيث نعتمد على الكهرباء في معظم

أعمالنا، ونستخدم أجهزة حديثة مثل المصابيح الكهربائية والغسلات والهواتف المحمولة؛

مما ساعد على تسهيل الحياة وسرعة إنجاز (إكمال) العمال.



## نتائج تطور المدن

آثار إيجابية

آثار سلبية

(1) تحسن مستوى حياة السكان. (1) ارتفاع بعض تكاليف الحياة.

(2) توافر فرص عمل جديدة. (2) ارتفاع معدلات التلوث.

• يجب تحقيق التوازن بين مزايا التطوير وتحدياته (مخاطره)؛ لضمان جودة الحياة.



## الوحدة الثانية الدرس الثالث الأماكن الخدمية في مدينتنا

- **الأماكن الخدمية:** منشآت (أماكن عمل) مخصصة لتقديم الخدمات المتنوعة للناس. من أمثلة الخدمات: (التعليم - الصحة - الأمن - التجارة...).

- توجد الأماكن الخدمية في القرى والمدن لتسهيل حياة الناس اليومية وتلبية (استجابة) احتياجاتهم الأساسية.



### (1) الأماكن الخدمية التعليمية

- تُعد المدرسة أحد الأماكن التي تقدم خدمات تعليمية، ونذهب إلى المدرسة لـ (1) نتعلم ونمارس الهوايات المفيدة.

- (2) نزرع مكتبة المدرسة التي تضم العديد من الكتب مثل كتب التاريخ.



### واجبنا نحو المدرسة

- (1) نحافظ على المقاعد والكتب والمكتبة؛ لأنها ملك لنا جميعاً.

- (2) لا نكتب على الجدران، ونضع القمامة في الأماكن المخصصة لها.

- (3) نحترم المعلمين ونقدر (نحترم) دورهم في تعليمنا وتوجيهنا (إرشادنا).

- تقوم الدولة ببناء المدارس والجامعات، وتعمل على تطويرها من أجل مستقبل أفضل.

### (2) الأماكن الخدمية الصحية

- يقدم الطبيب الخدمات الصحية للمرضى مثل الكشف وتقديم العلاج.



### واجبنا نحو المستشفيات

- (1) نلتزم بالهدوء عند زيارة المرضى.

- (2) نتبع الإرشادات الصحية داخلها.

- (3) نقدر دور الأطباء في علاج المرضى وحماية صحتنا.

- تقوم الدولة ببناء المستشفيات والوحدات الصحية وتوفير الأدوية، وأطلقت الدولة

- مبادرة (100 مليون صحة)؛ للكشف المبكر عن الأمراض.

### (3) الأماكن الخدمية الأمنية

- تقدم الشرطة العديد من الخدمات الأمنية؛ لحفظ الأمن والنظام، وضبط المخالفين والخارجين عن القانون، وتنظيم المرور والنجدة وإطفاء الحرائق وإصدار الوثائق.

#### واجبنا نحو الشرطة والأمن



(1) احترام رجال الشرطة وتقدير دورهم في حمايتنا، والتعاون معهم.

(2) تجنب (الابتعاد عن) أي أفعال تُعرضنا أو تُعرض غيرنا للخطر.

#### مركز الحماية المدنية (الإطفاء)

- يقوم بإخماد (إطفاء) الحرائق بمختلف أنواعها، والقيام بعمليات إنقاذ الأشخاص في حوادث الطرق وانهيار المباني والكوارث الطبيعية مثل الزلازل.



### (4) الأماكن الخدمية التجارية

- تقدم الأسواق خدمات تجارية ونشتري منها ما نحتاجه الطعام والملابس والادوات.

#### واجبنا نحو الأسواق

(1) يجب أن نحرص على نظافة الأسواق.

(2) ضرورة الترشيد (الاعتدال) في الشراء، فلا نشتري إلا ما نحتاجه.


• تراقب الدولة الأسواق لمنع الغلاء والتأكد من صلاحية المنتجات وسلامتها.

• تعمل الدولة على إنشاء الأسواق المتخصصة في بيع أنواع معينة من السلع

(البضائع) مثل سوق الجلود.

• كما توفر الدولة أماكن خدمية أخرى مثل:

(دور العبادة، ومكاتب البريد، ومراكز الشباب، والبنوك...)



## الوحدة الثانية الدرس الرابع مدينتنا في المستقبل

- تميز المصريون القدماء ببراعة فائقة (مهارة كبيرة) في تخطيط المدن، ومن هذه المدن مدينة (أخيتاتون) أو (تل العمارنة بالمنيا) والتي شيدها (بناها) الملك (إخناتون) على الضفة (الشط) الشرقية لنهر النيل منذ آلاف السنين.
- وقد ضمت هذه المدينة مناطق سكنية وأخرى دينية، ومركز للحكم والإدارة.



### أهمية التخطيط لبناء المدن

- التخطيط لبناء المدن يعني التفكير المُسبق لتنظيم واستخدام الأرض وتحسين حياة السكان، والتخطيط لبناء المدن يساعد على...



(1) الظهور بشكل أكثر تنظيمًا وجمالًا.

(2) حل المشكلات مثل: الازدحام والتلوث.

(3) توفير المرافق (الخدمات) والخدمات للسكان.

### ملاح (علامات) الحياة في المستقبل

- أتوقع في المستقبل ...

(1) أن تكون وسائل المواصلات في مدينتنا

ذاتية القيادة وصديقة للبيئة (لا تلوث البيئة).

(2) وجود طائرات صغيرة تحلق في

السماء لتوصيل احتياجات الناس

إلى المنازل.



(3) استخدام المزارع آلات حديثة تجعل

الزراعة أسهل، وتُرشد الماء، وتزيد الإنتاج.







## الوحدة الثانية الدرس الخامس أين تقع محافظتي؟

- بسبب اتساع مساحة مصر تم تقسيمها إلى عدد من المحافظات؛ لتسهيل إدارتها وتنظيم شئونها.
- تضم مصر 27 محافظة يفصل بينها حدود إدارية.
- **المحافظة:** جزء من الدولة تضم مجموعة من المراكز أو الأحياء.
- محافظة **الوادي الجديد** هي أكبر محافظات مصر في المساحة.
- محافظة **دمياط** هي أصغر محافظات مصر في المساحة.
- تُصنف (تقسم) محافظات مصر كالتالي

محافظات الحدود	محافظات الوجه القبلي	محافظات الوجه البحري
<p>على حدود مصر</p> <p>شمال سيناء - جنوب سيناء - البحر الأحمر - الوادي الجديد - مرسى مطروح (5 محافظات)</p>	<p>جنوب القاهرة (9)</p> <p>الجيزة - الفيوم - بني سويف - المنيا - أسيوط - سوهاج - قنا - الأقصر - أسوان</p>	<p>شمال القاهرة (13)</p> <p>الشرقية - الغربية - المنوفية - الدقهلية - القليوبية - البحيرة - كفر الشيخ - السويس - دمياط - الإسماعيلية - الإسكندرية - بورسعيد - القاهرة</p>

- حدود محافظتي (1) من الشمال: ..... (2) من الجنوب: .....
- (3) من الشرق: ..... (4) من الغرب: .....

### عاصمة مصر

- محافظة القاهرة من أقدم المُدن التاريخية في العالم، أنشئت منذ أكثر من ألف عام.
- من أسماء القاهرة: (جوهرة الشرق، مدينة الألف مئذنة).
- تعمل الدولة على تطوير القاهرة والحفاظ على طابعها الأثري والمعماري المميز.
- **العاصمة الإدارية الجديدة**
- توجد العاصمة الإدارية الجديدة شرق محافظة القاهرة.
- تعتمد على التكنولوجيا الحديثة والطاقة النظيفة، مما يساعد على مستقبل أفضل.
- تم نقل الوزارات والمصالح الحكومية إلى العاصمة الإدارية الجديدة.

## شعار المحافظة

راية تتخذها المحافظة رمزاً لها تعبر عن نشاط سكانها أو جزء من تاريخها.

• لكل محافظة مصرية شعار خاص بها.

• يُرفع الشعار على مبنى المحافظة والمؤسسات الحكومية بها وفي المناسبات الوطنية للمحافظة مثل: العيد القومي للمحافظة.

## العيد القومي للمحافظة

• يوم تحتفل فيه المحافظة بحدث تاريخي أو ذكرى مهمة مرت بها.

## شعار محافظة القاهرة

• يتكون شعار محافظة القاهرة من شمس

ساطعة خلف الجامع الأزهر، لتعبر عن أنه منارة الإسلام في العالم.

• تحتفل مدينة القاهرة بعيدها القومي يوم

6 يوليو من كل عام في ذكرى وضع القائد

جوهر الصقلي حجر الأساس (بداية بناء)

مدينة القاهرة عام 969 م.

ابحث، ثم أجب

أكمل:

(1) محافظتي هي محافظة:

(2) العيد القومي لمحافظة يوم:

(3) سبب اختيار هذا اليوم:

(4) يتكون شعار محافظتي من:

(5) محافظتي من محافظات: (الوجه البحري - الوجه القبلي - الحدود)



## حدد على الخريطة محافظاتك، والمحافظات المجاورة لها



## الوحدة الثالثة الدرس الأول علم وطننا مصر

- يقف تلاميذ المدرسة كل يوم في طابور الصباح؛ لتحية العلم، ويرددون جميعاً النشيد الوطني (بلادي بلادي).



- علم الدولة هو رمز لها يمثلها ويعبر عن تاريخها وشعبها.
- لمصر علم نعز (نفتخر) به، وهو ليس مجرد ألوان، بل هو رمز لكرامتنا ووحدتنا واعتزازنا بوطننا الغالي، إنه راية تروي (تحكي) قصة نضال (كفاح) شعب، وكرامة وطن.

### النشيد الوطني لمصر



- بلادي بلادي بلادي
- مصر يا أم البلاد
- وعلى كل العباد
- بلادي بلادي بلادي
- لك حُبي وفؤادي
- أنت غايتي والمُراد
- كم لنيلك من أيدي
- لك حُبي وفؤادي



- تُعزف موسيقى هذا النشيد في المناسبات؛ تعبيراً عن الانتماء والفخر بمصر.

### العلم في مصر قديماً وحديثاً

- المصريون القدماء هم أول من استخدموا الرايات والأعلام كرموز في حياتهم، فقد استخدموها لتمييز أقاليمهم ومُدنهم، وكان لكل إقليم رمز أو شعار خاص به.
- كانت مصر قديماً مُقسمة إلى مملكتين (دولتين)، لكل مملكة شعار يميزها



مملكة الجنوب  
كان شعارها  
زهرة اللوتس



مملكة الشمال  
كان شعارها  
نبات البردي

- وقد ظهرت الرايات على جدران المعابد والمسلات والمراكب، وكان الملوك يستخدمونها في الاحتفالات وفي المعارك؛ لتمييز جيوشهم وتشجيعهم على القتال.

### في الوقت الحاضر نرى علم مصر في

- (1) المناسبات الرسمية والمؤتمرات.
- (2) الوزارات والهيئات والمؤسسات الحكومية.
- (3) المواقع السياحية والمعالم الأثرية.
- (4) وسائل النقل مثل القطارات والطائرات.

## رموز وألوان علم مصر



• يظهر علم مصر على شكل مستطيل أفقي، ويتكون من ثلاثة ألوان.

(1) **الأحمر**: يرمز إلى دم الشهداء الذين ضحوا من أجل الوطن.

(2) **الأبيض**: يرمز إلى النقاء والرخاء والسلام.

(3) **الأسود**: يرمز إلى فترات الاستعمار التي تعرضت لها مصر.

• **النسر**: يتوسط العلم ولونه أصفر ذهبي، ومكتوب على قاعدته

(جمهورية مصر العربية)، وهو رمز القوة ومستوحى من نسر صلاح الدين الأيوبي.

## تطور العلم المصري في العصر الحديث

• تُغير الدول أعلامها أحياناً عند وقوع أحداث مهمة.

• تغير شكل علم مصر أكثر من مرة في العصر الحديث.

• تغير علم مصر بعد ثورة 1952 م، وتغير عند اتحاد مصر وسوريا عام 1958 م.



علم

مصر الحالي

1984 م - حتى

اليوم

علم

اتحاد الجمهوريات

العربية

1984.1971

(مصر وسوريا وليبيا)

علم

الجمهورية

العربية المتحدة

1971.1958

(مصر وسوريا)

علم

ثورة يوليو

1958.1952

## واجبنا تجاه علم وطننا مصر

يجب أن نتجنب (نبتعد عن)

(1) الكتابة أو الرسم على العلم.

(2) رفع العلم وهو تالف أو ممزق.

(3) إلقاء العلم على الأرض أو إهماله.

يجب علينا أن

(1) نحافظ على علم بلدنا مصر.

(2) نقف باحترام أثناء تحية العلم.

(3) نرفع العلم عاليًا بفخر واعتزاز.

## السؤال الأول: اكتب كلمة (صواب) أو كلمة (خطأ) أمام كل عبارة

- ( ) (1) يتم إقامة المناطق الصناعية في وسط المدن لقربها من العمال.
- ( ) (2) مسجد عمرو بن العاص هو أول جامع في مصر وإفريقيا.
- ( ) (3) مدينة الخارجة من المدن التي توجد على البحر الأحمر.
- ( ) (4) تستفيد القرية من الخدمات والمنتجات التي توفرها المدينة.
- ( ) (5) تُعد الكنيسة المعلقة من أحدث الكنائس التي بُنيت في مصر.
- ( ) (6) يُعد جامع عمرو بن العاص أقدم مسجد تم بناؤه في إفريقيا.
- ( ) (7) تستفيد المدينة من المنتجات الزراعية التي توفرها القرية.
- ( ) (8) من مميزات الدراجات أنها غير مكلفة لكنها تلوث البيئة.
- ( ) (9) كانت المنازل في الماضي بسيطة والطرق ضيقة وغير ممهدة.
- ( ) (10) توافر فرص العمل من النتائج الإيجابية لتطور المدن.
- ( ) (11) قامت الدولة ببناء العديد من المناطق العشوائية لتطوير المدن.
- ( ) (12) استخدام الساعات الذكية دليل على تطوير الأجهزة في حياتنا.
- ( ) (13) اعتمد السكان في الماضي على أدوات بسيطة في أعمالهم.
- ( ) (14) يُعد الأتوبيس الترددي إحدى وسائل النقل القديمة.
- ( ) (15) نزور المكتبات دائما للحصول على الخدمات الصحية والأمنية.
- ( ) (16) تقوم الدولة ببناء المدارس والجامعات، وتعمل على تطويرها.
- ( ) (17) يجب احترام رجال الشرطة وتقدير دورهم في حمايتنا.

## اكتب كلمة (صواب) أو كلمة (خطأ) أمام كل عبارة

- (18) يقدم مركز الحماية المدنية الدعم للمتضررين في الكوارث الطبيعية. ( )
- (19) يشارك رجال الشرطة في إنقاذ الأشخاص في الكوارث الطبيعية. ( )
- (20) من الأسواق نشترى السلع والمنتجات المتنوعة والمختلفة. ( )
- (21) الحفاظ على المقاعد والكتب والمكتبة ليس من واجبات التلميذ. ( )
- (22) حُسن استخدام التكنولوجيا يُساعد على بناء مدينتنا في المستقبل. ( )
- (23) يُمكن لنا التخلي عن قيمنا تاريخنا المصري القديم في المستقبل. ( )
- (24) يُتوقع في المستقبل أن تكون وسائل المواصلات ملوثة للبيئة. ( )
- (25) استخدام المزارع للآلات الزراعية الحديثة يساعد على زيادة الإنتاج. ( )
- (26) شيد الملك إخناتون مدينة أخيتاتون على الضفة الغربية لنهر النيل. ( )
- (27) يترتب على التخطيط الجيد للمدن حل مشكلتي التلوث والازدحام. ( )
- (28) بناء مدينتنا المستقبلية يتطلب حُسن استخدام التكنولوجيا. ( )
- (29) تم تقسيم محافظات مصر لتسهيل إدارتها. ( )
- (30) تشتهر مدينة القاهرة بأنها مدينة الألف مئذنة. ( )
- (31) محافظة الوادي الجديد هي أصغر محافظات مصر في المساحة. ( )
- (32) تعمل الدولة على تطوير القاهرة والحفاظ على طابعها المعماري. ( )
- (33) تُقسم مصر إدارياً إلى محافظات نظراً لاتساع مساحتها. ( )
- (34) تم إنشاء العاصمة الإدارية الجديدة غرب محافظة القاهرة. ( )
- (35) لكل محافظة شعار خاصة بها يختلف عن المحافظات الأخرى. ( )

## السؤال الثاني: اختر الإجابة الصحيحة

- (1) استغل المصري القديم الأراضي الخصبة في .....  
(أ) التجارة (ب) الزراعة (ج) الصناعة (د) السياحة
- (2) من المدن التي توجد على البحر المتوسط مدينة .....  
(أ) أسوان (ب) الخارجة (ج) الغردقة (د) الإسكندرية
- (3) تقع الكنيسة المعلقة في مدينة .....  
(أ) القاهرة (ب) الإسكندرية (ج) أسوان (د) الغردقة
- (4) تنتشر أنشطة الزراعة وتربية الحيوانات في .....  
(أ) المُدن (ب) المنطقة الصناعية (ج) القرى (د) المنطقة السياحية
- (5) أول جامع أقيم في مصر هو .....  
(أ) الجامع الأزهر (ب) جامع النور (ج) جامع الفتح (د) جامع عمرو بن العاص
- (6) تتميز المدن والقرى في الحاضر بـ .....  
(أ) منازل بسيطة (ب) طرق ضيقة (ج) مباني حديثة (د) وسائل مواصلات محدودة
- (7) ساهمت الأجهزة الحديثة في .....  
(أ) ببطء الإنجاز (ب) زيادة المشكلات (ج) تعطيل التقديم (د) تسهيل الحياة
- (8) تتصف وسائل مواصلات المدن في الماضي بأنها .....  
(أ) سريعة (ب) حديثة (ج) محدودة (د) متطورة
- (9) تميزت الطرق في العصر الحاضر بأنها طرق .....  
(أ) ضيقة (ب) غير ممهدة (ج) غير صالحة (د) واسعة وممهدة
- (10) من الأدوات والأجهزة الحديثة التي يستخدمها الإنسان .....  
(أ) الغسالات (ب) المصباح الكهربائي (ج) الهواتف المحمولة (د) مصابيح الكيروسين
- (11) الشخص المسئول عن تقديم الخدمات التعليمية هو .....  
(أ) الطبيب (ب) المعلم (ج) المهندس (د) رجل الشرطة
- (12) عندما أرغب في الحصول على الخدمات الصحية أذهب إل .....  
(أ) المدرسة (ب) السوق (ج) النادي (د) المستشفى
- (13) يومركز الحماية المدنية الخدمات .....  
(أ) التجارية (ب) الصحية (ج) التعليمية (د) الأمنية

## اختر الإجابة الصحيحة

- (14) نتعلم ونمارس الهوايات المفيدة في .....  
 (أ) المدرسة (ب) السوق (ج) البنوك (د) المستشفى
- (15) عندما نرغب في شراء السلع والمنتجات نذهب إلى .....  
 (أ) المدرسة (ب) السوق (ج) النادي (د) المستشفى
- (16) شيد الملك إخناتون مدينة ..... على الضفة الشرقية لنهر النيل.  
 (أ) القاهرة (ب) أخيتاتون (ج) العمرانية (د) الإسكندرية
- (17) يُتوقع أن تعتمد المُدن مستقبلاً في إنتاج الطاقة على .....  
 (أ) الفحم (ب) البترول (ج) الغاز الطبيعي (د) طاقة الشمس
- (18) لتحويل ضوء الشمس إلى طاقة كهربية نستخدم .....  
 (أ) البطاريات (ب) الألواح الشمسية (ج) المُولدات (د) المصابيح الكهربائية
- (19) استخدام المزارع آلات حديثة في الزراعة ..... الإنتاج.  
 (أ) يُضعف (ب) يُقلل (ج) يُزيد (د) يُهدد
- (20) التخطيط الجيد للمُدن حل مشكلتي .....  
 (أ) الضوضاء (ب) التلوث (ج) احترام القوانين (د) زيادة الأسعار
- (21) أضغر محافظات مصر من حيث المساحة هي محافظة .....  
 (أ) القاهرة (ب) دمياط (ج) السويس (د) الوادي الجديد
- (22) شعار محافظة القاهرة يحتوي على صورة .....  
 (أ) الأهرامات (ب) نهر النيل (ج) الجامع الأزهر (د) قلعة صلاح الدين
- (23) تحتفل مدينة القاهرة بعيدها القومي في شهر ..... من كل عام.  
 (أ) مارس (ب) أبريل (ج) مايو (د) يوليو
- (24) تُسمى مدينة ..... باسم جوهرة الشرق.  
 (أ) القاهرة (ب) الإسكندرية (ج) أسوان (د) السويس
- (25) وضع القائد ..... حجر الأساس لبناء مدينة القاهرة.  
 (أ) إخناتون (ب) الإدريسي (ج) جواهر الصقلي (د) عمرو بن العاص

## السؤال الثالث: أكمل العبارات التالية بما يناسبها من كلمات

- (1) توجد المدارس في المناطق .....
- (2) عرف المصري القديم الزراعة، واستقر على ضفاف .....
- (3) توجد مدينة بورسعيد على البحر .....
- (4) تعرضت مدينة السويس لأضرار كبيرة وتدمير أثناء حرب .....
- (5) من مميزات الطرق في القرى والمدن في العصر الحاضر .....
- (6) من وسائل المواصلات المتطورة التي تتميز بالسرعة والأمان .....
- (7) الشخص المسئول عن تقديم الخدمات الصحية هو .....
- (8) المنشآت المسئولة عن تقديم الخدمات التجارية هي .....
- (9) حملة 100 مليون صحة تقوم بالكشف المبكر عن .....
- (10) التخطيط الجيد لبناء المدن يساعد على حل مشكلتي الازدحام و .....
- (11) يجب أن نتمسك بقيمتنا التي تعلمناها من تاريخنا المصري مثل .....
- (12) شيد الملك (إخناتون) مدينة (أخيتاتون) على الضفة ..... لنهر النيل.
- (13) عدد محافظات جمهورية مصر العربية ..... محافظة.
- (14) راية تتخذها المحافظة رمزاً لها يُطلق عليها .....
- (15) من الأسماء التي سُميت بها مدينة القاهرة .....

## السؤال الرابع: صل كل صورة بنوع المنطقة التي تنتمي إليها



(1) منطقة سياحية

(2) منطقة صناعية

(3) منطقة سكنية

(4) منطقة زراعية

## السؤال الخامس: أجب عما يأتي

(1) بم تفسر: استقر المصري القديم على ضفاف نهر النيل؟

(2) ما أهمية المناطق السياحية؟

(3) وضح أهمية المناطق الزراعية للقرى والمدن.

(4) ما سبب بناء المناطق الصناعية بعيداً عن المناطق السكنية؟

(5) اذكر السبب: المناطق الزراعية ثروة قومية يجب الحفاظ عليها.

(6) لماذا سُميت الكنيسة المعلقة بهذا الاسم؟

(7) اذكر السبب: إنشاء المحاور مثل محور روض الفرج.

(8) اشرح فوائد استخدام الدراجات.

(9) ما الآثار السلبية لتطوير المدن.

(10) دلل على جهود الدولة في تطوير المدن المصرية.

## أجب عما يأتي

(11) اكتب نتيجة لتصدي المقاومة الشعبية في السويس للعدو الإسرائيلي.

(12) اكتب سبب إنشاء الدولة عديد من المدن الجديدة في الصحراء.

(13) اذكر السبب: تراقب الدولة الأسواق.

(14) اذكر بعض الخدمات التي يقدمها رجال الشرطة.

(15) حدد واجبك نحو مدرستك.

(16) ما واجبك نحو المستشفيات؟

(17) اذكر أهمية مبادرة 100 مليون صحة.

(18) ما أهمية التخطيط المسبق لبناء المُدن؟

(19) ما نتيجة: اعتمادنا على الطاقة الشمسية؟

(20) بم تفسر: أهمية التخطيط قبل بناء المُدن؟

## أجب عما يأتي

(21) دال على: براعة المصريين القدماء في تخطيط المُدن.

(22) ما النتائج المترتبة على: استخدام المزارع لآلات زراعية حديثة في المستقبل؟

(23) ما نتيجة أن: يضم المستشفى أجهزة للاستشفاء قائمة على الذكاء الاصطناعي؟

(24) ما العلاقة بين الاجتهاد في الدراسة وبناء مدينتنا المستقبلية؟

(25) بم تفسر: تم تقسيم مصر إلى عدد من المحافظات؟

(26) اذكر السبب: وجود شمس خلف الجامع الأزهر على شاعر محافظة القاهرة.

(27) هات دليل على: تميّز محافظة القاهرة عن غيرها من المحافظات.

(28) ما العلاقة بين القاهرة وجوهر الصقلي؟

(29) دال على: اهتمام الدولة بإنشاء مُدن تعتمد على التكنولوجيا الحديثة.

## السؤال السادس: اكتب ما تشير إليه العبارة

- (1) تجمع سكني تتركز فيه أنشطة الزراعة وتربية الحيوانات. (.....)
- (2) مناطق مخصصة للتنزه مثل الأندية الرياضية والحدائق العامة. (.....)
- (3) وسيلة مواصلات استخدمها المصريون قبل السيارات. (.....)
- (4) مدينة تعرضت للتخريب على يد إسرائيل في حرب أكتوبر. (.....)
- (5) أماكن تقدم خدمات صحية للمرضى. (.....)
- (6) شخص يقوم بتقديم الخدمات التعليمية. (.....)
- (7) التفكير المسبق لتنظيم واستخدام الأرض وتحسين حياة السكان. (.....)
- (8) مدينة شيدها الملك إخناتون على الضفة الشرقية لنهر النيل. (.....)
- (9) جزء من الدولة تضم مجموعة من المراكز أو الأحياء. (.....)
- (10) راية تتخذها المحافظة رمزاً لها تعبر عنها. (.....)
- (11) عاصمة مصر وهي من أقدم المدن التاريخية في العالم. (.....)

## السؤال السابع: صل بين صورة ونوع الخدمة التي تناسبها

(1) الخدمات التعليمية



(2) الخدمات الصحية



(3) الخدمات الأمنية



(4) الخدمات التجارية

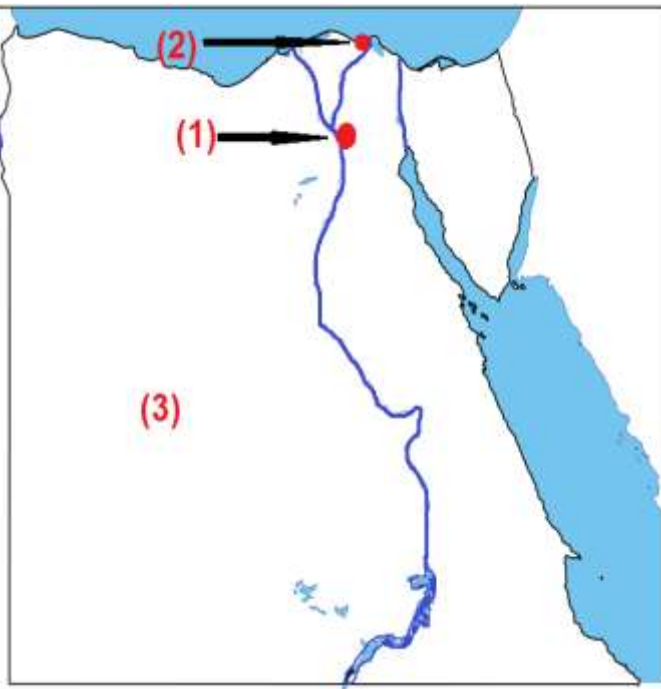
## السؤال الثامن: أكمل المقارنة بين القرى والمدن قديما وحديثا

في الحاضر	في الماضي	المقارنة
.....	.....	(1) المنازل
.....	.....	(2) الطرق
.....	.....	(3) وسائل المواصلات

## السؤال التاسع: صل من العمود (أ) ما يناسبه من العمود (ب)

(ب)	(أ)
التلوث. ( )	(1) تميز المصريون القدماء ببراعة فائقة في
تخطيط المُدن. ( )	(2) استخدام المزارع آلات حديثة في الزراعة
يُزيد الإنتاج. ( )	(3) التخطيط الجيد لبناء المدن يحل مشكلة

## السؤال العاشر: لاحظ الخريطة المقابلة، وأكمل



• يمثل رقم (1) على الخريطة المقابلة

عاصمة مصر .....

• يمثل رقم (2) على الخريطة أصغر محافظة

في مصر من حيث المساحة .....

• يمثل رقم (3) على الخريطة أكبر محافظة

في مصر من حيث المساحة .....


# الدراسات الاجتماعية

## الصف الرابع

### مراجعة شهر نوفمبر

#### الإجابة

2026/2025



## السؤال الأول: اكتب كلمة (صواب) أو كلمة (خطأ) أمام كل عبارة

- (1) يتم إقامة المناطق الصناعية في وسط المدن لقربها من العمال. ( x )
- (2) مسجد عمرو بن العاص هو أول جامع في مصر وإفريقيا. ( ✓ )
- (3) مدينة الخارجة من المدن التي توجد على البحر الأحمر. ( x )
- (4) تستفيد القرية من الخدمات والمنتجات التي توفرها المدينة. ( ✓ )
- (5) تُعد الكنيسة المعلقة من أحدث الكنائس التي بُنيت في مصر. ( x )
- (6) يُعد جامع عمرو بن العاص أقدم مسجد تم بناؤه في إفريقيا. ( ✓ )
- (7) تستفيد المدينة من المنتجات الزراعية التي توفرها القرية. ( ✓ )
- (8) من مميزات الدراجات أنها غير مكلفة لكنها تلوث البيئة. ( x )
- (9) كانت المنازل في الماضي بسيطة والطرق ضيقة وغير ممهدة. ( ✓ )
- (10) توافر فرص العمل من النتائج الإيجابية لتطور المدن. ( ✓ )
- (11) قامت الدولة ببناء العديد من المناطق العشوائية لتطوير المدن. ( x )
- (12) استخدام الساعات الذكية دليل على تطوير الأجهزة في حياتنا. ( ✓ )
- (13) اعتمد السكان في الماضي على أدوات بسيطة في أعمالهم. ( ✓ )
- (14) يُعد الأتوبيس الترددي إحدى وسائل النقل القديمة. ( x )
- (15) نزور المكتبات دائما للحصول على الخدمات الصحية والأمنية. ( x )
- (16) تقوم الدولة ببناء المدارس والجامعات، وتعمل على تطويرها. ( ✓ )
- (17) يجب احترام رجال الشرطة وتقدير دورهم في حمايتنا. ( ✓ )

## اكتب كلمة (صواب) أو كلمة (خطأ) أمام كل عبارة

- (18) يقدم مركز الحماية المدنية الدعم للمتضررين في الكوارث الطبيعية. ( ✓ )
- (19) يشارك رجال الشرطة في إنقاذ الأشخاص في الكوارث الطبيعية. ( ✓ )
- (20) من الأسواق نشترى السلع والمنتجات المتنوعة والمختلفة. ( ✓ )
- (21) الحفاظ على المقاعد والكتب والمكتبة ليس من واجبات التلميذ. ( ✗ )
- (22) حُسن استخدام التكنولوجيا يُساعد على بناء مدينتنا في المستقبل. ( ✓ )
- (23) يُمكن لنا التخلي عن قيمنا تاريخنا المصري القديم في المستقبل. ( ✗ )
- (24) يُتوقع في المستقبل أن تكون وسائل المواصلات ملوثة للبيئة. ( ✓ )
- (25) استخدام المزارع للآلات الزراعية الحديثة يساعد على زيادة الإنتاج. ( ✓ )
- (26) شيد الملك إخناتون مدينة أخيتاتون على الضفة الغربية لنهر النيل. ( ✗ )
- (27) يترتب على التخطيط الجيد للمدن حل مشكلتي التلوث والازدحام. ( ✓ )
- (28) بناء مدينتنا المستقبلية يتطلب حُسن استخدام التكنولوجيا. ( ✓ )
- (29) تم تقسيم محافظات مصر لتسهيل إدارتها. ( ✓ )
- (30) تشتهر مدينة القاهرة بأنها مدينة الألف مئذنة. ( ✓ )
- (31) محافظة الوادي الجديد هي أصغر محافظات مصر في المساحة. ( ✗ )
- (32) تعمل الدولة على تطوير القاهرة والحفاظ على طابعها المعماري. ( ✓ )
- (33) تُقسم مصر إدارياً إلى محافظات نظراً لاتساع مساحتها. ( ✓ )
- (34) تم إنشاء العاصمة الإدارية الجديدة غرب محافظة القاهرة. ( ✗ )
- (35) لكل محافظة شعار خاصة بها يختلف عن المحافظات الأخرى. ( ✓ )

## السؤال الثاني: اختر الإجابة الصحيحة

- (1) استغل المصري القديم الأراضي الخصبة في .....  
(أ) التجارة (ب) الزراعة (ج) الصناعة (د) السياحة
- (2) من المدن التي توجد على البحر المتوسط مدينة .....  
(أ) أسوان (ب) الخارجة (ج) الغردقة (د) الإسكندرية
- (3) تقع الكنيسة المعلقة في مدينة .....  
(أ) القاهرة (ب) الإسكندرية (ج) أسوان (د) الغردقة
- (4) تنتشر أنشطة الزراعة وتربية الحيوانات في .....  
(أ) المُدن (ب) المنطقة الصناعية (ج) القرى (د) المنطقة السياحية
- (5) أول جامع أقيم في مصر هو .....  
(أ) الجامع الأزهر (ب) جامع النور (ج) جامع الفتح (د) جامع عمرو بن العاص
- (6) تتميز المدن والقرى في الحاضر بـ .....  
(أ) منازل بسيطة (ب) طرق ضيقة (ج) مباني حديثة (د) وسائل مواصلات محدودة
- (7) ساهمت الأجهزة الحديثة في .....  
(أ) ببطء الإنجاز (ب) زيادة المشكلات (ج) تعطيل التقديم (د) تسهيل الحياة
- (8) تتصف وسائل مواصلات المدن في الماضي بأنها .....  
(أ) سريعة (ب) حديثة (ج) محدودة (د) متطورة
- (9) تميزت الطرق في العصر الحاضر بأنها طرق .....  
(أ) ضيقة (ب) غير ممهدة (ج) غير صالحة (د) واسعة وممهدة
- (10) من الأدوات والأجهزة الحديثة التي يستخدمها الإنسان .....  
(أ) الغسالات (ب) المصباح الكهربائي (ج) الهواتف المحمولة (د) مصابيح الكيروسين
- (11) الشخص المسئول عن تقديم الخدمات التعليمية هو .....  
(أ) الطبيب (ب) المعلم (ج) المهندس (د) رجل الشرطة
- (12) عندما أرغب في الحصول على الخدمات الصحية أذهب إل .....  
(أ) المدرسة (ب) السوق (ج) النادي (د) المستشفى
- (13) يوفر مركز الحماية المدنية الخدمات .....  
(أ) التجارية (ب) الصحية (ج) التعليمية (د) الأمنية

## اختر الإجابة الصحيحة

- (14) نتعلم ونمارس الهوايات المفيدة في .....  
 (أ) المدرسة (ب) السوق (ج) البنوك (د) المستشفى
- (15) عندما نرغب في شراء السلع والمنتجات نذهب إلى .....  
 (أ) المدرسة (ب) السوق (ج) النادي (د) المستشفى
- (16) شيد الملك إخناتون مدينة ..... على الضفة الشرقية لنهر النيل.  
 (أ) القاهرة (ب) أخيتاتون (ج) العمرانية (د) الإسكندرية
- (17) يُتوقع أن تعتمد المُدن مستقبلاً في إنتاج الطاقة على .....  
 (أ) الفحم (ب) البترول (ج) الغاز الطبيعي (د) طاقة الشمس
- (18) لتحويل ضوء الشمس إلى طاقة كهربية نستخدم .....  
 (أ) البطاريات (ب) الألواح الشمسية (ج) المُولدات (د) المصابيح الكهربائية
- (19) استخدام المزارع آلات حديثة في الزراعة ..... الإنتاج.  
 (أ) يُضعف (ب) يُقلل (ج) يُزيد (د) يُهدد
- (20) التخطيط الجيد للمُدن حل مشكلتي .....  
 (أ) الضوضاء (ب) التلوث (ج) احترام القوانين (د) زيادة الأسعار
- (21) أصغر محافظات مصر من حيث المساحة هي محافظة .....  
 (أ) القاهرة (ب) دمياط (ج) السويس (د) الوادي الجديد
- (22) شعار محافظة القاهرة يحتوي على صورة .....  
 (أ) الأهرامات (ب) نهر النيل (ج) الجامع الأزهر (د) قلعة صلاح الدين
- (23) تحتفل مدينة القاهرة بعيدها القومي في شهر ..... من كل عام.  
 (أ) مارس (ب) أبريل (ج) مايو (د) يوليو
- (24) تُسمى مدينة ..... باسم جوهرة الشرق.  
 (أ) القاهرة (ب) الإسكندرية (ج) أسوان (د) السويس
- (25) وضع القائد ..... حجر الأساس لبناء مدينة القاهرة.  
 (أ) إخناتون (ب) الإدريسي (ج) جوهرة الصقلي (د) عمرو بن العاص

### السؤال الثالث: أكمل العبارات التالية بما يناسبها من كلمات

- (1) توجد المدارس في المناطق السكنية.
- (2) عرف المصري القديم الزراعة، واستقر على ضفاف نهر النيل.
- (3) توجد مدينة بورسعيد على البحر المتوسط.
- (4) تعرضت مدينة السويس لأضرار كبيرة وتدمير أثناء حرب السادس من أكتوبر.
- (5) من مميزات الطرق في القرى والمدن في العصر الحاضر واسعة وممهدة.
- (6) من وسائل المواصلات المتطورة التي تتميز بالسرعة والأمان مترو الأنفاق.
- (7) الشخص المسئول عن تقديم الخدمات الصحية هو الطبيب.
- (8) المنشآت المسئولة عن تقديم الخدمات التجارية هي الأسواق.
- (9) حملة 100 مليون صحة تقوم بالكشف المبكر عن الأمراض.
- (10) التخطيط الجيد لبناء المدن يساعد على حل مشكلتي الازدحام و التلوث.
- (11) يجب أن نتمسك بقيمتنا التي تعلمناها من تاريخنا المصري مثل: التعاون والكرم.
- (12) شيد الملك (إخناتون) مدينة (أخيتاتون) على الضفة الشرقية لنهر النيل.
- (13) عدد محافظات جمهورية مصر العربية 27 محافظة.
- (14) راية تتخذها المحافظة رمزاً لها يُطلق عليها الشعار.
- (15) من الأسماء التي سُميت بها مدينة القاهرة جوهرة الشرق.

### السؤال الرابع: صل كل صورة بنوع المنطقة التي تنتمي إليها

(1) منطقة سياحية

(2) منطقة صناعية

(3) منطقة سكنية

(4) منطقة زراعية

1

2

3

4

## السؤال الخامس: أجب عما يأتي

- (1) بم تفسر: استقر المصري القديم على ضفاف نهر النيل؟
  - **لوفرة المياه العذبة والأرض الخصبة.**
- (2) ما أهمية المناطق السياحية؟
  - **تنشيط السياحة، وتوفير فرص عمل.**
- (3) وضح أهمية المناطق الزراعية للقرى والمدن.
  - **توفر المحاصيل والغذاء.**
- (4) ما سبب بناء المناطق الصناعية بعيدًا عن المناطق السكنية؟
  - **لتقليل التلوث البيئي.**
- (5) اذكر السبب: المناطق الزراعية ثروة قومية يجب الحفاظ عليها.
  - **لأنها توفر لنا المحاصيل والغذاء.**
- (6) لماذا سُميت الكنيسة المعلقة بهذا الاسم؟
  - **لأنها بُنيت فوق برجين من بقايا حصن عسكري قديم.**
- (7) اذكر السبب: إنشاء المحاور مثل محور روض الفرج.
  - **لتخفيف الازدحام المروري.**
- (8) اشرح فوائد استخدام الدراجات.
  - **لا تلوث البيئة، غير مكلفة، تقوي العضلات.**
- (9) ما الآثار السلبية لتطوير المدن.
  - **زيادة التلوث، ارتفاع تكاليف الحياة.**
- (10) دال على جهود الدولة في تطوير المدن المصرية.
  - **تحسين محطات مياه الشرب، وتحديث شبكات الكهرباء والصرف الصحي.**

## أجب عما يأتي

- (11) اكتب نتيجة لتصدي المقاومة الشعبية في السويس للعدو الإسرائيلي.
- منعه من دخول السويس، و تعرضت أجزاء من مدينة السويس لأضرار كبيرة.
- (12) اكتب سبب إنشاء الدولة عديد من المدن الجديدة في الصحراء.
- بهدف تقليل الازدحام.
- (13) اذكر السبب: تراقب الدولة الأسواق.
- لمنع الغلاء والتأكد من صلاحية المنتجات وسلامتها.
- (14) اذكر بعض الخدمات التي يقدمها رجال الشرطة.
- حفظ الأمن، وضبط الخارجين عن القانون، وتنظيم المرور والنجدة وإطفاء الحرائق.
- (15) حدد واجبك نحو مدرستك.
- نحافظ على المقاعد والكتب والمكتبة، لا نكتب على الجدران، نحترم المعلمين.
- (16) ما واجبك نحو المستشفيات؟
- نلتزم بالهدوء عند زيارة المرضى، ونحترم الأطباء.
- (17) اذكر أهمية مبادرة 100 مليون صحة.
- الكشف المبكر عن الأمراض.
- (18) ما أهمية التخطيط المسبق لبناء المُدن؟
- حل المشكلات مثل: الازدحام والتلوث.
- (19) ما نتيجة: اعتمادنا على الطاقة الشمسية؟
- يقل التلوث.
- (20) بم تفسر: أهمية التخطيط قبل بناء المُدن؟
- حل المشكلات مثل: الازدحام والتلوث.

## أجب عما يأتي

(21) دال على: براعة المصريين القدماء في تخطيط المُدن.

• بناء مدينة (أخيتاتون) التي بناها الملك (إخناتون).

(22) ما النتائج المترتبة على: استخدام المزارع لآلات زراعية حديثة في المستقبل؟

• تجعل الزراعة أسهل، وتُرشد الماء، وتزيد الإنتاج.

(23) ما نتيجة أن: يضم المستشفى أجهزة للاستشفاء قائمة على الذكاء الاصطناعي؟

• تشخيص (تحديد) الأمراض وعلاجها في أقصر وقت.

(24) ما العلاقة بين الاجتهاد في الدراسة وبناء مدينتنا المستقبلية؟

• الاجتهاد في الدراسة يساعدنا على بناء مدينتنا المستقبلية.

(25) بم تفسر: تم تقسيم مصر إلى عدد من المحافظات؟

• بسبب اتساع مساحة مصر، لتسهيل إدارتها وتنظيم شئونها.

(26) اذكر السبب: وجود شمس خلف الجامع الأزهر على شاعر محافظة القاهرة.

• لتعبر عن أنه منارة الإسلام في العالم.

(27) هات دليل على: تميّز محافظة القاهرة عن غيرها من المحافظات.

• أنها عاصمة مصر، وأقدم المُدن التاريخية في العالم.

(28) ما العلاقة بين القاهرة وجوهر الصقلي؟

• بنى جوهر الصقلي مدينة القاهرة.

(29) دال على: اهتمام الدولة بإنشاء مُدن تعتمد على التكنولوجيا الحديثة.

• بناء العاصمة الإدارية الجديدة شرق محافظة القاهرة.

## السؤال السادس: اكتب ما تشير إليه العبارة

- (1) تجمع سكني تتركز فيه أنشطة الزراعة وتربية الحيوانات. (القرية)
- (2) مناطق مخصصة للتنزه مثل الأندية الرياضية والحدائق العامة. (مناطق ترفيهية)
- (3) وسيلة مواصلات استخدمها المصريون قبل السيارات. (الدرجات)
- (4) مدينة تعرضت للتخريب على يد إسرائيل في حرب أكتوبر. (السويس)
- (5) أماكن تقدم خدمات صحية للمرضى. (المستشفيات)
- (6) شخص يقوم بتقديم الخدمات التعليمية. (المعلم)
- (7) التفكير المسبق لتنظيم واستخدام الأرض وتحسين الحياة. (التخطيط لبناء المدن)
- (8) مدينة شيدها الملك إخناتون على الضفة الشرقية لنهر النيل. (أخيتاتون)
- (9) جزء من الدولة تضم مجموعة من المراكز أو الأحياء. (المحافظة)
- (10) راية تتخذها المحافظة رمزاً لها تعبر عنها. (الشعار)
- (11) عاصمة مصر وهي من أقدم المدن التاريخية في العالم. (القاهرة)

## السؤال السابع: صل بين صورة ونوع الخدمة التي تناسبها

(1) الخدمات التعليمية

(2) الخدمات الصحية

(3) الخدمات الأمنية

(4) الخدمات التجارية



## السؤال الثامن: أكمل المقارنة بين القرى والمدن قديما وحديثا

المقارنة	في الماضي	في الحاضر
(1) المنازل	• منازل بسيطة.	• مباني حديثة وأحياء جديدة.
(2) الطرق	• ضيقة وغير ممهدة.	• واسعة وممهدة.
(3) وسائل المواصلات	• محدودة.	• متنوعة وأكثر سهولة وراحة.

## السؤال التاسع: صل من العمود (أ) ما يناسبه من العمود (ب)

(أ)	(ب)
(1) تميز المصريون القدماء ببراعة فائقة في	• التلوث. ( 3 )
(2) استخدام المزارع آلات حديثة في الزراعة	• تخطيط المدن. ( 1 )
(3) التخطيط الجيد لبناء المدن يحل مشكلة	• يزيد الإنتاج. ( 2 )

## السؤال العاشر: لاحظ الخريطة المقابلة، وأكمل

• يمثل رقم (1) على الخريطة المقابلة

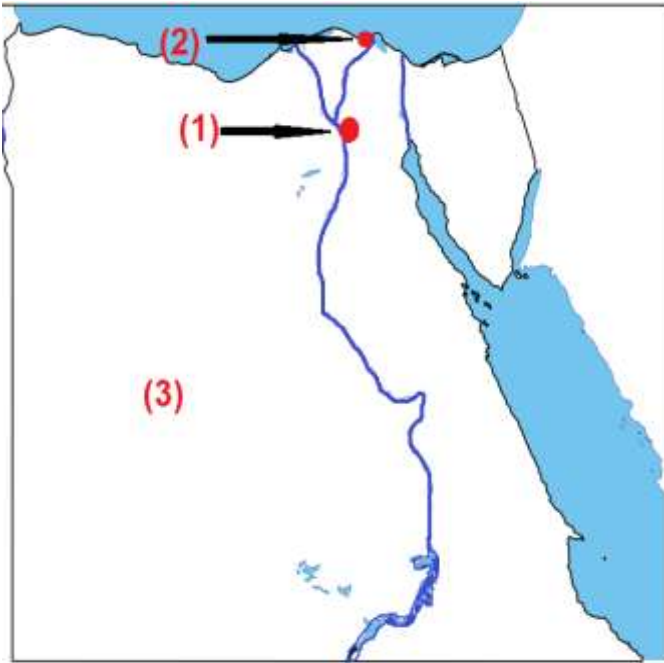
عاصمة مصر القاهرة

• يمثل رقم (2) على الخريطة أصغر محافظة

في مصر من حيث المساحة دمياط

• يمثل رقم (3) على الخريطة أكبر محافظة

في مصر من حيث المساحة الوادي الجديد



تطبيق



مذكرات جاهزة للطباعة

لتحميل الملفات التعليمية مجاناً للمعلم والطالب

مذكرات وملازم / مراجعات وملخصات / امتحانات / كتب الوزارة /  
أدلة المعلم / دفاتر التحضير / سجلات مدرسية / أوراق تأسيس

امسح الكود بموبايلك علشان تقدر تثبت التطبيق

وتقدر ف أي وقت تحمّل ال نفسك فيه ببلاش

هيفغنيك عن البحث والجروبات والقنوات الكثيرة



تطبيق الموبايل لتحميل الملفات