

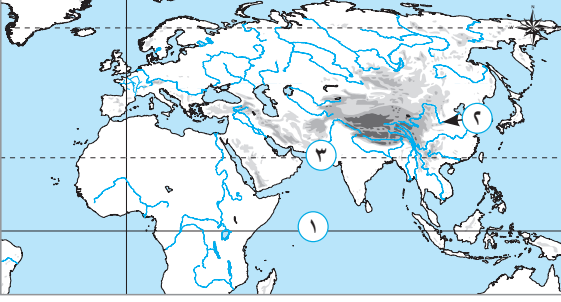
الدراسات الاجتماعية

# نماذج اختبارات الأضواء

لشهر نوفمبر

الصف  
2  
الإعدادي  
الفصل الدراسي الأول

## السؤال الأول: ( 1 ) أملك خريطة صماء لقارتي آسيا وأوروبا، اكتب مدلول الأرقام الموقعة عليها:



- ١ المحيط .....
- ٢ نهر .....
- ٣ دائرة عرض رئيسية .....

### (ب) دلل على صحة العبارتين الآتيتين:

- ١ اهتم المسلمون بالعلم والعلماء .....
- ٢ للغابات المدارية المطيرة أهمية بيئية كبيرة .....

## السؤال الثاني: ( 1 ) أكمل العبارتين الآتيتين بما يناسبهما من كلمات:

- ١ تعد من أهم المحاصيل الزراعية في الهند ..... و.....
- ٢ كانت بداية ظهور الإسلام في .....

### (ب) بم تفسر...؟

- ١ استخدام أشجار الساج في صناعة السفن.

- ٢ استخدام الهند قديماً للأختام.

- ٣ فرض الإسلام الزكاة.

## السؤال الثالث: ( 1 ) اكتب كلمة (صواب) أمام العبارة الصحيحة، وكلمة (خطأ) أمام العبارة غير الصحيحة، مع تصويب الخطأ:

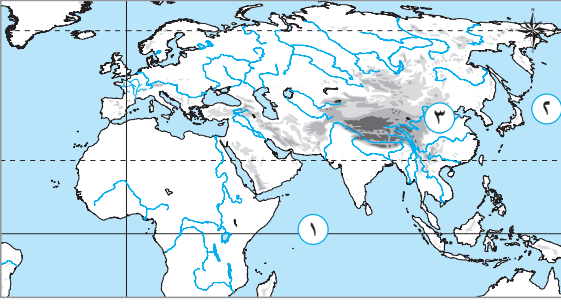
- ١ كان للمرأة في الحضارة الصينية الحق في الميراث وتولى المناصب الحكومية. ( )
- ٢ ينتشر البعوض في نظام الغابات المخروطية في فصل الصيف. ( )

### (ب) ما النتائج المترتبة على: ضعف الخلفاء في أواخر العصر الأموي؟

### (ج) قارن بين: نظامي الغابات الموسمية والغابات النفضية من حيث الموقع والخصائص المناخية.

الغابات النفضية	الغابات الموسمية	وجه المقارنة
.....	.....	الموقع
.....	.....	الخصائص المناخية

## السؤال الأول: ( ١ ) أمامك خريطة صماء لقارتي آسيا وأوروبا، اكتب مدلول الأرقام الموقعة عليها:



- ١ دائرة عرض رئيسية .....
- ٢ المحيط .....
- ٣ حضارة .....

### (ب) ما المقصود بكل من...؟

- ١ صحيفة المدينة .

- ٢ طريق الحرير.

## السؤال الثاني: ( ١ ) اختر الإجابة الصحيحة مما بين الأقواس:

- ١ تنتشر المستنقعات بنظام الغابات المخروطية في فصل ..... (الصيف - الربيع - الشتاء - الخريف)
- ٢ أشهر العبادات الصينية التي دخلت إليها عن طريق الهند، عبادة..... (اليهودية - البوذية - المسيحية - النجوم)

### (ب) دلل على صحة العبارات الآتية:

- ١ اختلاف نظام الحكم في الدولة الإسلامية من مرحلة إلى أخرى .

- ٢ الأسرة في المجتمع الصيني القديم هي وحدة البناء الأساسية للمجتمع .

- ٣ تتنوع الحيوانات في نظام الغابات الصنوبرية.

## السؤال الثالث: ( ١ ) صوب ما تحته خط:

- ١ بعد انتهاء فترة الخلفاء الراشدين تولى خالد بن الوليد خلافة المسلمين.

- ٢ تنمو الغابات الاستوائية في دولة اليابان.

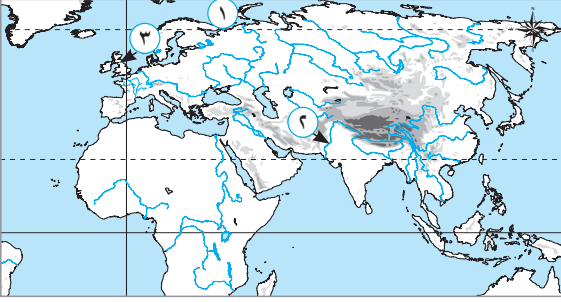
### (ب) بم تفسر...؟

- ١ استخدام الهنود قديمًا أوزانًا حجرية مكعبة.

- ٢ لا تنتشر الغابات الموسمية في قارة أوروبا.

- ٣ سقوط الخلافة العباسية على يد المغول.

## السؤال الأول: ( ١ ) أمامك خريطة صماء لقارتي آسيا وأوروبا، اكتب مدلول الأرقام الموقعة عليها:



- ١ المحيط .....
- ٢ نهر .....
- ٣ نظام الغابات .....

(ب) أجب عما يأتي:

- ١ دلل: تعددت إنجازات الخلفاء الراشدين .....
- ٢ ما المقصود ب: الخلافة الإسلامية؟ .....

## السؤال الثاني: ( ١ ) اكتب كلمة (صواب) أمام العبارة الصحيحة، وكلمة (خطأ) أمام العبارة غير الصحيحة، مع تصويب الخطأ:

- ١ نقل العباسيون عاصمة الخلافة إلى دمشق. ( )
  - ٢ تسقط الأمطار صيفاً في نظام الغابات المخروطية. ( )
- (ب) بم تفسر...؟

- ١ كانت المدن الصينية محاطة بأسوار كبيرة. ....
- ٢ تُعرف الغابات النفضية بهذا الاسم. ....
- ٣ انتشار الحضارة الإسلامية في آسيا وأوروبا. ....

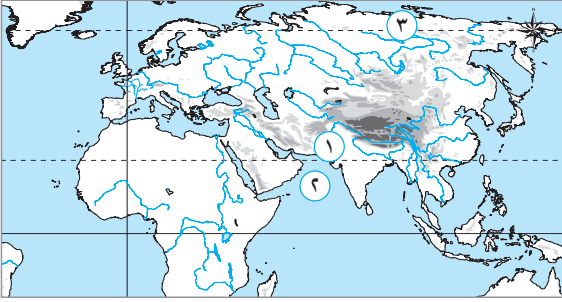
## السؤال الثالث: ( ١ ) اكتب ما تشير إليه العبارتان الآتيتان:

- ١ من أعظم الإنجازات المعمارية في الحضارة الصينية القديمة. (.....)
- ٢ مدينة أصبحت مركزاً عالمياً للعلم والثقافة في عهد الخلافة العباسية. (.....)

(ب) ما النتائج المترتبة على...؟

- ١ عدم تشابك الأشجار في نظام الغابات الموسمية. ....
- ٢ انفتاح الحضارة الإسلامية على الحضارات الأخرى. ....
- ٣ وجود العديد من العبادات الوضعية في الهند. ....

**السؤال الأول: ( ١ )** أمامك خريطة صماء لقارتي آسيا وأوروبا ، اكتب مدلول الأرقام الموقعة عليها:



- ١ حضارة .....
- ٢ بحر .....
- ٣ دائرة عرض رئيسية .....

**(ب) بم تفسر...؟**

١ اهتم الصينيون قديمًا بتربية دودة القز.

٢ يسود الجفاف نظام الغابات الموسمية شتاءً.

**السؤال الثاني: ( ١ ) أكمل العبارتين الآتيتين بما يناسبهما من كلمات:**

- ١ نشأت الحضارة الهندية القديمة على طول وادي نهر.....
- ٢ اشتهر التجار المسلمون ب.....و.....

**(ب) دلل على صحة العبارات الآتية:**

١ للغابات النفضية أهمية اقتصادية كبرى.

٢ قامت الحياة الاقتصادية على عدة مبادئ في الحضارة الإسلامية.

٣ اهتم الصينيون بحماية مدنهم قديمًا.

**السؤال الثالث: ( ١ ) صوب ما تحته خط:**

١ تربة الغابات المخروطية حمراء اللون قليلة السمك.

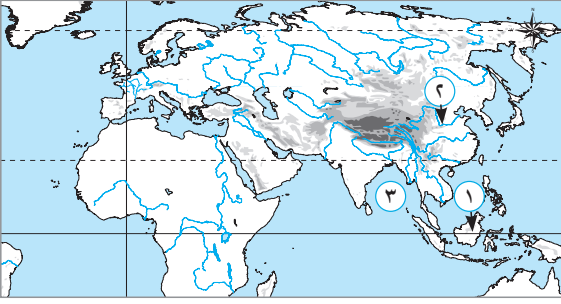
٢ سقطت الخلافة العباسية على يد الصليبيين.

**(ب) ما النتائج المترتبة على...؟** هبوب الرياح من المحيط الهندي إلى الغابات الموسمية صيفًا.

**(ج) قارن بين:** الحضارة الهندية والحضارة الصينية من حيث مكانة المرأة في المجتمع والحياة الدينية.

الحضارة الصينية	الحضارة الهندية	وجه المقارنة
.....	.....	مكانة المرأة في المجتمع
.....	.....	الحياة الدينية

## السؤال الأول: ( ١ ) أمامك خريطة صماء لقارتي آسيا وأوروبا ، اكتب مدلول الأرقام الموقعة عليها:



- ١ نظام الغابات .....
- ٢ نهر .....
- ٣ خليج .....

### (ب) ما النتائج المترتبة على...؟

- ١ وضع الرسول ﷺ صحيفة المدينة.

- ٢ امتصاص الغابات المدارية المطيرة كميات كبيرة من ثاني أكسيد الكربون.

## السؤال الثاني: ( ١ ) اختر الإجابة الصحيحة مما بين الأقواس:

- ١ قسم المجتمع في الهند قديماً إلى .....طبقات .  
( ثلاث - أربع - خمس - سبع )
- ٢ نشأ أول مجتمع سياسي منظم قائم على مبادئ الإسلام في .....  
( مكة - المدينة - بغداد - دمشق )

### (ب) أجب عما يأتي:

- ١ حدد: العوامل المشتركة بين الحضارات القديمة بالشرق الأدنى والحضارات القديمة بالشرق الأقصى.

- ٢ اذكر: الخصائص المناخية لنظام الغابات الصنوبرية.

- ٣ وضع: كيف ساهمت اللغة العربية في قيام وازدهار الحضارة الإسلامية؟

## السؤال الثالث: ( ١ ) اكتب كلمة (صواب) أمام العبارة الصحيحة، وكلمة (خطأ) أمام العبارة غير الصحيحة، مع تصويب الخطأ:

- ١ تتسم تربة الغابات الموسمية بقدرتها على الاحتفاظ بالمياه. ( )
- ٢ كان يحكم الصين في معظم تاريخها أسر ضعيفة تدعى السلالات الحاكمة. ( )

### (ب) بم تفسر...؟

- ١ سقوط الدولة الأموية.

- ٢ انخفاض خصوبة التربة في نظام الغابات المخروطية.

- (ج) دلل على صحة العبارة الآتية: اهتم الهنود قديماً بتخطيط الطرق والمدن.

الدراسات الاجتماعية

# إجابات نماذج اختبارات الأضواء

لشهر نوفمبر

الصف  
2  
الإعدادي  
الفضل الدراسي الأول

## السؤال الأول:

(١)

١ الهندي. ٢ هوانج هو. ٣ مدار السرطان.

(ب)

١ حيث: برعوا في العلوم الدينية (كالفقه والتفسير والحديث) - برعوا في العلوم الطبيعية (كالرياضيات والفلك والطب و الكيمياء) - أنشئوا المدارس والمكتبات ومراكز العلم مثل بيت الحكمة - اهتم المسلمون بترجمة كتب اليونانيين والفرس. ٢ حيث تقوم بدورهم في تنظيم المناخ من خلال: امتصاص كميات كبيرة من ثاني أكسيد الكربون - تساهم في تكوين السحب وسقوط الأمطار عبر بخار الماء المتصاعد منها.

## السؤال الثاني:

(١)

١ القمح والشعير. ٢ شبه الجزيرة العربية.

(ب)

١ بسبب صلابة أخشابها. ٢ للدلالة على منشأ السلع المعدة للتجارة. ٣ لرعاية الفقراء وتوفير احتياجاتهم مما حقق التوازن بين طبقات المجتمع.

## السؤال الثالث:

(١)

١ (خطأ) حرمت المرأة. ٢ (صواب).

(ب) أدى ذلك لسقوط الدولة الأموية، وتولى العباسيون الحكم بعدهم.

(ج)

وجه المقارنة	الغابات الموسمية	الغابات النفضية
الموقع	- تقع بين دائرتي عرض ٥° : ٣٥° شمالاً. - تنتشر في الهند وبعض المناطق الداخلية في جنوب وجنوب شرق آسيا.	في قارة آسيا: - تقع بين دائرتي عرض ٣٥° : ٥٠° شمالاً. - تنتشر في اليابان - كوريا - شرق الصين - إقليم منشوريا شمال شرق الصين. في قارة أوروبا: - يوجد بين دائرتي عرض ٤٠° : ٦٠° شمالاً في نطاق عرضي يمتد من غرب القارة إلى شرقها.
الخصائص المناخية	- الشتاء: يسود الجفاف - درجات الحرارة تكون معتدلة إلى دافئة. - الصيف: ارتفاع درجة الحرارة - سقوط الأمطار الغزيرة.	- الشتاء: بارد وتصل درجات الحرارة فيه إلى ما دون الصفر المئوي - تسقط الثلوج. - الصيف: يتسم بالاعتدال - تسقط الأمطار.

### السؤال الأول:

( ١ )

- ١ دائرة الاستواء. ٢ الهادي. ٣ الصين.

(ب)

- ١ أول دستور مكتوب وضعه الرسول ﷺ لتنظيم العلاقة بين المسلمين وغيرهم من سكان المدينة.  
٢ طريق يربط بين الصين ببلاد وسط آسيا وأوروبا، ويشتمل على طريق بحري وآخر بري.

### السؤال الثاني:

( ١ )

- ١ الصيف. ٢ البوذية.

(ب)

- ١ حيث إنه في عهد الخلفاء الراشدين كان اختيار الخليفة قائمًا على نظام الشورى، وتحول نظام الحكم هذا من الشورى إلى الوراثة وولاية العهد في العصر الأموي، واستمر هذا النظام في العصر العباسي.  
٢ حيث اهتم المجتمع الصيني بتربية الأطفال على عدة قيم، منها: الطاعة، الولاء للأسرة والمجتمع، احترام الكبار.  
٣ حيث توجد الحيوانات ذات الفراء السميك مثل: الدب القطبي - الطيور مثل نقار الخشب - الثدييات مثل الرنة - البعوض.

### السؤال الثالث:

( ١ )

- ١ معاوية بن أبي سفيان. ٢ النفضية.

(ب)

- ١ لتحديد أوزان السلع.  
٢ بسبب عدم ملاءمة الظروف المناخية لنمو الغابات الموسمية.  
٣ بسبب ضعف الخلفاء العباسيين في العصر العباسي الثاني.

## السؤال الأول:

( ١ )

١ القطبى الشمالى .

٣ النفضية .

(ب)

١ حيث من أهم إنجازات الخلفاء الراشدين :

القضاء على حركة الردة - جمع القرآن الكريم فى مصحف واحد - وضع أسس الإدارة والحكم فى الدولة الإسلامية - نشر الإسلام خارج شبه الجزيرة العربية .

٢ نظام حكم ظهر فى الدولة الإسلامية بعد وفاة الرسول ﷺ حيث يتولى الخليفة إدارة الدولة وقيادتها .

## السؤال الثانى:

( ١ )

١ (خطأ) بغداد .

(ب)

١ لحمايتها من الهجمات .

٢ لأن أشجاره تنفض أوراقها فى فصلى الشتاء والخريف .

٣ سبب: التجار المسلمون - نشاط حركة الترجمة - التوسعات والرحلات الاستكشافية للعلماء المسلمين - اختراعات المسلمين التى انتشرت فى أنحاء آسيا وأوروبا - ترجمة كثير من كتب العلماء المسلمين فى مجال الطب والرياضيات والفلك إلى اللغة اللاتينية .

## السؤال الثالث:

( ١ )

١ سور الصين العظيم .

٢ بغداد .

(ب)

١ ساعد على وصول ضوء الشمس إلى الأرض .

٢ ساعد ذلك على اندماج ثقافات الشعوب المختلفة عربية وغير عربية ، مما أدى إلى ظهور إبداعات فى شتى مجالات العلوم والفنون والآداب .

٣ أدى ذلك إلى تأثير هذه العبادات بشكل كبير على الحياة الاجتماعية والفكرية للسكان .

## السؤال الأول:

- ( أ )
- ١ بلاد السند.
- ٢ الدائرة القطبية الشمالية.
- ( ب )
- ١ لإنتاج خيوط الحرير.
- ٢ بسبب هبوب الرياح الموسمية الشتوية الجافة القادمة من اليابس الآسيوى.

## السؤال الثاني:

- ( أ )
- ١ السند.
- ( ب )
- ١ حيث يتم استخدام أشجار الزان فى صناعة الأثاث.
- ٢ حيث قامت على مبادئ الإسلام مثل: العدل وتحريم الغش والتكافل مما أدى إلى ازدهار الزراعة والصناعة والتجارة.
- ٣ حيث أحاطوا المدن بأسوار كبيرة لحمايتها من الهجمات وشيدوا سور الصين العظيم.

## السؤال الثالث:

- ( أ )
- ١ رمادية.
- ( ب ) أدى ذلك إلى سقوط الأمطار بغزارة فى موسم الصيف.
- ( ج )

وجه المقارنة	الحضارة الهندية	الحضارة الصينية
مكانة المرأة فى المجتمع	- تمتعت المرأة فى بدايات الحضارة الهندية ببعض الحقوق، حيث شاركت فى الطقوس الدينية وسجلت مساهماتها فى الحوارات الفلسفية. - هذه المكانة بدأت تتراجع فى الفترات اللاحقة.	- اقتصر دور المرأة على تربية الأطفال وإدارة شئون المنزل ولم يكن لها الحق فى الميراث أو تولى المناصب الحكومية.
الحياة الدينية	- قدس الهندو معبودات متعددة مستوحاة من الظواهر الطبيعية، وقدسوا نهر السند وروافده. - اعتقدوا وجود حياة أخرى بعد الموت. - تعد الهند مهد كثير من العبادات الوضيعة مثل: الهندوسية والبوذية.	- تنوعت المعتقدات الدينية لدى الصينيين وأشهرها البوذية التى دخلت إليها عن طريق الهند.

## السؤال الأول:

( ١ )

١ المدارية المطيرة.

٣ البنغال.

(ب)

١ أدى ذلك إلى تنظيم العلاقة بين المسلمين وغيرهم من سكان المدينة.

٢ أدى إلى تقليل الاحتباس الحرارى.

٢ هوانج هو.

## السؤال الثانى:

( ١ )

١ أربع.

(ب)

١ من هذه العوامل توافر المياه العذبة والتربة الخصبة مما ساعد على الاستقرار وقيام الزراعة.

٢ الشتاء: طويل وقارس البرودة - تتساقط فيه الثلوج - تنخفض فيه درجات الحرارة دون الصفر المئوى.

الصيف: قصير وبارد - تتساقط فيه الأمطار.

٣ حيث ساعدت اللغة العربية على توحيد الشعوب التى دخلت فى الإسلام - نشر العلم والمعرفة والتبادل الثقافى بين المسلمين.

٢ المدينة.

## السؤال الثالث:

( ١ )

١ ( صواب ) .

٢ ( خطأ ) قوية .

(ب)

١ بسبب ضعف الخلفاء فى أواخر العصر الأموى .

٢ بسبب قلة المواد العضوية والأملاح ؛ حيث يعمل انخفاض درجات الحرارة على بطء تحلل المواد العضوية وتعفننها فوق سطح التربة .

(ج) حيث خصصوا: مناطق محددة للسكن - أماكن للأسواق التجارية - مناطق لإقامة الشعائر الدينية .

تطبيق



مذكرات جاهزة للطباعة

لتحميل الملفات التعليمية مجاناً للمعلم والطالب

مذكرات وملازم / مراجعات وملخصات / امتحانات / كتب الوزارة /  
أدلة المعلم / دفاتر التحضير / سجلات مدرسية / أوراق تأسيس

امسح الكود بموبايلك علشان تقدر تثبت التطبيق

وتقدر ف أي وقت تحمّل ال نفسك فيه ببلاش

هيغنيك عن البحث والجروبات والقنوات الكثيرة

