

4

20  
26



# الدراسات الاجتماعية

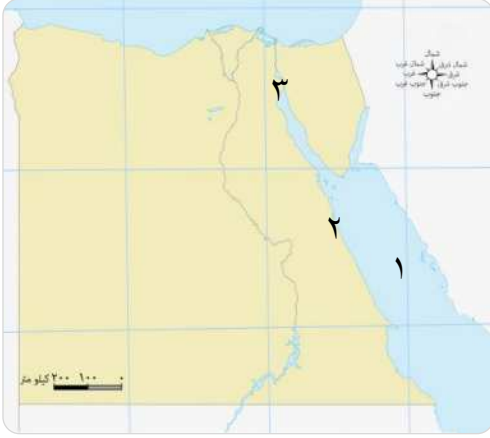
الصف الرابع الابتدائي

اختبارات شهر نوفمبر

Katrina Nada  
قطر الندى

## الاختبار الأول

مجاب عنه



١ ( أ ) أمامك خريطة صماء لمصر.

وضح ما تدل عليه الأرقام :

- ١- البحر.....  
٢- مدينة ساحلية.....  
٣- مدينة..... رمز للكفاح ضد الاحتلال الإسرائيلي.

( ب ) ما العلاقة بين ؟

١- القرية والمدينة.

٢- مركز الحماية المدنية والمجتمع.

٢ ( أ ) اكتب كلمة ( صواب ) أمام العبارة الصحيحة وكلمة ( خطأ ) أمام العبارة غير الصحيحة :

- ١- المدرسة أحد الأماكن التي تقدم خدمات أمنية في حياتنا. ( )  
٢- تخصص الأراضي الزراعية على نهر النيل لإنتاج المحاصيل والغذاء. ( )  
٣- تهتم الدولة بإزالة المناطق العشوائية وتطويرها. ( )

( ب ) ما المقصود بكل من ؟

- ١- المحافظة.....  
٢- الحدود الإدارية.....

٣ ( أ ) أكمل العبارات الآتية بكلمات مناسبة :

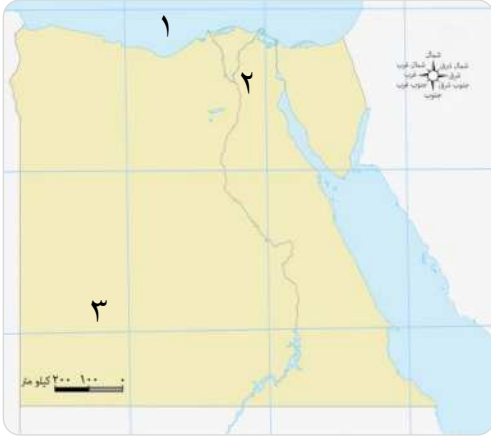
- ١- يجب بناء المصانع على..... المدينة.  
٢- من المدن الساحلية على البحر الأحمر..... ، بينما من المدن الساحلية على البحر المتوسط.....  
٣- تستفيد القرى من المدن في.....

( ب ) اذكر دوراً واحداً لكل من :

- ١- المدرسة.....  
٢- الشرطة.....

## الاجتبار الثاني

مجاب عنه



١ (أ) أمامك خريطة صماء لمصر.

وضح ما تدل عليه الأرقام :

١- البحر .....

٢- عاصمة مصر .....

٣- محافظة صحراوية .....

(ب) ما النتائج المترتبة على ...؟

١- إنشاء العاصمة الإدارية الجديدة.

٢- التوسع في استخدام الدراجات بدلاً من السيارات.

٢ (أ) اكتب ما تشير إليه العبارات التالية :

١- جزء من الدولة تضم مجموعة من المراكز والأحياء تختص بتقديم الخدمات لسكانها. (.....)

٢- راية تتخذها المحافظة رمزاً لها لتعبر عن نشاط سكانها أو جزء من تاريخها. (.....)

٣- مناطق مخصصة للتنزه ، مثل : الأندية والحدائق العامة. (.....)

(ب) صنف المحافظات الآتية في الجدول التالي :

( المنوفية - الوادي الجديد - الفيوم - الدقهلية - البحر الأحمر - الأقصر )

محافظات الوجه البحري	محافظات الوجه القبلي	محافظات الحدود الصحراوية
.....	.....	.....
.....	.....	.....

٣ (أ) اختر الإجابة الصحيحة مما بين القوسين :

١- من المعالم الأثرية في محافظة القاهرة .....

( الأزهر الشريف - معبد فيلة - معبد الكرنك - معبد الدير البحري )

٢- توفير الدولة العلاج للمرضى من الخدمات .....

( التعليمية - الصحية - الأمنية - البيئية )

٣- لتخفيف الازدحام في محافظة القاهرة تم إنشاء .....

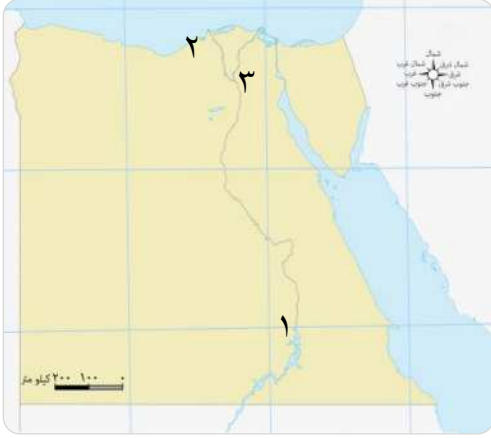
( حي الأسمرات - محور روض الفرج - مدينة المنيا الجديدة - أبراج العلمين )

(ب) ماذا يحدث إذا ؟

٢- لم تهتم الدولة ببناء المستشفيات.

## الاختبار الثالث

مجاب عنه



١ ( أ ) أمامك خريطة صماء لمصر.

اكتب مدلول الأرقام التالية عليها :

- ١- إحدى محافظات الوجه القبلي .....
- ٢- إحدى محافظات الوجه البحري .....
- ٣- عاصمة مصر .....

( ب ) دلل على صحة العبارات التالية :

- ١- يجب علينا أن نعمل بجهد لبناء مدينتنا في المستقبل .
- ٢- تتميز محافظة القاهرة عن غيرها من محافظات مصر .

٢ ( أ ) أكمل العبارات الآتية بكلمات مناسبة :

- ١- يمكن الحصول على الخدمات الصحية من خلال .....
- ٢- من المتوقع أن تعتمد المدن مستقبلاً في إنتاج الطاقة على طاقة .....
- ٣- من الآثار الإيجابية لتطوير المدن .....

( ب ) اكتب نتيجة واحدة ترتيبت على :

- ١- التخطيط الجيد عند بناء المدن .
- ٢- مبادرة " اتحضر للأخضر " .

٣ ( أ ) اكتب كلمة (صواب) أمام العبارة الصحيحة وكلمة (خطأ) أمام العبارة غير الصحيحة :

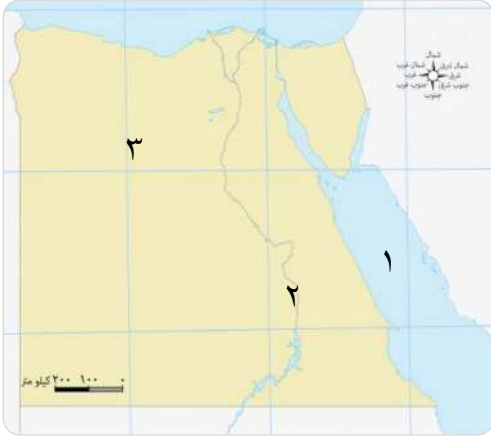
- ١- يظهر علم مصر على شكل مستطيل أفقى . ( )
- ٢- كان شعار مملكة الجنوب في مصر القديمة هو نبات البردى . ( )
- ٣- يقدم مركز الحماية المدنية الدعم للمتضررين من الكوارث الطبيعية . ( )

( ب ) حدد :

- ١- جهود الدولة في تقديم الخدمات التعليمية .
- ٢- دور أهالي مدينة السويس بعد انتصار حرب أكتوبر .

## الاختبار الرابع

مجاب عنه



١ ( أ ) أمامك خريطة صماء لمصر.

اكتب مدلول الأرقام التالية عليها :

- ١- البحر .....
- ٢- محافظة .....
- ٣- محافظة حدودية .....

( ب ) ما العلاقة بين كل من ؟

- ١- المناطق الزراعية والثروات القومية للدولة .
- ٢- الدرجات والبيئة .

٢ ( أ ) اختر الإجابة الصحيحة مما بين القوسين :

١- من الأماكن الأثرية والسياحية في مدينة القاهرة .....

( معبد الأقصر - معبد فيلة - جامع عمرو بن العاص - دير المحرق )

٢- يرمز اللون ..... في علم مصر إلى النقاء والرخاء والسلام . ( الأصفر - الأحمر - الأبيض - الأسود )

٣- من الأماكن التي يرفع عليها العلم المصري .....

( المواقع السياحية - وسائل النقل - الوزارات - كل ما سبق )

( ب ) فسر :

١- إنشاء المساحات الخضراء داخل المدن .

٢- أهمية الألواح الشمسية في حياتنا المستقبلية .

٣ ( أ ) اكتب كلمة ( صواب ) أمام العبارة الصحيحة وكلمة ( خطأ ) أمام العبارة غير الصحيحة :

١- استخدام الآلات الزراعية الحديثة يساعد على زيادة الإنتاج . ( )

٢- نظرًا لاتساع مساحة مصر تم تقسيمها إداريًا إلى محافظات . ( )

٣- يجب أن نحافظ على ما تركه لنا الأجداد ونتمسك بقيمتنا الجميلة . ( )

( ب ) اذكر :

١- أهمية رجال الشرطة في تقديم الخدمات الأمنية .

٢- جهود الدولة لتطوير القرى والمدن .

## الاختبار الخامس

مجاب عنه



١ (أ) أمامك خريطة صماء لمحافظة مصر.

اكتب مدلول الأرقام التالية عليها :

١- أكبر محافظات مصر .....

٢- البحر .....

٣- محافظة حدودية .....

(ب) دلل على صحة العبارات الآتية :

١- برع المصريون القدماء في تخطيط المدن.

٢- شهرة القاهرة بعدة أسماء عبر الزمن.

٢ (أ) أكمل العبارات التالية بالكلمات المناسبة :

١- أول جامع أقيم في مصر وإفريقيا قام ببنائه .....

٢- يقوم رجال الحماية المدنية بإخماد .....

٣- أصغر محافظات مصر من حيث المساحة هي .....

(ب) بم تفسر...؟

١- تسمية الكنيسة المعلقة بهذا الاسم.

٢- إقامة المصانع على أطراف المدن.

٣ (أ) اكتب كلمة (صواب) أمام العبارة الصحيحة وكلمة (خطأ) أمام العبارة غير الصحيحة :

١- تعمل الدولة على مراقبة الأسعار بالأسواق لمنع الغلاء. ( )

٢- يساعد التخطيط الجيد لبناء المدن في حل مشكلات الازدحام. ( )

٣- تساعد التكنولوجيا على تسهيل الحياة وسرعة إنجاز الأعمال. ( )

(ب) أجب عن الأسئلة التالية :

١- اذكر: أمثلة لوسائل نقل ومواصلات حديثة ومتطورة موجودة في مصر.

٢- ما المقصود بـ: الأماكن الخدمية؟

4

20  
26



# الدراسات الاجتماعية

الصف الرابع الابتدائي

الإجابات النموذجية

Katrina Nada  
قطر الندى

## الإجابات النموذجية

## إجابة الاختبار الأول

ج ١: (أ)

- ١- الأحمر. ٢- الغردقة. ٣- السويس.

(ب)

- ١- حيث تتبادل القرى والمدن **المنافع** ، تستفيد المدينة من المنتجات الزراعية التي توفرها القرية، كما تستفيد القرية من الخدمات والمنتجات الصناعية التي توفرها المدينة. ٢- حيث تقوم مراكز الحماية المدنية بالعديد من الأعمال التي تخدم المجتمع ، **مثل** : تقديم الدعم للمتضررين من الكوارث الطبيعية ، **مثل** : الزلازل وإنقاذ الأشخاص المحاصرين في انهيارات المباني وحوادث الطرق وغيرها من الأعمال.

ج ٢: (أ)

- ١- خطأ. ٢- صح. ٣- صح.

(ب)

- ١- **المحافظة** : هي جزء من الدولة تضم مجموعة من المراكز والأحياء ، وتختص بتقديم الخدمات لسكانها وتنظيم شؤونها. ٢- **الحدود الإدارية** : هي الخطوط التي تفصل بين المحافظات داخل الدولة.

ج ٣: (أ)

- ١- أطراف. ٢- الغردقة - الإسكندرية. ٣- المنتجات الصناعية ، الآلات.

(ب)

- ١- تقدم خدمات تعليمية حيث يذهب إليها الطلاب للتعلم وممارسة الهوايات المفيدة. ٢- تقدم خدمات أمنية منها حفظ الأمن والنظام وضبط الخارجين عن القانون.

## إجابة الاختبار الثاني

ج ١: (أ)

- ١- المتوسط. ٢- القاهرة. ٣- الوادي الجديد.

(ب) ١- أدى إلى :

- ١- تخفيف الضغط على مدينة القاهرة. ٢- نقل الوزارات والمصالح الحكومية إليها. ٣- أصبحت من المدن التي تعتمد على الطاقة النظيفة والتكنولوجيا. ٢- **أدى إلى** : ١- تقليل تلوث البيئة. ٢- تقليل الازدحام المروري.

ج ٢: (أ)

- ١- المحافظة. ٢- الشعار. ٣- المناطق الترفيهية.

(ب)

محافظات الحدود	محافظات الوجه القبلي	محافظات الوجه البحري
الصحراوية	الفيوم.	المنوفية.
- الوادي الجديد.	- الأقصر.	- الدقهلية.

ج ٣: (أ)

- ١- الأزهر الشريف. ٢- الصحة. ٣- محور روض الفرج.

(ب)

- تنتشر الأمراض والأوبئة داخل المجتمع.

## إجابة الاختبار الثالث

ج ١: (أ)

- ١- أسوان.  
٢- الإسكندرية.  
٣- القاهرة.

(ب)

- ١- حيث يجب علينا احترام القوانين والاجتهاد في الدراسة وحسن استخدام التكنولوجيا لتخدم أهدافنا.  
٢- حيث أن محافظة القاهرة من أقدم العواصم التاريخية في العالم وأنشئت قبل أكثر من ألف عام وهي حاليًا عاصمة لمصر.

ج ٢: (أ)

- ١- المستشفيات.  
٢- الشمس.  
٣- تحسن مستوى حياة السكان - توافر فرص عمل جديدة.

(ب)

- ١- **أدى إلى** : حل مشكلات التلوث والازدحام - توفير المرافق والخدمات للسكان.  
٢- **أدى إلى** : زيادة المساحات الخضراء وتقليل تلوث البيئة.

ج ٣: (أ)

- ١- صح.  
٢- خطأ.  
٣- صح.

(ب)

- ١- تقوم الدولة ببناء المدارس والجامعات وتعمل على تطويرها من أجل مستقبل أفضل للطلاب.  
٢- تعاون أهالي مدينة السويس جميعًا لإعادة بناء مدينتهم حتى عادت نابضة بالحياة من جديد.

## إجابة الاختبار الرابع

ج ١: (أ)

- ١- الأحمر.  
٢- الأقصر.  
٣- مطروح.

(ب)

- ١- تعد المناطق الزراعية مناطق ثروات قومية لمصر يجب الحفاظ عليها لأنها تنتج المحاصيل والغذاء لمصر.  
٢- حيث أن الدراجات لا تسبب تلوثًا للبيئة فتحافظ عليها نظيفة.

ج ٢: (أ)

- ١- جامع عمرو بن العاص.  
٢- الأبيض.  
٣- كل ما سبق.

(ب)

- ١- لتنقية الهواء.  
٢- **لأنها** : تنتج طاقة كهربائية لتشغيل الأجهزة المنزلية والإضاءة والسيارات الكهربائية.

ج ٣: (أ)

- ١- صح.  
٢- صح.  
٣- صح.

(ب)

- ١- حفظ الأمن والنظام - ضبط الخارجين عن القانون والمخالفين.  
٢- تطوير الريف المصري من خلال مبادرة (حياة كريمة) - تحسين محطات مياه الشرب وشبكات الكهرباء والصرف الصحي - تطوير المدن عن طريق : إزالة العشوائيات وبناء مساكن بديلة آمنة ومناسبة.

## إجابة الاختبار الخامس

ج ١: (أ)

- ١- الوادي الجديد .
- ٢- المتوسط .
- ٣- جنوب سيناء .

(ب)

- ١- حيث برع المصريون القدماء في تخطيط مدنهم ومن أمثلتها **مدينة أحياتون** التي شيدها الملك إخناتون على الضفة الشرقية لنهر النيل وضمت مركزاً للحكم والإدارة ، ومناطق سكنية ومناطق دينية .
- ٢- حيث عرفت القاهرة بجوهرة الشرق ومدينة الألف مئذنة .

ج ٢: (أ)

- ١- عمرو بن العاص .
- ٢- الحرائق بمختلف أنواعها .
- ٣- دمياط .

(ب)

- ١- **لأنها** : بنيت فوق برجين من بقايا حصن عسكري قديم لذلك تبدو كأنها معلقة فوق الأرض ، كما تعد من أقدم الكنائس في القاهرة .
- ٢- لتقليل التلوث البيئي .

ج ٣: (أ)

- ١- صح .
- ٢- صح .
- ٣- صح .

(ب)

- ١- مترو الأنفاق - الأتوبيس الترددي - القطار الكهربائي .
- ٢- الأماكن الخدمية : هي منشآت مخصصة لتقديم الخدمات المتنوعة للناس لتسهيل حياتهم اليومية وتلبية احتياجاتهم الأساسية .

تطبيق



مذكرات جاهزة للطباعة

لتحميل الملفات التعليمية مجاناً للمعلم والطالب

مذكرات وملازم / مراجعات وملخصات / امتحانات / كتب الوزارة /  
أدلة المعلم / دفاتر التحضير / سجلات مدرسية / أوراق تأسيس

امسح الكود بموبايلك علشان تقدر تثبت التطبيق

وتقدر ف أي وقت تحمّل ال نفسك فيه ببلاش

هيغنيك عن البحث والجروبات والقنوات الكثيرة

