

الدراسات الاجتماعية نماذج اختبارات الأضواء

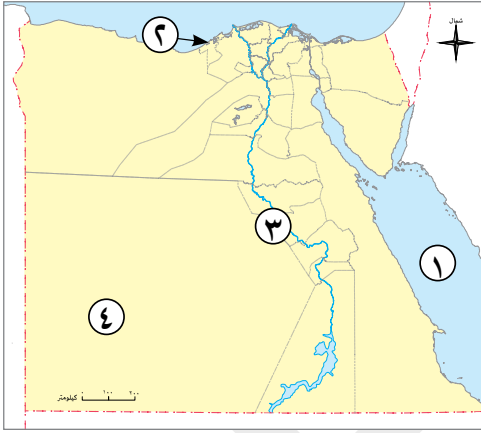
لشهر نوفمبر

الفصل الدراسي الأول
المف
4
الابتدائي

2026



السؤال الأول (١) أمامك خريطة صماء لمصر، اكتب مدلول الأرقام الموقعة عليها:



- ١ البحر
- ٢ محافظة وجه بحرى
- ٣ نهر
- ٤ محافظة صحراوية

(ب) وضح: أهمية استخدام الدرجات. (يكتفى بثلاثة)

السؤال الثاني (١) أكمل العبارات الآتية بما يناسبها من كلمات:

- ١ إنشاء الملك إخناتون مدينة
- ٢ أصغر محافظات مصر مساحة محافظة
- ٣ كان شعار مملكة الجنوب زهرة

(ب) بم تفسر...؟

- ١ إنشاء العديد من المدن الجديدة في المناطق الصحراوية
- ٢ أهميه الشرطة في مدينتنا

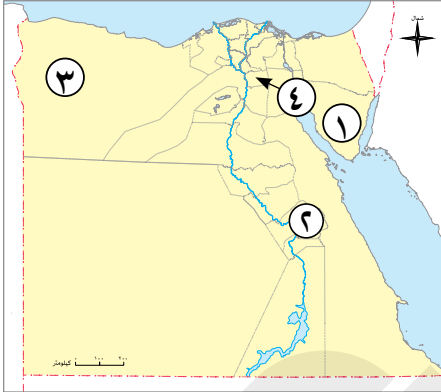
السؤال الثالث (١) اختر الإجابة الصحيحة مما بين القوسين:

- ١ نسر القائد صلاح الدين الموجود على العلم المصرى يرمز إلى (القوة - الهيمنة - الضعف - الخوف)
- ٢ تقوم الدولة بتطوير الريف المصرى من خلال مبادرة (١٠٠ مليون صحة - حياة كريمة - تكافل وكرامة - تحضر للأخضر)
- ٣ الأماكن الخدمية التجارية التى تساعد الناس فى شراء الأدوات المدرسية (مكاتب العمل - الأسواق - مركز الشباب - المدارس)

(ب) ما المقصود بكل من...؟

- ١ المحافظة
- ٢ العلم

السؤال الأول (١) أمامك خريطة صماء لمصر، اكتب مدلول الأرقام عليها:



- ١ محافظة حدود صحراوية
- ٢ محافظة وجه قبلى
- ٣ محافظة حدود صحراوية
- ٤ عاصمة مصر

(ب) دلل على صحة العبارة الآتية: يقدم مركز الحماية المدنية خدمات أمنية.

.....

السؤال الثاني (١) اكتب ما تشير إليه العبارات الآتية:

- ١ محور تم إنشاؤه لتقليل الازدحام المرورى فى القاهرة. (.....)
- ٢ مبادرة أقامتها الدولة تهدف إلى تطوير الريف المصرى. (.....)
- ٣ هو رمز الدولة يمثلها ويعبر عن تاريخها وشعبها. (.....)

(ب) أجب عن الأسئلة الآتية:

١ بم تفسر؟ يتم اختيار عاصمة لكل دولة.

.....

٢ ما العلاقة بين ..؟ نبات البردى ومملكة الشمال فى مصر.

.....

السؤال الثالث (١) اكتب كلمة (صواب) أمام العبارة الصحيحة وكلمة (خطأ) أمام العبارة غير الصحيحة:

- ١ تقع العاصمة الإدارية الجديدة شرق محافظة القاهرة. (.....)
- ٢ تعتمد المدينة فى المستقبل على وسائل النقل التقليدية. (.....)
- ٣ الساعات التقليدية من الأجهزة والأدوات فى الماضى. (.....)

(ب) ما المقصود بكل من:

- ١ شعار المحافظة.
- ٢ التخطيط لبناء المدن.

السؤال الأول

(١) أكمل العبارات الآتية بما يناسبها من كلمات:

- ١ علينا الالتزام بالهدوء عند زيارة المرضى في
- ٢ يتحول ضوء الشمس إلى طاقة كهربائية من خلال
- ٣ تشتهر القاهرة بعدة أسماء عبر الزمن ، منها جوهرة

(ب) بم تفسر...؟

- ١ تعد القاهرة من أقدم العواصم التاريخية في العالم
- ٢ إنشاء محور روض الفرج

(١) اختر الإجابة الصحيحة مما بين القوسين:

السؤال الثاني

- ١ من القيم التي تعلمناها من تاريخنا المصرى العريق.....
(حب الذات - عدم الانتماء للوطن - الترابط الأسرى - عدم التعاون مع الآخرين)
- ٢ من محافظات الوجه البحرى.....
(الجيزة - الفيوم - البحيرة - أسوان)
- ٣ أكبر محافظات مصر مساحة محافظة.....
(القاهرة - الوادى الجديد - دمياط - الإسكندرية)

(ب) أجب عن الأسئلة الآتية:

- ١ دلل على صحة العبارة الآتية: تمتلك مصر وسائل نقل حديثة ومتنوعة.

.....

- ٢ ما النتائج المترتبة على ..؟ اتساع مساحة مصر.

.....

(١) صوب ما تحته خط

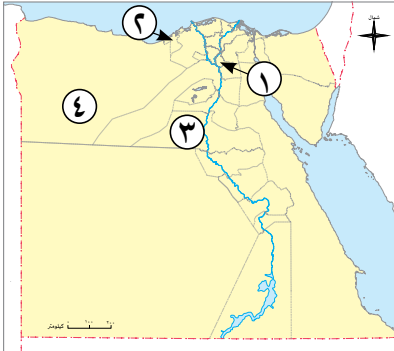
السؤال الثالث

- ١ أنشأ الملك أخيتاتون مدينة أواريس شرق نهر النيل.
- ٢ تشتهر مدينة السويس بمدينة الألف مئذنة.
- ٣ يرمز اللون الأحمر في العلم إلى النقاء والرخاء والسلام.

(ب) اذكر اثنتين من:

- ١ محافظات الوجه البحرى
- ٢ محافظات الوجه القبلى

السؤال الأول (١) أمامك خريطة صماء لمصر اكتب مدلول الأرقام التي عليها:



- ١ يشير رقم (١) إلى محافظة بها الجبل الأصفر.....
- ٢ يشير رقم (٢) إلى محافظة بها مشروع إسكان بشاير الخير.....
- ٣ يشير رقم (٣) إلى مدينة أقامها إخناتون.....
- ٤ يشير رقم (٤) إلى محافظة حدود صحراوية.....

(ب) بم تفسر...؟ تقسيم مصر الى ٢٧ محافظة.

السؤال الثاني (١) اختر الإجابة الصحيحة مما بين القوسين:

- ١ العيد الذى يمثل حدثاً تاريخياً أو ذكرى مهمة مرت بها المحافظة.....
(عيد الأضحى - عيد العمال - العيد القومى للمحافظة - عيد الفطر)
- ٢ تعد محافظة الوادى الجديد من محافظات.....
(الساحلية - الوجه القبلى - الحدود الصحراوية - الوجه البحرى)
- ٣ خلال حرب أكتوبر ١٩٧٣م تعرضت أجزاء من مدينة..... لأضرار كبيرة ودمر العديد من المباني.
(القاهرة - الإسكندرية - السويس - أسوان)

(ب) ما النتائج المترتبة على...؟

- ١ استخدام الأجهزة والأدوات الحديثة.
- ٢ اعتماد العاصمة الإدارية الجديدة على التكنولوجيا الحديثة والطاقة النظيفة.

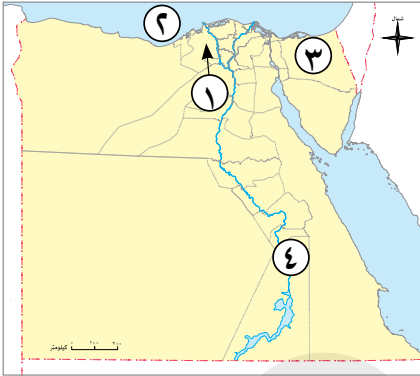
السؤال الثالث (١) صوب ما تحته خط:

- ١ يرمز اللون الأبيض في العلم إلى فترات الاستعمار التي تعرضت لها مصر.
- ٢ تم تقسيم مصر إلى ٢٧ محافظة لصغر مساحتها.
- ٣ من وسائل المواصلات القديمة مترو الأنفاق.

(ب) قارن بين: المدينة والقرية من حيث المفهوم.

وجه المقارنة	المدينة	القرية
المفهوم

السؤال الأول (١) أمامك خريطة صماء لمصر، اكتب مدلول الأرقام الموضحة عليها:



- ١ محافظة وجه بحرى
- ٢ البحر
- ٣ محافظة حدود صحراوية
- ٤ محافظة وجه قبلى

(ب) بم تفسر ...؟

- ١ أهمية التخطيط لبناء المدن
- ٢ يعد ركوب الدراجات وسيلة نقل مهمة في الوقت الحاضر

السؤال الثاني (١) أكمل العبارات الآتية بما يناسبها من كلمات:

- ١ من الأماكن الذى تقدم الخدمات الصحية والعلاج هى
- ٢ وسيلة كانت تستخدم للإنارة فى الماضى هى
- ٣ القائد الذى وضع حجر الأساس لبناء مدينة القاهرة عام ٩٦٩م هو

(ب) قارن بين: الأعلام عند المصريين القدماء والإعلام فى الوقت الحاضر من حيث أماكن وجودها.

الأعلام فى الوقت الحاضر	الأعلام فى مصر القديمة	وجه المقارنة
.....	أماكن وجودها

السؤال الثالث (١) اكتب كلمة (صواب) أمام العبارة الصحيحة وكلمة (خطأ) أمام العبارة غير الصحيحة

- ١ من القيم التى تعلمناها من تاريخنا المصرى القديم الانتماء للوطن. (.....)
- ٢ تعتمد المدن فى المستقبل على وسائل مواصلات تقليدية. (.....)
- ٣ الأماكن التى تعمل على توفير الأمن والسلامة هى الأماكن الخدمية الأمنية. (.....)

(ب) أجب عن الأسئلة الآتية:

١ ما المقصود بالأماكن الخدمية؟

.....

٢ بم تفسر...؟ من المتوقع أن يستخدم المزارعون فى القرى آلات حديثة فى الزراعة مستقبلاً.

.....

الدراسات الاجتماعية

إجابات نماذج اختبارات الأضواء

لشهر نوفمبر

الفصل الدراسي الأول
المف
4
الابتدائي

2026



السؤال الأول

(١)

- ١ الأحمر.
- ٢ الإسكندرية.
- ٣ النيل.
- ٤ الوادي الجديد.

(ب) لا تسبب تلوثاً للبيئة - تحافظ على صحتك وتقوى عضلاتك - تساعد في تقليل الازدحام المروري - اقتصادية وغير مكلفة.

السؤال الثاني

(١)

- ١ أختياتون.
- ٢ دمياط.
- ٣ اللوتس.

(ب)

- ١ بهدف تقليل الازدحام.
- ٢ تقدم العديد من الخدمات الأمنية مثل:
- حفظ الأمن والنظام.
- ضبط المخالفين والخارجين عن القانون.
- بالإضافة إلى تنظيم المرور، النجدة، إصدار الوثائق الرسمية.

السؤال الثالث

(١)

- ١ القوة.
- ٢ حياة كريمة.
- ٣ الأسواق.

(ب)

- ١ هي جزء من الدولة تضم مجموعة من المراكز والأحياء .
- ٢ هو رمز الدولة يمثلها ويعبر عن تاريخها وشعبها .

السؤال الأول

(١)

- ١ جنوب سيناء.
- ٢ قنا.
- ٣ مطروح.
- ٤ القاهرة.

(ب) حيث يقوم بإخماد الحرائق بمختلف أنواعها والقيام بعمليات إنقاذ الأشخاص المحاصرين في الحوادث المختلفة مثل: حوادث الطرق، انهيارات المباني تقديم الدعم للمتضررين من الكوارث الطبيعية مثل الزلازل.

السؤال الثاني

(١)

- ١ روض الفرج.
- ٢ حياة كريمة.
- ٣ العلم.

(ب)

- ١ لتكون المقر الرسمي للحكم والإدارة.
- ٢ حيث كان نبات البردى شعار مملكة الشمال.

السؤال الثالث

(١)

- ١ (صواب).
- ٢ (خطأ).
- ٣ (صواب).

(ب)

- ١ راية تتخذها المحافظة رمزاً لتعبير عن نشاط سكانها أو جزء من تاريخها.
- ٢ يعنى التفكير المسبق لتنظيم استخدام الأرض وتحسين حياة السكان.

السؤال الأول

(١)

١ المستشفيات

٢ الألواح الشمسية

٣ الشرق

(ب)

١ لأنها أنشئت قبل أكثر من ألف عام

٢ لتخفيف الازدحام المروري

السؤال الثاني

(١)

١ الترابط الأسرى

٢ البحيرة

٣ الوادى الجديد

(ب)

١ حيث يوجد مترو الأنفاق و الأتوبيس الترددى و القطار الكهربائى .

٢ أدى ذلك إلى تقسيم مصر إلى ٢٧ محافظة لتسهيل إدارتها و تنظيم شئونها .

السؤال الثالث

(١)

١ أختياتون

٢ القاهرة

٣ الأبيض

(ب)

١ القاهرة والإسكندرية والشرقية والمنوفية والبحيرة .

٢ الجيزة والفيوم والمنيا وأسوان وقنا .

السؤال الأول

(١)

- ١ القليوبية
- ٢ الإسكندرية
- ٣ المنيا
- ٤ مطروح

(ب) بسبب اتساع مساحة مصر ولتسهيل إدارتها وتنظيم شئونها.

السؤال الثاني

(١)

- ١ العيد القومي للمحافظة
- ٢ الحدود الصحراوية
- ٣ السويس

(ب)

- ١ أدى إلى تسهيل الحياة وسرعة إنجاز الأعمال .
- ٢ يؤدي إلى المساعدة في بناء مستقبل أفضل .

السؤال الثالث

(١)

- ١ الأسود
- ٢ لاتساع
- ٣ الحديثة

(ب)

وجه المقارنة	المدينة	القرية
المفهوم	هي تجمع سكني تتركز فيه الخدمات والأنشطة مثل الصناعة والتجارة ، وتتكون من عدة أحياء كل منها له طابع خاص .	هي تجمع سكني تتركز فيه أنشطة الزراعة وتربية الحيوانات .

السؤال الأول

(١)

- ١ البحيرة.
- ٢ المتوسط.
- ٣ شمال سيناء.
- ٤ أسوان.

(ب)

- ١ من أجل ظهور المدينة في صورة أكثر تنظيماً وجمالاً - حل مشكلات مثل الازدحام والتلوث - توفير المرافق والخدمات للسكان.
- ٢ بسبب أنها لا تسبب تلوثاً للبيئة - تحافظ على صحتك وتقوى عضلاتك - تساعد في تقليل الازدحام المروري - اقتصادية وغير مكلفة.

السؤال الثاني

(١)

- ١ المستشفيات.
- ٢ مصباح الكيروسين.
- ٣ جوهرا الصقلى.

(ب)

وجه المقارنة	الأعلام فى مصر القديمة	الأعلام فى القوقت الحاضر
أماكن وجودها	- جدران المعابد. - المسلات. - المراكب. - الاحتفالات والمعارك.	- المناسبات الرسمية والمؤتمرات. - الوزارات والهيئات والمؤسسات الحكومية. - المواقع السياحية والمعالم الأثرية. - وسائل النقل مثل القطارات والطائرات.

السؤال الثالث

(١)

- ١ (صواب).
- ٢ (خطأ).
- ٣ (صواب).

(ب)

- ١ هى منشآت مخصصة لتقديم الخدمات المتنوعة للناس، مثل: الخدمات التعليمية والصحية والأمنية والتجارية.
- ٢ لجعل الزراعة أسهل وأسرع - لمساعدتهم فى ترشيد استخدام الماء وزيادة الإنتاج.

تطبيق



مذكرات جاهزة للطباعة

لتحميل الملفات التعليمية مجاناً للمعلم والطالب

مذكرات وملازم / مراجعات وملخصات / امتحانات / كتب الوزارة /
أدلة المعلم / دفاتر التحضير / سجلات مدرسية / أوراق تأسيس

امسح الكود بموبايلك علشان تقدر تثبت التطبيق

وتقدر ف أي وقت تحمّل ال نفسك فيه ببلاش

هيغنيك عن البحث والجروبات والقنوات الكثيرة

