

الدرجة :

10

اسم الطالب :

توقيع ولي الأمر :

اختبار الدرس الأول الوحدة الأولى

السؤال الأول

(أ) اكتب كلمة (صواب) أمام العبارة الصحيحة ، وكلمة (خطأ) أمام العبارة غير الصحيحة :

- ١- عدد خطوط الطول أقل من دوائر العرض. ()
- ٢- يمر مدار الجدي جنوب مصر. ()
- ٣- تساعدنا خطوط الطول في معرفة أحوال المناخ. ()
- ٤- تدور الأرض حول نفسها مرة كل ٢٤ ساعة. ()

(ب) ما المقصود بـ :

شبكة الإحداثيات :

السؤال الثاني

(أ) أكمل العبارات التالية بما يناسبها من كلمات :

- ١- تبلغ عدد دوائر العرض دائرة.
- ٢- تساعدنا خطوط الطول في
- ٣- تشرق الشمس على المناطق من الكرة الأرضية قبل المناطق
- ٤- دائرة عرض رئيسية توجد جنوب دائرة الاستواء

(ب) بم تفسر ...؟

أهمية دوائر العرض :

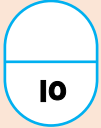
السؤال الثالث

(أ) اختر الإجابة الصحيحة مما بين القوسين :

- ١- يعرف خط الطول الرئيسي باسم
- (مدار الجدي - مدار السرطان - خط جرينتش - خط الاستواء)
- ٢- يتشابه خط جرينتش ودائرة الاستواء في
- (الدرجة - الشكل - الحجم - اللون)
- ٣- يمر مدار السرطان في مصر من ناحية
- (الشمال - الشرق - الغرب - الجنوب)
- ٤- يوجد فرق التوقيت بين كل خط طول والخط الذي يليه
- (دقيقة واحدة - أربع دقائق - خمس دقائق - سبع دقائق)

(ب) ما العلاقة بين ...؟

خطوط الطول والوقت.

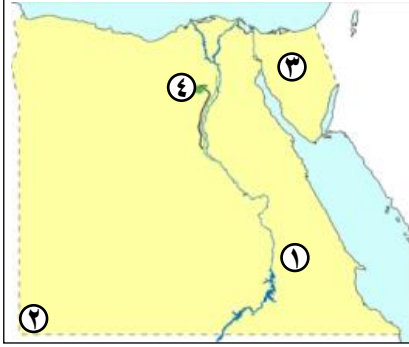


الدرجة : 10

اسم الطالب :

توقيع ولي الأمر :

اختبار الدرس الثاني الوحدة الأولى



السؤال الأول (أ) أمامك خريطة صماء لمصر ، اكتب مدلول الأرقام :

- ١- هضبة.....
- ٢- جبل.....
- ٣- وادٍ جاف.....
- ٤- منخفض.....

(ب) ما المقصود بـ :

الأودية الجافة :

السؤال الثاني (أ) اكتب كلمة (صواب) أمام العبارة الصحيحة ، وكلمة (خطأ) أمام العبارة غير الصحيحة :

- ١- تعتمد الزراعة في الوادي والدلتا على المياه الجوفية. ()
- ٢- أدى تنوع مظاهر سطح مصر إلى تنوع الأنشطة الاقتصادية. ()
- ٣- يوجد بحر الرمال العظيم في الصحراء الغربية. ()
- ٤- تعد هضبة الجلف الكبير أحد مظاهر السطح في الصحراء الشرقية. ()

(ب) بم تفسر...؟

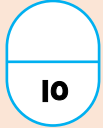
قيام الزراعة في الواحات :

السؤال الثالث (أ) اختر الإجابة الصحيحة مما بين القوسين :

- ١- يوجد في شبه جزيرة سيناء.....
(جبل شايب البنات - جبل سانت كاترين - هضبة المعازة - هضبة العبادة)
- ٢- يتصل منخفض الفيوم بنهر النيل عن طريق.....
(قناة السويس - البحر الأحمر - ترعة بحر يوسف - البحر المتوسط)
- ٣- تبدو الدلتا على شكل.....
(مثلث - مربع - مستطيل - دائرة)
- ٤- أكبر الواحات التضاريسية مساحة في مصر.....
(الصحراء الغربية - الصحراء الشرقية - شبه جزيرة سيناء - وادي النيل)

(ب) ما النتائج المترتبة على :

التعرية الهوائية في الصحراء الغربية :



الدرجة : 10

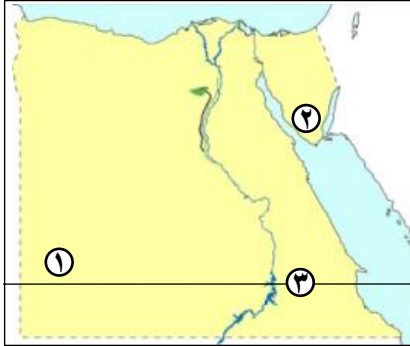
اسم الطالب :

توقيع ولي الأمر :

الوحدة الأولى



اختبار الدرس الأول والثاني



(أ) أمامك خريطة صماء لمصر ، اكتب مدلول الأرقام :

السؤال الأول

- ١- هضبة.....
- ٢- جبل.....
- ٣- مدار.....

(ب) اكتب كلمة (صواب) أمام العبارة الصحيحة ، وكلمة (خطأ) أمام العبارة غير الصحيحة :

السؤال الثاني

- ١- ينتشر معدن الذهب في الصحراء الشرقية. ()
- ٢- تقع مصر في النصف الغربي للكرة الأرضية. ()
- ٣- تكونت جبال البحر الأحمر نتيجة الحركات الانكسارية. ()

(أ) أكمل العبارات التالية بما يناسبها من كلمات :

السؤال الثالث

- ١- وادي قنا أحد الأودية الجافة في.....
- ٢- أنصاف دوائر رأسية تصل بين القطبين الشمالي والجنوبي هي.....
- ٣- اهتم المصريون القدماء بعلم..... في بناء الأهرامات وتنظيم الأعياد الدينية.

صوب ما تحته خط :

السؤال الرابع

- ١- يقع منخفض القطارة في الصحراء الشرقية.
- ٢- أكبر دوائر العرض مدار الجدي.
- ٣- توجد الجبال الواعرة في شمال شبه جزيرة سيناء.

أجب عما يلي :

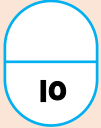
السؤال الخامس

- ١- حدد أوجه التشابه والاختلاف بين : خطوط الطول ودوائر العرض.

.....

- ٢- ما النتائج المترتبة على : تنوع مظاهر السطح.

.....



الدرجة : 10

اسم الطالب :

توقيع ولي الأمر :

اختبار الدرس الثالث الوحدة الأولى

السؤال الأول

(أ) اختر الإجابة الصحيحة مما بين القوسين :

- ١- يحدث فصل الشتاء عندما تتعامد الشمس على.....
(مدار الجدي - مدار السرطان - دائرة الاستواء - الدائرة القطبية)
- ٢- من العوامل المؤثرة في مناخ مصر.....
(الموقع الفلكي - القرب أو البعد عن المسطحات المائية - مظاهر السطح - جميع ما سبق)
- ٣- تقع معظم الأراضي المصرية ضمن الإقليم.....
(المداري - الصحراوي الحار - البحر المتوسط - الاستوائي)
- ٤- ترتفع درجات الحرارة في مصر في فصل.....
(الصيف - الشتاء - الخريف - الربيع)

(ب) ما النتائج المترتبة على...؟

مناخ مصر الجاف :

السؤال الثاني

(أ) اكتب كلمة (صواب) أمام العبارة الصحيحة ، وكلمة (خطأ) أمام العبارة غير الصحيحة :

- ١- تتميز المناطق الساحلية بارتفاع درجة الحرارة طوال العام. ()
- ٢- تتعامد أشعة الشمس على دائرة الاستواء مرتين كل عام. ()
- ٣- رياح الخماسين تأتي في فصل الربيع وتضر بصحة الإنسان. ()
- ٤- يبدأ فصل الصيف عندما تتعامد الشمس على مدار الجدي. ()

(ب) بمر تفسر ..؟

تتعاقب فصول السنة الأربعة على مصر بانتظام :

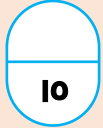
السؤال الثالث

(أ) اكتب ما تشير إليه العبارات التالية :

- ١- وصف حالة الجو خلال فترة زمنية قصيرة قد تكون يوماً أو أسبوعاً أو شهراً. (.....)
- ٢- وصف حالة الجو خلال فترة زمنية طويلة قد تكون فصلاً أو سنة. (.....)
- ٣- مساحة من الأرض لها الخصائص المناخية من حيث الحرارة والرياح والمطر. (.....)
- ٤- دوران كوكب الأرض حول الشمس مرة كل ٣٦٥ يوماً وربع. (.....)

(ب) دلل على صحة العبارة التالية :

عرف المصريون القدماء التقويم الشمسي.



الدرجة : 10

اسم الطالب :

توقيع ولي الأمر :

اختبار الدرس الرابع الوحدة الأولى

السؤال الأول (أ) اكتب كلمة (صواب) أمام العبارة الصحيحة ، وكلمة (خطأ) أمام العبارة غير الصحيحة :

- ١- نبات البردي ينمو في المستنقعات وعلى ضفاف النيل. ()
- ٢- تستخدم بعض النباتات الطبيعية في صناعة الأدوية. ()
- ٣- تنمو أشجار المانجروف في المناطق الساحلية. ()
- ٤- الزواحف من الحيوانات البرية التي تعيش في المناطق الساحلية. ()

(ب) بم تفسر ...؟

أهمية النباتات الطبيعية.....

السؤال الثاني (أ) اختر الإجابة الصحيحة مما بين القوسين :

- ١- من النباتات الصحراوية التي تتحمل الجفاف
(البردي - البوص - التين الشوكي - الزيتون)
- ٢- من الحيوانات البرية التي تعيش في الوادي والدلتا
(الذئب - الإبل - الغزلان - الزواحف)
- ٣- من الأخطار التي تتعرض لها النباتات الطبيعية
(الرعي الجائر - التوسع العمراني - التغير المناخي - جميع ما سبق)
- ٤- حيوان بري يستطيع التكيف مع ظروف المناخ في الصحراء
(الثعلب - الغزلان - الذئب - الفيل)

(ب) ما المقصود ب...؟

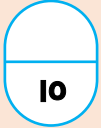
التنوع البيولوجي :

السؤال الثالث (أ) أكمل العبارات التالية بما يناسبها من كلمات :

- ١- نبات ينمو دون تدخل الإنسان.....
- ٢- يعيش طائر النورس في المناطق.....
- ٣- من الطيور البرية التي تعيش في وادي النيل والدلتا.....
- ٤- نبات يستخدم في صناعة الحصير وينمو على جوانب الترع.....

(ب) ما العلاقة بين ...؟

النباتات الطبيعية والسياحة.....



الدرجة : 10

اسم الطالب :

توقيع ولي الأمر :

اختبار الدرس الثالث والرابع الوحدة الأولى

السؤال الأول (أ) أكمل العبارات التالية بما يناسبها من كلمات :

- ١- تحتوي الصحاري المصرية على حيوانات برية مثل
- ٢- يسود معظم مساحة مصر المناخ
- ٣- تتعامد الشمس على مدار خلال فصل الصيف.

السؤال الثاني (أ) اكتب كلمة (صواب) أمام العبارة الصحيحة ، وكلمة (خطأ) أمام العبارة غير الصحيحة :

- ١- تصدر الدولة القوانين التي تجرم الصيد الجائر. ()
- ٢- المناطق الداخلية تكون أشد حرارة من المناطق الساحلية. ()
- ٣- عندما تتعامد الشمس على مدار السرطان يأتي فصل الشتاء. ()

السؤال الثالث اختر الإجابة الصحيحة مما بين القوسين :

- ١- في شهر يناير تتعامد الشمس على (مدار السرطان - مدار الجدي - دائرة الاستواء - الدائرة القطبية)
- ٢- تنمو أشجار المانجروف في في مصر. (الدلتا - الوادي - المناطق الساحلية - الصحراء الغربية)
- ٣- من الحيوانات البرية التي تعيش بالقرب من الوادي والدلتا (الأفيال - الأسود - الثعالب - النمور)

السؤال الرابع صف الحيوانات والطيور البرية الآتية تبًا للجدول التالي :

الذئاب - النورس - الإبل - أبو قردان - الغزلان - الأرناب البرية.

المناطق الساحلية	الصحاري المصرية	وادي النيل والدلتا

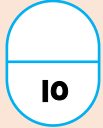
السؤال الخامس اجب عما يلي :

- ١- بم تفسر : أهمية نبات البردي عند المصريين القدماء.

.....

- ٢- وضح : العوامل التي تؤثر على المناخ.

.....

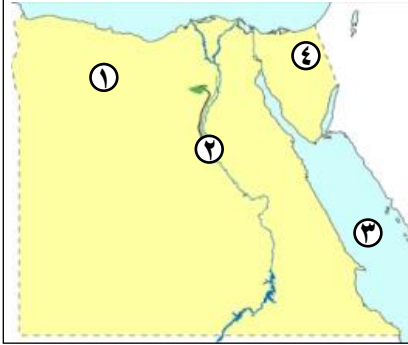


الدرجة : 10

اسم الطالب :

توقيع ولي الأمر :

الاختبار الأول الوحدة الأولى



السؤال الأول (أ) أمامك خريطة صماء لمصر ، اكتب مدلول الأرقام :

- ١- منخفض
- ٢- وادي
- ٣- البحر
- ٤- جبل

(ب) ما المقصود بـ :

الإقليم المناخي :

السؤال الثاني (أ) اكتب كلمة (صواب) أمام العبارة الصحيحة ، وكلمة (خطأ) أمام العبارة غير الصحيحة :

- ١- تشكل وادي النيل نتيجة التعرية المائية. ()
- ٢- توجد هضبة المعازة في الصحراء الشرقية. ()
- ٣- لا يؤثر الموقع الفلكي لمصر على مناخها. ()
- ٤- الزواحف من الحيوانات البرية التي تعيش في المناطق الساحلية. ()

(ب) بم تفسر...؟

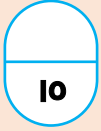
اهتمام الدولة بإنشاء المحميات الطبيعية :

السؤال الثالث (أ) اختر الإجابة الصحيحة مما بين القوسين :

- ١- في شهر يوليو تتعامد الشمس على
(مدار السرطان - مدار الجدي - دائرة الاستواء - الدائرة القطبية)
- ٢- من الجبال التي توجد في شبه جزيرة سيناء.....
(شايب البنات - العوينات - البحر الأحمر - سانت كاترين)
- ٣- يقع مدار الجدي..... دائرة الاستواء.
(شمال - جنوب - شرق - غرب)
- ٤- من النباتات المائية التي تستخدم في صناعة الحصير.....
(الصبار - البردي - الزيتون - البوص)

(ب) ما النتائج المترتبة على...؟

هبوب رياح الخماسين :



الدرجة : 10

اسم الطالب :

توقيع ولي الأمر :

الاختبار الثاني الوحدة الأولى

السؤال الأول

(أ) اكتب كلمة (صواب) أمام العبارة الصحيحة ، وكلمة (خطأ) أمام العبارة غير الصحيحة :

- ١- تتعامد أشعة الشمس على دائرة الاستواء مره كل عام. ()
- ٢- تتشابه الدائرة القطبية الشمالية مع الدائرة القطبية الجنوبية في نفس الدرجة. ()
- ٣- توجد هضبة العباددة في الصحراء الغربية. ()
- ٤- ترتفع درجة الحرارة على قمم الجبال. ()

(ب) وضح :

جهود الدولة لحماية النباتات الطبيعية والحيوانات البرية :

السؤال الثاني

(أ) أكمل العبارات التالية بما يناسبها من كلمات :

- ١- من أمثلة الحيوانات البرية في الصحاري و.....
- ٢- من جبال الصحراء الغربية.....
- ٣- أكبر دوائر العرض الرئيسية هي دائرة
- ٤- من الأودية الجافة في الصحراء الشرقية وادي

(ب) ما النتائج المترتبة على...؟

تعامد الشمس على مدار الجدي :

السؤال الثالث

(أ) اكتب ما تشير إليه العبارات التالية :

- ١- أنصاف دوائر رأسية تصل بين القطبين الشمالي والجنوبي. (.....)
- ٢- أراضي خصبة كونتها الأنهار نتيجة ترسيب الطمي عن المصب. (.....)
- ٣- أودية كانت تملؤها المياه قديماً ثم جفت. (.....)
- ٤- نباتات تنمو تلقائياً دون تدخل الإنسان. (.....)

(ب) قارن بين :

الصحراء الغربية	الصحراء الشرقية	
		الجبال
		الهضاب

إجابات اختبار الدرس الأول ، الوحدة الأولى

السؤال الأول :

- (أ) ١- خطأ ٢- خطأ ٣- خطأ ٤- صواب
(ب) هي خطوط الطول ودوائر العرض.

السؤال الثاني :

- (أ) ١- ١٨٠ ٢- تحديد المواقع على سطح الأرض شرقاً وغرباً أو معرفة فروق التوقيت بين الدول
٣- الشرقية - الغربية ٤- مدار الجدي
(ب) - تساعدنا في تحديد المواقع شمالاً وجنوباً
- تساعدنا في دراسة المناخ من حيث الحرارة والرياح والمطر.

السؤال الثالث :

- (أ) ١- خط جرينتش ٢- الدرجة ٣- الجنوب ٤- أربع دقائق
(ب) تساعدنا خطوط الطول في معرفة فروق التوقيت بين الدول.

إجابات اختبار الدرس الثاني ، الوحدة الأولى

السؤال الأول :

- (أ) ١- العبادة ٢- العينات ٣- وادي العريش ٤- الفيوم
(ب) هي أودية كانت تملؤها المياه قديماً ثم جفت.

السؤال الثاني :

- (أ) ١- خطأ ٢- صواب ٣- صواب ٤- خطأ
(ب) بسبب وجود المياه الجوفية العذبة.

السؤال الثالث :

- (أ) ١- جبل سانت كاترين ٢- ترعة بحر يوسف ٣- مثلث ٤- الصحراء الغربية
(ب) أدى إلى تكوين الكثبان الرملية.

إجابات اختبار الدرس الأول والثاني ، الوحدة الأولى

السؤال الأول :

١- الجلف الكبير ٢- سانت كاترين ٣- السرطان

السؤال الثاني :

١- صواب ٢- خطأ ٣- صواب

السؤال الثالث :

١- الصحراء الشرقية ٢- خطوط الطول ٣- الفلك

السؤال الرابع :

١- الغربية ٢- دائرة الاستواء ٣- جنوب

السؤال الخامس :

١- أوجه التشابه : كل منهما عبارة عن خطوط وهمية رسمها العلماء على الخرائط لتحديد موقع الأماكن بدقة على سطح الأرض.
أوجه الاختلاف : خطوط الطول هي أنصاف دوائر رأسية تصل بين القطبين الشمالي والجنوبي وعددها ٣٦٠ خط طول ، وخط الطول الرئيسي هو جرينتش ، درجته صفر بينما دوائر العرض هي دوائر أفقية غير متساوية الطول ، ترسم حول الكرة الأرضية ، عددها ١٨٠ دائرة عرض ، ودائرة العرض الرئيسية هي الاستواء ، ودرجتها صفر .
٢- أدى إلى تنوع الثروات الطبيعية وتعدد الأنشطة الاقتصادية.

إجابات اختبار الدرس الثالث ، الوحدة الأولى

السؤال الأول

(أ) ١- مدار الجدي ٢- جميع ما سبق ٣- الصحراوي الحار ٤- الصيف
(ب) ساعد ذلك على بقاء الآثار المصرية صامدة عبر آلاف السنين.

السؤال الثاني

(أ) ١- خطأ ٢- صواب ٣- صواب ٤- خطأ
(ب) بسبب الدورة السنوية للأرض حول الشمس مرة كل ٣٦٥ يوماً وربع.

السؤال الثالث

(أ) ١- الطقس ٢- المناخ ٣- الإقليم المناخي ٤- الدورة السنوية
(ب) حيث قسموا العام إلى ٣٦٥ يوماً.

إجابات اختبار الدرس الرابع ، الوحدة الأولى

السؤال الأول :

- (أ) ١- صواب ٢- صواب ٣- صواب ٤- خطأ
 (ب) توفير الغذاء للإنسان - تجذب السياح للاستمتاع بجمال الطبيعة - تستخدم كغذاء ومأوى للحيوانات البرية - تدخل في صناعة الأدوية والعطور ومستحضرات التجميل.

السؤال الثاني :

- (أ) ١- التين الشوكي ٢- الذئب ٣- جميع ما سبق ٤- الغزلان
 (ب) تنوع الحياة النباتية والحيوانية على كوكب الأرض.

السؤال الثالث :

- (أ) ١- النبات الطبيعي ٢- الساحلية ٣- أبو قردان ٤- البوص
 (ب) تساعد النباتات الطبيعية في جذب السياح للاستمتاع بجمال الطبيعة.

إجابات اختبار الدرس الثالث والرابع ، الوحدة الأولى

السؤال الأول :

- ١- الإبل - الغزلان - الزواحف ٢- الصحراوي الحار ٣- السرطان

السؤال الثاني :

- ١- صواب ٢- صواب ٣- خطأ

السؤال الثالث :

- ١- مدار الجدي ٢- المناطق الساحلية ٣- الثعالب

السؤال الرابع :

وادي النيل والدلتا	الصحاري المصرية	المناطق الساحلية
الذئب أبو قردان	الغزلان الإبل	النورس الأرانب البرية

السؤال الخامس :

- ١- استخدمه المصري القديم في صناعة الورق.
 ٢- الموقع الفلكي - القرب أو البعد عن المسطحات المائية - مظاهر السطح.

إجابات الاختبار الأول ، الوحدة الأولى

السؤال الأول :

- (أ) ١- القطارة ٢- النيل ٣- الأحمر ٤- الحلال
(ب) مساحة من الأرض لها نفس الخصائص المناخية من حيث الحرارة والرياح والمطر.

السؤال الثاني :

- (أ) ١- صواب ٢- صواب ٣- خطأ ٤- خطأ
(ب) لحماية النباتات الطبيعية والحيوانات البرية من الانقراض.

السؤال الثالث

- (أ) ١- مدار السرطان ٢- سانت كاترين ٣- جنوب ٤- البوص
(ب) تصيب الإنسان ببعض أمراض الجهاز التنفسي كما تسبب أضرارًا للمحاصيل الزراعية

إجابات الاختبار الثاني ، الوحدة الأولى

السؤال الأول :

- (أ) ١- خطأ ٢- صواب ٣- خطأ ٤- خطأ
(ب) - إصدار القوانين التي تجرم الرعي أو الصيد الجائر
- نشر الوعي بين المواطنين بأهمية التنوع البيولوجي وضرورة الحفاظ عليه.
- إنشاء المحميات الطبيعية

السؤال الثاني :

- (أ) ١- الغزلان - الإبل ٢- العوينات ٣- الاستواء ٤- قنا
(ب) حدوث فصل الشتاء

السؤال الثالث

- (أ) ١- خطوط الطول ٢- الدلتا ٣- الأودية الجافة ٤- النباتات الطبيعية
(ب)

الصحراء الغربية	الصحراء الشرقية	
العوينات	البحر الأحمر وأعلاها شايب البنات	الجبال
الجلف الكبير ومارمريكا	المعازة والعبادة	الهضاب