

الدرجة : 10

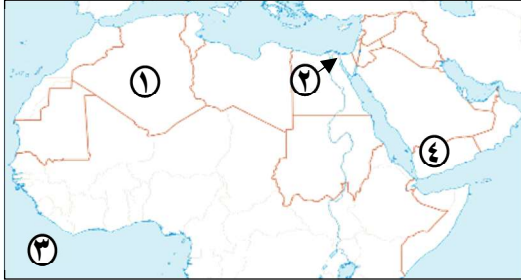
اسم الطالب :

توقيع ولي الأمر :

اختبار الدرس الأول الوحدة الأولى

السؤال الأول

(أ) أمامك خريطة صماء للوطن العربي ، اكتب مدلول الأرقام :



- ١- أكبر الدول العربية مساحة
- ٢- ممر مائي هام
- ٣- المحيط
- ٤- دولة عربية تشرف على مضيق باب المندب

(ب) بم تفسر ... ؟

الأهمية الاقتصادية لموقع الوطن العربي

السؤال الثاني

(أ) أكمل العبارات التالية بما يناسبها من كلمات :

- ١- تمتد أراضي الوطن العربي في قارتي و
- ٢- أصغر دول الوطن العربي مساحة هي
- ٣- يحد الوطن العربي من جهة الغرب المحيط
- ٤- يوجد بالوطن العربي أماكن مقدسة مثل كنيسة المهد التي توجد في دولة

(ب) دلل على صحة العبارة التالية

يتحكم الوطن العربي في ممرات مائية هامة.

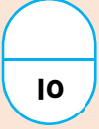
السؤال الثالث

(أ) اختر الإجابة الصحيحة مما بين القوسين :

- ١- تشرف دولة المغرب على
(مضيق باب المندب - مضيق جبل طارق - قناة السويس - مضيق هرمز)
- ٢- تطل دولتنا مصر والسعودية على البحر.....
(الأحمر - المتوسط - الكاريبي - العربي)
- ٣- الدولة العربية التي يمر بها خط جرينتش هي.....
(السعودية - ليبيا - تونس - الجزائر)
- ٤- توجد الكعبة المشرفة في دولة.....
(ليبيا - مصر - السعودية - قطر)

(ب) ما المقصود ب...؟

الوطن العربي



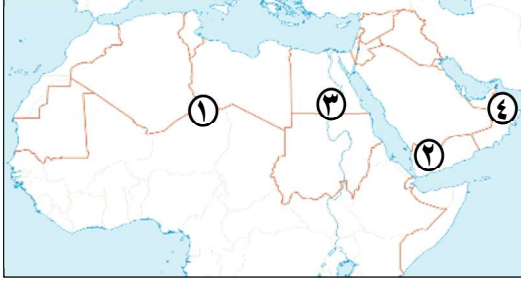
الدرجة : 10

اسم الطالب :

توقيع ولي الأمر :

اختبار الدرس الثاني الوحدة الأولى

السؤال الأول (أ) أمامك خريطة صماء للوطن العربي ، اكتب مدلول الأرقام :



- ١- هضبة.....
- ٢- مرتفعات.....
- ٣- سهول.....
- ٤- جبال.....

(ب) ما المقصود بـ :

التعرية الهوائية :

السؤال الثاني (أ) اكتب كلمة (صواب) أمام العبارة الصحيحة ، وكلمة (خطأ) أمام العبارة غير الصحيحة :

- ١- توجد واحة عين صالح في دولة ليبيا. ()
- ٢- تُزرع الواحات باستخدام مياه الأنهار. ()
- ٣- تقع هضبة نجد في جنوب شبه الجزيرة العربية. ()
- ٤- تنوع مظاهر السطح في الوطن العربي ساعد على تنوع الأنشطة الاقتصادية. ()

(ب) بم تفسر...؟

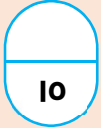
تكون جبال البحر الأحمر :

السؤال الثالث (أ) اختر الإجابة الصحيحة مما بين القوسين :

- ١- أحد الجبال الالتوائية في الوطن العربي جبال.....
(أطلس - عسير - البحر الأحمر - مرتفعات اليمن)
- ٢- من الأودية الجافة التي تكونت بفعل التعرية المانية وادي الدواسر في.....
(مصر - تونس - السعودية - ليبيا)
- ٣- هضبة بادية الشام من هضاب الجناح.....
(الافريقي - الآسيوي - الأمريكي - الأوروبي)
- ٤- أهم السهول السهول الفيضية بالجناح العربي الآسيوي سهول.....
(دجلة والفرات - نهر النيل - البحر الأحمر - البحر المتوسط)

(ب) دلل على صحة العبارة التالية :

تعد هضبة إفريقيا الشمالية أكبر هضاب الوطن العربي.



الدرجة : 10

اسم الطالب :

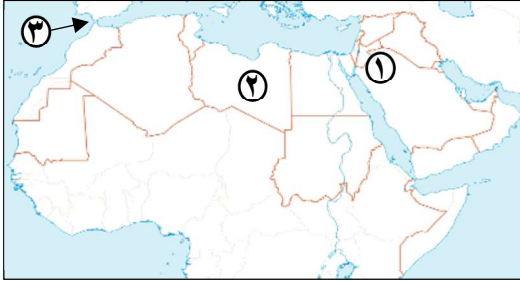
توقيع ولي الأمر :

الوحدة الأولى



اختبار الدرس الأول والثاني

السؤال الأول (أ) أمامك خريطة صماء للوطن العربي ، اكتب مدلول الأرقام :



١- هضبة

٢- دولة

٣- مضيق

السؤال الثاني (أ) اكتب كلمة (صواب) أمام العبارة الصحيحة ، وكلمة (خطأ) أمام العبارة غير الصحيحة :

- ١- سهول البحر الأحمر والخليج العربي سهول صالحة للزراعة. ()
- ٢- تقع دولة جزر القمر بالمحيط الأطلنطي. ()
- ٣- تكونت الكثبان الرملية في الوطن العربي بفعل التعرية الهوائية. ()

السؤال الثالث أكمل العبارات التالية بما يناسبها من كلمات :

- ١- تشترك الدول العربية في مجموعة من الخصائص منها التاريخ و..... و.....
- ٢- تمتد جبال أطلس بالوطن العربي في ثلاث دول هي و..... و.....
- ٣- يضم الوطن العربي عدد دولة

السؤال الرابع صوب ما تحته خط :

- ١- أكثر مظاهر السطح انتشارًا في الوطن العربي الجبال.
- ٢- يحد الوطن العربي من الشمال جبال زاجروس.
- ٣- أكبر هضاب الوطن العربي من حيث المساحة هي هضبة نجد.

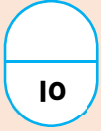
السؤال الخامس أجب عما يلي :

١- ما النتائج المترتبة على : تحكم الوطن العربي في ممرات مائية مهمة

.....

٢- بم تفسر : تكون السهول الفيضية في الوطن العربي

.....



الدرجة : 10

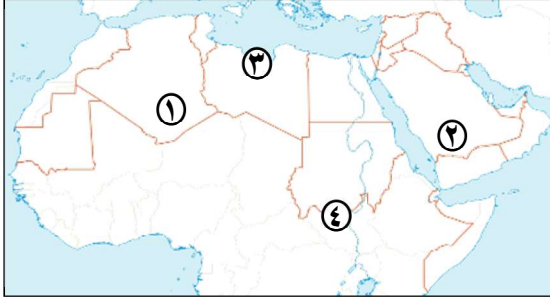
اسم الطالب :

توقيع ولي الأمر :

اختبار الدرس الثالث الوحدة الأولى

السؤال الأول

(أ) أمامك خريطة صماء للوطن العربي ، اكتب مدلول الأرقام :



١- يشير رقم (١) إلى دولة

٢- يشير رقم (٢) إلى إقليم مناخي يسود الوطن

العربي.....

٣- يشير رقم (٣) إلى إقليم مناخي يمتد في الأطراف

الشمالية للوطن العربي.....

٤- يشير رقم (٤) إلى إقليم مناخي يمتد في جنوب الوطن العربي.....

(ب) بم تفسر...؟

تغطية الثلوج للجبال في بعض الدول العربية.....

السؤال الثاني

(أ) اكتب كلمة (صواب) أمام العبارة الصحيحة ، وكلمة (خطأ) أمام العبارة غير الصحيحة :

- ١- ساهم تنوع المناخ في تنوع الأنشطة الاقتصادية في الوطن العربي. ()
- ٢- يتأثر المناخ بالقرب أو البعد عن المسطحات المائية. ()
- ٣- تقل درجات الحرارة كلما اقتربنا من دائرة الإستواء. ()
- ٤- يضم الوطن العربي ثلاثة أقاليم مناخية. ()

(ب) قارن بين

إقليم البحر المتوسط والإقليم المداري من حيث الموقع والخصائص المناخية.

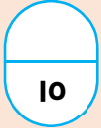
السؤال الثالث

(أ) أكمل العبارات التالية بما يناسبها من كلمات :

- ١- يتم استخراج الصمغ العربي من أشجار.....
- ٢- تعيش الزراف والأسود في منطقة حشائش.....
- ٣- تنمو في إقليم البحر المتوسط حشائش.....
- ٤- تنتمي الأجزاء الشمالية للوطن العربي إلى إقليم مناخ.....

(ب) ما العلاقة بين :

المناخ والأنشطة الاقتصادية.....



الدرجة : 10

اسم الطالب :

توقيع ولي الأمر :

اختبار الدرس الرابع الوحدة الأولى

السؤال الأول (أ) اكتب كلمة (صواب) أمام العبارة الصحيحة ، وكلمة (خطأ) أمام العبارة غير الصحيحة :

- ١- تؤثر التغيرات المناخية سلبيًا على مستقبل التنمية بالوطن العربي. ()
- ٢- قطع الأشجار من أهم أسباب مشكلة التصحر. ()
- ٣- يعاني الوطن العربي من مشكلة ندرة المياه العذبة. ()
- ٤- أطلقت السعودية مبادرة ١٠٠ مليون شجرة مثمرة. ()

(ب) بم تفسر...؟

تشكل السيول تهديدًا كبيرًا على الوطن العربي.....

السؤال الثاني (أ) اختر الإجابة الصحيحة مما بين القوسين :

- ١- توجد مدينة نيوم الخضراء في دولة.....
(السعودية - مصر - الكويت - الإمارات)
- ٢- أكثر الدول العربية التي تعرضت لخطر الجفاف هي دولة.....
(الصومال - موريتانيا - العراق - السعودية)
- ٣- نبني السدود للحد من آثار مشكلة.....
(الجفاف - التصحر - السيول - التلوث)
- ٤- تنتشر ببعض مناطق الوطن العربي الأمراض وسوء التغذية بسبب مشكلة.....
(التصحر - السيول - الجفاف - التلوث)

(ب) ما المقصود ب...؟

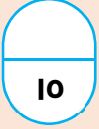
بالتغير المناخي :

السؤال الثالث (أ) أكمل العبارات التالية بما يناسبها من كلمات :

- ١- ظهرت في الوطن العربي مشكلات بيئية مثل..... و..... و.....
- ٢- أحد أسباب السيول في الوطن العربي.....
- ٣- نستخدم الري بالرش لمواجهة مشكلة.....
- ٤- مبادرة أطلقتها مصر لزيادة المساحات الخضراء هي.....

(ب) ما العلاقة بين...؟

النقل المستدام وتلوث الهواء.....



الدرجة : 10

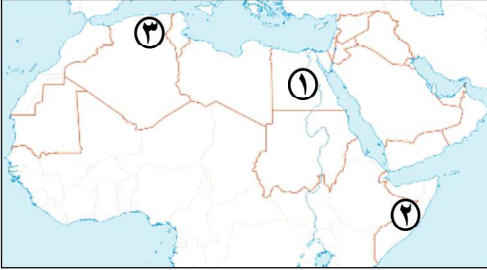
اسم الطالب :

توقيع ولي الأمر :

اختبار الدرس الثالث والرابع الوحدة الأولى

السؤال الأول

(أ) أمامك خريطة صماء للوطن العربي ، اكتب مدلول الأرقام :



- ١- أطلقت مبادرة ١٠٠ مليون شجرة مثمرة.....
- ٢- دولة تعاني من الجفاف.....
- ٣- إقليم مناخي.....

السؤال الثاني

(أ) اكتب كلمة (صواب) أمام العبارة الصحيحة ، وكلمة (خطأ) أمام العبارة غير الصحيحة :

- ١- لا يعاني الوطن العربي من مشكلات بيئية كالجفاف وندرة المياه العذبة. ()
- ٢- يسود المناخ الصحراوي معظم أراضي الوطن العربي. ()
- ٣- يؤدي التنوع المناخي إلى تنوع النبات الطبيعي. ()

السؤال الثالث

صوب ما تحته خط :

- ١- توجد مدينة نيوم الخضراء في دولة ليبيا.
- ٢- يوجد في الوطن العربي خمسة أقاليم مناخية.
- ٣- من الحشائش التي تنمو في إقليم البحر المتوسط حشائش السافانا

السؤال الرابع

اكتب ما تشير إليه العبارات التالية :

- ١- نقص كمية المياه خلال فترة زمنية محددة (.....)
- ٢- مساحة من الأرض لها نفس الخصائص المناخية من حيث الحرارة والمطر. (.....)
- ٣- أمطار غزيرة وفجائية تتجمع وتتدفق بسرعة في الأودية. (.....)

السؤال الخامس

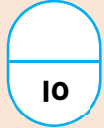
أجب عما يلي :

- ١- بم تفسر : حدوث التصحر في الوطن العربي

.....

- ٢- ما النتائج المترتبة على : تنوع المناخ في الوطن العربي.

.....



الدرجة : 10

اسم الطالب :

توقيع ولي الأمر :

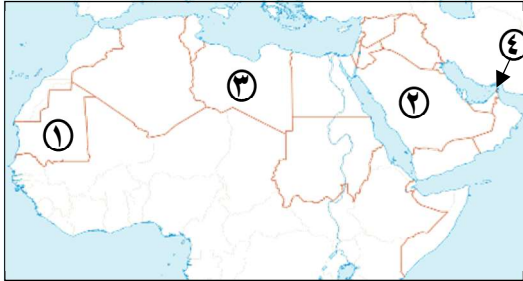
الوحدة الأولى



الاختبار الأول

السؤال الأول

(أ) أمامك خريطة صماء للوطن العربي ، اكتب مدلول الأرقام :



- ١- دولة
- ٢- هضبة
- ٣- الإقليم
- ٤- مضيق

(ب) ما المقصود بـ :

التصحر :

السؤال الثاني

(أ) اكتب كلمة (صواب) أمام العبارة الصحيحة ، وكلمة (خطأ) أمام العبارة غير الصحيحة :

- ١- تكونت الكثبان الرملية بفعل التعرية الهوائية. ()
- ٢- أحد العوامل المؤثرة في المناخ الموقع الفلكي. ()
- ٣- تؤثر السيول على حياة السكان. ()
- ٤- تقع دول الوطن العربي في قارتي إفريقيا وأوروبا. ()

(ب) بم تفسر ...؟

أهمية حشائش الاستبس في إقليم البحر المتوسط :

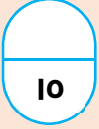
السؤال الثالث

(أ) اختر الإجابة الصحيحة مما بين القوسين :

- ١- مسطح مائي يفصل بين جناحي الوطن العربي.....
(البحر الأحمر - البحر المتوسط - بحر العرب - الخليج العربي)
- ٢- أعلى قمة جبلية في الوطن العربي هي جبل.....
(شايب البنات - العوينات - توبقال - سانت كاترين)
- ٣- التوسع العمراني وزحف الكثبان الرملية من أسباب حدوث مشكلة.....
(الجفاف - التصحر - ندرة المياه العذبة - جميع ما سبق)
- ٤- يمتد في الأجزاء الشمالية للوطن العربي إقليم.....
(الصحراوي الحار - المداري - البحر المتوسط - الاستوائي)

(ب) ما النتائج المترتبة على...؟

إرساب الأنهار للمواد العالقة في الوطن العربي :



الدرجة : 10

اسم الطالب :

توقيع ولي الأمر :

الوحدة الأولى



الاختبار الثاني

السؤال الأول (أ) اكتب كلمة (صواب) أمام العبارة الصحيحة ، وكلمة (خطأ) أمام العبارة غير الصحيحة :

- ١- يشغل إقليم البحر المتوسط معظم مساحة الوطن العربي. ()
- ٢- تعتبر جبال البحر الأحمر من الجبال الانكسارية. ()
- ٣- يغطي التصحر نسبة قليلة من مساحة الوطن العربي. ()
- ٤- تقع دولة العراق في الجناح الآسيوي. ()

(ب) بر تفسر :

الأهمية الدينية للوطن العربي :

السؤال الثاني (أ) أكمل العبارات التالية بما يناسبها من كلمات :

- ١- تربي الأغنام والماعز على حشائش
- ٢- يحد الوطن العربي من الشمال جبال
- ٣- تعاني دولة من أكبر موجة جفاف وحدوث مجاعة لأكثر من مليون شخص.
- ٤- من العوامل المؤثرة في مناخ الوطن العربي

(ب) ما النتائج المترتبة على...؟

اختلاف كمية المطر في الإقليم المداري :

السؤال الثالث (أ) اختر الإجابة الصحيحة مما بين القوسين :

- ١- أكبر هضاب الوطن العربي مساحة.....
(نجد - بادية الشام - حضرموت - إفريقيا الشمالية)
- ٢- توجد سهول نهر النيل في
- (مصر والعراق - مصر والسودان - مصر وليبيا - مصر وتونس)
- ٣- قطع الأشجار والرعي الجائر أحد أسباب مشكلة
- (ندرة المياه العذبة - التصحر - الجفاف - السيول)
- ٤- أي من الدول العربية التالية تقع في الجناح الإفريقي.....
(قطر - البحرين - سوريا - السودان)

(ب) وضع :

طرق مواجهة الجفاف :

إجابات اختبار الدرس الأول ، الوحدة الأولى

السؤال الأول :

- (أ) ١- الجزائر ٢- قناة السويس ٣- الأطلنطي ٤- اليمن
 (ب) - لأنه يطل على مسطحات مائية هامة منها البحر الأحمر والبحر المتوسط والخليج العربي.
 - واتساع مساحته وتنوع موارده الطبيعية

السؤال الثاني :

- (أ) ١- آسيا و إفريقيا ٢- البحرين ٣- الأطلنطي ٤- فلسطين
 (ب) حيث يتحكم في قناة السويس ومضيق هرمز ومضيق باب المندب ومضيق جبل طارق

السؤال الثالث :

- (أ) ١- مضيق جبل طارق ٢- الأحمر ٣- الجزائر ٤- السعودية
 (ب) مجموعة من الدول العربية التي تجمعها لغة وعادات وتقاليذ واحدة وتاريخ مشترك.

إجابات اختبار الدرس الثاني ، الوحدة الأولى

السؤال الأول :

- (أ) ١- إفريقيا الشمالية ٢- اليمن ٣- نهر النيل ٤- عمان
 (ب) هي نحت الصخور ونقلها وإرسابها بواسطة الرياح.

السؤال الثاني :

- (أ) ١- خطأ ٢- خطأ ٣- خطأ ٤- صواب
 (ب) بسبب الحركات الانكسارية التي حدثت في القشرة الأرضية.

السؤال الثالث :

- (أ) ١- أطلس ٢- السعودية ٣- الآسيوي ٤- دجلة والفرات
 (ب) حيث تمتد من البحر الأحمر شرقاً إلى المحيط الأطلنطي غرباً ومن البحر المتوسط شمالاً إلى وسط إفريقيا جنوباً

إجابات اختبار الدرس الأول والثاني ، الوحدة الأولى

السؤال الأول :

١- بادية الشام

٢- ليبيا

٣- جبل طارق

السؤال الثاني :

١- خطأ

٢- خطأ

٣- صواب

السؤال الثالث :

١- اللغة و العادات والتقاليد

٢- المغرب والجزائر وتونس

٣- ٢٢

السؤال الرابع :

١- الهضاب

٢- طوروس

٣- إفريقيا الشمالية

السؤال الخامس :

١- أصبح الوطن العربي يتمتع بأهمية استراتيجية وهذا جعله ذات أهمية كبيرة وقت الحروب

٢- بسبب إرساب الأنهار للمواد العالقة بمياهها

إجابات اختبار الدرس الثالث ، الوحدة الأولى

السؤال الأول

(أ) ١- الجزائر

٢- الصحراوي الحار

٣- إقليم البحر المتوسط

٤- المداري

(ب) لأنه كلما ارتفعنا ١٥٠ مترًا فوق مستوى سطح البحر تنخفض درجة الحرارة درجة مئوية.

السؤال الثاني

(أ) ١- صواب

٢- صواب

٣- خطأ

٤- صواب

(ب)

الموقع	إقليم البحر المتوسط	الإقليم المداري
يمتد في الأجزاء الشمالية للوطن العربي	يقع في جنوب الوطن العربي	
الخصائص المناخية	ارتفاع درجة الحرارة صيفاً واعتدالها وسقوط الأمطار شتاء	ارتفاع درجة الحرارة وسقوط الأمطار صيفاً اعتدال الحرارة وجفاف المناخ شتاءً

السؤال الثالث

(أ) ١- السنط

٢- السافانا

٣- الإستبس

٤- البحر المتوسط

(ب) يؤثر تنوع المناخ على الأنشطة الاقتصادية حيث تنوع المحاصيل الزراعية وتنشيط السياحة.

إجابات اختبار الدرس الرابع ، الوحدة الأولى

السؤال الأول :

- (أ) ١- صواب
٢- صواب
٣- صواب
٤- خطأ
- (ب) - انتشار الأمراض والأوبئة
- الخسائر الفادحة في الأرواح والممتلكات.

السؤال الثاني :

- (أ) ١- السعودية
٢- الصومال
٣- السيول
٤- الجفاف
- (ب) تغير طويل في درجات الحرارة وأنماط المطر ، ويؤدي إلى موجات جفاف ، وحرانق غابات ، وانقراض نباتات

السؤال الثالث :

- (أ) ١- الجفاف - التصحر - السيول - تلوث الهواء
٢- الأمطار الغزيرة الفجائية
٣- ندرة المياه العذبة
٤- زراعة ١٠٠ مليون شجرة مثمرة
- (ب) النقل المستدام يعمل على مواجهة تلوث الهواء.

إجابات اختبار الدرس الثالث والرابع ، الوحدة الأولى

السؤال الأول :

- ١- مصر
٢- الصومال
٣- البحر المتوسط

السؤال الثاني :

- ١- خطأ
٢- صواب
٣- صواب

السؤال الثالث :

- ١- السعودية
٢- ثلاثة
٣- الإستبس

السؤال الرابع :

- ١- الجفاف
٢- الإقليم المناخي
٣- السيول

السؤال الخامس :

- ١- زحف الكثبان الرملية
- التوسع العمراني
٢- إدى إلى تنوع النبات الطبيعي والحيوانات البرية والأنشطة الاقتصادية مما يعزز تحقيق التكامل بين دول الوطن العربي
- قطع الأشجار
- تناقص الأمطار
- الرعي الجائر للحيوانات

إجابات الاختبار الأول ، الوحدة الأولى

السؤال الأول :

- (أ) ١- موريتانيا ٢- نجد ٣- الصحراوي ٤- هرمز
(ب) تناقص قدرة الأراضي الزراعية على الإنتاج

السؤال الثاني :

- (أ) ١- صواب ٢- صواب ٣- صواب ٤- خطأ
(ب) يتربى عليها الأغنام والماعز

السؤال الثالث

- (أ) ١- البحر الأحمر ٢- توبقال ٣- التصحر ٤- البحر المتوسط
(ب) تكوين السهول الفيضية في الوطن العربي.

إجابات الاختبار الثاني ، الوحدة الأولى

السؤال الأول :

- (أ) ١- خطأ ٢- صواب ٣- خطأ ٤- صواب
(ب) - مهد للديانات السماوية الثلاث (اليهودية - المسيحية - الإسلامية)
- به أماكن مقدسة مثل بيت الله الحرام - المسجد الأقصى - كنيسة المهد.

السؤال الثاني :

- (أ) ١- الإستبس ٢- طوروس ٣- الصومال ٤- الموقع الفلكي - الموقع بالنسبة للمسطحات المائية - مظاهر السطح.
(ب) تدرج حشائش السافانا في الطول حسب كمية المطر.

السؤال الثالث

- (أ) ١- إفريقيا الشمالية ٢- مصر والسودان ٣- التصحر ٤- السودان
(ب) إعادة تدوير المياه - تطوير شبكات الري - ترشيد إستهلاك المياه.