

سلاح التلميز

منذ عام ١٩٦٠

2025 - 2026



الدراسات
الاجتماعية

نماذج اختبارات

شهر أكتوبر

طبقاً لآخر مواصفة للورقة الامتحانية

4

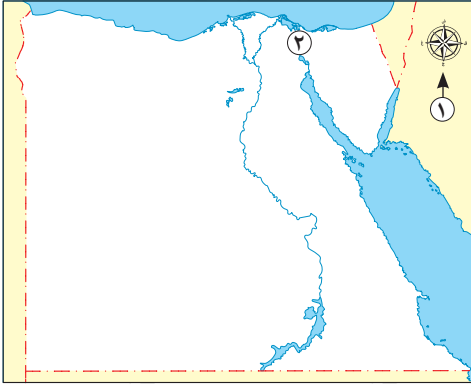
الفصل الدراسي الأول



الاختبار الأول



١ أ أمامك خريطة لمصر، لاحظها ثم وضح مدلول الأرقام الموقعة عليها:



١ أ أحد عناصر الخريطة

٢ أ قناة

ب بم تفسر:

- أهمية نبات البردي عند المصريين القدماء؟

٢ أ اكتب كلمة (صواب) أمام العبارة الصحيحة، وكلمة (خطأ) أمام العبارة غير الصحيحة:

١ أ يمثل الشمال الغربي أحد الاتجاهات الأصلية. ()

٢ أ تلون السهول باللون الأخضر على الخريطة. ()

ب ما العلاقة بين:

- القرية والمدينة؟

٣ أ اختر الإجابة الصحيحة مما بين القوسين:

١ أ أي مما يلي يُعد مصدرًا أوليًا؟

(مقالات صحفية - نقوش معبد - أفلام تاريخية - موسوعة تاريخية)

٢ أ أي من التالي يُعد مدينة صحراوية؟

(القاهرة - الإسكندرية - دمياط - الخارجة)

ب أجب عما يلي:

١ أ قارن بين: البوصلة والأسطرلاب (من حيث التعريف).

الأسطرلاب	البوصلة
.....

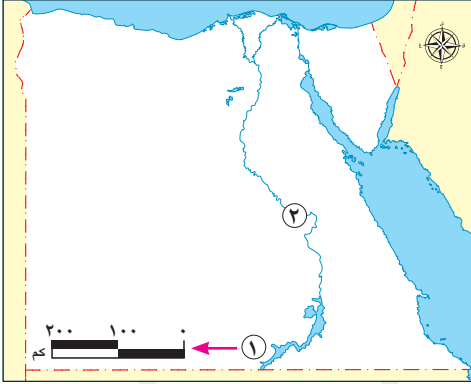
٢ أ دلل على صحة العبارة: ساهمت التكنولوجيا الحديثة في تطور رسم الخرائط.



الاختبار الثاني

١٠

١ أ أمامك خريطة لمصر، لاحظها ثم وضح مدلول الأرقام الموقعة عليها:



١ أحد عناصر الخريطة

٢ نهر

ب بم تفسر:

- يفضل استخدام المخططات لوصف مكان ما؟

٢ أ اكتب كلمة (صواب) أمام العبارة الصحيحة، وكلمة (خطأ) أمام العبارة غير الصحيحة:

١ يوجد اتجاه فرعي بين كل اتجاهين أصليين. ()

٢ تُعبّر الحقائق عن وجهات نظر شخصية. ()

ب قارن بين:

- المصادر الأولية والمصادر الثانوية لجمع المعلومات (من حيث زمن تسجيل الحدث).

المصادر الثانوية	المصادر الأولية	وجه المقارنة
		زمن تسجيل الحدث

٣ أ اختر الإجابة الصحيحة مما بين القوسين:

١ يتم التقاط الصور الفضائية باستخدام

(الكاميرا الشخصية - الأقمار الصناعية - الطائرات الحربية - الهواتف المحمولة)

٢ توجد الكنيسة المُعلّقة في مدينة

(القاهرة - الإسكندرية - دمياط - السويس)

ب أجب عما يلي:

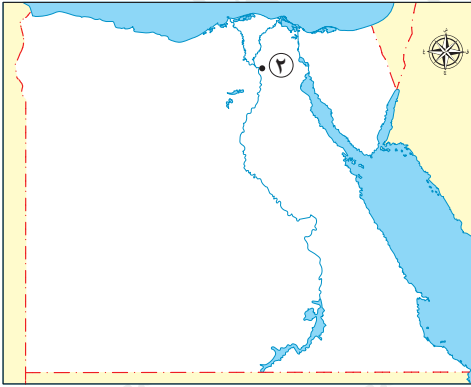
١ ما المقصود بـ: القرية؟

٢ ما العلاقة بين: قائد الطائرة والخريطة؟



١٠

١ أ أمامك خريطة لمصر، لاحظها ثم وضح مدلول الأرقام الموقعة عليها:



① خريطة جمهورية مصر العربية

١ أ أحد عناصر الخريطة

٢ أ مدينة

ب ما النتائج المترتبة على:

– جمع المعلومات من مصادر متعددة وموثوقة؟

٢ أ اكتب كلمة (صواب) أمام العبارة الصحيحة، وكلمة (خطأ) أمام العبارة غير الصحيحة:

١ أ تأثرت مريم الأسطرلابي بوالدها عالم الكيمياء. ()

٢ أ تنتشر الخرائط في محطات مترو الأنفاق. ()

ب ما المقصود بـ:

– المدينة؟

٣ أ اختر الإجابة الصحيحة مما بين القوسين:

١ أ تُعد المعلومات غير الصحيحة المتداولة بين الناس.....

(آراء – حقائق – انطباعات – شائعات)

٢ أ تنقسم الخرائط في عصرنا الحالي إلى خرائط.....

(فضائية وخيالية – يدوية ورقمية – فضائية وجوية – جوية ورقمية)

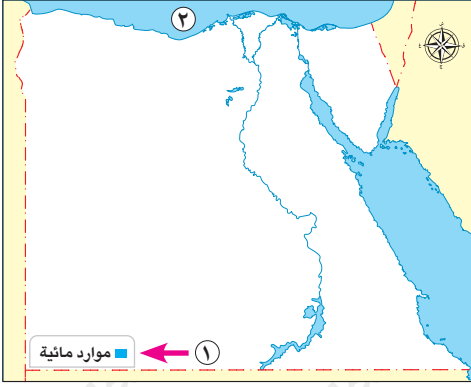
ب أجب عما يلي:

١ أ بم تفسر: أهمية رسم النوافذ والأبواب في المخططات؟

٢ أ دلل على صحة العبارة: برع العلماء العرب في رسم الخرائط.



١ أ أمامك خريطة لمصر، لاحظها ثم وضع مدلول الأرقام الموقعة عليها:



١ أحد عناصر الخريطة

٢ البحر

ب ما النتائج المترتبة على:

- وجود الحدائق العامة الكبرى في المدن؟

٢ أ اكتب كلمة (صواب) أمام العبارة الصحيحة، وكلمة (خطأ) أمام العبارة غير الصحيحة:

١ يساعد المخطط في معرفة تفاصيل المكان. ()

٢ تطلب تطوير الأسطرلاب إجراء حسابات رياضية بسيطة. ()

ب وضع:

- دور الدولة في مواجهة الشائعات.

٣ أ اختر الإجابة الصحيحة مما بين القوسين:

١ أحد المصادر الأولية التي يمكن استخدامها عند كتابة بحث عن تاريخ مصر هو

(النقوش الأثرية - الإنترنت - المقالات الصحفية - الأبحاث)

٢ يُعد جامع عمرو بن العاص أول جامع أقيم في قارة

(إفريقيا - آسيا - أوروبا - أستراليا)

ب أجب عما يلي:

١ ما المقصود بـ: الاتجاهات الأصلية؟

٢ بم تفسر: تلوّن هضبة التيه على الخريطة باللون البنّي؟



الاختبار الخامس



١٠

١ اكتب كلمة (صواب) أمام العبارة الصحيحة، وكلمة (خطأ) أمام العبارة غير الصحيحة:

- ١) يستخدم الجندي الخرائط لتحديد المواقع العسكرية. ()
- ٢) يمكن لأي شخص تصميم وبناء المنازل. ()
- ٣) تتكون المدينة من حي واحد له طابع خاص. ()
- ٤) يُعد اتجاه الغرب أحد الاتجاهات الأصلية. ()

٢ ما المقصود بـ:

- المصادر الأولية؟

٣ بم تفسر:

- أهمية الأسطرلاب قديماً؟

٤ دلل على صحة العبارة التالية:

- تميز المصريون القدماء في علم الفلك.

٥ ما العلاقة بين:

- المصريين القدماء والخرائط؟

سلاح التلميز

منذ عام ١٩٦٠

2025 - 2026



الدراسات
الاجتماعية

إجابات نماذج
اختبارات شهر أكتوبر

4

الفصل الدراسي الأول

إجابة الاختبار الأول

١ أ ١ وردة البوصلة. ٢ أ ٢ السويس.

ب استخدمه المصريون القدماء في صناعة ورق البردي لتسجيل أخبارهم وأحداث حياتهم.

٢ أ ١ خطأ. ٢ أ ٢ صواب.

ب تتبادل القرية والمدينة المنافع حيث توفر المدينة الخدمات والمنتجات الصناعية، وتستفيد منها القرية، بينما توفر

القرية المنتجات الزراعية وتستفيد منها المدينة.

٣ أ ١ نقوش معبد. ٢ أ ٢ الخارجة.

ب ١

الأسطرلاب	البوصلة
- أداة فلكية قديمة استُخدمت لتحديد الاتجاهات والمواقع من خلال النجوم.	- أداة تحتوي على إبرة مغناطيسية تشير دائماً لاتجاه الشمال المغناطيسي.

٢ ساهمت التكنولوجيا الحديثة في رسم الخرائط الرقمية الدقيقة مثل تلك التي يعرضها تطبيق (GPS).

إجابة الاختبار الثاني

١ أ ١ مقياس الرسم. ٢ أ ٢ النيل.

ب لأن المخطط يساعد على معرفة تفاصيل المكان بطريقة أوضح من الوصف بالكلمات.

٢ أ ١ صواب. ٢ أ ٢ خطأ.

ب

وجه المقارنة	المصادر الأولية	المصادر الثانوية
زمن تسجيل الحدث	- تم تسجيلها زمن وقوع الحدث.	- تم تسجيلها بعد وقوع الحدث بفترة زمنية طويلة.

٣ أ ١ الأقمار الصناعية. ٢ أ ٢ القاهرة.

ب ١ تجمع سكني تتركز فيه أنشطة الزراعة وتربية الحيوانات.

٢ يستخدم قائد الطائرة الخريطة في تحديد مسار الرحلات.

إجابة الاختبار الثالث

- ١ أ ١ عنوان الخريطة. ٢ القاهرة. ٣ ب الحصول على معلومات شاملة ودقيقة عن الأحداث والأماكن - مقارنة المعلومات والتأكد من صحتها - تجنب التحيز لمصدر واحد.
- ٢ أ ١ خطأ. ٢ صواب.
- ٣ أ ١ شائعات. ٢ يدوية ورقمية.
- ب ١ لتسمح بدخول الهواء وضوء الشمس. ٢ حيث رسم الإدريسي خريطة للعالم.

إجابة الاختبار الرابع

- ١ أ ١ مفتاح الخريطة. ٢ المتوسط.
- ب تنقية الهواء داخل المدن.
- ٢ أ ١ صواب. ٢ خطأ.
- ب تحرص الدولة على تقديم المعلومات الصحيحة للمواطنين؛ لمساعدتهم في التمييز بين الحقائق والشائعات، مما يساهم في مواجهة الأخبار الزائفة التي قد تسبب الفوضى أو الخوف.
- ٣ أ ١ النقوش الأثرية. ٢ إفريقيا.
- ب ١ هي الاتجاهات الأربعة الأساسية: الشمال، الجنوب، الشرق، الغرب. ٢ لأنها من الأراضي المرتفعة.

إجابة الاختبار الخامس

- ١ أ ١ صواب. ٢ خطأ. ٣ خطأ. ٤ صواب.
- ٢ مصادر سجلت في زمن وقوع الحدث.
- ٣ استُخدم في تحديد اتجاه القبلة وأوقات الصلاة وبداية الشهور القمرية.
- ٤ حيث استعانوا بالنجم القطبي الشمالي لتحديد الاتجاهات ليلاً.
- ٥ استخدم المصريون القدماء المخططات والخرائط لوصف مسار نهر النيل ومواقع المناجم، ورسموا هذه الخرائط على ورق البردي وجدران المعابد.

تطبيق



مذكرات جاهزة للطباعة

لتحميل الملفات التعليمية مجاناً للمعلم والطالب

مذكرات وملازم / مراجعات وملخصات / امتحانات / كتب الوزارة /
أدلة المعلم / دفاتر التحضير / سجلات مدرسية / أوراق تأسيس

امسح الكود بموبايلك علشان تقدر تثبت التطبيق

وتقدر ف أي وقت تحمّل ال نفسك فيه ببلاش

هيغنيك عن البحث والجروبات والقنوات الكثيرة

