

4

20
26



الدراسات الاجتماعية

الصف الرابع الابتدائي

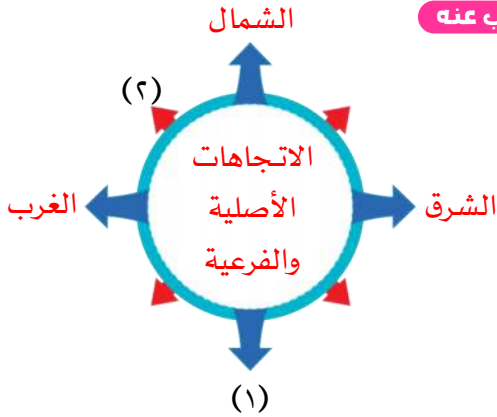
اختبارات شهر أكتوبر

Kafr Elnada
قطر الندي



الاختبار الأول

مجاب عنه



١ (أ) لاحظ الشكل المقابل ، ثم أجب :

- ١- أكمل : يشير الرقم (١) إلى اتجاه
 - ٢- صح أم خطأ : يشير الرقم (٢) إلى اتجاه أصلى . ()
 - ٣- اختر: الجهة المقابلة لاتجاه الشرق هي
- (الشمال - الجنوب - الغرب - الشمال الشرقي)

(ب) ما العلاقة بين ؟

- الشمس والاتجاهات.

٢ (أ) أكمل العبارات الآتية بكلمات مناسبة :

- ١- الشخص المسئول عن بناء المدارس والمنازل هو
- ٢- إذا أردت الوصول إلى وجهة ما بسرعة عليك أن تسلك طريقاً
- ٣- رسم العالم العربي الإدريسي أول خريطة لـ

(ب) برهن على صحة العبارة الآتية :

- براعة المصريين القدماء في علم الفلك.

٣ (أ) اختر الإجابة الصحيحة مما بين القوسين :

- ١- يعبر اللون الأزرق على الخريطة عن (المرتفعات - المنخفضات - البحار - السهول)
- ٢- المكان الذى يتعلم فيه التلاميذ ويضم عددًا من الغرف الدراسية (المنزل - المدرسة - السوق - النادي)

(أولياً - ثانويًا - رقميًا - حقائق)

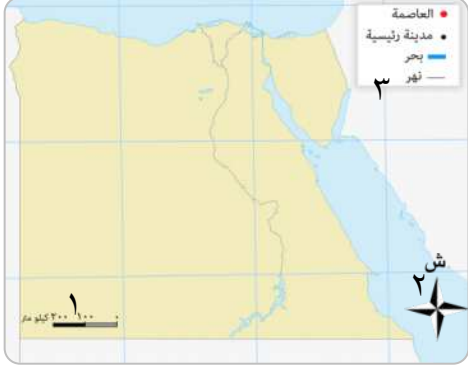
٣- النقوش على جدران المعابد المصرية تعد مصدرًا

(ب) ما المقصود بـ ؟

- البوصلة .

الاختبار الثاني

مجاب عنه



١ (أ) أمامك خريطة صماء لمصر اكتب مدلول الأرقام الموقعة عليها :

١- يشير الرقم (١) إلى أحد عناصر الخريطة هو

٢- صح أم خطأ :

يشير الرقم (٢) على الخريطة إلى عنوان الخريطة. ()

٣- أكمل : يستخدم عنصر الخريطة الرقم (٣) في

(ب) بم تفسر...؟

- أهمية الخريطة للمهندس.

٢ (أ) اكتب كلمة (صواب) أمام العبارة الصحيحة وكلمة (خطأ) أمام العبارة غير الصحيحة :

١- تعد البرديات مصدراً أولياً لجمع المعلومات. ()

٢- تفوقت مريم الإسطرلابي في علم الفيزياء. ()

٣- تساعدنا المخططات في وصف الأماكن بصورة أفضل من الوصف بالكلمات. ()

(ب) اذكر:

- استخدامات الإسطرلاب.



٣ (أ) أكمل العبارات الآتية بكلمات مناسبة :

١- المكان الذي يتعلم فيه التلميذ هو

٢- يستخدم الشكل الموجود في الصورة المقابلة في تحديد

٣- من أشهر العلماء العرب الذين برعوا في رسم الخرائط هو العالم

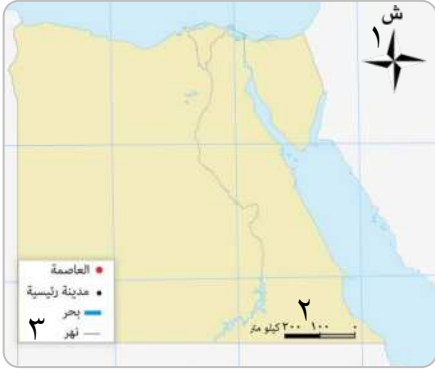
(ب) قارن بين :

- الحقائق والآراء من حيث التعريف.

الآراء	الحقائق	وجه المقارنة
.....	التعريف
.....	
.....	

الاختبار الثالث

مجاب عنه



١ (أ) أمامك خريطة صماء لمصر لاحظها جيدًا ،

اكتب اسم كل عنصر حسب الأرقام:

١-

٢-

٣-

(ب) صوب ما تحته خط :

(.....)

١- اتجاه الشمال الغربي من الاتجاهات الأصلية.

(.....)

٢- تحتوي البوصلة على إبرة مغناطيسية تشير إلى اتجاه الشرق.

(.....)

٣- رسم المصريون القدماء الخرائط على ورق التوت.

٢ (أ) أكمل العبارات الآتية بكلمات مناسبة :



١- يشير النجم القطبي في السماء إلى اتجاه

٢- من الجهات الفرعية

٣- تعبر الصورة المقابلة عن أحد مصادر المعلومات

(ب) بم تفسر ...؟

- أهمية البوصلة الرقمية في حياتنا.

(.....)

٣ (أ) اكتب ما تشير إليه العبارات الآتية :

(.....)

١- معلومات صحيحة تم التأكد منها ويمكن إثباتها.

(.....)

٢- رسم مصغر يوضح سطح الأرض أو جزء منه باستخدام الرموز والألوان.

(.....)

٣- نظام يعتمد على الأقمار الصناعية لتحديد المواقع والاتجاهات.

(ب) أيهما أدق من وجهة نظرك، ولماذا؟

(الخرائط الرقمية أم الخرائط اليدوية)

(.....)

الاختبار الرابع

مجاب عنه



خريطة المسطحات المائية في مصر

١ (أ) أمامك خريطة صماء لمصر اكتب مدلول الأرقام الآتية :

- ١- اكتب اسم العنصر المفقود في الخريطة المقابلة
- ٢- ضع دائرة حول مفتاح الخريطة.
- ٣- تلوّن المنطقة (٣) باللون على الخريطة.

(ب) دلل على صحة العبارة التالية :

- تساعدنا التكنولوجيا الحديثة في تحديد المواقع والاتجاهات.

٢ (أ) اكتب كلمة (صواب) أمام العبارة الصحيحة وكلمة (خطأ) أمام العبارة غير الصحيحة :

- ١- إذا وقفت مواجهًا للشمس مباشرة وقت شروقها يكون يمينك اتجاه الغرب. ()
- ٢- تلوّن السهول على الخريطة باللون الأخضر. ()
- ٣- تعبر الحقائق عن وجهات نظر شخصية قد تكون صحيحة أو غير صحيحة. ()

(ب) صنّف مصادر المعلومات التالية إلى (مصادر أولية) أو (مصادر ثانوية) :

(الموسوعات - النقوش على جدران المعابد - البرديات - المقالات)

مصادر ثانوية

.....

.....

.....

.....

مصادر أولية

.....

.....

.....

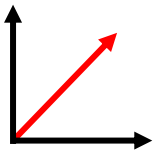
.....

٣ (أ) أكمل العبارات الآتية بكلمات مناسبة :

- ١- يشير الرسم المقابل إلى الاتجاه الفرعي
- ٢- أحد عناصر الخريطة يستخدم لحساب المسافة بين مدينتين على الخريطة وما يقابلها على الطبيعة هو
- ٣- يعتمد نظام (GPS) في تحديد المواقع على

(ب) ما الفرق بين ؟

- الصور الجوية والصور الفضائية.



الاختبار الخامس

مجاب عنه

١ (أ) صنف العبارات التالية إلى عبارات تعبر عن (رأى أو حقيقة أو شائعة) :

١- تم افتتاح قناة السويس للملاحة عام ١٨٦٩م. ()

٢- مدينة الغردقة من أجمل مدن العالم. ()

٣- استخدام العدسات اللاصقة الطبية يضعف النظر. ()

(ب) دلل على صحة العبارة التالية :

- برعت مريم الإسطرلابية في علم الفلك.

٢ (أ) اختر الإجابة الصحيحة مما بين القوسين :

١- تساعد الخريطة السائح في الوصول إلى

(الأراضي الزراعية - المواقع العسكرية - المواقع الأثرية - المناطق الصناعية)

٢- الاتجاه الفرعي الذي يوجد بين الجنوب والشرق

(الشمال الشرقي - الجنوب الغربي - الشمال الغربي - الجنوب الشرقي)

٣- يشير النجم القطبي إلى جهة

(الشمال - الجنوب - الشرق - الغرب)

(ب) بم تفسر.....؟

- أهمية الصور الفضائية.

٣ (أ) صوب ما تحته خط :

١- نتعرف على موضوع الخريطة من خلال مقياس الرسم. (.....)

٢- يتم تسجيل المصادر الثانوية في زمن وقوع الحدث. (.....)

٣- يستخدم المزارع الخريطة أثناء التخطيط لإنشاء المباني والطرق. (.....)

(ب) اذكر:

- أهم عناصر الخريطة.

١- -٣

٢- -٤

4

20
26



الدراسات الاجتماعية

الصف الرابع الابتدائي

الإجابات النموذجية

Katrina Nada
قطر الندى

الإجابات النموذجية

إجابة الاختبار الأول

ج ١: (أ)

- ١- الجنوب .
٢- خطأ .
٣- الغرب .

(ب)

- حيث استخدم الإنسان الشمس منذ القدم في تحديد الاتجاهات نهاريًا ، فإذا وقفنا مواجهين للشمس عند شروقها فهذا يعنى أننا نتجه نحو الشرق وسيكون الغرب خلفنا والجنوب على يميننا والشمال على يسارنا .

ج ٢: (أ)

- ١- المهندس .
٢- مستقيمًا .
٣- العالم .

(ب)

- حيث استخدم المصريون القدماء النجم القطبي الشمالي لتحديد الاتجاهات ليلاً لأنه يشير دائماً إلى اتجاه الشمال وبمجرد معرفة موقعه نستطيع تحديد باقي الاتجاهات .

ج ٣: (أ)

- ١- البحار .
٢- المدرسة .
٣- أولياً .

(ب)

البوصلة : هي أداة تحتوى على إبرة مغناطيسية تشير دائماً لاتجاه الشمال ومن خلاله يمكن تحديد باقي الاتجاهات .

إجابة الاختبار الثاني

ج ١: (أ)

- ١- مقياس الرسم .
٢- خطأ .
٣- توضيح مدلول الرموز والألوان على الخريطة .

(ب)

- **لأنه :** يستخدمها أثناء التخطيط لإنشاء المباني والطرق .

ج ٢: (أ)

- ١- صح .
٢- خطأ .
٣- صح .

(ب)

- تحديد اتجاه القبلة - أوقات الصلاة - بداية الشهور القمرية .

ج ٣: (أ)

- ١- المدرسة .
٢- الاتجاهات .
٣- الإديسي .

(ب)

وجه المقارنة	الحقائق	الآراء
التعريف	هي معلومات صحيحة تم التأكد منها ويمكن إثباتها .	تعبّر عن وجهات نظر شخصية ، قد تكون صحيحة أو غير صحيحة .

إجابة الاختبار الثالث

ج ١: (أ)

- ١- وردة البوصلة .
٢- مقياس الرسم .
٣- مفتاح الخريطة .

(ب)

- ١- الفرعية .
٢- الشمال .
٣- البردى .

(ب)

الصورة الفضائية	الصورة الجوية
• يتم التقاطها من الفضاء خارج الكرة الأرضية بواسطة الأقمار الصناعية.	• يتم التقاطها من الجو بواسطة الطائرات.
• تغطي مساحات أوسع من الصور الجوية.	• تغطي مساحة محدودة من سطح الأرض.

إجابة الاختبار الخامس

ج ١: (أ)

- ١- حقيقة.
- ٢- رأى.
- ٣- شائعة.

(ب)

- ١- حيث استخدمت حسابات رياضية دقيقة لتطوير الإسطرلاب الذي استخدم في:
 - ١- تحديد اتجاه القبلة.
 - ٢- أوقات الصلاة.
 - ٣- بداية الشهور القمرية.

ج ٢: (أ)

- ١- المواقع الأثرية.
- ٢- الجنوب الشرقي.
- ٣- الشمال.

(ب)

- ١- **لأنها:** تغطي مساحات أوسع من الصور الجوية وتلتقط عدد أكبر من المواقع.

ج ٣: (أ)

- ١- عنوان الخريطة.
- ٢- الأولية.
- ٣- المهندس.

(ب)

- ١- عنوان الخريطة.
- ٢- وردة البوصلة.
- ٣- مقياس الرسم.
- ٤- مفتاح الخريطة.

ج ٢: (أ)

- ١- الشمال.
- ٢- الشمال الشرقي والجنوب الغربي.
- ٣- المقالات (مصادر ثانوية).

(ب)

- ١- لتحديد الاتجاهات بسرعة ودقة أكبر.

ج ٣: (أ)

- ١- الحقائق.
- ٢- الخريطة.
- ٣- نظام تحديد المواقع (GPS).

(ب)

- ١- الخرائط الرقمية لأنها ترسم بواسطة الأقمار الصناعية وهي أكثر دقة في تحديد المواقع.

إجابة الاختبار الرابع

ج ١: (أ)

- ١- وردة البوصلة.
- ٢- الأزرق.



(ب)

- ١- يعد نظام (GPS) المعتمد على الأقمار الصناعية في تحديد المواقع والاتجاهات من التطورات التكنولوجية الحديثة التي تساعدنا في تحديد المواقع بدقة.

ج ٢: (أ)

- ١- خطأ.
- ٢- صح.
- ٣- خطأ.

(ب)

مصادر أولية	مصادر ثانوية
النقوش على جدران	الموسوعات
المعابد - البرديات.	- المقالات.

ج ٣: (أ)

- ١- الشمال الشرقي.
- ٢- مقياس الرسم.
- ٣- الأقمار الصناعية.

تطبيق



مذكرات جاهزة للطباعة

لتحميل الملفات التعليمية مجاناً للمعلم والطالب

مذكرات وملازم / مراجعات وملخصات / امتحانات / كتب الوزارة /
أدلة المعلم / دفاتر التحضير / سجلات مدرسية / أوراق تأسيس

امسح الكود بموبايلك علشان تقدر تثبت التطبيق

وتقدر ف أي وقت تحمّل ال نفسك فيه ببلاش

هيغنيك عن البحث والجروبات والقنوات الكثيرة



تطبيق الموبايل لتحميل الملفات