

2026

سلسلة

# البركان

في

الدراسات الاجتماعية

مراجعة

شهر

أكتوبر

أ / محمد عبد الصبور

01129903122

5 ابتدائي



## مراجعة شهر أكتوبر - خامسة ابتدائي

## السؤال الأول : أكمل العبارات الاتية بما يناسبها من كلمات :

- ١- يعرف خط الطول الرئيسي بخط .....
- ٢- تهب رياح الخماسين على مصر في فصل .....
- ٣- تقع مصر شمال دائرة الاستواء في نصف الكرة .....
- ٤- تقع معظم الأراضي المصرية ضمن الإقليم .....
- ٥- دائرة العرض الرئيسية هي دائرة .....
- ٦- لتحديد مواقع الأماكن بدقة نستخدم خطوط الطول و .....
- ٧- إحدى دوائر العرض الرئيسية وتقع في النصف الجنوبي للكرة الأرضية ودرجتها ٢٣.٥ هي .....
- ٨- لحساب فرق التوقيت بين مدينة القاهرة ومدينة لندن و أنت تحتاج لمعرفة .....
- ٩- دلتا نهر النيل تأخذ شكل .....
- ١٠- وادي العريش هو أحد الأودية .....
- ١١- يطلق على تنوع الحياة النباتية والحيوانية على كوكب الأرض التنوع .....
- ١٢- من أشهر هضاب الصحراء الغربية في الجنوب هضبة .....
- ١٣- توجد شمال الصحراء الشرقية هضبة .....
- ١٤- أعلى قمة جبلية في سلاسل جبال البحر الأحمر هي .....
- ١٥- الأراضي الخصبة التي كونها نهر النيل نتيجة ترسيب الطمي عند المصب تُعرف بـ .....
- ١٦- يوجد في جنوب شبه جزيرة سيناء جبل سانت كاترين وجبل .....
- ١٧- تكونت جبال البحر الأحمر نتيجة الحركات .....
- ١٨- ندرة الأمطار إحدى الخصائص المناخية التي تميز الإقليم .....
- ١٩- تقوم الزراعة في المناطق الشمالية لمصر على .....
- ٢٠- يوجد جبل الحلال في شمال .....
- ٢١- تصل ترعة بحر يوسف بين نهر النيل ومنخفض .....
- ٢٢- الجزء الأوسط من سيناء يغلب عليه الطابع .....
- ٢٣- نصف الأرض الزراعية في مصر تقريبا توجد في .....
- ٢٤- تعتمد الزراعة في شمال مصر على مياه .....
- ٢٥- من العوامل الباطنية المسؤولة عن تكون جبال البحر الأحمر .....
- ٢٦- يبدأ فصل الخريف في مصر عندما تتعامد الشمس على .....
- ٢٧- من النباتات المائية التي تنمو في المستنقعات وعلى ضفاف نهر النيل .....
- ٢٨- من أهم الحيوانات البرية التي تعيش في الصحارى المصرية .....
- ٢٩- من النباتات المثمرة في المناطق الساحلية .....
- ٣٠- من الاخطار التي تتعرض لها النباتات الطبيعية .....



### السؤال الثاني : أكتب كلمة (صواب) أمام العبارة الصحيحة وكلمة (خطأ) أمام العبارة غير الصحيحة

- ١- يقع مدار الجدى فى نصف الكرة الجنوبي . ( )
- ٢- تفيد دوائر العرض فى معرفة أحوال المناخ . ( )
- ٣- يتميز منخفض الفيوم بوصول مياه نهر النيل إليه عن طريق ترعة الإسماعيلية . ( )
- ٤- تساعدنا خطوط الطول فى تحديد الموقع شرقاً وغرباً . ( )
- ٥- تدور الأرض حول الشمس مرة كل ٣٦٥ يوماً وربع . ( )
- ٦- تقع مصر فى النصف الجنوبي للكرة الأرضية . ( )
- ٧- تشكل وادى النيل نتيجة التعرية الهوائية . ( )
- ٨- جبل سانت كاترين هو أعلى قمة جبلية فى شبه جزيرة سيناء . ( )
- ٩- يُعد وادى النيل والدلتا أكبر الوحدات التضاريسية فى مصر . ( )
- ١٠- تعد التعرية أحد العوامل الباطنية لتشكيل سطح الأرض . ( )
- ١١- ينتشر معدن الذهب فى الصحراء الغربية . ( )
- ١٢- يقع منخفض القطارة فى الصحراء الغربية . ( )
- ١٣- تعد شبه جزيرة سيناء أصغر الوحدات التضاريسية . ( )
- ١٤- تتميز الصحراء الشرقية بانتشار الجبال والهضاب . ( )
- ١٥- وادى العريش هو أحد الأودية الجافة فى الصحراء الشرقية . ( )
- ١٦- يوجد بحر الرمال العظيم فى الصحراء الشرقية . ( )
- ١٧- تتميز شبه جزيرة سيناء بوجود جبال مرتفعة فى وسطها . ( )
- ١٨- ساعد نهر النيل على قيام الزراعة واستقرار الإنسان . ( )
- ١٩- تقع هضبة مارمريكا فى جنوب غرب مصر . ( )
- ٢٠- تكونت جبال البحر الأحمر نتيجة الحركات الانكسارية . ( )
- ٢١- تقع معظم أراضي مصر ضمن إقليم البحر المتوسط . ( )
- ٢٢- تتعامد الشمس على مدار السرطان عندما يأتى فصل الشتاء فى مصر . ( )
- ٢٣- المناطق الساحلية أعلى حرارة من المناطق الداخلية صيفاً . ( )
- ٢٤- تمتد معظم الأراضي المصرية فى الإقليم الصحراوي . ( )
- ٢٥- تُستخدم الأودية الجافة كخزانات للمياه خلال أوقات السيول . ( )
- ٢٦- تغيرت أشكال سطح مصر فى عصور مختلفة فى الماضى . ( )
- ٢٧- ساهمت الزراعة فى استقرار المصريين القدماء بجوار وادى النيل . ( )
- ٢٨- الصحراء الشرقية أكبر أقسام سطح مصر من حيث المساحة . ( )
- ٢٩- تنتشر أشجار التين والزيتون فى وادى النيل . ( )
- ٣٠- بعض النباتات الطبيعية والحيوانات البرية توفر الغذاء للإنسان . ( )



### السؤال الثالث : اختر الإجابة الصحيحة مما بين الأقواس

- ١- يمر في جنوب مصر مدار ..... ( الجدى - الاستواء - القطب الشمالي - السرطان )
- ٢- أي مما يلى درجته ٢٣.٥ .....  
( السرطان والجدى - السرطان والاستواء - الجدى والاستواء - الاستواء وجرينتش )
- ٣- تتشابه كل من خطوط الطول ودوائر العرض فى أنهما تستخدمان في تحديد .....  
( المناخ - الوقت - الموقع - السطح )
- ٤- الموقع بالنسبة لخطوط الطول ودوائر العرض يسمى الموقع .....  
( الجغرافي - الفلكى - الطبيعى - الاستراتيجي )
- ٥- يتصل منخفض الفيوم بنهر النيل عن طريق .....  
( قناة السويس - ترعة بحر يوسف - البحر المتوسط - البحر الأحمر )
- ٦- يبدأ وادي النيل من حدود مصر ..... ( الشمالية - الشرقية - الغربية - الجنوبية )
- ٧- يُعد منخفض الفيوم جزءاً من البيئة الزراعية رغم وقوعه في .....  
( الصحراء الشرقية - دلتا النيل - الصحراء الغربية - جنوب مصر )
- ٨- المدينة التي تشرق عليها الشمس أولاً مدينة ..... ( رفح - بورسعيد - دمياط - الإسكندرية )
- ٩- تقع مصر ..... دائرة الاستواء . ( شمال - جنوب - شرق - غرب )
- ١٠- أحد الأودية الجافة في الصحراء الشرقية وادي ..... ( النيل - الملوك - قنا - العريش )
- ١١- احد مظاهر السطح في الصحراء الشرقية .....  
( جبل موسى - السهل الفيضي - هضبة المعازة - وادي العريش )
- ١٢- توجد هضبة الجلف الكبير في .....  
( الصحراء الشرقية - شمال مصر - الصحراء الغربية - جنوب سيناء )
- ١٣- توجد الجبال الوعرة في ..... شبه جزيرة سيناء . ( شمال - جنوب - وسط - غرب )
- ١٤- يقطع وادي العريش هضبة ..... ( المعازة - العباودة - التيه - مارمرিকা )
- ١٥- تصل مياه نهر النيل إلى منخفض الفيوم عن طريق ترعة .....  
( الإسماعيلية - الإبراهيمية - المريوطية - بحر يوسف )
- ١٦- من الجبال التي توجد بالصحراء الشرقية .....  
( العوينات - شايب البنات - سانت كاترين - موسى )
- ١٧- تتساقط الثلوج على الجبال العالية مثل جبل سانت كاترين في فصل .....  
( الصيف - الخريف - الشتاء - الربيع )
- ١٨- تتعامد الشمس في فصل الصيف في مصر على .....  
( مدار السرطان - مدار الجدى - دائرة الاستواء - الدائرة القطبية )
- ١٩- من الأودية الجافة في الصحراء الشرقية وادي ..... ( العريش - فيران - الفيوم - قنا )
- ٢٠- يكون الجو حاراً جافاً في فصل ..... ( الشتاء - الخريف - الربيع - الصيف )
- ٢١- معظم أراضي مصر ذات طبيعة ..... ( ساحلية - صحراوية - زراعية - جبلية )
- ٢٢- تتعامد أشعة الشمس على مدار السرطان في فصل ..... ( الشتاء - الخريف - الربيع - الصيف )



- ٢٣- يبدأ فصل الشتاء في مصر حينما تتعامد أشعة الشمس على مدار .....  
( الاستواء - السرطان - جرينتش - الجدى )
- ٢٤- من النباتات الطبيعية التي تنمو في الصحاري المصرية .....
- ( البوص - البردي - الصبار - المانجروف )
- ٢٥- من النباتات التي تنمو في الوادى والدلتا .....
- ( البوص - اللوز - الصبار - الزيتون )

### السؤال الرابع : اكتب ما تشير اليه كل عبارة من العبارات التالية

- ١- يقصد بها خطوط الطول ودوائر العرض .
- ٢- انصاف دوائر رأسية تصل بين القطبين الشمالى والجنوبى .
- ٣- دوائر افقية غير متساوية الطول ترسم حول الكرة الأرضية .
- ٤- الموقع بالنسبة لخطوط الطول ودوائر العرض .
- ٥- اصغر الوحدات التضاريسية مساحة في مصر .
- ٦- اراضى خصبة كونها نهر النيل نتيجة ترسيب الطمي عند المصب .
- ٧- منخفض يتصل بنهر النيل عن طريق ترعة بحر يوسف .
- ٨- اودية كانت تملؤها المياه قديماً ثم جفت .
- ٩- تحدث في باطن الأرض مثل الالتواءات والانكسارات .
- ١٠- تحدث على سطح الأرض مثل التعرية الهوائية والتعرية المائية .
- ١١- مصدر للمياه العذبة بالصحراء الغربية .
- ١٢- وصف حالة الجو خلال فترة زمينة طويلة قد تكون فصلاً او سنة .
- ١٣- وصف حالة الجو في فترة زمنية قصيرة قد تكون يوماً او اسبوعاً او شهراً .
- ١٤- مساحة من الأرض لها نفس الخصائص المناخية من حيث الحرارة والرياح والمطر .
- ١٥- دوران الأرض حول الشمس مرة كل ٣٦٥ يوماً وربع .
- ١٦- فصل تتعامد فيه الشمس على مدار الجدى ويبدأ يوم ٢١ ديسمبر .
- ١٧- فصل يتميز بارتفاع الحرارة خاصة المناطق الداخلية والجنوبية من مصر .
- ١٨- رياح محملة بالرمال والأتربة تهب على مصر في فصل الربيع .
- ١٩- النبات الذى ينمو دون تدخل من الانسان .
- ٢٠- الحيوان الذى يعيش في بيئة طبيعية دون تدخل او رعاية من الانسان .
- ٢١- تفاعل الكائنات الحية مع البيئة المحيطة بطريقة تحافظ على استمرارها واستقرارها .
- ٢٢- تنوع الحياة النباتية والحيوانية على كوكب الأرض .
- ٢٣- مساحة من الأرض او المياه بها نباتات او حيوانات او اسماك نادرة مهددة بالانقراض .

### السؤال الخامس : بم تفسر ... ؟

- ١- أهمية خطوط الطول .
- ٢- أهمية دوائر العرض في حياتنا .



- ٣- وجود فروق في الوقت بين الدول .
- ٤- أهمية الأودية الجافة .
- ٥- نشأة سلاسل جبال البحر الأحمر .
- ٦- يُعد منخفض الفيوم بيئة زراعية رغم وقوعه في الصحراء الغربية .
- ٧- استقرار المصري القديم بجانب نهر النيل .
- ٨- تركيز السكان في منخفض سيوة وندرتهم في منخفض القطارة .
- ٩- قيام الزراعة في واحة سيوة .
- ١٠- تعد الصحراء الشرقية ثروة قومية .
- ١١- يُعد منخفض الفيوم جزءاً من البيئة الزراعية .
- ١٢- يغلب المظهر الهضبي على الصحراء الغربية .
- ١٣- ترتفع درجة الحرارة في الأجزاء الجنوبية من مصر في شهر يوليو .
- ١٤- تكون الثلوج فوق جبل سانت كاترين شتاء .
- ١٥- وقوع معظم مساحة مصر ضمن الإقليم الصحراوي الحار .
- ١٦- تعاقب فصول السنة الأربعة .
- ١٧- أسباب اعتدال درجة الحرارة في المدن الساحلية .
- ١٨- حدوث فصل الشتاء في مصر .
- ١٩- أهمية النبات الطبيعي والحيوانات البرية .
- ٢٠- أهمية نبات البوص .

### السؤال السادس : ما النتائج المترتبة على .... ؟

- ١- دوران كوكب الأرض حول الشمس مرة كل ٣٦٥ يوماً وربع يوم .
- ٢- التعرية الهوائية بالصحراء الغربية .
- ٣- مرور مدار السرطان بجنوب مصر .
- ٤- تعامد الشمس على دائرة الاستواء مرتين في العام .
- ٥- هبوب رياح الخماسين على مصر في فصل الربيع .
- ٦- وجود مياه جوفية بالصحراء الغربية .
- ٧- تنوع مظاهر السطح في مصر .
- ٨- ترسيب نهر النيل للطين عند المصب .



٩- وصول مياه نهر النيل والظمي إلى منخفض الفيوم .

١٠- الحركات الانكسارية في منطقة الصحراء الشرقية.

١١- وجود المناظر الخلابة في الشواطئ والصحاري المصرية .

**السؤال السابع : دال على صحة العبارات التالية**

١- اهتمام المصريين القدماء في علم الفلك .

٢- تتنوع مظاهر السطح في الصحراء الغربية .

٣- تتميز الصحراء الشرقية بأنها جبلية هضبية .

٤- تتنوع مظاهر سطح شبه جزيرة سيناء .

**السؤال الثامن : حدد المختلف فيما يلي**

١- الاستواء - السرطان - جرينتش - الجدى .

٢- جبل شايب البنات - جبل موسى - جبل الحلال - جبل سانت كاترين .

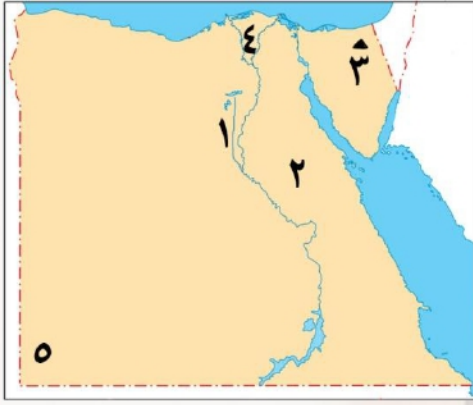
٣- وادى النيل - منخفض الفيوم - هضبة التيه - دلتا النيل .

٤- الصيف - الربيع - الامطار - الخريف .

٥- البوص - التين - الزيتون - المانجروف .

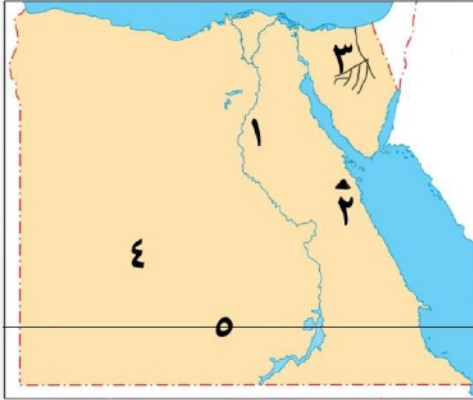


تم تحميل هذه الأوراق مجاناً من  
أكبر وأضخم مكتبة تعليمية  
موقع وتطبيق مذكرات جاهزة



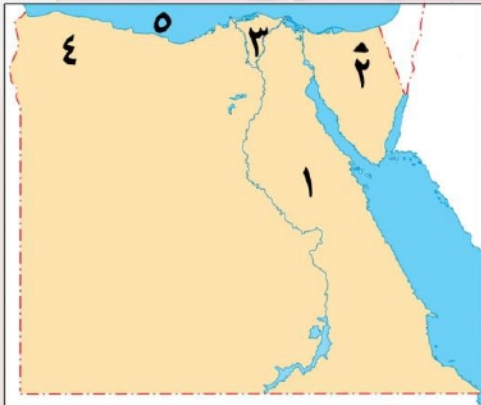
السؤال التاسع : أمامك خريطة صماء لمصر اكتب مدلول الأرقام عليها

- ١- ترعة .....
- ٢- الصحراء .....
- ٣- جبل .....
- ٤- دلتا .....
- ٥- هضبة .....



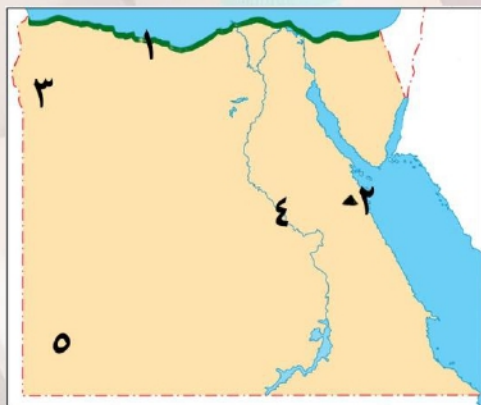
السؤال التاسع : أمامك خريطة صماء لمصر اكتب مدلول الأرقام عليها

- ١- هضبة .....
- ٢- جبل .....
- ٣- وادي .....
- ٤- الصحراء .....
- ٥- مدار .....



السؤال التاسع : أمامك خريطة صماء لمصر اكتب مدلول الأرقام عليها

- ١- الصحراء .....
- ٢- جبل .....
- ٣- دلتا .....
- ٤- هضبة .....
- ٥- مسطح مائي البحر .....



السؤال التاسع : أمامك خريطة صماء لمصر اكتب مدلول الأرقام عليها

- ١- إقليم .....
- ٢- جبل .....
- ٣- واحة .....
- ٤- نهر .....
- ٥- هضبة .....

## مراجعة شهر أكتوبر - خامسة ابتدائي

**السؤال الأول :** أكمل العبارات الاتية بما يناسبها من كلمات :

- ١- يعرف خط الطول الرئيسي بخط **جرينتش** .
- ٢- تهب رياح الخماسين على مصر في فصل **الربيع** .
- ٣- تقع مصر شمال دائرة الاستواء في نصف الكرة **الشمالي** .
- ٤- تقع معظم الأراضي المصرية ضمن الإقليم **الصحراوي الحار** .
- ٥- دائرة العرض الرئيسية هي دائرة **الاستواء** .
- ٦- لتحديد مواقع الأماكن بدقة نستخدم خطوط الطول و **دوائر العرض** .
- ٧- إحدى دوائر العرض الرئيسية وتقع في النصف الجنوبي للكرة الأرضية ودرجتها ٢٣.٥ هي **مدار الجدي** .
- ٨- لحساب فرق التوقيت بين مدينة القاهرة ومدينة لندن و أنت تحتاج لمعرفة **خطوط الطول** .
- ٩- دلتا نهر النيل تأخذ شكل **مثلث** .
- ١٠- وادي العريش هو أحد الأودية **الجافة** .
- ١١- يطلق على تنوع الحياة النباتية والحيوانية على كوكب الأرض التنوع **البيولوجي** .
- ١٢- من أشهر هضاب الصحراء الغربية في الجنوب هضبة **الجلف الكبير** .
- ١٣- توجد شمال الصحراء الشرقية هضبة **المعازة** .
- ١٤- أعلى قمة جبلية في سلاسل جبال البحر الأحمر هي **شايب البنات** .
- ١٥- الأراضي الخصبة التي كونها نهر النيل نتيجة ترسيب الطمي عند المصب تُعرف بـ **الدلتا** .
- ١٦- يوجد في جنوب شبه جزيرة سيناء جبل سانت كاترين وجبل **موسى** .
- ١٧- تكونت جبال البحر الأحمر نتيجة الحركات **الانكسارية** .
- ١٨- ندرة الأمطار إحدى الخصائص المناخية التي تميز الإقليم **الصحراوي الحار** .
- ١٩- تقوم الزراعة في المناطق الشمالية لمصر على **الامطار** .
- ٢٠- يوجد جبل الحلال في شمال **سيناء** .
- ٢١- تصل ترعة بحر يوسف بين نهر النيل ومنخفض **الفيوم** .
- ٢٢- الجزء الأوسط من سيناء يغلب عليه الطابع **الهضبي** .
- ٢٣- نصف الأرض الزراعية في مصر تقريبا توجد في **الدلتا** .
- ٢٤- تعتمد الزراعة في شمال مصر على مياه **الامطار الشتوية** .
- ٢٥- من العوامل الباطنية المسؤولة عن تكون جبال البحر الأحمر **الانكسارات** .
- ٢٦- يبدأ فصل الخريف في مصر عندما تتعامد الشمس على دائرة **الاستواء** .
- ٢٧- من النباتات المائية التي تنمو في المستنقعات وعلى ضفاف نهر النيل نبات **البردى** .
- ٢٨- من اهم الحيوانات البرية التي تعيش في الصحارى المصرية **الابل والزواحف** .
- ٢٩- من النباتات المثمرة في المناطق الساحلية **التين** و **الزيتون** .
- ٣٠- من الاخطار التي تتعرض لها النباتات الطبيعية **الرعى الجائر** و **الصيد الجائر** .



**السؤال الثاني :** أكتب كلمة (صواب) أمام العبارة الصحيحة وكلمة (خطأ) أمام العبارة غير الصحيحة

- ١- يقع مدار الجدى فى نصف الكرة الجنوبي . ( صواب )
- ٢- تفيد دوائر العرض فى معرفة أحوال المناخ . ( صواب )
- ٣- يتميز منخفض الفيوم بوصول مياه نهر النيل إليه عن طريق ترعة الإسماعيلية . ( خطأ )
- ٤- تساعدنا خطوط الطول فى تحديد الموقع شرقاً وغرباً . ( صواب )
- ٥- تدور الأرض حول الشمس مرة كل ٣٦٥ يوماً وربع . ( صواب )
- ٦- تقع مصر فى النصف الجنوبي للكرة الأرضية . ( خطأ )
- ٧- تشكل وادى النيل نتيجة التعرية الهوائية . ( خطأ )
- ٨- جبل سانت كاترين هو أعلى قمة جبلية فى شبه جزيرة سيناء . ( صواب )
- ٩- يُعد وادى النيل والدلتا أكبر الوحدات التضاريسية فى مصر . ( خطأ )
- ١٠- تعد التعرية أحد العوامل الباطنية لتشكيل سطح الأرض . ( خطأ )
- ١١- ينتشر معدن الذهب فى الصحراء الغربية . ( صواب )
- ١٢- يقع منخفض القطارة فى الصحراء الغربية . ( صواب )
- ١٣- تعد شبه جزيرة سيناء أصغر الوحدات التضاريسية . ( خطأ )
- ١٤- تتميز الصحراء الشرقية بانتشار الجبال والهضاب . ( صواب )
- ١٥- وادى العريش هو أحد الأودية الجافة فى الصحراء الشرقية . ( خطأ )
- ١٦- يوجد بحر الرمال العظيم فى الصحراء الشرقية . ( خطأ )
- ١٧- تتميز شبه جزيرة سيناء بوجود جبال مرتفعة فى وسطها . ( صواب )
- ١٨- ساعد نهر النيل على قيام الزراعة واستقرار الإنسان . ( صواب )
- ١٩- تقع هضبة مارميكا فى جنوب غرب مصر . ( خطأ )
- ٢٠- تكونت جبال البحر الأحمر نتيجة الحركات الانكسارية . ( صواب )
- ٢١- تقع معظم أراضي مصر ضمن إقليم البحر المتوسط . ( خطأ )
- ٢٢- تتعامد الشمس على مدار السرطان عندما يأتى فصل الشتاء فى مصر . ( خطأ )
- ٢٣- المناطق الساحلية أعلى حرارة من المناطق الداخلية صيفاً . ( خطأ )
- ٢٤- تمتد معظم الأراضي المصرية فى الإقليم الصحراوي . ( صواب )
- ٢٥- تُستخدم الأودية الجافة كخزانات للمياه خلال أوقات السيول . ( صواب )
- ٢٦- تغيرت أشكال سطح مصر فى عصور مختلفة فى الماضى . ( صواب )
- ٢٧- ساهمت الزراعة فى استقرار المصريين القدماء بجوار وادى النيل . ( صواب )
- ٢٨- الصحراء الشرقية أكبر أقسام سطح مصر من حيث المساحة . ( خطأ )
- ٢٩- تنتشر أشجار التين والزيتون فى وادى النيل . ( خطأ )
- ٣٠- بعض النباتات الطبيعية والحيوانات البرية توفر الغذاء للإنسان . ( صواب )



### السؤال الثالث : اختر الإجابة الصحيحة مما بين الأقواس

- ١- يمر في جنوب مصر مدار ..... ( الجدى - الاستواء - القطب الشمالي - السرطان )
- ٢- أي مما يلى درجته ٢٣.٥ .....  
( السرطان والجدى - السرطان والاستواء - الجدى والاستواء - الاستواء وجرينتش )
- ٣- تتشابه كل من خطوط الطول ودوائر العرض فى أنهما تستخدمان في تحديد .....  
( المناخ - الوقت - الموقع - السطح )
- ٤- الموقع بالنسبة لخطوط الطول ودوائر العرض يسمى الموقع .....  
( الجغرافي - الفلكى - الطبيعى - الاستراتيجي )
- ٥- يتصل منخفض الفيوم بنهر النيل عن طريق .....  
( قناة السويس - ترعة بحر يوسف - البحر المتوسط - البحر الأحمر )
- ٦- يبدأ وادي النيل من حدود مصر ..... ( الشمالية - الشرقية - الغربية - الجنوبية )
- ٧- يُعد منخفض الفيوم جزءاً من البيئة الزراعية رغم وقوعه في .....  
( الصحراء الشرقية - دلتا النيل - الصحراء الغربية - جنوب مصر )
- ٨- المدينة التي تشرق عليها الشمس أولاً مدينة ..... ( رفح - بورسعيد - دمياط - الإسكندرية )
- ٩- تقع مصر ..... دائرة الاستواء . ( شمال - جنوب - شرق - غرب )
- ١٠- أحد الأودية الجافة في الصحراء الشرقية وادي ..... ( النيل - الملوك - قنا - العريش )
- ١١- احد مظاهر السطح في الصحراء الشرقية .....  
( جبل موسى - السهل الفيضي - هضبة المعازة - وادي العريش )
- ١٢- توجد هضبة الجلف الكبير في .....  
( الصحراء الشرقية - شمال مصر - الصحراء الغربية - جنوب سيناء )
- ١٣- توجد الجبال الوعرة في ..... شبه جزيرة سيناء . ( شمال - جنوب - وسط - غرب )
- ١٤- يقطع وادي العريش هضبة ..... ( المعازة - العباودة - التيه - مارمرিকা )
- ١٥- تصل مياه نهر النيل إلى منخفض الفيوم عن طريق ترعة .....  
( الإسماعيلية - الإبراهيمية - المريوطية - بحر يوسف )
- ١٦- من الجبال التي توجد بالصحراء الشرقية .....  
( العوينات - شايب البنات - سانت كاترين - موسى )
- ١٧- تتساقط الثلوج على الجبال العالية مثل جبل سانت كاترين في فصل .....  
( الصيف - الخريف - الشتاء - الربيع )
- ١٨- تتعامد الشمس في فصل الصيف في مصر على .....  
( مدار السرطان - مدار الجدى - دائرة الاستواء - الدائرة القطبية )
- ١٩- من الأودية الجافة في الصحراء الشرقية وادي ..... ( العريش - فيران - الفيوم - قنا )
- ٢٠- يكون الجو حاراً جافاً في فصل ..... ( الشتاء - الخريف - الربيع - الصيف )
- ٢١- معظم أراضي مصر ذات طبيعة ..... ( ساحلية - صحراوية - زراعية - جبلية )
- ٢٢- تتعامد أشعة الشمس على مدار السرطان في فصل ..... ( الشتاء - الخريف - الربيع - الصيف )



- ٢٣- يبدأ فصل الشتاء في مصر حينما تتعامد أشعة الشمس على مدار .....  
( الاستواء - السرطان - جرينتش - الجدى )
- ٢٤- من النباتات الطبيعية التي تنمو في الصحاري المصرية .....  
( البوص - البردي - الصبار - المانجروف )
- ٢٥- من النباتات التي تنمو في الوادي والدلتا .....  
( البوص - اللوز - الصبار - الزيتون )

### السؤال الرابع : اكتب ما تشير اليه كل عبارة من العبارات التالية

- ١- يقصد بها خطوط الطول ودوائر العرض .
- ٢- انصاف دوائر رأسية تصل بين القطبين الشمالى والجنوبى .
- ٣- دوائر افقية غير متساوية الطول ترسم حول الكرة الأرضية .
- ٤- الموقع بالنسبة لخطوط الطول ودوائر العرض .
- ٥- اصغر الوحدات التضاريسية مساحة في مصر .
- ٦- اراضى خصبة كونها نهر النيل نتيجة ترسيب الطمي عند المصب .
- ٧- منخفض يتصل بنهر النيل عن طريق ترعة بحر يوسف .
- ٨- اودية كانت تملؤها المياه قديماً ثم جفت .
- ٩- تحدث في باطن الأرض مثل الالتواءات والانكسارات .
- ١٠- تحدث على سطح الأرض مثل التعرية الهوائية والتعرية المائية .
- ١١- مصدر للمياه العذبة بالصحراء الغربية .
- ١٢- وصف حالة الجو خلال فترة زمينة طويلة قد تكون فصلاً او سنة .
- ١٣- وصف حالة الجو في فترة زمنية قصيرة قد تكون يوماً او اسبوعاً او شهراً .
- ١٤- مساحة من الأرض لها نفس الخصائص المناخية من حيث الحرارة والرياح والمطر . الإقليم المناخى
- ١٥- دوران الأرض حول الشمس مرة كل ٣٦٥ يوماً وربع .
- ١٦- فصل تتعامد فيه الشمس على مدار الجدى ويبدأ يوم ٢١ ديسمبر .
- ١٧- فصل يتميز بارتفاع الحرارة خاصة المناطق الداخلية والجنوبية من مصر .
- ١٨- رياح محملة بالرمال والأتربة تهب على مصر في فصل الربيع .
- ١٩- النبات الذى ينمو دون تدخل من الانسان .
- ٢٠- الحيوان الذى يعيش في بيئة طبيعية دون تدخل او رعاية من الانسان .
- ٢١- تفاعل الكائنات الحية مع البيئة المحيطة بطريقة تحافظ على استمرارها واستقرارها . التوازن البيئى
- ٢٢- تنوع الحياة النباتية والحيوانية على كوكب الأرض .
- ٢٣- مساحة من الأرض او المياه بها نباتات او حيوانات او اسماك نادرة مهددة بالانقراض . محمية طبيعية

### السؤال الخامس : بم تفسر ... ؟

- ١- أهمية خطوط الطول . تحديد المواقع شرقاً وغرباً - معرفة فروق التوقيت بين الدول .
  - ٢- أهمية دوائر العرض في حياتنا .
- تساعد في تحديد المواقع شمالاً وجنوباً - تساعدنا في دراسة المناخ من حيث الحرارة والرياح والمطر .



- ٣- وجود فروق في الوقت بين الدول . بسبب اختلاف خطوط الطول بين الدول .
- ٤- أهمية الأودية الجافة . لأنه يمكن استخدامها في تخزين المياه عند حدوث السيول .
- ٥- نشأة سلاسل جبال البحر الأحمر . بسبب الحركات الانكسارية .
- ٦- يُعد منخفض الفيوم بيئة زراعية رغم وقوعه في الصحراء الغربية .  
لأنه يتميز بوصول مياه نهر النيل والطمى اليه عن طريق ترعة بحر يوسف .
- ٧- استقرار المصري القديم بجانب نهر النيل . بسبب قيام حرفة الزراعة والحضارة المصرية القديمة .
- ٨- تركيز السكان في منخفض سيوة وندرتهم في منخفض القطارة .  
لأنه واحة سيوة توجد فيه المياه الجوفية بينما منخفض الفيوم لا توجد به مياه .
- ٩- قيام الزراعة في واحة سيوة . بسبب وجود المياه الجوفية وقيام الزراعة .
- ١٠- تعد الصحراء الشرقية ثروة قومية . لأنها غنية بالمعادن كالذهب ويوجد بها البترول والغاز الطبيعي .
- ١١- يُعد منخفض الفيوم جزءاً من البيئة الزراعية . لأنه يتصل بنهر النيل عن طريق ترعة بحر يوسف .
- ١٢- يغلب المظهر الهضبي على الصحراء الغربية . بسبب وجود هضبة الجلف الكبير وهضبة مارمريكا .
- ١٣- ترتفع درجة الحرارة في الأجزاء الجنوبية من مصر في شهر يوليو .  
بسبب حلول فصل الصيف وتعادم الشمس على مدار السرطان الذي يمر بالأجزاء الجنوبية .
- ١٤- تكون الثلوج فوق جبل سانت كاترين شتاء . بسبب انخفاض الحرارة فوق المرتفعات شتاءً .
- ١٥- وقوع معظم مساحة مصر ضمن الإقليم الصحراوي الحار . بسبب الموقع الفلكي لمصر .
- ١٦- تعاقب فصول السنة الأربعة . بسبب دوران الأرض حول الشمس مرة كل ٣٦٥ يوم وربع .
- ١٧- أسباب اعتدال درجة الحرارة في المدن الساحلية . بسبب القرب من المسطحات المائية .
- ١٨- حدوث فصل الشتاء في مصر . بسبب تعادم الشمس على مدار الجدى .
- ١٩- أهمية النبات الطبيعي والحيوانات البرية . توفر الغذاء للإنسان - تجذب السياح للاستمتاع بجمال الطبيعة - تساهم الحيوانات في خصوبة التربة - مأوى للحيوانات البرية - صناعة الادوية والعطور .
- ٢٠- أهمية نبات البوص . لأنه يستخدم في صناعة الحصير .

### السؤال السادس : ما النتائج المترتبة على .... ؟

- ١- دوران كوكب الأرض حول الشمس مرة كل ٣٦٥ يوماً وربع يوم .  
أدى الى تعاقب فصول السنة الأربعة ( الصيف - الخريف - الشتاء - الربيع ) .
- ٢- التعرية الهوائية بالصحراء الغربية . أدى الى تشكيل الكثبان الرملية مثل بحر الرمال العظيم .
- ٣- مرور مدار السرطان بجنوب مصر . أدى الى ارتفاع الحرارة بحلول فصل الصيف .
- ٤- تعادم الشمس على دائرة الاستواء مرتين في العام .  
أدى الى حلول فصلي الربيع والخريف واعتدال الحرارة .
- ٥- هبوب رياح الخماسين على مصر في فصل الربيع .  
أدى اضرار بالجهاز التنفسي للإنسان واضرار وتلف للمحاصيل الزراعية .
- ٦- وجود مياه جوفية بالصحراء الغربية . أدى الى قيام الزراعة وتركز السكان فيها .
- ٧- تنوع مظاهر السطح في مصر . أدى الى تنوع الثروات الطبيعية وتعدد الأنشطة الاقتصادية .
- ٨- ترسيب نهر النيل للطمى عند المصب . أدى الى تشكيل دلتا النيل عند المصب .



- ٩- وصول مياه نهر النيل والظمى إلى منخفض الفيوم .  
أدى إلى خصوبة ارضه رغم وقوعه بالصحراء الغربية .  
١٠- الحركات الانكسارية في منطقة الصحراء الشرقية . أدى الى تكوين جبال البحر الأحمر .  
١١- وجود المناظر الخلابة في الشواطئ والصحاري المصرية .  
أدى الى جذب السياح وتسهم في تنوع الأنشطة الاقتصادية .

### السؤال السابع : دال على صحة العبارات التالية

- ١- اهتمام المصريين القدماء في علم الفلك .  
حيث استخدموه في مجالات متعددة منها تحديد المواقع وتوقيت الزراعة وتنظيم الأعياد الدينية وبناء الأهرامات .  
٢- تتنوع مظاهر السطح في الصحراء الغربية .  
حيث يجرى بها نهر النيل وتمتد على جانبيه السهول الفيضية .  
يوجد بها الصحاري الشاسعة والجبال الشاهقة وما يزيد بها جمالاً سهولها الساحلية شمالاً وشرقاً .  
المناظر الطبيعية الخلابة التي تجذب السياح وتسهم في تنوع الأنشطة الاقتصادية .  
٣- تتميز الصحراء الشرقية بأنها جبلية هضبية .  
حيث يكثر بها الجبال والهضاب مثل جبال البحر الأحمر وهضبة المعازة والعبادة .  
٤- تتنوع مظاهر سطح شبه جزيرة سيناء .  
حيث يوجد بها الجبال الوعرة مثل جبل سانت كاترين وجبل موسى وينتشر بها الهضاب مثل هضبة التيه ويقطعها الأودية الجافة منها وادي العريش .

### السؤال الثامن : حدد المختلف فيما يلي

- ١- الاستواء - السرطان - جرينتش - الجدى .  
٢- جبل شايب البنات - جبل موسى - جبل الحلال - جبل سانت كاترين .  
٣- وادي النيل - منخفض الفيوم - هضبة التيه - دلتا النيل .  
٤- الصيف - الربيع - الامطار - الخريف .  
٥- البوص - التين - الزيتون - المانجروف .

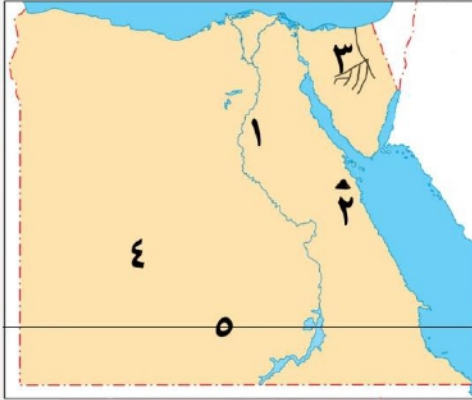


تم تحميل هذه الأوراق مجاناً من  
أكبر وأضخم مكتبة تعليمية  
موقع وتطبيق مذكرات جاهزة



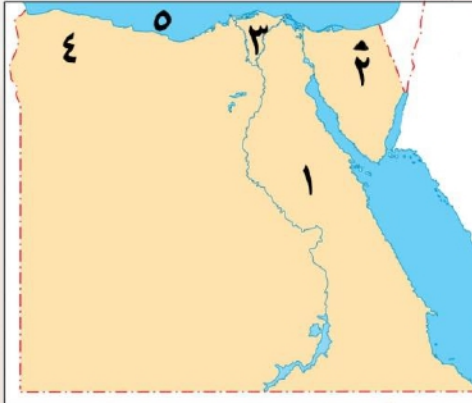
السؤال التاسع : أمامك خريطة صماء لمصر اكتب مدلول الأرقام عليها

- ١- ترعة بحر يوسف .
- ٢- الصحراء الشرقية .
- ٣- جبل الحلال شمال سيناء .
- ٤- دلتا النيل .
- ٥- هضبة الجلف الكبير .



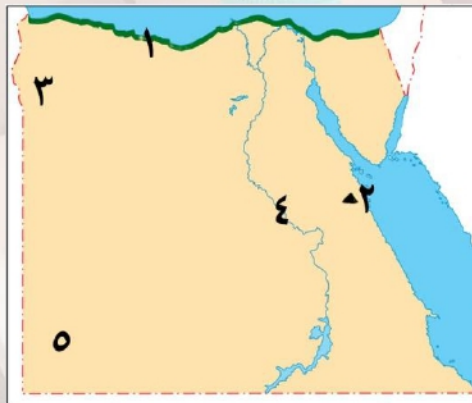
السؤال التاسع : أمامك خريطة صماء لمصر اكتب مدلول الأرقام عليها

- ١- هضبة المعازة .
- ٢- جبل شايب البنات .
- ٣- وادي العريش .
- ٤- الصحراء الغربية .
- ٥- مدار السرطان .



السؤال التاسع : أمامك خريطة صماء لمصر اكتب مدلول الأرقام عليها

- ١- الصحراء الشرقية .
- ٢- جبل الحلال شمال سيناء .
- ٣- دلتا النيل .
- ٤- هضبة مارمرিকা .
- ٥- سطح مائى البحر المتوسط .



السؤال التاسع : أمامك خريطة صماء لمصر اكتب مدلول الأرقام عليها

- ١- اقليم البحر المتوسط .
- ٢- جبل شايب البنات .
- ٣- واحه سيوة .
- ٤- نهر النيل .
- ٥- هضبة الجلف الكبير .

تطبيق



مذكرات جاهزة للطباعة

لتحميل الملفات التعليمية مجاناً للمعلم والطالب

مذكرات وملازم / مراجعات وملخصات / امتحانات / كتب الوزارة /  
أدلة المعلم / دفاتر التحضير / سجلات مدرسية / أوراق تأسيس

امسح الكود بموبايلك علشان تقدر تثبت التطبيق

وتقدر ف أي وقت تحمّل ال نفسك فيه ببلاش

هيغنيك عن البحث والجروبات والقنوات الكثيرة



تطبيق الموبايل لتحميل الملفات