

التأسيس السليم

مراجعات
شهر
أكتوبر

الفصل الدراسي الأول



2026
اختيارك
الأول في
مصر



ذاكر معنا

HOTLINE
012 8888 0390

www.altaasisalsaleem.com



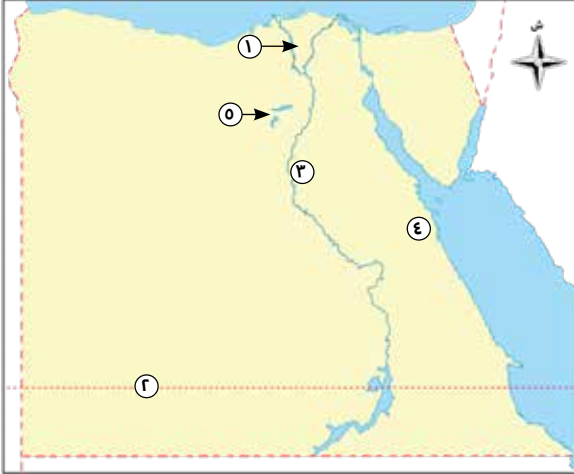
الدراسات الاجتماعية



ذاكر معنا

النموذج الأول

السؤال الأول: أمامك خريطة صفاء لمصر، ادرسها ثم أجب:



- (١) يشير رقم (١) إلى منطقة زراعية
- (٢) يشير رقم (٢) إلى
- (٣) يشير رقم (٣) إلى هضبة
- (٤) يشير رقم (٤) إلى جبل
- (٥) يشير رقم (٥) إلى منخفض زراعي

السؤال الثاني: (أ) أكمل العبارات الآتية بما يناسبها من كلمات:

- (١) تدور الأرض حول نفسها أمام الشمس من إلى
- (٢) يمتد وادي النيل من الحدود الجنوبية لمصر حتى مدينة
- (٣) من العوامل الباطنية التي ساهمت في تشكيل مصر و

(ب) حدّد أوجه الشبه والاختلاف بين (خطوط الطول ودوائر العرض):

دوائر العرض	خطوط الطول	وجه المقارنة
.....	وجه الشبه
.....	وجه الاختلاف

السؤال الثالث: (أ) اكتب كلمة (صواب) أو (خطأ) أمام العبارات الآتية:

- (١) يُعدُّ وادي العريش من الأودية الجافة التي تقع في الصحراء الشرقية. (.....)
- (٢) يتشابه الطقس والمناخ في الفترة الزمنية التي يصفان حالة الجو من خلالها. (.....)
- (٣) يستطيع النبات الطبيعي في الصحاري المصرية التكيف مع الظروف المناخية. (.....)

(ب) دَلِّ على صحة العبارة: تبذل الدولة العديد من الجهود لحماية النباتات الطبيعية والحيوانات البرية.

.....

.....

.....

.....

(ج) ما النتائج المترتبة على: تعامد الشمس على دائرة الاستواء في شهر سبتمبر؟

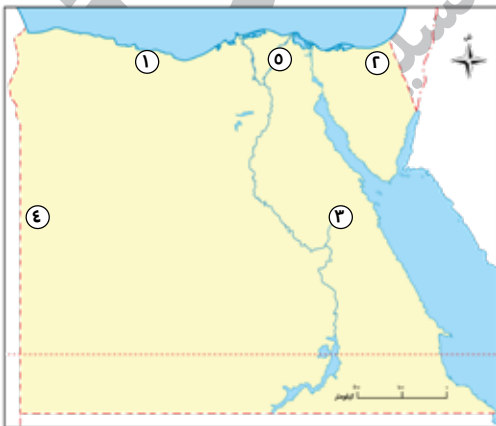
.....

.....

.....

النموذج الثاني

السؤال الأول: أمامك خريطة صماء لمصر، ادرسها ثم أجب:



(١) (صواب أو خطأ) يشير رقم (١) إلى الإقليم الصحراوي الحار (.....)

- (٢) يشير رقم (٢) إلى جبل
- (٣) يشير رقم (٣) إلى وادي
- (٤) يشير رقم (٤) إلى كثبان رملية
- (٥) يشير رقم (٥) إلى فرع

السؤال الثاني: (أ) اختر الإجابة الصحيحة مما بين القوسين:

- (١) يتصل منخفض الفيوم بنهر النيل عن طريق
(البحر الأحمر - البحر المتوسط - ترعة الإسماعيلية - ترعة بحر يوسف)
- (٢) تقع جنوب دائرة الاستواء ودرجتها ٦٦,٥°.
(مدار الجدي - الدائرة القطبية الجنوبية - مدار السرطان - خط جرينتش)
- (٣) تكوّنت جبال البحر الأحمر بفعل
(الالتواءات - الانكسارات - حركة الهواء - حركة المياه)

(ب) بم تفسر...؟

- (١) قيام نشاط الزراعة في الواحات.

.....

- (٢) أهمية النبات الطبيعي.

.....

.....

السؤال الثالث: (أ) اكتب ما تشير إليه العبارات الآتية:

- (١) تنوع الحياة النباتية والحيوانية على كوكب الأرض. (.....)
- (٢) دوران كوكب الأرض حول الشمس مرة كل ٣٦٥ يوماً وربع. (.....)
- (٣) أودية كانت تملؤها المياه قديماً ثم جفّت. (.....)

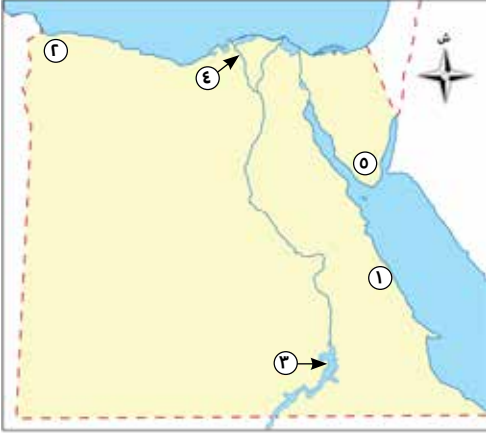
(ب) قارن بين كل من «الصحراء الغربية والصحراء الشرقية» من حيث:

«الجبال - الهضاب» التي تتواجد في كل منها:

وجه المقارنة	الصحراء الغربية	الصحراء الشرقية
الجبال
الهضاب

النموذج الثالث

السؤال الأول: أمامك خريطة صماء لمصر، ادرسها ثم أجب:



- (١) يشير رقم (١) إلى جبال
- (٢) يشير رقم (٢) إلى هضبة
- (٣) يشير رقم (٣) إلى بحيرة
- (٤) يشير رقم (٤) إلى فرع
- (٥) يشير رقم (٥) إلى جبل

السؤال الثاني: (أ) أكمل العبارات الآتية بما يناسبها من كلمات:

- (١) يمرُّ في جنوب مصر مدار
- (٢) تتساقط الثلوج على قمة جبل سانت كاترين في فصل
- (٣) يعيش طائر في وادي النيل والدلتا.

(ب) ما العلاقة بين...؟

- (١) الموقع الفلكي لمصر ومناخها.

-
-
- (٢) التقويم الشمسي والسنة الزراعية عند المصريين القدماء.
-
-

السؤال الثالث: (أ) صوب ما تحته خط:

- (١) تعتمد الحياة بشكل أساسي في الواحات على مياه الأمطار. (.....)
- (٢) تنمو أشجار التين والزيتون في المناطق الصحراوية. (.....)
- (٣) يسود المظهر الجبلي الجزء الشمالي من شبه جزيرة سيناء. (.....)

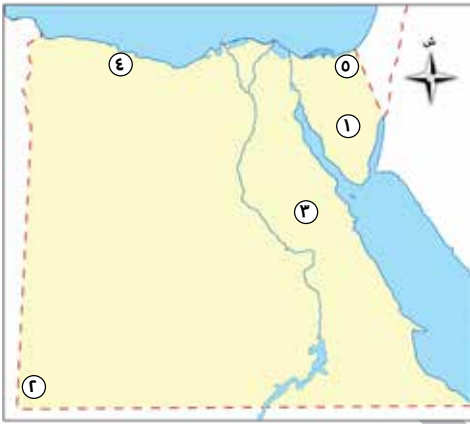
(ب) ما المقصود بكل من؟

(١) شبكة الإحداثيات:

(٢) التوازن البيئي:

النموذج الرابع

السؤال الأول: أمامك خريطة صَمَاءَ لمصر، ادرسها ثم أجب:



(١) هضبة

(٢) جبل

(٣) الصحراء

(٤) إقليم مُناخ

(٥) وادي جاف

السؤال الثاني: (أ) اكتب كلمة (صواب) أو (خطأ) أمام العبارات الآتية:

- (١) قسم المصريون القدماء السنة الزراعية إلى أربعة فصول. (.....)
- (٢) يبدأ في مصر فصل الشتاء عندما تتعامد الشمس على مدار الجدي. (.....)
- (٣) تَكَوَّنَت الأراضي الخصبة لوادي النيل والدلتا عن طريق ترسُّب نهر النيل للطيني. (.....)

(ب) دَلِّ على صحة العبارات الآتية:

(١) يؤثر القرب أو البعد عن المسطحات المائية على المُناخ.

(٢) تنمو أنواع من الأشجار في المناطق الساحلية المالحة.

السؤال الثاني: (أ) أكمل العبارات الآتية بما يناسبها من كلمات:

- (١) استخدم المصريون القدماء علم الفلك في، و.....
 (٢) تمتد السهول الساحلية بمصر في اتجاهي، و.....
 (٣) قمة جبل هي أعلى القمم الجبلية لجبال البحر الأحمر.

(ب) بم تفسر...؟

- (١) حدوث بعض الأضرار للإنسان والمحاصيل الزراعية في فصل الربيع.

.....

- (٢) أهمية نبات البوص.

.....

السؤال الثالث: (أ) اكتب ما تشير إليه العبارات الآتية:

- (١) مساحة من الأرض لها نفس الخصائص المناخية من حيث «الحرارة - الرياح - الأمطار».

(.....)

- (٢) أرض خصبة كَوَّنَهَا نهر النيل نتيجة ترسيب الطمي عند المصب.

(.....)

- (٣) دوائر أفقية غير متساوية الطول ترسم حول الكرة الأرضية.

(.....)

(ب) ما النتائج المترتبة على...؟

- (١) دوران الأرض حول نفسها من الغرب إلى الشرق.

.....

.....

- (٢) اتصال منخفض الفيوم بنهر النيل عن طريق ترعة بحر يوسف.

.....

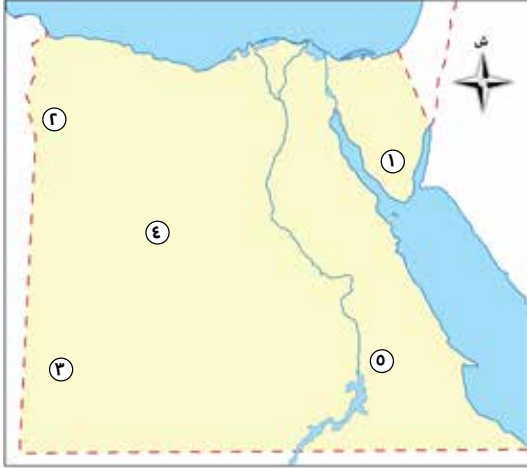
.....



ذاكر معنا

بنك الأسئلة

١ أمامك خريطة صَمَاءَ لمصر، ادرسها ثم أجب:



- (١) يشير رقم (١) إلى جبل
- (٢) يشير رقم (٢) إلى منخفض
- (٣) يشير رقم (٣) إلى هضبة
- (٤) يشير الرقم (٤) إلى الصحراء
- (٥) يشير الرقم (٥) إلى إقليم مُنَاخ

٢ أكمل العبارات الآتية بما يناسبها من كلمات:

- (١) تنتشر الجبال في شبه جزيرة سيناء ومنها، و
- (٢) تسقط الأمطار فجأة على شكل سيول في مناطق الإقليم
- (٣) يقطع وادي هضبة التيه في شبه جزيرة سيناء.
- (٤) لحماية النباتات والحيوانات من الانقراض أنشأت الدولة
- (٥) يوجد في شمال الصحراء الشرقية هضبة
- (٦) تبلغ مساحة الدلتا الأراضي الزراعية بمصر.

٣ اكتب كلمة (صواب) أمام العبارة الصحيحة، وكلمة (خطأ) أمام العبارة غير الصحيحة:

- (١) المدن الواقعة شرق خط جرينتش تسبق في التوقيت المدن الواقعة غربه. (.....)
- (٢) تُعدُّ واحة سيوة من المنخفضات المأهولة بالسكان في الصحراء الغربية. (.....)
- (٣) ينتشر معدن الذهب بالصحراء الشرقية. (.....)
- (٤) يبدأ فصل الصيف في مصر بتعامد الشمس على مدار الجدي. (.....)
- (٥) المناطق البعيدة عن المسطحات المائية تتميز بالاعتدال في درجات الحرارة. (.....)
- (٦) يوجد وادي قنا بالصحراء الغربية. (.....)



٤

اختر الإجابة الصحيحة مما بين القوسين:

- (١) كل مما يلي من الأخطار التي تهدد النباتات الطبيعية في مصر ما عدا
(ندرة المياه - تغير المناخ - الصيد الجائر - سقوط الأمطار)
- (٢) تتعامد الشمس على في فصلي الربيع والخريف.
(مدار الجدي - مدار السرطان - دائرة الاستواء - الدائرة القطبية)
- (٣) يصب نهر النيل في البحر
(المتوسط - الأحمر - الميت - الأسود)
- (٤) المنخفضات التالية مأهولة بالسكان ما عدا منخفض
(سيوة - القطارة - الفرافرة - الداخلة)
- (٥) يوجد فرق توقيت بين كل خط والذي يليه.
(٤ دقائق - ٣ دقائق - ٥ دقائق - ٦ دقائق)
- (٦) لتحديد فروق التوقيت بين البلدان المختلفة نستخدم
(دوائر العرض - خطوط الطول - الرسوم البيانية - الخرائط المناخية)

٥ صوب ما تحته خط:

- (١) تكوّنت الكثبان الرملية في الصحراء الشرقية بسبب عوامل التعرية. (.....)
- (٢) يوجد جبل سانت كاترين وجبل موسى جنوب الصحراء الغربية. (.....)
- (٣) يحدث فصل الربيع عندما تتعامد الشمس على مدار الجدي. (.....)
- (٤) تنمو أشجار المانجروف في الصحاري المصرية. (.....)

٦ اكتب ما تشير إليه العبارات الآتية:

- (١) الموقع بالنسبة لخطوط الطول ودوائر العرض. (.....)
- (٢) أنصاف دوائر رأسية تصل بين القطبين الشمالي والجنوبي. (.....)
- (٣) أحد العوامل التي شكلت سطح مصر وتحدث في باطن الأرض مثل الالتواءات والانكسارات. (.....)

- (٤) وصف حالة الجو في فترة زمنية قصيرة قد تكون يومًا أو أسبوعًا أو شهرًا. (.....)
- (٥) مساحة من الأرض أو المياه بها نباتات أو حيوانات أو أسماك نادرة مهددة بالانقراض. (.....)

٧ بم تفسر...؟

- (١) وجود فرق في التوقيت بين الدول المتجاورة.
.....
- (٢) تمثل الصحراء الشرقية أهمية كبرى بالنسبة لمصر.
.....
- (٣) استقرار المصري القديم على جانبي نهر النيل.
.....
- (٤) اعتدال درجات الحرارة في مدينة الإسكندرية بمصر عن مدينة الرياض في السعودية.
.....
.....
- (٥) تمتلك مصر ثروة نباتية وحيوانية متنوعة.
.....
- (٦) انقراض بعض الحيوانات البرية واختفائها.
.....

٨ ما النتائج المترتبة على...؟

- (١) امتلاك النبات الطبيعي في الصحاري المصرية جذورًا طويلة.
.....
- (٢) مناخ مصر الجاف.
.....

(٣) وقوع معظم الأراضي المصرية ضمن الإقليم الصحراوي الحار.



(٤) الحركات الانكسارية في الصحراء الشرقية.



(٥) التعرية الهوائية في الصحراء الغربية.



(٦) قيام العلماء برسم خطوط الطول ودوائر العرض.



٩ دَلِّ على صحة العبارات الآتية:

(١) تتميز مصر بتنوع مظاهر السطح التي تشكلت عبر عصور مختلفة.



(٢) يتدرَّج سطح شبه جزيرة سيناء.



(٣) تؤثر مظاهر السطح في درجات الحرارة.



(٤) تُظهر بعض أنواع الأشجار قدرةً على النمو في المناطق الساحلية المالحة.



(٥) وادي النيل في مصر يُعدُّ موطنًا للعديد من الحيوانات والطيور البرية.



التأسيس السليم
هدية مجانية من شركة التأسيس

رحلة تعليمية متكاملة



التأسيس السليم

الإجابات النموذجية




اختيارك
الأول في
مصر



ذاكر معنا

شركة التأسيس السليم

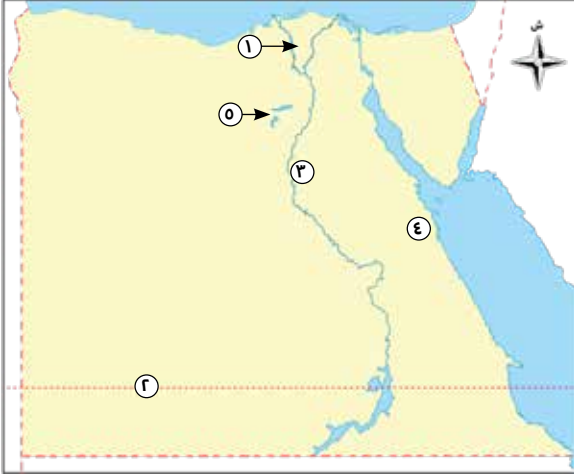




ذاكر معنا

النموذج الأول

السؤال الأول: أمامك خريطة صماء لمصر، ادرسها ثم أجب:



- (١) يشير رقم (١) إلى منطقة زراعية الدلتا.
- (٢) يشير رقم (٢) إلى مدار السرطان.
- (٣) يشير رقم (٣) إلى هضبة المعازة.
- (٤) يشير رقم (٤) إلى جبل شايب البنات.
- (٥) يشير رقم (٥) إلى منخفض زراعي الفيوم.

السؤال الثاني: (أ) أكمل العبارات الآتية بما يناسبها من كلمات:

- (١) تدور الأرض حول نفسها أمام الشمس من الغرب إلى الشرق.
 - (٢) يمتد وادي النيل من الحدود الجنوبية لمصر حتى مدينة القاهرة.
 - (٣) من العوامل الباطنية التي ساهمت في تشكيل مصر الالتواءات والانكسارات.
- (ب) حدّد أوجه الشبه والاختلاف بين (خطوط الطول ودوائر العرض):**

دوائر العرض	خطوط الطول	وجه المقارنة
		وجه الشبه
		وجه الاختلاف

السؤال الثالث: (أ) اكتب كلمة (صواب) أو (خطأ) أمام العبارات الآتية:

- (١) يُعدُّ وادي العريش من الأودية الجافة التي تقع في الصحراء الشرقية. (خطأ)
- (٢) يتشابه الطقس والمناخ في الفترة الزمنية التي يصفان حالة الجو من خلالها. (خطأ)
- (٣) يستطيع النبات الطبيعي في الصحاري المصرية التكيف مع الظروف المناخية. (صواب)

(ب) دَلِّ على صحة العبارة: تبذل الدولة العديد من الجهود لحماية النباتات الطبيعية والحيوانات البرية.

ج حيث قامت الدولة بـ:

- (١) إصدار القوانين التي تجرم الرعي والصيد الجائر.
- (٢) نشر الوعي بين المواطنين بأهمية التنوع البيولوجي وضرورة الحفاظ عليه.
- (٣) إنشاء المحميات الطبيعية لحماية النباتات الطبيعية والحيوانات البرية.

(ج) ما النتائج المترتبة على: تعامد الشمس على دائرة الاستواء في شهر سبتمبر؟

ج يؤدي إلى حدوث فصل «الخريف» ممَّا يسبب اعتدالاً في درجات الحرارة وسقوط الأمطار في بعض أنحاء مصر وخاصة الجهات الشرقية عند جبال البحر الأحمر وشبه جزيرة سيناء.

النموذج الثاني

السؤال الأول: أمامك خريطة صفاء لمصر، ادرسها ثم أجب:



(١) (صواب أو خطأ) يشير رقم (١) إلى الإقليم الصحراوي الحار: (خطأ).

(٢) يشير رقم (٢) إلى جبل الحلال.

(٣) يشير رقم (٣) إلى وادي قنا.

(٤) يشير رقم (٤) إلى كثبان رملية بحر الرمال العظيم.

(٥) يشير رقم (٥) إلى فرع دمياط.

السؤال الثاني: (أ) اختر الإجابة الصحيحة مما بين القوسين:

- (١) يتصل منخفض الفيوم بنهر النيل عن طريق
- (البحر الأحمر - البحر المتوسط - ترعة الإسماعلية - ترعة بحر يوسف)
- (٢) تقع جنوب دائرة الاستواء ودرجتها ٦٦,٥°.
- (مدار الجدي - الدائرة القطبية الجنوبية - مدار السرطان - خط جرينتش)
- (٣) تكوّنت جبال البحر الأحمر بفعل
- (الالتواءات - الانكسارات - حركة الهواء - حركة المياه)

(ب) بم تفسر...؟

- (١) قيام نشاط الزراعة في الواحات.
- بسبب وجود المياه الجوفية العذبة.
- (٢) أهمية النبات الطبيعي.
- يدخل في صناعة بعض الأدوية ومستحضرات التجميل.
- يجذب السياح للاستمتاع بالمناظر الطبيعية. ■ يوفر الغذاء للإنسان.

السؤال الثالث: (أ) اكتب ما تشير إليه العبارات الآتية:

- (١) تنوع الحياة النباتية والحيوانية على كوكب الأرض. (التنوع البيولوجي)
- (٢) دوران كوكب الأرض حول الشمس مرة كل ٣٦٥ يوماً وربع. (الدورة السنوية للأرض)
- (٣) أودية كانت تملؤها المياه قديماً ثم جفت. (الأودية الجافة)

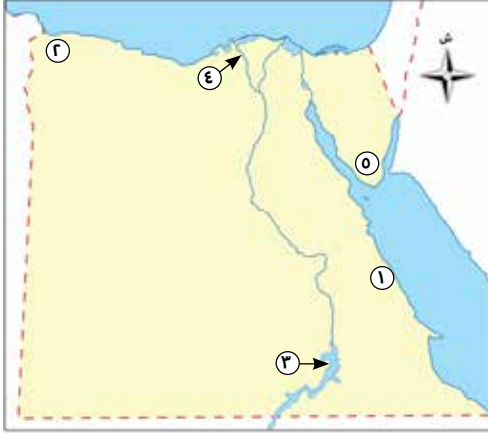
(ب) قارن بين كل من «الصحراء الغربية والصحراء الشرقية» من حيث:

«الجبال - الهضاب» التي تتواجد في كل منها:

وجه المقارنة	الصحراء الغربية	الصحراء الشرقية
الجبال	● جبل العوينات.	● جبال البحر الأحمر. وأعلىها: جبل شايب البنات.
الهضاب	● هضبة الجلف الكبير. ● هضبة مارماريكا.	● هضبة العباددة. ● هضبة المعازة.

النموذج الثالث

السؤال الأول: أمامك خريطة صماء لمصر، ادرسها ثم أجب:



- (١) يشير رقم (١) إلى جبال البحر الأحمر.
- (٢) يشير رقم (٢) إلى هضبة مارماريكا.
- (٣) يشير رقم (٣) إلى بحيرة ناصر.
- (٤) يشير رقم (٤) إلى فرع رشيد.
- (٥) يشير رقم (٥) إلى جبل سانت كاترين.

السؤال الثاني: (أ) أكمل العبارات الآتية بما يناسبها من كلمات:

- (١) يمر في جنوب مصر مدار السرطان.
- (٢) تتساقط الثلوج على قمة جبل سانت كاترين في فصل الشتاء.
- (٣) يعيش طائر أبو قردان في وادي النيل والدلتا.

(ب) ما العلاقة بين...؟

- (١) الموقع الفلكي لمصر ومناخها.
- أدى الموقع الفلكي لمصر إلى وقوع الجزء الشمالي منها ضمن إقليم البحر المتوسط وباقي أجزاء مصر تقع ضمن الإقليم الصحراوي الحار.
- (٢) التقويم الشمسي والسنة الزراعية عند المصريين القدماء.
- بسبب معرفة المصريين القدماء التقويم الشمسي قاموا بتقسيم السنة إلى ثلاثة فصول زراعية «فصل البذر - فصل الفيضان - فصل الحصاد».

السؤال الثالث: (أ) صوب ما تحته خط:

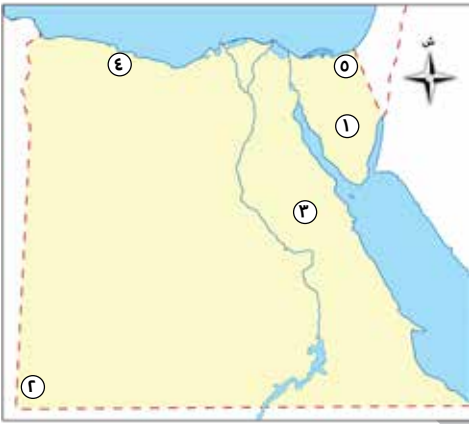
- (١) تعتمد الحياة بشكل أساسي في الواحات على مياه الأمطار. (المياه الجوفية)
- (٢) تنمو أشجار التين والزيتون في المناطق الصحراوية. (الساحلية)
- (٣) يسود المظهر الجبلي الجزء الشمالي من شبه جزيرة سيناء. (الجنوبي)

(ب) ما المقصود بكل من؟

- (١) شبكة الإحداثيات: يقصد بها خطوط الطول ودوائر العرض.
- (٢) التوازن البيئي: تفاعل الكائنات الحية مع البيئة المحيطة بطريقة تحافظ على استمرارها واستقرارها.

النموذج الرابع

السؤال الأول: (أ) أمامك خريطة صماء لمصر، ادرسها ثم أجب:



- (١) هضبة التيه.
- (٢) جبل العوينات.
- (٣) الصحراء الشرقية.
- (٤) إقليم مناخ البحر المتوسط.
- (٥) وادي جاف العريش.

السؤال الثاني: (أ) اكتب كلمة (صواب) أو (خطأ) أمام العبارات الآتية:

- (١) قسم المصريون القدماء السنة الزراعية إلى أربعة فصول. (خطأ)
- (٢) يبدأ في مصر فصل الشتاء عندما تتعامد الشمس على مدار الجدي. (صواب)
- (٣) تكوّنت الأراضي الخصبة لوادي النيل والدلتا عن طريق ترسّب نهر النيل للطين. (صواب)

(ب) دّل على صحة العبارات الآتية:

- (١) يؤثّر القرب أو البعد عن المسطحات المائية على المناخ.
- ☞ حيث تتميز المناطق القريبة من المسطحات المائية باعتدال درجة حرارتها مقارنة بالمناطق الداخلية البعيدة عن المسطحات المائية.
- (٢) تنمو أنواع من الأشجار في المناطق الساحلية المالحة.
- ☞ حيث تنمو أشجار «المانجروف» في المناطق الساحلية لمصر والتي تتميز بقدرتها على تحمل ارتفاع نسبة الأملاح والتربة الرملية.

السؤال الثالث: (أ) اختر الإجابة الصحيحة مما بين القوسين:

- (١) تقع معظم الأراضي المصرية ضمن الإقليم الصحراوي بسبب.....
(الرياح الموسمية - أشكال السطح - المسطحات المائية - الموقع الفلكي)
- (٢) يؤدي الصيد الجائر إلى.....
(زيادة عدد الحيوانات - انقراض الحيوانات - التوازن البيئي - تنوع الحياة البرية)
- (٣) يتساوى خط جرينتش ودائرة الاستواء في.....
(الشكل - الدرجة - الحجم - الطول)

(ب) وضح: كيف استثمر المصريون القدماء الصحاري المصرية.

⊖ استخرجوا منها المعادن «كالذهب والنحاس والحديد».

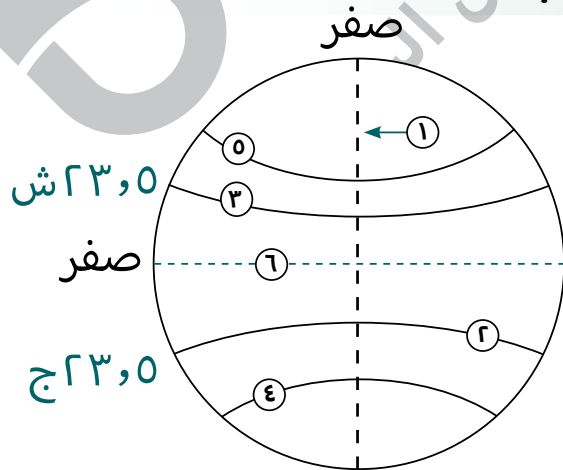
⊖ استخدموا الحجارة لبناء المعابد والمقابر والقلاع والحصون.

(ج) ما العلاقة بين: مظاهر السطح في مصر ونشاط السياحة؟

⊖ المظاهر الطبيعية الخلابة وتنوع مظاهر السطح يجذب السياح مما يساهم في تنشيط السياحة وتنوع الأنشطة الاقتصادية.

النموذج الخامس

السؤال الأول: أمامك شكل توضيحي، ادرسه ثم أجب:



- (١) خط جرينتش.
- (٢) دائرة عرض الجدي.
- (٣) مدار السرطان.
- (٤) يشير الرقم (٦) إلى دائرة العرض الرئيسة.

السؤال الثاني: (أ) أكمل العبارات الآتية بما يناسبها من كلمات:

- (١) استخدم المصريون القدماء علم الفلك في تحديد المواقع وبناء الأهرامات.
 (٢) تمتد السهول الساحلية بمصر في اتجاهي الشمال والشرق.
 (٣) قمة جبل شايب البنات هي أعلى القمم الجبلية لجبال البحر الأحمر.

(ب) بم تفسر...؟

- (١) حدوث بعض الأضرار للإنسان والمحاصيل الزراعية في فصل الربيع.
 Ⓒ بسبب هبوب رياح الخماسين على مصر والتي تكون محملة بالرمال والأتربة.
 (٢) أهمية نبات البوص.
 Ⓒ يستخدم في صناعة الحصير.

السؤال الثالث: (أ) اكتب ما تشير إليه العبارات الآتية:

- (١) مساحة من الأرض لها نفس الخصائص المناخية من حيث «الحرارة - الرياح - الأمطار».

(الإقليم المناخي)

- (٢) أرض خصبة كَوَّنَهَا نهر النيل نتيجة ترسيب الطمي عند المصب. (الدلتا)
 (٣) دوائر أفقية غير متساوية الطول ترسم حول الكرة الأرضية. (دوائر العرض)

(ب) ما النتائج المترتبة على...؟

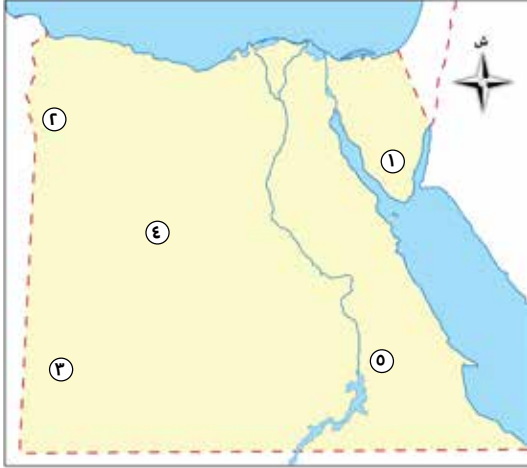
- (١) دوران الأرض حول نفسها من الغرب إلى الشرق.
 Ⓒ يؤدي إلى شروق الشمس على المناطق الواقعة شرق «خط جرينتش» قبل المناطق الواقعة غربه.
 (٢) اتصال منخفض الفيوم بنهر النيل عن طريق ترعة بحر يوسف.
 Ⓒ أصبح منخفض الفيوم بيئة زراعية رغم وقوعه في الصحراء الغربية.



ذاكر معنا

بنك الأسئلة

أمامك خريطة صماء لمصر، ادرسها ثم أجب:



- (١) يشير رقم (١) إلى جبل موسى.
- (٢) يشير رقم (٢) إلى منخفض سيوة.
- (٣) يشير رقم (٣) إلى هضبة الجلف الكبير.
- (٤) يشير الرقم (٤) إلى الصحراء الغربية.
- (٥) يشير الرقم (٥) إلى إقليم مناخ الصحراوي الحار.

أكمل العبارات الآتية بما يناسبها من كلمات:

- (١) تنتشر الجبال في شبه جزيرة سيناء ومنها جبل الحلال و جبل موسى.
- (٢) تسقط الأمطار فجأة على شكل سيول في مناطق الإقليم الصحراوي الحار.
- (٣) يقطع وادي العريش هضبة التيه في شبه جزيرة سيناء.
- (٤) لحماية النباتات والحيوانات من الانقراض أنشأت الدولة المحميات الطبيعية.
- (٥) يوجد في شمال الصحراء الشرقية هضبة المعازة.
- (٦) تبلغ مساحة الدلتا نصف الأراضي الزراعية بمصر.

اكتب كلمة (صواب) أمام العبارة الصحيحة، وكلمة (خطأ) أمام العبارة غير الصحيحة:

- (١) المدن الواقعة شرق خط جرينتش تسبق في التوقيت المدن الواقعة غربه. (صواب)
- (٢) تُعدُّ واحة سيوة من المنخفضات المأهولة بالسكان في الصحراء الغربية. (صواب)
- (٣) ينتشر معدن الذهب بالصحراء الشرقية. (صواب)
- (٤) يبدأ فصل الصيف في مصر بتعامد الشمس على مدار الجدي. (خطأ)
- (٥) المناطق البعيدة عن المسطحات المائية تتميز بالاعتدال في درجات الحرارة. (خطأ)
- (٦) يوجد وادي قنا بالصحراء الغربية. (خطأ)



اختر الإجابة الصحيحة مما بين القوسين:

- (١) كل ممَّا يلي من الأخطار التي تهدد النباتات الطبيعية في مصر ما عدا
(ندرة المياه - تغير المناخ - الصيد الجائر - سقوط الأمطار)
- (٢) تتعامد الشمس على في فصلي الربيع والخريف.
(مدار الجدي - مدار السرطان - دائرة الاستواء - الدائرة القطبية)
- (٣) يصبُّ نهر النيل في البحر
(المتوسط - الأحمر - الميت - الأسود)
- (٤) المنخفضات التالية مأهولة بالسكان ما عدا منخفض
(سيوة - القطارة - الفرافرة - الداخلة)
- (٥) يوجد فرق توقيت بين كل خط والذي يليه.
(٤ دقائق - ٣ دقائق - ٥ دقائق - ٦ دقائق)
- (٦) لتحديد فروق التوقيت بين البلدان المختلفة نستخدم
(دوائر العرض - خطوط الطول - الرسوم البيانية - الخرائط المناخية)

صوّب ما تحته خط:

- (١) تكوّنت الكثبان الرملية في الصحراء الشرقية بسبب عوامل التعرية. (الصحراء الغربية)
- (٢) يوجد جبل سانت كاترين وجبل موسى جنوب الصحراء الغربية. (شبه جزيرة سيناء)
- (٣) يحدث فصل الربيع عندما تتعامد الشمس على مدار الجدي. (الشتاء)
- (٤) تنمو أشجار المانجروف في الصحاري المصرية. (الساحل الشمالي)

اكتب ما تشير إليه العبارات الآتية:

- (١) الموقع بالنسبة لخطوط الطول ودوائر العرض. (الموقع الفلكي)
- (٢) أنصاف دوائر رأسية تصل بين القطبين الشمالي والجنوبي. (خطوط الطول)
- (٣) أحد العوامل التي شكلت سطح مصر وتحدث في باطن الأرض مثل الالتواءات والانكسارات. (العوامل الباطنية)

- (٤) وصف حالة الجو في فترة زمنية قصيرة قد تكون يوماً أو أسبوعاً أو شهراً. (الطقس)
 (٥) مساحة من الأرض أو المياه بها نباتات أو حيوانات أو أسماك نادرة مهددة بالانقراض.
 (المحميات الطبيعية)

بم تفسر...؟

٧

- (١) وجود فرق في التوقيت بين الدول المتجاورة.
 لأن الفرق الزمني بين كل خط طول والآخر ٤ دقائق.
 (٢) تمثل الصحراء الشرقية أهمية كبرى بالنسبة لمصر.
 لأنها غنية بالمعادن كالذهب، كما يوجد بها حقول البترول والغاز الطبيعي.
 (٣) استقرار المصري القديم على جانبي نهر النيل.
 بسبب خصوبة التربة ووجود المياه العذبة.
 (٤) اعتدال درجات الحرارة في مدينة الإسكندرية بمصر عن مدينة الرياض في السعودية.
 لأن مدينة الإسكندرية قريبة من المسطحات المائية التي تعمل على اعتدال درجات الحرارة على عكس مدينة الرياض التي تُعدُّ من المناطق الداخلية البعيدة عن المسطحات المائية.
 (٥) تمتلك مصر ثروة نباتية وحيوانية متنوعة.
 بسبب تنوع المناخ والبيئات وموارد المياه بها.
 (٦) انقراض بعض الحيوانات البرية واختفائها.
 بسبب الصيد الجائر الذي يهدد حياة الحيوانات البرية.

ما النتائج المترتبة على...؟

٨

- (١) امتلاك النبات الطبيعي في الصحاري المصرية جذوراً طويلة.
 جعلها قادرة على التكيف مع الظروف المناخية الصعبة مثل «ارتفاع درجات الحرارة وقلّة الأمطار».
 (٢) مناخ مصر الجاف.
 ساعد على بقاء الآثار المصرية صامدة حتى الآن منذ آلاف السنين.

- (٣) وقوع معظم الأراضي المصرية ضمن الإقليم الصحراوي الحار.
- ⊖ أدى إلى الارتفاع الشديد في درجات حرارة الصحاري المصرية صيفًا وانخفاضها شتاءً.
- ⊖ ندرة سقوط الأمطار، قد تسقط فجأة وتكون على شكل سيول.
- (٤) الحركات الانكسارية في الصحراء الشرقية.
- ⊖ أدت إلى تكوين جبال البحر الأحمر.
- (٥) التعرية الهوائية في الصحراء الغربية.
- ⊖ أدت إلى تكوين الكثبان الرملية مثل «بحر الرمال العظيم».
- (٦) قيام العلماء برسم خطوط الطول ودوائر العرض.
- ⊖ أدى إلى تحديد المواقع بدقة على سطح الأرض وتسهيل دراستها.

٩ دَلِّ على صحة العبارات الآتية:

- (١) تتميز مصر بتنوع مظاهر السطح التي تشكلت عبر عصور مختلفة.
- ⊖ حيث يجري على أرض مصر نهر النيل وعلى جانبيه السهول الفيضية، يوجد بها الصحاري الشاسعة والجبال الشاهقة. ويزيدها جمالاً سهولها الساحلية شمالاً وشرقاً.
- (٢) يتدرج سطح شبه جزيرة سيناء.
- ⊖ حيث يتميز بالوعورة والارتفاع في الجنوب بسبب وجود «جبل سانت كاترين وجبل موسى»، ثم يقلُّ الارتفاع في الوسط فتظهر الهضاب مثل: «هضبة التيه»، أما الجزء الشمالي فيضمُّ «السهول الساحلية على البحر المتوسط».
- (٣) تؤثر مظاهر السطح في درجات الحرارة.
- ⊖ حيث ترتفع درجة الحرارة في المناطق المنخفضة وتنخفض درجة الحرارة فوق المرتفعات.
- (٤) تُظهر بعض أنواع الأشجار قدرةً على النمو في المناطق الساحلية المالحة.
- ⊖ حيث تنمو أشجار "المانجروف" في الأجزاء الساحلية من مصر والتي ترتفع بها نسبة الملوحة.

(٥) وادي النيل في مصر يُعدُّ موطنًا للعديد من الحيوانات والطيور البرية. حيث يعيش بها بعض الحيوانات منها «القوارض» وحيوانات أخرى مثل «الثعالب والذئاب» ويعيش بها الطيور مثل «أبو قردان».

رحلة تعليمية متكاملة



تطبيق



مذكرات جاهزة للطباعة

لتحميل الملفات التعليمية مجاناً للمعلم والطالب

مذكرات وملازم / مراجعات وملخصات / امتحانات / كتب الوزارة /
أدلة المعلم / دفاتر التحضير / سجلات مدرسية / أوراق تأسيس

امسح الكود بموبايلك علشان تقدر تثبت التطبيق

وتقدر ف أي وقت تحمّل ال نفسك فيه ببلاش

هيغنيك عن البحث والجروبات والقنوات الكثيرة

